

**UPSSSC  
VDO**

**Previous Year Paper  
(Re-Exam)  
26 June, 2023 Shift 2**



# Test Prime

ALL EXAMS,  
ONE SUBSCRIPTION



**70,000+**  
Mock Tests



Personalised  
Report Card



Unlimited  
Re-Attempt



**600+**  
Exam Covered



Previous Year  
Papers



**500%**  
Refund



**ATTEMPT FREE MOCK NOW**

123

QP Set

KK2

प्रश्न पुस्तिका क्रमांक  
Question Booklet No.

424409044

समय / Time : 2 घंटे / Two Hours

पूर्णांक / Maximum Marks : 300

## निर्देश / INSTRUCTIONS

कृपया ओ.एम.आर. उत्तर पत्रक पर अपना अनुक्रमांक, पंजीयन संख्या, प्रश्न पुस्तिका क्रमांक, परीक्षा केन्द्र कोड (05 अंकों का), परीक्षा तिथि तथा पाली आदि सभी प्रविष्टियों को सावधानीपूर्वक काले/नीले बॉल प्वाइंट पेन से भरें। ओ.एम.आर. उत्तर पत्रक में प्रश्न पुस्तिका क्रमांक की गलत प्रविष्टि भरने पर परीक्षा परिणाम गलत आएगा जिसके लिए अभ्यर्थी स्वयं उत्तरदायी होगा।

Please fill all your entries like Roll No., Registration No., Question Booklet No., Exam Centre Code (of 05 Digits), Examination Date and Shift etc. very carefully on the OMR Answer Sheet, using Black/Blue ball point pen. Filling wrong entry of Question Booklet No. in OMR Answer Sheet will cause wrong examination result and candidate himself/herself will be responsible for the same.

1. परीक्षा प्रारम्भ होते ही प्रश्न पुस्तिका एवं ओ.एम.आर. उत्तर पत्रक की भली-भाँति जाँच कर यह सुनिश्चित कर लें कि प्रश्न पुस्तिका में प्रश्न क्रमांक 1 से अन्तिम क्रमांक 150 तक सभी प्रश्न क्रमवार मुद्रित हैं एवं प्रश्न पुस्तिका में सभी पृष्ठ मौजूद हैं। किसी भी प्रकार की विसंगति होने पर अभ्यर्थी प्रश्न पुस्तिका एवं ओ.एम.आर. उत्तर पत्रक अंतरीक्षक से बदलवा लें। परीक्षा प्रारम्भ होने के 5 मिनट के पश्चात् ऐसी किसी आपत्ति पर कोई विचार नहीं किया जायेगा।

At the start of the examination check your Question Booklet and OMR Answer Sheet and ensure that all the questions from S.No. 1 to last S.No. 150 are printed and all the pages are present in the Question Booklet. In case of any discrepancy the candidate should replace the Question Booklet and OMR Answer Sheet from the invigilator. No objection in this regard will be entertained after five minutes of start of examination.

2. सभी प्रश्नों के उत्तर दीजिए। प्रत्येक प्रश्न 02 अंक का है।

Answer all questions. Each question carries 02 marks.

3. प्रत्येक प्रश्न का केवल एक ही उत्तर दीजिए। ओवरराइटिंग और एक से अधिक उत्तर देने की दशा में प्रश्न के उत्तर को गलत माना जाएगा। प्रश्न को अनुत्तरित छोड़ने पर शून्य अंक दिया जाएगा।

Only one answer is to be given for each question. Overwriting and marking multiple answers will be considered as wrong answer. Leaving a question unanswered will get zero mark.

4. परीक्षा में ऋणात्मक अंकन का प्रावधान है। प्रत्येक गलत उत्तर पर अथवा किसी एक प्रश्न के उत्तर में एक से अधिक विकल्प चुनने पर उस प्रश्न हेतु निर्धारित कुल अंक के आधे अंक की कटौती की जाएगी।

There is a provision of negative marking in this examination. For each wrong answer or choosing more than one option, a deduction of half of total marks of that question will be done.

5. प्रत्येक प्रश्न के चार वैकल्पिक उत्तर दिये गये हैं, जिन्हें क्रमशः (A), (B), (C), (D) अंकित किया गया है। अभ्यर्थी को सही उत्तर निर्दिष्ट करते हुए उनमें से केवल एक गोले अथवा बबल को ओ.एम.आर. उत्तर पत्रक पर काले/नीले बॉल प्वाइंट पेन से भरना है।

Each question has four alternative responses marked serially as (A), (B), (C), (D). The candidate has to darken only one circle or bubble indicating the correct answer on the OMR Answer Sheet using BLACK/BLUE BALL POINT PEN.

6. कैलकुलेटर, मोबाइल फोन/ब्लूटूथ डिवाइस अथवा अन्य किसी इलेक्ट्रॉनिक यंत्र का परीक्षा हॉल में प्रयोग पूर्णतया वर्जित है। यदि किसी अभ्यर्थी के पास ऐसी कोई वर्जित सामग्री मिलती है तो उसके विरुद्ध नियमानुसार कठोर कार्यवाही की जायेगी।

Use of Calculator, Mobile Phone/Bluetooth devices or any other electronic gadget in the examination hall is strictly prohibited. If any such prohibited material is found with any candidate, strict action will be taken against him/her as per rules.

7. यदि किसी प्रश्न के हिन्दी एवं अंग्रेजी रूपान्तरों में किसी प्रकार की कोई मुद्रण या तथ्यात्मक प्रकार की अस्पष्टता/त्रुटि हो तो प्रश्न का अंग्रेजी रूपान्तरण मान्य होगा।

If there is any sort of ambiguity/mistake either of printing or factual nature in Hindi and English Versions of the question, the English Version will be treated as standard.

8. अभ्यर्थी परीक्षा-भवन छोड़ने से पहले ओ.एम.आर. उत्तर पत्रक की सभी तीनों प्रतियाँ अलग किये बिना अंतरीक्षक को सौंप दें, अन्यथा अभ्यर्थी उचित दण्ड/वैधानिक कार्रवाई के पात्र होंगे। ओ.एम.आर. उत्तर पत्रक की अभ्यर्थी प्रति अंतरीक्षक द्वारा अलग करके अभ्यर्थी को दे दी जायेगी।

Before leaving the Examination Hall candidate must hand over all the three copies of OMR Answer Sheet to the invigilator without separating them, otherwise candidate will be liable for appropriate penal/legal action. Invigilator will hand over the candidate's copy of OMR Answer Sheet to the candidate after separating it.

9. परीक्षा समाप्ति के उपरान्त अभ्यर्थी अपनी ओ.एम.आर. उत्तर पत्रक की अभ्यर्थी प्रति तथा अपनी प्रयुक्त प्रश्न पुस्तिका अपने साथ ले जा सकते हैं।

After the exam is over the candidates can take their candidate copy of OMR Answer Sheet and their used Question Booklet along with them.

इस प्रश्न पुस्तिका को तब तक न खोलें जब तक कहा न जाए।

Do not open this Question Booklet until you are asked to do so.



KK2



1

37



P.T.O.

भाग-1/Part-1  
हिन्दी परीक्षण एवं लेखन योग्यता

1. निम्नलिखित में से तद्भव शब्द कौन सा है?  
(A) होलिका (B) शिक्षा  
(C) स्थल (D) तीरथ
2. निम्नलिखित में से किस विकल्प में सभी शब्द पुल्लिंग हैं?  
(A) कौआ, खरगोश, मंडल  
(B) हार, पायल, पुखराज  
(C) हीरा, मोती, मणि  
(D) नथ, मूंगा, पन्ना
3. 'कान कतरना' मुहावरे का अर्थ क्या है?  
(A) बहुत अधिक चालाक होना।  
(B) गलती स्वीकारना।  
(C) क्षमा माँगना।  
(D) बुरा काम करना।
4. निम्न में से कौन सा वाक्य अशुद्ध है?  
(A) कितना सुंदर चित्र है यह!  
(B) हमने बहुत आम खाए।  
(C) इतना तेज क्यों चल रहे हो?  
(D) ये पत्र किसने लिखे हैं?
5. 'शीर्षक को चयन करते समय अनुच्छेद में निहित भावों और विचारों की परख कर लेनी चाहिए।' वाक्य के अशुद्ध भाग का चयन कीजिए।  
(A) परख कर लेनी चाहिए।  
(B) भावों और विचारों की  
(C) शीर्षक को चयन  
(D) करते समय अनुच्छेद में निहित
6. निम्नलिखित में से कौन सा शब्द तत्सम है?  
(A) गृहिणी (B) धरती  
(C) तिनका (D) दाहिना
7. निम्नलिखित में से 'तड़ाग' शब्द का तद्भव शब्द कौन सा है?  
(A) तीक्ष्ण (B) तालाब  
(C) तृण (D) तुन्द
8. 'दयालु' शब्द में कौन सा प्रत्यय है?  
(A) आ (B) या (C) आलु (D) ऊ
9. 'श्यामलाल, जो गाँधी गली में रहता है, मेरा मित्र है।' यह किस प्रकार का वाक्य है?  
(A) जटिल वाक्य (B) सरल वाक्य  
(C) संयुक्त वाक्य (D) मिश्र वाक्य
10. 'घी के दिए जलाना' मुहावरे का सही अर्थ क्या है?  
(A) बुराई करना।  
(B) जरूरत से ज्यादा बढ़ाई करना।  
(C) मर जाना।  
(D) खुशियाँ मनाना।
11. 'आसमान पर चढ़ाना' मुहावरे का अर्थ क्या होगा?  
(A) अत्यधिक प्रशंसा करना।  
(B) बहुत शोर करना।  
(C) अत्यधिक अभिमान करना।  
(D) कठिन काम के लिए प्रेरित करना।
12. "एक अनार सौ बीमार" लोकोक्ति का अर्थ क्या है?  
(A) संघ न होना।  
(B) प्राण सबसे प्रिय होते हैं।  
(C) एक वस्तु के ग्राहक अनेक।  
(D) कपटपूर्ण व्यवहार करना।
13. किस विकल्प में शब्द-युग्म का अर्थ-भेद सही नहीं है?  

शब्द-युग्म	अर्थ-भेद
(A) नागर - नगर	नगर में रहने वाला - शहर
(B) कुल - कूल	वंश - नदी का किनारा
(C) बली - बलि	बलवान - गाय
(D) अनल - अनिल	अग्नि - पवन
14. श्रुतिसम भिन्नार्थक शब्द-युग्म 'चरम-चर्म' का उचित अर्थ है -  
(A) श्रेष्ठ - शक्तिहीन  
(B) अंतिम सीमा - चमड़ा  
(C) टूटना - शाश्वत  
(D) चमड़ा - अंतिम सत्य

15. 'मजदूर मेहनत करता है किन्तु उसके लाभ से वंचित रहता है।' यह वाक्य है -  
 (A) आज्ञार्थक वाक्य (B) संयुक्त वाक्य  
 (C) साधारण वाक्य (D) मिश्र वाक्य

निम्नलिखित अनुच्छेद को ध्यानपूर्वक पढ़कर नीचे दिए गए प्रश्नों के उत्तर दीजिए : (प्र. सं. 16-20)

जिस विद्यार्थी ने समय की कीमत जान ली वह सफलता को अवश्य प्राप्त करता है। प्रत्येक विद्यार्थी को अपनी दिनचर्या की समय-सारणी अथवा तालिका बनाकर उसका पूरी दृढ़ता से पालन करना चाहिए। जिस विद्यार्थी ने समय का सही उपयोग करना सीख लिया, उसके लिए कोई भी काम करना असंभव नहीं है। कुछ लोग ऐसे भी हैं जो कोई काम पूरा न होने पर समय की दुहाई देते हैं। वास्तव में सच्चाई इसके विपरीत होती है। अपनी अकर्मण्यता और आलस को वे समय की कमी के बहाने छिपाते हैं। कुछ लोगों को अकर्मण्य रह कर निठल्ले समय बिताना अच्छा लगता है। ऐसे लोग केवल बातूनी होते हैं। दुनिया के सफलतम व्यक्तियों ने सदैव कार्यव्यस्तता में जीवन बिताया है। उनकी सफलता का रहस्य समय का सदुपयोग रहा है। दुनिया में अथवा प्रकृति में हर वस्तु का समय निश्चित है। समय बीत जाने के बाद कार्य फलप्रद नहीं होता।

16. कुछ लोग समय की कमी के बहाने क्या छुपाते हैं?  
 (A) अपना बातूनीपन  
 (B) अपनी विभिन्न कमियाँ  
 (C) अपनी अकर्मण्यता और आलस्य  
 (D) अपना निठल्लापन
17. विद्यार्थी को सफलता प्राप्त करने के लिए आवश्यक है -  
 (A) दृढ़ विश्वास बनाए रखना  
 (B) समय पर काम करना  
 (C) समय की दुहाई देना  
 (D) समय की कीमत समझना

18. दुनिया के सफलतम व्यक्तियों की सफलता का रहस्य क्या है?

- (A) समय का सदुपयोग  
 (B) समय की कीमत  
 (C) समय का पालन  
 (D) समय का प्रयोग

19. कार्य किस स्थिति में फलप्रद नहीं होता ?

- (A) समय अधिक होने पर  
 (B) समय बीत जाने पर  
 (C) समय न आने पर  
 (D) समय कम होने पर

20. अकर्मण्यता शब्द में उपसर्ग और प्रत्यय कौन से हैं?

- (A) उपसर्ग नहीं है, प्रत्यय ता  
 (B) उपसर्ग ता और प्रत्यय अ  
 (C) उपसर्ग अ एवं प्रत्यय ता  
 (D) उपसर्ग अकर्मण्य एवं प्रत्यय ता

21. निम्न में से कौन सा समूह सही नहीं है ?

- (A) कंठ्य - क, ख, ग, घ  
 (B) मुर्द्धन्य - च, छ, ज, झ  
 (C) ओष्ठ्य - प, म, ब, भ  
 (D) वर्त्त्य - न, ल, र, स

22. एक औपचारिक पत्र में समाप्ति के पूर्व हस्ताक्षर और नाम के ऊपर कौन सा कथन उपयुक्त होगा ?

- (A) आपका प्रिय ✓  
 (B) भवदीय ✓  
 (C) सादर प्रणाम ✗  
 (D) आपका आज्ञाकारी ✗

23. 'अब कैसे छूटै राम नाम रट लागी ।

प्रभु जी, तुम चन्दन हम पानी, जाकी अँग अँग बास समानी।'

- दी गई पंक्तियाँ किसके द्वारा रचित पद का अंश हैं ?

- (A) तुलसीदास (B) रैदास  
 (C) सूरदास (D) कबीरदास

24. विकारी शब्द के प्रकार होते हैं -  
(A) 7 (B) 6  
(C) 4 (D) 5
25. 'हे री मैं तो प्रेम-दिवानी मेरो दरद न जाणै कोय।  
दरद की मारी बन बन डोलूं बैद मिल्यो नही कोय।'  
यह पंक्तियाँ किसकी हैं ?  
(A) सुभद्राकुमारी चौहान  
(B) मीरा  
(C) महादेवी वर्मा  
(D) रसखान
26. भाषा की सबसे छोटी इकाई क्या है ?  
(A) वर्ण (B) पदबंध  
(C) शब्द (D) पद
27. किसी के द्वारा कहे गए कथन को मूल रूप से  
लिखने के लिए कौन सा विराम चिह्न प्रयुक्त होगा ?  
(A) निर्देशक चिह्न (B) उद्धरण चिह्न  
(C) कोष्ठक चिह्न (D) लाघव चिह्न
28. निम्नलिखित में किस विकल्प के सभी शब्द  
अनेकार्थी हैं ?  
1. दल, अनी, रिपु  
2. कर, श्रद्धा, खग  
3. अनंत, कल, कर  
4. दल, गुरु, पतंग  
(A) 1, 4 (B) 3, 4  
(C) 1, 2 (D) 2, 3
29. हंसपद विराम चिह्न कौन सा है ?  
(A) ! (B) >  
(C) < (D) ^
30. संयुक्ताक्षर व्यंजन निम्न में से कौन से हैं ?  
(A) प, फ, ब, भ (B) श, ष, स, ह  
(C) क्ष, त्र, ज्ञ, श्र (D) य, र, ल, व
31. 'मोहिनी ने चिड़ियाघर में पक्षी देखे ।' रेखांकित  
शब्द में कौन सा कारक है ?  
(A) कर्म कारक (B) करण कारक  
(C) कर्ता कारक (D) संप्रदान कारक
32. 'पंडित जी हवन करा कर कथा कह रहे हैं' में 'करा  
कर' में कौन सी क्रिया है ?  
(A) नामधातु क्रिया (B) मुख्य क्रिया  
(C) संयुक्त क्रिया (D) पूर्वकालिक क्रिया
33. निम्न में से किस विकल्प में सकर्मक क्रिया का  
प्रयोग हुआ है ?  
(A) सिपाही युद्ध में लड़ता है। ✓  
(B) सिपाही चोर को पकड़ता है। ✓  
(C) सिपाही तेज दौड़ता है। ✓  
(D) सिपाही बहुत कम सोता है। ✓
34. 'मेरा घर स्कूल से बहुत दूर है ।' रेखांकित शब्द में  
कौन सा कारक है ?  
(A) संबोधन कारक (B) अपादान कारक  
(C) संप्रदान कारक (D) अधिकरण कारक
35. निम्नलिखित में से कौन सा समास नाम सही है ?  
(A) अष्टाध्यायी - द्वंद्व समास  
(B) यथामति - कर्मधारय समास  
(C) सज्जन - अव्ययीभाव समास  
(D) शरणागत - तत्पुरुष समास
36. 'संभव है कि कल हम सिनेमा देखने जायेंगे ।' वाक्य  
किस काल में व्यक्त हुआ है ?  
(A) सामान्य भविष्यत् काल  
(B) हेतुहेतुमद भविष्यत् काल  
(C) संभाव्य भविष्यत् काल  
(D) हेतुहेतुमद भूतकाल
37. महा + ओजस्वी का संधि रूप है -  
(A) महोजस्वी (B) म्होजस्वी  
(C) महौजस्वी (D) महाजस्वी

38. करुण रस का स्थायी भाव है-  
(A) विस्मय (B) शोक  
(C) भय (D) जुगुप्सा
39. निम्नलिखित पंक्तियों में कौन सा रस है?  
किलकत कान्ह घुटुरुवनि आवत ।  
मनिमय कनक नंद कै आँगन, बिंब पकरिबैं धावत ॥  
कबहुँ निरखि हरि आपु छाहँ कौं, कर सौँ पकरन चाहत ।  
किलकि हँसत राजत द्वै दतियाँ, पुनि-पुनि तिहिं  
अवगाहत ॥  
(A) वात्सल्य रस (B) शांत रस  
(C) शृंगार रस (D) वीर रस
40. 'सेस महेस गनेस दिनेस सुरेसहु जाहि निरंतर गावै'  
में कौन सा अलंकार है?  
(A) अतिशयोक्ति अलंकार  
(B) रूपक अलंकार  
(C) उपमा अलंकार  
(D) अनुप्रास अलंकार
41. 'अध्यक्ष' शब्द में उपसर्ग कौन सा है?  
(A) आधि (B) अधि  
(C) अध (D) अध्
42. निम्न में से किस विकल्प में सही विलोम-युग्म नहीं है?  
(A) झुकाव × तनाव  
(B) जटिल × सरल  
(C) आसक्ति × नास्तिक  
(D) मिलन × वियोग
43. अधोलिखित में से 'अभिज्ञ' शब्द का विलोम शब्द क्या होगा?  
(A) प्राज्ञ (B) अनभिग्य  
(C) भिज्ञ (D) अनभिज्ञ
44. निम्नलिखित में से किस शब्द की वर्तनी सही है?  
(A) उत्कर्ष (B) महात्मय  
(C) प्रतिग्या (D) सहश्र
45. किस विकल्प में सभी शब्द परस्पर पर्यायवाची नहीं हैं?  
(A) विधु, चन्द्रमा, हिमांशु  
(B) वाजि, सैन्धव, नेत्र  
(C) आकांक्षा, इच्छा, अभिलाषा  
(D) मरीचि, मयूख, रश्मि
46. 'सामने शेर को दहाड़ता देखकर मेरे प्राण सूख गए ।'  
रेखांकित मुहावरे का अर्थ क्या है?  
(A) साहसी होना ।  
(B) नजदीक जाना ।  
(C) बड़ी मुसीबत आना ।  
(D) बहुत डर जाना ।
47. निम्न में से 'कौशल' और 'चातुर्य' का पर्यायवाची कौन सा नहीं है?  
(A) प्रवीणता (B) दक्षता ×  
(C) पटुता (D) सुरसरिता
48. 'पीपर पात सरिस मनडोला', इस पंक्ति में कौन सा अलंकार है?  
(A) उपमा अलंकार  
(B) अतिशयोक्ति अलंकार  
(C) उत्प्रेक्षा अलंकार  
(D) रूपक अलंकार
49. 'अज्ञेय' शब्द के लिए एक वाक्यांश है -  
(A) जिसे जाना न जा सके  
(B) जिसे रोका न जा सके  
(C) जिसे देखा न जा सके  
(D) जिसे सुना न जा सके
50. 'जिसका उपचार या हल न हो सके' वाक्यांश के लिए एक शब्द है -  
(A) असीम (B) असाध्य  
(C) असहाय (D) असह्य

सामान्य बुद्धि परीक्षण / General Intelligence Test

51. निम्नलिखित जानकारी का ध्यानपूर्वक अध्ययन करें और नीचे दिए गए प्रश्न का उत्तर दें।  
यहाँ कृत्रिम भाषा से अनुवादित कुछ शब्द दिए गए हैं :  
यदि klaplac का अर्थ है filmy holiday  
placrick का अर्थ है holiday beach  
rickrum का अर्थ है beach perform  
rumkla का अर्थ है perform filmy  
किस शब्द का अर्थ "perform athletics" हो सकता है ?

Study the following information carefully and answer the question given below.

Here are some of the words translated from an artificial language :  
If klaplac means filmy holiday  
placrick means holiday beach  
rickrum means beach perform  
rumkla means perform filmy

Which word could mean "perform athletics" ?

- (A) placrum (B) rickkyut  
(C) plackla (D) rumstrow

52. कल्पना कीजिए कि आपकी घड़ी दोपहर के समय सही थी, लेकिन फिर वह हर घंटे 30 मिनट पीछे होने लगी। अब यह शाम 4 बजे दिखाती है लेकिन यह 5 घंटे पहले बंद हो गयी। अभी सही समय क्या है ?  
Imagine that your watch was correct at noon, but then it began to lose 30 minutes each hour. It now shows at 4 P.M. but it stopped 5 hours ago. What is the correct time now ?

- (A) 1:00 A.M. (B) 9:30 P.M.  
(C) 1:30 A.M. (D) 11:00 P.M.

53. दी गई उत्तर आकृतियों में से उस एक का चयन करें जिसमें प्रश्न आकृति सन्निहित है।

From the given answer figures, select the one in which the question figure embedded.  
प्रश्न आकृति / Question Figure :



उत्तर आकृतियाँ / Answer Figures :

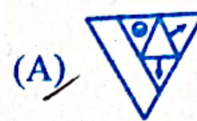
- (A) (B)   
(C) (D)

54. निम्नलिखित प्रश्न में, आकृति (X) के लिए विकल्पों (A), (B), (C) और (D) में से सही जल-प्रतिबिम्ब चुनें।

In the following question, choose the correct water-image from alternatives (A), (B), (C) and (D) for the figure (X).



(X)



(A)



(B)



(C)



(D)

55. यदि + का अर्थ -, × का अर्थ /, - का अर्थ + और / का अर्थ × है, तो निम्नलिखित प्रश्न का उत्तर ज्ञात कीजिए :

If + means -, × means /, - means + and / means ×, then find out the answer of the following question :

$(48 \times 6) / 4$

- (A) 36 (B) 30  
(C) 34 (D) 32

56. यदि 'when' का अर्थ '×', 'you' का अर्थ '÷', 'come' का अर्थ '-' और 'will' का अर्थ '+' है, तो "8 when 12 will 16 you 2 come 10" का मान क्या होगा ?

If 'when' means '×', 'you' means '÷', 'come' means '-' and 'will' means '+', then what will be the value of "8 when 12 will 16 you 2 come 10" ?

- (A) 97 (B) 94  
(C) 70 (D) 80



57. निम्नलिखित प्रश्न के चार संभावित उत्तर दिए गए हैं। उत्तर के रूप में सर्वाधिक उपयुक्त विकल्प का चयन कीजिए।

यदि आप एक मैनेजर हैं और आपका कोई कर्मचारी ठीक से काम नहीं कर रहा है, तो एक मैनेजर के रूप में आप

- (A) उससे बात करेंगे और उसकी समस्या जानने की कोशिश करेंगे।  
(B) किसी अन्य नौकरी में उसकी क्षमताओं और रुचि को विकसित करने का प्रयास करेंगे।  
(C) उसे निकाल देंगे।  
(D) उसको सुधरने के लिए दो सप्ताह देंगे।

To the following question four probable answers have been given. Select the most appropriate alternative as the answer.

If you are a manager and one of your employees is not working properly, as a manager you would

- (A) talk to him and try to find out his problem.  
(B) try to develop the man's abilities and interest in another job.  
(C) fire him.  
(D) give the man two weeks to improve.

58. निम्नलिखित प्रश्न के चार संभावित उत्तर दिए गए हैं। उत्तर के रूप में सर्वाधिक उपयुक्त विकल्प का चयन कीजिए।

आपकी नौकरानी ने आपको अपनी बेटी की शादी में आमंत्रित किया है। आप -

- (A) उसे बधाई देंगे और शामिल होने में असमर्थ होने के लिए कोई बहाना बनायेंगे।  
(B) उसकी बेटी के लिए उपहार खरीदेंगे और शादी में मदद करेंगे।  
(C) उसे पूरी तरह से अनदेखा करेंगे।  
(D) शादी में शामिल होंगे।

To the following question four probable answers have been given. Select the most appropriate alternative as the answer.

Your maid has invited you to her daughter's wedding. You would-

- (A) congratulate her and make up some excuse for not being able to attend.  
(B) buy a gift for her daughter and help in wedding.  
(C) completely ignore her.  
(D) attend the wedding.

59. इस समस्या पर निर्णय लेने के लिए निम्नलिखित में से किस कथन का उपयोग किया जा सकता है? दो प्राकृतिक संख्याओं X और Y का गुणनफल क्या है?

- (A) समस्या हल नहीं की जा सकती है।  
(B) X और Y का लघुतम समापवर्त्य 71 है।  
(C) X और Y दोनों 15 के गुणज हैं।  
(D) X और Y अलग हैं।

Which of the following statements can be used to take a decision on this problem?

What is the product of two natural numbers X and Y?

- (A) Problem cannot be solved.  
(B) LCM of X and Y is 71.  
(C) Both X and Y are multiples of 15.  
(D) X and Y are distinct.

60. निम्नलिखित जानकारी को पढ़ें और उसके नीचे दिए गए प्रश्न का उत्तर दें:

एक पार्क में कुछ बच्चे खेल रहे हैं। वे खेल के एक भाग के रूप में चार नियम बनाते हैं। नियम "D2 H9 A1 D4" कहता है कि "take your shoes out"। फिर नियम "B2 A1 C1 A4" कहता है कि "take instant right turn"। इसके बाद नियम "C3 P1 D2 C1" कहता है कि "jump on your turn"। अंत में नियम "B2 D4 K2 C3" कहता है कि "jump out instant again"। 'take right move' के लिए संभावित कोड खोजें।

Read the following information and answer the question given below it:

A few kids are playing in a park. They make four rules as a part of a game. The rule "D2 H9 A1 D4" states that the person would stand up and "take your shoes out". Then the rule "B2 A1 C1 A4" states to "take instant right turn". After this the rule "C3 P1 D2 C1" states that "jump on your turn". Finally the rule "B2 D4 K2 C3" states "jump out instant again". Find the possible code for 'take right move'.

- (A) A1 F1 A4 (B) A1 H9 A4  
(C) A1 P1 A4 (D) A4 A1 K2

61. पूजा, क्वीन, रोहन, सुरेश, टीना, उमंग, विवेक और विला, आठ दोस्त एक-दूसरे के सामने वृत्ताकार में बैठे हैं। विवेक, क्वीन के दायें से तीसरा और रोहन के बायें से दूसरा है। क्वीन, टीना के बायें से दूसरे स्थान पर और सुरेश के ठीक दायें है। उमंग, क्वीन और टीना के बीच है। पूजा, रोहन के बायें नहीं है। विला के ठीक दायें कौन बैठा है ?

- (A) टीना (B) पूजा  
(C) विवेक (D) रोहन

Pooja, Queen, Rohan, Suresh, Teena, Umang, Vivek and Willa, eight friends are seated in circle facing each other. Vivek is third to the right of Queen and second to the left of Rohan. Queen is second to the left of Teena and immediate right of Suresh. Umang is between Queen and Teena. Pooja is not at the left of Rohan. Who is sitting to the immediate right of Willa?

- (A) Teena (B) Pooja  
(C) Vivek (D) Rohan

62. नीचे दिए गए प्रश्न में, मुख्य कथन के बाद चार वाक्य दिए गए हैं। दिए गए कथन से तार्किक रूप से संबंधित वाक्यों की एक जोड़ी का चयन करें।

कथन : या तो ट्रेन लेट है, या पटरी से उतर गई है।

- a. ट्रेन लेट है। ✓  
b. ट्रेन लेट नहीं है। ✓  
c. ट्रेन पटरी से उतर गई है। ✓  
d. ट्रेन पटरी से नहीं उतरी है।

In the following question, the main statement is followed by four sentences. Select a pair of sentences that relate logically to the given statement.

Statement : Either the train is late, or it has derailed.

- a. The train is late.  
b. The train is not late.  
c. The train is derailed.  
d. The train is not derailed.  
(A) bc ✓ (B) ca ✗  
(C) ab ✗ (D) db ✗

63. बिंदु A, बिंदु B के 30 मीटर पूर्व में है। बिंदु C, बिंदु A के 10 मीटर दक्षिण में है। बिंदु D, बिंदु C के 15 मीटर पश्चिम में है। बिंदु E, बिंदु D और F के ठीक मध्य में है। बिंदु D, E और F एक सीधी रेखा में स्थित हैं। DEF की लंबाई 20 मीटर है। बिंदु F, बिंदु D के उत्तर में है। बिंदु G, बिंदु F के 15 मीटर पूर्व में है। बिंदु A से बिंदु G कितनी दूर और किस दिशा में है ?

- (A) 15 मीटर, पूर्व (B) 10 मीटर, उत्तर  
(C) 10 मीटर, पूर्व (D) 15 मीटर, उत्तर

Point A is 30 m to the east of point B. Point C is 10 m to the south of point A. Point D is 15 m to the west of point C. Point E is exactly in the middle of the points D and F. Points D, E and F lie in a straight line. The length of the DEF is 20 m. Point F is to the north of point D. Point G is 15 m to the east of point F. How far and in which direction is point G from point A ?

- (A) 15 m, East (B) 10 m, North  
(C) 10 m, East (D) 15 m, North

64. परेश, कासिम, रमेश, सुरेश, तुषार, उमेश, वरुण और वसीम वृत्ताकार में बैठे हैं और केंद्र की ओर मुख करके बैठे हैं :

- परेश, तुषार के दायें से दूसरे स्थान पर है जो रमेश और वरुण का पड़ोसी है।
- सुरेश, परेश का पड़ोसी नहीं है।
- वरुण, उमेश का पड़ोसी है।
- कासिम, सुरेश और वसीम के बीच में नहीं है। वसीम, उमेश और सुरेश के बीच में नहीं है।

निम्न में से कौन सा सही है ?

- (A) उमेश, वसीम और सुरेश के बीच में है। ✗  
(B) कासिम, वसीम के तत्काल बाईं ओर है।  
(C) परेश, कासिम के तत्काल दाहिनी ओर है।  
(D) रमेश, उमेश और वरुण के बीच है। ✗

Paresh, Qasim, Ramesh, Suresh, Tushar, Umesh, Varun and Wasim are sitting round the circle and are facing the centre :

- Paresh is second to the right of Tushar who is the neighbour of Ramesh and Varun.
- Suresh is not the neighbour of Paresh.
- Varun is the neighbour of Umesh.
- Qasim is not between Suresh and Wasim. Wasim is not between Umesh and Suresh.

Which of the following is correct ?

- (A) Umesh is between Wasim and Suresh.  
(B) Qasim is to the immediate left of Wasim.  
(C) Paresh is to the immediate right of Qasim.  
(D) Ramesh is between Umesh and Varun.

65. निम्नलिखित जानकारी का ध्यानपूर्वक अध्ययन करें और नीचे दिए गए प्रश्न का उत्तर दें :

एक निश्चित कोडित भाषा में,

! का अर्थ है पूर्व

? का अर्थ है पश्चिम

& का अर्थ है उत्तर

/ का अर्थ है दक्षिण

नोट : यदि दो चिह्न एक साथ दिए गए हों तो हम दोनों दिशाओं पर विचार करेंगे।

उदाहरण के लिए,

&! का अर्थ है उत्तर-पूर्व

!/ का अर्थ है दक्षिण-पूर्व

एक व्यक्ति बिंदु X से शुरू करता है और पूर्व की ओर बढ़ता है। 20 मीटर की दूरी तक चलने के बाद, वह दाएँ मुड़ता है, और 20 मीटर चलता है, फिर वह बाएँ मुड़ता है, और 15 मीटर चलता है, उसके बाद वह दाएँ मुड़ता है और 15 मीटर और चलता है। अब उस व्यक्ति का मुख किस दिशा की ओर है ?

Study the following information carefully and answer the question given below :

In a certain coded language,

! means East

? means West

& means North

/ means South

Note : If two symbols are given simultaneously, then we will consider both the directions.

For example,

&! means North-East

!/ means South-East

A man starts from point X and moves towards east. After walking for a distance of 20 m, he takes a right turn, and walks for 20 m, then he takes a left turn, and walks for 15 m, after that he takes a right turn and walks 15 m more. In which direction is the man facing now ?

(A) ?

(B) !

(C) &

(D) /

66. उत्तर आकृतियों में से उस उपयुक्त आकृति का चयन कीजिए जो प्रश्नवाचक चिह्न को प्रतिस्थापित करेगी :

Select a suitable figure from the Answer Figures that would replace the question mark :

समस्या आकृतियाँ / Problem Figures :



उत्तर आकृतियाँ / Answer Figures :



(A) (5) (B) (3)  
(C) (1) (D) (2)

67. हवाई जहाज : परिवहन :: समाचार-पत्र : ?

(A) समाचाररूम (B) मीडिया

(C) टाइपिंग (D) प्रकाशन

Aircraft : Transport :: Newspaper : ?

(A) Newsroom (B) Media

(C) Typing (D) Publishing

68. नीचे दिए गए प्रश्न में एक प्रश्न और उसके नीचे दो कथन दिए गए हैं। आपको यह तय करना है कि क्या कथनों में दिया गया डेटा प्रश्न का उत्तर देने के लिए पर्याप्त है।

प्रश्न : J, P से किस प्रकार संबंधित है ?

कथन :

I. M, P का भाई है और T, P की बहन है।

II. P की माँ की शादी J के पति से हुई है जिसका एक बेटा और दो बेटियाँ हैं।

(A) न तो I और न ही II पर्याप्त है।

(B) या तो I या II पर्याप्त है।

(C) I अकेला पर्याप्त है जबकि II अकेला पर्याप्त नहीं है।

(D) II अकेला पर्याप्त है जबकि I अकेला पर्याप्त नहीं है।

Question below consists of a question and two statements given below it. You have to decide whether the data provided in the statements are sufficient to answer the question :

Question : How is J related to P ?

Statements :

I. M is brother of P and T is sister of P.

II. P's mother is married to J's husband who has son and two daughters.

(A) Neither I nor II is sufficient.

(B) Either I or II is sufficient.

(C) I alone is sufficient while II alone is not sufficient.

(D) II alone is sufficient while I alone is not sufficient.

69. निम्नलिखित समस्या में, एक प्रश्न और प्रश्न के नीचे तीन कथन I, II और III दिए गए हैं। आपको यह तय करना है कि क्या कथनों में दिया गया डेटा प्रश्न का उत्तर देने के लिए पर्याप्त है। सभी कथनों को ध्यानपूर्वक पढ़ें और ज्ञात करें कि दिए गए प्रश्न का उत्तर देने के लिए कौन सा/से कथन पर्याप्त है/हैं।

चित्र में दिखाया गया व्यक्ति जिग्नेश से किस प्रकार संबंधित है ?

- I. चित्र की ओर इशारा करते हुए, जिग्नेश ने कहा, "वह मेरी माँ के इकलौते पोते का पिता है।"
- II. जिग्नेश अपने माता-पिता की इकलौती संतान है।
- III. चित्र की ओर इशारा करते हुए जिग्नेश ने कहा, "वह मेरे पिता का इकलौता दामाद है।"

- (A) इनमें से कोई नहीं
- (B) केवल II और III पर्याप्त हैं।
- (C) केवल I पर्याप्त है।
- (D) केवल II पर्याप्त है।

In the following problem, there is one question and three statements I, II and III given below the question. You have to decide whether the data given in the statements is sufficient to answer the question. Read all the statements carefully and find which of the statements is/are sufficient to answer the given question.

How is the man in the portrait related to Jignesh ?

- I. Pointing to the portrait, Jignesh said, "He is the father of my mother's only grandson".
- II. Jignesh is the only child of his parents.
- III. Pointing to the portrait, Jignesh said, "He is the only son-in-law of my father".

- (A) None of these
- (B) Only II and III are sufficient.
- (C) Only I is sufficient.
- (D) Only II is sufficient.

70. शिपिंग का कारोबार काफी गंदा है। भारी ईंधन तेल जलाने से शिपिंग उद्योग दुनिया के सल्फर उत्सर्जन का 13% और नाइट्रोजन ऑक्साइड का 15% उत्पादन करता है। यूरोपीय संघ के शोध के अनुसार, यदि अनियंत्रित छोड़ दिया गया तो 2050 तक जहाज सभी कार्बन उत्सर्जन का 17% उत्पादन करेंगे। निम्नलिखित में से कौन सा, यदि सत्य है, उपरोक्त गद्यांश में तर्क को कमजोर करता है ?

- I. शिपिंग वैश्विक कार्बन उत्सर्जन का केवल लगभग 1.2% है।
- II. 2020 में कम सल्फर वाले ईंधन तेल और समुद्री डीजल की माँग कम होने की उम्मीद है।
- III. शिपिंग के लिए संयुक्त राष्ट्र एजेंसी, अंतर्राष्ट्रीय समुद्री संगठन द्वारा लाए गए नियमों के अनुसार, जहाज मालिकों ने गंदे गिट्टी के पानी को साफ करने के लिए उपकरण स्थापित किए हैं, जो उनके जहाज ग्रहण करते और छोड़ते हैं।

- (A) सभी I, II और III (B) केवल I और III
- (C) केवल I और II (D) केवल II और III

Shipping business is quite dirty. Burning heavy fuel oil, shipping industry produces 13% of the world's Sulphur emissions and 15% of its nitrogen oxides. And by 2050 ships will be producing 17% of all carbon emissions if left unregulated, according to research by the European Union.

Which of the following, if true, weakens the argument in the passage above ?

- I. Shipping accounts for only around 1.2% of global carbon emissions.
- II. Demand for low-Sulphur fuel oil and marine diesel is expected to reduce in 2020.
- III. As per rules brought in by the International Maritime Organization, the United Nations agency for shipping, ship owners have installed equipment to clean the dirty ballast water their ships suck in and discharge.

- (A) All I, II and III (B) Only I and III
- (C) Only I and II (D) Only II and III

71. यह दोपहर 3 से 4 बजे के बीच होता है और घड़ी की घंटे की सूई और मिनट की सूई के बीच की दूरी 18 मिनट के अंतराल की होती है। घड़ी कौन सा समय दिखाती है ?

It is between 3 pm and 4 pm and the distance between the hour hand and the minute hand of clock is 18 minutes spaces. What time does the clock show ?

- (A) 3:36 pm (B) 3:31 pm  
(C) 3:12 pm (D) 3:27 pm

72. 21 सितंबर, 1987 को सप्ताह का कौन सा दिन था ?

- (A) शनिवार (B) शुक्रवार  
(C) रविवार (D) सोमवार

What was day of the week on 21 September, 1987 ?

- (A) Saturday (B) Friday  
(C) Sunday (D) Monday

73. अपने व्यवसाय का विस्तार करने का मूल सिद्धांत यह है कि कंपनी को केवल उत्पादन पर ध्यान केंद्रित करने के बजाय अधिक सेवा-उन्मुख होना चाहिए। इसके लिए केवल उत्पादों और सभाओं पर काम करने के बजाय अन्य लोगों के साथ प्रबंधकों की सक्रिय भागीदारी की आवश्यकता होती है। परिच्छेद अच्छी तरह से वर्णन करता है :

- (A) कोई भी विकल्प परिच्छेद का अच्छी तरह से वर्णन नहीं कर रहा है।  
(B) प्रबंधकों को लोगों से बात करने में अच्छा होना चाहिए।  
(C) उत्पादन पर नहीं सेवा पर ध्यान दें।  
(D) आने वाले दिनों में, सबसे ज्यादा आवश्यक कारक अंतर्व्यक्तिक कौशल होगा।

The basic principle to expand your business is that the company should be more service-oriented rather than focus only on the production. This requires the active participation of the managers with the other people rather than just working on the products and the assemblies. The passage well describes:

- (A) None of the options is well describing the passage.  
(B) Managers should be good at talking to people.  
(C) Focus on service not on production  
(D) In the upcoming days, the most needed factor will be interpersonal skills.

74. एक इलेक्ट्रॉनिक उपकरण जब संख्याओं से भरा जाता है, तो कुछ नियमों का पालन करते हुए उन्हें एक विशेष क्रम में पुनर्व्यवस्थित करता है। संख्याओं के दिए गए इनपुट के लिए पुनर्व्यवस्थापन की चरण-दर-चरण प्रक्रिया निम्नलिखित है :

इनपुट :	85	16	36	04	19	97	63	09
चरण I :	97	85	16	36	04	19	63	09
चरण II :	97	85	63	16	36	04	19	09
चरण III :	97	85	63	36	16	04	19	09
चरण IV :	97	85	63	36	19	16	04	09
चरण V :	97	85	63	36	19	16	09	04

(दिए गए इनपुट के लिए चरण V अंतिम चरण है।)

दिए गए इनपुट के लिए निम्नलिखित में से कौन सा अंतिम चरण होगा ?

इनपुट :- 03 31 43 22 11 09

- (A) इनमें से कोई नहीं (B) III  
(C) IV (D) V

An electronic device when fed with the numbers, rearranges them in a particular order following certain rules. The following is a step-by-step process of rearrangement for the given input of numbers :

Input :	85	16	36	04	19	97	63	09
Step I :	97	85	16	36	04	19	63	09
Step II :	97	85	63	16	36	04	19	09
Step III :	97	85	63	36	16	04	19	09
Step IV :	97	85	63	36	19	16	04	09
Step V :	97	85	63	36	19	16	09	04

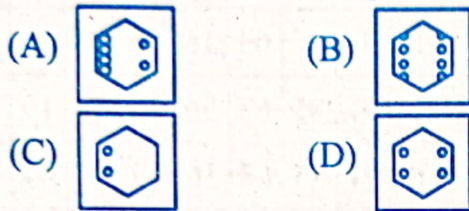
(for the given input step V is the last step).

Which of the following will be the last step for the given input ?

Input :- 03 31 43 22 11 09

- (A) None of these (B) III  
(C) IV (D) V

75. एक शीट को क्रमशः X, Y और Z में दिखाए गए तरीके से मोड़ा गया है और पच किया गया है। आपको विकल्पों में से चुनना होगा कि अनफोल्ड करने पर (खोलने पर) यह कैसा दिखेगा।  
A sheet has been folded in the manner as shown in X, Y and Z respectively and punched. You have to choose from the alternatives how it will look when unfolded.



76. निम्नलिखित प्रश्न में कथन दिया गया है और इस कथन के बाद निष्कर्ष दिए गए हैं। निष्कर्षों को पढ़ें और फिर निर्धारित करें कि दिए गए निष्कर्षों में से कौन सा सामान्य ज्ञात तथ्यों की उपेक्षा करते हुए दिए गए कथन का तार्किक रूप से अनुसरण करता है।  
कथन: कुछ लोग कहते हैं कि जब वे सोने की कोशिश करते हैं तो उनके दिमाग में बुरे विचार आते हैं।

- निष्कर्ष:
- सोते समय बुरे विचार कुछ ही लोगों को दिखाई देते हैं।
  - सभी अच्छे विचार सुबह आते हैं।
- (A) न तो I और न ही II अनुसरण करता है।  
(B) या तो I या II अनुसरण करता है।  
(C) केवल निष्कर्ष I अनुसरण करता है।  
(D) केवल निष्कर्ष II अनुसरण करता है।

In following question statement is given and the statement is followed by conclusions. Read the conclusions and then decide which of the given conclusions logically follows from the given statement, disregarding commonly known facts.

**Statement :** Some people say that bad thought comes to their mind when they try to sleep.

- Conclusions :**
- Only few people see bad thought while sleeping.
  - All good thoughts come in the morning.
- (A) Neither I nor II follows.  
(B) Either I or II follows.  
(C) Only conclusion I follows.  
(D) Only conclusion II follows.

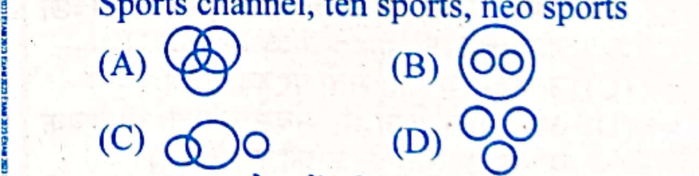
77. निम्नलिखित जानकारी को पढ़िए और उसके नीचे दिए गए प्रश्न का उत्तर दीजिए :  
पाँच मित्र हैं - सचिन, कुणाल, मोहित, अनुज और रोहन। सचिन, कुणाल से छोटा है, लेकिन रोहन से लंबा है। मोहित सबसे लम्बा है। अनुज, कुणाल से थोड़ा छोटा और सचिन से थोड़ा लंबा है। अनुज से लम्बा लेकिन मोहित से छोटा कौन है ?

(A) डेटा अपर्याप्त (B) सचिन (C) कुणाल (D) रोहन  
Read the following information and answer the question given below it :  
There are five friends - Sachin, Kunal, Mohit, Anuj and Rohan. Sachin is shorter than Kunal but taller than Rohan. Mohit is the tallest. Anuj is a little shorter than Kunal and little taller than Sachin.

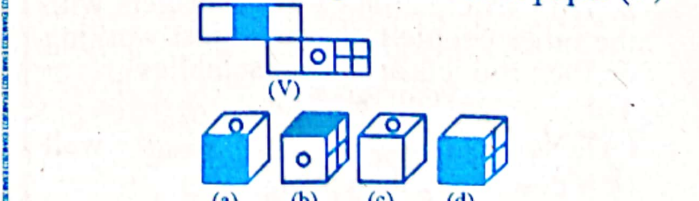
Who is taller than Anuj but shorter than Mohit ?  
(A) Data inadequate (B) Sachin  
(C) Kunal (D) Rohan

78. 50 छात्रों की एक कक्षा में, 18 कंप्यूटर लेते हैं, 26 संस्कृत लेते हैं और 2 कंप्यूटर और संस्कृत लेते हैं। कक्षा में कितने छात्र या तो संस्कृत या कंप्यूटर नहीं लेते हैं ?  
In a class of 50 students, 18 take Computer, 26 take Sanskrit and 2 take Computer and Sanskrit. How many students in the class are not enrolled in either Sanskrit or Computer ?  
(A) 12 (B) 10 (C) 5 (D) 8

79. निम्नलिखित में से चुनें कि कौन सा आरेख दिए गए तत्वों के बीच संबंध को अधिक तार्किक तरीके से दर्शाता है :  
स्पोर्ट्स चैनल, टेन स्पोर्ट्स, नियो स्पोर्ट्स  
Choose which of the following diagram represents relationship among the given elements in a much logical way :  
Sports channel, ten sports, neo sports



80. उस बॉक्स को चुनें जो दिए गए कागज की शीट (V) से बने बॉक्स के समान है।  
Choose the box that is similar to the box formed from the given sheet of paper (V).



- (A) केवल (d) (B) केवल (b), (c) और (d)  
(C) केवल (a) और (b) (D) केवल (c) और (d)  
(A) (d) only (B) (b), (c) and (d) only  
(C) (a) and (b) only (D) (c) and (d) only

81. आज वरुण का जन्मदिन है। आज से एक वर्ष बाद उसकी आयु 12 वर्ष पहले की आयु की दुगुनी हो जाएगी। वरुण आज कितने साल का है ?

- (A) 27 साल (B) 25 साल  
(C) 20 साल (D) 22 साल

Today is Varun's birthday. One year from today he will be twice as old as he was 12 years ago. How old is Varun today ?

- (A) 27 years (B) 25 years  
(C) 20 years (D) 22 years

82. नीचे दिए गए प्रश्न में एक कथन है, जिसके बाद दो तर्क I और II दिए गए हैं। आपको तय करना है कि कौन सा/से तर्क मजबूत तर्क है/हैं।

कथन : क्या माता-पिता को अपनी बेटियों और बेटों दोनों को समान रूप से शिक्षित करना चाहिए या बेटों को अधिक शिक्षित बनाना चाहिए ताकि वे घर के वित्तीय मामलों में मदद कर सकें ?

तर्क :

I. नहीं, बेटों को अधिक शिक्षित बनाया जाना चाहिए क्योंकि वे बेटियों की तुलना में अधिक बुद्धिमान हैं।

II. बेटों को अधिक शिक्षित बनाया जाना चाहिए क्योंकि बेटियों की शादी हो जाती है और वे दूसरी जगह चली जाती हैं।

- (A) यदि न तो I और न ही II मजबूत है।  
(B) यदि या तो I या II मजबूत है।  
(C) यदि केवल I मजबूत है।  
(D) यदि केवल II मजबूत है।

In the question given below Statement is followed by two arguments I and II. You have to decide which of the arguments is a 'strong' argument :

Statement : Should parents educate both their daughters and sons equally or the sons must be made more educated so that they can help in financial matters of the home ?

Arguments :

I. No, sons must be made more educated as they are more intelligent than daughters.

II. Sons must be made more educated since daughters get married and go to another place.

- (A) If neither I nor II is strong.  
(B) If either I or II is strong.  
(C) If only I is strong.  
(D) If only II is strong.

83. निम्नलिखित प्रश्न में एक कथन के बाद दो तर्क दिए गए हैं। आपको तय करना है कि उनमें से कौन सा/से तर्क मजबूत है/हैं।

कथन : क्या नौकरी के लिए सभी सरकारी काम ऑनलाइन होने चाहिए ?

तर्क :

I. हाँ, यह कागजी कार्रवाई को कम करेगा और पर्यावरण के लिए फायदेमंद होगा।

II. हाँ, यह प्रक्रिया पारदर्शी और भ्रष्टाचार मुक्त होगी।

- (A) I और II दोनों मजबूत हैं।  
(B) न तो I और न ही II मजबूत है।  
(C) केवल तर्क I मजबूत है।  
(D) केवल तर्क II मजबूत है।

Following question consists of one statement followed by two arguments. You have to decide which one of them is stronger.

Statement : Should all government work for job must be online ?

Arguments :

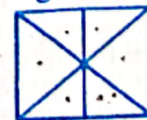
I. Yes, this will reduce paperwork and beneficial for environment.

II. Yes, this process will be transparent and corruption free.

- (A) Both I and II are strong.  
(B) Neither I nor II is strong.  
(C) Only argument I is strong.  
(D) Only argument II is strong.

84. नीचे दी गई आकृति में कुल कितने त्रिभुज मौजूद हैं ?

How many total triangles are present in below given figure ?



- (A) 17 (B) 12  
(C) 8 (D) 16

निम्न जानकारी को पढ़ें और प्रश्नों के उत्तर दें :  
 (प्र.सं. 85 एवं 86) : आठ सहकर्मी- M, N, O, P, Q, R, S और T एक वृत्ताकार मेज के चारों ओर केंद्र की ओर मुख करके बैठे हैं, लेकिन जरूरी नहीं कि इसी क्रम में हों। उनमें से प्रत्येक का एक अलग पद है जैसे कि - मैनेजर, कंपनी-सचिव, चेयरमैन, अध्यक्ष, वाइस प्रेसिडेंट, ग्रुप लीडर, वित्तीय सलाहकार और प्रबंध निदेशक। 'M' प्रबंध निदेशक के दायें से तीसरे स्थान पर बैठा है। प्रबंध निदेशक और 'T' के बीच केवल दो व्यक्ति बैठे हैं। वाइस प्रेसिडेंट और कंपनी-सचिव निकटतम पड़ोसी हैं। न तो 'M' न ही 'T' वाइस प्रेसिडेंट या कंपनी-सचिव है। वाइस प्रेसिडेंट, प्रबंध निदेशक का निकटतम पड़ोसी नहीं है। मैनेजर, 'Q' के बायें से दूसरे स्थान पर बैठा है। 'Q', 'T' का निकटतम पड़ोसी नहीं है। मैनेजर ग्रुप लीडर और वित्तीय सलाहकार दोनों का निकटतम पड़ोसी है। वित्तीय सलाहकार 'N' के दायें से तीसरे स्थान पर बैठा है। 'N' वाइस प्रेसिडेंट नहीं है। 'O' चेयरमैन के ठीक दायें बैठा है। 'M' चेयरमैन नहीं है। 'R', 'M' का निकटतम पड़ोसी नहीं है। 'S' मैनेजर का निकटतम पड़ोसी नहीं है।

Read the following information and answer the questions :

(Q.No. 85 & 86) : Eight colleagues- M, N, O, P, Q, R, S and T are sitting around a circular table facing the center but not necessarily in the same order. Each one of them hold a different post - Manager, Company Secretary, Chairman, President, Vice-President, Group-Leader, Financial Advisor and Managing Director. 'M' sits third to the right of Managing Director. Only two people sit between the Managing Director and 'T'. The Vice-President and the Company Secretary are immediate neighbours. Neither 'M' nor 'T' is a Vice-President or a Company Secretary. The Vice-President is not an immediate neighbour of the Managing Director. The Manager sits second to the left of 'Q'. 'Q' is not an immediate neighbour of 'T'. The Manager is an immediate neighbour of both the Group-leader and the Financial Advisor. The Financial Advisor sits third to the right of 'N'. 'N' is not the Vice-President. 'O' sits on the immediate right of the Chairman. 'M' is not the Chairman. 'R' is not an immediate neighbour of 'M'. 'S' is not an immediate neighbour of the Manager.

85. दी गई व्यवस्था के आधार पर निम्नलिखित चार में से तीन एक निश्चित तरीके से समान हैं और इस प्रकार एक समूह बनाते हैं। वह कौन सा है जो उस समूह से संबंधित नहीं है ?  
 (A) R - चेयरमैन (B) P - मैनेजर  
 (C) M - वित्तीय सलाहकार (D) N - प्रबंध निदेशक  
 Three of the following four are alike in a certain way based on the given arrangement and thus form a group. Which is the one that does not belong to that group ?  
 (A) R - Chairman  
 (B) P - Manager  
 (C) M - Financial Advisor  
 (D) N - Managing Director

86. दी गई बैठक व्यवस्था के संबंध में निम्नलिखित में से कौन सा सत्य है ?  
 (A) कंपनी के चेयरमैन प्रबंध निदेशक के तत्काल बाईं ओर बैठते हैं।  
 (B) ग्रुप लीडर और कंपनी-सचिव तत्काल पड़ोसी हैं।  
 (C) कंपनी का ग्रुप लीडर वाइस प्रेसिडेंट का निकटतम पड़ोसी है।  
 (D) 'S', 'P' के दायें से दूसरे स्थान पर बैठता है।  
 Which of the following is true with respect to the given seating arrangement ?  
 (A) The Chairman of the Company sits to the immediate left of Managing Director.  
 (B) The Group Leader and the Company Secretary are immediate neighbours.  
 (C) The Group Leader of the Company is an immediate neighbour of the Vice President.  
 (D) 'S' sits second to the right of 'P'.

87. प्रश्नवाचक चिह्न के स्थान पर कौन सा अक्षर आएगा ?  
 What letter will come in place of question mark ?  

$$\begin{matrix} \text{L K J H} \\ \text{J P D} \\ \text{P Q E} \end{matrix} \begin{matrix} 4 \\ 1 \\ 1 \end{matrix} \begin{matrix} 8+10+12 \\ 5+16+10 \\ 5+16+9 \end{matrix} \begin{matrix} = 30 \\ = 30 \\ = 30 \end{matrix}$$
 (A) I (B) P (C) K (D) L

88. निम्नलिखित प्रश्न में एक कथन दिया गया है जिसके बाद दो धारणाएँ दी गई हैं। सबसे उपयुक्त विकल्प को चिह्नित करें :  
 कथन : जल्दी पहुंचने के लिए दिल्ली से चेन्नई हवाई जहाज से जाएं।  
 धारणा I : दिल्ली और चेन्नई हवाई सेवाओं से जुड़े हुए हैं।  
 धारणा II : दिल्ली से चेन्नई जाने के लिए कोई अन्य साधन नहीं है।  
 (A) इनमें से कोई भी अंतर्निहित नहीं है।  
 (B) I और II दोनों अंतर्निहित हैं।  
 (C) धारणा I अंतर्निहित है।  
 (D) धारणा II अंतर्निहित है।

One statement is given in the following question followed by two assumptions. Mark the most appropriate option :

- Statement : Go by airplane from Delhi to Chennai to reach quickly.  
 Assumption I : Delhi and Chennai are connected by air services.  
 Assumption II : There is no other means of going from Delhi to Chennai.  
 (A) Neither of them is implicit.  
 (B) Both I and II are implicit.  
 (C) Assumption I is implicit.  
 (D) Assumption II is implicit.
89. निम्नलिखित श्रृंखला में ऐसे कितने 8 हैं जिनके ठीक बाद 5 है ?  
 How many 8's are there in the following series which are immediately followed by 5 ?  
 8 5 8 5 8 5 8 5 8 5 8 5 8 5 8 5 8 5 8 5 8 5 8 5 8 5 8 5 8 5 8 5 8 5 8 5 8 5  
 (A) 15 (B) 14 (C) 12 (D) 13



90. प्रश्न में, कुछ कथन दिए गए हैं, जिनके बाद तीन निष्कर्ष I, II और III दिए गए हैं ! आपको कथनों को सत्य मानना है, भले ही वे सर्वज्ञात तथ्यों से भिन्न प्रतीत होते हों। आपको तय करना है कि दिए गए निष्कर्षों में से कौन सा, यदि कोई हो, दिए गए कथनों का अनुसरण करता है। अपना उत्तर इंगित करें।

कथन :

केवल कुछ पेपर किताबें हैं।

कुछ किताबें ई-बुक हैं।

सभी ई-बुक पत्रिकाएँ हैं।

निष्कर्ष :

I. कोई किताब पत्रिका नहीं है।

II. कुछ पत्रिकाएँ पेपर हैं।

III. कोई पत्रिका पेपर नहीं है।

(A) न तो I और न ही II अनुसरण करता है।

(B) या तो II या III अनुसरण करता है।

(C) केवल I अनुसरण करता है।

(D) केवल II अनुसरण करता है।

In the question, some statements are given, followed by three conclusions I, II and III. You have to consider the statements to be true, even if they seem to be at variance from commonly known facts. You have to decide which of the given conclusions, if any, follow from the given statements. Indicate your answer.

Statements :

Only few papers are books.

Some books are e-books.

All e-books are magazines.

Conclusions :

I. No book is magazine.

II. Some magazines are paper.

III. No magazine is paper.

(A) Neither I nor II follows.

(B) Either II or III follows.

(C) Only I follows.

(D) Only II follows.

91. समान तर्क का अनुसरण करते हुए नीचे दी गई श्रृंखला के लिए लुप्त संख्या ज्ञात कीजिए :

Find the missing number for below given series following the same logic :

16, 48, (?), 72, 36, 108, 54, 162, 81

(A) 39

(B) 34

(C) 28

(D) 24

निर्देश (प्र.सं. 92-93) : निम्नलिखित जानकारी को ध्यान से पढ़ें और दिए गए प्रश्नों के उत्तर दें :

I. सात छात्र P, Q, R, S, T, U और V कई टेस्ट देते हैं।

II. किन्हीं भी दो छात्रों को समान अंक नहीं मिलते हैं।

III. V हमेशा P से अधिक अंक प्राप्त करता है।

IV. P हमेशा Q से अधिक अंक प्राप्त करता है।

V. प्रत्येक बार या तो R ने सबसे अधिक अंक प्राप्त किए और T ने सबसे कम अंक प्राप्त किए अथवा

तो वैकल्पिक रूप से S ने सबसे अधिक अंक प्राप्त किए और U या Q ने सबसे कम अंक प्राप्त किए।



Direction (Q. No. 92-93) : Read the following information carefully and answer the questions that follow :

I. Seven students P, Q, R, S, T, U and V take a series of tests.

II. No two students get similar marks.

III. V always scored more than P.

IV. P always scored more than Q.

V. Each time either R scored the highest and T gets the least or alternatively S scores the highest and U or Q scores the least.

92. यदि R को सबसे अधिक अंक मिलते हैं, तो V का रैंक इससे कम नहीं होना चाहिए :

(A) पाँचवाँ

(B) चौथा

(C) दूसरा

(D) तीसरा

If R gets the most, V should be ranked not lower than

(A) fifth

(B) fourth

(C) second

(D) third

93. यदि V का स्थान पाँचवाँ है, तो इनमें से कौन सा सत्य होना चाहिए ?

(A) Q चौथे स्थान पर है।

(B) T तीसरे स्थान पर है।

(C) S उच्चतम स्कोर करता है।

(D) R दूसरे स्थान पर है।

If V is ranked fifth, which of these must be true ?

(A) Q is ranked fourth.

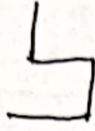
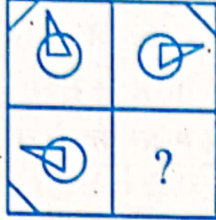
(B) T is ranked third.

(C) S scores the highest.

(D) R is ranked second.

94. किस उत्तर में, आकृति निम्नलिखित प्रश्न आकृति के पैटर्न को पूरा करेगी ?

In which answer, the figure will complete the pattern in the following question figure ?



- (A) (B) (C) (D)

95. राठौड़ परिवार में गजेंद्र राठौड़ मकान के मालिक हैं। उनकी शादी पुष्पा से हुई है। पुष्पा के दो बच्चे हैं जिनका नाम स्नेहा और रमन है। बिक्रम ने स्नेहा से शादी की है और राधिका, रमन की पत्नी है। नेहा, स्नेहा की इकलौती पुत्री है और राधा, राधिका की इकलौती पुत्री है। अमन, राधा का इकलौता भाई है। पुष्पा, नेहा से किस प्रकार संबंधित है ?

- (A) चचेरी बहन (B) चाची  
(C) नानी (D) माँ

In Rathore family Gajendra Rathore is the owner of house. He is married to Puspa. Puspa has two children and their names are Sneha and Raman. Bikram has married to Sneha and Radhika is Raman's spouse. Neha is the only girl child of Sneha and Radha is the only girl child of Radhika. Aman is Radha's only brother.

How is Puspa related to Neha ?

- (A) Cousin (B) Aunt  
(C) Grandmother (D) Mother

96. निम्नलिखित गद्यांश का ध्यानपूर्वक अध्ययन कीजिए और प्रश्न का उत्तर दीजिए :

खाद्य मोर्चे पर और भी बुरी खबरें हैं। अब यह निश्चित प्रतीत होता है कि चालू खरीफ सीजन में खाद्यान्न उत्पादन में लगभग 9 मिलियन टन की कमी होगी, जिसका अर्थ पिछले खरीफ सीजन में प्राप्त उत्पादन से 5 मिलियन टन कम होगा। हालाँकि, चावल की खरीद केवल आंशिक रूप से प्रभावित हो सकती है क्योंकि पश्चिम बंगाल और आंध्र प्रदेश में पर्याप्त वर्षा हुई है, जबकि पंजाब, जो केंद्रीय पूल में प्रमुख योगदानकर्ता है, वर्षा पर कम निर्भर है। फिर भी, चावल की कुल उपलब्धता में चार मिलियन टन से अधिक की कमी आ सकती है। आगे और बुरी खबर आ सकती है।

रेबीज का पता लगाने के लिए पश्चिमी देशों में अच्छी तरह से सुसज्जित प्रयोगशाला परीक्षण हैं

- (A) निश्चित रूप से सच है।  
(B) शायद सच है।  
(C) निश्चित रूप से गलत है।  
(D) डेटा अपर्याप्त है।

Study the following passage carefully and answer the question :

There is more bad news on food front. It now appears certain that there will be a shortfall of about 9 million tonnes in the food production in the current kharif season, which in turn means 5 million tonnes less than the production achieved in the last kharif season. However, rice procurement may only be partially affected since West Bengal and Andhra Pradesh have had sufficient rainfall while Punjab, the major contributor to the central pool is less dependent on rainfall. Still, the overall availability of rice may go down by more than four million tonnes. There may be worst news ahead.

Western countries have well equipped laboratory tests to detect rabies

- (A) Definitely true  
(B) Probably true  
(C) Definitely false  
(D) Data inadequate

97. बिहार में प्राथमिक शिक्षा का बुरा हाल है। 50 प्रतिशत से ज्यादा स्कूलों में बच्चे साल भर खुले में पढ़ते हैं। निम्न आय वर्ग के माता-पिता से पैदा हुए छह मिलियन से अधिक बच्चे अशिक्षित रहते हैं। 63,000 प्राथमिक विद्यालयों में से एक प्रतिशत में भी फर्नीचर, शौचालय, पीने के पानी और खेलों की सुविधा नहीं है। चालू वित्तीय वर्ष में 3113 नए शिक्षकों की नियुक्ति की गई है, जिनमें से 2747 महिलाएँ हैं। अब 13,270 प्राथमिक विद्यालयों में से प्रत्येक में कम से कम दो शिक्षक हैं।

- बिहार के अधिकांश प्राथमिक विद्यालयों की कक्षाएँ अपर्याप्त हैं।
- (A) यदि आपको लगता है कि अनुमान शायद गलत है हालाँकि दिए गए तथ्यों के आलोक में निश्चित रूप से गलत नहीं है।
- (B) यदि दिया गया डेटा अपर्याप्त है यानी, दिए गए तथ्य से आप यह नहीं कह सकते हैं कि अनुमान सम्भवतः सही है या गलत।
- (C) यदि आपको लगता है कि अनुमान 'निश्चित रूप से सच' है।
- (D) यदि आपको लगता है कि अनुमान 'शायद सच' है हालाँकि दिए गए तथ्यों के आलोक में निश्चित रूप से सच नहीं है।

Primary education in Bihar is in a poor shape. Pupils in over 50 percent of the schools read in the open throughout the year. Over six million children born to lower income group parents remain Unlettered. Not even one percent of the 63,000 primary schools have facilities of furniture, toilet, drinking water and games. 3113 new teachers have been appointed in the current financial year out of which 2747 are women. Now each of the 13,270 primary schools have at least two teachers.

- Classrooms of most of the primary schools in Bihar are inadequate.
- (A) If you think the inference is probably false though not definitely false in the light of the facts given.
- (B) If the data given is inadequate i.e., from the fact given you cannot say whether the inference is likely to be true or false.
- (C) If you think the inference is 'definitely true'.
- (D) If you think the inference is 'probably true' though not definitely true in the light of the facts given.

98. नीचे दिए गए शब्दों को अर्थपूर्ण क्रम में व्यवस्थित कीजिए:

1. प्रस्तुति ✓ 2. सिफारिश  
3. आगमन ✓ 4. चर्चा 5. परिचय ✓

Arrange the words given below in a meaningful sequence:

1. Presentation 2. Recommendation  
3. Arrival 4. Discussion  
5. Introduction  
(A) 5, 3, 4, 1, 2 (B) 5, 3, 1, 2, 4  
(C) 3, 5, 1, 4, 2 (D) 3, 5, 4, 2, 1

99. इन शब्दों को वर्णानुक्रम में व्यवस्थित करें और मध्य शब्द खोजें:

Arrange these words in alphabetical order and find the middle word:

- Quality, Quick, Quiz, Quarter, Queen  
(A) Queen ✓ (B) Quarter  
(C) Quality (D) Quick

100. नीचे दिए गए प्रश्न और कथनों को पढ़ें और सही उत्तर चुनें:

उसी कूट भाषा में PRODUCT को किस प्रकार लिखा जाएगा?

- I. एक निश्चित कूट भाषा में, AIEEE को BJFFF लिखा जाता है।  
II. एक निश्चित कूट भाषा में, GYPSY को FXORX लिखा जाता है।  
(A) यदि कथन I और II दोनों में दी गई जानकारी प्रश्न का उत्तर देने के लिए एक साथ आवश्यक है।  
(B) यदि या तो केवल कथन I अकेले या कथन II अकेले में दी गई जानकारी प्रश्न का उत्तर देने के लिए पर्याप्त है।  
(C) यदि अकेले कथन I में दी गई जानकारी, प्रश्न का उत्तर देने के लिए पर्याप्त है।  
(D) यदि अकेले कथन II में दी गई जानकारी, प्रश्न का उत्तर देने के लिए पर्याप्त है।

Read the given below Question and statements and choose the correct answer: How is PRODUCT written in that code language?

- I. In a certain code language, AIEEE is written as BJFFF.  
II. In a certain code language, GYPSY is written as FXORX.  
(A) If data in both statements I & II together are necessary to answer the question.  
(B) If data either in the statement I alone or statement II alone are sufficient to answer the question.  
(C) If data in the statement I alone is sufficient to answer the question.  
(D) If data in the statement II alone is sufficient to answer the question.

## भाग-3/Part-3

## सामान्य जानकारी / General Awareness

101. मॉडेम की गति की गणना निम्न में से किस दर से की जाती है ?

The speed of Modem is calculated by which among the following rate?  
(A) BPS (B) FPS  
(C) GPS (D) CPS

102. कुल्लू घाटी को \_\_\_\_\_ के नाम से भी जाना जाता है।

(A) देवदार की घाटी (B) देवताओं की घाटी  
(C) बर्फ की घाटी (D) फूलों की घाटी  
Kullu valley is also known as \_\_\_\_\_.

(A) Valley of Pines  
(B) Valley of Gods  
(C) Valley of Ice  
(D) Valley of Flowers

103. दुनिया के पहले 200 मीटर लंबे बैम्बू क्रैश बैरियर का नाम क्या है जिसे महाराष्ट्र में स्थापित किया गया है ?

(A) बहू बल्ली (B) विराट  
(C) विक्रान्त (D) विशाल

What is the name of the World's first 200-metre-long Bamboo Crash Barrier which has been installed in Maharashtra ?

(A) Bahu Balli (B) Virat  
(C) Vikrant (D) Vishal

104. हाल ही में नासा ने एयरोसोल्स के लिए मल्टी-एंगल इमेजर (MAIA) मिशन लॉन्च करने के लिए निम्नलिखित में से किस देश के साथ साझेदारी की है ?

(A) रूस (B) यू.एस.ए.  
(C) इटली (D) जापान

Recently NASA has partnered with which one among the following countries to launch Multi-Angle Imager for Aerosols (MAIA) Mission ?

(A) Russia (B) U.S.A.  
(C) Italy (D) Japan

105. "बनवाली"-सिंधु घाटी सभ्यता का एक प्रमुख शहर, वर्तमान में भारत के निम्नलिखित में से किस राज्य में स्थित है ?

(A) मध्य प्रदेश (B) राजस्थान  
(C) गुजरात (D) हरियाणा

"Banawali"-a major city of Indus Valley Civilization is presently located at which among the following states of India ?

(A) Madhya Pradesh (B) Rajasthan  
(C) Gujarat (D) Haryana

106. "विश्व एड्स टीकाकरण दिवस" प्रत्येक वर्ष निम्नलिखित में से किस दिन मनाया जाता है ?

(A) 27 मार्च (B) 18 अप्रैल  
(C) 1 दिसंबर (D) 18 मई

"World AIDS Vaccination Day" is observed on which among the following days every year ?

(A) 27<sup>th</sup> March (B) 18<sup>th</sup> April  
(C) 1<sup>st</sup> December (D) 18<sup>th</sup> May

107. मॉन्ट्रियल प्रोटोकॉल निम्नलिखित में से किससे संबंधित है ?

(A) सतत विकास (B) ग्लोबल वार्मिंग  
(C) ओजोन परत अवक्षय (D) खाद्य सुरक्षा

Montreal Protocol is related to which one among the following ?

(A) Sustainable Development  
(B) Global Warming  
(C) Ozone Layer Depletion  
(D) Food Security

108. निम्नलिखित में से कौन सा दृष्टि दोष नहीं है ?

(A) दृष्टि का स्थायित्व (B) जरादूरदृष्टि  
(C) निकटदृष्टि (D) दूरदृष्टि

Which of the following is not a defect of vision ?

(A) Persistence of Vision  
(B) Presbyopia  
(C) Myopia  
(D) Hypermetropia

109. IARI (भारतीय कृषि अनुसंधान संस्थान) ने निम्नलिखित में से किस शहर में "पूसा कृषि विज्ञान मेला" का आयोजन किया ?

(A) मुंबई (B) जयपुर  
(C) राजकोट (D) नई दिल्ली

In which among the following cities did IARI (Indian Agricultural Research Institute) organize "The Pusa Krishi Vigyan Mela" ?

(A) Mumbai (B) Jaipur  
(C) Rajkot (D) New Delhi

110. लोक चित्रकला की एक शैली 'मधुबनी', भारत के निम्नलिखित में से किस राज्य में लोकप्रिय है ?

(A) राजस्थान (B) बिहार  
(C) उत्तर प्रदेश (D) मध्य प्रदेश

'Madhubani', a style of folk paintings, is popular in which among the following states of India ?

(A) Rajasthan (B) Bihar  
(C) Uttar Pradesh (D) Madhya Pradesh

111. निम्नलिखित में से कौन दुनिया का सबसे लंबा खेल आयोजन-गोल्डन ग्लोब रेस पूरी करने वाला पहला भारतीय और एशियाई कप्तान है ?

- (A) अवनी चतुर्वेदी (B) आरती साहा  
(C) अभिलाष टॉमी (D) भावना कांत

Who among the following is the first Indian and Asian skipper to complete the Golden Globe Race – the longest sporting event in the world ?

- (A) Avani Chaturvedi  
(B) Aarati Saha  
(C) Abhilash Tomy  
(D) Bhavana Kanth

112. महाराष्ट्र राज्य के निम्नलिखित में से किस शहर ने बेघर लोगों को अपने आश्रय में बसाने के लिए 'बिखारी मुक्त शहर' नामक एक नई पहल शुरू की है ?

- (A) मुंबई (B) नागपुर  
(C) नासिक (D) पुणे

Which among the following cities of Maharashtra state has started a new initiative named "Beggar free city" in order to accommodate homeless people in its shelter ?

- (A) Mumbai (B) Nagpur  
(C) Nashik (D) Pune

113. निम्नलिखित में से कौन "इंडियाज वैक्सीन ग्रोथ स्टोरी-फ्रॉम काउपोक्स टू वैक्सीन मैत्री" पुस्तक के लेखक हैं, जो भारत के एक सिविल सेवक भी है ?

- (A) डा. सज्जन सिंह यादव (B) डॉ. अंशु प्रिया  
(C) आशीष कुंद्रा (D) डॉ. अरुण थंबुराज

Which one among the following is the author of the book "India's Vaccine Growth Story-From Cowpox to Vaccine Maitri", who is also a civil servant of India ?

- (A) Dr. Sajjan Singh Yadav  
(B) Dr. Anshu Priya  
(C) Ashish Kundra  
(D) Dr. Arun Thamburaj

114. मूल भारतीय संविधान निम्नलिखित में से किसके द्वारा हस्तलिखित था ?

- (A) विजया लक्ष्मी पंडित  
(B) बालासाहेब गंगाधर खेर  
(C) डॉ. बी.आर. अम्बेडकर  
(D) प्रेम बिहारी नारायण रायजादा

The original Indian Constitution was hand-written by whom among the following ?

- (A) Vijaya Laxmi Pandit  
(B) Balasaheb Gangadhar Kher  
(C) Dr. B. R. Ambedkar  
(D) Prem Behari Narain Raizada

115. निम्नलिखित में से किसे "द फ्रॉगमैन ऑफ इंडिया" के रूप में जाना जाता है ?

- (A) सुवेंद्रनाथ भट्टाचार्य (B) सत्यभामा दास बीजू  
(C) समीर के. ब्रह्मचारी (D) जगदीशचंद्र बोस

Who among the following is known as "The Frogman of India" ?

- (A) Suvendra Nath Bhattacharya  
(B) Sathyabhama Das Biju  
(C) Samir K. Brahamachari  
(D) Jagdish Chandra Bose



116. निम्नलिखित में से कौन सा पर्यावरणीय मुद्दों से संबंधित मामलों के शीघ्र निपटान पर ध्यान केंद्रित करता है ?

- (A) क्षतिपूरक वनीकरण अधिनियम  
(B) वन संरक्षण अधिनियम  
(C) पर्यावरण संरक्षण अधिनियम  
(D) राष्ट्रीय हरित अधिकरण

Which one among the following focuses the expeditious disposal of the cases pertaining to environmental issues ?

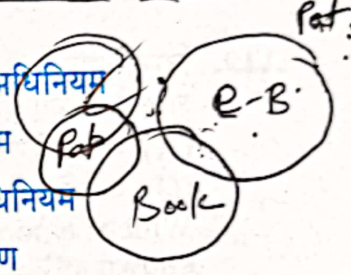
- (A) Compensatory Afforestation Act  
(B) Forest Conservation Act  
(C) Environmental Protection Act  
(D) The National Green Tribunal

117. "इकत" दक्षिण भारत के निम्नलिखित में से किस गाँव का बुनाई पैटर्न है जिसे संयुक्त राष्ट्र विश्व पर्यटन संगठन (यूएनइब्ल्यूटीओ) द्वारा सर्वश्रेष्ठ पर्यटन गाँव के रूप में भी चुना गया था ?

- (A) पोचमपल्ली (B) पट्टदकल  
(C) हम्पी (D) कोडाईक्कनाल

"Ikat" is the weaving pattern of which of the following villages of South India which was also selected as the Best Tourism Village by United Nations World Tourism Organizations (UNWTO) ?

- (A) Pochampally (B) Pattadakal  
(C) Hampi (D) Kodaikkanal



118. निम्नलिखित में से कौन सा एक अनुचित युग्म है ?  
(A) लिंगराज मंदिर - सोमवंशी राजवंश  
(B) खजुराहो - चोल राजवंश  
(C) हम्पी स्मारकों का समूह - विजयनगर राजवंश  
(D) हजार स्तंभ मंदिर - काकतीय राजवंश  
Which among the following is an inappropriate pair ?

- (A) Lingaraj Temple - Somavanshi Dynasty  
(B) Khajuraho - Chola Dynasty  
(C) Group of Hampi Monuments - Vijaynagar Dynasty  
(D) Thousand Pillars Temple - Kakatiya Dynasty

119. निम्नलिखित में से किस नदी को "बंगाल का शोक" के रूप में जाना जाता है ?

- (A) महानदी नदी (B) दामोदर नदी  
(C) कोसी नदी (D) गोदावरी नदी

Which among the following rivers is known as "Sorrow of Bengal" ?

- (A) Mahanadi River (B) Damodar River  
(C) Kosi River (D) Godavari River

120. मौलिक अधिकारों के संबंध में निम्नलिखित में से कौन सा कथन सत्य है ?

- (A) मौलिक अधिकार हमारे प्राकृतिक अधिकार हैं और हस्तांतरणीय अधिकार हैं।  
(B) मौलिक अधिकार उम्र पर आधारित हैं और हस्तांतरणीय अधिकार हैं।  
(C) प्रत्येक नागरिक को राष्ट्रपति की इच्छा के अनुसार मौलिक अधिकार दिए गए हैं।  
(D) मौलिक अधिकारों को केवल राष्ट्रीय आपातकाल के दौरान ही निलंबित किया जा सकता है।

Which of the following statements is true regarding Fundamental Rights ?

- (A) Fundamental Rights are our natural rights and transferable rights.  
(B) Fundamental Rights are based on age and are transferable rights.  
(C) Fundamental Rights are given as per will of President to every citizen.  
(D) Fundamental Rights can only be suspended during a national emergency.

121. निम्न में से सुरसेन महाजनपद की राजधानी कौन सी थी ?

- (A) काशी (B) चंपा  
(C) वैशाली (D) मथुरा

Which of the following was the capital of Surasena Mahajanpadas?

- (A) Kashi (B) Champa  
(C) Vaishali (D) Mathura

122. निम्नलिखित में से किस स्थान पर 1818 में फोर्ट ग्लॉस्टर में हेनरी गौगर द्वारा पहली भारतीय सूती मिल की स्थापना की गई थी ?

- (A) चेन्नई (B) कोलकाता  
(C) मुंबई (D) अहमदाबाद

At which of the following places, the first Indian cotton mill was established by Henry Gouger at Fort Gloster in 1818 ?

- (A) Chennai (B) Kolkata  
(C) Mumbai (D) Ahmedabad

123. भूकंप-रोधी निर्माण धज्जी देवरी प्रणाली भारत के निम्नलिखित में से किस स्थान पर पाई जाती है ?

- (A) जम्मू और कश्मीर (B) त्रिपुरा  
(C) आंध्र प्रदेश (D) असम

The earthquake-resistant construction Dhajji Dewari system is found in which of the following places of India ?

- (A) Jammu & Kashmir  
(B) Tripura  
(C) Andhra Pradesh  
(D) Assam

124. निम्नलिखित में से किस बंदरगाह को "दीनदयाल बंदरगाह" के नाम से भी जाना जाता है ?

- (A) पारादीप बंदरगाह (B) हल्दिया बंदरगाह  
(C) तूतीकोरिन बंदरगाह (D) कांडला बंदरगाह

Which among the following ports is also known as "Deendayal Port" ?

- (A) Paradip Port (B) Haldia Port  
(C) Tuticorin Port (D) Kandla Port

125. निम्नलिखित में से किसने वर्ष 1905 में लंदन में "इंडिया हाउस-एक छात्र निवास" की स्थापना की थी ?

- (A) चित्तरंजन दास (B) मैडम भीकाजी कामा  
(C) श्यामजी कृष्ण वर्मा (D) मदनलाल धींगरा

Who among the following established "India House - a student residence" in London in year 1905 ?

- (A) Chittaranjan Das  
(B) Madam Bhikaji Kama  
(C) Shyamji Krishna Varma  
(D) Madan Lal Dhingra

126. रिज़र्व बैंक ने बैंकों और अन्य संस्थाओं को किस दर में परिवर्तन का निर्देश दिया है ?

The Reserve Bank has directed banks and other entities to transition away from which rate ?

- (A) LIBOR (B) FIBOR  
(C) MIBOR (D) SIBOR

127. निम्नलिखित में से कौन से आदर्श हैं जिन्हें राज्य को नीतियाँ बनाते समय ध्यान में रखना चाहिए ?

- (A) मौलिक अधिकार  
(B) गांधीवादी सिद्धांत  
(C) समाजवाद  
(D) राज्य नीति के निदेशक सिद्धांत

Which among the following is the ideals that a state must keep in mind while framing policies ?

- (A) Fundamental Rights  
(B) Gandhian Principles  
(C) Socialism  
(D) Directive Principles of State Policy

128. भारत में सर्वोच्च साहित्यिक पुरस्कार \_\_\_\_\_ है।

- (A) टैगोर पुरस्कार  
(B) साहित्य अकादमी पुरस्कार  
(C) ज्ञानपीठ पुरस्कार  
(D) व्यास सम्मान

The highest literary award in India is \_\_\_\_\_.

- (A) Tagore Award  
(B) Sahitya Akademi Award  
(C) Jnanpith Award  
(D) Vyas Samman

129. निम्नलिखित में से किसे वुड अल्कोहल के रूप में भी जाना जाता है ?

- (A) मेथेनॉल (B) ब्यूटेनॉल  
(C) फॉर्मेलडीहाइड (D) इथेनॉल

Which among the following is also known as wood alcohol ?

- (A) Methanol (B) Butanol  
(C) Formaldehyde (D) Ethanol

130. एसएचजी-बीएलपी (स्वयं सहायता समूह-बैंक लिंकेज कार्यक्रम) के डिजिटलीकरण के लिए नोबार्ड पायलट परियोजना को कहा जाता है :

- (A) ई-सरक्षा (B) ई-शक्ति  
(C) ई-शांति (D) ई-समृद्धि

The NABARD pilot project for digitisation of SHG-BLPs (Self Help Group-Bank Linkage Programme) is called as :

- (A) e-Samraksha (B) e-Shakti  
(C) e-Shanti (D) e-Samridhi

131. विश्व स्वास्थ्य संगठन (WHO) ने हाल ही में किन देशों को मलेरिया मुक्त प्रमाणित किया है ?

- (A) नेपाल और बांग्लादेश  
(B) भारत और क्यूबा  
(C) अजरबैजान और ताजिकिस्तान  
(D) क्यूबा और नेपाल

World Health Organisation (WHO) certified which countries as Malaria-free recently ?

- (A) Nepal and Bangladesh  
(B) India and Cuba  
(C) Azerbaijan and Tajikistan  
(D) Cuba and Nepal

132. निम्नलिखित में से कौन सा भारत सरकार की RCS योजना के तहत भारत के उत्तर-पूर्वी क्षेत्र का पहला ग्रीन फील्ड हवाई अड्डा है ?

- (A) रूपसी हवाई अड्डा (B) लीलाबारी हवाई अड्डा  
(C) डोनी पोलो हवाई अड्डा (D) पाकयोंग हवाई अड्डा

Which among the following is the first green field airports of the North-eastern region of India under RCS scheme of Government of India ?

- (A) Rupsi Airport (B) Lilabari Airport  
(C) Donyi Polo Airport (D) Pakyong Airport

133. निम्नलिखित जल निकायों में से कौन सा दुनिया का सबसे लवणीय जल निकाय है ?

- (A) पुलिकट (B) सांभर  
(C) ग्रेट साल्ट लेक (D) गेटाले तालाब

Which among the following waterbodies is the most Saline waterbodies of the world ?

- (A) Pulicat  
(B) Sambhar  
(C) The Great Salt Lake  
(D) Gaet'ale Pond

134. भारत-कला-भवन उत्तर प्रदेश में \_\_\_\_\_ में स्थित एक विश्वविद्यालय संग्रहालय है।

- (A) लखनऊ (B) वाराणसी  
(C) आगरा (D) प्रयागराज

The Bharat-Kala-Bhawan is a university museum situated at \_\_\_\_\_ in Uttar Pradesh.

- (A) Lucknow (B) Varanasi  
(C) Agra (D) Prayagraj

135. तमिल व्याकरण की कौन सी रचना है जिसे तमिल साहित्य की सबसे पुरानी मौजूदा रचना कहा जाता है ?

- (A) शिलप्पादिकारम (B) वलयपथि  
(C) तोलकाप्पियम (D) मनिमेखलय

Which is a work of Tamil Grammar that is said to be the earliest extant work of Tamil Literature ?

- (A) Silappatikaram (B) Valayapathi  
(C) Tolkappiyam (D) Manimekalai

136. "वन वीक वन लैब" थीम आधारित अभियान निम्नलिखित में से किस संस्थान से संबंधित है ?

- (A) इसरो (भारतीय अंतरिक्ष अनुसंधान संगठन)  
(B) बीएआरसी (भाभा परमाणु अनुसंधान केंद्र)  
(C) सीएसआईआर-एनसीएल (वैज्ञानिक और औद्योगिक अनुसंधान परिषद-राष्ट्रीय रासायनिक प्रयोगशाला)

(D) पीआरएल (भौतिकी अनुसंधान प्रयोगशाला)  
"One Week One Lab" theme-based campaign is associated to which among the following institutions ?

- (A) ISRO (Indian Space Research Organization)  
(B) BARC (Bhabha Atomic Research Centre)  
(C) CSIR-NCL (Council of Scientific and Industrial Research-National Chemical Laboratory)  
(D) PRL (Physics Research Laboratory)

137. "कोडवा हॉकी महोत्सव" निम्नलिखित में से किस राज्य में आयोजित किया गया था ?

- (A) तेलंगाना (B) केरल  
(C) तमिलनाडु (D) कर्नाटक

"The Kodava Hockey Festival" was held at which among the following states ?

- (A) Telangana (B) Kerala  
(C) Tamil Nadu (D) Karnataka

138. कौन सा अनुच्छेद भारतीय संविधान के तहत किसी व्यक्ति के विदेश यात्रा के अधिकार की रक्षा करता है ?

- (A) अनुच्छेद 18 (B) अनुच्छेद 21  
(C) अनुच्छेद 15 (D) अनुच्छेद 9

Which Article protects a person's right to travel abroad under Indian Constitution ?

- (A) Article 18 (B) Article 21  
(C) Article 15 (D) Article 9

139. निम्नलिखित में से जोवियन ग्रह खोजें :

- (A) पृथ्वी (B) यूरेनस  
(C) बुध (D) मंगल

Find the Jovian Planet among the following :

- (A) Earth (B) Uranus  
(C) Mercury (D) Mars

140. निम्नलिखित में से किस संस्थान ने हाल ही में "सीई-20 क्रायोजेनिक इंजन" का परीक्षण किया ?

- (A) पीआरएल (भौतिकी अनुसंधान प्रयोगशाला)  
(B) एचएएल (हिंदुस्तान एयरोनॉटिक्स लिमिटेड)  
(C) इसरो (भारतीय अंतरिक्ष अनुसंधान संगठन)  
(D) डीआरडीओ (रक्षा अनुसंधान और विकास संगठन)

Which among the following institutions recently tested "CE-20 Cryogenic Engine" ?

- (A) PRL (Physics Research Laboratory)  
(B) HAL (Hindustan Aeronautics Limited)  
(C) ISRO (Indian Space Research Organization)  
(D) DRDO (Defense Research and Development Organization)

141. एंटासिड, टूथ पेस्ट में हल्का अपघर्षक, च्युइंग गम का एक घटक, और सौंदर्य प्रसाधनों में भराव में सामान्य घटक क्या है ?

- (A) मैग्नीशियम सल्फेट (B) कैल्सियम कार्बोनेट  
(C) एस्कॉर्बिक एसिड (D) सोडियम बाइकार्बोनेट  
What is the common ingredient in antacid, mild abrasive in tooth paste, a constituent of chewing gum, and a filler in cosmetics ?

(A) Magnesium sulphate  
(B) Calcium carbonate  
(C) Ascorbic acid  
(D) Sodium bicarbonate

142. 'मटकी' निम्न में से किस राज्य का लोकप्रिय लोकनृत्य है ?

- (A) बिहार (B) मध्य प्रदेश  
(C) असम (D) राजस्थान

'Matki' is a popular folk dance of which of the following states ?

- (A) Bihar (B) Madhya Pradesh  
(C) Assam (D) Rajasthan

143. हाल ही में, महाराष्ट्र में स्थित एक शहर औरंगाबाद का नाम बदल दिया गया है। इसका नया नाम क्या है ?

- (A) छत्रपति सभाजीनगर  
(B) छत्रपति शिवाजीनगर  
(C) शिवधारा  
(D) धाराशिव

Recently, Aurangabad, a city located in Maharashtra has been renamed. What is the new name of it ?

- (A) Chhatrapati Sambhajnagar  
(B) Chhatrapati Shivajnagar  
(C) Shivdhara  
(D) Dharashiv



144. निम्नलिखित में से कौन सा संग्रहालय संगम युग के दौरान तमिलों के जीवन को प्रदर्शित करता है ?

- (A) नेपियर संग्रहालय  
(B) फोर्ट सेंट जॉर्ज संग्रहालय  
(C) विवेकानंद संग्रहालय  
(D) कीलाड़ी संग्रहालय

Which one among the following museums showcases life of Tamils during Sangam age ?

- (A) The Napier Museum  
(B) Fort St. George Museum  
(C) Vivekanand Museum  
(D) The Keeladi Museum

145. निम्नलिखित में से किस भारतीय संस्थान ने "हेल्थकेयर और बायोमेडिकल रिसर्च में एआई के लिए नैतिक दिशानिर्देश" जारी किया है ?

- (A) आईएमएस (अंतःविषय चिकित्सा विज्ञान)  
(B) आईसीएमआर (भारतीय चिकित्सा अनुसंधान परिषद)  
(C) नीति आयोग (राष्ट्रीय भारत परिवर्तन संस्थान-आयोग)  
(D) एम्स (अखिल भारतीय आयुर्विज्ञान संस्थान)

Which one of the following Indian Institutions has released "Ethical Guidelines for AI in Healthcare and Biomedical Research"?

- (A) IMS (Interdisciplinary Medical Sciences)  
(B) ICMR (Indian Council of Medical Research)  
(C) NITI Aayog (National Institute for Transforming India-Aayog)  
(D) AIIMS (All India Institute of Medical Sciences)

146. भारत में वीओसी (वेरीनिगडे ऊस्टिन्डिसे कॉम्पैग्री [VOC (Vereenigde Oostindische Compagnie)] का गठन निम्नलिखित में से किसके द्वारा किया गया था ?

- (A) डच (B) फ्रेंच  
(C) पुर्तगाली (D) ब्रिटिश

The VOC (Vereenigde Oostindische Compagnie) in India was formed by which of the following ?

- (A) Dutch (B) French  
(C) Portuguese (D) British

147. हाल ही में, भारतीय सेना ने संयुक्त अभ्यास को मान्य करने और बहु-एजेंसी बाढ़ राहत दस्तों द्वारा तैयारियों का समन्वय करने के लिए "जल राहत" नामक बाढ़ राहत अभ्यास आयोजित किया, यह अभ्यास असम राज्य की निम्नलिखित में से किस नदी पर आयोजित किया गया था ?

- (A) दिहिंग (B) मानस  
(C) बराक (D) कोपिली

Recently, Indian Army conducted flood relief exercise named "Jal Rahat" to validate joint drills and coordinate preparedness by multi-agency flood relief columns, this exercise was conducted on which of the following rivers of Assam state ?

- (A) Dihing (B) Manas  
(C) Barak (D) Kopili

148. सिल्वीकल्चर से आप क्या समझते हैं ?

- (A) यह वन खेती का विज्ञान है।  
(B) यह मछली पकड़ने का विज्ञान है।  
(C) यह रेशम के कीड़ों को उगाने का विज्ञान है।  
(D) यह भेड़ पालने का विज्ञान है।

What do you mean by Silviculture ?

- (A) It is a science of forest farming.  
(B) It is a science of fish farming.  
(C) It is a science of growing silkworms.  
(D) It is a science of rearing sheep.

149. निम्नलिखित में से किस मुगल सम्राट ने ईस्ट इंडिया कंपनी को बंगाल में शुल्क मुक्त व्यापार की अनुमति दी थी ?

- (A) अकबर (B) जहांगीर  
(C) शाहजहाँ (D) औरंगजेब

The East India Company was given permission to trade duty free in Bengal by which among the following Mughal Emperors ?

- (A) Akbar (B) Jahangir  
(C) Shahjahan (D) Aurangzeb

150. निम्नलिखित में से कौन सी पश्चिमी घाट की सबसे ऊँची चोटी है जो समृद्ध जैव-विविधता के साथ यूनेस्को-विश्व विरासत स्थल भी है ?

- (A) कोलारीबेट्टा (B) कोडाचद्री  
(C) अनामुडी (D) मीसापुलिमाला

Which among the following is the highest peaks of the Western Ghat that is also the UNESCO-World Heritage Site with rich biodiversity ?

- (A) Kolaribetta (B) Kodachadri  
(C) Anamudi (D) Meesapulimala