



Tamil Nadu Uniformed Services Recruitment Board

தமிழ்நாடு சீருடைப் பணியாளர் தேர்வு வாரியம்

Joint Recruitment – 2023

ஒருங்கிணைந்த தேர்வு – 2023

A

Written Examination for Police Departmental Candidates/

காவல் துறை சார்ந்த விண்ணப்பதாரர்களுக்கான எழுத்து தேர்வு

Question Booklet Series/
வினாத்தாளின் வகை

A

Enrolment No. /சேர்க்கை எண்

OMR Answer Sheet Number
OMR விடைத்தாளின் எண்

30000361

Question Booklet Serial Number
வினாத்தாளின் வரிசை எண்

Duration : 3 Hours

Total Marks : 85

காலம் : 3 மணி நேரம்

மொத்த மதிப்பெண்கள் : 85

INSTRUCTIONS

1. This question paper should be opened only after receiving the instruction from the examination hall invigilator.
2. This question paper contains 30 questions in Part A (General Knowledge) and 140 questions in Part B (Psychology, Law and Police Related Subjects).
3. Answer all the questions.
4. Each correct answer has half a mark.
5. Write the Enrolment No. and Sl. No. of the OMR answer sheet at the appropriate place in the front page of the question paper.
6. The type of question booklet series and the correct answers to the questions (A, B, C or D) should be shaded in the relevant circles using blue or black ball point pen. The answer sheet without shading the type of question booklet series will not be evaluated.
7. For each question only one answer is to be chosen and shaded.
8. For wrong, multiple and improper shading in answer sheets, no marks will be given for that answer.
9. If there is any printing error, or error in Page No. in the question paper, the same should be brought to the notice of the invigilator immediately and obtained a new question paper before the commencement of written examination.
10. All the questions are bilingual except language questions (English & Tamil).

அறிவுரைகள்

1. இந்த வினாத்தாளை தேர்வு அறை கண்காணிப்பாளரின் அறிவுறுத்தல் பெற்ற பின்னரே திறக்க வேண்டும்.
2. இவ்வினாத்தாளில் பகுதி 'அ' (பொது அறிவு) பிரிவில் 30 வினாக்களும் மற்றும் பகுதி 'ஆ' (உளவியல், சட்டம் மற்றும் காவல் துறை சம்பந்தமான) பிரிவில் 140 வினாக்களும் உள்ளன.
3. அனைத்து வினாக்களுக்கும் விடையளிக்க வேண்டும்.
4. ஒவ்வொரு சரியான விடைக்கும் அரை மதிப்பெண் வழங்கப்படும்.
5. சேர்க்கை எண் மற்றும் OMR விடைத்தாளின் எண்ணை அதற்குரிய இடங்களில் வினாத்தாளின் முதல் பக்கத்தில் எழுதவும்.
6. இந்த வினாத்தாளின் வகை மற்றும் சரியான விடைகளை விடைத்தாளில் (A, B, C or D) அதற்கு உண்டான இடத்தில் நல்ல (அல்லது) கருப்பு நிற பால் பாயின்ட் பேனாவை கொண்டு பட்டை தீட்டவும். வினாத்தாளின் வகையை பட்டை தீட்டாவிட்டால், அந்த விடைத்தாள் மதிப்பிடப்படமாட்டாது.
7. ஒரு வினாவிற்கு ஒரு விடையை மட்டுமே தேர்வு செய்து பட்டை தீட்டவும்.
8. தவறாகவோ, ஒரு வட்டத்திற்கு மேல் பட்டை தீட்டினாலோ, அடித்தல் திருத்தங்கள் செய்தாலோ அந்த விடைக்கு மதிப்பெண் கிடையாது.
9. வினாத்தாளில் ஏதேனும் அச்சப் பிழையோ, பக்கங்கள் சரியாக இல்லாவிட்டாலோ, மேற்பார்வையாளரிடம் முறையிட்டு எழுத்து தேர்வு தொடங்குவதற்கு முன் சரியான மற்றுமொரு வினாத்தாளைப் பெற்று கொள்ளுமாறு அறிவுறுத்தப்படுகிறது.
10. பாடப்பகுதி (ஆங்கிலம் மற்றும் தமிழ்) வினாக்களை தவிர்த்து அனைத்து வினாக்களும் இரண்டு மொழிகளிலும் கொடுக்கப்பட்டுள்ளன.



PART – A : General Knowledge

1. Who painted the Madonna's picture ?

- (A) Michelangelo
- (B) Raphael
- (C) Leonardo da Vinci
- (D) Petrarch

மடோன்னா சித்திரத்தைத் தீட்டியவர் யார் ?

- (A) மைக்கேல் ஏஞ்சலோ
- (B) ரஃபேல்
- (C) லியானர்டோ டா வின்சி
- (D) பெட்ரார்ச்



2. Find out the wrong pair.

- (A) Pulicat Lake – Andhra Pradesh and Tamil Nadu
- (B) Vembanad Lake – Kerala
- (C) Chilka Lake – Odisha
- (D) Sambhar Lake – Madhya Pradesh

தவறான இணையை கண்டறிக.

- (A) புலிகாட் ஏரி – ஆந்திரப் பிரதேசம் மற்றும் தமிழ்நாடு
- (B) வேம்பநாடு ஏரி – கேரளா
- (C) சில்கா ஏரி – ஒடிஷா
- (D) சாம்பார் ஏரி – மத்தியப் பிரதேசம்

3. Urea is produced in the _____ part of our body.

- (A) Nephron
- (B) Kidney
- (C) Spleen
- (D) Liver



நம் உடலில் யூரியா உருவாகுமிடம்

- (A) சிறுநீரக நுண்குழல்
- (B) சிறுநீரகம்
- (C) மண்ணீரல்
- (D) கல்லீரல்



4. Match the following.

- | | |
|-------------|------------------------------|
| I) Rig | a) Charms and magical spells |
| II) Yajur | b) Oldest |
| III) Sama | c) Rituals and hymns |
| IV) Atharva | d) Musical notes |

- | | | | | |
|-----|---|----|-----|----|
| | I | II | III | IV |
| (A) | a | b | c | d |
| (B) | d | c | b | a |
| (C) | b | c | d | a |
| (D) | c | b | a | d |

பொருத்துக.

- | | |
|-----------|------------------------|
| I) ரிக் | a) மாய மந்திர ஜாலங்கள் |
| II) யஜுர் | b) பழமையானது |
| III) சாம | c) சடங்குகள், பாடல்கள் |
| IV) அதர்வ | d) இசைப்பாடல்கள் |

- | | | | | |
|-----|---|----|-----|----|
| | I | II | III | IV |
| (A) | a | b | c | d |
| (B) | d | c | b | a |
| (C) | b | c | d | a |
| (D) | c | b | a | d |



5. **Statement I** : The Constitution of India recognises twenty-two languages as official languages.

Statement II : The Government of India has declared "Tamil" as the first Classical Language.

- | | |
|----------------------|---------------------|
| (A) I only correct | (B) II only correct |
| (C) I and II correct | (D) I and II wrong |

வாக்கியம் I : இந்திய அரசியலமைப்புச் சட்டத்தின் படி 22 மொழிகள் அலுவலக மொழிகளாக அங்கீகரிக்கப்பட்டுள்ளது.

வாக்கியம் II : இந்திய அரசால் முதல் செம்மொழியாக "தமிழ் மொழி" அறிவிக்கப்பட்டது.

- | | |
|----------------------|-----------------------|
| (A) I மட்டும் சரி | (B) II மட்டும் சரி |
| (C) I மற்றும் II சரி | (D) I மற்றும் II தவறு |



6. The International Court of Justice was set up in

- | | |
|-------------|---------------|
| (A) Finland | (B) The Hague |
| (C) Poland | (D) Geneva |

பன்னாட்டு நீதிமன்றம் அமைக்கப்பட்ட இடம்

- | | |
|----------------|-------------|
| (A) பின்லாந்து | (B) தி ஹேக் |
| (C) போலந்து | (D) ஜெனிவா |



7. **Statement I** : In India the first census was carried out in the year 1872.
Statement II : The age composition of population refers to the number of people in different age groups in a country.

(A) I only correct (B) II only correct
 (C) I and II correct (D) I and II wrong

வாக்கியம் I : இந்தியாவின் முதல் மக்கள் தொகை கணக்கெடுப்பு 1872 ஆம் ஆண்டு மேற்கொள்ளப்பட்டது.

வாக்கியம் II : வயதுக்கலவை என்பது ஒரு நாட்டின் மக்கள் தொகையில் உள்ள பல்வேறு வயது பிரிவினர் எண்ணிக்கையை குறிக்கிறது.

(A) I மட்டும் சரி (B) II மட்டும் சரி
 (C) I மற்றும் II சரி (D) I மற்றும் II தவறு



8. Which two planets only have backward rotation (East to West) ?

(A) Venus and Earth (B) Mercury and Jupiter
 (C) Mars and Jupiter (D) Venus and Uranus

எந்த இரு கோள்கள் மட்டும் பின்புறமாக சுழலக்கூடியது ? (கிழக்கிலிருந்து-மேற்கு)

(A) வெள்ளி மற்றும் புவி (B) புதன் மற்றும் வியாழன்
 (C) செவ்வாய் மற்றும் வியாழன் (D) வெள்ளி மற்றும் யுரேனஸ்

9. Which of the following isotope is used for determining the age of fossil wood or animal ?

(A) Carbon - 12 (B) Carbon - 14 (C) Sodium - 24 (D) Cobalt - 60

கீழ்க்கண்ட எந்த ஐசோடோப்பு புதை படிவ மரங்கள் அல்லது விலங்குகளின் வயதை தீர்மானிக்கப் பயன்படுகிறது

(A) கார்பன் - 12 (B) கார்பன் - 14 (C) சோடியம் - 24 (D) கோபால்ட் - 60

10. _____ region is the famous for the match box industry.

(A) Ranipet (B) Vellore (C) Sivakasi (D) Erode

தீப்பெட்டி உற்பத்தி தொழிற்சாலையில் புகழ்பெற்று விளங்குவது _____ பகுதியாகும்.

(A) ராணிபேட்டை (B) வேலூர் (C) சிவகாசி (D) ஈரோடு

11. **Statement I** : Babur defeated Ibrahim Lodi in the famous Battle of Panipat and occupied Delhi and Agra.

Statement II : Mughal dynasty came to be established in India with Delhi as its capital.

(A) I only correct (B) II only correct
 (C) I and II correct (D) I and II wrong

வாக்கியம் I : முதலாம் பாணிப்பட்ட போரில் பாபர் இப்ராகிம் லோடியைத் தோற்கடித்து டெல்லியையும் ஆக்ராவையும் கைப்பற்றினார்.

வாக்கியம் II : முகலாய வம்சத்தின் ஆட்சி டெல்லியைத் தலைநகராகக் கொண்டு துவங்கியது.

(A) I மட்டும் சரி (B) II மட்டும் சரி
 (C) I மற்றும் II சரி (D) I மற்றும் II தவறு



12. Match the following.

- | | |
|---------------------|--------------|
| i) Steve Jobs | a) Tesla |
| ii) Mark Zuckerberg | b) Apple |
| iii) Bill Gates | c) Microsoft |
| iv) Elon Musk | d) Facebook |
- (A) b, d, c, a (B) b, d, a, c (C) c, a, b, d (D) a, b, c, d

பின்வருவனவற்றை பொருத்துக.

- | | |
|---------------------------|------------------|
| i) ஸ்டீவ் ஜாப்ஸ் | a) டெஸ்லா |
| ii) மார்க் ஜூக்கர் பெர்க் | b) ஆப்பிள் |
| iii) பில்கேட்ஸ் | c) மைக்ரோசாஃப்ட் |
| iv) எலன் மஸ்க் | d) முகநூல் |
- (A) b, d, c, a (B) b, d, a, c (C) c, a, b, d (D) a, b, c, d



13. Water Intoxication results due to _____ intake of water.

- (A) Normal (B) Excess (C) Less (D) Very less

நீர்மிகு நிலை என்பது _____ அளவு நீரை உட்கொள்வதாகும்.

- (A) இயல்பான (B) அதிக (C) குறைந்த (D) மிக குறைந்த

14. Which country won the SDAT WSF Squash World Cup Championship held at Chennai ?

- (A) India (B) Japan (C) China (D) Egypt

சென்னையில் நடைபெற்ற SDAT WSF (Squash World Cup Championship) ஸ்குவாஷ் உலக கோப்பை சாம்பியன்ஷிப்பை எந்த நாடு வென்றது

- (A) இந்தியா (B) ஜப்பான் (C) சீனா (D) எகிப்து



15. Find the odd one out.

- (A) Right to Equality (B) Right against Exploitation
(C) Right to Property (D) Cultural and Educational Rights

மாறுபட்ட ஒன்றை கண்டுபிடி.

- (A) சமத்துவ உரிமை (B) சுரண்டலுக்கு எதிரான உரிமை
(C) சொத்துரிமை (D) கல்வி மற்றும் கலாச்சார உரிமை

16. One among the following is an extinct species

- (A) Cheetah (B) Arctic Tern
(C) Malabar Hornbill (D) Dodo

கீழ்க்காண்பனவற்றில் ஒன்று மறைந்து போன உயிரினமாகும்

- (A) சிறுத்தை (B) ஆர்டிக் டெர்ன்
(C) மலபார் ஹார்ன்பில் (D) டூடோ



17. Match the following different colour number plates.

- | | |
|-------------------------|---|
| I) Red Number Plate | a) is for commercial vehicle |
| II) Blue Number Plate | b) means that the car belongs to a common citizen |
| III) White Number Plate | c) is given to a vehicle that be used by foreign delegates/ Ambassadors |
| IV) Yellow Number Plate | d) is used in the vehicle for the President of India and Governor of States |

- | | | | | |
|-----|---|----|-----|----|
| | I | II | III | IV |
| (A) | a | b | c | d |
| (B) | d | c | b | a |
| (C) | d | a | b | c |
| (D) | b | c | d | a |



பொருத்துக. பல்வேறு வண்ண இலக்கத்தகடுகள்.

- | | |
|-------------------------|---|
| I) சிவப்பு வண்ணத் தகடு | a) வணிகரீதியான வாகனங்களுக்கானதாகும் |
| II) நீல வண்ணத் தகடு | b) இது சாதாரண குடிமகனுக்கு சொந்தமான வாகனம் என்பதாகும் |
| III) வெள்ளை வண்ணத் தகடு | c) அயல்நாட்டு பிரதிநிதிகள்/தூதர்கள் பயன்படுத்தும் வாகனங்களுக்கு அளிக்கப்படும் |
| IV) மஞ்சள் வண்ணத் தகடு | d) குடியரசுத் தலைவர் மற்றும் மாநில ஆளுநரின் வாகனங்களில் பயன்படுத்தப்படும் |

- | | | | | |
|-----|---|----|-----|----|
| | I | II | III | IV |
| (A) | a | b | c | d |
| (B) | d | c | b | a |
| (C) | d | a | b | c |
| (D) | b | c | d | a |

18. Teacher's day is celebrated on September 5th every year because

- (A) It is the birthday of Dr. S. Radhakrishnan
 (B) It is the birthday of Gurudev Rabindranath Tagore
 (C) It is the birthday of Tr. Subramanya Bharathi
 (D) It is the birthday of Dr. Bheemarao Ambedkar



ஒவ்வொரு வருடமும் ஆசிரியர் தினம் செப்டம்பர் மாதம் 5 ஆம் தேதி கொண்டாடப்படுவதற்கான காரணம்

- (A) டாக்டர். S. இராதாகிருஷ்ணன் அவர்களின் பிறந்த தினம்
 (B) திரு. குருதேவ் இரபிந்திரநாத் தாகூரின் பிறந்த தினம்
 (C) திரு. சுப்ரமணிய பாரதியார் அவர்களின் பிறந்த தினம்
 (D) டாக்டர். பீமாராவ் அம்பேத்கர் அவர்களின் பிறந்த தினம்

19. The linear momentum of a particle is the product of _____ and _____.

- (A) Mass, acceleration
 (B) Mass, velocity
 (C) Mass, displacement
 (D) Mass, volume

துகள் ஒன்றின் நேர்க்கோட்டு உந்தம் என்பது அத்துகளின் _____ மற்றும் _____ பெருக்கற்பலன் ஆகும்.

- (A) நிறை, முடுக்கம்
 (B) நிறை, திசைவேகம்
 (C) நிறை, இடப்பெயர்ச்சி
 (D) நிறை, பருமன்



20. **Statement I** : The arrested person details are available on Tamil Nadu Police Website <https://www.tnpolice.gov.in>

Statement II : A person can apply online for Police verification through Tamil Nadu Police Website.

- (A) I only correct (B) II only correct
(C) I and II correct (D) I and II wrong

வாக்கியம் I : கைது செய்யப்பட்ட நபர்களின் விபரங்கள் தமிழ்நாடு காவல்துறை இணையதளத்தில் கிடைக்கும்.

வாக்கியம் II : ஒரு நபர் தமிழ்நாடு காவல்துறை இணையதளத்தில் ஆன்லைன் சரிபார்ப்புக்கு விண்ணப்பிக்கலாம்.

- (A) I மட்டும் சரி (B) II மட்டும் சரி
(C) I மற்றும் II சரி (D) I மற்றும் II தவறு



21. In which book Aryabatta explained the true causes of Solar and Lunar eclipses ?

- (A) Chandrvyakaranam (B) Gargi Samhita
(C) Brihat Samhita (D) Surya Siddhanta

ஆரியபட்டர் தனது நூலான _____ இல் சூரிய, சந்திர கிரகணங்களுக்கான உண்மைக் காரணங்களை விளக்கியுள்ளார்.

- (A) சந்திர வியாகரணம் (B) கார்த்தி சம்ஹிதா
(C) பிருகத் சம்ஹிதா (D) சூரிய சித்தாந்தா

22. Who designed the Indian Currency Symbol of Rupee ?

- (A) Amartya Sen (B) Urjit Patel
(C) Udaya Kumar (D) Raghuram Rajan

இந்திய ரூபாய் நோட்டின் குறியீட்டை வடிவமைத்தவர் யார் ?

- (A) அமர்த்தியா சென் (B) உர்ஜித் பட்டேல்
(C) உதய குமார் (D) ரகுராம் ராஜன்



23. Steel is an alloy of

- (A) Iron and Carbon (B) Iron and Zinc
(C) Iron and Tin (D) Aluminium and Carbon

எஃகு உலோகக்கலவை என்பது

- (A) இரும்பு மற்றும் கார்பன் (B) இரும்பு மற்றும் ஜிங்க்
(C) இரும்பு மற்றும் திண் (D) அலுமினியம் மற்றும் கார்பன்

24. _____ is the first Municipality in Tamil Nadu.

- (A) Tiruppur (B) Walajahpet
(C) Avadi (D) Hosur

தமிழ்நாட்டில் முதன்முதலில் உருவாக்கப்பட்ட நகராட்சி _____ ஆகும்.

- (A) திருப்பூர் (B) வாலாஜாபேட்டை
(C) ஆவடி (D) ஓசூர்



25. Noor Complex is the world largest concentrated solar power plant located in the _____ desert.

- (A) Gobi desert (B) Sahara desert
(C) Thar desert (D) Kalahari desert

உலகின் மிகப்பெரிய அளவில் அடர்த்தியான சூரிய ஆற்றல் ஆலையான நூர் காம்பிளக்ஸ் _____ பாலைவனத்தில் அமைந்துள்ளது.

- (A) கோபி பாலைவனம் (B) சஹாரா பாலைவனம்
(C) தார் பாலைவனம் (D) கலகாரி பாலைவனம்

26. 'Sylvester da Cunha' recently in news was known for

- (A) Oldest person from India to climb Mount Everest
(B) Creating the Amul girl mascot for Amul Company
(C) Association with ISRO's Chandrayan - 2 Mission
(D) Bringing Technological revolution in South India



சமீபத்திய செய்திகளில் இடம் பெற்றிருந்த 'சில்வெஸ்டர் டா குன்ஹா' என்பவர் எதற்கு பெயர் பெற்றவர் ?

- (A) எவரெஸ்ட் சிகரத்தில் ஏறிய மிக வயதான இந்திய நபர்
(B) அமுல் நிறுவனத்தின் அடையாள சின்னமான சிறுமியை உருவாக்கியவர்
(C) இஸ்ரோவின் சந்திரயான் - 2 மிஷன் திட்டத்துடன் தொடர்புடையவர்
(D) தென்னிந்தியாவில் தொழிற்புரட்சியை கொண்டு வந்தவர்

27. Energy produced in the Sun is due to

- (A) Chemical reaction (B) Nuclear fusion
(C) Nuclear fission (D) Electromagnetic induction

சூரியனில் உருவாகும் ஆற்றலுக்கு காரணம்

- (A) வேதிவினை (B) அணுக்கரு இணைவு
(C) அணுக்கரு பிளவு (D) மின்காந்தத் தூண்டல்

28. The High Courts in India were first started at

- (A) Calcutta, Bombay, Madras (B) Delhi, Calcutta, Punjab
(C) Hyderabad, Calcutta, Madras (D) Calcutta, Madras, Delhi

இந்தியாவில் முதல் முதலில் உயர்நீதிமன்றங்கள் தொடங்கப்பட்ட இடங்கள்

- (A) கொல்கத்தா, மும்பை, சென்னை (B) டெல்லி, கொல்கத்தா, பஞ்சாப்
(C) ஐதராபாத், கொல்கத்தா, சென்னை (D) கொல்கத்தா, சென்னை, டெல்லி

29. Kalakkad Mundanthurai Tiger reserve is located in

- (A) Pothigai hills (B) Anaimalai
(C) Palani hills (D) Cardamom hills



கலக்காடு - முண்டந்துறை புலிகள் காப்பகம் _____ ல் அமைந்துள்ளது.

- (A) பொதிகை மலை (B) ஆனைமலை
(C) பழனிமலை (D) ஏலக்காய் மலை

30. Complete the analogy.

Anaemia : Drumstick leaves :: Malnutrition :

- (A) Pizza (B) Cake (C) Cookies (D) Balanced Diet

ஒப்புமை தருக.

இரத்த சோகை : முருங்கைக்கீரை :: ஊட்டச்சத்தின்மை :

- (A) பீட்சா (B) கேக் (C) குக்கீஸ் (D) சரிவிகித உணவு



PART – B : Psychology, Law and Police Related Subjects

31. Choose the correct reported form of the following sentence.

Jaya said, "I am working in a school".

- (A) Jaya said that she was working in a school
- (B) Jaya told that she is working in a school
- (C) Jaya said that she works in a school
- (D) Jaya told she worked in a school



32. Match the following synonyms.

- | | |
|------------|------------------------------------|
| I) Address | a) Correct |
| II) Band | b) An implement used to hit a ball |
| III) Bat | c) A musical group |
| IV) Right | d) Location |

- | | I | II | III | IV |
|-----|---|----|-----|----|
| (A) | a | b | c | d |
| (B) | d | b | c | a |
| (C) | d | c | b | a |
| (D) | b | c | a | d |

33. Fill in the blank with the suitable connector.

It is rainy. Take an umbrella _____ you will get drenched.

- | | |
|-----------|-------------|
| (A) and | (B) or else |
| (C) still | (D) but |



34. **Statement I** : Indelible means – cannot be rubbed out.

Statement II : Indelible means – can be removed.

- (A) I only correct
 - (B) II only correct
 - (C) I and II correct
 - (D) I and II wrong
-



35. Fill in the blank with the most appropriate idiom.

Traffic is moving _____.

- (A) in your court
- (B) in seventh heaven
- (C) at a snail's pace
- (D) on cloud nine



36. Fill in the blank with the suitable preposition.

She embarked _____ the ship for Sri Lanka.

- (A) on
- (B) in
- (C) with
- (D) to

37. Fill in the blank.

A book written by the author about his own life is called _____.

- (A) Biography
- (B) Autobiography
- (C) Fiction
- (D) Short story

38. Complete the sentence using appropriate modal verb.

If I were a child, I _____ climb trees easily but now I can't.

- (A) will
- (B) shall
- (C) can
- (D) could

39. Choose the synonym of the underlined word.

The Captain of the team is sturdy.



- (A) weak
- (B) strong
- (C) tall
- (D) good

40. Choose the correct question tag.

We won't be late, _____ ?

- (A) will we
- (B) willn't we
- (C) won't we
- (D) shall we

SEAL

SEAL



41. நிலத்தக் கௌறணும்டா அப்பதான் வகுறு நிறையும் - பேச்சு வழக்கு சொல்லை எழுத்து வழக்காக மாற்றுக

- (A) நிலத்தை கௌறணும்டா அப்ப தான் வயிறு நிறையும்
- (B) நிலத்தக் கௌற வேண்டும் அப்போது தான் வகுறு நிறையும்
- (C) நிலத்தை உழவு செய்ய வேண்டும் அப்பொழுது தான் வயிறு நிறையும்
- (D) நிலத்தைக் கிளற வேண்டும் அப்பொழுது தான் வயிறு நிறையும்

42. பொருத்துக.

- | | |
|----------|------------|
| I) தலை | a) கடலலை |
| II) தளை | b) புற்று |
| III) அலை | c) கட்டு |
| IV) அளை | d) முதன்மை |



- | | I | II | III | IV |
|-----|---|----|-----|----|
| (A) | b | d | a | c |
| (B) | d | a | b | c |
| (C) | c | d | b | a |
| (D) | d | c | a | b |

43. 'பைந்தளிர்' - என்னும் சொல்லைப் பிரித்து எழுதக் கிடைப்பது

- (A) பைசு + தளிர்
- (B) பசுமை + தளிர்
- (C) பை + தளிர்
- (D) பசு + தளிர்

44. வாக்கியம் I : அரங்கேற்றத்தை வெற்றிகரமாக முடிக்கும் ஆடல் மகளுக்குத் 'தலைக்கோல்' அளித்துச் சிறப்பிப்பர்.

வாக்கியம் II : ஆமந்திரிகை என்பது வலக்கை வாத்தியம்.

- (A) I மட்டும் சரி
- (B) II மட்டும் சரி
- (C) I மற்றும் II சரி
- (D) I மற்றும் II தவறு



45. தொல்காப்பியம் கற்பதற்கு முன்னர், பயிற்சி பெற வேண்டிய நூல் நேமிநாதம் - இவ்விடைக்கேற்ற வினா அமைத்திடுக.

- (A) முதன் முதலில் பயிற்சி பெற வேண்டிய நூல் எது ?
- (B) தொல்காப்பியம் கற்பதற்கு முன்னர் பயிற்சிபெற வேண்டிய நூல் எது ?
- (C) தொல்காப்பியம் கற்ற பின்னர் பயிற்சி பெற வேண்டிய நூல் எது ?
- (D) தொல்காப்பியம் கற்பதற்குப் பிற இலக்கண நூல் பயிற்சி அவசியமா ?



46. 'ஏமம்' என்னும் சொல்லின் பொருள்

- (A) பாதுகாப்பு
- (B) வீரம்
- (C) சிறுகாப்பு
- (D) காப்பு



47. நிகழ்காலத்தை உணர்த்தும் சொல் எது ?

- (A) துன்பப்பட நேரிடுகிறது
- (B) துன்பப்பட நேரிடும்
- (C) துன்பப்பட நேரிட்டது
- (D) துன்பப்பட நேரவில்லை

48. 'To us all towns are one, all men are our kin' இம்மொழிபெயர்ப்புக்குரிய தமிழ் இலக்கிய வரியைத் தேர்க.

- (A) 'எல்லோரும் நம் ஊரைச் சேர்ந்தவர்'
- (B) 'யாதும் ஊரே ; யாவரும் கேளிர்'
- (C) 'எல்லோரும் நம் உறவினர்'
- (D) 'தீதும் நன்றும் பிறர் தர வாரா'

49. இறந்தகாலத்தை உணர்த்தும் தொடர் எது ?

- (A) பாதுகாப்பர்
- (B) பாதுகாத்தனர்
- (C) பாதுகாக்கின்றனர்
- (D) பாதுகாக்கவில்லை



50. 'மறுமை' - என்னும் சொல்லின் எதிர்ச்சொல் எது ?

- (A) அம்மை
- (B) இம்மை
- (C) செய்மை
- (D) தண்மை



Study the following table and answer the following 3 questions (51 – 53).

கீழே கொடுக்கப்பட்டுள்ள அட்டவணையை படித்து கீழ்க்கண்ட 3 கேள்விகளுக்கு (51 – 53) விடையளிக்கவும்.

Annual Income of 5 Schools					
Sources of Income and Schools					
வரவின் மூலம் மற்றும் பள்ளிகள்					
	A	B	C	D	E
Tuition Fee கற்பித்தல்கான காசு	120	60	210	90	120
Term Fee கால கட்டணம்	24	12	45	24	30
Donations நன்கொடை	54	21	60	51	60
Grants மானியம்	60	54	120	42	55
Misc. இதர செலவு	12	3	15	3	15
Total மொத்தம்	270	150	450	210	280

51. The income by way of donation to school E is what percentage of the miscellaneous ?

- (A) 25 (B) 40 (C) 4 (D) 400

நன்கொடை மூலமாக பள்ளி E விற்கு வரும் காசு அப்பள்ளியின் இதர செலவின் எத்தனை விழுக்காடுகள் ஆகும் ?

- (A) 25 (B) 40 (C) 4 (D) 400



52. In case of how many schools is the income by way of tuition fee less than four times of the term fee ?

- (A) One (B) Two (C) Three (D) Four

எத்தனை பள்ளிகளில், கற்பித்தல் காசு வரவு, நான்கு மடங்கு கால கட்டணத்தை விட குறைவாக உள்ளது ?

- (A) ஒன்று (B) இரண்டு (C) மூன்று (D) நான்கு

53. Which school earns lowest term fee as compared to its total income ?

- (A) A (B) B (C) C (D) D

எந்த பள்ளி, அதன் மொத்த வருமானத்தை ஒப்பிடுகையில் குறைந்தபட்ச கால கட்டணத்தை பெறுகிறது ?

- (A) A (B) B (C) C (D) D





54. Probability lies between

- (A) -1 and $+1$ (B) 0 and 1
 (C) 0 and n (D) 0 and ∞

நிகழ்தகவு மதிப்பின் இடைவெளி

- (A) -1 மற்றும் $+1$ (B) 0 மற்றும் 1
 (C) 0 மற்றும் n (D) 0 மற்றும் ∞



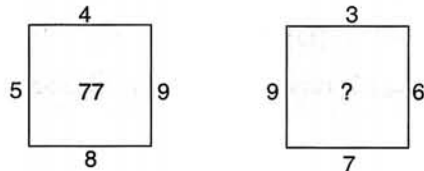
55. If day before yesterday was Friday, what will be the third day after the day after tomorrow ?

- (A) Thursday (B) Friday
 (C) Saturday (D) Sunday

நேற்றைய நாளின் முந்தைய நாள் வெள்ளிக்கிழமை, என்றால், நாளை மறுநாளின் மூன்றாவது நாள் என்ன ?

- (A) வியாழக்கிழமை (B) வெள்ளிக்கிழமை
 (C) சனிக்கிழமை (D) ஞாயிற்றுக்கிழமை

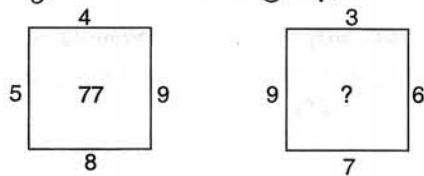
56. Find the missing term.



- (A) 77 (B) 79
 (C) 73 (D) 75

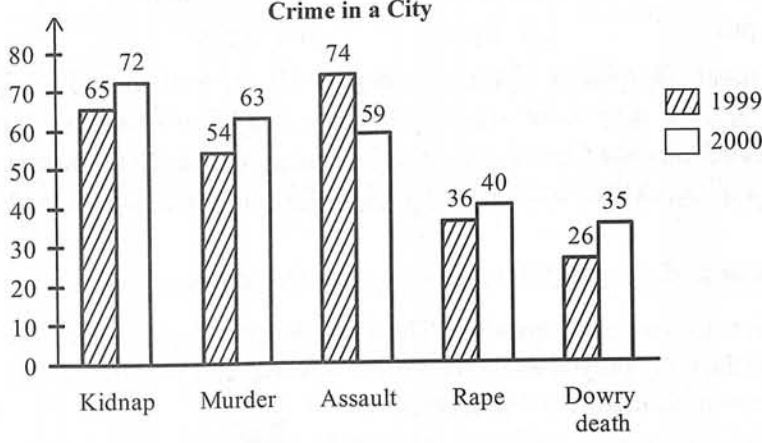


கீழ்க்கண்ட வரிசைமுறையில் விடுபட்ட எண்களைத் தேர்வு செய்யவும்.



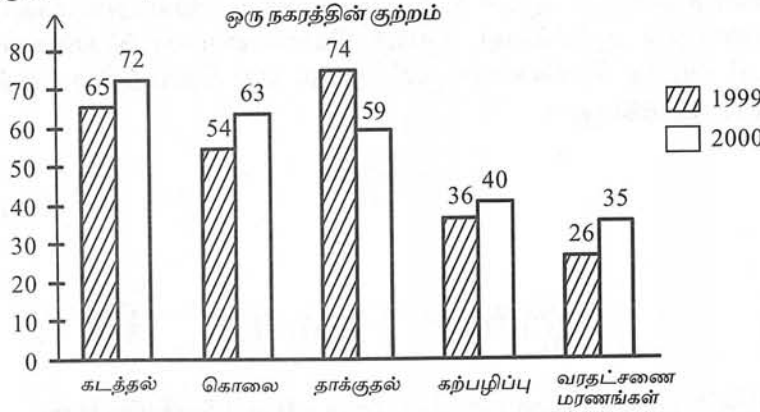
- (A) 77 (B) 79
 (C) 73 (D) 75

57. The following graph represents the types of crimes and their percentages. Indicate for which particular crime, the percentage increases.



- (A) Kidnap (B) Murder
(C) Assault (D) Dowry death

பின்வரும் வரைப்படம் சில வகையான குற்றங்களும் அதன் சதவீதத்தையும் குறிப்பிடும். எந்த குறிப்பிட்ட குற்றத்தின் சதவீத அதிகரிப்பு அதிகப்பட்சமாக உள்ளது என்பதைக் குறிப்பிடவும்.



- (A) கடத்தல் (B) கொலை
(C) தாக்குதல் (D) வரதட்சணை மரணங்கள்

58. A man moves 4 km towards East. Then moves 3 km towards North. How far he is from the starting point ?

- (A) 8 km (B) 7 km (C) 5 km (D) 6 km

ஒரு மனிதன் கிழக்கு திசைநோக்கி 4 கி.மீ. செல்கிறான். பிறகு வடக்கு திசைநோக்கி 3 கி.மீ. செல்கிறான். அம்மனிதன் தொடக்க நிலையிலிருந்து எத்தனை கி.மீ. தொலைவில் இருக்கிறான் என்று கண்டுபிடித்து சரியான விடை தருக.

- (A) 8 கி.மீ. (B) 7 கி.மீ. (C) 5 கி.மீ. (D) 6 கி.மீ.



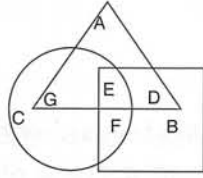
59. An ant climbs 30 cm at the beginning of each hour and rests for a while. He slips back 20 cm before he starts climbing again in the beginning of the next hour. If he begins his ascent at 10.00 am, at what time will he first touch a flag at 120 cm from the ground ?

(A) 6 pm (B) 5 pm (C) 8 pm (D) 9 pm

ஒரு எறும்பு ஒவ்வொரு மணி நேரத்தின் தொடக்கத்திலும் 30 cm உயரம் ஏறி சிறிது நேரம் ஓய்வெடுக்கிறது. அடுத்த ஒரு மணி நேரத்தின் தொடக்கத்தில் மீண்டும் ஏறத் தொடங்கும் முன் 20 cm பின்னோக்கிச் செல்கிறது. அவ்வெறும்பு காலை 10.00 மணிக்கு ஏறத் தொடங்கினால், எந்த நேரத்தில் தரையில் இருந்து 120 cm உயரத்தில் உள்ள கொடியைத் தொடும்.

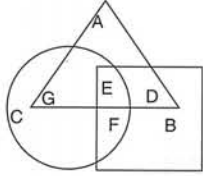
(A) மாலை 6 (B) மாலை 5 (C) மாலை 8 (D) மாலை 9

60. Study the diagram given below to answer the question. The triangle in the figure depicts women in villages, the square depicts the unemployed women and the circle depicts the educated women. Educated unemployed women in villages are represented by



(A) A (B) B (C) D (D) E

கீழ்க்கண்ட வரை படங்களை கவனித்து அதில் உள்ள கேள்விக்கு பதில் அளிக்கவும். முக்கோணம் கிராம பெண்களை குறிக்கிறது. சதுரம் வேலையில்லா பெண்களை குறிக்கிறது மற்றும் வட்டம் படித்த பெண்களை குறிக்கிறது, எது கிராமத்தில் படித்த வேலையில்லா பெண்களை குறிக்கிறது ?



(A) A (B) B (C) D (D) E



61. Some boys are sitting in a line. Mahendra is on 17th place from left and Surendra is on 18th place from right. There are 8 boys in between them. How many boys are there in the line ?

(A) 43 (B) 42 (C) 41 (D) 44

ஒரு வரிசையில் சில மாணவர்கள் அமர்ந்திருக்கிறார்கள் மகேந்திரா என்பவர் இடப் பக்கத்திலிருந்து 17வது இடத்திலும் மற்றும் சுரேந்திரா என்பவர் வலது பக்கத்திலிருந்து 18வது இடத்தில் இருக்கிறார்கள். இந்த இரு மாணவர்களிடையே 8 மாணவர்கள் அமர்ந்திருக்கிறார்கள் என்றால் எத்தனை மாணவர்கள் அவ்வரிசையில் அமர்ந்திருக்கிறார்கள் என்ற பதிலை தருக.

(A) 43 (B) 42 (C) 41 (D) 44



62. Split 64 into three parts such that the numbers are in Geometric Progression.

- (A) 1, 4, 16 (B) 2, 4, 6 (C) 2, 3, 8 (D) 2, 4, 8

64 என்ற எண்ணைப் பெருக்குத் தொடர் வரிசையில் அமைந்த மூன்று எண்களின் பெருக்கற்பலனாக எழுது.

- (A) 1, 4, 16 (B) 2, 4, 6 (C) 2, 3, 8 (D) 2, 4, 8

63. Choose the number which is different from the other numbers.

- (A) 81 (B) 36 (C) 54 (D) 61

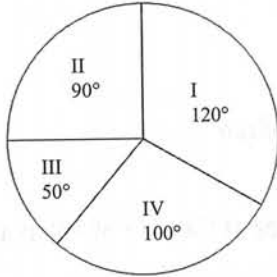


மற்ற எண்களிலிருந்து வேறுபட்ட எண்ணைத் தேர்ந்தெடுக்கவும்.

- (A) 81 (B) 36 (C) 54 (D) 61

The following Pie Chart represents the number of valid votes obtained by 4 candidates. The total number of valid votes polled was 720. Read carefully and answer the following three questions (64 – 66).

பின்வரும் பை விளக்கப்படம் 4 வேட்பாளர்கள் பெற்ற செல்லுபடியாகும் வாக்குகளின் எண்ணிக்கையைக் குறிக்கிறது. மொத்தம் பதிவான செல்லுபடியாகும் வாக்குகளின் எண்ணிக்கை 720. கவனமாகப் படித்து கேள்விக்கு (64 – 66) பதிலளிக்கவும்.



- I Candidate – 1
வேட்பாளர் – 1
II Candidate – 2
வேட்பாளர் – 2
III Candidate – 3
வேட்பாளர் – 3
IV Candidate – 4
வேட்பாளர் – 4

64. Who won the election ? How many votes did he get ?

- (A) Candidate – 1, 240 (B) Candidate – 2, 120
(C) Candidate – 3, 240 (D) Candidate – 4, 120



தேர்தலில் வெற்றி பெற்றது யார் ? அவர் எத்தனை வாக்குகள் பெற்றார் ?

- (A) வேட்பாளர் – 1, 240 (B) வேட்பாளர் – 2, 120
(C) வேட்பாளர் – 3, 240 (D) வேட்பாளர் – 4, 120

65. By what margin, the winner defeated the nearest contestant ?

- (A) 20 Votes (B) 30 Votes
(C) 40 Votes (D) 60 Votes

எந்த வித்தியாசத்தில் வெற்றி பெற்ற வேட்பாளர் மற்றவரை தோற்கடித்தார் ?

- (A) 20 ஓட்டுக்கள் (B) 30 ஓட்டுக்கள்
(C) 40 ஓட்டுக்கள் (D) 60 ஓட்டுக்கள்



66. Who got the minimum number of votes ?

- (A) Candidate – 1 (B) Candidate – 2
(C) Candidate – 3 (D) Candidate – 4

குறைந்த பட்ச வாக்குகளை பெற்றவர் யார் ?

- (A) வேட்பாளர் – 1 (B) வேட்பாளர் – 2
(C) வேட்பாளர் – 3 (D) வேட்பாளர் – 4



67. In a certain code, MOUNTAIN is written as OMNUATNI. How is READER written in that code ?

- (A) ERADRE (B) ERDARE (C) REDEAR (D) RAERDE

ஒரு குறிப்பிட்ட குறியீட்டின் MOUNTAIN என்பது OMNUATNI என எழுதப்பட்டுள்ளது. அந்த குறியீட்டில், READER எப்படி எழுதப்படும் ?

- (A) ERADRE (B) ERDARE (C) REDEAR (D) RAERDE

68. Find the correct answer.

Dawn : Dusk :: Inauguration : ?

- (A) Invitation (B) Valediction
(C) Repetition (D) Organisation

சரியான பதிலைக் கண்டறியவும்.

விடியல் : அந்தி :: திறப்பு விழா : ?

- (A) அழைப்பிதழ் (B) பிரிவு உபச்சார விழா
(C) மீண்டும் மீண்டும் (D) அமைப்பு

69. The value of a motor cycle 2 years ago was ₹ 70,000. It depreciates at the rate of 4% p.a. Find its present value.

- (A) ₹ 64,215 (B) ₹ 64,512 (C) ₹ 54,512 (D) ₹ 54,215

இரு சக்கர வாகனம் ஒன்றின் விலை 2 ஆண்டுகளுக்கு முன் ₹ 70,000 ஆக இருந்தது. அதன் மதிப்பு ஆண்டுதோறும் 4% வீதம் குறைகிறது. அதன் தற்போதைய மதிப்பு காண்க.

- (A) ₹ 64,215 (B) ₹ 64,512 (C) ₹ 54,512 (D) ₹ 54,215



70. Which term is wrong in the following series ?

196, 169, 144, 121, 100, 80, 64

- (A) 169 (B) 121 (C) 80 (D) 64

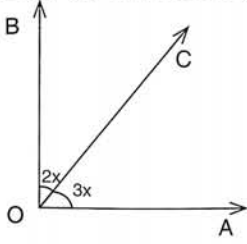
கீழே கொடுக்கப்பட்டுள்ள தொடரில் எந்த எண் தவறானது ?

196, 169, 144, 121, 100, 80, 64

- (A) 169 (B) 121 (C) 80 (D) 64

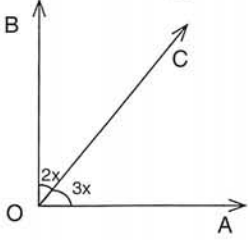


71. Find the value of x if $\angle AOB$ is right angle.



- (A) 16° (B) 15° (C) 20° (D) 18°

$\angle AOB$ என்பது செங்கோணம் எனில் x ன் மதிப்பைக் காண்க.



- (A) 16° (B) 15° (C) 20° (D) 18°



72. There are 46 children standing in a line. If Rohit is standing in 38th position from the right, what is his position from the left ?

- (A) 10th (B) 9th (C) 8th (D) 11th

ஒரு வரிசையில் மொத்தம் 46 சிறுவர்கள் நிற்கிறார்கள். அவர்களின் வலப்பக்கமிருந்து 38-ஆவது இடத்தில் ரோஹித் நிற்கிறான் எனில், இடப்பக்கமிருந்து ரோஹித்தின் இடம் என்ன ?

- (A) 10வது (B) 9வது (C) 8வது (D) 11வது

73. 30% apples out of 450 are rotten. How many apples are in good condition ?

- (A) 125 (B) 180 (C) 240 (D) 315

450 ஆப்பிள்களில் 30% அழுகிய நிலையில் உள்ளன. நல்ல நிலையிலுள்ள ஆப்பிள்களின் எண்ணிக்கை என்ன ?

- (A) 125 (B) 180 (C) 240 (D) 315



74. In a class of 35 students, Kunal is placed 7th from the bottom whereas Sonali is placed 9th from the top. Ravi is placed exactly in between the two. What is Kunal's position from Ravi ?

- (A) 9th (B) 10th (C) 11th (D) 13th

35 மாணவர்களை கொண்ட வகுப்பில், குணால் கீழே இருந்து ஏழாவது இடத்தை பிடித்தார். அதே சமயம், சோனாலி, மேலிருந்து ஒன்பதாவது இடத்தை பிடித்தார். ரவி, இரண்டு பேருக்கும் இடையில் சரியாக வைக்கப்பட்டுள்ளார். ரவியிடம் இருந்து குணாலின் நிலை என்ன ?

- (A) 9ஆவது (B) 10ஆவது (C) 11ஆவது (D) 13ஆவது



75. **Statement I** : The additive inverse of -32 is -32 .

Statement II : The value of $(-10) \times 2$ is 20 .

(A) I only correct

(B) II only correct

(C) I and II correct

(D) I and II wrong

வாக்கியம் I : -32 ன் கூட்டல் எதிர்மறை -32 .

வாக்கியம் II : $(-10) \times 2$ ன் மதிப்பு 20 .

(A) I மட்டும் சரி

(B) II மட்டும் சரி

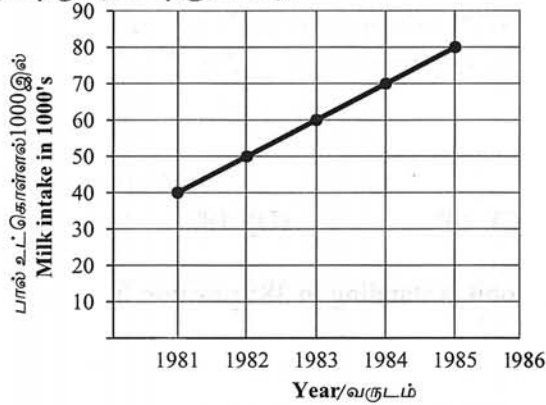
(C) I மற்றும் II சரி

(D) I மற்றும் II தவறு



The following graph depicts yearly milk collection of a milk processing unit (76 and 77).

பின்வரும் வரைப்படம் ஒரு பால் பதப்படுத்தும் பிரிவின் வருடாந்திர பால் சேகரிப்பை காட்டுகிறது (76 மற்றும் 77).



76. Which year recorded maximum percentage growth of milk intake ?

(A) 1981

(B) 1986

(C) 1983

(D) 1984

எந்த ஆண்டு பால் உட்கொள்ளலில் அதிகபட்ச சதவீத வளர்ச்சியை பதிவு செய்கிறது ?

(A) 1981

(B) 1986

(C) 1983

(D) 1984

77. Which year recorded least percentage growth of milk intake ?

(A) 1981

(B) 1982

(C) 1983

(D) 1984



எந்த ஆண்டு பால் உட்கொள்ளலில் குறைந்த சதவீத வளர்ச்சியை பதிவு செய்தது ?

(A) 1981

(B) 1982

(C) 1983

(D) 1984

78. In each of the following letter series, some of the letters are missing, which are given that order as one of the alternatives below it. Choose the correct alternative.

abca ___ bcaab ___ aa ___ caa ___ c

(A) bbac

(B) bbaa

(C) acbb

(D) acac

கொடுக்கப்பட்டுள்ள எழுத்துக்களின் வரிசையில் சில எழுத்துக்கள் விடப்பட்டுள்ளன. விடுபட்ட எழுத்துகளை அதே வரிசையில் பதிலாக கொடுக்கப்பட்டுள்ளன. சரியான பதிலை கண்டு பிடிக்கவும்.

abca ___ bcaab ___ aa ___ caa ___ c

(A) bbac

(B) bbaa

(C) acbb

(D) acac



79. Arrange the words into meaningful sequence.

1. Sending 2. Encoding 3. Receiving 4. Decoding

(A) 2, 4, 3, 1 (B) 4, 2, 1, 3 (C) 1, 2, 3, 4 (D) 2, 1, 3, 4

வார்த்தைகளை அர்த்தமுள்ள வரிசையில் அடுக்கவும்.

1. அனுப்புதல் 2. குறியீடாக்கம் 3. பெறுதல் 4. குறிவிலக்கம்

(A) 2, 4, 3, 1 (B) 4, 2, 1, 3 (C) 1, 2, 3, 4 (D) 2, 1, 3, 4



80. A man starts from his house and walked straight for 10 m towards North and turned left and walked 25 m. He then turned right and walked 5 m and again turned right and walked 25 m. Which direction is he facing now ?

(A) North (B) East (C) South (D) West

ஒரு மனிதன் தன் வீட்டில் இருந்து நேராக வடக்கை நோக்கி 10 m நடந்தான். பிறகு அவன் இடது பக்கம் திரும்பி 25 m நடந்தான். பிறகு அவன் வலதுபுறம் திரும்பி 5 m நடந்தான். மறுபடியும் வலதுபுறம் திரும்பி 25 m நடந்தான். இப்போது அவன் எந்த திசையை நோக்குகிறான் ?

(A) வடக்கு (B) கிழக்கு (C) தெற்கு (D) மேற்கு

81. In a city $\frac{7}{20}$ of the population are women and $\frac{1}{4}$ are children. Find the fraction of the population of men.

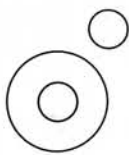
(A) $\frac{6}{20}$ (B) $\frac{5}{20}$ (C) $\frac{7}{20}$ (D) $\frac{8}{20}$

ஒரு நகரத்தில் உள்ள மொத்த மக்கள் தொகையில் $\frac{7}{20}$ பங்கு பெண்கள் மற்றும் $\frac{1}{4}$ பங்கு குழந்தைகள் எனில், மொத்த மக்கள் தொகையில் ஆண்களின் பங்கு (பின்னம்) என்ன ?

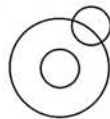
(A) $\frac{6}{20}$ (B) $\frac{5}{20}$ (C) $\frac{7}{20}$ (D) $\frac{8}{20}$



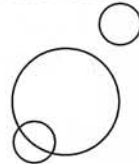
82. Which of the following diagrams indicate the best relation among sports, football, lizard ?



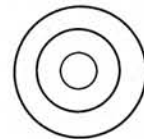
a



b



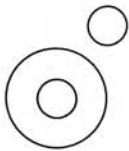
c



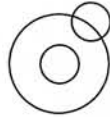
d

(A) a (B) b (C) c (D) d

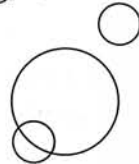
பின்வரும் வரைபடங்களில் எது விளையாட்டு, கால்பந்து, பல்லி ஆகியவற்றுக்கு இடையேயான சிறந்த உறவைக் குறிக்கிறது ?



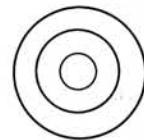
a



b



c



d

(A) a (B) b (C) c (D) d



83. If X says that his mother is the only daughter of Y's mother. How is X related to Y ?

- (A) Son (B) Father (C) Brother (D) Uncle

Y ய்யின் தாய்க்கு அவருடைய தாய் ஒரே மகள் என்று X சொன்னால், X க்கும் Y க்கும் என்ன தொடர்பு ?

- (A) மகன் (B) தந்தை (C) சகோதரன் (D) மாமா

84. When we arrange the letters of word 'VRAKIE' in correct order, we get the name of a river. Fifth letter from left in that name is

- (A) R (B) E (C) I (D) K

'VRAKIE' என்ற வார்த்தையை நாம் சரியான முறையில் அவ்வார்த்தையிலுள்ள எழுத்துக்களை மாற்றி அமைத்தால். நமக்கு ஒரு நதியின் பெயர் கிடைக்கும். அந்த நதியின் பெயரில், இடது பக்கத்திலிருந்து ஐந்தாவதாக இடம் பெற்றிருக்கும் எழுத்து என்ன என்பதை கண்டறிந்து சரியான விடை தருக.

- (A) R (B) E (C) I (D) K



85. Simplify : $40 + [9 \times 2 + \{(6 \times 3) - (15 \div 5)\}]$.

- (A) 7 (B) 113 (C) 73 (D) 89

சுருக்குக : $40 + [9 \times 2 + \{(6 \times 3) - (15 \div 5)\}]$.

- (A) 7 (B) 113 (C) 73 (D) 89

86. The train for Lucknow leaves every two and a half hours from New Delhi Railway Station. An announcement was made at the station that the train for Lucknow had left 40 min. ago and the next train will leave at 18.00 hrs. At what time was announcement made ?

- (A) 15 : 30 hours (B) 17 : 10 hours (C) 15 : 50 hours (D) 16 : 10 hours

லக்னோவிற்கான ரயில் டெல்லி ரயில் நிலையத்தில் இருந்து ஒவ்வொரு இரண்டரை மணி நேரத்திற்கு ஒருமுறை புறப்படுகிறது. லக்னோவுக்கான ரயில் 40 நிமிடங்களுக்கு முன்பு புறப்பட்டுவிட்டதாகவும். அடுத்த ரயில் 18.00 மணிக்குப் புறப்படும் என்றும் நிலையத்தில் அறிவிப்பு வெளியிடப்பட்டது. எந்த நேரத்தில் அறிவிப்பு வெளியிடப்பட்டது ?

- (A) 15 : 30 மணி (B) 17 : 10 மணி (C) 15 : 50 மணி (D) 16 : 10 மணி

87. Raghu and Babu are twins. Babu's sister is Reema. Reema's husband is Rajan. Raghu's mother is Lakshmi. Lakshmi's husband is Rajesh. How is Rajesh related to Rajan ?

- (A) Uncle (B) Son-in-law
(C) Father-in-law (D) Cousin



ரகுவும், பாபுவும் இரட்டையர்கள். பாபுவின் சகோதரி ரீமா, ரீமாவின் கணவர் ராஜன், ரகுவின் அம்மா லக்ஷ்மி, லக்ஷ்மியின் கணவர் ராஜேஷ். ராஜேஷ் ராஜனுக்கு என்ன உறவு ?

- (A) மாமா (B) மருமகன்
(C) மாமனார் (D) ஒன்று விட்ட சகோதரன்



88. Match the following.

- | | |
|-------------------------|---------------------------------------|
| I) Area of a square | a) $l \times b$ sq.units |
| II) Area of a rectangle | b) s^2 sq.units |
| III) Area of a triangle | c) πr^2 sq.units |
| IV) Area of a circle | d) $\frac{1}{2}(b \times h)$ sq.units |
- | | | | |
|-------|----|-----|----|
| I | II | III | IV |
| (A) b | a | d | c |
| (B) d | b | a | c |
| (C) d | a | c | b |
| (D) c | d | b | a |

பொருத்துக :

- | | |
|---------------------------|--|
| I) சதுரத்தின் பரப்பு | a) $l \times b$ ச.அலகுகள் |
| II) செவ்வகத்தின் பரப்பு | b) s^2 ச.அலகுகள் |
| III) முக்கோணத்தின் பரப்பு | c) πr^2 ச.அலகுகள் |
| IV) வட்டத்தின் பரப்பு | d) $\frac{1}{2}(b \times h)$ ச.அலகுகள் |
- | | | | |
|-------|----|-----|----|
| I | II | III | IV |
| (A) b | a | d | c |
| (B) d | b | a | c |
| (C) d | a | c | b |
| (D) c | d | b | a |



89. Pick the odd one out.

Chemistry, Geography, Subject, Literature

- | | |
|---------------|----------------|
| (A) Chemistry | (B) Geography |
| (C) Subject | (D) Literature |

தனித்து இருப்பதை எடுத்து எழுதுக.

வேதியல், புவியியல், பாடம், இலக்கியம்

- | | |
|-------------|---------------|
| (A) வேதியல் | (B) புவியியல் |
| (C) பாடம் | (D) இலக்கியம் |



90. Decimal form of $1\frac{3}{20}$

- | | | | |
|----------|----------|-----------|----------|
| (A) 1.25 | (B) 1.15 | (C) 0.115 | (D) 11.5 |
|----------|----------|-----------|----------|

$1\frac{3}{20}$ இன் தசம எண் வடிவம்

- | | | | |
|----------|----------|-----------|----------|
| (A) 1.25 | (B) 1.15 | (C) 0.115 | (D) 11.5 |
|----------|----------|-----------|----------|



91. "Personation at election" is an Offence under which Section of IPC ?

- (A) Section 171 A of IPC (B) Section 171 B of IPC
(C) Section 171 C of IPC (D) Section 171 D of IPC

"தேர்தல்களில் ஆள் மாறாட்டம்" செய்வது குற்றம் என இ.த.ச. வின் எப்பிரிவு கூறுகிறது

- (A) பிரிவு 171 A இ.த.ச. (B) பிரிவு 171 B இ.த.ச.
(C) பிரிவு 171 C இ.த.ச. (D) பிரிவு 171 D இ.த.ச.

92. **Statement I** : Sentence of imprisonment for non-payment of fine – Section 64 IPC.

Statement II : Communication made in Good faith – Section 93 IPC.

- (A) I only correct (B) II only correct
(C) I and II correct (D) I and II wrong



வாக்கியம் I : அபராதம் செலுத்தாமைக்குச் சிறைத் தண்டனை-பிரிவு 64 இ.த.ச.

வாக்கியம் II : நல்லெண்ணத்தோடு தெரிவிக்கப்பட்ட செய்தி-பிரிவு 93 இ.த.ச.

- (A) I மட்டும் சரி (B) II மட்டும் சரி
(C) I மற்றும் II சரி (D) I மற்றும் II தவறு

93. Match the following.

- | | |
|----------------------------------|---------------------------|
| I) Summon to produce document | a) Section 313 of Cr.P.C. |
| II) Special Executive Magistrate | b) Section 13 of Cr.P.C. |
| III) Special Judicial Magistrate | c) Section 91 of Cr.P.C. |
| IV) Examination of accused | d) Section 21 of Cr.P.C. |

I II III IV

- (A) b a c d
(B) c b d a
(C) a c b d
(D) d a b c



பொருத்துக.

- | | |
|--|-----------------------|
| I) ஆவணங்களை சமர்ப்பித்திட அழைப்பாணை | a) பிரிவு 313 Cr.P.C. |
| II) சிறப்பு நிர்வாக நடுவர் | b) பிரிவு 13 Cr.P.C. |
| III) சிறப்பு நீதித்துறை நடுவர் | c) பிரிவு 91 Cr.P.C. |
| IV) குற்றம் சுமத்தப்பட்டவரை விசாரிப்பதற்கான அதிகாரம் | d) பிரிவு 21 Cr.P.C. |

I II III IV

- (A) b a c d
(B) c b d a
(C) a c b d
(D) d a b c



94. Declarations/Statements given by a person who cannot be found during the course of business are admissible u/s _____ of IEA.

- (A) 32 (1) of IEA (B) 32 (2) of IEA
(C) 32 (4) of IEA (D) 32 (7) of IEA

காணாமல் போன ஒரு நபரால் அலுவல் நடப்பு முறையில் வழங்கப்பட்ட வாக்குமூலங்கள் இ.சா.சட்டத்தின் எந்தப் பிரிவின் கீழ் சாட்சியங்களாக ஏற்றுக்கொள்ளப்படும் ?

- (A) 32 (1) இ.சா.சட்டம் (B) 32 (2) இ.சா.சட்டம்
(C) 32 (4) இ.சா.சட்டம் (D) 32 (7) இ.சா.சட்டம்



95. The recording of statement of rape victim is dealt under Section _____ of Cr.P.C.

- (A) 53 A (B) 164 (5A) (a) (C) 55 A (D) 54 A

வன்புணர்ச்சி குற்றத்தில் பாதிக்கப்பட்டவரின் வாக்குமூலத்தை பதிவு செய்தல் பற்றி Cr.P.C. பிரிவு _____ன் கீழ் கூறப்பட்டுள்ளது.

- (A) 53 A (B) 164 (5A) (a) (C) 55 A (D) 54 A

96. Find out the wrong pair under the Indian Evidence Act, 1872.

- I) Section 101 a) Burden of Proof
II) Section 113 B b) Presumption as to dowry death
III) Section 74 c) Opinion of Expert
IV) Section 17 d) Definition of Admission

- (A) I is correct (B) II is correct
(C) III is correct (D) IV is correct



தவறான இணையை இந்திய சாட்சிய சட்டத்தில் கீழ் கண்டறிக.

- I) பிரிவு 101 a) நிரூபிக்கும் பொறுப்பு
II) பிரிவு 113 B b) வரதட்சணை மரணமாக அனுமானித்தல்
III) பிரிவு 74 c) வல்லுநர்களின் கருத்து
IV) பிரிவு 17 d) ஏற்புரைக்கான வரையறை

- (A) I சரி (B) II சரி
(C) III சரி (D) IV சரி



97. Match the following.

- | | |
|-----------------------------|-----------------|
| I) Criminal trespass | a) Sec. 446 IPC |
| II) House trespass | b) Sec. 441 IPC |
| III) House breaking | c) Sec. 445 IPC |
| IV) House breaking by Night | d) Sec. 442 IPC |

(A) II - a IV - b III - c I - d

(B) I - a II - b III - c IV - d

(C) IV - a III - b II - c I - d

(D) III - a I - b IV - c II - d



பொருத்துக.

- | | |
|----------------------------------|----------------------|
| I) குற்றமுறு அத்துமீறல் | a) பிரிவு 446 இ.த.ச. |
| II) வீட்டினுள் அத்துமீறி நுழைதல் | b) பிரிவு 441 இ.த.ச. |
| III) வீட்டில் கன்னமிடுதல் | c) பிரிவு 445 இ.த.ச. |
| IV) இரவில் வீட்டில் கன்னமிடுதல் | d) பிரிவு 442 இ.த.ச. |

(A) II - a IV - b III - c I - d

(B) I - a II - b III - c IV - d

(C) IV - a III - b II - c I - d

(D) III - a I - b IV - c II - d

98. As per IEA, what is the number of witnesses that are allowed for proof of any fact ?

- (A) No Specified Number
(B) One
(C) Not less than five
(D) Not less than seven



இ.சா.சட்டத்தில் எத்தனை சாட்சிகள், ஒரு சங்கதியை நிரூபிக்க அனுமானிக்கலாம் என்று குறிப்பிடப்பட்டுள்ளது

- (A) எதுவும் குறிப்பிடப்படவில்லை
(B) ஒன்று
(C) ஐந்து நபர்களுக்கு குறையாமல்
(D) 7 நபர்களுக்கு குறையாமல்



99. Match the following.

- | | |
|---|--------------------------|
| I) Prosecution of Judges and Public Servants | a) Section 198 Cr.P.C. |
| II) Prosecution for offences relating to marriage | b) Section 197 Cr.P.C. |
| III) Prosecution of offence under Section 498 A IPC | c) Section 199 Cr.P.C. |
| IV) Prosecution for defamation | d) Section 198 A Cr.P.C. |

- | | | | | |
|-----|---|----|-----|----|
| | I | II | III | IV |
| (A) | a | b | c | d |
| (B) | b | a | d | c |
| (C) | a | c | d | b |
| (D) | c | b | d | a |



பொருத்துக.

- | | |
|--|-------------------------|
| I) நீதிபதிகள் மற்றும் பொது ஊழியர்களுக்கு எதிராக குற்றவழக்கு தொடர்தல் | a) பிரிவு 198 Cr.P.C. |
| II) திருமணம் தொடர்புடைய குற்றங்களுக்காக வழக்கு தொடர்தல் | b) பிரிவு 197 Cr.P.C. |
| III) இ.த.ச. பிரிவு 498 A ன் கீழ் குற்ற வழக்கு தொடர்தல் | c) பிரிவு 199 Cr.P.C. |
| IV) அவதூறு குற்றத்திற்காக வழக்கு தொடர்தல் | d) பிரிவு 198 A Cr.P.C. |

- | | | | | |
|-----|---|----|-----|----|
| | I | II | III | IV |
| (A) | a | b | c | d |
| (B) | b | a | d | c |
| (C) | a | c | d | b |
| (D) | c | b | d | a |



100. PSO 150 speaks about

- (A) Station Inspections
- (B) Appointment of Commission in special cases
- (C) Inquiry in cases of death or injury caused by Police or suffered in Police custody
- (D) Procedure to be followed in sending weekly reports

கா.நி.ஆ. 150 கூறுவது

- (A) காவல்நிலைய ஆய்வுகள்
- (B) தனி வழக்குகளில் ஆணையத்தை நியமிக்க வேண்டியது
- (C) காவல் துறையினரால் அல்லது காவல் பாதுகாப்பில் ஏற்படும் மரணம் அல்லது காயம் விளையும் நேர்வுகள்
- (D) வார அறிக்கைகள் அனுப்புகையில் பின்பற்ற வேண்டிய நடைமுறை



101. Match the following.

- | | |
|--------------------------|-------------|
| I) Abettor | a) Sec. 141 |
| II) Unlawful Assembly | b) Sec. 108 |
| III) Punishments | c) Sec. 73 |
| IV) Solitary confinement | d) Sec. 53 |

- | | I | II | III | IV |
|-----|---|----|-----|----|
| (A) | b | a | d | c |
| (B) | c | b | a | d |
| (C) | a | d | c | b |
| (D) | d | c | b | a |



பொருத்துக.

- | | |
|-------------------------------|---------------|
| I) உடந்தை குற்றவாளி | a) பிரிவு 141 |
| II) சட்ட விரோதமான செயல் | b) பிரிவு 108 |
| III) தண்டனைகள் | c) பிரிவு 73 |
| IV) சிறையில் தனித்து அடைத்தல் | d) பிரிவு 53 |

- | | I | II | III | IV |
|-----|---|----|-----|----|
| (A) | b | a | d | c |
| (B) | c | b | a | d |
| (C) | a | d | c | b |
| (D) | d | c | b | a |

102. Which Battalion of Tamil Nadu Special Police has been re-designated as Tamil Nadu Disaster Response Force ?

- | | |
|-------------------|-----------------------|
| (A) Tenth (X) | (B) Eleventh (XI) |
| (C) Twelfth (XII) | (D) Thirteenth (XIII) |

தமிழ்நாடு சிறப்பு காவல் படையின் எந்த படைப்பிரிவானது தமிழ்நாடு பேரிடர் மீட்புப் படையாக நியமனம் செய்யப்பட்டுள்ளது ?

- | | |
|------------------|--------------------|
| (A) பத்தாவது | (B) பதினொன்றாவது |
| (C) பனிரெண்டாவது | (D) பதின்மூன்றாவது |

103. When a witness may be re-examined ?

- | | |
|---|---|
| (A) After the chief examination | (B) May be re-examined without examining in chief |
| (C) May be re-examined after completion of all the examinations | (D) May be re-examined by a party who called the witness wishes after cross examination |

எப்போது ஒரு சாட்சியை மறுவிசாரணை செய்யலாம் ?

- | | |
|--|--|
| (A) முதல் விசாரணை முடிந்தவுடன் | (B) முதல் விசாரணை செய்யாமலே மறு விசாரணை செய்யலாம் |
| (C) அனைத்து விசாரணைகளும் முடிவுற்ற பிறகு | (D) குறுக்கு விசாரணை முடிந்த பிறகு, அவரை அழைக்கும் தரப்பினர் விரும்பினால் மறுவிசாரணை செய்யலாம் |





104. Which among the following is not insisted in Supreme Court guidelines during arrest of an accused person ?

- (A) Name badge of the Police Officer
 (B) Intimating relatives or friends of the accused
 (C) Entering in the General Diary
 (D) Use of Hand Cuffs

குற்றவாளிகளை கைது செய்வது பற்றிய உச்ச நீதிமன்ற வழிகாட்டுதல்களில், நிர்பந்திக்கப்படாதது எதுவெனில்

- (A) காவல் அலுவலர்களின் பெயர் கொண்ட பேட்ஜ் அணிந்திருந்தல்
 (B) கைதியின் உறவினர்களுக்கோ (அ) நண்பர்களுக்கோ தெரிவித்தல்
 (C) பொது நாட்குறிப்பில் பதிவு
 (D) கைவிலங்கை பயன்படுத்துவது



105. Which Section of IPC gives punishment for being a member of an Unlawful assembly ?

- (A) Section 160 IPC (B) Section 163 IPC
 (C) Section 143 IPC (D) Section 154 IPC

ஒரு சட்ட விரோதமான கும்பலின் உறுப்பினராக இருக்கும் ஒருவருக்கு இ.த.ச. வின் எந்த பிரிவு தண்டனை விவரத்தை அளிக்கிறது ?

- (A) பிரிவு 160 இ.த.ச. (B) பிரிவு 163 இ.த.ச.
 (C) பிரிவு 143 இ.த.ச. (D) பிரிவு 154 இ.த.ச.

106. _____ Court conducts trial of a murder cases.

- (A) Judicial Magistrate (B) Sessions Court
 (C) District Munsif Court (D) High Court

கொலை வழக்கு மீதான விசாரணையை நடத்தும் நீதிமன்றம்

- (A) குற்றவியல் நடுவர் நீதிமன்றம் (B) அமர்வு நீதிமன்றம்
 (C) மாவட்ட உரிமையியல் நீதிமன்றம் (D) உயர் நீதிமன்றம்

107. Which Section of Cr.P.C. provides for compensation to persons groundlessly arrested ?

- (A) 356 (B) 358 (C) 425 (D) 327

Cr.P.C. எந்தப் பிரிவு ஆதாரமின்றிக் கைது செய்யப்பட்டவர்களுக்கான இழப்பீடு பற்றிக் கூறுகிறது ?

- (A) 356 (B) 358 (C) 425 (D) 327

108. Which Mobile App is introduced by Tamil Nadu Police to trigger and send emergency alert to control room to get immediate assistance by general public ?

- (A) Kaaval Nanban (B) Kaaval Uthavi
 (C) Kaaval Thozhan (D) Kaaval Avasaram



பொதுமக்களுக்கு தேவைப்படும் அவசர உதவியினை உடனடியாக காவல் கட்டுப்பாட்டு அறைக்கு தெரிவித்து பயன்பெற தமிழக காவல்துறையால் அறிமுகப்படுத்தப்பட்ட கைப்பேசி செயலி எது ?

- (A) காவல் நண்பன் (B) காவல் உதவி
 (C) காவல் தோழன் (D) காவல் அவசரம்



109. Punishment for forgery is dealt under Section _____ of IPC.
(A) 465 (B) 420 (C) 479 (D) 481

இந்திய தண்டனை சட்டத்தில் பொய்யாவணம் புனைதலுக்கு தண்டனை பற்றி கூறும் பிரிவு

- (A) 465 (B) 420 (C) 479 (D) 481

110. PSO _____ defines about dispersal of unlawful assemblies.

- (A) PSO 603 (B) PSO 703
(C) PSO 709 (D) PSO 609



தமிழ்நாடு காவல் நிலை ஆணை எண் _____ சட்ட விரோத கும்பல்களைக் கலைத்தல் பற்றி குறியிடுகிறது.

- (A) கா.நி.ஆ. 603 (B) கா.நி.ஆ. 703
(C) கா.நி.ஆ. 709 (D) கா.நி.ஆ. 609

111. Which special unit of Tamil Nadu Police looks after intelligence relating to tensions arising out of communal and caste related issues and other general law and order matters ?

- (A) CBCID
(B) SBCID
(C) OCIU
(D) Q Branch CID

தமிழ்நாடு காவல்துறையில் எந்த சிறப்பு பிரிவு இனரீதியான, ஜாதி ரீதியான பிரச்சனைகள் மற்றும் பொதுவான சட்டம் ஒழுங்கு பற்றிய நுண்ணறிவு சேகரிக்கிறது ?

- (A) குற்றப்பிரிவு குற்ற புலனாய்வு துறை
(B) தனிப்பிரிவு குற்ற புலனாய்வு துறை
(C) திட்டமிட்ட குற்றத் தடுப்பு நுண்ணறிவுப் பிரிவு
(D) Q பிரிவு குற்ற புலனாய்வு துறை



112. Arrest to prevent the Commission of cognizable offences is dealt under Section _____ of Cr.P.C.

- (A) 149 (B) 150 (C) 151 (D) 152

Cr.P.C. பிரிவு _____ன் கீழ் புலன் கொள்ளத்தக்க குற்றங்கள் செய்யப்படுவதைத் தடுப்பதற்காக கைது செய்தல் தொடர்பாக கூறப்பட்டுள்ளது.

- (A) 149 (B) 150 (C) 151 (D) 152

113. Whether High School Certificate is considered to be admissible under Section 35 of IEA ?

- (A) Yes (B) No
(C) Partly yes (D) None of the above

இந்தியச் சாட்சியச் சட்டத்தின் பிரிவு 35 இன் கீழ் உயர் நிலைபள்ளி சான்றிதழ் ஏற்றுக் கொள்ளப்படும் தன்மை கொண்டதா ?

- (A) ஆம் (B) இல்லை
(C) பகுதி சரி (D) மேல் சொன்ன எதுவும் இல்லை



114. CIPRUS refers to

- (A) Crime Intelligence Police Record Updating System
- (B) Criminal Information Police Record Updating System
- (C) Common Integrated Police Record Updating System
- (D) Common Investigation Police Record Updating System

CIPRUS என்பது எதை குறிக்கிறது ?

- (A) கிரைம் இண்டலிஜன்ஸ் போலிஸ் ரெக்கார்டு அப்டேட்டிங் சிஸ்டம்
- (B) கிரிமினல் இன்பர்மேஷன் போலிஸ் ரெக்கார்டு அப்டேட்டிங் சிஸ்டம்
- (C) காமன் இண்டக்ரேட்டட் போலிஸ் ரெக்கார்டு அப்டேட்டிங் சிஸ்டம்
- (D) காமன் இன்வஸ்டிகேஷன் போலிஸ் ரெக்கார்டு அப்டேட்டிங் சிஸ்டம்

115. When is a person said to have committed house breaking by night ?

- (A) Only after 10 p.m.
- (B) After sunset and before sunrise
- (C) Between 2.00 a.m. and 3.00 a.m. only
- (D) Any time



ஒருவர் எப்போது இரவில் கன்னமிடுதலைச் செய்வதாகச் சொல்லப்படுவார் ?

- (A) இரவு 10 மணிக்கு மேல் மட்டும்
- (B) சூரியன் மறைந்த பின்பும் உதயமாவதற்கு முன்பும்
- (C) அதிகாலை 2.00 மணியிலிருந்து 3.00 மணிக்குள் மட்டும்
- (D) எப்போது வேண்டுமானாலும்

116. Minimum service required for a Police Constable to get promotion as Special Sub Inspector of Police is

- (A) 20 years
- (B) 25 years
- (C) 28 years
- (D) 30 years

ஒரு காவலர் சிறப்பு உதவி ஆய்வாளராகப் பதவி உயர்வு பெற குறைந்தபட்சம் எத்தனை ஆண்டுகள் பணி புரிந்திருக்க வேண்டும்

- (A) 20 ஆண்டுகள்
- (B) 25 ஆண்டுகள்
- (C) 28 ஆண்டுகள்
- (D) 30 ஆண்டுகள்

117. Section 30 of Cr.P.C. deals with

- (A) Sentences of imprisonment in default of fine
- (B) Withdrawal of Powers
- (C) Power of Superior Officers of Police
- (D) Executive Magistrate



Cr.P.C. பிரிவு 30 எதைப் பற்றிக் கூறுகிறது ?

- (A) அபராதம் செலுத்தத் தவறினால் அதற்கு சிறை தண்டனை
- (B) அதிகாரங்களைத் திரும்ப பெறுதல்
- (C) மேல்நிலைக் காவல் அலுவலர்களின் அதிகாரம்
- (D) நிர்வாகத் துறை நடுவர்



118. Witness not excused from answering on grounds "that such answer will criminate him" _____ of IEA features about it.

- (A) Section 125 (B) Section 130
(C) Section 132 (D) Section 133

ஒரு சாட்சி பதில் சொல்வதால் குற்றத்திற்கு உள்ளாக நேரும் என்னும் காரணத்தின் பேரில் பதில் சொல்லும் பொறுப்பிலிருந்து சாட்சி விடுவிக்கப்பட மாட்டார் என்பதனை இந்திய சாட்சிய சட்டத்தின் _____ பிரிவு விவரிக்கிறது.

- (A) பிரிவு 125 (B) பிரிவு 130
(C) பிரிவு 132 (D) பிரிவு 133



119. Quantum of compensation payable to victim of rape under Victim Compensation Fund is

- (A) Upto Rs. 2 lakhs (B) Upto Rs. 2.5 lakhs
(C) Upto Rs. 3 lakhs (D) Upto Rs. 3.5 lakhs

கற்பழிப்பினால் பாதிக்கப்பட்டவருக்கு குற்ற நிகழ்வுகளில் பாதிக்கப்பட்டோருக்கான நிவாரணத் தொகையின் கீழ் வழங்கப்படும் இழப்பீட்டுத் தொகை எவ்வளவு ?

- (A) ரூ. 2 இலட்சம் வரை (B) ரூ. 2.5 இலட்சம் வரை
(C) ரூ. 3 இலட்சம் வரை (D) ரூ. 3.5 இலட்சம் வரை

120. Punishment of Abetment if the Act abetted is committed in consequences of and where no express provision has made for its punishment is dealt under Section

- (A) 107 IPC (B) 108 IPC (C) 109 IPC (D) 110 IPC

உடந்தையாக இருக்கப்பட்ட செய்கை பின் விளைவாக செய்யப்பட்டாலும் அதன் தண்டனைக்கு வெளிப்படையான வகைமுறை செய்யப்படாதவிடத்தும் உடந்தைக்கு தண்டனை இ.த.ச. _____ பிரிவில் குறிப்பிடப்பட்டுள்ளது.

- (A) 107 இ.த.ச. (B) 108 இ.த.ச. (C) 109 இ.த.ச. (D) 110 இ.த.ச.

121. Statement I : PSO 555 speaks about "Express Reports".

Statement II : "Express Reports" should be sent in all cases in which FIR has been registered.

- (A) I only correct (B) II only correct
(C) I and II correct (D) I and II wrong



வாக்கியம் I : காவல் நிலை ஆணை எண் 555 "விரைவு அறிக்கைகள்" பற்றி குறிப்பிடுகிறது.

வாக்கியம் II : முதல் தகவல் அறிக்கை பதிவு செய்யப்படும் அனைத்து வழக்குகளிலும் "விரைவு அறிக்கை" அனுப்பப்பட வேண்டும்

- (A) I மட்டும் சரி (B) II மட்டும் சரி
(C) I மற்றும் II சரி (D) I மற்றும் II தவறு



122. Which Section of Cr.P.C. deals with 'Accused person to be competent witness' ?
 (A) 312 (B) 313 (C) 314 (D) 315

Cr.P.C. எந்தப் பிரிவு 'எதிரி சாட்சி சொல்லுவதற்குத் தகுதியுடையவர்' என்பதைப் பற்றி கூறுகிறது ?

- (A) 312 (B) 313 (C) 314 (D) 315

123. **Statement I** : When a person is bound to prove the existence of any fact, it is said that the burden of proof lies on that person.

Statement II : When any fact is especially within the knowledge of any person, the burden of proving that fact is upon him.

- (A) I only correct (B) II only correct
 (C) I and II correct (D) I and II wrong



வாக்கியம் I : ஒருவர் எந்தச் சங்கதியின் உண்மையையேனும் நிரூபிக்கக் கடமைப் பட்டிருக்கும் போது, அதனை நிரூபிக்கும் பொறுப்பு அவரைச் சார்ந்ததாகும்.

வாக்கியம் II : எந்த சங்கதியேனும் ஒருவரின் அறிவுக்கு மட்டுமே எட்டியிருக்கும் போது அந்த சங்கதியை நிரூபிக்கும் பொறுப்பு அவரை சார்ந்ததாகும்.

- (A) I மட்டும் சரி (B) II மட்டும் சரி
 (C) I மற்றும் II சரி (D) I மற்றும் II தவறு

124. Which Section of Cr.P.C. talks about Special Metropolitan Magistrate ?
 (A) 20 (B) 18 (C) 25 (D) 24

Cr.P.C. எந்தப் பிரிவு பெருநகர் சிறப்பு நடுவர் பற்றிக் கூறுகிறது

- (A) 20 (B) 18 (C) 25 (D) 24

125. As per PSO 761, for whom History Sheet should never opened ?

- (A) Suspects (B) Habitual offenders
 (C) Juvenile offenders (D) Illicit distillers



கா.நி.ஆ. 761, யாருக்கு வரலாற்றுத் தாள் தொடங்கக் கூடாது ?

- (A) சந்தேக நபர் (B) வழக்கமாக குற்றம் புரிபவர்
 (C) இளங் குற்றவாளிகள் (D) கள்ளச்சாராயம் காய்ச்சுபவர்கள்

126. Section 445 IPC describes about which of the following ?

- (A) Criminal Trespass (B) House Trespass
 (C) Lurking House Trespass (D) House Breaking

இ.த.ச. சட்டப்பிரிவு 445 ன் கீழ்க்கண்டவற்றில் எதைப் பற்றி விவரிக்கிறது ?

- (A) குற்றமுறு அத்துமீறல்
 (B) வீட்டினுள் அத்துமீறி நுழைதல்
 (C) பதுங்கி வீட்டினுள் அத்துமீறி நுழைதல்
 (D) கன்னமிடுதல்



127. "May Presume" is dealt under Section _____ of IEA.

- (A) 3 (B) 4 (C) 5 (D) 6

"அனுமானிக்கலாம்" என்ற பதம் இ.சா.சட்டத்தில் _____ பிரிவில் கூறப்பட்டுள்ளது.
(A) 3 (B) 4 (C) 5 (D) 6

128. Who is responsible for the maintenance and custody of personal files of Head Constable (Taluk Police) as per PSO 117 ?

- (A) Inspector of Police (B) Sub divisional Officer
(C) Superintendent of Police (D) Deputy Inspector General of Police



கா.நி.ஆ. 117 இன் படி தலைமைக் காவலர்களின் (தாலுக்கா காவல்) இரகசிய கோப்புகளை பராமரிப்பதற்கும் பாதுகாத்து வைப்பதற்கும் பொறுப்புடைய அதிகாரியார் ?

- (A) காவல் துறை ஆய்வாளர் (B) உட்கோட்ட அதிகாரி
(C) காவல் கண்காணிப்பாளர் (D) காவல்துறை துணைத்தலைவர்

129. Escape from confinement or custody negligently suffered by public servant is punished under which Section of IPC ?

- (A) Sec. 222 (B) Sec. 223 (C) Sec. 224 (D) Sec. 225

அடைத்து வைக்கப்பட்டதிலிருந்து அல்லது காவலிலிருந்து பொது ஊழியர் தம் அசட்டையால் தப்பிச் செல்லவிடுதலுக்கு இந்திய தண்டனைச் சட்டத்தின் எப்பிரிவின் படி தண்டிக்கப்படுவர் ?

- (A) பிரிவு 222 (B) பிரிவு 223 (C) பிரிவு 224 (D) பிரிவு 225

130. Which one of the following is not a Part of Tamil Nadu State Crime Records Bureau ?

- (A) Tamil Nadu Fingerprint Bureau
(B) Statistical Branch
(C) TNFSL Tamil Nadu Forensic Science Lab
(D) Police Computer Branch

பின்வருவனவற்றுள் எது தமிழ்நாடு மாநில குற்ற ஆவணக் காப்பகத்தின் அங்கம் அல்ல ?

- (A) தமிழ்நாடு விரல் ரேகை பதிவுக் கூடம்
(B) புள்ளி விவரப் பிரிவு
(C) தமிழ்நாடு தடய அறிவியல் ஆய்வுக்கூடம்
(D) காவல் கணினிப் பிரிவு



131. Who can issue an order to prohibit carrying arms in procession or mass drill under Sec. 144-A of Cr.P.C. ?

- (A) Superintendent of Police (B) District Magistrate
(C) District Judge (D) Sessions Judge

Cr.P.C. பிரிவு 144-A ன் படி ஆயுதங்களுடன் ஊர்வலம் செல்வதையோ அல்லது கூட்டு பயிற்சி செய்வதை தடை செய்ய ஆணையிட அதிகாரமுடையவர் யார் ?

- (A) காவல் கண்காணிப்பாளர் (B) மாவட்ட நடுவர்
(C) மாவட்ட நீதிபதி (D) அமர்வு நீதிபதி



132. Courts have power to try cases summarily under Section _____ of Cr.P.C.

- (A) 257 (B) 258 (C) 259 (D) 260

Cr.P.C. பிரிவு _____ ன் கீழ் நீதிமன்றங்கள் சுருக்க விசாரணை செய்வதற்கான அதிகாரம் பெற்றுள்ளது.

- (A) 257 (B) 258 (C) 259 (D) 260

133. Who is/are eligible for Good Service Entry ?

- (A) Deputy Supt. of Police and above
(B) Inspectors alone
(C) Inspectors and below rank
(D) IPS Officers alone



நற்பணி பதிவுகள் அங்கீகாரத்திற்கு தகுதி வாய்ந்த அதிகாரிகள் யார் ?

- (A) துணை காவல் கண்காணிப்பாளர் பதவிக்கு மேல் உள்ளவர்கள்
(B) ஆய்வாளர்கள் மட்டும்
(C) ஆய்வாளர் மற்றும் அதற்கு கீழ் உள்ளவர்கள்
(D) ஐ.பி.எஸ். அதிகாரிகளுக்கு மட்டும்

134. Nothing is an offence which is done by a person, by reason of intoxication if

- (A) he is self intoxicated
(B) he is intoxicated by others
(C) he is intoxicated without his knowledge or against his will
(D) all of the above

குடிமயக்கத்தின் காரணமாக தீர்மானிக்கத் தகுதியற்ற ஒரு நபரின் செயல் எப்பொழுது குற்றமற்றதாகும்

- (A) குடிமயக்கத்தை உருவாக்கிய அப்பொருள் தன்னால் உட்கொள்ளப்பட்டிருக்க வேண்டும்
(B) குடிமயக்கத்தை உருவாக்கிய அப்பொருள் வேறு ஒருவரால் கொடுக்கப்பட்டிருக்க வேண்டும்
(C) குடிமயக்கத்தை உருவாக்கிய அப்பொருள் அவருக்கு தெரியாமல் அல்லது அவருடைய எண்ணத்திற்கு எதிராக கொடுக்கப்பட்டிருக்க வேண்டும்
(D) மேல் குறிப்பிட்டுள்ள அனைத்தும்

135. Shorthand Bureau is functioning under

- (A) Technical Services (B) Crime Branch CID
(C) Economic Offences Wing (D) Intelligence Wing



காவல் சுருக்கெழுத்துக் கூடம் எந்தப் பிரிவின் கீழ் இயங்குகிறது

- (A) தொழில் நுட்பப் பிரிவு (B) குற்றப்பிரிவு குற்றப்பலனாய்வுத் துறை
(C) பொருளாதாரக் குற்றப்பிரிவு (D) நுண்ணறிவுப் பிரிவு



136. Which special unit of Tamil Nadu Police monitoring the activities of religious fundamentalists ?

- (A) Special Branch CID
(B) CB CID
(C) Special Division CID
(D) Q Branch CID

எந்த சிறப்பு பிரிவு தமிழ்நாடு காவல் துறையில் மத ரீதியான அடிப்படைவாதிகள் நடவடிக்கைகளை கண்காணிக்கிறது ?

- (A) தனிப்பிரிவு குற்ற புலனாய்வுத் துறை
(B) குற்றப்பிரிவு குற்ற புலனாய்வுத் துறை
(C) சிறப்புப் பிரிவு குற்ற புலனாய்வுத் துறை
(D) “கியூ” பிரிவு குற்ற புலனாய்வுத் துறை



137. The term “victim” is defined under Section _____ of Cr.P.C.

- (A) 2 (m) (B) 2 (wa) (C) 2 (o) (D) 2 (p)

“பாதிக்கப்பட்டவர்” என்ற பதத்திற்கான வரையரை Cr.P.C. பிரிவு _____ ன் கீழ் கூறப்பட்டுள்ளது.

- (A) 2 (m) (B) 2 (wa) (C) 2 (o) (D) 2 (p)

138. Match the following.

- | | |
|--------------------------|---------|
| I) Women Helpline | a) 108 |
| II) Cyber Crime Helpline | b) 1098 |
| III) Medical Helpline | c) 1930 |
| IV) Child-Helpline | d) 181 |

- | | I | II | III | IV |
|-----|---|----|-----|----|
| (A) | d | c | a | b |
| (B) | a | b | c | d |
| (C) | a | d | b | c |
| (D) | c | a | d | b |



பொருத்துக.

- | | |
|---------------------------|---------|
| I) மகளிர் உதவி எண் | a) 108 |
| II) சைபர் கிரைம் உதவி எண் | b) 1098 |
| III) மருத்துவ உதவி எண் | c) 1930 |
| IV) குழந்தைகள் உதவி எண் | d) 181 |

- | | I | II | III | IV |
|-----|---|----|-----|----|
| (A) | d | c | a | b |
| (B) | a | b | c | d |
| (C) | a | d | b | c |
| (D) | c | a | d | b |



139. Punishment for dishonestly receiving stolen property is dealt in Sec. _____ of IPC.

- (A) Sec. 410 IPC (B) Sec. 411 IPC
(C) Sec. 412 IPC (D) Sec. 414 IPC

திருட்டுப் பொருளை நேர்மையற்ற முறையில் பெறுதல் குற்றத்திற்கான தண்டனை எந்த சட்டப்பிரிவில் குறிப்பிடப்பட்டுள்ளது ?

- (A) பிரிவு 410 இ.த.ச. (B) பிரிவு 411 இ.த.ச.
(C) பிரிவு 412 இ.த.ச. (D) பிரிவு 414 இ.த.ச.

140. **Statement I** : Licensed Fire Arms should be deposited in the police station when the licence got expired or cancelled.

Statement II: Licensed Fire Arms should be deposited in the Explosive Godowns when the licence got expired or cancelled.

- (A) I only correct (B) II only correct
(C) I and II correct (D) I and II wrong



வாக்கியம் I : உரிமம் பெற்ற ஆயுதத்தின் உரிமம் ரத்து செய்யப்பட்டாலோ அல்லது காலாவதி ஆனாலோ ஆயுதத்தை காவல் நிலையத்தில் ஒப்படைக்க வேண்டும்.

வாக்கியம் II : உரிமம் பெற்ற ஆயுதத்தின் உரிமம் ரத்துசெய்யப்பட்டாலோ அல்லது காலாவதி ஆனாலோ வெடிபொருள் கிடங்கில் ஒப்படைக்க வேண்டும்.

- (A) I மட்டும் சரி (B) II மட்டும் சரி
(C) I மற்றும் II சரி (D) I மற்றும் II தவறு

141. Which PSO explains that every person who is arrested shall be produced before the Magistrate within 24 hours of such arrest ?

- (A) PSO 622 (B) PSO 623
(C) PSO 624 (D) PSO 625



ஒரு நபரை கைது செய்யப்பட்டதிலிருந்து இருபத்து நான்கு மணி நேரக் கால அளவிற்குள் குற்றவியல் துறை நடுவரிடம் ஒப்படைக்க வேண்டும் என்று எந்த தமிழ்நாடு காவல் நிலை ஆணை எண் கூறுகிறது ?

- (A) கா.நி.ஆ. 622 (B) கா.நி.ஆ. 623
(C) கா.நி.ஆ. 624 (D) கா.நி.ஆ. 625



142. Omission is denoted under Section _____ of IPC.

- (A) 33 (B) 34 (C) 46 (D) 47

“விடுகை” என்பது குறித்து இ.த.ச. வின் _____ பிரிவு கூறுகிறது.

- (A) 33 (B) 34 (C) 46 (D) 47

143. Direct Evidence means

- (A) Directly seen
(B) Directly heard
(C) Directly perceived by sense
(D) All the above



நேரடி சாட்சியம் என்பது

- (A) நேரடியாகப் பார்ப்பது
(B) நேரடியாகக் கேட்பது
(C) நேரடியாகப் புலன்களால் உணர்ந்தது
(D) மேற்கண்ட அனைத்தும்

144. According to PSO 58, Meritorious Service Entries (MSE) are sanctioned by

- (A) Director General of Police
(B) Inspector General of Police
(C) Deputy Inspector General of Police
(D) Superintendent of Police

தமிழ்நாடு காவல் நிலை ஆணை 58 இன் படி பாராட்டத்தக்க பணிப் பதிவுகள் (MSE) அவர்களால் அனுமதிக்கப்படும் ?

- (A) காவல்துறை தலைமை இயக்குநர்
(B) காவல்துறை தலைவர்
(C) காவல்துறை துணைத் தலைவர்
(D) காவல் கண்காணிப்பாளர்



145. Section 127 Cr.P.C. deals with which of the following ?

- (A) Alteration in allowances
(B) Conditional order for removal of nuisance
(C) Discharge from custody
(D) Declaration by sureties

Cr.P.C. பிரிவு 127 கீழ்வருவனவற்றில் எதைப் பற்றி குறிப்பிடுகிறது.

- (A) ஜீவனாம்சத் தொகையை மாற்றியமைத்தல்
(B) தொல்லையை நீக்குவதற்கான நிபந்தனைக் கட்டளை
(C) காவலில் இருந்து விடுவிப்பு
(D) ஜாமீன்தார்களால் செய்யப்படும் விளம்புகை



146. Match the following.

- | | |
|--------------------------|-----------|
| I) Desertion | a) PSO 95 |
| II) Censure | b) PSO 97 |
| III) Deferred Punishment | c) PSO 90 |
| IV) Suspension | d) PSO 92 |

- | | I | II | III | IV |
|-----|---|----|-----|----|
| (A) | a | b | c | d |
| (B) | d | b | c | a |
| (C) | a | d | b | c |
| (D) | a | c | b | d |



பொருத்துக.

- | | |
|----------------------------|----------------|
| I) பணியை விட்டோடுதல் | a) கா.நி.ஆ. 95 |
| II) கண்டனம் | b) கா.நி.ஆ. 97 |
| III) தள்ளி வைத்த தண்டனைகள் | c) கா.நி.ஆ. 90 |
| IV) பணியிடைநீக்கம் | d) கா.நி.ஆ. 92 |

- | | I | II | III | IV |
|-----|---|----|-----|----|
| (A) | a | b | c | d |
| (B) | d | b | c | a |
| (C) | a | d | b | c |
| (D) | a | c | b | d |



147. Negligent Act likely to spread infection of disease dangerous to life is punishable under which Section of IPC ?

- | | |
|------------------|------------------|
| (A) Sec. 268 IPC | (B) Sec. 269 IPC |
| (C) Sec. 270 IPC | (D) Sec. 271 IPC |

உயிருக்கு ஆபத்தான நோயை அநேகமாகத் தொற்றிப் பரவச் செய்யக்கூடிய அசட்டையான செயல்புரிதல் இந்திய தண்டனைச் சட்டத்தின் எப்பிரிவின் கீழ் தண்டிக்கப்படக் கூடியதாகும் ?

- | | |
|-----------------------|-----------------------|
| (A) பிரிவு 268 இ.த.ச. | (B) பிரிவு 269 இ.த.ச. |
| (C) பிரிவு 270 இ.த.ச. | (D) பிரிவு 271 இ.த.ச. |

148. Discharge of accused in warrant cases triable by Magistrate is dealt under Section _____ of Cr.P.C.

- | | | | |
|---------|---------|---------|---------|
| (A) 238 | (B) 239 | (C) 240 | (D) 241 |
|---------|---------|---------|---------|

நீதித்துறை நடுவரால் விசாரணை செய்யக்கூடிய வழக்கில் குற்ற சாட்டப்பட்ட நபரை Cr.P.C. பிரிவு _____ன் படி குற்றச்சாட்டிலிருந்து விடுவிக்கலாம்.

- | | | | |
|---------|---------|---------|---------|
| (A) 238 | (B) 239 | (C) 240 | (D) 241 |
|---------|---------|---------|---------|



149. Statement I : Failure to keep election accounts – Sec. 171 – I IPC.

Statement II : Undue influence at elections – Sec. 171 – B IPC.

- (A) I only correct (B) II only correct
(C) I and II correct (D) I and II wrong

வாக்கியம் I : தேர்தல் கணக்குகளை வைக்கத் தவறுதல் பிரிவு 171 – ஐ இ.த.ச.

வாக்கியம் II : தேர்தல்களில் தகாத முறையில் செல்வாக்கைப் பயன்படுத்துதல் பிரிவு 171 – ஆ இ.த.ச.

- (A) I மட்டும் சரி (B) II மட்டும் சரி
(C) I மற்றும் II சரி (D) I மற்றும் II தவறு

150. Which of the following category of Police Personnel is covered under Tamil Nadu Police Subordinate Services (D & A) Rules, 1955 ?

- (A) Gr II PC, Gr I PC/Naik, HC/Havildar
(B) Sub Inspectors of Police
(C) Inspector of Police
(D) All of the above

கீழ்க்கண்டவர்களில், தமிழ்நாடு சார்நிலை காவல் பணிகள்(ஒழுங்கு மற்றும் மேல்முறையீடு) விதிகள், 1955 கீழ் வரும் காவல் ஆளிநர்கள் யாவர் ?

- (A) இரண்டாம் நிலை காவலர், முதல் நிலை காவலர்/நாயக், தலைமை காவலர்/ஹவில்தார்
(B) காவல் உதவி ஆய்வாளர்
(C) காவல் ஆய்வாளர்
(D) மேற்சொன்ன அனைவரும்

151. A public servant was sustained grievous hurt in an assault and prevented from discharging his duties. Which of the following IPC Section will attract ?

- (A) Sec. 326 and 506 II (B) Sec. 353 and 325
(C) Sec. 325 and 506 II (D) Sec. 333

ஒரு பொது ஊழியர் தனது பணியை செய்ய முடியாமல் தடுக்கப்பட்டு, தாக்கப்பட்டு காயமடைகிறார். இந்த குற்றமானது இ.த.ச.ன் எந்த சட்டப் பிரிவின் கீழ் பதிவு செய்ய முடியும் ?

- (A) பிரிவு 326 மற்றும் 506 II (B) பிரிவு 353 மற்றும் 325
(C) பிரிவு 325 மற்றும் 506 II (D) பிரிவு 333



152. Match the following.

- | | |
|-----------|--------------------------------|
| I) BSF | a) Guarding vital installation |
| II) CISF | b) Guarding the borders |
| III) CRPF | c) Guarding the coast |
| IV) CSG | d) Counter Internal Insurgency |

- | | | | | |
|-----|---|----|-----|----|
| | I | II | III | IV |
| (A) | b | a | c | d |
| (B) | a | b | d | c |
| (C) | d | c | b | a |
| (D) | b | a | d | c |



கீழ்க்கண்டவற்றை பொருத்துக.

- | | |
|-----------|---|
| I) BSF | a) பாதுகாப்பு முக்கியத்துவம் வாய்ந்த இடங்களின் காப்பு |
| II) CISF | b) எல்லை பாதுகாப்பு |
| III) CRPF | c) கடலோர பாதுகாப்பு |
| IV) CSG | d) உள்நாட்டு கிளர்ச்சியை எதிர்கொள்ளல் |

- | | | | | |
|-----|---|----|-----|----|
| | I | II | III | IV |
| (A) | b | a | c | d |
| (B) | a | b | d | c |
| (C) | d | c | b | a |
| (D) | b | a | d | c |



153. Statement I : When the investigation cannot be completed within 24 hours, the magistrate may detain a person arrested for a term not exceeding 15 days.

Statement II : In case of Executive Magistrate, he is empowered to detain the arrested person for a term not exceeding 10 days.

- | | |
|----------------------|---------------------|
| (A) I only correct | (B) II only correct |
| (C) I and II correct | (D) I and II wrong |

வாக்கியம் I : புலன் விசாரணையை 24 மணி நேரத்திற்குள் முடிக்க முடியாத போது, நீதித்துறை நடுவர் கைது செய்யப்பட்ட நபரை 15 நாட்களுக்கு மிகாமல் காவல் அடைப்பு ஆணை பிறப்பிக்கலாம்.

வாக்கியம் II : நிர்வாகத்துறை நடுவராக இருக்கும் போது, கைது செய்யப்பட்ட நபரை 10 நாட்களுக்கு மிகாமல் காவல் அடைப்பு ஆணை பிறப்பிக்கலாம்.

- | | |
|----------------------|-----------------------|
| (A) I மட்டும் சரி | (B) II மட்டும் சரி |
| (C) I மற்றும் II சரி | (D) I மற்றும் II தவறு |



154. As per PSO 353, an escort incharge of prisoners, halting at station, who is the officer responsible to provide sufficient police strength for escort halt of station ?
- (A) Sub Inspector or Station House Officer
(B) Station Writer
(C) Station Sentry
(D) Circle Inspector

கா.நி.ஆ. 353 யின் படி கைதிகள் பொறுப்பினை ஏற்றுக்கொண்டுள்ள ஒரு வழி காவல் படையானது வழியில் ஒரு காவல் நிலையத்தில் தங்கும் போது எந்த அதிகாரி வழி காவல் படையினருக்கு அவசியமான தனது காவல்நிலைய காவலர்களை அமர்த்துவதற்குப் பொறுப்பாளர் ஆவார் ?

- (A) உதவி ஆய்வாளர் அல்லது காவல் நிலைய அதிகாரி
(B) நிலைய எழுத்தர்
(C) நிலைய காவலர்
(D) வட்ட ஆய்வாளர்



155. According to Sec. 94 of IPC, except _____ nothing is an offence which is done by a person who is compelled to do it by threat of death to that person.
- (A) Murder
(B) Offences against state punishable with death
(C) A and B both
(D) None of the above

இ.த.ச. பிரிவு 94ன் படி _____ ஐ தவிர ஒரு செயலை அச்சுறுத்தல்களால் ஒருவரைக் கட்டாயப்படுத்தி செய்ய வைத்தால், அக்கட்டாயத்தினால் ஒருவர் செய்த செயல் ஏதும் குற்றமல்ல.

- (A) கொலை
(B) மரண தண்டனை வழங்கக் கூடிய அரசுக்கெதிரான குற்றங்கள்
(C) A மற்றும் B இரண்டும்
(D) மேற் சொன்ன எதுவுமில்லை



156. As per PSO 591, the original postmortem certificates has to be sent by the Medical Officer to whom ?

- (A) Investigation Officer
(B) Station House Officer
(C) Magistrate
(D) Station Writer

கா.நி.ஆ. எண் 591 ன் படி மருத்துவ அலுவலர், பிரேத பரிசோதனை அசல் சான்றினை யாருக்கு அனுப்ப வேண்டும்

- (A) புலன் விசாரணை அதிகாரி
(B) நிலைய பொறுப்பு அதிகாரி
(C) குற்றவியல் துறை நடுவர்
(D) நிலைய எழுத்தர்



157. The power to compel restoration of abducted females is dealt under Section _____ of Cr.P.C.
 (A) 96 (B) 97 (C) 98 (D) 99

Cr.P.C. பிரிவு _____ ன் கீழ் கடத்தப்பட்ட பெண்களைத் திரும்ப ஒப்படைப்பதைக் கட்டாயப்படுத்துவதற்கான அதிகாரம் வழங்கப்பட்டுள்ளது.
 (A) 96 (B) 97 (C) 98 (D) 99

158. In warrant cases triable by Sessions Judge, if the Presiding Officer considers that there is no sufficient ground for framing charges against accused, he may order for
 (A) Acquittal Judgement (B) Discharge Order
 (C) Conviction Judgement (D) None of the above

பிடியாணை வழக்குகளில் அமர்வு நீதிமன்ற நீதிபதி குற்றம் சாட்டப் பெற்றவருக்கு எதிராக போதுமான ஆதாரங்கள் இல்லாத போது அவர் கீழ்க்கண்ட எந்த உத்தரவை பிறப்பிக்கலாம் ?
 (A) விடுதலை தீர்ப்பு (B) விடுவிப்பு ஆணை
 (C) தண்டனை தீர்ப்பு (D) மேற்கண்ட எதுவுமில்லை

159. Match the following.

- | | |
|--------------|--|
| I) PSO 597 | a) Accused confession leading to discovery of any fact |
| II) PSO 598 | b) Questioning of accused person |
| III) PSO 599 | c) Test identification parade |
| IV) PSO 600 | d) Recording the confession of the accused |

- | | I | II | III | IV |
|-----|---|----|-----|----|
| (A) | b | d | a | c |
| (B) | b | c | a | d |
| (C) | a | d | b | c |
| (D) | a | c | b | d |



பொருத்துக.

- | | |
|-------------------|--|
| I) கா.நி.ஆ. 597 | a) மெய்ப்பிக்கத்தக்க ஒரு விசயத்தை கண்டுபிடிக்கக்கூடிய எதிரியின் ஒப்புதலுரை |
| II) கா.நி.ஆ. 598 | b) குற்றம் சாட்டப்பட்டவர்களிடம் கேள்வி கேட்டல் |
| III) கா.நி.ஆ. 599 | c) அடையாளம் காட்டும் அணிவகுப்பு |
| IV) கா.நி.ஆ. 600 | d) எதிரியின் ஒப்புதல் உரையினை பதிவு செய்தல் |

- | | I | II | III | IV |
|-----|---|----|-----|----|
| (A) | b | d | a | c |
| (B) | b | c | a | d |
| (C) | a | d | b | c |
| (D) | a | c | b | d |



160. Abetment of suicide is an offence under Section _____ of IPC.

- (A) 305 (B) 306 (C) 307 (D) 308

இ.த.ச. சட்டபிரிவு _____ ன் கீழ் தற்கொலைக்கு தூண்டுதல் குற்றமாம்.

- (A) 305 (B) 306 (C) 307 (D) 308

161. PSO _____ deals with Co-operation between the District Police and Railway Police.

- (A) PSO 451 (B) PSO 461
(C) PSO 471 (D) PSO 481



கா.நி.ஆ. எண் _____ மாவட்ட காவலருக்கும், இருப்புப்பாதை காவலருக்கும் இடையில் இருக்கும் ஒத்துழைப்பை பற்றி விவரிக்கிறது.

- (A) கா.நி.ஆ. 451 (B) கா.நி.ஆ. 461
(C) கா.நி.ஆ. 471 (D) கா.நி.ஆ. 481

162. When a women commits suicide by hanging herself within 7 years of marriage, the court may presume that such suicide is abetted by her husband. This is explained in Section _____ of IEA.

- (A) Section 112 A of IEA (B) Section 113 A of IEA
(C) Section 110 B of IEA (D) Section 111 A of IEA

ஒரு பெண் திருமணமான ஏழாண்டுகளுக்குள் தூக்கிட்டு தற்கொலை செய்து கொண்டால் இந்த மரணம் கணவரால் தூண்டிவிடப்பட்டது என்று நீதிமன்றம் அனுமானிக்கலாம். இந்தக் கூற்று இந்திய சாட்சிய சட்டம் _____ பிரிவில் கூறப்பட்டுள்ளது.

- (A) பிரிவு 112 அ (B) பிரிவு 113 அ
(C) பிரிவு 110 ஆ (D) பிரிவு 111 அ



163. As per Sec. 77 of Cr.P.C., a warrant of arrest may be executed

- (A) Only in the State where the warrant was issued
(B) At any place in India
(C) Only outside India
(D) None of the above

Cr.P.C. பிரிவு 77 ன் படி, ஒரு பிடியாணையை எங்கு நடைமுறைபடுத்தலாம்.

- (A) எந்த மாநிலத்தில் பிறப்பிக்கப்பட்டதோ அந்த மாநிலத்திற்குள் மட்டும்
(B) இந்தியாவில் எந்த இடத்திலும்
(C) இந்தியாவிற்கு வெளியே மட்டும்
(D) மேற்சொன்ன எதுவுமில்லை



164. As per PSO 748, which one of the following Officer having power to order the closure of a History Sheet at any time ?

- (A) Inspector of Police (B) Sub Inspector of Police
(C) Deputy Superintendent of Police (D) Superintendent of Police

கா.நி.ஆணை எண் 748 இன் படி கீழ்க்காணும் எந்த அதிகாரி வரலாற்றுக் குறிப்பு ஏடு (History Sheet) ஒன்றினை எச்சமயத்திலும் முடித்து வைக்க கட்டளையிடலாம்

- (A) காவல் ஆய்வாளர் (B) காவல் உதவி ஆய்வாளர்
(C) காவல் துணை கண்காணிப்பாளர் (D) காவல் கண்காணிப்பாளர்



165. **Statement I** : For every district, the Central Government shall appoint one or more Additional Public Prosecutors.

Statement II : Special Public Prosecutors must have been in practice as an advocate for not less than three years.

- (A) I only correct (B) II only correct
(C) I and II correct (D) I and II wrong

வாக்கியம் I : ஒவ்வொரு மாவட்டத்திற்கென ஒன்று அல்லது அதற்கு மேற்பட்ட அரசு குற்றத்துறை கூடுதல் வழக்கறிஞரை மைய அரசு நியமிக்கும்.

வாக்கியம் II : அரசு குற்றத்துறை சிறப்பு வழக்கறிஞரை நியமிக்க ஒருவர் மூன்று ஆண்டுகளுக்கு குறையாமல் வழக்கறிஞர் தொழில் நடத்தியிருக்க வேண்டும்.

- (A) I மட்டும் சரி (B) II மட்டும் சரி
(C) I மற்றும் II சரி (D) I மற்றும் II தவறு



166. Solitary confinement is dealt under which Section of IPC ?

- (A) Sec. 72 (B) Sec. 73
(C) Sec. 84 (D) Sec. 75

தனிமைச் சிறைப் பற்றி இ.த.ச. வின் எந்த சட்டப் பிரிவில் கூறப்பட்டுள்ளது

- (A) பிரிவு 72 (B) பிரிவு 73
(C) பிரிவு 84 (D) பிரிவு 75



167. As per PSO _____, the information of arrest of government servant should be sent to his/her immediate Superior Officer followed by detailed report.

- (A) PSO 623 (B) PSO 627
(C) PSO 628 (D) PSO 626

தமிழ்நாடு காவல் நிலை ஆணை _____ இன் படி ஒரு அரசாங்கப் பணியாளரை கைது செய்த தகவலை அவரின் அடுத்த மேல் நிலை அலுவலருக்கு தகவல் தெரிவித்து பின் விரிவான அறிக்கை அனுப்ப வேண்டும் ?

- (A) கா.நி.ஆ. 623 (B) கா.நி.ஆ. 627
(C) கா.நி.ஆ. 628 (D) கா.நி.ஆ. 626



168. Commitment of cases triable by court of Session shall be done by the magistrate under Section _____ of Cr.P.C.

- (A) 209 (B) 207 (C) 208 (D) 314

அமர்வு நீதிமன்றத்தால் நடத்தப்படும் வழக்குகளை அந்நீதிமன்றத்திற்கு ஒரு நீதித்துறை நடுவரால் அனுப்பப்பட வேண்டும் என்ற நடைமுறை, Cr.P.C. _____ பிரிவில் கூறப்பட்டுள்ளது.

- (A) 209 (B) 207 (C) 208 (D) 314

169. Power to seize offensive weapon is given under Sec. _____ of Cr.P.C.

- (A) 51 (B) 52 (C) 53 (D) 54

தீங்கு விளைவிக்கும் ஆயுதங்களை கைப்பற்றுவதற்கான அதிகாரம் குறித்து Cr.P.C. பிரிவு _____ கூறுகிறது.

- (A) 51 (B) 52 (C) 53 (D) 54



170. According to Section 303 IPC, whoever being under sentence of imprisonment for life, commits murder shall be punished with

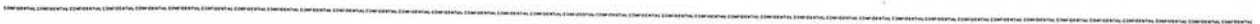
- (A) Rigorous Imprisonment (B) Solitary Confinement
(C) Death Sentence (D) Simple six month imprisonment

இந்திய தண்டனைச் சட்ட பிரிவு 303 ன்படி, ஆயுட்காலச் சிறை தண்டனையில் இருக்கும்போது கொலை செய்யக் கூடிய எவரொருவரும் _____ தண்டனை விதித்து தண்டிக்கப்பட வேண்டும்.

- (A) கடுங்காவல் சிறை தண்டனை (B) தனிமைச் சிறை தண்டனை
(C) மரண தண்டனை (D) சாதாரண ஆறு மாத சிறை தண்டனை



SPACE FOR ROUGH WORK





SPACE FOR ROUGH WORK



SEAL

SEAL



JOINT RECRUITMENT -2023
SI – POLICE DEPARTMENT WRITTEN EXAMINATION

FINAL ANSWER KEY

QUESTION BOOKLET SERIES				
Q.No.	A-SERIES	B-SERIES	C-SERIES	D-SERIES
1	A/B/C	C	B	D
2	D	A	C	C
3	D	B	D	D
4	C	B	C	D
5	B	B	B	C
6	B	B	A	B
7	C	A	A	B
8	D	A	B	C
9	B	B	D	C
10	C	D	C	A
11	A	C	D	B
12	A	A	B	B
13	B	A	A	B
14	D	D	B	B
15	C	A/B/C	C	A
16	D	C	D	A
17	B	D	C	D
18	A	B	A	A/B/C
19	B	C	B	D
20	C	D	B	B

Q.No.	A-SERIES	B-SERIES	C-SERIES	D-SERIES
21	D	D	B	A
22	C	C	B	B
23	A	B	A	C
24	B	B	A	D
25	B	D	D	D
26	B	B	A/B/C	B
27	B	A	D	C
28	A	B	D	A
29	A	C	C	B
30	D	D	B	A
31	A	C	B	B
32	C	A	A	A
33	B	C	A	C
34	A	B	C	C
35	C	A	B	D
36	A	A	A	B
37	B	B	A	B
38	D	A	B	A
39	B	B	D	A
40	A	D	C	A
41	C/D	B	A	B
42	D	C/D	A	B
43	B	D	C/D	B
44	A	B	B	D
45	B	A	B	B

Q.No.	A-SERIES	B-SERIES	C-SERIES	D-SERIES
46	A	B	A	A
47	A	B	B	B
48	B	A	B	A
49	B	A	B	A
50	B	B	D	C/D
51	D	D	B	D
52	A	B	B	A/B/C/D
53	B	D	B	C
54	B	B	C	C
55	B	D	D	D
56	D	A/B/C/D	B	A
57	A/B/C/D	A/B/C/D	D	A/D
58	C	C	B	D
59	C	D	D	D
60	D	B	A/B/C/D	A
61	A	D	A/B/C/D	B
62	A/D	A	C	B
63	D	A	D	B
64	A	D	B	A
65	C	C	D	D
66	C	D	A	C
67	B	C	A	A
68	B	A	C	D
69	B	C	C	B
70	C	B	D	C

Q.No.	A-SERIES	B-SERIES	C-SERIES	D-SERIES
71	D	D	C	A
72	B	A	A	D
73	D	B	C	B
74	B	B	B	C
75	D	B	D	A
76	A/B/C/D	D	A	C
77	A/B/C/D	A/B/C/D	B	C
78	C	C	B	B
79	D	C	B	B
80	B	D	D	B
81	D	A	A/B/C/D	C
82	A	A/D	C	D
83	D	D	C	B
84	A	B	D	D
85	C	B	A	B
86	D	B	A/D	D
87	C	C	D	A/B/C/D
88	A	A	D	A/B/C/D
89	C	C	A	C
90	B	C	C	D
91	D	D	A	B
92	C	D	D	C
93	A/B/C/D	A	D	A
94	B	A	D	C
95	B	C	C	B

Q.No.	A-SERIES	B-SERIES	C-SERIES	D-SERIES
96	C	C	B	B
97	A/B/C/D	C	B	A
98	A	B	B	C
99	B	A	A	All Correct
100	C	B	B	C
101	A	B	A	D
102	D	B	D	B
103	D	B	C	All Correct
104	D	D	B	B
105	C	D	C	C
106	B	B	D	A
107	B	C	B	D
108	B	A	All Correct	C
109	A	B	B	B
110	B	C	C	C
111	B	B	D	B
112	C	D	D	A
113	A	C	A	D
114	C	C	A	All Correct
115	B	D	C	A
116	B	C	B	C
117	A	B	B	B
118	C	A	B	B
119	All Correct	B	D	A
120	C	A	D	D

Q.No.	A-SERIES	B-SERIES	C-SERIES	D-SERIES
121	A	B	B	B
122	D	A	C	B
123	C	D	A	B
124	B	All Correct	C	D
125	C	A	B	D
126	D	C	C	B
127	B	B	C	C
128	All Correct	B	B	A
129	B	A	A	B
130	C	D	B	C
131	B	A	B	D
132	D	D	A	D
133	C	C	C	A
134	C	B	All Correct	A
135	D	C	C	C
136	C	D	B	C
137	B	B	C	C
138	A	All Correct	A	B
139	B	B	B	A
140	A	C	C	B
141	B	B	B	D
142	A	C	D	C
143	D	A	C	A/B/C/D
144	All Correct	C	C	B
145	A	B	D	B

Q.No.	A-SERIES	B-SERIES	C-SERIES	D-SERIES
146	C	B	B	C
147	B	A	A	A/B/C/D
148	B	C	D	A
149	A	All Correct	All Correct	B
150	D	C	A	C
151	D	D	C	A
152	D	C	B	D
153	A	A/B/C/D	A	D
154	A	B	B	D
155	C	B	A	C
156	C	C	D	B
157	C	A/B/C/D	C	B
158	B	A	A/B/C/D	B
159	A	B	B	A
160	B	C	B	B
161	B	A	C	B
162	B	D	A/B/C/D	D
163	B	D	A	C
164	D	D	B	C
165	D	C	C	D
166	B	B	C	C
167	C	B	B	A
168	A	B	B	B
169	B	A	A	A
170	C	B	D	B