

Constable GD in Central Armed Police Forces CAPFs SSF Rifleman GD in Assam Rifles Examination 2024

Exam Date	21/02/2024
Exam Time	2:30 PM - 3:30 PM
Subject	Constable GD Examination 2024

Section : Part-A-General Intelligence and Reasoning

Q.1 Five people Amanda, Ben, Carol, David, and Emily are sitting on a circular table facing towards the center. Carol sits in between Ben and David. Emily sits to the left of Amanda. Amanda and David are not neighbours. Who sits to the immediate right of Amanda?

- Ans**
- 1. Carol
 - 2. David
 - 3. Emily
 - 4. Ben

Q.2 In the following question below are given some statements followed by some conclusions based on those statements. Taking the given statements to be true even if they seem to be at variance from commonly known facts. Read all the conclusions and then decide which of the given conclusion logically follows the given statements.

Statements:

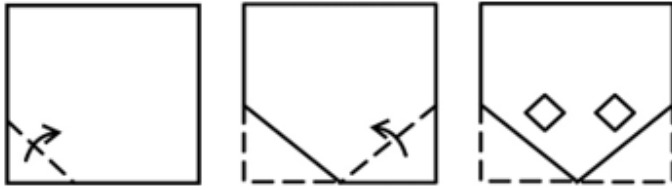
- I. All W are C.
- II. Some P are W.

Conclusion:

- I. Some C are P.
- II. No P is C.
- III. Some C are W.

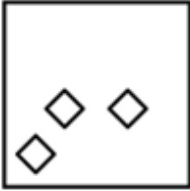
- Ans**
- 1. Both conclusions II and III follows
 - 2. Both conclusion I and III follows
 - 3. Both conclusions I and II follows
 - 4. Only conclusion II follows

Q.3 A paper is folded and cut as shown below. How will it appear when unfolded?

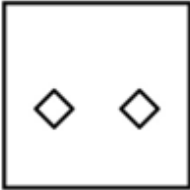


Ans

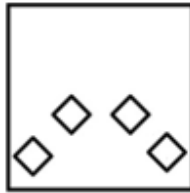
X 1.



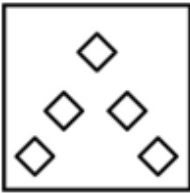
X 2.



✓ 3.



X 4.



Adda247

Q.4 In the following question, select the figure which can be placed at the sign of question mark (?) from the given alternatives.



Ans

✗ 1.



✗ 2.



✓ 3.



✗ 4.



Q.5 Which two signs should be interchanged to make the given equation correct?

$$15 \div 9 \times 8 + 12 - 4 = 17$$

Ans ✗ 1. \times and $-$

✓ 2. $+$ and \div

✗ 3. \times and $+$

✗ 4. \times and \div

Q.6 Which of the following numbers will replace the question mark (?) in the given series?
8463, 8384, 8305, 8226, ?, 8068

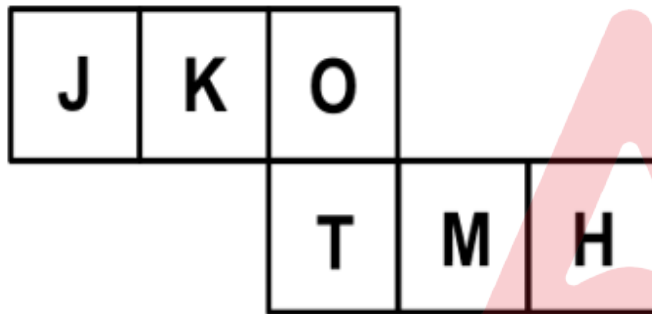
- Ans
- 1. 8088
 - 2. 8147
 - 3. 8103
 - 4. 8184

Q.7 In the following question, select the missing number from the given series.

1, 16, 31, 46, 61, ?

- Ans
- 1. 78
 - 2. 70
 - 3. 76
 - 4. 80

Q.8 On folding the given die, which letter will be opposite to the letter K?



- Ans
- 1. O
 - 2. T
 - 3. H
 - 4. M

Q.9 In a certain code language, 'HOST' is coded as '9724', 'KINDO' is coded as '45310', 'KNOWS' is coded as '37654'. What can be the code for 'W' in that code language?

- Ans
- 1. 6
 - 2. 5
 - 3. 4
 - 4. 7

Q.10 A series is given with one term missing. Select the correct alternative from the given ones that will complete the series.

RMJE, VQNI, ZURM, DYVQ, ?

- Ans
- 1. HMCZ
 - 2. HCZU
 - 3. HMNR
 - 4. HNRM

Q.11 Which two signs should be interchanged to make the given equation correct?

$$10 - 3 + 2 \times 12 \div 6 = 6$$

- Ans
- 1. - and =
 - 2. \times and +
 - 3. = and +
 - 4. + and -

Q.12 Which of the following letter-number cluster will replace the blank (___) in the given series?

YTW0, ____, UPS1, SNQ0, QLO1, OJM1

- Ans
- 1. WRU0
 - 2. WRU1
 - 3. VTU1
 - 4. VRW0

Q.13 After arranging the given words according to dictionary order, which word will come at 'Fifth' position?

1. Whip
2. While
3. White
4. Whisk
5. Whiff

- Ans
- 1. Whisk
 - 2. Whip
 - 3. While
 - 4. White

Q.14 Select the option that is related to the third word in the same way as the second word is related to the first word.
Artist : Canvas :: Sculptor : ?

- Ans
- 1. Paint
 - 2. Pen
 - 3. Stone
 - 4. Paper

Q.15 In the following question, select the related letter pair from the given alternatives.

XKNS : WJMR :: ?

- Ans
- 1. MZJG : ARZO
 - 2. KUQP : RSHO
 - 3. BOEF : DJKI
 - 4. EADT : DZCS

Q.16 A piece of paper is folded and punched as shown below in the question figures. From the given option figures, indicate how it will appear when opened.



Ans



Q.17 A series is given with one term missing. Select the correct alternative from the given ones that will complete the series.

PQMN, STPQ, VWST, YZVW, ?

1. BCYZ

2. MCTQ

3. BTPQ

4. BMPQ

Q.18 In a certain code language, if ELEVEN is coded as GNGXGP, TWENTY is coded as VYGPVA, then what will FORTY be coded as?

1. HPTVA

2. HQTUA

3. HTQVA

4. HQTVA

Q.19 Seven friends A, B, C, D, E, F, and G are sitting around a circular table facing away from the centre. D is sitting to the immediate right of G. A sits exactly between C and E. B sits to the immediate left of F. G and C are not neighbours. E sits adjacent to D. Who sits to the immediate right of F?

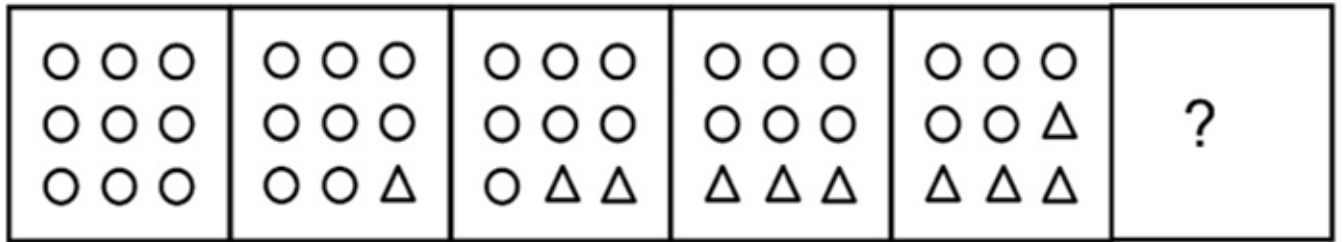
1. E

2. B

3. A

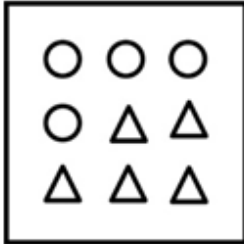
4. G

Q.20 Select the figure that will replace the question mark (?) in the following figure series.

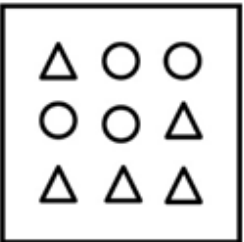


Ans

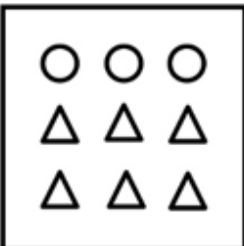
✓ 1.



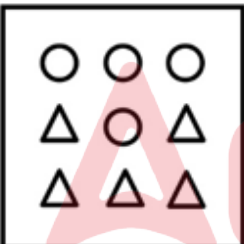
✗ 2.



✗ 3.



✗ 4.



Section : Part-B-General Knowledge and General awareness

Q.1 Which country has won the FIH Men's Hockey World Cup 2023?

- Ans
- ✗ 1. Netherlands
 - ✓ 2. Germany
 - ✗ 3. Australia
 - ✗ 4. Belgium

Q.2 To which of the following states of India does the dance form Dandari belong?

- Ans
- ✗ 1. Kerala
 - ✗ 2. Maharashtra
 - ✗ 3. Haryana
 - ✓ 4. Telangana

Q.3 Which of the following singer was awarded Padma Bhushan in 2023 for her contribution to film playback singing in 19 languages?

- Ans
- 1. Sulochana Chavan
 - 2. Vani Jairam
 - 3. KS Chithra
 - 4. D.K. Pattammal

Q.4 Who is appointed as Attorney General for India from 1st October, 2022?

- Ans
- 1. Soli Sorabjee
 - 2. Mukul Rohatgi
 - 3. K. K. Venugopal
 - 4. R. Venkataramani

Q.5 Which five-year plan of India was introduced under the leadership of Indira Gandhi?

- Ans
- 1. Third
 - 2. First
 - 3. Second
 - 4. Fourth

Q.6 Hareli, Kajari, and Madai festival are associated with which of the following states?

- Ans
- 1. Uttar Pradesh
 - 2. Chhattisgarh
 - 3. Punjab
 - 4. Haryana

Q.7 Which chemical compound is used in car batteries and has the formula $PbSO_4$?

- Ans
- 1. Sulfuric acid
 - 2. Lead sulphide
 - 3. Lead oxide
 - 4. Lead sulfate

Q.8 According to the 2011 census of India, which of the following states/UTs is most literate?

- Ans
- 1. Goa
 - 2. Tamil Nadu
 - 3. Chandigarh
 - 4. Andaman & Nicobar Islands

Q.9 During ancient India in the Tamil region, ordinary ploughmen were known as _____.

- Ans
- 1. uzhavar
 - 2. adimai
 - 3. kadaisiyar
 - 4. vellalar

Q.10 Before _____, India was in the first stage of demographic transition.

- Ans
- 1. 1980
 - 2. 1990
 - 3. 1960
 - 4. 1921

Q.11 In 1919, Gandhiji called for a satyagraha against the Rowlatt Act that curbed _____ such as the freedom of expression.

- Ans
- 1. fundamental duties
 - 2. fundamental rights
 - 3. only civil rights
 - 4. international rights

Q.12 The Vice-President of India serves as the ex-officio Chairman of which legislative body?

- Ans
- 1. Rajya Sabha
 - 2. State Legislative Assembly
 - 3. Lok Sabha
 - 4. State Legislative Council

Q.13 Famed Bharatnatyam exponent and founder of Kalakshetra, Rukmini Devi Arundale was the proud recipient of 1956 _____.

- Ans
- 1. Natraj Academy award
 - 2. Bharat Ratna
 - 3. Kalidas Samman
 - 4. Padma Bhushan

Q.14 Which Indian state hosted the FIH Men's Hockey World cup 2023?

- Ans
- 1. Jharkhand
 - 2. Karnataka
 - 3. Tamil Nadu
 - 4. Odisha

Q.15 Who chairs the parliamentary committee report that prepared the report 'Covid-19 Pandemic: Global Response, India's Contributions and the Way Forward'?

- Ans
- 1. P P Chaudhary
 - 2. Rajnath Singh
 - 3. Arun Jetli
 - 4. Narendra Modi

Q.16 Cricket became an international game with the formation of the _____ in 1909.

- Ans
- 1. ICC
 - 2. IYC
 - 3. IPL
 - 4. BCC

Q.17 The Gross Demestic Product of a country is derived from the different sectors of the economy, namely _____.

- Ans
- 1. commercial and trading sector
 - 2. rural and urban sectors
 - 3. agricultural sector, and the industrial sector only
 - 4. agricultural sector, the industrial sector and the service sector

Q.18 The Right to Freedom includes the right to practice any profession, occupation, trade, or business under which articles of the Indian Constitution?

- Ans
- 1. Articles 25-28
 - 2. Articles 23-24
 - 3. Articles 19-22
 - 4. Articles 14-18

Q.19 India has _____ Km of land border and a coastline of 7,516.6 Km including island territories.

- Ans
- 1. 25,106.7
 - 2. 9,106.7
 - 3. 5,106.7
 - 4. 15,106.7

Q.20 Which of the following statements is correct regarding Central Goods and Services Tax (Amendment) Bill, 2023?

I. It was introduced in Lok Sabha in August, 2023.

II. It amends the Central Goods and Services Tax (CGST) Act, 2017.

- Ans
- 1. Neither I nor II
 - 2. Both I and II
 - 3. Only I
 - 4. Only II

Section : Part-C-Elementary Mathematics

Q.1 The marked price of a chair is 10 percent more than its cost price. If the chair is sold for Rs. 132 after a discount of Rs. 11, then what will be the profit percentage?

- Ans
- 1. 2 percent
 - 2. 1.53 percent
 - 3. 1.78 percent
 - 4. 1.21 percent

Q.2 A mixture contains acid and water in the ratio of 7 : 4. If 2 litres of water is added to it, then the ratio of acid and water becomes 7 : 5. What is the quantity of acid in the mixture?

- Ans**
- 1. 20 litres
 - 2. 21 litres
 - 3. 7 litres
 - 4. 14 litres

Q.3 The compound interest (compounding half yearly) received on Rs. 1000 for 2 years is Rs. 464.1 What is the rate of interest per annum?

- Ans**
- 1. 20 percent
 - 2. 30 percent
 - 3. 35 percent
 - 4. 25 percent

Q.4 The difference between cost price and selling price of an article is Rs. 120. If profit percentage is 10 percent, then what is the selling price?

- Ans**
- 1. Rs. 1320
 - 2. Rs. 1000
 - 3. Rs. 1200
 - 4. Rs. 1440

Q.5 27 percent of a number exceeds 13 percent of the same number by 56. What is the value of the number?

- Ans**
- 1. 360
 - 2. 420
 - 3. 380
 - 4. 400

Q.6 Two boys are standing on the opposite ends of a 900 metres long bridge. If they walk towards each other at the speed of 10 metres/minute and 8 metres/minute respectively, then in how much time will they meet each other?

- Ans**
- 1. 25 minutes
 - 2. 50 minutes
 - 3. 62 minutes
 - 4. 38 minutes

Q.7 Find the area of the right angled triangle if the longest side of a right angled triangle is 17 cm and the height is 15 cm.

- Ans**
- 1. 54 cm²
 - 2. 56 cm²
 - 3. 60 cm²
 - 4. 58 cm²

Q.8 If the selling price of a fan is Rs. 306 and loss percentage is 32 percent, then what is the cost price of the fan?

- Ans**
- 1. Rs. 400
 - 2. Rs. 450
 - 3. Rs. 350
 - 4. Rs. 380

Q.9 Which of the following number is divisible by 11?

- Ans
- 1. 6589
 - 2. 9164
 - 3. 8962
 - 4. 4857

Q.10 Seema can do a work in 120 days, Anjali can do the same work in 144 days and Soniya can do the same work in 180 days. If they do that work together and they are paid Rs. 3300, then what is the share of Anjali?

- Ans
- 1. Rs. 1100
 - 2. Rs. 2000
 - 3. Rs. 2500
 - 4. Rs. 1700

Q.11 What is the Highest Common Factor of $2^3 \times 3^5$ and $2^4 \times 3^6$?

- Ans
- 1. 2×3^2
 - 2. $2^3 \times 3^3$
 - 3. $2^3 \times 3^5$
 - 4. $2^2 \times 3^2$

Q.12 An article is sold for ₹ 204 after two successive discounts of 40% and 50%. What is the marked price of the article?

- Ans
- 1. ₹ 540
 - 2. ₹ 720
 - 3. ₹ 840
 - 4. ₹ 680

Q.13 In a school there are total 560 students. The ratio of boys and girls is 13 : 15. If 40 more boys gets admitted into the school, then what will be the new ratio of boys and girls?

- Ans
- 1. 2 : 3
 - 2. 1 : 1
 - 3. 3 : 1
 - 4. 2 : 1

Q.14 The average weight of T, U and V is 42 kg. If the average weight of T and U is 40 kg and the average weight of U and V is 36 kg, then what is the weight of U?

- Ans
- 1. 22 kg
 - 2. 24 kg
 - 3. 26 kg
 - 4. 29 kg

Q.15 If $p-q=9$, and $p^2 + q^2 = 127$. Find the value of pq .

- Ans
- 1. 12
 - 2. 15
 - 3. 23
 - 4. 27

Q.16 The simple interest on a certain sum of money is ₹ 2275 at 13% per annum in 5 years. Find the sum of money.

- Ans
- 1. ₹ 4000
 - 2. ₹ 3500
 - 3. ₹ 5600
 - 4. ₹ 4200

Q.17 S1 alone can do a work in 16 days and S2 alone can do the same work in 80 days. With help of S3, they finish the same work in 6 days. In how many days S3 alone can do the same work?

- Ans
- 1. 9 days
 - 2. 7 days
 - 3. 120/11 days
 - 4. 12 days

Q.18 If the original price of a watch is Rs. 500 and it is increased by 10%, then decreased by 15%, what is the final price?

- Ans
- 1. Rs. 405.67
 - 2. Rs. 467.50
 - 3. Rs. 476.60
 - 4. Rs. 456.70

Q.19 What is the value of $[289 + \{68 \div 4 \times (14 + 2 \times 6 - 9)\}]$?

- Ans
- 1. 17
 - 2. 0
 - 3. 1
 - 4. 289

Q.20 The average marks of a student in 6 subjects are 75. If the student scores 80 in one subject, what will be the total score in the remaining subjects.

- Ans
- 1. 370
 - 2. 340
 - 3. 350
 - 4. 380

Q.1 Select the most appropriate antonym of the given word.

Budding

- Ans
- 1. Withering
 - 2. Nostalgia
 - 3. Jaunty
 - 4. Progressive

Q.2 Select the incorrectly spelt word from the given sentence.

The couple walked towards the opposite end of the dungeon, where she previously played with destieny.

- Ans
- 1. dungeon
 - 2. couple
 - 3. destieny
 - 4. previously

Q.3 Choose the idiom/phrase that can substitute the highlighted group of words meaningfully.

Family dispute erupted soon after grandpa's death as he left **some unclear things** in his will.

- Ans
- 1. A grey area
 - 2. Break a leg
 - 3. Beat around the bush
 - 4. Crack a book

Q.4 Select the most appropriate word to fill in the blank.

The population _____ very fast in the last decade.

- Ans
- 1. had been risen
 - 2. rising
 - 3. has risen
 - 4. rises

Q.5 Find the part of the given sentence that has an error in it. If there is no error, choose 'No error'.

People put considerably many more effort when working in groups than when working alone.

- Ans
- 1. than when working alone
 - 2. People put considerably many more
 - 3. No error
 - 4. effort when working in groups

Q.6 Find the part of the given sentence that has an error in it. If there is no error, choose 'No error'.
Many people fear how they will manage if the virus will show upon in town.

- Ans
- 1. virus will show upon in town.
 - 2. they will manage if the
 - 3. Many people fear how
 - 4. No error

Q.7 Choose the word that means the same as the given word.

Daring

- Ans
- 1. Patience
 - 2. Fearless
 - 3. Coward
 - 4. Trepid

Q.8 Select the most appropriate word to fill in the blank.

_____! That looks disgusting.

- Ans
- 1. Wow
 - 2. Oops
 - 3. Yikes
 - 4. Hush

Q.9 Choose the option which is antonym of (opposite of) the word "abdicated" in the sentence given below:

During the meeting, he confidently asserted his viewpoint, providing compelling arguments to support his position.

- Ans
- 1. asserted
 - 2. confidently
 - 3. support
 - 4. compelling

Q.10 Select the most appropriate word to fill in the blank.

The instructions _____ I just couldn't follow them.

- Ans
- 1. is complicated
 - 2. are complicate
 - 3. were complicated
 - 4. was complicated

Q.11 Choose the word that is opposite in meaning to the given word.

Applause

- Ans
- 1. Taunt
 - 2. Praise
 - 3. Intolerant
 - 4. Pray

Q.12 Improve the underlined part of the sentence. Choose 'No improvement' as an answer if the sentence is grammatically correct.

Do you know how to speak Japanese?

- Ans
- 1. to speaks Japanese
 - 2. to spoke Japanese
 - 3. No improvement
 - 4. to speak Japan

Q.13 Find the part of the given sentence that has an error in it. If there is no error, choose 'No error'.
Neither of the teachers is participating on this event.

- Ans
- 1. teachers is participating
 - 2. on this event.
 - 3. No error
 - 4. Neither of the

Q.14 Select the sentence with no spelling errors.

- Ans
- 1. Taking a walk in nature can help reduce stress levels.
 - 2. Taking a wak in nature can help reduce stress levels.
 - 3. Taking a walk in nature can help reduce stres levels.
 - 4. Takking a walk in nature can help reduce stress levels.

Q.15 Select the most appropriate meaning of the given idiom

Get down to brass tacks

- Ans
- 1. Compromise, cooperation between people
 - 2. Get fired from the job
 - 3. To become serious about something
 - 4. To be ready

Comprehension:

In the following passage some words have been deleted. Fill in the blanks with the help of the alternatives given. Select the most appropriate option for each number.

Instead, we (1) _____ our policy on hopes that by befriending her we would (2) _____ the evil day of reckoning. The evil day (3) _____ on 20th October 1962, barely 15 years (4) _____ Independence, and 12 years after China's (5) _____ of Tibet.

SubQuestion No : 16

Q.16 Select the most appropriate option to fill in the blank No. 1.

- Ans**
- 1. based
 - 2. placed
 - 3. grounded
 - 4. situated

Comprehension:

In the following passage some words have been deleted. Fill in the blanks with the help of the alternatives given. Select the most appropriate option for each number.

Instead, we (1) _____ our policy on hopes that by befriending her we would (2) _____ the evil day of reckoning. The evil day (3) _____ on 20th October 1962, barely 15 years (4) _____ Independence, and 12 years after China's (5) _____ of Tibet.

SubQuestion No : 17

Q.17 Select the most appropriate option to fill in the blank No. 2.

- Ans**
- 1. stoved
 - 2. stave on
 - 3. stave off
 - 4. stave of

Comprehension:

In the following passage some words have been deleted. Fill in the blanks with the help of the alternatives given. Select the most appropriate option for each number.

Instead, we (1) _____ our policy on hopes that by befriending her we would (2) _____ the evil day of reckoning. The evil day (3) _____ on 20th October 1962, barely 15 years (4) _____ Independence, and 12 years after China's (5) _____ of Tibet.

SubQuestion No : 18

Q.18 Select the most appropriate option to fill in the blank No. 3.

- Ans**
- 1. established
 - 2. approached
 - 3. comes
 - 4. came

Comprehension:

In the following passage some words have been deleted. Fill in the blanks with the help of the alternatives given. Select the most appropriate option for each number.

Instead, we (1) _____ our policy on hopes that by befriendng her we would (2) _____ the evil day of reckoning. The evil day (3) _____ on 20th October 1962, barely 15 years (4) _____ Independence, and 12 years after China's (5) _____ of Tibet.

SubQuestion No : 19

Q.19 Select the most appropriate option to fill in the blank No. 4.

- Ans**
- 1. later
 - 2. afterwards
 - 3. after
 - 4. behind

Comprehension:

In the following passage some words have been deleted. Fill in the blanks with the help of the alternatives given. Select the most appropriate option for each number.

Instead, we (1) _____ our policy on hopes that by befriendng her we would (2) _____ the evil day of reckoning. The evil day (3) _____ on 20th October 1962, barely 15 years (4) _____ Independence, and 12 years after China's (5) _____ of Tibet.

SubQuestion No : 20

Q.20 Select the most appropriate option to fill in the blank No. 5.

- Ans**
- 1. regression
 - 2. relapse
 - 3. annexation
 - 4. throwback

Section : Part-D-Hindi

Q.1 निम्नलिखित प्रश्न में, चार विकल्पों में से, उस विकल्प का चयन करें जो कोष्ठक में दिए गए शब्द के तद्भव रूप का सही विकल्प है।

आज भी गाँवों में (गोमय) _____ का उपयोग घरों को साफ और स्वच्छ रखने के लिए किया जाता है।

- Ans**
- 1. गोसाईं
 - 2. घरनी
 - 3. गीध
 - 4. गोबर

Q.2 निम्नलिखित प्रश्न में, चार विकल्पों में से, उस विकल्प का चयन करें जो कोष्ठक में दिए गए शब्द के विलोम शब्द का सही विकल्प है। सभी को (ईश्वर) _____ पर भरोसा होना चाहिए।

- Ans**
- 1. देव
 - 2. देवता
 - 3. अनीश्वर
 - 4. इष्ट

Q.3 निम्नलिखित प्रश्न में, चार विकल्पों में से, उस विकल्प का चयन करें जो कोष्ठक में दिए गए शब्द के तत्सम रूप का सही अर्थ है।
जब हम कठिन कार्यों को चुनौती के रूप में स्वीकार करते हैं और उन्हें खुशी और (उछाह) _____ से निष्पादित करते हैं, तो चमत्कार हो सकते हैं।

- Ans
- 1. उत्थान
 - 2. उपवास
 - 3. उच्च
 - 4. उत्साह

Q.4 निम्नलिखित प्रश्न में, चार विकल्पों में से, उस विकल्प का चयन करें जो दिए गए लोकोक्ति का सही अर्थ वाला विकल्प है।

आये थे हरिभजन को ओटन लगे कपास

- Ans
- 1. एक साथ कई कार्य करना
 - 2. अच्छा कार्य करके भूल जाना
 - 3. किसी कार्य विशेष की उपेक्षा कर किसी अन्य कार्य में लग जाना
 - 4. बहुत अनुभवी होना

Q.5 निम्नलिखित वाक्य में रेखांकित भाग के लिए एक सार्थक शब्द ज्ञात कीजिए।

हरिद्वार में तीन नदियों का संगम होता है।

- Ans
- 1. संगम
 - 2. समागम
 - 3. त्रिवेणी
 - 4. त्रियामा

Q.6 दिए गए वाक्य में रेखांकित शब्द के लिए सही वर्तनी ज्ञात कीजिए।

अपराधी को पेष किया जाए।

- Ans
- 1. पेस
 - 2. पेश
 - 3. पेक्ष
 - 4. प्रेस

Q.7 निम्नलिखित प्रश्न में, दिए गए चार विकल्पों में से, उस विकल्प का चयन करें जो दिए गए मुहावरे के अर्थ को सर्वश्रेष्ठ रूप से व्यक्त करता है।

अड्डा जमाना

- Ans
- 1. बहुत फायदा होना
 - 2. उपहास करना
 - 3. विरोध करना
 - 4. स्थाई रूप से रहने लगना

Q.8 दिए गए वाक्य में रेखांकित शब्द के लिए सही वर्तनी ज्ञात कीजिए।

तुम्हारे चिल्लाने से पूरा मुहल्ला बाहर आ गया है।

- Ans
- 1. बाहर
 - 2. मोहल्ला
 - 3. महल्लो
 - 4. महल्ला

Q.9 दिए गए वाक्य का वह भाग ज्ञात करें, जिसमें कोई त्रुटि है। यदि कोई त्रुटि नहीं है, तो 'कोई त्रुटि नहीं है' चुनें।
बाघ और बकरी एक ही घाट से पानी पीती हैं।

- Ans
- 1. बाघ और बकरी
 - 2. कोई त्रुटि नहीं है
 - 3. एक ही घाट
 - 4. से पानी पीती हैं

Q.10 दिए गए वाक्य का वह भाग ज्ञात करें, जिसमें कोई त्रुटि है।

आज माँ आनन्दमयी के निधन पर आशा का अंधकार छाया हुआ है।

- Ans
- 1. आशा का अंधकार
 - 2. छाया हुआ है
 - 3. के निधन पर
 - 4. आज माँ आनन्दमयी

Q.11 दिए गए वाक्य में रेखांकित शब्द का विलोम शब्द ज्ञात कीजिए।

हमें हर किसी से दुर्व्यवहार करना चाहिए।

- Ans
- 1. सद्प्रेरणा
 - 2. सुव्यवस्था
 - 3. सद्ब्यवहार
 - 4. सत्कर्म

Q.12 दिए गए वाक्यांश के लिए सार्थक शब्द ज्ञात कीजिए।

पीछे चलने वाला

- Ans
- ✗ 1. निर्गम
 - ✗ 2. पिछलग्गू
 - ✓ 3. अनुगत
 - ✗ 4. आगत

Q.13 निम्नलिखित प्रश्न में, चार विकल्पों में से, उस विकल्प का चयन करें जो कोष्ठक में दिए गए शब्द के पर्यायवाची शब्द का सही विकल्प है।

मेरे घर में हमेशा भगवान जी को (कदली) _____ फल चढ़ाया जाता है।

- Ans
- ✗ 1. मन्मथ
 - ✗ 2. कूल
 - ✓ 3. गजवसा
 - ✗ 4. करकट

Q.14 निम्नलिखित प्रश्न में, चार विकल्पों में से, उस विकल्प का चयन करें जो कोष्ठक में दिए गए शब्द के पर्यायवाची शब्द का सही विकल्प है।

आस-पास के लोगों के साथ (पहचान) _____ होना चाहिए।

- Ans
- ✗ 1. प्रपंच
 - ✗ 2. कपट
 - ✗ 3. उपहार
 - ✓ 4. परिचय

Q.15 निम्नलिखित वाक्य में रेखांकित भाग के लिए एक सार्थक शब्द ज्ञात कीजिए।

विशाल बहुत बोलता है।

- Ans
- ✗ 1. प्रवक्ता
 - ✗ 2. मितभाषी
 - ✗ 3. अधिवक्ता
 - ✓ 4. वाचाल

Comprehension:

नीचे दिए गये गद्यांश में कुछ शब्द छोड़ दिए गए हैं, प्रत्येक अनुच्छेद के सामने चार विकल्प दिए गए हैं। इस गद्यांश को ध्यानपूर्वक पढ़ें और चार विकल्पों में से सर्वोत्तम उत्तर वाला विकल्प चुनें।

भारत देश किसी जमाने में सोने की चिड़िया कहा जाता था, अपने वैभव और _____ के लिए जाना जाता था। लेकिन समय के बदलाव के चलते हमारे देश पर कई बाहरी ताकतों ने _____ किया, जिससे हमारी देश की हालत खराब हो गई। हमारे देश में _____ पर बिल्कुल भी ध्यान नहीं दिया जाता है। आपने देखा होगा कि हमारे देश का कोई भी बड़ा राज्य हो या शहर हो या फिर गांव हो या फिर कोई गली या मोहल्ला हो - वहां पर भी आपको कूड़ा करकट मिलेगा। हमारे देश के विकास में बाधा पहुंचाने वाली समस्याओं में एक मुख्य कारण गंदगी है क्योंकि इसके कारण लोग हमारे देश में आना पसंद नहीं करते हैं और जिससे हमारे देश को इतनी ख्याति नहीं मिलती है। हमारा देश भी पूर्णतया स्वच्छ हो, इसके लिए कई _____ ने सपने देखे थे और उन्हें साकार करने की भी कोशिश की थी लेकिन वह किसी कारण सफल नहीं हो पाए। हमारे देश को स्वच्छ बनाने के लिए भारत सरकार ने एक नई योजना निकाली है, जिसका नाम 'स्वच्छ भारत अभियान' रखा गया है। इस अभियान के तहत सभी देशवासियों को इसमें _____ होने के लिए कहा गया है।

SubQuestion No : 16

Q.16 भारत देश किसी जमाने में सोने की चिड़िया कहा जाता था, अपने वैभव और _____ के लिए जाना जाता था।

- Ans
- 1. सोने
 - 2. संस्कार
 - 3. धन
 - 4. संस्कृति

Comprehension:

नीचे दिए गये गद्यांश में कुछ शब्द छोड़ दिए गए हैं, प्रत्येक अनुच्छेद के सामने चार विकल्प दिए गए हैं। इस गद्यांश को ध्यानपूर्वक पढ़ें और चार विकल्पों में से सर्वोत्तम उत्तर वाला विकल्प चुनें।

भारत देश किसी जमाने में सोने की चिड़िया कहा जाता था, अपने वैभव और _____ के लिए जाना जाता था। लेकिन समय के बदलाव के चलते हमारे देश पर कई बाहरी ताकतों ने _____ किया, जिससे हमारी देश की हालत खराब हो गई। हमारे देश में _____ पर बिल्कुल भी ध्यान नहीं दिया जाता है। आपने देखा होगा कि हमारे देश का कोई भी बड़ा राज्य हो या शहर हो या फिर गांव हो या फिर कोई गली या मोहल्ला हो - वहां पर भी आपको कूड़ा करकट मिलेगा। हमारे देश के विकास में बाधा पहुंचाने वाली समस्याओं में एक मुख्य कारण गंदगी है क्योंकि इसके कारण लोग हमारे देश में आना पसंद नहीं करते हैं और जिससे हमारे देश को इतनी ख्याति नहीं मिलती है। हमारा देश भी पूर्णतया स्वच्छ हो, इसके लिए कई _____ ने सपने देखे थे और उन्हें साकार करने की भी कोशिश की थी लेकिन वह किसी कारण सफल नहीं हो पाए। हमारे देश को स्वच्छ बनाने के लिए भारत सरकार ने एक नई योजना निकाली है, जिसका नाम 'स्वच्छ भारत अभियान' रखा गया है। इस अभियान के तहत सभी देशवासियों को इसमें _____ होने के लिए कहा गया है।

SubQuestion No : 17

Q.17 समय के बदलाव के चलते हमारे देश पर कई बाहरी ताकतों ने _____ किया।

- Ans
- 1. प्राप्त
 - 2. काम
 - 3. राज
 - 4. ऐतराज

Comprehension:

नीचे दिए गये गद्यांश में कुछ शब्द छोड़ दिए गए हैं, प्रत्येक अनुच्छेद के सामने चार विकल्प दिए गए हैं। इस गद्यांश को ध्यानपूर्वक पढ़ें और चार विकल्पों में से सर्वोत्तम उत्तर वाला विकल्प चुनें।

भारत देश किसी जमाने में सोने की चिड़िया कहा जाता था, अपने वैभव और _____ के लिए जाना जाता था। लेकिन समय के बदलाव के चलते हमारे देश पर कई बाहरी ताकतों ने _____ किया, जिससे हमारी देश की हालत खराब हो गई। हमारे देश में _____ पर बिल्कुल भी ध्यान नहीं दिया जाता है। आपने देखा होगा कि हमारे देश का कोई भी बड़ा राज्य हो या शहर हो या फिर गांव हो या फिर कोई गली या मोहल्ला हो - वहां पर भी आपको कूड़ा करकट मिलेगा। हमारे देश के विकास में बाधा पहुंचाने वाली समस्याओं में एक मुख्य कारण गंदगी है क्योंकि इसके कारण लोग हमारे देश में आना पसंद नहीं करते हैं और जिससे हमारे देश को इतनी ख्याति नहीं मिलती है। हमारा देश भी पूर्णतया स्वच्छ हो, इसके लिए कई _____ ने सपने देखे थे और उन्हें साकार करने की भी कोशिश की थी लेकिन वह किसी कारण सफल नहीं हो पाए। हमारे देश को स्वच्छ बनाने के लिए भारत सरकार ने एक नई योजना निकाली है, जिसका नाम 'स्वच्छ भारत अभियान' रखा गया है। इस अभियान के तहत सभी देशवासियों को इसमें _____ होने के लिए कहा गया है।

SubQuestion No : 18

Q.18 हमारे देश में _____ पर बिल्कुल भी ध्यान नहीं दिया जाता है।

- Ans
- 1. बच्चों
 - 2. स्वच्छता
 - 3. गाँवों
 - 4. लोगों

Comprehension:

नीचे दिए गये गद्यांश में कुछ शब्द छोड़ दिए गए हैं, प्रत्येक अनुच्छेद के सामने चार विकल्प दिए गए हैं। इस गद्यांश को ध्यानपूर्वक पढ़ें और चार विकल्पों में से सर्वोत्तम उत्तर वाला विकल्प चुनें।

भारत देश किसी जमाने में सोने की चिड़िया कहा जाता था, अपने वैभव और _____ के लिए जाना जाता था। लेकिन समय के बदलाव के चलते हमारे देश पर कई बाहरी ताकतों ने _____ किया, जिससे हमारी देश की हालत खराब हो गई। हमारे देश में _____ पर बिल्कुल भी ध्यान नहीं दिया जाता है। आपने देखा होगा कि हमारे देश का कोई भी बड़ा राज्य हो या शहर हो या फिर गांव हो या फिर कोई गली या मोहल्ला हो - वहां पर भी आपको कूड़ा करकट मिलेगा। हमारे देश के विकास में बाधा पहुंचाने वाली समस्याओं में एक मुख्य कारण गंदगी है क्योंकि इसके कारण लोग हमारे देश में आना पसंद नहीं करते हैं और जिससे हमारे देश को इतनी ख्याति नहीं मिलती है। हमारा देश भी पूर्णतया स्वच्छ हो, इसके लिए कई _____ ने सपने देखे थे और उन्हें साकार करने की भी कोशिश की थी लेकिन वह किसी कारण सफल नहीं हो पाए। हमारे देश को स्वच्छ बनाने के लिए भारत सरकार ने एक नई योजना निकाली है, जिसका नाम 'स्वच्छ भारत अभियान' रखा गया है। इस अभियान के तहत सभी देशवासियों को इसमें _____ होने के लिए कहा गया है।

SubQuestion No : 19

Q.19 हमारा देश भी पूर्णतया स्वच्छ हो, इसके लिए कई _____ ने सपने देखे थे

- Ans
- 1. योजनाओं
 - 2. देशों
 - 3. पड़ोसियों
 - 4. महापुरुषों

Comprehension:

नीचे दिए गये गद्यांश में कुछ शब्द छोड़ दिए गए हैं, प्रत्येक अनुच्छेद के सामने चार विकल्प दिए गए हैं। इस गद्यांश को ध्यानपूर्वक पढ़ें और चार विकल्पों में से सर्वोत्तम उत्तर वाला विकल्प चुनें।

भारत देश किसी जमाने में सोने की चिड़िया कहा जाता था, अपने वैभव और _____ के लिए जाना जाता था। लेकिन समय के बदलाव के चलते हमारे देश पर कई बाहरी ताकतों ने _____ किया, जिससे हमारी देश की हालत खराब हो गई। हमारे देश में _____ पर बिल्कुल भी ध्यान नहीं दिया जाता है। आपने देखा होगा कि हमारे देश का कोई भी बड़ा राज्य हो या शहर हो या फिर गांव हो या फिर कोई गली या मोहल्ला हो - वहां पर भी आपको कूड़ा करकट मिलेगा। हमारे देश के विकास में बाधा पहुंचाने वाली समस्याओं में एक मुख्य कारण गंदगी है क्योंकि इसके कारण लोग हमारे देश में आना पसंद नहीं करते हैं और जिससे हमारे देश को इतनी ख्याति नहीं मिलती है। हमारा देश भी पूर्णतया स्वच्छ हो, इसके लिए कई _____ ने सपने देखे थे और उन्हें साकार करने की भी कोशिश की थी लेकिन वह किसी कारण सफल नहीं हो पाए। हमारे देश को स्वच्छ बनाने के लिए भारत सरकार ने एक नई योजना निकाली है, जिसका नाम 'स्वच्छ भारत अभियान' रखा गया है। इस अभियान के तहत सभी देशवासियों को इसमें _____ होने के लिए कहा गया है।

SubQuestion No : 20

Q.20 इस अभियान के तहत सभी देशवासियों को इसमें _____ होने के लिए कहा गया है।

- Ans
- ✓ 1. शामिल
 - ✗ 2. नहीं
 - ✗ 3. दूर
 - ✗ 4. बातें

