

Constable GD in Central Armed Police Forces CAPFs SSF Rifleman GD in Assam Rifles Examination 2024

Exam Date	26/02/2024
Exam Time	5:00 PM - 6:00 PM
Subject	Constable GD Examination 2024

Section : Part-A-General Intelligence and Reasoning

Q.1 பின்வரும் கேள்விக்கு, கொடுக்கப்பட்ட மாற்றுக்களிலிருந்து தொடர்புடைய எழுத்து ஜோடியை தேர்ந்தெடுக்கவும்.

BO : DR :: ?

- Ans
- ✓ 1. FS : HV
 - ✗ 2. CZ : UX
 - ✗ 3. AI : DV
 - ✗ 4. OT : OJ

Q.2 கொடுக்கப்பட்ட தொடரில் பின்வரும் எண்களில் எது கேள்விக்குறிக்குப் (?) பதிலாக வரும்?
176, 188, 200, 212, ?, 236

- Ans
- ✓ 1. 224
 - ✗ 2. 232
 - ✗ 3. 210
 - ✗ 4. 242

Q.3 இரண்டாவது வார்த்தையானது முதல் வார்த்தையுடன் தொடர்புடையது. அதைப் போலவே மூன்றாவது வார்த்தையுடன் தொடர்புடைய விருப்பத்தேர்வை தேர்ந்தெடுக்கவும்.
புலி:புலிக்குட்டி :: யானை: ?

- Ans
- ✗ 1. நாய்குட்டி (Puppy)
 - ✗ 2. குதிரைக் குட்டி (Foal)
 - ✗ 3. செம்மறி ஆட்டுக்குட்டி (Lamb)
 - ✓ 4. கன்று (Calf)

Test Prime

ALL EXAMS,
ONE SUBSCRIPTION



40,000+
Mock Tests



Personalised
Report Card



Unlimited
Re-Attempt



500+
Exam Covered



Previous Year
Papers



500%
Refund



DOWNLOAD NOW

Q.4 பின்வரும் கேள்வியில், கொடுக்கப்பட்ட மாற்றுக்களிலிருந்து வினாக்குறி(?) உள்ள இடத்தில் எந்த வடிவம் பொருந்தும் என தேர்வு செய்க.



Ans


✗ 1.



✓ 2.



✗ 3.



✗ 4.



Q.5 கொடுக்கப்பட்ட எழுத்துத் தொடரில் உள்ள கோடிட்ட இடங்களில், எந்த எழுத்துத் தொகுதியின் எழுத்துக்களை வரிசையாக வைக்கும் போது, அத்தொடர் முழுமையாகின்றது?
pq_s__rsp_rspq

Ans

✗ 1. rpr

✓ 2. rpqq

✗ 3. pqr

✗ 4. rrpq

Q.6 மூன்று கூற்றுகளைத் தொடர்ந்து I மற்றும் II என இரண்டு முடிவுகளும் கொடுக்கப்பட்டுள்ளன. பொதுவாக அறியப்பட்ட கருத்துகளில் இருந்து கூற்றுகள் மாறுபட்டதாக இருந்தாலும் அவற்றை உண்மை என எடுத்து கொண்டு, கொடுக்கப்பட்ட முடிவுகளில் எது/எவை தர்க்கரீதியாக பின்பற்றப்படுகிறது என தேர்ந்தெடுக்க.

கூற்று I: எல்லா ஊர்வனவும் இருவாழ்விகள் ஆகும்.

கூற்று II: சில இருவாழ்விகள், தவளைகள் ஆகும்.

கூற்று III: சில தவளைகள், ஆமைகள் ஆகும்.

முடிவு I: சில இருவாழ்விகள், ஊர்வன இல்லை.

முடிவு II: சில ஆமைகள், இருவாழ்விகள் ஆகும்.

Ans

✗ 1. முடிவு I மட்டும் பின்பற்றுகிறது

✗ 2. முடிவு II மட்டும் பின்பற்றுகிறது

✓ 3. முடிவு I அல்லது முடிவு II ஆகிய எந்த முடிவும் பின்பற்றவில்லை

✗ 4. முடிவுகள் I மற்றும் II ஆகிய இரண்டும் பின்பற்றுகின்றன

- Q.7 AB என்ற கோட்டின் மீது ஒரு கண்ணாடியானது வைக்கப்படுகிறது எனில், விருப்பத்தேர்வு வடிவங்களில் எந்த வடிவம் கொடுக்கப்பட்டுள்ள கேள்வி வடிவத்தின் சரியான பிம்பமாக இருக்கும்?



Ans

✗ 1.



✓ 2.



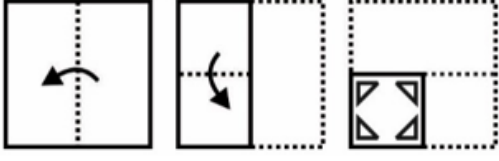
✗ 3.



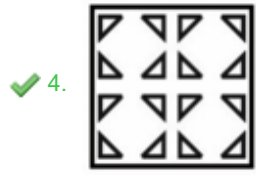
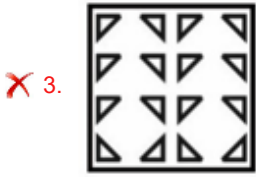
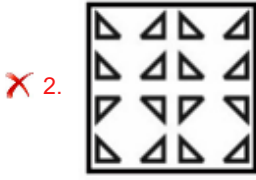
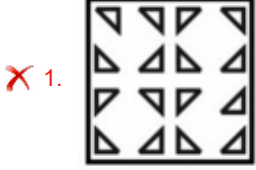
✗ 4.



Q.8 கீழே காட்டப்பட்டுள்ள கேள்வியின் வடிவங்களின் படி, ஒரு காகிதத் துண்டானது மடித்து துளையிடப்படுகிறது. அது திறக்கப்படும் போது, கொடுக்கப்பட்ட விருப்பத் தேர்வு வடிவங்களில் இருந்து, எவ்வாறு தோன்றும் என்பதைக் குறிப்பிடுக?



Ans



Q.9 கொடுக்கப்பட்ட சமன்பாட்டைச் சரியாக்க, எந்த இரண்டு குறியீடுகளை ஒன்றுக்கொன்று இடமாற்றம் செய்ய வேண்டும்?

$$18 \times 3 + 15 \div 4 - 44 = 22$$

Ans

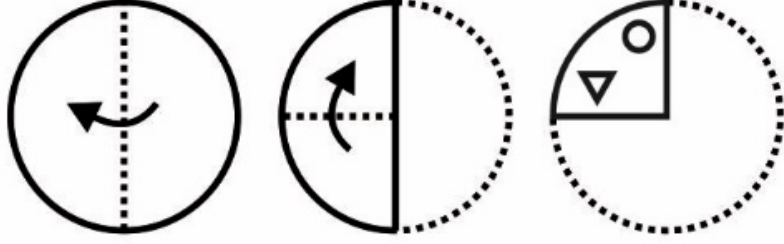
✓ 1. \times மற்றும் \div

✗ 2. \times மற்றும் $+$

✗ 3. $+$ மற்றும் \div

✗ 4. \times மற்றும் $-$

Q.10 கீழே காட்டப்பட்டுள்ள கேள்வியின் வடிவங்களின் படி, ஒரு காகிதத் துண்டானது மடித்து துளையிடப்படுகிறது. அது திறக்கப்படும் போது, கொடுக்கப்பட்ட விருப்பத் தேர்வு வடிவங்களில் இருந்து, எவ்வாறு தோன்றும் என்பதைக் குறிப்பிடுக?




Ans

✗ 1.



✓ 2.



✗ 3.



✗ 4.



Q.11 ஆறு நபர்கள் R, S, T, U, V, மற்றும் W ஆகியோர் வட்ட மேஜை மீது அதன் மையத்தின் வெளிப்புறம் நோக்கி அமர்ந்துள்ளனர். V என்பவர் T க்கு உடனடி இடப்பக்கம் அமர்ந்துள்ளார். T மற்றும் Rக்கு இடையில் ஒரு நபர் மட்டும் அமர்ந்துள்ளார். R என்பவர் Vக்கு அடுத்து அமரவில்லை. R மற்றும் Uக்கு இடையில் S மட்டும் அமர்ந்துள்ளார். எனில், Rக்கு உடனடி இடப்பக்கம் அமர்ந்திருப்பவர் யார்?

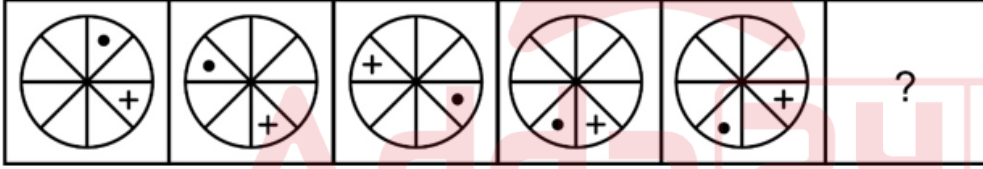
- Ans
- ✓ 1. W
 - ✗ 2. S
 - ✗ 3. V
 - ✗ 4. U

Q.12 ஒரு கூறு விடுபட்ட நிலையில் ஒரு தொடர் கொடுக்கப்பட்டுள்ளது. தொடரை நிறைவு செய்ய கீழே கொடுக்கப்பட்டவற்றிலிருந்து சரியான மாற்றைத் தேர்ந்தெடுக்கவும்.

AQM, CSO, EUQ, GWS, ?

- Ans
- ✗ 1. IWV
 - ✗ 2. JKU
 - ✗ 3. JWU
 - ✓ 4. IYU

Q.13 கொடுக்கப்பட்ட வடிவத்தொடரின் வினாக்குறி (?) உள்ள இடத்தில் பொருந்தும் வடிவத்தை தேர்ந்தெடுக்க.



Ans

- ✗ 1.
- ✗ 2.
- ✗ 3.
- ✓ 4.

Q.14 கொடுக்கப்பட்ட சமன்பாட்டைச் சரியாக்க, எந்த இரண்டு எண்களை ஒன்றுக்கொன்று இடமாற்றம் செய்ய வேண்டும்?

$$18 \times 3 - 2 \div 4 + 7 = 59$$

- Ans
- ✗ 1. 7 மற்றும் 3
 - ✗ 2. 3 மற்றும் 2
 - ✗ 3. 18 மற்றும் 4
 - ✓ 4. 2 மற்றும் 4

Q.15 பின்வரும் எந்த எண், கொடுக்கப்பட்ட தொடரின் வினாக்குறி (?) உள்ள இடத்தில் பொருந்தும்?
21, 15, 9, 3, -3, ?

- Ans
- ✗ 1. -6
 - ✗ 2. 6
 - ✓ 3. -9
 - ✗ 4. 9

Q.16 ரீனா, கவிதா, ராமன், உமேஷ், ரோஹித், விகாஸ், மோனிகா மற்றும் பிரியா ஆகிய எட்டு நபர்கள் ஒரு சதுர மேஜையை சுற்றி, ஒவ்வொரு பக்கத்திலும் இரு நபர்கள் வீதம் அமர்ந்துள்ளனர். அனைத்து நபர்களும் மேஜையின் மையத்தை நோக்கி அமர்ந்துள்ளனர். ரீனா, ரோஹித்துக்கு உடனடி வலப்பக்கமாகவும் மற்றும் அவர்கள் இருவரும் ஒரே பக்கத்திலும் அமர்ந்துள்ளனர். மோனிகா, கவிதாவுக்கு இடப்பக்கம் இரண்டாவதாக உள்ளவரை எதிர்நோக்கி அமர்ந்துள்ளார். மோனிகா, ரீனாவுக்கு வலப்பக்கம் நான்காவதாக அமர்ந்துள்ளார். விகாஸ் மற்றும் உமேஷ் ஆகியோருக்கு இடையில் இரண்டு நபர்கள் (ஒரு பக்கத்திலிருந்து மட்டும் எண்ணும்போது) அமர்ந்துள்ளனர் மற்றும் உமேஷ், ரோஹித்துக்கு அருகில் அமர்ந்துள்ளார். மோனிகா மற்றும் ராமனுக்கு இடையில் ஒரே ஒரு நபர் மட்டும் அமர்ந்துள்ளார் (ஒரு பக்கத்திலிருந்து மட்டும் எண்ணும்போது). எனில், உமேஷுக்கு இடப்பக்கம் இரண்டாவதாக அமர்ந்திருப்பவர் யார்?

- Ans
- ✓ 1. மோனிகா
 - ✗ 2. விகாஸ்
 - ✗ 3. ரீனா
 - ✗ 4. ராமன்

Q.17 'K × L' என்றால் 'K என்பவர் L இன் மகன்'.
 'K + L' என்றால் 'K என்பவர் L இன் மகள்'.
 'K ÷ L' என்றால் K என்பவர் L இன் சகோதரி'.
 'K - L' என்றால் 'K என்பவர் L இன் மனைவி' எனவும் அர்த்தமாகின்றது.
 எனில், கொடுக்கப்பட்டுள்ள 'M ÷ N × O - P' எனும் கோவையில், P என்பவர் Mக்கு என்ன உறவு?

- Ans
- ✗ 1. மகன்
 - ✗ 2. சகோதரன்
 - ✗ 3. கணவன்
 - ✓ 4. தந்தை

Q.18 ஒரு குறிப்பிட்ட குறியீட்டு மொழியில், 'STOP' என்பது 'VXRT' எனக் குறியிடப்பட்டுள்ளது. எனில், அந்தக் குறியீட்டு மொழியில் 'WALK' என்பது எவ்வாறு குறியிடப்படுகிறது?

- Ans
- ✗ 1. ZEOP
 - ✗ 2. ZFOO
 - ✓ 3. ZEEO
 - ✗ 4. ZEPP

Q.19 ஒரு குறிப்பிட்ட குறியீட்டு மொழியில், 'JUMPS' என்பது '72196' எனவும், 'MASKS' என்பது '16315' எனவும், 'PUTE' என்பது '2849' எனவும். குறியிடப்படுகிறது. அந்த குறியீட்டு மொழியில் 'K' க்கான குறியீடு என்னவாக இருக்கும்?

- Ans
- ✗ 1. 4
 - ✗ 2. 1
 - ✓ 3. 3
 - ✗ 4. 6

Q.20 கொடுக்கப்பட்ட வார்த்தைகளை அகர வரிசைப்படி, வரிசைபடுத்துக:

1. CELEBRATE
2. CELESTIAL
3. CELLO
4. CELEBRITY
5. CELLULOID

- Ans
- ✗ 1. 1, 4, 3, 2, 5
 - ✗ 2. 1, 2, 3, 4, 5
 - ✗ 3. 1, 4, 5, 2, 3
 - ✓ 4. 1, 4, 2, 3, 5

Q.1 பின்வரும் எந்த நாடு இந்தியாவுடன் தனது நீண்ட நில எல்லையை பகிர்கிறது?

- Ans
- ✓ 1. பங்களாதேஷ்
 - ✗ 2. பாகிஸ்தான்
 - ✗ 3. சீனா
 - ✗ 4. நேபாளம்

Q.2 குறிப்பாக துணிகளைத் துவைக்கப் பயன்படுத்தப்படும் சலவை சோடா, சோடியம் கார்பனேட் டெகாஹைட்ரேட், எப்ளோரசன்ட் படிக்கங்கள் ஆகியவை _____ன் ஒரு கலவையாகும்.

- Ans
- ✗ 1. ஆக்சிஜன்
 - ✗ 2. கார்பன்
 - ✓ 3. சோடியம்
 - ✗ 4. ஹைட்ரஜன்

Q.3 ஃபெமினா மிஸ் இந்தியா வேர்ல்ட் 2023 என பட்டம் சூட்டப்பட்டவர் யார்?

- Ans
- ✗ 1. தெளனோஜாம் ஸ்ட்ரெலா லுவாங் (Thounaojam Strela Luwang)
 - ✗ 2. ஷிகா சர்மா
 - ✗ 3. ஜரின் தருவாலா (Zarin Daruwala)
 - ✓ 4. நந்தினி குப்தா

Q.4 பஸ்தர் தசரா திருவிழா எந்த மாநிலத்துடன் தொடர்புடையது?

- Ans
- ✓ 1. சத்தீஸ்கர்
 - ✗ 2. உத்தர பிரதேசம்
 - ✗ 3. பஞ்சாப்
 - ✗ 4. மேற்கு வங்காளம்

Q.5 மாநிலங்களவையின் உறுப்பினராக ஆவதற்கு குறைந்தபட்ச வயது என்ன?

- Ans
- ✓ 1. 30
 - ✗ 2. 25
 - ✗ 3. 40
 - ✗ 4. 35

Q.6 தேசிய பல் மருத்துவ ஆணைய மசோதா, (The National Dental Commission Bill) 2023, ஆனது _____ அமைச்சகத்தால் அறிமுகப்படுத்தப்பட்டது.

- Ans
- ✗ 1. சமூக நீதி மற்றும் தன்மேம்பாடு
 - ✓ 2. சுகாதாரம் மற்றும் குடும்ப நலன்
 - ✗ 3. நிதி
 - ✗ 4. வர்த்தகம் மற்றும் தொழில்துறை

Q.7 1964 ஆம் ஆண்டில் நிறுவப்பட்ட இந்திய தொழில் மேம்பாட்டு வங்கி (the Industrial Development Bank of India) (IDBI)-இன் முக்கிய நோக்கம் குறிப்பாக எதுவாக இருந்தது?

- Ans
- ✗ 1. சிறுதொழில்களை ஊக்குவித்தல்
 - ✓ 2. கனரக தொழில்களை ஊக்குவித்தல்
 - ✗ 3. விவசாய கூட்டுறவுகளை ஆதரித்தல்
 - ✗ 4. வீட்டுக்கடன் வழங்குதல்

Q.8 பரதநாட்டிய நடனத்தில் நுட்பங்கள் மற்றும் உடல் அசைவுகள் பற்றிய ஆய்வுக்கு பின்வரும் எந்த உரை முக்கிய ஆதாரமாக உள்ளது?

- Ans
- ✗ 1. நிரித்யசௌரப் (Nriyasaaurabh)
 - ✗ 2. நாட்டிய யோகா (Naty yoga)
 - ✓ 3. அபிநய தர்ப்பணம் (Abhinaya darpana)
 - ✗ 4. சங்கீத நாடகம் (Sangeet natak)

Q.9 நிகர தேசிய உற்பத்தியை (NNP), கணக்கிடும் போது, மொத்த தேசிய உற்பத்தியில் (GNP) இருந்து எது கழிக்கப்படுகிறது?

- Ans
- ✓ 1. தேய்மானம்
 - ✗ 2. மறைமுக வரிகள்
 - ✗ 3. மானியங்கள்
 - ✗ 4. தனி வருமானம்

Q.10 சக்ஸேனா கமிட்டியின் பரிந்துரைகளின் அடிப்படையில், இந்திய அரசாங்கத்தின் கீழ் உள்ள கிராமப்புற மேம்பாட்டு அமைச்சகம் சமூக-பொருளாதார மற்றும் சாதிவாரி மக்கள் தொகை (Socio-Economic and Caste Census) (SECC) கணக்கெடுப்பை _____ இல் தொடங்கியது.

- Ans
- ✗ 1. 2009
 - ✓ 2. 2011
 - ✗ 3. 2005
 - ✗ 4. 2014

Q.11 1971 இல் நடைபெற்ற முதல் ஆண்கள் ஹாக்கி உலகக்கோப்பையை வென்ற நாடு எது?

- Ans
- ✗ 1. இந்தியா
 - ✓ 2. பாகிஸ்தான்
 - ✗ 3. ஸ்பெயின்
 - ✗ 4. இங்கிலாந்து

Q.12 பின்வருபவர்களுள் யார் ஷெஹ்நாய் இசைக்கருவியை வாசிப்பதில் பிரபலமானவர் ஆவார்?

- Ans
- ✗ 1. ராஜரத்தினம் பிள்ளை
 - ✗ 2. ஹரி பிரசாத் செளராசியா
 - ✓ 3. அலி அகமது ஹுசைன்
 - ✗ 4. N ரமணி

Q.13 2023 ஆம் ஆண்டு நிலவரப்படி, சட்டப்பிரிவு 51 A இல் கடைசி அடிப்படைக் கடமையானது சேர்க்கப்பட்டது எப்போது?

- Ans
- ✗ 1. 2012
 - ✓ 2. 2002
 - ✗ 3. 2000
 - ✗ 4. 2022

Q.14 அறுவடைத் திருவிழாவான லோஹரி எந்த மாதத்தில் கொண்டாடப்படுகிறது?

- Ans
- ✓ 1. ஜனவரி
 - ✗ 2. மார்ச்
 - ✗ 3. அக்டோபர்
 - ✗ 4. டிசம்பர்

Q.15 இந்தியாவில், இரும்பின் தோற்றம் குறித்து எத்தனை முக்கிய கோட்பாடுகள் நிறுவப்பட்டுள்ளன?

- Ans
- ✓ 1. இரண்டு
 - ✗ 2. ஐந்து
 - ✗ 3. மூன்று
 - ✗ 4. நான்கு

Q.16 'தற்சார்பு மற்றும் சுயமாக-உருவாகும் பொருளாதாரத்தை நிறுவுதல்' ('establishment of a self-reliant and self-generating economy') என்பது எந்த ஐந்தாண்டுத் திட்டத்தின் நோக்கமாகும்?

- Ans
- ✓ 1. மூன்றாவது
 - ✗ 2. ஐந்தாவது
 - ✗ 3. முதலாவது
 - ✗ 4. ஆறாவது

Q.17 ஜூலை 2023 இல், கொரியா குடியரசின் புசானில் (Busan) உள்ள டோங்-ஈயு இன்ஸ்டிடியூட் ஆப் டெக்னாலஜி சியோக்டாங் கல்சுரல் சென்டரில் (Dong-Eui Institute of Technology Seokdang Cultural Center) நடந்த ஆசிய கபடி சாம்பியன்ஷிப் 2023 இன் இறுதிப் போட்டியில் இந்தியா _____ ஐத் தோற்கடித்தது.

- Ans
- ✗ 1. ஆப்கானிஸ்தான்
 - ✗ 2. சீனா
 - ✗ 3. பாகிஸ்தான்
 - ✓ 4. ஈரான்

Q.18 இந்திய விளையாட்டு வீரர் விகாஸ் கிருஷ்ணன் யாதவ் பின்வரும் எந்த விளையாட்டை விளையாடுகிறார்?

- Ans
- ✗ 1. பேட்மிண்டன்
 - ✗ 2. ஹாக்கி
 - ✓ 3. குத்துச்சண்டை
 - ✗ 4. டென்னிஸ்

Q.19 ஜேம்ஸ் அகஸ்டஸ் ஹிக்கி என்பவர் _____ ன் தந்தை என்றும் அறியப்படுகிறார்.

- Ans
- ✓ 1. இந்திய பத்திரிகைகள்
 - ✗ 2. புகைப்படக்கலை
 - ✗ 3. இந்திய ஊடகம்
 - ✗ 4. இந்திய தொலைக்காட்சி

Q.20 1980 இல், ஆல் இங்கிலாண்ட் பாட்மிண்டன் சாம்பியன்ஷிப்-பை வென்ற முதல் இந்தியர் _____ ஆவார்.

- Ans
- ✓ 1. பிரகாஷ் படுகோன்
 - ✗ 2. கிரண்பேடி
 - ✗ 3. சச்சின் டெண்டுல்கர்
 - ✗ 4. த்யான் சந்த்

Q.1 ஒரு பொருளின் குறிக்கப்பட்ட விலை Rs. 1960 ஆகும். அதில் 30 சதவீதம் தள்ளுபடி வழங்கப்படுகிறது, எனில் அப்பொருளின் விற்பனை விலை என்ன?

- Ans
- ✗ 1. Rs. 1522
 - ✓ 2. Rs. 1372
 - ✗ 3. Rs. 1342
 - ✗ 4. Rs. 1442

Q.2 L ஆனது Mஐ விட 3 மடங்கு அதிகம் எனில், M ஆனது L ஐ விட எத்தனை சதவீதம் குறைவாகும்?

- Ans
- ✗ 1. 81 சதவீதம்
 - ✓ 2. 75 சதவீதம்
 - ✗ 3. 78 சதவீதம்
 - ✗ 4. 72 சதவீதம்

Q.3 ஒரு மொபைலில் கிடைக்கும் லாபம் கொள்முதல் விலையின் 250 சதவீதமாகும். கொள்முதல் விலையானது 50 சதவீதம் அதிகரிக்கப்படுகிறது ஆனால் விற்பனை விலை மாறவில்லை எனில், புதிய லாப சதவீதம் என்ன?

- Ans
- ✗ 1. 150 சதவீதம்
 - ✓ 2. 133.33 சதவீதம்
 - ✗ 3. 100 சதவீதம்
 - ✗ 4. 120 சதவீதம்

Q.4 $14 \times 8 + 42 \times 9 - 111 \div 3$ இன் மதிப்பு என்ன?

- Ans
- ✗ 1. 433
 - ✗ 2. 463
 - ✗ 3. 443
 - ✓ 4. 453

Q.5 சீதா மற்றும் கீதாவின் சராசரி வயது 40 ஆண்டுகள். சீதாவுக்குப் பதிலாக ரீதுவைக் கொண்டால், சராசரி வயது 38 ஆகவும், கீதாவுக்கு பதிலாக ரீதுவைக் கொண்டால் சராசரி வயது 42 ஆகவும் மாறும். எனில், சீதா, கீதா மற்றும் ரீது ஆகியோரின் வயதுகள் முறையே என்ன?

- Ans
- ✓ 1. 44 ஆண்டுகள், 36 ஆண்டுகள் மற்றும் 40 ஆண்டுகள்
 - ✗ 2. 36 ஆண்டுகள், 42 ஆண்டுகள் மற்றும் 38 ஆண்டுகள்
 - ✗ 3. 42 ஆண்டுகள், 36 ஆண்டுகள் மற்றும் 38 ஆண்டுகள்
 - ✗ 4. 39 ஆண்டுகள், 42 ஆண்டுகள் மற்றும் 45 ஆண்டுகள்

Q.6 $\frac{81}{13} \div \left(\frac{176}{16} - \frac{98}{49} \right) \times \frac{2197}{169}$ ன் மதிப்பு என்ன?

- Ans
- ✓ 1. 9
 - ✗ 2. 81
 - ✗ 3. 117
 - ✗ 4. 13

Q.7 X மட்டும் தனியாக ஒரு வேலையை 20 நாட்களில் செய்து முடிப்பார் மற்றும் Y மட்டும் தனியாக அதே வேலையை 50 நாட்களில் செய்து முடிப்பார். அவர்கள் ஒன்றாக இணைந்து வேலையைத் தொடங்குகிறார்கள், ஆனால் 5 நாட்களுக்குப் பிறகு X வேலையை விட்டு வெளியேறுகிறார். எனில் மீதமுள்ள வேலையை Y எத்தனை நாட்களில் செய்து முடிப்பார்?

- Ans
- ✗ 1. 35 நாட்கள்
 - ✗ 2. 37 நாட்கள்
 - ✓ 3. 32.5 நாட்கள்
 - ✗ 4. 36 நாட்கள்

Q.8 17 அடுத்தடுத்த ஒற்றைப்படை எண்கள் உள்ளன. முதல் 11 எண்களின் சராசரி X எனில், கடைசி 6 எண்களின் சராசரி என்ன?

- Ans
- ✗ 1. $X + 15$
 - ✗ 2. $X + 13$
 - ✗ 3. $X + 12$
 - ✓ 4. $X + 17$

Q.9 ஒரு பொருளின் குறிக்கப்பட்ட விலையானது, அதன் கொள்முதல் விலையின் 160 சதவீதம் ஆகும். 35 சதவீதம் தள்ளுபடி வழங்கப்படுகிறது, எனில் லாப சதவீதம் எவ்வளவு?

- Ans
- ✗ 1. 6 சதவீதம்
 - ✗ 2. 5 சதவீதம்
 - ✗ 3. 4.5 சதவீதம்
 - ✓ 4. 4 சதவீதம்

Q.10 $P : Q = 5 : 3$ மற்றும் $Q : R = 2 : 5$ எனில், $Q : (P + R)$ ன் மதிப்பு என்ன?

- Ans
- ✗ 1. 5 : 21
 - ✗ 2. 4 : 17
 - ✓ 3. 6 : 25
 - ✗ 4. 2 : 13

Q.11 2 வருடங்களுக்கு, Rs. 24000 க்கான கூட்டுவட்டி (அரையாண்டுக்கு ஒருமுறை கூட்டப்படும் முறையில்) Rs.25766.4 ஆகும். எனில், ஆண்டு வட்டி விகிதம் என்ன?

- Ans
- 1. 55 சதவீதம்
 - 2. 40 சதவீதம்
 - 3. 60 சதவீதம்
 - 4. 20 சதவீதம்

Q.12 $15 - (2 \times 4) + 7$ இன் விடையைக் கண்டுபிடிக்கவும்.

- Ans
- 1. 14
 - 2. 17
 - 3. -6
 - 4. -10

Q.13 A ஆனது B ஐ விட மூன்று மடங்கு வேகமானது மற்றும் B ஆனது C ஐ விட இரண்டு மடங்கு வேகமானது. ஒரு பயணத்தை C ஆனது 66 நிமிடங்களில் முடிக்கிறது எனில், அதற்கு A எடுத்துக் கொண்ட நேரத்தைக் கண்டறியவும்.

- Ans
- 1. 10 நிமிடங்கள்
 - 2. 11 நிமிடங்கள்
 - 3. 14 நிமிடங்கள்
 - 4. 15 நிமிடங்கள்

Q.14 இரண்டு எண்கள் 8 : 9 என்ற விகிதத்தில் இருக்கின்றன. அவ்விரண்டு எண்களின் கூட்டுத்தொகை 102 எனில், அந்த இரண்டு எண்களுக்கு இடையேயான வித்தியாசம் என்ன?

- Ans
- 1. 9
 - 2. 8
 - 3. 6
 - 4. 17

Q.15 ஒரு அசல் தொகை, ஆண்டுக்கு 8% என்ற விகிதத்தில் தனிவட்டியில் முதலீடு செய்யப்படுகிறது. 2 ஆண்டுகளுக்கு பிறகு, கிடைத்த வட்டி \$320 எனில், அசல் தொகையை காண்க.

- Ans
- 1. \$2000
 - 2. \$2100
 - 3. \$2150
 - 4. \$1800

Q.16 ஒரு சட்டையின் விற்பனை விலை அதன் கொள்முதல் விலையில் 35 சதவீதம் என்றால், அதன் நஷ்ட சதவீதம் எவ்வளவு?

- Ans
- ✗ 1. 60 சதவீதம்
 - ✗ 2. 55 சதவீதம்
 - ✗ 3. 70 சதவீதம்
 - ✓ 4. 65 சதவீதம்

Q.17 ஒரு நகரத்தின் தற்போதைய மக்கள் தொகை 91260 ஆகும். இது ஒவ்வொரு ஆண்டும் 30 சதவீதம் அதிகரித்து வருகிறது. எனில் 2 ஆண்டுகளுக்கு முன்பு அந்த நகரத்தின் மக்கள் தொகை எவ்வளவு?

- Ans
- ✗ 1. 70200
 - ✗ 2. 60000
 - ✓ 3. 54000
 - ✗ 4. 65000

Q.18 ஒரு செவ்வக மேஜையின் மேற்புறத்தின் சுற்றளவு 70 மீட்டர் மற்றும் அதன் பரப்பளவு 300 மீட்டர்² ஆகும். எனில் அதன் மூலைவிட்டத்தின் நீளம் என்ன?

- Ans
- ✗ 1. 20 மீட்டர்
 - ✗ 2. 35 மீட்டர்
 - ✗ 3. 15 மீட்டர்
 - ✓ 4. 25 மீட்டர்

Q.19 E, F மற்றும் G இணைந்து ஒரு வேலையை 20 நாட்களில் செய்து முடிப்பார்கள். E மற்றும் F இணைந்து அதே வேலையை 50 நாட்களில் செய்து முடிப்பார்கள். எனில் . G மட்டும் தனியாக அதே வேலையை எத்தனை நாட்களில் செய்து முடிப்பார்?

- Ans
- ✗ 1. 110/3 நாட்கள்
 - ✗ 2. 32 நாட்கள்
 - ✓ 3. 100/3 நாட்கள்
 - ✗ 4. 35 நாட்கள்

Q.20 ரென்சனிடம் 91 m, 112 m மற்றும் 49 m நீளமுள்ள மூன்று மரத் துண்டுகள் உள்ளன. அவர் அந்த மரத்துண்டுகளை சம நீளமுள்ள பலகைகளாக வெட்ட விரும்புகிறார் எனில், ஒவ்வொரு பலகையின் அதிகபட்ச நீளம் (m இல்) எவ்வளவு?

- Ans
- ✗ 1. 3
 - ✗ 2. 19
 - ✓ 3. 7
 - ✗ 4. 21

Q.1 Select the sentence with no spelling errors.

Ans 1.

Intangible cultural heritage cuts across political, historical, comunity and cultural spheres.

2.

Intangible cultural heritage cuts across polatical, historical, community and cultural spheres.

3.

Intangible cultural heritage cuts across political, historical, community and cultural spheres.

4.

Intangible cultural heritage cuts across political, historical, community and culturel spheres.

Q.2 Choose the most appropriate antonym of the underlined word.

Venus was the quiet one: pensive and observant of everything around her.

Ans 1. Thoughtful

2. Reflective

3. Ignorant

4. Pondering

Q.3 Select the incorrectly spelt word from the given sentence.

A strong business acumen and entrepreneurial fire have always separated him from his peers.

Ans 1. peers

2. entrepreneurial

3. acumen

4. business

Q.4 Find the part of the given sentence that has an error in it. If there is no error, choose 'No error'.

If acid drainage will reaches groundwater, it may persist for decades or centuries.

Ans 1. No error

2. groundwater, it may persist

3. If acid drainage will reaches

4. for decades or centuries

Q.5 Select the most appropriate synonym of the given word.

Purview

Ans 1. Limitation

2. Domain

3. Depth

4. Extreme

Q.6 Select the most appropriate option for the given blank.

_____ a bite and tell me how it is.

- Ans
- 1. Gain
 - 2. Take
 - 3. Make
 - 4. Keep

Q.7 Find the part of the given sentence that has an error in it. If there is no error, choose 'No error'.
The rabbit lead the boy towards the outskirts of the city.

- Ans
- 1. outskirts of the city.
 - 2. The rabbit lead the
 - 3. boy towards the
 - 4. No error

Q.8 Find the part of the given sentence that has an error in it. If there is no error, choose 'No error'.

My cousin's watch is more elegant than your old watch.

- Ans
- 1. My cousin's watch is
 - 2. your old watch.
 - 3. No error
 - 4. more elegant than

Q.9 Select the word segment that substitutes (replaces) the bracketed word segment correctly and completes the sentence meaningfully. Select the option 'no correction required' if the sentence is correct as given.

It was interesting to be in the (quite old town one more).

- Ans
- 1. quiet old town once much more
 - 2. quiet old town once more
 - 3. No correction required
 - 4. quite vintage town once more

Q.10 Select the most appropriate meaning of the given idiom.

Pull a fast one.

- Ans
- 1. To help someone urgently.
 - 2. To deceive someone.
 - 3. To produce something that is needed.
 - 4. To adjust in a difficult situation.

Q.11 Improve the underlined part of the sentence. Choose 'No improvement' as an answer if the sentence is grammatically correct.

I can make fresh coffee if you'd like some.

- Ans
- ✓ 1. No improvement
 - ✗ 2. should makes freshest
 - ✗ 3. can made fresher
 - ✗ 4. can made freshest

Q.12 Select the most appropriate meaning of the given idiom.

See eye to eye.

- Ans
- ✗ 1. To speak aggressively.
 - ✗ 2. To fight with someone.
 - ✓ 3. To share the same opinion as someone.
 - ✗ 4. To be spontaneous.

Q.13 Fill in the blank with the most appropriate option.

He _____ pardon, and was getting into the carriage, but felt he must glance at her once more.

- Ans
- ✓ 1. begged
 - ✗ 2. adjured
 - ✗ 3. asked
 - ✗ 4. said

Q.14 Select the most appropriate word to fill in the blank.

A large _____ of elderly people live alone.

- Ans
- ✗ 1. capacity
 - ✗ 2. quantity
 - ✓ 3. number
 - ✗ 4. value

Q.15 Fill in the blank with the most appropriate option.

In the morning we were up at _____ of day, and down to the nigger cabins to pet the dogs.

- Ans
- ✗ 1. breech
 - ✗ 2. breach
 - ✗ 3. brake
 - ✓ 4. break

Comprehension:

Read the passage carefully and select the correct answer for the given blanks out of the four alternatives.

Lions are carnivores, which means they only (1)_____ meat. They will eat almost any animal they can catch, however the most of the time it is buffalo, zebra, giraffe, warthog, and antelope species. If the (2)_____ arises, they will also prey on the young of larger mammal species (3)_____ as rhinos and elephants. The majority of the preys will weigh between 50 and 300kg. Male lions can eat approximately 7 kg of meat per day, (4)_____ females eat approximately 4.5 kg. Both are (5)_____ of consuming up to 15% of their body weight in a single meal!

SubQuestion No : 16

Q.16 Select the most appropriate option for blank (1)

- Ans
- 1. abduct
 - 2. consume
 - 3. churn
 - 4. tolerate

Comprehension:

Read the passage carefully and select the correct answer for the given blanks out of the four alternatives.

Lions are carnivores, which means they only (1)_____ meat. They will eat almost any animal they can catch, however the most of the time it is buffalo, zebra, giraffe, warthog, and antelope species. If the (2)_____ arises, they will also prey on the young of larger mammal species (3)_____ as rhinos and elephants. The majority of the preys will weigh between 50 and 300kg. Male lions can eat approximately 7 kg of meat per day, (4)_____ females eat approximately 4.5 kg. Both are (5)_____ of consuming up to 15% of their body weight in a single meal!

SubQuestion No : 17

Q.17 Select the most appropriate option for blank (2)

- Ans
- 1. opportunity
 - 2. capacity
 - 3. state
 - 4. condition

Comprehension:

Read the passage carefully and select the correct answer for the given blanks out of the four alternatives.

Lions are carnivores, which means they only (1)_____ meat. They will eat almost any animal they can catch, however the most of the time it is buffalo, zebra, giraffe, warthog, and antelope species. If the (2)_____ arises, they will also prey on the young of larger mammal species (3)_____ as rhinos and elephants. The majority of the preys will weigh between 50 and 300kg. Male lions can eat approximately 7 kg of meat per day, (4)_____ females eat approximately 4.5 kg. Both are (5)_____ of consuming up to 15% of their body weight in a single meal!

SubQuestion No : 18

Q.18 Select the most appropriate option for blank (3)

- Ans
- 1. such
 - 2. like
 - 3. so
 - 4. that

Comprehension:

Read the passage carefully and select the correct answer for the given blanks out of the four alternatives.

Lions are carnivores, which means they only (1)_____ meat. They will eat almost any animal they can catch, however the most of the time it is buffalo, zebra, giraffe, warthog, and antelope species. If the (2)_____ arises, they will also prey on the young of larger mammal species (3)_____ as rhinos and elephants. The majority of the preys will weigh between 50 and 300kg. Male lions can eat approximately 7 kg of meat per day, (4)_____ females eat approximately 4.5 kg. Both are (5)_____ of consuming up to 15% of their body weight in a single meal!

SubQuestion No : 19

Q.19 Select the most appropriate option for blank (4)

- Ans
- 1. Yet
 - 2. As
 - 3. While
 - 4. Rather

Comprehension:

Read the passage carefully and select the correct answer for the given blanks out of the four alternatives.

Lions are carnivores, which means they only (1)_____ meat. They will eat almost any animal they can catch, however the most of the time it is buffalo, zebra, giraffe, warthog, and antelope species. If the (2)_____ arises, they will also prey on the young of larger mammal species (3)_____ as rhinos and elephants. The majority of the preys will weigh between 50 and 300kg. Male lions can eat approximately 7 kg of meat per day, (4)_____ females eat approximately 4.5 kg. Both are (5)_____ of consuming up to 15% of their body weight in a single meal!

SubQuestion No : 20

Q.20 Select the most appropriate option for blank (5)

- Ans
- 1. trained
 - 2. veteran
 - 3. susceptible
 - 4. capable

Adda247

Section : Part-D-Hindi

Q.1 दिए गए वाक्य में रेखांकित शब्द के लिए सही वर्तनी ज्ञात कीजिए।

श्यामा दफ़्तर के लिए निकल गई।

- Ans
- 1. दफ़त्तर
 - 2. दफ़्तर
 - 3. दफ़्तर
 - 4. दफ़्तर

Q.2 निम्नलिखित प्रश्न में, चार विकल्पों में से, उस विकल्प का चयन करें जो कोष्ठक में दिए गए शब्द के पर्यायवाची शब्द का सही विकल्प है।

जो हमारी (नियति) _____ में होगा वही हमें मिलता है।

- Ans
- ✗ 1. निदाघ
 - ✗ 2. वनिता
 - ✓ 3. प्रारब्ध
 - ✗ 4. योषिता

Q.3 दिए गए विकल्पों में से तीन विकल्प त्रुटियुक्त हैं, जबकि एक सही है। उस सही विकल्प का चयन करें।

- Ans
- ✗ 1. उसने मेरा गाना और घर देखा।
 - ✓ 2. उसने मेरा गाना सुना और घर देखा।
 - ✗ 3. उसने मेरा घर सुना और गाना देखा।
 - ✗ 4. उसने मेरा गाना देखा और घर देखा।

Q.4 निम्नलिखित प्रश्न में, चार विकल्प में से, उस विकल्प का चयन करें जो दिए गये मुहावरे का सही अर्थ वाला विकल्प हो।
चेहरे पर हवाइयां उड़ना -

- Ans
- ✗ 1. खुशामद करना
 - ✗ 2. भाग जाना
 - ✓ 3. घबरा जाना
 - ✗ 4. चालाकी करना

Q.5 निम्नलिखित प्रश्न में, चार विकल्पों में से, उस विकल्प का चयन करें जो कोष्ठक में दिए गए शब्द के तद्भव रूप का सही विकल्प है।

शादी-विवाह के कार्यक्रम में बहुत से लोग (गोत्र) _____ जाने बिना आगे का कार्यक्रम नहीं करते हैं।

- Ans
- ✗ 1. गृह
 - ✓ 2. गोत
 - ✗ 3. गौ
 - ✗ 4. गर्दभ

Q.6 निम्नलिखित प्रश्न में, दिए गए चार विकल्पों में से, उस विकल्प का चयन करें जो दिए गए मुहावरे के अर्थ को सर्वश्रेष्ठ रूप से व्यक्त करता है।

गर्षे लड़ाना

- Ans
- ✗ 1. बड़ी-बड़ी बातें बनाना
 - ✗ 2. अत्यंत प्रिय होना
 - ✓ 3. बेकार की बातें करना
 - ✗ 4. परेशान करना

Q.7 दिए गए वाक्य में उचित पर्यायवाची शब्द का चयन करके रिक्त स्थान की पूर्ति करें।
दुख के वक्त में उसे _____ (दिलासा) दो।

- Ans
- ✗ 1. निचोड़
 - ✓ 2. सांत्वना
 - ✗ 3. मनभावना
 - ✗ 4. परिमंल

Q.8 निम्नलिखित प्रश्न में, चार विकल्पों में से, उस विकल्प का चयन करें जो रिक्त स्थान के लिए सही स्त्रीलिंग रूप वाला विकल्प हो।
तुम्हारे ठीक न होने की _____ मुझे बहुत देरी से मिली।

- Ans
- ✗ 1. स्वास्थ्य
 - ✗ 2. अवस्था
 - ✓ 3. खबर
 - ✗ 4. कहानी

Q.9 निम्नलिखित वाक्य में रेखांकित भाग के लिए एक सार्थक शब्द ज्ञात कीजिए।
कातिल का अपराध माफ़ करने योग्य नहीं है।

- Ans
- ✗ 1. क्षम्य
 - ✓ 2. अक्षम्य
 - ✗ 3. अदम्य
 - ✗ 4. अनैतिक

Q.10 दिए गए विकल्पों में से शुद्ध वर्तनी वाले विकल्प का चयन करें।

- Ans
- ✓ 1. आवश्यक चीजों पर ही ध्यान दीजिए।
 - ✗ 2. इन्हें यह सूचना दो घंटे बाद मिलि।
 - ✗ 3. मैं आयकर वीभाग में काम करती हूँ।
 - ✗ 4. बूरे समय को जाते देर नहीं लगती।

Q.11 दिए गए वाक्य में रेखांकित भाग के लिए उचित सार्थक शब्द का चयन कीजिए।

श्यामू टाना है।

- Ans
- ✗ 1. नाटक
 - ✗ 2. काटा
 - ✓ 3. नाटा
 - ✗ 4. टाका

Q.12 निम्नलिखित प्रश्न में, चार विकल्पों में से, उस विकल्प का चयन करें जो दी गई लोकोक्ति का सही अर्थ वाला विकल्प है।
अकेला चना भाड़ नहीं फोड़ सकता

- Ans
- ✗ 1. सिर्फ चना नहीं खाना चाहिए
 - ✗ 2. किसी भी चीज़ का नुकसान होना
 - ✗ 3. किसी भी कार्य को स्वयं ही करना चाहिए
 - ✓ 4. अकेला व्यक्ति कुछ नहीं कर सकता

Q.13 दिए गए वाक्य में रेखांकित शब्द का विलोम शब्द ज्ञात कीजिए।

शिष्य का दर्जा सर्वोपरि होता है।

- Ans
- ✗ 1. गृहमंत्री
 - ✓ 2. गुरु
 - ✗ 3. बालक
 - ✗ 4. बालिका

Q.14 दिए गए वाक्य में रेखांकित शब्द का विलोम शब्द ज्ञात कीजिए।

नदी कलकल करती हुई बहती है।

- Ans
- ✗ 1. सामान्य
 - ✓ 2. शांत
 - ✗ 3. ढीला
 - ✗ 4. शिष्ट

Q.15 दिए गए वाक्य में रेखांकित शब्दों के लिए सही शब्दों वाले विकल्प का चयन करें।

काव्य के क्षेत्र में अनेकों वाद चल चुके हैं।

- Ans
- ✓ 1. काव्य के क्षेत्र में अनेक वाद चल चुके हैं।
 - ✗ 2. परिवर्तन की आवश्यकता नहीं है।
 - ✗ 3. काव्य के क्षेत्र में अनेकी वाद चल चुका है।
 - ✗ 4. काव्य के क्षेत्र में अनेके वाद चल चुके हैं।

Comprehension:

नीचे दिए गए गद्य में कुछ शब्द छोड़ दिए गए हैं और प्रत्येक रिक्त स्थान के चार विकल्प दिए गए हैं। इन चारों में से कौन सा विकल्प रिक्त स्थान की पूर्ति करेगा-

फसलों का (1)_____ अच्छा हो, यह प्रयास फसलों की (2)_____ के चयन पर निर्भर करता है। किसानों को अच्छी (3)_____ वाले विशेष बीज उपलब्ध होने चाहिए (4)_____ बीज उसी किस्म के होने चाहिए जो (5)_____ परिस्थिति में अंकुरित हो सकें।

SubQuestion No : 16

Q.16 रिक्त 1 के लिए सबसे उपयुक्त विकल्प का चयन कीजिए।

- Ans
- ✗ 1. कीमत
 - ✗ 2. परिवर्तन
 - ✗ 3. गुणगान
 - ✓ 4. उत्पादन

Comprehension:

नीचे दिए गए गद्य में कुछ शब्द छोड़ दिए गए हैं और प्रत्येक रिक्त स्थान के चार विकल्प दिए गए हैं। इन चारों में से कौन सा विकल्प रिक्त स्थान की पूर्ति करेगा-

फसलों का (1)_____ अच्छा हो, यह प्रयास फसलों की (2)_____ के चयन पर निर्भर करता है। किसानों को अच्छी (3)_____ वाले विशेष बीज उपलब्ध होने चाहिए (4)_____ बीज उसी किस्म के होने चाहिए जो (5)_____ परिस्थिति में अंकुरित हो सकें।

SubQuestion No : 17

Q.17 रिक्त 2 के लिए सबसे उपयुक्त विकल्प का चयन कीजिए।

- Ans
- ✗ 1. विज्ञान
 - ✗ 2. उच्च
 - ✓ 3. किस्मों
 - ✗ 4. जलवायु

Comprehension:

नीचे दिए गए गद्य में कुछ शब्द छोड़ दिए गए हैं और प्रत्येक रिक्त स्थान के चार विकल्प दिए गए हैं। इन चारों में से कौन सा विकल्प रिक्त स्थान की पूर्ति करेगा-

फसलों का (1)_____ अच्छा हो, यह प्रयास फसलों की (2)_____ के चयन पर निर्भर करता है। किसानों को अच्छी (3)_____ वाले विशेष बीज उपलब्ध होने चाहिए (4)_____ बीज उसी किस्म के होने चाहिए जो (5)_____ परिस्थिति में अंकुरित हो सकें।

SubQuestion No : 18

Q.18 रिक्त 3 के लिए सबसे उपयुक्त विकल्प का चयन कीजिए।

- Ans
- ✓ 1. गुणवत्ता
 - ✗ 2. विशेषकर
 - ✗ 3. महत्वपूर्ण
 - ✗ 4. सुधार

Comprehension:

नीचे दिए गए गद्य में कुछ शब्द छोड़ दिए गए हैं और प्रत्येक रिक्त स्थान के चार विकल्प दिए गए हैं। इन चारों में से कौन सा विकल्प रिक्त स्थान की पूर्ति करेगा-

फसलों का (1)_____ अच्छा हो, यह प्रयास फसलों की (2)_____ के चयन पर निर्भर करता है। किसानों को अच्छी (3)_____ वाले विशेष बीज उपलब्ध होने चाहिए (4)_____ बीज उसी किस्म के होने चाहिए जो (5)_____ परिस्थिति में अंकुरित हो सकें।

SubQuestion No : 19

Q.19 रिक्त 4 के लिए सबसे उपयुक्त विकल्प का चयन कीजिए।

- Ans
- 1. या
 - 2. केवल
 - 3. अर्थात्
 - 4. उल्टा

Comprehension:

नीचे दिए गए गद्य में कुछ शब्द छोड़ दिए गए हैं और प्रत्येक रिक्त स्थान के चार विकल्प दिए गए हैं। इन चारों में से कौन सा विकल्प रिक्त स्थान की पूर्ति करेगा-

फसलों का (1)_____ अच्छा हो, यह प्रयास फसलों की (2)_____ के चयन पर निर्भर करता है। किसानों को अच्छी (3)_____ वाले विशेष बीज उपलब्ध होने चाहिए (4)_____ बीज उसी किस्म के होने चाहिए जो (5)_____ परिस्थिति में अंकुरित हो सकें।

SubQuestion No : 20

Q.20 रिक्त 5 के लिए सबसे उपयुक्त विकल्प का चयन कीजिए।

- Ans
- 1. शताब्दी
 - 2. वार्षिक
 - 3. प्रतिवर्ष
 - 4. अनुकूल