

## SBI Clerk Pre 2024-25 Memory Based Paper Based on 22nd February 1st Shift

**Directions (1-5):** In the sentence below, four words have been highlighted which may be misspelt or inappropriate in their usage. Mark the erroneous word as the answer and if all the words are correct in their spellings and usage, choose 'All are correct' as the answer.

**Q1.** She **asked** her brother to **acompany** her to the **market** so she wouldn't have to carry all the **heavy** bags alone.

- (a) asked
- (b) heavy
- (c) market
- (d) acompany
- (e) All are correct

**Q2.** Everyone **attended** the **meeting expect** John, who was **feeling** unwell.

- (a) attended
- (b) expect
- (c) meeting
- (d) feeling
- (e) All are correct

**Q3.** We decided to have **dinner** at a new Italian **restuarant** that **recently opened** in the city.


- (a) dinner
- (b) opened
- (c) restuarnat
- (d) recently
- (e) All are correct

**Q4.** She **received** a **beautiful** gift **form** her best **friend** on her birthday.

- (a) friend
- (b) beautiful
- (c) received
- (d) form
- (e) All are correct

**Q5.** She felt a deep **sense** of **contantment** as she sat by the **fireplace**, **sipping** tea and reading her favorite book.

- (a) contantment
- (b) fireplace
- (c) sipping
- (d) sense
- (e) All are correct



**Directions (6-8): In the question, one word is given in bold and correspondence to that, three sentences are given each containing that word. Choose the option depicting the sentence(s) that have/ has the correct usage of the word.**

**Q6. BATCH**

- (I) The bakery prepared a fresh **batch** of cookies every morning to satisfy its customers.
  - (II) She earned a **batch** for completing the advanced level of the training program.
  - (III) The professor graded the first **batch** of exam papers before taking a break.
- (a) Only (I)
  - (b) Both (I) and (III)
  - (c) Only (III)
  - (d) All (I), (II) and (III)
  - (e) Only (II)

**Q7. SLIP**

- (I) She tried to walk carefully on the icy road, but she couldn't avoid a **slip** and fell.
  - (II) He wrote his phone number on a small **slip** of paper and handed it to her.
  - (III) She couldn't **slip** well last night because of the loud thunderstorm.
- (a) Only (III)
  - (b) Only (II)
  - (c) Both (I) and (III)
  - (d) Both (I) and (II)
  - (e) All (I), (II) and (III)

**Q8. RATE**

- (I) The interest **rate** on home loans has increased significantly this year.
  - (II) Doctors **rate** this hospital as one of the best in the country.
  - (III) The birth **rate** in many developed countries has been declining over the years.
- (a) Only (I)
  - (b) Both (I) and (III)
  - (c) Only (III)
  - (d) All (I), (II) and (III)
  - (e) Only (II)

**Directions (9-12): The following question contains a sentence which has been divided into four parts which might not be in their correct order of narrative. The sentence is then followed by five options, one of which gives the sequence of the rearranged parts to make the sentence meaningful. Choose the option which gives the correct sequence of the parts. If the sentence is already arranged in the correct sequence, then mark option " No rearrangement required " as the answer.**

- Q9.** (A) began, 12 jurors were
- (B) before the trial
  - (C) a pool of candidates
  - (D) randomly selected from

- 
- (a) BDCA
  - (b) BADC
  - (c) ADCB
  - (d) ABDC
  - (e) No rearrangement required

**Q10.** (A) useless stuff, and imaginary

- (B) things, so we can't
- (C) the world is full of nonsense,
- (D) believe everything
- (a) ABDC
- (b) ADCB
- (c) CABD
- (d) DBCA
- (e) No rearrangement required

**Q11.** (A) and singing to the music

- (B) have a gregarious time dancing
- (C) rushed into the nightclub to
- (D) crowds of people
- (a) BDCA
- (b) DABC
- (c) BACD
- (d) DCBA
- (e) No rearrangement required

**Q12.** (A) that many of his

- (B) citizens lacked food
- (C) the dictator was
- (D) inhumane and unconcerned
- (a) CBAD
- (b) CBDA
- (c) CDAB
- (d) CADB
- (e) No rearrangement required

**Directions (13-19): Read the following passage and answer the given questions.**

Road traffic is an essential part of modern life, enabling transportation and commerce. However, it also poses serious risks, including rising accidents, life-threatening injuries, and increasing road rage. Reckless driving, poor infrastructure, and inadequate law enforcement have turned roads into dangerous spaces where lives are lost every day. Addressing these issues requires collective action to **restore** discipline and ensure safer travel for all.

One of the most alarming consequences of uncontrolled traffic is the high \_\_\_\_\_ of accidents. Speeding, distracted driving, and driving under the influence are major contributors to fatal crashes. Many drivers neglect basic safety rules, such as wearing seat belts or maintaining safe distances, further increasing risks. Poorly maintained roads and insufficient traffic signals worsen the situation. Victims often suffer severe injuries, including fractures, paralysis, and brain trauma, leaving them permanently disabled. The financial burden of medical treatment and loss of livelihood devastates many families. Hit-and-run cases, where offenders escape accountability, highlight the urgent need for stricter enforcement.

Road rage is another growing issue threatening public safety. Frustration due to traffic congestion often leads to aggressive behavior. In extreme cases, individuals resort to violence, sometimes resulting in physical assaults or even **shooting** incidents. What begins as a minor dispute can escalate into a crime, endangering both motorists and pedestrians. A lack of emotional control and failure to resolve conflicts peacefully worsen the situation.

Traffic police play a crucial role in addressing these challenges. Beyond issuing fines, they regulate traffic, prevent violations, and promote road safety. Regular patrolling, strict penalties, and increased surveillance through cameras can help reduce accidents. Public awareness campaigns on responsible driving are also necessary.

An effective way to restore safe driving habits is through celebrity-endorsed road safety campaigns. Celebrities influence public behavior, and their involvement can encourage drivers to follow traffic rules. Their participation in awareness programs and social media campaigns reinforces responsible driving.

To combat road dangers, a combined effort from the government, law enforcement, and the public is essential. By improving infrastructure, enforcing laws, and promoting responsible driving through celebrity campaigns, society can work toward safer roads for everyone.

**Q13. Select the most appropriate word to replace "shooting" in the following sentence from the passage.**

- (a) Stabbing
- (b) Firing
- (c) Striking
- (d) Beating
- (e) Kicking

**Q14. According to the passage, which of the following are primary causes of road accidents?**

- (I) Speeding, distracted driving, and driving under the influence.
  - (II) Poorly maintained roads and lack of proper traffic signals.
  - (III) The increasing number of vehicles on the road.
- (a) Only (I)
  - (b) Both (I) and (II)
  - (c) Only (III)
  - (d) Both (II) and (III)
  - (e) All (I), (II), and (III)

**Q15. Select the most appropriate word to replace "restore" in the following sentence from the passage.**

- (a) Reinstatement
- (b) Abandon
- (c) Destroy
- (d) Rejuvenate
- (e) Replicate

**Q16. Select the most appropriate word to fill in the blank in the following sentence from the passage.**

- (a) Decline
- (b) Rate
- (c) Solution
- (d) Reduction
- (e) Prevention

**Q17. According to the passage, what role do celebrities play in promoting road safety?**

- (I) They encourage safe driving habits through public awareness campaigns.
  - (II) Their influence can help restore discipline among drivers.
  - (III) They have successfully eliminated reckless driving in several regions.
- (a) Only (I)
  - (b) Both (I) and (II)
  - (c) Only (III)
  - (d) Both (II) and (III)
  - (e) All (I), (II), and (III)

**Q18. Which of the following statements is/are TRUE according to the passage?**

- (I) Poorly maintained roads and a lack of proper traffic signals contribute to the rising number of accidents.
  - (II) Road rage incidents are primarily caused by the presence of strict traffic police officers.
  - (III) Celebrity endorsements in road safety campaigns can help encourage responsible driving behavior.
- (a) Only (I)
  - (b) Both (II) and (III)
  - (c) Only (III)
  - (d) Both (I) and (III)
  - (e) All (I), (II), and (III)

**Q19. Which of the following statements is/are FALSE according to the passage?**

- (I) Installing traffic cameras has completely eliminated reckless driving.
  - (II) Road rage incidents never escalate into violent confrontations.
  - (III) The passage suggests that reducing the number of vehicles is the best way to prevent accidents.
- (a) Only (I)
  - (b) Both (I) and (II)
  - (c) Only (III)
  - (d) Both (II) and (III)
  - (e) All (I), (II), and (III)

**Directions (20-24):** Read the sentence to find out whether there is any grammatical or idiomatic error in it. The error, if any, will be in one part of the sentence. The letter of that part is the answer. If the given sentence is grammatically and contextually correct, then choose option “No error” as your answer response. (Ignore errors of punctuation, if any).

**Q20. Industrial waste and (A)/ sewage has heavily polluted (B)/ the Ganga, endangering (C)/ aquatic life and human health. (D)**

- (a) A
- (b) B
- (c) C
- (d) D
- (e) No error

**Q21. India's cities must (A)/ build inclusive climate (B)/ resilient to protect (C)/ vulnerable communities. (D)**

- (a) A
- (b) B
- (c) C
- (d) D
- (e) No error

**Q22. The UGC draft regulations have (A)/ sparked concerns in southern states (B)/, highlight regional disparities and the need (C)/ for a more inclusive policy framework. (D)**

- (a) A
- (b) B
- (c) C
- (d) D
- (e) No error

**Q23. The escaped prisoner (A)/ showed compassion (B)/ when him assisted the (C)/ wounded police officer. (D)**

- (a) A
- (b) B
- (c) C
- (d) D
- (e) No error

**Q24. Most teachers in (A)/ school expect you to being (B)/ polite to both the (C)/ teachers and the other students. (D)**

- (a) A
- (b) B
- (c) C
- (d) D
- (e) No error

**Directions (25-30):** In the following passage there are blanks, each of which has been denoted by a letter. For each blank, five options are given. Choose the most appropriate word from the options that fits the blank appropriately.

Bees are not only important for producing honey but also play a crucial role in pollination. They fly \_\_\_\_\_ (A) flowers, collecting nectar and pollen. This process helps \_\_\_\_\_ (B) the reproduction of many plants. Bees transfer pollen \_\_\_\_\_ (C) one flower to another, allowing plants to grow fruits and seeds. Without bees, many crops would struggle to grow, which would have a serious impact \_\_\_\_\_ (D) food production. Farmers depend \_\_\_\_\_ (E) bees to increase their harvest. It is important to take care \_\_\_\_\_ (F) these pollinators to maintain a healthy environment.

**Q25. Which of the following word best fits in blank A?**

- (a) near
- (b) happy
- (c) strong
- (d) cold
- (e) bright

**Q26. Which of the following word best fits in blank B?**

- (a) grow
- (b) jump
- (c) sleep
- (d) dry
- (e) heavy

**Q27. Which of the following word best fits in blank C?**

- (a) tall
- (b) water
- (c) from
- (d) soft
- (e) long

**Q28. Which of the following word best fits in blank D?**

- (a) on
- (b) fast
- (c) warm
- (d) loud
- (e) short

**Q29. Which of the following word best fits in blank E?**

- (a) over
- (b) under
- (c) upper
- (d) on
- (e) open

Q30. Which of the following word best fits in blank F?

- (a) in
- (b) kind
- (c) of
- (d) slow
- (e) clean

దిశలు (31-40): కింది ప్రశ్నలలో ప్రశ్న గుర్తుల స్థానంలో (?) ఏమి వస్తుంది?

Q31.  $156 \times 5 - 16 \times 9 = ? \times 318$

- (a) 1
- (b) 4
- (C) 3
- (d) 2
- (e) 5

Q32.  $254 + 312 - ? = 420$

- (a) 166
- (b) 156
- (C) 126
- (d) 136
- (e) 146

Q33.  $450 - 225$  లో 60% = ? -  $8^3$

- (a) 830
- (b) 827
- (C) 780
- (d) 770
- (e) 800

Q34.  $120 \times 20 \div 5 - 80 = ?$

- (a) 400
- (b) 100
- (C) 200
- (d) 300
- (e) 500

Q35.  $\sqrt{625} + ?^2 = 13^2$

- (a) 10
- (b) 16
- (c) 8
- (d) 12
- (e) 14



Test  
Prime

ALL EXAMS,  
ONE SUBSCRIPTION.





Q36.  $(7 \times 5 - 8) \div 9 + 3 = ?$

- (a) 6
- (b) 0
- (c) 1
- (d) 2
- (e) 7

Q37.  $245 + \sqrt{225} \times 2 - ? = 200$

- (a) 95
- (b) 90
- (c) 85
- (d) 80
- (e) 75

Q38.  $36 + 750 \text{ లో } 30\% - 136 = ?^3$

- (a) 7
- (b) 3
- (c) 4
- (d) 5
- (e) 1

Q39.  $220 \text{ లో } 45\% + 15 \times ? = 129$

- (a) 4
- (b) 3
- (c) 2
- (d) 5
- (e) 6

Q40.  $? \times 4 - 177 = 171$

- (a) 86
- (b) 84
- (c) 88
- (d) 85
- (e) 87

దిశలు (41-45): జనవరి, ఫిబ్రవరి, మార్చి నెలలో A, B మరియు C అనే మూడు మాల్స్ విక్రయించిన సినిమా టికెట్లకు సంబంధించిన సమాచారాన్ని ఈ క్రింది పట్టిక చూపిస్తుంది.

Month/malls	A	B	C
January	120	125	110
February	150	90	100
March	140	100	150

Q41. ఏప్రిల్లో B విక్రయించిన సినిమా టికెట్ల నిష్పత్తి, ఫిబ్రవరిలో C విక్రయించిన సినిమా టికెట్ల నిష్పత్తి 4:1 అయితే, ఏప్రిల్లో B విక్రయించిన సినిమా టికెట్లను కనుగొనండి.

- (a) 400
- (b) 500
- (c) 240
- (d) 480
- (e) 800

Q42. ఫిబ్రవరిలో B, మార్చిలో C మరియు జనవరిలో A ద్వారా విక్రయించబడ్డ సగటు టికెట్ల సంఖ్యను కనుగొనండి.

- (a) 140
- (b) 120
- (c) 200
- (d) 180
- (e) 100

Q43. ఫిబ్రవరిలో A మరియు B లు కలిసి విక్రయించిన మూవీ టికెట్లు, మార్చిలో C ద్వారా విక్రయించబడ్డ మూవీ టికెట్లలో ఎంత శాతం?

- (a) 100%
- (b) 120%
- (c) 40%
- (d) 160%
- (e) 150%

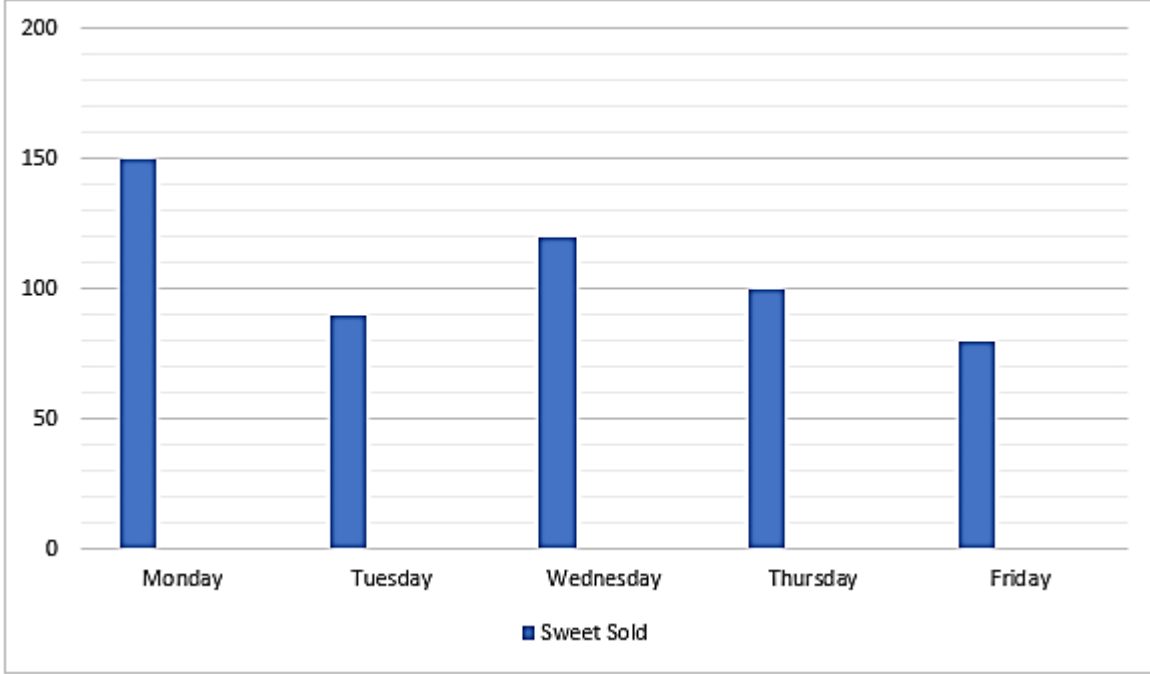
Q44. మార్చిలో B ద్వారా విక్రయించబడ్డ టికెట్లు మరియు ఫిబ్రవరిలో A ద్వారా విక్రయించిన టికెట్ల నిష్పత్తిని కనుగొనండి.

- (a) 1:4
- (b) 2:3
- (c) 2:5
- (d) 8:1
- (e) 1:1

Q45. మార్చిలో B విక్రయించిన సినిమా టికెట్లు, ఫిబ్రవరిలో C విక్రయించిన సినిమా టికెట్ల కంటే ఎంత శాతం ఎక్కువ లేదా తక్కువ?

- (a) 20%
- (b) 190%
- (c) 40%
- (d) 0%
- (e) 150%

దిశలు (46-50): దిగువ ఇవ్వబడ్డ బార్ గ్రాఫ్ సోమవారం నుంచి శుక్రవారం వరకు దుకాణదారుడు A ద్వారా విక్రయించిన స్వీట్ల సంఖ్యను చూపుతుంది.



Q46. శుక్రవారం నాడు మొత్తం స్వీట్లలో 40% విక్రయించబడితే, శుక్రవారం విక్రయించబడని స్వీట్ల సంఖ్యను కనుగొనండి.

- (a) 140
- (b) 120
- (c) 200
- (d) 180
- (e) 100

Q47. సోమవారం మరియు మంగళవారం విక్రయించిన స్వీట్లకు మరియు శుక్రవారం విక్రయించిన స్వీట్లకు తేడాను కనుగొనండి.

- (a) 140
- (b) 160
- (c) 200
- (d) 180
- (e) 100

Q48. గురువారం విక్రయించిన స్వీట్ల కంటే మంగళవారం విక్రయించిన స్వీట్లు ఎంత శాతం ఎక్కువ లేదా తక్కువ.

- (a) 20%
- (b) 19%
- (c) 10%
- (d) 5%
- (e) 15%

Q49. బుధవారం మినహా అన్ని రోజులలో అమ్మిన స్వీట్ల సగటు సంఖ్యను కనుగొనండి.

- (a) 105
- (b) 120
- (C) 200
- (d) 180
- (e) 100

Q50. మంగళవారం విక్రయించిన మొత్తం స్వీట్లు మరియు శుక్రవారం విక్రయించిన మొత్తం స్వీట్ల నిష్పత్తిని కనుగొనండి.

- (a) 8:9
- (b) 8:3
- ((C) 9:5
- ((d) 1:1
- (e) 9:8

Q51. ఒక వ్యక్తి A మరియు B అనే రెండు పథకాలలో కొంత మొత్తాన్ని పెట్టుబడి పెట్టాడు, అతడు 30% మొత్తాన్ని సంవత్సరానికి 10% చొప్పున పథకం Aలో పెట్టుబడి పెట్టాడు మరియు మిగిలిన మొత్తాన్ని సంవత్సరానికి 5% చొప్పున పథకం Bలో పెట్టుబడి పెట్టాడు, ఒకవేళ నాలుగు సంవత్సరాల తరువాత ఆ వ్యక్తి మొత్తం వడ్డీ రూ.1300 అందుకున్నట్లయితే, అప్పుడు పథకం Bలో పెట్టుబడి పెట్టిన మొత్తాన్ని కనుగొనండి.

- (a) 5000
- (b) 1500
- (C) 3000
- (d) 3500
- (e) 4500

Q52. ఒక వ్యక్తి తన నెలవారీ ఆదాయంలో 25% ఆహారం కోసం ఖర్చు చేశాడు. మిగిలిన దానిలో 20% అద్దెకు ఖర్చు చేశాడు. ఆ వ్యక్తి మిగిలిన విద్య ఆదాయంలో 20% ఖర్చు చేసి రూ. 19200 ఆదా చేస్తే, ఆ వ్యక్తి నెలవారీ ఆదాయం ఎంత?

- (a) 30000 రూ.
- (b) 50000 రూ.
- (C) 60000 రూ.
- ((d) 40000 రూ.
- (e) 48000 రూ.

Q53. ఒక కారు 120 కిలోమీటర్ల దూరాన్ని 5 గంటల్లో చేరుకుంటుంది. ఒకవేళ కారు అసలు వేగంతో 84 కిలోమీటర్ల దూరాన్ని మరియు 25% పెరిగిన వేగంతో 135 కిలోమీటర్ల దూరాన్ని ప్రయాణించినట్లైతే, అప్పుడు మొత్తం దూరాన్ని (గంటల్లో) ప్రయాణించడానికి పడవకు పట్టే మొత్తం సమయాన్ని కనుగొనండి?

- (a) 6
- (b) 8
- (c) 4
- (d) 12
- (e) 9

Q54. ఒక పట్టణంలో 40% మంది పురుషులు మరియు మిగిలిన వారు స్త్రీలు. మొత్తం స్త్రీలలో 40% మంది గ్రాడ్యుయేట్లు మరియు మొత్తం గ్రాడ్యుయేట్ కాని స్త్రీలు 540 మంది అయితే, ఆ పట్టణంలో పురుషుల సంఖ్యను కనుగొనండి?

- (a) 900
- (b) 500
- (C) 400
- (d) 600
- (e) 1200

Q55. రీమా మరియు సీమా ఒక సంవత్సరానికి రూ.X మరియు రూ.X + 500 పెట్టుబడితో వ్యాపారాన్ని ప్రారంభించారు. రీమా లాభ వాటా సీమా కంటే  $\frac{1}{6}$  వంతు తక్కువగా ఉంటే, అప్పుడు X విలువను కనుగొనండి.

- (a) 3000
- (b) 2500
- (c) 2000
- (d) 3500
- (e) 1500

Q56. ఒక దుకాణదారుడు ఒక వస్తువును రూ. 2400కి 20% లాభంతో విక్రయించాడు. ఆ వస్తువుపై ఇచ్చిన రాయితీ 20% ఉంది. అతను ఆ వస్తువుపై 10% రాయితీ ఇచ్చినట్లయితే, ఆ వస్తువుపై ఎంత లాభం వస్తుందో కనుగొనండి?

- (a) రూ.690
- (b) రూ.380
- (C) రూ.560
- (d) రూ.240
- (e) రూ.700

Q57. సునీత, మోహిత్ ప్రస్తుత వయస్సుల నిష్పత్తి వరుసగా 6:5, మరియు వినీత ప్రస్తుత వయస్సు మోహిత్ కంటే 11 సంవత్సరాలు ఎక్కువ.

వినీత ప్రస్తుత వయస్సు సునీత ప్రస్తుత వయస్సు కంటే రెండు రెట్లు తక్కువ ఐదు సంవత్సరాలు ఉంటే, వినీత ప్రస్తుత వయస్సును కనుగొనండి.

- (a) 27 సంవత్సరాలు
- (b) 20 ఏళ్లు
- (C) 22 సంవత్సరాలు
- (d) 24 సంవత్సరాలు
- (e) 26 సంవత్సరాలు

Q58. ఒక పాత్రలో 70 లీటర్ల పాలు మరియు నీరు 3:7 నిష్పత్తిలో ఉంటాయి. ఆ మిశ్రమానికి X లీటర్ల పాలు మరియు 56 లీటర్ల నీరు కలిపితే, ఆ పాలు మరియు నీటి నిష్పత్తి 3:5 అవుతుంది. X ను కనుగొనండి.

- (a) 48
- (b) 42
- (C) 35
- (d) 56
- (e) 63

Q59. A, B మరియు C ఒక పనిని వరుసగా 48 రోజులు, 72 రోజులు మరియు 54 రోజుల్లో చేయగలరు. A మరియు B కలిసి 8 రోజులు పని చేస్తే, మిగిలిన పనిని పూర్తి చేయడానికి C తీసుకున్న సమయాన్ని (రోజుల్లో) కనుగొనండి.

- (a) 44
- (b) 31
- (C) 43
- (d) 34
- (e) 39

Q60. ఒక పడవ 105 కి.మీ. ఎగువకి మరియు 105 కి.మీ. దిగువకి ప్రయాణించడానికి పట్టే మొత్తం సమయం 7.5 గంటలు. పడవ దిగువన మరియు ఎగువన ప్రయాణించే వేగం నిష్పత్తి వరుసగా 2:1 అయితే, నిశ్చల నీటిలో పడవ వేగాన్ని కనుగొనండి?

- (a) 44.5
- (b) 31.5
- (c) 43.5
- ((d) 34.5
- (e) 39.5

Q61. ఒక రైలు ఒక స్టంభాన్ని దాటడానికి 30 సెకన్లు మరియు 350 మీటర్ల పొడవైన వంతెనను దాటడానికి 45 సెకన్లు పడుతుంది. రైలు పొడవును కనుగొనండి.

- (a) 840 మీ.
- (b) 600 మీ.
- (c) 800 మీ.
- (d) 700 మీ.
- (e) 900 మీ.

Q62. రెండు వృత్తాల చుట్టుకొలత 88 మీటర్లు, 132 మీటర్లు. రెండు వృత్తాల వ్యాసార్థం మొత్తం ఎంత?

- (a) 14 మీటర్లు
- (b) 35 మీటర్లు
- (c) 7 మీటర్లు
- (d) 21 మీటర్లు
- (e) 42 మీటర్లు

దిశలు (63-65): కింది సంఖ్యా శ్రేణిలో ప్రక్క (?) గుర్తు స్థానంలో ఏమి వస్తుంది.

Q63. 91, 112, 136, 164, 197, ?

- (a) 227
- (b) 229
- (C) 231
- (d) 236
- (e) 235

Q64. 12, 39, 120, 363, ?, 360

- (a) 1092
- (b) 1089
- (C) 1096
- (d) 1192
- (e) 1082

Q65. 5040, 840, ?, 42, 14, 7

- (a) 125
- (b) 132
- (C) 129
- (d) 168
- (e) 120

దిశలు (66-70): ఇవ్వబడిన సమాచారాన్ని జాగ్రత్తగా చదవండి మరియు దిగువ ప్రశ్నలకు సమాధానం ఇవ్వండి:

ఎనిమిది మంది వ్యక్తులు- A, B, C, D, E, F, G మరియు H -రెండు భిన్నమైన తేదీల్లో - 8 లేదా 27 - నాలుగు విభిన్న నెలలలో - జనవరి, మే, జూన్ మరియు నవంబర్ జన్మించారు (కానీ తప్పనిసరిగా ఇవ్వబడిన క్రమంలో కాదు). ఒకే రోజున ఏ ఇద్దరు వ్యక్తులు జన్మించలేదు.

మే నెలలో D సరిసంఖ్య తేదీలో జన్మించాడు. D కి ముందు నెలలో A జన్మించాడు. A మరియు D ఒకే తేదీలలో జన్మించారు. A మరియు E మధ్య నలుగురు వ్యక్తులు జన్మించారు. H, Eతో ఒకే నెలలో జన్మించాడు. B జన్మించిన అదే నెలలో G జన్మించాడు. B మరియు C మధ్య ఇద్దరు వ్యక్తులు జన్మించారు.

Q66. F ఏ తేదీ మరియు నెలలో జన్మించాడు?

- (a) 8 మే
- (b) 8 నవంబర్
- (C) 27 మే
- (d) 27 జనవరి
- (e) 8 జూన్

Q67. C తరువాత ఎంత మంది జన్మించారు?

- (a) ఐదుగురు
- (b) ఒకరు
- (c) ఇద్దరు
- (d) ముగ్గురు
- (e) నలుగురు

Q68. ఈ క్రింది వారిలో ఎవరు నవంబర్ 8 న జన్మించారు?

- (a) C
- (b) H
- (c) G
- (d) B
- (e) E

Q69. ఈ క్రింది ఐదుగురిలో నలుగురు ఒక నిర్దిష్ట నమూనాలో సమానంగా ఉంటారు, ఈ క్రింది వారిలో ఎవరు ఇతరులకు భిన్నంగా ఉంటారు?


- (a) A
- (b) D
- (c) H
- (d) B
- (e) G

Q70. ఈ క్రిందివాటిలో సరియైన ప్రకటన ఏది?

- I. D, A తరువాత జన్మించాడు
  - II. G మరియు C ఒకే నెలలో జన్మించారు
  - III. H జూన్ 8న జన్మించాడు
- (a) I మాత్రమే
  - (b) I మరియు II మాత్రమే
  - (c) II మాత్రమే
  - (d) I మరియు III మాత్రమే
  - (e) III మాత్రమే

**Test**  
**Prime**

ALL EXAMS,  
ONE SUBSCRIPTION.





సూచనలు (71-75): ఈ క్రింది సమాచారాన్ని జాగ్రత్తగా అధ్యయనం చేయండి మరియు క్రింద ఇవ్వబడిన ప్రశ్నలకు సమాధానం ఇవ్వండి:

ఎనిమిది మంది వ్యక్తులు - A, B, C, D, E, F, G మరియు H - ఉత్తర దిశగా వరుసలో కూర్చుంటారు, కానీ అదే క్రమంలో అవసరం లేదు. D Cకి కుడివైపున మూడవ స్థానంలో కూర్చుంటారు. C మరియు E మధ్య ముగ్గురు వ్యక్తులు కూర్చుంటారు. Eకి కుడివైపున రెండవ స్థానంలో A కూర్చుంటారు. F అనేవ్యక్తి H కి ఎడమవైపు నాల్గవ స్థానంలో ఉంటారు. C అనేవారు Gకి తక్షణ పొరుగువ్యక్తి కాదు. H మరియు G మధ్య ఒకరికంటే ఎక్కువ మంది కూర్చుంటారు. B అనేవ్యక్తి Gకి కుడివైపు కూర్చుంటారు.

Q71. ఈ క్రింది వ్యక్తులలో B యొక్క ఎడమవైపున నాల్గవ స్థానంలో ఎవరు కూర్చుంటారు?

- (a) G
- (b) D
- (c) E
- (d) F
- (e) వీరెవరూ కాదు

Q72. ఈ క్రిందివాటిలో ఏది/వి అసత్యము?

- (a) E వరుస యొక్క ఎడమ ఒక చివరలో కూర్చుంటారు
- (b) F మరియు G తక్షణ పొరుగువారు
- (c) G మరియు C మధ్య ఒక వ్యక్తి మాత్రమే కూర్చుంటాడు
- (d) A, B యొక్క తక్షణ ఎడమ వైపున కూర్చుంటాడు
- (e) H మరియు E తక్షణ పొరుగువారు

Q73. ఒకవేళ F మరియు A లు తమ స్థానాలను మార్చుకున్నట్లయితే, A యొక్క తక్షణ కుడివైపు ఎవరు కూర్చుంటారు?

- (a) B
- (b) G
- (c) D
- (d) H
- (e) వీరెవరూ కాదు

Q74. కింది జతలలో ఏది చివర్లలో కూర్చున్న వ్యక్తులను సూచిస్తుంది?

- (a) E మరియు C
- (b) E మరియు D
- (c) C మరియు B
- (d) B మరియు D
- (e) ఇవేవి కాదు

Q75. D కు సంబంధించి C యొక్క స్థానం ఏమిటి?

- (a) కుడివైపున మూడవ
- (b) ఎడమవైపు నాల్గవ
- (c) వెంటనే కుడివైపు
- (d) ఎడమవైపు మూడవ
- (e) తక్షణ ఎడమవైపు

సూచనలు (76-80): ఇవ్వబడ్డ సంఖ్య శ్రేణిని జాగ్రత్తగా చదవండి మరియు సంబంధిత ప్రశ్నలకు సమాధానాలు ఇవ్వండి:  
3 7 4 9 8 6 5 2 1 3 4 7 9 6 2 5 3 4 6 8 2 7 4 3 5 8 9 3 2 7 4

Q76. ఇవ్వబడ్డ శ్రేణిలో కుడి చివర నుంచి 11వ మూలకం ఏది?

- (a) 7
- (b) 8
- (c) 2
- (d) 4
- (e) 3

Q77. ఎన్ని వర్గ సంఖ్యల ముందు వెంటనే బేసి సంఖ్య ఉంటుంది?

- (a) ఒకటి
- (b) రెండు
- (c) మూడు
- (d) నాలుగు
- (e) నాలుగు కంటే ఎక్కువ

Q78. ఎడమ చివర నుండి లెక్కించిన తొమ్మిదవ బేసి సంఖ్యకు నుండి కుడివైపు ఆరవ స్థానంలో ఉన్న మూలకం ఏది?

- (a) 3
- (b) 4
- (c) 8
- (d) 2
- (e) 7

Q79. ఎన్ని సరి సంఖ్యలకు ముందు వెంటనే బేసి సంఖ్య ఉంటుంది మరియు వెంటనే సరి సంఖ్య ఉంటుంది?

- (a) ఒకటి
- (b) రెండు
- (c) మూడు
- (d) నాలుగు
- (e) ఐదు

Q80. ఎడమ చివర నుండి 7 వ మూలకం మరియు కుడి చివర నుండి 4 వ మూలకం యొక్క మొత్తం ఎంత?

- (a) 11
- (b) 10
- (C) 13
- (d) 8
- (e) 9

దిశలు (81-83): ఈ ప్రశ్నల్లో వివిధ అంశాల మధ్య సంబంధాన్ని ప్రకటనల్లో చూపించారు. ఈ ప్రకటనల తరువాత రెండు నిర్ధారణలు ఉన్నాయి. ఇవ్వబడ్డ స్టేట్ మెంట్ ల ఆధారంగా నిర్ధారణలను అధ్యయనం చేయండి మరియు తగిన సమాధానాన్ని ఎంచుకోండి:

Q81.

ప్రకటనలు:  $B \geq O > M = E > L < D > Z$

తీర్మానాలు:

I.  $O \leq Z$

II.  $B > D$

- (a) తీర్మానం I మాత్రమే నిజమైతే
- (b) తీర్మానం II మాత్రమే నిజమైతే
- (c) తీర్మానం I లేదా II నిజమైతే
- (d) I మరియు II రెండు తీర్మానాలు నిజమైతే
- (e) తీర్మానం I లేదా II రెండూ నిజం కాకపోతే

Q82. ప్రకటనలు:  $E < G < J \geq N = B > U < P$

తీర్మానాలు:

I.  $J > U$

II.  $P > G$

- (a) తీర్మానం I మాత్రమే నిజమైతే
- (b) తీర్మానం II మాత్రమే నిజమైతే
- (c) తీర్మానం I లేదా II నిజమైతే
- (d) I మరియు II రెండు తీర్మానాలు నిజమైతే
- (e) తీర్మానం I లేదా II రెండూ నిజం కాకపోతే

**Q83. ప్రకటనలు:**  $Y < K = S \geq J < I > E < C \leq D$

**తీర్మానాలు:**

I.  $K < D$

II.  $S \geq D$

(a) తీర్మానం I మాత్రమే నిజమైతే

(b) తీర్మానం II మాత్రమే నిజమైతే

(c) తీర్మానం I లేదా II నిజమైతే

(d) I మరియు II రెండు తీర్మానాలు నిజమైతే

(e) తీర్మానం I లేదా II రెండూ నిజం కాకపోతే

**సూచనలు (84-88):** ఈ క్రింది సమాచారాన్ని జాగ్రత్తగా అధ్యయనం చేయండి మరియు క్రింద ఇవ్వబడిన ప్రశ్నకు సమాధానం ఇవ్వండి:

**ఇవ్వండి:**

H, M, A, G, K, O, C మరియు D అనే ఎనిమిది మంది వ్యక్తులు చతురస్రాకారంలో ఉన్న టేబుల్ చుట్టూ కూర్చోని ఉంటారు, వారిలో నలుగురు టేబుల్ యొక్క నాలుగు మూలల్లో కూర్చుంటారు, మిగిలిన నలుగురు నాలుగు వైపుల మధ్యలో కూర్చుంటారు, కానీ తప్పనిసరిగా ఒకే క్రమంలో ఉండాల్సిన అవసరం లేదు. నాలుగు మూలల్లో కూర్చున్న వారు కేంద్రానికి ఎదురుగా, మధ్యలో కూర్చున్నవారు కేంద్రానికి అభిముఖంగా ఉంటారు.

K, H కు వెంటనే ఎడమవైపు కూర్చుంటాడు. G K కి ఎడమవైపున రెండవ స్థానంలో కూర్చున్నాడు. A మరియు M మధ్య ముగ్గురు వ్యక్తులు కూర్చుంటారు. Gకి తక్షణ ఎడమవైపు M కూర్చుంటారు. H మరియు O మధ్య ఇద్దరు వ్యక్తులు మాత్రమే కూర్చుంటారు. O ఒక మూలలో కూర్చుంటాడు కానీ M పక్కన కూర్చోడు. D, G కు ఎడమవైపున మూడవ స్థానంలో కూర్చుంటాడు.

**Q84. ఈ క్రింది వారిలో G కు ఎదురుగా ఎవరు కూర్చుంటారు?**

(a) D

(b) C

(c) O

(d) M

(e) A

**Q85. Mకు సంబంధించి O యొక్క స్థానం ఏమిటి?**

(a) ఎడమవైపు మూడవ

(b) కుడివైపున మూడవ

(c) కుడివైపు నాల్గవ

(d) కుడివైపున ఐదవ

(e) కుడివైపున రెండవ

Q86. A యొక్క కుడివైపు నుంచి లెక్కించినప్పుడు A మరియు G మధ్య ఎంత మంది కూర్చుంటారు?

- (a) ఒకరు
- (b) ఇద్దరు
- (c) ఐదుగురు
- (d) ముగ్గురు
- (e) నలుగురు

Q87. ఈ క్రింది ఐదుగురిలో నలుగురు ఒక నిర్దిష్ట మార్గంలో ఒకేలా ఉంటారు మరియు అందువల్ల ఒక సమూహాన్ని ఏర్పరుస్తారు. సమూహానికి చెందని వ్యక్తిని కనుగొనండి?

- (a) M
- (b) H
- (c) A
- (d) D
- (e) K

Q88. ఈ క్రింది ప్రకటన(లు)లో ఏది సత్యం?

- I. C G యొక్క ఎడమవైపున రెండవ స్థానంలో కూర్చుంటారు
  - II. G , Aకు ఎదురుగా కూర్చుంటారు
  - III. M యొక్క ఎడమ నుండి లెక్కించేటప్పుడు M మరియు K మధ్య ఇద్దరు వ్యక్తులు కూర్చుంటారు.
- (a) I మాత్రమే
  - (b) III మాత్రమే
  - (c) II మాత్రమే
  - (d) I మరియు III రెండూ
  - (e) I, II మరియు III అన్ని

ఆదేశాలు (89-91): కింది ప్రశ్నల్లో కొన్ని ప్రకటనలు ఇవ్వబడ్డాయి, తరువాత రెండు నిర్ధారణలు ఇవ్వబడ్డాయి. ఇవ్వబడిన ప్రకటనలు సాధారణంగా తెలిసిన వాస్తవాలకు విరుద్ధంగా అనిపించినప్పటికీ మీరు వాటిని నిజమని భావించాలి. అన్ని స్టేట్ మెంట్ లను చదవండి మరియు ఇవ్వబడ్డ ముగింపుల్లో ఏది స్టేట్ మెంట్ ల నుంచి తార్కికంగా అనుసరించబడుతుందో నిర్ణయించండి. సమాధానం ఇవ్వండి:

Q89. ప్రకటన:

- అన్ని కీలు రబ్బరు.
- కొన్ని రబ్బరు మాత్రమే చుక్కలు.
- కొన్ని చుక్కలు కాగితం.

**తీర్మానాలు:**

- I. కొన్ని కీలు కాగితం కాదు.  
II. ఏ కాగితం రబ్బరు అయ్యే అవకాశం లేదు.  
(a) I మాత్రమే అనుసరిస్తుంది  
(b) II మాత్రమే అనుసరిస్తుంది  
(c) I లేదా II అనుసరిస్తుంది  
(d) I లేదా II రెండూ అనుసరించబడవు  
(e) I మరియు II రెండూ అనుసరిస్తాయి

**Q90. ప్రకటన:**

- నేల మాత్రమే మొక్క.  
కొన్ని నేలలు ఈకలు.  
ఏ ఈక కూడా రంగు కాదు.

**తీర్మానాలు:**

- I. ఈకలన్నీ నేల కావడం ఒక అవకాశం.  
II. కొన్ని నేలలు రంగు కాదు.  
(a) I మాత్రమే అనుసరిస్తుంది  
(b) II మాత్రమే అనుసరిస్తుంది  
(c) I లేదా II అనుసరిస్తుంది  
(d) I లేదా II రెండూ అనుసరించబడవు  
(e) I మరియు II రెండూ అనుసరిస్తాయి

**Q91. ప్రకటన:**

- కొంచెం డబ్బో స్కేలు.  
అన్ని స్కేలు గ్రాఫ్.  
కొన్ని గ్రాఫ్ ఇటుక.

**తీర్మానాలు:**

1. ఏ ఇటుక కూడా స్కేల్ కాదు.  
2. మొత్తం డబ్బు గ్రాఫ్.  
(a) I మాత్రమే అనుసరిస్తుంది  
(b) II మాత్రమే అనుసరిస్తుంది  
(c) I లేదా II అనుసరిస్తుంది  
(d) I లేదా II రెండూ అనుసరించబడవు  
(e) I మరియు II రెండూ అనుసరిస్తాయి



Test  
Prime  
ALL EXAMS,  
ONE SUBSCRIPTION.



దిశలు (92-94): ఈ క్రింది సమాచారాన్ని జాగ్రత్తగా అధ్యయనం చేయండి మరియు క్రింద ఇవ్వబడిన ప్రశ్నకు సమాధానం ఇవ్వండి:

B నుండి ఎడమ వైపు ఐదవ స్థానంలో A కూర్చున్నారు. E, B యొక్క తక్షణ పొరుగువాడు.

F, A నుండి ఎడమ వైపు రెండవ స్థానంలో మరియు వరుసలో ఒక తుది నుండి రెండవ స్థానంలో కూర్చున్నారు. B మరియు G మధ్యలో ఒక్క వ్యక్తి మాత్రమే ఉన్నారు. E, G యొక్క తక్షణ పొరుగువాడు కాదు. G నుండి కుడివైపు నాలుగవ స్థానంలో K కూర్చున్నారు. K యొక్క కుడివైపు ఎవరూ కూర్చలేదు. K మరియు T మధ్యలో ఐదుగురు వ్యక్తులు ఉన్నారు.

Q92. ఈ క్రింది వారిలో T కి కుడివైపున నాల్గవ స్థానంలో ఎవరు కూర్చున్నారు?

- (a) E
- (b) G
- (c) A
- (d) F
- (e) B

Q93. ఈ క్రింది వారిలో ఎవరు వరుస యొక్క ఎడమ చివర నుండి ఏడవ స్థానంలో కూర్చుంటారు?

- (a) B
- (b) G
- (c) E
- (d) T
- (e) తెలియని వ్యక్తి

Q94. ఆ వరుసలో ఎంతమంది కూర్చున్నారు?

- (a) 13
- (b) 14
- (c) 15
- (d) 11
- (e) 12

సూచనలు (95-97): సమాచారాన్ని జాగ్రత్తగా అధ్యయనం చేయండి మరియు క్రింద ఇవ్వబడిన ప్రశ్నలకు సమాధానం ఇవ్వండి.

మూడు తరాల కుటుంబంలో ఎనిమిది మంది వ్యక్తులు ఉన్నారు, ముగ్గురు వివాహిత జంటలు ఉన్నారు. M అనేది O కి తండ్రి. Q అనేది G కి కోడలు. Q అనేది S కి తల్లి. S అనేది M కి మనవరాలు. P అనేది M కి సోదరి. S మరియు T తోబుట్టువులు. T అనేది O కి ఏకైక కుమారుడు. L మరియు P వివాహం చేసుకున్నారు.

Q95. G అనేది T తో ఎలా సంబంధం కలిగి ఉంటుంది?

- (a) తల్లి
- (b) మనవరాలు
- (c) అమ్మమ్మ
- (d) తాతయ్య
- (e) ఇవేవీ కావు

Q96. కుటుంబంలో ఎంతమంది మహిళా సభ్యులు ఉన్నారు?

- (a) ముగ్గురు
- (b) ఐదుగురు
- (c) నలుగురు
- (d) ఇద్దరు
- (e) ఇవేవీ కావు

Q97. ఈ క్రింది వారిలో 0 యొక్క అత్త ఎవరు?

- (a) G
- (b) P
- (c) Q
- (d) T
- (e) నిర్ణయించలేము

Q98. '275849136' అనే సంఖ్యలో ఎన్ని జతల అంకెలు ఉన్నాయి, వీటిలో ప్రతి ఒక్కటి సంఖ్యా శ్రేణిలో (ముందు మరియు వెనుక క్రమం రెండింటిలోనూ) ఉన్నన్ని అంకెలను కలిగి ఉంటాయి?

- (a) ఒకటి
- (b) రెండు
- (c) మూడు
- (d) నాలుగు
- (e) నాలుగు కంటే ఎక్కువ

Q99. 'HUNGARILY' అనే పదంలో, అన్ని అక్షరాలను ఎడమ నుండి కుడికి అక్షర క్రమంలో అమర్చినట్లయితే, ఎన్ని అక్షరాలు వాటి స్థానాల్లో అలాగే ఉంటాయి?

- (a) ఏదీ లేదు
- (b) రెండు
- (c) నాలుగు
- (d) మూడు
- (e) ఒకటి



Q100. "RENOVATION" అనే పదం యొక్క రెండవ, నాల్గవ, ఐదవ మరియు పదవ అక్షరాలను (ఎడమ చివర నుండి) ఉపయోగించి అర్థవంతమైన పదం ఏర్పడితే, అప్పుడు ఈ క్రింది వాటిలో ఏది అర్థవంతమైన పదం యొక్క ఎడమ చివర నుండి రెండవ అక్షరం అవుతుంది. ఒకటి కంటే ఎక్కువ అర్థవంతమైన పదాలు ఏర్పడితే Y ని మీ సమాధానంగా గుర్తించండి. అర్థవంతమైన పదం ఏర్పడకపోతే, Z ని మీ సమాధానంగా గుర్తించండి?

- (a) N
- (b) Y
- (c) E
- (d) Z
- (e) V

