

SBI Clerk Pre 2024-25 Memory Based Paper Based on 22nd February 1st Shift

Directions (1-5): In the sentence below, four words have been highlighted which may be misspelt or inappropriate in their usage. Mark the erroneous word as the answer and if all the words are correct in their spellings and usage, choose 'All are correct' as the answer.

Q1. She **asked** her brother to **acompany** her to the **market** so she wouldn't have to carry all the **heavy** bags alone.

- (a) asked
- (b) heavy
- (c) market
- (d) acompany
- (e) All are correct

Q2. Everyone **attended** the **meeting expect** John, who was **feeling** unwell.

- (a) attended
- (b) expect
- (c) meeting
- (d) feeling
- (e) All are correct

Q3. We decided to have **dinner** at a new Italian **restuarant** that **recently opened** in the city.


- (a) dinner
- (b) opened
- (c) restuarnat
- (d) recently
- (e) All are correct

Q4. She **received** a **beautiful** gift **form** her best **friend** on her birthday.

- (a) friend
- (b) beautiful
- (c) received
- (d) form
- (e) All are correct

Q5. She felt a deep **sense** of **contantment** as she sat by the **fireplace**, **sipping** tea and reading her favorite book.

- (a) contantment
- (b) fireplace
- (c) sipping
- (d) sense
- (e) All are correct



Directions (6-8): In the question, one word is given in bold and correspondence to that, three sentences are given each containing that word. Choose the option depicting the sentence(s) that have/ has the correct usage of the word.

Q6. BATCH

- (I) The bakery prepared a fresh **batch** of cookies every morning to satisfy its customers.
 - (II) She earned a **batch** for completing the advanced level of the training program.
 - (III) The professor graded the first **batch** of exam papers before taking a break.
- (a) Only (I)
 - (b) Both (I) and (III)
 - (c) Only (III)
 - (d) All (I), (II) and (III)
 - (e) Only (II)

Q7. SLIP

- (I) She tried to walk carefully on the icy road, but she couldn't avoid a **slip** and fell.
 - (II) He wrote his phone number on a small **slip** of paper and handed it to her.
 - (III) She couldn't **slip** well last night because of the loud thunderstorm.
- (a) Only (III)
 - (b) Only (II)
 - (c) Both (I) and (III)
 - (d) Both (I) and (II)
 - (e) All (I), (II) and (III)

Q8. RATE

- (I) The interest **rate** on home loans has increased significantly this year.
 - (II) Doctors **rate** this hospital as one of the best in the country.
 - (III) The birth **rate** in many developed countries has been declining over the years.
- (a) Only (I)
 - (b) Both (I) and (III)
 - (c) Only (III)
 - (d) All (I), (II) and (III)
 - (e) Only (II)

Directions (9-12): The following question contains a sentence which has been divided into four parts which might not be in their correct order of narrative. The sentence is then followed by five options, one of which gives the sequence of the rearranged parts to make the sentence meaningful. Choose the option which gives the correct sequence of the parts. If the sentence is already arranged in the correct sequence, then mark option " No rearrangement required " as the answer.

- Q9.** (A) began, 12 jurors were
(B) before the trial
(C) a pool of candidates
(D) randomly selected from

- (a) BDCA
- (b) BADC
- (c) ADCB
- (d) ABDC
- (e) No rearrangement required

Q10. (A) useless stuff, and imaginary

- (B) things, so we can't
- (C) the world is full of nonsense,
- (D) believe everything
- (a) ABDC
- (b) ADCB
- (c) CABD
- (d) DBCA
- (e) No rearrangement required

Q11. (A) and singing to the music

- (B) have a gregarious time dancing
- (C) rushed into the nightclub to
- (D) crowds of people
- (a) BDCA
- (b) DABC
- (c) BACD
- (d) DCBA
- (e) No rearrangement required

Q12. (A) that many of his

- (B) citizens lacked food
- (C) the dictator was
- (D) inhumane and unconcerned
- (a) CBAD
- (b) CBDA
- (c) CDAB
- (d) CADB
- (e) No rearrangement required

Directions (13-19): Read the following passage and answer the given questions.

Road traffic is an essential part of modern life, enabling transportation and commerce. However, it also poses serious risks, including rising accidents, life-threatening injuries, and increasing road rage. Reckless driving, poor infrastructure, and inadequate law enforcement have turned roads into dangerous spaces where lives are lost every day. Addressing these issues requires collective action to **restore** discipline and ensure safer travel for all.

One of the most alarming consequences of uncontrolled traffic is the high _____ of accidents. Speeding, distracted driving, and driving under the influence are major contributors to fatal crashes. Many drivers neglect basic safety rules, such as wearing seat belts or maintaining safe distances, further increasing risks. Poorly maintained roads and insufficient traffic signals worsen the situation. Victims often suffer severe injuries, including fractures, paralysis, and brain trauma, leaving them permanently disabled. The financial burden of medical treatment and loss of livelihood devastates many families. Hit-and-run cases, where offenders escape accountability, highlight the urgent need for stricter enforcement.

Road rage is another growing issue threatening public safety. Frustration due to traffic congestion often leads to aggressive behavior. In extreme cases, individuals resort to violence, sometimes resulting in physical assaults or even **shooting** incidents. What begins as a minor dispute can escalate into a crime, endangering both motorists and pedestrians. A lack of emotional control and failure to resolve conflicts peacefully worsen the situation.

Traffic police play a crucial role in addressing these challenges. Beyond issuing fines, they regulate traffic, prevent violations, and promote road safety. Regular patrolling, strict penalties, and increased surveillance through cameras can help reduce accidents. Public awareness campaigns on responsible driving are also necessary.

An effective way to restore safe driving habits is through celebrity-endorsed road safety campaigns. Celebrities influence public behavior, and their involvement can encourage drivers to follow traffic rules. Their participation in awareness programs and social media campaigns reinforces responsible driving.

To combat road dangers, a combined effort from the government, law enforcement, and the public is essential. By improving infrastructure, enforcing laws, and promoting responsible driving through celebrity campaigns, society can work toward safer roads for everyone.

Q13. Select the most appropriate word to replace "shooting" in the following sentence from the passage.

- (a) Stabbing
- (b) Firing
- (c) Striking
- (d) Beating
- (e) Kicking

Q14. According to the passage, which of the following are primary causes of road accidents?

- (I) Speeding, distracted driving, and driving under the influence.
 - (II) Poorly maintained roads and lack of proper traffic signals.
 - (III) The increasing number of vehicles on the road.
- (a) Only (I)
 - (b) Both (I) and (II)
 - (c) Only (III)
 - (d) Both (II) and (III)
 - (e) All (I), (II), and (III)

Q15. Select the most appropriate word to replace "restore" in the following sentence from the passage.

- (a) Reinstate
- (b) Abandon
- (c) Destroy
- (d) Rejuvenate
- (e) Replicate

Q16. Select the most appropriate word to fill in the blank in the following sentence from the passage.

- (a) Decline
- (b) Rate
- (c) Solution
- (d) Reduction
- (e) Prevention

Q17. According to the passage, what role do celebrities play in promoting road safety?

- (I) They encourage safe driving habits through public awareness campaigns.
 - (II) Their influence can help restore discipline among drivers.
 - (III) They have successfully eliminated reckless driving in several regions.
- (a) Only (I)
 - (b) Both (I) and (II)
 - (c) Only (III)
 - (d) Both (II) and (III)
 - (e) All (I), (II), and (III)

Q18. Which of the following statements is/are TRUE according to the passage?

- (I) Poorly maintained roads and a lack of proper traffic signals contribute to the rising number of accidents.
 - (II) Road rage incidents are primarily caused by the presence of strict traffic police officers.
 - (III) Celebrity endorsements in road safety campaigns can help encourage responsible driving behavior.
- (a) Only (I)
 - (b) Both (II) and (III)
 - (c) Only (III)
 - (d) Both (I) and (III)
 - (e) All (I), (II), and (III)

Q19. Which of the following statements is/are FALSE according to the passage?

- (I) Installing traffic cameras has completely eliminated reckless driving.
 - (II) Road rage incidents never escalate into violent confrontations.
 - (III) The passage suggests that reducing the number of vehicles is the best way to prevent accidents.
- (a) Only (I)
 - (b) Both (I) and (II)
 - (c) Only (III)
 - (d) Both (II) and (III)
 - (e) All (I), (II), and (III)

Directions (20-24): Read the sentence to find out whether there is any grammatical or idiomatic error in it. The error, if any, will be in one part of the sentence. The letter of that part is the answer. If the given sentence is grammatically and contextually correct, then choose option "No error" as your answer response. (Ignore errors of punctuation, if any).

Q20. Industrial waste and (A)/ sewage has heavily polluted (B)/ the Ganga, endangering (C)/ aquatic life and human health. (D)

- (a) A
- (b) B
- (c) C
- (d) D
- (e) No error

Q21. India's cities must (A)/ build inclusive climate (B)/ resilient to protect (C)/ vulnerable communities. (D)

- (a) A
- (b) B
- (c) C
- (d) D
- (e) No error

Q22. The UGC draft regulations have (A)/ sparked concerns in southern states (B)/, highlight regional disparities and the need (C)/ for a more inclusive policy framework. (D)

- (a) A
- (b) B
- (c) C
- (d) D
- (e) No error

Q23. The escaped prisoner (A)/ showed compassion (B)/ when him assisted the (C)/ wounded police officer. (D)

- (a) A
- (b) B
- (c) C
- (d) D
- (e) No error

Q24. Most teachers in (A)/ school expect you to being (B)/ polite to both the (C)/ teachers and the other students. (D)

- (a) A
- (b) B
- (c) C
- (d) D
- (e) No error

Directions (25-30): In the following passage there are blanks, each of which has been denoted by a letter. For each blank, five options are given. Choose the most appropriate word from the options that fits the blank appropriately.

Bees are not only important for producing honey but also play a crucial role in pollination. They fly _____(A) flowers, collecting nectar and pollen. This process helps _____(B) the reproduction of many plants. Bees transfer pollen _____(C) one flower to another, allowing plants to grow fruits and seeds. Without bees, many crops would struggle to grow, which would have a serious impact _____(D) food production. Farmers depend _____(E) bees to increase their harvest. It is important to take care _____(F) these pollinators to maintain a healthy environment.

Q25. Which of the following word best fits in blank A?

- (a) near
- (b) happy
- (c) strong
- (d) cold
- (e) bright

Q26. Which of the following word best fits in blank B?

- (a) grow
- (b) jump
- (c) sleep
- (d) dry
- (e) heavy

Q27. Which of the following word best fits in blank C?

- (a) tall
- (b) water
- (c) from
- (d) soft
- (e) long

Q28. Which of the following word best fits in blank D?

- (a) on
- (b) fast
- (c) warm
- (d) loud
- (e) short

Q29. Which of the following word best fits in blank E?

- (a) over
- (b) under
- (c) upper
- (d) on
- (e) open

Q30. Which of the following word best fits in blank F?

- (a) in
- (b) kind
- (c) of
- (d) slow
- (e) clean

নব্বিশোবলী (31-40): নম্বিনলখিতি প্রশ্নগুলতি প্রশ্ন (?) চহ্নরে স্থানকে কী আসবে?

Q31. $156 \times 5 - 16 \times 9 = ? \times 318$

- (a) 1
- (b) 4
- (c) 3
- (d) 2
- (e) 5

Q32. $254 + 312 - ? = 420$

- (a) 166
- (b) 156
- (c) 126
- (d) 136
- (e) 146

Q33. $450 - 225$ এর 60% $= ? - 8^3$

- (a) 830
- (b) 827
- (c) 780
- (d) 770
- (e) 800

Q34. $120 \times 20 \div 5 - 80 = ?$

- (a) 400
- (b) 100
- (c) 200
- (d) 300
- (e) 500

Q35. $\sqrt{625} + ?^2 = 13^2$

- (a) 10
- (b) 16
- (c) 8
- (d) 12
- (e) 14



Test
Prime

ALL EXAMS,
ONE SUBSCRIPTION.



Q36. $(7 \times 5 - 8) \div 9 + 3 = ?$

- (a) 6
- (b) 0
- (c) 1
- (d) 2
- (e) 7

Q37. $245 + \sqrt{225} \times 2 - ? = 200$

- (a) 95
- (b) 90
- (c) 85
- (d) 80
- (e) 75

Q38. 36 + 750 এর 30% - 136 = ?³

- (a) 7
- (b) 3
- (c) 4
- (d) 5
- (e) 1

Q39. 220 এর 45% + 15×? = 129

- (a) 4
- (b) 3
- (c) 2
- (d) 5
- (e) 6

Q40. ? × 4 - 177 = 171

- (a) 86
- (b) 84
- (c) 88
- (d) 85
- (e) 87

নরিদশোবলী (41-45): নীচে দেওয়া সারণীটি জানুয়ারি, ফেব্রুয়ারি, মার্চ মাসে তিনটি মল A, B এবং C দ্বারা বক্রি হওয়া সনিমোর টকিটিরে তথ্য দখোয়।

মাস/মল	A	B	C
জানুয়ারি	120	125	110
ফেব্রুয়ারি	150	90	100
মার্চ	140	100	150

Q41. যদি এপ্রিলে B দ্বারা বিক্রি হওয়া সনিমোর টিকিটেরে অনুপাত ফেব্রুয়ারিতে C দ্বারা বিক্রি হওয়া সনিমোর টিকিটেরে সাথে 4:1 হয়, তাহলে এপ্রিলে B দ্বারা বিক্রি হওয়া সনিমোর টিকিট কত?

- (a) 400
- (b) 500
- (c) 240
- (d) 480
- (e) 800

Q42. ফেব্রুয়ারিতে B দ্বারা, মার্চে C দ্বারা এবং জানুয়ারিতে A দ্বারা বিক্রি হওয়া টিকিটেরে গড় সংখ্যা নির্ণয় করুন।

- (a) 140
- (b) 120
- (c) 200
- (d) 180
- (e) 100

Q43. ফেব্রুয়ারিতে A এবং B একত্রে বিক্রি হওয়া সনিমোর টিকিট মার্চে C দ্বারা বিক্রি হওয়া সনিমোর টিকিটেরে কত শতাংশ?

- (a) 100%
- (b) 120%
- (c) 40%
- (d) 160%
- (e) 150%

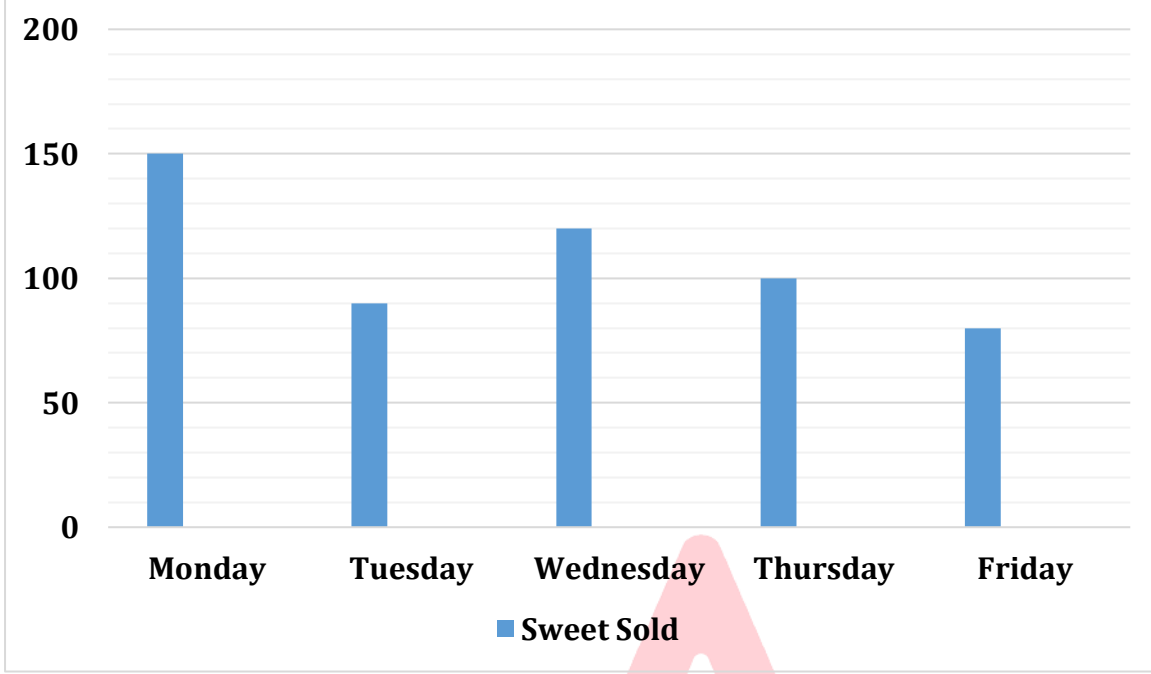
Q44. মার্চে B দ্বারা বিক্রি হওয়া টিকিটেরে সাথে ফেব্রুয়ারিতে A দ্বারা বিক্রি হওয়া টিকিটেরে অনুপাত নির্ণয় করুন।

- (a) 1:4
- (b) 2:3
- (c) 2:5
- (d) 8:1
- (e) 1:1

Q45. মার্চে B দ্বারা বিক্রি হওয়া সনিমোর টিকিট ফেব্রুয়ারিতে C দ্বারা বিক্রি হওয়া সনিমোর টিকিটেরে চেয়ে কত শতাংশ বেশি বা কম?

- (a) 20%
- (b) 190%
- (c) 40%
- (d) 0%
- (e) 150%

নর্দিশোবলী (46-50): নীচে दओया वार ग्राफटि सओमवार थके शुक्रवार पर्यन्त दओकानदार A द्वारा बकि्रि हओया मशि्टरि संख्या दओया।



Q46. यदि शुक्रवार बकि्रि हओया मओट मशि्टरि 40% बकि्रि हओये थके, तहले शुक्रवार बकि्रि ना हओया मशि्टरि संख्या नरिणय करुन।

- (a) 140
- (b) 120
- (c) 200
- (d) 180
- (e) 100

Q47. सओमवार एवंग मङ्गलवार एकत्रे बकि्रि हओया मशि्टरि एवंग शुक्रवार बकि्रि हओया मशि्टरि मध्यमे पार्थक्य नरिणय करुन।

- (a) 140
- (b) 160
- (c) 200
- (d) 180
- (e) 100

Q48. मङ्गलवार बकि्रि हओया मशि्टरि बृहस्पतवार बकि्रि हओया मशि्टरि चओये कत शतांश वशे वा कम?

- (a) 20%
- (b) 19%
- (c) 10%
- (d) 5%
- (e) 15%

Q49. বুধবার বাদে বাকি দিনগুলিতে বক্রি হওয়া মষ্টির গড় সংখ্যা নির্ণয় করুন।

- (a) 105
- (b) 120
- (c) 200
- (d) 180
- (e) 100

Q50. মঙ্গলবার বক্রি হওয়া মষ্টির সাথে শুক্রবারে বক্রি হওয়া মষ্টির অনুপাত নির্ণয় করুন।

- (a) 8:9
- (b) 8:3
- (c) 9:5
- (d) 1:1
- (e) 9:8

Q51. একজন ব্যক্তি দুটি স্কিম A এবং B-তে একটি নির্দিষ্ট পরমাণ বনিয়োগ করছেন, তিনি 10% বার্ষিক হারে স্কিম A-তে 30% পরমাণ বনিয়োগ করছেন এবং 5% বার্ষিক হারে বাকি পরমাণ স্কিম B-তে বনিয়োগ করছেন, যদি চার বছর পর ব্যক্তি মষ্টি 1300 টাকা সুদ পান, তাহলে স্কিম B-তে বনিয়োগ করা পরমাণ (টাকায়) নির্ণয় করুন?

- (a) 5000
- (b) 1500
- (c) 3000
- (d) 3500
- (e) 4500

Q52. একজন ব্যক্তির মাসিক আয় 25% খাবারের উপর বনিয়োগ করেন। অবশিষ্ট থেকে, তিনি 20% ভাড়া দেন। যদি ব্যক্তি অবশিষ্ট আয় 20% শক্তির উপর ব্যয় করেন এবং 19200 টাকা সঞ্চয় করেন, তাহলে ব্যক্তির মাসিক আয় নির্ণয় করুন?

- (a) 30000 টাকা
- (b) 50000 টাকা
- (c) 60000 টাকা
- (d) 40000 টাকা
- (e) 48000 টাকা

Q53. একটি গাড়ি 5 ঘণ্টায় 120 কিমি দূরত্ব অতিক্রম করে। যদি গাড়িটি মূল গতিতে 84 কিমি দূরত্ব এবং 25% বর্ধিত গতিতে 135 কিমি দূরত্ব অতিক্রম করে, তাহলে মষ্টি দূরত্ব অতিক্রম করতে গাড়িটির মষ্টি সময় (ঘণ্টায়) নির্ণয় করুন?

- (a) 6
- (b) 8
- (c) 4
- (d) 12
- (e) 9

Q54. একটি শহরে 40% পুরুষ এবং বাকরিা মহিলা। যদি মোট মহিলার 40% স্নাতক হন এবং মোট অ-স্নাতক মহিলা 540 জন হন, তাহলে শহরে পুরুষের সংখ্যা নির্ণয় করুন?

- (a) 900
- (b) 500
- (c) 400
- (d) 600
- (e) 1200

Q55. রীমা এবং সীমা এক বছরে জন্ম X টাকা এবং $X + 500$ টাকা বিনিয়োগ করে একটি ব্যবসা শুরু করেছিল। যদি রীমার লাভের অংশ সীমার লাভের অংশের $1/6$ কম হয়, তাহলে X এর মান নির্ণয় করুন।

- (a) 3000
- (b) 2500
- (c) 2000
- (d) 3500
- (e) 1500

Q56. একজন দোকানদার 2400 টাকায় একটি প্রবন্ধ বিক্রি করে 20% লাভ করেন। প্রবন্ধের উপর অনুমোদিত ছাড় 20%। যদি তিনি প্রবন্ধের উপর 10% ছাড় দেন, তাহলে প্রবন্ধের উপর লাভ নির্ণয় করুন।

- (a) 690 টাকা
- (b) 380 টাকা
- (c) 560 টাকা
- (d) 240 টাকা
- (e) 700 টাকা

Q57. সুনীতা এবং মৌহিতের বর্তমান বয়সের অনুপাত যথাক্রমে 6:5 এবং বনীতার বর্তমান বয়স মৌহিতের চেয়ে 11 বছর বেশি। যদি বনীতার বর্তমান বয়স সুনীতার বর্তমান বয়সের দ্বিগুণ থেকে পাঁচ বছর কম হয়, তাহলে বনীতার বর্তমান বয়স নির্ণয় করুন।

- (a) 27 বছর
- (b) 20 বছর
- (c) 22 বছর
- (d) 24 বছর
- (e) 26 বছর

Q58. একটি পাত্রে 3:7 অনুপাতে 70 লিটার দুধ এবং জল রয়েছে। যদি মিশ্রণে X লিটার দুধ এবং 56 লিটার জল যোগ করা হয়, তাহলে দুধ এবং জলের অনুপাত 3:5 হয়। X নির্ণয় করুন।

- (a) 48
- (b) 42
- (c) 35
- (d) 56
- (e) 63

Q59. A, B এবং C যথাক্রমে 48 দিন, 72 দিন এবং 54 দিনে একটি কাজ করতে পারে। যদি A এবং B একত্রে 8 দিন কাজ করে, তাহলে অবশিষ্ট কাজ শেষ করতে C এর কত সময় লাগবে (দিনে)?

- (a) 44
- (b) 31
- (c) 43
- (d) 34
- (e) 39

Q60. স্রোতের প্রতিকূলে 105 কিমি এবং স্রোতের অনুকূলে 105 কিমি অতিক্রম করতে একটি নৌকা মোট 7.5 ঘন্টা সময় নেয়। স্রোতের অনুকূলে নৌকার গতিবেগ এবং স্রোতের প্রতিকূলে নৌকার গতিবেগের অনুপাত 2:1। তাহলে স্থির জলে নৌকার গতিবেগে কত তা নির্ণয় করুন?

- (a) 44.5
- (b) 31.5
- (c) 43.5
- (d) 34.5
- (e) 39.5

Q61. একটি ট্রেনে একটি খুঁটকি অতিক্রম করতে 30 সেকেন্ড সময় নেয় এবং 350 মিটার দৈর্ঘ্যের একটি সতুকে অতিক্রম করতে 45 সেকেন্ড সময় নেয়। তাহলে ট্রেনটির দৈর্ঘ্য কত হবে?

- (a) 840 মি
- (b) 600 মি
- (c) 800 মি
- (d) 700 মি
- (e) 900 মি

Q62. দুটি বৃত্তের পরিধি হল যথাক্রমে 88 মিটার এবং 132 মিটার। দুটি বৃত্তের ব্যাসার্ধের সমষ্টি কত তা নির্ণয় করুন?

- (a) 14 মিটার
- (b) 35 মিটার
- (c) 7 মিটার
- (d) 21 মিটার
- (e) 42 মিটার

নব্বিশোবলী (63-65): নমিনলখিত্তি সংখ্য়া সরিজি প্রশ্ন (?) চহিনরে জায়গায় কী আসবে।

Q63. 91, 112, 136, 164, 197, ?

- (a) 227
- (b) 229
- (c) 231
- (d) 236
- (e) 235

Q64. 12, 39, 120, 363, ?, 360

- (a) 1092
- (b) 1089
- (c) 1096
- (d) 1192
- (e) 1082

Q65. 5040, 840, ?, 42, 14, 7

- (a) 125
- (b) 132
- (c) 129
- (d) 168
- (e) 120

নরিদশোবলী (66-70): প্রদত্ত তথ্য মনোযোগ সহকারে পড়ুন এবং নীচরে প্রশ্নগুলির উত্তর দিন:

আটজন ব্যক্তি - A, B, C, D, E, F, G এবং H - দুটি ভিন্ন তারিখে - হয় 8 বা 27 এ চারটি ভিন্ন মাসে- জানুয়ারি, মে, জুন এবং নভেম্বর এ জন্মগ্রহণ করেছিলেন (তবে প্রদত্ত ক্রম অনুসারে নয়)। একই তারিখে দুইজন ব্যক্তি জন্মগ্রহণ করেননি। D মে মাসে একটি জোড় সংখ্যার তারিখে জন্মগ্রহণ করেছিল। A, D এর আগের মাসে জন্মগ্রহণ করেছিল। A এবং D একই তারিখে জন্মগ্রহণ করেছিল। A এবং E এর মধ্যে চারজন ব্যক্তি জন্মগ্রহণ করেছিল। H, E এর মতো একই মাসে জন্মগ্রহণ করেছিল। G, B এর ঠিক পরে জন্মগ্রহণ করেছিল। B এবং C এর মধ্যে দুইজন ব্যক্তি জন্মগ্রহণ করেছিল।

Q66. F কোন তারিখ এবং মাসে জন্মগ্রহণ করেছিল?

- (a) 8 মে
- (b) 8 নভেম্বর
- (c) 27 মে
- (d) 27 জানুয়ারি
- (e) 8 জুন

Q67. C এর পরে কতজন ব্যক্তি জন্মগ্রহণ করেছিল?

- (a) পাঁচজন
- (b) একজন
- (c) দুইজন
- (d) তিনজন
- (e) চারজন

Q68. নীচরে ব্যক্তিদের মধ্যে কে 8 নভেম্বর জন্মগ্রহণ করেছিল?

- (a) C
- (b) H
- (c) G
- (d) B
- (e) E

Q69. নম্নলখিতি পাঁচটির মধ্যে চারটি একটি নির্দিষ্ট প্যাটার্নে একই রকম, নচিরে মধ্যে কোনটি অন্যদরে থেকে আলাদা?

- (a) A
- (b) D
- (c) H
- (d) B
- (e) G

Q70. নচিরে কোন ববিতটি সঠিক?

- I. D, A এর পরে জন্মগ্রহণ করছেলি।
- II. G এবং C একই মাসে জন্মগ্রহণ করছেলি।
- III. H, 8 জুন জন্মগ্রহণ করছেলি।

- (a) শুধুমাত্র I
- (b) শুধুমাত্র I এবং II
- (c) শুধুমাত্র II
- (d) শুধুমাত্র I এবং III
- (e) শুধুমাত্র III

নির্দিশোবলী (71-75): নম্নলখিতি তথ্যগুলি সাবধানতার সাথে অধ্যয়ন করুন এবং নম্ননে প্রদত্ত প্রশ্নরে উত্তর দিন:

আট জন - A, B, C, D, E, F, G এবং H - উত্তর দিকে মুখ করে একটি সারিতে বসে আছে, তবে অগত্যা একই ক্রমে নয়।


C এর ডানদিকে তৃতীয় স্থানে D বসে আছে। C এবং E এর মাঝখানে তনিজন বসে আছে। E এর ডানদিকে দ্বিতীয় স্থানে A বসে আছে। H এর বাম দিকে চতুর্থ স্থানে F বসে আছে। C, G এর তাত্ক্ষণিক প্রতবিশৌ নয়। H এবং G এর মাঝখানে একাধিক ব্যক্তি বসে আছে। G এর ডানদিকে B বসে আছে।

Q71. নম্নলখিতি ব্যক্তিদরে মধ্যে কে B এর বাম দিকে চতুর্থ স্থানে বসে আছে?

- (a) G
- (b) D
- (c) E
- (d) F
- (e) এগুলি কোনওটিই নয়


Q72. নম্নলখিতি ববিতগুলি মধ্যে কোনটি মিথ্যা?

- (a) E সারিটি চূড়ান্ত প্রান্তগুলি একটিতে বসে আছে
- (b) F এবং G তাত্ক্ষণিক প্রতবিশৌ
- (c) G এবং C এর মাঝখানে কেবেল একজন ব্যক্তি বসে আছে
- (d) B এর অবলিম্বে বামদিকে A বসে আছে
- (e) H এবং E তাত্ক্ষণিক প্রতবিশৌ



Test
Prime

ALL EXAMS,
ONE SUBSCRIPTION.



Q73. যদি F এবং A, তাদের অবস্থানগুলি বিনিময় করে, A এর অবলিম্বে ডানদিকে কে বসবে?

- (a) B
- (b) G
- (c) D
- (d) H
- (e) এগুলির কোনওটিই নয়

Q74. নমিনলখিত্তি জে।ড়গুলরি মধ্যে কে।নটর্ চরম প্ৰান্তে বসে থাকা ব্যক্তদিরে প্ৰতনিধিত্তি বর?

- (a) E এবং C
- (b) E এবং D
- (c) C এবং B
- (d) B এবং D
- (e) এগুলরি কে।নওটর্ই নয়

Q75. D এর সাপক্ষে C এর অবস্থান কী?

- (a) ডানদিকে তৃতীয়
- (b) বামদিকে চতুর্থ
- (c) অবলিম্বে ডানদিকে
- (d) বামদিকে তৃতীয়
- (e) অবলিম্বে বামদিকে

নর্দিশেবলী (76-80): প্ৰদত্ত সংখ্যা সর্জিটর্ মনোযে।গ সহকারে পড়ুন এবং সম্পর্কিত প্ৰশ্নগুলরি উত্তর দিন:

3 7 4 9 8 6 5 2 1 3 4 7 9 6 2 5 3 4 6 8 2 7 4 3 5 8 9 3 2 7 4

Q76. প্ৰদত্ত সর্জি ডান দিকে থেকে 11তম উপাদান কে।নটর্?

- (a) 7
- (b) 8
- (c) 2
- (d) 4
- (e) 3

Q77. কতগুলি বর্গ সংখ্যার ঠিক আগে একটি বর্জি।ড় সংখ্যা আছে?

- (a) একটি
- (b) দুটি
- (c) তিনটি
- (d) চারটি
- (e) চারের বেশি

Q78. বাম দিক থেকে নবম বজিঃাড় সংখ্যার ডান দিকে 6ষ্ঠ উপাদান কোনটি?

- (a) 3
- (b) 4
- (c) 8
- (d) 2
- (e) 7

Q79. কতগুলি জিঃাড় সংখ্যার ঠিক আগে একটি বজিঃাড় সংখ্যা এবং ঠিক পরে একটি জিঃাড় সংখ্যা আছে?

- (a) একটি
- (b) দুটি
- (c) তিনটি
- (d) চারটি
- (e) পাঁচটি

Q80. বাম দিক থেকে 7ম উপাদান এবং ডান দিক থেকে 4র্থ জিঃাড় সংখ্যার যোগফল কত হবে?

- (a) 11
- (b) 10
- (c) 13
- (d) 8
- (e) 9

নির্দেশাবলী (81-83): এই প্রশ্নগুলিতে, বিভিন্ন উপাদানগুলির মধ্যে সম্পর্ক বিবৃতিগুলিতে প্রদর্শিত হয়। দুটি সিদ্ধান্ত বিবৃতিগুলিকে অনুসরণ করে। প্রদত্ত বিবৃতিগুলির উপর ভিত্তি করে সিদ্ধান্তগুলি অধ্যয়ন করুন এবং উপযুক্ত উত্তরটি নির্বাচন করুন:

- (a) যদি কবেল সিদ্ধান্ত I সত্য হয়
- (b) যদি কবেল সিদ্ধান্ত II সত্য হয়
- (c) যদি সিদ্ধান্ত I বা II সত্য হয়
- (d) যদি সিদ্ধান্ত I এবং II উভয়ই সত্য হয়
- (e) যদি সিদ্ধান্ত I বা II কোনোটাই সত্য না হয়

Q81. বিবৃতি: $B \geq O > M = E > L < D > Z$

সিদ্ধান্ত: I. $O \leq Z$ II. $B > D$

Q82. বিবৃতি: $E < G < J \geq N = B > U < P$

সিদ্ধান্ত: I. $J > U$ II. $P > G$

Q83. বিবৃতি: $Y < K = S \geq J < I > E < C \leq D$

সিদ্ধান্ত: I. $K < D$ II. $S \geq D$

নরিদশোবলী (84-88): নমিনরে তথ্যগুলি মনোযোগ সহকারে পড়ুন এবং প্রশ্নগুলির উত্তর দিন:

আটজন ব্যক্তি - H, M, A, G, K, O, C এবং D একটি বর্গাকার টেবিলের চারপাশে বসে আছেন। তাদের মধ্যে চারজন টেবিলের চার কোণে বসে আছেন এবং বাকি চারজন টেবিলের প্রতিটি পাশে মাঝে বসে আছেন, কিন্তু তারা একই ক্রমে বসে নেই। কোণে বসা ব্যক্তির কন্ড্রের দিকে মুখ করে বসে আছেন, আর প্রতিটি পাশে মাঝে বসা ব্যক্তির কন্ড্রের বিপরীত দিকে মুখ করে বসে আছেন।

K, H-এর ঠিক বামদিকে বসে আছেন। G, K-এর দ্বিতীয় বামদিকে বসে আছেন। A এবং M-এর মধ্যে তিনজন ব্যক্তি বসে আছেন। M, G-এর ঠিক বামদিকে বসে আছেন। H এবং O-এর মধ্যে মাত্র দুজন ব্যক্তি বসে আছেন। O টেবিলের একটি কোণে বসে আছেন কিন্তু M-এর পাশে বসে নেই। D, G-এর তৃতীয় বামদিকে বসে আছেন।

Q84. নমিনরে ব্যক্তিদের মধ্যে কে G এর বিপরীতে বসে আছেন?

- (a) D
- (b) C
- (c) O
- (d) M
- (e) A

Q85. M এর সাপেক্ষে O এর অবস্থান কি?

- (a) বামদিকে তৃতীয়
- (b) ডানদিকে তৃতীয়
- (c) ডানদিকে চতুর্থ
- (d) ডানদিকে পঞ্চম
- (e) ডানদিকে দ্বিতীয়

Q86. A এর ডানদিক থেকে গণনা করা হলে A এবং G এর মাঝে কতজন ব্যক্তি বসে আছেন?

- (a) একজন
- (b) দুইজন
- (c) পাঁচজন
- (d) তিনজন
- (e) চারজন

Q87. এদের মধ্যে চারজন একটি নির্দিষ্ট পদ্ধতি অনুসারে একই প্রকারের অতএব এরা একত্রে একটি গ্রুপ গঠন করেছে। নমিনরে কে এই গ্রুপের সদস্য নয় নির্ণয় করুন।

- (a) M
- (b) H
- (c) A
- (d) D
- (e) K

Q88. নম্বনের কোন ববিতটি/গুলিসঠকি?

I. G এর দ্বিতীয় বামদকি C বসে আছ।

II. A এর বপিরীতে G বসে আছ।

III. M এর বামদকি থেকে গণনা করা হলে M এবং K এর মধ্য দুইজন ব্যাক্তি বসে আছ।

(a) শুধুমাত্র I

(b) শুধুমাত্র III

(c) শুধুমাত্র II

(d) I এবং III উভয়ই

(e) I, II এবং III

নর্দিশোবলী (89-91): নীচের প্রশ্নগুলিতে, কিছু ববিত দেওয়া হয়েছে যার পরে দুটি সদিধান্ত রয়েছে। সাধারণ জ্ঞানের সাথে ভিন্ন মনে হলেও আপনাকে প্রদত্ত ববিতগুলিকে সত্ব বলে ধরনেতে হবে। সমস্ত ববিত পড়ুন এবং সদিধান্ত ননি যে প্রদত্ত সদিধান্ত গুলির মধ্য কোনটি যৌক্তিকভাবে ববিতগুলি থেকে অনুসরণ করে। উত্তর দিন:

Q89. ববিত:

সমস্ত চাবি রাবার।

শুধুমাত্র কয়েকটি রাবার বিন্দু।

কিছু বিন্দু কাগজ।

সদিধান্ত:

I. কিছু চাবি কাগজ নয়।

II. কোনো কাগজ রাবার হওয়ার সম্ভাবনা আছ।

(a) শুধুমাত্র I অনুসরণ করে

(b) শুধুমাত্র II অনুসরণ করে

(c) হয় I অথবা II অনুসরণ করে

(d) I বা II কোনটিই অনুসরণ করে না

(e) I এবং II উভয়ই অনুসরণ করে

Q90. ববিত: শুধুমাত্র মাটি হল উদ্ভদি।

কিছু মাটি পালক।

কোনো পালক রং নয়।

সদিধান্ত:

I. সমস্ত পালক মাটি হওয়ার সম্ভাবনা আছ।

II. কিছু মাটি রং নয়।

(a) শুধুমাত্র I অনুসরণ করে

(b) শুধুমাত্র II অনুসরণ করে

(c) হয় I অথবা II অনুসরণ করে

(d) I বা II কোনটিই অনুসরণ করে না

(e) I এবং II উভয়ই অনুসরণ করে

Q91. ববিত্ত: শূধুমাত্ৰ কয়কেটী টাকা হল স্কলে।

সমস্ত স্কলে হল গ্ৰাফ।

কছী গ্ৰাফ হল ইট।

সদিধান্ত:

I. কনো ইট স্কলে নয়।

II. সমস্ত টাকা হল গ্ৰাফ।

(a) শূধুমাত্ৰ I অনুসরণ করে

(b) শূধুমাত্ৰ II অনুসরণ করে

(c) হয় I অথবা II অনুসরণ করে

(d) I বা II কনটীহী অনুসরণ করে না

(e) I এবং II উভয়ই অনুসরণ করে

নরিদশোবলী (92-94): নমিনলখিতি তথ্য়গুলি সাবধানতার সাথে অধ্যয়ন করুন এবং নমিনে প্ৰদত্ত প্ৰশ্নরে উত্তর দিন:

নরিদশিট সংখ্যক ব্যক্তি উত্তর দকি মুখ করে একটি সারতি বসে আছে। B এর বাম দকি পঞ্চম স্থানে A বসে আছে। E হল B এর নকিটতম প্ৰতিবিশৌ। F বসছে A এর বাম দকি দ্বিতীয় স্থানে এবং সারতিরী চূড়ান্ত প্ৰান্তগুলিরী একটিরী থেকে দ্বিতীয় স্থানে। B এবং G এর মধ্য কবেলমাত্ৰ একজন ব্যক্তি বসে আছে। E, G নকিটতম প্ৰতিবিশৌ নয়। G এর ডানদকি চতুর্থ স্থানে K বসে আছে। K এর ডানদকি কটে বসে নেই। K এবং T এর মাঝখানে পাঁচ জন ব্যক্তি বসে আছে।

Q92. নমিনলখিতি ব্যক্তিদের মধ্য ক T এর ডানদকি চতুর্থ স্থানে বসে আছে?

(a) E

(b) G

(c) A

(d) F

(e) B

Q93. নমিনলখিতিদরে মধ্য ক সারতিরী বাম প্ৰান্ত থেকে সপ্তম স্থানে বসে আছে?

(a) B

(b) G

(c) E

(d) T

(e) অজানা ব্যক্তি

Q94. সারতিতে বসে কতজন ব্যক্তি বসে আছে?

(a) 13

(b) 14

(c) 15

(d) 11

(e) 12

নর্দিশোবলী (95-97): প্রদত্ত তথ্যগুলি মনোযোগ সহকারে পড়ুন এবং নম্নরে প্রশ্নগুলির উত্তর দিন।
একটি তনি প্রজন্মরে পরিবারে আটজন সদস্য রয়েছে, যার মধ্যে তনিটি বিবাহিত দম্পতি রয়েছে। M হল O-এর বাবা। Q হল G-এর পুত্রবধূ। Q হল S-এর মা। S হল M-এর নাতী বা নাতনী। P হল M-এর বোনা। S এবং T হল ভাইবোনা। T হল O-এর একমাত্র ছেলে। L এবং P হল বিবাহিত দম্পতি।

Q95. G, T এর সাথে কীভাবে সম্পর্কিত ?

- (a) মা
- (b) নাতনী
- (c) ঠাকুমা
- (d) ঠাকুরদা
- (e) এদের মধ্যে কোনটিই নয়

Q96. পরিবারটিতে কতজন মহিলা সদস্য রয়েছেন?

- (a) তনিজন
- (b) পাঁচজন
- (c) চারজন
- (d) দুইজন
- (e) এদের মধ্যে কোনটিই নয়

Q97. নম্নরে মধ্যে কে O এর পসি?

- (a) G
- (b) P
- (c) Q
- (d) T
- (e) নরিণয় করা যাবে না

Q98. '275849136' সরিজিটিতে এমন কতগুলি সংখ্যা জোড়া আছে, যার মধ্যে প্রকৃত সংখ্যার ক্রমরে মধ্যে থাকা ব্যবধান অনুসৃত হয়েছে (এটিকে সামনরে এবং পছিনরে উভয় দকি থেকেই বিবিনা করতে হবে)।

- (a) এক
- (b) দুই
- (c) তনি
- (d) চার
- (e) চার এর বেশি

Q99. 'HUNGARILY' শব্দটির বর্ণগুলিকে বর্ণানুক্রমরে বাম থেকে ডানদকিে সাজানো হল, কতগুলি বর্ণ তাদের পূর্বরে অবস্থানে অপরিবর্তিত থাকবে?

- (a) একটিও নয়
- (b) দুটি
- (c) চারটি
- (d) তনিটি
- (e) একটি

Q100. "RENOVATION" শব্দটির দ্বিতীয়, চতুর্থ, পঞ্চম এবং দশম বর্ণগুলি ব্যবহার করে (বামপ্রান্ত থেকে) যদি একটি অর্থপূর্ণ শব্দ গঠিত হয়, তাহলে সেই শব্দটির বামপ্রান্ত থেকে দ্বিতীয় বর্ণটি কী হবে? যদি একাধিক অর্থপূর্ণ শব্দ গঠিত হয়, তাহলে উত্তর হিসেবে Y কে নির্বাচন করুন। যদি কোনো অর্থপূর্ণ শব্দ গঠিত না হয়, তাহলে Z কে উত্তর হিসেবে নির্বাচন করুন।

- (a) N
- (b) Y
- (c) E
- (d) Z
- (e) V

Solutions

S1. Ans.(d)

Sol. Answer: (d) accompany (Incorrect spelling)

Correct spelling: accompany

Meaning of "accompany":

In English: To go somewhere with someone or to exist at the same time as something else.

In Bengali: সঙ্গে যাওয়া, সঙ্গ দিতে।

Meanings of the words in both English and Bengali:

1. Asked

- English: Past tense of "ask," meaning to inquire or request something.
- Bengali: জিজ্ঞাসা করা, অনুরোধ করা।

2. Heavy

- English: Having great weight; difficult to lift or move.
- Bengali: ভারী

3. Market

- English: A place where goods are bought and sold.
- Bengali: বাজার

4. Accompany (Correct spelling of "acompany")

- English: To go with someone or exist along with something.
- Bengali: সঙ্গে যাওয়া, সহগমন করা।

S2. Ans.(b)

Sol. The correct answer is:

(b) expect

Explanation:

The word "expect" is incorrect in this context. The correct word should be "except", which means "excluding" or "apart from."

Correction:

"Everyone attended the meeting except John, who was feeling unwell."

Here are the meanings of all the words in both English and Bengali:

1. **Attended** (verb)
 - **English:** To be present at an event or place.
 - **Bengali:** উপস্থিত থাকা
2. **Expect** (verb) (incorrect usage in the sentence, should be "except")
 - **English:** To anticipate or look forward to something happening.
 - **Bengali:** আশা করা
3. **Except** (preposition) (correct word for the sentence instead of "expect")
 - **English:** Excluding or apart from.
 - **Bengali:** ছাড়া / ব্যতীত
4. **Meeting** (noun)
 - **English:** A gathering of people for discussion or decision-making.
 - **Bengali:** সভা / বৈঠক
5. **Feeling** (noun/verb)
 - **English:** An emotional or physical sensation.
 - **Bengali:** অনুভূতি / অনুভব করা

S3. Ans.(c)

Sol. The incorrect word is:

(c) restuarant → The correct spelling is **restaurant**.

Here are the meanings of all the words in both English and Bengali:

1. **Dinner** (রাতের খাবার) – The main meal of the evening.
2. **Opened** (খোলা/শুরু হয়েছে) – Made accessible or started operation.
3. **Restaurant** (রেস্টুরেন্ট) – A place where people pay to eat meals.
4. **Recently** (সাম্প্রতিকভাবে) – Not long ago; in the near past.

S4. Ans.(d)

Sol. Correct answer: (d) **form** (Incorrect usage)

The correct word should be "**from**" instead of "**form**" in this context.

Here are the meanings of all the words in both English and Bengali:

1. **Friend** (বন্ধু) – A person with whom one has a bond of mutual affection.
2. **Beautiful** (সুন্দর) – Pleasing to the eye or mind.
3. **Received** (প্রাপ্ত) – Got or accepted something given or sent.
4. **Form** (আকৃতি/গঠন) – Shape, structure, or document (Incorrect word in the sentence; should be "From").
5. **From** (থেকে) – Indicating the source, place, or point of origin.

S5. Ans.(a)

Sol. The incorrect word is:

(a) contantment → The correct spelling is **contentment**.

Meanings of all words:

1. **Contentment** (সন্তুষ্টি) – A state of happiness and satisfaction.
2. **Fireplace** (অঙ্গি/চুলা) – A space for a fire, usually in a house.
3. **Sipping** (চুমুক দেওয়া) – Drinking something slowly in small amounts.
4. **Sense** (অর্থ/অনুভূতি) – A feeling or perception about something.

S6. Ans.(b)

Sol. Meaning of "Batch":

English:

1. A group of things or people produced or dealt with together.
2. A specific quantity of something made at one time.

Bengali:

1. একটি দল বা গোষ্ঠী যেখানে একসঙ্গে তৈরি বা পরিচালিত জিনিসগুলি অন্তর্ভুক্ত থাকে।
2. কোনও কিছুর একটি নির্দিষ্ট পরিমাণ যা একবারে তৈরি হয়।

Analysis of Given Sentences:

✓ (I) "The bakery prepared a fresh batch of cookies every morning to satisfy its customers."

✓ **Correct Usage** – Here, "batch" correctly refers to a **specific quantity** of cookies baked at one time.

✗ (II) "She earned a batch for completing the advanced level of the training program."

✗ **Incorrect Usage** – The word "**batch**" is **wrongly used instead of "badge."** A "badge" is an emblem or token of achievement, not a batch.

✓ (III) "The professor graded the first batch of exam papers before taking a break."

✓ **Correct Usage** – "Batch" correctly refers to a **group of exam papers** graded together.

Correct Answer:

(b) Both (I) and (III)

S7. Ans.(d)

Sol. Meaning of "SLIP"

English:

1. To lose one's balance or footing and slide unintentionally.
2. A small piece of paper.
3. To move or go quietly or quickly, often without being noticed.

Bengali:

1. পিছলে যাওয়া (সংযম বা ভারসাম্য হারানো)।
2. চিঠি/স্লিপ (একটি ছোট কাগজের টুকরো)।
3. নিঃশব্দে বা দ্রুত বেরিয়ে যাওয়া।

Analysis of Given Sentences:

(I) She tried to walk carefully on the icy road, but she couldn't avoid a slip and fell.

✓ Correct – "Slip" is correctly used as a noun meaning "losing balance or footing."

(II) He wrote his phone number on a small slip of paper and handed it to her.

✓ Correct – "Slip" is correctly used as a noun meaning "a small piece of paper."

(III) She couldn't slip well last night because of the loud thunderstorm.

✗ Incorrect – "Slip" is wrongly used here. The correct word should be "sleep", as "slip" does not mean resting or sleeping.

Correct Answer:

(d) Both (I) and (II)

S8. Ans.(d)

Sol. Answer: (d) All (I), (II), and (III)

Meaning of "Rate":

• In English:

1. A measure, quantity, or frequency (e.g., interest rate, birth rate).
2. To evaluate or judge the quality of something.

• In Bengali:

1. হার, মূল্য, শতাংশ (যেমন সুদের হার, জন্মহার)।
2. মূল্যায়ন করা, পরিমাপ করা।

Explanation of Sentences:

1. (I) The interest rate on home loans has increased significantly this year. ✓ (Correct usage; "rate" refers to a percentage applied to interest on loans.)
2. (II) Doctors rate this hospital as one of the best in the country. ✓ (Correct usage; "rate" is used as a verb, meaning to evaluate or judge.)
3. (III) The birth rate in many developed countries has been declining over the years. ✓ (Correct usage; "rate" refers to the frequency of births per year.)

Since all three sentences correctly use the word "rate," the correct answer is (d) All (I), (II), and (III).

S9. Ans.(b)

Sol. The correct sequence BADC forms a logical and grammatically correct sentence:

- (B) Before the trial → Establishes the context (when it happened).
- (A) began, 12 jurors were → Connects with (B) to indicate what happened before the trial began.
- (D) randomly selected from → Explains the action performed on the jurors.
- (C) a pool of candidates. → Completes the sentence by specifying where they were selected from.

Final sentence: "Before the trial began, 12 jurors were randomly selected from a pool of candidates."

S10. Ans.(c)

Sol. Option (c) CABD is correct because it forms a logical and grammatically correct sentence:

- C starts the sentence with the subject: "The world is full of nonsense,"
- A continues with additional details: "useless stuff, and imaginary"
- B connects it to the main idea: "things, so we can't"
- D concludes the sentence properly: "believe everything."

This sequence ensures clarity and coherence.

The correct sentence after rearrangement is:

"The world is full of nonsense, useless stuff, and imaginary things, so we can't believe everything."

S11. Ans.(d)

Sol. Explanation for Option (d) - DCBA

The correct sequence should follow a logical structure:

1. **(D) "Crowds of people"** – This introduces the subject of the sentence.
2. **(C) "rushed into the nightclub to"** – This explains what the people did.
3. **(B) "have a gregarious time dancing"** – This describes their purpose.
4. **(A) "and singing to the music"** – This completes the idea by adding another activity.

Final Sentence:

"Crowds of people rushed into the nightclub to have a gregarious time dancing and singing to the music."

S12. Ans.(c)

Sol. Option (c) CDAB is the correct answer.

Sequence Explanation:

1. **(C) The dictator was** – This is the logical subject of the sentence.
2. **(D) inhumane and unconcerned** – This describes the dictator's nature.
3. **(A) that many of his** – This introduces what the dictator was unconcerned about.
4. **(B) citizens lacked food** – This completes the thought.

Final Sentence:

"The dictator was inhumane and unconcerned that many of his citizens lacked food."

S13. Ans.(b)

Sol. The word **"shooting"** refers to the act of discharging a firearm. The best replacement is **"firing,"** which also refers to the act of using a gun.

- **Stabbing** involves a knife, not a firearm.
- **Striking** and **beating** refer to physical attacks but not gun-related violence.
- **Kicking** is unrelated to the meaning of **shooting** in this context.

S14. Ans.(b)

Sol. The passage states, **"Speeding, distracted driving, and driving under the influence are major contributors to fatal crashes."** This confirms (I). It also mentions, **"Poorly maintained roads and insufficient traffic signals worsen the situation,"** validating (II). However, (III) is incorrect, as the passage does not explicitly state that the increasing number of vehicles is a **primary** cause of accidents. The correct answer is **(b) Both (I) and (II).**

S15. Ans.(a)

Sol. The word **"restore"** means to bring back or re-establish something to its original condition. The best replacement is **"reinstate,"** which conveys the same meaning.

- **Abandon** means to give up or leave, which is the opposite of restore.
- **Destroy** means to ruin, which contradicts the intended meaning.
- **Rejuvenate** means to make something fresh or young again, which does not fit the idea of bringing back discipline.
- **Replicate** means to copy or duplicate, which does not align with the meaning of **restore** in this context.

S16. Ans.(b)

Sol. The sentence refers to the **increasing number** of road accidents. The best word to fill the blank is "rate," which correctly describes the frequency of accidents.

- **Decline, Reduction, and Prevention** all indicate a decrease, which contradicts the passage.
- **Solution** does not fit, as the sentence discusses the **consequence** of traffic issues, not their resolution.

S17. Ans.(b)

Sol. The passage states, "An effective way to restore safe driving habits is through celebrity-endorsed road safety campaigns." This supports (I). It also mentions, "Celebrities influence public behavior, and their involvement can encourage drivers to follow traffic rules," validating (II). However, (III) is incorrect because the passage does not claim that reckless driving has been eliminated due to celebrity campaigns. The correct answer is **(b) Both (I) and (II)**.

S18. Ans.(d)

Sol. The passage states, "Poorly maintained roads and insufficient traffic signals worsen the situation," confirming that (I) is **true**. It also mentions, "Celebrities influence public behavior, and their involvement can encourage drivers to follow traffic rules," making (III) **true**. However, (II) is **false**, as the passage attributes road rage to **frustration, delays, and reckless driving**, not the presence of strict traffic police. Therefore, the correct answer is **(d) Both (I) and (III)**.

S19. Ans.(e)

Sol. The passage states that **traffic cameras help reduce violations**, but it does **not** claim that they have **completely eliminated** reckless driving, making (I) **false**. It also mentions that **road rage can escalate into physical assaults or even shooting incidents**, proving (II) **false**. Lastly, the passage **does not suggest** that reducing the number of vehicles is the best way to prevent accidents; instead, it emphasizes **law enforcement, road safety awareness, and improved infrastructure**, making (III) **false** as well. Therefore, the correct answer is **(e) All (I), (II), and (III) are false**.

S20. Ans.(b)

Sol. Correct answer: (b) B

Explanation:

The error lies in part **B**, where "sewage has heavily polluted" is incorrect.

Grammatical Rule Applied:

- The subject "**Industrial waste and sewage**" is a **compound subject** joined by "and," which makes it **plural**.
- A plural subject requires a **plural verb**, but "**has**" is singular.
- The correct verb should be "**have**" instead of "**has**" to agree with the plural subject.

Corrected Sentence:

"Industrial waste and sewage **have** heavily polluted the Ganga, endangering aquatic life and human health."

S21. Ans.(c)

Sol. Correct answer: (c) C

Explanation:

The error is in part C – "resilient" should be "**resilience**" to maintain proper noun usage.

Rule:

"Resilience" is a noun, while "resilient" is an adjective. Since the sentence requires a noun ("inclusive climate resilience"), "resilient" must be corrected to "resilience."

Corrected Sentence:

India's cities must build inclusive climate **resilience** to protect vulnerable communities

S22. Ans.(c)

Sol. Correct answer: (c) C

Error explanation:

In part (C), "**highlight**" should be "**highlighting**" to maintain parallelism with "**have sparked**" in part (A). The verb should be in its present participle (-ing) form to correctly follow the helping verb "have."

Correct sentence:

The UGC draft regulations have **sparked** concerns in southern states, **highlighting** regional disparities and the need for a more inclusive policy framework.

S23. Ans.(c)

Sol. Correct Answer: (c) C

Grammatical Rule Explanation:

The error is in part (C): "**when him assisted the**"

1. **Incorrect Pronoun Usage:**

- "Him" is an **object pronoun** (used as the object of a verb or preposition).
- The subject of the verb "assisted" should be a **subject pronoun** ("he" instead of "him").

2. **Corrected Sentence:**

3. "**The escaped prisoner showed compassion when he assisted the wounded police officer.**"

Strict Grammatical Rule Applied:

- **Pronoun Case Rule:** A **subject pronoun** (I, you, he, she, it, we, they) must be used as the subject of a verb, while an **object pronoun** (me, you, him, her, it, us, them) is used as the object of a verb or preposition.
- In the clause "**when him assisted the wounded police officer,**" the pronoun "him" is incorrectly used as the subject. It must be replaced with "he" (a subject pronoun).

S24. Ans.(b)

Sol. Correct Answer: (b) B

Error Explanation:

The phrase "**being polite**" in part (B) is incorrect.

Grammar Rule Applied:

• **Verb Form Usage:**

- After "**expect**", the correct verb form is the **infinitive ("to be")**, not the gerund ("being").

Corrected Sentence:

"**Most teachers in school expect you to be polite to both the teachers and the other students.**"

S25. Ans.(a)

Sol. The correct word is "near" because bees fly close to flowers.

- Happy – incorrect, as it describes an emotion.
- Strong – incorrect, as it describes strength.
- Cold – incorrect, as it describes temperature.
- Bright – incorrect, as it describes light.

S26. Ans.(a)

Sol. The correct word is "grow" because the process helps plants develop.

- Jump – incorrect, as it describes movement.
- Sleep – incorrect, as it does not relate to plants.
- Dry – incorrect, as it describes lack of water.
- Heavy – incorrect, as it describes weight.

S27. Ans.(c)

Sol. The correct word is "from" because pollen moves from one flower to another.

- Water – incorrect, as it is a noun, not a preposition.
- Tall – incorrect, as it describes height.
- Soft – incorrect, as it describes texture.
- Long – incorrect, as it describes length.

S28. Ans.(a)

Sol. The correct preposition is "on", as the phrase "impact on" is commonly used to indicate an effect or influence on something.

- **On** – Correct, because "impact on" means having an effect on something.
- **Fast** – Incorrect, as it does not fit the context.
- **Warm** – Incorrect, as it is unrelated to the meaning of the sentence.
- **Loud** – Incorrect, because "impact loud" is not a valid phrase.
- **Short** – Incorrect, as it does not convey the correct meaning.

S29. Ans.(d)

Sol. The correct phrase is "depend on", which means to rely on something.

- **Over** – Incorrect, because "depend over" is not a valid phrase.
- **Under** – Incorrect, because "depend under" does not make sense.
- **Upper** – Incorrect, as it describes position, not dependence.
- **On** – Correct, because "depend on" means to rely on something.
- **Open** – Incorrect, as it is unrelated to the meaning of the sentence.

S30. Ans.(c)

Sol. The correct phrase is "take care of", which means to look after or protect something.

- **In** – Incorrect, because "take care in" is not the right phrase in this context.
- **Kind** – Incorrect, because "take care kind" does not make sense.
- **Of** – Correct, because "take care of" is the proper phrase to express responsibility.
- **Slow** – Incorrect, as it describes speed, not care.
- **Clean** – Incorrect, as it describes cleanliness, not protection.

S31. Ans.(d)

Sol. $780 - 144 = ? \times 318$
 $2 = ?$

S32. Ans.(e)

Sol. $? = 566 - 420$
 $? = 146$

S33. Ans.(b)

Sol. $450 - \frac{60}{100} \times 225 + 512 = ?$
 $962 - 135 = ?$
 $? = 827$

S34. Ans.(a)

Sol. $? = 120 \times 20 \times \frac{1}{5} - 80$
 $? = 480 - 80$
 $? = 400$

S35. Ans.(d)

$?^2 = 169 - 25$
 $?^2 = 144$
 $? = 12$

S36. Ans.(a)

Sol. $(35 - 8) \times \frac{1}{9} + 3 = ?$
 $3 + 3 = ?$
 $6 = ?$

S37. Ans.(e)


Sol. $? = 245 + 30 - 200$
 $? = 275 - 200$
 $? = 75$

S38. Ans.(d)

Sol. $36 + \frac{30}{100} \times 750 - 136 = ?^3$
 $125 = ?^3$
 $5 = ?$


S39. Ans.(c)

Sol. $\frac{45}{100} \times 220 + 15 \times ? = 129$
 $15 \times ? = 129 - 99$
 $? = 2$



Test
Prime

ALL EXAMS,
ONE SUBSCRIPTION.



S40. Ans.(e)

Sol. $? \times 4 = 171 + 177$

$$? = \frac{348}{4}$$

$$? = 87$$

S41. Ans.(a)

Sol. এপ্রিল মাসে B দ্বারা বিক্রি হওয়া সিনেমার টিকিট $= \frac{4}{1} \times 100 = 400$

S42. Ans.(b)

Sol. প্রয়োজনীয় গড় $= \frac{90+150+120}{3} = 120$

S43. Ans.(d)

Sol. প্রয়োজনীয় শতাংশ $= \frac{150+90}{150} \times 100 = 160\%$

S44. Ans.(b)

Sol. প্রয়োজনীয় অনুপাত $= 100:150 = 2:3$

S45. Ans.(d)

Sol. প্রয়োজনীয় শতাংশ পার্থক্য $= \frac{100-100}{100} \times 100 = 0\%$

S46. Ans.(b)

Sol. শুক্রবারে বিক্রি না হওয়া মিষ্টি $= \frac{60}{40} \times 80 = 120$

S47. Ans.(b)

Sol. প্রয়োজনীয় পার্থক্য $= 150 + 90 - 80 = 160$

S48. Ans.(c)

Sol. প্রয়োজনীয় শতাংশ $= \frac{100-90}{100} \times 100 = 10\%$

S49. Ans.(a)

Sol. প্রয়োজনীয় গড় $= \frac{150+90+80+100}{4} = 105$

S50. Ans.(e)

Sol. প্রয়োজনীয় অনুপাত $= 90:80 = 9:8$

S51. Ans.(d)

Sol. ধরা যাক মোট পরিমাণ $= 100x$

স্কিম A-তে বিনিয়োগ করা পরিমাণ $= 100x \times \frac{30}{100} = 30x$ Rs.

স্কিম B-তে বিনিয়োগ করা পরিমাণ $= 100x - 30x = 70x$ Rs.

প্রশ্নানুসারে,

$$30x \times \frac{10 \times 4}{100} + 70x \times \frac{5 \times 4}{100} = 1300$$

$$12x + 14x = 1300$$

$$26x = 1300$$

$$x = 50$$

$$\text{প্রয়োজনীয় পরিমাণ} = (50 \times 100) \times \frac{70}{100} = 3500 \text{ Rs.}$$

S52. Ans.(d)

Sol. ধরা যাক ব্যক্তির মাসিক আয় = $100x$ Rs

$$\text{প্রশ্নানুসারে, } 100x \times \frac{(100-25)}{100} \times \frac{(100-20)}{100} \times \frac{(100-20)}{100} = 19200$$

$$48x = 19200$$

$$x = 400$$

প্রয়োজনীয় আয় = 40000 টাকা

S53. Ans.(b)

Sol. গাড়ির গতি = $\frac{120}{5} = 24$ কিমি/ঘন্টা

বর্ধিত গতি = $24 \times \frac{125}{100} = 30$ কিমি/ঘন্টা

$$\text{প্রয়োজনীয় সময়} = \frac{84}{24} + \frac{135}{30}$$

$$= 3.5 + 4.5 = 8 \text{ ঘন্টা}$$

S54. Ans.(d)

Sol. ধরা যাক শহরে মোট পুরুষ ও মহিলার সংখ্যা = $100x$

$$\text{শহরে মোট মহিলা} = 100x \times \frac{(100-40)}{100} = 60x$$

$$\text{প্রশ্নানুসারে, } 60x \times \frac{(100-40)}{100} = 540$$

$$36x = 540$$

$$x = 15$$

$$\text{প্রয়োজনীয় পুরুষ} = 40 \times 15 = 600$$

S55. Ans.(b)

Sol. রীমা এবং সীমার লাভ ভাগের অনুপাত = 5:6

প্রশ্নানুসারে,

$$\frac{X}{X + 500} = \frac{5}{6}$$

$$6X - 5X = 2500$$

$$X = 2500$$

S56. Ans.(e)

Sol. প্রবন্ধর ক্রয় মূল্য = $\frac{2400}{120} \times 100 = 2000$ টাকা

প্রবন্ধর চিহ্নিত মূল্য = $\frac{2400}{80} \times 100 = 3000$ টাকা

নতুন বিক্রয় মূল্য = $3000 \times \frac{90}{100} = 2700$ টাকা

প্রয়োজনীয় লাভ = $2700 - 2000 = 700$ টাকা

S57. Ans.(e)

Sol. ধরা যাক সুনীতা এবং মোহিতের বর্তমান বয়স যথাক্রমে $6a$ এবং $5a$

$$\text{বিনীতার বর্তমান বয়স} = 5a + 11$$

প্রশ্নানুসারে,

$$5a + 11 = 2(6a - 5)$$

$$5a + 11 = 12a - 10$$

$$21 = 7a$$

$$a = 3$$

$$\text{প্রয়োজনীয় বয়স} = 5a + 11 = 5(3) + 11 = 26 \text{ বছর}$$

S58. Ans.(b)

Sol. প্রশ্নানুসারে,

$$\frac{70 \times \frac{3}{10} + X}{7} = \frac{3}{5}$$

$$70 \times \frac{3}{10} + 56$$

$$\frac{21 + X}{105} = \frac{3}{5}$$

$$X = 63 - 21$$

$$X = 42$$

S59. Ans.(e)

Sol. মোট কাজ ($48, 72$ এবং 54 এর ল.সা.গু) = 432 ইউনিট

$$A \text{ এর কর্মদক্ষতা} = \frac{432}{48} = 9 \text{ ইউনিট/দিন}$$

$$B \text{ এর কর্মদক্ষতা} = \frac{432}{72} = 6 \text{ ইউনিট/দিন}$$

$$C \text{ এর কর্মদক্ষতা} = \frac{432}{54} = 8 \text{ ইউনিট/দিন}$$

$$A \text{ এবং } B \text{ একত্রে দিনে করা কাজের পরিমাণ} = 8 \times (9 + 6) = 120 \text{ ইউনিট}$$

$$\text{প্রয়োজনীয় দিন} = \frac{432 - 120}{8} = 39 \text{ দিন}$$

S60. Ans.(b)

Sol. ধরি, নৌকার অনুকূলের গতি = $2a$ এবং প্রতিকূলের গতি = a

প্রশ্ন অনুসারে

$$\frac{105}{2a} + \frac{105}{a} = 7.5$$

$$\frac{105 + 210}{2a} = 7.5$$

$$a = 21$$

$$\text{স্থির জলে নৌকার গতি} = \frac{2a+a}{2} = 1.5a = 1.5 \times 21 = 31.5 \text{ কিমি/ঘন্টা}$$

S61. Ans.(d)

Sol. ধরি, ট্রেনের দৈর্ঘ্য x মিটার এবং ট্রেনের গতি y মিটার/সেকেন্ড।

$$x = 30y \text{ ---- (i)}$$

এবং

$$(x+350) = 45y \text{ ---- (ii)}$$

(i) এবং (ii) থেকে পাওয়া যায় :

$$\text{ট্রেনটি লম্বা} = x = 700 \text{ মিটার}$$

S62. Ans.(b)

Sol. ধরি, ছোট বৃত্ত এবং বড় বৃত্তের ব্যাসার্ধ যথাক্রমে r মিটার এবং R মিটার।

প্রশ্নানুসারে,

$$2\pi(R + r) = 132 + 88$$

$$R + r = \frac{220}{44} \times 7$$

$$R + r = 35 \text{ মিটার}$$

S63. Ans.(d)

Sol. প্যাটার্ন -

91	112	136	164	197	?=236
+21	+24	+28	+33	+39	
+3	+4	+5	+6		

S64. Ans.(a)

Sol. প্যাটার্ন -

$$12 \times 3 + 3 = 39$$

$$39 + 3 + 3 = 120$$

$$120 \times 3 + 3 = 363$$

$$363 + 3 + 3 = 1092$$

$$1092 \times 3 + 3 = 3279$$

S65. Ans.(d)

Sol. প্যাটার্ন -

$$5040 \times \frac{1}{6} = 840$$

$$840 \times \frac{1}{5} = 168$$

$$168 \times \frac{1}{4} = 42$$

$$42 \times \frac{1}{3} = 14$$

$$14 \times \frac{1}{2} = 7$$

নির্দেশাবলী (66-70)::

মাস	দিন	ব্যক্তি
জানুয়ারি	8	A
	27	F
মে	8	D
	27	C
জুন	8	H
	27	E
নভেম্বর	8	B
	27	G

S66. Ans.(d)

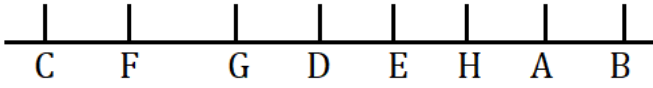
S67. Ans.(e)

S68. Ans.(d)

S69. Ans.(e)

S70. Ans.(d)

নির্দেশাবলী (71-75): চূড়ান্ত বিন্যাসটি হল:



S71. Ans.(b)

S72. Ans.(a)

S73. Ans.(b)

S74. Ans.(c)

S75. Ans.(d)

নির্দেশাবলী (76-80):

S76. Ans.(c)

S77. Ans.(e)

S78. Ans.(e)

S79. Ans.(c)

S80. Ans.(e)

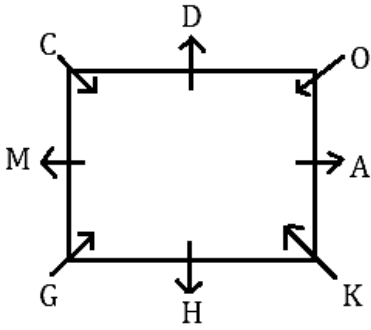
নির্দেশাবলী (81-83):

S81. Ans.(e)

S82. Ans.(a)

S83. Ans.(c)

নির্দেশাবলী (84-88):



S84. Ans.(c)

S85. Ans.(b)

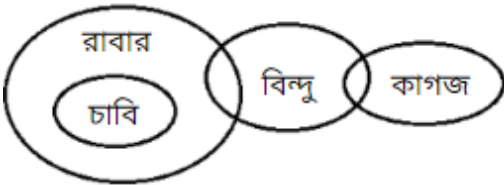
S86. Ans.(b)

S87. Ans.(e)

S88. Ans.(d)

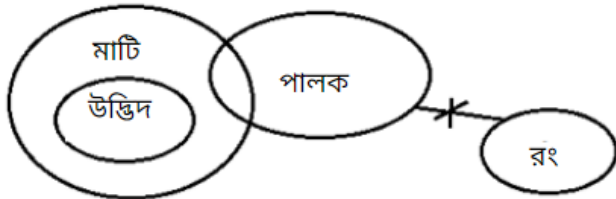
S89. Ans.(b)

Sol.



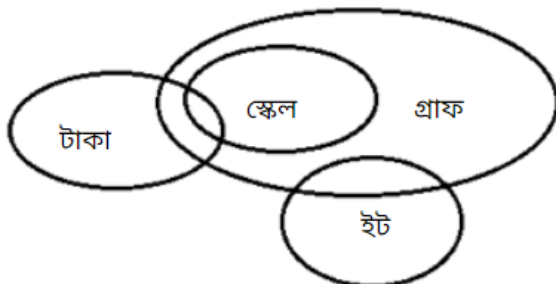
S90. Ans.(e)

Sol.

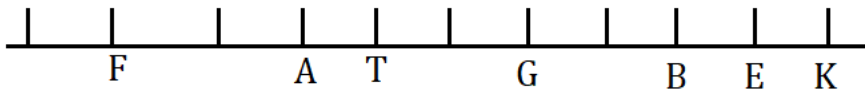


S91. Ans.(d)

Sol.



Solutions (92-94):

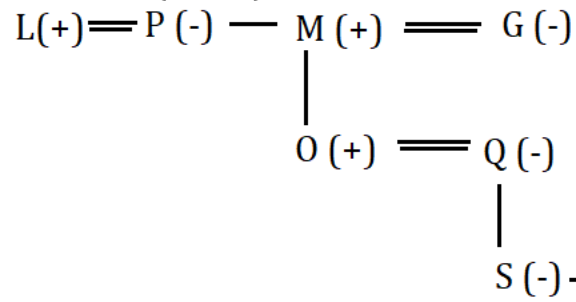


S92. Ans.(e)

S93. Ans.(b)

S94. Ans.(d)

Solutions (95-97):



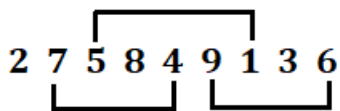
S95. Ans.(c)

S96. Ans.(c)

S97. Ans.(b)

S98. Ans.(c)

Sol.



S99. Ans.(e)

S100. Ans.(e)

