

**Constable GD in CAPFs and SSF Rifleman GD in AR and Sepoy in NCB Examination 2025**

Exam Date	04/02/2025
Exam Time	9:00 AM - 10:00 AM
Subject	Constable GD Examination 2025

Section : Part-A-General Intelligence and Reasoning

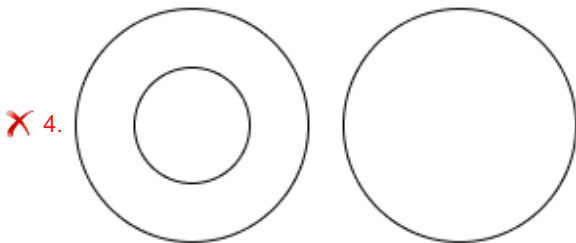
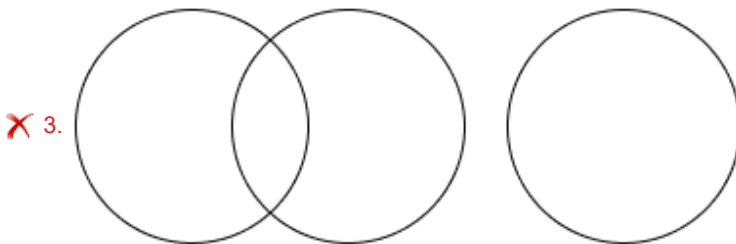
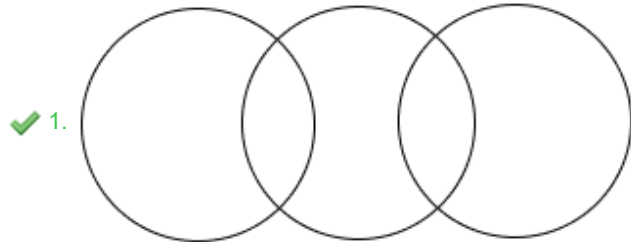
**Q.1** In a certain code language, 'BSGN' is coded as '5-22-10-17' and 'TAUE' is coded as '23-4-24-8'. How is 'PJDQ' coded in the given language?

- Ans
- 1. 15-11-5-19
  - 2. 19-13-7-20
  - 3. 16-12-8-18
  - 4. 17-13-6-20

**Q.2** Select the Venn diagram that best illustrates the relationship among the following classes.

Female, Cardiologist, Engineer

Ans



**Q.3** Based on the English alphabetical order, three of the following four letter-clusters are alike in a certain way and thus form a group. Which letter-cluster DOES NOT belong to that group?

(Note: The odd man out is not based on the number of consonants/vowels or their position in the letter-cluster.)

- Ans
- 1. HJL
  - 2. SUV
  - 3. FHJ
  - 4. NPR

# Test Prime

ALL EXAMS,  
ONE SUBSCRIPTION



**70,000+**  
Mock Tests



Personalised  
Report Card



Unlimited  
Re-Attempt



**600+**  
Exam Covered



Previous Year  
Papers

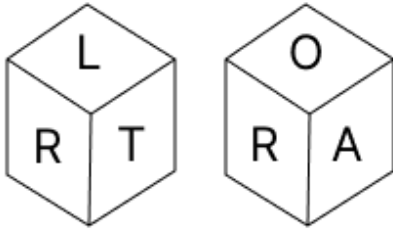


**500%**  
Refund



**ATTEMPT FREE MOCK NOW**

Q.4 A dice has its faces marked by letters E, R, A, L, O and T. Two positions of the same dice are shown in the given figures. Which face is opposite to face E?



- Ans
- 1. L
  - 2. A
  - 3. O
  - 4. R

Q.5 In a certain code language, 'JAMB' is coded as '5139' and 'BALM' is coded as '9521'. What is the code for 'L' in the given code language?

- Ans
- 1. 5
  - 2. 9
  - 3. 2
  - 4. 1

Q.6 Based on some logic, 'CLONE' is written as 'BLUKU' and 'BOUND' is written as 'AOAKT'. Following the same logic, 'NICHE' can be written as:

- Ans
- 1. NIET
  - 2. MIET
  - 3. MIIEU
  - 4. NIIEU

Q.7 What should come in place of the question mark (?) in the given series?

208 190 163 127 82 ?

- Ans
- 1. 28
  - 2. 54
  - 3. 45
  - 4. 12

Q.8 Seven people L, M, N, O, P, Q and R are sitting in a straight line facing the north (but not necessarily in the same order). M is sitting to the immediate left of P. O is sitting to the immediate left of Q. R is sitting to the immediate right of P and the immediate left of L. N is sitting to the immediate right of L and the immediate left of O. Who is sitting second to the left of N?

- Ans
- 1. P
  - 2. Q
  - 3. R
  - 4. M

Q.9 SBCF is related to RADG in a certain way. In the same way, NVMO is related to MUNP. To which of the following is GUAX related, following the same logic?

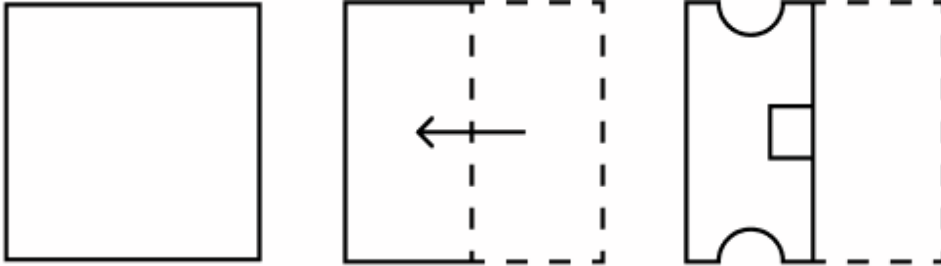
- Ans
- 1. FTBZ
  - 2. FTBY
  - 3. FTCY
  - 4. FRCY

Q.10 What should come in place of the question mark (?) in the given series based on the English alphabetical order?

EHO HJP KLQ ? QPS

- Ans
- 1. MMR
  - 2. MNR
  - 3. NMR
  - 4. NNR

Q.11 The sequence of folding a piece of paper and the manner in which the folded paper is cut is shown in the following figures. How would this paper look when unfolded?



Ans

- 1.
- 2.
- 3.
- 4.

Q.12 The position(s) of how many letters will remain unchanged if each letter in the word GRACEFUL is arranged in the English alphabetical order?

- Ans
- 1. Two
  - 2. None
  - 3. One
  - 4. Three

Q.13 Read the given statements and conclusions carefully. Assuming that the information given in the statements is true, even if it appears to be at variance with commonly known facts, decide which of the given conclusions logically follow(s) from the statements.

Statements:

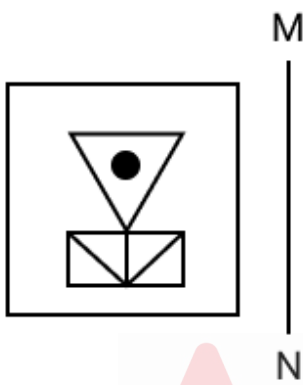
- All gabions are walls.
- All concretes are walls.
- All bridges are walls.

Conclusions:

- (I) Some bridges are gabions.
- (II) Some concretes are bridges.

- Ans
- 1. Neither conclusion (I) nor (II) follows
  - 2. Only conclusion (I) follows
  - 3. Both conclusions (I) and (II) follow
  - 4. Only conclusion (II) follows

Q.14 Select the correct mirror image of the given figure when the mirror is placed at MN as shown below.



Ans

- 1.
- 2.
- 3.
- 4.

Q.15 What will come in the place of the question mark '?' in the following equation, if '+' and 'x' are interchanged and '-' and '÷' are interchanged?

$$50 - 9 \div 1 + 63 \times 7 = ?$$

- Ans
- 1. 53
  - 2. 52
  - 3. 51
  - 4. 50

Q.16 Identify the figure given in the options which when put in place of the question mark (?) will logically complete the series.

\$ \$	\$ % %	\$ % △ △ △	\$ % △ △ ○	○ ○ ○	?
----------	--------------	------------------------	------------------------	-------------	---

Ans

- 1. 

\$	○	U
%	U	U
△	U	U
△	U	U
○	U	U
- 2. 

\$	○	U
%	○	U
△	U	U
△	U	U
○	U	U
- 3. 

\$	○	U
%	○	U
△	U	U
○	U	U
- 4. 

\$	○	U
%	○	U
△	○	U
○	U	U

Q.17 Select the combination of letters that when sequentially placed in the blanks of the given series will make the series logically complete.

\_HKM O \_NP RN \_S UQT\_ XTW\_

- Ans
- 1. JKRVX
  - 2. LMQUY
  - 3. LKQVY
  - 4. JMRUX

Q.18 What should come in place of the question mark (?) in the given series?

4 6 10 18 34 ?

- Ans
- 1. 67
  - 2. 65
  - 3. 68
  - 4. 66

**Q.19** Eight people are sitting in two parallel rows containing 4 people each in such a way that there is equal distance between adjacent persons.  
In row 1, D, E, O and S are seated and all of them are facing south.  
In row 2, F, A, R and M are seated and all of them are facing north.  
Thus, each person faces another person from the other row.  
Only D sits to the left of E. Only R sits to the left of A. Only one person sits between A and F. Only one person sits between D and O.  
Which of the following represents both people facing each other?

- Ans**
- 1. E and A
  - 2. E and R
  - 3. E and M
  - 4. E and F

**Q.20** In a certain code language.

'X @ C' means 'X is the daughter of C',  
'X \$ C' means 'X is the husband of C',  
'X = C' means 'X is the mother of C' and  
'X \* C' means 'X is the father of C'.

Based on the above, how is J related to N if 'N @ E \$ J @ S'?

- Ans**
- 1. Daughter's son
  - 2. Sister's daughter
  - 3. Sister
  - 4. Mother

Section : Part-B-General Knowledge and General awareness

**Q.1** Pradhan Mantri Rojgar Protsahan Yojana is being implemented since \_\_\_\_\_.

- Ans**
- 1. 2015
  - 2. 2014
  - 3. 2017
  - 4. 2016

**Q.2** Where were the first Asian Games held in India?

- Ans**
- 1. New Delhi
  - 2. Gwalior
  - 3. Chennai
  - 4. Patiala

**Q.3** In August 2024, who bid farewell to the Supreme Court, became the first woman Chief Justice of the High Court for the State of Telangana and was the ninth woman to be elevated to the Supreme Court of India?

- Ans**
- 1. Aditi Kapoor
  - 2. Hima Kohli
  - 3. Kutti Rameshwaram
  - 4. Usha Iyer

**Q.4** Which of the following sports was included as a discipline in the 11<sup>th</sup> Asian Games Beijing 1990?

- Ans**
- 1. Wrestling
  - 2. Kabaddi
  - 3. Volleyball
  - 4. Squash

Q.5 Which are the two wettest places on Earth that receive more than 1,080 cm of rainfall in a year?

- Ans
- 1. Pasighat and Agumbe
  - 2. Gangtok and Amboli
  - 3. Cherrapunji and Mawsynram
  - 4. Mahabaleshwar and Neriamangalam

Q.6 As per National Multidimensional Poverty Index of India: A Progress Review 2023, which of the following union territories has the highest percentage of multidimensionally poor?

- Ans
- 1. Chandigarh
  - 2. Delhi
  - 3. Dadra and Nagar Haveli & Daman and Diu
  - 4. Puducherry

Q.7 What is the penalty amount specified under the Public Examinations (Prevention of Unfair Means) Bill, 2024, for individuals involved in unfair practices or offenses during exams?

- Ans
- 1. Up to one lakh rupees
  - 2. Up to twenty lakh rupees
  - 3. Up to eleven lakh rupees
  - 4. Up to ten lakh rupees

Q.8 Which Articles of the Constitution of India deals with the Union Public Service Commission?

- Ans
- 1. Articles 300 to 320
  - 2. Articles 330 to 338
  - 3. Articles 210 to 219
  - 4. Articles 315 to 323

Q.9 Which sector of the economy does the Green Revolution belong to?

- Ans
- 1. Service sector
  - 2. Industrial sector
  - 3. Financial sector
  - 4. Agricultural sector

Q.10 The annual Mamallapuram Dance Festival, which includes performances of Indian Classical Dances Bharatanatyam, Kuchipudi, Kathak, Mohiniattam, Odissi and Kathakali, is organised in \_\_\_\_\_.

- Ans
- 1. Tamil Nadu
  - 2. Andhra Pradesh
  - 3. Maharashtra
  - 4. Karnataka

Q.11 Which of the following sentences is/are true?

- i. The projected growth rate of the Indian agriculture sector for FY 2022-23 was 5.5%.
- ii. During the Financial Year 2021-22, agricultural exports of India reached to about US\$ 50.2 billion.
- iii. During Kharif Marketing Season 2021- 22, 581.7 lakh metric tons of rice was procured in India.

- Ans
- 1. Only i and ii
  - 2. Only ii and iii
  - 3. Only i
  - 4. Only ii



Q.12 Lakshmi Vishwanathan, who won the prestigious Natya Kalanidhi Award from the Music Academy was famous for which dance form?

- Ans
- 1. Kuchipudi
  - 2. Odissi
  - 3. Kathak
  - 4. Bharatanatyam

Q.13 What was the major economic challenge addressed in the Third Five-Year Plan (1961-1966)?

- Ans
- 1. Liberalisation of the economy
  - 2. Introduction of the service sector
  - 3. Focus on digital technology advancement
  - 4. War-time expenditure and resource allocation

Q.14 2<sup>nd</sup> October 2022 marked the \_\_\_\_\_ birth anniversary of Mahatma Gandhi, celebrated as Gandhi Jayanti.

- Ans
- 1. 153<sup>rd</sup>
  - 2. 150<sup>th</sup>
  - 3. 152<sup>nd</sup>
  - 4. 155<sup>th</sup>

Q.15 The NBPW, which can be considered as the most widespread Iron Age pottery, stands for \_\_\_\_\_.

- Ans
- 1. Northern Blue Polished Ware
  - 2. Northern Brown Polished Ware
  - 3. Northern Black Polished Ware
  - 4. Northern Bronze Polished Ware

Q.16 Part III of the Constitution of India stated about which of the following?

- Ans
- 1. Directive Principles of States Policy
  - 2. Fundamental Duties
  - 3. Citizenship
  - 4. Fundamental Rights

Q.17 Which of the following plants can be made to climb walls using special support?

- Ans
- 1. Sunflower Plant
  - 2. Lemon plant
  - 3. Rose plant
  - 4. Pumpkin plant

Q.18 Who were the key figures behind the recommendations that formed the basis of the Government of India Act, 1919?

- Ans
- 1. Lord Linlithgow and Edwin Montagu
  - 2. Lord Irwin and Edwin Montagu
  - 3. Lord Chelmsford and Edwin Montagu
  - 4. Lord Curzon and Edwin Montagu

Q.19 When did Michael Faraday discover electromagnetic induction, the principle behind the electric transformer and generator?

- Ans
- 1. 1853
  - 2. 1820
  - 3. 1875
  - 4. 1831

Q.20 She was a Carnatic legendary singer who sang in Europe, North America and at the United Nations General Assembly. Who was she?

- Ans
- 1. Beghum Akhtar
  - 2. Lata Mangeshkar
  - 3. Asha Bhosle
  - 4. Madurai Shanmukhavadiyu Subbulakshmi

Section : Part-C-Elementary Mathematics

Q.1 The LCM of 28, 60, 120 and 135 is:

- Ans
- 1. 7626
  - 2. 7560
  - 3. 7608
  - 4. 7569

Q.2 In an examination, there were three papers of Mathematics, two papers of English and one paper of Science. All papers were of 100 marks. S got 60% in Mathematics, 70% in English and 50% in Science. What was his percentage of marks in all papers?

- Ans
- 1. 61.33%
  - 2. 60.67%
  - 3. 61.67%
  - 4. 60%

Q.3 A number is first decreased by 15% and then increased by 20%. The number so obtained is 78 more than the original number. The original number is:

- Ans
- 1. 3900
  - 2. 2600
  - 3. 4500
  - 4. 5200

Q.4 If at same rate of interest, in 2 years, the simple interest is ₹42 and compound interest is ₹51, then what is the principal (in ₹)?

- Ans
- 1. 44
  - 2. 49
  - 3. 42
  - 4. 53

Q.5 Mandar has two grandsons Ketan and Tushar. 11 year old Ketan gets some money from Mandar's wealth and 12 year old Tushar gets rest of the money. But Ketan and Tushar will get money only when they turn 22 years old. Till then the money is in a bank getting interest at rate 8% compounded annually. When both turn 22, they receive the same amount. How much had Mandar given Tushar (in ₹) initially, if total money with Mandar was ₹24700?

- Ans
- 1. 11625
  - 2. 13175
  - 3. 12825
  - 4. 11875

Q.6 What is the cost price of an article which is sold for ₹1,566 with 8% profit?

- Ans
- 1. ₹1,420
  - 2. ₹1,390
  - 3. ₹1,450
  - 4. ₹1,400

Q.7 Two numbers are in the ratio of 4 : 9. If the mean proportional between them is 24, find the positive difference between the two numbers.

- Ans
- 1. 30
  - 2. 25
  - 3. 15
  - 4. 20

Q.8 Two trains having lengths of 210 m and 140 m are running at speeds of 80 km/h and 150 km/h, respectively, in the same direction. The time taken (in minutes) by the faster train, coming from behind, to completely cross the other train is:

- Ans
- 1. 2
  - 2. 0.3
  - 3. 0.5
  - 4. 1

Q.9 The price (per litre) of petrol increases by 85%. By what percent should its consumption be reduced such that the expenditure on it increases by 48% only?

- Ans
- 1. 18%
  - 2. 82%
  - 3. 20%
  - 4. 80%

Q.10 A can do a piece of work in 32 days and B in 48 days. They work together for 8 days and then A goes away. In how much time (in days) will B finish the 60% of the remaining work?

- Ans
- 1.  $18\frac{2}{5}$
  - 2.  $19\frac{3}{4}$
  - 3.  $16\frac{4}{5}$
  - 4.  $17\frac{3}{7}$

Q.11 Find the value of  $\left[ (48 \div 8) \times \left\{ \frac{49}{7} + \frac{40}{4} \times (7 - 3) \right\} \right]$

- Ans
- 1. 282
  - 2. 286
  - 3. 284
  - 4. 273

Q.12 Determine the largest four-digit number that is exactly divisible by 15, 25, 40, and 75.

- Ans
- 1. 9600
  - 2. 9975
  - 3. 9999
  - 4. 9960

Q.13 Two cones have their heights in the ratio 4 : 3 and the radii of their bases in the ratio 1 : 2. Find the ratio of their volumes.

- Ans
- 1. 4 : 9
  - 2. 1 : 3
  - 3. 2 : 9
  - 4. 2 : 5

Q.14 A dishonest shopkeeper promises to sell his goods at cost price. However, he uses a weight that actually weighs 46% less than what is written on it. Find his profit percentage.

- Ans
- 1.  $87\frac{10}{27}\%$
  - 2.  $85\frac{5}{27}\%$
  - 3.  $84\frac{5}{27}\%$
  - 4.  $86\frac{6}{27}\%$

Q.15 The average weight of Gopal, Akshay and Atul is 46 kg. If the average weight of Gopal and Akshay be 40 kg and that of Akshay and Atul be 45 kg, then the weight of Akshay (in kg) is:

- Ans
- 1. 47
  - 2. 42
  - 3. 32
  - 4. 52

Q.16 A student was getting the following four offers on the purchase of a book:

- I - Two successive discounts of 20% and 20%
- II - Two successive discounts of 25% and 15%
- III - Two successive discounts of 30% and 10%
- IV - Two successive discounts of 5% and 35%

Which scheme offers the most discount to the student?

- Ans
- 1. III
  - 2. II
  - 3. IV
  - 4. I

Q.17 A man goes to Ahmedabad from Kolkata at a speed of 9km/hr and returns to Kolkata at speed of 18km/hr, through same route. What is his average speed (in km/hr) of the entire journey?

- Ans
- 1. 8
  - 2. 12
  - 3. 17
  - 4. 15

Q.18 Vipul invests a sum of ₹5400 and Vijay invests a sum of ₹9400 at the same rate of simple interest per annum. If, at the end of 5 years, Vijay gets ₹840 more interest than Vipul, then find the rate of interest per annum (in percentage).

- Ans
- 1. 6.2
  - 2. 3.2
  - 3. 2.2
  - 4. 4.2

Q.19 The HCF of two numbers is 11 and their sum is 132. If both the numbers are greater than 42, then the difference between the two numbers is:

- Ans
- 1. 18
  - 2. 22
  - 3. 26
  - 4. 11

Q.20 What is the third proportional to 16 and 48?

- Ans
- 1. 144
  - 2. 121
  - 3. 169
  - 4. 135

Section : Part-D-English

Q.1 The following sentence has been split into four segments. Identify the segment that contains a grammatical error.

(A) He spoke passionately about his favourite book, / (B) articulating his thoughts clear / (C) and engaging everyone in a lively discussion / (D) about its themes.

- Ans
- 1. C
  - 2. D
  - 3. A
  - 4. B

Q.2 Select the most appropriate option to fill in the blank.

Grey \_\_\_\_\_ is no sure sign of attaining wisdom.

- Ans
- 1. heir
  - 2. air
  - 3. hare
  - 4. hair

Q.3 Select the most appropriate option to fill in the blank.

The dog ran \_\_\_\_\_ the garden chasing the cat.

- Ans
- 1. at
  - 2. on
  - 3. between
  - 4. across

Q.4 Select the most appropriate option to fill in the blank.

It is a sin against God and humanity to \_\_\_\_\_ places of religious worship.

- Ans
- 1. modest
  - 2. desecrate
  - 3. disapprove
  - 4. upright

Q.5 Select the correct collocation to fill in the blank.

The teacher gave the students \_\_\_\_\_ instructions before the exam.

- Ans
- 1. careful
  - 2. great
  - 3. strong
  - 4. clear

Q.6 Select the most appropriate ANTONYM of the given word.

Arrogant

- Ans
- 1. Creepy
  - 2. Clumsy
  - 3. Average
  - 4. Humble

Q.7 Select the most appropriate synonym of the given word.

Broad

- Ans
- 1. Particular
  - 2. Small
  - 3. Wide
  - 4. Exact

Q.8 Select the most appropriate meaning of the given idiom.

Man of straw

- Ans
- 1. A combination of two people that is perfect in every way
  - 2. A child of a celebrity or a famous person
  - 3. A person who is disregarded as lacking character or morality
  - 4. A situation like a close contest

Q.9 Select the most appropriate option to fill in the blank.

We will complete the project \_\_\_\_\_ without external help.

- Ans
- 1. oneself
  - 2. ourselves
  - 3. itself
  - 4. themselves

Q.10 Select the most appropriate ANTONYM of the given word.

Flaunt

- Ans
- 1. Parade
  - 2. Hide
  - 3. Wide
  - 4. Open

Q.11 Identify the sentence with the INCORRECTLY spelt word.

- Ans
- 1. The film was praised for its stunning cinematography.
  - 2. The scientist presented his findings at the conference.
  - 3. The students wrote an interesting essey on the topic.
  - 4. The bakery makes delicious pastries every day.

Q.12 Select the most appropriate idiom that can substitute the underlined segment in the given sentence.

When it comes to cooking, she can really think creatively and unconventionally to create unique dishes that surprise everyone.

- Ans
- 1. outside the wire
  - 2. outside the canvas
  - 3. outside the box
  - 4. outside the law

Q.13 Select the most appropriate ANTONYM of the word in brackets to fill in the blank.

The widespread \_\_\_\_\_ (destruction) of the natural world threatens the food we eat, the water we drink and the air we breathe.

- Ans
- 1. contribution
  - 2. creation
  - 3. choice
  - 4. condition

Q.14 The following sentence has been divided into parts. One of them may contain an error. Select the part that contains the error from the given options. If you don't find any error, mark 'No error' as your answer.

Alka had been writing / to her boss until she realises / that he was not interested in resolving her issues.

- Ans
- 1. that he was not interested in resolving her issues
  - 2. No error
  - 3. to her boss until she realises
  - 4. Alka had been writing

Q.15 Select the option that rectifies the underlined spelling error.

The students had to write an essay for their asignment.

- Ans
- 1. assignmant
  - 2. assignment
  - 3. essignment
  - 4. asignmant

#### Comprehension:

In the following passage, some words have been deleted. Read the passage carefully and select the most appropriate option to fill in each blank.

There is a (1) \_\_\_\_\_ sense of freedom about being alone in a carriage that is jolting noisily through the night. It is liberty unrestrained in a very (2) \_\_\_\_\_ form. You can do anything you like. You can talk to (3) \_\_\_\_\_ as loud as you please and no one will hear you. You can have that argument out with Jones and roll him triumphantly in the dust (4) \_\_\_\_\_ fear of a counterstroke. You can stand on your head and no one will see you. You can sing or dance a two-step or practise a golf stroke, (5) \_\_\_\_\_ play marbles on the floor without let or hindrance.

#### SubQuestion No : 16

Q.16 Select the most appropriate option to fill in blank no 1.

- Ans
- 1. pleasant
  - 2. contemptuous
  - 3. tedious
  - 4. baleful

**Comprehension:**

In the following passage, some words have been deleted. Read the passage carefully and select the most appropriate option to fill in each blank.

There is a (1)\_\_\_\_\_ sense of freedom about being alone in a carriage that is jolting noisily through the night. It is liberty unrestrained in a very (2)\_\_\_\_\_ form. You can do anything you like. You can talk to (3)\_\_\_\_\_ as loud as you please and no one will hear you. You can have that argument out with Jones and roll him triumphantly in the dust (4)\_\_\_\_\_ fear of a counterstroke. You can stand on your head and no one will see you. You can sing or dance a two-step or practise a golf stroke, (5)\_\_\_\_\_ play marbles on the floor without let or hindrance.

**SubQuestion No : 17**

**Q.17** Select the most appropriate option to fill in blank no 2.

- Ans**
- 1. miserable
  - 2. agreeable
  - 3. humour
  - 4. detestable

**Comprehension:**

In the following passage, some words have been deleted. Read the passage carefully and select the most appropriate option to fill in each blank.

There is a (1)\_\_\_\_\_ sense of freedom about being alone in a carriage that is jolting noisily through the night. It is liberty unrestrained in a very (2)\_\_\_\_\_ form. You can do anything you like. You can talk to (3)\_\_\_\_\_ as loud as you please and no one will hear you. You can have that argument out with Jones and roll him triumphantly in the dust (4)\_\_\_\_\_ fear of a counterstroke. You can stand on your head and no one will see you. You can sing or dance a two-step or practise a golf stroke, (5)\_\_\_\_\_ play marbles on the floor without let or hindrance.

**SubQuestion No : 18**

**Q.18** Select the most appropriate option to fill in blank no 3.

- Ans**
- 1. yourself
  - 2. ourselves
  - 3. herself
  - 4. himself

**Comprehension:**

In the following passage, some words have been deleted. Read the passage carefully and select the most appropriate option to fill in each blank.

There is a (1)\_\_\_\_\_ sense of freedom about being alone in a carriage that is jolting noisily through the night. It is liberty unrestrained in a very (2)\_\_\_\_\_ form. You can do anything you like. You can talk to (3)\_\_\_\_\_ as loud as you please and no one will hear you. You can have that argument out with Jones and roll him triumphantly in the dust (4)\_\_\_\_\_ fear of a counterstroke. You can stand on your head and no one will see you. You can sing or dance a two-step or practise a golf stroke, (5)\_\_\_\_\_ play marbles on the floor without let or hindrance.

**SubQuestion No : 19**

**Q.19** Select the most appropriate option to fill in blank no 4.

- Ans**
- 1. in
  - 2. with
  - 3. for
  - 4. without



**Comprehension:**

In the following passage, some words have been deleted. Read the passage carefully and select the most appropriate option to fill in each blank.

There is a (1)\_\_\_\_\_ sense of freedom about being alone in a carriage that is jolting noisily through the night. It is liberty unrestrained in a very (2)\_\_\_\_\_ form. You can do anything you like. You can talk to (3)\_\_\_\_\_ as loud as you please and no one will hear you. You can have that argument out with Jones and roll him triumphantly in the dust (4)\_\_\_\_\_ fear of a counterstroke. You can stand on your head and no one will see you. You can sing or dance a two-step or practise a golf stroke, (5)\_\_\_\_\_ play marbles on the floor without let or hindrance.

**SubQuestion No : 20**

**Q.20** Select the most appropriate option to fill in blank no 5.

- Ans**
- 1. yet
  - 2. but
  - 3. or
  - 4. because

**Section : Part-D-Hindi**

**Q.1** निम्नलिखित वाक्यांश हेतु सार्थक शब्द की पहचान करें।  
जिसकी उपमा नहीं दी जा सके

- Ans**
- 1. अनादि
  - 2. उपमा
  - 3. अनुपम
  - 4. अनन्य

**Q.2** 'तोता उड़कर पेड़ की \_\_\_\_\_।' निम्नलिखित में से 'देशज' शब्द युक्त विकल्प चुनकर वाक्य पूर्ण करें।

- Ans**
- 1. फुनगी पर बैठ गया
  - 2. टहनी पर बैठ गया
  - 3. डाल पर बैठ गया
  - 4. शाखा पर बैठ गया

**Q.3** 'छः महीने का समय' उपरोक्त वाक्यांश के लिए एक शब्द होगा-

- Ans**
- 1. छठवाँ
  - 2. छमाई
  - 3. छमाही
  - 4. छठी

**Q.4** निम्नलिखित में से बहुवचन से संबंधित वाक्य है-

- Ans**
- 1. प्रेम और हरि तुम्हारे मामा हैं।
  - 2. वह एक दाता है।
  - 3. देवराज अत्यंत वीर है।
  - 4. प्रेम तुम्हारे मामा हैं।

**Q.5** इनमें से किस वाक्य में त्रुटि नहीं है?

- Ans**
- 1. मोहन का व्यवहार अच्छी नहीं है।
  - 2. मोहन का व्यवहार अच्छा नहीं है।
  - 3. आपकी बातें बहुत मीठा है।
  - 4. तुम्हारा गाँव किसका है?

Q.6 निम्नलिखित में से शुद्ध वाक्य का चयन कीजिए -

- Ans
- 1. यह कैसे संभव हो सकता है।
  - 2. इसके बाद क्या हुआ ?
  - 3. मैं प्रातः काल के समय पढ़ता हूँ।
  - 4. मेरे पास केवल एक घड़ी है।

Q.7 'अनन्या स्नेहा को पत्र लिख रही है।' प्रेरणार्थक क्रिया का प्रयोग कर इस वाक्य को लिखिए -

- Ans
- 1. अनन्या स्नेहा को पत्र लिखेगी।
  - 2. अनन्या स्नेहा को पत्र लिख सकती है।
  - 3. अनन्या स्नेहा को पत्र लिख रही थी।
  - 4. अनन्या स्नेहा से पत्र लिखवाती है।

Q.8 मेरे परीक्षा में अच्छे अंक आए हैं। - वाक्य में प्रयुक्त रेखांकित एकार्थी शब्द के लिए उचित विकल्प है-

- Ans
- 1. अध्याय
  - 2. गिनती के अंक
  - 3. नाटक के अंक
  - 4. भाग्य

Q.9 'विष्णु' के लिए पर्यायवाची शब्द होगा-

- Ans
- 1. नागेंद्र
  - 2. नागेश
  - 3. जनार्दन
  - 4. राकेश

Q.10 यह वस्तु ग्राह्य है।

उपरोक्त वाक्य में 'ग्राह्य' शब्द का विलोम चयन कीजिए।

- Ans
- 1. आर्य
  - 2. अनाग्रह
  - 3. भोज्य
  - 4. त्याज्य

Q.11 'खिन्न' का विलोम शब्द नीचे दिए विकल्पों में से चुनिए-

- Ans
- 1. दुखी
  - 2. मलाल
  - 3. अप्रसन्न
  - 4. प्रसन्न

Q.12 रिक्त स्थान की पूर्ति सार्थक- निरर्थक शब्द युग्म से करें-

जीवन में हमेशा मनुष्य को... रास्ते से गुजरना पड़ता है।

- Ans
- 1. चलते- फिरते
  - 2. ऊपर- नीचे
  - 3. टेढ़े -मेढ़े
  - 4. सुगम

Q.13 निम्नलिखित में से विशेषण युक्त पद नहीं है।

- Ans
- 1. लाल कपड़ा
  - 2. उत्तर चढ़ाव
  - 3. मोटा लड़का
  - 4. ऊँचा मकान

Q.14 निम्नलिखित में से उस विकल्प का चयन करें, जिस में उचित मुहावरे का प्रयोग नहीं किया गया है -

- Ans  1. तुमने मेरा इतना नुकसान किया है, अब मैंने भी तुम्हारे कपड़े न उतरवा लिए तो मेरा नाम नहीं।  
 2. मैंने तो काम करने के लिए कमर कस ली है, अब सब कुछ करना है अपने परिवार के लिए।  
 3. मैं चाहे कब्र खोदकर इतना पैसा लाऊँ, तुमसे क्या मतलब? तुम तो यह ज़मीन बेचने के लिए मान जाओ बस।  
 4. तुमने मेरा इतना पैसा ले रखा है, लेकिन मुझे देखते ही कनी चाटने लगते हो।

Q.15 निम्न वाक्य में किस पद पर त्रुटि है ? पहचानिए।  
मेले में विद्यार्थियों की कई टोलीयाँ थीं।

- Ans  1. कई  
 2. टोलीयाँ  
 3. विद्यार्थियों की  
 4. मेले में

#### Comprehension:

निम्नलिखित गद्यांश में से कुछ शब्द हटा दिए गए हैं। दिए गए विकल्पों की सहायता से रिक्त स्थानों की पूर्ति कीजिए। प्रत्येक संख्या के लिए उपयुक्त विकल्प का चयन कीजिए-

एक युवक पत्थर की बेंच पर बैठकर टिफिन खाता हुआ। उससे कुछ दूर एक उम्रदराज मगर तंदुरुस्त आदमी शहनाई जैसा \_\_\_\_\_(1) - बैगपाइपर (bagpiper) बजा रहा था। उसने काला लबादा गाउन पहन रखा \_\_\_\_\_(2)। कपड़े-जूते ठीक-ठाक पहन रखे थे। हैट भी लगा रखा था। उसके सामने जमीन पर काठ और कपड़ों का बना संदूकनुमा बाक्स था। बाक्स में कुछ सिक्के थे। वह खड़ा होकर वाद्य \_\_\_\_\_(3) रहा था। उसके गाल वाद्य बजाने के कारण फूल-फूल जा रहे थे जैसे हमारे यहाँ भी शहनाई बजाते समय या शंख फूँकते समय। लोग उसके सामने से अदब (4) से गुजर रहे थे। एक-दो लोगों ने उसे अभिवादन भी किया। कुछ लोग करीब जाते और झुककर बाक्स में पेंस (सिक्के) डाल देते। दूर से फेंकता कोई नहीं था। वह एक भिखारी था लेकिन यहाँ उसे स्ट्रीट आर्टिस्ट (सड़क कलाकार) कहा जाता है। भिक्षा या दान भी यहाँ कला के माध्यम से लिया जाता है। कोई माँगता या गुहार नहीं लगाता। या तो चुप बैठा रहता है या संगीत कला या गायन के माध्यम से वह लोगों का ध्यान आकृष्ट करता है। यह दृश्य मुझे सुखद विस्मय से भर गया। मैं देर तक उसे वाद्य बजाते देखता-सुनता रहा। पास में पेन्स (सिक्के) (5) न होने का अफसोस हुआ। भिक्षा के लिए यहाँ हाथ फैलाने की परंपरा नहीं है।

#### SubQuestion No : 16

Q.16 उपरोक्त गद्यांश के आधार पर निम्नलिखित रिक्त स्थान की पूर्ति करें।  
उससे कुछ दूर एक उम्रदराज मगर तंदुरुस्त आदमी शहनाई जैसा \_\_\_\_\_(1)- बैगपाइपर (bagpiper) बजा रहा था।

- Ans  1. वाद्य  
 2. समान  
 3. तरह का  
 4. बाज्य

#### Comprehension:

निम्नलिखित गद्यांश में से कुछ शब्द हटा दिए गए हैं। दिए गए विकल्पों की सहायता से रिक्त स्थानों की पूर्ति कीजिए। प्रत्येक संख्या के लिए उपयुक्त विकल्प का चयन कीजिए-

एक युवक पत्थर की बेंच पर बैठकर टिफिन खाता हुआ। उससे कुछ दूर एक उम्रदराज मगर तंदुरुस्त आदमी शहनाई जैसा \_\_\_\_\_(1) - बैगपाइपर (bagpiper) बजा रहा था। उसने काला लबादा गाउन पहन रखा \_\_\_\_\_(2)। कपड़े-जूते ठीक-ठाक पहन रखे थे। हैट भी लगा रखा था। उसके सामने जमीन पर काठ और कपड़ों का बना संदूकनुमा बाक्स था। बाक्स में कुछ सिक्के थे। वह खड़ा होकर वाद्य \_\_\_\_\_(3) रहा था। उसके गाल वाद्य बजाने के कारण फूल-फूल जा रहे थे जैसे हमारे यहाँ भी शहनाई बजाते समय या शंख फूँकते समय। लोग उसके सामने से अदब (4) से गुजर रहे थे। एक-दो लोगों ने उसे अभिवादन भी किया। कुछ लोग करीब जाते और झुककर बाक्स में पेंस (सिक्के) डाल देते। दूर से फेंकता कोई नहीं था। वह एक भिखारी था लेकिन यहाँ उसे स्ट्रीट आर्टिस्ट (सड़क कलाकार) कहा जाता है। भिक्षा या दान भी यहाँ कला के माध्यम से लिया जाता है। कोई माँगता या गुहार नहीं लगाता। या तो चुप बैठा रहता है या संगीत कला या गायन के माध्यम से वह लोगों का ध्यान आकृष्ट करता है। यह दृश्य मुझे सुखद विस्मय से भर गया। मैं देर तक उसे वाद्य बजाते देखता-सुनता रहा। पास में पेन्स (सिक्के) (5) न होने का अफसोस हुआ। भिक्षा के लिए यहाँ हाथ फैलाने की परंपरा नहीं है।

#### SubQuestion No : 17

Q.17 उपरोक्त गद्यांश के आधार पर निम्नलिखित रिक्त स्थान की पूर्ति करें।  
उसने काला लबादा गाउन पहन रखा \_\_\_\_\_(2)।

- Ans  1. था  
 2. हैं  
 3. थी  
 4. थीं

**Comprehension:**

निम्नलिखित गद्यांश में से कुछ शब्द हटा दिए गए हैं। दिए गए विकल्पों की सहायता से रिक्त स्थानों की पूर्ति कीजिए। प्रत्येक संख्या के लिए उपयुक्त विकल्प का चयन कीजिए-

एक युवक पत्थर की बेंच पर बैठकर टिफिन खाता हुआ। उससे कुछ दूर एक उम्रदराज मगर तंदुरुस्त आदमी शहनाई जैसा \_\_\_\_\_(1) - बैगपाइपर (bagpiper) बजा रहा था। उसने काला लबादा गाउन पहन रखा \_\_\_\_\_(2)। कपड़े-जूते ठीक-ठाक पहन रखे थे। हैट भी लगा रखा था। उसके सामने जमीन पर काठ और कपड़ों का बना संदूकनुमा बाक्स था। बाक्स में कुछ सिक्के थे। वह खड़ा होकर वाद्य \_\_\_\_\_(3) रहा था। उसके गाल वाद्य बजाने के कारण फूल-फूल जा रहे थे जैसे हमारे यहाँ भी शहनाई बजाते समय या शंख फूँकते समय। लोग उसके सामने से अदब (4) से गुजर रहे थे। एक-दो लोगों ने उसे अभिवादन भी किया। कुछ लोग करीब जाते और झुककर बाक्स में पेंस (सिक्के) डाल देते। दूर से फेंकता कोई नहीं था। वह एक भिखारी था लेकिन यहाँ उसे स्ट्रीट आर्टिस्ट (सड़क कलाकार) कहा जाता है। भिक्षा या दान भी यहाँ कला के माध्यम से लिया जाता है। कोई माँगता या गुहार नहीं लगाता। या तो चुप बैठा रहता है या संगीत कला या गायन के माध्यम से वह लोगों का ध्यान आकृष्ट करता है। यह दृश्य मुझे सुखद विस्मय से भर गया। मैं देर तक उसे वाद्य बजाते देखता-सुनता रहा। पास में पेन्स (सिक्के) (5) न होने का अफसोस हुआ। भिक्षा के लिए यहाँ हाथ फैलाने की परंपरा नहीं है।

**SubQuestion No : 18**

**Q.18** उपरोक्त गद्यांश के आधार पर निम्नलिखित रिक्त स्थान की पूर्ति करें।  
वह खड़ा होकर वाद्य \_\_\_\_\_ (3) रहा था।

- Ans**
- 1. बजा
  - 2. रो
  - 3. चल
  - 4. गा

**Comprehension:**

निम्नलिखित गद्यांश में से कुछ शब्द हटा दिए गए हैं। दिए गए विकल्पों की सहायता से रिक्त स्थानों की पूर्ति कीजिए। प्रत्येक संख्या के लिए उपयुक्त विकल्प का चयन कीजिए-

एक युवक पत्थर की बेंच पर बैठकर टिफिन खाता हुआ। उससे कुछ दूर एक उम्रदराज मगर तंदुरुस्त आदमी शहनाई जैसा \_\_\_\_\_(1) - बैगपाइपर (bagpiper) बजा रहा था। उसने काला लबादा गाउन पहन रखा \_\_\_\_\_(2)। कपड़े-जूते ठीक-ठाक पहन रखे थे। हैट भी लगा रखा था। उसके सामने जमीन पर काठ और कपड़ों का बना संदूकनुमा बाक्स था। बाक्स में कुछ सिक्के थे। वह खड़ा होकर वाद्य \_\_\_\_\_(3) रहा था। उसके गाल वाद्य बजाने के कारण फूल-फूल जा रहे थे जैसे हमारे यहाँ भी शहनाई बजाते समय या शंख फूँकते समय। लोग उसके सामने से अदब (4) से गुजर रहे थे। एक-दो लोगों ने उसे अभिवादन भी किया। कुछ लोग करीब जाते और झुककर बाक्स में पेंस (सिक्के) डाल देते। दूर से फेंकता कोई नहीं था। वह एक भिखारी था लेकिन यहाँ उसे स्ट्रीट आर्टिस्ट (सड़क कलाकार) कहा जाता है। भिक्षा या दान भी यहाँ कला के माध्यम से लिया जाता है। कोई माँगता या गुहार नहीं लगाता। या तो चुप बैठा रहता है या संगीत कला या गायन के माध्यम से वह लोगों का ध्यान आकृष्ट करता है। यह दृश्य मुझे सुखद विस्मय से भर गया। मैं देर तक उसे वाद्य बजाते देखता-सुनता रहा। पास में पेन्स (सिक्के) (5) न होने का अफसोस हुआ। भिक्षा के लिए यहाँ हाथ फैलाने की परंपरा नहीं है।

**SubQuestion No : 19**

**Q.19** उपरोक्त गद्यांश के आधार पर निम्न चिन्हित शब्द का विपरीत शब्द पहचानें।  
लोग उसके सामने से अदब (4) से गुजर रहे थे।

- Ans**
- 1. नज़रअंदाज़
  - 2. बेअदब
  - 3. बुरा अदब
  - 4. बैअदब

**Comprehension:**

निम्नलिखित गद्यांश में से कुछ शब्द हटा दिए गए हैं। दिए गए विकल्पों की सहायता से रिक्त स्थानों की पूर्ति कीजिए। प्रत्येक संख्या के लिए उपयुक्त विकल्प का चयन कीजिए-

एक युवक पत्थर की बेंच पर बैठकर टिफिन खाता हुआ। उससे कुछ दूर एक उम्रदराज मगर तंदुरुस्त आदमी शहनाई जैसा \_\_\_\_\_(1) - बैगपाइपर (bagpiper) बजा रहा था। उसने काला लबादा गाउन पहन रखा \_\_\_\_\_(2)। कपड़े-जूते ठीक-ठाक पहन रखे थे। हैट भी लगा रखा था। उसके सामने जमीन पर काठ और कपड़ों का बना संदूकनुमा बाक्स था। बाक्स में कुछ सिक्के थे। वह खड़ा होकर वाद्य \_\_\_\_\_(3) रहा था। उसके गाल वाद्य बजाने के कारण फूल-फूल जा रहे थे जैसे हमारे यहाँ भी शहनाई बजाते समय या शंख फूँकते समय। लोग उसके सामने से अदब (4) से गुजर रहे थे। एक-दो लोगों ने उसे अभिवादन भी किया। कुछ लोग करीब जाते और झुककर बाक्स में पेंस (सिक्के) डाल देते। दूर से फेंकता कोई नहीं था। वह एक भिखारी था लेकिन यहाँ उसे स्ट्रीट आर्टिस्ट (सड़क कलाकार) कहा जाता है। भिक्षा या दान भी यहाँ कला के माध्यम से लिया जाता है। कोई माँगता या गुहार नहीं लगाता। या तो चुप बैठा रहता है या संगीत कला या गायन के माध्यम से वह लोगों का ध्यान आकृष्ट करता है। यह दृश्य मुझे सुखद विस्मय से भर गया। मैं देर तक उसे वाद्य बजाते देखता-सुनता रहा। पास में पेन्स (सिक्के) (5) न होने का अफसोस हुआ। भिक्षा के लिए यहाँ हाथ फैलाने की परंपरा नहीं है।

**SubQuestion No : 20**

**Q.20** उपलब्ध विकल्पों में से कौनसा विकल्प निम्नलिखित वाक्य के चिन्हित शब्द का पर्यायवाची शब्द नहीं है?  
पास में पेन्स (सिक्के) (5) न होने का अफसोस हुआ।

- Ans**
- 1. रूपक
  - 2. धाक
  - 3. मुद्रा
  - 4. टंक