

Constable GD in CAPFs and SSF Rifleman GD in AR and Sepoy in NCB Examination 2025

Exam Date	07/02/2025
Exam Time	9:00 AM - 10:00 AM
Subject	Constable GD Examination 2025

Section : Part-A-General Intelligence and Reasoning

Q.1 In a certain code language,

'A + B' means 'A is the mother of B',
 'A - B' means 'A is the brother of B',
 'A × B' means 'A is the wife of B' and
 'A ÷ B' means 'A is the father of B'.

Based on the above, how is M related to O if 'K ÷ L × M - N + O'?

- Ans
- 1. Wife's father
 - 2. Mother's brother
 - 3. Mother's husband
 - 4. Daughter's husband

Q.2 ILOR is related to UXAD in a certain way based on the English alphabetical order. In the same way, CFIL is related to ORUX. To which of the given options is WZCF related, following the same logic?

- Ans
- 1. ILOR
 - 2. ILUY
 - 3. ILMK
 - 4. ILWR

Q.3 The position(s) of how many letters will remain unchanged if each of the letters in the word ARMCHAIR is arranged in the reverse English alphabetical order?

- Ans
- 1. Three
 - 2. Four
 - 3. Two
 - 4. One

Q.4 JILT is related to AZCK in a certain way based on the English alphabetical order. In the same way, ZYBJ is related to QPSA. To which of the following options is YXAI related, following the same logic?

- Ans
- 1. POZR
 - 2. PRZO
 - 3. PORZ
 - 4. PRDE

Q.5 In a certain code language, 'AGED' is coded as '7613' and 'EARG' is coded as '1236'. What is the code for 'R' in the given code language?

- Ans
- 1. 1
 - 2. 6
 - 3. 3
 - 4. 2

Q.6 Select the figure from among the given options that can replace the question mark (?) in the following series.

q		s	q		s	
★	s	q	t	★	s	q
	t	★		t	★	?

Ans

✗ 1.

		S
★		t
q		

✗ 2.

★		t
q		s

✓ 3.

q		
★		s
		t

✗ 4.

q		
★		t
		s

Q.7 Which two numbers should be interchanged to make the given equation correct?

$$9 \times (34 - 15) + (105 \div 7) + 28 + (13 \times 4) = 218$$

(Note: Interchange should be done of entire number and not individual digits of a given number)

- Ans
- ✗ 1. 28 and 15
 - ✗ 2. 15 and 13
 - ✓ 3. 34 and 28
 - ✗ 4. 15 and 7

Q.8 Select the option that represents the letters that, when sequentially placed from left to right in the blanks below, will complete the letter series.

_ D _ L _ F _ O L J

- Ans
- ✓ 1. FOJD
 - ✗ 2. DJOF
 - ✗ 3. JDOF
 - ✗ 4. OJDF

Q.9 What should come in place of the question mark (?) in the given series?

1001 1000 998 995 991 ?

- Ans
- 1. 986
 - 2. 984
 - 3. 987
 - 4. 989

Q.10 What should come in place of the question mark (?) in the given series?

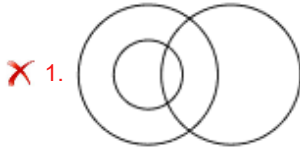
620 621 624 629 636 ?

- Ans
- 1. 643
 - 2. 645
 - 3. 646
 - 4. 644

Q.11 Select the Venn diagram that best illustrates the relationship between the following classes.

Parrot, Cat, Bird

Ans



Q.12 A dice has its faces marked by letters Q, R, U, A, I and L. Two positions of the same dice are given below. Which face is opposite to face Q?



- Ans
- 1. R
 - 2. L
 - 3. A
 - 4. U

Q.13 In a certain code language, 'ZXFGA' is coded as '3' and 'BTGHASQR' is coded as '6'. What is the code for 'YWNERI' in the given language?

- Ans
- 1. 5
 - 2. 6
 - 3. 4
 - 4. 7

Q.14 Six people, D, E, F, G, H and W, are sitting in a row facing north (but not necessarily in the same order). Only two people sit between W and D. G sits to the immediate left of D. No one sits to the right of H. Only two people sit between H and G. E sits to the immediate left of G. How many people sit between F and E?

- Ans
- 1. Three
 - 2. One
 - 3. Four
 - 4. Two

Q.15 Read the given statements and conclusions carefully. Assuming that the information given in the statements is true, even if it appears to be at variance with commonly known facts, decide which of the given conclusion(s) logically follow(s) from the statement(s).

Statements:

Some taps are soaps.
Some taps are creams.
Some soaps are oils.

Conclusions:

(I) Some taps are oils.
(II) Some soaps are creams.

- Ans
- 1. Neither conclusion (I) nor (II) follows.
 - 2. Only conclusion (I) follows.
 - 3. Both conclusions (I) and (II) follow.
 - 4. Only conclusion (II) follows.

Q.16 Six people, E, F, G, Q, R and S, are sitting in a row facing north (but not necessarily in the same order). Only two people sit to the right of R. Only two people sit between R and E. Only one person sits between E and F. F sits to the immediate left of R. S sits to the immediate right of Q. How many people sit between Q and G?

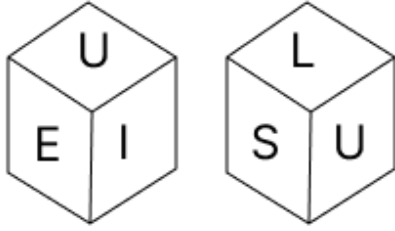
- Ans
- 1. Two
 - 2. Three
 - 3. One
 - 4. Four

Q.17 Based on the English alphabetical order, three of the following four letter-clusters are alike in a certain way and thus form a group. Which letter-cluster DOES NOT belong to that group?

(Note: The odd man out is not based on the number of consonants/vowels or their position in the letter-cluster.)

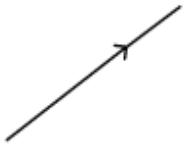
- Ans
- 1. TOJ
 - 2. MHC
 - 3. GBW
 - 4. QJE

Q.18 A dice has its faces marked by letters E, I, L, R, S and U. Two positions of the same dice are shown in the given figures. Which face is opposite to face R?



- Ans
- 1. L
 - 2. E
 - 3. U
 - 4. S

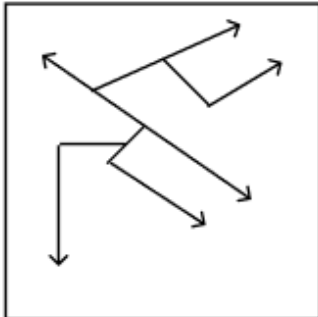
Q.19 Select the option in which the given figure (X) is embedded (rotation is NOT allowed).




(X)

Ans

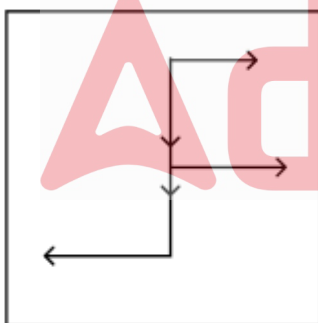
X 1.



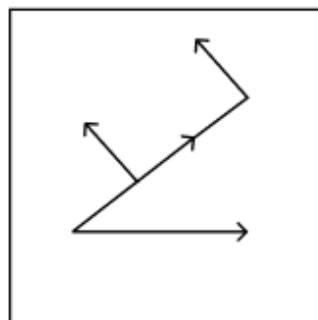
X 2.



X 3.



✓ 4.



Q.20 What should come in place of the question mark (?) in the given series based on the English alphabetical order?

AFQ BHR CJS DLT ?

- Ans
- X 1. FNU
 - X 2. FMU
 - ✓ 3. ENU
 - X 4. EOU

Q.1 In which state is the Halda Festival celebrated?

- Ans
- 1. Himachal Pradesh
 - 2. Madhya Pradesh
 - 3. Arunachal Pradesh
 - 4. Uttar Pradesh

Q.2 Which of the following is a correct balanced chemical equation?

- Ans
- 1. $2C_4H_{10}(l) + 12O_2(g) \rightarrow 8CO_2(g) + 10H_2O$
 - 2. $C_4H_{10}(l) + 13O_2(g) \rightarrow 4CO_2(g) + 10H_2O$
 - 3. $2C_4H_{10}(l) + 10O_2(g) \rightarrow 8CO_2(g) + 10H_2O$
 - 4. $2C_4H_{10}(l) + 13O_2(g) \rightarrow 8CO_2(g) + 10H_2O$

Q.3 Which Directive Principle advocates the organisation of village panchayats for self-government?

- Ans
- 1. Article 42
 - 2. Article 40
 - 3. Article 44
 - 4. Article 46

Q.4 The oceanic crust is mostly made up of different types of basalt which extends how many kilometres beneath the ocean floor?

- Ans
- 1. 10-17 km
 - 2. 15-22 km
 - 3. 2-5 km
 - 4. 5-10 km

Q.5 Which of the following teams did Tamil Nadu defeat in the final to win the men's title in the 71st Senior National Basketball Championship 2022?

- Ans
- 1. Himachal Pradesh
 - 2. West Bengal
 - 3. Punjab
 - 4. Gujarat

Q.6 Which of the following ministries introduced the Oilfields (Regulation and Development) Amendment Bill, 2024, in the parliament?

- Ans
- 1. Ministry of Civil Aviation
 - 2. Ministry of Petroleum and Natural Gas
 - 3. Ministry of Coal
 - 4. Ministry of New and Renewable Energy

Q.7 Which of the following sectors was given the highest priority in the First Five-Year Plan?

- Ans
- 1. Defense
 - 2. Agriculture
 - 3. Heavy industries
 - 4. Infrastructure

Q.8 Which characteristic pottery became a hallmark of early Iron Age settlements in northern India?

- Ans
- 1. Painted Grey Ware
 - 2. Northern Black Polished Ware
 - 3. Black-and-Red Ware
 - 4. Red Polished Ware

Q.9 According to the Census of India 2011, which of the following state has the least population?

- Ans
- 1. Mizoram
 - 2. Tripura
 - 3. Manipur
 - 4. Assam

Q.10 When natural resources are unlimited, the populations grow very rapidly; this accelerating pattern of increasing population size is called:

- Ans
- 1. Population Explosion
 - 2. Carrying Capacity
 - 3. Exponential Growth
 - 4. Logistic Growth

Q.11 Which group was formed in 1919 to support the Khilafat Movement and strengthen the Hindu-Muslim unity?

- Ans
- 1. All India Muslim League
 - 2. Indian National Congress
 - 3. Khilafat Committee
 - 4. Hindu Mahasabha

Q.12 Jagjit Singh was associated with which of the following fields of music?

- Ans
- 1. Jazz
 - 2. Ghazal
 - 3. Pop
 - 4. Classical

Q.13 In which of the following states did the Indian classical dance Bharatanatyam originate?

- Ans
- 1. Tamil Nadu
 - 2. Kerala
 - 3. Uttar Pradesh
 - 4. Karnataka

Q.14 Which of the following is NOT considered a state executive?

- Ans
- 1. Chief Justice of High Court
 - 2. Governor
 - 3. Council of Ministers
 - 4. Chief Minister

Q.15 In which position did India finish in the Para Asian Games event in 2023?

- Ans
- 1. 4th
 - 2. 9th
 - 3. 6th
 - 4. 5th

Q.16 Which of the following dancers won the Sangeet Natak Akademi Award for Chhau dance in 2018?

- Ans
- 1. Surupa Sen
 - 2. Radha Sridhar
 - 3. Tapan Kumar Pattanayak
 - 4. Pasumurthy Ramalinga Sastry

Q.17 Who was appointed as the new Chairperson of the Union Public Service Commission on 1 August 2024?

- Ans
- 1. Preeti Sudan
 - 2. Manaj Upamanyu
 - 3. Mohan Madhavan
 - 4. Ravi Upadhyay

Q.18 How many five-year plans were covered during 1951–1990?

- Ans
- 1. 9
 - 2. 8
 - 3. 6
 - 4. 7

Q.19 In which year was the PM Gati Shakti National Master Plan launched?

- Ans
- 1. 2022
 - 2. 2023
 - 3. 2020
 - 4. 2021

Q.20 How many priorities were adopted in the Union Budget for the financial year 2023-24?

- Ans
- 1. 9
 - 2. 7
 - 3. 5
 - 4. 12

Section : Part-C-Elementary Mathematics

Q.1 The average of thirteen numbers is 57. The average of first three numbers is 48, and that of the next seven numbers is 58. The 11th number is two times the 12th number and 12th number is 3 less than the 13th number. What is the average of the 11th and 13th numbers?

- Ans
- 1. 18
 - 2. 72
 - 3. 27
 - 4. 36

Q.2 The mean proportional between 68 and 272 is:

- Ans
- 1. 114
 - 2. 136
 - 3. 126
 - 4. 124

Q.3 The LCM of 40, 20, 120 and 335 is:

- Ans
- 1. 8101
 - 2. 8040
 - 3. 8003
 - 4. 7991

Q.4 The average age of 59 students of a class is 22 years. If the age of the teacher is also included, the average age of the whole group becomes 23 years. The age (in years) of the teacher is:

- Ans
- 1. 81
 - 2. 83
 - 3. 84
 - 4. 82

Q.5 Two trains having lengths of 150 m and 350 m are running at speeds of 60 km/h and 120 km/h, respectively, in the same direction. The time taken (in minutes) by the faster train, coming from behind, to completely cross the other train is:

- Ans
- 1. 2
 - 2. 1.2
 - 3. 3.5
 - 4. 0.5

Q.6 What is the correct descending order of the ratios 17 : 42, 19 : 21, 1 : 7, 11 : 13, 23 : 26?

- Ans
- 1. 23 : 26, 19 : 21, 11 : 13, 17 : 42, 1 : 7
 - 2. 19 : 21, 23 : 26, 11 : 13, 1 : 7, 17 : 42
 - 3. 19 : 21, 11 : 13, 23 : 26, 17 : 42, 1 : 7
 - 4. 19 : 21, 23 : 26, 11 : 13, 17 : 42, 1 : 7

Q.7 What is the smallest number which when divided by 64 and 80 leaves remainder 9 in each case?

- Ans
- 1. 337
 - 2. 329
 - 3. 320
 - 4. 311

Q.8 In a circular race of 800 m length, Ram and Mohan start at speeds of 25 m/sec and 40 m/sec, respectively, at the same time from the same point. After how much time will they meet for the first time at the starting point, when running in the same direction?

- Ans
- 1. 136 seconds
 - 2. 120 seconds
 - 3. 152 seconds
 - 4. 160 seconds

Q.9 Find the value of $\left[(18 \times 19) \times \left\{ 8 \div 4 \times \frac{(16 - 12)}{2} \right\} \right]$

- Ans
- 1. 1349
 - 2. 1368
 - 3. 1382
 - 4. 1353

Q.10 The price of fuel decreases by 35%, 10% and 30% in three successive months, but increases by 65% in the fourth month. What is the percentage increase/decrease in the price of fuel in the fourth month as compared to its original price?

- Ans
- 1. Decreases by 33.75%
 - 2. Decreases by 32.43%
 - 3. Increases by 31.14%
 - 4. Increases by 32.84%

Q.11 If 2% of $x = 324$, then x is equal to:

- Ans
- 1. 16200
 - 2. 32400
 - 3. 16300
 - 4. 32500

Q.12 Find the volume of a hemisphere whose diameter is 7 cm. (Take $\pi = 22/7$) (Rounded up to two decimal places)

- Ans
- 1. 89.83 cm^3
 - 2. 94.83 cm^3
 - 3. 99.83 cm^3
 - 4. 84.83 cm^3

Q.13 400 chickoos were bought at ₹1260 per hundred and were sold at a profit of ₹860. Find the selling price (in ₹) per dozen of chickoos.

- Ans
- 1. 167
 - 2. 177
 - 3. 187
 - 4. 192

Q.14 When difference between compound and simple interest for three years is ₹183 at 5% interest per annum, the principal is ₹_____

- Ans
- 1. 24420
 - 2. 23425
 - 3. 24000
 - 4. 25200

Q.15 Evaluate: $16 + 8 \div 4 - 2 \times 3$

- Ans
- 1. 11
 - 2. 12
 - 3. 15
 - 4. 14

Q.16 Abhishek and Deepanshi undertake to do a piece of work for ₹1,000. Abhishek alone can do it in 5 days and Deepanshi alone can do it in 10 days. With the help of Chitransh, they finish it in 2 days. How much should Chitransh be paid for his contribution?

- Ans
- 1. ₹200
 - 2. ₹500
 - 3. ₹300
 - 4. ₹400

Q.17 Govind invested some money in HDFC at 4% per annum rate of interest. What would be the corresponding simple interest (in ₹) if after 2 years, Govind got ₹178.5 as compound interest, considering annual compounding?

- Ans
- 1. 175
 - 2. 185
 - 3. 170
 - 4. 190

Q.18 A man sold an article for ₹216, there by gaining 20%. The cost of the article (in ₹) was:

- Ans
- 1. 172
 - 2. 180
 - 3. 270
 - 4. 260

Q.19 A washing machine is marked at ₹30,000. A customer gets two successive discounts of 20% and 10%. What is the final price (in ₹) that the customer has to pay?

- Ans
- 1. 23,400
 - 2. 22,800
 - 3. 22,900
 - 4. 21,600

Q.20 Mukund invests a sum of ₹5400 and Sachin invests a sum of ₹9400 at the same rate of simple interest per annum. If, at the end of 5 years, Sachin gets ₹960 more interest than Mukund, then find the rate of interest per annum (in percentage).

- Ans
- 1. 3.8
 - 2. 6.8
 - 3. 2.8
 - 4. 4.8

Section : Part-D-English

Q.1 Select the most appropriate ANTONYM of the given word.

Offer

- Ans
- 1. Open
 - 2. Hurt
 - 3. Select
 - 4. Withhold

Q.2 Rectify the sentence by selecting the correctly spelt word from the options.

Despite the insistence of her colleague, Sheela's response to the request to collaborate on the project was laanguid.

- Ans
- 1. Languied
 - 2. Langued
 - 3. Languid
 - 4. Langud

Q.3 Select the INCORRECTLY spelt word.

- Ans
- 1. Elicit
 - 2. Quarentine
 - 3. Practice
 - 4. Concentrate

Q.4 Select the most appropriate idiom that can replace the underlined segment in the given sentence.

A false and selfish friend will never be by your side in times of difficulty.

- Ans
- 1. past master
 - 2. fair weather friend
 - 3. great hand
 - 4. good samaritan

Q.5 Select the most appropriate ANTONYM of the given word.

Abscond

- Ans
- 1. Endure
 - 2. Flee
 - 3. Hide
 - 4. Withdraw

Q.6 The given sentence is divided into four segments. Select the option that has the segment with an adverbial usage error.

Oliver told Mia, "Seldom than walking, she prefers to take the city bus."

- Ans
- 1. she prefers to
 - 2. "Seldom than walking,
 - 3. Oliver told Mia,
 - 4. take the city bus."

Q.7 Select the most appropriate synonym of the given word.

Persiflage

- Ans
- 1. Criticism
 - 2. Seriousness
 - 3. Banter
 - 4. Argument

Q.8 Select the most appropriate idiom that can substitute the underlined segment in the given sentence.

She didn't want to upset anyone at work, so she carefully navigated the office politics.

- Ans
- 1. scratch anyone's heads
 - 2. bite the bullet
 - 3. step on anyone's toes
 - 4. steal the show

Q.9 Select the most appropriate option to fill in the blank and make the sentence meaningful.

By showing _____ united strength, we may scare the opposition.

- Ans
- 1. an
 - 2. any
 - 3. a
 - 4. no

Q.10 Select the most appropriate option that can substitute the underlined segment in the given sentence and rectify it. If no correction is needed, select 'No correction required'.

The road was repairing by the workers.

- Ans
- 1. repairs
 - 2. repaired
 - 3. been repaired
 - 4. No correction required

Q.11 Select the most appropriate collocation to fill in the blank.
I was running late so I only had time for a _____ shower.

- Ans
- 1. quick
 - 2. luxurious
 - 3. relaxed
 - 4. long

Q.12 Select the most appropriate ANTONYM of the given word.

Frugal

- Ans
- 1. Prudent
 - 2. Right
 - 3. Prodigal
 - 4. Sparing

Q.13 The given sentence is divided into four segments. Select the option that has the segment with an adverbial usage error.

Evelyn clearly / packed her / suitcase for / the trip to Malaysia.

- Ans
- 1. packed her
 - 2. the trip to Malaysia
 - 3. Evelyn clearly
 - 4. suitcase for

Q.14 Select the most appropriate option that can substitute the underlined segment in the given sentence.

The COVID-19 pandemic led to trade disruptions worldwide, but the agricultural and food sector prove to more resilient than other sectors of the economy.

- Ans
- 1. proved to be more resilient
 - 2. proving to be more resilient
 - 3. proved to been more resilient
 - 4. prove to be more resilient

Q.15 Select the most appropriate synonym of the given word.

Frivolous

- Ans
- 1. Momentous
 - 2. Eventful
 - 3. Substantial
 - 4. Trivial

Comprehension:

In the following passage, some words have been deleted. Read the passage carefully and select the most appropriate option to fill in each blank.

The worst days of any summer are the rainy ones. We spend all year looking forward to (1)_____ weather and long, hot days. All of winter, with its dreary grey days and (2)_____ cold, we dream of those (3)_____ days at the beach, laying on the sand and (4)_____ in the (5)_____ and burning sun. And then, summer comes, and it rains.

SubQuestion No : 16

Q.16 Select the most appropriate option to fill in blank number 1.

- Ans**
- 1. mean
 - 2. cold
 - 3. cool
 - 4. ugly

Comprehension:

In the following passage, some words have been deleted. Read the passage carefully and select the most appropriate option to fill in each blank.

The worst days of any summer are the rainy ones. We spend all year looking forward to (1)_____ weather and long, hot days. All of winter, with its dreary grey days and (2)_____ cold, we dream of those (3)_____ days at the beach, laying on the sand and (4)_____ in the (5)_____ and burning sun. And then, summer comes, and it rains.

SubQuestion No : 17

Q.17 Select the most appropriate option to fill in blank number 2.

- Ans**
- 1. bitter
 - 2. warm
 - 3. loving
 - 4. sweet

Comprehension:

In the following passage, some words have been deleted. Read the passage carefully and select the most appropriate option to fill in each blank.

The worst days of any summer are the rainy ones. We spend all year looking forward to (1)_____ weather and long, hot days. All of winter, with its dreary grey days and (2)_____ cold, we dream of those (3)_____ days at the beach, laying on the sand and (4)_____ in the (5)_____ and burning sun. And then, summer comes, and it rains.

SubQuestion No : 18

Q.18 Select the most appropriate option to fill in blank number 3.

- Ans**
- 1. definite
 - 2. confined
 - 3. endless
 - 4. restricted

Comprehension:

In the following passage, some words have been deleted. Read the passage carefully and select the most appropriate option to fill in each blank.

The worst days of any summer are the rainy ones. We spend all year looking forward to (1)_____ weather and long, hot days. All of winter, with its dreary grey days and (2)_____ cold, we dream of those (3)_____ days at the beach, laying on the sand and (4)_____ in the (5)_____ and burning sun. And then, summer comes, and it rains.

SubQuestion No : 19

Q.19 Select the most appropriate option to fill in blank number 4.

- Ans**
- 1. dry
 - 2. walking
 - 3. soaking
 - 4. arid

Comprehension:

In the following passage, some words have been deleted. Read the passage carefully and select the most appropriate option to fill in each blank.

The worst days of any summer are the rainy ones. We spend all year looking forward to (1)_____ weather and long, hot days. All of winter, with its dreary grey days and (2)_____ cold, we dream of those (3)_____ days at the beach, laying on the sand and (4)_____ in the (5)_____ and burning sun. And then, summer comes, and it rains.

SubQuestion No : 20

Q.20 Select the most appropriate option to fill in blank number 5.

- Ans**
- 1. solemn
 - 2. bright
 - 3. dull
 - 4. unpleasant

Section : Part-D-Hindi

Q.1 निम्नलिखित वाक्य में वर्तनी संबंधी त्रुटि की पहचान करें।
हाथी सूखी टहनीयाँ खा रहा है।

- Ans**
- 1. हाथी
 - 2. खा
 - 3. सूखी
 - 4. टहनीयाँ

Q.2 निम्नलिखित वाक्य में अशुद्ध शब्द या वाक्यांश है-
मैं मेरा कलम से लिखता हूँ।

- Ans**
- 1. से
 - 2. कलम
 - 3. लिखता
 - 4. मेरा

Q.3 निम्नलिखित वाक्यांश के लिए एक सार्थक शब्द का चयन कीजिए-
'इन्द्रियों को वश में करने वाला'

- Ans**
- 1. इन्द्रियजित
 - 2. इन्द्रजीत
 - 3. इन्द्रियनिग्रह
 - 4. इन्द्रियातीत

Q.4 'रात्रि में गरिष्ठ भोजन नहीं करना चाहिए'
वाक्य में रेखांकित शब्द की शुद्ध वर्तनी है-

- Ans**
- 1. गरीष्ट
 - 2. गरीष्ठ
 - 3. गरिष्ट
 - 4. गरिष्ठ

Q.5 निम्नलिखित वाक्य में रेखांकित पद के बदले कौन सा विकल्प उपयुक्त है?
निराला को अभिनंदन ग्रंथ प्रदान किया गया।

- Ans**
- 1. उपहार किया गया
 - 2. पुरस्कृत की गई
 - 3. भेंट किया गया
 - 4. दान की गई

Q.6 'वृक्ष' का पर्याय निम्न में से है-

- Ans
- 1. इष्टु
 - 2. झख
 - 3. भर्ता
 - 4. गाछ

Q.7 मुहावरे और उसके अर्थ के लिए सही विकल्प चुनें।
कलम तोड़ना

- Ans
- 1. कलम तोड़ देना
 - 2. जैसा-तैसा लिखना
 - 3. अच्छा नहीं लिखना
 - 4. बढ़िया लिखना

Q.8 दिए गए वाक्यों के रेखांकित शब्दों के आधार पर संज्ञा की दृष्टि से अशुद्ध वाक्य की पहचान करें--

- Ans
- 1. आपकी समझ तो अपूर्व है।
 - 2. हर व्यक्ति में देवत्व और पशुत्व दोनों ही रहते हैं।
 - 3. गीता तेज़ी से लम्बी हो रही है।
 - 4. बातचीत में मिठास रखो, सब काम बनते जायेंगे।

Q.9 दिए गए शब्द का सही पर्यायवाची शब्द पहचानिए-
विनीत

- Ans
- 1. प्रणत
 - 2. हितय
 - 3. अजय
 - 4. विजय

Q.10 'कबीर ___ काव्य धारा के प्रमुख कवि हैं।'
रिक्त स्थान की पूर्ति के लिए उपयुक्त तद्भव शब्द है-

- Ans
- 1. निर्गुण
 - 2. भक्त
 - 3. सगुण
 - 4. निरगुण

Q.11 'कोयल' का पर्याय है-

- Ans
- 1. कांता
 - 2. सुता
 - 3. श्यामा
 - 4. पखेरू

Q.12 'आम के बागों में _____ बोल रही है' रिक्त स्थान की पूर्ति तत्सम शब्द द्वारा कीजिए

- Ans
- 1. कोकिला
 - 2. कोयल
 - 3. कोयलिया
 - 4. कोकिल

Q.13 निम्नलिखित में से कौन सा स्थानवाचक क्रिया विशेषण नहीं है?

- Ans
- 1. अभी
 - 2. किधर
 - 3. यहाँ
 - 4. वहाँ

Q.14 'इस वर्ष इस्पात के _____ में इजाफा हुआ है।' वाक्य के रिक्त स्थान के लिए आयात शब्द का सर्वाधिक उपयुक्त विलोम शब्द चुनिए-

- Ans
- 1. खरीद
 - 2. बिक्री
 - 3. खपत
 - 4. निर्यात

Q.15 दिए गए वाक्य में शब्द या वाक्य खण्ड को बदलिए।

उसके चाचा को लड़की हुई है।

- Ans
- 1. उसके चाचा के लड़की हुई है।
 - 2. उसके चाचा की लड़की हुई है।
 - 3. उसके चाचा को लड़की हुई है।
 - 4. उसके चाचा की सिर्फ लड़की हुई है।

Comprehension:

निम्नलिखित गद्यांश में से कुछ शब्द हटा दिए गए हैं। दिए गए विकल्पों की सहायता से रिक्त स्थानों की पूर्ति कीजिए। प्रत्येक संख्या के लिए उपयुक्त विकल्प का चयन कीजिए-

साहित्य में यथार्थ-चित्रण होना स्वाभाविक भी है और आवश्यक भी क्योंकि वही साहित्य उच्च कोटि का साहित्य पाया जाता है जिसमें जीवन के _____ 1 _____ का निचोड़ हो। अनुभव यथार्थ के धरातल पर ही सम्भव होते हैं, किन्तु यही यथार्थ अन्ततः अप्रत्यक्ष रूप से आदर्श की संरचना करने में _____ 2 _____ होता है। साहित्य का तो अर्थ ही है सबका हित करना और यथार्थ से सदैव सबका हित संभव नहीं हो सकता। अतः यथार्थ के साथ यदि आदर्श का सामंजस्य नहीं होता तो यथार्थ नितान्त अभद्र एवं _____ 3 _____ बन कर रह जाता। रामायण एवं महाभारत जैसे महाकाव्यों में यदि एक ओर जीवन के चरम यथार्थ को दर्शाया गया है तो दूसरी ओर _____ 4 _____ की भी प्रतिष्ठा की गई है। यथार्थ जीवन रूपी सागर की मंझधार है तो आदर्श किनारा। साहित्य का प्रयोजन वास्तविक जीवन का यथातथ्यात्मक चित्रण करना नहीं है अपितु जीवन के _____ 5 _____ स्वरूप को चित्रित करना है।

SubQuestion No : 16

Q.16 गद्यांश के आधार पर उत्तर के रूप में सही विकल्प चुनें।

साहित्य में यथार्थ-चित्रण होना स्वाभाविक भी है और आवश्यक भी क्योंकि वही साहित्य उच्च कोटि का साहित्य पाया जाता है जिसमें जीवन के _____ 1 _____ का निचोड़ हो।

- Ans
- 1. अनुभवों
 - 2. कष्ट
 - 3. स्वरूप
 - 4. सत्य

Comprehension:

निम्नलिखित गद्यांश में से कुछ शब्द हटा दिए गए हैं। दिए गए विकल्पों की सहायता से रिक्त स्थानों की पूर्ति कीजिए। प्रत्येक संख्या के लिए उपयुक्त विकल्प का चयन कीजिए-

साहित्य में यथार्थ-चित्रण होना स्वाभाविक भी है और आवश्यक भी क्योंकि वही साहित्य उच्च कोटि का साहित्य पाया जाता है जिसमें जीवन के _____ 1 _____ का निचोड़ हो। अनुभव यथार्थ के धरातल पर ही सम्भव होते हैं, किन्तु यही यथार्थ अन्ततः अप्रत्यक्ष रूप से आदर्श की संरचना करने में _____ 2 _____ होता है। साहित्य का तो अर्थ ही है सबका हित करना और यथार्थ से सदैव सबका हित संभव नहीं हो सकता। अतः यथार्थ के साथ यदि आदर्श का सामंजस्य नहीं होता तो यथार्थ नितान्त अभद्र एवं _____ 3 _____ बन कर रह जाता। रामायण एवं महाभारत जैसे महाकाव्यों में यदि एक ओर जीवन के चरम यथार्थ को दर्शाया गया है तो दूसरी ओर _____ 4 _____ की भी प्रतिष्ठा की गई है। यथार्थ जीवन रूपी सागर की मंझधार है तो आदर्श किनारा। साहित्य का प्रयोजन वास्तविक जीवन का यथातथ्यात्मक चित्रण करना नहीं है अपितु जीवन के _____ 5 _____ स्वरूप को चित्रित करना है।

SubQuestion No : 17

Q.17 गद्यांश के आधार पर उत्तर के रूप में सही विकल्प चुनें।

अनुभव यथार्थ के धरातल पर ही सम्भव होते हैं, किन्तु यही यथार्थ अन्ततः अप्रत्यक्ष रूप से आदर्श की संरचना करने में _____ 2 _____ होता है।

- Ans
- 1. बाधक
 - 2. आवश्यक
 - 3. व्यर्थ
 - 4. सहायक

Comprehension:

निम्नलिखित गद्यांश में से कुछ शब्द हटा दिए गए हैं। दिए गए विकल्पों की सहायता से रिक्त स्थानों की पूर्ति कीजिए। प्रत्येक संख्या के लिए उपयुक्त विकल्प का चयन कीजिए-

साहित्य में यथार्थ-चित्रण होना स्वाभाविक भी है और आवश्यक भी क्योंकि वही साहित्य उच्च कोटि का साहित्य पाया जाता है जिसमें जीवन के _____ 1 _____ का निचोड़ हो। अनुभव यथार्थ के धरातल पर ही सम्भव होते हैं, किन्तु यही यथार्थ अन्ततः अप्रत्यक्ष रूप से आदर्श की संरचना करने में _____ 2 _____ होता है। साहित्य का तो अर्थ ही है सबका हित करना और यथार्थ से सदैव सबका हित संभव नहीं हो सकता। अतः यथार्थ के साथ यदि आदर्श का सामंजस्य नहीं होता तो यथार्थ नितान्त अभद्र एवं _____ 3 _____ बन कर रह जाता। रामायण एवं महाभारत जैसे महाकाव्यों में यदि एक ओर जीवन के चरम यथार्थ को दर्शाया गया है तो दूसरी ओर _____ 4 _____ की भी प्रतिष्ठा की गई है। यथार्थ जीवन रूपी सागर की मंझधार है तो आदर्श किनारा। साहित्य का प्रयोजन वास्तविक जीवन का यथातथ्यात्मक चित्रण करना नहीं है अपितु जीवन के _____ 5 _____ स्वरूप को चित्रित करना है।

SubQuestion No : 18

Q.18 गद्यांश के आधार पर उत्तर के रूप में सही विकल्प चुनें।
साहित्य का तो अर्थ ही है सबका हित करना और यथार्थ से सदैव सबका हित संभव नहीं हो सकता। अतः यथार्थ के साथ यदि आदर्श का सामंजस्य नहीं होता तो यथार्थ नितान्त अभद्र एवं _____ 3 _____ बन कर रह जाता।

- Ans**
- 1. सुखद
 - 2. कष्टप्रद
 - 3. आवश्यक
 - 4. अनावश्यक

Comprehension:

निम्नलिखित गद्यांश में से कुछ शब्द हटा दिए गए हैं। दिए गए विकल्पों की सहायता से रिक्त स्थानों की पूर्ति कीजिए। प्रत्येक संख्या के लिए उपयुक्त विकल्प का चयन कीजिए-

साहित्य में यथार्थ-चित्रण होना स्वाभाविक भी है और आवश्यक भी क्योंकि वही साहित्य उच्च कोटि का साहित्य पाया जाता है जिसमें जीवन के _____ 1 _____ का निचोड़ हो। अनुभव यथार्थ के धरातल पर ही सम्भव होते हैं, किन्तु यही यथार्थ अन्ततः अप्रत्यक्ष रूप से आदर्श की संरचना करने में _____ 2 _____ होता है। साहित्य का तो अर्थ ही है सबका हित करना और यथार्थ से सदैव सबका हित संभव नहीं हो सकता। अतः यथार्थ के साथ यदि आदर्श का सामंजस्य नहीं होता तो यथार्थ नितान्त अभद्र एवं _____ 3 _____ बन कर रह जाता। रामायण एवं महाभारत जैसे महाकाव्यों में यदि एक ओर जीवन के चरम यथार्थ को दर्शाया गया है तो दूसरी ओर _____ 4 _____ की भी प्रतिष्ठा की गई है। यथार्थ जीवन रूपी सागर की मंझधार है तो आदर्श किनारा। साहित्य का प्रयोजन वास्तविक जीवन का यथातथ्यात्मक चित्रण करना नहीं है अपितु जीवन के _____ 5 _____ स्वरूप को चित्रित करना है।

SubQuestion No : 19

Q.19 गद्यांश के आधार पर उत्तर के रूप में सही विकल्प चुनें।
रामायण एवं महाभारत जैसे महाकाव्यों में यदि एक ओर जीवन के चरम यथार्थ को दर्शाया गया है तो दूसरी ओर _____ 4 _____ की भी प्रतिष्ठा की गई है।

- Ans**
- 1. पवित्र
 - 2. आदर्श
 - 3. उत्तक
 - 4. पुष्प

Comprehension:

निम्नलिखित गद्यांश में से कुछ शब्द हटा दिए गए हैं। दिए गए विकल्पों की सहायता से रिक्त स्थानों की पूर्ति कीजिए। प्रत्येक संख्या के लिए उपयुक्त विकल्प का चयन कीजिए-

साहित्य में यथार्थ-चित्रण होना स्वाभाविक भी है और आवश्यक भी क्योंकि वही साहित्य उच्च कोटि का साहित्य पाया जाता है जिसमें जीवन के _____ 1 _____ का निचोड़ हो। अनुभव यथार्थ के धरातल पर ही सम्भव होते हैं, किन्तु यही यथार्थ अन्ततः अप्रत्यक्ष रूप से आदर्श की संरचना करने में _____ 2 _____ होता है। साहित्य का तो अर्थ ही है सबका हित करना और यथार्थ से सदैव सबका हित संभव नहीं हो सकता। अतः यथार्थ के साथ यदि आदर्श का सामंजस्य नहीं होता तो यथार्थ नितान्त अभद्र एवं _____ 3 _____ बन कर रह जाता। रामायण एवं महाभारत जैसे महाकाव्यों में यदि एक ओर जीवन के चरम यथार्थ को दर्शाया गया है तो दूसरी ओर _____ 4 _____ की भी प्रतिष्ठा की गई है। यथार्थ जीवन रूपी सागर की मंझधार है तो आदर्श किनारा। साहित्य का प्रयोजन वास्तविक जीवन का यथातथ्यात्मक चित्रण करना नहीं है अपितु जीवन के _____ 5 _____ स्वरूप को चित्रित करना है।

SubQuestion No : 20

Q.20 गद्यांश के आधार पर उत्तर के रूप में सही विकल्प चुनें।
साहित्य का प्रयोजन वास्तविक जीवन का यथातथ्यात्मक चित्रण करना नहीं है अपितु जीवन के _____ 5 _____ स्वरूप को चित्रित करना है।

- Ans**
- 1. अच्छा
 - 2. श्रेष्ठ
 - 3. कुछ
 - 4. सही