

Constable GD in CAPFs and SSF Rifleman GD in AR and Sepoy in NCB Examination 2025

Exam Date	10/02/2025
Exam Time	12:00 PM - 1:00 PM
Subject	Constable GD Examination 2025

Section : Part-A-General Intelligence and Reasoning

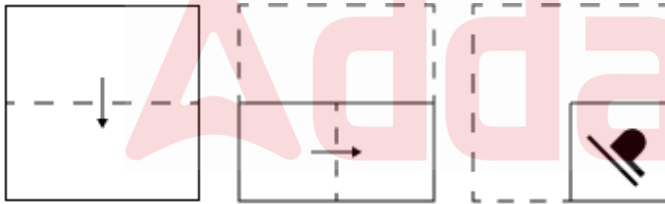
Q.1 The position(s) of how many letters will remain unchanged if each of the letters in the word MODULES is arranged in the English alphabetical order?

- Ans
- 1. Two
 - 2. One
 - 3. Zero
 - 4. Three

Q.2 JGKH is related to LIMJ in a certain way based on the English alphabetical order. In the same way, VSWT is related to XUYV. To which of the given options is WTXU related, following the same logic?

- Ans
- 1. YVZW
 - 2. YUYW
 - 3. YVYW
 - 4. YWYA

Q.3 A paper is folded and punched as shown below. How will it appear when unfolded?



- Ans
- 1.
 - 2.
 - 3.
 - 4.

Q.4 What should come in place of (?) in the given series based on the English alphabetical order?

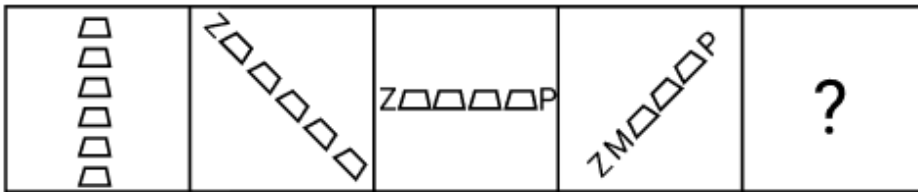
DMW, GPZ, JSC, MVF, ?

- Ans
- 1. NZK
 - 2. QAL
 - 3. PYI
 - 4. MWJ

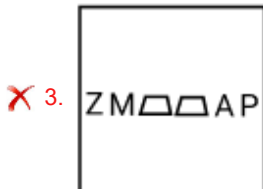
Q.5 Seven people, G, H, I, J, K, L and M, are sitting in a row, facing north (but not necessarily in the same order). Only five people sit between H and G. L sits to the immediate left of G. Only one person sits between L and I. J sits at some place to the left of K but at some place to the right of M. How many people sit to the left of J?

- Ans
- 1. Four
 - 2. One
 - 3. Two
 - 4. Three

Q.6 Identify the figure given in the options which when put in place of the question mark (?) will logically complete the series.



Ans



Q.7 Read the given statements and conclusions carefully. Assuming that the information given in the statements is true, even if it appears to be at variance with commonly known facts, decide which of the given conclusions logically follow(s) from the statements.

Statements:

All drawers are racks.
Some racks are cabinets.
All cabinets are shelves.

Conclusions:

(I) All shelves are racks.
(II) Some shelves are drawers.

- Ans**
- ✓ 1. Neither conclusion (I) nor (II) follows
 - ✗ 2. Only conclusion (I) follows
 - ✗ 3. Both conclusions (I) and (II) follow
 - ✗ 4. Only conclusion (II) follows

Q.8 In a certain code language, 'TZKI' is coded as '55' and 'QBYA' is coded as '34'. What is the code for 'FWNP' in the given language?

- Ans**
- ✗ 1. 52
 - ✓ 2. 48
 - ✗ 3. 55
 - ✗ 4. 41

Q.9 Select the combination of letters that when sequentially placed in the blanks of the given series, will logically complete the series.

_ZVRU_TPSV_NQTP_ORN_

- Ans**
- ✗ 1. YXQLI
 - ✗ 2. YVQKI
 - ✗ 3. WVRKJ
 - ✓ 4. WXRLJ

Q.10 What will come in the place of the question mark (?) in the following equation, if '+' and '÷' are interchanged and '-' and 'x' are interchanged?

$$18 \div 15 + 5 \times 3 - 4 = ?$$

- Ans**
- ✗ 1. 5
 - ✓ 2. 9
 - ✗ 3. 1
 - ✗ 4. 13

Q.11 LNPR is related to TVXZ in a certain way based on the English alphabetical order. In the same way, FHJL is related to NPRT. To which of the given options is ZBDF related, following the same logic?

- Ans**
- ✗ 1. HJLP
 - ✗ 2. HJSD
 - ✓ 3. HJLN
 - ✗ 4. HJTY

Q.12 Based on the English alphabetical order, three of the following four letter-clusters are alike in a certain way and thus form a group. Which letter-cluster DOES NOT belong to that group?

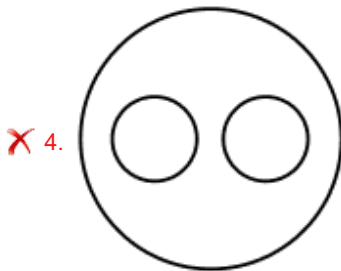

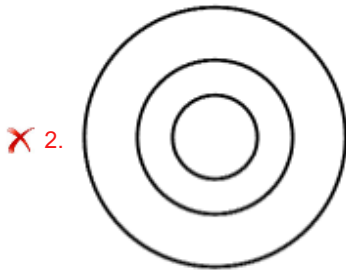
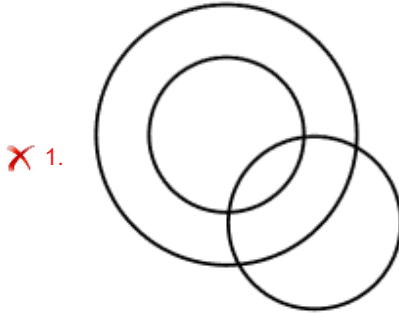
(Note: The odd one out is not based on the number of consonants/vowels or their position in the letter-cluster.)

- Ans**
- ✗ 1. GID
 - ✗ 2. PRM
 - ✗ 3. HJE
 - ✓ 4. DGB

Q.13 Select the Venn diagram that best illustrates the relationship between the following classes.

Employees, Males, Engineers

Ans



Q.14 In a certain code language, 'REST' is coded as '3149' and 'SEAT' is coded as '4398'. How is 'R' coded in the given language?

- Ans
- ✓ 1. 1
 - ✗ 2. 9
 - ✗ 3. 3
 - ✗ 4. 4

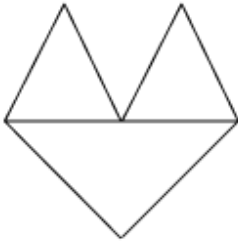
Q.15 What should come in place of the question mark (?) in the given series?
11 14 24 41 65 ?

- Ans
- ✗ 1. 98
 - ✗ 2. 97
 - ✗ 3. 95
 - ✓ 4. 96

Q.16 P is the brother of R. R is the father of Q. S is the husband of Q. T is the daughter of S.
How is P related to T?

- Ans
- 1. Mother's brother
 - 2. Mother's father's father
 - 3. Mother's father's brother
 - 4. Father's brother

Q.17 Select the option figure in which the given figure (X) is embedded as its part (rotation is NOT allowed).



(X)

Ans

- 1.
- 2.
- 3.
- 4.

Q.18 P, Q, R, S, T, U and V are sitting around a circular table facing the centre (but not necessarily in the same order) . P is sitting to the immediate right of R and immediate left of Q. S is sitting to the immediate right of U and immediate left of T. T is sitting to the immediate left of R. Who is immediate neighbour of both Q and U?

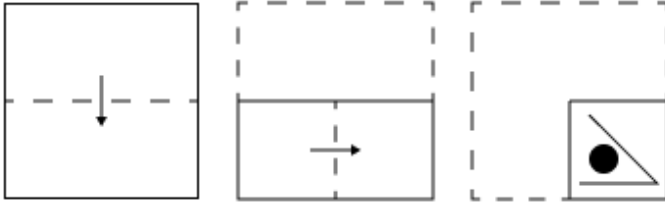
- Ans
- 1. P
 - 2. V
 - 3. S
 - 4. T

Q.19 What should come in place of the question mark (?) in the given series?

80 100 122 146 172 200 ?

- Ans
- 1. 250
 - 2. 246
 - 3. 234
 - 4. 230

Q.20 A paper is folded and punched as shown below. How will it appear when unfolded?



Ans

- 1.
- 2.
- 3.
- 4.

Section : Part-B-General Knowledge and General awareness

Q.1 According to the Census of India 2011, what was the density of the population of India?

- Ans
- 1. 460 persons/km²
 - 2. 368 persons/km²
 - 3. 405 persons/km²
 - 4. 382 persons/km²

Q.2 In which of the following dance forms are four aspects of abhinaya 'angika', 'aharya', 'vachika', 'satvika' and the 'nritta', 'nritya' and 'natya' combined perfectly?

- Ans
- 1. Kathak
 - 2. Manipuri
 - 3. Bharatanatyam
 - 4. Kathakali

Q.3 In which year was Prime Minister's Employment Generation Programme launched by the government of India?

- Ans**
- 1. 2008
 - 2. 2007
 - 3. 2009
 - 4. 2006

Q.4 Which organisation(s) are involved in the development of the 'Joint Parcel Product' (JPP), which was commenced during 2022 in India?

- Ans**
- 1. Ministry of External Affairs
 - 2. Ministry of Road Transport and Highways
 - 3. Indian Railways and India Post
 - 4. Indian Airlines and India Post

Q.5 Which Article of the Indian Constitution safeguards the freedom of religion in India?

- Ans**
- 1. Article 28
 - 2. Article 27
 - 3. Article 26
 - 4. Article 25

Q.6 Which statutory authority is established by the Bharatiya Vayuyan Vidheyak, 2024, to carry out regulatory functions and ensure safety?

- Ans**
- 1. Aircraft Accidents Investigation Committee
 - 2. Directorate General of Civil Aviation (DGCA)
 - 3. Bureau of Civil Aviation Security (BCAS)
 - 4. Aircraft Accident Investigation Bureau

Q.7 Who among the following composer gained global recognition for his song 'Naatu Naatu' from action film RRR?

- Ans**
- 1. SP Balasubramaniam
 - 2. MM Keeravani
 - 3. AR Rahman
 - 4. KJ Yesudas

Q.8 The Ganga delta and coastal plains of which state are affected by storms with heavy rains almost every third or fifth day in July and August?

- Ans**
- 1. Odisha
 - 2. Gujarat
 - 3. Maharashtra
 - 4. Tamil Nadu

Q.9 How many inscriptions make up the Edicts of Ashoka?

- Ans**
- 1. 25
 - 2. 33
 - 3. 36
 - 4. 34

Q.10 The fluid portion of the cytosol, devoid of any cell organelles, present in both the prokaryotic and eukaryotic cell is _____.

- Ans**
- 1. hyaloplasm
 - 2. lysosome
 - 3. nucleoplasm
 - 4. protoplasm

Q.11 Uzhavar Thirunal is a farmers festival celebrated in which state?

- Ans
- 1. Tamil Nadu
 - 2. Andra Pradesh
 - 3. Kerala
 - 4. Telangana

Q.12 Which of the following Union Ministries appointed Prof. (Dr.) Soumya Swaminathan as Principal Advisor for the National Tuberculosis Elimination Programme in July 2024?

- Ans
- 1. Union Ministry of Housing Welfare
 - 2. Union Ministry of Home Affairs
 - 3. Union Ministry of Child Care
 - 4. Union Ministry of Health and Family Welfare

Q.13 What were the main objectives of the Rolling Plan introduced between the Fifth and Sixth Five-Year Plans?

- Ans
- 1. Growth with social justice and economic stability
 - 2. Employment generation and regional balance
 - 3. Agricultural expansion and industrial growth
 - 4. Focus on economic crisis management and policy adjustments

Q.14 Which dance and singing form of Manipur was inscribed on the Representative List of the Intangible Cultural Heritage of Humanity in 2013?

- Ans
- 1. Sankirtana
 - 2. Maibi
 - 3. Cymbal
 - 4. Ras Lila

Q.15 In the Indian federal structure, which list includes subjects on which both the centre and states can legislate?

- Ans
- 1. State List
 - 2. Residual List
 - 3. Union List
 - 4. Concurrent List

Q.16 There are two identical spherical solid balls of iron alloy touching each other. What would be the gravitational force of attraction between them if the density of the materials of the ball is $(3/2\pi) \times 10^5(\text{kg/m}^3)$ and radius 1 m. $G = 6.67 \times 10^{-11}\text{Nm}^2/\text{kg}^2$.

- Ans
- 1. 0.667 N
 - 2. 0.0667 N
 - 3. 66.7 N
 - 4. 6.67 N

Q.17 In archery, what is the highest score for hitting the inner gold ring with a single arrow?

- Ans
- 1. 9
 - 2. 5
 - 3. 10
 - 4. 8

Q.18 What was the primary reason for the 'Plan Holiday' between 1966 and 1969?

- Ans
- 1. Political instability
 - 2. Failure of the Third Five-Year Plan
 - 3. Deflation
 - 4. Economic liberalisation

Q.19 Where was the final match of Ultimate Kho-Kho League Season 2 played?

- Ans
- 1. Rourkela
 - 2. Sambalpur
 - 3. Bhubaneswar
 - 4. Cuttack

Q.20 The Azad Hind Fauj (Indian National Army) was reorganised by Subhas Chandra Bose in which country?

- Ans
- 1. Japan
 - 2. Singapore
 - 3. Germany
 - 4. Burma

Section : Part-C-Elementary Mathematics

Q.1

Find the value of $\left[(19 \times 3) \times \left\{ 8 \div 2 \times \frac{(18 - 14)}{4} \right\} \right]$

- Ans
- 1. 245
 - 2. 214
 - 3. 228
 - 4. 226

Q.2

Find the value of $\left[(12 \div 4) \times \left\{ \frac{15}{5} + \frac{16}{1} \times (9 - 8) \right\} \right]$

- Ans
- 1. 57
 - 2. 44
 - 3. 69
 - 4. 61

Q.3 Find the mean proportional of $(12 + 6\sqrt{2})$ and $(8 - 4\sqrt{2})$.

- Ans
- 1. $4\sqrt{3}$
 - 2. $3\sqrt{2}$
 - 3. $3\sqrt{3}$
 - 4. $4\sqrt{2}$

Q.4 The population of a district is 360000, out of which 225000 are males. 35% of the population is literate. If 17% males are literate, then what percentage of females are literate?

- Ans
- 1. 68%
 - 2. 67%
 - 3. 63%
 - 4. 65%

Q.5 The average age of 57 students of a class is 13 years. If the age of the teacher is also included, the average age of the whole group becomes 14 years. The age (in years) of the teacher is:

- Ans
- 1. 70
 - 2. 69
 - 3. 72
 - 4. 71

Q.6 Applied to a bill of ₹600, the difference between a single discount of 25% and two successive discounts of 10% and 15% is:

- Ans
- 1. ₹1.5
 - 2. ₹11
 - 3. ₹10
 - 4. ₹9

Q.7 A car covers a distance of 30 km and 250 metres in 25 minutes. The speed of the car in km per hour is _____.

- Ans
- 1. 76.2
 - 2. 67.2
 - 3. 72.6
 - 4. 62.7

Q.8 33 guava trees, 55 banana trees and 88 malta trees need to be planted in rows such that each row contains the same number of trees of one type only. The minimum number of rows in which the trees may be planted is:

- Ans
- 1. 18
 - 2. 12
 - 3. 20
 - 4. 16

Q.9 Sachin has two grandsons Chetan and Vipul. 13 year old Chetan gets some money from Sachin's wealth and 14 year old Vipul gets rest of the money. But Chetan and Vipul will get money only when they turn 23 years old. Till then the money is in a bank getting interest at rate 8% compounded annually. When both turn 23, they receive the same amount. How much had Sachin given Vipul (in ₹) initially, if total money with Sachin was ₹23400?

- Ans
- 1. 11000
 - 2. 12150
 - 3. 11250
 - 4. 12500

Q.10 The speed of a stream is 4 km/h. A boat can go 20 km downstream and 14 km upstream in 3 hours. What is the speed (in km/h) of the boat in still water?

- Ans
- 1. 12
 - 2. 9
 - 3. 6
 - 4. 5

Q.11 If at same rate of interest, in 2 years, the simple interest is ₹44 and compound interest is ₹46, then what is the principal (in ₹)?

- Ans
- 1. 237
 - 2. 235
 - 3. 246
 - 4. 242

Q.12 Prakhar goes from his home to school at a speed of 24 km/hr and returns at the speed of 36 km/hr. Find the average speed for the whole journey.

- Ans
- 1. 31.6 km/hr
 - 2. 28.8 km/hr
 - 3. 27.9 km/hr
 - 4. 26.3 km/hr

Q.13 A dishonest shopkeeper promises to sell his goods at cost price. However, he uses a weight that actually weighs 39% less than what is written on it. Find his profit percentage.

- Ans
- 1. $62\frac{57}{61}\%$
 - 2. $65\frac{114}{61}\%$
 - 3. $63\frac{57}{61}\%$
 - 4. $64\frac{58}{61}\%$

Q.14 If 2% of $x = 240$, then x is equal to:

- Ans
- 1. 12000
 - 2. 24100
 - 3. 12100
 - 4. 24000

Q.15 Compare the ratios 2 : 3, 5 : 7, 3 : 4, 5 : 9. Which one is the smallest?

- Ans
- 1. 5 : 9
 - 2. 3 : 4
 - 3. 2 : 3
 - 4. 5 : 7

Q.16 Find the volume of a hemisphere of radius $6\sqrt{3}$ cm.

- Ans
- 1. $452\sqrt{3}\pi \text{ cm}^3$
 - 2. $442\sqrt{3}\pi \text{ cm}^3$
 - 3. $432\sqrt{3}\pi \text{ cm}^3$
 - 4. $462\sqrt{3}\pi \text{ cm}^3$

Q.17 The cost price of a calculator is ₹315. If the profit percentage is 20%, then what is the value (in ₹) of the profit?

- Ans
- 1. 71
 - 2. 63
 - 3. 60
 - 4. 68

Q.18 Keshav invests a sum of ₹5400 and Tushar invests a sum of ₹10200 at the same rate of simple interest per annum. If, at the end of 3 years, Tushar gets ₹360 more interest than Keshav, then find the rate of interest per annum (in percentage).

- Ans
- 1. 1.5
 - 2. 3.5
 - 3. 2.5
 - 4. 4.5

Q.19 A, B and C can complete a piece of work in 12, 20 and 15 days, respectively. A, B and C will complete the work while working on alternate days. C works on the 1st day, B works on the 2nd day and A works on the 3rd day and so on. In how many days will the work get complete?

- Ans
- 1. 24
 - 2. 15
 - 3. 30
 - 4. 12

Q.20 LCM and HCF of two numbers are 154 and 7 respectively. If one of the numbers is 77, then find the other number.

- Ans
- 1. 16
 - 2. 15
 - 3. 13
 - 4. 14

Section : Part-D-English

Q.1 Select the most appropriate option to fill in the blank and make the sentence meaningful.

Don't try to divert me _____ my principles.

- Ans
- 1. from
 - 2. on
 - 3. for
 - 4. about

Q.2 Select the most appropriate option that can substitute the highlighted word segment in the given sentence. If the sentence is grammatically correct, select 'No correction'.

She is attending the conference yesterday.

- Ans
- 1. No correction
 - 2. has attended
 - 3. attended
 - 4. was attending

Q.3 Parts of the following sentence have been given as options. Select the option that contains an adverb-usage error.

Benjamin and Lucas gently volunteered for the disaster management task.

- Ans
- 1. for the
 - 2. Benjamin and Lucas
 - 3. disaster management task.
 - 4. gently volunteered

Q.4 Select the most appropriate meaning of the underlined word.

The conductor directed the orchestra with precision and grace.

- Ans
- 1. Elegance and smoothness of movement
 - 2. A type of flower
 - 3. A style of music
 - 4. A prayer before a meal

Q.5 Fill in the blank with the most appropriate collocation.

We reached a _____ conclusion after discussing the matter.

- Ans
- 1. quick
 - 2. big
 - 3. heavy
 - 4. clear

Q.6 Select the most appropriate ANTONYM of the underlined word in the given sentence.

His strict adherence to the schedule was remarkable, displaying an extraordinary level of rigidity.

- Ans
- 1. Uniformity
 - 2. Consistency
 - 3. Flexibility
 - 4. Complexity

Q.7 Select the word from among the given options that is closest in meaning to the underlined word in the given sentence.

Ashok tried to justify his late arrival by sharing about the traffic jam he encountered on the way.

- Ans
- 1. Mention
 - 2. Intensify
 - 3. Hesitate
 - 4. Explain

Q.8 Select the most appropriate meaning of the underlined idiom.

You hit the nail on the head with this colour of wallpaper for the living room; it looks better than I expected.

- Ans
- 1. Hit the wall
 - 2. Hit the floor
 - 3. Analyse and understand the situation
 - 4. Identify something exactly right

Q.9 Select the most appropriate ANTONYM of the given word.

Quick-witted

- Ans
- 1. Patient
 - 2. Foolish
 - 3. Brave
 - 4. Kind

Q.10 Select the most appropriate ANTONYM of the underlined word.

The camouflage look of army tanks saves them from enemy attack.

- Ans
- 1. Exhibit
 - 2. Obscure
 - 3. Veiled
 - 4. Disguised

Q.11 Select the INCORRECTLY spelt word.

- Ans
- 1. Suspeciously
 - 2. Wearily
 - 3. Stealthily
 - 4. Recklessly

Q.12 Select the most appropriate option to fill in the blank.

Her _____ attitude towards her colleagues made her a beloved team member.

- Ans
- 1. apathetic
 - 2. indifferent
 - 3. belligerent
 - 4. cordial

Q.13 Select the most appropriate option to fill in the blank.

She is known for her _____ spirit, always helping others in need.

- Ans
- 1. selfish
 - 2. generous
 - 3. mean
 - 4. greedy

Q.14 In the following sentence, four words are given in bold out of which one is incorrectly spelt. Identify the INCORRECTLY spelt word.

The ridiculous pranks portrayed by the sykophants are intolerable, occasionally.

- Ans
- 1. Ridiculous
 - 2. Occasionally
 - 3. Sykophants
 - 4. Portrayed

Q.15 The following sentence has been divided into parts. One of them contains an error. Select the part that contains the error from the given options.

The project was delayed/because of unforeseen issues;/consequency, we had/to adjust our timeline./

- Ans
- 1. because of unforeseen issues;
 - 2. to adjust our timeline
 - 3. consequency, we had
 - 4. The project was delayed

Comprehension:

In the following passage, some words have been deleted. Read the passage carefully and select the most appropriate option to fill in each blank.

Scholars have long noted that International Monetary Fund (IMF) restructuring programmes (1) winners and losers but always in (2) to different sectors of the economy. For example, the fact that programmes (3) to strengthen exports has been shown to favour farmers and business owners over urban middle class state employees like civil servants. The problem with purely (4) sectors is highlighted when you look at citizens' experiences. One (5) of the survey data, covering nine countries in Africa, showed that three out of ten civil servants actually thought IMF reforms made their lives better.

SubQuestion No : 16

Q.16 Select the most appropriate option to fill in blank no. 1.

- Ans**
- 1. calibrate
 - 2. calculate
 - 3. celibate
 - 4. create

Comprehension:

In the following passage, some words have been deleted. Read the passage carefully and select the most appropriate option to fill in each blank.

Scholars have long noted that International Monetary Fund (IMF) restructuring programmes (1) winners and losers but always in (2) to different sectors of the economy. For example, the fact that programmes (3) to strengthen exports has been shown to favour farmers and business owners over urban middle class state employees like civil servants. The problem with purely (4) sectors is highlighted when you look at citizens' experiences. One (5) of the survey data, covering nine countries in Africa, showed that three out of ten civil servants actually thought IMF reforms made their lives better.

SubQuestion No : 17

Q.17 Select the most appropriate option to fill in blank no. 2.

- Ans**
- 1. objection
 - 2. anticipation
 - 3. narration
 - 4. relation

Comprehension:

In the following passage, some words have been deleted. Read the passage carefully and select the most appropriate option to fill in each blank.

Scholars have long noted that International Monetary Fund (IMF) restructuring programmes (1) winners and losers but always in (2) to different sectors of the economy. For example, the fact that programmes (3) to strengthen exports has been shown to favour farmers and business owners over urban middle class state employees like civil servants. The problem with purely (4) sectors is highlighted when you look at citizens' experiences. One (5) of the survey data, covering nine countries in Africa, showed that three out of ten civil servants actually thought IMF reforms made their lives better.

SubQuestion No : 18

Q.18 Select the most appropriate option to fill in blank no. 3.

Ans 1.
separate

2.
negate

3.
integrate

4.
attempt

Comprehension:

In the following passage, some words have been deleted. Read the passage carefully and select the most appropriate option to fill in each blank.

Scholars have long noted that International Monetary Fund (IMF) restructuring programmes (1) winners and losers but always in (2) to different sectors of the economy. For example, the fact that programmes (3) to strengthen exports has been shown to favour farmers and business owners over urban middle class state employees like civil servants. The problem with purely (4) sectors is highlighted when you look at citizens' experiences. One (5) of the survey data, covering nine countries in Africa, showed that three out of ten civil servants actually thought IMF reforms made their lives better.

SubQuestion No : 19

Q.19 Select the most appropriate option to fill in blank no. 4.

Ans 1.
compering

2.
comparing

3.
compiling

4.
compelling

Comprehension:

In the following passage, some words have been deleted. Read the passage carefully and select the most appropriate option to fill in each blank.

Scholars have long noted that International Monetary Fund (IMF) restructuring programmes (1) winners and losers but always in (2) to different sectors of the economy. For example, the fact that programmes (3) to strengthen exports has been shown to favour farmers and business owners over urban middle class state employees like civil servants. The problem with purely (4) sectors is highlighted when you look at citizens' experiences. One (5) of the survey data, covering nine countries in Africa, showed that three out of ten civil servants actually thought IMF reforms made their lives better.

SubQuestion No : 20

Q.20 Select the most appropriate option to fill in blank no. 5.

- Ans** ✓ 1.
segment
- ✗ 2.
ligament
- ✗ 3.
fragment
- ✗ 4.
payment

Section : Part-D-Hindi

Q.1 संज्ञा के अनुसार दिये गए वाक्य में त्रुटियाँ पहचाने और वाक्य शुद्ध करें तथा उत्तर के रूप में सही विकल्प चुनें।
एक लड़का दौड़ते हैं।

- Ans** ✗ 1. एक लड़का दौड़ते ही रहता है।
✗ 2. एक लड़का सिर्फ दौड़ते ही हैं।
✗ 3. एक लड़का दौड़ते है।
✓ 4. एक लड़का दौड़ता है।

Q.2 सत्य से बढ़कर कुछ नहीं है।

रेखांकित शब्द के उचित विलोम शब्द का चयन कीजिए।

- Ans** ✗ 1. सच
✗ 2. धोखा
✓ 3. मिथ्या
✗ 4. झूठा

Q.3 'मेरे _____ में दर्द हो रहा था।' रिक्त स्थान की पूर्ति तत्सम शब्द द्वारा कीजिए।

- Ans** ✗ 1. कान
✗ 2. कर्णक
✗ 3. कुण्डल
✓ 4. कर्ण

Q.4 निम्न में से किस वाक्य में कारक चिह्न का अशुद्ध प्रयोग हुआ है?

- Ans** ✗ 1. रोगी ने पानी माँगा, मगर नर्स ने अनसुना कर दिया।
✗ 2. उसने कहा था कि उसने चोरी नहीं की।
✓ 3. उस दिन पिताजी से मुझसे पूछा ही नहीं।
✗ 4. सच-सच बताओ, तुमने उसे किस बात पर पीटा।

Q.5 'अभ्यागत' पर्याय है-

- Ans
- 1. शरणागत का
 - 2. अकिंचन का
 - 3. आतिथ्य का
 - 4. अतिथि का

Q.6 निम्नलिखित वाक्यांश के लिए सार्थक शब्द चुनिए -
अच्छा लिखने वाला

- Ans
- 1. लेखक
 - 2. सुलेखक
 - 3. साहित्यकार
 - 4. कुलेखक

Q.7 'आसमान टूट पड़ना' मुहावरे का सही अर्थ इनमें से क्या होगा?

- Ans
- 1. अत्यधिक संकट आना
 - 2. आसमान ऊपर जाना
 - 3. आसमान गिर जाना
 - 4. अत्यधिक खुसी आना

Q.8 निम्नलिखित वाक्य में रेखांकित खंड के स्थान पर प्रयुक्त होने वाले सबसे उपयुक्त विकल्प का चयन कीजिए-

इस समय महेश की ग्यारह साल अवस्था की है।

- Ans
- 1. अवस्था साल ग्यारह की
 - 2. अवस्था ग्यारह साल की
 - 3. ग्यारह की साल अवस्था
 - 4. ग्यारह अवस्था

Q.9 निम्नलिखित वाक्य के अशुद्ध भाग का चयन करें-
'संविधान के अनुसार संघ की राजभाषा हिन्दी और लिपी देवनागरी है।'

- Ans
- 1. संघ की राजभाषा
 - 2. देवनागरी है
 - 3. हिन्दी और लिपी
 - 4. संविधान के अनुसार

Q.10 निम्नलिखित विकल्पों में से कौन सा एक विलोम युग्म सही नहीं है?

- Ans
- 1. खरीद-बिक्री
 - 2. खरीद-आगत
 - 3. गौण-मुख्य
 - 4. गरल-सुधा

Q.11 वाल्मीकि कृत रामायण संस्कृत में है।'

उपरोक्त अशुद्ध वाक्य के शुद्ध रूप का चयन करें-

- Ans
- 1. वाल्मीकि कृति रामायण संस्कृत में है।
 - 2. वाल्मीकि क्रीत रामायण संस्कृत में है।
 - 3. वाल्मीकि कृत रमायण संस्कृत में है।
 - 4. वाल्मीकि कृत रामायण संस्कृत में है।

Q.12 इस बार व्यापार में मुनाफ़ा हुआ है।

रेखांकित शब्द के विलोम शब्द का चयन कीजिए।

- Ans
- 1. हलका
 - 2. तरक्की
 - 3. खत्म
 - 4. घाटा

Q.13 निम्नलिखित वाक्यांश को एक सार्थक शब्द से प्रतिस्थापित कीजिए-
'प्राचीनकाल से सम्बद्ध शास्त्र या ज्ञान'

- Ans
- 1. ऐतिहासिक
 - 2. सर्वकालिक
 - 3. पुरातत्व
 - 4. कालजयी

Q.14 निम्नलिखित वाक्यांश को ध्यानपूर्वक पढ़ें और इसके लिए सार्थक शब्द का चयन करें।
जो बीत गया हो।

- Ans
- 1. अतीत
 - 2. पुरातन
 - 3. नूतन
 - 4. नवीन

Q.15 'नंदिनी को _____ बहुत पसंद है।' रिक्त स्थान की पूर्ति के लिए विदेशी शब्द होगा -

- Ans
- 1. किशमिश
 - 2. आम
 - 3. खीर
 - 4. सत्तू

Comprehension:

गद्यांश के आधार पर प्रश्न का उत्तर दें।

राष्ट्र भाषा का प्रश्न हिन्दी भाषा भाषियों के लिये एक _____ भरा प्रश्न है। हिन्दुस्तानी को राष्ट्रभाषा का दर्जा देने की बात करना अव्यावहारिक और तर्क हीन है। और इस भ्रान्ति के कारण कि हिन्दी _____ है और वह सहज प्रयोग से दूर है, हिन्दुस्तानी को स्वीकार नहीं किया जा सकता है। श्री कन्हैयालाल माणिकलाल मुंशी ने लिखा है कि "हिन्दी व उर्दू के मिश्रण से एक खिचड़ी भाषा विकसित करने का प्रयत्न भी किया जा रहा है और यह कहा जाता है कि इसमें संस्कृत या फारसी-अरबी के लिये कोई _____ नहीं किया जायेगा। साधारण अर्थ में हिन्दुस्तानी उत्तर के _____ लोगों के दैनिक व्यवहार की बोली है। जो इसके लिए राष्ट्रभाषा का दावा करते हैं। उनके लिये यह भाषा नहीं है, यह एक वृत्ति है, शैली का एक भिन्न रूप। सर्वसाधारण द्वारा _____ से समझे जाने वाले हिन्दी शब्दों के प्रयोग के बदले हिन्दी के शब्दकोष को फारसी द्वारा प्रभावित करने का प्रयत्न इसमें स्पष्ट रूप से दृष्टिगोचर होता है।"

SubQuestion No : 16

Q.16 रिक्त स्थान पर सही शब्द विकल्प का चयन करें।

राष्ट्रभाषा का प्रश्न हिन्दी भाषा भाषियों के लिए एक _____ भरा प्रश्न है।

- Ans
- 1. आसानी
 - 2. चुनौती
 - 3. कठिनता
 - 4. सहजता

Comprehension:

गद्यांश के आधार पर प्रश्न का उत्तर दें।

राष्ट्र भाषा का प्रश्न हिन्दी भाषा भाषियों के लिये एक _____ भरा प्रश्न है। हिन्दुस्तानी को राष्ट्रभाषा का दर्जा देने की बात करना अव्यावहारिक और तर्क हीन है। और इस भ्रांति के कारण कि हिन्दी _____ है और वह सहज प्रयोग से दूर है, हिन्दुस्तानी को स्वीकार नहीं किया जा सकता है। श्री कन्हैयालाल माणिकलाल मुंशी ने लिखा है कि "हिन्दी व उर्दू के मिश्रण से एक खिचड़ी भाषा विकसित करने का प्रयत्न भी किया जा रहा है और यह कहा जाता है कि इसमें संस्कृत या फारसी-अरबी के लिये कोई _____ नहीं किया जायेगा। साधारण अर्थ में हिन्दुस्तानी उत्तर के _____ लोगों के दैनिक व्यवहार की बोली है। जो इसके लिए राष्ट्रभाषा का दावा करते हैं। उनके लिये यह भाषा नहीं है, यह एक वृत्ति है, शैली का एक भिन्न रूप। सर्वसाधारण द्वारा _____ से समझे जाने वाले हिन्दी शब्दों के प्रयोग के बदले हिन्दी के शब्दकोष को फारसी द्वारा प्रभावित करने का प्रयत्न इसमें स्पष्ट रूप से दृष्टिगोचर होता है।"

SubQuestion No : 17

Q.17 रिक्त स्थान पर सही शब्द विकल्प का चयन करें।

और इस भ्रांति के कारण कि हिन्दी _____ है और वह सहज प्रयोग से दूर है, हिन्दुस्तानी को स्वीकार नहीं किया जा सकता है।

- Ans
- 1. क्लिष्ट
 - 2. उर्दू-मिश्रित
 - 3. तत्सम प्रधान
 - 4. संस्कृतनिष्ठ

Comprehension:

गद्यांश के आधार पर प्रश्न का उत्तर दें।

राष्ट्र भाषा का प्रश्न हिन्दी भाषा भाषियों के लिये एक _____ भरा प्रश्न है। हिन्दुस्तानी को राष्ट्रभाषा का दर्जा देने की बात करना अव्यावहारिक और तर्क हीन है। और इस भ्रांति के कारण कि हिन्दी _____ है और वह सहज प्रयोग से दूर है, हिन्दुस्तानी को स्वीकार नहीं किया जा सकता है। श्री कन्हैयालाल माणिकलाल मुंशी ने लिखा है कि "हिन्दी व उर्दू के मिश्रण से एक खिचड़ी भाषा विकसित करने का प्रयत्न भी किया जा रहा है और यह कहा जाता है कि इसमें संस्कृत या फारसी-अरबी के लिये कोई _____ नहीं किया जायेगा। साधारण अर्थ में हिन्दुस्तानी उत्तर के _____ लोगों के दैनिक व्यवहार की बोली है। जो इसके लिए राष्ट्रभाषा का दावा करते हैं। उनके लिये यह भाषा नहीं है, यह एक वृत्ति है, शैली का एक भिन्न रूप। सर्वसाधारण द्वारा _____ से समझे जाने वाले हिन्दी शब्दों के प्रयोग के बदले हिन्दी के शब्दकोष को फारसी द्वारा प्रभावित करने का प्रयत्न इसमें स्पष्ट रूप से दृष्टिगोचर होता है।"

SubQuestion No : 18

Q.18 रिक्त स्थान पर सही शब्द विकल्प का चयन करें।

श्री कन्हैयालाल माणिकलाल मुंशी ने लिखा है कि "हिन्दी व उर्दू के मिश्रण से एक खिचड़ी भाषा विकसित करने का प्रयत्न किया जा रहा है और यह कहा जाता है कि इसमें संस्कृत या फारसी अरबी के लिए कोई _____ नहीं किया जाएगा।

- Ans
- 1. आघात
 - 2. शुरूआत
 - 3. हिफाजत
 - 4. पक्षपात

Comprehension:

गद्यांश के आधार पर प्रश्न का उत्तर दें।

राष्ट्र भाषा का प्रश्न हिन्दी भाषा भाषियों के लिये एक _____ भरा प्रश्न है। हिन्दुस्तानी को राष्ट्रभाषा का दर्जा देने की बात करना अव्यावहारिक और तर्क हीन है। और इस भ्रांति के कारण कि हिन्दी _____ है और वह सहज प्रयोग से दूर है, हिन्दुस्तानी को स्वीकार नहीं किया जा सकता है। श्री कन्हैयालाल माणिकलाल मुंशी ने लिखा है कि "हिन्दी व उर्दू के मिश्रण से एक खिचड़ी भाषा विकसित करने का प्रयत्न भी किया जा रहा है और यह कहा जाता है कि इसमें संस्कृत या फारसी-अरबी के लिये कोई _____ नहीं किया जायेगा। साधारण अर्थ में हिन्दुस्तानी उत्तर के _____ लोगों के दैनिक व्यवहार की बोली है। जो इसके लिए राष्ट्रभाषा का दावा करते हैं। उनके लिये यह भाषा नहीं है, यह एक वृत्ति है, शैली का एक भिन्न रूप। सर्वसाधारण द्वारा _____ से समझे जाने वाले हिन्दी शब्दों के प्रयोग के बदले हिन्दी के शब्दकोष को फारसी द्वारा प्रभावित करने का प्रयत्न इसमें स्पष्ट रूप से दृष्टिगोचर होता है।"

SubQuestion No : 19

Q.19 रिक्त स्थान पर सही शब्द विकल्प का चयन करें।

साधारण अर्थ में हिन्दुस्तानी उत्तर के _____ लोगों के दैनिक व्यवहार की बोली है।

- Ans
- 1. सभ्य
 - 2. शिक्षित
 - 3. असभ्य
 - 4. अशिक्षित

Comprehension:

गद्यांश के आधार पर प्रश्न का उत्तर दें।

राष्ट्र भाषा का प्रश्न हिन्दी भाषा भाषियों के लिये एक _____ भरा प्रश्न है। हिन्दुस्तानी को राष्ट्रभाषा का दर्जा देने की बात करना अव्यावहारिक और तर्क हीन है। और इस भ्रांति के कारण कि हिन्दी _____ है और वह सहज प्रयोग से दूर है, हिन्दुस्तानी को स्वीकार नहीं किया जा सकता है। श्री कन्हैयालाल माणिकलाल मुंशी ने लिखा है कि "हिन्दी व उर्दू के मिश्रण से एक खिचड़ी भाषा विकसित करने का प्रयत्न भी किया जा रहा है और यह कहा जाता है कि इसमें संस्कृत या फारसी-अरबी के लिये कोई _____ नहीं किया जायेगा। साधारण अर्थ में हिन्दुस्तानी उत्तर के _____ लोगों के दैनिक व्यवहार की बोली है। जो इसके लिए राष्ट्रभाषा का दावा करते हैं। उनके लिये यह भाषा नहीं है, यह एयक वृत्ति है, शैली का एक भिन्न रूप। सर्वसाधारण द्वारा _____ से समझे जाने वाले हिन्दी शब्दों के प्रयोग के बदले हिन्दी के शब्दकोष को फारसी द्वारा प्रभावित करने का प्रयत्न इसमें स्पष्ट रूप से दृष्टिगोचर होता है।"

SubQuestion No : 20

Q.20 रिक्त स्थान पर सही शब्द विकल्प का चयन करें।

सर्वसाधारण द्वारा _____ से समझे जाने वाले हिन्दी शब्दों के प्रयोग के बदले हिन्दी के शब्दकोष को फारसी द्वारा प्रभावित करने का प्रयत्न इसमें स्पष्ट रूप से दृष्टिगोचर होता है।

- Ans
- 1. कठिनाई
 - 2. प्रयास
 - 3. सरलता
 - 4. मुश्किल