

Constable GD in CAPFs and SSF Rifleman GD in AR and Sepoy in NCB Examination 2025

Exam Date	20/02/2025
Exam Time	3:00 PM - 4:00 PM
Subject	Constable GD Examination 2025

Section : Part-A-General Intelligence and Reasoning

Q.1 'NZRB' is related to 'LXOY' in a certain way based on the English alphabetical order. In the same way, 'VJAT' is related to 'THXQ'. To which of the following is "PGXL" related, following the same logic?

- Ans
- 1. MGVH
 - 2. MFWJ
 - 3. NEUI
 - 4. OEVG

Q.2 RQAZ is related to JMSV in a certain way based on the English alphabetical order. In the same way, LAUJ is related to DWMF. To which of the following options is NOWX related, following the same logic?

- Ans
- 1. FTOK
 - 2. FOKT
 - 3. FOTK
 - 4. FKOT



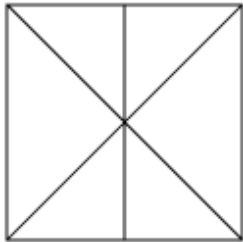
Q.3 Select the option figure in which the given figure (X) is embedded as its part (rotation is NOT allowed).



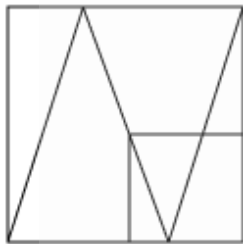
(X)

Ans

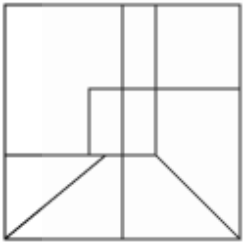
✗ 1.




✓ 2.



✗ 3.



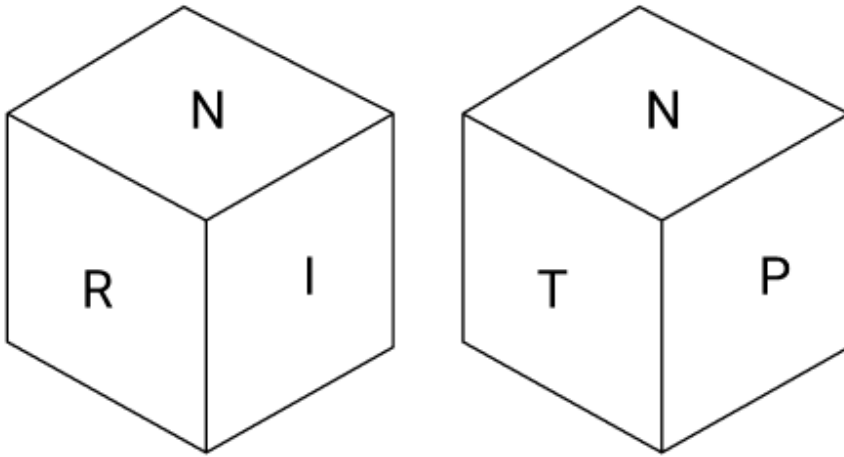
✗ 4.



Q.4 The position(s) of how many letters will remain unchanged if each of the letters in the word PUSHING is arranged in the English alphabetical order?

- Ans
- ✓ 1. Zero
 - ✗ 2. One
 - ✗ 3. Two
 - ✗ 4. Three

Q.5 A dice has its faces marked by letters N, R, P, I, T and E. Two positions of the same dice are shown in the given figures. Which face is opposite to face E?



- Ans**
- 1. N
 - 2. I
 - 3. P
 - 4. T

Q.6 Based on the English alphabetical order, three of the following four letter-clusters are alike in a certain way and thus form a group. Which letter-cluster DOES NOT belong to that group?

(Note: The odd man out is not based on the number of consonants/vowels or their position in the letter-cluster.)

- Ans**
- 1. LNO
 - 2. TVW
 - 3. ACD
 - 4. JLN

Q.7 What will come in the place of the question mark '?' in the following equation, if 'x' and '+' are interchanged and '-' and '÷' are interchanged ?

$$44 \div 9 \times 32 - 8 + 4 = ?$$

- Ans**
- 1. 52
 - 2. 53
 - 3. 54
 - 4. 51

Q.8 In a certain code language.

'I @ Z' means 'I is the husband of Z',
 'I * Z' means 'I is the mother of Z',
 'I \$ Z' means 'I is the daughter of Z' and
 'I # Z' means 'I is the father of Z'.

Based on the above, how is L related to Q if 'L * A @ Q * M'?

- Ans**
- 1. Mother's mother
 - 2. Sister
 - 3. Husband's mother
 - 4. Sister's daughter

Q.9 What should come in place of the question mark (?) in the given series based on the English alphabetical order?

FNV GOW HPX IQY ?

- Ans
- 1. ISZ
 - 2. JRU
 - 3. IRU
 - 4. JRZ

Q.10 What should come in place of the question mark (?) in the given series?

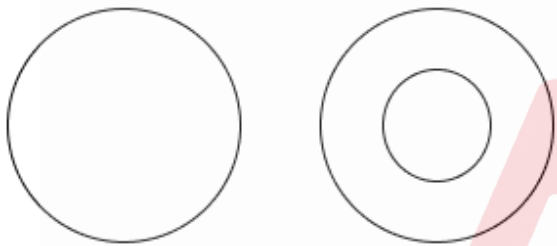
153 128 105 84 65 ?

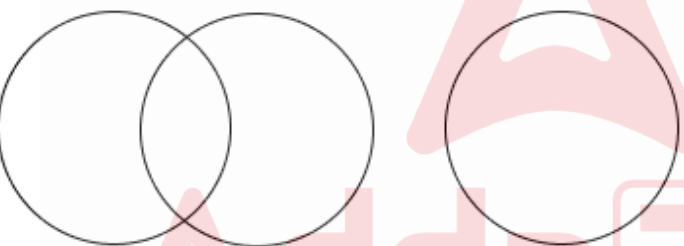
- Ans
- 1. 32
 - 2. 28
 - 3. 36
 - 4. 48

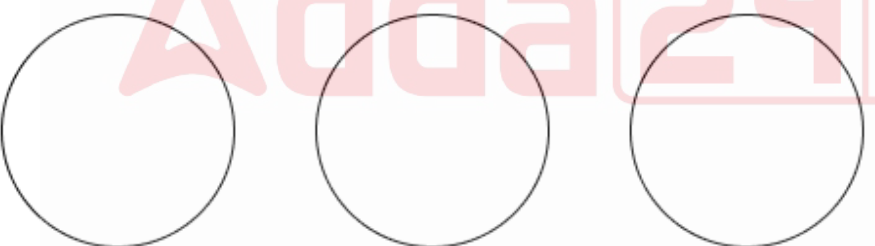
Q.11 Select the Venn diagram that best illustrates the relationship between the following classes.

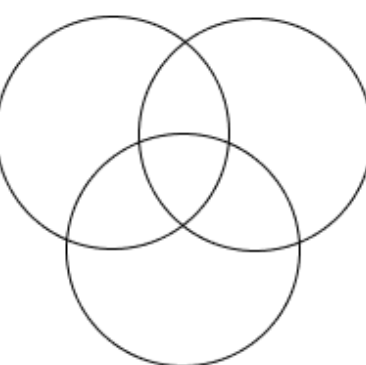
Mango, Fruit, Table

Ans

1. 

2. 

3. 

4. 

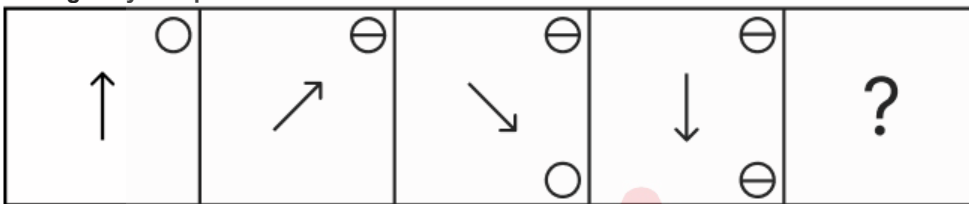
Q.12 In a certain code language, 'WGOA' is coded as '68' and 'ISLT' is coded as '54'. What is the code for 'DXRI' in the given language?

- Ans
- 1. 42
 - 2. 55
 - 3. 48
 - 4. 59

Q.13 E, F, G, H, J, K and L are sitting around a circular table facing the centre of the table (but not necessarily in the same order). K is an immediate neighbour of both L and G. G sits third to the left of F. E sits to the immediate left of F. H is NOT an immediate neighbour of G. Who sits third to the left of J?

- Ans
- 1. H
 - 2. G
 - 3. L
 - 4. E

Q.14 Identify the figure given in the options which when put in place of the question mark (?) will logically complete the series.



Ans

- 1.
- 2.
- 3.
- 4.

Q.15 Six people, K, L, M, N, O and Z, are sitting in a straight row facing north (but not necessarily in the same order). No one sits to the left of M. Only three people sit between M and K. Only three people sit to the right of O. Z sits to the immediate left of O. N is not an immediate neighbour of O. Who sits at the rightmost end of the line?

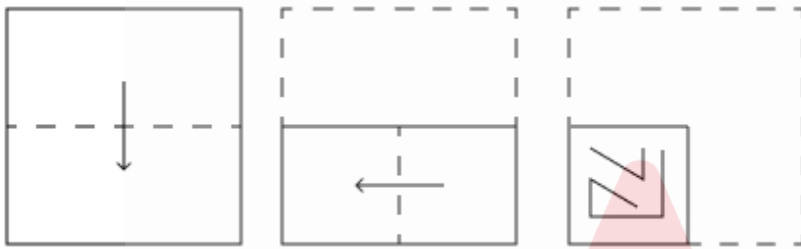
- Ans**
- 1. L
 - 2. K
 - 3. N
 - 4. O

Q.16 What should come in place of the question mark (?) in the given series?

110, 221, 443, 887, 1775, ?

- Ans**
- 1. 2051
 - 2. 2751
 - 3. 3551
 - 4. 3051

Q.17 A paper is folded and punched as shown below. How will it appear when unfolded?



Ans

- 1.
- 2.
- 3.
- 4.

Q.18 Read the given statements and conclusions carefully. Assuming that the information given in the statements is true, even if it appears to be at variance with commonly known facts, decide which of the given conclusions logically follow(s) from the statements.

Statements:

All treks are hikes.

Some hikes are climbs.

All walks are climbs.

Conclusions:

(I): Some walks are treks.

(II): Some walks are hikes.

- Ans**
- 1. Only conclusion (II) follows.
 - 2. Neither conclusion (I) nor (II) follows.
 - 3. Both conclusions (I) and (II) follow.
 - 4. Only conclusion (I) follows.

Q.19 In a certain code language, 'XIAP' is coded as '60' and 'NGQC' is coded as '51'. What is the code for 'TFIZ' in the given language?

- Ans**
- 1. 68
 - 2. 55
 - 3. 71
 - 4. 52

Q.20 Select the combination of letters that when sequentially placed in the blanks of the given series will make the series logically complete.

_CFB D _IE GI_H JLO_ MOR_

- Ans**
- 1. AFLKN
 - 2. AELMN
 - 3. BEJMQ
 - 4. BFJKQ

Section : Part-B-General Knowledge and General awareness

Q.1 Who is the cabinet minister of the Union Ministry of Heavy Industries as of September 2024?

- Ans**
- 1. Nitin Jairam Gadkari
 - 2. Manohar Lal Khattar
 - 3. HD Kumaraswamy
 - 4. Amit Shah

Q.2 The _____ festival, in which the serpent goddess Mansa is worshipped, is celebrated in some parts of Bengal, Bihar and Jharkhand in India.

- Ans**
- 1. Kumbh
 - 2. Ambubasi
 - 3. Bihula
 - 4. Matasya

Q.3 In which year did Henry Moseley use X-rays to measure the wavelength of elements, and correlate these measurements with their atomic numbers?

- Ans**
- 1. 1902
 - 2. 1913
 - 3. 1931
 - 4. 1925

Q.4 The birdie (shuttlecock) of badminton is made up of 16 feathers, it is between 62-70 mm long and weighs between _____.

- Ans
- 1. 4.74 and 5.5 g
 - 2. 2.74 and 3.5 g
 - 3. 2.74 and 5.0 g
 - 4. 4.22 and 5.5 g

Q.5 Who was the prominent leader of the Deoband Movement, which aimed to preserve Islamic culture?

- Ans
- 1. Maulana Abul Kalam Azad
 - 2. Muhammad Qasim Nanotavi
 - 3. Syed Ahmed Khan
 - 4. Shah Waliullah

Q.6 Select the correct option about typhoid fever in human beings.

Statement A: Streptococcus pneumonia is a pathogenic bacterium which causes typhoid.

Statement B: Typhoid fever could be confirmed by widal test.

Statement C: Typhoid causes Intestinal perforation.

- Ans
- 1. Only statement B is correct
 - 2. Statements A and B are correct
 - 3. Statements B and C are correct
 - 4. All statements A, B and C correct

Q.7 In which of the following states was the highest male literacy rate recorded as per census 2011?

- Ans
- 1. Mizoram
 - 2. Kerala
 - 3. Sikkim
 - 4. Goa

Q.8 As per Economic Survey 2022-23, what was the students' enrollment in higher education in India during the year 2020-21?

- Ans
- 1. 3.7 crore
 - 2. 2.0 crore
 - 3. 3.9 crore
 - 4. 4.1 crore

Q.9 Who among the following was appointed as Director General (DG) of the Border Security Force (BSF) in August 2024?

- Ans
- 1. Daljit Singh Chaudhary
 - 2. Nitin Agarwal
 - 3. Pankaj Kumar Singh
 - 4. Amrit Mohan Prasad

Q.10 CV Chandrasekhar, recipient of Padma Bhushan is a performer of which of the following classical dance forms of India?

- Ans
- 1. Kathakali
 - 2. Kathak
 - 3. Bharatanatyam
 - 4. Mohiniattam

Q.11 What type of water body is formed when a river splits into several smaller channels as it approaches the sea?

- Ans
- 1. Oxbow lake
 - 2. Estuary
 - 3. Lagoon
 - 4. Delta

Q.12 Anil Srinivasan is one of the unique artists of India who plays which musical instrument?

- Ans
- 1. Piano
 - 2. Mandolin
 - 3. Violin
 - 4. Flute

Q.13 Part-IV of the Constitution of India states about which of the following?

- Ans
- 1. State and Union Territory
 - 2. Citizenship
 - 3. Fundamental Rights
 - 4. Directive Principles of State Policy

Q.14 During which Five-Year Plan was the focus on 'Self-reliance' particularly emphasised?

- Ans
- 1. First Five-Year Plan
 - 2. Ninth Five-Year Plan
 - 3. Sixth Five-Year Plan
 - 4. Third Five-Year Plan

Q.15 In which stadium was the inaugural ceremony of the 19th Commonwealth Games held in 2010?

- Ans
- 1. Major Dhyan Chand National Stadium
 - 2. Talkatora Indoor Stadium
 - 3. Arun Jaitley Stadium
 - 4. Jawaharlal Nehru Stadium

Q.16 If a National Emergency is in place under Article 352, then the Parliament can extend the term of the Legislative Assemblies for _____ at a time.

- Ans
- 1. upto six months
 - 2. upto one month
 - 3. upto nine months
 - 4. upto one year

Q.17 Under which scheme will 500 new 'waste to wealth' plants be established, as per the 2023-24 Union Budget of the Government of India?

- Ans
- 1. PM KUSUM
 - 2. SWACHH Bharat
 - 3. Ujjwala Yojana
 - 4. GOBARdhan

Q.18 What was the primary effect of the Green Revolution on India's agriculture?

- Ans
- 1. Reduction in employment in the industrial sector
 - 2. Increased reliance on food imports
 - 3. Decline in food grain production
 - 4. Self-sufficiency in food grains

Q.19 Nritya Chudamani Award is given every year by which cultural institution to an artist of Indian classical dance style?

- Ans
- 1. Sri Krishna Gana Sabha
 - 2. Kalakshetra Foundation
 - 3. Kala Utsava
 - 4. Revathi Natyalaya

Q.20 In which part of India did the earliest iron objects appear in the overlap between the Neolithic and Megalithic phases?

- Ans
- 1. South India
 - 2. South-West India
 - 3. North-East India
 - 4. North India

Section : Part-C-Elementary Mathematics

Q.1 If at same rate of interest, in 2 years, the simple interest is ₹40 and compound interest is ₹80, then what is the principal (in ₹)?

- Ans
- 1. 3
 - 2. 10
 - 3. 14
 - 4. 5

Q.2 Suman covers a certain distance by car, driving at 22 km/hr, and he returns to the starting point, riding on a scooter at a speed of 17 km/hr. Find the average speed for the whole journey.

- Ans
- 1. $19\frac{7}{39}$ km/hr
 - 2. $20\frac{7}{39}$ km/hr
 - 3. $17\frac{7}{39}$ km/hr
 - 4. $18\frac{7}{39}$ km/hr

Q.3 One-third of a work is finished in four days by P and one-fourth of the same work is finished in six days by Q. P and Q together work for six days and the rest of the work is finished by R in two days. R alone can finish the whole work in _____ days.

- Ans
- 1. 9
 - 2. 6
 - 3. 12
 - 4. 8

Q.4 There are four equilateral triangles with sides 95 cm, 76 cm, 57 cm and 152 cm. What maximum size scale (in cm) can measure all of them exactly?

- Ans
- 1. 31
 - 2. 27
 - 3. 19
 - 4. 11

Q.5 Hari travels from City A to City B. If Hari drives his car at $\frac{2}{3}$ of his normal speed, then he reaches City B 30 minutes late.
Find the time (in minutes) that Hari would have taken to travel from City A to City B if he drove at his normal speed.

- Ans**
- 1. 59
 - 2. 61
 - 3. 60
 - 4. 62

Q.6 What will be the surface area of the sphere having 5.4 cm radius?

- Ans**
- 1. $118.64\pi \text{ cm}^2$
 - 2. $115.64\pi \text{ cm}^2$
 - 3. $117.64\pi \text{ cm}^2$
 - 4. $116.64\pi \text{ cm}^2$

Q.7 100 chickoos were bought at ₹1210 per hundred and were sold at a profit of ₹940. Find the selling price (in ₹) per dozen of chickoos.

- Ans**
- 1. 268
 - 2. 258
 - 3. 253
 - 4. 263

Q.8 Evaluate: $(-9) - (-60) \div (-15) + (-3) \times 8$

- Ans**
- 1. -39
 - 2. -36
 - 3. -40
 - 4. -37

Q.9 Vipul invests a sum of ₹5400 and Vijay invests a sum of ₹9400 at the same rate of simple interest per annum. If, at the end of 5 years, Vijay gets ₹480 more interest than Vipul, then find the rate of interest per annum (in percentage).

- Ans**
- 1. 4.4
 - 2. 3.4
 - 3. 1.4
 - 4. 2.4

Q.10 A company offers a buy 2 get 1 free scheme on pens priced at ₹10 each. What is the effective discount percentage?

- Ans**
- 1. $27\frac{2}{3}\%$
 - 2. $27\frac{1}{3}\%$
 - 3. $33\frac{2}{3}\%$
 - 4. $33\frac{1}{3}\%$

Q.11 The value of $36 - 10 \times [3 + 8 \times \{18 - 6(6 - 5) \times 3\} \div 36]$ is:

- Ans**
- 1. 14
 - 2. 4
 - 3. 2
 - 4. 6

Q.12 If at same rate of interest, in 2 years, the simple interest is ₹40 and compound interest is ₹41, then what is the principal (in ₹)?

- Ans
- 1. 404
 - 2. 400
 - 3. 395
 - 4. 393

Q.13 The cost price of an article is increased by 15% and later the new price is decreased by 15%. If the latest price of the article is ₹19,550, find the original cost price of the article.

- Ans
- 1. ₹20,000
 - 2. ₹18,500
 - 3. ₹22,500
 - 4. ₹16,500

Q.14 A person buys a ceiling fan for ₹2,200 and sells it at a loss of 35%. What is the selling price of the ceiling fan?

- Ans
- 1. ₹1,410
 - 2. ₹1,430
 - 3. ₹1,420
 - 4. ₹1,440

Q.15 The mean proportional of 0.5 and 72 is:

- Ans
- 1. $\sqrt{3}$
 - 2. $\sqrt{6}$
 - 3. $\sqrt{5}$
 - 4. 6

Q.16 The average age of 52 students of a class is 12 years. If the age of the teacher is also included, the average age of the whole group becomes 13 years. The age (in years) of the teacher is:

- Ans
- 1. 63
 - 2. 68
 - 3. 66
 - 4. 65

Q.17 The LCM of 44, 32, 176 and 352 is:

- Ans
- 1. 255
 - 2. 269
 - 3. 352
 - 4. 379

Q.18 Find the ratio between the third proportional of 32 and 48 with the third proportional of 4 and 18.

- Ans
- 1. 3 : 4
 - 2. 4 : 7
 - 3. 8 : 9
 - 4. 7 : 8

Q.19 The population of a district is 357000, out of which 194000 are males. 47% of the population is literate. If 47% males are literate, then what percentage of females are literate?

- Ans
- 1. 45%
 - 2. 47%
 - 3. 46%
 - 4. 48%

Q.20 In a circular race of 500 m, A and B start from the same point and at the same time at speeds of 36 km/hr and 45 km/hr in the same direction. After how long will they meet again for the first time on the track?

- Ans
- 1. 320 sec
 - 2. 240 sec
 - 3. 200 sec
 - 4. 250 sec

Section : Part-D-English

Q.1 The given sentence is divided into four segments. Select the option that has the segment with an adverbial usage error.

Nicholas and / his team / violently worked / on the project.

- Ans
- 1. Nicholas and
 - 2. on the project
 - 3. his team
 - 4. violently worked

Q.2 Select the most appropriate option to fill in the blank.

After completing higher studies and gaining entrepreneurship training at IIM Ahmedabad, Prateek felt a strong _____ towards uplifting the agricultural sector in his home state.

- Ans
- 1. hobby
 - 2. calling
 - 3. murmuring
 - 4. yelling

Q.3 Select the most appropriate option to substitute the underlined segment in the given sentence.

It is us responsible for the current situation of the company.

- Ans
- 1. we that responsible
 - 2. us that are responsible
 - 3. we who are responsible
 - 4. who are responsible

Q.4 Select the most appropriate option that can substitute the underlined segment in the given sentence. If no substitution is required, select 'No substitution'.

All the teachers, along a few students, attended the program.

- Ans
- 1. No substitution
 - 2. along of
 - 3. along with a few students
 - 4. along few students

Q.5 Select the most appropriate meaning of the underlined word.

The scientist observed a peculiar phenomenon in the laboratory.

- Ans
- 1. An observable fact or event
 - 2. A mathematical equation
 - 3. A type of animal
 - 4. A rare flower

Q.6 Complete the sentence with the suitable collocation.

It is not everybody's _____.

- Ans
- 1. cup of milk
 - 2. cup of coffee
 - 3. mug of ice
 - 4. cup of tea

Q.7 Select the most appropriate meaning of the given idiom.

Lick your wounds

- Ans
- 1. To curse a lot
 - 2. To prepare for further confrontation
 - 3. To go away and recover from bad experience
 - 4. To ask for help

Q.8 Select the most appropriate ANTONYM of the highlighted word in the given sentence.

When I reported the cashier's poor customer service, the manager tried to appease me with the offer of a free pizza.

- Ans
- 1. Enrich
 - 2. Inflame
 - 3. Foster
 - 4. Suppress

Q.9 Select the INCORRECTLY spelt word.

- Ans
- 1. sedetion
 - 2. sediment
 - 3. seduction
 - 4. sedition

Q.10 Select the most appropriate option that can substitute the underlined word(s) in the given sentence.

The deer were afraid when they saw a school of fish approaching.

- Ans
- 1. swarm of hyenas
 - 2. herd of lions
 - 3. pack of wolves
 - 4. flock of buffaloes

Q.11 Select the appropriate synonym of the given word.

Diligent

- Ans
- 1. Lazy
 - 2. Careless
 - 3. Hardworking
 - 4. Unreliable

Q.12 Select the most appropriate synonym of the given word.

Encumbrance

- Ans
- 1. Incentive
 - 2. Impetus
 - 3. Catalyst
 - 4. Hurdle

Q.13 Identify the INCORRECTLY spelt word in the given sentence.

The politician's hypocrisy and incogruent policies were met with vehement opposition.

- Ans
- 1. vehement
 - 2. hypocrisy
 - 3. opposition
 - 4. incogruent

Q.14 The given sentence is divided into four segments. Select the option that has the segment with an adverbial usage error.

Mr. Andrew beautifully / approached the / podium for his / Ph.D. viva voce.

- Ans
- 1. Ph.D. viva voce
 - 2. podium for his
 - 3. Mr. Andrew beautifully
 - 4. approached the

Q.15 Select the most appropriate ANTONYM of the given word.

Inferior

- Ans
- 1. Unfair
 - 2. Permit
 - 3. Senior
 - 4. Exterior

Comprehension:

In the following passage, some words have been deleted. Read the passage carefully and select the most appropriate option to fill in each blank.

Given the amount of (1)_____ and misunderstanding surrounding the climate crisis, (2)_____ climate education and engagement are fundamental to addressing the root causes of climate change. We need education not only based (3)_____ climate science but also on the ways in (4)_____ climate change is deeply intertwined with a range of other social, racial and environmental issues that (5)_____ our daily life experiences.

SubQuestion No : 16

Q.16 Select the most appropriate option to fill in blank number 1.

- Ans
- 1. development
 - 2. declaration
 - 3. denial
 - 4. demand

Comprehension:

In the following passage, some words have been deleted. Read the passage carefully and select the most appropriate option to fill in each blank.

Given the amount of (1)_____ and misunderstanding surrounding the climate crisis, (2)_____ climate education and engagement are fundamental to addressing the root causes of climate change. We need education not only based (3)_____ climate science but also on the ways in (4)_____ climate change is deeply intertwined with a range of other social, racial and environmental issues that (5)_____ our daily life experiences.

SubQuestion No : 17

Q.17 Select the most appropriate option to fill in blank number 2.

- Ans**
- 1. wholehearted
 - 2. wholesale
 - 3. wishful
 - 4. widespread

Comprehension:

In the following passage, some words have been deleted. Read the passage carefully and select the most appropriate option to fill in each blank.

Given the amount of (1)_____ and misunderstanding surrounding the climate crisis, (2)_____ climate education and engagement are fundamental to addressing the root causes of climate change. We need education not only based (3)_____ climate science but also on the ways in (4)_____ climate change is deeply intertwined with a range of other social, racial and environmental issues that (5)_____ our daily life experiences.

SubQuestion No : 18

Q.18 Select the most appropriate option to fill in blank number 3.

- Ans**
- 1. by
 - 2. on
 - 3. in
 - 4. at

Comprehension:

In the following passage, some words have been deleted. Read the passage carefully and select the most appropriate option to fill in each blank.

Given the amount of (1)_____ and misunderstanding surrounding the climate crisis, (2)_____ climate education and engagement are fundamental to addressing the root causes of climate change. We need education not only based (3)_____ climate science but also on the ways in (4)_____ climate change is deeply intertwined with a range of other social, racial and environmental issues that (5)_____ our daily life experiences.

SubQuestion No : 19

Q.19 Select the most appropriate option to fill in blank number 4.

- Ans**
- 1. whose
 - 2. which
 - 3. that
 - 4. whom

Comprehension:

In the following passage, some words have been deleted. Read the passage carefully and select the most appropriate option to fill in each blank.

Given the amount of (1)_____ and misunderstanding surrounding the climate crisis, (2)_____ climate education and engagement are fundamental to addressing the root causes of climate change. We need education not only based (3)_____ climate science but also on the ways in (4)_____ climate change is deeply intertwined with a range of other social, racial and environmental issues that (5)_____ our daily life experiences.

SubQuestion No : 20

Q.20 Select the most appropriate option to fill in blank number 5.

- Ans**
- 1. deal
 - 2. deceive
 - 3. define
 - 4. decline

Section : Part-D-Hindi

Q.1 'हमें अच्छे साहित्य का अध्ययन करना चाहिए।' वाक्य में रेखांकित शब्द की शुद्ध वर्तनी है-

- Ans
- 1. अध्धन
 - 2. अध्ध्यन
 - 3. अध्दय्यन
 - 4. अध्ययन

Q.2 हिमालय पर्वत भारत की उत्तर दिशा में स्थित है, रेखांकित शब्द में कौन सी संज्ञा है?

- Ans
- 1. व्यक्तिवाचक
 - 2. भाववाचक
 - 3. जातिवाचक
 - 4. समूहवाचक

Q.3 'गर्मी के मौसम में _____ लगना स्वाभाविक है।' प्रस्तुत वाक्य के रिक्त स्थान में उचित तद्भव शब्द क्या होगा ?

- Ans
- 1. पिपासा
 - 2. पुष्प
 - 3. प्यास
 - 4. पुच्छ

Q.4 'दरिद्र' का पर्याय है-

- Ans
- 1. बलवान
 - 2. अमीर
 - 3. धनी
 - 4. अकिंचन

Q.5 दिए गए वाक्यांश के लिए एक शब्द होगा— जिसका अंग दुरुस्त न हो-

- Ans
- 1. अपात्र
 - 2. उपांग
 - 3. अपाव
 - 4. अपंग

Q.6 'तिमिरासन्न रात अधिक भयप्रद थी।' इस वाक्य में प्रयुक्त 'तिमिर' शब्द का विलोम निम्न में से कौनसा शब्द है?

- Ans
- 1. तामसिक
 - 2. प्रकाश
 - 3. तम
 - 4. अंधकार

Q.7 इनमें से किस वाक्य में त्रुटि है?

- Ans
- 1. उनके गुप्त रहस्य प्रकट हो गए।
 - 2. यह तो नई प्रकार की वस्तु है।
 - 3. पानी में कौन पड़ गया।
 - 4. मेरी तो जान पर बन आई।

Q.8 निम्नलिखित वाक्य में रेखांकित खंड के स्थान पर प्रयुक्त होने वाले सबसे उपयुक्त विकल्प का चयन कीजिए-

सौरभ जो ने भाषण दिया, वह तथ्यपूर्ण था।

- Ans
- 1. भाषण दिया जो
 - 2. ने भाषण दिया जो
 - 3. भाषण दिया ने जो
 - 4. ने जो भाषण दिया

Q.9 'दसवीं के विद्यार्थियों को हिन्दी पढ़ना _____ है।' वाक्य के रिक्त स्थान के लिए 'अनिवार्य' शब्द का सर्वाधिक उपयुक्त विलोम शब्द चुनिए-

- Ans
- 1. ऐच्छिक
 - 2. अपरिहार्य
 - 3. जरूरी
 - 4. अनावश्यक

Q.10 निम्नलिखित वाक्य को ध्यानपूर्वक पढ़ें और सकर्मक क्रिया संबंधी त्रुटि की पहचान कर शुद्ध वाक्य का चयन करें।
मोहन अब शहर में नहीं रहता अतः राम पत्र लिखता है।

- Ans
- 1. राम और मोहन पत्र लिखते हैं।
 - 2. राम मोहन को पत्र लिखता है।
 - 3. राम पत्र पढ़ता है।
 - 4. राम संदेश लिखता है।

Q.11 निम्नलिखित वाक्यांश के लिए सार्थक शब्द चुनिए -

जिसे लाज नहीं आती

- Ans
- 1. निर्लज्जित
 - 2. लज्ज
 - 3. निर्लज्ज
 - 4. लज्जित

Q.12 'तुम्हारी कोई मान-मर्यादा है कि नहीं, हर वक्त _____'।

उचित सार्थक शब्द-युग्म युक्त विकल्प से वाक्य पूर्ण करें-

- Ans
- 1. मार-पीट करना तुम्हें शोभा नहीं देता
 - 2. झगड़ा-वगड़ा तुम्हें शोभा नहीं देता
 - 3. रोना-वोना ठीक नहीं है
 - 4. गाली-वाली देना तुम्हें शोभा नहीं देता

Q.13 'दाल मे काला होना' मुहावरे का सही अर्थ इनमें से क्या होगा?

- Ans
- 1. दाल खराब होना
 - 2. गलत कार्य होना
 - 3. आशंका होना
 - 4. दाल जल जाना

Q.14 'समूल' का विलोम है-

- Ans
- 1. अमूल
 - 2. निर्मूल
 - 3. जड़
 - 4. विमूल

Q.15 निम्न वाक्य में रेखांकित पद को संशोधित कर लिखिए।
वे सब कालचक्र के पहिए के नीचे पिस गए।

- Ans
- 1. से
 - 2. पहिए के साथ
 - 3. के पहिए पर
 - 4. में

Comprehension:

निम्नलिखित गद्यांश को पढ़कर प्रश्नों के उत्तर दीजिए-

सृष्टि के प्रत्येक कार्यकलाप को अनुशासित तथा सुष्ठु रूप में गतिशील देखकर उसके (26) _____ को जानने की अभिलाषा मनुष्य में आदिकाल से रही है। वैदिक ऋषियों ने उसके रूप-निर्माण का भरसक प्रयत्न किया, किंतु हताश होकर वे (27) _____ करके रह गये। उसका रूप स्थिर करने में स्वयं को असमर्थ मानकर उन्होंने उसे अरूप ही रहने दिया, किंतु उसे जानने की प्रक्रिया में कई नवीन रहस्यों के (28) _____ हुए। प्राचीन आर्य दो दलों में बँट गये। उनमें से एक एक दल तर्क और युक्ति से ब्रह्मा के रूप-निर्धारण का प्रयत्न करता रहा और दूसरे दल ने उसके रूप-निर्माण में तर्क और बुद्धि की पराजय को घोषित किया। इसी दूसरे दल के मनीषियों ने यह अनुभव किया कि मन केवल उसको जानने की (29) _____ से संतुष्ट नहीं है, बल्कि अधिकाधिक उस ओर आकर्षित होता जा रहा है। कभी-कभी ऐसे स्थल भी अनुभूति में आते हैं, जहाँ व्यक्ति उसके आलिंगन में स्वयं संपूर्ण विश्व को कुछ समय के लिए ऐसे भूल जाता है, मानो कोई पुरुष अपनी प्रिया के आलिंगन में स्वयं को और विश्व को भूल जाता हो। रहस्य-भावना के उद्गम के विषय में यह उक्ति (30) _____ ही है।

SubQuestion No : 16

Q.16 निम्न विकल्पों में से उचित शब्द का चयन कर अनुच्छेद में रिक्त स्थान की पूर्ति करें।(26)

- Ans
- 1. नियतांक
 - 2. बंधक
 - 3. चालक
 - 4. नियंता

Comprehension:

निम्नलिखित गद्यांश को पढ़कर प्रश्नों के उत्तर दीजिए-

सृष्टि के प्रत्येक कार्यकलाप को अनुशासित तथा सुष्ठु रूप में गतिशील देखकर उसके (26) _____ को जानने की अभिलाषा मनुष्य में आदिकाल से रही है। वैदिक ऋषियों ने उसके रूप-निर्माण का भरसक प्रयत्न किया, किंतु हताश होकर वे (27) _____ करके रह गये। उसका रूप स्थिर करने में स्वयं को असमर्थ मानकर उन्होंने उसे अरूप ही रहने दिया, किंतु उसे जानने की प्रक्रिया में कई नवीन रहस्यों के (28) _____ हुए। प्राचीन आर्य दो दलों में बँट गये। उनमें से एक एक दल तर्क और युक्ति से ब्रह्मा के रूप-निर्धारण का प्रयत्न करता रहा और दूसरे दल ने उसके रूप-निर्माण में तर्क और बुद्धि की पराजय को घोषित किया। इसी दूसरे दल के मनीषियों ने यह अनुभव किया कि मन केवल उसको जानने की (29) _____ से संतुष्ट नहीं है, बल्कि अधिकाधिक उस ओर आकर्षित होता जा रहा है। कभी-कभी ऐसे स्थल भी अनुभूति में आते हैं, जहाँ व्यक्ति उसके आलिंगन में स्वयं संपूर्ण विश्व को कुछ समय के लिए ऐसे भूल जाता है, मानो कोई पुरुष अपनी प्रिया के आलिंगन में स्वयं को और विश्व को भूल जाता हो। रहस्य-भावना के उद्गम के विषय में यह उक्ति (30) _____ ही है।

SubQuestion No : 17

Q.17 निम्न विकल्पों में से उचित शब्द का चयन कर अनुच्छेद में रिक्त स्थान की पूर्ति करें।(27)

- Ans
- 1. नेति - धोती
 - 2. चेतनकी
 - 3. नेक - बशती
 - 4. नेति - नेति

Comprehension:

निम्नलिखित गद्यांश को पढ़कर प्रश्नों के उत्तर दीजिए-

सृष्टि के प्रत्येक कार्यकलाप को अनुशासित तथा सुष्ठु रूप में गतिशील देखकर उसके (26) _____ को जानने की अभिलाषा मनुष्य में आदिकाल से रही है। वैदिक ऋषियों ने उसके रूप-निर्माण का भरसक प्रयत्न किया, किंतु हताश होकर वे (27) _____ करके रह गये। उसका रूप स्थिर करने में स्वयं को असमर्थ मानकर उन्होंने उसे अरूप ही रहने दिया, किंतु उसे जानने की प्रक्रिया में कई नवीन रहस्यों के (28) _____ हुए। प्राचीन आर्य दो दलों में बँट गये। उनमें से एक एक दल तर्क और युक्ति से ब्रह्मा के रूप-निर्धारण का प्रयत्न करता रहा और दूसरे दल ने उसके रूप-निर्माण में तर्क और बुद्धि की पराजय को घोषित किया। इसी दूसरे दल के मनीषियों ने यह अनुभव किया कि मन केवल उसको जानने की (29) _____ से संतुष्ट नहीं है, बल्कि अधिकाधिक उस ओर आकर्षित होता जा रहा है। कभी-कभी ऐसे स्थल भी अनुभूति में आते हैं, जहाँ व्यक्ति उसके आलिंगन में स्वयं संपूर्ण विश्व को कुछ समय के लिए ऐसे भूल जाता है, मानो कोई पुरुष अपनी प्रिया के आलिंगन में स्वयं को और विश्व को भूल जाता हो। रहस्य-भावना के उद्गम के विषय में यह उक्ति (30) _____ ही है।

SubQuestion No : 18

Q.18 निम्न विकल्पों में से उचित शब्द का चयन कर अनुच्छेद में रिक्त स्थान की पूर्ति करें।(28)

- Ans
- 1. उदजनीकरण
 - 2. उद्भावन
 - 3. उद्ग्रहण
 - 4. उद्घाटन

Comprehension:

निम्नलिखित गद्यांश को पढ़कर प्रश्नों के उत्तर दीजिए-

सृष्टि के प्रत्येक कार्यकलाप को अनुशासित तथा सुष्ठु रूप में गतिशील देखकर उसके (26) _____ को जानने की अभिलाषा मनुष्य में आदिकाल से रही है। वैदिक ऋषियों ने उसके रूप-निर्माण का भरसक प्रयत्न किया, किंतु हताश होकर वे (27) _____ करके रह गये। उसका रूप स्थिर करने में स्वयं को असमर्थ मानकर उन्होंने उसे अरूप ही रहने दिया, किंतु उसे जानने की प्रक्रिया में कई नवीन रहस्यों के (28) _____ हुए। प्राचीन आर्य दो दलों में बँट गये। उनमें से एक एक दल तर्क और युक्ति से ब्रह्मा के रूप-निर्धारण का प्रयत्न करता रहा और दूसरे दल ने उसके रूप-निर्माण में तर्क और बुद्धि की पराजय को घोषित किया। इसी दूसरे दल के मनीषियों ने यह अनुभव किया कि मन केवल उसको जानने की (29) _____ से संतुष्ट नहीं है, बल्कि अधिकाधिक उस ओर आकर्षित होता जा रहा है। कभी-कभी ऐसे स्थल भी अनुभूति में आते हैं, जहाँ व्यक्ति उसके आलिंगन में स्वयं संपूर्ण विश्व को कुछ समय के लिए ऐसे भूल जाता है, मानो कोई पुरुष अपनी प्रिया के आलिंगन में स्वयं को और विश्व को भूल जाता हो। रहस्य-भावना के उद्गम के विषय में यह उक्ति (30) _____ ही है।

SubQuestion No : 19

Q.19 निम्न विकल्पों में से उचित शब्द का चयन कर अनुच्छेद में रिक्त स्थान की पूर्ति करें।(29)

- Ans
- 1. जिज्ञासा
 - 2. जिहासा
 - 3. जिघांसा
 - 4. जिगीषा

Comprehension:

निम्नलिखित गद्यांश को पढ़कर प्रश्नों के उत्तर दीजिए-

सृष्टि के प्रत्येक कार्यकलाप को अनुशासित तथा सुष्ठु रूप में गतिशील देखकर उसके (26) _____ को जानने की अभिलाषा मनुष्य में आदिकाल से रही है। वैदिक ऋषियों ने उसके रूप-निर्माण का भरसक प्रयत्न किया, किंतु हताश होकर वे (27) _____ करके रह गये। उसका रूप स्थिर करने में स्वयं को असमर्थ मानकर उन्होंने उसे अरूप ही रहने दिया, किंतु उसे जानने की प्रक्रिया में कई नवीन रहस्यों के (28) _____ हुए। प्राचीन आर्य दो दलों में बँट गये। उनमें से एक एक दल तर्क और युक्ति से ब्रह्मा के रूप-निर्धारण का प्रयत्न करता रहा और दूसरे दल ने उसके रूप-निर्माण में तर्क और बुद्धि की पराजय को घोषित किया। इसी दूसरे दल के मनीषियों ने यह अनुभव किया कि मन केवल उसको जानने की (29) _____ से संतुष्ट नहीं है, बल्कि अधिकाधिक उस ओर आकर्षित होता जा रहा है। कभी-कभी ऐसे स्थल भी अनुभूति में आते हैं, जहाँ व्यक्ति उसके आलिंगन में स्वयं संपूर्ण विश्व को कुछ समय के लिए ऐसे भूल जाता है, मानो कोई पुरुष अपनी प्रिया के आलिंगन में स्वयं को और विश्व को भूल जाता हो। रहस्य-भावना के उद्गम के विषय में यह उक्ति (30) _____ ही है।

SubQuestion No : 20

Q.20 निम्न विकल्पों में से उचित शब्द का चयन कर अनुच्छेद में रिक्त स्थान की पूर्ति करें।(30)

- Ans
- 1. संगंध
 - 2. संगत
 - 3. शकुंत
 - 4. संहत