

Constable GD in CAPFs and SSF Rifleman GD in AR and Sepoy in NCB Examination 2025

Exam Date	25/02/2025
Exam Time	9:00 AM - 10:00 AM
Subject	Constable GD Examination 2025

Section : Part-A-General Intelligence and Reasoning

Q.1 In a certain code language,
'A + B' means 'A is the son of B',
'A - B' means 'A is the wife of B',
'A x B' means 'A is the brother of B' and
'A ÷ B' means 'A is the sister of B'.

How is I related to F if 'F ÷ G + H - I x J'?

- Ans
- 1. Brother's wife
 - 2. Wife's brother
 - 3. Son's wife
 - 4. Father

Q.2 What should come in place of the question mark (?) in the given series?

127, 257, 407, 577, 767, ?

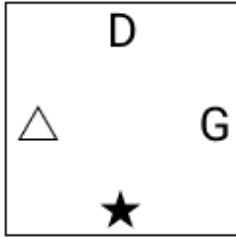
- Ans
- 1. 977
 - 2. 877
 - 3. 957
 - 4. 817

Q.3 Select the figure from among the given options that can replace the question mark (?) in the following series.

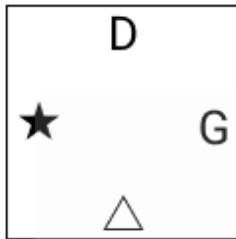
D	★	△	G	
★	G	△	D	G
△	G	D	★	△
				?

Ans

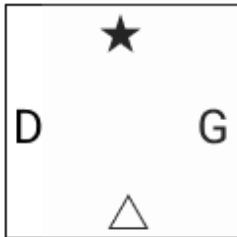
✗ 1.



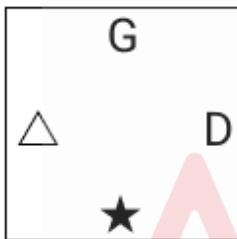
✓ 2.



✗ 3.



✗ 4.



Q.4 NPLI is related to EGCZ in a certain way based on the English alphabetical order. In the same way, TVRO is related to KMIF. To which of the given options is CEAX related, following the same logic?

Ans

✗ 1. TVQQ

✗ 2. TUQQ

✗ 3. TWQT

✓ 4. TVRO

Q.5 C, D, G, H, I, K and L are sitting around a circular table facing the centre of the table (but not necessarily in the same order).

Only three people sit between I and L when counted from the left of I. Only three people sit between K and H when counted from the right of H. C sits to the immediate right of K. G is an immediate neighbour of H as well as L.

Who sits third to the right of D?

Ans

✗ 1. G

✓ 2. I

✗ 3. C

✗ 4. K

Q.6 Read the given statements and conclusions carefully. Assuming that the information given in the statements is true, even if it appears to be at variance with commonly known facts, decide which of the given conclusions logically follow(s) from the statements.

Statements:

Some paise are rupee.

All rupee is money.

No money is water.

Conclusions:

(I): Some rupee is water.

(II): Some money is water.

- Ans**
- 1. Both conclusions (I) and (II) follow.
 - 2. Only conclusion (I) follows.
 - 3. Neither conclusion (I) nor (II) follows.
 - 4. Only conclusion (II) follows.

Q.7 In a certain code language, '2590' is coded as 'FACT' and '0129' is coded as 'FITC'. What is the code for '1' in the given code language?

- Ans**
- 1. C
 - 2. I
 - 3. T
 - 4. K

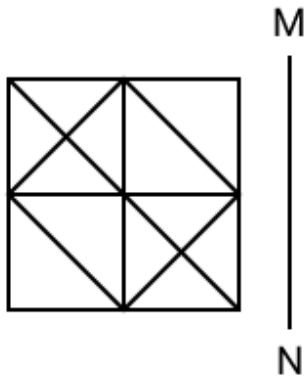
Q.8 SOMR is related to KGEJ in a certain way based on the English alphabetical order. In the same way, MIGL is related to EAYD. To which of the following options is OKIN related, following the same logic?

- Ans**
- 1. GCFA
 - 2. GAFC
 - 3. GATR
 - 4. GCAF

Q.9 Based on the English alphabetical order, three of the following four letter-clusters are alike in a certain way and thus form a group. Which letter-cluster DOES NOT belong to that group? (Note: The odd one out is not based on the number of consonants/vowels or their position in the letter-cluster.)

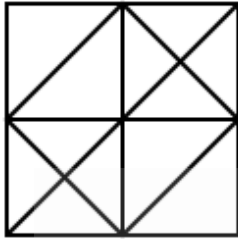
- Ans**
- 1. NKI
 - 2. AXV
 - 3. VSQ
 - 4. CAX

Q.10 Select the correct mirror image of the given figure when the mirror is placed at MN as shown below.

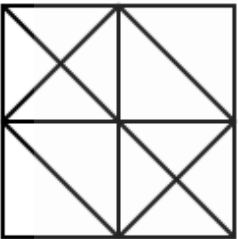


Ans

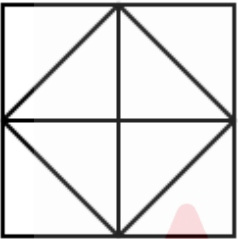
✓ 1.



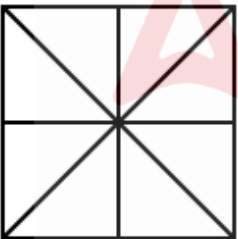
✗ 2.



✗ 3.



✗ 4.



Q.11 What should come in place of the question mark (?) in the given series based on the English alphabetical order?

ABC, CDE, EFG, GHI, ? , KLM

- Ans
- ✓ 1. IJK
 - ✗ 2. NMP
 - ✗ 3. JKL
 - ✗ 4. HIJ

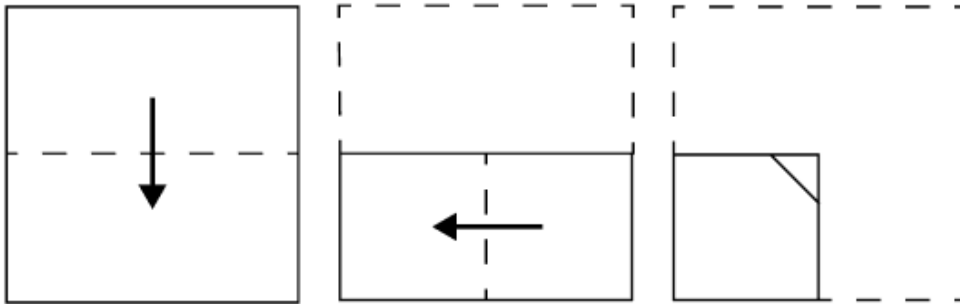
Q.12 Select the combination of letters that when sequentially placed in the blanks of the given series, will logically complete the series.

_EIMJ_KOLI_QNKO_PMQ_

- Ans
- 1. FGNSV
 - 2. HIMTU
 - 3. HGMSU
 - 4. FINTV

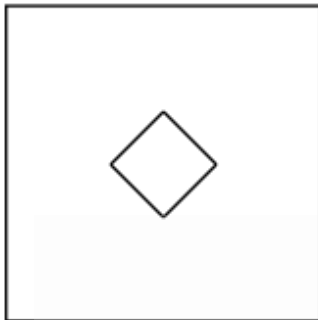


Q.13 A square sheet of paper is folded along the dotted line successively along the directions shown and is then punched after the last fold. How would the paper look when unfolded?

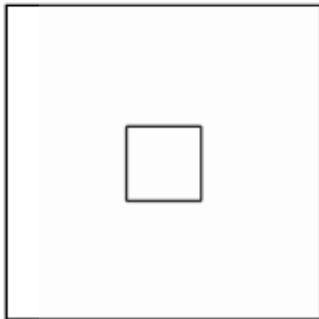


Ans

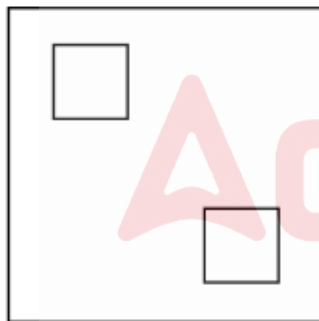
✓ 1.



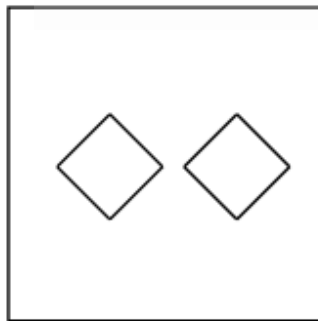
✗ 2.



✗ 3.



✗ 4.



Q.14 What should come in place of the question mark (?) in the given series?

28 52 82 118 160 ?

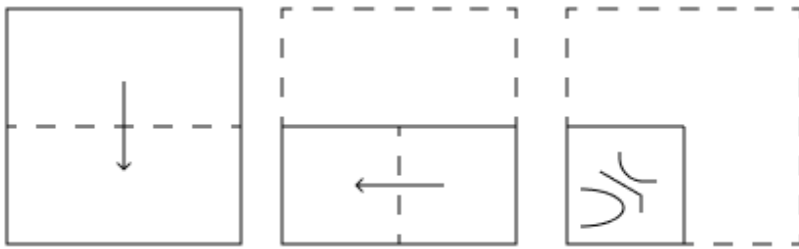
Ans ✗ 1. 200

✗ 2. 193

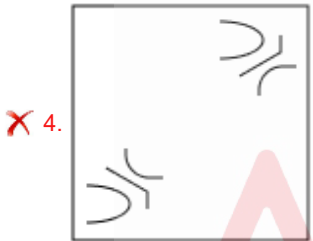
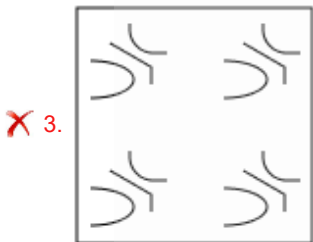
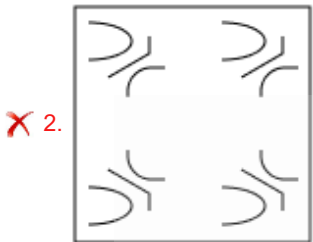
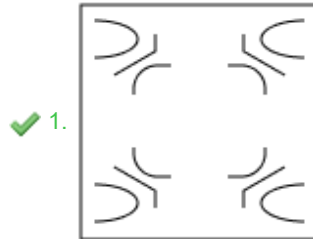
✓ 3. 208

✗ 4. 185

Q.15 A paper is folded and punched as shown below. How will it appear when unfolded?



Ans



Q.16 Six people, C, D, E, X, Y and Z, are sitting around a circular table facing the centre (but not necessarily in the same order) . Only one person sits between X and D when counted from the left of D. Z sits second to the left of C. Z is an immediate neighbour of E and D. How many people sit between Y and Z when counted from the right of Y?

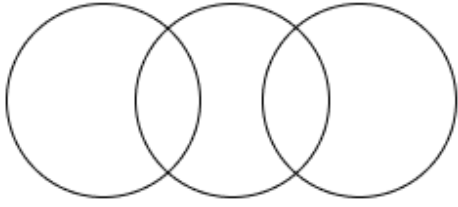
- Ans
- ✗ 1. Two
 - ✓ 2. One
 - ✗ 3. Three
 - ✗ 4. Four

Q.17 Select the Venn diagram that best illustrates the relationship between the following classes.

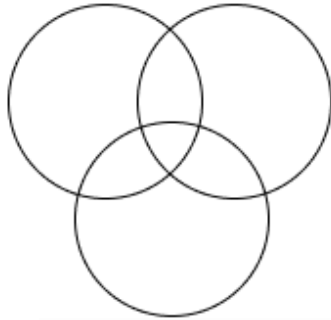
Car, Horse, Chocolate

Ans

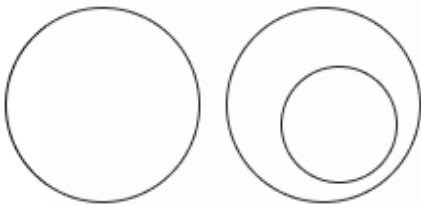
✗ 1.



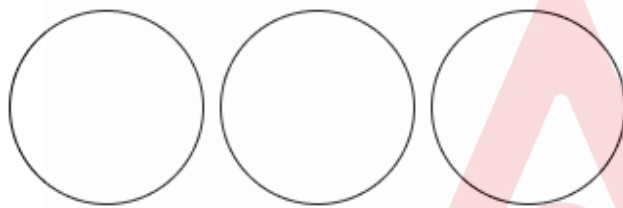
✗ 2.



✗ 3.



✓ 4.



Q.18 If 'I' stands for '+', 'J' stands for '×', 'K' stands for '÷', and 'L' stands for '−', what will come in place of the question mark '?' in the following equation?
(59 L 38) J 4 I (12 I 8) K 2 I 42 L 26 = ?

- Ans
- ✗ 1. 140
 - ✗ 2. 98
 - ✓ 3. 110
 - ✗ 4. 125

Q.19 Each letter in the word EXCITED is arranged in the English alphabetical order. How many letters are there in the English alphabetical order between the letter which is second from the left end and the one which is first from the right end in the new letter-cluster thus formed?

- Ans
- ✗ 1. 18
 - ✗ 2. 20
 - ✗ 3. 22
 - ✓ 4. 19

Q.20 In a certain code language, 'GALS' is coded as '7610' and 'LADS' is coded as '0168'. What is the code for 'D' in the given code language?

- Ans
- ✗ 1. 1
 - ✓ 2. 8
 - ✗ 3. 0
 - ✗ 4. 6

Q.1 YS Jagan Mohan Reddy, who lost his Chief Minister position in 2024, belongs to which of the following parties as of September 2024?

- Ans
- 1. Yuvajana Sramika Rythu Congress Party (YSRCP)
 - 2. Jana Sena Party (JSP)
 - 3. Telugu Desam Party (TDP)
 - 4. Indian National Congress (INC)

Q.2 In which year did the Government of India launch the National Youth Policy (NYP) to address the needs of India's youth?

- Ans
- 1. 2014
 - 2. 2016
 - 3. 2015
 - 4. 2018

Q.3 Boiling and evaporation, respectively, are _____ and _____ phenomena.

- Ans
- 1. bulk, bulk
 - 2. bulk, surface
 - 3. surface, surface
 - 4. surface, bulk

Q.4 The bacteria conducting an anoxygenic photosynthesis use which of the following compounds as an electron donor?

- Ans
- 1. Hydrogen sulphide
 - 2. Carbon dioxide
 - 3. Water
 - 4. Glucose

Q.5 Internationally acclaimed Bharatanatyam dancer, Padma Subrahmanyam, was awarded with which of the following awards in 2024?

- Ans
- 1. Padma Bhushan
 - 2. Padma Shri
 - 3. Sangeet Natak Akademi Award
 - 4. Padma Vibhushan

Q.6 Who presided over the Seventh Session of the International Solar Alliance Assembly in New Delhi held in October 2024?

- Ans
- 1. JP Nadda
 - 2. Amit Shah
 - 3. Umesh Yadav
 - 4. Pralhad Joshi

Q.7 What is the primary function of the WTO?

- Ans
- 1. To promote domestic trade only
 - 2. To regulate global tourism
 - 3. To liberalise international trade and ensure fair practices
 - 4. To fund developing countries

Q.8 Tura is situated on which hill, which comes under the mild extremely humid agro-climatic zone?

- Ans
- 1. Laur Hills
 - 2. Garo Hills
 - 3. Jaintia Hills
 - 4. Khasi Hills

Q.9 According to the census of India 2011, which north-east state of India among the following has the highest literacy rate?

- Ans**
- 1. Nagaland
 - 2. Assam
 - 3. Mizoram
 - 4. Manipur

Q.10 The Anushilan Samiti and Jugantar were associated with which type of activities?

- Ans**
- 1. Constitutional reforms
 - 2. Revolutionary activities
 - 3. Non-violent protests
 - 4. Social reforms

Q.11 The three-age system for classification of pre-historic periods was introduced by:

- Ans**
- 1. Warren Hessler
 - 2. Robert Thomson
 - 3. Christian Jurgensen Thomsen
 - 4. John More

Q.12 Khelo India Dus ka Dum tournament was organised in how many cities in celebration of International Women's Day 2023?

- Ans**
- 1. Twenty
 - 2. Fifteen
 - 3. Five
 - 4. Ten

Q.13 What is a primary deficit?

- Ans**
- 1. Budget deficit minus capital receipts
 - 2. Revenue deficit plus capital expenditure
 - 3. Total deficit plus interest payments
 - 4. Total deficit minus interest payments

Q.14 Raas-Leela symbolises which classical dance based on the spiritual and eternal love of Radha and Krishna?

- Ans**
- 1. Manipuri
 - 2. Chhau
 - 3. Kuchipudi
 - 4. Sattriya

Q.15 The mascot of the Women's Asian Hockey Champions Trophy in 2023, named 'Juhi,' is inspired by which animal?

- Ans**
- 1. Swamp deer
 - 2. Lion
 - 3. Peacock
 - 4. Elephant

Q.16 The Government of India Act, 1935 provided for how many lists of divisions of power between the federation (central government) and provinces?

- Ans**
- 1. One list
 - 2. Four lists
 - 3. Two lists
 - 4. Three lists

Q.17 Which festival of Nagaland usually begins on 1 December, every year?

- Ans
- 1. Wangala festival
 - 2. Losoong festival
 - 3. Bihu festival
 - 4. Hornbill festival

Q.18 Raga 'Laswanti' was composed by whom among the following personalities?

- Ans
- 1. Ronu Majumdar
 - 2. Ustad Ali Akbar Khan
 - 3. Tansen
 - 4. Amjad Ali Khan

Q.19 The maximum strength of the legislative council of the state is fixed at _____ of the total strength of the State Legislative assembly.

- Ans
- 1. 1/5
 - 2. 1/3
 - 3. 1/2
 - 4. 1/4

Q.20 Which of the following was the theme of the Ninth Five-year Plan?

- Ans
- 1. Removal of poverty and attainment of self-reliance
 - 2. Promote inclusive growth and equitable development
 - 3. Growth with social justice and equality
 - 4. Development of the public sector and rapid Industrialisation

Section : Part-C-Elementary Mathematics

Q.1 A's and B's salaries are respectively 40% and 70% rupees more than C's salary. What is the ratio of B's salary to A's salary?

- Ans
- 1. 17 : 14
 - 2. 18 : 13
 - 3. 9 : 5
 - 4. 23 : 20

Q.2 While selling 15 balls for ₹1,220, there is loss equal to the cost price of 5 balls. The cost price (in ₹) of one ball is:

- Ans
- 1. 145
 - 2. 122
 - 3. 112
 - 4. 120

Q.3 If 2% of $x = 360$, then x is equal to:

- Ans
- 1. 36100
 - 2. 36000
 - 3. 18000
 - 4. 18100

Q.4 A, B, C and D can do a piece of work separately in 30 days, 33 days, 36 days and 44 days, respectively. In how many days can A and B together complete the work, if A and B together are assisted by C and D on alternate two-two days starting with C for first two days, then D on next two days and again C on next two days and so on?

- Ans**
- 1. $6\frac{7}{24}$ days
 - 2. $8\frac{5}{36}$ days
 - 3. $11\frac{13}{57}$ days
 - 4. $5\frac{5}{11}$ days

Q.5 The value of $79 - 10 \times [2 + 3 \times \{12 - 6(6 - 5) \times 2\} \div 20]$ is:

- Ans**
- 1. 59
 - 2. 63
 - 3. 55
 - 4. 57

Q.6 A merchant fixes the marked price of his goods at 50% above the cost price. He sells his goods at 12% discount. His percentage of profit is:

- Ans**
- 1. 37%
 - 2. 32%
 - 3. 43%
 - 4. 35%

Q.7 Evaluate: $2 - [3 - \{6 - (6 - 4 + 6)\}]$

- Ans**
- 1. 2
 - 2. -3
 - 3. -6
 - 4. 0

Q.8 A cube of side 9 cm made of iron is melted and recast into 8 small cubes. Find the side (in cm) of each small cube.

- Ans**
- 1. 4
 - 2. 4.5
 - 3. 5.5
 - 4. 5

Q.9 Find the value of $\left[(36 \div 9) \times \left\{ \frac{56}{8} + \frac{14}{1} \times (6 - 5) \right\} \right]$

- Ans**
- 1. 84
 - 2. 81
 - 3. 78
 - 4. 98

Q.10 The average age of 28 students of a class is 40 years. If the age of the teacher is also included, the average age of the whole group becomes 41 years. The age (in years) of the teacher is:

- Ans**
- 1. 74
 - 2. 67
 - 3. 70
 - 4. 69

Q.11 Ravi decided to cover a distance of 24 km in 2 hours 24 minutes. Further he decided to cover the initial one-third of the total distance at 8 km/hr and the remaining at some different speed. What is the speed (in km/hr) of Ravi after one-third distance is covered?

- Ans
- 1. $11\frac{3}{7}$
 - 2. 12
 - 3. $12\frac{3}{7}$
 - 4. 11

Q.12 Evaluate: $32 \div 8 \times 4 - 2 \times 3$

- Ans
- 1. 9
 - 2. 12
 - 3. 13
 - 4. 10

Q.13 The students in the three sections A, B and C of Class X are in the ratio 5 : 4 : 7. If 15, 16 and 9 new students are admitted to sections A, B and C, respectively, the ratio changes to 10 : 9 : 11. What is the total number of students in Class X after the new admissions?

- Ans
- 1. 210
 - 2. 120
 - 3. 150
 - 4. 90

Q.14 Yogesh invested some money in HDFC at 4% per annum rate of interest. What would be the corresponding simple interest (in ₹) if after 2 years, Yogesh got ₹229.5 as compound interest, considering annual compounding?

- Ans
- 1. 235
 - 2. 225
 - 3. 240
 - 4. 220

Q.15 Rakesh sold 150 chairs and had a gain equal to the selling price of 75 chairs. What is his profit percentage?

- Ans
- 1. 110%
 - 2. 95%
 - 3. 100%
 - 4. 105%

Q.16 12 chairs and 6 tables were bought for ₹12,600. If the average cost of a table is ₹1,500, then find the average cost of a chair.

- Ans
- 1. ₹350
 - 2. ₹500
 - 3. ₹250
 - 4. ₹300

Q.17 The population of a district is 327000, out of which 224000 are males. 65% of the population is literate. If 65% males are literate, then what percentage of females are literate?

- Ans
- 1. 68%
 - 2. 67%
 - 3. 65%
 - 4. 66%

Q.18 Two trains having lengths of 210 m and 440 m are running at speeds of 60 km/h and 90 km/h, respectively, in the same direction. The time taken (in minutes) by the faster train, coming from behind, to completely cross the other train is:

- Ans
- 1. 1.3
 - 2. 2.2
 - 3. 3
 - 4. 1.9

Q.19 A sum of ₹x amounts to ₹75867 in $2\frac{1}{2}$ years at 12% p.a., interest compounded after every 10 months. What is the value of x?

- Ans
- 1. 56000
 - 2. 58000
 - 3. 55000
 - 4. 57000

Q.20 Gopal invests a sum of ₹5400 and Akshay invests a sum of ₹9400 at the same rate of simple interest per annum. If, at the end of 6 years, Akshay gets ₹720 more interest than Gopal, then find the rate of interest per annum (in percentage).

- Ans
- 1. 5
 - 2. 2
 - 3. 3
 - 4. 4

Section : Part-D-English

Q.1 Select the most appropriate meaning of the given idiom.

Spill the beans

- Ans
- 1. To drop something accidentally
 - 2. To cook a meal
 - 3. To tell people secret information
 - 4. To clean up a mess

Q.2 Fill in the blank with the most appropriate ANTONYM of the word in brackets in the following sentence.

The events _____ (composed) beautiful thoughts in her memory.

- Ans
- 1. rectified
 - 2. agitated
 - 3. focused
 - 4. secured

Q.3 Select the most appropriate option to fill in the blank.

She was _____ when she pointed out the discrimination against women to her manager.

- Ans
- 1. reticent
 - 2. inhibited
 - 3. candid
 - 4. laconic

Q.4 Select the most appropriate option to fill in the blank. Determine the collocation through the sentence.

He suffers from _____ pain in the joints.

- Ans**
- 1. external
 - 2. excruciating
 - 3. quick
 - 4. awkward

Q.5 Select the option that rectifies the incorrectly spelt word in the given sentence.

The cat sprawled in the sun, enjoying the warm afternoon rays and the gentel breeze.

- Ans**
- 1. sprewled
 - 2. enjoyeing
 - 3. breaze
 - 4. gentle

Q.6 Select the most appropriate option to fill in the blank.

The literary critic's _____ analysis of postmodern novels challenged the traditional notions of narrative structure and authorial intent.

- Ans**
- 1. prosaic
 - 2. hermeneutic
 - 3. facile
 - 4. pedantic

Q.7 Select the sentence that contains the meaning of the word 'incorrigible'.

- Ans**
- 1. Modern technology has enabled paints to last longer and retain their freshness.
 - 2. The teacher found the mid-day meal too salty to eat.
 - 3. He is a very bad liar beyond correction.
 - 4. The weather is very warm with no sign of abating.

Q.8 Select the option that best defines the given word.

Jovial

- Ans**
- 1. Pensive mood
 - 2. Very cautious
 - 3. Friendly and in good mood
 - 4. Angry

Q.9 Select the most appropriate meaning of the given word.

Resilient

- Ans**
- 1. Weak and fragile
 - 2. Easily distracted
 - 3. Overly sensitive
 - 4. Able to recover quickly

Q.10 Select the INCORRECTLY spelt word.

- Ans**
- 1. Irritably
 - 2. Reluctently
 - 3. Fatally
 - 4. Sternly

Q.11 Identify the sentence with the INCORRECT usage of an adverb.

- Ans
- 1. He goes always for a run in the morning.
 - 2. He always goes for a run in the morning.
 - 3. He often goes for a run in the morning.
 - 4. He usually goes for a run in the morning.

Q.12 Select the most appropriate option that can substitute the underlined words in the given sentence.

He has been writing most articles and has given presentations on his research.

- Ans
- 1. had written few articles
 - 2. will write more articles
 - 3. was write many articles
 - 4. has written several articles

Q.13 Select the most appropriate ANTONYM of the word in brackets to fill in the blank.

His condition began to _____ (Ameliorate) after the trip.

- Ans
- 1. Explode
 - 2. Worsen
 - 3. Improve
 - 4. Detach

Q.14 Select the most appropriate option to fill in the blank.

Did you know health is not just _____ not being sick?

- Ans
- 1. about
 - 2. in
 - 3. on
 - 4. but

Q.15 All of the following options, except one, contain sentences in the Future tense. Select the grammatically INCORRECT sentence.

- Ans
- 1. I think you will like George if you meet him.
 - 2. I am sure you will pass the exam.
 - 3. The jacket will look nice on you.
 - 4. I think we will meeting again before long.

Comprehension:

In the following passage, some words have been deleted. Read the passage carefully and select the most appropriate option to fill in each blank.

Persuasion is the art of (1)_____ someone to agree with your point of view. According to Aristotle, there are three basic tools of persuasion: ethos, pathos and logos. Ethos is a speaker's way of convincing the audience that she is a (2)_____ source. Pathos is a speaker's way of (3)_____ with an audience's emotions. Logos is the use of (4)_____ or information to make your (5) _____ more convincing.

SubQuestion No : 16

Q.16 Select the most appropriate option to fill in blank no. 1.

- Ans
- 1. motivating
 - 2. evaluating
 - 3. convincing
 - 4. captivating

Comprehension:

In the following passage, some words have been deleted. Read the passage carefully and select the most appropriate option to fill in each blank.

Persuasion is the art of (1)_____ someone to agree with your point of view. According to Aristotle, there are three basic tools of persuasion: ethos, pathos and logos. Ethos is a speaker's way of convincing the audience that she is a (2)_____ source. Pathos is a speaker's way of (3)_____ with an audience's emotions. Logos is the use of (4)_____ or information to make your (5) _____ more convincing.

SubQuestion No : 17

Q.17 Select the most appropriate option to fill in blank no. 2.

- Ans**
- 1. confusing
 - 2. credible
 - 3. misleading
 - 4. unreliable

Comprehension:

In the following passage, some words have been deleted. Read the passage carefully and select the most appropriate option to fill in each blank.

Persuasion is the art of (1)_____ someone to agree with your point of view. According to Aristotle, there are three basic tools of persuasion: ethos, pathos and logos. Ethos is a speaker's way of convincing the audience that she is a (2)_____ source. Pathos is a speaker's way of (3)_____ with an audience's emotions. Logos is the use of (4)_____ or information to make your (5) _____ more convincing.

SubQuestion No : 18

Q.18 Select the most appropriate option to fill in blank no. 3.

- Ans**
- 1. connecting
 - 2. unlike
 - 3. disparate
 - 4. distinct

Comprehension:

In the following passage, some words have been deleted. Read the passage carefully and select the most appropriate option to fill in each blank.

Persuasion is the art of (1)_____ someone to agree with your point of view. According to Aristotle, there are three basic tools of persuasion: ethos, pathos and logos. Ethos is a speaker's way of convincing the audience that she is a (2)_____ source. Pathos is a speaker's way of (3)_____ with an audience's emotions. Logos is the use of (4)_____ or information to make your (5) _____ more convincing.

SubQuestion No : 19

Q.19 Select the most appropriate option to fill in blank no. 4.

- Ans**
- 1. evidence
 - 2. theory
 - 3. clue
 - 4. facts

Comprehension:

In the following passage, some words have been deleted. Read the passage carefully and select the most appropriate option to fill in each blank.

Persuasion is the art of (1)_____ someone to agree with your point of view. According to Aristotle, there are three basic tools of persuasion: ethos, pathos and logos. Ethos is a speaker's way of convincing the audience that she is a (2)_____ source. Pathos is a speaker's way of (3)_____ with an audience's emotions. Logos is the use of (4)_____ or information to make your (5) _____ more convincing.

SubQuestion No : 20

Q.20 Select the most appropriate option to fill in blank no. 5.

- Ans**
- 1. question
 - 2. theory
 - 3. argument
 - 4. hypothesis

Section : Part-D-Hindi

Q.1 इनमें से किस वाक्य में त्रुटि नहीं है?

- Ans
- 1. वह मुझे बुलाया है।
 - 2. यह दायित्व आप पर निर्भर है।
 - 3. यह निबंध मैं लिखा हूँ।
 - 4. वह रोटी खाया।

Q.2 मैदान, तीन, बच्चा और खेलना शब्दों के आधार पर सही वाक्य होगा।

- Ans
- 1. मैदान में तीन बच्चे गेंद खेल रहे हैं।
 - 2. मैदान में तीन बच्चा गेंद खेल रहा है।
 - 3. मैदान में तीन बच्चा गेंद खेल रहे हैं।
 - 4. मैदान में तीन बच्चे गेंद खेल रहा है।

Q.3 दिये गए वाक्य में त्रुटियाँ पहचाने और वाक्य शुद्ध करें तथा उत्तर के रूप में सही विकल्प चुनें।
लड़का खाना खाते हैं।

- Ans
- 1. लड़के खाना खाते हैं।
 - 2. लड़का खाना ही खाते हैं।
 - 3. लड़के खाना ही खाते हैं।
 - 4. लड़का खाना खाता है।

Q.4 निम्नलिखित वाक्यांश के लिए उपयुक्त सार्थक शब्द है:

अपने स्वार्थ के लिए किसी का गुणगान करने वाला

- Ans
- 1. स्वार्थी
 - 2. चाटुकार
 - 3. समझदार
 - 4. चालक

Q.5 रिक्त स्थान की पूर्ति सार्थक शब्द युग्म से करें-
हिसाब किताब नहीं रखने पर _____ का पता नहीं चलता।

- Ans
- 1. आय व्यय
 - 2. कुचा मुचा
 - 3. दना दन
 - 4. अंड बंड

Q.6 निम्न में से किस वाक्य में 'जटिल' के सही विलोम शब्द का प्रयोग हुआ है?

- Ans
- 1. सरल वाक्य की क्या परिभाषा है?
 - 2. उसने अनेक विषम परिस्थितियों का सामना किया।
 - 3. सुधा के सामने यह बहुत बड़ी मुश्किल थी।
 - 4. रजत के लिए वह कविता अत्यंत क्लिष्ट है।

Q.7 शब्द या वाक्य खण्ड बदलें और उत्तर के रूप में सही विकल्प चुनें।
घर की औरतों ने दूल्हे को बड़े ध्यान से देखी।

- Ans
- 1. घर की औरतों ने दूल्हा को बड़े ध्यान से देखा।
 - 2. घर की औरतों ने दूल्हों को बहुत ध्यानपूर्वक देखा।
 - 3. घर की औरतों ने दूल्हा राजा को बड़े ध्यान से देखा।
 - 4. घर की औरतों ने दूल्हे को बड़े ध्यान से देखा।

Q.8 निम्नलिखित में से किस वाक्य का कर्ता, एक नित्य पुल्लिंग शब्द नहीं है?

- Ans
- ✓ 1. आप तो महान दाता हैं।
 - ✗ 2. खरगोश का सफ़ेद रंग सुन्दर है।
 - ✗ 3. बिच्छू सदैव काट ही लेता है।
 - ✗ 4. कछुआ बहुत शर्मीला जानवर है।

Q.9 'जब भी कोई काम की बात शुरू होती है, सोहन अपनी अलग घास छीलने लगता है, उससे कुछ भी कहना बेकार है।'

रेखांकित असंगत भाग के लिए उचित मुहावरे का चयन कीजिए।

- Ans
- ✓ 1. डेढ़ चावल की खिचड़ी पकाना
 - ✗ 2. चार चाँद लगाना
 - ✗ 3. खूँटे के बल कूदना
 - ✗ 4. गिरगिट की तरह रंग बदलना

Q.10 निम्नलिखित में से 'रुष्ट' का विलोम शब्द है-

- Ans
- ✗ 1. दुष्ट
 - ✗ 2. पुष्ट
 - ✗ 3. ताप
 - ✓ 4. तुष्ट

Q.11 आज आपका चेहरा प्रफुल्ल दिखता है।

रेखांकित पद का विलोम बताइए।

- Ans
- ✗ 1. अम्लान
 - ✗ 2. दुःखी
 - ✓ 3. म्लान
 - ✗ 4. आकर्षक

Q.12 उपयुक्त तत्सम शब्द चुनकर निम्न वाक्य पूर्ण करें-
'इनके मस्तिष्क में तो _____ भरा है।'

- Ans
- ✓ 1. बुष
 - ✗ 2. भूसा
 - ✗ 3. भुसैल
 - ✗ 4. भुस

Q.13 वर्तनी की दृष्टि से अशुद्ध वाक्य की पहचान कीजिए।

- Ans
- ✗ 1. हमें उन्नति करनी चाहिए।
 - ✗ 2. उसे क्षमा कर दो।
 - ✗ 3. इमारत बहुत ऊँची है।
 - ✓ 4. इन तलाव में मछली हैं।

Q.14 निम्नलिखित वाक्य में रेखांकित खंड के स्थान पर प्रयुक्त होने वाले सबसे उपयुक्त विकल्प का चयन कीजिए-

यह नियम व्यक्ति के लिए प्रत्येक लागू है।

- Ans
- ✓ 1. प्रत्येक व्यक्ति के लिए
 - ✗ 2. व्यक्ति प्रत्येक के लिए
 - ✗ 3. प्रत्येक के लिए व्यक्ति
 - ✗ 4. प्रत्येक व्यक्ति के सामने

Q.15 'परकीय' शब्द का विलोम पहचानिए।

- Ans
- 1. पूरक
 - 2. पाठकीय
 - 3. स्वकीय
 - 4. सम्यक

Comprehension:

निम्नलिखित गद्यांश को पढ़कर प्रश्नों के उत्तर दीजिए-

राष्ट्रभाषा से यह अभिप्राय है कि वह अंतरप्रांतीय व्यापार और (41) _____ व्यवहार में सभी प्रांतों में रहनेवालों द्वारा बरती जाए और बदरीनाथ से रामेश्वरम् तक तथा अमृतसर से कटक तक सभी स्थानों में परस्पर बातचीत करने और (42) _____ में काम लायी जाए। राष्ट्रभाषा होने की अधिकाधिक योग्यता हिंदी में आनी और लानी चाहिए। आज के युग में जब वैज्ञानिक आविष्कार के कारण दुनिया से स्थान और समय की दूरी समाप्त होती जा रही है, कोई भी भाषा दूसरी भाषा के संपर्क से अपने को (43) _____ नहीं रख सकती। हिंदी का यह एक विशेष गुण है कि उसने हिंदुओं की भाषा होते हुए भी अरबी, फारसी, अंगरेजी इत्यादि के शब्दों को अछूत नहीं समझा। (44) _____ की नीति तो वह कदापि स्वीकार नहीं कर सकती और न विदेशी शब्दों को ही बाहर रखकर वह अपनी उन्नति कर सकती है। हिंदुस्तान में हिंदू, मुसलमान, ईसाई, सिख इत्यादि सभी बसते हैं, तो भी वह (45) _____ है। इसी प्रकार, यदि हम सभी भाषाओं से उत्तम और आवश्यक शब्द लेंगे, तो भी हिंदी ही रहेगी।

SubQuestion No : 16

Q.16 निम्न विकल्पों में से उचित शब्द चयन कर अनुच्छेद में रिक्त स्थान की पूर्ति करें।(41)

- Ans
- 1. सार्विक
 - 2. सार्वत्रिक
 - 3. सार्वलौकिक
 - 4. सार्वजनिक

Comprehension:

निम्नलिखित गद्यांश को पढ़कर प्रश्नों के उत्तर दीजिए-

राष्ट्रभाषा से यह अभिप्राय है कि वह अंतरप्रांतीय व्यापार और (41) _____ व्यवहार में सभी प्रांतों में रहनेवालों द्वारा बरती जाए और बदरीनाथ से रामेश्वरम् तक तथा अमृतसर से कटक तक सभी स्थानों में परस्पर बातचीत करने और (42) _____ में काम लायी जाए। राष्ट्रभाषा होने की अधिकाधिक योग्यता हिंदी में आनी और लानी चाहिए। आज के युग में जब वैज्ञानिक आविष्कार के कारण दुनिया से स्थान और समय की दूरी समाप्त होती जा रही है, कोई भी भाषा दूसरी भाषा के संपर्क से अपने को (43) _____ नहीं रख सकती। हिंदी का यह एक विशेष गुण है कि उसने हिंदुओं की भाषा होते हुए भी अरबी, फारसी, अंगरेजी इत्यादि के शब्दों को अछूत नहीं समझा। (44) _____ की नीति तो वह कदापि स्वीकार नहीं कर सकती और न विदेशी शब्दों को ही बाहर रखकर वह अपनी उन्नति कर सकती है। हिंदुस्तान में हिंदू, मुसलमान, ईसाई, सिख इत्यादि सभी बसते हैं, तो भी वह (45) _____ है। इसी प्रकार, यदि हम सभी भाषाओं से उत्तम और आवश्यक शब्द लेंगे, तो भी हिंदी ही रहेगी।

SubQuestion No : 17

Q.17 निम्न विकल्पों में से उचित शब्द चयन कर अनुच्छेद में रिक्त स्थान की पूर्ति करें।(42)

- Ans
- 1. विचार - विनिमय
 - 2. विचार - क्रम
 - 3. विचार - विज्ञ
 - 4. विचार - स्वातंत्र्य

Comprehension:

निम्नलिखित गद्यांश को पढ़कर प्रश्नों के उत्तर दीजिए-

राष्ट्रभाषा से यह अभिप्राय है कि वह अंतरप्रांतीय व्यापार और (41) _____ व्यवहार में सभी प्रांतों में रहनेवालों द्वारा बरती जाए और बदरीनाथ से रामेश्वरम् तक तथा अमृतसर से कटक तक सभी स्थानों में परस्पर बातचीत करने और (42) _____ में काम लायी जाए। राष्ट्रभाषा होने की अधिकाधिक योग्यता हिंदी में आनी और लानी चाहिए। आज के युग में जब वैज्ञानिक आविष्कार के कारण दुनिया से स्थान और समय की दूरी समाप्त होती जा रही है, कोई भी भाषा दूसरी भाषा के संपर्क से अपने को (43) _____ नहीं रख सकती। हिंदी का यह एक विशेष गुण है कि उसने हिंदुओं की भाषा होते हुए भी अरबी, फारसी, अंगरेजी इत्यादि के शब्दों को अछूत नहीं समझा। (44) _____ की नीति तो वह कदापि स्वीकार नहीं कर सकती और न विदेशी शब्दों को ही बाहर रखकर वह अपनी उन्नति कर सकती है। हिंदुस्तान में हिंदू, मुसलमान, ईसाई, सिख इत्यादि सभी बसते हैं, तो भी वह (45) _____ है। इसी प्रकार, यदि हम सभी भाषाओं से उत्तम और आवश्यक शब्द लेंगे, तो भी हिंदी ही रहेगी।

SubQuestion No : 18

Q.18 निम्न विकल्पों में से उचित शब्द चयन कर अनुच्छेद में रिक्त स्थान की पूर्ति करें।(43)

- Ans
- 1. अछोह
 - 2. अछूता
 - 3. अचिति
 - 4. अचूक

Comprehension:

निम्नलिखित गद्यांश को पढ़कर प्रश्नों के उत्तर दीजिए-

राष्ट्रभाषा से यह अभिप्राय है कि वह अंतरप्रांतीय व्यापार और (41) _____ व्यवहार में सभी प्रांतों में रहनेवालों द्वारा बरती जाए और बदरीनाथ से रामेश्वरम् तक तथा अमृतसर से कटक तक सभी स्थानों में परस्पर बातचीत करने और (42) _____ में काम लायी जाए। राष्ट्रभाषा होने की अधिकाधिक योग्यता हिंदी में आनी और लानी चाहिए। आज के युग में जब वैज्ञानिक आविष्कार के कारण दुनिया से स्थान और समय की दूरी समाप्त होती जा रही है, कोई भी भाषा दूसरी भाषा के संपर्क से अपने को (43) _____ नहीं रख सकती। हिंदी का यह एक विशेष गुण है कि उसने हिंदुओं की भाषा होते हुए भी अरबी, फारसी, अंगरेजी इत्यादि के शब्दों को अछूत नहीं समझा। (44) _____ की नीति तो वह कदापि स्वीकार नहीं कर सकती और न विदेशी शब्दों को ही बाहर रखकर वह अपनी उन्नति कर सकती है। हिंदुस्तान में हिंदू, मुसलमान, ईसाई, सिख इत्यादि सभी बसते हैं, तो भी वह (45) _____ है। इसी प्रकार, यदि हम सभी भाषाओं से उत्तम और आवश्यक शब्द लेंगे, तो भी हिंदी ही रहेगी।

SubQuestion No : 19

Q.19 निम्न विकल्पों में से उचित शब्द चयन कर अनुच्छेद में रिक्त स्थान की पूर्ति करें।(44)

- Ans
- 1. बधियाना
 - 2. बहिष्कार
 - 3. बहिश्वर
 - 4. बहिनापा

Comprehension:

निम्नलिखित गद्यांश को पढ़कर प्रश्नों के उत्तर दीजिए-

राष्ट्रभाषा से यह अभिप्राय है कि वह अंतरप्रांतीय व्यापार और (41) _____ व्यवहार में सभी प्रांतों में रहनेवालों द्वारा बरती जाए और बदरीनाथ से रामेश्वरम् तक तथा अमृतसर से कटक तक सभी स्थानों में परस्पर बातचीत करने और (42) _____ में काम लायी जाए। राष्ट्रभाषा होने की अधिकाधिक योग्यता हिंदी में आनी और लानी चाहिए। आज के युग में जब वैज्ञानिक आविष्कार के कारण दुनिया से स्थान और समय की दूरी समाप्त होती जा रही है, कोई भी भाषा दूसरी भाषा के संपर्क से अपने को (43) _____ नहीं रख सकती। हिंदी का यह एक विशेष गुण है कि उसने हिंदुओं की भाषा होते हुए भी अरबी, फारसी, अंगरेजी इत्यादि के शब्दों को अछूत नहीं समझा। (44) _____ की नीति तो वह कदापि स्वीकार नहीं कर सकती और न विदेशी शब्दों को ही बाहर रखकर वह अपनी उन्नति कर सकती है। हिंदुस्तान में हिंदू, मुसलमान, ईसाई, सिख इत्यादि सभी बसते हैं, तो भी वह (45) _____ है। इसी प्रकार, यदि हम सभी भाषाओं से उत्तम और आवश्यक शब्द लेंगे, तो भी हिंदी ही रहेगी।

SubQuestion No : 20

Q.20 निम्न विकल्पों में से उचित शब्द चयन कर अनुच्छेद में रिक्त स्थान की पूर्ति करें।(45)

- Ans
- 1. राजस्तान
 - 2. हिंदुस्तान
 - 3. हिंदुआनी
 - 4. पाकिस्तान