

Constable GD in CAPFs and SSF Rifleman GD in AR and Sepoy in NCB Examination 2025

Exam Date	25/02/2025
Exam Time	3:00 PM - 4:00 PM
Subject	Constable GD Examination 2025

Section : Part-A-General Intelligence and Reasoning

Q.1 Each of the digits in the number 78152469 is arranged in ascending order from left to right. Which of the following digits will be fourth from the left?

- Ans**
- 1. 5
 - 2. 7
 - 3. 6
 - 4. 4

Q.2 In a certain code language,
'A + B' means 'A is the mother of B',
'A - B' means 'A is the sister of B',
'A × B' means 'A is the father of B' and
'A ÷ B' means 'A is the brother of B'.

How is A related to C if 'A + B × C ÷ D - E'?

- Ans**
- 1. Father's mother
 - 2. Sister's daughter
 - 3. Brother's daughter
 - 4. Mother's mother

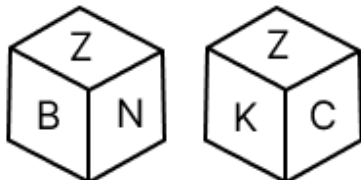
Q.3 In a certain code language, 'STAY' is coded as '3845' and 'LAYS' is coded as '3578'. How is 'T' coded in the given language?

- Ans**
- 1. 3
 - 2. 5
 - 3. 8
 - 4. 4

Q.4 L, M, N, O, P, Q and R are sitting around a circular table facing the centre (but not necessarily in the same order). O is sitting to the immediate left of M and the immediate right of Q. L is sitting to the immediate left of Q and the immediate right of P. R is sitting to the immediate right of M and the immediate left of N. Who is sitting to the immediate right of N?

- Ans**
- 1. O
 - 2. Q
 - 3. P
 - 4. R

Q.5 A dice has its faces marked by letters K, N, A, B, C and Z. Two positions of the same dice are given below. Which face is opposite to face A?



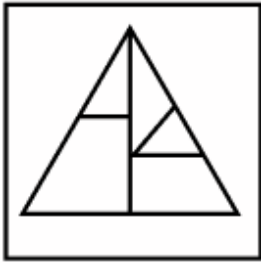
- Ans**
- 1. Z
 - 2. B
 - 3. N
 - 4. K

Q.6 Select the option in which the given figure (X) is embedded (rotation is NOT allowed).

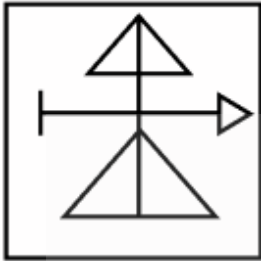


Ans

✗ 1.



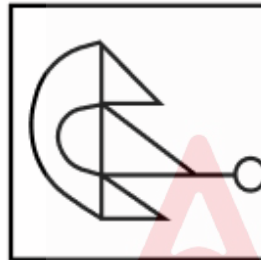
✗ 2.



✗ 3.



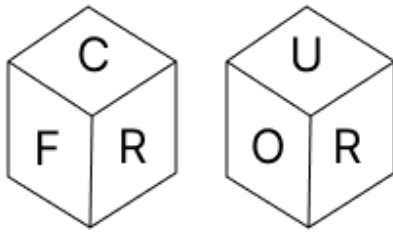
✓ 4.



Q.7 In a certain code language, 'sun is hot' is coded as 'la ah ft' and 'moon is beautiful' is coded as 'la ik zy'. How is 'is' coded in the given language?

- Ans
- ✗ 1. ft
 - ✗ 2. zy
 - ✓ 3. la
 - ✗ 4. ik

Q.8 A dice has its faces marked by letters C, L, O, U, R and F. Two positions of the same dice are shown in the given figures. Which face is opposite to face L?



- Ans
- 1. C
 - 2. F
 - 3. O
 - 4. R

Q.9 What should come in place of the question mark (?) in the given series?

17 64 103 134 157 ?

- Ans
- 1. 179
 - 2. 168
 - 3. 172
 - 4. 185

Q.10 Based on the English alphabetical order, three of the following four letter-clusters are alike in a certain way and thus form a group. Which is the one that DOES NOT belong to that group?

(Note: The odd one out is not based on the number of consonants/vowels or their position in the letter-cluster.)

- Ans
- 1. KMH
 - 2. GDH
 - 3. QSN
 - 4. HJE

Q.11 RC 66 is related to SD 67 in a certain way. In the same way, NV 3 is related to OW 4. To which of the following is CH 9 related, following the same logic?

- Ans
- 1. DI 8
 - 2. FI 10
 - 3. DI 10
 - 4. BI 10

Q.12 Read the given statements and conclusions carefully. Assuming that the information given in the statements is true, even if it appears to be at variance with commonly known facts, decide which of the given conclusions logically follow(s) from the statements.

Statements:

Some tabs are medicines.

Some tabs are ointments.

Some medicines are branches.

Conclusions:

(I): Some tabs are branches.

(II): Some medicines are ointments.

- Ans
- 1. Only conclusion (I) follows.
 - 2. Neither conclusion (I) nor (II) follows.
 - 3. Both conclusions (I) and (II) follow.
 - 4. Only conclusion (II) follows.

Q.13 What should come in place of the question mark (?) in the given series based on the English alphabetical order?

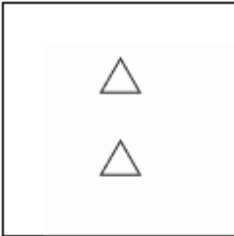
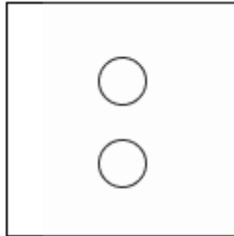
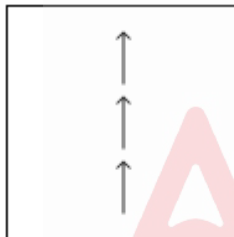
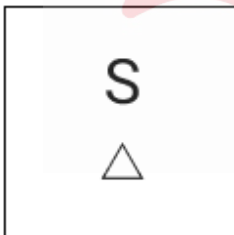
BDF HJL NPR ? ZBD

- Ans
- ✓ 1. TVX
 - ✗ 2. XTV
 - ✗ 3. VTX
 - ✗ 4. XYZ

Q.14 Identify the figure given in the options which when put in place of the question mark (?) will logically complete the series.

\$ \$ \$ \$ \$ \$ \$	X X X X X X	C C C C C	% % % % %	?
--	----------------------------	-----------------------	-----------------------	---

Ans

- ✗ 1. 
- ✗ 2. 
- ✓ 3. 
- ✗ 4. 

Q.15 K, L, M, N, O and P are sitting around a circular table, facing the centre (but not necessarily in the same order) . K sits second to the right of L. N sits third to the left of K. P is not an immediate neighbour of K. O sits second to the left of M. What is the position of O with respect to K?

- Ans
- ✗ 1. Immediate Right
 - ✗ 2. Second to the Left
 - ✓ 3. Immediate Left
 - ✗ 4. Third to the Right

Q.16 The position(s) of how many letters will remain unchanged if each of the letters in the word NOTABLE is arranged in the English alphabetical order?

- Ans
- 1. Three
 - 2. One
 - 3. Two
 - 4. Zero

Q.17 Following a certain code language, CBGD is related to HGLI and UFLO is related to ZKQT. To which of the given options is VJRM related in the given code language?

- Ans
- 1. BOWR
 - 2. AOWR
 - 3. AWOH
 - 4. AGRR

Q.18 What should come in place of the question mark (?) in the given series?

781 791 800 808 815 ?


- Ans
- 1. 822
 - 2. 820
 - 3. 819
 - 4. 821

Q.19 Select the Venn diagram that best illustrates the relationship between the following classes.

Cat, Pant, Ice

Ans

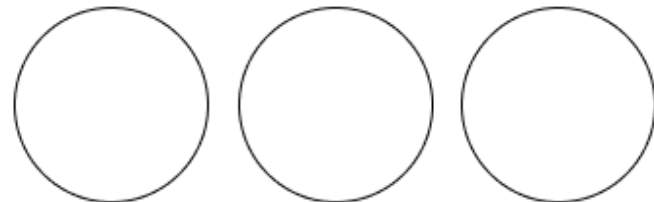
1.



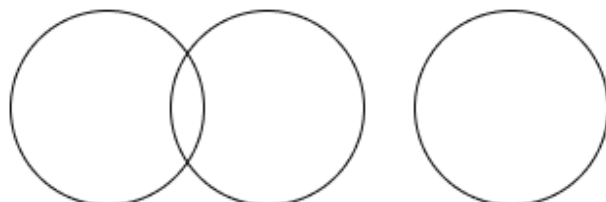
2.



3.



4.



Q.20 Find the correct alternative that when filled in the blanks in the same sequence will make the series logically complete.

_MIKM_LNPS_QSVR_VYU_

- Ans
- 1. IMNSU
 - 2. JPOTW
 - 3. IPNTU
 - 4. JMOSW

Section : Part-B-General Knowledge and General awareness

Q.1 According to Census 2011, which of the following states has the highest literacy rate in India?

- Ans
- 1. Kerala
 - 2. Tamil Nadu
 - 3. Himachal Pradesh
 - 4. Manipur

Q.2 In which year was the All India Trade Union Congress (AITUC) established?

- Ans
- 1. 1935
 - 2. 1905
 - 3. 1920
 - 4. 1919

Q.3 Which title did the Maukharis adopt to imitate the earlier Guptas?

- Ans
- 1. Rajadhiraja
 - 2. Samanta
 - 3. Maharaja
 - 4. Maharajadhiraja

Q.4 How many teams participated in the first edition of the Women's Premier League held in 2023?

- Ans
- 1. 8
 - 2. 5
 - 3. 7
 - 4. 6

Q.5 The first Paralympic Games took place in _____.

- Ans
- 1. Paris
 - 2. Rome
 - 3. London
 - 4. Rio De Janeiro

Q.6 The sale of government assets is also known as:

- Ans
- 1. investment
 - 2. commercialisation
 - 3. disinvestment
 - 4. capitalisation

Q.7 In which year did Kathak dancer and guru from Ujjain, Puru Dadheech receive the Sangeet Natak Akademi Award for his overall contribution to the performing arts?

- Ans**
- 1. 2018
 - 2. 2015
 - 3. 2000
 - 4. 2004

Q.8 When did the Green Revolution begin in India?

- Ans**
- 1. 1975
 - 2. 1960
 - 3. 1950
 - 4. 1966

Q.9 Which of the following classical dance forms belongs to Northern India?

- Ans**
- 1. Kathakali
 - 2. Kathak
 - 3. Mohiniyattam
 - 4. Kuchipudi

Q.10 Which layer of the Earth's atmosphere is responsible for protecting life on Earth by blocking harmful terrestrial solar radiation?

- Ans**
- 1. Stratosphere
 - 2. Mesosphere
 - 3. Thermosphere
 - 4. Troposphere

Q.11 According to the National Multidimensional Poverty Index Progress report 2023, how many people escaped multidimensional poverty between 2015-2021 in India?

- Ans**
- 1. 16.5 crore
 - 2. 120.5 crore
 - 3. 13.5 crore
 - 4. 15.5 crore

Q.12 During which Five-Year Plan was the Industrial Policy Resolution of 1956, which established a 'socialistic pattern of society', implemented?

- Ans**
- 1. Fifth Plan
 - 2. First Plan
 - 3. Fourth Plan
 - 4. Second Plan

Q.13 Which of the following union ministries launched the Civil Registration System (CRS) mobile application for registration of births and deaths in October 2024?

- Ans**
- 1. Ministry of Agriculture and Farmers' Welfare
 - 2. Ministry of Home Affairs
 - 3. Ministry of Defence
 - 4. Ministry of Social Justice and Empowerment

Q.14 Which national festival of India falls on the 26th of January?

- Ans**
- 1. Gandhi Jayanti
 - 2. Republic day
 - 3. Constitution Day
 - 4. Independence day

Q.15 In which month of 2024 did Prime Minister Narendra Modi visit Austria?

- Ans
- 1. June
 - 2. August
 - 3. July
 - 4. May

Q.16 Which law states that the period of a planet's orbit around the Sun increases exponentially with the radius of its orbit?

- Ans
- 1. Kepler's third law
 - 2. Copernicus law of motion
 - 3. Drake law
 - 4. Hubble's law

Q.17 Muthuswami Dikshitar was a great eminent singer, composer and poet of which music?

- Ans
- 1. Sufi
 - 2. Odissi
 - 3. Carnatic
 - 4. Semi-classical

Q.18 Which of the following is NOT a function of a Chief Minister of an Indian state?

- Ans
- 1. Coordinates the functioning of inter-state public service commissions
 - 2. Guides the framing of the policies for the State
 - 3. Is the sole link between Council of Ministers and Governor
 - 4. Advises the Governor

Q.19 Match the following:

Compound	Made From
A Bleaching Powder	1 Heating baking soda and recrystallization of the resultant
B Baking Powder	2 Heating Gypsum
C Washing Powder	3 Chlorine Gas and Dry slaked lime
D Plaster of Paris	4 Acid - Base reaction

- Ans
- 1. A-4, B-3, C-1, D-2
 - 2. A-2, B-4, C-1, D-3
 - 3. A-3, B-4, C-1, D-2
 - 4. A-1, B-2, C-3, D-4

Q.20 In which year were the Fundamental Duties added to the Constitution of India?

- Ans
- 1. 1976
 - 2. 1958
 - 3. 1952
 - 4. 1951

Section : Part-C-Elementary Mathematics

Q.1 The largest four-digit number which when divided by 9, 18 and 23, leaves a remainder 5 in each case, is:

- Ans
- 1. 9941
 - 2. 9963
 - 3. 9921
 - 4. 9935

Q.2 Evaluate: $16 + 8 \div 4 - 3 \times 4$

Ans 1. 5

2. 8

3. 6

4. 9

Q.3 The greatest number, which divides 1938 and 2337 to leave 0 and 3 respectively as remainders, is:

Ans 1. 14

2. 6

3. 13

4. 11

Q.4 The simple interest on a principal amount (in ₹) is ₹714 for a period of 3 years at the rate of 7% per annum. The principal amount (in ₹) is:

Ans 1. 3400

2. 3409

3. 3401

4. 3406

Q.5 If 2% of $x = 300$, then x is equal to:

Ans 1. 15000

2. 30100

3. 15100

4. 30000

Q.6 The mean proportional between 25 and a number N is two times the mean proportional between 15 and 35. The number N is:

Ans 1. 84

2. 80

3. 72

4. 76

Q.7 The first, second and fourth numbers in a proportion are 31, 12 and 156, respectively. The third number is:

Ans 1. 302

2. 403

3. 290

4. 387

Q.8 Ashish has ₹1218 with him. He divided it amongst his sons Arun and Mahesh and asked them to invest it at 10% rate of interest compounded annually. It was seen that Arun and Mahesh got same amount after 11 and 12 years respectively. How much (in ₹) did Ashish give to Mahesh?

Ans 1. 738

2. 580

3. 638

4. 430

Q.9 A man goes to Mumbai from Pune at a speed of 78km/hr and returns to Pune at speed of 91km/hr, through same route. What is his average speed (in km/hr) of the entire journey?

- Ans
- 1. 84
 - 2. 89
 - 3. 79
 - 4. 82

Q.10 In a class, the average score of boys is 75 with 20 boys and the average score of girls is 85 with 30 girls. What is the overall average score of the class?

- Ans
- 1. 82
 - 2. 80
 - 3. 81
 - 4. 83

Q.11 A book was purchased for ₹1,020 and sold for ₹1,224. Find the profit percentage.

- Ans
- 1. 18%
 - 2. 19%
 - 3. 21%
 - 4. 20%

Q.12 If at same rate of interest, in 2 years, the simple interest is ₹42 and compound interest is ₹49, then what is the principal (in ₹)?

- Ans
- 1. 56
 - 2. 67
 - 3. 58
 - 4. 63

Q.13 Evaluate: $(-9) - (-60) \div (-12) + (-4) \times 8$

- Ans
- 1. -45
 - 2. -49
 - 3. -48
 - 4. -46

Q.14 Rupesh sold 153 chairs and had a gain equal to the selling price of 53 chairs. What is his profit percentage?

- Ans
- 1. 53%
 - 2. 63%
 - 3. 58%
 - 4. 48%

Q.15 If the ratio of radius of the bases of two cylinders is 4 : 5 and the ratio of their heights is 5 : 2, then the ratio of their volumes is:

- Ans
- 1. 4 : 3
 - 2. 8 : 5
 - 3. 5 : 3
 - 4. 6 : 5

Q.16 A and B can finish a piece of work in 15 days and 20 days, respectively. If A and B work on alternate days, how many days will it take to complete the work (A starts the work)?

- Ans
- 1. 16
 - 2. 20
 - 3. 17.5
 - 4. 17

Q.17 Manish travels from City A to City B. If Manish drives his car at $\frac{1}{3}$ of his normal speed, then he reaches City B 36 minutes late. Find the time (in minutes) that Manish would have taken to travel from City A to City B if he drove at his normal speed.

- Ans
- 1. 26
 - 2. 15
 - 3. 20
 - 4. 18

Q.18 The expenditure of Sudha is 125% more than her savings. If her expenditure decreases by 14% and savings increase by 38%, then by what percent does her income increase?

- Ans
- 1. 5%
 - 2. 4%
 - 3. 3%
 - 4. 2%

Q.19 The average weight of Mohammad, Ashish and Kiran is 46 kg. If the average weight of Mohammad and Ashish be 40 kg and that of Ashish and Kiran be 42 kg, then the weight of Ashish (in kg) is:

- Ans
- 1. 41
 - 2. 26
 - 3. 46
 - 4. 36

Q.20 What is the effective discount per cent if a shopkeeper offers a scheme, "Buy five and get three free"?

- Ans
- 1. 37.5%
 - 2. 41.5%
 - 3. 33.8%
 - 4. 35.5%

Section : Part-D-English

Q.1 Select the INCORRECTLY spelt word.

- Ans
- 1. Ensure
 - 2. Calender
 - 3. Apology
 - 4. Certificate

Q.2 In the sentence 'The strategist's thoughts were very coherent', what is the most appropriate ANTONYM of the word 'coherent'?

- Ans
- 1. Logical
 - 2. Incomprehensible
 - 3. Lacklustre
 - 4. Systematic

Q.3 Select the most appropriate ANTONYM of the underlined word.

Climate change and environmental degradation are an existential threat to Europe and the world.

- Ans
- 1. Demand
 - 2. Development
 - 3. Distribution
 - 4. Disaster

Q.4 Select the most appropriate idiom that can substitute the underlined segment in the given sentence.

After the meeting, I felt like I was elated because the team decided to implement my idea.

- Ans
- 1. walking on thin ice
 - 2. walking on a dream
 - 3. walking on eggshells
 - 4. walking on air

Q.5 Select the most appropriate synonym of the given word.

Companion

- Ans
- 1. Enemy
 - 2. Sister
 - 3. Mate
 - 4. Neighbour

Q.6 Select the word that best completes the given sentence. Determine the collocation through the sentence.

Anil caught a glimpse of the rare bird before it _____ flight into the dense forest.

- Ans
- 1. got
 - 2. had
 - 3. took
 - 4. laid

Q.7 Select the most appropriate option to fill in the blank.

Following the credo 'Together we stand, divided we fall', the factory workers left their work and stepped out of the factory _____ to hold a protest rally against the higher authorities.

- Ans
- 1. impasse
 - 2. en-route
 - 3. en-masse
 - 4. ex-facto

Q.8 The following sentence has been split into four segments. Identify the segment that contains a grammatical error.

(A) The friends excited planned their upcoming vacation, / (B) researching destinations / (C) and creating an itinerary filled with / (D) thrilling activities and adventures.

- Ans
- 1. C
 - 2. D
 - 3. B
 - 4. A

Q.9 Identify the sentence with the INCORRECT usage of an adverb.

- Ans
- 1. He called his friend last night.
 - 2. I'll submit next week the assignment to you.
 - 3. I will send you the report tomorrow.
 - 4. They met for lunch yesterday.

Q.10 Select the most appropriate option to fill in the blank.

The detective's _____ examination of the crime scene revealed crucial evidence that others had missed.

- Ans
- 1. superficial
 - 2. hasty
 - 3. cursory
 - 4. thorough

Q.11 Select the most appropriate synonym of the word in the brackets to fill in the blank.

We sincerely thanked them for their _____ (benevolence) and generosity.

- Ans
- 1. intention
 - 2. liberty
 - 3. kindness
 - 4. suspicion

Q.12 Select the most appropriate option to fill in the blank.

When Sarah realised that she forgot her keys at home, she felt like a fish out of _____.

- Ans
- 1. water
 - 2. river
 - 3. pond
 - 4. sea

Q.13 Rectify the sentence by selecting the correctly spelt word from the options.

Despite his contributions to the institute, he was given a niggardly raise in his salary.

- Ans
- 1. Niggarddly
 - 2. Niggardly
 - 3. Niiggardly
 - 4. Nigardly

Q.14 Select the most appropriate option to fill in the blank.

He made the cake all by _____.

- Ans
- 1. herself
 - 2. myself
 - 3. himself
 - 4. yourself

Q.15 Select the most appropriate synonym of the given word.

Fragile

- Ans
- 1. Strong
 - 2. Delicate
 - 3. Heavy
 - 4. Shiny

Comprehension:

In the following passage, some words have been deleted. Read the passage carefully and select the most appropriate option to fill in each blank.

The fact that the wetter periods in North Africa have _____ 1 _____ every 21,000 years or so is a big clue about what _____ 2 _____ them: variations in Earth's orbit. Due to gravitational influences from the moon and other planets in our solar system, the orbit of the Earth _____ 3 _____ the sun is not constant. It has cyclic _____ 4 _____ on multi-thousand year timescales. These orbital cycles _____ 5 _____ the amount of energy the Earth receives from the sun. On 100,000-year cycles, the shape of Earth's orbit shifts between circular and oval.

SubQuestion No : 16

Q.16 Select the most appropriate option to fill in blank no. 1.

- Ans
- 1. seized
 - 2. recurred
 - 3. abated
 - 4. terminated

Comprehension:

In the following passage, some words have been deleted. Read the passage carefully and select the most appropriate option to fill in each blank.

The fact that the wetter periods in North Africa have _____ 1 _____ every 21,000 years or so is a big clue about what _____ 2 _____ them: variations in Earth's orbit. Due to gravitational influences from the moon and other planets in our solar system, the orbit of the Earth _____ 3 _____ the sun is not constant. It has cyclic _____ 4 _____ on multi-thousand year timescales. These orbital cycles _____ 5 _____ the amount of energy the Earth receives from the sun. On 100,000-year cycles, the shape of Earth's orbit shifts between circular and oval.

SubQuestion No : 17

Q.17 Select the most appropriate option to fill in blank no. 2.

- Ans
- 1. delegates
 - 2. debates
 - 3. bids
 - 4. causes

Comprehension:

In the following passage, some words have been deleted. Read the passage carefully and select the most appropriate option to fill in each blank.

The fact that the wetter periods in North Africa have _____1_____ every 21,000 years or so is a big clue about what _____2_____ them: variations in Earth's orbit. Due to gravitational influences from the moon and other planets in our solar system, the orbit of the Earth _____3_____ the sun is not constant. It has cyclic _____4_____ on multi-thousand year timescales. These orbital cycles _____5_____ the amount of energy the Earth receives from the sun. On 100,000-year cycles, the shape of Earth's orbit shifts between circular and oval.

SubQuestion No : 18

Q.18 Select the most appropriate option to fill in blank no. 3.

Ans 1.
direct

2.
straight

3. around

4.
precise

Comprehension:

In the following passage, some words have been deleted. Read the passage carefully and select the most appropriate option to fill in each blank.

The fact that the wetter periods in North Africa have _____1_____ every 21,000 years or so is a big clue about what _____2_____ them: variations in Earth's orbit. Due to gravitational influences from the moon and other planets in our solar system, the orbit of the Earth _____3_____ the sun is not constant. It has cyclic _____4_____ on multi-thousand year timescales. These orbital cycles _____5_____ the amount of energy the Earth receives from the sun. On 100,000-year cycles, the shape of Earth's orbit shifts between circular and oval.

SubQuestion No : 19

Q.19 Select the most appropriate option to fill in blank no. 4.

Ans 1.
monotonies

2.
variations

3.
consistencies

4.
regularities

Comprehension:

In the following passage, some words have been deleted. Read the passage carefully and select the most appropriate option to fill in each blank.

The fact that the wetter periods in North Africa have _____1_____ every 21,000 years or so is a big clue about what _____2_____ them: variations in Earth's orbit. Due to gravitational influences from the moon and other planets in our solar system, the orbit of the Earth _____3_____ the sun is not constant. It has cyclic _____4_____ on multi-thousand year timescales. These orbital cycles _____5_____ the amount of energy the Earth receives from the sun. On 100,000-year cycles, the shape of Earth's orbit shifts between circular and oval.

SubQuestion No : 20

Q.20 Select the most appropriate option to fill in blank no. 5.

Ans 1. believe

2.
stretch

3. return

4.
influence

Q.1 वर्तनी की दृष्टि से दिए गए वाक्य के किस अंश में त्रुटि है?
आपने मेरे गृह में अनाधिकार प्रवेश करने की चेष्टा कैसे की।

- Ans
- ✓ 1. में अनाधिकार
 - ✗ 2. आपने मेरे गृह
 - ✗ 3. चेष्टा कैसे की।
 - ✗ 4. प्रवेश करने की

Q.2 निम्नलिखित में से बहुवचन से संबंधित वाक्य है-

- Ans
- ✗ 1. वह योद्धा है।
 - ✓ 2. वे सभी योद्धा हैं।
 - ✗ 3. एक योद्धा आया है।
 - ✗ 4. तुम योद्धा हो।

Q.3 निम्न में से किस वाक्य में कारक चिह्न का अशुद्ध प्रयोग हुआ है?

- Ans
- ✗ 1. गाँधी जी ने सत्य और अहिंसा को महत्त्व दिया।
 - ✗ 2. तिलक ने महान भारत का सपना देखा था।
 - ✓ 3. माता ने पुत्री को विदाई पर समय बहुत धन दिया।
 - ✗ 4. गुलाम अली द्वारा एक सुंदर गज़ल सुनाई गई।

Q.4 यह व्यक्ति बहुत धनी है।

रेखांकित शब्द के उचित विलोम शब्द का चयन कीजिए।

- Ans
- ✗ 1. निर्लज्ज
 - ✓ 2. निर्धन
 - ✗ 3. धनवान
 - ✗ 4. धनिक

Q.5 'सौम्य' का विलोम है-

- Ans
- ✓ 1. उग्र
 - ✗ 2. सरल
 - ✗ 3. शांत
 - ✗ 4. कठोर

Q.6 अभ्यास अथवा व्यवहार से प्राप्त ज्ञान को _____ कहते हैं। वाक्य के रिक्त स्थान की उपयुक्त शब्द से पूर्ति कीजिए।

- Ans
- ✓ 1. अनुभव
 - ✗ 2. अनुशरण
 - ✗ 3. अनुशासन
 - ✗ 4. अनुभूति

Q.7 विलोम शब्द की दृष्टि से अशुद्ध विकल्प का चयन करें-

- Ans
- ✗ 1. हित-अहित
 - ✓ 2. अपमान-निरादर
 - ✗ 3. राजा-रंक
 - ✗ 4. जय-पराजय

Q.8 'विज्ञ' का विलोम शब्द नीचे दिए विकल्पों में से चुनिए-

- Ans
- ✗ 1. अग्र
 - ✗ 2. अनुग्रह
 - ✓ 3. अज्ञ
 - ✗ 4. प्रज्ञ

Q.9 निम्नलिखित वाक्य का कौन सा भाग अशुद्ध है ?
'आशा है आप स्वस्थ, संतुष्ट और सानंद होंगे।'

- Ans
- 1. सानंद होंगे
 - 2. आप स्वस्थ
 - 3. आशा है
 - 4. संतुष्ट और

Q.10 रिक्त स्थान की पूर्ति सार्थक और निरर्थक शब्द युग्म से कीजिए-

सोहन आया तो उसे खाने के लिए.... ही मिला।

- Ans
- 1. हिलते-डुलते
 - 2. बचा- खुचा
 - 3. ऊंचा- नीचा
 - 4. भला- चंगा

Q.11 रेखांकित शब्द के स्थान पर सर्वोचित विकल्प चुनिए।

कोई ऐसा कृतघ्न नहीं हो सकता जो आपके अनुदानों को भुला दे।

- Ans
- 1. अपकारों
 - 2. कार्यो
 - 3. दण्डों
 - 4. उपकारों

Q.12 निम्नलिखित में से उस विकल्प का चयन करें, जिसमें उचित मुहावरे का प्रयोग किया गया है -

- Ans
- 1. जो योग्य होते हैं उनकी प्रशंसा दूसरे करते हैं, वे खुद ईद का चाँद नहीं होते।
 - 2. नौकर किस मर्ज़ की दवा है; यदि तुम्हीं को सारा काम करना है?
 - 3. आज तो तुमने उनको ऐसी चुभती बात सुनाई कि वे अपने मुँह मिथा मिट्टू हो गए।
 - 4. अपनी तरक्की के लिए ईंट का जवाब पत्थर से देना जरूरी है।

Q.13 निम्नलिखित वाक्यांश के लिए सार्थक शब्द चुनिए -
मांस न खाने वाला

- Ans
- 1. निरामिष
 - 2. निमानुष
 - 3. अमानुष
 - 4. आमिष

Q.14 निम्नलिखित में से सही युग्म की पहचान कीजिए-

- Ans
- 1. लोटा-तत्सम
 - 2. चाय-जापानी
 - 3. नर्स-अंग्रेजी
 - 4. रिक्श-चीनी

Q.15 आपकी निबंध-शैली अत्यंत सरस और सुहावनी है।

उपरोक्त वाक्य में रेखांकित पद के बदले कौन सा विकल्प उपयुक्त है?

- Ans
- 1. आकर्षक
 - 2. ग्रहणीय
 - 3. सुखदायक
 - 4. जटिल

Comprehension:

गद्यांश के आधार पर प्रश्न का उत्तर दें।

सबसे ऊँचे चबूतरे पर बड़ा बौद्ध स्तूप है। मगर यह मुअनजो-दड़ो की सभ्यता के बिखरने के बाद एक जीर्ण-शीर्ण टीले पर बना। कोई पच्चीस फुट ऊँचे चबूतरे पर छब्बीस सदी पहले बनी ईंटों के दम पर स्तूप को आकार दिया गया। चबूतरे पर भिक्षुओं के कमरे भी हैं। 1922 में जब राखालदास बनर्जी यहाँ आए, तब वे इसी स्तूप की खोजबीन करना चाहते थे। इसके गिर्द खुदाई शुरू करने के बाद उन्हें इलहाम हुआ कि यहाँ ईसा पूर्व के निशान हैं। भारतीय पुरातत्त्व सर्वेक्षण के महानिदेशक जॉन मार्शल के निर्देश पर खुदाई का व्यापक अभियान शुरू हुआ। धीमे-धीमे यह खोज विशेषज्ञों को सिंधु घाटी सभ्यता की देहरी पर ले आई। इस खोज ने भारत को मिस्र और मेसोपोटामिया (इराक) की प्राचीन सभ्यताओं के समकक्ष ला खड़ा किया। दुनिया की प्राचीन सभ्यता होने के भारत के दावे को पुरातत्त्व का वैज्ञानिक आधार मिल गया।

SubQuestion No : 16

Q.16 दुनिया की प्राचीन सभ्यता होने को श्रेय किसे मिला?

- Ans**
- 1. अमेरिका
 - 2. इराक
 - 3. भारत
 - 4. जापान

Comprehension:

गद्यांश के आधार पर प्रश्न का उत्तर दें।

सबसे ऊँचे चबूतरे पर बड़ा बौद्ध स्तूप है। मगर यह मुअनजो-दड़ो की सभ्यता के बिखरने के बाद एक जीर्ण-शीर्ण टीले पर बना। कोई पच्चीस फुट ऊँचे चबूतरे पर छब्बीस सदी पहले बनी ईंटों के दम पर स्तूप को आकार दिया गया। चबूतरे पर भिक्षुओं के कमरे भी हैं। 1922 में जब राखालदास बनर्जी यहाँ आए, तब वे इसी स्तूप की खोजबीन करना चाहते थे। इसके गिर्द खुदाई शुरू करने के बाद उन्हें इलहाम हुआ कि यहाँ ईसा पूर्व के निशान हैं। भारतीय पुरातत्त्व सर्वेक्षण के महानिदेशक जॉन मार्शल के निर्देश पर खुदाई का व्यापक अभियान शुरू हुआ। धीमे-धीमे यह खोज विशेषज्ञों को सिंधु घाटी सभ्यता की देहरी पर ले आई। इस खोज ने भारत को मिस्र और मेसोपोटामिया (इराक) की प्राचीन सभ्यताओं के समकक्ष ला खड़ा किया। दुनिया की प्राचीन सभ्यता होने के भारत के दावे को पुरातत्त्व का वैज्ञानिक आधार मिल गया।

SubQuestion No : 17

Q.17 भारतीय पुरातत्त्व सर्वेक्षण के महानिदेशक कौन थे?

- Ans**
- 1. जॉन मार्शल
 - 2. दलाई लामा
 - 3. गौतम बुद्ध
 - 4. राखालदास बनर्जी

Comprehension:

गद्यांश के आधार पर प्रश्न का उत्तर दें।

सबसे ऊँचे चबूतरे पर बड़ा बौद्ध स्तूप है। मगर यह मुअनजो-दड़ो की सभ्यता के बिखरने के बाद एक जीर्ण-शीर्ण टीले पर बना। कोई पच्चीस फुट ऊँचे चबूतरे पर छब्बीस सदी पहले बनी ईंटों के दम पर स्तूप को आकार दिया गया। चबूतरे पर भिक्षुओं के कमरे भी हैं। 1922 में जब राखालदास बनर्जी यहाँ आए, तब वे इसी स्तूप की खोजबीन करना चाहते थे। इसके गिर्द खुदाई शुरू करने के बाद उन्हें इलहाम हुआ कि यहाँ ईसा पूर्व के निशान हैं। भारतीय पुरातत्त्व सर्वेक्षण के महानिदेशक जॉन मार्शल के निर्देश पर खुदाई का व्यापक अभियान शुरू हुआ। धीमे-धीमे यह खोज विशेषज्ञों को सिंधु घाटी सभ्यता की देहरी पर ले आई। इस खोज ने भारत को मिस्र और मेसोपोटामिया (इराक) की प्राचीन सभ्यताओं के समकक्ष ला खड़ा किया। दुनिया की प्राचीन सभ्यता होने के भारत के दावे को पुरातत्त्व का वैज्ञानिक आधार मिल गया।

SubQuestion No : 18

Q.18 1922 में बौद्ध स्तूप पर कौन शोध करना चाहते थे?

- Ans**
- 1. जॉन मार्शल
 - 2. पुरातत्व विभाग
 - 3. बौद्ध भिक्षु
 - 4. राखालदास

Comprehension:

गद्यांश के आधार पर प्रश्न का उत्तर दें।

सबसे ऊँचे चबूतरे पर बड़ा बौद्ध स्तूप है। मगर यह मुअनजो-दड़ो की सभ्यता के बिखरने के बाद एक जीर्ण-शीर्ण टीले पर बना। कोई पच्चीस फुट ऊँचे चबूतरे पर छब्बीस सदी पहले बनी ईंटों के दम पर स्तूप को आकार दिया गया। चबूतरे पर भिक्षुओं के कमरे भी हैं। 1922 में जब राखालदास बनर्जी यहाँ आए, तब वे इसी स्तूप की खोजबीन करना चाहते थे। इसके गिर्द खुदाई शुरू करने के बाद उन्हें इलहाम हुआ कि यहाँ ईसा पूर्व के निशान हैं। भारतीय पुरातत्त्व सर्वेक्षण के महानिदेशक जॉन मार्शल के निर्देश पर खुदाई का व्यापक अभियान शुरू हुआ। धीमे-धीमे यह खोज विशेषज्ञों को सिंधु घाटी सभ्यता की देहरी पर ले आई। इस खोज ने भारत को मिस्र और मेसोपोटामिया (इराक) की प्राचीन सभ्यताओं के समकक्ष ला खड़ा किया। दुनिया की प्राचीन सभ्यता होने के भारत के दावे को पुरातत्त्व का वैज्ञानिक आधार मिल गया।

SubQuestion No : 19

Q.19 स्तूप को कितनी ऊँचाई पर बने चबूतरे पर आकार दिया गया?

- Ans**
- ✓ 1. 25 फुट
 - ✗ 2. 27 फुट
 - ✗ 3. 26 फुट
 - ✗ 4. 24 फुट

Comprehension:

गद्यांश के आधार पर प्रश्न का उत्तर दें।

सबसे ऊँचे चबूतरे पर बड़ा बौद्ध स्तूप है। मगर यह मुअनजो-दड़ो की सभ्यता के बिखरने के बाद एक जीर्ण-शीर्ण टीले पर बना। कोई पच्चीस फुट ऊँचे चबूतरे पर छब्बीस सदी पहले बनी ईंटों के दम पर स्तूप को आकार दिया गया। चबूतरे पर भिक्षुओं के कमरे भी हैं। 1922 में जब राखालदास बनर्जी यहाँ आए, तब वे इसी स्तूप की खोजबीन करना चाहते थे। इसके गिर्द खुदाई शुरू करने के बाद उन्हें इलहाम हुआ कि यहाँ ईसा पूर्व के निशान हैं। भारतीय पुरातत्त्व सर्वेक्षण के महानिदेशक जॉन मार्शल के निर्देश पर खुदाई का व्यापक अभियान शुरू हुआ। धीमे-धीमे यह खोज विशेषज्ञों को सिंधु घाटी सभ्यता की देहरी पर ले आई। इस खोज ने भारत को मिस्र और मेसोपोटामिया (इराक) की प्राचीन सभ्यताओं के समकक्ष ला खड़ा किया। दुनिया की प्राचीन सभ्यता होने के भारत के दावे को पुरातत्त्व का वैज्ञानिक आधार मिल गया।

SubQuestion No : 20

Q.20 बड़ा बौद्ध स्तूप कहाँ स्थित है?

- Ans**
- ✗ 1. नीचे चबूतरे पर
 - ✓ 2. ऊँचे चबूतरे पर
 - ✗ 3. ईंटों के बने चट्टों पर
 - ✗ 4. पहाड़ पर

