

**Constable GD in CAPFs and SSF Rifleman GD in AR and Sepoy in NCB Examination 2025**

Exam Date	04/02/2025
Exam Time	3:00 PM - 4:00 PM
Subject	Constable GD Examination 2025

## Section : Part-A-General Intelligence and Reasoning

Q.1

- Ans
- 1. 69
  - 2. 68
  - 3. 71
  - 4. 70

Q.2

- Ans
- 1. XLJ
  - 2. ZJM
  - 3. JGX
  - 4. XGJ



# Test Prime

ALL EXAMS,  
ONE SUBSCRIPTION



**70,000+**  
Mock Tests



Personalised  
Report Card



Unlimited  
Re-Attempt



**600+**  
Exam Covered



Previous Year  
Papers

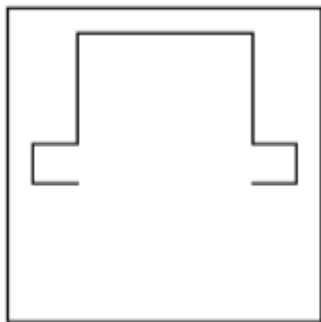


**500%**  
Refund



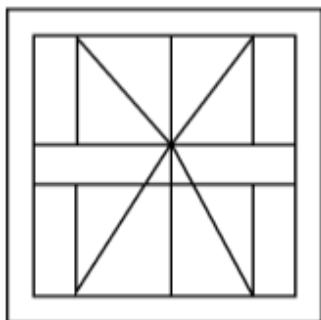
**ATTEMPT FREE MOCK NOW**

Q.3 उस विकल्प का चयन कीजिए जिसमें दी गई आकृति निहित है (घूर्णन की अनुमति नहीं है)।

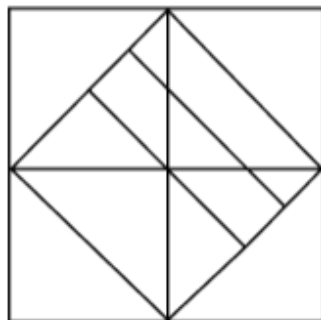


Ans

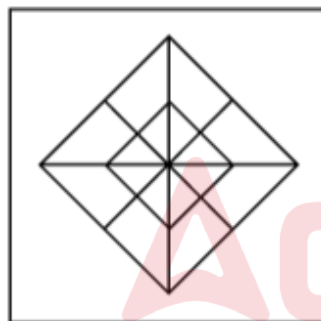
✓ 1.



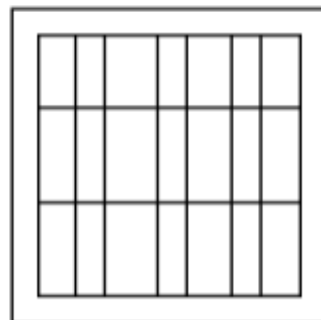
✗ 2.



✗ 3.



✗ 4.



Q.4 सात व्यक्ति, G, H, I, J, K, L और M, एक पंक्ति में उत्तर की ओर मुख करके बैठे हैं। (परंतु जरूरी नहीं कि वे इसी क्रम में बैठें हों)। M के दाईं ओर कोई भी नहीं बैठा है। M और K के बीच में केवल तीन व्यक्ति बैठे हैं। K और H के बीच में केवल दो व्यक्ति बैठे हैं। G, L के बाईं ओर तीसरे स्थान पर बैठा है। J, L के ठीक दाईं ओर बैठा है।  
I और H के बीच में कितने व्यक्ति बैठे हैं?

Ans

✗ 1. एक

✗ 2. दो

✓ 3. तीन

✗ 4. चार

Q.5 अंग्रेजी वर्णमाला क्रम के आधार पर, MLTA एक निश्चित तरीके से QHXW से संबंधित है। उसी तरीके से, LNVB, PJZX से संबंधित है। समान तर्क का अनुसरण करते हुए, CWON, दिए गए विकल्पों में से किससे संबंधित है?

- Ans
- ✓ 1. GSSJ
  - ✗ 2. GSAR
  - ✗ 3. GSJS
  - ✗ 4. GASR

Q.6 किसी निश्चित कूट भाषा में, 'TDZM' को '8-24-2-15' के रूप में कूट बद्ध किया जाता है और 'KRIY' को '17-10-19-3' के रूप में कूट बद्ध किया जाता है। दी गई कूट भाषा में 'HAWP' के लिए कूट क्या होगा?

- Ans
- ✓ 1. 20-27-5-12
  - ✗ 2. 19-8-5-14
  - ✗ 3. 23-25-6-11
  - ✗ 4. 22-9-7-13

Q.7 एक निश्चित कूट भाषा में,

'A + B' का अर्थ है कि 'A, B की माता है',  
'A - B' का अर्थ है कि 'A, B की पुत्री है',  
'A x B' का अर्थ है कि 'A, B का पुत्र है' और  
'A ÷ B' का अर्थ है कि 'A, B का भाई है'।

यदि 'C - D ÷ E x F + G' है, तो F का C से क्या संबंध है?

- Ans
- ✓ 1. पिता की माता
  - ✗ 2. पिता का भाई
  - ✗ 3. पुत्री का पुत्र
  - ✗ 4. माता का पिता

Q.8 उस विकल्प का चयन करें, जो अक्षरों के उस क्रम का प्रतिनिधित्व करता है, जिसे नीचे दिए गए रिक्त स्थानों में क्रमिक रूप से बाएँ से दाएँ रखे जाने पर दी गई अक्षर श्रृंखला पूरी हो जाएगी।  
p \_ \_ u o p q t \_ \_ \_ q \_ u o p q \_ u \_

- Ans
- ✗ 1. qtouptto
  - ✗ 2. tqouptto
  - ✓ 3. qtuoptto
  - ✗ 4. tqouptot

Q.9 अंग्रेजी वर्णमाला क्रम के आधार पर NRDF एक निश्चित प्रकार से PMFA से संबंधित है। SFJW ठीक उसी प्रकार UALR से संबंधित है। उसी तर्क का अनुसरण करते हुए GVKQ दिए गए विकल्पों में से किससे संबंधित है?

- Ans
- ✓ 1. IQML
  - ✗ 2. PGKY
  - ✗ 3. RGLB
  - ✗ 4. KRCX

Q.10 दी गई श्रृंखला में प्रश्न चिह्न (?) के स्थान पर क्या आना चाहिए?

10 11 13 17 25 ?

- Ans
- ✓ 1. 41
  - ✗ 2. 42
  - ✗ 3. 43
  - ✗ 4. 40

Q.11 दिए गए कथनों और निष्कर्षों को ध्यानपूर्वक पढ़िए। यह मानते हुए कि कथनों में दी गई जानकारी सत्य है, चाहे वह सामान्यतः ज्ञात तथ्यों से भिन्न प्रतीत होती हो और निर्णय लीजिए कि दिए गए निष्कर्षों में से कौन-सा/कौन-से निष्कर्ष कथनों का तार्किक रूप से अनुसरण करता है/करते हैं।

कथन:

सभी पायल, मोजे हैं।  
सभी मोजे, फ्लैट हैं।  
कुछ फ्लैट, ट्राउजर हैं।

निष्कर्ष:

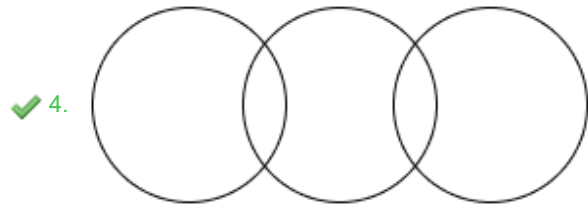
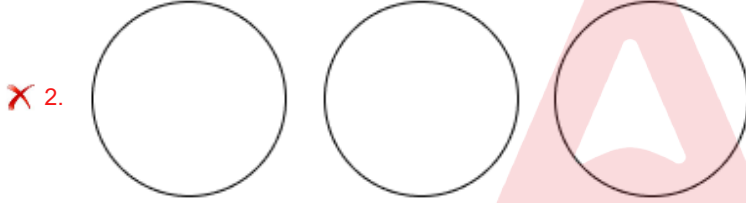
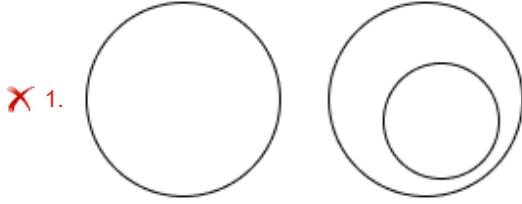
(I) सभी पायल, फ्लैट हैं।  
(II) कुछ ट्राउजर, पायल हैं।

- Ans
- 1. दोनों निष्कर्ष (I) और (II) अनुसरण करते हैं।
  - 2. न तो निष्कर्ष (I) और न ही (II) अनुसरण करता है।
  - 3. केवल निष्कर्ष (II) अनुसरण करता है।
  - 4. केवल निष्कर्ष (I) अनुसरण करता है।

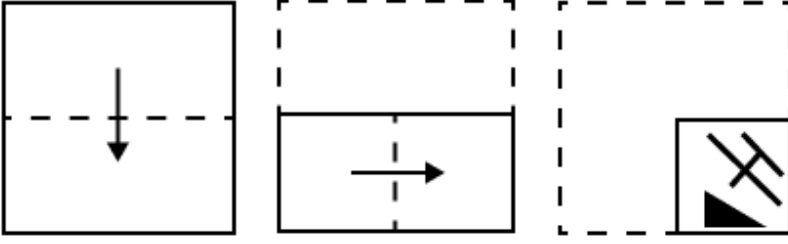
Q.12 उस वेन आरेख का चयन कीजिए, जो निम्नलिखित वर्गों के बीच के संबंध को सर्वोत्तम रूप से दर्शाता है।

शर्ट, कॉटन, डेनिम

Ans



Q.13 एक कागज को नीचे दर्शाए गए अनुसार मोड़कर पंच किया (punched) जाता है। खोले जाने पर यह कैसा दिखाई देगा?



Ans

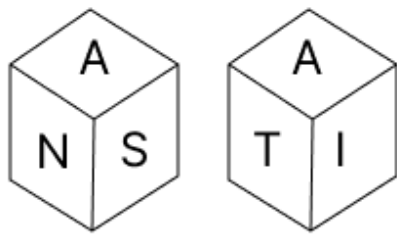
- ✗ 1.
- ✓ 2.
- ✗ 3.
- ✗ 4.

Q.14 अंग्रेजी वर्णमाला क्रम के आधार पर, निम्नलिखित चार अक्षर-समूहों में से तीन एक निश्चित प्रकार से समान हैं और इस प्रकार एक समूह बनाते हैं। वह कौन-सा अक्षर-समूह है जो उस समूह से संबंधित नहीं है?

(ध्यान दें: असंगत अक्षर-समूह, उस अक्षर-समूह में व्यंजनों/स्वरों की संख्या या उनके स्थान पर आधारित नहीं है।)

- ✗ 1. NYJ
- ✗ 2. TEP
- ✗ 3. CNY
- ✓ 4. QZK

Q.15 एक पासे के फलकों पर K, A, S, N, T और I अक्षर अंकित हैं। दी गई आकृतियों में एक ही पासे की दो स्थितियाँ दर्शाई गई हैं। फलक K के विपरीत कौन-सा फलक है?

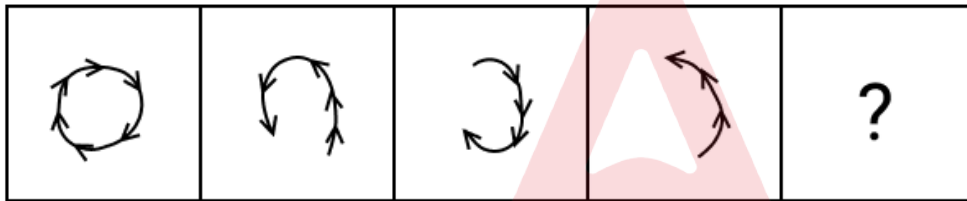


- Ans
- 1. T
  - 2. A
  - 3. N
  - 4. S

Q.16 किसी निश्चित कूट भाषा में, 'BIGS' को '4593' के रूप में कूट बद्ध किया जाता है और 'SING' को '9432' के रूप में कूट बद्ध किया जाता है। दी गई कूट भाषा में 'N' के लिए कूट क्या होगा?

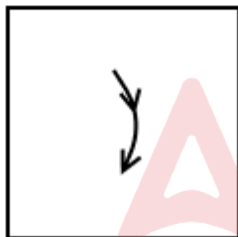
- Ans
- 1. 4
  - 2. 3
  - 3. 9
  - 4. 2

Q.17 विकल्पों में दी गई उस आकृति की पहचान कीजिए जिसे प्रश्न चिह्न (?) के स्थान पर रखने पर श्रृंखला तार्किक रूप से पूर्ण हो जाएगी।




Ans

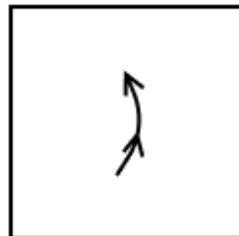
1.



2.



3.



4.



Q.18 छह मित्र E, F, G, R, S और T एक वृत्ताकार मेज के चारों ओर मेज के केंद्र की ओर मुख करके बैठे हैं (परंतु जरूरी नहीं कि वे इसी क्रम में बैठे हों)। S, F के दाईं ओर दूसरे स्थान पर बैठा है। F, G के दाईं ओर दूसरे स्थान पर बैठा है। R और E के बीच केवल F बैठा है। E, S का निकटतम पड़ोसी है। R के दाईं ओर से गिनती करने पर T और R के बीच कितने व्यक्ति बैठे हैं?

- Ans
- 1. दो
  - 2. एक
  - 3. चार
  - 4. तीन

Q.19 यदि शब्द VARIABLE के प्रत्येक अक्षर को उल्टे अंग्रेजी वर्णमाला क्रम में व्यवस्थित किया जाए, तो कितने अक्षरों का स्थान अपरिवर्तित रहेगा?

- Ans
- 1. तीन
  - 2. एक
  - 3. चार
  - 4. दो

Q.20 दी गई श्रृंखला में प्रश्न चिह्न (?) के स्थान पर क्या आना चाहिए?

65 86 114 149 191 ?

- Ans
- 1. 216
  - 2. 226
  - 3. 232
  - 4. 240

Section : Part-B-General Knowledge and General awareness

Q.1 अभिनय कला (नृत्य और संगीत) से संबंधित प्रारंभिक ग्रंथ 'नाट्यशास्त्र' को किस ऋषि द्वारा संकलित किया गया था?

- Ans
- 1. भरत
  - 2. वाल्मिकी
  - 3. साक्य
  - 4. अगस्त्य

Q.2 1968 में मैक्सिकन सरकार द्वारा किसे उनकी कोरियोग्राफी के लिए स्वर्ण पदक से सम्मानित किया गया था?

- Ans
- 1. मृणालिनी साराभाई
  - 2. शोवना नारायण
  - 3. रुक्मिणी अरुंडेल
  - 4. रेखा

Q.3 1906 में स्थापित अखिल भारतीय मुस्लिम लीग के प्रथम अध्यक्ष कौन थे?

- Ans
- 1. नवाब सलीमुल्लाह खान (Nawab Salimullah Khan)
  - 2. मुहम्मद अली जिन्ना (Muhammad Ali Jinnah)
  - 3. सर सुल्तान मुहम्मद शाह (Sir Sultan Muhammad Shah)
  - 4. आगा खान तृतीय (Aga Khan III)

Q.4 बास्केटबॉल के खेल में, प्रत्येक बास्केट में 18" लंबाई के सफेद कॉर्ड नेट (white cord net) के साथ आंतरिक व्यास वाली एक दाब-मोचन NBA-अनुमोदित (pressure-release NBA-approved) धातु सुरक्षा रिंग होगी।

- Ans
- 1. 20"
  - 2. 19"
  - 3. 18"
  - 4. 17"



Q.5 एक चिकनी क्षैतिज मेज पर  $d$  दूरी तय करने वाली  $m$  द्रव्यमान की एक पुस्तक के लिए, गुरुत्वाकर्षण बल के द्वारा किया गया कार्य ज्ञात कीजिए।

- Ans
- 1.  $m d \cos \theta$
  - 2.  $md$
  - 3. 0
  - 4.  $mgd$

Q.6 निम्नलिखित में से किसे जून 2024 में जनजातीय कार्य मंत्री के रूप में नियुक्त किया गया?

- Ans
- 1. भूपेन्द्र यादव (Bhupender Yadav)
  - 2. जुएल ओराम (Jual Oram)
  - 3. प्रह्लाद जोशी (Pralhad Joshi)
  - 4. अश्विनी वैष्णव (Ashwini Vaishnav)

Q.7 वसंत त्योहार, अली-ऐ-लिगांग (Ali-Aye-Ligang), भारतीय राज्य \_\_\_\_\_ में फागुन महीने के पहले बुधवार को मनाया जाता है।

- Ans
- 1. असम
  - 2. गोवा
  - 3. केरल
  - 4. हिमाचल प्रदेश

Q.8 भारतीय शास्त्रीय संगीतकार और तालवादक येल्ला वेंकटेश्वर राव (Yella Venkateswara Rao) द्वारा कौन-सा संगीत वाद्ययंत्र बजाया जाता है?

- Ans
- 1. नादस्वरन
  - 2. मृदंगम
  - 3. घटम
  - 4. पखावज

Q.9 वह सबसे प्रसिद्ध शक शासक कौन था जो गिरनार में अपने शिलालेख के लिए जाना जाता है?

- Ans
- 1. मिनांडर
  - 2. डेमेट्रियस
  - 3. रूद्रदमन
  - 4. रुद्रभूति

Q.10 निम्नलिखित में से कौन-सा वह प्रमुख कारक है जिसने वैश्वीकरण को सुगम बनाया है?

- Ans
- 1. बढ़े हुए टैरिफ और व्यापार अवरोध
  - 2. प्रौद्योगिकी में तीव्र सुधार
  - 3. बहुराष्ट्रीय निगमों में गिरावट
  - 4. अलगाववादी नीतियां

Q.11 निम्नलिखित में से किस पंचवर्षीय योजना का उद्देश्य आत्मनिर्भरता प्राप्त करना तथा 'स्थिरता के साथ वृद्धि' करना था?

- Ans
- 1. चतुर्थ योजना
  - 2. सातवीं योजना
  - 3. छठी योजना
  - 4. द्वितीय योजना

Q.12 सितंबर 2024 तक की स्थिति के अनुसार, तमिलनाडु के मुख्यमंत्री कौन हैं?

- Ans
- 1. नायब सिंह सेनी
  - 2. भूपेन्द्र पटेल
  - 3. एम. के. स्टालिन
  - 4. हेमन्त सोरेन

Q.13 निम्नलिखित में से किसने फिट इंडिया फ्रीडम रन (Fit India Freedom Run) 2.0 का राष्ट्रव्यापी कार्यक्रम लॉन्च किया?

- Ans
- 1. नरेंद्र मोदी
  - 2. अनुराग ठाकुर
  - 3. अमित शाह
  - 4. द्रौपदी मुर्मू

Q.14 मच्छरों द्वारा फैलने वाले उस वायरस का नाम बताइए जो मस्तिष्क में शोथ (inflammation) उत्पन्न करता है?

- Ans
- 1. लिम्फैटिक फाइलरियासिस (Lymphatic filariasis)
  - 2. पीत ज्वर वायरस (Yellow fever virus)
  - 3. फ्रांसिसेला टुलारेसिस (Francisella tularensis)
  - 4. जापानीज़ इंसेफेलाइटिस (Japanese encephalitis)

Q.15 निम्नलिखित में से कौन-सा, भारतीय अर्थव्यवस्था के तृतीयक क्षेत्रक (tertiary sector) से संबंधित है?

- Ans
- 1. विनिर्माण
  - 2. लोक प्रशासन
  - 3. विद्युत आपूर्ति सेवाएँ
  - 4. वानिकी

Q.16 2011 की जनगणना के अनुसार, निम्नलिखित में से किस प्रवासन धारा (stream of migration) का प्रतिशत सबसे अधिक है?

- Ans
- 1. शहरी से ग्रामीण
  - 2. शहरी से शहरी
  - 3. ग्रामीण से शहरी
  - 4. ग्रामीण से ग्रामीण

Q.17 भारतीय संविधान के किस संशोधन के अंतर्गत संपत्ति के अधिकार को मौलिक अधिकारों की सूची से हटा दिया गया?

- Ans
- 1. 52वें संशोधन
  - 2. 42वें संशोधन
  - 3. 44वें संशोधन
  - 4. 61वें संशोधन

Q.18 धिवेही, भारत के किस पड़ोसी देश की राजभाषा (official language) है?

- Ans
- 1. मालदीव
  - 2. श्रीलंका
  - 3. म्यांमार
  - 4. भूटान

Q.19 निम्नलिखित में से क्या, भारत में किसी राज्य के राज्यपाल की शक्ति के अंतर्गत नहीं आता है?

- Ans
- 1. विधायी शक्ति (Legislative power)
  - 2. कार्यपालक शक्ति (Executive power)
  - 3. अनिवार्य शक्ति (Obligatory power)
  - 4. विवेकाधिकार (Discretionary power)

Q.20 निम्नलिखित में से कौन-सा सबसे खारा जल निकाय है जो पूर्व में जॉर्डन और पश्चिम में इज़राइल की सीमा से लगा हुआ है?

- Ans
- 1. डोन जुआन पॉण्ड (Don Juan Pond)
  - 2. ग्रेट साल्ट लेक (Great Salt Lake)
  - 3. मृत सागर (Dead Sea)
  - 4. विश्व महासागर (World Ocean)

Section : Part-C-Elementary Mathematics

Q.1 ईंधन की कीमत क्रमागत तीन महीनों में 40%, 10% और 50% कम की गई है, लेकिन चौथे महीने में 50% वृद्धि की गई है। चौथे महीने में ईंधन की कीमत में उसकी मूल कीमत की तुलना में कितने प्रतिशत की वृद्धि/कमी हुई है?

- Ans
- 1. 56.29% की वृद्धि
  - 2. 61.17% की कमी
  - 3. 57.3% की वृद्धि
  - 4. 59.5% की कमी

Q.2 एक धारा की चाल 9 km/h है। एक नाव धारा के अनुकूल 56 km और धारा के प्रतिकूल 28 km की दूरी 7 घंटे में तय कर सकती है। स्थिर जल में नाव की चाल (km/h में) ज्ञात कीजिए।

- Ans
- 1. 20
  - 2. 16
  - 3. 9
  - 4. 15

Q.3 यदि एक कैमरे का क्रय मूल्य उसके विक्रय मूल्य का 75% है, तो लाभ प्रतिशत कितना है?

- Ans
- 1.  $16\frac{2}{3}\%$
  - 2.  $33\frac{1}{3}\%$
  - 3. 24%
  - 4. 25%

Q.4 किसी मूलधन पर 6% की वार्षिक दर से 2 वर्ष की अवधि के लिए साधारण ब्याज ₹318 है। मूलधन (₹ में) ज्ञात कीजिए।

- Ans
- 1. 2656
  - 2. 2655
  - 3. 2651
  - 4. 2650

Q.5 किसी जॉब से अर्जित धनराशि, किए गए कार्य के घंटों की संख्या के अनुक्रमानुपाती है। यदि 6 घंटे में ₹324 अर्जित होते हैं, तो 29 घंटे कार्य करने पर कितनी धनराशि (₹ में) अर्जित होगी?

- Ans
- 1. ₹1,655
  - 2. ₹1,676
  - 3. ₹1,585
  - 4. ₹1,566

Q.6 ₹1200 प्रति सैकड़ा की दर से 400 सेब खरीदे गए और ₹800 के लाभ पर बेचे गए। प्रति दर्जन सेबों का विक्रय मूल्य (₹ में) ज्ञात कीजिए।

- Ans
- 1. 168
  - 2. 183
  - 3. 158
  - 4. 178

Q.7 निम्नलिखित का मान ज्ञात कीजिए।

$$\left[ (23 \times 5) \times \left\{ 6 \div 6 \times \frac{(18 - 14)}{4} \right\} \right]$$

- Ans
- 1. 106
  - 2. 115
  - 3. 104
  - 4. 96

Q.8 56, 30, 108 और 120 का लघुत्तम समापवर्त्य (LCM) ज्ञात कीजिए।

- Ans
- 1. 7549
  - 2. 7660
  - 3. 7471
  - 4. 7560

Q.9 विजय के पास ₹1224 हैं। उन्होंने इसे अपने पुत्रों अजय और प्रकाश के बीच बांट दिया और उन्हें इसे वार्षिक रूप से चक्रवृद्धित 4% वार्षिक ब्याज दर पर निवेश करने को कहा। यह देखा गया कि अजय और प्रकाश को क्रमशः 18 और 19 वर्ष बाद समान धनराशि प्राप्त हुई। विजय ने प्रकाश को कितनी धनराशि (₹ में) दी थी?

- Ans
- 1. 624
  - 2. 450
  - 3. 600
  - 4. 724

Q.10 दो संख्याओं का LCM और HCF क्रमशः 66 और 11 है। यदि उनमें से एक संख्या 33 है, तो दूसरी संख्या ज्ञात कीजिए।

- Ans
- 1. 20
  - 2. 25
  - 3. 19
  - 4. 22

Q.11 यदि किसी गोले की त्रिज्या तीन गुनी कर दी जाए, तो मूल गोले के आयतन और नए गोले के आयतन का अनुपात कितना होगा?

- Ans
- 1. 27 : 1
  - 2. 9 : 1
  - 3. 1 : 9
  - 4. 1 : 27

Q.12 मुकुल से 1.35 km की दूरी पर एक बंदूक चलाई जाती है। वह तीन सेकंड के बाद इसकी ध्वनि सुनती है। ध्वनि किस चाल (m/s में) से यात्रा करती है?

- Ans
- 1. 525
  - 2. 675
  - 3. 500
  - 4. 450

Q.13 रितु और मोना मिलकर एक घर की पेंटिंग 18 दिनों में कर सकती हैं। रितु को अकेले पेंटिंग पूरी करने में 27 दिन लगेंगे। मोना को अकेले पेंटिंग पूरी करने में कितना समय लगेगा?

- Ans
- 1. 65 दिन
  - 2. 60 दिन
  - 3. 44 दिन
  - 4. 54 दिन

Q.14 153, 117 और 405 का HCF ज्ञात कीजिए।

- Ans  1. 9  
 2. 6  
 3. 12  
 4. 2

Q.15 यदि  $x$  का  $4\% = 72$  है, तो  $x$  \_\_\_\_\_ के बराबर है।

- Ans  1. 1800  
 2. 3600  
 3. 1900  
 4. 3700

Q.16 दो संख्याओं के बीच का अनुपात 19 : 24 है। यदि प्रत्येक संख्या में से 36 घटा दिया जाए, तो अनुपात 3 : 4 हो जाता है। संख्याओं का योग ज्ञात कीजिए।

- Ans  1. 305  
 2. 295  
 3. 238  
 4. 387

Q.17 यदि किसी वस्तु का अंकित मूल्य ₹7,895 है और दी जाने वाली छूट 4.2% है, तो विक्रय मूल्य (₹ में) ज्ञात कीजिए।

- Ans  1. 7,456.31  
 2. 7,635.41  
 3. 7,364.51  
 4. 7,563.41

Q.18 महेश के पास ₹1617 हैं। उसने इसे अपने पुत्रों विजय और अजय के बीच बांट दिया तथा उन्हें इसे वार्षिक रूप से चक्रवृद्धि होने वाली 10% ब्याज दर पर निवेश करने को कहा। यह देखा गया कि विजय और अजय को क्रमशः 13 और 14 वर्ष बाद समान धनराशि प्राप्त हुई। महेश ने विजय को कितनी धनराशि (₹ में) दी थी?

- Ans  1. 697  
 2. 770  
 3. 870  
 4. 847

Q.19 एक कक्षा के 54 विद्यार्थियों की औसत आयु 37 वर्ष है। यदि शिक्षक की आयु भी सम्मिलित कर ली जाए, तो संपूर्ण समूह की औसत आयु 38 वर्ष हो जाती है। शिक्षक की आयु (वर्ष में) ज्ञात कीजिए।

- Ans  1. 97  
 2. 95  
 3. 90  
 4. 92

Q.20 7 खिलाड़ियों का औसत स्कोर शुरुआत में 55 दर्ज किया गया था। हालांकि, बाद में पता चला कि 35 का स्कोर गलती से 53 पढ़ लिया गया था। सही औसत स्कोर ज्ञात कीजिए। (दो दशमलव स्थानों तक पूर्णांकित)

- Ans  1. 42.08  
 2. 52.43  
 3. 54.31  
 4. 32.43

Q.1 Select the word that best completes the given sentence. Determine the collocation through the sentence.

Varun, the chef, \_\_\_\_\_ up a delicious meal in just 30 minutes.

- Ans
- 1. whipped
  - 2. kept
  - 3. hit
  - 4. held

Q.2 Identify the sentence with the INCORRECT usage of an adverb.

- Ans
- 1. Mahesh and Mukesh are always late for work.
  - 2. We are hardly ever late for work.
  - 3. They are usually late for work.
  - 4. Chandni is late often for work.

Q.3 Select the most appropriate ANTONYM of the underlined word in the following sentence to fill in the blank.

The police thought that the theft was deliberate, but it was \_\_\_\_\_.

- Ans
- 1. unintentional
  - 2. prepared
  - 3. expected
  - 4. planned

Q.4 Select the most appropriate option to fill in the blank.

She is the one \_\_\_\_\_ won the award.

- Ans
- 1. whom
  - 2. which
  - 3. who
  - 4. whose

Q.5 Select the correct spelling of the underlined incorrectly spelt word in the given sentence.

The next generation has become well-travelled, tech-savvy and hardworking.

- Ans
- 1. tech-savvy
  - 2. tech-savee
  - 3. tech-saivy
  - 4. tec-savvy

Q.6 Select the INCORRECTLY spelt word in the given sentence.

The atmosphere at the consert was electric.

- Ans
- 1. atmosphere
  - 2. consert
  - 3. electric
  - 4. was

Q.7 Select the most appropriate synonym of the underlined word.

The vintage bag was made of coarse black leather.

- Ans
- 1. Rough
  - 2. Secure
  - 3. Brief
  - 4. Honest

Q.8 Select the sentence with an error in the adverb used.

- Ans
- 1. He spoke softly enough to avoid waking the baby.
  - 2. She had scarcely begun her speech when the microphone failed.
  - 3. They performed the task surprisingly well despite the challenges.
  - 4. The solution was applied so effective that it resolved the issue immediately.

Q.9 Select the most appropriate ANTONYM of the given word.

Abate

- Ans
- 1. Consume
  - 2. Intensify
  - 3. Reduce
  - 4. Supply

Q.10 Select the most appropriate option to fill in the blank.

The project manager's \_\_\_\_\_ approach ensured that every aspect of the project was meticulously planned and executed.

- Ans
- 1. methodical
  - 2. erratic
  - 3. negligent
  - 4. lax

Q.11 Select the most appropriate synonym of the given word.

Strange

- Ans
- 1. Safe
  - 2. Odd
  - 3. Mild
  - 4. Stable

Q.12 Select the most appropriate meaning of the given idiom.

Bide one's time

- Ans
- 1. To face a difficult situation with courage and determination
  - 2. To wait patiently for an opportunity
  - 3. To accidentally reveal a secret
  - 4. To join a popular trend or activity

Q.13 Select the most appropriate option that can substitute the underlined segment in the given sentence.

She always do her work in time.

- Ans
- 1. always will done
  - 2. always done
  - 3. always does
  - 4. always doing

Q.14 Select the most appropriate ANTONYM of the given word.

Esoteric

- Ans
- 1. Arcane
  - 2. Cryptic
  - 3. Abstruse
  - 4. Common

Q.15 Select the most appropriate option to fill in the blank.

She decided to go on a/an \_\_\_\_\_ vacation.

- Ans
- 1. tropic
  - 2. expandable
  - 3. recreational
  - 4. notorious

**Comprehension:**

In the following passage, some words have been deleted. Read the passage carefully and select the most appropriate option to fill in each blank.

Effective communication in the digital age (1)\_\_\_\_\_ proper etiquette. Responding (2)\_\_\_\_\_ to emails and messages is a sign of professionalism. However, being (3)\_\_\_\_\_ of the tone used is equally important. Misunderstandings can arise easily in written communication. Balancing (4)\_\_\_\_\_ and courtesy ensures meaningful interactions, (5)\_\_\_\_\_ positive relationships in both personal and professional spheres.

**SubQuestion No : 16**

Q.16 Select the most appropriate option to fill in blank number 1.

- Ans
- 1. requires
  - 2. is fitting
  - 3. is natural
  - 4. require

**Comprehension:**

In the following passage, some words have been deleted. Read the passage carefully and select the most appropriate option to fill in each blank.

Effective communication in the digital age (1)\_\_\_\_\_ proper etiquette. Responding (2)\_\_\_\_\_ to emails and messages is a sign of professionalism. However, being (3)\_\_\_\_\_ of the tone used is equally important. Misunderstandings can arise easily in written communication. Balancing (4)\_\_\_\_\_ and courtesy ensures meaningful interactions, (5)\_\_\_\_\_ positive relationships in both personal and professional spheres.

**SubQuestion No : 17**

Q.17 Select the most appropriate option to fill in blank number 2.

- Ans
- 1. carelessly
  - 2. promptly
  - 3. hurry
  - 4. gradually



**Comprehension:**

In the following passage, some words have been deleted. Read the passage carefully and select the most appropriate option to fill in each blank.

Effective communication in the digital age (1)\_\_\_\_\_ proper etiquette. Responding (2)\_\_\_\_\_ to emails and messages is a sign of professionalism. However, being (3)\_\_\_\_\_ of the tone used is equally important. Misunderstandings can arise easily in written communication. Balancing (4)\_\_\_\_\_ and courtesy ensures meaningful interactions, (5)\_\_\_\_\_ positive relationships in both personal and professional spheres.

**SubQuestion No : 18**

**Q.18** Select the most appropriate option to fill in blank number 3.

- Ans**
- 1. heedless
  - 2. indiscreet
  - 3. watch
  - 4. mindful

**Comprehension:**

In the following passage, some words have been deleted. Read the passage carefully and select the most appropriate option to fill in each blank.

Effective communication in the digital age (1)\_\_\_\_\_ proper etiquette. Responding (2)\_\_\_\_\_ to emails and messages is a sign of professionalism. However, being (3)\_\_\_\_\_ of the tone used is equally important. Misunderstandings can arise easily in written communication. Balancing (4)\_\_\_\_\_ and courtesy ensures meaningful interactions, (5)\_\_\_\_\_ positive relationships in both personal and professional spheres.

**SubQuestion No : 19**

**Q.19** Select the most appropriate option to fill in blank number 4.

- Ans**
- 1. visibility
  - 2. brightness
  - 3. sharpness
  - 4. clarity

**Comprehension:**

In the following passage, some words have been deleted. Read the passage carefully and select the most appropriate option to fill in each blank.

Effective communication in the digital age (1)\_\_\_\_\_ proper etiquette. Responding (2)\_\_\_\_\_ to emails and messages is a sign of professionalism. However, being (3)\_\_\_\_\_ of the tone used is equally important. Misunderstandings can arise easily in written communication. Balancing (4)\_\_\_\_\_ and courtesy ensures meaningful interactions, (5)\_\_\_\_\_ positive relationships in both personal and professional spheres.

**SubQuestion No : 20**

**Q.20** Select the most appropriate option to fill in blank number 5.

- Ans**
- 1. fostering
  - 2. suppressing
  - 3. combating
  - 4. impeding

**Section : Part-D-Hindi**

**Q.1** निम्न में से किस वाक्य में सम्बन्धवाचक सर्वनाम नहीं है?

- Ans**
- 1. जो सोएगा सो खोएगा।
  - 2. जिसकी लाठी उसकी भैंस।
  - 3. उसने कुछ नहीं खाया।
  - 4. वह कौन है जो जा रहा है।

Q.2 'सारे कलाकार ऊपर हैं।' उपर्युक्त वाक्य का सम्बन्ध किस क्रिया-विशेषण से है?

- Ans
- 1. परिमाणवाचक क्रिया-विशेषण
  - 2. स्थानवाचक क्रिया-विशेषण
  - 3. कालवाचक क्रिया-विशेषण
  - 4. रीतिवाचक क्रिया-विशेषण

Q.3 'यहाँ किसी को भी इस कार्यालय का पता मालूम नहीं है।' उपरोक्त वाक्य में वर्तनी सम्बन्धी अशुद्धि है। इसके शुद्ध रूप का चयन करें-

- Ans
- 1. यहाँ किसी को भी इस कर््यालय का पता मालूम नहीं है।
  - 2. यहाँ किसी को भी इस कार्यालय का पता मालूम नहीं है।
  - 3. यहाँ किसी को भी इस कार्यालये का पता मालूम नहीं है।
  - 4. यहाँ किसी को भी इस कार्यालय का पता मलूम नहीं है।

Q.4 'जलजीवन' पर्याय है-

- Ans
- 1. पानी का
  - 2. समुद्र का
  - 3. मछली का
  - 4. नदी का

Q.5 निम्नलिखित विकल्पों में से कौन सा एक विलोम युग्म सही नहीं है?

- Ans
- 1. गमन-लाघव
  - 2. गमन-आगमन
  - 3. गुप्त-प्रकट
  - 4. खग-मृग

Q.6 दिए गए वाक्य में शब्द या वाक्य खण्ड को बदलिए।

मेरे पीछे आप आये।

- Ans
- 1. मेरे पीछे ही आप आये।
  - 2. मेरे आने के पीछे आप आये।
  - 3. आप आये मेरे पीछे।
  - 4. मेरे बाद आप आये।

Q.7 भारत गुटों से अलग रहने वाले देशों में शामिल है। 'गुटों से अलग रहने वाले' वाक्यांश के स्थान पर उचित शब्द होगा -

- Ans
- 1. स्वतंत्र
  - 2. तटस्थ
  - 3. विकासशील
  - 4. सापेक्ष

Q.8 सरल वाक्य - 'दुर्भाग्य से वह परीक्षा में बैठ न सका।' निम्नलिखित विकल्पों में से इस वाक्य के लिए कौन सा एक उचितसंयुक्त वाक्य होगा?

- Ans
- 1. उसका दुर्भाग्य था और परीक्षा में पास न हुआ।
  - 2. उसका दुर्भाग्य कि परीक्षा में बैठ न सका।
  - 3. उसका दुर्भाग्य था और इसलिए वह परीक्षा में बैठ न सका।
  - 4. इसलिए वह परीक्षा में उसका दुर्भाग्य था और बैठ न सका।

Q.9 निम्नलिखित वाक्य को ध्यानपूर्वक पढ़ें और बताएं कि चिह्नित वाक्यांश में किस प्रकार की त्रुटि है?

वह बहुत ज्ञानी व्यक्ति है। उसने अनेकों ग्रन्थों की रचना की है।

- Ans
- 1. वचन
  - 2. विशेषण
  - 3. अव्यय
  - 4. लिंग

Q.10 'रिधिमा आज अपने घर-वर गयी होगी।' वाक्य में प्रयुक्त घर-वर किस प्रकार के शब्द युग्म के अंतर्गत आएँगे?

- Ans
- 1. सार्थक निरर्थक
  - 2. शब्द विलोम
  - 3. सार्थक सार्थक
  - 4. निरर्थक निरर्थक

Q.11 'आसक्ति' का उपयुक्त एकार्थक शब्द है -

- Ans
- 1. घृणा
  - 2. निपुण
  - 3. गहरी चाह
  - 4. कुशल

Q.12 'हाथ का मैल होना' मुहावरे का सही अर्थ इनमें से क्या होगा?

- Ans
- 1. अत्यंत खट्टा होना
  - 2. अत्यंत तुच्छ होना
  - 3. अत्यंत मीठा होना
  - 4. अत्यंत बड़ा होना

Q.13 दिए गए शब्द का सही पर्यायवाची शब्द पहचानिए -  
ब्रह्मा

- Ans
- 1. पशुपति
  - 2. महेश्वर
  - 3. नीलकंठ
  - 4. लोकेश

Q.14 दिए गए वाक्यांश के लिए एक शब्द होगा  
किसी शुभ कार्य को विधि विधान और श्रद्धापूर्वक करना

- Ans
- 1. श्राद्ध
  - 2. यज्ञ
  - 3. अनुष्ठान
  - 4. अर्चना

Q.15 'आपने चाय-वाय पी ली होगी।' वाक्य में प्रयुक्त चाय-वाय किस प्रकार का शब्द युग्म है ?

- Ans
- 1. पर्यायवाची
  - 2. एकार्थी-अनेकार्थी
  - 3. विलोम शब्द
  - 4. सार्थक-निरर्थक

**Comprehension:**

गद्यांश के आधार पर प्रश्न का उत्तर दें।

महात्मा ज्योतिबा फुले के मौलिक विचार 'गुलामगिरी 'शेखकरयांचा आसूड ' [किसानों का प्रतिरोध ] 'सार्वजनिक सत्य धर्म ' आदि पुस्तकों में संगृहित है। उनके विचार अपने समय से बहुत आगे थे। आदर्श परिवार के बारे में उनकी अवधारणा है – 'जिस परिवार में पिता बौद्ध , माता ईसाई , बेटी मुसलमान और बेटा सत्यधर्मी हो , वह परिवार एक आदर्श परिवार है। 1888 में जब ज्योतिबा फुले को 'महात्मा' की उपाधि से सम्मानित किया गया तो उन्होंने कहा – "मुझे महात्मा कहकर मेरे संघर्ष को पूर्णविराम मत दीजिए। जब व्यक्ति मठाधीश बन जाता है तब वह संघर्ष नहीं कर सकता। इसलिए आप सब साधारण जन ही रहने दें , मुझे अपने बीच से अलग न करें।" महात्मा ज्योतिबा फुले की सबसे बड़ी विशेषता यह थी कि वे कहते थे, उसे अपने आचरण और व्यवहार में उतारते थे।

**SubQuestion No : 16**

**Q.16** महात्मा फुले के अनुसार – 'जिस परिवार में पिता बौद्ध, माता ईसाई, बेटी मुसलमान और बेटा सत्यधर्मी हो, उस परिवार को किस प्रकार के परिवार की संज्ञा दी है?

- Ans**
- 1. स्वतंत्र परिवार
  - 2. शिक्षित परिवार
  - 3. परिपूर्ण परिवार
  - 4. आदर्श परिवार

**Comprehension:**

गद्यांश के आधार पर प्रश्न का उत्तर दें।

महात्मा ज्योतिबा फुले के मौलिक विचार 'गुलामगिरी 'शेखकरयांचा आसूड ' [किसानों का प्रतिरोध ] 'सार्वजनिक सत्य धर्म ' आदि पुस्तकों में संगृहित है। उनके विचार अपने समय से बहुत आगे थे। आदर्श परिवार के बारे में उनकी अवधारणा है – 'जिस परिवार में पिता बौद्ध , माता ईसाई , बेटी मुसलमान और बेटा सत्यधर्मी हो , वह परिवार एक आदर्श परिवार है। 1888 में जब ज्योतिबा फुले को 'महात्मा' की उपाधि से सम्मानित किया गया तो उन्होंने कहा – "मुझे महात्मा कहकर मेरे संघर्ष को पूर्णविराम मत दीजिए। जब व्यक्ति मठाधीश बन जाता है तब वह संघर्ष नहीं कर सकता। इसलिए आप सब साधारण जन ही रहने दें , मुझे अपने बीच से अलग न करें।" महात्मा ज्योतिबा फुले की सबसे बड़ी विशेषता यह थी कि वे कहते थे, उसे अपने आचरण और व्यवहार में उतारते थे।

**SubQuestion No : 17**

**Q.17** 'महात्मा' शब्द में किस संधि का प्रयोग हुआ है?

- Ans**
- 1. महात्म+आ
  - 2. महा+आत्मा
  - 3. मह+आत्मा
  - 4. महा+आत्मा

**Comprehension:**

गद्यांश के आधार पर प्रश्न का उत्तर दें।

महात्मा ज्योतिबा फुले के मौलिक विचार 'गुलामगिरी 'शेखकरयांचा आसूड ' [किसानों का प्रतिरोध ] 'सार्वजनिक सत्य धर्म ' आदि पुस्तकों में संगृहित है। उनके विचार अपने समय से बहुत आगे थे। आदर्श परिवार के बारे में उनकी अवधारणा है – 'जिस परिवार में पिता बौद्ध , माता ईसाई , बेटी मुसलमान और बेटा सत्यधर्मी हो , वह परिवार एक आदर्श परिवार है। 1888 में जब ज्योतिबा फुले को 'महात्मा' की उपाधि से सम्मानित किया गया तो उन्होंने कहा – "मुझे महात्मा कहकर मेरे संघर्ष को पूर्णविराम मत दीजिए। जब व्यक्ति मठाधीश बन जाता है तब वह संघर्ष नहीं कर सकता। इसलिए आप सब साधारण जन ही रहने दें , मुझे अपने बीच से अलग न करें।" महात्मा ज्योतिबा फुले की सबसे बड़ी विशेषता यह थी कि वे कहते थे, उसे अपने आचरण और व्यवहार में उतारते थे।

**SubQuestion No : 18**

**Q.18** महात्मा फुले को 'महात्मा' की उपाधि से कब सम्मानित किया गया?

- Ans**
- 1. 1887
  - 2. 1889
  - 3. 1886
  - 4. 1888

**Comprehension:**

गद्यांश के आधार पर प्रश्न का उत्तर दें।

महात्मा ज्योतिबा फुले के मौलिक विचार 'गुलामगिरी 'शेखकरयांचा आसूड ' [किसानों का प्रतिरोध ] 'सार्वजनिक सत्य धर्म ' आदि पुस्तकों में संगृहित है। उनके विचार अपने समय से बहुत आगे थे। आदर्श परिवार के बारे में उनकी अवधारणा है – 'जिस परिवार में पिता बौद्ध , माता ईसाई , बेटी मुसलमान और बेटा सत्यधर्मी हो , वह परिवार एक आदर्श परिवार है। 1888 में जब ज्योतिबा फुले को 'महात्मा' की उपाधि से सम्मानित किया गया तो उन्होंने कहा – "मुझे महात्मा कहकर मेरे संघर्ष को पूर्णविराम मत दीजिए। जब व्यक्ति मठाधीश बन जाता है तब वह संघर्ष नहीं कर सकता। इसलिए आप सब साधारण जन ही रहने दें , मुझे अपने बीच से अलग न करें।" महात्मा ज्योतिबा फुले की सबसे बड़ी विशेषता यह थी कि वे कहते थे, उसे अपने आचरण और व्यवहार में उतारते थे।

**SubQuestion No : 19**

**Q.19** ज्योतिबा फुले की सबसे बड़ी क्या विशेषता थी?

- Ans**
- 1. जो सुनते थे वही अपने आचरण एवं व्यवहार में उतारते थे।
  - 2. जो कहते थे वह अपने आचरण एवं व्यवहार में कभी नहीं उतारते थे।
  - 3. जो कहते थे वही अपने आचरण एवं व्यवहार में उतारते थे।
  - 4. जो देखते थे वही अपने आचरण एवं व्यवहार में उतारते थे।

**Comprehension:**

गद्यांश के आधार पर प्रश्न का उत्तर दें।

महात्मा ज्योतिबा फुले के मौलिक विचार 'गुलामगिरी 'शेखकरयांचा आसूड ' [किसानों का प्रतिरोध ] 'सार्वजनिक सत्य धर्म ' आदि पुस्तकों में संगृहित है। उनके विचार अपने समय से बहुत आगे थे। आदर्श परिवार के बारे में उनकी अवधारणा है – 'जिस परिवार में पिता बौद्ध , माता ईसाई , बेटी मुसलमान और बेटा सत्यधर्मी हो , वह परिवार एक आदर्श परिवार है। 1888 में जब ज्योतिबा फुले को 'महात्मा' की उपाधि से सम्मानित किया गया तो उन्होंने कहा – "मुझे महात्मा कहकर मेरे संघर्ष को पूर्णविराम मत दीजिए। जब व्यक्ति मठाधीश बन जाता है तब वह संघर्ष नहीं कर सकता। इसलिए आप सब साधारण जन ही रहने दें , मुझे अपने बीच से अलग न करें।" महात्मा ज्योतिबा फुले की सबसे बड़ी विशेषता यह थी कि वे कहते थे, उसे अपने आचरण और व्यवहार में उतारते थे।

**SubQuestion No : 20**

**Q.20** उपर्युक्त गद्यांश का उचित शीर्षक होगा?

- Ans**
- 1. ज्योतिबा फुले के जाति सम्बन्धी विचार
  - 2. ज्योतिबा फुले के राजनीतिक विचार
  - 3. ज्योतिबा फुले के आदर्श विचार
  - 4. ज्योतिबा फुले के नारी सम्बन्धी विचार