

Constable GD in CAPFs and SSF Rifleman GD in AR and Sepoy in NCB Examination 2025

Exam Date	18/02/2025
Exam Time	9:00 AM - 10:00 AM
Subject	Constable GD Examination 2025

Section : Part-A-General Intelligence and Reasoning

Q.1 यदि '+' और '-' को परस्पर बदल दिया जाए तथा 'x' और '+' को परस्पर बदल दिया जाए, तो निम्नलिखित समीकरण में प्रश्न चिह्न (?) के स्थान पर क्या आएगा?

$$97 + 70 - 35 \times 5 \div 4 = ?$$

- Ans
- 1. 194
 - 2. 193
 - 3. 195
 - 4. 196

Q.2 किसी कूटबद्ध भाषा में, 'FLAG' को '1764' के रूप में कूटबद्ध किया जाता है और 'GOLF' को '4726' के रूप में कूटबद्ध किया जाता है। उसी कूट भाषा में A के लिए कूट क्या होगा?

- Ans
- 1. 1
 - 2. 2
 - 3. 4
 - 4. 7

Q.3 दी गई श्रृंखला में प्रश्नवाचक चिह्न (?) के स्थान पर क्या आना चाहिए?

$$911 \ 921 \ 930 \ 938 \ 945 \ ?$$

- Ans
- 1. 952
 - 2. 950
 - 3. 951
 - 4. 953

Q.4 P, R का भाई है। R, Q की माता है। S, Q की पत्नी है। T, S की पुत्री है। P का T से क्या संबंध है?

- Ans
- 1. पिता का भाई
 - 2. पिता के पिता का भाई
 - 3. माता का भाई
 - 4. पिता की माता का भाई

Q.5 यदि शब्द HOSTILE के प्रत्येक अक्षर को अंग्रेजी वर्णमाला क्रम में व्यवस्थित किया जाए, तो कितने अक्षरों का स्थान अपरिवर्तित रहेगा?

- Ans
- 1. 1
 - 2. 2
 - 3. 0
 - 4. 3

Q.6 दी गई श्रृंखला में प्रश्नवाचक चिह्न (?) के स्थान पर क्या आना चाहिए?

$$201 \ 200 \ 197 \ 192 \ 185 \ ?$$

- Ans
- 1. 175
 - 2. 176
 - 3. 174
 - 4. 177

Test Prime

**ALL EXAMS,
ONE SUBSCRIPTION**



70,000+
Mock Tests



Personalised
Report Card



Unlimited
Re-Attempt



600+
Exam Covered



Previous Year
Papers



500%
Refund



ATTEMPT FREE MOCK NOW

Q.7 YE 12 एक निश्चित प्रकार से WG 3 से संबंधित है। CS 44 ठीक उसी प्रकार AU 11 से संबंधित है। समान तर्क का अनुसरण करते हुए, DH 36 निम्नलिखित में से किससे संबंधित है?

- Ans
- 1. BJ 8
 - 2. BH 8
 - 3. BJ 9
 - 4. BH 9

Q.8 अंग्रेजी वर्णमाला क्रम के आधार पर TFIM एक निश्चित प्रकार से VEKL से संबंधित है। YADS ठीक उसी प्रकार AZFR से संबंधित है। उसी तर्क का अनुसरण करते हुए JFQZ दिए गए विकल्पों में से किससे संबंधित है?

- Ans
- 1. LESY
 - 2. MDUX
 - 3. NCTY
 - 4. IEPY

Q.9 सात व्यक्ति, A, B, L, M, N, S और T, एक पंक्ति में उत्तर की ओर मुख करके बैठे हैं। (परंतु जरूरी नहीं कि वे इसी क्रम में बैठे हों)। B के बाईं ओर कोई भी नहीं बैठा है। B और N के बीच में केवल चार व्यक्ति बैठे हैं। L के दाईं ओर केवल तीन व्यक्ति बैठे हैं। M, S के ठीक बाईं ओर बैठा है। A, L का निकटतम पड़ोसी नहीं है। A के बाईं ओर तीसरे स्थान पर कौन बैठा है?

- Ans
- 1. T
 - 2. L
 - 3. S
 - 4. N

Q.10 L, M, N, O, P, Q और R एक वृत्ताकार मेज के चारों ओर मेज के केंद्र की ओर मुख करके बैठे हैं (परंतु जरूरी नहीं कि वे इसी क्रम में बैठे हों)। R, Q के ठीक बाएँ और O के ठीक दाएँ बैठा है। M, O के ठीक बाएँ और L के ठीक दाएँ बैठा है। P, L के ठीक बाएँ और N के ठीक दाएँ बैठा है। Q और P के बीच में कौन बैठा है?

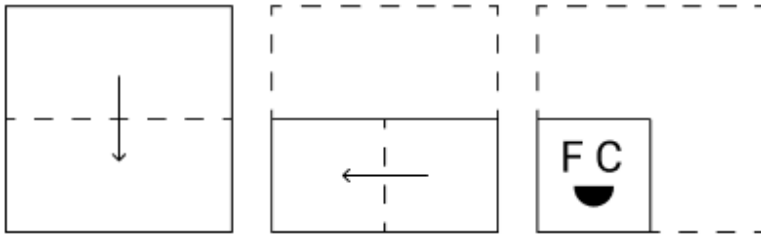
- Ans
- 1. R
 - 2. N
 - 3. L
 - 4. M

Q.11 अंग्रेजी वर्णमाला क्रम के आधार पर, निम्नलिखित चार अक्षर-समूहों में से तीन एक निश्चित प्रकार से समान हैं और इस प्रकार एक समूह बनाते हैं। वह कौन-सा अक्षर-समूह है जो उस समूह से संबंधित नहीं है?

(ध्यान दें: असंगत अक्षर-समूह, उस अक्षर-समूह में व्यंजनों/स्वरों की संख्या या उनके स्थान पर आधारित नहीं है।)


- Ans
- 1. RWT
 - 2. XCA
 - 3. TYV
 - 4. LQN

Q.12 एक कागज को नीचे दर्शाए गए अनुसार मोड़कर पंच किया (punched) जाता है। खोले जाने पर यह कैसा दिखाई देगा?

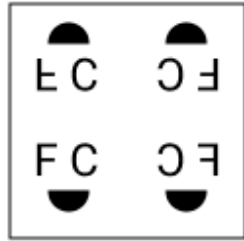


Ans

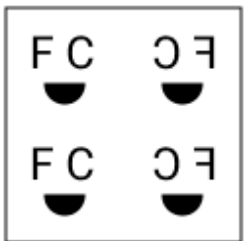
✗ 1.



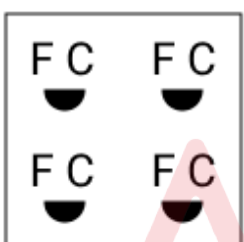
✓ 2.



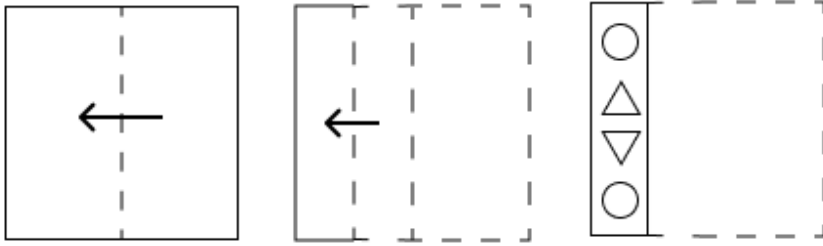
✗ 3.



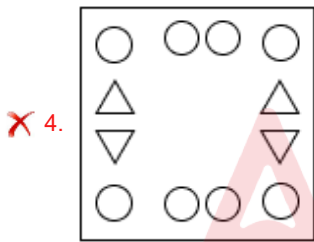
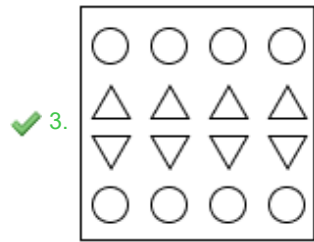
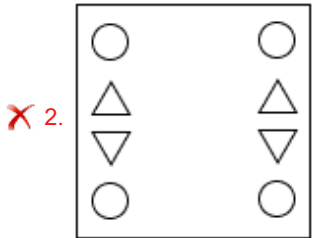
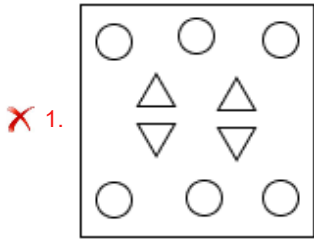
✗ 4.



Q.13 एक कागज़ को नीचे दर्शाए गए अनुसार मोड़कर काटा जाता है। खोलने पर यह कैसा दिखाई देगा?



Ans

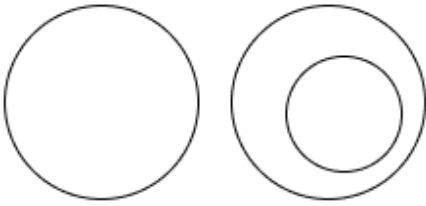


Q.14 उस वेन आरेख का चयन कीजिए, जो निम्नलिखित वर्गों के बीच संबंध को सबसे अच्छी तरह दर्शाता है।

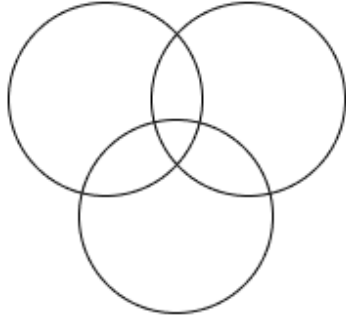
बिल्लियां, जानवर, बक्से

Ans

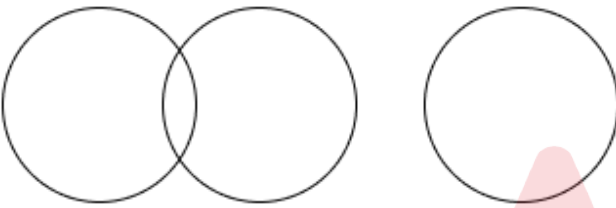
✓ 1.



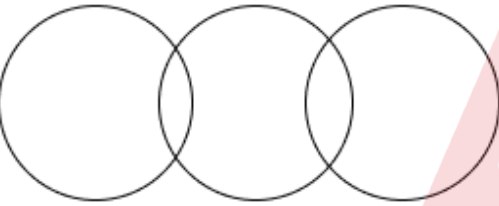
✗ 2.



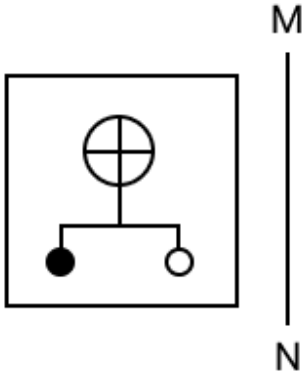
✗ 3.



✗ 4.

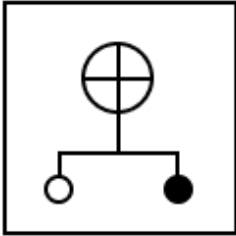


Q.15 जब दर्पण को नीचे दर्शाए अनुसार MN पर रखा जाता है, तो दी गई आकृति के सही दर्पण प्रतिबिंब का चयन कीजिए।

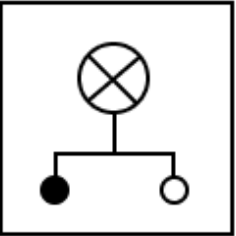


Ans

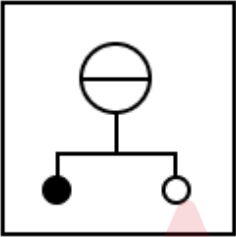
✓ 1.



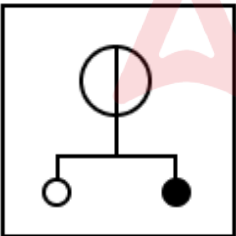
✗ 2.



✗ 3.



✗ 4.



Q.16 अंग्रेजी वर्णानुक्रम के आधार पर दी गई श्रृंखला में प्रश्न चिह्न (?) के स्थान पर क्या आना चाहिए?

ACK DFN GIQ JLT ?

Ans ✗ 1. MNU

✓ 2. MOW

✗ 3. KOW

✗ 4. KMU

Q.17 किसी निश्चित कूट भाषा में, 'POLE' को '6431' के रूप में कूट बद्ध किया जाता है और 'PLOT' को '4635' के रूप में कूट बद्ध किया जाता है। दी गई कूट भाषा में 'T' को किस प्रकार कूट बद्ध किया जाएगा?

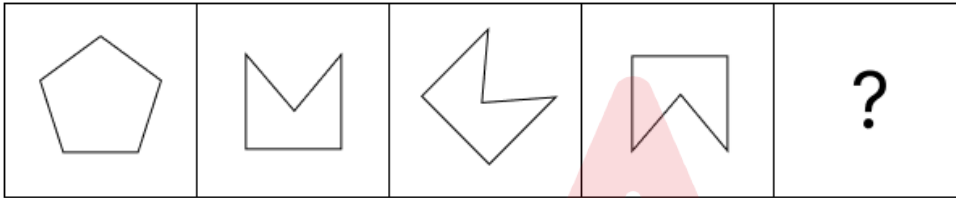
- Ans
- 1. 4
 - 2. 5
 - 3. 3
 - 4. 1

Q.18 उस सही विकल्प का चयन कीजिए, जिसे नीचे दी गई श्रृंखला के रिक्त स्थानों में इसी क्रम में रखने पर श्रृंखला तार्किक रूप से पूर्ण हो जाएगी।

_DGCE_JFHJ_IKMP_NPS_

- Ans
- 1. CGNLP
 - 2. BHMKO
 - 3. CHNKP
 - 4. BGMLO

Q.19 विकल्पों में दी गई उस आकृति की पहचान कीजिए जिसे प्रश्न चिह्न (?) के स्थान पर रखने पर श्रृंखला तार्किक रूप से पूर्ण हो जाएगी।



Ans

- 1.
- 2.
- 3.
- 4.

Q.20 दिए गए कथनों और निष्कर्षों को ध्यानपूर्वक पढ़िए। यह मानते हुए कि कथनों में दी गई जानकारी सत्य है, चाहे वह सामान्यतः ज्ञात तथ्यों से भिन्न प्रतीत होती हो और निर्णय लीजिए कि दिए गए निष्कर्षों में से कौन-सा/कौन-से निष्कर्ष कथनों का तार्किक रूप से अनुसरण करता है/करते हैं।

कथन:

कुछ तश्तरी, प्लेट हैं।
कोई भी प्लेट, कटोरा नहीं है।
कोई भी प्लेट, कांटा नहीं है।

निष्कर्ष:

(I): कोई भी तश्तरी, कटोरा नहीं है।
(II): कुछ कांटे, कटोरे हैं।

- Ans
- ✓ 1. न तो निष्कर्ष (I) और न ही (II) अनुसरण करता है।
 - ✗ 2. केवल निष्कर्ष (II) अनुसरण करता है।
 - ✗ 3. दोनों निष्कर्ष (I) और (II) अनुसरण करते हैं।
 - ✗ 4. केवल निष्कर्ष (I) अनुसरण करता है।

Section : Part-B-General Knowledge and General awareness

Q.1 निम्नलिखित में से किस खिलाड़ी ने 2022 में बैडमिंटन में अर्जुन पुरस्कार जीता?

- Ans
- ✗ 1. सुशीला देवी
 - ✗ 2. निकहत जरीन
 - ✓ 3. लक्ष्य सेन
 - ✗ 4. दीप प्रेस एक्का

Q.2 निम्न HDL कोलेस्ट्रॉल या उच्च LDL कोलेस्ट्रॉल के स्तर वाले किस प्रकार के वसा के उच्च स्तर का संयोजन दिल के दौर और स्ट्रोक (stroke) के जोखिम को बढ़ा सकता है?

- Ans
- ✓ 1. ट्राइग्लिसराइड्स (Triglycerides)
 - ✗ 2. मोनोग्लिसराइड्स (Monoglycerides)
 - ✗ 3. डाइग्लिसराइड्स (Diglycerides)
 - ✗ 4. नॉनग्लिसराइड्स (Nonglycerides)

Q.3 अक्टूबर 2024 में दिल्ली ने किस शिक्षा योजना को लागू करने के लिए केंद्र सरकार के साथ एक समझौता ज्ञापन पर हस्ताक्षर किए?

- Ans
- ✗ 1. प्रारंभिक स्तर पर बालिकाओं की शिक्षा के लिए राष्ट्रीय कार्यक्रम
 - ✓ 2. पीएम-श्री योजना
 - ✗ 3. मध्याह्न भोजन योजना
 - ✗ 4. सर्व शिक्षा अभियान

Q.4 मुथुस्वामी दीक्षितार निम्नलिखित में से किस संगीत शैली से संबंधित थे?

- Ans
- ✗ 1. लोक संगीत
 - ✓ 2. कर्नाटक संगीत
 - ✗ 3. कव्वाली
 - ✗ 4. हिन्दुस्तानी संगीत

Q.5 अनुभवी अभिनेत्री और भरतनाट्यम नृत्यांगना वैजयंतीमाला बाली को किस वर्ष पद्म विभूषण पुरस्कार से सम्मानित किया गया?

- Ans
- ✓ 1. 2024
 - ✗ 2. 2022
 - ✗ 3. 2019
 - ✗ 4. 2015

Q.6 यदि सरकार सार्वजनिक क्षेत्र के एक प्रमुख उद्योग का निजीकरण करने का निर्णय लेती है, तो इसके अनपेक्षित परिणाम क्या हो सकते हैं?

- Ans
- 1. परिचालन दक्षता में वृद्धि
 - 2. संभावित एकाधिकारी प्रवृत्तियां
 - 3. सार्वजनिक राजस्व में तत्काल वृद्धि
 - 4. भ्रष्टाचार में कमी

Q.7 मैरी क्यूरी ने 1898 में यूरेनियम को हटाने के बाद पिचब्लेंड (pitchblende) के शेष रेडियोधर्मी घटकों का निष्कर्षण करके किस तत्व को अलग किया था?

- Ans
- 1. सीज़ियम (Cesium)
 - 2. पोलोनियम (Polonium)
 - 3. स्ट्रॉन्शियम (Strontium)
 - 4. थोरियम (Thorium)

Q.8 भारतीय संविधान का कौन-सा अनुच्छेद कानून के समक्ष समानता की गारंटी देता है?

- Ans
- 1. अनुच्छेद 16
 - 2. अनुच्छेद 14
 - 3. अनुच्छेद 17
 - 4. अनुच्छेद 15

Q.9 असम का सबसे आकर्षक और अनोखा त्योहार कौन-सा है, जहाँ प्रतिदान प्रणाली जीवंत हो उठती है?

- Ans
- 1. विखलकालो
 - 2. मदाई
 - 3. जुनबील मेला
 - 4. शिगमो

Q.10 भारत में हरित क्रांति के कारण किस फसल के क्षेत्रफल और उत्पादकता में उल्लेखनीय वृद्धि देखी गई?

- Ans
- 1. गन्ना और दाल
 - 2. चाय और कॉफी
 - 3. गेहूँ और चावल
 - 4. चावल और कपास

Q.11 भारत के सत्तिया नृत्य शैली के संस्थापक कौन थे?

- Ans
- 1. भरत
 - 2. सिद्धेन्द्र योगी
 - 3. शंकरदेव
 - 4. जानकी प्रसाद

Q.12 संविधान का कौन-सा अनुच्छेद अंतरराज्यीय जल विवादों के न्यायनिर्णयन का प्रावधान करता है?

- Ans
- 1. अनुच्छेद 262
 - 2. अनुच्छेद 215
 - 3. अनुच्छेद 210
 - 4. अनुच्छेद 258

Q.13 उत्तराखंड का कौन-सा भूआकृतिक क्षेत्र हिमाद्रि के नाम से जाना जाता है? इस क्षेत्र में जास्कर और महान हिमालय पर्वतमाला के खंड शामिल हैं।

- Ans
- 1. उत्तरी
 - 2. पूर्वी
 - 3. दक्षिणी
 - 4. पश्चिमी

Q.14 राष्ट्रीय जनसंख्या नीति 2000 के बारे में निम्नलिखित में से कौन-सा कथन गलत है?

- Ans
- 1. शिशु मृत्यु दर को प्रति 1000 जीवित जन्मों पर 15 से नीचे करना
 - 2. सभी टीकों के विरुद्ध बच्चों का सार्वभौमिक टीकाकरण प्राप्त करना
 - 3. लड़कियों के लिए विलंबित विवाह को बढ़ावा देना
 - 4. 14 वर्ष की आयु तक निःशुल्क एवं अनिवार्य स्कूली शिक्षा प्रदान करना

Q.15 अंतर्राष्ट्रीय टेनिस महासंघ के मानदंडों के अनुसार खेल जीतने के लिए एक खिलाड़ी/टीम को '_____' के तुरंत बाद लगातार दो अंक जीतने होते हैं।

- Ans
- 1. सेट (set)
 - 2. ड्यूस (deuce)
 - 3. लव (love)
 - 4. एडवांटेज (advantage)

Q.16 निम्नलिखित में से किस बौद्ध ग्रंथ में बौद्ध भिक्षुओं और मठवासिनियों (nuns) के लिए नियमों का उल्लेख किया गया है?

- Ans
- 1. धम्मपद
 - 2. सुत्त पिटक
 - 3. अभिधम्म पिटक
 - 4. विनय पिटक

Q.17 1917 में सरोजिनी नायडू ने किस महिला संगठन की स्थापना की थी?

- Ans
- 1. अखिल भारतीय महिला सम्मेलन
 - 2. महिला भारत संघ
 - 3. भारतीय राष्ट्रीय महिला महासंघ
 - 4. भारत स्त्री महामंडल

Q.18 खेती, मत्स्यन और वानिकी जैसी गतिविधियों में कौन-सा उद्योग सम्मिलित है?

- Ans
- 1. जननिक उद्योग
 - 2. विनिर्माण उद्योग
 - 3. प्राथमिक उद्योग
 - 4. सेवा उद्योग

Q.19 भारत सरकार द्वारा गरीब कल्याण रोजगार अभियान कितने राज्यों में शुरू किया गया?

- Ans
- 1. सात
 - 2. छह
 - 3. पाँच
 - 4. चार

Q.20 सितंबर 2024 में, पहलवान विनेश फोगाट और बजरंग पुनिया हरियाणा विधानसभा चुनाव से पहले किस राजनीतिक दल में शामिल हो गए?

- Ans
- 1. भारतीय कम्युनिस्ट पार्टी (CPI)
 - 2. भारतीय जनता पार्टी (BJP)
 - 3. भारतीय राष्ट्रीय कांग्रेस (INC)
 - 4. भारतीय कम्युनिस्ट पार्टी (मार्क्सवादी) (CPI(M))

Q.1 240 m और 410 m लंबाई वाली दो रेलगाड़ियाँ एक ही दिशा में क्रमशः 80 km/h और 110 km/h की चाल से गतिमान हैं। पीछे से आ रही तेज चाल वाली रेलगाड़ी द्वारा दूसरी रेलगाड़ी को पूरी तरह से पार करने में कितना समय (मिनटों में) लगेगा?

- Ans
- 1. 2
 - 2. 1.5
 - 3. 4
 - 4. 1.3

Q.2 पेट्रोल के मूल्य में (प्रति लीटर) 70% की वृद्धि होती है। इसकी खपत में कितने प्रतिशत की कमी कर दी जाए कि इस पर होने वाले व्यय में केवल 19% की वृद्धि हो?

- Ans
- 1. 65%
 - 2. 70%
 - 3. 30%
 - 4. 36%

Q.3 ₹2000 पर, 6.75% वार्षिक ब्याज दर पर, 3 फरवरी 2023 से 17 अप्रैल 2023 तक की अवधि के लिए साधारण ब्याज (₹ में) की गणना कीजिए।

- Ans
- 1. 26
 - 2. 27
 - 3. 28
 - 4. 25

Q.4 16, 45, 135 और 144 का लघुत्तम समापवर्त्य (LCM) ज्ञात कीजिए।

- Ans
- 1. 2132
 - 2. 2191
 - 3. 2160
 - 4. 2080

Q.5 पानी के एक घनाभाकार टंकी की धारिता 62000 लीटर है। यदि टंकी की लंबाई और गहराई क्रमशः 2.5 m और 10 m है, तो इसकी चौड़ाई ज्ञात कीजिए।

- Ans
- 1. 2.58 m
 - 2. 2.48 m
 - 3. 2.38 m
 - 4. 2.28 m

Q.6 यदि समान ब्याज दर पर, 2 वर्ष में, साधारण ब्याज ₹42 तथा चक्रवृद्धि ब्याज ₹45 है, तो मूलधन (₹ में) ज्ञात कीजिए।

- Ans
- 1. 142
 - 2. 147
 - 3. 151
 - 4. 140

Q.7 मूल्यांकन कीजिए : $(-9) - (-60) \div (-12) + (-4) \times 9$

- Ans
- 1. -49
 - 2. -53
 - 3. -52
 - 4. -50

Q.8 चार धावक एक वृत्ताकार ट्रैक पर एक ही बिंदु से एक साथ दौड़ना शुरू करते हैं। एक चक्कर पूरा करने में उन्हें क्रमशः 280 सेकंड, 350 सेकंड, 420 सेकंड और 560 सेकंड लगे। वे पहली बार कितने समय (सेकंड में) के बाद शुरुआती बिंदु पर मिलते हैं?

- Ans
- 1. 3600
 - 2. 2400
 - 3. 8400
 - 4. 5200

Q.9 यदि किसी भिन्न के अंश में 10% की कमी की जाती है और हर में 15% की वृद्धि की जाती है, तो नए भिन्न का मान $\frac{2}{5}$ हो जाता है। मूल भिन्न ज्ञात कीजिए।

- Ans
- 1. $\frac{23}{45}$
 - 2. $\frac{21}{41}$
 - 3. $\frac{17}{27}$
 - 4. $\frac{32}{55}$

Q.10 A किसी कार्य को 16 दिनों में पूरा कर सकता है, और B उसी कार्य को 24 दिनों में पूरा कर सकता है। यदि A से आरंभ करके A और B एकांतर दिनों में कार्य करते हैं, तो कार्य कितने दिनों में पूरा होगा?

- Ans
- 1. 20
 - 2. 17
 - 3. 18
 - 4. 19

Q.11 ₹1240 प्रति सैकड़े की दर पर 400 सेब खरीदे गए और ₹840 के लाभ पर बेचे गए। प्रति दर्जन सेबों का विक्रय मूल्य (₹ में) ज्ञात करें।

- Ans
- 1. 164
 - 2. 184
 - 3. 189
 - 4. 174

Q.12 दो संख्याओं का LCM और HCF क्रमशः 54 और 9 है। यदि उनमें से एक संख्या 18 है, तो दूसरी संख्या ज्ञात कीजिए।

- Ans
- 1. 30
 - 2. 24
 - 3. 27
 - 4. 25

Q.13 आशा ने ₹2,160 में एक मिक्सर खरीदा और उसे ₹1,998 में बेच दिया। हानि प्रतिशत ज्ञात कीजिए।

- Ans
- 1. 8.5%
 - 2. 8.15%
 - 3. 7.85%
 - 4. 7.5%

Q.14 एक प्रयोग में, जल का अपवर्तनांक 1.35, 1.29, 1.32 और 1.36 पाया गया। जल का औसत अपवर्तनांक कितना होगा?

- Ans
- 1. 1.36
 - 2. 1.30
 - 3. 1.33
 - 4. 1.32

Q.15 समूह A में 13 सदस्य, समूह B में 10 सदस्य और समूह C में 45 सदस्य हैं। इन समूहों के सभी सदस्य एक रेस्तरां में गए। समूह A, समूह B और समूह C के प्रत्येक सदस्य पर खर्च की गई औसत राशि क्रमशः ₹367, ₹112 और ₹401 है। प्रति सदस्य खर्च की गई कुल औसत राशि (₹ में) ज्ञात कीजिए।

- Ans
- 1. 354
 - 2. 350
 - 3. 352
 - 4. 355

Q.16 A, B और C कक्षा X के वर्ग हैं। A : B का अनुपात 9 : 4 है तथा A : C का अनुपात 3 : 2 है। A : B : C ज्ञात कीजिए।

- Ans
- 1. 12 : 8 : 27
 - 2. 8 : 27 : 12
 - 3. 8 : 12 : 27
 - 4. 27 : 12 : 8

Q.17 निम्नलिखित का मान ज्ञात कीजिए।

$$\left[(17 \times 10) \times \left\{ 8 \div 8 \times \frac{(19 - 12)}{7} \right\} \right]$$

- Ans
- 1. 150
 - 2. 181
 - 3. 170
 - 4. 152

Q.18 दो संख्याएँ, m और n, इस प्रकार हैं कि m के 4% और n के 6% का योग m के 7% और n के 14% के योग के आधे के बराबर है। m : n का अनुपात ज्ञात करें।

- Ans
- 1. 1 : 2
 - 2. 3 : 2
 - 3. 2 : 3
 - 4. 2 : 1

Q.19 किसी स्टोर में, एक इलेक्ट्रॉनिक घड़ी का अंकित मूल्य ₹25,960 है, और यह 20% की छूट पर उपलब्ध है। यदि कोई ग्राहक स्टोर से इसे खरीदता है तो उसे कितनी कीमत (₹ में) का भुगतान करना पड़ेगा?

- Ans
- 1. ₹20,768
 - 2. ₹20,786
 - 3. ₹20,867
 - 4. ₹20,876

Q.20 मनोज के पास ₹1230 हैं। उसने इसे अपने पुत्रों आनंद और अनिल के बीच बांट दिया तथा उन्हें इसे वार्षिक रूप से चक्रवृद्धि होने वाले 5% ब्याज दर पर निवेश करने को कहा। यह देखा गया कि आनंद और अनिल को क्रमशः 12 और 13 वर्ष बाद समान धनराशि प्राप्त हुई। मनोज ने अनिल को कितनी धनराशि (₹ में) दी थी?

- Ans
- 1. 730
 - 2. 600
 - 3. 450
 - 4. 630

Q.1 Select the most appropriate ANTONYM of the given word.

Spurious

- Ans
- 1. Bogus
 - 2. Authentic
 - 3. Fake
 - 4. Counterfeit

Q.2 Select the most appropriate meaning of the given idiom.

Cost an arm and a leg

- Ans
- 1. Inexpensive
 - 2. Free of charge
 - 3. Very expensive
 - 4. Affordable

Q.3 Select the most appropriate ANTONYM of the given word.

Feeble

- Ans
- 1. Delicate
 - 2. Rare
 - 3. Sickly
 - 4. Strong

Q.4 Select the most appropriate synonym of the given word.

Haughty

- Ans
- 1. Modest
 - 2. Bashful
 - 3. Arrogant
 - 4. Sheepish

Q.5 Select the most appropriate meaning of the underlined phrase/idiom.

Losing my job turned out to be a blessing in disguise, as it pushed me to pursue my passion and start my own successful business.

- Ans
- 1. something unfortunate that results in an unforeseen positive outcome
 - 2. something one can gift to others
 - 3. something which shows compassion
 - 4. something which is a hidden danger

Q.6 Select the most appropriate option to fill in the blank.

My flight got delayed yesterday, so I reached my _____ very late.

- Ans
- 1. rabble
 - 2. destination
 - 3. designation
 - 4. destiny

Q.7 Select the INCORRECTLY spelt word.

- Ans
- 1. Refer
 - 2. Believ
 - 3. Sculptor
 - 4. Combination

Q.8 Select the INCORRECTLY spelt word.

- Ans
- 1. Acoustic
 - 2. Expllorer
 - 3. Selection
 - 4. Curious

Q.9 Select the most appropriate option that can substitute the underlined words in the given sentence.

He saved money each month in case of afford a new car.

- Ans
- 1. in order to afford a new car
 - 2. in addition to afford the new car
 - 3. in charge of affording new car
 - 4. in the mean time afford new car

Q.10 Select the most appropriate synonym of the given word.

The speaker's monotonous voice lulled the audience to sleep.

- Ans
- 1. Varied
 - 2. Exciting
 - 3. Interesting
 - 4. Dull

Q.11 Identify the sentence with the INCORRECT usage of an adverb.

- Ans
- 1. Nila hardly ever arrives on time for meetings.
 - 2. Nila usually arrives on time for meetings.
 - 3. Nila never arrives on time for meetings.
 - 4. Nila arrives always on time for meetings.

Q.12 Select the most appropriate option that can substitute the underlined segment in the given sentence.

Black carbon consists of tiny particles that can waft high over the atmosphere and be carried for thousands of kilometres.

- Ans
- 1. high above the atmosphere
 - 2. high onto the atmosphere
 - 3. high into the atmosphere
 - 4. high across the atmosphere

Q.13 Fill in the blank with the most suitable collocation.

We were at school together, but our _____ after we left school.

- Ans
- 1. friends grown
 - 2. friendship developed
 - 3. friendship grows
 - 4. friends developed

Q.14 Identify the sentence with the INCORRECT usage of adverb.

- Ans
- 1. They were surprisingly quick to understand the complex instructions.
 - 2. The manager was highly pleased with the results.
 - 3. Mona spoke softly so that everyone could hear her clearly.
 - 4. Andrew hardly could believe the news when he heard it.

Q.15 Select the most appropriate option to fill in the blank.

I can't go out tonight because I have _____ homework to do.

- Ans**
- 1. a lot of
 - 2. few
 - 3. the little
 - 4. many

Comprehension:

In the following passage, some words have been deleted. Read the passage carefully and select the most appropriate option to fill in each blank.

In today's fast-paced world, stress is (1) _____. However, adopting (2) _____ mechanisms is crucial for well-being. Engaging in activities like meditation and exercise can (3) _____ manage stress levels. While some stress is a natural response, (4) _____ stress can negatively impact both physical and mental health. prioritising self-care is essential for a (5) _____ and healthy lifestyle.

SubQuestion No : 16

Q.16 Select the most appropriate option to fill in blank no. 1.

- Ans**
- 1. inevitable
 - 2. crucial
 - 3. unrealistic
 - 4. recurring

Comprehension:

In the following passage, some words have been deleted. Read the passage carefully and select the most appropriate option to fill in each blank.

In today's fast-paced world, stress is (1) _____. However, adopting (2) _____ mechanisms is crucial for well-being. Engaging in activities like meditation and exercise can (3) _____ manage stress levels. While some stress is a natural response, (4) _____ stress can negatively impact both physical and mental health. prioritising self-care is essential for a (5) _____ and healthy lifestyle.

SubQuestion No : 17

Q.17 Select the most appropriate option to fill in blank no. 2.

- Ans**
- 1. obsolete
 - 2. remedial
 - 3. creative
 - 4. coping

Comprehension:

In the following passage, some words have been deleted. Read the passage carefully and select the most appropriate option to fill in each blank.

In today's fast-paced world, stress is (1) _____. However, adopting (2) _____ mechanisms is crucial for well-being. Engaging in activities like meditation and exercise can (3) _____ manage stress levels. While some stress is a natural response, (4) _____ stress can negatively impact both physical and mental health. prioritising self-care is essential for a (5) _____ and healthy lifestyle.

SubQuestion No : 18

Q.18 Select the most appropriate option to fill in blank no. 3.

- Ans**
- 1. add
 - 2. helps
 - 3. help
 - 4. adds

Comprehension:

In the following passage, some words have been deleted. Read the passage carefully and select the most appropriate option to fill in each blank.

In today's fast-paced world, stress is (1) _____. However, adopting (2) _____ mechanisms is crucial for well-being. Engaging in activities like meditation and exercise can (3) _____ manage stress levels. While some stress is a natural response, (4) _____ stress can negatively impact both physical and mental health. prioritising self-care is essential for a (5) _____ and healthy lifestyle.

SubQuestion No : 19**Q.19** Select the most appropriate option to fill in blank no. 4.

- Ans
- 1. malignant
 - 2. occasional
 - 3. cancerous
 - 4. recurring

Comprehension:

In the following passage, some words have been deleted. Read the passage carefully and select the most appropriate option to fill in each blank.

In today's fast-paced world, stress is (1) _____. However, adopting (2) _____ mechanisms is crucial for well-being. Engaging in activities like meditation and exercise can (3) _____ manage stress levels. While some stress is a natural response, (4) _____ stress can negatively impact both physical and mental health. prioritising self-care is essential for a (5) _____ and healthy lifestyle.

SubQuestion No : 20**Q.20** Select the most appropriate option to fill in blank no. 5.

- Ans
- 1. calming
 - 2. balanced
 - 3. sober
 - 4. nutritious

Section : Part-D-Hindi

Q.1 दिए गए शब्द का उचित विलोम शब्द चुनिए-

स्वाधीन

- Ans
- 1. व्याधीन
 - 2. याचक
 - 3. पराधीन
 - 4. गुलाम

Q.2 दिए गए वाक्यांश के लिए एक शब्द होगा—
जो छेदा न जा सके-

- Ans
- 1. अच्छेह
 - 2. अच्छेद्य
 - 3. अच्छेद
 - 4. छिद्रित

Q.3 निम्नांकित मुहावरे के रिक्त स्थान के लिए सर्वाधिक उपयुक्त शब्द कौन-सा है?

अक्ल पर _____ पड़ना।

- Ans
- 1. ओला
 - 2. बालू
 - 3. ईटें
 - 4. पत्थर

Q.4 निम्नलिखित में से कौनसा वाक्य संज्ञा आश्रित उपवाक्य है? पहचान कीजिए।

- Ans
- 1. लू चल रही थी इसलिए घर से बाहर नहीं गया।
 - 2. यह वही स्थान है जहाँ बापू की हत्या हुई।
 - 3. हम इसलिए पढ़ते हैं कि हमारे ज्ञान में वृद्धि हो।
 - 4. यदि वह पढ़ता तो फेल नहीं होता।

Q.5 'इस प्रश्न का _____ उत्तर लिखिए' दिए गए वाक्य के रिक्त स्थान के लिए 'विस्तृत' का विलोम शब्द चुनिए।

- Ans
- 1. संक्षिप्त
 - 2. समीक्षात्मक
 - 3. सूक्ष्म
 - 4. सरल

Q.6 निम्न में से 'मेल' का विलोम नहीं है-

- Ans
- 1. बेमेल
 - 2. मैत्री
 - 3. अनबन
 - 4. वैमनस्य

Q.7 उपयुक्त तद्भव शब्द चुनकर निम्न वाक्य पूर्ण करें-
'कृपया मेरे बेटे को अपना _____ दीजिए।'

- Ans
- 1. असीस
 - 2. आशीस
 - 3. आशीष
 - 4. आशीस

Q.8 निम्नलिखित विकल्पों में से कौन सा एक वाक्य वर्तनी की दृष्टि से अशुद्ध है?

- Ans
- 1. उसकी दुरवस्था देखकर दया आ गई।
 - 2. वह नूपुर बाँध कर चल पड़ी।
 - 3. सेठ के पास बहुत संपत्ति थी।
 - 4. वह किसी के काम में हस्ताक्षेप नहीं करता है।

Q.9 निम्नलिखित वाक्य में प्रयोग किए गए रेखांकित शब्द का सही पर्याय ज्ञात कीजिए-
दीवाली के दिन दीपक की रोशनी से सभी घर जगमगा उठते हैं।

- Ans
- 1. लालटेन
 - 2. चिराग
 - 3. अगरबत्ती
 - 4. मोमबत्ती

Q.10 निम्नलिखित में से विशेषण की दृष्टि से अशुद्ध वाक्य है-

- Ans
- 1. यह दूध कितना दुबला है।
 - 2. यह ताजा पनीर है।
 - 3. मनोज ने नीली कमीज पहनी है।
 - 4. शिखा ने नया मकान खरीदा है।

Q.11 निम्नलिखित में से किस शब्द में भाववाचक संज्ञा नहीं है?

- Ans
- 1. एटलस
 - 2. ममत्व
 - 3. गर्मी
 - 4. घबराहट

Q.12 निम्नलिखित वाक्यांश के लिए सार्थक शब्द चुनिए -
कई भाषाएँ बोलने वाला

- Ans
- 1. त्रिभाषी
 - 2. अल्पभाषी
 - 3. द्विभाषी
 - 4. बहुभाषाभाषी

Q.13 निम्नलिखित वाक्य के अशुद्ध भाग का चयन करें-
'उन्होंने हिमालय की शिखर पर भारत का ध्वज फहराया।'

- Ans
- 1. शिखर पर
 - 2. उन्होंने हिमालय की
 - 3. ध्वज फहराया
 - 4. भारत का

Q.14 'यदि नरेश स्वयं न आया तो अपने पुत्र को भेजेगा।' निम्नलिखित विकल्पों में से इस वाक्य के लिए कौन सा एक उचित संयुक्त वाक्य होगा?

- Ans
- 1. तोनरेश अपने पुत्र को भेजेगा, स्वयं आएगा।
 - 2. अपने पुत्र को भेजे गातो नरेश स्वयं आएगा ।
 - 3. स्वयं आएगा या अपने पुत्र को भेजेगा, नरेश
 - 4. या तो नरेश स्वयं आएगा या अपने पुत्र को भेजेगा।

Q.15 निम्न रिक्त स्थान की पूर्ति उचित विदेशी शब्द से करें।
रीमा अपने गाँव में पहली महिला डॉक्टर बनी है। जो सारी लड़कियों के लिए एक _____ है।

- Ans
- 1. मिसाल
 - 2. फसाद
 - 3. कम
 - 4. तारीफ

Comprehension:

गद्यांश के आधार पर प्रश्न का उत्तर दें

अशोक ने _____ धर्म स्वीकार किया। अपनी प्रजा का संतान के समान पालन-पोषण किया उनका हृदय _____ से भर गया था। पशु-पक्षियों के प्रति वह दया का व्यवहार करते थे। बौद्ध धर्म की शिक्षाओं के प्रसार के लिए उन्होंने अनेक _____ बनवाए। अपने पुत्र महेन्द्र और पुत्री संघमित्रा को बौद्ध धर्म के _____ के लिए विदेशों में भेजा। बौद्ध धर्म के सिद्धान्तों को शिलाओं, स्तंभों और लाटों पर अंकित करवाया। हमारे राष्ट्रीय ध्वज में अंकित चक्र को _____ में स्थित अशोक स्तंभ से लिया गया है। अशोक महान के कार्य अपने युग से बढ़ कर थे। उन्हें 'युग पुरुष' कहना सर्वथा उचित ही होगा।

SubQuestion No : 16

Q.16 'अशोक ने _____ धर्म स्वीकार किया।' गद्यांश की पंक्ति में रिक्त स्थान की पूर्ति हेतु उपयुक्त शब्द होगा

- Ans
- 1. जैन
 - 2. पारसी
 - 3. बौद्ध
 - 4. हिन्दू

Comprehension:

गद्यांश के आधार पर प्रश्न का उत्तर दें
अशोक ने ___ धर्म स्वीकार किया। अपनी प्रजा का संतान के समान पालन-पोषण किया उनका हृदय ___ से भर गया था। पशु-पक्षियों के प्रति वह दया का व्यवहार करते थे। बौद्ध धर्म की शिक्षाओं के प्रसार के लिए उन्होंने अनेक ___ बनवाए। अपने पुत्र महेन्द्र और पुत्री संघमित्रा को बौद्ध धर्म के ___ के लिए विदेशों में भेजा। बौद्ध धर्म के सिद्धान्तों को शिलाओं, स्तंभों और लाटों पर अंकित करवाया। हमारे राष्ट्रीय ध्वज में अंकित चक्र को ___ में स्थित अशोक स्तंभ से लिया गया है। अशोक महान के कार्य अपने युग से बढ़ कर थे। उन्हें 'युग पुरुष' कहना सर्वथा उचित ही होगा।

SubQuestion No : 17

Q.17 'उनका हृदय ___ से भर गया था।'
गद्यांश की पंक्ति में रिक्त स्थान की पूर्ति हेतु उपयुक्त शब्द होगा

- Ans
- 1. क्रोध
 - 2. दया
 - 3. ईर्ष्या
 - 4. विद्रोह

Comprehension:

गद्यांश के आधार पर प्रश्न का उत्तर दें
अशोक ने ___ धर्म स्वीकार किया। अपनी प्रजा का संतान के समान पालन-पोषण किया उनका हृदय ___ से भर गया था। पशु-पक्षियों के प्रति वह दया का व्यवहार करते थे। बौद्ध धर्म की शिक्षाओं के प्रसार के लिए उन्होंने अनेक ___ बनवाए। अपने पुत्र महेन्द्र और पुत्री संघमित्रा को बौद्ध धर्म के ___ के लिए विदेशों में भेजा। बौद्ध धर्म के सिद्धान्तों को शिलाओं, स्तंभों और लाटों पर अंकित करवाया। हमारे राष्ट्रीय ध्वज में अंकित चक्र को ___ में स्थित अशोक स्तंभ से लिया गया है। अशोक महान के कार्य अपने युग से बढ़ कर थे। उन्हें 'युग पुरुष' कहना सर्वथा उचित ही होगा।

SubQuestion No : 18

Q.18 'बौद्ध धर्म की शिक्षाओं के प्रसार के लिए उन्होंने अनेक ___ बनवाए।'
गद्यांश की पंक्ति में रिक्त स्थान की पूर्ति हेतु उपयुक्त शब्द होगा

- Ans
- 1. महल
 - 2. स्तूप
 - 3. किले
 - 4. सड़क

Comprehension:

गद्यांश के आधार पर प्रश्न का उत्तर दें
अशोक ने ___ धर्म स्वीकार किया। अपनी प्रजा का संतान के समान पालन-पोषण किया उनका हृदय ___ से भर गया था। पशु-पक्षियों के प्रति वह दया का व्यवहार करते थे। बौद्ध धर्म की शिक्षाओं के प्रसार के लिए उन्होंने अनेक ___ बनवाए। अपने पुत्र महेन्द्र और पुत्री संघमित्रा को बौद्ध धर्म के ___ के लिए विदेशों में भेजा। बौद्ध धर्म के सिद्धान्तों को शिलाओं, स्तंभों और लाटों पर अंकित करवाया। हमारे राष्ट्रीय ध्वज में अंकित चक्र को ___ में स्थित अशोक स्तंभ से लिया गया है। अशोक महान के कार्य अपने युग से बढ़ कर थे। उन्हें 'युग पुरुष' कहना सर्वथा उचित ही होगा।

SubQuestion No : 19

Q.19 'अपने पुत्र महेन्द्र और पुत्री संघमित्रा को बौद्ध धर्म के ___ के लिए विदेशों में भेजा।'
गद्यांश की पंक्ति में रिक्त स्थान की पूर्ति हेतु उपयुक्त शब्द होगा-

- Ans
- 1. निर्वाण
 - 2. कल्याण
 - 3. विध्वंस
 - 4. प्रचार

Comprehension:

गद्यांश के आधार पर प्रश्न का उत्तर दें
अशोक ने ___ धर्म स्वीकार किया। अपनी प्रजा का संतान के समान पालन-पोषण किया उनका हृदय ___ से भर गया था। पशु-पक्षियों के प्रति वह दया का व्यवहार करते थे। बौद्ध धर्म की शिक्षाओं के प्रसार के लिए उन्होंने अनेक ___ बनवाए। अपने पुत्र महेन्द्र और पुत्री संघमित्रा को बौद्ध धर्म के ___ के लिए विदेशों में भेजा। बौद्ध धर्म के सिद्धान्तों को शिलाओं, स्तंभों और लाटों पर अंकित करवाया। हमारे राष्ट्रीय ध्वज में अंकित चक्र को ___ में स्थित अशोक स्तंभ से लिया गया है। अशोक महान के कार्य अपने युग से बढ़ कर थे। उन्हें 'युग पुरुष' कहना सर्वथा उचित ही होगा।

SubQuestion No : 20

Q.20 'हमारे राष्ट्रीय ध्वज में अंकित चक्र को ___ में स्थित अशोक स्तंभ से लिया गया है।'
गद्यांश की पंक्ति में रिक्त स्थान की पूर्ति हेतु उपयुक्त शब्द होगा-

- Ans
- 1. गया
 - 2. तक्षशिला
 - 3. सारनाथ
 - 4. पाटलिपुत्र