

Constable GD in CAPFs and SSF Rifleman GD in AR and Sepoy in NCB Examination 2025

Exam Date	19/02/2025
Exam Time	12:00 PM - 1:00 PM
Subject	Constable GD Examination 2025

Section : Part-A-General Intelligence and Reasoning

Q.1 यदि शब्द CREATION के प्रत्येक अक्षर को अंग्रेजी वर्णमाला क्रम में व्यवस्थित किया जाए, तो कितने अक्षरों का स्थान अपरिवर्तित रहेगा?

- Ans 1. एक
 2. चार
 3. दो
 4. तीन

Q.2 A, B, C, D, E, F और G एक वृत्ताकार मेज के चारों ओर मेज के केंद्र की ओर मुख करके बैठे हैं (परंतु जरूरी नहीं कि वे इसी क्रम में बैठे हों)। A, F के ठीक दाईं ओर तथा C के ठीक बाईं ओर बैठा है। G, C के ठीक दाईं ओर तथा E के ठीक बाईं ओर बैठा है। D, F के ठीक बाईं ओर तथा B के ठीक दाईं ओर बैठा है। B के ठीक बाईं ओर कौन बैठा है?

- Ans 1. E
 2. C
 3. G
 4. A



Test Prime

ALL EXAMS,
ONE SUBSCRIPTION



70,000+
Mock Tests



Personalised
Report Card



Unlimited
Re-Attempt



600+
Exam Covered



Previous Year
Papers

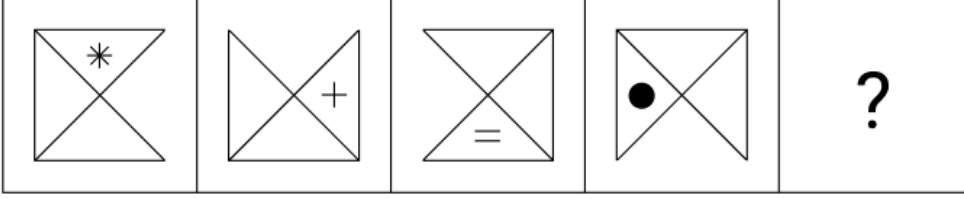


500%
Refund



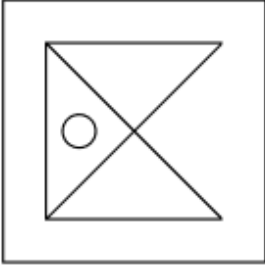
ATTEMPT FREE MOCK NOW

Q.3 दिए गए विकल्पों में से उस आकृति का चयन कीजिए जिसे निम्नलिखित श्रृंखला में प्रश्न चिह्न (?) के स्थान पर रखा जा सकता है।

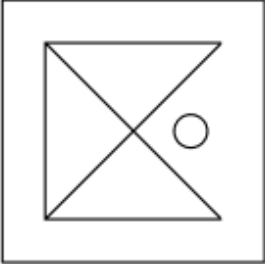


Ans

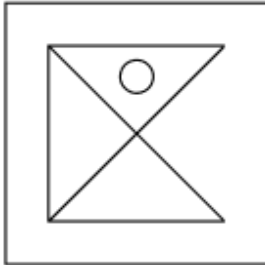
✗ 1.



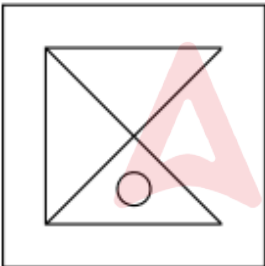
✗ 2.



✓ 3.



✗ 4.



Q.4 एक निश्चित कूट भाषा में,

'A + B' का अर्थ है कि 'A, B की पुत्री है',
'A - B' का अर्थ है कि 'A, B का भाई है',
'A × B' का अर्थ है कि 'A, B की पत्नी है' और
'A ÷ B' का अर्थ है कि 'A, B का पिता है'।

यदि 'P × Q - R ÷ S + T' है, तो उपरोक्त के आधार पर, P का T से क्या संबंध है?

Ans

✗ 1. भाई की पुत्री

✗ 2. पति के भाई की पुत्री

✓ 3. पति के भाई की पत्नी

✗ 4. भाई की पत्नी

Q.5 G, H, I, J, K, L और M एक वृत्ताकार मेज के चारों ओर मेज के केंद्र की ओर मुख करके बैठे हैं (परंतु जरूरी नहीं कि वे इसी क्रम में बैठे हों)। J, G के बाएं से तीसरे स्थान पर बैठा है। M, K के बाएं से दूसरे स्थान पर बैठा है। H और M के बीच में केवल G बैठा है। L, J का निकटतम पड़ोसी नहीं है। I के दाएं से गिनने पर I और M के बीच में कितने व्यक्ति बैठे हैं?

- Ans
- 1. एक
 - 2. दो
 - 3. तीन
 - 4. चार

Q.6 दिए गए कथनों और निष्कर्षों को ध्यानपूर्वक पढ़िए। यह मानते हुए कि कथनों में दी गई जानकारी सत्य है, चाहे वह सामान्यतः ज्ञात तथ्यों से भिन्न प्रतीत होती हो और निर्णय लीजिए कि दिए गए निष्कर्षों में से कौन-सा/कौन-से निष्कर्ष कथनों का तार्किक रूप से अनुसरण करता है/करते हैं।

कथन:

सभी चप्पल, चाकू हैं।
कुछ चाकू, चूहे हैं।
कुछ चूहे, पिज्जा हैं।

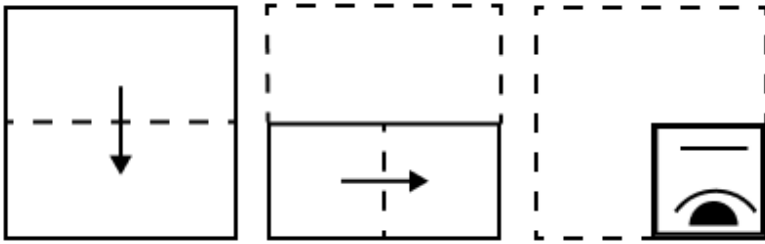
निष्कर्ष:

(I) कुछ पिज्जा, चप्पल हैं।
(II) कुछ चूहे, चप्पल हैं।

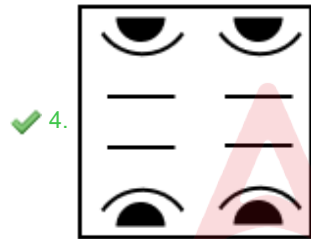

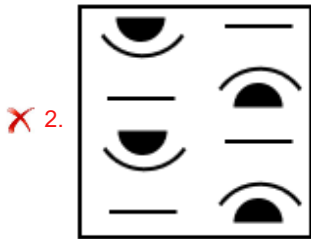
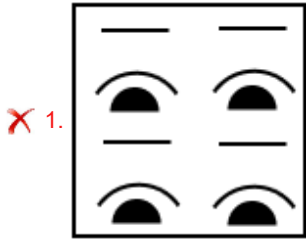
- Ans
- 1. केवल निष्कर्ष (II) अनुसरण करता है।
 - 2. केवल निष्कर्ष (I) अनुसरण करता है।
 - 3. न तो निष्कर्ष (I) और न ही (II) अनुसरण करता है।
 - 4. दोनों निष्कर्ष (I) और (II) अनुसरण करते हैं।



Q.7 एक कागज को नीचे दर्शाए गए अनुसार मोड़कर पंच किया (punched) जाता है। खोले जाने पर यह कैसा दिखाई देगा?



Ans



Q.8 दी गई श्रृंखला में प्रश्नचिह्न (?) के स्थान पर क्या आना चाहिए?

87 91 94 98 101 ?

- Ans
- ✗ 1. 104
 - ✗ 2. 106
 - ✗ 3. 107
 - ✓ 4. 105

Q.9 किसी निश्चित कूट भाषा में, 'NANDA' को '14-1-14-4-1' के रूप में कूट बद्ध किया जाता है और 'GOPAL' को '7-15-16-1-12' के रूप में कूट बद्ध किया जाता है। दी गई कूट भाषा में 'BISWAS' को किस प्रकार कूट बद्ध किया जाएगा?

- Ans
- ✗ 1. 2-9-19-21-1-19
 - ✗ 2. 2-9-19-22-1-19
 - ✓ 3. 2-9-19-23-1-19
 - ✗ 4. 2-9-19-20-1-19

Q.10 LY 15 एक निश्चित तरीके से JW 13 से संबंधित है। DW 25 उसी तरीके से BU 23 से संबंधित है। समान तर्क का अनुसरण करते हुए, MR 35 निम्नलिखित में से किससे संबंधित है?

- Ans
- 1. LQ 33
 - 2. NS 23
 - 3. KP 33
 - 4. OS 33

Q.11 यदि '-' और '+' को परस्पर बदल दिया जाए तथा 'x' और '+' को परस्पर बदल दिया जाए, तो निम्नलिखित समीकरण में प्रश्न चिह्न '?' के स्थान पर क्या आएगा?

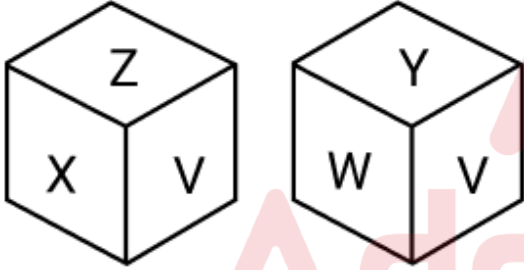
$$40 + 24 - 6 \times 12 \div 3 = ?$$

- Ans
- 1. 168
 - 2. 166
 - 3. 169
 - 4. 167

Q.12 किसी निश्चित कूटभाषा में, 'PVQCB' को '4' के रूप में कूटबद्ध किया जाता है और 'MOZWITZ' को '6' के रूप में कूटबद्ध किया जाता है। दी गई कूट भाषा में 'RPAW' के लिए कूट क्या होगा?

- Ans
- 1. 5
 - 2. 3
 - 3. 6
 - 4. 2

Q.13 एक पासे के फलकों पर अक्षर U, V, W, X, Y और Z अंकित हैं। नीचे एक ही पासे की दो अलग-अलग स्थितियाँ दर्शाई गई हैं। उस अक्षर का चयन कीजिए, जो फलक U के विपरीत फलक पर होगा।



- Ans
- 1. X
 - 2. Y
 - 3. V
 - 4. W

Q.14 अंग्रेजी वर्णमाला क्रम के आधार पर RGLA एक निश्चित प्रकार से ODHW से संबंधित है। CTZW ठीक उसी प्रकार ZQVS से संबंधित है। उसी तर्क का अनुसरण करते हुए NBUP दिए गए विकल्पों में से किससे संबंधित है?

- Ans
- 1. GZRO
 - 2. HXPN
 - 3. HZPM
 - 4. KYQL

Q.15 अंग्रेजी वर्णमाला क्रम के आधार पर दी गई श्रृंखला में प्रश्न चिह्न (?) के स्थान पर क्या आना चाहिए?

KAM LDN MGO NJP ?

- Ans
- 1. PMQ
 - 2. OPQ
 - 3. OMQ
 - 4. PQR

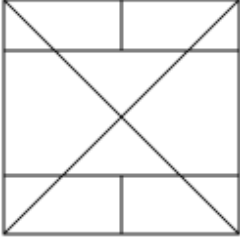
Q.16 उस विकल्प आकृति का चयन कीजिए जिसमें दी गई आकृति (X) उसके एक भाग के रूप में निहित है (घूर्णन की अनुमति नहीं है)।



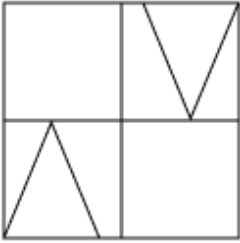
(X)

Ans

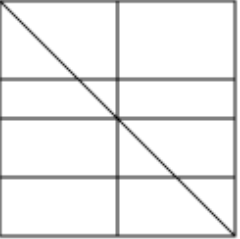
✗ 1.



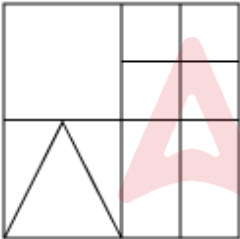
✓ 2.



✗ 3.



✗ 4.



Q.17 अक्षरों के उस संयोजन का चयन कीजिए, जिसे दी गई श्रृंखला के रिक्त स्थानों में क्रमिक रूप से रखने पर श्रृंखला तार्किक रूप से पूर्ण हो जाएगी।

_NRMQ_OJNH_GKEI_HBF_

Ans ✓ 1. TKLDA

✗ 2. TJLFA

✗ 3. SJMFC

✗ 4. SKMDC

Q.18 अंग्रेजी वर्णमाला क्रम के आधार पर, निम्नलिखित चार अक्षर-समूहों में से तीन एक निश्चित प्रकार से समान हैं और इस प्रकार एक समूह बनाते हैं। वह कौन-सा अक्षर-समूह है जो उस समूह से संबंधित नहीं है?

(ध्यान दें: असंगत अक्षर-समूह, उस अक्षर-समूह में व्यंजनों/स्वरों की संख्या या उनके स्थान पर आधारित नहीं है।)

Ans ✗ 1. JOH

✗ 2. RWP

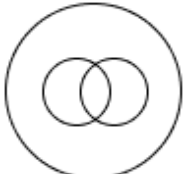
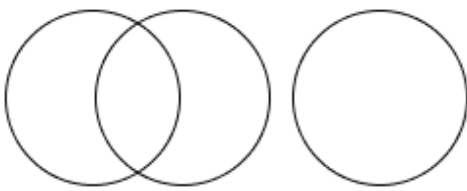
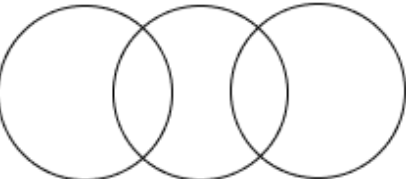
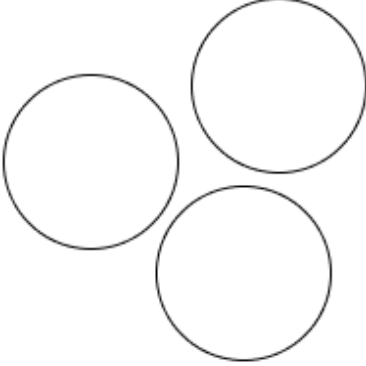
✗ 3. NSL

✓ 4. PUL

Q.19 उस वेन-आरेख का चयन करें, जो निम्नलिखित वर्गों के बीच के संबंध को सबसे अच्छे तरीके से दर्शाता है।

डॉक्टर, पुरुष, मेज़

Ans

- ✗ 1. 
- ✓ 2. 
- ✗ 3. 
- ✗ 4. 

Q.20 दी गई श्रृंखला में प्रश्नवाचक चिन्ह (?) के स्थान पर क्या आना चाहिए?

990 1000 1011 1023 1036 ?

- Ans
- ✗ 1. 1049
- ✗ 2. 1051
- ✓ 3. 1050
- ✗ 4. 1048

Section : Part-B-General Knowledge and General awareness

Q.1 संगीत नाटक अकादमी, साहित्य कला परिषद सम्मान प्राप्तकर्ता तथा भारत सरकार द्वारा पद्मश्री से सम्मानित भारती शिवाजी निम्नलिखित में से किस नृत्य शैली से संबंधित थीं?

- Ans
- ✗ 1. सत्रिया
- ✗ 2. कथक
- ✗ 3. कथकली
- ✓ 4. मोहिनीअट्टम

Q.2 अगस्त 2024 में, जम्मू-कश्मीर पुलिस के विशेष महानिदेशक के रूप में किसे नियुक्त किया गया?

- Ans
- ✗ 1. बी. श्रीनिवासन
- ✗ 2. रमेश कुमार
- ✓ 3. नलिन प्रभात
- ✗ 4. सुरेश हमादास

Q.3 क्रिकेट में, लगातार डाली गई _____ वैध गेंदों का एक ओवर होता है, जिन्हें गेंदबाज द्वारा पिच के एक छोर से पिच के दूसरे छोर पर खिलाड़ी (बल्लेबाज) के लिए फेंका जाता है।

- Ans
- 1. छह
 - 2. पाँच
 - 3. सात
 - 4. चार

Q.4 उत्तरी मैदानों से निकलने वाली नदियों का जल अपवाह प्रतिरूप (drainage pattern) क्या है?

- Ans
- 1. अभिकेन्द्री (Centripetal)
 - 2. जालापित (Trellis)
 - 3. अरीय (Radial)
 - 4. द्रुमाकृतिक (Dendritic)

Q.5 ज़ेरोफथाल्मिया (Xerophthalmia) विटामिन A की कमी से संबंधित किस संवेदी अंग के संकेत और लक्षण को संदर्भित करता है?

- Ans
- 1. आँख
 - 2. नाक
 - 3. कान
 - 4. जीभ

Q.6 भारत की जनगणना, 2011 के अनुसार, किस राज्य में महिला साक्षरता दर सबसे कम दर्ज की गई?

- Ans
- 1. पश्चिम बंगाल
 - 2. ओडिशा
 - 3. बिहार
 - 4. झारखंड

Q.7 8 जुलाई 2024 को प्रधानमंत्री नरेंद्र मोदी ने निम्नलिखित में से किस देश के उच्च स्तरीय दौरे (high-profile visit) की शुरुआत की?

- Ans
- 1. ऑस्ट्रेलिया
 - 2. रूस
 - 3. संयुक्त राज्य अमेरिका
 - 4. मालदीव

Q.8 भारत सरकार के 2023-24 के केंद्रीय बजट में पारंपरिक कारीगरों और शिल्पकारों को लाभ पहुंचाने के लिए कौन-सा स्कीम या पैकेज प्रोग्राम पेश किया गया था?

- Ans
- 1. पीएम श्री (PM SHREE)
 - 2. पीएम विजेट (PM VIJET)
 - 3. पीएम विकास (PM VIKAS)
 - 4. पीएम विश्वास (PM VISHWAS)

Q.9 विल्लु पट्टू, जिसमें कलाकार विल्लू या धनुष को मुख्य रूप से उपयोग करते हुए गीतों के माध्यम से कहानियां सुनाते हैं, _____ का एक लोक नृत्य है।

- Ans
- 1. झारखंड
 - 2. तमिलनाडु
 - 3. गुजरात
 - 4. तेलंगाना

Q.10 1932 का 'पूना पैक्ट (Poona Pact)' किन दो नेताओं के बीच हुआ समझौता था?

- Ans
- 1. गांधी और जिन्ना
 - 2. नेहरू और जिन्ना
 - 3. गांधी और अंबेडकर
 - 4. नेहरू और अंबेडकर

Q.11 निम्नलिखित में से कौन चुनाव आयोग के परामर्श से राज्य विधानमंडल के सदस्यों की अयोग्यता के प्रश्न पर निर्णय लेता है?

- Ans
- 1. राज्यपाल
 - 2. मुख्य सचिव
 - 3. मुख्यमंत्री
 - 4. विधान परिषद का सभापति

Q.12 42वें संशोधन अधिनियम 1976 द्वारा भारतीय संविधान में कितने मौलिक कर्तव्य शामिल किए गए थे?

- Ans
- 1. 11
 - 2. 15
 - 3. 10
 - 4. 12

Q.13 अरुणाचल प्रदेश में कौन-सा उत्सव मोनपा (Monpas) द्वारा मनाया जाता है?

- Ans
- 1. लोसूंग उत्सव
 - 2. मकरविलक्कु उत्सव
 - 3. गणगौर उत्सव
 - 4. लोसार उत्सव

Q.14 जोहान वोल्फगैंग डोबेराइनर (Johann Wolfgang Dobereiner) ने पाया कि तरल ब्रोमीन (Bromine) के गुण _____ गैस और ठोस आयोडीन के गुणों के बीच में आते हैं।

- Ans
- 1. क्लोरीन
 - 2. फ्लोरीन
 - 3. आर्गन
 - 4. हीलियम

Q.15 निम्नलिखित में से कौन-सा उपभोक्ता वस्तु का उदाहरण है?

- Ans
- 1. खाद्यान्न
 - 2. मशीनरी
 - 3. उपकरण
 - 4. औजार

Q.16 पैरालिंपिक के इतिहास में स्वीडन में खेले गए प्रथम शीतकालीन खेल (winter games) वर्ष _____ में हुए थे।

- Ans
- 1. 1960
 - 2. 1964
 - 3. 1976
 - 4. 1972

Q.17 मौखरि (Maukharis) मूलतः सहायक शासक थे, जिन्होंने बाद में निम्नलिखित में से किस क्षेत्र में एक स्वतंत्र साम्राज्य स्थापित किया?

- Ans
- 1. दक्षिण भारत
 - 2. उत्तर भारत
 - 3. पूर्वी गंगा मैदान
 - 4. पश्चिमी गंगा मैदान

Q.18 रत्न मोहन शर्मा निम्नलिखित में से किस संगीत घराने से जुड़े हैं?

- Ans
- 1. मेवाती घराना
 - 2. भिंडीबाज़ार घराना
 - 3. आगरा घराना
 - 4. बनारस घराना

Q.19 नेपाल में किस धर्म की जनसंख्या सबसे अधिक है?

- Ans
- 1. हिंदू धर्म
 - 2. बुद्ध धर्म
 - 3. ईसाई धर्म
 - 4. इस्लाम

Q.20 निम्नलिखित में से क्या बारहवीं पंचवर्षीय योजना का उपशीर्षक (subtitle) है?

- Ans
- 1. भोजन, कार्य और उत्पादकता
 - 2. आत्मनिर्भरता की प्राप्ति
 - 3. सामाजिक न्याय एवं समानता के साथ विकास
 - 4. तीव्र, अधिक समावेशी और धारणीय विकास

Section : Part-C-Elementary Mathematics

Q.1 एक मोटर कार 23 km/h की चाल से एक स्थान पर जाती है और 33 km/h की चाल से लौट आती है। पूरी यात्रा के लिए मोटर कार की औसत चाल (km/h में) ज्ञात कीजिए।

- Ans
- 1. $27\frac{3}{28}$
 - 2. $29\frac{3}{31}$
 - 3. $28\frac{2}{13}$
 - 4. $30\frac{1}{12}$

Q.2 21, 24, 104 और 312 का लघुत्तम समापवर्त्य (LCM) ज्ञात कीजिए।

- Ans
- 1. 2149
 - 2. 2184
 - 3. 2253
 - 4. 2229

Q.3 एक जिले की जनसंख्या 335000 है, जिसमें 214000 पुरुष हैं। 31% जनसंख्या साक्षर है। यदि 31% पुरुष साक्षर हैं, तो साक्षर महिलाओं का प्रतिशत कितना होगा?

- Ans
- 1. 31%
 - 2. 30%
 - 3. 33%
 - 4. 28%

Q.4 एक गोले का वक्र पृष्ठीय क्षेत्रफल 9856 cm^2 है, इसका व्यास m में ज्ञात कीजिए।

- Ans
- 1. 2.8
 - 2. 0.56
 - 3. 0.28
 - 4. 5.6

Q.5 मोहन, मोहम्मद और आशीष का औसत वज़न 46 kg है। यदि मोहन और मोहम्मद का औसत वज़न 39 kg है और मोहम्मद और आशीष का औसत वज़न 47 kg है, तो मोहम्मद का वज़न (kg में) ज्ञात कीजिए।

- Ans
- 1. 49
 - 2. 44
 - 3. 54
 - 4. 34

Q.6 ₹1210 प्रति सैकड़ा की दर से 100 अमरूद खरीदे गए और ₹965 के लाभ पर बेचे गए। प्रति दर्जन अमरूदों का विक्रय मूल्य (₹ में) ज्ञात कीजिए।

- Ans
- 1. 266
 - 2. 261
 - 3. 271
 - 4. 256

Q.7 किसी मूलधन पर 5% की वार्षिक दर से 2 वर्ष की अवधि के लिए साधारण ब्याज ₹487 है। मूलधन (₹ में) ज्ञात कीजिए।

- Ans
- 1. 4870
 - 2. 4873
 - 3. 4877
 - 4. 4861

Q.8 2.5, 9.6 और 75 का चतुर्थानुपाती ज्ञात कीजिए।

- Ans
- 1. 288
 - 2. 232
 - 3. 212
 - 4. 198

Q.9 यदि 10% वार्षिक ब्याज दर से तीन वर्षों के चक्रवृद्धि ब्याज तथा साधारण ब्याज का अंतर ₹217 है, तो मूलधन (₹ में) ज्ञात कीजिए।

- Ans
- 1. 7000
 - 2. 6425
 - 3. 8200
 - 4. 7420

Q.10 एक भिन्न में, अंश में 40% की वृद्धि की जाती है और हर में 20% की कमी की जाती है। नया भिन्न, मूल भिन्न का कितना भाग (fraction) है?

- Ans
- 1. $\frac{7}{4}$
 - 2. $\frac{3}{4}$
 - 3. $\frac{4}{7}$
 - 4. $\frac{2}{5}$

Q.11 वह छोटी से छोटी प्राकृतिक संख्या ज्ञात कीजिए, जो 48, 72, 16 और 15 से विभाज्य हो।

- Ans
- 1. 710
 - 2. 720
 - 3. 751
 - 4. 784

Q.12 कमल शहर A से शहर B तक यात्रा करता है। यदि कमल अपनी कार को अपनी सामान्य चाल की $\frac{1}{4}$ चाल पर चलाता है, तो वह शहर B तक 54 मिनट देरी से पहुंचता है। यदि कमल अपनी कार सामान्य चाल से चलाता, तो शहर A से शहर B तक यात्रा करने में उसे कितना समय (मिनट में) लगता?

- Ans
- 1. 10
 - 2. 23
 - 3. 13
 - 4. 18

Q.13 16, a और 9a का चतुर्थानुपाती 324 है। a का मान ज्ञात कीजिए।

- Ans
- 1. 28
 - 2. 32
 - 3. 20
 - 4. 24

Q.14 12 पेन का क्रय मूल्य 9 पेन के विक्रय मूल्य के बराबर है। लाभ प्रतिशत ज्ञात कीजिए।

- Ans
- 1. 21%
 - 2. $27\frac{1}{4}\%$
 - 3. 31%
 - 4. $33\frac{1}{3}\%$

Q.15 एक वस्तु का अंकित मूल्य ₹950 है। यदि इसे 20% की छूट पर बेचा जाए, तो विक्रय मूल्य इसके क्रय मूल्य का 2.5 गुना हो जाता है। क्रय मूल्य कितना है?

- Ans
- 1. ₹318
 - 2. ₹312
 - 3. ₹304
 - 4. ₹299

Q.16 एक यात्रा का $\frac{3}{8}$ भाग, 60 km/hr की चाल से तय किया जाता है, तथा शेष दूरी 40 km/hr की दर से तय की जाती है। संपूर्ण यात्रा के लिए औसत चाल (km/hr में, निकटतम पूर्णांक तक पूर्णांकित) ज्ञात कीजिए।

- Ans
- 1. 38
 - 2. 33
 - 3. 46
 - 4. 50

Q.17 वीर के पास ₹1224 हैं। उन्होंने इसे अपने पुत्रों नितिन और प्रवीण के बीच बांट दिया और उन्हें इसे वार्षिक रूप से चक्रवृद्धित 4% वार्षिक ब्याज दर पर निवेश करने को कहा। यह देखा गया कि नितिन और प्रवीण को क्रमशः 19 और 20 वर्ष बाद समान धनराशि प्राप्त हुई। वीर ने प्रवीण को कितनी धनराशि (₹ में) दी थी?

- Ans
- 1. 624
 - 2. 600
 - 3. 450
 - 4. 724

Q.18 P, Q, R और S किसी कार्य को क्रमशः 25 दिनों, 30 दिनों, 36 दिनों और 40 दिनों में पूरा कर सकते हैं। वे क्रमावर्तन (rotation) के आधार पर कार्य करते हैं, जिसमें Q पहले दिन कार्य करता है, S दूसरे दिन, P तीसरे दिन और R चौथे दिन, फिर से Q पांचवें दिन और इसी तरह आगे भी कार्य किया जाता है। कार्य कितने समय में पूरा होगा?

- Ans
- 1. $26\frac{7}{30}$ दिनों में
 - 2. $23\frac{11}{15}$ दिनों में
 - 3. $29\frac{4}{27}$ दिनों में
 - 4. $31\frac{17}{25}$ दिनों में

Q.19 मूल्यांकन कीजिए : $(-9) - (-60) \div (-15) + (-2) \times 7$

- Ans
- 1. -26
 - 2. -30
 - 3. -27
 - 4. -29

Q.20 मूल्यांकन कीजिए : $16 + 9 \div 3 - 3 \times 3$

- Ans
- 1. 10
 - 2. 12
 - 3. 13
 - 4. 9

Section : Part-D-English

Q.1 Select the most appropriate synonym for the given word.

Dubious

- Ans
- 1. Clear
 - 2. Certain
 - 3. Doubtful
 - 4. Definite

Q.2 Select the sentence with an error in the adverb used.

- Ans
- 1. The students completed the assignment less thorough than expected.
 - 2. He answered the questions surprisingly well during the interview.
 - 3. The new software runs more efficiently than the previous version.
 - 4. She performs her duties more diligently than anyone else in the team.

Q.3 In the sentence, 'The scientist's explanation was extremely abstruse', what is a synonym of the word 'abstruse'?

- Ans
- 1. Complicated
 - 2. Concise
 - 3. Clear
 - 4. Obvious

Q.4 Select the most appropriate synonym for the given word.

Relinquish

- Ans
- 1. Hold
 - 2. Embrace
 - 3. Retain
 - 4. Surrender

Q.5 Select the most appropriate option that can substitute the highlighted word segment in the given sentence. If the sentence is grammatically correct, select 'No correction'.

The manager of the hotel was giving orders when the incident occurred.

- Ans
- 1. gave
 - 2. No correction
 - 3. giving
 - 4. has given

Q.6 Select the word segment that can substitute and replace the bracketed word correctly and complete the sentence.

The toddler asked for more pieces of cake, but she wasn't given (more cake).

- Ans
- 1. two
 - 2. many
 - 3. any
 - 4. none

Q.7 Select the most appropriate option to fill in the blank.

Despite the _____ challenges faced during the expedition, the team managed to reach their destination.

- Ans
- 1. trivial
 - 2. negligible
 - 3. insignificant
 - 4. formidable

Q.8 Select the most appropriate ANTONYM of the underlined word in the given sentence.

Let's distribute the surplus food to the needy.

- Ans
- 1. Hot
 - 2. Huge
 - 3. Stale
 - 4. Dearth

Q.9 Select the most appropriate idiom that can replace the underlined segment in the given sentence.

After suffering for a long time, Roy finally passed away this month.

- Ans
- 1. blazed the trail
 - 2. brought down the house
 - 3. breathed his last
 - 4. burnt his boats

Q.10 Select the INCORRECTLY spelt word in the given sentence.

'Ramesh is extremely grateful to God for having survived the Pandemic.'

- Ans
- 1. Survived
 - 2. Grateful
 - 3. Extremely
 - 4. Pandemic

Q.11 Select the word that best completes the given sentence. Determine the collocation through the sentence.

The teacher, Sara, told us we must _____ arrangements for the upcoming conference.

- Ans
- 1. made
 - 2. make
 - 3. meet
 - 4. put

Q.12 Select the most appropriate ANTONYM of the bracketed word to fill in the blank.

The scent of freshly baked bread filled the bakery, _____ (sickening) customers to step inside.

- Ans
- 1. wakening
 - 2. enticing
 - 3. pampering
 - 4. withdrawing

Q.13 Select the most appropriate option that can substitute the underlined segment in the given sentence.

Climate change, conflict, COVID-19 and economic crises are cut children off from their chance to thrive.

- Ans
- 1. cutting child off
 - 2. cuts children off
 - 3. cut children of
 - 4. cutting children off

Q.14 Identify the sentence with the INCORRECT usage of adverb.

- Ans
- 1. The novel written by Rahul was harshly critiqued by the readers.
 - 2. Merry was aware of the implications more than her colleagues slightly.
 - 3. Marsh is an exceptionally talented musician with a bright future.
 - 4. The presentation was well-organised and effectively delivered.

Q.15 Select the INCORRECTLY spelt word.

- Ans
- 1. Paradigm
 - 2. Sergeant
 - 3. Quandery
 - 4. Contingency

Comprehension:

In the following passage, some words have been deleted. Read the passage carefully and select the most appropriate option to fill in each blank.

Aristotle (384–322 BCE), the disciple of Plato, is one of the most (1)_____ philosophers in history. Judged solely in terms of his (2)_____ influence, only Plato is his peer: Aristotle's works shaped centuries of philosophy from Late Antiquity through the Renaissance, and even today continue to be studied with keen, non-antiquarian interest. Aristotle was a (3)_____ researcher and writer, producing about two hundred treatises, though only thirty-one survive. His writings cover a vast range of (4)_____, including logic, metaphysics, ethics, political theory, aesthetics and rhetoric, as well as non-philosophical fields like biology, where he meticulously studied plants and animals. Aristotle's ideas have sparked (5)_____, inspired resistance and captivated readers for centuries.

SubQuestion No : 16

Q.16 Select the most appropriate option to fill in blank number 1.

- Ans**
- 1. unknown
 - 2. modern
 - 3. average
 - 4. influential

Comprehension:

In the following passage, some words have been deleted. Read the passage carefully and select the most appropriate option to fill in each blank.

Aristotle (384–322 BCE), the disciple of Plato, is one of the most (1)_____ philosophers in history. Judged solely in terms of his (2)_____ influence, only Plato is his peer: Aristotle's works shaped centuries of philosophy from Late Antiquity through the Renaissance, and even today continue to be studied with keen, non-antiquarian interest. Aristotle was a (3)_____ researcher and writer, producing about two hundred treatises, though only thirty-one survive. His writings cover a vast range of (4)_____, including logic, metaphysics, ethics, political theory, aesthetics and rhetoric, as well as non-philosophical fields like biology, where he meticulously studied plants and animals. Aristotle's ideas have sparked (5)_____, inspired resistance and captivated readers for centuries.

SubQuestion No : 17

Q.17 Select the most appropriate option to fill in blank number 2.

- Ans**
- 1. modernity
 - 2. philosophical
 - 3. society
 - 4. history

Comprehension:

In the following passage, some words have been deleted. Read the passage carefully and select the most appropriate option to fill in each blank.

Aristotle (384–322 BCE), the disciple of Plato, is one of the most (1)_____ philosophers in history. Judged solely in terms of his (2)_____ influence, only Plato is his peer: Aristotle's works shaped centuries of philosophy from Late Antiquity through the Renaissance, and even today continue to be studied with keen, non-antiquarian interest. Aristotle was a (3)_____ researcher and writer, producing about two hundred treatises, though only thirty-one survive. His writings cover a vast range of (4)_____, including logic, metaphysics, ethics, political theory, aesthetics and rhetoric, as well as non-philosophical fields like biology, where he meticulously studied plants and animals. Aristotle's ideas have sparked (5)_____, inspired resistance and captivated readers for centuries.

SubQuestion No : 18

Q.18 Select the most appropriate option to fill in blank number 3.

- Ans**
- 1. lazy
 - 2. reluctant
 - 3. hesitant
 - 4. prolific

Comprehension:

In the following passage, some words have been deleted. Read the passage carefully and select the most appropriate option to fill in each blank.

Aristotle (384–322 BCE), the disciple of Plato, is one of the most (1)_____ philosophers in history. Judged solely in terms of his (2)_____ influence, only Plato is his peer: Aristotle's works shaped centuries of philosophy from Late Antiquity through the Renaissance, and even today continue to be studied with keen, non-antiquarian interest. Aristotle was a (3)_____ researcher and writer, producing about two hundred treatises, though only thirty-one survive. His writings cover a vast range of (4)_____, including logic, metaphysics, ethics, political theory, aesthetics and rhetoric, as well as non-philosophical fields like biology, where he meticulously studied plants and animals. Aristotle's ideas have sparked (5)_____, inspired resistance and captivated readers for centuries.

SubQuestion No : 19

Q.19 Select the most appropriate option to fill in blank number 4.

- Ans**
- 1. characters
 - 2. topics
 - 3. books
 - 4. politics

Comprehension:

In the following passage, some words have been deleted. Read the passage carefully and select the most appropriate option to fill in each blank.

Aristotle (384–322 BCE), the disciple of Plato, is one of the most (1)_____ philosophers in history. Judged solely in terms of his (2)_____ influence, only Plato is his peer: Aristotle's works shaped centuries of philosophy from Late Antiquity through the Renaissance, and even today continue to be studied with keen, non-antiquarian interest. Aristotle was a (3)_____ researcher and writer, producing about two hundred treatises, though only thirty-one survive. His writings cover a vast range of (4)_____, including logic, metaphysics, ethics, political theory, aesthetics and rhetoric, as well as non-philosophical fields like biology, where he meticulously studied plants and animals. Aristotle's ideas have sparked (5)_____, inspired resistance and captivated readers for centuries.

SubQuestion No : 20

Q.20 Select the most appropriate option to fill in blank number 5.

- Ans**
- 1. criticise
 - 2. indifferent
 - 3. confuse
 - 4. debates

Section : Part-D-Hindi

Q.1 'चिकना घड़ा होना' मुहावरे का सही अर्थ इनमें से क्या होगा?

- Ans**
- 1. गुस्सा करना
 - 2. निर्लज्ज होना
 - 3. सर पर बाल नहीं होना
 - 4. बिना पानी के रहना

Q.2 दिए गए वाक्य में शब्द या वाक्य खण्ड को बदलिए।

हम अवश्य ही जाएँगे।

- Ans**
- 1. हम तो अवश्य ही जाएँगे।
 - 2. हम तो जाएँगे ही।
 - 3. हम तो अवश्यमेव जाएँगे।
 - 4. हम तो अवश्य जाएँगे।

Q.3 निम्नलिखित में से किस वाक्य में संज्ञा शब्द का प्रयोग किया गया है-

- Ans**
- 1. तुम किसके साथ गए थे?
 - 2. अंदर मत आना।
 - 3. पश्चिम दिशा से आँधी चली।
 - 4. कल तक रुको।

Q.4 'जो अपनी हत्या स्वयं कर ले' वाक्यांश के लिए उपयुक्त शब्द होगा-

- Ans
- 1. आत्मघाती
 - 2. हत्यारा
 - 3. रक्तपिपासु
 - 4. आत्मोत्सर्ग

Q.5 निम्न में से 'यमुना' का पर्याय है

- Ans
- 1. देवनादी
 - 2. उदक
 - 3. सूर्यसुता
 - 4. जनकतनया

Q.6 निम्नलिखित वाक्यांश हेतु सार्थक शब्द की पहचान करें।
जो कभी नहीं आया हो

- Ans
- 1. दूरस्थ
 - 2. निरस्त
 - 3. अनागत
 - 4. अवगत

Q.7 निम्नलिखित वाक्य के किस खंड में अशुद्धि है?

वृक्ष मे फल लगे हैं।

- Ans
- 1. लगे
 - 2. वृक्ष
 - 3. मे
 - 4. फल

Q.8 दिए गए वाक्य में शब्द या वाक्य खण्ड को बदलिए।

मैं आपका दर्शन करने आया हूँ।

- Ans
- 1. मैं आपके दर्शन करने आया हूँ।
 - 2. मैं आपका दर्शन हेतु आया हूँ।
 - 3. मैं सिर्फ आपका दर्शन करने आया हूँ।
 - 4. मैं आपका दर्शन करूँगा।

Q.9 'मुझे एक _____ गरम दूध पिला दो' वाक्य के रिक्त स्थान के लिए सर्वाधिक उपयुक्त देशज शब्द चुनिए-

- Ans
- 1. थरमस
 - 2. गिलास
 - 3. कटोरा
 - 4. कप

Q.10 'ज्योत्सना' पर्याय है-

- Ans
- 1. सीता का
 - 2. बिजली का
 - 3. चाँदनी का
 - 4. चमक का

Q.11 निम्न में से किस वाक्य में कारक चिह्न का अशुद्ध प्रयोग हुआ है--

- Ans
- 1. आँधी ने अपना विकराल रूप धारण कर लिया।
 - 2. उसने देखा कि पूरा पुल बाढ़ में डूबा है।
 - 3. मैंने उसे इशारा किया मगर वह बोलता ही चला गया।
 - 4. सैनिक के दुश्मन को देखा और गोलियाँ बरसाने लगा।

Q.12 निम्न वाक्य में कौन - सा शब्द अशुद्ध है ?
विक्रमादित्य अपने समय में कुशल और न्यायप्रिय शासक थे।

- Ans
- 1. विक्रमादित्य
 - 2. न्यायप्रिय
 - 3. कुशल
 - 4. शासक

Q.13 'आकाश' का सही विलोम क्या होगा?

- Ans
- 1. गगन
 - 2. पाताल
 - 3. आसमान
 - 4. व्योम

Q.14 'इस _____ में लेखक का व्यक्तित्व प्रधान है और विषय गौण है'।

उपर्युक्त रिक्त स्थान के लिए कौन सा एकार्थी शब्द प्रयुक्त किया जाएगा?

- Ans
- 1. निबंध
 - 2. लेख
 - 3. गद्य काव्य
 - 4. प्रबंध

Q.15 निम्नलिखित में से 'देशज' शब्द युक्त विकल्प चुनकर वाक्य पूर्ण करें -
'एक सुन्दर चिड़िया इस पेड़ की _____।'

- Ans
- 1. टहनी पर बैठी है
 - 2. शाखा पर बैठी है
 - 3. डाली पर बैठी है
 - 4. फुनगी पर बैठी है

Comprehension:

निम्नलिखित गद्यांश में से कुछ शब्द हटा दिए गए हैं। दिए गए विकल्पों की सहायता से रिक्त स्थानों की पूर्ति कीजिए। प्रत्येक संख्या के लिए उपयुक्त विकल्प का चयन कीजिए

भक्ति-काव्य के अंतर्गत उपालंभ काव्य का प्रमुख आधार _____ (1) का मथुरा प्रवास है। कृष्ण _____ (2) छोड़कर मथुरा जाते हैं। गोप-गोपियाँ, नंद, यशोदा, ग्वाल-बाल सभी उनके _____ (3) में व्यथित हो जाते हैं। कृष्ण के वापस आने की _____ (4) जब धीरे-धीरे नष्ट हो जाती है तब उनकी आकुलता अधिक बढ़ जाती है। अंततः गोपियों की वियोग-वेदना उपालंभ के रूप में _____ (5) होती है।

SubQuestion No : 16

Q.16 सर्वोचित शब्द से गद्यांश का प्रथम रिक्त स्थान पूर्ण करें-

- Ans
- 1. राम
 - 2. नारद
 - 3. कृष्ण
 - 4. शिव

Comprehension:

निम्नलिखित गद्यांश में से कुछ शब्द हटा दिए गए हैं। दिए गए विकल्पों की सहायता से रिक्त स्थानों की पूर्ति कीजिए। प्रत्येक संख्या के लिए उपयुक्त विकल्प का चयन कीजिए

भक्ति-काव्य के अंतर्गत उपालंभ काव्य का प्रमुख आधार _____ (1) का मथुरा प्रवास है। कृष्ण _____ (2) छोड़कर मथुरा जाते हैं। गोप-गोपियाँ, नंद, यशोदा, ग्वाल-बाल सभी उनके _____ (3) में व्यथित हो जाते हैं। कृष्ण के वापस आने की _____ (4) जब धीरे-धीरे नष्ट हो जाती है तब उनकी आकुलता अधिक बढ़ जाती है। अंततः गोपियों की वियोग-वेदना उपालंभ के रूप में _____ (5) होती है।

SubQuestion No : 17

Q.17 सर्वोचित शब्द से गद्यांश का द्वितीय रिक्त स्थान पूर्ण करें-

- Ans**
- 1. काशी
 - 2. गोकुल
 - 3. द्वारिका
 - 4. अयोध्या

Comprehension:

निम्नलिखित गद्यांश में से कुछ शब्द हटा दिए गए हैं। दिए गए विकल्पों की सहायता से रिक्त स्थानों की पूर्ति कीजिए। प्रत्येक संख्या के लिए उपयुक्त विकल्प का चयन कीजिए

भक्ति-काव्य के अंतर्गत उपालंभ काव्य का प्रमुख आधार _____ (1) का मथुरा प्रवास है। कृष्ण _____ (2) छोड़कर मथुरा जाते हैं। गोप-गोपियाँ, नंद, यशोदा, ग्वाल-बाल सभी उनके _____ (3) में व्यथित हो जाते हैं। कृष्ण के वापस आने की _____ (4) जब धीरे-धीरे नष्ट हो जाती है तब उनकी आकुलता अधिक बढ़ जाती है। अंततः गोपियों की वियोग-वेदना उपालंभ के रूप में _____ (5) होती है।

SubQuestion No : 18

Q.18 सर्वोचित शब्द से गद्यांश का तृतीय रिक्त स्थान पूर्ण करें-

- Ans**
- 1. अभाव
 - 2. अनुपस्थिति
 - 3. वियोग
 - 4. संयोग

Comprehension:

निम्नलिखित गद्यांश में से कुछ शब्द हटा दिए गए हैं। दिए गए विकल्पों की सहायता से रिक्त स्थानों की पूर्ति कीजिए। प्रत्येक संख्या के लिए उपयुक्त विकल्प का चयन कीजिए

भक्ति-काव्य के अंतर्गत उपालंभ काव्य का प्रमुख आधार _____ (1) का मथुरा प्रवास है। कृष्ण _____ (2) छोड़कर मथुरा जाते हैं। गोप-गोपियाँ, नंद, यशोदा, ग्वाल-बाल सभी उनके _____ (3) में व्यथित हो जाते हैं। कृष्ण के वापस आने की _____ (4) जब धीरे-धीरे नष्ट हो जाती है तब उनकी आकुलता अधिक बढ़ जाती है। अंततः गोपियों की वियोग-वेदना उपालंभ के रूप में _____ (5) होती है।

SubQuestion No : 19

Q.19 सर्वोचित शब्द से गद्यांश का चतुर्थ रिक्त स्थान पूर्ण करें-

- Ans**
- 1. आशा
 - 2. आशंका
 - 3. इच्छा
 - 4. निराशा

Comprehension:

निम्नलिखित गद्यांश में से कुछ शब्द हटा दिए गए हैं। दिए गए विकल्पों की सहायता से रिक्त स्थानों की पूर्ति कीजिए। प्रत्येक संख्या के लिए उपयुक्त विकल्प का चयन कीजिए

भक्ति-काव्य के अंतर्गत उपालंभ काव्य का प्रमुख आधार _____ (1) का मथुरा प्रवास है। कृष्ण _____ (2) छोड़कर मथुरा जाते हैं। गोप-गोपियाँ, नंद, यशोदा, ग्वाल-बाल सभी उनके _____ (3) में व्यथित हो जाते हैं। कृष्ण के वापस आने की _____ (4) जब धीरे-धीरे नष्ट हो जाती है तब उनकी आकुलता अधिक बढ़ जाती है। अंततः गोपियों की वियोग-वेदना उपालंभ के रूप में _____ (5) होती है।

SubQuestion No : 20

Q.20 सर्वोचित शब्द से गद्यांश का पंचम रिक्त स्थान पूर्ण करें-

- Ans**
- 1. प्रस्तुत
 - 2. व्यक्त
 - 3. अनुभव
 - 4. अनुमानित