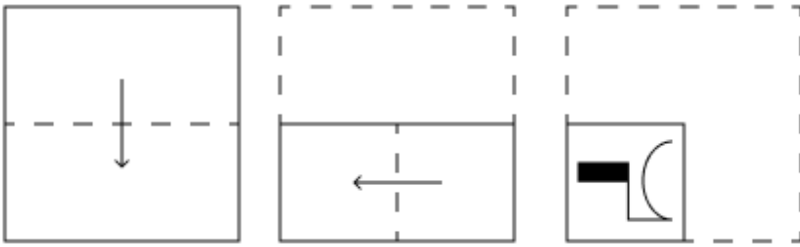


Constable GD in CAPFs and SSF Rifleman GD in AR and Sepoy in NCB Examination 2025

Exam Date	21/02/2025
Exam Time	3:00 PM - 4:00 PM
Subject	Constable GD Examination 2025

Section : Part-A-General Intelligence and Reasoning

Q.1 एक कागज़ को नीचे दर्शाए गए अनुसार मोड़कर पंच किया (punched) जाता है। खोले जाने पर यह कैसा दिखाई देगा?



Ans

- ✗ 1.
- ✗ 2.
- ✓ 3.
- ✗ 4.



Test Prime

**ALL EXAMS,
ONE SUBSCRIPTION**



70,000+
Mock Tests



**Personalised
Report Card**



**Unlimited
Re-Attempt**



600+
Exam Covered



**Previous Year
Papers**

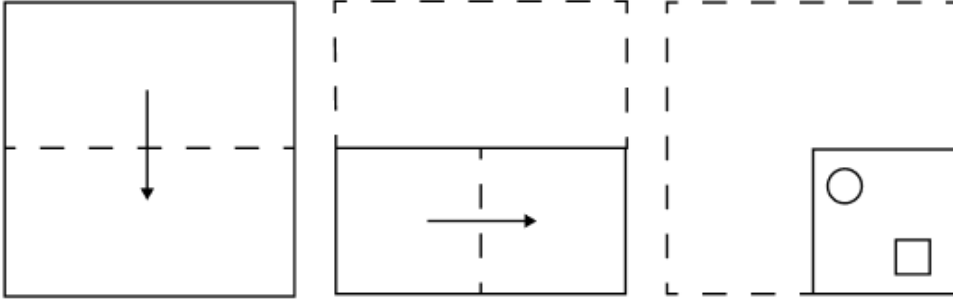


500%
Refund

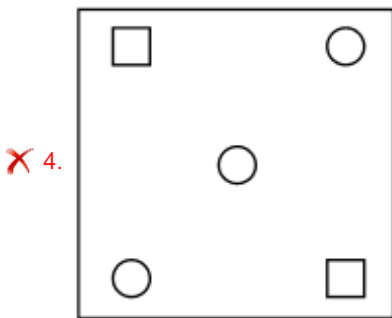
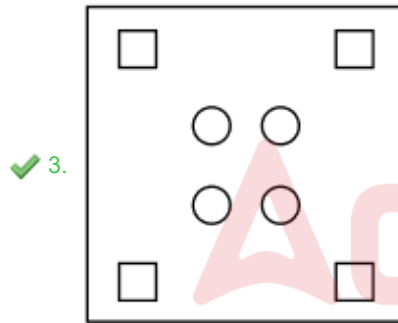
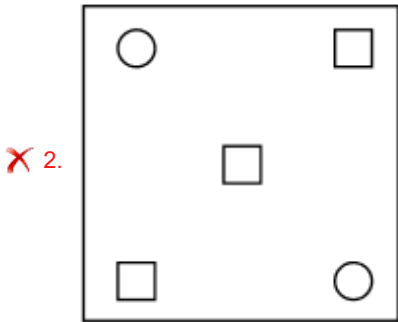
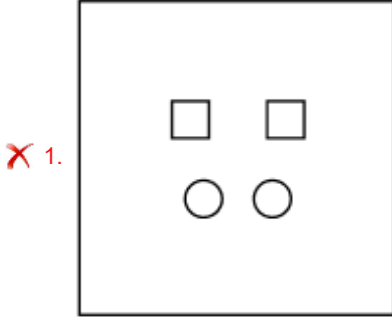


ATTEMPT FREE MOCK NOW

Q.2 एक कागज़ को नीचे दर्शाए गए अनुसार मोड़कर काटा जाता है। खोले जाने पर यह कैसा दिखाई देगा?



Ans



Q.3 किसी निश्चित कूट भाषा में, 'TNRA' को '28' के रूप में कूट बद्ध किया जाता है और 'LOGVQ' को '42' के रूप में कूट बद्ध किया जाता है। दी गई कूट भाषा में 'JDSHKQB' को किस प्रकार कूट बद्ध किया जाएगा?

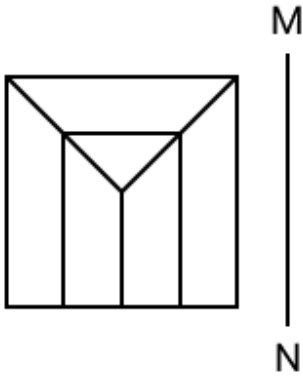
Ans ✗ 1. 44

✓ 2. 49

✗ 3. 50

✗ 4. 52

Q.4 जब दर्पण को नीचे दर्शाए गए अनुसार MN पर रखा जाता है, तो दी गई आकृति के सही दर्पण प्रतिबिंब का चयन कीजिए।



Ans

- ✗ 1.
- ✗ 2.
- ✗ 3.
- ✓ 4.

Q.5 दी गई श्रृंखला में प्रश्न चिह्न (?) के स्थान पर क्या आना चाहिए?

53 63 76 92 111 ?

- Ans
- ✗ 1. 143
 - ✗ 2. 156
 - ✓ 3. 133
 - ✗ 4. 126

Q.6 अंग्रेजी वर्णमाला क्रम के आधार पर दी गई श्रृंखला में प्रश्न चिह्न (?) के स्थान पर क्या आना चाहिए?

BCG EFJ HIM KLP ?

- Ans
- ✗ 1. NOT
 - ✗ 2. QOT
 - ✗ 3. QOS
 - ✓ 4. NOS

Q.7 यदि '+' और '-' को आपस में बदल दिया जाए तथा 'x' और '÷' को आपस में बदल दिया जाए, तो निम्नलिखित समीकरण में प्रश्न चिह्न (?) के स्थान पर क्या आएगा?

$$41 + 8 \div 6 - 24 \times 2 = ?$$

- Ans
- 1. 11
 - 2. 1
 - 3. 16
 - 4. 5

Q.8 दिए गए कथनों और निष्कर्षों को ध्यानपूर्वक पढ़िए। यह मानते हुए कि कथनों में दी गई जानकारी सत्य है, चाहे वह सामान्यतः ज्ञात तथ्यों से भिन्न प्रतीत होती हो और निर्णय लीजिए कि दिए गए निष्कर्षों में से कौन-सा/कौन-से निष्कर्ष कथनों का तार्किक रूप से अनुसरण करता है/करते हैं।

कथन:

सभी बोरे, गलीचे हैं।
सभी मग, गलीचे हैं।
सभी पग, गलीचे हैं।

निष्कर्ष:

(I): कुछ पग, बोरे हैं।
(II): कुछ मग, पग हैं।

- Ans
- 1. निष्कर्ष (I) और निष्कर्ष (II) दोनों अनुसरण करते हैं।
 - 2. केवल निष्कर्ष (II) अनुसरण करता है।
 - 3. न तो निष्कर्ष (I) और न ही निष्कर्ष (II) अनुसरण करता है।
 - 4. केवल निष्कर्ष (I) अनुसरण करता है।

Q.9 MH 45 एक निश्चित तरीके से KF 40 से संबंधित है। TN 35 उसी तरीके से RL 30 से संबंधित है। समान तर्क का अनुसरण करते हुए, ZI 25 निम्नलिखित में से किससे संबंधित है?

- Ans
- 1. XH 25
 - 2. XG 20
 - 3. YJ 25
 - 4. WK 30

Q.10 एक निश्चित कूट भाषा में,

'A + B' का अर्थ है कि 'A, B की पुत्री है',
'A - B' का अर्थ है कि 'A, B का भाई है',
'A × B' का अर्थ है कि 'A, B की पत्नी है' और
'A ÷ B' का अर्थ है कि 'A, B का पिता है'।

यदि 'P - Q + R × S ÷ T' है, तो उपरोक्त के आधार पर, P का T से क्या संबंध है?

- Ans
- 1. पिता
 - 2. भाई
 - 3. पुत्र
 - 4. पति

Q.11 छह व्यक्ति, F, G, H, I, J और S, एक सीधी पंक्ति में उत्तर की ओर मुख करके बैठे हैं (परंतु जरूरी नहीं कि वे इसी क्रम में बैठें हों)। F के दाईं ओर कोई भी नहीं बैठा है। F और J के बीच में केवल तीन व्यक्ति बैठे हैं। J और G के बीच में केवल दो व्यक्ति बैठे हैं। H, I के बाईं ओर दूसरे स्थान पर बैठा है। H और S के बीच में कितने व्यक्ति बैठे हैं?

- Ans
- 1. तीन
 - 2. एक
 - 3. दो
 - 4. चार

Q.12 किसी निश्चित कूट भाषा में, 'TIDE' को '2986' के रूप में कूट बद्ध किया जाता है और 'KITE' को '8216' के रूप में कूट बद्ध किया जाता है। दी गई कूट भाषा में 'D' को किस प्रकार कूट बद्ध किया जाएगा?

- Ans
- 1. 8
 - 2. 9
 - 3. 2
 - 4. 6

Q.13 E, F, G, H, J, K और L एक वृत्ताकार मेज के चारों ओर मेज के केंद्र की ओर मुख करके बैठे हैं (परंतु जरूरी नहीं कि वे इसी क्रम में बैठे हों)। L, F के ठीक दाईं ओर बैठा है। L के बाईं ओर से गिनने पर L और H के बीच केवल तीन व्यक्ति बैठे हैं। F के बाईं ओर से गिनने पर F और J के बीच केवल तीन व्यक्ति बैठे हैं। E, K के ठीक दाईं ओर बैठा है। K के दाईं ओर से गिनने पर F और K के बीच कितने व्यक्ति बैठे हैं?

- Ans
- 1. एक
 - 2. तीन
 - 3. चार
 - 4. दो

Q.14 उस विकल्प का चयन करें, जो उन अक्षरों का निरूपण करता है, जिन्हें नीचे दिए गए रिक्त स्थानों में बाएँ से दाएँ क्रमिक रूप से रखे जाने पर अक्षर श्रृंखला को पूरा करेगा।

C _ _ _ B _ _ A X B _ Z

- Ans
- 1. ACXZCZ
 - 2. CCXAZA
 - 3. XCZACA
 - 4. ZAXCZC

Q.15 AR 18 एक निश्चित प्रकार से HO 31 से संबंधित है। KN 05 ठीक उसी प्रकार RK 18 से संबंधित है। उसी तर्क का अनुसरण करते हुए, QL 15 दिए गए विकल्पों में से किससे संबंधित है?

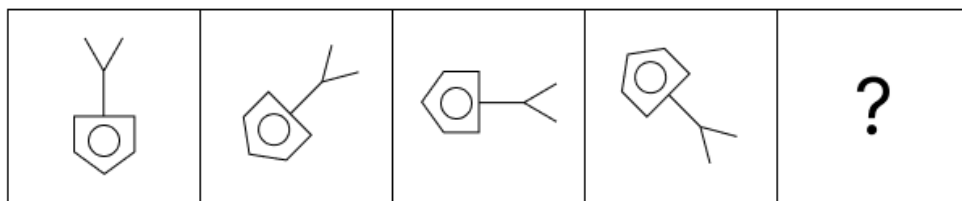
- Ans
- 1. XI 28
 - 2. WJ 28
 - 3. XI 27
 - 4. YK 26

Q.16 अंग्रेजी वर्णमाला क्रम के आधार पर, निम्नलिखित चार अक्षर-समूहों में से तीन एक निश्चित प्रकार से समान हैं और इस प्रकार एक समूह बनाते हैं। वह कौन-सा अक्षर-समूह है जो उस समूह से संबंधित नहीं है?

(ध्यान दें: असंगत अक्षर-समूह, उस अक्षर-समूह में व्यंजनों/स्वरों की संख्या या उनके स्थान पर आधारित नहीं है।)

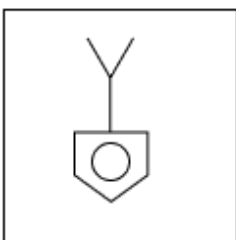
- Ans
- 1. LOI
 - 2. TWS
 - 3. RUO
 - 4. PSM

Q.17 विकल्पों में दी गई उस आकृति की पहचान कीजिए, जिसे प्रश्न-चिह्न (?) के स्थान पर रखने पर तार्किक रूप से श्रृंखला पूर्ण हो जाएगी।

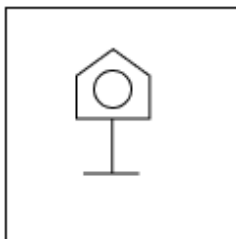


Ans

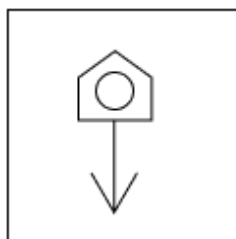
✗ 1.




✗ 2.



✗ 3.



✓ 4.



Q.18 शब्द DUMPERS के प्रत्येक अक्षर को अंग्रेजी वर्णमाला क्रम में व्यवस्थित किया जाता है। इस प्रकार बने नए अक्षर-समूह में बाएं से चौथे अक्षर और दाएं से दूसरे अक्षर के बीच अंग्रेजी वर्णमाला क्रम में कितने अक्षर होते हैं?

Ans ✗ 1.5

✗ 2.3

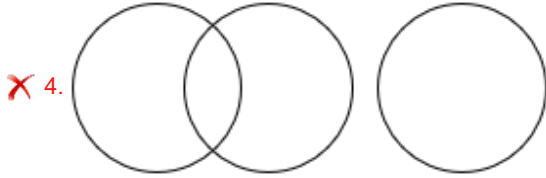
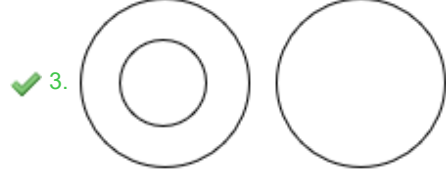
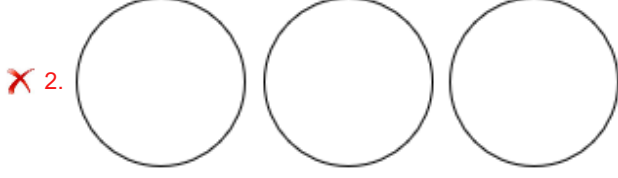
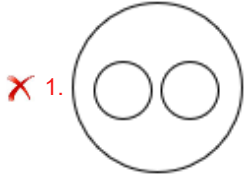
✓ 3.2

✗ 4.1

Q.19 निम्नलिखित वर्गों के बीच संबंधों को सटीक रूप से निरूपित करने वाले वेन आरेख का चयन कीजिए।

गाय, चीता, वन्य प्राणी

Ans



Q.20 दी गई श्रृंखला में प्रश्न चिह्न (?) के स्थान पर क्या आना चाहिए?

54 55 58 63 70 ?

- Ans
- ✗ 1. 81
 - ✗ 2. 78
 - ✓ 3. 79
 - ✗ 4. 80

Section : Part-B-General Knowledge and General awareness

Q.1 भारतीय संविधान के किस अनुच्छेद में भाषण और अभिव्यक्ति की स्वतंत्रता के अधिकार की गारंटी दी गई है?

- Ans
- ✗ 1. अनुच्छेद 25
 - ✓ 2. अनुच्छेद 19(1)(a)
 - ✗ 3. अनुच्छेद 21(1)(c)
 - ✗ 4. अनुच्छेद 141(d)

Q.2 सितंबर 2024 में, निम्नलिखित में से कौन भारतीय वायु सेना (IAF) के वायु सेना प्रमुख (CAS) बने?

- Ans
- ✗ 1. एयर चीफ मार्शल विवेक राम चौधरी
 - ✗ 2. एयर चीफ मार्शल बीरेंद्र सिंह धनोआ
 - ✓ 3. एयर चीफ मार्शल एपी सिंह
 - ✗ 4. एयर चीफ मार्शल राकेश कुमार सिंह भदौरिया

Q.3 भारत सरकार के 2023-24 के केंद्रीय बजट में लांच किए गए आत्मनिर्भर स्वच्छ पौध कार्यक्रम (Atmanirbhar Clean Plant Programme) का प्राथमिक उद्देश्य क्या है?

- Ans
- ✗ 1. स्वच्छ ऊर्जा को बढ़ावा देना
 - ✗ 2. विनिर्माण उद्योगों को बढ़ावा देना
 - ✗ 3. रक्षा क्षेत्र का समर्थन करना
 - ✓ 4. रोगमुक्त रोपण सामग्री की उपलब्धता बढ़ाना

Q.4 पद्म श्री पुरस्कार से सम्मानित कलामंडलम गोपी को विश्व स्तर पर किस नृत्य शैली के प्रतिनिधि के रूप में पहचाना जाता है?

- Ans
- 1. ओडिसी
 - 2. मोहिनीअट्टम
 - 3. कुचिपुडी
 - 4. कथकली

Q.5 कॉफी और चाय में कौन-सा यौगिक व्यापक रूप से पाया जाता है जिसमें एंटीऑक्सीडेंट (antioxidant) और एंटी-इंफ्लेमेटरी (anti-inflammatory) सक्रियता होती है?

- Ans
- 1. कर्क्यूमिन (Curcumin)
 - 2. एंथोसायनिन (Anthocyanins)
 - 3. क्लोरोजेनिक एसिड (Chlorogenic Acid)
 - 4. लाइकोपीन (Lycopene)

Q.6 भारत ने _____ के समाजवादी आदर्शों से प्रभावित होकर, 1951 में अपनी पहली पंचवर्षीय योजना शुरू की।

- Ans
- 1. राजेन्द्र प्रसाद
 - 2. भीम राव अंबेडकर
 - 3. लाल बहादुर शास्त्री
 - 4. जवाहर लाल नेहरू

Q.7 खगोल विज्ञान में, कैसियोपिया (Cassiopeia), उत्तरी आकाश में एक तारामंडल है जिसे इसके कितने चमकीले तारों के समूह से आसानी से पहचाना जा सकता है?

- Ans
- 1. 9
 - 2. 5
 - 3. 3
 - 4. 7

Q.8 37वीं राष्ट्रीय खेल प्रतियोगिता में वर्ष के सर्वश्रेष्ठ पुरुष एथलीट का पुरस्कार किसने जीता?

- Ans
- 1. अरोकिया राजीव
 - 2. शिवपाल सिंह
 - 3. साजन प्रकाश
 - 4. श्रीहरि नटराज

Q.9 हैंडस्टैंड, कास्ट, स्प्लिट्स, हैंडस्प्रिंग ऑन वॉल्ट, बैक हैंडस्प्रिंग, स्प्लिट लीप और टैप स्विंग ऑन बार्स, में प्रयुक्त होने वाले शब्द हैं।

- Ans
- 1. तीरंदाजी
 - 2. जिम्नास्टिक
 - 3. तलवारबाजी
 - 4. स्केटबोर्डिंग

Q.10 विश्व का कितना जल मीठे जल (freshwater) के रूप में मौजूद होने का अनुमान है?

- Ans
- 1. 2.5%
 - 2. 10%
 - 3. 1%
 - 4. 5%

Q.11 भारत में हरित क्रांति का प्राथमिक लक्ष्य क्या था?

- Ans
- 1. औद्योगिक विकास
 - 2. जनसंख्या वृद्धि में कमी करना
 - 3. विदेशी व्यापार को बढ़ावा देना
 - 4. कृषि उत्पादकता में वृद्धि करना

Q.12 निम्नलिखित में से किस भारतीय राज्य में जीवंत मंदिर उत्सव त्रिशूर पूरम मनाया जाता है?

- Ans
- 1. महाराष्ट्र
 - 2. आंध्र प्रदेश
 - 3. केरल
 - 4. तमिलनाडु

Q.13 गिद्दा _____ का लोक नृत्य है।

- Ans
- 1. उत्तर प्रदेश
 - 2. राजस्थान
 - 3. मध्य प्रदेश
 - 4. पंजाब

Q.14 निम्नलिखित में से जैन धर्म के अंतिम तीर्थंकर कौन थे?

- Ans
- 1. नमिनाथ
 - 2. महावीर
 - 3. पार्श्वनाथ
 - 4. अजितानाथ

Q.15 राष्ट्रीय बहुआयामी गरीबी सूचकांक 2021 के अनुसार, निम्नलिखित में से किस राज्य में गरीबों की संख्या में सबसे तेजी से गिरावट दर्ज की गई?

- Ans
- 1. गुजरात
 - 2. महाराष्ट्र
 - 3. आंध्र प्रदेश
 - 4. बिहार

Q.16 मानव विकास रिपोर्ट, 2021-22 (UNDP) के अनुसार, भारत के निम्नलिखित पड़ोसी देशों में से किसकी रैंकिंग मानव विकास सूचकांक में सर्वोच्च है?

- Ans
- 1. भूटान
 - 2. बांग्लादेश
 - 3. श्रीलंका
 - 4. नेपाल

Q.17 उस्ताद असद अली खान निम्नलिखित में से कौन-सा संगीत वाद्ययंत्र बजाते थे?

- Ans
- 1. सरोद
 - 2. संतूर
 - 3. रूद्र वीणा
 - 4. तबला

Q.18 अखिल भारतीय महिला सम्मेलन (AIWC) की स्थापना किस वर्ष हुई थी?

- Ans
- 1. 1920
 - 2. 1927
 - 3. 1928
 - 4. 1930

Q.19 डिप्टी NSA और भारत की बाहरी खुफिया एजेंसी रिसर्च एंड एनालिसिस विंग (R&AW) के पूर्व प्रमुख राजिंदर खन्ना को जुलाई 2024 में _____ के पद पर पदोन्नत किया गया।

- Ans
- 1. रिजर्व्ड एनएसए (Reserved NSA)
 - 2. एनएसए (NSA)
 - 3. एडिशनल एनएसए (Additional NSA)
 - 4. सीएजी (CAG)

Q.20 भारतीय संविधान के अनुसार, राज्य विधान सभा द्वारा पारित विधेयक को राष्ट्रपति की सहमति के लिए कौन आरक्षित कर सकता है?

- Ans
- 1. राज्य विधान सभा के सभापति
 - 2. राज्यपाल
 - 3. राज्य विधान सभा में विपक्षी दल
 - 4. मुख्यमंत्री

Section : Part-C-Elementary Mathematics

Q.1 26, 34, 221 और 195 का लघुत्तम समापवर्त्य (LCM) ज्ञात कीजिए।

- Ans
- 1. 6627
 - 2. 6532
 - 3. 6630
 - 4. 6590

Q.2 पेट्रोल के मूल्य में (प्रति लीटर) 75% की वृद्धि होती है। इसकी खपत में कितने प्रतिशत की कमी कर दी जाए कि इस पर होने वाले व्यय में केवल 26% की वृद्धि हो?

- Ans
- 1. 18%
 - 2. 72%
 - 3. 75%
 - 4. 28%

Q.3 आनंद के पास ₹1218 हैं। उन्होंने इसे अपने पुत्रों अनिल और अशोक के बीच बांट दिया और उन्हें इसे वार्षिक रूप से चक्रवृद्धित 10% वार्षिक ब्याज दर पर निवेश करने को कहा। यह देखा गया कि अनिल और अशोक को क्रमशः 15 और 16 वर्ष बाद समान धनराशि प्राप्त हुई। आनंद ने अशोक को कितनी धनराशि (₹ में) दी थी?

- Ans
- 1. 738
 - 2. 580
 - 3. 638
 - 4. 430

Q.4 मूल्यांकन कीजिए : $(-9) - (-60) \div (-12) + (-4) \times 6$

- Ans
- 1. -37
 - 2. -40
 - 3. -41
 - 4. -38

Q.5 एक दुकानदार ने ₹500 में एक वस्तु खरीदी। 22% लाभ प्राप्त करने के लिए उसे वस्तु को किस मूल्य (₹ में) पर बेचना चाहिए?

- Ans
- 1. 390
 - 2. 598
 - 3. 610
 - 4. 622

Q.6 पिछले वर्ष एक मोबाइल फोन का मूल्य ₹18,000 था। इस वर्ष इसके मूल्य में $15\frac{3}{4}\%$ की वृद्धि हो गई। मोबाइल फोन का वर्तमान मूल्य कितना है?

- Ans
- 1. ₹18,880
 - 2. ₹19,450
 - 3. ₹20,835
 - 4. ₹20,000

Q.7 दो संख्याओं का LCM, 105 है और संख्याएँ 5 : 3 के अनुपात में हैं, तो संख्याओं का योग ज्ञात कीजिए।

- Ans
- 1. 56
 - 2. 65
 - 3. 94
 - 4. 49

Q.8 निम्नलिखित का मान ज्ञात कीजिए।

$$\left[(87 \div 3) \times \left\{ \frac{52}{2} + \frac{18}{3} \times (9 - 6) \right\} \right]$$

- Ans
- 1. 1281
 - 2. 1269
 - 3. 1291
 - 4. 1276

Q.9 पिकी, चिकी और रीमा ने एक कार्य शुरू किया तथा रीमा ने 4 दिन बाद कार्य करना छोड़ दिया, तब तक कार्य का 46% कार्य पूरा हो गया था और फिर पूरे कार्य को पूरा होने में 9 और दिन लग गए। रीमा अकेले कार्य को कितने दिनों में पूरा कर सकती है?

- Ans
- 1. $18\frac{2}{11}$
 - 2. $18\frac{7}{11}$
 - 3. $18\frac{9}{11}$
 - 4. $18\frac{4}{11}$

Q.10 ₹1250 प्रति सैकड़े की दर पर 400 संतरे खरीदे गए और ₹1000 के लाभ पर बेचे गए। प्रति दर्जन संतरों का विक्रय मूल्य (₹ में) ज्ञात कीजिए।

- Ans
- 1. 195
 - 2. 180
 - 3. 170
 - 4. 190

Q.11 आनंद के पास ₹1612 हैं। उसने इसे अपने पुत्रों अनिल और अशोक के बीच बांट दिया तथा उन्हें इसे वार्षिक रूप से चक्रवृद्धि होने वाले 8% ब्याज दर पर निवेश करने को कहा। यह देखा गया कि अनिल और अशोक को क्रमशः 11 और 12 वर्ष बाद समान धनराशि प्राप्त हुई। आनंद ने अनिल को कितनी धनराशि (₹ में) दी थी?

- Ans
- 1. 875
 - 2. 775
 - 3. 687
 - 4. 837

Q.12 वृत्ताकार पथ पर 1500 m की एक रेस में, A और B एक ही समय पर एक ही बिंदु से 27 km/hr और 45 km/hr की चाल से एक साथ दौड़ना शुरू करते हैं। यदि वे विपरीत दिशा में दौड़ रहे हों, तो कितने समय बाद वे पहली बार प्रारंभिक बिंदु पर मिलेंगे?

- Ans
- 1. 10 मिनट
 - 2. 35 मिनट
 - 3. 50 मिनट
 - 4. 45 मिनट

Q.13 309, 125, 90, 45, 125 और 104 का औसत ज्ञात कीजिए।

- Ans
- 1. 139
 - 2. 136
 - 3. 133
 - 4. 130

Q.14 वार्षिक साधारण ब्याज की समान दर पर अक्षय ₹5400 की राशि का निवेश करता है और अतुल ₹9400 की राशि का निवेश करता है। यदि 6 वर्ष के अंत में, अतुल को अक्षय से ₹360 अधिक ब्याज प्राप्त होता है, तो वार्षिक ब्याज की दर (प्रतिशत में) ज्ञात कीजिए।

- Ans
- 1. 1.5
 - 2. 3.5
 - 3. 2.5
 - 4. 4.5

Q.15 तुषार, सलिल और मुकुंद का औसत भार 46 kg है। यदि तुषार और सलिल का औसत भार 40 kg है तथा सलिल और मुकुंद का औसत भार 46 kg है, तो सलिल का भार (kg में) ज्ञात कीजिए।

- Ans
- 1. 49
 - 2. 44
 - 3. 34
 - 4. 54

Q.16 एक बहुराष्ट्रीय कंपनी में पुरुष और महिला कर्मचारियों का अनुपात 4 : 3 है। यदि कंपनी में 460 पुरुष कर्मचारी हैं, तो महिला कर्मचारियों की संख्या ज्ञात कीजिए।

- Ans
- 1. 540
 - 2. 345
 - 3. 690
 - 4. 230

Q.17 20, 24 और 30 का चतुर्थानुपाती ज्ञात कीजिए।

- Ans
- 1. 16
 - 2. 9
 - 3. 36
 - 4. 25

Q.18 बिपिन '7 नोटबुक खरीदें और 3 मुफ्त पाएं' का एक डिस्काउंट स्कीम ऑफर शुरू करता है। ₹185 अंकित मूल्य वाली एक नोटबुक का विक्रय मूल्य (₹ में) कितना होगा, यदि समतुल्य प्रतिशत छूट लागू की जाती है?

- Ans
- 1. 129
 - 2. 130.50
 - 3. 129.50
 - 4. 130

Q.19 410 m और 440 m लंबाई वाली दो रेलगाड़ियाँ एक ही दिशा में क्रमशः 60 km/h और 70 km/h की चाल से गतिमान हैं। पीछे से आ रही तेज चाल वाली रेलगाड़ी द्वारा दूसरी रेलगाड़ी को पूरी तरह से पार करने में कितना समय (मिनटों में) लगेगा?

- Ans
- 1. 5
 - 2. 5.1
 - 3. 3.4
 - 4. 4

Q.20 एक अर्धगोलाकार टैंक का आंतरिक व्यास 1.4 m है। इसकी धारिता (capacity) ज्ञात कीजिए। ($\pi = 22/7$ लीजिए)
(दो दशमलव स्थानों तक पूर्णांकित)

- Ans
- 1. 0.78 m^3
 - 2. 0.52 m^3
 - 3. 0.72 m^3
 - 4. 0.62 m^3

Section : Part-D-English

Q.1 Select the most appropriate option to fill in the blank.

She _____ a decision to move to a new city after careful consideration.

- Ans
- 1. have
 - 2. made
 - 3. make
 - 4. do

Q.2 Your colleague suggests you are 'barking up the wrong tree' when you are trying to convince the boss about a project. What does your colleague mean?

- Ans
- 1. Your colleague thinks you are making the right assumptions.
 - 2. Your colleague wants you to climb a tree.
 - 3. Your colleague thinks you are pursuing the wrong course of action or making a wrong assumption.
 - 4. Your colleague wants you to stop working on the project.

Q.3 Select the most appropriate ANTONYM of the given word.

Scarce

- Ans
- 1. Less
 - 2. Heavy
 - 3. Ample
 - 4. Tiny

Q.4 Select the most appropriate option to fill in the blank.

Edible flowers _____ made up of a large group of flowers that have different characteristics.

- Ans
- 1. are
 - 2. is
 - 3. was
 - 4. were

Q.5 Select the most appropriate option to fill in the blanks.

The (1)___ park was filled with (2)___ grass, tall trees and vibrant flowers, creating a (3)___ retreat for the city's busy residents.

- Ans
- 1. (1) peaceful ; (2) spacious ; (3) green
 - 2. (1) spacious ; (2) green ; (3) peaceful
 - 3. (1) green ; (2) peaceful ; (3) spacious
 - 4. (1) green ; (2) spacious ; (3) peaceful

Q.6 Select the INCORRECTLY spelt word from the given options.

- Ans
- 1. Attendance
 - 2. Accompany
 - 3. Alloting
 - 4. Automatic

Q.7 Select the most appropriate synonym of the given word.

Abandon

- Ans
- 1. Claim
 - 2. Leave
 - 3. Hold
 - 4. Weave

Q.8 In the sentence 'The explanation provided by the professor was succinct', what is the most appropriate ANTONYM of the word 'succinct'?

- Ans
- 1. Concise
 - 2. Long-winded
 - 3. Laconic
 - 4. Pithy

Q.9 Select the INCORRECTLY spelt word.

- Ans
- 1. Concurrently
 - 2. Couragiously
 - 3. Categorically
 - 4. Charmingly

Q.10 The given sentence is divided into four segments. Select the segment with the grammatical error.

Jawed refused politely / a second serving of the custard by / the host at / Hotel Grand yesterday.

- Ans
- 1. Hotel Grand yesterday
 - 2. a second serving of the custard by
 - 3. Jawed refused politely
 - 4. the host at

Q.11 Select the most appropriate option to fill in the blank.

Pollution _____ ecosystems and wildlife.

- Ans
- 1. damaging
 - 2. damages
 - 3. damage
 - 4. is damage

Q.12 The following sentence has been split into four segments. Identify the segment that contains a grammatical error.

(A) He usual jogs in the early morning, / (B) enjoying the fresh air and peaceful atmosphere / (C) while preparing for / (D) the upcoming marathon.

- Ans
- 1. A
 - 2. B
 - 3. C
 - 4. D

Q.13 Select the most appropriate option to fill in the blank.

She was able to attract the attention of the judges with her intellect and _____ demeanor.

- Ans
- 1. repellent
 - 2. bewitching
 - 3. repugnant
 - 4. revolting

Q.14 Select the most appropriate ANTONYM of the underlined word in the given sentence.

My family have heard a lot about the clandestine transactions of Nishant's family.

- Ans
- 1. Furtive
 - 2. Under the table
 - 3. Hush-hush
 - 4. Overt

Q.15 Select the most appropriate synonym for the given word.

Insipid

- Ans
- 1. Flavourful
 - 2. Tangy
 - 3. Bland
 - 4. Spicy

Comprehension:

In the following passage, some words have been deleted. Read the passage carefully and select the most appropriate option to fill in each blank.

The meaning and purpose of life is a/an (1)___ quest that many of us indulge in at some point in life. Arthur Schopenhauer gives the purpose of life a subjective hue, rooted in (2)___, kindness and love. His philosophy asserts that acknowledging the (3)___ nature of suffering in all living beings fosters a compassionate attitude. Cultivating moral (4)___ is a means to transcend the inherent suffering in existence. So, the recognition of shared suffering and the pursuit of moral excellence contribute to a (5)___ life.

SubQuestion No : 16

Q.16 Select the most appropriate option to fill in blank no. 1.

- Ans
- 1. introspective
 - 2. superficial
 - 3. unthoughtful
 - 4. extrovert

Comprehension:

In the following passage, some words have been deleted. Read the passage carefully and select the most appropriate option to fill in each blank.

The meaning and purpose of life is a/an (1)___ quest that many of us indulge in at some point in life. Arthur Schopenhauer gives the purpose of life a subjective hue, rooted in (2)___, kindness and love. His philosophy asserts that acknowledging the (3)___ nature of suffering in all living beings fosters a compassionate attitude. Cultivating moral (4)___ is a means to transcend the inherent suffering in existence. So, the recognition of shared suffering and the pursuit of moral excellence contribute to a (5)___ life.

SubQuestion No : 17

Q.17 Select the most appropriate option to fill in blank no. 2.

- Ans**
- 1. remorse
 - 2. apathy
 - 3. compassion
 - 4. ignominy

Comprehension:

In the following passage, some words have been deleted. Read the passage carefully and select the most appropriate option to fill in each blank.

The meaning and purpose of life is a/an (1)___ quest that many of us indulge in at some point in life. Arthur Schopenhauer gives the purpose of life a subjective hue, rooted in (2)___, kindness and love. His philosophy asserts that acknowledging the (3)___ nature of suffering in all living beings fosters a compassionate attitude. Cultivating moral (4)___ is a means to transcend the inherent suffering in existence. So, the recognition of shared suffering and the pursuit of moral excellence contribute to a (5)___ life.

SubQuestion No : 18

Q.18 Select the most appropriate option to fill in blank no. 3.

- Ans**
- 1. pervasive
 - 2. abrasive
 - 3. corrosive
 - 4. unfamiliar

Comprehension:

In the following passage, some words have been deleted. Read the passage carefully and select the most appropriate option to fill in each blank.

The meaning and purpose of life is a/an (1)___ quest that many of us indulge in at some point in life. Arthur Schopenhauer gives the purpose of life a subjective hue, rooted in (2)___, kindness and love. His philosophy asserts that acknowledging the (3)___ nature of suffering in all living beings fosters a compassionate attitude. Cultivating moral (4)___ is a means to transcend the inherent suffering in existence. So, the recognition of shared suffering and the pursuit of moral excellence contribute to a (5)___ life.

SubQuestion No : 19

Q.19 Select the most appropriate option to fill in blank no. 4.

- Ans**
- 1. virtues
 - 2. malefices
 - 3. advantage
 - 4. scourges

Comprehension:

In the following passage, some words have been deleted. Read the passage carefully and select the most appropriate option to fill in each blank.

The meaning and purpose of life is a/an (1)___ quest that many of us indulge in at some point in life. Arthur Schopenhauer gives the purpose of life a subjective hue, rooted in (2)___, kindness and love. His philosophy asserts that acknowledging the (3)___ nature of suffering in all living beings fosters a compassionate attitude. Cultivating moral (4)___ is a means to transcend the inherent suffering in existence. So, the recognition of shared suffering and the pursuit of moral excellence contribute to a (5)___ life.

SubQuestion No : 20

Q.20 Select the most appropriate option to fill in blank no. 5.

- Ans**
- 1. diligent
 - 2. meaningful
 - 3. irrational
 - 4. trivial

Section : Part-D-Hindi

Q.1 'कुछ ढंग का लिखो-पढ़ो तो बात बने, खाली कागज़ी घोड़े दौड़ाने से क्या लाभ?'

रेखांकित मुहावरे को वाक्यानुकूल मुहावरा चुनकर प्रतिस्थापित करें-

- Ans**
- 1. कागज़ काले करने से
 - 2. कूच कर जाने से
 - 3. कसौटी पर कसने से
 - 4. किस्सा खड़ा करने से

Q.2 'तुम्हारे पास समय की कोई _____ है कि नहीं, कभी तो वक्त पर आओ!'

उचित सार्थक और निरर्थक शब्द-युग्म वाले विकल्प का चयन करके उपरोक्त वाक्य पूर्ण करें-

- Ans**
- 1. मूल्य - सूल्य
 - 2. साथ - गाँठ
 - 3. कीमत - वीमत
 - 4. जरूरत - वरूरत

Q.3 निम्नलिखित वाक्य में रेखांकित पद के बदले कौन सा विकल्प सही है?

वकीलों ने कागजात का निरीक्षण किया।

- Ans**
- 1. की देखरेख किया
 - 2. के निरीक्षण किए
 - 3. की जाँच की
 - 4. का अवलोकन की

Q.4 'सीधा' शब्द का अर्थ निम्न में से नहीं है-

- Ans**
- 1. दाहिना
 - 2. वाम
 - 3. सरल
 - 4. जो टेढ़ा न हो

Q.5 आम आदमी पार्टी का चुनाव चिन्ह झाड़ू है। वाक्य में झाड़ू शब्द है।

- Ans**
- 1. तद्भव
 - 2. देशज
 - 3. तत्सम
 - 4. विदेशी

Q.6 निम्नलिखित वाक्य को ध्यानपूर्वक पढ़ें और बताएं कि प्रस्तुत विकल्पों में से कौनसा विकल्प चिह्नित शब्द का विलोम शब्द है?

श्रीमान जी आपने बहुत समय से कुछ खाया नहीं है, कृपया आहार ग्रहण कीजिए।

- Ans
- 1. भोजन
 - 2. अन्न
 - 3. नीरहर
 - 4. निराहार

Q.7 'विद्यालय के वार्षिक समारोह में मुख्य अतिथि का मंच पर बहुत आदर किया गया।'

सर्वाधिक उपयुक्त विकल्प चुनकर वाक्य के रेखांकित अंश को बदलें-

- Ans
- 1. बहुत उत्साहित
 - 2. भव्य स्वागत
 - 3. श्रेष्ठता प्रदान
 - 4. बहुत सम्मानित

Q.8 दिए गए शब्द का उचित विलोम शब्द चुनिए-

सुदूर

- Ans
- 1. सन्निकट
 - 2. दूर
 - 3. विदूर
 - 4. मुदूर

Q.9 निम्नलिखित वाक्य को ध्यानपूर्वक पढ़ें और बताएं कि वाक्य के किस भाग में वर्तनी संबंधी त्रुटि है?
तिरंगा हमारा राष्ट्रीय द्यवज है।

- Ans
- 1. द्यवज है।
 - 2. तिरंगा
 - 3. हमारा
 - 4. राष्ट्रीय

Q.10 निम्नलिखित वाक्यों में से लिंग सम्बन्धी अशुद्धि वाला वाक्य ज्ञात कीजिए-

- Ans
- 1. साड़ी की आँचल उड़ती है।
 - 2. इस स्थान की परिधि दूर तक है।
 - 3. सूर्य की लालिमा आज दर्शनीय है।
 - 4. बारिश हो रही है और हवा चल रही है।

Q.11 निम्नलिखित वाक्यांश के लिए सार्थक शब्द चुनिए -
संसद में सदस्यता रखने वाला

- Ans
- 1. सांसद
 - 2. विधेयक
 - 3. संसद
 - 4. विधायक

Q.12 'बिजली' का पर्याय निम्न में से है --

- Ans
- 1. सरिता
 - 2. वनिता
 - 3. सविता
 - 4. दामिनी

Q.13 उसने खाना खाया और मेला देखने चला गया।' निम्नलिखित विकल्पों में से इस वाक्य के लिए कौन सा एक उचित सरल वाक्य होगा।

- Ans
- 1. खाना खाकर उसने मेला देखा।
 - 2. उसने खाना खाया, मेला देखने चला गया।
 - 3. खाना खाकर वह मेला देखने चला गया।
 - 4. खाना खाया और मेला देखने चला गया।

Q.14 निम्नलिखित वाक्य के किस खंड में अशुद्धि है?

भिखारी ने राजा को आशिर्वाद दिया।

- Ans
- 1. भिखारी
 - 2. दिया
 - 3. आशिर्वाद
 - 4. राजा

Q.15 दिए गए वाक्य का शुद्ध रूप होगा--
राहुल गेंद से द्वारा खेल रहा है।

- Ans
- 1. राहुल पर गेंद खेल रहा है।
 - 2. गेंद राहुल से खेल रहा है।
 - 3. राहुल गेंद की द्वारा खेल रहा है।
 - 4. राहुल गेंद से खेल रहा है।

Comprehension:

उपरोक्त गद्यांश के आधार पर रिक्त स्थानों की पूर्ति कीजिए-

'यदि विचार-सामग्री निबंध की (1)_____ है तो भाषा-शैली निबंध का शरीर एक अच्छे निबंध में शुद्ध, स्पष्ट तथा सुबोध भाषा का प्रयोग करना चाहिए एक (2)_____ निबंध की भाषा का सबसे बड़ा गुण यही है कि वह इतनी (3)_____ हो कि पाठक का मन ही अपनी ओर आकर्षित कर ले भाषा को सशक्त बनाने के लिए (4)_____ मुहावरों और लोकोक्तियों का प्रयोग किया जा सकता है, लेकिन निबंध में अलंकारों, मुहावरों, लोकोक्तियों आदि की (5)_____ भी नहीं होनी चाहिए ऐसा करने से निबंध में अस्वाभाविकता का समावेश हो जाता है और उसका सारा लालित्य नष्ट हो जाता है '

SubQuestion No : 16

Q.16 गद्यांश के रिक्त स्थान (1) के लिए सर्वाधिक उपयुक्त शब्द होगा-

- Ans
- 1. विशिष्ट
 - 2. मन
 - 3. आत्मा
 - 4. हृदय

Comprehension:

उपरोक्त गद्यांश के आधार पर रिक्त स्थानों की पूर्ति कीजिए-

'यदि विचार-सामग्री निबंध की (1)_____ है तो भाषा-शैली निबंध का शरीर एक अच्छे निबंध में शुद्ध, स्पष्ट तथा सुबोध भाषा का प्रयोग करना चाहिए एक (2)_____ निबंध की भाषा का सबसे बड़ा गुण यही है कि वह इतनी (3)_____ हो कि पाठक का मन ही अपनी ओर आकर्षित कर ले भाषा को सशक्त बनाने के लिए (4)_____ मुहावरों और लोकोक्तियों का प्रयोग किया जा सकता है, लेकिन निबंध में अलंकारों, मुहावरों, लोकोक्तियों आदि की (5)_____ भी नहीं होनी चाहिए ऐसा करने से निबंध में अस्वाभाविकता का समावेश हो जाता है और उसका सारा लालित्य नष्ट हो जाता है '

SubQuestion No : 17

Q.17 गद्यांश के रिक्त स्थान (2) के लिए सर्वाधिक उपयुक्त शब्द होगा-

- Ans
- 1. शुद्ध
 - 2. क्लिष्ट
 - 3. श्रेष्ठ
 - 4. व्यवहार्य

Comprehension:

उपरोक्त गद्यांश के आधार पर रिक्त स्थानों की पूर्ति कीजिए-

'यदि विचार-सामग्री निबंध की (1)_____ है तो भाषा-शैली निबंध का शरीर एक अच्छे निबंध में शुद्ध, स्पष्ट तथा सुबोध भाषा का प्रयोग करना चाहिए एक (2)_____ निबंध की भाषा का सबसे बड़ा गुण यही है कि वह इतनी (3)_____ हो कि पाठक का मन ही अपनी ओर आकर्षित कर ले भाषा को सशक्त बनाने के लिए (4)_____ मुहावरों और लोकोक्तियों का प्रयोग किया जा सकता है, लेकिन निबंध में अलंकारों, मुहावरों, लोकोक्तियों आदि की (5)_____ भी नहीं होनी चाहिए ऐसा करने से निबंध में अस्वाभाविकता का समावेश हो जाता है और उसका सारा लालित्य नष्ट हो जाता है '

SubQuestion No : 18

Q.18 गद्यांश के रिक्त स्थान (3) के लिए सर्वाधिक उपयुक्त शब्द होगा-

- Ans**
- 1. आसक्त
 - 2. प्रगाढ़
 - 3. सशक्त
 - 4. विकुंचित

Comprehension:

उपरोक्त गद्यांश के आधार पर रिक्त स्थानों की पूर्ति कीजिए-

'यदि विचार-सामग्री निबंध की (1)_____ है तो भाषा-शैली निबंध का शरीर एक अच्छे निबंध में शुद्ध, स्पष्ट तथा सुबोध भाषा का प्रयोग करना चाहिए एक (2)_____ निबंध की भाषा का सबसे बड़ा गुण यही है कि वह इतनी (3)_____ हो कि पाठक का मन ही अपनी ओर आकर्षित कर ले भाषा को सशक्त बनाने के लिए (4)_____ मुहावरों और लोकोक्तियों का प्रयोग किया जा सकता है, लेकिन निबंध में अलंकारों, मुहावरों, लोकोक्तियों आदि की (5)_____ भी नहीं होनी चाहिए ऐसा करने से निबंध में अस्वाभाविकता का समावेश हो जाता है और उसका सारा लालित्य नष्ट हो जाता है '

SubQuestion No : 19

Q.19 गद्यांश के रिक्त स्थान (4) के लिए सर्वाधिक उपयुक्त शब्द होगा-

- Ans**
- 1. यथावत
 - 2. यथाशक्ति
 - 3. यथावत्
 - 4. यथापूर्व

Comprehension:

उपरोक्त गद्यांश के आधार पर रिक्त स्थानों की पूर्ति कीजिए-

'यदि विचार-सामग्री निबंध की (1)_____ है तो भाषा-शैली निबंध का शरीर एक अच्छे निबंध में शुद्ध, स्पष्ट तथा सुबोध भाषा का प्रयोग करना चाहिए एक (2)_____ निबंध की भाषा का सबसे बड़ा गुण यही है कि वह इतनी (3)_____ हो कि पाठक का मन ही अपनी ओर आकर्षित कर ले भाषा को सशक्त बनाने के लिए (4)_____ मुहावरों और लोकोक्तियों का प्रयोग किया जा सकता है, लेकिन निबंध में अलंकारों, मुहावरों, लोकोक्तियों आदि की (5)_____ भी नहीं होनी चाहिए ऐसा करने से निबंध में अस्वाभाविकता का समावेश हो जाता है और उसका सारा लालित्य नष्ट हो जाता है '

SubQuestion No : 20

Q.20 गद्यांश के रिक्त स्थान (5) के लिए सर्वाधिक उपयुक्त शब्द होगा-

- Ans**
- 1. सघनता
 - 2. अतिशयता
 - 3. प्रबलता
 - 4. प्रगाढ़ता