

Constable GD in CAPFs and SSF Rifleman GD in AR and Sepoy in NCB Examination 2025

Exam Date	25/02/2025
Exam Time	9:00 AM - 10:00 AM
Subject	Constable GD Examination 2025

Section : Part-A-General Intelligence and Reasoning

Q.1 अंग्रेजी वर्णमाला क्रम के आधार पर दी गई श्रृंखला में प्रश्न चिह्न (?) के स्थान पर क्या आना चाहिए?

ABC, CDE, EFG, GHI, ?, KLM

- Ans
- 1. IJK
 - 2. NMP
 - 3. JKL
 - 4. HIJ

Q.2 दी गई श्रृंखला में प्रश्नचिह्न (?) के स्थान पर क्या आना चाहिए?

127, 257, 407, 577, 767, ?

- Ans
- 1. 977
 - 2. 877
 - 3. 817
 - 4. 957

Q.3 शब्द EXCITED के प्रत्येक अक्षर को अंग्रेजी वर्णमाला क्रम में व्यवस्थित किया जाता है। इस प्रकार बने नए अक्षर-समूह में बाएं से दूसरे अक्षर और दाएं से पहले अक्षर के बीच अंग्रेजी वर्णमाला क्रम में कितने अक्षर होते हैं?

- Ans
- 1. 22
 - 2. 19
 - 3. 20
 - 4. 18

Q.4 किसी निश्चित कूट भाषा में, 'GALS' को '7610' के रूप में कूट बढ़ किया जाता है और 'LADS' को '0168' के रूप में कूट बढ़ किया जाता है। दी गई कूट भाषा में 'D' के लिए कूट क्या होगा?

- Ans
- 1. 6
 - 2. 8
 - 3. 1
 - 4. 0

Q.5 एक निश्चित कूट भाषा में, '2590' को 'FACT' के रूप में कूटबद्ध किया जाता है और '0129' को 'FITC' के रूप में कूटबद्ध किया जाता है। उसी कूट भाषा में '1' के लिए कूट क्या होगा?

- Ans
- 1. T
 - 2. K
 - 3. I
 - 4. C

Q.6 अंग्रेजी वर्णमाला क्रम के आधार पर SOMR एक निश्चित प्रकार से KGEJ से संबंधित है। MIGL ठीक उसी प्रकार EAYD से संबंधित है। उसी तर्क का अनुसरण करते हुए, OKIN निम्नलिखित में से किस विकल्प से संबंधित है?

- Ans
- 1. GCFA
 - 2. GATR
 - 3. GCAF
 - 4. GAFC

Test Prime

**ALL EXAMS,
ONE SUBSCRIPTION**



70,000+
Mock Tests



Personalised
Report Card



Unlimited
Re-Attempt



600+
Exam Covered



Previous Year
Papers



500%
Refund



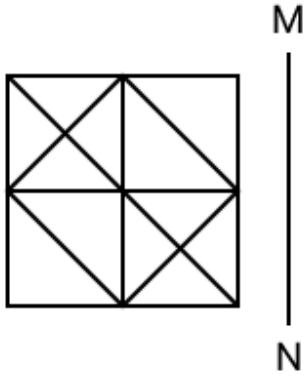
ATTEMPT FREE MOCK NOW

Q.7 अंग्रेजी वर्णमाला क्रम के आधार पर, निम्नलिखित चार अक्षर-समूहों में से तीन एक निश्चित प्रकार से समान हैं और इस प्रकार एक समूह बनाते हैं। वह कौन-सा अक्षर-समूह है जो उस समूह से संबंधित नहीं है?

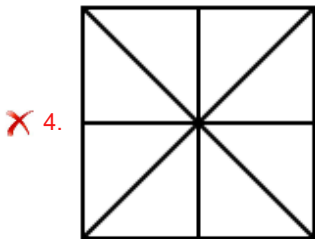
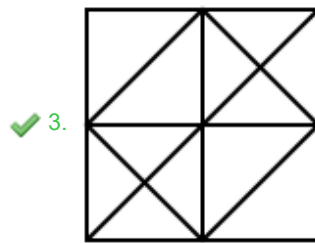
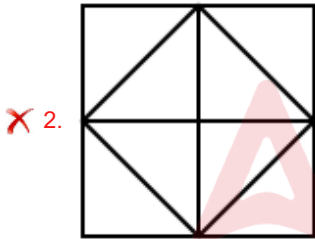
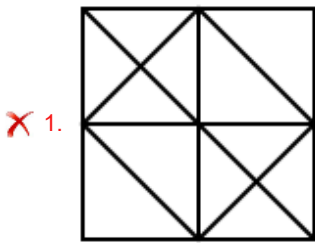
(ध्यान दें: असंगत अक्षर-समूह, उस अक्षर-समूह में व्यंजनों/स्वरों की संख्या या उनके स्थान पर आधारित नहीं है।)

- Ans
- 1. AXV
 - 2. NKI
 - 3. VSQ
 - 4. CAX

Q.8 जब दर्पण को नीचे दर्शाए गए अनुसार MN पर रखा जाता है, तो दी गई आकृति के सही दर्पण प्रतिबिंब का चयन कीजिए।



Ans



Q.9 अंग्रेजी वर्णमाला क्रम के आधार पर NPLI एक निश्चित तरीके से EGCZ से संबंधित है। उसी तरीके से TVRO, KMIF से संबंधित है। उसी तर्क का अनुसरण करते हुए CEAX दिए गए विकल्पों में से किससे संबंधित है?

- Ans 1. TVRO
 2. TVQO
 3. TWQT
 4. TUQO

Q.10 दिए गए विकल्पों में से उस आकृति का चयन कीजिए जो नीचे दी गई श्रृंखला में प्रश्न चिह्न (?) के स्थान पर आ सकती है।

D	★	△	G	
★	G	△	D	G
△	G	D	★	△
				?

Ans

1.

D
△
★
G
2.

★
D
△
G
3.

G
△
★
D
4.

D
★
△
G

Q.11 दिए गए कथनों और निष्कर्षों को ध्यानपूर्वक पढ़िए। यह मानते हुए कि कथनों में दी गई जानकारी सत्य है, चाहे वह सामान्यतः ज्ञात तथ्यों से भिन्न प्रतीत होती हो और निर्णय लीजिए कि दिए गए निष्कर्षों में से कौन-सा/कौन-से निष्कर्ष कथनों का तार्किक रूप से अनुसरण करता है/करते हैं।

कथन:

कुछ पैसे, रुपए हैं।
सभी रुपए, धन हैं।
कोई धन, जल नहीं है।

निष्कर्ष:

(I): कुछ रुपए, जल हैं।
(II): कुछ धन, जल हैं।

- Ans
- 1. निष्कर्ष (I) और निष्कर्ष (II) दोनों अनुसरण करते हैं।
 - 2. केवल निष्कर्ष (II) अनुसरण करता है।
 - 3. केवल निष्कर्ष (I) अनुसरण करता है।
 - 4. न तो निष्कर्ष (I) और न ही निष्कर्ष (II) अनुसरण करता है।

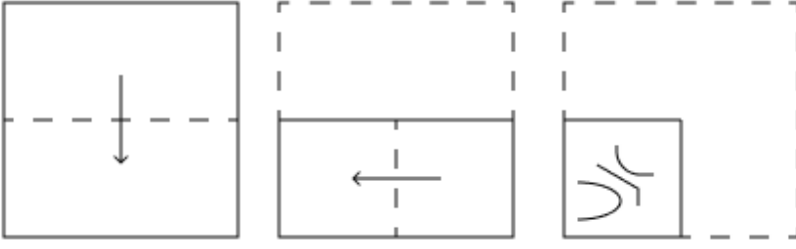
Q.12 एक निश्चित कूट भाषा में,

'A + B' का अर्थ है कि 'A, B का पुत्र है',
'A - B' का अर्थ है कि 'A, B की पत्नी है',
'A x B' का अर्थ है कि 'A, B का भाई है' और
'A ÷ B' का अर्थ है कि 'A, B की बहन है'।

यदि 'F ÷ G + H - I x J' है, तो I का F से क्या संबंध है?

- Ans
- 1. भाई की पत्नी
 - 2. पुत्र की पत्नी
 - 3. पिता
 - 4. पत्नी का भाई

Q.13 एक कागज को नीचे दर्शाए गए अनुसार मोड़कर पंच किया (punched) जाता है। खोले जाने पर यह कैसा दिखाई देगा?

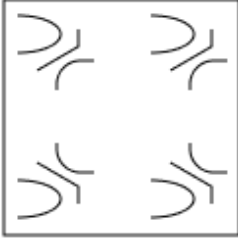


Ans

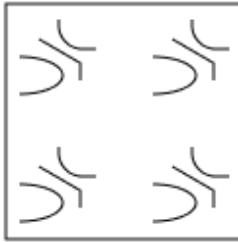
✗ 1.



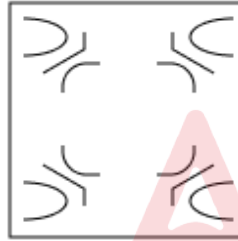
✗ 2.



✗ 3.



✓ 4.



Q.14 C, D, G, H, I, K और L एक वृत्ताकार मेज के चारों ओर मेज के केंद्र की ओर मुख करके बैठे हैं (परंतु जरूरी नहीं कि वे इसी क्रम में बैठे हों)। I के बाईं ओर से गिनने पर I और L के बीच में केवल तीन व्यक्ति बैठे हैं। H के दाईं ओर से गिनने पर K और H के बीच में केवल तीन व्यक्ति बैठे हैं। C, K के ठीक दाईं ओर बैठा है। G, H के साथ-साथ L का भी निकटतम पड़ोसी है। D के दाईं ओर तीसरे स्थान पर कौन बैठा है?

Ans

✗ 1. K

✗ 2. G

✓ 3. I

✗ 4. C

Q.15 अक्षरों के उस संयोजन का चयन कीजिए जिसके अक्षरों को दी गई श्रृंखला के रिक्त स्थानों में क्रमिक रूप से रखे जाने पर श्रृंखला तार्किक रूप से पूर्ण हो जाएगी।

_EIMJ_KOLI_QNKO_PMQ_

Ans

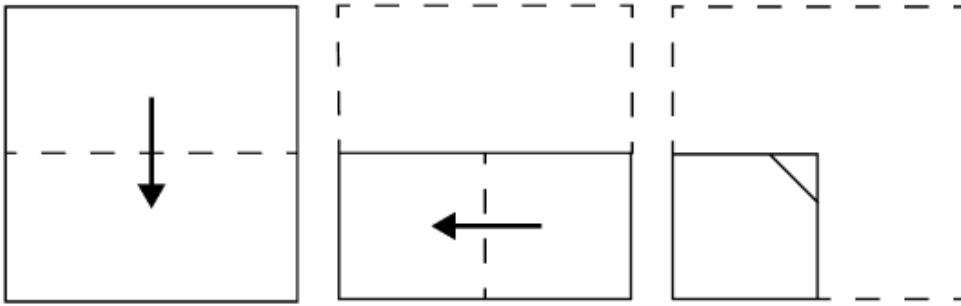
✗ 1. FGNSV

✗ 2. FINTV

✗ 3. HIMTU

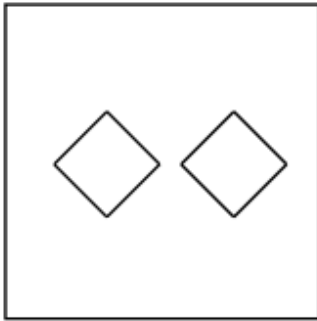
✓ 4. HGMSU

Q.16 कागज़ की एक वर्गाकार शीट को दर्शाई गई दिशाओं में बिंदुदार रेखा के अनुदिश क्रमशः मोड़ा जाता है और अंतिम बार मोड़ने के बाद फिर इसमें छेद (punch) किया जाता है। खोले जाने पर यह कागज़ कैसा दिखाई देगा?

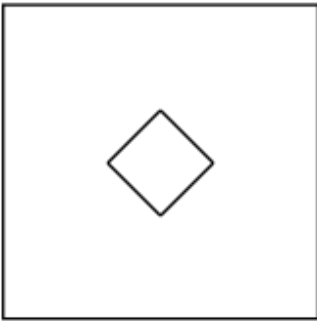


Ans

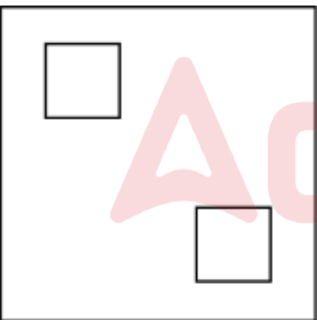
✗ 1.



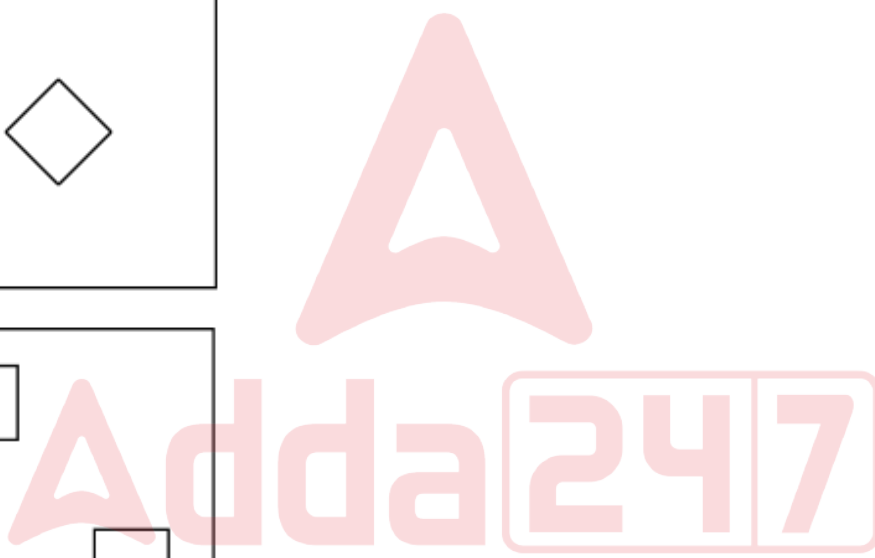

✓ 2.



✗ 3.



✗ 4.



Q.17 छह व्यक्ति C, D, E, X, Y और Z एक वृत्ताकार मेज के चारों ओर मेज के केंद्र की ओर मुख करके बैठे हैं (परंतु जरूरी नहीं कि वे इसी क्रम में बैठे हों)। D के बाईं ओर से गिनती करने पर X और D के बीच केवल एक व्यक्ति बैठा है। Z, C के बाईं ओर दूसरे स्थान पर बैठा है। E और D का निकटतम पड़ोसी Z है। Y के दाईं ओर से गिनती करने पर Y और Z के बीच कितने व्यक्ति बैठे हैं?

- Ans
- 1. तीन
 - 2. एक
 - 3. दो
 - 4. चार

Q.18 दी गई श्रृंखला में प्रश्न चिह्न (?) के स्थान पर क्या आना चाहिए?

28 52 82 118 160 ?

- Ans
- 1. 200
 - 2. 185
 - 3. 208
 - 4. 193

Q.19 यदि 'I' का अर्थ '+' है, 'J' का अर्थ 'x' है, 'K' का अर्थ '=' है, और 'L' का अर्थ '-' है, तो निम्नलिखित समीकरण में प्रश्न चिह्न '?' के स्थान पर क्या आएगा?

(59 L 38) J 4 I (12 I 8) K 2 I 42 L 26 = ?

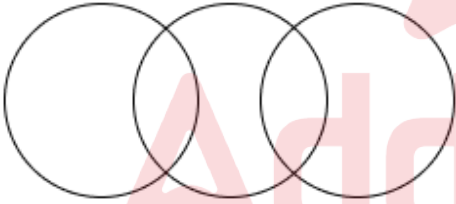
- Ans
- 1. 110
 - 2. 125
 - 3. 140
 - 4. 98

Q.20 उस वेन आरेख का चयन कीजिए, जो निम्नलिखित वर्गों के बीच के संबंध को सर्वोत्तम रूप से दर्शाता है।

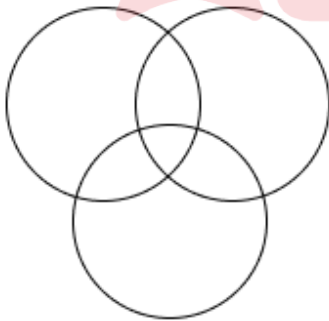
कार, घोड़ा, चॉकलेट

Ans

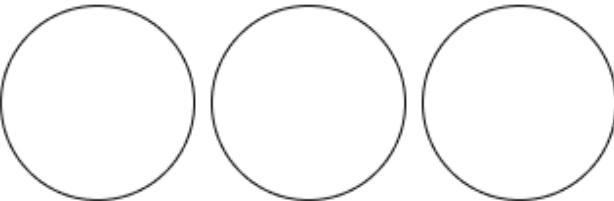
1.



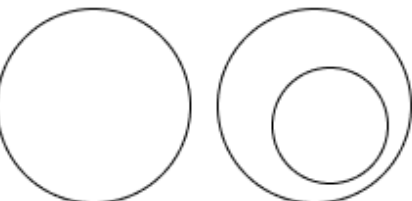
2.



3.



4.



Q.1 तुरा (Tura) किस पहाड़ी पर स्थित है, जो हल्के अत्यंत आर्द्र कृषि जलवायु क्षेत्र के अंतर्गत आता है?

- Ans
- 1. खासी पहाड़ी
 - 2. लौर पहाड़ी
 - 3. जयंतिया पहाड़ी
 - 4. गारो पहाड़ी

Q.2 अनुशीलन समिति एवं युगान्तर किस प्रकार की गतिविधियों से संबंधित थे?

- Ans
- 1. संवैधानिक सुधार
 - 2. क्रांतिकारी गतिविधियाँ
 - 3. अहिंसक विरोध
 - 4. सामाजिक सुधार

Q.3 निम्नलिखित में से क्या नौवीं पंचवर्षीय योजना का विषय था?

- Ans
- 1. सार्वजनिक क्षेत्र का विकास एवं तीव्र औद्योगीकरण
 - 2. गरीबी दूर कर आत्मनिर्भरता की प्राप्ति
 - 3. सामाजिक न्याय एवं समानता के साथ विकास
 - 4. समावेशी विकास और साम्यिक विकास को बढ़ावा देना

Q.4 राज्य की विधान परिषद (legislative council of the state) की अधिकतम सदस्य संख्या, राज्य विधान सभा की कुल सदस्य संख्या की _____ निर्धारित की गई है।

- Ans
- 1. 1/4
 - 2. 1/3
 - 3. 1/5
 - 4. 1/2

Q.5 अंतरराष्ट्रीय स्तर पर प्रशंसित भरतनाट्यम नृत्यांगना पद्मा सुब्रह्मण्यम को 2024 में निम्नलिखित में से किस पुरस्कार से सम्मानित किया गया?

- Ans
- 1. पद्म श्री
 - 2. संगीत नाटक अकादमी पुरस्कार
 - 3. पद्म विभूषण
 - 4. पद्म भूषण

Q.6 नागालैंड का कौन-सा उत्सव हर साल 1 दिसंबर को शुरू होता है?

- Ans
- 1. वांगला उत्सव
 - 2. लोसूंग उत्सव
 - 3. बिहू उत्सव
 - 4. हॉर्नबिल उत्सव

Q.7 निम्नलिखित में से किस हस्ती द्वारा राग 'लासवंती' की रचना की गई थी?

- Ans
- 1. अमजद अली खान
 - 2. तानसेन
 - 3. रोनु मजूमदार
 - 4. उस्ताद अली अकबर खान

Q.8 प्राथमिक घाटा क्या है?

- Ans
- 1. कुल घाटा + ब्याज भुगतान
 - 2. बजट घाटा - पूँजीगत प्राप्तियाँ
 - 3. राजस्व घाटा + पूँजीगत व्यय
 - 4. कुल घाटा - ब्याज भुगतान

Q.9 2023 में महिला एशियाई हॉकी चैंपियंस ट्रॉफी का शुभंकर जिसका नाम 'जूही' है, किस जानवर से प्रेरित है?

- Ans
- 1. मोर
 - 2. शेर
 - 3. हाथी
 - 4. स्वैम्प डियर

Q.10 भारतीय जनगणना 2011 के अनुसार, निम्नलिखित में से भारत के किस उत्तर-पूर्व राज्य की साक्षरता दर उच्चतम है?

- Ans
- 1. मिजोरम
 - 2. असम
 - 3. मणिपुर
 - 4. नागालैंड

Q.11 प्रागैतिहासिक कालों के वर्गीकरण के लिए तीन-काल प्रणाली (three-age system) की शुरुआत किसके द्वारा की गई थी?

- Ans
- 1. वॉरेन हेस्लर (Warren Hessler)
 - 2. जॉन मोरे (John More)
 - 3. क्रिश्चियन जर्गेन्सन थॉमसन (Christian Jurgensen Thomsen)
 - 4. रॉबर्ट थॉमसन (Robert Thomson)

Q.12 अक्टूबर 2024 में नई दिल्ली में आयोजित अंतर्राष्ट्रीय सौर गठबंधन सभा (International Solar Alliance Assembly) के सातवें सत्र की अध्यक्षता किसने की?

- Ans
- 1. उमेश यादव
 - 2. जे. पी. नड्डा
 - 3. प्रल्हाद जोशी
 - 4. अमित शाह

Q.13 WTO का प्राथमिक कार्य क्या है?

- Ans
- 1. केवल घरेलू व्यापार को बढ़ावा देना
 - 2. वैश्विक पर्यटन को विनियमित करना
 - 3. विकासशील देशों का वित्तपोषण करना
 - 4. अंतर्राष्ट्रीय व्यापार को उदार बनाना और निष्पक्ष व्यवहार सुनिश्चित करना

Q.14 ऑक्सीजन रहित (anoxygenic) प्रकाश संश्लेषण करने वाले बैक्टीरिया इलेक्ट्रॉन दाता के रूप में निम्नलिखित में से किस यौगिक का उपयोग करते हैं?

- Ans
- 1. ग्लूकोज़
 - 2. कार्बन डाइऑक्साइड
 - 3. हाइड्रोजन सल्फाइड
 - 4. जल

Q.15 भारत सरकार ने भारत के युवाओं की आवश्यकताओं को पूरा करने के लिए राष्ट्रीय युवा नीति (National Youth Policy - NYP) किस वर्ष आरंभ की?

- Ans
- 1. 2014
 - 2. 2015
 - 3. 2018
 - 4. 2016

Q.16 भारत सरकार अधिनियम, 1935 ने संघ (केन्द्रीय सरकार) और प्रांतों के बीच शक्तियों के विभाजन की कितनी सूचियाँ का प्रावधान किया?

- Ans
- 1. दो सूचियों
 - 2. एक सूची
 - 3. चार सूचियों
 - 4. तीन सूचियों

Q.17 वाई.एस. जगन मोहन रेड्डी, जिन्होंने 2024 में अपना मुख्यमंत्री पद खो दिया, सितंबर 2024 तक प्राप्त जानकारी के अनुसार निम्नलिखित में से किस पार्टी से संबंधित हैं?

- Ans
- 1. तेलुगु देशम पार्टी (TDP)
 - 2. जन सेना पार्टी (JSP)
 - 3. युवजन श्रमिक रायथू कांग्रेस पार्टी (YSRCP)
 - 4. इंडियन नेशनल कांग्रेस (INC)

Q.18 कथन और वाष्पीकरण क्रमशः _____ और _____ परिघटनाएँ हैं।

- Ans
- 1. सतही, स्थूल
 - 2. स्थूल, सतही
 - 3. स्थूल, स्थूल
 - 4. सतही, सतही

Q.19 रास-लीला राधा और कृष्ण के आध्यात्मिक और शाश्वत प्रेम पर आधारित किस शास्त्रीय नृत्य का प्रतीक है?

- Ans
- 1. कुचिपुड़ी
 - 2. मणिपुरी
 - 3. सल्लिया
 - 4. छऊ

Q.20 अंतर्राष्ट्रीय महिला दिवस 2023 के उपलक्ष्य में खेलो इंडिया दस का दम टूर्नामेंट कितने शहरों में आयोजित किया गया था?

- Ans
- 1. बीस
 - 2. दस
 - 3. पाँच
 - 4. पंद्रह

Adda247

Section : Part-C-Elementary Mathematics

Q.1 एक जिले की जनसंख्या 327000 है, जिसमें 224000 पुरुष हैं। 65% जनसंख्या साक्षर है। यदि 65% पुरुष साक्षर हैं, तो साक्षर महिलाओं का प्रतिशत कितना होगा?

- Ans
- 1. 68%
 - 2. 66%
 - 3. 65%
 - 4. 67%

Q.2 लोहे से बने 9 cm भुजा वाले एक घन को पिघलाकर 8 छोटे-छोटे घनों में ढाला जाता है। प्रत्येक छोटे घन की भुजा (cm में) ज्ञात कीजिए।

- Ans
- 1. 4
 - 2. 5
 - 3. 5.5
 - 4. 4.5

Q.3 12 कुर्सीयाँ और 6 मेज़ ₹12,600 में खरीदी गईं। यदि एक मेज़ का औसत मूल्य ₹1,500 है, तो एक कुर्सी का औसत मूल्य ज्ञात कीजिए।

- Ans
- ✓ 1. ₹300
 - ✗ 2. ₹250
 - ✗ 3. ₹350
 - ✗ 4. ₹500

Q.4 निम्नलिखित का मान ज्ञात कीजिए।

$$\left[(36 \div 9) \times \left\{ \frac{56}{8} + \frac{14}{1} \times (6 - 5) \right\} \right]$$

- Ans
- ✗ 1. 98
 - ✗ 2. 81
 - ✓ 3. 84
 - ✗ 4. 78

Q.5 A और B का वेतन C के वेतन से क्रमशः 40% और 70% रुपये अधिक है। B के वेतन का, A के वेतन से अनुपात कितना है?

- Ans
- ✗ 1. 18 : 13
 - ✗ 2. 9 : 5
 - ✓ 3. 17 : 14
 - ✗ 4. 23 : 20

Q.6 एक व्यापारी अपने माल का अंकित मूल्य, क्रय मूल्य से 50% अधिक निर्धारित करता है। वह अपना माल 12% छूट पर बेचता है। उसका लाभ प्रतिशत कितना है?

- Ans
- ✗ 1. 35%
 - ✓ 2. 32%
 - ✗ 3. 43%
 - ✗ 4. 37%

Q.7 कक्षा X के तीन सेक्शन A, B और C में विद्यार्थियों का अनुपात 5 : 4 : 7 है। यदि सेक्शन A, B और C में क्रमशः 15, 16 और 9 नए विद्यार्थियों को प्रवेश दिया जाता है, तो अनुपात बदलकर 10 : 9 : 11 हो जाता है। नए प्रवेश के बाद कक्षा X में विद्यार्थियों की कुल संख्या कितनी है?

- Ans
- ✓ 1. 120
 - ✗ 2. 150
 - ✗ 3. 210
 - ✗ 4. 90

Q.8 मूल्यांकन कीजिए : $32 \div 8 \times 4 - 2 \times 3$

- Ans
- ✗ 1. 9
 - ✗ 2. 13
 - ✗ 3. 12
 - ✓ 4. 10

Q.9 एक कक्षा के 28 विद्यार्थियों की औसत आयु 40 वर्ष है। यदि शिक्षक की आयु भी सम्मिलित कर ली जाए, तो संपूर्ण समूह की औसत आयु 41 वर्ष हो जाती है। शिक्षक की आयु (वर्ष में) ज्ञात कीजिए।

- Ans
- ✗ 1. 74
 - ✗ 2. 70
 - ✓ 3. 69
 - ✗ 4. 67

Q.10 यदि x का $2\% = 360$ है, तो x _____ के बराबर है।

- Ans
- 1. 36100
 - 2. 18000
 - 3. 18100
 - 4. 36000

Q.11 वार्षिक साधारण ब्याज की समान दर पर गोपाल ₹5400 की राशि का निवेश करता है और अक्षय ₹9400 की राशि का निवेश करता है। यदि 6 वर्ष के अंत में, अक्षय को गोपाल से ₹720 अधिक ब्याज प्राप्त होता है, तो वार्षिक ब्याज की दर (प्रतिशत में) ज्ञात कीजिए।

- Ans
- 1. 3
 - 2. 2
 - 3. 5
 - 4. 4

Q.12 A, B, C और D अलग-अलग तौर पर एक कार्य को क्रमशः 30 दिन, 33 दिन, 36 दिन और 44 दिन में पूरा कर सकते हैं। यदि A और B को C और D द्वारा बारी-बारी से दो-दो दिन सहायता दी जाती है, जिसमें पहले दो दिन C, फिर अगले दो दिन D और फिर अगले दो दिन C तथा इसी प्रकार आगे भी सहायता दी जाती है, तो A और B मिलकर कार्य को कितने दिनों में पूरा कर सकते हैं?

- Ans
- 1. $8\frac{5}{36}$ दिन
 - 2. $6\frac{7}{24}$ दिन
 - 3. $11\frac{13}{57}$ दिन
 - 4. $5\frac{5}{11}$ दिन

Q.13 योगेश ने HDFC में 4% वार्षिक ब्याज दर पर कुछ धनराशि का निवेश किया। यदि 2 वर्षों के बाद, योगेश को वार्षिक रूप से चक्रवृद्धि होने वाले चक्रवृद्धि ब्याज के रूप में ₹229.5 प्राप्त होते हैं, तो संगत साधारण ब्याज (₹ में) क्या होगा?

- Ans
- 1. 240
 - 2. 220
 - 3. 235
 - 4. 225

Q.14 रवि ने 24 km की दूरी 2 घंटे 24 मिनट में तय करने का निर्णय लिया। इसके अलावा उसने कुल दूरी का शुरुआती एक-तिहाई भाग 8 km/hr की चाल से और शेष दूरी किसी अलग चाल से तय करने का निर्णय लिया। एक-तिहाई दूरी तय करने के बाद रवि की चाल (km/hr में) कितनी है?

- Ans
- 1. 11
 - 2. $11\frac{3}{7}$
 - 3. 12
 - 4. $12\frac{3}{7}$

Q.15 मूल्यांकन कीजिए : $2 - [3 - \{6 - (6 - 4 + 6)\}]$

- Ans
- 1. -6
 - 2. 0
 - 3. 2
 - 4. -3

Q.16 राकेश ने 150 कुर्सियाँ बेचीं और उसे 75 कुर्सियों के विक्रय मूल्य के बराबर लाभ हुआ। उसका लाभ प्रतिशत कितना है?

- Ans
- 1. 105%
 - 2. 110%
 - 3. 100%
 - 4. 95%

Q.17 ₹x की धनराशि हर 10 माह के बाद चक्रवृद्धि होने वाली 12% वार्षिक ब्याज दर पर $2\frac{1}{2}$ वर्ष में ₹75,867 हो जाती है। x का मान कितना है?

- Ans
- 1. 58000
 - 2. 56000
 - 3. 57000
 - 4. 55000

Q.18 210 m और 440 m लंबाई वाली दो रेलगाड़ियाँ एक ही दिशा में क्रमशः 60 km/h और 90 km/h की चाल से गतिमान हैं। पीछे से आ रही तेज चाल वाली रेलगाड़ी द्वारा दूसरी रेलगाड़ी को पूरी तरह से पार करने में कितना समय (मिनटों में) लगेगा?

- Ans
- 1. 1.9
 - 2. 1.3
 - 3. 3
 - 4. 2.2

Q.19 15 गेंदों को ₹1,220 में बेचने पर 5 गेंदों के क्रय मूल्य के बराबर हानि होती है। एक गेंद का क्रय मूल्य (₹ में) कितना है?

- Ans
- 1. 120
 - 2. 112
 - 3. 122
 - 4. 145

Q.20 $79 - 10 \times [2 + 3 \times \{12 - 6(6 - 5) \times 2\} \div 20]$ का मान ज्ञात कीजिए।

- Ans
- 1. 55
 - 2. 57
 - 3. 63
 - 4. 59

Section : Part-D-English

Q.1 Select the most appropriate option to fill in the blank.

The literary critic's _____ analysis of postmodern novels challenged the traditional notions of narrative structure and authorial intent.

- Ans
- 1. hermeneutic
 - 2. prosaic
 - 3. pedantic
 - 4. facile

Q.2 Select the most appropriate option that can substitute the underlined words in the given sentence.

He has been writing most articles and has given presentations on his research.

- Ans**
- 1. has written several articles
 - 2. will write more articles
 - 3. was write many articles
 - 4. had written few articles

Q.3 Select the option that best defines the given word.

Jovial

- Ans**
- 1. Very cautious
 - 2. Pensive mood
 - 3. Angry
 - 4. Friendly and in good mood

Q.4 Select the most appropriate option to fill in the blank.

Did you know health is not just _____ not being sick?

- Ans**
- 1. about
 - 2. but
 - 3. in
 - 4. on

Q.5 Fill in the blank with the most appropriate ANTONYM of the word in brackets in the following sentence.

The events _____ (composed) beautiful thoughts in her memory.

- Ans**
- 1. focused
 - 2. rectified
 - 3. secured
 - 4. agitated

Q.6 Select the option that rectifies the incorrectly spelt word in the given sentence.

The cat sprawled in the sun, enjoying the warm afternoon rays and the gentel breeze.

- Ans**
- 1. gentle
 - 2. sprewled
 - 3. breaze
 - 4. enjoyeing

Q.7 Select the most appropriate option to fill in the blank.

She was _____ when she pointed out the discrimination against women to her manager.

- Ans**
- 1. inhibited
 - 2. reticent
 - 3. laconic
 - 4. candid

Q.8 Select the most appropriate option to fill in the blank. Determine the collocation through the sentence.

He suffers from _____ pain in the joints.

- Ans**
- 1. awkward
 - 2. external
 - 3. quick
 - 4. excruciating

Q.9 All of the following options, except one, contain sentences in the Future tense. Select the grammatically INCORRECT sentence.

- Ans**
- 1. I think we will meeting again before long.
 - 2. I think you will like George if you meet him.
 - 3. The jacket will look nice on you.
 - 4. I am sure you will pass the exam.

Q.10 Select the INCORRECTLY spelt word.

- Ans**
- 1. Reluctently
 - 2. Sternly
 - 3. Fatally
 - 4. Irritably

Q.11 Identify the sentence with the INCORRECT usage of an adverb.

- Ans**
- 1. He often goes for a run in the morning.
 - 2. He goes always for a run in the morning.
 - 3. He usually goes for a run in the morning.
 - 4. He always goes for a run in the morning.

Q.12 Select the most appropriate meaning of the given idiom.

Spill the beans

- Ans**
- 1. To drop something accidentally
 - 2. To cook a meal
 - 3. To clean up a mess
 - 4. To tell people secret information

Q.13 Select the most appropriate meaning of the given word.

Resilient

- Ans**
- 1. Easily distracted
 - 2. Weak and fragile
 - 3. Able to recover quickly
 - 4. Overly sensitive

Q.14 Select the most appropriate ANTONYM of the word in brackets to fill in the blank.

His condition began to _____ (Ameliorate) after the trip.

- Ans**
- 1. Improve
 - 2. Detach
 - 3. Explode
 - 4. Worsen

Q.15 Select the sentence that contains the meaning of the word 'incorrigible'.

- Ans**
- 1. The teacher found the mid-day meal too salty to eat.
 - 2. He is a very bad liar beyond correction.
 - 3. Modern technology has enabled paints to last longer and retain their freshness.
 - 4. The weather is very warm with no sign of abating.

Comprehension:

In the following passage, some words have been deleted. Read the passage carefully and select the most appropriate option to fill in each blank.

Persuasion is the art of (1)_____ someone to agree with your point of view. According to Aristotle, there are three basic tools of persuasion: ethos, pathos and logos. Ethos is a speaker's way of convincing the audience that she is a (2)_____ source. Pathos is a speaker's way of (3)_____ with an audience's emotions. Logos is the use of (4)_____ or information to make your (5) _____ more convincing.

SubQuestion No : 16

Q.16 Select the most appropriate option to fill in blank no. 1.

- Ans**
- 1. captivating
 - 2. evaluating
 - 3. motivating
 - 4. convincing

Comprehension:

In the following passage, some words have been deleted. Read the passage carefully and select the most appropriate option to fill in each blank.

Persuasion is the art of (1)_____ someone to agree with your point of view. According to Aristotle, there are three basic tools of persuasion: ethos, pathos and logos. Ethos is a speaker's way of convincing the audience that she is a (2)_____ source. Pathos is a speaker's way of (3)_____ with an audience's emotions. Logos is the use of (4)_____ or information to make your (5) _____ more convincing.

SubQuestion No : 17

Q.17 Select the most appropriate option to fill in blank no. 2.

- Ans**
- 1. credible
 - 2. misleading
 - 3. unreliable
 - 4. confusing

Comprehension:

In the following passage, some words have been deleted. Read the passage carefully and select the most appropriate option to fill in each blank.

Persuasion is the art of (1)_____ someone to agree with your point of view. According to Aristotle, there are three basic tools of persuasion: ethos, pathos and logos. Ethos is a speaker's way of convincing the audience that she is a (2)_____ source. Pathos is a speaker's way of (3)_____ with an audience's emotions. Logos is the use of (4)_____ or information to make your (5) _____ more convincing.

SubQuestion No : 18

Q.18 Select the most appropriate option to fill in blank no. 3.

- Ans**
- 1. distinct
 - 2. unlike
 - 3. connecting
 - 4. disparate

Comprehension:

In the following passage, some words have been deleted. Read the passage carefully and select the most appropriate option to fill in each blank.

Persuasion is the art of (1)_____ someone to agree with your point of view. According to Aristotle, there are three basic tools of persuasion: ethos, pathos and logos. Ethos is a speaker's way of convincing the audience that she is a (2)_____ source. Pathos is a speaker's way of (3)_____ with an audience's emotions. Logos is the use of (4)_____ or information to make your (5) _____ more convincing.

SubQuestion No : 19

Q.19 Select the most appropriate option to fill in blank no. 4.

- Ans**
- 1. clue
 - 2. theory
 - 3. facts
 - 4. evidence

Comprehension:

In the following passage, some words have been deleted. Read the passage carefully and select the most appropriate option to fill in each blank.

Persuasion is the art of (1)_____ someone to agree with your point of view. According to Aristotle, there are three basic tools of persuasion: ethos, pathos and logos. Ethos is a speaker's way of convincing the audience that she is a (2)_____ source. Pathos is a speaker's way of (3)_____ with an audience's emotions. Logos is the use of (4)_____ or information to make your (5) _____ more convincing.

SubQuestion No : 20

Q.20 Select the most appropriate option to fill in blank no. 5.

- Ans**
- 1. question
 - 2. hypothesis
 - 3. argument
 - 4. theory

Section : Part-D-Hindi

Q.1 निम्नलिखित वाक्य में रेखांकित खंड के स्थान पर प्रयुक्त होने वाले सबसे उपयुक्त विकल्प का चयन कीजिए-

यह नियम व्यक्ति के लिए प्रत्येक लागू है।

- Ans**
- 1. व्यक्ति प्रत्येक के लिए
 - 2. प्रत्येक व्यक्ति के लिए
 - 3. प्रत्येक व्यक्ति के सामने
 - 4. प्रत्येक के लिए व्यक्ति

Q.2 मैदान, तीन, बच्चा और खेलना शब्दों के आधार पर सही वाक्य होगा।

- Ans**
- 1. मैदान में तीन बच्चे गेंद खेल रहा है।
 - 2. मैदान में तीन बच्चे गेंद खेल रहे हैं।
 - 3. मैदान में तीन बच्चा गेंद खेल रहा है।
 - 4. मैदान में तीन बच्चा गेंद खेल रहे हैं।

Q.3 निम्नलिखित वाक्यांश के लिए उपयुक्त सार्थक शब्द है:

अपने स्वार्थ के लिए किसी का गुणगान करने वाला

- Ans**
- 1. चालक
 - 2. चाटुकार
 - 3. समझदार
 - 4. स्वार्थी

Q.4 दिये गए वाक्य में त्रुटियाँ पहचाने और वाक्य शुद्ध करें तथा उत्तर के रूप में सही विकल्प चुनें।
लड़का खाना खाते हैं।

- Ans
- 1. लड़का खाना ही खाते हैं।
 - 2. लड़के खाना खाते हैं।
 - 3. लड़के खाना ही खाते हैं।
 - 4. लड़का खाना खाता है।

Q.5 रिक्त स्थान की पूर्ति सार्थक शब्द युग्म से करें-
हिसाब किताब नहीं रखने पर _____ का पता नहीं चलता।

- Ans
- 1. कुचा मुचा
 - 2. आय व्यय
 - 3. अंड बंड
 - 4. दना दन

Q.6 शब्द या वाक्य खण्ड बदलें और उत्तर के रूप में सही विकल्प चुनें।
घर की औरतों ने दूल्हे को बड़े ध्यान से देखी।

- Ans
- 1. घर की औरतों ने दूल्हे को बड़े ध्यान से देखा।
 - 2. घर की औरतों ने दूल्हा को बड़े ध्यान से देखा।
 - 3. घर की औरतों ने दूल्हा राजा को बड़े ध्यान से देखा।
 - 4. घर की औरतों ने दूल्हों को बहुत ध्यानपूर्वक देखा।

Q.7 वर्तनी की दृष्टि से अशुद्ध वाक्य की पहचान कीजिए।

- Ans
- 1. हमें उन्नति करनी चाहिए।
 - 2. इन तलाव में मछली हैं।
 - 3. उसे क्षमा कर दो।
 - 4. इमारत बहुत ऊँची है।

Q.8 निम्नलिखित में से 'रुष्ट' का विलोम शब्द है-

- Ans
- 1. तुष्ट
 - 2. ताप
 - 3. दुष्ट
 - 4. पुष्ट

Q.9 आज आपका चेहरा प्रफुल्ल दिखता है।

रेखांकित पद का विलोम बताइए।

- Ans
- 1. म्लान
 - 2. अम्लान
 - 3. आकर्षक
 - 4. दुःखी

Q.10 इनमें से किस वाक्य में त्रुटि नहीं है?

- Ans
- 1. वह रोटी खाया।
 - 2. यह दायित्व आप पर निर्भर है।
 - 3. वह मुझे बुलाया है।
 - 4. यह निबंध मैं लिखा हूँ।

Q.11 उपयुक्त तत्सम शब्द चुनकर निम्न वाक्य पूर्ण करें-
'इनके मस्तिष्क में तो _____ भरा है।'

- Ans
- 1. भुसैल
 - 2. भुस
 - 3. बुष
 - 4. भूसा

Q.12 निम्नलिखित में से किस वाक्य का कर्ता, एक नित्य पुल्लिंग शब्द नहीं है?

- Ans
- 1. खरगोश का सफ़ेद रंग सुन्दर है।
 - 2. कछुआ बहुत शर्मीला जानवर है।
 - 3. आप तो महान दाता हैं।
 - 4. बिच्छू सदैव काट ही लेता है।

Q.13 'परकीय' शब्द का विलोम पहचानिए।

- Ans
- 1. पूरक
 - 2. सम्यक
 - 3. पाठकीय
 - 4. स्वकीय

Q.14 'जब भी कोई काम की बात शुरू होती है, सोहन अपनी अलग घास छीलने लगता है, उससे कुछ भी कहना बेकार है।'

रेखांकित असंगत भाग के लिए उचित मुहावरे का चयन कीजिए।

- Ans
- 1. चार चाँद लगाना
 - 2. गिरगिट की तरह रंग बदलना
 - 3. खूँटे के बल कूदना
 - 4. डेढ़ चावल की खिचड़ी पकाना

Q.15 निम्न में से किस वाक्य में 'जटिल' के सही विलोम शब्द का प्रयोग हुआ है?

- Ans
- 1. सरल वाक्य की क्या परिभाषा है?
 - 2. उसने अनेक विषम परिस्थितियों का सामना किया।
 - 3. सुधा के सामने यह बहुत बड़ी मुश्किल थी।
 - 4. रजत के लिए वह कविता अत्यंत विलक्षण है।

Comprehension:

निम्नलिखित गद्यांश को पढ़कर प्रश्नों के उत्तर दीजिए-

राष्ट्रभाषा से यह अभिप्राय है कि वह अंतरप्रांतीय व्यापार और (41) _____ व्यवहार में सभी प्रांतों में रहनेवालों द्वारा बरती जाए और बदरीनाथ से रामेश्वरम् तक तथा अमृतसर से कटक तक सभी स्थानों में परस्पर बातचीत करने और (42) _____ में काम लायी जाए। राष्ट्रभाषा होने की अधिकाधिक योग्यता हिंदी में आनी और लानी चाहिए। आज के युग में जब वैज्ञानिक आविष्कार के कारण दुनिया से स्थान और समय की दूरी समाप्त होती जा रही है, कोई भी भाषा दूसरी भाषा के संपर्क से अपने को (43) _____ नहीं रख सकती। हिंदी का यह एक विशेष गुण है कि उसने हिंदुओं की भाषा होते हुए भी अरबी, फारसी, अंगरेजी इत्यादि के शब्दों को अछूत नहीं समझा। (44) _____ की नीति तो वह कदापि स्वीकार नहीं कर सकती और न विदेशी शब्दों को ही बाहर रखकर वह अपनी उन्नति कर सकती है। हिंदुस्तान में हिंदू, मुसलमान, ईसाई, सिख इत्यादि सभी बसते हैं, तो भी वह (45) _____ है। इसी प्रकार, यदि हम सभी भाषाओं से उत्तम और आवश्यक शब्द लेंगे, तो भी हिंदी ही रहेगी।

SubQuestion No : 16

Q.16 निम्न विकल्पों में से उचित शब्द चयन कर अनुच्छेद में रिक्त स्थान की पूर्ति करें।(41)

- Ans
- 1. सार्वजनिक
 - 2. सार्वत्रिक
 - 3. सार्विक
 - 4. सार्वलौकिक

Comprehension:

निम्नलिखित गद्यांश को पढ़कर प्रश्नों के उत्तर दीजिए-

राष्ट्रभाषा से यह अभिप्राय है कि वह अंतरप्रांतीय व्यापार और (41) _____ व्यवहार में सभी प्रांतों में रहनेवालों द्वारा बरती जाए और बदरीनाथ से रामेश्वरम् तक तथा अमृतसर से कटक तक सभी स्थानों में परस्पर बातचीत करने और (42) _____ में काम लायी जाए। राष्ट्रभाषा होने की अधिकाधिक योग्यता हिंदी में आनी और लानी चाहिए। आज के युग में जब वैज्ञानिक आविष्कार के कारण दुनिया से स्थान और समय की दूरी समाप्त होती जा रही है, कोई भी भाषा दूसरी भाषा के संपर्क से अपने को (43) _____ नहीं रख सकती। हिंदी का यह एक विशेष गुण है कि उसने हिंदुओं की भाषा होते हुए भी अरबी, फारसी, अंगरेजी इत्यादि के शब्दों को अछूत नहीं समझा। (44) _____ की नीति तो वह कदापि स्वीकार नहीं कर सकती और न विदेशी शब्दों को ही बाहर रखकर वह अपनी उन्नति कर सकती है। हिंदुस्तान में हिंदू, मुसलमान, ईसाई, सिख इत्यादि सभी बसते हैं, तो भी वह (45) _____ है। इसी प्रकार, यदि हम सभी भाषाओं से उत्तम और आवश्यक शब्द लेंगे, तो भी हिंदी ही रहेगी।

SubQuestion No : 17

Q.17 निम्न विकल्पों में से उचित शब्द चयन कर अनुच्छेद में रिक्त स्थान की पूर्ति करें।(42)

- Ans
- 1. विचार - विज्ञ
 - 2. विचार - विनिमय
 - 3. विचार - स्वातंत्र्य
 - 4. विचार - क्रम

Comprehension:

निम्नलिखित गद्यांश को पढ़कर प्रश्नों के उत्तर दीजिए-

राष्ट्रभाषा से यह अभिप्राय है कि वह अंतरप्रांतीय व्यापार और (41) _____ व्यवहार में सभी प्रांतों में रहनेवालों द्वारा बरती जाए और बदरीनाथ से रामेश्वरम् तक तथा अमृतसर से कटक तक सभी स्थानों में परस्पर बातचीत करने और (42) _____ में काम लायी जाए। राष्ट्रभाषा होने की अधिकाधिक योग्यता हिंदी में आनी और लानी चाहिए। आज के युग में जब वैज्ञानिक आविष्कार के कारण दुनिया से स्थान और समय की दूरी समाप्त होती जा रही है, कोई भी भाषा दूसरी भाषा के संपर्क से अपने को (43) _____ नहीं रख सकती। हिंदी का यह एक विशेष गुण है कि उसने हिंदुओं की भाषा होते हुए भी अरबी, फारसी, अंगरेजी इत्यादि के शब्दों को अछूत नहीं समझा। (44) _____ की नीति तो वह कदापि स्वीकार नहीं कर सकती और न विदेशी शब्दों को ही बाहर रखकर वह अपनी उन्नति कर सकती है। हिंदुस्तान में हिंदू, मुसलमान, ईसाई, सिख इत्यादि सभी बसते हैं, तो भी वह (45) _____ है। इसी प्रकार, यदि हम सभी भाषाओं से उत्तम और आवश्यक शब्द लेंगे, तो भी हिंदी ही रहेगी।

SubQuestion No : 18

Q.18 निम्न विकल्पों में से उचित शब्द चयन कर अनुच्छेद में रिक्त स्थान की पूर्ति करें।(43)

- Ans
- 1. अचिंति
 - 2. अचूक
 - 3. अछोह
 - 4. अछूता

Comprehension:

निम्नलिखित गद्यांश को पढ़कर प्रश्नों के उत्तर दीजिए-

राष्ट्रभाषा से यह अभिप्राय है कि वह अंतरप्रांतीय व्यापार और (41) _____ व्यवहार में सभी प्रांतों में रहनेवालों द्वारा बरती जाए और बदरीनाथ से रामेश्वरम् तक तथा अमृतसर से कटक तक सभी स्थानों में परस्पर बातचीत करने और (42) _____ में काम लायी जाए। राष्ट्रभाषा होने की अधिकाधिक योग्यता हिंदी में आनी और लानी चाहिए। आज के युग में जब वैज्ञानिक आविष्कार के कारण दुनिया से स्थान और समय की दूरी समाप्त होती जा रही है, कोई भी भाषा दूसरी भाषा के संपर्क से अपने को (43) _____ नहीं रख सकती। हिंदी का यह एक विशेष गुण है कि उसने हिंदुओं की भाषा होते हुए भी अरबी, फारसी, अंगरेजी इत्यादि के शब्दों को अछूत नहीं समझा। (44) _____ की नीति तो वह कदापि स्वीकार नहीं कर सकती और न विदेशी शब्दों को ही बाहर रखकर वह अपनी उन्नति कर सकती है। हिंदुस्तान में हिंदू, मुसलमान, ईसाई, सिख इत्यादि सभी बसते हैं, तो भी वह (45) _____ है। इसी प्रकार, यदि हम सभी भाषाओं से उत्तम और आवश्यक शब्द लेंगे, तो भी हिंदी ही रहेगी।

SubQuestion No : 19

Q.19 निम्न विकल्पों में से उचित शब्द चयन कर अनुच्छेद में रिक्त स्थान की पूर्ति करें।(44)

- Ans
- 1. बधियाना
 - 2. बहिश्चर
 - 3. बहिनापा
 - 4. बहिष्कार

Comprehension:

निम्नलिखित गद्यांश को पढ़कर प्रश्नों के उत्तर दीजिए-

राष्ट्रभाषा से यह अभिप्राय है कि वह अंतरप्रान्तीय व्यापार और (41) _____ व्यवहार में सभी प्रान्तों में रहनेवालों द्वारा बरती जाए और बदरीनाथ से रामेश्वरम् तक तथा अमृतसर से कटक तक सभी स्थानों में परस्पर बातचीत करने और (42) _____ में काम लायी जाए। राष्ट्रभाषा होने की अधिकाधिक योग्यता हिंदी में आनी और लानी चाहिए। आज के युग में जब वैज्ञानिक आविष्कार के कारण दुनिया से स्थान और समय की दूरी समाप्त होती जा रही है, कोई भी भाषा दूसरी भाषा के संपर्क से अपने को (43) _____ नहीं रख सकती। हिंदी का यह एक विशेष गुण है कि उसने हिंदुओं की भाषा होते हुए भी अरबी, फारसी, अंगरेजी इत्यादि के शब्दों को अछूत नहीं समझा। (44) _____ की नीति तो वह कदापि स्वीकार नहीं कर सकती और न विदेशी शब्दों को ही बाहर रखकर वह अपनी उन्नति कर सकती है। हिंदुस्तान में हिंदू, मुसलमान, ईसाई, सिख इत्यादि सभी बसते हैं, तो भी वह (45) _____ है। इसी प्रकार, यदि हम सभी भाषाओं से उत्तम और आवश्यक शब्द लेंगे, तो भी हिंदी ही रहेगी।

SubQuestion No : 20

Q.20 निम्न विकल्पों में से उचित शब्द चयन कर अनुच्छेद में रिक्त स्थान की पूर्ति करें।(45)

- Ans**
- 1. पाकिस्तान
 - 2. हिंदुआनी
 - 3. हिंदुस्तान
 - 4. राजस्तान

