

C

பகுதி - I  
முதன்மை எழுத்து தேர்வு  
பிரிவு - அ : பொது அறிவு

1. இந்திய அரசமைப்பின் எந்த சட்டப்பிரிவு இந்திய அரசமைப்பின் 'இதயம் மற்றும் ஆன்மா' என டாக்டர் அம்பேத்கர் குறிப்பிடுகிறார் ?
- (A) சட்டப்பிரிவு 21 (B) சட்டப்பிரிவு 45  
(C) சட்டப்பிரிவு 32 (D) சட்டப்பிரிவு 35

2. முட்டைகள் அழுகும் போது \_\_\_\_\_ வாயு உருவாவதால் துர்நாற்றம் வீசுகின்றது.

- (A) ஆக்ஸிஜன்  
(B) ஹைட்ரஜன் சல்பைடு  
(C) கார்பன்-டை-ஆக்சைடு  
(D) சல்பர்-டை-ஆக்சைடு



3. வடுஆர் பறவைகள் சரணாலயம் உள்ள மாவட்டம் எது ?

- (A) திருவாரூர் (B) திருநெல்வேலி  
(C) காஞ்சிபுரம் (D) அரியலூர்

4. "AN UNCERTAIN GLORY" என்ற புத்தகத்தை எழுதியவர்

- (A) ஜவஹர்லால் நேரு (B) அமர்த்தியா சென்  
(C) சுவாமி விவேகானந்தா (D) Dr. A. P. J. அப்துல் கலாம்

5. இந்தியாவின் மீது 17 முறை படையெடுத்து இந்திய செல்வங்களை சூறையாடியவர் யார் ?

- (A) கஜினி மாமுது (B) முகமது கோரி  
(C) செங்கிஸ்கான் (D) தைமூர்



6. வாக்கியம் I : நமது இந்திய தேசிய கொடியில் உள்ள சக்கரத்தில் 40 ஆரங்கள் உள்ளது.  
வாக்கியம் II : தேசிய கீதமானது 52 வினாடிகளில் பாடி முடிக்கப்பட வேண்டும்.

- (A) I மட்டும் சரி (B) II மட்டும் சரி  
(C) I மற்றும் II சரி (D) I மற்றும் II தவறு

# Test Prime

**ALL EXAMS,  
ONE SUBSCRIPTION**



**70,000+**  
Mock Tests



**Personalised  
Report Card**



**Unlimited  
Re-Attempt**



**600+**  
Exam Covered



**Previous Year  
Papers**



**500%  
Refund**



**ATTEMPT FREE MOCK NOW**



7. தவறான இணையை கண்டறிக.



இரத்த வகை

யாரிடமிருந்து இரத்தம் பெற முடியும்

I. A

a. A, O



II. B

b. B, O

III. AB

c. AB, O

IV. O

d. O மட்டும்

(A) A-A, O

(B) B-B, O

(C) AB-AB, O

(D) O-O மட்டும்

8. வாக்கியம் I : கௌதம புத்தரால் பௌத்த மதம் தோற்றுவிக்கப்பட்டது.

வாக்கியம் II : பௌத்த மதம் திகம்பரம் சுவேதம்பரம் என பிரிவுகளாக பிரிந்தது.

(A) I மட்டும் சரி

(B) II மட்டும் சரி

(C) I மற்றும் II சரி

(D) I மற்றும் II தவறு

9. எவ்வகை தாது தசைகளின் செயல்திறனை ஒழுங்குபடுத்துகின்றது ?

(A) கால்சியம்

(B) பொட்டாசியம்

(C) சோடியம்

(D) அயோடின்

10. அதிக எண்ணிக்கையிலான \_\_\_\_\_ இருப்பதால் சென்னை “ஆசியாவின் டெட்ராங்” என்று அழைக்கப்படுகிறது.

(A) வாகன தொழிற்சாலைகள்

(B) மென்பொருள் நிறுவனங்கள்

(C) கணினி வன்பொருள் நிறுவனங்கள்

(D) ஆயத்த ஆடை நிறுவனங்கள்



11. வாக்கியம் I : பணவீக்கம் என்பது விலைகள் உயர்ந்து பணத்தின் மதிப்பு வீழ்ச்சியடைவதையும் குறிக்கும்.

வாக்கியம் II : பணவாட்டம் என்பது விலைகள் குறைந்து பணத்தின் மதிப்பு உயர்வதைக் குறிக்கும்.

(A) I மட்டும் சரி

(B) II மட்டும் சரி

(C) I மற்றும் II சரி

(D) I மற்றும் II தவறு



C



12. பொருத்துக.

- |                |                                      |
|----------------|--------------------------------------|
| I. பாஸ்பரஸ்    | a. மின்விளக்கிற்கான இழைகள்           |
| II. டங்ஸ்டன்   | b. தீப்பெட்டிகள் தயாரித்தல்          |
| III. கிராஃபைட் | c. இராக்கெட் எரிபொருள் பற்ற வைப்பான் |
| IV. போரான்     | d. பென்சில்கள் தயாரித்தல்            |

	I	II	III	IV
(A)	c	b	d	a
(B)	b	a	c	d
(C)	b	a	d	c
(D)	d	c	b	a

13. பொருத்துக.

- |                     |              |
|---------------------|--------------|
| I. பாலாறு           | a. பச்சையாறு |
| II. காவிரி          | b. சின்னாறு  |
| III. தாமிரபரணி      | c. பவானி     |
| IV. தென் பெண்ணையாறு | d. கிளியாறு  |

	I	II	III	IV
(A)	e	b	a	d
(B)	d	e	a	b
(C)	b	a	d	c
(D)	d	c	b	a



14. பொருத்துக.

- I. INS விக்ராந்த்  
II. தேஜஸ்  
III. GSLV  
IV. வந்தே பாரத்

- a. போர் விமானம்  
b. விமானம் தாங்கி  
c. ராக்கெட் ஏவுதல் வாகனம்  
d. அரை அதிவேக ரயில்

	I	II	III	IV
(A)	a	b	c	d
(B)	b	a	c	d
(C)	c	a	b	d
(D)	a	c	d	b



15. கீழ் உள்ளவற்றுள் எது/எவை புதை வடிவ பொருட்கள் ?

- (A) தார்  
(B) தார் மற்றும் நிலக்கரி  
(C) நிலக்கரி மற்றும் பெட்ரோலியம்  
(D) பெட்ரோலியம் மற்றும் அணுக்கரு கனிமங்கள்

16. வாக்கியம் I : நமது சூரியக் குடும்பமானது, பால்வெளி வீண்மீன் திரள் மண்டலத்தின் ஒரு பகுதி ஆகும்.

வாக்கியம் II : நமது சூரியக் குடும்பத்தில் 8 கோள்கள் உள்ளன.

- (A) I மட்டும் சரி  
(B) II மட்டும் சரி  
(C) I மற்றும் II சரி  
(D) I மற்றும் II தவறு

17. வாக்கியம் I : புவி தன் அச்சில் தன்னைத் தானே ஒருமுறை சுற்றி வருவதற்கு 24 மணிநேரம் எடுத்துக் கொள்கிறது. இதன் காரணமாக பகல், இரவு ஏற்படுகிறது.

வாக்கியம் II : “லீப் வருடம்” இரண்டு ஆண்டுகளுக்கு ஒருமுறை வருகிறது.

- (A) I மட்டும் சரி  
(B) II மட்டும் சரி  
(C) I மற்றும் II சரி  
(D) I மற்றும் II தவறு



18. தலைநகரை டெல்லியிலிருந்து தெளதாபாத்திற்கு மாற்றியவர் யார் ?

- (A) முகமது பின் துக்ளக்  
(B) அலாவுதீன் கில்ஜி  
(C) பால்பன்  
(D) இல்துத்மிஷ்



19. பின்வருவனவற்றுள் எது வேர் அல்ல ?

(A) உருளைக்கிழங்கு

(B) கேரட்

(C) பீட்டுட்

(D) முள்ளங்கி

20. இந்தியாவில் தற்பொழுது அறிமுகப்படுத்தப்பட்ட அலைக்கற்றை

(A) 2-ஜி

(B) 3-ஜி

(C) 4-ஜி

(D) 5-ஜி

21. எந்த டெல்லி சுல்தான் வேலையின்மை பிரச்சனையை தீர்க்க “வேலைவாய்ப்பு அலுவலகத்தை” அமைத்தார் ?



(A) முகம்மது பின் துக்ளக்

(B) அலாவுதீன் கில்ஜி

(C) ஃபெரோஷ் ஷா துக்ளக்

(D) பால்பன்

22. வாக்கியம் I : யானை தமிழ்நாட்டின் மாநில விலங்கு.

வாக்கியம் II : பனைமரம் தமிழ்நாட்டின் மாநில மரம்.

(A) I மட்டும் சரி

(B) II மட்டும் சரி

(C) I மற்றும் II சரி

(D) I மற்றும் II தவறு

23. வாக்கியம் I : ஒளியின் திசைவேகம் ஒளியின் திசைவேகத்தை விட குறைவு.

இடிச் சத்தம் கேட்பதற்கு முன்னரே மின்னல் நம் கண்களுக்குத்

வாக்கியம் II : உயரமான கட்டடங்களை மின்னல் பாதிப்பிலிருந்து பாதுகாக்க உத்

கருவி மின்னல் கடத்தி ஆகும்.

(A) I மட்டும் சரி

(B) II மட்டும் சரி

(C) I மற்றும் II சரி

(D) I மற்றும் II தவறு

24. 1857 ஆம் ஆண்டு புரட்சி நடைபெற்றபோது முகலாய மன்னராக பதவி வகித்தவர்

(A) அக்பர்



(B) ஒளரங்கசீப்

(C) இரண்டாம் பகதூர்ஷா

(D) நானா சாகிப்



25. தவறான இணையை கண்டறிக.

- |                    |                  |
|--------------------|------------------|
| I. பொதுத்துறை      | a. சேவை நோக்கம்  |
| II. தனியார் துறை   | b. இலாப நோக்கம்  |
| III. முதன்மைத்துறை | c. கோழி வளர்ப்பு |
| IV. மூன்றாம் துறை  | d. தொழிற்சாலைகள் |
- (A) பொதுத்துறை – சேவை நோக்கம்
- (B) மூன்றாம் துறை – தொழிற்சாலைகள்
- (C) முதன்மைத்துறை – கோழி வளர்ப்பு
- (D) தனியார் துறை – இலாப நோக்கம்



26. தாஜ்மஹால் \_\_\_\_\_ நதிக்கரையில் அமைந்துள்ளது.

- (A) காவிரி
- (B) யமுனா
- (C) கோதாவரி
- (D) கங்கை

27. எந்த ஆண்டு நடைபெற்ற பொதுத்தேர்தலில் 'NOTA' அறிமுகப்படுத்தப்பட்டது ?

- (A) 2002
- (B) 2005
- (C) 2014
- (D) 2017

28. கோடைப் பருவத்தில் இந்தியாவின் வடகிழக்கு பகுதியில் வீசும் உள்ளூர் தலக்காற்றின் பெயர்

- (A) நார்வெஸ்டர்ஸ்
- (B) 'லூ'
- (C) மாஞ்சாரல்
- (D) பருவக்காற்று

29. சிம்கார்டு, ஏ.டி.எம். கார்டுகள் \_\_\_\_\_ என்ற குறைகடத்தியால் ஆக்கப்பட்டிருக்கும்.

- (A) சிலிகான்
- (B) இரும்பு
- (C) அலுமினியம்
- (D) காப்பர்



30. இங்கிலாந்து நாட்டின் தற்போதைய மன்னர் யார் ?

- (A) இளவரசி எலிசபெத் II
- (B) ஜார்ஜ் மன்னர்
- (C) மன்னர் மூன்றாம் சார்லஸ்
- (D) இராணி விக்டோரியா





31. 'பிரிதிவிராஜ் ராசே' எனும் காவியத்தை இயற்றியவர் ?  
 (A) சந்த் பார்தை (B) பிரிதிவிராஜ் சௌகான்  
 (C) காளிதாஸ் (D) அமீர் குஸ்ரூ

32. ஆடம்ஸ் ஆப்பிள் என்பது இதன் வளர்ச்சியைக் குறிக்கிறது  
 (A) தொண்டைக்குழி (B) தைராய்டு  
 (C) குரல்வளை (D) பாராதைராய்டு



33. பொருத்துக.

- |                          |                   |
|--------------------------|-------------------|
| I. இமயமலைத் தொடர்        | a. வட அமெரிக்கா   |
| II. ராக்கி மலைத் தொடர்   | b. தென் அமெரிக்கா |
| III. ஆல்ப்ஸ் மலைத் தொடர் | c. ஐரோப்பா        |
| IV. ஆண்டிஸ் மலைத் தொடர்  | d. ஆசியா          |

- |     |   |    |     |    |
|-----|---|----|-----|----|
|     | I | II | III | IV |
| (A) | b | c  | d   | a  |
| (B) | c | d  | a   | b  |
| (C) | d | b  | a   | c  |
| (D) | d | a  | c   | b  |

34. வாக்கியம் I : குதுப்மினார் குத்புதீன் ஐபக்கால் தொடங்கப்பட்டு இல்துமிஷால் கட்டி முடிக்கப்பட்டது.

வாக்கியம் II : குதுப்மினார் ஹைதராபாத்தில் உள்ளது.

- |                      |                       |
|----------------------|-----------------------|
| (A) I மட்டும் சரி    | (B) II மட்டும் சரி    |
| (C) I மற்றும் II சரி | (D) I மற்றும் II தவறு |

35. இந்தியாவின் தேசிய மரம்



- |                |              |
|----------------|--------------|
| (A) ஆலமரம்     | (B) அரச மரம் |
| (C) வேப்ப மரம் | (D) மாமரம்   |





36. இந்தியாவின் குறுக்கே செல்லும் சிறப்பு அட்சம் எது ?

- (A) கடகரேகை (B) மகரரேகை  
(C) புவிநடுக்கோடு (D) துருவ வட்டம்

37. விஜய நகர பேரரசிற்கு வந்த இத்தாலியப் பயணி

- (A) மார்கோபோலோ (B) நிக்கோலோ கோண்டி  
(C) டோமிங்கோ (D) பாகியான்



38. பொருத்துக.

- |                     |                          |
|---------------------|--------------------------|
| I. காற்றழுத்தமானி   | a. பாலின் தூய்மை         |
| II. நீரியல் அழுத்தி | b. சர்க்கரையின் அடர்த்தி |
| III. பால்மானி       | c. வளிமண்டல அழுத்தம்     |
| IV. சர்க்கரைமானி    | d. பாஸ்கல் விதி          |

- |     | I | II | III | IV |
|-----|---|----|-----|----|
| (A) | c | a  | d   | b  |
| (B) | c | d  | a   | b  |
| (C) | d | c  | b   | a  |
| (D) | b | c  | d   | a  |

39. பொருத்துக.

- |                |                        |
|----------------|------------------------|
| I. மொகஞ்ச-தாரோ | a. கல்வி நகரம்         |
| II. லோத்தல்    | b. வணிக நகரம்          |
| III. மதுரை     | c. பெருங்குளம்         |
| IV. காஞ்சி     | d. கப்பல் கட்டும் தளம் |

- |     | I | II | III | IV |
|-----|---|----|-----|----|
| (A) | d | c  | b   | a  |
| (B) | c | d  | a   | b  |
| (C) | b | a  | c   | d  |
| (D) | c | d  | b   | a  |



40. வாக்கியம் I : வெவ்வேறு அளவுள்ள திடப்பொருளை பிரிப்பது சலித்தல் எனப்படும்.

வாக்கியம் II : வெவ்வேறு எடையுள்ள திடப்பொருளை பிரிப்பது தூற்றுதல் எனப்படும்.

- (A) I மட்டும் சரி (B) II மட்டும் சரி  
(C) I மற்றும் II சரி (D) I மற்றும் II தவறு



41. புவியில் காணப்படும் நீரில், \_\_\_\_\_ நீரானது கடல்களிலும், பெருங்கடல்களிலும் காணப்படுகிறது.  
(A) 50% (B) 75% (C) 97% (D) 60%

42. மஞ்சள் காமாலையால் (ஹெப்படைடிஸ் பி வைரஸ்) பாதிக்கப்படும் உறுப்பு எது ?  
(A) கல்லீரல் (B) நுரையீரல் (C) சிறுநீரகம் (D) மூளை

43. வாக்கியம் I : நெட்பிளிக்ஸ், ஹாட்ஸ்டார், அமேசான் பிரைம் என்பவை பிரபலமான OTT தளங்கள்.

வாக்கியம் II : OTT என்பதன் விரிவாக்கம் "Over The Top"  
(A) I மட்டும் சரி (B) II மட்டும் சரி  
(C) I மற்றும் II சரி (D) I மற்றும் II தவறு

44. தவறான இணையை கண்டறிக.

- பதவி குறைந்த பட்ச வயது
- I. குடியரசுத் தலைவர் a. 35 வயது
  - II. ராஜ்யசபா உறுப்பினர் b. 30 வயது
  - III. லோக்சபா உறுப்பினர் c. 21 வயது
  - IV. சட்ட மேலவை உறுப்பினர் d. 30 வயது
- (A) குடியரசுத் தலைவர் வயது - 35 வயது  
(B) ராஜ்ய சபா உறுப்பினர் - 30 வயது  
(C) லோக்சபா உறுப்பினர் - 21 வயது  
(D) சட்ட மேலவை உறுப்பினர் - 30 வயது

45. பொருத்தது.



- I. பண்டையக் கால கல்விமுறை a. RTE - 2009
- II. வார்தா கல்வித் திட்டம் b. 1992
- III. கட்டாயக் கல்வி சட்ட விதி c. குருகுலக் கல்வி முறை
- IV. புதிய கல்விக் கொள்கை திருத்தம் d. காந்தியடிகள்


	I	II	III	IV
(A)	c	b	d	a
(B)	a	d	c	b
(C)	c	d	a	b
(D)	c	d	b	a





பிரிவு - ஆ : உளவியல்

46. 'அம்மா பசிக்குது, எனக்குச் சோறு வேணும்' - இத்தொடரில் உள்ள பேச்சு வழக்குச் சொற்களுக்குச் சரியான எழுத்து வழக்குச் சொற்களைத் தேர்வு செய்க.
- (A) அம்மா பசிக்கிறது. எனக்குச் சோறு வேண்டும் 
- (B) அம்மா பசிக்குது. எனக்குச் சோறு வேண்டும்
- (C) அம்மா பசிக்கிறது. எனக்குச் சோறு வேணும்
- (D) அம்மா பசிக்கிறது. என்கு சோறு வேணும்
47. ஒரு வாத்து இரு வாத்துகளுக்கு முன்னால் உள்ளது. ஒரு வாத்து இரு வாத்துகளுக்கு பின்னால் உள்ளது. ஒரு வாத்து மத்தியில் உள்ளது. அங்கு எத்தனை வாத்துகள் உள்ளன ?
- (A) 5 (B) 3 (C) 7 (D) 4
48. 40 மாணவர்கள் உள்ள ஒரு வரிசையில், மணி என்பவர் வலமிருந்து 14 வது நிலையில் இருக்கிறார். இடமிருந்து அவரது நிலை என்ன ?
- (A) 24<sup>th</sup> (B) 25<sup>th</sup> (C) 26<sup>th</sup> (D) 27<sup>th</sup>
49. ராமின் வீடு கிருஷ்ணனின் வீட்டிலிருந்து தெற்கு நோக்கி உள்ளது. கோவிந்தாவின் வீடு கிருஷ்ணனின் வீட்டிலிருந்து கிழக்கு நோக்கி அமைந்திருந்தால். ராமின் வீடு கோவிந்தாவின் வீட்டிலிருந்து எந்த திசையில் அமைந்துள்ளது ?
- (A) வட கிழக்கு (B) வட மேற்கு (C) தென் கிழக்கு (D) தென் மேற்கு
50. ஒரு செவ்வகத்தின் ஒவ்வொரு பக்கமும் இரு மடங்காகும் போது அதனுடைய பரப்பளவு \_\_\_\_\_ மடங்காகும்.
- (A) 2 (B) 3 (C) 4 (D) 6
51. கரகாட்டத்தை கும்பாட்டம் என்றும் குடக்கூத்து என்றும் கூறுவர். இத்தொடருக்கான வினா எது ?
- (A) கரகாட்டம் என்றால் என்ன ? 
- (B) கரகாட்டத்தின் வேறுவேறு வடிவங்கள் யாவை ?
- (C) கரகாட்டம் எக்காலங்களில் நடைபெறும் ?
- (D) கரகாட்டத்தின் வேறு பெயர்கள் யாவை ?
52. சாய்சதுரத்தின் மூலைவிட்டங்களுக்கு இடையே உள்ள கோணம்
- (A) 120° (B) 180° (C) 90° (D) 100°



-11-

20

8

1

32







- மதிப்பெண்களும் பெற்றுள்ளார் ?  
இதில் யார் மிக அதிக மதிப்பெண் பெற்றுள்ளார் ?
- (A) ரமா (B) பத்மா (C) ராணி (D) ரத்னா

(A) தாத்தா  
(B) அப்பா  
(C) சகோதரர்  
(D) தாய்மாமன்

Response	Percentage
இரண்டு சங்கங்களின் உறுப்பினர்கள்	75%
உறுப்பினர் இல்லாதவர்	40%
கால்பந்து சங்கத்தினர் மட்டும்	15%
கிரிக்கெட் விளையாட்டு சங்கத்தினர் மட்டும்	5%

(A) 5%  
(B) 8%  
(C) 10%  
(D) 6%



၇၅၀၀  
 ၇၆၀၀  
 ၇၇၀၀  
 ၇၈၀၀

Zieler  
28

246  
22

75

805



56. கிரிக்கெட் விளையாட்டு சங்கத்தினர் மட்டுமே, மற்றும் கால்பந்து சங்கத்தினர் மட்டுமே ஆகியோரின் பங்கீடு என்ன ?

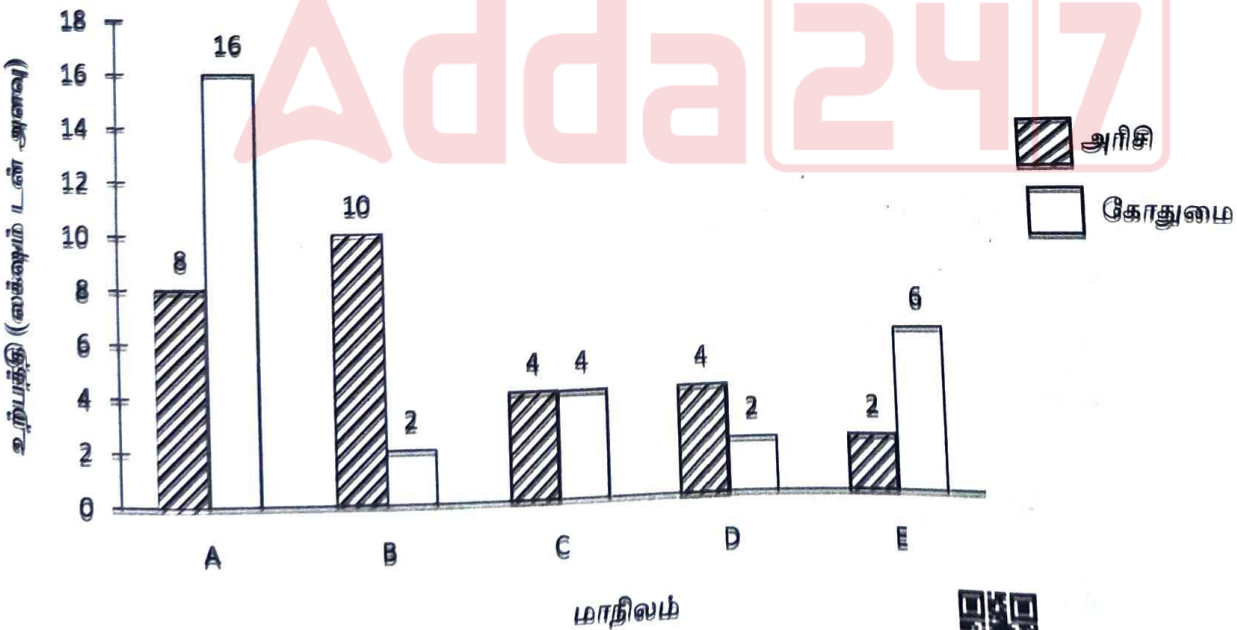
- (A) 1 : 3  
(B) 2 : 1  
(C) 1 : 2  
(D) 3 : 1



57. கிரிக்கெட் மற்றும் கால்பந்து சங்கங்களின் உறுப்பினர்களான மாணாக்கர்கள் எத்தனை ?

- (A) 500  
(B) 650  
(C) 550  
(D) 600

கீழே கொடுக்கப்பட்டுள்ள பட்டை விளக்கப்படம், 2021 இல் பல மாநிலத்தின் அரிசி மற்றும் கோதுமையின் உற்பத்தி அளவை குறிக்கிறது. விளக்கப்படத்தை படித்து, பின்வரும் 58-59 கேள்விகளுக்கு பதில் அளிக்கவும்.



58. அரிசி மற்றும் கோதுமை மொத்த உற்பத்தி அளவு எந்த மாநிலத்தில் குறைவாக உள்ளது ?

- (A) B (B) C (C) D (D) E



59. எந்த மாநிலத்தில் அரிசி உற்பத்தி அதிகமாக உள்ளது ?

- (A) A (B) B (C) C (D) D

60. விடைக்கேற்ற வினாவைத் தெரிவு செய்க. சிலப்பதிகாரமும், மணிமேகலையும் இரட்டைக் காப்பியங்கள் ஆகும்.

- (A) இரட்டைக் காப்பியங்கள் யாவை ?  
(B) இரட்டைக் காப்பியங்கள் என்றால் என்ன ?  
(C) சிலப்பதிகாரத்தின் சிறப்புப் பெயர் யாது ?  
(D) சிலப்பதிகாரமும் மணிமேகலையும் இலக்கண நூல்களா ?


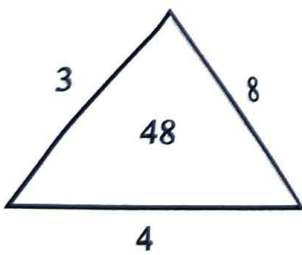
61. கீழ்க்கண்ட தொடர்களில் சரியான தொடரைக் தேர்ந்தெடுக்க

- (A) வாலைப்பழம் உடலுக்கு மிகவும் நல்லது  
(B) வாழைப்பழம் உடலுக்கு மிகவும் நல்லது  
(C) வாழைப்பழம் உடலுக்கு மிகவும் நல்லது  
(D) வாளைப்பழம் உடலுக்கு மிகவும் நள்ளது

62. வேறுபட்டு இருப்பதை தேர்ந்தெடுத்து எழுதுக

- (A) நாற்காலி (B) மேசை (C) ரேடியோ (D) அல்மிரா

63. கீழே கொடுக்கப்பட்டுள்ள எண்களில் விடுபட்ட எண்ணை தேர்வு செய்யவும்



- (A) 27 (B) 35 (C) 54 (D) 64

64. இரண்டு நாணயங்கள் ஒன்றாகச் சுண்டப்படுகின்றன. இரண்டு நாணயங்களிலும் வெவ்வேறு முகங்கள் கிடைப்பதற்கான நிகழ்தகவு

- (A)  $\frac{1}{2}$  (B)  $\frac{3}{2}$  (C) 2 (D) 1



HH/TT, HT/TH  
4-  
2/42





65. பொருத்துக.

- |                 |                                    |
|-----------------|------------------------------------|
| I. விற்பனை விலை | a. அடக்கவிலை - விற்பனை விலை        |
| II. நடட்டம்     | b. விற்பனை விலை - அடக்க விலை       |
| III. இலாபம்     | c. வாங்கிய விலை + கூடுதல் செலவுகள் |
| IV. அடக்க விலை  | d. குறித்த விலை - தள்ளுபடி         |

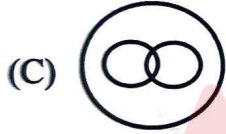
- |     |   |    |     |    |
|-----|---|----|-----|----|
|     | I | II | III | IV |
| (A) | d | a  | b   | c  |
| (B) | a | b  | c   | d  |
| (C) | d | b  | a   | c  |
| (D) | b | a  | c   | d  |



50 20

66. எந்த வெண்வரைபடம் இங்கு கொடுக்கப்பட்டிருக்கும் சொற்களுக்குள் இருக்கும் தொடர்பை சரியாக குறிக்கிறது ?

வினாடி, நிமிடம், மணிநேரம்



67. பின்வரும் சொற்தொடர்களில் தகுந்த இணையான சொல்லைக் கண்டுப்பிடித்து விடையளிக்கவும்

மனிதன் : நடப்பது :: மீன் : ?

- (A) நீந்துதல் (B) சாப்பிடுதல் (C) ஓடுதல் (D) பறப்பது

68. 'புயல்' - என்பதற்கு இணையான ஆங்கிலச் சொல் எது ?

- (A) TEMPEST (B) LAND BREEZE (C) TORNADO (D) STORM

69. வாக்கியம் I : 2018 ஆம் ஆண்டு லீப் ஆண்டு.

வாக்கியம் II : 400 ஆல் வகுபடும் நூற்றாண்டுகள் லீப் ஆண்டுகள் ஆகும்.

- (A) I மட்டும் சரி (B) II மட்டும் சரி  
(C) I மற்றும் II சரி (D) I மற்றும் II தவறு



70. 'DARK' என்பதன் குறியீடு EBSL எனில் 'BACK' என்பதன் குறியீடு எது ?

- (A) DBEM (B) CBDL (C) CBEL (D) CBDM

ABCDEF GHIJ KLMN  
PQRSTU VWXYZ

CBDL