

Multi Tasking Non Technical Staff and Havaldar CBIC and CBN Examination 2023

Roll Number	
Candidate Name	
Venue Name	iON Digital Zone iDZ3 Patliputra
Exam Date	08/09/2023
Exam Time	4:00 PM - 6:00 PM
Subject	MTS Non Tech Havaldar CBIC and CBN Examination 2023

Section : Numerical and Mathematical Ability

Q.1 $\frac{1}{6}, \frac{5}{27}, \frac{4}{15}, \frac{8}{3}$ का लघुत्तम समापवर्त्य ज्ञात कीजिए।

- Ans
- ✓ 1. $\frac{40}{3}$
- ✗ 2. $\frac{40}{5}$
- ✗ 3. $\frac{5}{28}$
- ✗ 4. $\frac{3}{28}$

Question ID : 264330156205
Option 1 ID : 264330612221
Option 2 ID : 264330612222
Option 3 ID : 264330612219
Option 4 ID : 264330612220

Status : Answered

Chosen Option : 1

Q.2 एक बेलन का कुल पृष्ठीय क्षेत्रफल 64π वर्ग इकाई है, जहाँ बेलन की ऊँचाई इसकी त्रिज्या के बराबर है। यदि ऊँचाई दोगुनी और त्रिज्या आधी कर दी जाए, तो नए बेलन का कुल पृष्ठीय क्षेत्रफल _____ वर्ग इकाई होगा।

- Ans
- ✗ 1. 48π
- ✗ 2. 54π
- ✓ 3. 40π
- ✗ 4. 64π

Question ID : 264330153825
Option 1 ID : 264330602765
Option 2 ID : 264330602763
Option 3 ID : 264330602764
Option 4 ID : 264330602766

Status : Answered

Chosen Option : 3

Test Prime

ALL EXAMS,
ONE SUBSCRIPTION



70,000+
Mock Tests



Personalised
Report Card



Unlimited
Re-Attempt



600+
Exam Covered



Previous Year
Papers



500%
Refund



ATTEMPT FREE MOCK NOW

Q.3 $\frac{3 \div 3 \times 2 - 6 \div 3 + 7}{5 \div 5 \times 6 \div 6 + 3 + 3}$ का मान _____ के बराबर है।

- Ans
- 1. $1\frac{3}{2}$
 - 2. 2
 - 3. $\frac{3}{2}$
 - 4. 1

Question ID : 264330156502
 Option 1 ID : 264330613396
 Option 2 ID : 264330613398
 Option 3 ID : 264330613395
 Option 4 ID : 264330613397
 Status : Answered
 Chosen Option : 4

Q.4 0.8 और 7.2 के बीच माध्यानुपाती _____ है।

- Ans
- 1. 1.2
 - 2. 2.4
 - 3. 4.2
 - 4. 3.4

Question ID : 264330153769
 Option 1 ID : 264330602542
 Option 2 ID : 264330602541
 Option 3 ID : 264330602539
 Option 4 ID : 264330602540
 Status : Answered
 Chosen Option : 2

Q.5 यदि 5 वर्ष के लिए मूलधन और साधारण ब्याज का अनुपात 10 : 7 है, तो वार्षिक ब्याज की दर क्या है?

- Ans
- 1. 18%
 - 2. 16%
 - 3. 14%
 - 4. 12%

Question ID : 264330156523
 Option 1 ID : 264330613481
 Option 2 ID : 264330613482
 Option 3 ID : 264330613480
 Option 4 ID : 264330613479
 Status : Answered
 Chosen Option : 3

Q.6 एक वस्तु का मूल्य ₹200 से बढ़कर ₹250 हो जाता है। मूल्य में प्रतिशत वृद्धि क्या है?

Ans ✓ 1. 25%

✗ 2. 22%

✗ 3. 20%

✗ 4. 27%

Question ID : 264330156260

Option 1 ID : 264330612441

Option 2 ID : 264330612440

Option 3 ID : 264330612439

Option 4 ID : 264330612442

Status : Answered

Chosen Option : 1

Q.7 ₹108 प्रति किलोग्राम और ₹120 प्रति किलोग्राम मूल्य वाली चाय की पत्तियों को तीसरी किस्म के साथ 2 : 3 : 5 के अनुपात में मिलाया जाता है। यदि इस मिश्रण का मूल्य ₹125 प्रति किलोग्राम हो जाता है, तो तीसरी किस्म की चाय पत्ती का प्रति किलोग्राम मूल्य (₹ में, निकटतम पूर्णांक तक सन्निकटित) क्या है?

Ans ✗ 1. 128

✓ 2. 135

✗ 3. 130

✗ 4. 133

Question ID : 264330156469

Option 1 ID : 264330613264

Option 2 ID : 264330613263

Option 3 ID : 264330613265

Option 4 ID : 264330613266

Status : Answered

Chosen Option : 2

Q.8 निम्न दंड आलेख में 12:00 P.M. से 6:00 P.M. तक एक मेट्रो स्टेशन में E-साइकिल पार्किंग की संख्या को दर्शाया गया है। पार्क की गई E-साइकिलों की संख्या, औसत संख्या से कितनी बार अधिक है?



संदर्भ : Number of E-cycles - E-साइकिलों की संख्या, 12 noon - दोपहर 12 बजे, Number - संख्या

Ans ✗ 1. 5

✗ 2. 3

✗ 3. 4

✓ 4. 2

Question ID : 264330154064

Option 1 ID : 264330603722

Option 2 ID : 264330603720

Option 3 ID : 264330603721

Option 4 ID : 264330603719

Status : Answered

Chosen Option : 4

Q.9 एक वस्तु को ₹955 में बेचने पर अर्जित प्रतिशत लाभ उसी वस्तु को ₹845 में बेचने पर होने वाले प्रतिशत हानि के बराबर है। 6% लाभ अर्जित करने के लिए वस्तु को किस मूल्य पर बेचा जाना चाहिए?

- Ans 1. ₹1,014
 2. ₹954
 3. ₹955
 4. ₹925

Question ID : 264330159021
 Option 1 ID : 264330623444
 Option 2 ID : 264330623446
 Option 3 ID : 264330623443
 Option 4 ID : 264330623445

Status : Answered

Chosen Option : 2

Q.10 A और B ने 5 वर्ष के लिए एक साझेदारी की। व्यवसाय की शुरुआत में, उन्होंने क्रमशः ₹36,000 और ₹58,000 का निवेश किया। 5 वर्ष के अंत में, उनका कुल लाभ ₹94,000 था। इस लाभ में से B का हिस्सा (₹ में) कितना होगा?

- Ans 1. 58,000
 2. 60,000
 3. 46,000
 4. 52,000

Question ID : 264330155742
 Option 1 ID : 264330610373
 Option 2 ID : 264330610374
 Option 3 ID : 264330610371
 Option 4 ID : 264330610372

Status : Answered

Chosen Option : 1

Q.11 एक लड़का साइकिल से अपने घर और स्कूल के बीच एक निश्चित दूरी तय करता है। 10 km/h की औसत चाल से चलने पर, वह 10 मिनट देर से स्कूल पहुंचता है। हालांकि, 15 km/h की औसत चाल से चलने पर वह 5 मिनट पहले स्कूल पहुंच जाता है। उसके घर और स्कूल के बीच की दूरी (km में) ज्ञात कीजिए।

- Ans 1. 7
 2. 8.5
 3. 7.5
 4. 8

Question ID : 264330156272
 Option 1 ID : 264330612487
 Option 2 ID : 264330612490
 Option 3 ID : 264330612488
 Option 4 ID : 264330612489

Status : Answered

Chosen Option : 3

Q.12 रवि ने रीटा को ₹1,920 में एक लैपटॉप बैग बेचा और उसने विनय को ₹1,280 में एक और समान लैपटॉप बैग बेचा। रीटा को लैपटॉप बैग बेचने पर अर्जित प्रतिशत लाभ, विनय को लैपटॉप बैग बेचने पर प्रतिशत हानि के बराबर है। 25% का लाभ अर्जित करने के लिए रवि को लैपटॉप बैग किस मूल्य पर (₹ में) बेचना चाहिए?

- Ans 1. 2,000
 2. 1,600
 3. 1,650
 4. 1,800

Question ID : 264330155706

Option 1 ID : 264330610230

Option 2 ID : 264330610227

Option 3 ID : 264330610228

Option 4 ID : 264330610229

Status : Answered

Chosen Option : 1

Q.13 एक छात्र के अंक 86 के स्थान पर गलती से 44 लिख दिए गए। इससे कक्षा के औसत में $\frac{3}{2}$ की कमी आ गई। कक्षा में छात्रों की संख्या कितनी है?

- Ans 1. 36
 2. 24
 3. 28
 4. 30

Question ID : 264330153757

Option 1 ID : 264330602492

Option 2 ID : 264330602491

Option 3 ID : 264330602494

Option 4 ID : 264330602493

Status : Answered

Chosen Option : 3

Q.14 उस त्रिभुज का क्षेत्रफल ज्ञात कीजिए जिसका आधार 7 cm तथा संगत ऊंचाई 82 cm है।

- Ans 1. 574 cm²
 2. 287 cm²
 3. 191 cm²
 4. 143 cm²

Question ID : 264330153892

Option 1 ID : 264330603031

Option 2 ID : 264330603032

Option 3 ID : 264330603033

Option 4 ID : 264330603034

Status : Answered

Chosen Option : 2

Q.15 7 पुरुष 5 दिनों तक प्रतिदिन 8 घंटे काम करके एक काम पूरा कर सकते हैं। यदि प्रतिदिन 10 घंटे काम करते हुए यह काम 7 दिनों में पूरा करना है तो कितने पुरुषों की आवश्यकता होगी?

- Ans**
- 1. 6
 - 2. 5
 - 3. 4
 - 4. 3

Question ID : 264330156535
 Option 1 ID : 264330613529
 Option 2 ID : 264330613527
 Option 3 ID : 264330613528
 Option 4 ID : 264330613530
 Status : Answered
 Chosen Option : 3

Q.16 एक मोटर नाव स्थिर जल में 12 km/h की चाल से चल सकती है। यदि धारा की चाल 2 km/h है, तो नाव धारा के प्रतिकूल एक दूरी तय करने में धारा के अनुकूल समान दूरी तय करने से 1.5 घंटे अधिक का समय लेती है। एक तरफ की दूरी कितनी है?

- Ans**
- 1. 51.5 km
 - 2. 53 km
 - 3. 50 km
 - 4. 52.5 km

Question ID : 264330156286
 Option 1 ID : 264330612544
 Option 2 ID : 264330612546
 Option 3 ID : 264330612543
 Option 4 ID : 264330612545
 Status : Answered
 Chosen Option : 4

Q.17 ₹30,000 पर 10% वार्षिक दर से $1\frac{1}{2}$ वर्ष का चक्रवृद्धि ब्याज कितना होगा, जब ब्याज अर्धवार्षिक रूप से संयोजित किया जाता है?

- Ans**
- 1. ₹5,728.75
 - 2. ₹4,800.75
 - 3. ₹4,728.75
 - 4. ₹4,928.75

Question ID : 264330154132
 Option 1 ID : 264330603992
 Option 2 ID : 264330603991
 Option 3 ID : 264330603993
 Option 4 ID : 264330603994
 Status : Answered
 Chosen Option : 3

Q.18 रीमा 59 km/h की चाल से कार चलाकर एक निश्चित दूरी तय करती है और वह 43 km/h की चाल से बाइक पर सवार होकर प्रारंभिक बिंदु पर वापस आती है। पूरी यात्रा के दौरान रीमा की औसत चाल (km/h में) ज्ञात कीजिए। (दशमलव के 2 स्थानों तक सन्निकटित)

- Ans**
- 1. 52.25
 - 2. 42.00
 - 3. 45.37
 - 4. 49.75

Question ID : 264330155730

Option 1 ID : 264330610323

Option 2 ID : 264330610326

Option 3 ID : 264330610325

Option 4 ID : 264330610324

Status : Answered

Chosen Option : 4

Q.19 A किसी काम को 10 दिनों में कर सकता है और B उसी काम को 15 दिनों में कर सकता है। वे साथ मिलकर 2 दिनों तक काम करते हैं और फिर A काम छोड़ देता है। शेष काम को पूरा करने में B को कितना समय लगेगा?

- Ans**
- 1. 12 दिन
 - 2. 10 दिन
 - 3. 5 दिन
 - 4. 22 दिन

Question ID : 264330153885

Option 1 ID : 264330603006

Option 2 ID : 264330603004

Option 3 ID : 264330603005

Option 4 ID : 264330603003

Status : Answered

Chosen Option : 2

Q.20 नीचे दी गई तालिका में अलग-अलग वर्षों में अलग-अलग विद्यालयों की आय (₹ करोड़ में) दर्शाया गया है। तालिका का ध्यानपूर्वक अध्ययन कीजिए और नीचे दिए गए प्रश्न का उत्तर दीजिए।

विद्यालय/ वर्ष	2018	2019	2020	2021	2022
P	50	45	49	56	57
Q	46	48	50	55	62
R	70	65	63	68	63
S	38	47	56	60	69
T	48	37	52	69	77

वर्ष 2020 में विद्यालय P और R की मिलाकर कुल आय और वर्ष 2022 में विद्यालय Q, S और T की मिलाकर कुल आय का अनुपात ज्ञात कीजिए?

- Ans**
- 1. 12 : 7
 - 2. 7 : 13
 - 3. 12 : 13
 - 4. 7 : 19

Question ID : 264330156573

Option 1 ID : 264330613679

Option 2 ID : 264330613681

Option 3 ID : 264330613680

Option 4 ID : 264330613682

Status : Answered

Chosen Option : 2

Q.1 यदि निम्नलिखित आकृति श्रृंखला को जारी रखना हो तो कौन-सी आकृति प्रश्न चिन्ह (?) के स्थान पर आनी चाहिए?

R	I	K	2	R	D	7	↑	K	T	7	△	
2	△	D	△	I	T	T	2	△	2	↑	I	?
↑	7	T	K	↑	7	D	R	I	K	D	R	

Ans

✓ 1.

R	D	K
I	T	2
△	7	↑

✗ 2.

R	D	K
I	△	2
↑	7	T

✗ 3.

R	I	K
D	T	7
△	2	↑

✗ 4.

R	I	K
D	△	7
↑	2	T

Question ID : 264330154737

Option 1 ID : 264330606414

Option 2 ID : 264330606412

Option 3 ID : 264330606411

Option 4 ID : 264330606413

Status : Answered

Chosen Option : 1

Q.2 दी गई श्रृंखला में प्रश्न चिह्न “?” के स्थान पर क्या आना चाहिए?

21 24 29 36 47 ?

- Ans
- ✗ 1. 64
 - ✗ 2. 66
 - ✗ 3. 56
 - ✓ 4. 60

Question ID : 264330151715

Option 1 ID : 264330594487

Option 2 ID : 264330594489

Option 3 ID : 264330594488

Option 4 ID : 264330594490

Status : Answered

Chosen Option : 4

Q.3 उस शब्द-युग्म का चयन कीजिए जो नीचे दिए गए शब्दों के युग्म में व्यक्त किए गए समान संबंध का सबसे अच्छा निरूपण करता है।

(शब्दों को अर्थपूर्ण हिंदी शब्दों के रूप में माना जाना चाहिए और उन्हें शब्द में अक्षरों की संख्या/व्यंजन/स्वरों की संख्या के आधार पर एक दूसरे से संबंधित नहीं किया जाना चाहिए।)

कैची : कपड़ा

- Ans**
- ✓ 1. उस्तरा : दाढ़ी
 - ✗ 2. भट्टी : धुआं
 - ✗ 3. कील : हथौड़ा
 - ✗ 4. कलम : स्याही

Question ID : 264330154631

Option 1 ID : 264330605990

Option 2 ID : 264330605988

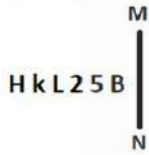
Option 3 ID : 264330605989

Option 4 ID : 264330605987

Status : Answered

Chosen Option : 1

Q.4 दी गई आकृति के उस सही दर्पण प्रतिबिंब को चुनिए, जो नीचे दर्शाए गए अनुसार दर्पण को MN पर रखने पर बनेगा।



- Ans**
- ✗ 1. 5 B 5 J k H
 - ✗ 2. B k 2 L 2 k H
 - ✗ 3. B k L 5 5 B H
 - ✓ 4. H k L 5 5 B

Question ID : 264330151501

Option 1 ID : 264330593634

Option 2 ID : 264330593633

Option 3 ID : 264330593632

Option 4 ID : 264330593631

Status : Answered

Chosen Option : 4

Q.5 उस समुच्चय को चुनिए जिसमें संख्याएँ ठीक उसी प्रकार संबंधित हैं जिस प्रकार निम्नलिखित समुच्चयों की संख्याएँ संबंधित हैं।

(ध्यान दें: संख्याओं को उनके घटक अंकों में अलग-अलग किए बिना, पूर्ण संख्याओं पर संक्रियाएँ की जानी चाहिए। उदा. 13 - संख्या 13 पर संक्रियाएँ जैसे 13 को जोड़ना/घटाना/गुणा करना आदि किया जा सकता है। 13 को 1 और 3 में अलग-अलग करने की ओर फिर 1 और 3 पर गणितीय संक्रियाएँ करने की अनुमति नहीं है।)

(5, 11, 80)

(6, 12, 90)

Ans ✓ 1. 7, 17, 120

✗ 2. 2, 16, 123

✗ 3. 4, 19, 148

✗ 4. 9, 11, 67

Question ID : 264330151615

Option 1 ID : 264330594087

Option 2 ID : 264330594088

Option 3 ID : 264330594089

Option 4 ID : 264330594090

Status : Answered

Chosen Option : 1

Q.6 उस सही विकल्प को चुनिए, जिसे दी गई श्रृंखला के रिक्त स्थानों में इसी क्रम में रखने पर श्रृंखला तार्किक रूप से पूरी हो जाएगी।

WA_XV_FX_EFXTGF_SI_X

Ans ✗ 1. FVYNS

✗ 2. MNVKD

✗ 3. HKVHU

✓ 4. FCUXF

Question ID : 264330154722

Option 1 ID : 264330606354

Option 2 ID : 264330606353

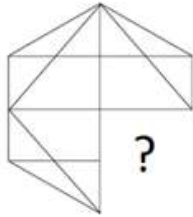
Option 3 ID : 264330606352

Option 4 ID : 264330606351

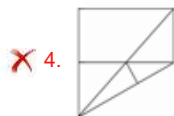
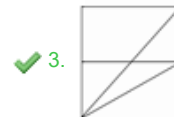
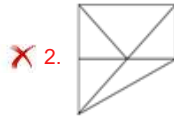
Status : Answered

Chosen Option : 4

Q.7 पैटर्न को पूरा करने वाली आकृति को पहचानिए (घूर्णन की अनुमति नहीं है)।



Ans



Question ID : 264330154513

Option 1 ID : 264330605516

Option 2 ID : 264330605515

Option 3 ID : 264330605517

Option 4 ID : 264330605518

Status : Answered

Chosen Option : 3

Q.8 नीचे दिए गए कथनों और निष्कर्षों को ध्यानपूर्वक पढ़िए। आपको मानना है कि दिए गए कथन सत्य हैं चाहे वे समान्यतः ज्ञात तथ्यों से अलग प्रतीत होते हों। आपको निश्चय करना है कि कौन-सा/कौन-से निष्कर्ष तार्किक रूप से दिए गए कथनों के अनुसार है/हैं।

कथन: सभी स्टेम्प, चाबियां हैं। सभी चाबियां, काली हैं। सभी काली, ग्रे हैं।

निष्कर्ष I: सभी चाबियां, स्टेम्प हैं।

निष्कर्ष II: कुछ चाबियां, काली हैं।

Ans

✗ 1. दोनों निष्कर्ष (I) और (II) कथनों के अनुसार हैं।

✗ 2. न तो निष्कर्ष (I) और न ही (II) कथनों के अनुसार है।

✗ 3. केवल निष्कर्ष (I) कथनों के अनुसार है।

✓ 4. केवल निष्कर्ष (II) कथनों के अनुसार है।

Question ID : 264330155893

Option 1 ID : 264330610978

Option 2 ID : 264330610977

Option 3 ID : 264330610975

Option 4 ID : 264330610976

Status : Answered

Chosen Option : 4

Q.9 अंग्रेजी वर्णमाला क्रम के आधार पर दी गई श्रृंखला में प्रश्न चिह्न (?) के स्थान पर क्या आना चाहिए?

HPS, JRU, LTW, NVY, ?

- Ans
- 1. NZA
 - 2. PXA
 - 3. MXB
 - 4. NYB

Question ID : 264330155765

Option 1 ID : 264330610465

Option 2 ID : 264330610463

Option 3 ID : 264330610466

Option 4 ID : 264330610464

Status : Answered

Chosen Option : 2

Q.10 दी गई श्रृंखला में प्रश्न चिह्न '?' के स्थान पर क्या आना चाहिए?

9 26 77 230 689 ?

- Ans
- 1. 2035
 - 2. 2094
 - 3. 2066
 - 4. 2112

Question ID : 264330151478

Option 1 ID : 264330593539

Option 2 ID : 264330593541

Option 3 ID : 264330593540

Option 4 ID : 264330593542

Status : Answered

Chosen Option : 3

Q.11 यदि '+' और '-' को आपस में बदल दिया जाए तथा 'x' और '/' को आपस में बदल दिया जाए तो निम्नलिखित समीकरण में (?) के स्थान पर क्या आएगा?

$17 + 9 - 39 + 225 \times 15 = ?$

- Ans
- 1. 177
 - 2. 167
 - 3. 157
 - 4. 187

Question ID : 264330155669

Option 1 ID : 264330610081

Option 2 ID : 264330610082

Option 3 ID : 264330610079

Option 4 ID : 264330610080

Status : Answered

Chosen Option : 1

Q.12 नीचे दिए गए कथनों और निष्कर्षों को ध्यानपूर्वक पढ़िए। आपको मानना है कि दिए गए कथन सत्य हैं चाहे वे समान्यतः ज्ञात तथ्यों से अलग प्रतीत होते हों। आपको निश्चय करना है कि कौन-सा/कौन-से निष्कर्ष तार्किक रूप से दिए गए कथनों के अनुसार है/हैं।

कथन: सभी धागे, मुलायम हैं। कुछ मुलायम, फल हैं। सभी फल, पीले हैं।

निष्कर्ष I: कुछ धागे, फल हैं।

निष्कर्ष II: कुछ फल, पीले हैं।

- Ans
- 1. केवल निष्कर्ष (I) कथनों के अनुसार है।
 - 2. दोनों निष्कर्ष (I) और (II) कथनों के अनुसार हैं।
 - 3. केवल निष्कर्ष (II) कथनों के अनुसार है।
 - 4. न तो निष्कर्ष (I) और न ही (II) कथनों के अनुसार है।

Question ID : 264330155921

Option 1 ID : 264330611087

Option 2 ID : 264330611090

Option 3 ID : 264330611088

Option 4 ID : 264330611089

Status : Answered

Chosen Option : 3

Q.13 अक्षरों के उस संयोजन को चुनिए जिसे दी गई श्रृंखला के रिक्त स्थानों में क्रमिक रूप से रखने पर श्रृंखला तार्किक रूप से पूरी हो जाएगी।

HLO_ J_OC LL_E _LOG P_OI

- Ans
- 1. BGHPN
 - 2. BLOEN
 - 3. ALONL
 - 4. AONEL

Question ID : 264330156321

Option 1 ID : 264330612685

Option 2 ID : 264330612686

Option 3 ID : 264330612683

Option 4 ID : 264330612684

Status : Answered

Chosen Option : 3

Q.14 सात व्यक्ति, B, N, M, O, P, Y और S एक सीधी पंक्ति में दक्षिण की ओर मुख करके बैठे हैं। P और S के बीच केवल दो व्यक्ति बैठे हैं। S और M का निकटतम पड़ोसी N है। P के दाईं ओर केवल एक व्यक्ति बैठा है। N, O के बाईं ओर से दूसरे स्थान पर बैठा है। Y, P का निकटतम पड़ोसी है।

P और M के बीच कुल कितने व्यक्ति बैठे हैं?

- Ans
- 1. एक
 - 2. तीन
 - 3. दो
 - 4. चार

Question ID : 264330161697

Option 1 ID : 264330634115

Option 2 ID : 264330634117

Option 3 ID : 264330634116

Option 4 ID : 264330634118

Status : Answered

Chosen Option : 4

Q.15 एक निश्चित कूट भाषा में, 'PORTAL' को 'RQTVCN' लिखा जाता है और 'QUIET' को 'SWKGV' लिखा जाता है। उस कूट भाषा में 'SIMPLE' को कैसे लिखा जाएगा?

- Ans
- 1. VKNRMJ
 - 2. TJNSMH
 - 3. UKORNG
 - 4. TNOSMI

Question ID : 264330155813

Option 1 ID : 264330610658

Option 2 ID : 264330610656

Option 3 ID : 264330610655

Option 4 ID : 264330610657

Status : Answered

Chosen Option : 3

Q.16 एक निश्चित कूट भाषा में, 'do it now' को 'qh tr ce' लिखा जाता है और 'now or never' को 'lx uk tr' लिखा जाता है। उसी कूट भाषा में 'now' को कैसे लिखा जाएगा?

- Ans
- 1. tr
 - 2. lx
 - 3. qh
 - 4. ce

Question ID : 264330151686

Option 1 ID : 264330594372

Option 2 ID : 264330594373

Option 3 ID : 264330594374

Option 4 ID : 264330594371

Status : Answered

Chosen Option : 1

Q.17 दी गई श्रृंखला में प्रश्न चिन्ह '?' के स्थान पर क्या आना चाहिए?

1 14 79 404 2029 ?

- Ans
- 1. 10132
 - 2. 9812
 - 3. 9848
 - 4. 10154

Question ID : 264330151468

Option 1 ID : 264330593501

Option 2 ID : 264330593499

Option 3 ID : 264330593500

Option 4 ID : 264330593502

Status : Answered

Chosen Option : 4

Q.18 यदि शब्द 'ABSOLUTE' के प्रत्येक अक्षर को अंग्रेज़ी वर्णमाला के क्रम में व्यवस्थित किया जाए तो कितने अक्षरों का स्थान अपरिवर्तित रहेगा?

- Ans
- 1. दो
 - 2. तीन
 - 3. पांच
 - 4. चार

Question ID : 264330154323

Option 1 ID : 264330604755

Option 2 ID : 264330604757

Option 3 ID : 264330604758

Option 4 ID : 264330604756

Status : Answered

Chosen Option : 2

Q.19 एक निश्चित तर्क के अनुसार 17, 52 से संबंधित है। समान तर्क के अनुसार, 42, 127 से संबंधित है। समान तर्क का अनुसरण करते हुए 29 निम्नलिखित में से किससे संबंधित है?

- Ans
- 1. 86
 - 2. 84
 - 3. 82
 - 4. 88

Question ID : 264330151591

Option 1 ID : 264330593993

Option 2 ID : 264330593992

Option 3 ID : 264330593991

Option 4 ID : 264330593994

Status : Answered

Chosen Option : 4

Q.20 यदि '+' और 'x' को आपस में बदल दिया जाए और '-' और '=' को आपस में बदल दिया जाए तो निम्नलिखित समीकरण में '?' के स्थान पर क्या आएगा?
 $16 - 4 + 13 \times 5 + 2 = ?$

- Ans
- 1. 36
 - 2. 24
 - 3. 48
 - 4. 55

Question ID : 264330154667

Option 1 ID : 264330606134

Option 2 ID : 264330606133

Option 3 ID : 264330606132

Option 4 ID : 264330606131

Status : Answered

Chosen Option : 4

Q.1 वाणिज्य और उद्योग मंत्रालय (2018-19) के अनुसार, भारत का कौन-सा राज्य रबर का सबसे बड़ा उत्पादक है?

- Ans
- 1. महाराष्ट्र
 - 2. उत्तरप्रदेश
 - 3. केरल
 - 4. गुजरात

Question ID : 264330161487
 Option 1 ID : 264330633276
 Option 2 ID : 264330633277
 Option 3 ID : 264330633275
 Option 4 ID : 264330633278
 Status : Answered
 Chosen Option : 3

Q.2 निम्नलिखित में से कौन-सी आत्मकथा भारत के पूर्व राष्ट्रपति डॉ. ए. पी. जे. अब्दुल कलाम द्वारा लिखी गई थी?

- Ans
- 1. वन लाइफ इज़ नॉट इनफ (One Life is Not Enough)
 - 2. आत्मकथा (Atmakatha)
 - 3. वेटिंग फॉर ए वीज़ा (Waiting for a Visa)
 - 4. विंग्स ऑफ फायर (Wings of Fire)

Question ID : 264330161755
 Option 1 ID : 264330634350
 Option 2 ID : 264330634348
 Option 3 ID : 264330634349
 Option 4 ID : 264330634347
 Status : Answered
 Chosen Option : 4

Q.3 भारत का कौन-सा राज्य प्रसिद्ध तूफान 'काल बैसाखी' से सम्बंधित है?

- Ans
- 1. हरियाणा
 - 2. पश्चिम बंगाल
 - 3. कर्नाटक
 - 4. गुजरात

Question ID : 264330161519
 Option 1 ID : 264330633404
 Option 2 ID : 264330633403
 Option 3 ID : 264330633405
 Option 4 ID : 264330633406
 Status : Answered
 Chosen Option : 2

Q.4 निम्नलिखित में से कौन-सा महासागर भूमध्य सागर तक फैला हुआ है?

- Ans
- ✗ 1. हिंद महासागर
 - ✗ 2. प्रशांत महासागर
 - ✓ 3. अटलांटिक महासागर
 - ✗ 4. आर्कटिक महासागर

Question ID : 264330157834
 Option 1 ID : 264330618695
 Option 2 ID : 264330618698
 Option 3 ID : 264330618696
 Option 4 ID : 264330618697
 Status : Answered
 Chosen Option : 3

Q.5 वर्नाक्यूलर प्रेस अधिनियम किस वर्ष पारित किया गया था?

- Ans
- ✓ 1. 1878 ई.
 - ✗ 2. 1757 ई.
 - ✗ 3. 1888 ई.
 - ✗ 4. 1600 ई.

Question ID : 264330162318
 Option 1 ID : 264330636602
 Option 2 ID : 264330636600
 Option 3 ID : 264330636601
 Option 4 ID : 264330636599
 Status : Answered
 Chosen Option : 1

Q.6 किस भारतीय संगीतकार को प्रतिष्ठित अकादमी पुरस्कार मिला?

- Ans
- ✗ 1. अनु मलिक
 - ✓ 2. ए. आर. रहमान
 - ✗ 3. नौशाद
 - ✗ 4. बप्पी लहरी

Question ID : 264330162233
 Option 1 ID : 264330636260
 Option 2 ID : 264330636262
 Option 3 ID : 264330636261
 Option 4 ID : 264330636259
 Status : Answered
 Chosen Option : 2

Q.7 मानव विकास सूचकांक 2021 के अनुसार पड़ोसी देशों के किस समूह का स्थान भारत से पीछे है?

- Ans
- 1. बांग्लादेश और चीन
 - 2. श्रीलंका और भूटान
 - 3. मालदीव और भूटान
 - 4. पाकिस्तान और अफगानिस्तान

Question ID : 264330160173
 Option 1 ID : 264330628031
 Option 2 ID : 264330628034
 Option 3 ID : 264330628033
 Option 4 ID : 264330628032
 Status : Answered
 Chosen Option : 2

Q.8 'कथक' शब्द की उत्पत्ति निम्नलिखित में से किस शब्द से हुई है?

- Ans
- 1. कथा (Story)
 - 2. नृत्य मुद्रा (Dance steps)
 - 3. घंटी (Bells)
 - 4. कथावाचक (Narrator)

Question ID : 264330160787
 Option 1 ID : 264330630479
 Option 2 ID : 264330630481
 Option 3 ID : 264330630482
 Option 4 ID : 264330630480
 Status : Answered
 Chosen Option : 1

Q.9 तमिलनाडु राज्य के संबंध में, संविधान (अनुसूचित जनजाति) आदेश (द्वारा संशोधन) अधिनियम, 2022 तमिलनाडु में अनुसूचित जनजातियों की सूची में _____ और कुरीविकरन (Kurivikkaran) समुदायों को शामिल करेगा।

- Ans
- 1. कादर (Kadar)
 - 2. नारिकोरावन (Narikoravan)
 - 3. इरुलर (Irular)
 - 4. कम्मारा (Kammara)

Question ID : 264330161414
 Option 1 ID : 264330632985
 Option 2 ID : 264330632983
 Option 3 ID : 264330632984
 Option 4 ID : 264330632986
 Status : Not Answered
 Chosen Option : --

Q.10 _____ नृत्य के प्रदर्शन में, एक तरफ महिलाओं द्वारा रास नृत्य किया जाता है, जबकि विपरीत तरफ वादक पुंग चोलोम (ड्रम) और करताल (झांझ) बजाते हैं।

- Ans 1. मणिपुरी
 2. कथकली
 3. ओडिसी
 4. यक्षगान

Question ID : 264330161342
 Option 1 ID : 264330632698
 Option 2 ID : 264330632696
 Option 3 ID : 264330632695
 Option 4 ID : 264330632697
 Status : Answered
 Chosen Option : 1

Q.11 राज्य विधानसभा (State Legislature) के दो सत्रों के बीच अधिकतम समय अंतराल कितना होता है?

- Ans 1. छः महीने
 2. दो महीने
 3. तीन महीने
 4. एक वर्ष

Question ID : 264330159927
 Option 1 ID : 264330627057
 Option 2 ID : 264330627055
 Option 3 ID : 264330627056
 Option 4 ID : 264330627058
 Status : Answered
 Chosen Option : 1

Q.12 1951 में प्रथम एशियाई खेल किस शहर में आयोजित किए गए थे?

- Ans 1. पुणे
 2. नई दिल्ली
 3. मुंबई
 4. जयपुर

Question ID : 264330158228
 Option 1 ID : 264330620272
 Option 2 ID : 264330620271
 Option 3 ID : 264330620273
 Option 4 ID : 264330620274
 Status : Answered
 Chosen Option : 1

Q.13 निम्नलिखित में से कौन-सा किसी देश का मौलिक कानून है जो सरकार के विभिन्न अंगों की रूपरेखा और प्रमुख कार्यों को निर्धारित करता है?

- Ans 1. अध्यादेश (Ordinance)
 2. प्रथाएं (Customs)
 3. अंतरराष्ट्रीय कानून (International Law)
 4. संविधान (Constitution)

Question ID : 264330161395
 Option 1 ID : 264330632909
 Option 2 ID : 264330632908
 Option 3 ID : 264330632910
 Option 4 ID : 264330632907
 Status : Answered
 Chosen Option : 4

Q.14 रानी मचेया (Rani Machaiah) को लोक नृत्य में उनके योगदान के लिए वर्ष _____ में 'पद्म श्री' से सम्मानित किया गया था।

- Ans
- 1. 2018
 - 2. 2012
 - 3. 2015
 - 4. 2023

Question ID : 264330155526
 Option 1 ID : 264330609508
 Option 2 ID : 264330609510
 Option 3 ID : 264330609509
 Option 4 ID : 264330609507
 Status : Not Answered
 Chosen Option : --

Q.15 बैंकिंग में 'ऋणाधार (Collateral)' शब्द का अर्थ क्या है?

- Ans
- 1. डिजिटल भुगतान का एक रूप
 - 2. एक निवेश पोर्टफोलियो
 - 3. ऋण के लिए सुरक्षा के रूप में गिरवी रखी गई संपत्ति
 - 4. एक प्रकार का क्रेडिट कार्ड

Question ID : 264330157306
 Option 1 ID : 264330616588
 Option 2 ID : 264330616589
 Option 3 ID : 264330616590
 Option 4 ID : 264330616587
 Status : Answered
 Chosen Option : 3

Q.16 सरकारी बजट क्या है?

- Ans
- 1. वैयक्तिक वित्त प्रबंधन के लिए एक योजना।
 - 2. किसी देश की आर्थिक वृद्धि पर एक रिपोर्ट।
 - 3. किसी विशिष्ट अवधि के लिए सरकार के अपेक्षित राजस्व और व्यय का वित्तीय विवरण।
 - 4. विदेश नीति के लक्ष्यों को रेखांकित करने वाला एक दस्तावेज।

Question ID : 264330157270
 Option 1 ID : 264330616443
 Option 2 ID : 264330616445
 Option 3 ID : 264330616444
 Option 4 ID : 264330616446
 Status : Answered
 Chosen Option : 3

Q.17 1820 में एक प्रयोग के दौरान किस भौतिक विज्ञानी के प्रयोग ने विद्युत (electricity) और चुंबकत्व (magnetism) के बीच संबंध को दर्शाया?

- Ans
- 1. हेनरिक हर्ट्ज़ (Heinrich Hertz)
 - 2. हंस क्रिश्चियन ऑर्स्टेड (Hans Christian Oersted)
 - 3. विलियम गिल्बर्ट (William Gilbert)
 - 4. जॉन कॉकक्रॉफ्ट (William Gilbert)

Question ID : 264330161045
 Option 1 ID : 264330631514
 Option 2 ID : 264330631513
 Option 3 ID : 264330631511
 Option 4 ID : 264330631512
 Status : Not Answered
 Chosen Option : --

Q.18 सिंधु घाटी सभ्यता के विशाल स्नानघर के बारे में निम्नलिखित में से कौन-सा कथन सत्य है?

- Ans
- 1. इसका उपयोग अनाज भंडारण के लिए किया जाता था।
 - 2. इसका उपयोग संभवतः धार्मिक प्रयोजन के लिए किया जाता था।
 - 3. इसका उपयोग शहर की पानी की टंकी के रूप में किया जाता था।
 - 4. इसका उपयोग खेती के लिए किया जाता था।

Question ID : 264330160763

Option 1 ID : 264330630385

Option 2 ID : 264330630383

Option 3 ID : 264330630386

Option 4 ID : 264330630384

Status : Answered

Chosen Option : 2

Q.19 किस एंटीबायोटिक को पहली चमत्कारिक दवा माना जाता है, जिसका उपयोग गले के संक्रमण, मस्तिष्क ज्वर (meningitis), सिफलिस (syphilis) और अन्य जीवाणु संक्रमण के इलाज के लिए किया जाता है?

- Ans
- 1. निफुराटेल (Nifuratel)
 - 2. पेनिसिलिन (Penicillin)
 - 3. असिक्लोविर (Aciclovir)
 - 4. मेट्रोनिडाज़ोल (Metronidazole)

Question ID : 264330161078

Option 1 ID : 264330631646

Option 2 ID : 264330631643

Option 3 ID : 264330631644

Option 4 ID : 264330631645

Status : Answered

Chosen Option : 2

Q.20 निम्नलिखित में से कौन उत्तर-पश्चिम सीमांत प्रांत के पठानों के बीच एक शक्तिशाली अहिंसक आंदोलन, खुदाई खिदमतगार का संस्थापक था?

- Ans
- 1. मोहम्मद अली जिन्ना
 - 2. खान अब्दुल जब्बार खान
 - 3. खान अब्दुल गफ्फार खान
 - 4. अब्दुल कय्यूम खान कश्मीरी

Question ID : 264330161749

Option 1 ID : 264330634325

Option 2 ID : 264330634324

Option 3 ID : 264330634323

Option 4 ID : 264330634326

Status : Answered

Chosen Option : 3

Q.21 'ए सूटेबल बॉय (A Suitable Boy)' उपन्यास के लेखक कौन हैं?

- Ans
- 1. विक्रम सेठ
 - 2. अनिता देसाई
 - 3. किरण देसाई
 - 4. चेतन भगत

Question ID : 264330160967
Option 1 ID : 264330631200
Option 2 ID : 264330631202
Option 3 ID : 264330631201
Option 4 ID : 264330631199
Status : Answered
Chosen Option : 1

Q.22 पहले खेलो इंडिया शीतकालीन खेलों (Khelo India Winter Games) का आयोजन किस वर्ष किया गया था?

- Ans
- 1. 2019
 - 2. 2020
 - 3. 2021
 - 4. 2022

Question ID : 264330158238
Option 1 ID : 264330620311
Option 2 ID : 264330620312
Option 3 ID : 264330620313
Option 4 ID : 264330620314
Status : Not Answered
Chosen Option : --

Q.23 फिल्म 'उपकार' (1967) के प्रसिद्ध गीत 'मेरे देश की धरती सोना उगले' के गायक कौन थे?

- Ans
- 1. महेंद्र कपूर
 - 2. के.जे. येसुदास
 - 3. मन्ना डे
 - 4. सुरेश वाडकर

Question ID : 264330155513
Option 1 ID : 264330609455
Option 2 ID : 264330609457
Option 3 ID : 264330609456
Option 4 ID : 264330609458
Status : Not Answered
Chosen Option : --

Q.24 _____ में आदिवासी समुदाय द्वारा मनाया जाने वाला 'लोसूंग (Losoong)' त्योहार आमतौर पर वह समय होता है जब किसान अपनी फसल कटाई का जश्न व खुशियां मनाते हैं।

- Ans
- 1. ओडिशा
 - 2. झारखंड
 - 3. पश्चिम बंगाल
 - 4. सिक्किम

Question ID : 264330160818
 Option 1 ID : 264330630605
 Option 2 ID : 264330630606
 Option 3 ID : 264330630604
 Option 4 ID : 264330630603
 Status : Answered
 Chosen Option : 4

Q.25 ज्योति याराजी (Jyothi Yarraji) ने 2023 में निम्नलिखित में से किस खेल में एक नया राष्ट्रीय रिकॉर्ड बनाया?

- Ans
- 1. ऊंची कूद (High jump)
 - 2. लंबी छलांग (Long jump)
 - 3. इनडोर बाधा दौड़ (Indoor hurdling)
 - 4. गोला फेंक (Shot put)

Question ID : 264330158373
 Option 1 ID : 264330620853
 Option 2 ID : 264330620851
 Option 3 ID : 264330620854
 Option 4 ID : 264330620852
 Status : Answered
 Chosen Option : 1

Section : English Language and Comprehension

Q.1 Parts of the following sentence have been given as options. Select the option that contains an error.
 I shall be playing for four hours.

- Ans
- 1. for
 - 2. four hours
 - 3. I
 - 4. shall be playing

Question ID : 264330152818
 Option 1 ID : 264330598865
 Option 2 ID : 264330598866
 Option 3 ID : 264330598863
 Option 4 ID : 264330598864
 Status : Answered
 Chosen Option : 4

Q.2 Select the most appropriate option to fill in the blank.
The mother _____ the chips because they were soggy.

- Ans
- 1. wasted
 - 2. saved
 - 3. recovered
 - 4. discarded

Question ID : 264330152579
Option 1 ID : 264330597920
Option 2 ID : 264330597922
Option 3 ID : 264330597919
Option 4 ID : 264330597921
Status : Answered
Chosen Option : 4

Q.3 The following sentence has been divided into parts. One of them may contain an error.
Select the part that contains the error from the given options. If you don't find any error, mark 'No error' as your answer.

The viable of life / depends on a pair / of conflicting realities.

- Ans
- 1. The viable of life
 - 2. depends on a pair
 - 3. of conflicting realities
 - 4. No error

Question ID : 264330153607
Option 1 ID : 264330601913
Option 2 ID : 264330601911
Option 3 ID : 264330601912
Option 4 ID : 264330601914
Status : Answered
Chosen Option : 3

Q.4 Select the most appropriate meaning of the given idiom.
Bite the dust

- Ans
- 1. To suffer a defeat
 - 2. To fall asleep
 - 3. To remain calm
 - 4. To fall from a height

Question ID : 264330155285
Option 1 ID : 264330608584
Option 2 ID : 264330608585
Option 3 ID : 264330608586
Option 4 ID : 264330608583
Status : Answered
Chosen Option : 1

Q.5 Select the most appropriate meaning of the given idiom.
Have egg on your face

- Ans 1. Reveal a secret
 2. To be made to look foolish or embarrassed
 3. Defeat someone thoroughly
 4. Making a choice between two unpleasant choices

Question ID : 264330155282
Option 1 ID : 264330608572
Option 2 ID : 264330608573
Option 3 ID : 264330608571
Option 4 ID : 264330608574
Status : Answered
Chosen Option : 2

Q.6 Select the most appropriate option to fill in the blank.
Chaitnya was _____ from the school due to his inappropriate behaviour.

- Ans 1. xpeled
 2. xpelled
 3. expelled
 4. expeled

Question ID : 264330153305
Option 1 ID : 264330600776
Option 2 ID : 264330600778
Option 3 ID : 264330600777
Option 4 ID : 264330600775
Status : Answered
Chosen Option : 3

Q.7 The following sentence contains some errors. Select the option that correctly rectifies the error.
The tiger was tranquilized in the morning and kept in a cage to avoid disturbannces by human beings.

- Ans 1. The tiger was traanquilized in the morning and kept in a cage to avoid disturbances by human beings.
 2. The tiger was tranquiliized in the morning and kept in a cage to avoid disturbances by human beings.
 3. The tiger was tranquilized in the morning and kept in a cage to avoid disturbances by human beings.
 4. The tiger was tranquilized in the morning and kept in a cage to avoiid disturbaences by human beings.

Question ID : 264330152692
Option 1 ID : 264330598372
Option 2 ID : 264330598371
Option 3 ID : 264330598374
Option 4 ID : 264330598373
Status : Answered
Chosen Option : 3

Q.8 Select the option that can be used as a one-word substitute for the given group of words.

A person who avoids sensory pleasures and physical comforts

- Ans
- 1. Bohemian
 - 2. Ascetic
 - 3. Epicurean
 - 4. Frugal

Question ID : 264330151869

Option 1 ID : 264330595096

Option 2 ID : 264330595095

Option 3 ID : 264330595098

Option 4 ID : 264330595097

Status : Answered

Chosen Option : 2

Q.9 Select the most appropriate meaning of the underlined segment in the given sentence.
Our team is all on the same page when it comes to our goals for the upcoming project.

- Ans
- 1. Be confused
 - 2. Be unsure
 - 3. Be in agreement
 - 4. Be in conflict

Question ID : 264330152927

Option 1 ID : 264330599289

Option 2 ID : 264330599290

Option 3 ID : 264330599287

Option 4 ID : 264330599288

Status : Answered

Chosen Option : 3

Q.10 The following sentence has been split into four segments. Identify the segment that contains an error.

Mr Sharma would have left / the station / by this time / tomorrow.

- Ans
- 1. Mr Sharma would have left
 - 2. tomorrow
 - 3. the station
 - 4. by this time

Question ID : 264330143051

Option 1 ID : 264330560479

Option 2 ID : 264330560482

Option 3 ID : 264330560480

Option 4 ID : 264330560481

Status : Answered

Chosen Option : 1

Q.11 Select the most appropriate option that can substitute the underlined segment in the given sentence.

France is a largest country.

- Ans
- 1. smallest
 - 2. larger
 - 3. smaller
 - 4. large

Question ID : 264330155422

Option 1 ID : 264330609098

Option 2 ID : 264330609096

Option 3 ID : 264330609097

Option 4 ID : 264330609095

Status : Answered

Chosen Option : 4

Q.12 Select the INCORRECTLY spelt word.

- Ans
- 1. Expose
 - 2. Convict
 - 3. Confess
 - 4. Chivalrous

Question ID : 264330152944

Option 1 ID : 264330599356

Option 2 ID : 264330599358

Option 3 ID : 264330599357

Option 4 ID : 264330599355

Status : Answered

Chosen Option : 3

Q.13 Select the most appropriate option that can substitute the underlined segment in the given sentence.

No sooner had the sun risen over the horizon when the birds began to chirp and the squirrels started to scamper around the park.

- Ans
- 1. when birds began
 - 2. when the birds begin
 - 3. than the birds began
 - 4. than birds begin

Question ID : 264330151857

Option 1 ID : 264330595048

Option 2 ID : 264330595050

Option 3 ID : 264330595049

Option 4 ID : 264330595047

Status : Answered

Chosen Option : 3

Q.14 Select the most appropriate ANTONYM of the given word.
Clumsy

- Ans 1. Nervous
 2. Jealous
 3. Fierce
 4. Graceful

Question ID : 264330151916
Option 1 ID : 264330595281
Option 2 ID : 264330595279
Option 3 ID : 264330595282
Option 4 ID : 264330595280
Status : Answered
Chosen Option : 4

Q.15 Select the option that can be used as a one-word substitute for the given group of words.

A person living in solitude like a saint for religious practices.

- Ans 1. Heretic
 2. Hermit
 3. Heir
 4. Cretin

Question ID : 264330151812
Option 1 ID : 264330594876
Option 2 ID : 264330594875
Option 3 ID : 264330594877
Option 4 ID : 264330594878
Status : Answered
Chosen Option : 1

Q.16 Identify the most appropriate meaning of the given word.
Hope

- Ans 1. Realism
 2. Wish
 3. Caution
 4. Cynicism

Question ID : 264330152572
Option 1 ID : 264330597893
Option 2 ID : 264330597894
Option 3 ID : 264330597891
Option 4 ID : 264330597892
Status : Answered
Chosen Option : 2

Q.17 Select the most appropriate meaning of the underlined idiom in the following sentence.

“Do not turn a blind eye to all the mischief your child is up to”, the teacher told the young parent.

- Ans
- 1. Pretend not to notice
 - 2. Give rewards
 - 3. Close the door
 - 4. Take pride in

Question ID : 264330153051
Option 1 ID : 264330599773
Option 2 ID : 264330599774
Option 3 ID : 264330599772
Option 4 ID : 264330599771
Status : Answered
Chosen Option : 1

Q.18 The following sentence has been split into four segments. Identify the segment that contains a grammatical error.
I had / a bad habit of / waking up / lately.

- Ans
- 1. a bad habit of
 - 2. waking up
 - 3. lately
 - 4. I had

Question ID : 264330153185
Option 1 ID : 264330600300
Option 2 ID : 264330600301
Option 3 ID : 264330600302
Option 4 ID : 264330600299
Status : Answered
Chosen Option : 3

Q.19 Select the most appropriate synonym of the bracketed word in the following sentence to fill in the blank.
She's reading a _____ (secrecy) novel and can't wait to find out who the killer is.

- Ans
- 1. mystery
 - 2. complication
 - 3. difficulty
 - 4. crisis

Question ID : 264330152660
Option 1 ID : 264330598244
Option 2 ID : 264330598245
Option 3 ID : 264330598243
Option 4 ID : 264330598246
Status : Answered
Chosen Option : 1

Q.20 Select the most appropriate option to fill in the blank.

During the meeting, he went on a long and angry _____ about how the project was being mismanaged.

- Ans
- 1. shout
 - 2. rant
 - 3. mutter
 - 4. whisper

Question ID : 264330151860

Option 1 ID : 264330595062

Option 2 ID : 264330595059

Option 3 ID : 264330595061

Option 4 ID : 264330595060

Status : Answered

Chosen Option : 1

Comprehension:

In the following passage, some words have been deleted. Read the passage carefully and select the most appropriate option to fill in each blank.

Once there was a king named Midas who was granted a (1) _____ by Dionysus, the god of wine. For his wish, Midas asked that whatever he (2) _____ would turn to gold. Despite Dionysus' efforts to prevent it, Midas pleaded that this was a fantastic wish, and so, it was bestowed. Excited about his newly-earned (3) _____, Midas started touching all kinds of things, turning each item into pure gold. But soon, Midas became (4) _____. As he picked up a piece of food, he found he couldn't eat it. It had turned to gold in his hand. Hungry, Midas groaned, "I'll starve! Perhaps this was not such an excellent wish after all!" Seeing his dismay, Midas' (5) _____ daughter threw her arms around him to comfort him, and she, too, turned to gold. "The golden touch is no blessing," Midas cried.

SubQuestion No : 21

Q.21 Select the most appropriate option to fill in blank number 1.

- Ans
- 1. job
 - 2. employment
 - 3. slavery
 - 4. wish

Question ID : 264330153525

Option 1 ID : 264330601607

Option 2 ID : 264330601608

Option 3 ID : 264330601610

Option 4 ID : 264330601609

Status : Answered

Chosen Option : 4

Comprehension:

In the following passage, some words have been deleted. Read the passage carefully and select the most appropriate option to fill in each blank.

Once there was a king named Midas who was granted a (1)_____ by Dionysus, the god of wine. For his wish, Midas asked that whatever he (2)_____ would turn to gold. Despite Dionysus' efforts to prevent it, Midas pleaded that this was a fantastic wish, and so, it was bestowed. Excited about his newly-earned (3)_____, Midas started touching all kinds of things, turning each item into pure gold. But soon, Midas became (4)_____. As he picked up a piece of food, he found he couldn't eat it. It had turned to gold in his hand. Hungry, Midas groaned, "I'll starve! Perhaps this was not such an excellent wish after all!" Seeing his dismay, Midas' (5)_____ daughter threw her arms around him to comfort him, and she, too, turned to gold. "The golden touch is no blessing," Midas cried.

SubQuestion No : 22

Q.22 Select the most appropriate option to fill in blank number 2.

- Ans
- 1. next felt
 - 2. kept
 - 3. left
 - 4. touched

Question ID : 264330153526

Option 1 ID : 264330601614

Option 2 ID : 264330601611

Option 3 ID : 264330601613

Option 4 ID : 264330601612

Status : Answered

Chosen Option : 4

Comprehension:

In the following passage, some words have been deleted. Read the passage carefully and select the most appropriate option to fill in each blank.

Once there was a king named Midas who was granted a (1)_____ by Dionysus, the god of wine. For his wish, Midas asked that whatever he (2)_____ would turn to gold. Despite Dionysus' efforts to prevent it, Midas pleaded that this was a fantastic wish, and so, it was bestowed. Excited about his newly-earned (3)_____, Midas started touching all kinds of things, turning each item into pure gold. But soon, Midas became (4)_____. As he picked up a piece of food, he found he couldn't eat it. It had turned to gold in his hand. Hungry, Midas groaned, "I'll starve! Perhaps this was not such an excellent wish after all!" Seeing his dismay, Midas' (5)_____ daughter threw her arms around him to comfort him, and she, too, turned to gold. "The golden touch is no blessing," Midas cried.

SubQuestion No : 23

Q.23 Select the most appropriate option to fill in blank number 3.

- Ans
- 1. legacies
 - 2. visuals
 - 3. powers
 - 4. awards

Question ID : 264330153527

Option 1 ID : 264330601618

Option 2 ID : 264330601616

Option 3 ID : 264330601615

Option 4 ID : 264330601617

Status : Answered

Chosen Option : 3

Comprehension:

In the following passage, some words have been deleted. Read the passage carefully and select the most appropriate option to fill in each blank.

Once there was a king named Midas who was granted a (1)_____ by Dionysus, the god of wine. For his wish, Midas asked that whatever he (2)_____ would turn to gold. Despite Dionysus' efforts to prevent it, Midas pleaded that this was a fantastic wish, and so, it was bestowed. Excited about his newly-earned (3)_____, Midas started touching all kinds of things, turning each item into pure gold. But soon, Midas became (4)_____. As he picked up a piece of food, he found he couldn't eat it. It had turned to gold in his hand. Hungry, Midas groaned, "I'll starve! Perhaps this was not such an excellent wish after all!" Seeing his dismay, Midas' (5)_____ daughter threw her arms around him to comfort him, and she, too, turned to gold. "The golden touch is no blessing," Midas cried.

SubQuestion No : 24

Q.24 Select the most appropriate option to fill in blank number 4.

- Ans 1. hungry
 2. tired
 3. angry
 4. mad

Question ID : 264330153528

Option 1 ID : 264330601622

Option 2 ID : 264330601621

Option 3 ID : 264330601619

Option 4 ID : 264330601620

Status : Answered

Chosen Option : 1

Comprehension:

In the following passage, some words have been deleted. Read the passage carefully and select the most appropriate option to fill in each blank.

Once there was a king named Midas who was granted a (1)_____ by Dionysus, the god of wine. For his wish, Midas asked that whatever he (2)_____ would turn to gold. Despite Dionysus' efforts to prevent it, Midas pleaded that this was a fantastic wish, and so, it was bestowed. Excited about his newly-earned (3)_____, Midas started touching all kinds of things, turning each item into pure gold. But soon, Midas became (4)_____. As he picked up a piece of food, he found he couldn't eat it. It had turned to gold in his hand. Hungry, Midas groaned, "I'll starve! Perhaps this was not such an excellent wish after all!" Seeing his dismay, Midas' (5)_____ daughter threw her arms around him to comfort him, and she, too, turned to gold. "The golden touch is no blessing," Midas cried.

SubQuestion No : 25

Q.25 Select the most appropriate option to fill in blank number 5.

- Ans 1. estranged
 2. guarded
 3. beloved
 4. hated

Question ID : 264330153529

Option 1 ID : 264330601624

Option 2 ID : 264330601626

Option 3 ID : 264330601623

Option 4 ID : 264330601625

Status : Answered

Chosen Option : 3