

## Selection Post Phase IX 2021 Matriculation level

Roll Number	
Candidate Name	
Venue Name	
Exam Date	02/02/2022
Exam Time	12:00 PM - 1:00 PM
Subject	Selection Post Matriculation Level

## Section : General Intelligence

Q.1 सात लड़के- अजय, मिहिर, रोहित, करण, वैभव, नितिन और संजय एक सीधी बेंच पर उत्तर की ओर मुख करके बैठे हैं। करण एकदम बाएं सिरे पर बैठा है और वह रोहित के बाईं ओर दूसरे स्थान पर है। मिहिर, रोहित और वैभव के ठीक बगल में बैठा है। नितिन, संजय के बाईं ओर ठीक बगल में बैठा है। मिहिर के बाईं ओर दूसरे स्थान पर कौन बैठा है?

Ans ☒ 1. अजय

☐ 2. करण

☐ 3. संजय

☐ 4. नितिन

Question ID : 65497838199

Status : Answered

Chosen Option : 1

Q.2 'बुखार' का 'थर्मामीटर' से वही संबंध है, जो 'भूकंप' का '\_\_\_\_\_' से है।

Ans ☐ 1. एमीटर

☐ 2. वोल्टमीटर

☒ 3. सिस्मोग्राफ

☐ 4. बैरोमीटर

Question ID : 65497838190

Status : Answered

Chosen Option : 3

# Test Prime

**ALL EXAMS,  
ONE SUBSCRIPTION**



**70,000+**  
Mock Tests



**Personalised  
Report Card**



**Unlimited  
Re-Attempt**



**600+**  
Exam Covered



**Previous Year  
Papers**




**500%  
Refund**




**ATTEMPT FREE MOCK NOW**

Q.3 दिए गए विकल्पों में से उस आकृति का चयन कीजिए, जो निम्नलिखित श्रृंखला में प्रश्नवाचक चिन्ह (?) के स्थान पर आ सकती है।




Ans

✓ 1.



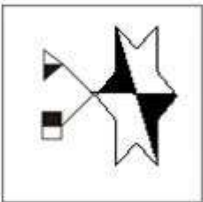
✗ 2.



✗ 3.



✗ 4.



Question ID : 65497838310

Status : Answered

Chosen Option : 1

Q.4 एक निश्चित कूट भाषा में, 'FIANCE' को 'NIFECA' के रूप में लिखा जाता है और 'PLANT' को 'TPNLA' के रूप में लिखा जाता है। उसी भाषा में, 'PRODUCT' को किस रूप में लिखा जाएगा?

Ans ✗ 1. UTPORDC

✓ 2. UTRPODC

✗ 3. ORPUDTC

✗ 4. RTUPODC

Question ID : 65497839318

Status : Answered

Chosen Option : 3

Q.5 यदि 'U × V' का अर्थ है कि 'U, V की बेटी है', 'U + V' का अर्थ है कि 'U, V का पति है', और 'U - V' का अर्थ है कि 'U, V की बहन है', तो 'W + X - Y × Z' का क्या अर्थ होगा?

- Ans ☒ 1. W, Z का दामाद है  
☒ 2. W, Z का साला है  
☒ 3. Z, W की सास हैं  
☒ 4. W, Z का चाचा है

Question ID : 65497838610

Status : Answered

Chosen Option : 1

Q.6 फोटो में एक व्यक्ति की ओर इंगित करते हुए, विक्रम ने कहा, "वह मेरी पत्नी के ससुर समीर के बेटे का बेटा है"। समीर का एक ही बेटा है। फोटो में दिख रहे व्यक्ति का विक्रम से क्या संबंध है?

- Ans ☒ 1. भाई  
☒ 2. पिता  
☒ 3. भतीजा  
☒ 4. बेटा

Question ID : 65497839220

Status : Answered

Chosen Option : 4

Q.7 दिए गए कथनों और निष्कर्षों को ध्यानपूर्वक पढ़ें। कथनों में दी गई जानकारी को सत्य मानते हुए विचार करें, भले ही वह सामान्यतः ज्ञात तथ्यों से भिन्न प्रतीत होती हो और तय करें कि दिए गए निष्कर्षों में से कौन से कथनों का तार्किक रूप से पालन करते हैं?

कथन:

कुछ ऊंट हाथी हैं।  
 सभी हाथी शेर हैं।  
 सभी शेर बाघ हैं।

निष्कर्ष:

- I. कुछ बाघ ऊंट हैं।  
 II. कुछ ऊंट शेर हैं।

- Ans ☒ 1. केवल निष्कर्ष II पालन करता है।  
☒ 2. केवल निष्कर्ष I पालन करता है।  
☒ 3. न तो निष्कर्ष I और न ही II पालन करता है।  
☒ 4. निष्कर्ष I और II दोनों ही पालन करते हैं।

Question ID : 65497839023

Status : Answered

Chosen Option : 4

Q.8 निम्नलिखित समीकरण को संतुलित करने के लिए किन दो संख्याओं को आपस में बदले जाने की आवश्यकता है?

$$24 + 22 \times 12 \div 16 - 8 = 32$$

- Ans ☒ 1. 22 और 24  
☒ 2. 12 और 8  
☒ 3. 22 और 16  
☒ 4. 24 और 12

Question ID : 65497839328

Status : Answered

Chosen Option : 1

Q.9 उस सही विकल्प का चयन कीजिए, जो दिए गए शब्दों के उस क्रम को दर्शाता है, जिस क्रम में वे अंग्रेज़ी शब्दकोश में मौजूद होते हैं।

1. PLAYTIME
2. PLAYGROUND
3. PLAYWRIGHT
4. PLEASANT
5. PLAYHOUSE

Ans ✓ 1. 2, 5, 1, 3, 4

✗ 2. 3, 5, 1, 4, 2

✗ 3. 2, 5, 3, 4, 1

✗ 4. 2, 5, 1, 4, 3

Question ID : 65497838187

Status : Answered

Chosen Option : 4

Q.10 दिए गए विकल्पों में से उस संख्या का चयन कीजिए, जो निम्नलिखित श्रेणी में प्रश्न चिह्न (?) के स्थान पर आ सकती है।

37, 43, 53, 61, 71, ?

Ans ✓ 1. 79

✗ 2. 89

✗ 3. 93

✗ 4. 85

Question ID : 65497838306

Status : Answered

Chosen Option : 1

Q.11 दर्पण को 'PQ' पर रखे जाने पर, जैसा कि निम्न चित्र में दर्शाया गया है, दिए गए संयोजन का दर्पण में निर्मित सही प्रतिबिम्ब का चयन करें।

5 2 4 1 8 7 |  
P  
Q

Ans ✗ 1. 7 8 1 4 2 5

✗ 2. 7 8 1 4 5 2

✗ 3. 7 8 1 4 5 9

✓ 4. 7 8 1 4 5 2

Question ID : 65497839332

Status : Answered

Chosen Option : 4

Q.12 एक निश्चित कूट भाषा में, 'we can follow' को '218' के रूप में कूटबद्ध किया जाता है, 'follow the rules' को '589' के रूप में कूटबद्ध किया जाता है, और 'check the list' को '475' के रूप में कूटबद्ध किया जाता है। उसी भाषा में, 'rules' शब्द के लिए क्या कूट होगा?

Ans ✗ 1. 8

✗ 2. 4

✓ 3. 9

✗ 4. 5

Question ID : 65497839319

Status : Answered

Chosen Option : 3

Q.13 दिए गए विकल्पों में से उस संख्या का चयन कीजिए, जो निम्नलिखित श्रेणी में प्रश्न चिह्न (?) के स्थान पर आ सकती है।

224, 112, 56, 28, ?

- Ans
- ☒ 1. 26
  - ☒ 2. 7
  - ☒ 3. 14
  - ☒ 4. 21

Question ID : 65497838203

Status : Answered

Chosen Option : 3

Q.14 एक प्रदर्शनी में, सात ब्रांडों ने अपने स्टॉल एक क्षेत्रीय पंक्ति में और एक ही दिशा की ओर अभिमुख करके लगाए हैं। स्टॉल लगाने वाले सात ब्रांडों में A, B, L, P, R, T और Z शामिल हैं। L, जो B के बाईं ओर तीसरे स्थान पर है, एक सिरे पर है। A, B और Z के बीच में है। T, R के दाईं ओर निकटतम स्थान पर है। R, L के दाईं ओर चौथे स्थान पर है। T के दाईं ओर निकटतम स्थान पर कौन से ब्रांड का स्टॉल मौजूद है?

- Ans
- ☒ 1. A
  - ☒ 2. P
  - ☒ 3. B
  - ☒ 4. R

Question ID : 65497839014

Status : Not Attempted and Marked For Review

Chosen Option : --

Q.15 दिए गए विकल्पों में से उस अक्षर-समूह का चयन करें, जो निम्नलिखित श्रृंखला में प्रश्न चिह्न (?) के स्थान पर आ सकता है।

NFP, MHM, LJJ, KLG, ?

- Ans
- ☒ 1. KMF
  - ☒ 2. KND
  - ☒ 3. JME
  - ☒ 4. JND

Question ID : 65497838288

Status : Answered

Chosen Option : 4

Q.16 एक निश्चित कूट भाषा में, 'EXPLAIN' को '15912141624' के रूप में कूटबद्ध किया जाता है। उसी भाषा में 'SACRED' को किस रूप में कूटबद्ध किया जाएगा?

- Ans
- ☒ 1. 13145189
  - ☒ 2. 14131598
  - ☒ 3. 19181514
  - ☒ 4. 13451819

Question ID : 65497838095

Status : Answered

Chosen Option : 3

Q.17 चार अक्षर-समूह दिए गए हैं, जिनमें से तीन किसी तरह से संगत हैं और एक असंगत है। उस अक्षर-समूह का चयन करें, जो अन्य से असंगत है।

- Ans ☒ 1. GLS  
☒ 2. HMR  
☒ 3. AFK  
☒ 4. DIN

Question ID : 65497838290  
 Status : Answered  
 Chosen Option : 1

Q.18 एक निश्चित कूट भाषा में, 'FURNACE' को 'EVQOZDD' लिखा जाता है। उसी कूट भाषा में 'IMAGERY' को किस प्रकार लिखा जाएगा?

- Ans ☒ 1. JLBFDX  
☒ 2. HNBGIQZ  
☒ 3. HNZHDSX  
☒ 4. JLBJDQZ

Question ID : 65497838094  
 Status : Answered  
 Chosen Option : 3

Q.19 एक निश्चित कूट भाषा में, 'DEVOTION' को 'EHAVREIF' के रूप में लिखा जाता है, और 'SANSKRIT' को 'TDSZINCL' के रूप में लिखा जाता है। उसी भाषा में 'LICENSED' को कैसे लिखा जाएगा?

- Ans ☒ 1. MKHILYOU  
☒ 2. MLHLLOYV  
☒ 3. MFHXPOKV  
☒ 4. MHFXOPVK

Question ID : 65497839009  
 Status : Answered  
 Chosen Option : 2

Q.20 उस विकल्प का चयन करें जो तीसरे पद से उसी प्रकार संबंधित है जिस प्रकार दूसरा पद पहले पद से संबंधित है।

GLOWS : UPMEI :: FLYER : ?

- Ans ☒ 1. VPCWJ  
☒ 2. EKXDQ  
☒ 3. VPAUH  
☒ 4. UOBVI

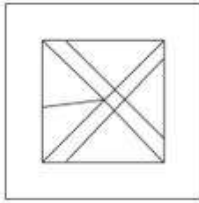
Question ID : 65497839313  
 Status : Not Attempted and Marked For Review  
 Chosen Option : --

Q.21 उस विकल्प का चयन करें, जिसमें दी गई आकृति अंतर्निहित है (आकृति को घुमाने की अनुमति नहीं है)।

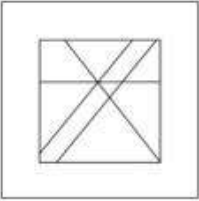


Ans

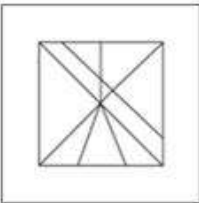
✓ 1.



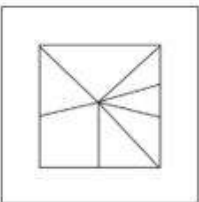
✗ 2.



✗ 3.



✗ 4.



Question ID : 65497838209

Status : Answered

Chosen Option : 1

Q.22 दिए गए कथनों और निष्कर्षों को ध्यानपूर्वक पढ़ें। यह मानते हुए कि कथनों में दी गई जानकारी सत्य है, भले ही वह सामान्य रूप से ज्ञात तथ्यों से भिन्न प्रतीत होती हो, निर्णय लें कि दिए गए निष्कर्षों में से कौन सा/से निष्कर्ष कथनों का तार्किक रूप से अनुसरण करता/ते है/हैं।

कथन:

कोई भी शिक्षक, अभियंता नहीं है।  
सभी वास्तुकार, अभियंता हैं।

निष्कर्ष:

- I. कोई भी शिक्षक, वास्तुकार नहीं है।
- II. कुछ शिक्षक, वास्तुकार हैं।

Ans

✓ 1. केवल निष्कर्ष I अनुसरण करता है

✗ 2. न तो निष्कर्ष I और न ही II अनुसरण करता है

✗ 3. केवल निष्कर्ष II अनुसरण करता है

✗ 4. निष्कर्ष I और II दोनों अनुसरण करते हैं

Question ID : 65497839323

Status : Answered

Chosen Option : 1



Q.23 एक निश्चित कूट भाषा में, 'FIG' को 12 और 'PLUM' को 20 लिखा जाता है। उसी कूट भाषा में 'GRAPES' को किस प्रकार लिखा जाएगा?

- Ans ☒ 1. 42  
☒ 2. 49  
☒ 3. 35  
☒ 4. 56

Question ID : 65497838194

Status : Not Attempted and  
Marked For Review

Chosen Option : --

Q.24 अक्षरों का वह संयोजन चुनें जिसे निम्नांकित श्रृंखला के रिक्त स्थानों पर क्रमबद्ध रूप से रखे जाने पर श्रृंखला पूरी हो जाएगी।

Y \_ L \_ S \_ S \_ E \_ Y \_ L \_ S

- Ans ☒ 1. S, E, Y, L, S, S, E  
☒ 2. S, Y, S, L, S, E, E  
☒ 3. S, E, S, E, S, L, Y  
☒ 4. S, E, E, S, L, S, Y

Question ID : 65497839005

Status : Answered

Chosen Option : 1

Q.25 वह विकल्प चुनें जो तीसरी संख्या से उसी प्रकार संबंधित है जिस प्रकार दूसरी संख्या, पहली संख्या से संबंधित है और छठी संख्या, पाँचवीं संख्या से संबंधित है।  
 9 : 74 :: 8 : ? :: 7 : 42

- Ans ☒ 1. 48  
☒ 2. 57  
☒ 3. 58  
☒ 4. 77

Question ID : 65497839021

Status : Answered

Chosen Option : 2

Section : English Language

Q.1 Select the option that can be used as a one-word substitute for the given group of words.

A doctor who specialises in X-rays and other kind of radiations

- Ans ☒ 1. Cardiologist  
☒ 2. Urologist  
☒ 3. Radiologist  
☒ 4. Nephrologist

Question ID : 65497839344

Status : Answered

Chosen Option : 3

Q.2 Select the option that expresses the given sentence in reported speech.

“Vidushi, the doctor has advised me to avoid sugar,” said Prabha.

- Ans ☒ 1. Prabha told Vidushi that the doctor had advised her to avoid sugar.
- ☐ 2. Prabha told Vidushi that the doctor will be advising her to avoid sugar.
- ☐ 3. Prabha told Vidushi that the doctor advised her to avoid sugar.
- ☐ 4. Prabha said to Vidushi that the doctor was advising her to avoid sugar.

Question ID : 65497838314

Status : Answered

Chosen Option : 1

Q.3 Select the INCORRECTLY spelt word.

- Ans ☐ 1. Gunner
- ☐ 2. Gutter
- ☒ 3. Guzzel
- ☐ 4. Gullet

Question ID : 65497839347

Status : Not Attempted and  
Marked For Review

Chosen Option : --

Q.4 Select the most appropriate option to fill in the blank.

This class used to be very noisy, but it was unusually \_\_\_\_\_ today.

- Ans ☐ 1. excited
- ☐ 2. rowdy
- ☒ 3. subdued
- ☐ 4. screaming

Question ID : 65497838214

Status : Answered

Chosen Option : 4

Q.5 Select the option that can be used as a one-word substitute for the given group of words.

Able to be heard

- Ans ☐ 1. Edible
- ☐ 2. Credible
- ☒ 3. Audible
- ☐ 4. Legible

Question ID : 65497838323

Status : Answered

Chosen Option : 3

Q.6 Select the INCORRECTLY spelt word.

- Ans ☐ 1. Fallible
- ☐ 2. Edible
- ☒ 3. Stubbel
- ☐ 4. Fable

Question ID : 65497838121

Status : Answered

Chosen Option : 1

Q.7 Select the most appropriate meaning of the given idiom.

Have cold feet

- Ans ☒ 1. enjoy cold water
- ☒ 2. Lose confidence
- ☒ 3. Feel very cold
- ☒ 4. Have little satisfaction

Question ID : 65497839035  
Status : Answered  
Chosen Option : 2

Q.8 Select the most appropriate ANTONYM of the given word.

Confirm

- Ans ☒ 1. Verify
- ☒ 2. Affirm
- ☒ 3. Contradict
- ☒ 4. Validate

Question ID : 65497838319  
Status : Answered  
Chosen Option : 3

Q.9 Select the most appropriate ANTONYM of the given word.

Hostile

- Ans ☒ 1. Hateful
- ☒ 2. Mean
- ☒ 3. Nasty
- ☒ 4. Friendly

Question ID : 65497839340  
Status : Answered  
Chosen Option : 1

Q.10 Select the most appropriate synonym of the given word.

Replace

- Ans ☒ 1. Damage
- ☒ 2. Remain
- ☒ 3. Substitute
- ☒ 4. Lose

Question ID : 65497839031  
Status : Answered  
Chosen Option : 3

Q.11 Select the most appropriate synonym of the given word.

Pragmatic

- Ans ☒ 1. Idealistic  
☒ 2. Improper  
☒ 3. Unwise  
☒ 4. Realistic

Question ID : 65497838216

Status : Not Attempted and  
Marked For Review

Chosen Option : --

Q.12 Select the INCORRECTLY spelt word.

- Ans ☒ 1. Kernel  
☒ 2. Keen  
☒ 3. Kettel  
☒ 4. Keep

Question ID : 65497838836

Status : Answered

Chosen Option : 3

Q.13 Select the most appropriate option to fill in the blank.

We should carefully \_\_\_\_\_ wasting food.

- Ans ☒ 1. avoid  
☒ 2. not  
☒ 3. fail  
☒ 4. pass

Question ID : 65497839029

Status : Answered

Chosen Option : 1

Q.14 Select the option that expresses the given sentence in passive voice.

Anant was recording a new song in his studio.

- Ans ☒ 1. In his studio a new song was recorded by Anant.  
☒ 2. In his studio Anant will record a new song.  
☒ 3. A new song was being recorded by Anant in his studio.  
☒ 4. A new song had been recorded by Anant in his studio.

Question ID : 65497838211

Status : Answered

Chosen Option : 3

Q.15 Select the most appropriate meaning of the given idiom.

To be in hot water

- Ans ☒ 1. To be bold and refuse to be bullied by your superior
- ☒ 2. To be in a difficult situation in which you can be criticised
- ☒ 3. To enjoy being praised for taking up a challenge
- ☒ 4. To enjoy hot baths as a part of a health treatment

Question ID : 65497838220

Status : Answered

Chosen Option : 2

### Comprehension:

In the following passage, some words have been deleted. Read the passage carefully and select the most appropriate option to fill in each blank.

The 2020 Tokyo Paralympic Games began (1) \_\_\_\_\_ Tuesday night with the opening ceremony at Japan's National Stadium. The twelve-day sporting celebration (2) \_\_\_\_\_ a total of 539 events in 22 para (3) \_\_\_\_\_. The opening ceremony took place in (4) \_\_\_\_\_ empty stadium. The Games should have (5) \_\_\_\_\_ place last year but were postponed because of the coronavirus pandemic.

SubQuestion No : 16

Q.16 Select the most appropriate option to fill in blank No. 1.

- Ans ☒ 1. at
- ☒ 2. on
- ☒ 3. in
- ☒ 4. by

Question ID : 65497839043

Status : Answered

Chosen Option : 2

### Comprehension:

In the following passage, some words have been deleted. Read the passage carefully and select the most appropriate option to fill in each blank.

The 2020 Tokyo Paralympic Games began (1) \_\_\_\_\_ Tuesday night with the opening ceremony at Japan's National Stadium. The twelve-day sporting celebration (2) \_\_\_\_\_ a total of 539 events in 22 para (3) \_\_\_\_\_. The opening ceremony took place in (4) \_\_\_\_\_ empty stadium. The Games should have (5) \_\_\_\_\_ place last year but were postponed because of the coronavirus pandemic.

SubQuestion No : 17

Q.17 Select the most appropriate option to fill in blank No. 2.

- Ans ☒ 1. is included
- ☒ 2. includes
- ☒ 3. include
- ☒ 4. including

Question ID : 65497839044

Status : Answered

Chosen Option : 4

**Comprehension:**

In the following passage, some words have been deleted. Read the passage carefully and select the most appropriate option to fill in each blank.

The 2020 Tokyo Paralympic Games began (1) \_\_\_\_\_ Tuesday night with the opening ceremony at Japan's National Stadium. The twelve-day sporting celebration (2) \_\_\_\_\_ a total of 539 events in 22 para (3) \_\_\_\_\_. The opening ceremony took place in (4) \_\_\_\_\_ empty stadium. The Games should have (5) \_\_\_\_\_ place last year but were postponed because of the coronavirus pandemic.

**SubQuestion No : 18**

**Q.18** Select the most appropriate option to fill in blank No. 3.

- Ans ☒ 1. countries  
☒ 2. sports  
☐ 3. events  
☐ 4. athletics

Question ID : 65497839045

Status : **Marked For Review**

Chosen Option : 2

**Comprehension:**

In the following passage, some words have been deleted. Read the passage carefully and select the most appropriate option to fill in each blank.

The 2020 Tokyo Paralympic Games began (1) \_\_\_\_\_ Tuesday night with the opening ceremony at Japan's National Stadium. The twelve-day sporting celebration (2) \_\_\_\_\_ a total of 539 events in 22 para (3) \_\_\_\_\_. The opening ceremony took place in (4) \_\_\_\_\_ empty stadium. The Games should have (5) \_\_\_\_\_ place last year but were postponed because of the coronavirus pandemic.

**SubQuestion No : 19**

**Q.19** Select the most appropriate option to fill in blank No. 4.

- Ans ☒ 1. an  
☐ 2. a  
☐ 3. one  
☐ 4. the

Question ID : 65497839046

Status : **Answered**

Chosen Option : 4

**Comprehension:**

In the following passage, some words have been deleted. Read the passage carefully and select the most appropriate option to fill in each blank.

The 2020 Tokyo Paralympic Games began (1) \_\_\_\_\_ Tuesday night with the opening ceremony at Japan's National Stadium. The twelve-day sporting celebration (2) \_\_\_\_\_ a total of 539 events in 22 para (3) \_\_\_\_\_. The opening ceremony took place in (4) \_\_\_\_\_ empty stadium. The Games should have (5) \_\_\_\_\_ place last year but were postponed because of the coronavirus pandemic.

**SubQuestion No : 20**

**Q.20** Select the most appropriate option to fill in blank No. 5.

- Ans ☐ 1. taking  
☐ 2. took  
☒ 3. taken  
☐ 4. take

Question ID : 65497839047

Status : **Answered**

Chosen Option : 2

**Comprehension:**

Read the given passage and answer the questions that follow.

Much to their annoyance, pen-pushers are routinely reminded that a picture is worth a thousand words—except that sometimes they can be wrong ‘words’ as happened last week when Reuters was forced to withdraw more than 900 pictures taken by a freelance photographer after it was suspected that he had ‘doctored’ two recent photographs of the Israeli-Lebanon conflict.

In one picture, the smoke billowing from an apartment block after an Israeli air strike was allegedly thickened by the photographer, Adnan Hajj, to dramatise the impact of the bombardment — and in another two flares were suspected to have been added to an image of an Israeli jet in action over Lebanon.

The allegation of doctoring, first made by several bloggers, was confirmed by Reuters after an inhouse investigation. Mr. Hajj, who had sold pictures to Reuters for more than 10 years, denied manipulating the two photographs and attributed the thick smoke in the first picture to “bad lighting” and the fact that he was “trying to remove dust marks.” As for the second, he said, “there was no problem with it — not at all.”

But Reuters was not convinced and said it was removing all of his pictures from its database and would not be using his services any more. “This represents a serious breach of Reuters’ standards and we shall not be accepting or using pictures taken by him,” the news agency said.

The idea that the camera never lies is as misleading as the notion that all statistics are meant to mislead. What the ‘eye’ sees is not always what it looks like, thanks to the many ways in which first the camera and then the photograph can be — and is often — manipulated.

Indeed, a photograph can be manipulated in more ways — and more effectively — to convey a false reality than it is possible to do through the written word. Ask any clever photographer and he will tell you the tricks the camera can be made to play.

At a seminar recently, one journalist recalled how there was a time when British photographers, covering stories about famine or floods in Third World countries, would carry teddy bears with them in order to use them as props for pictures supposedly showing that all that was left in the household, stricken by death and destruction, were children’s toys.

**SubQuestion No : 21**

**Q.21 Reuters withdrew pictures of a freelance photographer because:**

**Ans**    ☒ 1. they had been altered

☐ 2. they were not relevant

☐ 3. they were not clear

☐ 4. they could lead to war

Question ID : **65497839355**

Status : **Not Answered**

Chosen Option : --

**Comprehension:**

Read the given passage and answer the questions that follow.

Much to their annoyance, pen-pushers are routinely reminded that a picture is worth a thousand words—except that sometimes they can be wrong ‘words’ as happened last week when Reuters was forced to withdraw more than 900 pictures taken by a freelance photographer after it was suspected that he had ‘doctored’ two recent photographs of the Israeli-Lebanon conflict.

In one picture, the smoke billowing from an apartment block after an Israeli air strike was allegedly thickened by the photographer, Adnan Hajj, to dramatise the impact of the bombardment — and in another two flares were suspected to have been added to an image of an Israeli jet in action over Lebanon.

The allegation of doctoring, first made by several bloggers, was confirmed by Reuters after an inhouse investigation. Mr. Hajj, who had sold pictures to Reuters for more than 10 years, denied manipulating the two photographs and attributed the thick smoke in the first picture to “bad lighting” and the fact that he was “trying to remove dust marks.” As for the second, he said, “there was no problem with it — not at all.”

But Reuters was not convinced and said it was removing all of his pictures from its database and would not be using his services any more. “This represents a serious breach of Reuters’ standards and we shall not be accepting or using pictures taken by him,” the news agency said.

The idea that the camera never lies is as misleading as the notion that all statistics are meant to mislead. What the ‘eye’ sees is not always what it looks like, thanks to the many ways in which first the camera and then the photograph can be — and is often — manipulated.

Indeed, a photograph can be manipulated in more ways — and more effectively — to convey a false reality than it is possible to do through the written word. Ask any clever photographer and he will tell you the tricks the camera can be made to play.

At a seminar recently, one journalist recalled how there was a time when British photographers, covering stories about famine or floods in Third World countries, would carry teddy bears with them in order to use them as props for pictures supposedly showing that all that was left in the household, stricken by death and destruction, were children’s toys.

**SubQuestion No : 22**

**Q.22 Who was accused of tampering with the pictures?**

**Ans** ✓ 1. A freelance photographer

✗ 2. British journalists

✗ 3. Lebanese activists

✗ 4. Israeli fighters

Question ID : 65497839356

Status : Not Answered

Chosen Option : --



**Comprehension:**

Read the given passage and answer the questions that follow.

Much to their annoyance, pen-pushers are routinely reminded that a picture is worth a thousand words—except that sometimes they can be wrong ‘words’ as happened last week when Reuters was forced to withdraw more than 900 pictures taken by a freelance photographer after it was suspected that he had ‘doctored’ two recent photographs of the Israeli-Lebanon conflict.

In one picture, the smoke billowing from an apartment block after an Israeli air strike was allegedly thickened by the photographer, Adnan Hajj, to dramatise the impact of the bombardment — and in another two flares were suspected to have been added to an image of an Israeli jet in action over Lebanon.

The allegation of doctoring, first made by several bloggers, was confirmed by Reuters after an inhouse investigation. Mr. Hajj, who had sold pictures to Reuters for more than 10 years, denied manipulating the two photographs and attributed the thick smoke in the first picture to “bad lighting” and the fact that he was “trying to remove dust marks.” As for the second, he said, “there was no problem with it — not at all.”

But Reuters was not convinced and said it was removing all of his pictures from its database and would not be using his services any more. “This represents a serious breach of Reuters’ standards and we shall not be accepting or using pictures taken by him,” the news agency said.

The idea that the camera never lies is as misleading as the notion that all statistics are meant to mislead. What the ‘eye’ sees is not always what it looks like, thanks to the many ways in which first the camera and then the photograph can be — and is often — manipulated.

Indeed, a photograph can be manipulated in more ways — and more effectively — to convey a false reality than it is possible to do through the written word. Ask any clever photographer and he will tell you the tricks the camera can be made to play.

At a seminar recently, one journalist recalled how there was a time when British photographers, covering stories about famine or floods in Third World countries, would carry teddy bears with them in order to use them as props for pictures supposedly showing that all that was left in the household, stricken by death and destruction, were children’s toys.

**SubQuestion No : 23**

**Q.23 According to the passage, it can be inferred that a camera:**

- Ans**
- ☐ 1. never lies
  - ☐ 2. rarely lies
  - ☒ 3. often lies
  - ☐ 4. always lies

Question ID : 65497839358

Status : Not Answered

Chosen Option : --

### Comprehension:

Read the given passage and answer the questions that follow.

Much to their annoyance, pen-pushers are routinely reminded that a picture is worth a thousand words—except that sometimes they can be wrong ‘words’ as happened last week when Reuters was forced to withdraw more than 900 pictures taken by a freelance photographer after it was suspected that he had ‘doctored’ two recent photographs of the Israeli-Lebanon conflict.

In one picture, the smoke billowing from an apartment block after an Israeli air strike was allegedly thickened by the photographer, Adnan Hajj, to dramatise the impact of the bombardment — and in another two flares were suspected to have been added to an image of an Israeli jet in action over Lebanon.

The allegation of doctoring, first made by several bloggers, was confirmed by Reuters after an inhouse investigation. Mr. Hajj, who had sold pictures to Reuters for more than 10 years, denied manipulating the two photographs and attributed the thick smoke in the first picture to “bad lighting” and the fact that he was “trying to remove dust marks.” As for the second, he said, “there was no problem with it — not at all.”

But Reuters was not convinced and said it was removing all of his pictures from its database and would not be using his services any more. “This represents a serious breach of Reuters’ standards and we shall not be accepting or using pictures taken by him,” the news agency said.

The idea that the camera never lies is as misleading as the notion that all statistics are meant to mislead. What the ‘eye’ sees is not always what it looks like, thanks to the many ways in which first the camera and then the photograph can be — and is often — manipulated.

Indeed, a photograph can be manipulated in more ways — and more effectively — to convey a false reality than it is possible to do through the written word. Ask any clever photographer and he will tell you the tricks the camera can be made to play.

At a seminar recently, one journalist recalled how there was a time when British photographers, covering stories about famine or floods in Third World countries, would carry teddy bears with them in order to use them as props for pictures supposedly showing that all that was left in the household, stricken by death and destruction, were children’s toys.

### SubQuestion No : 24

Q.24 ‘a picture is worth a thousand words’ means that:

- Ans
- ☒ 1. words are more descriptive than pictures
  - ☒ 2. it takes a lot of words to describe any complex picture
  - ☒ 3. pictures express more effectively than verbal descriptions
  - ☒ 4. detailed descriptions can enhance the value of a picture

Question ID : 65497839359

Status : Not Answered

Chosen Option : --

### Comprehension:

Read the given passage and answer the questions that follow.

Much to their annoyance, pen-pushers are routinely reminded that a picture is worth a thousand words—except that sometimes they can be wrong ‘words’ as happened last week when Reuters was forced to withdraw more than 900 pictures taken by a freelance photographer after it was suspected that he had ‘doctored’ two recent photographs of the Israeli-Lebanon conflict.

In one picture, the smoke billowing from an apartment block after an Israeli air strike was allegedly thickened by the photographer, Adnan Hajj, to dramatise the impact of the bombardment — and in another two flares were suspected to have been added to an image of an Israeli jet in action over Lebanon.

The allegation of doctoring, first made by several bloggers, was confirmed by Reuters after an inhouse investigation. Mr. Hajj, who had sold pictures to Reuters for more than 10 years, denied manipulating the two photographs and attributed the thick smoke in the first picture to “bad lighting” and the fact that he was “trying to remove dust marks.” As for the second, he said, “there was no problem with it — not at all.”

But Reuters was not convinced and said it was removing all of his pictures from its database and would not be using his services any more. “This represents a serious breach of Reuters’ standards and we shall not be accepting or using pictures taken by him,” the news agency said.

The idea that the camera never lies is as misleading as the notion that all statistics are meant to mislead. What the ‘eye’ sees is not always what it looks like, thanks to the many ways in which first the camera and then the photograph can be — and is often — manipulated.

Indeed, a photograph can be manipulated in more ways — and more effectively — to convey a false reality than it is possible to do through the written word. Ask any clever photographer and he will tell you the tricks the camera can be made to play.

At a seminar recently, one journalist recalled how there was a time when British photographers, covering stories about famine or floods in Third World countries, would carry teddy bears with them in order to use them as props for pictures supposedly showing that all that was left in the household, stricken by death and destruction, were children’s toys.

### SubQuestion No : 25

Q.25 The picture of smoke rising from an apartment depicted:

- Ans ☒ 1. Israeli airstrike on Lebanon
- ☐ 2. bombardment of an Israeli apartment
- ☐ 3. the breach of Reuters’ standards
- ☐ 4. thick smoke due to bad lighting

Question ID : 65497839357

Status : Not Answered

Chosen Option : --

### Section : Quantitative Aptitude

Q.1 यदि A प्रतिदिन 8 घंटे कार्य करता है तो वह एक दिन में ₹2,250 कमाता है। यदि B प्रतिदिन 6 घंटे कार्य करता है तो वह एक दिन में ₹3,750 कमाता है। A और B के प्रति घंटे के वेतन का अनुपात क्या है?

- Ans ☐ 1. 15 : 28
- ☐ 2. 7 : 19
- ☐ 3. 11 : 17
- ☒ 4. 9 : 20

Question ID : 65497838354

Status : Not Attempted and Marked For Review

Chosen Option : --

Q.2 यदि ब्याज की गणना वार्षिक चक्रवृद्धि आधार पर की जाती है, तो ₹17,600 की राशि पर 7% वार्षिक ब्याज की दर से 2 वर्ष में प्राप्त चक्रवृद्धि ब्याज कितना (₹ में, निकटतम रूप तक पूर्णांकित) होगा?

- Ans
- ✓ 1. 2,550
  - ✗ 2. 1,225
  - ✗ 3. 2,330
  - ✗ 4. 2,015

Question ID : 65497839375  
Status : Answered  
Chosen Option : 1

Q.3 एक नाव में लदे 18 बक्सों में से 75 kg के एक बक्से को एक नए बक्से से बदल देने पर, उन बक्सों के औसत वजन में 2.5 kg की वृद्धि हो जाती है। नये बक्से का वजन (kg में) ज्ञात कीजिए।

- Ans
- ✗ 1. 108
  - ✗ 2. 150
  - ✗ 3. 97
  - ✓ 4. 120

Question ID : 65497839363  
Status : Answered  
Chosen Option : 4

Q.4 एक ग्राहक ने 10% और 15% की क्रमागत छूटों (डिस्काउंट) के बाद एक वस्तु के लिए ₹306 का भुगतान किया। वस्तु का अंकित मूल्य (₹ में) क्या है?

- Ans
- ✗ 1. 331
  - ✓ 2. 400
  - ✗ 3. 384.50
  - ✗ 4. 420

Question ID : 65497838243  
Status : Answered  
Chosen Option : 2

Q.5  $\frac{0.23^2 - 0.04^2}{0.09}$  का मान ज्ञात कीजिए।

- Ans
- ✗ 1. 0.01
  - ✗ 2. 3
  - ✗ 3. 0.52
  - ✓ 4. 0.57

Question ID : 65497839077  
Status : Not Attempted and Marked For Review  
Chosen Option : --

Q.6 दो रेलगाड़ियाँ एक ही समय पर दो स्टेशनों से चलना शुरू करती हैं और क्रमशः 88 km/h और 75 km/h की चाल से एक-दूसरे की ओर बढ़ती हैं। जब वे मिलती हैं, तो पता चलता है कि एक रेलगाड़ी ने दूसरी रेलगाड़ी से 65 km अधिक दूरी तय की है। दोनों स्टेशनों के बीच की दूरी (km में) कितनी है?

- Ans
- ☐ 1. 960
  - ☐ 2. 975
  - ☐ 3. 875
  - ☒ 4. 815

Question ID : 65497839075

Status : Not Attempted and  
Marked For Review

Chosen Option : --

Q.7 18%, 12% और 10% की तीन क्रमागत छूट, \_\_\_\_\_ की एकल छूट के बराबर हैं।

- Ans
- ☐ 1. 33.978%
  - ☐ 2. 37.509%
  - ☒ 3. 35.056%
  - ☐ 4. 31.605%

Question ID : 65497838346

Status : Answered

Chosen Option : 3

Q.8 A, B और C एक कार्य का एक तिहाई क्रमशः 15 दिनों, 30 दिनों और 10 दिनों में पूर्ण कर सकते हैं। A ने कार्य करना आरंभ किया। 1 दिन के बाद C उसके साथ जुड़ गया और B कार्य आरंभ होने के 3 दिनों के बाद उनके साथ जुड़ा। C ने कितने दिनों तक कार्य किया?

- Ans
- ☐ 1. 20
  - ☐ 2. 16
  - ☒ 3. 15
  - ☐ 4. 13

Question ID : 65497838359

Status : Not Attempted and  
Marked For Review

Chosen Option : --

Q.9 23% की मूल्य वृद्धि के बाद, एक टेलीविजन सेट का मूल्य ₹56,703 हो जाता है। इसका आरंभिक मूल्य (₹ में) कितना था?

- Ans
- ☐ 1. 48,540
  - ☐ 2. 51,100
  - ☒ 3. 46,100
  - ☐ 4. 47,000

Question ID : 65497839367

Status : Answered

Chosen Option : 3

Q.10 एक परीक्षा में करुणा और अदिति के प्राप्तांक क्रमशः 434 और 336 हैं। यदि करुणा ने 62% अंक प्राप्त किए हैं, तो अदिति के अंकों का प्रतिशत ज्ञात करें।

- Ans
- ☒ 1. 52%
  - ☒ 2. 46.5%
  - ☒ 3. 48%
  - ☒ 4. 45%

Question ID : 65497838858  
Status : Answered  
Chosen Option : 3

Q.11 51462 के निकटतम वह संख्या ज्ञात कीजिए, जो 8 से विभाज्य है।

- Ans
- ☒ 1. 51480
  - ☒ 2. 51468
  - ☒ 3. 51456
  - ☒ 4. 51464

Question ID : 65497839360  
Status : Answered  
Chosen Option : 1

Q.12 14 m व्यास वाले एक वृत्ताकार बगीचे के चारों ओर 70 cm चौड़ा पथ बनाया गया है। पथ का क्षेत्रफल ( $m^2$  में) क्या होगा?

- Ans
- ☒ 1.  $10.29 \pi$
  - ☒ 2.  $13.29 \pi$
  - ☒ 3.  $8.29 \pi$
  - ☒ 4.  $11.29 \pi$

Question ID : 65497838362  
Status : Not Answered  
Chosen Option : --

Q.13 यदि 190 के  $x\%$  का मान, 180 के  $(x+10)\%$  से 15 कम है, तो 90 के  $(x+30)\%$  का मान, 150 के  $x\%$  से कितने प्रतिशत अधिक होगा?

- Ans
- ☒ 1.  $17\frac{1}{3}\%$
  - ☒ 2. 25%
  - ☒ 3. 20%
  - ☒ 4.  $16\frac{2}{3}\%$

Question ID : 65497838552  
Status : Not Attempted and Marked For Review  
Chosen Option : --

Q.14 यदि  $a : b = 7 : 4$  है, तो  $(2a + 7b) : (7b - 2a)$  का मान ज्ञात करें।

- Ans
- ☐ 1. 3 : 2
  - ☐ 2. 5 : 2
  - ☐ 3. 4 : 1
  - ☒ 4. 3 : 1

Question ID : 65497838251

Status : Answered

Chosen Option : 4

Q.15 20 विद्यार्थियों की एक कक्षा का औसत वजन 44 kg है। कक्षा में एक नया विद्यार्थी शामिल होता है, और औसत वजन 300 gm घट जाता है। नए विद्यार्थी का वजन (kg में) क्या है?

- Ans
- ☒ 1. 37.7
  - ☐ 2. 36.5
  - ☐ 3. 42
  - ☐ 4. 43.7

Question ID : 65497838139

Status : Answered

Chosen Option : 1

Q.16 यदि 9-अंकीय संख्या  $1039m837n$ , 72 से पूर्णतः विभाज्य है, तो  $\frac{n^2-m}{4}$  का मान ज्ञात कीजिए।

- Ans
- ☐ 1. 2
  - ☐ 2. 6
  - ☐ 3. 4
  - ☒ 4. 7

Question ID : 65497839055

Status : Answered

Chosen Option : 4

Q.17 एक व्यापारी ने ₹50 प्रति kg की दर से 650 kg गेहूं खरीदे। उसने इसमें से 250 kg गेहूं 24% के लाभ पर और 200 kg गेहूं 24% की हानि पर बेचे। अपने आरंभिक निवेश पर 20% का लाभ प्राप्त करने के लिए उसे शेष गेहूं को प्रति kg किस दर पर (₹ में) बेचना चाहिए?

- Ans
- ☐ 1. 47.5
  - ☒ 2. 79.5
  - ☐ 3. 55.5
  - ☐ 4. 52.5

Question ID : 65497839371

Status : Not Attempted and  
Marked For Review

Chosen Option : --



Q.18 एक महिला ने एक निजी कंपनी फंड में अपने 13 वर्षीय और 15 वर्षीय क्रमशः पुत्र और पुत्री के नाम पर कुल ₹10,25,000 की राशि निवेश की, ताकि उन्हें 18 वर्ष की आयु में समान राशि मिले। यदि कंपनी 20% वार्षिक दर से चक्रवृद्धि ब्याज देती है, तो उसके पुत्र के नाम पर कितनी राशि (₹ में, निकटतम पूर्ण संख्या में) जमा की जानी चाहिए?

- Ans
- ✗ 1. 3,55,048
  - ✓ 2. 4,20,082
  - ✗ 3. 6,25,000
  - ✗ 4. 5,50,500

Question ID : 65497838866

Status : Not Attempted and  
Marked For Review

Chosen Option : --

Q.19 यदि  $x = 3 - 4y$  है, तो  $(x^3 + 64y^3 + 36xy)$  का मान क्या होगा?

- Ans
- ✗ 1.  $9(3+5xy)$
  - ✗ 2.  $27(1+xy)$
  - ✓ 3. 27
  - ✗ 4.  $27(1+3xy)$

Question ID : 65497838262

Status : Not Attempted and  
Marked For Review

Chosen Option : --

Q.20 एक निश्चित राशि पर  $4\frac{1}{2}$  वर्ष के लिए 10% की वार्षिक दर से साधारण ब्याज, ₹12,000 की राशि पर 1 वर्ष के लिए 10% वार्षिक दर से, अर्ध वार्षिक रूप से संयोजित होने वाले चक्रवृद्धि ब्याज का 60% है। साधारण ब्याज की गणना किस राशि पर की गई है?

- Ans
- ✓ 1. ₹1,640
  - ✗ 2. ₹1,680
  - ✗ 3. ₹2,450
  - ✗ 4. ₹2,000

Question ID : 65497838560

Status : Not Attempted and  
Marked For Review

Chosen Option : --

Q.21 एक कार अपनी यात्रा के पहले 80 km की दूरी 40 km/h की चाल से तय करती है। चालक 30 मिनट के लिए एक चाय की दुकान पर रुकता है और फिर 4 घंटे तक 60 km/h की चाल से अपनी यात्रा जारी रखता है। उसकी औसत चाल (km/h में, 1 दशमलव स्थान तक पूर्णांकित) ज्ञात कीजिए।

- Ans
- ✓ 1. 49.2
  - ✗ 2. 53.3
  - ✗ 3. 55.4
  - ✗ 4. 48.5

Question ID : 65497839058

Status : Not Attempted and  
Marked For Review

Chosen Option : --



Q.22 B की तुलना में A 40% अधिक कार्यकुशल है। यदि B किसी कार्य को 14 दिनों में पूरा कर सकता है, तो इस कार्य को A कितने दिनों में पूरा कर सकता है?

- Ans
- ☐ 1. 8.4
  - ☒ 2. 10
  - ☐ 3. 10.5
  - ☐ 4. 9

Question ID : 65497838256  
Status : Answered  
Chosen Option : 2

Q.23 भारी यातायात के कारण एक व्यक्ति अपने कार्यस्थल पर 30 मिनट की देरी से पहुंचता है, क्योंकि वह अपनी सामान्य चाल की 2 गुनी चाल से ही गाड़ी चला सका। उसकी यात्रा का सामान्य समय (घंटे और मिनट में) ज्ञात कीजिए।

- Ans
- ☐ 1. 2 घंटे 10 मिनट
  - ☐ 2. 2 घंटे 15 मिनट
  - ☒ 3. 1 घंटा 45 मिनट
  - ☐ 4. 1 घंटा 30 मिनट

Question ID : 65497839380  
Status : Answered  
Chosen Option : 3

Q.24 A ने B को एक वस्तु 10% हानि पर बेची, B ने इसे C को 15% लाभ पर बेचा और C ने इसे D को 10% लाभ पर बेचा। यदि D ने इसे ₹4,554 में खरीदा, तो A के लिए वस्तु का क्रय मूल्य (₹ में) कितना था?

- Ans
- ☒ 1. ₹4,000
  - ☐ 2. ₹3,960
  - ☐ 3. ₹3,920
  - ☐ 4. ₹4,200

Question ID : 65497838147  
Status : Answered  
Chosen Option : 1

Q.25 A ने एक वस्तु B को 25% लाभ पर बेची, B ने उसे आगे C को 12% हानि पर बेच दिया। यदि C ने उस वस्तु के लिए ₹1,815 का भुगतान किया, तो A ने उस वस्तु के लिए कितना (₹ में) भुगतान किया?

- Ans
- ☐ 1. 1,560
  - ☐ 2. 1,500
  - ☒ 3. 1,650
  - ☐ 4. 1,600

Question ID : 65497839066  
Status : Answered  
Chosen Option : 3

Q.1 निम्न में से किस देश में ब्रेकडांस को आधिकारिक खेल के रूप में ओलंपिक 2024 में शामिल किया जाएगा?

- Ans
- ☒ 1. न्यूजीलैंड
  - ☒ 2. ऑस्ट्रेलिया
  - ☒ 3. फ्रांस
  - ☒ 4. स्पेन

Question ID : 65497838180

Status : Answered

Chosen Option : 3

Q.2 संघ और राज्यों के बीच शक्तियों का विभाजन \_\_\_\_\_ अनुसूची में दिया गया है।

- Ans
- ☒ 1. चौथी
  - ☒ 2. सातवीं
  - ☒ 3. तीसरी
  - ☒ 4. पांचवीं

Question ID : 65497839402

Status : Not Attempted and Marked For Review

Chosen Option : --

Q.3 अगस्त 2021 तक प्राप्त जानकारी के अनुसार, निम्न में से कौन उत्तराखंड के महिला सशक्तिकरण और बाल विकास विभाग की ब्रांड एंबेसडर हैं?

- Ans
- ☒ 1. मैरी कॉम
  - ☒ 2. मीराबाई चानू
  - ☒ 3. वंदना कटारिया
  - ☒ 4. पी.वी. सिंधु

Question ID : 65497838278

Status : Answered

Chosen Option : 4

Q.4 हिमालयन फिल्म फेस्टिवल, 2021 के पहले संस्करण का आयोजन इनमें से किस राज्य/केंद्र शासित प्रदेश में किया गया था?

- Ans
- ☒ 1. जम्मू और कश्मीर
  - ☒ 2. लद्दाख
  - ☒ 3. उत्तराखंड
  - ☒ 4. हिमाचल प्रदेश

Question ID : 65497838387

Status : Answered

Chosen Option : 3

Q.5 निम्नलिखित में से कौन सा वन्यजीव अभयारण्य उत्तर-पूर्वी भारत में स्थित है?

- Ans
- ☒ 1. बांधवगढ़
  - ☒ 2. मानस
  - ☒ 3. कान्हा
  - ☒ 4. पेरियार

Question ID : 65497839390

Status : Answered

Chosen Option : 2

Q.6 रेडवर्म के बारे में निम्नलिखित में से कौन सा कथन गलत है?

- Ans ☒ 1. रेडवर्म के दांत नहीं होते हैं।  
☒ 2. उनके पास 'गिजार्ड' नामक एक संरचना होती है, जो उन्हें उनका भोजन पीसने में मदद करती है।  
☒ 3. एक रेडवर्म एक दिन में अपने वजन के बराबर खाना खा सकता है।  
☒ 4. रेडवर्म को जीवित रहने के लिए शुष्क वातावरण की आवश्यकता होती है।

Question ID : 65497839393

Status : Not Answered

Chosen Option : --

Q.7 भारतीय भूवैज्ञानिक सर्वेक्षण की स्थापना इनमें से किस वर्ष में हुई थी?

- Ans ☒ 1. 1899  
☒ 2. 1851  
☒ 3. 1916  
☒ 4. 1945

Question ID : 65497838377

Status : Not Answered

Chosen Option : --

Q.8 निम्नलिखित में से कौन से कथन राजस्व प्राप्ति के बारे में सत्य नहीं हैं?

- I. वे ऐसी सरकारी प्राप्ति हैं जो गैर-मोचन (non-redeemable) हैं।  
 II. विशेष परिस्थितियों में सरकार की ओर से इन पर दावा किया जा सकता है।

- Ans ☒ 1. केवल II  
☒ 2. केवल I  
☒ 3. न तो I और न ही II  
☒ 4. I और II दोनों

Question ID : 65497839388

Status : Not Answered

Chosen Option : --

Q.9 निम्न में से किसने स्वदेशी पशु नस्लों की शुद्ध किस्मों के संरक्षण हेतु भारत की प्रथम मवेशी जीनोमिक चिप 'इंडीगौ' (IndiGau) का शुभारंभ किया है?

- Ans ☒ 1. सुधीर श्रीवास्तव  
☒ 2. अमित सक्सेना  
☒ 3. डॉ. रेनू स्वरूप  
☒ 4. डॉ. जितेन्द्र सिंह

Question ID : 65497838375

Status : Not Attempted and  
Marked For Review

Chosen Option : --

Q.10 विश्व स्तर पर प्रतिवर्ष, अंतरराष्ट्रीय ओजोन परत संरक्षण दिवस कब मनाया जाता है?

- Ans ☒ 1. 27 नवंबर  
☒ 2. 30 मार्च  
☒ 3. 2 फरवरी  
☒ 4. 16 सितंबर

Question ID : 65497838371

Status : Answered

Chosen Option : 4

Q.11 UPI एक ऐसी प्रणाली है, जो एक ही मोबाइल एप्लिकेशन में कई बैंक खातों की सुविधा प्रदान करती है।  
UPI का पूर्ण रूप क्या है?

- Ans ☒ 1. Unified Payments Interface (यूनिफाइड पेमेंट्स इंटरफ़ेस)  
☐ 2. User Payments Interface (यूजर पेमेंट्स इंटरफ़ेस)  
☐ 3. User Pay Interpretation (यूजर पे इंटरप्रिटेशन)  
☐ 4. Universal Payments Interface (यूनिवर्सल पेमेंट्स इंटरफ़ेस)

Question ID : 65497838267  
Status : Answered  
Chosen Option : 1

Q.12 तोमर राजपूतों को बारहवीं शताब्दी में \_\_\_\_\_ के चौहानों द्वारा पराजित किया गया था।

- Ans ☐ 1. उदयपुर  
☐ 2. जोधपुर  
☒ 3. अजमेर  
☐ 4. बीकानेर

Question ID : 65497839398  
Status : Not Attempted and  
Marked For Review  
Chosen Option : --

Q.13 सरीसृप विज्ञानवेत्ता (हर्पेटोलोजिस्ट) दीपक वीरप्पन के नाम पर एक \_\_\_\_\_ का नाम रखा गया है जिसे  
'ज़ाइलोफिस दीपकी (Xylophis deepaki)' के नाम से जाना जाता है।

- Ans ☐ 1. मेंढक  
☐ 2. छिपकली  
☒ 3. साँप  
☐ 4. कछुआ

Question ID : 65497839103  
Status : Not Attempted and  
Marked For Review  
Chosen Option : --

Q.14 भारतीय संविधान के इनमें से किस अनुच्छेद में यह प्रावधान है कि राष्ट्रपति द्वारा भाषाई अल्पसंख्यकों के लिए एक विशेष अधिकारी की नियुक्ति की जाएगी?

- Ans ☐ 1. अनुच्छेद 345A  
☒ 2. अनुच्छेद 350B  
☐ 3. अनुच्छेद 234A  
☐ 4. अनुच्छेद 167B

Question ID : 65497838383  
Status : Not Attempted and  
Marked For Review  
Chosen Option : --

Q.15 जब प्रधान मंत्री जन धन योजना शुरू हुई थी, उस समय केंद्रीय वित्त मंत्री कौन थे/थीं?

- Ans ☒ 1. अरुण जेटली  
☐ 2. सुषमा स्वराज  
☐ 3. निर्मला सीतारमण  
☐ 4. राजनाथ सिंह

Question ID : 65497839081  
Status : Answered  
Chosen Option : 1

Q.16 फ़रवरी 2021 में, पायलट पेय जल सर्वेक्षण किसके द्वारा आरंभ किया गया था?

- Ans
- ☒ 1. नवीन और नवीकरणीय ऊर्जा मंत्रालय
  - ☒ 2. सामाजिक न्याय और अधिकारिता मंत्रालय
  - ☒ 3. आवास और शहरी मामलों के मंत्रालय
  - ☒ 4. खाद्य प्रसंस्करण उद्योग मंत्रालय

Question ID : 65497838286

Status : Answered

Chosen Option : 3

Q.17 मूर्तिदेवी पुरस्कार, \_\_\_\_\_ द्वारा प्रतिवर्ष दिया जाने वाला एक भारतीय साहित्यिक पुरस्कार है।

- Ans
- ☒ 1. भारतीय ज्ञानपीठ
  - ☒ 2. केके बिड़ला फाउंडेशन
  - ☒ 3. भारतीय ऐतिहासिक अनुसंधान परिषद
  - ☒ 4. अजीम प्रेमजी फाउंडेशन

Question ID : 65497839095

Status : Answered

Chosen Option : 2

Q.18 2021 में टोक्यो में आयोजित पैरालंपिक खेलों में भाविनाबेन पटेल ने निम्नलिखित में से किस प्रतियोगिता में भारत का प्रतिनिधित्व किया था?

- Ans
- ☒ 1. तीरंदाजी
  - ☒ 2. टेबल टेनिस
  - ☒ 3. बास्केटबॉल
  - ☒ 4. गोला फेंक

Question ID : 65497839100

Status : Answered

Chosen Option : 4

Q.19 अगस्त 2021 में, खेल के सभी प्रारूपों से संन्यास की घोषणा करने वाले क्रिकेटर डेल स्टेन \_\_\_\_\_ से हैं।

- Ans
- ☒ 1. ऑस्ट्रेलिया
  - ☒ 2. दक्षिण अफ्रीका
  - ☒ 3. इंग्लैंड
  - ☒ 4. न्यूजीलैंड

Question ID : 65497838895

Status : Answered

Chosen Option : 2

Q.20 सितंबर 2021 में, छत्तीसगढ़ राज्य सरकार ने राज्य को इस धान्य फसल (cereal crop) हेतु भारत का केंद्र बनाने के उद्देश्य से \_\_\_\_\_ का शुभारंभ किया है।

- Ans
- ☒ 1. मिलेट मिशन
  - ☒ 2. राइस मिशन
  - ☒ 3. व्हीट मिशन
  - ☒ 4. ओट्स मिशन

Question ID : 65497838272

Status : Not Attempted and Marked For Review

Chosen Option : --

Q.21 कैल्शियम हाइड्रॉक्साइड के एक अणु में कितने हाइड्रोजन परमाणु होते हैं?

- Ans ☒ 1. दो  
☒ 2. एक  
☒ 3. तीन  
☒ 4. चार

Question ID : 65497839086  
 Status : Answered  
 Chosen Option : 1

Q.22 जैन धर्म के पहले तीर्थंकर ऋषभनाथ माने जाते हैं, जिनका जन्म \_\_\_\_\_ स्थान पर हुआ था।

- Ans ☒ 1. वाराणसी  
☒ 2. वैशाली  
☒ 3. अयोध्या  
☒ 4. पाटलिपुत्र

Question ID : 65497838277  
 Status : Answered  
 Chosen Option : 4

Q.23 The popular ritual of 'Kanya/Kumari Puja' is held during which of the following festivals?

- Ans ☒ 1. Deepavali  
☒ 2. Vasant Panchami  
☒ 3. Makar Sankranti  
☒ 4. Sharad Navaratri

Question ID : 65497839386  
 Status : Answered  
 Chosen Option : 4

Q.24 निम्न में से किस राज्य में अरुलमिगु कपालीश्वर मंदिर स्थित है?

- Ans ☒ 1. तमिलनाडु  
☒ 2. कर्नाटक  
☒ 3. केरल  
☒ 4. महाराष्ट्र

Question ID : 65497838365  
 Status : Not Attempted and Marked For Review  
 Chosen Option : --

Q.25 भारत की भक्ति-सूफी परंपराओं के संदर्भ में, \_\_\_\_\_ के भक्त माणिकवाचकर (Manikkavachakar) ने तमिल में सुंदर भक्ति गीतों की रचना की थी।

- Ans ☒ 1. विष्णु  
☒ 2. सरस्वती  
☒ 3. शिव  
☒ 4. ब्रह्मा

Question ID : 65497839090  
 Status : Not Answered  
 Chosen Option : --