

Selection Post Phase IX 2021 Matriculation level

Roll Number	
Candidate Name	
Venue Name	
Exam Date	03/02/2022
Exam Time	3:00 PM - 4:00 PM
Subject	Selection Post Matriculation Level

Section : General Intelligence

Q.1 एक निश्चित कूट भाषा में, 'ANSWER' को 'ASNEWR' लिखा जाता है, और 'BRANCH' को 'BARCNH' लिखा जाता है। उसी कूट भाषा में 'LAWYER' को किस प्रकार लिखा जाएगा?

- Ans
- ☒ 1. LWAFYR
 - ☒ 2. LWAEYR
 - ☒ 3. ALYWRE
 - ☒ 4. AYLREW

Question ID : 65497838192

Status : Answered

Chosen Option : 2

Q.2 दिए गए विकल्पों में से उस अक्षर-समूह का चयन करें, जो निम्नलिखित श्रृंखला में प्रश्न चिह्न (?) के स्थान पर आ सकता है।

VQL, RMH, NID, JEZ, ?

- Ans
- ☒ 1. FAV
 - ☒ 2. ROI
 - ☒ 3. HFD
 - ☒ 4. EZS

Question ID : 65497838390

Status : Answered

Chosen Option : 1

Test Prime

**ALL EXAMS,
ONE SUBSCRIPTION**



70,000+
Mock Tests



**Personalised
Report Card**



**Unlimited
Re-Attempt**



600+
Exam Covered



**Previous Year
Papers**

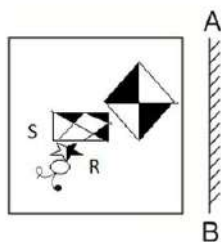


**500%
Refund**



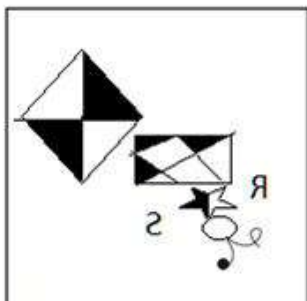
ATTEMPT FREE MOCK NOW

Q.3 दी गई आकृति के सही दर्पण प्रतिबिंब का चयन कीजिए, जबकि दर्पण को चित्र में दिखाए गए अनुसार 'AB' पर रखा गया है।

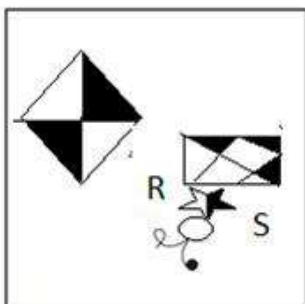


Ans

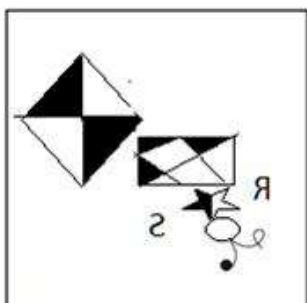
✗ 1.



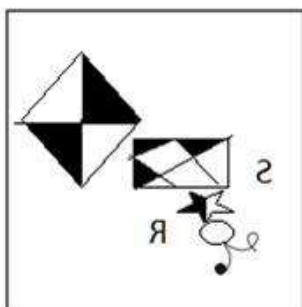
✗ 2.



✗ 3.



✓ 4.



Question ID : 65497838210

Status : Answered

Chosen Option : 1

Q.4 दिए गए विकल्पों में से उस संख्या का चयन कीजिए, जो निम्नलिखित श्रेणी में प्रश्न चिह्न (?) के स्थान पर आ सकती है।

4, 16, 36, 64, ?

Ans ☒ 1. 100

☒ 2. 96

☒ 3. 72

☒ 4. 112

Question ID : 65497838101

Status : Answered

Chosen Option : 1

Q.5 उस विकल्प का चयन कीजिए, जिसका तीसरे अक्षर-समूह से वही संबंध है, जो दूसरे अक्षर-समूह का पहले अक्षर-समूह से है।

SPL : HRO :: KFAQ : ?

Ans ☒ 1. OGS

☒ 2. OHT

☒ 3. PHT

☒ 4. PHS

Question ID : 65497838191

Status : Answered

Chosen Option : 4

Q.6 छः लड़कियाँ- M, N, O, P, Q और R एक बेंच पर पूर्व की ओर मुख करके बैठी हैं। M, P और Q के बीच बैठी है। Q के दाईं ओर केवल दो लड़कियाँ बैठी हैं। R, P के बाईं ओर ठीक बगल में बैठी है। एकदम बाएं सिरे पर कौन बैठी है?

Ans ☒ 1. R

☒ 2. P

☒ 3. N

☒ 4. Q

Question ID : 65497839116

Status : Answered

Chosen Option : 1

Q.7 एक निश्चित कूट भाषा में, 'SQUARE' को '1081599' के रूप में कूटबद्ध किया जाता है और 'RIGHT' को '915782' के रूप में कूटबद्ध किया जाता है। उसी भाषा में 'SUBTLE' को किस रूप में कूटबद्ध किया जाएगा?

Ans ☒ 1. 1021239

☒ 2. 1012239

☒ 3. 1220193

☒ 4. 1013229

Question ID : 65497838807

Status : Answered

Chosen Option : 2

Q.8 सात मित्र P, Q, R, S, T, U और V एक सीधी क्षैतिज पंक्ति में उत्तर की ओर मुख करके बैठे हैं। V ठीक मध्य स्थान पर बैठा है। P और S के बीच केवल तीन मित्र बैठे हैं। S और T के बीच में केवल Q बैठा है। T, V के दाईं ओर तीसरे स्थान पर बैठा है। एकदम बाएं सिरे पर कौन बैठा है?

Ans ☒ 1. P

☒ 2. T

☒ 3. Q

☒ 4. S

Question ID : 65497838097

Status : Not Answered

Chosen Option : --

Q.9 एक निश्चित कूट भाषा में, 'Knowledge' को 'Egdeknowl' के रूप में लिखा जाता है। उसी भाषा में 'Sarcastic' को किस रूप में लिखा जाएगा?

Ans ☒ 1. Citssarca

☒ 2. Citsacras

☒ 3. Cstisarca

☒ 4. Cstiacras

Question ID : 65497838804

Status : Answered

Chosen Option : 1

Q.10 एक निश्चित कूट भाषा में, 'CROW' को 177 और 'EAGLE' को 90 के रूप में कूटबद्ध किया जाता है। उसी कूट भाषा में 'DOVE' को किस रूप में कूटबद्ध किया जाएगा?

Ans ☒ 1. 117

☒ 2. 138

☒ 3. 92

☒ 4. 142

Question ID : 65497838092

Status : Answered

Chosen Option : 2

Q.11 उस सही विकल्प का चयन कीजिए, जो दिए गए शब्दों के उस क्रम को दर्शाता है, जिस क्रम में वे अंग्रेज़ी शब्दकोश में मौजूद होते हैं।

1. PREREQUISITE
2. PRESCRIPTION
3. PREPOSITION
4. PREROGATIVE
5. PREPOSTEROUS

Ans ☒ 1. 2, 5, 1, 3, 4

☒ 2. 3, 5, 1, 4, 2

☒ 3. 2, 5, 3, 4, 1

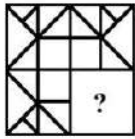
☒ 4. 2, 5, 1, 4, 3

Question ID : 65497838085

Status : Answered

Chosen Option : 2

Q.12 दिए गए विकल्पों में से उस आकृति का चयन कीजिए, जो प्रश्न चिह्न (?) के स्थान पर आकर पैटर्न को पूर्ण कर सकती है।
(आकृति को घुमाने की अनुमति नहीं है)



Ans

- ☒ 1.
- ☒ 2.
- ☒ 3.
- ☒ 4.

Question ID : 65497838412

Status : Answered

Chosen Option : 2

Q.13 एक निश्चित कूट भाषा में, 'JOVIAL' को 'QIECF' के रूप में लिखा जाता है और 'TENDER' को 'GYMXVL' के रूप में लिखा जाता है। उसी भाषा में 'STRING' को किस रूप में लिखा जाएगा?

- Ans
- ☒ 1. MNLCHA
 - ☒ 2. HNICMA
 - ☒ 3. HIGRMT
 - ☒ 4. HGIRMT

Question ID : 65497839111

Status : Answered

Chosen Option : 4

Q.14 दिए गए कथन और निष्कर्ष सावधानीपूर्वक पढ़ें। कथनों में दी गई जानकारी को सत्य मानते हुए, चाहे यह सामान्यतः ज्ञात तथ्यों से असंगत प्रतीत होती हो, यह निर्धारित करें, कि दिए गए निष्कर्षों में से कौन सा/से निष्कर्ष कथनों का तार्किक रूप से अनुसरण करता है/करते हैं।

कथन:

कोई केतली, स्टोव नहीं है।
सभी स्टोव, लाइटर हैं।

निष्कर्ष:

- I. कोई केतली, लाइटर नहीं है।
- II. कोई लाइटर, केतली नहीं है।
- III. कुछ लाइटर, स्टोव हैं।
- IV. सभी लाइटर, स्टोव हैं।

- Ans ☒ 1. केवल निष्कर्ष III अनुसरण करता है।
☒ 2. निष्कर्ष I और II दोनों अनुसरण करते हैं।
☒ 3. निष्कर्ष I और IV दोनों अनुसरण करते हैं।
☒ 4. केवल निष्कर्ष I अनुसरण करता है।

Question ID : 65497839125

Status : Answered

Chosen Option : 1

Q.15 चार अक्षर-समूह दिए गए हैं, जिनमें से तीन किसी तरह से संगत हैं और एक असंगत है। उस अक्षर-समूह का चयन करें, जो अन्य से असंगत है।

- Ans ☒ 1. QSW
☒ 2. MOR
☒ 3. SUX
☒ 4. KMP

Question ID : 65497838392

Status : Answered

Chosen Option : 1

Q.16 'Huge' is related to 'Vast' in the same way as 'Fast' is related to '_____'.
Ans ☒ 1. Gentle
☒ 2. Furious
☒ 3. Steady
☒ 4. Rapid

Question ID : 65497838088

Status : Answered

Chosen Option : 4

Q.17 अक्षरों का वह संयोजन चुनें जिसे निम्नांकित श्रृंखला के रिक्त स्थानों पर क्रमबद्ध रूप से रखे जाने पर श्रृंखला पूरी हो जाएगी।

K _ T G B _ L T G _ K L _ G B K L T _ B

- Ans ☒ 1. L, B, K, G, T
☒ 2. L, K, B, T, G
☒ 3. L, K, B, G, T
☒ 4. L, B, K, T, G

Question ID : 65497839107

Status : Answered

Chosen Option : 2

Q.18 दिए गए विकल्पों में से उस संख्या का चयन कीजिए, जो निम्नलिखित श्रेणी में प्रश्न चिह्न (?) के स्थान पर आ सकती है।

20, 120, 240, 380, ?

Ans  1. 590

 2. 680

 3. 540

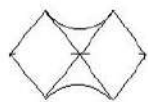
 4. 660

Question ID : 65497838408

Status : Answered

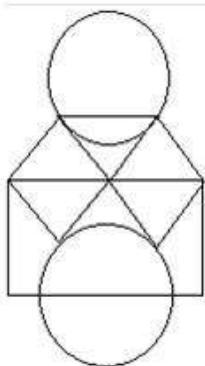
Chosen Option : 3

Q.19 उस विकल्प का चयन करें, जिसमें दी गई आकृति अंतर्निहित है (आकृति को घुमाने की अनुमति नहीं है)।

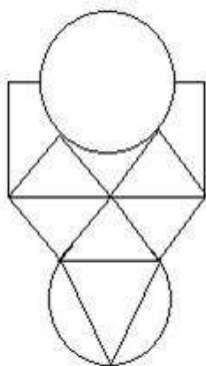


Ans

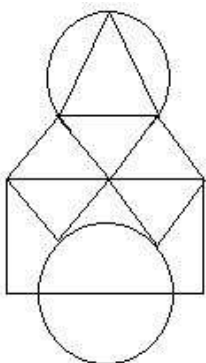
✓ 1.



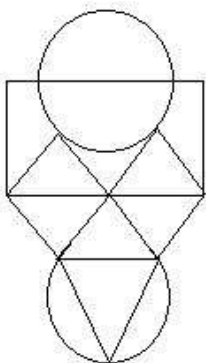
✗ 2.



✗ 3.



✗ 4.



Question ID : 65497838107

Status : Answered

Chosen Option : 1

Q.20 दिए गए समीकरण को संतुलित करने के लिए किन दो चिह्नों को आपस में बदला जाना चाहिए?

$$151 + 17 \times 18 \div 2 - 19 = 17$$

- Ans
- ☒ 1. + और ×
 - ☒ 2. - और +
 - ☐ 3. + और ×
 - ☐ 4. - और ×

Question ID : 65497838206

Status : Answered

Chosen Option : 2

Q.21 वह विकल्प चुनें जो तीसरी संख्या से उसी प्रकार संबंधित है जिस प्रकार दूसरी संख्या, पहली संख्या से संबंधित है और छठी संख्या, पांचवीं संख्या से संबंधित है।

$$3 : 17 :: 6 : ? :: 9 : 47$$

- Ans
- ☐ 1. 38
 - ☐ 2. 36
 - ☒ 3. 32
 - ☐ 4. 34

Question ID : 65497839123

Status : Answered

Chosen Option : 3

Q.22 एक निश्चित कूट भाषा में, 'SIGNAL' को 673425 और 'SLIDE' को 65719 के रूप में कूटबद्ध किया जाता है। उसी कूट भाषा में 'IDEAL' को किस रूप में कूटबद्ध किया जाएगा?

- Ans
- ☐ 1. 59751
 - ☐ 2. 97521
 - ☐ 3. 97215
 - ☒ 4. 71925

Question ID : 65497838195

Status : Answered

Chosen Option : 4

Q.23 दिए गए कथनों और निष्कर्षों को ध्यानपूर्वक पढ़ें। कथनों में दी गई जानकारी को सत्य मानते हुए विचार करें, भले ही वह सामान्यतः ज्ञात तथ्यों से भिन्न प्रतीत होती हो, और तय करें कि दिए गए निष्कर्षों में से कौन से कथनों का तार्किक रूप से पालन करते हैं?

कथन:

1. कुछ किताबें पेंसिल हैं।
2. सभी पेंसिल शार्पनर हैं।
3. सभी किताबें बैग हैं।

निष्कर्ष:

- I. कुछ बैग शार्पनर हैं।
- II. कुछ शार्पनर किताबें हैं।
- III. कुछ शार्पनर पेंसिल हैं।

- Ans
- ☒ 1. सभी निष्कर्ष I, II और III पालन करते हैं।
 - ☐ 2. केवल निष्कर्ष I और II पालन करते हैं।
 - ☐ 3. केवल निष्कर्ष II और III पालन करते हैं।
 - ☐ 4. केवल निष्कर्ष I और III पालन करते हैं।

Question ID : 65497838201

Status : Answered

Chosen Option : 1

Q.24 G की मां, K की इकलौती पुत्री है। N, F और K का पुत्र है। H, N और M का पुत्र है। F, H के पिता का पिता है। K का H से क्या संबंध है?

- Ans
- ☒ 1. नाना/मां के पिता
 - ☒ 2. दादी/पिता की मां
 - ☒ 3. नानी/मां की मां
 - ☒ 4. चाचा/पिता का भाई

Question ID : 65497838098
Status : Answered
Chosen Option : 2

Q.25 'A @ B' का अर्थ है 'A, B का पति है'।
'A & B' का अर्थ है 'A, B की माँ है'।
'A # B' का अर्थ है 'A, B की बेटी है'।

यदि G @ V & K @ P # J है, तो G का P से क्या संबंध है?

- Ans
- ☒ 1. चाचा
 - ☒ 2. ससुर
 - ☒ 3. पिता
 - ☒ 4. मामा

Question ID : 65497839222
Status : Answered
Chosen Option : 2

Section : English Language

Q.1 Select the most appropriate ANTONYM of the given word.

Fret

- Ans
- ☒ 1. Please
 - ☒ 2. Bother
 - ☒ 3. Disturb
 - ☒ 4. Worry

Question ID : 65497838421
Status : Answered
Chosen Option : 1

Q.2 Select the option that can be used as a one-word substitute for the given group of words.

Full of people

- Ans
- ☒ 1. Popular
 - ☒ 2. Populous
 - ☒ 3. Prominent
 - ☒ 4. Porous

Question ID : 65497838425
Status : Not Answered
Chosen Option : --

Q.3 Select the most appropriate meaning of the given idiom.

A piece of cake

- Ans
- ☒ 1. To be difficult
 - ☒ 2. To be sweet
 - ☒ 3. To be correct
 - ☒ 4. To be easy

Question ID : 65497839137
Status : Answered
Chosen Option : 4

Q.4 Select the most appropriate option to fill in the blank.

Shakespeare still remains the most read and the most _____ performed of all dramatists.

- Ans
- ☒ 1. mainly
 - ☒ 2. narrowly
 - ☒ 3. casually
 - ☒ 4. widely

Question ID : 65497838112
Status : Answered
Chosen Option : 1

Q.5 Select the most appropriate option to fill in the blank.

I am glad I _____ my friend's invitation to dinner as I met many old friends there.

- Ans
- ☒ 1. admitted
 - ☒ 2. allowed
 - ☒ 3. denied
 - ☒ 4. accepted

Question ID : 65497839131
Status : Answered
Chosen Option : 4

Q.6 Select the most appropriate synonym of the given word.

Distinguished

- Ans
- ☒ 1. Acclaimed
 - ☒ 2. Lowly
 - ☒ 3. Practical
 - ☒ 4. Ordinary

Question ID : 65497838114
Status : Answered
Chosen Option : 1

Q.7 Select the INCORRECTLY spelt word.

- Ans ☒ 1. Accomodate
- ☒ 2. Tomorrow
- ☒ 3. Marathon
- ☒ 4. Grammar

Question ID : 65497838225
Status : Answered
Chosen Option : 2

Q.8 Select the most appropriate synonym of the given word.

Split

- Ans ☒ 1. Divide
- ☒ 2. Combine
- ☒ 3. Join
- ☒ 4. Attach

Question ID : 65497839133
Status : Answered
Chosen Option : 1

Q.9 Select the most appropriate ANTONYM of the given word.

Defamatory

- Ans ☒ 1. Insulting
- ☒ 2. Unflattering
- ☒ 3. Complimentary
- ☒ 4. Slandering

Question ID : 65497838218
Status : Answered
Chosen Option : 1

Q.10 Select the most appropriate meaning of the given idiom.

To raise a few eyebrows

- Ans ☒ 1. To say something funny
- ☒ 2. To pretend to be shocked
- ☒ 3. To cause surprise or shock
- ☒ 4. To mime and make faces

Question ID : 65497838118
Status : Answered
Chosen Option : 4

Q.11 Select the wrongly spelt word.

- Ans ☒ 1. Rebellious
- ☒ 2. Irritating
- ☒ 3. Irreligious
- ☒ 4. Irrelevant

Question ID : 65497838020
Status : Answered
Chosen Option : 3

Q.12 Select the option that can be used as a one-word substitute for the given group of words.

An afternoon performance of a play, film or show

- Ans ☒ 1. Circus
☒ 2. Musical
☒ 3. Matinee
☒ 4. Exhibition

Question ID : 65497838222
Status : Answered
Chosen Option : 3

Q.13 Select the option that expresses the given sentence in passive voice.

The shopkeeper assured me about the freshness of the vegetables.

- Ans ☒ 1. I am assured by the shopkeeper about the freshness of the vegetables.
☒ 2. I had been assured by the shopkeeper about vegetables being freshness of the vegetables.
☒ 3. I was assured about the freshness of the vegetables by the shopkeeper.
☒ 4. I was being assured about the freshness of the vegetables by the shopkeeper.

Question ID : 65497838109
Status : Answered
Chosen Option : 3

Q.14 Select the wrongly spelt word.

- Ans ☒ 1. condone
☒ 2. belief
☒ 3. semetery
☒ 4. receive

Question ID : 65497838937
Status : Answered
Chosen Option : 3

Q.15 Select the option that expresses the given sentence in direct speech.

The chef asked his assistant where he had stored the spices.

- Ans ☒ 1. The chef said to his assistant, "Where did you store the spices?"
☒ 2. The chef said to his assistant, "Where had he store the spices?"
☒ 3. The chef said to his assistant, "Where do you store the spices?"
☒ 4. The chef said to his assistant, "Where you have stored the spices?"

Question ID : 65497838416
Status : Answered
Chosen Option : 4

Comprehension:

Read the given passage and answer the questions that follow.

Students are increasingly turning to online courses because they have become a better way to learn. Online courses offer students greater control over their own learning by enabling them to work at their own pace.

Some other benefits are the engaging multimedia content, greater access to the instructor and the stimulating online interactions with other students and the teachers. All these can add to enhanced learning and improved retention.





Another key feature is that online courses tend to include more frequent assessments. The more often students are assessed, the better their instructors can track progress and intervene when needed.

I experienced all this myself when I completed a six-week online program through Columbia Business School. As a busy executive, the only way I was able to take such a course was online. And it proved to be an incredibly valuable and timely experience – highly relevant to my new job. I was able to do many of the lecture portions from my iPhone while sitting on a plane. I did coursework during the week and turned in weekly assignments on Sunday evening. And each Wednesday, I attended live online sessions with professors and students from around the world.

Many students who have taken both face-to-face and online courses now rank their online experiences equal to or better than their more traditional classroom courses. We have reached a watershed moment when the discussion will no longer be about the relative merits of online learning, but how best to implement online programmes for maximum effect on student enrollment and success.

SubQuestion No : 16

Q.16 By 'watershed moment' the writer means:

- Ans  1. pinpoint
 2. checkpoint
 3. middle point
 4. turning point

Question ID : 65497838237

Status : Not Answered

Chosen Option : --

Comprehension:

Read the given passage and answer the questions that follow.

Students are increasingly turning to online courses because they have become a better way to learn. Online courses offer students greater control over their own learning by enabling them to work at their own pace.

Some other benefits are the engaging multimedia content, greater access to the instructor and the stimulating online interactions with other students and the teachers. All these can add to enhanced learning and improved retention.

Another key feature is that online courses tend to include more frequent assessments. The more often students are assessed, the better their instructors can track progress and intervene when needed.

I experienced all this myself when I completed a six-week online program through Columbia Business School. As a busy executive, the only way I was able to take such a course was online. And it proved to be an incredibly valuable and timely experience – highly relevant to my new job. I was able to do many of the lecture portions from my iPhone while sitting on a plane. I did coursework during the week and turned in weekly assignments on Sunday evening. And each Wednesday, I attended live online sessions with professors and students from around the world.

Many students who have taken both face-to-face and online courses now rank their online experiences equal to or better than their more traditional classroom courses. We have reached a watershed moment when the discussion will no longer be about the relative merits of online learning, but how best to implement online programmes for maximum effect on student enrollment and success.

SubQuestion No : 17

Q.17 Select the option that does NOT correctly complete the given sentence.

Online course professors _____.

- Ans ☒ 1. intervene when necessary
- ☒ 2. do not permit peer interaction
- ☒ 3. interact with student groups
- ☒ 4. check progress regularly

Question ID : 65497838236

Status : Answered

Chosen Option : 1

Comprehension:

Read the given passage and answer the questions that follow.

Students are increasingly turning to online courses because they have become a better way to learn. Online courses offer students greater control over their own learning by enabling them to work at their own pace.

Some other benefits are the engaging multimedia content, greater access to the instructor and the stimulating online interactions with other students and the teachers. All these can add to enhanced learning and improved retention.

Another key feature is that online courses tend to include more frequent assessments. The more often students are assessed, the better their instructors can track progress and intervene when needed.

I experienced all this myself when I completed a six-week online program through Columbia Business School. As a busy executive, the only way I was able to take such a course was online. And it proved to be an incredibly valuable and timely experience – highly relevant to my new job. I was able to do many of the lecture portions from my iPhone while sitting on a plane. I did coursework during the week and turned in weekly assignments on Sunday evening. And each Wednesday, I attended live online sessions with professors and students from around the world.

Many students who have taken both face-to-face and online courses now rank their online experiences equal to or better than their more traditional classroom courses. We have reached a watershed moment when the discussion will no longer be about the relative merits of online learning, but how best to implement online programmes for maximum effect on student enrollment and success.

SubQuestion No : 18

Q.18 The writer found the online course useful because he _____.

- Ans
- ☐ 1. did not have to submit regular assignments
 - ☐ 2. spent wonderful hours chatting online about his interests
 - ☐ 3. was given special study leave from his executive duties
 - ☒ 4. could adjust and fit the course to his work schedule

Question ID : 65497838234

Status : Answered

Chosen Option : 4

Comprehension:

Read the given passage and answer the questions that follow.

Students are increasingly turning to online courses because they have become a better way to learn. Online courses offer students greater control over their own learning by enabling them to work at their own pace.

Some other benefits are the engaging multimedia content, greater access to the instructor and the stimulating online interactions with other students and the teachers. All these can add to enhanced learning and improved retention.

Another key feature is that online courses tend to include more frequent assessments. The more often students are assessed, the better their instructors can track progress and intervene when needed.

I experienced all this myself when I completed a six-week online program through Columbia Business School. As a busy executive, the only way I was able to take such a course was online. And it proved to be an incredibly valuable and timely experience – highly relevant to my new job. I was able to do many of the lecture portions from my iPhone while sitting on a plane. I did coursework during the week and turned in weekly assignments on Sunday evening. And each Wednesday, I attended live online sessions with professors and students from around the world.

Many students who have taken both face-to-face and online courses now rank their online experiences equal to or better than their more traditional classroom courses. We have reached a watershed moment when the discussion will no longer be about the relative merits of online learning, but how best to implement online programmes for maximum effect on student enrollment and success.

SubQuestion No : 19

Q.19 Many students who have taken online courses feel that _____.

- Ans
- ☒ 1. online experience is equal, if not better than the traditional
 - ☐ 2. nothing can replace face-to-face traditional learning
 - ☐ 3. traditional classrooms have better content and teachers
 - ☐ 4. online courses are only for working people

Question ID : 65497838235

Status : Answered

Chosen Option : 3

Comprehension:

Read the given passage and answer the questions that follow.

Students are increasingly turning to online courses because they have become a better way to learn. Online courses offer students greater control over their own learning by enabling them to work at their own pace.

Some other benefits are the engaging multimedia content, greater access to the instructor and the stimulating online interactions with other students and the teachers. All these can add to enhanced learning and improved retention.

Another key feature is that online courses tend to include more frequent assessments. The more often students are assessed, the better their instructors can track progress and intervene when needed.

I experienced all this myself when I completed a six-week online program through Columbia Business School. As a busy executive, the only way I was able to take such a course was online. And it proved to be an incredibly valuable and timely experience – highly relevant to my new job. I was able to do many of the lecture portions from my iPhone while sitting on a plane. I did coursework during the week and turned in weekly assignments on Sunday evening. And each Wednesday, I attended live online sessions with professors and students from around the world.

Many students who have taken both face-to-face and online courses now rank their online experiences equal to or better than their more traditional classroom courses. We have reached a watershed moment when the discussion will no longer be about the relative merits of online learning, but how best to implement online programmes for maximum effect on student enrollment and success.

SubQuestion No : 20

Q.20 Select the option that does NOT correctly complete the given sentence.

Online classes are useful because one _____.

- Ans ☒ 1. has more control over one's learning
- ☒ 2. can study at one's own pace
- ☒ 3. can easily clarify one's doubts online
- ☒ 4. has to take only one final examination

Question ID : 65497838233

Status : Answered

Chosen Option : 3

Comprehension:

In the following passage, some words have been deleted. Read the passage carefully and select the most appropriate option to fill in each blank.

I was often invited to colleges and universities (1) _____ lectures. Once, I went to a university to deliver a lecture. (2) _____ it was over, the students gathered to ask (3) _____ questions. Though it was getting late (4) _____ my next programme, since I love talking to (5) _____, I remained there answering their questions.

SubQuestion No : 21

Q.21 Select the most appropriate option to fill in blank No. 1.

- Ans ☒ 1. deliver
- ☒ 2. delivered
- ☒ 3. delivering
- ☒ 4. to deliver

Question ID : 65497839145

Status : Answered

Chosen Option : 4

Comprehension:

In the following passage, some words have been deleted. Read the passage carefully and select the most appropriate option to fill in each blank.

I was often invited to colleges and universities (1) _____ lectures. Once, I went to a university to deliver a lecture. (2) _____ it was over, the students gathered to ask (3) _____ questions. Though it was getting late (4) _____ my next programme, since I love talking to (5) _____, I remained there answering their questions.

SubQuestion No : 22

Q.22 Select the most appropriate option to fill in blank No. 2.

- Ans ☒ 1. Until
☒ 2. After
☒ 3. As long as
☒ 4. While

Question ID : 65497839146

Status : Not Answered

Chosen Option : --

Comprehension:

In the following passage, some words have been deleted. Read the passage carefully and select the most appropriate option to fill in each blank.

I was often invited to colleges and universities (1) _____ lectures. Once, I went to a university to deliver a lecture. (2) _____ it was over, the students gathered to ask (3) _____ questions. Though it was getting late (4) _____ my next programme, since I love talking to (5) _____, I remained there answering their questions.

SubQuestion No : 23

Q.23 Select the most appropriate option to fill in blank No. 3.

- Ans ☒ 1. some
☒ 2. any
☒ 3. a little
☒ 4. all

Question ID : 65497839147

Status : Answered

Chosen Option : 1

Comprehension:

In the following passage, some words have been deleted. Read the passage carefully and select the most appropriate option to fill in each blank.

I was often invited to colleges and universities (1) _____ lectures. Once, I went to a university to deliver a lecture. (2) _____ it was over, the students gathered to ask (3) _____ questions. Though it was getting late (4) _____ my next programme, since I love talking to (5) _____, I remained there answering their questions.

SubQuestion No : 24

Q.24 Select the most appropriate option to fill in blank No. 4.

- Ans ☒ 1. for
☒ 2. to
☒ 3. at
☒ 4. on

Question ID : 65497839148

Status : Answered

Chosen Option : 2

Comprehension:

In the following passage, some words have been deleted. Read the passage carefully and select the most appropriate option to fill in each blank.

I was often invited to colleges and universities (1) _____ lectures. Once, I went to a university to deliver a lecture. (2) _____ it was over, the students gathered to ask (3) _____ questions. Though it was getting late (4) _____ my next programme, since I love talking to (5) _____, I remained there answering their questions.

SubQuestion No : 25

Q.25 Select the most appropriate option to fill in blank No. 5.

- Ans ☒ 1. teachers
☒ 2. professors
☒ 3. principals
☒ 4. students

Question ID : 65497839149
 Status : Answered
 Chosen Option : 1

Section : Quantitative Aptitude

Q.1 A और B की आयों का अनुपात 5 : 7 है और उनकी बचतें क्रमशः ₹5,000 और ₹9,000 हैं। यदि उनके व्ययों का अनुपात 3 : 4 है, तो A और B की आयों का योग ज्ञात कीजिए। (₹ में)

- Ans ☒ 1. 96,000
☒ 2. 72,000
☒ 3. 84,000
☒ 4. 60,000

Question ID : 65497838757
 Status : Answered
 Chosen Option : 3

Q.2 A और B की आयों का अनुपात 3 : 4 है। उनके व्ययों का अनुपात 7 : 10 है। यदि A और B क्रमशः ₹2,500 और ₹3,000 की बचत करते हैं, तो B की आय और A और B के संयुक्त व्ययों का अनुपात ज्ञात कीजिए।

- Ans ☒ 1. 11 : 13
☒ 2. 5 : 7
☒ 3. 17 : 18
☒ 4. 16 : 17

Question ID : 65497838456
 Status : Not Answered
 Chosen Option : --

Q.3 एक ही संख्या संख्या के 80% और 65% का अंतर 135 है। उस संख्या का 49% क्या होगा?

- Ans
- ☒ 1. 490
 - ☒ 2. 441
 - ☐ 3. 539
 - ☐ 4. 392

Question ID : 65497838245
Status : Answered
Chosen Option : 2

Q.4 एक शर्ट का क्रय मूल्य ₹450 है। एक दुकानदार इसका अंकित मूल्य इस प्रकार रखता है कि अंकित मूल्य पर 25% की छूट देने के बाद भी उसे 24% का लाभ प्राप्त होता है। शर्ट का अंकित मूल्य (₹ में) ज्ञात कीजिए।

- Ans
- ☐ 1. 730.80
 - ☐ 2. 670.50
 - ☒ 3. 744
 - ☐ 4. 675

Question ID : 65497838448
Status : Answered
Chosen Option : 3

Q.5 45 km/h की नियत चाल से चलते हुए एक कार 4 घंटे में एक निश्चित दूरी तय करती है। यदि कार 40 km/h की चाल से चलती, तो उतनी ही दूरी तय करने में उसे कितना समय अधिक लगता? (मिनट में)

- Ans
- ☐ 1. 20
 - ☐ 2. 40
 - ☒ 3. 30
 - ☐ 4. 25

Question ID : 65497838258
Status : Answered
Chosen Option : 3

Q.6 यदि $x + \frac{1}{x} = 1 - \sqrt{2}$ है, तो $x^3 + \frac{1}{x^3}$ का मान ज्ञात करें।

- Ans
- ☐ 1. $4 + 2\sqrt{2}$
 - ☐ 2. $2\sqrt{2} - 4$
 - ☒ 3. $4 - 2\sqrt{2}$
 - ☐ 4. $2 - \sqrt{2}$

Question ID : 65497838160
Status : Answered
Chosen Option : 3

Q.7 उन सबसे बड़ी और सबसे छोटी संख्याओं का योग ज्ञात कीजिए जिन्हें, संख्या 8130k36 में k के स्थान पर रखने से यह संख्या 8 से विभाज्य हो सकती है।

- Ans
- ☐ 1. 12
 - ☐ 2. 8
 - ☐ 3. 9
 - ☒ 4. 10

Question ID : 65497838238

Status : Answered

Chosen Option : 4

Q.8 यदि $x + \frac{1}{x} = 5$ है, तो $x^2 + \frac{1}{x^2}$ का मान ज्ञात कीजिए।

- Ans
- ☐ 1. 10
 - ☐ 2. 22
 - ☐ 3. 20
 - ☒ 4. 23

Question ID : 65497839179

Status : Answered

Chosen Option : 4

Q.9 चार संख्याओं में से पहली तीन संख्याओं का औसत 18 है और अंतिम तीन संख्याओं का औसत 20 है। यदि अंतिम संख्या 25 है, तो पहली संख्या क्या होगी?

- Ans
- ☐ 1. 36
 - ☐ 2. 35
 - ☒ 3. 19
 - ☐ 4. 28

Question ID : 65497839160

Status : Answered

Chosen Option : 2

Q.10 एक महिला 1 घंटे 45 मिनट में 30 km साइकिल चलाती है। उसकी यात्रा का एक हिस्सा 18 km लंबी एक समतल सड़क पर है और शेष हिस्सा चढ़ाई पर है। यदि समतल सड़क पर महिला की औसत चाल 24 km/h है, तो चढ़ाई वाले रास्ते पर उसकी चाल (km/h में) क्या होगी?

- Ans
- ☐ 1. 10
 - ☐ 2. 20
 - ☒ 3. 12
 - ☐ 4. 15

Question ID : 65497839177

Status : Answered

Chosen Option : 3

Q.11 एक सब्जी विक्रेता ₹36 में 50 गाजर खरीदता है और ₹50 में 36 गाजर बेचता है। उसका प्रतिशत लाभ ज्ञात कीजिए। (एक दशमलव स्थान तक पूर्णांकित)

- Ans
- ☒ 1. 87.7%
 - ☐ 2. 66.9%
 - ☐ 3. 74.9%
 - ☒ 4. 92.9%

Question ID : 65497839168
Status : Answered
Chosen Option : 2

Q.12 100 m, 105 m और 145 m भुजाओं वाले एक त्रिभुजाकार भूखंड का क्षेत्रफल एक आयताकार मैदान जिसकी भुजाएं 7 : 10 के अनुपात में हैं, के क्षेत्रफल के बराबर है। आयताकार मैदान का परिमाण (m में) ज्ञात कीजिए।

- Ans
- ☐ 1. $340\sqrt{3}$
 - ☒ 2. $170\sqrt{3}$
 - ☐ 3. $340\sqrt{5}$
 - ☐ 4. $170\sqrt{5}$

Question ID : 65497838464
Status : Answered
Chosen Option : 2

Q.13 यदि ब्याज की गणना 9-मासिक चक्रवृद्धि आधार पर की जाती है, तो ₹6,000 की धनराशि पर $13\frac{1}{3}\%$ की वार्षिक ब्याज दर से $2\frac{1}{3}$ वर्ष में प्राप्त मिश्रधन ज्ञात कीजिए। (₹ में)

- Ans
- ☐ 1. 7,869
 - ☐ 2. 8,429
 - ☒ 3. 7,986
 - ☐ 4. 7,896

Question ID : 65497838765
Status : Answered
Chosen Option : 4

Q.14 8 पुरुष किसी काम को 54 दिनों में पूरा कर सकते हैं। यदि एक पुरुष 2 लड़कों के बराबर काम करता है, तो 6 पुरुष और 12 लड़के इस काम को कितने दिनों में पूरा कर सकते हैं?

- Ans
- ☒ 1. 36
 - ☐ 2. 30
 - ☐ 3. 24
 - ☐ 4. 40

Question ID : 65497838154
Status : Answered
Chosen Option : 1

Q.15 12 और 54 का तृतीयानुपाती क्या होगा?

- Ans
- ✓ 1. 243
 - ✗ 2. 4.5
 - ✗ 3. $18\sqrt{2}$
 - ✗ 4. 42

Question ID : 65497838149
Status : Answered
Chosen Option : 1

Q.16 एक दीवार घड़ी ₹3,034 में बेचने पर दुकानदार को 18% की हानि होती है। यदि वह 18% का लाभ प्राप्त करना चाहता है, तो घड़ी का विक्रय मूल्य कितना होना चाहिए? (₹ में)

- Ans
- ✗ 1. 3,920
 - ✗ 2. 4,500
 - ✗ 3. 5,488
 - ✓ 4. 4,366

Question ID : 65497838860
Status : Answered
Chosen Option : 4

Q.17 पाइप A और B एक टंकी को क्रमशः 4 घंटे और 6 घंटे 40 मिनट में भर सकते हैं; जबकि एक तीसरा पाइप C पूर्णतः भरी हुई टंकी को 1 घंटे 40 मिनट में खाली कर सकता है। A और B को क्रमशः 2:00 p.m. और 3:00 p.m. पर खोला जाता है और C को 4:00 p.m. पर खोला जाता है। टंकी पूरी तरह से कब खाली होगी?

- Ans
- ✗ 1. 7:10 p.m.
 - ✓ 2. 7:15 p.m.
 - ✗ 3. 7:00 p.m.
 - ✗ 4. 7:20 p.m.

Question ID : 65497838461
Status : Not Answered
Chosen Option : --

Q.18 8 के पहले 8 गुणजों का औसत ज्ञात करें।

- Ans
- ✗ 1. 33
 - ✗ 2. 32
 - ✗ 3. 34
 - ✓ 4. 36

Question ID : 65497838240
Status : Answered
Chosen Option : 4

Q.19 15 संख्याओं का औसत 30 है जबकि इन संख्याओं में से 13 संख्याओं का औसत 32 है। यदि शेष दोनों संख्याएं बराबर हैं, तो दोनों संख्याओं में से प्रत्येक संख्या का मान क्या होगा?

- Ans
- ✓ 1. 17
 - ✗ 2. 31
 - ✗ 3. 34
 - ✗ 4. 16

Question ID : 65497838852
Status : Answered
Chosen Option : 1

Q.20 ब्याज की गणना क्रमशः वार्षिक रूप से और प्रति पांच माह में होने पर, ₹10,000 की राशि पर 12% की वार्षिक दर से $1\frac{1}{4}$ वर्ष की अवधि के चक्रवृद्धि ब्याजों का अंतर कितना होगा? (निकटतम ₹ में)

- Ans
- ✗ 1. 35
 - ✗ 2. 42
 - ✗ 3. 36
 - ✓ 4. 40

Question ID : 65497838561
Status : Not Answered
Chosen Option : --

Q.21 एक वस्तु को बेचने पर एक दुकानदार को 20% का लाभ प्राप्त होता है। यदि उसने वह वस्तु ₹50 कम में खरीदी होती और इसे उक्त मूल्य पर ही बेचता, तो उसे 25% का लाभ प्राप्त होता। वस्तु का क्रय मूल्य (₹ में) ज्ञात कीजिए।

- Ans
- ✗ 1. 1,150
 - ✓ 2. 1,250
 - ✗ 3. 1,100
 - ✗ 4. 1,000

Question ID : 65497838248
Status : Answered
Chosen Option : 4

Q.22 अमित अपनी आय का 20% बचाता है। यदि उसकी आय में 38% की वृद्धि और व्यय में 60% की वृद्धि हो जाती है, तो उसकी बचत में कितने प्रतिशत की वृद्धि/कमी होगी?

- Ans
- ✗ 1. 22% (वृद्धि)
 - ✗ 2. 50% (वृद्धि)
 - ✓ 3. 50% (कमी)
 - ✗ 4. 100% (कमी)

Question ID : 65497838553
Status : Answered
Chosen Option : 3

Q.23 A ने B से ₹58,000 की राशि 8% की वार्षिक साधारण ब्याज दर पर 2 वर्ष के लिए उधार ली। उसने C को समान राशि 10% की वार्षिक चक्रवृद्धि ब्याज दर पर, जिसपर ब्याज वार्षिक रूप से चक्रवृद्धि होता है, 2 वर्ष के लिए उधार दे दी। 2 वर्ष के बाद उसे इस लेन-देन में कितनी राशि (₹ में) लाभ के रूप में प्राप्त होगी?

- Ans
- ☒ 1. 3,000
 - ☒ 2. 2,900
 - ☒ 3. 2,750
 - ☒ 4. 2,800

Question ID : 65497838253
Status : Not Answered
Chosen Option : --

Q.24 यदि $N = (307)^{38} + (524)^{20}$ है, तो N का इकाई अंक क्या होगा?

- Ans
- ☒ 1. 6
 - ☒ 2. 3
 - ☒ 3. 5
 - ☒ 4. 4

Question ID : 65497839157
Status : Answered
Chosen Option : 2

Q.25 एक दुकानदार द्वारा किसी वस्तु पर 20%, 10% और 15% की क्रमागत छूटें दी जाती हैं। ₹1,000 अंकित मूल्य वाली उस वस्तु के लिए ग्राहक को कितनी राशि का भुगतान करना होगा?

- Ans
- ☒ 1. ₹550
 - ☒ 2. ₹612
 - ☒ 3. ₹620
 - ☒ 4. ₹628

Question ID : 65497838141
Status : Answered
Chosen Option : 2

Section : General awareness

Q.1 निम्नलिखित में से कौन सी पुस्तक अमिताभ घोष (Amitav Ghosh) द्वारा नहीं लिखी गई है?

- Ans
- ☒ 1. द हंगरी टाइड (The Hungry Tide)
 - ☒ 2. द गॉड ऑफ़ स्मॉल थिंग्स (The God of Small Things)
 - ☒ 3. द शैडो लाइन्स (The Shadow Lines)
 - ☒ 4. सी ऑफ़ पोपीज़ (Sea of Poppies)

Question ID : 65497839197
Status : Answered
Chosen Option : 2

Q.2 शहद, जल तथा दो प्रकार की शर्कराओं : _____ और ग्लूकोज से बना होता है।

- Ans
- ☐ 1. डेक्सट्रोस
 - ☐ 2. सुक्रोज
 - ☒ 3. फ्रक्टोज
 - ☐ 4. लैक्ट्युलोज

Question ID : 65497838473
Status : Answered
Chosen Option : 3

Q.3 निम्न में से कौन सी जीवन बीमा कंपनी, अपने ग्राहकों को UPI ऑटोपे (AutoPay) सुविधा प्रदान करने वाली पहली जीवन बीमा कंपनी बन गई है?

- Ans
- ☐ 1. एसबीआई लाइफ इंश्योरेंस
 - ☐ 2. एचडीएफसी लाइफ इंश्योरेंस
 - ☐ 3. पीएनबी मेट लाइफ इंश्योरेंस
 - ☒ 4. आईसीआईसीआई प्रूडेंशियल लाइफ

Question ID : 65497838266
Status : Answered
Chosen Option : 2

Q.4 भारतीय संविधान का पहला संशोधन अधिनियम किस वर्ष लागू हुआ था?

- Ans
- ☐ 1. 1989
 - ☐ 2. 1971
 - ☒ 3. 1951
 - ☐ 4. 1948

Question ID : 65497838485
Status : Answered
Chosen Option : 3

Q.5 _____ का उपयोग जल की अस्थायी और स्थायी कठोरता को दूर करने के लिए किया जाता है।

- Ans
- ☐ 1. कैल्शियम ऑक्साइड
 - ☐ 2. हाइड्रोजन सल्फाइड
 - ☐ 3. पोटैशियम ऑक्साइड
 - ☒ 4. सोडियम कार्बोनेट

Question ID : 65497838268
Status : Answered
Chosen Option : 4

Q.6 अगस्त 2021 में लॉन्च किया गया 'PM-DAKSH' पोर्टल और 'PM-DAKSH' मोबाइल ऐप, राष्ट्रीय ई-गवर्नेंस डिवीजन के सहयोग से _____ मंत्रालय द्वारा विकसित किया गया था।

- Ans
- ☐ 1. विधि एवं न्याय
 - ☐ 2. रसायन एवं उर्वरक
 - ☐ 3. कृषि एवं किसान कल्याण
 - ☒ 4. सामाजिक न्याय एवं अधिकारिता

Question ID : 65497839205
Status : Not Answered
Chosen Option : --

Q.7 रुमटेक मठ निम्न में से किस राज्य में स्थित है?

- Ans ☒ 1. सिक्किम
☒ 2. त्रिपुरा
☒ 3. असम
☒ 4. नागालैंड

Question ID : 65497838467

Status : Not Answered

Chosen Option : --

Q.8 दूरी को मापने के लिए निम्नलिखित में से किस उपकरण का उपयोग किया जाता है?

- Ans ☒ 1. ओडोमीटर
☒ 2. मैनोमीटर
☒ 3. नोमोन
☒ 4. पाइरोमीटर

Question ID : 65497839188

Status : Answered

Chosen Option : 1

Q.9 सितंबर 2021 में, एफएमसीजी ब्रांड प्रियागोल्ड का ब्रांड एंबेसडर निम्न में से किसे नियुक्त किया गया था?

- Ans ☒ 1. विनोद कन्नन
☒ 2. कियारा आडवाणी
☒ 3. अक्षय कुमार
☒ 4. करीना कपूर

Question ID : 65497838176

Status : Not Answered

Chosen Option : --

Q.10 निम्नलिखित में से किस गांव का संबंध विनोबा भावे द्वारा शुरू किए गए 'भूदान आंदोलन' से है?

- Ans ☒ 1. पोचमपल्ली
☒ 2. कुंभारी
☒ 3. होगेनक्कल
☒ 4. आम्रपाली

Question ID : 65497839192

Status : Not Answered

Chosen Option : --

Q.11 मद्रास (चेन्नई) में भारतीय महिला संघ की स्थापना किस वर्ष हुई थी?

- Ans ☒ 1. 1927
☒ 2. 1951
☒ 3. 1948
☒ 4. 1917

Question ID : 65497838479

Status : Not Answered

Chosen Option : --

Q.12 _____, वर्षावन की प्राथमिक परत है जो शेष दो परतों के ऊपर छत का निर्माण करती है।

- Ans
- ☒ 1. वन तल (forest floor)
 - ☒ 2. आपातिक परत (emergent layer)
 - ☒ 3. अंडरस्टोरी परत (understory layer)
 - ☒ 4. वितान परत (canopy layer)

Question ID : 65497838170
Status : Not Answered
Chosen Option : --

Q.13 यूनेस्को (UNESCO) का विश्व धरोहर स्थल, पत्तदकल (Pattadakal), _____ नदी के तट पर स्थित है।

- Ans
- ☒ 1. तुंगभद्रा
 - ☒ 2. घटप्रभा
 - ☒ 3. भीमा
 - ☒ 4. मालप्रभा

Question ID : 65497838477
Status : Answered
Chosen Option : 2

Q.14 निम्न में से किस देश ने टोक्यो पैरालंपिक 2020 में सर्वाधिक पदक जीते थे?

- Ans
- ☒ 1. ग्रेट ब्रिटेन
 - ☒ 2. भारत
 - ☒ 3. चीन
 - ☒ 4. यूएसए (USA)

Question ID : 65497838079
Status : Answered
Chosen Option : 1

Q.15 _____ ने 'अष्टाध्यायी' नामक प्रथम संस्कृत व्याकरण ग्रंथ लिखा था।

- Ans
- ☒ 1. कबीर
 - ☒ 2. पाणिनि
 - ☒ 3. तुलसीदास
 - ☒ 4. वाल्मीकि

Question ID : 65497838276
Status : Answered
Chosen Option : 2

Q.16 सितंबर 2021 में, निम्न में से किस राज्य ने एक इलेक्ट्रॉनिक पार्क स्थापित करने की घोषणा की थी?

- Ans
- ☒ 1. कर्नाटक
 - ☒ 2. उत्तर प्रदेश
 - ☒ 3. पंजाब
 - ☒ 4. मध्य प्रदेश

Question ID : 65497838489
Status : Answered
Chosen Option : 1

Q.17 'डमहल (Dumhal)' निम्न में से किस राज्य/केंद्र शासित प्रदेश की एक प्रसिद्ध नृत्य शैली है?

- Ans
- ☒ 1. उत्तर प्रदेश
 - ☒ 2. जम्मू और कश्मीर
 - ☒ 3. पुदुचेरी
 - ☒ 4. कर्नाटक

Question ID : 65497838264

Status : Not Answered

Chosen Option : --

Q.18 लोकसभा में अध्यक्षों (chairpersons) के पैनल में कितने सदस्य होते हैं?

- Ans
- ☒ 1. 17
 - ☒ 2. 13
 - ☒ 3. 9
 - ☒ 4. 10

Question ID : 65497838280

Status : Not Answered

Chosen Option : --

Q.19 ओइनम बेमबेम देवी (Oinam Bembem Devi) ने निम्नलिखित में से किस खेल में भारत का प्रतिनिधित्व किया है?

- Ans
- ☒ 1. वॉलीबॉल
 - ☒ 2. फुटबॉल
 - ☒ 3. हॉकी
 - ☒ 4. क्रिकेट

Question ID : 65497839202

Status : Answered

Chosen Option : 3

Q.20 निम्न में से किस बैंक की 'खुदरा प्रत्यक्ष योजना (Retail Direct Scheme)', व्यक्तिगत निवेशकों द्वारा सरकारी प्रतिभूतियों में निवेश की सुविधा के लिए वन-स्टॉप समाधान के रूप में तैयार की गई है?

- Ans
- ☒ 1. भारतीय रिजर्व बैंक
 - ☒ 2. एचडीएफसी बैंक
 - ☒ 3. भारतीय स्टेट बैंक
 - ☒ 4. आईसीआईसीआई बैंक

Question ID : 65497838165

Status : Not Answered

Chosen Option : --

Q.21 सितंबर 2021 में, निम्न में से किस देश में द्विपक्षीय अभ्यास 'समुद्र शक्ति' का तीसरा संस्करण आयोजित हुआ था, जिसमें दो भारतीय नौसैनिक जहाजों, शिवालिक और कदमत ने भाग लिया था?

- Ans
- ☒ 1. ऑस्ट्रेलिया
 - ☒ 2. जापान
 - ☒ 3. मलेशिया
 - ☒ 4. इंडोनेशिया

Question ID : 65497838184

Status : Answered

Chosen Option : 4

Q.22 देवेंद्रनाथ टैगोर ने तत्वबोधिनी सभा की स्थापना किस वर्ष की थी?

Ans ☒ 1. 1839

☐ 2. 1868

☐ 3. 1828

☐ 4. 1815

Question ID : 65497838175

Status : Answered

Chosen Option : 3

Q.23 यदि एक टेबल टेनिस खेल ड्यूस (deuce) तक नहीं जाता है, तो विजेता द्वारा अर्जित किए जाने वाले अधिकतम अंक कितने होते हैं?

Ans ☐ 1. 14

☒ 2. 11

☐ 3. 10

☐ 4. 15

Question ID : 65497838996

Status : Not Answered

Chosen Option : --

Q.24 निम्न में से कौन सी जायद की एक फसल है?

Ans ☐ 1. चावल

☐ 2. मटर

☒ 3. खरबूजा

☐ 4. गेहूं

Question ID : 65497838271

Status : Answered

Chosen Option : 3

Q.25 निम्नलिखित में से क्या 'राजस्व प्राप्तियों' में शामिल होता है?

(a) कर राजस्व (b) गैर-कर राजस्व

Ans ☐ 1. केवल (b)

☒ 2. (a) और (b) दोनों

☐ 3. केवल (a)

☐ 4. न तो (a) और न ही (b)

Question ID : 65497839183

Status : Not Answered

Chosen Option : --