

Selection Post Phase IX 2021 Matriculation level

Roll Number	
Candidate Name	
Venue Name	
Exam Date	03/02/2022
Exam Time	9:00 AM - 10:00 AM
Subject	Selection Post Matriculation Level

Section : General Intelligence

Q.1 रंजनी, सम्राट की बहन है। प्रणित की माता का विवाह सम्राट के साथ हुआ है। भाग्या का एक पुत्र और एक पुत्री है। लाया, प्रणित की बहन है जो भाग्या का पौत्र है। लाया, रचना की पुत्री है। रंजनी का रचना से क्या संबंध है?

- Ans ☒ 1. पति की बहन
☒ 2. भाई की पत्नी
☒ 3. बहन
☒ 4. पुत्री

Question ID : 65497838914

Status : Answered

Chosen Option : 2

Q.2 चार अक्षर-समूह दिए गए हैं, जिनमें से तीन किसी तरह से संगत हैं और एक असंगत है। उस अक्षर-समूह का चयन करें, जो अन्य से असंगत है।

- Ans ☒ 1. JMQ
☒ 2. NQS
☒ 3. BEG
☒ 4. FIK

Question ID : 65497839310

Status : Answered

Chosen Option : 1

Test Prime

**ALL EXAMS,
ONE SUBSCRIPTION**



70,000+
Mock Tests



**Personalised
Report Card**



**Unlimited
Re-Attempt**



600+
Exam Covered



**Previous Year
Papers**



**500%
Refund**



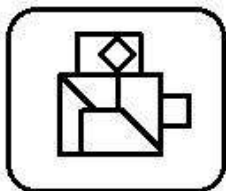
ATTEMPT FREE MOCK NOW

Q.3 उस विकल्प का चयन करें, जिसमें दी गई आकृति अंतर्निहित है (आकृति को घुमाने की अनुमति नहीं है)।

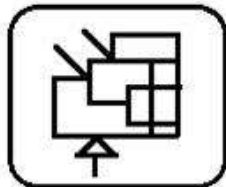


Ans

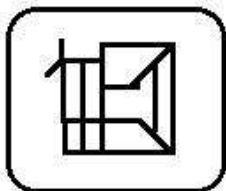
✗ 1.



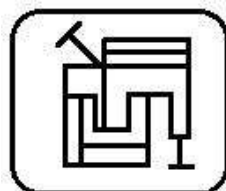
✗ 2.



✗ 3.



✓ 4.



Question ID : 65497838719

Status : Answered

Chosen Option : 4

Q.4 दिए गए विकल्पों में से उस संख्या का चयन करें जो निम्नलिखित श्रेणी में प्रश्न चिह्न (?) के स्थान पर आ सकती है।

31, 31, 34, 170, 177, ?

Ans ✗ 1. 1740

✗ 2. 1680

✗ 3. 1470

✓ 4. 1593

Question ID : 65497839326

Status : Answered

Chosen Option : 4

Q.5 'अर्जेंटीना' का 'पेसो' से वही संबंध है, जो 'कंबोडिया' का '_____' से है।

Ans ✗ 1. यूरो

✗ 2. रियाल

✗ 3. कीना

✓ 4. रिएल

Question ID : 65497838700

Status : Answered

Chosen Option : 3

Q.6 उस विकल्प का चयन कीजिए, जिसका तीसरी संख्या से वही संबंध है, जो दूसरी संख्या का पहली संख्या से है और छठी संख्या का पांचवीं संख्या से है।

36 : 18 :: 75 : ? :: 25 : 14

- Ans
- ☒ 1. 37
 - ☒ 2. 89
 - ☒ 3. 24
 - ☒ 4. 56

Question ID : 65497838409
Status : Not Answered
Chosen Option : --

Q.7 उस सही विकल्प का चयन करें जो दिए गए शब्दों को उस क्रम में दर्शाता है जिस क्रम में वे अंग्रेज़ी शब्दकोश में दिखाई देते हैं।

1. Toaster
2. Trivial
3. Topology
4. Trolley
5. Train

- Ans
- ☒ 1. 3, 1, 2, 5, 4
 - ☒ 2. 1, 3, 5, 2, 4
 - ☒ 3. 1, 3, 2, 5, 4
 - ☒ 4. 1, 5, 3, 4, 2

Question ID : 65497838697
Status : Answered
Chosen Option : 2

Q.8 दिए गए समीकरण को संतुलित करने के लिए किन दो चिह्नों को आपस में बदला जाना चाहिए?

$294 + 14 \times 4 \div 16 - 67 = 33$

- Ans
- ☒ 1. + और -
 - ☒ 2. + और ÷
 - ☒ 3. × और +
 - ☒ 4. - और +

Question ID : 65497838818
Status : Answered
Chosen Option : 2

Q.9 उस विकल्प का चयन करें जो तीसरे पद से उसी प्रकार संबंधित है जिस प्रकार दूसरा पद पहले पद से संबंधित है।

RAPID : HFUXX :: MARKS : ?

- Ans
- ☒ 1. WXHSW
 - ☒ 2. WHWXS
 - ☒ 3. WSHWX
 - ☒ 4. WWHXS

Question ID : 65497838803
Status : Answered
Chosen Option : 2

Q.10 P, Q, R, S और T एक बेंच पर बैठे हैं। Q, T के बगल में बैठा है। S, P के साथ नहीं बैठा है, जो बेंच के दाएं सिरे पर है। R बाईं ओर से दूसरे स्थान पर है। T, S के दाईं ओर दूसरे स्थान पर बैठा है। T के बैठने की स्थिति क्या है?

- Ans
- ☒ 1. S और R के बीच
 - ☒ 2. Q और P के बीच
 - ☒ 3. P और Q के बीच
 - ☒ 4. R और Q के बीच

Question ID : 65497838402

Status : Answered

Chosen Option : 4

Q.11 एक निश्चित कूट भाषा में, 'LAKE' को '9135' के रूप में कूटबद्ध किया जाता है और 'KITE' को '3785' के रूप में कूटबद्ध किया जाता है। उसी भाषा में 'TAIL' को किस रूप में कूटबद्ध किया जाएगा?

- Ans
- ☒ 1. 8719
 - ☒ 2. 5189
 - ☒ 3. 5819
 - ☒ 4. 8179

Question ID : 65497838704

Status : Answered

Chosen Option : 4

Q.12 एक निश्चित कूट भाषा में, 'FANGLE' को 'UZMTOV' लिखा जाता है, और 'GUNTER' को 'TFMGVI' लिखा जाता है। उसी कूट भाषा में 'ISOLATE' को किस प्रकार लिखा जाएगा?

- Ans
- ☒ 1. RGLOZHV
 - ☒ 2. RHOLZGV
 - ☒ 3. RHLOZGV
 - ☒ 4. RGLOHZV

Question ID : 65497838397

Status : Answered

Chosen Option : 3

Q.13 एक निश्चित कूट भाषा में, 'MAGNET' को 'BLOFUD' के रूप में लिखा जाता है। उसी भाषा में 'PRAISE' को किस रूप में लिखा जाएगा?

- Ans
- ☒ 1. QQHBDT
 - ☒ 2. SOJZFR
 - ☒ 3. SQJBFT
 - ☒ 4. OSZJRF

Question ID : 65497838604

Status : Answered

Chosen Option : 2

Q.14 एक निश्चित कूट भाषा में, 'SOUND' को '219' के रूप में कूटबद्ध किया जाता है, और 'BRICK' को '172' के रूप में कूटबद्ध किया जाता है। उसी भाषा में 'SLACK' को कैसे कूटबद्ध किया जाएगा?

- Ans
- ☒ 1. 184
 - ☒ 2. 138
 - ☒ 3. 148
 - ☒ 4. 183

Question ID : 65497839113

Status : Answered

Chosen Option : 2

Q.15 दिए गए कथनों और निष्कर्षों को ध्यानपूर्वक पढ़ें। कथनों में दी गई जानकारी को सत्य मानते हुए विचार करें, भले ही वह सामान्यतः ज्ञात तथ्यों से भिन्न प्रतीत होती हो, और तय करें कि दिए गए निष्कर्षों में से कौन से कथनों का तार्किक रूप से पालन करते हैं?

कथन:

कोई कॉफी बटर नहीं है।
कोई क्रीम कॉफी नहीं है।

निष्कर्ष:

I. कोई बटर क्रीम नहीं है।
II. सभी क्रीम बटर है।

- Ans ☒ 1. केवल निष्कर्ष I पालन करता है।
☒ 2. न तो निष्कर्ष I और न ही II पालन करता है।
☒ 3. केवल निष्कर्ष II पालन करता है।
☒ 4. निष्कर्ष I और II दोनों पालन करते हैं।

Question ID : 65497838411

Status : Answered

Chosen Option : 1

Q.16 दिए गए कथनों और निष्कर्षों को ध्यानपूर्वक पढ़ें। यह मानते हुए कि कथनों में दी गई जानकारी सत्य है, भले ही वह सामान्य रूप से ज्ञात तथ्यों से भिन्न प्रतीत होती हो, निर्णय लें कि दिए गए निष्कर्षों में से कौन सा/से निष्कर्ष कथनों का तार्किक रूप से अनुसरण करता/ते है/हैं।

कथन:

कुछ प्रबंधक, लेखाकार हैं।
सभी लेखाकार, लेखापरीक्षक हैं।

निष्कर्ष:

I. सभी लेखापरीक्षक, लेखाकार हैं।
II. सभी प्रबंधक, लेखापरीक्षक हैं।

- Ans ☒ 1. केवल निष्कर्ष I अनुसरण करता है
☒ 2. निष्कर्ष I और II दोनों अनुसरण करते हैं
☒ 3. न तो निष्कर्ष I और न ही II अनुसरण करता है
☒ 4. केवल निष्कर्ष II अनुसरण करता है

Question ID : 65497838813

Status : Answered

Chosen Option : 3

Q.17 एक निश्चित कूट भाषा में, 'MARKER' को 'AMXERE' के रूप में लिखा जाता है। उसी भाषा में 'REDUCE' को कैसे लिखा जाएगा?

- Ans ☒ 1. EKJOIC
☒ 2. REJOCE
☒ 3. ERXAEC
☒ 4. ERJOEC

Question ID : 65497839110

Status : Answered

Chosen Option : 4

Q.18 यदि 'P + Q' का अर्थ है - 'Q, P की मां है', 'P - Q' का अर्थ है - 'Q, P का भाई है', 'P % Q' का अर्थ है - 'Q, P का पिता है', और 'P × Q' का अर्थ है - 'Q, P की बहन है', निम्नलिखित में से कौन सा विकल्प दर्शाता है - 'Q, P का मामा है'?

- Ans
- ☒ 1. $K - M + N \times L$
 - ☒ 2. $K + S \times N - L$
 - ☒ 3. $L - S \% K + N$
 - ☒ 4. $L - N + M \times K$

Question ID : 65497838404

Status : Not Answered

Chosen Option : --

Q.19 दिए गए विकल्पों में से उस संख्या का चयन कीजिए, जो निम्नलिखित श्रेणी में प्रश्न चिह्न (?) के स्थान पर आ सकती है।

8, 17, 36, 75, 154, ?

- Ans
- ☒ 1. 308
 - ☒ 2. 313
 - ☒ 3. 309
 - ☒ 4. 315

Question ID : 65497838713

Status : Answered

Chosen Option : 2

Q.20 A, B, C, D, E, F, G, H और K एक वृत्त के परितः केंद्र की ओर मुख करके बैठे हैं। A, H के बाईं ओर तीसरे स्थान पर है, जो G के बाईं ओर चौथे स्थान पर है। C, D के दाईं ओर चौथे स्थान पर है, जो A के दाईं ओर दूसरे स्थान पर है। E, G के बाईं ओर तीसरे स्थान पर है। B, K के दाईं ओर चौथे स्थान पर है। निम्नलिखित में से किस संयोजन में तीन व्यक्ति एक साथ बैठे हैं?

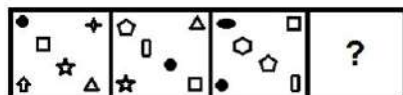
- Ans
- ☒ 1. DHE
 - ☒ 2. KEB
 - ☒ 3. HCG
 - ☒ 4. BCK

Question ID : 65497838709

Status : Not Answered

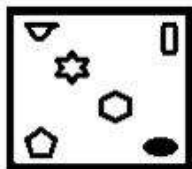
Chosen Option : --

Q.21 विकल्पों में से उस आकृति का चयन करें जो नीचे दी गई आकृति श्रृंखला में प्रश्नवाचक चिह्न (?) को प्रतिस्थापित कर सकती है।




Ans

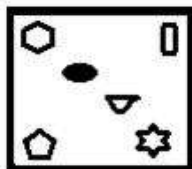
✗ 1.



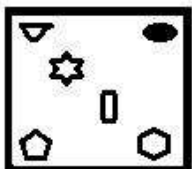
✓ 2.



✗ 3.



✗ 4.



Question ID : 65497839330

Status : Answered

Chosen Option : 2

Q.22 जब दर्पण को निम्नांकित चित्र के अनुसार PQ पर रखा गया हो, तो दिए गए संयोजन का दर्पण में निर्मित सही प्रतिबिंब चयनित करें।

LONGITUDE
P
Q

Ans

✗ 1.

FOURTEEN

✗ 2.

FOURTEEN

✓ 3.

FOURTEEN

✗ 4.

FOURTEEN

Question ID : 65497838822

Status : Answered

Chosen Option : 3

Q.23 दिए गए विकल्पों में से उस अक्षर-समूह का चयन करें, जो निम्नलिखित श्रृंखला में प्रश्न चिह्न (?) के स्थान पर आ सकता है।

OLK, MNL, KPM, IRN, ?

Ans ☒ 1. GTO

☒ 2. GUP

☒ 3. HSO

☒ 4. JQR

Question ID : 65497839308

Status : Answered

Chosen Option : 1

Q.24 एक निश्चित कूट भाषा में, 'STUMBLE' को '95' के रूप में कूटबद्ध किया जाता है और 'NASTY' को '55' के रूप में कूटबद्ध किया जाता है। उसी भाषा में 'CLOUDY' को किस रूप में कूटबद्ध किया जाएगा?

Ans ☒ 1. 80

☒ 2. 92

☒ 3. 90

☒ 4. 82

Question ID : 65497838605

Status : Not Answered

Chosen Option : --

Q.25 अक्षरों के उस संयोजन का चयन कीजिए, जिसे दी गई श्रृंखला के रिक्त स्थानों में क्रमबद्ध रूप से रखने पर श्रृंखला पूर्ण हो जाएगी।

CIST_RNCI_TERNC_STER_

Ans ☒ 1. SENI

☒ 2. ESIN

☒ 3. IENS

☒ 4. IESN

Question ID : 65497838393

Status : Answered

Chosen Option : 2

Section : English Language

Q.1 Select the most appropriate option to fill in the blank.

There was never much _____ between the two sisters. They didn't see eye to eye.

Ans ☒ 1. coldness

☒ 2. rapport

☒ 3. discord

☒ 4. wavelength

Question ID : 65497838724

Status : Answered

Chosen Option : 3

Q.2 Select the INCORRECTLY spelt word.

- Ans ☒ 1. Anxious
☒ 2. Famous
☒ 3. Enormous
☒ 4. Delicious

Question ID : 65497838326
Status : Answered
Chosen Option : 4

Q.3 Select the most appropriate ANTONYM of the given word.

Generous

- Ans ☒ 1. Honest
☒ 2. Big-hearted
☒ 3. Charitable
☒ 4. Miserly

Question ID : 65497839339
Status : Answered
Chosen Option : 2

Q.4 Select the most appropriate meaning of the given idiom.

In line with

- Ans ☒ 1. In opposition
☒ 2. In social service
☒ 3. In agreement
☒ 4. In a queue

Question ID : 65497838423
Status : Answered
Chosen Option : 3

Q.5 Select the most appropriate option to fill in the blank.

Sushil is different _____ his father.

- Ans ☒ 1. by
☒ 2. over
☒ 3. at
☒ 4. from

Question ID : 65497838417
Status : Answered
Chosen Option : 4

Q.6 Select the option that can be used as a one-word substitute for the given group of words.

An image of God used for worship

- Ans ☒ 1. Ideal
☒ 2. Idol
☒ 3. Logo
☒ 4. Model

Question ID : 65497838834
Status : Answered
Chosen Option : 2

Q.7 Select the INCORRECTLY spelt word.

- Ans ☒ 1. Minister
☒ 2. Minus
☒ 3. Minnimum
☒ 4. Minute

Question ID : 65497838837
Status : Answered
Chosen Option : 3

Q.8 Select the INCORRECTLY spelt word.

- Ans ☒ 1. Serum
☒ 2. Servent
☒ 3. Service
☒ 4. Serial

Question ID : 65497839346
Status : Answered
Chosen Option : 2

Q.9 Select the option that expresses the given sentence in indirect speech.

“What an enormous pumpkin!” said the boy.

- Ans ☒ 1. The boy exclaimed with surprise what an enormous pumpkin it was.
☒ 2. The boy asked what an enormous pumpkin was it.
☒ 3. The boy exclaimed with surprise that it was an enormous pumpkin.
☒ 4. The boy exclaimed with horror what an enormous pumpkin was it.

Question ID : 65497839334
Status : Answered
Chosen Option : 1

Q.10 Select the most appropriate meaning of the given idiom.

A hot potato

- Ans ☒ 1. a delectable dish
☒ 2. a comfortable situation
☒ 3. an easy-to-cook recipe
☒ 4. a controversial issue

Question ID : 65497838730
Status : Answered
Chosen Option : 4

Q.11 Select the most appropriate ANTONYM of the given word.

Sufficient

- Ans ☒ 1. Adequate
☒ 2. Ample
☒ 3. Meagre
☒ 4. Plentiful

Question ID : 65497838830
Status : Answered
Chosen Option : 2

Q.12 Select the option that expresses the given sentence in passive voice.

The sight of food maddened him.

- Ans ☒ 1. He is maddened by the sight of food.
☒ 2. He had maddened by the sight of food.
☒ 3. He has maddened by the sight of food.
☒ 4. He was maddened by the sight of food.

Question ID : 65497838721
Status : Answered
Chosen Option : 4

Q.13 Select the option that can be used as a one-word substitute for the given group of words.

Officially make a student leave a school for ever

- Ans ☒ 1. Expel
☒ 2. exclude
☒ 3. Eject
☒ 4. Evacuate

Question ID : 65497839343
Status : Answered
Chosen Option : 4

Q.14 Select the most appropriate synonym of the given word.

Surge

- Ans ☒ 1. Lack
☒ 2. Need
☒ 3. Fall
☒ 4. Rise

Question ID : 65497838419
Status : Answered
Chosen Option : 1

Q.15 Select the most appropriate synonym of the given word.

Certain

- Ans ☒ 1. Doubtful
☒ 2. Hesitant
☒ 3. Doubting
☒ 4. Sure

Question ID : 65497838726

Status : Answered

Chosen Option : 4

Comprehension:

In the following passage, some words have been deleted. Read the passage carefully and select the most appropriate option to fill in each blank.

Love is a very positive force in our life. (1)_____ loved by someone is a great (2)_____. A young boy was sent to jail for a (3)_____ theft. A priest saw him sitting among (4)_____. He went close and patted his back (5)_____. The young boy said, "Father, if someone had loved me, I would not have been here."

SubQuestion No : 16

Q.16 Select the most appropriate option to fill in blank no. 1.

- Ans ☒ 1. Be
☒ 2. Becoming
☒ 3. Been
☒ 4. Being

Question ID : 65497838431

Status : Answered

Chosen Option : 4

Comprehension:

In the following passage, some words have been deleted. Read the passage carefully and select the most appropriate option to fill in each blank.

Love is a very positive force in our life. (1)_____ loved by someone is a great (2)_____. A young boy was sent to jail for a (3)_____ theft. A priest saw him sitting among (4)_____. He went close and patted his back (5)_____. The young boy said, "Father, if someone had loved me, I would not have been here."

SubQuestion No : 17

Q.17 Select the most appropriate option to fill in blank no. 2.

- Ans ☒ 1. fortune
☒ 2. profit
☒ 3. service
☒ 4. blessing

Question ID : 65497838432

Status : Answered

Chosen Option : 4

Comprehension:

In the following passage, some words have been deleted. Read the passage carefully and select the most appropriate option to fill in each blank.

Love is a very positive force in our life. (1)_____ loved by someone is a great (2)_____. A young boy was sent to jail for a (3)_____ theft. A priest saw him sitting among (4)_____. He went close and patted his back (5)_____. The young boy said, "Father, if someone had loved me, I would not have been here."

SubQuestion No : 18

Q.18 Select the most appropriate option to fill in blank no. 3.

- Ans ☒ 1. slight
☒ 2. shallow
☒ 3. petty
☒ 4. narrow

Question ID : 65497838433

Status : Answered

Chosen Option : 3

Comprehension:

In the following passage, some words have been deleted. Read the passage carefully and select the most appropriate option to fill in each blank.

Love is a very positive force in our life. (1)_____ loved by someone is a great (2)_____. A young boy was sent to jail for a (3)_____ theft. A priest saw him sitting among (4)_____. He went close and patted his back (5)_____. The young boy said, "Father, if someone had loved me, I would not have been here."

SubQuestion No : 19

Q.19 Select the most appropriate option to fill in blank no. 4.

- Ans ☒ 1. criminals
☒ 2. relatives
☒ 3. colleagues
☒ 4. supporters

Question ID : 65497838434

Status : Answered

Chosen Option : 1

Comprehension:

In the following passage, some words have been deleted. Read the passage carefully and select the most appropriate option to fill in each blank.

Love is a very positive force in our life. (1)_____ loved by someone is a great (2)_____. A young boy was sent to jail for a (3)_____ theft. A priest saw him sitting among (4)_____. He went close and patted his back (5)_____. The young boy said, "Father, if someone had loved me, I would not have been here."

SubQuestion No : 20

Q.20 Select the most appropriate option to fill in blank no. 5.

- Ans ☒ 1. affectionately
☒ 2. powerfully
☒ 3. arrogantly
☒ 4. politely

Question ID : 65497838435

Status : Answered

Chosen Option : 4

Comprehension:

Read the given passage and answer the questions that follow.

As the family finally sets off from home after many arguments, there is a moment of lull as the car takes off. "Alright, so where are we going for dinner now?" asks the one at the driving wheel. What follows is chaos as multiple voices make as many suggestions.

By the time order is restored and a decision is arrived at, tempers have risen, feelings injured and there is at least one person grumbling.

Twenty years ago, you would step out of home, the decision of meal and venue already made with no arguments or opposition and everybody looked forward to the meal with equal enthusiasm. The decision was made by the head of the family and the others fell in line. Today, every member of the family has a say in every decision which also promotes a sense of togetherness and bonding.

We empower our kids to take their own decisions from a very early age. We ask them the cuisine they prefer, the movie they want to see, the holiday they wish to go on and the subjects they wish to study.

It's a closely connected world, out there where children consult and guide each other. A parent's well-meaning advice can sound like nothing more than unnecessary preaching. How then do we teach our children through all the conflicting views and make the voice of reason be heard? Children today question choices and prefer to go with the flow.

What then is the best path to take? I would say the most important thing one can do is to listen. Listen to your children and their silences. Ensure that you keep some time aside for them, insist that they share their stories with you. Step into their world. It is not as complicated as it sounds; just a daily half an hour of quality time would do the trick.

SubQuestion No : 21

Q.21 According to the passage, how was the scenario different twenty years ago?

- Ans
- ☒ 1. Everyone looked forward to outings enthusiastically.
 - ☒ 2. Decisions were simpler as there were not many choices.
 - ☒ 3. There was no bonding between family members.
 - ☒ 4. Decisions were taken by the head of the family and everybody agreed.

Question ID : 65497838847

Status : Answered

Chosen Option : 4

Comprehension:

Read the given passage and answer the questions that follow.

As the family finally sets off from home after many arguments, there is a moment of lull as the car takes off. "Alright, so where are we going for dinner now?" asks the one at the driving wheel. What follows is chaos as multiple voices make as many suggestions.

By the time order is restored and a decision is arrived at, tempers have risen, feelings injured and there is at least one person grumbling.

Twenty years ago, you would step out of home, the decision of meal and venue already made with no arguments or opposition and everybody looked forward to the meal with equal enthusiasm. The decision was made by the head of the family and the others fell in line.

Today, every member of the family has a say in every decision which also promotes a sense of togetherness and bonding.

We empower our kids to take their own decisions from a very early age. We ask them the cuisine they prefer, the movie they want to see, the holiday they wish to go on and the subjects they wish to study.

It's a closely connected world, out there where children consult and guide each other. A parent's well-meaning advice can sound like nothing more than unnecessary preaching. How then do we teach our children through all the conflicting views and make the voice of reason be heard? Children today question choices and prefer to go with the flow.

What then is the best path to take? I would say the most important thing one can do is to listen. Listen to your children and their silences. Ensure that you keep some time aside for them, insist that they share their stories with you. Step into their world. It is not as complicated as it sounds; just a daily half an hour of quality time would do the trick.

SubQuestion No : 22

Q.22 What does the speaker recommend to the parents as the best path to take?

- Ans
- ☒ 1. To handle the children with authority and make them obey.
 - ☒ 2. To spend all their time with the children and not leave them alone.
 - ☒ 3. To advise children at every step so that they do not make mistakes.
 - ☒ 4. To be a part of the children's world by listening to them.

Question ID : 65497838849

Status : Answered

Chosen Option : 4

Comprehension:

Read the given passage and answer the questions that follow.

As the family finally sets off from home after many arguments, there is a moment of lull as the car takes off. "Alright, so where are we going for dinner now?" asks the one at the driving wheel. What follows is chaos as multiple voices make as many suggestions.

By the time order is restored and a decision is arrived at, tempers have risen, feelings injured and there is at least one person grumbling.

Twenty years ago, you would step out of home, the decision of meal and venue already made with no arguments or opposition and everybody looked forward to the meal with equal enthusiasm. The decision was made by the head of the family and the others fell in line.

Today, every member of the family has a say in every decision which also promotes a sense of togetherness and bonding.

We empower our kids to take their own decisions from a very early age. We ask them the cuisine they prefer, the movie they want to see, the holiday they wish to go on and the subjects they wish to study.

It's a closely connected world, out there where children consult and guide each other. A parent's well-meaning advice can sound like nothing more than unnecessary preaching. How then do we teach our children through all the conflicting views and make the voice of reason be heard? Children today question choices and prefer to go with the flow.

What then is the best path to take? I would say the most important thing one can do is to listen. Listen to your children and their silences. Ensure that you keep some time aside for them, insist that they share their stories with you. Step into their world. It is not as complicated as it sounds; just a daily half an hour of quality time would do the trick.

SubQuestion No : 23

Q.23 Why is there a chaos when the family is ready to drive?

- Ans
- ☐ 1. The family members did not get along well.
 - ☐ 2. Some family members are not comfortably seated.
 - ☒ 3. There is a disagreement over the venue.
 - ☐ 4. They do not trust the person at the wheel.

Question ID : 65497838845

Status : Answered

Chosen Option : 3

Comprehension:

Read the given passage and answer the questions that follow.

As the family finally sets off from home after many arguments, there is a moment of lull as the car takes off. "Alright, so where are we going for dinner now?" asks the one at the driving wheel. What follows is chaos as multiple voices make as many suggestions.

By the time order is restored and a decision is arrived at, tempers have risen, feelings injured and there is at least one person grumbling.

Twenty years ago, you would step out of home, the decision of meal and venue already made with no arguments or opposition and everybody looked forward to the meal with equal enthusiasm. The decision was made by the head of the family and the others fell in line.

Today, every member of the family has a say in every decision which also promotes a sense of togetherness and bonding.

We empower our kids to take their own decisions from a very early age. We ask them the cuisine they prefer, the movie they want to see, the holiday they wish to go on and the subjects they wish to study.

It's a closely connected world, out there where children consult and guide each other. A parent's well-meaning advice can sound like nothing more than unnecessary preaching. How then do we teach our children through all the conflicting views and make the voice of reason be heard? Children today question choices and prefer to go with the flow.

What then is the best path to take? I would say the most important thing one can do is to listen. Listen to your children and their silences. Ensure that you keep some time aside for them, insist that they share their stories with you. Step into their world. It is not as complicated as it sounds; just a daily half an hour of quality time would do the trick.

SubQuestion No : 24

Q.24 Is everyone happy when the decision is made?

- Ans
- ☒ 1. No
 - ☐ 2. Yes
 - ☐ 3. Maybe
 - ☐ 4. Can't say

Question ID : 65497838846

Status : Answered

Chosen Option : 1

Comprehension:

Read the given passage and answer the questions that follow.

As the family finally sets off from home after many arguments, there is a moment of lull as the car takes off. "Alright, so where are we going for dinner now?" asks the one at the driving wheel. What follows is chaos as multiple voices make as many suggestions.

By the time order is restored and a decision is arrived at, tempers have risen, feelings injured and there is at least one person grumbling.

Twenty years ago, you would step out of home, the decision of meal and venue already made with no arguments or opposition and everybody looked forward to the meal with equal enthusiasm. The decision was made by the head of the family and the others fell in line.

Today, every member of the family has a say in every decision which also promotes a sense of togetherness and bonding.

We empower our kids to take their own decisions from a very early age. We ask them the cuisine they prefer, the movie they want to see, the holiday they wish to go on and the subjects they wish to study.

It's a closely connected world, out there where children consult and guide each other. A parent's well-meaning advice can sound like nothing more than unnecessary preaching. How then do we teach our children through all the conflicting views and make the voice of reason be heard? Children today question choices and prefer to go with the flow.

What then is the best path to take? I would say the most important thing one can do is to listen. Listen to your children and their silences. Ensure that you keep some time aside for them, insist that they share their stories with you. Step into their world. It is not as complicated as it sounds; just a daily half an hour of quality time would do the trick.

SubQuestion No : 25

Q.25 Which of the following statements is NOT true?

- Ans ☒ 1. Today, children consult each other and go with the flow.
- ☒ 2. Kids are not given the freedom to choose what they want.
- ☒ 3. Today's kids are involved in decision making.
- ☒ 4. Parents' advice often sounds like preaching to the children.

Question ID : 65497838848

Status : Answered

Chosen Option : 2

Section : Quantitative Aptitude

Q.1 $24\text{ m} \times 12\text{ m} \times 3\text{ m}$ विमाओं वाले एक कमरे में फिट किए जा सकने वाले सबसे लंबे खंभे की लंबाई (m में) क्या होगी?

- Ans ☒ 1. 28
- ☒ 2. 30
- ☒ 3. 27
- ☒ 4. 32

Question ID : 65497839382

Status : Not Answered

Chosen Option : --

Q.2 एक वस्तु के दाम 10% बढ़ गए। अनिल ने इस पर खर्च में 5% की वृद्धि करने की योजना बनाई। इस वस्तु की खपत को कितने प्रतिशत तक कम किया जाना चाहिए ताकि इस पर होने वाले खर्च को इसके लिए आवंटित बड़ी हुई राशि के भीतर पूरा किया जा सके?

- Ans ☒ 1. 4%
- ☒ 2. $4\frac{6}{11}\%$
- ☒ 3. $4\frac{5}{11}\%$
- ☒ 4. 5%

Question ID : 65497838246

Status : Answered

Chosen Option : 2

Q.3 यदि पांच अंकों की संख्या $570xy$, 231 से विभाज्य है, तो $(2x - y)$ का मान क्या है?

- Ans
- ☐ 1. 7
 - ☐ 2. 6
 - ☒ 3. 3
 - ☐ 4. 5

Question ID : 65497838443

Status : Not Answered

Chosen Option : --

Q.4 चिड़ियाघर A में जानवरों की संख्या और चिड़ियाघर B में जानवरों की संख्या का अनुपात 6 : 5 है। यदि शुरुआत में चिड़ियाघर B में 65 जानवर हैं, तो चिड़ियाघर A से कितने जानवरों को चिड़ियाघर B में स्थानांतरित किया जाना चाहिए, ताकि चिड़ियाघर A और चिड़ियाघर B में जानवरों की संख्या का अनुपात 6 : 7 हो जाए?

- Ans
- ☐ 1. 10
 - ☒ 2. 12
 - ☐ 3. 11
 - ☐ 4. 13

Question ID : 65497839063

Status : Answered

Chosen Option : 2

Q.5 यदि ₹40,000 की धनराशि को 2 वर्ष के लिए इस प्रकार निवेश किया जाता है, कि चक्रवृद्धि ब्याज की दर (वार्षिक चक्रवृद्धि आधार पर गणनीय) पहले वर्ष के लिए 8% और दूसरे वर्ष के लिए 10% है, तो परिपक्वता राशि ज्ञात कीजिए।

- Ans
- ☐ 1. 48,400
 - ☐ 2. 49,550
 - ☒ 3. 47,520
 - ☐ 4. 45,270

Question ID : 65497839071

Status : Answered

Chosen Option : 3

Q.6 एक 200 m लंबी ट्रेन, एक खंभे को 10 सेकंड में पार करती है। 250 m लंबी एक अन्य ट्रेन 200 m लंबे प्लेटफॉर्म को 15 सेकंड में पार करती है। यदि दोनों ट्रेनें विपरीत दिशाओं में चलती हैं, तो वे एक दूसरे को पूरी तरह से पार करने में कितना समय (सेकंड में) लेंगी?

- Ans
- ☐ 1. 8
 - ☒ 2. 9
 - ☐ 3. 6
 - ☐ 4. 10

Question ID : 65497838463

Status : Not Attempted and
Marked For Review

Chosen Option : --

Q.7 एक दुकानदार ने दो वस्तुएँ प्रत्येक ₹560 में बेचीं। उसे लेन-देन में कोई हानि तथा कोई लाभ नहीं हुआ क्योंकि एक वस्तु $16\frac{2}{3}\%$ की हानि पर बेची गई थी और दूसरी वस्तु _____ के लाभ पर बेची गई थी।

- Ans
- ☐ 1. $20\frac{1}{3}\%$
 - ☐ 2. 20%
 - ☒ 3. 25%
 - ☐ 4. $16\frac{2}{3}\%$

Question ID : 65497838454
Status : Not Answered
Chosen Option : --

Q.8 A और B एक निश्चित कार्य को क्रमशः 25 और 20 दिन में कर सकते हैं। वे 4 दिन तक एक साथ मिलकर कार्य करते हैं। शेष कार्य को C द्वारा 8 दिन में पूरा किया जाता है। C अकेले मूल कार्य के 40% भाग को कितने समय में पूरा कर सकता है?

- Ans
- ☐ 1. 6 दिन
 - ☐ 2. 4 दिन
 - ☒ 3. 5 दिन
 - ☐ 4. 8 दिन

Question ID : 65497838766
Status : Answered
Chosen Option : 3

Q.9 छह वर्ष पहले, A और B की आयु का अनुपात 7 : 8 था। अब से 2 वर्ष बाद, उनकी आयु का अनुपात 9 : 10 हो जाएगा। A और B की वर्तमान आयु (वर्ष में) का योग ज्ञात कीजिए।

- Ans
- ☐ 1. 102
 - ☐ 2. 87
 - ☐ 3. 57
 - ☒ 4. 72

Question ID : 65497838761
Status : Answered
Chosen Option : 4

Q.10 एक दुकानदार को किसी वस्तु को उसके अंकित मूल्य पर 20% और 30% की दो क्रमिक छूटें देकर ग्राहक को बेचने पर वस्तु के क्रय मूल्य पर 26% का लाभ प्राप्त होता है। यदि दुकानदार ने 26% की एकल छूट दी होती, तो प्रतिशत लाभ कितना होता?

- Ans
- ☐ 1. 56%
 - ☐ 2. 50.5%
 - ☐ 3. 44%
 - ☒ 4. 66.5%

Question ID : 65497839366
Status : Not Answered
Chosen Option : --

Q.11 यदि $a + b = \frac{3}{4}$ और $ab = \frac{1}{8}$ हैं, तो $a^4 + b^4 + ab^3 + ba^3$ का मान ज्ञात करें।

Ans

✓ 1. $\frac{27}{256}$

✗ 2. $\frac{27}{128}$

✗ 3. $\frac{9}{64}$

✗ 4. $\frac{9}{256}$

Question ID : 65497838465

Status : Not Answered

Chosen Option : --

Q.12 7 और 37 के बीच आने वाली अभाज्य संख्याओं का औसत ज्ञात कीजिए।

Ans

✗ 1. $18\frac{3}{4}$

✓ 2. $20\frac{3}{7}$

✗ 3. $19\frac{2}{3}$

✗ 4. $20\frac{1}{3}$

Question ID : 65497838649

Status : Answered

Chosen Option : 4

Q.13 A एक कार्य को पूरा करने के लिए 42 घंटे का समय लेता है। B उसी कार्य को A द्वारा लिए गए समय के दो-तिहाई समय में पूरा कर देता है। वे एक साथ मिलकर 14 घंटे में इस कार्य का कितना भाग पूरा कर लेंगे?

Ans

✗ 1. $\frac{3}{5}$

✗ 2. $\frac{2}{3}$

✗ 3. $\frac{2}{5}$

✓ 4. $\frac{5}{6}$

Question ID : 65497839379

Status : Not Answered

Chosen Option : --

Q.14 एक विशेष समय पर, एक खंभे और एक मीनार की छाया की लंबाई क्रमशः 12 m और 27 m है। यदि खंभे की ऊंचाई 24 m है, तो मीनार की ऊंचाई (m में) कितनी है?

Ans

✓ 1. 54

✗ 2. 63

✗ 3. 36

✗ 4. 45

Question ID : 65497839374

Status : Not Answered

Chosen Option : --

Q.15 अजय ने ₹5,400 में एक कैमरा खरीदा और उसे 18% के लाभ पर बेच दिया। कैमरे का विक्रय मूल्य (₹ में) ज्ञात कीजिए।

- Ans
- ☒ 1. 5,892
 - ☒ 2. 6,372
 - ☒ 3. 7,055
 - ☒ 4. 6,084

Question ID : 65497839166

Status : Answered

Chosen Option : 2

Q.16 एक कस्बे की जनसंख्या 2007 में 268000 से बढ़कर 2010 में 375200 हो गई। तीन वर्षों में कस्बे की जनसंख्या में हुई प्रतिशत वृद्धि कितनी है?

- Ans
- ☒ 1. 32%
 - ☒ 2. 30%
 - ☒ 3. 28%
 - ☒ 4. 40%

Question ID : 65497838857

Status : Not Answered

Chosen Option : --

Q.17 एक समूह में कुछ बच्चों का औसत वजन 42 kg था। जब 48 kg औसत वजन के 5 बच्चे समूह में शामिल होते हैं या 37 kg औसत वजन के 5 बच्चे समूह छोड़ देते हैं, तो दोनों मामलों में बच्चों का औसत वजन समान रहता है। प्रारंभ में समूह में कितने बच्चे थे?

- Ans
- ☒ 1. 45
 - ☒ 2. 25
 - ☒ 3. 55
 - ☒ 4. 35

Question ID : 65497838446

Status : Not Answered

Chosen Option : --

Q.18 एक वस्तु का क्रय मूल्य ₹450 है। एक व्यापारी इस पर ₹630 मूल्य अंकित करता है और इसे अंकित मूल्य पर 12.5% की छूट देकर बेचता है। उसका प्रतिशत लाभ ज्ञात कीजिए।

- Ans
- ☒ 1. 20.5%
 - ☒ 2. 22.5%
 - ☒ 3. 24%
 - ☒ 4. 25%

Question ID : 65497838753

Status : Not Answered

Chosen Option : --

Q.19 यदि $x^2 + y^2 + z^2 + 26 = 2(4x + y + 3z)$ है, तो $x + y + z$ का मान ज्ञात कीजिए।

- Ans
- ☒ 1. 6
 - ☒ 2. 2
 - ☒ 3. 8
 - ☒ 4. 4

Question ID : 65497838772

Status : Not Answered

Chosen Option : --

Q.20 एक व्यक्ति ने ₹30,000 की राशि साधारण ब्याज की 7.5% वार्षिक दर पर उधार ली। उसे 5 वर्ष की समाप्ति पर अपना कर्ज चुकाने के लिए कितने धन (₹ में) का भुगतान करना होगा?

- Ans
- ☒ 1. 39,750
 - ☒ 2. 35,225
 - ☒ 3. 41,250
 - ☒ 4. 36,000

Question ID : 65497838865

Status : Not Answered

Chosen Option : --

Q.21 एक आदमी एक निश्चित संख्या में ₹1,200 में 16 की दर से कुछ वस्तुएं खरीदता है और उतनी ही वस्तुएं ₹960 में 12 की दर से खरीदता है। वह सभी वस्तुओं को ₹1,350 में 15 की दर से बेचता है। पूरे संव्यवहार में उसका प्रतिशत लाभ (एक दशमलव स्थान तक पूर्णांकित) ज्ञात कीजिए।

- Ans
- ☒ 1. 16.1%
 - ☒ 2. 14.8%
 - ☒ 3. 15.8%
 - ☒ 4. 15.2%

Question ID : 65497838657

Status : Not Answered

Chosen Option : --

Q.22 यदि 3 क्रमागत वर्षों के लिए क्रमशः 5%, 8% और 10% वार्षिक ब्याज दर हो, तो 3 वर्ष के लिए ₹80,000 का चक्रवृद्धि ब्याज (₹ में) कितना होगा जबकि ब्याज वार्षिक तौर पर संयोजित किया जाता है?

- Ans
- ☒ 1. 19,792
 - ☒ 2. 20,000
 - ☒ 3. 18,000
 - ☒ 4. 20,500

Question ID : 65497838254

Status : Not Answered

Chosen Option : --

Q.23 9 क्रमागत संख्याओं का औसत 20 है। इनमें से सबसे छोटी संख्या क्या होगी?

- Ans
- ☒ 1. 10
 - ☒ 2. 16
 - ☒ 3. 12
 - ☒ 4. 20

Question ID : 65497839158
Status : Not Answered
Chosen Option : --

Q.24 एक रेलगाड़ी, दो स्टेशनों के बीच की दूरी 220 मिनट में तय करती है। यदि दोनों स्टेशनों के बीच की दूरी 484 km है, तो ट्रेन की चाल km/h में ज्ञात कीजिए।

- Ans
- ☒ 1. 120
 - ☒ 2. 115
 - ☒ 3. 132
 - ☒ 4. 105

Question ID : 65497838870
Status : Answered
Chosen Option : 3

Q.25 यदि एक संख्या N, 3 से विभाज्य है, तो निम्नलिखित में से कौन सा विकल्प सत्य होगा?

- Ans
- ☒ 1. $(N + 6)$, 6 से विभाज्य है
 - ☒ 2. $(N + 2)$, 3 से विभाज्य है
 - ☒ 3. $(N + 12)$, 3 से विभाज्य है
 - ☒ 4. N^2 , 6 से विभाज्य है

Question ID : 65497838850
Status : Not Answered
Chosen Option : --

Section : General awareness

Q.1 निम्नलिखित में से कौन सा धात्विक बंध बनाता है?

- Ans
- ☒ 1. आर्सेनिक
 - ☒ 2. फॉस्फोरस
 - ☒ 3. एंटीमनी
 - ☒ 4. बिस्मथ

Question ID : 65497839391
Status : Answered
Chosen Option : 4

Q.2 निम्नलिखित में से कौन सी नदी, राजस्थान के अजमेर जिले में नाग पहाड़ी से निकलती है?

- Ans
- ☒ 1. चंबल नदी
 - ☒ 2. लूनी नदी
 - ☒ 3. सरस्वती नदी
 - ☒ 4. माही नदी

Question ID : 65497838782

Status : Answered

Chosen Option : 2

Q.3 निम्न में से कौन सा, पृथ्वी के जलमंडल का भाग है?

- (a) जल
(b) बर्फ
(c) वाष्प

- Ans
- ☒ 1. (a), (b) और (c)
 - ☒ 2. (a) और (b)
 - ☒ 3. केवल (a)
 - ☒ 4. (a) और (c)

Question ID : 65497838880

Status : Answered

Chosen Option : 2

Q.4 वर्कमैनशिप क्लब, और भारत श्रमजीवी नामक समाचार पत्र निम्नलिखित में से किसने शुरू किया था?

- Ans
- ☒ 1. नारायण मेघाजी लोखंडे
 - ☒ 2. शशिपाद बनर्जी
 - ☒ 3. सरोजिनी नायडू
 - ☒ 4. सोराबजी शापूरजी

Question ID : 65497838787

Status : Not Answered

Chosen Option : --

Q.5 टीपू सुल्तान की मौत किस वर्ष हुई थी?

- Ans
- ☒ 1. 1799
 - ☒ 2. 1867
 - ☒ 3. 1690
 - ☒ 4. 1734

Question ID : 65497838478

Status : Answered

Chosen Option : 1

Q.6 निम्न में से किसे अंग्रेजी में भारतीय साहित्य के संवर्धन में उनके उत्कृष्ट योगदान के लिए 54वें ज्ञानपीठ पुरस्कार से सम्मानित किया गया है?

- Ans
- ☒ 1. अरुंधति राय
 - ☒ 2. झुम्पा लाहिड़ी
 - ☒ 3. अमिताभ घोष
 - ☒ 4. किरन देसाई

Question ID : 65497838788

Status : Not Answered

Chosen Option : --

Q.7 निम्न में से कौन सा, अनिवार्य रूप से तैयार माल (final good) है?

- Ans
- ☒ 1. चाय का विशेष ब्रांड
 - ☒ 2. कपड़े
 - ☒ 3. एक्स्ट्रा लार्ज (XL) आकार की शर्ट
 - ☒ 4. कपास

Question ID : 65497838878

Status : Answered

Chosen Option : 3

Q.8 मेक्सिको और मध्य अमेरिका में 'कर्तन दहन प्रणाली (Slash and burn)' कृषि को _____ कहा जाता है।

- Ans
- ☒ 1. कोनुको (conuco)
 - ☒ 2. मिल्पा (milpa)
 - ☒ 3. मासोल (masole)
 - ☒ 4. रोका (roca)

Question ID : 65497838883

Status : Answered

Chosen Option : 2

Q.9 निम्न में से किसे राष्ट्रीय फ्लोरेंस नाइटिंगेल पुरस्कार 2020 से सम्मानित किया गया था?

- Ans
- ☒ 1. सारा राय
 - ☒ 2. शहनाज़ हबीब
 - ☒ 3. एस.वी. सरस्वती
 - ☒ 4. अमित अन्नपूर्णा

Question ID : 65497838483

Status : Answered

Chosen Option : 4

Q.10 मिले सुर मेरा तुम्हारा, यह गीत राष्ट्रीय एकता गीत के रूप में इतना लोकप्रिय हुआ कि इस पंक्ति को पुणे में _____ द्वारा निर्मित सवाई गंधर्व मेमोरियल पर अंकित किया गया है।

- Ans
- ☒ 1. वसंतराव देशपांडे
 - ☒ 2. श्रीनिवास जोशी
 - ☒ 3. रवि शंकर
 - ☒ 4. भीमसेन जोशी

Question ID : 65497838876

Status : Not Answered

Chosen Option : --

Q.11 बैंक ऑफ बड़ौदा का प्रधान कार्यालय इनमें से किस राज्य में स्थित है?

- Ans
- ☒ 1. गुजरात
 - ☒ 2. बिहार
 - ☒ 3. मध्य प्रदेश
 - ☒ 4. उत्तर प्रदेश

Question ID : 65497838469

Status : Answered

Chosen Option : 1

Q.12 निम्नलिखित में से किस राज्य के मुख्यमंत्री ने सितंबर 2021 में 'मुफ्त पानी पाने के लिए पानी बचाओ' अभियान की शुरुआत की?

- Ans
- ☒ 1. गुजरात
 - ☒ 2. गोवा
 - ☒ 3. कर्नाटक
 - ☒ 4. महाराष्ट्र

Question ID : 65497839407
Status : Answered
Chosen Option : 1

Q.13 10 जून 2019 को निम्न में से किस क्रिकेटर ने क्रिकेट के सभी प्रारूपों से संन्यास की घोषणा की?

- Ans
- ☒ 1. लसिथ मलिंगा
 - ☒ 2. युवराज सिंह
 - ☒ 3. हरभजन सिंह
 - ☒ 4. अंबाती रायडू

Question ID : 65497839405
Status : Answered
Chosen Option : 2

Q.14 अंग्रेजों के हाथों मीर कासिम की अंतिम हार _____ के युद्ध में हुई थी।

- Ans
- ☒ 1. बक्सर
 - ☒ 2. प्लासी
 - ☒ 3. अवध
 - ☒ 4. कटवा

Question ID : 65497838888
Status : Answered
Chosen Option : 1

Q.15 हेमकुंड साहिब निम्नलिखित में से किस केंद्र शासित प्रदेश/राज्य में स्थित है?

- Ans
- ☒ 1. उत्तराखंड
 - ☒ 2. पंजाब
 - ☒ 3. उत्तर प्रदेश
 - ☒ 4. चंडीगढ़

Question ID : 65497839385
Status : Answered
Chosen Option : 2

Q.16 निम्नलिखित में से किस नदी के लिए इसके प्रवाह के साथ आगे बढ़ने पर देशांतर पाठ्यांक (longitude reading) कम हो जाता है?

- Ans
- ☒ 1. गंगा
 - ☒ 2. गोदावरी
 - ☒ 3. नर्मदा
 - ☒ 4. कावेरी

Question ID : 65497839395
Status : Answered
Chosen Option : 2

Q.17 मोज़ेक विषाणुजनित रोग है, जो _____ को प्रभावित करता है।

- Ans
- ☒ 1. पक्षियों
 - ☒ 2. पादपों
 - ☒ 3. मानवों
 - ☒ 4. जंतुओं

Question ID : 65497838474

Status : Answered

Chosen Option : 2

Q.18 सांडों को वश में करने वाला पारंपरिक खेल - जल्लीकट्टू, इनमें से किस राज्य से संबंधित है?

- Ans
- ☒ 1. तमिलनाडु
 - ☒ 2. गुजरात
 - ☒ 3. केरल
 - ☒ 4. राजस्थान

Question ID : 65497838385

Status : Answered

Chosen Option : 1

Q.19 मई 2021 में, निम्नलिखित में से किस मंत्रालय ने बुद्ध पूर्णिमा पर आभासी वेसक वैश्विक समारोह (Virtual Vesak Global Celebrations) का आयोजन किया था?

- Ans
- ☒ 1. खाद्य प्रसंस्करण उद्योग मंत्रालय
 - ☒ 2. संस्कृति मंत्रालय
 - ☒ 3. नवीन और नवीकरणीय ऊर्जा मंत्रालय
 - ☒ 4. श्रम और रोज़गार मंत्रालय

Question ID : 65497838491

Status : Answered

Chosen Option : 2

Q.20 निम्नलिखित में से कौन मौर्य वंश से नहीं था?

- Ans
- ☒ 1. खारवेल
 - ☒ 2. बिंदुसार
 - ☒ 3. बृहद्रथ
 - ☒ 4. अशोक

Question ID : 65497839397

Status : Answered

Chosen Option : 2

Q.21 दूसरी पंचवर्षीय योजना, जिसने भारतीय योजना के लक्ष्यों के बारे में बुनियादी विचारों को रखा, निम्न में से किसके विचारों पर आधारित थी?

- Ans
- ☒ 1. सरदार पटेल
 - ☒ 2. लाल बहादुर शास्त्री
 - ☒ 3. पी.सी. महलनोबिस
 - ☒ 4. बी.आर. अंबेडकर

Question ID : 65497838777

Status : Answered

Chosen Option : 3

Q.22 सितंबर 2021 में, निम्न में से किसने एशियाई सूकर चैम्पियनशिप जीती है?

- Ans
- ☐ 1. मार्क सेल्बी
 - ☐ 2. बाबर मसीह
 - ☐ 3. अमीर सरखोश
 - ☒ 4. पंकज आडवाणी

Question ID : 65497838488

Status : Answered

Chosen Option : 4

Q.23 मूल रूप से _____ में गाए गए 'मानिके मगे हिते' गीत को संगीत वीडियो के रूप में 22 मई 2021 (मूल संस्करण अगस्त 2020 में रिलीज हुआ था) को लॉन्च किया गया, जिसने देश भर में लोकप्रियता हासिल की थी।

- Ans
- ☒ 1. सिंहली
 - ☐ 2. भूटानी
 - ☐ 3. नेपाली
 - ☐ 4. सिक्किमी

Question ID : 65497838796

Status : Not Answered

Chosen Option : --

Q.24 भारतीय संविधान के भाग _____ के अंतर्गत अनुच्छेद 5 से 11 तक नागरिकता अधिकारों से संबंधित है।

- Ans
- ☐ 1. I
 - ☐ 2. IV
 - ☒ 3. II
 - ☐ 4. III

Question ID : 65497839403

Status : Answered

Chosen Option : 3

Q.25 अगस्त 2021 तक, कितनी महिला सदस्यों ने लोकसभा अध्यक्ष का पदभार संभाला है?

- Ans
- ☐ 1. शून्य
 - ☐ 2. तीन
 - ☐ 3. एक
 - ☒ 4. दो

Question ID : 65497838892

Status : Answered

Chosen Option : 3