

Selection Post Phase IX 2021 Matriculation level

Roll Number	
Candidate Name	
Venue Name	
Exam Date	04/02/2022
Exam Time	12:00 PM - 1:00 PM
Subject	Selection Post Matriculation Level

Section : General Intelligence

Q.1 दिए गए विकल्पों में से उस संख्या का चयन कीजिए, जो निम्नलिखित श्रेणी में प्रश्न चिह्न (?) के स्थान पर आ सकती है।

203, 178, 162, 153, ?

Ans ☒ 1. 151

☒ 2. 149

☒ 3. 137

☒ 4. 144

Question ID : 65497838102

Status : Answered

Chosen Option : 2

Q.2 उस विकल्प का चयन करें जो तीसरे पद से उसी प्रकार संबंधित है जिस प्रकार दूसरा पद पहले पद से संबंधित है।

DIET : WXRSVWGH :: COZY : ?

Ans ☒ 1. XZLMZABC

☒ 2. XYLMABBC

☒ 3. XYMNABBC

☒ 4. XYLMABCD

Question ID : 65497839211

Status : Answered

Chosen Option : 2

Q.3 आठ व्यक्ति A, B, C, D, E, F, G और H एक वृत्ताकार मेज के परितः मेज के केंद्र की ओर मुख करके बैठे हैं। G और H, A के बाईं या दाईं ओर ठीक बगल में नहीं बैठे हैं। D, A के बाईं ओर दूसरे स्थान पर बैठा है और B के दाईं ओर तीसरे स्थान पर बैठा है। A और F, C के निकटतम पड़ोसी हैं। B के बाईं ओर दूसरे स्थान पर कौन बैठा है?

Ans ☒ 1. F

☒ 2. C

☒ 3. E

☒ 4. D

Question ID : 65497838606

Status : Answered

Chosen Option : 1

Test Prime

**ALL EXAMS,
ONE SUBSCRIPTION**



70,000+
Mock Tests



**Personalised
Report Card**



**Unlimited
Re-Attempt**



600+
Exam Covered



**Previous Year
Papers**



**500%
Refund**



ATTEMPT FREE MOCK NOW

Q.4 उस सही विकल्प का चयन करें जो दिए गए शब्दों को उस क्रम में दर्शाता है जिस क्रम में वे अंग्रेज़ी शब्दकोश में दिखाई देते हैं।

1. Pragmatics
2. Problematic
3. Practicing
4. Precipitancy
5. Probabilistic
6. Precession

Ans ☒ 1. 3, 1, 4, 6, 5, 2
☒ 2. 1, 3, 6, 4, 2, 5
☒ 3. 3, 1, 6, 4, 5, 2
☒ 4. 1, 3, 4, 6, 5, 2

Question ID : 65497838595

Status : Answered

Chosen Option : 3

Q.5 दर्पण को 'PQ' पर रखे जाने पर, जैसा कि निम्न चित्र में दर्शाया गया है, दिए गए संयोजन का दर्पण में निर्मित सही प्रतिबिंब चयनित करें।

CMGYDE |
P
Q

Ans ☒ 1. EDCYDE CMGYDE
☒ 2. EDCYDE CMGYDE
☒ 3. EDCYDE CMGYDE
☒ 4. CWMGYDE

Question ID : 65497839230

Status : Answered

Chosen Option : 2

Q.6 दिए गए कथनों और निष्कर्षों को ध्यानपूर्वक पढ़ें। यह मानते हुए कि कथनों में दी गई जानकारी सत्य है, भले ही वह सामान्य रूप से ज्ञात तथ्यों से भिन्न प्रतीत होती हो, निर्णय लें कि दिए गए निष्कर्षों में से कौन सा/से निष्कर्ष कथनों का तार्किक रूप से अनुसरण करता/ते है/हैं।

कथन:

सभी पर्वत, पहाड़ियाँ हैं।
 सभी पत्थर, पहाड़ियाँ हैं।
 कुछ पहाड़ियाँ, ईंटें हैं।

निष्कर्ष:

- I. कुछ पर्वत, पत्थर नहीं हैं।
- II. कुछ ईंटों के पहाड़ियाँ न होने की संभावना है।

Ans ☒ 1. केवल निष्कर्ष I अनुसरण करता है
☒ 2. न तो निष्कर्ष I और न ही निष्कर्ष II अनुसरण करता है
☒ 3. केवल निष्कर्ष II अनुसरण करता है
☒ 4. निष्कर्ष I और II दोनों अनुसरण करते हैं

Question ID : 65497838615

Status : Answered

Chosen Option : 2

Q.7 उस विकल्प का चयन करें जो तीसरी संख्या से उसी प्रकार संबंधित है जिस प्रकार दूसरी संख्या पहली संख्या से संबंधित है और छठी संख्या पाँचवीं संख्या से संबंधित है।

7 : 44 :: 6 : ? :: 9 : 76

Ans ☒ 1. 33

☒ 2. 31

☒ 3. 32

☒ 4. 34

Question ID : 65497838613

Status : Answered

Chosen Option : 2

Q.8 दिए गए कथनों और निष्कर्षों को ध्यानपूर्वक पढ़ें। यह मानते हुए कि कथनों में दी गई जानकारी सत्य है, भले ही वह सामान्य रूप से ज्ञात तथ्यों से भिन्न प्रतीत होती हो, निर्णय लें कि दिए गए निष्कर्षों में से कौन सा/से निष्कर्ष कथनों का तार्किक रूप से अनुसरण करता/ते है/हैं।

कथन:

सभी खिलाड़ी, क्रिकेटर हैं।

कुछ खिलाड़ी, रोबोट हैं।

निष्कर्ष:

I. कुछ क्रिकेटर, खिलाड़ी हैं।

II. कुछ क्रिकेटर, रोबोट हैं।

Ans ☒ 1. निष्कर्ष I और II दोनों अनुसरण करते हैं।

☒ 2. केवल निष्कर्ष I अनुसरण करता है।

☒ 3. केवल निष्कर्ष II अनुसरण करता है।

☒ 4. या तो निष्कर्ष I या II अनुसरण करता है।

Question ID : 65497839221

Status : Answered

Chosen Option : 1

Q.9 अक्षरों के उस संयोजन का चयन करें जो दी गई श्रृंखला के रिक्त स्थानों में क्रमिक रूप से रखे जाने पर श्रृंखला को पूर्ण करेगा।

P _ Q U _ V _ T _ U R V P T Q _ R _ P _ Q U _ V

Ans ☒ 1. T, R, P, Q, U, V, T, R

☒ 2. R, T, P, Q, T, U, R, V

☒ 3. P, T, Q, R, T, V, R, U

☒ 4. T, P, R, Q, T, U, V, R

Question ID : 65497838597

Status : Not Attempted and Marked For Review

Chosen Option : --

Q.10 दिए गए विकल्पों में से उस संख्या का चयन कीजिए, जो निम्नलिखित श्रेणी में प्रश्न चिह्न (?) के स्थान पर आ सकती है।

6287, 5659, 5031, 4403, 3775, ?

Ans ☒ 1. 3147

☒ 2. 3286

☒ 3. 3398

☒ 4. 3335

Question ID : 65497838611

Status : Answered

Chosen Option : 1

Q.11 तरुण, चरण का बेटा है। चरण के केवल दो बच्चे हैं। तरुण, रावली का भाई है। रावली, प्रणवी की बेटी है। अदिति, प्रणवी की पोती है। सुंदर, अदिति के पिता हैं। सुंदर का तरुण से क्या संबंध है?

- Ans ☒ 1. जीजा
☒ 2. दामाद
☒ 3. भाई
☒ 4. बेटा

Question ID : 65497838608

Status : Answered

Chosen Option : 1

Q.12 चार अक्षर-समूह दिए गए हैं, जिनमें से तीन किसी तरह से संगत हैं और एक असंगत है। उस अक्षर-समूह का चयन करें, जो अन्य से असंगत है।

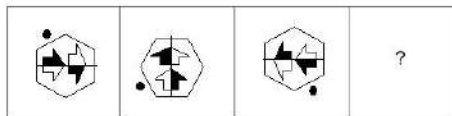
- Ans ☒ 1. DLH
☒ 2. JHF
☒ 3. FPB
☒ 4. BRJ

Question ID : 65497838086

Status : Answered

Chosen Option : 1

Q.13 दिए गए विकल्पों में से उस आकृति का चयन कीजिए, जो निम्नलिखित श्रृंखला में प्रश्नवाचक चिह्न (?) के स्थान पर आ सकती है।



Ans

- ☒ 1.
- ☒ 2.
- ☒ 3.
- ☒ 4.

Question ID : 65497838106

Status : Answered

Chosen Option : 1

Q.14 दिए गए विकल्पों में से उस अक्षर-समूह का चयन करें, जो निम्नलिखित श्रृंखला में प्रश्न चिह्न (?) के स्थान पर आ सकता है।

TJF, RMH, PPJ, NSL, ?

- Ans
- ☐ 1. LWN
 - ☒ 2. LVN
 - ☐ 3. LUM
 - ☐ 4. NVM

Question ID : 65497838084

Status : Answered

Chosen Option : 2

Q.15 बालाजी, ईशान का पौत्र है, जो कि चारू का पति है। दक्षता, पवन की पत्नी है, जो कि बालाजी का पिता है। चारू, सुकेश की माँ है जो कि पवन का भाई है।

बालाजी की माँ का चारू से क्या संबंध है?

- Ans
- ☐ 1. पुत्री
 - ☐ 2. बहन
 - ☒ 3. बहू
 - ☐ 4. भाभी

Question ID : 65497839016

Status : Answered

Chosen Option : 3

Q.16 एक निश्चित कूट भाषा में, 'BLASPHEMY' को 'ZNFIQTBMC' के रूप में लिखा जाता है। उसी कूट भाषा में 'ENGROSSED' को किस प्रकार लिखा जाएगा?

- Ans
- ☐ 1. FETTSPHOF
 - ☐ 2. FETTRSFPF
 - ☐ 3. EFTUPSHPF
 - ☒ 4. EFTTPSHOF

Question ID : 65497837992

Status : Answered

Chosen Option : 4

Q.17 एक निश्चित कूट भाषा में, 'DOLBY' को '53' के रूप में कूटबद्ध किया जाता है और 'STUDENT' को '96' के रूप में कूटबद्ध किया जाता है। उसी भाषा में, 'GENEVA' को किस रूप में कूटबद्ध किया जाएगा?

- Ans
- ☐ 1. 45
 - ☒ 2. 48
 - ☐ 3. 50
 - ☐ 4. 60

Question ID : 65497839317

Status : Answered

Chosen Option : 1

Q.18 एक निश्चित कूट भाषा में, 'PLOY' को 'QNRC' के रूप में लिखा जाता है और 'DIRECT' को 'EKUIHZ' के रूप में लिखा जाता है। उसी भाषा में, 'GERMANY' को किस रूप में लिखा जाएगा?

- Ans
- ☒ 1. HGUQGSF
 - ☒ 2. HGURFTG
 - ☒ 3. HGVPTTF
 - ☒ 4. HGUQFTF

Question ID : 65497839314

Status : Answered

Chosen Option : 4

Q.19 निम्नलिखित समीकरण को संतुलित करने के लिए किन दो चिह्नों को आपस में बदले जाने की आवश्यकता है?

$$56 \div 28 - 72 + 18 \times 6 = 60$$

- Ans
- ☒ 1. \div और $-$
 - ☒ 2. $-$ और $+$
 - ☒ 3. $+$ और \times
 - ☒ 4. $+$ और \times

Question ID : 65497839226

Status : Answered

Chosen Option : 3

Q.20 'अफ़गानिस्तान' का जो संबंध 'काबुल' से है, वही संबंध 'क्यूबा' का '_____' से है।

- Ans
- ☒ 1. सेंटिआगो
 - ☒ 2. हवाना
 - ☒ 3. हाररे
 - ☒ 4. बोगोटा

Question ID : 65497838598

Status : Answered

Chosen Option : 2

Q.21 एक निश्चित कूट भाषा में, 'PROCLAMATION' को 161843121131203414 और 'MENACE' को 13214132 के रूप में लिखा जाता है। उसी कूट भाषा में 'LISTENER' को किस प्रकार लिखा जाएगा?

- Ans
- ☒ 1. 1232019214218
 - ☒ 2. 1213019214218
 - ☒ 3. 1231920214218
 - ☒ 4. 1231919204218

Question ID : 65497837993

Status : Answered

Chosen Option : 3

Q.22 एक निश्चित कूट भाषा में, 'GLOW' को '9573' के रूप में कूटबद्ध किया जाता है और 'LAWN' को '5634' के रूप में कूटबद्ध किया जाता है। उसी भाषा में 'LONG' को किस रूप में कूटबद्ध किया जाएगा?

- Ans
- ☒ 1. 5739
 - ☒ 2. 6394
 - ☒ 3. 7594
 - ☒ 4. 5749

Question ID : 65497838602

Status : Answered

Chosen Option : 4

Q.23 आठ मित्र - A, B, C, D, E, F, G और H एक वृत्त के परितः केंद्र की ओर मुख करके बैठे हैं। C, F के बाईं ओर दूसरे स्थान पर बैठा है। F, B और E के बीच में बैठा है। B, A का पड़ोसी है। H, G के दाईं ओर ठीक बगल में बैठा है। D, G के बाईं ओर ठीक बगल में बैठा है। A की बैठने की स्थिति क्या है?

- Ans
- ☒ 1. C के बाईं ओर ठीक बगल में
 - ☒ 2. H और C के बीच में
 - ☒ 3. E के दाईं ओर ठीक बगल में
 - ☒ 4. D और B के बीच में

Question ID : 65497838607

Status : Answered

Chosen Option : 4

Q.24 एक निश्चित कूट भाषा में, 'CLOWN' को 'GPOKS' के रूप में लिखा जाता है, और 'THICK' को 'GLJGP' के रूप में लिखा जाता है। उसी भाषा में 'SMART' को किस रूप में लिखा जाएगा?

- Ans
- ☒ 1. EIVOX
 - ☒ 2. WNQPW
 - ☒ 3. WQNWP
 - ☒ 4. EQSOP

Question ID : 65497838601

Status : Answered

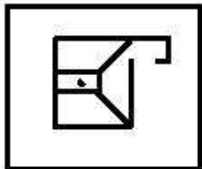
Chosen Option : 3

Q.25 उस विकल्प का चयन करें, जिसमें दी गई आकृति अंतर्निहित है (आकृति को घुमाने की अनुमति नहीं है)।

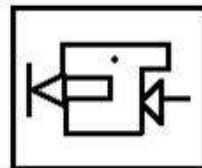


Ans

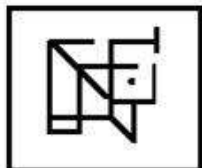
☒ 1.



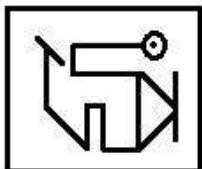
☒ 2.



☒ 3.



☒ 4.



Question ID : 65497838617

Status : Answered

Chosen Option : 3

Q.1 Select the most appropriate ANTONYM of the given word.

Melodramatic

- Ans ☒ 1. Artificial
☒ 2. Exaggerated
☒ 3. Theatrical
☒ 4. Normal

Question ID : 65497838115
Status : Answered
Chosen Option : 3

Q.2 Select the option that expresses the given sentence in reported speech.

“Anant, are you coming for the class picnic this Sunday?” Shekhar asked.

- Ans ☒ 1. Shekhar is asking Anant if he is coming for the class picnic this Sunday.
☒ 2. Shekhar asked Anant whether he was coming for the class picnic that Sunday.
☒ 3. Shekhar asked Anant whether he had come for the class picnic on Sunday.
☒ 4. Shekhar asked Anant whether he will be coming for the class picnic this Sunday.

Question ID : 65497838110
Status : Answered
Chosen Option : 2

Q.3 Select the INCORRECTLY spelt word.

- Ans ☒ 1. Fashion
☒ 2. Fiery
☒ 3. False
☒ 4. Fierse

Question ID : 65497838734
Status : Answered
Chosen Option : 3

Q.4 Select the most appropriate meaning of the given idiom.

Full of beans

- Ans ☒ 1. Angry
☒ 2. Unhappy
☒ 3. Nervous
☒ 4. Lively

Question ID : 65497838627
Status : Answered
Chosen Option : 3

Q.5 Select the option that can be used as a one-word substitute for the given group of words.

Not allowed to do or be something

- Ans ☒ 1. Inelegant
☒ 2. Indelible
☒ 3. Ineligible
☒ 4. Insincere

Question ID : 65497838119

Status : Not Answered

Chosen Option : --

Q.6 Select the INCORRECTLY spelt word.

- Ans ☒ 1. Finally
☒ 2. Actually
☒ 3. Questionable
☒ 4. Flexible

Question ID : 65497838325

Status : Not Answered

Chosen Option : --

Q.7 Select the option that expresses the given sentence in passive voice.

The teacher told the students to stand in a queue

- Ans ☒ 1. The students have been told to stand in a queue by the teacher.
☒ 2. The students were told to stand in a queue by the teacher.
☒ 3. The students are told to stand in a queue by the teacher.
☒ 4. The students were being told to stand in a queue by the teacher.

Question ID : 65497838619

Status : Not Answered

Chosen Option : --

Q.8 Select the most appropriate synonym of the given word.

Fragile

- Ans ☒ 1. Strong
☒ 2. Firm
☒ 3. Healthy
☒ 4. Frail

Question ID : 65497838623

Status : Not Answered

Chosen Option : --

Q.9 Select the most appropriate ANTONYM of the given word.

Impatient

- Ans ☒ 1. Irritable
☒ 2. Anxious
☒ 3. Tolerant
☒ 4. Restless

Question ID : 65497839238

Status : Not Answered

Chosen Option : --

Q.10 Select the most appropriate synonym of the given word.

Just

- Ans ☒ 1. Biased
☒ 2. Wrong
☒ 3. Partial
☒ 4. Fair

Question ID : 65497838624

Status : Not Answered

Chosen Option : --

Q.11 Select the most appropriate option to fill in the blank.

When the news of the Covid vaccine came, everybody in the house was _____.

- Ans ☒ 1. excited
☒ 2. keen
☒ 3. eager
☒ 4. rowdy

Question ID : 65497838621

Status : Not Answered

Chosen Option : --

Q.12 Select the most appropriate meaning of the given idiom.

Once for all

- Ans ☒ 1. conclusively
☒ 2. instantly
☒ 3. constantly
☒ 4. frequently

Question ID : 65497838628

Status : Not Answered

Chosen Option : --

Q.13 Select the option that can be used as a one-word substitute for the given group of words.

A group of vehicles travelling together, typically one accompanied by armed troops

- Ans ☒ 1. Convoy
☒ 2. Armada
☒ 3. Procession
☒ 4. Fleet

Question ID : 65497839242

Status : Not Answered

Chosen Option : --

Q.14 Select the most appropriate option to fill in the blank.

Indians _____ plants like Peepal and Tulsi sacred and worship them.

- Ans ☒ 1. think
☒ 2. judge
☒ 3. consider
☒ 4. reflect

Question ID : 65497838622

Status : Not Answered

Chosen Option : --

Q.15 Select the INCORRECTLY spelt word.

- Ans ☒ 1. Propoganda
☒ 2. Pronounce
☒ 3. Property
☒ 4. Prosper

Question ID : 65497839245

Status : Not Answered

Chosen Option : --

Comprehension:

Read the given passage and answer the questions that follow.

Why does a person become overconfident? The reason lies in over assessment of his capabilities. Sometimes people over assess their competence and jump into situations that are beyond their control.

Napoleon Bonaparte who became Emperor of France would say that the word 'impossible' was common only amongst fools. The overconfident Napoleon invaded Russia in the winter of 1812. This proved to be a big disaster.

Overconfidence generally leads people into misadventures, endangering their chances in life. It is wisely said that any achievement is a result of two factors – one's personal planning and support from the external world. Overconfident people take into account only their planning, generally ignoring external factors. As a result they are unable to foresee future developments. Hence, there is a greater risk of failure.

Then there is the question: how can one manage overconfidence? The formula is very simple. Before taking a decision discuss the matter with other informed people with an objective mind and when it is proved that you are about to go off the path, accept reality and say without delay, "I was wrong".

Overconfidence is a flaw characterising people who lack the virtue of modesty. Modesty makes you a realist; you become a person who is cut down to size. People of this kind become very cautious; before taking an action they assess the whole situation. They adopt a realistic approach.

Overconfident people live within their own thoughts. They know themselves but they are unaware of others. Living inside their own cell they are unable to make use of the experiences of others. This kind of habit is highly damaging to all concerned.

There is a saying that the young man sees the rule and the old man sees the exception. With a slight change, I would like to say that the overconfident person sees the rule and the confident person sees the exception. Overconfident people are always at risk. It is said that taking risk is good but it must be well calculated, otherwise it becomes very dangerous.

SubQuestion No : 16

Q.16 'cut down to size' means to:

Ans ☒ 1. belittle someone

☐ 2. control someone

☐ 3. defer a decision

☐ 4. be cautious

Question ID : 65497839257

Status : Not Answered

Chosen Option : --

Comprehension:

Read the given passage and answer the questions that follow.

Why does a person become overconfident? The reason lies in over assessment of his capabilities. Sometimes people over assess their competence and jump into situations that are beyond their control.

Napoleon Bonaparte who became Emperor of France would say that the word 'impossible' was common only amongst fools. The overconfident Napoleon invaded Russia in the winter of 1812. This proved to be a big disaster.

Overconfidence generally leads people into misadventures, endangering their chances in life. It is wisely said that any achievement is a result of two factors – one's personal planning and support from the external world. Overconfident people take into account only their planning, generally ignoring external factors. As a result they are unable to foresee future developments. Hence, there is a greater risk of failure.

Then there is the question: how can one manage overconfidence? The formula is very simple. Before taking a decision discuss the matter with other informed people with an objective mind and when it is proved that you are about to go off the path, accept reality and say without delay, "I was wrong".

Overconfidence is a flaw characterising people who lack the virtue of modesty. Modesty makes you a realist; you become a person who is cut down to size. People of this kind become very cautious; before taking an action they assess the whole situation. They adopt a realistic approach.

Overconfident people live within their own thoughts. They know themselves but they are unaware of others. Living inside their own cell they are unable to make use of the experiences of others. This kind of habit is highly damaging to all concerned.

There is a saying that the young man sees the rule and the old man sees the exception. With a slight change, I would like to say that the overconfident person sees the rule and the confident person sees the exception. Overconfident people are always at risk. It is said that taking risk is good but it must be well calculated, otherwise it becomes very dangerous.

SubQuestion No : 17

Q.17 An overconfident person rates his abilities _____ they are.

- Ans
- ☒ 1. lower than
 - ☒ 2. fairly as
 - ☒ 3. higher than
 - ☒ 4. worse than

Question ID : 65497839253

Status : Not Answered

Chosen Option : --

Comprehension:

Read the given passage and answer the questions that follow.

Why does a person become overconfident? The reason lies in over assessment of his capabilities. Sometimes people over assess their competence and jump into situations that are beyond their control.

Napoleon Bonaparte who became Emperor of France would say that the word 'impossible' was common only amongst fools. The overconfident Napoleon invaded Russia in the winter of 1812. This proved to be a big disaster.

Overconfidence generally leads people into misadventures, endangering their chances in life. It is wisely said that any achievement is a result of two factors – one's personal planning and support from the external world. Overconfident people take into account only their planning, generally ignoring external factors. As a result they are unable to foresee future developments. Hence, there is a greater risk of failure.

Then there is the question: how can one manage overconfidence? The formula is very simple. Before taking a decision discuss the matter with other informed people with an objective mind and when it is proved that you are about to go off the path, accept reality and say without delay, "I was wrong".

Overconfidence is a flaw characterising people who lack the virtue of modesty. Modesty makes you a realist; you become a person who is cut down to size. People of this kind become very cautious; before taking an action they assess the whole situation. They adopt a realistic approach.

Overconfident people live within their own thoughts. They know themselves but they are unaware of others. Living inside their own cell they are unable to make use of the experiences of others. This kind of habit is highly damaging to all concerned.

There is a saying that the young man sees the rule and the old man sees the exception. With a slight change, I would like to say that the overconfident person sees the rule and the confident person sees the exception. Overconfident people are always at risk. It is said that taking risk is good but it must be well calculated, otherwise it becomes very dangerous.

SubQuestion No : 18

Q.18 Which word did NOT seem to exist for Napoleon?

Ans ☒ 1. Experience

☒ 2. Impossible

☒ 3. Confident

☒ 4. Dangerous

Question ID : 65497839254

Status : Not Answered

Chosen Option : --

Comprehension:

Read the given passage and answer the questions that follow.

Why does a person become overconfident? The reason lies in over assessment of his capabilities. Sometimes people over assess their competence and jump into situations that are beyond their control.

Napoleon Bonaparte who became Emperor of France would say that the word 'impossible' was common only amongst fools. The overconfident Napoleon invaded Russia in the winter of 1812. This proved to be a big disaster.

Overconfidence generally leads people into misadventures, endangering their chances in life. It is wisely said that any achievement is a result of two factors – one's personal planning and support from the external world. Overconfident people take into account only their planning, generally ignoring external factors. As a result they are unable to foresee future developments. Hence, there is a greater risk of failure.

Then there is the question: how can one manage overconfidence? The formula is very simple. Before taking a decision discuss the matter with other informed people with an objective mind and when it is proved that you are about to go off the path, accept reality and say without delay, "I was wrong".

Overconfidence is a flaw characterising people who lack the virtue of modesty. Modesty makes you a realist; you become a person who is cut down to size. People of this kind become very cautious; before taking an action they assess the whole situation. They adopt a realistic approach.

Overconfident people live within their own thoughts. They know themselves but they are unaware of others. Living inside their own cell they are unable to make use of the experiences of others. This kind of habit is highly damaging to all concerned.

There is a saying that the young man sees the rule and the old man sees the exception. With a slight change, I would like to say that the overconfident person sees the rule and the confident person sees the exception. Overconfident people are always at risk. It is said that taking risk is good but it must be well calculated, otherwise it becomes very dangerous.

SubQuestion No : 19

Q.19 Which of the following statements is NOT true?

- Ans**
- ☒ 1. One should take well calculated risks.
 - ☒ 2. Invading Russia was Napoleon's folly.
 - ☒ 3. Modest people adopt a realistic approach.
 - ☒ 4. Overconfident people take advantage of others' experience.

Question ID : **65497839256**

Status : **Not Answered**

Chosen Option : --

Comprehension:

Read the given passage and answer the questions that follow.

Why does a person become overconfident? The reason lies in over assessment of his capabilities. Sometimes people over assess their competence and jump into situations that are beyond their control.

Napoleon Bonaparte who became Emperor of France would say that the word 'impossible' was common only amongst fools. The overconfident Napoleon invaded Russia in the winter of 1812. This proved to be a big disaster.

Overconfidence generally leads people into misadventures, endangering their chances in life. It is wisely said that any achievement is a result of two factors – one's personal planning and support from the external world. Overconfident people take into account only their planning, generally ignoring external factors. As a result they are unable to foresee future developments. Hence, there is a greater risk of failure.

Then there is the question: how can one manage overconfidence? The formula is very simple. Before taking a decision discuss the matter with other informed people with an objective mind and when it is proved that you are about to go off the path, accept reality and say without delay, "I was wrong".

Overconfidence is a flaw characterising people who lack the virtue of modesty. Modesty makes you a realist; you become a person who is cut down to size. People of this kind become very cautious; before taking an action they assess the whole situation. They adopt a realistic approach.

Overconfident people live within their own thoughts. They know themselves but they are unaware of others. Living inside their own cell they are unable to make use of the experiences of others. This kind of habit is highly damaging to all concerned.

There is a saying that the young man sees the rule and the old man sees the exception. With a slight change, I would like to say that the overconfident person sees the rule and the confident person sees the exception. Overconfident people are always at risk. It is said that taking risk is good but it must be well calculated, otherwise it becomes very dangerous.

SubQuestion No : 20

Q.20 According to the passage, overconfident people face a greater risk of failure because they:

- Ans
- ☒ 1. can see exceptions
 - ☒ 2. do not accept reality
 - ☒ 3. are not modest
 - ☒ 4. ignore the external factors

Question ID : 65497839255

Status : Not Answered

Chosen Option : --

Comprehension:

In the following passage, some words have been deleted. Read the passage carefully and select the most appropriate option to fill in each blank.

20 years ago, due to a terrorist attack at the World Trade Center in New York, the US started a war with the Taliban in Afghanistan.

Recently, the US soldiers (1) _____ to leave Afghanistan, and the Taliban quickly took (2) _____ of nearly all the country. The Afghan president ran (3) _____ from the country, and only a few hours later, the Taliban took control of (4) _____ presidential palace.

Thousands of Afghans wanted to leave the country, (5) _____ caused chaos at the international airport in Kabul. Foreign diplomats left the country because it was not safe for them anymore.

SubQuestion No : 21

Q.21 Select the most appropriate option to fill in blank No. 1.

- Ans
- ☒ 1. will start
 - ☒ 2. start
 - ☒ 3. starting
 - ☒ 4. started

Question ID : 65497838635

Status : Not Answered

Chosen Option : --

Comprehension:

In the following passage, some words have been deleted. Read the passage carefully and select the most appropriate option to fill in each blank.

20 years ago, due to a terrorist attack at the World Trade Center in New York, the US started a war with the Taliban in Afghanistan.

Recently, the US soldiers (1) _____ to leave Afghanistan, and the Taliban quickly took (2) _____ of nearly all the country. The Afghan president ran (3) _____ from the country, and only a few hours later, the Taliban took control of (4) _____ presidential palace. Thousands of Afghans wanted to leave the country, (5) _____ caused chaos at the international airport in Kabul. Foreign diplomats left the country because it was not safe for them anymore.

SubQuestion No : 22

Q.22 Select the most appropriate option to fill in blank No. 2.

- Ans ☒ 1. control
☒ 2. authority
☒ 3. force
☒ 4. power

Question ID : 65497838636

Status : Not Answered

Chosen Option : --

Comprehension:

In the following passage, some words have been deleted. Read the passage carefully and select the most appropriate option to fill in each blank.

20 years ago, due to a terrorist attack at the World Trade Center in New York, the US started a war with the Taliban in Afghanistan.

Recently, the US soldiers (1) _____ to leave Afghanistan, and the Taliban quickly took (2) _____ of nearly all the country. The Afghan president ran (3) _____ from the country, and only a few hours later, the Taliban took control of (4) _____ presidential palace. Thousands of Afghans wanted to leave the country, (5) _____ caused chaos at the international airport in Kabul. Foreign diplomats left the country because it was not safe for them anymore.

SubQuestion No : 23

Q.23 Select the most appropriate option to fill in blank No. 3.

- Ans ☒ 1. over
☒ 2. out
☒ 3. into
☒ 4. away

Question ID : 65497838637

Status : Not Answered

Chosen Option : --

Comprehension:

In the following passage, some words have been deleted. Read the passage carefully and select the most appropriate option to fill in each blank.

20 years ago, due to a terrorist attack at the World Trade Center in New York, the US started a war with the Taliban in Afghanistan.

Recently, the US soldiers (1) _____ to leave Afghanistan, and the Taliban quickly took (2) _____ of nearly all the country. The Afghan president ran (3) _____ from the country, and only a few hours later, the Taliban took control of (4) _____ presidential palace. Thousands of Afghans wanted to leave the country, (5) _____ caused chaos at the international airport in Kabul. Foreign diplomats left the country because it was not safe for them anymore.

SubQuestion No : 24

Q.24 Select the most appropriate option to fill in blank No. 4.

- Ans ☒ 1. a
☒ 2. the
☒ 3. this
☒ 4. that

Question ID : 65497838638

Status : Not Answered

Chosen Option : --

Comprehension:

In the following passage, some words have been deleted. Read the passage carefully and select the most appropriate option to fill in each blank.

20 years ago, due to a terrorist attack at the World Trade Center in New York, the US started a war with the Taliban in Afghanistan.

Recently, the US soldiers (1) _____ to leave Afghanistan, and the Taliban quickly took (2) _____ of nearly all the country. The Afghan president ran (3) _____ from the country, and only a few hours later, the Taliban took control of (4) _____ presidential palace. Thousands of Afghans wanted to leave the country, (5) _____ caused chaos at the international airport in Kabul. Foreign diplomats left the country because it was not safe for them anymore.

SubQuestion No : 25

Q.25 Select the most appropriate option to fill in blank No. 5.

- Ans ☒ 1. which
☒ 2. who
☒ 3. whom
☒ 4. what

Question ID : 65497838639

Status : Not Answered

Chosen Option : --

Section : Quantitative Aptitude

Q.1 साधारण ब्याज की किस दर पर कोई धनराशि 16 वर्ष में स्वयं की पांच गुनी हो सकती है?

- Ans ☒ 1. 20%
☒ 2. 25%
☒ 3. 10%
☒ 4. 15%

Question ID : 65497839070

Status : Answered

Chosen Option : 3

Q.2 एक आदमी 6 km/h की चाल से दौड़ता है। वह प्रत्येक 4 km पर 30 मिनट का विश्राम लेता है। 15 km की दूरी तय करने में उसे कितना समय (घंटे में) लगेगा?

- Ans
- ✓ 1. 4
 - ✗ 2. 2.5
 - ✗ 3. 3.5
 - ✗ 4. 3

Question ID : 65497839278
Status : Answered
Chosen Option : 2

Q.3 एक कक्षा के 29 विद्यार्थियों का औसत वजन 54 kg है। 52.8 kg औसत वजन वाले पांच विद्यार्थी कक्षा छोड़ देते हैं और 55 kg औसत वजन वाले 6 विद्यार्थी कक्षा में शामिल हो जाते हैं, तो अब विद्यार्थियों का औसत वजन (kg में) कितना है?

- Ans
- ✗ 1. 53.9
 - ✓ 2. 54.4
 - ✗ 3. 54.2
 - ✗ 4. 53.8

Question ID : 65497838650
Status : Answered
Chosen Option : 2

Q.4 शांत जल में एक नाव की चाल 15 km/h है और धारा की चाल, शांत जल में नाव की चाल के एक तिहाई के बराबर है। इसे धारा की विपरीत दिशा में 24 km और धारा की दिशा में 20 km जाने में कुल कितना समय लगेगा, मान लीजिए कि दिशा बदलने में कोई भी समय नष्ट नहीं होता।

- Ans
- ✗ 1. 3 घंटे 20 मिनट
 - ✗ 2. 3 घंटे
 - ✓ 3. 3 घंटे 24 मिनट
 - ✗ 4. $3\frac{1}{2}$ घंटे

Question ID : 65497838667
Status : Answered
Chosen Option : 3

Q.5 $\sqrt{2p^2 + 4}$ का वह मान ज्ञात कीजिए, जिसके लिए 6 अंकों की संख्या 52p304, 11 से पूर्णतः विभाज्य हो।

- Ans
- ✗ 1. 5
 - ✗ 2. 4
 - ✗ 3. 8
 - ✓ 4. 6

Question ID : 65497838647
Status : Not Answered
Chosen Option : --

Q.6 ₹8,520 की एक धनराशि को A, B, C और D के बीच $\frac{1}{2} : \frac{1}{4} : \frac{2}{5} : \frac{5}{8}$ के अनुपात में विभाजित किया जाता है। B और D के हिस्सों का अंतर ज्ञात कीजिए।

- Ans
- ☒ 1. ₹1,600
 - ☒ 2. ₹1,800
 - ☒ 3. ₹1,080
 - ☒ 4. ₹2,000

Question ID : 65497838659

Status : Not Answered

Chosen Option : --

Q.7 एक कुर्सी का विक्रय मूल्य, इसके क्रय मूल्य का $\frac{46}{25}$ गुना है। इस संव्यवहार में प्रतिशत लाभ ज्ञात कीजिए।

- Ans
- ☒ 1. $33\frac{2}{3}\%$
 - ☒ 2. 84%
 - ☒ 3. 46%
 - ☒ 4. $25\frac{1}{2}\%$

Question ID : 65497839370

Status : Answered

Chosen Option : 2

Q.8 एक आयत की लंबाई और चौड़ाई का अनुपात 21 : 20 है और इसका परिमाण 164 cm है। इसके विकर्ण की लंबाई (cm में) ज्ञात करें।

- Ans
- ☒ 1. 58
 - ☒ 2. 56
 - ☒ 3. 57
 - ☒ 4. 55

Question ID : 65497838158

Status : Answered

Chosen Option : 1

Q.9 एक दुकानदार एक वस्तु पर 10% की छूट देता है। 10% का लाभ पाने के लिए उसे अपनी वस्तुओं पर क्रय मूल्य से कितना अधिक प्रतिशत मूल्य अंकित करना चाहिए?

- Ans
- ☒ 1. $22\frac{2}{9}\%$
 - ☒ 2. 20%
 - ☒ 3. $21\frac{1}{2}\%$
 - ☒ 4. 22%

Question ID : 65497838142

Status : Answered

Chosen Option : 1

Q.10 एक संख्या में 24% की कमी की जाती है और फिर 18% की वृद्धि की जाती है। संख्या में शुद्ध वृद्धि या कमी प्रतिशत क्या है?

- Ans
- ☒ 1. 11.14% की वृद्धि
 - ☒ 2. 10.32% की कमी
 - ☒ 3. 18.97% की वृद्धि
 - ☒ 4. 17.51% की कमी

Question ID : 65497838348

Status : Answered

Chosen Option : 2

Q.11 यदि एक वर्गाकार मैदान की प्रत्येक भुजा में 12% की वृद्धि की जाती है, तो मैदान के क्षेत्रफल में कितने प्रतिशत की वृद्धि होगी?

- Ans
- ☒ 1. 30.12%
 - ☒ 2. 11.44%
 - ☒ 3. 21.32%
 - ☒ 4. 25.44%

Question ID : 65497839062

Status : Answered

Chosen Option : 2

Q.12 यदि $m = 87$ है, तो $\frac{m(m^2+3m+3)+1}{m(m+2)+1}$ का मान ज्ञात कीजिए।

- Ans
- ☒ 1. 87
 - ☒ 2. 88
 - ☒ 3. 96
 - ☒ 4. 90

Question ID : 65497838669

Status : Answered

Chosen Option : 3

Q.13 एक विद्यालय के 1,440 विद्यार्थियों में लड़कों और लड़कियों का अनुपात 3 : 5 है। तीस लड़कियाँ विद्यालय की किसी दूसरी शाखा में स्थानांतरित हो गईं। इस अनुपात को 2 : 3 करने के लिए विद्यालय में कितने लड़कों को प्रवेश देना होगा?

- Ans
- ☒ 1. 35
 - ☒ 2. 45
 - ☒ 3. 32
 - ☒ 4. 40

Question ID : 65497838150

Status : Answered

Chosen Option : 2

Q.14 एक व्यक्ति अपने वेतन से प्रतिमाह ₹6,000 की बचत करता है। यदि वह प्रतिमाह अपने वेतन का 75% व्यय करता है, तो उसका वार्षिक वेतन (₹ में) ज्ञात कीजिए।

- Ans
- ☒ 1. 28,800
 - ☒ 2. 2,88,000
 - ☐ 3. 2,40,000
 - ☐ 4. 24,000

Question ID : 65497839265
Status : Answered
Chosen Option : 4

Q.15 निम्न व्यंजक को सरल कीजिए:

$$\frac{0.32 \times 0.72 \times 0.56}{(0.32)^3 + (0.24)^3 - (0.56)^3}$$

- Ans
- ☒ 1. -1
 - ☐ 2. 3
 - ☐ 3. $\frac{1}{3}$
 - ☐ 4. 1

Question ID : 65497838670
Status : Answered
Chosen Option : 4

Q.16 एक विक्रेता ₹120 क्रय मूल्य की वस्तु पर इसके क्रय मूल्य से 35% अधिक मूल्य अंकित करता है। यदि वह इसे अंकित मूल्य पर 15% की छूट देकर बेचता है, तो उसका प्रतिशत लाभ ज्ञात कीजिए।

- Ans
- ☐ 1. 15%
 - ☒ 2. $14\frac{3}{4}\%$
 - ☐ 3. 10%
 - ☐ 4. $14\frac{1}{3}\%$

Question ID : 65497838651
Status : Answered
Chosen Option : 2

Q.17 A किसी कार्य के तीन-चौथाई भाग को 12 दिनों में पूरा कर सकता है और B इसी कार्य के $\frac{4}{5}$ भाग को 20 दिनों में पूरा कर सकता है। यदि वे दोनों साथ मिलकर कार्य करें, तो इस कार्य को कितने दिनों में पूरा कर सकते हैं?

- Ans
- ☐ 1. $10\frac{2}{5}$
 - ☒ 2. $9\frac{31}{41}$
 - ☐ 3. $9\frac{1}{2}$
 - ☐ 4. 10

Question ID : 65497838155
Status : Not Answered
Chosen Option : --

Q.18 A ने ₹50 में 20 की दर से संतरे खरीदे और ₹30 में 10 की दर पर बेच दिए। उसका लाभ प्रतिशत क्या है?

- Ans
- ☒ 1. 15%
 - ☒ 2. 20%
 - ☐ 3. 10%
 - ☐ 4. 12%

Question ID : 65497838045

Status : Not Answered

Chosen Option : --

Q.19 पाइप A और B एक टंकी को क्रमशः 16 घंटे और 24 घंटे में भर सकते हैं, जबकि पाइप C अकेले पूरी भरी टंकी को x घंटे में खाली कर सकता है। जब सभी 3 पाइप एक साथ खोल दिए जाते हैं, तो टंकी $20\frac{4}{7}$ घंटे में भर जाती है। x का मान ज्ञात कीजिए।

- Ans
- ☒ 1. 18
 - ☐ 2. 20
 - ☐ 3. 15
 - ☐ 4. 12

Question ID : 65497838664

Status : Not Answered

Chosen Option : --

Q.20 A, B को 15% हानि पर एक वाशिंग मशीन बेचता है। B इसे ₹6,120 में बेचता है और 20% का लाभ अर्जित करता है। A के लिए वाशिंग मशीन का क्रय मूल्य (₹ में) ज्ञात कीजिए।

- Ans
- ☒ 1. 6,000
 - ☐ 2. 5,980
 - ☐ 3. 5,960
 - ☐ 4. 6,040

Question ID : 65497838658

Status : Not Answered

Chosen Option : --

Q.21 9 छात्रों के एक समूह की औसत लंबाई 168 cm है। 174 cm और 184 cm लंबाई वाले दो और छात्र समूह में शामिल होते हैं। नया औसत (cm में) ज्ञात कीजिए।

- Ans
- ☐ 1. 172
 - ☐ 2. 167
 - ☒ 3. 170
 - ☐ 4. 165

Question ID : 65497839362

Status : Not Answered

Chosen Option : --

Q.22 यदि ₹7,13,700 की धनराशि को 3 भागों में विभाजित किया जाता है ताकि क्रमशः 2, 3 और 4 वर्षों के बाद साधारण ब्याज की 5% वार्षिक दर पर उनके मिश्रधन समान हों, तो पहला भाग (₹ में) कितना होगा?

- Ans
- ✓ 1. 2,48,400
 - ✗ 2. 2,37,600
 - ✗ 3. 2,28,400
 - ✗ 4. 2,73,240

Question ID : 65497838356
Status : Not Answered
Chosen Option : --

Q.23 5 अंकों की वह बड़ी से बड़ी संख्या ज्ञात कीजिए, जो 12 से विभाज्य है।

- Ans
- ✗ 1. 99998
 - ✗ 2. 99999
 - ✗ 3. 99988
 - ✓ 4. 99996

Question ID : 65497839258
Status : Not Answered
Chosen Option : --

Q.24 साधारण ब्याज की किस वार्षिक दर पर (एक दशमलव स्थान तक पूर्णांकित) एक निश्चित धनराशि पर 11 महीने में प्राप्त ब्याज, मूल धनराशि का 0.08 गुना होगा?

- Ans
- ✗ 1. 9.3%
 - ✗ 2. 11.2%
 - ✓ 3. 8.7%
 - ✗ 4. 8.2%

Question ID : 65497839273
Status : Not Answered
Chosen Option : --

Q.25 एक परिवार के 4 सदस्यों की औसत आयु 35 वर्ष है। उनकी आयु का अनुपात 8 : 7 : 1 : 12 है। परिवार के सबसे बड़े सदस्य की आयु (वर्षों में) क्या है?

- Ans
- ✗ 1. 50
 - ✓ 2. 60
 - ✗ 3. 75
 - ✗ 4. 40

Question ID : 65497838037
Status : Not Answered
Chosen Option : --

Q.1 विवर्तनिकी प्लेटों (tectonic plates) की गति में, जब एक प्लेट दूसरे के नीचे निमज्जित होने लगती है, तो इसे _____ कहा जाता है।

- Ans
- ☒ 1. संवहन (convection)
 - ☒ 2. संघट्टन (collision)
 - ☒ 3. निम्लस्खलन (subduction)
 - ☒ 4. विस्तारण (spreading)

Question ID : 65497838171
Status : Answered
Chosen Option : 3

Q.2 _____ में पर्यावरण योजना और समन्वय पर राष्ट्रीय समिति (National Committee on Environmental Planning and Coordination) (NCEPC) का गठन हुआ, जो धीरे धीरे विकसित हुई और 1985 में यह पूर्णरूपेण पर्यावरण एवं वन मंत्रालय के रूप में परिवर्तित हो गई।

- Ans
- ☒ 1. 1992
 - ☒ 2. 1972
 - ☒ 3. 1980
 - ☒ 4. 1986

Question ID : 65497839288
Status : Answered
Chosen Option : 2

Q.3 दक्षिण भारत में मंदिर स्थापत्यकला ने _____ के शासन के अंतर्गत अपने उत्कर्ष को प्राप्त किया था।

- Ans
- ☒ 1. चोल
 - ☒ 2. चालुक्य
 - ☒ 3. पाण्ड्य
 - ☒ 4. होयसल

Question ID : 65497838682
Status : Answered
Chosen Option : 2

Q.4 सितंबर 2021 में, निम्न में से किस राज्य सरकार ने 'कॉपर महसीर' को राज्य मछली घोषित किया है?

- Ans
- ☒ 1. महाराष्ट्र
 - ☒ 2. सिक्किम
 - ☒ 3. केरल
 - ☒ 4. नागालैंड

Question ID : 65497838183
Status : Answered
Chosen Option : 3

Q.5 खेლო इंडिया यूनिवर्सिटी गेम्स के दूसरे संस्करण का आयोजन इनमें से किस राज्य में किया जाएगा?

- Ans
- ☒ 1. हरियाणा
 - ☒ 2. पश्चिम बंगाल
 - ☒ 3. असम
 - ☒ 4. कर्नाटक

Question ID : 65497838384
Status : Answered
Chosen Option : 1

Q.6 निम्नलिखित में से कौन तबला के प्रतिपादक (exponent) हैं?

- Ans
- ☒ 1. विलायत खान
 - ☒ 2. अली अकबर खान
 - ☒ 3. बिस्मिल्लाह खान
 - ☒ 4. अल्ला रक्खा खान

Question ID : 65497839284

Status : Answered

Chosen Option : 3

Q.7 अर्थशास्त्र में, किसी फर्म द्वारा किए गए निवल योगदान को दर्शाने के लिए जिस शब्द का प्रयोग किया जाता है, उसे उसका _____ कहा जाता है।

- Ans
- ☒ 1. वर्धित मूल्य
 - ☒ 2. निवल मूल्य
 - ☒ 3. योगदान मूल्य
 - ☒ 4. फर्म मूल्य

Question ID : 65497839286

Status : Answered

Chosen Option : 2

Q.8 निम्न में से किस मिट्टी में चूना, लोहा, एल्यूमिना और मैग्नेशिया प्रचुर मात्रा में होते हैं?

- Ans
- ☒ 1. शुष्क मिट्टी
 - ☒ 2. लाल और पीली मिट्टी
 - ☒ 3. जलोढ़ मिट्टी
 - ☒ 4. काली मिट्टी

Question ID : 65497838680

Status : Answered

Chosen Option : 3

Q.9 निम्नलिखित में से किस वर्ष में संयुक्त राष्ट्र महासभा द्वारा जल और स्वच्छता के मानवाधिकार को स्वीकृत किया गया था?

- Ans
- ☒ 1. 1994
 - ☒ 2. 2004
 - ☒ 3. 2000
 - ☒ 4. 2010

Question ID : 65497838167

Status : Answered

Chosen Option : 2

Q.10 निम्न में से किस देश ने 2021 में टोक्यो में आयोजित ओलंपिक खेलों में महिला फील्ड हॉकी में भारत को हराकर कांस्य पदक जीता?

- Ans
- ☒ 1. कनाडा
 - ☒ 2. ग्रेट ब्रिटेन
 - ☒ 3. बेल्जियम
 - ☒ 4. ऑस्ट्रेलिया

Question ID : 65497838793

Status : Answered

Chosen Option : 3

Q.11 'Blasting For Runs (ब्लास्टिंग फॉर रन्स)', _____ की आत्मकथा है।

- Ans
- ☒ 1. टेड डेक्स्टर
 - ☒ 2. जावेद मियांदाद
 - ☒ 3. रोहन कन्हाई
 - ☒ 4. जी.आर. विश्वनाथ

Question ID : 65497838687

Status : Answered

Chosen Option : 4

Q.12 लॉर्ड डलहौजी द्वारा अवध का अधिमेसन (annexation) वर्ष _____ में किया गया था।

- Ans
- ☒ 1. 1874
 - ☒ 2. 1856
 - ☒ 3. 1850
 - ☒ 4. 1890

Question ID : 65497839296

Status : Answered

Chosen Option : 2

Q.13 PMJDY (प्रधान मंत्री जन-धन योजना) खाते में निर्धारित न्यूनतम शेष राशि (₹ में) कितनी है?

- Ans
- ☒ 1. ₹0
 - ☒ 2. ₹100
 - ☒ 3. ₹50
 - ☒ 4. ₹200

Question ID : 65497838673

Status : Answered

Chosen Option : 1

Q.14 निम्न में से कौन सी सदिश राशि नहीं है?

- Ans
- ☒ 1. बलाघूर्ण
 - ☒ 2. गतिज ऊर्जा
 - ☒ 3. कोणीय संवेग
 - ☒ 4. आवेग

Question ID : 65497838678

Status : Answered

Chosen Option : 3

Q.15 लोकसभा का सदस्य बनने के लिए न्यूनतम आयु कितनी है?

- Ans
- ☒ 1. 35 वर्ष
 - ☒ 2. 25 वर्ष
 - ☒ 3. 30 वर्ष
 - ☒ 4. 20 वर्ष

Question ID : 65497838179

Status : Answered

Chosen Option : 2

Q.16 गोबर और कचरे को वर्मीकम्पोस्ट में परिवर्तित करने वाली नवप्रवर्तित विधि 'सुखेत मॉडल' को पहली बार किस राज्य में कार्यान्वित किया गया था?

- Ans
- ☒ 1. असम
 - ☒ 2. बिहार
 - ☒ 3. मेघालय
 - ☒ 4. ओडिशा

Question ID : 65497838695
Status : Answered
Chosen Option : 4

Q.17 निम्नलिखित में से कौन स्वतंत्रता के बाद भारत की केंद्र सरकार के पहले वित्त मंत्री थे?

- Ans
- ☒ 1. वाई.बी. चव्हाण
 - ☒ 2. एम.सी. छागला
 - ☒ 3. शनमुखम चेट्टी
 - ☒ 4. मोरारजी देसाई

Question ID : 65497839300
Status : Answered
Chosen Option : 3

Q.18 जनसंख्या में प्रति _____ पुरुषों पर महिलाओं की संख्या, लिंगानुपात कहलाती है।

- Ans
- ☒ 1. 1000
 - ☒ 2. 100000
 - ☒ 3. 10000
 - ☒ 4. 100

Question ID : 65497839291
Status : Answered
Chosen Option : 1

Q.19 सितंबर 2021 तक की प्राप्त जानकारी अनुसार, भारतीय पुरुष हॉकी टीम ने ग्रीष्मकालीन ओलंपिक खेलों में कितनी बार कांस्य पदक जीता है?

- Ans
- ☒ 1. दो बार
 - ☒ 2. पांच बार
 - ☒ 3. तीन बार
 - ☒ 4. चार बार

Question ID : 65497838692
Status : Answered
Chosen Option : 4

Q.20 'उनाकोटी (Unakoti)' उत्सव निम्न में से किस राज्य में मनाया जाता है?

- Ans
- ☒ 1. केरल
 - ☒ 2. त्रिपुरा
 - ☒ 3. महाराष्ट्र
 - ☒ 4. कर्नाटक

Question ID : 65497838161
Status : Answered
Chosen Option : 2

Q.21 सर्वोदय समाज का पहले सम्मेलन का आयोजन निम्न में से किस राज्य में हुआ था?

- Ans
- ☒ 1. ओडिशा
 - ☒ 2. मध्य प्रदेश
 - ☒ 3. पश्चिम बंगाल
 - ☒ 4. आंध्र प्रदेश

Question ID : 65497838173
Status : Answered
Chosen Option : 3

Q.22 भारत सरकार का 7वां केंद्रीय वेतन आयोग 1 जनवरी _____ से प्रभावी हुआ था।

- Ans
- ☒ 1. 2016
 - ☒ 2. 2018
 - ☒ 3. 2015
 - ☒ 4. 2017

Question ID : 65497838675
Status : Answered
Chosen Option : 2

Q.23 55वें ज्ञानपीठ पुरस्कार से एक _____ कवि को सम्मानित किया गया था।

- Ans
- ☒ 1. तमिल
 - ☒ 2. मराठी
 - ☒ 3. मलयालम
 - ☒ 4. तेलुगु

Question ID : 65497838686
Status : Answered
Chosen Option : 4

Q.24 राज्यों के बीच वाहनों के निर्बाध स्थानांतरण को सुगम बनाने के लिए सड़क परिवहन और राजमार्ग मंत्रालय द्वारा शुरू किया गया नया पंजीकरण चिह्न निम्न में से कौन सा है?

- Ans
- ☒ 1. AB
 - ☒ 2. AI
 - ☒ 3. IN
 - ☒ 4. BH

Question ID : 65497838694
Status : Answered
Chosen Option : 2

Q.25 प्रथम आंग्ल-मराठा युद्ध के समय भारत का गवर्नर निम्नलिखित में से कौन था?

- Ans
- ☒ 1. लॉर्ड कार्नवालिस
 - ☒ 2. वारेन हेस्टिंग्स
 - ☒ 3. लॉर्ड वेलेजली
 - ☒ 4. लॉर्ड मिंटो।

Question ID : 65497838685
Status : Answered
Chosen Option : 2