

Selection Post Phase IX 2021 Matriculation level

Roll Number	
Candidate Name	
Venue Name	
Exam Date	07/02/2022
Exam Time	9:00 AM - 10:00 AM
Subject	Selection Post Matriculation Level

Section : General Intelligence

Q.1 आठ मित्र N, O, P, Q, R, S, T, और U एक वृत्त के परितः केंद्र से बाहर की ओर मुख करके बैठे हैं। N, R के बाईं ओर ठीक बगल में और S के दाईं ओर तीसरे स्थान पर बैठा है। T, P के दाईं ओर दूसरे स्थान पर और S के बाईं ओर ठीक बगल में बैठा है। N के दाईं ओर दूसरे स्थान पर कौन बैठा है?

- Ans
- ☒ 1. S
 - ☒ 2. T
 - ☒ 3. R
 - ☒ 4. P

Question ID : 65497838403

Status : Answered

Chosen Option : 4

Q.2 एक निश्चित कूट भाषा में, 'JUGFUL' को 1021762112 और 'KERNEL' को 1151814512 लिखा जाता है। उसी कूट भाषा में 'LAPSUS' को किस प्रकार लिखा जाएगा?

- Ans
- ☒ 1. 12161922119
 - ☒ 2. 12111961129
 - ☒ 3. 11216192119
 - ☒ 4. 12116192119

Question ID : 65497838398

Status : Answered

Chosen Option : 4

Q.3 'Y&Z' का अर्थ है कि 'Y, Z का पिता है।'
 'Y#Z' का अर्थ है कि 'Y, Z का भाई है।'
 'Y@Z' का अर्थ है कि 'Y, Z की पत्नी है।'
 'Y%Z' का अर्थ है कि 'Y, Z की बहन है।'
 'Y&Z' का अर्थ है कि 'Y, Z का पिता है।'
 'Y*Z' का अर्थ है कि 'Y, B का पुत्र है।'
 व्यंजक 'S@T*X%Y&Z' में Y का T से क्या संबंध है?

- Ans
- ☒ 1. मामा
 - ☒ 2. पिता
 - ☒ 3. नाना
 - ☒ 4. भाई

Question ID : 65497839120

Status : Answered

Chosen Option : 1

Test Prime

**ALL EXAMS,
ONE SUBSCRIPTION**



70,000+
Mock Tests



**Personalised
Report Card**



**Unlimited
Re-Attempt**



600+
Exam Covered



**Previous Year
Papers**



**500%
Refund**



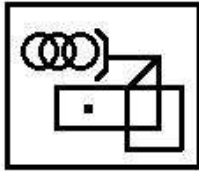
ATTEMPT FREE MOCK NOW

Q.4 उस विकल्प का चयन करें, जिसमें दी गई आकृति अंतर्निहित है (आकृति को घुमाने की अनुमति नहीं है)।

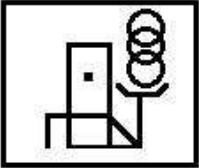


Ans

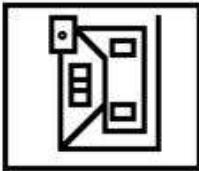
✓ 1.



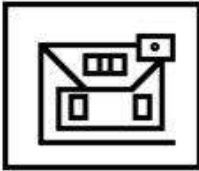
✗ 2.



✗ 3.



✗ 4.



Question ID : 65497838413

Status : Answered

Chosen Option : 1

Q.5 दिए गए विकल्पों में से उस अक्षर-समूह का चयन करें, जो निम्नलिखित श्रृंखला में प्रश्न चिह्न (?) के स्थान पर आ सकता है।

EIL, QUX, CGJ, ?

Ans ✗ 1. SWZ

✗ 2. LPS

✓ 3. OSV

✗ 4. DHK

Question ID : 65497839104

Status : Answered

Chosen Option : 3

Q.6 आठ व्यक्ति - A, B, C, D, P, Q, R और S, एक सीधी पंक्ति में दक्षिण दिशा की ओर मुख करके बैठे हैं, किंतु उनका इसी क्रम में होना अनिवार्य नहीं है। D, A के बाईं ओर निकटतम स्थान पर बैठा है। B और S के बीच केवल दो व्यक्ति हैं। A, B के बाईं ओर दूसरे स्थान पर बैठा है, जो दाएं सिरे से चौथे स्थान पर है। A और P के बीच बैठे व्यक्तियों की संख्या, S और C के बीच बैठे व्यक्तियों की संख्या के बराबर है। P पंक्ति के एक सिरे पर बैठा है। R, C का पड़ोसी नहीं है, जो Q के बाईं ओर निकटतम स्थान पर बैठा है। Q के बाईं ओर कितने व्यक्ति बैठे हैं?

Ans ☒ 1. छह

☒ 2. तीन

☒ 3. दो

☒ 4. चार

Question ID : 65497838912

Status : Not Answered

Chosen Option : --

Q.7 एक निश्चित कूट भाषा में BHOPAL को BOHAPL लिखा जाता है और KANPUR को KNAUPR लिखा जाता है। उसी कूट भाषा में INDORE को किस प्रकार लिखा जाएगा?

Ans ☒ 1. NIODRE

☒ 2. NIODER

☒ 3. DNIERO

☒ 4. IDNROE

Question ID : 65497838502

Status : Answered

Chosen Option : 4

Q.8 किन दो चिन्हों को परस्पर बदलने से निम्नांकित दिया गया समीकरण सही हो जाएगा?

$$551 \div 19 - 16 \times 12 + 121 = 100$$

Ans ☒ 1. \div और \times

☒ 2. $-$ और \times

☒ 3. $+$ और $-$

☒ 4. $+$ और \times

Question ID : 65497838920

Status : Answered

Chosen Option : 3

Q.9 एक निश्चित कूट भाषा में HAIR को 108 लिखा जाता है और NOSE को 159 लिखा जाता है। उसी कूट भाषा में SKIN को किस प्रकार लिखा जाएगा?

Ans ☒ 1. 147

☒ 2. 106

☒ 3. 137

☒ 4. 159

Question ID : 65497838503

Status : Answered

Chosen Option : 4

Q.10 जब दर्पण को निम्नांकित चित्र के अनुसार PQ पर रखा गया हो, तो दिए गए संयोजन का दर्पण में निर्मित सही प्रतिबिंब चयनित करें।

REPORTING

- Ans
- ✗ 1. GNTIrOqER
 - ✗ 2. GNITrOqER
 - ✗ 3. GNTIrOqER
 - ✓ 4. GNITrOqER

Question ID : 65497838924

Status : Answered

Chosen Option : 4

Q.11 अक्षरों का वह संयोजन चुनें जिसे निम्नांकित श्रृंखला के रिक्त स्थानों पर क्रमबद्ध रूप से रखे जाने पर श्रृंखला पूरी हो जाएगी।

P_L_Q_LM_P_M_Q_M

- Ans
- ✗ 1. P, L, P, M, Q, L, Q
 - ✗ 2. L, Q, L, M, P, Q, P
 - ✗ 3. L, L, M, P, P, Q, Q
 - ✓ 4. P, M, Q, P, L, Q, L

Question ID : 65497838903

Status : Answered

Chosen Option : 4

Q.12 एक निश्चित कूट भाषा में, 'RUST' को '7539' के रूप में कूटबद्ध किया जाता है, और 'SORE' को '3472' के रूप में कूटबद्ध किया जाता है। उसी भाषा में 'TRUE' को कैसे कूटबद्ध किया जाएगा?

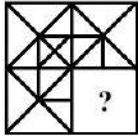
- Ans
- ✗ 1. 4732
 - ✗ 2. 9725
 - ✗ 3. 4372
 - ✓ 4. 9752

Question ID : 65497839114

Status : Answered

Chosen Option : 4

Q.13 दिए गए विकल्पों में से उस आकृति का चयन कीजिए, जो प्रश्न चिह्न (?) के स्थान पर आ सकती है और पैटर्न को पूर्ण कर सकती है। (आकृति को घुमाने की अनुमति नहीं है)



Ans

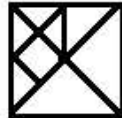
✗ 1.



✗ 2.



✗ 3.



✓ 4.



Question ID : 65497839126

Status : Answered

Chosen Option : 4

Q.14 उस सही विकल्प का चयन कीजिए, जो दिए गए शब्दों के उस क्रम को दर्शाता है, जिस क्रम में वे अंग्रेज़ी शब्दकोश में मौजूद होते हैं।

1. Despite
2. Destroy
3. Departure
4. Derivatives
5. Detention

Ans

✗ 1. 4, 3, 2, 5, 1

✗ 2. 4, 3, 1, 2, 5

✗ 3. 3, 4, 2, 1, 5

✓ 4. 3, 4, 1, 2, 5

Question ID : 65497838391

Status : Answered

Chosen Option : 4

Q.15 दिए गए कथन और निष्कर्ष सावधानीपूर्वक पढ़ें। कथनों में दी गई जानकारी को सत्य मानते हुए, चाहे यह सामान्यतः ज्ञात तथ्यों से असंगत प्रतीत होती हो, यह निर्धारित करें, कि दिए गए निष्कर्षों में से कौन सा/से निष्कर्ष कथनों का तार्किक रूप से अनुसरण करता है/करते हैं।

कथन:
कुछ विकेट, कालीन हैं।
सभी कालीन, हेलमेट हैं।

निष्कर्ष:
I. सभी हेलमेट, कालीन हैं।
II. सभी विकेट, हेलमेट हैं।

- Ans ☒ 1. न तो निष्कर्ष I और न ही II अनुसरण करता है।
☒ 2. केवल निष्कर्ष II अनुसरण करता है।
☒ 3. निष्कर्ष I और II दोनों अनुसरण करते हैं।
☒ 4. केवल निष्कर्ष I अनुसरण करता है।

Question ID : 65497838915

Status : Answered

Chosen Option : 1

Q.16 चार अक्षर-समूह दिए गए हैं, जिनमें से तीन किसी तरह से संगत हैं और एक असंगत है। उस अक्षर-समूह का चयन करें, जो अन्य से असंगत है।

- Ans ☒ 1. CPA
☒ 2. BOV
☒ 3. WIQ
☒ 4. LEF

Question ID : 65497839106

Status : Answered

Chosen Option : 1

Q.17 एक निश्चित कूट भाषा में, 'PRAYER' को '7927109' के रूप में कूटबद्ध किया जाता है, और 'GLOVES' को '143641010' के रूप में कूटबद्ध किया जाता है। उसी भाषा में 'SOURCE' को कैसे कूटबद्ध किया जाएगा?

- Ans ☒ 1. 10639610
☒ 2. 10106369
☒ 3. 10641658
☒ 4. 10648615

Question ID : 65497839115

Status : Not Answered

Chosen Option : --

Q.18 वह विकल्प चुनें जो तीसरी संख्या से उसी प्रकार संबंधित है जिस प्रकार दूसरी संख्या, पहली संख्या से संबंधित है और छठी संख्या, पाँचवीं संख्या से संबंधित है।

6 : 16 :: 7 : ? :: 5 : 13

- Ans ☒ 1. 15
☒ 2. 17
☒ 3. 21
☒ 4. 19

Question ID : 65497838919

Status : Not Answered

Chosen Option : --

Q.19 दिए गए कथन और निष्कर्ष सावधानीपूर्वक पढ़ें। कथनों में दी गई जानकारी को सत्य मानते हुए, चाहे यह सामान्यतः ज्ञात तथ्यों से असंगत प्रतीत होती हो, यह निर्धारित करें, कि दिए गए निष्कर्षों में से कौन सा/से निष्कर्ष कथनों का तार्किक रूप से अनुसरण करता है/करते हैं।

कथन:

कोई घड़ी, फ्रेम नहीं है।
सभी फ्रेम, शील्ड हैं।

निष्कर्ष:

- I. कोई घड़ी, शील्ड नहीं है।
- II. कोई शील्ड, घड़ी नहीं है।
- III. कुछ शील्ड, फ्रेम हैं।
- IV. सभी शील्ड, फ्रेम हैं।

- Ans ☒ 1. केवल निष्कर्ष III अनुसरण करता है।
☒ 2. निष्कर्ष I और II दोनों अनुसरण करते हैं।
☒ 3. निष्कर्ष I और IV दोनों अनुसरण करते हैं।
☒ 4. केवल निष्कर्ष I अनुसरण करता है।

Question ID : 65497838921

Status : Answered

Chosen Option : 1

Q.20 दिए गए विकल्पों में से उस संख्या का चयन कीजिए, जो निम्नलिखित श्रेणी में प्रश्न चिह्न (?) के स्थान पर आ सकती है।

264, 136, 72, 40, ?

- Ans ☒ 1. 26
☒ 2. 20
☒ 3. 24
☒ 4. 28

Question ID : 65497838407

Status : Answered

Chosen Option : 3

Q.21 वह विकल्प चुनें जो तीसरे पद से उसी प्रकार संबंधित है जिस प्रकार दूसरा पद, पहले पद से संबंधित है।

OBSTACLE : BOXOFXEL :: COLLOSAL : ?

- Ans ☒ 1. OCGQJXLA
☒ 2. COQGTNAL
☒ 3. COGQJXAL
☒ 4. OCQGTNLA

Question ID : 65497838905

Status : Answered

Chosen Option : 4

Q.22 एक निश्चित कूट भाषा में, 'ABUNDANT' को 'ACWQGCOT' के रूप में लिखा जाता है, और 'RELIABLE' को 'RFNLDDME' के रूप में लिखा जाता है। उसी भाषा में 'MERCIFUL' को कैसे लिखा जाएगा?

- Ans ☒ 1. MHTDJHXL
☒ 2. MFTFJHXL
☒ 3. MHTDLHVL
☒ 4. MFTFLHVL

Question ID : 65497838907

Status : Answered

Chosen Option : 4

Q.23 यदि 'A × B' का अर्थ है - 'A, B का पिता है', 'A + B' का अर्थ है - 'A, B की पत्नी है', 'A ÷ B' का अर्थ है - 'A, B की पुत्री है' और 'A - B' का अर्थ है - 'A, B का पुत्र है,' तो व्यंजक 'K ÷ M × C - P ÷ Q' के अनुसार, M का P से क्या संबंध है?

- Ans ☒ 1. पति
☐ 2. पत्नी
☐ 3. बहन
☐ 4. भाई

Question ID : 65497838406
Status : Answered
Chosen Option : 1

Q.24 'मोम' का 'मोमबत्ती' से वही संबंध है, जो 'लुगदी' का '_____' से है।

- Ans ☒ 1. कागज
☐ 2. बांस
☐ 3. लकड़ी
☐ 4. वृक्ष

Question ID : 65497838394
Status : Answered
Chosen Option : 3

Q.25 दिए गए विकल्पों में से वह संख्या चुनें जो निम्नलिखित श्रेणी में प्रश्नचिह्न (?) के स्थान पर आ सकती है।

4, 10, 23, 67, 137, ?

- Ans ☐ 1. 187
☐ 2. 209
☒ 3. 409
☐ 4. 150

Question ID : 65497839122
Status : Not Answered
Chosen Option : --

Section : English Language

Q.1 Select the most appropriate synonym of the given word.

Disaster

- Ans ☐ 1. Help
☐ 2. Joy
☐ 3. Blessing
☒ 4. Tragedy

Question ID : 65497838929
Status : Answered
Chosen Option : 4

Q.2 Select the most appropriate option to fill in the blank.

They are facing a _____ competition in business.

- Ans ☒ 1. fierce
☐ 2. angry
☐ 3. violent
☐ 4. bold

Question ID : 65497838927
Status : Answered
Chosen Option : 1

Q.3 Select the option that can be used as a one-word substitute for the given group of words.

A person who wanders from place to place without a home or job.

- Ans ☐ 1. Truant
☒ 2. Vagabond
☐ 3. Migrant
☐ 4. Refugee

Question ID : 65497838936
Status : Answered
Chosen Option : 2

Q.4 Select the INCORRECTLY spelt word.

- Ans ☐ 1. Landscape
☒ 2. Laspe
☐ 3. Lantern
☐ 4. Language

Question ID : 65497839244
Status : Answered
Chosen Option : 4

Q.5 Select the most appropriate meaning of the given idiom.

Fall out with someone

- Ans ☒ 1. Stop being friendly after an argument
☐ 2. Plan a trip with someone close
☐ 3. Offer a hand of friendship
☐ 4. Enter into a contract with someone

Question ID : 65497838424
Status : Answered
Chosen Option : 1

Q.6 Select the option that can be used as a one-word substitute for the given group of words.

A lions' home

- Ans** ☒ 1. Kennel
☒ 2. Den
☒ 3. Stable
☒ 4. Pen

Question ID : **65497839139**
 Status : **Answered**
 Chosen Option : **3**

Q.7 Select the **INCORRECTLY** spelt word.

- Ans** ☒ 1. Environment
☒ 2. Happened
☒ 3. Faithfully
☒ 4. Bombshell

Question ID : **65497838223**
 Status : **Answered**
 Chosen Option : **2**

Q.8 Select the most appropriate synonym of the given word.

Distinguished

- Ans** ☒ 1. Prosperous
☒ 2. Obscure
☒ 3. Honoured
☒ 4. Available

Question ID : **65497838420**
 Status : **Answered**
 Chosen Option : **2**

Q.9 Select the option that expresses the given sentence in passive voice.

My father owns a large piece of fertile land.

- Ans** ☒ 1. A large piece of fertile land is owned by my father.
☒ 2. A large piece of fertile land was owned by my father.
☒ 3. A large piece of fertile land has been owned by my father.
☒ 4. A large piece of fertile land is being owned by my father.

Question ID : **65497838415**
 Status : **Answered**
 Chosen Option : **1**

Q.10 Select the most appropriate ANTONYM of the given word.

Starve

- Ans ☒ 1. Refrain
☒ 2. Fast
☒ 3. Stuff
☒ 4. Diet

Question ID : 65497839135
Status : Answered
Chosen Option : 1

Q.11 Select the most appropriate ANTONYM of the given word.

Prosper

- Ans ☒ 1. Thrive
☒ 2. Bloom
☒ 3. Decline
☒ 4. Flourish

Question ID : 65497838932
Status : Answered
Chosen Option : 3

Q.12 Select the INCORRECTLY spelt word.

- Ans ☒ 1. Legislator
☒ 2. Lesson
☒ 3. Leoperd
☒ 4. Leisure

Question ID : 65497838939
Status : Answered
Chosen Option : 3

Q.13 Select the most appropriate option to fill in the blank.

Much of my time _____ been wasted.

- Ans ☒ 1. have
☒ 2. is
☒ 3. was
☒ 4. has

Question ID : 65497838418
Status : Answered
Chosen Option : 3

Q.14 Select the option that expresses the given sentence in indirect speech.

“We are leaving for Singapore tomorrow morning,” said Kabir.

- Ans ☒ 1. Kabir said that they were leaving for Singapore the next morning.
☒ 2. Kabir said that they was leaving for Singapore tomorrow morning.
☒ 3. Kabir said that they would be leaving for Singapore the next morning.
☒ 4. Kabir said that he was leaving for Singapore the next morning.

Question ID : 65497839130
Status : Answered
Chosen Option : 3

Q.15 Select the most appropriate meaning of the given idiom.

Eye wash

- Ans ☒ 1. A close watch
☒ 2. A deception
☒ 3. A keen interest
☒ 4. A general view

Question ID : 65497838933

Status : Answered

Chosen Option : 2

Comprehension:

In the following passage, some words have been deleted. Read the passage carefully and select the most appropriate option to fill in each blank.

I was brought up in a village. Those days there (1) _____ no televisions, music systems or VCDs at (2) _____. Our only luxury was books. I was fortunate (3) _____ grandparents. My grandfather was a retired school (4) _____ and an avid reader. He knew a large (5) _____ of Sanskrit texts by heart and every night, under the dark sky with the twinkling stars, he would tell me many stories.

SubQuestion No : 16

Q.16 Select the most appropriate option to fill in blank No. 1.

- Ans ☒ 1. were
☒ 2. was
☒ 3. are
☒ 4. is

Question ID : 65497838941

Status : Answered

Chosen Option : 2

Comprehension:

In the following passage, some words have been deleted. Read the passage carefully and select the most appropriate option to fill in each blank.

I was brought up in a village. Those days there (1) _____ no televisions, music systems or VCDs at (2) _____. Our only luxury was books. I was fortunate (3) _____ grandparents. My grandfather was a retired school (4) _____ and an avid reader. He knew a large (5) _____ of Sanskrit texts by heart and every night, under the dark sky with the twinkling stars, he would tell me many stories.

SubQuestion No : 17

Q.17 Select the most appropriate option to fill in blank No. 2.

- Ans ☒ 1. school
☒ 2. home
☒ 3. village
☒ 4. house

Question ID : 65497838942

Status : Answered

Chosen Option : 1

Comprehension:

In the following passage, some words have been deleted. Read the passage carefully and select the most appropriate option to fill in each blank.

I was brought up in a village. Those days there (1) _____ no televisions, music systems or VCDs at (2) _____. Our only luxury was books. I was fortunate (3) _____ grandparents. My grandfather was a retired school (4) _____ and an avid reader. He knew a large (5) _____ of Sanskrit texts by heart and every night, under the dark sky with the twinkling stars, he would tell me many stories.

SubQuestion No : 18

Q.18 Select the most appropriate option to fill in blank No. 3.

- Ans
- ☐ 1. have
 - ☐ 2. having
 - ☐ 3. had
 - ☒ 4. to have

Question ID : 65497838943

Status : Answered

Chosen Option : 4

Comprehension:

In the following passage, some words have been deleted. Read the passage carefully and select the most appropriate option to fill in each blank.

I was brought up in a village. Those days there (1) _____ no televisions, music systems or VCDs at (2) _____. Our only luxury was books. I was fortunate (3) _____ grandparents. My grandfather was a retired school (4) _____ and an avid reader. He knew a large (5) _____ of Sanskrit texts by heart and every night, under the dark sky with the twinkling stars, he would tell me many stories.

SubQuestion No : 19

Q.19 Select the most appropriate option to fill in blank No. 4.

- Ans
- ☐ 1. engineer
 - ☐ 2. student
 - ☐ 3. professor
 - ☒ 4. teacher

Question ID : 65497838944

Status : Answered

Chosen Option : 4

Comprehension:

In the following passage, some words have been deleted. Read the passage carefully and select the most appropriate option to fill in each blank.

I was brought up in a village. Those days there (1) _____ no televisions, music systems or VCDs at (2) _____. Our only luxury was books. I was fortunate (3) _____ grandparents. My grandfather was a retired school (4) _____ and an avid reader. He knew a large (5) _____ of Sanskrit texts by heart and every night, under the dark sky with the twinkling stars, he would tell me many stories.

SubQuestion No : 20

Q.20 Select the most appropriate option to fill in blank No. 5.

- Ans
- ☐ 1. quantity
 - ☐ 2. quality
 - ☒ 3. number
 - ☐ 4. amount

Question ID : 65497838945

Status : Answered

Chosen Option : 3

Comprehension:

Read the given passage and answer the questions that follow.

The other day I received an unusual and very gratifying gift: I was given a tree or rather, I was given half-a-dozen trees which would be planted on my behalf. I had been invited to give a talk at an organisation. After such events the speaker is usually given a token gift. Sometimes the gift is that of a pen, or something useful. Often, the gift is in the form of a plaque or a similar token. However well-meant, such gifts are destined to gather dust in forgotten corners. Which is why I was agreeably surprised to be given a scroll which attested that, on a designated plantation established for the purpose, trees would be added in my name as part of the 'green' movement sponsored by the organisation.

In an increasingly environment conscious world, the gift of a living tree or plant makes for a perfect present. The tradition of giving and receiving gifts has increasingly become a highly evolved marketing exercise. Apart from festivals like Diwali, Holi, Christmas, Eid and others, a whole new calendar of celebration events has been created to promote the giving of gifts:

Mother's Day, Father's day, Teacher's day, Valentine's Day and so on.

What do you give to people — friends, relatives, spouses, children, parents, employees, clients, well-wishers who more or less have everything or at least everything that you could afford to give them as a gift?

Another box of chocolates? Another bottle of scent or after-shave? Another shirt or a kurta? Another another?

Thinking of unusual and pleasing presents which are also affordable is a full-time job. Like wedding planners and planners of theme parties, gift planners who select and make up gift packages for you to give on occasions like marriages and corporate events—are doing increasingly good business.

However, the best planned gifts of mine and thine often go awry. How often particularly during the so called 'festive seasons' when gift giving and gift receiving reach epidemic proportions—have you had the embarrassing experience of getting back as a present a gift you yourself had given to someone who, having no use for it and not realising that it was you who had gifted it to begin with had unwittingly returned your gift to you? Like musical chairs, musical gifts only too often go round and round.

This is true not only at the individual but also at the level of the state. Diplomatic protocol also demands exchange of gifts according to culture and tradition. Such tokens like the numbers of crudely made miniature Taj Mahals that India has presented to the reluctant hands of foreign guests must fill entire godowns across the globe.

How much more preferable a living tree than a crude model of the Taj possibly made of marble from an unauthorised quarry? If the giving of tree sapling were to be institutionalised, it could lead to another green revolution in the lucrative and growing field of gift giving, with a new, eco-friendly industry taking root in plantations and nurseries specially created for the purpose. People could feel good looking at the certificate that trees had been planted in their names. Next birthday, give someone you love a tree and one day the two of you might sit under the shade of the same tree

SubQuestion No : 21

Q.21 Which of the following is NOT mentioned in the passage as an occasion for giving gifts?

- Ans ☒ 1. Father's Day
☒ 2. Children's Day
☒ 3. Teacher's Day
☒ 4. Mother's Day

Question ID : 65497838949

Status : Not Answered

Chosen Option : --

Comprehension:

Read the given passage and answer the questions that follow.

The other day I received an unusual and very gratifying gift: I was given a tree or rather, I was given half-a-dozen trees which would be planted on my behalf. I had been invited to give a talk at an organisation. After such events the speaker is usually given a token gift. Sometimes the gift is that of a pen, or something useful. Often, the gift is in the form of a plaque or a similar token. However well-meant, such gifts are destined to gather dust in forgotten corners. Which is why I was agreeably surprised to be given a scroll which attested that, on a designated plantation established for the purpose, trees would be added in my name as part of the 'green' movement sponsored by the organisation.

In an increasingly environment conscious world, the gift of a living tree or plant makes for a perfect present. The tradition of giving and receiving gifts has increasingly become a highly evolved marketing exercise. Apart from festivals like Diwali, Holi, Christmas, Eid and others, a whole new calendar of celebration events has been created to promote the giving of gifts:

Mother's Day, Father's day, Teacher's day, Valentine's Day and so on.

What do you give to people — friends, relatives, spouses, children, parents, employees, clients, well-wishers who more or less have everything or at least everything that you could afford to give them as a gift?

Another box of chocolates? Another bottle of scent or after-shave? Another shirt or a kurta? Another another?

Thinking of unusual and pleasing presents which are also affordable is a full-time job. Like wedding planners and planners of theme parties, gift planners who select and make up gift packages for you to give on occasions like marriages and corporate events—are doing increasingly good business.

However, the best planned gifts of mine and thine often go awry. How often particularly during the so called 'festive seasons' when gift giving and gift receiving reach epidemic proportions—have you had the embarrassing experience of getting back as a present a gift you yourself had given to someone who, having no use for it and not realising that it was you who had gifted it to begin with had unwittingly returned your gift to you? Like musical chairs, musical gifts only too often go round and round.

This is true not only at the individual but also at the level of the state. Diplomatic protocol also demands exchange of gifts according to culture and tradition. Such tokens like the numbers of crudely made miniature Taj Mahals that India has presented to the reluctant hands of foreign guests must fill entire godowns across the globe.

How much more preferable a living tree than a crude model of the Taj possibly made of marble from an unauthorised quarry? If the giving of tree sapling were to be institutionalised, it could lead to another green revolution in the lucrative and growing field of gift giving, with a new, eco-friendly industry taking root in plantations and nurseries specially created for the purpose. People could feel good looking at the certificate that trees had been planted in their names. Next birthday, give someone you love a tree and one day the two of you might sit under the shade of the same tree

SubQuestion No : 22

Q.22 What was the speaker's unusual gift?

- Ans
- ☒ 1. Sponsorship of the green movement
 - ☒ 2. A plantation with fruit trees
 - ☒ 3. Trees to be planted in his name
 - ☒ 4. Half a dozen full-grown trees

Question ID : 65497838948

Status : Answered

Chosen Option : 4

Comprehension:

Read the given passage and answer the questions that follow.

The other day I received an unusual and very gratifying gift: I was given a tree or rather, I was given half-a-dozen trees which would be planted on my behalf. I had been invited to give a talk at an organisation. After such events the speaker is usually given a token gift. Sometimes the gift is that of a pen, or something useful. Often, the gift is in the form of a plaque or a similar token. However well-meant, such gifts are destined to gather dust in forgotten corners. Which is why I was agreeably surprised to be given a scroll which attested that, on a designated plantation established for the purpose, trees would be added in my name as part of the 'green' movement sponsored by the organisation.

In an increasingly environment conscious world, the gift of a living tree or plant makes for a perfect present. The tradition of giving and receiving gifts has increasingly become a highly evolved marketing exercise. Apart from festivals like Diwali, Holi, Christmas, Eid and others, a whole new calendar of celebration events has been created to promote the giving of gifts: Mother's Day, Father's day, Teacher's day, Valentine's Day and so on.

What do you give to people — friends, relatives, spouses, children, parents, employees, clients, well-wishers who more or less have everything or at least everything that you could afford to give them as a gift?

Another box of chocolates? Another bottle of scent or after-shave? Another shirt or a kurta? Another another?

Thinking of unusual and pleasing presents which are also affordable is a full-time job. Like wedding planners and planners of theme parties, gift planners who select and make up gift packages for you to give on occasions like marriages and corporate events—are doing increasingly good business.

However, the best planned gifts of mine and thine often go awry. How often particularly during the so called 'festive seasons' when gift giving and gift receiving reach epidemic proportions—have you had the embarrassing experience of getting back as a present a gift you yourself had given to someone who, having no use for it and not realising that it was you who had gifted it to begin with had unwittingly returned your gift to you? Like musical chairs, musical gifts only too often go round and round.

This is true not only at the individual but also at the level of the state. Diplomatic protocol also demands exchange of gifts according to culture and tradition. Such tokens like the numbers of crudely made miniature Taj Mahals that India has presented to the reluctant hands of foreign guests must fill entire godowns across the globe.

How much more preferable a living tree than a crude model of the Taj possibly made of marble from an unauthorised quarry? If the giving of tree sapling were to be institutionalised, it could lead to another green revolution in the lucrative and growing field of gift giving, with a new, eco-friendly industry taking root in plantations and nurseries specially created for the purpose. People could feel good looking at the certificate that trees had been planted in their names. Next birthday, give someone you love a tree and one day the two of you might sit under the shade of the same tree

SubQuestion No : 23

Q.23 'Another box of chocolates? Another bottle of scent or after-shave?' What does the word 'another' signify here?

- Ans** ☒ 1. It is just another addition to the things already possessed.
- ☐ 2. It is another item that will complete the receiver's collection.
- ☐ 3. It is another item of great value which will be cherished.
- ☐ 4. It is another special gift that will make the receiver happy.

Question ID : 65497838950

Status : Not Answered

Chosen Option : --

Comprehension:

Read the given passage and answer the questions that follow.

The other day I received an unusual and very gratifying gift: I was given a tree or rather, I was given half-a-dozen trees which would be planted on my behalf. I had been invited to give a talk at an organisation. After such events the speaker is usually given a token gift. Sometimes the gift is that of a pen, or something useful. Often, the gift is in the form of a plaque or a similar token. However well-meant, such gifts are destined to gather dust in forgotten corners. Which is why I was agreeably surprised to be given a scroll which attested that, on a designated plantation established for the purpose, trees would be added in my name as part of the 'green' movement sponsored by the organisation.

In an increasingly environment conscious world, the gift of a living tree or plant makes for a perfect present. The tradition of giving and receiving gifts has increasingly become a highly evolved marketing exercise. Apart from festivals like Diwali, Holi, Christmas, Eid and others, a whole new calendar of celebration events has been created to promote the giving of gifts:

Mother's Day, Father's day, Teacher's day, Valentine's Day and so on.

What do you give to people — friends, relatives, spouses, children, parents, employees, clients, well-wishers who more or less have everything or at least everything that you could afford to give them as a gift?

Another box of chocolates? Another bottle of scent or after-shave? Another shirt or a kurta? Another another?

Thinking of unusual and pleasing presents which are also affordable is a full-time job. Like wedding planners and planners of theme parties, gift planners who select and make up gift packages for you to give on occasions like marriages and corporate events—are doing increasingly good business.

However, the best planned gifts of mine and thine often go awry. How often particularly during the so called 'festive seasons' when gift giving and gift receiving reach epidemic proportions—have you had the embarrassing experience of getting back as a present a gift you yourself had given to someone who, having no use for it and not realising that it was you who had gifted it to begin with had unwittingly returned your gift to you? Like musical chairs, musical gifts only too often go round and round.

This is true not only at the individual but also at the level of the state. Diplomatic protocol also demands exchange of gifts according to culture and tradition. Such tokens like the numbers of crudely made miniature Taj Mahals that India has presented to the reluctant hands of foreign guests must fill entire godowns across the globe.

How much more preferable a living tree than a crude model of the Taj possibly made of marble from an unauthorised quarry? If the giving of tree sapling were to be institutionalised, it could lead to another green revolution in the lucrative and growing field of gift giving, with a new, eco-friendly industry taking root in plantations and nurseries specially created for the purpose. People could feel good looking at the certificate that trees had been planted in their names. Next birthday, give someone you love a tree and one day the two of you might sit under the shade of the same tree

SubQuestion No : 24

Q.24 What inference can be drawn from the passage?

- Ans
- ☒ 1. Crude models of the Taj Mahal are exquisite gifts for foreign dignitaries.
 - ☒ 2. Gifts given by organisations as tokens are completely useless.
 - ☒ 3. Gifts received from friends and family should not be passed on.
 - ☒ 4. Tree saplings could become a revolutionary gifting idea.

Question ID : 65497838951

Status : Answered

Chosen Option : 4

Comprehension:

Read the given passage and answer the questions that follow.

The other day I received an unusual and very gratifying gift: I was given a tree or rather, I was given half-a-dozen trees which would be planted on my behalf. I had been invited to give a talk at an organisation. After such events the speaker is usually given a token gift. Sometimes the gift is that of a pen, or something useful. Often, the gift is in the form of a plaque or a similar token. However well-meant, such gifts are destined to gather dust in forgotten corners. Which is why I was agreeably surprised to be given a scroll which attested that, on a designated plantation established for the purpose, trees would be added in my name as part of the 'green' movement sponsored by the organisation.

In an increasingly environment conscious world, the gift of a living tree or plant makes for a perfect present. The tradition of giving and receiving gifts has increasingly become a highly evolved marketing exercise. Apart from festivals like Diwali, Holi, Christmas, Eid and others, a whole new calendar of celebration events has been created to promote the giving of gifts: Mother's Day, Father's day, Teacher's day, Valentine's Day and so on.

What do you give to people — friends, relatives, spouses, children, parents, employees, clients, well-wishers who more or less have everything or at least everything that you could afford to give them as a gift?

Another box of chocolates? Another bottle of scent or after-shave? Another shirt or a kurta? Another another?

Thinking of unusual and pleasing presents which are also affordable is a full-time job. Like wedding planners and planners of theme parties, gift planners who select and make up gift packages for you to give on occasions like marriages and corporate events—are doing increasingly good business.

However, the best planned gifts of mine and thine often go awry. How often particularly during the so called 'festive seasons' when gift giving and gift receiving reach epidemic proportions—have you had the embarrassing experience of getting back as a present a gift you yourself had given to someone who, having no use for it and not realising that it was you who had gifted it to begin with had unwittingly returned your gift to you? Like musical chairs, musical gifts only too often go round and round.

This is true not only at the individual but also at the level of the state. Diplomatic protocol also demands exchange of gifts according to culture and tradition. Such tokens like the numbers of crudely made miniature Taj Mahals that India has presented to the reluctant hands of foreign guests must fill entire godowns across the globe.

How much more preferable a living tree than a crude model of the Taj possibly made of marble from an unauthorised quarry? If the giving of tree sapling were to be institutionalised, it could lead to another green revolution in the lucrative and growing field of gift giving, with a new, eco-friendly industry taking root in plantations and nurseries specially created for the purpose. People could feel good looking at the certificate that trees had been planted in their names. Next birthday, give someone you love a tree and one day the two of you might sit under the shade of the same tree

SubQuestion No : 25

Q.25 What is customarily gifted to a guest speaker by organisations?

- Ans
- ☒ 1. Chocolates
 - ☒ 2. Shirt
 - ☒ 3. Plaque
 - ☒ 4. Perfume

Question ID : 65497838947

Status : Answered

Chosen Option : 1

Section : Quantitative Aptitude

Q.1 यदि $a + b + c = 1$, $ab + bc + ca = -8$ और $a^3 + b^3 + c^3 = -11$ हैं, तो $\frac{a}{bc} + \frac{b}{ac} + \frac{c}{ab}$ का मान ज्ञात करें।

- Ans
- ☒ 1. $\frac{4}{3}$
 - ☒ 2. $\frac{-5}{4}$
 - ☒ 3. $\frac{-17}{12}$
 - ☒ 4. $\frac{7}{12}$

Question ID : 65497838466

Status : Answered

Chosen Option : 3

Q.2 एक पुरानी कार को 25% के लाभ पर बेचा गया। यदि इसे ₹26,875 कम में बेचा गया होता, तो 12% का लाभ प्राप्त होता। कार का क्रय मूल्य (₹ में, निकटतम पूर्णांक तक) कितना है?

- Ans**
- ☒ 1. 2,66,730
 - ☒ 2. 2,46,731
 - ☒ 3. 2,06,731
 - ☒ 4. 2,16,730

Question ID : 65497839167

Status : Answered

Chosen Option : 3

Q.3 एक बेड जिसका अंकित मूल्य ₹37,000 है, पर एक स्टोर द्वारा 27% और 18% की दो क्रमिक छूटें दी जाती हैं। बेड का अंतिम विक्रय मूल्य (₹ में, निकटतम पूर्णांक तक) ज्ञात कीजिए।

- Ans**
- ☒ 1. 30,340
 - ☒ 2. 27,010
 - ☒ 3. 28,675
 - ☒ 4. 22,148

Question ID : 65497839162

Status : Answered

Chosen Option : 4

Q.4 चार अंकों की वह छोटी से छोटी संख्या ज्ञात कीजिए, जो बिना किसी अंक के दोहराव के अंकों 0, 2, 3, 4, 6, 8 का उपयोग करके बनाई गई हो और 8 से विभाज्य हो।

- Ans**
- ☒ 1. 2408
 - ☒ 2. 2034
 - ☒ 3. 3024
 - ☒ 4. 2048

Question ID : 65497838953

Status : Answered

Chosen Option : 4

Q.5 एक निश्चित धनराशि 7.5% वार्षिक साधारण ब्याज की दर से 6 वर्ष में बढ़कर ₹7,830 हो जाती है। धनराशि ज्ञात कीजिए।

- Ans**
- ☒ 1. ₹5,400
 - ☒ 2. ₹6,300
 - ☒ 3. ₹4,800
 - ☒ 4. ₹4,500

Question ID : 65497838968

Status : Answered

Chosen Option : 1

Q.6 एक निश्चित राशि को A, B और C के बीच इस प्रकार विभाजित किया जाता है कि A और B के हिस्सों का अनुपात 3 : 4 है और C और B के हिस्सों का अनुपात 9 : 5 है। यदि A और C के हिस्सों के बीच का अंतर ₹462 है, तो राशि (₹ में) ज्ञात करें।

- Ans
- ☒ 1. 1,540
 - ☒ 2. 1,500
 - ☒ 3. 1,562
 - ☒ 4. 1,520

Question ID : 65497838455

Status : Not Attempted and Marked For Review

Chosen Option : --

Q.7 एक रेलगाड़ी एक 1000 m लंबे पुल को 52 सेकंड में और दूसरे 700 m लंबे पुल को 40 सेकंड में पार करती है। यह मानते हुए कि रेलगाड़ी एक समान चाल से चल रही है, रेलगाड़ी की चाल (km/h में) ज्ञात कीजिए।

- Ans
- ☒ 1. 102
 - ☒ 2. 90
 - ☒ 3. 108
 - ☒ 4. 84

Question ID : 65497838972

Status : Answered

Chosen Option : 2

Q.8 P और उसके सात मित्रों के पास मौजूद औसत धनराशि ₹450 है। यदि P के पास उसके सात मित्रों के पास मौजूद औसत धनराशि से ₹120 अधिक है, तो P के पास मौजूद धनराशि (₹ में) कितनी है?

- Ans
- ☒ 1. 420
 - ☒ 2. 500
 - ☒ 3. 570
 - ☒ 4. 555

Question ID : 65497838956

Status : Not Answered

Chosen Option : --

Q.9 80 विद्यार्थियों की एक कक्षा में, 40% लड़के हैं और शेष लड़कियां हैं। गणित में सभी विद्यार्थियों के औसत अंक 72 हैं। यदि लड़कियों के औसत अंक 66 हैं, तो लड़कों के औसत अंक कितने हैं?

- Ans
- ☒ 1. 80
 - ☒ 2. 81
 - ☒ 3. 84
 - ☒ 4. 78

Question ID : 65497838547

Status : Answered

Chosen Option : 4

Q.10 34581 के निकटतम वह संख्या ज्ञात कीजिए, जो 9 से विभाज्य है।

- Ans
- ☐ 1. 34580
 - ☐ 2. 34582
 - ☒ 3. 34578
 - ☐ 4. 34589

Question ID : 65497838952
Status : Answered
Chosen Option : 3

Q.11 14 cm लंबाई और 7 cm चौड़ाई वाले एक आयत को इसकी छोटी भुजा के अनुदिश मोड़कर एक बेलन बनाया जाता है। इस प्रकार निर्मित बेलन का आयतन (cm^3 में) ज्ञात कीजिए। ($\pi = \frac{22}{7}$ मान लें)

- Ans
- ☒ 1. 4312
 - ☐ 2. 3234
 - ☐ 3. 2156
 - ☐ 4. 5390

Question ID : 65497839178
Status : Not Answered
Chosen Option : --

Q.12 एक कक्षा के 29 छात्रों और उनके शिक्षक की औसत आयु 14 वर्ष है। शिक्षक की आयु को गणना में शामिल नहीं करने पर, छात्रों की औसत आयु 1 वर्ष कम हो जाती है। शिक्षक की आयु (वर्ष में) कितनी है?

- Ans
- ☐ 1. 41
 - ☒ 2. 43
 - ☐ 3. 42
 - ☐ 4. 45

Question ID : 65497839159
Status : Answered
Chosen Option : 2

Q.13 एक व्यक्ति की बचत उसके व्यय के 20% के बराबर है। यदि उसकी आय में 25% की वृद्धि होती है और व्यय में 18% की वृद्धि होती है, तो उसकी बचत में कितनी वृद्धि होगी?

- Ans
- ☐ 1. 7%
 - ☐ 2. 50%
 - ☒ 3. 60%
 - ☐ 4. 37.5%

Question ID : 65497838451
Status : Answered
Chosen Option : 3

Q.14 $\frac{\sqrt{5}-\sqrt{3}}{\sqrt{5}+\sqrt{3}} - \frac{\sqrt{5}+\sqrt{3}}{\sqrt{5}-\sqrt{3}}$ को सरल कीजिए।

- Ans
- ☒ 1. $-\frac{17}{4}$
 - ☒ 2. $-2\sqrt{15}$
 - ☒ 3. $2\sqrt{15}$
 - ☒ 4. -1

Question ID : 65497838975

Status : Not Answered

Chosen Option : --

Q.15 एक खिलौने को x% की दो कमिक छूट देने के बाद ₹580.80 में बेचा जाता है। यदि वस्तु का अंकित मूल्य ₹750 है, तो x का मान क्या है?

- Ans
- ☒ 1. 12
 - ☒ 2. 12.5
 - ☒ 3. 10.5
 - ☒ 4. 9

Question ID : 65497838447

Status : Not Answered

Chosen Option : --

Q.16 एक आदमी, ₹135 में 18 संतरे खरीदता है और ₹90 में 11 की दर से बेचता है। ₹150 का लाभ प्राप्त करने के लिए उसे कितने संतरे बेचने होंगे?

- Ans
- ☒ 1. 198
 - ☒ 2. 220
 - ☒ 3. 242
 - ☒ 4. 240

Question ID : 65497838555

Status : Not Answered

Chosen Option : --

Q.17 ₹12,400 की धनराशि पर 6% वार्षिक दर से 15 माह की अवधि में अर्जित साधारण ब्याज (₹ में) ज्ञात कीजिए।

- Ans
- ☒ 1. 750
 - ☒ 2. 1,020
 - ☒ 3. 930
 - ☒ 4. 840

Question ID : 65497838967

Status : Answered

Chosen Option : 3

Q.18 यदि $5A = 6B = 9C$ है, तो $A : B : C$ क्या होगा?

- Ans ☒ 1. 18 : 15 : 10
☒ 2. 5 : 6 : 9
☒ 3. 15 : 10 : 18
☒ 4. 10 : 18 : 15

Question ID : 65497839170
 Status : Answered
 Chosen Option : 1

Q.19 एक आदमी अपने वेतन से ₹78,000 प्रति माह खर्च करता है। वह अपने वेतन का 40% बचाता है। पूरे वर्ष के लिए उसका वेतन (₹ में) ज्ञात कीजिए।

- Ans ☒ 1. 15,60,000
☒ 2. 6,50,000
☒ 3. 5,20,000
☒ 4. 13,00,000

Question ID : 65497838960
 Status : Answered
 Chosen Option : 4

Q.20 एक म्यूजिक क्लब में 35 लड़कियाँ और 15 लड़के हैं। 10 नई लड़कियाँ क्लब में शामिल हुईं। अब क्लब में लड़कियों का प्रतिशत कितना है?

- Ans ☒ 1. 80%
☒ 2. 65%
☒ 3. 75%
☒ 4. 60%

Question ID : 65497838959
 Status : Answered
 Chosen Option : 3

Q.21 यदि एक साथ काम करने वाले 9 पुरुष और 6 महिलाएँ एक साथ काम करने वाले 1 पुरुष और 2 महिलाओं की तुलना में प्रति घंटे छह गुना अधिक काम कर सकते हैं, तो दिए गए समय में 1 पुरुष और 1 महिला द्वारा किए गए कार्य का अनुपात क्या होगा?

- Ans ☒ 1. 2 : 1
☒ 2. 2 : 3
☒ 3. 1 : 3
☒ 4. 1 : 4

Question ID : 65497839175
 Status : Answered
 Chosen Option : 1

Q.22 ₹8,000 पर 2 वर्ष के लिए वार्षिक 15% की दर से चक्रवृद्धि ब्याज में कितना अंतर है, जब ब्याज वार्षिक रूप से चक्रवृद्धि होता है और जब 8-मासिक रूप से चक्रवृद्धि होता है?

- Ans
- ☒ 1. ₹72
 - ☒ 2. ₹75
 - ☒ 3. ₹68
 - ☒ 4. ₹70

Question ID : 65497838459

Status : Not Answered

Chosen Option : --

Q.23 एक दुकानदार ने ₹2.50 प्रति अंडे की दर से 56 दर्जन अंडे खरीदे। परिवहन के दौरान 120 अंडे टूट गए। उसने शेष अंडे ₹2.75 प्रत्येक की दर से बेच दिए। उसका प्रतिशत लाभ या हानि ज्ञात कीजिए।

- Ans
- ☒ 1. $8\frac{16}{19}\%$ की हानि
 - ☒ 2. $8\frac{16}{19}\%$ का लाभ
 - ☒ 3. $9\frac{9}{14}\%$ की हानि
 - ☒ 4. $9\frac{9}{14}\%$ का लाभ

Question ID : 65497838964

Status : Not Answered

Chosen Option : --

Q.24 A, B और C एक निश्चित कार्य को क्रमशः 12, 15 और 20 दिनों में पूरा कर सकते हैं। A और B मिलकर कार्य शुरू करते हैं और B, 4 दिन बाद कार्य छोड़ देता है। A और C मिलकर शेष कार्य को _____ दिनों में पूरा करेंगे।

- Ans
- ☒ 1. चार
 - ☒ 2. तीन
 - ☒ 3. पांच
 - ☒ 4. छह

Question ID : 65497838460

Status : Answered

Chosen Option : 2

Q.25 एक रेलगाड़ी, एक सीधे रेलमार्ग पर 86 km/h की चाल से चल रही है तथा एक छोटी कार उस रेलमार्ग के समानांतर सड़क पर 40 km/h की चाल से चल रही है। यदि रेलगाड़ी की लंबाई 490 m है और वे एक दूसरे की ओर चल रही हैं, तो रेलगाड़ी द्वारा कार को पूर्णतया पार करने में कितना समय (s में) लगेगा?

- Ans
- ☒ 1. 21
 - ☒ 2. 15
 - ☒ 3. 18
 - ☒ 4. 14

Question ID : 65497838973

Status : Not Answered

Chosen Option : --

Q.1 सितंबर 2021 में, निम्न में से किस बैंक ने पूरे देश में अपने गैर-जीवन बीमा उत्पादों के वितरण के लिए बजाज आलियांज जनरल इश्योरेंस (Bajaj Allianz General Insurance) के साथ साझेदारी की है?

- Ans
- ☒ 1. भारतीय स्टेट बैंक (SBI)
 - ☒ 2. भारतीय डाक भुगतान बैंक (India Post Payments Bank)
 - ☒ 3. आईसीआईसीआई बैंक (ICICI Bank)
 - ☒ 4. एचडीएफसी बैंक (HDFC Bank)

Question ID : 65497838471

Status : Answered

Chosen Option : 1

Q.2 नीचे तीन राज्यों के नाम दिए गए हैं:

- (a) पंजाब,
- (b) हरियाणा,
- (c) ओडिशा

दिए गए किस राज्य में चावल एक निर्वाह फसल है?

- Ans
- ☒ 1. केवल (a)
 - ☒ 2. (a) और (c)
 - ☒ 3. केवल (c)
 - ☒ 4. (a) और (b)

Question ID : 65497838985

Status : Answered

Chosen Option : 4

Q.3 निम्नलिखित में से कौन सा भारत में एक सांविधिक निकाय नहीं है?

- Ans
- ☒ 1. संघ लोक सेवा आयोग
 - ☒ 2. राष्ट्रीय अल्पसंख्यक आयोग
 - ☒ 3. राष्ट्रीय मानवाधिकार आयोग
 - ☒ 4. भारतीय प्रतिभूति और विनियम बोर्ड

Question ID : 65497839199

Status : Answered

Chosen Option : 4

Q.4 निम्न में से किसकी विमा बलाघूर्ण की विमा के समान है?

- Ans
- ☒ 1. कोणीय संवेग
 - ☒ 2. बल
 - ☒ 3. ऊर्जा
 - ☒ 4. शक्ति

Question ID : 65497838984

Status : Answered

Chosen Option : 1

Q.5 सांख्यिकी और कार्यक्रम कार्यान्वयन मंत्रालय द्वारा प्रदान किए गए आंकड़ों के अनुसार वित्तीय वर्ष 2021-22 की पहली तिमाही के दौरान सकल घरेलू उत्पाद में कितने प्रतिशत की वृद्धि दर्ज की गई है?

- Ans
- ☒ 1. 20% से थोड़ी कम
 - ☒ 2. 15% से थोड़ी अधिक
 - ☒ 3. 20% से थोड़ी अधिक
 - ☒ 4. 15% से थोड़ी कम

Question ID : 65497838979

Status : Not Answered

Chosen Option : --

Q.6 पौधों में प्रजनन की तीन प्रक्रियाएं निम्नलिखित हैं:

- (a) वानस्पतिक,
- (b) लैंगिक,
- (c) अलैंगिक

इनमें से कौन सी शैवाल द्वारा अपनाई जाती है?

- Ans
- ☒ 1. (a) और (c)
 - ☒ 2. केवल (a)
 - ☒ 3. केवल (b)
 - ☒ 4. (a), (b) और (c)

Question ID : 65497838982

Status : Marked For Review

Chosen Option : 4

Q.7 _____ सरकार की 'कृषक असिस्टेंस फॉर लाइवलीहुड एंड इनकम ऑगमेंटेशन - कालिया ' (Krushak Assistance for Livelihood and Income Augmentation - KALIA) योजना का उद्देश्य, राज्य में कृषि समृद्धि में तेजी लाना और गरीबी को कम करना है।

- Ans
- ☒ 1. उड़ीसा
 - ☒ 2. असम
 - ☒ 3. बिहार
 - ☒ 4. पश्चिम बंगाल

Question ID : 65497839001

Status : Answered

Chosen Option : 4

Q.8 सितंबर 2021 में, प्रधान मंत्री नरेंद्र मोदी ने क्वाड (QUAD) शिखर सम्मेलन में भाग लेने के लिए व्यक्तिगत रूप से किस देश का दौरा किया था?

- Ans
- ☒ 1. जापान
 - ☒ 2. अमेरिका
 - ☒ 3. कनाडा
 - ☒ 4. ऑस्ट्रेलिया

Question ID : 65497838282

Status : Answered

Chosen Option : 2

Q.9 लीथियम का परमाणु क्रमांक कितना होता है?

- Ans
- ☐ 1. 11
 - ☐ 2. 15
 - ☐ 3. 7
 - ☒ 4. 3

Question ID : 65497839187

Status : Answered

Chosen Option : 4

Q.10 A Burning (अ बर्निंग)' उपन्यास के लेखक कौन हैं?

- Ans
- ☐ 1. झुम्पा लाहिड़ी
 - ☐ 2. किरण देसाई
 - ☒ 3. मेघा मजूमदार
 - ☐ 4. अमिताभ घोष

Question ID : 65497838993

Status : Answered

Chosen Option : 2

Q.11 निम्नलिखित में से कौन सा स्मारक तमिलनाडु राज्य में स्थित नहीं है?

- Ans
- ☒ 1. गोल गुंबज
 - ☐ 2. बृहदीश्वर मन्दिर
 - ☐ 3. महाबलीपुरम रथ
 - ☐ 4. विवेकानन्द रॉक मेमोरियल

Question ID : 65497839181

Status : Answered

Chosen Option : 1

Q.12 निम्नलिखित जानकारी के आधार पर फसल की पहचान करें। इसे गोल्डन फाइबर के नाम से जाना जाता है। यह ऐसे बाढ़ के मैदानों में अच्छी तरह से शुष्क उपजाऊ मिट्टी पर अच्छी तरह से उगती है, जहां प्रति वर्ष मिट्टी का नवीनीकरण होता है।

- Ans
- ☐ 1. कपास
 - ☐ 2. कॉफी
 - ☐ 3. गेहूं
 - ☒ 4. पटसन

Question ID : 65497839191

Status : Answered

Chosen Option : 1

Q.13 मिजोरम में _____ की पहाड़ियां पटकाई पर्वत श्रृंखला का हिस्सा हैं।

- Ans
- ☐ 1. शिवालिक
 - ☐ 2. पलानी
 - ☐ 3. कार्डैमम
 - ☒ 4. लुशाई

Question ID : 65497838476

Status : Answered

Chosen Option : 2

Q.14 बैंकिंग के संदर्भ में, NEFT में F का पूर्ण रूप क्या है?

- Ans
- ☒ 1. Financial (फाइनेंशियल)
 - ☒ 2. Flexible (फ्लेक्सिबल)
 - ☒ 3. Fiscal (फिस्कल)
 - ☒ 4. Funds (फंड्स)

Question ID : 65497838980

Status : Answered

Chosen Option : 4

Q.15 ईरानी शासक डेरियस ने _____ में उत्तर-पश्चिम भारत में प्रवेश किया और पंजाब, सिंधु के पश्चिमी भाग और सिंध पर कब्ज़ा कर लिया।

- Ans
- ☒ 1. 261 ईसा पूर्व
 - ☒ 2. 563 ईसा पूर्व
 - ☒ 3. 516 ईसा पूर्व
 - ☒ 4. 712 ईस्वी

Question ID : 65497838481

Status : Not Answered

Chosen Option : --

Q.16 2021 में टोक्यो में आयोजित पैरालंपिक खेलों में भारत ने कितने रजत पदक जीते?

- Ans
- ☒ 1. 9
 - ☒ 2. 8
 - ☒ 3. 6
 - ☒ 4. 7

Question ID : 65497839303

Status : Answered

Chosen Option : 4

Q.17 अगस्त 2021 में, मीराबाई चानू को _____ का ब्रांड एंबेसडर बनाया गया था।

- Ans
- ☒ 1. नाइकी
 - ☒ 2. इमामी
 - ☒ 3. एमवे इंडिया
 - ☒ 4. प्रियागोल्ड

Question ID : 65497838482

Status : Answered

Chosen Option : 3

Q.18 निम्नलिखित में से कौन सा शब्द स्थापत्य शैली से संबंधित है?

- Ans
- ☒ 1. विष्टि
 - ☒ 2. श्रेणी
 - ☒ 3. आदिमाइ
 - ☒ 4. वेसर

Question ID : 65497839193

Status : Answered

Chosen Option : 4

Q.19 'प्रयाग प्रशस्ति' की रचना हरिषेण द्वारा _____ में की गई थी।

- Ans ☒ 1. संस्कृत
☒ 2. पाली
☒ 3. मगधी
☒ 4. ब्रज भाषा

Question ID : 65497838988
 Status : Answered
 Chosen Option : 2

Q.20 मालवा प्रदेश, निम्नलिखित में से कौन सी नदियों के बीच ऊँचे पठार पर स्थित था?

- Ans ☒ 1. नर्मदा और ताप्ती
☒ 2. कृष्णा और कावेरी
☒ 3. महानदी और बैतरणी
☒ 4. गोदावरी और श्रावस्ती

Question ID : 65497838990
 Status : Not Answered
 Chosen Option : --

Q.21 निम्न में से कौन सा राज्य, राज्य पंजीकरण अधिनियम के अंतर्गत स्थापित वैधानिक पूर्वी क्षेत्रीय परिषद के अंतर्गत नहीं आता है?

- Ans ☒ 1. बिहार
☒ 2. झारखण्ड
☒ 3. पश्चिम बंगाल
☒ 4. छत्तीसगढ़

Question ID : 65497838994
 Status : Answered
 Chosen Option : 1

Q.22 निम्नलिखित में से किसे सितंबर 2021 में भारतीय वायु सेना (IAF) अध्यक्ष के रूप में नियुक्त किया गया था?

- Ans ☒ 1. आर.के.एस. भदौरिया
☒ 2. मनोज नरवणे
☒ 3. वी.आर. चौधरी
☒ 4. करमबीर सिंह

Question ID : 65497838490
 Status : Answered
 Chosen Option : 1

Q.23 मीराबाई चानू ने 2021 में टोक्यो में आयोजित ग्रीष्मकालीन ओलंपिक में अपना रजत पदक हासिल करने वाली जीत में कुल कितना भार (kg में स्लैच प्लस जर्क) उठाया था?

- Ans ☒ 1. 200
☒ 2. 202
☒ 3. 198
☒ 4. 196

Question ID : 65497838998
 Status : Answered
 Chosen Option : 2

Q.24 भगवान गोमटेश्वर की 18 मीटर की मूर्ति _____ में स्थित है।

- Ans
- ☒ 1. सुचिन्द्रम
 - ☒ 2. तंजावुर
 - ☒ 3. तिरुनेलवेली
 - ☒ 4. श्रवणबेलगोला

Question ID : 65497838978

Status : Answered

Chosen Option : 4

Q.25 जुलाई 2021 में शुरू किए गए NIPUN भारत कार्यक्रम (शिक्षा मंत्रालय) के संदर्भ में, NIPUN में 'P' का पूर्ण रूप क्या है?

- Ans
- ☒ 1. Progressive (प्रोग्रेसिव)
 - ☒ 2. Proficiency (प्रोफिशिएंसी)
 - ☒ 3. Promotion (प्रमोशन)
 - ☒ 4. Productivity (प्रोडक्टिविटी)

Question ID : 65497839203

Status : Answered

Chosen Option : 1