

Roll Number	
Candidate Name	
Venue Name	
Exam Date	16/03/2022
Exam Time	9:00 AM - 10:00 AM
Subject	Selection Post Matriculation Level

## Section : General Intelligence

Q.1 एक निश्चित कूट भाषा में, 'PUPILS' को 'KFKROH' लिखा जाता है। उसी कूट भाषा में 'EQUAL' को किस प्रकार लिखा जाएगा?

- Ans ☒ 1. VJGZP  
☒ 2. VJFZO  
☒ 3. VKFZP  
☒ 4. WJFBO

Question ID : 65497841517

Status : Answered

Chosen Option : 2

Q.2 सात मित्र अरविंद, भानु, चरण, दिलीप, प्रेम, कौशल और गोपाल एक वृत्ताकार भोजन-मेज के परितः केंद्र की ओर मुख करके बैठे हैं। कौशल, गोपाल के दाईं ओर दूसरे स्थान पर बैठा है। भानु, कौशल के बगल में बैठा है, लेकिन चरण के बगल में नहीं बैठा है। प्रेम चरण के बगल में बैठा और गोपाल के दाईं ओर चौथे स्थान पर बैठा है। दिलीप, प्रेम और अरविंद के बीच में बैठा है। गोपाल के बाईं ओर चौथे स्थान पर कौन बैठा है?

- Ans ☒ 1. दिलीप  
☒ 2. चरण  
☒ 3. प्रेम  
☒ 4. भानु

Question ID : 65497841829

Status : Marked For Review

Chosen Option : 2

Q.3 अक्षरों के उस संयोजन का चयन कीजिए, जिसे दी गई श्रृंखला के रिक्त स्थानों में क्रमिक रूप से रखने पर श्रृंखला पूर्ण हो जाएगी।

TK\_TKT\_P\_K\_KPTK\_K\_TK

- Ans ☒ 1. P, T, T, K, P, T  
☒ 2. P, T, K, P, T, K  
☒ 3. P, K, T, T, T, P  
☒ 4. P, K, T, P, K, T

Question ID : 65497841820

Status : Answered

Chosen Option : 3

# Test Prime

**ALL EXAMS,  
ONE SUBSCRIPTION**



**70,000+**  
Mock Tests



**Personalised  
Report Card**



**Unlimited  
Re-Attempt**



**600+**  
Exam Covered



**Previous Year  
Papers**

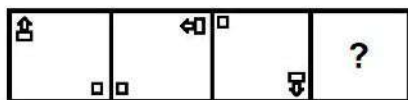


**500%  
Refund**




**ATTEMPT FREE MOCK NOW**

Q.4 दिए गए विकल्पों में से उस आकृति का चयन करें जो निम्नलिखित श्रृंखला में प्रश्न चिह्न (?) का स्थान ले सके।

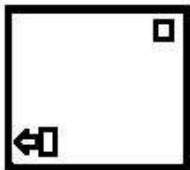


Ans

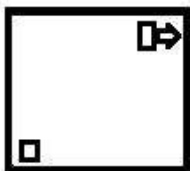
✗ 1.




✗ 2.



✗ 3.



✓ 4.



Question ID : 65497841431

Status : Answered

Chosen Option : 4

Q.5 दिए गए संयोजन की उस स्थिति के सही दर्पण प्रतिबिंब का चयन कीजिए, जब दर्पण को दर्शाई गई 'PQ' स्थिति पर रखा जाता है।



Ans

✗ 1.



✗ 2.



✗ 3.



✓ 4.



Question ID : 65497841637

Status : Answered

Chosen Option : 4

Q.6 उस विकल्प का चयन कीजिए, जिसका तीसरे शब्द से वही संबंध है, जो दूसरे शब्द का पहले शब्द से है।

जटिल : सरल :: डरपोक : ?

- Ans
- ☒ 1. शर्मीला
  - ☒ 2. ईर्ष्यालु
  - ☒ 3. साहसी
  - ☒ 4. घमंडी

Question ID : 65497841617

Status : Answered

Chosen Option : 3

Q.7 किन दो चिह्नों को आपस में बदलने पर दिया गया समीकरण संतुलित हो जाएगा?

$$48 \div 12 + 42 - 24 \times 3 = 34$$

- Ans
- ☒ 1. - और +
  - ☒ 2. + और ×
  - ☒ 3. + और +
  - ☒ 4. + और -

Question ID : 65497841430

Status : Answered

Chosen Option : 1

Q.8 P, M का पिता है। T, V का पुत्र है। Z, M की पत्नी है। Z का पिता Q, V का पति है। T का Z से क्या संबंध है?

- Ans
- ☒ 1. चाचा
  - ☒ 2. भाई
  - ☒ 3. पुत्र
  - ☒ 4. भांजा

Question ID : 65497841525

Status : Answered

Chosen Option : 2

Q.9 उस विकल्प का चयन कीजिए, जिसका तीसरे पद से वही संबंध है, जो दूसरे पद का पहले पद से है।

GUARD : TFZIW :: PLOTS : ?

- Ans
- ☒ 1. KOMFH
  - ☒ 2. MNLGH
  - ☒ 3. KOMGE
  - ☒ 4. KOLGH

Question ID : 65497841414

Status : Answered

Chosen Option : 4

Q.10 K, C की मां है। M, P की बहन है। U, P की मां है। G, K और P का पिता है। U का C से क्या संबंध है?

- Ans
- ☒ 1. मां
  - ☒ 2. दादा
  - ☒ 3. चाची
  - ☒ 4. दादी

Question ID : 65497841729

Status : Answered

Chosen Option : 4

Q.11 उस विकल्प का चयन कीजिए, जिसका तीसरी संख्या से वही संबंध है, जो दूसरी संख्या का पहली संख्या से है और छठी संख्या का पांचवीं संख्या से है।

4 : 32 :: 7 : ? :: 12 : 192

- Ans
- ☐ 1. 93
  - ☐ 2. 98
  - ☐ 3. 105
  - ☒ 4. 77

Question ID : 65497841531

Status : Answered

Chosen Option : 4

Q.12 एक निश्चित कूट भाषा में, 'play well' को 'Se Te' लिखा जाता है, 'do well' को 'Te Ge' लिखा जाता है, और 'do it' को 'Ge Fe' लिखा जाता है। उसी कूट भाषा में 'do play' को किस प्रकार लिखा जाएगा?

- Ans
- ☐ 1. Fe Te
  - ☐ 2. Ge Fe
  - ☐ 3. Te Ge
  - ☒ 4. Ge Se

Question ID : 65497841417

Status : Answered

Chosen Option : 4

Q.13 एक निश्चित कूट भाषा में, 'SPAIN' को '14-9-1-16-19' लिखा जाता है। उसी कूट भाषा में 'MADRAS' को किस प्रकार लिखा जाएगा?

- Ans
- ☒ 1. 19-1-18-4-1-13
  - ☐ 2. 19-1-17-4-1-14
  - ☐ 3. 19-1-18-6-2-13
  - ☐ 4. 18-1-19-4-1-12

Question ID : 65497841520

Status : Answered

Chosen Option : 1

Q.14 दिए गए विकल्पों में से उस संख्या का चयन कीजिए, जो निम्नलिखित श्रेणी में प्रश्न चिह्न (?) के स्थान पर आ सकती है।

4, 22, 47, 83, 132, 198, 283, ?

- Ans
- ☐ 1. 419
  - ☐ 2. 319
  - ☒ 3. 391
  - ☐ 4. 491

Question ID : 65497841836

Status : Answered

Chosen Option : 3

Q.15 उस विकल्प का चयन करें, जिसमें, दी गई आकृति अंतर्निहित है (आकृति को घुमाने की अनुमति नहीं है)



Ans

✗ 1.



✗ 2.



✓ 3.



✗ 4.



Question ID : 65497841534

Status : Answered

Chosen Option : 3

Q.16 एक निश्चित कूट भाषा में, 'ROCKET' को '36' और 'MASON' को '25' लिखा जाता है। उसी कूट भाषा में 'SERVITUDE' को किस प्रकार लिखा जाएगा?

Ans

✗ 1. 48

✗ 2. 56

✓ 3. 81

✗ 4. 64

Question ID : 65497841419

Status : Answered

Chosen Option : 3

Q.17 उस सही विकल्प का चयन कीजिए, जो निम्नलिखित शब्दों को तार्किक और सार्थक क्रम में दर्शाता है।

1. भारत
2. उड़ीसा
3. विश्व
4. ब्रह्मांड
5. एशिया

Ans

✗ 1. 2, 1, 5, 4, 3

✗ 2. 1, 2, 5, 3, 4

✗ 3. 2, 1, 3, 5, 4

✓ 4. 2, 1, 5, 3, 4

Question ID : 65497841410

Status : Answered

Chosen Option : 4

Q.18 दिए गए कथनों और निष्कर्षों को ध्यानपूर्वक पढ़ें। कथनों में दी गई जानकारी को सत्य मानें, भले ही वह सामान्यतः ज्ञात तथ्यों से भिन्न प्रतीत होती हो, और तय कीजिए कि दिए गए निष्कर्षों में से कौन से कथनों का तार्किक रूप से पालन करते हैं।

कथन:  
सभी तोते कौवे हैं।  
सभी कौवे चील हैं।

निष्कर्ष:  
I. सभी तोते चील हैं।  
II. कुछ कौवे तोते हैं।

- Ans ☒ 1. केवल निष्कर्ष II पालन करता है।  
☒ 2. निष्कर्ष I और II दोनों पालन करते हैं।  
☒ 3. केवल निष्कर्ष I पालन करता है।  
☒ 4. या तो निष्कर्ष I या II पालन करता है।

Question ID : 65497841425

Status : Answered

Chosen Option : 2

Q.19 दिए गए विकल्पों में से उस संख्या का चयन कीजिए, जो निम्नलिखित श्रेणी में प्रश्न चिह्न (?) के स्थान पर आ सकती है।

20, 25, 35, 50, 70, ?

- Ans ☒ 1. 100  
☒ 2. 85  
☒ 3. 90  
☒ 4. 95

Question ID : 65497841427

Status : Answered

Chosen Option : 4

Q.20 एक निश्चित कूट भाषा में, 'POISED' को 'CDRHNO' लिखा जाता है। उसी कूट भाषा में 'LEASED' को किस प्रकार लिखा जाएगा?

- Ans ☒ 1. CDRZEK  
☒ 2. CDRZDK  
☒ 3. BDRYDK  
☒ 4. CDSZEK

Question ID : 65497841721

Status : Answered

Chosen Option : 2

Q.21 उस सही विकल्प का चयन कीजिए, जो दिए गए शब्दों के उस क्रम को दर्शाता है, जिस क्रम में वे अंग्रेजी शब्दकोश में मौजूद होते हैं।

1. Factual
2. Facade
3. Facelift
4. Fantasy
5. Fenugreek

- Ans ☒ 1. 5, 3, 1, 4, 2  
☒ 2. 2, 3, 4, 1, 5  
☒ 3. 2, 3, 1, 4, 5  
☒ 4. 2, 1, 3, 4, 5

Question ID : 65497841615

Status : Answered

Chosen Option : 3

Q.22 उस विकल्प का चयन कीजिए, जिसका तीसरे पद से वही संबंध है, जो दूसरे पद का पहले पद से है।

TEMPER : REPMET :: EMOTION : ?

- Ans ☒ 1. NOITOME  
☒ 2. NTOIOME  
☒ 3. ITNOOEM  
☒ 4. NOITMEO

Question ID : 65497841511

Status : Answered

Chosen Option : 1

Q.23 अदिति, विनीता, साक्षी, योग्या, सुकृति और रोहिणी एक वृत्ताकार मेज के परितः मेज के केंद्र की ओर मुख करके बैठी हैं। साक्षी, योग्या के बाईं ओर तीसरे स्थान पर बैठी है। सुकृति अदिति के दाईं ओर ठीक बगल में बैठी है। विनीता रोहिणी के बाईं ओर ठीक बगल में बैठी है, जो साक्षी के दाईं ओर दूसरे स्थान पर बैठी है। रोहिणी के दाईं ओर ठीक बगल में कौन बैठी है?

- Ans ☒ 1. योग्या  
☒ 2. अदिति  
☒ 3. सुकृति  
☒ 4. साक्षी

Question ID : 65497841626

Status : Answered

Chosen Option : 1

Q.24 दिए गए कथनों और निष्कर्षों को ध्यानपूर्वक पढ़िए। कथनों में दी गई जानकारी को सत्य मानें, भले ही वह सामान्यतः ज्ञात तथ्यों से भिन्न प्रतीत होती हो, और तय कीजिए कि दिए गए निष्कर्षों में से कौन से तार्किक रूप से कथनों का पालन करते हैं।

कथन:  
कोई सर्टिफिकेट कागज नहीं है।  
सभी पेन कागज हैं।

निष्कर्ष:  
I. कोई सर्टिफिकेट पेन नहीं है।  
II. कोई कागज सर्टिफिकेट नहीं है।  
III. कुछ कागज पेन हैं।

- Ans ☒ 1. निष्कर्ष I, II और III, सभी पालन करते हैं  
☒ 2. केवल निष्कर्ष I और III पालन करते हैं  
☒ 3. केवल निष्कर्ष I और II पालन करते हैं  
☒ 4. केवल निष्कर्ष II और III पालन करते हैं

Question ID : 65497841528

Status : Answered

Chosen Option : 1

Q.25 एक निश्चित कूट भाषा में, 'NOTEPAD' को '456' और 'NUCLEOUS' को '424' लिखा जाता है। उसी कूट भाषा में 'AMBIENT' को किस प्रकार लिखा जाएगा?

- Ans ☒ 1. 585  
☒ 2. 500  
☒ 3. 400  
☒ 4. 485

Question ID : 65497841828

Status : Not Answered

Chosen Option : --



Q.1 Select the most appropriate ANTONYM of the given word.

Compact

- Ans ☒ 1. Firm  
☒ 2. Solid  
☒ 3. Tight  
☒ 4. Loose

Question ID : 65497841441  
 Status : Answered  
 Chosen Option : 4

Q.2 Select the most appropriate option to fill in the blank.

She is quite clever, \_\_\_\_\_?

- Ans ☒ 1. is she  
☒ 2. aren't she  
☒ 3. isn't she  
☒ 4. is it

Question ID : 65497841844  
 Status : Answered  
 Chosen Option : 3

Q.3 Select the correctly spelt word.

- Ans ☒ 1. Spakling  
☒ 2. Sparkeling  
☒ 3. Sparkling  
☒ 4. Sparklling

Question ID : 65497841448  
 Status : Answered  
 Chosen Option : 3

Q.4 Select the most appropriate ANTONYM of the given word.

Dense

- Ans ☒ 1. Thick  
☒ 2. Packed  
☒ 3. Sparse  
☒ 4. Close

Question ID : 65497841542  
 Status : Answered  
 Chosen Option : 3

Q.5 Select the most appropriate synonym of the given word.

MOROSE

- Ans ☒ 1. delightful  
☒ 2. faithful  
☒ 3. beautiful  
☒ 4. mournful

Question ID : 65497841643  
 Status : Answered  
 Chosen Option : 4

**Q.6** Select the option that can be used as a one-word substitute for the given group of words.

The sound made by a camel

- Ans ☒ 1. Bark  
☒ 2. Trumpet  
☒ 3. Grunt  
☒ 4. Growl

Question ID : 65497841546  
Status : Answered  
Chosen Option : 3

**Q.7** Select the most appropriate meaning of the given idiom.

see the light of day

- Ans ☒ 1. come out of difficulties  
☒ 2. become publicly known  
☒ 3. be very happy  
☒ 4. get up early in the morning

Question ID : 65497841647  
Status : Answered  
Chosen Option : 1

**Q.8** Select the option that can be used as a one-word substitute for the given group of words.

A blank book for keeping a collection of photographs, stamps or pictures.

- Ans ☒ 1. Anthology  
☒ 2. Diary  
☒ 3. Album  
☒ 4. Atlas

Question ID : 65497841445  
Status : Marked For Review  
Chosen Option : 3

**Q.9** Select the INCORRECTLY spelt word.

- Ans ☒ 1. Preview  
☒ 2. Preserve  
☒ 3. Premeir  
☒ 4. Presume

Question ID : 65497841752  
Status : Answered  
Chosen Option : 3

Q.10 Select the option that expresses the given sentence in reported speech.

Kavya said, "I am writing a paragraph on the Republic Day parade."

- Ans ☒ 1. Kavya said that I am writing a paragraph on the Republic Day parade.  
☒ 2. Kavya said that I was writing a paragraph on the Republic Day parade.  
☒ 3. Kavya said that she is writing a paragraph on the Republic Day parade.  
☒ 4. Kavya said that she was writing a paragraph on the Republic Day parade.

Question ID : 65497841537

Status : Answered

Chosen Option : 4

Q.11 Select the most appropriate meaning of the given idiom.

lose count of

- Ans ☒ 1. something that happens rarely  
☒ 2. forget the accurate total  
☒ 3. depend on others for help  
☒ 4. waste a lot of money

Question ID : 65497841850

Status : Answered

Chosen Option : 4

Q.12 Select the INCORRECTLY spelt word.

- Ans ☒ 1. Graduate  
☒ 2. Gradation  
☒ 3. Graiceous  
☒ 4. Gratification

Question ID : 65497841548

Status : Answered

Chosen Option : 3

Q.13 Select the correct passive form of the given sentence.

My brother picked up my friend from the airport.

- Ans ☒ 1. My brother was picked up by my friend from the airport.  
☒ 2. My friend has picked up my brother from the airport.  
☒ 3. My friend has been picked up by my brother from the airport.  
☒ 4. My friend was picked up by my brother from the airport.

Question ID : 65497841638

Status : Answered

Chosen Option : 4

Q.14 Select the most appropriate option to fill in the blank.

You went to meet you friend yesterday,\_\_\_\_\_?

- Ans ☒ 1. haven't you  
☒ 2. have you  
☒ 3. didn't you  
☒ 4. did you

Question ID : 65497841641

Status : Answered

Chosen Option : 3

Q.15 Select the most appropriate synonym of the given word.

release

- Ans ☒ 1. free  
☒ 2. hold  
☒ 3. fix  
☒ 4. rise

Question ID : 65497841846

Status : Answered

Chosen Option : 1

### Comprehension:

Read the given passage and answer the questions that follow.

Rahul's wife knows that Rahul loves to cook. So for his birthday she decided to get a cookbook for him. She presented it to him in the morning. Rahul was so delighted that he told her that he would prepare his birthday dinner himself. They invited Rahul's two friends, Mohit and Anshul, for the party.

Rahul first prepared tomato soup. He put in tomatoes, carrots and onions in the soup with some salt and pepper. The recipe called for some cream to be put on the soup. So, Rahul took some fresh cream from the milk in the fridge, whipped it and put it on the soup. His mother, who was also there, just loved the soup.

For the main course, Rahul prepared peas and paneer which he bought during the day from the supermarket. The peas and paneer dish was cooked in tomato gravy according to the cookbook with a lot of different spices. His friends liked this dish the best. Apart from this, Rahul also prepared some cucumber, onion and peanut salad to go with the peas and paneer dish and pooris. It was the easiest for him to make. Rahul's wife loved the salad the best. Finally, Rahul also prepared a sweet dish to be served as dessert after the dinner. It was kheer, the traditional Indian dish, made of rice cooked in milk with some roasted nuts for garnishing. Everybody enjoyed the kheer after the dinner.

SubQuestion No : 16

Q.16 What did Rahul get from the supermarket?

- Ans ☒ 1. Cucumber and carrots  
☒ 2. Rice and milk  
☒ 3. Peas and paneer  
☒ 4. Tomatoes and onions

Question ID : 65497841458

Status : Answered

Chosen Option : 3

### Comprehension:

Read the given passage and answer the questions that follow.

Rahul's wife knows that Rahul loves to cook. So for his birthday she decided to get a cookbook for him. She presented it to him in the morning. Rahul was so delighted that he told her that he would prepare his birthday dinner himself. They invited Rahul's two friends, Mohit and Anshul, for the party.

Rahul first prepared tomato soup. He put in tomatoes, carrots and onions in the soup with some salt and pepper. The recipe called for some cream to be put on the soup. So, Rahul took some fresh cream from the milk in the fridge, whipped it and put it on the soup. His mother, who was also there, just loved the soup.

For the main course, Rahul prepared peas and paneer which he bought during the day from the supermarket. The peas and paneer dish was cooked in tomato gravy according to the cookbook with a lot of different spices. His friends liked this dish the best. Apart from this, Rahul also prepared some cucumber, onion and peanut salad to go with the peas and paneer dish and pooris. It was the easiest for him to make. Rahul's wife loved the salad the best. Finally, Rahul also prepared a sweet dish to be served as dessert after the dinner. It was kheer, the traditional Indian dish, made of rice cooked in milk with some roasted nuts for garnishing. Everybody enjoyed the kheer after the dinner.

### SubQuestion No : 17

Q.17 Which ingredients did Rahul put in the soup that he prepared?

- a. Tomatoes
- b. Onions
- c. Carrots

Ans ☒ 1. a, b and c

☐ 2. a and b

☐ 3. b and c

☐ 4. a and c

Question ID : 65497841456

Status : Answered

Chosen Option : 1

### Comprehension:

Read the given passage and answer the questions that follow.

Rahul's wife knows that Rahul loves to cook. So for his birthday she decided to get a cookbook for him. She presented it to him in the morning. Rahul was so delighted that he told her that he would prepare his birthday dinner himself. They invited Rahul's two friends, Mohit and Anshul, for the party.

Rahul first prepared tomato soup. He put in tomatoes, carrots and onions in the soup with some salt and pepper. The recipe called for some cream to be put on the soup. So, Rahul took some fresh cream from the milk in the fridge, whipped it and put it on the soup. His mother, who was also there, just loved the soup.

For the main course, Rahul prepared peas and paneer which he bought during the day from the supermarket. The peas and paneer dish was cooked in tomato gravy according to the cookbook with a lot of different spices. His friends liked this dish the best. Apart from this, Rahul also prepared some cucumber, onion and peanut salad to go with the peas and paneer dish and pooris. It was the easiest for him to make. Rahul's wife loved the salad the best. Finally, Rahul also prepared a sweet dish to be served as dessert after the dinner. It was kheer, the traditional Indian dish, made of rice cooked in milk with some roasted nuts for garnishing. Everybody enjoyed the kheer after the dinner.

### SubQuestion No : 18

Q.18 Match the people with the dishes they liked.

People Dishes they liked

- a. Rahul's wife 1. Soup
- b. Rahul's mother 2. Peas and paneer
- c. Rahul's friends 3. Salad

Ans ☐ 1. a-2, b-1, c-3

☐ 2. a-3, b-2, c-1

☒ 3. a-3, b-1, c-2

☐ 4. a-1, b-3, c-2

Question ID : 65497841460

Status : Answered

Chosen Option : 3

**Comprehension:**

Read the given passage and answer the questions that follow.

Rahul's wife knows that Rahul loves to cook. So for his birthday she decided to get a cookbook for him. She presented it to him in the morning. Rahul was so delighted that he told her that he would prepare his birthday dinner himself. They invited Rahul's two friends, Mohit and Anshul, for the party.

Rahul first prepared tomato soup. He put in tomatoes, carrots and onions in the soup with some salt and pepper. The recipe called for some cream to be put on the soup. So, Rahul took some fresh cream from the milk in the fridge, whipped it and put it on the soup. His mother, who was also there, just loved the soup.

For the main course, Rahul prepared peas and paneer which he bought during the day from the supermarket. The peas and paneer dish was cooked in tomato gravy according to the cookbook with a lot of different spices. His friends liked this dish the best. Apart from this, Rahul also prepared some cucumber, onion and peanut salad to go with the peas and paneer dish and pooris. It was the easiest for him to make. Rahul's wife loved the salad the best. Finally, Rahul also prepared a sweet dish to be served as dessert after the dinner. It was kheer, the traditional Indian dish, made of rice cooked in milk with some roasted nuts for garnishing. Everybody enjoyed the kheer after the dinner.

**SubQuestion No : 19**

**Q.19 How did Rahul manage to get the cream for the soup?**

- Ans
- ☐ 1. His wife got it for him.
  - ☐ 2. He bought it from the supermarket.
  - ☒ 3. He whipped the fresh cream from the milk.
  - ☐ 4. He just took it out of the fridge.

Question ID : 65497841459

Status : Answered

Chosen Option : 4

**Comprehension:**

Read the given passage and answer the questions that follow.

Rahul's wife knows that Rahul loves to cook. So for his birthday she decided to get a cookbook for him. She presented it to him in the morning. Rahul was so delighted that he told her that he would prepare his birthday dinner himself. They invited Rahul's two friends, Mohit and Anshul, for the party.

Rahul first prepared tomato soup. He put in tomatoes, carrots and onions in the soup with some salt and pepper. The recipe called for some cream to be put on the soup. So, Rahul took some fresh cream from the milk in the fridge, whipped it and put it on the soup. His mother, who was also there, just loved the soup.

For the main course, Rahul prepared peas and paneer which he bought during the day from the supermarket. The peas and paneer dish was cooked in tomato gravy according to the cookbook with a lot of different spices. His friends liked this dish the best. Apart from this, Rahul also prepared some cucumber, onion and peanut salad to go with the peas and paneer dish and pooris. It was the easiest for him to make. Rahul's wife loved the salad the best. Finally, Rahul also prepared a sweet dish to be served as dessert after the dinner. It was kheer, the traditional Indian dish, made of rice cooked in milk with some roasted nuts for garnishing. Everybody enjoyed the kheer after the dinner.

**SubQuestion No : 20**

**Q.20 How did Rahul get the cookbook?**

- Ans
- ☐ 1. He bought it from the supermarket.
  - ☐ 2. His friends brought it for him.
  - ☐ 3. His mother got it for him.
  - ☒ 4. His wife presented it to him.

Question ID : 65497841457

Status : Answered

Chosen Option : 4

### Comprehension:

In the given passage some words have been deleted. Fill in the blanks with the help of the alternatives given. Select the most appropriate option for each number.

Man wages war against the creatures which he 1. \_\_\_\_\_ harmful even when his warfare makes 2 \_\_\_\_\_ or no difference to the numbers of his enemies. He 3 \_\_\_\_\_ those creatures that are useful. Thus, our 4 \_\_\_\_\_ to song-birds, birds of prey and other animals is 5. \_\_\_\_\_ by the fact that they have either been proved useful or of no consequence at all.

#### SubQuestion No : 21

Q.21 Select the most appropriate option to fill in blank No.1

Ans ☒ 1. considers

☐ 2. observes

☐ 3. remembers

☐ 4. recognizes

Question ID : 65497841858

Status : Answered

Chosen Option : 1

### Comprehension:

In the given passage some words have been deleted. Fill in the blanks with the help of the alternatives given. Select the most appropriate option for each number.

Man wages war against the creatures which he 1. \_\_\_\_\_ harmful even when his warfare makes 2 \_\_\_\_\_ or no difference to the numbers of his enemies. He 3 \_\_\_\_\_ those creatures that are useful. Thus, our 4 \_\_\_\_\_ to song-birds, birds of prey and other animals is 5. \_\_\_\_\_ by the fact that they have either been proved useful or of no consequence at all.

#### SubQuestion No : 22

Q.22 Select the most appropriate option to fill in blank No.2

Ans ☐ 1. few

☐ 2. less

☒ 3. little

☐ 4. fewer

Question ID : 65497841859

Status : Answered

Chosen Option : 1

### Comprehension:

In the given passage some words have been deleted. Fill in the blanks with the help of the alternatives given. Select the most appropriate option for each number.

Man wages war against the creatures which he 1. \_\_\_\_\_ harmful even when his warfare makes 2 \_\_\_\_\_ or no difference to the numbers of his enemies. He 3 \_\_\_\_\_ those creatures that are useful. Thus, our 4 \_\_\_\_\_ to song-birds, birds of prey and other animals is 5. \_\_\_\_\_ by the fact that they have either been proved useful or of no consequence at all.

#### SubQuestion No : 23

Q.23 Select the most appropriate option to fill in blank No.3

Ans ☒ 1. favours

☐ 2. declines

☐ 3. proves

☐ 4. decides

Question ID : 65497841860

Status : Answered

Chosen Option : 1

### Comprehension:

In the given passage some words have been deleted. Fill in the blanks with the help of the alternatives given. Select the most appropriate option for each number.

Man wages war against the creatures which he 1. \_\_\_\_\_ harmful even when his warfare makes 2 \_\_\_\_\_ or no difference to the numbers of his enemies. He 3 \_\_\_\_\_ those creatures that are useful. Thus, our 4 \_\_\_\_\_ to song-birds, birds of prey and other animals is 5. \_\_\_\_\_ by the fact that they have either been proved useful or of no consequence at all.

#### SubQuestion No : 24

Q.24 Select the most appropriate option to fill in blank No.4

- Ans
- ☒ 1. impression
  - ☒ 2. behaviour
  - ☒ 3. attitude
  - ☒ 4. belief

Question ID : 65497841861

Status : Answered

Chosen Option : 3

### Comprehension:

In the given passage some words have been deleted. Fill in the blanks with the help of the alternatives given. Select the most appropriate option for each number.

Man wages war against the creatures which he 1. \_\_\_\_\_ harmful even when his warfare makes 2 \_\_\_\_\_ or no difference to the numbers of his enemies. He 3 \_\_\_\_\_ those creatures that are useful. Thus, our 4 \_\_\_\_\_ to song-birds, birds of prey and other animals is 5. \_\_\_\_\_ by the fact that they have either been proved useful or of no consequence at all.

#### SubQuestion No : 25

Q.25 Select the most appropriate option to fill in blank No.5

- Ans
- ☒ 1. determined
  - ☒ 2. adapted
  - ☒ 3. completely
  - ☒ 4. certainly

Question ID : 65497841862

Status : Answered

Chosen Option : 1

### Section : Quantitative Aptitude

Q.1 ₹70,000 की धनराशि के एक भाग को 4% वार्षिक और शेष भाग को 6% वार्षिक साधारण ब्याज की दर से उधार दिया जाता है।  $3\frac{1}{2}$  वर्ष पश्चात कुल ब्याज ₹12,488 प्राप्त होता है। 4% वार्षिक दर पर उधार दी गई धनराशि कितनी थी?

- Ans
- ☒ 1. ₹31,600
  - ☒ 2. ₹34,800
  - ☒ 3. ₹35,200
  - ☒ 4. ₹38,400

Question ID : 65497841884

Status : Not Answered

Chosen Option : --



Q.2 एक वस्तु का क्रय मूल्य ₹126 है। एक दुकानदार इस वस्तु पर इस प्रकार मूल्य अंकित करता है कि अंकित मूल्य पर 16% की छूट देने के बाद भी उसे 25% का लाभ होता है। वस्तु का अंकित मूल्य (₹ में) कितना है?

- Ans
- ☒ 1. 175.80
  - ☒ 2. 187.50
  - ☒ 3. 190.50
  - ☒ 4. 200.80

Question ID : 65497841467  
Status : Answered  
Chosen Option : 2

Q.3 A, B और C एक निश्चित कार्य को 30 दिनों में पूरा कर सकते हैं। B और C मिलकर उसी कार्य को 45 दिनों में पूरा कर सकते हैं। यदि B, A से 20% अधिक कुशल है, तो B अकेले उसी कार्य के एक-तिहाई भाग को कितने समय में पूरा कर सकता है?

- Ans
- ☒ 1. 15 दिन
  - ☒ 2. 20 दिन
  - ☒ 3. 30 दिन
  - ☒ 4. 25 दिन

Question ID : 65497841480  
Status : Answered  
Chosen Option : 4

Q.4 एक वस्तु का अंकित मूल्य ₹250 है। इसे अंकित मूल्य पर प्रत्येक  $x\%$  की दो क्रमिक छूट देकर ₹184.90 में बेच दिया जाता है।  $x$  का मान कितना है?

- Ans
- ☒ 1. 15
  - ☒ 2. 14
  - ☒ 3. 13
  - ☒ 4. 12

Question ID : 65497841568  
Status : Answered  
Chosen Option : 2

Q.5 ब्याज की गणना वार्षिक चक्रवृद्धि आधार पर करने पर, ₹50,000 की धनराशि पर 12% वार्षिक दर से  $2\frac{3}{4}$  वर्ष में प्राप्त मिश्रधन (₹ में) कितना होगा? (निकटतम पूर्णांक तक पूर्णांकित करें)

- Ans
- ☒ 1. 63,685
  - ☒ 2. 66,385
  - ☒ 3. 66,538
  - ☒ 4. 68,365

Question ID : 65497841783  
Status : Not Answered  
Chosen Option : --

Q.6 एक कार 15 min, 30 km/h की चाल से; 30 min, 60 km/h की चाल से; और 1 h,  $66\frac{2}{3}$  km/h की चाल से चलती है। कार की औसत चाल (km/h में) कितनी होगी? (एक दशमलव स्थान तक पूर्णांकित)

- Ans
- ☒ 1. 60.7
  - ☒ 2. 59.5
  - ☐ 3. 61.8
  - ☐ 4. 56.9

Question ID : 65497841889

Status : Not Answered

Chosen Option : --

Q.7 निम्नलिखित में से कौन सी संख्या, 11 से विभाज्य नहीं है?

- Ans
- ☐ 1. 8050314052
  - ☐ 2. 9857316425
  - ☒ 3. 7985314625
  - ☐ 4. 8957314652

Question ID : 65497841869

Status : Answered

Chosen Option : 3

Q.8 48 m, 90 m और 102 m भुजाओं वाले एक त्रिभुजाकार मैदान का क्षेत्रफल उस आयताकार भूखंड के क्षेत्रफल के 3 गुना के बराबर है, जिसकी भुजाएँ 4:5 के अनुपात में हैं। आयताकार भूखंड का परिमाण क्या है?

- Ans
- ☒ 1. 108 m
  - ☐ 2. 126 m
  - ☐ 3. 144 m
  - ☐ 4. 90 m

Question ID : 65497841483

Status : Answered

Chosen Option : 3

Q.9 यदि  $a + b + c = 8$  और  $ab + bc + ca = 2$ , तो  $a^3 + b^3 + c^3 - 3abc$  का मान कितना होगा?

- Ans
- ☐ 1. 449
  - ☒ 2. 464
  - ☐ 3. 452
  - ☐ 4. 547

Question ID : 65497841688

Status : Answered

Chosen Option : 2

Q.10 A और B की आय का अनुपात 3 : 7 है। A और B क्रमशः ₹3,800 और ₹12,200 की बचत करते हैं। यदि उनके व्ययों का अनुपात 4 : 9 है, तो A की आय और B के 40% व्यय का अंतर (₹ में) कितना होगा?

- Ans
- ☐ 1. 7,200
  - ☐ 2. 7,500
  - ☐ 3. 8,200
  - ☒ 4. 7,800

Question ID : 65497841475

Status : Not Answered

Chosen Option : --

Q.11 आरोही क्रम में, ग्यारह क्रमागत धन पूर्णाकों का औसत 251 है। यदि अगली चार विषम संख्याओं को सम्मिलित किया जाए, तो सभी संख्याओं का औसत कितना होगा?

- Ans
- ☐ 1. 254
  - ☐ 2. 253
  - ☒ 3. 253.4
  - ☐ 4. 252.6

Question ID : 65497841872

Status : Answered

Chosen Option : 3

Q.12 299 और 501 के बीच के कितने पूर्णाक 4 या 10 से विभाज्य हैं?

- Ans
- ☐ 1. 56
  - ☒ 2. 61
  - ☐ 3. 51
  - ☐ 4. 72

Question ID : 65497841666

Status : Not Answered

Chosen Option : --

Q.13 एक वस्तु को ₹493.60 में बेचने पर प्राप्त लाभ, इसे ₹432 में बेचने पर होने वाली हानि की राशि से 20% अधिक है। यदि वस्तु को ₹441.50 में बेचा गया हो, तो लाभ/हानि का प्रतिशत (निकटतम पूर्णांक तक पूर्णांकित) कितना होगा?

- Ans
- ☐ 1. 7% लाभ
  - ☐ 2. 5% हानि
  - ☒ 3. 4% हानि
  - ☐ 4. 3% लाभ

Question ID : 65497841677

Status : Answered

Chosen Option : 3

Q.14 एक कार का मूल्य एक स्कूटर के मूल्य से 150% अधिक है। यदि कार का मूल्य 15% कम हो जाता है और स्कूटर का मूल्य 20% बढ़ जाता है, तो 4 कारों और 5 स्कूटरों के कुल मूल्य में कितने प्रतिशत वृद्धि/कमी होगी?

- Ans
- ☒ 1. 5% की वृद्धि
  - ☒ 2.  $3\frac{1}{3}\%$  की कमी
  - ☒ 3. 4% की कमी
  - ☒ 4.  $3\frac{2}{3}\%$  की वृद्धि

Question ID : 65497841571

Status : Answered

Chosen Option : 2

Q.15 ₹x की राशि को A, B और C के बीच  $\frac{4}{5} : \frac{3}{4} : \frac{2}{3}$  के अनुपात में विभाजित किया जाता है। यदि B का हिस्सा ₹2,600 है, तो x का मान कितना है?

- Ans
- ☒ 1. 8,515
  - ☒ 2. 8,580
  - ☒ 3. 8,645
  - ☒ 4. 8,450

Question ID : 65497841576

Status : Answered

Chosen Option : 3

Q.16 यदि x वस्तुओं का क्रय मूल्य 20 वस्तुओं के विक्रय मूल्य के बराबर है और हानि 20% है, तो x का मान क्या है?

- Ans
- ☒ 1. 12
  - ☒ 2. 18
  - ☒ 3. 16
  - ☒ 4. 15

Question ID : 65497841471

Status : Answered

Chosen Option : 3

Q.17 एक डाकघर को 125 g के औसत वजन के 54 पार्सल प्राप्त हुए। 52 पार्सलों का औसत वजन 125.5 g है। शेष दो पार्सलों में से एक का वजन, दूसरे के वजन का एक तिहाई है। इन दोनों पार्सलों के वजनों का अंतर (g में) कितना है?

- Ans
- ☒ 1. 108
  - ☒ 2. 96
  - ☒ 3. 106
  - ☒ 4. 112

Question ID : 65497841463

Status : Answered

Chosen Option : 4

Q.18 एक निश्चित धनराशि पर 15% वार्षिक दर पर 2 वर्ष में प्राप्त चक्रवृद्धि व्याज ₹4837.50 है, जहां व्याज की गणना वार्षिक चक्रवृद्धि आधार पर की जाती है। यदि व्याज की गणना 8-मासिक चक्रवृद्धि आधार पर की जाए, तो समान धनराशि पर समान दर पर समान समय में प्राप्त मिश्रधन कितना होगा?

- Ans
- ✓ 1. ₹19,965
  - ✗ 2. ₹19,275
  - ✗ 3. ₹21,296
  - ✗ 4. ₹19,300

Question ID : 65497841579

Status : Not Answered

Chosen Option : --

Q.19 एक परीक्षा में, एक विद्यार्थी के प्राप्तांकों का औसत 77.6 था। यदि उसे गणित में 27 अंक अधिक प्राप्त हुए होते, कंप्यूटर साइंस में 10 अंक अधिक प्राप्त हुए होते, इतिहास में 13 अंक अधिक प्राप्त हुए होते और अन्य विषयों में समान अंक प्राप्त हुए होते, तो उसके प्राप्तांकों का औसत 82.6 होता। परीक्षा में कितने विषय थे?

- Ans
- ✗ 1. 9
  - ✗ 2. 12
  - ✗ 3. 11
  - ✓ 4.

Question ID : 65497841669

Status : Not Answered

Chosen Option : --

Q.20 दो व्यक्तियों A और B के बीच की दूरी 432 km है। उन्होंने एक-दूसरे की ओर क्रमशः 24.5 km/h और 20.5 km/h की चाल से 7:20 बजे चलना प्रारंभ किया। वे कितने बजे मिलेंगे?

- Ans
- ✗ 1. 13:38 बजे
  - ✗ 2. 14:08 बजे
  - ✗ 3. 13:18 बजे
  - ✓ 4. 16:56 बजे

Question ID : 65497841686

Status : Answered

Chosen Option : 4

Q.21 एक कंपनी की आय में प्रति वर्ष 18% की वृद्धि होती है। यदि वर्ष 2020 में इसकी आय ₹29,93,660 है, तो वर्ष 2018 में इसकी आय (₹ में) कितनी थी?

- Ans
- ✗ 1. 25,10,000
  - ✓ 2. 21,50,000
  - ✗ 3. 25,00,100
  - ✗ 4. 21,00,500

Question ID : 65497841775

Status : Not Answered

Chosen Option : --

Q.22 A और B साथ मिलकर किसी काम को 36 दिन में पूरा कर सकते हैं, जबकि B और C मिलकर उसी काम को 30 दिन में पूरा कर सकते हैं। उसी काम को A, B और C मिलकर 24 दिन में पूरा कर सकते हैं? A अकेले उसी काम के  $33\frac{1}{3}\%$  भाग को कितने दिन में पूरा कर सकता है?

- Ans
- ☐ 1. 20
  - ☐ 2. 45
  - ☐ 3. 36
  - ☒ 4. 40

Question ID : 65497841581

Status : Answered

Chosen Option : 4

Q.23 एक व्यक्ति ने एक गैस चूल्हे को ₹1,810 में और एक गीजर को ₹2,432 में बेचा। उसे गैस चूल्हे पर 40% का लाभ हुआ और गीजर पर 14% की हानि हुई। पूरे लेन-देन में उसका शुद्ध लाभ/हानि लगभग कितना होगा?

- Ans
- ☒ 1. लाभ, ₹121.24
  - ☐ 2. लाभ, ₹132
  - ☐ 3. हानि, ₹113
  - ☐ 4. हानि, ₹142.36

Question ID : 65497841880

Status : Answered

Chosen Option : 2

Q.24 यदि  $a + b + c = 1$ , और  $a^2 + b^2 + c^2 = 55$ , और  $ab + bc + ca = -10$  है, तो  $5abc$  का मान ज्ञात कीजिए।

- Ans
- ☐ 1. 25
  - ☒ 2. 40
  - ☐ 3. 45
  - ☐ 4. 35

Question ID : 65497841587

Status : Not Answered

Chosen Option : --

Q.25 A, B से 30% अधिक है और C, A और B के योग से 18% कम है। C, A से कितने प्रतिशत अधिक है (एक दशमलव स्थान तक पूर्णांकित)?

- Ans
- ☐ 1. 40.9%
  - ☐ 2. 48.4%
  - ☒ 3. 45.1%
  - ☐ 4. 44.7%

Question ID : 65497841876

Status : Not Answered

Chosen Option : --

Section : General awareness



Q.1 प्राचीन भारत में, पहली सहस्राब्दी ईस्वी (CE) के मध्य लिखी गई 'जातक कथाएं' इनमें से किस भाषा में लिखी गई थीं?

- Ans
- ☒ 1. संस्कृत
  - ☒ 2. पाली
  - ☒ 3. अरामाईक
  - ☒ 4. खरोष्ठी

Question ID : 65497841500

Status : Answered

Chosen Option : 2

Q.2 भारत का निम्नलिखित में से कौन सा स्मारक यूनेस्को (UNESCO) की विश्व विरासत स्थलों की सूची में शामिल नहीं है?

- Ans
- ☒ 1. सूर्य मंदिर, कोणार्क
  - ☒ 2. काकतीय रुद्रेश्वर (रामप्पा) मंदिर, तेलंगाना
  - ☒ 3. जंतर मंतर, जयपुर
  - ☒ 4. जंतर मंतर, नई दिल्ली

Question ID : 65497841488

Status : Answered

Chosen Option : 4

Q.3 पत्रकारों के विरुद्ध अपराधों से दंड-मुक्ति को समाप्त करने हेतु अंतर्राष्ट्रीय दिवस (International Day to End Impunity for Crimes against Journalists) कब मनाया जाता है?

- Ans
- ☒ 1. 2 नवंबर
  - ☒ 2. 2 जनवरी
  - ☒ 3. 2 अक्टूबर
  - ☒ 4. 2 दिसंबर

Question ID : 65497841899

Status : Answered

Chosen Option : 4

Q.4 1799 में श्रीरंगपट्टम की जंग में टीपू सुल्तान की मृत्यु और मैसूर के पतन के बाद, उस राज्य में से किस राजवंश का आधिपत्य स्थापित हो गया?

- Ans
- ☒ 1. पशुपति
  - ☒ 2. निज़ाम
  - ☒ 3. वाडियार
  - ☒ 4. चेर

Question ID : 65497841604

Status : Answered

Chosen Option : 2

Q.5 स्वर्गीय लता मंगेशकर ने 13 वर्ष की आयु में अपना पहला गीत किस मराठी फिल्म के लिए रिकॉर्ड किया था?

- Ans
- ☒ 1. काय ग सखू
  - ☒ 2. राम राम पाव्हा
  - ☒ 3. साधी मानस
  - ☒ 4. किती हसाल

Question ID : 65497841709

Status : Not Answered

Chosen Option : --

Q.6 भारतीय संघ के राज्यों में संवैधानिक तंत्र की विफलता से संबंधित संवैधानिक प्रावधान भारतीय संविधान के किस अनुच्छेद में दिए गए हैं?

- Ans
- ☒ 1. 354
  - ☒ 2. 352
  - ☒ 3. 358
  - ☒ 4. 356

Question ID : 65497841508

Status : Answered

Chosen Option : 4

Q.7 \_\_\_\_\_ जनवरी 2022 में, संयुक्त राष्ट्र विकास कार्यक्रम (UNDP) की यूथ क्लाइमेट चैंपियन बनने वाली पहली भारतीय हैं, जिन्हें युवाओं में जलवायु परिवर्तन, ग्लोबल वार्मिंग और जैव विविधता के क्षरण के प्रतिकूल प्रभावों के बारे में जागरूकता फैलाने की जिम्मेदारी सौंपी जाएगी।

- Ans
- ☒ 1. स्नेहा शाही
  - ☒ 2. प्राजक्ता कोली
  - ☒ 3. गर्विता गुलाटी
  - ☒ 4. कृति तुला

Question ID : 65497841506

Status : Not Answered

Chosen Option : --

Q.8 निम्नलिखित में से कौन सा अधिनियम 1919 में पारित किया गया था, जिसने ब्रिटिश सरकार को अदालत में मुकदमा चलाए बिना किसी भी व्यक्ति को गिरफ्तार करने और कैद करने का अधिकार प्रदान किया था?

- Ans
- ☒ 1. भारतीय परिषद अधिनियम (Indian Councils Act)
  - ☒ 2. भारतीय रक्षा अधिनियम (Defence of India Act)
  - ☒ 3. राजद्रोही बैठकों की रोकथाम अधिनियम (Prevention of Seditious Meetings Act)
  - ☒ 4. रॉलेट अधिनियम (Rowlatt Act)

Question ID : 65497841911

Status : Answered

Chosen Option : 4

Q.9 LED का पूर्ण रूप क्या है, जो आज उपलब्ध विभिन्न प्रकार के सभी अर्ध-चालक डायोडों में से सर्वाधिक व्यापक रूप से उपयोग किया जाता है, और सामान्यतः टीवी और रंगीन डिस्प्ले में उपयोग किया जाता है?

- Ans
- ☒ 1. Light Emanating Diode (लाइट इमैनेटिंग डायोड)
  - ☒ 2. Light Emitting Diode (लाइट एमिटिंग डायोड)
  - ☒ 3. Light Energy Diode (लाइट एनर्जी डायोड)
  - ☒ 4. Light Emersion Diode (लाइट इमर्शन डायोड)

Question ID : 65497841900

Status : Answered

Chosen Option : 2

Q.10 मुगल शासन के दौरान, पंचायतों का सरदार एक मुखिया होता था, जिसे \_\_\_\_\_ कहा जाता था।

- Ans
- ☒ 1. मनसबदार
  - ☒ 2. मुकद्दम
  - ☒ 3. पटवारी
  - ☒ 4. प्रधान

Question ID : 65497841705

Status : Answered

Chosen Option : 3



Q.11 'सेवन समर्स (Seven Summers)' नामक पुस्तक के लेखक कौन हैं?

- Ans
- ☒ 1. नीरद सी. चौधरी
  - ☒ 2. मुल्कराज आनंद
  - ☒ 3. अरुण शौरी
  - ☒ 4. आर.के. नारायण

Question ID : 65497841912

Status : Answered

Chosen Option : 4

Q.12 भारत सरकार की अटल पेंशन योजना (APY) निम्न में से किस आयु वर्ग के सभी बचत बैंक/डाकघर के बचत बैंक खाताधारकों के लिए उपलब्ध है?

- Ans
- ☒ 1. 15 से 55 वर्ष
  - ☒ 2. 21 से 60 वर्ष
  - ☒ 3. 18 से 55 वर्ष
  - ☒ 4. 18 से 40 वर्ष

Question ID : 65497841591

Status : Answered

Chosen Option : 2

Q.13 निम्नलिखित में से कौन सा राष्ट्रीय अभियान यह सुनिश्चित करने के लिए है, कि भारत के प्रत्येक विद्यालय में एक निर्धारित कार्य-प्रणाली और सुव्यवस्थित जल, स्वच्छता, एवं शुचिता सुविधाएं उपलब्ध हों?

- Ans
- ☒ 1. स्वच्छ बनेगा स्कूल: स्वच्छ बनेगा भारत
  - ☒ 2. स्वच्छ भारत : स्वच्छ विद्यालय
  - ☒ 3. स्वच्छ भारत : स्वच्छ विद्यार्थी
  - ☒ 4. हैप्पी स्कूल : हैप्पी स्टूडेंट्स

Question ID : 65497841795

Status : Answered

Chosen Option : 1

Q.14 कोव्वुर और राजमुंदरी को जोड़ने वाला एशिया का सबसे लंबा रेल-सह-सड़क पुल इनमें से किस नदी पर स्थित है?

- Ans
- ☒ 1. कृष्णा
  - ☒ 2. नर्मदा
  - ☒ 3. कावेरी
  - ☒ 4. गोदावरी

Question ID : 65497841598

Status : Not Answered

Chosen Option : --

Q.15 निम्नलिखित में से कौन सा राष्ट्रीय उद्यान मध्य प्रदेश में स्थित नहीं है?

- Ans
- ☒ 1. मंडला पादप जीवाश्म राष्ट्रीय उद्यान
  - ☒ 2. बांधवगढ़ राष्ट्रीय उद्यान
  - ☒ 3. मानस राष्ट्रीय उद्यान
  - ☒ 4. कान्हा राष्ट्रीय उद्यान

Question ID : 65497841698

Status : Answered

Chosen Option : 3

Q.16 Which of the following crops can be grown primarily in low rainfall areas of Western India?

- Ans
- ☒ 1. Tea
  - ☒ 2. Millet
  - ☐ 3. Rubber
  - ☐ 4. Coffee

Question ID : 65497841497

Status : Answered

Chosen Option : 2

Q.17 भारतीय संविधान का अनुच्छेद 1 निम्नलिखित में से किससे संबंधित है?

- Ans
- ☐ 1. प्रस्तावना
  - ☐ 2. नागरिकता
  - ☐ 3. नए राज्यों का गठन और मौजूदा राज्यों के क्षेत्रों, सीमाओं या नामों में परिवर्तन
  - ☒ 4. संघ का नाम और क्षेत्र

Question ID : 65497841609

Status : Answered

Chosen Option : 4

Q.18 2028 के ग्रीष्मकालीन ओलंपिक खेल \_\_\_\_\_ में आयोजित किए जाएंगे।

- Ans
- ☒ 1. लॉस एंजेलिस
  - ☐ 2. पेरिस
  - ☐ 3. लंदन
  - ☐ 4. बीजिंग

Question ID : 65497841714

Status : Answered

Chosen Option : 1

Q.19 लिबरेशन टाइगर्स ऑफ़ तमिल ईलम (LTTE), जो एक गोरिल्ला संगठन था, जिसने उत्तरी और पूर्वी श्रीलंका में एक स्वतंत्र तमिल राज्य, ईलम की स्थापना करने का प्रयास किया था, इसकी स्थापना \_\_\_\_\_ द्वारा की गई थी।

- Ans
- ☐ 1. ए. नेमिनाथन
  - ☒ 2. वेलुपिल्लई प्रभाकरन
  - ☐ 3. एस. रविशंकर
  - ☐ 4. डगलस देवानंद

Question ID : 65497841907

Status : Answered

Chosen Option : 2

Q.20 सर्वाधिक संक्रामक मानव रोगों में से एक – जुकाम, इनमें से किस समूह के वायरस के कारण होता है?

- Ans
- ☐ 1. रोटोवायरस (Rotavirus)
  - ☒ 2. राइनोवायरस (Rhinovirus)
  - ☐ 3. पार्वोवायरस (Parvovirus)
  - ☐ 4. साइटोमेगालो वायरस (Cytomegalovirus)

Question ID : 65497841597

Status : Answered

Chosen Option : 2

Q.21 मांडो महोत्सव (Mando Festival) इनमें से किस राज्य में मनाया जाता है?

- Ans
- ☒ 1. महाराष्ट्र
  - ☒ 2. गुजरात
  - ☒ 3. गोवा
  - ☒ 4. कर्नाटक

Question ID : 65497841589

Status : Answered

Chosen Option : 3

Q.22 भारत की 2011 की जनगणना के आंकड़ों के अनुसार, भारत में हिंदुओं और मुसलमानों के बाद तीसरा सबसे बड़ा धार्मिक समुदाय कौन सा है?

- Ans
- ☒ 1. बौद्ध
  - ☒ 2. ईसाई
  - ☒ 3. जैन
  - ☒ 4. सिख

Question ID : 65497841702

Status : Answered

Chosen Option : 4

Q.23 न्यायालय की अवमानना अधिनियम \_\_\_\_\_ में पारित किया गया था।

- Ans
- ☒ 1. 1972
  - ☒ 2. 1970
  - ☒ 3. 1971
  - ☒ 4. 1973

Question ID : 65497841917

Status : Not Answered

Chosen Option : --

Q.24 स्तनधारी वर्ग के जीवों का सर्वाधिक अद्वितीय लक्षण \_\_\_\_\_ की उपस्थिति है।

- Ans
- ☒ 1. जबड़े में एक ही प्रकार के दांत
  - ☒ 2. स्तन ग्रंथियां
  - ☒ 3. त्रि-कक्षीय हृदय
  - ☒ 4. चलने, दौड़ने, चढ़ने, बिल खोदने, तैरने या उड़ने के लिए अनुकूलित अंगों की एक जोड़ी

Question ID : 65497841493

Status : Answered

Chosen Option : 2

Q.25 पद्म विभूषण से सम्मानित पंडित बिरजू महाराज, जिनका 17 जनवरी 2022 को निधन हो गया, निम्नलिखित में से किस नृत्य शैली से संबद्ध थे?

- Ans
- ☒ 1. कथक
  - ☒ 2. कुचिपुड़ी
  - ☒ 3. भरतनाट्यम
  - ☒ 4. कथकली

Question ID : 65497841690

Status : Answered

Chosen Option : 1