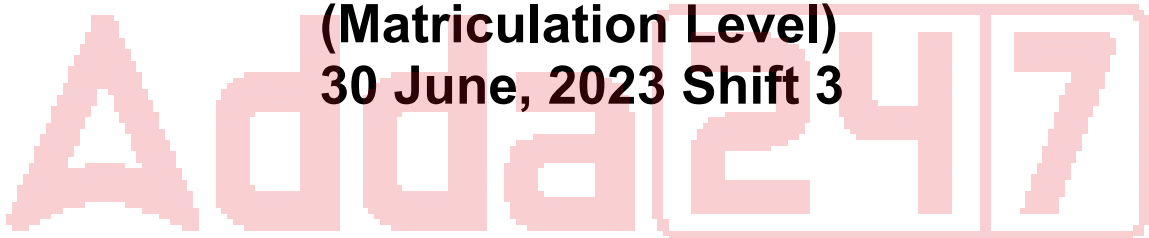


# **SSC Selection Post**

**Previous Year Paper  
(Matriculation Level)  
30 June, 2023 Shift 3**



# Test Prime

**ALL EXAMS,  
ONE SUBSCRIPTION**



**70,000+**  
Mock Tests



**Personalised  
Report Card**



**Unlimited  
Re-Attempt**



**600+**  
Exam Covered



**Previous Year  
Papers**



**500%**  
Refund



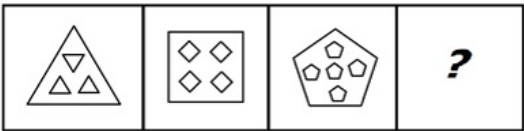
**ATTEMPT FREE MOCK NOW**

# Phase-XI/2023/Selection Posts and Selection Posts/Ladakh/2023


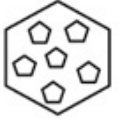
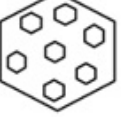
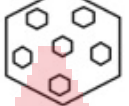
Roll Number	
Candidate Name	
Venue Name	
Exam Date	30/06/2023
Exam Time	2:30 PM - 3:30 PM
Subject	Selection Post Matriculation Level

Section : General Intelligence

Q.1 दी गई उत्तर आकृतियों में से उस उपयुक्त आकृति का चयन करें जो प्रश्नवाचक चिन्ह (?) के स्थान पर आ सकती है।



Ans

- ☒ 1. 
- ☒ 2. 
- ☒ 3. 
- ☒ 4. 

Question ID : 264330143291  
Status : Answered  
Chosen Option : 2

Q.2 नीचे तीन कथन और उनके बाद तीन निष्कर्ष I, II और III दिए गए हैं। कथनों को सत्य मानते हुए, भले ही वे सामान्य रूप से ज्ञात तथ्यों से भिन्न प्रतीत होते हों, यह निर्णय लीजिए कि कौन सा/से निष्कर्ष कथनों का तार्किक रूप से अनुसरण करता है / करते हैं।

कथन:  
सभी रैकेट, लोशन हैं।  
सभी लोशन, विकेट हैं।  
कुछ मेज, विकेट हैं।

निष्कर्ष:  
I. कुछ विकेट, रैकेट हैं।  
II. कुछ मेज, लोशन हैं।  
III. सभी लोशन, रैकेट हैं।

- Ans ☒ 1. केवल निष्कर्ष I और II अनुसरण करते हैं  
☒ 2. केवल निष्कर्ष II अनुसरण करता है  
☒ 3. केवल निष्कर्ष I और III अनुसरण करते हैं  
☒ 4. केवल निष्कर्ष I अनुसरण करता है

Question ID : 264330142959  
Status : Answered  
Chosen Option : 4

Q.3 'A # B' means 'A is the brother of B'.  
'A @ B' means 'A is the daughter of B'.  
'A & B' means 'A is the husband of B'.  
'A % B' means 'A is the wife of B'.  
If S % D # F @ G & H @ J, then how is F related to J?

- Ans ☒ 1. Daughter's daughter  
☒ 2. Son's wife  
☒ 3. Daughter  
☒ 4. Sister's daughter

Question ID : 264330142901  
Status : Answered  
Chosen Option : 1

Q.4 तीन कथनों के बाद I, II और III से क्रमांकित तीन निष्कर्ष दिए गए हैं। आपको इन कथनों को सत्य मानना है, भले ही वे सामान्य रूप से ज्ञात तथ्यों से भिन्न प्रतीत होते हों। यह तय करें कि कौन सा/से निष्कर्ष तार्किक रूप से दिए गए कथनों का अनुसरण करता है/ करते हैं।

कथन:  
सभी पेपर, पल्प हैं।  
सभी पल्प, डालियाँ हैं।  
सभी डालियाँ, वृक्ष हैं।

निष्कर्ष:  
(I) कुछ वृक्ष, पेपर हैं।  
(II) सभी पल्प, पेपर हैं।  
(III) कोई भी पल्प, पेपर नहीं है।

- Ans ☒ 1. या तो निष्कर्ष I अनुसरण करता है या निष्कर्ष III अनुसरण करता है  
☒ 2. केवल निष्कर्ष I अनुसरण करता है  
☒ 3. कोई भी निष्कर्ष अनुसरण नहीं करता है  
☒ 4. केवल निष्कर्ष II अनुसरण करता है

Question ID : 264330142974  
Status : Not Attempted and Marked For Review  
Chosen Option : --

Q.5 उस विकल्प का चयन कीजिए जो दिए गए शब्दों को तार्किक और सार्थक ढंग से सही क्रम व्यवस्था में दर्शाता है।  
1. घर  
2. दीवार  
3. मिट्टी  
4. ईंट  
5. कमरा

- Ans ☒ 1. 3, 4, 1, 2, 5  
☒ 2. 3, 5, 2, 4, 1  
☒ 3. 3, 4, 2, 5, 1  
☒ 4. 3, 2, 4, 5, 1

Question ID : 264330125999  
Status : Answered  
Chosen Option : 3

Q.6 निम्नलिखित में से कौन-सी संख्या दी गई श्रृंखला में प्रश्नवाचक चिह्न (?) के स्थान पर आएगी?  
17, 21, 28, 38, 51, 67, ?

- Ans ☒ 1. 96  
☒ 2. 88  
☒ 3. 98  
☒ 4. 86

Question ID : 264330142985  
Status : Answered  
Chosen Option : 4

Q.7 उस विकल्प का चयन कीजिए जो दिए गए शब्दों को तार्किक और सार्थक ढंग से सही क्रम व्यवस्था में दर्शाता है।  
1. अध्याय  
2. पुस्तकालय  
3. पुस्तक  
4. पृष्ठ  
5. वाक्य

- Ans ☒ 1. 2, 3, 1, 4, 5  
☒ 2. 5, 2, 3, 1, 4  
☒ 3. 3, 1, 2, 4, 5  
☒ 4. 4, 5, 3, 1, 2

Question ID : 264330125994  
Status : Answered  
Chosen Option : 1

Q.8 उस विकल्प का चयन करें जो दिए गए शब्दों के उस सही क्रम को दर्शाता है जिस क्रम में वे अंग्रेजी शब्दकोश में आएंगे।

1. OBSCURE  
2. OBLIQUE  
3. OBLIGE  
4. OBLIGATE  
5. OBEY  
6. OBJECT

- Ans ☒ 1. 3, 6, 5, 4, 2, 1  
☒ 2. 6, 5, 4, 3, 2, 1  
☒ 3. 5, 6, 4, 3, 2, 1  
☒ 4. 2, 6, 5, 4, 3, 1

Question ID : 264330142856  
Status : Answered  
Chosen Option : 3

Q.9 Select the correct mirror image of the given combination when the mirror is placed at 'PQ' as shown below.

hVfuiG43uie

- Ans
- ☒ 1. eiuɛɹɔɹɔɹɔɹɔɹɔ
  - ☒ 2. eiuɛɹɔɹɔɹɔɹɔɹɔ
  - ☒ 3. hVfuiG43uie
  - ☒ 4. ɹɔɹɔɹɔɹɔɹɔɹɔɹɔ

Question ID : 264330143277

Status : Answered

Chosen Option : 2

Q.10 'L & M' का अर्थ है 'L, M का पिता है'।  
'L = M' का अर्थ है 'L, M की बहन है'।  
'L ^ M' का अर्थ है 'L, M के भाई का बेटा है'।  
'L # M' का अर्थ है 'L, M की पत्नी है'।  
निम्नलिखित में से किस विकल्प का अर्थ है, 'B, D का ससुर है'?

- Ans
- ☒ 1. B = C # A & D
  - ☒ 2. D & A = C # B
  - ☒ 3. A ^ B & C # D
  - ☒ 4. B ^ A = C # D

Question ID : 26433086989

Status : Not Attempted and  
Marked For Review

Chosen Option : --

Q.11 एक निश्चित कूट भाषा में 'CREDIT' को 'SHCFSD' लिखा जाता है और 'DEMAND' को 'CMZNFE' लिखा जाता है। उस भाषा में 'FAMILY' को कैसे लिखा जाएगा?

- Ans
- ☒ 1. XKHNBG
  - ☒ 2. EZLHKX
  - ☒ 3. GBNJMZ
  - ☒ 4. EBLHMX

Question ID : 26433056577

Status : Answered

Chosen Option : 1

Q.12 उस विकल्प का चयन कीजिए जो तीसरे शब्द से उसी प्रकार संबंधित है जिस प्रकार दूसरा शब्द पहले शब्द से संबंधित है। (शब्दों को अर्थपूर्ण हिंदी शब्दों के रूप में माना जाना चाहिए और शब्द में अक्षरों की संख्या/व्यंजनों/स्वरों की संख्या के आधार पर वे एक-दूसरे से संबंधित नहीं होने चाहिए।)

सुस्ती (Lethargy) : सतर्कता (Alertness) :: क्रमिक (Gradual) : ?

- Ans
- ☒ 1. नष्ट करना (Destroy)
  - ☒ 2. विलाप (mourn)
  - ☒ 3. उथला (Shallow)
  - ☒ 4. आकस्मिक (Abrupt)

Question ID : 264330142860

Status : Answered

Chosen Option : 4

Q.13 उस विकल्प का चयन कीजिए जो तीसरे शब्द से उसी प्रकार संबंधित है जिस प्रकार दूसरा शब्द पहले शब्द से संबंधित है। (शब्दों को अर्थपूर्ण हिंदी शब्दों के रूप में माना जाना चाहिए और शब्द में अक्षरों की संख्या/व्यंजनों/स्वरों की संख्या के आधार पर वे एक-दूसरे से संबंधित नहीं होने चाहिए।)

एंथ्रोपोलॉजी (Anthropology) : मनुष्य :: कॉन्कोलॉजी (Conchology) : ?

- Ans ☒ 1. शंख/शीप (Shells)  
☒ 2. मिट्टी (Soil)  
☒ 3. नाम (Names)  
☒ 4. खोपड़ी (Skull)

Question ID : 264330142870

Status : Not Attempted and Marked For Review

Chosen Option : --

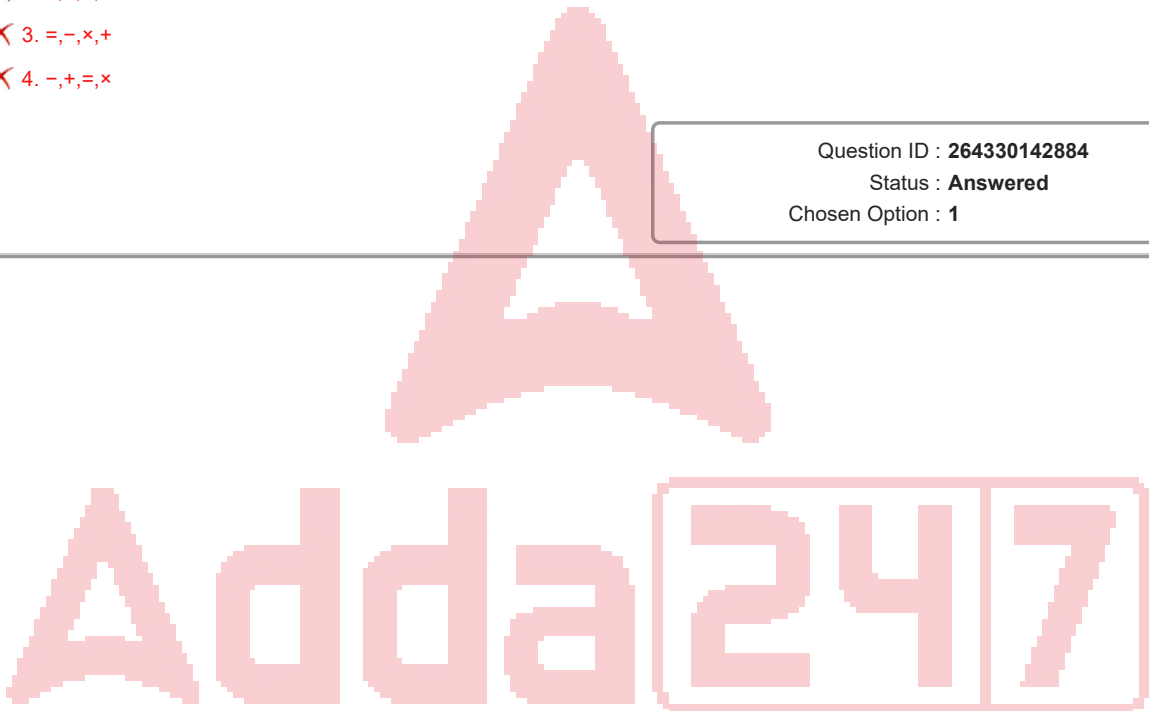
Q.14 नीचे दिए गए समीकरण में \* चिह्नों को बदलने और समीकरण को संतुलित करने के लिए गणितीय चिह्नों के सही संयोजन का चयन कीजिए।  
 $14 * 7 * 88 * 37 * 47$

- Ans ☒ 1.  $\times, -, +, =$   
☒ 2.  $+, \times, =, -$   
☒ 3.  $=, -, \times, +$   
☒ 4.  $-, +, =, \times$

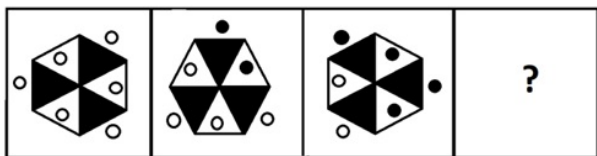
Question ID : 264330142884

Status : Answered

Chosen Option : 1



Q.15 उत्तर आकृतियों में से उस सही आकृति का चयन कीजिए, जो प्रश्नचिह्न (?) को प्रतिस्थापित करेगी।



Ans

- ✗ 1.
- ✗ 2.
- ✗ 3.
- ✓ 4.

Question ID : 264330143266

Status : Answered

Chosen Option : 4

Q.16 उस विकल्प का चयन कीजिए जो उन अक्षरों को निरूपित करता है जिन्हें नीचे दिए गए रिक्त स्थानों में बाएं से दाएं क्रमिक रूप से रखने पर अक्षर श्रृंखला पूरी हो जाएगी।

B \_ \_ C V \_ N M \_ V B \_ M E \_ B N M \_ \_

- Ans ✗ 1. NMBCNVFV
- ✗ 2. NMBCNWFV
- ✗ 3. NMBDNWFV
- ✓ 4. NMBDNVFV

Question ID : 26433067545

Status : Answered

Chosen Option : 4



Q.17 'A + B' का अर्थ है 'A, B का पिता है'।  
 'A - B' का अर्थ है 'A, B की बहन है'।  
 'A × B' का अर्थ है 'A, B की माँ है'।  
 'A ÷ B' का अर्थ है 'A, B का बेटा है'।  
 यदि  $P - Q + R \div S \times T$ , तो निम्नलिखित में से कौन-सा कथन सही नहीं है?

- Ans ☒ 1. S, Q की माँ है।  
☒ 2. Q, S का पति है।  
☒ 3. P, S की भाभी है।  
☒ 4. R, P का भतीजा है।

Question ID : 26433095989  
 Status : Answered  
 Chosen Option : 2

Q.18 उस विकल्प का चयन कीजिए जो पाँचवें पद से उसी प्रकार संबंधित है जैसे दूसरा पद पहले पद से और चौथा पद तीसरे पद से संबंधित है।  
 HOPE : QFIP :: CUTE : UFDV :: MARS : ?

- Ans ☒ 1. SRAM  
☒ 2. STNB  
☒ 3. TQLB  
☒ 4. RSMA

Question ID : 264330142839  
 Status : Answered  
 Chosen Option : 2

Q.19 \* चिह्नों को प्रतिस्थापित करने और दिए गए समीकरण को संतुलित करने के लिए गणितीय चिह्नों के सही संयोजन का चयन कीजिए।  
 $193 * 2 * 2 * 56 * 107 * 142$

- Ans ☒ 1.  $\times, \div, \times, -, =$   
☒ 2.  $-, +, +, \times, =$   
☒ 3.  $\times, \div, +, -, =$   
☒ 4.  $+, +, -, \times, =$

Question ID : 264330142887  
 Status : Not Answered  
 Chosen Option : --

Q.20 उस विकल्प का चयन करें जो उन अक्षरों का निरूपण करता है, जिन्हें नीचे श्रृंखला में दिए गए रिक्त स्थानों पर बाएं से दाएं क्रमिक रूप से रखने पर श्रृंखला पूर्ण हो जाएगी।

\_ M \_ \_ U \_ D \_ \_ M \_ C U \_ D C

- Ans ☒ 1. UUCMCUDM  
☒ 2. UDCMCUDU  
☒ 3. UDCMCUDM  
☒ 4. UDCUCUDM

Question ID : 264330142854  
 Status : Answered  
 Chosen Option : 3

Q.21 उस विकल्प का चयन कीजिए जो तीसरे पद से उसी प्रकार संबंधित है जिस प्रकार दूसरा पद पहले पद से संबंधित है और छठा पद पाँचवें पद से संबंधित है।  
7: 1000 :: 4: ? :: 9: 1728

- Ans ☒ 1. 348  
☒ 2. 343  
☒ 3. 340  
☒ 4. 344

Question ID : 264330142991  
Status : Not Answered  
Chosen Option : --

Q.22 तीन कथन दिए गए हैं, जिसके बाद तीन निष्कर्ष I, II और III दिए गए हैं। कथनों को सत्य मानते हुए, भले ही वे सामान्य रूप से ज्ञात तथ्यों से भिन्न प्रतीत होते हों, निश्चित करें कि कौन-सा/से निष्कर्ष कथनों का तार्किक रूप से अनुसरण करता है/करते हैं।

कथन:  
सभी ट्रक, बस हैं।  
कुछ बसें, बाइक हैं।  
सभी बाइक, हवाई जहाज हैं।

निष्कर्ष:  
I. कुछ हवाई जहाज, बस हैं।  
II. कुछ बसें, ट्रक हैं।  
III. सभी हवाई जहाज, ट्रक हैं।

- Ans ☒ 1. केवल निष्कर्ष I और II अनुसरण करते हैं।  
☒ 2. सभी निष्कर्ष अनुसरण करते हैं।  
☒ 3. केवल निष्कर्ष I और III अनुसरण करते हैं।  
☒ 4. केवल निष्कर्ष II और III अनुसरण करते हैं।

Question ID : 26433092646  
Status : Answered  
Chosen Option : 1

Q.23 उस विकल्प का चयन करें जो उन अक्षरों का निरूपण करता है, जिन्हें नीचे श्रृंखला में दिए गए रिक्त स्थानों पर बाएं से दाएं क्रमिक रूप से रखने पर श्रृंखला पूर्ण हो जाएगी।

A \_ M X \_ Z \_ X A Z \_ \_

- Ans ☒ 1. Z A X M X  
☒ 2. X A M M X  
☒ 3. Z A M M X  
☒ 4. Z A M M A

Question ID : 264330142850  
Status : Answered  
Chosen Option : 3

Q.24 उस विकल्प का चयन कीजिए जो पाँचवें पद से उसी प्रकार संबंधित है जैसे दूसरा पद पहले पद से और चौथा पद तीसरे पद से संबंधित है।  
FAST : UZHG :: SLOW : HOLD :: WALK : ?

- Ans ☒ 1. DYSP  
☒ 2. ULAJ  
☒ 3. LKWA  
☒ 4. DZOP

Question ID : 264330142843  
Status : Answered  
Chosen Option : 4

Q.25 एक निश्चित कूट भाषा में 'FRANK' को '121811422' के रूप में और 'CRIED' को '618958' के रूप में लिखा जाता है। उसी कूट भाषा में 'GREAT' को कैसे लिखा जाएगा?

- Ans
- ☒ 1. 141810120
  - ☒ 2. 14185240
  - ☒ 3. 14185140
  - ☒ 4. 14185120

Question ID : 26433056201  
Status : Answered  
Chosen Option : 3

Section : General Awareness

Q.1 कौन-से खाद्य पदार्थ विटामिन B12 का अच्छा स्रोत होते हैं?

- Ans
- ☒ 1. सब्जियां
  - ☒ 2. दाल
  - ☒ 3. मांस
  - ☒ 4. फल

Question ID : 264330142724  
Status : Not Answered  
Chosen Option : --

Q.2 निम्नलिखित में से कौन-सा एक पुष्प-रहित, बीजाणु पैदा करने वाला पादप है, जो आमतौर पर एक पतले सींग जैसे या सुई जैसे कैप्सूल के रूप में होता है, जिसमें बीजाणु होते हैं जो एक सपाट, हरी पत्ती से विकसित होते हैं?

- Ans
- ☒ 1. हॉर्नवॉर्ट
  - ☒ 2. सैलंडन
  - ☒ 3. रिक्सिया
  - ☒ 4. कैरा

Question ID : 264330142712  
Status : Not Answered  
Chosen Option : --

Q.3 पद्म पुरस्कार 2021 से सम्मानित, अंशु जामसेनपा को निम्नलिखित में से किस क्षेत्र में उनकी उत्कृष्ट उपलब्धियों के लिए सम्मानित किया गया है?

- Ans
- ☒ 1. तैराकी
  - ☒ 2. बास्केटबॉल
  - ☒ 3. पर्वतारोहण
  - ☒ 4. एथलेटिक्स

Question ID : 264330142684  
Status : Not Answered  
Chosen Option : --

Q.4 जून 2021 में भारत सरकार ने FAME इंडिया स्कीम II का विस्तार किया, जिसका उद्देश्य \_\_\_\_\_ तक इलेक्ट्रिक वाहनों के विकास को बढ़ावा देना है।

- Ans ☒ 1. मार्च 2024  
☒ 2. मार्च 2026  
☒ 3. मार्च 2025  
☒ 4. मार्च 2023

Question ID : 26433074177  
 Status : Answered  
 Chosen Option : 3

Q.5 2011 की जनगणना के अनुसार दमन और दीव का लिंगानुपात कितना है?

- Ans ☒ 1. 775  
☒ 2. 886  
☒ 3. 678  
☒ 4. 618

Question ID : 264330109870  
 Status : Not Answered  
 Chosen Option : --

Q.6 निम्नलिखित में से कौन सी नदी सिंधु नदी प्रणाली की सहायक नदी है?

- Ans ☒ 1. बेतवा  
☒ 2. सतलुज  
☒ 3. सोन  
☒ 4. कोसी

Question ID : 26433082192  
 Status : Answered  
 Chosen Option : 2

Q.7 भारत के महान्यायवादी की नियुक्ति कैसे/किसके द्वारा की जाती है?

- Ans ☒ 1. उच्चतम न्यायालय के न्यायाधीशों द्वारा मतदान करके  
☒ 2. राष्ट्रपति  
☒ 3. प्रधान मंत्री  
☒ 4. यूपीएससी (UPSC)

Question ID : 264330113428  
 Status : Answered  
 Chosen Option : 2

Q.8 पश्चिमी घाट की पहाड़ियों में प्रायः औसत तापमान कितना होता है?

- Ans ☒ 1. 25°C से ऊपर  
☒ 2. 35°C से ऊपर  
☒ 3. 25°C से नीचे  
☒ 4. 15°C से नीचे

Question ID : 264330142725  
 Status : Answered  
 Chosen Option : 3

Q.9 'मून वॉक' किस प्रसिद्ध अमेरिकी नर्तक और गायक की आत्मकथात्मक कृति है?

- Ans
- ☒ 1. माइकल जैक्सन
  - ☐ 2. डोना मैककेनी
  - ☐ 3. लिंडसे स्टर्लिंग
  - ☐ 4. डेबी रेनॉल्ड्स

Question ID : 264330141397  
Status : Answered  
Chosen Option : 3

Q.10 सोशल सर्विस लीग की स्थापना बॉम्बे में किसके द्वारा की गई थी?

- Ans
- ☐ 1. मानवेंद्र नाथ रॉय
  - ☐ 2. गोपाल कृष्ण गोखले
  - ☒ 3. नारायण मल्हार जोशी
  - ☐ 4. महादेव गोविंद रानाडे

Question ID : 26433089162  
Status : Answered  
Chosen Option : 4

Q.11 निम्नलिखित में से किसे कथक के लिए उस्ताद बिस्मिल्लाह खान युवा पुरस्कार 2017 से सम्मानित किया गया था?

- Ans
- ☒ 1. विधा लाल
  - ☐ 2. राजेंद्र गंगानी
  - ☐ 3. गीतांजलि लाल
  - ☐ 4. जितेंद्र महाराज

Question ID : 26433074826  
Status : Answered  
Chosen Option : 4

Q.12 निम्नलिखित में से कौन-सा मंदिर रेखा देउला की शैली में या एक घुमावदार अधिरचना वाला बनाया गया है?

- Ans
- ☐ 1. मध्य प्रदेश में कंदरिया महादेव मंदिर
  - ☒ 2. उड़ीसा में श्री जगन्नाथ मंदिर
  - ☐ 3. केरल में श्री पद्मनाभस्वामी मंदिर
  - ☐ 4. तमिलनाडु में कैलासनाथर मंदिर

Question ID : 26433090748  
Status : Not Answered  
Chosen Option : --

Q.13 1887 में इनमें से किसके द्वारा किया गया प्रयोग, काल्पनिक प्रकाशवाही (luminiferous) ईथर के संबंध में पृथ्वी के वेग को खोजने का एक प्रयास था?

- Ans
- ☐ 1. पीटर ज़ीमान (Pieter Zeeman)
  - ☐ 2. जेम्स क्लर्क मैक्सवेल (James Clerk Maxwell)
  - ☒ 3. मिशेलसन और मॉर्ले (Michelson and Morley)
  - ☐ 4. हेंड्रिक एंटोन लोरेन्ज़ (Hendrik Antoon Lorentz)

Question ID : 264330142735  
Status : Not Answered  
Chosen Option : --

Q.14 निम्नलिखित में से कौन सा भारतीय नागरिकों के लिए एक मौलिक कर्तव्य नहीं है?

- Ans ☒ 1. दार्शनिक स्वभाव और जिज्ञासा की भावना विकसित करना
- ☒ 2. प्राकृतिक पर्यावरण की रक्षा करना और उसे बेहतर बनाना
- ☒ 3. सार्वजनिक संपत्ति की सुरक्षा करना
- ☒ 4. देश की रक्षा करना

Question ID : 264330109836  
Status : Answered  
Chosen Option : 1

Q.15 निम्नलिखित में से किसने 1784 में कलकत्ता में एशियाटिक सोसाइटी की स्थापना की?

- Ans ☒ 1. विलियम जोन्स
- ☒ 2. जोनाथन डंकन
- ☒ 3. वारेन हेस्टिंग्स
- ☒ 4. चार्ल्स आयर

Question ID : 26433065569  
Status : Answered  
Chosen Option : 3

Q.16 अमरसिंहा \_\_\_\_\_ के दरबार के तेजस्वी व्यक्तियों (दिग्गजों) में से एक था।

- Ans ☒ 1. चन्द्रगुप्त II
- ☒ 2. चन्द्रगुप्त I
- ☒ 3. कुमारगुप्त
- ☒ 4. समुद्रगुप्त

Question ID : 264330108995  
Status : Answered  
Chosen Option : 1

Q.17 पॉवर लिफ्टिंग में निम्नलिखित में से किस भारोत्तोलन शैली का उपयोग किया जाता है?

- Ans ☒ 1. पॉवर लिफ्ट
- ☒ 2. डेड लिफ्ट
- ☒ 3. क्लीन एंड जर्क
- ☒ 4. स्ट्रेट लिफ्ट

Question ID : 264330142824  
Status : Answered  
Chosen Option : 1

Q.18 पापनासम सिवन निम्नलिखित में से किस संगीत से संबंधित थे?

- Ans ☒ 1. पंजाबी
- ☒ 2. कर्नाटकी
- ☒ 3. ध्रुपद
- ☒ 4. ख्याल

Question ID : 264330141205  
Status : Answered  
Chosen Option : 3

Q.19 फरवरी 2022 में एक ऑनलाइन रैपिड शतरंज टूर्नामेंट 'एयरथिंग्स मास्टर्स' के आठवें दौर में किस भारतीय ग्रैंडमास्टर ने विश्व के नंबर 1 मैग्नस कार्लसन को हराया?

- Ans
- ☐ 1. रौनक सिधवानी
  - ☐ 2. गुकेश डी
  - ☐ 3. निहाल सरीन
  - ☒ 4. आर प्रज्ञानानंद

Question ID : 26433054450  
Status : Answered  
Chosen Option : 2

Q.20 बहमनी साम्राज्य की स्थापना के समय इसकी राजधानी क्या थी?

- Ans
- ☐ 1. अहमदनगर
  - ☒ 2. गुलबर्ग
  - ☐ 3. कोलार
  - ☐ 4. बिदर

Question ID : 26433065576  
Status : Answered  
Chosen Option : 1

Q.21 'जंगतालम' कौन से भारतीय राज्य का लोक नृत्य है?

- Ans
- ☐ 1. पश्चिम बंगाल
  - ☒ 2. मिज़ोरम
  - ☐ 3. असम
  - ☐ 4. नागालैण्ड

Question ID : 264330141324  
Status : Answered  
Chosen Option : 2

Q.22 उड़ीसा में चावल को किस प्रकार की फसल माना जाता है?

- Ans
- ☐ 1. बागवानी
  - ☒ 2. निर्वाह
  - ☐ 3. व्यावसायिक
  - ☐ 4. रोपण

Question ID : 264330142769  
Status : Answered  
Chosen Option : 4

Q.23 2022 की गणतंत्र दिवस परेड पर निम्नलिखित में से कौन-से राज्य ने सर्वश्रेष्ठ झांकी पुरस्कार जीता?

- Ans
- ☐ 1. गुजरात
  - ☒ 2. उत्तर प्रदेश
  - ☐ 3. कर्नाटक
  - ☐ 4. मेघालय

Question ID : 264330141332  
Status : Answered  
Chosen Option : 2

Q.24 भारत में प्रवास के बारे में निम्नलिखित में से कौन-सा कथन गलत है?

- Ans
- ☒ 1. प्रवास में पुल (pull) और पुश (push) कारक होते हैं।
  - ☒ 2. प्रवास ग्रामीण से शहरी हो सकता है।
  - ☒ 3. प्रवास सामाजिक कारकों पर निर्भर नहीं करता है।
  - ☒ 4. यह शहरी से ग्रामीण क्षेत्रों तक हो सकता है।

Question ID : 264330142799  
Status : Answered  
Chosen Option : 4

Q.25 निम्नलिखित में से किसने मार्च 2022 में पुणे, महाराष्ट्र में छत्रपति शिवाजी महाराज की प्रतिमा का अनावरण किया?

- Ans
- ☒ 1. भगत सिंह कोश्यारी
  - ☒ 2. नरेंद्र मोदी
  - ☒ 3. राम नाथ कोविंद
  - ☒ 4. उद्धव ठाकरे

Question ID : 26433090633  
Status : Answered  
Chosen Option : 1

#### Section : Quantitative Aptitude

Q.1 शिवम एक कार्य को 6 दिनों में और विवेक 24 दिनों में कर सकता है। उन्होंने एक साथ काम प्रारंभ किया, लेकिन शिवम ने कार्य पूरा होने से 3 दिन पूर्व कार्य को छोड़ दिया। वह कार्य कितने दिनों में पूरा हुआ?

- Ans
- ☒ 1.  $7\frac{1}{5}$  दिन
  - ☒ 2.  $7\frac{4}{5}$  दिन
  - ☒ 3.  $7\frac{2}{5}$  दिन
  - ☒ 4.  $7\frac{3}{5}$  दिन

Question ID : 26433074943  
Status : Answered  
Chosen Option : 1

Q.2 अजय अपने ग्राहकों को एक ओवरकोट पर 20% की छूट प्रदान करता है और वह अभी भी 28% का लाभ कमाता है। ₹1,800 में बेचे गए ओवरकोट की वास्तविक क्रय मूल्य गणना करें।

- Ans
- ☒ 1. ₹1,125
  - ☒ 2. ₹1,120
  - ☒ 3. ₹1,122
  - ☒ 4. ₹1,124

Question ID : 26433063404  
Status : Not Answered  
Chosen Option : --



Q.3 एक राशि 9 वर्ष में तिगुनी हो जाती है। साधारण ब्याज की वार्षिक दर ज्ञात कीजिए।

Ans

✗ 1.  $38\frac{2}{9}\%$

✓ 2.  $22\frac{2}{9}\%$

✗ 3.  $27\frac{1}{9}\%$

✗ 4.  $33\frac{1}{3}\%$

Question ID : 264330142668

Status : Not Answered

Chosen Option : --

Q.4 1610 m की दौड़ में अमरजीत 91 सेकंड में अंतिम बिंदु पर पहुँचता है और दिनेश 115 सेकंड में अंतिम बिंदु पर पहुँचता है। अमरजीत, दिनेश को कितनी दूरी से हराता है?

Ans

✓ 1. 336 m

✗ 2. 326 m

✗ 3. 330 m

✗ 4. 340 m

Question ID : 26433063423

Status : Not Answered

Chosen Option : --

Q.5 17 व्यक्तियों की औसत आयु 37 वर्ष है। 2 नए व्यक्तियों को शामिल करने पर औसत आयु 1 वर्ष बढ़ जाती है। नए व्यक्तियों की औसत आयु क्या है?

Ans

✗ 1.  $36\frac{1}{2}$

✗ 2.  $48\frac{1}{2}$

✓ 3.  $46\frac{1}{2}$

✗ 4.  $38\frac{1}{2}$

Question ID : 26433061062

Status : Answered

Chosen Option : 3

Q.6 अनिल एक कमीज़ ₹1,400 में खरीदता है और उसे 15% की हानि पर बेच देता है। कमीज़ का विक्रय मूल्य क्या है?

Ans

✗ 1. ₹1,250

✓ 2. ₹1,190

✗ 3. ₹1,140

✗ 4. ₹ 1,200

Question ID : 264330142584

Status : Answered

Chosen Option : 2

Q.7 बेलनाकार एक स्तंभ का वक्र-पृष्ठीय क्षेत्रफल  $528 \text{ m}^2$  है और इसका आयतन  $1848 \text{ m}^3$  है। इसकी त्रिज्या और ऊँचाई में अनुपात ज्ञात कीजिए।

- Ans
- ☒ 1. 7 : 3
  - ☒ 2. 7 : 12
  - ☒ 3. 9 : 10
  - ☒ 4. 9 : 5

Question ID : 26433063976  
Status : Not Answered  
Chosen Option : --

Q.8 यदि ₹1,800 अंकित मूल्य वाली एक घड़ी ₹1,250 में बेची जा रही है, तो घड़ी को बेचने पर दी गई छूट का प्रतिशत क्या है?

- Ans
- ☒ 1.  $32\frac{5}{9}\%$
  - ☒ 2.  $31\frac{3}{5}\%$
  - ☒ 3.  $30\frac{5}{9}\%$
  - ☒ 4.  $28\frac{2}{9}\%$

Question ID : 264330129416  
Status : Answered  
Chosen Option : 3

Q.9 कौन-सा वार्षिक भुगतान, 5% वार्षिक साधारण ब्याज की दर से 4 वर्ष बाद ₹38,700 का ऋण चुकाएगा?

- Ans
- ☒ 1. ₹9,150
  - ☒ 2. ₹9,100
  - ☒ 3. ₹9,050
  - ☒ 4. ₹9,000

Question ID : 264330104194  
Status : Not Answered  
Chosen Option : --

Q.10 जय अपनी मासिक आय का 50% किराने और बिलों, 20% कपड़े खरीदने पर, 5% दवाओं पर खर्च करता है और उसके पास ₹12,500 की राशि बचती है। जय की मासिक आय क्या है?

- Ans
- ☒ 1. ₹57,500
  - ☒ 2. ₹50,000
  - ☒ 3. ₹65,000
  - ☒ 4. ₹45,000

Question ID : 264330142516  
Status : Not Answered  
Chosen Option : --

Q.11 एक चुनाव में, मतदाता सूची के 15% मतदाताओं ने अपना मत नहीं डाला और 100 मतदाताओं ने अपना मतपत्र खाली छोड़ दिया। राम और श्याम दो ही प्रत्याशी थे। विजेता राम को सूची के सभी मतदाताओं के 69% का समर्थन प्राप्त हुआ और उसे श्याम से 630 मत अधिक मिले। सूची में मतदाताओं की संख्या ज्ञात कीजिए।

- Ans
- ☒ 1. 1200
  - ☒ 2. 1000
  - ☒ 3. 1100
  - ☒ 4. 1300

Question ID : 26433075527  
Status : Not Answered  
Chosen Option : --

Q.12 40 विद्यार्थियों की एक कक्षा ने गणित की परीक्षा दी। 18 विद्यार्थियों के औसत अंक 75 थे। अन्य विद्यार्थियों के औसत अंक 62 थे। पूरी कक्षा के औसत अंक कितने होंगे?

- Ans
- ☒ 1. 72.52
  - ☒ 2. 69.85
  - ☒ 3. 67.85
  - ☒ 4. 68.50

Question ID : 264330102320  
Status : Not Answered  
Chosen Option : --

Q.13 जब 151314 को 15 से विभाजित किया जाता है, तो कितना शेषफल प्राप्त होता है?

- Ans
- ☒ 1. 9
  - ☒ 2. 7
  - ☒ 3. 11
  - ☒ 4. 6

Question ID : 264330126161  
Status : Not Answered  
Chosen Option : --

Q.14 छह अंकों की सबसे छोटी संख्या कौन सी है जो 12, 16, 24, 28 से विभाज्य है?

- Ans
- ☒ 1. 100128
  - ☒ 2. 100160
  - ☒ 3. 100180
  - ☒ 4. 100190

Question ID : 26433082956  
Status : Not Answered  
Chosen Option : --

Q.15 सुनील को ₹15,750 के उस ऋण को चुकाने के लिए कितना वार्षिक भुगतान (₹ में) करना होगा, जिसे उसने अपने चचेरे भाई से 5% साधारण ब्याज की दर पर 3 वर्ष में अदा करने के वादे के साथ उधार लिया था?

- Ans
- ☒ 1. 4,800
  - ☒ 2. 2,500
  - ☒ 3. 5,000
  - ☒ 4. 4,850

Question ID : 264330104258  
Status : Not Answered  
Chosen Option : --

Q.16 आनंद 4 दिनों में एक दीवार का निर्माण कर सकता है, जबकि राजन उसी काम को 7 दिनों में पूरा कर सकता है। कितने दिनों में आनंद और राजन दीवार का निर्माण करेंगे यदि वे एक साथ काम करते हैं?

Ans

- ☒ 1.  $2\frac{6}{13}$
- ☒ 2.  $2\frac{5}{11}$
- ☒ 3.  $2\frac{6}{11}$
- ☒ 4.  $3\frac{6}{11}$

Question ID : 26433074567

Status : Not Answered

Chosen Option : --

Q.17 एक मोटरबोट, जिसकी स्थिर जल में चाल 20 km/h है, धारा के अनुकूल 75 km जाती है और उतनी ही दूर वापस आती है जिसमें उसे कुल 8 घंटे का समय लगता है। धारा की चाल क्या है?

Ans

- ☒ 1. 5 km/h
- ☒ 2. 6 km/h
- ☒ 3. 4.5 km /h
- ☒ 4. 6.5 km/h

Question ID : 264330142264

Status : Not Answered

Chosen Option : --

Q.18 वाशिंग पाउडर की कीमत में 15% की कमी, एक खरीदार को Rs.1,275 के लिए 5 किलो अधिक प्राप्त करने में सक्षम बनाती है। वाशिंग पाउडर का मूल मूल्य प्रति किग्रा ज्ञात करें।

Ans

- ☒ 1. Rs.45
- ☒ 2. Rs.35
- ☒ 3. Rs.40
- ☒ 4. Rs.50

Question ID : 26433075463

Status : Not Answered

Chosen Option : --

Q.19 एक समूह में 35 छात्रों की औसत आयु 12 वर्ष है। जब शिक्षक की आयु शामिल कर ली जाती है, तो औसत एक बढ़ जाता है। शिक्षक की आयु क्या है?

Ans

- ☒ 1. 42 वर्ष
- ☒ 2. 45 वर्ष
- ☒ 3. 39 वर्ष
- ☒ 4. 48 वर्ष

Question ID : 264330142515

Status : Not Answered

Chosen Option : --

Q.20 यदि  $180 : y :: y : 245$ , और  $y > 0$  है, तो  $y$  का मान ज्ञात कीजिए।

- Ans
- ☒ 1. 190
  - ☒ 2. 210
  - ☒ 3. 200
  - ☒ 4. 220

Question ID : 264330103271  
Status : Not Answered  
Chosen Option : --

Q.21 संख्या 8, 66 और 112 का चतुर्थ समानुपाती क्या होगा?

- Ans
- ☒ 1. 729
  - ☒ 2. 924
  - ☒ 3. 784
  - ☒ 4. 848

Question ID : 26433061899  
Status : Not Answered  
Chosen Option : --

Q.22 एक पंखे का फुटकर मूल्य Rs.2,530 है। यदि निर्माता को 10% का लाभ होता है, थोक व्यापारी को 15% का लाभ होता है और फुटकर विक्रेता को 25% का लाभ होता है, तो उत्पाद क्रय मूल्य \_\_\_\_\_ है।

- Ans
- ☒ 1. Rs.1,700
  - ☒ 2. Rs.1,600
  - ☒ 3. Rs.1,500
  - ☒ 4. Rs.1,800

Question ID : 26433082371  
Status : Not Answered  
Chosen Option : --

Q.23 16 पुरुष 24 m लंबी खाई, दिन में 6 घंटे काम करते हुए, 18 दिनों में खोद सकते हैं। उसी के जैसी 42 m लंबी खाई को 9 दिनों में खोदने के लिए कितने और पुरुषों को लगाया जाना चाहिए, जबकि प्रत्येक व्यक्ति अब प्रतिदिन 12 घंटे काम करेगा?

- Ans
- ☒ 1. 12
  - ☒ 2. 14
  - ☒ 3. 10
  - ☒ 4. 9

Question ID : 264330142259  
Status : Not Answered  
Chosen Option : --

Q.24 एक ठोस लंब वृत्तीय शंकु के आधार की त्रिज्या 20 cm है और इसकी ऊँचाई 21 cm है। इसका संपूर्ण पृष्ठीय क्षेत्रफल ( $\text{cm}^2$  में) क्या है?

- Ans
- ☒ 1.  $760\pi$
  - ☒ 2.  $980\pi$
  - ☒ 3.  $890\pi$
  - ☒ 4.  $680\pi$

Question ID : 264330142755  
Status : Not Answered  
Chosen Option : --

Q.25 महेश एक वाटर कूलर ₹28,500 में खरीदता है और ₹24,800 में बेचता है। उसका हानि प्रतिशत कितना है? (दशमलव के दो स्थानों तक सही)

- Ans
- ✓ 1. 12.98%
  - ✗ 2. 15.25%
  - ✗ 3. 25.75%
  - ✗ 4. 14.98%

Question ID : 26433082596  
Status : Not Answered  
Chosen Option : --

Section : English Language

Q.1 Select the INCORRECTLY spelt word.

- Ans
- ✗ 1. Bourgeoisie
  - ✓ 2. Burgaler
  - ✗ 3. Beggar
  - ✗ 4. Burlesque

Question ID : 26433088823  
Status : Not Answered  
Chosen Option : --

Q.2 Fill in the blank with the most appropriate word that can be used here based on the given context.

Macaulay \_\_\_\_\_ the western education system in India.

- Ans
- ✗ 1. revisiting
  - ✗ 2. accepting
  - ✓ 3. introduced
  - ✗ 4. improvising

Question ID : 26433059830  
Status : Answered  
Chosen Option : 3

Q.3 Select the most appropriate meaning of the underlined segment in the given sentence.

Reghu's been trying to keep a lid on his emotions, but every now and then his anger erupts.

- Ans
- ✗ 1. leave someone at a time when they need you to stay and help them
  - ✓ 2. control the level of something in order to stop it increasing
  - ✗ 3. make things difficult for someone
  - ✗ 4. either take less care of your appearance or relax completely and enjoy yourself

Question ID : 26433059815  
Status : Answered  
Chosen Option : 2

**Q.4** Select the most appropriate synonym of the underlined word in the following sentence.

As far as possible, solid waste should be managed at the household level so that minimum waste is delivered for management at the community level.

Ans ☒ 1. deposited

☐ 2. withdrew

☐ 3. relocated

☐ 4. replaced

Question ID : 26433059802

Status : Answered

Chosen Option : 1

**Q.5** Substitute one word for the italicised expression.

As a port it was notorious for its smuggling and the *trade was prohibited by law*.

Ans ☐ 1. chaste

☐ 2. legitimate

☒ 3. illicit

☐ 4. licit

Question ID : 26433059752

Status : Answered

Chosen Option : 3

**Q.6** Identify the idiom that best expresses the meaning of the underlined group of words.

There are a number of things that the country needs to improve but the main part of the problem is corruption.

Ans ☐ 1. Grasping at straws

☐ 2. Last resort

☐ 3. Dodged a bullet

☒ 4. Crux of the matter

Question ID : 264330121052

Status : Answered

Chosen Option : 4

**Q.7** Select the most appropriate ANTONYM of the word 'Decipher' from the given sentence.

Many sculptures of our history are like the unravelled path as we cannot garble and there is a lot of work that is yet to be interpreted or translated.

Ans ☐ 1. Interpreted

☒ 2. Garble

☐ 3. Unravelled

☐ 4. Translated

Question ID : 26433071887

Status : Not Attempted and  
Marked For Review

Chosen Option : --

**Q.8** Select the option that can be used as a one-word substitute for the given group of words.

A place where coins are made

- Ans ☒ 1. Furnace  
☒ 2. Mint  
☒ 3. Factory  
☒ 4. Mine

Question ID : 26433060347  
 Status : Answered  
 Chosen Option : 2

**Q.9** Select the option that expresses the given sentence in active voice.  
 The shop owners were requested to close the shops by the agitators.

- Ans ☒ 1. The agitators have requested the shop owners to close the shops.  
☒ 2. The agitators are requesting the shop owners to close the shops.  
☒ 3. The agitators requested the shop owners to close the shops.  
☒ 4. The agitators request the shop owners to close the shops.

Question ID : 264330132821  
 Status : Answered  
 Chosen Option : 3

**Q.10** Select the most appropriate meaning of the underlined idiom.

We must draw the line somewhere as living expenses are increasing daily.

- Ans ☒ 1. Draw a straight line  
☒ 2. Fix the broken line  
☒ 3. Line up expenses  
☒ 4. Fix the limit

Question ID : 26433098329  
 Status : Answered  
 Chosen Option : 4

**Q.11** Choose the option that rectifies the incorrectly spelt underlined word.

John chanced upon a former colleageu of his at the airport.

- Ans ☒ 1. coleague  
☒ 2. colleague  
☒ 3. coleageu  
☒ 4. colleague

Question ID : 26433088846  
 Status : Answered  
 Chosen Option : 4



**Q.12** Select the correct indirect narration of the given sentence.  
Aravind said, "Let us wait for the cab."

- Ans** ☒ 1. Aravind proposed that they should has wait for the cab.  
☒ 2. Aravind proposes that let we waited for the cab.  
☒ 3. Aravind propose that they should been wait for the cab.  
☒ 4. Aravind proposed that they should wait for the cab.

Question ID : 264330132877  
 Status : Answered  
 Chosen Option : 4

**Q.13** Select the most appropriate option to fill in the blank.

When you apply the medicine, the wound \_\_\_\_\_.

- Ans** ☒ 1. heals  
☒ 2. feels  
☒ 3. kills  
☒ 4. deals

Question ID : 26433060081  
 Status : Answered  
 Chosen Option : 1

**Q.14** Select the INCORRECTLY spelt word.

- Ans** ☒ 1. Bureacracy  
☒ 2. Bequeath  
☒ 3. Beguile  
☒ 4. Beverage

Question ID : 26433073879  
 Status : Answered  
 Chosen Option : 3

**Q.15** Select the Idiom that gives the most appropriate meaning of the underlined phrase in the following sentence.

Our secretary is always in the mood for an argument. He must learn to keep quiet.

- Ans** ☒ 1. To go through  
☒ 2. To turn up  
☒ 3. To hold his tongue  
☒ 4. To take off

Question ID : 26433086437  
 Status : Answered  
 Chosen Option : 3

**Comprehension:**

In the following passage, some words have been deleted. Read the passage carefully and select the most appropriate option to fill in each blank.  
 Palaeontologists are like detectives who (1) \_\_\_\_\_ the evidence that (2) \_\_\_\_\_ animals left behind. Those clues to what dinosaurs were like are found in fossils—the ancient (3) \_\_\_\_\_ of an organism, such as teeth, bone or shell—or (4) \_\_\_\_\_ of animal activity, such as (5) \_\_\_\_\_ and trackways.

**SubQuestion No : 16**

**Q.16** Select the most appropriate option to fill in blank number 1.

- Ans**   ☒ 1. dominate  
          ☒ 2. control  
          ☒ 3. conduct  
          ☒ 4. examine

Question ID : **26433078994**  
 Status : **Answered**  
 Chosen Option : **4**

**Comprehension:**

In the following passage, some words have been deleted. Read the passage carefully and select the most appropriate option to fill in each blank.  
 Palaeontologists are like detectives who (1) \_\_\_\_\_ the evidence that (2) \_\_\_\_\_ animals left behind. Those clues to what dinosaurs were like are found in fossils—the ancient (3) \_\_\_\_\_ of an organism, such as teeth, bone or shell—or (4) \_\_\_\_\_ of animal activity, such as (5) \_\_\_\_\_ and trackways.

**SubQuestion No : 17**

**Q.17** Select the most appropriate option to fill in blank number 2.

- Ans**   ☒ 1. inactive  
          ☒ 2. extinct  
          ☒ 3. vanished  
          ☒ 4. surviving

Question ID : **26433078995**  
 Status : **Answered**  
 Chosen Option : **3**

**Comprehension:**

In the following passage, some words have been deleted. Read the passage carefully and select the most appropriate option to fill in each blank.  
 Palaeontologists are like detectives who (1) \_\_\_\_\_ the evidence that (2) \_\_\_\_\_ animals left behind. Those clues to what dinosaurs were like are found in fossils—the ancient (3) \_\_\_\_\_ of an organism, such as teeth, bone or shell—or (4) \_\_\_\_\_ of animal activity, such as (5) \_\_\_\_\_ and trackways.

**SubQuestion No : 18**

**Q.18** Select the most appropriate option to fill in blank number 3.

- Ans**   ☒ 1. remains  
          ☒ 2. leftovers  
          ☒ 3. fragments  
          ☒ 4. memories

Question ID : **26433078996**  
 Status : **Answered**  
 Chosen Option : **3**

**Comprehension:**

In the following passage, some words have been deleted. Read the passage carefully and select the most appropriate option to fill in each blank.  
 Palaeontologists are like detectives who (1) \_\_\_\_\_ the evidence that (2) \_\_\_\_\_ animals left behind. Those clues to what dinosaurs were like are found in fossils—the ancient (3) \_\_\_\_\_ of an organism, such as teeth, bone or shell—or (4) \_\_\_\_\_ of animal activity, such as (5) \_\_\_\_\_ and trackways.

**SubQuestion No : 19**

**Q.19** Select the most appropriate option to fill in blank number 4.

- Ans** ☒ 1. submission  
☒ 2. proposal  
☒ 3. compliance  
☒ 4. evidence

Question ID : 26433078997  
 Status : Answered  
 Chosen Option : 4

**Comprehension:**

In the following passage, some words have been deleted. Read the passage carefully and select the most appropriate option to fill in each blank.  
 Palaeontologists are like detectives who (1) \_\_\_\_\_ the evidence that (2) \_\_\_\_\_ animals left behind. Those clues to what dinosaurs were like are found in fossils—the ancient (3) \_\_\_\_\_ of an organism, such as teeth, bone or shell—or (4) \_\_\_\_\_ of animal activity, such as (5) \_\_\_\_\_ and trackways.

**SubQuestion No : 20**

**Q.20** Select the most appropriate option to fill in blank number 5.

- Ans** ☒ 1. pathways  
☒ 2. routes  
☒ 3. canals  
☒ 4. footprints

Question ID : 26433078998  
 Status : Answered  
 Chosen Option : 4

### Comprehension:

Read the given passage and answer the question that follows.

Wetlands, the most economically valuable and among the most biodiverse ecosystems in the world, are disappearing three times faster than forests which will lead to severe consequences. Approximately 35 per cent of the world's wetlands were lost between 1970 - 2015 with annual rates of loss accelerating from 2000, according to the first-ever Global Wetland Outlook of the Ramsar Convention, a global treaty ratified by 170 countries to protect wetlands and promote their wise use. Wetlands, which include lakes, rivers, marshes and peatlands as well as coastal and marine areas such as estuaries, lagoons, mangroves and coral reefs, are currently estimated to cover more than 12.1 million km<sup>2</sup>, an area greater than Canada.

Wetlands contribute to climate regulation and support ecosystems and biodiversity. Plants in swamps absorb pollutants, mangroves store carbon, lakes and underground aquifers are a crucial source of water, and coral reefs protect coastlines from wave action and serve as shelter for marine organisms. Wetlands are home to indigenous peoples and a natural source of livelihoods for their communities. They provide drinking water, energy, fisheries, agriculture, transport, recreation, cultural values and tourism. While human-made wetlands - largely rice paddy and reservoirs - have almost doubled between 1970 and 2015, natural wetlands have been progressively declining. Losses have been driven by megatrends such as climate change, population increase, urbanisation, and changing consumption patterns that have all fuelled changes to land and water use and to agriculture. Increasing pollution and land overuse significantly affect wetlands' water quality. This impacts the livelihoods of communities living near wetlands. Untreated wastewater, industrial waste, agricultural runoff and erosion can severely compromise the water by escalating the levels of nitrogen, phosphorous, salinity and faecal coliform bacteria. The main international efforts to promote the conservation and prudent use of wetlands are through the secretariat of the Convention on Wetlands, an intergovernmental treaty adopted in Ramsar, Iran in 1971. 170 countries - or almost 90 per cent of UN member states - from all regions have become Contracting Parties of the treaty.

SubQuestion No : 21

Q.21 Select an appropriate title from the given options.

- Ans
- ☐ 1. Natural and human-made wetlands - A review
  - ☐ 2. An overview of effects of water contamination
  - ☐ 3. Brief into the stretch of Canadian Wetlands
  - ☒ 4. Disappearing wetlands - A study

Question ID : 26433072747  
Status : Answered  
Chosen Option : 4

### Comprehension:

Read the given passage and answer the question that follows.

Wetlands, the most economically valuable and among the most biodiverse ecosystems in the world, are disappearing three times faster than forests which will lead to severe consequences. Approximately 35 per cent of the world's wetlands were lost between 1970 - 2015 with annual rates of loss accelerating from 2000, according to the first-ever Global Wetland Outlook of the Ramsar Convention, a global treaty ratified by 170 countries to protect wetlands and promote their wise use. Wetlands, which include lakes, rivers, marshes and peatlands as well as coastal and marine areas such as estuaries, lagoons, mangroves and coral reefs, are currently estimated to cover more than 12.1 million km<sup>2</sup>, an area greater than Canada.

Wetlands contribute to climate regulation and support ecosystems and biodiversity. Plants in swamps absorb pollutants, mangroves store carbon, lakes and underground aquifers are a crucial source of water, and coral reefs protect coastlines from wave action and serve as shelter for marine organisms. Wetlands are home to indigenous peoples and a natural source of livelihoods for their communities. They provide drinking water, energy, fisheries, agriculture, transport, recreation, cultural values and tourism. While human-made wetlands - largely rice paddy and reservoirs - have almost doubled between 1970 and 2015, natural wetlands have been progressively declining. Losses have been driven by megatrends such as climate change, population increase, urbanisation, and changing consumption patterns that have all fuelled changes to land and water use and to agriculture. Increasing pollution and land overuse significantly affect wetlands' water quality. This impacts the livelihoods of communities living near wetlands. Untreated wastewater, industrial waste, agricultural runoff and erosion can severely compromise the water by escalating the levels of nitrogen, phosphorous, salinity and faecal coliform bacteria. The main international efforts to promote the conservation and prudent use of wetlands are through the secretariat of the Convention on Wetlands, an intergovernmental treaty adopted in Ramsar, Iran in 1971. 170 countries - or almost 90 per cent of UN member states - from all regions have become Contracting Parties of the treaty.

SubQuestion No : 22

Q.22 Select the most appropriate **ANTONYM** of the given word.

Fuel

Ans ☒ 1. Encourage

☒ 2. Deter

☒ 3. Associate

☒ 4. Project

Question ID : 26433072745

Status : Answered

Chosen Option : 2

### Comprehension:

Read the given passage and answer the question that follows.

Wetlands, the most economically valuable and among the most biodiverse ecosystems in the world, are disappearing three times faster than forests which will lead to severe consequences. Approximately 35 per cent of the world's wetlands were lost between 1970 - 2015 with annual rates of loss accelerating from 2000, according to the first-ever Global Wetland Outlook of the Ramsar Convention, a global treaty ratified by 170 countries to protect wetlands and promote their wise use. Wetlands, which include lakes, rivers, marshes and peatlands as well as coastal and marine areas such as estuaries, lagoons, mangroves and coral reefs, are currently estimated to cover more than 12.1 million km<sup>2</sup>, an area greater than Canada.

Wetlands contribute to climate regulation and support ecosystems and biodiversity. Plants in swamps absorb pollutants, mangroves store carbon, lakes and underground aquifers are a crucial source of water, and coral reefs protect coastlines from wave action and serve as shelter for marine organisms. Wetlands are home to indigenous peoples and a natural source of livelihoods for their communities. They provide drinking water, energy, fisheries, agriculture, transport, recreation, cultural values and tourism. While human-made wetlands - largely rice paddy and reservoirs - have almost doubled between 1970 and 2015, natural wetlands have been progressively declining. Losses have been driven by megatrends such as climate change, population increase, urbanisation, and changing consumption patterns that have all fuelled changes to land and water use and to agriculture. Increasing pollution and land overuse significantly affect wetlands' water quality. This impacts the livelihoods of communities living near wetlands. Untreated wastewater, industrial waste, agricultural runoff and erosion can severely compromise the water by escalating the levels of nitrogen, phosphorous, salinity and faecal coliform bacteria. The main international efforts to promote the conservation and prudent use of wetlands are through the secretariat of the Convention on Wetlands, an intergovernmental treaty adopted in Ramsar, Iran in 1971. 170 countries - or almost 90 per cent of UN member states - from all regions have become Contracting Parties of the treaty.

SubQuestion No : 23

Q.23 Ramsar Convention was signed in the year \_\_\_\_\_.

- Ans
- ☒ 1. 1971
  - ☐ 2. 2015
  - ☐ 3. 1969
  - ☐ 4. 2000

Question ID : 26433072743  
Status : Answered  
Chosen Option : 1

Adda247

### Comprehension:

Read the given passage and answer the question that follows.

Wetlands, the most economically valuable and among the most biodiverse ecosystems in the world, are disappearing three times faster than forests which will lead to severe consequences. Approximately 35 per cent of the world's wetlands were lost between 1970 - 2015 with annual rates of loss accelerating from 2000, according to the first-ever Global Wetland Outlook of the Ramsar Convention, a global treaty ratified by 170 countries to protect wetlands and promote their wise use. Wetlands, which include lakes, rivers, marshes and peatlands as well as coastal and marine areas such as estuaries, lagoons, mangroves and coral reefs, are currently estimated to cover more than 12.1 million km<sup>2</sup>, an area greater than Canada.

Wetlands contribute to climate regulation and support ecosystems and biodiversity. Plants in swamps absorb pollutants, mangroves store carbon, lakes and underground aquifers are a crucial source of water, and coral reefs protect coastlines from wave action and serve as shelter for marine organisms. Wetlands are home to indigenous peoples and a natural source of livelihoods for their communities. They provide drinking water, energy, fisheries, agriculture, transport, recreation, cultural values and tourism. While human-made wetlands - largely rice paddy and reservoirs - have almost doubled between 1970 and 2015, natural wetlands have been progressively declining. Losses have been driven by megatrends such as climate change, population increase, urbanisation, and changing consumption patterns that have all fuelled changes to land and water use and to agriculture. Increasing pollution and land overuse significantly affect wetlands' water quality. This impacts the livelihoods of communities living near wetlands. Untreated wastewater, industrial waste, agricultural runoff and erosion can severely compromise the water by escalating the levels of nitrogen, phosphorous, salinity and faecal coliform bacteria. The main international efforts to promote the conservation and prudent use of wetlands are through the secretariat of the Convention on Wetlands, an intergovernmental treaty adopted in Ramsar, Iran in 1971. 170 countries - or almost 90 per cent of UN member states - from all regions have become Contracting Parties of the treaty.

SubQuestion No : 24

Q.24 \_\_\_\_\_ exerts influence on the sustenance of people dwelling adjacent to the wetland.

Ans ☒ 1. Depletion of water quality

☐ 2. Agricultural patterns

☐ 3. Recreational activities

☐ 4. Rapid coastland erosion

Question ID : 26433072744

Status : Answered

Chosen Option : 3

Adda247

### Comprehension:

Read the given passage and answer the question that follows.

Wetlands, the most economically valuable and among the most biodiverse ecosystems in the world, are disappearing three times faster than forests which will lead to severe consequences. Approximately 35 per cent of the world's wetlands were lost between 1970 - 2015 with annual rates of loss accelerating from 2000, according to the first-ever Global Wetland Outlook of the Ramsar Convention, a global treaty ratified by 170 countries to protect wetlands and promote their wise use. Wetlands, which include lakes, rivers, marshes and peatlands as well as coastal and marine areas such as estuaries, lagoons, mangroves and coral reefs, are currently estimated to cover more than 12.1 million km<sup>2</sup>, an area greater than Canada.

Wetlands contribute to climate regulation and support ecosystems and biodiversity. Plants in swamps absorb pollutants, mangroves store carbon, lakes and underground aquifers are a crucial source of water, and coral reefs protect coastlines from wave action and serve as shelter for marine organisms. Wetlands are home to indigenous peoples and a natural source of livelihoods for their communities. They provide drinking water, energy, fisheries, agriculture, transport, recreation, cultural values and tourism. While human-made wetlands - largely rice paddy and reservoirs - have almost doubled between 1970 and 2015, natural wetlands have been progressively declining. Losses have been driven by megatrends such as climate change, population increase, urbanisation, and changing consumption patterns that have all fuelled changes to land and water use and to agriculture. Increasing pollution and land overuse significantly affect wetlands' water quality. This impacts the livelihoods of communities living near wetlands. Untreated wastewater, industrial waste, agricultural runoff and erosion can severely compromise the water by escalating the levels of nitrogen, phosphorous, salinity and faecal coliform bacteria. The main international efforts to promote the conservation and prudent use of wetlands are through the secretariat of the Convention on Wetlands, an intergovernmental treaty adopted in Ramsar, Iran in 1971. 170 countries - or almost 90 per cent of UN member states - from all regions have become Contracting Parties of the treaty.

SubQuestion No : 25

Q.25 Select an appropriate tone of the passage.

- Ans ☒ 1. Objective and concerned
- ☐ 2. Pleading and indifferent
- ☐ 3. Critical and cynical
- ☐ 4. Sarcastic and offensive

Question ID : 26433072746

Status : Answered

Chosen Option : 1

Adda247