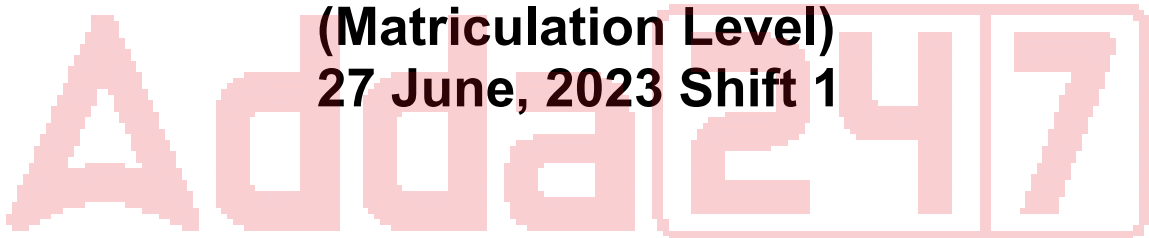


# **SSC Selection Post**

**Previous Year Paper  
(Matriculation Level)  
27 June, 2023 Shift 1**



# Test Prime

**ALL EXAMS,  
ONE SUBSCRIPTION**



**70,000+**  
Mock Tests



**Personalised  
Report Card**



**Unlimited  
Re-Attempt**



**600+**  
Exam Covered



**Previous Year  
Papers**



**500%  
Refund**



**ATTEMPT FREE MOCK NOW**

## Phase-XI/2023/Selection Posts and Selection Posts/Ladakh/2023

Roll Number	
Candidate Name	
Venue Name	
Exam Date	27/06/2023
Exam Time	9:00 AM - 10:00 AM
Subject	Selection Post Matriculation Level

### Section : General Intelligence

Q.1 उस विकल्प का चयन कीजिए जो तीसरे शब्द से उसी प्रकार संबंधित है जिस प्रकार दूसरा शब्द पहले शब्द से संबंधित है। (शब्दों को अर्थपूर्ण हिंदी शब्दों के रूप में माना जाना चाहिए और शब्द में अक्षरों की संख्या/व्यंजनों/स्वरों की संख्या के आधार पर वे एक-दूसरे से संबंधित नहीं होने चाहिए।)

कोरियोग्राफर : नृत्यनाटिका (Ballet) :: नाटककार : ?

- Ans ☒ 1. गीत-रचना (Composition)  
☒ 2. नाटक (Play)  
☒ 3. चलचित्र (Movie)  
☒ 4. रूप-रेखा (Design)

Question ID : 264330142864  
Status : Answered  
Chosen Option : 2

Q.2 विकल्पों में से कौन-सी संख्या दी गई श्रृंखला में प्रश्न चिह्न (?) को प्रतिस्थापित करेगी?  
54, 46, 34, 26, 14, ?

- Ans ☒ 1. 8  
☒ 2. 6  
☒ 3. 5  
☒ 4. 7

Question ID : 264330142987  
Status : Answered  
Chosen Option : 2

Q.3 उस विकल्प का चयन करें, जो दिए गए शब्दों की सही व्यवस्था को उस क्रम में इंगित करता है, जिस क्रम में वे अंग्रेजी शब्दकोश में दिखाई देते हैं।

1. Bunion
2. Bureau
3. Bundle
4. Bunting
5. Bungle

- Ans ☒ 1. 4, 5, 1, 3, 2  
☒ 2. 4, 5, 3, 1, 2  
☒ 3. 3, 5, 1, 4, 2  
☒ 4. 5, 3, 4, 2, 1

Question ID : 264330126643  
Status : Answered  
Chosen Option : 3

Q.4 \* चिह्नों को प्रतिस्थापित करने और दिए गए समीकरण को संतुलित करने के लिए गणितीय चिह्नों के सही संयोजन का चयन कीजिए।  
 $119 * 7 * 63 * 24 * 3 * 8$

- Ans
- ☒ 1. -, +, +, x, =
  - ☒ 2. +, +, -, x, =
  - ☒ 3. +, +, -, x, =
  - ☒ 4. +, +, x, -, =

Question ID : 264330142886  
 Status : Answered  
 Chosen Option : 3

Q.5 \* चिह्नों को क्रमानुसार प्रतिस्थापित करने और दिए गए समीकरण को संतुलित करने के लिए गणितीय चिह्नों के सही संयोजन का चयन करें।  
 $289 * 121 * 154 * 307 * (34 * 3) * 2$

- Ans
- ☒ 1. +, +, -, x, +, =
  - ☒ 2. +, -, =, -, x, +
  - ☒ 3. +, -, +, -, x, =
  - ☒ 4. x, +, -, =, +, +

Question ID : 26433057643  
 Status : Answered  
 Chosen Option : 2

Q.6 'A # B' का अर्थ है 'A, B का भाई है'।  
 'A @ B' का अर्थ है 'A, B की पुत्री है'।  
 'A & B' का अर्थ है 'A, B का पति है'।  
 'A % B' का अर्थ है 'A, B की पत्नी है'।  
 यदि L @ M % F # Q & P @ N है, तो F, P से किस प्रकार संबंधित है?

- Ans
- ☒ 1. पति का भाई
  - ☒ 2. पति
  - ☒ 3. भाई
  - ☒ 4. पिता

Question ID : 264330142900  
 Status : Answered  
 Chosen Option : 1

Q.7 उस विकल्प का चयन करें जो उन अक्षरों का निरूपण करता है, जिन्हें नीचे श्रृंखला में दिए गए रिक्त स्थानों पर बाएं से दाएं क्रमिक रूप से रखने पर श्रृंखला पूर्ण हो जाएगी।

M \_ O \_ \_ N O \_ \_ N \_ P M \_ O \_

- Ans
- ☒ 1. N P M P M O N P
  - ☒ 2. N P O P M O P O
  - ☒ 3. O P M P M O P M
  - ☒ 4. N P M P M P M N

Question ID : 264330142848  
 Status : Answered  
 Chosen Option : 1

Q.8 'A # B' का अर्थ है कि 'A, B की पत्नी है'।  
'A @ B' का अर्थ है कि 'A, B का पिता है'।  
'A % B' का अर्थ है कि 'A, B की बहन है'।  
'A & B' का अर्थ है कि 'A, B की पुत्री है'।  
यदि A % G & H # B @ Z % M है, तो H का M से क्या रिश्ता है?

- Ans
- ☒ 1. पुत्र
  - ☒ 2. पुत्री
  - ☒ 3. माँ
  - ☒ 4. सास

Question ID : 26433068265  
Status : Answered  
Chosen Option : 3

Q.9 तीन कथनों के बाद I, II और III से क्रमांकित तीन निष्कर्ष दिए गए हैं। आपको इन कथनों को सत्य मानना है, भले ही वे सामान्य रूप से ज्ञात तथ्यों से भिन्न प्रतीत होते हों। यह तय करें कि कौन सा/से निष्कर्ष तार्किक रूप से दिए गए कथनों का अनुसरण करता है/ करते हैं।

कथन:  
अधिकांश सूट, ट्राउजर हैं।  
कुछ शर्ट, टाई हैं।  
सभी सूटकेस, घड़ियाँ हैं

निष्कर्ष:  
(I) सभी ट्राउजर, सूट हैं।  
(II) कुछ शर्ट, सूटकेस हैं।  
(III) कुछ शर्ट, घड़ियाँ नहीं हैं।

- Ans
- ☒ 1. या तो निष्कर्ष I अनुसरण करता है या निष्कर्ष III अनुसरण करता है
  - ☒ 2. केवल निष्कर्ष I अनुसरण करता है
  - ☒ 3. केवल निष्कर्ष II अनुसरण करता है
  - ☒ 4. इनमें से कोई भी निष्कर्ष अनुसरण नहीं करता है

Question ID : 264330142978  
Status : Answered  
Chosen Option : 4

Q.10 नीचे तीन कथन और उनके बाद तीन निष्कर्ष I, II और III दिए गए हैं। कथनों को सत्य मानते हुए, भले ही वे सामान्य रूप से ज्ञात तथ्यों से भिन्न प्रतीत होते हों, यह निर्णय लीजिए कि कौन सा/से निष्कर्ष कथनों का तार्किक रूप से अनुसरण करता है / करते हैं।

कथन:  
कुछ पालने, पैट हैं।  
कोई भी पालना, टैप नहीं है।  
सभी पैट, शेल हैं।

निष्कर्ष:  
I. सभी शेलों के पालना होने की संभावना है।  
II. कम से कम कुछ टैप, पालना नहीं हैं।  
III. कुछ पैट, टैप नहीं हैं।

- Ans
- ☒ 1. केवल निष्कर्ष II और III अनुसरण करते हैं
  - ☒ 2. निष्कर्ष I, II और III सभी अनुसरण करते हैं
  - ☒ 3. केवल निष्कर्ष I और III अनुसरण करते हैं
  - ☒ 4. केवल निष्कर्ष I अनुसरण करता है

Question ID : 264330142954  
Status : Answered  
Chosen Option : 1

Q.11 उस विकल्प का चयन कीजिए जो पाँचवें पद से उसी प्रकार संबंधित है जैसे दूसरा पद पहले पद से और चौथा पद तीसरे पद से संबंधित है।  
VISION : IVISNO :: COLOUR : OCOLRU :: YELLOW : ?

- Ans
- ☐ 1. EYLOLW
  - ☐ 2. LEYWOL
  - ☐ 3. WOLLEY
  - ☒ 4. EYLLWO

Question ID : 264330142844  
Status : Answered  
Chosen Option : 4

Q.12 जब दर्पण को चित्र के अनुसार 'PQ' पर रखा जाता है तो दिए गए संयोजन का दर्पण में निर्मित सही प्रतिबिंब चयनित कीजिए।  
hFt7695uYhh9g |

- Ans
- ☐ 1. 86y44n569Z1f4
  - ☒ 2. gErdhYu2eəɔɔɔɔɔɔ
  - ☐ 3. hFt7695uYhh9g
  - ☐ 4. pEɔɔɔɔɔɔɔɔɔɔɔɔ

Question ID : 264330143274  
Status : Answered  
Chosen Option : 2

Q.13 उस विकल्प का चयन कीजिए जो दिए गए शब्दों को तार्किक और सार्थक ढंग से सही क्रम व्यवस्था में दर्शाता है।  
1. महीना  
2. दिन  
3. वर्ष  
4. घंटा  
5. मिनट

- Ans
- ☐ 1. 3, 1, 2, 5, 4
  - ☒ 2. 3, 1, 2, 4, 5
  - ☐ 3. 3, 2, 1, 4, 5
  - ☐ 4. 3, 4, 2, 1, 5

Question ID : 264330125997  
Status : Answered  
Chosen Option : 2

Q.14 तीन कथन दिए गए हैं, जिसके बाद तीन निष्कर्ष I, II और III दिए गए हैं। कथनों को सत्य मानते हुए, भले ही वे सामान्य रूप से ज्ञात तथ्यों से भिन्न प्रतीत होते हों, निश्चित करें कि कौन-सा/से निष्कर्ष कथनों का तार्किक रूप से अनुसरण करता है/करते हैं।

कथन:

सभी कंप्यूटर, फुटबॉल हैं।

कुछ फुटबॉल, गोल हैं।

कुछ गोल, स्टूल हैं।

निष्कर्ष:

I. कुछ फुटबॉल, कंप्यूटर हैं।

II. कुछ गोल, फुटबॉल हैं।

III. कुछ स्टूल, गोल हैं।

Ans ☒ 1. केवल निष्कर्ष I और II अनुसरण करते हैं।

☒ 2. सभी निष्कर्ष अनुसरण करते हैं।

☒ 3. केवल निष्कर्ष II और III अनुसरण करते हैं।

☒ 4. केवल निष्कर्ष I और III अनुसरण करते हैं।

Question ID : 26433092649

Status : Answered

Chosen Option : 2

Q.15 कौन-सा अक्षर-समूह प्रश्न-चिह्न (?) को प्रतिस्थापित करेगा और दी गई श्रृंखला को पूरा करेगा?  
CURB, ESPC, ?, IOLE, KMJF

Ans ☒ 1. GQND

☒ 2. HQND

☒ 3. GRND

☒ 4. HRND

Question ID : 264330142914

Status : Answered

Chosen Option : 1

Q.16 उस विकल्प का चयन करें जो दिए गए शब्दों के उस सही क्रम को दर्शाता है, जिस क्रम में वे अंग्रेजी शब्दकोश में दिखाई देते हैं।

1. Devoted
2. Determine
3. Devastating
4. Diaphragm
5. Diagnose
6. Different

Ans ☒ 1. 2, 3, 1, 5, 4, 6

☒ 2. 2, 1, 5, 4, 6, 3

☒ 3. 2, 3, 1, 5, 6, 4

☒ 4. 2, 3, 1, 4, 6, 5

Question ID : 264330142924

Status : Answered

Chosen Option : 1

Q.17 किसी कोड भाषा में 'BANYAN' को 'EDQBDQ' के रूप में लिखा जाता है और 'LAUNCH' को 'ODXQFK' के रूप में लिखा जाता है। उसी भाषा में 'STRIKER' को किस प्रकार लिखा जाएगा?

- Ans ☒ 1. VWULNHU  
☒ 2. SCFIRET  
☒ 3. ELBURPT  
☒ 4. UNDARSA

Question ID : 26433056264  
 Status : Answered  
 Chosen Option : 1

Q.18 उस विकल्प का चयन करें, जो उन अक्षरों का प्रतिनिधित्व करता है, जो रिक्त स्थानों में क्रमिक रूप से बाएँ से दाएँ रखे जाने पर दी गई अक्षर श्रृंखला को पूरा करेंगे।  
 R M \_ G \_ M \_ \_ R \_ T G \_ M T \_

- Ans ☒ 1. TRGTMRG  
☒ 2. TRTGMRG  
☒ 3. TMTGMTG  
☒ 4. TRGTGMR

Question ID : 26433056778  
 Status : Answered  
 Chosen Option : 2

Q.19 उस विकल्प का चयन कीजिए जो तीसरे शब्द से उसी प्रकार संबंधित है जिस प्रकार दूसरा शब्द पहले शब्द से संबंधित है। (शब्दों को अर्थपूर्ण हिंदी शब्दों के रूप में माना जाना चाहिए और शब्द में अक्षरों की संख्या/व्यंजनों/स्वरों की संख्या के आधार पर वे एक-दूसरे से संबंधित नहीं होने चाहिए।)

ऑमलेट : अंडा :: सड़क : ?

- Ans ☒ 1. फ्लैक्स (Flax)  
☒ 2. डामर (Asphalt)  
☒ 3. लैटेक्स (Latex)  
☒ 4. अयस्क (Ore)

Question ID : 264330142866  
 Status : Answered  
 Chosen Option : 4

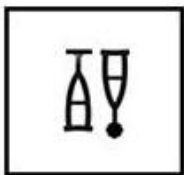


Q.20 उस आकृति का चयन कीजिए जो निम्न आकृति श्रृंखला में अगले स्थान पर आएगी।



Ans


✗ 1.



✗ 2.



✗ 3.



✓ 4.



Question ID : 264330143286

Status : Answered

Chosen Option : 4

Q.21 अक्षरों के उस संयोजन का चयन कीजिए, जिसे दी गई श्रृंखला के रिक्त स्थानों में क्रमानुसार रखने पर, श्रृंखला पूर्ण हो जाएगी।

G\_BAGS\_BGSBC\_SB\_

Ans

✗ 1. BDSC

✓ 2. SBGD

✗ 3. DGSC

✗ 4. SCBD

Question ID : 26433057816

Status : Answered

Chosen Option : 1

Q.22 उस विकल्प का चयन कीजिए जो पाँचवें पद से उसी प्रकार संबंधित है जैसे दूसरा पद पहले पद से और चौथा पद तीसरे पद से संबंधित है।

INPUT : STOMH :: OUTPUT : STOSTN :: SOLVE : ?

Ans ☒ 1. DUKNR

☒ 2. TPMXF

☒ 3. PTUKD

☒ 4. DUMPT

Question ID : 264330142841

Status : **Answered**

Chosen Option : 1

Q.23 उस आकृति का चयन करें जो निम्न आकृति श्रृंखला में अगले स्थान पर आएगी।



Ans

☒ 1.



☒ 2.



☒ 3.



☒ 4.



Question ID : 264330143285

Status : **Answered**

Chosen Option : 1

Q.24 नीचे तीन कथन और उनके बाद चार निष्कर्ष I, II, III और IV दिए गए हैं। कथनों को सत्य मानते हुए, भले ही वे सामान्य रूप से ज्ञात तथ्यों से भिन्न प्रतीत होते हों, यह निर्णय लीजिए कि कौन सा/से निष्कर्ष कथनों का तार्किक रूप से अनुसरण करता है / करते हैं।

कथन:

कुछ तोते, सुअर हैं।  
कुछ सुअर, खंभे हैं।  
सभी खंभे, पालतू हैं।

निष्कर्ष:

I. कुछ खंभे, सुअर हैं।  
II. कुछ पालतू, तोते हैं।  
III. सभी तोते, पालतू हैं।  
IV. कुछ पालतू, सुअर हैं।

- Ans
- ☒ 1. केवल निष्कर्ष IV अनुसरण करता है
  - ☒ 2. केवल निष्कर्ष I और II अनुसरण करते हैं
  - ☒ 3. केवल निष्कर्ष III अनुसरण करता है
  - ☒ 4. केवल निष्कर्ष I और IV अनुसरण करते हैं

Question ID : 264330142957

Status : Answered

Chosen Option : 4

Q.25 उस विकल्प का चयन करें जो चौथे पद से उसी प्रकार संबंधित है जिस प्रकार पहला पद दूसरे पद से संबंधित है और पाँचवां पद छठे पद से संबंधित है।  
16 : 36 :: ? : 50 :: 9 : 22

- Ans
- ☒ 1. 23
  - ☒ 2. 34
  - ☒ 3. 22
  - ☒ 4. 31

Question ID : 26433040808

Status : Answered

Chosen Option : 1

Section : General Awareness

Q.1 ब्रिटिश भारत में, निम्नलिखित राष्ट्रीय नेताओं में से किसे 'ग्रेंड ओल्ड मैन ऑफ इंडिया' कहा जाता था?

- Ans
- ☒ 1. महादेव गोविंद रानाडे
  - ☒ 2. गोपाल कृष्ण गोखले
  - ☒ 3. दादाभाई नौरोजी
  - ☒ 4. पृथ्वीश चन्द्र राय

Question ID : 26433065564

Status : Answered

Chosen Option : 2

Q.2 भारत की 2011 की जनगणना के अनुसार, केंद्र शासित प्रदेशों के निम्नलिखित में से किस समूह की साक्षरता दर सबसे अधिक है?

- Ans
- ☒ 1. दिल्ली तथा चंडीगढ़
  - ☒ 2. चंडीगढ़ तथा अंडमान और निकोबार
  - ☒ 3. लक्षद्वीप तथा दमन और दीव
  - ☒ 4. दिल्ली तथा लक्षद्वीप

Question ID : 264330142800

Status : Answered

Chosen Option : 4

Q.3 यकृत, दूध, अंडे और मछली सहित विभिन्न खाद्य पदार्थों में पाया जाने वाला जल में घुलनशील विटामिन कौन-सा है जो आपके शरीर की रक्त और तंत्रिका कोशिकाओं को स्वस्थ रखने में मदद करता है?

Ans ☒ 1. विटामिन B12

☒ 2. विटामिन C

☒ 3. विटामिन A

☒ 4. विटामिन E

Question ID : 264330142714

Status : Answered

Chosen Option : 1

Q.4 भारत के संविधान का निम्नलिखित में से कौन सा अनुच्छेद यह परिभाषित करता है कि मौलिक कर्तव्य केवल भारतीय नागरिकों के लिए हैं, न कि विदेशियों के लिए?

Ans ☒ 1. अनुच्छेद 46 B

☒ 2. अनुच्छेद 67 A

☒ 3. अनुच्छेद 51 A

☒ 4. अनुच्छेद 81 C

Question ID : 26433086790

Status : Answered

Chosen Option : 3

Q.5 रानी गाइदिनलू निम्नलिखित में से किस आंदोलन से जुड़ी हैं?

Ans ☒ 1. निशा बंध

☒ 2. हेराका

☒ 3. नुपी लान

☒ 4. मीरा पैबि

Question ID : 26433099173

Status : Not Answered

Chosen Option : --

Q.6 विश्व स्तर पर चावल के उत्पादन में भारत का स्थान क्या है? (वर्ष 2020 तक की स्थिति के अनुसार)

Ans ☒ 1. पहला

☒ 2. तीसरा

☒ 3. दूसरा

☒ 4. चौथा

Question ID : 26433086895

Status : Answered

Chosen Option : 3

Q.7 मार्च 2022 में, वर्चुअल स्मार्ट ग्रिड नॉलेज सेंटर और इनोवेशन पार्क का शुभारंभ निम्न में से किसके द्वारा किया गया?

Ans ☒ 1. हरदीप सिंह पुरी

☒ 2. राज कुमार सिंह

☒ 3. गिरिराज सिंह

☒ 4. किरन रिजिजू

Question ID : 26433061837

Status : Answered

Chosen Option : 3

Q.8 'संगीत नाटक अकादमी पुरस्कार' से सम्मानित रतिकांत महापात्र को भारत के निम्नलिखित शास्त्रीय नृत्यों में से किस शास्त्रीय नृत्य के लिए जाना जाता है?

- Ans
- ☒ 1. ओडिसी
  - ☐ 2. मणिपुरी
  - ☐ 3. कथक
  - ☐ 4. कथकली

Question ID : 26433097103  
Status : Answered  
Chosen Option : 1

Q.9 निम्नलिखित में से कौन-सा पोटैशियम लवण एक खनिज पूरक है, जिसका उपयोग रक्त में पोटैशियम के निम्न स्तरों के उपचार या रोकथाम के लिए किया जाता है?

- Ans
- ☐ 1. पोटैशियम आयोडाइड
  - ☒ 2. पोटैशियम क्लोराइड
  - ☐ 3. पोटैशियम साइट्रेट
  - ☐ 4. पोटैशियम नाइट्रेट

Question ID : 26433055754  
Status : Answered  
Chosen Option : 1

Q.10 दक्षिण भारत की ऐसी प्रमुख नदियां कौन सी हैं जो अरब सागर में गिरती हैं?

- Ans
- ☐ 1. कृष्णा और कावेरी
  - ☐ 2. चंबल और कोसी
  - ☒ 3. नर्मदा और ताप्ती
  - ☐ 4. महानदी और ब्रह्मपुत्र

Question ID : 26433081918  
Status : Answered  
Chosen Option : 3

Q.11 भरत वंश के नाम पर इंडिया का नाम 'भारत' रखा गया। निम्नलिखित में से किस वेद में इस वंश का सर्वप्रथम उल्लेख मिलता है?

- Ans
- ☐ 1. अथर्ववेद
  - ☐ 2. यजुर्वेद
  - ☐ 3. सामवेद
  - ☒ 4. ऋग्वेद

Question ID : 264330142801  
Status : Answered  
Chosen Option : 1

Q.12 भारत की 2011 की जनगणना के अनुसार, भारत में पुरुष साक्षरता दर कितनी है?

- Ans
- ☐ 1. 88.61%
  - ☐ 2. 70.55%
  - ☒ 3. 82.14%
  - ☐ 4. 64.72%

Question ID : 26433089251  
Status : Answered  
Chosen Option : 3

Q.13 निम्नलिखित में से किस व्यक्ति को ग्रैमी और ऑस्कर दोनों पुरस्कार प्राप्त हुए हैं?

- Ans ☒ 1. गुलज़ार  
☒ 2. अमिताभ भट्टाचार्य  
☒ 3. जावेद अख्तर  
☒ 4. जगजीत सिंह

Question ID : 264330141387  
 Status : Answered  
 Chosen Option : 2

Q.14 जनवरी 2022 में, प्रधान मंत्री नरेंद्र मोदी की अध्यक्षता में केंद्रीय मंत्रिमंडल ने 31 मार्च 2022 से आगे वर्षों के लिए राष्ट्रीय सफाई कर्मचारी आयोग (NCSK) के कार्यकाल के विस्तार को मंजूरी दी।

- Ans ☒ 1. तीन  
☒ 2. चार  
☒ 3. दो  
☒ 4. पांच

Question ID : 26433081806  
 Status : Not Answered  
 Chosen Option : --

Q.15 निम्नलिखित में से कौन-सी आत्मकथा भारतीय फ़िल्म अभिनेता बलराज साहनी द्वारा लिखी गई थी?

- Ans ☒ 1. मेरी फ़िल्मी आत्मकथा  
☒ 2. द एक्ट ऑफ़ लाइफ़  
☒ 3. मैं एक हरफनमौला  
☒ 4. आई एम नॉट एन आइलैंड

Question ID : 264330141402  
 Status : Not Answered  
 Chosen Option : --

Q.16 जुलाई 2021 में, ओलंपिक में एकल टेनिस मैच जीतने वाले केवल तीसरे भारतीय कौन बने?

- Ans ☒ 1. सुमित नागल  
☒ 2. रामकुमार रामनाथन  
☒ 3. प्रजनेश गुणेश्वरन  
☒ 4. मुकुंद शशिकुमार

Question ID : 264330142687  
 Status : Answered  
 Chosen Option : 1

Q.17 पारिस्थितिक तंत्र के कार्य करने और बने रहने के लिए बुनियादी आवश्यकता क्या है?

- Ans ☒ 1. सौर ऊर्जा का निवेश  
☒ 2. जीव  
☒ 3. मृदा संरचना  
☒ 4. सूक्ष्म जीव

Question ID : 26433064762  
 Status : Answered  
 Chosen Option : 1

Q.18 निम्नलिखित में से कौन-सा शस्योत्सव कर्नाटक में नवम्बर – दिसम्बर के महीनों में मनाया जाता है?

- Ans ☒ 1. हथरी  
☒ 2. दसरा  
☒ 3. कम्बाला  
☒ 4. हम्पी

Question ID : 264330141230  
 Status : Answered  
 Chosen Option : 3

Q.19 निम्नलिखित में से कौन-सी शास्त्रीय नृत्य शैली भगवान जगन्नाथ की पूजा से संबंधित है?

- Ans ☒ 1. सत्रीया  
☒ 2. भरतनाट्यम्  
☒ 3. ओड़िसी  
☒ 4. कथक

Question ID : 264330141227  
 Status : Answered  
 Chosen Option : 1

Q.20 दक्षिणी भारत में सैन्य अभियान शुरू करने वाला दिल्ली सल्तनत का पहला सुल्तान कौन था?

- Ans ☒ 1. मुहम्मद तुगलक  
☒ 2. शम्सुद्दीन इल्तुतमिश  
☒ 3. अलाउद्दीन खिलजी  
☒ 4. गयासुद्दीन बलबन

Question ID : 26433089872  
 Status : Answered  
 Chosen Option : 3

Q.21 भारत की प्रथम महिला उच्चतम न्यायालय न्यायाधीश फातिमा बीवी भारत के किस राज्य से संबंधित हैं?

- Ans ☒ 1. केरल  
☒ 2. आंध्र प्रदेश  
☒ 3. तमिलनाडु  
☒ 4. कर्नाटक

Question ID : 264330113427  
 Status : Answered  
 Chosen Option : 1

Q.22 होयसलेश्वर मंदिर का निर्माण निम्नलिखित में से किस पत्थर से एक होयसल राजा ने 1150 में करवाया था?

- Ans ☒ 1. बलुआ पत्थर  
☒ 2. ग्रे बेसाल्ट  
☒ 3. सफ़ेद संगमरमर  
☒ 4. काला शिस्ट पत्थर

Question ID : 26433090743  
 Status : Not Answered  
 Chosen Option : --

Q.23 उस उपकरण का नाम बताइए जिसका इस्तेमाल मौसम विज्ञानियों द्वारा सौर विकिरण को समतल सतह पर आपतन के गोलाई के क्षेत्र से मापने के लिए किया जाता है?

- Ans
- ☒ 1. हाइग्रोमीटर
  - ☒ 2. एनीमोमीटर
  - ☒ 3. पाइरैनोमीटर
  - ☒ 4. बैरोमीटर

Question ID : 264330142718  
Status : Answered  
Chosen Option : 3

Q.24 बैडमिंटन की एक अंतरराष्ट्रीय पुरुष टीम चैंपियनशिप, थॉमस कप का पहला संस्करण निम्नलिखित में से किस वर्ष आयोजित किया गया था?

- Ans
- ☒ 1. 1949
  - ☒ 2. 1955
  - ☒ 3. 1952
  - ☒ 4. 1961

Question ID : 26433059364  
Status : Not Answered  
Chosen Option : --

Q.25 पद्म पुरस्कार विजेता सुधा सिंह निम्नलिखित में से किस क्षेत्र की खिलाड़ी हैं?

- Ans
- ☒ 1. शूटिंग
  - ☒ 2. तैराकी
  - ☒ 3. एथलेटिक्स
  - ☒ 4. टेबल टेनिस

Question ID : 264330142688  
Status : Not Answered  
Chosen Option : --

#### Section : Quantitative Aptitude

Q.1 ₹7,000 पर R% वार्षिक दर से 2 वर्षों में अर्जित साधारण ब्याज, ₹5,000 पर 5% वार्षिक दर से 14 वर्षों में अर्जित साधारण ब्याज के बराबर है। R का मान (प्रतिशत में) क्या है?

- Ans
- ☒ 1. 25%
  - ☒ 2. 28%
  - ☒ 3. 15%
  - ☒ 4. 20%

Question ID : 264330102358  
Status : Answered  
Chosen Option : 1

Q.2 दो संख्याओं का योग  $10373 + 24871$  निम्नलिखित में से किस संख्या से विभाज्य है?

- Ans
- ☒ 1. 7
  - ☒ 2. 8
  - ☒ 3. 6
  - ☒ 4. 13

Question ID : 264330142548  
Status : Answered  
Chosen Option : 3



Q.3 3600 m लंबे ट्रैक के अनुदिश एक वृत्ताकार दौड़ में, X और Y क्रमशः 27 km/h और 45 km/h की गति से दौड़ते हैं। मान लीजिए कि वे एक ही समय और एक ही दिशा में चलना शुरू करते हैं, तो वे फिर से शुरुआती बिंदु पर कब मिलेंगे?

- Ans
- ✓ 1. 720 sec
  - ✗ 2. 1440 sec
  - ✗ 3. 2200 sec
  - ✗ 4. 1200 sec

Question ID : 26433083092  
Status : Answered  
Chosen Option : 1

Q.4 एक विद्यालय में 32 विद्यार्थियों का माध्य भार 50 kg है। यदि शिक्षक के भार को शामिल कर लिया जाए, तो माध्य 500 ग्राम बढ़ जाता है। शिक्षक का भार ज्ञात कीजिए।

- Ans
- ✗ 1. 63.5 kg
  - ✗ 2. 64.5 kg
  - ✓ 3. 66.5 kg
  - ✗ 4. 65.5 kg

Question ID : 26433058655  
Status : Answered  
Chosen Option : 3

Q.5 एक टीवी का अंकित मूल्य ₹24,500 है। यदि इसका विक्रय मूल्य ₹20,090 है, तो छूट प्रतिशत क्या है?

- Ans
- ✗ 1. 22%
  - ✗ 2. 20%
  - ✗ 3. 15%
  - ✓ 4. 18%

Question ID : 264330102755  
Status : Answered  
Chosen Option : 4

Q.6 A, B और C अलग-अलग एक कार्य को क्रमशः 20, 25 और 30 दिनों में पूरा कर सकते हैं। यदि A अकेले पहले दिन कार्य करता है, B अकेले दूसरे दिन और C अकेले तीसरे दिन कार्य करता है, और यह क्रम आगे भी चलता है, तो पूरा कार्य कितने दिनों में समाप्त हो जाएगा?

- Ans
- ✗ 1.  $25\frac{1}{75}$
  - ✗ 2.  $25\frac{4}{15}$
  - ✗ 3.  $24\frac{1}{75}$
  - ✓ 4.  $24\frac{4}{15}$

Question ID : 26433075571  
Status : Answered  
Chosen Option : 4

Q.7 उस घनाभ के विकर्ण की लंबाई (दशमलव के एक अंक तक) ज्ञात कीजिए, जिसकी विमाएँ 12 m, 10 m और 8 m हैं।

- Ans
- ☐ 1. 18m
  - ☐ 2. 17m
  - ☐ 3. 16.5m
  - ☒ 4. 17.54m

Question ID : 26433075511  
Status : Answered  
Chosen Option : 4

Q.8 एक वस्तु को इस शर्त पर खरीदा जाता है कि ₹3,993 की तीन समान किस्तों का 10% चक्रवृद्धि ब्याज की दर से भुगतान किया जाना है जबकि ब्याज वार्षिक रूप से चक्रवृद्धि किया जाता है। वस्तु की कीमत क्या है?

- Ans
- ☐ 1. ₹9,590
  - ☐ 2. ₹9,050
  - ☐ 3. ₹10,000
  - ☒ 4. ₹9,930

Question ID : 264330103731  
Status : Answered  
Chosen Option : 3

Q.9 वेंकट अपनी आय का 65% खर्च करता है और प्रति माह ₹1,100 बचाने में सक्षम हैं। उसका मासिक खर्च (दो दशमलव अंक तक सही) ज्ञात कीजिए।

- Ans
- ☐ 1. ₹2,402.85
  - ☒ 2. ₹2,042.85
  - ☐ 3. ₹2,240.85
  - ☐ 4. ₹2,024.85

Question ID : 26433076372  
Status : Answered  
Chosen Option : 2

Q.10 16 और 24 का तीसरा समानुपाती \_\_\_\_\_ होगा।

- Ans
- ☐ 1. 30
  - ☐ 2. 40
  - ☒ 3. 36
  - ☐ 4. 32

Question ID : 264330142532  
Status : Answered  
Chosen Option : 3

Q.11 यदि  $C = D$  का  $\frac{2}{3}$  और  $D = E$  का  $\frac{3}{8}$  है, तो  $C : E$  का अनुपात ज्ञात कीजिए।

Ans ☒ 1. 1:4

☐ 2. 4:1

☐ 3. 3:4

☐ 4. 1:3

Question ID : 264330142554

Status : Answered

Chosen Option : 1

Q.12 सोमेश एक दुकानदार है जो ₹560 अंकित मूल्य वाली छतरी पर दो क्रमिक छूट प्रदान करता है। दी गई प्रथम छूट 17% है। यदि ग्राहक महेश छतरी के लिए ₹420 का भुगतान करता है, तो दी गई द्वितीय छूट (दशमलव के दो स्थान तक सही) ज्ञात करें।

Ans ☐ 1. 6.94%

☐ 2. 6.49%

☒ 3. 9.64%

☐ 4. 4.69%

Question ID : 264330130089

Status : Answered

Chosen Option : 3

Q.13 कक्षा I में, औसत आयु 20 वर्ष के 12 छात्र हैं और कक्षा II में औसत आयु 23 वर्ष के 16 छात्र हैं। इन दोनों कक्षाओं के सभी छात्रों के लिए लगभग औसत आयु क्या होगी?

Ans ☐ 1. 1.53 वर्ष

☐ 2. 43 वर्ष

☐ 3. 20.7 वर्ष

☒ 4. 21.7 वर्ष

Question ID : 26433073121

Status : Answered

Chosen Option : 4

Q.14 निम्नलिखित में से कौन सी संख्या 72 से विभाज्य नहीं है?

Ans ☐ 1. 754344

☐ 2. 359784

☐ 3. 426816

☒ 4. 486280

Question ID : 264330142676

Status : Answered

Chosen Option : 4

Q.15 एक खोखले अर्धगोलाकार कटोरे का आंतरिक और बाहरी व्यास क्रमशः 6 cm और 10 cm हैं। यदि इसे पिघलाकर 14 cm व्यास वाले एक ठोस बेलन के रूप में ढाला जाता है, तो बेलन की ऊंचाई cm में क्या होगी?

Ans ☐ 1. 1

☒ 2. 1.33

☐ 3. 1.22

☐ 4. 1.1

Question ID : 26433041645

Status : Answered

Chosen Option : 3

Q.16 एक पंसारी 13% के लाभ पर दालें बेचता है और ऐसे बाट का उपयोग करता है, जो बाजार के बाट से 24% कम हैं। उसके द्वारा अर्जित लाभ का प्रतिशत (2 दशमलव स्थान तक सही) \_\_\_\_\_ होगा।

- Ans
- ☒ 1. 37.75%
  - ☒ 2. 45.56%
  - ☒ 3. 48.68%
  - ☒ 4. 42.35%

Question ID : 26433081473  
Status : Answered  
Chosen Option : 3

Q.17 एक व्यक्ति 48 km की दूरी 8 km/h की चाल से, 36 km की दूरी 18 km/h की चाल से और 16 km की दूरी 8 km/h की चाल से तय करता है। पूरी दूरी तय करने में उसकी औसत चाल क्या है?

- Ans
- ☒ 1. 11 km/h
  - ☒ 2. 10 km/h
  - ☒ 3. 10.5 km/h
  - ☒ 4. 9 km/h

Question ID : 264330142262  
Status : Answered  
Chosen Option : 2

Q.18 यदि क्रय मूल्य विक्रय मूल्य का 66% है, तो लाभ प्रतिशत क्या है (2 दशमलव स्थानों तक पूर्णांकित)?

- Ans
- ☒ 1. 55.62%
  - ☒ 2. 50.52%
  - ☒ 3. 51.52%
  - ☒ 4. 60.25%

Question ID : 264330142239  
Status : Answered  
Chosen Option : 3

Q.19 एक नृत्य कक्षा के तीन बैचों में छात्रों का अनुपात 2 : 3 : 5 है। यदि प्रत्येक बैच में 20 छात्र बढ़ते हैं तो अनुपात बदलकर 4 : 5 : 7 हो जाता है। वृद्धि से पहले तीनों बैचों में छात्रों की कुल संख्या ज्ञात कीजिए।

- Ans
- ☒ 1. 80
  - ☒ 2. 120
  - ☒ 3. 150
  - ☒ 4. 100

Question ID : 264330142664  
Status : Answered  
Chosen Option : 4

Q.20 एक छात्रावास में 35 विद्यार्थियों के लिए 27 दिन का भोजन उपलब्ध है। 45 विद्यार्थियों के लिए यह भोजन कितने दिन के लिए पर्याप्त होगा?

- Ans
- ☒ 1. 22
  - ☒ 2. 23
  - ☒ 3. 25
  - ☒ 4. 21

Question ID : 26433061084  
Status : Answered  
Chosen Option : 4

Q.21 अरविंद ने साधारण ब्याज पर 5 वर्ष के लिए ₹18,500 जमा किए। 5 वर्षों के बाद, उसे ब्याज के रूप में ₹4,625 प्राप्त हुए। वार्षिक ब्याज की दर क्या थी?

- Ans ☒ 1. 5%
- ☐ 2. 7%
- ☐ 3. 6.5%
- ☐ 4. 6%

Question ID : 264330142260  
Status : Answered  
Chosen Option : 1

Q.22 एक संख्या में पहले 5% की वृद्धि की जाती है और फिर इसमें 20% की वृद्धि की जाती है। मूल संख्या में कितने प्रतिशत (%) की वृद्धि होती है?

- Ans ☐ 1. 16%
- ☒ 2. 26%
- ☐ 3. 30%
- ☐ 4. 18%

Question ID : 264330142551  
Status : Answered  
Chosen Option : 2

Q.23 यदि किसी संख्या के 20% को, दूसरी संख्या से घटाया जाता है और दूसरी संख्या घटकर 70% हो जाती है, तो पहली संख्या और दूसरी संख्या का अनुपात क्या होगा?

- Ans ☒ 1. 3:2
- ☐ 2. 4:3
- ☐ 3. 2:3
- ☐ 4. 3:4

Question ID : 26433075650  
Status : Answered  
Chosen Option : 1

Q.24 कक्षा A में 20 छात्रों ने औसतन 75 अंक प्राप्त किए, और कक्षा B में 30 छात्रों ने औसतन 60 अंक प्राप्त किए। दोनों कक्षाओं का औसत क्या होगा?

- Ans ☒ 1. 66
- ☐ 2. 62
- ☐ 3. 64
- ☐ 4. 68

Question ID : 264330103604  
Status : Answered  
Chosen Option : 1

Q.25 यदि क्रय मूल्य विक्रय मूल्य का 94% है, तो लाभ प्रतिशत ज्ञात कीजिए।

- Ans
- ☒ 1. 4.6%
  - ☒ 2. 6.5%
  - ☒ 3. 5.6%
  - ☒ 4. 6.4%

Question ID : 26433076175  
Status : Answered  
Chosen Option : 4

Section : English Language

Q.1 Select the most appropriate meaning of the given idiom.

To show a clean pair of heels

- Ans
- ☒ 1. To run fast
  - ☒ 2. Show clean shoes
  - ☒ 3. To clean shoes fast
  - ☒ 4. Show clean feet

Question ID : 26433098328  
Status : Answered  
Chosen Option : 1

Q.2 Select the correct spelling of the underlined word from the options.

She is the most underated cricketer in the country.

- Ans
- ☒ 1. underateed
  - ☒ 2. underrated
  - ☒ 3. undderated
  - ☒ 4. underatted

Question ID : 26433088782  
Status : Answered  
Chosen Option : 2

Q.3 Select the most appropriate option to fill in the blank.  
You must \_\_\_\_\_ what you cannot cure.

- Ans
- ☒ 1. embracing
  - ☒ 2. endure
  - ☒ 3. state
  - ☒ 4. take

Question ID : 26433060056  
Status : Answered  
Chosen Option : 2

**Q.4** Select the idiom that gives the most appropriate meaning of the underlined phrase in the following sentence.

'Honesty is the best policy' does not remain valid in the present times of corruption and greed.

- Ans ☒ 1. Go through thick and thin  
☒ 2. Hold good  
☒ 3. Keep pace with  
☒ 4. Put up

Question ID : 26433086436  
 Status : Answered  
 Chosen Option : 4

**Q.5** Select the most appropriate synonym of the underlined word in the following sentence.

Biosphere reserves are 'learning places for sustainable development'.

- Ans ☒ 1. maintainable  
☒ 2. unsuitable  
☒ 3. temporary  
☒ 4. brief

Question ID : 26433059798  
 Status : Answered  
 Chosen Option : 1

**Q.6** Select the option that expresses the given sentence in active voice.  
 The manager was being scolded by Rushikesh.

- Ans ☒ 1. Rushikesh has been scolding the manager.  
☒ 2. Rushikesh will be scolding the manager.  
☒ 3. Rushikesh was scolding the manager.  
☒ 4. Rushikesh scolded the manager.

Question ID : 264330134203  
 Status : Answered  
 Chosen Option : 3

**Q.7** Select the option that expresses the given sentence in indirect speech.  
 Aravind said, "My teacher is correcting the answer sheets."

- Ans ☒ 1. Aravind said that his teacher was correcting the answer sheets.  
☒ 2. Aravind said his teacher was be corrected the answer sheets.  
☒ 3. Aravind said that his teacher is being correcting the answer sheets.  
☒ 4. Aravind said that teacher is corrected the answer sheets.

Question ID : 264330135982  
 Status : Answered  
 Chosen Option : 1

**Q.8** Select the option that can be used as a one-word substitute for the given group of words.

The wide variety of shared and different personal and group characteristics among human beings

- Ans
- ☒ 1. Community
  - ☒ 2. Intensity
  - ☒ 3. Viscosity
  - ☒ 4. Diversity

Question ID : 26433060300  
Status : Answered  
Chosen Option : 4

**Q.9** Fill in the blank with the most appropriate word that can be used here based on the given context.

We as human beings usually tend to forget that life itself is an accumulated process of \_\_\_\_\_.

- Ans
- ☒ 1. recalling
  - ☒ 2. testing
  - ☒ 3. learning
  - ☒ 4. remembering

Question ID : 26433059829  
Status : Answered  
Chosen Option : 3

**Q.10** Select the most appropriate meaning of the given idiom.

He brought his servant to book for breaking the beautiful showpiece.

- Ans
- ☒ 1. Scolded his servant
  - ☒ 2. Relieved his servant
  - ☒ 3. Rewarded his servant
  - ☒ 4. Sent his servant away

Question ID : 264330122973  
Status : Answered  
Chosen Option : 1

**Q.11** Identify the most appropriate ANTONYM of the underlined word in the given sentence.

Precious stones are expensive because they are not common.

- Ans
- ☒ 1. Extinct
  - ☒ 2. Abundant
  - ☒ 3. Natural
  - ☒ 4. Rare

Question ID : 26433060801  
Status : Answered  
Chosen Option : 4



**Q.12** Parts of the following sentence have been underlined and given as options. Select the option that contains a spelling error.

In the unscientific age or community, there are official repositories of wisdom, such as Egyptian preists and Tibetan Lamas.

- Ans
- ☒ 1. repositories
  - ☒ 2. Egyptian
  - ☒ 3. preists
  - ☒ 4. unscientific

Question ID : 26433088434  
Status : Answered  
Chosen Option : 1

**Q.13** Select the option that can be used as a one-word substitute for the underlined group of words in the given sentence.

Adversity always presents opportunities for the examination of one's own conscious thoughts and feelings.

- Ans
- ☒ 1. evaluation
  - ☒ 2. cognition
  - ☒ 3. judgement
  - ☒ 4. introspection

Question ID : 26433073850  
Status : Answered  
Chosen Option : 3

**Q.14** Choose the correct spelling of the underlined word in the given sentence.

We are going on a hiking expidition.

- Ans
- ☒ 1. ixpedition
  - ☒ 2. expedetion
  - ☒ 3. exhipidition
  - ☒ 4. expedition

Question ID : 26433084611  
Status : Answered  
Chosen Option : 4

**Q.15** Select the most appropriate meaning of the given idiom.

Easier said than done

- Ans
- ☒ 1. Not as difficult as it appears to be
  - ☒ 2. Not as moderate as it appears to be
  - ☒ 3. Not as restricted as it appears to be
  - ☒ 4. Not as easy as it appears to be

Question ID : 26433061014  
Status : Answered  
Chosen Option : 4

### Comprehension:

In the following passage, some words have been deleted. Read the passage carefully and select the most appropriate option to fill in each blank.

Power foods are foods that provide (1) \_\_\_\_\_ levels of nutrients like fibre, potassium and minerals. With people becoming increasingly health conscious today, a lot of fitness trainers encourage their clients to include these foods in their daily diet to (2) \_\_\_\_\_ muscle development. There are various ways of incorporating power foods in your daily diet. Of course, the key to enjoying power foods is proper preparation of these foods, the (3) \_\_\_\_\_ of season-fresh foods and identifying your choice of flavour among power foods. Some of the recommended power food combinations are those that are prepared in our kitchens on a regular basis. Take for instance, the combination of chickpeas and onions. This combination is a powerful source of iron which is required by the body to transport oxygen to its various parts. Iron (4) \_\_\_\_\_ can lead to anaemia, fatigue, brain fog and tiredness. A study by the Journal of Agricultural and Food Chemistry says that sulphur compounds in onion and garlic help in the absorption of iron and zinc from chickpeas. The combination is a hit with teenagers who need to be (5) \_\_\_\_\_ about getting iron in their diet. A quick way to prepare this power food is to make a chickpea salad with chopped onions, chaat masala and cilantro.

SubQuestion No : 16

Q.16 Select the most appropriate option to fill in blank number 1.

- Ans ☒ 1. prosperous  
☒ 2. rich  
☒ 3. flourishing  
☒ 4. thriving

Question ID : 26433072017  
 Status : Answered  
 Chosen Option : 1

### Comprehension:

In the following passage, some words have been deleted. Read the passage carefully and select the most appropriate option to fill in each blank.

Power foods are foods that provide (1) \_\_\_\_\_ levels of nutrients like fibre, potassium and minerals. With people becoming increasingly health conscious today, a lot of fitness trainers encourage their clients to include these foods in their daily diet to (2) \_\_\_\_\_ muscle development. There are various ways of incorporating power foods in your daily diet. Of course, the key to enjoying power foods is proper preparation of these foods, the (3) \_\_\_\_\_ of season-fresh foods and identifying your choice of flavour among power foods. Some of the recommended power food combinations are those that are prepared in our kitchens on a regular basis. Take for instance, the combination of chickpeas and onions. This combination is a powerful source of iron which is required by the body to transport oxygen to its various parts. Iron (4) \_\_\_\_\_ can lead to anaemia, fatigue, brain fog and tiredness. A study by the Journal of Agricultural and Food Chemistry says that sulphur compounds in onion and garlic help in the absorption of iron and zinc from chickpeas. The combination is a hit with teenagers who need to be (5) \_\_\_\_\_ about getting iron in their diet. A quick way to prepare this power food is to make a chickpea salad with chopped onions, chaat masala and cilantro.

SubQuestion No : 17

Q.17 Select the most appropriate option to fill in blank number 2.

- Ans ☒ 1. increase  
☒ 2. magnify  
☒ 3. intensify  
☒ 4. spike

Question ID : 26433072018  
 Status : Answered  
 Chosen Option : 4

### Comprehension:

In the following passage, some words have been deleted. Read the passage carefully and select the most appropriate option to fill in each blank.

Power foods are foods that provide (1) \_\_\_\_\_ levels of nutrients like fibre, potassium and minerals. With people becoming increasingly health conscious today, a lot of fitness trainers encourage their clients to include these foods in their daily diet to (2) \_\_\_\_\_ muscle development. There are various ways of incorporating power foods in your daily diet. Of course, the key to enjoying power foods is proper preparation of these foods, the (3) \_\_\_\_\_ of season-fresh foods and identifying your choice of flavour among power foods. Some of the recommended power food combinations are those that are prepared in our kitchens on a regular basis. Take for instance, the combination of chickpeas and onions. This combination is a powerful source of iron which is required by the body to transport oxygen to its various parts. Iron (4) \_\_\_\_\_ can lead to anaemia, fatigue, brain fog and tiredness. A study by the Journal of Agricultural and Food Chemistry says that sulphur compounds in onion and garlic help in the absorption of iron and zinc from chickpeas. The combination is a hit with teenagers who need to be (5) \_\_\_\_\_ about getting iron in their diet. A quick way to prepare this power food is to make a chickpea salad with chopped onions, chaat masala and cilantro.

SubQuestion No : 18

Q.18 Select the most appropriate option to fill in blank number 3.

- Ans ☒ 1. wield  
☒ 2. handle  
☒ 3. apply  
☒ 4. use

Question ID : 26433072019  
 Status : Answered  
 Chosen Option : 4

### Comprehension:

In the following passage, some words have been deleted. Read the passage carefully and select the most appropriate option to fill in each blank.

Power foods are foods that provide (1) \_\_\_\_\_ levels of nutrients like fibre, potassium and minerals. With people becoming increasingly health conscious today, a lot of fitness trainers encourage their clients to include these foods in their daily diet to (2) \_\_\_\_\_ muscle development. There are various ways of incorporating power foods in your daily diet. Of course, the key to enjoying power foods is proper preparation of these foods, the (3) \_\_\_\_\_ of season-fresh foods and identifying your choice of flavour among power foods. Some of the recommended power food combinations are those that are prepared in our kitchens on a regular basis. Take for instance, the combination of chickpeas and onions. This combination is a powerful source of iron which is required by the body to transport oxygen to its various parts. Iron (4) \_\_\_\_\_ can lead to anaemia, fatigue, brain fog and tiredness. A study by the Journal of Agricultural and Food Chemistry says that sulphur compounds in onion and garlic help in the absorption of iron and zinc from chickpeas. The combination is a hit with teenagers who need to be (5) \_\_\_\_\_ about getting iron in their diet. A quick way to prepare this power food is to make a chickpea salad with chopped onions, chaat masala and cilantro.

SubQuestion No : 19

Q.19 Select the most appropriate option to fill in blank number 4.

- Ans ☒ 1. drought  
☒ 2. lack  
☒ 3. deficiency  
☒ 4. inadequacy

Question ID : 26433072020  
 Status : Answered  
 Chosen Option : 3

**Comprehension:**

In the following passage, some words have been deleted. Read the passage carefully and select the most appropriate option to fill in each blank.

Power foods are foods that provide (1) \_\_\_\_\_ levels of nutrients like fibre, potassium and minerals. With people becoming increasingly health conscious today, a lot of fitness trainers encourage their clients to include these foods in their daily diet to (2) \_\_\_\_\_ muscle development. There are various ways of incorporating power foods in your daily diet. Of course, the key to enjoying power foods is proper preparation of these foods, the (3) \_\_\_\_\_ of season-fresh foods and identifying your choice of flavour among power foods. Some of the recommended power food combinations are those that are prepared in our kitchens on a regular basis. Take for instance, the combination of chickpeas and onions. This combination is a powerful source of iron which is required by the body to transport oxygen to its various parts. Iron (4) \_\_\_\_\_ can lead to anaemia, fatigue, brain fog and tiredness. A study by the Journal of Agricultural and Food Chemistry says that sulphur compounds in onion and garlic help in the absorption of iron and zinc from chickpeas. The combination is a hit with teenagers who need to be (5) \_\_\_\_\_ about getting iron in their diet. A quick way to prepare this power food is to make a chickpea salad with chopped onions, chaat masala and cilantro.

**SubQuestion No : 20**

**Q.20** Select the most appropriate option to fill in blank number 5.

- Ans** ☒ 1. immersed  
☒ 2. swamped  
☒ 3. diligent  
☒ 4. vibrant

Question ID : **26433072021**  
Status : **Answered**  
Chosen Option : **4**

**Comprehension:**

Read the given passage and answer the questions that follow.

"For me, trees have always been the most penetrating preachers. I revere them when they live in tribes and families, in forests and groves. And even more I revere them when they stand alone. They are like lonely persons. Not like hermits who have stolen away out of some weakness, but like great, solitary men, like Beethoven and Nietzsche. In their highest boughs the world rustles, their roots rest in infinity; but they do not lose themselves there, they struggle with all the force of their lives for one thing only: to fulfil themselves according to their own laws, to build up their own form, to represent themselves. Nothing is holier, nothing is more exemplary than a beautiful, strong tree. When a tree is cut down and reveals its naked death-wound to the sun, one can read its whole history in the luminous, inscribed disk of its trunk: in the rings of its years, its scars, all the struggle, all the suffering, all the sickness, all the happiness and prosperity stand truly written, the narrow years and the luxurious years, the attacks withstood, the storms endured. And every young farm-boy knows that the hardest and noblest wood has the narrowest rings, that high on the mountains and in continuing danger the most indestructible, the strongest, the ideal trees grow."

**SubQuestion No : 21**

**Q.21** Which of the following labels is most appropriate for the author of the given passage?

- Ans** ☒ 1. Arrogant theorist  
☒ 2. Social activist  
☒ 3. Nostalgic dreamer  
☒ 4. Environment enthusiast

Question ID : **26433076132**  
Status : **Answered**  
Chosen Option : **4**

### Comprehension:

Read the given passage and answer the questions that follow.

"For me, trees have always been the most penetrating preachers. I revere them when they live in tribes and families, in forests and groves. And even more I revere them when they stand alone. They are like lonely persons. Not like hermits who have stolen away out of some weakness, but like great, solitary men, like Beethoven and Nietzsche. In their highest boughs the world rustles, their roots rest in infinity; but they do not lose themselves there, they struggle with all the force of their lives for one thing only: to fulfil themselves according to their own laws, to build up their own form, to represent themselves. Nothing is holier, nothing is more exemplary than a beautiful, strong tree. When a tree is cut down and reveals its naked death-wound to the sun, one can read its whole history in the luminous, inscribed disk of its trunk: in the rings of its years, its scars, all the struggle, all the suffering, all the sickness, all the happiness and prosperity stand truly written, the narrow years and the luxurious years, the attacks withstood, the storms endured. And every young farm-boy knows that the hardest and noblest wood has the narrowest rings, that high on the mountains and in continuing danger the most indestructible, the strongest, the ideal trees grow."

SubQuestion No : 22

Q.22 Where can one read the complete history of a tree?

- Ans ☒ 1. On its skin when it is counted
- ☒ 2. On its trunk when it is cut down
- ☒ 3. On its branches when it is full-grown
- ☒ 4. On its leaves in sunny days

Question ID : 26433076129

Status : Answered

Chosen Option : 2

### Comprehension:

Read the given passage and answer the questions that follow.

"For me, trees have always been the most penetrating preachers. I revere them when they live in tribes and families, in forests and groves. And even more I revere them when they stand alone. They are like lonely persons. Not like hermits who have stolen away out of some weakness, but like great, solitary men, like Beethoven and Nietzsche. In their highest boughs the world rustles, their roots rest in infinity; but they do not lose themselves there, they struggle with all the force of their lives for one thing only: to fulfil themselves according to their own laws, to build up their own form, to represent themselves. Nothing is holier, nothing is more exemplary than a beautiful, strong tree. When a tree is cut down and reveals its naked death-wound to the sun, one can read its whole history in the luminous, inscribed disk of its trunk: in the rings of its years, its scars, all the struggle, all the suffering, all the sickness, all the happiness and prosperity stand truly written, the narrow years and the luxurious years, the attacks withstood, the storms endured. And every young farm-boy knows that the hardest and noblest wood has the narrowest rings, that high on the mountains and in continuing danger the most indestructible, the strongest, the ideal trees grow."

SubQuestion No : 23

Q.23 What is the tone of the speaker?

- Ans ☒ 1. Sarcastic
- ☒ 2. Vituperative
- ☒ 3. Emotional
- ☒ 4. Apathetic

Question ID : 26433076131

Status : Answered

Chosen Option : 3

**Comprehension:**

Read the given passage and answer the questions that follow.

"For me, trees have always been the most penetrating preachers. I revere them when they live in tribes and families, in forests and groves. And even more I revere them when they stand alone. They are like lonely persons. Not like hermits who have stolen away out of some weakness, but like great, solitary men, like Beethoven and Nietzsche. In their highest boughs the world rustles, their roots rest in infinity; but they do not lose themselves there, they struggle with all the force of their lives for one thing only: to fulfil themselves according to their own laws, to build up their own form, to represent themselves. Nothing is holier, nothing is more exemplary than a beautiful, strong tree. When a tree is cut down and reveals its naked death-wound to the sun, one can read its whole history in the luminous, inscribed disk of its trunk: in the rings of its years, its scars, all the struggle, all the suffering, all the sickness, all the happiness and prosperity stand truly written, the narrow years and the luxurious years, the attacks withstood, the storms endured. And every young farm-boy knows that the hardest and noblest wood has the narrowest rings, that high on the mountains and in continuing danger the most indestructible, the strongest, the ideal trees grow."

**SubQuestion No : 24**

**Q.24** Select the most suitable word given in the passage that means 'very good and perfect'.

- Ans
- ☒ 1. Luminous
  - ☒ 2. Holier
  - ☒ 3. Penetrating
  - ☒ 4. Exemplary

Question ID : 26433076130  
Status : Answered  
Chosen Option : 3

**Comprehension:**

Read the given passage and answer the questions that follow.

"For me, trees have always been the most penetrating preachers. I revere them when they live in tribes and families, in forests and groves. And even more I revere them when they stand alone. They are like lonely persons. Not like hermits who have stolen away out of some weakness, but like great, solitary men, like Beethoven and Nietzsche. In their highest boughs the world rustles, their roots rest in infinity; but they do not lose themselves there, they struggle with all the force of their lives for one thing only: to fulfil themselves according to their own laws, to build up their own form, to represent themselves. Nothing is holier, nothing is more exemplary than a beautiful, strong tree. When a tree is cut down and reveals its naked death-wound to the sun, one can read its whole history in the luminous, inscribed disk of its trunk: in the rings of its years, its scars, all the struggle, all the suffering, all the sickness, all the happiness and prosperity stand truly written, the narrow years and the luxurious years, the attacks withstood, the storms endured. And every young farm-boy knows that the hardest and noblest wood has the narrowest rings, that high on the mountains and in continuing danger the most indestructible, the strongest, the ideal trees grow."

**SubQuestion No : 25**

**Q.25** Where does the world rustle, according to the given passage?

- Ans
- ☒ 1. Around the trunk of trees
  - ☒ 2. In the deepest roots of trees
  - ☒ 3. Over the forest in the sunny days
  - ☒ 4. In the highest boughs of trees

Question ID : 26433076128  
Status : Answered  
Chosen Option : 4