

SSC Selection Post

Previous Year Paper
(Matriculation Level)
27 June, 2023 Shift 2

Adda247

Test Prime

**ALL EXAMS,
ONE SUBSCRIPTION**



70,000+
Mock Tests



**Personalised
Report Card**



**Unlimited
Re-Attempt**



600+
Exam Covered



**Previous Year
Papers**



**500%
Refund**



ATTEMPT FREE MOCK NOW

Phase-XI/2023/Selection Posts and Selection Posts/Ladakh/2023

Roll Number	
Candidate Name	
Venue Name	
Exam Date	27/06/2023
Exam Time	11:45 AM - 12:45 PM
Subject	Selection Post Matriculation Level

Section : General Intelligence

Q.1 उस विकल्प का चयन करें जो दिए गए शब्दों के उस सही क्रम को दर्शाता है जिस क्रम में वे अंग्रेजी शब्दकोश में आएंगे।

- 1. MUSLIN
- 2. MOUSSE
- 3. MOUTH
- 4. MOW
- 5. MOVE
- 6. MUCK

Ans ☒ 1. 2,4,3,5,6,1
☒ 2. 2,3,5,4,6,1
☒ 3. 1,2,3,4,5,6
☒ 4. 5,3,4,2,1,6

Question ID : 264330142855
Status : Answered
Chosen Option : 2

Q.2 कौन-सा अक्षर-समूह दी गई श्रृंखला को पूरा करने के लिए प्रश्न-चिह्न (?) को प्रतिस्थापित करेगा?
SPIN, RQJM, ?, PSLK, OTMJ

Ans ☒ 1. QRLK
☒ 2. QPKL
☒ 3. QRKL
☒ 4. RQLK

Question ID : 26433056234
Status : Answered
Chosen Option : 3

Q.3 तीन कथन दिए गए हैं, जिसके बाद तीन निष्कर्ष I, II और III दिए गए हैं। कथनों को सत्य मानते हुए, भले ही वे सामान्य रूप से ज्ञात तथ्यों से भिन्न प्रतीत होते हों, निर्धारित करें कि कौन-सा/से निष्कर्ष कथनों का तार्किक रूप से अनुसरण करता है/करते हैं।

कथन:

सभी स्कूल, कॉलेज हैं।
सभी कॉलेज, घर हैं।
सभी घर, सड़कें हैं।

निष्कर्ष:

I. सभी स्कूल, सड़कें हैं।
II. सभी स्कूल, घर हैं।
III. सभी कॉलेज, सड़कें हैं।

- Ans ☒ 1. केवल निष्कर्ष II और III अनुसरण करते हैं।
☒ 2. केवल निष्कर्ष I और II अनुसरण करते हैं।
☒ 3. सभी निष्कर्ष अनुसरण करते हैं।
☒ 4. केवल निष्कर्ष I और III अनुसरण करते हैं।

Question ID : 26433095997

Status : Answered

Chosen Option : 3

Q.4 नीचे दिए गए समीकरण में * चिह्नों को बदलने और समीकरण को संतुलित करने के लिए गणितीय चिह्नों के सही संयोजन का चयन कीजिए।

$62 \times 14 \times 7 \times 18 \times 26$

- Ans ☒ 1. +, x, =, -
☒ 2. =, +, x, +
☒ 3. =, x, +, -
☒ 4. -, +, =, x

Question ID : 264330142883

Status : Answered

Chosen Option : 2

Q.5 'A + B' का अर्थ है 'A, B का भाई है'।
'A - B' का अर्थ है 'A, B की माता है'।
'A × B' का अर्थ है 'A, B का पिता है'।
'A ÷ B' का अर्थ है 'A, B की बहन है'।
यदि $C \times M \div S \times K - T + Q$ है, तो निम्नलिखित में से कौन-सा कथन सही नहीं है?

- Ans ☒ 1. K, Q की माता है।
☒ 2. C, K के पिता का पिता है।
☒ 3. S, Q की माता का पिता है।
☒ 4. M, T के पिता की बहन है।

Question ID : 26433095002

Status : Answered

Chosen Option : 4

Q.6 उस विकल्प का चयन कीजिए जो तीसरे शब्द से उसी प्रकार संबंधित है जिस प्रकार दूसरा शब्द पहले शब्द से संबंधित है। (शब्दों को अर्थपूर्ण हिंदी शब्दों के रूप में माना जाना चाहिए और शब्द में अक्षरों की संख्या/व्यंजनों/स्वरों की संख्या के आधार पर वे एक-दूसरे से संबंधित नहीं होने चाहिए।)

ओआलॉजी (Oology) : अंडे :: पैलेन्टोलॉजी (Palaeontology) : ?

- Ans
- ☐ 1. मनुष्य (man)
 - ☐ 2. मिट्टी (Soil)
 - ☐ 3. लेखन (Writings)
 - ☒ 4. जीवाश्म (Fossils)

Question ID : 264330142869
Status : Answered
Chosen Option : 4

Q.7 निम्नलिखित में से कौन-सी संख्या दी गई संख्या श्रृंखला में प्रश्नवाचक चिह्न (?) को प्रतिस्थापित करेगी?
25, 115, 214, 322, ?, 565, 700

- Ans
- ☐ 1. 448
 - ☐ 2. 427
 - ☒ 3. 439
 - ☐ 4. 432

Question ID : 264330142881
Status : Answered
Chosen Option : 3

Q.8 उस विकल्प का चयन कीजिए, जो उन अक्षरों का निरूपण करता हो, जिन्हें निम्न अक्षर-श्रृंखला में क्रमानुसार बाएँ से दाएँ रखने पर वे श्रृंखला-पूर्ति करेंगे।
L _ H _ _ L K H C _ _ K H _ _ L _ H C W

- Ans
- ☐ 1. K K C W L K C W
 - ☐ 2. L C W K K W C L
 - ☐ 3. W C L K L W K L
 - ☒ 4. K C W W L C W K

Question ID : 26433068991
Status : Answered
Chosen Option : 4

Q.9 उस विकल्प का चयन करें, जो दिए गए शब्दों की सही व्यवस्था को उस क्रम में इंगित करता है, जिस क्रम में वे अंग्रेजी शब्दकोश में दिखाई देते हैं।

1. Memoir
2. Menial
3. Melamine
4. Melancholy
5. Memory

- Ans
- ☐ 1. 4, 3, 2, 1, 5
 - ☒ 2. 3, 4, 1, 5, 2
 - ☐ 3. 5, 3, 1, 4, 2
 - ☐ 4. 4, 5, 1, 2, 3

Question ID : 264330126645
Status : Answered
Chosen Option : 2

Q.10 उस विकल्प का चयन कीजिए जो तीसरे पद से उसी प्रकार संबंधित है जिस प्रकार दूसरा पद पहले पद से संबंधित है और छठा पद पाँचवें पद से संबंधित है।
MISSION : NOSSIIM :: PHOENIX : ? :: ORGANIC : CIGANRO

- Ans ☒ 1. XIOENHP
☐ 2. XHOENIP
☐ 3. PHOEXIN
☐ 4. PHEONIX

Question ID : 264330142837
Status : Answered
Chosen Option : 1

Q.11 उस विकल्प का चयन करें जो उन अक्षरों का निरूपण करता है, जिन्हें नीचे श्रृंखला में दिए गए रिक्त स्थानों पर बाएं से दाएं क्रमिक रूप से रखने पर श्रृंखला पूर्ण हो जाएगी।

_G_JY_U_G_YGU_

- Ans ☐ 1. YUGJYUYJ
☒ 2. YUGJYUJJ
☐ 3. YUGJYUJU
☐ 4. YUGGYUJJ

Question ID : 264330142853
Status : Answered
Chosen Option : 2

Q.12 उस विकल्प का चयन करें जो पाँचवें अक्षर-समूह से ठीक उसी प्रकार संबंधित है जैसे दूसरा अक्षर-समूह पहले अक्षर-समूह से संबंधित है और चौथा अक्षर-समूह तीसरे अक्षर-समूह से संबंधित है।

RED : GHU :: BLUE : HXOE :: PINK : ?

- Ans ☐ 1. JHGF
☐ 2. MNHO
☐ 3. PLOK
☒ 4. NQLS

Question ID : 264330142858
Status : Answered
Chosen Option : 4

Q.13 उस विकल्प का चयन करें जो चौथे पद से उसी प्रकार संबंधित है जिस प्रकार पहला पद दूसरे पद से संबंधित है और पाँचवां पद छठे पद से संबंधित है।
8 : 508 :: ? : 2193 :: 2 : 4

- Ans ☐ 1. 17
☐ 2. 19
☐ 3. 15
☒ 4. 13

Question ID : 26433040811
Status : Answered
Chosen Option : 4

Q.14 जब दर्पण को चित्र के अनुसार 'PQ' पर रखा जाता है तो दिए गए संयोजन का दर्पण में निर्मित सही प्रतिबिंब चयनित कीजिए।

beR78ergiH6bf

Ans

- ☒ 1. beR78ergiH6bf
- ☒ 2. p6B78erg!Herp
- ☒ 3. jv9H!gJ8Z8ev
- ☒ 4. 7d8Hig798Z8ed

Question ID : 264330143275

Status : Answered

Chosen Option : 4

Q.15 तीन कथनों के बाद तीन निष्कर्ष I, II और III दिए गए हैं। यह मानते हुए कि कथनों में दी गयी जानकारी सही है, भले ही वह सामान्य रूप से ज्ञात तथ्यों से भिन्न लगे, निर्णय करें कि दिया गया कौन-सा/से निष्कर्ष तार्किक रूप से कथनों का अनुसरण करता है/करते हैं।

कथन:

कोई भी मग, बाल्टी नहीं है।
सभी मग, कप हैं।
कुछ कप, चम्मच हैं।

निष्कर्ष:

I. कुछ चम्मच, बाल्टी हैं।
II. कुछ मग, चम्मच हैं।
III. कुछ कप, बाल्टी नहीं हैं।

Ans

- ☒ 1. केवल निष्कर्ष III अनुसरण करता है
- ☒ 2. केवल निष्कर्ष II और III अनुसरण करते हैं
- ☒ 3. सभी निष्कर्ष अनुसरण करते हैं
- ☒ 4. केवल निष्कर्ष I और II अनुसरण करते हैं

Question ID : 26433091717

Status : Answered

Chosen Option : 1

Q.16 नीचे तीन कथन और उनके बाद तीन निष्कर्ष I, II और III दिए गए हैं। कथनों को सत्य मानते हुए, भले ही वे सामान्य रूप से ज्ञात तथ्यों से भिन्न प्रतीत होते हों, यह निर्णय लीजिए कि कौन सा/से निष्कर्ष कथनों का तार्किक रूप से अनुसरण करता है / करते हैं।

कथन:

सभी टैंक, प्लेट हैं।
सभी चारपाइयां, प्लेट हैं।
कुछ जई, चारपाइयां हैं।

निष्कर्ष:

I. कुछ टैंक, चारपाइयां हैं।
II. कुछ प्लेट, टैंक हैं।
III. कुछ प्लेट, जई हैं।

Ans

- ☒ 1. केवल निष्कर्ष I अनुसरण करता है
- ☒ 2. या तो निष्कर्ष I अनुसरण करता है या II अनुसरण करता है
- ☒ 3. केवल निष्कर्ष II अनुसरण करता है
- ☒ 4. निष्कर्ष II और III दोनों अनुसरण करते हैं

Question ID : 264330142958

Status : Answered

Chosen Option : 4

Q.17 उस विकल्प का चयन कीजिए, जो पाँचवें पद से उसी प्रकार संबंधित है, जिस प्रकार दूसरा पद पहले पद से और चौथा पद तीसरे पद से संबंधित है।
EARLY : YLRAE :: IMAGE : EGAMI :: LASER : ?

- Ans
- ☒ 1. ERSLA
 - ☒ 2. EASRL
 - ☒ 3. RASEL
 - ☒ 4. RESAL

Question ID : 264330142833

Status : Answered

Chosen Option : 4

Q.18 तीन कथनों के बाद I, II और III से क्रमांकित तीन निष्कर्ष दिए गए हैं। आपको इन कथनों को सत्य मानना है, भले ही वे सामान्य रूप से ज्ञात तथ्यों से भिन्न प्रतीत होते हों। यह तय करें कि कौन सा/से निष्कर्ष तार्किक रूप से दिए गए कथनों का अनुसरण करता है/ करते हैं।

कथन:

कोई भी कबूतर, पंडुक नहीं है।
कुछ पंडुक, गौरैया हैं।
सभी गौरैया, पक्षी हैं।

निष्कर्ष:

(I) कुछ गौरैया, कबूतर नहीं हैं।
(II) कुछ गौरैया, पंडुक हैं।
(III) कुछ पक्षी, पंडुक हैं।

- Ans
- ☒ 1. केवल निष्कर्ष I अनुसरण करता है
 - ☒ 2. या तो निष्कर्ष I अनुसरण करता है या निष्कर्ष III अनुसरण करता है
 - ☒ 3. I, II और III सभी निष्कर्ष अनुसरण करते हैं
 - ☒ 4. केवल निष्कर्ष II अनुसरण करता है

Question ID : 264330142980

Status : Answered

Chosen Option : 3



Q.19 उस आकृति का चयन करें जो निम्न आकृति श्रृंखला में अगले स्थान पर आएगी।



Ans

- ✗ 1.
- ✗ 2.
- ✓ 3.
- ✗ 4.

Question ID : 264330143284
Status : Answered
Chosen Option : 3

Q.20 * चिह्नों को क्रमानुसार प्रतिस्थापित करने और दिए गए समीकरण को संतुलित करने के लिए गणितीय चिह्नों के सही संयोजन का चयन करें।
 $165 * 33 * 26 * 17 * 2 * 19 * 16$

Ans ✓ 1. $÷, +, -, ×, +, =$

- ✗ 2. $×, +, -, =, +, +$
- ✗ 3. $+, -, +, -, ×, =$
- ✗ 4. $÷, +, =, +, -, ×$

Question ID : 26433057642
Status : Answered
Chosen Option : 1

Q.21 'A # B' का अर्थ है 'A, B की पुत्री है'।
'A % B' का अर्थ है 'A, B का पति है'।
'A & B' का अर्थ है 'A, B का भाई है'।
'A @ B' का अर्थ है 'A, B की बहन है'।
यदि $S \# P \% Q @ T \& V \% X$ है, तो X का S से क्या संबंध है?

Ans ✓ 1. भांजी

- ✗ 2. बहन
- ✗ 3. भतीजी
- ✗ 4. भाई

Question ID : 26433091637
Status : Answered
Chosen Option : 1

Q.22 उस विकल्प का चयन करें जो उन अक्षरों का निरूपण करता है, जिन्हें नीचे श्रृंखला में दिए गए रिक्त स्थानों पर बाएं से दाएं क्रमिक रूप से रखने पर श्रृंखला पूर्ण हो जाएगी।

Q _ C _ Q S _ B _ S _ _ Q S _ _

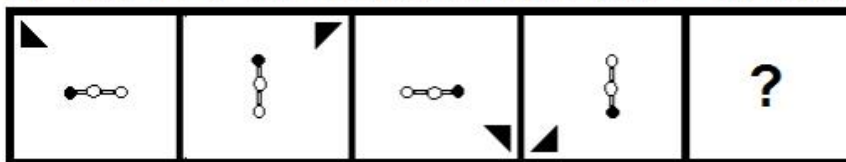
- Ans
- ☒ 1. S B C B C B Q C
 - ☒ 2. B B C B C B Q C
 - ☒ 3. C B C Q C B B C
 - ☒ 4. S B C Q C B C B

Question ID : 264330142851

Status : Answered

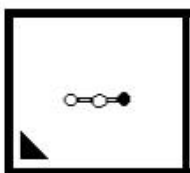
Chosen Option : 4

Q.23 उस आकृति का चयन करें जो निम्नलिखित आकृति श्रृंखला में आगे आएगी।

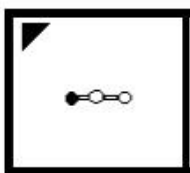


Ans

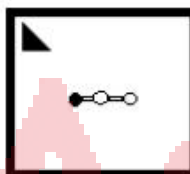
☒ 1.



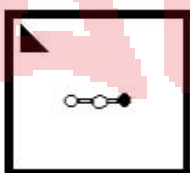
☒ 2.



☒ 3.



☒ 4.



Question ID : 264330143293

Status : Answered

Chosen Option : 2

Q.24 उस विकल्प का चयन कीजिए जो दिए गए शब्दों को तार्किक और सार्थक ढंग से सही क्रम व्यवस्था में दर्शाता है।
 1. नवांकुर
 2. छोटा पौधा
 3. वृक्ष
 4. बीज
 5. वन

Ans ☒ 1. 3, 1, 5, 4, 2
☒ 2. 4, 1, 2, 3, 5
☒ 3. 1, 3, 4, 2, 5
☒ 4. 2, 4, 3, 5, 1

Question ID : 264330125995
 Status : Answered
 Chosen Option : 2

Q.25 'A # B' का अर्थ है 'A, B का भाई है'।
 'A @ B' का अर्थ है 'A, B की पुत्री है'।
 'A & B' का अर्थ है 'A, B का पति है'।
 'A % B' का अर्थ है 'A, B की पत्नी है'।
 यदि W % D # G @ B & M @ I है, तो D, M से किस प्रकार संबंधित है?

Ans ☒ 1. पोता
☒ 2. दादाजी
☒ 3. पिता
☒ 4. पुत्र

Question ID : 264330142903
 Status : Answered
 Chosen Option : 4

Section : General Awareness

Q.1 रोहन बोपन्ना और रामकुमार रामनाथन को जनवरी 2022 में शुरू हुए निम्नलिखित में से किस टेनिस टूर्नामेंट के चौथे संस्करण के युगल के मुख्य ड्रॉ में सीधे प्रवेश मिला?

Ans ☒ 1. बीएनपी पेरिबास ओपन (BNP Paribas Open)
☒ 2. टाटा ओपन महाराष्ट्र (Tata Open Maharashtra)
☒ 3. कतर एक्सॉनमोबिल ओपन (Qatar ExxonMobil Open)
☒ 4. दुबई ड्यूटी फ्री टेनिस चैंपियनशिप (Dubai Duty Free Tennis Championships)

Question ID : 264330142690
 Status : Answered
 Chosen Option : 3

Q.2 निम्नलिखित में से किस वर्ष में, अवध के नवाब ने ब्रिटिश भारत के गवर्नर जनरल लॉर्ड वेलेस्ली (Lord Wellesley) द्वारा शुरू किए गए सहायक गठबंधन को स्वीकार किया था?

Ans ☒ 1. 1796
☒ 2. 1806
☒ 3. 1809
☒ 4. 1801

Question ID : 26433065544
 Status : Answered
 Chosen Option : 1

Q.3 जनवरी 2022 में भारत सरकार के मुख्य आर्थिक सलाहकार के रूप में किसे नियुक्त किया गया?

- Ans
- ☒ 1. एम जगदीश कुमार
 - ☒ 2. संजीव सान्याल
 - ☒ 3. माधवी पुरी
 - ☒ 4. वी अनंत नागेश्वरन

Question ID : 26433072895
Status : Answered
Chosen Option : 2

Q.4 राष्ट्रीय राजधानी क्षेत्र की विधान सभा के आम चुनाव पहली बार कब हुए थे?

- Ans
- ☒ 1. 1991 में
 - ☒ 2. 1992 में
 - ☒ 3. 1990 में
 - ☒ 4. 1993 में

Question ID : 264330113421
Status : Answered
Chosen Option : 1

Q.5 'कर्मयोगी भारत' परियोजना के तहत _____ को डिजिटल साधनों के माध्यम से सेवाओं में बेहतर प्रदर्शन के लिए ऑनलाइन प्रशिक्षण दिया जाता है।

- Ans
- ☒ 1. शिक्षाविदों
 - ☒ 2. रक्षा कर्मिकों
 - ☒ 3. सामाजिक कार्यकर्ताओं
 - ☒ 4. लोक सेवकों

Question ID : 26433079548
Status : Answered
Chosen Option : 2

Q.6 टोक्यो पैरालिम्पिक्स में किस खेल में मरियप्पन थंगावेलु और शरद कुमार ने रजत और कांस्य पदक जीते?

- Ans
- ☒ 1. भारोत्तोलन
 - ☒ 2. ऊंची कूद
 - ☒ 3. गोला फेंक
 - ☒ 4. निशानेबाजी

Question ID : 264330142685
Status : Answered
Chosen Option : 2

Q.7 डिब्बाबंदी के लिए टमाटर, आलू और अन्य फलों और सब्जियों से छिलके निकालने और खाद्य परिरक्षकों में एक घटक के रूप में किस यौगिक का उपयोग किया जाता है, जो भोजन में फफूंदी और जीवाणुओं की वृद्धि रोकने में मदद करता है?

- Ans
- ☒ 1. मैग्नीशियम बाइसल्फाइट
 - ☒ 2. सोडियम बाइकार्बोनेट
 - ☒ 3. सोडियम हाइड्रॉक्साइड
 - ☒ 4. एल्युमिनियम फास्फाइड

Question ID : 264330142708
Status : Answered
Chosen Option : 3

Q.8 वसीय अम्ल का आणविक भार कैसे निर्धारित किया जाता है?

- Ans
- ☒ 1. पेरोक्साइड मान
 - ☒ 2. साबुनीकरण मान
 - ☒ 3. अम्ल मान
 - ☒ 4. आयोडीन मान

Question ID : 26433064452
Status : Not Answered
Chosen Option : --

Q.9 नृत्यांगना युगल कमलिनी और नलिनी अस्थाना को 2022 में पद्म श्री से सम्मानित किया गया है। वे निम्नलिखित में से किस नृत्य शैली के लिए प्रसिद्ध हैं?

- Ans
- ☒ 1. कुचिपुड़ी
 - ☒ 2. मणिपुरी
 - ☒ 3. कथक
 - ☒ 4. भरतनाट्यम

Question ID : 26433099196
Status : Answered
Chosen Option : 1

Q.10 गुप्तकाल को प्रारंभ करने का श्रेय किसे दिया जाता है?

- Ans
- ☒ 1. समुद्रगुप्त
 - ☒ 2. चन्द्रगुप्त I
 - ☒ 3. चन्द्रगुप्त II
 - ☒ 4. कुमारगुप्त

Question ID : 264330108996
Status : Answered
Chosen Option : 3

Q.11 भारत में मानक जनगणना परिभाषा के अनुसार सीमांत कामगार कौन है?

- Ans
- ☒ 1. वह व्यक्ति जो एक वर्ष में 200 दिनों से कम काम करता है
 - ☒ 2. वह व्यक्ति जो एक वर्ष में 150 दिनों से कम काम करता है
 - ☒ 3. वह व्यक्ति जो एक वर्ष में 100 दिनों से कम काम करता है
 - ☒ 4. वह व्यक्ति जो एक वर्ष में 183 दिनों से कम काम करता है

Question ID : 264330109872
Status : Answered
Chosen Option : 4

Q.12 वड़ोदरा, गुजरात के लक्ष्मी विलास महल में किस शैली की वास्तुकला का इस्तेमाल किया गया था?

- Ans
- ☒ 1. भारत-अरबी
 - ☒ 2. मुगल
 - ☒ 3. हिंदू मंदिर
 - ☒ 4. इंडो-इस्लामिक

Question ID : 26433090746
Status : Answered
Chosen Option : 3

Q.13 निम्नलिखित में से किस खेल में क्लीन एंड जर्क तकनीक का प्रयोग किया जाता है?

- Ans
- ✓ 1. भारोत्तोलन
 - ✗ 2. बॉडी बिल्डिंग
 - ✗ 3. कुश्ती
 - ✗ 4. हथौड़ा फेंक

Question ID : 264330142823
Status : Not Answered
Chosen Option : --

Q.14 निम्नलिखित में से कौन-सा शिखर दक्षिण भारत का सबसे ऊँचा शिखर है?

- Ans
- ✗ 1. डोडा बेट्टा
 - ✗ 2. मुकुर्थी
 - ✗ 3. महेंद्रगिरि
 - ✓ 4. अनाइमुडी

Question ID : 26433097121
Status : Answered
Chosen Option : 4

Q.15 1921-22 में केरल के मालाबार समुद्र तट के किसानों ने एक महान विद्रोह किया, जिसे _____ के रूप में जाना जाता है।

- Ans
- ✗ 1. कोल विद्रोह
 - ✓ 2. मोपला विद्रोह
 - ✗ 3. मुंडा विद्रोह
 - ✗ 4. संथाल विद्रोह

Question ID : 264330106577
Status : Answered
Chosen Option : 2

Q.16 भारतीय कृषि में "हरित क्रांति" का क्या अर्थ है?

- Ans
- ✓ 1. खाद्यान्नों के उत्पादन में असाधारण वृद्धि
 - ✗ 2. कृषि आधारित उद्योगों में वृद्धि
 - ✗ 3. वनाच्छादित क्षेत्र में वृद्धि
 - ✗ 4. चरागाह भूमि में वृद्धि

Question ID : 26433089203
Status : Answered
Chosen Option : 1

Q.17 फतेहपुर सीकरी में स्थित बुलंद दरवाज़ा निम्नलिखित में से किस मस्जिद का प्रवेश द्वार है?

- Ans
- ✗ 1. जमाली कमाली
 - ✓ 2. जामा मस्जिद
 - ✗ 3. द्वाई दिन का झोपड़ा
 - ✗ 4. मोती मस्जिद

Question ID : 26433081946
Status : Answered
Chosen Option : 3

Q.18 भारत के संविधान का निम्नलिखित में से कौन-सा अनुच्छेद कहता है कि राज्य-निधि से पूर्णतः पोषित किसी शिक्षण संस्थान में कोई भी धार्मिक शिक्षा नहीं दी जाएगी?

- Ans
- ☒ 1. अनुच्छेद 40
 - ☒ 2. अनुच्छेद 68
 - ☒ 3. अनुच्छेद 54
 - ☒ 4. अनुच्छेद 28

Question ID : 26433086813
Status : Answered
Chosen Option : 4

Q.19 यदि 3Ω , 4Ω , 5Ω और 6Ω के चार प्रतिरोध श्रेणी क्रम में जुड़े हैं, तो चारों प्रतिरोधों का संयुक्त प्रतिरोध क्या होगा?

- Ans
- ☒ 1. 3Ω
 - ☒ 2. 9Ω
 - ☒ 3. 18Ω
 - ☒ 4. 10Ω

Question ID : 26433053976
Status : Answered
Chosen Option : 3

Q.20 भारत में साल 2015 में स्वतंत्रता दिवस की विषयवस्तु क्या थी?

- Ans
- ☒ 1. ये इंडिया का टाइम है
 - ☒ 2. टुवर्ड्स दू फ्रीडम
 - ☒ 3. याद करो कुर्बानी
 - ☒ 4. वन कंट्री, वन पीपल

Question ID : 264330141331
Status : Not Answered
Chosen Option : --

Q.21 निम्नलिखित में से कौन-सा संकेतक भारत में व्यावसायिक संरचना और बेरोजगारी की तस्वीर प्रस्तुत करता है?

- Ans
- ☒ 1. लिंग अनुपात
 - ☒ 2. श्रम शक्ति भागीदारी
 - ☒ 3. साक्षरता दर
 - ☒ 4. प्रति व्यक्ति आय

Question ID : 264330109516
Status : Answered
Chosen Option : 2

Q.22 निम्नलिखित में से कौन-सा वाद्ययंत्र नंदिनी और रागिनी शंकर द्वारा बजाया जाता है?

- Ans
- ☒ 1. मृदंग
 - ☒ 2. वीणा
 - ☒ 3. सितार
 - ☒ 4. वायलिन

Question ID : 264330141393
Status : Not Answered
Chosen Option : --

Q.23 उपन्यास 'ए सुटेबल बॉय' के लेखक कौन हैं जो सबसे लंबे उपन्यासों में से एक है?

- Ans
- ☐ 1. रोहिंटन मिस्त्री
 - ☐ 2. आर के नारायण
 - ☐ 3. सलमान रुश्दी
 - ☒ 4. विक्रम सेठ

Question ID : 264330141390
Status : Answered
Chosen Option : 2

Q.24 निम्नलिखित में से कौन-से शास्त्रीय नृत्य की शुरुआत, "केलीकोट्टु" नामक ढोल बजाने के प्रदर्शन के साथ होती है?

- Ans
- ☐ 1. ओडिसी
 - ☐ 2. कुचिपुड़ी
 - ☒ 3. कथकली
 - ☐ 4. भरतनाट्यम्

Question ID : 264330141322
Status : Answered
Chosen Option : 2

Q.25 निम्नलिखित में से किसे भूमिगत गुफाओं और खदानों में छोटा भूकंप माना जाता है जो सतह पर चट्टान के फटने से उत्पन्न भूकंपीय तरंगों के कारण होता है?

- Ans
- ☐ 1. विस्फोट भूकंप
 - ☐ 2. ज्वालामुखी भूकंप
 - ☒ 3. निपात भूकंप
 - ☐ 4. जलाशय प्रेरित भूकंप

Question ID : 264330142721
Status : Not Answered
Chosen Option : --

Section : Quantitative Aptitude

Q.1 एक बस 70 km/h की गति से चलती है। 36 मिनट में वह कितनी दूरी तय करेगी?

- Ans
- ☒ 1. 42 km
 - ☐ 2. 45 km
 - ☐ 3. 40 km
 - ☐ 4. 39 km

Question ID : 264330142245
Status : Answered
Chosen Option : 1

Q.2 एक अर्धगोले का वक्र पृष्ठीय क्षेत्रफल 693 cm^2 है। इसकी त्रिज्या _____ होगी। ($\pi = \frac{22}{7}$ लीजिए)

- Ans
- ☒ 1. 9.5 cm
 - ☒ 2. 9 cm
 - ☒ 3. 10.5 CM
 - ☒ 4. 10 CM

Question ID : 264330142761
Status : Answered
Chosen Option : 3

Q.3 11 और 44 का माध्यानुपाती _____ है।

- Ans
- ☒ 1. 33
 - ☒ 2. 22
 - ☒ 3. 25
 - ☒ 4. 27.5

Question ID : 264330103330
Status : Answered
Chosen Option : 2

Q.4 यदि 45 पुरुष 360 m लंबाई की दीवार 18 दिनों में बना सकते हैं, तो उसी प्रकार की 180 m लंबाई की दीवार 15 दिनों में बनाने में कितने पुरुष चाहिए?

- Ans
- ☒ 1. 29 पुरुष
 - ☒ 2. 25 पुरुष
 - ☒ 3. 21 पुरुष
 - ☒ 4. 27 पुरुष

Question ID : 26433065005
Status : Answered
Chosen Option : 4

Q.5 A, 10 दी गई संख्याओं का औसत है। B, 2 संख्याओं को 3 अन्य भिन्न संख्याओं द्वारा प्रतिस्थापित करने के बाद का औसत है। हटाई गई संख्याओं का औसत 48 है और नई शामिल की गयी संख्याओं का औसत 56 है। यदि $A + B = 438$ है, तो $A - B$ का मान ज्ञात कीजिए।

- Ans
- ☒ 1. 21
 - ☒ 2. 12
 - ☒ 3. 26
 - ☒ 4. 14

Question ID : 264330103692
Status : Answered
Chosen Option : 2

Q.6 ₹8,000 की राशि पर 2 वर्ष का साधारण ब्याज ₹720 है। वार्षिक ब्याज दर कितनी है?

- Ans
- ☒ 1. 5.5%
 - ☒ 2. 5%
 - ☒ 3. 6%
 - ☒ 4. 4.5%

Question ID : 264330142276
Status : Answered
Chosen Option : 4

Q.7 एक स्टोर, एक छूट योजना की घोषणा करता है "1 शैम्पू की बोतल खरीदें और उसी गुणवत्ता, आकार और उसी कीमत के दूसरे शैम्पू पर 60% छूट प्राप्त करें।" यदि प्रत्येक शैम्पू की बोतल का क्रय मूल्य, अंकित मूल्य से 60% कम है तो स्टोर का लाभ प्रतिशत कितना है?

- Ans
- ☒ 1. 60%
 - ☒ 2. 54%
 - ☒ 3. 64%
 - ☒ 4. 75%

Question ID : 26433063212
Status : Answered
Chosen Option : 4

Q.8 4^{999} को 7 से विभाजित करने पर शेषफल क्या होगा?

- Ans
- ☒ 1. 2
 - ☒ 2. 1
 - ☒ 3. 4
 - ☒ 4. 3

Question ID : 264330126163
Status : Answered
Chosen Option : 2

Q.9 20 वस्तुओं को बेचने पर एक दुकानदार को 5 वस्तुओं के विक्रय मूल्य के बराबर लाभ प्राप्त होता है। उसका लाभ प्रतिशत कितना है?

- Ans
- ☒ 1. 30%
 - ☒ 2. 25%
 - ☒ 3. $33\frac{1}{3}\%$
 - ☒ 4. $16\frac{2}{3}\%$

Question ID : 26433087357
Status : Answered
Chosen Option : 3

Q.10 एक व्यापारी ने Rs.120/kg और Rs.220/kg की दर से दो प्रकार के चावल खरीदे। दूसरे प्रकार के 72 kg चावल में, पहले प्रकार के कितने चावल (kg में) मिलाए जाने चाहिए ताकि परिणामी मिश्रण को 40% का लाभ अर्जित करने के लिए Rs.280/kg की दर से बेचा जा सके?

- Ans
- ☒ 1. 22
 - ☒ 2. 20
 - ☒ 3. 18
 - ☒ 4. 15

Question ID : 26433063197
Status : Answered
Chosen Option : 3

Q.11 In a parallelogram, one of the parallel sides is 16 cm and the other side is 12 cm. If the perpendicular distance between the two parallel sides of dimension 16 cm is 24 cm, then the perpendicular distance between its other two parallel sides is :

Ans ☒ 1. 32 cm

☐ 2. 24 cm

☐ 3. 16 cm

☐ 4. 12 cm

Question ID : 26433081736

Status : Answered

Chosen Option : 1

Q.12 एक TV निर्माता किसी वस्तु को थोक व्यापारी को 8% के लाभ पर बेचता है। थोक व्यापारी उसे 10% के लाभ पर एक खुदरा विक्रेता को बेचता है। खुदरा विक्रेता बदले में इसे ग्राहक को ₹11,050 में बेचता है जिससे 15% का लाभ होता है। निर्माता का क्रय मूल्य कितना है? (केवल पूर्ण संख्या में मान लें)

Ans ☒ 1. ₹8,088

☐ 2. ₹7,088

☐ 3. ₹8,000

☐ 4. ₹8,888

Question ID : 26433081022

Status : Answered

Chosen Option : 4

Q.13 एक दुकानदार थोक व्यापारी से सामान खरीद रहा है। थोक व्यापारी माल की 165 इकाईयों के विक्रय मूल्य के बराबर का लाभ अर्जित करते हुए माल की 1265 इकाईयां दुकानदार को बेचता है। थोक व्यापारी का लाभ प्रतिशत ज्ञात कीजिए।

Ans ☒ 1. 15%

☐ 2. 18%

☐ 3. 25%

☐ 4. 20%

Question ID : 26433082503

Status : Answered

Chosen Option : 1

Q.14 एक निश्चित राशि, साधारण ब्याज की एक निश्चित दर पर, 4 वर्षों में ₹2,225 और 8 वर्षों में ₹2,606 हो जाती है। राशि (₹ में) ज्ञात कीजिए।

Ans ☐ 1. 1,344

☐ 2. 1,143

☐ 3. 1,240

☒ 4. 1,844

Question ID : 264330102356

Status : Answered

Chosen Option : 4

Q.15 $(3+\sqrt{5})$ और $(15-\sqrt{125})$ के बीच माध्यानुपाती क्या है?

- Ans
- ☒ 1. $5\sqrt{2}$
 - ☒ 2. $3\sqrt{5}$
 - ☒ 3. $2\sqrt{5}$
 - ☒ 4. $9\sqrt{5}$

Question ID : 26433091917
Status : Answered
Chosen Option : 3

Q.16 A और B एक काम को क्रमशः 16 दिनों और 12 दिनों में पूरा कर सकते हैं। दोनों 4 दिन काम करते हैं और फिर A चला जाता है। ज्ञात कीजिए कि B शेष काम को पूरा करने में कितना समय लेगा?

- Ans
- ☒ 1. 5 दिन
 - ☒ 2. 8 दिन
 - ☒ 3. 7 दिन
 - ☒ 4. 6 दिन

Question ID : 26433075507
Status : Answered
Chosen Option : 1

Q.17 एक दुकानदार किसी वस्तु के अंकित मूल्य पर 25% की छूट देता है। यदि वस्तु का विक्रय मूल्य ₹150 है, तो उसका अंकित मूल्य ज्ञात करें।

- Ans
- ☒ 1. ₹200
 - ☒ 2. ₹100
 - ☒ 3. ₹500
 - ☒ 4. ₹300

Question ID : 26433058968
Status : Answered
Chosen Option : 1

Q.18 ताश खेलते समय, एक व्यक्ति अपने पैसे का 75% पहले राउंड में, शेष का 75% दूसरे राउंड में और शेष का 75% तीसरे राउंड में हार जाता है। यदि उसके पास Rs.100 बचे हैं, तो शुरू में उसके पास कितने पैसे थे?

- Ans
- ☒ 1. Rs.2,400
 - ☒ 2. Rs.1,600
 - ☒ 3. Rs.3,200
 - ☒ 4. Rs.6,400

Question ID : 26433073107
Status : Answered
Chosen Option : 4

Q.19 एक भाग प्रश्न में, भाजक भागफल का 12 गुना और शेषफल का 9 गुना होता है। यदि शेषफल 96 है, तो भाज्य ज्ञात कीजिए।

- Ans
- ☒ 1. 62205
 - ☒ 2. 62208
 - ☒ 3. 62304
 - ☒ 4. 62404

Question ID : 264330142235
Status : Answered
Chosen Option : 3

Q.20 एक बस 50 मिनट में किसी दूरी को तय करने के लिए 60 km/h की चाल से चल रही है। यात्रा समय को 20 मिनट तक कम करने के लिए, बस को किस चाल (km/h में) से चलना चाहिए?

- Ans
- ☒ 1. 140
 - ☒ 2. 150
 - ☒ 3. 120
 - ☒ 4. 90

Question ID : 264330142525
Status : Answered
Chosen Option : 2

Q.21 यदि रीता का वेतन, गीता के वेतन से 25% अधिक है, तो गीता का वेतन, रीता के वेतन से कितने प्रतिशत कम है?

- Ans
- ☒ 1. 15%
 - ☒ 2. 20%
 - ☒ 3. 25%
 - ☒ 4. 30%

Question ID : 26433075648
Status : Answered
Chosen Option : 2

Q.22 P बैंक से ₹5,00,000 की धनराशि उधार लेता है, जो वर्ष की शुरुआत में 18% वार्षिक दर से साधारण ब्याज लेता है। वह ₹40,000 की 11 समान मासिक किश्तों का भुगतान करता है और शेष धनराशि का भुगतान करने के लिए वर्ष के अंत में अपनी बाइक को गिरवी रख देता है। गिरवी रखी गई बाइक का मूल्य क्या है?

- Ans
- ☒ 1. 1,50,000
 - ☒ 2. 1,75,000
 - ☒ 3. 1,25,000
 - ☒ 4. 1,10,000

Question ID : 264330112104
Status : Answered
Chosen Option : 2

Q.23 एक दुकानदार प्रत्येक पेन ₹12 में, प्रत्येक नोटबुक ₹25 में और प्रत्येक नोटबुक कवर ₹8 में बेचता है। यदि वह 5 पेन, 8 नोटबुक और 16 नोटबुक कवर बेचता है, तो प्रति वस्तु औसत मूल्य (₹ में) (दो दशमलव स्थानों तक पूर्णांकित) क्या होगा?

- Ans
- ☐ 1. 18.13
 - ☐ 2. 13.83
 - ☐ 3. 18.31
 - ☒ 4. 13.38

Question ID : 26433085425
Status : Answered
Chosen Option : 4

Q.24 संख्या 20, 32 और 36 का चौथा समानुपाती ज्ञात कीजिए।

- Ans
- ☐ 1. 52
 - ☐ 2. 49.4
 - ☐ 3. 48
 - ☒ 4. 57.6

Question ID : 264330142533
Status : Answered
Chosen Option : 4

Q.25 संजीव का वेतन पहले 50% कम किया गया और फिर 50% बढ़ा दिया गया। उसे अपने वेतन की कितने प्रतिशत हानि होती है?

- Ans
- ☒ 1. 25%
 - ☐ 2. 15%
 - ☐ 3. 0%
 - ☐ 4. 10%

Question ID : 264330142582
Status : Answered
Chosen Option : 1

Section : English Language

Q.1 Select the most appropriate meaning of the underlined idiom/phrase in the given sentence.

Henry said he would help with the rent, but he left me in the lurch.

- Ans
- ☐ 1. To impersonate someone
 - ☐ 2. To comfort someone
 - ☒ 3. To desert someone
 - ☐ 4. To blame someone

Question ID : 26433088224
Status : Answered
Chosen Option : 3

Q.2 Select the option that expresses the given sentence in active voice.
Paddy is grown by the farmers of this village.

- Ans ☒ 1. The farmers of this village had grown paddy
- ☒ 2. The farmers of this village grow paddy.
- ☒ 3. The farmers of this village grew paddy.
- ☒ 4. The farmers of this village have grown paddy.

Question ID : 264330135919
Status : Answered
Chosen Option : 2

Q.3 Identify the sentence that contains no spelling errors.

- Ans ☒ 1. An Ethical Hacker identifies software vulnerabilities so that business owners may address them before a baleful hacker uncovers them.
- ☒ 2. An Ethical Hacker identifies software vulnerabilities so that bussiness owners may address them before a baleful hacker uncovers them.
- ☒ 3. An Ethical Hacker identifies software vulanerabilities so that business owners may adress them before a baleful hacker uncovers them.
- ☒ 4. An Ethical Hacker identifies software vulanerabilities so that business owners may adress them before a baleful hacker uncovers them.

Question ID : 26433088542
Status : Answered
Chosen Option : 1

Q.4 Select the correct direct narration of the given sentence.
Prem said that he had been listening to music for an hour.

- Ans ☒ 1. Prem said, "He has be listened to music for an hour."
- ☒ 2. Prem said, "I have been listening to music for an hour."
- ☒ 3. Prem said, "He has listening to music for an hour."
- ☒ 4. Prem said, "I had listened to music for an hour."

Question ID : 264330132787
Status : Answered
Chosen Option : 2

Q.5 Identify the idiom that best expresses the meaning of the underlined group of words.

He is in a very bad situation after being caught with drugs at school.

- Ans ☒ 1. Square an account
- ☒ 2. At cross purposes
- ☒ 3. In dire straits
- ☒ 4. Last resort

Question ID : 264330121051
Status : Answered
Chosen Option : 3

Q.6 Choose the correct spelling of the underlined word in the given sentence.

The world is governed by several elemenyts.

- Ans ☒ 1. aliments
☒ 2. elements
☒ 3. elyments
☒ 4. eliments

Question ID : 26433084612
 Status : Answered
 Chosen Option : 2

Q.7 Select the most appropriate option to fill in the blank.

Although the jury system is fundamentally _____, no one has ever come up with a better one.

- Ans ☒ 1. flawed
☒ 2. flawless
☒ 3. sorted
☒ 4. appealing

Question ID : 26433060986
 Status : Answered
 Chosen Option : 2

Q.8 Select the option that can be used as a one-word substitute for the underlined group of words in the given sentence.

He was severe in his manner, due to his rigidly puritanical outlook.

- Ans ☒ 1. austere
☒ 2. faithful
☒ 3. authentic
☒ 4. precise

Question ID : 26433073849
 Status : Answered
 Chosen Option : 4

Q.9 Select the most appropriate ANTONYM of the word 'Unworthy' from the given sentence.

Unethical behaviour like saying mean or nasty things is intolerable to a noble person

- Ans ☒ 1. Unethical
☒ 2. Nasty
☒ 3. Intolerable
☒ 4. Noble

Question ID : 264330143251
 Status : Answered
 Chosen Option : 4

Q.10 Select the most appropriate option to fill in the blank.

The streets are empty today as _____ a holiday.

- Ans
- ☒ 1. is
 - ☒ 2. was
 - ☒ 3. its
 - ☒ 4. it's

Question ID : 26433060079
Status : Answered
Chosen Option : 4

Q.11 Choose the option which means the same as the underlined segment.

His deep study of the case uncovered more problems .

- Ans
- ☒ 1. opened a Pandora's box
 - ☒ 2. opened conversation
 - ☒ 3. opened a season on
 - ☒ 4. opened the fire on

Question ID : 264330120537
Status : Answered
Chosen Option : 1

Q.12 Select the option that can be used as a one-word substitute for the given group of words.

A floating container anchored to the sea bottom, so used for directing ships and warning them of possible danger

- Ans
- ☒ 1. Deck
 - ☒ 2. Buoy
 - ☒ 3. Cabin
 - ☒ 4. Channel

Question ID : 26433060301
Status : Answered
Chosen Option : 2

Q.13 Select the most appropriate ANTONYM to replace the italicised word.

There is a/an *abundance* of fertile soil and magnificent grazing land.

- Ans
- ☒ 1. dearth
 - ☒ 2. plenitude
 - ☒ 3. plethora
 - ☒ 4. adequacy

Question ID : 26433059647
Status : Answered
Chosen Option : 1

Q.14 Identify the INCORRECTLY spelt word from the options given.

- Ans ☒ 1. Angle
☒ 2. Bagel
☒ 3. Bangel
☒ 4. Angel

Question ID : 26433088463
 Status : Answered
 Chosen Option : 2

Q.15 Select the idiom that gives the most appropriate meaning of the underlined phrase in the following sentence.

My neighbour has decided to join the air force.

- Ans ☒ 1. Made his own way
☒ 2. Made a fuss
☒ 3. Made a clean sweep
☒ 4. Made up his mind

Question ID : 26433086438
 Status : Answered
 Chosen Option : 4

Comprehension:

In the following passage, some words have been deleted. Read the passage carefully and select the most appropriate option to fill in each blank.
 All drivers are affected by road rage, whether they are directly or indirectly (1)_____.
 Individual coping qualities (2)_____ the behaviour of stressful drivers. Instead of being enraged over circumstances beyond their control, drivers (3)_____ learn to be patient.
 On the road, we must be (4)_____ to control our own emotions. Road raged drivers are also more likely to (5)_____ more traffic offences.

SubQuestion No : 16

Q.16 Select the most appropriate option to fill in blank number 1.

- Ans ☒ 1. involved
☒ 2. involve
☒ 3. involving
☒ 4. involves

Question ID : 26433096335
 Status : Answered
 Chosen Option : 1

Comprehension:

In the following passage, some words have been deleted. Read the passage carefully and select the most appropriate option to fill in each blank.
All drivers are affected by road rage, whether they are directly or indirectly (1)_____. Individual coping qualities (2)_____ the behaviour of stressful drivers. Instead of being enraged over circumstances beyond their control, drivers (3)_____ learn to be patient. On the road, we must be (4)_____ to control our own emotions. Road raged drivers are also more likely to (5)_____ more traffic offences.

SubQuestion No : 17

Q.17 Select the most appropriate option to fill in blank number 2.

- Ans** ☒ 1. increase
☒ 2. apply
☒ 3. influence
☒ 4. multiply

Question ID : 26433096336
Status : Answered
Chosen Option : 3

Comprehension:

In the following passage, some words have been deleted. Read the passage carefully and select the most appropriate option to fill in each blank.
All drivers are affected by road rage, whether they are directly or indirectly (1)_____. Individual coping qualities (2)_____ the behaviour of stressful drivers. Instead of being enraged over circumstances beyond their control, drivers (3)_____ learn to be patient. On the road, we must be (4)_____ to control our own emotions. Road raged drivers are also more likely to (5)_____ more traffic offences.

SubQuestion No : 18

Q.18 Select the most appropriate option to fill in blank number 3.

- Ans** ☒ 1. must
☒ 2. ought
☒ 3. can
☒ 4. to

Question ID : 26433096337
Status : Answered
Chosen Option : 1

Comprehension:

In the following passage, some words have been deleted. Read the passage carefully and select the most appropriate option to fill in each blank.
All drivers are affected by road rage, whether they are directly or indirectly (1)_____. Individual coping qualities (2)_____ the behaviour of stressful drivers. Instead of being enraged over circumstances beyond their control, drivers (3)_____ learn to be patient. On the road, we must be (4)_____ to control our own emotions. Road raged drivers are also more likely to (5)_____ more traffic offences.

SubQuestion No : 19

Q.19 Select the most appropriate option to fill in blank number 4.

- Ans** ☒ 1. consistent
☒ 2. oblige
☒ 3. able
☒ 4. brave

Question ID : 26433096338
Status : Answered
Chosen Option : 3

Comprehension:

In the following passage, some words have been deleted. Read the passage carefully and select the most appropriate option to fill in each blank.
 All drivers are affected by road rage, whether they are directly or indirectly (1)_____.
 Individual coping qualities (2)_____ the behaviour of stressful drivers. Instead of being enraged over circumstances beyond their control, drivers (3)_____ learn to be patient.
 On the road, we must be (4)_____ to control our own emotions. Road raged drivers are also more likely to (5)_____ more traffic offences.

SubQuestion No : 20

Q.20 Select the most appropriate option to fill in blank number 5.

- Ans ☒ 1. proceed
☒ 2. incur
☒ 3. reflect
☒ 4. drag

Question ID : 26433096339
 Status : Answered
 Chosen Option : 2

Comprehension:

Read the given passage and answer the question that follows.

A sparrow is a small bird which is found throughout the world. There are many different species of sparrows. Sparrows are only about four to six inches in length. Many people appreciate their beautiful song. Sparrows prefer to build their nests in low places, usually on the ground, clumps of grass, low trees and low bushes. In cities they build their nests in building nooks or holes. They rarely build their nests in high places. They build their nests out of twigs, grasses and plant fibres. Their nests are usually small and well-built structures. Female sparrows lay four to six eggs at a time. The eggs are white with reddish brown spots. They hatch between eleven to fourteen days. Both the male and female parents care for the young. Insects are fed to the young after hatching. The large feet of the sparrows are used for scratching seeds. Adult sparrows mainly eat seeds. Sparrows can be found almost everywhere, where there are humans. Many people throughout the world enjoy these delightful birds.
 The sparrows are some of the few birds that engage in dust bathing. Sparrows first scratch a hole in the ground with their feet, then lie in it and fling dirt or sand over their bodies with flicks of their wings. They also bathe in water, or in dry or melting snow. Water bathing is similar to dust bathing, with the sparrow standing in shallow water and flicking water over its back with its wings, also ducking its head under the water. Both activities are social, with up to a hundred birds participating at once, and is followed by preening and sometimes group singing.

SubQuestion No : 21

Q.21 What is the tone of the passage?

- Ans ☒ 1. Apologetic
☒ 2. Biased
☒ 3. Descriptive
☒ 4. Speculative

Question ID : 26433072783
 Status : Answered
 Chosen Option : 4

Comprehension:

Read the given passage and answer the question that follows.

A sparrow is a small bird which is found throughout the world. There are many different species of sparrows. Sparrows are only about four to six inches in length. Many people appreciate their beautiful song. Sparrows prefer to build their nests in low places, usually on the ground, clumps of grass, low trees and low bushes. In cities they build their nests in building nooks or holes. They rarely build their nests in high places. They build their nests out of twigs, grasses and plant fibres. Their nests are usually small and well-built structures. Female sparrows lay four to six eggs at a time. The eggs are white with reddish brown spots. They hatch between eleven to fourteen days. Both the male and female parents care for the young. Insects are fed to the young after hatching. The large feet of the sparrows are used for scratching seeds. Adult sparrows mainly eat seeds. Sparrows can be found almost everywhere, where there are humans. Many people throughout the world enjoy these delightful birds.

The sparrows are some of the few birds that engage in dust bathing. Sparrows first scratch a hole in the ground with their feet, then lie in it and fling dirt or sand over their bodies with flicks of their wings. They also bathe in water, or in dry or melting snow. Water bathing is similar to dust bathing, with the sparrow standing in shallow water and flicking water over its back with its wings, also ducking its head under the water. Both activities are social, with up to a hundred birds participating at once, and is followed by preening and sometimes group singing.

SubQuestion No : 22

Q.22 How can one describe sparrows?

- Ans ☒ 1. Sparrows are found everywhere
- ☐ 2. Sparrows are good parents
- ☐ 3. Sparrows are loving
- ☐ 4. Sparrows are good

Question ID : 26433072782

Status : Answered

Chosen Option : 1

Comprehension:

Read the given passage and answer the question that follows.

A sparrow is a small bird which is found throughout the world. There are many different species of sparrows. Sparrows are only about four to six inches in length. Many people appreciate their beautiful song. Sparrows prefer to build their nests in low places, usually on the ground, clumps of grass, low trees and low bushes. In cities they build their nests in building nooks or holes. They rarely build their nests in high places. They build their nests out of twigs, grasses and plant fibres. Their nests are usually small and well-built structures. Female sparrows lay four to six eggs at a time. The eggs are white with reddish brown spots. They hatch between eleven to fourteen days. Both the male and female parents care for the young. Insects are fed to the young after hatching. The large feet of the sparrows are used for scratching seeds. Adult sparrows mainly eat seeds. Sparrows can be found almost everywhere, where there are humans. Many people throughout the world enjoy these delightful birds.

The sparrows are some of the few birds that engage in dust bathing. Sparrows first scratch a hole in the ground with their feet, then lie in it and fling dirt or sand over their bodies with flicks of their wings. They also bathe in water, or in dry or melting snow. Water bathing is similar to dust bathing, with the sparrow standing in shallow water and flicking water over its back with its wings, also ducking its head under the water. Both activities are social, with up to a hundred birds participating at once, and is followed by preening and sometimes group singing.

SubQuestion No : 23

Q.23 What is the structure of the passage?

- Ans ☒ 1. Process Writing
- ☐ 2. Cause and Effect
- ☐ 3. Compare and Contrast
- ☐ 4. Problems and Solution

Question ID : 26433072780

Status : Answered

Chosen Option : 1

Comprehension:

Read the given passage and answer the question that follows.

A sparrow is a small bird which is found throughout the world. There are many different species of sparrows. Sparrows are only about four to six inches in length. Many people appreciate their beautiful song. Sparrows prefer to build their nests in low places, usually on the ground, clumps of grass, low trees and low bushes. In cities they build their nests in building nooks or holes. They rarely build their nests in high places. They build their nests out of twigs, grasses and plant fibres. Their nests are usually small and well-built structures. Female sparrows lay four to six eggs at a time. The eggs are white with reddish brown spots. They hatch between eleven to fourteen days. Both the male and female parents care for the young. Insects are fed to the young after hatching. The large feet of the sparrows are used for scratching seeds. Adult sparrows mainly eat seeds. Sparrows can be found almost everywhere, where there are humans. Many people throughout the world enjoy these delightful birds.

The sparrows are some of the few birds that engage in dust bathing. Sparrows first scratch a hole in the ground with their feet, then lie in it and fling dirt or sand over their bodies with flicks of their wings. They also bathe in water, or in dry or melting snow. Water bathing is similar to dust bathing, with the sparrow standing in shallow water and flicking water over its back with its wings, also ducking its head under the water. Both activities are social, with up to a hundred birds participating at once, and is followed by preening and sometimes group singing.

SubQuestion No : 24

Q.24 Select the most appropriate ANTONYM of the given word.

Everywhere

- Ans** ☒ 1. Somewhere
☒ 2. Nowhere
☐ 3. Little
☐ 4. Rare

Question ID : 26433072779
 Status : Answered
 Chosen Option : 4

Comprehension:

Read the given passage and answer the question that follows.

A sparrow is a small bird which is found throughout the world. There are many different species of sparrows. Sparrows are only about four to six inches in length. Many people appreciate their beautiful song. Sparrows prefer to build their nests in low places, usually on the ground, clumps of grass, low trees and low bushes. In cities they build their nests in building nooks or holes. They rarely build their nests in high places. They build their nests out of twigs, grasses and plant fibres. Their nests are usually small and well-built structures. Female sparrows lay four to six eggs at a time. The eggs are white with reddish brown spots. They hatch between eleven to fourteen days. Both the male and female parents care for the young. Insects are fed to the young after hatching. The large feet of the sparrows are used for scratching seeds. Adult sparrows mainly eat seeds. Sparrows can be found almost everywhere, where there are humans. Many people throughout the world enjoy these delightful birds.

The sparrows are some of the few birds that engage in dust bathing. Sparrows first scratch a hole in the ground with their feet, then lie in it and fling dirt or sand over their bodies with flicks of their wings. They also bathe in water, or in dry or melting snow. Water bathing is similar to dust bathing, with the sparrow standing in shallow water and flicking water over its back with its wings, also ducking its head under the water. Both activities are social, with up to a hundred birds participating at once, and is followed by preening and sometimes group singing.

SubQuestion No : 25

Q.25 What is the central theme of the passage?

- Ans** ☒ 1. About the lifestyle of sparrows
☐ 2. About the nest-building style of sparrows
☐ 3. About the food eaten by sparrows
☐ 4. About the bathing style of sparrows

Question ID : 26433072781
 Status : Answered
 Chosen Option : 2