

SSC Selection Post

**Previous Year Paper
(Matriculation Level)
28 June, 2023 Shift 1**



Test Prime

**ALL EXAMS,
ONE SUBSCRIPTION**



70,000+
Mock Tests



**Personalised
Report Card**



**Unlimited
Re-Attempt**



600+
Exam Covered



**Previous Year
Papers**



**500%
Refund**



ATTEMPT FREE MOCK NOW

Phase-XI/2023/Selection Posts and Selection Posts/Ladakh/2023

Roll Number	
Candidate Name	
Venue Name	
Exam Date	28/06/2023
Exam Time	9:00 AM - 10:00 AM
Subject	Selection Post Matriculation Level

Section : General Intelligence

Q.1 एक निश्चित कूट भाषा में 'chores are hobbies' को 'tpl esr nil', 'hobbies keep me busy' को 'cha esr lon ane', 'busy with chores' को 'sia ane nil' के रूप में लिखा जाता है। इसी कूट भाषा में शब्द 'with' को किस प्रकार लिखा जाएगा?

Ans ☒ 1. sia

☐ 2. tpl

☐ 3. ane

☐ 4. cha

Question ID : 26433056771

Status : Answered

Chosen Option : 1

Q.2 कौन-सा अक्षर-समूह प्रश्न-चिह्न (?) को प्रतिस्थापित करेगा और दी गई श्रृंखला को पूरा करेगा?
UTSR, XWVU, ?, DCBA, GFED

Ans ☐ 1. BZYW

☐ 2. BZYX

☒ 3. AZYX

☐ 4. AZWY

Question ID : 264330142915

Status : Answered

Chosen Option : 3

Q.3 उस विकल्प का चयन कीजिए जो दिए गए शब्दों को तार्किक और सार्थक ढंग से सही क्रम व्यवस्था में दर्शाता है।

1. गेहूँ

2. लोई

3. सेंकना

4. पिसना

5. रोटी

Ans ☐ 1. 4, 2, 1, 3, 5

☒ 2. 1, 4, 2, 3, 5

☐ 3. 3, 1, 5, 2, 4

☐ 4. 1, 4, 3, 5, 2

Question ID : 264330125998

Status : Answered

Chosen Option : 2

Q.4 उस विकल्प का चयन कीजिए जो तीसरे शब्द से उसी प्रकार संबंधित है जिस प्रकार दूसरा शब्द पहले शब्द से संबंधित है। (शब्दों को अर्थपूर्ण हिंदी शब्दों के रूप में माना जाना चाहिए और शब्द में अक्षरों की संख्या/व्यंजनों/स्वरों की संख्या के आधार पर वे एक-दूसरे से संबंधित नहीं होने चाहिए।)

पलायन : फरार :: विचार : ?

- Ans
- ☒ 1. खाली (Empty)
 - ☒ 2. धारणा (Notion)
 - ☒ 3. कृत्रिम (Artificial)
 - ☒ 4. अपव्ययी (Squander)

Question ID : 264330142859
Status : Answered
Chosen Option : 2

Q.5 उस विकल्प का चयन कीजिए जो तीसरे पद से उसी प्रकार संबंधित है जिस प्रकार दूसरा पद पहले पद से संबंधित है और छठा पद पाँचवें पद से संबंधित है।
FEDERAL : LAREDEF :: ECONOMY : ? :: GENERAL : LARENEG

- Ans
- ☒ 1. MONEYCO
 - ☒ 2. COMONEY
 - ☒ 3. YMONOCE
 - ☒ 4. OMYNECO

Question ID : 264330142836
Status : Answered
Chosen Option : 3

Q.6 उस विकल्प का चयन करें जो चौथे पद से उसी प्रकार संबंधित है जिस प्रकार पहला पद दूसरे पद से संबंधित है और पाँचवां पद छठे पद से संबंधित है।
22 : 676 :: ? : 361 :: 2 : 36

- Ans
- ☒ 1. 15
 - ☒ 2. 18
 - ☒ 3. 17
 - ☒ 4. 13

Question ID : 26433040803
Status : Answered
Chosen Option : 1

Q.7 A – B means 'A is the wife of B';
A + B means 'A is the sister of B' and
A * B means 'A is the father of B'.
If Q – T * Y + M – K, then how is Q related to K?

- Ans
- ☒ 1. Grandmother
 - ☒ 2. Mother-in-law
 - ☒ 3. Mother
 - ☒ 4. Sister

Question ID : 26433092469
Status : Answered
Chosen Option : 2

Q.8 उस विकल्प का चयन कीजिए जो दिए गए शब्दों को तार्किक और सार्थक ढंग से सही क्रम व्यवस्था में दर्शाता है।
 1. देश
 2. महाद्वीप
 3. शहर
 4. मुहल्ला
 5. राज्य

Ans ☒ 1. 1, 2, 3, 5, 4
☒ 2. 2, 1, 5, 3, 4
☒ 3. 3, 2, 1, 5, 4
☒ 4. 1, 2, 5, 3, 4

Question ID : 264330125993
 Status : Answered
 Chosen Option : 2

Q.9 'A # B' means 'A is the brother of B'.
 'A @ B' means 'A is the daughter of B'.
 'A & B' means 'A is the husband of B'.
 'A % B' means 'A is the wife of B'.
 If S % D # F @ G & H @ J, then how is F related to H?

Ans ☒ 1. Son's wife
☒ 2. Daughter's daughter
☒ 3. Mother
☒ 4. Daughter

Question ID : 264330142902
 Status : Answered
 Chosen Option : 4

Q.10 Three statements are followed by three conclusions numbered I, II and III. You have to consider these statements to be true, even if they seem to be at variance with commonly known facts. Decide which of the given conclusions logically follow(s) from the given statements.

Statements:
 All bottles are plastics.
 Some plastics are fibres.
 Some fibres are glasses.

Conclusions:
 (I) Some fibres are plastics.
 (II) All plastics are bottles.
 (III) Some glasses are fibres.

Ans ☒ 1. Only conclusion II follows
☒ 2. Only conclusion I follows
☒ 3. None of the conclusions follows
☒ 4. Only conclusions I and III follow

Question ID : 264330142973
 Status : Answered
 Chosen Option : 4

Q.11 जब दर्पण को चित्र के अनुसार 'PQ' पर रखा जाता है तो दिए गए संयोजन का दर्पण में निर्मित सही प्रतिबिंब चयनित कीजिए।

mS5aT7raKr

- Ans
- ☒ 1. m22aT7raKr
 - ☒ 2. mS5aT7raKr
 - ☒ 3. mS5aT7raKr
 - ☒ 4. r1Kr7T622m

Question ID : 264330143278
Status : Answered
Chosen Option : 4

Q.12 नीचे दिए गए समीकरण में * चिह्नों को बदलने और समीकरण को संतुलित करने के लिए गणितीय चिह्नों के सही संयोजन का चयन कीजिए।
 $83 \times 16 \times 4 \times 57 \times 3$

- Ans
- ☒ 1. -, +, =, +
 - ☒ 2. =, +, +, -
 - ☒ 3. -, x, =, ÷
 - ☒ 4. -, +, =, -

Question ID : 264330142882
Status : Answered
Chosen Option : 3

Q.13 अक्षरों के उस संयोजन का चयन कीजिए, जिसे दी गई श्रृंखला के रिक्त स्थानों में क्रमानुसार रखने पर, श्रृंखला पूर्ण हो जाएगी।
PB_EP_UF_BU_PBUH

- Ans
- ☒ 1. URGH
 - ☒ 2. RUPE
 - ☒ 3. EPRU
 - ☒ 4. UBPG

Question ID : 26433057811
Status : Answered
Chosen Option : 4

Q.14 कौन-सा अक्षर-समूह दी गई श्रृंखला को पूरा करने के लिए प्रश्न-चिह्न (?) को प्रतिस्थापित करेगा?
TUBE, SXEH, ?, QDKN, PGNQ

- Ans
- ☒ 1. RAHK
 - ☒ 2. RAGD
 - ☒ 3. RADG
 - ☒ 4. RAKH

Question ID : 26433056232
Status : Answered
Chosen Option : 1

Q.15 उस विकल्प का चयन कीजिए, जो पाँचवें पद से उसी प्रकार संबंधित है, जिस प्रकार दूसरा पद पहले पद से और चौथा पद तीसरे पद से संबंधित है।
FLIGHT : GHIFLT :: PERIOD : IORPED :: GARLIC : ?

- Ans
- ☒ 1. LIRGCA
 - ☒ 2. RILACG
 - ☒ 3. RILAGC
 - ☒ 4. LIRGAC

Question ID : 264330142835
Status : Answered
Chosen Option : 4

Q.16 Three statements are given, followed by three conclusions numbered I, II and III. Assuming the statements to be true, even if they seem to be at variance with commonly known facts, decide which of the conclusions logically follow(s) from the statements.

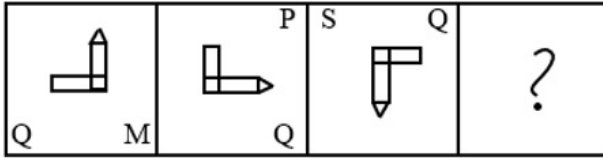
Statements:
Some diamonds are stones.
Some stones are hard.
All hard are rocks.

Conclusions:
I. Some stones are diamonds.
II. All stones are hard.
III. Some hard are rocks.

- Ans
- ☒ 1. Only conclusions I and III follow
 - ☒ 2. Only conclusions II and III follow
 - ☒ 3. Only conclusions I and II follow
 - ☒ 4. All the conclusions follow

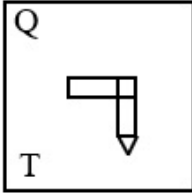
Question ID : 26433092644
Status : Answered
Chosen Option : 1

Q.17 दिए गए विकल्पों में से उस आकृति का चयन कीजिए जो निम्नलिखित श्रृंखला में प्रश्न चिह्न (?) को प्रतिस्थापित कर सकती है।

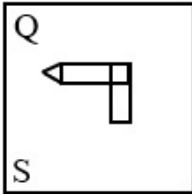


Ans

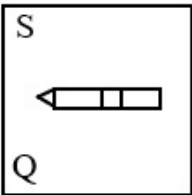
✗ 1.



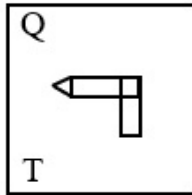
✗ 2.



✗ 3.



✓ 4.



Question ID : 264330143263

Status : Answered

Chosen Option : 4

Q.18 उस विकल्प का चयन कीजिए जो तीसरे शब्द से उसी प्रकार संबंधित है जिस प्रकार दूसरा शब्द पहले शब्द से संबंधित है। (शब्दों को अर्थपूर्ण हिंदी शब्दों के रूप में माना जाना चाहिए और शब्द में अक्षरों की संख्या/व्यंजनों/स्वरों की संख्या के आधार पर वे एक-दूसरे से संबंधित नहीं होने चाहिए।)

शिष्य : कक्षा :: फूल : ?

Ans

✓ 1. गुलदस्ता (Bouquet)

✗ 2. गुलाब (Rose)

✗ 3. बैंड (Band)

✗ 4. समूह (Brood)

Question ID : 264330142861

Status : Answered

Chosen Option : 1

Q.19 निम्नलिखित में से कौन-सी संख्या दी गई श्रेणी में प्रश्न चिह्न (?) को प्रतिस्थापित करेगी?

73, 57, 43, 31, ?, 13

Ans ☒ 1. 27

☒ 2. 25

☒ 3. 21

☒ 4. 29

Question ID : 26433056436

Status : Answered

Chosen Option : 3

Q.20 Three Statements are given followed by Three conclusions numbered I, II and III. Assuming the statements to be true, even if they seem to be at variance with commonly known facts, decide which of the conclusions logically follow(s) from the statements.

Statements:

All keys are windows.

No window is a door.

Some doors are locks.

Conclusions:

I. Some locks are keys.

II. No lock is a window.

III. No door is a key.

Ans ☒ 1. Only conclusion II follows.

☒ 2. Both conclusions I and II follow.

☒ 3. Only conclusion I follows.

☒ 4. Only conclusion III follows.

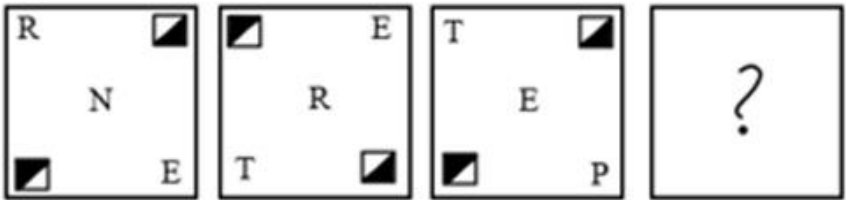
Question ID : 264330142877

Status : Answered

Chosen Option : 4

Adda247

Q.21 उस आकृति का चयन कीजिए जो निम्नांकित आकृति श्रृंखला में प्रश्नचिह्न (?) को प्रतिस्थापित करेगी।



Ans

- ✗ 1.

P

T

X
- ✗ 2.

P

E

T
- ✓ 3.

P

T

X
- ✗ 4.

T

E

X

Question ID : 264330143087
Status : Answered
Chosen Option : 3

Q.22 'A # B' means 'A is the daughter B'
'A @ B' means 'A is the only son of B'.
'A & B' means 'A is the mother of B'.
'A % B' means 'A is the father-in-law of B'.
If P # Q @ R % S & T @ Q , then how is P related to T?

- Ans
- ✗ 1. Father's brother

✓ 2. Sister

✗ 3. Brother

✗ 4. Mother's sister

Question ID : 26433091636
Status : Answered
Chosen Option : 2

Q.23 उस विकल्प का चयन करें जो दिए गए शब्दों के उस सही क्रम को दर्शाता है, जिस क्रम में वे अंग्रेजी शब्दकोश में दिखाई देते हैं।

1. Cope
2. Cosmetic
3. Courage
4. Cough
5. Course
6. Courier

Ans ☒ 1. 2, 1, 4, 3, 6, 5

☒ 2. 1, 2, 4, 3, 6, 5

☒ 3. 1, 2, 4, 6, 3, 5

☒ 4. 1, 2, 4, 3, 5, 6

Question ID : 264330142926

Status : Answered

Chosen Option : 2

Q.24 Read the given statements and conclusions carefully. Assuming that the information given in the statements is true, even if it appears to be at variance with commonly known facts, decide which of the given conclusions logically follow(s) from the statements.

Statements:

All pigeons are ants.

Some ants are birds.

All birds are cats.

Conclusions:

I. Some cats are pigeons.

II. Some birds are pigeons.

III. Some cats are ants.

Ans ☒ 1. Only conclusion I follows

☒ 2. Only conclusion II follows

☒ 3. Only conclusion III follows

☒ 4. All conclusions follow

Question ID : 26433068546

Status : Answered

Chosen Option : 3

Q.25 उस विकल्प का चयन करें जो चौथे पद से उसी प्रकार संबंधित है जिस प्रकार पहला पद दूसरे पद से संबंधित है और पाँचवां पद छठे पद से संबंधित है।
9 : 126 :: ? : 238 :: 21 : 294

Ans ☒ 1. 18

☒ 2. 28

☒ 3. 22

☒ 4. 17

Question ID : 26433040812

Status : Answered

Chosen Option : 4

Section : General Awareness

Q.1 सितंबर 2021 में, स्वयं सहायता समूहों (SHGs) से जुड़ी महिलाओं के लिए _____ में 'साथ (SAATH)' पहल शुरू की गई थी।

- Ans
- ☒ 1. अंडमान व नोकोबार द्वीप समूह
 - ☒ 2. जम्मू और कश्मीर
 - ☒ 3. केरल
 - ☒ 4. तमिलनाडु

Question ID : 26433082809
Status : Not Attempted and Marked For Review
Chosen Option : --

Q.2 जनवरी 2022 में, टी.एस. तिरुमूर्ति निम्नलिखित कारणों से चर्चा में थे:

- Ans
- ☒ 1. फीफा प्लेयर ऑफ द ईयर बने
 - ☒ 2. उन्होंने संयुक्त राष्ट्र की आतंकवाद-रोधी समिति की अध्यक्षता ग्रहण की
 - ☒ 3. वे उत्तरी ध्रुव पर पहुंचने वाले पहले भारतीय बने
 - ☒ 4. उन्हें FIH के अध्यक्ष के रूप में नामित किया गया

Question ID : 26433082814
Status : Not Answered
Chosen Option : --

Q.3 उत्तर भारतीय मंदिर वास्तुकला में कौन-सा तत्व गर्भगृह और स्तंभित मंडपों के ऊपर अधिरचना या मीनार को दर्शाता है?

- Ans
- ☒ 1. शिखर
 - ☒ 2. कलश
 - ☒ 3. अमलाक
 - ☒ 4. अंतराल

Question ID : 26433090747
Status : Answered
Chosen Option : 1

Q.4 2021, U-19 एशिया कप क्रिकेट की मेजबानी निम्नलिखित में से किस देश ने की थी?

- Ans
- ☒ 1. कतर
 - ☒ 2. बांग्लादेश
 - ☒ 3. यूएई
 - ☒ 4. पाकिस्तान

Question ID : 26433054675
Status : Not Answered
Chosen Option : --

Q.5 कोशिका के उस प्रकार की पहचान करें जो लंबी और शाखित है।

- Ans
- ☒ 1. स्तंभाकार उपकला कोशिका
 - ☒ 2. लाल रक्त कोशिका
 - ☒ 3. तंत्रिका कोशिका
 - ☒ 4. श्वेत रक्त कोशिका

Question ID : 264330142696
Status : Answered
Chosen Option : 3

Q.6 निम्नलिखित में से किसने 'फॉरवर्ड ब्लॉक' की स्थापना की थी?

- Ans
- ☒ 1. सुरेंद्रनाथ बनर्जी
 - ☒ 2. मोतीलाल नेहरू
 - ☒ 3. दादाभाई नौरोजी
 - ☒ 4. सुभाष चंद्र बोस

Question ID : 26433055015
Status : Answered
Chosen Option : 4

Q.7 मानक जनगणना परिभाषा के अनुसार, निम्नलिखित में से किसे भारत में मुख्य कामगार के रूप में वर्गीकृत किया जा सकता है?

- Ans
- ☒ 1. वह व्यक्ति जो कम से कम 160 दिन काम करता है
 - ☒ 2. वह व्यक्ति जो कम से कम 200 दिन काम करता है
 - ☒ 3. वह व्यक्ति जो कम से कम 183 दिन काम करता है
 - ☒ 4. वह व्यक्ति जो कम से कम 100 दिन काम करता है

Question ID : 264330109871
Status : Answered
Chosen Option : 4

Q.8 फरवरी 2022 में पैरा तीरंदाजी विश्व चैंपियनशिप के व्यक्तिगत वर्ग में रजत पदक जीतने वाले/वाली पहले/पहली भारतीय कौन बने/बनी?

- Ans
- ☒ 1. ज्योति सुरेखा वेन्नम
 - ☒ 2. हरविंदर सिंह
 - ☒ 3. राकेश कुमार
 - ☒ 4. पूजा जातयान

Question ID : 26433081842
Status : Not Answered
Chosen Option : --

Q.9 प्रमाणित कोयला भंडार (कोयला मंत्रालय, भारत सरकार, 2018 तक की प्राप्त जानकारी के अनुसार) के संदर्भ में निम्नलिखित राज्यों के अवरोही क्रम में सही क्रम _____ है।

- Ans
- ☒ 1. झारखंड, ओडिशा, छत्तीसगढ़, पश्चिम बंगाल
 - ☒ 2. छत्तीसगढ़, ओडिशा, झारखंड, मध्य प्रदेश
 - ☒ 3. ओडिशा, छत्तीसगढ़, मध्य प्रदेश, झारखंड
 - ☒ 4. झारखंड, छत्तीसगढ़, ओडिशा, मध्य प्रदेश

Question ID : 26433097094
Status : Not Answered
Chosen Option : --

Q.10 पुष्यमित्र, जो कि अंतिम मौर्य सम्राट बृहद्रथ का सेनापति था, ने राजा को मार डाला और एक नए राजवंश की स्थापना की। निम्नलिखित में से कौन-सा, उसका राजवंश था?

- Ans
- ☒ 1. कण्व
 - ☒ 2. सातवाहन
 - ☒ 3. चेदि
 - ☒ 4. शुंग

Question ID : 264330142802
Status : Answered
Chosen Option : 4

Q.11 निम्नलिखित में से कौन-सी आत्मकथा भारतीय महिला कवयित्री कमला दास द्वारा लिखी गई थी, जिन्हें 1984 में साहित्य के नोबेल पुरस्कार के लिए नामांकित किया गया था?

- Ans
- ☐ 1. ए लाइफ अपार्ट
 - ☐ 2. स्मृतिचित्र: दी मेमॉयर ऑफ़ ए स्पिरिटेड वाइफ
 - ☒ 3. माई स्टोरी
 - ☐ 4. ए लाइफ लेस आर्डिनरी

Question ID : 264330141403
Status : Not Answered
Chosen Option : --

Q.12 फरवरी 2022 में एंटीगुआ के नॉर्थ साउंड के सर विवियन रिचर्ड्स स्टेडियम में फाइनल में इंग्लैंड को हराकर भारत ने रिकॉर्ड-विस्तार _____ ICC U19 विश्व कप खिताब जीता है।

- Ans
- ☐ 1. छठा
 - ☒ 2. पाँचवाँ
 - ☐ 3. आठवाँ
 - ☐ 4. तीसरा

Question ID : 26433054451
Status : Not Answered
Chosen Option : --

Q.13 निम्नलिखित में से कौन सा राष्ट्रीय जलमार्ग तमिलनाडु में स्थित है?

- Ans
- ☐ 1. राष्ट्रीय जलमार्ग-98
 - ☐ 2. राष्ट्रीय जलमार्ग-93
 - ☐ 3. राष्ट्रीय जलमार्ग-97
 - ☒ 4. राष्ट्रीय जलमार्ग-99

Question ID : 26433067188
Status : Not Answered
Chosen Option : --

Q.14 त्रिक बिंदु को किस प्रकार परिभाषित किया जा सकता है?

- Ans
- ☐ 1. वह तापमान जिस पर ठोस द्रव में परिवर्तित होता है।
 - ☒ 2. तापमान और दाब की स्थिति जिसके तहत किसी पदार्थ के गैसीय, द्रव और ठोस चरण साम्यावस्था में मौजूद हो सकते हैं।
 - ☐ 3. दाब की स्थिति जिसके तहत किसी पदार्थ के ठोस और द्रव चरण साम्यावस्था में मौजूद हो सकते हैं।
 - ☐ 4. तापमान की स्थिति जिसके तहत किसी पदार्थ के गैसीय और द्रव चरण साम्यावस्था में मौजूद हो सकते हैं।

Question ID : 26433054913
Status : Not Answered
Chosen Option : --

Q.15 एक ऐसे शैवाल की पहचान कीजिए, जो युग्मकों के असमयुग्मकी संलयन से गुजरता है।

- Ans
- ☐ 1. वॉलवॉक्स
 - ☐ 2. यूलोथ्रिक्स
 - ☒ 3. यूडोरिना
 - ☐ 4. स्पाइरोगाइरा

Question ID : 26433064745
Status : Not Answered
Chosen Option : --

Q.16 पूर्वी गोदावरी क्षेत्र में कोया विद्रोह किस वर्ष हुआ था?

- Ans
- ☒ 1. 1887-1888
 - ☒ 2. 1882-1883
 - ☒ 3. 1874-1875
 - ☒ 4. 1879-1880

Question ID : 264330142807
Status : Not Answered
Chosen Option : --

Q.17 महासागरीय परतों के संबंध में असंगत विकल्प की पहचान करें।

- Ans
- ☒ 1. महाद्वीपीय शेल्फ
 - ☒ 2. महासागरीय ढलान
 - ☒ 3. महाद्वीपीय ढलान
 - ☒ 4. महासागरीय डीप

Question ID : 264330142699
Status : Marked For Review
Chosen Option : 3

Q.18 फाजिल्का विरासत महोत्सव, जो कि कला, संस्कृति और भोजन का वार्षिक उत्सव है, निम्नलिखित में किस राज्य में मनाया जाता है?

- Ans
- ☒ 1. पंजाब
 - ☒ 2. उत्तर प्रदेश
 - ☒ 3. हरियाणा
 - ☒ 4. महाराष्ट्र

Question ID : 264330141232
Status : Answered
Chosen Option : 1

Q.19 राज्य सभा को अनुशंसा के साथ या उसके बिना धन विधेयक को _____ के भीतर लोकसभा को लौटाना होता है।

- Ans
- ☒ 1. 21 दिन
 - ☒ 2. 10 दिन
 - ☒ 3. 30 दिन
 - ☒ 4. 14 दिन

Question ID : 264330112758
Status : Answered
Chosen Option : 4

Q.20 पंपा द्वारा रचित ग्रंथ 'विक्रमार्जुन विजय' निम्नलिखित में से किस भाषा में लिखा गया है?

- Ans
- ☒ 1. कन्नड़
 - ☒ 2. तमिल
 - ☒ 3. तेलुगु
 - ☒ 4. संस्कृत

Question ID : 26433081937
Status : Not Answered
Chosen Option : --

Q.21 ज़ाकिर हुसैन _____ वादन के लिए मशहूर हैं।

- Ans
- ☒ 1. तबला
 - ☐ 2. सितार
 - ☐ 3. संतूर
 - ☐ 4. शहनाई

Question ID : 264330141391
Status : Not Answered
Chosen Option : --

Q.22 देवदास स्मृति पंथी नृत्य पुरस्कार किस राज्य से संबंधित है?

- Ans
- ☐ 1. झारखंड
 - ☐ 2. राजस्थान
 - ☐ 3. बिहार
 - ☒ 4. छत्तीसगढ़

Question ID : 26433074137
Status : Not Answered
Chosen Option : --

Q.23 भारत सरकार ने जून 2020 में 'गरीब कल्याण रोजगार अभियान' (GKRA) कितने दिनों के लिए शुरू किया था?

- Ans
- ☐ 1. 150 दिन
 - ☐ 2. 200 दिन
 - ☐ 3. 100 दिन
 - ☒ 4. 125 दिन

Question ID : 264330113299
Status : Answered
Chosen Option : 3

Q.24 भारत के 50^{वें} मुख्य न्यायमूर्ति (Chief Justice) कौन हैं?

- Ans
- ☐ 1. शरद अरविंद बोबडे
 - ☐ 2. यू.यू. ललित
 - ☒ 3. डी.वाई. चंद्रचूड़
 - ☐ 4. एन.वी. रमना

Question ID : 264330113426
Status : Answered
Chosen Option : 3

Q.25 लाई हारोबा नृत्य की सबसे प्रारंभिक ऐसी शैली है, जो _____ के सभी शैली के नृत्य रूपों का आधार है।

- Ans
- ☐ 1. उत्तर प्रदेश
 - ☒ 2. मणिपुर
 - ☐ 3. मध्य प्रदेश
 - ☐ 4. पंजाब

Question ID : 264330141226
Status : Answered
Chosen Option : 2

Q.1 12, 15 और 18 से विभाज्य चार अंकों की सबसे बड़ी संख्या _____ है।

- Ans
- ☒ 1. 9450
 - ☒ 2. 9900
 - ☒ 3. 9750
 - ☒ 4. 9000

Question ID : 264330142680
Status : Answered
Chosen Option : 2

Q.2 एक वाहन 5 सेकंड में 200 मीटर और फिर 5 सेकंड में 250 मीटर की दूरी तय करता है। इसकी औसत चाल (मीटर/सेकंड में) क्या है?

- Ans
- ☒ 1. 50
 - ☒ 2. 40
 - ☒ 3. 55
 - ☒ 4. 45

Question ID : 26433075935
Status : Answered
Chosen Option : 4

Q.3 एक कंपनी में, सोमवार, बुधवार और शुक्रवार को ग्राहक कॉल की कुल संख्या 15,500 हैं और मंगलवार और गुरुवार को कॉल की कुल संख्या 12,500 हैं। शनिवार और रविवार को औसत कॉल संख्या 7,000 हैं। तो बताइए कि एक सप्ताह में प्रति दिन कितनी औसत कॉल होती हैं?

- Ans
- ☒ 1. 7500
 - ☒ 2. 6500
 - ☒ 3. 6000
 - ☒ 4. 7000

Question ID : 264330126095
Status : Answered
Chosen Option : 3

Q.4 यदि एक दुकानदार ने अपना एक तिहाई माल 20% की हानि पर बेचा, तो शेष माल को कितने प्रतिशत लाभ पर बेचा जाना चाहिए, ताकि पूरे लेन-देन पर 25% का लाभ हो सके?

- Ans
- ☒ 1. 5 प्रतिशत
 - ☒ 2. 32.5 प्रतिशत
 - ☒ 3. 47.5 प्रतिशत
 - ☒ 4. 20 प्रतिशत

Question ID : 26433081564
Status : Answered
Chosen Option : 3

Q.5 एक बेईमान दुकानदार क्रय मूल्य पर अनाज बेचने का दावा करता है, लेकिन वह 1 KG वजन के लिए 935 G वजन का उपयोग करता है। उसका लाभ प्रतिशत ज्ञात कीजिए।

- Ans
- ✓ 1. 6.95%
 - ✗ 2. 5.96%
 - ✗ 3. 6.59%
 - ✗ 4. 6.5%

Question ID : 26433090323
Status : Answered
Chosen Option : 1

Q.6 एक गली में 20 कुत्ते और बिल्लियाँ हैं। यदि कुत्तों और बिल्लियों के बीच का अनुपात 3 : 2 है, तो बिल्लियों की संख्या _____ है।

- Ans
- ✗ 1. 22
 - ✗ 2. 10
 - ✓ 3. 8
 - ✗ 4. 16

Question ID : 264330142681
Status : Answered
Chosen Option : 3

Q.7 63 km/h की गति से चल रही 150 m लंबी रेलगाड़ी द्वारा उसी दिशा में 45 km/h की गति से चल रही 100 m लंबाई की एक अन्य रेलगाड़ी को पार करने में लिया गया समय ज्ञात कीजिए।

- Ans
- ✗ 1. 40 सेकंड
 - ✗ 2. 60 सेकंड
 - ✓ 3. 50 सेकंड
 - ✗ 4. 45 सेकंड

Question ID : 264330142540
Status : Answered
Chosen Option : 3

Q.8 अंकित मूल्य पर 30% और 40% की दो क्रमागत छूट देने के बाद, एक वस्तु को ₹420 में बेचा जाता है। वस्तु का अंकित मूल्य ज्ञात कीजिए।

- Ans
- ✗ 1. ₹900
 - ✓ 2. ₹1,000
 - ✗ 3. ₹800
 - ✗ 4. ₹1,100

Question ID : 264330132900
Status : Answered
Chosen Option : 2

Q.9 एक परीक्षा में, प्रैक्टिकल और थ्योरी अंकों का अनुपात 3 : 7 है। यदि प्रैक्टिकल में 80% अंक प्राप्त होते हैं और थ्योरी में 60% अंक प्राप्त होते हैं, तो थ्योरी और प्रैक्टिकल में प्राप्त अंकों का अनुपात क्या है?

- Ans ☒ 1. 7 : 4
☒ 2. 6 : 7
☒ 3. 3 : 7
☒ 4. 5 : 7

Question ID : 26433085453
 Status : Answered
 Chosen Option : 1

Q.10 एक व्यक्ति 80 km की यात्रा 10 km/h की चाल से और शेष 70 km की दूरी 7 घंटे में तय करता है। पूरी यात्रा की उसकी औसत चाल क्या है?

- Ans ☒ 1. 10.5 km/h
☒ 2. 9 km/h
☒ 3. 10 km/h
☒ 4. 9.5 km/h

Question ID : 264330142261
 Status : Answered
 Chosen Option : 3

Q.11 दो उम्मीदवारों के बीच हुए एक चुनाव में एक उम्मीदवार को कुल वैध मतों के 60% मत प्राप्त हुए। यदि डाले गए मतों की कुल संख्या 8850 थी और 10% मत अवैध थे, तो दूसरे उम्मीदवार को मिले वैध मतों की संख्या ज्ञात करें।

- Ans ☒ 1. 3186
☒ 2. 3618
☒ 3. 3816
☒ 4. 3681

Question ID : 26433081555
 Status : Answered
 Chosen Option : 1

Q.12 एक पुस्तक को 32% की छूट पर बेचा जाता है और नकद भुगतान पर 25% की अतिरिक्त छूट की अनुमति है। यदि रमेश ने Rs.2,550 नकद देकर पुस्तक खरीदी, तो पुस्तक का अंकित मूल्य ज्ञात कीजिए।

- Ans ☒ 1. Rs.4,950
☒ 2. Rs.5,050
☒ 3. Rs.5,000
☒ 4. Rs.5,560

Question ID : 26433064981
 Status : Answered
 Chosen Option : 3

Q.13 मुकेश बादाम को क्रय मूल्य पर बेचता है, लेकिन गलत वजन का उपयोग करके 23% लाभ प्राप्त करता है। 3.075 KG में वह कितने ग्राम बादाम दे रहा है?

- Ans ☒ 1. 2500
☒ 2. 2400
☒ 3. 2700
☒ 4. 2600

Question ID : 26433091990
 Status : Answered
 Chosen Option : 1

Q.14 एक ठोस गोले का पृष्ठीय क्षेत्रफल 616 cm^2 है। इस गोले को दो गोलार्द्धों (अर्द्धगोलों) में काटा जाता है। किसी एक गोलार्द्ध का संपूर्ण पृष्ठीय क्षेत्रफल ज्ञात करें?

- Ans
- ☐ 1. 390 cm^2
 - ☐ 2. 440 cm^2
 - ☐ 3. 452 cm^2
 - ☒ 4. 462 cm^2

Question ID : 264330142762
Status : Answered
Chosen Option : 4

Q.15 कौन-सी वार्षिक किश्त, 12% वार्षिक साधारण ब्याज की दर पर तीन वर्षों में देय Rs.35,455 के ऋण को चुकता करेगी? (किश्तों का भुगतान वर्षों के अंत में किया जाएगा) (निकटतम रुपये में पूर्णांकित करें)

- Ans
- ☒ 1. Rs.10,552
 - ☐ 2. Rs.14,652
 - ☐ 3. Rs.12,548
 - ☐ 4. Rs.11,804

Question ID : 26433075411
Status : Not Attempted and Marked For Review
Chosen Option : --

Q.16 दो उम्मीदवारों के बीच हुए चुनाव में, 84 मत अवैध घोषित किए गए। जीतने वाला उम्मीदवार को 62% वैध मत प्राप्त होते हैं और वह 96 मतों से जीत जाता है। डाले गए मतों की संख्या ज्ञात कीजिए।

- Ans
- ☐ 1. 424
 - ☐ 2. 641
 - ☒ 3. 484
 - ☐ 4. 543

Question ID : 26433080009
Status : Answered
Chosen Option : 3

Q.17 पिछले साल अंकित की लंबाई 160 cm थी। एक वर्ष में, उसकी लंबाई में 8% की वृद्धि हुई। अब उसकी लंबाई कितनी है?

- Ans
- ☐ 1. 173 cm
 - ☒ 2. 172.8 cm
 - ☐ 3. 173.2 cm
 - ☐ 4. 172.2 cm

Question ID : 26433063299
Status : Answered
Chosen Option : 2

Q.18 X, Y और Z एक कार्य को क्रमशः 4 दिन, 5 दिन और 7 दिन में पूरा कर सकते हैं। उन्हें कार्य को पूरा करने के लिए ₹415 मिलते हैं। यदि X, Y और Z मिलकर कार्य को पूरा करते हैं, तो X का हिस्सा कितना है?

- Ans
- ☐ 1. ₹200
 - ☐ 2. ₹275
 - ☒ 3. ₹175
 - ☐ 4. ₹225

Question ID : 264330142541
Status : Answered
Chosen Option : 3

Q.19 आनंद और भरत की वार्षिक आय 3 : 5 के अनुपात में है और उनका वार्षिक व्यय 1 : 3 के अनुपात में है। यदि उनमें से प्रत्येक व्यक्ति वर्ष के अंत में ₹10,000 की बचत करता है, तो भरत की वार्षिक आय क्या है?

- Ans
- ☒ 1. ₹12,000
 - ☒ 2. ₹25,000
 - ☒ 3. ₹30,000
 - ☒ 4. ₹15,000

Question ID : 264330142258
Status : Answered
Chosen Option : 2

Q.20 48, 39 और y का औसत 40 है। y का मान ज्ञात कीजिए।

- Ans
- ☒ 1. 33
 - ☒ 2. 32
 - ☒ 3. 35
 - ☒ 4. 31

Question ID : 264330103236
Status : Answered
Chosen Option : 1

Q.21 A किसी कार्य को 12 दिनों में कर सकता है, जबकि B उसी कार्य को 18 दिनों में कर सकता है। यदि वे दोनों मिलकर कार्य करते हैं, तो कार्य समाप्त होने में कितने दिन लगेंगे?

- Ans
- ☒ 1. 7
 - ☒ 2. 7.2
 - ☒ 3. 6.5
 - ☒ 4. 6

Question ID : 26433063961
Status : Answered
Chosen Option : 2

Q.22 एक कार खरीदने के लिए, साहिल ने 10% साधारण ब्याज दर पर कुछ राशि उधार ली। उसने कुछ ऋण राशि का भुगतान कर दिया है लेकिन ₹1,81,500 बकाया है, जिसे उसे 3 वर्षों में चुकाना है। वार्षिक किस्त (₹ में) कितनी होगी?

- Ans
- ☒ 1. 65,000
 - ☒ 2. 55,000
 - ☒ 3. 54,500
 - ☒ 4. 47,000

Question ID : 264330103335
Status : Answered
Chosen Option : 2

Q.23 किसी समद्विबाहु समकोण त्रिभुज का परिमाप _____ होगा, जिसका क्षेत्रफल 200 cm² है।

- Ans
- ☒ 1. 78.2 cm
 - ☒ 2. 70.6 cm
 - ☒ 3. 58.6 cm
 - ☒ 4. 68.3 cm

Question ID : 26433082729
Status : Answered
Chosen Option : 4

Q.24 5 वर्षों में, ₹X की राशि पर साधारण ब्याज, मूलधन का $\frac{2}{5}$ है। ब्याज की वार्षिक दर क्या है?

- Ans ☒ 1. 8%
☒ 2. 12%
☒ 3. 5%
☒ 4. 10%

Question ID : 264330142675
 Status : Answered
 Chosen Option : 1

Q.25 एक दिन में 12 घंटे काम करके 90 व्यक्ति एक कार्य को 16 दिनों में पूरा कर सकते हैं। यदि 70 व्यक्ति प्रति दिन 8 घंटे कार्य करते हैं तो 24 दिनों के बाद कितना कार्य शेष रह जाएगा?

- Ans ☒ 1. $\frac{2}{9}$
☒ 2. $\frac{3}{8}$
☒ 3. $\frac{7}{9}$
☒ 4. $\frac{5}{8}$

Question ID : 26433073115
 Status : Answered
 Chosen Option : 1

Section : English Language

Q.1 Select the idiom that gives the most appropriate meaning of the underlined phrase in the following sentence.
 Chanda always annoys everyone by praising herself all the time.

- Ans ☒ 1. Catching one's eyes
☒ 2. Blowing her own trumpet
☒ 3. Crying over the spilt milk
☒ 4. Facing the music

Question ID : 26433086440
 Status : Answered
 Chosen Option : 2

Q.2 Select the option that expresses the given sentence in indirect speech.
 He said, "I will see you now".

- Ans ☒ 1. He said he would see me then.
☒ 2. He said he will see you now.
☒ 3. He said I will see you now.
☒ 4. He said he will see me now.

Question ID : 264330133305
 Status : Answered
 Chosen Option : 1

Q.3 Select the most appropriate ANTONYM to replace the italicised word.

“Can I *borrow* your cell?” She asked.

- Ans ☒ 1. hire
☒ 2. lend
☒ 3. bite
☒ 4. rent

Question ID : 26433059651
Status : Answered
Chosen Option : 2

Q.4 Select the option that can be used as a one-word substitute for the given group of words.

Jokes and funny remarks amongst friends.

- Ans ☒ 1. Saunter
☒ 2. Banter
☒ 3. Meet
☒ 4. Discussion

Question ID : 26433060094
Status : Answered
Chosen Option : 2

Q.5 Select the most appropriate option to fill in the blank.

Time management is essential for a _____ life and career.

- Ans ☒ 1. failed
☒ 2. mere
☒ 3. scrupulous
☒ 4. successful

Question ID : 26433060790
Status : Answered
Chosen Option : 4

Q.6 Select the most appropriate option to fill in the blank.
Tropical forests have _____ greenery.

- Ans ☒ 1. thorny
☒ 2. exciting
☒ 3. withered
☒ 4. lush

Question ID : 26433060378
Status : Answered
Chosen Option : 1

Q.7 Select the most appropriate option to fill in the blank.

All desire wealth and some will _____ it.

- Ans ☒ 1. acquire
☒ 2. collude
☒ 3. remove
☒ 4. aspire

Question ID : 26433059687

Status : Not Attempted and
Marked For Review

Chosen Option : --

Q.8 Choose the option that rectifies the incorrectly spelt underlined word.

The Swiss entrepreneure has pulled the plug on any further investment in the firm.

- Ans ☒ 1. entreperneur
☒ 2. entreprenur
☒ 3. antepreneure
☒ 4. entrepreneur

Question ID : 26433088847

Status : Answered

Chosen Option : 1

Q.9 Select the most appropriate ANTONYM of the given word.

Despair

- Ans ☒ 1. Distinct
☒ 2. Distant
☒ 3. Optimism
☒ 4. Sorrow

Question ID : 264330135890

Status : Not Answered

Chosen Option : --

Q.10 Select the most appropriate meaning of the given idiom.

Through the grapevine

- Ans ☒ 1. Through difficulties
☒ 2. Succeeded brilliantly
☒ 3. Via gossip
☒ 4. Extremely ill

Question ID : 264330134217

Status : Not Answered

Chosen Option : --

Q.11 Choose the option that rectifies the grammatical and spelling errors in the given sentence.

The secret to tightrope walking is to graps the rope between the twos and distribute one's weight evenly on the soles of one's feet.

- Ans** ☒ 1. evenly on the soul of one's feet
- ☒ 2. to grasp the rope between the toes
- ☒ 3. The secrte of tightrope walk is
- ☒ 4. and distribute ones weight

Question ID : 26433088850
Status : Answered
Chosen Option : 2

Q.12 From among the words given in bold, select the INCORRECTLY spelt word in the following sentence.
Women's vulnarability due to the denial of ownership of productive resources has been focused on in the analysis of how progressive laws shaped gender relations.

- Ans** ☒ 1. focused
- ☒ 2. progressive
- ☒ 3. analysis
- ☒ 4. vulnarability

Question ID : 264330143252
Status : Answered
Chosen Option : 4

Q.13 Select the most appropriate meaning of the given idiom.

Get out of hand

- Ans** ☒ 1. Fall from hand
- ☒ 2. Keep control of hand
- ☒ 3. Go out of control
- ☒ 4. Hands should be crossed

Question ID : 26433060411
Status : Answered
Chosen Option : 3

Q.14 Select the option that expresses the given sentence in active voice.
The sweater is knitted by Suman.

- Ans** ☒ 1. Suman have knitting the sweater.
- ☒ 2. Suman knits the sweater.
- ☒ 3. Suman been knit the sweater.
- ☒ 4. Suman be knitted the sweater.

Question ID : 264330132872
Status : Answered
Chosen Option : 2

Q.15 Select the most appropriate meaning of the given idiom.

Throw caution to the wind

- Ans ☒ 1. To be overly cautious or hesitant
- ☒ 2. To be too strict or rigid in following rules
- ☒ 3. To take a big risk or be reckless
- ☒ 4. To be indecisive or unsure about a decision

Question ID : 264330133361
Status : Answered
Chosen Option : 4

Comprehension:

In the following passage, some words have been deleted. Read the passage carefully and select the most appropriate option to fill in each blank.

Children are the future of any country and a country that does not take care of this (1)_____ resource suffers later. A successful nation is that which makes its youth strong enough to lift this (2)_____ responsibility on their shoulders. (3)_____, this is not the case in our country. Education, which is a necessity, is still a (4)_____ here. Poor people (5)_____ to send their children to school.

SubQuestion No : 16

Q.16 Select the most appropriate option to fill in blank number 1.

- Ans ☒ 1. worthless
- ☒ 2. valuable
- ☒ 3. valued
- ☒ 4. extravagant

Question ID : 26433073412
Status : Answered
Chosen Option : 1

Comprehension:

In the following passage, some words have been deleted. Read the passage carefully and select the most appropriate option to fill in each blank.

Children are the future of any country and a country that does not take care of this (1)_____ resource suffers later. A successful nation is that which makes its youth strong enough to lift this (2)_____ responsibility on their shoulders. (3)_____, this is not the case in our country. Education, which is a necessity, is still a (4)_____ here. Poor people (5)_____ to send their children to school.

SubQuestion No : 17

Q.17 Select the most appropriate option to fill in blank number 2.

- Ans ☒ 1. mighty
- ☒ 2. frail
- ☒ 3. impotent
- ☒ 4. bulky

Question ID : 26433073413
Status : Answered
Chosen Option : 3

Comprehension:

In the following passage, some words have been deleted. Read the passage carefully and select the most appropriate option to fill in each blank.

Children are the future of any country and a country that does not take care of this (1)_____ resource suffers later. A successful nation is that which makes its youth strong enough to lift this (2)_____ responsibility on their shoulders. (3)_____, this is not the case in our country. Education, which is a necessity, is still a (4)_____ here. Poor people (5)_____ to send their children to school.

SubQuestion No : 18

Q.18 Select the most appropriate option to fill in blank number 3.

- Ans ☒ 1. Partially
☒ 2. Necessarily
☒ 3. Certainly
☒ 4. Unfortunately

Question ID : 26433073414
 Status : Answered
 Chosen Option : 3

Comprehension:

In the following passage, some words have been deleted. Read the passage carefully and select the most appropriate option to fill in each blank.

Children are the future of any country and a country that does not take care of this (1)_____ resource suffers later. A successful nation is that which makes its youth strong enough to lift this (2)_____ responsibility on their shoulders. (3)_____, this is not the case in our country. Education, which is a necessity, is still a (4)_____ here. Poor people (5)_____ to send their children to school.

SubQuestion No : 19

Q.19 Select the most appropriate option to fill in blank number 4.

- Ans ☒ 1. delight
☒ 2. theory
☒ 3. study
☒ 4. luxury

Question ID : 26433073415
 Status : Answered
 Chosen Option : 1

Comprehension:

In the following passage, some words have been deleted. Read the passage carefully and select the most appropriate option to fill in each blank.

Children are the future of any country and a country that does not take care of this (1)_____ resource suffers later. A successful nation is that which makes its youth strong enough to lift this (2)_____ responsibility on their shoulders. (3)_____, this is not the case in our country. Education, which is a necessity, is still a (4)_____ here. Poor people (5)_____ to send their children to school.

SubQuestion No : 20

Q.20 Select the most appropriate option to fill in blank number 5.

- Ans ☒ 1. fluctuate
☒ 2. agitate
☒ 3. hesitate
☒ 4. explicate

Question ID : 26433073416
 Status : Answered
 Chosen Option : 3

Comprehension:

Read the given passage and answer the questions that follows.

Sparrows are little birds that can be found all throughout the world. Sparrows come in a wide variety of varieties. The length of a sparrow ranges from four to six inches. Their wonderful melody is well-liked and appreciated by a large number of people. On the ground, grass, low trees and bushes are all good sites for sparrows to make their homes. They nest in the cracks and crevices of buildings in urban areas. Nests are rarely constructed at great heights. Nests are constructed from twigs, grasses and other plant fibres. Their nests are usually modest, but well-built.

Four to six eggs are laid by female sparrows at a time. Reddish brown blotches appear on the eggs' white shells. Between eleven and fourteen days, they'll hatch. The young are taken care of by both, male and female parents. After hatching, the young are fed insects. Using their big feet, sparrows scrape seeds. Seeds are the primary food source for adult sparrows. Birds like sparrows can be found nearly anywhere there are people. These lovely birds are beloved by a large number of people all around the world.

SubQuestion No : 21

Q.21 How many eggs are laid by female sparrows at a time?

- Ans**
- ☒ 1. Two to four
 - ☒ 2. Six to eight
 - ☒ 3. Eight to ten
 - ☒ 4. Four to six

Question ID : 264330102442
Status : Answered
Chosen Option : 4

Comprehension:

Read the given passage and answer the questions that follows.

Sparrows are little birds that can be found all throughout the world. Sparrows come in a wide variety of varieties. The length of a sparrow ranges from four to six inches. Their wonderful melody is well-liked and appreciated by a large number of people. On the ground, grass, low trees and bushes are all good sites for sparrows to make their homes. They nest in the cracks and crevices of buildings in urban areas. Nests are rarely constructed at great heights. Nests are constructed from twigs, grasses and other plant fibres. Their nests are usually modest, but well-built.

Four to six eggs are laid by female sparrows at a time. Reddish brown blotches appear on the eggs' white shells. Between eleven and fourteen days, they'll hatch. The young are taken care of by both, male and female parents. After hatching, the young are fed insects. Using their big feet, sparrows scrape seeds. Seeds are the primary food source for adult sparrows. Birds like sparrows can be found nearly anywhere there are people. These lovely birds are beloved by a large number of people all around the world.

SubQuestion No : 22

Q.22 Identify a suitable title for the passage.

- Ans**
- ☒ 1. How Sparrows Build Nests
 - ☒ 2. What Do The Sparrows Eat?
 - ☒ 3. The Lives Of Sparrows
 - ☒ 4. Song of Sparrows

Question ID : 264330102440
Status : Answered
Chosen Option : 3

Comprehension:

Read the given passage and answer the questions that follows.

Sparrows are little birds that can be found all throughout the world. Sparrows come in a wide variety of varieties. The length of a sparrow ranges from four to six inches. Their wonderful melody is well-liked and appreciated by a large number of people. On the ground, grass, low trees and bushes are all good sites for sparrows to make their homes. They nest in the cracks and crevices of buildings in urban areas. Nests are rarely constructed at great heights. Nests are constructed from twigs, grasses and other plant fibres. Their nests are usually modest, but well-built.

Four to six eggs are laid by female sparrows at a time. Reddish brown blotches appear on the eggs' white shells. Between eleven and fourteen days, they'll hatch. The young are taken care of by both, male and female parents. After hatching, the young are fed insects. Using their big feet, sparrows scrape seeds. Seeds are the primary food source for adult sparrows. Birds like sparrows can be found nearly anywhere there are people. These lovely birds are beloved by a large number of people all around the world.

SubQuestion No : 23

Q.23 Identify the central theme of the passage.

- Ans**
- ☒ 1. Different shortcomings of sparrows
 - ☒ 2. Availability of sparrows
 - ☒ 3. Description of sparrows' nest
 - ☒ 4. Description of lifestyle of sparrows

Question ID : 264330102441
 Status : Answered
 Chosen Option : 4

Comprehension:

Read the given passage and answer the questions that follows.

Sparrows are little birds that can be found all throughout the world. Sparrows come in a wide variety of varieties. The length of a sparrow ranges from four to six inches. Their wonderful melody is well-liked and appreciated by a large number of people. On the ground, grass, low trees and bushes are all good sites for sparrows to make their homes. They nest in the cracks and crevices of buildings in urban areas. Nests are rarely constructed at great heights. Nests are constructed from twigs, grasses and other plant fibres. Their nests are usually modest, but well-built.

Four to six eggs are laid by female sparrows at a time. Reddish brown blotches appear on the eggs' white shells. Between eleven and fourteen days, they'll hatch. The young are taken care of by both, male and female parents. After hatching, the young are fed insects. Using their big feet, sparrows scrape seeds. Seeds are the primary food source for adult sparrows. Birds like sparrows can be found nearly anywhere there are people. These lovely birds are beloved by a large number of people all around the world.

SubQuestion No : 24

Q.24 Identify the tone of the passage.

- Ans**
- ☒ 1. Descriptive
 - ☒ 2. Satiric
 - ☒ 3. Analytical
 - ☒ 4. Humorous

Question ID : 264330102443
 Status : Answered
 Chosen Option : 3

Comprehension:

Read the given passage and answer the questions that follows.

Sparrows are little birds that can be found all throughout the world. Sparrows come in a wide variety of varieties. The length of a sparrow ranges from four to six inches. Their wonderful melody is well-liked and appreciated by a large number of people. On the ground, grass, low trees and bushes are all good sites for sparrows to make their homes. They nest in the cracks and crevices of buildings in urban areas. Nests are rarely constructed at great heights. Nests are constructed from twigs, grasses and other plant fibres. Their nests are usually modest, but well-built.

Four to six eggs are laid by female sparrows at a time. Reddish brown blotches appear on the eggs' white shells. Between eleven and fourteen days, they'll hatch. The young are taken care of by both, male and female parents. After hatching, the young are fed insects. Using their big feet, sparrows scrape seeds. Seeds are the primary food source for adult sparrows. Birds like sparrows can be found nearly anywhere there are people. These lovely birds are beloved by a large number of people all around the world.

SubQuestion No : 25

Q.25 Select the most appropriate **ANTONYM** of the given word.

Melody

- Ans ☒ 1. Musicality
☒ 2. Disharmony
☒ 3. Ballad
☒ 4. Symphony

Question ID : 264330102444

Status : Not Answered

Chosen Option : --

