

Education Consultant India Ltd.

Notations :

1.Options shown in green color and with ✓ icon are correct.

2.Options shown in red color and with ✖ icon are incorrect.

Question Paper Name:	MATRON FEMALE Shift 1
Subject Name:	MATRON FEMALE
Creation Date:	2019-03-29 12:24:32
Duration:	120
Total Marks:	200
Display Marks:	Yes
Share Answer Key With Delivery Engine:	Yes
Actual Answer Key:	Yes
Calculator:	None
Magnifying Glass Required?:	No
Ruler Required?:	No
Eraser Required?:	No
Scratch Pad Required?:	No
Rough Sketch/Notepad Required?:	No
Protractor Required?:	No
Show Watermark on Console?:	Yes
Highlighter:	No
Auto Save on Console?:	No

Mental Ability1

Group Number :	1
Group Id :	1409736
Group Maximum Duration :	0
Group Minimum Duration :	0
Show Attended Group? :	No
Edit Attended Group? :	No
Break time:	0
Group Marks:	20
Is this Group for Examiner?:	No
Revisit allowed for group Instructions? :	Yes
Maximum Instruction Time:	0
Minimum Instruction Time:	0

Mental Ability1

Section Id :	14097321
Section Number :	1

Section type :	Online
Mandatory or Optional:	Mandatory
Number of Questions:	20
Number of Questions to be attempted:	20
Section Marks:	20

Sub-Section Number:	1
Sub-Section Id:	14097321
Question Shuffling Allowed :	Yes

Question Number : 1 Question Id : 140973501 Question Type : MCQ Option Shuffling : Yes

Correct Marks : 1 Wrong Marks : 0.25

Select the term that is related to the third term in the same way as the second term is related to the first term.

Baker : Cakes :: Mason : ?

Options :

1. ✖ Bulbs

2. ✔ Buildings

3. ✖ Clothes

4. ✖ Cars

Question Number : 1 Question Id : 140973501 Question Type : MCQ Option Shuffling : Yes

Correct Marks : 1 Wrong Marks : 0.25

उस पद का चयन करें जो तीसरे पद से ठीक उसी तरह संबंधित है जिस प्रकार दूसरा पद पहले पद से संबंधित है।

बेकर : केक :: राजमिस्त्री : ?

Options :

1. ✖ बल्ब

2. ✔ भवन

3. ✖ कपड़े

4. ✖ कार

Question Number : 2 Question Id : 140973502 Question Type : MCQ Option Shuffling : Yes

Correct Marks : 1 Wrong Marks : 0.25

Select the term that is related to the third term in the same way as the second term is related to the first term.

68 : 50 :: 83 : ?

Options :

1. ✔ 26

2. ✖ 60

3. ✖ 22

4. ✖ 68

Question Number : 2 Question Id : 140973502 Question Type : MCQ Option Shuffling : Yes

Correct Marks : 1 Wrong Marks : 0.25

उस पद का चयन करें जो तीसरे पद से ठीक उसी तरह संबंधित है जिस प्रकार दूसरा पद पहले पद से संबंधित है।

68 : 50 :: 83 : ?

Options :

1. ✔ 26

2. ✖ 60

3. ✖ 22

4. ✖ 68

Question Number : 3 Question Id : 140973503 Question Type : MCQ Option Shuffling : Yes

Correct Marks : 1 Wrong Marks : 0.25

Select the term that is related to the third term in the same way as the second term is related to the first term.

FIESTA : HLIXZH :: ROCKY : ?

Options :

1. ✖ TSHQF

2. ✖ SPDLZ

3. ✖ ISKGY

4. ✔ TRGPE

Question Number : 3 Question Id : 140973503 Question Type : MCQ Option Shuffling : Yes

Correct Marks : 1 Wrong Marks : 0.25

उस पद का चयन करें जो तीसरे पद से ठीक उसी तरह संबंधित है जिस प्रकार दूसरा पद पहले पद से संबंधित है।

FIESTA : HLIXZH :: ROCKY : ?

Options :

1. ✖ TSHQF

2. ✖ SPDLZ

3. ✖ ISKGY

4. ✔ TRGPE

Question Number : 4 Question Id : 140973504 Question Type : MCQ Option Shuffling : Yes

Correct Marks : 1 Wrong Marks : 0.25

Of the four words given below, three are alike in some manner, while one is different. Choose the odd one.

Options :

1. ✖ XC

2. ✖ RI

3. ✖ OL

4. ✔ SF

Question Number : 4 Question Id : 140973504 Question Type : MCQ Option Shuffling : Yes

Correct Marks : 1 Wrong Marks : 0.25

निम्नलिखित प्रश्न में, चार शब्द दिये गये हैं जिनमें से तीन किसी प्रकार से एक समान हैं जबकि चौथा भिन्न है। विषय का चयन कीजिए।

Options :

1. ✖ XC

2. ✖ RI

3. ✖ OL

4. ✓ SF

Question Number : 5 Question Id : 140973505 Question Type : MCQ Option Shuffling : Yes

Correct Marks : 1 Wrong Marks : 0.25

Of the four words given below, three are alike in some manner, while one is different. Choose the odd one.

Options :

1. ✗ Indolent

2. ✓ Zealous

3. ✗ Laziness

4. ✗ Idleness

Question Number : 5 Question Id : 140973505 Question Type : MCQ Option Shuffling : Yes

Correct Marks : 1 Wrong Marks : 0.25

निम्नलिखित प्रश्न में, चार शब्द दिये गये हैं जिनमें से तीन किसी प्रकार से एक समान हैं जबकि चौथा भिन्न है।
विषय का चयन कीजिए।

Options :

1. ✗ Indolent

2. ✓ Zealous

3. ✗ Laziness

4. ✗ Idleness

Question Number : 6 Question Id : 140973506 Question Type : MCQ Option Shuffling : Yes

Correct Marks : 1 Wrong Marks : 0.25

Of the four words given below, three are alike in some manner, while one is different. Choose the odd one.

Options :

1. ✘ Chandigarh

2. ✘ Puducherry

3. ✔ Chhattisgarh

4. ✘ Lakshadweep

Question Number : 6 Question Id : 140973506 Question Type : MCQ Option Shuffling : Yes

Correct Marks : 1 Wrong Marks : 0.25

निम्नलिखित प्रश्न में, चार शब्द दिये गये हैं जिनमें से तीन किसी प्रकार से एक समान हैं जबकि चौथा भिन्न है। विषय का चयन कीजिए।

Options :

1. ✘ चंडीगढ़

2. ✘ पुडुचेरी

3. ✔ छत्तीसगढ़

4. ✘ लक्षद्वीप

Question Number : 7 Question Id : 140973507 Question Type : MCQ Option Shuffling : Yes

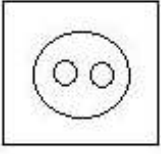
Correct Marks : 1 Wrong Marks : 0.25

Select the Venn diagram that best represents the relationship among the given set of classes.

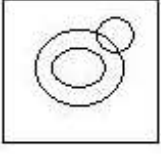
Engineers, Professionals, Dieticians

Options :

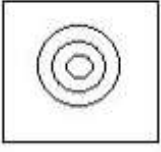
1. ✓



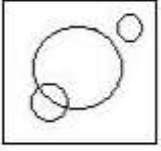
2. ✘



3. ✘



4. ✘



Question Number : 7 Question Id : 140973507 Question Type : MCQ Option Shuffling : Yes

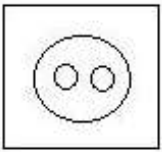
Correct Marks : 1 Wrong Marks : 0.25

उस वेन आरेख का चयन करें जो दिये गये वर्गों के समुच्चय के बीच संबंध सबसे अच्छी तरह दर्शाता है:

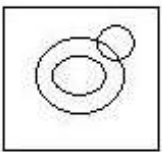
इंजीनियर, पेशेवर, आहार विशेषज्ञ

Options :

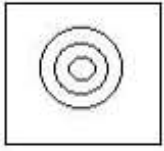
1. ✓



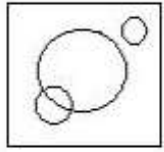
2. ✘



3. ✖



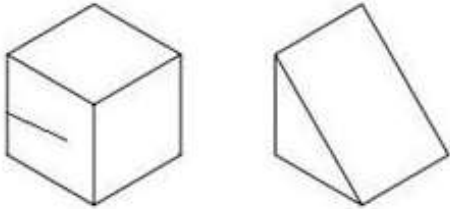
4. ✖



Question Number : 8 Question Id : 140973508 Question Type : MCQ Option Shuffling : Yes

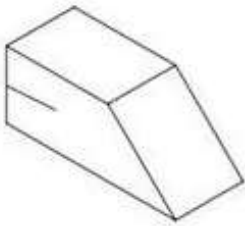
Correct Marks : 1 Wrong Marks : 0.25

Which shape will form if the two given shapes are combined without any rotation?

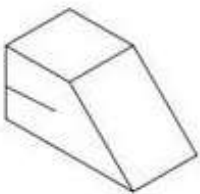


Options :

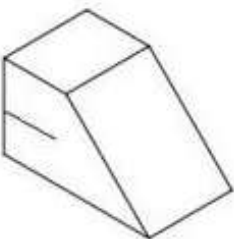
1. ✖



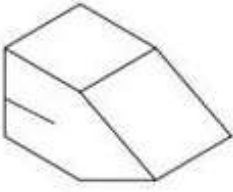
2. ✔



3. ✖

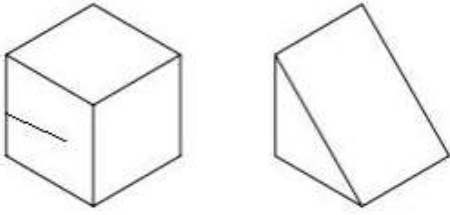


4. ✖

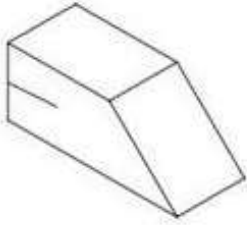


Question Number : 8 Question Id : 140973508 Question Type : MCQ Option Shuffling : Yes
Correct Marks : 1 Wrong Marks : 0.25

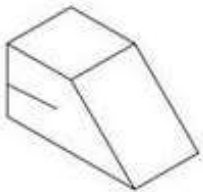
यदि दी गयी दो आकृतियों को बिना किसी घूर्णन के यथावत जोड़ दिया जाता है, तो कौन सी आकृति बनेगी?



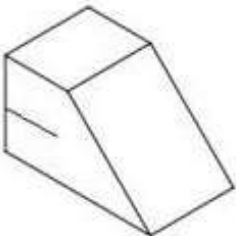
Options :



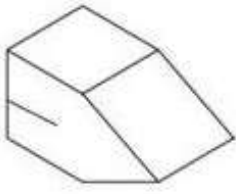
1. ✖



2. ✔



3. ✖

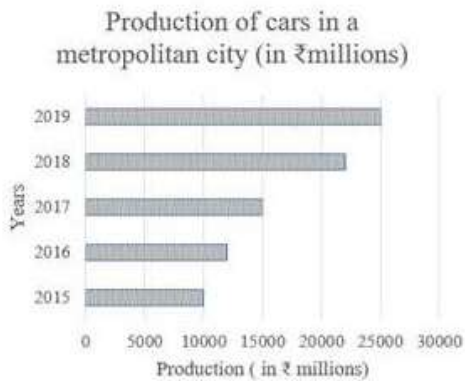


4. ✘

Question Number : 9 Question Id : 140973509 Question Type : MCQ Option Shuffling : Yes

Correct Marks : 1 Wrong Marks : 0.25

According to the given bar graph, what is the average annual increase in the value of the production (in ₹ millions) from 2015 to 2019?



Options :

1. ✘ 12,000

2. ✘ 16,800

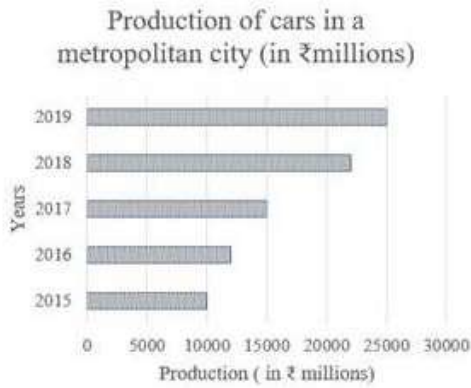
3. ✘ 3,000

4. ✔ 3,750

Question Number : 9 Question Id : 140973509 Question Type : MCQ Option Shuffling : Yes

Correct Marks : 1 Wrong Marks : 0.25

दिए गए बार ग्राफ के अनुसार, 2015 से 2019 तक उत्पादन के मूल्य (₹ मिलियन में) में औसत वार्षिक वृद्धि क्या है?



Options :

1. ✘ 12,000

2. ✘ 16,800

3. ✘ 3,000

4. ✔ 3,750

Question Number : 10 Question Id : 140973510 Question Type : MCQ Option Shuffling : Yes

Correct Marks : 1 Wrong Marks : 0.25

Shanti wanted to rent out her house and sets the following criteria to choose a tenant:

- The person should be educated and married
- The couple should at least be postgraduates and fluent in spoken English
- They should not have any addictions like drinking alcohol or smoking
- Their total annual income must not be less than ₹72,000.

Amit and Pakhi are looking to rent a place. The details about both of them are given below. Which of the following criterion/criteria can be a reason for them NOT getting Shanti's house on rent?

- (i) Amit works in the IT sector and earns ₹80,000 annually, while Pakhi is still in college and hence unemployed.
- (ii) Amit and Pakhi have done their post-graduation from a central university and speak fluent English.
- (iii) Amit is a vegetarian and doesn't drink alcohol while Pakhi drinks alcohol regularly.
- (iv) Neither Amit nor his girlfriend Pakhi smoke cigarettes.

Options :

1. ✓ (iii), (iv)

2. ✘ (i), (iii)

3. ✘ (i), (iv)

4. ✘ (iii)

Question Number : 10 Question Id : 140973510 Question Type : MCQ Option Shuffling : Yes

Correct Marks : 1 Wrong Marks : 0.25

शांति अपना घर किराए पर देना चाहती थी और किरायेदार चुनने के लिये निम्नलिखित मानदंड निर्धारित किए हैं:

- व्यक्ति शिक्षित और विवाहित होना चाहिए
- दंपति कम से कम स्नातकोत्तर और अंग्रेजी बोलने में सहज होने चाहिए
- उन्हें शराब पीने या धूम्रपान करने जैसी कोई आदत नहीं होनी चाहिए
- उनकी कुल वार्षिक आय ₹72,000 से कम नहीं होनी चाहिए

अमित और पाखी किराए पर मकान ढूँढ रहे हैं। दोनों का विवरण नीचे दिया गया है। निम्नलिखित में से कौन सा मानदंड उनके लिए किराए पर शांति के घर नहीं मिलने का एक कारण हो सकता है?

- (i) अमित आईटी क्षेत्र में काम करता है और सालाना ₹80,000 कमाता है, जबकि पाखी अभी भी कॉलेज में है और बेरोजगार है।
- (ii) अमित और पाखी ने केंद्रीय विश्वविद्यालय से स्नातकोत्तर किया है और धाराप्रवाह अंग्रेजी में बात करते हैं।
- (iii) अमित शराब नहीं पीता और शाकाहारी है जबकि पाखी नियमित रूप से शराब पीती है।
- (iv) न तो अमित और न ही उसकी प्रेमिका पाखी सिगरेट पीते हैं।

Options :

1. ✓ (iii), (iv)

2. ✘ (i), (iii)

3. ✘ (i), (iv)

4. ✘ (iii)

Question Number : 11 Question Id : 140973511 Question Type : MCQ Option Shuffling : Yes

Correct Marks : 1 Wrong Marks : 0.25

Identify the correct mirror image of the given word from the options when the mirror is placed to the right of the word.

INF1NITEST1MAL

Options :

1. ✘

2. ✔

3. ✘

4. ✘

Question Number : 11 Question Id : 140973511 Question Type : MCQ Option Shuffling : Yes

Correct Marks : 1 Wrong Marks : 0.25

जब दर्पण को दिये गये शब्द के दाईं ओर रखा जाता है, तब विकल्पों में से दिए गए शब्द की सही दर्पण छवि को पहचानें।

INF1NITEST1MAL

Options :

1. ✘

2. ✓ JAMIT23TINIINI

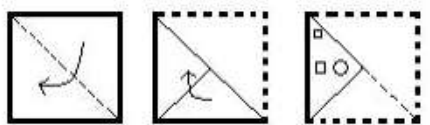
3. ✗ JAMIT23TINIINI

4. ✗ JAMIT23TINIINI

Question Number : 12 Question Id : 140973512 Question Type : MCQ Option Shuffling : Yes

Correct Marks : 1 Wrong Marks : 0.25

Given below is a square piece of paper that has been folded twice as shown in the first two figures. Then the folded paper is cut as shown in the third figure. How will the paper appear when it is unfolded?



Options :

1. ✓

2. ✗

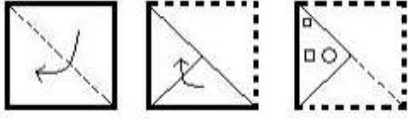
3. ✗

4. ✗

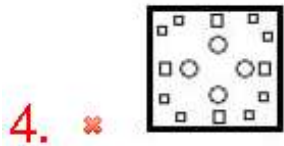
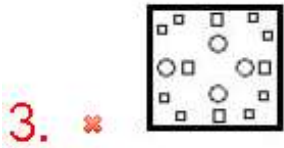
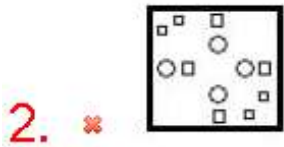
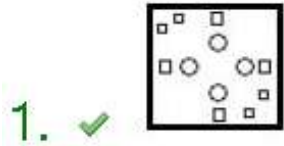
Question Number : 12 Question Id : 140973512 Question Type : MCQ Option Shuffling : Yes

Correct Marks : 1 Wrong Marks : 0.25

नीचे कागज का एक वर्गाकार टुकड़ा दिया गया है जिसे पहली दो आकृतियों में दिखाये अनुसार दो बार मोड़ा गया है। उसके बाद मोड़े गये कागज को काटा जाता है जैसा कि तीसरी आकृति में दिखाया गया है। जब पेपर को खोला जाता है, तो पेपर कैसा दिखाई देगा?



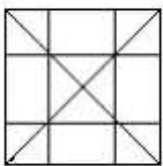
Options :



Question Number : 13 Question Id : 140973513 Question Type : MCQ Option Shuffling : Yes

Correct Marks : 1 Wrong Marks : 0.25

Count the number of triangles in the given figure.



Options :

1. ✓ 32

2. ✘ 16

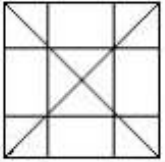
3. ✘ 28

4. ✘ 20

Question Number : 13 Question Id : 140973513 Question Type : MCQ Option Shuffling : Yes

Correct Marks : 1 Wrong Marks : 0.25

दी गयी आकृति में त्रिभुजों की संख्या की गणना करें।



Options :

1. ✓ 32

2. ✘ 16

3. ✘ 28

4. ✘ 20

Question Number : 14 Question Id : 140973514 Question Type : MCQ Option Shuffling : Yes

Correct Marks : 1 Wrong Marks : 0.25

X is the only child of P. X marries W and has a son O. W has a brother R. S is the granddaughter of P. How is S related to R?

Options :

1. ✘ Nephew

2. ✔ Niece

3. ✘ Wife

4. ✘ Cousin

Question Number : 14 Question Id : 140973514 Question Type : MCQ Option Shuffling : Yes

Correct Marks : 1 Wrong Marks : 0.25

X, P का इकलौता बच्चा है। X का विवाह W से हुआ है और उसका एक पुत्र O है। W का एक भाई R है। S, P की पोती है। S का R से क्या संबंध है?

Options :

1. ✘ भतीजी

2. ✔ भांजी

3. ✘ पत्नि

4. ✘ चचेरी बहन

Question Number : 15 Question Id : 140973515 Question Type : MCQ Option Shuffling : Yes

Correct Marks : 1 Wrong Marks : 0.25

The only daughter-in-law of Y's grandmother has two brothers A and Z. A got married to W and has a son P. How is P related to Y?

Options :

1. ✘ Nephew

2. ✖ Husband

3. ✖ Grandson

4. ✔ Cousin

Question Number : 15 Question Id : 140973515 Question Type : MCQ Option Shuffling : Yes

Correct Marks : 1 Wrong Marks : 0.25

Y की दादी की इकलौती बहू के दो भाई A और Z हैं। A का विवाह W से हुआ और उनका एक पुत्र P है। P का Y से क्या संबंध है?

Options :

1. ✖ भतीजी

2. ✖ पति

3. ✖ पोता

4. ✔ चचेरी बहन/चचेरा भाई

Question Number : 16 Question Id : 140973516 Question Type : MCQ Option Shuffling : Yes

Correct Marks : 1 Wrong Marks : 0.25

The brother of W's aunt is the only son of H. How is W related to H?

Options :

1. ✔ Grandchild

2. ✖ Nephew

3. ✖ Sibling

4. ✖ Parent

Question Number : 16 Question Id : 140973516 Question Type : MCQ Option Shuffling : Yes
Correct Marks : 1 Wrong Marks : 0.25

W की चाची के भाई का इकलौता पुत्र H है। W का H से क्या संबंध है?

Options :

1. ✔ पोता/पोती

2. ✖ भतीजी/भतीजा

3. ✖ भाई/बहन

4. ✖ माता/पिता

Question Number : 17 Question Id : 140973517 Question Type : MCQ Option Shuffling : Yes
Correct Marks : 1 Wrong Marks : 0.25

44% marks are required to pass an entrance exam. An examinee scored 134 marks but failed to pass the exam by 108 marks. The maximum marks were:

Options :

1. ✖ 380

2. ✖ 670

3. ✖ 490

4. ✓ 550

Question Number : 17 Question Id : 140973517 Question Type : MCQ Option Shuffling : Yes

Correct Marks : 1 Wrong Marks : 0.25

एक प्रवेश परीक्षा में उत्तीर्ण होने के लिए 44% अंक आवश्यक हैं। एक परीक्षार्थी ने 134 अंक प्राप्त किए और 108 अंकों से परीक्षा उत्तीर्ण करने में असफल रहा। अधिकतम अंक कितने थे?

Options :

1. ✗ 380

2. ✗ 670

3. ✗ 490

4. ✓ 550

Question Number : 18 Question Id : 140973518 Question Type : MCQ Option Shuffling : Yes

Correct Marks : 1 Wrong Marks : 0.25

Rahul has six boxes in his kitchen in which he stores different spices. How much time will he take, if he arranges these boxes on his kitchen rack in every possible combination taking one minute for each combination he tries?

Options :

1. ✓ 12 hours

2. ✗ 3 hours

3. ✗ 5 hours

4. ✗ 7 hours

Question Number : 18 Question Id : 140973518 Question Type : MCQ Option Shuffling : Yes

Correct Marks : 1 Wrong Marks : 0.25

राहुल के किचन में छह बॉक्स हैं जिसमें वह अलग-अलग मसाले स्टोर करता है। यदि वह इन बक्सों को अपनी किचन रैक में प्रत्येक संभावित संयोजन के अनुसार रखता है और रैक पर एक बॉक्स को स्थानांतरित करने और रखने में सिर्फ एक मिनट लेता है, तो उसे कुल कितना समय लगेगा?

Options :

1. ✓ 12 घंटे

2. ✗ 3 घंटे

3. ✗ 5 घंटे

4. ✗ 7 घंटे

Question Number : 19 Question Id : 140973519 Question Type : MCQ Option Shuffling : Yes

Correct Marks : 1 Wrong Marks : 0.25

Pick the odd one out.

Options :

1. ✗ Snow

2. ✗ Hail

3. ✗ Sleet

4. ✓ Rain

Question Number : 19 Question Id : 140973519 Question Type : MCQ Option Shuffling : Yes

Correct Marks : 1 Wrong Marks : 0.25

निम्नलिखित में से विषम चुनें।

Options :

1. ✘ हिमपात
2. ✘ शिलावृष्टि
3. ✘ ओलावृष्टि
4. ✔ बारिश

Question Number : 20 Question Id : 140973520 Question Type : MCQ Option Shuffling : Yes
Correct Marks : 1 Wrong Marks : 0.25

Pick the odd one out.

Options :

1. ✘ Kayaking
2. ✘ Canoeing
3. ✘ Rafting
4. ✔ Snorkeling

Question Number : 20 Question Id : 140973520 Question Type : MCQ Option Shuffling : Yes
Correct Marks : 1 Wrong Marks : 0.25

निम्नलिखित में से विषम चुनें।

Options :

1. ✘ कयाकिंग

2. ✘ केनोइंग

3. ✘ राफिटंग

4. ✔ स्नोर्कलिंग

Mental Ability2

Group Number :	2
Group Id :	1409737
Group Maximum Duration :	0
Group Minimum Duration :	0
Show Attended Group? :	No
Edit Attended Group? :	No
Break time:	0
Group Marks:	20
Is this Group for Examiner?:	No
Revisit allowed for group Instructions? :	Yes
Maximum Instruction Time:	0
Minimum Instruction Time:	0

Mental Ability2

Section Id :	14097322
Section Number :	1
Section type :	Online
Mandatory or Optional:	Mandatory
Number of Questions:	20
Number of Questions to be attempted:	20
Section Marks:	20

Sub-Section Number:	1
Sub-Section Id:	14097322
Question Shuffling Allowed :	Yes

Question Number : 21 Question Id : 140973521 Question Type : MCQ Option Shuffling : Yes
Correct Marks : 1 Wrong Marks : 0.25

Select the term that will replace the question mark in the following series.

6, 13, 78, ?, 79092

Options :

1. ✖ 3004

2. ✖ 2568

3. ✔ 1014

4. ✖ 4078

Question Number : 21 Question Id : 140973521 Question Type : MCQ Option Shuffling : Yes

Correct Marks : 1 Wrong Marks : 0.25

उस शब्द का चयन करें जो श्रृंखला में प्रश्न चिह्न के स्थान पर आएगा।

6, 13, 78, ?, 79092

Options :

1. ✖ 3004

2. ✖ 2568

3. ✔ 1014

4. ✖ 4078

Question Number : 22 Question Id : 140973522 Question Type : MCQ Option Shuffling : Yes

Correct Marks : 1 Wrong Marks : 0.25

Select the term that will replace the question mark in the following series.

U, W, Q, X, ?, Y, I, Z, E

Options :

1. ✓ M

2. ✗ O

3. ✗ S

4. ✗ V

Question Number : 22 Question Id : 140973522 Question Type : MCQ Option Shuffling : Yes

Correct Marks : 1 Wrong Marks : 0.25

उस शब्द का चयन करें जो श्रृंखला में प्रश्न चिह्न के स्थान पर आएगा।

U, W, Q, X, ?, Y, I, Z, E

Options :

1. ✓ M

2. ✗ O

3. ✗ S

4. ✗ V

Question Number : 23 Question Id : 140973523 Question Type : MCQ Option Shuffling : Yes

Correct Marks : 1 Wrong Marks : 0.25

Select the term that will replace the question mark in the following series.

52, 59, ?, 94, 122, 157

Options :

1. ✖ 71

2. ✔ 73

3. ✖ 82

4. ✖ 89

Question Number : 23 Question Id : 140973523 Question Type : MCQ Option Shuffling : Yes

Correct Marks : 1 Wrong Marks : 0.25

उस शब्द का चयन करें जो श्रृंखला में प्रश्न चिह्न के स्थान पर आएगा।

52, 59, ?, 94, 122, 157

Options :

1. ✖ 71

2. ✔ 73

3. ✖ 82

4. ✖ 89

Question Number : 24 Question Id : 140973524 Question Type : MCQ Option Shuffling : Yes

Correct Marks : 1 Wrong Marks : 0.25

Select the term that is related to the third term in the same way as the second term is related to the first term.

Screw : Screwdriver : : Bolt : ?

Options :

1. ✓ Spanner

2. ✗ Rake

3. ✗ Hammer

4. ✗ Saw

Question Number : 24 Question Id : 140973524 Question Type : MCQ Option Shuffling : Yes

Correct Marks : 1 Wrong Marks : 0.25

उस पद का चयन करें जो तीसरे पद से ठीक उसी तरह संबंधित है जिस प्रकार दूसरा पद पहले पद से संबंधित है।

पेंच : पेंचकस : : बोल्ट : ?

Options :

1. ✓ स्पैनर

2. ✗ रेक

3. ✗ हथौड़ा

4. ✗ साँ

Question Number : 25 Question Id : 140973525 Question Type : MCQ Option Shuffling : Yes

Correct Marks : 1 Wrong Marks : 0.25

Select the term that is related to the third term in the same way as the second term is related to the first term.

GAMES : HCPIX : : THROW : ?

Options :

1. ✘ UKVSZ

2. ✘ UJVSZ

3. ✔ UJUSB

4. ✘ UJVSB

Question Number : 25 Question Id : 140973525 Question Type : MCQ Option Shuffling : Yes

Correct Marks : 1 Wrong Marks : 0.25

उस पद का चयन करें जो तीसरे पद से ठीक उसी तरह संबंधित है जिस प्रकार दूसरा पद पहले पद से संबंधित है।

GAMES : HCPIX : : THROW : ?

Options :

1. ✘ UKVSZ

2. ✘ UJVSZ

3. ✔ UJUSB

4. ✘ UJVSB

Question Number : 26 Question Id : 140973526 Question Type : MCQ Option Shuffling : Yes

Correct Marks : 1 Wrong Marks : 0.25

Pick the odd one out.

Options :

1. ✓ BX

2. ✘ DW

3. ✘ FU

4. ✘ CX

Question Number : 26 Question Id : 140973526 Question Type : MCQ Option Shuffling : Yes

Correct Marks : 1 Wrong Marks : 0.25

निम्नलिखित में से विषम चुनें।

Options :

1. ✓ BX

2. ✘ DW

3. ✘ FU

4. ✘ CX

Question Number : 27 Question Id : 140973527 Question Type : MCQ Option Shuffling : Yes

Correct Marks : 1 Wrong Marks : 0.25

Pick the odd one out.

Options :

1. ✘ Milk

2. ✓ Yen

3. ✖ Egg

4. ✖ Yam

Question Number : 27 Question Id : 140973527 Question Type : MCQ Option Shuffling : Yes
Correct Marks : 1 Wrong Marks : 0.25

निम्नलिखित में से विषम चुनें।

Options :

1. ✖ Milk

2. ✔ Yen

3. ✖ Egg

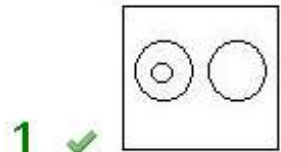
4. ✖ Yam

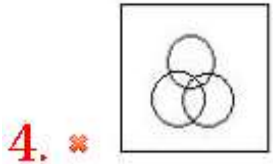
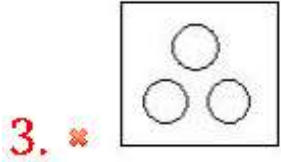
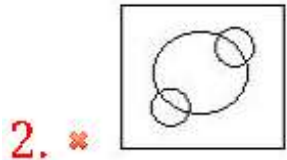
Question Number : 28 Question Id : 140973528 Question Type : MCQ Option Shuffling : Yes
Correct Marks : 1 Wrong Marks : 0.25

Select the Venn diagram that best represents the relationship among the given set of classes.

Dance, Bharatanatyam, Malayalam

Options :





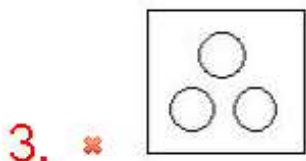
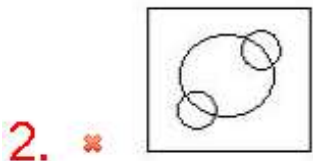
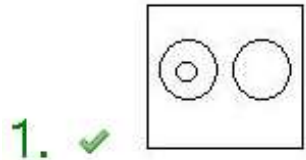
Question Number : 28 Question Id : 140973528 Question Type : MCQ Option Shuffling : Yes

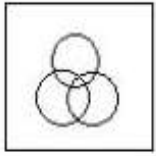
Correct Marks : 1 Wrong Marks : 0.25

उस वेन आरेख का चयन करें जो दिये गये वर्गों के समुच्चय के बीच संबंध सबसे अच्छी तरह दर्शाता है:

नृत्य, भरतनाट्यम, मलयालम

Options :

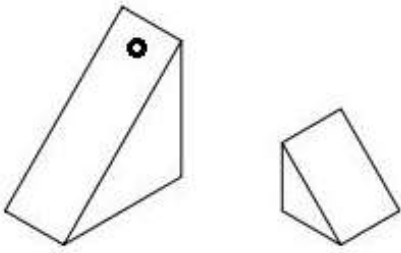




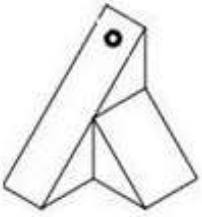
4. ✖

Question Number : 29 Question Id : 140973529 Question Type : MCQ Option Shuffling : Yes
Correct Marks : 1 Wrong Marks : 0.25

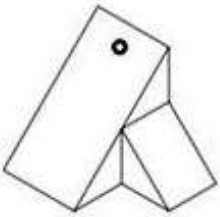
Which shape will be formed if the two given shapes are combined without any rotation?



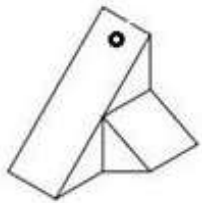
Options :



1. ✖

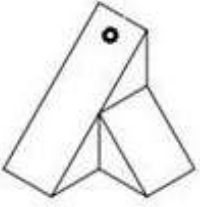


2. ✖



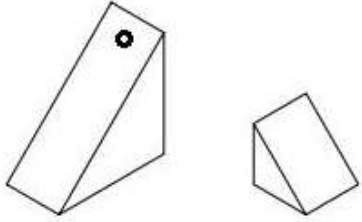
3. ✖

4. ✓

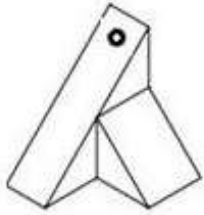


Question Number : 29 Question Id : 140973529 Question Type : MCQ Option Shuffling : Yes
Correct Marks : 1 Wrong Marks : 0.25

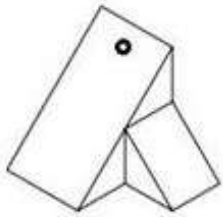
यदि दी गयी दो आकृतियों को बिना किसी घूर्णन के यथावत जोड़ दिया जाता है, तो कौन सी आकृति बनेगी?



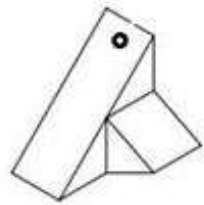
Options :



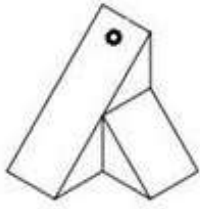
1. ✘



2. ✘



3. ✘



4. ✓

Question Number : 30 Question Id : 140973530 Question Type : MCQ Option Shuffling : Yes

Correct Marks : 1 Wrong Marks : 0.25

A recruitment firm has determined the following selection criteria for a job. The candidate should have:

- secured at least 60 % marks in Class 10, Class 12 and graduation
- Not exceed 30 years of age as on 11th January, 2018
- a certificate as regular student and one year's work experience in XYZ course
- cleared the GD round before the interview

The details of Avantika, a candidate, have been given below. She was not selected for the job. Due to which of the following reason/s was she NOT selected for the job?

- (i) She cleared the GD round
- (ii) She joined XYZ course for five months
- (iii) She secured 75 % and 72 % marks in Class 10 and Class 12 respectively and completed her graduation in 2016 with 61 % marks
- (iv) She was born on 10th January, 1991

Options :

1. ✘ (i), (ii)

2. ✓ (ii)

3. ✘ (ii), (iii)

4. ✘ (iii)

Question Number : 30 Question Id : 140973530 Question Type : MCQ Option Shuffling : Yes

Correct Marks : 1 Wrong Marks : 0.25

एक भर्ती (रिक्रूटमेंट) फर्म ने नौकरी पर नियुक्ति के लिए निम्नलिखित मानदंड निर्धारित किए हैं।

अभ्यर्थी को कक्षा 10 वीं, कक्षा 12 वीं और स्नातक में कम से कम 60% अंक प्राप्त होने चाहिए।

अभ्यर्थी की आयु 11 जनवरी 2018 को 30 वर्ष से अधिक नहीं होनी चाहिए।

- व्यक्ति के पास नियमित छात्र के रूप में एक प्रमाण पत्र होना चाहिए और XYZ पाठ्यक्रम में कम से कम 1 वर्ष कार्य अनुभव होना चाहिए।
- उसे साक्षात्कार से पहले जीडी राउंड में उत्तीर्ण होना चाहिए।
- एक अभ्यर्थी अवंतिका का विवरण नीचे दिया गया है। उसे नौकरी के लिए नहीं चुना गया था। निम्नलिखित में से कौन से कारण की वजह से उसे नौकरी के लिए नहीं चुना गया?
 - (i) वह जीडी राउंड में उत्तीर्ण थी।
 - (ii) उसने पांच महीने पहले XYZ पाठ्यक्रम में प्रवेश लिया है।
 - (iii) उसने कक्षा 10 वीं और कक्षा 12 वीं में क्रमशः 75% और 72% अंक प्राप्त किए थे और 2016 में 61% अंकों के साथ स्नातक की पढ़ाई पूरी की थी।
 - (iv) उसका जन्म 10 जनवरी 1991 को हुआ था।

Options :

1. ✘ (i), (ii)

2. ✔ (ii)

3. ✘ (ii), (iii)

4. ✘ (iii)

Question Number : 31 Question Id : 140973531 Question Type : MCQ Option Shuffling : Yes

Correct Marks : 1 Wrong Marks : 0.25

You work at a BPO and have five employees working under you. One of the employees has been showing lack of sincerity in his work for a week. Which of the following corrective actions would be the most effective?

Options :

1. ✘ Threaten to fire him.

2. ✘ Tell other employees about his behavior.

3. ✘ Ignore him.

4. ✔ Talk to him and inquire about the reason

Question Number : 31 Question Id : 140973531 Question Type : MCQ Option Shuffling : Yes

Correct Marks : 1 Wrong Marks : 0.25

आप एक बीपीओ में काम करते हैं और आपके अधीन पांच कर्मचारी कार्यरत हैं। एक कर्मचारी पिछले एक सप्ताह से अपने काम के प्रति निष्ठा में कमी दिखा रहा है। निम्नलिखित में से कौन सी कार्यवाही सबसे अधिक प्रभावी होगी?

Options :

1. ✘ उसे नौकरी से निकालने की धमकी देना।

2. ✘ अन्य कर्मचारियों को उसके व्यवहार के बारे में बताना।

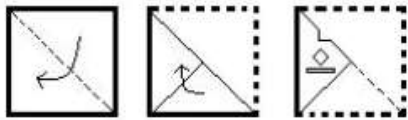
3. ✘ उसकी ओर ध्यान न देना।

4. ✔ उससे बात करना और कारण के बारे में पूछना।

Question Number : 32 Question Id : 140973532 Question Type : MCQ Option Shuffling : Yes

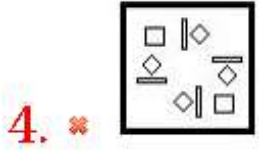
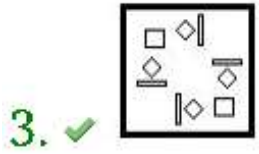
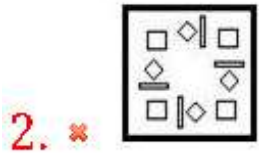
Correct Marks : 1 Wrong Marks : 0.25

Given below is a piece of paper that has been folded twice as shown in the first two figures. Then the folded paper is cut as shown in the third figure. How will the paper appear when it is unfolded?



Options :

1. ✘

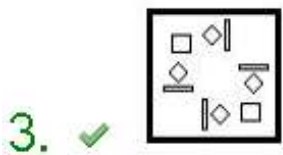
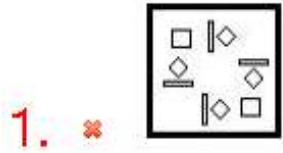


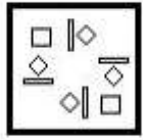
Question Number : 32 Question Id : 140973532 Question Type : MCQ Option Shuffling : Yes
 Correct Marks : 1 Wrong Marks : 0.25

नीचे कागज का एक टुकड़ा दिया गया है जिसे पहली दो आकृतियों में दिखाये अनुसार दो बार मोड़ा गया है। उसके बाद मोड़े गये कागज को काटा जाता है जैसा कि तीसरी आकृति में दिखाया गया है। जब पेपर को खोला जाता है, तो पेपर कैसा दिखाई देगा?



Options :



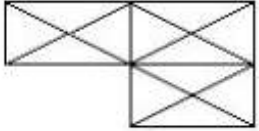


4. ✖

Question Number : 33 Question Id : 140973533 Question Type : MCQ Option Shuffling : Yes

Correct Marks : 1 Wrong Marks : 0.25

Count the number of triangles in the given figure.



Options :

1. ✔ 29

2. ✖ 28

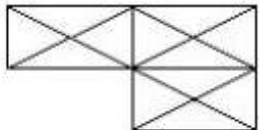
3. ✖ 31

4. ✖ 36

Question Number : 33 Question Id : 140973533 Question Type : MCQ Option Shuffling : Yes

Correct Marks : 1 Wrong Marks : 0.25

दी गयी आकृति में त्रिभुजों की संख्या की गणना करें।



Options :

1. ✔ 29

2. ✖ 28

3. ✖ 31

4. ✖ 36

Question Number : 34 Question Id : 140973534 Question Type : MCQ Option Shuffling : Yes

Correct Marks : 1 Wrong Marks : 0.25

A and Z are twin sisters. A is married to H and has twin biological sons P and Q. Z is married to X who has a sister W and nephew Q. What is the nearest relation of X to H?

Options :

1. ✖ Uncle

2. ✖ Brother-in-law

3. ✖ Cousin

4. ✔ Brother

Question Number : 34 Question Id : 140973534 Question Type : MCQ Option Shuffling : Yes

Correct Marks : 1 Wrong Marks : 0.25

A और Z जुड़वां बहनें हैं। A का विवाह H से हुआ है और उसके जुड़वां जैविक पुत्र P और Q हैं। Z का विवाह X से हुआ है, जिसकी एक बहन W और भतीजा Q है। X से H का निकटतम संबंध क्या है?

Options :

1. ✖ चाचा

2. ✖ साला

3. ✖ चचेरी बहन

4. ✓ भाई/साढ़ू (Co-brother-in-law)

Question Number : 35 Question Id : 140973535 Question Type : MCQ Option Shuffling : Yes

Correct Marks : 1 Wrong Marks : 0.25

X is the grandfather of Y and the uncle of B's mother D. How is B related to Y?

Options :

1. ✘ Sister-in-law

2. ✓ Cousin

3. ✘ Aunt

4. ✘ Husband

Question Number : 35 Question Id : 140973535 Question Type : MCQ Option Shuffling : Yes

Correct Marks : 1 Wrong Marks : 0.25

X, Y का दादा है और B की मां का चाचा D है। B का Y से क्या संबंध है?

Options :

1. ✘ साली

2. ✓ चचेरा भाई/बहन

3. ✘ चाची

4. ✘ पति

Question Number : 36 Question Id : 140973536 Question Type : MCQ Option Shuffling : Yes

Correct Marks : 1 Wrong Marks : 0.25

In a group of 18 boys and 23 girls, the average ages of boys and girls are 14 years and 11 years, respectively. What is the average age of the whole group?

Options :

1. ✓ 12.32 years

2. ✗ 12.50 years

3. ✗ 10.34 years

4. ✗ 10.28 years

Question Number : 36 Question Id : 140973536 Question Type : MCQ Option Shuffling : Yes

Correct Marks : 1 Wrong Marks : 0.25

18 लड़कों और 23 लड़कियों के एक समूह में, लड़कों और लड़कियों की औसत आयु क्रमशः 14 वर्ष और 11 वर्ष है। पूरे समूह की औसत आयु कितनी है?

Options :

1. ✓ 12.32 वर्ष

2. ✗ 12.50 वर्ष

3. ✗ 10.34 वर्ष

4. ✗ 10.28 वर्ष

Question Number : 37 Question Id : 140973537 Question Type : MCQ Option Shuffling : Yes

Correct Marks : 1 Wrong Marks : 0.25

A man distributed ₹2,800 among his three daughters X, Y and Z in such a way that one-fifth of X's part, one-sixth of Y's part and one-third of Z's part are equal. What is Y's part?

Options :

1. ✘ ₹1,400

2. ✘ ₹1,000

3. ✔ ₹1,200

4. ✘ ₹1,500

Question Number : 37 Question Id : 140973537 Question Type : MCQ Option Shuffling : Yes

Correct Marks : 1 Wrong Marks : 0.25

एक आदमी ने अपनी तीन बेटियों X, Y और Z के बीच ₹2,800 का वितरण इस तरह किया कि X के हिस्से का पांचवा भाग, Y के हिस्से के छठे भाग और Z के हिस्से के एक तिहाई भाग के बराबर है। Y का हिस्सा कितना है?

Options :

1. ✘ ₹1,400

2. ✘ ₹1,000

3. ✔ ₹1,200

4. ✘ ₹1,500

Question Number : 38 Question Id : 140973538 Question Type : MCQ Option Shuffling : Yes

Correct Marks : 1 Wrong Marks : 0.25

Pick the odd one out.

Options :

1. ✔ Italy

2. ✖ Cairo

3. ✖ Tokyo

4. ✖ Seoul

Question Number : 38 Question Id : 140973538 Question Type : MCQ Option Shuffling : Yes

Correct Marks : 1 Wrong Marks : 0.25

निम्नलिखित में से विषम चुनें।

Options :

1. ✔ इटली

2. ✖ काहिरा

3. ✖ टोक्यो

4. ✖ सियोल

Question Number : 39 Question Id : 140973539 Question Type : MCQ Option Shuffling : Yes

Correct Marks : 1 Wrong Marks : 0.25

Select the term that will replace the question mark in the following series.

52, ?, 468, 1404, 4212

Options :

1. ✖ 104

2. ✖ 264

3. ✖ 228

4. ✔ 156

Question Number : 39 Question Id : 140973539 Question Type : MCQ Option Shuffling : Yes
Correct Marks : 1 Wrong Marks : 0.25

उस पद का चयन करें जो श्रृंखला में प्रश्न चिह्न के स्थान पर आएगा।

52, ?, 468, 1404, 4212

Options :

1. ✖ 104

2. ✖ 264

3. ✖ 228

4. ✔ 156

Question Number : 40 Question Id : 140973540 Question Type : MCQ Option Shuffling : Yes
Correct Marks : 1 Wrong Marks : 0.25

Select the term that will come next in the following series.

15, 42, 16, 54, 17, 67, 18, ?

Options :

1. ✔ 81

2. ✖ 79

3. ✖ 78

4. ✖ 82

Question Number : 40 Question Id : 140973540 Question Type : MCQ Option Shuffling : Yes
Correct Marks : 1 Wrong Marks : 0.25

उस पद का चयन करें, जो निम्नलिखित श्रृंखला में अगला होगा।

15, 42, 16, 54, 17, 67, 18, ?

Options :

1. ✔ 81

2. ✖ 79

3. ✖ 78

4. ✖ 82

General Awareness1

Group Number :	3
Group Id :	1409738
Group Maximum Duration :	0
Group Minimum Duration :	0
Show Attended Group? :	No
Edit Attended Group? :	No
Break time:	0
Group Marks:	20
Is this Group for Examiner?:	No

Revisit allowed for group Instructions? :	Yes
Maximum Instruction Time:	0
Minimum Instruction Time:	0

General Awareness1

Section Id :	14097323
Section Number :	1
Section type :	Online
Mandatory or Optional:	Mandatory
Number of Questions:	20
Number of Questions to be attempted:	20
Section Marks:	20

Sub-Section Number:	1
Sub-Section Id:	14097323
Question Shuffling Allowed :	Yes

Question Number : 41 Question Id : 140973541 Question Type : MCQ Option Shuffling : Yes
Correct Marks : 1 Wrong Marks : 0.25

Which Gupta king is known as 'Lichchhavi Dauhitra' in his inscriptions?

Options :

1. ✘ Chandragupta Vikramaditya
2. ✔ Samudragupta
3. ✘ Kumaragupta
4. ✘ Skandagupta

Question Number : 41 Question Id : 140973541 Question Type : MCQ Option Shuffling : Yes
Correct Marks : 1 Wrong Marks : 0.25

किस गुप्त शासक को उसके शिलालेखों में 'लिच्छवी दौहित्र' के नाम से जाना जाता है?

Options :

1. ✘ चंद्रगुप्त विक्रमादित्य

2. ✓ समुद्रगुप्त

3. ✗ कुमारगुप्त

4. ✗ स्कन्दगुप्त

Question Number : 42 Question Id : 140973542 Question Type : MCQ Option Shuffling : Yes

Correct Marks : 1 Wrong Marks : 0.25

Who led the first Muslim invasion of India?

Options :

1. ✓ Muhammad Bin Qasim

2. ✗ Zahir-ud-din Muhammad Babur

3. ✗ Genghis Khan

4. ✗ Sabuktigin

Question Number : 42 Question Id : 140973542 Question Type : MCQ Option Shuffling : Yes

Correct Marks : 1 Wrong Marks : 0.25

भारत पर प्रथम मुस्लिम आक्रमण का नेतृत्व किसने किया था?

Options :

1. ✓ मुहम्मद बिन कासिम

2. ✗ ज़हिर उद-दिन मुहम्मद बाबर

3. ✖ चंगेज़ खान

4. ✖ सबुक तिगिन

Question Number : 43 Question Id : 140973543 Question Type : MCQ Option Shuffling : Yes

Correct Marks : 1 Wrong Marks : 0.25

In which year did Raja Ram Mohan Roy lay the foundation for the Brahmo Samaj?

Options :

1. ✖ 1826

2. ✖ 1827

3. ✔ 1828

4. ✖ 1830

Question Number : 43 Question Id : 140973543 Question Type : MCQ Option Shuffling : Yes

Correct Marks : 1 Wrong Marks : 0.25

राजा राम मोहन राय ने ब्रह्म समाज की नींव किस वर्ष में रखी थी?

Options :

1. ✖ 1826

2. ✖ 1827

3. ✔ 1828

4. ✖ 1830

Question Number : 44 Question Id : 140973544 Question Type : MCQ Option Shuffling : Yes

Correct Marks : 1 Wrong Marks : 0.25

Bhagat Singh and BK Dutt threw a bomb in the Central Legislative Assembly on 8 April, 1929 protesting the _____.

Options :

1. ✔ Public Safety Bill

2. ✖ Rowlett Act

3. ✖ Simon Commission

4. ✖ killing of Lala Lajpat Rai

Question Number : 44 Question Id : 140973544 Question Type : MCQ Option Shuffling : Yes

Correct Marks : 1 Wrong Marks : 0.25

भगत सिंह और बी के दत्त ने 8 अप्रैल 1929 को _____ के विरोध में केंद्रीय विधान सभा में एक बम फेंका था।

Options :

1. ✔ सार्वजनिक सुरक्षा विधेयक

2. ✖ रौलेट एक्ट

3. ✖ साइमन कमीशन

4. ✖ लाला लाजपत राय की हत्या

Question Number : 45 Question Id : 140973545 Question Type : MCQ Option Shuffling : Yes

Correct Marks : 1 Wrong Marks : 0.25

Name the Union Minister who presented the Budget in February 2019:

Options :

1. ✘ Arun Jaitley
2. ✘ Prakash Javadekar
3. ✘ Rajnath Singh
4. ✔ Piyush Goyal

Question Number : 45 Question Id : 140973545 Question Type : MCQ Option Shuffling : Yes
Correct Marks : 1 Wrong Marks : 0.25

फरवरी 2019 में बजट पेश करने वाले केंद्रीय मंत्री का नाम बताइए।

Options :

1. ✘ अरुण जेटली
2. ✘ प्रकाश जावड़ेकर
3. ✘ राजनाथ सिंह
4. ✔ पीयूष गोयल

Question Number : 46 Question Id : 140973546 Question Type : MCQ Option Shuffling : Yes
Correct Marks : 1 Wrong Marks : 0.25

On which date was the state of Chhattisgarh formed?

Options :

1. ✔ 1st November, 2000

2. ✖ 8th November, 2000

3. ✖ 13th November, 2000

4. ✖ 15th November, 2000

Question Number : 46 Question Id : 140973546 Question Type : MCQ Option Shuffling : Yes

Correct Marks : 1 Wrong Marks : 0.25

छत्तीसगढ़ राज्य का गठन किस तिथि को किया गया था?

Options :

1. ✔ 1 नवंबर 2000

2. ✖ 8 नवंबर 2000

3. ✖ 13 नवंबर 2000

4. ✖ 15 नवंबर 2000

Question Number : 47 Question Id : 140973547 Question Type : MCQ Option Shuffling : Yes

Correct Marks : 1 Wrong Marks : 0.25

Name the first Indian state that was formed on the basis of language after 1947.

Options :

1. ✖ Gujarat

2. ✖ Maharashtra

3. ✖ Kerala

4. ✔ Andhra Pradesh

Question Number : 47 Question Id : 140973547 Question Type : MCQ Option Shuffling : Yes
Correct Marks : 1 Wrong Marks : 0.25

उस पहले भारतीय राज्य का नाम बताइए जो 1947 के बाद भाषा के आधार पर बना था।

Options :

1. ✖ गुजरात

2. ✖ महाराष्ट्र

3. ✖ केरल

4. ✔ आंध्र प्रदेश

Question Number : 48 Question Id : 140973548 Question Type : MCQ Option Shuffling : Yes
Correct Marks : 1 Wrong Marks : 0.25

Which article of the Constitution of India deals with the abolition of untouchability?

Options :

1. ✖ 15

2. ✔ 17

3. ✖ 18

4. ✖ 19

Question Number : 48 Question Id : 140973548 Question Type : MCQ Option Shuffling : Yes

Correct Marks : 1 Wrong Marks : 0.25

भारत के संविधान का कौन सा अनुच्छेद अस्पृश्यता के उन्मूलन से संबंधित है?

Options :

1. ✘ 15

2. ✔ 17

3. ✘ 18

4. ✘ 19

Question Number : 49 Question Id : 140973549 Question Type : MCQ Option Shuffling : Yes

Correct Marks : 1 Wrong Marks : 0.25

Which of the following political parties is NOT a national party?

Options :

1. ✘ All India Trinamool Congress

2. ✘ Nationalist Congress Party

3. ✘ Communist Party of India

4. ✔ Samajwadi Party

Question Number : 49 Question Id : 140973549 Question Type : MCQ Option Shuffling : Yes

Correct Marks : 1 Wrong Marks : 0.25

निम्नलिखित में से कौन सा राजनीतिक दल राष्ट्रीय पार्टी नहीं है?

Options :

1. ✖ अखिल भारतीय तृणमूल कांग्रेस

2. ✖ राष्ट्रवादी कांग्रेस पार्टी

3. ✖ भारतीय कम्युनिस्ट पार्टी

4. ✔ समाजवादी पार्टी

Question Number : 50 Question Id : 140973550 Question Type : MCQ Option Shuffling : Yes

Correct Marks : 1 Wrong Marks : 0.25

Identify the pair that is INCORRECTLY matched with regard to the Constitution of India.

Options :

1. ✖ Article 352: National Emergency

2. ✖ Article 356: State Emergency

3. ✖ Article 358: Suspension of provisions of article 19 during emergencies

4. ✔ Article 359: Financial Emergency

Question Number : 50 Question Id : 140973550 Question Type : MCQ Option Shuffling : Yes

Correct Marks : 1 Wrong Marks : 0.25

उस जोड़ी को पहचानें जिसका भारतीय संविधान के संबंध में मिलान गलत है।

Options :

1. ✖ अनुच्छेद 352: राष्ट्रीय आपातकाल

2. ✖ अनुच्छेद 356: राज्य आपातकाल

3. ✖ अनुच्छेद 358: आपातकाल के दौरान अनुच्छेद 19 के प्रावधानों का निलंबन

4. ✔ अनुच्छेद 359: वित्तीय आपातकाल

Question Number : 51 Question Id : 140973551 Question Type : MCQ Option Shuffling : Yes

Correct Marks : 1 Wrong Marks : 0.25

Allocation of seats in the Council of States (Rajya Sabha) is mentioned in the _____ Schedule of the Constitution of India.

Options :

1. ✖ Third

2. ✖ Fifth

3. ✔ Fourth

4. ✖ Seventh

Question Number : 51 Question Id : 140973551 Question Type : MCQ Option Shuffling : Yes

Correct Marks : 1 Wrong Marks : 0.25

काउंसिल ऑफ स्टेट्स (राज्य सभा) में सीटों का आवंटन भारतीय संविधान की _____ अनुसूची में उल्लिखित है।

Options :

1. ✖ तीसरी

2. ✖ पाँचवीं

3. ✓ चौथी

4. ✗ सातवीं

Question Number : 52 Question Id : 140973552 Question Type : MCQ Option Shuffling : Yes

Correct Marks : 1 Wrong Marks : 0.25

In which of the following cases did the Supreme Court lay down the doctrine of basic structure of the Constitution of India?

Options :

1. ✗ Indra Sawhney and others vs. Union of India

2. ✓ Keswanand Bharti vs. State of Kerala

3. ✗ KM Nanavati vs. State of Maharashtra

4. ✗ Minerva Mills vs. Union of India

Question Number : 52 Question Id : 140973552 Question Type : MCQ Option Shuffling : Yes

Correct Marks : 1 Wrong Marks : 0.25

निम्नलिखित में से किस मामले में सर्वोच्च न्यायालय ने भारतीय संविधान की मूल संरचना के सिद्धांत को निर्दिष्ट किया था?

Options :

1. ✗ इंद्र साहनी और अन्य बनाम भारत संघ

2. ✓ केशवानंद भारती बनाम केरल राज्य

3. ✗ केएम नानावटी बनाम महाराष्ट्र राज्य

4. ✖ मिन्वा मल्ल बनाम भारत संघ

Question Number : 53 Question Id : 140973553 Question Type : MCQ Option Shuffling : Yes
Correct Marks : 1 Wrong Marks : 0.25

Which country is set to host the 2020 Summer Olympics?

Options :

1. ✖ USA

2. ✖ Britain

3. ✔ Japan

4. ✖ China

Question Number : 53 Question Id : 140973553 Question Type : MCQ Option Shuffling : Yes
Correct Marks : 1 Wrong Marks : 0.25

ग्रीष्मकालीन ओलंपिक 2020 की मेजबानी कौन सा देश करेगा?

Options :

1. ✖ संयुक्त राज्य अमेरिका

2. ✖ ब्रिटेन

3. ✔ जापान

4. ✖ चीन

Question Number : 54 Question Id : 140973554 Question Type : MCQ Option Shuffling : Yes
Correct Marks : 1 Wrong Marks : 0.25

Who was the first cricketer to win all 3 major ICC awards (ODI Cricketer, Test Cricketer and Cricketer of the Year) in January 2019.

Options :

1. ✘ Sachin Tendulkar

2. ✘ Jonny Bairstow

3. ✔ Virat Kohli

4. ✘ Rohit Sharma

Question Number : 54 Question Id : 140973554 Question Type : MCQ Option Shuffling : Yes

Correct Marks : 1 Wrong Marks : 0.25

2019 में आईसीसी के सभी 3 प्रमुख पुरस्कार (ओडीआई क्रिकेटर, टेस्ट क्रिकेटर और क्रिकेटर ऑफ द ईयर) जीतने वाले पहले क्रिकेटर कौन है?

Options :

1. ✘ सचिन तेंडुलकर

2. ✘ जॉनी बैरस्टो

3. ✔ विराट कोहली

4. ✘ रोहित शर्मा

Question Number : 55 Question Id : 140973555 Question Type : MCQ Option Shuffling : Yes

Correct Marks : 1 Wrong Marks : 0.25

Who received the Dronacharya Award, 2018 for Boxing?

Options :

1. ✓ Chenanda Achaiah Kuttappa

2. ✘ Clarence Lobo

3. ✘ VR Beedu

4. ✘ Vijay Sharma

Question Number : 55 Question Id : 140973555 Question Type : MCQ Option Shuffling : Yes

Correct Marks : 1 Wrong Marks : 0.25

मुक्केबाजी के लिए 2018 का द्रोणाचार्य पुरस्कार किसने प्राप्त किया है?

Options :

1. ✓ चैनंदा अचैया कुट्टप्पा

2. ✘ क्लेरेंस लोबो

3. ✘ वीआर बीडू

4. ✘ विजय शर्मा

Question Number : 56 Question Id : 140973556 Question Type : MCQ Option Shuffling : Yes

Correct Marks : 1 Wrong Marks : 0.25

How many gold, silver and bronze medals were won by the Indian contingent at the 2018 Asian Games?

Options :

1. ✘ 10 gold, 23 silver, and 35 bronze

2. ✓ 15 gold, 24 silver, and 30 bronze

3. ✘ 16 gold, 19 silver, and 37 bronze

4. ✘ 9 gold, 27 silver, and 39 bronze

Question Number : 56 Question Id : 140973556 Question Type : MCQ Option Shuffling : Yes

Correct Marks : 1 Wrong Marks : 0.25

2018 के एशियाई खेल में भारतीय खिलाड़ियों ने कितने स्वर्ण, रजत और कांस्य पदक जीते हैं?

Options :

1. ✘ 10 स्वर्ण, 23 रजत, 35 कांस्य

2. ✓ 15 स्वर्ण, 24 रजत, 30 कांस्य

3. ✘ 16 स्वर्ण, 19 रजत, 37 कांस्य

4. ✘ 9 स्वर्ण, 27 रजत, 39 कांस्य

Question Number : 57 Question Id : 140973557 Question Type : MCQ Option Shuffling : Yes

Correct Marks : 1 Wrong Marks : 0.25

Which Indian player won India's first gold medal at the 2018 Asian Games?

Options :

1. ✓ Bajrang Punia

2. ✘ Amit Panghal

3. ✘ Arpinder Singh

4. ✖ Jinson Johnson

Question Number : 57 Question Id : 140973557 Question Type : MCQ Option Shuffling : Yes

Correct Marks : 1 Wrong Marks : 0.25

किस भारतीय खिलाड़ी ने 2018 के एशियाई खेल में भारत के लिए पहला स्वर्ण पदक जीता था?

Options :

1. ✔ बजरंग पुनिया

2. ✖ अमित पंघाल

3. ✖ अरविंदर सिंह

4. ✖ जीन्सन जॉनसन

Question Number : 58 Question Id : 140973558 Question Type : MCQ Option Shuffling : Yes

Correct Marks : 1 Wrong Marks : 0.25

'Beti Bachao, Beti Padhao', a major comprehensive initiative aimed at improving India's child sex ratio and ensuring girls' education, was launched by Prime Minister Narendra Modi in _____ in 2015.

Options :

1. ✖ Jhunjhunu, Rajasthan

2. ✔ Panipat, Haryana

3. ✖ Varanasi, Uttar Pradesh

4. ✖ Patna, Bihar

Question Number : 58 Question Id : 140973558 Question Type : MCQ Option Shuffling : Yes

Correct Marks : 1 Wrong Marks : 0.25

'बेटी बचाओ, बेटी पढ़ाओ', भारत के बाल लिंगानुपात में सुधार लाने और लड़कियों की शिक्षा सुनिश्चित करने के उद्देश्य से, 2015 में, _____ में प्रधान मंत्री नरेंद्र मोदी द्वारा शुरू की गई एक बड़ी व्यापक पहल थी।

Options :

1. ✘ झुंझुनू, राजस्थान

2. ✔ पानीपत, हरियाणा

3. ✘ वाराणसी, उत्तर प्रदेश

4. ✘ पटना, बिहार

Question Number : 59 Question Id : 140973559 Question Type : MCQ Option Shuffling : Yes

Correct Marks : 1 Wrong Marks : 0.25

Rani ki Vav (the Queen's Stepwell), which is depicted on the new Indian currency notes, is situated in which state?

Options :

1. ✔ Patan, Gujarat

2. ✘ Udaipur, Rajasthan

3. ✘ Fatehpur Sikri, Uttar Pradesh

4. ✘ Panipat, Haryana

Question Number : 59 Question Id : 140973559 Question Type : MCQ Option Shuffling : Yes

Correct Marks : 1 Wrong Marks : 0.25

रानी की वाव (रानी का स्टेपवेल), जिसे भारतीय मुद्रा के नये नोटों पर प्रदर्शित किया गया है, किस राज्य में स्थित है?

Options :

1. ✓ पाटण, गुजरात
2. ✘ उदयपुर, राजस्थान
3. ✘ फतेहपुर सीकरी, उत्तर प्रदेश
4. ✘ पानीपत, हरियाणा

Question Number : 60 Question Id : 140973560 Question Type : MCQ Option Shuffling : Yes
Correct Marks : 1 Wrong Marks : 0.25

Which of the following sites was declared as a World Heritage Site by UNESCO in 2018?

Options :

1. ✘ The Architectural Work of Le Corbusier
2. ✘ Sun Temple of Konârak
3. ✓ Victorian Gothic and Art Deco Ensembles of Mumbai
4. ✘ The historic city of Ahmedabad

Question Number : 60 Question Id : 140973560 Question Type : MCQ Option Shuffling : Yes
Correct Marks : 1 Wrong Marks : 0.25

2018 में यूनेस्को द्वारा निम्नलिखित में से किस साइट को विश्व विरासत स्थल घोषित किया गया था?

Options :

1. ✘ ले कोर्बुसीयर का वास्तुशिल्प कार्य

2. ✘ कोणार्क का सूर्य मंदिर

3. ✔ मुंबई (भारत) का विक्टोरियन गोथिक और आर्ट डेको

4. ✘ अहमदाबाद का ऐतिहासिक नगर

General Awareness2

Group Number :	4
Group Id :	1409739
Group Maximum Duration :	0
Group Minimum Duration :	0
Show Attended Group? :	No
Edit Attended Group? :	No
Break time:	0
Group Marks:	20
Is this Group for Examiner?:	No
Revisit allowed for group Instructions? :	Yes
Maximum Instruction Time:	0
Minimum Instruction Time:	0

General Awareness2

Section Id :	14097324
Section Number :	1
Section type :	Online
Mandatory or Optional:	Mandatory
Number of Questions:	20
Number of Questions to be attempted:	20
Section Marks:	20

Sub-Section Number:	1
Sub-Section Id:	14097324
Question Shuffling Allowed :	Yes

Question Number : 61 Question Id : 140973561 Question Type : MCQ Option Shuffling : Yes
Correct Marks : 1 Wrong Marks : 0.25

Which country shares the longest border with India?

Options :

1. ✖ China

2. ✖ Nepal

3. ✖ Bhutan

4. ✔ Bangladesh

Question Number : 61 Question Id : 140973561 Question Type : MCQ Option Shuffling : Yes

Correct Marks : 1 Wrong Marks : 0.25

भारत के साथ सबसे लंबी सीमा किस देश की है?

Options :

1. ✖ चीन

2. ✖ नेपाल

3. ✖ भूटान

4. ✔ बांग्लादेश

Question Number : 62 Question Id : 140973562 Question Type : MCQ Option Shuffling : Yes

Correct Marks : 1 Wrong Marks : 0.25

Which of the following rivers and its sources is INCORRECTLY matched?

Options :

1. ✖ Jhelum: Verinag

2. ✖ Chenab: Bara Lacha Pass

3. ✓ Sutlej: Near Rohtang Pass

4. ✘ Indus: Near Manasarovar Lake

Question Number : 62 Question Id : 140973562 Question Type : MCQ Option Shuffling : Yes
Correct Marks : 1 Wrong Marks : 0.25

निम्नलिखित में से कौन सी नदी और उसके स्रोत का मिलान गलत है?

Options :

1. ✘ झेलम: वेरीनाग

2. ✘ चिनाब: बारा लाचा दर्रा

3. ✓ सतलज: रोहतांग दर्रा के पास

4. ✘ सिंधु: मानसरोवर झील के पास

Question Number : 63 Question Id : 140973563 Question Type : MCQ Option Shuffling : Yes
Correct Marks : 1 Wrong Marks : 0.25

Where is the Rihand Valley project located?

Options :

1. ✘ Uttarakhand

2. ✘ Sikkim

3. ✓ Uttar Pradesh

4. ✖ Bengal

Question Number : 63 Question Id : 140973563 Question Type : MCQ Option Shuffling : Yes
Correct Marks : 1 Wrong Marks : 0.25

रिहंद घाटी परियोजना कहाँ स्थित है?

Options :

1. ✖ उत्तराखंड

2. ✖ सिक्किम

3. ✔ उत्तर प्रदेश

4. ✖ बंगाल

Question Number : 64 Question Id : 140973564 Question Type : MCQ Option Shuffling : Yes
Correct Marks : 1 Wrong Marks : 0.25

In which state did Prime Minister Narendra Modi inaugurate India's longest rail-cum-road bridge on 26 December 2018?

Options :

1. ✖ Arunachal Pradesh

2. ✖ Sikkim

3. ✔ Assam

4. ✖ Bengal

Question Number : 64 Question Id : 140973564 Question Type : MCQ Option Shuffling : Yes
Correct Marks : 1 Wrong Marks : 0.25

प्रधानमंत्री नरेंद्र मोदी ने 26 दिसंबर 2018 को किस राज्य में भारत के सबसे लंबे रेल-सहित-सड़क पुल का उद्घाटन किया है?

Options :

1. ✘ अरुणाचल प्रदेश

2. ✘ सिक्किम

3. ✔ असम

4. ✘ बंगाल

Question Number : 65 Question Id : 140973565 Question Type : MCQ Option Shuffling : Yes

Correct Marks : 1 Wrong Marks : 0.25

Which of the following crops is NOT a plantation crop?

Options :

1. ✘ Rubber

2. ✘ Coffee

3. ✘ Coconut

4. ✔ Sesamum

Question Number : 65 Question Id : 140973565 Question Type : MCQ Option Shuffling : Yes

Correct Marks : 1 Wrong Marks : 0.25

निम्नलिखित में से कौन सी फसल एक रोपण फसल नहीं है?

Options :

1. ✖ रबड़

2. ✖ काँफी

3. ✖ नारियल

4. ✔ तिल

Question Number : 66 Question Id : 140973566 Question Type : MCQ Option Shuffling : Yes

Correct Marks : 1 Wrong Marks : 0.25

_____ is a process of continuously rising prices, or equivalently, of continuously falling value of money.

Options :

1. ✖ Deflation

2. ✖ Currency value

3. ✖ Interest rate

4. ✔ Inflation

Question Number : 66 Question Id : 140973566 Question Type : MCQ Option Shuffling : Yes

Correct Marks : 1 Wrong Marks : 0.25

चीज़ों की कीमतों में निरंतर बढ़ोतरी, या समतुल्यता मुद्रा की कीमतों में निरंतर कमी की प्रक्रिया _____ है।

Options :

1. ✖ अपस्फीति

2. ✘ मुद्रा मूल्य

3. ✘ ब्याज दर

4. ✔ मुद्रास्फीति

Question Number : 67 Question Id : 140973567 Question Type : MCQ Option Shuffling : Yes

Correct Marks : 1 Wrong Marks : 0.25

Pradhan Mantri Ujjwala Yojana (PMUY) is a scheme under which _____.

Options :

1. ✔ free LPG connections are distributed to BPL families

2. ✘ CFL is distributed to BPL families

3. ✘ free electricity connection is given

4. ✘ free kerosene oil is distributed

Question Number : 67 Question Id : 140973567 Question Type : MCQ Option Shuffling : Yes

Correct Marks : 1 Wrong Marks : 0.25

प्रधानमंत्री उज्ज्वला योजना (पीएमयूवाई) एक योजना है जिसके तहत _____।

Options :

1. ✔ बीपीएल परिवारों को मुफ्त एलपीजी कनेक्शन वितरित किए जाते हैं

2. ✘ बीपीएल परिवारों को सीएफएल वितरित किए जाते हैं

3. ✖ मुफ्त बिजली कनेक्शन दिया जाता है

4. ✖ मुफ्त केरोसीन तेल वितरित किया जाता है

Question Number : 68 Question Id : 140973568 Question Type : MCQ Option Shuffling : Yes

Correct Marks : 1 Wrong Marks : 0.25

The Government of India has allocated an amount of ₹750 crores for the protection of cows in the 2019 budget. Name the mission that is the intended beneficiary.

Options :

1. ✔ Rashtriya Gokul Mission

2. ✖ Jaanvar Samrakshan Goshti

3. ✖ Gaay Bachao, Doodh Badhao Mission

4. ✖ Pashu Palan Mission

Question Number : 68 Question Id : 140973568 Question Type : MCQ Option Shuffling : Yes

Correct Marks : 1 Wrong Marks : 0.25

भारत सरकार ने 2019 के बजट में गायों के संरक्षण के लिए ₹750 करोड़ की राशि आवंटित की है। उस मिशन का नाम बताइए जो अपेक्षित लाभार्थी है।

Options :

1. ✔ राष्ट्रीय गोकुल मिशन

2. ✖ जानवर संरक्षण गोष्ठी

3. ✖ गाय बचाओ, दूध बढ़ाओ मिशन

4. ✖ पशु पालन मिशन

Question Number : 69 Question Id : 140973569 Question Type : MCQ Option Shuffling : Yes

Correct Marks : 1 Wrong Marks : 0.25

Which statement about National Bank for Agriculture and Rural Development (NABARD) is INCORRECT?

Options :

1. ✖ NABARD came into existence on 12 July, 1982.
2. ✔ NABARD was dedicated to the service of the nation by Prime Minister Rajiv Gandhi.
3. ✖ NABARD promotes sustainable and equitable agriculture and rural development.
4. ✖ NABARD is now fully owned by the Government of India.

Question Number : 69 Question Id : 140973569 Question Type : MCQ Option Shuffling : Yes

Correct Marks : 1 Wrong Marks : 0.25

राष्ट्रीय कृषि और ग्रामीण विकास बैंक (नाबार्ड) के बारे में कौन सा कथन गलत है?

Options :

1. ✖ नाबार्ड की स्थापना 12 जुलाई 1982 को की गई थी।
2. ✔ यह प्रधान मंत्री राजीव गांधी द्वारा राष्ट्र की सेवा के लिए समर्पित था।
3. ✖ यह स्थायी और न्यायसंगत कृषि व ग्रामीण विकास को बढ़ावा देता है।
4. ✖ नाबार्ड आज पूरी तरह से भारत सरकार के स्वामित्व में है।

Question Number : 70 Question Id : 140973570 Question Type : MCQ Option Shuffling : Yes

Correct Marks : 1 Wrong Marks : 0.25

The Reserve Bank of India was established on 1 April 1935. Its initial central office was established at _____.

Options :

1. ✘ Nagpur
2. ✘ New Delhi
3. ✘ Bombay
4. ✔ Calcutta

Question Number : 70 Question Id : 140973570 Question Type : MCQ Option Shuffling : Yes

Correct Marks : 1 Wrong Marks : 0.25

भारतीय रिज़र्व बैंक की स्थापना 1 अप्रैल 1935 को हुई थी। प्रारंभ में इसका केंद्रीय कार्यालय _____ में स्थापित किया गया था।

Options :

1. ✘ नागपुर
2. ✘ नई दिल्ली
3. ✘ बम्बई
4. ✔ कलकत्ता

Question Number : 71 Question Id : 140973571 Question Type : MCQ Option Shuffling : Yes

Correct Marks : 1 Wrong Marks : 0.25

Which is the smallest planet of our solar system?

Options :

1. ✖ Neptune

2. ✖ Venus

3. ✔ Mercury

4. ✖ Pluto

Question Number : 71 Question Id : 140973571 Question Type : MCQ Option Shuffling : Yes

Correct Marks : 1 Wrong Marks : 0.25

हमारे सौरमंडल का सबसे छोटा ग्रह कौन सा है?

Options :

1. ✖ नेपच्यून

2. ✖ शुक्र

3. ✔ बुध

4. ✖ प्लूटो

Question Number : 72 Question Id : 140973572 Question Type : MCQ Option Shuffling : Yes

Correct Marks : 1 Wrong Marks : 0.25

How many pairs of chromosomes are present in the human body?

Options :

1. ✖ 22

2. ✓ 23

3. ✖ 21

4. ✖ 24

Question Number : 72 Question Id : 140973572 Question Type : MCQ Option Shuffling : Yes
Correct Marks : 1 Wrong Marks : 0.25

मानव शरीर में कितने जोड़ी गुणसूत्र होते हैं?

Options :

1. ✖ 22

2. ✓ 23

3. ✖ 21

4. ✖ 24

Question Number : 73 Question Id : 140973573 Question Type : MCQ Option Shuffling : Yes
Correct Marks : 1 Wrong Marks : 0.25

The pH of acids is _____.

Options :

1. ✓ less than 7

2. ✖ more than 7

3. ✖ equal to 7

4. ✖ equal to 14

Question Number : 73 Question Id : 140973573 Question Type : MCQ Option Shuffling : Yes
Correct Marks : 1 Wrong Marks : 0.25

अम्लों का पीएच (pH) मान क्या है?

Options :

1. ✔ 7 से कम

2. ✖ 7 से अधिक

3. ✖ 7 के बराबर

4. ✖ 14 के बराबर

Question Number : 74 Question Id : 140973574 Question Type : MCQ Option Shuffling : Yes
Correct Marks : 1 Wrong Marks : 0.25

Which communication satellite was launched by ISRO on 6 February 2019? The satellite was successfully launched from French Guiana, on the Ariane 5 VA-247 launch vehicle.

Options :

1. ✖ GSAT 29

2. ✖ GSAT 30

3. ✔ GSAT 31

4. ✖ GSAT 28

Question Number : 74 Question Id : 140973574 Question Type : MCQ Option Shuffling : Yes

Correct Marks : 1 Wrong Marks : 0.25

6 फरवरी 2019 को इसरो (ISRO) द्वारा किस संचार उपग्रह का प्रक्षेपण किया गया है? उपग्रह (सैटेलाइट) को फ्रेंच गुयाना से एरियन 5 VA-247 प्रक्षेपित वाहन पर सफलतापूर्वक लॉन्च किया गया था।

Options :

1. ✖ GSAT 29

2. ✖ GSAT 30

3. ✔ GSAT 31

4. ✖ GSAT 28

Question Number : 75 Question Id : 140973575 Question Type : MCQ Option Shuffling : Yes

Correct Marks : 1 Wrong Marks : 0.25

Who established the Atomic Energy Establishment at Trombay (renamed as BARC) in January, 1954 for a multi-disciplinary research program essential for the ambitious nuclear program of India?

Options :

1. ✔ Homi Jehangir Bhabha

2. ✖ JRD Tata

3. ✖ GD Birla

4. ✖ MS Swaminathan

Question Number : 75 Question Id : 140973575 Question Type : MCQ Option Shuffling : Yes

Correct Marks : 1 Wrong Marks : 0.25

भारत के महत्वाकांक्षी परमाणु कार्यक्रम के लिए आवश्यक बहुविषयी अनुसंधान कार्यक्रम के लिए जनवरी 1954 में ट्रॉम्बे (बदलकर बार्क (BARC) नाम कर दिया गया है) में परमाणु ऊर्जा प्रतिष्ठान की स्थापना किसने की थी?

Options :

1. ✓ होमी जहांगीर भाभा
2. ✗ जेआरडी टाटा
3. ✗ जीडी बिरला
4. ✗ एमएस स्वामीनाथन

Question Number : 76 Question Id : 140973576 Question Type : MCQ Option Shuffling : Yes

Correct Marks : 1 Wrong Marks : 0.25

In 1975, which country helped India launch her first ever satellite 'Aryabhata'?

Options :

1. ✗ USA
2. ✓ USSR
3. ✗ UK
4. ✗ France

Question Number : 76 Question Id : 140973576 Question Type : MCQ Option Shuffling : Yes

Correct Marks : 1 Wrong Marks : 0.25

1975 में, किस देश ने भारत को अपना पहला उपग्रह 'आर्यभट्ट' लॉन्च करने में मदद की थी?

Options :

1. ✘ संयुक्त राज्य अमेरिका
2. ✔ यूएसएसआर (सोवियत संघ)
3. ✘ यूके
4. ✘ फ्रांस

Question Number : 77 Question Id : 140973577 Question Type : MCQ Option Shuffling : Yes

Correct Marks : 1 Wrong Marks : 0.25

On 30 January 2019, former Chairman of ISRO, Dr. K Kasturirangan inaugurated the Human Space Flight Centre (HSFC) at _____. HSFC will be responsible for the implementation of the 'Gaganyaan' project.

Options :

1. ✘ Vikram Sarabhai Space Centre, Kerala
2. ✘ Satish Dhawan Space Centre, Sriharikota
3. ✘ National Remote Sensing Centre, Hyderabad
4. ✔ Indian Space Research Organisation, Bengaluru

Question Number : 77 Question Id : 140973577 Question Type : MCQ Option Shuffling : Yes

Correct Marks : 1 Wrong Marks : 0.25

30 जनवरी 2019 को, इसरो (ISRO) के पूर्व अध्यक्ष डॉ. के. कस्तूरिरंगन ने _____ में मानव अंतरिक्ष उड़ान केंद्र (HSFC) का उद्घाटन किया है। एचएसएफसी 'गगनयान' परियोजना के कार्यान्वयन के लिए उत्तरदायी होगा।

Options :

1. ✘ विक्रम साराभाई अंतरिक्ष केंद्र, केरल

2. ✘ सतीश धवन अंतरिक्ष केंद्र, श्रीहरिकोटा
3. ✘ नेशनल रिमोट सेंसिंग सेंटर, हैदराबाद
4. ✔ भारतीय अंतरिक्ष अनुसंधान संगठन, बेंगलुरु

Question Number : 78 Question Id : 140973578 Question Type : MCQ Option Shuffling : Yes

Correct Marks : 1 Wrong Marks : 0.25

Which of the following statements about the United Nations (UN) organisation is NOT true?

Options :

1. ✘ It was founded on 24 October 1945.
2. ✘ It is currently made up of 193 member states.
3. ✘ The UN's Chief Administrative Officer is its Secretary General.
4. ✔ Ban Ki-moon is current Secretary General of UN.

Question Number : 78 Question Id : 140973578 Question Type : MCQ Option Shuffling : Yes

Correct Marks : 1 Wrong Marks : 0.25

संयुक्त राष्ट्र (UN) संगठन के बारे में निम्नलिखित में से कौन सा कथन सही नहीं है?

Options :

1. ✘ इसकी स्थापना 24 अक्टूबर 1945 को हुई थी।
2. ✘ वर्तमान में 193 देश इसके सदस्य हैं।

3. ✖ संयुक्त राष्ट्र के मुख्य प्रशासनिक अधिकारी महासचिव हैं।

4. ✔ बान की मून संयुक्त राष्ट्र के वर्तमान महासचिव हैं।

Question Number : 79 Question Id : 140973579 Question Type : MCQ Option Shuffling : Yes

Correct Marks : 1 Wrong Marks : 0.25

Which of the following countries is NOT a permanent member of the UN Security Council?

Options :

1. ✖ France

2. ✔ Germany

3. ✖ China

4. ✖ UK

Question Number : 79 Question Id : 140973579 Question Type : MCQ Option Shuffling : Yes

Correct Marks : 1 Wrong Marks : 0.25

निम्नलिखित में से कौन सा देश संयुक्त राष्ट्र की सुरक्षा परिषद का स्थायी सदस्य नहीं है?

Options :

1. ✖ फ्रांस

2. ✔ जर्मनी

3. ✖ चीन

4. ✖ यूके

Question Number : 80 Question Id : 140973580 Question Type : MCQ Option Shuffling : Yes
Correct Marks : 1 Wrong Marks : 0.25

When did the World Health Organization (WHO) come into existence?

Options :

1. ✖ 7 April 1945

2. ✖ 7 April 1946

3. ✖ 7 April 1947

4. ✔ 7 April 1948

Question Number : 80 Question Id : 140973580 Question Type : MCQ Option Shuffling : Yes
Correct Marks : 1 Wrong Marks : 0.25

विश्व स्वास्थ्य संगठन (डब्ल्यूएचओ) की स्थापना कब की गयी थी?

Options :

1. ✖ 7 अप्रैल 1945

2. ✖ 7 अप्रैल 1946

3. ✖ 7 अप्रैल 1947

4. ✔ 7 अप्रैल 1948

Arithmetic Ability1

Group Number :	5
Group Id :	14097310
Group Maximum Duration :	0
Group Minimum Duration :	0
Show Attended Group? :	No
Edit Attended Group? :	No
Break time:	0
Group Marks:	20
Is this Group for Examiner?:	No
Revisit allowed for group Instructions? :	Yes
Maximum Instruction Time:	0
Minimum Instruction Time:	0

Arithmetic Ability1

Section Id :	14097325
Section Number :	1
Section type :	Online
Mandatory or Optional:	Mandatory
Number of Questions:	20
Number of Questions to be attempted:	20
Section Marks:	20

Sub-Section Number:	1
Sub-Section Id:	14097325
Question Shuffling Allowed :	Yes

Question Number : 81 Question Id : 140973581 Question Type : MCQ Option Shuffling : Yes

Correct Marks : 1 Wrong Marks : 0.25

If the numbers in the given series are arranged in a descending order, which number will be in the middle?

$7\sqrt{3}, 4\sqrt{9}, 8\sqrt{2}, 3\sqrt{13}, 5\sqrt{6}$

Options :

1. ✓ $4\sqrt{9}$

2. ✗ $7\sqrt{3}$

3. ✗ $8\sqrt{2}$

4. ✘ $5\sqrt{6}$

Question Number : 81 Question Id : 140973581 Question Type : MCQ Option Shuffling : Yes

Correct Marks : 1 Wrong Marks : 0.25

यदि दी गई श्रृंखला में संख्याओं को एक अवरोही क्रम में व्यवस्थित किया जाता है, तो कौन सी संख्या मध्य में होगी?

$7\sqrt{3}, 4\sqrt{9}, 8\sqrt{2}, 3\sqrt{13}, 5\sqrt{6}$

Options :

1. ✔ $4\sqrt{9}$

2. ✘ $7\sqrt{3}$

3. ✘ $8\sqrt{2}$

4. ✘ $5\sqrt{6}$

Question Number : 82 Question Id : 140973582 Question Type : MCQ Option Shuffling : Yes

Correct Marks : 1 Wrong Marks : 0.25

A non-zero integer 'x' is said to divide an integer 'y' if there exists an integer 'z' such that _____.

Options :

1. ✔ $y = xz$

2. ✘ $x = yz$

3. ✘ $z = xy$

4. ✘ $\frac{x}{y} = \frac{y}{z}$

Question Number : 82 Question Id : 140973582 Question Type : MCQ Option Shuffling : Yes

Correct Marks : 1 Wrong Marks : 0.25

एक गैर-शून्य पूर्णांक 'x' से एक शून्य पूर्णांक 'y' को तभी विभाजित किया जा सकता है, जब एक पूर्णांक 'z' इस प्रकार मौजूद हो कि _____।

Options :

1. ✓ $y = xz$

2. ✗ $x = yz$

3. ✗ $z = xy$

4. ✗ $\frac{x}{y} = \frac{y}{z}$

Question Number : 83 Question Id : 140973583 Question Type : MCQ Option Shuffling : Yes

Correct Marks : 1 Wrong Marks : 0.25

When the digits of a two-digit number are interchanged, the number thus obtained is 18 less than the original number. If the sum of the two digits is 12, find the original number.

Options :

1. ✓ 75

2. ✗ 93

3. ✗ 85

4. ✗ 48

Question Number : 83 Question Id : 140973583 Question Type : MCQ Option Shuffling : Yes

Correct Marks : 1 Wrong Marks : 0.25

जब दो अंकों की एक संख्या के अंकों को परस्पर बदल दिया जाता है, तो इस प्रकार प्राप्त संख्या मूल संख्या से 18 कम होती है। यदि दोनों अंकों का योग 12 है, तो मूल संख्या ज्ञात कीजिए।

Options :

1. ✓ 75

2. ✗ 93

3. ✗ 85

4. ✗ 48

Question Number : 84 Question Id : 140973584 Question Type : MCQ Option Shuffling : Yes

Correct Marks : 1 Wrong Marks : 0.25

Find the sum of the natural numbers from 21 to 30.

Options :

1. ✓ 255

2. ✗ 270

3. ✗ 312

4. ✗ 227

Question Number : 84 Question Id : 140973584 Question Type : MCQ Option Shuffling : Yes

Correct Marks : 1 Wrong Marks : 0.25

21 से 30 तक प्राकृतिक संख्याओं का योग ज्ञात कीजिए।

Options :

1. ✓ 255

2. ✗ 270

3. ✗ 312

4. ✗ 227

Question Number : 85 Question Id : 140973585 Question Type : MCQ Option Shuffling : Yes
Correct Marks : 1 Wrong Marks : 0.25

Simplify the following equation by applying the BODMAS rule.

$$80 \times \left(1 + \frac{3}{4}\right) \div \left[7 \left\{\left(2 + \frac{1}{2}\right) \div 5\right\} \times 25 \div \left(\frac{1}{4} + 1\right)\right] = ?$$

Options :

1. ✓ 2

2. ✗ 11

3. ✗ 7

4. ✗ 5

Question Number : 85 Question Id : 140973585 Question Type : MCQ Option Shuffling : Yes
Correct Marks : 1 Wrong Marks : 0.25

बोडमास नियम लागू करके निम्नलिखित समीकरण को सरल करें।

$$80 \times \left(1 + \frac{3}{4}\right) \div \left[7 \left\{\left(2 + \frac{1}{2}\right) \div 5\right\} \times 25 \div \left(\frac{1}{4} + 1\right)\right] = ?$$

Options :

1. ✓ 2

2. ✗ 11

3. ✗ 7

4. ✗ 5

Question Number : 86 Question Id : 140973586 Question Type : MCQ Option Shuffling : Yes

Correct Marks : 1 Wrong Marks : 0.25

A man was carrying 8 currency notes each of the following denominations: ₹100, ₹10, ₹200, ₹50 and ₹20. If he purchased an article and gave one currency note of each denomination EXCEPT ₹10, find the amount left with him.

Options :

1. ✓ ₹2,670

2. ✗ ₹2,760

3. ✗ ₹2,840

4. ✗ ₹2,220

Question Number : 86 Question Id : 140973586 Question Type : MCQ Option Shuffling : Yes

Correct Marks : 1 Wrong Marks : 0.25

एक आदमी के पास ₹100, ₹10, ₹200, ₹50 और ₹20 के प्रत्येक मूल्यवर्ग के 8 मुद्रा नोट थे। यदि उसने एक वस्तु खरीदी और ₹10 मूल्यवर्ग के नोट को छोड़कर प्रत्येक मूल्यवर्ग का एक मुद्रानोट दिया, तो उसके पास बची हुई राशि ज्ञात कीजिए।

Options :

1. ✓ ₹2,670

2. ✖ ₹2,760

3. ✖ ₹2,840

4. ✖ ₹2,220

Question Number : 87 Question Id : 140973587 Question Type : MCQ Option Shuffling : Yes

Correct Marks : 1 Wrong Marks : 0.25

Select the best option that solves the equation.

$$313 \times 313 + 287 \times 287 = ?$$

Options :

1. ✔ 180338

2. ✖ 180383

3. ✖ 183308

4. ✖ 183038

Question Number : 87 Question Id : 140973587 Question Type : MCQ Option Shuffling : Yes

Correct Marks : 1 Wrong Marks : 0.25

वह सबसे अच्छा विकल्प चुनें जो समीकरण को हल करता है।

$$313 \times 313 + 287 \times 287 = ?$$

Options :

1. ✔ 180338

2. ✖ 180383

3. ✖ 183308

4. ✖ 183038

Question Number : 88 Question Id : 140973588 Question Type : MCQ Option Shuffling : Yes

Correct Marks : 1 Wrong Marks : 0.25

Find the value of '?' in the following equation.

$$- 874.67 + 1942.52 - 983.43 - ? = - 1372.78$$

Options :

1. ✔ 1457.20

2. ✖ 1356.19

3. ✖ 2829.98

4. ✖ 1544.20

Question Number : 88 Question Id : 140973588 Question Type : MCQ Option Shuffling : Yes

Correct Marks : 1 Wrong Marks : 0.25

निम्नलिखित समीकरण में '?' का मान ज्ञात कीजिए।

$$- 874.67 + 1942.52 - 983.43 - ? = - 1372.78$$

Options :

1. ✔ 1457.20

2. ✖ 1356.19

3. ✖ 2829.98

4. ✖ 1544.20

Question Number : 89 Question Id : 140973589 Question Type : MCQ Option Shuffling : Yes

Correct Marks : 1 Wrong Marks : 0.25

The value of _____ falls in between $\frac{2}{5}$ and $\frac{5}{8}$.

Options :

1. ✔ $\frac{4}{7}$

2. ✖ $\frac{11}{13}$

3. ✖ $\frac{7}{9}$

4. ✖ $\frac{2}{7}$

Question Number : 89 Question Id : 140973589 Question Type : MCQ Option Shuffling : Yes

Correct Marks : 1 Wrong Marks : 0.25

_____ का मान $\frac{2}{5}$ और $\frac{5}{8}$ के बीच है।

Options :

1. ✔ $\frac{4}{7}$

2. ✖ $\frac{11}{13}$

3. ✖ $\frac{7}{9}$

4. ✖ $\frac{2}{7}$

Question Number : 90 Question Id : 140973590 Question Type : MCQ Option Shuffling : Yes
Correct Marks : 1 Wrong Marks : 0.25

Consider the following equation and select the value of x :

$$\left(\frac{2340}{0.117}\right) = \left(\frac{46.8}{x}\right)$$

Options :

1. ✔ 0.00234

2. ✖ 0.234

3. ✖ 0.0234

4. ✖ 2.34

Question Number : 90 Question Id : 140973590 Question Type : MCQ Option Shuffling : Yes
Correct Marks : 1 Wrong Marks : 0.25

निम्नलिखित समीकरण पर विचार करें और x का मान चुनें:

$$\left(\frac{2340}{0.117}\right) = \left(\frac{46.8}{x}\right)$$

Options :

1. ✓ 0.00234

2. ✗ 0.234

3. ✗ 0.0234

4. ✗ 2.34

Question Number : 91 Question Id : 140973591 Question Type : MCQ Option Shuffling : Yes

Correct Marks : 1 Wrong Marks : 0.25

The prices of P and Q increase by 75 paise and 25 paise every month respectively. The present price of P is ₹65.50 and that of Q is ₹68.50. In how many months from now will the price of Q be equal to that of P?

Options :

1. ✓ 6 months

2. ✗ 8 months

3. ✗ 9 months

4. ✗ 7 months

Question Number : 91 Question Id : 140973591 Question Type : MCQ Option Shuffling : Yes

Correct Marks : 1 Wrong Marks : 0.25

P और Q की कीमतों में प्रत्येक माह क्रमशः 75 पैसे और 25 पैसे की वृद्धि होती है। P का वर्तमान मूल्य ₹65.50 है और Q का मूल्य ₹68.50 है। अब से कितने महीनों बाद Q की मूल्य P के बराबर हो जायेगा?

Options :

1. ✓ 6 माह

2. ✖ 8 माह

3. ✖ 9 माह

4. ✖ 7 माह

Question Number : 92 Question Id : 140973592 Question Type : MCQ Option Shuffling : Yes

Correct Marks : 1 Wrong Marks : 0.25

Select the best option that solves the equation.

$$\left(\frac{1.1}{0.1}\right)^2 + \left(\frac{11}{10}\right)^2 + \left(\frac{11}{1.1}\right)^2 - \left(\frac{1.1}{11}\right)^2 = ?$$

Options :

1. ✔ 222.20

2. ✖ 222.21

3. ✖ 122.20

4. ✖ 121

Question Number : 92 Question Id : 140973592 Question Type : MCQ Option Shuffling : Yes

Correct Marks : 1 Wrong Marks : 0.25

वह सबसे अच्छा विकल्प चुनें जो समीकरण को हल करता है।

$$\left(\frac{1.1}{0.1}\right)^2 + \left(\frac{11}{10}\right)^2 + \left(\frac{11}{1.1}\right)^2 - \left(\frac{1.1}{11}\right)^2 = ?$$

Options :

1. ✓ 222.20

2. ✗ 222.21

3. ✗ 122.20

4. ✗ 121

Question Number : 93 Question Id : 140973593 Question Type : MCQ Option Shuffling : Yes

Correct Marks : 1 Wrong Marks : 0.25

Find the difference between two numbers which are in the ratio 3 : 1 and whose LCM and HCF are 96 and 32 respectively.

Options :

1. ✓ 64

2. ✗ 46

3. ✗ 69

4. ✗ 58

Question Number : 93 Question Id : 140973593 Question Type : MCQ Option Shuffling : Yes

Correct Marks : 1 Wrong Marks : 0.25

दो संख्याओं के बीच अंतर ज्ञात करें जिनके बीच अनुपात 3 : 1 हैं; और जिनके ल.स. और म.स. क्रमशः 96 और 32 हैं।

Options :

1. ✓ 64

2. ✖ 46

3. ✖ 69

4. ✖ 58

Question Number : 94 Question Id : 140973594 Question Type : MCQ Option Shuffling : Yes

Correct Marks : 1 Wrong Marks : 0.25

What is the LCM of $\frac{7}{10}$, $\frac{4}{5}$ and $\frac{5}{6}$?

Options :

1. ✔ 140

2. ✖ 280

3. ✖ 120

4. ✖ 160

Question Number : 94 Question Id : 140973594 Question Type : MCQ Option Shuffling : Yes

Correct Marks : 1 Wrong Marks : 0.25

$\frac{7}{10}$, $\frac{4}{5}$ और $\frac{5}{6}$ का ल. स. ज्ञात कीजिए।

Options :

1. ✔ 140

2. ✖ 280

3. ✖ 120

4. ✖ 160

Question Number : 95 Question Id : 140973595 Question Type : MCQ Option Shuffling : Yes

Correct Marks : 1 Wrong Marks : 0.25

Find the largest number that will divide 452, 573 and 701 leaving remainders of 11, 6 and 8 respectively.

Options :

1. ✔ 63

2. ✖ 97

3. ✖ 78

4. ✖ 84

Question Number : 95 Question Id : 140973595 Question Type : MCQ Option Shuffling : Yes

Correct Marks : 1 Wrong Marks : 0.25

वह बड़ी से बड़ी संख्या ज्ञात कीजिए जिससे 452, 573 तथा 701 को विभाजित करने पर शेष क्रमशः 11, 6 और 8 बचता है।

Options :

1. ✔ 63

2. ✖ 97

3. ✖ 78

4. ✖ 84

Question Number : 96 Question Id : 140973596 Question Type : MCQ Option Shuffling : Yes

Correct Marks : 1 Wrong Marks : 0.25

If the length, breadth and height of a room are $8\frac{1}{4}$ m, $9\frac{3}{4}$ m and $7\frac{1}{2}$ m respectively, find the longest rod that can exactly measure the three dimensions.

Options :

1. ✔ $\frac{3}{4}$ m

2. ✖ $\frac{1}{2}$ m

3. ✖ $\frac{3}{5}$ m

4. ✖ $\frac{4}{5}$ m

Question Number : 96 Question Id : 140973596 Question Type : MCQ Option Shuffling : Yes

Correct Marks : 1 Wrong Marks : 0.25

यदि किसी कमरे की लंबाई, चौड़ाई और ऊंचाई क्रमशः $8\frac{1}{4}$ मीटर, $9\frac{3}{4}$ मीटर और $7\frac{1}{2}$ मीटर है, तो उस सबसे लंबी छड़ को ढंडे जो तीनों आयामों को ठीक से माप सके।

Options :

1. ✔ $\frac{3}{4}$ m

2. ✖ $\frac{1}{2}$ m

3. ✖ $\frac{3}{5}$ m

4. ✖ $\frac{4}{5}$ m

Question Number : 97 Question Id : 140973597 Question Type : MCQ Option Shuffling : Yes

Correct Marks : 1 Wrong Marks : 0.25

What is the least number which leaves 7 as the remainder in each case when divided by 8, 14, 12, 10?

Options :

1. ✔ 847

2. ✖ 722

3. ✖ 614

4. ✖ 935

Question Number : 97 Question Id : 140973597 Question Type : MCQ Option Shuffling : Yes

Correct Marks : 1 Wrong Marks : 0.25

वह छोटी से छोटी संख्या कौन सी है जिसे 8, 14, 12, 10 से विभाजित करने पर प्रत्येक मामले में शेष 7 बचता है?

Options :

1. ✔ 847

2. ✖ 722

3. ✖ 614

4. ✖ 935

Question Number : 98 Question Id : 140973598 Question Type : MCQ Option Shuffling : Yes

Correct Marks : 1 Wrong Marks : 0.25

Find the mean proportional of 0.81 and 0.09.

Options :

1. ✓ 0.27

2. ✗ 0.36

3. ✗ 0.45

4. ✗ 0.54

Question Number : 98 Question Id : 140973598 Question Type : MCQ Option Shuffling : Yes

Correct Marks : 1 Wrong Marks : 0.25

0.81 और 0.09 का मध्यानुपात ज्ञात कीजिए।

Options :

1. ✓ 0.27

2. ✗ 0.36

3. ✗ 0.45

4. ✗ 0.54

Question Number : 99 Question Id : 140973599 Question Type : MCQ Option Shuffling : Yes

Correct Marks : 1 Wrong Marks : 0.25

If the breadth and perimeter of a rectangle measuring an area of 147 m^2 are in the ratio 1 : 8, then find the length of the rectangle.

Options :

1. ✓ 21 m

2. ✖ 7 m

3. ✖ 28 m

4. ✖ 14 m

Question Number : 99 Question Id : 140973599 Question Type : MCQ Option Shuffling : Yes

Correct Marks : 1 Wrong Marks : 0.25

दि 147 मी² के क्षेत्रफल को मापने वाले आयत की चौड़ाई और परिमाण का अनुपात 1 : 8 है, तो आयत की लंबाई ज्ञात कीजिए।

Options :

1. ✔ 21 m

2. ✖ 7 m

3. ✖ 28 m

4. ✖ 14 m

Question Number : 100 Question Id : 140973600 Question Type : MCQ Option Shuffling : Yes

Correct Marks : 1 Wrong Marks : 0.25

The sum of the cubes of three numbers, which are in the ratio 3 : 2 : 4, is 12375. Find the sum of the three numbers.

Options :

1. ✔ 45

2. ✖ 30

3. ✖ 25

4. ✖ 35

Question Number : 100 Question Id : 140973600 Question Type : MCQ Option Shuffling : Yes

Correct Marks : 1 Wrong Marks : 0.25

तीन संख्याएं, जो 3 : 2 : 4 के अनुपात में हैं, के घन का योग 12375 है। तीनों संख्याओं का योग ज्ञात कीजिए।

Options :

1. ✔ 45

2. ✖ 30

3. ✖ 25

4. ✖ 35

Arithmetic Ability2

Group Number :	6
Group Id :	14097311
Group Maximum Duration :	0
Group Minimum Duration :	0
Show Attended Group? :	No
Edit Attended Group? :	No
Break time:	0
Group Marks:	20
Is this Group for Examiner? :	No
Revisit allowed for group Instructions? :	Yes
Maximum Instruction Time:	0
Minimum Instruction Time:	0

Arithmetic Ability2

Section Id :	14097326
Section Number :	1
Section type :	Online
Mandatory or Optional:	Mandatory
Number of Questions:	20
Number of Questions to be attempted:	20
Section Marks:	20

Sub-Section Number:	1
Sub-Section Id:	14097326
Question Shuffling Allowed :	Yes

Question Number : 101 Question Id : 140973601 Question Type : MCQ Option Shuffling : Yes

Correct Marks : 1 Wrong Marks : 0.25

A sum of money is to be divided among Q, R, S and T in the ratio 9 : 3 : 11 : 2. If the difference between the values of the combined shares of Q and S, and that of R and T is ₹6,150, find the value of the combined share of S and R.

Options :

1. ✓ ₹5,740

2. ✗ ₹4,510

3. ✗ ₹8,200

4. ✗ ₹2,050

Question Number : 101 Question Id : 140973601 Question Type : MCQ Option Shuffling : Yes

Correct Marks : 1 Wrong Marks : 0.25

एक धनराशि को Q, R, S और T के बीच 9 : 3 : 11 : 2 के अनुपात में विभाजित किया जाना है। यदि Q और S के संयुक्त भागों का मान तथा R और T के संयुक्त भागों के बीच अंतर ₹6,150 है, तो S और R के संयुक्त भाग का मान ज्ञात कीजिए।

Options :

1. ✓ ₹5,740

2. ✗ ₹4,510

3. ✖ ₹8,200

4. ✖ ₹2,050

Question Number : 102 Question Id : 140973602 Question Type : MCQ Option Shuffling : Yes

Correct Marks : 1 Wrong Marks : 0.25

Seven years ago, the ratio of the ages of K and L was 7 : 3. Three years hence, the ratio of their ages will be 9 : 5. What is K's present age?

Options :

1. ✔ 42

2. ✖ 45

3. ✖ 22

4. ✖ 25

Question Number : 102 Question Id : 140973602 Question Type : MCQ Option Shuffling : Yes

Correct Marks : 1 Wrong Marks : 0.25

सात वर्ष पहले K और L की आयु का अनुपात 7 : 3 था। आज से तीन वर्ष बाद उनकी आयु का अनुपात 9 : 5 हो जायेगा। K की वर्तमान आयु कितनी है?

Options :

1. ✔ 42

2. ✖ 45

3. ✖ 22

4. ✖ 25

Question Number : 103 Question Id : 140973603 Question Type : MCQ Option Shuffling : Yes

Correct Marks : 1 Wrong Marks : 0.25

In a class of 36 students, when a new student replaced an outgoing student whose age was 16 years, the average age of the class increased by one month. Find the age of the new student.

Options :

1. ✔ 19 years

2. ✖ 18 years

3. ✖ 17 years

4. ✖ 21 years

Question Number : 103 Question Id : 140973603 Question Type : MCQ Option Shuffling : Yes

Correct Marks : 1 Wrong Marks : 0.25

36 छात्रों की एक कक्षा में, जब एक नया छात्र बाहर जाने वाले एक छात्र, जिसकी उम्र 16 वर्ष थी, को प्रतिस्थापित करता है, तो कक्षा की औसत आयु में एक माह की वृद्धि हो जाती है। नये छात्र की आयु ज्ञात करें।

Options :

1. ✔ 19 वर्ष

2. ✖ 18 वर्ष

3. ✖ 17 वर्ष

4. ✖ 21 वर्ष

Question Number : 104 Question Id : 140973604 Question Type : MCQ Option Shuffling : Yes

Correct Marks : 1 Wrong Marks : 0.25

In a committee of 12 members, the weight of the secretary is $\frac{6}{7}$ th of the weight of the chairman, whose weight is 56 kg. The average weight of the remaining members is 2 kg less than that of all the committee members. Find the average weight of all the 12 members.

Options :

1. ✓ 42 kg

2. ✗ 45 kg

3. ✗ 52 kg

4. ✗ 48 kg

Question Number : 104 Question Id : 140973604 Question Type : MCQ Option Shuffling : Yes

Correct Marks : 1 Wrong Marks : 0.25

12 सदस्यों की एक समिति में सचिव का वजन अध्यक्ष, जिसका वजन 56 किलोग्राम है, के वजन का $\frac{6}{7}$ है, शेष सदस्यों का औसत वजन समिति के सभी सदस्यों की तुलना में 2 किलोग्राम कम है। सभी 12 सदस्यों का औसत वजन ज्ञात कीजिए।

Options :

1. ✓ 42 किलोग्राम

2. ✗ 45 किलोग्राम

3. ✗ 52 किलोग्राम

4. ✗ 48 किलोग्राम

Question Number : 105 Question Id : 140973605 Question Type : MCQ Option Shuffling : Yes

Correct Marks : 1 Wrong Marks : 0.25

The average of six consecutive odd numbers is 26. Find the product of the third and fourth numbers.

Options :

1. ✓ 675

2. ✗ 765

3. ✗ 567

4. ✗ 756

Question Number : 105 Question Id : 140973605 Question Type : MCQ Option Shuffling : Yes

Correct Marks : 1 Wrong Marks : 0.25

छह क्रमागत विषम संख्याओं का औसत 26 है। तीसरी और चौथी संख्या का गुणनफल ज्ञात कीजिए।

Options :

1. ✓ 675

2. ✗ 765

3. ✗ 567

4. ✗ 756

Question Number : 106 Question Id : 140973606 Question Type : MCQ Option Shuffling : Yes

Correct Marks : 1 Wrong Marks : 0.25

Ram's family consists of his wife, both of his parents and parents-in-law, 3 sons and 3 daughters. The average age of the grandparents of the family is 65 years and the average age of Ram and his wife is 44 years. The average ages of the grandsons and granddaughters are 24 years and 20 years respectively. Find the average age of the family.

Options :

1. ✓ 40

2. ✘ 45

3. ✘ 42

4. ✘ 38

Question Number : 106 Question Id : 140973606 Question Type : MCQ Option Shuffling : Yes

Correct Marks : 1 Wrong Marks : 0.25

राम के परिवार में उसकी पत्नी, उसके माता-पिता और सास ससुर, 3 पुत्र और 3 पुत्रियां शामिल हैं। परिवार के दादा-दादी की औसत आयु 65 वर्ष है और राम व उसकी पत्नी की औसत आयु 44 वर्ष है पोते और पोतियों की औसत आयु क्रमशः 24 वर्ष और 20 वर्ष है। परिवार की औसत आयु ज्ञात कीजिए।

Options :

1. ✓ 40

2. ✘ 45

3. ✘ 42

4. ✘ 38

Question Number : 107 Question Id : 140973607 Question Type : MCQ Option Shuffling : Yes

Correct Marks : 1 Wrong Marks : 0.25

The loss on selling a product at 25% less than the cost price was ₹3,200. Find the selling price.

Options :

1. ✓ ₹9,600

2. ✘ ₹8,700

3. ✘ ₹10,100

4. ✘ ₹9,300

Question Number : 107 Question Id : 140973607 Question Type : MCQ Option Shuffling : Yes

Correct Marks : 1 Wrong Marks : 0.25

एक वस्तु को उसके क्रय मूल्य से 25% कम मूल्य पर बेचने से ₹3,200 की हानि होती है। विक्रय मूल्य ज्ञात कीजिए।

Options :

1. ✔ ₹9,600

2. ✘ ₹8,700

3. ✘ ₹10,100

4. ✘ ₹9,300

Question Number : 108 Question Id : 140973608 Question Type : MCQ Option Shuffling : Yes

Correct Marks : 1 Wrong Marks : 0.25

An article costing ₹3,000 was sold by mistake at a loss of 10% and the buyer sold it back to the owner at a profit of 10%. Find the net loss to the owner.

Options :

1. ✔ ₹570

2. ✘ ₹300

3. ✖ ₹270

4. ✖ ₹30

Question Number : 108 Question Id : 140973608 Question Type : MCQ Option Shuffling : Yes

Correct Marks : 1 Wrong Marks : 0.25

₹3,000 की लागत वाली एक वस्तु को गलती से 10% हानि पर बेच दिया गया और खरीदार ने इसे 10% के लाभ पर इसके मालिक को वापस बेच दिया। मालिक को होने वाली शुद्ध हानि ज्ञात कीजिए।

Options :

1. ✔ ₹570

2. ✖ ₹300

3. ✖ ₹270

4. ✖ ₹30

Question Number : 109 Question Id : 140973609 Question Type : MCQ Option Shuffling : Yes

Correct Marks : 1 Wrong Marks : 0.25

Selling an article at ₹3,400 results in a loss of 15%. How much should be added to the cost price to get a gain of 18%?

Options :

1. ✔ ₹720

2. ✖ ₹600

3. ✖ ₹550

4. ✖ ₹790

Question Number : 109 Question Id : 140973609 Question Type : MCQ Option Shuffling : Yes

Correct Marks : 1 Wrong Marks : 0.25

एक वस्तु को ₹3,400 में बेचने पर 15% की हानि होती है। 18% का लाभ प्राप्त करने के लिए क्रय मूल्य में कितना मूल्य जोड़ा जाना चाहिए?

Options :

1. ✔ ₹720

2. ✖ ₹600

3. ✖ ₹550

4. ✖ ₹790

Question Number : 110 Question Id : 140973610 Question Type : MCQ Option Shuffling : Yes

Correct Marks : 1 Wrong Marks : 0.25

A shopkeeper purchased 8 dozens each of pens and pen-stands at a cost of ₹2,304 and ₹4,224 respectively. He sold each pen with a pen-stand as a set at ₹85 per set. What was his profit percentage per set?

Options :

1. ✔ 25 %

2. ✖ 24 %

3. ✖ 27 %

4. ✖ 26 %

Question Number : 110 Question Id : 140973610 Question Type : MCQ Option Shuffling : Yes

Correct Marks : 1 Wrong Marks : 0.25

एक दुकानदार ने 8 दर्जन पेन और पेन स्टैंड क्रमशः ₹2,304 और ₹4,224 की लागत से खरीदे। उसने प्रत्येक पेन को पेन-स्टैंड के साथ ₹85 प्रति सेट के हिसाब से बेचा। प्रत्येक सेट पर उसको होने वाला लाभ प्रतिशत क्या था?

Options :

1. ✓ 25%

2. ✗ 24%

3. ✗ 27%

4. ✗ 26%

Question Number : 111 Question Id : 140973611 Question Type : MCQ Option Shuffling : Yes

Correct Marks : 1 Wrong Marks : 0.25

In how many years will the amount of interest at 6 % p.a. simple interest become 42 % of the principal amount?

Options :

1. ✓ 7 years

2. ✗ 6 years

3. ✗ 8 years

4. ✗ 4 years

Question Number : 111 Question Id : 140973611 Question Type : MCQ Option Shuffling : Yes

Correct Marks : 1 Wrong Marks : 0.25

कितने वर्षों में ब्याज की राशि साधारण ब्याज की 6% वार्षिक दर से मूलधन का 42% हो जायेगी?

Options :

1. ✓ 7 वर्ष

2. ✗ 6 वर्ष

3. ✗ 8 वर्ष

4. ✗ 4 वर्ष

Question Number : 112 Question Id : 140973612 Question Type : MCQ Option Shuffling : Yes

Correct Marks : 1 Wrong Marks : 0.25

If the maturity values of an amount in 7 and 9 years calculated at 5 % p.a. simple interest are ₹2,975 and ₹3,825 respectively, find the amount.

Options :

1. ✓ ₹8,500

2. ✗ ₹8,100

3. ✗ ₹8,800

4. ✗ ₹7,900

Question Number : 112 Question Id : 140973612 Question Type : MCQ Option Shuffling : Yes

Correct Marks : 1 Wrong Marks : 0.25

यदि एक धनराशि पर साधारण ब्याज की 5% वार्षिक दर से 7 और 9 वर्ष की अवधि में प्राप्त होने वाली परिपक्वता राशि क्रमशः ₹2,975 और ₹3,825 है, तो धनराशि ज्ञात कीजिए।

Options :

1. ✓ ₹8,500

2. ✘ ₹8,100

3. ✘ ₹8,800

4. ✘ ₹7,900

Question Number : 113 Question Id : 140973613 Question Type : MCQ Option Shuffling : Yes

Correct Marks : 1 Wrong Marks : 0.25

If the interest amount payable to a money lender at the end of 3 years on a loan amount at 25 % p.a. compounded annually is ₹12,200, find the loan amount.

Options :

1. ✔ ₹12,800

2. ✘ ₹14,600

3. ✘ ₹20,400

4. ✘ ₹18,000

Question Number : 113 Question Id : 140973613 Question Type : MCQ Option Shuffling : Yes

Correct Marks : 1 Wrong Marks : 0.25

यदि एक ऋणदाता को ऋण राशि पर 3 वर्ष के अंत में चक्रवृद्धि ब्याज की 25% दर से देय ब्याज राशि ₹12,200 है, तो ऋण राशि ज्ञात कीजिए।

Options :

1. ✔ ₹12,800

2. ✘ ₹14,600

3. ✖ ₹20,400

4. ✖ ₹18,000

Question Number : 114 Question Id : 140973614 Question Type : MCQ Option Shuffling : Yes

Correct Marks : 1 Wrong Marks : 0.25

Find the difference between the amounts of simple and compound interest on ₹5,000 at 10 p.a. for 3 years.

Options :

1. ✔ ₹155

2. ✖ ₹205

3. ✖ ₹185

4. ✖ ₹135

Question Number : 114 Question Id : 140973614 Question Type : MCQ Option Shuffling : Yes

Correct Marks : 1 Wrong Marks : 0.25

₹5,000 पर 3 वर्ष के लिए 10% वार्षिक दर पर प्राप्त होने वाले साधारण ब्याज और चक्रवृद्धि ब्याज की राशियों का अंतर ज्ञात करें।

Options :

1. ✔ ₹155

2. ✖ ₹205

3. ✖ ₹185

4. ✖ ₹135

Question Number : 115 Question Id : 140973615 Question Type : MCQ Option Shuffling : Yes

Correct Marks : 1 Wrong Marks : 0.25

If a circular road of width 7 m surrounds a circular ground of diameter 28 m, the area of the road will be _____ more than the area of the ground. ($\pi = \frac{22}{7}$)

Options :

1. ✔ 25 %

2. ✖ 24 %

3. ✖ 26 %

4. ✖ 23 %

Question Number : 115 Question Id : 140973615 Question Type : MCQ Option Shuffling : Yes

Correct Marks : 1 Wrong Marks : 0.25

यदि 7 मीटर चौड़ी एक वृत्ताकार सड़क 28 मीटर व्यास वाले के एक वृत्ताकार मैदान को घेरती है, तो सड़क का क्षेत्रफल मैदान के क्षेत्रफल से _____ अधिक होगा। ($\pi = \frac{22}{7}$)

Options :

1. ✔ 25%

2. ✖ 24%

3. ✖ 26%

4. ✖ 23%

Question Number : 116 Question Id : 140973616 Question Type : MCQ Option Shuffling : Yes

Correct Marks : 1 Wrong Marks : 0.25

The length and diagonal of a rectangular area are 12 m and 15 m respectively. If the cost of tiling the area is ₹135 per m^2 , find the cost of tiling.

Options :

1. ✔ ₹14,580

2. ✖ ₹15,480

3. ✖ ₹14,850

4. ✖ ₹15,508

Question Number : 116 Question Id : 140973616 Question Type : MCQ Option Shuffling : Yes

Correct Marks : 1 Wrong Marks : 0.25

एक आयताकार क्षेत्र की लंबाई और विकर्ण क्रमशः 12 मीटर और 15 मीटर हैं। यदि पूरे क्षेत्र में टाइल लगाने की लागत ₹135 प्रति वर्ग मीटर है, तो टाइल लगाने की लागत का ज्ञात कीजिए।

Options :

1. ✔ ₹14,580

2. ✖ ₹15,480

3. ✖ ₹14,850

4. ✖ ₹15,508

Question Number : 117 Question Id : 140973617 Question Type : MCQ Option Shuffling : Yes

Correct Marks : 1 Wrong Marks : 0.25

Find the area of a circular ground, if its diameter measures 30 m less than its circumference. ($\pi = \frac{22}{7}$)

Options :

1. ✓ 154 m²

2. ✗ 166 m²

3. ✗ 144 m²

4. ✗ 172 m²

Question Number : 117 Question Id : 140973617 Question Type : MCQ Option Shuffling : Yes

Correct Marks : 1 Wrong Marks : 0.25

एक वृत्ताकार मैदान का क्षेत्रफल ज्ञात करें, यदि इसका व्यास इसकी परिधि से 30 मीटर कम है। ($\pi = \frac{22}{7}$)

Options :

1. ✓ 154 m²

2. ✗ 166 m²

3. ✗ 144 m²

4. ✗ 172 m²

Question Number : 118 Question Id : 140973618 Question Type : MCQ Option Shuffling : Yes

Correct Marks : 1 Wrong Marks : 0.25

The areas of a square and a rectangle are the same. If the area of the square and breadth of the rectangle are 676 m² and 13 m respectively, find the ratio of the perimeter of rectangle to that of the square.

Options :

1. ✓ 5 : 4

2. ✘ 4 : 5

3. ✘ 3 : 4

4. ✘ 4 : 3

Question Number : 118 Question Id : 140973618 Question Type : MCQ Option Shuffling : Yes

Correct Marks : 1 Wrong Marks : 0.25

एक वर्ग और एक आयत के क्षेत्रफल समान हैं। यदि वर्ग का क्षेत्रफल और आयत की चौड़ाई क्रमशः 676 मी^2 और 13 मीटर है, तो आयत के परिमाण का वर्ग के परिमाण से अनुपात ज्ञात कीजिए।

Options :

1. ✓ 5 : 4

2. ✘ 4 : 5

3. ✘ 3 : 4

4. ✘ 4 : 3

Question Number : 119 Question Id : 140973619 Question Type : MCQ Option Shuffling : Yes

Correct Marks : 1 Wrong Marks : 0.25

If a car takes 70 min to cover 105 km, how much time will it take to cover 125 km, if its speed is reduced by 15 km/h?

Options :

1. ✓ 100 min

2. ✖ 95 min

3. ✖ 105 min

4. ✖ 90 min

Question Number : 119 Question Id : 140973619 Question Type : MCQ Option Shuffling : Yes

Correct Marks : 1 Wrong Marks : 0.25

यदि एक कार को 105 किमी की दूरी तय करने में 70 मिनट लगते हैं, तो 125 किमी की दूरी तय करने में कितना समय लगेगा, यदि इसकी गति 15 किमी/घंटा कम हो जाती है?

Options :

1. ✔ 100 मिनट

2. ✖ 95 मिनट

3. ✖ 105 मिनट

4. ✖ 90 मिनट

Question Number : 120 Question Id : 140973620 Question Type : MCQ Option Shuffling : Yes

Correct Marks : 1 Wrong Marks : 0.25

The speed of a boat running downstream is 21 km/h and the speed of the stream is 3 km/h. What distance will the boat cover against the stream in 2 hours?

Options :

1. ✔ 30 km

2. ✖ 28 km

3. ✖ 32 km

4. ✖ 26 km

Question Number : 120 Question Id : 140973620 Question Type : MCQ Option Shuffling : Yes

Correct Marks : 1 Wrong Marks : 0.25

धारा की अनुकूल दिशा में एक नाव की चाल 21 किमी/घंटा है और धारा की चाल 3 किमी/घंटा है। धारा की प्रतिकूल दिशा में 2 घंटे में नाव कितनी दूरी तय करेगी?

Options :

1. ✔ 30 किमी

2. ✖ 28 किमी

3. ✖ 32 किमी

4. ✖ 26 किमी

General English1

Group Number :	7
Group Id :	14097312
Group Maximum Duration :	0
Group Minimum Duration :	0
Show Attended Group? :	No
Edit Attended Group? :	No
Break time:	0
Group Marks:	20
Is this Group for Examiner?:	No
Revisit allowed for group Instructions? :	Yes
Maximum Instruction Time:	0
Minimum Instruction Time:	0

General English1

Section Id :	14097327
Section Number :	1
Section type :	Online
Mandatory or Optional:	Mandatory
Number of Questions:	20
Number of Questions to be attempted:	20
Section Marks:	20

Sub-Section Number:	1
Sub-Section Id:	14097327
Question Shuffling Allowed :	Yes

Question Number : 121 Question Id : 140973621 Question Type : MCQ Option Shuffling : Yes
Correct Marks : 1 Wrong Marks : 0.25

Which of the following options means the same as the highlighted phrase below?

I admire Arun for his **down to earth** personality.

Options :

1. ✓ Realistic
2. ✗ Adorable
3. ✗ Sophisticated
4. ✗ Backward

Question Number : 121 Question Id : 140973621 Question Type : MCQ Option Shuffling : Yes
Correct Marks : 1 Wrong Marks : 0.25

Which of the following options means the same as the highlighted phrase below?

I admire Arun for his **down to earth** personality.

Options :

1. ✓ Realistic

2. ✘ Adorable

3. ✘ Sophisticated

4. ✘ Backward

Question Number : 122 Question Id : 140973622 Question Type : MCQ Option Shuffling : Yes

Correct Marks : 1 Wrong Marks : 0.25

Which of the following options means the same as the highlighted phrase below?

The new project was a **piece of cake** for the team.

Options :

1. ✘ The project was to bake a cake

2. ✔ They found the project simple to accomplish

3. ✘ They had to eat several slices of a cake

4. ✘ They had to divide their cake into pieces

Question Number : 122 Question Id : 140973622 Question Type : MCQ Option Shuffling : Yes

Correct Marks : 1 Wrong Marks : 0.25

Which of the following options means the same as the highlighted phrase below?

The new project was a **piece of cake** for the team.

Options :

1. ✘ The project was to bake a cake

2. ✓ They found the project simple to accomplish

3. ✘ They had to eat several slices of a cake

4. ✘ They had to divide their cake into pieces

Question Number : 123 Question Id : 140973623 Question Type : MCQ Option Shuffling : Yes
Correct Marks : 1 Wrong Marks : 0.25

Select the most appropriate synonym of the given word.

HEGEMONY

Options :

1. ✓ Domination

2. ✘ Garden

3. ✘ Money

4. ✘ Admiration

Question Number : 123 Question Id : 140973623 Question Type : MCQ Option Shuffling : Yes
Correct Marks : 1 Wrong Marks : 0.25

Select the most appropriate synonym of the given word.

HEGEMONY

Options :

1. ✓ Domination

2. ✖ Garden

3. ✖ Money

4. ✖ Admiration

Question Number : 124 Question Id : 140973624 Question Type : MCQ Option Shuffling : Yes
Correct Marks : 1 Wrong Marks : 0.25

Select the most appropriate ANTONYM of the given word.

ESTABLISH

Options :

1. ✖ Build

2. ✖ Demonstrate

3. ✔ Disprove

4. ✖ Burn

Question Number : 124 Question Id : 140973624 Question Type : MCQ Option Shuffling : Yes
Correct Marks : 1 Wrong Marks : 0.25

Select the most appropriate ANTONYM of the given word.

ESTABLISH

Options :

1. ✖ Build

2. ✘ Demonstrate

3. ✔ Disprove

4. ✘ Burn

Question Number : 125 Question Id : 140973625 Question Type : MCQ Option Shuffling : Yes
Correct Marks : 1 Wrong Marks : 0.25

Select the most appropriate ANTONYM of the given word.

SPECTACULAR

Options :

1. ✘ Huge

2. ✘ Magnificent

3. ✔ Dull

4. ✘ Fiery

Question Number : 125 Question Id : 140973625 Question Type : MCQ Option Shuffling : Yes
Correct Marks : 1 Wrong Marks : 0.25

Select the most appropriate ANTONYM of the given word.

SPECTACULAR

Options :

1. ✘ Huge

2. ✘ Magnificent

3. ✔ Dull

4. ✘ Fiery

Question Number : 126 Question Id : 140973626 Question Type : MCQ Option Shuffling : Yes
Correct Marks : 1 Wrong Marks : 0.25

Select the most appropriate synonym of the given word.

STRANGE

Options :

1. ✔ Surreal

2. ✘ Usual

3. ✘ Normal

4. ✘ Familiar

Question Number : 126 Question Id : 140973626 Question Type : MCQ Option Shuffling : Yes
Correct Marks : 1 Wrong Marks : 0.25

Select the most appropriate synonym of the given word.

STRANGE

Options :

1. ✔ Surreal

2. ✘ Usual

3. ✘ Normal

4. ✘ Familiar

Question Number : 127 Question Id : 140973627 Question Type : MCQ Option Shuffling : Yes
Correct Marks : 1 Wrong Marks : 0.25

Fill in the blanks with the most appropriate option.

Malini is _____ woman I am proud to have as _____ friend.

Options :

1. ✘ this, an

2. ✘ the, any

3. ✘ a, an

4. ✔ a, a

Question Number : 127 Question Id : 140973627 Question Type : MCQ Option Shuffling : Yes
Correct Marks : 1 Wrong Marks : 0.25

Fill in the blanks with the most appropriate option.

Malini is _____ woman I am proud to have as _____ friend.

Options :

1. ✘ this, an

2. ✘ the, any

3. ✘ a, an

4. ✔ a, a

Question Number : 128 Question Id : 140973628 Question Type : MCQ Option Shuffling : Yes
Correct Marks : 1 Wrong Marks : 0.25

Fill in the blanks with the most appropriate option.

_____ of these women committed _____ heinous crime?

Options :

1. ✘ Who, the

2. ✔ Which, this

3. ✘ The, our

4. ✘ Who, an

Question Number : 128 Question Id : 140973628 Question Type : MCQ Option Shuffling : Yes
Correct Marks : 1 Wrong Marks : 0.25

Fill in the blanks with the most appropriate option.

_____ of these women committed _____ heinous crime?

Options :

1. ✘ Who, the

2. ✓ Which, this

3. ✗ The, our

4. ✗ Who, an

Question Number : 129 Question Id : 140973629 Question Type : MCQ Option Shuffling : Yes
Correct Marks : 1 Wrong Marks : 0.25

Fill in the blank with the most appropriate option.

We have no one to blame but _____ for the mess our country is in.

Options :

1. ✗ theirs

2. ✓ ourselves

3. ✗ themselves

4. ✗ himself

Question Number : 129 Question Id : 140973629 Question Type : MCQ Option Shuffling : Yes
Correct Marks : 1 Wrong Marks : 0.25

Fill in the blank with the most appropriate option.

We have no one to blame but _____ for the mess our country is in.

Options :

1. ✗ theirs

2. ✓ ourselves

3. ✗ themselves

4. ✗ himself

Question Number : 130 Question Id : 140973630 Question Type : MCQ Option Shuffling : Yes
Correct Marks : 1 Wrong Marks : 0.25

Fill in the blanks with the most appropriate option.

_____ can leave the room until _____ say so.

Options :

1. ✓ Nobody, I

2. ✗ He, they

3. ✗ Themselves, her

4. ✗ Myself, her

Question Number : 130 Question Id : 140973630 Question Type : MCQ Option Shuffling : Yes
Correct Marks : 1 Wrong Marks : 0.25

Fill in the blanks with the most appropriate option.

_____ can leave the room until _____ say so.

Options :

1. ✓ Nobody, I

2. ✘ He, they

3. ✘ Themselves, her

4. ✘ Myself, her

Question Number : 131 Question Id : 140973631 Question Type : MCQ Option Shuffling : Yes

Correct Marks : 1 Wrong Marks : 0.25

Fill in the blank with the most appropriate option.

The recently announced Pradhan Mantri Kisan Samman Nidhi (PM-KISAN) in the _____ Budget 2019 was well predicted by many political analysts and economists alike.

Options :

1. ✘ New

2. ✘ Half-time

3. ✔ Interim

4. ✘ Unfinished

Question Number : 131 Question Id : 140973631 Question Type : MCQ Option Shuffling : Yes

Correct Marks : 1 Wrong Marks : 0.25

Fill in the blank with the most appropriate option.

The recently announced Pradhan Mantri Kisan Samman Nidhi (PM-KISAN) in the _____ Budget 2019 was well predicted by many political analysts and economists alike.

Options :

1. ✘ New

2. ✘ Half-time

3. ✔ Interim

4. ✘ Unfinished

Question Number : 132 Question Id : 140973632 Question Type : MCQ Option Shuffling : Yes

Correct Marks : 1 Wrong Marks : 0.25

Fill in the blank with the most appropriate option.

I do not know the entire story about the scam, but am willing to give him the _____ of doubt for the time being

Options :

1. ✘ lead

2. ✔ benefit

3. ✘ belief

4. ✘ side

Question Number : 132 Question Id : 140973632 Question Type : MCQ Option Shuffling : Yes

Correct Marks : 1 Wrong Marks : 0.25

Fill in the blank with the most appropriate option.

I do not know the entire story about the scam, but am willing to give him the _____ of doubt for the time being

Options :

1. ✘ lead

2. ✓ benefit

3. ✗ belief

4. ✗ side

Question Number : 133 Question Id : 140973633 Question Type : MCQ Option Shuffling : Yes

Correct Marks : 1 Wrong Marks : 0.25

The sentences of a paragraph are given below. While the first and the last sentences (S1 and S6) are in correct order, the sentences in between are jumbled up. Arrange the sentences in the right order to form a meaningful and coherent paragraph.

S1. When Suni's latest film, 'Bazaar', released last week, people started receiving the film on messaging apps.

P. The team approached the cyber-crime cops, but when no headway was made there, they roped in experts in Hyderabad to tackle the issue.

Q. Sent as a forward, it didn't require links to any web pages, as the pirated copy could be downloaded directly onto one's mobile phone.

R. The team succeeded in installing a special anti-piracy software which freezes the app and hangs the phone of any illegal user.

S. In just a day, Suni says that the pirated copy received over one lakh views.

S6. Suni's advice to other filmmakers is to take measures, such as getting experts in for anti-piracy programmes, as soon as they get wind of their film being pirated.

Options :

1. ✓ S, Q, P, R

2. ✗ R, S, Q, P

3. ✗ P, Q, R, S

4. ✘ Q, S, R, P

Question Number : 133 Question Id : 140973633 Question Type : MCQ Option Shuffling : Yes

Correct Marks : 1 Wrong Marks : 0.25

The sentences of a paragraph are given below. While the first and the last sentences (S1 and S6) are in correct order, the sentences in between are jumbled up. Arrange the sentences in the right order to form a meaningful and coherent paragraph.

S1. When Suni's latest film, 'Bazaar', released last week, people started receiving the film on messaging apps.

P. The team approached the cyber-crime cops, but when no headway was made there, they roped in experts in Hyderabad to tackle the issue.

Q. Sent as a forward, it didn't require links to any web pages, as the pirated copy could be downloaded directly onto one's mobile phone.

R. The team succeeded in installing a special anti-piracy software which freezes the app and hangs the phone of any illegal user.

S. In just a day, Suni says that the pirated copy received over one lakh views.

S6. Suni's advice to other filmmakers is to take measures, such as getting experts in for anti-piracy programmes, as soon as they get wind of their film being pirated.

Options :

1. ✔ S, Q, P, R

2. ✘ R, S, Q, P

3. ✘ P, Q, R, S

4. ✘ Q, S, R, P

Question Number : 134 Question Id : 140973634 Question Type : MCQ Option Shuffling : Yes

Correct Marks : 1 Wrong Marks : 0.25

The sentences of a paragraph are given below. While the first and the last sentences (S1 and S6) are in correct order, the sentences in between are jumbled up. Arrange the sentences in the right order to form a meaningful and coherent paragraph.

S1. Andhra Pradesh Chief Minister Chandrababu Naidu on Tuesday made a prophecy that the Trinamool Congress will win all the 42 Lok Sabha seats in West Bengal in the parliamentary election later this year, as a reaction to the action taken by the Centre “to create disturbances” in the state.

P. “How to weaken her, they are watching...not only her, but all opposition parties,” he said.

Q. Naidu described his West Bengal counterpart as the “architect” of the federal front against the BJP-led NDA. “She is the architect of the federal front. She is the main pillar of the opposition,” Naidu said.

R. “Mamata Banerjee is very good at tackling not only political issues but also development issues.”

S. He said, “Democracy is in danger today...It is worse than Emergency.”

S6. Naidu further said that he visited Banerjee “on behalf of all 23 parties”, a reference to an apparent coalition of regional parties that are opposing the BJP. He said, “We will fight together. We are united, all 23 parties. We will discuss and take a decision together.”

Options :

1. ✘ R, P, S, Q

2. ✘ Q, S, P, R

3. ✘ P, S, R, Q

4. ✔ S, Q, R, P

Question Number : 134 Question Id : 140973634 Question Type : MCQ Option Shuffling : Yes

Correct Marks : 1 Wrong Marks : 0.25

The sentences of a paragraph are given below. While the first and the last sentences (S1 and S6) are in correct order, the sentences in between are jumbled up. Arrange the sentences in the right order to form a meaningful and coherent paragraph.

S1. Andhra Pradesh Chief Minister, Chandrababu Naidu, made a prophecy on Tuesday that the Trinamool Congress will win all the 42 Lok Sabha seats in West Bengal in the parliamentary election later this year, as a reaction to the action taken by the Centre “to create disturbances” in the state.

P. “How to weaken her, they are watching...not only her, but all opposition parties,” he said.

Q. Naidu described his West Bengal counterpart as the “architect” of the federal front against the BJP-led NDA. “She is the architect of the federal front. She is the main pillar of the opposition,” Naidu said.

R. “Mamata Banerjee is very good at tackling not only political issues but also development issues.”

S. He said, “Democracy is in danger today...It is worse than Emergency.”

S6. Naidu further said that he visited Banerjee “on behalf of all 23 parties”, a reference to an apparent coalition of regional parties that are opposing the BJP. He said, “We will fight together. We are united, all 23 parties. We will discuss and take a decision together.”

Options :

1. ✘ R, P, S, Q

2. ✘ Q, S, P, R

3. ✘ P, S, R, Q

4. ✔ S, Q, R, P

Question Number : 135 Question Id : 140973635 Question Type : MCQ Option Shuffling : Yes
Correct Marks : 1 Wrong Marks : 0.25

Select the most appropriate synonym of the given word.

ELIXIR

Options :

1. ✘ Circle

2. ✔ Potion

3. ✘ Pudding

4. ✘ Secret

Question Number : 135 Question Id : 140973635 Question Type : MCQ Option Shuffling : Yes

Correct Marks : 1 Wrong Marks : 0.25

Select the most appropriate synonym of the given word.

ELIXIR

Options :

1. ✘ Circle

2. ✔ Potion

3. ✘ Pudding

4. ✘ Secret

Question Number : 136 Question Id : 140973636 Question Type : MCQ Option Shuffling : Yes

Correct Marks : 1 Wrong Marks : 0.25

Select the most appropriate ANTONYM of the given word.

MIRACLE

Options :

1. ✘ Fantastic

2. ✔ Expectation

3. ✘ Accident

4. ✘ Absurdity

Question Number : 136 Question Id : 140973636 Question Type : MCQ Option Shuffling : Yes

Correct Marks : 1 Wrong Marks : 0.25

Select the most appropriate ANTONYM of the given word.

MIRACLE

Options :

1. ✘ Fantastic

2. ✔ Expectation

3. ✘ Accident

4. ✘ Absurdity

Question Number : 137 Question Id : 140973637 Question Type : MCQ Option Shuffling : Yes

Correct Marks : 1 Wrong Marks : 0.25

Fill in the blank with the most appropriate option.

The customs _____ Manipur are quaint and esoteric.

Options :

1. ✘ to

2. ✘ for

3. ✔ of

4. ✘ on

Question Number : 137 Question Id : 140973637 Question Type : MCQ Option Shuffling : Yes

Correct Marks : 1 Wrong Marks : 0.25

Fill in the blank with the most appropriate option.

The customs _____ Manipur are quaint and esoteric.

Options :

1. ✘ to

2. ✘ for

3. ✔ of

4. ✘ on

Question Number : 138 Question Id : 140973638 Question Type : MCQ Option Shuffling : Yes

Correct Marks : 1 Wrong Marks : 0.25

Select the option that uses the correct singular form of the word.

Options :

1. ✘ Women

2. ✖ Children

3. ✖ Men

4. ✔ Her

Question Number : 138 Question Id : 140973638 Question Type : MCQ Option Shuffling : Yes

Correct Marks : 1 Wrong Marks : 0.25

Select the option that uses the correct singular form of the word.

Options :

1. ✖ Women

2. ✖ Children

3. ✖ Men

4. ✔ Her

Question Number : 139 Question Id : 140973639 Question Type : MCQ Option Shuffling : Yes

Correct Marks : 1 Wrong Marks : 0.25

Select the option that uses the correct plural form of the word.

Options :

1. ✖ Frame

2. ✖ Window

3. ✔ Porches

4. ✘ Lintel

Question Number : 139 Question Id : 140973639 Question Type : MCQ Option Shuffling : Yes
Correct Marks : 1 Wrong Marks : 0.25

Select the option that gives the correct plural form of the word.

Options :

1. ✘ Frame

2. ✘ Window

3. ✔ Porches

4. ✘ Lintel

Question Number : 140 Question Id : 140973640 Question Type : MCQ Option Shuffling : Yes
Correct Marks : 1 Wrong Marks : 0.25

Select the grammatically correct sentence from the given options.

Options :

1. ✔ The patient could not bear the pain in her chest anymore.

2. ✘ The patient could not bearing the pain in her chest anymore.

3. ✘ The patient could not bore the pain in her chest any more.

4. ✘ The patient could not bears pain in her chest anymore.

Question Number : 140 Question Id : 140973640 Question Type : MCQ Option Shuffling : Yes
Correct Marks : 1 Wrong Marks : 0.25

Select the grammatically correct sentence from the given options.

Options :

1. ✓ The patient could not bear the pain in her chest anymore.
2. ✗ The patient could not bearing the pain in her chest anymore.
3. ✗ The patient could not bore the pain in her chest any more.
4. ✗ The patient could not bears pain in her chest anymore.

General English2

Group Number :	8
Group Id :	14097313
Group Maximum Duration :	0
Group Minimum Duration :	0
Show Attended Group? :	No
Edit Attended Group? :	No
Break time:	0
Group Marks:	20
Is this Group for Examiner?:	No
Revisit allowed for group Instructions? :	Yes
Maximum Instruction Time:	0
Minimum Instruction Time:	0

General English2

Section Id :	14097328
Section Number :	1
Section type :	Online
Mandatory or Optional:	Mandatory
Number of Questions:	20
Number of Questions to be attempted:	20
Section Marks:	20

Sub-Section Id: 14097328
Question Shuffling Allowed : Yes

Question Number : 141 Question Id : 140973641 Question Type : MCQ Option Shuffling : Yes
Correct Marks : 1 Wrong Marks : 0.25

Select the grammatically correct sentence from the given options.

Options :

1. ✘ I have never feel as vulnerable as I do now.

2. ✔ I have never felt as vulnerable as I do now.

3. ✘ I has never feel as vulnerable as I do now.

4. ✘ I have never felt as vulnerable as I does now.

Question Number : 141 Question Id : 140973641 Question Type : MCQ Option Shuffling : Yes
Correct Marks : 1 Wrong Marks : 0.25

Select the grammatically correct sentence from the given options.

Options :

1. ✘ I have never feel as vulnerable as I do now.

2. ✔ I have never felt as vulnerable as I do now.

3. ✘ I has never feel as vulnerable as I do now.

4. ✘ I have never felt as vulnerable as I does now.

Question Number : 142 Question Id : 140973642 Question Type : MCQ Option Shuffling : Yes
Correct Marks : 1 Wrong Marks : 0.25

Select the option that can be used as a one-word substitute for the given group of words/phrase.

‘Something that is easily broken’

Options :

1. ✘ Mobile

2. ✔ Fragile

3. ✘ Relations

4. ✘ Protection

Question Number : 142 Question Id : 140973642 Question Type : MCQ Option Shuffling : Yes

Correct Marks : 1 Wrong Marks : 0.25

Select the option that can be used as a one-word substitute for the given group of words/phrase.

‘Something that is easily broken’

Options :

1. ✘ Mobile

2. ✔ Fragile

3. ✘ Relations

4. ✘ Protection

Question Number : 143 Question Id : 140973643 Question Type : MCQ Option Shuffling : Yes

Correct Marks : 1 Wrong Marks : 0.25

Select the option that can be used as a one-word substitute for the given group of words/phrase.

'Fear of confined places'

Options :

1. ✘ Acrophobia
2. ✔ Claustrophobia
3. ✘ Aerophobia
4. ✘ Hydrophobia

Question Number : 143 Question Id : 140973643 Question Type : MCQ Option Shuffling : Yes

Correct Marks : 1 Wrong Marks : 0.25

Select the option that can be used as a one-word substitute for the given group of words/phrase.

'Fear of confined places'

Options :

1. ✘ Acrophobia
2. ✔ Claustrophobia
3. ✘ Aerophobia
4. ✘ Hydrophobia

Question Number : 144 Question Id : 140973644 Question Type : MCQ Option Shuffling : Yes

Correct Marks : 1 Wrong Marks : 0.25

Fill in the blanks with the most appropriate option.

The Chief Minister shouted _____ her cabinet ministers, leading _____ en masse resignations.

Options :

1. ✘ the, in

2. ✘ No word required, at

3. ✔ at, to

4. ✘ the, at

Question Number : 144 Question Id : 140973644 Question Type : MCQ Option Shuffling : Yes

Correct Marks : 1 Wrong Marks : 0.25

Fill in the blanks with the most appropriate option.

The Chief Minister shouted _____ her cabinet ministers, leading _____ en masse resignations.

Options :

1. ✘ the, in

2. ✘ No word required, at

3. ✔ at, to

4. ✘ the, at

Question Number : 145 Question Id : 140973645 Question Type : MCQ Option Shuffling : Yes

Correct Marks : 1 Wrong Marks : 0.25

Fill in the blank with the most appropriate option.

Our mistake was to _____ follow an autocratic leader.

Options :

1. ✘ feeling

2. ✘ wily

3. ✔ blindly

4. ✘ foolish

Question Number : 145 Question Id : 140973645 Question Type : MCQ Option Shuffling : Yes

Correct Marks : 1 Wrong Marks : 0.25

Fill in the blank with the most appropriate option.

Our mistake was to _____ follow an autocratic leader.

Options :

1. ✘ feeling

2. ✘ wily

3. ✔ blindly

4. ✘ foolish

Question Number : 146 Question Id : 140973646 Question Type : MCQ Option Shuffling : Yes

Correct Marks : 1 Wrong Marks : 0.25

Fill in the blank with the most appropriate option.

The _____ painter went missing from his yacht last night.

Options :

1. ✘ grumble

2. ✔ iconic

3. ✘ smilingly

4. ✘ suspect

Question Number : 146 Question Id : 140973646 Question Type : MCQ Option Shuffling : Yes

Correct Marks : 1 Wrong Marks : 0.25

Fill in the blank with the most appropriate option.

The _____ painter went missing from his yacht last night.

Options :

1. ✘ grumble

2. ✔ iconic

3. ✘ smilingly

4. ✘ suspect

Question Number : 147 Question Id : 140973647 Question Type : MCQ Option Shuffling : Yes

Correct Marks : 1 Wrong Marks : 0.25

Fill in the blank with the most appropriate option.

I should have asked her when she _____ me last night.

Options :

1. ✘ call

2. ✘ calling

3. ✔ called

4. ✘ calls

Question Number : 147 Question Id : 140973647 Question Type : MCQ Option Shuffling : Yes

Correct Marks : 1 Wrong Marks : 0.25

Fill in the blank with the most appropriate option.

I should have asked her when she _____ me last night.

Options :

1. ✘ call

2. ✘ calling

3. ✔ called

4. ✘ calls

Question Number : 148 Question Id : 140973648 Question Type : MCQ Option Shuffling : Yes

Correct Marks : 1 Wrong Marks : 0.25

Fill in the blank with the most appropriate preposition.

How can you identify a criminal _____ a police line-up?

Options :

1. ✘ on

2. ✘ into

3. ✔ in

4. ✘ with

Question Number : 148 Question Id : 140973648 Question Type : MCQ Option Shuffling : Yes

Correct Marks : 1 Wrong Marks : 0.25

Fill in the blank with the most appropriate preposition.

How can you identify a criminal _____ a police line-up?

Options :

1. ✘ on

2. ✘ into

3. ✔ in

4. ✘ with

Question Number : 149 Question Id : 140973649 Question Type : MCQ Option Shuffling : Yes

Correct Marks : 1 Wrong Marks : 0.25

Fill in the blanks with the most appropriate pronouns.

_____ is there to help me choose _____ dress I should wear for the wedding?

Options :

1. ✘ Their, who
2. ✔ Who, which
3. ✘ For, ours
4. ✘ Whom, who

Question Number : 149 Question Id : 140973649 Question Type : MCQ Option Shuffling : Yes

Correct Marks : 1 Wrong Marks : 0.25

Fill in the blanks with the most appropriate pronouns.

_____ is there to help me choose _____ dress I should wear for the wedding?

Options :

1. ✘ Their, who
2. ✔ Who, which
3. ✘ For, ours
4. ✘ Whom, who

Question Number : 150 Question Id : 140973650 Question Type : MCQ Option Shuffling : Yes

Correct Marks : 1 Wrong Marks : 0.25

Fill in the blanks with the most appropriate option.

The couple _____ their extended family attended the function, _____ their foster son stayed away.

Note: For this question, discrepancy is found in question/answer. So, this question is ignored for all candidates.

Options :

1. and, but

2. because, and

3. or, but

4. but, is

Question Number : 150 Question Id : 140973650 Question Type : MCQ Option Shuffling : Yes

Correct Marks : 1 Wrong Marks : 0.25

Fill in the blanks with the most appropriate option.

The couple _____ and their extended family attended the function, _____ their foster son stayed away.

Note: For this question, discrepancy is found in question/answer. So, this question is ignored for all candidates.

Options :

1. and, but

2. because, and

3. or, but

4. but, is

Question Number : 151 Question Id : 140973651 Question Type : MCQ Option Shuffling : Yes

Correct Marks : 1 Wrong Marks : 0.25

Identify the word that is INCORRECTLY spelt in the sentence below:

“The US is withdrawing from the IMF Treaty”, said Donald Trump, to the dismay of many of his peers.

Options :

1. ✘ peers

2. ✘ dismay

3. ✔ withdrawing

4. ✘ treaty

Question Number : 151 Question Id : 140973651 Question Type : MCQ Option Shuffling : Yes

Correct Marks : 1 Wrong Marks : 0.25

Identify the word that is INCORRECTLY spelt in the sentence below:

“The US is withdrawing from the IMF Treaty”, said Donald Trump, to the dismay of many of his peers.

Options :

1. ✘ peers

2. ✘ dismay

3. ✔ withdrawing

4. ✘ treaty

Question Number : 152 Question Id : 140973652 Question Type : MCQ Option Shuffling : Yes

Correct Marks : 1 Wrong Marks : 0.25

Fill in the blank with the most appropriate option.

We _____ by the side of the volunteers fighting for justice.

Options :

1. ✘ will

2. ✔ stayed

3. ✘ could

4. ✘ won't

Question Number : 152 Question Id : 140973652 Question Type : MCQ Option Shuffling : Yes

Correct Marks : 1 Wrong Marks : 0.25

Fill in the blank with the most appropriate option.

We _____ by the side of the volunteers fighting for justice.

Options :

1. ✘ will

2. ✔ stayed

3. ✘ could

4. ✘ won't

Question Number : 153 Question Id : 140973653 Question Type : MCQ Option Shuffling : Yes

Correct Marks : 1 Wrong Marks : 0.25

Select the most appropriate synonym of the given word.

PROUD

Options :

1. ✘ Humble

2. ✔ Conceited

3. ✘ Lowly

4. ✘ Allies

Question Number : 153 Question Id : 140973653 Question Type : MCQ Option Shuffling : Yes

Correct Marks : 1 Wrong Marks : 0.25

Select the most appropriate synonym of the given word.

PROUD

Options :

1. ✘ Humble

2. ✔ Conceited

3. ✘ Lowly

4. ✘ Allies

Question Number : 154 Question Id : 140973654 Question Type : MCQ Option Shuffling : Yes

Correct Marks : 1 Wrong Marks : 0.25

Fill in the blank with the most appropriate option.

Our _____ have fought with unmatched valour through this long and bloody war.

Options :

1. ✘ mind

2. ✘ weapons

3. ✔ soldiers

4. ✘ willpower

Question Number : 154 Question Id : 140973654 Question Type : MCQ Option Shuffling : Yes

Correct Marks : 1 Wrong Marks : 0.25

Fill in the blank with the most appropriate option.

Our _____ have fought with unmatched valour through this long and bloody war.

Options :

1. ✘ mind

2. ✘ weapons

3. ✔ soldiers

4. ✘ willpower

Question Number : 155 Question Id : 140973655 Question Type : MCQ Option Shuffling : Yes

Correct Marks : 1 Wrong Marks : 0.25

Select the most appropriate ANTONYM of the given word.

ATTACK

Options :

1. ✘ Beset

2. ✘ Charge

3. ✔ Defend

4. ✘ Survive

Question Number : 155 Question Id : 140973655 Question Type : MCQ Option Shuffling : Yes

Correct Marks : 1 Wrong Marks : 0.25

Select the most appropriate ANTONYM of the given word.

ATTACK

Options :

1. ✘ Beset

2. ✘ Charge

3. ✔ Defend

4. ✘ Survive

Question Number : 156 Question Id : 140973656 Question Type : MCQ Option Shuffling : Yes

Correct Marks : 1 Wrong Marks : 0.25

Select the option that can be used as a one-word substitute for the given group of words/phrase.

'Pitching into'

Options :

1. ✘ Provoking
2. ✔ Criticising
3. ✘ Maltreating
4. ✘ Exonerating

Question Number : 156 Question Id : 140973656 Question Type : MCQ Option Shuffling : Yes

Correct Marks : 1 Wrong Marks : 0.25

Select the option that can be used as a one-word substitute for the given group of words/phrase.

'Pitching into'

Options :

1. ✘ Provoking
2. ✔ Criticising
3. ✘ Maltreating
4. ✘ Exonerating

Question Number : 157 Question Id : 140973657 Question Type : MCQ Option Shuffling : Yes

Correct Marks : 1 Wrong Marks : 0.25

Choose the option that has used the highlighted word correctly in the sentence.

Options :

1. ✘ I **appraised** my boss of the situation.
2. ✘ **Averse** weather conditions in winter made the people stay indoors.
3. ✔ He was unable to give a **credible** explanation for his behaviour.
4. ✘ The rebels were **interred** in the military jail.

Question Number : 157 Question Id : 140973657 Question Type : MCQ Option Shuffling : Yes
Correct Marks : 1 Wrong Marks : 0.25

Choose the option that has used the highlighted word correctly in the sentence.

Options :

1. ✘ I **appraised** my boss of the situation.
2. ✘ **Averse** weather conditions in winter made the people stay indoors.
3. ✔ He was unable to give a **credible** explanation for his behaviour.
4. ✘ The rebels were **interred** in the military jail.

Question Number : 158 Question Id : 140973658 Question Type : MCQ Option Shuffling : Yes
Correct Marks : 1 Wrong Marks : 0.25

Identify the meaning of the following idiom.

‘To hit the sack’

Options :

1. ✘ To do or say something exactly right

2. ✓ To go to bed

3. ✘ To join a popular trend or activity

4. ✘ To keep something away

Question Number : 158 Question Id : 140973658 Question Type : MCQ Option Shuffling : Yes

Correct Marks : 1 Wrong Marks : 0.25

Identify the meaning of the following idiom.

‘To hit the sack’

Options :

1. ✘ To do or say something exactly right

2. ✓ To go to bed

3. ✘ To join a popular trend or activity

4. ✘ To keep something away

Question Number : 159 Question Id : 140973659 Question Type : MCQ Option Shuffling : Yes

Correct Marks : 1 Wrong Marks : 0.25

Choose the option that has used the highlighted word correctly in the sentence.

Options :

1. ✘ She **flouted** her new dress at the wedding party.

2. ✓ She **honed** her writing skills.

3. ✘ I covered my nose when I walked past the **noisy** dump.

4. ✘ His French was **practicable** in his job, which required frequent trips to Paris.

Question Number : 159 Question Id : 140973659 Question Type : MCQ Option Shuffling : Yes

Correct Marks : 1 Wrong Marks : 0.25

Choose the option that has used the highlighted word correctly in the sentence.

Options :

1. ✘ She **flouted** her new dress at the wedding party.

2. ✔ She **honed** her writing skills.

3. ✘ I covered my nose when I walked past the **noisy** dump.

4. ✘

His French was **practicable** in his job, which required frequent trips to Paris.

Question Number : 160 Question Id : 140973660 Question Type : MCQ Option Shuffling : Yes

Correct Marks : 1 Wrong Marks : 0.25

Identify the correct meaning of the highlighted idiom in the given sentence.

By working part-time two days a week and looking after her kids, Sarika managed to **get the best of both worlds**.

Options :

1. ✘ To solve two problems at once

2. ✘ To do something that is very easy

3. ✓ To enjoy two different opportunities at the same time

4. ✘ To do something badly or cheaply

Question Number : 160 Question Id : 140973660 Question Type : MCQ Option Shuffling : Yes
Correct Marks : 1 Wrong Marks : 0.25

Identify the correct meaning of the highlighted idiom in the given sentence.

By working part-time two days a week and looking after her kids, Sarika managed to get the best of both worlds.

Options :

1. ✘ To solve two problems at once.

2. ✘ To do something that is very easy

3. ✓ To enjoy two different opportunities at the same time

4. ✘ To do something badly or cheaply

General Hindi1

Group Number :	9
Group Id :	14097314
Group Maximum Duration :	0
Group Minimum Duration :	0
Show Attended Group? :	No
Edit Attended Group? :	No
Break time:	0
Group Marks:	20
Is this Group for Examiner?:	No
Revisit allowed for group Instructions? :	Yes
Maximum Instruction Time:	0
Minimum Instruction Time:	0

General Hindi1

Section Id :	14097329
Section Number :	1
Section type :	Online
Mandatory or Optional:	Mandatory
Number of Questions:	20
Number of Questions to be attempted:	20
Section Marks:	20

Sub-Section Number:	1
Sub-Section Id:	14097329
Question Shuffling Allowed :	Yes

Question Number : 161 Question Id : 140973661 Question Type : MCQ Option Shuffling : Yes
Correct Marks : 1 Wrong Marks : 0.25

निम्न में से कौन सा शब्द तद्भव है?

Options :

1. ✖ पत्र

2. ✖ प्रस्तर

3. ✖ पुत्रवधू

4. ✔ पड़ोस

Question Number : 161 Question Id : 140973661 Question Type : MCQ Option Shuffling : Yes
Correct Marks : 1 Wrong Marks : 0.25

निम्न में से कौन सा शब्द तद्भव है?

Options :

1. ✖ पत्र

2. ✖ प्रस्तर

3. ✘ पुत्रवधू

4. ✔ पड़ोस

Question Number : 162 Question Id : 140973662 Question Type : MCQ Option Shuffling : Yes
Correct Marks : 1 Wrong Marks : 0.25

निम्न में से कौन सा शब्द तद्भव नहीं है?

Options :

1. ✘ पन्ना

2. ✘ परख

3. ✔ परिधान

4. ✘ पलंग

Question Number : 162 Question Id : 140973662 Question Type : MCQ Option Shuffling : Yes
Correct Marks : 1 Wrong Marks : 0.25

निम्न में से कौन सा शब्द तद्भव नहीं है?

Options :

1. ✘ पन्ना

2. ✘ परख

3. ✔ परिधान

4. ✖ पलंग

Question Number : 163 Question Id : 140973663 Question Type : MCQ Option Shuffling : Yes
Correct Marks : 1 Wrong Marks : 0.25

निम्न में से कौन सा शब्द तत्सम है?

Options :

1. ✔ स्पर्श

2. ✖ सच

3. ✖ सपना

4. ✖ समझ

Question Number : 163 Question Id : 140973663 Question Type : MCQ Option Shuffling : Yes
Correct Marks : 1 Wrong Marks : 0.25

निम्न में से कौन सा शब्द तत्सम है?

Options :

1. ✔ स्पर्श

2. ✖ सच

3. ✖ सपना

4. ✖ समझ

Question Number : 164 Question Id : 140973664 Question Type : MCQ Option Shuffling : Yes
Correct Marks : 1 Wrong Marks : 0.25

निम्न में से कौन सा शब्द तत्सम नहीं है?

Options :

1. ✖ पल्लव

2. ✔ पहर

3. ✖ पटल

4. ✖ प्रभुत्व

Question Number : 164 Question Id : 140973664 Question Type : MCQ Option Shuffling : Yes

Correct Marks : 1 Wrong Marks : 0.25

निम्न में से कौन सा शब्द तत्सम नहीं है?

Options :

1. ✖ पल्लव

2. ✔ पहर

3. ✖ पटल

4. ✖ प्रभुत्व

Question Number : 165 Question Id : 140973665 Question Type : MCQ Option Shuffling : Yes

Correct Marks : 1 Wrong Marks : 0.25

निम्न में से कौन सा शब्द अर्द्धतत्सम है?

Options :

1. ✖ कार्य

2. ✓ कारज

3. ✘ काज

4. ✘ काम

Question Number : 165 Question Id : 140973665 Question Type : MCQ Option Shuffling : Yes
Correct Marks : 1 Wrong Marks : 0.25

निम्न में से कौन सा शब्द अर्द्धतत्सम है?

Options :

1. ✘ कार्य

2. ✓ कारज

3. ✘ काज

4. ✘ काम

Question Number : 166 Question Id : 140973666 Question Type : MCQ Option Shuffling : Yes
Correct Marks : 1 Wrong Marks : 0.25

निम्न में से कौन सा शब्द देशज है?

Options :

1. ✘ प्रिय

2. ✘ मध्य

3. ✓ डिबिया

4. ✘ मयूर

Question Number : 166 Question Id : 140973666 Question Type : MCQ Option Shuffling : Yes
Correct Marks : 1 Wrong Marks : 0.25

निम्न में से कौन सा शब्द देशज है?

Options :

1. ✘ प्रिय

2. ✘ मध्य

3. ✓ डिबिया

4. ✘ मयूर

Question Number : 167 Question Id : 140973667 Question Type : MCQ Option Shuffling : Yes
Correct Marks : 1 Wrong Marks : 0.25

निम्न में से कौन सा शब्द विदेशी है?

Options :

1. ✓ थियेटर

2. ✘ घोटक

3. ✘ हरिद्रा

4. ✖ भक्त

Question Number : 167 Question Id : 140973667 Question Type : MCQ Option Shuffling : Yes
Correct Marks : 1 Wrong Marks : 0.25

निम्न में से कौन सा शब्द विदेशी है?

Options :

1. ✔ थियेटर

2. ✖ घोटक

3. ✖ हरिद्रा

4. ✖ भक्त

Question Number : 168 Question Id : 140973668 Question Type : MCQ Option Shuffling : Yes
Correct Marks : 1 Wrong Marks : 0.25

निम्न में से कौन सा शब्द विदेशी नहीं है?

Options :

1. ✖ लालटेन

2. ✖ आलपीन

3. ✖ ताम्बाकू

4. ✔ कटोरा

Question Number : 168 Question Id : 140973668 Question Type : MCQ Option Shuffling : Yes
Correct Marks : 1 Wrong Marks : 0.25

निम्न में से कौन सा शब्द विदेशी नहीं है?

Options :

1. ✖ लालटेन

2. ✖ आलपीन

3. ✖ ताम्बाकू

4. ✔ कटोरा

Question Number : 169 Question Id : 140973669 Question Type : MCQ Option Shuffling : Yes

Correct Marks : 1 Wrong Marks : 0.25

'वधूत्सव' का संधि विच्छेद होगा:

Options :

1. ✔ वधू + उत्सव

2. ✖ वधू + ऊत्सव

3. ✖ वधु + उत्सव

4. ✖ वधु + ऊत्सव

Question Number : 169 Question Id : 140973669 Question Type : MCQ Option Shuffling : Yes

Correct Marks : 1 Wrong Marks : 0.25

'वधूत्सव' का संधि विच्छेद होगा:

Options :

1. ✓ वधू + उत्सव

2. ✘ वधू + उत्सव

3. ✘ वधु + उत्सव

4. ✘ वधु + उत्सव

Question Number : 170 Question Id : 140973670 Question Type : MCQ Option Shuffling : Yes

Correct Marks : 1 Wrong Marks : 0.25

‘कलाप्रवीण’ में कौन सा समास है?

Options :

1. ✘ अव्ययी भाव

2. ✓ तत्पुरुष

3. ✘ द्वंद्व

4. ✘ द्विगु

Question Number : 170 Question Id : 140973670 Question Type : MCQ Option Shuffling : Yes

Correct Marks : 1 Wrong Marks : 0.25

‘कलाप्रवीण’ में कौन सा समास है?

Options :

1. ✘ अव्ययी भाव

2. ✓ तत्पुरुष

3. ✘ दवंदव

4. ✘ दविगु

Question Number : 171 Question Id : 140973671 Question Type : MCQ Option Shuffling : Yes
Correct Marks : 1 Wrong Marks : 0.25

‘लम्बाई’ किस प्रकार की संज्ञा है?

Options :

1. ✘ व्यक्तिवाचक

2. ✘ जातिवाचक

3. ✓ भाववाचक

4. ✘ पदार्थवाचक

Question Number : 171 Question Id : 140973671 Question Type : MCQ Option Shuffling : Yes
Correct Marks : 1 Wrong Marks : 0.25

‘लम्बाई’ किस प्रकार की संज्ञा है?

Options :

1. ✘ व्यक्तिवाचक

2. ✘ जातिवाचक

3. ✓ भाववाचक

4. ✘ पदार्थवाचक

Question Number : 172 Question Id : 140973672 Question Type : MCQ Option Shuffling : Yes
Correct Marks : 1 Wrong Marks : 0.25

‘सुडौल’ किस प्रकार का विशेषण है?

Options :

1. ✘ सार्वनामिक

2. ✘ संख्यावाचक

3. ✘ परिमाण बोधक

4. ✓ गुणवाचक

Question Number : 172 Question Id : 140973672 Question Type : MCQ Option Shuffling : Yes
Correct Marks : 1 Wrong Marks : 0.25

‘सुडौल’ किस प्रकार का विशेषण है?

Options :

1. ✘ सार्वनामिक

2. ✘ संख्यावाचक

3. ✘ परिमाण बोधक

4. ✓ गुणवाचक

Question Number : 173 Question Id : 140973673 Question Type : MCQ Option Shuffling : Yes
Correct Marks : 1 Wrong Marks : 0.25

निम्न में से प्रेरणार्थक क्रिया कौन सी है?

Options :

1. ✘ जागना

2. ✓ उठाना

3. ✘ खाना

4. ✘ सोना

Question Number : 173 Question Id : 140973673 Question Type : MCQ Option Shuffling : Yes
Correct Marks : 1 Wrong Marks : 0.25

निम्न में से प्रेरणार्थक क्रिया कौन सी है?

Options :

1. ✘ जागना

2. ✓ उठाना

3. ✘ खाना

4. ✘ सोना

Question Number : 174 Question Id : 140973674 Question Type : MCQ Option Shuffling : Yes
Correct Marks : 1 Wrong Marks : 0.25

'आप' क्या है?

Options :

1. ✓ सर्वनाम

2. ✗ संज्ञा

3. ✗ विशेषण

4. ✗ अव्यय

Question Number : 174 Question Id : 140973674 Question Type : MCQ Option Shuffling : Yes

Correct Marks : 1 Wrong Marks : 0.25

'आप' क्या है?

Options :

1. ✓ सर्वनाम

2. ✗ संज्ञा

3. ✗ विशेषण

4. ✗ अव्यय

Question Number : 175 Question Id : 140973675 Question Type : MCQ Option Shuffling : Yes

Correct Marks : 1 Wrong Marks : 0.25

'परिवर्तन' में किस उपसर्ग का प्रयोग हुआ है?

Options :

1. ✗ प

2. ✖ पर

3. ✔ परि

4. ✖ वर्तन

Question Number : 175 Question Id : 140973675 Question Type : MCQ Option Shuffling : Yes
Correct Marks : 1 Wrong Marks : 0.25

‘परिवर्तन’ में किस उपसर्ग का प्रयोग हुआ है?

Options :

1. ✖ प

2. ✖ पर

3. ✔ परि

4. ✖ वर्तन

Question Number : 176 Question Id : 140973676 Question Type : MCQ Option Shuffling : Yes
Correct Marks : 1 Wrong Marks : 0.25

‘मिलनसार’ में किस प्रत्यय का प्रयोग हुआ है?

Options :

1. ✖ मि

2. ✖ र

3. ✖ सर

4. ✔ सार

Question Number : 176 Question Id : 140973676 Question Type : MCQ Option Shuffling : Yes
Correct Marks : 1 Wrong Marks : 0.25

‘मिलनसार’ में किस प्रत्यय का प्रयोग हुआ है?

Options :

1. ✖ मि

2. ✖ र

3. ✖ सर

4. ✔ सार

Question Number : 177 Question Id : 140973677 Question Type : MCQ Option Shuffling : Yes
Correct Marks : 1 Wrong Marks : 0.25

‘निशाचर’ किसका पर्यायवाची है?

Options :

1. ✖ चन्द्रमा

2. ✖ पक्षी

3. ✔ राक्षस

4. ✖ किरण

Question Number : 177 Question Id : 140973677 Question Type : MCQ Option Shuffling : Yes
Correct Marks : 1 Wrong Marks : 0.25

'निशाचर' किसका पर्यायवाची है?

Options :

1. ✖ चन्द्रमा

2. ✖ पक्षी

3. ✔ राक्षस

4. ✖ किरण

Question Number : 178 Question Id : 140973678 Question Type : MCQ Option Shuffling : Yes
Correct Marks : 1 Wrong Marks : 0.25

'अमृत' का पर्यायवाची है:

Options :

1. ✖ हय

2. ✔ पीयूष

3. ✖ दृग

4. ✖ नभ

Question Number : 178 Question Id : 140973678 Question Type : MCQ Option Shuffling : Yes
Correct Marks : 1 Wrong Marks : 0.25

'अमृत' का पर्यायवाची है:

Options :

1. ✖ हय

2. ✔ पीयूष

3. ✖ दृग

4. ✖ नभ

Question Number : 179 Question Id : 140973679 Question Type : MCQ Option Shuffling : Yes

Correct Marks : 1 Wrong Marks : 0.25

'तालाब' का पर्यायवाची नहीं है:

Options :

1. ✖ पुष्कर

2. ✖ सर

3. ✖ तड़ाग

4. ✔ शर

Question Number : 179 Question Id : 140973679 Question Type : MCQ Option Shuffling : Yes

Correct Marks : 1 Wrong Marks : 0.25

'तालाब' का पर्यायवाची नहीं है:

Options :

1. ✖ पुष्कर

2. ✖ सर

3. ✖ तड़ाग

4. ✔ शर

Question Number : 180 Question Id : 140973680 Question Type : MCQ Option Shuffling : Yes
Correct Marks : 1 Wrong Marks : 0.25

‘तुरंग’ किसका पर्यायवाची है?

Options :

1. ✔ घोड़ा

2. ✖ पहाड़

3. ✖ बादल

4. ✖ सूर्य

Question Number : 180 Question Id : 140973680 Question Type : MCQ Option Shuffling : Yes
Correct Marks : 1 Wrong Marks : 0.25

‘तुरंग’ किसका पर्यायवाची है?

Options :

1. ✔ घोड़ा

2. ✖ पहाड़

3. ✖ बादल

4. ✖ सूर्य

General Hindi2

Group Number :	10
Group Id :	14097315
Group Maximum Duration :	0
Group Minimum Duration :	120
Show Attended Group? :	No
Edit Attended Group? :	No
Break time:	0
Group Marks:	20
Is this Group for Examiner? :	No
Revisit allowed for group Instructions? :	Yes
Maximum Instruction Time:	0
Minimum Instruction Time:	0

General Hindi2

Section Id :	14097330
Section Number :	1
Section type :	Online
Mandatory or Optional:	Mandatory
Number of Questions:	20
Number of Questions to be attempted:	20
Section Marks:	20

Sub-Section Number:	1
Sub-Section Id:	14097330
Question Shuffling Allowed :	Yes

Question Number : 181 Question Id : 140973681 Question Type : MCQ Option Shuffling : Yes
Correct Marks : 1 Wrong Marks : 0.25

‘सूर्य’ का पर्यायवाची है:

Options :

1. ✖ सुधाकर

2. ✔ भास्कर

3. ✖ रजनीचर

4. ✖ निशाकर

Question Number : 181 Question Id : 140973681 Question Type : MCQ Option Shuffling : Yes

Correct Marks : 1 Wrong Marks : 0.25

‘सूर्य’ का पर्यायवाची है:

Options :

1. ✖ सुधाकर

2. ✔ भास्कर

3. ✖ रजनीचर

4. ✖ निशाकर

Question Number : 182 Question Id : 140973682 Question Type : MCQ Option Shuffling : Yes

Correct Marks : 1 Wrong Marks : 0.25

‘उत्कृष्ट’ का विलोम है:

Options :

1. ✖ कृष्ट

2. ✖ अवशिष्ट

3. ✔ निकृष्ट

4. ✖ प्रशिष्ट

Question Number : 182 Question Id : 140973682 Question Type : MCQ Option Shuffling : Yes

Correct Marks : 1 Wrong Marks : 0.25

‘उत्कृष्ट’ का विलोम है:

Options :

1. ✖ कृष्ट

2. ✖ अवशिष्ट

3. ✔ निकृष्ट

4. ✖ प्रशिष्ट

Question Number : 183 Question Id : 140973683 Question Type : MCQ Option Shuffling : Yes

Correct Marks : 1 Wrong Marks : 0.25

‘उत्कर्ष’ का विलोम होगा:

Options :

1. ✖ निष्कर्ष

2. ✖ आकर्षण

3. ✖ अपयश

4. ✔ अपकर्ष

Question Number : 183 Question Id : 140973683 Question Type : MCQ Option Shuffling : Yes
Correct Marks : 1 Wrong Marks : 0.25

‘उत्कर्ष’ का विलोम होगा:

Options :

1. ✖ निष्कर्ष

2. ✖ आकर्षण

3. ✖ अपयश

4. ✔ अपकर्ष

Question Number : 184 Question Id : 140973684 Question Type : MCQ Option Shuffling : Yes
Correct Marks : 1 Wrong Marks : 0.25

‘पतन’ किसका विलोम शब्द है?

Options :

1. ✔ उत्थान

2. ✖ विकास

3. ✖ प्रगति

4. ✖ क्रांति

Question Number : 184 Question Id : 140973684 Question Type : MCQ Option Shuffling : Yes
Correct Marks : 1 Wrong Marks : 0.25

'पतन' किसका विलोम शब्द है?

Options :

1. ✔ उत्थान

2. ✖ विकास

3. ✖ प्रगति

4. ✖ क्रांति

Question Number : 185 Question Id : 140973685 Question Type : MCQ Option Shuffling : Yes
Correct Marks : 1 Wrong Marks : 0.25

'तम' किसका विलोम शब्द होगा?

Options :

1. ✖ गगन

2. ✔ ज्योति

3. ✖ दिन

4. ✖ शीत

Question Number : 185 Question Id : 140973685 Question Type : MCQ Option Shuffling : Yes
Correct Marks : 1 Wrong Marks : 0.25

'तम' किसका विलोम शब्द होगा?

Options :

1. ✖ गगन

2. ✔ ज्योति

3. ✖ दिन

4. ✖ शीत

Question Number : 186 Question Id : 140973686 Question Type : MCQ Option Shuffling : Yes

Correct Marks : 1 Wrong Marks : 0.25

वाक्य के एक पद को सुनकर दूसरे पद को जानने की स्वाभाविक उत्कंठा कहलाती है:

Options :

1. ✔ आकांक्षा

2. ✖ योग्यता

3. ✖ क्रम

4. ✖ पदबंध

Question Number : 186 Question Id : 140973686 Question Type : MCQ Option Shuffling : Yes

Correct Marks : 1 Wrong Marks : 0.25

वाक्य के एक पद को सुनकर दूसरे पद को जानने की स्वाभाविक उत्कंठा कहलाती है:

Options :

1. ✓ आकांछा

2. ✗ योग्यता

3. ✗ क्रम

4. ✗ पदबंध

Question Number : 187 Question Id : 140973687 Question Type : MCQ Option Shuffling : Yes
Correct Marks : 1 Wrong Marks : 0.25

‘इतने धनी मानी व्यक्ति’ किस पदबंध का उदाहरण है?

Options :

1. ✗ विशेषण पदबंध

2. ✗ क्रिया पदबंध

3. ✓ संज्ञा पदबंध

4. ✗ सर्वनाम पदबंध

Question Number : 187 Question Id : 140973687 Question Type : MCQ Option Shuffling : Yes
Correct Marks : 1 Wrong Marks : 0.25

‘इतने धनी मानी व्यक्ति’ किस पदबंध का उदाहरण है?

Options :

1. ✗ विशेषण पदबंध

2. ✘ क्रिया पदबंध

3. ✔ संज्ञा पदबंध

4. ✘ सर्वनाम पदबंध

Question Number : 188 Question Id : 140973688 Question Type : MCQ Option Shuffling : Yes

Correct Marks : 1 Wrong Marks : 0.25

‘जब पानी बरसता है, तब मेढक बोलते हैं।’ वाक्य में ‘जब पानी बरसता है’ किस प्रकार का उपवाक्य है?

Options :

1. ✘ संज्ञा उपवाक्य

2. ✘ सर्वनाम उपवाक्य

3. ✘ विशेषण उपवाक्य

4. ✔ क्रिया विशेषण उपवाक्य

Question Number : 188 Question Id : 140973688 Question Type : MCQ Option Shuffling : Yes

Correct Marks : 1 Wrong Marks : 0.25

‘जब पानी बरसता है, तब मेढक बोलते हैं।’ वाक्य में ‘जब पानी बरसता है’ किस प्रकार का उपवाक्य है?

Options :

1. ✘ संज्ञा उपवाक्य

2. ✘ सर्वनाम उपवाक्य

3. ✖ विशेषण उपवाक्य

4. ✔ क्रिया विशेषण उपवाक्य

Question Number : 189 Question Id : 140973689 Question Type : MCQ Option Shuffling : Yes
Correct Marks : 1 Wrong Marks : 0.25

रचना के अनुसार वाक्य कितने प्रकार का होता है?

Options :

1. ✖ 2

2. ✔ 3

3. ✖ 5

4. ✖ 8

Question Number : 189 Question Id : 140973689 Question Type : MCQ Option Shuffling : Yes
Correct Marks : 1 Wrong Marks : 0.25

रचना के अनुसार वाक्य के कितने प्रकार होते हैं?

Options :

1. ✖ 2

2. ✔ 3

3. ✖ 5

4. ✖ 8

Question Number : 190 Question Id : 140973690 Question Type : MCQ Option Shuffling : Yes
Correct Marks : 1 Wrong Marks : 0.25

‘बिजली चकमती है।’ किस प्रकार का वाक्य है?

Options :

1. ✔ सरल वाक्य

2. ✖ मिश्र वाक्य

3. ✖ संयुक्त वाक्य

4. ✖ उपवाक्य

Question Number : 190 Question Id : 140973690 Question Type : MCQ Option Shuffling : Yes
Correct Marks : 1 Wrong Marks : 0.25

‘बिजली चकमती है।’ किस प्रकार का वाक्य है?

Options :

1. ✔ सरल वाक्य

2. ✖ मिश्र वाक्य

3. ✖ संयुक्त वाक्य

4. ✖ उपवाक्य

Question Number : 191 Question Id : 140973691 Question Type : MCQ Option Shuffling : Yes

Correct Marks : 1 Wrong Marks : 0.25

‘उसने खा लिया होगा।’ किस प्रकार का वाक्य है?

Options :

1. ✘ प्रश्नवाचक
2. ✘ विस्मय वाचक
3. ✔ संदेह वाचक
4. ✘ इच्छा वाचक

Question Number : 191 Question Id : 140973691 Question Type : MCQ Option Shuffling : Yes

Correct Marks : 1 Wrong Marks : 0.25

‘उसने खा लिया होगा।’ किस प्रकार का वाक्य है?

Options :

1. ✘ प्रश्नवाचक
2. ✘ विस्मय वाचक
3. ✔ संदेह वाचक
4. ✘ इच्छा वाचक

Question Number : 192 Question Id : 140973692 Question Type : MCQ Option Shuffling : Yes

Correct Marks : 1 Wrong Marks : 0.25

पदक्रम की दृष्टि से कौन सा वाक्य शुद्ध है?

Options :

1. ✖ वह दौड़ता है तेज।

2. ✖ वह दौड़ता तेज है।

3. ✖ तेज दौड़ता है वह।

4. ✔ वह तेज दौड़ता है।

Question Number : 192 Question Id : 140973692 Question Type : MCQ Option Shuffling : Yes

Correct Marks : 1 Wrong Marks : 0.25

पदक्रम की दृष्टि से कौन सा वाक्य शुद्ध है?

Options :

1. ✖ वह दौड़ता है तेज।

2. ✖ वह दौड़ता तेज है।

3. ✖ तेज दौड़ता है वह।

4. ✔ वह तेज दौड़ता है।

Question Number : 193 Question Id : 140973693 Question Type : MCQ Option Shuffling : Yes

Correct Marks : 1 Wrong Marks : 0.25

अन्वय की दृष्टि से कौन सा वाक्य शुद्ध है?

Options :

1. ✖ राजा-रानी आया।

2. ✓ राजा-रानी आए।

3. ✘ राजा-रानी आयी।

4. ✘ राजा-रानी आयीं।

Question Number : 193 Question Id : 140973693 Question Type : MCQ Option Shuffling : Yes
Correct Marks : 1 Wrong Marks : 0.25

अन्वय की दृष्टि से कौन सा वाक्य शुद्ध है?

Options :

1. ✘ राजा-रानी आया।

2. ✓ राजा-रानी आए।

3. ✘ राजा-रानी आयी।

4. ✘ राजा-रानी आयीं।

Question Number : 194 Question Id : 140973694 Question Type : MCQ Option Shuffling : Yes
Correct Marks : 1 Wrong Marks : 0.25

निम्न में से किस शब्द की वर्तनी शुद्ध है?

Options :

1. ✘ शासि

2. ✘ सम्राज्य

3. ✓ स्वास्थ्य

4. ✘ समीति

Question Number : 194 Question Id : 140973694 Question Type : MCQ Option Shuffling : Yes
Correct Marks : 1 Wrong Marks : 0.25

निम्न में से किस शब्द की वर्तनी शुद्ध है?

Options :

1. ✘ शासि

2. ✘ समाज्य

3. ✓ स्वास्थ्य

4. ✘ समीति

Question Number : 195 Question Id : 140973695 Question Type : MCQ Option Shuffling : Yes
Correct Marks : 1 Wrong Marks : 0.25

निम्न में से किस शब्द की वर्तनी अशुद्ध है?

Options :

1. ✓ स्थायीत्व

2. ✘ सम्मान

3. ✘ संवाद

4. ✖ शाप

Question Number : 195 Question Id : 140973695 Question Type : MCQ Option Shuffling : Yes
Correct Marks : 1 Wrong Marks : 0.25

निम्न में से किस शब्द की वर्तनी अशुद्ध है?

Options :

1. ✔ स्थायीत्व

2. ✖ सम्मान

3. ✖ संवाद

4. ✖ शाप

Question Number : 196 Question Id : 140973696 Question Type : MCQ Option Shuffling : Yes
Correct Marks : 1 Wrong Marks : 0.25

निम्न में से किस शब्द का प्रयोग स्त्रीलिंग में किया जाता है?

Options :

1. ✖ जहाज

2. ✖ जिक्र

3. ✖ जुल्म

4. ✔ जंजीर

Question Number : 196 Question Id : 140973696 Question Type : MCQ Option Shuffling : Yes
Correct Marks : 1 Wrong Marks : 0.25

निम्न में से किस शब्द का प्रयोग स्त्रीलिंग में किया जाता है?

Options :

1. ✖ जहाज

2. ✖ जिक्र

3. ✖ जुल्म

4. ✔ जंजीर

Question Number : 197 Question Id : 140973697 Question Type : MCQ Option Shuffling : Yes

Correct Marks : 1 Wrong Marks : 0.25

निम्न में से किस शब्द का प्रयोग पुलिङ्ग में होता है?

Options :

1. ✖ इनकार

2. ✖ झील

3. ✔ झंझावात

4. ✖ झिझक

Question Number : 197 Question Id : 140973697 Question Type : MCQ Option Shuffling : Yes

Correct Marks : 1 Wrong Marks : 0.25

निम्न में से किस शब्द का प्रयोग पुलिङ्ग में होता है?

Options :

1. ✘ इनकार

2. ✘ झील

3. ✔ झंझावात

4. ✘ झिझक

Question Number : 198 Question Id : 140973698 Question Type : MCQ Option Shuffling : Yes
Correct Marks : 1 Wrong Marks : 0.25

‘अंश-अंस’ शब्द युग्म का सही अर्थ है:

Options :

1. ✘ कंधा - हिस्सा

2. ✔ हिस्सा - कंधा

3. ✘ भाग्य - हिस्सा

4. ✘ कंधा - भाग्य

Question Number : 198 Question Id : 140973698 Question Type : MCQ Option Shuffling : Yes
Correct Marks : 1 Wrong Marks : 0.25

‘अंश-अंस’ शब्द युग्म का सही अर्थ है:

Options :

1. ✘ कंधा - हिस्सा

2. ✓ हिस्सा - कंधा

3. ✘ भाग्य - हिस्सा

4. ✘ कंधा - भाग्य

Question Number : 199 Question Id : 140973699 Question Type : MCQ Option Shuffling : Yes
Correct Marks : 1 Wrong Marks : 0.25

‘परपुरुष से प्रेम करने वाली’ के लिए सही शब्द है:

Options :

1. ✘ परित्यक्ता

2. ✘ मुग्धा

3. ✘ स्वकीया

4. ✓ परकीया

Question Number : 199 Question Id : 140973699 Question Type : MCQ Option Shuffling : Yes
Correct Marks : 1 Wrong Marks : 0.25

‘परपुरुष से प्रेम करने वाली’ के लिए सही शब्द है:

Options :

1. ✘ परित्यक्ता

2. ✘ मुग्धा

3. ✖ स्वकीया

4. ✔ परकीया

Question Number : 200 Question Id : 140973700 Question Type : MCQ Option Shuffling : Yes
Correct Marks : 1 Wrong Marks : 0.25

'आग बबूला होना' मुहावरे का सही प्रयोग किस अर्थ में होता है?

Options :

1. ✔ बहुत गुस्सा होना

2. ✖ गुस्सा गायब होना

3. ✖ चिंतित होना

4. ✖ पागल होना

Question Number : 200 Question Id : 140973700 Question Type : MCQ Option Shuffling : Yes
Correct Marks : 1 Wrong Marks : 0.25

'आग बबूला होना' मुहावरे का सही प्रयोग किस अर्थ में होता है?

Options :

1. ✔ बहुत गुस्सा होना

2. ✖ गुस्सा गायब होना

3. ✖ चिंतित होना

4. ✖ पागल होना