

## Education Consultant India Ltd.

Notations :

1.Options shown in green color and with ✓ icon are correct.

2.Options shown in red color and with ✖ icon are incorrect.

<b>Question Paper Name:</b>	ASSISTANT SUPERINTENDENT 16th Jun Shift2
<b>Subject Name:</b>	ASSISTANT SUPERINTENDENT
<b>Creation Date:</b>	2019-06-16 17:04:12
<b>Duration:</b>	120
<b>Total Marks:</b>	200
<b>Display Marks:</b>	Yes
<b>Share Answer Key With Delivery Engine:</b>	No
<b>Actual Answer Key:</b>	Yes
<b>Calculator:</b>	None
<b>Magnifying Glass Required?:</b>	No
<b>Ruler Required?:</b>	No
<b>Eraser Required?:</b>	No
<b>Scratch Pad Required?:</b>	No
<b>Rough Sketch/Notepad Required?:</b>	No
<b>Protractor Required?:</b>	No
<b>Show Watermark on Console?:</b>	Yes
<b>Highlighter:</b>	No
<b>Auto Save on Console?:</b>	No

## Mental Ability1

<b>Group Number :</b>	1
<b>Group Id :</b>	49795921
<b>Group Maximum Duration :</b>	0
<b>Group Minimum Duration :</b>	0
<b>Show Attended Group? :</b>	No
<b>Edit Attended Group? :</b>	No
<b>Break time:</b>	0
<b>Group Marks:</b>	20
<b>Is this Group for Examiner?:</b>	No
<b>Revisit allowed for group Instructions? :</b>	Yes
<b>Maximum Instruction Time:</b>	0
<b>Minimum Instruction Time:</b>	0

## Mental Ability1

<b>Section Id :</b>	49795921
<b>Section Number :</b>	1

Section type :	Online
Mandatory or Optional:	Mandatory
Number of Questions:	20
Number of Questions to be attempted:	20
Section Marks:	20

Sub-Section Number:	1
Sub-Section Id:	49795925
Question Shuffling Allowed :	Yes

Question Number : 1 Question Id : 497959405 Question Type : MCQ Option Shuffling : Yes

Correct Marks : 1 Wrong Marks : 0.25

Select the letter cluster that is related to the third letter cluster in the same way as the second letter cluster is related to the first letter cluster.

DFH : WUS :: KMO : ?

Options :

1. ✓ PNL

2. ✗ PNO

3. ✗ HJL

4. ✗ WUT

Question Number : 1 Question Id : 497959405 Question Type : MCQ Option Shuffling : Yes

Correct Marks : 1 Wrong Marks : 0.25

उस अक्षर समूह का चयन करें जो तीसरे अक्षर समूह से उसी तरह से संबंधित है जैसे दूसरा अक्षर समूह पहले अक्षर समूह से संबंधित है।

DFH : WUS :: KMO : ?

Options :

1. ✓ PNL

2. ✗ PNO

3. ✖ HJL

4. ✖ WUT

Question Number : 2 Question Id : 497959406 Question Type : MCQ Option Shuffling : Yes

Correct Marks : 1 Wrong Marks : 0.25

Select the term that is related to the third term in the same way as the second term is related to the first term.

BDF : 48 :: FHJ : ?

Options :

1. ✖ 240

2. ✔ 480

3. ✖ 180

4. ✖ 90

Question Number : 2 Question Id : 497959406 Question Type : MCQ Option Shuffling : Yes

Correct Marks : 1 Wrong Marks : 0.25

उस पद का चयन करें जो तीसरे पद से उसी प्रकार से संबंधित है जिस प्रकार से दूसरा पद पहले पद से संबंधित है।

BDF : 48 :: FHJ : ?

Options :

1. ✖ 240

2. ✔ 480

3. ✖ 180

4. ✖ 90

Question Number : 3 Question Id : 497959407 Question Type : MCQ Option Shuffling : Yes

Correct Marks : 1 Wrong Marks : 0.25

Select the word which is related to third word in the same way as the second word is related to the first word.

Court : Judgement : : Class Room : ?

Options :

1. ✖ Teacher

2. ✖ College

3. ✔ Education

4. ✖ School

Question Number : 3 Question Id : 497959407 Question Type : MCQ Option Shuffling : Yes

Correct Marks : 1 Wrong Marks : 0.25

उस शब्द का चयन करें जो तीसरे शब्द से उसी तरह संबंधित है जैसे दूसरा शब्द पहले शब्द से संबंधित है।

अदालत : निर्णय : : कक्षा : ?

Options :

1. ✖ शिक्षक

2. ✖ कॉलेज

3. ✓ शिक्षा

4. ✗ विद्यालय

Question Number : 4 Question Id : 497959408 Question Type : MCQ Option Shuffling : Yes

Correct Marks : 1 Wrong Marks : 0.25

Select the number that is related to the third number in the same way as the second number is related to the first number.

8 : 128 :: 10 : ?

Options :

1. ✗ 100

2. ✓ 200

3. ✗ 228

4. ✗ 128

Question Number : 4 Question Id : 497959408 Question Type : MCQ Option Shuffling : Yes

Correct Marks : 1 Wrong Marks : 0.25

उस संख्या का चयन करें जो तीसरी संख्या से उसी तरह संबंधित है जैसे दूसरी संख्या पहली संख्या से संबंधित है।

8 : 128 :: 10 : ?

Options :

1. ✗ 100

2. ✓ 200

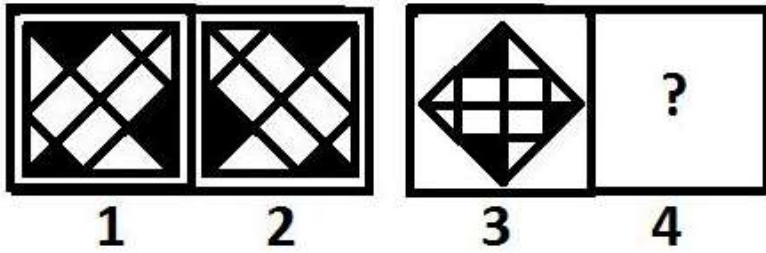
3. ✖ 228

4. ✖ 128


Question Number : 5 Question Id : 497959409 Question Type : MCQ Option Shuffling : Yes

Correct Marks : 1 Wrong Marks : 0.25


Select the figure that is related to the third figure in the same way as the second figure is related to the first figure.




Options :



1. ✖




2. ✔



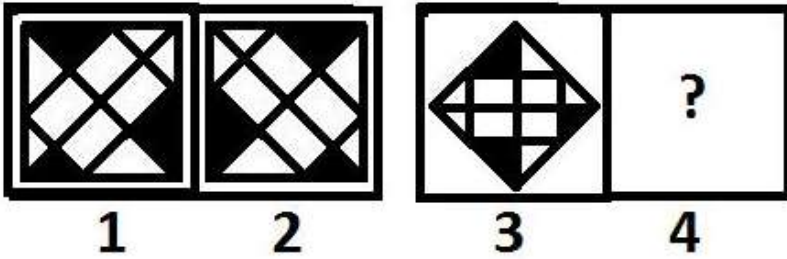
3. ✖

4. ✖




Question Number : 5 Question Id : 497959409 Question Type : MCQ Option Shuffling : Yes  
Correct Marks : 1 Wrong Marks : 0.25

उस चित्र का चयन करें जो तीसरे चित्र से उसी तरह से संबंधित है जैसे दूसरा चित्र पहले चित्र से संबंधित है।




Options :


1. ✖




2. ✔



3. ✖





4. ✖

Question Number : 6 Question Id : 497959410 Question Type : MCQ Option Shuffling : Yes  
Correct Marks : 1 Wrong Marks : 0.25

Pick the odd one out.

Options :

1. ✖ Oslo

2. ✔ Kyat

3. ✖ Cuba

4. ✖ Fiji

Question Number : 6 Question Id : 497959410 Question Type : MCQ Option Shuffling : Yes  
Correct Marks : 1 Wrong Marks : 0.25

निम्न में से जो विषम है उसे अलग करें।

Options :

1. ✖ ओस्लो

2. ✔ क्यात

3. ✖ क्यूबा



#### 4. ✖ फिजी

Question Number : 7 Question Id : 497959411 Question Type : MCQ Option Shuffling : Yes

Correct Marks : 1 Wrong Marks : 0.25

Identify the odd triad from among the given number triads.

Note: For this question, discrepancy is found in question/answer. So, this question is ignored for all candidates.

Options :

1. 2, 7, 53

2. 3, 5, 34

3. 4, 6, 50

4. 2, 4, 18

Question Number : 7 Question Id : 497959411 Question Type : MCQ Option Shuffling : Yes

Correct Marks : 1 Wrong Marks : 0.25

दिए गए संख्या त्रिकों (ट्रायड) में से विषम ट्रायड को पहचानें।

Note: For this question, discrepancy is found in question/answer. So, this question is ignored for all candidates.

Options :

1. 2, 7, 53

2. 3, 5, 34

3. 4, 6, 50

4. 2, 4, 18

Question Number : 8 Question Id : 497959412 Question Type : MCQ Option Shuffling : Yes  
Correct Marks : 1 Wrong Marks : 0.25

Pick the number that is different than the rest.

Options :

1. ✖ 37

2. ✖ 31

3. ✔ 33

4. ✖ 29

Question Number : 8 Question Id : 497959412 Question Type : MCQ Option Shuffling : Yes  
Correct Marks : 1 Wrong Marks : 0.25

दिए गए संख्याओं में से अलग संख्या को पहचानिए।

Options :

1. ✖ 37

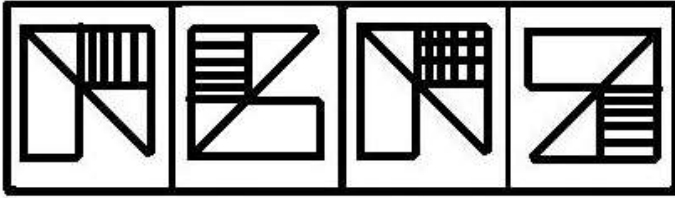
2. ✖ 31

3. ✔ 33

4. ✖ 29

Question Number : 9 Question Id : 497959413 Question Type : MCQ Option Shuffling : Yes  
Correct Marks : 1 Wrong Marks : 0.25

Four figures marked 1, 2, 3 and 4 are given below. Three of the given figures are similar in a certain manner while one figure is not like the other four. Choose the figure which is different from the other figures.



1 2 3 4

Options :

1. ✖ 1

2. ✖ 2

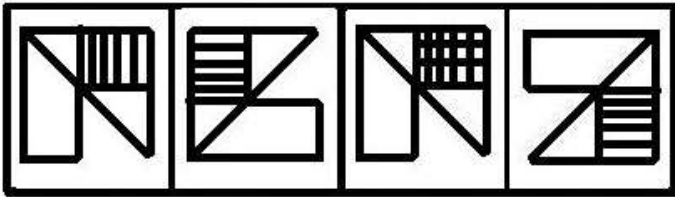
3. ✔ 3

4. ✖ 4

Question Number : 9 Question Id : 497959413 Question Type : MCQ Option Shuffling : Yes

Correct Marks : 1 Wrong Marks : 0.25

नीचे चित्र जिन्हें 1, 2, 3, 4 से चिह्नित किया गया है दिए गए हैं। दिए गए चित्रों में से तीन किसी ना किसी प्रकार की समानता रखते हैं जबकि एक चित्र बाकि चार चित्रों से अलग है। वह चित्र चुनें जो अन्य चित्रों से अलग हो।



1 2 3 4

Options :

1. ✖ 1

2. ✖ 2

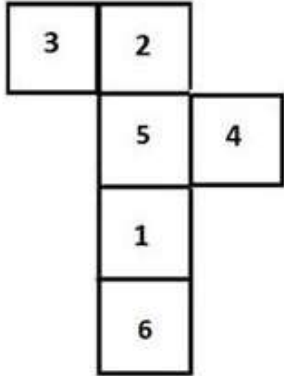
3. ✔ 3

4. ✖ 4

Question Number : 10 Question Id : 497959414 Question Type : MCQ Option Shuffling : Yes

Correct Marks : 1 Wrong Marks : 0.25

If the following figure is folded to form a cube, which number will appear on the face opposite the number '6'?



Options :

1. ✖ 2

2. ✖ 3

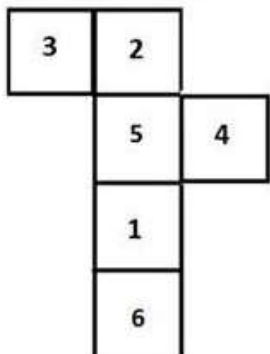
3. ✖ 4

4. ✔ 5

Question Number : 10 Question Id : 497959414 Question Type : MCQ Option Shuffling : Yes

Correct Marks : 1 Wrong Marks : 0.25

यदि निम्न आकृति को एक घन बनाने के लिए मोड़ा जाता है, तो संख्या '6' के विपरीत सामने के मुख पर कौन सी संख्या दिखाई देगी?



Options :

1. ✘ 2

2. ✘ 3

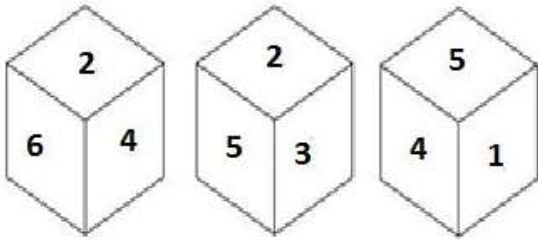
3. ✘ 4

4. ✔ 5

Question Number : 11 Question Id : 497959415 Question Type : MCQ Option Shuffling : Yes

Correct Marks : 1 Wrong Marks : 0.25

Three different positions of the same dice are shown below. Which number is on the face opposite to the face showing the number 3?



Options :

1. ✘ 1

2. ✘ 2

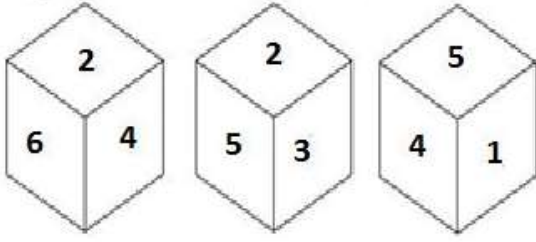
3. ✔ 4

4. ✘ 5

Question Number : 11 Question Id : 497959415 Question Type : MCQ Option Shuffling : Yes

Correct Marks : 1 Wrong Marks : 0.25

नीचे पासे को तीन अलग-अलग स्थितियों में दर्शाया गया है। जो हिस्सा संख्या 3 दिखा रहा है उसके विपरीत सामने के मुख पर कौन सी संख्या होगी?



Options :

1. ✖ 1

2. ✖ 2

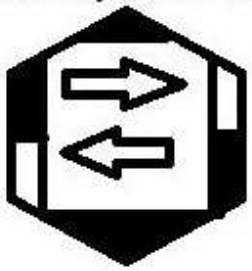
3. ✔ 4

4. ✖ 5

Question Number : 12 Question Id : 497959416 Question Type : MCQ Option Shuffling : Yes

Correct Marks : 1 Wrong Marks : 0.25

Identify the correct mirror image of the given figure when the mirror is placed to the right of the figure.



Options :



1. ✖

2. ✓



3. ✗



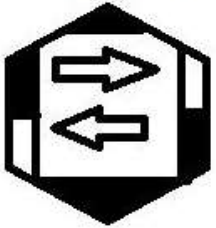
4. ✗



Question Number : 12 Question Id : 497959416 Question Type : MCQ Option Shuffling : Yes

Correct Marks : 1 Wrong Marks : 0.25

यदि दर्पण को दिए गए चित्र के दाहिनी ओर रखा जाता है तो दिए गए चित्र की मिरर इमेज (दर्पण छवि) निम्न में से कौन सी होगी।



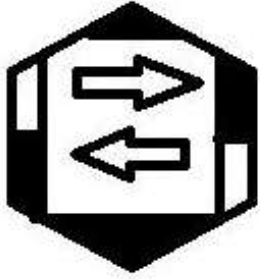
Options :



1. ✗



2. ✓



3. ✗



4. ✗

Question Number : 13 Question Id : 497959417 Question Type : MCQ Option Shuffling : Yes

Correct Marks : 1 Wrong Marks : 0.25

Identify the correct water image of the combination given below.

# MAINSTREAM

Options :

1. ✗ MAINSTREAM

2. ✗ MAERTSIAM

3. ✓ MAERTSIAM



## 4. ✖ IAMIIMARTS

Question Number : 13 Question Id : 497959417 Question Type : MCQ Option Shuffling : Yes

Correct Marks : 1 Wrong Marks : 0.25

नीचे दिए गए संयोजन की सही वाटर इमेज (जलीय छवि) को पहचानें।

## MAINSTREAM

Options :

1. ✖ MAINSTREAM

2. ✖ MAIRTNIAM

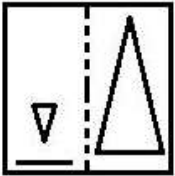
3. ✔ MAIRTNIAM

4. ✖ IAMIIMARTS


Question Number : 14 Question Id : 497959418 Question Type : MCQ Option Shuffling : Yes

Correct Marks : 1 Wrong Marks : 0.25

Given here is a piece of transparent paper with some patterns on it. How will the sheet appear when it is folded along the dotted line?



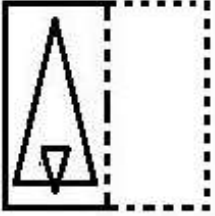
Options :



2. ✖



3. ✖



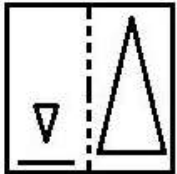
4. ✔



Question Number : 14 Question Id : 497959418 Question Type : MCQ Option Shuffling : Yes


Correct Marks : 1 Wrong Marks : 0.25

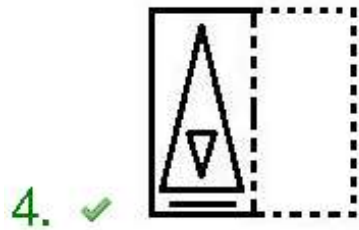
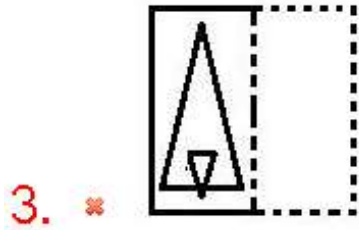

नीचे दिए गए पारदर्शी पन्ने पर कुछ आकृतियां (पैटर्न) बनी हुई हैं। अगर इस शीट को बिंदुदार रेखा के साथ-साथ मोड़ा जाए तो शीट किस प्रकार की दिखाई देगी?



Options :

1. ✖

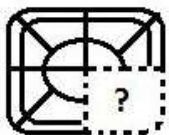




Question Number : 15 Question Id : 497959419 Question Type : MCQ Option Shuffling : Yes

Correct Marks : 1 Wrong Marks : 0.25

Which of the following option figures will replace the question mark (?) in the figure given below to complete the pattern of the figure?



Options :

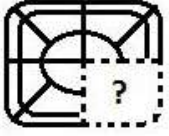


4. ✖ 

Question Number : 15 Question Id : 497959419 Question Type : MCQ Option Shuffling : Yes

Correct Marks : 1 Wrong Marks : 0.25

नीचे दिए गए चित्र के पैटर्न को पूरा करने के लिए निम्नलिखित में से कौन सा विकल्प प्रश्न चिह्न (?) का स्थान लेगा?



Options :

1. ✔ 

2. ✖ 

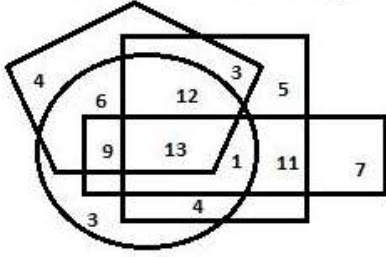
3. ✖ 

4. ✖ 

Question Number : 16 Question Id : 497959420 Question Type : MCQ Option Shuffling : Yes

Correct Marks : 1 Wrong Marks : 0.25

In the Venn diagram given below, the square represents 'boys', the circle represents 'tall persons', the pentagon represents 'North Indians' and the rectangle represents 'food lovers'. The numbers given in the diagram represents the number of persons of that particular category.



How many North Indian boys are tall persons but are NOT food lovers?

Options :

1. ✓ 12

2. ✗ 13

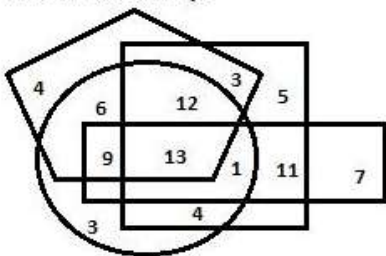
3. ✗ 25

4. ✗ 16

Question Number : 16 Question Id : 497959420 Question Type : MCQ Option Shuffling : Yes

Correct Marks : 1 Wrong Marks : 0.25

नीचे दिए गए वेन आरेख में, वर्ग 'लड़कों' को दर्शाता है, वृत्त 'लम्बे व्यक्तियों' को दर्शाता है, पंचकोण 'उत्तर भारतीयों' को दर्शाता है और आयत 'भोजन प्रेमियों' को दर्शाता है। आरेख में दी गई संख्या उस विशेष श्रेणी के व्यक्तियों की संख्या दर्शाती है।



कितने उत्तर भारतीय लड़के लम्बे हैं लेकिन भोजन प्रेमी नहीं हैं?

Options :

1. ✓ 12

2. ✖ 13

3. ✖ 25

4. ✖ 16

Question Number : 17 Question Id : 497959421 Question Type : MCQ Option Shuffling : Yes

Correct Marks : 1 Wrong Marks : 0.25

Vilas starts walking from his home and walks 30 m towards south; from there he turns left and walks 40 m. After that, he turns right and walks 45 m. Then, he turns left and walks 30 m. Then, he turns left and walks 50 m. Then, he finally turns left and walks 70 m. How far is he now from his home and in which direction with reference to his home?

Options :

1. ✖ 25 m, North

2. ✖ 5 m, North

3. ✖ 5 m, South

4. ✔ 25 m, South

Question Number : 17 Question Id : 497959421 Question Type : MCQ Option Shuffling : Yes

Correct Marks : 1 Wrong Marks : 0.25

विलास अपने घर से चलना शुरू करता है और दक्षिण की ओर 30 m चलता है; वहां से वह बायें मुड़ता है और 40 m चलता है। उसके बाद, वह दायें मुड़ता है और 45 m चलता है। फिर वह बायें मुड़ता है और 30 m चलता है। वह फिर बायें मुड़ता है और 50 m चलता है। अंत में वह बायें मुड़ता है और 70 m चलता है। वह अपने घर से कितनी दूर है और अपने घर के संदर्भ में किस दिशा में है?

Options :

1. ✖ 25 m, उत्तर

2. ✖ 5 m, उत्तर

3. ✖ 5 m, दक्षिण

4. ✔ 25 m, दक्षिण

Question Number : 18 Question Id : 497959422 Question Type : MCQ Option Shuffling : Yes

Correct Marks : 1 Wrong Marks : 0.25

At the time of sunrise, Lokesh is sitting facing a pole. If the shadow of the pole falls to his right, then which direction is Lokesh facing?

Options :

1. ✖ East

2. ✖ West

3. ✖ North

4. ✔ South

Question Number : 18 Question Id : 497959422 Question Type : MCQ Option Shuffling : Yes

Correct Marks : 1 Wrong Marks : 0.25

सूर्योदय के समय, लोकेश इस प्रकार से बैठा है कि उसका मुंह किसी खंभे की ओर है। यदि खंभे की छाया उसके दाईं ओर गिरती है, तो लोकेश किस दिशा की ओर मुंह करके बैठा है?

Options :

1. ✖ पूर्व

2. ✖ पश्चिम

3. ✖ उत्तर

4. ✔ दक्षिण

Question Number : 19 Question Id : 497959423 Question Type : MCQ Option Shuffling : Yes

Correct Marks : 1 Wrong Marks : 0.25

Six friends Gopal, Sheela, Reena, Senthil, Hina and Gaurav are standing in a row. There are two persons between Sheela and Hina. Reena is between Hina and Senthil. Only one person is standing before Gopal. Gaurav is between Gopal and Hina, who is third from the back end of the row. Which two persons are standing between Sheela and Hina?

Options :

1. ✖ Gopal and Reena

2. ✔ Gopal and Gaurav

3. ✖ Gaurav and Senthil

4. ✖ Senthil and Reena

Question Number : 19 Question Id : 497959423 Question Type : MCQ Option Shuffling : Yes

Correct Marks : 1 Wrong Marks : 0.25

छह दोस्त गोपाल, शीला, रीना, सेंथिल, हिना और गौरव एक पंक्ति में खड़े हैं। शीला और हिना के बीच दो व्यक्ति हैं। रीना, हिना और सेंथिल के बीच में है। गोपाल से पहले केवल एक व्यक्ति खड़ा है। गौरव, गोपाल और हिना के बीच में है, और हिना पंक्ति के पिछले छोर से तीसरे स्थान पर है। शीला और हिना के बीच खड़े दो व्यक्ति कौन हैं?

Options :

1. ✖ गोपाल और रीना

2. ✔ गोपाल और गौरव



3. ✖ गौरव और सेंथिल

4. ✖ सेंथिल और रीना

Question Number : 20 Question Id : 497959424 Question Type : MCQ Option Shuffling : Yes

Correct Marks : 1 Wrong Marks : 0.25

Five buses for five different cities Agra, Kanpur, Lucknow, Meerut and Varanasi depart from five bus terminals T-1 to T-5 but not necessarily in the same order. The Lucknow bus departs from T-2. The Varanasi bus does not depart from T-1 or T-4. The Meerut bus goes either from T-1 or T-5. The Agra bus does not leave from T-3 or T-1. The Kanpur bus leaves from T-4. From which terminal does the bus for Agra leave?

Options :

1. ✖ T-1

2. ✖ T-3

3. ✔ T-5

4. ✖ T-3 or T-5

Question Number : 20 Question Id : 497959424 Question Type : MCQ Option Shuffling : Yes

Correct Marks : 1 Wrong Marks : 0.25

पांच अलग-अलग शहरों आगरा, कानपुर, लखनऊ, मेरठ और वाराणसी के लिए पांच बसें पांच बस टर्मिनल T-1 से T-5 से निकलती हैं, लेकिन जरूरी नहीं है कि ये इसी क्रम में निकलें। लखनऊ की बस T-2 से रवाना होती है। वाराणसी की बस T-1 या T-4 से नहीं निकलती है। मेरठ की बस या तो T-1 या T-5 से जाती है। आगरा की बस T-3 या T-1 से नहीं निकलती है। कानपुर की बस T-4 से निकलती है। तो आगरा के लिए बस कौन से टर्मिनल से निकलती है?

Options :

1. ✖ T-1

2. ✖ T-3

3. ✓ T-5

4. ✘ T-3 या T-5

## Mental Ability2

Group Number :	2
Group Id :	49795922
Group Maximum Duration :	0
Group Minimum Duration :	0
Show Attended Group? :	No
Edit Attended Group? :	No
Break time:	0
Group Marks:	20
Is this Group for Examiner?:	No
Revisit allowed for group Instructions? :	Yes
Maximum Instruction Time:	0
Minimum Instruction Time:	0

## Mental Ability2

Section Id :	49795922
Section Number :	1
Section type :	Online
Mandatory or Optional:	Mandatory
Number of Questions:	20
Number of Questions to be attempted:	20
Section Marks:	20

Sub-Section Number:	1
Sub-Section Id:	49795926
Question Shuffling Allowed :	Yes

Question Number : 21 Question Id : 497959425 Question Type : MCQ Option Shuffling : Yes  
Correct Marks : 1 Wrong Marks : 0.25

There are five teachers named A, B, C, D and E. Each of them teaches one of five different subjects i.e. Physics, Chemistry, Botany, Zoology and Mathematics. C does not teach Botany, Chemistry or Physics. A does not teach Botany or Zoology. Mathematics is taught by B. E does not teach Chemistry or Botany. Who teaches Physics?

Options :

1. ✖ A

2. ✔ E

3. ✖ A or C

4. ✖ A or E

Question Number : 21 Question Id : 497959425 Question Type : MCQ Option Shuffling : Yes

Correct Marks : 1 Wrong Marks : 0.25

A, B, C, D, E नाम के पांच शिक्षक हैं। ये पांचों अलग-अलग विषय पढ़ाते हैं जैसे कि भौतिक विज्ञान, रसायन विज्ञान, वनस्पति विज्ञान, जन्तु विज्ञान और गणित। C वनस्पति विज्ञान, रसायन विज्ञान या भौतिक विज्ञान नहीं पढ़ाता है। A वनस्पति विज्ञान या जन्तु विज्ञान नहीं पढ़ाता है। B गणित पढ़ाता है जबकि E रसायन विज्ञान या वनस्पति विज्ञान नहीं पढ़ाता है। तो भौतिक विज्ञान कौन पढ़ाता है?

Options :

1. ✖ A

2. ✔ E

3. ✖ A या C

4. ✖ A या E

Question Number : 22 Question Id : 497959426 Question Type : MCQ Option Shuffling : Yes

Correct Marks : 1 Wrong Marks : 0.25

The following are the criteria set by a company for the post of Accounts Manager.

1. The candidate must have a Master of Commerce (M.Com) degree in Accountancy.
  2. The candidate must have obtained more than 65% marks in the selection test and 70% marks in the interview.
  3. The age of candidate should not be less than 30 years and not more than 35 years as on 1 April 2019.
  4. The candidate must have at least five years' work experience as an Accountant.
- (a) If a candidate satisfies all the criteria except criteria no. 1 as given above, but has completed a Master of International Business (MIB) course, she/he must be sent to the Head (Accounts) for further interview.
- (b) If a candidate satisfies all the criteria except criteria no. 2, but has more than six years of work experience as an Accountant, then the candidate must be sent to the Senior Accounts Manager for further interview.

The details of a candidate are given below. You have to take one of the following decisions based on the information provided and the conditions and sub-conditions given above. Do not assume anything other than the information provided in the question.

Manav has completed his M.Com degree in Accountancy. He also has an MIB degree. He has five years' experience working as an Accountant. He was born on 13 May 1987. He obtained 66% marks in the written test and 70% marks in the interview.

**Options :**

1. ✓ The candidate is to be selected.
2. ✘ The candidate is to be rejected.
3. ✘ The candidate is to be sent to the Head (Accounts) for further interview.
4. ✘ The candidate is to be sent to the Senior Accounts Manager for further interview.

**Question Number : 22 Question Id : 497959426 Question Type : MCQ Option Shuffling : Yes**

**Correct Marks : 1 Wrong Marks : 0.25**

लेखा प्रबंधक (अकाउंट मैनेजर) की पद के लिए किसी कंपनी द्वारा निर्धारित मानदंड निम्नलिखित हैं।

1. उम्मीदवार के पास अकाउंटेंसी में मास्टर ऑफ कॉमर्स (M.Com) की डिग्री होनी चाहिए।
2. उम्मीदवार को चयन परीक्षा में 65% से अधिक अंक और साक्षात्कार (इंटरव्यू) में 70% अंक प्राप्त होने चाहिए।
3. 1 अप्रैल 2019 को उम्मीदवार की आयु 30 वर्ष से कम और 35 वर्ष से अधिक नहीं होनी चाहिए।
4. उम्मीदवार के पास अकाउंटेंट/लेखाकार के रूप में कम से कम पांच साल का कार्य अनुभव होना चाहिए।

(a) यदि कोई उम्मीदवार उपर दिए गए मानदंडों में से मानदंड संख्या 1 को छोड़कर सभी मानदंडों को संतुष्ट करता है, लेकिन मास्टर ऑफ इंटरनेशनल बिजनेस (MIB) कोर्स पूरा कर चुका है, उसे आगे के साक्षात्कार के लिए हेड (अकाउंट्स) के पास भेजना होगा।

(b) यदि कोई उम्मीदवार ऊपर दिए गए मानदंडों में से मानदंड संख्या 2 को छोड़कर सभी मानदंडों को संतुष्ट करता है, लेकिन उसे लेखाकार के रूप में छह साल से अधिक का कार्य अनुभव है, तो उम्मीदवार को आगे के साक्षात्कार के लिए वरिष्ठ लेखा प्रबंधक को भेजा जाना चाहिए।

नीचे एक उम्मीदवार का विवरण दिया गया है। आपको दी गई जानकारी और ऊपर दी गई शर्तों और उप-शर्तों के आधार पर निम्नलिखित में से कोई एक निर्णय लेना होगा। प्रश्न में दी गई जानकारी के आधार पर ही निर्णय लें कोई अन्य अनुमान ना लगाएं।

मानव ने अकाउंटेंसी में M.Com की डिग्री पूरी की है। उसके पास MIB की डिग्री भी है। उसके पास अकाउंटेंट के रूप में काम करने का पांच साल का अनुभव है। उसका जन्म 13 मई 1987 को हुआ था। उसने लिखित परीक्षा में 66% अंक और साक्षात्कार में 70% अंक प्राप्त किए।

Options :

1. ✓ उम्मीदवार का चयन किया जाना है।
2. ✗ उम्मीदवार को खारिज / रिजेक्ट कर दिया जाना है।
3. ✗ उम्मीदवार को आगे के साक्षात्कार के लिए हेड (अकाउंट्स) के पास भेजा जाना है।
4. ✗ उम्मीदवार को आगे के साक्षात्कार के लिए वरिष्ठ लेखा प्रबंधक के पास भेजा जाना है।

Question Number : 23 Question Id : 497959427 Question Type : MCQ Option Shuffling : Yes

Correct Marks : 1 Wrong Marks : 0.25

The following are the criteria set by a company for the post of Accounts Manager.

1. The candidate must have a Master of Commerce (M.Com) degree in Accountancy.
2. The candidate must have obtained more than 65% marks in the selection test and 70% marks in the interview.
3. The age of candidate should not be less than 30 years and not more than 35 years as on 1 April 2019.
4. The candidate must have at least five years' work experience as an Accountant.

(a) If a candidate satisfies all the criteria except criteria no. 1 as given above, but has completed a Master of International Business (MIB) course, she/he must be sent to the Head (Accounts) for further interview.

(b) If a candidate satisfies all the criteria except criteria no. 2, but has more than six years of work experience as an Accountant, then the candidate must be sent to the Senior Accounts Manager for further interview.

The details of a candidate are given below. You have to take one of the following decisions based on the information provided and the conditions and sub-conditions given above. Do not assume anything other than the information provided in the question.

Rachana has completed an MIB degree with 54%. She has four years' experience working as an Accountant. She was born on 2 June 1986. She obtained 66% marks in the written test and 70% marks in the interview.

Options :

1. ✘ The candidate is to be selected.
2. ✔ The candidate is to be rejected.
3. ✘ The candidate is to be sent to the Head (Accounts) for further interview.
4. ✘ The candidate is to be sent to the Senior Accounts Manager for further interview.

Question Number : 23 Question Id : 497959427 Question Type : MCQ Option Shuffling : Yes

Correct Marks : 1 Wrong Marks : 0.25

लेखा प्रबंधक (अकाउंट मैनेजर) के पद के लिए किसी कंपनी द्वारा निर्धारित मानदंड निम्नलिखित हैं।

1. उम्मीदवार के पास अकाउंटेंसी में मास्टर ऑफ कॉमर्स (M.Com) की डिग्री होनी चाहिए।
2. उम्मीदवार को चयन परीक्षा में 65% से अधिक अंक और साक्षात्कार (इंटरव्यू) में 70% अंक प्राप्त होने चाहिए।
3. 1 अप्रैल 2019 को उम्मीदवार की आयु 30 वर्ष से कम और 35 वर्ष से अधिक नहीं होनी चाहिए।
4. उम्मीदवार के पास अकाउंटेंट/लेखाकार के रूप में कम से कम पांच साल का कार्य अनुभव होना चाहिए।

(a) यदि कोई उम्मीदवार ऊपर दिए गए मानदंडों में से मानदंड संख्या 1 को छोड़कर सभी मानदंडों को संतुष्ट करता है, लेकिन मास्टर ऑफ इंटरनेशनल बिजनेस (MIB) कोर्स पूरा कर चुका है, उसे आगे के साक्षात्कार के लिए हेड (अकाउंटेंट्स) के पास भेजना होगा।

(b) यदि कोई उम्मीदवार ऊपर दिए गए मानदंडों में से मानदंड संख्या 2 को छोड़कर सभी मानदंडों को संतुष्ट करता है, लेकिन उसे लेखाकार के रूप में छह साल से अधिक का कार्य अनुभव है, तो उम्मीदवार को आगे के साक्षात्कार के लिए वरिष्ठ लेखा प्रबंधक को भेजा जाना चाहिए।

नीचे एक उम्मीदवार का विवरण दिया गया है। आपको दी गई जानकारी और ऊपर दी गई शर्तों और उप-शर्तों के आधार पर निम्नलिखित में से कोई एक निर्णय लेना होगा। प्रश्न में दी गई जानकारी के आधार पर ही निर्णय लें कोई अन्य अनुमान ना लगाएं।

रचना ने 54% के साथ MIB की डिग्री पूरी की है। उसके पास अकाउंटेंट के रूप में काम करने का चार साल का अनुभव है। उनका जन्म 2 जून 1986 को हुआ था। उसने लिखित परीक्षा में 66% अंक और साक्षात्कार में 70% अंक प्राप्त किए।

Options :

1. ✘ उम्मीदवार का चयन किया जाना है।
2. ✔ उम्मीदवार को खारिज / रिजेक्ट कर दिया जाना है।
3. ✘ उम्मीदवार को आगे के साक्षात्कार के लिए हेड (अकाउंटेंट्स) के पास भेजा जाना है।
4. ✘ उम्मीदवार को आगे के साक्षात्कार के लिए वरिष्ठ लेखा प्रबंधक को भेजा जाना है।

Correct Marks : 1 Wrong Marks : 0.25

Two statements are followed by two conclusions numbered I and II. Assuming the information given in the statements to be true, even if they do not conform to real-world knowledge, decide which of the conclusions logically follow(s) from the statements.

**Statements:**

1. All officers are singers.
2. Some singers are musicians.

**Conclusions:**

- I. Some singers are officers.
- II. No singer is an officer.

**Options :**

1. ✓ Only conclusion I follows

2. ✘ Only conclusion II follows

3. ✘ Both conclusions I and II follow

4. ✘ Either conclusion I or II follows

Question Number : 24 Question Id : 497959428 Question Type : MCQ Option Shuffling : Yes

Correct Marks : 1 Wrong Marks : 0.25

दो कथनों के बाद दो निष्कर्ष I और II दिए गए हैं। कथनों में दी गई जानकारी को सच मानते हुए, भले ही वे वास्तविक दुनिया के ज्ञान के अनुरूप न हों, यह निर्णय लें कि कौन सा/से निष्कर्ष कथनों का तार्किक रूप से अनुसरण करता है / करते हैं।

कथन:

1. सभी अधिकारी गायक हैं।
2. कुछ गायक संगीतकार हैं।

निष्कर्ष:

- I. कुछ गायक अधिकारी हैं।
- II. कोई भी गायक अधिकारी नहीं है।

**Options :**

1. ✓ केवल निष्कर्ष I अनुसरण करता है



2. ✖ केवल निष्कर्ष II अनुसरण करता है
3. ✖ दोनों निष्कर्ष I और II अनुसरण करते हैं
4. ✖ या तो निष्कर्ष I या निष्कर्ष II अनुसरण करता है

Question Number : 25 Question Id : 497959429 Question Type : MCQ Option Shuffling : Yes

Correct Marks : 1 Wrong Marks : 0.25

Three statements are followed by four conclusions numbered I, II, III and IV. Assuming the information given in the statements to be true, even if they do not conform to real-world knowledge, decide which of the conclusions logically follow(s) from the statements.

**Statements:**

1. All girls are experts.
2. Some experts are tourists.
3. All tourists are foreigners.

**Conclusions:**

- I. Some foreigners are experts.
- II. Some foreigners are girls.
- III. No foreigner is a girl.
- IV. All tourists are experts.

**Options :**

1. ✖ Conclusion I, II and IV follow
2. ✔ Conclusion I and either II or III follows
3. ✖ Conclusion IV and either II or III follows
4. ✖ All conclusions follow

Question Number : 25 Question Id : 497959429 Question Type : MCQ Option Shuffling : Yes

Correct Marks : 1 Wrong Marks : 0.25

तीन कथनों के बाद चार निष्कर्ष I, II, III और IV दिए गए हैं। कथनों में दी गई जानकारी को सच मानते हुए, भले ही वे वास्तविक दुनिया के ज्ञान के अनुरूप न हों, यह निर्णय लें कि कौन सा/से निष्कर्ष कथन का तार्किक रूप से अनुसरण करता है/ करते हैं।

कथन:

1. सभी लड़कियां विशेषज्ञ हैं।
2. कुछ विशेषज्ञ पर्यटक हैं।
3. सभी पर्यटक विदेशी हैं।

निष्कर्ष:

- I. कुछ विदेशी विशेषज्ञ हैं।
- II. कुछ विदेशी लड़कियां हैं।
- III. कोई भी विदेशी लड़की नहीं है।
- IV. सभी पर्यटक विशेषज्ञ हैं।

Options :

1. ✘ निष्कर्ष I, II और IV अनुसरण करते हैं
2. ✔ निष्कर्ष I और II या III में से कोई एक अनुसरण करता है
3. ✘ निष्कर्ष IV और II या III में से कोई एक अनुसरण करता है
4. ✘ सभी निष्कर्ष कथनों का अनुसरण करते हैं

Question Number : 26 Question Id : 497959430 Question Type : MCQ Option Shuffling : Yes

Correct Marks : 1 Wrong Marks : 0.25

Which of the addresses given as options is exactly the same as the address given below?

P Narsinh Kumar Raghavan  
House no. 5432/1, Silver Paradise  
Kings Square, Nemesis Road,  
Thiruchirapalli – 562 025

Options :

1. ✖ P Narsinh Kumar Raghavan  
House no. 5432/1, Silver Paradise  
Kings Square, Nemesis Road,  
Thiruchirapalli – 562 025

2. ✖ P Narsinh Kumar Raghavan  
House no. 5432/1, Silver Paradise  
Kings Square, Nemesis Road,  
Thiruchirapalli – 562 025

3. ✔ P Narsinh Kumar Raghavan  
House no. 5432/1, Silver Paradise  
Kings Square, Nemesis Road,  
Thiruchirapalli – 562 025

4. ✖ P Narsinh Kumar Raghavan  
House no. 5432/1, Silver Paradise  
Kings Square, Nemesis Road,  
Thiruchirapalli – 562 025

Question Number : 26 Question Id : 497959430 Question Type : MCQ Option Shuffling : Yes

Correct Marks : 1 Wrong Marks : 0.25

विकल्पों में दिए गए पत्तों में से कौन सा पता नीचे दिए गए पते के समान है?

P Narsinh Kumar Raghavan  
House no. 5432/1, Silver Paradise  
Kings Square, Nemesis Road,  
Thiruchirapalli - 562 025

Options :

P Narsinh Kumar Raghavan  
House no. 5432/1, Silver Paradise  
Kings Square, Nemesis Road,

1. ✖ Thiruchirapalli - 562 025

P Narsinh Kumar Raghavan  
House no. 5432/1, Silver Paradise  
Kings Square, Nemesis Road,

2. ✘ Thiruchirapalli - 562 025

P Narsinh Kumar Raghavan  
House no. 5432/1, Silver Paradise  
Kings Square, Nemesis Road,

3. ✔ Thiruchirapalli - 562 025

P Narsinh Kumar Raghavan  
House no. 5432/1, Silver Paradise  
Kings Square, Nemesis Road,

4. ✘ Thiruchirapali - 562 025

Question Number : 27 Question Id : 497959431 Question Type : MCQ Option Shuffling : Yes

Correct Marks : 1 Wrong Marks : 0.25

Six numbers are given below, two of which are the same. Find the two numbers that are the same.

(A) 254879381 (B) 254879831

(C) 254897381 (D) 254897381

(E) 254897831 (F) 258497381

Options :

1. ✘ A and B

2. ✘ E and F

3. ✔ C and D

4. ✖ C and E

Question Number : 27 Question Id : 497959431 Question Type : MCQ Option Shuffling : Yes

Correct Marks : 1 Wrong Marks : 0.25

नीचे छह संख्याएं दी गई हैं जिनमें से दो एक समान हैं। वो दो एक समान संख्याएं कौनसी हैं।

(A) 254879381 (B) 254879831

(C) 254897381 (D) 254897381

(E) 254897831 (F) 258497381

Options :

1. ✖ A और B

2. ✖ E और F

3. ✔ C और D

4. ✖ C और E

Question Number : 28 Question Id : 497959432 Question Type : MCQ Option Shuffling : Yes

Correct Marks : 1 Wrong Marks : 0.25

Six symbol clusters are given below, two of which are the same. Find the two clusters that are exactly the same.

(A) & % \$ # % \$ % # & % \$

(B) & % \$ & % \$ @ # & % \$

(C) & % \$ @ % \$ @ # & % \$

(D) & % \$ # % \$ @ # \$ % \$

(E) & % \$ # % \$ @ # & % \$

(F) & % \$ # % \$ @ # & % \$

Options :

1. ✖ B and C

2. ✘ A and D

3. ✘ C and D

4. ✔ E and F

Question Number : 28 Question Id : 497959432 Question Type : MCQ Option Shuffling : Yes

Correct Marks : 1 Wrong Marks : 0.25

नीचे छह प्रतीक समूह दिए गए हैं, जिनमें से दो एक समान हैं। वे एक समान समूह कौन से हैं।

(A) & % \$ # % \$ % # & % \$

(B) & % \$ & % \$ @ # & % \$

(C) & % \$ @ % \$ @ # & % \$

(D) & % \$ # % \$ @ # \$ % \$

(E) & % \$ # % \$ @ # & % \$

(F) & % \$ # % \$ @ # & % \$

Options :

1. ✘ B और C

2. ✘ A और D

3. ✘ C और D

4. ✔ E और F

Question Number : 29 Question Id : 497959433 Question Type : MCQ Option Shuffling : Yes

Correct Marks : 1 Wrong Marks : 0.25

Read the given information and answer the question that follows.

- $A + B$  means 'A is the father of B'
- $A - B$  means 'A is the husband of B'
- $A \times B$  means 'A is the daughter of B'
- $A \div B$  means 'A is the sister of B'

If  $P + M \div Q \times N \times T - U$ , then how is P related to N?

Options :

1. ✖ Brother

2. ✖ Son

3. ✔ Husband

4. ✖ Uncle

Question Number : 29 Question Id : 497959433 Question Type : MCQ Option Shuffling : Yes

Correct Marks : 1 Wrong Marks : 0.25

निम्नलिखित जानकारी को पढ़ें और इसके बाद दिए गए प्रश्न का उत्तर दें।

- $A + B$  का अर्थ है 'A, B का पिता है'
- $A - B$  का अर्थ है 'A, B का पति है'
- $A \times B$  का अर्थ है 'A, B की बेटी है'
- $A \div B$  का अर्थ है 'A, B की बहन है'

यदि  $P + M \div Q \times N \times T - U$  है, तो P, N से किस प्रकार से संबंधित है?

Options :

1. ✖ भाई

2. ✖ बेटा

3. ✔ पति

4. ✖ चाचा

Question Number : 30 Question Id : 497959434 Question Type : MCQ Option Shuffling : Yes

Correct Marks : 1 Wrong Marks : 0.25

Jiva is the daughter of Kartik. Kartik has two sons. Adah is the daughter of Mridula, who is the wife of Kartik's son. Veenu is Prem's mother. Prem is the brother of Ashok, who is the father of Adah. How is Adah related to Veenu?

Options :

1. ✖ Daughter

2. ✔ Grand-daughter

3. ✖ Sister

4. ✖ Mother

Question Number : 30 Question Id : 497959434 Question Type : MCQ Option Shuffling : Yes

Correct Marks : 1 Wrong Marks : 0.25

जीवा कार्तिक की बेटी है। कार्तिक के दो बेटे हैं। अदा मृदुला की बेटी है, और मृदुला कार्तिक के बेटे की पत्नी है। वीनू प्रेम की मां है। प्रेम अशोक का भाई है, और अशोक अदा का पिता है। अदा का वीनू से क्या संबंध है?

Options :

1. ✖ बेटी

2. ✔ पोती/ नवासी



3. ✖ बहन

4. ✖ मां

Question Number : 31 Question Id : 497959435 Question Type : MCQ Option Shuffling : Yes

Correct Marks : 1 Wrong Marks : 0.25

In a code language, POSSIBLE is coded as 1615191992125. How would SERVICE be coded in the same language?

Options :

1. ✖ 1951722935

2. ✖ 1951821935

3. ✔ 1951822935

4. ✖ 1951822835

Question Number : 31 Question Id : 497959435 Question Type : MCQ Option Shuffling : Yes

Correct Marks : 1 Wrong Marks : 0.25

एक कोड भाषा में, POSSIBLE को 1615191992125 के रूप में कोड किया जाता है। इसी कोड भाषा में SERVICE को किस प्रकार से कोड किया जाएगा?

Options :

1. ✖ 1951722935

2. ✖ 1951821935

3. ✔ 1951822935

4. ✖ 1951822835

Question Number : 32 Question Id : 497959436 Question Type : MCQ Option Shuffling : Yes

Correct Marks : 1 Wrong Marks : 0.25

If in a code language, MAGNIFICENT is written as JOHBNFUOFDJ. How would PROMISCUITY be written in the same language?

Options :

1. ✔ JNPSQSZUJVD

2. ✖ JNSPQIZUJVD

3. ✖ JNPSQIJUZVD

4. ✖ JNPSQJAUJVD

Question Number : 32 Question Id : 497959436 Question Type : MCQ Option Shuffling : Yes

Correct Marks : 1 Wrong Marks : 0.25

एक कोड भाषा में, MAGNIFICENT को JOHBNFUOFDJ के रूप में लिखा जाता है, तो PROMISCUITY को उसी भाषा में कैसे लिखा जाएगा?

Options :

1. ✔ JNPSQSZUJVD

2. ✖ JNSPQIZUJVD

3. ✖ JNPSQIJUZVD

4. ✖ JNPSQJAUJVD

Question Number : 33 Question Id : 497959437 Question Type : MCQ Option Shuffling : Yes

Correct Marks : 1 Wrong Marks : 0.25

There are five boxes: A, B, C, D and E. Box B is twice as heavy as box A. Box C is 20 kg heavier than box E. Box D is one-and-a-half times as heavy as box E, and box C is four times as heavy as box A. The weight of box E is 20 kg. Which of the boxes is the heaviest of them all and what is its weight?

Options :

1. ✘ C, 60 kg

2. ✘ D, 60 kg

3. ✔ C, 40 kg

4. ✘ D, 40 kg

Question Number : 33 Question Id : 497959437 Question Type : MCQ Option Shuffling : Yes

Correct Marks : 1 Wrong Marks : 0.25

पांच बॉक्स हैं: A, B, C, D और E। बॉक्स B बॉक्स A से दोगुना भारी है। बॉक्स C बॉक्स E से 20 kg भारी है। बॉक्स D बॉक्स E से डेढ़ गुना भारी है, और बॉक्स C बॉक्स A से चार गुना भारी है। बॉक्स E का वज़न 20 kg है। इनमें से कौन सा बॉक्स सबसे भारी है और उसका वज़न कितना है?

Options :

1. ✘ C, 60 kg

2. ✘ D, 60 kg

3. ✔ C, 40 kg

4. ✘ D, 40 kg

Question Number : 34 Question Id : 497959438 Question Type : MCQ Option Shuffling : Yes

Correct Marks : 1 Wrong Marks : 0.25

The total of three numbers is 120. The second number is two times the first number. The third number is three times the first number. What is the third number?

Options :

1. ✘ 40

2. ✘ 50

3. ✔ 60

4. ✘ 80

Question Number : 34 Question Id : 497959438 Question Type : MCQ Option Shuffling : Yes

Correct Marks : 1 Wrong Marks : 0.25

तीन संख्याओं का योग 120 है। दूसरी संख्या पहली संख्या से दो गुना है। तीसरी संख्या पहली संख्या से तीन गुना है। तीसरी संख्या क्या है?

Options :

1. ✘ 40

2. ✘ 50

3. ✔ 60

4. ✘ 80

Question Number : 35 Question Id : 497959439 Question Type : MCQ Option Shuffling : Yes

Correct Marks : 1 Wrong Marks : 0.25

Select the number that will come next in the following series.

15, 19, 28, 44, 69, ?

Options :

1. ✓ 105

2. ✘ 100

3. ✘ 99

4. ✘ 103

Question Number : 35 Question Id : 497959439 Question Type : MCQ Option Shuffling : Yes

Correct Marks : 1 Wrong Marks : 0.25

निम्नलिखित श्रृंखला में आने वाली अगली संख्या का चयन करें।

15, 19, 28, 44, 69, ?

Options :

1. ✓ 105

2. ✘ 100

3. ✘ 99

4. ✘ 103

Question Number : 36 Question Id : 497959440 Question Type : MCQ Option Shuffling : Yes

Correct Marks : 1 Wrong Marks : 0.25

Select the number that will come next in the following series.

40, 20, 20, 30, 60, ?

Options :

1. ✖ 110

2. ✖ 130

3. ✖ 140

4. ✔ 150

Question Number : 36 Question Id : 497959440 Question Type : MCQ Option Shuffling : Yes

Correct Marks : 1 Wrong Marks : 0.25

निम्नलिखित श्रृंखला में आने वाली अगली संख्या का चयन करें।

40, 20, 20, 30, 60, ?

Options :

1. ✖ 110

2. ✖ 130

3. ✖ 140

4. ✔ 150

Question Number : 37 Question Id : 497959441 Question Type : MCQ Option Shuffling : Yes

Correct Marks : 1 Wrong Marks : 0.25

Select the letter cluster that will come in place of the question mark (?) in the following series.

FNV, CJQ, ZFL, ?, TXB

Options :

1. ✓ WBG

2. ✘ WCG

3. ✘ VBG

4. ✘ WCH

Question Number : 37 Question Id : 497959441 Question Type : MCQ Option Shuffling : Yes

Correct Marks : 1 Wrong Marks : 0.25

निम्नलिखित श्रृंखला में प्रश्न चिह्न के स्थान पर आने वाले अक्षर समूह का चयन करें।

FNV, CJQ, ZFL, ?, TXB

Options :

1. ✓ WBG

2. ✘ WCG

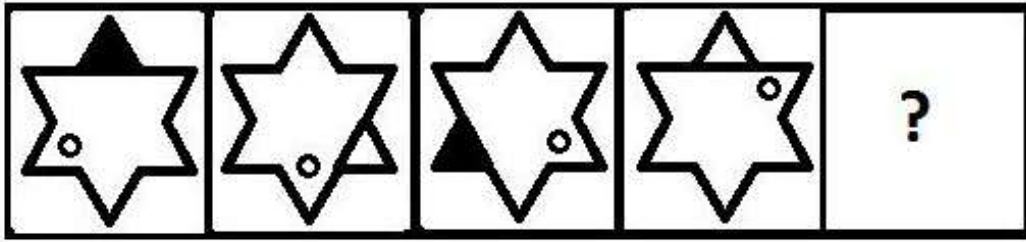
3. ✘ VBG

4. ✘ WCH


Question Number : 38 Question Id : 497959442 Question Type : MCQ Option Shuffling : Yes

Correct Marks : 1 Wrong Marks : 0.25


Select the figure that will come next in the following series.




Options :



1. ✖



2. ✖



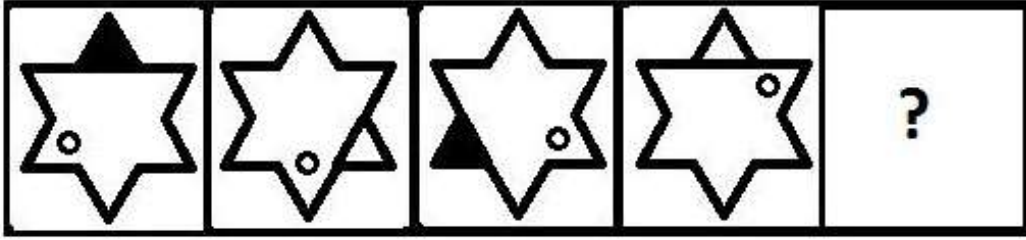
3. ✔




4. ✖



निम्नलिखित श्रृंखला में आने वाले अगले चित्र का चयन करें।




Options :



1. ✘



2. ✘



3. ✔

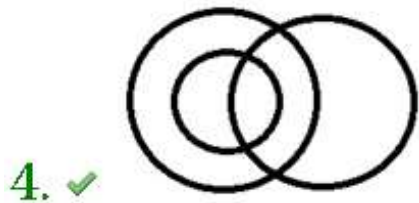
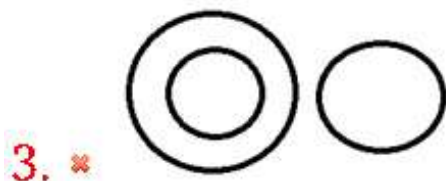
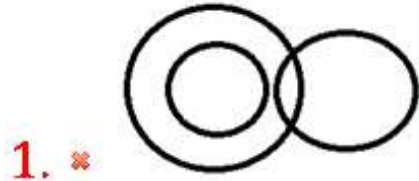


4. ✘

Select the Venn diagram that best represents the relationship between the given set of classes.

Men, Gynaecologist, Doctor

Options :



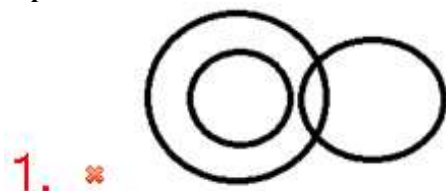
Question Number : 39 Question Id : 497959443 Question Type : MCQ Option Shuffling : Yes

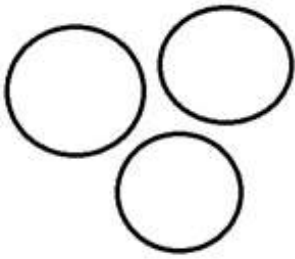
Correct Marks : 1 Wrong Marks : 0.25

उस वेन आरेख का चयन करें जो वर्गों के दिए गए सेट के बीच संबंधों को सबसे अच्छे तरीके से दर्शाता है।

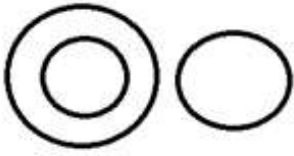
पुरुष, स्त्री रोग विशेषज्ञ (गाइनकालजिस्ट), डॉक्टर

Options :

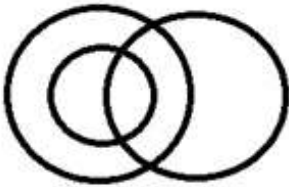




2. ✖



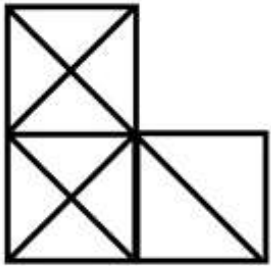
3. ✖



4. ✔

Question Number : 40 Question Id : 497959444 Question Type : MCQ Option Shuffling : Yes Correct Marks : 1 Wrong Marks : 0.25

How many triangles are present in the figure given below?



Options :

1. ✖ 18

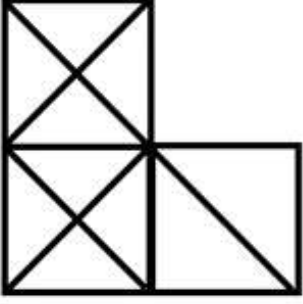
2. ✖ 20

3. ✖ 21

4. ✓ 22

Question Number : 40 Question Id : 497959444 Question Type : MCQ Option Shuffling : Yes  
Correct Marks : 1 Wrong Marks : 0.25

नीचे दिए गए चित्र में कितने त्रिकोण मौजूद हैं?



Options :

1. ✗ 18

2. ✗ 20

3. ✗ 21

4. ✓ 22

## General Awareness1

Group Number :	3
Group Id :	49795923
Group Maximum Duration :	0
Group Minimum Duration :	0
Show Attended Group? :	No
Edit Attended Group? :	No
Break time:	0
Group Marks:	20
Is this Group for Examiner? :	No
Revisit allowed for group Instructions? :	Yes
Maximum Instruction Time:	0
Minimum Instruction Time:	0

# General Awareness1

Section Id :	49795923
Section Number :	1
Section type :	Online
Mandatory or Optional:	Mandatory
Number of Questions:	20
Number of Questions to be attempted:	20
Section Marks:	20

Sub-Section Number:	1
Sub-Section Id:	49795927
Question Shuffling Allowed :	Yes

Question Number : 41 Question Id : 497959445 Question Type : MCQ Option Shuffling : Yes  
Correct Marks : 1 Wrong Marks : 0.25

The ever popular antiseptic product called Dettol is a brand owned by which of these companies?

Options :

1. ✓ Reckitt Benckiser Group

2. ✘ Marico Group

3. ✘ ITC Group

4. ✘ Jyothi Laboratories

Question Number : 41 Question Id : 497959445 Question Type : MCQ Option Shuffling : Yes  
Correct Marks : 1 Wrong Marks : 0.25

डेटॉल नामक लोकप्रिय एंटीसेप्टिक उत्पाद निम्नलिखित किस कंपनी के स्वामित्व में है?

Options :

1. ✓ रेकिट बैकिजर ग्रुप

2. ✖ मैरिको ग्रुप

3. ✖ आई.टी.सी. ग्रुप

4. ✖ ज्योति लेबोरेटरीज

Question Number : 42 Question Id : 497959446 Question Type : MCQ Option Shuffling : Yes  
Correct Marks : 1 Wrong Marks : 0.25

The Christian festival of Easter always falls on which day?

Options :

1. ✖ Wednesday

2. ✖ Thursday

3. ✖ Friday

4. ✔ Sunday

Question Number : 42 Question Id : 497959446 Question Type : MCQ Option Shuffling : Yes  
Correct Marks : 1 Wrong Marks : 0.25

ईसाईयों का ईस्टर का त्योहार हमेशा किस दिन पड़ता है?

Options :

1. ✖ बुधवार

2. ✖ गुरुवार

3. ✖ शुक्रवार

4. ✔ रविवार

Question Number : 43 Question Id : 497959447 Question Type : MCQ Option Shuffling : Yes

Correct Marks : 1 Wrong Marks : 0.25

In the National Institutional Ranking Framework (NIRF) 2019 ranking, name the college that got the top ranking. This college completes a hat-trick in #1 ranking in 2019.

Options :

1. ✖ Lady Sri Ram College for Women, Delhi University

2. ✖ Hindu College, Delhi University

3. ✔ Miranda House, Delhi University

4. ✖ St Stephens College, Delhi University

Question Number : 43 Question Id : 497959447 Question Type : MCQ Option Shuffling : Yes

Correct Marks : 1 Wrong Marks : 0.25

नेशनल इंस्टीट्यूशनल रैंकिंग फ्रेमवर्क (NIRF) 2019 रैंकिंग में, टॉप रैंकिंग पाने वाले कॉलेज का नाम बताइए। इस कॉलेज ने 2019 में # 1 रैंकिंग में एक हैट्रिक पूरी की है।

Options :

1. ✖ लेडी श्रीराम कॉलेज फॉर विमेन, दिल्ली विश्वविद्यालय

2. ✖ हिंदू कॉलेज, दिल्ली विश्वविद्यालय

3. ✔ मिरांडा हाउस, दिल्ली विश्वविद्यालय

4. ✖ सेंट स्टीफेंस कॉलेज, दिल्ली विश्वविद्यालय

Question Number : 44 Question Id : 497959448 Question Type : MCQ Option Shuffling : Yes  
Correct Marks : 1 Wrong Marks : 0.25

The Ahom Empire flourished in which part of India in the 13th century?

Options :

1. ✖ Northern India

2. ✖ Western India

3. ✖ Southern India

4. ✔ Eastern India

Question Number : 44 Question Id : 497959448 Question Type : MCQ Option Shuffling : Yes  
Correct Marks : 1 Wrong Marks : 0.25

13वीं शताब्दी में आहोम साम्राज्य भारत के किस हिस्से में विकसित हुआ था?

Options :

1. ✖ उत्तरी भारत

2. ✖ पश्चिमी भारत

3. ✖ दक्षिणी भारत

4. ✔ पूर्वी भारत

Question Number : 45 Question Id : 497959449 Question Type : MCQ Option Shuffling : Yes



Correct Marks : 1 Wrong Marks : 0.25

The Security Printing and Minting Corporation of India Limited (SPMCIL) has got its own Security Paper Mill that produces the paper for bank notes. Where is the Security Paper Mill located?

Options :

1. ✘ Nashik, Maharashtra
2. ✘ Dewas, Madhya Pradesh
3. ✔ Hoshangabad, Madhya Pradesh
4. ✘ Kolkata, West Bengal

Question Number : 45 Question Id : 497959449 Question Type : MCQ Option Shuffling : Yes

Correct Marks : 1 Wrong Marks : 0.25

सिक्योरिटी प्रिंटिंग एंड मिंटिंग कॉरपोरेशन ऑफ इंडिया लिमिटेड (SPMCIL) का अपना एक सिक्योरिटी पेपर मिल है जो बैंक नोटों के लिए पेपर का उत्पादन करता है। यह सिक्योरिटी पेपर मिल कहाँ स्थित है?

Options :

1. ✘ नासिक (नाशिक), महाराष्ट्र
2. ✘ देवास, मध्य प्रदेश
3. ✔ होशंगाबाद, मध्य प्रदेश
4. ✘ कोलकाता, पश्चिम बंगाल

Question Number : 46 Question Id : 497959450 Question Type : MCQ Option Shuffling : Yes

Correct Marks : 1 Wrong Marks : 0.25

Which of these instruments is NOT a woodwind musical instrument?

Options :

1. ✖ Flute

2. ✖ Oboe

3. ✔ Sarod

4. ✖ Clarinet

Question Number : 46 Question Id : 497959450 Question Type : MCQ Option Shuffling : Yes

Correct Marks : 1 Wrong Marks : 0.25

इनमें से कौन सा वाद्य यंत्र, एक सुषिर काष्ठ वाद्य यंत्र नहीं है?

Options :

1. ✖ बांसुरी

2. ✖ नफीरी (Oboe)

3. ✔ सरोद

4. ✖ शहनाई

Question Number : 47 Question Id : 497959451 Question Type : MCQ Option Shuffling : Yes

Correct Marks : 1 Wrong Marks : 0.25

The electoral bonds that facilitate making donations to political parties was announced in which Union Budget?

Options :

1. ✖ Union Budget 2015-16

2. ✖ Union Budget 2016-17

3. ✔ Union Budget 2017-18

4. ✖ Union Budget 2018-19

Question Number : 47 Question Id : 497959451 Question Type : MCQ Option Shuffling : Yes

Correct Marks : 1 Wrong Marks : 0.25

राजनीतिक दलों को दान देने की सुविधा देने वाले चुनावी बांड की घोषणा निम्नलिखित किस केंद्रीय बजट में की गई थी?

Options :

1. ✖ केंद्रीय बजट 2015-16

2. ✖ केंद्रीय बजट 2016-17

3. ✔ केंद्रीय बजट 2017-18

4. ✖ केंद्रीय बजट 2018-19

Question Number : 48 Question Id : 497959452 Question Type : MCQ Option Shuffling : Yes

Correct Marks : 1 Wrong Marks : 0.25

John Dalton, the pioneering atomic theory scientist, was born in which country?

Options :

1. ✖ Austria

2. ✖ Netherlands

3. ✖ France

4. ✔ England

Question Number : 48 Question Id : 497959452 Question Type : MCQ Option Shuffling : Yes  
Correct Marks : 1 Wrong Marks : 0.25

अग्रणी परमाणु सिद्धांत वैज्ञानिक जॉन डेल्टन का जन्म निम्नलिखित में से किस देश में हुआ था?

Options :

1. ✖ ऑस्ट्रिया

2. ✖ नीदरलैंड

3. ✖ फ्रांस

4. ✔ इंग्लैंड

Question Number : 49 Question Id : 497959453 Question Type : MCQ Option Shuffling : Yes  
Correct Marks : 1 Wrong Marks : 0.25

The Bombay High Court has three bench courts. Which of the 4 cities listed below is NOT one of the benches of the Bombay High Court?

Options :

1. ✖ Aurangabad

2. ✖ Nagpur

3. ✔ Pune

4. ✖ Panaji

Question Number : 49 Question Id : 497959453 Question Type : MCQ Option Shuffling : Yes

Correct Marks : 1 Wrong Marks : 0.25

बॉम्बे हाईकोर्ट में तीन बेंच कोर्ट हैं। नीचे दिए गए 4 शहरों में से कौन सा बॉम्बे हाईकोर्ट की बेंच में से एक नहीं है?

Options :

1. ✖ औरंगाबाद

2. ✖ नागपुर

3. ✔ पुणे

4. ✖ पणजी

Question Number : 50 Question Id : 497959454 Question Type : MCQ Option Shuffling : Yes

Correct Marks : 1 Wrong Marks : 0.25

The devastating Latur earthquake (Maharashtra) happened in which year?

Options :

1. ✖ 1989

2. ✔ 1993

3. ✖ 1999

4. ✖ 2004

Question Number : 50 Question Id : 497959454 Question Type : MCQ Option Shuffling : Yes

Correct Marks : 1 Wrong Marks : 0.25

विनाशकारी लातूर भूकंप (महाराष्ट्र) किस वर्ष में हुआ था?

Options :

1. ✘ 1989

2. ✔ 1993

3. ✘ 1999

4. ✘ 2004

Question Number : 51 Question Id : 497959455 Question Type : MCQ Option Shuffling : Yes

Correct Marks : 1 Wrong Marks : 0.25

The city of Strasbourg is the official seat of the European Parliament. In which European country is Strasbourg located?

Options :

1. ✘ Belgium

2. ✘ Austria

3. ✘ Switzerland

4. ✔ France

Question Number : 51 Question Id : 497959455 Question Type : MCQ Option Shuffling : Yes

Correct Marks : 1 Wrong Marks : 0.25

स्ट्रांसबर्ग शहर यूरोपीय संसद की आधिकारिक सीट है। स्ट्रांसबर्ग किस यूरोपीय देश में स्थित है?

Options :

1. ✘ बेल्जियम

2. ✖ ऑस्ट्रिया

3. ✖ स्विट्जरलैंड

4. ✔ फ्रांस

Question Number : 52 Question Id : 497959456 Question Type : MCQ Option Shuffling : Yes

Correct Marks : 1 Wrong Marks : 0.25

This institute was founded in 1878 as the British Imperial Forest School. It is now called the Forest Research Institute (FRI). Where is it located?

Options :

1. ✔ Dehradun

2. ✖ Darjeeling

3. ✖ Nainital

4. ✖ Rishikesh

Question Number : 52 Question Id : 497959456 Question Type : MCQ Option Shuffling : Yes

Correct Marks : 1 Wrong Marks : 0.25

इस संस्थान की स्थापना 1878 में ब्रिटिश इंपीरियल फॉरेस्ट स्कूल के रूप में हुई थी। इसे अब फॉरेस्ट रिसर्च इंस्टिट्यूट (एफ.आर.आई.) कहा जाता है। यह कहां स्थित है?

Options :

1. ✔ देहरादून

2. ✖ दार्जिलिंग

3. ✖ नैनीताल

4. ✖ ऋषिकेश

Question Number : 53 Question Id : 497959457 Question Type : MCQ Option Shuffling : Yes

Correct Marks : 1 Wrong Marks : 0.25

What is the name of the visa that enables you to travel to 23 European countries?

Options :

1. ✖ Euro Visa

2. ✔ Schengen Visa

3. ✖ Europe Visa

4. ✖ Baltic Visa

Question Number : 53 Question Id : 497959457 Question Type : MCQ Option Shuffling : Yes

Correct Marks : 1 Wrong Marks : 0.25

उस वीजा का नाम क्या है जो आपको 23 यूरोपीय देशों की यात्रा करने में सक्षम बनाता है?

Options :

1. ✖ यूरो वीजा

2. ✔ शेंगेन वीजा

3. ✖ यूरोप वीजा



#### 4. ✖ बाल्टिक बीजा

Question Number : 54 Question Id : 497959458 Question Type : MCQ Option Shuffling : Yes

Correct Marks : 1 Wrong Marks : 0.25

The Salar De Uyuni salt desert of Bolivia is supposed to be the home of 50-70% of the reserves of:

Options :

1. ✖ Uranium

2. ✖ Thorium

3. ✔ Lithium

4. ✖ Silver

Question Number : 54 Question Id : 497959458 Question Type : MCQ Option Shuffling : Yes

Correct Marks : 1 Wrong Marks : 0.25

बोलीविया के सालार दे उयूनी नमक रेगिस्तान को निम्नलिखित में से किस सामग्री का 50-70% भंडार का घर माना जाता है?

Options :

1. ✖ यूरेनियम

2. ✖ थोरियम

3. ✔ लिथियम

4. ✖ चांदी

Question Number : 55 Question Id : 497959459 Question Type : MCQ Option Shuffling : Yes

Correct Marks : 1 Wrong Marks : 0.25

If you see a sign '5T' while driving on an Indian road, what does that road sign mean?

Options :

1. ✘ There are 5 turns ahead of the road
2. ✘ 5 km is the speed limit of the road ahead
3. ✔ Vehicles weighing more than 5 tonnes should not use the road
4. ✘ A signal with 5 roads branching out is coming ahead

Question Number : 55 Question Id : 497959459 Question Type : MCQ Option Shuffling : Yes

Correct Marks : 1 Wrong Marks : 0.25

यदि आप भारतीय सड़क पर वाहन चलाते समय '5T' का चिन्ह देखते हैं, तो सड़क के इस प्रतीक का क्या मतलब है?

Options :

1. ✘ सड़क पर आगे 5 मोड़ आने वाले हैं
2. ✘ आगे की सड़क पर गाड़ी चलाने के अधिकतम गति 5 km है
3. ✔ 5 टन से अधिक वजन वाले वाहनों को इस सड़क का उपयोग नहीं करना चाहिए
4. ✘ आगे 5 सड़कों का एक चौराहा आने वाला है

Question Number : 56 Question Id : 497959460 Question Type : MCQ Option Shuffling : Yes

Correct Marks : 1 Wrong Marks : 0.25

The SGS1 is a geostationary satellite that has been launched from French Guiana on behalf of another country. To which country does the SGS1 satellite belong?

Options :

1. ✘ South Africa

2. ✖ South Korea

3. ✔ Saudi Arabia

4. ✖ Singapore

Question Number : 56 Question Id : 497959460 Question Type : MCQ Option Shuffling : Yes

Correct Marks : 1 Wrong Marks : 0.25

SGS1 एक भूस्थिर उपग्रह है जिसे किसी अन्य देश की तरफ से फ्रेंच गुयाना से लॉन्च किया गया है। SGS1 उपग्रह निम्नलिखित में से किस देश से संबंधित है?

Options :

1. ✖ दक्षिण अफ्रीका

2. ✖ दक्षिण कोरिया

3. ✔ सऊदी अरब

4. ✖ सिंगापुर

Question Number : 57 Question Id : 497959461 Question Type : MCQ Option Shuffling : Yes

Correct Marks : 1 Wrong Marks : 0.25

Which of these Tamil Nadu-based freedom fighters earned the title of 'Kappalottiya Tamilan' (The Tamilian who ran a shipping company)?

Options :

1. ✖ Dheeran Chinnamalai

2. ✖ Subramaniya Siva

3. ✖ Veerapandiya Kattabomman

4. ✔ V.O. Chidambaram Pillai

Question Number : 57 Question Id : 497959461 Question Type : MCQ Option Shuffling : Yes

Correct Marks : 1 Wrong Marks : 0.25

निम्नलिखित में से किस तमिलनाडु स्वतंत्रता सेनानी ने 'कप्पलोटिया तमिलन' (तमिलनाडु निवासी जो एक शिपिंग कंपनी चलाते हैं) का खिताब अर्जित किया?

Options :

1. ✖ धीरन चिन्नामलाई

2. ✖ सुब्रमण्यम शिव (Subramaniya Siva)

3. ✖ वीरपंडिया कट्टबोमन

4. ✔ वी.ओ. चिदम्बरम पिल्लै

Question Number : 58 Question Id : 497959462 Question Type : MCQ Option Shuffling : Yes

Correct Marks : 1 Wrong Marks : 0.25

Among the 4 pairs of Bollywood music directors listed, one pair are blood brothers. Name this sibling pair.

Options :

1. ✖ Shankar - Jaikishen

2. ✖ Lakshmikanth - Pyarelal

3. ✔ Kalyanji - Anandji

#### 4. ✖ Nadeem - Shravan

Question Number : 58 Question Id : 497959462 Question Type : MCQ Option Shuffling : Yes

Correct Marks : 1 Wrong Marks : 0.25

निम्नलिखित बॉलीवुड संगीत निर्देशकों के 4 जोड़े में से, एक जोड़ा ब्लड ब्रदर्स (रक्त भाइयों) का है। इस सहोदर जोड़ी का नाम बताइए।

Options :

1. ✖ शंकर- जयकिशन

2. ✖ लक्ष्मीकांत- प्यारेलाल

3. ✔ कल्याणजी- आनंदजी

4. ✖ नदीम- श्रवण

Question Number : 59 Question Id : 497959463 Question Type : MCQ Option Shuffling : Yes

Correct Marks : 1 Wrong Marks : 0.25

Which of these High Court's bench courts operates from Port Blair and is the apex body of the judiciary of Andaman and Nicobar?

Options :

1. ✖ Patna High Court

2. ✖ Telangana High Court

3. ✔ Calcutta High Court

4. ✖ Madras High Court

Question Number : 59 Question Id : 497959463 Question Type : MCQ Option Shuffling : Yes

Correct Marks : 1 Wrong Marks : 0.25

निम्नलिखित में से कौन सी उच्च न्यायालय की बेंच कोर्ट पोर्ट ब्लेयर से संचालित होती है और यह अंडमान और निकोबार की न्यायपालिका की सर्वोच्च संस्था है?

Options :

1. ✘ पटना उच्च न्यायालय
2. ✘ तेलंगाना उच्च न्यायालय
3. ✔ कलकत्ता उच्च न्यायालय
4. ✘ मद्रास उच्च न्यायालय

Question Number : 60 Question Id : 497959464 Question Type : MCQ Option Shuffling : Yes

Correct Marks : 1 Wrong Marks : 0.25

The condition called leucoderma affects which of these human body parts?

Options :

1. ✘ Heart
2. ✔ Skin
3. ✘ Nervous system
4. ✘ Blood

Question Number : 60 Question Id : 497959464 Question Type : MCQ Option Shuffling : Yes

Correct Marks : 1 Wrong Marks : 0.25

ल्यूकोडर्मा नामक अवस्था मानव शरीर के किस अंग को प्रभावित करती है?

Options :

1. ✘ दिल

2. ✔ त्वचा

3. ✘ तंत्रिका तंत्र

4. ✘ रक्त

## General Awareness2

Group Number :	4
Group Id :	49795924
Group Maximum Duration :	0
Group Minimum Duration :	0
Show Attended Group? :	No
Edit Attended Group? :	No
Break time:	0
Group Marks:	20
Is this Group for Examiner? :	No
Revisit allowed for group Instructions? :	Yes
Maximum Instruction Time:	0
Minimum Instruction Time:	0

## General Awareness2

Section Id :	49795924
Section Number :	1
Section type :	Online
Mandatory or Optional:	Mandatory
Number of Questions:	20
Number of Questions to be attempted:	20
Section Marks:	20

Sub-Section Number:	1
Sub-Section Id:	49795928
Question Shuffling Allowed :	Yes

Question Number : 61 Question Id : 497959465 Question Type : MCQ Option Shuffling : Yes

Correct Marks : 1 Wrong Marks : 0.25

On which day of the year does the World Health Organization (WHO) celebrate the World Health Day?

Options :

1. ✘ 7th January

2. ✘ 7th February

3. ✘ 7th March

4. ✔ 7th April

Question Number : 61 Question Id : 497959465 Question Type : MCQ Option Shuffling : Yes

Correct Marks : 1 Wrong Marks : 0.25

विश्व स्वास्थ्य संगठन (WHO) वर्ष के किस दिन विश्व स्वास्थ्य दिवस मनाता है?

Options :

1. ✘ 7 जनवरी

2. ✘ 7 फरवरी

3. ✘ 7 मार्च

4. ✔ 7 अप्रैल

Question Number : 62 Question Id : 497959466 Question Type : MCQ Option Shuffling : Yes

Correct Marks : 1 Wrong Marks : 0.25

As per Hindu mythological lore, what is the weapon that is associated with Lord Parasurama? The birth of Kerala is associated with Lord Parasurama throwing this weapon into the Arabian Sea.

Options :



1. ✖ Mace

2. ✔ Axe

3. ✖ Bow and Arrow

4. ✖ Sword

Question Number : 62 Question Id : 497959466 Question Type : MCQ Option Shuffling : Yes

Correct Marks : 1 Wrong Marks : 0.25

हिंदू पौराणिक कथाओं के अनुसार, निम्नलिखित में से कौन सा हथियार भगवान परशुराम के साथ जुड़ा हुआ है? केरल का जन्म भगवान परशुराम द्वारा इस हथियार को अरब सागर में फेंकने से हुआ है।

Options :

1. ✖ गदा

2. ✔ कुल्हाड़ी

3. ✖ धनुष और बाण

4. ✖ तलवार

Question Number : 63 Question Id : 497959467 Question Type : MCQ Option Shuffling : Yes

Correct Marks : 1 Wrong Marks : 0.25

India conducted joint military exercise called 'BOLD KURUKSHETRA 2019' in April 2019 with which country?

Options :

1. ✖ Russia

2. ✖ Iran

3. ✖ Israel

4. ✔ Singapore

Question Number : 63 Question Id : 497959467 Question Type : MCQ Option Shuffling : Yes

Correct Marks : 1 Wrong Marks : 0.25

भारत ने अप्रैल 2019 में 'बोल्ड कुरुक्षेत्र 2019' नामक संयुक्त सैन्य अभ्यास निम्नलिखित में से किस देश के साथ आयोजित किया?

Options :

1. ✖ रूस

2. ✖ ईरान

3. ✖ इज़राइल

4. ✔ सिंगापुर

Question Number : 64 Question Id : 497959468 Question Type : MCQ Option Shuffling : Yes

Correct Marks : 1 Wrong Marks : 0.25

Which city in Central India is famous for its 'Diamond Railway Crossing', a point where the North-South Railway lines meet the East-West Railway lines?

Options :

1. ✔ Nagpur

2. ✖ Indore

3. ✖ Bhopal

4. ✖ Nanded

Question Number : 64 Question Id : 497959468 Question Type : MCQ Option Shuffling : Yes

Correct Marks : 1 Wrong Marks : 0.25

केंद्रीय भारत का कौन सा शहर अपनी 'डायमंड रेलवे क्रॉसिंग' के लिए प्रसिद्ध है? यह एक बिंदु है जहाँ उत्तर-दक्षिण रेलवे लाइनें पूर्व-पश्चिम रेलवे लाइनों से मिलती हैं?

Options :

1. ✔ नागपुर

2. ✖ इंदौर

3. ✖ भोपाल

4. ✖ नांदेड़

Question Number : 65 Question Id : 497959469 Question Type : MCQ Option Shuffling : Yes

Correct Marks : 1 Wrong Marks : 0.25

In which year was the Postal Index Number (PIN) or PIN Code system started in India?

Options :

1. ✖ 1947

2. ✖ 1950

3. ✔ 1972

4. ✖ 1998

Question Number : 65 Question Id : 497959469 Question Type : MCQ Option Shuffling : Yes

Correct Marks : 1 Wrong Marks : 0.25

भारत में पोस्टल इंडेक्स नंबर (पिन) या पिन कोड प्रणाली किस वर्ष शुरू की गई थी?

Options :

1. ✖ 1947

2. ✖ 1950

3. ✔ 1972

4. ✖ 1998

Question Number : 66 Question Id : 497959470 Question Type : MCQ Option Shuffling : Yes

Correct Marks : 1 Wrong Marks : 0.25

From which country's embassy in London was the WikiLeaks founder Julian Assange arrested in April 2019?

Options :

1. ✔ Ecuador

2. ✖ Columbia

3. ✖ Venezuela

4. ✖ Bolivia

Question Number : 66 Question Id : 497959470 Question Type : MCQ Option Shuffling : Yes

Correct Marks : 1 Wrong Marks : 0.25

अप्रैल 2019 में विकीलीक्स के संस्थापक जूलियन असांज (Julian Assange) को लंदन में किस देश के दूतावास से गिरफ्तार किया गया था?

Options :

1. ✓ इक्वाडोर
2. ✗ कोलम्बिया
3. ✗ वेनेजुएला
4. ✗ बोलीविया

Question Number : 67 Question Id : 497959471 Question Type : MCQ Option Shuffling : Yes

Correct Marks : 1 Wrong Marks : 0.25

Eugenics is the study of the agencies under social control that may improve or impair the racial qualities of future generations either physically or mentally. Who is considered the father of this stream of study?

Options :

1. ✗ Charles Darwin
2. ✗ David Baltimore
3. ✓ Francis Galton
4. ✗ Raymond Dart

Question Number : 67 Question Id : 497959471 Question Type : MCQ Option Shuffling : Yes

Correct Marks : 1 Wrong Marks : 0.25

यूजीनिक्स, सामाजिक नियंत्रण के तहत ऐसी एजेंसियों का अध्ययन है जो भविष्य की पीढ़ियों के नस्लीय गुणों को शारीरिक या मानसिक रूप से सुधार या बिगाड़ सकता है। अध्ययन की इस धारा का जनक किसे माना जाता है?

Options :

1. ✘ चार्ल्स डार्विन
2. ✘ डेविड बाल्टीमोर
3. ✔ फ्रांसिस गाल्टन
4. ✘ रेमंड डार्ट

Question Number : 68 Question Id : 497959472 Question Type : MCQ Option Shuffling : Yes  
Correct Marks : 1 Wrong Marks : 0.25

Name the economist who has been closely associated with the theory of monetarism.

Options :

1. ✔ Milton Friedman
2. ✘ John Maynard Keynes
3. ✘ Adam Smith
4. ✘ Joseph Stiglitz

Question Number : 68 Question Id : 497959472 Question Type : MCQ Option Shuffling : Yes  
Correct Marks : 1 Wrong Marks : 0.25

उस अर्थशास्त्री का क्या नाम है जो मुद्रवादी सिद्धांत (theory of monetarism) से काफी करीब से जुड़ा है?

Options :

1. ✔ मिल्टन फ्रीडमैन

2. ✖ जॉन मेनार्ड कीन्स

3. ✖ एडम स्मिथ

4. ✖ जोसेफ स्टिग्लिट्ज़

Question Number : 69 Question Id : 497959473 Question Type : MCQ Option Shuffling : Yes

Correct Marks : 1 Wrong Marks : 0.25

Though Spanish is the most widely spoken language, this country is also home to languages such as Nahuatl, Yucatec Maya and Mixtec. Which country is being referred to here?

Options :

1. ✔ Mexico

2. ✖ Argentina

3. ✖ Bolivia

4. ✖ Chile

Question Number : 69 Question Id : 497959473 Question Type : MCQ Option Shuffling : Yes

Correct Marks : 1 Wrong Marks : 0.25

निम्नलिखित में से वह कौन सा देश है जहाँ, यद्यपि स्पैनिश सबसे व्यापक रूप से बोली जाने वाली भाषा है, लेकिन यहाँ पर नावातल, युकाटेक माया और मिक्सटेक जैसी भाषाएं भी प्रचलन में हैं?

Options :

1. ✔ मेक्सिको

2. ✖ अर्जेंटीना

3. ✖ बोलीविया

4. ✖ चिली

Question Number : 70 Question Id : 497959474 Question Type : MCQ Option Shuffling : Yes  
Correct Marks : 1 Wrong Marks : 0.25

What is the colour that is prescribed for school buses in India?

Options :

1. ✖ Blue

2. ✖ Red

3. ✖ Green

4. ✔ Yellow

Question Number : 70 Question Id : 497959474 Question Type : MCQ Option Shuffling : Yes  
Correct Marks : 1 Wrong Marks : 0.25

भारत में स्कूल बसों के लिए निम्नलिखित में से कौन सा रंग निर्धारित किया गया है?

Options :

1. ✖ नीला

2. ✖ लाल

3. ✖ हरा



4. ✓ पीला

Question Number : 71 Question Id : 497959475 Question Type : MCQ Option Shuffling : Yes  
Correct Marks : 1 Wrong Marks : 0.25

In which city of India is the Indian Diamond Institute (IDI) situated?

Options :

1. ✘ Bangalore

2. ✘ Mumbai

3. ✓ Surat

4. ✘ Vadodara

Question Number : 71 Question Id : 497959475 Question Type : MCQ Option Shuffling : Yes  
Correct Marks : 1 Wrong Marks : 0.25

भारतीय हीरा संस्थान (IDI) भारत के किस शहर में स्थित है?

Options :

1. ✘ बैंगलोर

2. ✘ मुंबई

3. ✓ सूरत

4. ✘ वड़ोदरा

Question Number : 72 Question Id : 497959476 Question Type : MCQ Option Shuffling : Yes

Correct Marks : 1 Wrong Marks : 0.25

Name the telescope that has recently created the live image of the black hole.

Options :

1. ✘ Keck Observatory Telescope

2. ✔ Event Horizon Telescope

3. ✘ Hubble Space Telescope

4. ✘ Spitzer Space Telescope

Question Number : 72 Question Id : 497959476 Question Type : MCQ Option Shuffling : Yes

Correct Marks : 1 Wrong Marks : 0.25

उस टेलिस्कोप का क्या नाम है जिसने हाल ही में ब्लैक होल (कृष्ण विवर) की लाइव इमेज (जीवित छवि) बनाई है?

Options :

1. ✘ केक ऑब्जर्वेटरी टेलिस्कोप

2. ✔ इवेंट होराइजन टेलिस्कोप

3. ✘ हबल स्पेस टेलिस्कोप

4. ✘ स्पिट्जर स्पेस टेलीस्कोप

Question Number : 73 Question Id : 497959477 Question Type : MCQ Option Shuffling : Yes

Correct Marks : 1 Wrong Marks : 0.25

The Vypeen Island is a bustling and densely populated island in the Arabian Sea very near the Indian coast. Near which of these cities is Vypeen situated?

Options :

1. ✖ Trivandrum

2. ✔ Kochi

3. ✖ Calicut

4. ✖ Mangalore

Question Number : 73 Question Id : 497959477 Question Type : MCQ Option Shuffling : Yes

Correct Marks : 1 Wrong Marks : 0.25

वाइपेन द्वीप, अरब सागर में भारतीय तट के पास एक हलचल और घनी आबादी वाला द्वीप है। वाइपेन निम्नलिखित में से किस शहर के पास स्थित है?

Options :

1. ✖ त्रिवेंद्रम

2. ✔ कोच्चि

3. ✖ कालीकट

4. ✖ मंगलौर

Question Number : 74 Question Id : 497959478 Question Type : MCQ Option Shuffling : Yes

Correct Marks : 1 Wrong Marks : 0.25

The Warangal Fort, whose ornamental gate is now the official emblem of the Telangana state, was built by which of these dynasties?

Options :

1. ✔ Kakatiya Dynasty

2. ✖ Vijayanagara Dynasty

3. ✖ Rashtrakuta Dynasty

4. ✖ Chandela Dynasty

Question Number : 74 Question Id : 497959478 Question Type : MCQ Option Shuffling : Yes

Correct Marks : 1 Wrong Marks : 0.25

वारंगल किला, जिसका सजावटी द्वार अब तेलंगाना राज्य का आधिकारिक प्रतीक है, निम्नलिखित में से किस राजवंश द्वारा बनाया गया था?

Options :

1. ✔ काकतीय राजवंश

2. ✖ विजयनगर राजवंश

3. ✖ राष्ट्रकूट राजवंश

4. ✖ चंदेल राजवंश

Question Number : 75 Question Id : 497959479 Question Type : MCQ Option Shuffling : Yes

Correct Marks : 1 Wrong Marks : 0.25

Which of these combinations of countries adds up to form the Iberian Peninsula?

Options :

1. ✔ Today's Spain & Portugal

2. ✖ Today's Uruguay and Argentina

3. ✖ Today's Iraq and Syria

4. ✖ Today's North and South Korea

Question Number : 75 Question Id : 497959479 Question Type : MCQ Option Shuffling : Yes  
Correct Marks : 1 Wrong Marks : 0.25

निम्नलिखित में से कौन से देशों का समूह इबेरियन प्रायद्वीप बनाते हैं?

Options :

1. ✔ आज के स्पेन और पुर्तगाल

2. ✖ आज के उरुग्वे और अर्जेंटीना

3. ✖ आज के इराक और सीरिया

4. ✖ आज के उत्तर और दक्षिण कोरिया

Question Number : 76 Question Id : 497959480 Question Type : MCQ Option Shuffling : Yes  
Correct Marks : 1 Wrong Marks : 0.25

The place Broadway and its world-famous theatre shows are synonymous with which of these great cities?

Options :

1. ✖ Paris

2. ✖ Chicago

3. ✔ New York

4. ✖ London

Question Number : 76 Question Id : 497959480 Question Type : MCQ Option Shuffling : Yes

Correct Marks : 1 Wrong Marks : 0.25

ब्राँडवे और इसके विश्व प्रसिद्ध थिएटर शो किस महान शहर का पर्याय हैं?

Options :

1. ✖ पेरिस

2. ✖ शिकागो

3. ✔ न्यूयॉर्क

4. ✖ लंदन

Question Number : 77 Question Id : 497959481 Question Type : MCQ Option Shuffling : Yes

Correct Marks : 1 Wrong Marks : 0.25

One set of digits in the GST number is a direct replication of which of these identities of the GST holder?

Options :

1. ✖ Aadhaar Card Number

2. ✖ Ration Card Number

3. ✖ Mobile Number

4. ✔ PAN Card Number

Question Number : 77 Question Id : 497959481 Question Type : MCQ Option Shuffling : Yes

Correct Marks : 1 Wrong Marks : 0.25

GST संख्या में अंकों का एक सेट, GST धारक की निम्नलिखित कौन सी पहचान की एक प्रत्यक्ष प्रतिकृति है?

Options :

1. ✘ आधार कार्ड नंबर
2. ✘ राशन कार्ड नंबर
3. ✘ मोबाइल नंबर
4. ✔ पैन कार्ड नंबर

Question Number : 78 Question Id : 497959482 Question Type : MCQ Option Shuffling : Yes

Correct Marks : 1 Wrong Marks : 0.25

What is the name for the Spanish and Portuguese Parliaments? The name has been derived from their common medieval history.

Options :

1. ✔ Cortes
2. ✘ Duma
3. ✘ El Paso
4. ✘ Caldera

Question Number : 78 Question Id : 497959482 Question Type : MCQ Option Shuffling : Yes

Correct Marks : 1 Wrong Marks : 0.25

स्पेनिश और पुर्तगाली संसदों का क्या नाम है? यह नाम उनके सामान्य मध्ययुगीन इतिहास से लिया गया है।

Options :

1. ✓ कोर्टेस

2. ✗ इयूमा

3. ✗ एल पासो

4. ✗ काल्डेरा

Question Number : 79 Question Id : 497959483 Question Type : MCQ Option Shuffling : Yes

Correct Marks : 1 Wrong Marks : 0.25

The three laws - Boyle's Law, Charles Law and Gay-Lussac's Law - come in the realm of which of these studies in physics?

Options :

1. ✗ Study of atoms

2. ✗ Study of light

3. ✗ Study of radioactivity

4. ✓ Study of gases

Question Number : 79 Question Id : 497959483 Question Type : MCQ Option Shuffling : Yes

Correct Marks : 1 Wrong Marks : 0.25

बॉयल का नियम, चार्ल्स का नियम और गे-लुसैक का नियम - यह तीन नियम भौतिकी में निम्नलिखित किस अध्ययन के दायरे में आते हैं?

Options :

1. ✗ परमाणुओं का अध्ययन



2. ✖ प्रकाश का अध्ययन

3. ✖ रेडियोधर्मिता का अध्ययन

4. ✔ गैसों का अध्ययन

Question Number : 80 Question Id : 497959484 Question Type : MCQ Option Shuffling : Yes

Correct Marks : 1 Wrong Marks : 0.25

The United Nations Conference on Trade and Development (UNCTAD) is a permanent intergovernmental body established by the United Nations to deal with trade, investment and development issues. Where is it headquartered?

Options :

1. ✖ New York

2. ✖ Paris

3. ✖ Brussels

4. ✔ Geneva

Question Number : 80 Question Id : 497959484 Question Type : MCQ Option Shuffling : Yes

Correct Marks : 1 Wrong Marks : 0.25

यूनाइटेड नेशंस कांफ्रेंस ऑन ट्रेड एंड डेवलपमेंट (UNCTAD) व्यापार, निवेश और विकास के मुद्दों से निपटने के लिए संयुक्त राष्ट्र द्वारा स्थापित एक स्थायी अंतर सरकारी निकाय है। इसका मुख्यालय कहाँ स्थित है?

Options :

1. ✖ न्यूयॉर्क

2. ✖ पेरिस

3. ✖ ब्रसेल्स

4. ✔ जिनेवा

## Arithmetic Ability1

Group Number :	5
Group Id :	49795925
Group Maximum Duration :	0
Group Minimum Duration :	0
Show Attended Group? :	No
Edit Attended Group? :	No
Break time:	0
Group Marks:	20
Is this Group for Examiner? :	No
Revisit allowed for group Instructions? :	Yes
Maximum Instruction Time:	0
Minimum Instruction Time:	0

## Arithmetic Ability1

Section Id :	49795925
Section Number :	1
Section type :	Online
Mandatory or Optional:	Mandatory
Number of Questions:	20
Number of Questions to be attempted:	20
Section Marks:	20

Sub-Section Number:	1
Sub-Section Id:	49795929
Question Shuffling Allowed :	Yes

Question Number : 81 Question Id : 497959485 Question Type : MCQ Option Shuffling : Yes  
Correct Marks : 1 Wrong Marks : 0.25

Find the value of  $x$  in the following equation.

$$\frac{27.48-x}{3.5 \times 0.3} = 20$$

Options :

1. ✖ 9.78

2. ✖ 7.48

3. ✔ 6.48

4. ✖ 3.68

Question Number : 81 Question Id : 497959485 Question Type : MCQ Option Shuffling : Yes

Correct Marks : 1 Wrong Marks : 0.25

निम्नलिखित समीकरण में  $x$  का मान ज्ञात कीजिए।

$$\frac{27.48-x}{3.5 \times 0.3} = 20$$

Options :

1. ✖ 9.78

2. ✖ 7.48

3. ✔ 6.48

4. ✖ 3.68

Question Number : 82 Question Id : 497959486 Question Type : MCQ Option Shuffling : Yes

Correct Marks : 1 Wrong Marks : 0.25

If  $2.5 \times (3 + 5) - 18 \div x = 4$ , then the value of  $x$  is:

Options :

1. ✔ 1.125

2. ✖ 0.50

3. ✖ 0.88

4. ✖ 1.25

Question Number : 82 Question Id : 497959486 Question Type : MCQ Option Shuffling : Yes

Correct Marks : 1 Wrong Marks : 0.25

अगर  $2.5 \times (3 + 5) - 18 \div x = 4$  हो, तो  $x$  का मान कितना होगा?

Options :

1. ✔ 1.125

2. ✖ 0.50

3. ✖ 0.88

4. ✖ 1.25

Question Number : 83 Question Id : 497959487 Question Type : MCQ Option Shuffling : Yes

Correct Marks : 1 Wrong Marks : 0.25

The value of  $(0.3 \times 0.3 - 0.02)(0.2 \times 0.2 + 0.01)^{-1}$  is equal to:

Options :

1. ✖ 1.70

2. ✖ 0.40

3. ✓ 1.40

4. ✘ 1.45

Question Number : 83 Question Id : 497959487 Question Type : MCQ Option Shuffling : Yes  
Correct Marks : 1 Wrong Marks : 0.25

$(0.3 \times 0.3 - 0.02)(0.2 \times 0.2 + 0.01)^{-1}$  का मान निम्नलिखित में से किसके बराबर होगा?

Options :

1. ✘ 1.70

2. ✘ 0.40

3. ✓ 1.40

4. ✘ 1.45

Question Number : 84 Question Id : 497959488 Question Type : MCQ Option Shuffling : Yes  
Correct Marks : 1 Wrong Marks : 0.25

Solve the following.

$$\left[ \frac{8(2.65)^2 - 1}{(5.3)^2 + 6.3} \right] = ?$$

Options :

1. ✘ 6.45

2. ✘ 5.35

3. ✖ 3.35

4. ✔ 4.30

Question Number : 84 Question Id : 497959488 Question Type : MCQ Option Shuffling : Yes  
Correct Marks : 1 Wrong Marks : 0.25

निम्नलिखित समीकरण को हल करें:

$$\left[ \frac{8(2.65)^3 - 1}{(5.3)^2 + 6.3} \right] = ?$$

Options :

1. ✖ 6.45

2. ✖ 5.35

3. ✖ 3.35

4. ✔ 4.30

Question Number : 85 Question Id : 497959489 Question Type : MCQ Option Shuffling : Yes  
Correct Marks : 1 Wrong Marks : 0.25

Solve the following.

$$9.25 - \frac{8.5}{1 + \frac{1}{2 + \frac{1}{4/5}}} = ?$$

Options :

1. ✖ 2.50

2. ✔ 2.75

3. ✖ 3.25

4. ✖ 3.65

Question Number : 85 Question Id : 497959489 Question Type : MCQ Option Shuffling : Yes  
Correct Marks : 1 Wrong Marks : 0.25

निम्नलिखित समीकरण को हल करें:

$$9.25 - \frac{8.5}{1 + \frac{1}{2 + \frac{1}{4/5}}} = ?$$

Options :

1. ✖ 2.50

2. ✔ 2.75

3. ✖ 3.25

4. ✖ 3.65

Question Number : 86 Question Id : 497959490 Question Type : MCQ Option Shuffling : Yes  
Correct Marks : 1 Wrong Marks : 0.25

Which one number would replace both the question marks in the following equation?

$$\frac{38}{?} = \frac{?}{342}$$

Options :

1. ✖ 144

2. ✖ 124

3. ✖ 118

4. ✔ 114

Question Number : 86 Question Id : 497959490 Question Type : MCQ Option Shuffling : Yes  
Correct Marks : 1 Wrong Marks : 0.25

निम्नलिखित समीकरण में दोनों प्रश्न चिहनों के स्थान पर कौन सा एक अंक आएगा?

$$\frac{38}{?} = \frac{?}{342}$$

Options :

1. ✖ 144

2. ✖ 124

3. ✖ 118

4. ✔ 114

Question Number : 87 Question Id : 497959491 Question Type : MCQ Option Shuffling : Yes  
Correct Marks : 1 Wrong Marks : 0.25

Find the greatest four-digit number that will leave remainders 5, 6, 12 and 17, when divided by 8, 9, 15 and 20 respectively.

Note: For this question, discrepancy is found in question/answer. So, this question is ignored for all candidates.

Options :

1. 8723

2. 9728



3. 9723

4. 9993

Question Number : 87 Question Id : 497959491 Question Type : MCQ Option Shuffling : Yes

Correct Marks : 1 Wrong Marks : 0.25

निम्नलिखित में से चार अंकों की वह कौन सी सबसे बड़ी संख्या है जिसे 8, 9, 15 और 20 से भाग देने पर 5, 6, 12 और 17 शेषफल आएगा?

Note: For this question, discrepancy is found in question/answer. So, this question is ignored for all candidates.

Options :

1. 8723

2. 9728

3. 9723

4. 9993

Question Number : 88 Question Id : 497959492 Question Type : MCQ Option Shuffling : Yes

Correct Marks : 1 Wrong Marks : 0.25

The HCF of  $\frac{2}{3}$ ,  $\frac{3}{5}$ ,  $\frac{5}{8}$  and  $\frac{8}{9}$  is:

Options :

1. ✓  $\frac{1}{360}$

2. ✗  $\frac{1}{60}$

3. ✖  $\frac{1}{120}$

4. ✖  $\frac{1}{180}$

Question Number : 88 Question Id : 497959492 Question Type : MCQ Option Shuffling : Yes

Correct Marks : 1 Wrong Marks : 0.25

$\frac{2}{3}, \frac{3}{5}, \frac{5}{8}$  और  $\frac{8}{9}$  का महत्तम समापवर्तक (HCF) कितना होगा?

Options :

1. ✔  $\frac{1}{360}$

2. ✖  $\frac{1}{60}$

3. ✖  $\frac{1}{120}$

4. ✖  $\frac{1}{180}$

Question Number : 89 Question Id : 497959493 Question Type : MCQ Option Shuffling : Yes

Correct Marks : 1 Wrong Marks : 0.25

Find the least number which when divided by 295, 403 and 547 will leave 7 as the remainder in each case.

Note: For this question, discrepancy is found in question/answer. So, this question is ignored for all candidates.

Options :

1. 18

2. 36

3. 48

4. 64

Question Number : 89 Question Id : 497959493 Question Type : MCQ Option Shuffling : Yes

Correct Marks : 1 Wrong Marks : 0.25

निम्नलिखित में से वह कौन सी सबसे छोटी संख्या है जिसे 295, 403 और 547 से भाग देने पर हर बार शेषफल 7 आएगा?

Note: For this question, discrepancy is found in question/answer. So, this question is ignored for all candidates.

Options :

1. 18

2. 36

3. 48

4. 64

Question Number : 90 Question Id : 497959494 Question Type : MCQ Option Shuffling : Yes

Correct Marks : 1 Wrong Marks : 0.25

If  $x : y = 5 : 3$ , find the value of  $\frac{8x + 5y}{7x - 5y}$ .

Options :

1. \*  $1\frac{1}{2}$

2. \*  $2\frac{1}{4}$

3. ✓  $2\frac{3}{4}$

4. ✗  $3\frac{3}{4}$

Question Number : 90 Question Id : 497959494 Question Type : MCQ Option Shuffling : Yes  
Correct Marks : 1 Wrong Marks : 0.25

अगर  $x : y = 5 : 3$  हो, तो  $\frac{8x + 5y}{7x - 5y}$  का मान कितना होगा?

Options :

1. ✗  $1\frac{1}{2}$

2. ✗  $2\frac{1}{4}$

3. ✓  $2\frac{3}{4}$

4. ✗  $3\frac{3}{4}$

Question Number : 91 Question Id : 497959495 Question Type : MCQ Option Shuffling : Yes  
Correct Marks : 1 Wrong Marks : 0.25

If  $\frac{1}{4} : \frac{1}{x} = \frac{1}{2x} : \frac{18}{49}$ , what is the value of  $x$  ?

Options :

1. ✓  $2\frac{1}{3}$

2. ✖  $3\frac{1}{3}$

3. ✖  $1\frac{2}{3}$

4. ✖  $2\frac{2}{3}$

Question Number : 91 Question Id : 497959495 Question Type : MCQ Option Shuffling : Yes

Correct Marks : 1 Wrong Marks : 0.25

अगर  $\frac{1}{4} : \frac{1}{x} = \frac{1}{2x} : \frac{18}{49}$  हो, तो  $x$  का मान कितना होगा?

Options :

1. ✔  $2\frac{1}{3}$

2. ✖  $3\frac{1}{3}$

3. ✖  $1\frac{2}{3}$

4. ✖  $2\frac{2}{3}$

Question Number : 92 Question Id : 497959496 Question Type : MCQ Option Shuffling : Yes

Correct Marks : 1 Wrong Marks : 0.25

The containers A and B have mixtures of milk and water in the ratios of 3 : 5 and 7 : 9, respectively. If equal quantities from both the containers are mixed to form a new mixture, what will be ratio of milk and water in the new mixture?

Options :

1. ✖ 5 : 7

2. ✘ 5 : 9

3. ✘ 13 : 17

4. ✔ 13 : 19

Question Number : 92 Question Id : 497959496 Question Type : MCQ Option Shuffling : Yes

Correct Marks : 1 Wrong Marks : 0.25

कंटेनर A और B में क्रमशः 3 : 5 और 7 : 9 के अनुपात में दूध और पानी का मिश्रण है। यदि दोनों कंटेनरों के मिश्रणों को समान मात्रा में लेकर एक नया मिश्रण बनाया जाता है, तो नए मिश्रण में दूध और पानी का अनुपात कितना होगा?

Options :

1. ✘ 5 : 7

2. ✘ 5 : 9

3. ✘ 13 : 17

4. ✔ 13 : 19

Question Number : 93 Question Id : 497959497 Question Type : MCQ Option Shuffling : Yes

Correct Marks : 1 Wrong Marks : 0.25

An amount of ₹ 1,268 is to be divided among A, B and C such that their shares when reduced by ₹ 7, ₹ 12 and ₹ 17 respectively would be in the ratio of 2 : 5 : 7. What is B's share?

Options :

1. ✘ ₹ 181

2. ✔ ₹ 452

3. ✖ ₹ 582

4. ✖ ₹ 633

Question Number : 93 Question Id : 497959497 Question Type : MCQ Option Shuffling : Yes

Correct Marks : 1 Wrong Marks : 0.25

₹ 1,268 की राशि को A, B और C के बीच कुछ इस तरह से बांटा जाना है, ताकि उनके हिस्सों में से क्रमशः ₹ 7, ₹ 12 और ₹ 17 घटाने पर उनका अनुपात 2 : 5 : 7 होगा। इस हिस्से में B को कुल कितनी राशि प्राप्त होगी?

Options :

1. ✖ ₹ 181

2. ✔ ₹ 452

3. ✖ ₹ 582

4. ✖ ₹ 633

Question Number : 94 Question Id : 497959498 Question Type : MCQ Option Shuffling : Yes

Correct Marks : 1 Wrong Marks : 0.25

An aggregate of 36% of the total marks is required to pass an examination and 60% to get a first class. A student scored 298 marks and failed by 26 marks. How many marks should he have secured to get a first class?

Options :

1. ✖ 560

2. ✔ 540

3. ✖ 480

4. ✖ 420

Question Number : 94 Question Id : 497959498 Question Type : MCQ Option Shuffling : Yes

Correct Marks : 1 Wrong Marks : 0.25

एक परीक्षा में उत्तीर्ण होने के लिए कुल 36% अंक होना अनिवार्य है और प्रथम श्रेणी से उत्तीर्ण होने के लिए 60% अंक अनिवार्य है। एक छात्र ने 298 अंक प्राप्त किए और वह 26 अंकों से फेल हो गया। प्रथम श्रेणी से उत्तीर्ण होने के लिए उसे कितने अंक प्राप्त करने की जरूरत थी?

Options :

1. ✖ 560

2. ✔ 540

3. ✖ 480

4. ✖ 420

Question Number : 95 Question Id : 497959499 Question Type : MCQ Option Shuffling : Yes

Correct Marks : 1 Wrong Marks : 0.25

If 30% of 25% of  $\frac{5}{7}$  of  $x = 105$ , what is the value of  $x$ ?

Options :

1. ✔ 1960

2. ✖ 1880

3. ✖ 1760

4. ✖ 1660



Question Number : 95 Question Id : 497959499 Question Type : MCQ Option Shuffling : Yes

Correct Marks : 1 Wrong Marks : 0.25

अगर  $x$  के  $\frac{5}{7}$  का 25% का 30% = 105 है, तो  $x$  का मान कितना होगा?

Options :

1. ✓ 1960

2. ✗ 1880

3. ✗ 1760

4. ✗ 1660

Question Number : 96 Question Id : 497959500 Question Type : MCQ Option Shuffling : Yes

Correct Marks : 1 Wrong Marks : 0.25

If the numerator of a fraction is decreased by 20% and the denominator is increased by 25%, the value of the fraction becomes  $\frac{4}{7}$ . What is the original fraction?

Options :

1. ✓  $\frac{25}{28}$

2. ✗  $\frac{15}{17}$

3. ✗  $\frac{30}{49}$

4. ✗  $\frac{25}{32}$

Question Number : 96 Question Id : 497959500 Question Type : MCQ Option Shuffling : Yes

Correct Marks : 1 Wrong Marks : 0.25

यदि किसी भिन्न का अंश 20% घटाया जाता है और हर 25% बढ़ाया जाता है, तो उस भिन्न का मान  $\frac{4}{7}$  हो जाता है। निम्नलिखित में से मूल भिन्न ज्ञात करें।

Options :

1. ✓  $\frac{25}{28}$

2. ✗  $\frac{15}{17}$

3. ✗  $\frac{30}{49}$

4. ✗  $\frac{25}{32}$

Question Number : 97 Question Id : 497959501 Question Type : MCQ Option Shuffling : Yes

Correct Marks : 1 Wrong Marks : 0.25

The average weight of 12 girls is 6 kg less than the average weight of 18 boys. If the total weight of 12 girls is 276 kg, what is the average weight of 12 girls and 18 boys taken together?

Options :

1. ✗ 25.4 kg

2. ✓ 26.6 kg

3. ✗ 27.2 kg

4. ✗ 28.8 kg

Question Number : 97 Question Id : 497959501 Question Type : MCQ Option Shuffling : Yes

Correct Marks : 1 Wrong Marks : 0.25

12 लड़कियों का औसत वजन 18 लड़कों के औसत वजन से 6 kg कम है। यदि 12 लड़कियों का कुल वजन 276 kg है, तो 12 लड़कियों और 18 लड़कों का औसत वजन कितना होगा?

Options :

1. ✘ 25.4 kg

2. ✔ 26.6 kg

3. ✘ 27.2 kg

4. ✘ 28.8 kg

Question Number : 98 Question Id : 497959502 Question Type : MCQ Option Shuffling : Yes

Correct Marks : 1 Wrong Marks : 0.25

In an examination, the average marks of a student per paper were 72. If he would have secured 15 more marks in Mathematics and 17 more marks in History, his average marks per paper would have been 75.2. How many papers were there in the examination?

Options :

1. ✘ 8

2. ✔ 10

3. ✘ 11

4. ✘ 12

Question Number : 98 Question Id : 497959502 Question Type : MCQ Option Shuffling : Yes

Correct Marks : 1 Wrong Marks : 0.25

एक परीक्षा में, एक छात्र के प्रति पेपर का औसत अंक 72 था। यदि उसने गणित में 15 और इतिहास में 17 और अंक प्राप्त किए होते, तो प्रति पेपर उसका औसत अंक 75.2 होता। परीक्षा में कुल कितने पेपर थे?

Options :

1. ✖ 8

2. ✔ 10

3. ✖ 11

4. ✖ 12

Question Number : 99 Question Id : 497959503 Question Type : MCQ Option Shuffling : Yes

Correct Marks : 1 Wrong Marks : 0.25

The average score of a class in a test was 56. The average score of the brightest 25% students was 80 and the average score of the dullest 35% students was 30. If the ratio of the boys and girls in the remaining 40% of students was 2:3 and the average score of the boys in this remaining group was 60, what was approximately the average score of the girls in the remaining 40%?

Options :

1. ✖ 60.20

2. ✖ 62.40

3. ✔ 66.25

4. ✖ 68.75

Question Number : 99 Question Id : 497959503 Question Type : MCQ Option Shuffling : Yes

Correct Marks : 1 Wrong Marks : 0.25

एक टेस्ट में पूरी कक्षा का औसत स्कोर 56 था। प्रतिभाशाली 25% छात्रों का औसत स्कोर 80 था और कम प्रतिभाशाली 35% छात्रों का औसत स्कोर 30 था। यदि शेष 40% छात्रों में लड़कों और लड़कियों का अनुपात 2 : 3 था और इस शेष समूह में लड़कों का औसत स्कोर 60 था, तो शेष 40% में लड़कियों का औसत स्कोर कितना था?

Options :

1. ✘ 60.20

2. ✘ 62.40

3. ✔ 66.25

4. ✘ 68.75

Question Number : 100 Question Id : 497959504 Question Type : MCQ Option Shuffling : Yes

Correct Marks : 1 Wrong Marks : 0.25

A shopkeeper purchased 30 kg of wheat at ₹ 30 per kg and mixed it with 40 kg of wheat which was purchased at ₹ 20 per kg. At what approximate rate should he sell the mixture to gain a profit of 10%?

Options :

1. ✘ ₹ 24.15

2. ✔ ₹ 26.71

3. ✘ ₹ 28.26

4. ✘ ₹ 31.25

Question Number : 100 Question Id : 497959504 Question Type : MCQ Option Shuffling : Yes

Correct Marks : 1 Wrong Marks : 0.25

एक दुकानदार ने ₹ 30 प्रति kg की दर से गेहूं खरीदा और इसे ₹ 20 प्रति kg की दर से खरीदे गए 40 kg के गेहूं के साथ मिलाया। तो 10% का लाभ प्राप्त करने के लिए वह इस मिश्रण को अनुमानित कितने रुपये की दर पर बेचेगा?

Options :

1. ✘ ₹ 24.15

2. ✓ ₹ 26.71

3. ✘ ₹ 28.26

4. ✘ ₹ 31.25

## Arithmetic Ability2

Group Number :	6
Group Id :	49795926
Group Maximum Duration :	0
Group Minimum Duration :	0
Show Attended Group? :	No
Edit Attended Group? :	No
Break time:	0
Group Marks:	20
Is this Group for Examiner?:	No
Revisit allowed for group Instructions? :	Yes
Maximum Instruction Time:	0
Minimum Instruction Time:	0

## Arithmetic Ability2

Section Id :	49795926
Section Number :	1
Section type :	Online
Mandatory or Optional:	Mandatory
Number of Questions:	20
Number of Questions to be attempted:	20
Section Marks:	20

Sub-Section Number:	1
Sub-Section Id:	49795930
Question Shuffling Allowed :	Yes

Question Number : 101 Question Id : 497959505 Question Type : MCQ Option Shuffling : Yes  
Correct Marks : 1 Wrong Marks : 0.25

By selling 78 apples, a fruit seller gains the selling price of 18 apples. What is his gain percent?

Options :

1. ✓ 30%

2. ✘ 25%

3. ✘ 23.7%

4. ✘ 33.3%

Question Number : 101 Question Id : 497959505 Question Type : MCQ Option Shuffling : Yes

Correct Marks : 1 Wrong Marks : 0.25

78 सेब बेचकर, एक फल विक्रेता 18 सेब के विक्रय मूल्य जितना लाभ प्राप्त करता है। उसका लाभ प्रतिशत कितना है?

Options :

1. ✓ 30%

2. ✘ 25%

3. ✘ 23.7%

4. ✘ 33.3%

Question Number : 102 Question Id : 497959506 Question Type : MCQ Option Shuffling : Yes

Correct Marks : 1 Wrong Marks : 0.25

By selling an article for ₹ 1,744, a seller earns a profit of 20% more than the loss he would have incurred if he had sold the article for ₹ 1,480. What is the price of the article?

Options :

1. ✘ ₹ 1,850

2. ✖ ₹ 1,700

3. ✖ ₹ 1,400

4. ✔ ₹ 1,600

Question Number : 102 Question Id : 497959506 Question Type : MCQ Option Shuffling : Yes

Correct Marks : 1 Wrong Marks : 0.25

एक विक्रेता को एक सामान, को ₹ 1,480 की दर पर बेचने से जो हानि होती, ₹ 1,744 पर बेचने पर उसे उस हानि से 20% अधिक लाभ प्राप्त हुआ। उस सामान की कीमत कितनी थी?

Options :

1. ✖ ₹ 1,850

2. ✖ ₹ 1,700

3. ✖ ₹ 1,400

4. ✔ ₹ 1,600

Question Number : 103 Question Id : 497959507 Question Type : MCQ Option Shuffling : Yes

Correct Marks : 1 Wrong Marks : 0.25

At simple interest, a certain sum of money amounts to ₹ 1,488 in 2 years and to ₹ 1,776 in 4 years. Find the sum.

Options :

1. ✖ ₹ 1,600

2. ✖ ₹ 1,450



3. ✓ ₹ 1,200

4. ✘ ₹ 900

Question Number : 103 Question Id : 497959507 Question Type : MCQ Option Shuffling : Yes

Correct Marks : 1 Wrong Marks : 0.25

साधारण ब्याज पर, 2 वर्षों में एक निश्चित धनराशि ₹ 1,488 और 4 वर्षों में ₹ 1,776 हो जाती है। वह राशि कितनी है?

Options :

1. ✘ ₹ 1,600

2. ✘ ₹ 1,450

3. ✓ ₹ 1,200

4. ✘ ₹ 900

Question Number : 104 Question Id : 497959508 Question Type : MCQ Option Shuffling : Yes

Correct Marks : 1 Wrong Marks : 0.25

A sum of ₹ 1,250 was lent out in two parts, one at 12% simple interest and another at 8% simple interest. If the total sum after one year was ₹ 1,382, find the amount lent out at 8% interest.

Options :

1. ✓ ₹ 450

2. ✘ ₹ 650

3. ✘ ₹ 700

4. ✖ ₹ 800

Question Number : 104 Question Id : 497959508 Question Type : MCQ Option Shuffling : Yes

Correct Marks : 1 Wrong Marks : 0.25

₹ 1,250 की राशि को दो भागों में उधार दिया गया था, एक 12% साधारण ब्याज पर और दूसरा 8% साधारण ब्याज पर। यदि एक वर्ष के बाद कुल योग ₹ 1,382 था, तो 8% ब्याज पर उधार दी गई राशि का पता लगाएं।

Options :

1. ✔ ₹ 450

2. ✖ ₹ 650

3. ✖ ₹ 700

4. ✖ ₹ 800

Question Number : 105 Question Id : 497959509 Question Type : MCQ Option Shuffling : Yes

Correct Marks : 1 Wrong Marks : 0.25

The simple interest on a sum of money at 10% per annum for 2 years is ₹ 2,400. Compounded annually, what would be the compound interest on the same sum for the same period at the same rate of interest?

Options :

1. ✖ ₹ 2,450

2. ✔ ₹ 2,520

3. ✖ ₹ 2,580

4. ✖ ₹ 2,620

Question Number : 105 Question Id : 497959509 Question Type : MCQ Option Shuffling : Yes

Correct Marks : 1 Wrong Marks : 0.25

2 वर्षों के लिए प्रति वर्ष 10% की दर से एक निश्चित धनराशि पर साधारण ब्याज ₹ 2,400 होता है। वार्षिक चक्रवृद्धि ब्याज के रूप में उस समान दर पर, समान अवधि के लिए, समान राशि पर चक्रवृद्धि ब्याज कितना होगा?

Options :

1. ✘ ₹ 2,450

2. ✔ ₹ 2,520

3. ✘ ₹ 2,580

4. ✘ ₹ 2,620

Question Number : 106 Question Id : 497959510 Question Type : MCQ Option Shuffling : Yes

Correct Marks : 1 Wrong Marks : 0.25

A certain sum amounts to ₹ 1,320 after 2 years and to ₹ 1,760 after 4 years on compound interest. What is the sum?

Options :

1. ✔ ₹ 990

2. ✘ ₹ 1,080

3. ✘ ₹ 1,120

4. ✘ ₹ 1,200

Question Number : 106 Question Id : 497959510 Question Type : MCQ Option Shuffling : Yes

Correct Marks : 1 Wrong Marks : 0.25

एक निश्चित राशि, चक्रवृद्धि ब्याज दर पर 2 वर्षों के बाद ₹ 1,320 और 4 वर्षों के बाद ₹ 1,760 हो जाती है। वह राशि कितनी है?

Options :

1. ✓ ₹ 990

2. ✗ ₹ 1,080

3. ✗ ₹ 1,120

4. ✗ ₹ 1,200

Question Number : 107 Question Id : 497959511 Question Type : MCQ Option Shuffling : Yes

Correct Marks : 1 Wrong Marks : 0.25

The difference between the compound interest and simple interest on a certain sum of money at 10% interest per annum for 2 years is ₹ 185. What is the sum?

Options :

1. ✗ ₹ 37,000

2. ✗ ₹ 24,500

3. ✗ ₹ 22,500

4. ✓ ₹ 18,500

Question Number : 107 Question Id : 497959511 Question Type : MCQ Option Shuffling : Yes

Correct Marks : 1 Wrong Marks : 0.25

2 वर्षों के लिए एक निश्चित राशि पर प्रति वर्ष 10% ब्याज दर पर चक्रवृद्धि ब्याज और साधारण ब्याज के बीच का अंतर ₹ 185 है। तो कुल राशि कितनी है?

Options :

1. ✗ ₹ 37,000

2. ✖ ₹ 24,500

3. ✖ ₹ 22,500

4. ✔ ₹ 18,500

Question Number : 108 Question Id : 497959512 Question Type : MCQ Option Shuffling : Yes

Correct Marks : 1 Wrong Marks : 0.25

A 50-cm-wide path is made around a circular garden having a diameter of 10 m. What is approximately the area of the path?

Options :

1. ✖  $13.35 \text{ m}^2$

2. ✔  $16.50 \text{ m}^2$

3. ✖  $18.85 \text{ m}^2$

4. ✖  $32.20 \text{ m}^2$

Question Number : 108 Question Id : 497959512 Question Type : MCQ Option Shuffling : Yes

Correct Marks : 1 Wrong Marks : 0.25

एक वृत्ताकार बगीचा जिसका व्यास 10 m है, उसके चारों ओर एक 50 cm चौड़ा रास्ता बनाया जाता है। इस रास्ते का क्षेत्रफल लगभग कितना है?

Options :

1. ✖  $13.35 \text{ m}^2$

2. ✔  $16.50 \text{ m}^2$

3. ✖ 18.85 m<sup>2</sup>

4. ✖ 32.20 m<sup>2</sup>

Question Number : 109 Question Id : 497959513 Question Type : MCQ Option Shuffling : Yes

Correct Marks : 1 Wrong Marks : 0.25

The length of a rectangle is twice its breadth. If its length as well as breadth is increased by 5 cm, its area increases by 250 cm<sup>2</sup>. What is the length of the rectangle?

Options :

1. ✖ 16 cm

2. ✖ 24 cm

3. ✔ 30 cm

4. ✖ 34 cm

Question Number : 109 Question Id : 497959513 Question Type : MCQ Option Shuffling : Yes

Correct Marks : 1 Wrong Marks : 0.25

एक आयत की लंबाई इसकी चौड़ाई से दोगुनी है। यदि इसकी लंबाई और चौड़ाई 5cm बढ़ा दी जाती है, तो इसका क्षेत्रफल 250 cm<sup>2</sup> बढ़ जाता है। आयत की लंबाई कितनी है?

Options :

1. ✖ 16 cm

2. ✖ 24 cm

3. ✔ 30 cm

4. ✖ 34 cm

Question Number : 110 Question Id : 497959514 Question Type : MCQ Option Shuffling : Yes

Correct Marks : 1 Wrong Marks : 0.25

The circumference of the base of a right circular cylinder is 88 cm and its curved surface area is  $1320 \text{ cm}^2$ . What is its volume?

Options :

1. ✖  $6420 \text{ cm}^3$

2. ✖  $7520 \text{ cm}^3$

3. ✖  $8640 \text{ cm}^3$

4. ✔  $9240 \text{ cm}^3$

Question Number : 110 Question Id : 497959514 Question Type : MCQ Option Shuffling : Yes

Correct Marks : 1 Wrong Marks : 0.25

एक लंब वृत्तीय बेलन के आधार की परिधि 88 cm है और इसकी घुमावदार सतह का क्षेत्रफल  $1320 \text{ cm}^2$  है। इसका आयतन कितना होगा?

Options :

1. ✖  $6420 \text{ cm}^3$

2. ✖  $7520 \text{ cm}^3$

3. ✖  $8640 \text{ cm}^3$

4. ✔  $9240 \text{ cm}^3$

Question Number : 111 Question Id : 497959515 Question Type : MCQ Option Shuffling : Yes

Correct Marks : 1 Wrong Marks : 0.25

A man is twice as efficient as a boy. If 1 man and 1 boy can complete a piece of work in 12 days, how many days would a man alone take to complete the same work?

Options :

1. ✘ 16 days

2. ✘ 36 days

3. ✘ 24 days

4. ✔ 18 days

Question Number : 111 Question Id : 497959515 Question Type : MCQ Option Shuffling : Yes

Correct Marks : 1 Wrong Marks : 0.25

एक आदमी एक लड़के से दोगुना काम करता है। यदि 1 आदमी और 1 लड़का 12 दिनों में एक काम पूरा कर सकते हैं, तो एक आदमी को वही काम पूरा करने में कितने दिन लगेंगे?

Options :

1. ✘ 16 दिन

2. ✘ 36 दिन

3. ✘ 24 दिन

4. ✔ 18 दिन

Question Number : 112 Question Id : 497959516 Question Type : MCQ Option Shuffling : Yes

Correct Marks : 1 Wrong Marks : 0.25

4 men and 9 boys can complete a piece of work in 3 days, while 2 men and 6 boys can do the same work in 5 days. How many days would 8 men and 6 boys take to complete the same work?

Options :



1. ✘ 3.5 days

2. ✔ 2.5 days

3. ✘ 2 days

4. ✘ 1.5 days

Question Number : 112 Question Id : 497959516 Question Type : MCQ Option Shuffling : Yes

Correct Marks : 1 Wrong Marks : 0.25

4 पुरुष और 9 लड़के 3 दिनों में एक काम पूरा कर सकते हैं, जबकि वही काम 2 पुरुष और 6 लड़के 5 दिनों में पूरा कर सकते हैं। उसी काम को पूरा करने के लिए 8 पुरुषों और 6 लड़कों को कितने दिन का समय लगेगा?

Options :

1. ✘ 3.5 दिन

2. ✔ 2.5 दिन

3. ✘ 2 दिन

4. ✘ 1.5 दिन

Question Number : 113 Question Id : 497959517 Question Type : MCQ Option Shuffling : Yes

Correct Marks : 1 Wrong Marks : 0.25

A car covers the first 42 km of a journey in 40 minutes and the remaining 43 km in 60 minutes. What is the average speed of the car?

Options :

1. ✘ 47 km/h

2. ✖ 48.5 km/h

3. ✔ 51 km/h

4. ✖ 52.5 km/h

Question Number : 113 Question Id : 497959517 Question Type : MCQ Option Shuffling : Yes

Correct Marks : 1 Wrong Marks : 0.25

एक कार पहले 42 km की यात्रा को 40 मिनट में और शेष 43 km की यात्रा 60 मिनट में पूरी करती है। कार की औसत गति कितनी है?

Options :

1. ✖ 47 km/h

2. ✖ 48.5 km/h

3. ✔ 51 km/h

4. ✖ 52.5 km/h

Question Number : 114 Question Id : 497959518 Question Type : MCQ Option Shuffling : Yes

Correct Marks : 1 Wrong Marks : 0.25

A man takes 6 hours 30 minutes to walk from A to B and then drive back from B to A. He would have gained 2 hours if he would have driven both ways. How long would the man take to walk both ways?

Options :

1. ✖ 9 hours 30 minutes

2. ✖ 7 hours 45 minutes

3. ✖ 8 hours 15 minutes

4. ✔ 8 hours 30 minutes

Question Number : 114 Question Id : 497959518 Question Type : MCQ Option Shuffling : Yes

Correct Marks : 1 Wrong Marks : 0.25

A से B तक चलने और B से A तक गाड़ी चला कर वापस में आने में एक आदमी को 6 घंटे 30 मिनट का समय लगता है। यदि वह दोनों रास्तों की दूरी गाड़ी चला कर तय करता तो उसे 2 घंटे का समय कम लगता। उस आदमी को दोनों रास्तों पर चलने में कितना समय लगेगा?

Options :

1. ✖ 9 घंटे 30 मिनट

2. ✖ 7 घंटे 45 मिनट

3. ✖ 8 घंटे 15 मिनट

4. ✔ 8 घंटे 30 मिनट

Question Number : 115 Question Id : 497959519 Question Type : MCQ Option Shuffling : Yes

Correct Marks : 1 Wrong Marks : 0.25

A cyclist covers the four sides of a square field at speeds of 10, 15, 20 and 25 km per hour. What is approximately the average speed of the cyclist around the field?

Options :

1. ✔ 15.58 km/h

2. ✖ 17.50 km/h

3. ✖ 13.84 km/h

4. ✖ 19.55 km/h

Question Number : 115 Question Id : 497959519 Question Type : MCQ Option Shuffling : Yes

Correct Marks : 1 Wrong Marks : 0.25

एक साइकिल चालक वर्गाकार मैदान के चारों किनारों का 10, 15, 20 और 25 km प्रति घंटे की गति से चक्कर लगाता है। मैदान के चारों ओर चक्कर लगाने में साइकिल चालक की औसत गति कितनी होगी?

Options :

1. ✔ 15.58 km/h

2. ✖ 17.50 km/h

3. ✖ 13.84 km/h

4. ✖ 19.55 km/h

Question Number : 116 Question Id : 497959520 Question Type : MCQ Option Shuffling : Yes

Correct Marks : 1 Wrong Marks : 0.25

The following table shows the total number of students studying in various colleges over six years. Study the table and answer the question that follows.

Year	College			
	A	B	C	D
2013	325	410	210	320
2014	270	380	260	340
2015	420	440	310	410
2016	360	260	250	260
2017	275	350	340	360
2018	350	360	230	310

What is the ratio of the total number of students studying in College C to that in D over the six years?

Options :

1. ✖ 2 : 3

2. ✖ 4 : 7

3. ✓ 4 : 5

4. ✖ 5 : 6

Question Number : 116 Question Id : 497959520 Question Type : MCQ Option Shuffling : Yes  
Correct Marks : 1 Wrong Marks : 0.25

निम्नलिखित तालिका छह वर्षों में विभिन्न कॉलेजों में पढ़ने वाले छात्रों की कुल संख्या को दर्शाती है। इस तालिका का अध्ययन करें और नीचे दिए गए प्रश्न का उत्तर दें।

वर्ष	कॉलेज			
	A	B	C	D
2013	325	410	210	320
2014	270	380	260	340
2015	420	440	310	410
2016	360	260	250	260
2017	275	350	340	360
2018	350	360	230	310

छह वर्षों में कॉलेजों C और D में पढ़ने वाले छात्रों की कुल संख्या का अनुपात कितना है?

Options :

1. ✖ 2 : 3

2. ✖ 4 : 7

3. ✓ 4 : 5

4. ✖ 5 : 6

Question Number : 117 Question Id : 497959521 Question Type : MCQ Option Shuffling : Yes  
Correct Marks : 1 Wrong Marks : 0.25

The following table shows the total number of students studying in various colleges over six years. Study the table and answer the question that follows.

Year	College			
	A	B	C	D
2013	325	410	210	320
2014	270	380	260	340
2015	420	440	310	410
2016	360	260	250	260
2017	275	350	340	360
2018	350	360	230	310

If the ratio of the boys to the girls studying in College B over the given years is 2 : 3 and that in College D is 3 : 2, what is the ratio of the number of boys in College B to the number of girls in College D?

Options :

1. ✖ 33 : 20

2. ✖ 10 : 11

3. ✔ 11 : 10

4. ✖ 17 : 15

Question Number : 117 Question Id : 497959521 Question Type : MCQ Option Shuffling : Yes

Correct Marks : 1 Wrong Marks : 0.25

निम्नलिखित तालिका छह वर्षों में विभिन्न कॉलेजों में पढ़ने वाले छात्रों की कुल संख्या को दर्शाती है। इस तालिका का अध्ययन करें और नीचे दिए गए प्रश्न का उत्तर दें।

वर्ष	कॉलेज			
	A	B	C	D
2013	325	410	210	320
2014	270	380	260	340
2015	420	440	310	410
2016	360	260	250	260
2017	275	350	340	360
2018	350	360	230	310

यदि दिए गए वर्षों में कॉलेज B में पढ़ने वाले लड़कों की संख्या का लड़कियों की संख्या से अनुपात 2 : 3 है और कॉलेज D का अनुपात 3 : 2 है, तो कॉलेज B में लड़कों की संख्या का कॉलेज D में लड़कियों की संख्या से अनुपात कितना है?

Options :

1. ✘ 33 : 20

2. ✘ 10 : 11

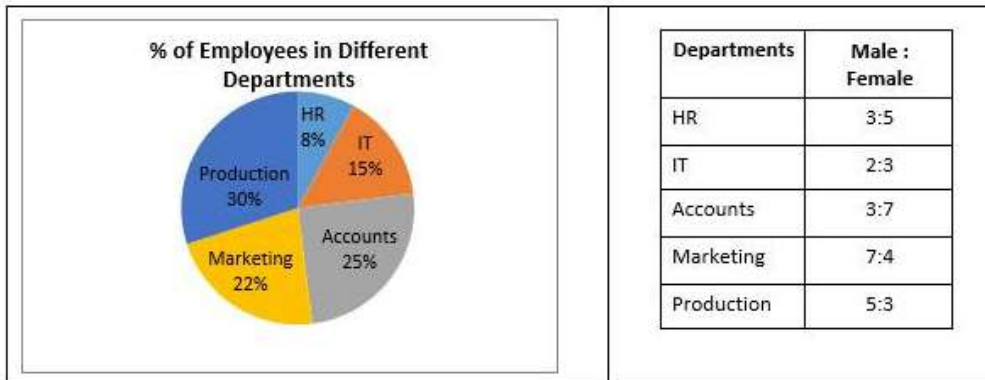
3. ✔ 11 : 10

4. ✘ 17 : 15

Question Number : 118 Question Id : 497959522 Question Type : MCQ Option Shuffling : Yes

Correct Marks : 1 Wrong Marks : 0.25

The following pie chart shows the percentage distribution of a total of 400 employees in different departments of a company. The table shows the ratio of male to female employees in different departments. Study the chart and the table and answer the question that follows.



What is the total number of female employees in the Marketing department?

Options :

1. ✔ 32

2. ✘ 36

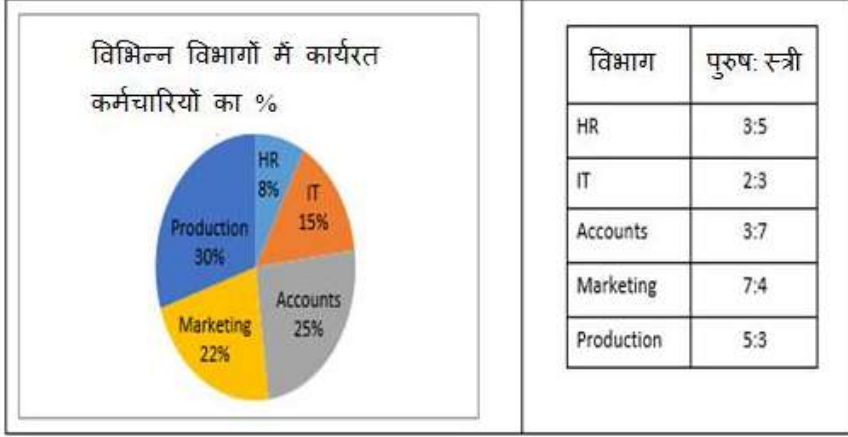
3. ✘ 45

4. ✖ 56

Question Number : 118 Question Id : 497959522 Question Type : MCQ Option Shuffling : Yes

Correct Marks : 1 Wrong Marks : 0.25

निम्नलिखित पाई चार्ट एक कंपनी के विभिन्न विभागों में कुल 400 कर्मचारियों के प्रतिशत विभाजन को दर्शाता है। तालिका विभिन्न विभागों में पुरुष कर्मचारियों का महिला कर्मचारियों से अनुपात को दर्शाती है। चार्ट और तालिका का अध्ययन करें और नीचे दिए गए प्रश्न का उत्तर दें।



मार्केटिंग विभाग में महिला कर्मचारियों की कुल संख्या कितनी है?

Options :

1. ✔ 32

2. ✖ 36

3. ✖ 45

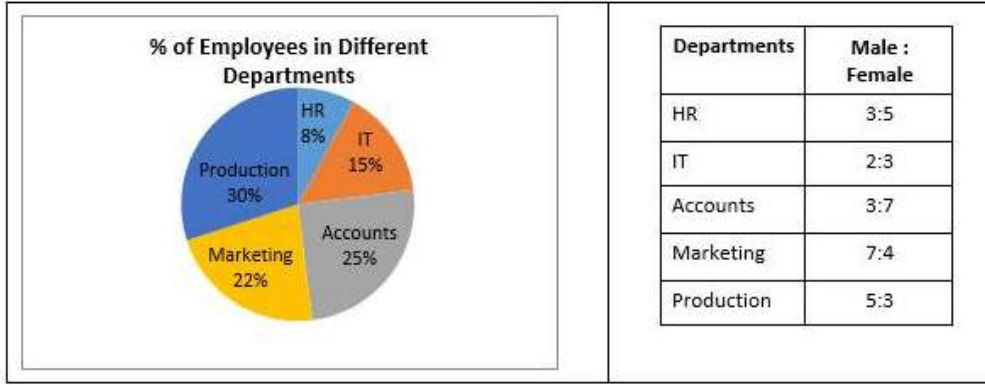
4. ✖ 56

Question Number : 119 Question Id : 497959523 Question Type : MCQ Option Shuffling : Yes

Correct Marks : 1 Wrong Marks : 0.25



The following pie chart shows the percentage distribution of a total of 400 employees in different departments of a company. The table shows the ratio of male to female employees in different departments. Study the chart and the table and answer the question that follows.



What is the ratio of the number of female employees to the male employees in the IT and Marketing departments taken together?

Options :

1. ✘ 7 : 15

2. ✔ 17 : 20

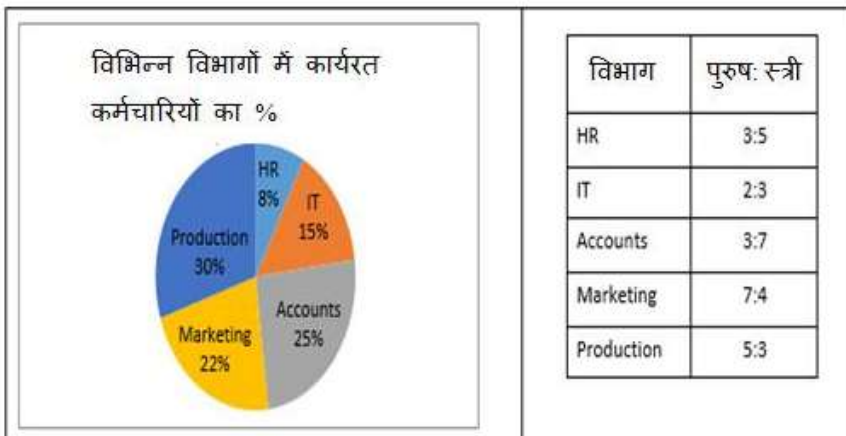
3. ✘ 17 : 19

4. ✘ 13 : 17

Question Number : 119 Question Id : 497959523 Question Type : MCQ Option Shuffling : Yes

Correct Marks : 1 Wrong Marks : 0.25

निम्नलिखित पाई चार्ट एक कंपनी के विभिन्न विभागों में कुल 400 कर्मचारियों के प्रतिशत विभाजन को दर्शाता है। तालिका विभिन्न विभागों में पुरुष कर्मचारियों का महिला कर्मचारियों से अनुपात को दर्शाती है। चार्ट और तालिका का अध्ययन करें और नीचे दिए गए प्रश्न का उत्तर दें।



आईटी और मार्केटिंग विभागों में महिला कर्मचारियों की संख्या का पुरुष कर्मचारियों से अनुपात कितना है?

Options :

1. ✘ 7 : 15

2. ✔ 17 : 20

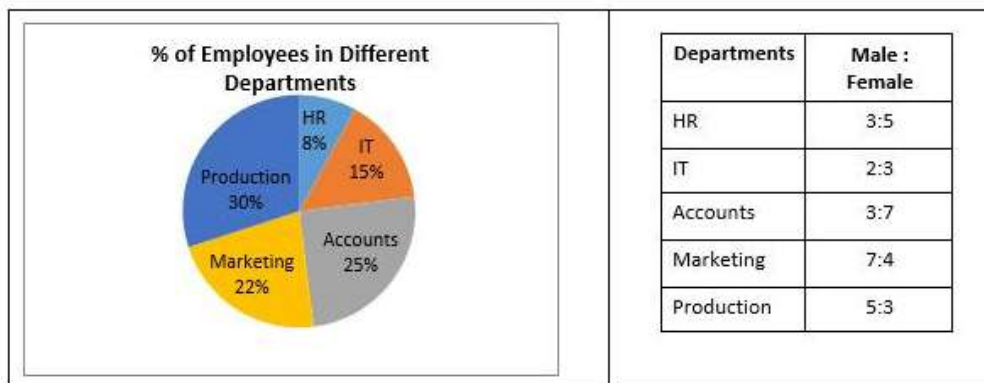
3. ✘ 17 : 19

4. ✘ 13 : 17

Question Number : 120 Question Id : 497959524 Question Type : MCQ Option Shuffling : Yes

Correct Marks : 1 Wrong Marks : 0.25

The following pie chart shows the percentage distribution of a total of 400 employees in different departments of a company. The table shows the ratio of male to female employees in different departments. Study the chart and the table and answer the question that follows.



If 40% of the male employees and 60% of the female employees in each department are executives, what is the ratio of male non-executives to female non-executives in the Accounts department?

Options :

1. ✘ 4 : 7

2. ✘ 7 : 11

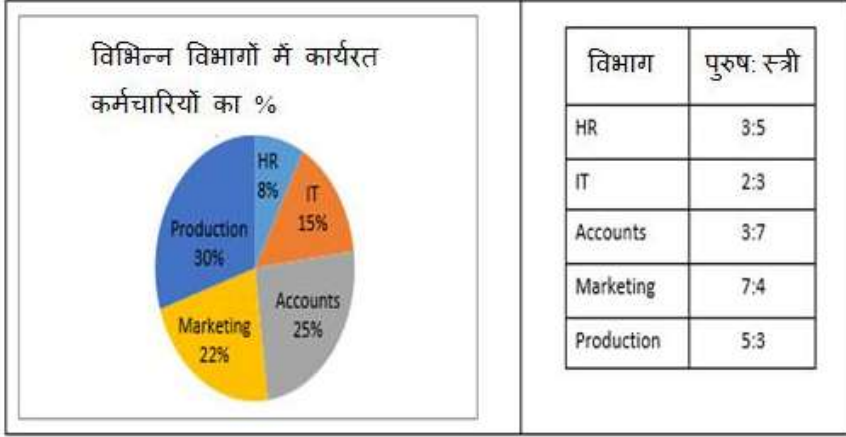
3. ✘ 9 : 11

4. ✓ 9 : 14

Question Number : 120 Question Id : 497959524 Question Type : MCQ Option Shuffling : Yes

Correct Marks : 1 Wrong Marks : 0.25

निम्नलिखित पाई चार्ट एक कंपनी के विभिन्न विभागों में कुल 400 कर्मचारियों के प्रतिशत विभाजन को दर्शाता है। तालिका विभिन्न विभागों में पुरुष कर्मचारियों का महिला कर्मचारियों से अनुपात को दर्शाती है। चार्ट और तालिका का अध्ययन करें और नीचे दिए गए प्रश्न का उत्तर दें।



अगर प्रत्येक विभाग में यदि 40% पुरुष कर्मचारी और 60% महिला कर्मचारी कार्यकारी सदस्य हैं, तो एकाउंट विभाग में पुरुष गैर-कार्यकारी सदस्य का महिला गैर-कार्यकारी सदस्य से अनुपात कितना है?

Options :

1. ✘ 4 : 7

2. ✘ 7 : 11

3. ✘ 9 : 11

4. ✓ 9 : 14

## General English1

Group Number :

7

Group Id :

49795927

Group Maximum Duration :

0

Group Minimum Duration :	0
Show Attended Group? :	No
Edit Attended Group? :	No
Break time:	0
Group Marks:	20
Is this Group for Examiner?:	No
Revisit allowed for group Instructions? :	Yes
Maximum Instruction Time:	0
Minimum Instruction Time:	0

## General English1

Section Id :	49795927
Section Number :	1
Section type :	Online
Mandatory or Optional:	Mandatory
Number of Questions:	20
Number of Questions to be attempted:	20
Section Marks:	20

Sub-Section Number:	1
Sub-Section Id:	49795931
Question Shuffling Allowed :	Yes

Question Number : 121 Question Id : 497959525 Question Type : MCQ Option Shuffling : Yes  
 Correct Marks : 1 Wrong Marks : 0.25

Parts of the following sentence are given as options. Identify the part that has an error.

Organic farming strikes a healthy balance across the traditional and modern knowledge.

Options :

1. ✘ Organic farming strikes
2. ✘ a healthy balance
3. ✔ across the traditional
4. ✘ and modern knowledge

Question Number : 121 Question Id : 497959525 Question Type : MCQ Option Shuffling : Yes  
 Correct Marks : 1 Wrong Marks : 0.25

Parts of the following sentence are given as options. Identify the part that has an error.

Organic farming strikes a healthy balance across the traditional and modern knowledge.

Options :

1. ✘ Organic farming strikes
2. ✘ a healthy balance
3. ✔ across the traditional
4. ✘ and modern knowledge

Question Number : 122 Question Id : 497959526 Question Type : MCQ Option Shuffling : Yes

Correct Marks : 1 Wrong Marks : 0.25

Parts of the following sentence are given as options. Identify the part that has an error.

The frequent occurrence of torrential rains and floods make disaster management very important.

Options :

1. ✘ The frequent occurrence
2. ✘ of torrential rains and floods
3. ✔ make disaster management
4. ✘ very important

Question Number : 122 Question Id : 497959526 Question Type : MCQ Option Shuffling : Yes

Correct Marks : 1 Wrong Marks : 0.25

Parts of the following sentence are given as options. Identify the part that has an error.

The frequent occurrence of torrential rains and floods make disaster management very important.

Options :

1. ✘ The frequent occurrence
2. ✘ of torrential rains and floods
3. ✔ make disaster management
4. ✘ very important

Question Number : 123 Question Id : 497959527 Question Type : MCQ Option Shuffling : Yes

Correct Marks : 1 Wrong Marks : 0.25

Select the alternative that will improve the underlined part of the sentence. In case no improvement is needed, select 'No improvement'.

No sooner did she leave the house when the burglar broke in.

Options :

1. ✘ left the house when the burglar broke in
2. ✔ leave the house than the burglar broke in
3. ✘ left the house but the burglar broke in
4. ✘ No improvement

Question Number : 123 Question Id : 497959527 Question Type : MCQ Option Shuffling : Yes

Correct Marks : 1 Wrong Marks : 0.25

Select the alternative that will improve the underlined part of the sentence. In case no improvement is needed, select 'No improvement'.

No sooner did she leave the house when the burglar broke in.

Options :

1. ✘ left the house when the burglar broke in
2. ✔ leave the house than the burglar broke in
3. ✘ left the house but the burglar broke in
4. ✘ No improvement

Question Number : 124 Question Id : 497959528 Question Type : MCQ Option Shuffling : Yes

Correct Marks : 1 Wrong Marks : 0.25

Select the alternative that will improve the underlined part of the sentence. In case no improvement is needed, select 'No improvement'.

Activists have criticised the forest department for failure to forming the Aravalli protection task force.

Options :

1. ✘ in failing to form the
2. ✔ for failing to form the
3. ✘ to fail in forming the
4. ✘ No improvement

Question Number : 124 Question Id : 497959528 Question Type : MCQ Option Shuffling : Yes

Correct Marks : 1 Wrong Marks : 0.25

Select the alternative that will improve the underlined part of the sentence. In case no improvement is needed, select 'No improvement'.

Activists have criticised the forest department for failure to forming the Aravalli protection task force.

Options :

1. ✘ in failing to form the
2. ✔ for failing to form the
3. ✘ to fail in forming the
4. ✘ No improvement

Question Number : 125 Question Id : 497959529 Question Type : MCQ Option Shuffling : Yes  
Correct Marks : 1 Wrong Marks : 0.25

Select the option that expresses the given sentence in active voice.

A special edition of this magazine will be brought out early next year.

Options :

1. ✔ They will bring out a special edition of this magazine early next year.
2. ✘ They are bringing out a special edition of this magazine early next year.
3. ✘ They brought out a special edition of this magazine early next year.
4. ✘ They will bring out a special edition of that magazine early next year.

Question Number : 125 Question Id : 497959529 Question Type : MCQ Option Shuffling : Yes  
Correct Marks : 1 Wrong Marks : 0.25



Select the option that expresses the given sentence in active voice.

A special edition of this magazine will be brought out early next year.

Options :

1. ✓ They will bring out a special edition of this magazine early next year.
2. ✗ They are bringing out a special edition of this magazine early next year.
3. ✗ They brought out a special edition of this magazine early next year.
4. ✗ They will bring out a special edition of that magazine early next year.

Question Number : 126 Question Id : 497959530 Question Type : MCQ Option Shuffling : Yes

Correct Marks : 1 Wrong Marks : 0.25

Select the option that expresses the given sentence in active voice.

Sweets were being distributed among the staff on the occasion of Diwali.

Options :

1. ✗ They distributed sweets among the staff on the occasion of Diwali.
2. ✓ They were distributing sweets among the staff on the occasion of Diwali.
3. ✗ They are distributing sweets among the staff on the occasion of Diwali.
4. ✗ They will be distributing sweets among the staff on the occasion of Diwali.

Question Number : 126 Question Id : 497959530 Question Type : MCQ Option Shuffling : Yes

Correct Marks : 1 Wrong Marks : 0.25

Select the option that expresses the given sentence in active voice.

Sweets were being distributed among the staff on the occasion of Diwali.

Options :

1. ✘ They distributed sweets among the staff on the occasion of Diwali.
2. ✔ They were distributing sweets among the staff on the occasion of Diwali.
3. ✘ They are distributing sweets among the staff on the occasion of Diwali.
4. ✘ They will be distributing sweets among the staff on the occasion of Diwali.

Question Number : 127 Question Id : 497959531 Question Type : MCQ Option Shuffling : Yes

Correct Marks : 1 Wrong Marks : 0.25

Select the option that expresses the given sentence in passive voice.

She has submitted all the required documents on time.

Options :

1. ✘ All the required documents has been submitted on time.
2. ✘ All the required documents were submitted on time.
3. ✔ All the required documents have been submitted on time.
4. ✘ The submission of all the required documents was done on time.

Question Number : 127 Question Id : 497959531 Question Type : MCQ Option Shuffling : Yes

Correct Marks : 1 Wrong Marks : 0.25

Select the option that expresses the given sentence in passive voice.

She has submitted all the required documents on time.

Options :

1. ✘ All the required documents has been submitted on time.
2. ✘ All the required documents were submitted on time.
3. ✔ All the required documents have been submitted on time.
4. ✘ The submission of all the required documents was done on time.

Question Number : 128 Question Id : 497959532 Question Type : MCQ Option Shuffling : Yes  
Correct Marks : 1 Wrong Marks : 0.25

Select the option that expresses the given sentence in passive voice.

Water the plants regularly lest they die.

Options :

1. ✘ The plants should be watered regularly lest they die.
2. ✘ The plants be watered regularly lest they die.
3. ✘ Let the plants to be watered regularly lest they die.
4. ✔ Let the plants be watered regularly lest they die.

Question Number : 128 Question Id : 497959532 Question Type : MCQ Option Shuffling : Yes  
Correct Marks : 1 Wrong Marks : 0.25

Select the option that expresses the given sentence in passive voice.

Water the plants regularly lest they die.

Options :

1. ✘ The plants should be watered regularly lest they die.
2. ✘ The plants be watered regularly lest they die.
3. ✘ Let the plants to be watered regularly lest they die.
4. ✔ Let the plants be watered regularly lest they die.

Question Number : 129 Question Id : 497959533 Question Type : MCQ Option Shuffling : Yes  
Correct Marks : 1 Wrong Marks : 0.25

Select the most appropriate preposition to fill in the blank.

The murderer was condemned \_\_\_\_\_ life imprisonment.

Options :

1. ✘ of
2. ✘ by
3. ✔ to
4. ✘ for

Question Number : 129 Question Id : 497959533 Question Type : MCQ Option Shuffling : Yes  
Correct Marks : 1 Wrong Marks : 0.25

Select the most appropriate preposition to fill in the blank.

The murderer was condemned \_\_\_\_\_ life imprisonment.

Options :

1. ✘ of

2. ✘ by

3. ✔ to

4. ✘ for

Question Number : 130 Question Id : 497959534 Question Type : MCQ Option Shuffling : Yes

Correct Marks : 1 Wrong Marks : 0.25

Select the most appropriate preposition to fill in the blank.

Please ponder \_\_\_\_\_ the problem carefully to find a solution.

Options :

1. ✔ over

2. ✘ with

3. ✘ through

4. ✘ at

Question Number : 130 Question Id : 497959534 Question Type : MCQ Option Shuffling : Yes

Correct Marks : 1 Wrong Marks : 0.25

Select the most appropriate preposition to fill in the blank.

Please ponder \_\_\_\_\_ the problem carefully to find a solution.

Options :

1. ✓ over

2. ✗ with

3. ✗ through

4. ✗ at

Question Number : 131 Question Id : 497959535 Question Type : MCQ Option Shuffling : Yes

Correct Marks : 1 Wrong Marks : 0.25

Select the most appropriate conjunction to fill in the blank.

He is himself not too well off; \_\_\_\_\_, he never disappoints friends in need.

Options :

1. ✗ although

2. ✓ nevertheless

3. ✗ and

4. ✗ otherwise

Question Number : 131 Question Id : 497959535 Question Type : MCQ Option Shuffling : Yes

Correct Marks : 1 Wrong Marks : 0.25

Select the most appropriate conjunction to fill in the blank.

He is himself not too well off; \_\_\_\_\_, he never disappoints friends in need.

Options :

1. ✘ although
2. ✔ nevertheless
3. ✘ and
4. ✘ otherwise

Question Number : 132 Question Id : 497959536 Question Type : MCQ Option Shuffling : Yes

Correct Marks : 1 Wrong Marks : 0.25

Select the most appropriate conjunction to fill in the blank.

She cannot hope for a promotion \_\_\_\_\_ her performance improves drastically.

Options :

1. ✘ lest
2. ✘ if
3. ✘ yet
4. ✔ until

Question Number : 132 Question Id : 497959536 Question Type : MCQ Option Shuffling : Yes

Correct Marks : 1 Wrong Marks : 0.25

Select the most appropriate conjunction to fill in the blank.

She cannot hope for a promotion \_\_\_\_\_ her performance improves drastically.

Options :

1. ✘ lest

2. ✘ if

3. ✘ yet

4. ✔ until

Question Number : 133 Question Id : 497959537 Question Type : MCQ Option Shuffling : Yes

Correct Marks : 1 Wrong Marks : 0.25

Select the option that expresses the given sentence in direct speech.

Aanya told me that my painting would win me the first prize.

Options :

1. ✘ Aanya said to me, "My painting will win me the first prize."

2. ✔ Aanya said to me, "Your painting will win you the first prize."

3. ✘ Aanya said to me, "Your painting would win the first prize."

4. ✘ Aanya told to me, "My painting will win me the first prize."

Question Number : 133 Question Id : 497959537 Question Type : MCQ Option Shuffling : Yes

Correct Marks : 1 Wrong Marks : 0.25



Select the option that expresses the given sentence in direct speech.

Aanya told me that my painting would win me the first prize.

Options :

1. ✘ Aanya said to me, "My painting will win me the first prize."
2. ✔ Aanya said to me, "Your painting will win you the first prize."
3. ✘ Aanya said to me, "Your painting would win the first prize."
4. ✘ Aanya told to me, "My painting will win me the first prize."

Question Number : 134 Question Id : 497959538 Question Type : MCQ Option Shuffling : Yes

Correct Marks : 1 Wrong Marks : 0.25

Select the option that expresses the given sentence in direct speech.

Mr Das exclaimed joyfully that his daughter had won the table tennis championship.

Options :

1. ✔ Mr Das said, "Hurrah! My daughter has won the table tennis championship."
2. ✘ Mr Das said, "Oh! My daughter wins the table tennis championship."
3. ✘ Mr Das said, "What! My daughter has won the table tennis championship?"
4. ✘ Mr Das said, "Alas! His daughter has won the table tennis championship."

Question Number : 134 Question Id : 497959538 Question Type : MCQ Option Shuffling : Yes

Correct Marks : 1 Wrong Marks : 0.25

Select the option that expresses the given sentence in direct speech.

Mr Das exclaimed joyfully that his daughter had won the table tennis championship.

Options :

1. ✓ Mr Das said, "Hurrah! My daughter has won the table tennis championship."
2. ✗ Mr Das said, "Oh! My daughter wins the table tennis championship."
3. ✗ Mr Das said, "What! My daughter has won the table tennis championship?"
4. ✗ Mr Das said, "Alas! His daughter has won the table tennis championship."

Question Number : 135 Question Id : 497959539 Question Type : MCQ Option Shuffling : Yes

Correct Marks : 1 Wrong Marks : 0.25

Select the option that expresses the given sentence in reported speech.

You said, "I checked all my drawers but couldn't find the car keys."

Options :

1. ✗ You said that you checked all your drawers but couldn't find the car keys.
2. ✓ You said that you had checked all your drawers but couldn't find the car keys.
3. ✗ You said that I checked all my drawers but couldn't find the car keys.
4. ✗ You said that you checked all my drawers but couldn't find the car keys.

Question Number : 135 Question Id : 497959539 Question Type : MCQ Option Shuffling : Yes

Correct Marks : 1 Wrong Marks : 0.25

Select the option that expresses the given sentence in reported speech.

You said, "I checked all my drawers but couldn't find the car keys."

Options :

1. ✘ You said that you checked all your drawers but couldn't find the car keys.
2. ✔ You said that you had checked all your drawers but couldn't find the car keys.
3. ✘ You said that I checked all my drawers but couldn't find the car keys.
4. ✘ You said that you checked all my drawers but couldn't find the car keys.

Question Number : 136 Question Id : 497959540 Question Type : MCQ Option Shuffling : Yes

Correct Marks : 1 Wrong Marks : 0.25

Select the option that expresses the given sentence in reported speech.

The policeman said to the suspect, "Where were you at this time yesterday?"

Options :

1. ✘ The policeman asked the suspect that where he was at this time yesterday.
2. ✘ The policeman asked the suspect where was he at that time yesterday.
3. ✔ The policeman asked the suspect where he was at that time the previous day.
4. ✘ The policeman asked the suspect where was he at this time the previous day.

Question Number : 136 Question Id : 497959540 Question Type : MCQ Option Shuffling : Yes

Correct Marks : 1 Wrong Marks : 0.25

Select the option that expresses the given sentence in reported speech.

The policeman said to the suspect, "Where were you at this time yesterday?"

Options :

1. ✘ The policeman asked the suspect that where he was at this time yesterday.
2. ✘ The policeman asked the suspect where was he at that time yesterday.
3. ✔ The policeman asked the suspect where he was at that time the previous day.
4. ✘ The policeman asked the suspect where was he at this time the previous day.

Question Number : 137 Question Id : 497959541 Question Type : MCQ Option Shuffling : Yes

Correct Marks : 1 Wrong Marks : 0.25

Select the most appropriate synonym of the given word.

CURTAIL

Options :

1. ✘ Abort
2. ✘ Abstain
3. ✘ Expand
4. ✔ Shorten

Question Number : 137 Question Id : 497959541 Question Type : MCQ Option Shuffling : Yes

Correct Marks : 1 Wrong Marks : 0.25

Select the most appropriate synonym of the given word.

CURTAIL

Options :

1. ✘ Abort

2. ✘ Abstain

3. ✘ Expand

4. ✔ Shorten

Question Number : 138 Question Id : 497959542 Question Type : MCQ Option Shuffling : Yes

Correct Marks : 1 Wrong Marks : 0.25

Select the most appropriate synonym of the given word.

APPALLING

Options :

1. ✘ Attractive

2. ✔ Terrifying

3. ✘ Charming

4. ✘ Ridiculous

Question Number : 138 Question Id : 497959542 Question Type : MCQ Option Shuffling : Yes

Correct Marks : 1 Wrong Marks : 0.25

Select the most appropriate synonym of the given word.

APPALLING

Options :

1. ✘ Attractive

2. ✔ Terrifying

3. ✘ Charming

4. ✘ Ridiculous

Question Number : 139 Question Id : 497959543 Question Type : MCQ Option Shuffling : Yes

Correct Marks : 1 Wrong Marks : 0.25

Select the most appropriate synonym of the given word.

VENERABLE

Options :

1. ✔ Respectable

2. ✘ Contagious

3. ✘ Forceful

4. ✘ Miserable

Question Number : 139 Question Id : 497959543 Question Type : MCQ Option Shuffling : Yes

Correct Marks : 1 Wrong Marks : 0.25

Select the most appropriate synonym of the given word.

VENERABLE

Options :

1. ✓ Respectable

2. ✗ Contagious

3. ✗ Forceful

4. ✗ Miserable

Question Number : 140 Question Id : 497959544 Question Type : MCQ Option Shuffling : Yes

Correct Marks : 1 Wrong Marks : 0.25

Select the most appropriate ANTONYM of the given word.

FICKLE

Options :

1. ✗ Gentle

2. ✗ Fresh

3. ✓ Constant

4. ✗ Wicked

Question Number : 140 Question Id : 497959544 Question Type : MCQ Option Shuffling : Yes

Correct Marks : 1 Wrong Marks : 0.25

Select the most appropriate ANTONYM of the given word.

FICKLE

Options :

1. ✘ Gentle

2. ✘ Fresh

3. ✔ Constant

4. ✘ Wicked

## General English2

Group Number :	8
Group Id :	49795928
Group Maximum Duration :	0
Group Minimum Duration :	0
Show Attended Group? :	No
Edit Attended Group? :	No
Break time:	0
Group Marks:	20
Is this Group for Examiner?:	No
Revisit allowed for group Instructions? :	Yes
Maximum Instruction Time:	0
Minimum Instruction Time:	0

## General English2

Section Id :	49795928
Section Number :	1
Section type :	Online
Mandatory or Optional:	Mandatory
Number of Questions:	16
Number of Questions to be attempted:	16
Section Marks:	20

Sub-Section Number: 1



Sub-Section Id:

49795932

Question Shuffling Allowed :

Yes

Question Number : 141 Question Id : 497959545 Question Type : MCQ Option Shuffling : Yes

Correct Marks : 1 Wrong Marks : 0.25

Select the most appropriate ANTONYM of the given word.

SURPLUS

Options :

1. ✘ Decrease

2. ✘ Sufficient

3. ✘ Abundant

4. ✔ Deficit

Question Number : 141 Question Id : 497959545 Question Type : MCQ Option Shuffling : Yes

Correct Marks : 1 Wrong Marks : 0.25

Select the most appropriate ANTONYM of the given word.

SURPLUS

Options :

1. ✘ Decrease

2. ✘ Sufficient

3. ✘ Abundant

4. ✔ Deficit

Question Number : 142 Question Id : 497959546 Question Type : MCQ Option Shuffling : Yes

Correct Marks : 1 Wrong Marks : 0.25

Select the most appropriate ANTONYM of the given word.

TRANSPARENT

Options :

1. ✖ Lucid

2. ✔ Opaque

3. ✖ Translucent

4. ✖ Clear

Question Number : 142 Question Id : 497959546 Question Type : MCQ Option Shuffling : Yes

Correct Marks : 1 Wrong Marks : 0.25

Select the most appropriate ANTONYM of the given word.

TRANSPARENT

Options :

1. ✖ Lucid

2. ✔ Opaque

3. ✖ Translucent

4. ✖ Clear

Question Number : 143 Question Id : 497959547 Question Type : MCQ Option Shuffling : Yes

Correct Marks : 1 Wrong Marks : 0.25

Select the most appropriate meaning of the following idiom.

Make much ado about nothing

Options :

1. ✘ To treat as unimportant
2. ✘ To get rid of something
3. ✔ Make a great fuss about a trifle
4. ✘ Make a confession

Question Number : 143 Question Id : 497959547 Question Type : MCQ Option Shuffling : Yes

Correct Marks : 1 Wrong Marks : 0.25

Select the most appropriate meaning of the following idiom.

Make much ado about nothing

Options :

1. ✘ To treat as unimportant
2. ✘ To get rid of something
3. ✔ Make a great fuss about a trifle
4. ✘ Make a confession

Question Number : 144 Question Id : 497959548 Question Type : MCQ Option Shuffling : Yes

Correct Marks : 1 Wrong Marks : 0.25

Select the most appropriate meaning of the following idiom.

Order of the day

Options :

1. ✘ A state of uncertainty

2. ✘ An impossible situation

3. ✘ Sentence passed by a judge

4. ✔ Condition prevailing at the time

Question Number : 144 Question Id : 497959548 Question Type : MCQ Option Shuffling : Yes

Correct Marks : 1 Wrong Marks : 0.25

Select the most appropriate meaning of the following idiom.

Order of the day

Options :

1. ✘ A state of uncertainty

2. ✘ An impossible situation

3. ✘ Sentence passed by a judge

4. ✔ Condition prevailing at the time

Question Number : 145 Question Id : 497959549 Question Type : MCQ Option Shuffling : Yes

Correct Marks : 1 Wrong Marks : 0.25

Select the most appropriate meaning of the following idiom.

Pull the strings

Options :

1. ✓ To manipulate

2. ✗ To reduce speed

3. ✗ To be very frank

4. ✗ To be frank

Question Number : 145 Question Id : 497959549 Question Type : MCQ Option Shuffling : Yes

Correct Marks : 1 Wrong Marks : 0.25

Select the most appropriate meaning of the following idiom.

Pull the strings

Options :

1. ✓ To manipulate

2. ✗ To reduce speed

3. ✗ To be very frank

4. ✗ To be frank

Question Number : 146 Question Id : 497959550 Question Type : MCQ Option Shuffling : Yes

Correct Marks : 1 Wrong Marks : 0.25

Select the option that can be used as a one-word substitute for the given group of words.

To preserve from extinction

Options :

1. ✘ Perturb

2. ✘ Persuade

3. ✔ Perpetuate

4. ✘ Perplex

Question Number : 146 Question Id : 497959550 Question Type : MCQ Option Shuffling : Yes

Correct Marks : 1 Wrong Marks : 0.25

Select the option that can be used as a one-word substitute for the given group of words.

To preserve from extinction

Options :

1. ✘ Perturb

2. ✘ Persuade

3. ✔ Perpetuate

4. ✘ Perplex

Question Number : 147 Question Id : 497959551 Question Type : MCQ Option Shuffling : Yes

Correct Marks : 1 Wrong Marks : 0.25

Select the option that can be used as a one-word substitute for the given group of words.

One who hates mankind

Options :

1. ✘ Misogynist

2. ✔ Misanthrope

3. ✘ Misnomer

4. ✘ Malevolent

Question Number : 147 Question Id : 497959551 Question Type : MCQ Option Shuffling : Yes

Correct Marks : 1 Wrong Marks : 0.25

Select the option that can be used as a one-word substitute for the given group of words.

One who hates mankind

Options :

1. ✘ Misogynist

2. ✔ Misanthrope

3. ✘ Misnomer

4. ✘ Malevolent

Question Number : 148 Question Id : 497959552 Question Type : MCQ Option Shuffling : Yes

Correct Marks : 1 Wrong Marks : 0.25

Select the option that can be used as a one-word substitute for the given group of words.

One who eats too much

Options :

1. ✘ Greedy

2. ✘ Hungry

3. ✘ Ravenous

4. ✔ Glutton

Question Number : 148 Question Id : 497959552 Question Type : MCQ Option Shuffling : Yes

Correct Marks : 1 Wrong Marks : 0.25

Select the option that can be used as a one-word substitute for the given group of words.

One who eats too much

Options :

1. ✘ Greedy

2. ✘ Hungry

3. ✘ Ravenous

4. ✔ Glutton

Question Number : 149 Question Id : 497959553 Question Type : MCQ Option Shuffling : Yes

Correct Marks : 1 Wrong Marks : 0.25

Select the correctly spelt word.

Options :



1. ✘ Continous

2. ✔ Continuous

3. ✘ Continouse

4. ✘ Cuntinuous

Question Number : 149 Question Id : 497959553 Question Type : MCQ Option Shuffling : Yes

Correct Marks : 1 Wrong Marks : 0.25

Select the correctly spelt word.

Options :

1. ✘ Continous

2. ✔ Continuous

3. ✘ Continouse

4. ✘ Cuntinuous

Question Number : 150 Question Id : 497959554 Question Type : MCQ Option Shuffling : Yes

Correct Marks : 1 Wrong Marks : 0.25

Select the correctly spelt word.

Options :

1. ✔ Negligence

2. ✘ Neglegence

3. ✘ Negligense

4. ✘ Negligance

Question Number : 150 Question Id : 497959554 Question Type : MCQ Option Shuffling : Yes  
Correct Marks : 1 Wrong Marks : 0.25

Select the correctly spelt word.

Options :

1. ✔ Negligence

2. ✘ Neglegence

3. ✘ Negligense

4. ✘ Negligance

Question Number : 151 Question Id : 497959555 Question Type : MCQ Option Shuffling : Yes  
Correct Marks : 1 Wrong Marks : 0.25

Select the most appropriate phrase to fill in the blank.

The doctor said there was nothing serious and the patient would \_\_\_\_\_ soon.

Options :

1. ✘ come upon

2. ✘ come up

3. ✘ come over

4. ✓ come round

Question Number : 151 Question Id : 497959555 Question Type : MCQ Option Shuffling : Yes  
Correct Marks : 1 Wrong Marks : 0.25

Select the most appropriate phrase to fill in the blank.

The doctor said there was nothing serious and the patient would \_\_\_\_\_ soon.

Options :

1. ✗ come upon

2. ✗ come up

3. ✗ come over

4. ✓ come round

Question Number : 152 Question Id : 497959556 Question Type : MCQ Option Shuffling : Yes  
Correct Marks : 1 Wrong Marks : 0.25

Select the most appropriate phrase to fill in the blank.

The mechanic \_\_\_\_\_ repairing the machine immediately.

Options :

1. ✗ set off

2. ✗ set on

3. ✗ set up

4. ✓ set about

Question Number : 152 Question Id : 497959556 Question Type : MCQ Option Shuffling : Yes  
Correct Marks : 1 Wrong Marks : 0.25

Select the most appropriate phrase to fill in the blank.

The mechanic \_\_\_\_\_ repairing the machine immediately.

Options :

1. ✗ set off

2. ✗ set on

3. ✗ set up

4. ✓ set about

Question Number : 153 Question Id : 497959557 Question Type : MCQ Option Shuffling : Yes  
Correct Marks : 1 Wrong Marks : 0.25

Select the grammatically correct sentence from the given options.

Options :

1. ✓ Household duties prompted her to take a break from work.

2. ✗ Household duties prompted to take a break from her work.

3. ✗ Her household duties prompted to take a break from work.

4. ✗ A break from work prompted to take her household duties.

Question Number : 153 Question Id : 497959557 Question Type : MCQ Option Shuffling : Yes  
Correct Marks : 1 Wrong Marks : 0.25

Select the grammatically correct sentence from the given options.

Options :

1. ✓ Household duties prompted her to take a break from work.
2. ✗ Household duties prompted to take a break from her work.
3. ✗ Her household duties prompted to take a break from work.
4. ✗ A break from work prompted to take her household duties.

Question Number : 154 Question Id : 497959558 Question Type : MCQ Option Shuffling : Yes  
Correct Marks : 1 Wrong Marks : 0.25

Select the grammatically correct sentence from the given options.

Options :

1. ✗ Either you or Sourabh are to blame for this financial loss.
2. ✓ Either you or Sourabh is to blame for this financial loss.
3. ✗ You or Sourabh are either to blame for this financial loss.
4. ✗ Either Sourabh or you is to blame for this financial loss.

Question Number : 154 Question Id : 497959558 Question Type : MCQ Option Shuffling : Yes  
Correct Marks : 1 Wrong Marks : 0.25

Select the grammatically correct sentence from the given options.

Options :

1. ✘ Either you or Sourabh are to blame for this financial loss.
2. ✔ Either you or Sourabh is to blame for this financial loss.
3. ✘ You or Sourabh are either to blame for this financial loss.
4. ✘ Either Sourabh or you is to blame for this financial loss.

Question Number : 155 Question Id : 497959559 Question Type : MCQ Option Shuffling : Yes  
Correct Marks : 1 Wrong Marks : 0.25

Select the grammatically correct sentence from the given options.

Options :

1. ✘ Passengers are requested to be remaining seated.
2. ✘ Passengers are requested to be remained seated.
3. ✔ Passengers are requested to remain seated.
4. ✘ Passengers requested to remained seated.

Question Number : 155 Question Id : 497959559 Question Type : MCQ Option Shuffling : Yes  
Correct Marks : 1 Wrong Marks : 0.25

Select the grammatically correct sentence from the given options.

Options :

1. ✘ Passengers are requested to be remaining seated.

2. ✘ Passengers are requested to be remained seated.

3. ✔ Passengers are requested to remain seated.

4. ✘ Passengers requested to remained seated.

**Sub-Section Number:** 2  
**Sub-Section Id:** 49795933  
**Question Shuffling Allowed :** Yes

**Question Id : 497959560 Question Type : COMPREHENSION Sub Question Shuffling Allowed : Yes Group Comprehension Questions : No**

**Question Numbers : (156 to 160)**

**Question Label : Comprehension**

The special relationship between the client and the therapist is known as a therapeutic relationship or alliance. It is neither a passing acquaintance, nor a permanent relationship. The two major components of this alliance are the contractual nature and the limited duration of the therapy. The client and the therapist willingly enter into an alliance with the purpose of helping the client overcome their problems. The alliance lasts till the client is able to deal with the problems and take control of their life. It is a relationship based on mutual trust and confidence. A high level of trust is essential to enable the client to vent out their feelings openly and unburden themselves by confiding about their psychological and personal problems to the therapist. The therapist encourages this by being empathetic, genuine, warm and understanding. The therapist ensures the client that they would not be judging them and would continue to have positive feelings towards them even if the client is rude or shares deeds or thoughts that may be 'wrong'. This is the unconditional positive regard that the therapist has for the client.

It is very important that the therapist should have empathy for the client and not sympathy or an intellectual understanding of the other person's situation. In case of sympathy, the person feels pity for the other's suffering but cannot feel like the other person. Intellectual understanding is cold and rational and does not evoke feelings of either compassion or empathy. On the other hand, empathy makes one understand the plight of another and see oneself in the other's shoes. It enables one to see things from the other's perspective. Thus, empathy enriches the therapeutic relationship and transforms it into a healing relationship.

The therapeutic relationship also requires that the therapist maintains strict confidentiality of the feelings, thoughts, actions and experiences disclosed by the client. The therapist must not betray the trust of the client or exploit them in any way. It is a professional relationship, and must remain so.

#### Sub questions

Question Number : 156 Question Id : 497959561 Question Type : MCQ Option Shuffling : Yes  
Correct Marks : 1 Wrong Marks : 0.25

Why is the client-therapist relationship contractual in nature?

Options :

1. ✘ It is legally binding on both parties.
2. ✔ It is a willing alliance with a common motive.



3. ✖ It is based on mutual trust and is irrevocable.

4. ✖ It is temporary and arises out of compassion.

Question Number : 157 Question Id : 497959562 Question Type : MCQ Option Shuffling : Yes  
Correct Marks : 1 Wrong Marks : 0.25

What are the two key ingredients of a therapeutic relationship?

Options :

1. ✖ Trust and intellectual understanding

2. ✖ Confidence and mutual interest

3. ✖ Empathy and sound advice

4. ✔ Trust and confidentiality

Question Number : 158 Question Id : 497959563 Question Type : MCQ Option Shuffling : Yes  
Correct Marks : 1 Wrong Marks : 0.25

What attitude of the therapist could be detrimental to the therapeutic relationship?

Options :

1. ✖ Being empathetic

2. ✖ Being professional

3. ✔ Being judgemental

4. ✖ Being discreet

Question Number : 159 Question Id : 497959564 Question Type : MCQ Option Shuffling : Yes

Correct Marks : 1 Wrong Marks : 0.25

Which of these phrases best describes empathy?

Options :

1. ✘ Taking pity on others
2. ✔ Putting oneself in other's shoes
3. ✘ Feeling sorry for other's misfortune
4. ✘ Venting pent up emotions

Question Number : 160 Question Id : 497959565 Question Type : MCQ Option Shuffling : Yes

Correct Marks : 1 Wrong Marks : 0.25

Which of the following statements is NOT true?

Options :

1. ✘ A good therapist wins the confidence of the client.
2. ✘ A therapist encourages the client to overcome all problems.
3. ✔ A good therapeutic alliance is an eternal bond.
4. ✘ A therapist plays the role of a healer.

Question Id : 497959560 Question Type : COMPREHENSION Sub Question Shuffling Allowed : Yes Group Comprehension Questions : No

Question Numbers : (156 to 160)

Question Label : Comprehension

The special relationship between the client and the therapist is known as a therapeutic relationship or alliance. It is neither a passing acquaintance, nor a permanent relationship. The two major components of this alliance are the contractual nature and the limited duration of the therapy. The client and the therapist willingly enter into an alliance with the purpose of helping the client overcome their problems. The alliance lasts till the client is able to deal with the problems and take control of their life. It is a relationship based on mutual trust and confidence. A high level of trust is essential to enable the client to vent out their feelings openly and unburden themselves by confiding about their psychological and personal problems to the therapist. The therapist encourages this by being empathetic, genuine, warm and understanding. The therapist ensures the client that they would not be judging them and would continue to have positive feelings towards them even if the client is rude or shares deeds or thoughts that may be 'wrong'. This is the unconditional positive regard that the therapist has for the client.

It is very important that the therapist should have empathy for the client and not sympathy or an intellectual understanding of the other person's situation. In case of sympathy, the person feels pity for the other's suffering but cannot feel like the other person. Intellectual understanding is cold and rational and does not evoke feelings of either compassion or empathy. On the other hand, empathy makes one understand the plight of another and see oneself in the other's shoes. It enables one to see things from the other's perspective. Thus, empathy enriches the therapeutic relationship and transforms it into a healing relationship.

The therapeutic relationship also requires that the therapist maintains strict confidentiality of the feelings, thoughts, actions and experiences disclosed by the client. The therapist must not betray the trust of the client or exploit them in any way. It is a professional relationship, and must remain so.

#### Sub questions

Question Number : 156 Question Id : 497959561 Question Type : MCQ Option Shuffling : Yes  
Correct Marks : 1 Wrong Marks : 0.25

Why is the client-therapist relationship contractual in nature?

Options :

1. ✘ It is legally binding on both parties.

2. ✓ It is a willing alliance with a common motive.

3. ✗ It is based on mutual trust and is irrevocable.

4. ✗ It is temporary and arises out of compassion.

Question Number : 157 Question Id : 497959562 Question Type : MCQ Option Shuffling : Yes  
Correct Marks : 1 Wrong Marks : 0.25

What are the two key ingredients of a therapeutic relationship?

Options :

1. ✗ Trust and intellectual understanding

2. ✗ Confidence and mutual interest

3. ✗ Empathy and sound advice

4. ✓ Trust and confidentiality

Question Number : 158 Question Id : 497959563 Question Type : MCQ Option Shuffling : Yes  
Correct Marks : 1 Wrong Marks : 0.25

What attitude of the therapist could be detrimental to the therapeutic relationship?

Options :

1. ✗ Being empathetic

2. ✘ Being professional

3. ✔ Being judgemental

4. ✘ Being discreet

Question Number : 159 Question Id : 497959564 Question Type : MCQ Option Shuffling : Yes  
Correct Marks : 1 Wrong Marks : 0.25

Which of these phrases best describes empathy?

Options :

1. ✘ Taking pity on others

2. ✔ Putting oneself in other's shoes

3. ✘ Feeling sorry for other's misfortune

4. ✘ Venting pent up emotions

Question Number : 160 Question Id : 497959565 Question Type : MCQ Option Shuffling : Yes  
Correct Marks : 1 Wrong Marks : 0.25

Which of the following statements is NOT true?

Options :

1. ✘ A good therapist wins the confidence of the client.

2. ✘ A therapist encourages the client to overcome all problems.

3. ✓ A good therapeutic alliance is an eternal bond.

4. ✘ A therapist plays the role of a healer.

## General Hindi1

Group Number :	9
Group Id :	49795929
Group Maximum Duration :	0
Group Minimum Duration :	0
Show Attended Group? :	No
Edit Attended Group? :	No
Break time:	0
Group Marks:	20
Is this Group for Examiner?:	No
Revisit allowed for group Instructions? :	Yes
Maximum Instruction Time:	0
Minimum Instruction Time:	0

## General Hindi1

Section Id :	49795929
Section Number :	1
Section type :	Online
Mandatory or Optional:	Mandatory
Number of Questions:	16
Number of Questions to be attempted:	16
Section Marks:	20

Sub-Section Number:	1
Sub-Section Id:	49795934
Question Shuffling Allowed :	Yes

Question Id : 497959566 Question Type : COMPREHENSION Sub Question Shuffling Allowed : Yes Group Comprehension Questions : No

Question Numbers : (161 to 165)

Question Label : Comprehension

नीचे दिये गए गद्यांश को पढ़कर पूछे गये प्रश्नों के उत्तर दीजिए।  
मनुष्य शारीरिक कष्ट से ही पीछे हटने वाला प्राणी नहीं है। मानसिक क्लेश की संभावना से भी बहुत-से कर्मों की ओर प्रवृत्त होने का साहस उसे नहीं होता। जिन बातों से समाज के बीच उपहास, निंदा, अपमान इत्यादि का भय रहता है, उन्हें अच्छी और कल्याणकारी समझते हुए भी बहुत से लोग उनसे दूर रहते हैं। प्रत्यक्ष हानि देखते हुए भी कुछ प्रथाओं का अनुसरण बड़े-बड़े समझदार तक इसलिए करते चलते हैं कि उनके त्याग से वे बुरे कहे जाएँगे; लोगों में उनका वैसा आदर-सम्मान न रह जाएगा। उसके लिए मान-ग्लानि का कष्ट सब शारीरिक क्लेशों से बढ़कर होता है। जो लोग मान-अपमान का कुछ भी ध्यान न करके निंदा-स्तुति की कुछ भी परवाह न करके किसी कुप्रथा के विरुद्ध पूर्ण तत्परता और प्रसन्नता के साथ कार्य करते जाते हैं, वे उत्साही और वीर कहलाते हैं।

Sub questions

Question Number : 161 Question Id : 497959567 Question Type : MCQ Option Shuffling : Yes  
Correct Marks : 1 Wrong Marks : 0.25

‘क्लेश’ का अर्थ होता है:

Options :

1. ✖ सुख

2. ✔ दुःख

3. ✖ आलस्य

4. ✖ उत्साह

Question Number : 162 Question Id : 497959568 Question Type : MCQ Option Shuffling : Yes  
Correct Marks : 1 Wrong Marks : 0.25

गद्यांश में उपहास का आशय है:

Options :

1. ✖ प्रशंसा

2. ✖ हास्य

3. ✔ खिल्ली

4. ✖ सम्मान

Question Number : 163 Question Id : 497959569 Question Type : MCQ Option Shuffling : Yes  
Correct Marks : 1 Wrong Marks : 0.25

'प्रत्यक्ष' का अर्थ है:

Options :

1. ✔ स्पष्ट

2. ✖ अस्पष्ट

3. ✖ सरल

4. ✖ जटिल

Question Number : 164 Question Id : 497959570 Question Type : MCQ Option Shuffling : Yes  
Correct Marks : 1 Wrong Marks : 0.25

गद्यांश में प्रयुक्त 'मान-ग्लानि' से आशय है:

Options :

1. ✖ सुख

2. ✖ दुख

3. ✖ सम्मान



## 4. ✓ अपमान

Question Number : 165 Question Id : 497959571 Question Type : MCQ Option Shuffling : Yes  
Correct Marks : 1 Wrong Marks : 0.25

'स्तुति' का अर्थ है:

Options :

1. ✖ सम्मान

2. ✖ अपमान

3. ✓ प्रशंसा

4. ✖ घृणा

Question Id : 497959566 Question Type : COMPREHENSION Sub Question Shuffling Allowed : Yes Group Comprehension  
Questions : No

Question Numbers : (161 to 165)

## Question Label : Comprehension

नीचे दिये गए गद्यांश को पढ़कर पूछे गये प्रश्नों के उत्तर दीजिए।  
मनुष्य शारीरिक कष्ट से ही पीछे हटने वाला प्राणी नहीं है। मानसिक क्लेश की संभावना से भी बहुत-से कर्मों की ओर प्रवृत्त होने का साहस उसे नहीं होता। जिन बातों से समाज के बीच उपहास, निंदा, अपमान इत्यादि का भय रहता है, उन्हें अच्छी और कल्याणकारी समझते हुए भी बहुत से लोग उनसे दूर रहते हैं। प्रत्यक्ष हानि देखते हुए भी कुछ प्रथाओं का अनुसरण बड़े-बड़े समझदार तक इसलिए करते चलते हैं कि उनके त्याग से वे बुरे कहे जाएँगे; लोगों में उनका वैसा आदर-सम्मान न रह जाएगा। उसके लिए मान-ग्लानि का कष्ट सब शारीरिक क्लेशों से बढ़कर होता है। जो लोग मान-अपमान का कुछ भी ध्यान न करके निंदा-स्तुति की कुछ भी परवाह न करके किसी कुप्रथा के विरुद्ध पूर्ण तत्परता और प्रसन्नता के साथ कार्य करते जाते हैं, वे उत्साही और वीर कहलाते हैं।

Sub questions

Question Number : 161 Question Id : 497959567 Question Type : MCQ Option Shuffling : Yes  
Correct Marks : 1 Wrong Marks : 0.25

‘क्लेश’ का अर्थ होता है:

Options :

1. ✘ सुख

2. ✔ दुःख

3. ✘ आलस्य

4. ✘ उत्साह

Question Number : 162 Question Id : 497959568 Question Type : MCQ Option Shuffling : Yes  
Correct Marks : 1 Wrong Marks : 0.25

गद्यांश में उपहास का आशय है:

Options :

1. ✘ प्रशंसा

2. ✘ हास्य

3. ✔ खिल्ली

4. ✘ सम्मान

Question Number : 163 Question Id : 497959569 Question Type : MCQ Option Shuffling : Yes  
Correct Marks : 1 Wrong Marks : 0.25

‘प्रत्यक्ष’ का अर्थ है:

Options :

1. ✓ स्पष्ट

2. ✗ अस्पष्ट

3. ✗ सरल

4. ✗ जटिल

Question Number : 164 Question Id : 497959570 Question Type : MCQ Option Shuffling : Yes  
Correct Marks : 1 Wrong Marks : 0.25

गद्यांश में प्रयुक्त 'मान-ग्लानि' से आशय है:

Options :

1. ✗ सुख

2. ✗ दुख

3. ✗ सम्मान

4. ✓ अपमान

Question Number : 165 Question Id : 497959571 Question Type : MCQ Option Shuffling : Yes  
Correct Marks : 1 Wrong Marks : 0.25

'स्तुति' का अर्थ है:

Options :

1. ✘ सम्मान

2. ✘ अपमान

3. ✔ प्रशंसा

4. ✘ घृणा

Sub-Section Number: 2  
Sub-Section Id: 49795935  
Question Shuffling Allowed : Yes

Question Number : 166 Question Id : 497959572 Question Type : MCQ Option Shuffling : Yes  
Correct Marks : 1 Wrong Marks : 0.25

निम्न में से कौन सा शब्द तद्भव है?

Options :

1. ✘ स्थान

2. ✘ दमन

3. ✔ धान

4. ✘ नग्न

Question Number : 166 Question Id : 497959572 Question Type : MCQ Option Shuffling : Yes  
Correct Marks : 1 Wrong Marks : 0.25

निम्न में से कौन सा शब्द तद्भव है?

Options :

1. ✖ स्थान

2. ✖ दमन

3. ✔ धान

4. ✖ नग्न

Question Number : 167 Question Id : 497959573 Question Type : MCQ Option Shuffling : Yes

Correct Marks : 1 Wrong Marks : 0.25

निम्न में से कौन सा शब्द तद्भव नहीं है?

Options :

1. ✖ दूब

2. ✔ दीपक

3. ✖ दही

4. ✖ धीरज

Question Number : 167 Question Id : 497959573 Question Type : MCQ Option Shuffling : Yes

Correct Marks : 1 Wrong Marks : 0.25

निम्न में से कौन सा शब्द तद्भव नहीं है?

Options :

1. ✖ दूब

2. ✓ दीपक

3. ✘ दही

4. ✘ धीरज

Question Number : 168 Question Id : 497959574 Question Type : MCQ Option Shuffling : Yes  
Correct Marks : 1 Wrong Marks : 0.25

निम्न में से कौन सा शब्द तत्सम है?

Options :

1. ✓ पक्षी

2. ✘ पंख

3. ✘ पत्थर

4. ✘ पलंग

Question Number : 168 Question Id : 497959574 Question Type : MCQ Option Shuffling : Yes  
Correct Marks : 1 Wrong Marks : 0.25

निम्न में से कौन सा शब्द तत्सम है?

Options :

1. ✓ पक्षी

2. ✘ पंख

3. ✖ पत्थर

4. ✖ पलंग

Question Number : 169 Question Id : 497959575 Question Type : MCQ Option Shuffling : Yes  
Correct Marks : 1 Wrong Marks : 0.25

निम्न में से कौन सा शब्द तत्सम नहीं है?

Options :

1. ✖ वानर

2. ✖ वत्स

3. ✖ फाल्गुन

4. ✔ फूल

Question Number : 169 Question Id : 497959575 Question Type : MCQ Option Shuffling : Yes  
Correct Marks : 1 Wrong Marks : 0.25

निम्न में से कौन सा शब्द तत्सम नहीं है?

Options :

1. ✖ वानर

2. ✖ वत्स

3. ✖ फाल्गुन

4. ✓ फूल

Question Number : 170 Question Id : 497959576 Question Type : MCQ Option Shuffling : Yes  
Correct Marks : 1 Wrong Marks : 0.25

निम्न में से देशज शब्द कौन सा है?

Options :

1. ✗ खबर

2. ✓ खिड़की

3. ✗ खत

4. ✗ खयाल

Question Number : 170 Question Id : 497959576 Question Type : MCQ Option Shuffling : Yes  
Correct Marks : 1 Wrong Marks : 0.25

निम्न में से देशज शब्द कौन सा है?

Options :

1. ✗ खबर

2. ✓ खिड़की

3. ✗ खत

4. ✗ खयाल

Question Number : 171 Question Id : 497959577 Question Type : MCQ Option Shuffling : Yes



Correct Marks : 1 Wrong Marks : 0.25

निम्न में से विदेशी शब्द कौन सा है?

Options :

1. ✓ टिकट

2. ✗ चिड़िया

3. ✗ पगड़ी

4. ✗ लोटा

Question Number : 171 Question Id : 497959577 Question Type : MCQ Option Shuffling : Yes

Correct Marks : 1 Wrong Marks : 0.25

निम्न में से विदेशी शब्द कौन सा है?

Options :

1. ✓ टिकट

2. ✗ चिड़िया

3. ✗ पगड़ी

4. ✗ लोटा

Question Number : 172 Question Id : 497959578 Question Type : MCQ Option Shuffling : Yes

Correct Marks : 1 Wrong Marks : 0.25

निम्न में से किस शब्द की वर्तनी शुद्ध है?

Options :

1. ✖ अभ्यन्तरिक

2. ✖ सुसुप्ति

3. ✔ हितैषी

4. ✖ समाज्य

Question Number : 172 Question Id : 497959578 Question Type : MCQ Option Shuffling : Yes

Correct Marks : 1 Wrong Marks : 0.25

निम्न में से किस शब्द की वर्तनी शुद्ध है?

Options :

1. ✖ अभ्यन्तरिक

2. ✖ सुसुप्ति

3. ✔ हितैषी

4. ✖ समाज्य

Question Number : 173 Question Id : 497959579 Question Type : MCQ Option Shuffling : Yes

Correct Marks : 1 Wrong Marks : 0.25

'आदि-आदी' शब्द-युग्म का सही अर्थ है:

Options :

1. ✖ आरम्भ, इत्यादि

2. ✖ अभ्यस्त, अदरक

3. ✖ अभ्यस्त, आरम्भ

4. ✔ आरम्भ, अभ्यस्त

Question Number : 173 Question Id : 497959579 Question Type : MCQ Option Shuffling : Yes  
Correct Marks : 1 Wrong Marks : 0.25

'आदि-आदी' शब्द-युग्म का सही अर्थ है:

Options :

1. ✖ आरम्भ, इत्यादि

2. ✖ अभ्यस्त, अदरक

3. ✖ अभ्यस्त, आरम्भ

4. ✔ आरम्भ, अभ्यस्त

Question Number : 174 Question Id : 497959580 Question Type : MCQ Option Shuffling : Yes  
Correct Marks : 1 Wrong Marks : 0.25

'खग' का अर्थ नहीं होता:

Options :

1. ✖ पक्षी

2. ✔ आकाश

3. ✖ तारा

4. ✖ बाण

Question Number : 174 Question Id : 497959580 Question Type : MCQ Option Shuffling : Yes  
Correct Marks : 1 Wrong Marks : 0.25

‘खग’ का अर्थ नहीं होता:

Options :

1. ✖ पक्षी

2. ✔ आकाश

3. ✖ तारा

4. ✖ बाण

Question Number : 175 Question Id : 497959581 Question Type : MCQ Option Shuffling : Yes  
Correct Marks : 1 Wrong Marks : 0.25

‘जो जाना जा सके’ अर्थ के लिए एक शब्द होगा:

Options :

1. ✖ ज्ञापन

2. ✖ ज्ञापक

3. ✔ ज्ञेय

4. ✖ अज्ञेय

Question Number : 175 Question Id : 497959581 Question Type : MCQ Option Shuffling : Yes  
Correct Marks : 1 Wrong Marks : 0.25

'जो जाना जा सके' अर्थ के लिए एक शब्द होगा:

Options :

1. ✖ ज्ञापन

2. ✖ ज्ञापक

3. ✔ ज्ञेय

4. ✖ अज्ञेय

Question Number : 176 Question Id : 497959582 Question Type : MCQ Option Shuffling : Yes  
Correct Marks : 1 Wrong Marks : 0.25

'बड़प्पन' किस प्रकार की संज्ञा है?

Options :

1. ✔ भाववाचक

2. ✖ व्यक्तिवाचक

3. ✖ जातिवाचक

4. ✖ पदार्थवाचक

Question Number : 176 Question Id : 497959582 Question Type : MCQ Option Shuffling : Yes  
Correct Marks : 1 Wrong Marks : 0.25

‘बड़प्पन’ किस प्रकार की संज्ञा है?

Options :

1. ✓ भाववाचक
2. ✗ व्यक्तिवाचक
3. ✗ जातिवाचक
4. ✗ पदार्थवाचक

Question Number : 177 Question Id : 497959583 Question Type : MCQ Option Shuffling : Yes

Correct Marks : 1 Wrong Marks : 0.25

निम्न में से निजवाचक सर्वनाम कौन सा है?

Options :

1. ✗ वह
2. ✗ मैं
3. ✗ तू
4. ✓ आप

Question Number : 177 Question Id : 497959583 Question Type : MCQ Option Shuffling : Yes

Correct Marks : 1 Wrong Marks : 0.25

निम्न में से निजवाचक सर्वनाम कौन सा है?

Options :

1. ✗ वह

2. ✖ भैं

3. ✖ तू

4. ✔ आप

Question Number : 178 Question Id : 497959584 Question Type : MCQ Option Shuffling : Yes  
Correct Marks : 1 Wrong Marks : 0.25

‘टिकाऊ’ किस प्रकार का विशेषण है?

Options :

1. ✖ सार्वनामिक

2. ✖ संख्यावाचक

3. ✔ गुणवाचक

4. ✖ परिमाणबोधक

Question Number : 178 Question Id : 497959584 Question Type : MCQ Option Shuffling : Yes  
Correct Marks : 1 Wrong Marks : 0.25

‘टिकाऊ’ किस प्रकार का विशेषण है?

Options :

1. ✖ सार्वनामिक

2. ✖ संख्यावाचक

3. ✓ गुणवाचक

4. ✗ परिमाणबोधक

Question Number : 179 Question Id : 497959585 Question Type : MCQ Option Shuffling : Yes  
Correct Marks : 1 Wrong Marks : 0.25

निम्न में से प्रेरणार्थक क्रिया कौन सी है?

Options :

1. ✗ कहना

2. ✗ दिखना

3. ✗ जागना

4. ✓ सुखाना

Question Number : 179 Question Id : 497959585 Question Type : MCQ Option Shuffling : Yes  
Correct Marks : 1 Wrong Marks : 0.25

निम्न में से प्रेरणार्थक क्रिया कौन सी है?

Options :

1. ✗ कहना

2. ✗ दिखना

3. ✗ जागना



4. ✓ सुखाना

Question Number : 180 Question Id : 497959586 Question Type : MCQ Option Shuffling : Yes  
Correct Marks : 1 Wrong Marks : 0.25

निम्न में से कौन सा समुच्चयबोधक अट्यय नहीं है?

Options :

1. ✗ पर

2. ✓ अरे!

3. ✗ भी

4. ✗ और

Question Number : 180 Question Id : 497959586 Question Type : MCQ Option Shuffling : Yes  
Correct Marks : 1 Wrong Marks : 0.25

निम्न में से कौन सा समुच्चयबोधक अट्यय नहीं है?

Options :

1. ✗ पर

2. ✓ अरे!

3. ✗ भी

4. ✗ और

## General Hindi2

Group Number :	10
Group Id :	49795930
Group Maximum Duration :	0
Group Minimum Duration :	120
Show Attended Group? :	No
Edit Attended Group? :	No
Break time:	0
Group Marks:	20
Is this Group for Examiner?:	No
Revisit allowed for group Instructions? :	Yes
Maximum Instruction Time:	0
Minimum Instruction Time:	0

## General Hindi2

Section Id :	49795930
Section Number :	1
Section type :	Online
Mandatory or Optional:	Mandatory
Number of Questions:	20
Number of Questions to be attempted:	20
Section Marks:	20

Sub-Section Number:	1
Sub-Section Id:	49795936
Question Shuffling Allowed :	Yes

Question Number : 181 Question Id : 497959587 Question Type : MCQ Option Shuffling : Yes  
Correct Marks : 1 Wrong Marks : 0.25

'अतः + एव' का संधि-रूप होगा:

Options :

1. ✓ अतएव

2. ✘ अतिएव

3. ✘ अताएव

4. ✘ अतैव

Question Number : 181 Question Id : 497959587 Question Type : MCQ Option Shuffling : Yes  
Correct Marks : 1 Wrong Marks : 0.25

‘अतः + एव’ का संधि-रूप होगा:

Options :

1. ✓ अतएव

2. ✗ अतिएव

3. ✗ अताएव

4. ✗ अतैव

Question Number : 182 Question Id : 497959588 Question Type : MCQ Option Shuffling : Yes  
Correct Marks : 1 Wrong Marks : 0.25

‘प्रतिमान’ में कौन सा समास है?

Options :

1. ✗ द्वंद्व

2. ✗ द्विगु

3. ✓ अव्ययीभाव

4. ✗ तत्पुरुष

Question Number : 182 Question Id : 497959588 Question Type : MCQ Option Shuffling : Yes  
Correct Marks : 1 Wrong Marks : 0.25

‘प्रतिमान’ में कौन सा समास है?

Options :

1. ✖ द्वंद्व

2. ✖ दविगु

3. ✔ अव्ययीभाव

4. ✖ तत्पुरुष

Question Number : 183 Question Id : 497959589 Question Type : MCQ Option Shuffling : Yes  
Correct Marks : 1 Wrong Marks : 0.25

‘अधिकार’ में किस उपसर्ग का प्रयोग हुआ है?

Options :

1. ✖ अ

2. ✔ अधि

3. ✖ कर

4. ✖ कार

Question Number : 183 Question Id : 497959589 Question Type : MCQ Option Shuffling : Yes  
Correct Marks : 1 Wrong Marks : 0.25

‘अधिकार’ में किस उपसर्ग का प्रयोग हुआ है?

Options :

1. ✖ अ

2. ✓ अधि

3. ✗ कर

4. ✗ कार

Question Number : 184 Question Id : 497959590 Question Type : MCQ Option Shuffling : Yes  
Correct Marks : 1 Wrong Marks : 0.25

‘पुष्पित’ में किस प्रत्यय का प्रयोग हुआ है?

Options :

1. ✓ इत

2. ✗ पित

3. ✗ त

4. ✗ पु

Question Number : 184 Question Id : 497959590 Question Type : MCQ Option Shuffling : Yes  
Correct Marks : 1 Wrong Marks : 0.25

‘पुष्पित’ में किस प्रत्यय का प्रयोग हुआ है?

Options :

1. ✓ इत

2. ✗ पित

3. ✖ त

4. ✖ पु

Question Number : 185 Question Id : 497959591 Question Type : MCQ Option Shuffling : Yes  
Correct Marks : 1 Wrong Marks : 0.25

निम्न में से कौन सा शब्द स्त्रीलिंग है?

Options :

1. ✖ उपवास

2. ✖ उपकरण

3. ✖ उत्साह

4. ✔ उपासना

Question Number : 185 Question Id : 497959591 Question Type : MCQ Option Shuffling : Yes  
Correct Marks : 1 Wrong Marks : 0.25

निम्न में से कौन सा शब्द स्त्रीलिंग है?

Options :

1. ✖ उपवास

2. ✖ उपकरण

3. ✖ उत्साह

4. ✓ उपासना

Question Number : 186 Question Id : 497959592 Question Type : MCQ Option Shuffling : Yes  
Correct Marks : 1 Wrong Marks : 0.25

‘लौटकर कहने लगा’ किस पदबन्ध का उदाहरण है?

Options :

1. ✗ संज्ञा पदबन्ध

2. ✗ विशेषण पदबन्ध

3. ✗ सर्वनाम पदबन्ध

4. ✓ क्रिया पदबन्ध

Question Number : 186 Question Id : 497959592 Question Type : MCQ Option Shuffling : Yes  
Correct Marks : 1 Wrong Marks : 0.25

‘लौटकर कहने लगा’ किस पदबन्ध का उदाहरण है?

Options :

1. ✗ संज्ञा पदबन्ध

2. ✗ विशेषण पदबन्ध

3. ✗ सर्वनाम पदबन्ध

4. ✓ क्रिया पदबन्ध

Question Number : 187 Question Id : 497959593 Question Type : MCQ Option Shuffling : Yes

Correct Marks : 1 Wrong Marks : 0.25

‘श्याम ने कहा कि मैं पढ़ूँगा।’ वाक्य में ‘मैं पढ़ूँगा’ किस प्रकार का उपवाक्य है?

Options :

1. ✓ संज्ञा उपवाक्य
2. ✗ सर्वनाम उपवाक्य
3. ✗ विशेषण उपवाक्य
4. ✗ क्रियाविशेषण उपवाक्य

Question Number : 187 Question Id : 497959593 Question Type : MCQ Option Shuffling : Yes

Correct Marks : 1 Wrong Marks : 0.25

‘श्याम ने कहा कि मैं पढ़ूँगा।’ वाक्य में ‘मैं पढ़ूँगा’ किस प्रकार का उपवाक्य है?

Options :

1. ✓ संज्ञा उपवाक्य
2. ✗ सर्वनाम उपवाक्य
3. ✗ विशेषण उपवाक्य
4. ✗ क्रियाविशेषण उपवाक्य

Question Number : 188 Question Id : 497959594 Question Type : MCQ Option Shuffling : Yes

Correct Marks : 1 Wrong Marks : 0.25

रचना के अनुसार कौन सा वाक्य का प्रकार नहीं है?

Options :



1. ✘ सरल वाक्य

2. ✔ कुटिल वाक्य

3. ✘ मिश्र वाक्य

4. ✘ संयुक्त वाक्य

Question Number : 188 Question Id : 497959594 Question Type : MCQ Option Shuffling : Yes  
Correct Marks : 1 Wrong Marks : 0.25

रचना के अनुसार कौन सा वाक्य का प्रकार नहीं है?

Options :

1. ✘ सरल वाक्य

2. ✔ कुटिल वाक्य

3. ✘ मिश्र वाक्य

4. ✘ संयुक्त वाक्य

Question Number : 189 Question Id : 497959595 Question Type : MCQ Option Shuffling : Yes  
Correct Marks : 1 Wrong Marks : 0.25

'मैं आया और वह गया।' किस प्रकार का वाक्य है?

Options :

1. ✘ सरल वाक्य

2. ✖ मिश्र वाक्य

3. ✔ संयुक्त वाक्य

4. ✖ उपवाक्य

Question Number : 189 Question Id : 497959595 Question Type : MCQ Option Shuffling : Yes

Correct Marks : 1 Wrong Marks : 0.25

‘मैं आया और वह गया।’ किस प्रकार का वाक्य है?

Options :

1. ✖ सरल वाक्य

2. ✖ मिश्र वाक्य

3. ✔ संयुक्त वाक्य

4. ✖ उपवाक्य

Question Number : 190 Question Id : 497959596 Question Type : MCQ Option Shuffling : Yes

Correct Marks : 1 Wrong Marks : 0.25

‘तुम पढ़ो’ किस प्रकार का वाक्य है?

Options :

1. ✔ आज्ञावाचक

2. ✖ संदेहवाचक

3. ✖ संकेतवाचक

4. ✖ विस्मयवाचक

Question Number : 190 Question Id : 497959596 Question Type : MCQ Option Shuffling : Yes  
Correct Marks : 1 Wrong Marks : 0.25

‘तुम पढ़ो’ किस प्रकार का वाक्य है?

Options :

1. ✔ आज्ञावाचक

2. ✖ संदेहवाचक

3. ✖ संकेतवाचक

4. ✖ विस्मयवाचक

Question Number : 191 Question Id : 497959597 Question Type : MCQ Option Shuffling : Yes  
Correct Marks : 1 Wrong Marks : 0.25

पदक्रम की दृष्टि से कौन सा वाक्य शुद्ध है?

Options :

1. ✖ भोजन किया गीता ने।

2. ✖ भोजन गीता ने किया।

3. ✔ गीता ने भोजन किया।

4. ✖ गीता ने किया भोजन।

Question Number : 191 Question Id : 497959597 Question Type : MCQ Option Shuffling : Yes  
Correct Marks : 1 Wrong Marks : 0.25

पदक्रम की दृष्टि से कौन सा वाक्य शुद्ध है?

Options :

1. ✖ भोजन किया गीता ने।

2. ✖ भोजन गीता ने किया।

3. ✔ गीता ने भोजन किया।

4. ✖ गीता ने किया भोजन।

Question Number : 192 Question Id : 497959598 Question Type : MCQ Option Shuffling : Yes  
Correct Marks : 1 Wrong Marks : 0.25

अन्वय की दृष्टि से कौन सा वाक्य शुद्ध है?

Options :

1. ✖ माता-पिता बैठा है।

2. ✖ माता-पिता बैठी है।

3. ✖ माता-पिता बैठे है।

4. ✔ माता-पिता बैठे हैं।

Question Number : 192 Question Id : 497959598 Question Type : MCQ Option Shuffling : Yes

Correct Marks : 1 Wrong Marks : 0.25

अन्वय की दृष्टि से कौन सा वाक्य शुद्ध है?

Options :

1. ✘ माता-पिता बैठा है।

2. ✘ माता-पिता बैठी है।

3. ✘ माता-पिता बैठे है।

4. ✔ माता-पिता बैठे हैं।

Question Number : 193 Question Id : 497959599 Question Type : MCQ Option Shuffling : Yes

Correct Marks : 1 Wrong Marks : 0.25

'कृशानु' किसका पर्यायवाची है?

Options :

1. ✘ असुर

2. ✔ अग्नि

3. ✘ अश्व

4. ✘ किरण

Question Number : 193 Question Id : 497959599 Question Type : MCQ Option Shuffling : Yes

Correct Marks : 1 Wrong Marks : 0.25

'कृशानु' किसका पर्यायवाची है?

Options :

1. ✘ असुर

2. ✔ अग्नि

3. ✘ अश्व

4. ✘ किरण

Question Number : 194 Question Id : 497959600 Question Type : MCQ Option Shuffling : Yes  
Correct Marks : 1 Wrong Marks : 0.25

'आँख' का पर्यायवाची है:

Options :

1. ✔ अम्बक

2. ✘ मयूख

3. ✘ निलय

4. ✘ आशुग

Question Number : 194 Question Id : 497959600 Question Type : MCQ Option Shuffling : Yes  
Correct Marks : 1 Wrong Marks : 0.25

'आँख' का पर्यायवाची है:

Options :

1. ✔ अम्बक

2. ✖ मयूख

3. ✖ निलय

4. ✖ आशुग

Question Number : 195 Question Id : 497959601 Question Type : MCQ Option Shuffling : Yes

Correct Marks : 1 Wrong Marks : 0.25

‘मछली’ का पर्यायवाची नहीं है:

Options :

1. ✖ झख

2. ✖ सफरी

3. ✔ गिरा

4. ✖ मीन

Question Number : 195 Question Id : 497959601 Question Type : MCQ Option Shuffling : Yes

Correct Marks : 1 Wrong Marks : 0.25

‘मछली’ का पर्यायवाची नहीं है:

Options :

1. ✖ झख

2. ✖ सफरी

3. ✓ गिरा

4. ✘ मीन

Question Number : 196 Question Id : 497959602 Question Type : MCQ Option Shuffling : Yes  
Correct Marks : 1 Wrong Marks : 0.25

'तनुज' किसका पर्यायवाची है?

Options :

1. ✘ भ्राता

2. ✓ पुत्र

3. ✘ पिता

4. ✘ मित्र

Question Number : 196 Question Id : 497959602 Question Type : MCQ Option Shuffling : Yes  
Correct Marks : 1 Wrong Marks : 0.25

'तनुज' किसका पर्यायवाची है?

Options :

1. ✘ भ्राता

2. ✓ पुत्र

3. ✘ पिता



4. ✖ मित्र

Question Number : 197 Question Id : 497959603 Question Type : MCQ Option Shuffling : Yes  
Correct Marks : 1 Wrong Marks : 0.25

‘करकमल’ में कर का अर्थ है:

Options :

1. ✖ किरण

2. ✖ हाथी

3. ✖ टैक्स

4. ✔ हाथ

Question Number : 197 Question Id : 497959603 Question Type : MCQ Option Shuffling : Yes  
Correct Marks : 1 Wrong Marks : 0.25

‘करकमल’ में कर का अर्थ है:

Options :

1. ✖ किरण

2. ✖ हाथी

3. ✖ टैक्स

4. ✔ हाथ

Question Number : 198 Question Id : 497959604 Question Type : MCQ Option Shuffling : Yes

Correct Marks : 1 Wrong Marks : 0.25

'अन्विति' का विलोम होगा:

Options :

1. ✓ अनन्विति

2. ✗ अनन्वित

3. ✗ इति

4. ✗ श्रुति

Question Number : 198 Question Id : 497959604 Question Type : MCQ Option Shuffling : Yes

Correct Marks : 1 Wrong Marks : 0.25

'अन्विति' का विलोम होगा:

Options :

1. ✓ अनन्विति

2. ✗ अनन्वित

3. ✗ इति

4. ✗ श्रुति

Question Number : 199 Question Id : 497959605 Question Type : MCQ Option Shuffling : Yes

Correct Marks : 1 Wrong Marks : 0.25

'अल्पायु' का विलोम होगा:

Options :

1. ✖ अजर

2. ✖ अमर

3. ✖ जटायु

4. ✔ दीर्घायु

Question Number : 199 Question Id : 497959605 Question Type : MCQ Option Shuffling : Yes

Correct Marks : 1 Wrong Marks : 0.25

'अल्पायु' का विलोम होगा:

Options :

1. ✖ अजर

2. ✖ अमर

3. ✖ जटायु

4. ✔ दीर्घायु

Question Number : 200 Question Id : 497959606 Question Type : MCQ Option Shuffling : Yes

Correct Marks : 1 Wrong Marks : 0.25

'मनुष्य को क्षुब्ध नहीं होना चाहिए।' वाक्य के रेखांकित शब्द का विलोम होगा:

Options :

1. ✖ खुश

2. ✓ शांत

3. ✗ क्रुद्ध

4. ✗ दुखी

Question Number : 200 Question Id : 497959606 Question Type : MCQ Option Shuffling : Yes

Correct Marks : 1 Wrong Marks : 0.25

‘मनुष्य को क्षुब्ध नहीं होना चाहिए।’ वाक्य के रेखांकित शब्द का विलोम होगा:

Options :

1. ✗ खुश

2. ✓ शांत

3. ✗ क्रुद्ध

4. ✗ दुखी