

Education Consultant India Ltd.

Notations :

1.Options shown in **green** color and with ✓ icon are correct.

2.Options shown in **red** color and with ✖ icon are incorrect.

Question Paper Name:	WARDER only for Male 18th June Shift2
Subject Name:	WARDER only for Male
Creation Date:	2019-06-18 18:02:38
Duration:	120
Total Marks:	200
Display Marks:	Yes
Share Answer Key With Delivery Engine:	No
Actual Answer Key:	Yes
Calculator:	None
Magnifying Glass Required?:	No
Ruler Required?:	No
Eraser Required?:	No
Scratch Pad Required?:	No
Rough Sketch/Notepad Required?:	No
Protractor Required?:	No
Show Watermark on Console?:	Yes
Highlighter:	No
Auto Save on Console?:	No

Mental Ability1

Group Number :	1
Group Id :	99836727
Group Maximum Duration :	0
Group Minimum Duration :	0
Show Attended Group? :	No
Edit Attended Group? :	No
Break time:	0
Group Marks:	20
Is this Group for Examiner?:	No
Revisit allowed for group Instructions? :	Yes
Maximum Instruction Time:	0
Minimum Instruction Time:	0

Mental Ability1

Section Id :	99836733
Section Number :	1

Section type :	Online
Mandatory or Optional:	Mandatory
Number of Questions:	20
Number of Questions to be attempted:	20
Section Marks:	20

Sub-Section Number:	1
Sub-Section Id:	99836767
Question Shuffling Allowed :	Yes

Question Number : 1 Question Id : 9983671323 Question Type : MCQ Option Shuffling : Yes

Correct Marks : 1 Wrong Marks : 0.25

Select the letter that will come next in the given series.

D, G, J, M, P, _____ .

Options :

1. ✘ Q

2. ✘ R

3. ✔ S

4. ✘ T

Question Number : 1 Question Id : 9983671323 Question Type : MCQ Option Shuffling : Yes

Correct Marks : 1 Wrong Marks : 0.25

निम्नलिखित श्रृंखला में अगले स्थान पर आने वाले अक्षर का चयन करें।

D, G, J, M, P, _____।

Options :

1. ✘ Q

2. ✘ R

3. ✔ S

4. ✘ T

Question Number : 2 Question Id : 9983671324 Question Type : MCQ Option Shuffling : Yes

Correct Marks : 1 Wrong Marks : 0.25

Select the letter-cluster that will come next in the given series.

GYJ, HXK, IWL, JVM, _____.

Options :

1. ✘ LUN

2. ✔ KUN

3. ✘ KUO

4. ✘ LTN

Question Number : 2 Question Id : 9983671324 Question Type : MCQ Option Shuffling : Yes

Correct Marks : 1 Wrong Marks : 0.25

निम्नलिखित श्रृंखला में अगले स्थान पर आने वाले अक्षर-समूह का चयन करें।

GYJ, HXK, IWL, JVM, _____।

Options :

1. ✘ LUN

2. ✓ KUN

3. ✗ KUO

4. ✗ LTN

Question Number : 3 Question Id : 9983671325 Question Type : MCQ Option Shuffling : Yes

Correct Marks : 1 Wrong Marks : 0.25

Arrange the following words as per their order in an English dictionary.

1. Ferocious 2. Ferrous 3. Frighten 4. Freight 5. Fiend

Options :

1. ✗ 2, 1, 5, 4, 3

2. ✓ 1, 2, 5, 4, 3

3. ✗ 1, 2, 5, 3, 4

4. ✗ 4, 2, 3, 1, 5

Question Number : 3 Question Id : 9983671325 Question Type : MCQ Option Shuffling : Yes

Correct Marks : 1 Wrong Marks : 0.25

निम्नलिखित शब्दों को अंग्रेज़ी शब्दकोश में उनके क्रम के अनुसार व्यवस्थित करें।

1. Ferocious 2. Ferrous 3. Frighten 4. Freight 5. Fiend

Options :

1. ✗ 2, 1, 5, 4, 3

2. ✓ 1, 2, 5, 4, 3

3. ✗ 1, 2, 5, 3, 4

4. ✗ 4, 2, 3, 1, 5

Question Number : 4 Question Id : 9983671326 Question Type : MCQ Option Shuffling : Yes

Correct Marks : 1 Wrong Marks : 0.25

Arrange the following words in a logical and meaningful order.

1. District 2. Person 3. Family 4. Community 5. State 6. Country

Options :

1. ✗ 2, 3, 4, 5, 1, 6

2. ✗ 2, 5, 4, 3, 1, 6

3. ✗ 1, 2, 5, 3, 4, 6

4. ✓ 2, 3, 4, 1, 5, 6

Question Number : 4 Question Id : 9983671326 Question Type : MCQ Option Shuffling : Yes

Correct Marks : 1 Wrong Marks : 0.25

निम्नलिखित शब्दों को एक तार्किक और अर्थपूर्ण क्रम में व्यवस्थित करें।

1. ज़िला 2. व्यक्ति 3. परिवार 4. समुदाय 5. राज्य 6. राष्ट्र

Options :

1. ✗ 2, 3, 4, 5, 1, 6

2. ✖ 2, 5, 4, 3, 1, 6

3. ✖ 1, 2, 5, 3, 4, 6

4. ✔ 2, 3, 4, 1, 5, 6

Question Number : 5 Question Id : 9983671327 Question Type : MCQ Option Shuffling : Yes

Correct Marks : 1 Wrong Marks : 0.25

Select the letter-cluster that is different from the other three.

Options :

1. ✔ FILQ

2. ✖ JMQV

3. ✖ EHLQ

4. ✖ LOSX

Question Number : 5 Question Id : 9983671327 Question Type : MCQ Option Shuffling : Yes

Correct Marks : 1 Wrong Marks : 0.25

उस अक्षर-समूह का चयन करें जो अन्य तीनों अक्षर-समूहों से भिन्न है।

Options :

1. ✔ FILQ

2. ✖ JMQV

3. ✖ EHLQ

4. ✖ LOSX

Question Number : 6 Question Id : 9983671328 Question Type : MCQ Option Shuffling : Yes
Correct Marks : 1 Wrong Marks : 0.25

Select the letter-cluster that is different from the other three.

Options :

1. ✖ CXUF

2. ✖ QJTG

3. ✖ HSKP

4. ✔ DWYA

Question Number : 6 Question Id : 9983671328 Question Type : MCQ Option Shuffling : Yes
Correct Marks : 1 Wrong Marks : 0.25

उस अक्षर-समूह का चयन करें जो अन्य तीनों अक्षर-समूहों से भिन्न है।

Options :

1. ✖ CXUF

2. ✖ QJTG

3. ✖ HSKP

4. ✓ DWYA

Question Number : 7 Question Id : 9983671329 Question Type : MCQ Option Shuffling : Yes
Correct Marks : 1 Wrong Marks : 0.25

Select the word that is different from the other three.

Options :

1. ✗ Jupiter

2. ✓ Moon

3. ✗ Saturn

4. ✗ Mercury

Question Number : 7 Question Id : 9983671329 Question Type : MCQ Option Shuffling : Yes
Correct Marks : 1 Wrong Marks : 0.25

उस शब्द का चयन करें जो अन्य तीनों शब्दों से भिन्न है।

Options :

1. ✗ बृहस्पति

2. ✓ चंद्रमा

3. ✗ शनि

4. ✗ बुध

Question Number : 8 Question Id : 9983671330 Question Type : MCQ Option Shuffling : Yes
Correct Marks : 1 Wrong Marks : 0.25

'Cameraman' is related to 'Photography' in the same way as 'Choreographer' is related to '_____'.

Options :

1. ✘ Actress

2. ✔ Dance

3. ✘ Stage

4. ✘ Music

Question Number : 8 Question Id : 9983671330 Question Type : MCQ Option Shuffling : Yes

Correct Marks : 1 Wrong Marks : 0.25

जिस प्रकार 'छायाकार' ('कैमरामैन'), 'छायाँकन' ('फोटोग्राफी') से संबंधित है, उसी प्रकार 'नृत्य-निर्देशक' ('रियोग्राफर') _____ से संबंधित है?

Options :

1. ✘ अभिनेत्री

2. ✔ नृत्य

3. ✘ मंच

4. ✘ संगीत

Question Number : 9 Question Id : 9983671331 Question Type : MCQ Option Shuffling : Yes

Correct Marks : 1 Wrong Marks : 0.25

Select the option in which the words share the same relationship as that shared by the given pair of words.

Anemometer : Wind

Options :

1. ✓ Thermometer : Temperature

2. ✘ Odometer : Pressure

3. ✘ Barometer : Speed

4. ✘ Humidity : Scale

Question Number : 9 Question Id : 9983671331 Question Type : MCQ Option Shuffling : Yes

Correct Marks : 1 Wrong Marks : 0.25

उस विकल्प का चयन करें जिसमें शब्द उसी प्रकार संबंध साझा करते हैं जिस प्रकार दिये गए शब्द-युग्म साझा करते हैं।

एनीमोमीटर : वायु

Options :

1. ✓ थर्मोमीटर : तापमान

2. ✘ ओडोमीटर : दबाव

3. ✘ बैरोमीटर : गति

4. ✘ आर्द्रता : पैमाना

Question Number : 10 Question Id : 9983671332 Question Type : MCQ Option Shuffling : Yes

Correct Marks : 1 Wrong Marks : 0.25

Given is an address, which has been reproduced against the four alternatives. Of these, only one matches the given address, whereas the others have some mistakes. Select the option that is exactly the same as the given one.

Hansen Technical Devices

C-728, CROM Tech Park, 8th Building, Sector – 29B, Thane East, Thane, Maharashtra 400615, India

Options :

1. ✖

Hansen Technical Devices

C-728, CRON Tech Park, 8th Building, Sector – 29B, Thane East, Thane, Maharashtra 400615, India

2. ✖

Hansen Technical Devices

C-728, CROM Tech Park, 9th Building, Sector – 29B, Thane East, Thane, Maharashtra 400615, India

3. ✔

Hansen Technical Devices

C-728, CROM Tech Park, 8th Building, Sector – 29B, Thane East, Thane, Maharashtra 400615, India

4. ✖

Hansen Technical Devices

C-728, CROM Tech Park, 8th Building, Sector – 29D, Thane East, Thane, Maharashtra 400615, India

Question Number : 10 Question Id : 9983671332 Question Type : MCQ Option Shuffling : Yes

Correct Marks : 1 Wrong Marks : 0.25

एक पता दिया गया है जिसे चार विकल्पों में दोबारा प्रस्तुत किया गया है। इनमें से केवल एक विकल्प दिये गए पते से मेल खाता है, जबकि अन्य तीनों में कुछ त्रुटियाँ हैं। उस विकल्प का चयन करें जो पूर्णतः दिये गए पते के समान है।

Hansen Technical Devices

C-728, CROM Tech Park, 8th Building, Sector - 29B, Thane East, Thane, Maharashtra 400615, India

Options :

1. ✖

Hansen Technical Devices

C-728, CRON Tech Park, 8th Building, Sector - 29B, Thane East, Thane, Maharashtra 400615, India

2. ✖

Hansen Technical Devices

C-728, CROM Tech Park, 9th Building, Sector - 29B, Thane East, Thane, Maharashtra 400615, India

3. ✔

Hansen Technical Devices

C-728, CROM Tech Park, 8th Building, Sector - 29B, Thane East, Thane, Maharashtra 400615, India

4. ✖

Hansen Technical Devices

C-728, CROM Tech Park, 8th Building, Sector - 29D, Thane East, Thane, Maharashtra 400615, India

Question Number : 11 Question Id : 9983671333 Question Type : MCQ Option Shuffling : Yes

Correct Marks : 1 Wrong Marks : 0.25

Five children are standing facing the stage in a single line. Rishabh is nearest to the stage. Vanya is standing ahead of Priya and is NOT just before or just after Tarun. Kiara is standing just after Rishabh and Tarun is NOT standing near Kiara. Who is at the end of the line?

Options :

1. ✔ Tarun

2. ✖ Priya

3. ✖ Kiara

4. ✖ Rishabh

Question Number : 11 Question Id : 9983671333 Question Type : MCQ Option Shuffling : Yes

Correct Marks : 1 Wrong Marks : 0.25

एक एकल पंक्ति में पाँच बच्चे मंच की ओर मुँह करके खड़े हैं। ऋषभ मंच के सर्वाधिक निकट है। वन्या प्रिया के आगे खड़ी है और तरुण के ठीक आगे या पीछे नहीं है। कियारा ऋषभ के ठीक पीछे खड़ी है और तरुण कियारा के निकट नहीं खड़ा है। पंक्ति के अंत में कौन है?

Options :

1. ✓ तरुण

2. ✘ प्रिया

3. ✘ कियारा

4. ✘ ऋषभ

Question Number : 12 Question Id : 9983671334 Question Type : MCQ Option Shuffling : Yes

Correct Marks : 1 Wrong Marks : 0.25

If the 5th day of the month is 4 days earlier to Friday, then what day will it be on the 22nd day of the month?

Options :

1. ✘ Tuesday

2. ✘ Wednesday

3. ✓ Thursday

4. ✘ Friday

Question Number : 12 Question Id : 9983671334 Question Type : MCQ Option Shuffling : Yes

Correct Marks : 1 Wrong Marks : 0.25

यदि महीने का 5^{वाँ} दिन शुक्रवार से 4 दिन पहले है, तो महीने का 22^{वाँ} दिन, निम्नलिखित में से कौन सा होगा?

Options :

1. ✘ मंगलवार

2. ✘ बुधवार

3. ✔ गुरुवार

4. ✘ शुक्रवार

Question Number : 13 Question Id : 9983671335 Question Type : MCQ Option Shuffling : Yes

Correct Marks : 1 Wrong Marks : 0.25

Rachna is the only child of her parents. She introduces a girl to her friend and says, "She is the grand-daughter of my son Kamal's sister's father's father-in-law." How is Rachna related to that girl?

Options :

1. ✔ Mother

2. ✘ Sister

3. ✘ Aunt

4. ✘ Niece

Question Number : 13 Question Id : 9983671335 Question Type : MCQ Option Shuffling : Yes

Correct Marks : 1 Wrong Marks : 0.25

रचना अपने माता-पिता की एकमात्र सन्तान है। वह अपने मित्र से एक लड़की का परिचय करवाती है और कहती है, "वह मेरे बेटे कमल की बहन के पिता के ससुर की पोती है।" रचना का संबंध उस लड़की के साथ किस रूप में है?

Options :

1. ✔ माता

2. ✘ बहन

3. ✖ चाची

4. ✖ भतीजी

Question Number : 14 Question Id : 9983671336 Question Type : MCQ Option Shuffling : Yes

Correct Marks : 1 Wrong Marks : 0.25

Select the option that is related to the third term in the same way as the second term is related to the first term.

OMKI : JLNP :: YWUS : _____.

Options :

1. ✖ TUXZ

2. ✔ TVXZ

3. ✖ TVYZ

4. ✖ SVXZ

Question Number : 14 Question Id : 9983671336 Question Type : MCQ Option Shuffling : Yes

Correct Marks : 1 Wrong Marks : 0.25

उस विकल्प का चयन करें जो तीसरे पद से उसी प्रकार संबंधित है, जिस प्रकार दूसरा पद पहले पद से संबंधित है।

OMKI : JLNP :: YWUS : _____।

Options :

1. ✖ TUXZ

2. ✔ TVXZ

3. ✖ TVYZ

4. ✖ SVXZ

Question Number : 15 Question Id : 9983671337 Question Type : MCQ Option Shuffling : Yes

Correct Marks : 1 Wrong Marks : 0.25

In a certain code language, JUPITER is written as JPUIETR. How will HONESTY be written as in that language?

Options :

1. ✖ HNOTESY

2. ✔ HNOETSY

3. ✖ HNEOTSY

4. ✖ HONETSY

Question Number : 15 Question Id : 9983671337 Question Type : MCQ Option Shuffling : Yes

Correct Marks : 1 Wrong Marks : 0.25

एक निश्चित सांकेतिक भाषा में JUPITER को JPUIETR के रूप में लिखा जाता है। उसी भाषा में HONESTY को किस रूप में लिखा जाएगा?

Options :

1. ✖ HNOTESY

2. ✔ HNOETSY

3. ✖ HNEOTSY

4. ✖ HONETSY

Question Number : 16 Question Id : 9983671338 Question Type : MCQ Option Shuffling : Yes

Correct Marks : 1 Wrong Marks : 0.25

If AU is coded as 21 and CAN is coded as 42, then how will READ be coded as?

Options :

1. ✖ 620

2. ✔ 360

3. ✖ 205

4. ✖ 30

Question Number : 16 Question Id : 9983671338 Question Type : MCQ Option Shuffling : Yes

Correct Marks : 1 Wrong Marks : 0.25

अगर AU को 21 के रूप में और CAN को 42 के रूप में कोडित किया गया है, तो READ को किस रूप में कोडित किया जाएगा?

Options :

1. ✖ 620

2. ✔ 360

3. ✖ 205

4. ✖ 30

Question Number : 17 Question Id : 9983671339 Question Type : MCQ Option Shuffling : Yes

Correct Marks : 1 Wrong Marks : 0.25

In a certain code language, DOCK is written asgt 3587 and TYRE is written as 4261. How will ROCKET be written as in that language?

Options :

1. ✖ 658741

2. ✖ 638714

3. ✔ 658714

4. ✖ 568714

Question Number : 17 Question Id : 9983671339 Question Type : MCQ Option Shuffling : Yes

Correct Marks : 1 Wrong Marks : 0.25

एक सांकेतिक भाषा में DOCK को 3587 के रूप में और TYRE को 4261 के रूप में लिखा जाता है। उसी भाषा में ROCKET को किस रूप में लिखा जाएगा?

Options :

1. ✖ 658741

2. ✖ 638714

3. ✔ 658714

4. ✖ 568714

Question Number : 18 Question Id : 9983671340 Question Type : MCQ Option Shuffling : Yes

Correct Marks : 1 Wrong Marks : 0.25

Umesh, Vikram, Veena, Suman and Yash are five cousins. Suman is half the age of Vikram. Vikram is half the age of Umesh. Yash is half the age of Suman. If Yash is 4 years old, then what is the age of Umesh?

Options :

1. ✖ 8

2. ✖ 16

3. ✔ 32

4. ✖ 48

Question Number : 18 Question Id : 9983671340 Question Type : MCQ Option Shuffling : Yes

Correct Marks : 1 Wrong Marks : 0.25

उमेश, विक्रम, वीणा, सुमन और यश पाँच चचेरे भाई-बहन हैं। सुमन विक्रम से आधी आयु की है। विक्रम उमेश से आधी आयु का है। यश सुमन से आधी आयु का है। यदि यश 4 वर्ष का है, तो उमेश की आयु कितनी है?

Options :

1. ✖ 8

2. ✖ 16

3. ✔ 32

4. ✖ 48

Question Number : 19 Question Id : 9983671341 Question Type : MCQ Option Shuffling : Yes

Correct Marks : 1 Wrong Marks : 0.25

Two statements are given, followed by two conclusions labelled I and II. Assuming the statements to be true, even if they seem to be at variance with commonly known facts, decide which of the conclusions logically follow(s) from the statements.

Statements :

All trees are timbers.

All timbers are expensive.

Conclusions :

I. All trees are expensive.

II. All expensive are timbers.

Options :

1. ✓ Only conclusion I follows.

2. ✗ Only conclusion II follows.

3. ✗ Both conclusions I and II follow.

4. ✗ Neither conclusion I nor II follows.

Question Number : 19 Question Id : 9983671341 Question Type : MCQ Option Shuffling : Yes

Correct Marks : 1 Wrong Marks : 0.25

दो कथन दिये गए हैं, जिनका अनुसरण दो निष्कर्ष I और II चिहनों के साथ करते हैं। कथनों को सत्य मानते हुए, भले ही वे सामान्यतः ज्ञात कारकों से भिन्न प्रतीत होते हों, यह निर्णय लें कि कथनों में से कौन सा निष्कर्ष, कथनों का तार्किक रूप से अनुसरण करता है।

कथन :

सभी पेड़ लकड़ियाँ हैं।

सभी लकड़ियाँ बहुमूल्य हैं।

निष्कर्ष :

- I. सभी पेड़ बहुमूल्य हैं।
- II. सभी बहुमूल्य लकड़ियाँ हैं।

Options :

1. ✓ केवल निष्कर्ष I अनुसरण करता है।
2. ✘ केवल निष्कर्ष II अनुसरण करता है।
3. ✘ I और II दोनों निष्कर्ष अनुसरण करते हैं।
4. ✘ न तो निष्कर्ष I और न ही निष्कर्ष II अनुसरण करता है।

Question Number : 20 Question Id : 9983671342 Question Type : MCQ Option Shuffling : Yes
Correct Marks : 1 Wrong Marks : 0.25

Two statements are given, followed by two conclusions labelled I and II. Assuming the statements to be true, even if they seem to be at variance with commonly known facts, decide which of the conclusions logically follow(s) from the statements.

Statements :

Some eggs are omelettes.

Some omelettes are bread.

Conclusions :

I. All eggs are either omelettes or breads.

II. Some omelettes are eggs.

Options :

1. ✘ Only conclusion I follows.

2. ✔ Only conclusion II follows.

3. ✘ Either conclusion I or II follows.

4. ✘ Neither conclusion I nor II follows.

Question Number : 20 Question Id : 9983671342 Question Type : MCQ Option Shuffling : Yes
Correct Marks : 1 Wrong Marks : 0.25

दो कथन दिये गए हैं जिनका अनुसरण दो निष्कर्ष I और II चिहनों के साथ करते हैं। कथनों को सत्य मानते हुए, भले ही वे सामान्यतः ज्ञात कारकों से भिन्न प्रतीत होते हों, यह निर्णय लें कि कथनों में से कौन सा निष्कर्ष, कथनों का तार्किक रूप से अनुसरण करता है।

कथन :

कुछ अंडे ऑमलेट हैं।

कुछ ऑमलेट ब्रेड हैं।

निष्कर्ष :

I. सभी अंडे या तो ऑमलेट हैं या ब्रेड हैं।

II. कुछ ऑमलेट अंडे हैं।

Options :

1. ✘ केवल निष्कर्ष I अनुसरण करता है।

2. ✔ केवल निष्कर्ष II अनुसरण करता है।

3. ✘ या तो निष्कर्ष I या निष्कर्ष II अनुसरण करते हैं।

4. ✘ न तो निष्कर्ष I और न ही निष्कर्ष II अनुसरण करता है।

Mental Ability2

Group Number :	2
Group Id :	99836728
Group Maximum Duration :	0
Group Minimum Duration :	0
Show Attended Group? :	No
Edit Attended Group? :	No

Break time:	0
Group Marks:	20
Is this Group for Examiner?:	No
Revisit allowed for group Instructions? :	Yes
Maximum Instruction Time:	0
Minimum Instruction Time:	0

Mental Ability2

Section Id :	99836734
Section Number :	1
Section type :	Online
Mandatory or Optional:	Mandatory
Number of Questions:	20
Number of Questions to be attempted:	20
Section Marks:	20

Sub-Section Number:	1
Sub-Section Id:	99836768
Question Shuffling Allowed :	Yes

Question Number : 21 Question Id : 9983671343 Question Type : MCQ Option Shuffling : Yes
Correct Marks : 1 Wrong Marks : 0.25

Select the number that does NOT belong to the given series.

5, 9, 17, 29, 55, 65

Options :

1. ✘ 5

2. ✘ 29

3. ✔ 55

4. ✘ 65

Question Number : 21 Question Id : 9983671343 Question Type : MCQ Option Shuffling : Yes
Correct Marks : 1 Wrong Marks : 0.25

उस संख्या का चयन करें जो दी गई श्रृंखला से संबंधित नहीं है।

5, 9, 17, 29, 55, 65

Options :

1. ✖ 5

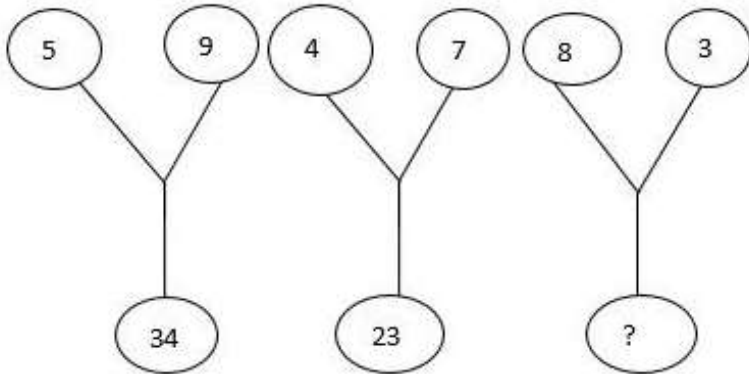
2. ✖ 29

3. ✔ 55

4. ✖ 65

Question Number : 22 Question Id : 9983671344 Question Type : MCQ Option Shuffling : Yes
Correct Marks : 1 Wrong Marks : 0.25

Study the given pattern and identify the missing number.



Options :

1. ✖ 64

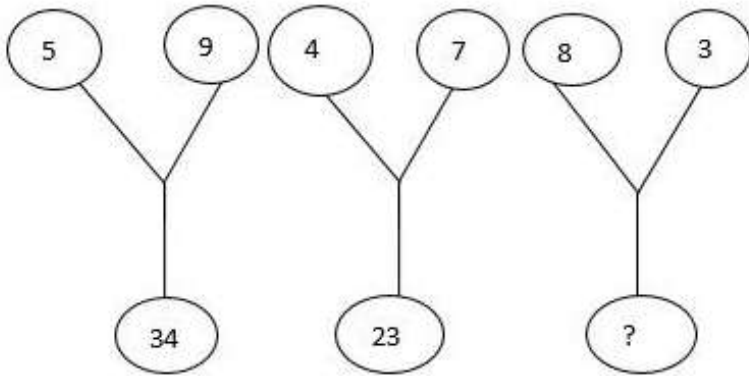
2. ✔ 67

3. ✖ 90

4. ✖ 100

Question Number : 22 Question Id : 9983671344 Question Type : MCQ Option Shuffling : Yes
Correct Marks : 1 Wrong Marks : 0.25

दी गई आकृति का अध्ययन करें और अनुपस्थित संख्या ज्ञात करें।



Options :

1. ✖ 64

2. ✔ 67

3. ✖ 90

4. ✖ 100

Question Number : 23 Question Id : 9983671345 Question Type : MCQ Option Shuffling : Yes
Correct Marks : 1 Wrong Marks : 0.25

Select the number that will come next in the given series.

7, 14, 33, 70, 131, _____.

Options :

1. ✖ 131

2. ✖ 190

3. ✖ 218

4. ✔ 222

Question Number : 23 Question Id : 9983671345 Question Type : MCQ Option Shuffling : Yes

Correct Marks : 1 Wrong Marks : 0.25

उस संख्या का चुनाव करें जो दी गई श्रृंखला में अगले स्थान पर आएगी।

7, 14, 33, 70, 131, _____।

Options :

1. ✖ 131

2. ✖ 190

3. ✖ 218

4. ✔ 222

Question Number : 24 Question Id : 9983671346 Question Type : MCQ Option Shuffling : Yes

Correct Marks : 1 Wrong Marks : 0.25

Select the option that is related to the third number in the same way as the second number is related to the first number.

34 : 204 :: 17 : _____

Options :

1. ✖ 49

2. ✖ 77

3. ✔ 102

4. ✖ 346

Question Number : 24 Question Id : 9983671346 Question Type : MCQ Option Shuffling : Yes

Correct Marks : 1 Wrong Marks : 0.25

उस विकल्प का चयन करें जो तीसरी संख्या से उसी प्रकार संबंधित है, जिस प्रकार दूसरी संख्या पहली संख्या से संबंधित है।

34 : 204 :: 17 : _____

Options :

1. ✖ 49

2. ✖ 77

3. ✔ 102

4. ✖ 346

Question Number : 25 Question Id : 9983671347 Question Type : MCQ Option Shuffling : Yes

Correct Marks : 1 Wrong Marks : 0.25

Select the option in which the numbers share the same relationship as that shared by the given pair of numbers.

520 : 350

Options :

1. ✖ 125 : 30

2. ✖ 350 : 49

3. ✔ 222 : 130

4. ✖ 25 : 36

Question Number : 25 Question Id : 9983671347 Question Type : MCQ Option Shuffling : Yes

Correct Marks : 1 Wrong Marks : 0.25

उस विकल्प का चयन करें, जिसमें संख्याएँ उसी प्रकार संबंध साझा करती हैं जिस प्रकार वे दिये गए संख्या-युग्मों के साथ संबंध साझा करती है।

520 : 350

Options :

1. ✖ 125 : 30

2. ✖ 350 : 49

3. ✔ 222 : 130

4. ✖ 25 : 36

Question Number : 26 Question Id : 9983671348 Question Type : MCQ Option Shuffling : Yes

Correct Marks : 1 Wrong Marks : 0.25

When Sunaina was born, her father was 25 years older than her brother and her mother was 22 years older than her sister. If Sunaina's brother is 8 years older than her and her mother is 5 years younger than her father, then what was Sunaina's sister's age when Sunaina was born?

Options :

1. ✖ 5 years

2. ✔ 6 years

3. ✖ 10 years

4. ✖ 30 years

Question Number : 26 Question Id : 9983671348 Question Type : MCQ Option Shuffling : Yes

Correct Marks : 1 Wrong Marks : 0.25

जब सुनयना का जन्म हुआ, तो उसके पिता उसके भाई से 25 वर्ष बड़े थे और उसकी माँ उसकी बहन से 22 वर्ष बड़ी थी। यदि सुनयना का भाई उससे 8 वर्ष बड़ा है और उसकी माँ उसके पिता से 5 वर्ष छोटी है, तो जब सुनयना का जन्म हुआ, तो उसकी बहन की आयु कितनी थी?

Options :

1. ✖ 5 वर्ष

2. ✔ 6 वर्ष

3. ✖ 10 वर्ष

4. ✖ 30 वर्ष

Question Number : 27 Question Id : 9983671349 Question Type : MCQ Option Shuffling : Yes

Correct Marks : 1 Wrong Marks : 0.25

Select the number-pair that is different from the other three.

Options :

1. ✖ 9-28

2. ✖ 12-37

3. ✔ 14-41

4. ✖ 17-52

Question Number : 27 Question Id : 9983671349 Question Type : MCQ Option Shuffling : Yes
Correct Marks : 1 Wrong Marks : 0.25

उस संख्या-समूह का चयन करें जो अन्य तीनों समूहों से भिन्न है।

Options :

1. ✖ 9-28

2. ✖ 12-37

3. ✔ 14-41

4. ✖ 17-52

Question Number : 28 Question Id : 9983671350 Question Type : MCQ Option Shuffling : Yes
Correct Marks : 1 Wrong Marks : 0.25

Select the number-pair that is different from the other three.

Options :

1. ✔ 7-58

2. ✖ 19-152

3. ✖ 23-184

4. ✖ 13-104

Question Number : 28 Question Id : 9983671350 Question Type : MCQ Option Shuffling : Yes
Correct Marks : 1 Wrong Marks : 0.25

उस संख्या-समूह का चयन करें जो अन्य तीनों समूहों से भिन्न है।

Options :

1. ✔ 7-58

2. ✖ 19-152

3. ✖ 23-184

4. ✖ 13-104

Question Number : 29 Question Id : 9983671351 Question Type : MCQ Option Shuffling : Yes
Correct Marks : 1 Wrong Marks : 0.25

Study the following arrangement of letters, digits and symbols.

J S R 7 L # M % P 2 @ D 8 Q & 5 S A E * 6 W T >

What should come in place of the question mark (?) in the following series of characters based on the above arrangement?

R # J, M 2 L, @ Q P, & A 8, ?

Options :

1. ✖ E T *

2. ✘ * T E

3. ✘ 6 > A

4. ✔ E W S

Question Number : 29 Question Id : 9983671351 Question Type : MCQ Option Shuffling : Yes

Correct Marks : 1 Wrong Marks : 0.25

अक्षरों, अंकों और प्रतीकों की निम्नलिखित व्यवस्था का अध्ययन करें।

J S R 7 L # M % P 2 @ D 8 Q & 5 \$ A E * 6 W T >

उपरोक्त व्यवस्था के आधार पर संप्रतीकों की निम्नलिखित श्रृंखला में प्रश्न चिह्न (?) के स्थान पर क्या आना चाहिए?

R # J, M 2 L, @ Q P, & A 8, ?

Options :

1. ✘ E T *

2. ✘ * T E

3. ✘ 6 > A

4. ✔ E W S

Question Number : 30 Question Id : 9983671352 Question Type : MCQ Option Shuffling : Yes

Correct Marks : 1 Wrong Marks : 0.25

In a row of students, Mukesh is 8th from the right and Sonia is 8th from the left. When Mukesh and Sonia interchange their positions, Sonia becomes 16th from the left. How many students are there in the row?

Options :

1. ✖ 16

2. ✖ 20

3. ✔ 23

4. ✖ 25

Question Number : 30 Question Id : 9983671352 Question Type : MCQ Option Shuffling : Yes

Correct Marks : 1 Wrong Marks : 0.25

छात्र-छात्राओं की एक पंक्ति में, मुकेश दाएँ से 8वें और सोनिया बाएँ से 8वें स्थान पर है। जब मुकेश और सोनिया एक-दूसरे के साथ अपना स्थान परिवर्तित करते हैं, तो सोनिया का स्थान बाईं ओर से 16वाँ हो जाता है। पंक्ति में कुल कितने छात्र-छात्राएँ हैं?

Options :

1. ✖ 16

2. ✖ 20

3. ✔ 23

4. ✖ 25

Question Number : 31 Question Id : 9983671353 Question Type : MCQ Option Shuffling : Yes

Correct Marks : 1 Wrong Marks : 0.25

Select the option in which the numbers share the same relationship as that shared by the given set of numbers.

(12, 30, 56)

Options :

1. ✖ (16, 40, 70)

2. ✖ (2, 20, 30)

3. ✔ (20, 42, 72)

4. ✖ (10, 22, 52)

Question Number : 31 Question Id : 9983671353 Question Type : MCQ Option Shuffling : Yes

Correct Marks : 1 Wrong Marks : 0.25

उस विकल्प का चयन करें जिसमें संख्याएँ उसी प्रकार संबंध साझा करती हैं जिस प्रकार वे संख्याओं के दिये गए समुच्चय में साझा करती हैं।

(12, 30, 56)

Options :

1. ✖ (16, 40, 70)

2. ✖ (2, 20, 30)

3. ✔ (20, 42, 72)

4. ✖ (10, 22, 52)

Question Number : 32 Question Id : 9983671354 Question Type : MCQ Option Shuffling : Yes

Correct Marks : 1 Wrong Marks : 0.25

Select the option in which the numbers share the same relationship as that shared by the given set of numbers.

(7, 22, 67)

Options :

1. ✖ (3, 12, 39)

2. ✖ (5, 16, 50)

3. ✔ (9, 28, 85)

4. ✖ (13, 40, 120)

Question Number : 32 Question Id : 9983671354 Question Type : MCQ Option Shuffling : Yes

Correct Marks : 1 Wrong Marks : 0.25

उस विकल्प का चयन करें जिसमें संख्याएँ उसी प्रकार संबंध साझा करती हैं जिस प्रकार वे संख्याओं के दिये गए समुच्चय में साझा करती हैं।

(7, 22, 67)

Options :

1. ✖ (3, 12, 39)

2. ✖ (5, 16, 50)

3. ✔ (9, 28, 85)

4. ✖ (13, 40, 120)

Question Number : 33 Question Id : 9983671355 Question Type : MCQ Option Shuffling : Yes

Correct Marks : 1 Wrong Marks : 0.25

Which two signs need to be interchanged in the following equation to make it correct.

$$5 - 10 \div 12 \times 7 + 1 = 79$$

Options :

1. ✓ ÷ and +

2. ✘ × and +

3. ✘ × and -

4. ✘ ÷ and ×

Question Number : 33 Question Id : 9983671355 Question Type : MCQ Option Shuffling : Yes

Correct Marks : 1 Wrong Marks : 0.25

निम्नलिखित समीकरण को सही करने के लिए उसमें से किन दो संकेतों को परस्पर स्थानापन्न करना होगा?

$$5 - 10 \div 12 \times 7 + 1 = 79$$

Options :

1. ✓ ÷ और +

2. ✘ × और +

3. ✘ × और -

4. ✘ ÷ और ×

Question Number : 34 Question Id : 9983671356 Question Type : MCQ Option Shuffling : Yes

Correct Marks : 1 Wrong Marks : 0.25

If the operator '-' is interchanged with '×' and the number '4' is interchanged with '5', then which of the following equations will be correct?

Options :

1. ✘ $5 \times 9 - 4 = 8$

2. ✘ $9 - 4 \times 5 = 21$

3. ✘ $5 \times 4 - 9 = 7$

4. ✔ $4 - 5 \times 7 = 13$

Question Number : 34 Question Id : 9983671356 Question Type : MCQ Option Shuffling : Yes

Correct Marks : 1 Wrong Marks : 0.25

यदि प्रचालक '-' को '×' के साथ और संख्या '4' को संख्या '5' के साथ स्थानापन्न कर दिया जाए, तो निम्नलिखित में से कौन सा समीकरण सही होगा?

Options :

1. ✘ $5 \times 9 - 4 = 8$

2. ✘ $9 - 4 \times 5 = 21$

3. ✘ $5 \times 4 - 9 = 7$

4. ✔ $4 - 5 \times 7 = 13$

Question Number : 35 Question Id : 9983671357 Question Type : MCQ Option Shuffling : Yes

Correct Marks : 1 Wrong Marks : 0.25

If '\$' stands for 'addition', '@' stands for 'subtraction', '#' stands for 'multiplication' and '&' stands for 'division', then what will be the value of the following expression?

$12 \# 8 \$ 36 \& 3 @ 4$

Options :

1. ✔ 104

2. ✖ 102

3. ✖ 79

4. ✖ 46

Question Number : 35 Question Id : 9983671357 Question Type : MCQ Option Shuffling : Yes

Correct Marks : 1 Wrong Marks : 0.25

अगर '\$' का अर्थ 'जोड़ना', '@' का अर्थ 'घटाना', '#' का अर्थ 'गुणा करना' और '&' का अर्थ 'विभाजन करना' है, तो निम्नलिखित अभिव्यंजन का मान क्या होगा?

12 # 8 \$ 36 & 3 @ 4

Options :

1. ✔ 104

2. ✖ 102

3. ✖ 79

4. ✖ 46

Question Number : 36 Question Id : 9983671358 Question Type : MCQ Option Shuffling : Yes

Correct Marks : 1 Wrong Marks : 0.25

A statement is given, followed by two assumptions labelled I and II. Read the statement and decide which of the assumptions is/are implicit in the statement.

Statement :

“If you come late again, I will dismiss you.” – A woman tells her gardener.

Assumptions :

- I. With the warning, the gardener may stop coming late.
- II. Gardener had come late that day.

Options :

- 1. ✘ Only assumption I is implicit.
- 2. ✘ Only assumption II is implicit.
- 3. ✘ Neither assumption I nor II is implicit.
- 4. ✔ Both assumptions I and II are implicit.

Question Number : 36 Question Id : 9983671358 Question Type : MCQ Option Shuffling : Yes

Correct Marks : 1 Wrong Marks : 0.25

एक कथन दिया गया है जिसका अनुसरण I और II चिह्न द्वारा सूचित दो धारणाएँ करती हैं। कथन को पढ़ें और निर्णय लें कि कथन में कौन सी धारणा/धारणाएँ निहित है/हैं?

कथन :

एक महिला अपने माली से कहती है, "यदि तुम दोबारा देर से आए, तो मैं तुम्हें निकाल दूँगी।"

धारणाएँ :

- I. इस चेतावनी से, माली देर से आना बंद कर सकता है।
- II. माली उस दिन देर से आया था।

Options :

1. ✘ केवल धारणा I निहित है।
2. ✘ केवल धारणा II निहित है।
3. ✘ न तो धारणा I और न ही धारणा II निहित है।
4. ✔ I और II दोनों ही धारणाएँ निहित हैं।

Question Number : 37 Question Id : 9983671359 Question Type : MCQ Option Shuffling : Yes

Correct Marks : 1 Wrong Marks : 0.25

Imran started from point A and walked 15 m towards the south. Then, he turned left and walked 20 m. From there, he turned left and walked 15 m. Finally, he turned left again and walked 35 m to reach point B. How far and in which direction is point B from the point A?

Options :

1. ✘ 15 m, east
2. ✔ 15 m, west
3. ✘ 20 m, north
4. ✘ 35 m, south

Question Number : 37 Question Id : 9983671359 Question Type : MCQ Option Shuffling : Yes

Correct Marks : 1 Wrong Marks : 0.25

इमरान ने स्थान A से चलना आरंभ किया और दक्षिण की ओर 15 m तक चला। फिर, वह बाएँ मुड़ा और 20 m चला। वहाँ से, वह बाएँ मुड़ा और 15 m चला। अंत में, वह दोबाराबाएँ मुड़ा और स्थान B तक पहुँचने के लिए 35 m चला। स्थान B, स्थान A से कितनी दूर और किस दिशा में है?

Options :

1. ✘ 15 m, पूर्व

2. ✔ 15 m, पश्चिम

3. ✘ 20 m, उत्तर

4. ✘ 35 m, दक्षिण

Question Number : 38 Question Id : 9983671360 Question Type : MCQ Option Shuffling : Yes

Correct Marks : 1 Wrong Marks : 0.25

Six friends, K, L, M, N, O and P, are watching a match, sitting in the same row. L, M, O and P are girls and the rest are boys. K, N and L are having ice-cream, whereas the rest are having peanuts. K, M and L are having coconut water, whereas the rest are having milkshake. Which two among them are girls having peanuts and milkshake?

Options :

1. ✘ L and O

2. ✘ N and O

3. ✔ O and P

4. ✘ M and P

Question Number : 38 Question Id : 9983671360 Question Type : MCQ Option Shuffling : Yes

Correct Marks : 1 Wrong Marks : 0.25

छह मित्र K, L, M, N, O और P एक ही पंक्ति में बैठ कर मैच देख रहे हैं। L, M, O और P लड़कियाँ हैं और शेष लड़के हैं। K, N और L आइसक्रीम खा रहे हैं, जबकि शेष मूँगफली खा रहे हैं। K, M और L नारियल पानी पी रहे हैं, जबकि शेष मिल्कशेक पी रहे हैं। उनमें से कौन सी दो लड़कियाँ मूँगफली खा रही हैं और मिल्कशेक पी रही हैं?

Options :

1. ✖ L और O

2. ✖ N और O

3. ✔ O और P

4. ✖ M और P

Question Number : 39 Question Id : 9983671361 Question Type : MCQ Option Shuffling : Yes
Correct Marks : 1 Wrong Marks : 0.25

The following are the qualifications required for selection to the Administrative Officer post in a reputed education institution:

- (A) The candidate must have completed an MBA (Master in Business Administration) course with a minimum of 60% marks.
- (B) The candidate must have passed the selection test with a minimum of 75% marks.
- (C) The candidate must have secured at least 75% marks in the interview.
- (D) The candidate must not be less than 25 years of age and more than 35 years of age as on 1 April 2019.

If the candidate satisfies all the aforementioned criteria EXCEPT:

- (I) (A), but is a Certified Administration Professional (CAP) with 50% marks, the case is to be referred to the Director of the Recruitment Committee.
- (II) (B), but has at least 2 years' experience of working as an Administrative Assistant and above, the case is to be referred to the Chairman of the Recruitment Committee.

Based on the above information, decide the appropriate course of action for the following candidate. You are not to assume anything other than the given information.

Sumana Chatterjee has completed her MBA course with 76% marks. She has been working as an Administrative Assistant in a private company since December 2016. She has scored 72% marks in the selection test and 75% marks in the interview. Her date of birth is 27 November 1993.

Options :

1. ✘ The candidate is to be selected.
2. ✘ The candidate is not to be selected.
3. ✘ The case is to be referred to the Director of the Recruitment Committee.
4. ✔ The case is to be referred to the Chairman of the Recruitment Committee.

Question Number : 39 Question Id : 9983671361 Question Type : MCQ Option Shuffling : Yes

Correct Marks : 1 Wrong Marks : 0.25

एक प्रतिष्ठित शिक्षा संस्थान में प्रशासनिक अधिकारी के पद के चयन के लिए आवश्यक योग्यताएँ निम्नलिखित हैं:

- A. अभ्यर्थी को न्यूनतम 60% अंकों के साथ MBA (मास्टर इन बिज़नेस एडमिनिस्ट्रेशन) पाठ्यक्रमपूरा अवश्य किया होना चाहिए।
- B. अभ्यर्थी को चयन परीक्षा न्यूनतम 75% अंकों के साथ उत्तीर्ण अवश्य किया होना चाहिए।
- C. अभ्यर्थी को साक्षात्कार में न्यूनतम 75% अंक अवश्य प्राप्त किया होना चाहिए।
- D. अभ्यर्थी की आयु 1 अप्रैल 2019 को 25 वर्ष से कम और 35 वर्ष से अधिक नहीं होनी चाहिए।

यदि अभ्यर्थी निम्नलिखित के अतिरिक्त उपरोक्त सभी मानदंडों को पूरा करता है:

- (I) (A), किंतु 50% अंकों के साथ एक प्रामाणिक प्रशासन पेशेवर (CAP) है, तो इस मामले को भर्ती समिति के निदेशक को भेजा जाना है।
- (II) (B), किंतु एक प्रशासनिक सहायकके रूप में न्यूनतम 2 वर्ष या उससे अधिक समय के लिए कार्य करने का अनुभव है, तो इस मामले को भर्ती समिति के अध्यक्ष को भेजा जाना है।

उपरोक्त जानकारी के आधार पर, निम्नलिखित अभ्यर्थी के लिए चयन की यथोचित कार्यवाही निर्धारित करें। आपको दी गई जानकारी के अतिरिक्त कोई अन्य अनुमान नहीं लगाना है।

सुमना चटर्जी ने 76% अंकों के साथ अपना MBA पूरा किया है। वह दिसंबर 2016 से एक निजी कंपनी में प्रशासनिक सहायक के रूप में कार्य कर रही है। उसने चयन परीक्षा में 72% अंक और साक्षात्कार में 75% अंक प्राप्त किए हैं। उसकी जन्मतिथि 27 नवंबर 1993 है।

Options :

1. ✘ अभ्यर्थी का चयन किया जाना है।
2. ✘ अभ्यर्थी का चयन नहीं किया जाना है।
3. ✘ इस मामले को भर्ती समिति के निदेशक को भेजा जाना है।

4. ✓ इस मामले को भर्ती समिति के अध्यक्ष को भेजा जाना है।

Question Number : 40 Question Id : 9983671362 Question Type : MCQ Option Shuffling : Yes
Correct Marks : 1 Wrong Marks : 0.25

The following are the qualifications required for selection to the Administrative Officer post in a reputed education institution:

- (A) The candidate must have completed an MBA (Master in Business Administration) course with a minimum of 60% marks.
- (B) The candidate must have passed the selection test with a minimum of 75% marks.
- (C) The candidate must have secured at least 75% marks in the interview.
- (D) The candidate must not be less than 25 years of age and more than 35 years of age as on 1 April 2019.

If the candidate satisfies all the aforementioned criteria EXCEPT:

- (I) (A), but is a Certified Administration Professional (CAP) with 50% marks, the case is to be referred to the Director of the Recruitment Committee.
- (II) (B), but has at least 2 years' experience of working as an Administrative Assistant and above, the case is to be referred to the Chairman of the Recruitment Committee.

Based on the above information, decide the appropriate course of action for the following candidate. You are not to assume anything other than the given information.

Farah Siddiqui has completed her MBA course via open school after finishing her CAP course. She has secured 55% marks in her MBA examination and 75% marks in her CAP examination. She has scored 65% marks in the selection test and 70% marks in the interview. Her date of birth is 25 December 1992.

Options :

1. ✖ The candidate is to be selected.

2. ✔ The candidate is not to be selected.

3. ✖ The case is to be referred to the Director of the Recruitment Committee.

4. ✖ The case is to be referred to the Chairman of the Recruitment Committee.

Question Number : 40 Question Id : 9983671362 Question Type : MCQ Option Shuffling : Yes

Correct Marks : 1 Wrong Marks : 0.25

एक प्रतिष्ठित शिक्षा संस्थान में प्रशासनिक अधिकारी पद के चयन के लिए आवश्यक योग्यताएँ निम्नलिखित यो हैं:

- (A) अभ्यर्थी को न्यूनतम 60% अंकों के साथ MBA (मास्टर इन बिज़नेस एडमिनिस्ट्रेशन) पाठ्यक्रम पूरा अवश्य किया होना चाहिए।
- (B) अभ्यर्थी को न्यूनतम चयन परीक्षा को न्यूनतम 75% अंकों के साथ उत्तीर्ण अवश्य किया होना चाहिए।
- (C) अभ्यर्थी को साक्षात्कार में न्यूनतम 75% अंक अवश्य प्राप्त किया होना चाहिए।
- (D) अभ्यर्थी की आयु 1 अप्रैल 2019 को 25 वर्ष से कम और 35 वर्ष से अधिक नहीं होनी चाहिए।

यदि अभ्यर्थी निम्नलिखित के अतिरिक्त उपरोक्त सभी मानदंडों को पूरा करता है:

- (I) (A), किंतु 50% अंकों के साथ एक प्रामाणिक प्रशासन पेशेवर (CAP) उत्तीर्ण किया है, तो इस मामले को भर्ती समिति के निदेशक को भेजा जाना है।
- (II) (B), किंतु एक प्रशासनिक सहायक के रूप में न्यूनतम 2 वर्ष या उससे अधिक समय के लिए कार्य करने का अनुभव है, तो इस मामले को भर्ती समिति के अध्यक्ष को भेजा जाना है।

उपरोक्त जानकारी के आधार पर, निम्नलिखित अभ्यर्थी के लिए चयन की यथोचित कार्यवाही निर्धारित करें। आपको दी गई जानकारी के अतिरिक्त कोई अन्य अनुमान नहीं लगाना है।

फ़रह सिद्दीकी ने अपना CAP का पाठ्यक्रम पूरा करने के बाद खुला विद्यालय के माध्यम से अपना MBA पूरा किया है। उसने अपनी MBA की परीक्षा में 55% अंक प्राप्त किए हैं और CAP परीक्षा में 75% अंक प्राप्त किए हैं। उसने चयन परीक्षा में 65% अंक और साक्षात्कार में 70% अंक प्राप्त किए हैं। उसकी जन्मतिथि 25 दिसंबर 1992 है।

Options :

1. ✘ अभ्यर्थी का चयन किया जाना है।
2. ✔ अभ्यर्थी का चयन नहीं किया जाना है।
3. ✘ इस मामले को भर्ती समिति के निदेशक को भेजा जाना है।
4. ✘ इस मामले को भर्ती समिति के अध्यक्ष को भेजा जाना है।

General Awareness1

Group Number :	3
Group Id :	99836729
Group Maximum Duration :	0
Group Minimum Duration :	0
Show Attended Group? :	No
Edit Attended Group? :	No
Break time:	0
Group Marks:	20
Is this Group for Examiner? :	No
Revisit allowed for group Instructions? :	Yes
Maximum Instruction Time:	0
Minimum Instruction Time:	0

General Awareness1

Section Id :	99836735
Section Number :	1
Section type :	Online
Mandatory or Optional:	Mandatory
Number of Questions:	20
Number of Questions to be attempted:	20
Section Marks:	20

Sub-Section Number:	1
Sub-Section Id:	99836769
Question Shuffling Allowed :	Yes

Question Number : 41 Question Id : 9983671363 Question Type : MCQ Option Shuffling : Yes
Correct Marks : 1 Wrong Marks : 0.25

Which of the following is a classical language?

Options :

1. ✘ Hindi

2. ✘ Gujarati

3. ✔ Odia

4. ✘ Bengali

Question Number : 41 Question Id : 9983671363 Question Type : MCQ Option Shuffling : Yes
Correct Marks : 1 Wrong Marks : 0.25

निम्नलिखित में से कौन सी एक शास्त्रीय भाषा है?

Options :

1. ✘ हिंदी

2. ✘ गुजराती

3. ✔ उड़िया

4. ✘ बंगाली

Question Number : 42 Question Id : 9983671364 Question Type : MCQ Option Shuffling : Yes
Correct Marks : 1 Wrong Marks : 0.25

Tholu Bommalata, the puppet theatre is associated to which state of India?

Options :

1. ✘ Goa

2. ✔ Andhra Pradesh

3. ✘ Kerala

4. ✘ Maharashtra

Question Number : 42 Question Id : 9983671364 Question Type : MCQ Option Shuffling : Yes

Correct Marks : 1 Wrong Marks : 0.25

थोलू बोम्मलता, कठपुतली रंगमंच भारत के किस राज्य से संबंधित है?

Options :

1. ✘ गोवा

2. ✔ आंध्र प्रदेश

3. ✘ केरल

4. ✘ महाराष्ट्र

Question Number : 43 Question Id : 9983671365 Question Type : MCQ Option Shuffling : Yes

Correct Marks : 1 Wrong Marks : 0.25

The terms Harmika, Yasti and Anda are associated to which architecture?

Options :

1. ✘ Nagara Temple

2. ✓ Stupa

3. ✘ Vihara

4. ✘ Dravida Temple

Question Number : 43 Question Id : 9983671365 Question Type : MCQ Option Shuffling : Yes

Correct Marks : 1 Wrong Marks : 0.25

हरमिका, यस्ति और अण्डा शब्द निम्नलिखित में से किस वास्तु-कला से संबंधित हैं?

Options :

1. ✘ नागरा मंदिर

2. ✓ स्तूप

3. ✘ विहार

4. ✘ द्रविड़ मंदिर

Question Number : 44 Question Id : 9983671366 Question Type : MCQ Option Shuffling : Yes

Correct Marks : 1 Wrong Marks : 0.25

Who amongst the following is credited to be the founder of Fort William College at Calcutta?

Options :

1. ✓ Lord Wellesley

2. ✘ Lord Cornwallis

3. ✖ Lord Hastings

4. ✖ Lord William Bentinck

Question Number : 44 Question Id : 9983671366 Question Type : MCQ Option Shuffling : Yes

Correct Marks : 1 Wrong Marks : 0.25

कलकत्ता (अब कोलकाता) में फ़ोर्ट विलियम कॉलेज के संस्थापक का श्रेय निम्नलिखित में से किसे दिया जाता है?

Options :

1. ✔ लॉर्ड वेलेस्ली

2. ✖ लॉर्ड कॉर्नवालिस

3. ✖ लॉर्ड हेस्टिंग्स

4. ✖ लॉर्ड विलियम बेंटिंक

Question Number : 45 Question Id : 9983671367 Question Type : MCQ Option Shuffling : Yes

Correct Marks : 1 Wrong Marks : 0.25

With reference to the Governance of Delhi Sultanate, which of the following was the department of religious affairs?

Options :

1. ✖ Diwan-i-Arz

2. ✖ Diwan-i-Insha

3. ✖ Diwan-i-Wakil

4. ✔ Diwan-i-Risalat

Question Number : 45 Question Id : 9983671367 Question Type : MCQ Option Shuffling : Yes

Correct Marks : 1 Wrong Marks : 0.25

दिल्ली सल्तनत के शासन के संदर्भ में, निम्नलिखित में से कौन धार्मिक मामलों से संबंधित विभाग था?

Options :

1. ✘ दीवान-ए-अर्ज़
2. ✘ दीवान-ए-इंशा
3. ✘ दीवान-ए-वकील
4. ✔ दीवान-ए-रिसालत

Question Number : 46 Question Id : 9983671368 Question Type : MCQ Option Shuffling : Yes

Correct Marks : 1 Wrong Marks : 0.25

Which is the highest institution of Panchayati Raj in rural areas?

Options :

1. ✘ Gram Panchayat
2. ✔ Zila Parishad
3. ✘ Nyaya Panchayat
4. ✘ Panchayat Samiti

Question Number : 46 Question Id : 9983671368 Question Type : MCQ Option Shuffling : Yes

Correct Marks : 1 Wrong Marks : 0.25

ग्रामीण क्षेत्रों में पंचायती राज की सर्वोच्च संस्था कौन सी है?

Options :

1. ✘ ग्राम पंचायत

2. ✔ ज़िला परिषद्

3. ✘ न्याय पंचायत

4. ✘ पंचायत समिति

Question Number : 47 Question Id : 9983671369 Question Type : MCQ Option Shuffling : Yes

Correct Marks : 1 Wrong Marks : 0.25

Which Article of the Constitution of India invites financial emergency on the ground of threat to the financial stability of the country?

Options :

1. ✘ Article 352

2. ✘ Article 350

3. ✔ Article 360

4. ✘ Article 368

Question Number : 47 Question Id : 9983671369 Question Type : MCQ Option Shuffling : Yes

Correct Marks : 1 Wrong Marks : 0.25

भारत के संविधान के किस अनुच्छेद के अनुसार देश की वित्तीय स्थिरता के खतरे में आने के आधार पर वित्तीय आपात्काल घोषित किया जाता है?

Options :

1. ✘ अनुच्छेद 352

2. ✘ अनुच्छेद 350

3. ✔ अनुच्छेद 360

4. ✘ अनुच्छेद 368

Question Number : 48 Question Id : 9983671370 Question Type : MCQ Option Shuffling : Yes
Correct Marks : 1 Wrong Marks : 0.25

Ankleshwar in Gujarat is famous for:

Options :

1. ✔ oil field

2. ✘ steel plant

3. ✘ textile industry

4. ✘ nuclear power station

Question Number : 48 Question Id : 9983671370 Question Type : MCQ Option Shuffling : Yes
Correct Marks : 1 Wrong Marks : 0.25

गुजरात में अंकलेश्वर किसके लिए प्रसिद्ध है?

Options :

1. ✔ तेल क्षेत्र

2. ✘ इस्पात संयंत्र

3. ✖ वस्त्र उद्योग

4. ✖ परमाणु ऊर्जा स्टेशन

Question Number : 49 Question Id : 9983671371 Question Type : MCQ Option Shuffling : Yes
Correct Marks : 1 Wrong Marks : 0.25

Which of the following is NOT an East Coast Port?

Options :

1. ✖ Paradip

2. ✖ Haldia

3. ✖ Tuticorin

4. ✔ Kandla

Question Number : 49 Question Id : 9983671371 Question Type : MCQ Option Shuffling : Yes
Correct Marks : 1 Wrong Marks : 0.25

निम्नलिखित में से कौन एक पूर्व तटीय बंदरगाह नहीं है?

Options :

1. ✖ पारादीप

2. ✖ हल्दिया

3. ✖ तूतीकोरिन

4. ✓ कांडला

Question Number : 50 Question Id : 9983671372 Question Type : MCQ Option Shuffling : Yes
Correct Marks : 1 Wrong Marks : 0.25

Which one of the following pairs is correctly matched?

Options :

1. ✓ Nokrek - Meghalaya

2. ✘ Simlipal - West Bengal

3. ✘ Nanda Devi - Himachal Pradesh

4. ✘ Manas - Gujarat

Question Number : 50 Question Id : 9983671372 Question Type : MCQ Option Shuffling : Yes
Correct Marks : 1 Wrong Marks : 0.25

निम्नलिखित में से कौन सा जोड़ा सही रूप से मेल खाता है?

Options :

1. ✓ नोकरेक - मेघालय

2. ✘ सिमलीपाल - पश्चिम बंगाल

3. ✘ नंदा देवी - हिमाचल प्रदेश

4. ✘ मानस - गुजरात

Question Number : 51 Question Id : 9983671373 Question Type : MCQ Option Shuffling : Yes
Correct Marks : 1 Wrong Marks : 0.25

In 1500 m race event, who amongst the following bagged Gold at Asian Athletics Championships 2019?

Options :

1. ✘ Dutee Chand

2. ✔ PU Chitra

3. ✘ Gomathi Marimuthu

4. ✘ Hima Das

Question Number : 51 Question Id : 9983671373 Question Type : MCQ Option Shuffling : Yes

Correct Marks : 1 Wrong Marks : 0.25

एशियाई एथलेटिक्स चैंपियनशिप्स 2019 में 1500 m दौड़ स्पर्धा में, निम्नलिखित में से किसने स्वर्ण पदक प्राप्त किया?

Options :

1. ✘ दुती चंद

2. ✔ पी यू चित्रा

3. ✘ गोमती मरिमुथू

4. ✘ हिमा दास

Question Number : 52 Question Id : 9983671374 Question Type : MCQ Option Shuffling : Yes

Correct Marks : 1 Wrong Marks : 0.25

In April 2019, who was awarded the 'Best Sportsperson' by the Calcutta Sports Journalists Club?

Options :

1. ✖ Smriti Mandhata

2. ✖ Karuna Jain

3. ✖ Dipa Karmakar

4. ✔ Jhulan Goswami

Question Number : 52 Question Id : 9983671374 Question Type : MCQ Option Shuffling : Yes

Correct Marks : 1 Wrong Marks : 0.25

अप्रैल 2019 में, कलकत्ता स्पोर्ट्स जर्नलिस्ट्स क्लब द्वारा 'बेस्ट स्पोर्ट्सपर्सन' का पुरस्कार किसे दिया गया?

Options :

1. ✖ स्मृति मंधाता

2. ✖ करुणा जैन

3. ✖ दीपा करमाकर

4. ✔ झूलन गोस्वामी

Question Number : 53 Question Id : 9983671375 Question Type : MCQ Option Shuffling : Yes

Correct Marks : 1 Wrong Marks : 0.25

In which year Pradhan Mantri Jan Dhan Scheme was launched?

Options :

1. ✔ 2014

2. ✖ 2016

3. ✖ 2013

4. ✖ 2018

Question Number : 53 Question Id : 9983671375 Question Type : MCQ Option Shuffling : Yes
Correct Marks : 1 Wrong Marks : 0.25

प्रधानमंत्री जन धन योजना किस वर्ष आरंभ की गई थी?

Options :

1. ✔ 2014

2. ✖ 2016

3. ✖ 2013

4. ✖ 2018

Question Number : 54 Question Id : 9983671376 Question Type : MCQ Option Shuffling : Yes
Correct Marks : 1 Wrong Marks : 0.25

Kesar, Neelum, Langra are the varieties of which fruit?

Options :

1. ✖ Guava

2. ✔ Mango

3. ✖ Apple

4. ✖ Lichi

Question Number : 54 Question Id : 9983671376 Question Type : MCQ Option Shuffling : Yes
Correct Marks : 1 Wrong Marks : 0.25

केसर, नीलम, लंगड़ा किस फल की किस्में हैं?

Options :

1. ✖ अमरूद

2. ✔ आम

3. ✖ सेब

4. ✖ लीची

Question Number : 55 Question Id : 9983671377 Question Type : MCQ Option Shuffling : Yes
Correct Marks : 1 Wrong Marks : 0.25

Pradhan Mantri Vaya Vandana Yojana is flagship program of which Ministry?

Options :

1. ✔ Ministry of Finance

2. ✖ Ministry of Commerce

3. ✖ Ministry of Rural Development

4. ✖ Ministry of AYUSH

Question Number : 55 Question Id : 9983671377 Question Type : MCQ Option Shuffling : Yes
Correct Marks : 1 Wrong Marks : 0.25

प्रधानमंत्री वय वंदना योजना किस मंत्रालय का एक प्रमुख कार्यक्रम है?

Options :

1. ✓ वित्त मंत्रालय
2. ✗ वाणिज्य मंत्रालय
3. ✗ ग्रामीण विकास मंत्रालय
4. ✗ आयुष मंत्रालय

Question Number : 56 Question Id : 9983671378 Question Type : MCQ Option Shuffling : Yes

Correct Marks : 1 Wrong Marks : 0.25

Which of the following glands produces growth hormone?

Options :

1. ✓ Pituitary
2. ✗ Adrenal
3. ✗ Thyroid
4. ✗ Pineal

Question Number : 56 Question Id : 9983671378 Question Type : MCQ Option Shuffling : Yes

Correct Marks : 1 Wrong Marks : 0.25

निम्नलिखित में से कौन सी ग्रंथि वृद्धि हार्मोन का उत्पादन करती है?

Options :

1. ✓ पीयूष ग्रंथि

2. ✘ अधिवृक्क

3. ✘ थायराइड (घेंघा)

4. ✘ शीर्ष (शंक्वाकार)

Question Number : 57 Question Id : 9983671379 Question Type : MCQ Option Shuffling : Yes

Correct Marks : 1 Wrong Marks : 0.25

When a person CANNOT see nearby objects distinctly but can see distant objects, it is called:

Options :

1. ✘ myopia

2. ✓ hypermetropia

3. ✘ presbyopia

4. ✘ diplopia

Question Number : 57 Question Id : 9983671379 Question Type : MCQ Option Shuffling : Yes

Correct Marks : 1 Wrong Marks : 0.25

जब कोई व्यक्ति निकट की वस्तुओं को स्पष्ट रूप से नहीं देख सकता किंतु दूर की वस्तुओं को देख सकता है, तो इसे किस बीमारी के नाम से जाना जाता है?

Options :

1. ✘ मायोपिया

2. ✓ हाइपरमेट्रोपिया

3. ✗ प्रेसबायोपिया

4. ✗ डिप्लोपिया

Question Number : 58 Question Id : 9983671380 Question Type : MCQ Option Shuffling : Yes

Correct Marks : 1 Wrong Marks : 0.25

The Vienna Convention of 1985 was called for the protection of:

Options :

1. ✓ ozone layer

2. ✗ tigers

3. ✗ tribes

4. ✗ biosphere reserves

Question Number : 58 Question Id : 9983671380 Question Type : MCQ Option Shuffling : Yes

Correct Marks : 1 Wrong Marks : 0.25

1985 का वियना सम्मेलन किसके संरक्षण के लिए आयोजित किया गया था?

Options :

1. ✓ ओज़ोन परत के लिए

2. ✗ बाघों के लिए

3. ✖ जनजातियों के लिए

4. ✖ जीवमंडल भंडार के लिए

Question Number : 59 Question Id : 9983671381 Question Type : MCQ Option Shuffling : Yes

Correct Marks : 1 Wrong Marks : 0.25

The Wildlife Institute of India is situated at:

Options :

1. ✖ Indore

2. ✔ Dehradun

3. ✖ Bengaluru

4. ✖ Delhi

Question Number : 59 Question Id : 9983671381 Question Type : MCQ Option Shuffling : Yes

Correct Marks : 1 Wrong Marks : 0.25

भारतीय वन्यजीव संस्थान किस स्थान पर स्थित है?

Options :

1. ✖ इंदौर

2. ✔ देहरादून

3. ✖ बेंगलुरु

4. ✖ दिल्ली

Question Number : 60 Question Id : 9983671382 Question Type : MCQ Option Shuffling : Yes

Correct Marks : 1 Wrong Marks : 0.25

From where did India's PSLV-C45 successfully launched EMISAT on April 1, 2019?

Options :

1. ✖ Chandipur

2. ✔ Sriharikota

3. ✖ Thiruvananthapuram

4. ✖ Digha

Question Number : 60 Question Id : 9983671382 Question Type : MCQ Option Shuffling : Yes

Correct Marks : 1 Wrong Marks : 0.25

1 अप्रैल 2019 को भारत के PSLV-C45 ने EMISAT को कहाँ से सफलतापूर्वक प्रक्षेपित किया था?

Options :

1. ✖ चांदीपुर से

2. ✔ श्रीहरिकोटा से

3. ✖ तिरुवनंतपुरम से

4. ✖ दीघा से

General Awareness2

Group Number :	4
Group Id :	99836730
Group Maximum Duration :	0
Group Minimum Duration :	0
Show Attended Group? :	No
Edit Attended Group? :	No
Break time:	0
Group Marks:	20
Is this Group for Examiner?:	No
Revisit allowed for group Instructions? :	Yes
Maximum Instruction Time:	0
Minimum Instruction Time:	0

General Awareness2

Section Id :	99836736
Section Number :	1
Section type :	Online
Mandatory or Optional:	Mandatory
Number of Questions:	20
Number of Questions to be attempted:	20
Section Marks:	20

Sub-Section Number:	1
Sub-Section Id:	99836770
Question Shuffling Allowed :	Yes

Question Number : 61 Question Id : 9983671383 Question Type : MCQ Option Shuffling : Yes
Correct Marks : 1 Wrong Marks : 0.25

Who has been appointed as the new chief minister of Goa after the demise of Manohar Parrikar?

Options :

1. ✘ Saroj Patra
2. ✔ Pramod Sawant
3. ✘ Sanjeev Rawat
4. ✘ Rameshwar Ojha

Question Number : 61 Question Id : 9983671383 Question Type : MCQ Option Shuffling : Yes

Correct Marks : 1 Wrong Marks : 0.25

मनोहर पर्रिकर के निधन के बाद गोवा के नए मुख्यमंत्री के रूप में किसे नियुक्त किया गया है?

Options :

1. ✘ सरोज पात्रा को
2. ✔ प्रमोद सावंत को
3. ✘ संजीव रावत को
4. ✘ रामेश्वर ओझा को

Question Number : 62 Question Id : 9983671384 Question Type : MCQ Option Shuffling : Yes

Correct Marks : 1 Wrong Marks : 0.25

The Ministry of Commerce and Industry has come up with the Mascot of Intellectual Property Rights, known as:

Options :

1. ✔ IP Nani
2. ✘ IP Mami
3. ✘ IP Bhai
4. ✘ IP Chachi

Question Number : 62 Question Id : 9983671384 Question Type : MCQ Option Shuffling : Yes

Correct Marks : 1 Wrong Marks : 0.25

वाणिज्य और उद्योग मंत्रालय, बौद्धिक संपदा अधिकारों के शुभंकर के साथ आया है, जो _____ के रूप में जाना जाता है।

Options :

1. ✓ आईपी नानी (IP Nani)

2. ✗ आईपी मामी (IP Mami)

3. ✗ आईपी भाई (IP Bhai)

4. ✗ आईपी चाची (IP Chachi)

Question Number : 63 Question Id : 9983671385 Question Type : MCQ Option Shuffling : Yes

Correct Marks : 1 Wrong Marks : 0.25

Which of the following cities has been chosen by the UNESCO as the World Book Capital for one year?

Options :

1. ✗ Cairo

2. ✗ Tel Aviv

3. ✗ Manama

4. ✓ Sharjah

Question Number : 63 Question Id : 9983671385 Question Type : MCQ Option Shuffling : Yes

Correct Marks : 1 Wrong Marks : 0.25

यूनेस्को द्वारा निम्नलिखित में से किस शहर को एक वर्ष के लिए विश्व पुस्तक राजधानी के रूप में चुना गया है?

Options :

1. ✗ काइरो (काहिरा)

2. ✖ तेल अवीव

3. ✖ मनामा

4. ✔ शारजाह

Question Number : 64 Question Id : 9983671386 Question Type : MCQ Option Shuffling : Yes

Correct Marks : 1 Wrong Marks : 0.25

Recently cabinet approved the MoU between India and Vietnam on joint issue of postage stamp. Apart from Sanchi Stupa, which monument is depicted in the stamp?

Options :

1. ✖ Borobudur

2. ✖ Angkor Wat

3. ✖ Bagan

4. ✔ Pho Minh Pagoda

Question Number : 64 Question Id : 9983671386 Question Type : MCQ Option Shuffling : Yes

Correct Marks : 1 Wrong Marks : 0.25

हाल ही में मंत्रिमंडल ने डाक टिकट के संयुक्त मुद्दे पर भारत और वियतनाम के बीच समझौता जापन को स्वीकृति दी। इस टिकट में सांची स्तूप के अतिरिक्त, किस स्मारक को दर्शाया गया है?

Options :

1. ✖ बोरोबुदुर

2. ✖ अंगकोर वाट

3. ✘ बागन

4. ✔ फो मिन्ह पगोड़ा

Question Number : 65 Question Id : 9983671387 Question Type : MCQ Option Shuffling : Yes
Correct Marks : 1 Wrong Marks : 0.25

Which of the following bhakti saints wrote Amrutanubhav?

Options :

1. ✘ Kabir

2. ✘ Chaitanya

3. ✔ Jnaneshwar

4. ✘ Mirabai

Question Number : 65 Question Id : 9983671387 Question Type : MCQ Option Shuffling : Yes
Correct Marks : 1 Wrong Marks : 0.25

अमृतानुभव (पुस्तक) की रचना निम्नलिखित में से किस भक्ति संत ने की थी?

Options :

1. ✘ कबीर

2. ✘ चैतन्य

3. ✔ जानेश्वर

4. ✖ मीराबाई

Question Number : 66 Question Id : 9983671388 Question Type : MCQ Option Shuffling : Yes
Correct Marks : 1 Wrong Marks : 0.25

The famous Vikramshila University was established by:

Options :

1. ✖ Kumarapala

2. ✔ Dharmapala

3. ✖ Adipala

4. ✖ Udayakala

Question Number : 66 Question Id : 9983671388 Question Type : MCQ Option Shuffling : Yes
Correct Marks : 1 Wrong Marks : 0.25

प्रसिद्ध विक्रमशिला विश्वविद्यालय किसके द्वारा स्थापित किया गया था?

Options :

1. ✖ कुमारपाल

2. ✔ धर्मपाल

3. ✖ अदिपाल

4. ✖ उदयकाल

Question Number : 67 Question Id : 9983671389 Question Type : MCQ Option Shuffling : Yes
Correct Marks : 1 Wrong Marks : 0.25

Which Harappan craft producing site was famous centre of shell-cutting and seal-making?

Options :

1. ✓ Chanhudaro

2. ✘ Kalibangan

3. ✘ Rakhigarhi

4. ✘ Banawali

Question Number : 67 Question Id : 9983671389 Question Type : MCQ Option Shuffling : Yes

Correct Marks : 1 Wrong Marks : 0.25

हड़प्पा का कौन सा शिल्प-कला उत्पादक स्थल खोल काटने और मुद्रा विनिर्माण का प्रसिद्ध केंद्र था?

Options :

1. ✓ चन्हुदाड़ो

2. ✘ कालीबंगन

3. ✘ राखीगढ़ी

4. ✘ बनावली

Question Number : 68 Question Id : 9983671390 Question Type : MCQ Option Shuffling : Yes

Correct Marks : 1 Wrong Marks : 0.25

In which clan Gautama Buddha was born?

Options :

1. ✘ Parashara

2. ✓ Sakya

3. ✘ Bharadwaja

4. ✘ Kaundinya

Question Number : 68 Question Id : 9983671390 Question Type : MCQ Option Shuffling : Yes
Correct Marks : 1 Wrong Marks : 0.25

गौतम बुद्ध का जन्म किस वंश में हुआ था?

Options :

1. ✘ पाराशर

2. ✓ शाक्य

3. ✘ भारद्वाज

4. ✘ कौण्डिन्य

Question Number : 69 Question Id : 9983671391 Question Type : MCQ Option Shuffling : Yes
Correct Marks : 1 Wrong Marks : 0.25

The book 'Indian War of Independence -1857' is authored by:

Options :

1. ✘ Romesh Chandra Dutt

2. ✓ Vinayak Damodar Savarkar

3. ✖ Dada Bhai Naoroji

4. ✖ Gopal Krishna Gokhale

Question Number : 69 Question Id : 9983671391 Question Type : MCQ Option Shuffling : Yes
Correct Marks : 1 Wrong Marks : 0.25

'इंडियन वॉर ऑफ इंडिपेंडेंस - 1857' नामक पुस्तक के लेखक कौन हैं?

Options :

1. ✖ रोमेश चंद्र दत्त

2. ✔ विनायक दामोदर सावरकर

3. ✖ दादा भाई नौरोजी

4. ✖ गोपाल कृष्ण गोखले

Question Number : 70 Question Id : 9983671392 Question Type : MCQ Option Shuffling : Yes
Correct Marks : 1 Wrong Marks : 0.25

The full form of regional party DMK is:

Options :

1. ✔ Dravida Munnetra Kazhagam

2. ✖ Dakshina Munnetra Kazhagam

3. ✖ Divasam Munnetra Kazhagam

4. ✖ Daivam Munnetra Kazhagam

Question Number : 70 Question Id : 9983671392 Question Type : MCQ Option Shuffling : Yes
Correct Marks : 1 Wrong Marks : 0.25

क्षेत्रीय दल DMK का पूर्ण स्वरूप क्या है?

Options :

1. ✔ द्रविड़ मुनेत्र कड़गम
2. ✖ दक्षिण मुनेत्र कड़गम
3. ✖ दिवसम मुनेत्र कड़गम
4. ✖ दैवम मुनेत्र कड़गम

Question Number : 71 Question Id : 9983671393 Question Type : MCQ Option Shuffling : Yes
Correct Marks : 1 Wrong Marks : 0.25

Who was conferred upon the title 'Father of Lok Sabha' by Pandit Jawaharlal Nehru?

Options :

1. ✖ Neelum Sanjiva Reddy
2. ✔ GV Mavalankar
3. ✖ Hukam Singh
4. ✖ KS Hegde

Question Number : 71 Question Id : 9983671393 Question Type : MCQ Option Shuffling : Yes
Correct Marks : 1 Wrong Marks : 0.25

पंडित जवाहरलाल नेहरू द्वारा 'लोक सभा जनक' की उपाधि से किसे सम्मानित किया गया था?

Options :

1. ✘ नीलम संजीव रेड्डी

2. ✔ जी.वी. मावलंकर

3. ✘ हुकम सिंह

4. ✘ के.एस. हेगड़े

Question Number : 72 Question Id : 9983671394 Question Type : MCQ Option Shuffling : Yes

Correct Marks : 1 Wrong Marks : 0.25

Who signed the proclamation of Emergency in 1975?

Options :

1. ✘ VV Giri

2. ✘ BD Jatti

3. ✔ Fakhruddin Ali Ahmed

4. ✘ Giani Zail Singh

Question Number : 72 Question Id : 9983671394 Question Type : MCQ Option Shuffling : Yes

Correct Marks : 1 Wrong Marks : 0.25

1975 में आपात्काल की घोषणा पर किसने हस्ताक्षर किए थे?

Options :

1. ✘ वी.वी. गिरि

2. ✘ बी.डी. जत्ती

3. ✔ फ़ख़रुद्दीन अली अहमद

4. ✘ ज्ञानी जैल सिंह

Question Number : 73 Question Id : 9983671395 Question Type : MCQ Option Shuffling : Yes

Correct Marks : 1 Wrong Marks : 0.25

According to Census 2011, which state has highest literacy rate after Kerala?

Options :

1. ✘ Goa

2. ✔ Mizoram

3. ✘ Tripura

4. ✘ Meghalaya

Question Number : 73 Question Id : 9983671395 Question Type : MCQ Option Shuffling : Yes

Correct Marks : 1 Wrong Marks : 0.25

वर्ष 2011 की जनगणना के अनुसार, केरल के बाद किस राज्य में सर्वाधिक साक्षरता दर है?

Options :

1. ✘ गोवा

2. ✔ मिज़ोरम

3. ✖ त्रिपुरा

4. ✖ मेघालय

Question Number : 74 Question Id : 9983671396 Question Type : MCQ Option Shuffling : Yes
Correct Marks : 1 Wrong Marks : 0.25

Which of the following is NOT matched correctly?

Options :

1. ✖ Kolleru - Andhra Pradesh

2. ✖ Chilika - Odisha

3. ✖ Wular - Jammu and Kashmir

4. ✔ Vembanad - Karnataka

Question Number : 74 Question Id : 9983671396 Question Type : MCQ Option Shuffling : Yes
Correct Marks : 1 Wrong Marks : 0.25

निम्नलिखित में से कौन सही ढंग से मेल नहीं खाता है?

Options :

1. ✖ कोलेरु - आंध्र प्रदेश

2. ✖ चिलिका - ओड़िशा

3. ✖ वुलर - जम्मू और कश्मीर

4. ✓ वेम्बनाड - कर्नाटक

Question Number : 75 Question Id : 9983671397 Question Type : MCQ Option Shuffling : Yes

Correct Marks : 1 Wrong Marks : 0.25

Srinagar, the capital city of Jammu and Kashmir is situated on bank of which river?

Options :

1. ✘ Beas

2. ✓ Jhelum

3. ✘ Chenab

4. ✘ Shyok

Question Number : 75 Question Id : 9983671397 Question Type : MCQ Option Shuffling : Yes

Correct Marks : 1 Wrong Marks : 0.25

जम्मू और कश्मीर की राजधानी श्रीनगर किस नदी के तट पर स्थित है?

Options :

1. ✘ ब्यास

2. ✓ झेलम

3. ✘ चिनाब

4. ✘ श्योक

Question Number : 76 Question Id : 9983671398 Question Type : MCQ Option Shuffling : Yes

Correct Marks : 1 Wrong Marks : 0.25

Who was the first Indian sprinter to win gold medal at U-20 World Championships in 400 m event?

Options :

1. ✘ PT Usha
2. ✘ Tintu Luka
3. ✔ Hima Das
4. ✘ Seema Singh

Question Number : 76 Question Id : 9983671398 Question Type : MCQ Option Shuffling : Yes

Correct Marks : 1 Wrong Marks : 0.25

U-20 विश्व चैंपियनशिप्स की 400 m प्रतिस्पर्धा में स्वर्ण पदक जीतने वाली पहली भारतीय धावक कौन थी?

Options :

1. ✘ पी.टी. उषा
2. ✘ टिंटू लूका
3. ✔ हिमा दास
4. ✘ सीमा सिंह

Question Number : 77 Question Id : 9983671399 Question Type : MCQ Option Shuffling : Yes

Correct Marks : 1 Wrong Marks : 0.25

Which city has been awarded the 2024 Olympics?

Options :

1. ✘ Los Angeles

2. ✘ Las Vegas

3. ✘ Lyon

4. ✔ Paris

Question Number : 77 Question Id : 9983671399 Question Type : MCQ Option Shuffling : Yes
Correct Marks : 1 Wrong Marks : 0.25

किस शहर को 2024 ओलंपिक के लिए चयनित किया गया है?

Options :

1. ✘ लॉस एंजेलिस

2. ✘ लास वेगास

3. ✘ ल्यों

4. ✔ पेरिस

Question Number : 78 Question Id : 9983671400 Question Type : MCQ Option Shuffling : Yes
Correct Marks : 1 Wrong Marks : 0.25

Which Ministry is responsible for implementing Atal Bhujal Yojana?

Options :

1. ✔ Ministry of water resources, river development and Ganga rejuvenation

2. ✘ Ministry of Environment, forests and climate change

3. ✘ Ministry of Housing and Urban Affairs

4. ✖ Ministry of drinking water and sanitation

Question Number : 78 Question Id : 9983671400 Question Type : MCQ Option Shuffling : Yes
Correct Marks : 1 Wrong Marks : 0.25

अटल भूजल योजना लागू करने के लिए कौन सा मंत्रालय उत्तरदायी है?

Options :

1. ✔ जल संसाधन, नदी विकास एवं गंगा नवीनीकरण मंत्रालय

2. ✖ पर्यावरण, वन एवं जलवायु परिवर्तन मंत्रालय

3. ✖ आवास एवं शहरी मामलों के मंत्रालय

4. ✖ पेयजल एवं स्वच्छता मंत्रालय

Question Number : 79 Question Id : 9983671401 Question Type : MCQ Option Shuffling : Yes
Correct Marks : 1 Wrong Marks : 0.25

Regulatory indicators of sustainable energy (RISE) is released by which of the following organisations?

Options :

1. ✖ UNDP

2. ✔ World Bank

3. ✖ World Economic Forum

4. ✖ WTO

Question Number : 79 Question Id : 9983671401 Question Type : MCQ Option Shuffling : Yes
Correct Marks : 1 Wrong Marks : 0.25

स्थायी ऊर्जा के नियामक संकेतक (RISE) निम्नलिखित में से किस संगठन द्वारा जारी किए जाते हैं?

Options :

1. ✘ यूएनडीपी
2. ✔ विश्व बैंक
3. ✘ विश्व आर्थिक मंच
4. ✘ डब्ल्यू.टी.ओ.

Question Number : 80 Question Id : 9983671402 Question Type : MCQ Option Shuffling : Yes

Correct Marks : 1 Wrong Marks : 0.25

Which among the following regarding GST is correct?

Options :

1. ✘ GST council is a statutory body.
2. ✔ GST Network was formed under Companies Act.
3. ✘ Centre holds 100 per cent stake in GST network.
4. ✘ 100th Amendment introduced GST in the country.

Question Number : 80 Question Id : 9983671402 Question Type : MCQ Option Shuffling : Yes

Correct Marks : 1 Wrong Marks : 0.25

जीएसटी (GST) के संबंध में निम्नलिखित में से कौन सा सही है?

Options :

1. ✖ जीएसटी (GST) परिषद् एक संवैधानिक निकाय है।

2. ✔

जीएसटी (GST) संजाल (नेटवर्क) का गठन कंपनी अधिनियम के अंतर्गत किया गया था।

3. ✖ जीएसटी (GST) संजाल (नेटवर्क) में केंद्र की भागीदारी 100 प्रतिशत है।

4. ✖ 100 वें संशोधन ने देश में जीएसटी (GST) लागू किया।

Arithmetic Ability1

Group Number :	5
Group Id :	99836731
Group Maximum Duration :	0
Group Minimum Duration :	0
Show Attended Group? :	No
Edit Attended Group? :	No
Break time:	0
Group Marks:	20
Is this Group for Examiner?:	No
Revisit allowed for group Instructions? :	Yes
Maximum Instruction Time:	0
Minimum Instruction Time:	0

Arithmetic Ability1

Section Id :	99836737
Section Number :	1
Section type :	Online
Mandatory or Optional:	Mandatory
Number of Questions:	20
Number of Questions to be attempted:	20
Section Marks:	20

Sub-Section Id:

99836771

Question Shuffling Allowed :

Yes

Question Number : 81 Question Id : 9983671403 Question Type : MCQ Option Shuffling : Yes

Correct Marks : 1 Wrong Marks : 0.25

The number $1.272727\dots$ in the form $\frac{p}{q}$ where p and q are integers and $q \neq 0$ is:

Options :

1. ✘ $\frac{14}{9}$

2. ✔ $\frac{14}{11}$

3. ✘ $\frac{14}{13}$

4. ✘ $\frac{14}{15}$

Question Number : 81 Question Id : 9983671403 Question Type : MCQ Option Shuffling : Yes

Correct Marks : 1 Wrong Marks : 0.25

संख्या $1.272727\dots$ का मान $\frac{p}{q}$ के रूप में कितना होगा, जहाँ p और q पूर्णांक हैं और $q \neq 0$ है?

Options :

1. ✘ $\frac{14}{9}$

2. ✔ $\frac{14}{11}$

3. ✘ $\frac{14}{13}$

4. ✘ $\frac{14}{15}$

Question Number : 82 Question Id : 9983671404 Question Type : MCQ Option Shuffling : Yes

Correct Marks : 1 Wrong Marks : 0.25

The value of $\frac{1}{4-\sqrt{15}} - \frac{1}{\sqrt{15}-\sqrt{14}} + \frac{1}{\sqrt{14}-\sqrt{13}} - \frac{1}{\sqrt{13}-\sqrt{12}} + \frac{1}{\sqrt{12}-\sqrt{11}}$ is equal to:

Options :

1. ✖ 1

2. ✖ $3 + \sqrt{11}$

3. ✔ $4 + \sqrt{11}$

4. ✖ $5 + \sqrt{11}$

Question Number : 82 Question Id : 9983671404 Question Type : MCQ Option Shuffling : Yes

Correct Marks : 1 Wrong Marks : 0.25

$\frac{1}{4-\sqrt{15}} - \frac{1}{\sqrt{15}-\sqrt{14}} + \frac{1}{\sqrt{14}-\sqrt{13}} - \frac{1}{\sqrt{13}-\sqrt{12}} + \frac{1}{\sqrt{12}-\sqrt{11}}$ का मान निम्नलिखित में से किसके बराबर है?

Options :

1. ✖ 1

2. ✖ $3 + \sqrt{11}$

3. ✔ $4 + \sqrt{11}$

4. ✖ $5 + \sqrt{11}$

Question Number : 83 Question Id : 9983671405 Question Type : MCQ Option Shuffling : Yes

Correct Marks : 1 Wrong Marks : 0.25

$(0.3 \times 0.3 - 0.03)(0.3 \times 0.3 + 0.01)^{-1}$ is equal to:

Options :

1. ✖ 0.006

2. ✖ 0.06

3. ✔ 0.6

4. ✖ 6

Question Number : 83 Question Id : 9983671405 Question Type : MCQ Option Shuffling : Yes

Correct Marks : 1 Wrong Marks : 0.25

$(0.3 \times 0.3 - 0.03)(0.3 \times 0.3 + 0.01)^{-1}$ का मान निम्नलिखित में से किसके बराबर है?

Options :

1. ✖ 0.006

2. ✖ 0.06

3. ✔ 0.6

4. ✖ 6

Question Number : 84 Question Id : 9983671406 Question Type : MCQ Option Shuffling : Yes

Correct Marks : 1 Wrong Marks : 0.25

$0.\overline{64} + 1.0\overline{96} - 0.5\overline{9}$ is equal to:

Options :

1. ✖ $1.4\overline{43}$

2. ✘ $1.\overline{343}$

3. ✘ $1.\overline{243}$

4. ✔ $1.\overline{143}$

Question Number : 84 Question Id : 9983671406 Question Type : MCQ Option Shuffling : Yes
Correct Marks : 1 Wrong Marks : 0.25

$0.\overline{64} + 1.0\overline{96} - 0.5\overline{9}$ का मान निम्नलिखित में से किसके बराबर है?

Options :

1. ✘ $1.4\overline{43}$

2. ✘ $1.3\overline{43}$

3. ✘ $1.2\overline{43}$

4. ✔ $1.\overline{143}$

Question Number : 85 Question Id : 9983671407 Question Type : MCQ Option Shuffling : Yes
Correct Marks : 1 Wrong Marks : 0.25

Which of the following is an irrational number?

Options :

1. ✔ $\sqrt[3]{0.0027}$

2. ✘ $\sqrt[4]{0.0081}$

3. ✘ $\sqrt[5]{0.00032}$

4. ✘ $\sqrt[6]{0.000729}$

Question Number : 85 Question Id : 9983671407 Question Type : MCQ Option Shuffling : Yes

Correct Marks : 1 Wrong Marks : 0.25

निम्नलिखित में से कौन एक अपरिमेय संख्या है?

Options :

1. ✔ $\sqrt[3]{0.0027}$

2. ✘ $\sqrt[4]{0.0081}$

3. ✘ $\sqrt[5]{0.00032}$

4. ✘ $\sqrt[6]{0.000729}$

Question Number : 86 Question Id : 9983671408 Question Type : MCQ Option Shuffling : Yes

Correct Marks : 1 Wrong Marks : 0.25

Let $N = 1420 \times 1423 \times 1425$. What is the remainder when N is divided by 12?

Options :

1. ✔ 0

2. ✘ 2

3. ✘ 4

4. ✖ 6

Question Number : 86 Question Id : 9983671408 Question Type : MCQ Option Shuffling : Yes

Correct Marks : 1 Wrong Marks : 0.25

मान लें कि $N = 1420 \times 1423 \times 1425$ है, तो N को 12 से विभाजित करने पर शेषफल कितना होगा?

Options :

1. ✔ 0

2. ✖ 2

3. ✖ 4

4. ✖ 6

Question Number : 87 Question Id : 9983671409 Question Type : MCQ Option Shuffling : Yes

Correct Marks : 1 Wrong Marks : 0.25

The value of $\left(\frac{0.355 - 0.5 \times 0.91 + 0.823}{0.208 + 0.515}\right) \times 0.57$ is equal to:

Options :

1. ✖ 1.5

2. ✖ 1

3. ✖ 0.88

4. ✔ 0.57

Question Number : 87 Question Id : 9983671409 Question Type : MCQ Option Shuffling : Yes

Correct Marks : 1 Wrong Marks : 0.25

$\left(\frac{0.355 - 0.5 \times 0.91 + 0.823}{0.208 + 0.515}\right) \times 0.57$ का मान निम्नलिखित में से किसके बराबर है?

Options :

1. ✘ 1.5

2. ✘ 1

3. ✘ 0.88

4. ✔ 0.57

Question Number : 88 Question Id : 9983671410 Question Type : MCQ Option Shuffling : Yes

Correct Marks : 1 Wrong Marks : 0.25

The value of $29 - [25 - \{6 \div 2 \text{ of } (7 + \overline{9 - 14})\}]$ is equal to:

Options :

1. ✘ 2.5

2. ✘ 4.5

3. ✔ 5.5

4. ✘ 7

Question Number : 88 Question Id : 9983671410 Question Type : MCQ Option Shuffling : Yes

Correct Marks : 1 Wrong Marks : 0.25

$29 - [25 - \{6 \div 2 \text{ of } (7 + \overline{9 - 14})\}]$ का मान निम्नलिखित में से किसके बराबर है?

Options :

1. ✖ 2.5

2. ✖ 4.5

3. ✔ 5.5

4. ✖ 7

Question Number : 89 Question Id : 9983671411 Question Type : MCQ Option Shuffling : Yes

Correct Marks : 1 Wrong Marks : 0.25

If $\frac{x}{y} = \frac{3}{5}$ and $\frac{y}{z} = \frac{10}{9}$, the value of $\frac{x^2+z^2}{x^2-z^2}$ is:

Options :

1. ✔ -2.6

2. ✖ -1.6

3. ✖ 1.6

4. ✖ 2.6

Question Number : 89 Question Id : 9983671411 Question Type : MCQ Option Shuffling : Yes

Correct Marks : 1 Wrong Marks : 0.25

अगर $\frac{x}{y} = \frac{3}{5}$ और $\frac{y}{z} = \frac{10}{9}$ हो, तो $\frac{x^2+z^2}{x^2-z^2}$ का मान कितना होगा?

Options :

1. ✔ -2.6

2. ✖ -1.6

3. ✖ 1.6

4. ✖ 2.6

Question Number : 90 Question Id : 9983671412 Question Type : MCQ Option Shuffling : Yes
Correct Marks : 1 Wrong Marks : 0.25

The value of $-8.25 + \frac{7.5}{1 - \frac{1}{3 - \frac{1}{4/5}}}$ is equal to:

Options :

1. ✖ 9.5

2. ✔ 9.25

3. ✖ 9.0

4. ✖ 8.75

Question Number : 90 Question Id : 9983671412 Question Type : MCQ Option Shuffling : Yes
Correct Marks : 1 Wrong Marks : 0.25

$-8.25 + \frac{7.5}{1 - \frac{1}{3 - \frac{1}{4/5}}}$ का मान निम्नलिखित में से किसके बराबर है?

Options :

1. ✘ 9.5

2. ✔ 9.25

3. ✘ 9.0

4. ✘ 8.75

Question Number : 91 Question Id : 9983671413 Question Type : MCQ Option Shuffling : Yes

Correct Marks : 1 Wrong Marks : 0.25

A man spends $\frac{3}{5}$ of his salary on food, $\frac{1}{5}$ on rent and $\frac{1}{5}$ of the remaining amount on conveyance. If he is left with ₹ 1,250, what is his salary?

Options :

1. ✘ ₹ 8,712.5

2. ✔ ₹ 7,812.5

3. ✘ ₹ 7,712.5

4. ✘ ₹ 7,512.5

Question Number : 91 Question Id : 9983671413 Question Type : MCQ Option Shuffling : Yes

Correct Marks : 1 Wrong Marks : 0.25

एक व्यक्ति अपने वेतन का $\frac{3}{5}$ हिस्सा भोजन पर, $\frac{1}{5}$ हिस्सा किराये पर, और बाकी बची राशि का $\frac{1}{5}$ हिस्सा वाहन पर खर्च करता है। अगर इन सब के बाद भी उसके पास ₹ 1,250 की राशि बच जाती है, तो उसका कुल वेतन कितना था?

Options :

1. ✘ ₹ 8,712.5

2. ✔ ₹ 7,812.5

3. ✘ ₹ 7,712.5

4. ✘ ₹ 7,512.5

Question Number : 92 Question Id : 9983671414 Question Type : MCQ Option Shuffling : Yes

Correct Marks : 1 Wrong Marks : 0.25

The HCF of $\frac{1}{2}$, $\frac{2}{5}$, $\frac{5}{8}$ and $\frac{8}{9}$ is:

Options :

1. ✔ $\frac{1}{360}$

2. ✘ $\frac{1}{180}$

3. ✘ $\frac{1}{120}$

4. ✘ $\frac{1}{60}$

Question Number : 92 Question Id : 9983671414 Question Type : MCQ Option Shuffling : Yes

Correct Marks : 1 Wrong Marks : 0.25

$\frac{1}{2}$, $\frac{2}{5}$, $\frac{5}{8}$ और $\frac{8}{9}$ का महत्तम समापवर्तक कितना होगा?

Options :

1. ✓ $\frac{1}{360}$

2. ✗ $\frac{1}{180}$

3. ✗ $\frac{1}{120}$

4. ✗ $\frac{1}{60}$

Question Number : 93 Question Id : 9983671415 Question Type : MCQ Option Shuffling : Yes

Correct Marks : 1 Wrong Marks : 0.25

What is the sum of the digits of the least number which when divided by 6, 15, 36 and 75 leaves the same remainder 3 in each case and is divisible by 11?

Options :

1. ✗ 6

2. ✗ 9

3. ✓ 12

4. ✗ 18

Question Number : 93 Question Id : 9983671415 Question Type : MCQ Option Shuffling : Yes

Correct Marks : 1 Wrong Marks : 0.25

निम्नलिखित में से वह कौन सी सबसे छोटी संख्या है जो 11 द्वारा विभाज्य है और जिसे 6, 15, 36 और 75 से भाग देने पर हर बार 3 शेषफल आएगा?

Options :

1. ✖ 6

2. ✖ 9

3. ✔ 12

4. ✖ 18

Question Number : 94 Question Id : 9983671416 Question Type : MCQ Option Shuffling : Yes

Correct Marks : 1 Wrong Marks : 0.25

LCM of two numbers is 385. HCF of these numbers is 5. If the sum of the numbers is 90, find out the difference between the two numbers.

Options :

1. ✖ 10

2. ✖ 15

3. ✔ 20

4. ✖ 25

Question Number : 94 Question Id : 9983671416 Question Type : MCQ Option Shuffling : Yes

Correct Marks : 1 Wrong Marks : 0.25

दो संख्याओं का लघुत्तम समापवर्तक 385 और महत्तम समापवर्तक 5 है। यदि संख्याओं का योग 90 है, तो दो संख्याओं के बीच का अंतर कितना होगा?

Options :

1. ✖ 10

2. ✖ 15

3. ✔ 20

4. ✖ 25

Question Number : 95 Question Id : 9983671417 Question Type : MCQ Option Shuffling : Yes

Correct Marks : 1 Wrong Marks : 0.25

A earns ₹ 750 per hour and works for 5 hours. B earns ₹ 840 per hour and works for 7 hours. Find the ratio of their per day wages:

Options :

1. ✔ $\frac{125}{196}$

2. ✖ $\frac{196}{125}$

3. ✖ $\frac{150}{193}$

4. ✖ $\frac{193}{150}$

Question Number : 95 Question Id : 9983671417 Question Type : MCQ Option Shuffling : Yes

Correct Marks : 1 Wrong Marks : 0.25

A हर घंटे ₹ 750 आय करता है और वह 5 घंटे काम करता है। B हर घंटे ₹ 840 आय करता है और वह 7 घंटे काम करता है। उन दोनों की प्रति दिन की मजदूरी का अनुपात कितना होगा?

Options :

1. ✔ $\frac{125}{196}$

$$2. \times \frac{196}{125}$$

$$3. \times \frac{150}{193}$$

$$4. \times \frac{193}{150}$$

Question Number : 96 Question Id : 9983671418 Question Type : MCQ Option Shuffling : Yes

Correct Marks : 1 Wrong Marks : 0.25

In a library, the ratio of the number of mathematics books to that of statistics books was 4 : 3 and when 12 more mathematics books were bought, the ratio became 5 : 3. Find the number of mathematics books.

Options :

$$1. \times 60$$

$$2. \times 56$$

$$3. \checkmark 48$$

$$4. \times 40$$

Question Number : 96 Question Id : 9983671418 Question Type : MCQ Option Shuffling : Yes

Correct Marks : 1 Wrong Marks : 0.25

एक पुस्तकालय में, सांख्यिकी पुस्तकों से गणित की पुस्तकों की संख्या का अनुपात 4 : 3 था और जब 12 गणित की किताबें और खरीदी गईं, तो अनुपात 5 : 3 हो गया। गणित की पुस्तकों की संख्या कितनी है?

Options :

$$1. \times 60$$

2. ✖ 56

3. ✔ 48

4. ✖ 40

Question Number : 97 Question Id : 9983671419 Question Type : MCQ Option Shuffling : Yes

Correct Marks : 1 Wrong Marks : 0.25

The three numbers are in the ratio $\frac{1}{2} : \frac{2}{3} : \frac{3}{4}$. The difference between greatest and smallest numbers is 24. Find the sum of all the numbers.

Options :

1. ✖ 240

2. ✖ 224

3. ✖ 200

4. ✔ 184

Question Number : 97 Question Id : 9983671419 Question Type : MCQ Option Shuffling : Yes

Correct Marks : 1 Wrong Marks : 0.25

तीन संख्याएँ $\frac{1}{2} : \frac{2}{3} : \frac{3}{4}$ के अनुपात में हैं। इनमें से सबसे बड़ी संख्या और सबसे छोटी संख्या के बीच का अंतर 24 है। तीनों संख्याओं का योग कितना होगा?

Options :

1. ✖ 240

2. ✖ 224

3. ✖ 200

4. ✔ 184

Question Number : 98 Question Id : 9983671420 Question Type : MCQ Option Shuffling : Yes

Correct Marks : 1 Wrong Marks : 0.25

A number is increased by 40% and then decreased by 25%. What is the net percentage increase/decrease in the number?

Options :

1. ✔ 5% increase

2. ✖ 5% decrease

3. ✖ 7% increase

4. ✖ 7% decrease

Question Number : 98 Question Id : 9983671420 Question Type : MCQ Option Shuffling : Yes

Correct Marks : 1 Wrong Marks : 0.25

एक संख्या में 40% की वृद्धि हुई है और फिर 25% की कमी हुई है। संख्या में कुल कितने प्रतिशत की वृद्धि/कमी हुई है?

Options :

1. ✔ 5% वृद्धि

2. ✖ 5% कमी

3. ✖ 7% वृद्धि

4. ✖ 7% कमी

Question Number : 99 Question Id : 9983671421 Question Type : MCQ Option Shuffling : Yes

Correct Marks : 1 Wrong Marks : 0.25

A's salary is 40% more than B's. How much per cent is B's salary less than A's?

Options :

1. ✖ $28\frac{1}{7}\%$

2. ✖ $28\frac{3}{7}\%$

3. ✔ $28\frac{4}{7}\%$

4. ✖ $29\frac{1}{7}\%$

Question Number : 99 Question Id : 9983671421 Question Type : MCQ Option Shuffling : Yes

Correct Marks : 1 Wrong Marks : 0.25

A का वेतन B के वेतन से 40% अधिक है। B का वेतन A के वेतन से कितना प्रतिशत कम है?

Options :

1. ✖ $28\frac{1}{7}\%$

2. ✖ $28\frac{3}{7}\%$

3. ✔ $28\frac{4}{7}\%$

4. ✖ $29\frac{1}{7}\%$

Question Number : 100 Question Id : 9983671422 Question Type : MCQ Option Shuffling : Yes

Correct Marks : 1 Wrong Marks : 0.25

The average of all factors of 70 is:

Options :

1. ✖ 16

2. ✔ 18

3. ✖ 21

4. ✖ 25

Question Number : 100 Question Id : 9983671422 Question Type : MCQ Option Shuffling : Yes

Correct Marks : 1 Wrong Marks : 0.25

70 के सभी गुणजों का औसत कितना है?

Options :

1. ✖ 16

2. ✔ 18

3. ✖ 21

4. ✖ 25

Arithmetic Ability2

Group Number :	6
Group Id :	99836732
Group Maximum Duration :	0
Group Minimum Duration :	0
Show Attended Group? :	No
Edit Attended Group? :	No
Break time:	0
Group Marks:	20
Is this Group for Examiner?:	No
Revisit allowed for group Instructions? :	Yes
Maximum Instruction Time:	0
Minimum Instruction Time:	0

Arithmetic Ability2

Section Id :	99836738
Section Number :	1
Section type :	Online
Mandatory or Optional:	Mandatory
Number of Questions:	20
Number of Questions to be attempted:	20
Section Marks:	20

Sub-Section Number:	1
Sub-Section Id:	99836772
Question Shuffling Allowed :	Yes

Question Number : 101 Question Id : 9983671423 Question Type : MCQ Option Shuffling : Yes
Correct Marks : 1 Wrong Marks : 0.25

The average of 25 numbers is 70. The average of first 13 numbers is 65 and the average of last 13 numbers is 74. If 13th number is excluded, what is the average of the remaining numbers? (approximate to one decimal place)

Options :

1. ✘ 69.5

2. ✔ 70.5

3. ✘ 71.5

4. ✘ 70

Question Number : 101 Question Id : 9983671423 Question Type : MCQ Option Shuffling : Yes

Correct Marks : 1 Wrong Marks : 0.25

25 संख्याओं का औसत 70 है। पहली 13 संख्याओं का औसत 65 है और अंतिम 13 संख्याओं का औसत 74 है। यदि 13वीं संख्या को निकाल दिया जाए, तो शेष संख्याओं का औसत कितना होगा? (एक दशमलव स्थान तक)

Options :

1. ✘ 69.5

2. ✔ 70.5

3. ✘ 71.5

4. ✘ 70

Question Number : 102 Question Id : 9983671424 Question Type : MCQ Option Shuffling : Yes

Correct Marks : 1 Wrong Marks : 0.25

Average age of A and B is 28 years, that of B and C is 30 years and the average age of C and A is 32 years. The age of C (in years) is:

Options :

1. ✘ 36

2. ✔ 34

3. ✘ 32

4. ✘ 30

Question Number : 102 Question Id : 9983671424 Question Type : MCQ Option Shuffling : Yes

Correct Marks : 1 Wrong Marks : 0.25

A और B की औसत आयु 28 वर्ष है, B और C की औसत आयु 30 वर्ष है और C और A की औसत आयु 32 वर्ष है। C की आयु (वर्षों में) कितनी है?

Options :

1. ✘ 36

2. ✔ 34

3. ✘ 32

4. ✘ 30

Question Number : 103 Question Id : 9983671425 Question Type : MCQ Option Shuffling : Yes

Correct Marks : 1 Wrong Marks : 0.25

A shopkeeper earns a profit of 15% after selling a book at 10% discount on the printed price. The ratio of the cost price and printed price of the book is:

Options :

1. ✘ 23 : 18

2. ✘ 21 : 17

3. ✘ 17 : 21

4. ✔ 18 : 23

Question Number : 103 Question Id : 9983671425 Question Type : MCQ Option Shuffling : Yes

Correct Marks : 1 Wrong Marks : 0.25

एक दुकानदार मुद्रित मूल्य पर, 10% की छूट पर पुस्तक बेचने के बाद भी 15% का लाभ कमाता है। पुस्तक की लागत मूल्य और मुद्रित मूल्य का अनुपात कितना है?

Options :

1. ✖ 23 : 18

2. ✖ 21 : 17

3. ✖ 17 : 21

4. ✔ 18 : 23

Question Number : 104 Question Id : 9983671426 Question Type : MCQ Option Shuffling : Yes
Correct Marks : 1 Wrong Marks : 0.25

What is the CP of ₹ 100 stock at 5% discount, with $\frac{1}{5}\%$ brokerage?

Options :

1. ✖ ₹ 95

2. ✔ ₹ 95.2

3. ✖ ₹ 104.2

4. ✖ ₹ 104

Question Number : 104 Question Id : 9983671426 Question Type : MCQ Option Shuffling : Yes
Correct Marks : 1 Wrong Marks : 0.25

$\frac{1}{5}\%$ दलाली के साथ 5% छूट पर ₹ 100 स्टॉक की लागत मूल्य कितनी है?

Options :

1. ✖ ₹ 95

2. ✓ ₹ 95.2

3. ✗ ₹ 104.2

4. ✗ ₹ 104

Question Number : 105 Question Id : 9983671427 Question Type : MCQ Option Shuffling : Yes

Correct Marks : 1 Wrong Marks : 0.25

Two successive discounts of 5% and 7% are equal to:

Options :

1. ✗ 11.75%

2. ✓ 11.65%

3. ✗ 11.5%

4. ✗ 12%

Question Number : 105 Question Id : 9983671427 Question Type : MCQ Option Shuffling : Yes

Correct Marks : 1 Wrong Marks : 0.25

5% और 7% के दो क्रमिक छूट निम्नलिखित में से किसके समान हैं?

Options :

1. ✗ 11.75%

2. ✓ 11.65%

3. ✖ 11.5%

4. ✖ 12%

Question Number : 106 Question Id : 9983671428 Question Type : MCQ Option Shuffling : Yes

Correct Marks : 1 Wrong Marks : 0.25

If a shopkeeper gives 20% discount and then 10% discount on a marked price of ₹ 500 for an article, how much would be the selling price of the article?

Options :

1. ✖ ₹ 369

2. ✖ ₹ 363

3. ✔ ₹ 360

4. ✖ ₹ 350

Question Number : 106 Question Id : 9983671428 Question Type : MCQ Option Shuffling : Yes

Correct Marks : 1 Wrong Marks : 0.25

यदि एक दुकानदार ₹ 500 के मूल्य पर अंकित सामान पर 20% की छूट और फिर 10% की छूट देता है, तो सामान का विक्रय मूल्य कितना होगा?

Options :

1. ✖ ₹ 369

2. ✖ ₹ 363

3. ✔ ₹ 360

4. ✖ ₹ 350

Question Number : 107 Question Id : 9983671429 Question Type : MCQ Option Shuffling : Yes
Correct Marks : 1 Wrong Marks : 0.25

After deducting a commission of 5%, a computer set costs ₹ 49,595. Its marked price is:

Options :

1. ✖ ₹ 53,375.26

2. ✖ ₹ 52,074.26

3. ✔ ₹ 52,205.26

4. ✖ ₹ 52,018.26

Question Number : 107 Question Id : 9983671429 Question Type : MCQ Option Shuffling : Yes
Correct Marks : 1 Wrong Marks : 0.25

5% कमीशन काटने के बाद, एक कंप्यूटर सेट की कीमत ₹ 49,595 है। इस कंप्यूटर का अंकित मूल्य कितना है?

Options :

1. ✖ ₹ 53,375.26

2. ✖ ₹ 52,074.26

3. ✔ ₹ 52,205.26

4. ✖ ₹ 52,018.26

Question Number : 108 Question Id : 9983671430 Question Type : MCQ Option Shuffling : Yes
Correct Marks : 1 Wrong Marks : 0.25

The simple interest on a sum of money at 10% per annum for 2 years is ₹ 5,400. Compounded annually, what would be the compound interest on the same sum for the same period at the same rate of interest?

Options :

1. ✘ ₹ 5,700

2. ✘ ₹ 5,680

3. ✔ ₹ 5,670

4. ✘ ₹ 5,650

Question Number : 108 Question Id : 9983671430 Question Type : MCQ Option Shuffling : Yes

Correct Marks : 1 Wrong Marks : 0.25

2 साल के लिए प्रति वर्ष 10% की दर से एक निश्चित धनराशि पर साधारण ब्याज ₹ 5,400 है। वार्षिक चक्रवृद्धि ब्याज के रूप में, समान ब्याज दर पर समान अवधि के लिए उस समान राशि पर चक्रवृद्धि ब्याज कितना होगा?

Options :

1. ✘ ₹ 5,700

2. ✘ ₹ 5,680

3. ✔ ₹ 5,670

4. ✘ ₹ 5,650

Question Number : 109 Question Id : 9983671431 Question Type : MCQ Option Shuffling : Yes

Correct Marks : 1 Wrong Marks : 0.25

In what time will ₹ 48,000 amount to ₹ 52,920 at 10% per annum interest compounded half yearly?

Options :

1. ✓ 1 year

2. ✘ 1 year 3 months

3. ✘ 1 year 6 months

4. ✘ 2 years

Question Number : 109 Question Id : 9983671431 Question Type : MCQ Option Shuffling : Yes

Correct Marks : 1 Wrong Marks : 0.25

₹ 48,000 की धनराशि 10% प्रति वर्ष चक्रवृद्धि ब्याज दर पर कुल कितने समय में ₹ 52,920 हो जाएगी?

Options :

1. ✓ 1 साल

2. ✘ 1 साल 3 महीने

3. ✘ 1 साल 6 महीने

4. ✘ 2 साल

Question Number : 110 Question Id : 9983671432 Question Type : MCQ Option Shuffling : Yes

Correct Marks : 1 Wrong Marks : 0.25

In 5 years the simple interest on certain sum of money is $\frac{9}{20}$ of the principal. The annual rate of interest is:

Options :

1. ✘ 5%

2. ✖ 6%

3. ✔ 9%

4. ✖ 10%

Question Number : 110 Question Id : 9983671432 Question Type : MCQ Option Shuffling : Yes

Correct Marks : 1 Wrong Marks : 0.25

5 वर्षों में एक निश्चित धनराशि पर प्राप्त साधारण ब्याज मूलधन का $\frac{9}{20}$ है। ब्याज की वार्षिक दर कितनी है?

Options :

1. ✖ 5%

2. ✖ 6%

3. ✔ 9%

4. ✖ 10%

Question Number : 111 Question Id : 9983671433 Question Type : MCQ Option Shuffling : Yes

Correct Marks : 1 Wrong Marks : 0.25

A 56 cm wide path is made around a circular garden having a diameter of 9 m. What is the area of the path in m^2 ?

Options :

1. ✔ 16.8256

2. ✖ 16.9526

3. ✖ 17.0526

4. ✖ 17.2326

Question Number : 111 Question Id : 9983671433 Question Type : MCQ Option Shuffling : Yes

Correct Marks : 1 Wrong Marks : 0.25

एक वृत्ताकार बगीचे के चारों ओर 9 m व्यास का एक 56 cm चौड़ा रास्ता बना है। रास्ते का क्षेत्रफल m^2 में कितना होगा?

Options :

1. ✔ 16.8256

2. ✖ 16.9526

3. ✖ 17.0526

4. ✖ 17.2326

Question Number : 112 Question Id : 9983671434 Question Type : MCQ Option Shuffling : Yes

Correct Marks : 1 Wrong Marks : 0.25

What will be the total cost of polishing curved surface of a wooden cylinder at the rate of ₹ 15 per m^2 , if it has 50 cm diameter and 7 m height?

Options :

1. ✖ ₹ 250

2. ✖ ₹ 275

3. ✔ ₹ 165

4. ✖ ₹ 325

Question Number : 112 Question Id : 9983671434 Question Type : MCQ Option Shuffling : Yes

Correct Marks : 1 Wrong Marks : 0.25

एक लकड़ी के सिलेंडर की घुमावदार सतह को चमकाने की लागत ₹ 15 प्रति m^2 है। अगर सिलेन्डर का व्यास 50 cm और ऊंचाई 7 m है, तो पूरी सतह को चमकाने में कुल कितनी राशि खर्च होगी?

Options :

1. ✖ ₹ 250

2. ✖ ₹ 275

3. ✔ ₹ 165

4. ✖ ₹ 325

Question Number : 113 Question Id : 9983671435 Question Type : MCQ Option Shuffling : Yes

Correct Marks : 1 Wrong Marks : 0.25

The base of a triangle is equal to the perimeter of a square whose diagonal is $7\sqrt{2}$ cm and its height is equal to the side of a square whose area is 121 cm^2 . The area of the triangle is:

Options :

1. ✖ 150 cm^2

2. ✔ 154 cm^2

3. ✖ 158 cm^2

4. ✖ 160 cm^2

Question Number : 113 Question Id : 9983671435 Question Type : MCQ Option Shuffling : Yes

Correct Marks : 1 Wrong Marks : 0.25

एक त्रिभुज का आधार, $7\sqrt{2}$ विकर्ण वाले एक वर्ग की परिधि के बराबर है और इसकी ऊंचाई, 121 cm^2 क्षेत्रफल वाले एक वर्ग की भुजा के बराबर है। इस त्रिभुज का क्षेत्रफल कितना है?

Options :

1. ✘ 150 cm²

2. ✔ 154 cm²

3. ✘ 158 cm²

4. ✘ 160 cm²

Question Number : 114 Question Id : 9983671436 Question Type : MCQ Option Shuffling : Yes

Correct Marks : 1 Wrong Marks : 0.25

A boat can go 20 km downstream and 16 km upstream in 144 min. It can also go 20 km upstream and 16 km downstream in 126 min. What is the speed of the boat in still water in km/h?

Options :

1. ✘ 15

2. ✘ 17.5

3. ✘ 22.5

4. ✔ 25

Question Number : 114 Question Id : 9983671436 Question Type : MCQ Option Shuffling : Yes

Correct Marks : 1 Wrong Marks : 0.25

एक नाव कुल 144 मिनटों में धारा की ओर 20 km और धारा के विपरीत 16 km की दूरी तय कर सकती है। यह कुल 126 मिनटों में धारा के विपरीत 20 km और धारा की ओर 16 km की दूरी भी तय कर सकती है। स्थिर जल में नाव की गति कितनी है?

Options :

1. ✖ 15

2. ✖ 17.5

3. ✖ 22.5

4. ✔ 25

Question Number : 115 Question Id : 9983671437 Question Type : MCQ Option Shuffling : Yes

Correct Marks : 1 Wrong Marks : 0.25

P, Q and R are in a cycle race of 2250 m. P cycles twice as fast as Q. R cycles $\frac{1}{3}$ rd as fast as Q. R completes the race in 45 min. Then where was Q from the finishing line when P finished the race?

Options :

1. ✔ 1125 m

2. ✖ 1150 m

3. ✖ 1175 m

4. ✖ 1200 m

Question Number : 115 Question Id : 9983671437 Question Type : MCQ Option Shuffling : Yes

Correct Marks : 1 Wrong Marks : 0.25

P, Q और R, 2250 m की एक साइकिल दौड़ की प्रतियोगिता में भाग लेते हैं। P के साइकिल की गति Q के साइकिल की गति से दोगुनी है। R के साइकिल की गति Q के साइकिल की गति से $\frac{1}{3}$ भाग अधिक तेज है। R 45 मिनट में दौड़ पूरी करता है। तो जब P ने दौड़ पूरी की तो Q फिनिशिंग लाइन से कितनी दूरी पर था?

Options :

1. ✓ 1125 m

2. ✗ 1150 m

3. ✗ 1175 m

4. ✗ 1200 m

Question Number : 116 Question Id : 9983671438 Question Type : MCQ Option Shuffling : Yes

Correct Marks : 1 Wrong Marks : 0.25

A boy increases his speed to $\frac{9}{5}$ times of his original speed. By this he reaches his school 20 min before the usual time.

How much time (in min) does he takes usually?

Options :

1. ✓ 45

2. ✗ 50

3. ✗ 52

4. ✗ 55

Question Number : 116 Question Id : 9983671438 Question Type : MCQ Option Shuffling : Yes

Correct Marks : 1 Wrong Marks : 0.25

एक लड़का अपनी मूल गति को $\frac{9}{5}$ गुना बढ़ा देता है। ऐसा करने पर वह अपने स्कूल में सामान्य समय से 20 मिनट पहले पहुँच जाता है। आम तौर पर वह कितना समय (मिनट में) लेता है?

Options :

1. ✓ 45

2. ✗ 50

3. ✗ 52

4. ✗ 55

Question Number : 117 Question Id : 9983671439 Question Type : MCQ Option Shuffling : Yes

Correct Marks : 1 Wrong Marks : 0.25

A can finish a work in 27 days and B can do the same work in one third the time taken by A. then, working together, what part of the same work they can finish in six days?

Options :

1. ✗ $\frac{1}{9}$

2. ✗ $\frac{4}{9}$

3. ✗ $\frac{6}{9}$

4. ✓ $\frac{8}{9}$

Question Number : 117 Question Id : 9983671439 Question Type : MCQ Option Shuffling : Yes

Correct Marks : 1 Wrong Marks : 0.25

A किसी काम को 27 दिनों में पूरा कर सकता है और B उसी कार्य को A द्वारा लिए गए समय के एक तिहाई समय में पूरा कर सकता है। अगर दोनों एक साथ काम करते हैं, तो दोनों मिलकर छह दिनों में उस काम का कुल कितना हिस्सा पूरा कर सकते हैं?

Options :

1. ✘ $\frac{1}{9}$

2. ✘ $\frac{4}{9}$

3. ✘ $\frac{6}{9}$

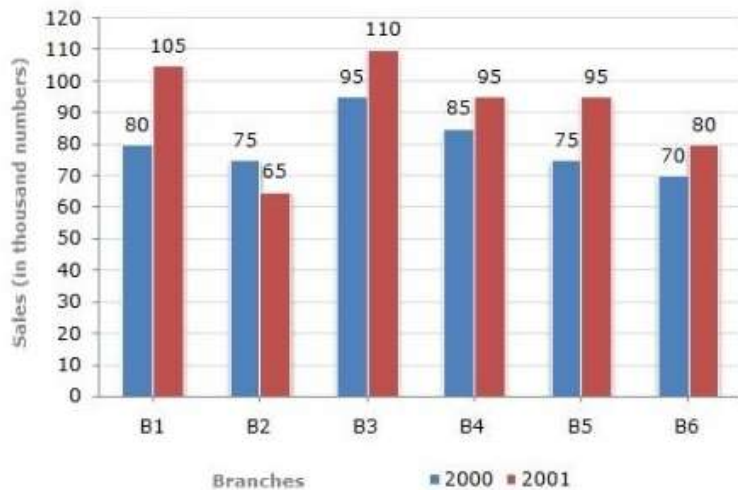
4. ✔ $\frac{8}{9}$

Question Number : 118 Question Id : 9983671440 Question Type : MCQ Option Shuffling : Yes

Correct Marks : 1 Wrong Marks : 0.25

The given bar graph shows the sales of books (in thousand number) from six branches of a publishing company during two consecutive years 2000 and 2001.

Sales of Books (in thousand numbers) from Six Branches - B1, B2, B3, B4, B5 and B6 of a publishing Company in 2000 and 2001.



The ratio of total sales of B2, B4 and B5 branches taken together for the year 2000 to 2001 (in thousand numbers) is:

Options :

1. ✘ 45 : 51

2. ✔ 47 : 51

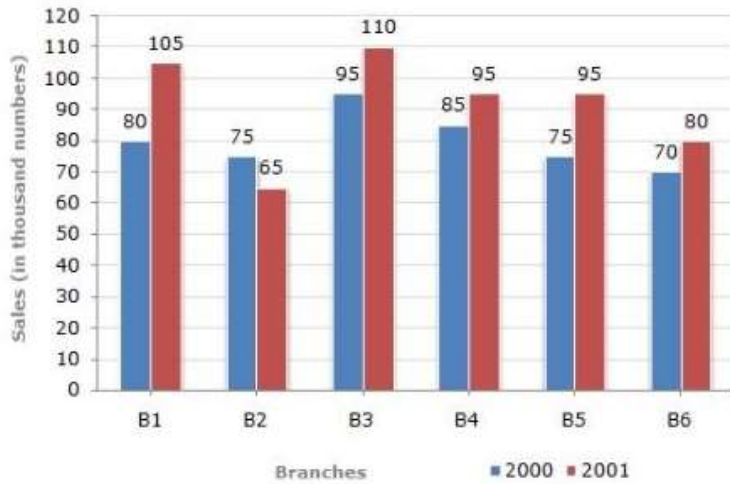
3. ✖ 51 : 47

4. ✖ 51 : 45

Question Number : 118 Question Id : 9983671440 Question Type : MCQ Option Shuffling : Yes
Correct Marks : 1 Wrong Marks : 0.25

नीचे दिए गए बार ग्राफ में दो प्रकाशन वर्ष 2000 और 2001 के दौरान एक प्रकाशन कंपनी की छह शाखाओं से पुस्तकों की बिक्री (हजार रुपयों में) होती है।

Sales of Books (in thousand numbers) from Six Branches - B1, B2, B3, B4, B5 and B6 of a publishing Company in 2000 and 2001.



B 2, B 4 और B 5 शाखाओं का वर्ष 2000 से 2001 के लिए की कुल बिक्री का अनुपात (हजार रुपयों में) एक साथ लिया गया है:

Options :

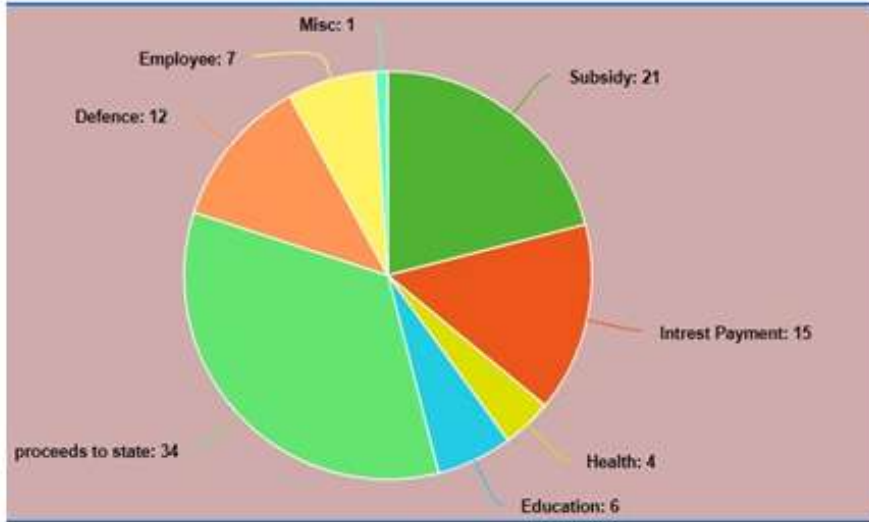
1. ✖ 45 : 51

2. ✔ 47 : 51

3. ✖ 51 : 47

4. ✖ 51 : 45

Question Number : 119 Question Id : 9983671441 Question Type : MCQ Option Shuffling : Yes
Correct Marks : 1 Wrong Marks : 0.25



Total Expenditure ₹ 840 (in billions). The data in pie chart is in percentage.

In the above pie graph, the amount of expenditure for education and health (in billions) is:

Options :

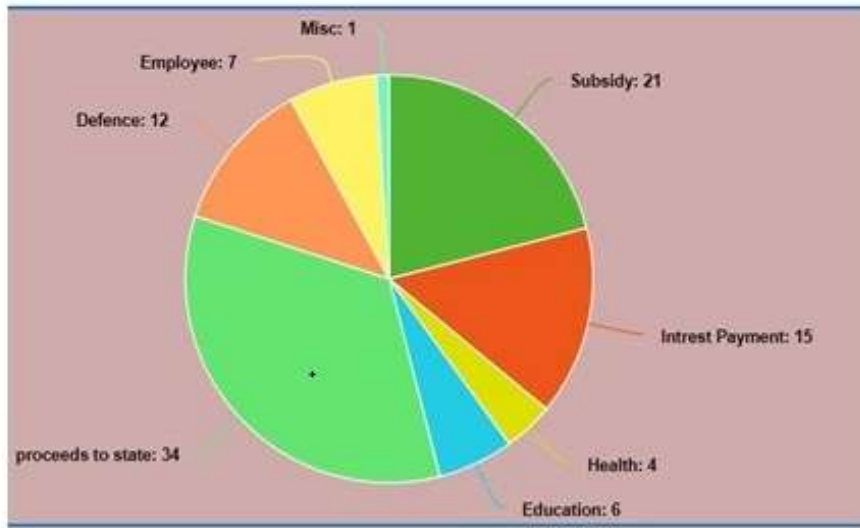
1. ✖ 85

2. ✔ 84

3. ✖ 82

4. ✖ 80

Question Number : 119 Question Id : 9983671441 Question Type : MCQ Option Shuffling : Yes
Correct Marks : 1 Wrong Marks : 0.25



पाई चार्ट में दी गई जानकारी प्रतिशत में है और कुल व्यय ₹ 840 (अरबों में) है।

ऊपर दिए गए पाई ग्राफ में, शिक्षा और स्वास्थ्य के लिए व्यय की राशि (अरबों में) कितनी है?

Options :

1. ✘ 85

2. ✔ 84

3. ✘ 82

4. ✘ 80

Question Number : 120 Question Id : 9983671442 Question Type : MCQ Option Shuffling : Yes
Correct Marks : 1 Wrong Marks : 0.25

The following table shows the number of seats reserved in different classes in a train on five different days. The capacity of each class is given in the bracket. How many seats remained vacant on Monday, Tuesday and Friday in all the AC classes?

Day	2 nd Class Non-AC (900)	1 st Class Non-AC (500)	AC III Tier (500)	AC II Tier (250)	AC 1 st Class (150)
Monday	750	410	390	240	145
Tuesday	820	400	450	230	120
Wednesday	730	360	480	220	130
Thursday	640	480	490	190	122
Friday	700	490	495	210	140

Options :

1. ✘ 220

2. ✘ 240

3. ✘ 250

4. ✔ 280

Question Number : 120 Question Id : 9983671442 Question Type : MCQ Option Shuffling : Yes

Correct Marks : 1 Wrong Marks : 0.25

निम्नलिखित तालिका पांच अलग-अलग दिनों में एक ट्रेन में विभिन्न क्लास में आरक्षित सीटों की संख्या को दर्शाती है। प्रत्येक क्लास की क्षमता ब्रैकेट में दी गई है। सभी एसी क्लास में सोमवार, मंगलवार और शुक्रवार को कितनी सीटें खाली रहीं?

दिन	द्वितीया क्लास नॉन-एसी (900)	प्रथम क्लास नॉन-एसी (500)	एसी III टियर (500)	एसी II टियर (250)	एसी प्रथम टियर (150)
सोमवार	750	410	390	240	145
मंगलवार	820	400	450	230	120
बुधवार	730	360	480	220	130
शुक्रवार	640	480	490	190	122
शुक्रवार	700	490	495	210	140

Options :

1. ✘ 220

2. ✘ 240

3. ✘ 250

4. ✔ 280

General English1

Group Number :	7
Group Id :	99836733
Group Maximum Duration :	0
Group Minimum Duration :	0
Show Attended Group? :	No
Edit Attended Group? :	No
Break time:	0
Group Marks:	20
Is this Group for Examiner?:	No
Revisit allowed for group Instructions? :	Yes
Maximum Instruction Time:	0
Minimum Instruction Time:	0

General English1

Section Id :	99836739
Section Number :	1
Section type :	Online
Mandatory or Optional:	Mandatory
Number of Questions:	20
Number of Questions to be attempted:	20
Section Marks:	20

Sub-Section Number:	1
Sub-Section Id:	99836773
Question Shuffling Allowed :	Yes

Question Number : 121 Question Id : 9983671443 Question Type : MCQ Option Shuffling : Yes

Correct Marks : 1 Wrong Marks : 0.25

Select the most appropriate option to fill in the blank.

I have lived here _____ ten years.

Options :

1. ✘ since

2. ✔ for

3. ✘ till

4. ✘ from

Question Number : 121 Question Id : 9983671443 Question Type : MCQ Option Shuffling : Yes

Correct Marks : 1 Wrong Marks : 0.25

Select the most appropriate option to fill in the blank.

I have lived here _____ ten years.

Options :

1. ✘ since

2. ✔ for

3. ✘ till

4. ✘ from

Question Number : 122 Question Id : 9983671444 Question Type : MCQ Option Shuffling : Yes

Correct Marks : 1 Wrong Marks : 0.25

Select the most appropriate option to fill in the blank.

While living _____ prisons, Nehru became interested _____ animals around him.

Options :

1. ✘ in, to

2. ✘ into, in

3. ✘ at, at

4. ✔ in, in

Question Number : 122 Question Id : 9983671444 Question Type : MCQ Option Shuffling : Yes

Correct Marks : 1 Wrong Marks : 0.25

Select the most appropriate option to fill in the blank.

While living _____ prisons, Nehru became interested _____ animals around him.

Options :

1. ✘ in, to

2. ✘ into, in

3. ✘ at, at

4. ✔ in, in

Question Number : 123 Question Id : 9983671445 Question Type : MCQ Option Shuffling : Yes

Correct Marks : 1 Wrong Marks : 0.25

Select the most appropriate option to fill in the blank.

My father is a translator. Last week he _____ the PM's speech when he came here to address the people.

Options :

1. ✘ translates
2. ✔ translated
3. ✘ was translating
4. ✘ has translated

Question Number : 123 Question Id : 9983671445 Question Type : MCQ Option Shuffling : Yes

Correct Marks : 1 Wrong Marks : 0.25

Select the most appropriate option to fill in the blank.

My father is a translator. Last week he _____ the PM's speech when he came here to address the people.

Options :

1. ✘ translates
2. ✔ translated
3. ✘ was translating
4. ✘ has translated

Question Number : 124 Question Id : 9983671446 Question Type : MCQ Option Shuffling : Yes

Correct Marks : 1 Wrong Marks : 0.25

Select the most appropriate option to fill in the blank.

I usually _____ to Meerut by bus, but this time I _____ by train.

Options :

1. ✓ go, am going

2. ✗ went, was going

3. ✗ have gone, have been going

4. ✗ will go, will go

Question Number : 124 Question Id : 9983671446 Question Type : MCQ Option Shuffling : Yes

Correct Marks : 1 Wrong Marks : 0.25

Select the most appropriate option to fill in the blank.

I usually _____ to Meerut by bus, but this time I _____ by train.

Options :

1. ✓ go, am going

2. ✗ went, was going

3. ✗ have gone, have been going

4. ✗ will go, will go

Question Number : 125 Question Id : 9983671447 Question Type : MCQ Option Shuffling : Yes

Correct Marks : 1 Wrong Marks : 0.25

Select the most appropriate option to fill in the blank.

_____ he came late, the teacher did not let him in.

Options :

1. ✘ Though

2. ✔ As

3. ✘ So that

4. ✘ While

Question Number : 125 Question Id : 9983671447 Question Type : MCQ Option Shuffling : Yes

Correct Marks : 1 Wrong Marks : 0.25

Select the most appropriate option to fill in the blank.

_____ he came late, the teacher did not let him in.

Options :

1. ✘ Though

2. ✔ As

3. ✘ So that

4. ✘ While

Question Number : 126 Question Id : 9983671448 Question Type : MCQ Option Shuffling : Yes

Correct Marks : 1 Wrong Marks : 0.25

Select the most appropriate option to fill in the blank.

I asked her _____ she was interested in visiting the Butterfly Farm.

Options :

1. ✘ unless

2. ✘ as if

3. ✔ whether

4. ✘ that

Question Number : 126 Question Id : 9983671448 Question Type : MCQ Option Shuffling : Yes

Correct Marks : 1 Wrong Marks : 0.25

Select the most appropriate option to fill in the blank.

I asked her _____ she was interested in visiting the Butterfly Farm.

Options :

1. ✘ unless

2. ✘ as if

3. ✔ whether

4. ✘ that

Question Number : 127 Question Id : 9983671449 Question Type : MCQ Option Shuffling : Yes

Correct Marks : 1 Wrong Marks : 0.25

Select the most appropriate option to fill in the blank.

She lost the pen _____ her brother had given her.

Options :

1. ✓ which

2. ✗ who

3. ✗ whom

4. ✗ what

Question Number : 127 Question Id : 9983671449 Question Type : MCQ Option Shuffling : Yes

Correct Marks : 1 Wrong Marks : 0.25

Select the most appropriate option to fill in the blank.

She lost the pen _____ her brother had given her.

Options :

1. ✓ which

2. ✗ who

3. ✗ whom

4. ✗ what

Question Number : 128 Question Id : 9983671450 Question Type : MCQ Option Shuffling : Yes

Correct Marks : 1 Wrong Marks : 0.25

Select the most appropriate option to fill in the blank.

The cows grazing in the pasture got frightened when _____ saw a wolf coming.

Options :

1. ✘ it

2. ✔ they

3. ✘ them

4. ✘ we

Question Number : 128 Question Id : 9983671450 Question Type : MCQ Option Shuffling : Yes

Correct Marks : 1 Wrong Marks : 0.25

Select the most appropriate option to fill in the blank.

The cows grazing in the pasture got frightened when _____ saw a wolf coming.

Options :

1. ✘ it

2. ✔ they

3. ✘ them

4. ✘ we

Question Number : 129 Question Id : 9983671451 Question Type : MCQ Option Shuffling : Yes

Correct Marks : 1 Wrong Marks : 0.25

Select the most appropriate option to fill in the blank.

In most meetings people vote by raising _____ right hands.

Options :

1. ✘ your

2. ✘ our

3. ✔ their

4. ✘ theirs

Question Number : 129 Question Id : 9983671451 Question Type : MCQ Option Shuffling : Yes

Correct Marks : 1 Wrong Marks : 0.25

Select the most appropriate option to fill in the blank.

In most meetings people vote by raising _____ right hands.

Options :

1. ✘ your

2. ✘ our

3. ✔ their

4. ✘ theirs

Question Number : 130 Question Id : 9983671452 Question Type : MCQ Option Shuffling : Yes

Correct Marks : 1 Wrong Marks : 0.25

Select the most appropriate option to fill in the blank.

He got a _____ table for me from Moradabad.

Options :

1. ✓ small round brass

2. ✗ round small brass

3. ✗ small brass round

4. ✗ brass small round

Question Number : 130 Question Id : 9983671452 Question Type : MCQ Option Shuffling : Yes

Correct Marks : 1 Wrong Marks : 0.25

Select the most appropriate option to fill in the blank.

He got a _____ table for me from Moradabad.

Options :

1. ✓ small round brass

2. ✗ round small brass

3. ✗ small brass round

4. ✗ brass small round

Question Number : 131 Question Id : 9983671453 Question Type : MCQ Option Shuffling : Yes

Correct Marks : 1 Wrong Marks : 0.25

Select the most appropriate synonym of the given word.

TRUCE

Options :

1. ✓ ceasefire

2. ✗ persistence

3. ✗ continuation

4. ✗ truth

Question Number : 131 Question Id : 9983671453 Question Type : MCQ Option Shuffling : Yes

Correct Marks : 1 Wrong Marks : 0.25

Select the most appropriate synonym of the given word.

TRUCE

Options :

1. ✓ ceasefire

2. ✗ persistence

3. ✗ continuation

4. ✗ truth

Question Number : 132 Question Id : 9983671454 Question Type : MCQ Option Shuffling : Yes

Correct Marks : 1 Wrong Marks : 0.25

Select the most appropriate synonym of the given word.

CONCEITED

Options :

1. ✘ timid

2. ✘ diffident

3. ✔ arrogant

4. ✘ irritated

Question Number : 132 Question Id : 9983671454 Question Type : MCQ Option Shuffling : Yes

Correct Marks : 1 Wrong Marks : 0.25

Select the most appropriate synonym of the given word.

CONCEITED

Options :

1. ✘ timid

2. ✘ diffident

3. ✔ arrogant

4. ✘ irritated

Question Number : 133 Question Id : 9983671455 Question Type : MCQ Option Shuffling : Yes

Correct Marks : 1 Wrong Marks : 0.25

Select the most appropriate antonym of the given word.

ELATED

Options :

1. ✘ ecstatic

2. ✔ depressed

3. ✘ surprised

4. ✘ amused

Question Number : 133 Question Id : 9983671455 Question Type : MCQ Option Shuffling : Yes

Correct Marks : 1 Wrong Marks : 0.25

Select the most appropriate antonym of the given word.

ELATED

Options :

1. ✘ ecstatic

2. ✔ depressed

3. ✘ surprised

4. ✘ amused

Question Number : 134 Question Id : 9983671456 Question Type : MCQ Option Shuffling : Yes

Correct Marks : 1 Wrong Marks : 0.25

Select the option which is NOT an antonym of another word by way of adding the prefix 'in-'.

Options :

1. ✘ inadmissible

2. ✘ incautious

3. ✔ incentive

4. ✘ inadequate

Question Number : 134 Question Id : 9983671456 Question Type : MCQ Option Shuffling : Yes

Correct Marks : 1 Wrong Marks : 0.25

Select the option which is NOT an antonym of another word by way of adding the prefix 'in-'.

Options :

1. ✘ inadmissible

2. ✘ incautious

3. ✔ incentive

4. ✘ inadequate

Question Number : 135 Question Id : 9983671457 Question Type : MCQ Option Shuffling : Yes

Correct Marks : 1 Wrong Marks : 0.25

Select the option which is NOT an antonym of another word by way of adding the prefix 'mis-'.

Options :

1. ✘ misfire

2. ✘ misinterpret

3. ✘ mismanage

4. ✔ miserable

Question Number : 135 Question Id : 9983671457 Question Type : MCQ Option Shuffling : Yes

Correct Marks : 1 Wrong Marks : 0.25

Select the option which is NOT an antonym of another word by way of adding the prefix 'mis-'.

Options :

1. ✘ misfire

2. ✘ misinterpret

3. ✘ mismanage

4. ✔ miserable

Question Number : 136 Question Id : 9983671458 Question Type : MCQ Option Shuffling : Yes

Correct Marks : 1 Wrong Marks : 0.25

Select the correctly spelt word.

Options :

1. ✘ preceade

2. ✔ complement

3. ✘ represant

4. ✘ mechnary

Question Number : 136 Question Id : 9983671458 Question Type : MCQ Option Shuffling : Yes

Correct Marks : 1 Wrong Marks : 0.25

Select the correctly spelt word.

Options :

1. ✘ preceade

2. ✔ complement

3. ✘ represant

4. ✘ mechnary

Question Number : 137 Question Id : 9983671459 Question Type : MCQ Option Shuffling : Yes

Correct Marks : 1 Wrong Marks : 0.25

Select the wrongly spelt word.

Options :

1. ✘ microcosm

2. ✘ miniature

3. ✘ ministerial

4. ✔ millitant

Question Number : 137 Question Id : 9983671459 Question Type : MCQ Option Shuffling : Yes

Correct Marks : 1 Wrong Marks : 0.25

Select the wrongly spelt word.

Options :

1. ✘ microcosm

2. ✘ miniature

3. ✘ ministerial

4. ✔ millitant

Question Number : 138 Question Id : 9983671460 Question Type : MCQ Option Shuffling : Yes

Correct Marks : 1 Wrong Marks : 0.25

Select the most appropriate phrase to fill in the blank.

Victor was abroad when the war _____ in his country.

Options :

1. ✘ broke down

2. ✔ broke out

3. ✘ broke up

4. ✘ broke off

Question Number : 138 Question Id : 9983671460 Question Type : MCQ Option Shuffling : Yes

Correct Marks : 1 Wrong Marks : 0.25

Select the most appropriate phrase to fill in the blank.

Victor was abroad when the war _____ in his country.

Options :

1. ✘ broke down

2. ✔ broke out

3. ✘ broke up

4. ✘ broke off

Question Number : 139 Question Id : 9983671461 Question Type : MCQ Option Shuffling : Yes
Correct Marks : 1 Wrong Marks : 0.25

Select the most appropriate phrase to fill in the blank.

How many planes _____ from the Delhi Airport every minute?

Options :

1. ✘ get off

2. ✘ set away

3. ✔ take off

4. ✘ put out

Question Number : 139 Question Id : 9983671461 Question Type : MCQ Option Shuffling : Yes
Correct Marks : 1 Wrong Marks : 0.25

Select the most appropriate phrase to fill in the blank.

How many planes _____ from the Delhi Airport every minute?

Options :

1. ✘ get off

2. ✘ set away

3. ✔ take off

4. ✘ put out

Question Number : 140 Question Id : 9983671462 Question Type : MCQ Option Shuffling : Yes
Correct Marks : 1 Wrong Marks : 0.25

Select the correct passive form of the sentence.

The beans that Rahul brought were all rotten.

Options :

1. ✘ The beans that had been brought by Rahul is all rotten.

2. ✘ Rahul had brought the beans were all rotten.

3. ✔ The beans that were brought by Rahul were all rotten.

4. ✘ The beans that are brought by Rahul are all rotten.

Question Number : 140 Question Id : 9983671462 Question Type : MCQ Option Shuffling : Yes
Correct Marks : 1 Wrong Marks : 0.25

Select the correct passive form of the sentence.

The beans that Rahul brought were all rotten.

Options :

1. ✘ The beans that had been brought by Rahul is all rotten.

2. ✘ Rahul had brought the beans were all rotten.

3. ✔ The beans that were brought by Rahul were all rotten.

4. ✘ The beans that are brought by Rahul are all rotten.

General English2

Group Number :	8
Group Id :	99836734
Group Maximum Duration :	0
Group Minimum Duration :	0
Show Attended Group? :	No
Edit Attended Group? :	No
Break time:	0
Group Marks:	20
Is this Group for Examiner?:	No
Revisit allowed for group Instructions? :	Yes
Maximum Instruction Time:	0
Minimum Instruction Time:	0

General English2

Section Id :	99836740
Section Number :	1
Section type :	Online
Mandatory or Optional:	Mandatory
Number of Questions:	12
Number of Questions to be attempted:	12
Section Marks:	20

Sub-Section Number:	1
Sub-Section Id:	99836774
Question Shuffling Allowed :	Yes

Question Number : 141 Question Id : 9983671463 Question Type : MCQ Option Shuffling : Yes
Correct Marks : 1 Wrong Marks : 0.25

Select the correct passive form of the given sentence.

Kavya has already distributed the sweets among the children.

Options :

1. ✘ The sweets were already distributed by Kavya among the children.
2. ✘ Kavya had already been distributed by the sweets among the children.
3. ✘ The children have already been distributed sweets by Kavya among them.
4. ✔ The sweets have already been distributed by Kavya among the children.

Question Number : 141 Question Id : 9983671463 Question Type : MCQ Option Shuffling : Yes
Correct Marks : 1 Wrong Marks : 0.25

Select the correct passive form of the given sentence.

Kavya has already distributed the sweets among the children.

Options :

1. ✘ The sweets were already distributed by Kavya among the children.
2. ✘ Kavya had already been distributed by the sweets among the children.
3. ✘ The children have already been distributed sweets by Kavya among them.
4. ✔ The sweets have already been distributed by Kavya among the children.

Question Number : 142 Question Id : 9983671464 Question Type : MCQ Option Shuffling : Yes
Correct Marks : 1 Wrong Marks : 0.25

Select the correct passive form of the given sentence.

One has rarely seen such queues for a film.

Options :

1. ✘ Such queues are rarely been seen for a film.
2. ✔ Such queues have rarely been seen for a film.
3. ✘ Nobody has seen rarely queues for a film.
4. ✘ Such queues rarely cannot be seen for a film.

Question Number : 142 Question Id : 9983671464 Question Type : MCQ Option Shuffling : Yes
Correct Marks : 1 Wrong Marks : 0.25

Select the correct passive form of the given sentence.

One has rarely seen such queues for a film.

Options :

1. ✘ Such queues are rarely been seen for a film.
2. ✔ Such queues have rarely been seen for a film.
3. ✘ Nobody has seen rarely queues for a film.
4. ✘ Such queues rarely cannot be seen for a film.

Question Number : 143 Question Id : 9983671465 Question Type : MCQ Option Shuffling : Yes
Correct Marks : 1 Wrong Marks : 0.25

Select the correct active form of the given sentence.

The fire at the Notre-Dame was brought under control by the firefighters.

Options :

1. ✓ The firefighters brought the fire at the Notre-Dame under control.
2. ✘ The firefighters were brought the fire at the Notre-Dame under control.
3. ✘ The firefighters controlled the fire at the Notre-Dame.
4. ✘ The firefighters tried to bring the fire at the Notre-Dame under control.

Question Number : 143 Question Id : 9983671465 Question Type : MCQ Option Shuffling : Yes

Correct Marks : 1 Wrong Marks : 0.25

Select the correct active form of the given sentence.

The fire at the Notre-Dame was brought under control by the firefighters.

Options :

1. ✓ The firefighters brought the fire at the Notre-Dame under control.
2. ✘ The firefighters were brought the fire at the Notre-Dame under control.
3. ✘ The firefighters controlled the fire at the Notre-Dame.
4. ✘ The firefighters tried to bring the fire at the Notre-Dame under control.

Question Number : 144 Question Id : 9983671466 Question Type : MCQ Option Shuffling : Yes

Correct Marks : 1 Wrong Marks : 0.25

Select the correct indirect form of the given sentence.

“What will I do with this cracked cup?” said Madhu.

Options :

1. ✘ Madhu asked what will I do with this cracked cup.
2. ✘ Madhu thought what she could do with that cracked cup.
3. ✘ Madhu said what she should do with this cracked cup.
4. ✔ Madhu wondered what she would do with that cracked cup.

Question Number : 144 Question Id : 9983671466 Question Type : MCQ Option Shuffling : Yes

Correct Marks : 1 Wrong Marks : 0.25

Select the correct indirect form of the given sentence.

“What will I do with this cracked cup?” said Madhu.

Options :

1. ✘ Madhu asked what will I do with this cracked cup.
2. ✘ Madhu thought what she could do with that cracked cup.
3. ✘ Madhu said what she should do with this cracked cup.
4. ✔ Madhu wondered what she would do with that cracked cup.

Question Number : 145 Question Id : 9983671467 Question Type : MCQ Option Shuffling : Yes

Correct Marks : 1 Wrong Marks : 0.25

Select the correct indirect form of the given sentence.

Esha said to Anshul, "Remember to book the tickets for the movie."

Options :

1. ✘ Esha asked Anshul remember booking the tickets for the movie.
2. ✔ Esha reminded Anshul to book the tickets for the movie.
3. ✘ Esha warned Anshul to books the tickets for the movie.
4. ✘ Esha advised Anshul you book the tickets for the movie.

Question Number : 145 Question Id : 9983671467 Question Type : MCQ Option Shuffling : Yes

Correct Marks : 1 Wrong Marks : 0.25

Select the correct indirect form of the given sentence.

Esha said to Anshul, "Remember to book the tickets for the movie."

Options :

1. ✘ Esha asked Anshul remember booking the tickets for the movie.
2. ✔ Esha reminded Anshul to book the tickets for the movie.
3. ✘ Esha warned Anshul to books the tickets for the movie.
4. ✘ Esha advised Anshul you book the tickets for the movie.

Question Number : 146 Question Id : 9983671468 Question Type : MCQ Option Shuffling : Yes

Correct Marks : 1 Wrong Marks : 0.25

Select the correct direct form of the given sentence.

I told Taru that the car had to be sent for servicing.

Options :

1. ✘ I said to Taru, "The car had to be sent for servicing."
2. ✔ I said to Taru, "The car has to be sent for servicing."
3. ✘ Taru said to me, "The car has to be sent for servicing."
4. ✘ I asked Taru, "Is the car to be sent for servicing?"

Question Number : 146 Question Id : 9983671468 Question Type : MCQ Option Shuffling : Yes

Correct Marks : 1 Wrong Marks : 0.25

Select the correct direct form of the given sentence.

I told Taru that the car had to be sent for servicing.

Options :

1. ✘ I said to Taru, "The car had to be sent for servicing."
2. ✔ I said to Taru, "The car has to be sent for servicing."
3. ✘ Taru said to me, "The car has to be sent for servicing."
4. ✘ I asked Taru, "Is the car to be sent for servicing?"

Question Number : 147 Question Id : 9983671469 Question Type : MCQ Option Shuffling : Yes

Correct Marks : 1 Wrong Marks : 0.25

Select the part of the sentence that has an error. If there is no error, select No error as the answer.

If he passes this examination he will get a government job.

Options :

1. ✘ If he passes
2. ✘ this examination
3. ✘ he will get a government job
4. ✔ No error

Question Number : 147 Question Id : 9983671469 Question Type : MCQ Option Shuffling : Yes

Correct Marks : 1 Wrong Marks : 0.25

Select the part of the sentence that has an error. If there is no error, select No error as the answer.

If he passes this examination he will get a government job.

Options :

1. ✘ If he passes
2. ✘ this examination
3. ✘ he will get a government job
4. ✔ No error

Question Number : 148 Question Id : 9983671470 Question Type : MCQ Option Shuffling : Yes

Correct Marks : 1 Wrong Marks : 0.25

Select the part of the sentence that has an error. If there is no error, select No error as the answer.

We must finish this work within eight o'clock.

Options :

1. ✘ We must finish

2. ✘ this work

3. ✔ within eight o'clock.

4. ✘ No error

Question Number : 148 Question Id : 9983671470 Question Type : MCQ Option Shuffling : Yes

Correct Marks : 1 Wrong Marks : 0.25

Select the part of the sentence that has an error. If there is no error, select No error as the answer.

We must finish this work within eight o'clock.

Options :

1. ✘ We must finish

2. ✘ this work

3. ✔ within eight o'clock.

4. ✘ No error

Question Number : 149 Question Id : 9983671471 Question Type : MCQ Option Shuffling : Yes

Correct Marks : 1 Wrong Marks : 0.25

Select the part of the sentence that has an error. If there is no error, select No error as the answer.

The lotus is one of the most beautiful flowers that grows in this garden.

Options :

1. ✘ one of the most beautiful flowers

2. ✔ that grows

3. ✘ in this garden.

4. ✘ No error

Question Number : 149 Question Id : 9983671471 Question Type : MCQ Option Shuffling : Yes

Correct Marks : 1 Wrong Marks : 0.25

Select the part of the sentence that has an error. If there is no error, select No error as the answer.

The lotus is one of the most beautiful flowers that grows in this garden.

Options :

1. ✘ one of the most beautiful flowers

2. ✔ that grows

3. ✘ in this garden.

4. ✘ No error

Question Number : 150 Question Id : 9983671472 Question Type : MCQ Option Shuffling : Yes

Correct Marks : 1 Wrong Marks : 0.25

Arrange parts of the sentence in meaningful order.

- A. The most fascinating element
- B. on board
- C. you meet
- D. the variety of people
- E. of train travel is

Options :

1. ✓ AEDCB

2. ✗ ACEBD

3. ✗ ACDEB

4. ✗ ABECD

Question Number : 150 Question Id : 9983671472 Question Type : MCQ Option Shuffling : Yes

Correct Marks : 1 Wrong Marks : 0.25

Arrange parts of the sentence in meaningful order.

- A. The most fascinating element
- B. on board
- C. you meet
- D. the variety of people
- E. of train travel is

Options :

1. ✓ AEDCB

2. ✗ ACEBD

3. ✖ ACDEB

4. ✖ ABECD

Sub-Section Number: 2
Sub-Section Id: 99836775
Question Shuffling Allowed : Yes

Question Id : 9983671473 Question Type : COMPREHENSION Sub Question Shuffling Allowed : Yes Group Comprehension Questions : No

Question Numbers : (151 to 155)

Question Label : Comprehension

Read the following passage and answer the questions given after it.

Hunting has been a major cause of the decline in elephant populations. Elephants became prized trophies for big-game hunters after Europeans arrived in Africa. More recently, and more devastatingly, hunters have slaughtered elephants for their ivory tusks. The ivory trade became a serious threat to elephants in the 1970s.

A sudden oil shortage caused the world economy to collapse, and ivory became more valuable than gold. In fact, ivory has been called “white gold” because it is beautiful, easily carved, durable, and pleasing to the touch. Most of the world’s ivory is carved in Japan, Hong Kong, and other Asian countries, where skilled carvers depend on a supply of ivory for their livelihoods.

Hunting elephants is no longer legal in many African countries, but poaching was widespread until very recently. For many the high price of ivory, about \$100 a pound in the 1980s, was too tempting to resist. Local people often had few other ways to make a living, and subsistence farmers or herders could make more by selling the tusks of one elephant than they could make in a dozen years of farming or herding.

As the price of ivory soared, poachers became more organized, using automatic weapons, motorized vehicles, and airplanes to chase and kill thousands of elephants. To governments and revolutionaries mired in civil wars and strapped for cash, poaching ivory became a way to pay for more firearms and supplies.

Poaching has caused the collapse of elephants’ social structure as well as decimating their numbers. Poachers target the biggest elephants because their tusks are larger. They often kill all the adults in the group, leaving young elephants without any adults to teach them migration routes, dry-season water sources, and other learned behavior. Many of Africa’s remaining elephant groups are leaderless sub-adults and juveniles.

Question Number : 151 Question Id : 9983671474 Question Type : MCQ Option Shuffling : Yes
Correct Marks : 1 Wrong Marks : 0.25

The main theme of the passage is:

Options :

1. ✘ poaching of elephants in Africa
2. ✘ importance of ivory
3. ✔ the cause of decline in elephant population
4. ✘ decline of the social structure of elephants

Question Number : 152 Question Id : 9983671475 Question Type : MCQ Option Shuffling : Yes
Correct Marks : 1 Wrong Marks : 0.25

Ivory became more valuable than gold because:

Options :

1. ✘ it is very beautiful to look at.
2. ✔ it fetched very good price.
3. ✘ it was an easy source of income.
4. ✘ the world economy had collapsed.

Question Number : 153 Question Id : 9983671476 Question Type : MCQ Option Shuffling : Yes
Correct Marks : 1 Wrong Marks : 0.25

The killing has caused the social structure of elephants collapse. Why?

Options :

1. ✘ The number of elephants is reduced in a group.

2. ✓ The adult elephants are not there to guide the young ones.

3. ✘ Sub- adults and juveniles do not lead the group.

4. ✘ The biggest elephants are killed as their tusks are larger.

Question Number : 154 Question Id : 9983671477 Question Type : MCQ Option Shuffling : Yes

Correct Marks : 1 Wrong Marks : 0.25

Which of the following people interested in poaching are not from African continent?

Options :

1. ✘ subsistence farmers

2. ✘ revolutionaries

3. ✘ governments held up in war

4. ✓ skilled carvers

Question Number : 155 Question Id : 9983671478 Question Type : MCQ Option Shuffling : Yes

Correct Marks : 1 Wrong Marks : 0.25

Which of the following is the correct sentence?

Options :

1. ✓ Poaching has caused the collapse of elephants' social structure

2. ✘ Raiding has caused the collapse of elephants' social structure

3. ✖ Importing has caused the collapse of elephants' social structure

4. ✖ Mending has caused the collapse of elephants' social structure

Question Id : 9983671473 Question Type : COMPREHENSION Sub Question Shuffling Allowed : Yes Group Comprehension Questions : No

Question Numbers : (151 to 155)

Question Label : Comprehension

Read the following passage and answer the questions given after it.

Hunting has been a major cause of the decline in elephant populations. Elephants became prized trophies for big-game hunters after Europeans arrived in Africa. More recently, and more devastatingly, hunters have slaughtered elephants for their ivory tusks. The ivory trade became a serious threat to elephants in the 1970s.

A sudden oil shortage caused the world economy to collapse, and ivory became more valuable than gold. In fact, ivory has been called “white gold” because it is beautiful, easily carved, durable, and pleasing to the touch. Most of the world’s ivory is carved in Japan, Hong Kong, and other Asian countries, where skilled carvers depend on a supply of ivory for their livelihoods.

Hunting elephants is no longer legal in many African countries, but poaching was widespread until very recently. For many the high price of ivory, about \$100 a pound in the 1980s, was too tempting to resist. Local people often had few other ways to make a living, and subsistence farmers or herders could make more by selling the tusks of one elephant than they could make in a dozen years of farming or herding.

As the price of ivory soared, poachers became more organized, using automatic weapons, motorized vehicles, and airplanes to chase and kill thousands of elephants. To governments and revolutionaries mired in civil wars and strapped for cash, poaching ivory became a way to pay for more firearms and supplies.

Poaching has caused the collapse of elephants’ social structure as well as decimating their numbers. Poachers target the biggest elephants because their tusks are larger. They often kill all the adults in the group, leaving young elephants without any adults to teach them migration routes, dry-season water sources, and other learned behavior. Many of Africa’s remaining elephant groups are leaderless sub-adults and juveniles.

Question Number : 151 Question Id : 9983671474 Question Type : MCQ Option Shuffling : Yes
Correct Marks : 1 Wrong Marks : 0.25

The main theme of the passage is:

Options :

1. ✘ poaching of elephants in Africa
2. ✘ importance of ivory
3. ✔ the cause of decline in elephant population
4. ✘ decline of the social structure of elephants

Question Number : 152 Question Id : 9983671475 Question Type : MCQ Option Shuffling : Yes
Correct Marks : 1 Wrong Marks : 0.25

Ivory became more valuable than gold because:

Options :

1. ✘ it is very beautiful to look at.
2. ✔ it fetched very good price.
3. ✘ it was an easy source of income.
4. ✘ the world economy had collapsed.

Question Number : 153 Question Id : 9983671476 Question Type : MCQ Option Shuffling : Yes
Correct Marks : 1 Wrong Marks : 0.25

The killing has caused the social structure of elephants collapse. Why?

Options :

1. ✘ The number of elephants is reduced in a group.
2. ✔ The adult elephants are not there to guide the young ones.
3. ✘ Sub- adults and juveniles do not lead the group.
4. ✘ The biggest elephants are killed as their tusks are larger.

Question Number : 154 Question Id : 9983671477 Question Type : MCQ Option Shuffling : Yes
Correct Marks : 1 Wrong Marks : 0.25

Which of the following people interested in poaching are not from African continent?

Options :

1. ✘ subsistence farmers
2. ✘ revolutionaries
3. ✘ governments held up in war
4. ✔ skilled carvers

Question Number : 155 Question Id : 9983671478 Question Type : MCQ Option Shuffling : Yes
Correct Marks : 1 Wrong Marks : 0.25

Which of the following is the correct sentence?

Options :

1. ✓ Poaching has caused the collapse of elephants' social structure

2. ✘ Raiding has caused the collapse of elephants' social structure

3. ✘ Importing has caused the collapse of elephants' social structure

4. ✘ Mending has caused the collapse of elephants' social structure

Sub-Section Number: 3
Sub-Section Id: 99836776
Question Shuffling Allowed : Yes

Question Id : 9983671479 Question Type : COMPREHENSION Sub Question Shuffling Allowed : Yes Group Comprehension Questions : No

Question Numbers : (156 to 160)

Question Label : Comprehension

Read the following passage and answer the questions given after it.

Climate change is a long-term shift in global or regional climate patterns. Often climate change refers specifically to the rise in global temperatures from the mid 20th century to the present.

Earth's climate has changed many times. For example, fossils from the Cretaceous period (144 to 65 million years ago) show that Earth was much warmer than it is today. Fossilized plants and animals that normally live in warm environments have been found at much higher latitudes than they could survive at today. For instance, breadfruit trees, now found on tropical islands, grew as far north as Greenland.

Earth has also experienced several major ice ages — at least four in the past 500,000 years. During these periods, Earth's temperature decreased, causing an expansion of ice sheets and glaciers. The most recent Ice Age began about 2 million years ago and peaked about 20,000 years ago. The ice caps began retreating 18,000 years ago. They have not disappeared completely, however. Their presence in Antarctica and Greenland suggests the Earth is still in a sort of ice age. Many scientists believe we are in an interglacial period, when warmer temperatures have caused the ice caps to recede. Many centuries from now, the glaciers may advance again.

Climatologists look for evidence of past climate change in many different places. Like clumsy criminals, glaciers leave many clues behind them. They scratch and scour rocks as they move. They deposit sediment known as glacial till. This sediment sometimes forms mounds or ridges called moraines. Glaciers also form elongated oval hills known as drumlins. All of these geographic features on land that currently has no glaciers suggest that glaciers were once there.

Scientists also have chemical evidence of ice ages from sediments and sedimentary rocks. Some rocks only form from glacial material. Their presence under the ocean or on land also tells scientists that glaciers were once present in these areas.

Sub questions

Question Number : 156 Question Id : 9983671480 Question Type : MCQ Option Shuffling : Yes

Correct Marks : 1 Wrong Marks : 0.25

The finding of fossils of breadfruit trees in Greenland indicates that:

Options :

1. ✘ earth has experienced several ice ages
2. ✘ breadfruit trees can survive in cold places like Greenland.
3. ✔ 65 million years ago earth was much warmer than today.
4. ✘ the global temperature has been rising from the mid 20th century.

Question Number : 157 Question Id : 9983671481 Question Type : MCQ Option Shuffling : Yes

Correct Marks : 1 Wrong Marks : 0.25

“They scratch and scour rocks”. In this line ‘they’ refers to:

Options :

1. ✘ climatologists
2. ✔ glaciers
3. ✘ criminals
4. ✘ clues

Question Number : 158 Question Id : 9983671482 Question Type : MCQ Option Shuffling : Yes

Correct Marks : 1 Wrong Marks : 0.25

The oval hills formed by glaciers are known as:

Options :

1. ✖ sediments

2. ✖ moraines

3. ✖ glacial tills

4. ✔ drumlins

Question Number : 159 Question Id : 9983671483 Question Type : MCQ Option Shuffling : Yes

Correct Marks : 1 Wrong Marks : 0.25

Which of the following shows that glaciers were present where there is ocean now?

Options :

1. ✖ the presence of ice caps in Antarctica and Greenland

2. ✖ the presence of warm climate plant fossils in higher latitudes

3. ✔ the presence of the rocks formed of glacial material under the ocean

4. ✖ the presence of moraines in areas where there are no glaciers

Question Number : 160 Question Id : 9983671484 Question Type : MCQ Option Shuffling : Yes

Correct Marks : 1 Wrong Marks : 0.25

The most recent Ice Age began about:

Options :

1. ✔ 2 million years ago

2. ✖ 1 million years ago

3. ✖ 3 million years ago

4. ✖ 4 million years ago

Question Id : 9983671479 Question Type : COMPREHENSION Sub Question Shuffling Allowed : Yes Group Comprehension Questions : No

Question Numbers : (156 to 160)

Question Label : Comprehension

Read the following passage and answer the questions given after it.

Climate change is a long-term shift in global or regional climate patterns. Often climate change refers specifically to the rise in global temperatures from the mid 20th century to the present.

Earth's climate has changed many times. For example, fossils from the Cretaceous period (144 to 65 million years ago) show that Earth was much warmer than it is today. Fossilized plants and animals that normally live in warm environments have been found at much higher latitudes than they could survive at today. For instance, breadfruit trees, now found on tropical islands, grew as far north as Greenland.

Earth has also experienced several major ice ages — at least four in the past 500,000 years. During these periods, Earth's temperature decreased, causing an expansion of ice sheets and glaciers. The most recent Ice Age began about 2 million years ago and peaked about 20,000 years ago. The ice caps began retreating 18,000 years ago. They have not disappeared completely, however. Their presence in Antarctica and Greenland suggests the Earth is still in a sort of ice age. Many scientists believe we are in an interglacial period, when warmer temperatures have caused the ice caps to recede. Many centuries from now, the glaciers may advance again.

Climatologists look for evidence of past climate change in many different places. Like clumsy criminals, glaciers leave many clues behind them. They scratch and scour rocks as they move. They deposit sediment known as glacial till. This sediment sometimes forms mounds or ridges called moraines. Glaciers also form elongated oval hills known as drumlins. All of these geographic features on land that currently has no glaciers suggest that glaciers were once there.

Scientists also have chemical evidence of ice ages from sediments and sedimentary rocks. Some rocks only form from glacial material. Their presence under the ocean or on land also tells scientists that glaciers were once present in these areas.

Sub questions

Question Number : 156 Question Id : 9983671480 Question Type : MCQ Option Shuffling : Yes

Correct Marks : 1 Wrong Marks : 0.25

The finding of fossils of breadfruit trees in Greenland indicates that:

Options :

1. ✘ earth has experienced several ice ages
2. ✘ breadfruit trees can survive in cold places like Greenland.
3. ✔ 65 million years ago earth was much warmer than today.
4. ✘ the global temperature has been rising from the mid 20th century.

Question Number : 157 Question Id : 9983671481 Question Type : MCQ Option Shuffling : Yes

Correct Marks : 1 Wrong Marks : 0.25

“They scratch and scour rocks”. In this line ‘they’ refers to:

Options :

1. ✘ climatologists
2. ✔ glaciers
3. ✘ criminals
4. ✘ clues

Question Number : 158 Question Id : 9983671482 Question Type : MCQ Option Shuffling : Yes

Correct Marks : 1 Wrong Marks : 0.25

The oval hills formed by glaciers are known as:

Options :

1. ✘ sediments
2. ✘ moraines
3. ✘ glacial tills
4. ✔ drumlins

Question Number : 159 Question Id : 9983671483 Question Type : MCQ Option Shuffling : Yes

Correct Marks : 1 Wrong Marks : 0.25

Which of the following shows that glaciers were present where there is ocean now?

Options :

1. ✘ the presence of ice caps in Antarctica and Greenland
2. ✘ the presence of warm climate plant fossils in higher latitudes
3. ✔ the presence of the rocks formed of glacial material under the ocean
4. ✘ the presence of moraines in areas where there are no glaciers

Question Number : 160 Question Id : 9983671484 Question Type : MCQ Option Shuffling : Yes

Correct Marks : 1 Wrong Marks : 0.25

The most recent Ice Age began about:

Options :

1. ✓ 2 million years ago

2. ✗ 1 million years ago

3. ✗ 3 million years ago

4. ✗ 4 million years ago

General Hindi1

Group Number :	9
Group Id :	99836735
Group Maximum Duration :	0
Group Minimum Duration :	0
Show Attended Group? :	No
Edit Attended Group? :	No
Break time:	0
Group Marks:	20
Is this Group for Examiner?:	No
Revisit allowed for group Instructions? :	Yes
Maximum Instruction Time:	0
Minimum Instruction Time:	0

General Hindi1

Section Id :	99836741
Section Number :	1
Section type :	Online
Mandatory or Optional:	Mandatory
Number of Questions:	20
Number of Questions to be attempted:	20
Section Marks:	20

Sub-Section Id:

99836777

Question Shuffling Allowed :

Yes

Question Number : 161 Question Id : 9983671485 Question Type : MCQ Option Shuffling : Yes

Correct Marks : 1 Wrong Marks : 0.25

निम्न में कौन सा शब्द तद्भव है?

Options :

1. ✘ संधि

2. ✘ सुगंध

3. ✔ सूरज

4. ✘ शून्य

Question Number : 161 Question Id : 9983671485 Question Type : MCQ Option Shuffling : Yes

Correct Marks : 1 Wrong Marks : 0.25

निम्न में कौन सा शब्द तद्भव है?

Options :

1. ✘ संधि

2. ✘ सुगंध

3. ✔ सूरज

4. ✘ शून्य

Question Number : 162 Question Id : 9983671486 Question Type : MCQ Option Shuffling : Yes

Correct Marks : 1 Wrong Marks : 0.25

निम्न में से कौन सा शब्द तद्भव नहीं है?

Options :

1. ✘ हरा

2. ✔ हास्य

3. ✘ हल्दी

4. ✘ हाथ

Question Number : 162 Question Id : 9983671486 Question Type : MCQ Option Shuffling : Yes

Correct Marks : 1 Wrong Marks : 0.25

निम्न में से कौन सा शब्द तद्भव नहीं है?

Options :

1. ✘ हरा

2. ✔ हास्य

3. ✘ हल्दी

4. ✘ हाथ

Question Number : 163 Question Id : 9983671487 Question Type : MCQ Option Shuffling : Yes

Correct Marks : 1 Wrong Marks : 0.25

निम्न में से कौन सा शब्द तत्सम है?

Options :

1. ✔ लोचन

2. ✖ लाज

3. ✖ लाख

4. ✖ लोहा

Question Number : 163 Question Id : 9983671487 Question Type : MCQ Option Shuffling : Yes
Correct Marks : 1 Wrong Marks : 0.25

निम्न में से कौन सा शब्द तत्सम है?

Options :

1. ✔ लोचन

2. ✖ लाज

3. ✖ लाख

4. ✖ लोहा

Question Number : 164 Question Id : 9983671488 Question Type : MCQ Option Shuffling : Yes
Correct Marks : 1 Wrong Marks : 0.25

निम्न में से कौन सा शब्द तत्सम नहीं है?

Options :

1. ✖ मस्तक

2. ✖ मित्र

3. ✖ मुख

4. ✔ मोर

Question Number : 164 Question Id : 9983671488 Question Type : MCQ Option Shuffling : Yes
Correct Marks : 1 Wrong Marks : 0.25

निम्न में से कौन सा शब्द तत्सम नहीं है?

Options :

1. ✖ मस्तक

2. ✖ मित्र

3. ✖ मुख

4. ✔ मोर

Question Number : 165 Question Id : 9983671489 Question Type : MCQ Option Shuffling : Yes
Correct Marks : 1 Wrong Marks : 0.25

निम्न में से कौन सा शब्द देशज है?

Options :

1. ✖ अग्नि

2. ✖ वत्स

3. ✔ डिबिया

4. ✖ पुष्प

Question Number : 165 Question Id : 9983671489 Question Type : MCQ Option Shuffling : Yes
Correct Marks : 1 Wrong Marks : 0.25

निम्न में से कौन सा शब्द देशज है?

Options :

1. ✖ अग्नि

2. ✖ वत्स

3. ✔ डिबिया

4. ✖ पुष्प

Question Number : 166 Question Id : 9983671490 Question Type : MCQ Option Shuffling : Yes
Correct Marks : 1 Wrong Marks : 0.25

निम्न में से कौन सा शब्द विदेशी है?

Options :

1. ✖ घोड़ा

2. ✔ कैंची

3. ✖ खीर

4. ✖ चूल्हा

Question Number : 166 Question Id : 9983671490 Question Type : MCQ Option Shuffling : Yes
Correct Marks : 1 Wrong Marks : 0.25

निम्न में से कौन सा शब्द विदेशी है?

Options :

1. ✘ घोड़ा

2. ✔ कैंची

3. ✘ खीर

4. ✘ चूल्हा

Question Number : 167 Question Id : 9983671491 Question Type : MCQ Option Shuffling : Yes

Correct Marks : 1 Wrong Marks : 0.25

निम्न में से किस शब्द की वर्तनी शुद्ध है?

Options :

1. ✘ सीन्दूर

2. ✘ सीन्दुर

3. ✘ सिन्दुर

4. ✔ सिन्दूर

Question Number : 167 Question Id : 9983671491 Question Type : MCQ Option Shuffling : Yes

Correct Marks : 1 Wrong Marks : 0.25

निम्न में से किस शब्द की वर्तनी शुद्ध है?

Options :

1. ✖ सीन्दूर

2. ✖ सीन्दुर

3. ✖ सिन्दुर

4. ✔ सिन्दूर

Question Number : 168 Question Id : 9983671492 Question Type : MCQ Option Shuffling : Yes
Correct Marks : 1 Wrong Marks : 0.25

'जो पीने योग्य हो' अर्थ के लिए एक शब्द होगा:

Options :

1. ✔ पेय

2. ✖ गेय

3. ✖ हेय

4. ✖ पानी

Question Number : 168 Question Id : 9983671492 Question Type : MCQ Option Shuffling : Yes
Correct Marks : 1 Wrong Marks : 0.25

'जो पीने योग्य हो' अर्थ के लिए एक शब्द होगा:

Options :

1. ✔ पेय

2. ✖ गेय

3. ✖ हेय

4. ✖ पानी

Question Number : 169 Question Id : 9983671493 Question Type : MCQ Option Shuffling : Yes

Correct Marks : 1 Wrong Marks : 0.25

‘जलज’ का अर्थ नहीं होता:

Options :

1. ✖ कमल

2. ✖ मोती

3. ✖ शंख

4. ✔ सूर्य

Question Number : 169 Question Id : 9983671493 Question Type : MCQ Option Shuffling : Yes

Correct Marks : 1 Wrong Marks : 0.25

‘जलज’ का अर्थ नहीं होता:

Options :

1. ✖ कमल

2. ✖ मोती

3. ✖ शंख

4. ✔ सूर्य

Question Number : 170 Question Id : 9983671494 Question Type : MCQ Option Shuffling : Yes
Correct Marks : 1 Wrong Marks : 0.25

'अन्न-अन्य' शब्द युग्म का सही अर्थ है:

Options :

1. ✖ दूसरा - अनाज

2. ✔ अनाज - दूसरा

3. ✖ अनाज - और

4. ✖ कण - दूसरा

Question Number : 170 Question Id : 9983671494 Question Type : MCQ Option Shuffling : Yes
Correct Marks : 1 Wrong Marks : 0.25

'अन्न-अन्य' शब्द युग्म का सही अर्थ है:

Options :

1. ✖ दूसरा - अनाज

2. ✔ अनाज - दूसरा

3. ✖ अनाज - और

4. ✘ कण - दूसरा

Question Number : 171 Question Id : 9983671495 Question Type : MCQ Option Shuffling : Yes
Correct Marks : 1 Wrong Marks : 0.25

‘शीतलता’ किस प्रकार की संज्ञा है?

Options :

1. ✘ पदार्थवाचक

2. ✘ व्यक्तिवाचक

3. ✔ भाववाचक

4. ✘ जातिवाचक

Question Number : 171 Question Id : 9983671495 Question Type : MCQ Option Shuffling : Yes
Correct Marks : 1 Wrong Marks : 0.25

‘शीतलता’ किस प्रकार की संज्ञा है?

Options :

1. ✘ पदार्थवाचक

2. ✘ व्यक्तिवाचक

3. ✔ भाववाचक

4. ✘ जातिवाचक

Question Number : 172 Question Id : 9983671496 Question Type : MCQ Option Shuffling : Yes

Correct Marks : 1 Wrong Marks : 0.25

‘यह’ सर्वनाम का परिमाणवाचक विशेषण है:

Options :

1. ✓ इतना

2. ✘ उतना

3. ✘ कितना

4. ✘ जितना

Question Number : 172 Question Id : 9983671496 Question Type : MCQ Option Shuffling : Yes

Correct Marks : 1 Wrong Marks : 0.25

‘यह’ सर्वनाम का परिमाणवाचक विशेषण है:

Options :

1. ✓ इतना

2. ✘ उतना

3. ✘ कितना

4. ✘ जितना

Question Number : 173 Question Id : 9983671497 Question Type : MCQ Option Shuffling : Yes

Correct Marks : 1 Wrong Marks : 0.25

‘नया’ किस प्रकार का विशेषण है?

Options :

1. ✘ सार्वनामिक
2. ✘ परिमाण बोधक
3. ✘ संख्यावाचक
4. ✔ गुणवाचक

Question Number : 173 Question Id : 9983671497 Question Type : MCQ Option Shuffling : Yes
Correct Marks : 1 Wrong Marks : 0.25

‘नया’ किस प्रकार का विशेषण है?

Options :

1. ✘ सार्वनामिक
2. ✘ परिमाण बोधक
3. ✘ संख्यावाचक
4. ✔ गुणवाचक

Question Number : 174 Question Id : 9983671498 Question Type : MCQ Option Shuffling : Yes
Correct Marks : 1 Wrong Marks : 0.25

निम्न में से कौन सा अकर्मक धातु है?

Options :

1. ✘ पीटना

2. ✖ लूटना

3. ✔ पिसना

4. ✖ मारना

Question Number : 174 Question Id : 9983671498 Question Type : MCQ Option Shuffling : Yes
Correct Marks : 1 Wrong Marks : 0.25

निम्न में से कौन सा अकर्मक धातु है?

Options :

1. ✖ पीटना

2. ✖ लूटना

3. ✔ पिसना

4. ✖ मारना

Question Number : 175 Question Id : 9983671499 Question Type : MCQ Option Shuffling : Yes
Correct Marks : 1 Wrong Marks : 0.25

'लड़का बैठे बैठे खाता है।' वाक्य में क्रिया विशेषण है:

Options :

1. ✖ लड़का

2. ✔ बैठे बैठे

3. ✖ खाता

4. ✖ है।

Question Number : 175 Question Id : 9983671499 Question Type : MCQ Option Shuffling : Yes
Correct Marks : 1 Wrong Marks : 0.25

'लड़का बैठे बैठे खाता है।' वाक्य में क्रिया विशेषण है:

Options :

1. ✖ लड़का

2. ✔ बैठे बैठे

3. ✖ खाता

4. ✖ है।

Question Number : 176 Question Id : 9983671500 Question Type : MCQ Option Shuffling : Yes
Correct Marks : 1 Wrong Marks : 0.25

'आगे, पीछे, लगभग' आदि कैसे अव्यय हैं?

Options :

1. ✔ संबंधसूचक

2. ✖ समुच्चय बोधक

3. ✖ विस्मयादि बोधक

4. ✖ गुण बोधक

Question Number : 176 Question Id : 9983671500 Question Type : MCQ Option Shuffling : Yes

Correct Marks : 1 Wrong Marks : 0.25

'आगे, पीछे, लगभग' आदि कैसे अव्यय हैं?

Options :

1. ✔ संबंधसूचक

2. ✖ समुच्चय बोधक

3. ✖ विस्मयादि बोधक

4. ✖ गुण बोधक

Question Number : 177 Question Id : 9983671501 Question Type : MCQ Option Shuffling : Yes

Correct Marks : 1 Wrong Marks : 0.25

'क्योंकि' किस प्रकार का अव्यय है?

Options :

1. ✖ संबंध सूचक

2. ✔ समुच्चय बोधक

3. ✖ विस्मयादि बोधक

4. ✖ परिमाण बोधक

Question Number : 177 Question Id : 9983671501 Question Type : MCQ Option Shuffling : Yes

Correct Marks : 1 Wrong Marks : 0.25

‘क्योंकि’ किस प्रकार का अव्यय है?

Options :

1. ✘ संबंध सूचक
2. ✔ समुच्चय बोधक
3. ✘ विस्मययादि बोधक
4. ✘ परिमाण बोधक

Question Number : 178 Question Id : 9983671502 Question Type : MCQ Option Shuffling : Yes

Correct Marks : 1 Wrong Marks : 0.25

‘निः + आशा’ का संधि रूप होगा:

Options :

1. ✘ निशा
2. ✘ निआशा
3. ✘ निराश
4. ✔ निराशा

Question Number : 178 Question Id : 9983671502 Question Type : MCQ Option Shuffling : Yes

Correct Marks : 1 Wrong Marks : 0.25

‘निः + आशा’ का संधि रूप होगा:

Options :

1. ✖ निशा

2. ✖ निआशा

3. ✖ निराश

4. ✔ निराशा

Question Number : 179 Question Id : 9983671503 Question Type : MCQ Option Shuffling : Yes

Correct Marks : 1 Wrong Marks : 0.25

‘चक्रपाणि’ में कौन सा समास है?

Options :

1. ✖ तत्पुरुष

2. ✖ द्विगु

3. ✔ बहुब्रीहि

4. ✖ द्वंद्व

Question Number : 179 Question Id : 9983671503 Question Type : MCQ Option Shuffling : Yes

Correct Marks : 1 Wrong Marks : 0.25

‘चक्रपाणि’ में कौन सा समास है?

Options :

1. ✖ तत्पुरुष

2. ✖ दविगु

3. ✔ बहुब्रीहि

4. ✖ द्वंद्व

Question Number : 180 Question Id : 9983671504 Question Type : MCQ Option Shuffling : Yes
Correct Marks : 1 Wrong Marks : 0.25

‘अभ्यास’ में किस उपसर्ग का प्रयोग हुआ है?

Options :

1. ✔ अभि

2. ✖ अ

3. ✖ स

4. ✖ आस

Question Number : 180 Question Id : 9983671504 Question Type : MCQ Option Shuffling : Yes
Correct Marks : 1 Wrong Marks : 0.25

‘अभ्यास’ में किस उपसर्ग का प्रयोग हुआ है?

Options :

1. ✔ अभि

2. ✖ अ

3. ✖ स

4. ✖ आस

General Hindi2

Group Number :	10
Group Id :	99836736
Group Maximum Duration :	0
Group Minimum Duration :	120
Show Attended Group? :	No
Edit Attended Group? :	No
Break time:	0
Group Marks:	20
Is this Group for Examiner?:	No
Revisit allowed for group Instructions? :	Yes
Maximum Instruction Time:	0
Minimum Instruction Time:	0

General Hindi2

Section Id :	99836742
Section Number :	1
Section type :	Online
Mandatory or Optional:	Mandatory
Number of Questions:	12
Number of Questions to be attempted:	12
Section Marks:	20

Sub-Section Number:	1
Sub-Section Id:	99836778
Question Shuffling Allowed :	Yes

Question Number : 181 Question Id : 9983671505 Question Type : MCQ Option Shuffling : Yes
Correct Marks : 1 Wrong Marks : 0.25

‘जब बादल गरजता है तब पानी बरसता है।’ वाक्य में ‘जब बादल गरजता है’ किस प्रकार का उपवाक्य है?

Options :

1. ✖ संज्ञा उपवाक्य

2. ✖ विशेषण उपवाक्य

3. ✖ सर्वनाम उपवाक्य

4. ✔ क्रिया विशेषण उपवाक्य

Question Number : 181 Question Id : 9983671505 Question Type : MCQ Option Shuffling : Yes

Correct Marks : 1 Wrong Marks : 0.25

'जब बादल गरजता है तब पानी बरसता है।' वाक्य में 'जब बादल गरजता है' किस प्रकार का उपवाक्य है?

Options :

1. ✖ संज्ञा उपवाक्य

2. ✖ विशेषण उपवाक्य

3. ✖ सर्वनाम उपवाक्य

4. ✔ क्रिया विशेषण उपवाक्य

Question Number : 182 Question Id : 9983671506 Question Type : MCQ Option Shuffling : Yes

Correct Marks : 1 Wrong Marks : 0.25

रचना के अनुसार वाक्य का प्रकार है:

Options :

1. ✖ विधिवाक्य

2. ✔ सरलवाक्य

3. ✖ आज्ञावाक्य

4. ✖ निषेधवाक्य

Question Number : 182 Question Id : 9983671506 Question Type : MCQ Option Shuffling : Yes
Correct Marks : 1 Wrong Marks : 0.25

रचना के अनुसार वाक्य का प्रकार है:

Options :

1. ✖ विधिवाक्य

2. ✔ सरलवाक्य

3. ✖ आज्ञावाक्य

4. ✖ निषेधवाक्य

Question Number : 183 Question Id : 9983671507 Question Type : MCQ Option Shuffling : Yes
Correct Marks : 1 Wrong Marks : 0.25

‘मानव पढ़ चुका, तब वह आया।’ किस प्रकार का वाक्य है?

Options :

1. ✖ सरल वाक्य

2. ✖ संयुक्त वाक्य

3. ✔ मिश्र वाक्य

4. ✖ उपवाक्य

Question Number : 183 Question Id : 9983671507 Question Type : MCQ Option Shuffling : Yes
Correct Marks : 1 Wrong Marks : 0.25

‘मानव पढ़ चुका, तब वह आया।’ किस प्रकार का वाक्य है?

Options :

1. ✖ सरल वाक्य

2. ✖ संयुक्त वाक्य

3. ✔ मिश्र वाक्य

4. ✖ उपवाक्य

Question Number : 184 Question Id : 9983671508 Question Type : MCQ Option Shuffling : Yes
Correct Marks : 1 Wrong Marks : 0.25

पदक्रम की दृष्टि से कौन सा वाक्य शुद्ध है?

Options :

1. ✖ धीरे-धीरे पढ़ते हैं अच्छे लड़के।

2. ✖ पढ़ते हैं धीरे-धीरे अच्छे लड़के।

3. ✔ अच्छे लड़के धीरे-धीरे पढ़ते हैं।

4. ✖ अच्छे लड़के पढ़ते हैं धीरे-धीरे।

Question Number : 184 Question Id : 9983671508 Question Type : MCQ Option Shuffling : Yes

Correct Marks : 1 Wrong Marks : 0.25

पदक्रम की दृष्टि से कौन सा वाक्य शुद्ध है?

Options :

1. ✘ धीरे-धीरे पढ़ते हैं अच्छे लड़के।
2. ✘ पढ़ते हैं धीरे-धीरे अच्छे लड़के।
3. ✔ अच्छे लड़के धीरे-धीरे पढ़ते हैं।
4. ✘ अच्छे लड़के पढ़ते हैं धीरे-धीरे।

Question Number : 185 Question Id : 9983671509 Question Type : MCQ Option Shuffling : Yes

Correct Marks : 1 Wrong Marks : 0.25

'व्योम' किसका पर्यायवाची है?

Options :

1. ✘ पहाड़
2. ✘ सूर्य
3. ✘ चन्द्र
4. ✔ आकाश

Question Number : 185 Question Id : 9983671509 Question Type : MCQ Option Shuffling : Yes

Correct Marks : 1 Wrong Marks : 0.25

'व्योम' किसका पर्यायवाची है?

Options :

1. ✖ पहाड़

2. ✖ सूर्य

3. ✖ चन्द्र

4. ✔ आकाश

Question Number : 186 Question Id : 9983671510 Question Type : MCQ Option Shuffling : Yes
Correct Marks : 1 Wrong Marks : 0.25

आँख का पर्यायवाची नहीं है:

Options :

1. ✔ तुरंग

2. ✖ लोचन

3. ✖ चक्षु

4. ✖ दृग

Question Number : 186 Question Id : 9983671510 Question Type : MCQ Option Shuffling : Yes
Correct Marks : 1 Wrong Marks : 0.25

आँख का पर्यायवाची नहीं है:

Options :

1. ✔ तुरंग

2. ✖ लोचन

3. ✖ चक्षु

4. ✖ दृग

Question Number : 187 Question Id : 9983671511 Question Type : MCQ Option Shuffling : Yes

Correct Marks : 1 Wrong Marks : 0.25

‘पुष्प’ का पर्यायवाची है:

Options :

1. ✖ पुष्कर

2. ✔ प्रसून

3. ✖ पादप

4. ✖ पतंग

Question Number : 187 Question Id : 9983671511 Question Type : MCQ Option Shuffling : Yes

Correct Marks : 1 Wrong Marks : 0.25

‘पुष्प’ का पर्यायवाची है:

Options :

1. ✖ पुष्कर

2. ✔ प्रसून

3. ✖ पादप

4. ✖ पतंग

Question Number : 188 Question Id : 9983671512 Question Type : MCQ Option Shuffling : Yes
Correct Marks : 1 Wrong Marks : 0.25

'यामिनी' किसका पर्यायवाची है?

Options :

1. ✔ रात्रि

2. ✖ बिजली

3. ✖ स्त्री

4. ✖ देवी

Question Number : 188 Question Id : 9983671512 Question Type : MCQ Option Shuffling : Yes
Correct Marks : 1 Wrong Marks : 0.25

'यामिनी' किसका पर्यायवाची है?

Options :

1. ✔ रात्रि

2. ✖ बिजली

3. ✖ स्त्री

4. ✖ देवी

Question Number : 189 Question Id : 9983671513 Question Type : MCQ Option Shuffling : Yes
Correct Marks : 1 Wrong Marks : 0.25

‘आचार’ का विलोम होगा:

Options :

1. ✖ विचार

2. ✖ समाचार

3. ✔ अनाचार

4. ✖ संचार

Question Number : 189 Question Id : 9983671513 Question Type : MCQ Option Shuffling : Yes
Correct Marks : 1 Wrong Marks : 0.25

‘आचार’ का विलोम होगा:

Options :

1. ✖ विचार

2. ✖ समाचार

3. ✔ अनाचार

4. ✖ संचार

Question Number : 190 Question Id : 9983671514 Question Type : MCQ Option Shuffling : Yes
Correct Marks : 1 Wrong Marks : 0.25

'आविर्भाव' का विलोम होगा:

Options :

1. ✘ प्रभाव

2. ✘ अनुभाव

3. ✘ भाव

4. ✔ तिरोभाव

Question Number : 190 Question Id : 9983671514 Question Type : MCQ Option Shuffling : Yes

Correct Marks : 1 Wrong Marks : 0.25

'आविर्भाव' का विलोम होगा:

Options :

1. ✘ प्रभाव

2. ✘ अनुभाव

3. ✘ भाव

4. ✔ तिरोभाव

Sub-Section Number: 2
Sub-Section Id: 99836779
Question Shuffling Allowed : Yes

Question Id : 9983671515 Question Type : COMPREHENSION Sub Question Shuffling Allowed : Yes Group Comprehension Questions : No

Question Numbers : (191 to 195)

Question Label : Comprehension

नीचे दिये गए गद्यांश को पढ़कर पूछे गये प्रश्नों के उत्तर दीजिए।

वर्तमान युग में पत्रकारिता के प्रति इतनी रुचि पैदा हो गई है कि सुबह पत्रों से ही दिनचर्या आरंभ होती है। समाचार-पत्र तो जीवन में इस प्रकार घुल मिल गया है कि इसके बिना हम किसी भी दिन के शुभारंभ की कल्पना ही नहीं कर सकते। पत्रकारिता आज के जागरूक नागरिक का अभिन्न अंग हो गयी है। पत्र आते ही शिक्षित नागरिक राजनीति, नौकरी, सिनेमा, खेलकूद, पुस्तक समीक्षा, नये फैशन आदि पर नजर डालता है और ये सूचनाएं समाज के प्रति व्यक्ति के लिए अनिवार्य संसाधन बन गयी हैं। पत्रकारिता में जीवन के यथार्थ को अधिकाधिक रूप से समाज को प्रभावित करने की जो क्षमता होती है यदि उसमें पूर्ण सच्चाई हो तो क्षमता को और भी बल मिलता है और अनिवार्यतः समाज उससे प्रभावित होता है।

Sub questions

Question Number : 191 Question Id : 9983671516 Question Type : MCQ Option Shuffling : Yes Correct Marks : 1 Wrong Marks : 0.25

‘अभिन्न’ का अर्थ है:

Options :

1. ✖ अंश

2. ✖ अधूरा

3. ✔ अटूट

4. ✖ निकट

Question Number : 192 Question Id : 9983671517 Question Type : MCQ Option Shuffling : Yes Correct Marks : 1 Wrong Marks : 0.25

‘अनिवार्य’ का आशय है:

Options :

1. ✓ आवश्यक

2. ✘ अनावश्यक

3. ✘ फिजूल

4. ✘ ज्ञानवर्धक

Question Number : 193 Question Id : 9983671518 Question Type : MCQ Option Shuffling : Yes
Correct Marks : 1 Wrong Marks : 0.25

‘यथार्थ’ का अर्थ होता है:

Options :

1. ✘ काल्पनिक

2. ✓ वास्तविक

3. ✘ वीभत्स

4. ✘ संघर्ष

Question Number : 194 Question Id : 9983671519 Question Type : MCQ Option Shuffling : Yes
Correct Marks : 1 Wrong Marks : 0.25

गद्यांश का केंद्रीय विषय है:

Options :

1. ✘ दिनचर्या

2. ✘ नागरिक

3. ✖ संसाधन

4. ✔ पत्रकारिता

Question Number : 195 Question Id : 9983671520 Question Type : MCQ Option Shuffling : Yes
Correct Marks : 1 Wrong Marks : 0.25

‘आरंभ’ का अर्थ यह नहीं होता है:

Options :

1. ✖ शुरुआत

2. ✖ प्रारंभ

3. ✖ सूत्रपात

4. ✔ संपूरित

Question Id : 9983671515 Question Type : COMPREHENSION Sub Question Shuffling Allowed : Yes Group Comprehension
Questions : No

Question Numbers : (191 to 195)

Question Label : Comprehension

नीचे दिये गए गद्यांश को पढ़कर पूछे गये प्रश्नों के उत्तर दीजिए।

वर्तमान युग में पत्रकारिता के प्रति इतनी रुचि पैदा हो गई है कि सुबह पत्रों से ही दिनचर्या आरंभ होती है। समाचार-पत्र तो जीवन में इस प्रकार घुल मिल गया है कि इसके बिना हम किसी भी दिन के शुभारंभ की कल्पना ही नहीं कर सकते। पत्रकारिता आज के जागरूक नागरिक का अभिन्न अंग हो गयी है। पत्र आते ही शिक्षित नागरिक राजनीति, नौकरी, सिनेमा, खेलकूद, पुस्तक समीक्षा, नये फैशन आदि पर नजर डालता है और ये सूचनाएं समाज के प्रति व्यक्ति के लिए अनिवार्य संसाधन बन गयी हैं। पत्रकारिता में जीवन के यथार्थ को अधिकाधिक रूप से समाज को प्रभावित करने की जो क्षमता होती है यदि उसमें पूर्ण सच्चाई हो तो क्षमता को और भी बल मिलता है और अनिवार्यतः समाज उससे प्रभावित होता है।

Sub questions

Question Number : 191 Question Id : 9983671516 Question Type : MCQ Option Shuffling : Yes
Correct Marks : 1 Wrong Marks : 0.25

‘अभिन्न’ का अर्थ है:

Options :

1. ✘ अंश
2. ✘ अधूरा
3. ✔ अटूट
4. ✘ निकट

Question Number : 192 Question Id : 9983671517 Question Type : MCQ Option Shuffling : Yes
Correct Marks : 1 Wrong Marks : 0.25

‘अनिवार्य’ का आशय है:

Options :

1. ✓ आवश्यक

2. ✘ अनावश्यक

3. ✘ फिजूल

4. ✘ ज्ञानवर्धक

Question Number : 193 Question Id : 9983671518 Question Type : MCQ Option Shuffling : Yes
Correct Marks : 1 Wrong Marks : 0.25

‘यथार्थ’ का अर्थ होता है:

Options :

1. ✘ काल्पनिक

2. ✓ वास्तविक

3. ✘ वीभत्स

4. ✘ संघर्ष

Question Number : 194 Question Id : 9983671519 Question Type : MCQ Option Shuffling : Yes
Correct Marks : 1 Wrong Marks : 0.25

गद्यांश का केंद्रीय विषय है:

Options :

1. ✘ दिनचर्या

2. ✘ नागरिक

3. ✘ संसाधन

4. ✔ पत्रकारिता

Question Number : 195 Question Id : 9983671520 Question Type : MCQ Option Shuffling : Yes

Correct Marks : 1 Wrong Marks : 0.25

'आरंभ' का अर्थ यह नहीं होता है:

Options :

1. ✘ शुरुआत

2. ✘ प्रारंभ

3. ✘ सूत्रपात

4. ✔ संपूरित

Sub-Section Number: 3
Sub-Section Id: 99836780
Question Shuffling Allowed : Yes

Question Id : 9983671521 Question Type : COMPREHENSION Sub Question Shuffling Allowed : Yes Group Comprehension Questions : No

Question Numbers : (196 to 200)

Question Label : Comprehension

नीचे दिये गए गद्यांश को पढ़कर पूछे गये प्रश्नों के उत्तर दीजिए।

भारतवर्ष की सबसे बड़ी विशेषता यहाँ व्याप्त विविधता में एकता है और यह विविधता समाज के हर स्तर पर देखी जाती है। इन्हीं विशेषताओं में ही भाषायी विविधता का भी अपना एक अलग ही स्वरूप है। यहाँ जितनी विविधता भाषाओं की है उतनी ही विविधता मानवीय संस्कृतियों की भी है। परंतु इन सबके बीच सबसे खास बात यह है कि अलग-अलग राज्यों और विभिन्न संस्कृतियों का प्रतिनिधित्व करती सभी अलग-अलग भाषाओं को आपस में जोड़ने का काम करती है हिन्दी भाषा। भारत की कई भाषाओं के मध्य राजभाषा, संपर्क भाषा और राष्ट्रभाषा के रूप में अपना स्थान बनाने वाली एक मात्र भाषा हिन्दी ही है। भाषा मनुष्य की मानसिक और बौद्धिक स्वतन्त्रता की सूचक होती है साथ ही भाषा से उत्पन्न होने वाली शक्ति हमारी संस्कृति की गतिशीलता की पहचान का परिणाम भी है।

Sub questions

Question Number : 196 Question Id : 9983671522 Question Type : MCQ Option Shuffling : Yes Correct Marks : 1 Wrong Marks : 0.25

भारतवर्ष की सबसे बड़ी विशेषता है:

Options :

1. ✖ विविधता
2. ✖ एकता
3. ✔ विविधता में एकता
4. ✖ एकता में विविधता

Question Number : 197 Question Id : 9983671523 Question Type : MCQ Option Shuffling : Yes Correct Marks : 1 Wrong Marks : 0.25

अलग-अलग भाषाओं को आपस में जोड़ने का काम कौन सी भाषा करती है?

Options :

1. ✘ संस्कृत
2. ✘ प्राकृत
3. ✘ अपभ्रंश
4. ✔ हिन्दी

Question Number : 198 Question Id : 9983671524 Question Type : MCQ Option Shuffling : Yes
Correct Marks : 1 Wrong Marks : 0.25

भाषा किसका सूचक होती है?

Options :

1. ✘ मानसिक और बौद्धिक परतंत्रता
2. ✔ मानसिक और बौद्धिक स्वतन्त्रता
3. ✘ शारीरिक स्वतन्त्रता
4. ✘ भौतिक स्वतन्त्रता

Question Number : 199 Question Id : 9983671525 Question Type : MCQ Option Shuffling : Yes
Correct Marks : 1 Wrong Marks : 0.25

गद्यांश का उपयुक्त शीर्षक होगा:

Options :

1. ✔ भारत का भाषायी वैशिष्ट्य
2. ✘ भारत का भौगोलिक वैशिष्ट्य

3. ✖ भारत की भाषायी समस्या

4. ✖ भारत की सांस्कृतिक समस्या

Question Number : 200 Question Id : 9983671526 Question Type : MCQ Option Shuffling : Yes

Correct Marks : 1 Wrong Marks : 0.25

‘बौद्धिक’ का अर्थ होता है:

Options :

1. ✔ दिमागी

2. ✖ भौतिक

3. ✖ दैहिक

4. ✖ प्राकृतिक

Question Id : 9983671521 Question Type : COMPREHENSION Sub Question Shuffling Allowed : Yes Group Comprehension Questions : No

Question Numbers : (196 to 200)

Question Label : Comprehension

नीचे दिये गए गद्यांश को पढ़कर पूछे गये प्रश्नों के उत्तर दीजिए।

भारतवर्ष की सबसे बड़ी विशेषता यहाँ व्याप्त विविधता में एकता है और यह विविधता समाज के हर स्तर पर देखी जाती है। इन्हीं विशेषताओं में ही भाषायी विविधता का भी अपना एक अलग ही स्वरूप है। यहाँ जितनी विविधता भाषाओं की है उतनी ही विविधता मानवीय संस्कृतियों की भी है। परंतु इन सबके बीच सबसे खास बात यह है कि अलग-अलग राज्यों और विभिन्न संस्कृतियों का प्रतिनिधित्व करती सभी अलग-अलग भाषाओं को आपस में जोड़ने का काम करती है हिन्दी भाषा। भारत की कई भाषाओं के मध्य राजभाषा, संपर्क भाषा और राष्ट्रभाषा के रूप में अपना स्थान बनाने वाली एक मात्र भाषा हिन्दी ही है। भाषा मनुष्य की मानसिक और बौद्धिक स्वतन्त्रता की सूचक होती है साथ ही भाषा से उत्पन्न होने वाली शक्ति हमारी संस्कृति की गतिशीलता की पहचान का परिणाम भी है।

Sub questions

Question Number : 196 Question Id : 9983671522 Question Type : MCQ Option Shuffling : Yes
Correct Marks : 1 Wrong Marks : 0.25

भारतवर्ष की सबसे बड़ी विशेषता है:

Options :

1. ✘ विविधता
2. ✘ एकता
3. ✔ विविधता में एकता
4. ✘ एकता में विविधता

Question Number : 197 Question Id : 9983671523 Question Type : MCQ Option Shuffling : Yes
Correct Marks : 1 Wrong Marks : 0.25

अलग-अलग भाषाओं को आपस में जोड़ने का काम कौन सी भाषा करती है?

Options :

1. ✘ संस्कृत
2. ✘ प्राकृत
3. ✘ अपभ्रंश
4. ✔ हिन्दी

Question Number : 198 Question Id : 9983671524 Question Type : MCQ Option Shuffling : Yes
Correct Marks : 1 Wrong Marks : 0.25

भाषा किसका सूचक होती है?

Options :

1. ✘ मानसिक और बौद्धिक परतंत्रता
2. ✔ मानसिक और बौद्धिक स्वतन्त्रता
3. ✘ शारीरिक स्वतन्त्रता
4. ✘ भौतिक स्वतन्त्रता

Question Number : 199 Question Id : 9983671525 Question Type : MCQ Option Shuffling : Yes
Correct Marks : 1 Wrong Marks : 0.25

गद्यांश का उपयुक्त शीर्षक होगा:

Options :

1. ✓ भारत का भाषायी वैशिष्ट्य
2. ✘ भारत का भौगोलिक वैशिष्ट्य
3. ✘ भारत की भाषायी समस्या
4. ✘ भारत की सांस्कृतिक समस्या

Question Number : 200 Question Id : 9983671526 Question Type : MCQ Option Shuffling : Yes

Correct Marks : 1 Wrong Marks : 0.25

‘बौद्धिक’ का अर्थ होता है:

Options :

1. ✓ दिमागी
2. ✘ भौतिक
3. ✘ दैहिक
4. ✘ प्राकृतिक