

Education Consultant India Ltd.

Notations :

1.Options shown in green color and with ✓ icon are correct.

2.Options shown in red color and with ✖ icon are incorrect.

Question Paper Name:	GRADE II DASS 16th July 2019 Shift 1
Subject Name:	GRADE II DASS
Creation Date:	2019-07-16 12:01:41
Duration:	120
Total Marks:	200
Display Marks:	Yes
Share Answer Key With Delivery Engine:	No
Actual Answer Key:	Yes
Calculator:	None
Magnifying Glass Required?:	No
Ruler Required?:	No
Eraser Required?:	No
Scratch Pad Required?:	No
Rough Sketch/Notepad Required?:	No
Protractor Required?:	No
Show Watermark on Console?:	Yes
Highlighter:	No
Auto Save on Console?:	No

Mental Ability1

Group Number :	1
Group Id :	50964792
Group Maximum Duration :	0
Group Minimum Duration :	0
Show Attended Group? :	No
Edit Attended Group? :	No
Break time:	0
Group Marks:	20
Is this Group for Examiner?:	No
Revisit allowed for group Instructions? :	Yes
Maximum Instruction Time:	0
Minimum Instruction Time:	0

Mental Ability1

Section Id :	509647252
Section Number :	1

Section type :	Online
Mandatory or Optional:	Mandatory
Number of Questions:	20
Number of Questions to be attempted:	20
Section Marks:	20

Sub-Section Number:	1
Sub-Section Id:	509647368
Question Shuffling Allowed :	Yes

Question Number : 1 Question Id : 5096477791 Question Type : MCQ Option Shuffling : Yes

Correct Marks : 1 Wrong Marks : 0.25

There is a certain relationship between two given words on one side of :: and one word is given on another side of :: while another word is to be found from the given alternatives, having the same relation with the word as the words of the given pair.

Choose the correct alternative.

Unhappy : Sad :: Moisten : ?

Options :

1. ✘ Deny

2. ✘ Blunder

3. ✔ Drench

4. ✘ War

Question Number : 1 Question Id : 5096477791 Question Type : MCQ Option Shuffling : Yes

Correct Marks : 1 Wrong Marks : 0.25

:: के एक ओर दिए दो शब्दों के बीच एक निश्चित संबंध है, और :: के दूसरी ओर एक शब्द दिया गया है, जबकि दिए गए विकल्पों में से अन्य शब्द खोजना है जिसका उस शब्द से वही संबंध हो जो दिए गए जोड़े के शब्दों के बीच है।

सही विकल्प चुनें।

अप्रसन्न : दुखी :: नम : ?

Options :

1. ✖ अस्वीकृत

2. ✖ चूक

3. ✔ सराबोर

4. ✖ युद्ध

Question Number : 2 Question Id : 5096477792 Question Type : MCQ Option Shuffling : Yes

Correct Marks : 1 Wrong Marks : 0.25

There is a certain relationship between two given numbers on one side of :: and one number is given on another side of :: while another number is to be found from the given alternatives, having the same relation with the number as the number of the given pair.

Choose the correct alternative.

343 : 720 :: 512 : ?

Options :

1. ✖ 643

2. ✖ 729

3. ✖ 100

4. ✔ 990

Question Number : 2 Question Id : 5096477792 Question Type : MCQ Option Shuffling : Yes

Correct Marks : 1 Wrong Marks : 0.25

:: के एक ओर दी दो संख्याओं के बीच एक निश्चित संबंध है, और :: के दूसरी ओर एक संख्या दी गई है, जबकि दिए गए विकल्पों में से अन्य संख्या खोजनी है जिसका उस संख्या से वही संबंध हो जो दिए गए जोड़े की संख्याओं के बीच है।

सही विकल्प चुनें।

343 : 720 :: 512 : ?

Options :

1. ✖ 643

2. ✖ 729

3. ✖ 100

4. ✔ 990

Question Number : 3 Question Id : 5096477793 Question Type : MCQ Option Shuffling : Yes

Correct Marks : 1 Wrong Marks : 0.25

A group of three interrelated word is given. Choose a word from the given alternatives that is similar to the given words and hence belongs to the same group.

Patna : Mumbai : Lucknow

Options :

1. ✖ Tajmahal

2. ✖ Sun Temple

3. ✖ Kerala

4. ✔ Chennai

Question Number : 3 Question Id : 5096477793 Question Type : MCQ Option Shuffling : Yes

Correct Marks : 1 Wrong Marks : 0.25

तीन परस्पर संबंधित शब्दों का एक समूह दिया गया है। दिए गए विकल्पों से वह शब्द चुनें जो दिए गए शब्दों के समान हो और इस प्रकार उसी समूह से संबंधित हो।

पटना : मुंबई : लखनऊ

Options :

1. ✘ ताज महल

2. ✘ सूर्य मंदिर

3. ✘ केरल

4. ✔ चेन्नई

Question Number : 4 Question Id : 5096477794 Question Type : MCQ Option Shuffling : Yes

Correct Marks : 1 Wrong Marks : 0.25

A group of three interrelated numbers is given. Choose a numbers from the given alternatives that is similar to the given numbers and hence belongs to the same group.

5 : 25 : 125

Options :

1. ✘ 15

2. ✘ 45

3. ✘ 225

4. ✔ 625

Question Number : 4 Question Id : 5096477794 Question Type : MCQ Option Shuffling : Yes

Correct Marks : 1 Wrong Marks : 0.25

तीन परस्पर संबंधित संख्याओं का एक समूह दिया गया है। दिए गए विकल्पों से वह संख्या चुनें जो दी गई संख्याओं के समान हो और इस प्रकार उसी समूह से संबंधित हो।

5 : 25 : 125

Options :

1. ✘ 15

2. ✘ 45

3. ✘ 225

4. ✔ 625

Question Number : 5 Question Id : 5096477795 Question Type : MCQ Option Shuffling : Yes

Correct Marks : 1 Wrong Marks : 0.25

There is a certain relationship between two given words on one side of :: and word is given on another side of :: while another word is to be found from the given alternatives, having the same relation with the word as the word of the given pair.

Eye : Myopia :: Teeth : ?

Options :

1. ✘ Cataract

2. ✘ Eczema

3. ✔ Pyorrhoea

4. ✘ Trachoma

Question Number : 5 Question Id : 5096477795 Question Type : MCQ Option Shuffling : Yes

Correct Marks : 1 Wrong Marks : 0.25

: : के एक ओर दिए दो शब्दों के बीच एक निश्चित संबंध है, और : : के दूसरी ओर एक शब्द दिया गया है, जबकि दिए गए विकल्पों में से अन्य शब्द खोजना है जिसका उस शब्द से वही संबंध हो जो दिए गए जोड़े के शब्दों के बीच है।

नेत्र : निकटदृष्टिता : : दांत : ?

Options :

1. ✘ मोतियाबिंद

2. ✘ एक्जिमा

3. ✔ पायरिया

4. ✘ ट्राकोमा

Question Number : 6 Question Id : 5096477796 Question Type : MCQ Option Shuffling : Yes

Correct Marks : 1 Wrong Marks : 0.25

Four pairs of words are given out of which the words in three pairs bear a certain common relationship. Choose the pair in which the words are differently related.

Options :

1. ✘ Door : Window

2. ✘ Pencil : Eraser

3. ✘ Horse : Carriage

4. ✔ Car : Spade

Question Number : 6 Question Id : 5096477796 Question Type : MCQ Option Shuffling : Yes

Correct Marks : 1 Wrong Marks : 0.25

शब्दों के चार जोड़े दिए गए हैं जिनमें से तीन जोड़ों में शब्दों के बीच एक निश्चित समान संबंध है। वह जोड़ा चुनें जिसमें शब्द भिन्न प्रकार से परस्पर संबंधित हैं।

Options :

1. ✖ दरवाजा : खिड़की

2. ✖ पेंसिल : इरेजर

3. ✖ घोड़ा : गाड़ी

4. ✔ कार : फावड़ा

Question Number : 7 Question Id : 5096477797 Question Type : MCQ Option Shuffling : Yes

Correct Marks : 1 Wrong Marks : 0.25

There is a certain relationship between two given numbers on one side of :: and one number is given on another side of :: while another number is to be found from the given alternatives, having the same relation with the number as the number of the given pair.

Choose the correct alternative.

122 : 145 :: 226 : ?

Options :

1. ✖ 250

2. ✔ 257

3. ✖ 260

4. ✖ 280

Question Number : 7 Question Id : 5096477797 Question Type : MCQ Option Shuffling : Yes

Correct Marks : 1 Wrong Marks : 0.25

:: के एक ओर दी दो संख्याओं के बीच एक निश्चित संबंध है, और :: के दूसरी ओर संख्या दी गई है, जबकि दिए गए विकल्पों में से अन्य संख्या खोजनी है जिसका उस संख्या से वही संबंध हो जो दिए गए जोड़े की संख्याओं के बीच है।

सही विकल्प चुनें।

122 : 145 :: 226 : ?

Options :

1. ✖ 250

2. ✔ 257

3. ✖ 260

4. ✖ 280

Question Number : 8 Question Id : 5096477798 Question Type : MCQ Option Shuffling : Yes

Correct Marks : 1 Wrong Marks : 0.25

One morning Dev was standing facing a tree. The shadow of the tree fell exactly to his left. Which direction he is facing now?

Options :

1. ✖ East

2. ✔ North

3. ✖ South

4. ✖ West

Question Number : 8 Question Id : 5096477798 Question Type : MCQ Option Shuffling : Yes

Correct Marks : 1 Wrong Marks : 0.25

एक सुबह देव, एक पेड़ की ओर मुंह करके खड़ा था। पेड़ की छाया उसके ठीक बाएं पड़ रही थी। अब वह किस दिशा की ओर मुंह करके खड़ा है।

Options :

1. ✖ पूर्व

2. ✔ उत्तर

3. ✖ दक्षिण

4. ✖ पश्चिम

Question Number : 9 Question Id : 5096477799 Question Type : MCQ Option Shuffling : Yes

Correct Marks : 1 Wrong Marks : 0.25

Sachin, Sahil, Sandhya, Sani, Sanju, Saurabh, Shweta and Sunil are sitting around a round table in the same order for lunch at equal distance. Their positions are clockwise. If Sanju sits in West, then what will be the position of Sahil?

Options :

1. ✖ North - East

2. ✖ North - West

3. ✔ South - East

4. ✖ South - West

Question Number : 9 Question Id : 5096477799 Question Type : MCQ Option Shuffling : Yes

Correct Marks : 1 Wrong Marks : 0.25

सचिन, साहिल, संध्या, सनी, संजू, सौरभ, श्वेता और सुनील, लंच के लिए एक गोल मेज के चारों ओर समान दूरियों पर इसी क्रम में बैठे हैं। उनकी स्थिति दक्षिणावर्त है। यदि संजू पश्चिम में बैठा है, तो साहिल की स्थिति क्या होगी?

Options :

1. ✘ उत्तर - पूर्व

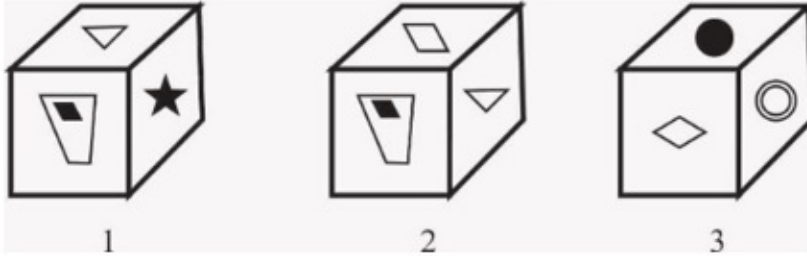
2. ✘ उत्तर - पश्चिम

3. ✔ दक्षिण - पूर्व

4. ✘ दक्षिण - पश्चिम

Question Number : 10 Question Id : 5096477800 Question Type : MCQ Option Shuffling : Yes
Correct Marks : 1 Wrong Marks : 0.25

Three different positions of the same dice are shown. Find which one is opposite the face showing ★ ?



Note: For this question, discrepancy is found in question/answer. So, this question is ignored for all candidates.

Options :



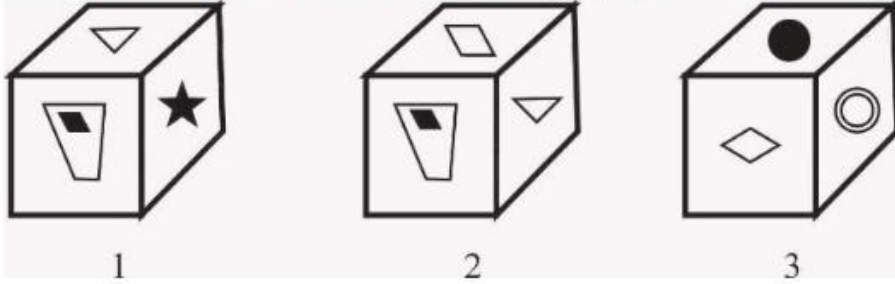
4.



Question Number : 10 Question Id : 5096477800 Question Type : MCQ Option Shuffling : Yes

Correct Marks : 1 Wrong Marks : 0.25

एक पासे की तीन विभिन्न स्थितियां दर्शाई गई हैं। ज्ञात करें कि ★ के विपरीत फलक पर कौन सी आकृति होगी?



Note: For this question, discrepancy is found in question/answer. So, this question is ignored for all candidates.

Options :

1.



2.



3.



4.



Question Number : 11 Question Id : 5096477801 Question Type : MCQ Option Shuffling : Yes

Correct Marks : 1 Wrong Marks : 0.25

Six children A, B, C, D, E and F are standing in a line. F is to the left of E and right of B. D is between A and B. A is standing right of C. Who is standing at the right extreme?

Options :

1. ✖ C

2. ✖ A

3. ✔ E

4. ✖ D

Question Number : 11 Question Id : 5096477801 Question Type : MCQ Option Shuffling : Yes

Correct Marks : 1 Wrong Marks : 0.25

छह बच्चे A, B, C, D, E और F एक पंक्ति में खड़े हैं। F, E के बाएं और B के दाएं है। D, A और B के बीच में है। A, C के दाएं खड़ा है। एकदम दाएं कौन खड़ा है?

Options :

1. ✖ C

2. ✖ A

3. ✔ E

4. ✖ D

Question Number : 12 Question Id : 5096477802 Question Type : MCQ Option Shuffling : Yes

Correct Marks : 1 Wrong Marks : 0.25

S, T, U, V, X, Y and Z are sitting around a round table for group discussion. Y is sitting third to the right of S and between V and X. Z is sitting second to the left of T. V is sitting second to the left of X. What will be the position of S?

Options :

1. ✖ S is sitting second to the left of U

2. ✘ S is sitting between U and Z

3. ✔ S is sitting second to the left of V

4. ✘ S is sitting third to the left of X

Question Number : 12 Question Id : 5096477802 Question Type : MCQ Option Shuffling : Yes

Correct Marks : 1 Wrong Marks : 0.25

S, T, U, V, X, Y और Z समूह चर्चा के लिए एक गोलमेज के चारों ओर बैठे हैं। Y, S के दाएं तीसरे स्थान पर और V और X के बीच में है। Z, T के बाएं दूसरे स्थान पर है। V, X के बाएं दूसरे स्थान पर है। S की स्थिति क्या है?

Options :

1. ✘ S, U के बाएं दूसरे स्थान पर बैठा है।

2. ✘ S, U और Z के बीच में बैठा है।

3. ✔ S, V के बाएं दूसरे स्थान पर बैठा है।

4. ✘ S, X के बाएं तीसरे स्थान पर बैठा है।

Question Number : 13 Question Id : 5096477803 Question Type : MCQ Option Shuffling : Yes

Correct Marks : 1 Wrong Marks : 0.25

I. Doby is sister of John and older than Shreya.

II. Shreya is older than John and sister of John.

III. Doby is oldest among the siblings.

If the first two statements are true, the third statement is:

Options :

1. ✓ True

2. ✘ False

3. ✘ May be true

4. ✘ Uncertain

Question Number : 13 Question Id : 5096477803 Question Type : MCQ Option Shuffling : Yes

Correct Marks : 1 Wrong Marks : 0.25

- I. डाँबी, जॉन की बहन है और श्रेया से बड़ी है।
- II. श्रेया, जॉन से बड़ी है और जॉन की बहन है।
- III. डाँबी, सभी भाई-बहनों में सबसे बड़ी है।

यदि प्रथम दोनों कथन सही हैं, तो तीसरा कथन:

Options :

1. ✓ सही

2. ✘ गलत

3. ✘ सही हो सकता है

4. ✘ अनिश्चित है

Question Number : 14 Question Id : 5096477804 Question Type : MCQ Option Shuffling : Yes

Correct Marks : 1 Wrong Marks : 0.25

A farmer has 21 buffalos. All but 8 died. How many was he left with?

Options :

1. ✖ 21

2. ✖ 13

3. ✔ 8

4. ✖ Nil

Question Number : 14 Question Id : 5096477804 Question Type : MCQ Option Shuffling : Yes

Correct Marks : 1 Wrong Marks : 0.25

एक किसान के पास 21 भैंसें थीं। उनमें से 8 मर गईं। अब उसके पास कितनी भैंसें बचीं?

Options :

1. ✖ 21

2. ✖ 13

3. ✔ 8

4. ✖ कोई नहीं (शून्य)

Question Number : 15 Question Id : 5096477805 Question Type : MCQ Option Shuffling : Yes

Correct Marks : 1 Wrong Marks : 0.25

What will be the mirror image of?



Options :



Question Number : 15 Question Id : 5096477805 Question Type : MCQ Option Shuffling : Yes
Correct Marks : 1 Wrong Marks : 0.25

निम्न का दर्पण प्रतिबिंब कौन सा होगा?



Options :

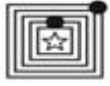




2. ✘



3. ✘



4. ✔

Question Number : 16 Question Id : 5096477806 Question Type : MCQ Option Shuffling : Yes
Correct Marks : 1 Wrong Marks : 0.25

Following are the criteria to recruit a Teacher in a college:

- I. The Applicant must be science graduate with 75% marks.
- II. Have his/her age in between 25 to 32 years as on 10-05-2019.
- III. Have a PG degree/ 3 years diploma or must have completed B.Ed. with more than 65% marks.
- IV. Have minimum 3 years' experience in Teaching.
- V. Be ready to join 2 year probation.

If a candidate satisfies all the criteria except

at III above, but is an Arts with Mathematics graduate with minimum 72% marks and has an experience of more than 5 years and more her/his case is to be referred to the Vice President.

at IV above, but master degree's with minimum 60% marks, her/his is to be referred to the President.

A detail of applicant is given below in the questions. On the basis of the following decision which is based on the data given above, mark the answer.

Ashish is a B.Sc. Graduate with 80% marks and has completed PG in Mathematics. He completed 28 years of age in 2017 and has 4 years' experience as a Mathematics Faculty. He is ready to join probation period of 2 year.

Options :

1. ✘ If case is to be referred to President.

2. ✖ If case is to be referred to Vice President.

3. ✔ If candidate is to be selected.

4. ✖ If information is inadequate to take a decision.

Question Number : 16 Question Id : 5096477806 Question Type : MCQ Option Shuffling : Yes

Correct Marks : 1 Wrong Marks : 0.25

एक कॉलेज में एक शिक्षक की भर्ती हेतु मापदंड नीचे दिया गया है:

- I. आवेदक का 75% अंकों के साथ विज्ञान स्नातक होना अनिवार्य है।
- II. 10-05-2019 को उसकी आयु 25 से 32 वर्ष के बीच होनी चाहिए।
- III. पीजी डिग्री/3 वर्ष का डिप्लोमा हो अथवा 65% से अधिक अंकों के साथ बी.एड. पूरा किया हो।
- IV. शिक्षण में कम से कम 3 वर्ष का अनुभव हो।
- V. 2 वर्ष की परीक्षा पर नियुक्त होने के लिए तैयार हो।

यदि एक अभ्यर्थी समस्त मापदंड पूरे करता है सिवाय

उक्त III के अतिरिक्त लेकिन न्यूनतम 72% अंकों के साथ गणित और कला स्नातक है, और 5 वर्ष से अधिक का अनुभव है, तो उसका मामला उपाध्यक्ष को संदर्भित किया जाएगा।

उक्त IV के अतिरिक्त, लेकिन न्यूनतम 60% अंकों के साथ मास्टर डिग्री है, तो उसका मामला अध्यक्ष को संदर्भित किया जाएगा।

प्रश्नगत एक आवेदक के विवरण नीचे दिए गए हैं। उक्त सूचनाओं के आधार पर निम्न निर्णय के आधार पर उत्तर चिन्हित करें।

आशीष 80% अंकों के साथ बी.एस.सी. स्नातक है, और गणित में पीजी पूरा किया है। 2017 में उसने 28 वर्ष आयु पूर्ण की है और गणित संकाय के रूप में 4 वर्ष का अनुभव है। वह 2 वर्ष की परीक्षा पर नियुक्त होने के लिए तैयार है।

Options :

1. ✖ यदि मामला अध्यक्ष को संदर्भित किया जाना हो।

2. ✖ यदि मामला उपाध्यक्ष को संदर्भित किया जाना हो।

3. ✔ यदि अभ्यर्थी को नियुक्त किया जाना हो।

4. ✖ यदि निर्णय लेने के लिए सूचनाएं अपर्याप्त हों।

Question Number : 17 Question Id : 5096477807 Question Type : MCQ Option Shuffling : Yes

Correct Marks : 1 Wrong Marks : 0.25

Following are qualifications for a technical assistant post in company Alpha.

The candidate must:-

- I. Be an Engineering graduate with atleast 70% marks.
- II. Not less than 23 years and not more than 30 years of age on 1.7.2019.
- III. Have passed the selection test with atleast 60% marks.
- IV. Willing to join immediate for training and ready to pay a deposit of Rs. 20000, to be refunded on completion of training.

However, if a candidate fulfils the above mentioned criteria except :

- i. At (I) above, but he has appeared for the last semester examination and obtained an aggregate of 65% marks in previous semester, his/her case may be referred to the V.P. of the company.
- ii. At (II) his/her age is less than 23 years but he secured 80% marks in graduation, the case may be referred to the General Manager of the company.

The detail of the candidate is given as regards his/her candidature. You have to read the information provided and decide his/her status based on the conditions given above.

Ravi is an IT engineer passed his graduation with 73% marks. After getting the engineering degree he has done MCA. He has cleared the selection test with 70% marks. He is ready to deposit above said amount and want to join immediately. His date of birth is 2.10.1993.

Options :

1. ✔ If the candidate is to be selected.

2. ✖ If the candidate is not selected.

3. ✖ If the case is referred to the V. P.

4. ✖ If the case is referred to the General Manager.

Question Number : 17 Question Id : 5096477807 Question Type : MCQ Option Shuffling : Yes

Correct Marks : 1 Wrong Marks : 0.25

अल्फा कंपनी में एक तकनीकी सहायक के पद हेतु पात्रताएं नीचे दी गई हैं।

अभ्यर्थी के लिए निम्न अनिवार्य हैं:-

- I. कम से कम 70% अंकों के साथ इंजीनियरिंग में स्नातक हो।
- II. 1.7.2019 को आयु 23 वर्ष से कम और 30 वर्ष से अधिक न हो।
- III. न्यूनतम 60% अंकों के साथ चयन परीक्षा उत्तीर्ण की हो।
- IV. प्रशिक्षण हेतु तत्काल नियुक्त होने का इच्छुक हो और रुपये 20000 की राशि जमा करने के लिए तैयार हो, जो प्रशिक्षण पूर्ण होने पर वापस कर दी जाएगी।

हालांकि यदि कोई अभ्यर्थी, निम्न के सिवाय उक्तान्कित मापदंड पूरे करता है तो:

- i. उक्त (I) के सिवाय, लेकिन वह पिछले सेमेस्टर की परीक्षा में उपस्थित हुआ हो और पिछले सेमेस्टर में कुल 65% अंक प्राप्त किए हों, तो उसका मामला कंपनी के वी.पी. को संदर्भित किया जा सकता है।
- ii. उक्त (II) के सिवाय, लेकिन उसकी आयु 23 वर्ष से कम हो लेकिन उसने स्नातक में 80% अंक प्राप्त किए हों, तो उसका मामला कंपनी के महाप्रबंधक को संदर्भित किया जा सकता है।

अभ्यर्थी के अभ्यर्थन के संबंध में विवरण नीचे दिए गए हैं। आपको दी गई सूचना पढ़नी है और उक्त शर्तों के आधार पर उसकी स्थिति निर्धारित करनी है।

रवि एक आईटी इंजीनियर है जिसने 73% अंकों के साथ स्नातक उत्तीर्ण किया है। इंजीनियरिंग की डिग्री लेने के बाद उसने एमसीए किया। उसने 70% अंकों के साथ चयन परीक्षा उत्तीर्ण की है। वह उक्त राशि जमा करने के लिए तैयार है और तत्काल नियुक्त होना चाहता है। उसकी जन्मतिथि 2.10.1993 है।

Options :

1. ✔ यदि अभ्यर्थी को चुना जाना हो।

2. ✖ यदि अभ्यर्थी को नहीं चुना जाना हो।

3. ✖ यदि मामला वी.पी. को संदर्भित किया जाना हो।

4. ✖ यदि मामला महाप्रबंधक को संदर्भित किया जाना हो।

Question Number : 18 Question Id : 5096477808 Question Type : MCQ Option Shuffling : Yes

Correct Marks : 1 Wrong Marks : 0.25

The statement given below is followed by two decisions labeled I, and II. You have to assume everything in the statement to be true, and then decide which of the two suggested decisions logically follows for pursuing.

Statement: A large number of college students are found to be guilty of cheating in annual exam.

Decisions:

I: These students should be handover to police.

II: These students need counseling and should be sensitized for fair exam and learning.

Options :

1. ✖ Only I follows

2. ✖ Both I and II follow

3. ✖ Either I or II follow

4. ✔ Only II follows

Question Number : 18 Question Id : 5096477808 Question Type : MCQ Option Shuffling : Yes

Correct Marks : 1 Wrong Marks : 0.25

नीचे दिए कथन के बाद दो निर्णय I, और II दिए गए हैं। आपको कथन को पूर्णतया सत्य मानना है और फिर यह निर्धारित करना है कि दोनों में से कौन से निर्णय तर्कसंगत रूप से सही हैं।

कथन: एक वार्षिक परीक्षा में बड़ी संख्या में छात्र नकल करने के दोषी पाए गए।

निर्णय:

I: इन छात्रों को पुलिस को सौंप दिया जाना चाहिए।

II: इन छात्रों को परामर्श दिया जाना चाहिए और उचित परीक्षा तथा शिक्षण हेतु संवेदीकृत किया जाना चाहिए।

Options :

1. ✘ केवल I सही है।
2. ✘ I और II दोनों सही हैं।
3. ✘ या तो I या II सही हैं।
4. ✔ केवल II सही है।

Question Number : 19 Question Id : 5096477809 Question Type : MCQ Option Shuffling : Yes

Correct Marks : 1 Wrong Marks : 0.25

The statement given below is followed by two decisions labeled I, and II. You have to assume everything in the statement to be true, and then decide which of the two suggested decisions logically follows for pursuing.

Statement: Orissa is badly affected by Fani cyclone and life is paralyzed in the state.

Decisions:

I: As soon as possible relief material must reach the affected people.

II: It is not a first time in Orissa, let people set self.

Options :

1. ✔ Only II follows
2. ✘ Both I and II follow
3. ✘ Either I or II follow
4. ✘ Only I follows

Question Number : 19 Question Id : 5096477809 Question Type : MCQ Option Shuffling : Yes

Correct Marks : 1 Wrong Marks : 0.25

नीचे दिए कथन के बाद दो निर्णय I, और II दिए गए हैं। आपको कथन को पूर्णतया सत्य मानना है और फिर यह निर्धारित करना है कि दोनों में से कौन से निर्णय तर्कसंगत रूप से सही हैं।

कथन: फानी चक्रवात के कारण उड़ीसा बुरी तरह प्रभावित हुआ और राज्य में जनजीवन अस्तव्यस्त हो गया।

निर्णय:

I: प्रभावित लोगों तक राहत सामग्री यथासंभव शीघ्र पहुंचाई जानी चाहिए।

II: उड़ीसा में ऐसा पहली बार नहीं हुआ है, जनता स्वयं इसका सामना कर लेगी।

Options :

1. ✓ केवल I सही है।

2. ✗ I और II दोनों सही हैं।

3. ✗ या तो I या II सही हैं।

4. ✗ केवल II सही है।

Question Number : 20 Question Id : 5096477810 Question Type : MCQ Option Shuffling : Yes

Correct Marks : 1 Wrong Marks : 0.25

The statement given below is followed by two decisions labeled I, and II. You have to assume everything in the statement to be true, and then decide which of the two suggested decisions logically follows for pursuing.

Statement: All employees of the office have gone on strike in protest against the privatization of women helpline.

Decisions:

I: The government should withdraw the privatization of helpline.

II: All the employees should be immediately terminated from job.

Options :

1. ✓ Only I follows

2. ✗ Both I and II follow

3. ✖ Either I or II follow

4. ✖ Only II follows

Question Number : 20 Question Id : 5096477810 Question Type : MCQ Option Shuffling : Yes

Correct Marks : 1 Wrong Marks : 0.25

नीचे दिए कथन के बाद दो निर्णय I, और II दिए गए हैं। आपको कथन को पूर्णतया सत्य मानना है और फिर यह निर्धारित करना है कि दोनों में से कौन से निर्णय तर्कसंगत रूप से सही हैं।

कथन: महिला हेल्पलाइन के निजीकरण के विरोध में कार्यालय के सभी कर्मचारी हड़ताल पर चले गए।

निर्णय:

I: सरकार को हेल्पलाइन का निजीकरण रोक देना चाहिए।

II: समस्त कर्मचारियों को नौकरी से तुरंत बर्खास्त कर देना चाहिए।

Options :

1. ✔ केवल I सही है।

2. ✖ I और II दोनों सही हैं।

3. ✖ या तो I या II सही हैं।

4. ✖ केवल II सही है।

Mental Ability2

Group Number :	2
Group Id :	50964793
Group Maximum Duration :	0
Group Minimum Duration :	0
Show Attended Group? :	No
Edit Attended Group? :	No
Break time:	0

Group Marks:	20
Is this Group for Examiner?:	No
Revisit allowed for group Instructions? :	Yes
Maximum Instruction Time:	0
Minimum Instruction Time:	0

Mental Ability2

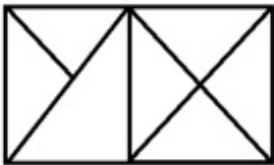
Section Id :	509647253
Section Number :	1
Section type :	Online
Mandatory or Optional:	Mandatory
Number of Questions:	20
Number of Questions to be attempted:	20
Section Marks:	20

Sub-Section Number:	1
Sub-Section Id:	509647369
Question Shuffling Allowed :	Yes

Question Number : 21 Question Id : 5096477811 Question Type : MCQ Option Shuffling : Yes

Correct Marks : 1 Wrong Marks : 0.25

How many triangles are in the figure?



Options :

1. ✓ 13

2. ✗ 14

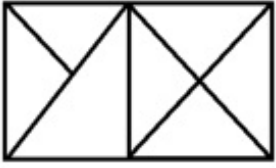
3. ✗ 16

4. ✗ 18

Question Number : 21 Question Id : 5096477811 Question Type : MCQ Option Shuffling : Yes

Correct Marks : 1 Wrong Marks : 0.25

चित्र में कितने त्रिभुज हैं?



Options :

1. ✓ 13

2. ✗ 14

3. ✗ 16

4. ✗ 18

Question Number : 22 Question Id : 5096477812 Question Type : MCQ Option Shuffling : Yes

Correct Marks : 1 Wrong Marks : 0.25

When decoded, OPTRRE read as PORTER. In the same way, how EROPTR will read as?

Options :

1. ✗ PROPER

2. ✗ PORT

3. ✓ REPORT

4. ✗ ROPE

Question Number : 22 Question Id : 5096477812 Question Type : MCQ Option Shuffling : Yes

Correct Marks : 1 Wrong Marks : 0.25

डिकोड किए जाने पर, OPTRRE को PORTER पढ़ा जाता है। उसी प्रकार EROPTR को क्या पढ़ा जाएगा?

Options :

1. ✘ PROPER

2. ✘ PORT

3. ✔ REPORT

4. ✘ ROPE

Question Number : 23 Question Id : 5096477813 Question Type : MCQ Option Shuffling : Yes

Correct Marks : 1 Wrong Marks : 0.25

If CLOCK is coded as 34235 and TIME as 8679, what will be the code for MOLEK?

Options :

1. ✘ 62495

2. ✘ 62945

3. ✔ 72495

4. ✘ 72945

Question Number : 23 Question Id : 5096477813 Question Type : MCQ Option Shuffling : Yes

Correct Marks : 1 Wrong Marks : 0.25

यदि CLOCK का कोड 34235 और TIME का कोड 8679 हो, तो MOLEK का कोड क्या होगा?

Options :

1. ✖ 62495

2. ✖ 62945

3. ✔ 72495

4. ✖ 72945

Question Number : 24 Question Id : 5096477814 Question Type : MCQ Option Shuffling : Yes

Correct Marks : 1 Wrong Marks : 0.25

Four numbers are given out of which the three numbers bear a certain common relationship. Choose the number which is different from others.

Options :

1. ✖ 105

2. ✖ 75

3. ✔ 85

4. ✖ 165

Question Number : 24 Question Id : 5096477814 Question Type : MCQ Option Shuffling : Yes

Correct Marks : 1 Wrong Marks : 0.25

चार संख्याएं दी गई हैं, जिनमें से तीन संख्याओं के बीच एक निश्चित समान संबंध है। वह संख्या चुनें जो अन्य से भिन्न है।

Options :

1. ✖ 105

2. ✖ 75

3. ✔ 85

4. ✖ 165

Question Number : 25 Question Id : 5096477815 Question Type : MCQ Option Shuffling : Yes

Correct Marks : 1 Wrong Marks : 0.25

Four figures are given out of which the three figures bear a certain common relationship. Choose the figures which is different from others.

Options :



Question Number : 25 Question Id : 5096477815 Question Type : MCQ Option Shuffling : Yes

Correct Marks : 1 Wrong Marks : 0.25

चार आकृतियां दी गई हैं, जिनमें से तीन आकृतियों के बीच एक निश्चित समान संबंध है। वह आकृति चुनें जो अन्य से भिन्न है।

Options :



1. ✘



2. ✘



3. ✔



4. ✘

Question Number : 26 Question Id : 5096477816 Question Type : MCQ Option Shuffling : Yes

Correct Marks : 1 Wrong Marks : 0.25

If ASSIGN is coded as SASING, then KIDNAP is coded as _____.

Options :

1. ✘ IKNDPA

2. ✔ IKDNPA

3. ✘ IKDNAP

4. ✖ IKAPDN

Question Number : 26 Question Id : 5096477816 Question Type : MCQ Option Shuffling : Yes
Correct Marks : 1 Wrong Marks : 0.25

यदि ASSIGN का कोड SASING है, तो KIDNAP का कोड _____ होगा।

Options :

1. ✖ IKNDPA

2. ✔ IKDNPA

3. ✖ IKDNAP

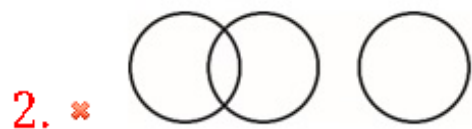
4. ✖ IKAPDN

Question Number : 27 Question Id : 5096477817 Question Type : MCQ Option Shuffling : Yes
Correct Marks : 1 Wrong Marks : 0.25

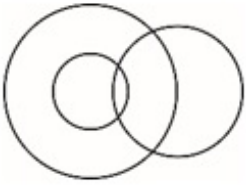
Venn diagram that best represents the given set of classes:

FOOD, VEGETABLES, POTATOES

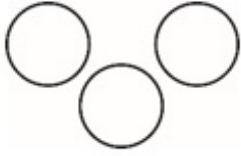
Options :



3. ✖



4. ✖



Question Number : 27 Question Id : 5096477817 Question Type : MCQ Option Shuffling : Yes
Correct Marks : 1 Wrong Marks : 0.25

कौन सा वेन आरेख, दिए गए वर्गों के समुच्चय को सर्वोत्तम निरूपित करता है:

भोजन, सब्जियां, आलू

Options :

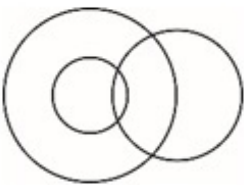
1. ✔

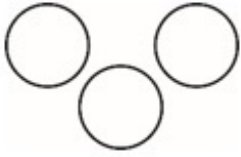


2. ✖



3. ✖





4. ✘

Question Number : 28 Question Id : 5096477818 Question Type : MCQ Option Shuffling : Yes

Correct Marks : 1 Wrong Marks : 0.25

If 'A - B' means A is mother of B, 'A \$ B', A is sister of B, 'A @ B' means A is father of B and 'A=B' means A is son of B.

If R- S \$ O @ P, then how O is related to R?

Options :

1. ✘ Daughter

2. ✔ Son

3. ✘ Brother

4. ✘ Niece

Question Number : 28 Question Id : 5096477818 Question Type : MCQ Option Shuffling : Yes

Correct Marks : 1 Wrong Marks : 0.25

यदि 'A - B' का अर्थ A, B की मां है, 'A \$ B' का अर्थ A, B की बहन है, 'A @ B' का अर्थ A, B का पिता है, और 'A=B' का अर्थ A, B का पुत्र है।

यदि R - S \$ O @ P, तो O, R से किस प्रकार संबंधित है?

Options :

1. ✘ बेटी

2. ✔ बेटा

3. ✖ भाई

4. ✖ भतीजी/भांजी

Question Number : 29 Question Id : 5096477819 Question Type : MCQ Option Shuffling : Yes

Correct Marks : 1 Wrong Marks : 0.25

Ram and Mohan are brothers. Shweta and Anu are sisters. Dinesh is husband of Manju, who is daughter of Manoj. Ram is son of Manoj and Anu is daughter of Dinesh. How Dinesh is related to Mohan?

Options :

1. ✖ Son

2. ✖ Brother

3. ✖ Father

4. ✔ Brother in law

Question Number : 29 Question Id : 5096477819 Question Type : MCQ Option Shuffling : Yes

Correct Marks : 1 Wrong Marks : 0.25

राम और मोहन भाई हैं। श्वेता और अनु बहनें हैं। दिनेश, मंजू का पति है, जो मनोज की पुत्री है। राम, मनोज का पुत्र है, और अनु, दिनेश की बहन है। दिनेश, मोहन से किस प्रकार संबंधित है?

Options :

1. ✖ बेटा

2. ✖ भाई

3. ✖ पिता

4. ✓ बहनोई/साला/देवर

Question Number : 30 Question Id : 5096477820 Question Type : MCQ Option Shuffling : Yes

Correct Marks : 1 Wrong Marks : 0.25

If 'P * Q' means P is father of Q, 'P % Q', P is daughter of Q, 'P # Q' means P is mother of Q and 'P = Q' means Q is son of P

If M * N # O % R, then how R is related to M?

Options :

1. ✘ Brother in law

2. ✓ Son in law

3. ✘ Father in law

4. ✘ Mother in law

Question Number : 30 Question Id : 5096477820 Question Type : MCQ Option Shuffling : Yes

Correct Marks : 1 Wrong Marks : 0.25

यदि 'P * Q' का अर्थ P, Q का पिता है, 'P % Q' का अर्थ P, Q की पुत्री है, 'P # Q' का अर्थ P, Q की मां है, और 'P = Q' का अर्थ Q, P का पुत्र है।

यदि M * N # O % R, तो R, M से किस प्रकार संबंधित है?

Options :

1. ✘ बहनोई/साला/देवर

2. ✓ दामाद

3. ✘ ससुर

4. ✖ सास

Question Number : 31 Question Id : 5096477821 Question Type : MCQ Option Shuffling : Yes

Correct Marks : 1 Wrong Marks : 0.25

In certain code PEASANT is written as RGCUZPV, How will be SUBJECT written in that code?

Options :

1. ✖ UWDLHEV

2. ✖ UWDLFEV

3. ✔ UWDLDEV

4. ✖ UVDLDEV

Question Number : 31 Question Id : 5096477821 Question Type : MCQ Option Shuffling : Yes

Correct Marks : 1 Wrong Marks : 0.25

एक निश्चित कोड में PEASANT को RGCUZPV लिखा जाता है। उसी कोड में SUBJECT को किस प्रकार लिखा जाएगा?

Options :

1. ✖ UWDLHEV

2. ✖ UWDLFEV

3. ✔ UWDLDEV

4. ✖ UVDLDEV

Question Number : 32 Question Id : 5096477822 Question Type : MCQ Option Shuffling : Yes

Correct Marks : 1 Wrong Marks : 0.25

In certain code PAY is written as 400, How will be EAT written in that code?

Options :

1. ✖ 200

2. ✖ 150

3. ✔ 100

4. ✖ 75

Question Number : 32 Question Id : 5096477822 Question Type : MCQ Option Shuffling : Yes

Correct Marks : 1 Wrong Marks : 0.25

एक निश्चित कोड में PAY को 400 लिखा जाता है। उसी कोड में EAT को किस प्रकार लिखा जाएगा?

Options :

1. ✖ 200

2. ✖ 150

3. ✔ 100

4. ✖ 75

Question Number : 33 Question Id : 5096477823 Question Type : MCQ Option Shuffling : Yes

Correct Marks : 1 Wrong Marks : 0.25

Which of the following pairs of signs, when their positions are interchanged, will correctly solve the given mathematical equation?

$$15 + 11 - 22 \div 2 \times 5 = 159$$

Options :

1. ✖ ÷ and ×

2. ✖ ÷ and +

3. ✔ + and ×

4. ✖ + and -

Question Number : 33 Question Id : 5096477823 Question Type : MCQ Option Shuffling : Yes

Correct Marks : 1 Wrong Marks : 0.25

निम्न में से किस चिन्ह युग्म में, उनकी स्थितियां परस्पर बदले जाने पर दिया गया गणितीय समीकरण सही हल हो जाएगा?

$$15 + 11 - 22 \div 2 \times 5 = 159$$

Options :

1. ✖ ÷ और ×

2. ✖ ÷ और +

3. ✔ + और ×

4. ✖ + और -

Question Number : 34 Question Id : 5096477824 Question Type : MCQ Option Shuffling : Yes

Correct Marks : 1 Wrong Marks : 0.25

Which of the following pairs of numbers and signs, when their positions are interchanged, will correctly solve the given mathematical equation?

$$6 \div 3 \times 2 + 4 - 7 = 12$$

Options :

1. ✘ 6 and 2, + and -

2. ✘ 3 and 6, - and ×

3. ✔ 4 and 7, × and ÷

4. ✘ 3 and 7, + and -

Question Number : 34 Question Id : 5096477824 Question Type : MCQ Option Shuffling : Yes

Correct Marks : 1 Wrong Marks : 0.25

संख्याओं व चिन्हों के निम्न में से किस युग्म में, उनकी स्थितियां परस्पर बदले जाने पर दिया गया गणितीय समीकरण सही हल हो जाएगा?

$$6 \div 3 \times 2 + 4 - 7 = 12$$

Options :

1. ✘ 6 और 2, + और -

2. ✘ 3 और 6, - और ×

3. ✔ 4 और 7, × और ÷

4. ✘ 3 और 7, + और -

Question Number : 35 Question Id : 5096477825 Question Type : MCQ Option Shuffling : Yes

Correct Marks : 1 Wrong Marks : 0.25

Ten teams take parts in a cricket tournament. Each one has to play every other one. How many games must they play?

Options :

1. ✘ 44

2. ✓ 45

3. ✖ 47

4. ✖ 90

Question Number : 35 Question Id : 5096477825 Question Type : MCQ Option Shuffling : Yes

Correct Marks : 1 Wrong Marks : 0.25

एक क्रिकेट टीम में दस टीमों ने भाग लिया है। प्रत्येक को प्रत्येक अन्य से एक बार खेलना है। उनको कितने गेम खेलने होंगे?

Options :

1. ✖ 44

2. ✓ 45

3. ✖ 47

4. ✖ 90

Question Number : 36 Question Id : 5096477826 Question Type : MCQ Option Shuffling : Yes

Correct Marks : 1 Wrong Marks : 0.25

Four words have been given out of which three are alike in some manner, while the fourth one is different. Choose out the odd one.

Options :

1. ✖ Cuba

2. ✖ Portugal

3. ✘ Greece

4. ✔ Oslo

Question Number : 36 Question Id : 5096477826 Question Type : MCQ Option Shuffling : Yes
Correct Marks : 1 Wrong Marks : 0.25

चार शब्द दिए गए हैं जिनमें से तीन किसी प्रकार समान हैं, जबकि चौथा भिन्न है। असंगत को चुनें।

Options :

1. ✘ क्यूबा

2. ✘ पुर्तगाल

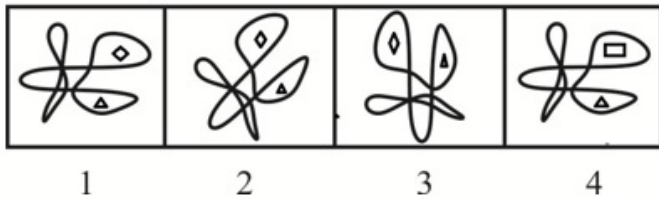
3. ✘ ग्रीस

4. ✔ ओस्लो

Question Number : 37 Question Id : 5096477827 Question Type : MCQ Option Shuffling : Yes
Correct Marks : 1 Wrong Marks : 0.25

In problem, out of four figures marked 1, 2, 3 and 4, three are similar in a certain manner. However one figure is not like the other three. Choose the figure which is different from the rest.

Answer Fig.



Options :

1. ✘ 1

2. ✘ 2

3. ✘ 3

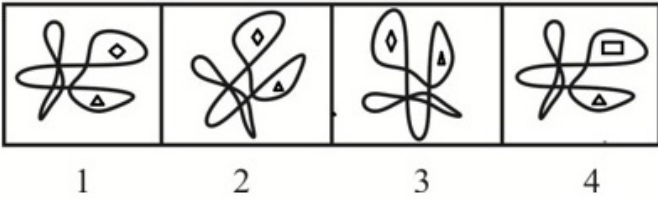
4. ✔ 4

Question Number : 37 Question Id : 5096477827 Question Type : MCQ Option Shuffling : Yes

Correct Marks : 1 Wrong Marks : 0.25

प्रश्न में, 1, 2, 3 और 4 अंकित चार चित्रों में से तीन किसी प्रकार समान हैं। हालांकि एक चित्र, अन्य तीन के समान नहीं है। वह चित्र चुनें जो शेष से भिन्न है।

उत्तर आकृति



Options :

1. ✘ 1

2. ✘ 2

3. ✘ 3

4. ✔ 4

Question Number : 38 Question Id : 5096477828 Question Type : MCQ Option Shuffling : Yes

Correct Marks : 1 Wrong Marks : 0.25

Select the option that will correctly replace the question mark (?) in the series.

15, 28, 41, 54, ?

Options :

1. ✖ 65

2. ✖ 86

3. ✔ 67

4. ✖ 77

Question Number : 38 Question Id : 5096477828 Question Type : MCQ Option Shuffling : Yes

Correct Marks : 1 Wrong Marks : 0.25

वह विकल्प चुनें जो श्रृंखला में प्रश्न चिन्ह (?) को सही प्रतिस्थापित करेगा।

15, 28, 41, 54, ?

Options :

1. ✖ 65

2. ✖ 86

3. ✔ 67

4. ✖ 77

Question Number : 39 Question Id : 5096477829 Question Type : MCQ Option Shuffling : Yes

Correct Marks : 1 Wrong Marks : 0.25

Select the option that will correctly replace the question mark (?) in the series.

21, 22, 26, 35, 51, ?

Options :

1. ✖ 64

2. ✖ 67

3. ✖ 73

4. ✔ 76

Question Number : 39 Question Id : 5096477829 Question Type : MCQ Option Shuffling : Yes

Correct Marks : 1 Wrong Marks : 0.25

वह विकल्प चुनें जो श्रृंखला में प्रश्न चिन्ह (?) को सही प्रतिस्थापित करेगा।

21, 22, 26, 35, 51, ?

Options :

1. ✖ 64

2. ✖ 67

3. ✖ 73

4. ✔ 76

Question Number : 40 Question Id : 5096477830 Question Type : MCQ Option Shuffling : Yes

Correct Marks : 1 Wrong Marks : 0.25

Select the option that will correctly replace the question mark (?) in the series.

0, 4, 8, 16, 24, 36, ?

Options :

1. ✓ 48

2. ✗ 50

3. ✗ 52

4. ✗ 54

Question Number : 40 Question Id : 5096477830 Question Type : MCQ Option Shuffling : Yes

Correct Marks : 1 Wrong Marks : 0.25

वह विकल्प चुनें जो श्रृंखला में प्रश्न चिन्ह (?) को सही प्रतिस्थापित करेगा।

0, 4, 8, 16, 24, 36, ?

Options :

1. ✓ 48

2. ✗ 50

3. ✗ 52

4. ✗ 54

General Awareness1

Group Number :	3
Group Id :	50964794
Group Maximum Duration :	0
Group Minimum Duration :	0
Show Attended Group? :	No
Edit Attended Group? :	No
Break time:	0
Group Marks:	20
Is this Group for Examiner?:	No
Revisit allowed for group Instructions? :	Yes
Maximum Instruction Time:	0
Minimum Instruction Time:	0

General Awareness1

Section Id :	509647254
Section Number :	1
Section type :	Online
Mandatory or Optional:	Mandatory
Number of Questions:	20
Number of Questions to be attempted:	20
Section Marks:	20

Sub-Section Number:	1
Sub-Section Id:	509647370
Question Shuffling Allowed :	Yes

Question Number : 41 Question Id : 5096477831 Question Type : MCQ Option Shuffling : Yes
Correct Marks : 1 Wrong Marks : 0.25

The toxic effect of which one of the following air pollutants is due to more than 200 times greater affinity than Oxygen for haemoglobin?

Options :

1. ✓ Carbon monoxide
2. ✗ Methane
3. ✗ Sulphur dioxide
4. ✗ Nitrous Oxide

Question Number : 41 Question Id : 5096477831 Question Type : MCQ Option Shuffling : Yes
Correct Marks : 1 Wrong Marks : 0.25

निम्न में से किस वायु प्रदूषक का विषाक्त प्रभाव इसकी हीमोग्लोबिन के लिए ऑक्सीजन की तुलना में अधिक बंधनीयता होने के कारण 200 गुना तक बढ़ जाता है?

Options :

1. ✓ कार्बन मोनोऑक्साइड
2. ✗ मीथेन
3. ✗ सल्फर डाइऑक्साइड
4. ✗ नाइट्रस ऑक्साइड

Question Number : 42 Question Id : 5096477832 Question Type : MCQ Option Shuffling : Yes

Correct Marks : 1 Wrong Marks : 0.25

The soil-less culture of plants is called?

Options :

1. ✗ Apomixis
2. ✓ Hydroponics
3. ✗ Flaming
4. ✗ Phenolic exudation

Question Number : 42 Question Id : 5096477832 Question Type : MCQ Option Shuffling : Yes

Correct Marks : 1 Wrong Marks : 0.25

पौधों के मृदा रहित संवर्धन को कहा जाता है?

Options :

1. ✗ एपोमिक्सिस
2. ✓ हाइड्रोपॉनिक्स
3. ✗ फ्लेमिंग
4. ✗ फेनोलिक एक्जुडिशन

Question Number : 43 Question Id : 5096477833 Question Type : MCQ Option Shuffling : Yes

Correct Marks : 1 Wrong Marks : 0.25

What is the informal name given to the United Nations conference on Environment and Development?

Options :

1. ✖ Green Summit
2. ✖ Blue Summit
3. ✖ Water Summit
4. ✔ Earth Summit

Question Number : 43 Question Id : 5096477833 Question Type : MCQ Option Shuffling : Yes

Correct Marks : 1 Wrong Marks : 0.25

पर्यावरण और विकास पर संयुक्त राष्ट्र सम्मेलन को कौन सा अनौपचारिक नाम दिया गया है?

Options :

1. ✖ ग्रीन समिट
2. ✖ ब्लू समिट
3. ✖ वाटर समिट
4. ✔ अर्थ समिट

Question Number : 44 Question Id : 5096477834 Question Type : MCQ Option Shuffling : Yes

Correct Marks : 1 Wrong Marks : 0.25

What is the name of World's first Greenhouse gas monitoring satellite launched by Japan?

Options :

1. ✔ Ibuki
2. ✖ Hinode
3. ✖ Akari
4. ✖ Jinja

Question Number : 44 Question Id : 5096477834 Question Type : MCQ Option Shuffling : Yes

Correct Marks : 1 Wrong Marks : 0.25

जापान द्वारा प्रक्षेपित दुनिया के पहले ग्रीनहाउस गैस निगरानी उपग्रह का नाम क्या है?

Options :

1. ✓ इबुकी (Ibuki)
2. ✗ हिनोद (Hinode)
3. ✗ अकारी (Akari)
4. ✗ जिंजा (Jinja)

Question Number : 45 Question Id : 5096477835 Question Type : MCQ Option Shuffling : Yes
Correct Marks : 1 Wrong Marks : 0.25

Which among the following teams/clubs has been conferred with 'Sports Club of the Year 2018' award by ISA (International Sports Awards)?

Options :

1. ✓ Wild Boars Football team
2. ✗ Manchester United Football team
3. ✗ Barcelona Football team
4. ✗ Seville Football team

Question Number : 45 Question Id : 5096477835 Question Type : MCQ Option Shuffling : Yes
Correct Marks : 1 Wrong Marks : 0.25

निम्नलिखित में से किस टीम/क्लब को ISA (अंतर्राष्ट्रीय खेल पुरस्कार) द्वारा 'स्पोर्ट्स क्लब ऑफ द ईयर 2018' पुरस्कार से सम्मानित किया गया है?

Options :

1. ✓ वाइल्ड बोर्स फुटबॉल टीम
2. ✗ मैन्चेस्टर यूनाइटेड फुटबॉल टीम
3. ✗ बार्सिलोना फुटबॉल टीम

4. * सेविले फुटबॉल टीम

Question Number : 46 Question Id : 5096477836 Question Type : MCQ Option Shuffling : Yes
Correct Marks : 1 Wrong Marks : 0.25

Which cricketer has been recently appointed as the first non-British President of the Marylebone Cricket Club (MCC)?

Options :

1. * Rahul Dravid
2. * Sachin Tendular
3. ✓ Kumara Sangakkara
4. * Ashish Nehra

Question Number : 46 Question Id : 5096477836 Question Type : MCQ Option Shuffling : Yes
Correct Marks : 1 Wrong Marks : 0.25

हाल ही में किस क्रिकेटर को मेर्लबोन क्रिकेट क्लब (MCC) का पहला गैर-ब्रिटिश अध्यक्ष नियुक्त किया गया है?

Options :

1. * राहुल द्रविड़
2. * सचिन तेंदुलकर
3. ✓ कुमार संगकारा
4. * आशीष नेहरा

Question Number : 47 Question Id : 5096477837 Question Type : MCQ Option Shuffling : Yes
Correct Marks : 1 Wrong Marks : 0.25

With which institute the IT giant Wipro has partnered recently to undertake applied research in 5G and artificial intelligence?

Options :

1. * IIT Delhi
2. * BITS Pilani
3. ✓ IIT Kharagpur

4. * Amity University

Question Number : 47 Question Id : 5096477837 Question Type : MCQ Option Shuffling : Yes

Correct Marks : 1 Wrong Marks : 0.25

आईटी दिग्गज विप्रो ने हाल ही में 5G और कृत्रिम बुद्धिमत्ता के क्षेत्र में अनुप्रयुक्त अनुसंधान शुरू करने के लिए किस संस्थान के साथ भागीदारी की है?

Options :

1. * आईआईटी दिल्ली
2. * बिट्स पिलानी
3. ✓ आईआईटी खड़गपुर
4. * एमिटी यूनिवर्सिटी

Question Number : 48 Question Id : 5096477838 Question Type : MCQ Option Shuffling : Yes

Correct Marks : 1 Wrong Marks : 0.25

Which movie has won the Oscar award for best visual effects at Oscars 2018?

Options :

1. * Guardians of the galaxy
2. ✓ Blade runner 2049
3. * Skull Island
4. * War for the planet of Apes

Question Number : 48 Question Id : 5096477838 Question Type : MCQ Option Shuffling : Yes

Correct Marks : 1 Wrong Marks : 0.25

ऑस्कर 2018 में सर्वश्रेष्ठ दृश्य प्रभावों के लिए ऑस्कर पुरस्कार किस फिल्म ने जीता?

Options :

1. * गार्डियंस ऑफ गैलेक्सी
2. ✓ ब्लेड रनर 2049

3. ✖ स्कल आइलैंड

4. ✖ वार फॉर द प्लानेट ऑफ एप्स

Question Number : 49 Question Id : 5096477839 Question Type : MCQ Option Shuffling : Yes

Correct Marks : 1 Wrong Marks : 0.25

मौर्य प्रशासन में, 'कर्मतिका' की भूमिका क्या होती थी?

Options :

1. ✔ उद्योगों और कारखानों के प्रमुख

2. ✖ कोषाध्यक्ष

3. ✖ कमांडर इन चीफ

4. ✖ गृह रक्षा प्रमुख

Question Number : 49 Question Id : 5096477839 Question Type : MCQ Option Shuffling : Yes

Correct Marks : 1 Wrong Marks : 0.25

In the Mauryan administration, what was the role of 'Karmantika'?

Options :

1. ✔ Head of industries and factories.

2. ✖ Treasury Chief

3. ✖ Commander in Chief

4. ✖ Chief of Home defence

Question Number : 50 Question Id : 5096477840 Question Type : MCQ Option Shuffling : Yes

Correct Marks : 1 Wrong Marks : 0.25

Who founded the Lodhi dynasty?

Options :

1. ✔ Bahlul Lodi

2. ✖ Sikander Lodi

3. ✖ Ibrahim Lodi

4. ✖ Daulat Khan Lodi

Question Number : 50 Question Id : 5096477840 Question Type : MCQ Option Shuffling : Yes
Correct Marks : 1 Wrong Marks : 0.25

लोधी वंश की स्थापना किसने की?

Options :

1. ✓ बहलोल लोदी
2. ✗ सिकंदर लोदी
3. ✗ इब्राहिम लोदी
4. ✗ दौलत खान लोदी

Question Number : 51 Question Id : 5096477841 Question Type : MCQ Option Shuffling : Yes
Correct Marks : 1 Wrong Marks : 0.25

During the reign of which Viceroy, the Rowlatt Act was passed in India?

Options :

1. ✗ Lord Lytton
2. ✓ Lord Chelmsford
3. ✗ Lord Irwin
4. ✗ Lord Wavell

Question Number : 51 Question Id : 5096477841 Question Type : MCQ Option Shuffling : Yes
Correct Marks : 1 Wrong Marks : 0.25

भारत में रोलेट एक्ट किस वायसराय के शासनकाल के दौरान पारित किया गया था?

Options :

1. ✗ लॉर्ड लिटन
2. ✓ लॉर्ड चेम्सफोर्ड
3. ✗ लॉर्ड इरविन
4. ✗ लॉर्ड वेवेल

Question Number : 52 Question Id : 5096477842 Question Type : MCQ Option Shuffling : Yes
Correct Marks : 1 Wrong Marks : 0.25

With which region do you associate the 'Pabna' movement which happened between 1870 to 1880?

Options :

1. ✖ Kerala
2. ✖ Telangana
3. ✖ Gujarat
4. ✔ Bengal

Question Number : 52 Question Id : 5096477842 Question Type : MCQ Option Shuffling : Yes

Correct Marks : 1 Wrong Marks : 0.25

1870 से 1880 के बीच हुए 'पाबना' आंदोलन को किस क्षेत्र से जोड़ा जा सकता है?

Options :

1. ✖ केरल
2. ✖ तेलंगाना
3. ✖ गुजरात
4. ✔ बंगाल

Question Number : 53 Question Id : 5096477843 Question Type : MCQ Option Shuffling : Yes

Correct Marks : 1 Wrong Marks : 0.25

How many types of Bills are passed in the parliament of India?

Options :

1. ✔ 4
2. ✖ 8
3. ✖ 9
4. ✖ 10

Question Number : 53 Question Id : 5096477843 Question Type : MCQ Option Shuffling : Yes

Correct Marks : 1 Wrong Marks : 0.25

भारत की संसद में कितने प्रकार के विधेयकों को पारित किया जाता है?

Options :

1. ✓ 4

2. ✗ 8

3. ✗ 9

4. ✗ 10

Question Number : 54 Question Id : 5096477844 Question Type : MCQ Option Shuffling : Yes
Correct Marks : 1 Wrong Marks : 0.25

The total number of High courts in India is?

Options :

1. ✗ 29

2. ✗ 20

3. ✗ 22

4. ✓ 25

Question Number : 54 Question Id : 5096477844 Question Type : MCQ Option Shuffling : Yes
Correct Marks : 1 Wrong Marks : 0.25

भारत में उच्च न्यायालयों की कुल संख्या कितनी है?

Options :

1. ✗ 29

2. ✗ 20

3. ✗ 22

4. ✓ 25

Question Number : 55 Question Id : 5096477845 Question Type : MCQ Option Shuffling : Yes
Correct Marks : 1 Wrong Marks : 0.25

The second state in India which adopted the Panchayati Raj system:

Options :

1. ✓ Andhra Pradesh

2. ✗ Rajasthan

3. * Maharashtra

4. * Uttar Pradesh

Question Number : 55 Question Id : 5096477845 Question Type : MCQ Option Shuffling : Yes

Correct Marks : 1 Wrong Marks : 0.25

भारत में पंचायती राज व्यवस्था को अपनाने वाला दूसरा राज्य कौन सा था:

Options :

1. ✓ आंध्र प्रदेश

2. * राजस्थान

3. * महाराष्ट्र

4. * उत्तर प्रदेश

Question Number : 56 Question Id : 5096477846 Question Type : MCQ Option Shuffling : Yes

Correct Marks : 1 Wrong Marks : 0.25

Which article of Indian constitution directs the State to strive for uniform civil code for the citizens?

Options :

1. * Article 74

2. * Article 54

3. ✓ Article 44

4. * Article 34

Question Number : 56 Question Id : 5096477846 Question Type : MCQ Option Shuffling : Yes

Correct Marks : 1 Wrong Marks : 0.25

भारतीय संविधान का कौन सा अनुच्छेद राज्य को नागरिकों के लिए समान नागरिक संहिता लागू करने के लिए प्रयास करने का निर्देश देता है?

Options :

1. * अनुच्छेद 74

2. ✖ अनुच्छेद 54

3. ✔ अनुच्छेद 44

4. ✖ अनुच्छेद 34

Question Number : 57 Question Id : 5096477847 Question Type : MCQ Option Shuffling : Yes
Correct Marks : 1 Wrong Marks : 0.25

Which amendment act has inserted 'Right to Education' in the Indian constitution?

Options :

1. ✖ 76th amendment act

2. ✔ 86th amendment act

3. ✖ 66th amendment act

4. ✖ 56th amendment act

Question Number : 57 Question Id : 5096477847 Question Type : MCQ Option Shuffling : Yes
Correct Marks : 1 Wrong Marks : 0.25

भारतीय संविधान में किस संशोधन अधिनियम द्वारा 'शिक्षा का अधिकार' डाला गया?

Options :

1. ✖ 76 वां संशोधन अधिनियम

2. ✔ 86 वां संशोधन अधिनियम

3. ✖ 66 वां संशोधन अधिनियम

4. ✖ 56 वां संशोधन अधिनियम

Question Number : 58 Question Id : 5096477848 Question Type : MCQ Option Shuffling : Yes
Correct Marks : 1 Wrong Marks : 0.25

What is the annual MPLADS (Members of Parliament Local Area Development Scheme) fund entitlement per MP constituency?

Options :

1. ✔ 5 Crore

2. * 10 Crore

3. * 15 Crore

4. * 8 Crore

Question Number : 58 Question Id : 5096477848 Question Type : MCQ Option Shuffling : Yes

Correct Marks : 1 Wrong Marks : 0.25

हर निर्वाचन क्षेत्र में प्रति सांसद MPLADS (सांसद स्थानीय क्षेत्र विकास योजना) फंड कितना होता है?

Options :

1. ✓ 5 करोड़

2. * 10 करोड़

3. * 15 करोड़

4. * 8 करोड़

Question Number : 59 Question Id : 5096477849 Question Type : MCQ Option Shuffling : Yes

Correct Marks : 1 Wrong Marks : 0.25

The team 'New York Yankees' is associated with which sport?

Options :

1. * Rugby

2. ✓ Baseball

3. * Cricket

4. * Ice Hockey

Question Number : 59 Question Id : 5096477849 Question Type : MCQ Option Shuffling : Yes

Correct Marks : 1 Wrong Marks : 0.25

'न्यूयार्क यांकीज' टीम किस खेल से संबंधित है?

Options :

1. * रग्बी

2. ✓ बेसबॉल

3. * क्रिकेट

4. * आइस हॉकी

Question Number : 60 Question Id : 5096477850 Question Type : MCQ Option Shuffling : Yes
Correct Marks : 1 Wrong Marks : 0.25

With whom did Saketh Myneni partner to win mixed doubles gold for India at the 2014 Asian games?

Options :

1. ✓ Sania Mirza
2. * Neha Oberoi
3. * Rashmi Chakaravarty
4. * Shika Oberoi

Question Number : 60 Question Id : 5096477850 Question Type : MCQ Option Shuffling : Yes
Correct Marks : 1 Wrong Marks : 0.25

2014 के एशियाई खेलों में भारत के लिए मिश्रित युगल का स्वर्ण जीतने वाले साकेत माइनेनी ने किसके साथ साझेदारी की थी?

Options :

1. ✓ सानिया मिर्जा
2. * नेहा ओबेरॉय
3. * रश्मि चक्रवर्ती
4. * शिखा ओबेरॉय

General Awareness2

Group Number :	4
Group Id :	50964795
Group Maximum Duration :	0
Group Minimum Duration :	0
Show Attended Group? :	No
Edit Attended Group? :	No
Break time:	0
Group Marks:	20
Is this Group for Examiner?:	No
Revisit allowed for group Instructions? :	Yes
Maximum Instruction Time:	0
Minimum Instruction Time:	0

General Awareness2

Section Id :	509647255
Section Number :	1
Section type :	Online
Mandatory or Optional:	Mandatory
Number of Questions:	20
Number of Questions to be attempted:	20
Section Marks:	20

Sub-Section Number:	1
Sub-Section Id:	509647371
Question Shuffling Allowed :	Yes

Question Number : 61 Question Id : 5096477851 Question Type : MCQ Option Shuffling : Yes
Correct Marks : 1 Wrong Marks : 0.25

First cricketer to receive Rajiv Gandhi Khel Ratna award is?

Options :

1. * Sunil Gavaskar
2. * Ravi Shastri
3. * Kapil Dev
4. ✓ Sachin Tendulkar

Question Number : 61 Question Id : 5096477851 Question Type : MCQ Option Shuffling : Yes
Correct Marks : 1 Wrong Marks : 0.25

राजीव गांधी खेल रत्न पुरस्कार प्राप्त करने वाले पहले क्रिकेटर हैं?

Options :

1. * सुनील गावस्कर
2. * रवि शास्त्री
3. * कपिल देव
4. ✓ सचिन तेंदुलकर

Question Number : 62 Question Id : 5096477852 Question Type : MCQ Option Shuffling : Yes
Correct Marks : 1 Wrong Marks : 0.25

With Indian state the 'Warli' folk painting is associated?

Options :

1. * West Bengal
2. * Kerala
3. ✓ Maharashtra
4. * Manipur

Question Number : 62 Question Id : 5096477852 Question Type : MCQ Option Shuffling : Yes
Correct Marks : 1 Wrong Marks : 0.25

'वारली' लोक चित्रकला किस भारतीय राज्य से संबंधित है?

Options :

1. * पश्चिम बंगाल
2. * केरल
3. ✓ महाराष्ट्र
4. * मणिपुर

Question Number : 63 Question Id : 5096477853 Question Type : MCQ Option Shuffling : Yes
Correct Marks : 1 Wrong Marks : 0.25

With which Indian state do you associate the 'Muria' dance?

Options :

1. * Maharashtra
2. ✓ Chhattisgarh
3. * West Bengal
4. * Telangana

Question Number : 63 Question Id : 5096477853 Question Type : MCQ Option Shuffling : Yes
Correct Marks : 1 Wrong Marks : 0.25

'मुरिया' नृत्यकला किस भारतीय राज्य से संबंधित है?

Options :

1. * महाराष्ट्र
2. ✓ छत्तीसगढ़

3. * पश्चिम बंगाल

4. * तेलंगाना

Question Number : 64 Question Id : 5096477854 Question Type : MCQ Option Shuffling : Yes

Correct Marks : 1 Wrong Marks : 0.25

The festival 'Teppam' is mainly celebrated in which one of the following states of India?

Options :

1. * Kerala

2. * Karnataka

3. ✓ Tamil Nadu

4. * Telangana

Question Number : 64 Question Id : 5096477854 Question Type : MCQ Option Shuffling : Yes

Correct Marks : 1 Wrong Marks : 0.25

'तेप्पम' नामक त्यौहार निम्नलिखित में से कौन से भारतीय राज्य में मुख्य रूप से मनाया जाता है?

Options :

1. * केरल

2. * कर्नाटक

3. ✓ तमिलनाडु

4. * तेलंगाना

Question Number : 65 Question Id : 5096477855 Question Type : MCQ Option Shuffling : Yes

Correct Marks : 1 Wrong Marks : 0.25

The river Nelson originates from which one of the following countries?

Options :

1. * Mongolia

2. * Russia

3. * Germany

4. ✓ Canada

Question Number : 65 Question Id : 5096477855 Question Type : MCQ Option Shuffling : Yes
Correct Marks : 1 Wrong Marks : 0.25

नील्सन नदी निम्न में से कौन से देश से निकलती है?

Options :

1. ✘ मंगोलिया
2. ✘ रूस
3. ✘ जर्मनी
4. ✓ कनाडा

Question Number : 66 Question Id : 5096477856 Question Type : MCQ Option Shuffling : Yes
Correct Marks : 1 Wrong Marks : 0.25

Where is Gandhisagar dam located in India?

Options :

1. ✓ Madhya Pradesh
2. ✘ Jharkhand
3. ✘ Telangana
4. ✘ Bihar

Question Number : 66 Question Id : 5096477856 Question Type : MCQ Option Shuffling : Yes
Correct Marks : 1 Wrong Marks : 0.25

भारत में गांधीसागर बांध कहां स्थित है?

Options :

1. ✓ मध्य प्रदेश
2. ✘ झारखंड
3. ✘ तेलंगाना
4. ✘ बिहार

Question Number : 67 Question Id : 5096477857 Question Type : MCQ Option Shuffling : Yes
Correct Marks : 1 Wrong Marks : 0.25

The highest mountain peak in the Western Ghats is?

Options :

1. * Doddabetta
2. ✓ Anamudi
3. * Meesapulimala
4. * Kolaribetta

Question Number : 67 Question Id : 5096477857 Question Type : MCQ Option Shuffling : Yes
Correct Marks : 1 Wrong Marks : 0.25

पश्चिमी घाट की सबसे उंची पर्वत चोटी कौन सी है?

Options :

1. * डोडाबेट्टा
2. ✓ अनामुडी
3. * मेस्सापुलीमला
4. * कोलारीबेट्टा

Question Number : 68 Question Id : 5096477858 Question Type : MCQ Option Shuffling : Yes
Correct Marks : 1 Wrong Marks : 0.25

FERA (फॉरेन एक्सचेंज रेगुलेशन एक्ट) को 2000 में निम्न अधिनियम द्वारा प्रतिस्थापित कर दिया गया था?

Options :

1. ✓ विदेशी मुद्रा प्रबंधन अधिनियम
2. * भारतीय अनुबंध अधिनियम
3. * मध्यस्थता और सुलह अधिनियम
4. * विदेशी मुद्रा बहाली अधिनियम

Question Number : 68 Question Id : 5096477858 Question Type : MCQ Option Shuffling : Yes
Correct Marks : 1 Wrong Marks : 0.25

FERA (Foreign Exchange Regulations Act) was replaced in 2000 by which one of the following act?

Options :

1. ✓ Foreign Exchange Management Act
2. ✖ The India contract Act
3. ✖ Arbitration and conciliation act
4. ✖ Foreign Exchange Revival Act

Question Number : 69 Question Id : 5096477859 Question Type : MCQ Option Shuffling : Yes

Correct Marks : 1 Wrong Marks : 0.25

What is the main objective of Bharat Nirman Yojana initiated by Government of India?

Options :

1. ✓ To provide infrastructure for rural areas
2. ✖ To provide funding for unemployed to start business
3. ✖ To set up training centers for young entrepreneurs
4. ✖ To set up new organizations and create employment

Question Number : 69 Question Id : 5096477859 Question Type : MCQ Option Shuffling : Yes

Correct Marks : 1 Wrong Marks : 0.25

भारत सरकार द्वारा शुरू की गई भारत निर्माण योजना का मुख्य उद्देश्य क्या है?

Options :

1. ✓ ग्रामीण क्षेत्रों के लिए बुनियादी ढांचा विकसित करना
2. ✖ बेरोजगारों को व्यवसाय शुरू करने के लिए धन उपलब्ध कराना
3. ✖ युवा उद्यमियों के लिए प्रशिक्षण केंद्र स्थापित करना
4. ✖ नए संगठन स्थापित करना और रोजगार का सृजन करना

Question Number : 70 Question Id : 5096477860 Question Type : MCQ Option Shuffling : Yes

Correct Marks : 1 Wrong Marks : 0.25

The financial institute NABARD was set up by Government of India in 1982. The full form of NABARD is?

Options :

1. ✓ National Bank for Agriculture and Rural Development
2. ✘ National Bank for Agricultural and Research Development
3. ✘ National Board for Agricultural and Rural Development
4. ✘ National Bank for Augmented Rural Development

Question Number : 70 Question Id : 5096477860 Question Type : MCQ Option Shuffling : Yes
Correct Marks : 1 Wrong Marks : 0.25

वित्तीय संस्थान नाबार्ड की स्थापना भारत सरकार द्वारा 1982 में की गई थी। नाबार्ड का पूरा नाम क्या है?

Options :

1. ✓ नेशनल बैंक फॉर एग्रीकल्चर एंड रूरल डेवलपमेंट
2. ✘ नेशनल बैंक फॉर एग्रीकल्चर एंड रिसर्च डेवलपमेंट
3. ✘ नेशनल बोर्ड फॉर एग्रीकल्चर एंड रूरल डेवलपमेंट
4. ✘ नेशनल बैंक फॉर ऑगमेंटेड रूरल डेवलपमेंट

Question Number : 71 Question Id : 5096477861 Question Type : MCQ Option Shuffling : Yes
Correct Marks : 1 Wrong Marks : 0.25

Turpentine oil is extracted from wood of which one of the following plants?

Options :

1. ✘ Bamboo
2. ✘ Neem
3. ✓ Pine
4. ✘ Banyan

Question Number : 71 Question Id : 5096477861 Question Type : MCQ Option Shuffling : Yes
Correct Marks : 1 Wrong Marks : 0.25

निम्नलिखित में से किस पौधे की लकड़ी से तारपीन का तेल निकाला जाता है?

Options :

1. ✖ बांस
2. ✖ नीम
3. ✔ देवदार
4. ✖ बरगद

Question Number : 72 Question Id : 5096477862 Question Type : MCQ Option Shuffling : Yes
Correct Marks : 1 Wrong Marks : 0.25

Formalin, the liquid used for preserving biological specimens is solution of?

Options :

1. ✔ Formaldehyde
2. ✖ Formic Acid
3. ✖ Fluoro Benzene
4. ✖ Ethane 1,2 diammine

Question Number : 72 Question Id : 5096477862 Question Type : MCQ Option Shuffling : Yes
Correct Marks : 1 Wrong Marks : 0.25

फॉर्मलिन, जैविक नमूनों के संरक्षण के लिए काम में लिया जाता है, यह निम्न का विलयन होता है?

Options :

1. ✔ फॉर्मल्डिहाइड
2. ✖ फॉर्मिक एसिड
3. ✖ फ्लोरो बेंजीन
4. ✖ एथेन 1, 2 डायामीन

Question Number : 73 Question Id : 5096477863 Question Type : MCQ Option Shuffling : Yes
Correct Marks : 1 Wrong Marks : 0.25

The ratio of speed of air craft to the speed of sound is called?

Options :

1. ✖ Craft number

2. ✓ Mach Number

3. ✗ Fly number

4. ✗ Jam Number

Question Number : 73 Question Id : 5096477863 Question Type : MCQ Option Shuffling : Yes
Correct Marks : 1 Wrong Marks : 0.25

हवाई जहाज की गति और ध्वनि की गति के अनुपात को कहा जाता है?

Options :

1. ✗ क्राफ्ट संख्या

2. ✓ माक संख्या

3. ✗ उड़ान संख्या

4. ✗ जाम संख्या

Question Number : 74 Question Id : 5096477864 Question Type : MCQ Option Shuffling : Yes
Correct Marks : 1 Wrong Marks : 0.25

The brightest star visible from any part of the earth is Sirius.
This is also known as?

Options :

1. ✓ Dog Star

2. ✗ Cat Star

3. ✗ Rock star

4. ✗ Sand star

Question Number : 74 Question Id : 5096477864 Question Type : MCQ Option Shuffling : Yes
Correct Marks : 1 Wrong Marks : 0.25

पृथ्वी के किसी भी भाग से दिखाई देने वाला सबसे चमकीला तारा सिरियस है। इसे इस नाम से भी जाना जाता है?

Options :

1. ✓ डॉग स्टार

2. * कैट स्टार

3. * रॉक स्टार

4. * सैंड स्टार

Question Number : 75 Question Id : 5096477865 Question Type : MCQ Option Shuffling : Yes
Correct Marks : 1 Wrong Marks : 0.25

What is the name of India's first Giga-Scale supercomputer?

Options :

1. * YUVA 1000

2. * YUVA 8000

3. ✓ PARAM 8000

4. * PARAM 1000

Question Number : 75 Question Id : 5096477865 Question Type : MCQ Option Shuffling : Yes
Correct Marks : 1 Wrong Marks : 0.25

भारत के पहले गीगा-स्केल सुपरकंप्यूटर का नाम है?

Options :

1. * YUVA 1000

2. * YUVA 8000

3. ✓ PARAM 8000

4. * PARAM 1000

Question Number : 76 Question Id : 5096477866 Question Type : MCQ Option Shuffling : Yes
Correct Marks : 1 Wrong Marks : 0.25

The full form of CDMA, a technology in mobile telephony is?

Options :

1. * Code Digital Multiple Access

2. * Cellular Data Multiple Access

3. ✓ Code Division Multiple Access

4. * Code Division Mobile Access

Question Number : 76 Question Id : 5096477866 Question Type : MCQ Option Shuffling : Yes

Correct Marks : 1 Wrong Marks : 0.25

मोबाइल टेलीफोनी में काम आने वाली तकनीक CDMA का पूरा नाम क्या है?

Options :

1. * कोड डिजिटल मल्टीपल एक्सेस
2. * सेल्युलर डेटा मल्टीपल एक्सेस
3. ✓ कोड डिवीजन मल्टीपल एक्सेस
4. * कोड डिवीजन मोबाइल एक्सेस

Question Number : 77 Question Id : 5096477867 Question Type : MCQ Option Shuffling : Yes

Correct Marks : 1 Wrong Marks : 0.25

The first FBTR (Fast Breeder Test Reactor) set up at Kalpakkam , Tamil Nadu was jointly designed by BARC (Bhaba Atomic Research Center) and ?

Options :

1. * IIT-Kharagpur
2. ✓ Indira Gandhi Center for Atomic Research
3. * Physical Research Laboratory
4. * Saha Institute of Nuclear Physics

Question Number : 77 Question Id : 5096477867 Question Type : MCQ Option Shuffling : Yes

Correct Marks : 1 Wrong Marks : 0.25

तमिलनाडु के कलपक्कम में स्थापित पहला FBTR (फास्ट ब्रीडर टेस्ट रिएक्टर), BARC (भाभा परमाणु अनुसंधान केंद्र) और निम्न के द्वारा संयुक्त रूप से डिजाइन किया गया था?

Options :

1. * आईआईटी-खड़गपुर
2. ✓ इंदिरा गांधी परमाणु अनुसंधान केंद्र

3. * भौतिक अनुसंधान प्रयोगशाला

4. * साहा इंस्टीट्यूट ऑफ न्यूक्लियर फिजिक्स

Question Number : 78 Question Id : 5096477868 Question Type : MCQ Option Shuffling : Yes

Correct Marks : 1 Wrong Marks : 0.25

In which year the Bio-diversity international was established, which functions as International Board for Plant Genetic resources?

Options :

1. * 1999

2. * 1964

3. * 1994

4. ✓ 1974

Question Number : 78 Question Id : 5096477868 Question Type : MCQ Option Shuffling : Yes

Correct Marks : 1 Wrong Marks : 0.25

पादप आनुवांशिक संसाधनों के लिए अंतर्राष्ट्रीय बोर्ड के रूप में काम करने वाली संस्था बायो डायवर्सिटी इंटरनेशनल की स्थापना किस वर्ष में हुई थी?

Options :

1. * 1999

2. * 1964

3. * 1994

4. ✓ 1974

Question Number : 79 Question Id : 5096477869 Question Type : MCQ Option Shuffling : Yes

Correct Marks : 1 Wrong Marks : 0.25

Which organization of UNO aims at building peace through International Cooperation in Education, Sciences and Culture?

Options :

1. ✓ UNESCO

2. * UNHCR

3. * WIPO

4. * FAO

Question Number : 79 Question Id : 5096477869 Question Type : MCQ Option Shuffling : Yes
Correct Marks : 1 Wrong Marks : 0.25

UNO के किस संगठन का उद्देश्य शिक्षा, विज्ञान और संस्कृति में अंतर्राष्ट्रीय सहयोग के माध्यम से शांति स्थापित करना है?

Options :

1. ✓ यूनेस्को

2. * यूएनएचसीआर

3. * डब्ल्यूआईपीओ

4. * एफएओ

Question Number : 80 Question Id : 5096477870 Question Type : MCQ Option Shuffling : Yes
Correct Marks : 1 Wrong Marks : 0.25

In which year, Imperial Cricket Conference (the old name of the International Cricket Council) was set up?

Options :

1. * 1899

2. * 1929

3. * 1919

4. ✓ 1909

Question Number : 80 Question Id : 5096477870 Question Type : MCQ Option Shuffling : Yes
Correct Marks : 1 Wrong Marks : 0.25

इंपीरियल क्रिकेट कॉन्फ्रेंस (अंतर्राष्ट्रीय क्रिकेट परिषद का पुराना नाम) की स्थापना किस वर्ष में की गई थी?

Options :

1. * 1899

2. ✖ 1929

3. ✖ 1919

4. ✔ 1909

Arithmetic Ability1

Group Number :	5
Group Id :	50964796
Group Maximum Duration :	0
Group Minimum Duration :	0
Show Attended Group? :	No
Edit Attended Group? :	No
Break time:	0
Group Marks:	20
Is this Group for Examiner?:	No
Revisit allowed for group Instructions? :	Yes
Maximum Instruction Time:	0
Minimum Instruction Time:	0

Arithmetic Ability1

Section Id :	509647256
Section Number :	1
Section type :	Online
Mandatory or Optional:	Mandatory
Number of Questions:	20
Number of Questions to be attempted:	20
Section Marks:	20

Sub-Section Number:	1
Sub-Section Id:	509647372
Question Shuffling Allowed :	Yes

Question Number : 81 Question Id : 5096477871 Question Type : MCQ Option Shuffling : Yes

Correct Marks : 1 Wrong Marks : 0.25

The value of $\frac{5}{5 + \frac{1}{4 - \frac{1}{\frac{7}{8}}}} + \frac{7}{107}$ is:

Options :

1. ✖ 2

2. ✖ $\frac{1}{2}$

3. ✔ 1

4. ✖ -1

Question Number : 81 Question Id : 5096477871 Question Type : MCQ Option Shuffling : Yes

Correct Marks : 1 Wrong Marks : 0.25

$\frac{5}{5 + \frac{1}{4 - \frac{1}{\frac{7}{8}}}} + \frac{7}{107}$ का मान पता करें:

Options :

1. ✖ 2

2. ✖ $\frac{1}{2}$

3. ✔ 1

4. ✖ -1

Question Number : 82 Question Id : 5096477872 Question Type : MCQ Option Shuffling : Yes

Correct Marks : 1 Wrong Marks : 0.25

Evaluate:

$\frac{12 \times 272 \div 16 + 264}{1256 \div 32 - 26.25} = ?$

Options :

1. ✖ 34

2. ✓ 36

3. ✖ 38

4. ✖ 56

Question Number : 82 Question Id : 5096477872 Question Type : MCQ Option Shuffling : Yes
Correct Marks : 1 Wrong Marks : 0.25

हल करें:

$$\frac{12 \times 272 \div 16 + 264}{1256 \div 32 - 26.25} = ?$$

Options :

1. ✖ 34

2. ✓ 36

3. ✖ 38

4. ✖ 56

Question Number : 83 Question Id : 5096477873 Question Type : MCQ Option Shuffling : Yes
Correct Marks : 1 Wrong Marks : 0.25

What should replace '?' in the equation given below?

$$5\frac{10}{17} \div 7\frac{12}{34} - \frac{3}{25} = (?)^2$$

Options :

1. ✓ $\frac{4}{5}$

2. ✗ $\frac{2}{5}$

3. ✗ $\frac{3}{5}$

4. ✗ $\frac{3}{4}$

Question Number : 83 Question Id : 5096477873 Question Type : MCQ Option Shuffling : Yes
Correct Marks : 1 Wrong Marks : 0.25

नीचे दिए गए समीकरण में '?' के स्थान पर क्या आएगा?

$$5\frac{10}{17} \div 7\frac{12}{34} - \frac{3}{25} = (?)^2$$

Options :

1. ✓ $\frac{4}{5}$

2. ✗ $\frac{2}{5}$

3. ✗ $\frac{3}{5}$

4. ✗ $\frac{3}{4}$

Question Number : 84 Question Id : 5096477874 Question Type : MCQ Option Shuffling : Yes
Correct Marks : 1 Wrong Marks : 0.25

$$60\% \text{ of } 4500 - \frac{9^3 \times 48}{\sqrt{256}} - 20\% \text{ of } 95 = x. \text{ Find the value of } x ?$$

Options :

1. ✖ 504

2. ✖ 500

3. ✖ 594

4. ✔ 494

Question Number : 84 Question Id : 5096477874 Question Type : MCQ Option Shuffling : Yes
Correct Marks : 1 Wrong Marks : 0.25

4500 का 60% - $\frac{9^3 \times 48}{\sqrt{256}}$ - 95 का 20% = x. 'x' का मान पता करें ?

Options :

1. ✖ 504

2. ✖ 500

3. ✖ 594

4. ✔ 494

Question Number : 85 Question Id : 5096477875 Question Type : MCQ Option Shuffling : Yes
Correct Marks : 1 Wrong Marks : 0.25

What is the value of 'x' in the following equation?

$$11^2 + 1.1^2 + 0.11^2 + 0.011^2 = x$$

Options :

1. ✖ 122.441121

2. ✔ 122.222221

3. ✖ 122.331211

4. ✖ 122.441211

Question Number : 85 Question Id : 5096477875 Question Type : MCQ Option Shuffling : Yes

Correct Marks : 1 Wrong Marks : 0.25

नीचे दिए गए समीकरण में 'x' का मान क्या है?

$$11^2 + 1.1^2 + 0.11^2 + 0.011^2 = x$$

Options :

1. ✖ 122.441121

2. ✔ 122.222221

3. ✖ 122.331211

4. ✖ 122.441211

Question Number : 86 Question Id : 5096477876 Question Type : MCQ Option Shuffling : Yes

Correct Marks : 1 Wrong Marks : 0.25

$$\sqrt{201\frac{49}{100000} + 49\frac{1}{10000} - \frac{5}{1000} + 6\frac{45}{10000}} = x.$$

Find the approximate value of x^2 ?

Options :

1. ✖ 16

2. ✔ 256

3. ✖ 196

4. ✖ 14

Question Number : 86 Question Id : 5096477876 Question Type : MCQ Option Shuffling : Yes

Correct Marks : 1 Wrong Marks : 0.25

$$\sqrt{201\frac{49}{100000} + 49\frac{1}{10000} - \frac{5}{1000} + 6\frac{45}{10000}} = x.$$

' x^2 ' का निकटतम मान पता करें ?

Options :

1. ✖ 16

2. ✔ 256

3. ✖ 196

4. ✖ 14

Question Number : 87 Question Id : 5096477877 Question Type : MCQ Option Shuffling : Yes

Correct Marks : 1 Wrong Marks : 0.25

The expression $(251.98 \times 251.98 + 251.98 \times x + 48.02 \times 48.02)$ will be a perfect square for which of the following values of x ?

Options :

1. ✖ 48.2

2. ✖ 96.4

3. ✖ 48.02

4. ✔ 96.04

Question Number : 87 Question Id : 5096477877 Question Type : MCQ Option Shuffling : Yes

Correct Marks : 1 Wrong Marks : 0.25

x के किस मान के लिए समीकरण $(251.98 \times 251.98 + 251.98 \times x + 48.02 \times 48.02)$ एक पूर्ण वर्ग होगा?

Options :

1. ✖ 48.2

2. ✖ 96.4

3. ✖ 48.02

4. ✔ 96.04

Question Number : 88 Question Id : 5096477878 Question Type : MCQ Option Shuffling : Yes

Correct Marks : 1 Wrong Marks : 0.25

$$\frac{1}{5+5^{-1}} + \frac{1}{1+5^2} = \frac{a}{13}$$

Find the value of a^6 .

Options :

1. ✖ 64

2. ✓ 729

3. ✖ 4096

4. ✖ 1

Question Number : 88 Question Id : 5096477878 Question Type : MCQ Option Shuffling : Yes

Correct Marks : 1 Wrong Marks : 0.25

$$\frac{1}{5+5^{-1}} + \frac{1}{1+5^2} = \frac{a}{13}$$

'a' का मान पता करें।

Options :

1. ✖ 64

2. ✓ 729

3. ✖ 4096

4. ✖ 1

Question Number : 89 Question Id : 5096477879 Question Type : MCQ Option Shuffling : Yes

Correct Marks : 1 Wrong Marks : 0.25

One half of one-eighth of a land is bought by Ramesh for ₹ 50,00,000. What is the value, in rupees, of one-fifth of the land?

Options :

1. ✖ 1,62,00,000

2. ✓ 1,60,00,000

3. ✗ 1,63,50,000

4. ✗ 1,64,50,000

Question Number : 89 Question Id : 5096477879 Question Type : MCQ Option Shuffling : Yes

Correct Marks : 1 Wrong Marks : 0.25

रमेश ने एक भूखंड के एक बटा आठवें हिस्से का आधा हिस्सा रुपये 50,00,000 में खरीदा। उस भूखंड के एक बटा पाँचवें हिस्से का, रुपये में, मान पता करें?

Options :

1. ✗ 1,62,00,000

2. ✓ 1,60,00,000

3. ✗ 1,63,50,000

4. ✗ 1,64,50,000

Question Number : 90 Question Id : 5096477880 Question Type : MCQ Option Shuffling : Yes

Correct Marks : 1 Wrong Marks : 0.25

If $9.24x = 1.32y$, then find the value of $\frac{2y-4x}{4y+2x} \times 3$?

Options :

1. ✗ 3

2. ✓ 1

3. ✖ $\frac{1}{3}$

4. ✖ $\frac{1}{5}$

Question Number : 90 Question Id : 5096477880 Question Type : MCQ Option Shuffling : Yes
Correct Marks : 1 Wrong Marks : 0.25

यदि $9.24x = 1.32y$ है, तो $\frac{2y-4x}{4y+2x} \times 3$ का मान पता करें ?

Options :

1. ✖ 3

2. ✔ 1

3. ✖ $\frac{1}{3}$

4. ✖ $\frac{1}{5}$

Question Number : 91 Question Id : 5096477881 Question Type : MCQ Option Shuffling : Yes
Correct Marks : 1 Wrong Marks : 0.25

Find the HCF of 2.8, 11.2 and 0.84.

Options :

1. ✖ 28.0

2. ✔ 0.28

3. ✖ 2.80

4. ✖ 0.028

Question Number : 91 Question Id : 5096477881 Question Type : MCQ Option Shuffling : Yes
Correct Marks : 1 Wrong Marks : 0.25

2.8, 11.2 और 0.84 का महत्तम समापवर्त्य पता करें।

Options :

1. ✖ 28.0

2. ✔ 0.28

3. ✖ 2.80

4. ✖ 0.028

Question Number : 92 Question Id : 5096477882 Question Type : MCQ Option Shuffling : Yes
Correct Marks : 1 Wrong Marks : 0.25

Which of the following is the least number by which 1650 should be multiplied in order to produce a multiple of 1450?

Options :

1. ✔ 29

2. ✖ 33

3. ✖ 24

4. ✖ 21

Question Number : 92 Question Id : 5096477882 Question Type : MCQ Option Shuffling : Yes
Correct Marks : 1 Wrong Marks : 0.25

1450 के गुणक बनाने के लिए इनमें से किस न्यूनतम संख्या को 1650 से गुणा किया जाना चाहिए?

Options :

1. ✓ 29

2. ✗ 33

3. ✗ 24

4. ✗ 21

Question Number : 93 Question Id : 5096477883 Question Type : MCQ Option Shuffling : Yes

Correct Marks : 1 Wrong Marks : 0.25

The HCF of three numbers is 5. If these numbers are in the ratio of 105 : 165 : 231, find the sum of the three numbers.

Options :

1. ✗ 2505

2. ✗ 855

3. ✗ 2515

4. ✓ 835

Question Number : 93 Question Id : 5096477883 Question Type : MCQ Option Shuffling : Yes

Correct Marks : 1 Wrong Marks : 0.25

3 संख्याओं का महत्तम समापवर्त्य 5 है। यदि यह संख्याएँ 105:165:231 के अनुपात में हैं, तो इन संख्याओं का योग पता करें।

Options :

1. ✖ 2505

2. ✖ 855

3. ✖ 2515

4. ✔ 835

Question Number : 94 Question Id : 5096477884 Question Type : MCQ Option Shuffling : Yes

Correct Marks : 1 Wrong Marks : 0.25

A bag contains 2 rupee, 1 rupee, fifty paise and twenty five paise coins in the proportion of 3 : 5 : 7 : 9. If the total amount is ₹ 268, find the number of 1 rupee coins in the bag.

Options :

1. ✔ 80

2. ✖ 112

3. ✖ 48

4. ✖ 144

Question Number : 94 Question Id : 5096477884 Question Type : MCQ Option Shuffling : Yes

Correct Marks : 1 Wrong Marks : 0.25

एक थैले में 2 रुपए, 1 रुपया, पचास पैसे और पच्चीस पैसे के सिक्के 3:5:7:9 के अनुपात में हैं। यदि कुल राशि रुपये 268 है, तो थैले में 1 रुपए के सिक्कों की संख्या पता करें।

Options :

1. ✔ 80

2. ✖ 112

3. ✖ 48

4. ✖ 144

Question Number : 95 Question Id : 5096477885 Question Type : MCQ Option Shuffling : Yes

Correct Marks : 1 Wrong Marks : 0.25

Ramesh, Ravi and Rahul together earn ₹ 23184 and spend 60%, 70% and 80% of their salaries respectively. If their savings are in the ratio of 28 : 42 : 30, the salary of Ravi is:

Options :

1. ✔ 9016

2. ✖ 9660

3. ✖ 4508

4. ✖ 9000

Question Number : 95 Question Id : 5096477885 Question Type : MCQ Option Shuffling : Yes

Correct Marks : 1 Wrong Marks : 0.25

रमेश, रवि और राहुल एक-साथ मिलकर रुपये 23184 कमाते हैं और अपने वेतन का क्रमशः 60%, 70% और 80% हिस्सा खर्च करते हैं। यदि उनकी बचत का अनुपात 28:42:30 है, तो रवि का वेतन बताएँ:

Options :

1. ✔ 9016

2. ✖ 9660

3. ✖ 4508

4. ✖ 9000

Question Number : 96 Question Id : 5096477886 Question Type : MCQ Option Shuffling : Yes
Correct Marks : 1 Wrong Marks : 0.25

If 88% of 1110 + 24% of 630 - $3x = 282$, then x is equal to:

Options :

1. ✖ 564

2. ✔ 282

3. ✖ 28.2

4. ✖ 56.4

Question Number : 96 Question Id : 5096477886 Question Type : MCQ Option Shuffling : Yes
Correct Marks : 1 Wrong Marks : 0.25

यदि 1110 का 88% + 630 का 24% - $3x = 282$ है, तो ' x ' का मान पता करें।

Options :

1. ✖ 564

2. ✔ 282

3. ✖ 28.2

4. ✖ 56.4

Question Number : 97 Question Id : 5096477887 Question Type : MCQ Option Shuffling : Yes

Correct Marks : 1 Wrong Marks : 0.25

In a school, 180 students are studying in the 9th class. Among them, 35% are rich and others are poor. There are 80 girls in the class, of whom 65% are poor. How many rich boys are there in the class?

Options :

1. ✖ 28

2. ✔ 35

3. ✖ 52

4. ✖ 63

Question Number : 97 Question Id : 5096477887 Question Type : MCQ Option Shuffling : Yes

Correct Marks : 1 Wrong Marks : 0.25

एक स्कूल में 9वीं कक्षा में 180 छात्र पढ़ते हैं। उनमें से 35% अमीर हैं और बाकी के गरीब हैं। कक्षा में 80 लड़कियाँ हैं, जिनमें से 65% गरीब हैं। तो बताएँ कि कक्षा में कितने अमीर लड़के हैं?

Options :

1. ✖ 28

2. ✔ 35

3. ✖ 52

4. ✖ 63

Question Number : 98 Question Id : 5096477888 Question Type : MCQ Option Shuffling : Yes

Correct Marks : 1 Wrong Marks : 0.25

A rainy day occurs once in every 5 days. One-quarter of the rainy days produce rainbows. The percentage of days having no rainbows is:

Options :

1. ✘ 18%

2. ✘ 16%

3. ✔ 15%

4. ✘ 5%

Question Number : 98 Question Id : 5096477888 Question Type : MCQ Option Shuffling : Yes

Correct Marks : 1 Wrong Marks : 0.25

हर 5 दिनों में एक दिन बारिश होती है। बारिश के दिनों के एक-चौथाई दिनों में इन्द्रधनुष निकलता है। तो उन दिनों का प्रतिशत बताएँ जब इन्द्रधनुष नहीं निकलता है:

Options :

1. ✘ 18%

2. ✘ 16%

3. ✔ 15%

4. ✘ 5%

Question Number : 99 Question Id : 5096477889 Question Type : MCQ Option Shuffling : Yes

Correct Marks : 1 Wrong Marks : 0.25

The average age of Ram and Rohan is 45 years. If Aravind were to replace Ram, the average age would be 44 years; and if Aravind were to replace Rohan, the average age would be 46 years. What are the ages of Ram, Rohan and Aravind, respectively, in years?

Options :

1. ✘ 43, 45, 47

2. ✘ 43, 47, 45

3. ✘ 45, 43, 47

4. ✔ 47, 43, 45

Question Number : 99 Question Id : 5096477889 Question Type : MCQ Option Shuffling : Yes

Correct Marks : 1 Wrong Marks : 0.25

राम और रोहन की औसत आयु 45 वर्ष है। यदि राम के स्थान पर अरविंद के आ जाने से, औसत आयु 44 वर्ष हो जाती है; और यदि रोहन के स्थान पर अरविंद आ जाए, तो औसत आयु 46 वर्ष हो जाती है। तो क्रमशः राम, रोहन और अरविंद की आयु (वर्षों में) बताएँ?

Options :

1. ✘ 43, 45, 47

2. ✘ 43, 47, 45

3. ✘ 45, 43, 47

4. ✔ 47, 43, 45

Question Number : 100 Question Id : 5096477890 Question Type : MCQ Option Shuffling : Yes

Correct Marks : 1 Wrong Marks : 0.25

The average of 4 natural numbers is 162.5. The highest natural number is 326 and the lowest natural number is 74. The difference between the remaining two natural numbers is 44. Which of the following natural numbers is higher of the remaining two natural numbers?

Options :

1. ✓ 147

2. ✘ 103

3. ✘ 144

4. ✘ 106

Question Number : 100 Question Id : 5096477890 Question Type : MCQ Option Shuffling : Yes

Correct Marks : 1 Wrong Marks : 0.25

4 प्राकृतिक संख्याओं का औसत 162.5 है। इनमें सबसे बड़ी प्राकृतिक संख्या 326 है और सबसे छोटी प्राकृतिक संख्या 74 है। अन्य दो प्राकृतिक संख्याओं के बीच का अंतर 44 है। इनमें से कौन सी प्राकृतिक संख्याएं शेष दो प्राकृतिक संख्याओं से बड़ी संख्या है?

Options :

1. ✓ 147

2. ✘ 103

3. ✘ 144

4. ✘ 106

Arithmetic Ability2

Group Number :	6
Group Id :	50964797
Group Maximum Duration :	0
Group Minimum Duration :	0
Show Attended Group? :	No
Edit Attended Group? :	No

Break time:	0
Group Marks:	20
Is this Group for Examiner?:	No
Revisit allowed for group Instructions? :	Yes
Maximum Instruction Time:	0
Minimum Instruction Time:	0

Arithmetic Ability2

Section Id :	509647257
Section Number :	1
Section type :	Online
Mandatory or Optional:	Mandatory
Number of Questions:	20
Number of Questions to be attempted:	20
Section Marks:	20

Sub-Section Number:	1
Sub-Section Id:	509647373
Question Shuffling Allowed :	Yes

Question Number : 101 Question Id : 5096477891 Question Type : MCQ Option Shuffling : Yes
Correct Marks : 1 Wrong Marks : 0.25

The selling price of an article is ₹ 150. Find the profit percentage, if the cost price of the article is 82.5% of the selling price.

Options :

1. ✘ 22.21%

2. ✘ 23.21%

3. ✔ 21.21%

4. ✘ 20.21%

Question Number : 101 Question Id : 5096477891 Question Type : MCQ Option Shuffling : Yes
Correct Marks : 1 Wrong Marks : 0.25

एक वस्तु का विक्रय मूल्य रुपये 150 है। यदि वस्तु का लागत मूल्य विक्रय मूल्य का 82.5% है, तो लाभ प्रतिशत पता करें।

Options :

1. ✖ 22.21%

2. ✖ 23.21%

3. ✔ 21.21%

4. ✖ 20.21%

Question Number : 102 Question Id : 5096477892 Question Type : MCQ Option Shuffling : Yes

Correct Marks : 1 Wrong Marks : 0.25

What is the profit percent made by selling an article at a certain price, if, by selling the article at $\frac{3}{4}$ of that price, there may be a loss of 10%?

Options :

1. ✖ 10%

2. ✖ 30%

3. ✔ 20%

4. ✖ 60%

Question Number : 102 Question Id : 5096477892 Question Type : MCQ Option Shuffling : Yes

Correct Marks : 1 Wrong Marks : 0.25

यदि किसी वस्तु को एक निश्चित मूल्य के $\frac{3}{4}$ पर बेचा जाता है, तो 10% की हानि होती है, तो उस वस्तु को एक निश्चित मूल्य पर बेचने पर कितना लाभ मिलेगा?

Options :

1. ✖ 10%

2. ✖ 30%

3. ✔ 20%

4. ✖ 60%

Question Number : 103 Question Id : 5096477893 Question Type : MCQ Option Shuffling : Yes

Correct Marks : 1 Wrong Marks : 0.25

A shopkeeper increased the price of an article by 45% and later on he reduced the price by 45%. His percentage of loss is:

Options :

1. ✖ 0%

2. ✔ 20.25%

3. ✖ 2.025%

4. ✖ 100%

Question Number : 103 Question Id : 5096477893 Question Type : MCQ Option Shuffling : Yes

Correct Marks : 1 Wrong Marks : 0.25

एक दुकानदार एक वस्तु का मूल्य 45% बढ़ा देता है और बाद में, उस वस्तु का मूल्य 45% कम कर देता है। पता करें कि उसे कितने प्रतिशत हानि हुई है:

Options :

1. ✖ 0%

2. ✔ 20.25%

3. ✖ 2.025%

4. ✖ 100%

Question Number : 104 Question Id : 5096477894 Question Type : MCQ Option Shuffling : Yes

Correct Marks : 1 Wrong Marks : 0.25

A shopkeeper earns a profit of 24% on selling a book at 20% discount on the marked price. The ratio of the cost price and the marked price of the book is:

Options :

1. ✖ 6 : 5

2. ✔ 20 : 31

3. ✖ 31 : 20

4. ✖ 5 : 6

Question Number : 104 Question Id : 5096477894 Question Type : MCQ Option Shuffling : Yes

Correct Marks : 1 Wrong Marks : 0.25

एक दुकानदार को पुस्तक को बाज़ार मूल्य पर 20% की छूट देकर बेचने पर 24% का लाभ होता है। पुस्तक के लागत मूल्य और बाज़ार मूल्य का अनुपात पता करें:

Options :

1. ✖ 6 : 5

2. ✔ 20 : 31

3. ✖ 31 : 20

4. ✖ 5 : 6

Question Number : 105 Question Id : 5096477895 Question Type : MCQ Option Shuffling : Yes

Correct Marks : 1 Wrong Marks : 0.25

Raman purchased a mobile phone marked at Rs. 12000 at successive discounts of 15% and 20% respectively. He spent Rs. 340 on packaging and sold the mobile phone for Rs. 12000. Find his gain percentage (upto two decimals).

Options :

1. ✖ 42.17%

2. ✔ 41.18%

3. ✖ 43.17%

4. ✖ 44.17%

Question Number : 105 Question Id : 5096477895 Question Type : MCQ Option Shuffling : Yes

Correct Marks : 1 Wrong Marks : 0.25

रमन रुपये 12000 के अंकित मूल्य वाले मोबाइल फोन को क्रमशः 15% और 20% की क्रमिक छूट पर खरीदता है। वह पैकेजिंग पर रुपये 340 खर्च करता है और उस मोबाइल फोन को रुपये 12000 में बेच देता है, उसका लाभ प्रतिशत पता करें (दो दशमलव तक)।

Options :

1. ✖ 42.17%

2. ✔ 41.18%

3. ✖ 43.17%

4. ✖ 44.17%

Question Number : 106 Question Id : 5096477896 Question Type : MCQ Option Shuffling : Yes

Correct Marks : 1 Wrong Marks : 0.25

At what rate of interest per annum will the simple interest on a sum of money be $\frac{14}{25}$ of the principal amount in 14 years?

Options :

1. ✖ 2%

2. ✖ 3%

3. ✔ 4%

4. ✖ 1.5%

Question Number : 106 Question Id : 5096477896 Question Type : MCQ Option Shuffling : Yes

Correct Marks : 1 Wrong Marks : 0.25

एक निश्चित राशि पर साधारण ब्याज कितनी वार्षिक ब्याज दर पर 14 वर्षों में मूलधन का $\frac{14}{25}$ हो जाएगा?

Options :

1. ✖ 2%

2. ✖ 3%

3. ✔ 4%

4. ✖ 1.5%

Question Number : 107 Question Id : 5096477897 Question Type : MCQ Option Shuffling : Yes

Correct Marks : 1 Wrong Marks : 0.25

Avinash deposited ₹ 46800 in fixed deposit at the rate of 10% simple interest per annum. After every second year, he added his interest earnings to the principal. The total interest earned during the four-year period would then be:

Options :

1. ✓ 20592

2. ✗ 19592

3. ✗ 21592

4. ✗ 22592

Question Number : 107 Question Id : 5096477897 Question Type : MCQ Option Shuffling : Yes

Correct Marks : 1 Wrong Marks : 0.25

अविनाश ने 10% की वार्षिक साधारण ब्याज दर पर रुपये 46800 की राशि फिक्स्ड डिपॉजिट में जमा की। हर दूसरे वर्ष वह ब्याज से प्राप्त आमदनी को मूलधन में जोड़ देता है। उसने चार वर्ष की समय अवधि में कुल कितना ब्याज अर्जित किया:

Options :

1. ✓ 20592

2. ✗ 19592

3. ✗ 21592

4. ✗ 22592

Question Number : 108 Question Id : 5096477898 Question Type : MCQ Option Shuffling : Yes

Correct Marks : 1 Wrong Marks : 0.25

What is the rate percent and time needed, both of them being equal in value, for the simple interest on a certain sum to be 36 over 100 of that sum?

Options :

1. ✘ Rate = 5%, Time = 5 years

2. ✘ Rate = 7%, Time = 7 years

3. ✔ Rate = 6%, Time = 6 years

4. ✘ Rate = 8%, Time = 8 years

Question Number : 108 Question Id : 5096477898 Question Type : MCQ Option Shuffling : Yes

Correct Marks : 1 Wrong Marks : 0.25

एक निश्चित राशि के प्रति 100 पर 36 साधारण ब्याज प्राप्त करने के लिए दर प्रतिशत और समय कितना होना चाहिए, ध्यान रखें दर प्रतिशत और समय दोनों बराबर होने चाहिए।

Options :

1. ✘ दर = 5%, समय = 5 वर्ष

2. ✘ दर = 7%, समय = 7 वर्ष

3. ✔ दर = 6%, समय = 6 वर्ष

4. ✘ दर = 8%, समय = 8 वर्ष

Question Number : 109 Question Id : 5096477899 Question Type : MCQ Option Shuffling : Yes

Correct Marks : 1 Wrong Marks : 0.25

The difference between the simple and the compound interest on a certain sum of money for 3 years at 10% p.a is Rs. 77.50. Find the sum.

Options :

1. ✘ 4750

2. ✖ 2250

3. ✖ 5000

4. ✔ 2500

Question Number : 109 Question Id : 5096477899 Question Type : MCQ Option Shuffling : Yes

Correct Marks : 1 Wrong Marks : 0.25

एक निश्चित राशि पर 10% वार्षिक दर से 3 वर्षों में साधारण ब्याज और मिश्रित ब्याज का अंतर ₹77.50 है। राशि पता करें।

Options :

1. ✖ 4750

2. ✖ 2250

3. ✖ 5000

4. ✔ 2500

Question Number : 110 Question Id : 5096477900 Question Type : MCQ Option Shuffling : Yes

Correct Marks : 1 Wrong Marks : 0.25

Find the compound interest on ₹ 31250 for 9 months at 16% per annum when the interest is calculated quarterly.

Options :

1. ✖ 3900

2. ✔ 3902

3. ✖ 3800

4. ✖ 3802

Question Number : 110 Question Id : 5096477900 Question Type : MCQ Option Shuffling : Yes

Correct Marks : 1 Wrong Marks : 0.25

अगर ब्याज की गणना तिमाही पर की जाए, तो 16% वार्षिक दर से 9 महीनों में रुपये 31250 की राशि पर मिश्रित ब्याज पता करें।

Options :

1. ✖ 3900

2. ✔ 3902

3. ✖ 3800

4. ✖ 3802

Question Number : 111 Question Id : 5096477901 Question Type : MCQ Option Shuffling : Yes

Correct Marks : 1 Wrong Marks : 0.25

The radius and the height of a right circular cylinder are 0.14 m and 0.21 m respectively. Find its volume (in cu.cm.).

Options :

1. ✖ 12369

2. ✖ 12639

3. ✔ 12936

4. ✖ 12969

Question Number : 111 Question Id : 5096477901 Question Type : MCQ Option Shuffling : Yes

Correct Marks : 1 Wrong Marks : 0.25

लंब वृत्ताकार बेलन की त्रिज्या और ऊँचाई क्रमशः 0.14 m और 0.21 m है। इसका आयतन (cu.cm. में) पता करें।

Options :

1. ✖ 12369

2. ✖ 12639

3. ✔ 12936

4. ✖ 12969

Question Number : 112 Question Id : 5096477902 Question Type : MCQ Option Shuffling : Yes

Correct Marks : 1 Wrong Marks : 0.25

The sides of a triangle are in the ratio of $\frac{1}{9} : \frac{1}{11} : \frac{1}{13}$ and its perimeter is 718 cm. Find the length of its longest side in metre.

Options :

1. ✔ 2.86

2. ✖ 28.6

3. ✖ 1.43

4. ✖ 14.3

Question Number : 112 Question Id : 5096477902 Question Type : MCQ Option Shuffling : Yes

Correct Marks : 1 Wrong Marks : 0.25

एक त्रिभुज की भुजाएँ $\frac{1}{9} : \frac{1}{11} : \frac{1}{13}$ के अनुपात में हैं और इसका परिमाण 718 cm है। इसकी सबसे लंबी भुजा की मीटर में लंबाई पता करें।

Options :

1. ✓ 2.86

2. ✗ 28.6

3. ✗ 1.43

4. ✗ 14.3

Question Number : 113 Question Id : 5096477903 Question Type : MCQ Option Shuffling : Yes

Correct Marks : 1 Wrong Marks : 0.25

The ratio of the length of each equal side and the third side of an isosceles triangle is 5 : 6. If the area of the triangle is $\sqrt{11664}$ sq.cm., then the length of the third side (in cm) is:

Options :

1. ✓ 18

2. ✗ 36

3. ✗ 15

4. ✗ 9

Question Number : 113 Question Id : 5096477903 Question Type : MCQ Option Shuffling : Yes

Correct Marks : 1 Wrong Marks : 0.25

एक समद्विबाहु त्रिभुज की प्रत्येक बराबर भुजा और तीसरी भुजा की लंबाई का अनुपात 5:6 है। यदि त्रिभुज का क्षेत्रफल $\sqrt{11664}$ sq.cm. है, तो तीसरी भुजा की लंबाई (cm में) पता करें:

Options :

1. ✓ 18

2. ✗ 36

3. ✗ 15

4. ✗ 9

Question Number : 114 Question Id : 5096477904 Question Type : MCQ Option Shuffling : Yes

Correct Marks : 1 Wrong Marks : 0.25

Rishi can finish $\frac{1}{4}$ th of a certain work in 26 days. Rakesh can finish $\frac{9}{20}$ th of the same work in 18 days. Rustum can finish $\frac{2}{3}$ of the same work in 48 days. Who will complete the work first?

Options :

1. ✗ Rustum

2. ✗ Rishi

3. ✓ Rakesh

4. ✗ Both Rishi and Rustum

Question Number : 114 Question Id : 5096477904 Question Type : MCQ Option Shuffling : Yes

Correct Marks : 1 Wrong Marks : 0.25

ऋषि एक कार्य का $\frac{1}{4}$ हिस्सा 26 दिनों में पूरा करता है। राकेश इसी कार्य का $\frac{9}{20}$ हिस्सा 18 दिनों में पूरा करता है। रुस्तम इसी कार्य का $\frac{2}{3}$ हिस्सा 48 दिनों में पूरा करता है। पहले काम कौन पूरा करेगा?

Options :

1. ✗ रुस्तम

2. ✖ ऋषि

3. ✔ राकेश

4. ✖ ऋषि और रुस्तम दोनों

Question Number : 115 Question Id : 5096477905 Question Type : MCQ Option Shuffling : Yes

Correct Marks : 1 Wrong Marks : 0.25

A can finish a piece of work in 36 days and B in 72 days. They begin the work together, but A leaves 6 days before the completion of the work. In how many total days the complete work will be done?

Options :

1. ✖ 24

2. ✖ 16

3. ✖ 26

4. ✔ 28

Question Number : 115 Question Id : 5096477905 Question Type : MCQ Option Shuffling : Yes

Correct Marks : 1 Wrong Marks : 0.25

A एक कार्य को 36 दिनों में और B 72 दिनों में पूरा करता है। वे एक-साथ काम करना शुरू करते हैं, लेकिन A कार्य पूरा होने से 6 दिन पहले काम छोड़ देता है। पता करें कि शेष कार्य कितने दिनों में पूरा होगा?

Options :

1. ✖ 24

2. ✖ 16

3. ✖ 26

4. ✔ 28

Question Number : 116 Question Id : 5096477906 Question Type : MCQ Option Shuffling : Yes
Correct Marks : 1 Wrong Marks : 0.25

A person crosses 4200 m long bridge in 25 minutes. Find his speed in kmph:

Options :

1. ✖ 10.80

2. ✔ 10.08

3. ✖ 9.08

4. ✖ 11.08

Question Number : 116 Question Id : 5096477906 Question Type : MCQ Option Shuffling : Yes
Correct Marks : 1 Wrong Marks : 0.25

एक व्यक्ति 4200 m लंबा पुल 25 मिनट में पार करता है। उसकी गति kmph में पता करें:

Options :

1. ✖ 10.80

2. ✔ 10.08

3. ✖ 9.08

4. ✖ 11.08

Question Number : 117 Question Id : 5096477907 Question Type : MCQ Option Shuffling : Yes

Correct Marks : 1 Wrong Marks : 0.25

Sudha and Kavitha start moving on a bicycle towards each other at 5 am with the speeds of 14 kmph and 16 kmph respectively. They were 45 km apart at the starting point for both. At what time would they meet?

Options :

1. ✖ 6.30 pm

2. ✖ 7.30 am

3. ✔ 6.30 am

4. ✖ 7.30 pm

Question Number : 117 Question Id : 5096477907 Question Type : MCQ Option Shuffling : Yes

Correct Marks : 1 Wrong Marks : 0.25

सुधा और कविता सुबह 5 बजे क्रमशः 14 kmph और 16 kmph की गति से साइकल पर एक-दूसरे की तरफ आना शुरू करती हैं। वे एक-दूसरे के प्रारंभ बिंदु से 45 km दूर हैं। वे एक-दूसरे से किस समय मिलेंगी?

Options :

1. ✖ 6.30 pm

2. ✖ 7.30 am

3. ✔ 6.30 am

4. ✖ 7.30 pm

Question Number : 118 Question Id : 5096477908 Question Type : MCQ Option Shuffling : Yes

Correct Marks : 1 Wrong Marks : 0.25

The speeds of two brothers P and Q are in the ratio of 6 : 7. P takes 40 minutes more than Q to reach their home. How long does P take to reach home?

Options :

1. ✓ $4\frac{2}{3} hr$

2. ✗ $3\frac{2}{3} hr$

3. ✗ $4\frac{1}{3} hr$

4. ✗ $1\frac{1}{3} hr$

Question Number : 118 Question Id : 5096477908 Question Type : MCQ Option Shuffling : Yes

Correct Marks : 1 Wrong Marks : 0.25

दो भाईयों P और Q की गति का अनुपात 6:7 है। P, Q से 40 मिनट बाद घर पहुँचता है। P को घर पहुँचने में कितना समय लगता है?

Options :

1. ✓ $4\frac{2}{3} hr$

2. ✗ $3\frac{2}{3} hr$

3. ✗ $4\frac{1}{3} hr$

4. ✗ $1\frac{1}{3} hr$

Question Number : 119 Question Id : 5096477909 Question Type : MCQ Option Shuffling : Yes

Correct Marks : 1 Wrong Marks : 0.25

Study the following table and answer the questions based on it.

Expenditures of a company (in lakh rupees) per annum over the given years.

Year	Item of Expenditure				
	Salary	Transportation	Bonus	Loan interests	Various types of taxes
2008	576	196	6.00	46.8	166
2009	684	224	5.04	65.0	216
2010	648	202	7.68	83.2	148
2011	672	266	7.36	72.8	176
2012	840	284	7.92	98.8	196

The total amount of bonus paid by the company during the given period is approximately what percent of the total amount of salary paid during this period?

Options :

1. ✘ 2.5%

2. ✘ 3.5%

3. ✘ 1.25%

4. ✔ 1%

Question Number : 119 Question Id : 5096477909 Question Type : MCQ Option Shuffling : Yes
Correct Marks : 1 Wrong Marks : 0.25

नीचे दी गई तालिका का अध्ययन करें और इस पर आधारित प्रश्नों का उत्तर दें। एक कंपनी का प्रदत्त वर्षों में प्रतिवर्ष खर्चा (लाख रुपयों में)।

वर्ष	खर्च का ब्यौरा				
	वेतन	ढुलाई	बोनस	ऋण ब्याज	विभिन्न प्रकार के कर
2008	576	196	6.00	46.8	166
2009	684	224	5.04	65.0	216
2010	648	202	7.68	83.2	148
2011	672	266	7.36	72.8	176
2012	840	284	7.92	98.8	196

कंपनी द्वारा प्रदत्त अवधि में दिया गया कुल बोनस, इस अवधि में दिए गए कुल वेतन का कितना प्रतिशत था।

Options :

1. ✘ 2.5%

2. ✘ 3.5%

3. ✘ 1.25%

4. ✔ 1%

Question Number : 120 Question Id : 5096477910 Question Type : MCQ Option Shuffling : Yes

Correct Marks : 1 Wrong Marks : 0.25

Study the following table and answer the questions based on it.

Expenditures of a company (in lakh rupees) per annum over the given years.

Year	Item of Expenditure				
	Salary	Transportation	Bonus	Loan interests	Various types of taxes
2008	576	196	6.00	46.8	166
2009	684	224	5.04	65.0	216
2010	648	202	7.68	83.2	148
2011	672	266	7.36	72.8	176
2012	840	284	7.92	98.8	196

Find the ratio between the total expenditure on various types of taxes and total expenditure on transportation for all the years.

Options :

1. ✓ 451 : 586

2. ✗ 586 : 451

3. ✗ 1 : 1

4. ✗ 2 : 3

Question Number : 120 Question Id : 5096477910 Question Type : MCQ Option Shuffling : Yes

Correct Marks : 1 Wrong Marks : 0.25

नीचे दी गई तालिका का अध्ययन करें और इस पर आधारित प्रश्नों का उत्तर दें। एक कंपनी का प्रदत्त वर्षों में प्रतिवर्ष खर्चा (लाख रुपयों में)।

वर्ष	खर्च का ब्यौरा				
	वेतन	ढुलाई	बोनस	ऋण ब्याज	विभिन्न प्रकार के कर
2008	576	196	6.00	46.8	166
2009	684	224	5.04	65.0	216
2010	648	202	7.68	83.2	148
2011	672	266	7.36	72.8	176
2012	840	284	7.92	98.8	196

सभी वर्षों में विभिन्न प्रकार के करों पर हुए कुल खर्चे और ढुलाई पर हुए कुल खर्चे का अनुपात पता करें।

Options :

1. ✓ 451 : 586

2. ✗ 586 : 451

3. ✗ 1 : 1

4. ✗ 2 : 3

General English1

Group Number : 7
Group Id : 50964798
Group Maximum Duration : 0
Group Minimum Duration : 0
Show Attended Group? : No

Edit Attended Group? :	No
Break time:	0
Group Marks:	20
Is this Group for Examiner?:	No
Revisit allowed for group Instructions? :	Yes
Maximum Instruction Time:	0
Minimum Instruction Time:	0

General English1

Section Id :	509647258
Section Number :	1
Section type :	Online
Mandatory or Optional:	Mandatory
Number of Questions:	20
Number of Questions to be attempted:	20
Section Marks:	20

Sub-Section Number:	1
Sub-Section Id:	509647374
Question Shuffling Allowed :	Yes

Question Number : 121 Question Id : 5096477911 Question Type : MCQ Option Shuffling : Yes
Correct Marks : 1 Wrong Marks : 0.25

Fill in the blanks with the most appropriate word.

An excited group of school boys had _____ to watch the match.

Options :

1. ✘ mobilized
2. ✔ gathered
3. ✘ amassed
4. ✘ combined

Question Number : 121 Question Id : 5096477911 Question Type : MCQ Option Shuffling : Yes
Correct Marks : 1 Wrong Marks : 0.25

Fill in the blanks with the most appropriate word.

An excited group of school boys had _____ to watch the match.

Options :

1. ✘ mobilized
2. ✔ gathered
3. ✘ amassed
4. ✘ combined

Question Number : 122 Question Id : 5096477912 Question Type : MCQ Option Shuffling : Yes
Correct Marks : 1 Wrong Marks : 0.25

Fill in the blanks with the most appropriate word.

The episodes of the television serial played upon the _____ of the viewers to know what happened next.

Options :

1. ✘ apathy
2. ✘ casualness
3. ✘ deference
4. ✔ eagerness

Question Number : 122 Question Id : 5096477912 Question Type : MCQ Option Shuffling : Yes
Correct Marks : 1 Wrong Marks : 0.25

Fill in the blanks with the most appropriate word.

The episodes of the television serial played upon the _____ of the viewers to know what happened next.

Options :

1. ✖ apathy
2. ✖ casualness
3. ✖ deference
4. ✔ eagerness

Question Number : 123 Question Id : 5096477913 Question Type : MCQ Option Shuffling : Yes
Correct Marks : 1 Wrong Marks : 0.25

Fill in the blanks with the most appropriate word.

One of the men in the moving bus was _____ wildly to catch the attention of passers-by.

Options :

1. ✔ gesticulating
2. ✖ mentioning
3. ✖ interpolating
4. ✖ declaring

Question Number : 123 Question Id : 5096477913 Question Type : MCQ Option Shuffling : Yes
Correct Marks : 1 Wrong Marks : 0.25

Fill in the blanks with the most appropriate word.

One of the men in the moving bus was _____ wildly to catch the attention of passers-by.

Options :

1. ✔ gesticulating
2. ✖ mentioning
3. ✖ interpolating
4. ✖ declaring

Question Number : 124 Question Id : 5096477914 Question Type : MCQ Option Shuffling : Yes

Correct Marks : 1 Wrong Marks : 0.25

Fill in the blanks with the most appropriate word.

She is an _____ mother, she lets her child do what she wants without correcting her too much.

Options :

1. ✖ aggressive
2. ✖ authoritarian
3. ✔ indulgent
4. ✖ intimate

Question Number : 124 Question Id : 5096477914 Question Type : MCQ Option Shuffling : Yes

Correct Marks : 1 Wrong Marks : 0.25

Fill in the blanks with the most appropriate word

She is an_____ mother, she lets her child do what she wants without correcting her too much.

Options :

1. ✖ aggressive
2. ✖ authoritarian
3. ✔ indulgent
4. ✖ intimate

Question Number : 125 Question Id : 5096477915 Question Type : MCQ Option Shuffling : Yes

Correct Marks : 1 Wrong Marks : 0.25

Select the correct meaning of the idiom given.

Get into a huddle.

Options :

1. ✓ Gather together privately to plan something
2. ✗ Collect something which has fallen down
3. ✗ Wander away into a dirty muddy place
4. ✗ Fall into bad company

Question Number : 125 Question Id : 5096477915 Question Type : MCQ Option Shuffling : Yes
Correct Marks : 1 Wrong Marks : 0.25

Select the correct meaning of the idiom given.

Get into a huddle.

Options :

1. ✓ Gather together privately to plan something
2. ✗ Collect something which has fallen down
3. ✗ Wander away into a dirty muddy place
4. ✗ Fall into bad company

Question Number : 126 Question Id : 5096477916 Question Type : MCQ Option Shuffling : Yes
Correct Marks : 1 Wrong Marks : 0.25

Select the grammatically correct option to fill in the blanks.

_____ sun was worshipped by many ancient kings as
_____all-seeing god.

Options :

1. ✗ An, the
2. ✓ The, an
3. ✗ The, a
4. ✗ A , a

Question Number : 126 Question Id : 5096477916 Question Type : MCQ Option Shuffling : Yes
Correct Marks : 1 Wrong Marks : 0.25

Select the grammatically correct option to fill in the blanks.

_____ sun was worshipped by many ancient kings as
_____ all-seeing god.

Options :

1. ✘ An, the
2. ✔ The, an
3. ✘ The, a
4. ✘ A , a

Question Number : 127 Question Id : 5096477917 Question Type : MCQ Option Shuffling : Yes

Correct Marks : 1 Wrong Marks : 0.25

Select the grammatically correct option to fill in the blanks.

They fought not only with bravery _____ with confidence.

Options :

1. ✘ also
2. ✘ but even
3. ✘ even
4. ✔ but also

Question Number : 127 Question Id : 5096477917 Question Type : MCQ Option Shuffling : Yes

Correct Marks : 1 Wrong Marks : 0.25

Select the grammatically correct option to fill in the blanks.

They fought not only with bravery _____ with confidence.

Options :

1. ✘ also

2. ✖ but even

3. ✖ even

4. ✔ but also

Question Number : 128 Question Id : 5096477918 Question Type : MCQ Option Shuffling : Yes
Correct Marks : 1 Wrong Marks : 0.25

Select the grammatically correct option to fill in the blanks.

Today, travelling has increased_____ means of communication and places to stay are easier to find than they formerly were.

Options :

1. ✔ since

2. ✖ although

3. ✖ but

4. ✖ however

Question Number : 128 Question Id : 5096477918 Question Type : MCQ Option Shuffling : Yes
Correct Marks : 1 Wrong Marks : 0.25

Select the grammatically correct option to fill in the blanks.

Today, travelling has increased_____ means of communication and places to stay are easier to find than they formerly were.

Options :

1. ✔ since

2. ✖ although

3. ✖ but

4. ✖ however

Question Number : 129 Question Id : 5096477919 Question Type : MCQ Option Shuffling : Yes
Correct Marks : 1 Wrong Marks : 0.25

Select the grammatically correct option to fill in the blanks.

My mobile phone is _____ although I paid much less for it.

Options :

1. ✖ best than his
2. ✖ better than him
3. ✔ better than his
4. ✖ best than him

Question Number : 129 Question Id : 5096477919 Question Type : MCQ Option Shuffling : Yes
Correct Marks : 1 Wrong Marks : 0.25

Select the grammatically correct option to fill in the blanks.

My mobile phone is _____ although I paid much less
for it.

Options :

1. ✖ best than his
2. ✖ better than him
3. ✔ better than his
4. ✖ best than him

Question Number : 130 Question Id : 5096477920 Question Type : MCQ Option Shuffling : Yes
Correct Marks : 1 Wrong Marks : 0.25

Select the grammatically correct option to fill in the blanks.

Everyone who was present at the rally _____ approval by enthusiastic applause.

Note: For this question, discrepancy is found in question/answer. So, this question is ignored for all candidates.

Options :

1. showing their
2. shows his
3. showing his
4. show their

Question Number : 130 Question Id : 5096477920 Question Type : MCQ Option Shuffling : Yes

Correct Marks : 1 Wrong Marks : 0.25

Select the grammatically correct option to fill in the blanks.

Everyone who was present at the rally _____ approval by enthusiastic applause.

Note: For this question, discrepancy is found in question/answer. So, this question is ignored for all candidates.

Options :

1. showing their
2. shows his
3. showing his
4. show their

Question Number : 131 Question Id : 5096477921 Question Type : MCQ Option Shuffling : Yes

Correct Marks : 1 Wrong Marks : 0.25

Select the grammatically correct option to fill in the blanks.

The children, _____ had been playing outside in the sun, were called back indoors by their parents.

Options :

1. ✓ who
2. ✗ what
3. ✗ whom
4. ✗ which

Question Number : 131 Question Id : 5096477921 Question Type : MCQ Option Shuffling : Yes
Correct Marks : 1 Wrong Marks : 0.25

Select the grammatically correct option to fill in the blanks.

The children, _____ had been playing outside in the sun, were called back indoors by their parents.

Options :

1. ✓ who
2. ✗ what
3. ✗ whom
4. ✗ which

Question Number : 132 Question Id : 5096477922 Question Type : MCQ Option Shuffling : Yes
Correct Marks : 1 Wrong Marks : 0.25

Select the option that gives the correct passive form of the given sentence.

Someone has stolen my passport.

Options :

1. ✓ My passport has been stolen.

2. ✖ My passport is being stolen.
3. ✖ My passport will be stolen by someone.
4. ✖ My passport may have been stolen by someone.

Question Number : 132 Question Id : 5096477922 Question Type : MCQ Option Shuffling : Yes
Correct Marks : 1 Wrong Marks : 0.25

Select the option that gives the correct passive form of the given sentence.

Someone has stolen my passport.

Options :

1. ✔ My passport has been stolen.
2. ✖ My passport is being stolen.
3. ✖ My passport will be stolen by someone.
4. ✖ My passport may have been stolen by someone.

Question Number : 133 Question Id : 5096477923 Question Type : MCQ Option Shuffling : Yes
Correct Marks : 1 Wrong Marks : 0.25

Select the option that fills in the blanks with the correct prepositions.

It would be foolish to shut our eyes _____ the dangers
_____ the pollution that man causes.

Options :

1. ✖ on, by
2. ✖ for, to
3. ✖ from, at
4. ✔ to, of

Question Number : 133 Question Id : 5096477923 Question Type : MCQ Option Shuffling : Yes

Correct Marks : 1 Wrong Marks : 0.25

Select the option that fills in the blanks with the correct prepositions.

It would be foolish to shut our eyes _____ the dangers _____ the pollution that man causes.

Options :

1. ✖ on, by
2. ✖ for, to
3. ✖ from, at
4. ✔ to, of

Question Number : 134 Question Id : 5096477924 Question Type : MCQ Option Shuffling : Yes
Correct Marks : 1 Wrong Marks : 0.25

Select the correct Indirect form of the given sentence.

Sheila asked, "Should I go there?"

Options :

1. ✖ Sheila asked if I can go there.
2. ✔ Sheila asked whether she should go there.
3. ✖ Sheila asked whether she is going there.
4. ✖ Sheila asked if I am going there.

Question Number : 134 Question Id : 5096477924 Question Type : MCQ Option Shuffling : Yes
Correct Marks : 1 Wrong Marks : 0.25

Select the correct Indirect form of the given sentence.

Sheila asked, "Should I go there?"

Options :

1. ✖ Sheila asked if I can go there.
2. ✔ Sheila asked whether she should go there.
3. ✖ Sheila asked whether she is going there.
4. ✖ Sheila asked if I am going there.

Question Number : 135 Question Id : 5096477925 Question Type : MCQ Option Shuffling : Yes
Correct Marks : 1 Wrong Marks : 0.25

Select the correct option to fill in the blanks.

_____ boys _____ in my class last year.

Options :

1. ✖ That, is
2. ✔ These, were
3. ✖ Those, are
4. ✖ This, was

Question Number : 135 Question Id : 5096477925 Question Type : MCQ Option Shuffling : Yes
Correct Marks : 1 Wrong Marks : 0.25

Select the correct option to fill in the blanks.

_____ boys _____ in my class last year.

Options :

1. ✖ That, is
2. ✔ These, were
3. ✖ Those, are
4. ✖ This, was

Question Number : 136 Question Id : 5096477926 Question Type : MCQ Option Shuffling : Yes
Correct Marks : 1 Wrong Marks : 0.25

Given below are four segments of a sentence. Select the option that gives the correct order of the segments to form a logical sentence.

- A. who is in sublime form
- B. since the last World Cup in 2015
- C. Rohit is another player
- D. and has remained consistent.

Options :

- 1. ✓ CADB
- 2. ✗ DBAC
- 3. ✗ CDAB
- 4. ✗ BACD

Question Number : 136 Question Id : 5096477926 Question Type : MCQ Option Shuffling : Yes
Correct Marks : 1 Wrong Marks : 0.25

Given below are four segments of a sentence. Select the option that gives the correct order of the segments to form a logical sentence.

- A. who is in sublime form
- B. since the last World Cup in 2015
- C. Rohit is another player
- D. and has remained consistent.

Options :

- 1. ✓ CADB
- 2. ✗ DBAC
- 3. ✗ CDAB

4. ✖ BACD

Question Number : 137 Question Id : 5096477927 Question Type : MCQ Option Shuffling : Yes
Correct Marks : 1 Wrong Marks : 0.25

Given below are four segments of a sentence. Select the option that gives the correct order of the segments to form a logical sentence.

- A. crossed the coast
- B. in 1971
- C. a severe cyclonic storm
- D. near Paradeep

Options :

- 1. ✖ DBAC
- 2. ✖ ACDB
- 3. ✔ BCAD
- 4. ✖ BACD

Question Number : 137 Question Id : 5096477927 Question Type : MCQ Option Shuffling : Yes
Correct Marks : 1 Wrong Marks : 0.25

Given below are four segments of a sentence. Select the option that gives the correct order of the segments to form a logical sentence.

- A. crossed the coast
- B. in 1971
- C. a severe cyclonic storm
- D. near Paradeep

Options :

1. ✖ DBAC

2. ✖ ACDB

3. ✔ BCAD

4. ✖ BACD

Question Number : 138 Question Id : 5096477928 Question Type : MCQ Option Shuffling : Yes

Correct Marks : 1 Wrong Marks : 0.25

Given below are four segments of a sentence. Select the option that gives the correct order of the segments to form a logical sentence.

A. to open in the area

B. was the first pickle store

C. this store

D. about 14 years ago

Options :

1. ✖ DACB

2. ✔ CBAD

3. ✖ BCAD

4. ✖ CDAB

Question Number : 138 Question Id : 5096477928 Question Type : MCQ Option Shuffling : Yes

Correct Marks : 1 Wrong Marks : 0.25

Given below are four segments of a sentence. Select the option that gives the correct order of the segments to form a logical sentence.

- A. to open in the area
- B. was the first pickle store
- C. this store
- D. about 14 years ago

Options :

- 1. ✘ DACB
- 2. ✔ CBAD
- 3. ✘ BCAD
- 4. ✘ CDAB

Question Number : 139 Question Id : 5096477929 Question Type : MCQ Option Shuffling : Yes
Correct Marks : 1 Wrong Marks : 0.25

Given below are four segments of a sentence. Select the option that gives the correct order of the segments to form a logical sentence.

- A. just as the traditional houses
- B. the unique resort is entirely
- C. in Himachal are
- D. of wood, stones, and mud

Options :

- 1. ✘ CADB

2. ✓ BDAC

3. ✗ BADC

4. ✗ ADCB

Question Number : 139 Question Id : 5096477929 Question Type : MCQ Option Shuffling : Yes
Correct Marks : 1 Wrong Marks : 0.25

Given below are four segments of a sentence. Select the option that gives the correct order of the segments to form a logical sentence.

A. just as the traditional houses

B. the unique resort is entirely

C. in Himachal are

D. of wood, stones, and mud

Options :

1. ✗ CADB

2. ✓ BDAC

3. ✗ BADC

4. ✗ ADCB

Question Number : 140 Question Id : 5096477930 Question Type : MCQ Option Shuffling : Yes
Correct Marks : 1 Wrong Marks : 0.25

Given below are four segments of a sentence. Select the option that gives the correct order of the segments to form a logical sentence.

- A. To the concerned
- B. The matter
- C. Secretary in the Ministry
- D. Will be referred

Options :

- 1. ✖ ACDB
- 2. ✖ ABCD
- 3. ✖ BACD
- 4. ✔ BDAC

Question Number : 140 Question Id : 5096477930 Question Type : MCQ Option Shuffling : Yes
Correct Marks : 1 Wrong Marks : 0.25

Given below are four segments of a sentence. Select the option that gives the correct order of the segments to form a logical sentence.

- A. To the concerned
- B. The matter
- C. Secretary in the Ministry
- D. Will be referred

Options :

- 1. ✖ ACDB
- 2. ✖ ABCD
- 3. ✖ BACD

4. ✓ BDAC

General English2

Group Number :	8
Group Id :	50964799
Group Maximum Duration :	0
Group Minimum Duration :	0
Show Attended Group? :	No
Edit Attended Group? :	No
Break time:	0
Group Marks:	20
Is this Group for Examiner?:	No
Revisit allowed for group Instructions? :	Yes
Maximum Instruction Time:	0
Minimum Instruction Time:	0

General English2

Section Id :	509647259
Section Number :	1
Section type :	Online
Mandatory or Optional:	Mandatory
Number of Questions:	12
Number of Questions to be attempted:	12
Section Marks:	20

Sub-Section Number:	1
Sub-Section Id:	509647375
Question Shuffling Allowed :	Yes

Question Number : 141 Question Id : 5096477931 Question Type : MCQ Option Shuffling : Yes
Correct Marks : 1 Wrong Marks : 0.25

Select the most appropriate synonym of the underlined word.

The prospect of having a lot of riches appears to many people a condition of unimaginable felicity.

Options :

1. ✘ Confusion
2. ✓ Joyfulness

3. ✖ Muddle

4. ✖ Simplicity

Question Number : 141 Question Id : 5096477931 Question Type : MCQ Option Shuffling : Yes

Correct Marks : 1 Wrong Marks : 0.25

Select the most appropriate synonym of the underlined word.

The prospect of having a lot of riches appears to many people a condition of unimaginable felicity.

Options :

1. ✖ Confusion

2. ✔ Joyfulness

3. ✖ Muddle

4. ✖ Simplicity

Question Number : 142 Question Id : 5096477932 Question Type : MCQ Option Shuffling : Yes

Correct Marks : 1 Wrong Marks : 0.25

Select the most appropriate synonym of the underlined word.

As the sea was turbulent fishermen were advised not to take their boats out.

Options :

1. ✖ peaceful

2. ✔ stormy

3. ✖ serene

4. ✖ placid

Question Number : 142 Question Id : 5096477932 Question Type : MCQ Option Shuffling : Yes

Correct Marks : 1 Wrong Marks : 0.25

Select the most appropriate synonym of the underlined word.

As the sea was turbulent fishermen were advised not to take their boats out.

Options :

1. ✖ peaceful
2. ✔ stormy
3. ✖ serene
4. ✖ placid

Question Number : 143 Question Id : 5096477933 Question Type : MCQ Option Shuffling : Yes
Correct Marks : 1 Wrong Marks : 0.25

Select the most appropriate synonym of the underlined word.

Rita played an ignoble part in the whole unpleasant episode.

Options :

1. ✖ Honorable
2. ✖ Decent
3. ✖ Illegal
4. ✔ Shameful

Question Number : 143 Question Id : 5096477933 Question Type : MCQ Option Shuffling : Yes
Correct Marks : 1 Wrong Marks : 0.25

Select the most appropriate synonym of the underlined word.

Rita played an ignoble part in the whole unpleasant episode.

Options :

1. ✖ Honorable

2. ✖ Decent

3. ✖ Illegal

4. ✔ Shameful

Question Number : 144 Question Id : 5096477934 Question Type : MCQ Option Shuffling : Yes
Correct Marks : 1 Wrong Marks : 0.25

Select the most appropriate synonym of the underlined word.

Have you no qualms about telling the teacher a lie?

Options :

1. ✖ Requests

2. ✖ Appeals

3. ✔ Doubts

4. ✖ Demands

Question Number : 144 Question Id : 5096477934 Question Type : MCQ Option Shuffling : Yes
Correct Marks : 1 Wrong Marks : 0.25

Select the most appropriate synonym of the underlined word.

Have you no qualms about telling the teacher a lie?

Options :

1. ✖ Requests

2. ✖ Appeals

3. ✔ Doubts

4. ✖ Demands

Question Number : 145 Question Id : 5096477935 Question Type : MCQ Option Shuffling : Yes
Correct Marks : 1 Wrong Marks : 0.25

Select the most appropriate synonym of the underlined word.

The boy gave a preposterous excuse for not bringing his book.

Options :

1. ✓ Absurd
2. ✗ Earlier
3. ✗ Previous
4. ✗ Preceding

Question Number : 145 Question Id : 5096477935 Question Type : MCQ Option Shuffling : Yes

Correct Marks : 1 Wrong Marks : 0.25

Select the most appropriate synonym of the underlined word.

The boy gave a preposterous excuse for not bringing his book.

Options :

1. ✓ Absurd
2. ✗ Earlier
3. ✗ Previous
4. ✗ Preceding

Question Number : 146 Question Id : 5096477936 Question Type : MCQ Option Shuffling : Yes

Correct Marks : 1 Wrong Marks : 0.25

Select the most appropriate antonym of the underlined word.

The timid child closed his eyes when the fight began.

Options :

1. ✗ Coy
2. ✓ Bold

3. ✖ Hesitant

4. ✖ Fearful

Question Number : 146 Question Id : 5096477936 Question Type : MCQ Option Shuffling : Yes

Correct Marks : 1 Wrong Marks : 0.25

Select the most appropriate antonym of the underlined word.

The timid child closed his eyes when the fight began.

Options :

1. ✖ Coy

2. ✔ Bold

3. ✖ Hesitant

4. ✖ Fearful

Question Number : 147 Question Id : 5096477937 Question Type : MCQ Option Shuffling : Yes

Correct Marks : 1 Wrong Marks : 0.25

Select the most appropriate antonym of the underlined word.

His views on the current crisis appear to be candid and unbiased.

Options :

1. ✖ Forthright

2. ✖ Unknown

3. ✔ Guarded

4. ✖ Blunt

Question Number : 147 Question Id : 5096477937 Question Type : MCQ Option Shuffling : Yes

Correct Marks : 1 Wrong Marks : 0.25

Select the most appropriate antonym of the underlined word.

His views on the current crisis appear to be candid and unbiased

Options :

1. ✘ Forthright
2. ✘ Unknown
3. ✔ Guarded
4. ✘ Blunt

Question Number : 148 Question Id : 5096477938 Question Type : MCQ Option Shuffling : Yes

Correct Marks : 1 Wrong Marks : 0.25

Select the most appropriate antonym of the underlined word.

In her typical jovial manner my aunt welcomed me when I went to see her.

Options :

1. ✔ Miserable
2. ✘ Cheerful
3. ✘ Bright
4. ✘ Brash

Question Number : 148 Question Id : 5096477938 Question Type : MCQ Option Shuffling : Yes

Correct Marks : 1 Wrong Marks : 0.25

Select the most appropriate antonym of the underlined word.

In her typical jovial manner my aunt welcomed me when I went to see her.

Options :

1. ✓ Miserable

2. ✗ Cheerful

3. ✗ Bright

4. ✗ brash

Question Number : 149 Question Id : 5096477939 Question Type : MCQ Option Shuffling : Yes

Correct Marks : 1 Wrong Marks : 0.25

Select the most appropriate antonym of the underlined word

The number of independent houses in the colony has dwindled in the last five years.

Options :

1. ✗ ruined

2. ✗ decayed

3. ✓ grown

4. ✗ spoilt

Question Number : 149 Question Id : 5096477939 Question Type : MCQ Option Shuffling : Yes

Correct Marks : 1 Wrong Marks : 0.25

Select the most appropriate antonym of the underlined word

The number of independent houses in the colony has dwindled in the last five years.

Options :

1. ✗ ruined

2. ✗ decayed

3. ✓ grown

4. ✗ spoilt

Question Number : 150 Question Id : 5096477940 Question Type : MCQ Option Shuffling : Yes

Correct Marks : 1 Wrong Marks : 0.25

Select the most appropriate antonym of the underlined word.

Children aggravate me when they are noisy and loud.

Options :

1. ✖ anger
2. ✖ exasperate
3. ✖ irritate
4. ✔ encourage

Question Number : 150 Question Id : 5096477940 Question Type : MCQ Option Shuffling : Yes

Correct Marks : 1 Wrong Marks : 0.25

Select the most appropriate antonym of the underlined word.

Children aggravate me when they are noisy and loud.

Options :

1. ✖ anger
2. ✖ exasperate
3. ✖ irritate
4. ✔ encourage

Sub-Section Number:	2
Sub-Section Id:	509647376
Question Shuffling Allowed :	Yes

Question Id : 5096477941 Question Type : COMPREHENSION Sub Question Shuffling Allowed : Yes Group Comprehension Questions : No

Question Numbers : (151 to 155)

Question Label : Comprehension

Sub questions

Question Number : 151 Question Id : 5096477942 Question Type : MCQ Option Shuffling : Yes

Correct Marks : 1 Wrong Marks : 0.25

This passage is mainly about:

Options :

1. ✖ Water shortage due to environmental changes
2. ✔ Global development and its impact on water scarcity
3. ✖ Inefficient use of water by some people
4. ✖ Dwindling water resources in natural water bodies

Question Number : 152 Question Id : 5096477943 Question Type : MCQ Option Shuffling : Yes

Correct Marks : 1 Wrong Marks : 0.25

Uncontrolled water use for agriculture or industry causes:

Options :

1. ✔ economic water scarcity
2. ✖ seasonal water scarcity
3. ✖ polluted water supply
4. ✖ physical water scarcity

Question Number : 153 Question Id : 5096477944 Question Type : MCQ Option Shuffling : Yes

Correct Marks : 1 Wrong Marks : 0.25

The writer states that the most significant reason for economic water scarcity is that:

Options :

1. ✖ these areas are too densely- populated and the consumption is high
2. ✖ there is water pollution due to developing industries
3. ✔ people do not realize that water is a finite resource
4. ✖ they have no rainfall and hence there is no ground water

Question Number : 154 Question Id : 5096477945 Question Type : MCQ Option Shuffling : Yes

Correct Marks : 1 Wrong Marks : 0.25

Through the example of Mexico City the author wants to show that:

Options :

1. ✓ Mismanagement of available water resources causes a scarcity
2. ✗ Inadequate rainfall adversely affects large cities
3. ✗ Large-scale city expansion has affected the environment
4. ✗ Large-scale population growth results in unequal distribution of the available water

Question Number : 155 Question Id : 5096477946 Question Type : MCQ Option Shuffling : Yes

Correct Marks : 1 Wrong Marks : 0.25

We can infer from the passage that the author is advocating:

Options :

1. ✗ River and lake water purification
2. ✓ Saving natural resources through economic measures
3. ✗ Practicing population control measures
4. ✗ Building cities using sustainable materials

Question Id : 5096477941 Question Type : COMPREHENSION Sub Question Shuffling Allowed : Yes Group Comprehension Questions : No

Question Numbers : (151 to 155)

Question Label : Comprehension

Read the passage and answer the questions given below it.

Water scarcity is inextricably linked to human rights, and sufficient access to safe drinking water is a priority for global development. However, given the challenges of population growth, profligate use, growing pollution, and changes in weather patterns due to global warming, many countries and major cities worldwide, both wealthy and poor, faced increasing water scarcity in the 21st century.

There are two general types of water scarcity: physical and economic. Physical, or absolute, water scarcity is the result of a region's demand outpacing the limited water resources found there. According to the Food and Agricultural Organization (FAO) of the United Nations, around 1.2 billion people live in areas of physical scarcity; many of these people live in arid or semi-arid regions. Physical water scarcity can be seasonal; an estimated two-thirds of the world's population lives in areas subject to seasonal water scarcity at least one month of the year. The number of people affected by physical water scarcity is expected to grow as populations increase and as weather patterns become more unpredictable and extreme.

Economic water scarcity is due to a lack of water infrastructure in general or to the poor management of water resources where infrastructure is in place. The FAO estimates that more than 1.6 billion people face economic water shortage. In areas with economic water scarcity, there usually is sufficient water to meet human and environmental needs, but access is limited. Mismanagement or underdevelopment may mean that accessible water is polluted or unsanitary for human consumption. Economic water scarcity can also result from unregulated water use for agriculture or industry, often at the expense of the general population. Finally, major inefficiencies in water use, usually due to the economic undervaluing of water as a finite natural resource, can contribute to water scarcity.

Often, economic water scarcity arises from multiple factors in combination. A classic example of this is Mexico City, home to more than 20 million people in its metropolitan area. Although the city receives abundant rainfall, averaging more than 700 mm (27.5 inches) annually, its centuries of urban development mean that most precipitation is lost as contaminated runoff in the sewer system. In addition, elimination of the wetlands and lakes that once surrounded the city means that very little of this precipitation feeds back into local aquifers.

Sub questions

Question Number : 151 Question Id : 5096477942 Question Type : MCQ Option Shuffling : Yes

Correct Marks : 1 Wrong Marks : 0.25

This passage is mainly about:

Options :

1. ✘ Water shortage due to environmental changes
2. ✔ Global development and its impact on water scarcity
3. ✘ Inefficient use of water by some people
4. ✘ Dwindling water resources in natural water bodies

Question Number : 152 Question Id : 5096477943 Question Type : MCQ Option Shuffling : Yes

Correct Marks : 1 Wrong Marks : 0.25

Uncontrolled water use for agriculture or industry causes:

Options :

1. ✔ economic water scarcity
2. ✘ seasonal water scarcity
3. ✘ polluted water supply
4. ✘ physical water scarcity

Question Number : 153 Question Id : 5096477944 Question Type : MCQ Option Shuffling : Yes

Correct Marks : 1 Wrong Marks : 0.25

The writer states that the most significant reason for economic water scarcity is that:

Options :

1. ✘ these areas are too densely- populated and the consumption is high
2. ✘ there is water pollution due to developing industries
3. ✔ people do not realize that water is a finite resource

4. ✖ they have no rainfall and hence there is no ground water

Question Number : 154 Question Id : 5096477945 Question Type : MCQ Option Shuffling : Yes
Correct Marks : 1 Wrong Marks : 0.25

Through the example of Mexico City the author wants to show that:

Options :

1. ✔ Mismanagement of available water resources causes a scarcity
2. ✖ Inadequate rainfall adversely affects large cities
3. ✖ Large-scale city expansion has affected the environment
4. ✖ Large-scale population growth results in unequal distribution of the available water

Question Number : 155 Question Id : 5096477946 Question Type : MCQ Option Shuffling : Yes
Correct Marks : 1 Wrong Marks : 0.25

We can infer from the passage that the author is advocating:

Options :

1. ✖ River and lake water purification
2. ✔ Saving natural resources through economic measures
3. ✖ Practicing population control measures
4. ✖ Building cities using sustainable materials

Sub-Section Number:	3
Sub-Section Id:	509647377
Question Shuffling Allowed :	Yes

Question Id : 5096477947 Question Type : COMPREHENSION Sub Question Shuffling Allowed : Yes Group Comprehension Questions : No

Question Numbers : (156 to 160)

Question Label : Comprehension

Read the passage and answer the questions given below it.

When Sujan had made no progress even after three years, Haran the schoolteacher went to Dibakar's shop and told him, 'Not even the gods will be able to give your son an education. My suggestion is that you withdraw him from school. It's just bad luck—why else would your son have turned out this way? So many other boys are going to school and doing so well.'

Dibakar had no choice but to call his son and ask, 'What have you learnt at the pathshala in all this time?'

'I've learnt the call of twenty-two different birds, Baba,' Sujan told him. 'There's a banyan tree behind our pathshala and all sorts of birds are to be found in it.'

'Do you want to be a mimic then—a harbola?'

'A harbola? What's that?'

'Harbolas can imitate the sounds of different birds and animals. They make a living by performing their mimicry for audiences. Since you've made no headway with studies, you won't be able to run the shop—you don't even know how to add numbers. You're of no use to me.'

So Sujan devoted himself to becoming a harbola. His favourite pastime was to wander about the fields and woods, listening closely to the cries of birds and beasts and imitating them. He never tired of this, for he was quite healthy and could walk long distances, climb trees and swim. When the birds responded to his cries by calling back, his heart danced in delight. All the birds seemed to be his friends. He had mastered the cries of cows and calves and sheep and goats too by listening to them closely in the fields. They too answered his cries when he imitated them. His mooing brought the old crone Nistarini out of her hut. Nistarini was under the impression that Dhabali's calf had returned unexpectedly. Moti the washerman's ass craned his neck and pricked up his ears, braying in response to Sujan's brays, wondering where this other donkey had arrived from. Sujan could also mimic the neighing of the horse; he emitted this call outside the Haldars', who were the zamindars' house. Hearing Sujan, Karim miyan, the groom asked himself, if that's not my horse, whose horse is it?

Sub questions

Question Number : 156 Question Id : 5096477948 Question Type : MCQ Option Shuffling : Yes

Correct Marks : 1 Wrong Marks : 0.25

Which of the following could Sujan NOT do well?

Options :

1. ✖ Swim
2. ✖ Walk long distances
3. ✔ Add numbers
4. ✖ Climb trees

Question Number : 157 Question Id : 5096477949 Question Type : MCQ Option Shuffling : Yes

Correct Marks : 1 Wrong Marks : 0.25

This passage is mainly about:

Options :

1. ✖ Rare birds and their unusual calls
2. ✔ A person's talent and his desire to do what he likes
3. ✖ Childrens' inability to study all school subjects equally well
4. ✖ Less- known arts and careers

Question Number : 158 Question Id : 5096477950 Question Type : MCQ Option Shuffling : Yes

Correct Marks : 1 Wrong Marks : 0.25

Whom did Sujan NOT confuse by his art?

Options :

1. ✖ Moti
2. ✖ Nistarini
3. ✖ Karim Miyan
4. ✔ Haran

Question Number : 159 Question Id : 5096477951 Question Type : MCQ Option Shuffling : Yes

Correct Marks : 1 Wrong Marks : 0.25

What bad luck was the teacher referring to with respect to Sujan?

Options :

1. ✓ his inability to study
2. ✖ his getting low marks
3. ✖ his failing in Math
4. ✖ his not doing his homework

Question Number : 160 Question Id : 5096477952 Question Type : MCQ Option Shuffling : Yes

Correct Marks : 1 Wrong Marks : 0.25

Which of the following is NOT true about this passage?

Options :

1. ✖ The harbola can also earn money by his art.
2. ✖ Sujan's father did not force him to go back to school.
3. ✓ Sujan imitated only the sounds of birds.
4. ✖ Birds and animals were like Sujan's friends

Question Id : 5096477947 Question Type : COMPREHENSION Sub Question Shuffling Allowed : Yes Group Comprehension

Questions : No

Question Numbers : (156 to 160)

Question Label : Comprehension

Read the passage and answer the questions given below it. When Sujan had made no progress even after three years, Haran the schoolteacher went to Dibakar's shop and told him, 'Not even the gods will be able to give your son an education. My suggestion is that you withdraw him from school. It's just bad luck—why else would your son have turned out this way? So many other boys are going to school and doing so well.'

Dibakar had no choice but to call his son and ask, 'What have you learnt at the pathshala in all this time?'

'I've learnt the call of twenty-two different birds, Baba,' Sujan told him. 'There's a banyan tree behind our pathshala and all sorts of birds are to be found in it.'

'Do you want to be a mimic then—a harbola?'

'A harbola? What's that?'

'Harbolas can imitate the sounds of different birds and animals. They make a living by performing their mimicry for audiences. Since you've made no headway with studies, you won't be able to run the shop—you don't even know how to add numbers. You're of no use to me.'

So Sujan devoted himself to becoming a harbola. His favourite pastime was to wander about the fields and woods, listening closely to the cries of birds and beasts and imitating them. He never tired of this, for he was quite healthy and could walk long distances, climb trees and swim. When the birds responded to his cries by calling back, his heart danced in delight. All the birds seemed to be his friends. He had mastered the cries of cows and calves and sheep and goats too by listening to them closely in the fields. They too answered his cries when he imitated them. His mooing brought the old crone Nistarini out of her hut. Nistarini was under the impression that Dhabali's calf had returned unexpectedly. Moti the washerman's ass craned his neck and pricked up his ears, braying in response to Sujan's brays, wondering where this other donkey had arrived from. Sujan could also mimic the neighing of the horse; he emitted this call outside the Haldars', who were the zamindars' house. Hearing Sujan, Karim miyan, the groom asked himself, if that's not my horse, whose horse is it?

Sub questions

Question Number : 156 Question Id : 5096477948 Question Type : MCQ Option Shuffling : Yes

Correct Marks : 1 Wrong Marks : 0.25

Which of the following could Sujan NOT do well?

Options :

1. ✘ Swim
2. ✘ Walk long distances
3. ✔ Add numbers
4. ✘ Climb trees

Question Number : 157 Question Id : 5096477949 Question Type : MCQ Option Shuffling : Yes

Correct Marks : 1 Wrong Marks : 0.25

This passage is mainly about:

Options :

1. ✘ Rare birds and their unusual calls
2. ✔ A person's talent and his desire to do what he likes
3. ✘ Childrens' inability to study all school subjects equally well
4. ✘ Less- known arts and careers

Question Number : 158 Question Id : 5096477950 Question Type : MCQ Option Shuffling : Yes

Correct Marks : 1 Wrong Marks : 0.25

Whom did Sujan NOT confuse by his art?

Options :

1. ✘ Moti
2. ✘ Nistarini
3. ✘ Karim Miyan
4. ✔ Haran

Question Number : 159 Question Id : 5096477951 Question Type : MCQ Option Shuffling : Yes
Correct Marks : 1 Wrong Marks : 0.25

What bad luck was the teacher referring to with respect to Sujan?

Options :

1. ✓ his inability to study
2. ✗ his getting low marks
3. ✗ his failing in Math
4. ✗ his not doing his homework

Question Number : 160 Question Id : 5096477952 Question Type : MCQ Option Shuffling : Yes
Correct Marks : 1 Wrong Marks : 0.25

Which of the following is NOT true about this passage?

Options :

1. ✗ The harbola can also earn money by his art.
2. ✗ Sujan's father did not force him to go back to school.
3. ✓ Sujan imitated only the sounds of birds.
4. ✗ Birds and animals were like Sujan's friends

General Hindi1

Group Number :	9
Group Id :	509647100
Group Maximum Duration :	0
Group Minimum Duration :	0
Show Attended Group? :	No
Edit Attended Group? :	No
Break time:	0
Group Marks:	20
Is this Group for Examiner?:	No
Revisit allowed for group Instructions? :	Yes
Maximum Instruction Time:	0
Minimum Instruction Time:	0

General Hindi1

Section Id :	509647260
Section Number :	1
Section type :	Online
Mandatory or Optional:	Mandatory
Number of Questions:	20
Number of Questions to be attempted:	20
Section Marks:	20

Sub-Section Number:	1
Sub-Section Id:	509647378
Question Shuffling Allowed :	Yes

Question Number : 161 Question Id : 5096477953 Question Type : MCQ Option Shuffling : Yes
Correct Marks : 1 Wrong Marks : 0.25

‘छायावादोत्तर काव्य में रितिकाल जैसा श्रृंगार नहीं है। ‘वाक्य में आए ‘उत्तर’ शब्द का अर्थ है:

Options :

1. * जवाब
2. ✓ पीछे
3. * उत्तर दिशा
4. * प्रश्न विहीनता

Question Number : 161 Question Id : 5096477953 Question Type : MCQ Option Shuffling : Yes
Correct Marks : 1 Wrong Marks : 0.25

‘छायावादोत्तर काव्य में रितिकाल जैसा श्रृंगार नहीं है। ‘वाक्य में आए ‘उत्तर’ शब्द का अर्थ है:

Options :

1. * जवाब
2. ✓ पीछे
3. * उत्तर दिशा
4. * प्रश्न विहीनता

Question Number : 162 Question Id : 5096477954 Question Type : MCQ Option Shuffling : Yes
Correct Marks : 1 Wrong Marks : 0.25

‘विरोधी दल के पास कोई तर्क नहीं’। इस वाक्य में ‘दल’ शब्द का अर्थ है:

Options :

1. * समूह
2. * पत्ता
3. ✓ पक्ष
4. * पर्त

Question Number : 162 Question Id : 5096477954 Question Type : MCQ Option Shuffling : Yes
Correct Marks : 1 Wrong Marks : 0.25

‘विरोधी दल के पास कोई तर्क नहीं’। इस वाक्य में ‘दल’ शब्द का अर्थ है:

Options :

1. * समूह
2. * पत्ता
3. ✓ पक्ष
4. * पर्त

Question Number : 163 Question Id : 5096477955 Question Type : MCQ Option Shuffling : Yes
Correct Marks : 1 Wrong Marks : 0.25

‘जिसके समान कोई दूसरा न हो’ के लिए एक शब्द होगा।

Options :

1. * अनन्य
2. ✓ अद्वितीय
3. * अपरिचित
4. * पराश्रित

Question Number : 163 Question Id : 5096477955 Question Type : MCQ Option Shuffling : Yes
Correct Marks : 1 Wrong Marks : 0.25

‘जिसके समान कोई दूसरा न हो’ के लिए एक शब्द होगा।

Options :

1. * अनन्य
2. ✓ अद्वितीय

3. * अपरिचित

4. * पराश्रित

Question Number : 164 Question Id : 5096477956 Question Type : MCQ Option Shuffling : Yes

Correct Marks : 1 Wrong Marks : 0.25

‘हय-हिय’ शब्दयुग्म के लिए एक शब्द होगा:

Options :

1. * हृदय - घोड़ा

2. * कलेजा - धड़कन

3. ✓ घोड़ा - हृदय

4. * अश्व - गौ

Question Number : 164 Question Id : 5096477956 Question Type : MCQ Option Shuffling : Yes

Correct Marks : 1 Wrong Marks : 0.25

‘हय-हिय’ शब्दयुग्म के लिए एक शब्द होगा:

Options :

1. * हृदय - घोड़ा

2. * कलेजा - धड़कन

3. ✓ घोड़ा - हृदय

4. * अश्व - गौ

Question Number : 165 Question Id : 5096477957 Question Type : MCQ Option Shuffling : Yes

Correct Marks : 1 Wrong Marks : 0.25

निम्नलिखित वाक्यों में से ‘डूबना’ शब्द का अर्थ नाश होना या निरर्थक होना किसमें है?

Options :

1. * सूरज डूबता है।

2. ✓ व्यापार में पूँजी डूब गई।

3. * दिन डूबता जा रहा है।

4. * जीवन-सरिता को डूबते-उतराते पार कर ही लिया।

Question Number : 165 Question Id : 5096477957 Question Type : MCQ Option Shuffling : Yes

Correct Marks : 1 Wrong Marks : 0.25

निम्नलिखित वाक्यों में से 'डूबना' शब्द का अर्थ नाश होना या निरर्थक होना किसमें है?

Options :

1. * सूरज डूबता है।
2. ✓ व्यापार में पूँजी डूब गई।
3. * दिन डूबता जा रहा है।
4. * जीवन-सरिता को डूबते-उतराते पार कर ही लिया।

Question Number : 166 Question Id : 5096477958 Question Type : MCQ Option Shuffling : Yes
Correct Marks : 1 Wrong Marks : 0.25

‘ मैं उसकी योग्यता का प्रशंसक हूँ।’ इस पंक्ति में रेखांकित पद है:

Options :

1. ✓ सर्वनाम
2. * संज्ञा (भाववाची)
3. * विशेषण
4. * क्रिया विशेषण

Question Number : 166 Question Id : 5096477958 Question Type : MCQ Option Shuffling : Yes
Correct Marks : 1 Wrong Marks : 0.25

‘ मैं उसकी योग्यता का प्रशंसक हूँ।’ इस पंक्ति में रेखांकित पद है:

Options :

1. ✓ सर्वनाम
2. * संज्ञा (भाववाची)
3. * विशेषण
4. * क्रिया विशेषण

Question Number : 167 Question Id : 5096477959 Question Type : MCQ Option Shuffling : Yes
Correct Marks : 1 Wrong Marks : 0.25

‘रास्ते में कुछ पड़ा हुआ है।’ वाक्य में रेखांकित पद है:

Options :

1. * प्रश्नवाचक सर्वनाम

2. * निश्चयवाचक सर्वनाम
3. ✓ अनिश्चयवाचक सर्वनाम
4. * पुरुषवाचक सर्वनाम

Question Number : 167 Question Id : 5096477959 Question Type : MCQ Option Shuffling : Yes
Correct Marks : 1 Wrong Marks : 0.25

‘रास्ते में कुछ पड़ा हुआ है’। वाक्य में रेखांकित पद है:

Options :

1. * प्रश्नवाचक सर्वनाम
2. * निश्चयवाचक सर्वनाम
3. ✓ अनिश्चयवाचक सर्वनाम
4. * पुरुषवाचक सर्वनाम

Question Number : 168 Question Id : 5096477960 Question Type : MCQ Option Shuffling : Yes
Correct Marks : 1 Wrong Marks : 0.25

‘नोक’ शब्द से विशेषण बनेगा:

Options :

1. * नोकिल
2. ✓ नुकीला
3. * नकेल
4. * नासिक्य

Question Number : 168 Question Id : 5096477960 Question Type : MCQ Option Shuffling : Yes
Correct Marks : 1 Wrong Marks : 0.25

‘नोक’ शब्द से विशेषण बनेगा:

Options :

1. * नोकिल
2. ✓ नुकीला
3. * नकेल
4. * नासिक्य

Question Number : 169 Question Id : 5096477961 Question Type : MCQ Option Shuffling : Yes
Correct Marks : 1 Wrong Marks : 0.25

‘उसे पढ़ाना नहीं आता’I वाक्य में रेखांकित क्रिया है:

Options :

1. * अकर्मक क्रिया
2. ✓ प्रेरणार्थक क्रिया
3. * द्विकर्मक क्रिया
4. * नाम धातु

Question Number : 169 Question Id : 5096477961 Question Type : MCQ Option Shuffling : Yes
Correct Marks : 1 Wrong Marks : 0.25

‘उसे पढ़ाना नहीं आता’I वाक्य में रेखांकित क्रिया है:

Options :

1. * अकर्मक क्रिया
2. ✓ प्रेरणार्थक क्रिया
3. * द्विकर्मक क्रिया
4. * नाम धातु

Question Number : 170 Question Id : 5096477962 Question Type : MCQ Option Shuffling : Yes
Correct Marks : 1 Wrong Marks : 0.25

‘मेरे घर के दोनों ओर फूल हैं’I वाक्य का रेखांकित अंश है:

Options :

1. ✓ सम्बन्धबोधक अव्यय
2. * समुच्चयबोधक अव्यय
3. * विस्मयादिबोधक अव्यय
4. * निपात

Question Number : 170 Question Id : 5096477962 Question Type : MCQ Option Shuffling : Yes
Correct Marks : 1 Wrong Marks : 0.25

‘मेरे घर के दोनों ओर फूल हैं’I वाक्य का रेखांकित अंश है:

Options :

1. ✓ सम्बन्धबोधक अव्यय

2. * समुच्चयबोधक अव्यय
3. * विस्मयादिबोधक अव्यय
4. * निपात

Question Number : 171 Question Id : 5096477963 Question Type : MCQ Option Shuffling : Yes
Correct Marks : 1 Wrong Marks : 0.25

निम्नलिखित में से कौन-सा शब्द पुल्लिंग है:

Options :

1. ✓ विश्वास
2. * निष्ठा
3. * आस्था
4. * धार्मिकता

Question Number : 171 Question Id : 5096477963 Question Type : MCQ Option Shuffling : Yes
Correct Marks : 1 Wrong Marks : 0.25

निम्नलिखित में से कौन-सा शब्द पुल्लिंग है:

Options :

1. ✓ विश्वास
2. * निष्ठा
3. * आस्था
4. * धार्मिकता

Question Number : 172 Question Id : 5096477964 Question Type : MCQ Option Shuffling : Yes
Correct Marks : 1 Wrong Marks : 0.25

कौन-सा शब्द स्त्रीलिंग है?

Options :

1. * सान्निध्य
2. * सौंदर्य
3. * पांडित्य
4. ✓ चेतना

Question Number : 172 Question Id : 5096477964 Question Type : MCQ Option Shuffling : Yes

Correct Marks : 1 Wrong Marks : 0.25

कौन-सा शब्द स्त्रीलिंग है?

Options :

1. * सान्निध्य
2. * सौंदर्य
3. * पांडित्य
4. ✓ चेतना

Question Number : 173 Question Id : 5096477965 Question Type : MCQ Option Shuffling : Yes

Correct Marks : 1 Wrong Marks : 0.25

अमेलित कारक चिह्न को पहचानिए:

Options :

1. ✓ अधिकरण - से
2. * सम्प्रदान - के लिए
3. * कर्म - को
4. * अपादान - से

Question Number : 173 Question Id : 5096477965 Question Type : MCQ Option Shuffling : Yes

Correct Marks : 1 Wrong Marks : 0.25

अमेलित कारक चिह्न को पहचानिए:

Options :

1. ✓ अधिकरण - से
2. * सम्प्रदान - के लिए
3. * कर्म - को
4. * अपादान - से

Question Number : 174 Question Id : 5096477966 Question Type : MCQ Option Shuffling : Yes

Correct Marks : 1 Wrong Marks : 0.25

अकर्मक क्रिया कौन-सी है?

Options :

1. * देखना

2. ✖ चखना

3. ✔ डरना

4. ✖ पढना

Question Number : 174 Question Id : 5096477966 Question Type : MCQ Option Shuffling : Yes
Correct Marks : 1 Wrong Marks : 0.25

अकर्मक क्रिया कौन-सी है?

Options :

1. ✖ देखना

2. ✖ चखना

3. ✔ डरना

4. ✖ पढना

Question Number : 175 Question Id : 5096477967 Question Type : MCQ Option Shuffling : Yes
Correct Marks : 1 Wrong Marks : 0.25

‘विधाता’ शब्द का स्त्रीलिंग बनेगा:

Options :

1. ✖ विधाती

2. ✖ वैधता

3. ✖ विधातृ

4. ✔ विधात्री

Question Number : 175 Question Id : 5096477967 Question Type : MCQ Option Shuffling : Yes
Correct Marks : 1 Wrong Marks : 0.25

‘विधाता’ शब्द का स्त्रीलिंग बनेगा:

Options :

1. ✖ विधाती

2. ✖ वैधता

3. ✖ विधातृ

4. ✔ विधात्री

Question Number : 176 Question Id : 5096477968 Question Type : MCQ Option Shuffling : Yes
Correct Marks : 1 Wrong Marks : 0.25

‘आज बहुत पानी बरसा है’I उक्त वाक्य है:

Options :

1. * संयुक्त वाक्य
2. ✓ सरल वाक्य
3. * मिश्र वाक्य
4. * संयुक्त मिश्र वाक्य

Question Number : 176 Question Id : 5096477968 Question Type : MCQ Option Shuffling : Yes
Correct Marks : 1 Wrong Marks : 0.25

‘आज बहुत पानी बरसा है’। उक्त वाक्य है:

Options :

1. * संयुक्त वाक्य
2. ✓ सरल वाक्य
3. * मिश्र वाक्य
4. * संयुक्त मिश्र वाक्य

Question Number : 177 Question Id : 5096477969 Question Type : MCQ Option Shuffling : Yes
Correct Marks : 1 Wrong Marks : 0.25

‘वह कौन-सा आदमी है जो बिना पढ़े विद्वान् हुआ हो’? उक्त वाक्य का प्रकार है:

Options :

1. * सरल वाक्य
2. * संयुक्त वाक्य
3. ✓ मिश्र वाक्य
4. * मिश्र-संयुक्त वाक्य

Question Number : 177 Question Id : 5096477969 Question Type : MCQ Option Shuffling : Yes
Correct Marks : 1 Wrong Marks : 0.25

‘वह कौन-सा आदमी है जो बिना पढ़े विद्वान् हुआ हो’? उक्त वाक्य का प्रकार है:

Options :

1. * सरल वाक्य
2. * संयुक्त वाक्य
3. ✓ मिश्र वाक्य
4. * मिश्र-संयुक्त वाक्य

Question Number : 178 Question Id : 5096477970 Question Type : MCQ Option Shuffling : Yes
Correct Marks : 1 Wrong Marks : 0.25

‘मैंने खाना खाया और तुरंत जाना पड़ा’। उक्त वाक्य का प्रकार है:

Options :

1. * मिश्र वाक्य
2. * सरल वाक्य
3. ✓ संयुक्त वाक्य
4. * सरल मिश्र वाक्य

Question Number : 178 Question Id : 5096477970 Question Type : MCQ Option Shuffling : Yes
Correct Marks : 1 Wrong Marks : 0.25

‘मैंने खाना खाया और तुरंत जाना पड़ा’। उक्त वाक्य का प्रकार है:

Options :

1. * मिश्र वाक्य
2. * सरल वाक्य
3. ✓ संयुक्त वाक्य
4. * सरल मिश्र वाक्य

Question Number : 179 Question Id : 5096477971 Question Type : MCQ Option Shuffling : Yes
Correct Marks : 1 Wrong Marks : 0.25

‘माँ ने बच्चे को नहलाकर स्कूल भेजा’। इस वाक्य का संयुक्त वाक्य होगा:

Options :

1. ✓ माँ ने बच्चे को नहलाया और स्कूल भेजा।
2. * जिसने बच्चे को नहलाया वह उसकी माँ है।
3. * नहलाकर माँ ने कहा, स्कूल जाओ।

4. * माँ ने जैसे ही बच्चे को नहलाया, उसे स्कूल भेज दिया।

Question Number : 179 Question Id : 5096477971 Question Type : MCQ Option Shuffling : Yes
Correct Marks : 1 Wrong Marks : 0.25

‘माँ ने बच्चे को नहलाकर स्कूल भेजा’। इस वाक्य का संयुक्त वाक्य होगा:

Options :

1. ✓ माँ ने बच्चे को नहलाया और स्कूल भेजा।
2. * जिसने बच्चे को नहलाया वह उसकी माँ है।
3. * नहलाकर माँ ने कहा, स्कूल जाओ।
4. * माँ ने जैसे ही बच्चे को नहलाया, उसे स्कूल भेज दिया।

Question Number : 180 Question Id : 5096477972 Question Type : MCQ Option Shuffling : Yes
Correct Marks : 1 Wrong Marks : 0.25

निम्नलिखित में से कौन-सा वाक्य का प्रकार नहीं होता?

Options :

1. * सरल वाक्य
2. * संयुक्त वाक्य
3. * मिश्र वाक्य
4. ✓ दीर्घ वाक्य

Question Number : 180 Question Id : 5096477972 Question Type : MCQ Option Shuffling : Yes
Correct Marks : 1 Wrong Marks : 0.25

निम्नलिखित में से कौन-सा वाक्य का प्रकार नहीं होता?

Options :

1. * सरल वाक्य
2. * संयुक्त वाक्य
3. * मिश्र वाक्य
4. ✓ दीर्घ वाक्य

General Hindi2

Group Number :	10
Group Id :	509647101
Group Maximum Duration :	0
Group Minimum Duration :	120
Show Attended Group? :	No
Edit Attended Group? :	No
Break time:	0
Group Marks:	20
Is this Group for Examiner?:	No
Revisit allowed for group Instructions? :	Yes
Maximum Instruction Time:	0
Minimum Instruction Time:	0

General Hindi2

Section Id :	509647261
Section Number :	1
Section type :	Online
Mandatory or Optional:	Mandatory
Number of Questions:	12
Number of Questions to be attempted:	12
Section Marks:	20

Sub-Section Number:	1
Sub-Section Id:	509647379
Question Shuffling Allowed :	Yes

Question Number : 181 Question Id : 5096477973 Question Type : MCQ Option Shuffling : Yes
Correct Marks : 1 Wrong Marks : 0.25

एक हाथ से दूसरे हाथ में जाता रहता (द्रवणशील) है, इसलिए धन को कहते हैं:

Options :

1. ✓ द्रव्य
2. * संपत्ति
3. * वित्त
4. * अर्थ

Question Number : 181 Question Id : 5096477973 Question Type : MCQ Option Shuffling : Yes
Correct Marks : 1 Wrong Marks : 0.25

एक हाथ से दूसरे हाथ में जाता रहता (द्रवणशील) है, इसलिए धन को कहते हैं:

Options :

1. ✓ द्रव्य
2. * संपत्ति
3. * वित्त
4. * अर्थ

Question Number : 182 Question Id : 5096477974 Question Type : MCQ Option Shuffling : Yes
Correct Marks : 1 Wrong Marks : 0.25

‘चाँदनी’ के लिए कौन-सा शब्द प्रयुक्त नहीं होता है?

Options :

1. * ज्योत्स्ना
2. * कौमुदी
3. * चंद्रिका
4. ✓ विभावरी

Question Number : 182 Question Id : 5096477974 Question Type : MCQ Option Shuffling : Yes
Correct Marks : 1 Wrong Marks : 0.25

‘चाँदनी’ के लिए कौन-सा शब्द प्रयुक्त नहीं होता है?

Options :

1. * ज्योत्स्ना
2. * कौमुदी
3. * चंद्रिका
4. ✓ विभावरी

Question Number : 183 Question Id : 5096477975 Question Type : MCQ Option Shuffling : Yes
Correct Marks : 1 Wrong Marks : 0.25

‘मर्त्यलोक’ में आए मर्त्य शब्द का अर्थ है:

Options :

1. ✓ मनुष्य
2. * माधुर्य
3. * कष्ट

4. * मदिरा

Question Number : 183 Question Id : 5096477975 Question Type : MCQ Option Shuffling : Yes
Correct Marks : 1 Wrong Marks : 0.25

‘मर्त्यलोक’ में आए मर्त्य शब्द का अर्थ है:

Options :

1. ✓ मनुष्य
2. * माधुर्य
3. * कष्ट
4. * मदिरा

Question Number : 184 Question Id : 5096477976 Question Type : MCQ Option Shuffling : Yes
Correct Marks : 1 Wrong Marks : 0.25

पर्वतपुत्री होने के कारण भवानी को कहा जाता है:

Options :

1. * उमा
2. * अपर्णा
3. ✓ शैलजा
4. * शिवा

Question Number : 184 Question Id : 5096477976 Question Type : MCQ Option Shuffling : Yes
Correct Marks : 1 Wrong Marks : 0.25

पर्वतपुत्री होने के कारण भवानी को कहा जाता है:

Options :

1. * उमा
2. * अपर्णा
3. ✓ शैलजा
4. * शिवा

Question Number : 185 Question Id : 5096477977 Question Type : MCQ Option Shuffling : Yes
Correct Marks : 1 Wrong Marks : 0.25

‘साँप’ शब्द का पर्याय नहीं है:

Options :

1. * अहि
2. * भुजंग
3. * पन्नग
4. ✓ व्याध

Question Number : 185 Question Id : 5096477977 Question Type : MCQ Option Shuffling : Yes
Correct Marks : 1 Wrong Marks : 0.25

‘साँप’ शब्द का पर्याय नहीं है:

Options :

1. * अहि
2. * भुजंग
3. * पन्नग
4. ✓ व्याध

Question Number : 186 Question Id : 5096477978 Question Type : MCQ Option Shuffling : Yes
Correct Marks : 1 Wrong Marks : 0.25

‘विधि’ शब्द का विलोम होता है:

Options :

1. * वैध
2. ✓ निषेध
3. * विधान
4. * विरोध

Question Number : 186 Question Id : 5096477978 Question Type : MCQ Option Shuffling : Yes
Correct Marks : 1 Wrong Marks : 0.25

‘विधि’ शब्द का विलोम होता है:

Options :

1. * वैध
2. ✓ निषेध
3. * विधान

4. * विरोध

Question Number : 187 Question Id : 5096477979 Question Type : MCQ Option Shuffling : Yes
Correct Marks : 1 Wrong Marks : 0.25

‘मौखिक’ शब्द का विलोम होगा:

Options :

1. * श्रुति
2. * कथित
3. ✓ लिखित
4. * पठित

Question Number : 187 Question Id : 5096477979 Question Type : MCQ Option Shuffling : Yes
Correct Marks : 1 Wrong Marks : 0.25

‘मौखिक’ शब्द का विलोम होगा:

Options :

1. * श्रुति
2. * कथित
3. ✓ लिखित
4. * पठित

Question Number : 188 Question Id : 5096477980 Question Type : MCQ Option Shuffling : Yes
Correct Marks : 1 Wrong Marks : 0.25

‘पाश्चात्य’ शब्द का विलोम होता है:

Options :

1. * दक्षिणात्य
2. ✓ पौरात्य
3. * प्रतीची
4. * उदीची

Question Number : 188 Question Id : 5096477980 Question Type : MCQ Option Shuffling : Yes
Correct Marks : 1 Wrong Marks : 0.25

‘पाश्चात्य’ शब्द का विलोम होता है:

Options :

1. ✖ दाक्षिणात्य

2. ✔ पौर्वात्य

3. ✖ प्रतीची

4. ✖ उदीची

Question Number : 189 Question Id : 5096477981 Question Type : MCQ Option Shuffling : Yes
Correct Marks : 1 Wrong Marks : 0.25

‘आशा’ का विलोम होगा:

Options :

1. ✖ आशंका

2. ✖ शंका

3. ✔ निराशा

4. ✖ प्रत्याशा

Question Number : 189 Question Id : 5096477981 Question Type : MCQ Option Shuffling : Yes
Correct Marks : 1 Wrong Marks : 0.25

‘आशा’ का विलोम होगा:

Options :

1. ✖ आशंका

2. ✖ शंका

3. ✔ निराशा

4. ✖ प्रत्याशा

Question Number : 190 Question Id : 5096477982 Question Type : MCQ Option Shuffling : Yes
Correct Marks : 1 Wrong Marks : 0.25

‘खेद’ शब्द का विलोम है:

Options :

1. ✔ प्रसन्नता

2. ✖ दुःख

3. ✖ अफ़सोस

4. * संतोष

Question Number : 190 Question Id : 5096477982 Question Type : MCQ Option Shuffling : Yes
Correct Marks : 1 Wrong Marks : 0.25

‘खेद’ शब्द का विलोम है:

Options :

1. ✓ प्रसन्नता

2. * दुःख

3. * अफ़सोस

4. * संतोष

Sub-Section Number:	2
Sub-Section Id:	509647380
Question Shuffling Allowed :	Yes

Question Id : 5096477983 Question Type : COMPREHENSION Sub Question Shuffling Allowed : Yes Group Comprehension
Questions : No
Question Numbers : (191 to 195)

Question Label : Comprehension

निम्नलिखित गद्यांश को पढ़कर उसका सही उत्तर दीजिये।

किसी ने ठीक ही कहा है - यदि मनुष्य का धन नष्ट हो गया, तो कुछ नष्ट नहीं हुआ, यदि उसका स्वास्थ्य नष्ट हो गया, तो कुछ नष्ट हो गया, परंतु यदि उसका चरित्र नष्ट हो गया, तो समझिए नकसजज सबकुछ नष्ट हो गया। 'चरित्र' क्या है? यदि इस प्रश्न उत्तर खोजें तो हम पाएँगे कि चरित्र का संबंध व्यक्ति के आचरण, व्यवहार, चाल-चलन, कार्य-कलाप तथा गुण-दोषों से है। किसी ने सच कहा है - 'चरित्र आदतों का समूह है। 'व्यक्ति की पहचान उसकी आदतों से की जा सकती है'। चरित्र व्यक्ति का सबसे बड़ा धन है, उसकी कीर्ति का आधार है, उसकी उन्नति का सोपान है तथा जीवन के समस्त वैभवों, ऐशवर्यों, समृद्धि आदि की आधार शिला है। चरित्रवान व्यक्ति ही राष्ट्र शक्ति का मूलाधार होते हैं। आज संसार में जो राष्ट्र इतने उन्नत, समृद्ध और विकसित हैं, उनके पीछे वहाँ के नागरिकों के चरित्र का बहुत बड़ा योगदान है। जापान का उदाहरण हमारे सामने है। छोटा-सा देश जापान, जो द्वितीय विश्व-युद्ध में ध्वस्त-सा हो गया था, अपने नागरिकों के चरित्र के कारण आज विश्व में पुनः प्रतिष्ठा पा गया है। दुर्भाग्य से आज हमारे देश में नैतिक मूल्यों की कमी के समय कैद कारण राष्ट्रीय चरित्र अभाव हो गया है। प्रत्येक नागरिक का कर्तव्य है कि वह चरित्र की ओर ध्यान दे।

Sub questions

Question Number : 191 Question Id : 5096477984 Question Type : MCQ Option Shuffling : Yes Correct Marks : 1 Wrong Marks : 0.25

व्यक्ति की उन्नति की सीढ़ी है:

Options :

1. * ज्ञान
2. * धन
3. ✓ चरित्र
4. * बल

Question Number : 192 Question Id : 5096477985 Question Type : MCQ Option Shuffling : Yes Correct Marks : 1 Wrong Marks : 0.25

गद्यांश का मूल स्वर है:

Options :

1. ✓ चरित्र
2. * प्रगति

3. * श्रम

4. * नागरिकता

Question Number : 193 Question Id : 5096477986 Question Type : MCQ Option Shuffling : Yes
Correct Marks : 1 Wrong Marks : 0.25

चरित्र से किसकी वृद्धि नहीं होती?

Options :

1. * यश की

2. * उन्नति की

3. * समृद्धि की

4. ✓ मूल आधार की

Question Number : 194 Question Id : 5096477987 Question Type : MCQ Option Shuffling : Yes
Correct Marks : 1 Wrong Marks : 0.25

जापान का उदाहरण दिया है वहाँ के लोगों के:

Options :

1. * साहस के लिए

2. * शौर्य के लिए

3. ✓ चरित्र के लिए

4. * उन्नति के लिए

Question Number : 195 Question Id : 5096477988 Question Type : MCQ Option Shuffling : Yes
Correct Marks : 1 Wrong Marks : 0.25

गद्यांश के अनुसार भारत में कमी है:

Options :

1. * ज्ञान-विज्ञान की

2. * शक्ति-सौंदर्य

3. * धन-सम्पदा की

4. ✓ नैतिक मूल्यों की

Question Id : 5096477983 Question Type : COMPREHENSION Sub Question Shuffling Allowed : Yes Group Comprehension
Questions : No

Question Numbers : (191 to 195)

Question Label : Comprehension

निम्नलिखित गद्यांश को पढ़कर उसका सही उत्तर दीजिये।

किसी ने ठीक ही कहा है - यदि मनुष्य का धन नष्ट हो गया, तो कुछ नष्ट नहीं हुआ, यदि उसका स्वास्थ्य नष्ट हो गया, तो कुछ नष्ट हो गया, परंतु यदि उसका चरित्र नष्ट हो गया, तो समझिए नकसजज सबकुछ नष्ट हो गया। 'चरित्र' क्या है? यदि इस प्रश्न उत्तर खोजें तो हम पाएँगे कि चरित्र का संबंध व्यक्ति के आचरण, व्यवहार, चाल-चलन, कार्य-कलाप तथा गुण-दोषों से है। किसी ने सच कहा है - 'चरित्र आदतों का समूह है। 'व्यक्ति की पहचान उसकी आदतों से की जा सकती है'। चरित्र व्यक्ति का सबसे बड़ा धन है, उसकी कीर्ति का आधार है, उसकी उन्नति का सोपान है तथा जीवन के समस्त वैभवों, ऐशवर्यों, समृद्धि आदि की आधार शिला है। चरित्रवान व्यक्ति ही राष्ट्र शक्ति का मूलाधार होते हैं। आज संसार में जो राष्ट्र इतने उन्नत, समृद्ध और विकसित हैं, उनके पीछे वहाँ के नागरिकों के चरित्र का बहुत बड़ा योगदान है। जापान का उदाहरण हमारे सामने है। छोटा-सा देश जापान, जो द्वितीय विश्व-युद्ध में ध्वस्त-सा हो गया था, अपने नागरिकों के चरित्र के कारण आज विश्व में पुनः प्रतिष्ठा पा गया है। दुर्भाग्य से आज हमारे देश में नैतिक मूल्यों की कमी के समय कैद कारण राष्ट्रीय चरित्र अभाव हो गया है। प्रत्येक नागरिक का कर्तव्य है कि वह चरित्र की ओर ध्यान दे।

Sub questions

Question Number : 191 Question Id : 5096477984 Question Type : MCQ Option Shuffling : Yes
Correct Marks : 1 Wrong Marks : 0.25

व्यक्ति की उन्नति की सीढ़ी है:

Options :

1. * ज्ञान

2. ✖ धन

3. ✔ चरित्र

4. ✖ बल

Question Number : 192 Question Id : 5096477985 Question Type : MCQ Option Shuffling : Yes
Correct Marks : 1 Wrong Marks : 0.25

गद्यांश का मूल स्वर है:

Options :

1. ✔ चरित्र

2. ✖ प्रगति

3. ✖ श्रम

4. ✖ नागरिकता

Question Number : 193 Question Id : 5096477986 Question Type : MCQ Option Shuffling : Yes
Correct Marks : 1 Wrong Marks : 0.25

चरित्र से किसकी वृद्धि नहीं होती?

Options :

1. ✖ यश की

2. ✖ उन्नति की

3. ✖ समृद्धि की

4. ✔ मूल आधार की

Question Number : 194 Question Id : 5096477987 Question Type : MCQ Option Shuffling : Yes
Correct Marks : 1 Wrong Marks : 0.25

जापान का उदाहरण दिया है वहाँ के लोगों के:

Options :

1. ✖ साहस के लिए

2. ✖ शौर्य के लिए

3. ✔ चरित्र के लिए

4. * उन्नति के लिए

Question Number : 195 Question Id : 5096477988 Question Type : MCQ Option Shuffling : Yes
Correct Marks : 1 Wrong Marks : 0.25

गद्यांश के अनुसार भारत में कमी है:

Options :

1. * ज्ञान-विज्ञान की
2. * शक्ति-सौंदर्य
3. * धन-सम्पदा की
4. ✓ नैतिक मूल्यों की

Sub-Section Number: 3
Sub-Section Id: 509647381
Question Shuffling Allowed : Yes

Question Id : 5096477989 Question Type : COMPREHENSION Sub Question Shuffling Allowed : Yes Group Comprehension Questions : No

Question Numbers : (196 to 200)

Question Label : Comprehension

निम्नलिखित गद्यांश को पढ़कर उसका सही उत्तर दीजिये।

मनुष्य अपने नैतिक गुणों से ही जीवधारियों में श्रेष्ठतम माना जाता है। हर व्यक्ति जीवनपर्यंत सुख में रहता है। तन के सुख मनुष्य और पशु-पक्षी को समान रूप से चाहिए, किंतु मन और आत्मा के सुख केवल मनुष्यों के लिए हैं। धरती के जितने भी सुख हैं उनमें सबसे बड़ा है 'परोपकार सुख'। किसी अंधे को सड़क पार कराना, किसी भूखे को अन्न खिलाना, किसी प्यासे की प्यास बुझाना, किसी रोते हुए को ढाँढस बँधाना, किसी निराश-हताश को आशान्वित करना तथा किसी लाचार, गरीब और ज़रूरतमंद के काम आने पर जो सुख मिलता है, उसकी किसी भी सुख या आनंद से तुलना नहीं की जा सकती। अपने लिए तो दुनिया में सभी प्राणी जीते हैं, पर जब हम अपना जीवन परोपकार में लगा देते हैं तो हमारा जीवन धन्य हो जाता है। सचमुच परोपकार से बड़ा कोई धर्म नहीं है।

Sub questions

Question Number : 196 Question Id : 5096477990 Question Type : MCQ Option Shuffling : Yes
Correct Marks : 1 Wrong Marks : 0.25

मानव को अन्य प्राणियों से भिन्न करती है:

Options :

1. * आहार-निद्रा
2. * श्रम-साधना
3. * तन का सुख
4. ✓ नैतिकता

Question Number : 197 Question Id : 5096477991 Question Type : MCQ Option Shuffling : Yes
Correct Marks : 1 Wrong Marks : 0.25

गद्यांश के अनुसार मन को चैन मिलता है:

Options :

1. * प्रार्थना से
2. * आध्यात्मिकता से
3. ✓ परहित से
4. * पूजा-पाठ से

Question Number : 198 Question Id : 5096477992 Question Type : MCQ Option Shuffling : Yes
Correct Marks : 1 Wrong Marks : 0.25

निम्नलिखित में से कौन-सा परोपकार नहीं कहलाता है?

Options :

1. * अंधे को राह दिखाना
2. * भूखे को भोजन देना
3. * प्यासे की प्यास बुझाना
4. ✓ ज़रूरतमंद के काम न आना

Question Number : 199 Question Id : 5096477993 Question Type : MCQ Option Shuffling : Yes
Correct Marks : 1 Wrong Marks : 0.25

मनुष्य जीवन की धन्यता बताई गई है:

Options :

1. * ज्ञान में
2. * भक्ति में
3. * कर्म में

4. ✓ परहित में

Question Number : 200 Question Id : 5096477994 Question Type : MCQ Option Shuffling : Yes

Correct Marks : 1 Wrong Marks : 0.25

गद्यांश का मुख्य भाव है:

Options :

1. * सुख
2. * उन्नति
3. ✓ परोपकार
4. * विद्यार्जन

Question Id : 5096477989 Question Type : COMPREHENSION Sub Question Shuffling Allowed : Yes Group Comprehension Questions : No

Question Numbers : (196 to 200)

Question Label : Comprehension

निम्नलिखित गद्यांश को पढ़कर उसका सही उत्तर दीजिये।

मनुष्य अपने नैतिक गुणों से ही जीवधारियों में श्रेष्ठतम माना जाता है। हर व्यक्ति जीवनपर्यंत सुख में रहता है। तन के सुख मनुष्य और पशु-पक्षी को समान रूप से चाहिए, किंतु मन और आत्मा के सुख केवल मनुष्यों के लिए हैं। धरती के जितने भी सुख हैं उनमें सबसे बड़ा है 'परोपकार सुख'। किसी अंधे को सड़क पार कराना, किसी भूखे को अन्न खिलाना, किसी प्यासे की प्यास बुझाना, किसी रोते हुए को ढाँढस बँधाना, किसी निराश-हताश को आशान्वित करना तथा किसी लाचार, गरीब और ज़रूरतमंद के काम आने पर जो सुख मिलता है, उसकी किसी भी सुख या आनंद से तुलना नहीं की जा सकती। अपने लिए तो दुनिया में सभी प्राणी जीते हैं, पर जब हम अपना जीवन परोपकार में लगा देते हैं तो हमारा जीवन धन्य हो जाता है। सचमुच परोपकार से बड़ा कोई धर्म नहीं है।

Sub questions

Question Number : 196 Question Id : 5096477990 Question Type : MCQ Option Shuffling : Yes
Correct Marks : 1 Wrong Marks : 0.25

मानव को अन्य प्राणियों से भिन्न करती है:

Options :

1. * आहार-निद्रा
2. * श्रम-साधना
3. * तन का सुख
4. ✓ नैतिकता

Question Number : 197 Question Id : 5096477991 Question Type : MCQ Option Shuffling : Yes
Correct Marks : 1 Wrong Marks : 0.25

गद्यांश के अनुसार मन को चैन मिलता है:

Options :

1. * प्रार्थना से
2. * आध्यात्मिकता से
3. ✓ परहित से
4. * पूजा-पाठ से

Question Number : 198 Question Id : 5096477992 Question Type : MCQ Option Shuffling : Yes
Correct Marks : 1 Wrong Marks : 0.25

निम्नलिखित में से कौन-सा परोपकार नहीं कहलाता है?

Options :

1. * अंधे को राह दिखाना
2. * भूखे को भोजन देना
3. * प्यासे की प्यास बुझाना
4. ✓ ज़रूरतमंद के काम न आना

Question Number : 199 Question Id : 5096477993 Question Type : MCQ Option Shuffling : Yes
Correct Marks : 1 Wrong Marks : 0.25

मनुष्य जीवन की धन्यता बताई गई है:

Options :

1. * ज्ञान में
2. * भक्ति में
3. * कर्म में
4. ✓ परहित में

Question Number : 200 Question Id : 5096477994 Question Type : MCQ Option Shuffling : Yes
Correct Marks : 1 Wrong Marks : 0.25

गद्यांश का मुख्य भाव है:

Options :

1. * सुख
2. * उन्नति
3. ✓ परोपकार
4. * विद्यार्जन