

## Education Consultant India Ltd.

Notations :

1.Options shown in green color and with ✓ icon are correct.

2.Options shown in red color and with ✖ icon are incorrect.

Question Paper Name:	GRADE II DASS 16th July 2019 Shift 2
Subject Name:	GRADE II DASS
Creation Date:	2019-07-16 16:14:26
Duration:	120
Total Marks:	200
Display Marks:	Yes
Share Answer Key With Delivery Engine:	No
Actual Answer Key:	Yes
Calculator:	None
Magnifying Glass Required?:	No
Ruler Required?:	No
Eraser Required?:	No
Scratch Pad Required?:	No
Rough Sketch/Notepad Required?:	No
Protractor Required?:	No
Show Watermark on Console?:	Yes
Highlighter:	No
Auto Save on Console?:	No

## Mental Ability1

Group Number :	1
Group Id :	998367127
Group Maximum Duration :	0
Group Minimum Duration :	0
Show Attended Group? :	No
Edit Attended Group? :	No
Break time:	0
Group Marks:	20
Is this Group for Examiner?:	No
Revisit allowed for group Instructions? :	Yes
Maximum Instruction Time:	0
Minimum Instruction Time:	0

## Mental Ability1

Section Id :	998367133
Section Number :	1

Section type :	Online
Mandatory or Optional:	Mandatory
Number of Questions:	20
Number of Questions to be attempted:	20
Section Marks:	20

Sub-Section Number:	1
Sub-Section Id:	998367201
Question Shuffling Allowed :	Yes

Question Number : 1 Question Id : 9983673357 Question Type : MCQ Option Shuffling : Yes

Correct Marks : 1 Wrong Marks : 0.25

There is a certain relationship between two given words on one side of :: and one word is given on another side of :: while another word is to be found from the given alternatives, having the same relation with the word as the words of the given pair.

Choose the correct alternative.

**Fly : Insect :: Bat:?**

Options :

1. ✖ Bird

2. ✔ Mammal

3. ✖ Height

4. ✖ Dark

Question Number : 1 Question Id : 9983673357 Question Type : MCQ Option Shuffling : Yes

Correct Marks : 1 Wrong Marks : 0.25

:: के एक ओर दिए दो शब्दों के बीच एक निश्चित संबंध है, और :: के दूसरी ओर एक शब्द दिया गया है, जबकि दिए गए विकल्पों में से अन्य शब्द खोजना है जिसका उस शब्द से वही संबंध हो जो दिए गए जोड़े के शब्दों के बीच है।

सही विकल्प चुनें।

**मक्खी : कीट :: चमगादड़ : ?**

Options :

1. ✖ पक्षी

2. ✓ स्तनपायी

3. ✗ ऊंचाई

4. ✗ अंधेरा

Question Number : 2 Question Id : 9983673358 Question Type : MCQ Option Shuffling : Yes

Correct Marks : 1 Wrong Marks : 0.25

A starts from a point and walks 5 kms north, then turns left and walks 3 kms. Then again turns left and walks 5 kms. Point out the direction in which he is going now.

Options :

1. ✗ North

2. ✗ East

3. ✓ South

4. ✗ West

Question Number : 2 Question Id : 9983673358 Question Type : MCQ Option Shuffling : Yes

Correct Marks : 1 Wrong Marks : 0.25

A एक बिंदु से चलना शुरू करता है और 5 kms उत्तर की ओर चलता है, फिर बाईं ओर मुड़कर 3 kms चलता है। अब वह फिर से बाएं मुड़ता है और 5 kms चलता है। वर्तमान में वह किस दिशा की ओर चल कर रहा है।

Options :

1. ✗ उत्तर

2. ✗ पूर्व

3. ✓ दक्षिण

4. ✘ पश्चिम

Question Number : 3 Question Id : 9983673359 Question Type : MCQ Option Shuffling : Yes

Correct Marks : 1 Wrong Marks : 0.25

A group of three interrelated word is given. Choose a word from the given alternatives that is similar to the given words and hence belongs to the same group.

**TOKYO : DELHI : PARIS**

Options :

1. ✘ Kenya

2. ✘ Russia

3. ✓ Rome

4. ✘ Cuba

Question Number : 3 Question Id : 9983673359 Question Type : MCQ Option Shuffling : Yes

Correct Marks : 1 Wrong Marks : 0.25

तीन परस्पर संबंधित शब्दों का एक समूह दिया गया है। दिए गए विकल्पों में से वह शब्द चुनें जो दिए गए शब्दों के समान हो और इस प्रकार उसी समूह से संबंधित हो।

**टोक्यो : दिल्ली : पेरिस**

Options :

1. ✘ केन्या

2. ✘ रूस



3. ✓ रोम

4. ✗ क्यूबा

Question Number : 4 Question Id : 9983673360 Question Type : MCQ Option Shuffling : Yes

Correct Marks : 1 Wrong Marks : 0.25

A group of three interrelated numbers are given. Choose a numbers from the given alternatives that is similar to the given numbers and hence belongs to the same group.

39 : 143 : 221

Options :

1. ✗ 121

2. ✗ 192

3. ✓ 247

4. ✗ 323

Question Number : 4 Question Id : 9983673360 Question Type : MCQ Option Shuffling : Yes

Correct Marks : 1 Wrong Marks : 0.25

तीन परस्पर संबंधित संख्याओं का एक समूह दिया गया है। दिए गए विकल्पों में से वह संख्या चुनें जो दी गई संख्याओं के समान हो और इस प्रकार उसी समूह से संबंधित हो।

39 : 143 : 221

Options :

1. ✗ 121

2. ✗ 192

3. ✓ 247

4. ✗ 323

Question Number : 5 Question Id : 9983673361 Question Type : MCQ Option Shuffling : Yes  
Correct Marks : 1 Wrong Marks : 0.25

Which of the following is the same as **Pound, Lira and Yen?**

Options :

1. ✗ Britain

2. ✗ Japan

3. ✗ Turkey

4. ✓ Krona

Question Number : 5 Question Id : 9983673361 Question Type : MCQ Option Shuffling : Yes  
Correct Marks : 1 Wrong Marks : 0.25

निम्न में से कौन सा पाउंड, लीरा और येन से संबंध रखता है?

Options :

1. ✗ ब्रिटेन

2. ✗ जापान

3. ✗ तुर्की

#### 4. ✓ क्रोना

Question Number : 6 Question Id : 9983673362 Question Type : MCQ Option Shuffling : Yes

Correct Marks : 1 Wrong Marks : 0.25

Four pairs of words are given out of which the words in three pairs bear a certain common relationship. Choose the pair in which the words are differently related.

Options :

1. ✘ Blend : Mix

2. ✘ Flaw : Defect

3. ✘ Mend : Repair

4. ✓ Lend : Borrow

Question Number : 6 Question Id : 9983673362 Question Type : MCQ Option Shuffling : Yes

Correct Marks : 1 Wrong Marks : 0.25

शब्दों के चार जोड़े दिए गए हैं जिनमें से तीन जोड़ों में शब्दों के बीच एक निश्चित समान संबंध है। वह जोड़ा चुनें जिसमें शब्द भिन्न प्रकार से परस्पर संबंधित हैं।

Options :

1. ✘ मिलाना : मिश्रित करना

2. ✘ दोष : त्रुटि

3. ✘ रफू : मरम्मत

4. ✓ ऋण देना : ऋण लेना

Question Number : 7 Question Id : 9983673363 Question Type : MCQ Option Shuffling : Yes

Correct Marks : 1 Wrong Marks : 0.25

Four pairs of numbers are given out of which the numbers in three pairs bear a certain common relationship. Choose the pair in which the numbers are differently related.

Options :

1. ✓ 39 - 63

2. ✗ 11 - 13

3. ✗ 23 - 29

4. ✗ 47 - 61

Question Number : 7 Question Id : 9983673363 Question Type : MCQ Option Shuffling : Yes

Correct Marks : 1 Wrong Marks : 0.25

संख्याओं के चार जोड़े दिए गए हैं जिनमें से तीन जोड़ों में संख्याओं के बीच एक निश्चित समान संबंध है। वह जोड़ा चुनें जिसमें संख्या भिन्न प्रकार से परस्पर संबंधित हैं।

Options :

1. ✓ 39 - 63

2. ✗ 11 - 13

3. ✗ 23 - 29

4. ✗ 47 - 61

Question Number : 8 Question Id : 9983673364 Question Type : MCQ Option Shuffling : Yes

Correct Marks : 1 Wrong Marks : 0.25

Read the following information carefully and answer the question given below.

1. L, M, N, O, P and Q are members of a club
2. There is one married couple in the group
3. O is the only married female in the group
4. L and N are two ladies
5. Q is a brother of L and is not married
6. P is a sister of Q

How many female members are there in the group?

Options :

1. ✖ 2

2. ✖ 3

3. ✔ 4

4. ✖ 5

Question Number : 8 Question Id : 9983673364 Question Type : MCQ Option Shuffling : Yes

Correct Marks : 1 Wrong Marks : 0.25

निम्नलिखित सूचना को ध्यान से पढ़ें और नीचे दिए गए प्रश्न का उत्तर दें।

1. L, M, N, O, P और Q एक क्लब के सदस्य हैं
2. समूह में केवल एक जोड़ा विवाहित है
3. O समूह में एकमात्र विवाहित महिला है
4. L और N दो महिलाएं हैं
5. Q, L का भाई है और विवाहित नहीं है
6. P, Q की बहन है

समूह में महिला सदस्यों की संख्या कितनी है?

Options :

1. ✖ 2

2. ✖ 3

3. ✔ 4

4. ✖ 5

Question Number : 9 Question Id : 9983673365 Question Type : MCQ Option Shuffling : Yes

Correct Marks : 1 Wrong Marks : 0.25

Sachin, Sahil, Sandhya, Sani, Sanju, Saurabh, Shweta and Sunil are sitting around a round table in the same order for lunch at equal distance. Their positions are clockwise. If Sanju sits in West, then what will be the position of Sunil?

Options :

1. ✔ North - East

2. ✖ North - West

3. ✖ South - East

4. ✖ South - West

Question Number : 9 Question Id : 9983673365 Question Type : MCQ Option Shuffling : Yes

Correct Marks : 1 Wrong Marks : 0.25

सचिन, साहिल, संध्या, सनी, संजू, सौरभ, श्वेता और सुनील, लंच के लिए एक गोल मेज के चारों ओर समान दूरियों पर इसी क्रम में बैठे हैं। उनकी स्थिति दक्षिणावर्त है। यदि संजू पश्चिम में बैठा है, तो सुनील की स्थिति क्या होगी?

Options :

1. ✔ उत्तर - पूर्व

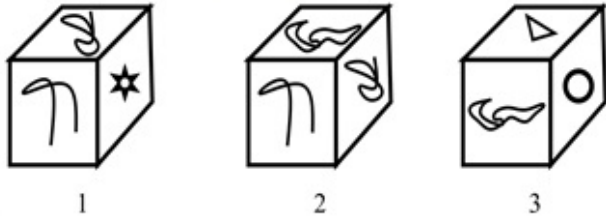
2. ✖ उत्तर - पश्चिम

3. ✘ दक्षिण - पूर्व

4. ✘ दक्षिण - पश्चिम

Question Number : 10 Question Id : 9983673366 Question Type : MCQ Option Shuffling : Yes  
Correct Marks : 1 Wrong Marks : 0.25

Three different positions of the same dice are shown. Find which one is opposite the face showing ☆ ?



Options :

1. ✘ 


2. ✔ 

3. ✘ 

4. ✘ 

Question Number : 10 Question Id : 9983673366 Question Type : MCQ Option Shuffling : Yes  
Correct Marks : 1 Wrong Marks : 0.25



एक पासे की तीन विभिन्न स्थितियां दर्शाई गई हैं। ज्ञात करें कि  के विपरीत फलक पर कौन सी आकृति होगी?



1



2



3

Options :



1. ✘



2. ✔



3. ✘



4. ✘

Question Number : 11 Question Id : 9983673367 Question Type : MCQ Option Shuffling : Yes

Correct Marks : 1 Wrong Marks : 0.25

Six children A, B, C, D, E and F are standing in a line. F is to the left of E and right of B. D is between A and B. A is standing right of C Who is standing at the left extreme?

Options :

1. ✔ C

2. ✖ A

3. ✖ E

4. ✖ D

Question Number : 11 Question Id : 9983673367 Question Type : MCQ Option Shuffling : Yes

Correct Marks : 1 Wrong Marks : 0.25

छह बच्चे A, B, C, D, E और F एक पंक्ति में खड़े हैं। F, E के बाएं और B के दाएं है। D, A और B के बीच में है। A, C के दाएं खड़ा है। दाएं छोर पर कौन खड़ा है?

Options :

1. ✔ C

2. ✖ A

3. ✖ E

4. ✖ D

Question Number : 12 Question Id : 9983673368 Question Type : MCQ Option Shuffling : Yes

Correct Marks : 1 Wrong Marks : 0.25

S, T, U, V, X, Y and Z are sitting around a round table for group discussion. Y is sitting third to the right of S and between V and X. Z is sitting second to the left of T. V is sitting second to the left of X. What will be the position of U?

Options :

1. ✖ U is sitting second to the left of Y

2. ✖ U is sitting between Y and Z

3. ✓ U is sitting second to the left of S

4. ✘ U is sitting third to the left of X

Question Number : 12 Question Id : 9983673368 Question Type : MCQ Option Shuffling : Yes

Correct Marks : 1 Wrong Marks : 0.25

S, T, U, V, X, Y और Z समूह चर्चा के लिए एक गोल मेज के चारों ओर बैठे हैं। Y, S के दाएं तीसरे स्थान पर और V, X के बीच में है। Z, T के बाएं दूसरे स्थान पर है। V, X के बाएं दूसरे स्थान पर है। U की स्थिति क्या है?

Options :

1. ✘ U, Y के बाएं दूसरे स्थान पर बैठा है।

2. ✘ U, Y और Z के बीच में बैठा है।

3. ✓ U, S के बाएं दूसरे स्थान पर बैठा है।

4. ✘ U, X के बाएं तीसरे स्थान पर बैठा है।

Question Number : 13 Question Id : 9983673369 Question Type : MCQ Option Shuffling : Yes

Correct Marks : 1 Wrong Marks : 0.25

I. Doby is sister of John and older than Shreya.

II. Shreya is older than John and sister of John.

III. John is oldest among the siblings.

If the first two statements are true, the third statement is:

Options :

1. ✘ True

2. ✓ False

3. ✖ May be true

4. ✖ Uncertain

Question Number : 13 Question Id : 9983673369 Question Type : MCQ Option Shuffling : Yes  
Correct Marks : 1 Wrong Marks : 0.25

- I. डॉबी, जॉन की बहन है और श्रेया से बड़ी है।
- II. श्रेया, जॉन से बड़ी है और जॉन की बहन है।
- III. जॉन, सभी भाई-बहनों में सबसे बड़ा है।

यदि प्रथम दोनों कथन सही हैं, तो तीसरा कथन:

Options :

1. ✖ सही है।

2. ✔ गलत है।

3. ✖ सही हो सकता है।

4. ✖ अनिश्चित है।

Question Number : 14 Question Id : 9983673370 Question Type : MCQ Option Shuffling : Yes  
Correct Marks : 1 Wrong Marks : 0.25

A farmer has 45 buffalos. All but 13 died. How many was he left with?

Options :

1. ✖ 32

2. ✔ 13

3. ✖ 45

4. ✖ Nil

Question Number : 14 Question Id : 9983673370 Question Type : MCQ Option Shuffling : Yes  
Correct Marks : 1 Wrong Marks : 0.25

एक किसान के पास 45 भैंसें थीं। 13 छोड़ कर सभी मर गईं। उसके पास कितनी भैंसें बचीं?

Options :

1. ✖ 32

2. ✔ 13

3. ✖ 45

4. ✖ कोई नहीं

Question Number : 15 Question Id : 9983673371 Question Type : MCQ Option Shuffling : Yes  
Correct Marks : 1 Wrong Marks : 0.25

What will be the image of the figure when mirror is placed down to the figure horizontally?



Options :

1. ✖



Question Number : 15 Question Id : 9983673371 Question Type : MCQ Option Shuffling : Yes

Correct Marks : 1 Wrong Marks : 0.25

जब एक दर्पण को आकृति के नीचे क्षैतिज रूप से नीचे रखा जाता है तो आकृति की छवि क्या होगी?



Options :







3. ✖



4. ✔

Question Number : 16 Question Id : 9983673372 Question Type : MCQ Option Shuffling : Yes

Correct Marks : 1 Wrong Marks : 0.25

Following are the criteria to recruit a Teacher in a college:

- I. The Applicant must be science graduate with 75% marks.
- II. Have his/her age in between 25 to 32 years as on 10-05-2019.
- III. Have a PG degree/ 3 years diploma or must have completed B.Ed. with more than 65% marks.
- IV. Have minimum 3 years' experience in Teaching.
- V. Be ready to join 2 year probation.

If a candidate satisfies all the criteria except

at III above, but is an Arts with Mathematics graduate with minimum 72% marks and has an experience of more than 5 years and more her/his case is to be referred to the Vice President.

at IV above, but master degree's with minimum 60% marks, her/his is to be referred to the President

A detail of applicant is given below in the questions. On the basis of the following decision which is based on the data given above, mark the answer.

Varun is a B.Sc. Graduate with 85% marks and has completed PG in Mathematics. He born on 1.3.1987 and has 6 years' experience as a Mathematics Faculty. He is ready to join probation period of 2 year.

Options :

1. ✖ If case is to be referred to President.

2. ✖ If case is to be referred to Vice President.

3. ✖ If candidate is to be selected.

4. ✔ If the candidate is not to be selected



Question Number : 16 Question Id : 9983673372 Question Type : MCQ Option Shuffling : Yes

Correct Marks : 1 Wrong Marks : 0.25

एक कॉलेज में एक शिक्षक की भर्ती हेतु मापदंड नीचे दिए गए हैं:

- I. आवेदक का 75% अंकों के साथ विज्ञान स्नातक होना अनिवार्य है।
- II. 10-05-2019 को उसकी आयु 25 से 32 वर्ष के बीच होनी चाहिए।
- III. पीजी डिग्री/3 वर्ष का डिप्लोमा हो अथवा 65% से अधिक अंकों के साथ बी.एड. पूरा किया हो।
- IV. शिक्षण में कम से कम 3 वर्ष का अनुभव हो।
- V. 2 वर्ष की परीक्षा पर नियुक्त होने के लिए तैयार हो।

यदि एक अभ्यर्थी समस्त मापदंड पूरे करता है सिवाय

उक्त III के अतिरिक्त लेकिन न्यूनतम 72% अंकों के साथ गणित और कला स्नातक है, और 5 वर्ष से अधिक का अनुभव है, तो उसका मामला उपाध्यक्ष को संदर्भित किया जाएगा।

उक्त IV के अतिरिक्त, लेकिन न्यूनतम 60% अंकों के साथ मास्टर डिग्री है, तो उसका मामला अध्यक्ष को संदर्भित किया जाएगा।

प्रश्नगत एक आवेदक के विवरण नीचे दिए गए हैं। उक्त सूचनाओं के आधार पर निम्न निर्णय के आधार पर उत्तर चिन्हित करें।

वरुण 85% अंकों के साथ बी.एस.सी. स्नातक है, और गणित में पीजी पूरा किया है। उसका जन्म 1-3-1987 को हुआ और उसे गणित शिक्षक के रूप में 6 वर्ष का अनुभव है। वह 2 वर्ष की परीक्षा पर नियुक्त होने के लिए तैयार है।

Options :

1. ✘ यदि मामला अध्यक्ष को संदर्भित किया जाना हो
2. ✘ यदि मामला उपाध्यक्ष को संदर्भित किया जाना हो
3. ✘ यदि अभ्यर्थी को नियुक्त किया जाना हो
4. ✔ यदि अभ्यर्थी को नियुक्त नहीं किया जाना हो

Question Number : 17 Question Id : 9983673373 Question Type : MCQ Option Shuffling : Yes

Correct Marks : 1 Wrong Marks : 0.25

From the given alternative words, select the word which cannot be formed using the letters of the given word "OUTRAGEOUS".

Options :

1. ✘ GREAT

2. ✖ OUTAGE

3. ✖ SURAT

4. ✔ GREGARIOUS

Question Number : 17 Question Id : 9983673373 Question Type : MCQ Option Shuffling : Yes

Correct Marks : 1 Wrong Marks : 0.25

दिए गए वैकल्पिक शब्दों से, उस शब्द का चयन करें जिसे दिए गए शब्द "OUTRAGEOUS" के अक्षरों का उपयोग करके नहीं बनाया जा सकता है।

Options :

1. ✖ GREAT

2. ✖ OUTAGE

3. ✖ SURAT

4. ✔ GREGARIOUS

Question Number : 18 Question Id : 9983673374 Question Type : MCQ Option Shuffling : Yes

Correct Marks : 1 Wrong Marks : 0.25

The statement given below is followed by two decisions labeled I, and II. You have to assume everything in the statement to be true, and then decide which of the two suggested decisions logically follows for pursuing.

**Statement:**

Military is backbone for defense in any country. Military training makes a powerful nation.

**Decisions:**

- I. Military training must be compulsory for every citizen.
- II. People should motivate to join military training voluntarily.

Options :

1. ✖ Only I follows.

2. ✖ Both I and II follow.

3. ✖ Either I or II follow.

4. ✔ Only II follows.

Question Number : 18 Question Id : 9983673374 Question Type : MCQ Option Shuffling : Yes

Correct Marks : 1 Wrong Marks : 0.25

नीचे दिए कथन के बाद दो निर्णय I, और II दिए गए हैं। आपको कथन को पूर्णतया सत्य मानना है और फिर यह निर्धारित करना है कि दोनों में से कौन से निर्णय तर्कसंगत रूप से सही हैं।

**कथन:**

किसी भी देश की रक्षा व्यवस्था की रीढ़ उस देश की सेना होती है। सैन्य प्रशिक्षण एक शक्तिशाली राष्ट्र का निर्माण करता है।

**निर्णय:**

- I. हर नागरिक के लिए सैन्य प्रशिक्षण अनिवार्य होना चाहिए।
- II. लोगों को स्वेच्छा से सैन्य प्रशिक्षण में शामिल होने के लिए प्रेरित किया जाना चाहिए।

Options :

1. ✖ केवल I सही है।

2. ✖ I और II दोनों सही हैं।

3. ✖ या तो I या II सही हैं।

4. ✔ केवल II सही है।

Question Number : 19 Question Id : 9983673375 Question Type : MCQ Option Shuffling : Yes

Correct Marks : 1 Wrong Marks : 0.25

The statement given below is followed by two decisions labeled I, and II. You have to assume everything in the statement to be true, and then decide which of the two suggested decisions logically follows for pursuing.

**Statement:**

Orissa is badly affected by Fani cyclone and life is paralyzed in the state.

**Decisions:**

- I. People should train to face natural disaster.
- II. Relief material collection and distribution should be fast in affected area

**Options :**

1. ✖ Only I follows.

2. ✔ Both I and II follow.

3. ✖ Either I or II follow.

4. ✖ Only II follows.

Question Number : 19 Question Id : 9983673375 Question Type : MCQ Option Shuffling : Yes

Correct Marks : 1 Wrong Marks : 0.25

नीचे दिए कथन के बाद दो निर्णय I, और II दिए गए हैं। आपको कथन को पूर्णतया सत्य मानना है और फिर यह निर्धारित करना है कि दोनों में से कौन से निर्णय तर्कसंगत रूप से सही हैं।

**कथन:**

यदि उड़ीसा फेनी चक्रवात से बुरी तरह प्रभावित हो चुका है, और इसके कारण जनजीवन अस्त व्यस्त हो चुका है।

**निर्णय:**

- I. लोगों को प्राकृतिक आपदा का सामना करने के लिए प्रशिक्षित करना चाहिए।
- II. प्रभावित क्षेत्र में राहत सामग्री संग्रह और वितरण में तेजी लाई जानी चाहिए

**Options :**

1. ✖ केवल I सही है।

2. ✔ I और II दोनों सही हैं।

3. ✖ या तो I या II सही हैं।



4. ✖ केवल II सही है।

Question Number : 20 Question Id : 9983673376 Question Type : MCQ Option Shuffling : Yes

Correct Marks : 1 Wrong Marks : 0.25

The statement given below is followed by two decisions labeled I, and II. You have to assume everything in the statement to be true, and then decide which of the two suggested decisions logically follows for pursuing.

**Statement:**

All employees of the office have gone on strike in protest against the miss behave of the director.

**Decisions:**

- I. The director should be immediately terminated from job or he should apologize to employee.
- II. All the employees should be immediately terminated from job.

**Options :**

1. ✔ Only I follows.

2. ✖ Both I and II follow.

3. ✖ Either I or II follow.

4. ✖ Only II follows.

Question Number : 20 Question Id : 9983673376 Question Type : MCQ Option Shuffling : Yes

Correct Marks : 1 Wrong Marks : 0.25

नीचे दिए कथन के बाद दो निर्णय I, और II दिए गए हैं। आपको कथन को पूर्णतया सत्य मानना है और फिर यह निर्धारित करना है कि दोनों में से कौन से निर्णय तर्कसंगत रूप से सही हैं।

**कथन:**

निदेशक के दुर्यवहार के विरोध में कार्यालय के सभी कर्मचारी हड़ताल पर चले गए हैं।

**निर्णय:**

- I. निदेशक को तुरंत नौकरी से निकाल दिया जाना चाहिए या उसे कर्मचारियों से माफी मांगनी चाहिए।
- II. सभी कर्मचारियों को तुरंत नौकरी से निकाल दिया जाना चाहिए।

**Options :**

1. ✔ केवल I सही है।

2. ✖ । और ॥ दोनों सही हैं।

3. ✖ या तो । या ॥ सही हैं।

4. ✖ केवल ॥ सही है।

## Mental Ability2

Group Number :	2
Group Id :	998367128
Group Maximum Duration :	0
Group Minimum Duration :	0
Show Attended Group? :	No
Edit Attended Group? :	No
Break time:	0
Group Marks:	20
Is this Group for Examiner?:	No
Revisit allowed for group Instructions? :	Yes
Maximum Instruction Time:	0
Minimum Instruction Time:	0

## Mental Ability2

Section Id :	998367134
Section Number :	1
Section type :	Online
Mandatory or Optional:	Mandatory
Number of Questions:	20
Number of Questions to be attempted:	20
Section Marks:	20

Sub-Section Number:	1
Sub-Section Id:	998367202
Question Shuffling Allowed :	Yes

Question Number : 21 Question Id : 9983673377 Question Type : MCQ Option Shuffling : Yes  
Correct Marks : 1 Wrong Marks : 0.25

How many triangles are in the figure?



Options :

1. ✖ 15

2. ✔ 17

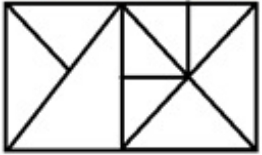
3. ✖ 19

4. ✖ 20

Question Number : 21 Question Id : 9983673377 Question Type : MCQ Option Shuffling : Yes

Correct Marks : 1 Wrong Marks : 0.25

चित्र में कितने त्रिभुज हैं?



Options :

1. ✖ 15

2. ✔ 17

3. ✖ 19

4. ✖ 20

Question Number : 22 Question Id : 9983673378 Question Type : MCQ Option Shuffling : Yes



Correct Marks : 1 Wrong Marks : 0.25

The average age of three friends Shyam, Vikas and Raju is 20 years. The average age of Shyam and Vikas is 19 years. What is the age of Raju?

Options :

1. ✘ 20 years

2. ✔ 22 years

3. ✘ 23 years

4. ✘ 24 years

Question Number : 22 Question Id : 9983673378 Question Type : MCQ Option Shuffling : Yes

Correct Marks : 1 Wrong Marks : 0.25

तीन दोस्त श्याम, विकास और राजू की औसत आयु 20 वर्ष है। श्याम और विकास की औसत आयु 19 वर्ष है। राजू की आयु कितनी होगी?

Options :

1. ✘ 20 वर्ष

2. ✔ 22 वर्ष

3. ✘ 23 वर्ष

4. ✘ 24 वर्ष

Question Number : 23 Question Id : 9983673379 Question Type : MCQ Option Shuffling : Yes

Correct Marks : 1 Wrong Marks : 0.25

A word given in capital letters is followed by four words. Out of these only one cannot be formed by using the letters of the given word. Find out that word.

REHABILITATION

Options :

1. ✖ RELATION

2. ✖ BRITTLE

3. ✖ BRITAIN

4. ✔ BROACH

Question Number : 23 Question Id : 9983673379 Question Type : MCQ Option Shuffling : Yes

Correct Marks : 1 Wrong Marks : 0.25

बड़े अक्षरों में दिए गए एक शब्द के बाद चार शब्द दिए गए हैं। इनमें से केवल एक दिए गए शब्द के अक्षरों का उपयोग करके नहीं बनाया जा सकता है। उस शब्द का पता लगाएं।

REHABILITATION

Options :

1. ✖ RELATION

2. ✖ BRITTLE

3. ✖ BRITAIN

4. ✔ BROACH

Question Number : 24 Question Id : 9983673380 Question Type : MCQ Option Shuffling : Yes

Correct Marks : 1 Wrong Marks : 0.25

Select the related word from the given alternatives.

Safe : Secure :: Protect : ?

Options :

1. ✓ guard

2. ✘ lock

3. ✘ sure

4. ✘ conserve

Question Number : 24 Question Id : 9983673380 Question Type : MCQ Option Shuffling : Yes

Correct Marks : 1 Wrong Marks : 0.25

दिए गए विकल्पों में से संबंधित शब्द का चयन करें।

सुरक्षित : संरक्षित :: रक्षण : ?

Options :

1. ✓ संरक्षण

2. ✘ बंद करना

3. ✘ निश्चित

4. ✘ बचाव

Question Number : 25 Question Id : 9983673381 Question Type : MCQ Option Shuffling : Yes

Correct Marks : 1 Wrong Marks : 0.25

Four figures are given out of which the three figures bear a certain common relationship. Choose the figure which is different from others.

Options :



Question Number : 25 Question Id : 9983673381 Question Type : MCQ Option Shuffling : Yes

Correct Marks : 1 Wrong Marks : 0.25

चार आकृतियां दी गई हैं, जिनमें से तीन आकृतियों के बीच एक निश्चित समान संबंध है। वह आकृति चुनें जो अन्य से भिन्न है।

Options :





2. ✘



3. ✔



4. ✘

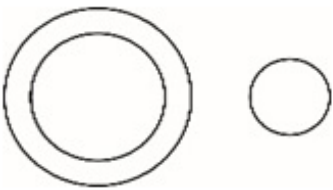
Question Number : 26 Question Id : 9983673382 Question Type : MCQ Option Shuffling : Yes

Correct Marks : 1 Wrong Marks : 0.25

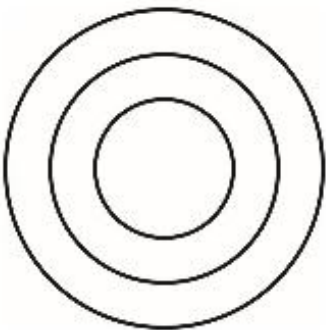
Venn diagram that best represents the given set of classes:

**INSECTS, FLEAS, FLY**

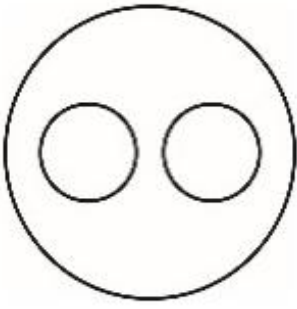
Options :



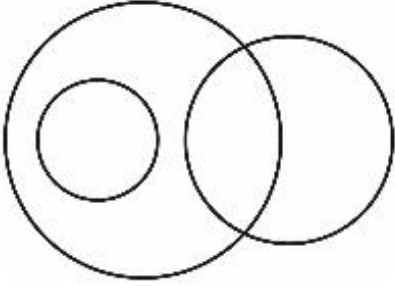
1. ✘



2. ✘



3. ✓



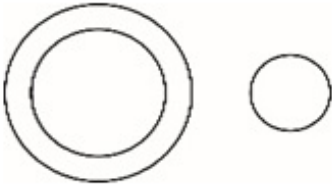
4. ✖

Question Number : 26 Question Id : 9983673382 Question Type : MCQ Option Shuffling : Yes  
Correct Marks : 1 Wrong Marks : 0.25

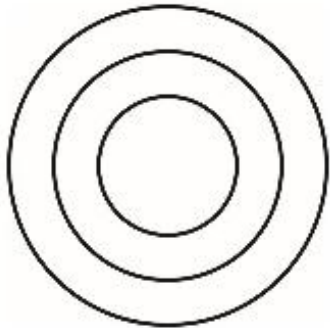
कौन सा वेन आरेख, दिए गए वर्गों के समुच्चय को सर्वोत्तम निरूपित करता है:

कीड़े, पिस्सू, उड़ना

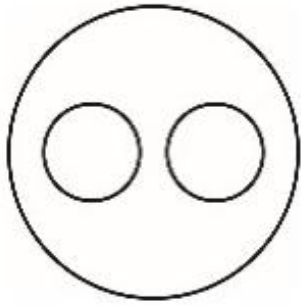
Options :



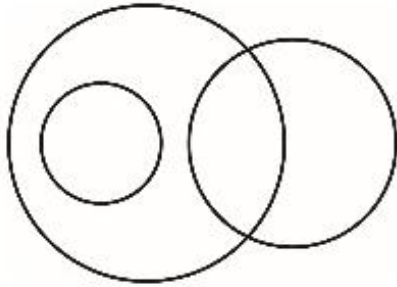
1. ✖



2. ✖



3. ✓



4. ✗


Question Number : 27 Question Id : 9983673383 Question Type : MCQ Option Shuffling : Yes

Correct Marks : 1 Wrong Marks : 0.25

Venn diagram that best represents the given set of classes:

**CROCKERY, CUPS, PLATES**

Options :



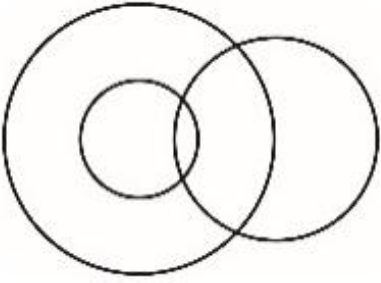
1. ✗



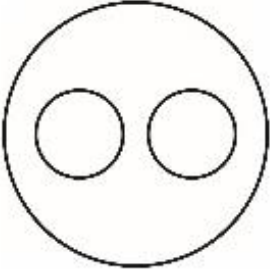
2. ✗



3. ✖



4. ✔




Question Number : 27 Question Id : 9983673383 Question Type : MCQ Option Shuffling : Yes

Correct Marks : 1 Wrong Marks : 0.25

कौन सा वेन आरेख, दिए गए वर्गों के समुच्चय को सर्वोत्तम निरूपित करता है:

क्रॉकरी, कप, प्लेट

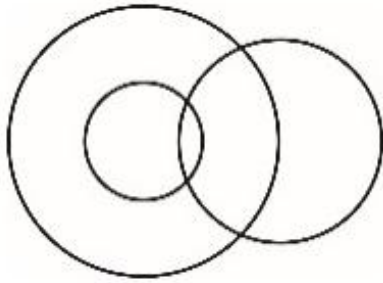
Options :



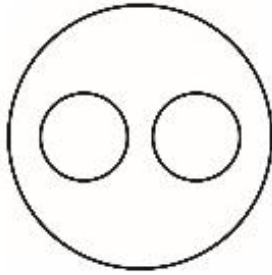
1. ✖



2. ✖



3. ✘



4. ✔

Question Number : 28 Question Id : 9983673384 Question Type : MCQ Option Shuffling : Yes

Correct Marks : 1 Wrong Marks : 0.25

If 'A - B' means A is mother of B, 'A \$ B', A is sister of B, 'A @ B' means A is father of B and 'A = B' means A is son of B.

If  $R = S \$ O - P$ , then how O is related to R?

Options :

1. ✘ Daughter

2. ✘ Son

3. ✔ Aunty

4. ✘ Niece

Question Number : 28 Question Id : 9983673384 Question Type : MCQ Option Shuffling : Yes

Correct Marks : 1 Wrong Marks : 0.25

यदि 'A - B' का अर्थ A, B की मां है, 'A \$ B' का अर्थ A, B की बहन है, 'A @ B' का अर्थ A, B का पिता है, और 'A = B' का अर्थ A, B का पुत्र है।

यदि  $R = S \$ O - P$ , तो O, R से किस प्रकार संबंधित है?

Options :

1. ✖ बेटी

2. ✖ बेटा

3. ✔ मौसी/चाची/मामी/बुआ

4. ✖ भांजी

Question Number : 29 Question Id : 9983673385 Question Type : MCQ Option Shuffling : Yes

Correct Marks : 1 Wrong Marks : 0.25

Ram and Mohan are brothers. Shweta and Anu are sisters. Dinesh is husband of Manju, who is daughter of Manoj. Ram is son Manoj and Anu is daughter of Dinesh. How Dinesh is is related to Shweta?

Options :

1. ✖ Son

2. ✖ Brother

3. ✔ Father

4. ✖ Brother in law

Question Number : 29 Question Id : 9983673385 Question Type : MCQ Option Shuffling : Yes

Correct Marks : 1 Wrong Marks : 0.25

राम और मोहन, भाई हैं। श्वेता और अनु, बहनें हैं। दिनेश, मंजू का पति है, जो मनोज की पुत्री है। राम, मनोज का पुत्र है, और अनु, दिनेश की पुत्री है। दिनेश, श्वेता से किस प्रकार संबंधित है?

Options :

1. ✖ बेटा

2. ✖ भाई

3. ✔ पिता

4. ✖ बहनोई/साला/देवर

Question Number : 30 Question Id : 9983673386 Question Type : MCQ Option Shuffling : Yes

Correct Marks : 1 Wrong Marks : 0.25

If 'P \* Q' means P is father of Q, 'P % Q', P is daughter of Q, 'P # Q' means P is mother of Q and 'P = Q' means Q is son of P

If  $M = N * O \% R$ , then how R is related to M?

Options :

1. ✖ Brother in law

2. ✔ Daughter in law

3. ✖ Father in law

4. ✖ Mother in law

Question Number : 30 Question Id : 9983673386 Question Type : MCQ Option Shuffling : Yes

Correct Marks : 1 Wrong Marks : 0.25

यदि 'P \* Q' का अर्थ P, Q का पिता है, 'P % Q' का अर्थ P, Q की पुत्री है, 'P # Q' का अर्थ P, Q की मां है, और 'P = Q' का अर्थ Q, P का पुत्र है।

यदि  $M * N \# O \% R$ , तो R, M से किस प्रकार संबंधित है?

Options :

1. ✖ बहनोई/साला/देवर

2. ✓ बहु

3. ✗ ससुर

4. ✗ सास

Question Number : 31 Question Id : 9983673387 Question Type : MCQ Option Shuffling : Yes

Correct Marks : 1 Wrong Marks : 0.25

In a certain language, BUTTER is coded as CVUUPS, BREAD is coded as CSFBE, then how COFFEE is coded?

Options :

1. ✓ DPGGFF

2. ✗ GGDPFF

3. ✗ GDPGFF

4. ✗ FFDPGG

Question Number : 31 Question Id : 9983673387 Question Type : MCQ Option Shuffling : Yes

Correct Marks : 1 Wrong Marks : 0.25

एक निश्चित कोड में BUTTER को CVUUPS, BREAD को CSFBE लिखा जाता है। उसी कोड में COFFEE को किस प्रकार लिखा जाएगा?

Options :

1. ✓ DPGGFF

2. ✗ GGDPFF

3. ✖ GDPGFF

4. ✖ FFDPGG

Question Number : 32 Question Id : 9983673388 Question Type : MCQ Option Shuffling : Yes

Correct Marks : 1 Wrong Marks : 0.25

In certain code RAY is written as 450, How will be BEAT written in that code?

Options :

1. ✔ 200

2. ✖ 150

3. ✖ 100

4. ✖ 75

Question Number : 32 Question Id : 9983673388 Question Type : MCQ Option Shuffling : Yes

Correct Marks : 1 Wrong Marks : 0.25

एक निश्चित कोड में RAY को 450 लिखा जाता है। उसी कोड में BEAT को किस प्रकार लिखा जाएगा?

Options :

1. ✔ 200

2. ✖ 150

3. ✖ 100



4. ✖ 75

Question Number : 33 Question Id : 9983673389 Question Type : MCQ Option Shuffling : Yes

Correct Marks : 1 Wrong Marks : 0.25

Which of the following pairs of signs, when their positions are interchanged, will correctly solve the given mathematical equation?

$$45 + 20 - 25 \div 15 \times 6 = 2.5$$

Options :

1. ✔  $\div$  and  $\times$

2. ✖  $\div$  and  $+$

3. ✖  $+$  and  $\times$

4. ✖  $+$  and  $-$

Question Number : 33 Question Id : 9983673389 Question Type : MCQ Option Shuffling : Yes

Correct Marks : 1 Wrong Marks : 0.25

निम्न में से किस चिन्ह युग्म में, उनकी स्थितियां परस्पर बदले जाने पर दिया गया गणितीय समीकरण सही हल हो जाएगा?

$$45 + 20 - 25 \div 15 \times 6 = 2.5$$

Options :

1. ✔  $\div$  और  $\times$

2. ✖  $\div$  और  $+$

3. ✖  $+$  और  $\times$

4. ✖ + और -

Question Number : 34 Question Id : 9983673390 Question Type : MCQ Option Shuffling : Yes

Correct Marks : 1 Wrong Marks : 0.25

Which of the following pairs of numbers and signs, when their positions are interchanged, will correctly solve the given mathematical equation?

$$8 \div 4 \times 2 + 5 - 9 = 0$$

Options :

1. ✖ 9 and 2, + and -

2. ✖ 8 and 9, - and  $\times$

3. ✔ 2 and 4,  $\times$  and  $\div$

4. ✖ 2 and 5, + and -

Question Number : 34 Question Id : 9983673390 Question Type : MCQ Option Shuffling : Yes

Correct Marks : 1 Wrong Marks : 0.25

संख्याओं व चिन्हों के निम्न में से किस युग्म में, उनकी स्थितियां परस्पर बदले जाने पर दिया गया गणितीय समीकरण सही हल हो जाएगा?

$$8 \div 4 \times 2 + 5 - 9 = 0$$

Options :

1. ✖ 9 और 2, + और -

2. ✖ 8 और 9, - और  $\times$

3. ✔ 2 और 4,  $\times$  और  $\div$

4. ✖ 2 और 5, + और -

Question Number : 35 Question Id : 9983673391 Question Type : MCQ Option Shuffling : Yes

Correct Marks : 1 Wrong Marks : 0.25

Twelve teams take parts in a cricket tournament. Each one has to play every other one. How many games must they play?

Options :

1. ✖ 44

2. ✔ 66

3. ✖ 67

4. ✖ 90

Question Number : 35 Question Id : 9983673391 Question Type : MCQ Option Shuffling : Yes

Correct Marks : 1 Wrong Marks : 0.25

एक क्रिकेट टूर्नामेंट में बारह टीमों ने भाग लिया है। प्रत्येक को प्रत्येक अन्य से एक बार खेलना है। उनको कितने गेम खेलने होंगे?

Options :

1. ✖ 44

2. ✔ 66

3. ✖ 67

4. ✖ 90

Question Number : 36 Question Id : 9983673392 Question Type : MCQ Option Shuffling : Yes

Correct Marks : 1 Wrong Marks : 0.25

Four words have been given out of which three are alike in some manner, while the fourth one is different. Choose out the odd one.

Options :

1. ✘ Hiss

2. ✘ Mew

3. ✘ Neigh

4. ✔ Mice

Question Number : 36 Question Id : 9983673392 Question Type : MCQ Option Shuffling : Yes

Correct Marks : 1 Wrong Marks : 0.25

चार शब्द दिए गए हैं जिनमें से तीन किसी प्रकार समान हैं, जबकि चौथा भिन्न है। असंगत को चुनें।

Options :

1. ✘ Hiss (फुफकारना)

2. ✘ Mew (म्याऊँ करना)

3. ✘ Neigh (हीनहिनाना)

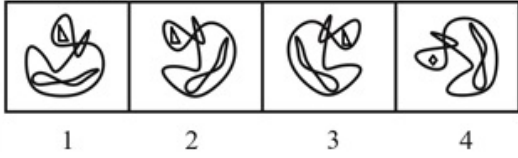
4. ✔ Mice (चूहा)

Question Number : 37 Question Id : 9983673393 Question Type : MCQ Option Shuffling : Yes

Correct Marks : 1 Wrong Marks : 0.25

In problem, out of four figures marked 1, 2, 3 and 4, three are similar in a certain manner. However one figure is not like the other three. Choose the figure which is different from the rest.

Answer Fig.



Options :

1. ✘ 1

2. ✘ 2

3. ✘ 3

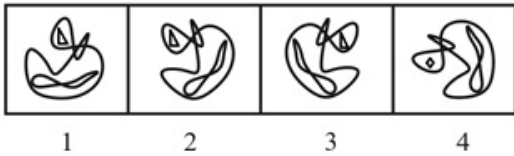
4. ✔ 4

Question Number : 37 Question Id : 9983673393 Question Type : MCQ Option Shuffling : Yes

Correct Marks : 1 Wrong Marks : 0.25

प्रश्न में, 1, 2, 3 और 4 अंकित चार चित्रों में से तीन किसी प्रकार समान हैं। हालांकि एक चित्र, अन्य तीन के समान नहीं है। वह चित्र चुनें जो शेष से भिन्न है।

उत्तर आकृति:



Options :

1. ✘ 1

2. ✘ 2

3. ✘ 3

4. ✓ 4

Question Number : 38 Question Id : 9983673394 Question Type : MCQ Option Shuffling : Yes

Correct Marks : 1 Wrong Marks : 0.25

Select the option that will correctly replace the question mark (?) in the series.

2, 15, 41, 80, ?

Options :

1. ✗ 105

2. ✗ 123

3. ✓ 132

4. ✗ 149

Question Number : 38 Question Id : 9983673394 Question Type : MCQ Option Shuffling : Yes

Correct Marks : 1 Wrong Marks : 0.25

वह विकल्प चुनें जो श्रृंखला में प्रश्नचिह्न (?) को सही प्रतिस्थापित करेगा।

2, 15, 41, 80, ?

Options :

1. ✗ 105

2. ✗ 123

3. ✓ 132



4. ✖ 149

Question Number : 39 Question Id : 9983673395 Question Type : MCQ Option Shuffling : Yes

Correct Marks : 1 Wrong Marks : 0.25

Select the option that will correctly replace the question mark (?) in the series.

3, 15, ?, 63, 99, 143

Options :

1. ✖ 27

2. ✖ 45

3. ✔ 35

4. ✖ 56

Question Number : 39 Question Id : 9983673395 Question Type : MCQ Option Shuffling : Yes

Correct Marks : 1 Wrong Marks : 0.25

वह विकल्प चुनें जो श्रृंखला में प्रश्नचिह्न (?) को सही प्रतिस्थापित करेगा।

3, 15, ?, 63, 99, 143

Options :

1. ✖ 27

2. ✖ 45

3. ✔ 35

4. ✖ 56

Question Number : 40 Question Id : 9983673396 Question Type : MCQ Option Shuffling : Yes

Correct Marks : 1 Wrong Marks : 0.25

Select the option that will correctly replace the question mark (?) in the series.

13, 19, 31, 49, ?

Options :

1. ✖ 55

2. ✖ 61

3. ✔ 73

4. ✖ 79

Question Number : 40 Question Id : 9983673396 Question Type : MCQ Option Shuffling : Yes

Correct Marks : 1 Wrong Marks : 0.25

वह विकल्प चुनें जो श्रृंखला में प्रश्नचिह्न (?) को सही प्रतिस्थापित करेगा।

13, 19, 31, 49, ?

Options :

1. ✖ 55

2. ✖ 61

3. ✔ 73

## General Awareness1

<b>Group Number :</b>	3
<b>Group Id :</b>	998367129
<b>Group Maximum Duration :</b>	0
<b>Group Minimum Duration :</b>	0
<b>Show Attended Group? :</b>	No
<b>Edit Attended Group? :</b>	No
<b>Break time:</b>	0
<b>Group Marks:</b>	20
<b>Is this Group for Examiner?:</b>	No
<b>Revisit allowed for group Instructions? :</b>	Yes
<b>Maximum Instruction Time:</b>	0
<b>Minimum Instruction Time:</b>	0

## General Awareness1

<b>Section Id :</b>	998367135
<b>Section Number :</b>	1
<b>Section type :</b>	Online
<b>Mandatory or Optional:</b>	Mandatory
<b>Number of Questions:</b>	20
<b>Number of Questions to be attempted:</b>	20
<b>Section Marks:</b>	20

<b>Sub-Section Number:</b>	1
<b>Sub-Section Id:</b>	998367203
<b>Question Shuffling Allowed :</b>	Yes

Question Number : 41 Question Id : 9983673397 Question Type : MCQ Option Shuffling : Yes  
Correct Marks : 1 Wrong Marks : 0.25

The thickness of ozone layer is expressed in terms of?

Options :

1. ✓ Dobsons

2. ✖ ppm

3. ✖ Fathoms

4. ✖ Esu

Question Number : 41 Question Id : 9983673397 Question Type : MCQ Option Shuffling : Yes

Correct Marks : 1 Wrong Marks : 0.25

ओज़ोन परत की मोटाई को किस इकाई में मापा जाता है?

Options :

1. ✓ डॉब्सन
2. ✗ पीपीएम
3. ✗ फैथम
4. ✗ सु (Esu)

Question Number : 42 Question Id : 9983673398 Question Type : MCQ Option Shuffling : Yes

Correct Marks : 1 Wrong Marks : 0.25

Which greenhouse gas is the most abundant among all greenhouse gases in the atmosphere of earth?

Options :

1. ✗ CFCs
2. ✗ Carbondioxide
3. ✓ Water Vapour
4. ✗ Nitrogen gas

Question Number : 42 Question Id : 9983673398 Question Type : MCQ Option Shuffling : Yes

Correct Marks : 1 Wrong Marks : 0.25

पृथ्वी के वातावरण में मौजूद सभी ग्रीनहाउस गैसों में सबसे प्रचुर ग्रीनहाउस गैस कौन सी है?

Options :

1. ✗ सीएफसी
2. ✗ कार्बन डाइऑक्साइड
3. ✓ जलवाष्प
4. ✗ नाइट्रोजन गैस

Question Number : 43 Question Id : 9983673399 Question Type : MCQ Option Shuffling : Yes

Correct Marks : 1 Wrong Marks : 0.25

What is India's rank in percentage of CO<sub>2</sub> emission globally as per the study of Global Carbon project in the year 2017?

Options :

1. ✓ 4th
2. ✗ 10th
3. ✗ 15th
4. ✗ 8th

Question Number : 43 Question Id : 9983673399 Question Type : MCQ Option Shuffling : Yes  
Correct Marks : 1 Wrong Marks : 0.25

वर्ष 2017 में ग्लोबल कार्बन प्रोजेक्ट के अध्ययन के अनुसार विश्व स्तर पर CO<sub>2</sub> उत्सर्जन प्रतिशत के मामले में भारत कौन से स्थान पर है?

Options :

1. ✓ चौथे
2. ✗ दसवें
3. ✗ पन्द्रहवें
4. ✗ आठवें

Question Number : 44 Question Id : 9983673400 Question Type : MCQ Option Shuffling : Yes  
Correct Marks : 1 Wrong Marks : 0.25

The 'Earth Hour' a global environmental event was initiated by?

Options :

1. ✗ Bio Diversity International
2. ✗ Green Cross International
3. ✗ World Health Organization (WHO)
4. ✓ World Wildlife Fund (WWF)

Question Number : 44 Question Id : 9983673400 Question Type : MCQ Option Shuffling : Yes

Correct Marks : 1 Wrong Marks : 0.25

वैश्विक पर्यावरणीय कार्यक्रम 'अर्थ अवर' किसके द्वारा शुरू किया गया था?

Options :

1. ✖ बायो डायवर्सिटी इंटरनेशनल
2. ✖ ग्रीन क्रॉस इंटरनेशनल
3. ✖ विश्व स्वास्थ्य संगठन (WHO)
4. ✔ विश्व वन्यजीव कोष (WWF)

Question Number : 45 Question Id : 9983673401 Question Type : MCQ Option Shuffling : Yes

Correct Marks : 1 Wrong Marks : 0.25

Who is the present Chief Economic Adviser to Government of India?

Options :

1. ✖ Kaushik Basu
2. ✖ Raghuram Rajan
3. ✖ Arvind Virmani
4. ✔ Krishnamurthy Subramanian

Question Number : 45 Question Id : 9983673401 Question Type : MCQ Option Shuffling : Yes

Correct Marks : 1 Wrong Marks : 0.25

भारत सरकार के वर्तमान मुख्य आर्थिक सलाहकार कौन हैं?

Options :

1. ✖ कौशिक बसु
2. ✖ रघुराम राजन
3. ✖ अरविंद विरमानी
4. ✔ कृष्णमूर्ति सुब्रमण्यन

Question Number : 46 Question Id : 9983673402 Question Type : MCQ Option Shuffling : Yes

Correct Marks : 1 Wrong Marks : 0.25



ISRO has recently announced launch of satellite RISAT2 BR1. What is the name of the launching vehicle which will be used to launch RISAT2 BR1?

Options :

1. ✓ PSLV C-46
2. ✗ PSLV C-48
3. ✗ PSLV C-49
4. ✗ PSLV C-42

Question Number : 46 Question Id : 9983673402 Question Type : MCQ Option Shuffling : Yes

Correct Marks : 1 Wrong Marks : 0.25

इसरो ने हाल ही में एक उपग्रह RISAT2 BR1 के प्रक्षेपण की घोषणा की है। RISAT2 BR1 को लॉन्च करने के लिए जिस लॉन्चिंग वाहन का उपयोग किया जाएगा, उसका नाम \_\_\_\_\_ है।

Options :

1. ✓ पीएसएलवी सी -46
2. ✗ पीएसएलवी सी -48
3. ✗ पीएसएलवी सी -49
4. ✗ पीएसएलवी सी -42

Question Number : 47 Question Id : 9983673403 Question Type : MCQ Option Shuffling : Yes

Correct Marks : 1 Wrong Marks : 0.25

Who among the following was not a member of Indian cricket team which will be playing 2019 ICC cricket world cup?

Options :

1. ✗ Mohammad Shami
2. ✗ Vijay Shankar
3. ✗ Dinesh Karthik
4. ✓ Manish Pandey

Question Number : 47 Question Id : 9983673403 Question Type : MCQ Option Shuffling : Yes  
Correct Marks : 1 Wrong Marks : 0.25

निम्नलिखित में से कौन 2019 आईसीसी (ICC) क्रिकेट विश्व कप खेल रही भारतीय क्रिकेट टीम का सदस्य नहीं था?

Options :

1. \* मोहम्मद शमी
2. \* विजय शंकर
3. \* दिनेश कार्तिक
4. ✓ मनीष पांडे

Question Number : 48 Question Id : 9983673404 Question Type : MCQ Option Shuffling : Yes  
Correct Marks : 1 Wrong Marks : 0.25

Which animated movie won Oscar award in the category of 'Best animated feature film' at Oscars 2018?

Options :

1. ✓ Coco
2. \* Boss Baby
3. \* The Bread Winner
4. \* Loving Vincent

Question Number : 48 Question Id : 9983673404 Question Type : MCQ Option Shuffling : Yes  
Correct Marks : 1 Wrong Marks : 0.25

ऑस्कर 2018 में किस एनिमेटेड फिल्म ने 'सर्वश्रेष्ठ एनिमेटेड फीचर फिल्म' की श्रेणी में ऑस्कर पुरस्कार जीता?

Options :

1. ✓ कोको
2. \* बॉस बेबी
3. \* द ब्रेड विनर
4. \* लविंग विसेंट

Question Number : 49 Question Id : 9983673405 Question Type : MCQ Option Shuffling : Yes  
Correct Marks : 1 Wrong Marks : 0.25

Which Mauryan emperor is known as 'Amitraghata' (destroyer of Foes)?

Options :

1. \* Chandragupta Maurya
2. \* Ashoka
3. ✓ Bindusara
4. \* Samudra Gupta

Question Number : 49 Question Id : 9983673405 Question Type : MCQ Option Shuffling : Yes  
Correct Marks : 1 Wrong Marks : 0.25

किस मौर्य सम्राट को 'अमित्रघाट/अमित्रघात' (शत्रुओं का नाश करने वाला) कहा जाता है?

Options :

1. \* चंद्रगुप्त मौर्य
2. \* अशोक
3. ✓ बिन्दुसार
4. \* समुद्रगुप्त

Question Number : 50 Question Id : 9983673406 Question Type : MCQ Option Shuffling : Yes  
Correct Marks : 1 Wrong Marks : 0.25

In which one of the following regions the Pala Dynasty was based in India?

Options :

1. \* Mysore
2. ✓ Bengal
3. \* Delhi
4. \* Tamil Nadu

Question Number : 50 Question Id : 9983673406 Question Type : MCQ Option Shuffling : Yes  
Correct Marks : 1 Wrong Marks : 0.25

भारत के निम्नलिखित में से किस क्षेत्र में पाल वंश का शासन था?

Options :

1. ✖ मैसूर
2. ✔ बंगाल
3. ✖ दिल्ली
4. ✖ तमिलनाडु

Question Number : 51 Question Id : 9983673407 Question Type : MCQ Option Shuffling : Yes

Correct Marks : 1 Wrong Marks : 0.25

During the reign of which Viceroy, the Indian National Congress was founded?

Options :

1. ✖ Lord Hardinge
2. ✖ Lord Lytton
3. ✔ Lord Dufferin
4. ✖ Lord Irwin

Question Number : 51 Question Id : 9983673407 Question Type : MCQ Option Shuffling : Yes

Correct Marks : 1 Wrong Marks : 0.25

भारतीय राष्ट्रीय कांग्रेस की स्थापना, किस वायसराय के शासनकाल के दौरान की गई थी?

Options :

1. ✖ लॉर्ड हार्डिंग
2. ✖ लॉर्ड लिटन
3. ✔ लॉर्ड डफ़रिन
4. ✖ लॉर्ड इरविन

Question Number : 52 Question Id : 9983673408 Question Type : MCQ Option Shuffling : Yes

Correct Marks : 1 Wrong Marks : 0.25

With which revolution in India do you associate Vasudeva Balwant Phadke?

Options :

1. ✖ Kheda Movement
2. ✖ Tegabha movement
3. ✖ Bhoodan movement
4. ✔ Ramosi movement

Question Number : 52 Question Id : 9983673408 Question Type : MCQ Option Shuffling : Yes

Correct Marks : 1 Wrong Marks : 0.25

वासुदेव बलवंत फडके का संबंध भारत के किस आंदोलन के साथ है?

Options :

1. ✖ खेड़ा आंदोलन
2. ✖ तेगभा आंदोलन
3. ✖ भूदान आंदोलन
4. ✔ रामोसी आंदोलन

Question Number : 53 Question Id : 9983673409 Question Type : MCQ Option Shuffling : Yes

Correct Marks : 1 Wrong Marks : 0.25

Which one of the following is not the category of a bill that is passed in Parliament?

Options :

1. ✖ Ordinary Bill
2. ✖ Financial Bill
3. ✖ Money Bill
4. ✔ Judicial Bills

Question Number : 53 Question Id : 9983673409 Question Type : MCQ Option Shuffling : Yes

Correct Marks : 1 Wrong Marks : 0.25

निम्नलिखित में से कौन सी, संसद में पारित होने वाले विधेयकों की श्रेणी नहीं है?

Options :

1. \* साधारण विधेयक
2. \* वित्तीय विधेयक
3. \* धन विधेयक
4. ✓ न्यायिक विधेयक

Question Number : 54 Question Id : 9983673410 Question Type : MCQ Option Shuffling : Yes

Correct Marks : 1 Wrong Marks : 0.25

The Government of India had appointed Punchhi Commission in 2007 to review and make recommendations on?

Options :

1. \* Impeachment of President
2. \* Panchayat elections
3. ✓ Centre State Relation
4. \* Fundamental duties

Question Number : 54 Question Id : 9983673410 Question Type : MCQ Option Shuffling : Yes

Correct Marks : 1 Wrong Marks : 0.25

भारत सरकार ने 2007 में निम्न विषय की समीक्षा करने और सुझाव देने के लिए पुंछी आयोग की नियुक्ति की थी?

Options :

1. \* राष्ट्रपति का महाभियोग
2. \* पंचायत चुनाव
3. ✓ केंद्र राज्य संबंध
4. \* मूल कर्तव्य

Question Number : 55 Question Id : 9983673411 Question Type : MCQ Option Shuffling : Yes

Correct Marks : 1 Wrong Marks : 0.25

Who was the second Chief Election Commissioner of India?

Options :

1. \* Sukumar Sen



2. ✓ K.V.K.Sundaram

3. ✖ Nagendra Singh

4. ✖ T.Swaminathan

Question Number : 55 Question Id : 9983673411 Question Type : MCQ Option Shuffling : Yes  
Correct Marks : 1 Wrong Marks : 0.25

भारत के दूसरे मुख्य चुनाव के आयुक्त कौन थे?

Options :

1. ✖ सुकुमार सेन

2. ✓ के.वी.के सुंदरम

3. ✖ नागेंद्र सिंह

4. ✖ टी. स्वामीनाथन

Question Number : 56 Question Id : 9983673412 Question Type : MCQ Option Shuffling : Yes  
Correct Marks : 1 Wrong Marks : 0.25

The articles 25 to 28 of the Indian Constitution are associated with which fundamental right?

Options :

1. ✖ Cultural and educational rights

2. ✖ Right against exploitation

3. ✓ Right to Freedom of religion

4. ✖ Right equality

Question Number : 56 Question Id : 9983673412 Question Type : MCQ Option Shuffling : Yes  
Correct Marks : 1 Wrong Marks : 0.25

भारतीय संविधान के आर्टिकल (अनुच्छेद) 25 से 28, किस मूल अधिकार से जुड़े हैं?

Options :

1. ✖ सांस्कृतिक और शैक्षिक अधिकार

2. ✖ शोषण के खिलाफ अधिकार

3. ✓ धर्म की स्वतंत्रता का अधिकार

4. ✖ समानता का अधिकार

Question Number : 57 Question Id : 9983673413 Question Type : MCQ Option Shuffling : Yes

Correct Marks : 1 Wrong Marks : 0.25

Which feature of the Indian constitution is borrowed or derived from the constitution of Ireland?

Options :

1. ✓ Method of election of President

2. ✖ System of single citizenship

3. ✖ The concurrent list

4. ✖ Judicial Review

Question Number : 57 Question Id : 9983673413 Question Type : MCQ Option Shuffling : Yes

Correct Marks : 1 Wrong Marks : 0.25

भारतीय संविधान की कौन सी विशेषता आयरलैंड के संविधान से ली गई है या व्युत्पन्न है?

Options :

1. ✓ राष्ट्रपति के चुनाव की विधि

2. ✖ एकल नागरिकता की प्रणाली

3. ✖ समवर्ती सूची

4. ✖ न्यायिक समीक्षा

Question Number : 58 Question Id : 9983673414 Question Type : MCQ Option Shuffling : Yes

Correct Marks : 1 Wrong Marks : 0.25

How many languages are recognized by the Constitution of India?

Options :

1. ✖ 18

2. ✖ 30

3. ✖ 28

4. ✔ 22

Question Number : 58 Question Id : 9983673414 Question Type : MCQ Option Shuffling : Yes

Correct Marks : 1 Wrong Marks : 0.25

भारत के संविधान में कितनी भाषाओं को मान्यता दी गई है?

Options :

1. ✖ 18

2. ✖ 30

3. ✖ 28

4. ✔ 22

Question Number : 59 Question Id : 9983673415 Question Type : MCQ Option Shuffling : Yes

Correct Marks : 1 Wrong Marks : 0.25

The team 'Boston Red Sox' is associated with which sport?

Options :

1. ✖ Hockey

2. ✖ Rugby

3. ✔ Baseball

4. ✖ Football

Question Number : 59 Question Id : 9983673415 Question Type : MCQ Option Shuffling : Yes

Correct Marks : 1 Wrong Marks : 0.25

'बॉस्टन रेड सॉक्स' टीम किस खेल से संबंधित है?

Options :

1. ✖ हॉकी

2. ✖ रग्बी

3. ✔ बेसबॉल

4. ✖ फुटबॉल

Question Number : 60 Question Id : 9983673416 Question Type : MCQ Option Shuffling : Yes

Correct Marks : 1 Wrong Marks : 0.25

Which country has won the highest number of Medals at the 2010 commonwealth games held in New Delhi?

Options :

1. ✓ Australia
2. ✘ India
3. ✘ Canada
4. ✘ England

Question Number : 60 Question Id : 9983673416 Question Type : MCQ Option Shuffling : Yes

Correct Marks : 1 Wrong Marks : 0.25

2010 में नई दिल्ली में आयोजित कॉमनवेल्थ खेलों में सर्वाधिक पदक किस देश ने जीते?

Options :

1. ✓ ऑस्ट्रेलिया
2. ✘ इंडिया
3. ✘ कनाडा
4. ✘ इंग्लैंड

## General Awareness2

Group Number :	4
Group Id :	998367130
Group Maximum Duration :	0
Group Minimum Duration :	0
Show Attended Group? :	No
Edit Attended Group? :	No
Break time:	0
Group Marks:	20
Is this Group for Examiner?:	No
Revisit allowed for group Instructions? :	Yes
Maximum Instruction Time:	0
Minimum Instruction Time:	0

## General Awareness2

Section Id :	998367136
Section Number :	1
Section type :	Online
Mandatory or Optional:	Mandatory
Number of Questions:	20
Number of Questions to be attempted:	20
Section Marks:	20

Sub-Section Number:	1
Sub-Section Id:	998367204
Question Shuffling Allowed :	Yes

Question Number : 61 Question Id : 9983673417 Question Type : MCQ Option Shuffling : Yes  
Correct Marks : 1 Wrong Marks : 0.25

First person to receive Rajiv Gandhi Khel Ratna award is:

Options :

1. \* Sachin Tendulkar
2. \* Karanam Malleswari
3. ✓ Vishwanathan Anand
4. \* Geet Sethi

Question Number : 61 Question Id : 9983673417 Question Type : MCQ Option Shuffling : Yes  
Correct Marks : 1 Wrong Marks : 0.25

राजीव गांधी खेल रत्न पुरस्कार प्राप्त करने वाले पहले व्यक्ति हैं:

Options :

1. \* सचिन तेंदुलकर
2. \* कर्णम मल्लेश्वरी
3. ✓ विश्वनाथन आनंद
4. \* गीत सेठी

Question Number : 62 Question Id : 9983673418 Question Type : MCQ Option Shuffling : Yes  
Correct Marks : 1 Wrong Marks : 0.25

The dance form 'Dhomyal' is popular in which state of India?

Options :

1. \* Manipur

2. ✖ Rajasthan

3. ✔ Haryana

4. ✖ Goa

Question Number : 62 Question Id : 9983673418 Question Type : MCQ Option Shuffling : Yes

Correct Marks : 1 Wrong Marks : 0.25

भारत के किस राज्य में नृत्य रूप 'धमयाल (Dhamyal)' लोकप्रिय है?

Options :

1. ✖ मणिपुर

2. ✖ राजस्थान

3. ✔ हरियाणा

4. ✖ गोवा

Question Number : 63 Question Id : 9983673419 Question Type : MCQ Option Shuffling : Yes

Correct Marks : 1 Wrong Marks : 0.25

The folk painting 'Kalamkari' is popular in which state of India?

Options :

1. ✖ Kerala

2. ✔ Andhra Pradesh

3. ✖ Karnataka

4. ✖ Tamilnadu

Question Number : 63 Question Id : 9983673419 Question Type : MCQ Option Shuffling : Yes

Correct Marks : 1 Wrong Marks : 0.25

लोक चित्रकला 'कलमकारी' भारत के किस राज्य में लोकप्रिय है?

Options :

1. ✖ केरल

2. ✔ आंध्र प्रदेश

3. ✖ कर्नाटक

## 4. \* तमिलनाडु

Question Number : 64 Question Id : 9983673420 Question Type : MCQ Option Shuffling : Yes  
Correct Marks : 1 Wrong Marks : 0.25

The famous 'Hornbill festival' is celebrated in which of the following States of India?

Options :

1. ✓ Nagaland
2. \* Meghalaya
3. \* Assam
4. \* Mizoram

Question Number : 64 Question Id : 9983673420 Question Type : MCQ Option Shuffling : Yes  
Correct Marks : 1 Wrong Marks : 0.25

प्रसिद्ध 'हॉर्नबिल त्योहार' निम्नलिखित में से किस भारतीय राज्य में मनाया जाता है?

Options :

1. ✓ नागालैंड
2. \* मेघालय
3. \* असम
4. \* मिजोरम

Question Number : 65 Question Id : 9983673421 Question Type : MCQ Option Shuffling : Yes  
Correct Marks : 1 Wrong Marks : 0.25

The famous Orange river originates in which one of the following countries?

Options :

1. ✓ Lesotho
2. \* Bolivia
3. \* South Africa
4. \* Paraguay



Question Number : 65 Question Id : 9983673421 Question Type : MCQ Option Shuffling : Yes

Correct Marks : 1 Wrong Marks : 0.25

प्रसिद्ध ऑरेंज नदी निम्न में से किस देश में स्थित है?

Options :

1. ✓ लेसोथो
2. ✘ बोलीविया
3. ✘ दक्षिण अफ्रीका
4. ✘ परागुआ (पैराग्वे)

Question Number : 66 Question Id : 9983673422 Question Type : MCQ Option Shuffling : Yes

Correct Marks : 1 Wrong Marks : 0.25

In which state is the Andhra Hydroelectric project located in India?

Options :

1. ✘ Andhra Pradesh
2. ✘ Punjab
3. ✓ Himachal Pradesh
4. ✘ Telangana

Question Number : 66 Question Id : 9983673422 Question Type : MCQ Option Shuffling : Yes

Correct Marks : 1 Wrong Marks : 0.25

भारत में आंध्र जलविद्युत परियोजना किस राज्य में स्थित है?

Options :

1. ✘ आंध्र प्रदेश
2. ✘ पंजाब
3. ✓ हिमाचल प्रदेश
4. ✘ तेलंगाना

Question Number : 67 Question Id : 9983673423 Question Type : MCQ Option Shuffling : Yes

Correct Marks : 1 Wrong Marks : 0.25

In which mountain range the 'Siachen' glacier is located?

Options :

1. ✓ Karakoram range
2. ✘ The Himalayan range
3. ✘ The Purvanchal range
4. ✘ The Satpura and Vindhya range

Question Number : 67 Question Id : 9983673423 Question Type : MCQ Option Shuffling : Yes  
Correct Marks : 1 Wrong Marks : 0.25

'सियाचिन' ग्लेशियर किस पर्वत श्रृंखला में स्थित है?

Options :

1. ✓ काराकोरम श्रृंखला
2. ✘ हिमालयन श्रृंखला
3. ✘ पूर्वांचल श्रृंखला
4. ✘ सतपुड़ा और विंध्य श्रृंखला

Question Number : 68 Question Id : 9983673424 Question Type : MCQ Option Shuffling : Yes  
Correct Marks : 1 Wrong Marks : 0.25

Which of the following plans aimed at improving the standard of living?

Options :

1. ✘ Sixth Plan
2. ✘ Fifth Plan
3. ✓ Fourth Plan
4. ✘ Third Plan

Question Number : 68 Question Id : 9983673424 Question Type : MCQ Option Shuffling : Yes  
Correct Marks : 1 Wrong Marks : 0.25

निम्नलिखित में से कौन सी योजना जीवन स्तर में सुधार लाने के उद्देश्य से लागू की गई है?

Options :

1. ✘ छठी योजना

2. ✖ पांचवीं योजना

3. ✔ चौथी योजना

4. ✖ तीसरी योजना

Question Number : 69 Question Id : 9983673425 Question Type : MCQ Option Shuffling : Yes  
Correct Marks : 1 Wrong Marks : 0.25

What was the basic objective of Twenty Point Program (TPP) initiated by Government of India?

Options :

1. ✔ To eradicate poverty and raise standard of living

2. ✖ To restructure government schools

3. ✖ To eradicate dreadful diseases on war-footing

4. ✖ To promote afforestation and control global warming

Question Number : 69 Question Id : 9983673425 Question Type : MCQ Option Shuffling : Yes  
Correct Marks : 1 Wrong Marks : 0.25

भारत सरकार द्वारा शुरू किए गए बीस सूत्री कार्यक्रम (TPP) का मूल उद्देश्य क्या था?

Options :

1. ✔ गरीबी उन्मूलन और जीवन स्तर को ऊपर उठाना

2. ✖ सरकारी स्कूलों का पुनर्गठन

3. ✖ भयानक बीमारियों को मिटाने के लिए युद्ध-स्तर पर काम करना

4. ✖ वनीकरण को बढ़ावा देना और ग्लोबल वार्मिंग को नियंत्रित करना

Question Number : 70 Question Id : 9983673426 Question Type : MCQ Option Shuffling : Yes  
Correct Marks : 1 Wrong Marks : 0.25

In which year the EXIM bank (Exports Imports Bank) established by government of India had started its operations?

Options :

1. ✖ 1966

2. ✖ 1952

3. ✔ 1982

4. ✖ 1972

Question Number : 70 Question Id : 9983673426 Question Type : MCQ Option Shuffling : Yes  
Correct Marks : 1 Wrong Marks : 0.25

भारत सरकार द्वारा स्थापित EXIM बैंक (एक्सपोर्ट्स इम्पोर्ट्स बैंक)  
किस वर्ष में शुरू हुआ था?

Options :

1. ✖ 1966

2. ✖ 1952

3. ✔ 1982

4. ✖ 1972

Question Number : 71 Question Id : 9983673427 Question Type : MCQ Option Shuffling : Yes  
Correct Marks : 1 Wrong Marks : 0.25

The wave length range of Ultra violet rays is?

Options :

1. ✔ 100 to 400 nanometers

2. ✖ 400 to 1000 nanometers

3. ✖ 1000 to 1500 nanometers

4. ✖ 1500 to 2000 nanometers

Question Number : 71 Question Id : 9983673427 Question Type : MCQ Option Shuffling : Yes  
Correct Marks : 1 Wrong Marks : 0.25

अल्ट्रा वायलेट किरणों की तरंगदैर्घ्य सीमा कितनी होती है?

Options :

1. ✔ 100 से 400 नैनोमीटर

2. ✖ 400 से 1000 नैनोमीटर

3. ✖ 1000 से 1500 नैनोमीटर

#### 4. \* 1500 से 2000 नैनोमीटर

Question Number : 72 Question Id : 9983673428 Question Type : MCQ Option Shuffling : Yes  
Correct Marks : 1 Wrong Marks : 0.25

The drug Reserpine is used to treat which one of the following diseases?

Options :

1. \* Dengue
2. \* Leukaemia
3. ✓ High Blood pressure
4. \* Kidney stones

Question Number : 72 Question Id : 9983673428 Question Type : MCQ Option Shuffling : Yes  
Correct Marks : 1 Wrong Marks : 0.25

रिसरपिन नामक दवा का उपयोग निम्न में से किस बीमारी के इलाज के लिए किया जाता है?

Options :

1. \* डेंगू
2. \* ल्युकेमिया
3. ✓ उच्च रक्तचाप
4. \* किडनी स्टोन

Question Number : 73 Question Id : 9983673429 Question Type : MCQ Option Shuffling : Yes  
Correct Marks : 1 Wrong Marks : 0.25

The class of drugs used for treatment of mental stress and disorders are called?

Options :

1. \* Antihistamines
2. ✓ Tranquilizers
3. \* Sulpha drugs
4. \* Antiseptics

Question Number : 73 Question Id : 9983673429 Question Type : MCQ Option Shuffling : Yes

Correct Marks : 1 Wrong Marks : 0.25

मानसिक तनाव और विकारों के उपचार के लिए उपयोग की जाने वाली दवाओं के वर्ग को इस नाम से भी जाना जाता है?

Options :

1. ✖ एंटीहिस्टामाइन्स

2. ✔ ट्रांक्विलाइजर

3. ✖ सल्फा ड्रग्स

4. ✖ एंटीसेप्टिक

Question Number : 74 Question Id : 9983673430 Question Type : MCQ Option Shuffling : Yes

Correct Marks : 1 Wrong Marks : 0.25

What the number of facial bones in adult human skull?

Options :

1. ✖ 8

2. ✖ 22

3. ✔ 14

4. ✖ 12

Question Number : 74 Question Id : 9983673430 Question Type : MCQ Option Shuffling : Yes

Correct Marks : 1 Wrong Marks : 0.25

वयस्क मानव खोपड़ी में चेहरे की हड्डियों की संख्या कितनी होती है?

Options :

1. ✖ 8

2. ✖ 22

3. ✔ 14

4. ✖ 12

Question Number : 75 Question Id : 9983673431 Question Type : MCQ Option Shuffling : Yes

Correct Marks : 1 Wrong Marks : 0.25

Scientists from which university have claimed discovery of PFTBA (Perfluorotributylamine), a greenhouse gas which is 7100 times more potent than Carbon dioxide in the year 2015?

Options :

1. ✓ University of Toronto
2. ✗ MIT
3. ✗ Oxford University
4. ✗ Kentucky University.

Question Number : 75 Question Id : 9983673431 Question Type : MCQ Option Shuffling : Yes

Correct Marks : 1 Wrong Marks : 0.25

2015 में किस विश्वविद्यालय से वैज्ञानिकों ने, कार्बन डाइऑक्साइड से 7100 गुना अधिक शक्तिशाली ग्रीनहाउस गैस, PFTBA (परफ्ल्यूरोट्राइब्यूटाइलमीन) की खोज का दावा किया?

Options :

1. ✓ टोरंटो विश्वविद्यालय
2. ✗ एमआईटी
3. ✗ ऑक्सफोर्ड विश्वविद्यालय
4. ✗ केंटकी विश्वविद्यालय

Question Number : 76 Question Id : 9983673432 Question Type : MCQ Option Shuffling : Yes

Correct Marks : 1 Wrong Marks : 0.25

What is the name of India's first indigenously built air craft carrier?

Options :

1. ✓ INS Vikrant
2. ✗ INS Shakti
3. ✗ INS Vijay
4. ✗ INS Garuda



Question Number : 76 Question Id : 9983673432 Question Type : MCQ Option Shuffling : Yes  
Correct Marks : 1 Wrong Marks : 0.25

भारत के पहले स्वदेश निर्मित विमान वाहक (एयर क्राफ्ट कैरियर) का नाम क्या है?

Options :

1. ✓ आईएनएस विक्रान्त
2. ✗ आईएनएस शक्ति
3. ✗ आईएनएस विजय
4. ✗ आईएनएस गरुड़

Question Number : 77 Question Id : 9983673433 Question Type : MCQ Option Shuffling : Yes  
Correct Marks : 1 Wrong Marks : 0.25

The world's first Green helicopter which is noise-less and emission-free was successfully tested in which country in 2013?

Options :

1. ✗ India
2. ✗ Australia
3. ✓ Germany
4. ✗ Russia

Question Number : 77 Question Id : 9983673433 Question Type : MCQ Option Shuffling : Yes  
Correct Marks : 1 Wrong Marks : 0.25

दुनिया के पहले ग्रीन हेलीकॉप्टर जो शोर-शराबा रहित और उत्सर्जन-मुक्त है, का 2013 में किस देश में सफलतापूर्वक परीक्षण किया गया था?

Options :

1. ✗ इंडिया
2. ✗ ऑस्ट्रेलिया
3. ✓ जर्मनी

#### 4. \* रूस

Question Number : 78 Question Id : 9983673434 Question Type : MCQ Option Shuffling : Yes  
Correct Marks : 1 Wrong Marks : 0.25

What is the full form of the UNCTAD, an organization under UNO which promotes the development-friendly integration of developing countries into the world economy?

Options :

1. \* United Nations Commission of Trade and Development
2. \* United Nations Congress on Trade and Development
3. ✓ United Nations Conference on Trade and Development
4. \* United Nations Conference on Trade and Disinvestment

Question Number : 78 Question Id : 9983673434 Question Type : MCQ Option Shuffling : Yes  
Correct Marks : 1 Wrong Marks : 0.25

UNO के तहत आने वाला एक संगठन, UNCTAD, जो विश्व अर्थव्यवस्था में विकासशील देशों के विकास के अनुकूल एकीकरण को बढ़ावा देता है, का पूरा नाम क्या है?

Options :

1. \* यूनाइटेड नेशन कमीशन ऑफ ट्रेड एंड डेवलपमेंट
2. \* यूनाइटेड नेशन कांग्रेस ऑन ट्रेड एंड डेवलपमेंट
3. ✓ यूनाइटेड नेशन कान्फरन्स ऑन ट्रेड एंड डेवलपमेंट
4. \* यूनाइटेड नेशन कान्फरन्स ऑन ट्रेड एंड डिसइंवेस्टमेंट

Question Number : 79 Question Id : 9983673435 Question Type : MCQ Option Shuffling : Yes  
Correct Marks : 1 Wrong Marks : 0.25

Where is the headquarters of ICRISAT (International Crop Research Institute for Semi-Arid Tropics) located?

Options :

1. \* Bangalore, India
2. \* Colombo, Sri Lanka

3. ✖ Geneva, Switzerland

4. ✔ Hyderabad, India

Question Number : 79 Question Id : 9983673435 Question Type : MCQ Option Shuffling : Yes

Correct Marks : 1 Wrong Marks : 0.25

ICRISAT (अर्द्ध शुष्क क्षेत्रों के लिए अंतर्राष्ट्रीय फसल अनुसंधान संस्थान) का मुख्यालय कहां स्थित है?

Options :

1. ✖ बेंगलोर, भारत

2. ✖ कोलंबो, श्रीलंका

3. ✖ जिनेवा, स्विट्जरलैंड

4. ✔ हैदराबाद, भारत

Question Number : 80 Question Id : 9983673436 Question Type : MCQ Option Shuffling : Yes

Correct Marks : 1 Wrong Marks : 0.25

In which year, the International Red Cross Society was founded?

Options :

1. ✖ 1963

2. ✔ 1863

3. ✖ 1943

4. ✖ 1933

Question Number : 80 Question Id : 9983673436 Question Type : MCQ Option Shuffling : Yes

Correct Marks : 1 Wrong Marks : 0.25

इंटरनेशनल रेड क्रॉस सोसाइटी की स्थापना किस वर्ष में हुई थी?

Options :

1. ✖ 1963

2. ✔ 1863

3. ✖ 1943

4. ✖ 1933

## Arithmetic Ability1

Group Number :	5
Group Id :	998367131
Group Maximum Duration :	0
Group Minimum Duration :	0
Show Attended Group? :	No
Edit Attended Group? :	No
Break time:	0
Group Marks:	20
Is this Group for Examiner?:	No
Revisit allowed for group Instructions? :	Yes
Maximum Instruction Time:	0
Minimum Instruction Time:	0

## Arithmetic Ability1

Section Id :	998367137
Section Number :	1
Section type :	Online
Mandatory or Optional:	Mandatory
Number of Questions:	20
Number of Questions to be attempted:	20
Section Marks:	20

Sub-Section Number:	1
Sub-Section Id:	998367205
Question Shuffling Allowed :	Yes

Question Number : 81 Question Id : 9983673437 Question Type : MCQ Option Shuffling : Yes  
Correct Marks : 1 Wrong Marks : 0.25

If  $x + y = 45$  and  $xy = 135$ , what is the value of  $x^2 + y^2$  ?

Options :

1. ✖ 1750

2. ✓ 1755

3. ✖ 1650

4. ✖ 1655

Question Number : 81 Question Id : 9983673437 Question Type : MCQ Option Shuffling : Yes  
Correct Marks : 1 Wrong Marks : 0.25

यदि  $x + y = 45$  और  $xy = 135$  है, तो  $x^2 + y^2$  का मान पता करें?

Options :

1. ✖ 1750

2. ✔ 1755

3. ✖ 1650

4. ✖ 1655

Question Number : 82 Question Id : 9983673438 Question Type : MCQ Option Shuffling : Yes  
Correct Marks : 1 Wrong Marks : 0.25

If  $a + \frac{1}{a} = 4$ , then  $\frac{4a^2+4}{6a^2+10a+6} = ?$

Options :

1. ✖  $\frac{8}{15}$

2. ✖  $\frac{7}{15}$

3. ✔  $\frac{8}{17}$

4. ✖  $\frac{7}{17}$

Question Number : 82 Question Id : 9983673438 Question Type : MCQ Option Shuffling : Yes  
Correct Marks : 1 Wrong Marks : 0.25

यदि  $a + \frac{1}{a} = 4$  है, तो  $\frac{4a^2+4}{6a^2+10a+6}$  पता करें?

Options :

1. ✘  $\frac{8}{15}$

2. ✘  $\frac{7}{15}$

3. ✔  $\frac{8}{17}$

4. ✘  $\frac{7}{17}$

Question Number : 83 Question Id : 9983673439 Question Type : MCQ Option Shuffling : Yes  
Correct Marks : 1 Wrong Marks : 0.25

$\left[ (16807 \div 49)^{\frac{1}{3}} + (14641 \div 11^2)^{\frac{1}{2}} + (867 \div \sqrt[3]{27})^{\frac{1}{2}} \right] = \sqrt{x}$  . Find the value of  $x$ .

Options :

1. ✘ 225

2. ✔ 1225

3. ✘ 2025

4. ✘ 625

Question Number : 83 Question Id : 9983673439 Question Type : MCQ Option Shuffling : Yes  
Correct Marks : 1 Wrong Marks : 0.25

$\left[ (16807 \div 49)^{\frac{1}{3}} + (14641 \div 11^2)^{\frac{1}{2}} + (867 \div \sqrt[3]{27})^{\frac{1}{2}} \right] = \sqrt{x}$  .  $x$  का मान पता करें।

Options :

1. ✘ 225

2. ✔ 1225

3. ✘ 2025

4. ✘ 625

Question Number : 84 Question Id : 9983673440 Question Type : MCQ Option Shuffling : Yes

Correct Marks : 1 Wrong Marks : 0.25

A man spends  $\frac{7}{25}$  of his income on house rent,  $\frac{7}{20}$  of income on food and  $\frac{8}{25}$  of income on conveyance. If he has ₹ 5600 left with him, find his expenditure on food and conveyance taken together.

Options :

1. ✘ 75000

2. ✘ 76050

3. ✘ 74045

4. ✔ 75040

Question Number : 84 Question Id : 9983673440 Question Type : MCQ Option Shuffling : Yes

Correct Marks : 1 Wrong Marks : 0.25

एक आदमी अपनी आमदनी का  $\frac{7}{25}$  हिस्सा घर के किराए पर,  $\frac{7}{20}$  हिस्सा खाने पर और  $\frac{8}{25}$  हिस्सा सुविधाओं पर खर्च करता है। यदि उसके पास अब केवल ₹ 5600 बचे हैं, तो पता करें कि उसने खाना और सुविधाओं पर कुल कितना खर्च किया।

Options :



1. ✖ 75000

2. ✖ 76050

3. ✖ 74045

4. ✔ 75040

Question Number : 85 Question Id : 9983673441 Question Type : MCQ Option Shuffling : Yes

Correct Marks : 1 Wrong Marks : 0.25

$\sqrt{x} + 0.28 = \sqrt{16.81}$ . Find the value of  $x$ .

Options :

1. ✖ 14.5294

2. ✖ 13.5924

3. ✔ 14.5924

4. ✖ 13.5294

Question Number : 85 Question Id : 9983673441 Question Type : MCQ Option Shuffling : Yes

Correct Marks : 1 Wrong Marks : 0.25

$\sqrt{x} + 0.28 = \sqrt{16.81}$ ,  $x$  का मान पता करें।

Options :

1. ✖ 14.5294

2. ✖ 13.5924

3. ✔ 14.5924

4. ✖ 13.5294

Question Number : 86 Question Id : 9983673442 Question Type : MCQ Option Shuffling : Yes  
Correct Marks : 1 Wrong Marks : 0.25

If  $4.5x = 0.12y$ , then find the value of  $\frac{y-x}{y+x}$ .

Options :

1. ✖  $\frac{77}{73}$

2. ✔  $\frac{73}{77}$

3. ✖  $\frac{74}{76}$

4. ✖  $\frac{76}{74}$

Question Number : 86 Question Id : 9983673442 Question Type : MCQ Option Shuffling : Yes  
Correct Marks : 1 Wrong Marks : 0.25

यदि  $4.5x = 0.12y$  है, तो  $\frac{y-x}{y+x}$  का मान पता करें।

Options :

1. ✖  $\frac{77}{73}$

2. ✓  $\frac{73}{77}$

3. ✗  $\frac{74}{76}$

4. ✗  $\frac{76}{74}$

Question Number : 87 Question Id : 9983673443 Question Type : MCQ Option Shuffling : Yes  
Correct Marks : 1 Wrong Marks : 0.25

Evaluate:

$$\sqrt{\frac{0.\overline{2} \times 0.\overline{3} \times 0.\overline{5} \times 0.\overline{7}}{210}} = ?$$

Options :

1. ✓  $\frac{1}{81}$

2. ✗ 81

3. ✗  $\frac{1}{64}$

4. ✗ 64

Question Number : 87 Question Id : 9983673443 Question Type : MCQ Option Shuffling : Yes  
Correct Marks : 1 Wrong Marks : 0.25

हल करें:

$$\sqrt{\frac{0.\overline{2} \times 0.\overline{3} \times 0.\overline{5} \times 0.\overline{7}}{210}} = ?$$

Options :

1. ✓  $\frac{1}{81}$

2. ✗ 81

3. ✗  $\frac{1}{64}$

4. ✗ 64

Question Number : 88 Question Id : 9983673444 Question Type : MCQ Option Shuffling : Yes

Correct Marks : 1 Wrong Marks : 0.25

Add the following and find the square root of the sum of the digits of the answer of addition.

$$2019\frac{1}{7} + 2019\frac{2}{7} + 2019\frac{3}{7} + 2019\frac{4}{7} + 2019\frac{5}{7} + 2019\frac{6}{7} + 2019\frac{7}{7}$$

Options :

1. ✗ 3

2. ✓ 4

3. ✗ 5

4. ✗ 6

Question Number : 88 Question Id : 9983673444 Question Type : MCQ Option Shuffling : Yes

Correct Marks : 1 Wrong Marks : 0.25

निम्नलिखित को जोड़ें और जोड़ करने के बाद प्राप्त हुई संख्या के अंकों का वर्गमूल ज्ञात करें।

$$2019\frac{1}{7} + 2019\frac{2}{7} + 2019\frac{3}{7} + 2019\frac{4}{7} + 2019\frac{5}{7} + 2019\frac{6}{7} + 2019\frac{7}{7}$$

Options :

1. ✖ 3

2. ✔ 4

3. ✖ 5

4. ✖ 6

Question Number : 89 Question Id : 9983673445 Question Type : MCQ Option Shuffling : Yes

Correct Marks : 1 Wrong Marks : 0.25

$\frac{5}{8}$  th of an iron rod is in the mud. When a further one-fifth of the rod is pulled out, 5.1 m of the rod is still in the mud. Find the full length of the rod in cm.

Options :

1. ✖ 11

2. ✖ 1100

3. ✖ 12

4. ✔ 1200

Question Number : 89 Question Id : 9983673445 Question Type : MCQ Option Shuffling : Yes

Correct Marks : 1 Wrong Marks : 0.25

लोहे की छड़ का  $\frac{5}{8}$  वां भाग कीचड़ में है। जब छड़ का एक बटा पांचवां भाग बाहर निकाला जाता है, तो भी छड़ का 5.1 m हिस्सा कीचड़ में रहता है। छड़ की पूरी लंबाई (cm में) पता करें।

Options :

1. ✖ 11

2. ✖ 1100

3. ✖ 12

4. ✔ 1200

Question Number : 90 Question Id : 9983673446 Question Type : MCQ Option Shuffling : Yes

Correct Marks : 1 Wrong Marks : 0.25

If the fractions  $\frac{27}{45}, \frac{17}{18}, \frac{13}{15}, \frac{7}{9}, \frac{3}{10}$  are arranged in the ascending order of their values, then which one will be the third-largest fraction?

Options :

1. ✔  $\frac{7}{9}$

2. ✖  $\frac{13}{15}$

3. ✖  $\frac{3}{10}$

4. ✖  $\frac{17}{18}$

Question Number : 90 Question Id : 9983673446 Question Type : MCQ Option Shuffling : Yes

Correct Marks : 1 Wrong Marks : 0.25

यदि  $\frac{27}{45}, \frac{17}{18}, \frac{13}{15}, \frac{7}{9}, \frac{3}{10}$  अंशों को आरोही क्रम में व्यवस्थित किया जाए, तो पता करें कि इनमें से कौन सा अंश तीसरा सबसे बड़ा अंश होगा?

Options :

1. ✔  $\frac{7}{9}$

2. ✖  $\frac{13}{15}$

3. ✖  $\frac{3}{10}$

4. ✖  $\frac{17}{18}$

Question Number : 91 Question Id : 9983673447 Question Type : MCQ Option Shuffling : Yes

Correct Marks : 1 Wrong Marks : 0.25

How many numbers less than 20000 are there that are divisible by 56, 84 and 112?

Options :

1. ✔ 59

2. ✖ 60

3. ✖ 58

4. ✖ 57

Question Number : 91 Question Id : 9983673447 Question Type : MCQ Option Shuffling : Yes

Correct Marks : 1 Wrong Marks : 0.25

20000 से कम ऐसी कितनी संख्याएँ हैं, जिन्हें 56, 84 और 112 से विभाजित किया जा सकता है?

Options :

1. ✔ 59

2. ✖ 60

3. ✖ 58

4. ✖ 57

Question Number : 92 Question Id : 9983673448 Question Type : MCQ Option Shuffling : Yes

Correct Marks : 1 Wrong Marks : 0.25

What is the least multiple of 14 that leaves a remainder of 4 when divided by 12, 18, 30 and 36?

Options :

1. ✖ 378

2. ✖ 350

3. ✔ 364

4. ✖ 168

Question Number : 92 Question Id : 9983673448 Question Type : MCQ Option Shuffling : Yes

Correct Marks : 1 Wrong Marks : 0.25

इनमें से कौन 14 का सबसे छोटा गुणज है जिसे 12,18,30 और 36 से विभाजित करने पर शेष 4 बचता है?

Options :

1. ✖ 378

2. ✖ 350

3. ✔ 364



4. ✖ 168

Question Number : 93 Question Id : 9983673449 Question Type : MCQ Option Shuffling : Yes

Correct Marks : 1 Wrong Marks : 0.25

The sum of two numbers is 1260. Their HCF is 70. How many pairs of such numbers are possible?

Options :

1. ✖ 1

2. ✖ 2

3. ✖ 4

4. ✔ 3

Question Number : 93 Question Id : 9983673449 Question Type : MCQ Option Shuffling : Yes

Correct Marks : 1 Wrong Marks : 0.25

दो संख्याओं का योग 1260 है। उनका महत्तम समापवर्त्य 70 है। ऐसी संख्याओं के कितने जोड़े संभव हैं?

Options :

1. ✖ 1

2. ✖ 2

3. ✖ 4

4. ✔ 3

Question Number : 94 Question Id : 9983673450 Question Type : MCQ Option Shuffling : Yes

Correct Marks : 1 Wrong Marks : 0.25

In an ICSE Class X examination of a particular school, the number of those who passed was four times the number of those who failed. If there had been ten fewer candidates and five more had failed, the ratio of the passed to the failed students would have been 3 : 2. Then the original total number of students who appeared for the exam was:

Options :

1. ✖ 60

2. ✔ 45

3. ✖ 75

4. ✖ 90

Question Number : 94 Question Id : 9983673450 Question Type : MCQ Option Shuffling : Yes

Correct Marks : 1 Wrong Marks : 0.25

एक विशेष स्कूल की आई.सी.एस.ई. (ICSE) दसवीं कक्षा की परीक्षा में, उत्तीर्ण होने वालों की संख्या अनुत्तीर्ण होने वालों की संख्या से चार गुना थी। यदि वहाँ दस कम उम्मीदवार होते और पाँच और अनुत्तीर्ण हो जाते, तो उत्तीर्ण, अनुत्तीर्ण छात्रों का अनुपात 3 : 2 हो जाता। तो परीक्षा में बैठने वाले मूल छात्रों की कुल संख्या पता करें?

Options :

1. ✖ 60

2. ✔ 45

3. ✖ 75

4. ✖ 90

Question Number : 95 Question Id : 9983673451 Question Type : MCQ Option Shuffling : Yes

Correct Marks : 1 Wrong Marks : 0.25

The ratio of the present ages of Krishna and Ram is 7 : 5. If the product of their present ages (in years) is 1260, then find Krishna's age after 15 years.

Options :

1. ✓ 57

2. ✖ 42

3. ✖ 67

4. ✖ 65

Question Number : 95 Question Id : 9983673451 Question Type : MCQ Option Shuffling : Yes

Correct Marks : 1 Wrong Marks : 0.25

कृष्णा और राम की वर्तमान आयु का अनुपात 7 : 5 है। यदि उनकी वर्तमान आयु का उत्पाद (वर्षों में) 1260 है, तो 15 वर्ष बाद कृष्णा की आयु पता करें।

Options :

1. ✓ 57

2. ✖ 42

3. ✖ 67

4. ✖ 65

Question Number : 96 Question Id : 9983673452 Question Type : MCQ Option Shuffling : Yes

Correct Marks : 1 Wrong Marks : 0.25

A bag contains 160 orange balls, 100 pink balls and 90 green balls. 25% of the orange balls and 40% of the pink balls are taken away. Then the percentage of green balls present in the bag is:

Options :

1. ✖ 40%

2. ✖ 25%

3. ✖  $66\frac{1}{3}\%$

4. ✔  $33\frac{1}{3}\%$

Question Number : 96 Question Id : 9983673452 Question Type : MCQ Option Shuffling : Yes

Correct Marks : 1 Wrong Marks : 0.25

एक थैले में 160 नारंगी, 100 गुलाबी और 90 हरे रंग की गेंदें हैं। 25% नारंगी और 40% गुलाबी गेंदों को बाहर निकाल लिया जाता है। तो थैले में मौजूद हरे रंग की गेंदों का प्रतिशत पता करें?

Options :

1. ✖ 40%

2. ✖ 25%

3. ✖  $66\frac{1}{3}\%$

4. ✔  $33\frac{1}{3}\%$

Question Number : 97 Question Id : 9983673453 Question Type : MCQ Option Shuffling : Yes

Correct Marks : 1 Wrong Marks : 0.25

What should come in the place of the question mark (?) so that it satisfies equality of the given equation?

64% of 1500 =?

Options :

1. ✖ 46% of 1200

2. ✖ 66% of 1400

3. ✖ 98% of 1000

4. ✔ 75% of 1280

Question Number : 97 Question Id : 9983673453 Question Type : MCQ Option Shuffling : Yes

Correct Marks : 1 Wrong Marks : 0.25

प्रश्नचिह्न (?) के स्थान पर क्या आना चाहिए कि समीकरण की समतुल्यता सिद्ध हो जाए?

1500 का 64% = ?

Options :

1. ✖ 1200 का 46%

2. ✖ 1400 का 66%

3. ✖ 1000 का 98%

4. ✔ 1280 का 75%

Question Number : 98 Question Id : 9983673454 Question Type : MCQ Option Shuffling : Yes

Correct Marks : 1 Wrong Marks : 0.25

Sita's expenditure and saving are in the ratio of 7 : 5. If her income increases by 15% and expenditure by 18%, then by how much percent would her saving increase?

Options :

1. ✖ 10%

2. ✔ 10.8%

3. ✖ 9%

4. ✖ 9.8%

Question Number : 98 Question Id : 9983673454 Question Type : MCQ Option Shuffling : Yes

Correct Marks : 1 Wrong Marks : 0.25

सीता का खर्च और बचत का अनुपात 7 : 5 है। यदि उसकी आमदनी में 15% की वृद्धि होती है और खर्च में 18% की वृद्धि होती है, तो पता करें कि उसकी बचत में कितने प्रतिशत की वृद्धि होगी?

Options :

1. ✖ 10%

2. ✔ 10.8%

3. ✖ 9%

4. ✖ 9.8%

Question Number : 99 Question Id : 9983673455 Question Type : MCQ Option Shuffling : Yes

Correct Marks : 1 Wrong Marks : 0.25

Five years ago, the average age of a family of 10 members was 54 years. The present average age is also 54 years, but after the inclusion of a child into the family. Find the age of the child.

Options :

1. ✖ 5 years

2. ✖ 8 years

3. ✖ 6 years

4. ✓ 4 years

Question Number : 99 Question Id : 9983673455 Question Type : MCQ Option Shuffling : Yes

Correct Marks : 1 Wrong Marks : 0.25

पाँच वर्ष पहले, 10 सदस्यों वाले परिवार की औसत आयु 54 वर्ष थी। वर्तमान में परिवार में एक बच्चे के शामिल होने के बाद भी औसत आयु 54 वर्ष है। बच्चे की आयु पता करें।

Options :

1. ✗ 5 साल

2. ✗ 8 साल

3. ✗ 6 साल

4. ✓ 4 साल

Question Number : 100 Question Id : 9983673456 Question Type : MCQ Option Shuffling : Yes

Correct Marks : 1 Wrong Marks : 0.25

A car reached Hyderabad from Secunderabad in 55 min with an average speed of 60 kmph. If the average speed is increased by 40 kmph, how much time will it take to cover the same distance?

Options :

1. ✗ 23 min

2. ✗ 43 min

3. ✓ 33 min

4. ✗ 13 min

Question Number : 100 Question Id : 9983673456 Question Type : MCQ Option Shuffling : Yes



Correct Marks : 1 Wrong Marks : 0.25

एक कार 60 kmph की औसत गति से 55 मिनट में सिकंदराबाद से हैदराबाद पहुँच जाती है। यदि औसत गति 40 kmph बढ़ जाती है, तो समान दूरी को तय करने में कितना समय लगेगा?

Options :

1. ✘ 23 min

2. ✘ 43 min

3. ✔ 33 min

4. ✘ 13 min

## Arithmetic Ability2

Group Number :	6
Group Id :	998367132
Group Maximum Duration :	0
Group Minimum Duration :	0
Show Attended Group? :	No
Edit Attended Group? :	No
Break time:	0
Group Marks:	20
Is this Group for Examiner?:	No
Revisit allowed for group Instructions? :	Yes
Maximum Instruction Time:	0
Minimum Instruction Time:	0

## Arithmetic Ability2

Section Id :	998367138
Section Number :	1
Section type :	Online
Mandatory or Optional:	Mandatory
Number of Questions:	20
Number of Questions to be attempted:	20
Section Marks:	20



Sub-Section Number: 1  
Sub-Section Id: 998367206  
Question Shuffling Allowed : Yes

Question Number : 101 Question Id : 9983673457 Question Type : MCQ Option Shuffling : Yes  
Correct Marks : 1 Wrong Marks : 0.25

The cost price of 18 pens is equal to the selling price of 22 pens. Find the profit or loss percentage.

Options :

1. ✘  $17\frac{2}{11}\%$  loss
2. ✘  $18\frac{2}{11}\%$  profit
3. ✔  $18\frac{2}{11}\%$  loss
4. ✘  $17\frac{2}{11}\%$  profit

Question Number : 101 Question Id : 9983673457 Question Type : MCQ Option Shuffling : Yes  
Correct Marks : 1 Wrong Marks : 0.25

18 पेनों का लागत मूल्य और 22 पेनों का बिक्री मूल्य बराबर है। लाभ या हानि प्रतिशत पता करें।

Options :

1. ✘  $17\frac{2}{11}\%$  हानि
2. ✘  $18\frac{2}{11}\%$  लाभ
3. ✔  $18\frac{2}{11}\%$  हानि
4. ✘  $17\frac{2}{11}\%$  लाभ

Question Number : 102 Question Id : 9983673458 Question Type : MCQ Option Shuffling : Yes

Correct Marks : 1 Wrong Marks : 0.25

A man bought apples at the rate of 16 for ₹ 68 and sold them at the rate of 20 for ₹ 95. How many apples should be sold to earn a net profit of ₹ 60?

Options :

1. ✖ 100

2. ✔ 120

3. ✖ 140

4. ✖ 130

Question Number : 102 Question Id : 9983673458 Question Type : MCQ Option Shuffling : Yes

Correct Marks : 1 Wrong Marks : 0.25

एक आदमी ₹ 68 में 16 की दर से सेब खरीदता है और उन्हें ₹ 95 में 20 की दर से बेचता है। उसे ₹ 60 का शुद्ध लाभ कमाने के लिए कितने सेब बेचने होंगे?

Options :

1. ✖ 100

2. ✔ 120

3. ✖ 140

4. ✖ 130

Question Number : 103 Question Id : 9983673459 Question Type : MCQ Option Shuffling : Yes

Correct Marks : 1 Wrong Marks : 0.25

Somnath sold two mobile phones for ₹ 12,740 each, one at 40% profit and the other at 20% loss. His gain or loss percentage in the entire transaction is:

Options :

1. ✘ 1% loss

2. ✘ 1% gain

3. ✘ 1.81% loss

4. ✔ 1.81% gain

Question Number : 103 Question Id : 9983673459 Question Type : MCQ Option Shuffling : Yes

Correct Marks : 1 Wrong Marks : 0.25

सोमनाथ ने प्रति फ़ोन ₹ 12,740 के हिसाब से दो मोबाइल फ़ोन बेचे, उसे एक फ़ोन पर 40% लाभ हुआ और दूसरे पर 20% हानि हुई। उसे पूरे लेन-देन पर हुए लाभ या हानि का प्रतिशत पता करें?

Options :

1. ✘ 1% हानि

2. ✘ 1% लाभ

3. ✘ 1.81% हानि

4. ✔ 1.81% लाभ

Question Number : 104 Question Id : 9983673460 Question Type : MCQ Option Shuffling : Yes

Correct Marks : 1 Wrong Marks : 0.25

The cost price of an article is ₹ 4,800. After allowing a discount of 20%, a gain of 25% was made. Find the marked price.

Options :

1. ✘ 7,000

2. ✖ 6,000

3. ✔ 7,500

4. ✖ 5,800

Question Number : 104 Question Id : 9983673460 Question Type : MCQ Option Shuffling : Yes

Correct Marks : 1 Wrong Marks : 0.25

एक वस्तु का लागत मूल्य ₹ 4,800 है। 20% की छूट देने पर, 25% का लाभ होता है। अंकित मूल्य पता करें।

Options :

1. ✖ 7,000

2. ✖ 6,000

3. ✔ 7,500

4. ✖ 5,800

Question Number : 105 Question Id : 9983673461 Question Type : MCQ Option Shuffling : Yes

Correct Marks : 1 Wrong Marks : 0.25

In order that there may be a profit of 40% after allowing a discount of 20% on the marked price, how much percentage should the marked price be above the cost price?

Options :

1. ✖ 40%

2. ✖ 45%

3. ✓ 75%

4. ✗ 60%

Question Number : 105 Question Id : 9983673461 Question Type : MCQ Option Shuffling : Yes

Correct Marks : 1 Wrong Marks : 0.25

एक ऑर्डर में अंकित मूल्य पर 20% की छूट देने पर 40% का लाभ हो सकता है, पता करें कि अंकित मूल्य, लागत मूल्य से कितना प्रतिशत अधिक होना चाहिए?

Options :

1. ✗ 40%

2. ✗ 45%

3. ✓ 75%

4. ✗ 60%

Question Number : 106 Question Id : 9983673462 Question Type : MCQ Option Shuffling : Yes

Correct Marks : 1 Wrong Marks : 0.25

At simple interest, a sum of money become 5 times the principal in 40 years. Find the rate percent.

Options :

1. ✓ 10

2. ✗ 20

3. ✗ 30

4. ✖ 40

Question Number : 106 Question Id : 9983673462 Question Type : MCQ Option Shuffling : Yes

Correct Marks : 1 Wrong Marks : 0.25

साधारण ब्याज पर, एक निश्चित राशि 40 वर्षों में मूलधन का 5 गुना हो जाती है। दर प्रतिशत पता करें।

Options :

1. ✔ 10

2. ✖ 20

3. ✖ 30

4. ✖ 40

Question Number : 107 Question Id : 9983673463 Question Type : MCQ Option Shuffling : Yes

Correct Marks : 1 Wrong Marks : 0.25

At simple interest, a sum of money becomes 5 times in 16 years. In how many years would the sum become 11 times of it?

Options :

1. ✖ 20

2. ✖ 30

3. ✖ 10

4. ✔ 40

Question Number : 107 Question Id : 9983673463 Question Type : MCQ Option Shuffling : Yes

Correct Marks : 1 Wrong Marks : 0.25

साधारण ब्याज पर, एक निश्चित राशि 16 वर्षों में 5 गुना हो जाती है। तो पता करें कि कितने वर्षों में राशि 11 गुना हो जाएगी।

Options :

1. ✘ 20

2. ✘ 30

3. ✘ 10

4. ✔ 40

Question Number : 108 Question Id : 9983673464 Question Type : MCQ Option Shuffling : Yes

Correct Marks : 1 Wrong Marks : 0.25

A shopkeeper borrowed ₹ 50,000 for 2 years from two different banks and with different simple interest rates. The difference between the simple interests of the two banks is ₹ 250. Find the difference between the rate percentages?

Options :

1. ✔ 0.25%

2. ✘ 0.5%

3. ✘ 0.75%

4. ✘ 1%

Question Number : 108 Question Id : 9983673464 Question Type : MCQ Option Shuffling : Yes

Correct Marks : 1 Wrong Marks : 0.25

एक दुकानदार ने दो अलग-अलग बैंकों से अलग-अलग साधारण ब्याज दरों पर 2 वर्ष के लिए ₹ 50,000 का ऋण लिया। दोनों बैंकों के साधारण ब्याज दरों के बीच का अंतर ₹ 250 है। दर प्रतिशत के बीच अंतर पता करें?

Options :



1. ✓ 0.25%

2. ✗ 0.5%

3. ✗ 0.75%

4. ✗ 1%

Question Number : 109 Question Id : 9983673465 Question Type : MCQ Option Shuffling : Yes

Correct Marks : 1 Wrong Marks : 0.25

A man borrowed ₹ 2,500 from a bank at 20% per annum. In how many years the sum would become ₹ 4,320 if the interest is compounded annually?

Options :

1. ✗ 2 years

2. ✗ 4 years

3. ✗ 6 years

4. ✓ 3 years

Question Number : 109 Question Id : 9983673465 Question Type : MCQ Option Shuffling : Yes

Correct Marks : 1 Wrong Marks : 0.25

एक आदमी ने एक बैंक से 20% की वार्षिक दर से ₹ 2,500 का ऋण लिया। यदि ब्याज वार्षिक रूप से संयोजित है, तो कितने वर्षों में राशि ₹ 4,320 हो जाएगी?

Options :

1. ✗ 2 साल



2. ✖ 4 साल

3. ✖ 6 साल

4. ✔ 3 साल

Question Number : 110 Question Id : 9983673466 Question Type : MCQ Option Shuffling : Yes

Correct Marks : 1 Wrong Marks : 0.25

Suman borrowed ₹ 40,000 from a money lender at 10% p.a for the 1<sup>st</sup> year and 20% p.a for the 2<sup>nd</sup> year. Find the compound interest after 2 years if the interest is compounded annually.

Options :

1. ✔ 12800

2. ✖ 12400

3. ✖ 6400

4. ✖ 6000

Question Number : 110 Question Id : 9983673466 Question Type : MCQ Option Shuffling : Yes

Correct Marks : 1 Wrong Marks : 0.25

सुमन ने पहले वर्ष के लिए 10% की वार्षिक दर और दूसरे वर्ष के लिए 20% की वार्षिक दर से एक साहूकार से ₹ 40,000 का ऋण लिया। यदि ब्याज वार्षिक रूप से संयोजित है, तो 2 वर्ष के बाद का चक्रवृद्धि ब्याज पता करें।

Options :

1. ✔ 12800

2. ✖ 12400

3. ✖ 6400

4. ✖ 6000

Question Number : 111 Question Id : 9983673467 Question Type : MCQ Option Shuffling : Yes  
Correct Marks : 1 Wrong Marks : 0.25

The altitude of an equilateral triangle is  $16\sqrt{3}$  cm. Find its perimeter.

Options :

1. ✖ 960 cm

2. ✖ 9600 cm

3. ✔ 96 cm

4. ✖ 0.96 cm

Question Number : 111 Question Id : 9983673467 Question Type : MCQ Option Shuffling : Yes  
Correct Marks : 1 Wrong Marks : 0.25

एक समबाहु त्रिभुज की ऊँचाई  $16\sqrt{3}$  cm है। इसकी परिधि पता करें।

Options :

1. ✖ 960 cm

2. ✖ 9600 cm

3. ✔ 96 cm

4. ✖ 0.96 cm

Question Number : 112 Question Id : 9983673468 Question Type : MCQ Option Shuffling : Yes

Correct Marks : 1 Wrong Marks : 0.25

The equal sides and the base of an isosceles triangle are 40 cm and 48 cm respectively. Find its area (in sq.cm)?

Options :

1. ✖ 758

2. ✖ 3072

3. ✔ 768

4. ✖ 868

Question Number : 112 Question Id : 9983673468 Question Type : MCQ Option Shuffling : Yes

Correct Marks : 1 Wrong Marks : 0.25

समद्विबाहु त्रिभुज की बराबर भुजाएँ और आधार क्रमशः 40 cm और 48 cm हैं।

इसका क्षेत्रफल (sq.cm में) पता करें?

Options :

1. ✖ 758

2. ✖ 3072

3. ✔ 768

4. ✖ 868

Question Number : 113 Question Id : 9983673469 Question Type : MCQ Option Shuffling : Yes

Correct Marks : 1 Wrong Marks : 0.25

A large solid metallic cylinder whose radius and height are equal to each other is to be melted and 162 identical solid balls are to be recast from the liquid metal so formed. What is the ratio of the radius of a ball to the radius of the cylinder?

Options :

1. ✘ 4 : 1

2. ✘ 1 : 4

3. ✘ 6 : 1

4. ✔ 1 : 6

Question Number : 113 Question Id : 9983673469 Question Type : MCQ Option Shuffling : Yes

Correct Marks : 1 Wrong Marks : 0.25

धातु का एक बड़ा ठोस सिलेंडर, जिसकी त्रिज्या और ऊँचाई एक दूसरे के बराबर हैं, उसे पिघलाया जाना है और पिघली हुई धातु से 162 समान ठोस गोले बनाने हैं। गेंद के त्रिज्या और सिलेंडर की त्रिज्या का अनुपात पता करें?

Options :

1. ✘ 4 : 1

2. ✘ 1 : 4

3. ✘ 6 : 1

4. ✔ 1 : 6

Question Number : 114 Question Id : 9983673470 Question Type : MCQ Option Shuffling : Yes

Correct Marks : 1 Wrong Marks : 0.25

P can finish a certain work in the same time in which Q and R together can finish it. If P and Q together could finish the work in 20 days and R alone in 100 days, Q alone can finish the work in:

Options :

1. ✘ 30 days

2. ✘ 40 days

3. ✔ 50 days

4. ✘ 60 days

Question Number : 114 Question Id : 9983673470 Question Type : MCQ Option Shuffling : Yes

Correct Marks : 1 Wrong Marks : 0.25

P को एक निश्चित कार्य को पूरा करने में उतना ही समय लगता है जितना Q और R को मिलकर कार्य को पूरा करने में लगता है। यदि P और Q एक साथ मिलकर कार्य को 20 दिनों में और R अकेले 100 दिनों में पूरा कर सकता है, तो पता करें कि Q को अकेले कार्य पूरा करने में कितने दिन लगेंगे?

Options :

1. ✘ 30 दिन

2. ✘ 40 दिन

3. ✔ 50 दिन

4. ✘ 60 दिन

Question Number : 115 Question Id : 9983673471 Question Type : MCQ Option Shuffling : Yes

Correct Marks : 1 Wrong Marks : 0.25

Ramya can finish a work in 48 days, Pooja in 18 days and Sudha in 24 days. Both Pooja and Sudha started the work but left after 6 days. Then Ramya came in. The remaining work will be completed by Ramya in \_\_\_\_\_ days.

Options :

1. ✖ 10

2. ✖ 15

3. ✖ 25

4. ✔ 20

Question Number : 115 Question Id : 9983673471 Question Type : MCQ Option Shuffling : Yes

Correct Marks : 1 Wrong Marks : 0.25

राम्या एक कार्य को 48 दिनों में, पूजा 18 दिनों में और सुधा 24 दिनों में पूरा कर सकती है। पूजा और सुधा दोनों काम शुरू करती हैं लेकिन 6 दिनों बाद काम छोड़ देती हैं। फिर राम्या आती है। राम्या शेष कार्य को \_\_\_\_\_ दिनों में पूरा कर देगी।

Options :

1. ✖ 10

2. ✖ 15

3. ✖ 25

4. ✔ 20

Question Number : 116 Question Id : 9983673472 Question Type : MCQ Option Shuffling : Yes

Correct Marks : 1 Wrong Marks : 0.25

The distance between Hyderabad and Shimla is 1998 km. A car leaves Hyderabad at 6 am and runs at an average speed of 111 km/h. The car stops on the way for 2 hr. 20 minutes. It would reach Shimla at:

Options :

1. ✖ 1:20 a.m. next day

2. ✖ 10:00 p.m. same day

3. ✔ 2:20 a.m. next day

4. ✖ 11:20 p.m. same day

Question Number : 116 Question Id : 9983673472 Question Type : MCQ Option Shuffling : Yes

Correct Marks : 1 Wrong Marks : 0.25

हैदराबाद और शिमला के बीच की दूरी 1998 km है। एक कार सुबह 6 बजे हैदराबाद से निकलती है और 111 km/h की औसत गति से चलती है। कार रास्ते में 2 घंटे 20 मिनट के लिए रुकती है। तो पता करें कि कार शिमला कब पहुँचेगी?

Options :

1. ✖ अगले दिन सुबह 1:20 बजे

2. ✖ उसी दिन रात 10:00 बजे

3. ✔ अगले दिन सुबह 2:20 बजे

4. ✖ उसी दिन रात 11:20 बजे

Question Number : 117 Question Id : 9983673473 Question Type : MCQ Option Shuffling : Yes

Correct Marks : 1 Wrong Marks : 0.25

A train running at  $\frac{9}{11}$ th of its own speed reached Kolkata in 66 hours. How much time could be saved if the train would have run at its own speed?

Options :

1. ✖ 66 hours

2. ✖ 54 hours



3. ✓ 12 hours

4. ✗ 10 hours

Question Number : 117 Question Id : 9983673473 Question Type : MCQ Option Shuffling : Yes

Correct Marks : 1 Wrong Marks : 0.25

एक गाड़ी अपनी गति के 9/11 हिस्से की गति से चलती है और 66 घंटे में कोलकाता पहुँचती है। यदि गाड़ी अपनी गति से चलती तो कितना समय बचाया जा सकता था?

Options :

1. ✗ 66 घंटे

2. ✗ 54 घंटे

3. ✓ 12 घंटे

4. ✗ 10 घंटे

Question Number : 118 Question Id : 9983673474 Question Type : MCQ Option Shuffling : Yes

Correct Marks : 1 Wrong Marks : 0.25

Pavan and Mohan started for Bangalore, Pavan by motor cycle and Mohan by car. The speed of the motor cycle is 60 kmph and that of the car is 80 kmph. Pavan takes 12 hour 4 minutes to reach the destination. How long would Mohan take to reach the destination?

Options :

1. ✗ 7.75 hr

2. ✓ 9.05 hr

3. ✗ 8.05 hr



4. ✖ 8.75 hr

Question Number : 118 Question Id : 9983673474 Question Type : MCQ Option Shuffling : Yes

Correct Marks : 1 Wrong Marks : 0.25

पवन और मोहन बैंगलोर की ओर चलते हैं, पवन मोटर साइकिल से जाता है और मोहन कार से। मोटर साइकिल की गति 60 kmph है और कार की गति 80 kmph है। पवन को मंज़िल तक पहुँचने में 12 घंटे 4 मिनट लगते हैं। पता करें कि मोहन को मंज़िल तक पहुँचने में कितना समय लगेगा?

Options :

1. ✖ 7.75 hr

2. ✔ 9.05 hr

3. ✖ 8.05 hr

4. ✖ 8.75 hr

Question Number : 119 Question Id : 9983673475 Question Type : MCQ Option Shuffling : Yes

Correct Marks : 1 Wrong Marks : 0.25

The table given below shows the number of executive chairs sold by five showrooms during the years 2011-2015. Answer the question based on the information given in the table:

Years/show room	P	Q	R	S	T
2011	366	246	554	334	356
2012	356	544	538	190	758
2013	266	322	452	352	478
2014	528	214	474	450	564
2015	556	544	426	568	586

The executive chairs sold by the showrooms T & Q in 2013 was what percentage less (correct up to two places of decimal) when compared to the executive chairs sold by the showroom Q in 2012 & 2015?

Options :

1. ✖ 25.47%

2. ✔ 26.47%

3. ✖ 24.57%

4. ✖ 24.67%

Question Number : 119 Question Id : 9983673475 Question Type : MCQ Option Shuffling : Yes

Correct Marks : 1 Wrong Marks : 0.25

नीचे दी गई तालिका 2011-2015 के दौरान पाँच शोरूमों द्वारा बेची गई एग्जीक्यूटिव कुर्सियों की संख्या दर्शाती है। तालिका में दी गई जानकारी के आधार पर प्रश्न का उत्तर दें:

साल/शोरूम	P	Q	R	S	T
2011	366	246	554	334	356
2012	356	544	538	190	758
2013	266	322	452	352	478
2014	528	214	474	450	564
2015	556	544	426	568	586

2013 में शोरूम T और Q द्वारा बेची गई एग्जीक्यूटिव कुर्सियों की संख्या 2012 और 2015 में Q शोरूम द्वारा बेची गई एग्जीक्यूटिव कुर्सियों की संख्या की तुलना में कितने प्रतिशत (दशमलव के दो स्थानों तक सही) कम थीं?

Options :

1. ✖ 25.47%

2. ✔ 26.47%

3. ✖ 24.57%

4. ✖ 24.67%

Question Number : 120 Question Id : 9983673476 Question Type : MCQ Option Shuffling : Yes

Correct Marks : 1 Wrong Marks : 0.25

The table given below shows the number of executive chairs sold by six showrooms during the years 2011-2015. Answer the question based on the information given in the table:

Years/show room	P	Q	R	S	T	U
2011	366	246	554	334	356	474
2012	356	544	538	190	758	396
2013	266	322	452	352	478	554
2014	528	214	474	450	564	474
2015	556	544	426	568	586	392

What is the average number (correct up to two places of decimal) of executive chairs sold in 2014 by all the showrooms taken together?

Options :

1. ✓ 450.67

2. ✗ 460.11

3. ✗ 352.11

4. ✗ 447.66

Question Number : 120 Question Id : 9983673476 Question Type : MCQ Option Shuffling : Yes

Correct Marks : 1 Wrong Marks : 0.25

नीचे दी गई तालिका 2011-2015 के दौरान छह शोरूमों द्वारा बेची गई एग्जीक्यूटिव कुर्सियों की संख्या दर्शाती है। तालिका में दी गई जानकारी के आधार पर प्रश्न का उत्तर दें:

साल/ शोरूम	P	Q	R	S	T	U
2011	366	246	554	334	356	474
2012	356	544	538	190	758	396
2013	266	322	452	352	478	554
2014	528	214	474	450	564	474
2015	556	544	426	568	586	392

2014 में सभी शोरूमों द्वारा बेची गई एग्जीक्यूटिव कुर्सियों की औसत संख्या (दशमलव के दो स्थानों तक सही) पता करें?

Options :

1. ✓ 450.67

2. ✗ 460.11

3. ✗ 352.11

4. ✗ 447.66

## General English1

Group Number :	7
Group Id :	998367133
Group Maximum Duration :	0
Group Minimum Duration :	0
Show Attended Group? :	No
Edit Attended Group? :	No
Break time:	0
Group Marks:	20
Is this Group for Examiner?:	No
Revisit allowed for group Instructions? :	Yes
Maximum Instruction Time:	0
Minimum Instruction Time:	0

## General English1

Section Id :	998367139
Section Number :	1
Section type :	Online
Mandatory or Optional:	Mandatory
Number of Questions:	20
Number of Questions to be attempted:	20
Section Marks:	20

Sub-Section Number:	1
Sub-Section Id:	998367207
Question Shuffling Allowed :	Yes

Question Number : 121 Question Id : 9983673477 Question Type : MCQ Option Shuffling : Yes

Correct Marks : 1 Wrong Marks : 0.25

Fill in the blanks with the most appropriate word.

From where we stood we could see the course of the river as it wound its way through the green fields and \_\_\_\_\_ valleys.

Options :

1. ✖ generous

2. ✖ sterile

3. ✔ fertile

4. ✖ harsh

Question Number : 121 Question Id : 9983673477 Question Type : MCQ Option Shuffling : Yes

Correct Marks : 1 Wrong Marks : 0.25

Fill in the blanks with the most appropriate word.

From where we stood we could see the course of the river as it wound its way through the green fields and \_\_\_\_\_ valleys.

Options :

1. ✖ generous

2. ✖ sterile

3. ✔ fertile

4. ✖ harsh

Question Number : 122 Question Id : 9983673478 Question Type : MCQ Option Shuffling : Yes

Correct Marks : 1 Wrong Marks : 0.25

Fill in the blanks with the most appropriate word.

The sole survivor of the ghastly \_\_\_\_\_ was a young boy.

Options :

1. ✓ catastrophe

2. ✗ fortune

3. ✗ eventuality

4. ✗ outcome

Question Number : 122 Question Id : 9983673478 Question Type : MCQ Option Shuffling : Yes

Correct Marks : 1 Wrong Marks : 0.25

Fill in the blanks with the most appropriate word.

The sole survivor of the ghastly \_\_\_\_\_ was a young boy.

Options :

1. ✓ catastrophe

2. ✗ fortune

3. ✗ eventuality

4. ✗ outcome

Question Number : 123 Question Id : 9983673479 Question Type : MCQ Option Shuffling : Yes

Correct Marks : 1 Wrong Marks : 0.25

Fill in the blanks with the most appropriate word.

Siddhartha was \_\_\_\_\_ about the result of his examination as he felt he had not done his Physics examination well.

Options :

1. ✗ confident

2. ✗ assertive

3. ✖ hesitant

4. ✔ apprehensive

Question Number : 123 Question Id : 9983673479 Question Type : MCQ Option Shuffling : Yes

Correct Marks : 1 Wrong Marks : 0.25

Fill in the blanks with the most appropriate word.

Siddhartha was \_\_\_\_\_ about the result of his examination as he felt he had not done his Physics examination well.

Options :

1. ✖ confident

2. ✖ assertive

3. ✖ hesitant

4. ✔ apprehensive

Question Number : 124 Question Id : 9983673480 Question Type : MCQ Option Shuffling : Yes

Correct Marks : 1 Wrong Marks : 0.25

Fill in the blanks with the most appropriate word.

At first, no one thought that Helen Keller would be \_\_\_\_\_ of learning anything.

Options :

1. ✖ skillful

2. ✖ competent

3. ✖ proficient

4. ✔ capable

Question Number : 124 Question Id : 9983673480 Question Type : MCQ Option Shuffling : Yes

Correct Marks : 1 Wrong Marks : 0.25

Fill in the blanks with the most appropriate word.

At first, no one thought that Helen Keller would be \_\_\_\_\_ of learning anything.

Options :

1. ✘ skillful
2. ✘ competent
3. ✘ proficient
4. ✔ capable

Question Number : 125 Question Id : 9983673481 Question Type : MCQ Option Shuffling : Yes  
Correct Marks : 1 Wrong Marks : 0.25

Select the correct meaning of the idiom given:

To lose face

Options :

1. ✘ not be able to go out frequently
2. ✔ become less respected by others
3. ✘ become less friendly and sociable
4. ✘ be able to win against your rival

Question Number : 125 Question Id : 9983673481 Question Type : MCQ Option Shuffling : Yes  
Correct Marks : 1 Wrong Marks : 0.25

Select the correct meaning of the idiom given:

To lose face

Options :

1. ✘ not be able to go out frequently



2. ✓ become less respected by others

3. ✗ become less friendly and sociable

4. ✗ be able to win against your rival

Question Number : 126 Question Id : 9983673482 Question Type : MCQ Option Shuffling : Yes  
Correct Marks : 1 Wrong Marks : 0.25

Select the grammatically correct option to fill in the blanks.

We had to call \_\_\_\_\_ plumber to repair \_\_\_\_\_ leaking tap in  
\_\_\_\_\_ kitchen.

Options :

1. ✗ a , the ,a

2. ✗ an, the, a

3. ✓ a , the, the

4. ✗ the, an, a

Question Number : 126 Question Id : 9983673482 Question Type : MCQ Option Shuffling : Yes  
Correct Marks : 1 Wrong Marks : 0.25

Select the grammatically correct option to fill in the blanks.

We had to call \_\_\_\_\_ plumber to repair \_\_\_\_\_ leaking tap  
in \_\_\_\_\_ kitchen.

Options :

1. ✗ a , the ,a

2. ✗ an, the, a

3. ✓ a , the, the

4. ✗ the, an, a

Question Number : 127 Question Id : 9983673483 Question Type : MCQ Option Shuffling : Yes  
Correct Marks : 1 Wrong Marks : 0.25

Select the grammatically correct option to fill in the blanks.

Vivek said, "I just want \_\_\_\_\_ new laptop, \_\_\_\_\_ doesn't matter which one."

Options :

1. ✘ the, this
2. ✘ a, that
3. ✘ an, this
4. ✔ a, it

Question Number : 127 Question Id : 9983673483 Question Type : MCQ Option Shuffling : Yes  
Correct Marks : 1 Wrong Marks : 0.25

Select the grammatically correct option to fill in the blanks.

Vivek said, "I just want \_\_\_\_\_ new laptop, \_\_\_\_\_ doesn't matter which one."

Options :

1. ✘ the, this
2. ✘ a, that
3. ✘ an, this
4. ✔ a, it

Question Number : 128 Question Id : 9983673484 Question Type : MCQ Option Shuffling : Yes  
Correct Marks : 1 Wrong Marks : 0.25

Select the grammatically correct option to fill in the blanks.

The family is right now going \_\_\_\_\_ a bad time.

Options :

1. ✘ in

2. ✓ through

3. ✗ on

4. ✗ across

Question Number : 128 Question Id : 9983673484 Question Type : MCQ Option Shuffling : Yes  
Correct Marks : 1 Wrong Marks : 0.25

Select the grammatically correct option to fill in the blanks.

The family is right now going \_\_\_\_\_ a bad time.

Options :

1. ✗ in

2. ✓ through

3. ✗ on

4. ✗ across

Question Number : 129 Question Id : 9983673485 Question Type : MCQ Option Shuffling : Yes  
Correct Marks : 1 Wrong Marks : 0.25

Select the grammatically correct option to fill in the blanks.

Gita met \_\_\_\_\_ officer at \_\_\_\_\_ party \_\_\_\_\_ her friend's house.

Options :

1. ✗ the, a, on

2. ✗ a, the, in

3. ✓ an, the, at

4. ✗ an, an, at

Question Number : 129 Question Id : 9983673485 Question Type : MCQ Option Shuffling : Yes  
Correct Marks : 1 Wrong Marks : 0.25

Select the grammatically correct option to fill in the blanks.

Gita met \_\_\_\_\_ officer at \_\_\_\_\_ party \_\_\_\_\_ her friend's house.

Options :

1. ✘ the, a, on
2. ✘ a, the, in
3. ✔ an, the, at
4. ✘ an, an, at

Question Number : 130 Question Id : 9983673486 Question Type : MCQ Option Shuffling : Yes

Correct Marks : 1 Wrong Marks : 0.25

Select the grammatically correct option to fill in the blanks.

My aunt told me that after her accident she \_\_\_\_\_ only walk using a stick.

Options :

1. ✘ may
2. ✘ can
3. ✘ can't
4. ✔ could

Question Number : 130 Question Id : 9983673486 Question Type : MCQ Option Shuffling : Yes

Correct Marks : 1 Wrong Marks : 0.25

Select the grammatically correct option to fill in the blanks.

My aunt told me that after her accident she \_\_\_\_\_ only walk using a stick.

Options :

1. ✖ may
2. ✖ can
3. ✖ can't
4. ✔ could

Question Number : 131 Question Id : 9983673487 Question Type : MCQ Option Shuffling : Yes  
Correct Marks : 1 Wrong Marks : 0.25

Select the grammatically correct option to fill in the blanks.

The cashier asked him to sign again, \_\_\_\_\_?

Options :

1. ✔ didn't he
2. ✖ he did
3. ✖ did he
4. ✖ isn't it

Question Number : 131 Question Id : 9983673487 Question Type : MCQ Option Shuffling : Yes  
Correct Marks : 1 Wrong Marks : 0.25

Select the grammatically correct option to fill in the blanks.

The cashier asked him to sign again, \_\_\_\_\_?

Options :

1. ✔ didn't he
2. ✖ he did
3. ✖ did he
4. ✖ isn't it

Question Number : 132 Question Id : 9983673488 Question Type : MCQ Option Shuffling : Yes  
Correct Marks : 1 Wrong Marks : 0.25

Select the grammatically correct option to fill in the blanks.

One of the two girls in the picture \_\_\_\_\_ my sister.

Options :

1. ✖ be
2. ✔ is
3. ✖ are
4. ✖ were

Question Number : 132 Question Id : 9983673488 Question Type : MCQ Option Shuffling : Yes

Correct Marks : 1 Wrong Marks : 0.25

Select the grammatically correct option to fill in the blanks.

One of the two girls in the picture \_\_\_\_\_ my sister.

Options :

1. ✖ be
2. ✔ is
3. ✖ are
4. ✖ were

Question Number : 133 Question Id : 9983673489 Question Type : MCQ Option Shuffling : Yes

Correct Marks : 1 Wrong Marks : 0.25

Select the grammatically correct option to fill in the blanks.

The number of malls in this locality \_\_\_\_\_ increased since last year.

Options :

1. ✔ has
2. ✖ had

3. ✖ have

4. ✖ were

Question Number : 133 Question Id : 9983673489 Question Type : MCQ Option Shuffling : Yes

Correct Marks : 1 Wrong Marks : 0.25

Select the grammatically correct option to fill in the blanks.

The number of malls in this locality \_\_\_\_\_ increased since last year.

Options :

1. ✔ has

2. ✖ had

3. ✖ have

4. ✖ were

Question Number : 134 Question Id : 9983673490 Question Type : MCQ Option Shuffling : Yes

Correct Marks : 1 Wrong Marks : 0.25

Select the grammatically correct option to fill in the blanks.

You seem to have a \_\_\_\_\_ collection of books than I have.

Options :

1. ✖ large

2. ✖ largest

3. ✖ more larger

4. ✔ larger

Question Number : 134 Question Id : 9983673490 Question Type : MCQ Option Shuffling : Yes

Correct Marks : 1 Wrong Marks : 0.25

Select the grammatically correct option to fill in the blanks.

You seem to have a \_\_\_\_\_ collection of books than I have.

Options :

1. ✖ large
2. ✖ largest
3. ✖ more larger
4. ✔ larger

Question Number : 135 Question Id : 9983673491 Question Type : MCQ Option Shuffling : Yes  
Correct Marks : 1 Wrong Marks : 0.25

Select the grammatically correct option to fill in the blanks.

Bhaskar worked very hard \_\_\_\_\_ his family could enjoy all the comforts of life.

Options :

1. ✖ as well as
2. ✔ in order that
3. ✖ no matter how
4. ✖ so far as

Question Number : 135 Question Id : 9983673491 Question Type : MCQ Option Shuffling : Yes  
Correct Marks : 1 Wrong Marks : 0.25

Select the grammatically correct option to fill in the blanks.

Bhaskar worked very hard \_\_\_\_\_ his family could enjoy all the comforts of life.

Options :

1. ✖ as well as



2. ✓ in order that

3. ✗ no matter how

4. ✗ so far as

Question Number : 136 Question Id : 9983673492 Question Type : MCQ Option Shuffling : Yes  
Correct Marks : 1 Wrong Marks : 0.25

Given below are four segments of a sentence.

Select the option that gives the correct order of the segments to form a logical sentence.

A. If you don't learn

B. Too much work might take

C. To delegate

D. a toll on your health

Options :

1. ✗ ABDC

2. ✗ CDBA

3. ✓ BDAC

4. ✗ BCDA

Question Number : 136 Question Id : 9983673492 Question Type : MCQ Option Shuffling : Yes  
Correct Marks : 1 Wrong Marks : 0.25

Given below are four segments of a sentence.

Select the option that gives the correct order of the segments to form a logical sentence.

- A. If you don't learn
- B. Too much work might take
- C. To delegate
- D. a toll on your health

Options :

- 1. ✘ ABDC
- 2. ✘ CDBA
- 3. ✔ BDAC
- 4. ✘ BCDA

Question Number : 137 Question Id : 9983673493 Question Type : MCQ Option Shuffling : Yes  
Correct Marks : 1 Wrong Marks : 0.25

Given below are four segments of a sentence. Select the option that gives the correct order of the segments to form a logical sentence.

- A. On the professional front
- B. For doing a quantum of work
- C. Or encouragement
- D. You can get a boost

Options :

- 1. ✔ DCBA

2. ✖ BACD

3. ✖ DBAC

4. ✖ CBDA

Question Number : 137 Question Id : 9983673493 Question Type : MCQ Option Shuffling : Yes  
Correct Marks : 1 Wrong Marks : 0.25

Given below are four segments of a sentence. Select the option that gives the correct order of the segments to form a logical sentence.

- A. On the professional front
- B. For doing a quantum of work
- C. Or encouragement
- D. You can get a boost

Options :

1. ✔ DCBA

2. ✖ BACD

3. ✖ DBAC

4. ✖ CBDA

Question Number : 138 Question Id : 9983673494 Question Type : MCQ Option Shuffling : Yes  
Correct Marks : 1 Wrong Marks : 0.25

Given below are four segments of a sentence. Select the option that gives the correct order of the segments to form a logical sentence.

- A. related to management studies and economics
- B. various fields
- C. attended the conference
- D. research scholars from

Options :

- 1. ✖ DACB
- 2. ✖ ADBC
- 3. ✖ DCAB
- 4. ✔ DBAC

Question Number : 138 Question Id : 9983673494 Question Type : MCQ Option Shuffling : Yes  
Correct Marks : 1 Wrong Marks : 0.25

Given below are four segments of a sentence. Select the option that gives the correct order of the segments to form a logical sentence.

- A. related to management studies and economics
- B. various fields
- C. attended the conference
- D. research scholars from

Options :

- 1. ✖ DACB
- 2. ✖ ADBC
- 3. ✖ DCAB

## 4. ✓ DBAC

Question Number : 139 Question Id : 9983673495 Question Type : MCQ Option Shuffling : Yes  
Correct Marks : 1 Wrong Marks : 0.25

Given below are four segments of a sentence. Select the option that gives the correct order of the segments to form a logical sentence.

- A. The world's Number 1
- B. To be ranked
- C. Junior Squash player
- D. He was the first Indian

Options :

- 1. ✗ DCAB
- 2. ✓ DBAC
- 3. ✗ BADC
- 4. ✗ ACBD

Question Number : 139 Question Id : 9983673495 Question Type : MCQ Option Shuffling : Yes  
Correct Marks : 1 Wrong Marks : 0.25

Given below are four segments of a sentence. Select the option that gives the correct order of the segments to form a logical sentence.

- A. The world's Number 1
- B. To be ranked
- C. Junior Squash player
- D. He was the first Indian

Options :

1. ✖ DCAB

2. ✔ DBAC

3. ✖ BADC

4. ✖ ACBD

Question Number : 140 Question Id : 9983673496 Question Type : MCQ Option Shuffling : Yes

Correct Marks : 1 Wrong Marks : 0.25

Given below are four segments of a sentence. Select the option that gives the correct order of the segments to form a logical sentence.

A. so carry a lot of thermal wear

B. become very cold

C. Bhutan can

D. if you are going hiking

Options :

1. ✔ CBAD

2. ✖ DACB

3. ✖ CABD

4. ✖ DBCB

Question Number : 140 Question Id : 9983673496 Question Type : MCQ Option Shuffling : Yes

Correct Marks : 1 Wrong Marks : 0.25

Given below are four segments of a sentence. Select the option that gives the correct order of the segments to form a logical sentence.

- A. so carry a lot of thermal wear
- B. become very cold
- C. Bhutan can
- D. if you are going hiking

Options :

- 1. ✓ CBAD
- 2. ✗ DACB
- 3. ✗ CABD
- 4. ✗ DBCB

## General English2

Group Number :	8
Group Id :	998367134
Group Maximum Duration :	0
Group Minimum Duration :	0
Show Attended Group? :	No
Edit Attended Group? :	No
Break time:	0
Group Marks:	20
Is this Group for Examiner?:	No
Revisit allowed for group Instructions? :	Yes
Maximum Instruction Time:	0
Minimum Instruction Time:	0

## General English2

Section Id :	998367140
Section Number :	1
Section type :	Online

<b>Mandatory or Optional:</b>	Mandatory
<b>Number of Questions:</b>	12
<b>Number of Questions to be attempted:</b>	12
<b>Section Marks:</b>	20

<b>Sub-Section Number:</b>	1
<b>Sub-Section Id:</b>	998367208
<b>Question Shuffling Allowed :</b>	Yes

Question Number : 141 Question Id : 9983673497 Question Type : MCQ Option Shuffling : Yes  
Correct Marks : 1 Wrong Marks : 0.25

Select the most appropriate synonym of the underlined word.

The mechanic repaired my watch within minutes although it had such an intricate mechanism.

Options :

1. ✖ simple
2. ✔ complex
3. ✖ modest
4. ✖ diffident

Question Number : 141 Question Id : 9983673497 Question Type : MCQ Option Shuffling : Yes  
Correct Marks : 1 Wrong Marks : 0.25

Select the most appropriate synonym of the underlined word.

The mechanic repaired my watch within minutes although it had such an intricate mechanism.

Options :

1. ✖ simple
2. ✔ complex
3. ✖ modest
4. ✖ diffident



Question Number : 142 Question Id : 9983673498 Question Type : MCQ Option Shuffling : Yes  
Correct Marks : 1 Wrong Marks : 0.25

Select the most appropriate synonym of the underlined word.

We were told not to deviate from the directions they gave us to reach their village.

Options :

1. ✖ conform
2. ✖ adapt
3. ✔ divert
4. ✖ adjust

Question Number : 142 Question Id : 9983673498 Question Type : MCQ Option Shuffling : Yes  
Correct Marks : 1 Wrong Marks : 0.25

Select the most appropriate synonym of the underlined word.

We were told not to deviate from the directions they gave us to reach their village.

Options :

1. ✖ conform
2. ✖ adapt
3. ✔ divert
4. ✖ adjust

Question Number : 143 Question Id : 9983673499 Question Type : MCQ Option Shuffling : Yes  
Correct Marks : 1 Wrong Marks : 0.25

Select the most appropriate synonym of the underlined word.

From the opulent style of living of the Ambanis one can guess that they have a lot of wealth.

Options :

1. ✖ deprived
2. ✖ humble
3. ✖ unfortunate
4. ✔ wealthy

Question Number : 143 Question Id : 9983673499 Question Type : MCQ Option Shuffling : Yes  
Correct Marks : 1 Wrong Marks : 0.25

Select the most appropriate synonym of the underlined word.

From the opulent style of living of the Ambanis one can guess that they have a lot of wealth.

Options :

1. ✖ deprived
2. ✖ humble
3. ✖ unfortunate
4. ✔ wealthy

Question Number : 144 Question Id : 9983673500 Question Type : MCQ Option Shuffling : Yes  
Correct Marks : 1 Wrong Marks : 0.25

Select the most appropriate synonym of the underlined word.

The rescue operations were hampered by constant rains.

Options :

1. ✔ blocked
2. ✖ facilitated
3. ✖ assisted
4. ✖ expedited

Question Number : 144 Question Id : 9983673500 Question Type : MCQ Option Shuffling : Yes  
Correct Marks : 1 Wrong Marks : 0.25

Select the most appropriate synonym of the underlined word.

The rescue operations were hampered by constant rains.

Options :

1. ✓ blocked
2. ✗ facilitated
3. ✗ assisted
4. ✗ expedited

Question Number : 145 Question Id : 9983673501 Question Type : MCQ Option Shuffling : Yes  
Correct Marks : 1 Wrong Marks : 0.25

Select the most appropriate synonym of the underlined word.

His audacious remark was not taken well by the Chairman

Options :

1. ✗ cowardly
2. ✓ cheeky
3. ✗ craven
4. ✗ fearful

Question Number : 145 Question Id : 9983673501 Question Type : MCQ Option Shuffling : Yes  
Correct Marks : 1 Wrong Marks : 0.25

Select the most appropriate synonym of the underlined word.

His audacious remark was not taken well by the Chairman

Options :

1. ✗ cowardly
2. ✓ cheeky

3. ✖ craven

4. ✖ fearful

Question Number : 146 Question Id : 9983673502 Question Type : MCQ Option Shuffling : Yes

Correct Marks : 1 Wrong Marks : 0.25

Select the most appropriate antonym of the underlined word.

All attempts of the parents to pacify the child and he bawled even more loudly.

Options :

1. ✖ soothe

2. ✖ appease

3. ✔ provoke

4. ✖ placate

Question Number : 146 Question Id : 9983673502 Question Type : MCQ Option Shuffling : Yes

Correct Marks : 1 Wrong Marks : 0.25

Select the most appropriate antonym of the underlined word.

All attempts of the parents to pacify the child and he bawled even more loudly.

Options :

1. ✖ soothe

2. ✖ appease

3. ✔ provoke

4. ✖ placate

Question Number : 147 Question Id : 9983673503 Question Type : MCQ Option Shuffling : Yes

Correct Marks : 1 Wrong Marks : 0.25

Select the most appropriate antonym of the underlined word.

This institution was established by the trust twenty-five years ago.

Options :

1. ✓ demolished
2. ✗ founded
3. ✗ recognised
4. ✗ formed

Question Number : 147 Question Id : 9983673503 Question Type : MCQ Option Shuffling : Yes  
Correct Marks : 1 Wrong Marks : 0.25

Select the most appropriate antonym of the underlined word.

This institution was established by the trust twenty-five years ago.

Options :

1. ✓ demolished
2. ✗ founded
3. ✗ recognised
4. ✗ formed

Question Number : 148 Question Id : 9983673504 Question Type : MCQ Option Shuffling : Yes  
Correct Marks : 1 Wrong Marks : 0.25

Select the most appropriate antonym of the underlined word.

Sudha shows great reverence for her professors.

Options :

1. ✗ admiration

2. ✓ scorn

3. ✗ esteem

4. ✗ wonder

Question Number : 148 Question Id : 9983673504 Question Type : MCQ Option Shuffling : Yes  
Correct Marks : 1 Wrong Marks : 0.25

Select the most appropriate antonym of the underlined word.

Sudha shows great reverence for her professors.

Options :

1. ✗ admiration

2. ✓ scorn

3. ✗ esteem

4. ✗ wonder

Question Number : 149 Question Id : 9983673505 Question Type : MCQ Option Shuffling : Yes  
Correct Marks : 1 Wrong Marks : 0.25

Select the most appropriate antonym of the underlined word.

The humorous television serial is a favourite of the family.

Options :

1. ✗ drowsy

2. ✓ tragic

3. ✗ amusing

4. ✗ lengthy

Question Number : 149 Question Id : 9983673505 Question Type : MCQ Option Shuffling : Yes  
Correct Marks : 1 Wrong Marks : 0.25

Select the most appropriate antonym of the underlined word.

The humorous television serial is a favourite of the family.

Options :

1. ✖ drowsy
2. ✔ tragic
3. ✖ amusing
4. ✖ lengthy

Question Number : 150 Question Id : 9983673506 Question Type : MCQ Option Shuffling : Yes  
Correct Marks : 1 Wrong Marks : 0.25

Select the most appropriate antonym of the underlined word.

The innate goodness of Shankar made him extend a helping hand to the old man crossing the road.

Options :

1. ✖ natural
2. ✖ normal
3. ✔ acquired
4. ✖ inborn

Question Number : 150 Question Id : 9983673506 Question Type : MCQ Option Shuffling : Yes  
Correct Marks : 1 Wrong Marks : 0.25

Select the most appropriate antonym of the underlined word.

The innate goodness of Shankar made him extend a helping hand to the old man crossing the road.

Options :

1. ✖ natural

2. ✖ normal

3. ✔ acquired

4. ✖ inborn

**Sub-Section Number:** 2  
**Sub-Section Id:** 998367209  
**Question Shuffling Allowed :** Yes

**Question Id : 9983673507 Question Type : COMPREHENSION Sub Question Shuffling Allowed : Yes Group Comprehension Questions : No**

**Question Numbers : (151 to 155)**

**Question Label : Comprehension**



Read the passage and answer the questions given below it.

Leonardo da Vinci, which in Italian means “Leonardo from Vinci” was born on April 15, 1452, at Anchiano, near Vinci, Republic of Florence in Italy and died on May 2, 1519, at Cloux [now Clos-Lucé], in France. He was an Italian painter, draftsman, sculptor, architect, and engineer whose genius, perhaps more than that of any other figure, epitomized the Renaissance humanist ideal. His Last Supper (1495–98) and Mona Lisa (c. 1503–19) are among the most widely popular and influential paintings of the Renaissance. His notebooks reveal a spirit of scientific inquiry and a mechanical inventiveness that were centuries ahead of their time.

The unique fame that Leonardo enjoyed in his lifetime and that, filtered by historical criticism, has remained undimmed to the present day rests largely on his unlimited desire for knowledge, which guided all his thinking and behaviour. An artist by disposition and endowment, he considered his eyes to be his main avenue to knowledge; to Leonardo, sight was man’s highest sense because it alone conveyed the facts of experience immediately, correctly, and with certainty. Hence, every phenomenon perceived became an object of knowledge, and ‘knowing how to see’ became the great theme of his studies. He applied his creativity to every realm in which graphic representation is used: he was a painter, sculptor, architect, and engineer. But he went even beyond that. He used his superb intellect, unusual powers of observation, and mastery of the art of drawing to study nature itself, a line of inquiry that allowed his dual pursuits of art and science to flourish.

Sub questions

Question Number : 151 Question Id : 9983673508 Question Type : MCQ Option Shuffling : Yes

Correct Marks : 1 Wrong Marks : 0.25

From the passage we can infer that a Renaissance humanist is one who:

Options :

1. ✓ practices humanistic arts and is pragmatic
2. ✗ combines different professions
3. ✗ believes in the different senses
4. ✗ works closely under the influence of nature

Question Number : 152 Question Id : 9983673509 Question Type : MCQ Option Shuffling : Yes

Correct Marks : 1 Wrong Marks : 0.25

This passage suggests that Leonardo:

Options :

1. ✗ was greatly liked only during his lifetime
2. ✗ as appreciated only after his death
3. ✗ has been recognised by historians and critics today
4. ✓ continues to be famous since his times

Question Number : 153 Question Id : 9983673510 Question Type : MCQ Option Shuffling : Yes

Correct Marks : 1 Wrong Marks : 0.25

Leonardo considered sight to be the most important sense of a human being because:

Options :

1. ✗ if we lose it we cannot appreciate the beauty of nature
2. ✓ it gives us access to the facts around us directly and exactly
3. ✗ it helps us to do our work efficiently
4. ✗ if we cannot see we would miss the visual aspect of human life

Question Number : 154 Question Id : 9983673511 Question Type : MCQ Option Shuffling : Yes  
Correct Marks : 1 Wrong Marks : 0.25

Leonardo's greatest inspiration came from:

Options :

1. ✖ his love of human beings
2. ✔ his thirst for knowledge and creativity
3. ✖ the desire for fame and recognition
4. ✖ the thought of sharing his knowledge

Question Number : 155 Question Id : 9983673512 Question Type : MCQ Option Shuffling : Yes  
Correct Marks : 1 Wrong Marks : 0.25

According to the passage which of the following is NOT true about Leonardo?

Options :

1. ✖ He wrote notes about science and creativity.
2. ✖ All his works was based on graphic representation.
3. ✔ His themes were selected from the subjects of his predecessors.
4. ✖ He was equally good at arts and science

Question Id : 9983673507 Question Type : COMPREHENSION Sub Question Shuffling Allowed : Yes Group Comprehension Questions : No

Question Numbers : (151 to 155)

Question Label : Comprehension

Read the passage and answer the questions given below it.

Leonardo da Vinci, which in Italian means “Leonardo from Vinci” was born on April 15, 1452, at Anchiano, near Vinci, Republic of Florence in Italy and died on May 2, 1519, at Cloux [now Clos-Lucé], in France. He was an Italian painter, draftsman, sculptor, architect, and engineer whose genius, perhaps more than that of any other figure, epitomized the Renaissance humanist ideal. His Last Supper (1495-98) and Mona Lisa (c. 1503-19) are among the most widely popular and influential paintings of the Renaissance. His notebooks reveal a spirit of scientific inquiry and a mechanical inventiveness that were centuries ahead of their time.

The unique fame that Leonardo enjoyed in his lifetime and that, filtered by historical criticism, has remained undimmed to the present day rests largely on his unlimited desire for knowledge, which guided all his thinking and behaviour. An artist by disposition and endowment, he considered his eyes to be his main avenue to knowledge; to Leonardo, sight was man’s highest sense because it alone conveyed the facts of experience immediately, correctly, and with certainty. Hence, every phenomenon perceived became an object of knowledge, and ‘knowing how to see’ became the great theme of his studies. He applied his creativity to every realm in which graphic representation is used: he was a painter, sculptor, architect, and engineer. But he went even beyond that. He used his superb intellect, unusual powers of observation, and mastery of the art of drawing to study nature itself, a line of inquiry that allowed his dual pursuits of art and science to flourish.

Sub questions

Question Number : 151 Question Id : 9983673508 Question Type : MCQ Option Shuffling : Yes  
Correct Marks : 1 Wrong Marks : 0.25

From the passage we can infer that a Renaissance humanist is one who:

Options :

1. ✓ practices humanistic arts and is pragmatic
2. ✗ combines different professions
3. ✗ believes in the different senses
4. ✗ works closely under the influence of nature

Question Number : 152 Question Id : 9983673509 Question Type : MCQ Option Shuffling : Yes  
Correct Marks : 1 Wrong Marks : 0.25

This passage suggests that Leonardo:

Options :

1. ✗ was greatly liked only during his lifetime
2. ✗ as appreciated only after his death
3. ✗ has been recognised by historians and critics today
4. ✓ continues to be famous since his times

Question Number : 153 Question Id : 9983673510 Question Type : MCQ Option Shuffling : Yes  
Correct Marks : 1 Wrong Marks : 0.25

Leonardo considered sight to be the most important sense of a human being because:

Options :

1. ✗ if we lose it we cannot appreciate the beauty of nature
2. ✓ it gives us access to the facts around us directly and exactly

3. ✖ it helps us to do our work efficiently

4. ✖ if we cannot see we would miss the visual aspect of human life

Question Number : 154 Question Id : 9983673511 Question Type : MCQ Option Shuffling : Yes  
Correct Marks : 1 Wrong Marks : 0.25

Leonardo's greatest inspiration came from:

Options :

1. ✖ his love of human beings

2. ✔ his thirst for knowledge and creativity

3. ✖ the desire for fame and recognition

4. ✖ the thought of sharing his knowledge

Question Number : 155 Question Id : 9983673512 Question Type : MCQ Option Shuffling : Yes  
Correct Marks : 1 Wrong Marks : 0.25

According to the passage which of the following is NOT true about Leonardo?

Options :

1. ✖ He wrote notes about science and creativity.

2. ✖ All his works was based on graphic representation.

3. ✔ His themes were selected from the subjects of his predecessors.

4. ✖ He was equally good at arts and science

Sub-Section Number: 3  
Sub-Section Id: 998367210  
Question Shuffling Allowed : Yes

Question Id : 9983673513 Question Type : COMPREHENSION Sub Question Shuffling Allowed : Yes Group Comprehension Questions : No  
Question Numbers : (156 to 160)

Question Label : Comprehension

Read the passage and answer the questions given below it.

Try clapping inside the Golconda Fort and discover what happens. Snap your fingers and you shall be heard a distance away. The first thing anyone entering the Golconda Fort in Hyderabad does is clap. No, they are not seeking the help of the king, they are testing the acoustics of the Golconda Fort from where the Qutb Shahi kings ruled for nearly 200 years. Clap inside the grand portico under the dome and it can be heard in the Bala Hisar pavilion more than a kilometre away, on top of a mountain. Even today, as buses and vehicles roar around the inner fort, you can hear people clapping in the portico. This story is not about the acoustics of the Golconda fort but about exchange of technology much before broadband, Internet and computers made this possible with a click.

The fort that used to be a rock and mud structure was completed in 1582 under the supervision of architects, most of whom hailed from Isfahan in Iran. Mir Momin laid out the plan for Hyderabad with Charminar at the centrepiece. As you clap, try noticing the series of arches with diminishing sizes. The arches are one of the secrets of the stunning acoustics that could help an army commander listen to what the sentry was doing. A similar acoustic device can be found in Isfahan where it was created for religious purposes.

The Shahi Mosque (now called Imam Mosque) has twin echo chambers that ensure that the Moulvi in the tower can be sure of being heard by all the congregation when he gives the sermon. In the middle of the great prayer hall there are few black paving stones. Stamp on them and it creates seven clear echoes.

These ancient architects understood both the facets of sound echo as well as amplification that form part of sound physics. They used material known for their sound reflection properties like clay pots and pans and blended them into the building material. The next thing they did was to use compression and amplification. The architects did not bring maps. They just understood sound. The clapping portico in Golconda Fort has on one side a series of arches, each smaller than the preceding one. So, a sound wave generated under the dome of the portico would get compressed and then bounce back amplified enough to reach a distance of more than a kilometre.



Sub questions

Question Number : 156 Question Id : 9983673514 Question Type : MCQ Option Shuffling : Yes

Correct Marks : 1 Wrong Marks : 0.25

‘No, they are not seeking the help of the king,’ suggests that:

Options :

1. ✖ There is a king living there now who will hear them
2. ✔ People used to clap when they wanted to get noticed
3. ✖ The people are happy to be standing there
4. ✖ They are afraid to approach any king for assistance

Question Number : 157 Question Id : 9983673515 Question Type : MCQ Option Shuffling : Yes

Correct Marks : 1 Wrong Marks : 0.25

This passage is mainly about:

Options :

1. ✖ The greatness of the Qutub Shahi kings
2. ✖ The behaviour of people who visit the monument
3. ✔ The peculiar sound and structure of the Fort
4. ✖ The reasons for the design of the Fort

Question Number : 158 Question Id : 9983673516 Question Type : MCQ Option Shuffling : Yes

Correct Marks : 1 Wrong Marks : 0.25

The sound gets amplified because of:

Options :

1. ✖ twin echo chambers
2. ✖ the pavilion
3. ✖ the dome
4. ✔ the arches

Question Number : 159 Question Id : 9983673517 Question Type : MCQ Option Shuffling : Yes

Correct Marks : 1 Wrong Marks : 0.25

What was mixed with the building materials before construction?

Options :

1. ✓ clay pots and pans

2. ✖ black stones

3. ✖ rocks and mud

4. ✖ mud and clay

Question Number : 160 Question Id : 9983673518 Question Type : MCQ Option Shuffling : Yes

Correct Marks : 1 Wrong Marks : 0.25

Which statement is not true according to the passage?

Options :

1. ✖ The acoustics were inspired by a mosque in Isfahan

2. ✓ The Charminar has the same style of acoustics.

3. ✖ The architects who designed the fort had come from Iran.

4. ✖ The architects knew about sound technology far in advance of their times.

Question Id : 9983673513 Question Type : COMPREHENSION Sub Question Shuffling Allowed : Yes Group Comprehension Questions : No

Question Numbers : (156 to 160)

Question Label : Comprehension

Read the passage and answer the questions given below it.

Try clapping inside the Golconda Fort and discover what happens. Snap your fingers and you shall be heard a distance away. The first thing anyone entering the Golconda Fort in Hyderabad does is clap. No, they are not seeking the help of the king, they are testing the acoustics of the Golconda Fort from where the Qutb Shahi kings ruled for nearly 200 years. Clap inside the grand portico under the dome and it can be heard in the Bala Hisar pavilion more than a kilometre away, on top of a mountain. Even today, as buses and vehicles roar around the inner fort, you can hear people clapping in the portico. This story is not about the acoustics of the Golconda fort but about exchange of technology much before broadband, Internet and computers made this possible with a click.

The fort that used to be a rock and mud structure was completed in 1582 under the supervision of architects, most of whom hailed from Isfahan in Iran. Mir Momin laid out the plan for Hyderabad with Charminar at the centrepiece. As you clap, try noticing the series of arches with diminishing sizes. The arches are one of the secrets of the stunning acoustics that could help an army commander listen to what the sentry was doing. A similar acoustic device can be found in Isfahan where it was created for religious purposes. The Shahi Mosque (now called Imam Mosque) has twin echo chambers that ensure that the Moulvi in the tower can be sure of being heard by all the congregation when he gives the sermon. In the middle of the great prayer hall there are few black paving stones. Stamp on them and it creates seven clear echoes.

These ancient architects understood both the facets of sound echo as well as amplification that form part of sound physics. They used material known for their sound reflection properties like clay pots and pans and blended them into the building material. The next thing they did was to use compression and amplification. The architects did not bring maps. They just understood sound. The clapping portico in Golconda Fort has on one side a series of arches, each smaller than the preceding one. So, a sound wave generated under the dome of the portico would get compressed and then bounce back amplified enough to reach a distance of more than a kilometre.

## Sub questions

Question Number : 156 Question Id : 9983673514 Question Type : MCQ Option Shuffling : Yes

Correct Marks : 1 Wrong Marks : 0.25

'No, they are not seeking the help of the king,' suggests that:

Options :

1. ✘ There is a king living there now who will hear them
2. ✔ People used to clap when they wanted to get noticed
3. ✘ The people are happy to be standing there
4. ✘ They are afraid to approach any king for assistance

Question Number : 157 Question Id : 9983673515 Question Type : MCQ Option Shuffling : Yes

Correct Marks : 1 Wrong Marks : 0.25

This passage is mainly about:

Options :

1. ✘ The greatness of the Qutub Shahi kings
2. ✘ The behaviour of people who visit the monument
3. ✔ The peculiar sound and structure of the Fort
4. ✘ The reasons for the design of the Fort

Question Number : 158 Question Id : 9983673516 Question Type : MCQ Option Shuffling : Yes

Correct Marks : 1 Wrong Marks : 0.25

The sound gets amplified because of:

Options :

1. ✘ twin echo chambers
2. ✘ the pavilion
3. ✘ the dome
4. ✔ the arches

Question Number : 159 Question Id : 9983673517 Question Type : MCQ Option Shuffling : Yes

Correct Marks : 1 Wrong Marks : 0.25

What was mixed with the building materials before construction?

Options :

1. ✓ clay pots and pans
2. ✗ black stones
3. ✗ rocks and mud
4. ✗ mud and clay

Question Number : 160 Question Id : 9983673518 Question Type : MCQ Option Shuffling : Yes  
Correct Marks : 1 Wrong Marks : 0.25

Which statement is not true according to the passage?

Options :

1. ✗ The acoustics were inspired by a mosque in Isfahan
2. ✓ The Charminar has the same style of acoustics.
3. ✗ The architects who designed the fort had come from Iran.
4. ✗ The architects knew about sound technology far in advance of their times.

## General Hindi1

Group Number :	9
Group Id :	998367135
Group Maximum Duration :	0
Group Minimum Duration :	0
Show Attended Group? :	No
Edit Attended Group? :	No
Break time:	0
Group Marks:	20
Is this Group for Examiner?:	No
Revisit allowed for group Instructions? :	Yes
Maximum Instruction Time:	0
Minimum Instruction Time:	0

# General Hindi1

Section Id :	998367141
Section Number :	1
Section type :	Online
Mandatory or Optional:	Mandatory
Number of Questions:	20
Number of Questions to be attempted:	20
Section Marks:	20

Sub-Section Number:	1
Sub-Section Id:	998367211
Question Shuffling Allowed :	Yes

Question Number : 161 Question Id : 9983673519 Question Type : MCQ Option Shuffling : Yes  
Correct Marks : 1 Wrong Marks : 0.25

बालभारती' शब्द में 'भारती' का अर्थ है:

Options :

1. \* भारत
2. \* भारतीय
3. ✓ वाणी
4. \* वाचाल

Question Number : 161 Question Id : 9983673519 Question Type : MCQ Option Shuffling : Yes  
Correct Marks : 1 Wrong Marks : 0.25

बालभारती' शब्द में 'भारती' का अर्थ है:

Options :

1. \* भारत
2. \* भारतीय
3. ✓ वाणी
4. \* वाचाल

Question Number : 162 Question Id : 9983673520 Question Type : MCQ Option Shuffling : Yes  
Correct Marks : 1 Wrong Marks : 0.25

गतिशील होने के कारण संसार को कहा जाता है:

Options :

1. \* विश्व
2. ✓ जगत
3. \* दुनिया
4. \* अखिल

Question Number : 162 Question Id : 9983673520 Question Type : MCQ Option Shuffling : Yes  
Correct Marks : 1 Wrong Marks : 0.25

गतिशील होने के कारण संसार को कहा जाता है:

Options :

1. \* विश्व
2. ✓ जगत
3. \* दुनिया
4. \* अखिल

Question Number : 163 Question Id : 9983673521 Question Type : MCQ Option Shuffling : Yes  
Correct Marks : 1 Wrong Marks : 0.25

‘जिसे क्षमा न किया जास के’ वाक्यांश के लिए एक शब्द होगा’:

Options :

1. \* अपराधी
2. \* अत्याज्य
3. \* दंडनीय
4. ✓ अक्षम्य

Question Number : 163 Question Id : 9983673521 Question Type : MCQ Option Shuffling : Yes  
Correct Marks : 1 Wrong Marks : 0.25

‘जिसे क्षमा न किया जास के’ वाक्यांश के लिए एक शब्द होगा’:

Options :

1. \* अपराधी
2. \* अत्याज्य
3. \* दंडनीय

## 4. ✓ अक्षम्य

Question Number : 164 Question Id : 9983673522 Question Type : MCQ Option Shuffling : Yes

Correct Marks : 1 Wrong Marks : 0.25

‘संकर-शंकर’ शब्दयुग्म होगा:

Options :

1. ✓ मिश्रित - शिव
2. \* शांति - शोभा
3. \* श्रम - कल्याण
4. \* सम्यक - नृत्य

Question Number : 164 Question Id : 9983673522 Question Type : MCQ Option Shuffling : Yes

Correct Marks : 1 Wrong Marks : 0.25

‘संकर-शंकर’ शब्दयुग्म होगा:

Options :

1. ✓ मिश्रित - शिव
2. \* शांति - शोभा
3. \* श्रम - कल्याण
4. \* सम्यक - नृत्य

Question Number : 165 Question Id : 9983673523 Question Type : MCQ Option Shuffling : Yes

Correct Marks : 1 Wrong Marks : 0.25

‘गुण’ शब्द का अर्थ नहीं होता है:

Options :

1. \* खूबी
2. \* स्वभाव
3. \* रस्सी
4. ✓ शिला

Question Number : 165 Question Id : 9983673523 Question Type : MCQ Option Shuffling : Yes

Correct Marks : 1 Wrong Marks : 0.25

‘गुण’ शब्द का अर्थ नहीं होता है:

Options :



1. \* खूबी
2. \* स्वभाव
3. \* रस्सी
4. ✓ शिला

Question Number : 166 Question Id : 9983673524 Question Type : MCQ Option Shuffling : Yes  
Correct Marks : 1 Wrong Marks : 0.25

‘साफल्य’ शब्द है:

Options :

1. ✓ भाववाचक संज्ञा
2. \* सर्वनाम
3. \* विशेषण
4. \* क्रिया विशेषण

Question Number : 166 Question Id : 9983673524 Question Type : MCQ Option Shuffling : Yes  
Correct Marks : 1 Wrong Marks : 0.25

‘साफल्य’ शब्द है:

Options :

1. ✓ भाववाचक संज्ञा
2. \* सर्वनाम
3. \* विशेषण
4. \* क्रिया विशेषण

Question Number : 167 Question Id : 9983673525 Question Type : MCQ Option Shuffling : Yes  
Correct Marks : 1 Wrong Marks : 0.25

‘तुम कब आओगे’? वाक्य में रेखांकित पद है:

Options :

1. ✓ पुरुषवाचक सर्वनाम
2. \* प्रश्नवाचक सर्वनाम
3. \* अव्यय

## 4. \* साधारण क्रिया

Question Number : 167 Question Id : 9983673525 Question Type : MCQ Option Shuffling : Yes  
Correct Marks : 1 Wrong Marks : 0.25

‘तुम कब आओगे’? वाक्य में रेखांकित पद है:

Options :

1. ✓ पुरुषवाचक सर्वनाम
2. \* प्रश्नवाचक सर्वनाम
3. \* अव्यय
4. \* साधारण क्रिया

Question Number : 168 Question Id : 9983673526 Question Type : MCQ Option Shuffling : Yes  
Correct Marks : 1 Wrong Marks : 0.25

‘वेद’ शब्द से विशेषण बनेगा:

Options :

1. \* वेदिक
2. ✓ वैदिक
3. \* वेदि
4. \* वैद्य

Question Number : 168 Question Id : 9983673526 Question Type : MCQ Option Shuffling : Yes  
Correct Marks : 1 Wrong Marks : 0.25

‘वेद’ शब्द से विशेषण बनेगा:

Options :

1. \* वेदिक
2. ✓ वैदिक
3. \* वेदि
4. \* वैद्य

Question Number : 169 Question Id : 9983673527 Question Type : MCQ Option Shuffling : Yes  
Correct Marks : 1 Wrong Marks : 0.25

‘उससे पढ़ा नहीं जाता’I वाक्य में पढ़ना है:

Options :

1. ✓ सकर्मक क्रिया
2. \* अकर्मक क्रिया
3. \* नामधातु
4. \* प्रेरणार्थक

Question Number : 169 Question Id : 9983673527 Question Type : MCQ Option Shuffling : Yes  
Correct Marks : 1 Wrong Marks : 0.25

‘उससे पढ़ा नहीं जाता’। वाक्य में पढ़ना है:

Options :

1. ✓ सकर्मक क्रिया
2. \* अकर्मक क्रिया
3. \* नामधातु
4. \* प्रेरणार्थक

Question Number : 170 Question Id : 9983673528 Question Type : MCQ Option Shuffling : Yes  
Correct Marks : 1 Wrong Marks : 0.25

‘हम दो दिन के लिए वहाँ जाएँगे’। वाक्य में क्रिया है:

Options :

1. \* दो दिन
2. \* हम
3. \* वहाँ
4. ✓ जाएँगे

Question Number : 170 Question Id : 9983673528 Question Type : MCQ Option Shuffling : Yes  
Correct Marks : 1 Wrong Marks : 0.25

‘हम दो दिन के लिए वहाँ जाएँगे’। वाक्य में क्रिया है:

Options :

1. \* दो दिन
2. \* हम
3. \* वहाँ

## 4. ✓ जाँगे

Question Number : 171 Question Id : 9983673529 Question Type : MCQ Option Shuffling : Yes  
Correct Marks : 1 Wrong Marks : 0.25

निम्नलिखित में से कौन-सा शब्द स्त्रीलिंग है?

Options :

1. ✘ अनुज
2. ✘ मानव
3. ✓ कोशिश
4. ✘ प्रयास

Question Number : 171 Question Id : 9983673529 Question Type : MCQ Option Shuffling : Yes  
Correct Marks : 1 Wrong Marks : 0.25

निम्नलिखित में से कौन-सा शब्द स्त्रीलिंग है?

Options :

1. ✘ अनुज
2. ✘ मानव
3. ✓ कोशिश
4. ✘ प्रयास

Question Number : 172 Question Id : 9983673530 Question Type : MCQ Option Shuffling : Yes  
Correct Marks : 1 Wrong Marks : 0.25

निम्नलिखित में से कौन-सा शब्द पुल्लिंग है?

Options :

1. ✘ करवट
2. ✘ सूरत
3. ✘ अवज्ञा
4. ✓ घाट

Question Number : 172 Question Id : 9983673530 Question Type : MCQ Option Shuffling : Yes  
Correct Marks : 1 Wrong Marks : 0.25

निम्नलिखित में से कौन-सा शब्द पुल्लिंग है?

Options :

1. ✖ करवट
2. ✖ सूरत
3. ✖ अवज्ञा
4. ✔ घाट

Question Number : 173 Question Id : 9983673531 Question Type : MCQ Option Shuffling : Yes  
Correct Marks : 1 Wrong Marks : 0.25

अमेलित कारक चिह्न को पहचानिए:

Options :

1. ✖ कर्म - को
2. ✖ करण - के द्वारा
3. ✖ सम्बन्ध - का के की
4. ✔ अपादान - के लिए

Question Number : 173 Question Id : 9983673531 Question Type : MCQ Option Shuffling : Yes  
Correct Marks : 1 Wrong Marks : 0.25

अमेलित कारक चिह्न को पहचानिए:

Options :

1. ✖ कर्म - को
2. ✖ करण - के द्वारा
3. ✖ सम्बन्ध - का के की
4. ✔ अपादान - के लिए

Question Number : 174 Question Id : 9983673532 Question Type : MCQ Option Shuffling : Yes  
Correct Marks : 1 Wrong Marks : 0.25

निम्नलिखित में से कौन-सी क्रिया प्रेरणार्थक है:

Options :

1. ✖ हँसना
2. ✖ जागना
3. ✔ कराना

## 4. \* कहना

Question Number : 174 Question Id : 9983673532 Question Type : MCQ Option Shuffling : Yes  
Correct Marks : 1 Wrong Marks : 0.25

निम्नलिखित में से कौन-सी क्रिया प्रेरणार्थक है:

Options :

1. \* हँसना
2. \* जागना
3. ✓ कराना
4. \* कहना

Question Number : 175 Question Id : 9983673533 Question Type : MCQ Option Shuffling : Yes  
Correct Marks : 1 Wrong Marks : 0.25

‘धाता’ शब्द का स्त्रीलिंग बनेगा:

Options :

1. \* धाती
2. ✓ धात्री
3. \* धातृ
4. \* धातव्यी

Question Number : 175 Question Id : 9983673533 Question Type : MCQ Option Shuffling : Yes  
Correct Marks : 1 Wrong Marks : 0.25

‘धाता’ शब्द का स्त्रीलिंग बनेगा:

Options :

1. \* धाती
2. ✓ धात्री
3. \* धातृ
4. \* धातव्यी

Question Number : 176 Question Id : 9983673534 Question Type : MCQ Option Shuffling : Yes  
Correct Marks : 1 Wrong Marks : 0.25

कौन-सा वाक्य सरल वाक्य है:

Options :

1. \* वे गए और लौट आए।
2. \* उसने बताया कि मोहन घर पर है।
3. ✓ वह और मोहन अभी-अभी गए हैं।
4. \* जब तुम आओगे तब मैं जाऊँगा।

Question Number : 176 Question Id : 9983673534 Question Type : MCQ Option Shuffling : Yes  
Correct Marks : 1 Wrong Marks : 0.25

कौन-सा वाक्य सरल वाक्य है:

Options :

1. \* वे गए और लौट आए।
2. \* उसने बताया कि मोहन घर पर है।
3. ✓ वह और मोहन अभी-अभी गए हैं।
4. \* जब तुम आओगे तब मैं जाऊँगा।

Question Number : 177 Question Id : 9983673535 Question Type : MCQ Option Shuffling : Yes  
Correct Marks : 1 Wrong Marks : 0.25

संयुक्त वाक्य पहचानिए?

Options :

1. \* यदि वह न आए तो तुम मत जाना।
2. ✓ मैंने भोजन किया और मैं सो गया।
3. \* मेरे आते ही वह उठ बैठा।
4. \* खबर मिलते ही मैं चल पड़ा।

Question Number : 177 Question Id : 9983673535 Question Type : MCQ Option Shuffling : Yes  
Correct Marks : 1 Wrong Marks : 0.25

संयुक्त वाक्य पहचानिए?

Options :

1. \* यदि वह न आए तो तुम मत जाना।
2. ✓ मैंने भोजन किया और मैं सो गया।
3. \* मेरे आते ही वह उठ बैठा।

## 4. \* खबर मिलते ही मैं चल पड़ा।

Question Number : 178 Question Id : 9983673536 Question Type : MCQ Option Shuffling : Yes

Correct Marks : 1 Wrong Marks : 0.25

निम्नलिखित में से मिश्र वाक्य कौन-सा है?

Options :

1. ✓ हैरानी है कि वह भी पढ़ने लगा।
2. \* वह बीमार था इसलिए वैद्य को बुलाया।
3. \* वह खाना खाते ही चला गया।
4. \* मैंने पुस्तक पढ़ी और सो गया।

Question Number : 178 Question Id : 9983673536 Question Type : MCQ Option Shuffling : Yes

Correct Marks : 1 Wrong Marks : 0.25

निम्नलिखित में से मिश्र वाक्य कौन-सा है?

Options :

1. ✓ हैरानी है कि वह भी पढ़ने लगा।
2. \* वह बीमार था इसलिए वैद्य को बुलाया।
3. \* वह खाना खाते ही चला गया।
4. \* मैंने पुस्तक पढ़ी और सो गया।

Question Number : 179 Question Id : 9983673537 Question Type : MCQ Option Shuffling : Yes

Correct Marks : 1 Wrong Marks : 0.25

जब अखबार आया तब मैं सो रहा था। उपवाक्य का भेद है:

Options :

1. ✓ कालवाचक क्रिया विशेषण उपवाक्य
2. \* स्थानवाचक क्रिया विशेषण उपवाक्य
3. \* रीतिवाचक क्रिया विशेषण उपवाक्य
4. \* परिमाणवाचक क्रिया विशेषण उपवाक्य

Question Number : 179 Question Id : 9983673537 Question Type : MCQ Option Shuffling : Yes

Correct Marks : 1 Wrong Marks : 0.25

जब अखबार आया तब मैं सो रहा था। उपवाक्य का भेद है:

Options :



1. ✓ कालवाचक क्रिया विशेषण उपवाक्य
2. ✘ स्थानवाचक क्रिया विशेषण उपवाक्य
3. ✘ रीतिवाचक क्रिया विशेषण उपवाक्य
4. ✘ परिमाणवाचक क्रिया विशेषण उपवाक्य

Question Number : 180 Question Id : 9983673538 Question Type : MCQ Option Shuffling : Yes  
Correct Marks : 1 Wrong Marks : 0.25

कौन-सा भेद उपवाक्यों का नहीं होता?

Options :

1. ✘ विशेषण उपवाक्य
2. ✓ अव्यय उपवाक्य
3. ✘ संज्ञा उपवाक्य
4. ✘ क्रियाविशेषण उपवाक्य

Question Number : 180 Question Id : 9983673538 Question Type : MCQ Option Shuffling : Yes  
Correct Marks : 1 Wrong Marks : 0.25

कौन-सा भेद उपवाक्यों का नहीं होता?

Options :

1. ✘ विशेषण उपवाक्य
2. ✓ अव्यय उपवाक्य
3. ✘ संज्ञा उपवाक्य
4. ✘ क्रियाविशेषण उपवाक्य

## General Hindi2

Group Number :	10
Group Id :	998367136
Group Maximum Duration :	0
Group Minimum Duration :	120
Show Attended Group? :	No
Edit Attended Group? :	No
Break time:	0
Group Marks:	20
Is this Group for Examiner?:	No

Revisit allowed for group Instructions? :	Yes
Maximum Instruction Time:	0
Minimum Instruction Time:	0

## General Hindi2

Section Id :	998367142
Section Number :	1
Section type :	Online
Mandatory or Optional:	Mandatory
Number of Questions:	12
Number of Questions to be attempted:	12
Section Marks:	20

Sub-Section Number:	1
Sub-Section Id:	998367212
Question Shuffling Allowed :	Yes

Question Number : 181 Question Id : 9983673539 Question Type : MCQ Option Shuffling : Yes  
Correct Marks : 1 Wrong Marks : 0.25

कौन-सा शब्द पृथ्वी का पर्यायवाची नहीं है?

Options :

1. \* धरित्री
2. \* मेदिनी
3. ✓ विपुल
4. \* वसुधा

Question Number : 181 Question Id : 9983673539 Question Type : MCQ Option Shuffling : Yes  
Correct Marks : 1 Wrong Marks : 0.25

कौन-सा शब्द पृथ्वी का पर्यायवाची नहीं है?

Options :

1. \* धरित्री
2. \* मेदिनी
3. ✓ विपुल
4. \* वसुधा

Question Number : 182 Question Id : 9983673540 Question Type : MCQ Option Shuffling : Yes  
Correct Marks : 1 Wrong Marks : 0.25

‘तोय’ शब्द के साथ ‘द’ जोड़ने से उसका अर्थ हो जाएगा।

Options :

1. ✓ मेघ
2. \* सिंधु
3. \* अम्बुज
4. \* तड़ाग

Question Number : 182 Question Id : 9983673540 Question Type : MCQ Option Shuffling : Yes

Correct Marks : 1 Wrong Marks : 0.25

‘तोय’ शब्द के साथ ‘द’ जोड़ने से उसका अर्थ हो जाएगा।

Options :

1. ✓ मेघ
2. \* सिंधु
3. \* अम्बुज
4. \* तड़ाग

Question Number : 183 Question Id : 9983673541 Question Type : MCQ Option Shuffling : Yes

Correct Marks : 1 Wrong Marks : 0.25

तलवार का पर्यायवाची शब्द नहीं है:

Options :

1. ✓ असिता
2. \* खड्ग
3. \* करवाल
4. \* चंद्रहास

Question Number : 183 Question Id : 9983673541 Question Type : MCQ Option Shuffling : Yes

Correct Marks : 1 Wrong Marks : 0.25

तलवार का पर्यायवाची शब्द नहीं है:

Options :

1. ✓ असिता
2. \* खड्ग

3. ✖ करवाल

4. ✖ चंद्रहास

Question Number : 184 Question Id : 9983673542 Question Type : MCQ Option Shuffling : Yes

Correct Marks : 1 Wrong Marks : 0.25

भरण-पोषण करने के कारण ही पति कहलाता है:

Options :

1. ✖ कांत

2. ✔ भर्ता

3. ✖ साजन

4. ✖ बालम

Question Number : 184 Question Id : 9983673542 Question Type : MCQ Option Shuffling : Yes

Correct Marks : 1 Wrong Marks : 0.25

भरण-पोषण करने के कारण ही पति कहलाता है:

Options :

1. ✖ कांत

2. ✔ भर्ता

3. ✖ साजन

4. ✖ बालम

Question Number : 185 Question Id : 9983673543 Question Type : MCQ Option Shuffling : Yes

Correct Marks : 1 Wrong Marks : 0.25

‘यमुना’ का पर्यायवाची नहीं है:

Options :

1. ✖ कालिंदी

2. ✖ रवितनया

3. ✖ श्यामा

4. ✔ जाह्नवी

Question Number : 185 Question Id : 9983673543 Question Type : MCQ Option Shuffling : Yes

Correct Marks : 1 Wrong Marks : 0.25

‘यमुना’ का पर्यायवाची नहीं है:

Options :

1. ✖ कालिंदी
2. ✖ रवितनया
3. ✖ श्यामा
4. ✔ जाहनवी

Question Number : 186 Question Id : 9983673544 Question Type : MCQ Option Shuffling : Yes  
Correct Marks : 1 Wrong Marks : 0.25

‘यह स्थिति मेरे अनुकूल नहीं बल्कि \_\_\_\_\_ है। रिक्त स्थान में रेखांकित का विलोम शब्द आएगा।’

Options :

1. ✖ सुकूल
2. ✖ प्रतिगामी
3. ✖ विपरीत
4. ✔ प्रतिकूल

Question Number : 186 Question Id : 9983673544 Question Type : MCQ Option Shuffling : Yes  
Correct Marks : 1 Wrong Marks : 0.25

‘यह स्थिति मेरे अनुकूल नहीं बल्कि \_\_\_\_\_ है। रिक्त स्थान में रेखांकित का विलोम शब्द आएगा।’

Options :

1. ✖ सुकूल
2. ✖ प्रतिगामी
3. ✖ विपरीत
4. ✔ प्रतिकूल

Question Number : 187 Question Id : 9983673545 Question Type : MCQ Option Shuffling : Yes  
Correct Marks : 1 Wrong Marks : 0.25

‘आर्य’ का विलोम शब्द होगा:

Options :

1. \* दस्यु
2. \* अमर
3. ✓ अनार्य
4. \* देव

Question Number : 187 Question Id : 9983673545 Question Type : MCQ Option Shuffling : Yes  
Correct Marks : 1 Wrong Marks : 0.25

‘आर्य’ का विलोम शब्द होगा:

Options :

1. \* दस्यु
2. \* अमर
3. ✓ अनार्य
4. \* देव

Question Number : 188 Question Id : 9983673546 Question Type : MCQ Option Shuffling : Yes  
Correct Marks : 1 Wrong Marks : 0.25

‘अनंत’ शब्द का विलोम होगा:

Options :

1. \* प्रतिकूल
2. \* असीम
3. \* विस्तृत
4. ✓ सांत

Question Number : 188 Question Id : 9983673546 Question Type : MCQ Option Shuffling : Yes  
Correct Marks : 1 Wrong Marks : 0.25

‘अनंत’ शब्द का विलोम होगा:

Options :

1. \* प्रतिकूल
2. \* असीम
3. \* विस्तृत

## 4. ✓ सांत

Question Number : 189 Question Id : 9983673547 Question Type : MCQ Option Shuffling : Yes  
Correct Marks : 1 Wrong Marks : 0.25

‘बाह्य’ का उपयुक्त विलोम होता है:

Options :

1. ✓ आभ्यंतर
2. \* प्रच्छन्न
3. \* गुप्त
4. \* अनन्तर

Question Number : 189 Question Id : 9983673547 Question Type : MCQ Option Shuffling : Yes  
Correct Marks : 1 Wrong Marks : 0.25

‘बाह्य’ का उपयुक्त विलोम होता है:

Options :

1. ✓ आभ्यंतर
2. \* प्रच्छन्न
3. \* गुप्त
4. \* अनन्तर

Question Number : 190 Question Id : 9983673548 Question Type : MCQ Option Shuffling : Yes  
Correct Marks : 1 Wrong Marks : 0.25

‘उपकार’ शब्द का विलोम है:

Options :

1. \* प्रत्युपकार
2. \* अनाचार
3. ✓ अपकार
4. \* विकार

Question Number : 190 Question Id : 9983673548 Question Type : MCQ Option Shuffling : Yes  
Correct Marks : 1 Wrong Marks : 0.25

‘उपकार’ शब्द का विलोम है:

Options :

1. \* प्रत्युपकार

2. \* अनाचार

3. ✓ अपकार

4. \* विकार

Sub-Section Number: 2  
Sub-Section Id: 998367213  
Question Shuffling Allowed : Yes

Question Id : 9983673549 Question Type : COMPREHENSION Sub Question Shuffling Allowed : Yes Group Comprehension Questions : No

Question Numbers : (191 to 195)

Question Label : Comprehension

निम्नलिखित गद्यांश को पढ़कर उसके सही उत्तर दीजिये।

दार्शनिक अरस्तू ने कहा है - “प्रत्येक व्यक्ति को उचित समय पर, उचित व्यक्ति से, उचित मात्रा में, उचित उद्देश्य के लिए, उचित ढंग से व्यवहार करना चाहिए। “वास्तव में प्रत्येक प्राणी का संबंध एक-एक क्षण है, किन्तु व्यक्ति उसका महत्त्व नहीं समझता। अधिकतर व्यक्ति सोचते हैं कि कोई अच्छा समय आएगा तो काम करेंगे। इस दुविधा और उधेड़बुन में वे जीवन के अनेक अमूल्य क्षणों को खो देते हैं। किसी व्यक्ति को बिना हाथ-पाँव हिलाए संसार की बहुत बड़ी संपत्ति छप्पर फाड़कर कभी नहीं मिलती। समय उन्हीं के रथ के घोड़ों को हाँकता है जो भाग्य के भरोसे बैठना पौरुष का अपमान समझते हैं। जो व्यक्ति श्रम और समय का पारखी होता है। लक्ष्मी भी उसी का वरण करती है। समय की कीमत न पहचानने वाले समय बीत जाने पर सर धुनते रह जाते हैं। समय निरंतर गतिमान है। इसलिए हमें समय का मूल्य समझना चाहिए। साथ ही समयानुसार काम भी करना चाहिए। सफल जीवन की यही कुंजी है।

Sub questions

Question Number : 191 Question Id : 9983673550 Question Type : MCQ Option Shuffling : Yes

Correct Marks : 1 Wrong Marks : 0.25

अरस्तू के कथन में बल है -

Options :

1. \* व्यक्ति पर



2. \* उद्देश्य पर
3. \* रीति पर
4. ✓ औचित्य पर

Question Number : 192 Question Id : 9983673551 Question Type : MCQ Option Shuffling : Yes  
Correct Marks : 1 Wrong Marks : 0.25

गद्य में महत्त्व बताया गया है:

Options :

1. \* श्रम का
2. \* पौरुष का
3. \* भाग्य का
4. ✓ समय का

Question Number : 193 Question Id : 9983673552 Question Type : MCQ Option Shuffling : Yes  
Correct Marks : 1 Wrong Marks : 0.25

गद्यांश के अनुसार समय को पहचानने वाले व्यक्ति को स्वयं चुन लेती है:

Options :

1. ✓ लक्ष्मी
2. \* विद्या
3. \* दरिद्रता
4. \* यश

Question Number : 194 Question Id : 9983673553 Question Type : MCQ Option Shuffling : Yes  
Correct Marks : 1 Wrong Marks : 0.25

‘सफल जीवन की कुंजी यही है’I वाक्य में ‘यही’ प्रयोग हुआ है:

Options :

1. \* उद्देश्य के लिए
2. \* व्यवहार के लिए
3. ✓ समय के लिए
4. \* ज्ञान के लिए

Question Number : 195 Question Id : 9983673554 Question Type : MCQ Option Shuffling : Yes  
Correct Marks : 1 Wrong Marks : 0.25

गद्यांश में समय को बताया है:

Options :

1. \* स्थिर
2. \* चंचल
3. ✓ गतिमान
4. \* अधीर

Question Id : 9983673549 Question Type : COMPREHENSION Sub Question Shuffling Allowed : Yes Group Comprehension Questions : No

Question Numbers : (191 to 195)

Question Label : Comprehension

निम्नलिखित गद्यांश को पढ़कर उसके सही उत्तर दीजिये।

दार्शनिक अरस्तू ने कहा है - “प्रत्येक व्यक्ति को उचित समय पर, उचित व्यक्ति से, उचित मात्रा में, उचित उद्देश्य के लिए, उचित ढंग से व्यवहार करना चाहिए। “वास्तव में प्रत्येक प्राणी का संबंध एक-एक क्षण है, किन्तु व्यक्ति उसका महत्त्व नहीं समझता। अधिकतर व्यक्ति सोचते हैं कि कोई अच्छा समय आएगा तो काम करेंगे। इस दुविधा और उधेड़बुन में वे जीवन के अनेक अमूल्य क्षणों को खो देते हैं। किसी व्यक्ति को बिना हाथ-पाँव हिलाए संसार की बहुत बड़ी संपत्ति छप्पर फाड़कर कभी नहीं मिलती। समय उन्हीं के रथ के घोड़ों को हाँकता है जो भाग्य के भरोसे बैठना पौरुष का अपमान समझते हैं। जो व्यक्ति श्रम और समय का पारखी होता है। लक्ष्मी भी उसी का वरण करती है। समय की कीमत न पहचानने वाले समय बीत जाने पर सर धुनते रह जाते हैं। समय निरंतर गतिमान है। इसलिए हमें समय का मूल्य समझना चाहिए। साथ ही समयानुसार काम भी करना चाहिए। सफल जीवन की यही कुंजी है।

Sub questions

Question Number : 191 Question Id : 9983673550 Question Type : MCQ Option Shuffling : Yes

Correct Marks : 1 Wrong Marks : 0.25

अरस्तू के कथन में बल है -

Options :

1. ✖ व्यक्ति पर
2. ✖ उद्देश्य पर
3. ✖ रीति पर
4. ✔ औचित्य पर

Question Number : 192 Question Id : 9983673551 Question Type : MCQ Option Shuffling : Yes  
Correct Marks : 1 Wrong Marks : 0.25

गद्य में महत्त्व बताया गया है:

Options :

1. ✖ श्रम का
2. ✖ पौरुष का
3. ✖ भाग्य का
4. ✔ समय का

Question Number : 193 Question Id : 9983673552 Question Type : MCQ Option Shuffling : Yes  
Correct Marks : 1 Wrong Marks : 0.25

गद्यांश के अनुसार समय को पहचानने वाले व्यक्ति को स्वयं चुन लेती है:

Options :

1. ✔ लक्ष्मी
2. ✖ विद्या
3. ✖ दरिद्रता
4. ✖ यश

Question Number : 194 Question Id : 9983673553 Question Type : MCQ Option Shuffling : Yes  
Correct Marks : 1 Wrong Marks : 0.25

'सफल जीवन की कुंजी यही है'। वाक्य में 'यही' प्रयोग हुआ है:

Options :

1. \* उद्देश्य के लिए
2. \* व्यवहार के लिए
3. ✓ समय के लिए
4. \* ज्ञान के लिए

Question Number : 195 Question Id : 9983673554 Question Type : MCQ Option Shuffling : Yes  
Correct Marks : 1 Wrong Marks : 0.25

गद्यांश में समय को बताया है:

Options :

1. \* स्थिर
2. \* चंचल
3. ✓ गतिमान
4. \* अधीर

Sub-Section Number:	3
Sub-Section Id:	998367214
Question Shuffling Allowed :	Yes

Question Id : 9983673555 Question Type : COMPREHENSION Sub Question Shuffling Allowed : Yes Group Comprehension Questions : No

Question Numbers : (196 to 200)

Question Label : Comprehension

निम्नलिखित गद्यांश को पढ़कर उसके सही उत्तर दीजिये।

पिता के ठीक विपरीत थी हमारी बेपढ़ी-लिखी माँ। धरती से कुछ ज़्यादा ही धैर्य और सहनशक्ति थी शायद उनमें। पिता जी की हर ज़्यादाती को अपना प्राप्य और बच्चों की हर उचित-अनुचित फरमाइश और ज़िद को अपना फ़र्ज़ समझकर सहज भाव से स्वीकार करती थीं। वे i उन्होंने ज़िन्दगी भर अपने लिए कुछ माँगा नहीं, चाहा नहीं - केवल दिया ही दिया। हम भाई-बहनों का सारा लगाव (शायद सहानुभूति से उपजा) माँ के साथ था लेकिन निहायत असहाय मजबूरी में लिपटा उनका यह त्याग कभी मेरा आदर्श नहीं बन सका - न उनका त्याग न उनकी सहिष्णुता।

Sub questions

Question Number : 196 Question Id : 9983673556 Question Type : MCQ Option Shuffling : Yes  
Correct Marks : 1 Wrong Marks : 0.25

गद्यांश के आधार लिखिए, लेखिका के पिता कैसे थे?

Options :

1. \* अनपढ़
2. ✓ उग्र
3. \* बच्चों की फरमाइशें पूरी करने वाले
4. \* बच्चों के प्रिय

Question Number : 197 Question Id : 9983673557 Question Type : MCQ Option Shuffling : Yes  
Correct Marks : 1 Wrong Marks : 0.25

लेखिका के भाई-बहनों की सहानुभूति थी:

Options :

1. \* पिता के साथ
2. ✓ माता के साथ
3. \* बड़े भाई के साथ
4. \* परिवार के मुखिया के साथ

Question Number : 198 Question Id : 9983673558 Question Type : MCQ Option Shuffling : Yes  
Correct Marks : 1 Wrong Marks : 0.25

लेखिका ने अपनी माँ की तुलना की है:

Options :

1. \* धीरता से

2. \* सहनशीलता से

3. ✓ धरती से

4. \* पिता

Question Number : 199 Question Id : 9983673559 Question Type : MCQ Option Shuffling : Yes

Correct Marks : 1 Wrong Marks : 0.25

लेखिका ने स्वीकार नहीं किया माता के:

Options :

1. \* प्यार को

2. ✓ सहनशीलता और त्याग को

3. \* उपकार भाव को

4. \* श्रमशक्ति को

Question Number : 200 Question Id : 9983673560 Question Type : MCQ Option Shuffling : Yes

Correct Marks : 1 Wrong Marks : 0.25

गद्यांश की पंक्तियों में चित्रण है:

Options :

1. \* स्वयं लेखिका का

2. \* भाई - बहनों का

3. \* पिता जी का

4. ✓ माता जी का

Question Id : 9983673555 Question Type : COMPREHENSION Sub Question Shuffling Allowed : Yes Group Comprehension Questions : No

Question Numbers : (196 to 200)

Question Label : Comprehension

निम्नलिखित गद्यांश को पढ़कर उसके सही उत्तर दीजिये।

पिता के ठीक विपरीत थी हमारी बेपढ़ी-लिखी माँ। धरती से कुछ ज़्यादा ही धैर्य और सहनशक्ति थी शायद उनमें। पिता जी की हर ज़्यादाती को अपना प्राप्य और बच्चों की हर उचित-अनुचित फरमाइश और ज़िद को अपना फ़र्ज समझकर सहज भाव से स्वीकार करती थीं। वे ; उन्होंने ज़िन्दगी भर अपने लिए कुछ माँगा नहीं, चाहा नहीं - केवल दिया ही दिया। हम भाई-बहनों का सारा लगाव (शायद सहानुभूति से उपजा) माँ के साथ था लेकिन निहायत असहाय मजबूरी में लिपटा उनका यह त्याग कभी मेरा आदर्श नहीं बन सका - न उनका त्याग न उनकी सहिष्णुता।

Sub questions

Question Number : 196 Question Id : 9983673556 Question Type : MCQ Option Shuffling : Yes  
Correct Marks : 1 Wrong Marks : 0.25

गद्यांश के आधार लिखिए, लेखिका के पिता कैसे थे?

Options :

1. \* अनपढ़
2. ✓ उग्र
3. \* बच्चों की फरमाइशें पूरी करने वाले
4. \* बच्चों के प्रिय

Question Number : 197 Question Id : 9983673557 Question Type : MCQ Option Shuffling : Yes  
Correct Marks : 1 Wrong Marks : 0.25

लेखिका के भाई-बहनों की सहानुभूति थी:

Options :

1. \* पिता के साथ

2. ✓ माता के साथ

3. ✘ बड़े भाई के साथ

4. ✘ परिवार के मुखिया के साथ

Question Number : 198 Question Id : 9983673558 Question Type : MCQ Option Shuffling : Yes  
Correct Marks : 1 Wrong Marks : 0.25

लेखिका ने अपनी माँ की तुलना की है:

Options :

1. ✘ धीरता से

2. ✘ सहनशीलता से

3. ✓ धरती से

4. ✘ पिता

Question Number : 199 Question Id : 9983673559 Question Type : MCQ Option Shuffling : Yes  
Correct Marks : 1 Wrong Marks : 0.25

लेखिका ने स्वीकार नहीं किया माता के:

Options :

1. ✘ प्यार को

2. ✓ सहनशीलता और त्याग को

3. ✘ उपकार भाव को

4. ✘ श्रमशक्ति को

Question Number : 200 Question Id : 9983673560 Question Type : MCQ Option Shuffling : Yes  
Correct Marks : 1 Wrong Marks : 0.25

गद्यांश की पंक्तियों में चित्रण है:

Options :

1. ✘ स्वयं लेखिका का

2. ✘ भाई - बहनों का

3. ✘ पिता जी का



4. ✓ माता जी का