

## Education Consultant India Ltd.

Notations :

1.Options shown in green color and with ✓ icon are correct.

2.Options shown in red color and with ✖ icon are incorrect.

Question Paper Name:	GRADE II DASS 17th July 2019 Shift 2
Subject Name:	GRADE II DASS
Creation Date:	2019-07-17 16:09:42
Duration:	120
Total Marks:	200
Display Marks:	Yes
Share Answer Key With Delivery Engine:	No
Actual Answer Key:	Yes
Calculator:	None
Magnifying Glass Required?:	No
Ruler Required?:	No
Eraser Required?:	No
Scratch Pad Required?:	No
Rough Sketch/Notepad Required?:	No
Protractor Required?:	No
Show Watermark on Console?:	Yes
Highlighter:	No
Auto Save on Console?:	No

## Mental Ability1

Group Number :	1
Group Id :	998367177
Group Maximum Duration :	0
Group Minimum Duration :	0
Show Attended Group? :	No
Edit Attended Group? :	No
Break time:	0
Group Marks:	20
Is this Group for Examiner?:	No
Revisit allowed for group Instructions? :	Yes
Maximum Instruction Time:	0
Minimum Instruction Time:	0

## Mental Ability1

Section Id :	998367183
Section Number :	1

Section type :	Online
Mandatory or Optional:	Mandatory
Number of Questions:	20
Number of Questions to be attempted:	20
Section Marks:	20

Sub-Section Number:	1
Sub-Section Id:	998367271
Question Shuffling Allowed :	Yes

Question Number : 1 Question Id : 9983674377 Question Type : MCQ Option Shuffling : Yes

Correct Marks : 1 Wrong Marks : 0.25

There is a certain relationship between two given words on one side of :: and one word is given on another side of :: while another word is to be found from the given alternatives, having the same relation with the word as the words of the given pair.

Choose the correct alternative.

**Drone : Bee :: Stag : ?**

Options :

1. ✖ Girl

2. ✖ Cow

3. ✔ Doe

4. ✖ Niece

Question Number : 1 Question Id : 9983674377 Question Type : MCQ Option Shuffling : Yes

Correct Marks : 1 Wrong Marks : 0.25

:: के एक ओर दिए दो शब्दों के बीच एक निश्चित संबंध है, और :: के दूसरी ओर एक शब्द दिया गया है, जबकि दिए गए विकल्पों में से अन्य शब्द खोजना है जिसका उस शब्द से वही संबंध हो जो दिए गए जोड़े के शब्दों के बीच है। सही विकल्प चुनें।

**नर मधुमक्खी : मधुमक्खी :: बारहसिंगा : ?**

Options :

1. ✖ लड़की

2. ✖ गाय

3. ✔ हिरणी

4. ✖ भांजी/भतीजी

Question Number : 2 Question Id : 9983674378 Question Type : MCQ Option Shuffling : Yes

Correct Marks : 1 Wrong Marks : 0.25

There is a certain relationship between two given numbers on one side of :: and one number is given on another side of :: while another number is to be found from the given alternatives, having the same relation with the number as the number of the given pair.

Choose the correct alternative.

24 : 156 :: 52 : ?

Options :

1. ✖ 242

2. ✖ 224

3. ✔ 338

4. ✖ 390

Question Number : 2 Question Id : 9983674378 Question Type : MCQ Option Shuffling : Yes

Correct Marks : 1 Wrong Marks : 0.25

:: के एक ओर दिए गए दो संख्याओं के बीच एक निश्चित संबंध है, और :: के दूसरी ओर एक संख्या दी गई है, जबकि दिए गए विकल्पों में से अन्य संख्या खोजनी है जिसका उस संख्या से वही संबंध हो जो दिए गए जोड़े की संख्याओं के बीच है।

सही विकल्प चुनें।

24 : 156 :: 52 : ?

Options :

1. ✖ 242

2. ✖ 224

3. ✔ 338

4. ✖ 390

Question Number : 3 Question Id : 9983674379 Question Type : MCQ Option Shuffling : Yes

Correct Marks : 1 Wrong Marks : 0.25

A group of three interrelated word is given. Choose a word from the given alternatives that is similar to the given words and hence belongs to the same group.

**Insects : Reptiles : Mammals**

Options :

1. ✖ Ostrich

2. ✖ Rat

3. ✔ Rodent

4. ✖ Snake

Question Number : 3 Question Id : 9983674379 Question Type : MCQ Option Shuffling : Yes

Correct Marks : 1 Wrong Marks : 0.25

तीन परस्पर संबंधित शब्दों का एक समूह दिया गया है। दिए गए विकल्पों में से वह शब्द चुनें जो दिए गए शब्दों के समान हो और इस प्रकार उसी समूह से संबंधित हो।

**कीट : सरीसृप : स्तनपायी**

Options :

1. ✖ शतुरमुर्ग

2. ✖ चूहा

3. ✔ कृतक

4. ✖ साँप

Question Number : 4 Question Id : 9983674380 Question Type : MCQ Option Shuffling : Yes

Correct Marks : 1 Wrong Marks : 0.25

A group of three interrelated numbers is given. Choose a numbers from the given alternatives that is similar to the given numbers and hence belongs to the same group.

35 : 77 : 143

Options :

1. ✖ 180

2. ✖ 135

3. ✖ 270

4. ✔ 221

Question Number : 4 Question Id : 9983674380 Question Type : MCQ Option Shuffling : Yes

Correct Marks : 1 Wrong Marks : 0.25

तीन परस्पर संबंधित संख्याओं का एक समूह दिया गया है। दिए गए विकल्पों में से वह संख्या चुनें जो दी गई संख्याओं के समान हो और इस प्रकार उसी समूह से संबंधित हो।

35 : 77 : 143

Options :

1. ✖ 180

2. ✖ 135

3. ✖ 270

4. ✔ 221

Question Number : 5 Question Id : 9983674381 Question Type : MCQ Option Shuffling : Yes  
Correct Marks : 1 Wrong Marks : 0.25

Which of the following is the same as Ampere, Watt and Ohm?

Options :

1. ✖ Power

2. ✖ Resistance

3. ✔ Candela

4. ✖ Mass

Question Number : 5 Question Id : 9983674381 Question Type : MCQ Option Shuffling : Yes  
Correct Marks : 1 Wrong Marks : 0.25

निम्नलिखित में से कौन सा शब्द विद्युत धारा का एम्पियर, वाट और ओहम से समानता रखता है।

Options :

1. ✖ बिजली

2. ✖ प्रतिरोधक

3. ✔ कैंडेला

4. ✖ मैस

Question Number : 6 Question Id : 9983674382 Question Type : MCQ Option Shuffling : Yes

Correct Marks : 1 Wrong Marks : 0.25

Four pairs of words are given out of which the words in three pairs bear a certain common relationship. Choose the pair in which the words are differently related.

Options :

1. ✖ Cock : Strut

2. ✖ Bear : Lumber

3. ✖ Mouse : Scamper

4. ✔ Donkey : Leap

Question Number : 6 Question Id : 9983674382 Question Type : MCQ Option Shuffling : Yes

Correct Marks : 1 Wrong Marks : 0.25

शब्दों के चार जोड़े दिए गए हैं जिनमें से तीन जोड़ों में शब्दों के बीच एक निश्चित समान संबंध है। वह जोड़ा चुनें जिसमें शब्द भिन्न प्रकार से परस्पर संबंधित हैं।

Options :

1. ✖ मुर्गा : इठलाना

2. ✖ भालू : काठ

3. ✖ चूहा : दौड़

4. ✔ गधा : छलांग

Question Number : 7 Question Id : 9983674383 Question Type : MCQ Option Shuffling : Yes

Correct Marks : 1 Wrong Marks : 0.25

Four pairs of numbers are given out of which the numbers in three pairs bear a certain common relationship. Choose the pair in which the numbers are differently related.

Options :

1. ✖ 53 - 59

2. ✖ 71 - 73

3. ✖ 83 - 89

4. ✔ 47 - 61

Question Number : 7 Question Id : 9983674383 Question Type : MCQ Option Shuffling : Yes

Correct Marks : 1 Wrong Marks : 0.25

शब्दों के चार जोड़े दिए गए हैं जिनमें से तीन जोड़ों में शब्दों के बीच एक निश्चित समान संबंध है। वह जोड़ा चुनें जिसमें शब्द भिन्न प्रकार से परस्पर संबंधित हैं।

Options :

1. ✖ 53 - 59

2. ✖ 71 - 73

3. ✖ 83 - 89



4. ✓ 47 - 61

Question Number : 8 Question Id : 9983674384 Question Type : MCQ Option Shuffling : Yes

Correct Marks : 1 Wrong Marks : 0.25

One evening John was standing facing a tree. The shadow of the tree fell exactly to his right. Which direction he is facing now?

Options :

1. ✗ East

2. ✓ North

3. ✗ South

4. ✗ West

Question Number : 8 Question Id : 9983674384 Question Type : MCQ Option Shuffling : Yes

Correct Marks : 1 Wrong Marks : 0.25

एक सुबह जॉन, एक पेड़ की ओर मुंह करके खड़ा था। पेड़ की छाया उसके ठीक बाएं पड़ रही थी। अब वह किस दिशा की ओर मुंह करके खड़ा है।

Options :

1. ✗ पूर्व

2. ✓ उत्तर

3. ✗ दक्षिण

4. ✗ पश्चिम

Question Number : 9 Question Id : 9983674385 Question Type : MCQ Option Shuffling : Yes

Correct Marks : 1 Wrong Marks : 0.25

Sachin, Sahil, Sandhya, Sani, Sanju, Saurabh, Shweta and Sunil are sitting around a round table in the same order for lunch at equal distance. Their positions are clockwise. If Sandhya sits facing East, then what will be the position of Sunil?

Options :

1. ✘ North - East

2. ✘ North - West

3. ✔ South - East

4. ✘ South - West

Question Number : 9 Question Id : 9983674385 Question Type : MCQ Option Shuffling : Yes

Correct Marks : 1 Wrong Marks : 0.25

सचिन, साहिल, संध्या, सनी, संजू, सौरभ, श्वेता और सुनील, लंच के लिए एक गोल मेज के चारों ओर समान दूरियों पर इसी क्रम में बैठे हैं। उनकी स्थिति दक्षिणावर्त है। यदि संध्या पूर्व की ओर बैठी है, तो सुनील की स्थिति क्या होगी?

Options :

1. ✘ उत्तर - पूर्व

2. ✘ उत्तर - पश्चिम

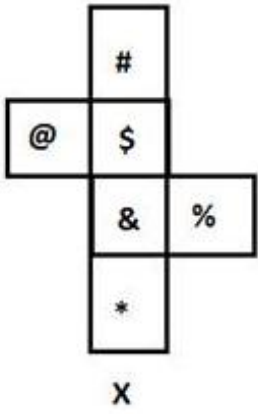
3. ✔ दक्षिण - पूर्व

4. ✘ दक्षिण - पश्चिम

Question Number : 10 Question Id : 9983674386 Question Type : MCQ Option Shuffling : Yes

Correct Marks : 1 Wrong Marks : 0.25

The sheet of paper in fig X is folded to form a cube. Which will come opposite to face showing %?



Options :

1. ✓ @

2. ✗ \*

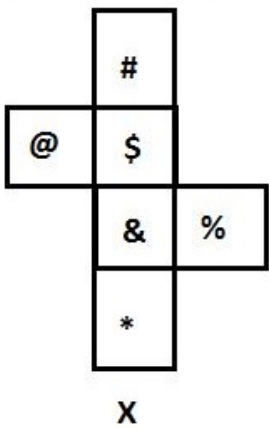
3. ✗ \$

4. ✗ #

Question Number : 10 Question Id : 9983674386 Question Type : MCQ Option Shuffling : Yes

Correct Marks : 1 Wrong Marks : 0.25

चित्र X में कागज की एक शीट को मोड़कर एक घन बनाया गया है। इसका जो भाग % दिखा रहा है, उसके ठीक विपरीत क्या होगा?



Options :

1. ✓ @

2. ✖ \*

3. ✖ \$

4. ✖ #

Question Number : 11 Question Id : 9983674387 Question Type : MCQ Option Shuffling : Yes

Correct Marks : 1 Wrong Marks : 0.25

Six children A, B, C, D, E and F are standing in a line. F is to the left of A and right of B. D is between C and B. E is standing left of C. Who is standing at the left extreme?

Options :

1. ✖ C

2. ✖ A

3. ✔ E

4. ✖ D

Question Number : 11 Question Id : 9983674387 Question Type : MCQ Option Shuffling : Yes

Correct Marks : 1 Wrong Marks : 0.25

छह बच्चे A, B, C, D, E और F एक पंक्ति में खड़े हैं। F, A के बाएं और B के दाएं है। D, C और B के बीच में है। E, C के दाएं खड़ा है। एकदम दाएं कौन खड़ा है?

Options :

1. ✖ C

2. ✖ A

3. ✓ E

4. ✗ D

Question Number : 12 Question Id : 9983674388 Question Type : MCQ Option Shuffling : Yes

Correct Marks : 1 Wrong Marks : 0.25

If NATION is coded as 467234 and EARN is coded as 1654, then ATTENTION should be coded as \_\_\_\_\_.

Options :

1. ✗ 432769561

2. ✗ 956143654

3. ✗ 766412743

4. ✓ 677147234

Question Number : 12 Question Id : 9983674388 Question Type : MCQ Option Shuffling : Yes

Correct Marks : 1 Wrong Marks : 0.25

एक निश्चित कोड में NATION को 467234 और EARN को 1654 लिखा जाता है। उसी कोड में ATTENTION को किस प्रकार लिखा जाएगा?

Options :

1. ✗ 432769561

2. ✗ 956143654

3. ✗ 766412743

4. ✓ 677147234

Question Number : 13 Question Id : 9983674389 Question Type : MCQ Option Shuffling : Yes

Correct Marks : 1 Wrong Marks : 0.25

In a beauty contest, only five contestants Simran, Mukta, Zeenat, Sonali and Cassandra reached the final stage. Simran ranked third and one step above Cassandra. Cassandra is two steps below Sonali who is neither the first nor the last. Mukta is just below Cassandra. Who emerged the crown bearer?

Options :

1. ✗ Simran

2. ✓ Zeenat

3. ✗ Cassandra

4. ✗ Sonali

Question Number : 13 Question Id : 9983674389 Question Type : MCQ Option Shuffling : Yes

Correct Marks : 1 Wrong Marks : 0.25

एक सौंदर्य प्रतियोगिता में केवल पांच प्रतियोगी सिमरन, मुक्ता, जीनत, सोनाली और कैसेंड्रा अंतिम चरण में पहुंचने में सफल रही। सिमरन को तीसरा स्थान मिला और वह कैसेंड्रा से एक स्थान उपर थी। कैसेंड्रा सोनाली से दो स्थान नीचे थी, सोनाली ना तो पहले स्थान पर थी और ना ही अंतिम स्थान पर थी। मुक्ता को कैसेंड्रा के ठीक नीचे का स्थान मिला। पता लगाएं कि सौंदर्य प्रतियोग्यता का ताज किसने जीता?

Options :

1. ✗ सिमरन

2. ✓ जीनत

3. ✗ कैसेंड्रा

#### 4. ✖ सोनाली

Question Number : 14 Question Id : 9983674390 Question Type : MCQ Option Shuffling : Yes  
Correct Marks : 1 Wrong Marks : 0.25

What is the product of all the numbers in the dial of a telephone (excluding 0)?

Options :

1. ✖ 155788

2. ✔ 362880

3. ✖ 255690

4. ✖ 556058

Question Number : 14 Question Id : 9983674390 Question Type : MCQ Option Shuffling : Yes  
Correct Marks : 1 Wrong Marks : 0.25

टेलीफोन के डायल में सभी नंबरों (0 को छोड़कर) का गुणफल क्या होता है?

Options :

1. ✖ 155788

2. ✔ 362880

3. ✖ 255690

4. ✖ 556058

Question Number : 15 Question Id : 9983674391 Question Type : MCQ Option Shuffling : Yes  
Correct Marks : 1 Wrong Marks : 0.25

What will be the water image of?



Options :

1. ✘



2. ✔



3. ✘



4. ✘



Question Number : 15 Question Id : 9983674391 Question Type : MCQ Option Shuffling : Yes  
Correct Marks : 1 Wrong Marks : 0.25

निम्न की जल में छवि (वाटर इमेज) क्या होगी?



Options :

1. ✘





2. ✓



3. ✗



4. ✗



Question Number : 16 Question Id : 9983674392 Question Type : MCQ Option Shuffling : Yes

Correct Marks : 1 Wrong Marks : 0.25

Following are the criteria to recruit a Teacher in a college:

- I. The Applicant must be science graduate with 75% marks.
- II. Have his/her age in between 25 to 32 years as on 10-05-2019.
- III. Have a PG degree/ 3 years diploma or must have completed B.Ed. with more than 65% marks.
- IV. Have minimum 3 years' experience in Teaching.
- V. Be ready to join 2 year probation.

If a candidate satisfies all the criteria except

at III above, but is an Arts with Mathematics graduate with minimum 72% marks and has an experience of more than 5 years and more her/his case is to be referred to the Vice President.

at IV above, but master degree's with minimum 60% marks, her/his is to be referred to the President

A detail of applicant is given below in the questions. On the basis of the following decision which is based on the data given above, mark the answer.

Sahil is a B.Sc. Graduate with 80% marks and has completed PG in Mathematics with 59% marks. He completed 28 years of age in 2017 and has 1 years' experience as a Mathematics Faculty. He is ready to join probation period of 2 year.

Options :

1. ✗ If case is to be referred to President.

2. ✗ If case is to be referred to Vice President.

3. ✘ If candidate is to be selected.

4. ✔ If candidate is not to be selected.

Question Number : 16 Question Id : 9983674392 Question Type : MCQ Option Shuffling : Yes  
Correct Marks : 1 Wrong Marks : 0.25

एक कॉलेज में एक शिक्षक की भर्ती हेतु मापदंड नीचे दिया गया है:

- I. आवेदक का 75% अंकों के साथ विज्ञान स्नातक होना अनिवार्य है।
- II. 10-05-2019 को उसकी आयु 25 से 32 वर्ष के बीच होनी चाहिए।
- III. पीजी डिग्री/3 वर्ष का डिप्लोमा हो अथवा 65% से अधिक अंकों के साथ बी.एड. पूरा किया हो।
- IV. शिक्षण में कम से कम 3 वर्ष का अनुभव हो।
- V. 2 वर्ष की परिवीक्षा पर नियुक्त होने के लिए तैयार हो।

यदि एक अभ्यर्थी समस्त मापदंड पूरे करता है सिवाय

उक्त III के अतिरिक्त लेकिन न्यूनतम 72% अंकों के साथ गणित और कला स्नातक है, और 5 वर्ष से अधिक का अनुभव है, तो उसका मामला उपाध्यक्ष को संदर्भित किया जाएगा।

उक्त IV के अतिरिक्त, लेकिन न्यूनतम 60% अंकों के साथ मास्टर डिग्री है, तो उसका मामला अध्यक्ष को संदर्भित किया जाएगा।

प्रश्नगत एक आवेदक के विवरण नीचे दिए गए हैं। उक्त सूचनाओं के आधार पर निम्न निर्णय के आधार पर उत्तर चिन्हित करें।

साहिल 80% अंकों के साथ बी.एस.सी. स्नातक है, और गणित में पीजी पूरा किया है। 2017 में उसने 28 वर्ष आयु पूर्ण की है और गणित संकाय के रूप में 1 वर्ष का अनुभव है। वह 2 वर्ष की परिवीक्षा पर नियुक्त होने के लिए तैयार है।

Options :

1. ✘ यदि मामला अध्यक्ष को संदर्भित किया जाना हो।

2. ✘ यदि मामला उपाध्यक्ष को संदर्भित किया जाना हो।

3. ✘ यदि अभ्यर्थी को नियुक्त किया जाना हो।

4. ✔ यदि अभ्यर्थी को नियुक्त नहीं किया जाना हो।

Question Number : 17 Question Id : 9983674393 Question Type : MCQ Option Shuffling : Yes  
Correct Marks : 1 Wrong Marks : 0.25

Following are qualifications for a technical assistant post in company Alpha.

The candidate must:-

- I. Be an Engineering graduate with atleast 70% marks.
- II. Not less than 23 years and not more than 30 years of age on 1.7.2019.
- III. Have passed the selection test with atleast 60% marks.
- IV. Willing to join immediate for training and ready to pay a deposit of Rs. 20000, to be refunded on completion of training.

However, if a candidate fulfils the above mentioned criteria except:

at (I) above, but he has appeared for the last semester examination and obtained an aggregate of 65% marks in previous semester, his/her case may be referred to the V.P. of the company.

at (II) his/her age is less than 23 years but he secured 80% marks in graduation, the case may be referred to the General Manager of the company.

The detail of the candidate is given as regards his/her candidature. You have to read the information provided and decide his/her status based on the conditions given above.

Ravi is an IT engineer passed his graduation with 80% marks. After getting the engineering degree he has done MCA. He has cleared the selection test with 70% marks.

He is ready to deposit above said amount and want to join immediately. His date of birth is 2.10.1997.

Options :

1. ✖ If the candidate is to be selected.
2. ✖ If the candidate is not selected.
3. ✖ If the case is referred to the V. P.
4. ✔ If the case is referred to the General Manager.

Question Number : 17 Question Id : 9983674393 Question Type : MCQ Option Shuffling : Yes  
Correct Marks : 1 Wrong Marks : 0.25

अल्फा कंपनी में एक तकनीकी सहायक के पद हेतु पात्रताएं नीचे दी गई हैं।

अभ्यर्थी के लिए निम्न अनिवार्य है:-

- I. कम से कम 70% अंकों के साथ इंजीनियरिंग में स्नातक हो।
- II. 1.7.2019 को आयु 23 वर्ष से कम और 30 वर्ष से अधिक न हो।
- III. न्यूनतम 60% अंकों के साथ चयन परीक्षा उत्तीर्ण की हो।
- IV. प्रशिक्षण हेतु तत्काल नियुक्त होने का इच्छुक हो और 20000 रुपयों की राशि जमा करने के लिए तैयार हो, जो प्रशिक्षण पूर्ण होने पर वापस कर दी जाएगी।

हालांकि यदि कोई अभ्यर्थी, निम्न के सिवाय उक्तांकित मापदंड पूरे करता है तो:

उक्त (I) के सिवाय, लेकिन वह पिछले सेमेस्टर की परीक्षा में उपस्थित हुआ हो और पिछले सेमेस्टर में कुल 65% अंक प्राप्त किए हों, तो उसका मामला कंपनी के वी.पी. को संदर्भित किया जा सकता है।

उक्त (II) के सिवाय, लेकिन उसकी आयु 23 वर्ष से कम हो लेकिन उसने स्नातक में 80% अंक प्राप्त किए हों, तो उसका मामला कंपनी के महाप्रबंधक को संदर्भित किया जा सकता है।

अभ्यर्थी के अभ्यर्थन के संबंध में विवरण नीचे दिए गए हैं। आपको दी गई सूचना पढ़नी है और उक्त शर्तों के आधार पर उसकी स्थिति निर्धारित करनी है।

रवि एक आईटी इंजीनियर है जिसने 80% अंकों के साथ स्नातक उत्तीर्ण किया है। इंजीनियरिंग की डिग्री लेने के बाद उसने एमसीए किया। उसने 70% अंकों के साथ चयन परीक्षा उत्तीर्ण की है।

वह उक्त राशि जमा करने के लिए तैयार है और तत्काल नियुक्त होना चाहता है। उसकी जन्मतिथि 2.10.1997 है।

Options :

1. ✘ यदि अभ्यर्थी को चुना जाना हो।
2. ✘ यदि अभ्यर्थी को नहीं चुना जाना हो।
3. ✘ यदि मामला वी.पी. को संदर्भित किया जाना हो।
4. ✔ यदि मामला महाप्रबंधक को संदर्भित किया जाना हो।

Question Number : 18 Question Id : 9983674394 Question Type : MCQ Option Shuffling : Yes

Correct Marks : 1 Wrong Marks : 0.25

The statement given below is followed by two decisions labeled I, and II. You have to assume everything in the statement to be true, and then decide which of the two suggested decisions logically follows for pursuing.

**Statement:**

Without active cooperation between officers and office staffs of the company, it cannot remain profitable to run business from this office.

**Decisions:**

- I. The office should be closed down.
- II. The office staff should be terminated.

**Options :**

- 1. ✖ Only I follows.
- 2. ✖ Both I and II follow.
- 3. ✔ Neither I nor II follow.
- 4. ✖ Only II follows.

Question Number : 18 Question Id : 9983674394 Question Type : MCQ Option Shuffling : Yes

Correct Marks : 1 Wrong Marks : 0.25

नीचे दिए कथन के बाद दो निर्णय I, और II दिए गए हैं। आपको कथन को पूर्णतया सत्य मानना है और फिर यह निर्धारित करना है कि दोनों में से कौन से निर्णय तर्कसंगत रूप से सही हैं।

**कथन:**

कंपनी के अधिकारियों और कार्यालय कर्मचारियों के बीच सक्रिय सहयोग के बिना, इस कार्यालय से व्यापार करना लाभ का सौदा नहीं रहेगा।

**निर्णय:**

- I. कार्यालय बंद कर देना चाहिए।
- II. कार्यालय के कर्मचारियों को बर्खास्त कर दिया जाना चाहिए।

**Options :**

- 1. ✖ केवल I सही है।
- 2. ✖ I और II दोनों सही हैं।

3. ✓ या तो I या II सही हैं।

4. ✗ केवल II सही है।

Question Number : 19 Question Id : 9983674395 Question Type : MCQ Option Shuffling : Yes

Correct Marks : 1 Wrong Marks : 0.25

The statement given below is followed by two decisions labeled I, and II. You have to assume everything in the statement to be true, and then decide which of the two suggested decisions logically follows for pursuing.

**Statement:**

People living in rural areas are far from education and health awareness.

**Decisions:**

- I. As soon as possible schools and colleges should be opened in these areas.
- II. A mass awareness program must be initiated in these areas.

**Options :**

1. ✗ Only I follows.

2. ✓ Both I and II follow.

3. ✗ Either I or II follow.

4. ✗ Only II follows.

Question Number : 19 Question Id : 9983674395 Question Type : MCQ Option Shuffling : Yes

Correct Marks : 1 Wrong Marks : 0.25

नीचे दिए कथन के बाद दो निर्णय I, और II दिए गए हैं। आपको कथन को पूर्णतया सत्य मानना है और फिर यह निर्धारित करना है कि दोनों में से कौन से निर्णय तर्कसंगत रूप से सही हैं।

**कथन:**

ग्रामीण क्षेत्रों में रहने वाले लोग शिक्षा और स्वास्थ्य जागरूकता से वंचित हैं।

**निर्णय:**

- I. इन क्षेत्रों में जल्द से जल्द स्कूल और कॉलेज खोले जाने चाहिए।
- II. इन क्षेत्रों में एक जन जागरूकता अभियान शुरू किया जाना चाहिए।

**Options :**

1. ✘ केवल I सही है।
2. ✔ I और II दोनों सही हैं।
3. ✘ या तो I या II सही हैं।
4. ✘ केवल II सही है।

**Question Number : 20 Question Id : 9983674396 Question Type : MCQ Option Shuffling : Yes**

**Correct Marks : 1 Wrong Marks : 0.25**

The statement given below is followed by two decisions labeled I, and II. You have to assume everything in the statement to be true, and then decide which of the two suggested decisions logically follows for pursuing.

**Statement:**

All employees of the office have gone on strike in protest against the privatization of women helpline.

**Decisions:**

- I. All the concern authority should interfere in this matter to resolve issue.
- II. All the employees should be immediately terminated from job.

**Options :**

1. ✔ Only I follows.
2. ✘ Both I and II follow.

3. ✖ Either I or II follow.

4. ✖ Only II follows.

Question Number : 20 Question Id : 9983674396 Question Type : MCQ Option Shuffling : Yes

Correct Marks : 1 Wrong Marks : 0.25

नीचे दिए कथन के बाद दो निर्णय I, और II दिए गए हैं। आपको कथन को पूर्णतया सत्य मानना है और फिर यह निर्धारित करना है कि दोनों में से कौन से निर्णय तर्कसंगत रूप से सही हैं।

**कथन:**

महिला हेल्पलाइन के निजीकरण के विरोध में कार्यालय के सभी कर्मचारी हड़ताल पर चले गए हैं।

**निर्णय:**

- I. समस्या को हल करने के लिए सभी संबंधित प्राधिकरणों को इस मामले में हस्तक्षेप करना चाहिए।
- II. सभी कर्मचारियों को तुरंत नौकरी से निकाल दिया जाना चाहिए।

**Options :**

1. ✔ केवल I सही है।

2. ✖ I और II दोनों सही हैं।

3. ✖ या तो I या II सही हैं।

4. ✖ केवल II सही है।

## Mental Ability2

Group Number :

2

Group Id :

998367178



Group Maximum Duration :	0
Group Minimum Duration :	0
Show Attended Group? :	No
Edit Attended Group? :	No
Break time:	0
Group Marks:	20
Is this Group for Examiner?:	No
Revisit allowed for group Instructions? :	Yes
Maximum Instruction Time:	0
Minimum Instruction Time:	0

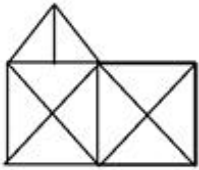
## Mental Ability2

Section Id :	998367184
Section Number :	1
Section type :	Online
Mandatory or Optional:	Mandatory
Number of Questions:	20
Number of Questions to be attempted:	20
Section Marks:	20

Sub-Section Number:	1
Sub-Section Id:	998367272
Question Shuffling Allowed :	Yes

Question Number : 21 Question Id : 9983674397 Question Type : MCQ Option Shuffling : Yes  
Correct Marks : 1 Wrong Marks : 0.25

How many triangles are in the figure?



Options :

1. ✘ 20

2. ✘ 22

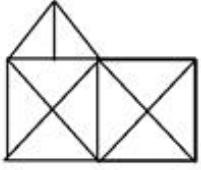
3. ✔ 21

4. ✘ 18

Question Number : 21 Question Id : 9983674397 Question Type : MCQ Option Shuffling : Yes

Correct Marks : 1 Wrong Marks : 0.25

चित्र में कितने त्रिभुज हैं?



Options :

1. ✘ 20

2. ✘ 22

3. ✔ 21

4. ✘ 18

Question Number : 22 Question Id : 9983674398 Question Type : MCQ Option Shuffling : Yes

Correct Marks : 1 Wrong Marks : 0.25

Which of the following words in the options cannot be formed from the given word "HOMOGENEOUS".

Options :

1. ✘ SONG

2. ✔ SING

3. ✘ GENOME

4. ✘ SUNG

Question Number : 22 Question Id : 9983674398 Question Type : MCQ Option Shuffling : Yes

Correct Marks : 1 Wrong Marks : 0.25

दिए गए शब्द "HOMOGENEOUS" का उपयोग करके दिए गए विकल्पों में से कौनसा शब्द नहीं बनाया जा सकता है।

Options :

1. ✘ SONG
2. ✔ SING
3. ✘ GENOME
4. ✘ SUNG

Question Number : 23 Question Id : 9983674399 Question Type : MCQ Option Shuffling : Yes

Correct Marks : 1 Wrong Marks : 0.25

Four letter clusters are given out of which the three letter clusters bear a certain common relationship. Choose the option in which the letter clusters are differently related.

Options :

1. ✘ CFIL
2. ✘ DGJM
3. ✔ PSVX
4. ✘ EHKN

Question Number : 23 Question Id : 9983674399 Question Type : MCQ Option Shuffling : Yes

Correct Marks : 1 Wrong Marks : 0.25

नीचे चार अक्षर समूह दिए गए हैं, जिनमें से तीन अक्षर समूह आपस में किसी ना किसी तरीके से संबंधित हैं। आपस में संबंध ना रखने वाले अक्षर समूहों का विकल्प चुनें।

Options :

1. ✖ CFIL

2. ✖ DGJM

3. ✔ PSVX

4. ✖ EHKN

Question Number : 24 Question Id : 9983674400 Question Type : MCQ Option Shuffling : Yes

Correct Marks : 1 Wrong Marks : 0.25

Four numbers are given out of which the three numbers bear a certain common relationship. Choose the number which is different from others.

Options :

1. ✔ 253

2. ✖ 319

3. ✖ 203

4. ✖ 377

Question Number : 24 Question Id : 9983674400 Question Type : MCQ Option Shuffling : Yes

Correct Marks : 1 Wrong Marks : 0.25

चार संख्याएँ दी गई हैं, जिनमें से तीन संख्याओं के बीच एक निश्चित समान संबंध है। वह संख्या चुनें जो अन्य से भिन्न है।

Options :

1. ✔ 253

2. ✖ 319

3. ✖ 203

4. ✖ 377

Question Number : 25 Question Id : 9983674401 Question Type : MCQ Option Shuffling : Yes

Correct Marks : 1 Wrong Marks : 0.25

Four figures are given out of which the three figures bear a certain common relationship. Choose the figures which is different from others.

Options :



Question Number : 25 Question Id : 9983674401 Question Type : MCQ Option Shuffling : Yes

Correct Marks : 1 Wrong Marks : 0.25

चार आकृति दी गई हैं, जिनमें से तीन आकृतिओं के बीच एक निश्चित समान संबंध है। वह आकृति को चुनें जो अन्य से भिन्न है।

Options :

1. ✘



2. ✔



3. ✘



4. ✘



Question Number : 26 Question Id : 9983674402 Question Type : MCQ Option Shuffling : Yes

Correct Marks : 1 Wrong Marks : 0.25

If 'water' is called 'food', 'food' is called 'tree', 'tree' is called 'sky', 'sky' is called 'well', on which of the following grows a fruit?

Options :

1. ✘ Well

2. ✘ Water

3. ✔ Sky

4. ✘ Tree

Question Number : 26 Question Id : 9983674402 Question Type : MCQ Option Shuffling : Yes

Correct Marks : 1 Wrong Marks : 0.25

यदि 'जल' को 'भोजन', 'भोजन' को 'वृक्ष', 'वृक्ष' को 'आकाश' कहा जाता है, और 'आकाश' को 'कुआं' कहा जाता है, तो फल निम्न में से किस पर लगता है?

Options :

1. ✘ कुआं

2. ✘ जल

3. ✔ आकाश

4. ✘ पेड़

Question Number : 27 Question Id : 9983674403 Question Type : MCQ Option Shuffling : Yes

Correct Marks : 1 Wrong Marks : 0.25

Facing west, Suresh turns 45 degrees in the clockwise direction and then another 180 degrees in the same direction and then 270 degrees in the anti-clockwise direction. Which direction is he facing now?

Options :

1. ✘ North - East

2. ✘ North - West

3. ✘ South - East

4. ✔ South - West

Question Number : 27 Question Id : 9983674403 Question Type : MCQ Option Shuffling : Yes

Correct Marks : 1 Wrong Marks : 0.25

पश्चिम की ओर मुंह करके खड़ा सुरेश घड़ी की दिशा में 45 डिग्री और फिर उसी दिशा में 180 डिग्री और फिर घड़ी की विपरीत दिशा में 270 डिग्री पर मुड़ता है। अब वह किस ओर मुंह करके खड़ा है?

Options :

1. ✖ उत्तर - पूर्व

2. ✖ उत्तर - पश्चिम

3. ✖ दक्षिण - पूर्व

4. ✔ दक्षिण - पश्चिम

Question Number : 28 Question Id : 9983674404 Question Type : MCQ Option Shuffling : Yes

Correct Marks : 1 Wrong Marks : 0.25

If 'A - B' means A is mother of B, 'A \$ B', A is sister of B, 'A @ B' means A is father of B and 'A = B' means A is son of B.

If R = S = O @ P, then how R is related to P?

Options :

1. ✔ Nephew

2. ✖ Son

3. ✖ Brother

4. ✖ Niece

Question Number : 28 Question Id : 9983674404 Question Type : MCQ Option Shuffling : Yes

Correct Marks : 1 Wrong Marks : 0.25

यदि 'A - B' का अर्थ A, B की मां है, 'A \$ B' का अर्थ A, B की बहन है, 'A @ B' का अर्थ A, B का पिता है, और 'A = B' का अर्थ A, B का पुत्र है।

यदि R = S = O @ P, तो R, P से किस प्रकार संबंधित है?

Options :



1. ✓ भतीजा/ भांजा

2. ✗ बेटा

3. ✗ भाई

4. ✗ भतीजी/भांजी

Question Number : 29 Question Id : 9983674405 Question Type : MCQ Option Shuffling : Yes

Correct Marks : 1 Wrong Marks : 0.25

Ram and Mohan are brothers. Shweta and Anu are sisters. Dinesh is husband of Manju and son of Manoj. Ram is son of Manoj and Anu is daughter of Dinesh. How Dinesh is related to Mohan?

Options :

1. ✗ Son

2. ✓ Brother

3. ✗ Father

4. ✗ Brother in law

Question Number : 29 Question Id : 9983674405 Question Type : MCQ Option Shuffling : Yes

Correct Marks : 1 Wrong Marks : 0.25

राम और मोहन भाई हैं। श्वेता और अनु बहनें हैं। दिनेश, मंजू का पति है, जो मनोज का पुत्र है। राम, मनोज का पुत्र है और अनु, दिनेश की पुत्री है। दिनेश, मोहन से किस प्रकार संबंधित है?

Options :

1. ✗ बेटा

2. ✓ भाई

3. ✗ पिता

4. ✗ बहनोई/ देवर/ साला/ जेठ

Question Number : 30 Question Id : 9983674406 Question Type : MCQ Option Shuffling : Yes

Correct Marks : 1 Wrong Marks : 0.25

If 'P \* Q' means P is father of Q, 'P % Q', P is daughter of Q, 'P # Q' means P is mother of Q and 'P = Q' means Q is son of P.

If M \* N % O # R \* S, then how R is related to M?

Options :

1. ✗ Brother

2. ✓ Son

3. ✗ Father

4. ✗ Mother

Question Number : 30 Question Id : 9983674406 Question Type : MCQ Option Shuffling : Yes

Correct Marks : 1 Wrong Marks : 0.25

यदि 'P \* Q' का अर्थ P, Q का पिता है, 'P % Q' का अर्थ P, Q की पुत्री है, 'P # Q' का अर्थ P, Q की मां है, और 'P = Q' का अर्थ Q, P का पुत्र है।

यदि M \* N % O # R \* S तो R, M से किस प्रकार संबंधित है?

Options :

1. ✗ भाई

2. ✓ बेटा

3. ✗ पिता

4. ✗ मां

Question Number : 31 Question Id : 9983674407 Question Type : MCQ Option Shuffling : Yes

Correct Marks : 1 Wrong Marks : 0.25

In certain code SILVER is written as 19J1222F18, How will be YELLOW written in that code?

Options :

1. ✗ 25E1212P23

2. ✓ 25F1212P23

3. ✗ 25F12121623

4. ✗ 25F1213P23

Question Number : 31 Question Id : 9983674407 Question Type : MCQ Option Shuffling : Yes

Correct Marks : 1 Wrong Marks : 0.25

एक निश्चित कोड में SILVER को 19J1222F18 लिखा जाता है। उसी कोड में YELLOW को किस प्रकार लिखा जाएगा?

Options :

1. ✗ 25E1212P23

2. ✓ 25F1212P23

3. ✖ 25F12121623

4. ✖ 25F1213P23

Question Number : 32 Question Id : 9983674408 Question Type : MCQ Option Shuffling : Yes

Correct Marks : 1 Wrong Marks : 0.25

In certain code PINK is written as 200, How will be GREEN written in that code?

Options :

1. ✖ 200

2. ✖ 150

3. ✔ 245

4. ✖ 175

Question Number : 32 Question Id : 9983674408 Question Type : MCQ Option Shuffling : Yes

Correct Marks : 1 Wrong Marks : 0.25

एक निश्चित कोड में PINK को 200 लिखा जाता है। उसी कोड में GREEN को किस प्रकार लिखा जाएगा?

Options :

1. ✖ 200

2. ✖ 150

3. ✔ 245

4. ✖ 175

Question Number : 33 Question Id : 9983674409 Question Type : MCQ Option Shuffling : Yes

Correct Marks : 1 Wrong Marks : 0.25

Which of the following pairs of signs, when their positions are interchanged, will correctly solve the given mathematical equation?

$$20 + 5 - 25 \div 15 \times 5 = 54$$

Options :

1. ✖  $\div$  and  $\times$

2. ✔  $\div$  and  $+$

3. ✖  $+$  and  $\times$

4. ✖  $+$  and  $-$

Question Number : 33 Question Id : 9983674409 Question Type : MCQ Option Shuffling : Yes

Correct Marks : 1 Wrong Marks : 0.25

निम्न में से किस चिन्ह युग्म में, उनकी स्थितियां परस्पर बदले जाने पर दिया गया गणितीय समीकरण सही हल हो जाएगा?

$$20 + 5 - 25 \div 15 \times 5 = 54$$

Options :

1. ✖  $\div$  और  $\times$

2. ✔  $\div$  और  $+$

3. ✖  $+$  और  $\times$

4. ✖ + और -

Question Number : 34 Question Id : 9983674410 Question Type : MCQ Option Shuffling : Yes

Correct Marks : 1 Wrong Marks : 0.25

Which of the following pairs of numbers and signs, when their positions are interchanged, will correctly solve the given mathematical equation?

$$16 \div 4 \times 12 + 14 - 7 = 26$$

Options :

1. ✖ 16 and 12, + and -

2. ✖ 7 and 16, - and  $\times$

3. ✖ 14 and 7,  $\times$  and  $\div$

4. ✔ 12 and 7, + and -

Question Number : 34 Question Id : 9983674410 Question Type : MCQ Option Shuffling : Yes

Correct Marks : 1 Wrong Marks : 0.25

संख्याओं व चिन्हों के निम्न में से किस युग्म में, उनकी स्थितियां परस्पर बदले जाने पर दिया गया गणितीय समीकरण सही हल हो जाएगा?

$$16 \div 4 \times 12 + 14 - 7 = 26$$

Options :

1. ✖ 16 और 12, + और -

2. ✖ 7 और 16, - और  $\times$

3. ✖ 14 और 7,  $\times$  और  $\div$

4. ✓ 12 और 7, + और -

Question Number : 35 Question Id : 9983674411 Question Type : MCQ Option Shuffling : Yes

Correct Marks : 1 Wrong Marks : 0.25

Some teams take parts in a cricket tournament. Each one has to play every other one. If there are 78 games played. How many teams are there?

Options :

1. ✗ 11

2. ✗ 12

3. ✓ 13

4. ✗ 14

Question Number : 35 Question Id : 9983674411 Question Type : MCQ Option Shuffling : Yes

Correct Marks : 1 Wrong Marks : 0.25

कुछ टीमों एक क्रिकेट टूर्नामेंट में हिस्सा लेती हैं। सभी टीमों को एक दूसरे के साथ खेलना है। अगर कुल 78 खेल खेले जाते हैं। तो टीमों की कुल संख्या कितनी है?

Options :

1. ✗ 11

2. ✗ 12

3. ✓ 13

4. ✗ 14

Question Number : 36 Question Id : 9983674412 Question Type : MCQ Option Shuffling : Yes

Correct Marks : 1 Wrong Marks : 0.25

Four words have been given out of which three are alike in some manner, while the fourth one is different. Choose out the odd one.

Options :

1. ✘ Kidney

2. ✘ Liver

3. ✘ Lungs

4. ✔ Toe

Question Number : 36 Question Id : 9983674412 Question Type : MCQ Option Shuffling : Yes

Correct Marks : 1 Wrong Marks : 0.25

चार शब्द दिए गए हैं जिनमें से तीन किसी प्रकार समान हैं, जबकि चौथा भिन्न है। असंगत को चुनें।

Options :

1. ✘ गुर्दा

2. ✘ लिवर

3. ✘ फेफड़े

4. ✔ पाँव का अंगूठा

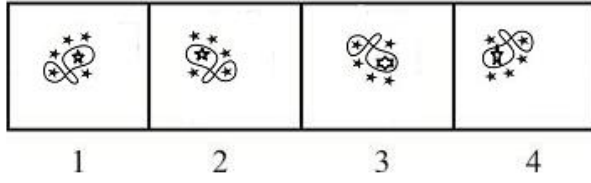
Question Number : 37 Question Id : 9983674413 Question Type : MCQ Option Shuffling : Yes

Correct Marks : 1 Wrong Marks : 0.25



In problem, out of four figures marked 1, 2, 3 and 4, three are similar in a certain manner. However one figure is not like the other three. Choose the figure which is different from the rest.

**Answer Fig:**



Options :

1. ✘ 1

2. ✘ 2

3. ✔ 3

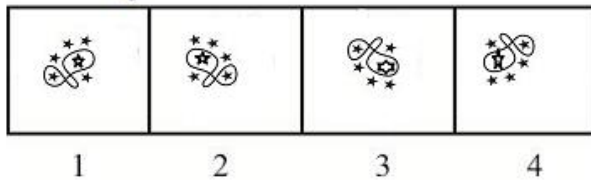
4. ✘ 4

Question Number : 37 Question Id : 9983674413 Question Type : MCQ Option Shuffling : Yes

Correct Marks : 1 Wrong Marks : 0.25

प्रश्न में, 1, 2, 3 और 4 अंकित चार चित्रों में से तीन किसी प्रकार समान हैं। हालांकि एक चित्र, अन्य तीन के समान नहीं है। वह चित्र चुनें जो शेष से भिन्न है।

उत्तर आकृति:



Options :

1. ✘ 1

2. ✘ 2

3. ✔ 3

4. ✖ 4

Question Number : 38 Question Id : 9983674414 Question Type : MCQ Option Shuffling : Yes

Correct Marks : 1 Wrong Marks : 0.25

Select the option that will correctly replace the question mark (?) in the series.

15, 32, 49, 66, ?

Options :

1. ✖ 73

2. ✖ 79

3. ✔ 83

4. ✖ 89

Question Number : 38 Question Id : 9983674414 Question Type : MCQ Option Shuffling : Yes

Correct Marks : 1 Wrong Marks : 0.25

वह विकल्प चुनें जो श्रृंखला में प्रश्नचिह्न (?) को सही प्रतिस्थापित करेगा।

15, 32, 49, 66, ?

Options :

1. ✖ 73

2. ✖ 79

3. ✔ 83

4. ✖ 89

Question Number : 39 Question Id : 9983674415 Question Type : MCQ Option Shuffling : Yes

Correct Marks : 1 Wrong Marks : 0.25

Select the option that will correctly replace the question mark (?) in the series.

21, 22, 31, 56, ?

Options :

1. ✖ 75

2. ✖ 85

3. ✖ 95

4. ✔ 105

Question Number : 39 Question Id : 9983674415 Question Type : MCQ Option Shuffling : Yes

Correct Marks : 1 Wrong Marks : 0.25

वह विकल्प चुनें जो श्रृंखला में प्रश्नचिह्न (?) को सही प्रतिस्थापित करेगा।

21, 22, 31, 56, ?

Options :

1. ✖ 75

2. ✖ 85

3. ✖ 95

4. ✓ 105

Question Number : 40 Question Id : 9983674416 Question Type : MCQ Option Shuffling : Yes

Correct Marks : 1 Wrong Marks : 0.25

Select the option that will correctly replace the question mark (?) in the series.

6, 10, 14, 22, 30, 42 ?

Options :

1. ✗ 48

2. ✗ 50

3. ✗ 56

4. ✓ 54

Question Number : 40 Question Id : 9983674416 Question Type : MCQ Option Shuffling : Yes

Correct Marks : 1 Wrong Marks : 0.25

वह विकल्प चुनें जो श्रृंखला में प्रश्नचिह्न (?) को सही प्रतिस्थापित करेगा।

6, 10, 14, 22, 30, 42, ?

Options :

1. ✗ 48

2. ✗ 50

3. ✗ 56

## General Awareness1

Group Number :	3
Group Id :	998367179
Group Maximum Duration :	0
Group Minimum Duration :	0
Show Attended Group? :	No
Edit Attended Group? :	No
Break time:	0
Group Marks:	20
Is this Group for Examiner?:	No
Revisit allowed for group Instructions? :	Yes
Maximum Instruction Time:	0
Minimum Instruction Time:	0

## General Awareness1

Section Id :	998367185
Section Number :	1
Section type :	Online
Mandatory or Optional:	Mandatory
Number of Questions:	20
Number of Questions to be attempted:	20
Section Marks:	20

Sub-Section Number:	1
Sub-Section Id:	998367273
Question Shuffling Allowed :	Yes

Question Number : 41 Question Id : 9983674417 Question Type : MCQ Option Shuffling : Yes  
Correct Marks : 1 Wrong Marks : 0.25

The term 'Tsunami' is derived from Japanese language. The literal meaning of Tsunami is?

Options :

1. ✖ Demon Waves
2. ✖ Destructive Waves
3. ✓ Harbour Waves

## 4. \* Death Waves

Question Number : 41 Question Id : 9983674417 Question Type : MCQ Option Shuffling : Yes  
Correct Marks : 1 Wrong Marks : 0.25

'सुनामी' शब्द जापानी भाषा का एक शब्द है। सुनामी का शाब्दिक अर्थ है?

Options :

1. \* दानवी लहरें
2. \* विनाशकारी लहरें
3. ✓ हार्बर लहरें
4. \* मौत की लहरें

Question Number : 42 Question Id : 9983674418 Question Type : MCQ Option Shuffling : Yes  
Correct Marks : 1 Wrong Marks : 0.25

The theory of Plate tectonics is related to which one of the following Natural disasters?

Options :

1. ✓ Earth quake
2. \* Landslide
3. \* Cyclone
4. \* Flood

Question Number : 42 Question Id : 9983674418 Question Type : MCQ Option Shuffling : Yes  
Correct Marks : 1 Wrong Marks : 0.25

प्लेट टेक्टोनिक्स का सिद्धांत निम्नलिखित में से किस प्राकृतिक आपदा से संबंधित है?

Options :

1. ✓ भूकंप
2. \* भूस्खलन
3. \* चक्रवात

## 4. ✖ बाढ़

Question Number : 43 Question Id : 9983674419 Question Type : MCQ Option Shuffling : Yes  
Correct Marks : 1 Wrong Marks : 0.25

On which date International Day for Biodiversity is observed?

Options :

1. ✖ June, 22
2. ✔ May, 22
3. ✖ May, 15
4. ✖ June, 15

Question Number : 43 Question Id : 9983674419 Question Type : MCQ Option Shuffling : Yes  
Correct Marks : 1 Wrong Marks : 0.25

अंतर्राष्ट्रीय जैव विविधता दिवस किस तारीख को मनाया जाता है?

Options :

1. ✖ 22 जून
2. ✔ 22 मई
3. ✖ 15 मई
4. ✖ 15 जून

Question Number : 44 Question Id : 9983674420 Question Type : MCQ Option Shuffling : Yes  
Correct Marks : 1 Wrong Marks : 0.25

The buffering capacity of soil refers to the capacity of soil to resist change in its:

Options :

1. ✖ Colour
2. ✔ pH
3. ✖ Water content
4. ✖ NaCl content

Question Number : 44 Question Id : 9983674420 Question Type : MCQ Option Shuffling : Yes  
Correct Marks : 1 Wrong Marks : 0.25

मृदा की बफ़रिंग क्षमता मृदा की उस क्षमता को संदर्भित करती है जो निम्न के परिवर्तन का विरोध करती है:

Options :

1. ✖ रंग
2. ✔ पीएच (pH)
3. ✖ पानी की मात्रा
4. ✖ NaCl की मात्रा

Question Number : 45 Question Id : 9983674421 Question Type : MCQ Option Shuffling : Yes

Correct Marks : 1 Wrong Marks : 0.25

The player of which country has won the Malaysian Open 2019 Badminton women's singles title?

Options :

1. ✖ South Korea
2. ✖ Japan
3. ✔ Taiwan
4. ✖ Spain

Question Number : 45 Question Id : 9983674421 Question Type : MCQ Option Shuffling : Yes

Correct Marks : 1 Wrong Marks : 0.25

मलेशियाई ओपन 2019 बैडमिंटन में महिला एकल खिताब किस देश के खिलाड़ी ने जीता?

Options :

1. ✖ दक्षिण कोरिया
2. ✖ जापान
3. ✔ ताइवान
4. ✖ स्पेन

Question Number : 46 Question Id : 9983674422 Question Type : MCQ Option Shuffling : Yes

Correct Marks : 1 Wrong Marks : 0.25



In which year was the 54th Shaurya Diwas (Valour Day) observed by Central Reserve Police Force (CRPF)?

Options :

1. ✖ 2016
2. ✖ 2017
3. ✔ 2019
4. ✖ 2018

Question Number : 46 Question Id : 9983674422 Question Type : MCQ Option Shuffling : Yes

Correct Marks : 1 Wrong Marks : 0.25

केंद्रीय रिजर्व पुलिस बल (CRPF) द्वारा 54वां शौर्य दिवस (वीरता दिवस) किस वर्ष मनाया गया था?

Options :

1. ✖ 2016
2. ✖ 2017
3. ✔ 2019
4. ✖ 2018

Question Number : 47 Question Id : 9983674423 Question Type : MCQ Option Shuffling : Yes

Correct Marks : 1 Wrong Marks : 0.25

Who is the present Chairman of National Human Rights Commission of India?

Options :

1. ✔ H. L. Dattu
2. ✖ Jyotika Kalra
3. ✖ P. C. Pant
4. ✖ P. C. Ghose

Question Number : 47 Question Id : 9983674423 Question Type : MCQ Option Shuffling : Yes

Correct Marks : 1 Wrong Marks : 0.25

भारत के राष्ट्रीय मानवाधिकार आयोग के वर्तमान अध्यक्ष कौन हैं?

Options :

1. ✓ एच.एल. दत्तु
2. ✘ ज्योतिका कालरा
3. ✘ पी. सी. पंत
4. ✘ पी. सी. घोष

Question Number : 48 Question Id : 9983674424 Question Type : MCQ Option Shuffling : Yes  
Correct Marks : 1 Wrong Marks : 0.25

Which movie has won the award for best visual effects at the 91st academy (Oscar) awards ceremony?

Options :

1. ✘ Green Book
2. ✘ Skin
3. ✓ First Man
4. ✘ Black Panther

Question Number : 48 Question Id : 9983674424 Question Type : MCQ Option Shuffling : Yes  
Correct Marks : 1 Wrong Marks : 0.25

किस फिल्म ने 91वें अकादमी (ऑस्कर) पुरस्कार समारोह में सर्वश्रेष्ठ दृश्य प्रभावों के लिए पुरस्कार जीता?

Options :

1. ✘ ग्रीन बुक
2. ✘ स्किन
3. ✓ फर्स्ट मैन
4. ✘ ब्लैक पैन्थर

Question Number : 49 Question Id : 9983674425 Question Type : MCQ Option Shuffling : Yes  
Correct Marks : 1 Wrong Marks : 0.25

The Aravidu dynasty is a part of which empire in India?

Options :

1. ✘ Mughal Empire

2. ✓ Vijayanagar Empire

3. ✘ Gupta Empire

4. ✘ Mauryan Empire

Question Number : 49 Question Id : 9983674425 Question Type : MCQ Option Shuffling : Yes  
Correct Marks : 1 Wrong Marks : 0.25

अरविदु वंश भारत में किस साम्राज्य का हिस्सा है?

Options :

1. ✘ मुगल साम्राज्य

2. ✓ विजयनगर साम्राज्य

3. ✘ गुप्त साम्राज्य

4. ✘ मौर्य साम्राज्य

Question Number : 50 Question Id : 9983674426 Question Type : MCQ Option Shuffling : Yes  
Correct Marks : 1 Wrong Marks : 0.25

Who among the following started the Wahabi movement in India?

Options :

1. ✘ Moulana Hussain Ahmed

2. ✘ Jafar Ali Khan

3. ✓ Syed Ahmad

4. ✘ Mirza Ghulam Ahmed

Question Number : 50 Question Id : 9983674426 Question Type : MCQ Option Shuffling : Yes  
Correct Marks : 1 Wrong Marks : 0.25

भारत में वहाबी आंदोलन निम्नलिखित में से किसने शुरू किया?

Options :

1. ✘ मौलाना हुसैन अहमद

2. ✘ ज़फ़र अली खान

3. ✓ सैयद अहमद

## 4. \* मिर्जा गुलाम अहमद

Question Number : 51 Question Id : 9983674427 Question Type : MCQ Option Shuffling : Yes  
Correct Marks : 1 Wrong Marks : 0.25

स्वामी विवेकानंद ने भारत में रामकृष्ण मिशन की स्थापना किस वर्ष की थी?

Options :

1. \* 1901
2. ✓ 1897
3. \* 1923
4. \* 1868

Question Number : 51 Question Id : 9983674427 Question Type : MCQ Option Shuffling : Yes  
Correct Marks : 1 Wrong Marks : 0.25

In which year the Ramakrishna Mission was founded in India by Swami Vivekananda?

Options :

1. \* 1901
2. ✓ 1897
3. \* 1923
4. \* 1868

Question Number : 52 Question Id : 9983674428 Question Type : MCQ Option Shuffling : Yes  
Correct Marks : 1 Wrong Marks : 0.25

Who among the following is associated with Satya Shodhak movement in India?

Options :

1. \* Acharya Vinoba Bhave
2. \* Gopal Krishna Gokhale
3. ✓ Jyotiba Phule
4. \* Shiv Narayan Agnihotri

Question Number : 52 Question Id : 9983674428 Question Type : MCQ Option Shuffling : Yes

Correct Marks : 1 Wrong Marks : 0.25

निम्नलिखित में से कौन भारत में सत्यशोधक आंदोलन से जुड़े हैं?

Options :

1. \* आचार्य विनोबा भावे
2. \* गोपाल कृष्ण गोखले
3. ✓ ज्योतिबा फुले
4. \* शिव नारायण अग्निहोत्री

Question Number : 53 Question Id : 9983674429 Question Type : MCQ Option Shuffling : Yes

Correct Marks : 1 Wrong Marks : 0.25

Under which constitutional amendment act, the Sindhi language was added to the list of official languages recognized by the Indian constitution?

Options :

1. \* 51st amendment act
2. \* 41st amendment act
3. \* 31st amendment act
4. ✓ 21st amendment act

Question Number : 53 Question Id : 9983674429 Question Type : MCQ Option Shuffling : Yes

Correct Marks : 1 Wrong Marks : 0.25

किस संवैधानिक संशोधन अधिनियम के तहत, सिंधी भाषा को भारतीय संविधान द्वारा मान्यता प्राप्त आधिकारिक भाषाओं की सूची में जोड़ा गया था?

Options :

1. \* 51 वें संशोधन अधिनियम
2. \* 41 वें संशोधन अधिनियम
3. \* 31 वें संशोधन अधिनियम

## 4. ✓ 21 वें संशोधन अधिनियम

Question Number : 54 Question Id : 9983674430 Question Type : MCQ Option Shuffling : Yes  
Correct Marks : 1 Wrong Marks : 0.25

In the year 2010, the Government of India had categorised which animal as the national heritage animal of India?

Options :

1. ✘ Cow
2. ✘ Tiger
3. ✓ Elephant
4. ✘ Lion

Question Number : 54 Question Id : 9983674430 Question Type : MCQ Option Shuffling : Yes  
Correct Marks : 1 Wrong Marks : 0.25

वर्ष 2010 में, भारत सरकार ने किस जानवर को भारत के राष्ट्रीय विरासत पशु के रूप में वर्गीकृत किया था?

Options :

1. ✘ गाय
2. ✘ बाघ
3. ✓ हाथी
4. ✘ शेर

Question Number : 55 Question Id : 9983674431 Question Type : MCQ Option Shuffling : Yes  
Correct Marks : 1 Wrong Marks : 0.25

The Protem speaker of Lok Sabha is appointed by?

Options :

1. ✓ President
2. ✘ Chief Justice of Supreme Court
3. ✘ Prime Minister
4. ✘ Ex-Speaker

Question Number : 55 Question Id : 9983674431 Question Type : MCQ Option Shuffling : Yes

Correct Marks : 1 Wrong Marks : 0.25

लोकसभा का प्रोटेम स्पीकर किसके द्वारा नियुक्त किया जाता है?

Options :

1. ✓ अध्यक्ष
2. ✗ सुप्रीम कोर्ट के मुख्य न्यायाधीश
3. ✗ प्रधानमंत्री
4. ✗ पूर्व अध्यक्ष

Question Number : 56 Question Id : 9983674432 Question Type : MCQ Option Shuffling : Yes

Correct Marks : 1 Wrong Marks : 0.25

Which article of the Indian constitution deals with the executive power of the state?

Options :

1. ✗ Article 104
2. ✗ Article 254
3. ✓ Article 154
4. ✗ Article 124

Question Number : 56 Question Id : 9983674432 Question Type : MCQ Option Shuffling : Yes

Correct Marks : 1 Wrong Marks : 0.25

भारतीय संविधान का कौन सा अनुच्छेद राज्य की कार्यकारी शक्ति से संबंधित है?

Options :

1. ✗ अनुच्छेद 104
2. ✗ अनुच्छेद 254
3. ✓ अनुच्छेद 154
4. ✗ अनुच्छेद 124

Question Number : 57 Question Id : 9983674433 Question Type : MCQ Option Shuffling : Yes

Correct Marks : 1 Wrong Marks : 0.25

Which article of the Indian constitution contains the definition of the Money Bill?

Options :

1. \* Article 299
2. \* Article 199
3. ✓ Article 110
4. \* Article 129

Question Number : 57 Question Id : 9983674433 Question Type : MCQ Option Shuffling : Yes

Correct Marks : 1 Wrong Marks : 0.25

भारतीय संविधान के किस अनुच्छेद में धन विधेयक की परिभाषा दी गई है?

Options :

1. \* अनुच्छेद 299
2. \* अनुच्छेद 199
3. ✓ अनुच्छेद 110
4. \* अनुच्छेद 129

Question Number : 58 Question Id : 9983674434 Question Type : MCQ Option Shuffling : Yes

Correct Marks : 1 Wrong Marks : 0.25

The articles 29 to 31 of the Indian constitution contains?

Options :

1. \* Directive principles of state policy
2. \* Right to freedom
3. ✓ Cultural and educational rights
4. \* Council of ministers

Question Number : 58 Question Id : 9983674434 Question Type : MCQ Option Shuffling : Yes

Correct Marks : 1 Wrong Marks : 0.25

भारतीय संविधान के 29 से 31 अनुच्छेदों में शामिल हैं?

Options :



1. \* राज्य के नीति निर्देशक सिद्धांत
2. \* स्वतंत्रता का अधिकार
3. ✓ सांस्कृतिक और शैक्षिक अधिकार
4. \* मंत्रिमंडल

Question Number : 59 Question Id : 9983674435 Question Type : MCQ Option Shuffling : Yes  
Correct Marks : 1 Wrong Marks : 0.25

The terms Jigger, Scratch and Cannons is associated with which one of the following games?

Options :

1. \* Rugby
2. ✓ Billiards
3. \* Hockey
4. \* Squash

Question Number : 59 Question Id : 9983674435 Question Type : MCQ Option Shuffling : Yes  
Correct Marks : 1 Wrong Marks : 0.25

जिग्गर, स्क्रेच और कैन्नन का संबंध निम्नलिखित में से किस खेल से है?

Options :

1. \* रग्बी
2. ✓ बिलियर्ड्स
3. \* हॉकी
4. \* स्क्वैश

Question Number : 60 Question Id : 9983674436 Question Type : MCQ Option Shuffling : Yes  
Correct Marks : 1 Wrong Marks : 0.25

With which sport the William Jones Cup is associated?

Options :

1. ✓ Basketball

2. \* Football

3. \* Hockey

4. \* Golf

Question Number : 60 Question Id : 9983674436 Question Type : MCQ Option Shuffling : Yes

Correct Marks : 1 Wrong Marks : 0.25

विलियम जोन्स कप किस खेल से संबंधित है?

Options :

1. ✓ बास्केटबॉल

2. \* फुटबॉल

3. \* हॉकी

4. \* गोल्फ़

## General Awareness2

Group Number :	4
Group Id :	998367180
Group Maximum Duration :	0
Group Minimum Duration :	0
Show Attended Group? :	No
Edit Attended Group? :	No
Break time:	0
Group Marks:	20
Is this Group for Examiner?:	No
Revisit allowed for group Instructions? :	Yes
Maximum Instruction Time:	0
Minimum Instruction Time:	0

## General Awareness2

Section Id :	998367186
Section Number :	1
Section type :	Online
Mandatory or Optional:	Mandatory
Number of Questions:	20
Number of Questions to be attempted:	20
Section Marks:	20

Sub-Section Number: 1  
Sub-Section Id: 998367274  
Question Shuffling Allowed : Yes

Question Number : 61 Question Id : 9983674437 Question Type : MCQ Option Shuffling : Yes  
Correct Marks : 1 Wrong Marks : 0.25

How many centuries did Sachin Tendulkar score in the ICC Cricket World Cup championships (ODI)?

Options :

1. ✖ 7
2. ✖ 5
3. ✖ 8
4. ✔ 6

Question Number : 61 Question Id : 9983674437 Question Type : MCQ Option Shuffling : Yes  
Correct Marks : 1 Wrong Marks : 0.25

सचिन तेंदुलकर ने ICC विश्व कप क्रिकेट चैंपियनशिप (ODI) में कुल कितने शतक बनाए हैं?

Options :

1. ✖ 7
2. ✖ 5
3. ✖ 8
4. ✔ 6

Question Number : 62 Question Id : 9983674438 Question Type : MCQ Option Shuffling : Yes  
Correct Marks : 1 Wrong Marks : 0.25

In which Indian state the annual river festival 'Dwijing' is celebrated?

Options :

1. ✔ Assam
2. ✖ Bihar
3. ✖ Kerala

## 4. \* Manipur

Question Number : 62 Question Id : 9983674438 Question Type : MCQ Option Shuffling : Yes  
Correct Marks : 1 Wrong Marks : 0.25

भारत के किस राज्य में वार्षिक नदी त्यौहार 'दिवजिंग' मनाया जाता है?

Options :

1. ✓ असम
2. \* बिहार
3. \* केरल
4. \* मणिपुर

Question Number : 63 Question Id : 9983674439 Question Type : MCQ Option Shuffling : Yes  
Correct Marks : 1 Wrong Marks : 0.25

With which Indian state do you associate the 'Tanjore' art?

Options :

1. \* Andhra Pradesh
2. ✓ Tamil Nadu
3. \* Maharashtra
4. \* Kerala

Question Number : 63 Question Id : 9983674439 Question Type : MCQ Option Shuffling : Yes  
Correct Marks : 1 Wrong Marks : 0.25

आपके अनुसार 'तंजौर' कला किस भारतीय राज्य से संबंधित है?

Options :

1. \* आंध्र प्रदेश
2. ✓ तमिलनाडु
3. \* महाराष्ट्र
4. \* केरल

Question Number : 64 Question Id : 9983674440 Question Type : MCQ Option Shuffling : Yes  
Correct Marks : 1 Wrong Marks : 0.25

The traditional food 'Masoor Tenga' is famous in which Indian state?

Options :

1. ✖ Kashmir
2. ✖ Maharashtra
3. ✔ Assam
4. ✖ Madhya Pradesh

Question Number : 64 Question Id : 9983674440 Question Type : MCQ Option Shuffling : Yes

Correct Marks : 1 Wrong Marks : 0.25

किस भारतीय राज्य में पारंपरिक भोजन 'मसूर टेंगा' प्रसिद्ध है?

Options :

1. ✖ कश्मीर
2. ✖ महाराष्ट्र
3. ✔ असम
4. ✖ मध्य प्रदेश

Question Number : 65 Question Id : 9983674441 Question Type : MCQ Option Shuffling : Yes

Correct Marks : 1 Wrong Marks : 0.25

Between which two countries the 'Dead Sea' is landlocked?

Options :

1. ✖ Israel and South Korea
2. ✖ Israel and North Korea
3. ✖ Israel and Egypt
4. ✔ Israel and Jordan

Question Number : 65 Question Id : 9983674441 Question Type : MCQ Option Shuffling : Yes

Correct Marks : 1 Wrong Marks : 0.25

'मृत सागर' किन दो देशों के बीच भूमिबद्ध है?

Options :

1. ✖ इज़राइल और दक्षिण कोरिया

2. ✖ इज़राइल और उत्तर कोरिया

3. ✖ इज़राइल और मिस्र

4. ✔ इज़राइल और जॉर्डन

Question Number : 66 Question Id : 9983674442 Question Type : MCQ Option Shuffling : Yes  
Correct Marks : 1 Wrong Marks : 0.25

The wrong country-capital match among the following is?

Options :

1. ✖ Syria - Damascus

2. ✔ Jordan - Astana

3. ✖ Philippines - Manila

4. ✖ Cyprus - Nicosia

Question Number : 66 Question Id : 9983674442 Question Type : MCQ Option Shuffling : Yes  
Correct Marks : 1 Wrong Marks : 0.25

निम्नलिखित में से कौन सा “देश-राजधानी” मेल गलत है?

Options :

1. ✖ सीरिया-दमिश्क

2. ✔ जॉर्डन-अस्ताना

3. ✖ फिलीपींस-मनीला

4. ✖ साइप्रस-निकोसिया

Question Number : 67 Question Id : 9983674443 Question Type : MCQ Option Shuffling : Yes  
Correct Marks : 1 Wrong Marks : 0.25

नेरबुड्डा किस भारतीय नदी का दूसरा नाम है?

Options :

1. ✔ नर्मदा

2. ✖ तापी

3. ✖ गोदावरी

#### 4. \* चंबल

Question Number : 67 Question Id : 9983674443 Question Type : MCQ Option Shuffling : Yes  
Correct Marks : 1 Wrong Marks : 0.25

Nerbudda is the other name for which river in India?

Options :

1. ✓ Narmada
2. \* Tapi
3. \* Godavari
4. \* Chambal

Question Number : 68 Question Id : 9983674444 Question Type : MCQ Option Shuffling : Yes  
Correct Marks : 1 Wrong Marks : 0.25

What was the subject of Ghosh Committee appointed by Government of India?

Options :

1. \* International Trade
2. ✓ Bank Frauds
3. \* Tax reforms
4. \* Public welfare

Question Number : 68 Question Id : 9983674444 Question Type : MCQ Option Shuffling : Yes  
Correct Marks : 1 Wrong Marks : 0.25

भारत सरकार द्वारा घोष समिति की नियुक्ति किस संबंध में की गई थी?

Options :

1. \* अंतर्राष्ट्रीय व्यापार
2. ✓ बैंक धोखाधड़ी
3. \* कर सुधार
4. \* सार्वजनिक कल्याण

Question Number : 69 Question Id : 9983674445 Question Type : MCQ Option Shuffling : Yes

Correct Marks : 1 Wrong Marks : 0.25

In which year Government of India had started MUDRA (Micro Units Development and Refinance Agency) bank?

Options :

1. ✓ 2015
2. ✗ 2010
3. ✗ 2007
4. ✗ 2001

Question Number : 69 Question Id : 9983674445 Question Type : MCQ Option Shuffling : Yes

Correct Marks : 1 Wrong Marks : 0.25

भारत सरकार ने MUDRA (माइक्रो यूनिट्स डेवलपमेंट एंड रिफाइनंस एजेंसी) बैंक किस वर्ष में शुरू किया था?

Options :

1. ✓ 2015
2. ✗ 2010
3. ✗ 2007
4. ✗ 2001

Question Number : 70 Question Id : 9983674446 Question Type : MCQ Option Shuffling : Yes

Correct Marks : 1 Wrong Marks : 0.25

Which country assisted India in setting up steel plant in Rourkela under second five year plan?

Options :

1. ✗ England
2. ✗ France
3. ✗ Russia
4. ✓ Germany

Question Number : 70 Question Id : 9983674446 Question Type : MCQ Option Shuffling : Yes

Correct Marks : 1 Wrong Marks : 0.25



दूसरी पंचवर्षीय योजना के तहत राउरकेला में इस्पात संयंत्र स्थापित करने में किस देश ने भारत की सहायता की थी?

Options :

1. \* इंग्लैंड
2. \* फ्रांस
3. \* रूस
4. ✓ जर्मनी

Question Number : 71 Question Id : 9983674447 Question Type : MCQ Option Shuffling : Yes  
Correct Marks : 1 Wrong Marks : 0.25

Which one of the artificial polymers is known as the artificial silk?

Options :

1. \* PVC
2. ✓ Rayon
3. \* Orlon
4. \* HDPE

Question Number : 71 Question Id : 9983674447 Question Type : MCQ Option Shuffling : Yes  
Correct Marks : 1 Wrong Marks : 0.25

निम्न में से कौन सा कृत्रिम बहुलक कृत्रिम रेशम के नाम से जाना जाता है?

Options :

1. \* पीवीसी
2. ✓ रेयान
3. \* ओरलन
4. \* एचडीपीई

Question Number : 72 Question Id : 9983674448 Question Type : MCQ Option Shuffling : Yes  
Correct Marks : 1 Wrong Marks : 0.25

The SI unit of charge is:

Options :

1. ✓ Coulomb
2. ✗ Hertz
3. ✗ Ampere
4. ✗ Mho

Question Number : 72 Question Id : 9983674448 Question Type : MCQ Option Shuffling : Yes  
Correct Marks : 1 Wrong Marks : 0.25

आवेश की SI इकाई है:

Options :

1. ✓ कूलम्ब
2. ✗ हर्ट्ज
3. ✗ एम्पीयर
4. ✗ Mho

Question Number : 73 Question Id : 9983674449 Question Type : MCQ Option Shuffling : Yes  
Correct Marks : 1 Wrong Marks : 0.25

The alloy 'Bell Metal' is made up of about 78% Copper and 22% of \_\_\_\_\_.

Options :

1. ✗ Chromium
2. ✗ Zinc
3. ✗ Aluminium
4. ✓ Tin

Question Number : 73 Question Id : 9983674449 Question Type : MCQ Option Shuffling : Yes  
Correct Marks : 1 Wrong Marks : 0.25

मिश्र धातु 'बेल मेटल' लगभग 78% कॉपर और 22% \_\_\_\_\_ से बना होता है।

Options :

1. ✖ क्रोमियम
2. ✖ जस्ता
3. ✖ एल्युमीनियम
4. ✔ टिन

Question Number : 74 Question Id : 9983674450 Question Type : MCQ Option Shuffling : Yes  
Correct Marks : 1 Wrong Marks : 0.25

The chemical term alkylbenzenesulfonates refers to which one of the following house hold material?

Options :

1. ✖ Body spray
2. ✖ Shampoo
3. ✖ Hair conditioner
4. ✔ Detergent

Question Number : 74 Question Id : 9983674450 Question Type : MCQ Option Shuffling : Yes  
Correct Marks : 1 Wrong Marks : 0.25

निम्नलिखित में से किस घरेलू सामग्री का रासायनिक नाम एल्केलेबेनजेनसल्फोनसेट्रीफर (alkylbenzenesulfonates) है?

Options :

1. ✖ बॉडी स्प्रे
2. ✖ शैम्पू
3. ✖ हेयर कंडीशनर
4. ✔ डिटर्जेंट

Question Number : 75 Question Id : 9983674451 Question Type : MCQ Option Shuffling : Yes  
Correct Marks : 1 Wrong Marks : 0.25

Which organization had launched the cyber defence exercise 'Cyber Coalition 2013'?

Options :

1. ✖ ISRO
2. ✔ NATO
3. ✖ C-DAC
4. ✖ NASA

Question Number : 75 Question Id : 9983674451 Question Type : MCQ Option Shuffling : Yes  
Correct Marks : 1 Wrong Marks : 0.25

साइबर रक्षा अभ्यास 'साइबर गठबंधन 2013' किस संगठन ने शुरू किया था?

Options :

1. ✖ इसरो
2. ✔ नाटो
3. ✖ सी - डीएसी
4. ✖ नासा

Question Number : 76 Question Id : 9983674452 Question Type : MCQ Option Shuffling : Yes  
Correct Marks : 1 Wrong Marks : 0.25

Tianhe-2 is the name of \_\_\_\_\_ developed by China in the year 2013.

Options :

1. ✔ Super Computer
2. ✖ Space Shuttle
3. ✖ Humanoid Robot
4. ✖ Aircraft

Question Number : 76 Question Id : 9983674452 Question Type : MCQ Option Shuffling : Yes  
Correct Marks : 1 Wrong Marks : 0.25

तियान्हे - 2 वर्ष 2013 में चीन द्वारा विकसित \_\_\_\_\_ का नाम है।

Options :

1. ✔ सुपर कंप्यूटर

2. ✖ अंतरिक्ष शटल
3. ✖ ह्यूमनॉइड रोबोट
4. ✖ हवाई जहाज

Question Number : 77 Question Id : 9983674453 Question Type : MCQ Option Shuffling : Yes  
Correct Marks : 1 Wrong Marks : 0.25

The previous name of India's satellite KALPANA-1 is?

Options :

1. ✖ RESOURCESAT
2. ✖ MIGSAT
3. ✖ CARTOSAT-1
4. ✓ METSAT-1

Question Number : 77 Question Id : 9983674453 Question Type : MCQ Option Shuffling : Yes  
Correct Marks : 1 Wrong Marks : 0.25

भारत के उपग्रह कल्पना -1 का पुराना नाम है?

Options :

1. ✖ RESOURCESAT
2. ✖ MIGSAT
3. ✖ CARTOSAT-1
4. ✓ METSAT-1

Question Number : 78 Question Id : 9983674454 Question Type : MCQ Option Shuffling : Yes  
Correct Marks : 1 Wrong Marks : 0.25

Where is the headquarters of NATO (North Atlantic Treaty Organization) located?

Options :

1. ✖ Helsinki, Finland
2. ✓ Brussels, Belgium
3. ✖ Dublin, Ireland

## 4. \* Toronto, Canada

Question Number : 78 Question Id : 9983674454 Question Type : MCQ Option Shuffling : Yes  
Correct Marks : 1 Wrong Marks : 0.25

NATO (उत्तर अटलांटिक संधि संगठन) का मुख्यालय कहां स्थित है?

Options :

1. \* हेल्सिंकी, फिनलैंड
2. ✓ ब्रुसेल्स, बेल्जियम
3. \* डबलिन, आयरलैंड
4. \* टोरंटो, कनाडा

Question Number : 79 Question Id : 9983674455 Question Type : MCQ Option Shuffling : Yes  
Correct Marks : 1 Wrong Marks : 0.25

In which year, the Reserve Bank of India was established?

Options :

1. ✓ 1935
2. \* 1945
3. \* 1949
4. \* 1938

Question Number : 79 Question Id : 9983674455 Question Type : MCQ Option Shuffling : Yes  
Correct Marks : 1 Wrong Marks : 0.25

भारतीय रिजर्व बैंक की स्थापना किस वर्ष में हुई थी?

Options :

1. ✓ 1935
2. \* 1945
3. \* 1949
4. \* 1938

Question Number : 80 Question Id : 9983674456 Question Type : MCQ Option Shuffling : Yes  
Correct Marks : 1 Wrong Marks : 0.25

The Insurance Regulatory and Development authority of India is headquartered in?

Options :

1. \* New Delhi
2. \* Mumbai
3. \* Bangalore
4. ✓ Hyderabad

Question Number : 80 Question Id : 9983674456 Question Type : MCQ Option Shuffling : Yes

Correct Marks : 1 Wrong Marks : 0.25

भारतीय बीमा और विकास प्राधिकरण का मुख्यालय कहां स्थित है?

Options :

1. \* नई दिल्ली
2. \* मुंबई
3. \* बेंगलोर
4. ✓ हैदराबाद

## Arithmetic Ability1

Group Number :	5
Group Id :	998367181
Group Maximum Duration :	0
Group Minimum Duration :	0
Show Attended Group? :	No
Edit Attended Group? :	No
Break time:	0
Group Marks:	20
Is this Group for Examiner?:	No
Revisit allowed for group Instructions? :	Yes
Maximum Instruction Time:	0
Minimum Instruction Time:	0

## Arithmetic Ability1

Section Id :	998367187
Section Number :	1
Section type :	Online

Mandatory or Optional:	Mandatory
Number of Questions:	20
Number of Questions to be attempted:	20
Section Marks:	20

Sub-Section Number:	1
Sub-Section Id:	998367275
Question Shuffling Allowed :	Yes

Question Number : 81 Question Id : 9983674457 Question Type : MCQ Option Shuffling : Yes  
Correct Marks : 1 Wrong Marks : 0.25

$5.6 \times 4.5 \times 16\%$  of 500 =  $x$ . Find the value of  $\sqrt{x + 9}$ .

Options :

1. ✓ 45

2. ✗ 36

3. ✗ 25

4. ✗ 55

Question Number : 81 Question Id : 9983674457 Question Type : MCQ Option Shuffling : Yes  
Correct Marks : 1 Wrong Marks : 0.25

500 का  $5.6 \times 4.5 \times 16\% = x$  है।  $\sqrt{x + 9}$  का मान पता करें।

Options :

1. ✓ 45

2. ✗ 36

3. ✗ 25



4. ✖ 55

Question Number : 82 Question Id : 9983674458 Question Type : MCQ Option Shuffling : Yes  
Correct Marks : 1 Wrong Marks : 0.25

Evaluate:

$$\frac{3}{4} \text{ of } \frac{5}{18} \text{ of } \frac{9}{10} \text{ of } \frac{11}{15} \text{ of } 1660 = ?$$

Options :

1. ✖ 232.25

2. ✖ 230.25

3. ✔ 228.25

4. ✖ 225.25

Question Number : 82 Question Id : 9983674458 Question Type : MCQ Option Shuffling : Yes  
Correct Marks : 1 Wrong Marks : 0.25

हल करें:

$$1660 \text{ का } \frac{11}{15} \text{ का } \frac{9}{10} \text{ का } \frac{5}{18} \text{ का } \frac{3}{4} = ?$$

Options :

1. ✖ 232.25

2. ✖ 230.25

3. ✓ 228.25

4. ✗ 225.25

Question Number : 83 Question Id : 9983674459 Question Type : MCQ Option Shuffling : Yes  
Correct Marks : 1 Wrong Marks : 0.25

$$\frac{8^{14} \times 2^{12} \div 8^{4.8}}{2^{35.4}} = 8^?$$

What should come in the place of ('?')

Options :

1. ✗ 25

2. ✓ 1.4

3. ✗ 10

4. ✗ 1

Question Number : 83 Question Id : 9983674459 Question Type : MCQ Option Shuffling : Yes  
Correct Marks : 1 Wrong Marks : 0.25

$$\frac{8^{14} \times 2^{12} \div 8^{4.8}}{2^{35.4}} = 8^?$$

('?') के स्थान पर क्या आना चाहिए?

Options :

1. ✗ 25

2. ✓ 1.4

3. ✗ 10

4. ✗ 1

Question Number : 84 Question Id : 9983674460 Question Type : MCQ Option Shuffling : Yes  
Correct Marks : 1 Wrong Marks : 0.25

If  $\left(a + \frac{1}{a}\right) = 3\sqrt{2}$ , then find the value of  $(a^6 + a^{-6})$ .

Options :

1. ✗ 4096

2. ✗ 4144

3. ✓ 4048

4. ✗ 4052

Question Number : 84 Question Id : 9983674460 Question Type : MCQ Option Shuffling : Yes  
Correct Marks : 1 Wrong Marks : 0.25

यदि  $\left(a + \frac{1}{a}\right) = 3\sqrt{2}$  है, तो  $(a^6 + a^{-6})$  का मान पता करें।

Options :

1. ✗ 4096

2. ✗ 4144

3. ✓ 4048

4. ✗ 4052

Question Number : 85 Question Id : 9983674461 Question Type : MCQ Option Shuffling : Yes  
Correct Marks : 1 Wrong Marks : 0.25

If  $6.605 \times 10^p = 0.00569 + 0.000915$ , then find the value of p.

Options :

1. ✗ 2

2. ✓ -3

3. ✗ 3

4. ✗ -2

Question Number : 85 Question Id : 9983674461 Question Type : MCQ Option Shuffling : Yes  
Correct Marks : 1 Wrong Marks : 0.25

यदि  $6.605 \times 10^p = 0.00569 + 0.000915$  है, तो p का मान पता करें।

Options :

1. ✗ 2

2. ✓ -3

3. ✗ 3

4. ✖ -2

Question Number : 86 Question Id : 9983674462 Question Type : MCQ Option Shuffling : Yes  
Correct Marks : 1 Wrong Marks : 0.25

$$(0.01024) \times (0.4)^{10} = (0.4)^? \times (0.004096)^2$$

What should come in the place of ('?')

Options :

1. ✖ 1

2. ✖ 2

3. ✔ 3

4. ✖ 4

Question Number : 86 Question Id : 9983674462 Question Type : MCQ Option Shuffling : Yes  
Correct Marks : 1 Wrong Marks : 0.25

$$(0.01024) \times (0.4)^{10} = (0.4)^? \times (0.004096)^2$$

('?') के स्थान पर क्या आना चाहिए?

Options :

1. ✖ 1

2. ✖ 2

3. ✔ 3

4. ✖ 4

Question Number : 87 Question Id : 9983674463 Question Type : MCQ Option Shuffling : Yes

Correct Marks : 1 Wrong Marks : 0.25

If  $\frac{986.175}{0.00016} = x$ , then  $\frac{986175}{8} = ?$

Options :

1. ✖  $50x$

2. ✖  $\frac{x}{10}$

3. ✖  $\frac{x}{20}$

4. ✔  $\frac{x}{50}$

Question Number : 87 Question Id : 9983674463 Question Type : MCQ Option Shuffling : Yes

Correct Marks : 1 Wrong Marks : 0.25

यदि  $\frac{986.175}{0.00016} = x$  है, तो  $\frac{986175}{8} = ?$

Options :

1. ✖  $50x$

2. ✖  $\frac{x}{10}$

3. ✖  $\frac{x}{20}$

4. ✔  $\frac{x}{50}$

Question Number : 88 Question Id : 9983674464 Question Type : MCQ Option Shuffling : Yes

Correct Marks : 1 Wrong Marks : 0.25

Lakshman left  $\frac{1}{11}$  of his property to his daughter and the remaining to his sons to be equally divided among them. If the share of each son is double of that of the daughter, find the number of sons Lakshman has.

Options :

1. ✓ 5

2. ✗ 4

3. ✗ 3

4. ✗ 2

Question Number : 88 Question Id : 9983674464 Question Type : MCQ Option Shuffling : Yes

Correct Marks : 1 Wrong Marks : 0.25

लक्ष्मण ने अपनी संपत्ति का  $\frac{1}{11}$  हिस्सा अपनी बेटी में और बाकी का अपने बेटों में बराबर से बाँट दिया। यदि हर बेटे को बेटी की तुलना में दोगुना हिस्सा मिलता है, तो पता करें कि लक्ष्मण के कुल कितने बेटे हैं?

Options :

1. ✓ 5

2. ✗ 4

3. ✗ 3

4. ✗ 2

Question Number : 89 Question Id : 9983674465 Question Type : MCQ Option Shuffling : Yes

Correct Marks : 1 Wrong Marks : 0.25

$$5\frac{2}{7} - 2\frac{1}{14} - 1\frac{1}{14} - 1\frac{1}{7} + 4 = ? + 2\frac{1}{3}$$

What should come in the place of question ('?').

Options :

1. ✖  $1\frac{1}{3}$

2. ✖  $1\frac{2}{3}$

3. ✔  $2\frac{2}{3}$

4. ✖  $3\frac{2}{3}$

Question Number : 89 Question Id : 9983674465 Question Type : MCQ Option Shuffling : Yes

Correct Marks : 1 Wrong Marks : 0.25

$$5\frac{2}{7} - 2\frac{1}{14} - 1\frac{1}{14} - 1\frac{1}{7} + 4 = ? + 2\frac{1}{3}$$

('?') के स्थान पर क्या आना चाहिए?

Options :

1. ✖  $1\frac{1}{3}$

2. ✖  $1\frac{2}{3}$

3. ✔  $2\frac{2}{3}$

4. ✖  $3\frac{2}{3}$



Question Number : 90 Question Id : 9983674466 Question Type : MCQ Option Shuffling : Yes

Correct Marks : 1 Wrong Marks : 0.25

If  $1 + \frac{1}{2} + \frac{1}{4} + \frac{1}{9} + \frac{1}{18} + \frac{1}{36} - \frac{17}{18} = x$ , then find the value of  $\left(\frac{2x-5}{3x+5}\right)^2$ .

Options :

1. ✖ -9/64

2. ✔ 9/64

3. ✖ 7/64

4. ✖ 25/64

Question Number : 90 Question Id : 9983674466 Question Type : MCQ Option Shuffling : Yes

Correct Marks : 1 Wrong Marks : 0.25

यदि  $1 + \frac{1}{2} + \frac{1}{4} + \frac{1}{9} + \frac{1}{18} + \frac{1}{36} - \frac{17}{18} = x$  है, तो  $\left(\frac{2x-5}{3x+5}\right)^2$  का मान पता करें।

Options :

1. ✖ -9/64

2. ✔ 9/64

3. ✖ 7/64

4. ✖ 25/64

Question Number : 91 Question Id : 9983674467 Question Type : MCQ Option Shuffling : Yes

Correct Marks : 1 Wrong Marks : 0.25

What is the least number of the following that, when increased by 18, is divisible by each one of 48, 64, 72 and 108?

Options :

1. ✓ 1710

2. ✗ 1700

3. ✗ 1690

4. ✗ 1600

Question Number : 91 Question Id : 9983674467 Question Type : MCQ Option Shuffling : Yes

Correct Marks : 1 Wrong Marks : 0.25

इनमें से वह सबसे छोटी संख्या चुनें, जिसमें 18 जोड़ने पर वह 48, 64, 72 और 108 सभी से विभाजित हो जाती है?

Options :

1. ✓ 1710

2. ✗ 1700

3. ✗ 1690

4. ✗ 1600

Question Number : 92 Question Id : 9983674468 Question Type : MCQ Option Shuffling : Yes

Correct Marks : 1 Wrong Marks : 0.25

Six bells begin to toll together at the intervals of 8 sec, 12 sec, 15 sec, 16 sec, 18 sec and 20 sec respectively. How many times will they toll together in the span of 1 hr 48 min (excluding the toll at the start)?

Options :

1. ✗ 10

2. ✓ 9

3. ✗ 8

4. ✗ 12

Question Number : 92 Question Id : 9983674468 Question Type : MCQ Option Shuffling : Yes

Correct Marks : 1 Wrong Marks : 0.25

छह घंटियाँ क्रमशः रूप से 8 sec, 12 sec, 15 sec, 16 sec, 18 sec और 20 sec के अन्तराल पर एक साथ बजना शुरू करती हैं। 1 hr 48 min में घंटियाँ कितनी बार बजेंगी (शुरू में बजने वाली घंटी को छोड़कर)?

Options :

1. ✗ 10

2. ✓ 9

3. ✗ 8

4. ✗ 12

Question Number : 93 Question Id : 9983674469 Question Type : MCQ Option Shuffling : Yes

Correct Marks : 1 Wrong Marks : 0.25

How many numbers are there between 3000 and 5000 that are exactly divisible by 80, 96 and 120?

Note: For this question, discrepancy is found in question/answer. So, this question is ignored for all candidates.

Options :

1. <sup>2</sup>

2. 5

3. 6

4. 3

Question Number : 93 Question Id : 9983674469 Question Type : MCQ Option Shuffling : Yes

Correct Marks : 1 Wrong Marks : 0.25

3000 और 5000 के बीच ऐसी कितनी संख्याएँ हैं, जो 80, 96 और 120 से पूरी तरह भाज्य हैं?

Note: For this question, discrepancy is found in question/answer. So, this question is ignored for all candidates.

Options :

1. 2

2. 5

3. 6

4. 3

Question Number : 94 Question Id : 9983674470 Question Type : MCQ Option Shuffling : Yes

Correct Marks : 1 Wrong Marks : 0.25

If  $a : b = c : d = e : f = 1 : 4$ , then find the value of  $(9a + 15c + 21e) : (9b + 15d + 21f)$ .

Options :

1. ✖ 2 : 1

2. ✖ 1 : 2

3. ✓ 1 : 4

4. ✗ 4 : 1

Question Number : 94 Question Id : 9983674470 Question Type : MCQ Option Shuffling : Yes

Correct Marks : 1 Wrong Marks : 0.25

यदि  $a : b = c : d = e : f = 1 : 4$  है,  $(9a + 15c + 21e) : (9b + 15d + 21f)$  का मान पता करें।

Options :

1. ✗ 2 : 1

2. ✗ 1 : 2

3. ✓ 1 : 4

4. ✗ 4 : 1

Question Number : 95 Question Id : 9983674471 Question Type : MCQ Option Shuffling : Yes

Correct Marks : 1 Wrong Marks : 0.25

The ratio of the 1<sup>st</sup> and 2<sup>nd</sup> class train fares between Hyderabad and Delhi is 7 : 1 and that of the number of passengers travelling between these stations by 1<sup>st</sup> and 2<sup>nd</sup> class is 1 : 70 . If, on a particular day, Rs. 385000 be collected from the passengers as fares travelling between these two stations, then find the amount collected from 2<sup>nd</sup> class passengers.

Options :

1. ✗ Rs. 300000

2. ✓ Rs. 350000

3. ✗ Rs. 320000

4. ✖ Rs. 310000

Question Number : 95 Question Id : 9983674471 Question Type : MCQ Option Shuffling : Yes

Correct Marks : 1 Wrong Marks : 0.25

हैदराबाद और दिल्ली के बीच प्रथम श्रेणी और द्वितीय श्रेणी के रेलगाड़ी के किराए का अनुपात 7 : 1 है और इन स्टेशनों के बीच प्रथम श्रेणी और द्वितीय श्रेणी से सफर करने वाली सवारियों का अनुपात 1 : 70 है। यदि, किसी एक दिन इन दोनों स्टेशनों के बीच सफर करने वाले लोगों से रुपये 385000 किराया वसूला गया, तो द्वितीय श्रेणी से कितना किराया वसूला गया?

Options :

1. ✖ रुपये 300000

2. ✔ रुपये 350000

3. ✖ रुपये 320000

4. ✖ रुपये 310000

Question Number : 96 Question Id : 9983674472 Question Type : MCQ Option Shuffling : Yes

Correct Marks : 1 Wrong Marks : 0.25

35% of \_\_\_\_\_ is equal to  $25\frac{1}{2}\%$  of 1785.

Options :

1. ✔ 1300.5

2. ✖ 1200

3. ✖ 1400.5

4. ✖ 1400

Question Number : 96 Question Id : 9983674472 Question Type : MCQ Option Shuffling : Yes  
Correct Marks : 1 Wrong Marks : 0.25

35% of \_\_\_\_\_ is equal to  $25\frac{1}{2}\%$  of 1785.

Options :

1. ✔ 1300.5

2. ✖ 1200

3. ✖ 1400.5

4. ✖ 1400

Question Number : 97 Question Id : 9983674473 Question Type : MCQ Option Shuffling : Yes  
Correct Marks : 1 Wrong Marks : 0.25

Bhim's monthly income is 80% of Anil's monthly income. The total of both their monthly incomes is Mr. Robert's monthly income. Mr. Robert's annual income is Rs. 1296000. What is Bhim's monthly income?

Options :

1. ✖ 36000

2. ✔ 48000

3. ✖ 60000

4. ✖ 50000

Question Number : 97 Question Id : 9983674473 Question Type : MCQ Option Shuffling : Yes

Correct Marks : 1 Wrong Marks : 0.25

भीम की मासिक आय अनिल की मासिक आय का 80% है। दोनों की मासिक आय को मिला दें, तो वह श्री रोबर्ट की मासिक आय है। श्री रोबर्ट की वार्षिक आय रुपये 1296000 है। भीम की मासिक आय पता करें।

Options :

1. ✘ 36000

2. ✔ 48000

3. ✘ 60000

4. ✘ 50000

Question Number : 98 Question Id : 9983674474 Question Type : MCQ Option Shuffling : Yes

Correct Marks : 1 Wrong Marks : 0.25

Chocolates were distributed to 120 students and 10 teachers of class IX of a particular school. Each student got chocolates that are 30% of the total number of students and each teacher got chocolates that are 40% of the total number of students. How many chocolates were distributed?

Options :

1. ✔ 4800

2. ✘ 4000

3. ✘ 3600

4. ✘ 3000

Question Number : 98 Question Id : 9983674474 Question Type : MCQ Option Shuffling : Yes

Correct Marks : 1 Wrong Marks : 0.25

एक स्कूल में कक्षा IX के 120 छात्रों और 10 शिक्षकों को चॉकलेट वितरित किए गए। प्रत्येक छात्र को कुल छात्रों की संख्या की 30% चॉकलेट मिली और प्रत्येक शिक्षक को कुल छात्रों की संख्या की 40% चॉकलेट मिली। कुल कितनी चॉकलेट वितरित की गई?



Options :

1. ✓ 4800

2. ✗ 4000

3. ✗ 3600

4. ✗ 3000

Question Number : 99 Question Id : 9983674475 Question Type : MCQ Option Shuffling : Yes

Correct Marks : 1 Wrong Marks : 0.25

The average score of the students of class X of a school in a test was 61.9. The brightest 30% of them secured the mean score of 85 and the dullest 35% secured the mean score of 33. The mean score of the remaining students is:

Options :

1. ✗ 70

2. ✗ 72

3. ✓ 71

4. ✗ 73

Question Number : 99 Question Id : 9983674475 Question Type : MCQ Option Shuffling : Yes

Correct Marks : 1 Wrong Marks : 0.25

एक स्कूल में कक्षा X के एक टेस्ट में छात्रों का औसत स्कोर 61.9 था। उनमें से सबसे होनहार 30% ने 85 का औसत स्कोर किया और सबसे कमजोर 35% ने 33 का औसत स्कोर किया। बाकी बचे छात्रों का औसत स्कोर पता करें।

Options :

1. ✖ 70

2. ✖ 72

3. ✔ 71

4. ✖ 73

Question Number : 100 Question Id : 9983674476 Question Type : MCQ Option Shuffling : Yes

Correct Marks : 1 Wrong Marks : 0.25

10 years ago, the average of age of Ragini and of Roshini was 40 years. Now, the average of ages of Ragini, Roshini and Rupa is 50 years. What will be the age of Rupa after 30 years?

Options :

1. ✖ 60 years

2. ✔ 80 years

3. ✖ 50 years

4. ✖ 75 years

Question Number : 100 Question Id : 9983674476 Question Type : MCQ Option Shuffling : Yes

Correct Marks : 1 Wrong Marks : 0.25

10 साल पहले, रागिनी और रौशनी की आयु का औसत 40 साल था। अब रागिनी, रौशनी और रूपा की औसत आयु 50 साल है। 30 सालों के बाद रूपा की आयु क्या होगी?

Options :

1. ✖ 60 साल

2. ✓ 80 साल

3. ✘ 50 साल

4. ✘ 75 साल

## Arithmetic Ability2

Group Number :	6
Group Id :	998367182
Group Maximum Duration :	0
Group Minimum Duration :	0
Show Attended Group? :	No
Edit Attended Group? :	No
Break time:	0
Group Marks:	20
Is this Group for Examiner?:	No
Revisit allowed for group Instructions? :	Yes
Maximum Instruction Time:	0
Minimum Instruction Time:	0

## Arithmetic Ability2

Section Id :	998367188
Section Number :	1
Section type :	Online
Mandatory or Optional:	Mandatory
Number of Questions:	20
Number of Questions to be attempted:	20
Section Marks:	20

Sub-Section Number:	1
Sub-Section Id:	998367276
Question Shuffling Allowed :	Yes

Question Number : 101 Question Id : 9983674477 Question Type : MCQ Option Shuffling : Yes  
Correct Marks : 1 Wrong Marks : 0.25

Find the percentage of loss when the cost price and the selling of an article are in the ratio of 7:5 .

Options :

1. ✘  $25\frac{4}{7}\%$

2. ✘  $25\frac{3}{7}\%$

3. ✘  $28\frac{3}{7}\%$

4. ✔  $28\frac{4}{7}\%$

Question Number : 101 Question Id : 9983674477 Question Type : MCQ Option Shuffling : Yes

Correct Marks : 1 Wrong Marks : 0.25

जब एक वस्तु के क्रय मूल्य और विक्रय मूल्य का अनुपात 7:5 हो, तो हानि प्रतिशत पता करें।

Options :

1. ✘  $25\frac{4}{7}\%$

2. ✘  $25\frac{3}{7}\%$

3. ✘  $28\frac{3}{7}\%$

4. ✔  $28\frac{4}{7}\%$

Question Number : 102 Question Id : 9983674478 Question Type : MCQ Option Shuffling : Yes

Correct Marks : 1 Wrong Marks : 0.25

Rohit sold a table fan at a gain of 20%. Had he bought it for 30% less and sold it for Rs. 120 less, he would have made a profit of 50%. The cost price of table fan was:

Options :

1. ✓ Rs. 800

2. ✘ Rs. 900

3. ✘ Rs. 700

4. ✘ Rs. 600

Question Number : 102 Question Id : 9983674478 Question Type : MCQ Option Shuffling : Yes

Correct Marks : 1 Wrong Marks : 0.25

रोहित ने एक टेबल फैन 20% मुनाफे के साथ बेच दिया। यदि उसने वह 30% सस्ता खरीदा होता और उसे रुपये 120 सस्ता बेचा होता, तो 50% लाभ होता। टेबल फैन का क्रय मूल्य पता करें।

Options :

1. ✓ रुपये 800

2. ✘ रुपये 900

3. ✘ रुपये 700

4. ✘ रुपये 600

Question Number : 103 Question Id : 9983674479 Question Type : MCQ Option Shuffling : Yes

Correct Marks : 1 Wrong Marks : 0.25

On selling an article for Rs. 5299.60, the gain is 40% more than the loss incurred on selling it for Rs. 4750. In order to gain 40%, the selling price should be:

Options :

1. ✘ Rs. 5970.6

2. ✖ Rs. 4979

3. ✔ Rs. 6970.6

4. ✖ Rs. 6790.6

Question Number : 103 Question Id : 9983674479 Question Type : MCQ Option Shuffling : Yes

Correct Marks : 1 Wrong Marks : 0.25

एक वस्तु को रुपये 5299.60 में बेचने से उसे रुपये 4750 में बेचने से होने वाले नुकसान के मुकाबले मुनाफा 40% अधिक होता है। 40% का मुनाफा कमाने के लिए वस्तु का विक्रय मूल्य कितना होना चाहिए?

Options :

1. ✖ रुपये 5970.6

2. ✖ रुपये 4979

3. ✔ रुपये 6970.6

4. ✖ रुपये 6790.6

Question Number : 104 Question Id : 9983674480 Question Type : MCQ Option Shuffling : Yes

Correct Marks : 1 Wrong Marks : 0.25

A shopkeeper allows a discount of 20% on the marked price. How much above the cost price must he mark his goods so as to gain 25%?

Options :

1. ✖ 40%

2. ✔ 56.25%

3. ✖ 45%

4. ✖ 40.25%

Question Number : 104 Question Id : 9983674480 Question Type : MCQ Option Shuffling : Yes

Correct Marks : 1 Wrong Marks : 0.25

एक दुकानदार अंकित मूल्य पर 20% की छूट देता है। उसे 25% मुनाफा कमाने के लिए अपने सामान का अंकित मूल्य कितना बढ़ाना होगा?

Options :

1. ✖ 40%

2. ✔ 56.25%

3. ✖ 45%

4. ✖ 40.25%

Question Number : 105 Question Id : 9983674481 Question Type : MCQ Option Shuffling : Yes

Correct Marks : 1 Wrong Marks : 0.25

If a commission of 20% is given on the marked price of an article, the gain is 40%. The gain percent, when the commission is increased to 40%, will be:

Options :

1. ✔ 5%

2. ✖ 6%

3. ✖ 7%

4. ✖ 8%

Question Number : 105 Question Id : 9983674481 Question Type : MCQ Option Shuffling : Yes

Correct Marks : 1 Wrong Marks : 0.25

यदि एक वस्तु के अंकित मूल्य पर 20% छूट दी जाती है, तो मुनाफा 40% होता है। छूट 40% करने पर लाभ प्रतिशत पता करें।

Options :

1. ✔ 5%

2. ✖ 6%

3. ✖ 7%

4. ✖ 8%

Question Number : 106 Question Id : 9983674482 Question Type : MCQ Option Shuffling : Yes

Correct Marks : 1 Wrong Marks : 0.25

साधारण ब्याज दर पर रुपये 5336 की राशि 10 सालों में रुपये 9338 हो जाती है। दर प्रतिशत पता करें।

Options :

1. ✖ 8.5%

2. ✖ 8%

3. ✔ 7.5%



4. ✖ 7%

Question Number : 106 Question Id : 9983674482 Question Type : MCQ Option Shuffling : Yes  
Correct Marks : 1 Wrong Marks : 0.25

A sum of Rs. 5336 amounts to Rs. 9338 in 10 years at the rate of simple interest. Find the rate percent.

Options :

1. ✖ 8.5%

2. ✖ 8%

3. ✔ 7.5%

4. ✖ 7%

Question Number : 107 Question Id : 9983674483 Question Type : MCQ Option Shuffling : Yes  
Correct Marks : 1 Wrong Marks : 0.25

A certain sum at simple interest amounts to Rs. 2700 in 10 years and to Rs. 3240 in 16 years. Find the original sum.

Options :

1. ✖ Rs. 1500

2. ✖ Rs. 2000

3. ✖ Rs. 900

4. ✔ Rs. 1800

Question Number : 107 Question Id : 9983674483 Question Type : MCQ Option Shuffling : Yes  
Correct Marks : 1 Wrong Marks : 0.25

साधारण ब्याज पर एक निश्चित राशि 10 सालों में रुपये 2700 और 16 सालों में रुपये 3240 हो जाती है। मूल राशि पता करे।

Options :

1. ✘ रुपये 1500
2. ✘ रुपये 2000
3. ✘ रुपये 900
4. ✔ रुपये 1800

Question Number : 108 Question Id : 9983674484 Question Type : MCQ Option Shuffling : Yes  
Correct Marks : 1 Wrong Marks : 0.25

The principal on which a simple interest of Rs. 275 will be obtained after 18 months at the rate of  $3\frac{2}{3}\%$  per annum is:

Options :

1. ✔ 5000
2. ✘ 4000
3. ✘ 6000
4. ✘ 4500

Question Number : 108 Question Id : 9983674484 Question Type : MCQ Option Shuffling : Yes  
Correct Marks : 1 Wrong Marks : 0.25

$3\frac{2}{3}\%$  प्रतिवर्ष दर से 18 महीनों के बाद रुपये 275 साधारण ब्याज मिलता है, इसका मूलधन पता करें।

Options :

1. ✔ 5000

2. ✖ 4000

3. ✖ 6000

4. ✖ 4500

Question Number : 109 Question Id : 9983674485 Question Type : MCQ Option Shuffling : Yes

Correct Marks : 1 Wrong Marks : 0.25

We need to divide the amount of 13010 between P and Q, so that the amount of P after 7 years is equal to the amount of Q after 9 years, the interest being compounded at 4% per annum. So the shares of P and Q, respectively, will be:

Options :

1. ✖ 7500, 5510

2. ✖ 6500, 6510

3. ✖ 5000, 8010

4. ✔ 6760, 6250

Question Number : 109 Question Id : 9983674485 Question Type : MCQ Option Shuffling : Yes

Correct Marks : 1 Wrong Marks : 0.25

हमें रुपये 13010 राशि को P और Q के बीच इस प्रकार से बाँटा जाना है कि 7 सालों के बाद P की राशि 9 सालों के बाद Q की राशि के बराबर हो, व्याज दर 4% वार्षिक अनुसार मिश्रित होगी। इसलिए क्रमशः रूप से P और Q का हिस्सा कितना होगा?

Options :

1. ✖ 7500, 5510

2. ✖ 6500, 6510

3. ✖ 5000, 8010

4. ✔ 6760, 6250

Question Number : 110 Question Id : 9983674486 Question Type : MCQ Option Shuffling : Yes

Correct Marks : 1 Wrong Marks : 0.25

If Rs. 6000 amounts to Rs. 8640 at compound interest in a certain time, then the same amount would become how much in half the time?

Options :

1. ✔ Rs. 7200

2. ✖ Rs. 8000

3. ✖ Rs. 8200

4. ✖ Rs. 7500

Question Number : 110 Question Id : 9983674486 Question Type : MCQ Option Shuffling : Yes

Correct Marks : 1 Wrong Marks : 0.25

यदि एक निश्चित समय में मिश्रित ब्याज पर रुपये 6000 बढ़कर रुपये 8640 हो जाते हैं, तो आधे समय में यही राशि कितनी हो जाएगी?

Options :

1. ✔ रुपये 7200

2. ✖ रुपये 8000

3. ✖ रुपये 8200

4. ✖ रुपये 7500

Question Number : 111 Question Id : 9983674487 Question Type : MCQ Option Shuffling : Yes  
Correct Marks : 1 Wrong Marks : 0.25

What will be the surface area of the sphere having radius of 16 cm?

Options :

1. ✖  $3228\frac{2}{7} \text{ cm}^2$

2. ✖  $3128\frac{2}{7} \text{ cm}^2$

3. ✔  $3218\frac{2}{7} \text{ cm}^2$

4. ✖  $3220\frac{2}{7} \text{ cm}^2$

Question Number : 111 Question Id : 9983674487 Question Type : MCQ Option Shuffling : Yes  
Correct Marks : 1 Wrong Marks : 0.25

16 cm अर्धव्यास के गोलक का पृष्ठीय क्षेत्रफल पता करें?

Options :

1. ✖  $3228\frac{2}{7} \text{ cm}^2$

2. ✖  $3128\frac{2}{7} \text{ cm}^2$

3. ✔  $3218\frac{2}{7} \text{ cm}^2$

4. ✘  $3220\frac{2}{7} \text{ cm}^2$

Question Number : 112 Question Id : 9983674488 Question Type : MCQ Option Shuffling : Yes

Correct Marks : 1 Wrong Marks : 0.25

Raj's cap is in the form of a right circular cone of base radius 14 cm and height 48 cm. Find the area of the sheet required to make 15 such caps.

Options :

1. ✔ 33000 sq. cm.

2. ✘ 3300 sq. cm.

3. ✘ 6300 sq. cm.

4. ✘ 3600 sq. cm.

Question Number : 112 Question Id : 9983674488 Question Type : MCQ Option Shuffling : Yes

Correct Marks : 1 Wrong Marks : 0.25

राज की टोपी का आकार सम वृत्ताकार शंकु है, जिसके आधार का अर्धव्यास 14 cm और ऊँचाई 48 cm है। ऐसी 15 टोपियाँ बनाने के लिए आवश्यक शीट का क्षेत्रफल पता करें।

Options :

1. ✔ 33000 sq. cm.

2. ✘ 3300 sq. cm.

3. ✘ 6300 sq. cm.

4. ✘ 3600 sq. cm.

Question Number : 113 Question Id : 9983674489 Question Type : MCQ Option Shuffling : Yes

Correct Marks : 1 Wrong Marks : 0.25

If the radius of a sphere is increased by 15%, then what percent increase takes place in the surface area of the sphere?

Options :

1. ✘ 31.25%

2. ✔ 32.25%

3. ✘ 30%

4. ✘ 25%

Question Number : 113 Question Id : 9983674489 Question Type : MCQ Option Shuffling : Yes

Correct Marks : 1 Wrong Marks : 0.25

यदि पोलक का अर्धव्यास 15% बढ़ा दिया जाए, तो पोलक के पृष्ठीय क्षेत्रफल में कितने प्रतिशत बढ़ोतरी होगी?

Options :

1. ✘ 31.25%

2. ✔ 32.25%

3. ✘ 30%

4. ✘ 25%

Question Number : 114 Question Id : 9983674490 Question Type : MCQ Option Shuffling : Yes

Correct Marks : 1 Wrong Marks : 0.25

A worker is paid Rs. 1120 for 35 hour-week. Upto 40 hours, he is paid at the normal rate and, on post that, 1.5 times the normal. How many hours would he have to work to get Rs. 1760?

Options :

1. ✓ 50 hours

2. ✖ 40 hours

3. ✖ 55 hours

4. ✖ 60 hours

Question Number : 114 Question Id : 9983674490 Question Type : MCQ Option Shuffling : Yes

Correct Marks : 1 Wrong Marks : 0.25

एक श्रमिक को 35 घंटे-सप्ताह के लिए रुपये 1120 का भुगतान किया जाता है। 40 घंटों तक, उसे सामान्य दर से ही भुगतान किया जाता है और उसके बाद सामान्य से 1.5 गुना भुगतान किया जाता है। रुपये 1760 प्राप्त करने के लिए उसे कितने घंटे काम करना होगा?

Options :

1. ✓ 50 घंटे

2. ✖ 40 घंटे

3. ✖ 55 घंटे

4. ✖ 60 घंटे

Question Number : 115 Question Id : 9983674491 Question Type : MCQ Option Shuffling : Yes

Correct Marks : 1 Wrong Marks : 0.25

20 men can complete a piece of work in 16 days. 40 women can complete the same piece of work in 12 days. In how many days 32 men and 36 women together can complete the same piece of work?

Options :

1. ✖  $2\frac{5}{7}$  days



2. ✖  $4\frac{5}{7}$  days

3. ✔  $5\frac{5}{7}$  days

4. ✖ 5 days

Question Number : 115 Question Id : 9983674491 Question Type : MCQ Option Shuffling : Yes

Correct Marks : 1 Wrong Marks : 0.25

20 आदमी एक काम को 16 दिनों में पूरा कर सकते हैं। 40 महिलाएँ उसी काम को 12 दिनों में पूरा कर सकती हैं। 32 आदमी और 36 महिलाएँ एक साथ मिलकर इसी काम को कितने दिनों में पूरा कर सकते हैं?

Options :

1. ✖  $2\frac{5}{7}$  दिन

2. ✖  $4\frac{5}{7}$  दिन

3. ✔  $5\frac{5}{7}$  दिन

4. ✖ 5 दिन

Question Number : 116 Question Id : 9983674492 Question Type : MCQ Option Shuffling : Yes

Correct Marks : 1 Wrong Marks : 0.25

The length of a train and that of a platform are equal. If, with a speed of 150 kmph, the train crosses the platform in 1 minute, then the length of the train is:

Options :

1. ✔ 1250 m

2. ✖ 2500 m

3. ✖ 3000 m

4. ✖ 2000 m

Question Number : 116 Question Id : 9983674492 Question Type : MCQ Option Shuffling : Yes

Correct Marks : 1 Wrong Marks : 0.25

एक रेलगाड़ी की लंबाई और प्लेटफार्म की लंबाई एक बराबर है। यदि 150 kmph की गति से रेलगाड़ी 1 मिनट में प्लेटफार्म को पार करती है, तो रेलगाड़ी की लंबाई पता करें।

Options :

1. ✔ 1250 m

2. ✖ 2500 m

3. ✖ 3000 m

4. ✖ 2000 m

Question Number : 117 Question Id : 9983674493 Question Type : MCQ Option Shuffling : Yes

Correct Marks : 1 Wrong Marks : 0.25

Sneha on her bicycle covered a certain distance in 10 hours. While returning, her speed decreased by 4 kmph and she took 12 hours to cover the same distance. What was her speed while returning?

Options :

1. ✖ 15 kmph

2. ✖ 25 kmph

3. ✔ 20 kmph

4. ✖ 10 kmph

Question Number : 117 Question Id : 9983674493 Question Type : MCQ Option Shuffling : Yes

Correct Marks : 1 Wrong Marks : 0.25

स्नेहा अपनी साइकिल पर 10 घंटों में एक निश्चित दूरी तय करती है। वही वापस आते हुए, उसकी गति 4 kmph हो जाती है और उसे वही दूरी तय करने में 12 घंटे लगते हैं। वापस आते हुए उसकी गति पता करें।

Options :

1. ✖ 15 kmph

2. ✖ 25 kmph

3. ✔ 20 kmph

4. ✖ 10 kmph

Question Number : 118 Question Id : 9983674494 Question Type : MCQ Option Shuffling : Yes

Correct Marks : 1 Wrong Marks : 0.25

The ratio of speed of a train and that of a car is 32 : 31. A bus covered a distance of 960 km in 16 hours. The speed of the bus is  $\frac{3}{4}$ <sup>th</sup> of the speed of the train. How much distance will be covered by the car in 12 hours?

Options :

1. ✖ 900 km

2. ✔ 930 km

3. ✖ 850 km

4. ✖ 800 km

Question Number : 118 Question Id : 9983674494 Question Type : MCQ Option Shuffling : Yes

Correct Marks : 1 Wrong Marks : 0.25

एक रेलगाड़ी और एक कार की गति का अनुपात 32 : 31 है। एक बस 960 km की दूरी 16 घंटों में तय करती है। बस की गति रेलगाड़ी की गति की  $\frac{3}{4}$  है। कार 12 घंटों में कितनी दूरी तय करेगी?

Options :

1. ✘ 900 km

2. ✔ 930 km

3. ✘ 850 km

4. ✘ 800 km

Question Number : 119 Question Id : 9983674495 Question Type : MCQ Option Shuffling : Yes

Correct Marks : 1 Wrong Marks : 0.25

Study the following table and answer the question based on it.

Number of Candidates Appeared, Qualified and Selected in Telangana State Public service commission Examination from Five districts Over the Years 2014 to 2018

Year	Hyderabad			Rangareddy			Warangal			Mahaboobnaar			Nalgonda		
	App	Qual	Sel	App	Qual	Sel	App	Qual	Sel	App	Qual	Sel	App	Qual	Sel
2014	4000	425	47	3900	405	41	3750	360	39	4100	340	43	3200	350	38
2015	2400	250	24	3750	400	33	2800	310	43	3400	300	35	3550	325	38
2016	3750	320	41	3700	280	35	2400	200	24	3250	263	33	2600	175	28
2017	4750	425	45	4400	460	43	3500	325	35	3900	360	42	3200	270	30
2018	4500	400	35	3600	425	38	4250	475	40	2850	243	30	2250	300	38

From which district the average number of candidates selected over the years is maximum?

Options :

1. ✘ Rangareddy

2. ✖ Warangal

3. ✔ Hyderabad

4. ✖ Mahaboobnaar

Question Number : 119 Question Id : 9983674495 Question Type : MCQ Option Shuffling : Yes  
Correct Marks : 1 Wrong Marks : 0.25

निम्न सारणी का अध्ययन करें और इसके आधार पर प्रश्नों का उत्तर दें।

साल 2014 से 2018 तक पाँच ज़िलों से तेलंगाना राज्य सेवा आयोग परीक्षा में बैठे, उत्तीर्ण और चयनित हुए परीक्षार्थियों की संख्या

साल	हैदराबाद			रंगारेड्डी			वारंगल			महबूबनार			नालगोंडा		
	बैठे	उत्तीर्ण	चयनित	बैठे	उत्तीर्ण	चयनित	बैठे	उत्तीर्ण	चयनित	बैठे	उत्तीर्ण	चयनित	बैठे	उत्तीर्ण	चयनित
2014	4000	425	47	3900	405	41	3750	360	39	4100	340	43	3200	350	38
2015	2400	250	24	3750	400	33	2800	310	43	3400	300	35	3550	325	38
2016	3750	320	41	3700	280	35	2400	200	24	3250	263	33	2600	175	28
2017	4750	425	45	4400	460	43	3500	325	35	3900	360	42	3200	270	30
2018	4500	400	35	3600	425	38	4250	475	40	2850	243	30	2250	300	38

सभी सालों में इनमें से किस जिले के परीक्षार्थी सबसे अधिक चुने गए हैं?

Options :

1. ✖ रंगारेड्डी

2. ✖ वारंगल

3. ✔ हैदराबाद

#### 4. ✖ महबूबनार

Question Number : 120 Question Id : 9983674496 Question Type : MCQ Option Shuffling : Yes

Correct Marks : 1 Wrong Marks : 0.25

Study the following table and answer the question based on it.

Number of Candidates Appeared, Qualified and Selected in Telangana State Public service commission Examination from Five districts Over the Years 2014 to 2018

Year	Hyderabad			Rangareddy			Warangal			Mahaboobnaar			Nalgonda		
	App	Qual	Sel	App	Qual	Sel	App	Qual	Sel	App	Qual	Sel	App	Qual	Sel
2014	4000	425	47	3900	405	41	3750	360	39	4100	340	43	3200	350	38
2015	2400	250	24	3750	400	33	2800	310	43	3400	300	35	3550	325	38
2016	3750	320	41	3700	280	35	2400	200	24	3250	263	33	2600	175	28
2017	4750	425	45	4400	460	43	3500	325	35	3900	360	42	3200	270	30
2018	4500	400	35	3600	425	38	4250	475	40	2850	243	30	2250	300	38

In the year 2014, which district had the lowest percentage of candidates selected over the candidates appeared?

Options :

1. ✓ Warangal

2. ✖ Mahaboobnaar

3. ✖ Rangareddy

4. ✖ Hyderabad

Question Number : 120 Question Id : 9983674496 Question Type : MCQ Option Shuffling : Yes

Correct Marks : 1 Wrong Marks : 0.25

निम्न सारणी का अध्ययन करें और इसके आधार पर प्रश्नों का उत्तर दें।

साल 2014 से 2018 तक पाँच ज़िलों से तेलंगाना राज्य सेवा आयोग परीक्षा में बैठे, उत्तीर्ण और चयनित हुए परीक्षार्थियों की संख्या

साल	हैदराबाद			रंगारेड्डी			वारंगल			महबूबनार			नालगोंडा		
	बैठे	उत्तीर्ण	चयनित	बैठे	उत्तीर्ण	चयनित	बैठे	उत्तीर्ण	चयनित	बैठे	उत्तीर्ण	चयनित	बैठे	उत्तीर्ण	चयनित
2014	4000	425	47	3900	405	41	3750	360	39	4100	340	43	3200	350	38
2015	2400	250	24	3750	400	33	2800	310	43	3400	300	35	3550	325	38
2016	3750	320	41	3700	280	35	2400	200	24	3250	263	33	2600	175	28
2017	4750	425	45	4400	460	43	3500	325	35	3900	360	42	3200	270	30
2018	4500	400	35	3600	425	38	4250	475	40	2850	243	30	2250	300	38

साल 2014 में, इनमें से किस ज़िले से परीक्षा में बैठे परीक्षार्थियों में से चुने जाने वाले परीक्षार्थियों की संख्या प्रतिशत सबसे कम है?

Options :

1. ✓ वारंगल

2. ✗ महबूबनार

3. ✗ रंगारेड्डी

4. ✗ हैदराबाद

## General English1

Group Number :	7
Group Id :	998367183
Group Maximum Duration :	0
Group Minimum Duration :	0
Show Attended Group? :	No
Edit Attended Group? :	No
Break time:	0
Group Marks:	20
Is this Group for Examiner? :	No
Revisit allowed for group Instructions? :	Yes

Maximum Instruction Time: 0  
Minimum Instruction Time: 0

## General English1

Section Id : 998367189  
Section Number : 1  
Section type : Online  
Mandatory or Optional: Mandatory  
Number of Questions: 20  
Number of Questions to be attempted: 20  
Section Marks: 20

Sub-Section Number: 1  
Sub-Section Id: 998367277  
Question Shuffling Allowed : Yes

Question Number : 121 Question Id : 9983674497 Question Type : MCQ Option Shuffling : Yes  
Correct Marks : 1 Wrong Marks : 0.25

Fill in the blanks with the most appropriate word.

The spider \_\_\_\_\_ the fly in its intricate web.

Options :

1. ✓ entangled
2. ✗ entailed
3. ✗ ensured
4. ✗ enthralled

Question Number : 121 Question Id : 9983674497 Question Type : MCQ Option Shuffling : Yes  
Correct Marks : 1 Wrong Marks : 0.25

Fill in the blanks with the most appropriate word.

The spider \_\_\_\_\_ the fly in its intricate web.

Options :

1. ✓ entangled



2. ✖ entailed
3. ✖ ensured
4. ✖ enthralled

Question Number : 122 Question Id : 9983674498 Question Type : MCQ Option Shuffling : Yes  
Correct Marks : 1 Wrong Marks : 0.25

Fill in the blanks with the most appropriate word.

It is not polite behaviour to \_\_\_\_\_ when someone is talking.

Options :

1. ✖ cut off
2. ✖ cut up
3. ✔ cut in
4. ✖ cut on

Question Number : 122 Question Id : 9983674498 Question Type : MCQ Option Shuffling : Yes  
Correct Marks : 1 Wrong Marks : 0.25

Fill in the blanks with the most appropriate word.

It is not polite behaviour to \_\_\_\_\_ when someone is talking.

Options :

1. ✖ cut off
2. ✖ cut up
3. ✔ cut in
4. ✖ cut on

Question Number : 123 Question Id : 9983674499 Question Type : MCQ Option Shuffling : Yes  
Correct Marks : 1 Wrong Marks : 0.25

Fill in the blanks with the most appropriate word.

We were shocked to learn that Arjun had been on the \_\_\_\_\_ of a nervous breakdown last month.

Options :

1. ✘ brim
2. ✔ brink
3. ✘ brief
4. ✘ bridge

Question Number : 123 Question Id : 9983674499 Question Type : MCQ Option Shuffling : Yes  
Correct Marks : 1 Wrong Marks : 0.25

Fill in the blanks with the most appropriate word.

We were shocked to learn that Arjun had been on the \_\_\_\_\_ of a nervous breakdown last month.

Options :

1. ✘ brim
2. ✔ brink
3. ✘ brief
4. ✘ bridge

Question Number : 124 Question Id : 9983674500 Question Type : MCQ Option Shuffling : Yes  
Correct Marks : 1 Wrong Marks : 0.25

Fill in the blanks with the most appropriate word.

The meeting was held to \_\_\_\_\_ the employees that they would be paid all their dues after the take-over.

Options :

1. ✘ realign

2. ✖ recall

3. ✖ reason

4. ✔ reassure

Question Number : 124 Question Id : 9983674500 Question Type : MCQ Option Shuffling : Yes  
Correct Marks : 1 Wrong Marks : 0.25

Fill in the blanks with the most appropriate word.

The meeting was held to \_\_\_\_\_ the employees that they would be paid all their dues after the take-over.

Options :

1. ✖ realign

2. ✖ recall

3. ✖ reason

4. ✔ reassure

Question Number : 125 Question Id : 9983674501 Question Type : MCQ Option Shuffling : Yes  
Correct Marks : 1 Wrong Marks : 0.25

Select the correct meaning of the idiom given.

Go the whole hog

Options :

1. ✖ walk a long distance without stopping

2. ✔ to do something as completely as possible

3. ✖ eat a lot without hesitation or shyness

4. ✖ talk without giving others a chance to speak

Question Number : 125 Question Id : 9983674501 Question Type : MCQ Option Shuffling : Yes  
Correct Marks : 1 Wrong Marks : 0.25

Select the correct meaning of the idiom given.

Go the whole hog

Options :

1. ✖ walk a long distance without stopping
2. ✔ to do something as completely as possible
3. ✖ eat a lot without hesitation or shyness
4. ✖ talk without giving others a chance to speak

Question Number : 126 Question Id : 9983674502 Question Type : MCQ Option Shuffling : Yes  
Correct Marks : 1 Wrong Marks : 0.25

Select the grammatically correct option to fill in the blanks.

Though she has bought \_\_\_\_\_ villa in Goa she lives for most of \_\_\_\_\_ year in Mumbai.

Options :

1. ✖ the, a
2. ✔ a, the
3. ✖ a, an
4. ✖ an, the

Question Number : 126 Question Id : 9983674502 Question Type : MCQ Option Shuffling : Yes  
Correct Marks : 1 Wrong Marks : 0.25

Select the grammatically correct option to fill in the blanks.

Though she has bought \_\_\_\_\_ villa in Goa she lives for most of \_\_\_\_\_ year in Mumbai.

Options :

1. ✖ the, a

2. ✓ a, the

3. ✗ a, an

4. ✗ an, the

Question Number : 127 Question Id : 9983674503 Question Type : MCQ Option Shuffling : Yes  
Correct Marks : 1 Wrong Marks : 0.25

Select the grammatically correct option to fill in the blanks.

For breakfast Sudhir wanted to have \_\_\_\_\_ egg and two slices of \_\_\_\_\_ toast.

Options :

1. ✗ an, the

2. ✗ a, a

3. ✓ an, no article

4. ✗ no article, a

Question Number : 127 Question Id : 9983674503 Question Type : MCQ Option Shuffling : Yes  
Correct Marks : 1 Wrong Marks : 0.25

Select the grammatically correct option to fill in the blanks.

For breakfast Sudhir wanted to have \_\_\_\_\_ egg and two slices of \_\_\_\_\_ toast.

Options :

1. ✗ an, the

2. ✗ a, a

3. ✓ an, no article

4. ✗ no article, a

Question Number : 128 Question Id : 9983674504 Question Type : MCQ Option Shuffling : Yes  
Correct Marks : 1 Wrong Marks : 0.25

Select the grammatically correct option to fill in the blanks.

The problem \_\_\_\_\_ illiteracy weighs heavily \_\_\_\_\_ our conscience.

Options :

1. ✘ for, with
2. ✘ for, in
3. ✘ of, by
4. ✔ of, on

Question Number : 128 Question Id : 9983674504 Question Type : MCQ Option Shuffling : Yes  
Correct Marks : 1 Wrong Marks : 0.25

Select the grammatically correct option to fill in the blanks.

The problem \_\_\_\_\_ illiteracy weighs heavily \_\_\_\_\_ our conscience.

Options :

1. ✘ for, with
2. ✘ for, in
3. ✘ of, by
4. ✔ of, on

Question Number : 129 Question Id : 9983674505 Question Type : MCQ Option Shuffling : Yes  
Correct Marks : 1 Wrong Marks : 0.25

Select the grammatically correct option to fill in the blanks.

It has been a week since Sai has been suffering \_\_\_\_\_ a bad cough and fever.

Options :

1. ✔ from

2. ✖ with

3. ✖ on

4. ✖ by

Question Number : 129 Question Id : 9983674505 Question Type : MCQ Option Shuffling : Yes  
Correct Marks : 1 Wrong Marks : 0.25

Select the grammatically correct option to fill in the blanks.

It has been a week since Sai has been suffering \_\_\_\_\_ a bad cough and fever.

Options :

1. ✔ from

2. ✖ with

3. ✖ on

4. ✖ by

Question Number : 130 Question Id : 9983674506 Question Type : MCQ Option Shuffling : Yes  
Correct Marks : 1 Wrong Marks : 0.25

Select the grammatically correct option to fill in the blanks.

Riya will get \_\_\_\_\_ opportunities to take up a job of her choice in Delhi.

Options :

1. ✔ better

2. ✖ best

3. ✖ more better

4. ✖ most best

Question Number : 130 Question Id : 9983674506 Question Type : MCQ Option Shuffling : Yes  
Correct Marks : 1 Wrong Marks : 0.25

Select the grammatically correct option to fill in the blanks.

Riya will get \_\_\_\_\_ opportunities to take up a job of her choice in Delhi.

Options :

1. ✓ better
2. ✗ best
3. ✗ more better
4. ✗ most best

Question Number : 131 Question Id : 9983674507 Question Type : MCQ Option Shuffling : Yes  
Correct Marks : 1 Wrong Marks : 0.25

Select the grammatically correct option to fill in the blanks.

Since she is getting old she \_\_\_\_\_ a three-pronged stick to walk.

Options :

1. ✗ use
2. ✗ using
3. ✓ uses
4. ✗ has used

Question Number : 131 Question Id : 9983674507 Question Type : MCQ Option Shuffling : Yes  
Correct Marks : 1 Wrong Marks : 0.25

Select the grammatically correct option to fill in the blanks.

Since she is getting old she \_\_\_\_\_ a three-pronged stick to walk.

Options :



1. ✖ use
2. ✖ using
3. ✔ uses
4. ✖ has used

Question Number : 132 Question Id : 9983674508 Question Type : MCQ Option Shuffling : Yes  
Correct Marks : 1 Wrong Marks : 0.25

Select the grammatically correct option to fill in the blanks.

While dusting he \_\_\_\_\_ the glass top of the table, we will have to get it repaired.

Options :

1. ✖ broken
2. ✔ broke
3. ✖ have broken
4. ✖ will break

Question Number : 132 Question Id : 9983674508 Question Type : MCQ Option Shuffling : Yes  
Correct Marks : 1 Wrong Marks : 0.25

Select the grammatically correct option to fill in the blanks.

While dusting he \_\_\_\_\_ the glass top of the table, we will have to get it repaired.

Options :

1. ✖ broken
2. ✔ broke
3. ✖ have broken
4. ✖ will break

Question Number : 133 Question Id : 9983674509 Question Type : MCQ Option Shuffling : Yes

Correct Marks : 1 Wrong Marks : 0.25

Select the grammatically correct option to fill in the blanks.

\_\_\_\_\_ Raju has not applied for admission to this college.

Options :

1. ✘ As far I know
2. ✘ Far as I know
3. ✘ How far I know
4. ✔ As far as I know

Question Number : 133 Question Id : 9983674509 Question Type : MCQ Option Shuffling : Yes

Correct Marks : 1 Wrong Marks : 0.25

Select the grammatically correct option to fill in the blanks.

\_\_\_\_\_ Raju has not applied for admission to this college.

Options :

1. ✘ As far I know
2. ✘ Far as I know
3. ✘ How far I know
4. ✔ As far as I know

Question Number : 134 Question Id : 9983674510 Question Type : MCQ Option Shuffling : Yes

Correct Marks : 1 Wrong Marks : 0.25

Select the grammatically correct option to fill in the blanks.

The hostel room was small \_\_\_\_\_ comfortable.

Options :

1. ✔ but
2. ✘ also

3. ✖ only

4. ✖ if

Question Number : 134 Question Id : 9983674510 Question Type : MCQ Option Shuffling : Yes

Correct Marks : 1 Wrong Marks : 0.25

Select the grammatically correct option to fill in the blanks.

The hostel room was small \_\_\_\_\_ comfortable.

Options :

1. ✔ but

2. ✖ also

3. ✖ only

4. ✖ if

Question Number : 135 Question Id : 9983674511 Question Type : MCQ Option Shuffling : Yes

Correct Marks : 1 Wrong Marks : 0.25

Select the grammatically correct option to fill in the blanks.

You ought to take a break, \_\_\_\_\_?

Options :

1. ✖ should you

2. ✖ you should

3. ✔ shouldn't you

4. ✖ you shouldn't

Question Number : 135 Question Id : 9983674511 Question Type : MCQ Option Shuffling : Yes

Correct Marks : 1 Wrong Marks : 0.25

Select the grammatically correct option to fill in the blanks.

You ought to take a break, \_\_\_\_\_?

Options :

1. ✘ should you
2. ✘ you should
3. ✔ shouldn't you
4. ✘ you shouldn't

Question Number : 136 Question Id : 9983674512 Question Type : MCQ Option Shuffling : Yes  
Correct Marks : 1 Wrong Marks : 0.25

Given below are four segments of a sentence. Select the option that gives the correct order of the segments to form a logical sentence.

- A. of interconnected networks
- B. computers are a system
- C. to one another
- D. which communicate information

Options :

1. ✔ BADC
2. ✘ BCDA
3. ✘ ADCB
4. ✘ BCAD

Question Number : 136 Question Id : 9983674512 Question Type : MCQ Option Shuffling : Yes  
Correct Marks : 1 Wrong Marks : 0.25

Given below are four segments of a sentence. Select the option that gives the correct order of the segments to form a logical sentence.

- A. of interconnected networks
- B. computers are a system
- C. to one another
- D. which communicate information

Options :

- 1. ✓ **BADC**
- 2. ✗ **BCDA**
- 3. ✗ **ADCB**
- 4. ✗ **BCAD**

Question Number : 137 Question Id : 9983674513 Question Type : MCQ Option Shuffling : Yes  
Correct Marks : 1 Wrong Marks : 0.25

Given below are four segments of a sentence. Select the option that gives the correct order of the segments to form a logical sentence.

- A. which at some stage
- B. we can shape and mould
- C. plastics are organic materials
- D. according to our need

Options :

- 1. ✗ **ADBC**
- 2. ✓ **CABD**
- 3. ✗ **BCDA**
- 4. ✗ **CBDA**

Question Number : 137 Question Id : 9983674513 Question Type : MCQ Option Shuffling : Yes

Correct Marks : 1 Wrong Marks : 0.25

Given below are four segments of a sentence. Select the option that gives the correct order of the segments to form a logical sentence.

- A. which at some stage
- B. we can shape and mould
- C. plastics are organic materials
- D. according to our need

Options :

- 1. ✘ ADBC
- 2. ✔ CABD
- 3. ✘ BCDA
- 4. ✘ CBDA

Question Number : 138 Question Id : 9983674514 Question Type : MCQ Option Shuffling : Yes

Correct Marks : 1 Wrong Marks : 0.25

Given below are four segments of a sentence. Select the option that gives the correct order of the segments to form a logical sentence.

- A. the people of India
- B. whatever region
- C. they come from
- D. love their traditions and culture

Options :

- 1. ✘ BADC
- 2. ✔ BCAD

3. ✖ CABD

4. ✖ ABDC

Question Number : 138 Question Id : 9983674514 Question Type : MCQ Option Shuffling : Yes

Correct Marks : 1 Wrong Marks : 0.25

Given below are four segments of a sentence. Select the option that gives the correct order of the segments to form a logical sentence.

- A. the people of India
- B. whatever region
- C. they come from
- D. love their traditions and culture

Options :

1. ✖ BADC

2. ✔ BCAD

3. ✖ CABD

4. ✖ ABDC

Question Number : 139 Question Id : 9983674515 Question Type : MCQ Option Shuffling : Yes

Correct Marks : 1 Wrong Marks : 0.25

Given below are four segments of a sentence. Select the option that gives the correct order of the segments to form a logical sentence.

- A. there should be
- B. like health and power
- C. on strikes in essential services
- D. a complete ban

Options :

1. ✖ ACDB

2. ✖ DCBA

3. ✔ ADCB

4. ✖ DBCA

Question Number : 139 Question Id : 9983674515 Question Type : MCQ Option Shuffling : Yes

Correct Marks : 1 Wrong Marks : 0.25

Given below are four segments of a sentence. Select the option that gives the correct order of the segments to form a logical sentence.

A. there should be

B. like health and power

C. on strikes in essential services

D. a complete ban

Options :

1. ✖ ACDB

2. ✖ DCBA

3. ✔ ADCB

4. ✖ DBCA

Question Number : 140 Question Id : 9983674516 Question Type : MCQ Option Shuffling : Yes

Correct Marks : 1 Wrong Marks : 0.25



Given below are four segments of a sentence. Select the option that gives the correct order of the segments to form a logical sentence.

- A. can be higher indoors than outdoors
- B. clearly shows that
- C. recent research on air pollution
- D. concentrations of many air pollutants

Options :

- 1. ✓ CBDA
- 2. ✗ DBCA
- 3. ✗ CABD
- 4. ✗ ABDC

Question Number : 140 Question Id : 9983674516 Question Type : MCQ Option Shuffling : Yes  
Correct Marks : 1 Wrong Marks : 0.25

Given below are four segments of a sentence. Select the option that gives the correct order of the segments to form a logical sentence.

- A. can be higher indoors than outdoors
- B. clearly shows that
- C. recent research on air pollution
- D. concentrations of many air pollutants

Options :

- 1. ✓ CBDA
- 2. ✗ DBCA
- 3. ✗ CABD

## 4. ✖ ABDC

### General English2

Group Number :	8
Group Id :	998367184
Group Maximum Duration :	0
Group Minimum Duration :	0
Show Attended Group? :	No
Edit Attended Group? :	No
Break time:	0
Group Marks:	20
Is this Group for Examiner?:	No
Revisit allowed for group Instructions? :	Yes
Maximum Instruction Time:	0
Minimum Instruction Time:	0

### General English2

Section Id :	998367190
Section Number :	1
Section type :	Online
Mandatory or Optional:	Mandatory
Number of Questions:	12
Number of Questions to be attempted:	12
Section Marks:	20

Sub-Section Number:	1
Sub-Section Id:	998367278
Question Shuffling Allowed :	Yes

Question Number : 141 Question Id : 9983674517 Question Type : MCQ Option Shuffling : Yes  
Correct Marks : 1 Wrong Marks : 0.25

Select the most appropriate synonym of the underlined word

Some people think the legal profession is a lucrative business.

Options :

1. ✖ risky

2. ✓ profitable

3. ✖ serious

## 4. ✖ perilous

Question Number : 141 Question Id : 9983674517 Question Type : MCQ Option Shuffling : Yes  
Correct Marks : 1 Wrong Marks : 0.25

Select the most appropriate synonym of the underlined word

Some people think the legal profession is a lucrative business.

Options :

1. ✖ risky
2. ✔ profitable
3. ✖ serious
4. ✖ perilous

Question Number : 142 Question Id : 9983674518 Question Type : MCQ Option Shuffling : Yes  
Correct Marks : 1 Wrong Marks : 0.25

Select the most appropriate synonym of the underlined word.

People in smaller towns need to be apprised of the advantages of sanitation and healthcare.

Options :

1. ✔ informed
2. ✖ scolded
3. ✖ cautioned
4. ✖ benefitted

Question Number : 142 Question Id : 9983674518 Question Type : MCQ Option Shuffling : Yes  
Correct Marks : 1 Wrong Marks : 0.25

Select the most appropriate synonym of the underlined word.

People in smaller towns need to be apprised of the advantages of sanitation and healthcare.

Options :

1. ✓ informed
2. ✗ scolded
3. ✗ cautioned
4. ✗ benefitted

Question Number : 143 Question Id : 9983674519 Question Type : MCQ Option Shuffling : Yes  
Correct Marks : 1 Wrong Marks : 0.25

Select the most appropriate synonym of the underlined word.

The two countries have signed mutual treaties for trade and commerce.

Options :

1. ✗ lateral
2. ✓ joint
3. ✗ lasting
4. ✗ fixed

Question Number : 143 Question Id : 9983674519 Question Type : MCQ Option Shuffling : Yes  
Correct Marks : 1 Wrong Marks : 0.25

Select the most appropriate synonym of the underlined word.

The two countries have signed mutual treaties for trade and commerce.

Options :

1. ✖ lateral

2. ✔ joint

3. ✖ lasting

4. ✖ fixed

Question Number : 144 Question Id : 9983674520 Question Type : MCQ Option Shuffling : Yes  
Correct Marks : 1 Wrong Marks : 0.25

Select the most appropriate synonym of the underlined word.

One of the severe causes of pollution in large cities is the carbon dioxide that cars emit.

Options :

1. ✖ employ

2. ✖ fuel

3. ✔ release

4. ✖ charge

Question Number : 144 Question Id : 9983674520 Question Type : MCQ Option Shuffling : Yes  
Correct Marks : 1 Wrong Marks : 0.25

Select the most appropriate synonym of the underlined word.

One of the severe causes of pollution in large cities is the carbon dioxide that cars emit.

Options :

1. ✖ employ

2. ✖ fuel

3. ✔ release

4. ✖ charge

Question Number : 145 Question Id : 9983674521 Question Type : MCQ Option Shuffling : Yes

Correct Marks : 1 Wrong Marks : 0.25

Select the most appropriate synonym of the underlined word.

Abhishek is looking commensurate with his education and experience.

Options :

1. ✖ starting
2. ✔ matching
3. ✖ learning
4. ✖ paying

Question Number : 145 Question Id : 9983674521 Question Type : MCQ Option Shuffling : Yes

Correct Marks : 1 Wrong Marks : 0.25

Select the most appropriate synonym of the underlined word.

Abhishek is looking commensurate with his education and experience.

Options :

1. ✖ starting
2. ✔ matching
3. ✖ learning
4. ✖ paying

Question Number : 146 Question Id : 9983674522 Question Type : MCQ Option Shuffling : Yes

Correct Marks : 1 Wrong Marks : 0.25

Select the most appropriate antonym of the underlined word.

Due to the proliferation of adulterants people have started looking for organic foods.

Options :

1. ✓ scarcity
2. ✗ increase
3. ✗ abundance
4. ✗ production

Question Number : 146 Question Id : 9983674522 Question Type : MCQ Option Shuffling : Yes

Correct Marks : 1 Wrong Marks : 0.25

Select the most appropriate antonym of the underlined word.

Due to the proliferation of adulterants people have started looking for organic foods.

Options :

1. ✓ scarcity
2. ✗ increase
3. ✗ abundance
4. ✗ production

Question Number : 147 Question Id : 9983674523 Question Type : MCQ Option Shuffling : Yes

Correct Marks : 1 Wrong Marks : 0.25

Select the most appropriate antonym of the underlined word.

The functions of a computer are analogous to those of the human brain.

Options :

1. ✗ complex
2. ✗ intricate
3. ✓ different
4. ✗ dense

Question Number : 147 Question Id : 9983674523 Question Type : MCQ Option Shuffling : Yes  
Correct Marks : 1 Wrong Marks : 0.25

Select the most appropriate antonym of the underlined word.

The functions of a computer are analogous to those of the human brain.

Options :

1. ✖ complex
2. ✖ intricate
3. ✔ different
4. ✖ dense

Question Number : 148 Question Id : 9983674524 Question Type : MCQ Option Shuffling : Yes  
Correct Marks : 1 Wrong Marks : 0.25

Select the most appropriate antonym of the underlined word.

The sharp decline in the habit of reading among children must be deprecated.

Options :

1. ✔ approved
2. ✖ increased
3. ✖ informed
4. ✖ denounced

Question Number : 148 Question Id : 9983674524 Question Type : MCQ Option Shuffling : Yes  
Correct Marks : 1 Wrong Marks : 0.25



Select the most appropriate antonym of the underlined word.

The sharp decline in the habit of reading among children must be deprecated.

Options :

1. ✓ approved
2. ✗ increased
3. ✗ informed
4. ✗ denounced

Question Number : 149 Question Id : 9983674525 Question Type : MCQ Option Shuffling : Yes  
Correct Marks : 1 Wrong Marks : 0.25

Select the most appropriate antonym of the underlined word.

Girija has the tendency to exaggerate everything.

Options :

1. ✓ understate
2. ✗ expand
3. ✗ magnify
4. ✗ boost

Question Number : 149 Question Id : 9983674525 Question Type : MCQ Option Shuffling : Yes  
Correct Marks : 1 Wrong Marks : 0.25

Select the most appropriate antonym of the underlined word.

Girija has the tendency to exaggerate everything.

Options :

1. ✓ understate

2. ✖ expand

3. ✖ magnify

4. ✖ boost

Question Number : 150 Question Id : 9983674526 Question Type : MCQ Option Shuffling : Yes  
Correct Marks : 1 Wrong Marks : 0.25

Select the most appropriate antonym of the underlined word.

All forms of violence must be abhorred.

Options :

1. ✖ corrected

2. ✖ punished

3. ✔ adored

4. ✖ hated

Question Number : 150 Question Id : 9983674526 Question Type : MCQ Option Shuffling : Yes  
Correct Marks : 1 Wrong Marks : 0.25

Select the most appropriate antonym of the underlined word.

All forms of violence must be abhorred.

Options :

1. ✖ corrected

2. ✖ punished

3. ✔ adored

4. ✖ hated

Sub-Section Number:	2
Sub-Section Id:	998367279
Question Shuffling Allowed :	Yes

Question Id : 9983674527 Question Type : COMPREHENSION Sub Question Shuffling Allowed : Yes Group Comprehension Questions : No

Question Numbers : (151 to 155)

Question Label : Comprehension

Read the passage and answer the question given below it:

Last month, the Event Horizon Telescope (EHT) collaboration showed the world the ‘unseeable’: the very first image of a black hole. Of course, the black hole itself cannot be seen, because light cannot escape its intense gravitational attraction. The so-called event horizon that envelops the black hole is the point of no return and any object transgressing this boundary is lost. Just outside is a region where a photon (light quantum) can orbit the black hole without falling in. This is called the ‘last photon ring’, and this is what the EHT imaged, seeing in effect the silhouette of a black hole. Visual proof of the existence of black holes comes a century after they appeared in scientific literature. In a collaborative effort, eight telescopes around the world were used for the experiment. The challenges included making each observe the same broad range of wavelengths around 1.3 mm and having precise atomic clocks at each location, so the data could be combined.

A black hole marks the end of space time as commonly understood, and nothing that enters it can escape from the tremendous gravitational attraction. However, this is no real danger, as black holes are located at distances that humans do not have the power to scale. The EHT set out to image two candidate supermassive black holes — Sagittarius A, which is 26,000 light years from the earth, at the centre of the Milky Way, and another which is 55 million light years away at the centre of the Messier 87 galaxy in the Virgo galaxy cluster. But the first image was of the more distant one. The very long baseline interferometry technique linked radio dishes of telescopes across the world to produce a virtual telescope the size of the earth. This was needed to obtain the high resolution required for this measurement. Combining data from telescopes, each with different characteristics, was a separate challenge. Cutting-edge developments from computer science related to image recognition were used. As Katie Bouman, Assistant Professor at the California Institute of Technology, who led the efforts to develop an algorithm to put the data together and create the image, said in a talk, projects such as the EHT succeed owing to interdisciplinary expertise that people bring to the table. This experiment endorses the diversity of collaboration just as much as it does unrelenting patience and good faith in the power of science and reason.

Sub questions

Question Number : 151 Question Id : 9983674528 Question Type : MCQ Option Shuffling : Yes

Correct Marks : 1 Wrong Marks : 0.25

The 'black hole' gets its name from the fact that:

Options :

1. ✖ there is darkness all around it
2. ✔ it cannot actually be seen
3. ✖ scientists have not found out where it is
4. ✖ it is black in colour

Question Number : 152 Question Id : 9983674529 Question Type : MCQ Option Shuffling : Yes

Correct Marks : 1 Wrong Marks : 0.25

This passage is mainly about:

Options :

1. ✔ the collaborative effort of many countries
2. ✖ the search for a rare phenomenon
3. ✖ using science to create unusual models
4. ✖ the attempts of scientists to save human beings

Question Number : 153 Question Id : 9983674530 Question Type : MCQ Option Shuffling : Yes

Correct Marks : 1 Wrong Marks : 0.25

The event being described in the passage was sighted through:

Options :

1. ✔ a giant virtual telescope
2. ✖ precise atomic clocks
3. ✖ radio dishes
4. ✖ an algorithm

Question Number : 154 Question Id : 9983674531 Question Type : MCQ Option Shuffling : Yes

Correct Marks : 1 Wrong Marks : 0.25

The first image was of 'the more distant one' refers to:

Options :

1. ✔ The black hole

2. ✖ The telescope

3. ✖ The earth

4. ✖ The antenna

Question Number : 155 Question Id : 9983674532 Question Type : MCQ Option Shuffling : Yes  
Correct Marks : 1 Wrong Marks : 0.25

Which of the following statements is NOT true according to this passage?

Options :

1. ✖ Light cannot escape the intense gravitational attraction of the black hole

2. ✖ What was recently observed the outline of the shape of a black hole

3. ✖ The latest developments in the field of image recognition were used for the experiment

4. ✔ The tremendous gravitational attraction of the black hole is a threat to human beings.

Question Id : 9983674527 Question Type : COMPREHENSION Sub Question Shuffling Allowed : Yes Group Comprehension  
Questions : No  
Question Numbers : (151 to 155)

Question Label : Comprehension

Read the passage and answer the question given below it:

Last month, the Event Horizon Telescope (EHT) collaboration showed the world the 'unseeable': the very first image of a black hole. Of course, the black hole itself cannot be seen, because light cannot escape its intense gravitational attraction. The so-called event horizon that envelops the black hole is the point of no return and any object transgressing this boundary is lost. Just outside is a region where a photon (light quantum) can orbit the black hole without falling in. This is called the 'last photon ring', and this is what the EHT imaged, seeing in effect the silhouette of a black hole. Visual proof of the existence of black holes comes a century after they appeared in scientific literature. In a collaborative effort, eight telescopes around the world were used for the experiment. The challenges included making each observe the same broad range of wavelengths around 1.3 mm and having precise atomic clocks at each location, so the data could be combined.

A black hole marks the end of space time as commonly understood, and nothing that enters it can escape from the tremendous gravitational attraction. However, this is no real danger, as black holes are located at distances that humans do not have the power to scale. The EHT set out to image two candidate supermassive black holes – Sagittarius A, which is 26,000 light years from the earth, at the centre of the Milky Way, and another which is 55 million light years away at the centre of the Messier 87 galaxy in the Virgo galaxy cluster. But the first image was of the more distant one. The very long baseline interferometry technique linked radio dishes of telescopes across the world to produce a virtual telescope the size of the earth. This was needed to obtain the high resolution required for this measurement. Combining data from telescopes, each with different characteristics, was a separate challenge. Cutting-edge developments from computer science related to image recognition were used. As Katie Bouman, Assistant Professor at the California Institute of Technology, who led the efforts to develop an algorithm to put the data together and create the image, said in a talk, projects such as the EHT succeed owing to interdisciplinary expertise that people bring to the table. This experiment endorses the diversity of collaboration just as much as it does unrelenting patience and good faith in the power of science and reason.

## Sub questions

Question Number : 151 Question Id : 9983674528 Question Type : MCQ Option Shuffling : Yes

Correct Marks : 1 Wrong Marks : 0.25

The 'black hole' gets its name from the fact that:

Options :

1. ✘ there is darkness all around it
2. ✔ it cannot actually be seen
3. ✘ scientists have not found out where it is
4. ✘ it is black in colour

Question Number : 152 Question Id : 9983674529 Question Type : MCQ Option Shuffling : Yes

Correct Marks : 1 Wrong Marks : 0.25

This passage is mainly about:

Options :

1. ✔ the collaborative effort of many countries
2. ✘ the search for a rare phenomenon
3. ✘ using science to create unusual models
4. ✘ the attempts of scientists to save human beings

Question Number : 153 Question Id : 9983674530 Question Type : MCQ Option Shuffling : Yes

Correct Marks : 1 Wrong Marks : 0.25

The event being described in the passage was sighted through:

Options :

1. ✔ a giant virtual telescope
2. ✘ precise atomic clocks
3. ✘ radio dishes
4. ✘ an algorithm



Question Number : 154 Question Id : 9983674531 Question Type : MCQ Option Shuffling : Yes  
Correct Marks : 1 Wrong Marks : 0.25

The first image was of 'the more distant one' refers to:

Options :

1. ✓ The black hole
2. ✗ The telescope
3. ✗ The earth
4. ✗ The antenna

Question Number : 155 Question Id : 9983674532 Question Type : MCQ Option Shuffling : Yes  
Correct Marks : 1 Wrong Marks : 0.25

Which of the following statements is NOT true according to this passage?

Options :

1. ✗ Light cannot escape the intense gravitational attraction of the black hole
2. ✗ What was recently observed the outline of the shape of a black hole
3. ✗ The latest developments in the field of image recognition were used for the experiment
4. ✓ The tremendous gravitational attraction of the black hole is a threat to human beings.

Sub-Section Number:	3
Sub-Section Id:	998367280
Question Shuffling Allowed :	Yes

Question Id : 9983674533 Question Type : COMPREHENSION Sub Question Shuffling Allowed : Yes Group Comprehension Questions : No  
Question Numbers : (156 to 160)

Question Label : Comprehension

Read the passage and answer the question given below it:

Ram Sethu, also known as Sethusamudram and Adam's Bridge is a stretch of limestone shoals that runs from Pamban Island near Rameshwaram in South India to Mannar Island off the northern coast of Sri Lanka. It formed part of a land bridge that joined Sri Lanka to the continent of Asia during the last ice age.

Hindu believers hold it as the structure that Lord Rama and his army of apes and monkeys built to reach demon king Ravana's Lanka.

There are different geological and religious theories behind the origin of the bridge, one of which even says that Sri Lanka was a part of Indian landmass and that the calcareous rectangular blocks are testimony of Lanka breaking away from the mainland about 1,25,000 years ago.

It was the site of the proposed Sethusamudram Shipping Canal Project by the Government of India for dredging the entire strait to make it navigable by large ships and create fishing and shipping harbours in the coastal areas because today, ships bound for India's eastern coast have to circle around the entire island of Sri Lanka to reach Tuticorin, Chennai, Vizag, Paradip and other ports.

It has been claimed that that the successful completion of the project would cut travelling by about 350 nautical miles and will save 10 to 30 hours' sailing time. It will bring down shipping costs and add to India's exchequer in the form of transit fees.

As the Hindu believers hold it as the structure that Lord Rama and his army of apes and monkeys built, thus because of this religious belief, the project has been condemned and opposed by a wide spectrum of the Indian people.

Environmentalists claim that the completion of this project would destroy and destabilise the flora and fauna in the nearby locations. They have also claimed that most modern ships carry much higher loads but only ships with tonnage up to 30,000 tonnes would be able to use the canal.

Sub questions

Question Number : 156 Question Id : 9983674534 Question Type : MCQ Option Shuffling : Yes

Correct Marks : 1 Wrong Marks : 0.25

The passage mainly describes critical views about:

Options :

1. ✖ Religious theories
2. ✖ Geological theories
3. ✔ Project details
4. ✖ Environmental facts

Question Number : 157 Question Id : 9983674535 Question Type : MCQ Option Shuffling : Yes

Correct Marks : 1 Wrong Marks : 0.25

'It' in sentence two refers to:

Options :

1. ✖ Mannar island
2. ✔ Ram Sethu
3. ✖ Sri Lanka
4. ✖ Pamban Island

Question Number : 158 Question Id : 9983674536 Question Type : MCQ Option Shuffling : Yes

Correct Marks : 1 Wrong Marks : 0.25

The evidence cited to suggest that Sri Lanka was once a part of the Asian continent refers to:

Options :

1. ✔ rectangular blocks of calcium
2. ✖ the flora and fauna
3. ✖ limestone shoals
4. ✖ sand and coral reefs

Question Number : 159 Question Id : 9983674537 Question Type : MCQ Option Shuffling : Yes

Correct Marks : 1 Wrong Marks : 0.25

Which of the following will NOT be affected by the completion of the proposed project?

Options :

1. ✖ Travelling time
2. ✖ Shipping costs
3. ✖ India's exchequer
4. ✔ Tsunamis

Question Number : 160 Question Id : 9983674538 Question Type : MCQ Option Shuffling : Yes

Correct Marks : 1 Wrong Marks : 0.25

Which of the following is not an argument presented against the project?

Options :

1. ✖ the natural surroundings will be destroyed
2. ✖ religious sentiments will be hurt
3. ✔ fishing and shipping harbours will be created
4. ✖ modern ships carrying heavier loads will find it inaccessible

Question Id : 9983674533 Question Type : COMPREHENSION Sub Question Shuffling Allowed : Yes Group Comprehension Questions : No

Question Numbers : (156 to 160)

Question Label : Comprehension

Read the passage and answer the question given below it:

Ram Sethu, also known as Sethusamudram and Adam's Bridge is a stretch of limestone shoals that runs from Pamban Island near Rameshwaram in South India to Mannar Island off the northern coast of Sri Lanka. It formed part of a land bridge that joined Sri Lanka to the continent of Asia during the last ice age.

Hindu believers hold it as the structure that Lord Rama and his army of apes and monkeys built to reach demon king Ravana's Lanka.

There are different geological and religious theories behind the origin of the bridge, one of which even says that Sri Lanka was a part of Indian landmass and that the calcareous rectangular blocks are testimony of Lanka breaking away from the mainland about 1,25,000 years ago. It was the site of the proposed Sethusamudram Shipping Canal Project by the Government of India for dredging the entire strait to make it navigable by large ships and create fishing and shipping harbours in the coastal areas because today, ships bound for India's eastern coast have to circle around the entire island of Sri Lanka to reach Tuticorin, Chennai, Vizag, Paradip and other ports.

It has been claimed that that the successful completion of the project would cut travelling by about 350 nautical miles and will save 10 to 30 hours' sailing time. It will bring down shipping costs and add to India's exchequer in the form of transit fees.

As the Hindu believers hold it as the structure that Lord Rama and his army of apes and monkeys built, thus because of this religious belief, the project has been condemned and opposed by a wide spectrum of the Indian people.

Environmentalists claim that the completion of this project would destroy and destabilise the flora and fauna in the nearby locations. They have also claimed that most modern ships carry much higher loads but only ships with tonnage up to 30,000 tonnes would be able to use the canal.

### Sub questions

Question Number : 156 Question Id : 9983674534 Question Type : MCQ Option Shuffling : Yes

Correct Marks : 1 Wrong Marks : 0.25

The passage mainly describes critical views about:

Options :

1. ✘ Religious theories
2. ✘ Geological theories
3. ✔ Project details
4. ✘ Environmental facts

Question Number : 157 Question Id : 9983674535 Question Type : MCQ Option Shuffling : Yes

Correct Marks : 1 Wrong Marks : 0.25

'It' in sentence two refers to:

Options :

1. ✘ Mannar island
2. ✔ Ram Sethu
3. ✘ Sri Lanka
4. ✘ Pamban Island

Question Number : 158 Question Id : 9983674536 Question Type : MCQ Option Shuffling : Yes

Correct Marks : 1 Wrong Marks : 0.25

The evidence cited to suggest that Sri Lanka was once a part of the Asian continent refers to:

Options :

1. ✔ rectangular blocks of calcium
2. ✘ the flora and fauna
3. ✘ limestone shoals
4. ✘ sand and coral reefs

Question Number : 159 Question Id : 9983674537 Question Type : MCQ Option Shuffling : Yes  
Correct Marks : 1 Wrong Marks : 0.25

Which of the following will NOT be affected by the completion of the proposed project?

Options :

1. ✘ Travelling time
2. ✘ Shipping costs
3. ✘ India's exchequer
4. ✔ Tsunamis

Question Number : 160 Question Id : 9983674538 Question Type : MCQ Option Shuffling : Yes  
Correct Marks : 1 Wrong Marks : 0.25

Which of the following is not an argument presented against the project?

Options :

1. ✘ the natural surroundings will be destroyed
2. ✘ religious sentiments will be hurt
3. ✔ fishing and shipping harbours will be created
4. ✘ modern ships carrying heavier loads will find it inaccessible

## General Hindi1

Group Number :	9
Group Id :	998367185
Group Maximum Duration :	0
Group Minimum Duration :	0
Show Attended Group? :	No
Edit Attended Group? :	No
Break time:	0
Group Marks:	20
Is this Group for Examiner? :	No
Revisit allowed for group Instructions? :	Yes
Maximum Instruction Time:	0



## General Hindi1

Section Id :	998367191
Section Number :	1
Section type :	Online
Mandatory or Optional:	Mandatory
Number of Questions:	20
Number of Questions to be attempted:	20
Section Marks:	20

Sub-Section Number:	1
Sub-Section Id:	998367281
Question Shuffling Allowed :	Yes

Question Number : 161 Question Id : 9983674539 Question Type : MCQ Option Shuffling : Yes  
Correct Marks : 1 Wrong Marks : 0.25

‘मयं’ शब्द का अर्थ होता है:

Options :

1. ✓ चन्द्रमा
2. \* अमृत
3. \* कलंक
4. \* संभव

Question Number : 161 Question Id : 9983674539 Question Type : MCQ Option Shuffling : Yes  
Correct Marks : 1 Wrong Marks : 0.25

‘मयं’ शब्द का अर्थ होता है:

Options :

1. ✓ चन्द्रमा
2. \* अमृत
3. \* कलंक
4. \* संभव

Question Number : 162 Question Id : 9983674540 Question Type : MCQ Option Shuffling : Yes  
Correct Marks : 1 Wrong Marks : 0.25

उत्सर्ग शब्द का अर्थ नहीं होता है:

Options :

1. \* त्याग
2. \* दान
3. \* समाप्ति
4. ✓ विश्राम

Question Number : 162 Question Id : 9983674540 Question Type : MCQ Option Shuffling : Yes  
Correct Marks : 1 Wrong Marks : 0.25

उत्सर्ग शब्द का अर्थ नहीं होता है:

Options :

1. \* त्याग
2. \* दान
3. \* समाप्ति
4. ✓ विश्राम

Question Number : 163 Question Id : 9983674541 Question Type : MCQ Option Shuffling : Yes  
Correct Marks : 1 Wrong Marks : 0.25

‘अंदर छिपा हुआ’ के लिए एक शब्द होगा:

Options :

1. \* अज्ञात
2. ✓ अन्तर्निहित
3. \* प्रच्छन्न
4. \* गोपनीय

Question Number : 163 Question Id : 9983674541 Question Type : MCQ Option Shuffling : Yes  
Correct Marks : 1 Wrong Marks : 0.25

‘अंदर छिपा हुआ’ के लिए एक शब्द होगा:

Options :

1. \* अज्ञात
2. ✓ अन्तर्निहित
3. \* प्रच्छन्न

## 4. \* गोपनीय

Question Number : 164 Question Id : 9983674542 Question Type : MCQ Option Shuffling : Yes

Correct Marks : 1 Wrong Marks : 0.25

‘इंदिरा-इंद्रा’ शब्दयुग्म अर्थ होगा:

Options :

1. ✓ लक्ष्मी - इंद्रा की पत्नी
2. \* इंद्रपत्नी - लक्ष्मी
3. \* इंदीवर - कुमुद
4. \* वैभव - सौंदर्य

Question Number : 164 Question Id : 9983674542 Question Type : MCQ Option Shuffling : Yes

Correct Marks : 1 Wrong Marks : 0.25

‘इंदिरा-इंद्रा’ शब्दयुग्म अर्थ होगा:

Options :

1. ✓ लक्ष्मी - इंद्रा की पत्नी
2. \* इंद्रपत्नी - लक्ष्मी
3. \* इंदीवर - कुमुद
4. \* वैभव - सौंदर्य

Question Number : 165 Question Id : 9983674543 Question Type : MCQ Option Shuffling : Yes

Correct Marks : 1 Wrong Marks : 0.25

निम्नलिखित वाक्यों में से कौन-से वाक्य में विचार शब्द राय/मत है:

Options :

1. \* आपके विचार अच्छे हैं।
2. \* आप सही-सही विचार दीजिए।
3. ✓ इस मुद्दे पर आपका विचार क्या है।
4. \* आपसे कुछ विचार करने आया हूँ।

Question Number : 165 Question Id : 9983674543 Question Type : MCQ Option Shuffling : Yes

Correct Marks : 1 Wrong Marks : 0.25

निम्नलिखित वाक्यों में से कौन-से वाक्य में विचार शब्द राय/मत है:

Options :

1. \* आपके विचार अच्छे हैं।
2. \* आप सही-सही विचार दीजिए।
3. ✓ इस मुद्दे पर आपका विचार क्या है।
4. \* आपसे कुछ विचार करने आया हूँ।

Question Number : 166 Question Id : 9983674544 Question Type : MCQ Option Shuffling : Yes  
Correct Marks : 1 Wrong Marks : 0.25

‘मैं उसके बुढ़ापे से तंग आ गया हूँ’I वाक्य में रेखांकित पद है:

Options :

1. ✓ संज्ञा
2. \* सर्वनाम
3. \* विशेषण
4. \* क्रिया विशेषण

Question Number : 166 Question Id : 9983674544 Question Type : MCQ Option Shuffling : Yes  
Correct Marks : 1 Wrong Marks : 0.25

‘मैं उसके बुढ़ापे से तंग आ गया हूँ’I वाक्य में रेखांकित पद है:

Options :

1. ✓ संज्ञा
2. \* सर्वनाम
3. \* विशेषण
4. \* क्रिया विशेषण

Question Number : 167 Question Id : 9983674545 Question Type : MCQ Option Shuffling : Yes  
Correct Marks : 1 Wrong Marks : 0.25

‘झाड़ियों में कोई खड़ा है’I वाक्य में रेखांकित पद है:

Options :

1. \* निश्चयवाचक सर्वनाम
2. ✓ अनिश्चयवाचक सर्वनाम
3. \* प्रश्नवाचक सर्वनाम

## 4. \* निजवाचक सर्वनाम

Question Number : 167 Question Id : 9983674545 Question Type : MCQ Option Shuffling : Yes  
Correct Marks : 1 Wrong Marks : 0.25

‘झाड़ियों में कोई खड़ा है’। वाक्य में रेखांकित पद है:

Options :

1. \* निश्चयवाचक सर्वनाम
2. ✓ अनिश्चयवाचक सर्वनाम
3. \* प्रश्नवाचक सर्वनाम
4. \* निजवाचक सर्वनाम

Question Number : 168 Question Id : 9983674546 Question Type : MCQ Option Shuffling : Yes  
Correct Marks : 1 Wrong Marks : 0.25

‘चतुरता’ शब्द का विशेषण होगा:

Options :

1. \* चातुरी
2. \* चातुर्य
3. ✓ चतुर
4. \* चातुर्यता

Question Number : 168 Question Id : 9983674546 Question Type : MCQ Option Shuffling : Yes  
Correct Marks : 1 Wrong Marks : 0.25

‘चतुरता’ शब्द का विशेषण होगा:

Options :

1. \* चातुरी
2. \* चातुर्य
3. ✓ चतुर
4. \* चातुर्यता

Question Number : 169 Question Id : 9983674547 Question Type : MCQ Option Shuffling : Yes  
Correct Marks : 1 Wrong Marks : 0.25

‘मैंने कार खरीद ली’। वाक्य में कौनसी क्रिया है?

Options :

1. ✓ संयुक्त क्रिया
2. \* समस्त क्रिया
3. \* मिश्र क्रिया
4. \* नामिक क्रिया

Question Number : 169 Question Id : 9983674547 Question Type : MCQ Option Shuffling : Yes  
Correct Marks : 1 Wrong Marks : 0.25

‘मैंने कार खरीद ली’। वाक्य में कौनसी क्रिया हैं?

Options :

1. ✓ संयुक्त क्रिया
2. \* समस्त क्रिया
3. \* मिश्र क्रिया
4. \* नामिक क्रिया

Question Number : 170 Question Id : 9983674548 Question Type : MCQ Option Shuffling : Yes  
Correct Marks : 1 Wrong Marks : 0.25

‘वह थोड़ा ही चल सकी’। वाक्य में रेखांकित पद कौन-सा क्रिया विशेषण है?

Options :

1. \* कालवाची क्रिया विशेषण
2. \* स्थानवाची क्रिया विशेषण
3. \* रीतिवाची विशेषण
4. ✓ परिमाणवाची क्रिया विशेषण

Question Number : 170 Question Id : 9983674548 Question Type : MCQ Option Shuffling : Yes  
Correct Marks : 1 Wrong Marks : 0.25

‘वह थोड़ा ही चल सकी’। वाक्य में रेखांकित पद कौन-सा क्रिया विशेषण है?

Options :

1. \* कालवाची क्रिया विशेषण
2. \* स्थानवाची क्रिया विशेषण

3. ✖ रीतिवाची विशेषण

4. ✔ परिमाणवाची क्रिया विशेषण

Question Number : 171 Question Id : 9983674549 Question Type : MCQ Option Shuffling : Yes

Correct Marks : 1 Wrong Marks : 0.25

निम्नलिखित में से कौन-सा शब्द पुल्लिंग है?

Options :

1. ✖ सूरत

2. ✖ आमद

3. ✔ सत्य

4. ✖ बात

Question Number : 171 Question Id : 9983674549 Question Type : MCQ Option Shuffling : Yes

Correct Marks : 1 Wrong Marks : 0.25

निम्नलिखित में से कौन-सा शब्द पुल्लिंग है?

Options :

1. ✖ सूरत

2. ✖ आमद

3. ✔ सत्य

4. ✖ बात

Question Number : 172 Question Id : 9983674550 Question Type : MCQ Option Shuffling : Yes

Correct Marks : 1 Wrong Marks : 0.25

निम्नलिखित में से कौन-सा शब्द स्त्रीलिंग है?

Options :

1. ✖ उन्माद

2. ✖ कल्याण

3. ✖ घाट

4. ✔ फसल

Question Number : 172 Question Id : 9983674550 Question Type : MCQ Option Shuffling : Yes

Correct Marks : 1 Wrong Marks : 0.25

निम्नलिखित में से कौन-सा शब्द स्त्रीलिंग है?

Options :

1. ✖ उन्माद
2. ✖ कल्याण
3. ✖ घाट
4. ✔ फसल

Question Number : 173 Question Id : 9983674551 Question Type : MCQ Option Shuffling : Yes  
Correct Marks : 1 Wrong Marks : 0.25

‘मोहन को जाना है’I वाक्य के रेखांकित पद में कारक है:

Options :

1. ✔ कर्ता
2. ✖ कर्म
3. ✖ करण
4. ✖ अधिकरण

Question Number : 173 Question Id : 9983674551 Question Type : MCQ Option Shuffling : Yes  
Correct Marks : 1 Wrong Marks : 0.25

‘मोहन को जाना है’I वाक्य के रेखांकित पद में कारक है:

Options :

1. ✔ कर्ता
2. ✖ कर्म
3. ✖ करण
4. ✖ अधिकरण

Question Number : 174 Question Id : 9983674552 Question Type : MCQ Option Shuffling : Yes  
Correct Marks : 1 Wrong Marks : 0.25

‘चोर चलती गाड़ी से कूद गया’I रेखांकित अंश में कारक है:

Options :

1. ✖ कर्ता
2. ✖ कर्म



3. ✖ करण

4. ✔ अपादान

Question Number : 174 Question Id : 9983674552 Question Type : MCQ Option Shuffling : Yes  
Correct Marks : 1 Wrong Marks : 0.25

‘चोर चलती गाड़ी से कूद गया’। रेखांकित अंश में कारक है:

Options :

1. ✖ कर्ता

2. ✖ कर्म

3. ✖ करण

4. ✔ अपादान

Question Number : 175 Question Id : 9983674553 Question Type : MCQ Option Shuffling : Yes  
Correct Marks : 1 Wrong Marks : 0.25

कर्ता शब्द का स्त्रीलिंग बनेगा:

Options :

1. ✖ कर्ती

2. ✖ कतृ

3. ✔ कर्त्री

4. ✖ कर्तरी

Question Number : 175 Question Id : 9983674553 Question Type : MCQ Option Shuffling : Yes  
Correct Marks : 1 Wrong Marks : 0.25

कर्ता शब्द का स्त्रीलिंग बनेगा:

Options :

1. ✖ कर्ती

2. ✖ कतृ

3. ✔ कर्त्री

4. ✖ कर्तरी

Question Number : 176 Question Id : 9983674554 Question Type : MCQ Option Shuffling : Yes  
Correct Marks : 1 Wrong Marks : 0.25

निम्नलिखित में से कौन-सा वाक्य सरल वाक्य है?

Options :

1. ✓ मेरे बहुत समझाने पर भी वह नहीं माना।
2. \* जो लालची होते हैं वे हमेशा दुखी रहते हैं।
3. \* जो लोग गरीब होते हैं उनकी कोई नहीं सुनता।
4. \* मोहन ने जो कार्ड छपवाए, वे शादी के लिए हैं।

Question Number : 176 Question Id : 9983674554 Question Type : MCQ Option Shuffling : Yes

Correct Marks : 1 Wrong Marks : 0.25

निम्नलिखित में से कौन-सा वाक्य सरल वाक्य है?

Options :

1. ✓ मेरे बहुत समझाने पर भी वह नहीं माना।
2. \* जो लालची होते हैं वे हमेशा दुखी रहते हैं।
3. \* जो लोग गरीब होते हैं उनकी कोई नहीं सुनता।
4. \* मोहन ने जो कार्ड छपवाए, वे शादी के लिए हैं।

Question Number : 177 Question Id : 9983674555 Question Type : MCQ Option Shuffling : Yes

Correct Marks : 1 Wrong Marks : 0.25

निम्नलिखित में से मिश्र वाक्य कौन-सा है?

Options :

1. ✓ जैसे ही हम घर से निकले, बारिश होने लगी।
2. \* हमारे घर से निकलते ही बारिश होने लगी।
3. \* हम घर से निकले और बारिश होने लगी।
4. \* हम बारिश में घर से निकले।

Question Number : 177 Question Id : 9983674555 Question Type : MCQ Option Shuffling : Yes

Correct Marks : 1 Wrong Marks : 0.25

निम्नलिखित में से मिश्र वाक्य कौन-सा है?

Options :

1. ✓ जैसे ही हम घर से निकले, बारिश होने लगी।
2. \* हमारे घर से निकलते ही बारिश होने लगी।

3. \* हम घर से निकले और बारिश होने लगी।

4. \* हम बारिश में घर से निकले।

Question Number : 178 Question Id : 9983674556 Question Type : MCQ Option Shuffling : Yes

Correct Marks : 1 Wrong Marks : 0.25

जहाँ वे रहते हैं, वहाँ एक स्कूल भी है। यह एक उप वाक्य है:

Options :

1. \* समयवाचक क्रिया विशेषण उपवाक्य
2. ✓ स्थानवाचक क्रिया विशेषण उपवाक्य
3. \* रीतिवाचक क्रिया विशेषण उपवाक्य
4. \* परिमाणवाचक क्रिया विशेषण उपवाक्य

Question Number : 178 Question Id : 9983674556 Question Type : MCQ Option Shuffling : Yes

Correct Marks : 1 Wrong Marks : 0.25

जहाँ वे रहते हैं, वहाँ एक स्कूल भी है। यह एक उप वाक्य है:

Options :

1. \* समयवाचक क्रिया विशेषण उपवाक्य
2. ✓ स्थानवाचक क्रिया विशेषण उपवाक्य
3. \* रीतिवाचक क्रिया विशेषण उपवाक्य
4. \* परिमाणवाचक क्रिया विशेषण उपवाक्य

Question Number : 179 Question Id : 9983674557 Question Type : MCQ Option Shuffling : Yes

Correct Marks : 1 Wrong Marks : 0.25

‘यहाँ मैं बैटूंगा तथा वहाँ दुसरे लोग’ यह वाक्य है:

Options :

1. ✓ संयोजक संयुक्त वाक्य
2. \* विभाजक संयुक्त वाक्य
3. \* मिश्र वाक्य
4. \* परिमाणवाचक संयुक्त वाक्य

Question Number : 179 Question Id : 9983674557 Question Type : MCQ Option Shuffling : Yes

Correct Marks : 1 Wrong Marks : 0.25

‘यहाँ मैं बैठूंगा तथा वहाँ दुसरे लोग’ यह वाक्य है:

Options :

1. ✓ संयोजक संयुक्त वाक्य
2. \* विभाजक संयुक्त वाक्य
3. \* मिश्र वाक्य
4. \* परिमाणवाचक संयुक्त वाक्य

Question Number : 180 Question Id : 9983674558 Question Type : MCQ Option Shuffling : Yes  
Correct Marks : 1 Wrong Marks : 0.25

जिस वाक्य में एक ही क्रिया होती है, वह कहलाता है:

Options :

1. \* संयुक्त वाक्य
2. ✓ सरल वाक्य
3. \* मिश्र वाक्य
4. \* संयुक्त मिश्र वाक्य

Question Number : 180 Question Id : 9983674558 Question Type : MCQ Option Shuffling : Yes  
Correct Marks : 1 Wrong Marks : 0.25

जिस वाक्य में एक ही क्रिया होती है, वह कहलाता है:

Options :

1. \* संयुक्त वाक्य
2. ✓ सरल वाक्य
3. \* मिश्र वाक्य
4. \* संयुक्त मिश्र वाक्य

## General Hindi2

Group Number :	10
Group Id :	998367186
Group Maximum Duration :	0
Group Minimum Duration :	120
Show Attended Group? :	No

Edit Attended Group? :	No
Break time:	0
Group Marks:	20
Is this Group for Examiner?:	No
Revisit allowed for group Instructions? :	Yes
Maximum Instruction Time:	0
Minimum Instruction Time:	0

## General Hindi2

Section Id :	998367192
Section Number :	1
Section type :	Online
Mandatory or Optional:	Mandatory
Number of Questions:	12
Number of Questions to be attempted:	12
Section Marks:	20

Sub-Section Number:	1
Sub-Section Id:	998367282
Question Shuffling Allowed :	Yes

Question Number : 181 Question Id : 9983674559 Question Type : MCQ Option Shuffling : Yes  
Correct Marks : 1 Wrong Marks : 0.25

‘अम्बर में छाई लाली है’ रेखांकित शब्द के स्थान पर कौन-सा शब्द प्रयोग हो सकता है?

Options :

1. ✓ गगन
2. \* वैभव
3. \* मयूख
4. \* अनंग

Question Number : 181 Question Id : 9983674559 Question Type : MCQ Option Shuffling : Yes  
Correct Marks : 1 Wrong Marks : 0.25

‘अम्बर में छाई लाली है’ रेखांकित शब्द के स्थान पर कौन-सा शब्द प्रयोग हो सकता है?

Options :

1. ✓ गगन
2. \* वैभव

3. \* मयूख

4. \* अनंग

Question Number : 182 Question Id : 9983674560 Question Type : MCQ Option Shuffling : Yes

Correct Marks : 1 Wrong Marks : 0.25

कौन-सा शब्द 'नदी' का पर्यायवाची नहीं है?

Options :

1. \* सरिता

2. ✓ तरिणी

3. \* तटिनी

4. \* तरंगिणी

Question Number : 182 Question Id : 9983674560 Question Type : MCQ Option Shuffling : Yes

Correct Marks : 1 Wrong Marks : 0.25

कौन-सा शब्द 'नदी' का पर्यायवाची नहीं है?

Options :

1. \* सरिता

2. ✓ तरिणी

3. \* तटिनी

4. \* तरंगिणी

Question Number : 183 Question Id : 9983674561 Question Type : MCQ Option Shuffling : Yes

Correct Marks : 1 Wrong Marks : 0.25

'यह मेरा व्यक्तिगत मामला है' पंक्ति के रेखांकित पद का पर्याय है:

Options :

1. \* आत्मज

2. ✓ निजी

3. \* आत्मीय

4. \* निजत्व

Question Number : 183 Question Id : 9983674561 Question Type : MCQ Option Shuffling : Yes

Correct Marks : 1 Wrong Marks : 0.25

‘यह मेरा व्यक्तिगत मामला है’ पंक्ति के रेखांकित पद का पर्याय है:

Options :

1. ✖ आत्मज
2. ✔ निजी
3. ✖ आत्मीय
4. ✖ निजत्व

Question Number : 184 Question Id : 9983674562 Question Type : MCQ Option Shuffling : Yes  
Correct Marks : 1 Wrong Marks : 0.25

‘आँख’ के लिए सही पर्याय होगा:

Options :

1. ✖ मृगलोचनी
2. ✖ नयनाभिराम
3. ✔ नेत्र
4. ✖ लोचित

Question Number : 184 Question Id : 9983674562 Question Type : MCQ Option Shuffling : Yes  
Correct Marks : 1 Wrong Marks : 0.25

‘आँख’ के लिए सही पर्याय होगा:

Options :

1. ✖ मृगलोचनी
2. ✖ नयनाभिराम
3. ✔ नेत्र
4. ✖ लोचित

Question Number : 185 Question Id : 9983674563 Question Type : MCQ Option Shuffling : Yes  
Correct Marks : 1 Wrong Marks : 0.25

‘पुष्प’ शब्द का पर्याय नहीं है:

Options :

1. ✖ कुसुम
2. ✖ प्रसून

3. ✓ कलिका

4. ✘ सुमन

Question Number : 185 Question Id : 9983674563 Question Type : MCQ Option Shuffling : Yes  
Correct Marks : 1 Wrong Marks : 0.25

‘पुष्प’ शब्द का पर्याय नहीं है:

Options :

1. ✘ कुसुम

2. ✘ प्रसून

3. ✓ कलिका

4. ✘ सुमन

Question Number : 186 Question Id : 9983674564 Question Type : MCQ Option Shuffling : Yes  
Correct Marks : 1 Wrong Marks : 0.25

‘अतयधिक’ शब्द का विलोम होता है:

Options :

1. ✓ अत्यल्प

2. ✘ किंचित

3. ✘ अमित

4. ✘ प्रचुर

Question Number : 186 Question Id : 9983674564 Question Type : MCQ Option Shuffling : Yes  
Correct Marks : 1 Wrong Marks : 0.25

‘अतयधिक’ शब्द का विलोम होता है:

Options :

1. ✓ अत्यल्प

2. ✘ किंचित

3. ✘ अमित

4. ✘ प्रचुर

Question Number : 187 Question Id : 9983674565 Question Type : MCQ Option Shuffling : Yes  
Correct Marks : 1 Wrong Marks : 0.25



‘वह बहुत अनुभवी हैं’I वाक्य में रेखांकित का विलोम होगा:

Options :

1. \* युवा
2. \* समझदार
3. ✓ अनुभवहीन
4. \* अनाड़ी

Question Number : 187 Question Id : 9983674565 Question Type : MCQ Option Shuffling : Yes

Correct Marks : 1 Wrong Marks : 0.25

‘वह बहुत अनुभवी हैं’I वाक्य में रेखांकित का विलोम होगा:

Options :

1. \* युवा
2. \* समझदार
3. ✓ अनुभवहीन
4. \* अनाड़ी

Question Number : 188 Question Id : 9983674566 Question Type : MCQ Option Shuffling : Yes

Correct Marks : 1 Wrong Marks : 0.25

‘श्रेष्ठ’ शब्द का विलोम होता है:

Options :

1. ✓ अधम
2. \* दुरित
3. \* राक्षस
4. \* असुर

Question Number : 188 Question Id : 9983674566 Question Type : MCQ Option Shuffling : Yes

Correct Marks : 1 Wrong Marks : 0.25

‘श्रेष्ठ’ शब्द का विलोम होता है:

Options :

1. ✓ अधम
2. \* दुरित

3. \* राक्षस

4. \* असुर

Question Number : 189 Question Id : 9983674567 Question Type : MCQ Option Shuffling : Yes

Correct Marks : 1 Wrong Marks : 0.25

‘वह मेरा समर्थक है’I वाक्य में रेखांकित पद का विलोम होगाI

Options :

1. \* प्रतिपक्षी

2. ✓ विरोधी

3. \* पक्षपाती

4. \* प्रतिद्वंदी

Question Number : 189 Question Id : 9983674567 Question Type : MCQ Option Shuffling : Yes

Correct Marks : 1 Wrong Marks : 0.25

‘वह मेरा समर्थक है’। वाक्य में रेखांकित पद का विलोम होगा।

Options :

1. \* प्रतिपक्षी

2. ✓ विरोधी

3. \* पक्षपाती

4. \* प्रतिद्वंदी

Question Number : 190 Question Id : 9983674568 Question Type : MCQ Option Shuffling : Yes

Correct Marks : 1 Wrong Marks : 0.25

‘संपन्न’ का विलोम शब्द है:

Options :

1. ✓ विपन्न

2. \* दरिद्र

3. \* गरीब

4. \* परेशान

Question Number : 190 Question Id : 9983674568 Question Type : MCQ Option Shuffling : Yes

Correct Marks : 1 Wrong Marks : 0.25

‘संपन्न’ का विलोम शब्द है:

Options :

1. ✓ विपन्न
2. ✘ दरिद्र
3. ✘ गरीब
4. ✘ परेशान

Sub-Section Number: 2  
Sub-Section Id: 998367283  
Question Shuffling Allowed : Yes

Question Id : 9983674569 Question Type : COMPREHENSION Sub Question Shuffling Allowed : Yes Group Comprehension Questions : No

Question Numbers : (191 to 195)

Question Label : Comprehension

निम्नलिखित गद्यांश को पढ़कर उसके सही उत्तर दीजिये।

नदी तट पर घुमते हुए मैंने देखा की दिवस का अवसान होने जा रहा था और पूरा गगन लोहित हो चला था। तरुशिखाओं पर किरणें शोभायमान थीं और कमलिनी कुलवल्लभ प्रतीची उन्मुख थे। पक्षियों का कलरव मनमोहक था और मैं खुशी-खुशी मित्र-मिलान की चाह की कल्पनाओं में खोया-सा चला जा रहा था। मैं रोमांचित था और आलिंगबद्ध होने की कामना लिए चला जा रहा था। कभी प्रकृति सौंदर्य और सभी मित्र, दोनों ही मुझ पर हावी थे, पर मन में यही था की आज दूध का दूध और पानी का पानी हो जाएगा।

Sub questions

Question Number : 191 Question Id : 9983674570 Question Type : MCQ Option Shuffling : Yes  
Correct Marks : 1 Wrong Marks : 0.25

गद्यांश में वर्णन है:

Options :

1. ✘ प्रातःकाल का
2. ✘ मध्याह्न का
3. ✓ संध्या का

## 4. \* रात्रि का

Question Number : 192 Question Id : 9983674571 Question Type : MCQ Option Shuffling : Yes  
Correct Marks : 1 Wrong Marks : 0.25

उस समय आकाश का रंग था:

Options :

1. \* श्वेत-श्याम
2. ✓ लालिमायुक्त
3. \* रंग-बिरंगा
4. \* अत्यंत श्यामल

Question Number : 193 Question Id : 9983674572 Question Type : MCQ Option Shuffling : Yes  
Correct Marks : 1 Wrong Marks : 0.25

किरणें शोभायमान थीं:

Options :

1. ✓ वृक्षों की चोटियों पर
2. \* पर्वत-शृंखलाओं पर
3. \* नदी प्रवाह पर
4. \* रविक्रोड में

Question Number : 194 Question Id : 9983674573 Question Type : MCQ Option Shuffling : Yes  
Correct Marks : 1 Wrong Marks : 0.25

‘कमलिनी कुल वल्लभ’ से आशय है:

Options :

1. \* चन्द्रमा
2. ✓ सूर्य
3. \* तारागण
4. \* रात्रि

Question Number : 195 Question Id : 9983674574 Question Type : MCQ Option Shuffling : Yes  
Correct Marks : 1 Wrong Marks : 0.25

‘दूध का दूध पानी का पानी’ का अर्थ है:

Options :

1. ✓ सही न्याय

2. \* उचित दंड

3. \* पूर्ण स्पष्टीकरण

4. \* शुद्ध दूध

Question Id : 9983674569 Question Type : COMPREHENSION Sub Question Shuffling Allowed : Yes Group Comprehension Questions : No

Question Numbers : (191 to 195)

Question Label : Comprehension

निम्नलिखित गद्यांश को पढ़कर उसके सही उत्तर दीजिये।

नदी तट पर घुमते हुए मैंने देखा की दिवस का अवसान होने जा रहा था और पूरा गगन लोहित हो चला था। तरुशिखाओं पर किरणें शोभायमान थीं और कमलिनी कुलवल्लभ प्रतीची उन्मुख थे। पक्षियों का कलरव मनमोहक था और मैं खुशी-खुशी मित्र-मिलान की चाह की कल्पनाओं में खोया-सा चला जा रहा था। मैं रोमांचित था और आलिंगबद्ध होने की कामना लिए चला जा रहा था। कभी प्रकृति सौंदर्य और सभी मित्र, दोनों ही मुझ पर हावी थे, पर मन में यही था की आज दूध का दूध और पानी का पानी हो जाएगा।

Sub questions

Question Number : 191 Question Id : 9983674570 Question Type : MCQ Option Shuffling : Yes

Correct Marks : 1 Wrong Marks : 0.25

गद्यांश में वर्णन है:

Options :

1. \* प्रातःकाल का

2. \* मध्याह्न का

3. ✓ संध्या का

4. \* रात्रि का

Question Number : 192 Question Id : 9983674571 Question Type : MCQ Option Shuffling : Yes

Correct Marks : 1 Wrong Marks : 0.25

उस समय आकाश का रंग था:

Options :

1. ✘ श्वेत-श्याम
2. ✔ लालिमायुक्त
3. ✘ रंग-बिरंगा
4. ✘ अत्यंत श्यामल

Question Number : 193 Question Id : 9983674572 Question Type : MCQ Option Shuffling : Yes

Correct Marks : 1 Wrong Marks : 0.25

किरणें शोभायमान थीं:

Options :

1. ✔ वृक्षों की चोटियों पर
2. ✘ पर्वत-शृंखलाओं पर
3. ✘ नदी प्रवाह पर
4. ✘ रविक्रोड में

Question Number : 194 Question Id : 9983674573 Question Type : MCQ Option Shuffling : Yes

Correct Marks : 1 Wrong Marks : 0.25

‘कमलिनी कुल वल्लभ’ से आशय है:

Options :

1. ✘ चन्द्रमा
2. ✔ सूर्य
3. ✘ तारागण
4. ✘ रात्रि

Question Number : 195 Question Id : 9983674574 Question Type : MCQ Option Shuffling : Yes

Correct Marks : 1 Wrong Marks : 0.25

‘दूध का दूध पानी का पानी’ का अर्थ है:

Options :

1. ✓ सही न्याय
2. ✘ उचित दंड
3. ✘ पूर्ण स्पष्टीकरण
4. ✘ शुद्ध दूध

Sub-Section Number: 3  
Sub-Section Id: 998367284  
Question Shuffling Allowed : Yes

Question Id : 9983674575 Question Type : COMPREHENSION Sub Question Shuffling Allowed : Yes Group Comprehension Questions : No  
Question Numbers : (196 to 200)

Question Label : Comprehension

निम्नलिखित गद्यांश को पढ़कर उसके सही उत्तर दीजिये।

मैं प्रतिदिन प्रातः भ्रमण के लिए हूँ। वहीं उद्यान में मुझे एक 60 -65 वर्ष के सज्जन मिलते हैं, जो हृष्ट-पुष्ट हैं विनोदी स्वभाव के हैं। मैंने उनसे उनके स्वास्थ्य के बारे में पूछा तो उन्होंने कहा कि मैं तुम्हें स्वस्थ रहने का एक सूत्र बताता हूँ। उन्होंने सूत्र बताया कि 'पाँव गरम, पेट नरम, सर ठंडा। आए वैद्य तो मारो डंडा।' उन्होंने सूत्र के प्रत्येक भाग को स्पष्ट किया और मैं सूत्र सुनकर फूला न समाया। दरअसल, अच्छी बातों की नींव तुरंत दाल लेनी चाहिए। यह सोचकर धीरे-धीरे मैं भी सूत्र का अनुपालन करने लगा। आजकल हम लोगों में दांत काटी रोटी है।

Sub questions

Question Number : 196 Question Id : 9983674576 Question Type : MCQ Option Shuffling : Yes  
Correct Marks : 1 Wrong Marks : 0.25

‘पाँव गरम’ से सज्जन बताना चाहते हैं कि:

Options :

1. ✓ खूब पैदल चलना चाहिए।
2. ✘ पाँव गरम पानी से सेंकना चाहिए।
3. ✘ गरम जुराबें पहने रहना चाहिए।
4. ✘ मीठी-मीठी आँच से सेंकना चाहिए।

Question Number : 197 Question Id : 9983674577 Question Type : MCQ Option Shuffling : Yes  
Correct Marks : 1 Wrong Marks : 0.25

पेट नरम से अभिप्राय है:

Options :

1. ✓ भूख से काम खानाI
2. \* पेट की मालिश करनाI
3. \* पेट पर तेल चुपड़नाI
4. \* पेट को दबाते रहनाI

Question Number : 198 Question Id : 9983674578 Question Type : MCQ Option Shuffling : Yes  
Correct Marks : 1 Wrong Marks : 0.25

‘सिर ठंडा’ से सज्जन क्या समझाना चाहते थे?

Options :

1. ✓ क्रोध नहीं करना चाहिएI
2. \* सिर पर पानी डालते रहना चाहिएI
3. \* भजन कीर्तन करते रहना चाहिएI
4. \* काम से काम रखना चाहिएI

Question Number : 199 Question Id : 9983674579 Question Type : MCQ Option Shuffling : Yes  
Correct Marks : 1 Wrong Marks : 0.25

‘दांत काटी रोटी’ से अभिप्राय है:

Options :

1. \* दांत से काटी हुई रोटीI
2. ✓ दोस्ती होनाI
3. \* कठिन श्रम करनाI
4. \* बुरी तरह हार जानाI

Question Number : 200 Question Id : 9983674580 Question Type : MCQ Option Shuffling : Yes  
Correct Marks : 1 Wrong Marks : 0.25

गद्यांश का मूलभाव है:

Options :

1. \* दोस्ती
2. \* भ्रमण
3. ✓ स्वास्थ्य



## 4. \* विनोदप्रियता

Question Id : 9983674575 Question Type : COMPREHENSION Sub Question Shuffling Allowed : Yes Group Comprehension Questions : No

Question Numbers : (196 to 200)

Question Label : Comprehension

निम्नलिखित गद्यांश को पढ़कर उसके सही उत्तर दीजिये।

मैं प्रतिदिन प्रातः भ्रमण के लिए हूँ। वहीं उद्यान में मुझे एक 60 -65 वर्ष के सज्जन मिलते हैं, जो हृष्ट-पुष्ट हैं विनोदी स्वभाव के हैं। मैंने उनसे उनके स्वास्थ्य के बारे में पूछा तो उन्होंने कहा कि मैं तुम्हें स्वस्थ रहने का एक सूत्र बताता हूँ। उन्होंने सूत्र बताया कि 'पाँव गरम, पेट नरम, सर ठंडा। आए वैद्य तो मारो डंडा।' उन्होंने सूत्र के प्रत्येक भाग को स्पष्ट किया और मैं सूत्र सुनकर फूला न समाया। दरअसल, अच्छी बातों की नींव तुरंत दाल लेनी चाहिए। यह सोचकर धीरे-धीरे मैं भी सूत्र का अनुपालन करने लगा। आजकल हम लोगों में दांत काटी रोटी है।

Sub questions

Question Number : 196 Question Id : 9983674576 Question Type : MCQ Option Shuffling : Yes

Correct Marks : 1 Wrong Marks : 0.25

'पाँव गरम' से सज्जन बताना चाहते हैं कि:

Options :

1. ✓ खूब पैदल चलना चाहिए।
2. \* पाँव गरम पानी से सेंकना चाहिए।
3. \* गरम जुराबें पहने रहना चाहिए।
4. \* मीठी-मीठी आँच से सेंकना चाहिए।

Question Number : 197 Question Id : 9983674577 Question Type : MCQ Option Shuffling : Yes

Correct Marks : 1 Wrong Marks : 0.25

पेट नरम से अभिप्राय है:

Options :

1. ✓ भूख से काम खाना।
2. ✘ पेट की मालिश करना।
3. ✘ पेट पर तेल चुपड़ना।
4. ✘ पेट को दबाते रहना।

Question Number : 198 Question Id : 9983674578 Question Type : MCQ Option Shuffling : Yes  
Correct Marks : 1 Wrong Marks : 0.25

‘सिर ठंडा’ से सज्जन क्या समझाना चाहते थे?

Options :

1. ✓ क्रोध नहीं करना चाहिए।
2. ✘ सिर पर पानी डालते रहना चाहिए।
3. ✘ भजन कीर्तन करते रहना चाहिए।
4. ✘ काम से काम रखना चाहिए।

Question Number : 199 Question Id : 9983674579 Question Type : MCQ Option Shuffling : Yes  
Correct Marks : 1 Wrong Marks : 0.25

‘दांत काटी रोटी’ से अभिप्राय है:

Options :

1. ✘ दांत से काटी हुई रोटी।
2. ✓ दोस्ती होना।
3. ✘ कठिन श्रम करना।
4. ✘ बुरी तरह हार जाना।

Question Number : 200 Question Id : 9983674580 Question Type : MCQ Option Shuffling : Yes  
Correct Marks : 1 Wrong Marks : 0.25

गद्यांश का मूलभाव है:

Options :

1. \* दोस्ती
2. \* भ्रमण
3. ✓ स्वास्थ्य
4. \* विनोदप्रियता