

## Education Consultant India Ltd.

Notations :

1.Options shown in green color and with ✓ icon are correct.

2.Options shown in red color and with ✖ icon are incorrect.

Question Paper Name:	GRADE II DASS 17th July 2019 Shift 1
Subject Name:	GRADE II DASS
Creation Date:	2019-07-17 12:13:02
Duration:	120
Total Marks:	200
Display Marks:	Yes
Share Answer Key With Delivery Engine:	No
Actual Answer Key:	Yes
Calculator:	None
Magnifying Glass Required?:	No
Ruler Required?:	No
Eraser Required?:	No
Scratch Pad Required?:	No
Rough Sketch/Notepad Required?:	No
Protractor Required?:	No
Show Watermark on Console?:	Yes
Highlighter:	No
Auto Save on Console?:	No

## Mental Ability1

Group Number :	1
Group Id :	509647132
Group Maximum Duration :	0
Group Minimum Duration :	0
Show Attended Group? :	No
Edit Attended Group? :	No
Break time:	0
Group Marks:	20
Is this Group for Examiner?:	No
Revisit allowed for group Instructions? :	Yes
Maximum Instruction Time:	0
Minimum Instruction Time:	0

## Mental Ability1

Section Id :	509647292
Section Number :	1

Section type :	Online
Mandatory or Optional:	Mandatory
Number of Questions:	20
Number of Questions to be attempted:	20
Section Marks:	20

Sub-Section Number:	1
Sub-Section Id:	509647424
Question Shuffling Allowed :	Yes

Question Number : 1 Question Id : 5096478607 Question Type : MCQ Option Shuffling : Yes

Correct Marks : 1 Wrong Marks : 0.25

There is a certain relationship between two given words on one side of :: and one word is given on another side of :: while another word is to be found from the given alternatives, having the same relation with the word as the words of the given pair.

Choose the correct alternative.

Cow : Calf :: Swan : ?

Options :

1. ✘ Duckling

2. ✘ Caterpillar

3. ✘ Hare

4. ✔ Cygnet

Question Number : 1 Question Id : 5096478607 Question Type : MCQ Option Shuffling : Yes

Correct Marks : 1 Wrong Marks : 0.25

:: के एक ओर दिए दो शब्दों के बीच एक निश्चित संबंध है, और :: के दूसरी ओर एक शब्द दिया गया है, जबकि दिए गए विकल्पों में से अन्य शब्द खोजना है जिसका उस शब्द से वही संबंध हो जो दिए गए जोड़े के शब्दों के बीच है। सही विकल्प चुनें।

गाय : बछड़ा :: हंस : ?

Options :

1. ✘ बत्तख का बच्चा

2. ✖ इल्ली

3. ✖ खरगोश

4. ✔ हंसशावक

Question Number : 2 Question Id : 5096478608 Question Type : MCQ Option Shuffling : Yes

Correct Marks : 1 Wrong Marks : 0.25

There is a certain relationship between two given numbers on one side of :: and one number is given on another side of :: while another number is to be found from the given alternatives, having the same relation with the number as the number of the given pair.

Choose the correct alternative.

26 : 169 :: 32 : ?

Options :

1. ✖ 186

2. ✔ 208

3. ✖ 258

4. ✖ 308

Question Number : 2 Question Id : 5096478608 Question Type : MCQ Option Shuffling : Yes

Correct Marks : 1 Wrong Marks : 0.25

:: के एक ओर दी दो संख्याओं के बीच एक निश्चित संबंध है, और :: के दूसरी ओर एक संख्या दी गई है, जबकि दिए गए विकल्पों में से अन्य संख्या खोजनी है जिसका उस संख्या से वही संबंध हो जो दिए गए जोड़े की संख्याओं के बीच है। सही विकल्प चुनें।

26 : 169 :: 32 : ?

Options :

1. ✖ 186

2. ✔ 208

3. ✖ 258

4. ✖ 308

Question Number : 3 Question Id : 5096478609 Question Type : MCQ Option Shuffling : Yes

Correct Marks : 1 Wrong Marks : 0.25

A group of three interrelated word is given. Choose a word from the given alternatives that is similar to the given words and hence belongs to the same group.

**Cackle : Jingle : Chirp**

Options :

1. ✖ Hen

2. ✖ Coins

3. ✔ Hiss

4. ✖ Sparrow

Question Number : 3 Question Id : 5096478609 Question Type : MCQ Option Shuffling : Yes

Correct Marks : 1 Wrong Marks : 0.25

तीन परस्पर संबंधित शब्दों का एक समूह दिया गया है। दिए गए विकल्पों से वह शब्द चुनें जो दिए गए शब्दों के समान हो और इस प्रकार उसी समूह से संबंधित हो।

**कुड़कुड़ाना : खनखनाना : चीं-चीं**

Options :

1. ✖ मुर्गी

2. ✖ सिक्के

3. ✔ फुफकार

4. ✖ गौरैया

Question Number : 4 Question Id : 5096478610 Question Type : MCQ Option Shuffling : Yes

Correct Marks : 1 Wrong Marks : 0.25

A group of three interrelated numbers is given. Choose a numbers from the given alternatives that is similar to the given numbers and hence belongs to the same group.

85 : 153 : 221

Options :

1. ✖ 269

2. ✔ 289

3. ✖ 225

4. ✖ 625

Question Number : 4 Question Id : 5096478610 Question Type : MCQ Option Shuffling : Yes

Correct Marks : 1 Wrong Marks : 0.25

तीन परस्पर संबंधित संख्याओं का एक समूह दिया गया है। दिए गए विकल्पों से वह संख्या चुनें जो दी गई संख्याओं के समान हो और इस प्रकार उसी समूह से संबंधित हो।

85 : 153 : 221

Options :

1. ✖ 269

2. ✔ 289

3. ✖ 225

4. ✖ 625

Question Number : 5 Question Id : 5096478611 Question Type : MCQ Option Shuffling : Yes

Correct Marks : 1 Wrong Marks : 0.25

Which of the following is the same as **Newton, Litre and Volt**?

Options :

1. ✖ Volume

2. ✔ Pascal

3. ✖ Force

4. ✖ Potential

Question Number : 5 Question Id : 5096478611 Question Type : MCQ Option Shuffling : Yes

Correct Marks : 1 Wrong Marks : 0.25

निम्नलिखित में से कौन सा **न्यूटन, लीटर और वोल्ट** से समानता रखता है?

Options :

1. ✖ आयतन

2. ✓ पास्कल

3. ✗ बल

4. ✗ विभव

Question Number : 6 Question Id : 5096478612 Question Type : MCQ Option Shuffling : Yes

Correct Marks : 1 Wrong Marks : 0.25

Four pairs of words are given out of which the words in three pairs bear a certain common relationship. Choose the pair in which the words are differently related.

Options :

1. ✗ Clothes : Wardrobe

2. ✗ Bees : Apiary

3. ✗ Birds : Aviary

4. ✓ Medicine : Hanger

Question Number : 6 Question Id : 5096478612 Question Type : MCQ Option Shuffling : Yes

Correct Marks : 1 Wrong Marks : 0.25

शब्दों के चार जोड़े दिए गए हैं जिनमें से तीन जोड़ों में शब्दों के बीच एक निश्चित समान संबंध है। वह जोड़ा चुनें जिसमें शब्द भिन्न प्रकार से परस्पर संबंधित हैं।

Options :

1. ✗ कपड़े : अलमारी

2. ✗ मधुमक्खी : मधुमक्षिशाला

3. ✖ पक्षी : पक्षीशाला

4. ✔ दवाई : टांगनेवाला

Question Number : 7 Question Id : 5096478613 Question Type : MCQ Option Shuffling : Yes

Correct Marks : 1 Wrong Marks : 0.25

“Atom” is related to “Marconi” is the same way as “Television” is related to:

Options :

1. ✖ Picture tube

2. ✖ Faraday

3. ✖ Receiver

4. ✔ J. L. Baird

Question Number : 7 Question Id : 5096478613 Question Type : MCQ Option Shuffling : Yes

Correct Marks : 1 Wrong Marks : 0.25

"परमाणु", "मारकोनी" से उसी प्रकार संबंधित है जैसे "टेलीविजन" निम्न से संबंधित है:

Options :

1. ✖ पिक्चर ट्यूब

2. ✖ फैराडे

3. ✖ रिसेवर



#### 4. ✓ जेएल बेयर्ड

Question Number : 8 Question Id : 5096478614 Question Type : MCQ Option Shuffling : Yes

Correct Marks : 1 Wrong Marks : 0.25

One evening Mahesh was standing facing a tree. The shadow of the tree fell exactly to his left. Which direction he is facing now?

Options :

1. ✗ East

2. ✗ North

3. ✓ South

4. ✗ West

Question Number : 8 Question Id : 5096478614 Question Type : MCQ Option Shuffling : Yes

Correct Marks : 1 Wrong Marks : 0.25

एक शाम महेश, एक पेड़ की ओर मुंह करके खड़ा था। पेड़ की छाया उसके ठीक बाएं पड़ रही थी। अब वह किस दिशा की ओर मुंह करके खड़ा है।

Options :

1. ✗ पूर्व

2. ✗ उत्तर

3. ✓ दक्षिण

4. ✗ पश्चिम

Question Number : 9 Question Id : 5096478615 Question Type : MCQ Option Shuffling : Yes

Correct Marks : 1 Wrong Marks : 0.25

Sachin, Sahil, Sandhya, Sani, Sanju, Saurabh, Shweta and Sunil are sitting around a round table in the same order for lunch at equal distance. Their positions are clockwise. If Sanju sits facing South, then what will be the position of Sahil?

Options :

1. ✘ North - East

2. ✘ North - West

3. ✘ South - East

4. ✔ South - West

Question Number : 9 Question Id : 5096478615 Question Type : MCQ Option Shuffling : Yes

Correct Marks : 1 Wrong Marks : 0.25

सचिन, साहिल, संध्या, सनी, संजू, सौरभ, श्वेता और सुनील, लंच के लिए एक गोल मेज के चारों ओर समान दूरियों पर इसी क्रम में बैठे हैं। उनकी स्थिति दक्षिणावर्त है। यदि संजू दक्षिण में बैठा है, तो साहिल की स्थिति क्या होगी?

Options :

1. ✘ उत्तर - पूर्व

2. ✘ उत्तर - पश्चिम

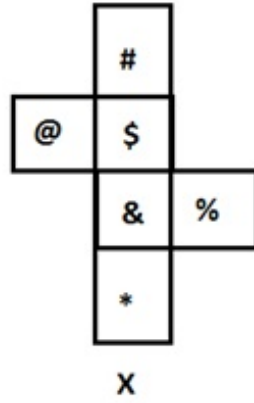
3. ✘ दक्षिण - पूर्व

4. ✔ दक्षिण - पश्चिम

Question Number : 10 Question Id : 5096478616 Question Type : MCQ Option Shuffling : Yes

Correct Marks : 1 Wrong Marks : 0.25

The sheet of paper in fig X is folded to form a cube. Which will come opposite to face showing S?



Options :

1. ✖ @

2. ✔ \*

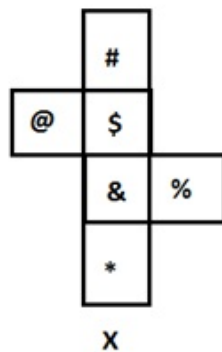
3. ✖ %

4. ✖ #

Question Number : 10 Question Id : 5096478616 Question Type : MCQ Option Shuffling : Yes

Correct Marks : 1 Wrong Marks : 0.25

चित्र X में कागज की एक शीट को मोड़कर एक घन बनाया गया है। इसका जो भाग \$ दिख रहा है, उसके ठीक विपरीत क्या होगा?



Options :

1. ✖ @

2. ✔ \*

3. ✖ %

4. ✖ #

Question Number : 11 Question Id : 5096478617 Question Type : MCQ Option Shuffling : Yes

Correct Marks : 1 Wrong Marks : 0.25

Six children A, B, C, D, E and F are standing in a line. F is to the left of A and right of B. D is between C and B. E is standing left of C. Who is standing at the right extreme?

Options :

1. ✖ C

2. ✔ A

3. ✖ E

4. ✖ D

Question Number : 11 Question Id : 5096478617 Question Type : MCQ Option Shuffling : Yes

Correct Marks : 1 Wrong Marks : 0.25

छह बच्चे A, B, C, D, E और F एक पंक्ति में खड़े हैं। F, A के बाएं और B के दाएं है। D, C और B के बीच में है। E, C के दाएं खड़ा है। एकदम दाएं कौन खड़ा है?

Options :

1. ✖ C

2. ✓ A

3. ✗ E

4. ✗ D

Question Number : 12 Question Id : 5096478618 Question Type : MCQ Option Shuffling : Yes

Correct Marks : 1 Wrong Marks : 0.25

Smita started from her house and walked 2 kms towards North. Then she took a right turn and covered one kilometer. Then she took again a right turn and walked for 2 kms. In what direction is she going?

Options :

1. ✗ North

2. ✗ East

3. ✗ West

4. ✓ South

Question Number : 12 Question Id : 5096478618 Question Type : MCQ Option Shuffling : Yes

Correct Marks : 1 Wrong Marks : 0.25

स्मिता ने अपने घर से चलना शुरू किया और वह 2 kms उत्तर की ओर चली। उसके बाद वह दाएं मुड़ी और एक kms और चली। अब वह फिर से दाएं मुड़ी और 2 kms तक चली। वह किस दिशा में जा रही है?

Options :

1. ✗ उत्तर

2. ✗ पूर्व

3. ✖ पश्चिम

4. ✔ दक्षिण

Question Number : 13 Question Id : 5096478619 Question Type : MCQ Option Shuffling : Yes  
Correct Marks : 1 Wrong Marks : 0.25

- I. Doby is sister of John and John is brother of Shreya.
- II. Shreya is daughter Jones and sister of Jani.
- III. Doby is daughter Jones and sister of Jani.

If the first two statements are true, the third statement is:

Options :

1. ✔ True

2. ✖ False

3. ✖ May be true

4. ✖ Uncertain

Question Number : 13 Question Id : 5096478619 Question Type : MCQ Option Shuffling : Yes  
Correct Marks : 1 Wrong Marks : 0.25

- I. डॉबी, जॉन की बहन है और जॉन श्रेया का भाई है
- II. श्रेया, जॉन्स की बेटी और जानी की बहन है।
- III. डॉबी, जॉन्स की बेटी और जानी की बहन है।

यदि प्रथम दोनों कथन सही हैं, तो तीसरा कथन:

Options :

1. ✔ सही

2. ✖ गलत

3. ✖ सही हो सकता है।

4. ✖ अनिश्चित है।

Question Number : 14 Question Id : 5096478620 Question Type : MCQ Option Shuffling : Yes

Correct Marks : 1 Wrong Marks : 0.25

What is the sum of all the numbers in the dial of a telephone?

Options :

1. ✖ 21

2. ✖ 30

3. ✔ 45

4. ✖ 55

Question Number : 14 Question Id : 5096478620 Question Type : MCQ Option Shuffling : Yes

Correct Marks : 1 Wrong Marks : 0.25

टेलीफोन के डायल में सभी नंबरों का योग क्या होता है?

Options :

1. ✖ 21

2. ✖ 30

3. ✓ 45

4. ✗ 55

Question Number : 15 Question Id : 5096478621 Question Type : MCQ Option Shuffling : Yes  
Correct Marks : 1 Wrong Marks : 0.25

What will be the mirror image of?



Options :



Question Number : 15 Question Id : 5096478621 Question Type : MCQ Option Shuffling : Yes  
Correct Marks : 1 Wrong Marks : 0.25

निम्न का दर्पण प्रतिबिंब कौन सा होगा:





Options :

1. ✘ 

2. ✘ 

3. ✔ 

4. ✘ 

Question Number : 16 Question Id : 5096478622 Question Type : MCQ Option Shuffling : Yes

Correct Marks : 1 Wrong Marks : 0.25

Following are the criteria to recruit a Teacher in a college:

- I. The Applicant must be science graduate with 75% marks.
- II. Have his / her age in between 25 to 32 years as on 10-05-2019.
- III. Have a PG degree / 3 years diploma and must have completed B.Ed. with more than 65% marks.
- IV. Have minimum 3 years' experience in Teaching.
- V. Be ready to join 2 year probation.

If a candidate satisfies all the criteria except

- i. at III above, but is an Arts with Mathematics graduate with minimum 72% marks and has an experience of more than 5 years and more her/his case is to be referred to the Vice President.
- ii. At IV above, but master degrees with minimum 60% marks, her / his is to be referred to the President.

A detail of applicant is given below in the questions. On the basis of the following decision which is based on the data given above, mark the answer.

Mahesh is a B.Sc. Graduate with 80% marks and has completed PG in Mathematics and B Ed with 63% marks. He completed 28 years of age in 2017 and has 4 years' experience as a Mathematics Faculty. He is ready to join probation period of 2 year.

Options :

1. ✖ If case is to be referred to President.
2. ✖ If case is to be referred to Vice President.
3. ✖ If candidate is to be selected.
4. ✔ If candidate is not to be selected.

Question Number : 16 Question Id : 5096478622 Question Type : MCQ Option Shuffling : Yes

Correct Marks : 1 Wrong Marks : 0.25

एक कॉलेज में एक शिक्षक की भर्ती हेतु मापदंड नीचे दिया गया है:

- I. आवेदक का 75% अंकों के साथ विज्ञान स्नातक होना अनिवार्य है।
- II. 10-05-2019 को उसकी आयु 25 से 32 वर्ष के बीच होनी चाहिए।
- III. पीजी डिग्री/3 वर्ष का डिप्लोमा हो अथवा 65% से अधिक अंकों के साथ बी.एड. पूरा किया हो।
- IV. शिक्षण में कम से कम 3 वर्ष का अनुभव हो।
- V. 2 वर्ष की परीक्षा पर नियुक्त होने के लिए तैयार हो।

यदि एक अभ्यर्थी समस्त मापदंड पूरे करता है सिवाय

- i. उक्त III के अतिरिक्त लेकिन न्यूनतम 72% अंकों के साथ गणित और कला स्नातक है, और 5 वर्ष से अधिक का अनुभव है, तो उसका मामला उपाध्यक्ष को संदर्भित किया जाएगा।
- ii. उक्त IV के अतिरिक्त, लेकिन न्यूनतम 60% अंकों के साथ मास्टर डिग्री है, तो उसका मामला अध्यक्ष को संदर्भित किया जाएगा।

प्रश्नगत एक आवेदक के विवरण नीचे दिए गए हैं। उक्त सूचनाओं के आधार पर निम्न निर्णय के आधार पर उत्तर चिन्हित करें।

महेश 80% अंकों के साथ बी.एस.सी. स्नातक है, और गणित में पीजी और 63% अंकों के साथ बी.एड पूरा किया है। 2017 में उसने 28 वर्ष आयु पूर्ण की है और गणित संकाय के रूप में 4 वर्ष का अनुभव है। वह 2 वर्ष की परीक्षा पर नियुक्त होने के लिए तैयार है।

Options :

1. ✖ यदि मामला अध्यक्ष को संदर्भित किया जाना हो।

2. ✖ यदि मामला उपाध्यक्ष को संदर्भित किया जाना हो।

3. ✖ यदि अभ्यर्थी को नियुक्त किया जाना हो।

4. ✔ यदि अभ्यर्थी को नियुक्त नहीं किया जाना हो।

Question Number : 17 Question Id : 5096478623 Question Type : MCQ Option Shuffling : Yes  
Correct Marks : 1 Wrong Marks : 0.25

Following are qualifications for a technical assistant post in company Alpha.

The candidate must:-

- I. Be an Engineering graduate with atleast 70% marks.
- II. Not less than 23 years and not more than 30 years of age on 1.7.2019.
- III. Have passed the selection test with atleast 60% marks.
- IV. Willing to join immediate for training and ready to pay a deposit of Rs. 20000, to be refunded on completion of training.

However, if a candidate fulfils the above mentioned criteria except:

- i. At (I) above, but he has appeared for the last semester examination and obtained an aggregate of 65% marks in previous semester, his / her case may be referred to the V.P. of the company.
- ii. At (II) his / her age is less than 23 years but he secured 80% marks in graduation, the case may be referred to the General Manager of the company.

The detail of the candidate is given as regards his / her candidature. You have to read the information provided and decide his / her status based on the conditions given above.

**Ravish is an IT engineer passed his graduation with 73% marks. He has cleared the selection test with 80% marks.**

**He is ready to deposit above said amount and want to join immediately. His date of birth is 2.10.1993.**

Options :

1. ✔ If the candidate is to be selected.

2. ✖ If the candidate is not selected.

3. ✖ If the case is referred to the V. P.

4. ✖ If the case is referred to the General Manager.

Question Number : 17 Question Id : 5096478623 Question Type : MCQ Option Shuffling : Yes  
Correct Marks : 1 Wrong Marks : 0.25

अल्फा कंपनी में एक तकनीकी सहायक के पद हेतु पात्रताएं नीचे दी गई हैं।

अभ्यर्थी के लिए निम्न अनिवार्य हैं:-

- I. कम से कम 70% अंकों के साथ इंजीनियरिंग में स्नातक हो।
- II. 1.7.2019 को आयु 23 वर्ष से कम और 30 वर्ष से अधिक न हो।
- III. न्यूनतम 60% अंकों के साथ चयन परीक्षा उत्तीर्ण की हो।
- IV. प्रशिक्षण हेतु तत्काल नियुक्त होने का इच्छुक हो और रुपये 20000 की राशि जमा करने के लिए तैयार हो, जो प्रशिक्षण पूर्ण होने पर वापस कर दी जाएगी।

हालांकि यदि कोई अभ्यर्थी, निम्न के सिवाय उक्तांकित मापदंड पूरे करता है तो:

- i. उक्त (I) के सिवाय, लेकिन वह पिछले सेमेस्टर की परीक्षा में उपस्थित हुआ हो और पिछले सेमेस्टर में कुल 65% अंक प्राप्त किए हों, तो उसका मामला कंपनी के वी.पी. को संदर्भित किया जा सकता है।
- ii. उक्त (II) के सिवाय, लेकिन उसकी आयु 23 वर्ष से कम हो लेकिन उसने स्नातक में 80% अंक प्राप्त किए हों, तो उसका मामला कंपनी के महाप्रबंधक को संदर्भित किया जा सकता है।

अभ्यर्थी के अभ्यर्थन के संबंध में विवरण नीचे दिए गए हैं। आपको दी गई सूचना पढ़नी है और उक्त शर्तों के आधार पर उसकी स्थिति निर्धारित करनी है।

रविश एक आईटी इंजीनियर है जिसने 73% अंकों के साथ स्नातक उत्तीर्ण किया है। उसने 80% अंकों के साथ चयन परीक्षा उत्तीर्ण की है।

वह उक्त राशि जमा करने के लिए तैयार है और तत्काल नियुक्त होना चाहता है। उसकी जन्मतिथि 2.10.1993 है।

Options :

1. ✓ यदि अभ्यर्थी को चुना जाना हो।
2. ✗ यदि अभ्यर्थी को नहीं चुना जाना हो।
3. ✗ यदि मामला वी.पी. को संदर्भित किया जाना हो।
4. ✗ यदि मामला महाप्रबंधक को संदर्भित किया जाना हो।

Question Number : 18 Question Id : 5096478624 Question Type : MCQ Option Shuffling : Yes  
Correct Marks : 1 Wrong Marks : 0.25

Which of the given options would be the meaningful order of the given Words?

- 1) Pulp
- 2) Print
- 3) Paper
- 4) Purchase
- 5) Publish

Options :

1. ✓ 1, 3, 2, 5, 4
2. ✗ 1, 4, 5, 2, 3
3. ✗ 1, 2, 3, 5, 4
4. ✗ 1, 5, 4, 2, 3

Question Number : 18 Question Id : 5096478624 Question Type : MCQ Option Shuffling : Yes  
Correct Marks : 1 Wrong Marks : 0.25

दिए गए विकल्पों में से कौन सा दिए गए शब्दों का सार्थक क्रम होगा?

- 1) लुगदी
- 2) छपाई
- 3) कागज़
- 4) खरीद
- 5) प्रकाशन

Options :

1. ✓ 1, 3, 2, 5, 4

2. ✗ 1, 4, 5, 2, 3

3. ✗ 1, 2, 3, 5, 4

4. ✗ 1, 5, 4, 2, 3

Question Number : 19 Question Id : 5096478625 Question Type : MCQ Option Shuffling : Yes

Correct Marks : 1 Wrong Marks : 0.25

The statement given below is followed by two decisions labeled I, and II. You have to assume everything in the statement to be true, and then decide which of the two suggested decisions logically follows for pursuing.

**Statement:** Orissa is badly affected by Fani cyclone and life is paralyzed in the state.

**Decisions:**

**I:** As soon as possible relief material must reach the affected people.

**II:** Government should appeal to NGOs to come forward for help.

Options :

1. ✗ Only I follows

2. ✓ Both I and II follow

3. ✖ Either I or II follow

4. ✖ Only II follows

Question Number : 19 Question Id : 5096478625 Question Type : MCQ Option Shuffling : Yes

Correct Marks : 1 Wrong Marks : 0.25

नीचे दिए कथन के बाद दो निर्णय I, और II दिए गए हैं। आपको कथन को पूर्णतया सत्य मानना है और फिर यह निर्धारित करना है कि दोनों में से कौन से निर्णय तर्कसंगत रूप से सही हैं।

कथन: यदि उड़ीसा फेनी चक्रवात से बुरी तरह प्रभावित हो चुका है, और इसके कारण जनजीवन अस्त व्यस्त हो चुका है।

निर्णय:

- I. प्रभावित लोगों तक जल्द से जल्द राहत सामग्री पहुंचानी चाहिए।
- II. सरकार को गैर सरकारी संगठनों से मदद के लिए आगे आने की अपील करनी चाहिए।

Options :

1. ✖ केवल I सही है

2. ✔ I और II दोनों सही हैं

3. ✖ या तो I या II सही हैं

4. ✖ केवल II सही है।

Question Number : 20 Question Id : 5096478626 Question Type : MCQ Option Shuffling : Yes

Correct Marks : 1 Wrong Marks : 0.25

The statement given below is followed by two decisions labeled I, and II. You have to assume everything in the statement to be true, and then decide which of the two suggested decisions logically follows for pursuing.

**Statement:** All employees of the office have gone on strike in protest against the privatization of women helpline.

**Decisions:**

**I:** The government should lodge FIR on all employees.

**II:** All the employees should be immediately terminated from job.

**Options :**

1. ✖ Only I follows

2. ✖ Both I and II follow

3. ✔ Neither I nor II follow

4. ✖ Only II follows

**Question Number : 20 Question Id : 5096478626 Question Type : MCQ Option Shuffling : Yes**

**Correct Marks : 1 Wrong Marks : 0.25**

नीचे दिए कथन के बाद दो निर्णय I, और II दिए गए हैं। आपको कथन को पूर्णतया सत्य मानना है और फिर यह निर्धारित करना है कि दोनों में से कौन से निर्णय तर्कसंगत रूप से सही हैं।

**कथन:** महिला हेल्पलाइन के निजीकरण के विरोध में कार्यालय के सभी कर्मचारी हड़ताल पर चले गए हैं।

**निर्णय:**

I. सरकार को सभी कर्मचारियों पर FIR दर्ज करनी चाहिए।

II. सभी कर्मचारियों को तुरंत नौकरी से निकाल दिया जाना चाहिए।

**Options :**

1. ✖ केवल I सही है।

2. ✖ I और II दोनों सही हैं।

3. ✔ ना तो I ना II सही हैं



4. ✖ केवल ॥ सही है।

## Mental Ability2

Group Number :	2
Group Id :	509647133
Group Maximum Duration :	0
Group Minimum Duration :	0
Show Attended Group? :	No
Edit Attended Group? :	No
Break time:	0
Group Marks:	20
Is this Group for Examiner?:	No
Revisit allowed for group Instructions? :	Yes
Maximum Instruction Time:	0
Minimum Instruction Time:	0

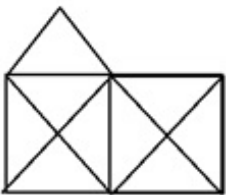
## Mental Ability2

Section Id :	509647293
Section Number :	1
Section type :	Online
Mandatory or Optional:	Mandatory
Number of Questions:	20
Number of Questions to be attempted:	20
Section Marks:	20

Sub-Section Number:	1
Sub-Section Id:	509647425
Question Shuffling Allowed :	Yes

Question Number : 21 Question Id : 5096478627 Question Type : MCQ Option Shuffling : Yes  
Correct Marks : 1 Wrong Marks : 0.25

How many triangles are in the figure?



Options :

1. ✖ 16

2. ✔ 19

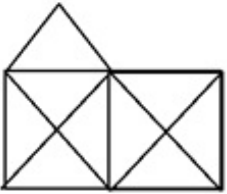
3. ✖ 21

4. ✖ 18

Question Number : 21 Question Id : 5096478627 Question Type : MCQ Option Shuffling : Yes

Correct Marks : 1 Wrong Marks : 0.25

चित्र में कितने त्रिभुज हैं?



Options :

1. ✖ 16

2. ✔ 19

3. ✖ 21

4. ✖ 18

Question Number : 22 Question Id : 5096478628 Question Type : MCQ Option Shuffling : Yes

Correct Marks : 1 Wrong Marks : 0.25

Among five friends, A is shorter than B but taller than E, C is slightly taller than B but D is slightly shorter than B and slightly taller than A. Who is the shortest?

Options :

1. ✘ A

2. ✔ E

3. ✘ C

4. ✘ D

Question Number : 22 Question Id : 5096478628 Question Type : MCQ Option Shuffling : Yes

Correct Marks : 1 Wrong Marks : 0.25

पांच दोस्तों में से, A, B से छोटा है, लेकिन E से लंबा है, C, B से थोड़ा लंबा है, लेकिन D, B से थोड़ा छोटा है और A से थोड़ा लंबा है। सबसे छोटा कौन है?

Options :

1. ✘ A

2. ✔ E

3. ✘ C

4. ✘ D

Question Number : 23 Question Id : 5096478629 Question Type : MCQ Option Shuffling : Yes

Correct Marks : 1 Wrong Marks : 0.25

Four letter clusters are given out of which the three letter clusters bear a certain common relationship. Choose the option in which the letter clusters are differently related.

Options :

1. ✘ DGJM

2. ✖ EHKN

3. ✔ ADHO

4. ✖ QTWZ

Question Number : 23 Question Id : 5096478629 Question Type : MCQ Option Shuffling : Yes

Correct Marks : 1 Wrong Marks : 0.25

नीचे चार अक्षर समूह दिए गए हैं, जिनमें से तीन अक्षर समूह आपस में किसी ना किसी तरीके से संबंधित हैं। आपस में संबंध ना रखने वाले अक्षर समूहों का विकल्प चुनें।

Options :

1. ✖ DGJM

2. ✖ EHKN

3. ✔ ADHO

4. ✖ QTWZ

Question Number : 24 Question Id : 5096478630 Question Type : MCQ Option Shuffling : Yes

Correct Marks : 1 Wrong Marks : 0.25

Four numbers are given out of which the three numbers bear a certain common relationship. Choose the number which is different from others.

Options :

1. ✖ 161

2. ✖ 207

3. ✖ 276

4. ✔ 319

Question Number : 24 Question Id : 5096478630 Question Type : MCQ Option Shuffling : Yes

Correct Marks : 1 Wrong Marks : 0.25

चार संख्याएं दी गई हैं, जिनमें से तीन संख्याओं के बीच एक निश्चित समान संबंध है। वह संख्या चुनें जो अन्य से भिन्न है।

Options :

1. ✖ 161

2. ✖ 207

3. ✖ 276

4. ✔ 319

Question Number : 25 Question Id : 5096478631 Question Type : MCQ Option Shuffling : Yes

Correct Marks : 1 Wrong Marks : 0.25

Four figures are given out of which the three figures bear a certain common relationship. Choose the figures which is different from others.

Options :

1. ✖ 

2. ✖ 

3. ✓ 

4. ✘ 

Question Number : 25 Question Id : 5096478631 Question Type : MCQ Option Shuffling : Yes

Correct Marks : 1 Wrong Marks : 0.25

चार आकृतियां दी गई हैं, जिनमें से तीन आकृतियों के बीच एक निश्चित समान संबंध है। वह आकृति चुनें जो अन्य से भिन्न है।

Options :

1. ✘ 

2. ✘ 

3. ✓ 

4. ✘ 

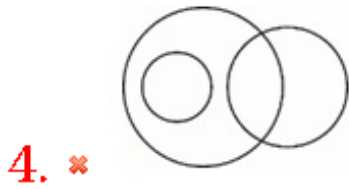

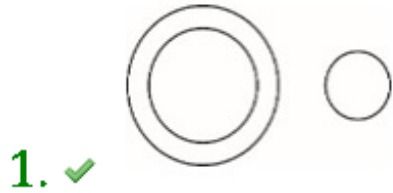
Question Number : 26 Question Id : 5096478632 Question Type : MCQ Option Shuffling : Yes

Correct Marks : 1 Wrong Marks : 0.25

Venn diagram that best represents the given set of classes:

**QUADRILATERALS, PARALLELOGRAMS, CONES**

Options :



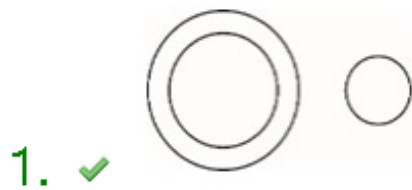
Question Number : 26 Question Id : 5096478632 Question Type : MCQ Option Shuffling : Yes

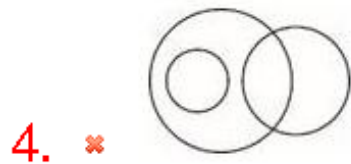
Correct Marks : 1 Wrong Marks : 0.25

कौन सा वेन आरेख, दिए गए वर्गों के समुच्चय को सर्वोत्तम निरूपित करता है:

चतुर्भुज, समानांतर, चतुर्भुज, शंकु

Options :





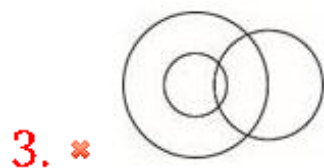
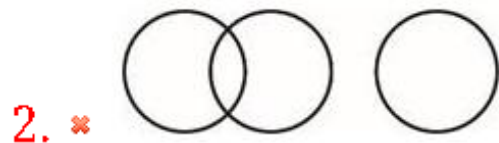
Question Number : 27 Question Id : 5096478633 Question Type : MCQ Option Shuffling : Yes

Correct Marks : 1 Wrong Marks : 0.25

Venn diagram that best represents the given set of classes:

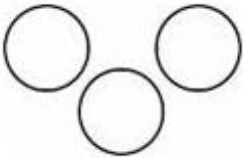
**CUBES, SQUARES, SPHERES**

Options :





4. ✓



Question Number : 27 Question Id : 5096478633 Question Type : MCQ Option Shuffling : Yes


Correct Marks : 1 Wrong Marks : 0.25

कौन सा वेन आरेख, दिए गए वर्गों के समुच्चय को सर्वोत्तम निरूपित करता है:


घन, वर्ग, गोला

Options :

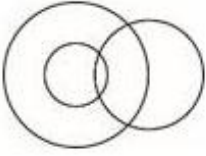
1. ✗



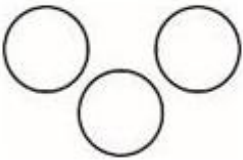
2. ✗



3. ✗



4. ✓



Question Number : 28 Question Id : 5096478634 Question Type : MCQ Option Shuffling : Yes

Correct Marks : 1 Wrong Marks : 0.25

If 'A - B' means A is mother of B, 'A \$ B', A is sister of B, 'A @ B' means A is father of B and 'A = B' means A is son of B.

If R - S = O = P, then how O is related to R?

Options :

1. ✖ Daughter

2. ✖ Son

3. ✖ Brother

4. ✔ Husband

Question Number : 28 Question Id : 5096478634 Question Type : MCQ Option Shuffling : Yes

Correct Marks : 1 Wrong Marks : 0.25

यदि 'A - B' का अर्थ A, B की मां है, 'A \$ B' का अर्थ A, B की बहन है, 'A @ B' का अर्थ A, B का पिता है, और 'A = B' का अर्थ A, B का पुत्र है।

यदि  $R - S = O = P$ , तो O, R से किस प्रकार संबंधित है?

Options :

1. ✖ बेटी

2. ✖ बेटा

3. ✖ भाई

4. ✔ पति

Question Number : 29 Question Id : 5096478635 Question Type : MCQ Option Shuffling : Yes

Correct Marks : 1 Wrong Marks : 0.25

Ram and Mohan are brothers. Shweta and Anu are sisters. Dinesh is husband of Manju and son of Manoj. Ram is son Manoj and Anu is daughter of Dinesh. How Mohan is related to Manju?

Options :

1. ✖ Son

2. ✖ Brother

3. ✖ Father

4. ✔ Brother in law

Question Number : 29 Question Id : 5096478635 Question Type : MCQ Option Shuffling : Yes

Correct Marks : 1 Wrong Marks : 0.25

राम और मोहन, भाई हैं। श्वेता और अनु, बहनें हैं। दिनेश, मंजू का पति है, जो मनोज का पुत्र है। राम, मनोज का पुत्र है, और अनु, दिनेश की पुत्री है। मोहन, मंजू से किस प्रकार संबंधित है?

Options :

1. ✖ बेटा

2. ✖ भाई

3. ✖ पिता

4. ✔ बहनोई / साला / देवर

Question Number : 30 Question Id : 5096478636 Question Type : MCQ Option Shuffling : Yes

Correct Marks : 1 Wrong Marks : 0.25

Hari travelled 17 kms to the east, he turned left and went 15 kms, he again turned left and went 17 kms. How far he is from starting point?

Options :

1. ✖ 17 kms

2. ✓ 15 kms

3. ✗ 19 kms

4. ✗ 21 kms

Question Number : 30 Question Id : 5096478636 Question Type : MCQ Option Shuffling : Yes

Correct Marks : 1 Wrong Marks : 0.25

हरि पूर्व की ओर 17 kms चला, इसके बाद वह बाएं मुड़ा और 15 kms चला, अब वह फिर से बाएं मुड़ गया और 17 kms चला। वह शुरुआती बिंदु से कितनी दूर है?

Options :

1. ✗ 17 kms

2. ✓ 15 kms

3. ✗ 19 kms

4. ✗ 21 kms

Question Number : 31 Question Id : 5096478637 Question Type : MCQ Option Shuffling : Yes

Correct Marks : 1 Wrong Marks : 0.25

In certain code PEASANT is written as 16FB19B1420. How will be SUBJECT written in that code?

Options :

1. ✗ 19V210F220

2. ✗ 19V2106320

3. ✓ 19V210F320

4. ✘ 19V2105320

Question Number : 31 Question Id : 5096478637 Question Type : MCQ Option Shuffling : Yes

Correct Marks : 1 Wrong Marks : 0.25

एक निश्चित कोड में PEASANT को 16FB19B1420 लिखा जाता है। उसी कोड में SUBJECT को किस प्रकार लिखा जाएगा?

Options :

1. ✘ 19V210F220

2. ✘ 19V2106320

3. ✓ 19V210F320

4. ✘ 19V2105320

Question Number : 32 Question Id : 5096478638 Question Type : MCQ Option Shuffling : Yes

Correct Marks : 1 Wrong Marks : 0.25

In certain code PAY is written as 126. How will be BEAT written in that code?

Options :

1. ✘ 200

2. ✘ 140

3. ✓ 112

4. ✖ 75

Question Number : 32 Question Id : 5096478638 Question Type : MCQ Option Shuffling : Yes

Correct Marks : 1 Wrong Marks : 0.25

एक निश्चित कोड में PAY को 126 लिखा जाता है। उसी कोड में BEAT को किस प्रकार लिखा जाएगा?

Options :

1. ✖ 200

2. ✖ 140

3. ✔ 112

4. ✖ 75

Question Number : 33 Question Id : 5096478639 Question Type : MCQ Option Shuffling : Yes

Correct Marks : 1 Wrong Marks : 0.25

Which of the following pairs of signs, when their positions are interchanged, will correctly solve the given mathematical equation?

$$12 + 16 - 22 \div 2 \times 5 = 186$$

Options :

1. ✖  $\div$  and  $\times$

2. ✖  $\div$  and  $+$

3. ✔  $+$  and  $\times$

4. ✖  $+$  and  $-$

Question Number : 33 Question Id : 5096478639 Question Type : MCQ Option Shuffling : Yes

Correct Marks : 1 Wrong Marks : 0.25

निम्न में से किस चिन्ह युग्म में, उनकी स्थितियां परस्पर बदले जाने पर दिया गया गणितीय समीकरण सही हल हो जाएगा?

$$12 + 16 - 22 \div 2 \times 5 = 186$$

Options :

1. ✖  $\div$  और  $\times$

2. ✖  $\div$  और  $+$

3. ✔  $+$  और  $\times$

4. ✖  $+$  और  $-$

Question Number : 34 Question Id : 5096478640 Question Type : MCQ Option Shuffling : Yes

Correct Marks : 1 Wrong Marks : 0.25

Find out the word that cannot be formed by using the letters of the word "LIBERATIONIST".

Options :

1. ✔ LIBERAL

2. ✖ RELATION

3. ✖ SERIAL

4. ✖ BITTERN

Question Number : 34 Question Id : 5096478640 Question Type : MCQ Option Shuffling : Yes

Correct Marks : 1 Wrong Marks : 0.25

शब्द "LIBERATIONIST" के अक्षरों का उपयोग करके निम्न शब्द गठित नहीं किया जा सकता है।

Options :

1. ✓ LIBERAL

2. ✗ RELATION

3. ✗ SERIAL

4. ✗ BITTERN

Question Number : 35 Question Id : 5096478641 Question Type : MCQ Option Shuffling : Yes

Correct Marks : 1 Wrong Marks : 0.25

Some teams take parts in a cricket tournament. Each one has to play every other one. If there are 66 games played. How many teams are there?

Options :

1. ✗ 10

2. ✗ 11

3. ✓ 12

4. ✗ 13

Question Number : 35 Question Id : 5096478641 Question Type : MCQ Option Shuffling : Yes

Correct Marks : 1 Wrong Marks : 0.25

एक क्रिकेट टूर्नामेंट में दस टीमों ने भाग लिया है। प्रत्येक को प्रत्येक अन्य से एक बार खेलना है। अगर टूर्नामेंट में 66 गेम्स खेली गयी हैं तो कुल कितनी टीमों ने भाग लिया?

Options :

1. ✗ 10



2. ✖ 11

3. ✔ 12

4. ✖ 13

Question Number : 36 Question Id : 5096478642 Question Type : MCQ Option Shuffling : Yes

Correct Marks : 1 Wrong Marks : 0.25

Four words have been given out of which three are alike in some manner, while the fourth one is different. Choose out the odd one.

Options :

1. ✖ Burrow

2. ✖ Byre

3. ✖ Barn

4. ✔ Bee

Question Number : 36 Question Id : 5096478642 Question Type : MCQ Option Shuffling : Yes

Correct Marks : 1 Wrong Marks : 0.25

चार शब्द दिए गए हैं जिनमें से तीन किसी प्रकार समान हैं, जबकि चौथा भिन्न है। असंगत को चुनें।

Options :

1. ✖ मांद

2. ✖ गोशाला

3. ✘ अनाजघर

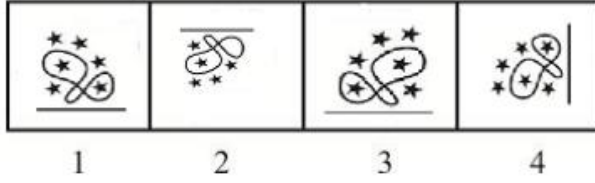
4. ✔ मधुमक्खी

Question Number : 37 Question Id : 5096478643 Question Type : MCQ Option Shuffling : Yes

Correct Marks : 1 Wrong Marks : 0.25

In problem, out of four figures marked 1, 2, 3 and 4, three are similar in a certain manner. However one figure is not like the other three. Choose the figure which is different from the rest.

Answer Fig.



Options :

1. ✘ 1

2. ✔ 2

3. ✘ 3

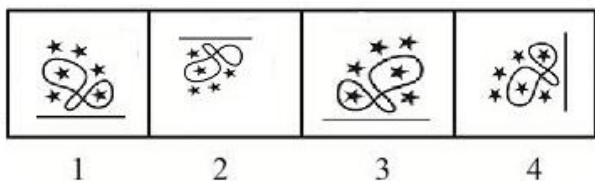
4. ✘ 4

Question Number : 37 Question Id : 5096478643 Question Type : MCQ Option Shuffling : Yes

Correct Marks : 1 Wrong Marks : 0.25

प्रश्न में, 1, 2, 3 और 4 अंकित चार चित्रों में से तीन किसी प्रकार समान हैं। हालांकि एक चित्र, अन्य तीन के समान नहीं है। वह चित्र चुनें जो शेष से भिन्न है।

उत्तर आकृति



Options :

1. ✖ 1

2. ✔ 2

3. ✖ 3

4. ✖ 4

Question Number : 38 Question Id : 5096478644 Question Type : MCQ Option Shuffling : Yes

Correct Marks : 1 Wrong Marks : 0.25

Select the option that will correctly replace the question mark (?) in the series.

15, 17, 20, 25, 32, ?

Options :

1. ✖ 40

2. ✖ 41

3. ✔ 43

4. ✖ 45

Question Number : 38 Question Id : 5096478644 Question Type : MCQ Option Shuffling : Yes

Correct Marks : 1 Wrong Marks : 0.25

वह विकल्प चुनें जो श्रृंखला में प्रश्न चिन्ह (?) को सही प्रतिस्थापित करेगा।

15, 17, 20, 25, 32, ?

Options :

1. ✖ 40

2. ✖ 41

3. ✔ 43

4. ✖ 45

Question Number : 39 Question Id : 5096478645 Question Type : MCQ Option Shuffling : Yes

Correct Marks : 1 Wrong Marks : 0.25

Select the option that will correctly replace the question mark (?) in the series.

45, 20, 55, 25, 65, ?

Options :

1. ✔ 30

2. ✖ 35

3. ✖ 75

4. ✖ 85

Question Number : 39 Question Id : 5096478645 Question Type : MCQ Option Shuffling : Yes

Correct Marks : 1 Wrong Marks : 0.25

वह विकल्प चुनें जो श्रृंखला में प्रश्न चिन्ह (?) को सही प्रतिस्थापित करेगा।

45, 20, 55, 25, 65, ?

Options :

1. ✓ 30

2. ✗ 35

3. ✗ 75

4. ✗ 85

Question Number : 40 Question Id : 5096478646 Question Type : MCQ Option Shuffling : Yes

Correct Marks : 1 Wrong Marks : 0.25

Select the option that will correctly replace the question mark (?) in the series.

3, 6, 21, 60, ?

Options :

1. ✗ 120

2. ✗ 163

3. ✗ 180

4. ✓ 183

Question Number : 40 Question Id : 5096478646 Question Type : MCQ Option Shuffling : Yes

Correct Marks : 1 Wrong Marks : 0.25

वह विकल्प चुनें जो श्रृंखला में प्रश्न चिन्ह (?) को सही प्रतिस्थापित करेगा।

3, 6, 21, 60, ?

Options :

1. ✖ 120

2. ✖ 163

3. ✖ 180

4. ✔ 183

## General Awareness1

<b>Group Number :</b>	3
<b>Group Id :</b>	509647134
<b>Group Maximum Duration :</b>	0
<b>Group Minimum Duration :</b>	0
<b>Show Attended Group? :</b>	No
<b>Edit Attended Group? :</b>	No
<b>Break time:</b>	0
<b>Group Marks:</b>	20
<b>Is this Group for Examiner?:</b>	No
<b>Revisit allowed for group Instructions? :</b>	Yes
<b>Maximum Instruction Time:</b>	0
<b>Minimum Instruction Time:</b>	0

## General Awareness1

<b>Section Id :</b>	509647294
<b>Section Number :</b>	1
<b>Section type :</b>	Online
<b>Mandatory or Optional:</b>	Mandatory
<b>Number of Questions:</b>	20
<b>Number of Questions to be attempted:</b>	20
<b>Section Marks:</b>	20

<b>Sub-Section Number:</b>	1
<b>Sub-Section Id:</b>	509647426
<b>Question Shuffling Allowed :</b>	Yes

Question Number : 41 Question Id : 5096478647 Question Type : MCQ Option Shuffling : Yes  
Correct Marks : 1 Wrong Marks : 0.25

The term 'Anaphylaxis' refers to?

Options :

1. ✓ Severe allergic reaction
2. ✗ Sudden fall in pH of soil
3. ✗ Sudden change in air composition
4. ✗ Sudden fall in atmospheric pressure

Question Number : 41 Question Id : 5096478647 Question Type : MCQ Option Shuffling : Yes  
Correct Marks : 1 Wrong Marks : 0.25

'एनाफिलेक्सिस' शब्द निम्न में से किसको संदर्भित करता है?

Options :

1. ✓ गंभीर एलर्जी प्रतिक्रिया
2. ✗ मृदा के pH में अचानक गिरावट
3. ✗ हवा की संरचना में अचानक परिवर्तन
4. ✗ वायुमंडलीय दबाव में अचानक गिरावट

Question Number : 42 Question Id : 5096478648 Question Type : MCQ Option Shuffling : Yes  
Correct Marks : 1 Wrong Marks : 0.25

Which one of the following is not a type of drought?

Options :

1. ✗ Agricultural drought
2. ✓ Atmospheric drought
3. ✗ Meteorological drought
4. ✗ Hydrological drought

Question Number : 42 Question Id : 5096478648 Question Type : MCQ Option Shuffling : Yes  
Correct Marks : 1 Wrong Marks : 0.25

निम्नलिखित में से कौन सा सूखे का एक प्रकार नहीं है?

Options :

1. ✗ कृषि सूखा

2. ✓ वायुमंडलीय सूखा

3. ✖ मौसम संबंधी सूखा

4. ✖ जलीय सूखा

Question Number : 43 Question Id : 5096478649 Question Type : MCQ Option Shuffling : Yes  
Correct Marks : 1 Wrong Marks : 0.25

TPU is an acronym for an artificial polymer whose properties are between rubbers and plastics. The full form of TPU is?

Options :

1. ✖ Tetraphthalate Polyurethane

2. ✖ Thermoplastic Phosphourethane

3. ✖ Thermoplastic Polyethane

4. ✓ Thermoplastic Polyurethane

Question Number : 43 Question Id : 5096478649 Question Type : MCQ Option Shuffling : Yes  
Correct Marks : 1 Wrong Marks : 0.25

TPU एक कृत्रिम बहुलक का लघुनाम है जिसके गुण रबर और प्लास्टिक के बीच के होते हैं। TPU का पूरा नाम क्या है?

Options :

1. ✖ टेट्रापथलेट पॉलीयूरेथेन

2. ✖ थर्मोप्लास्टिक फास्फोरैथेन

3. ✖ थर्मोप्लास्टिक पॉलिथेन

4. ✓ थर्मोप्लास्टिक पॉलियूरेथेन

Question Number : 44 Question Id : 5096478650 Question Type : MCQ Option Shuffling : Yes  
Correct Marks : 1 Wrong Marks : 0.25

The natural source of Fluorides in the atmosphere is?

Options :

1. ✖ Plant decay

2. ✖ Animal decay



3. ✓ Volcanic eruptions

4. ✖ Forest fires

Question Number : 44 Question Id : 5096478650 Question Type : MCQ Option Shuffling : Yes

Correct Marks : 1 Wrong Marks : 0.25

वायुमंडल में फ्लोराइड्स का प्राकृतिक स्रोत कौन सा होता है?

Options :

1. ✖ पादपों का क्षय

2. ✖ जन्तु क्षय

3. ✓ ज्वालामुखी विस्फोट

4. ✖ जंगल की आग

Question Number : 45 Question Id : 5096478651 Question Type : MCQ Option Shuffling : Yes

Correct Marks : 1 Wrong Marks : 0.25

Who has won the best production design award at the 91st academy (Oscar) awards ceremony?

Options :

1. ✓ Hannah Beachler

2. ✖ Nina Hartstone

3. ✖ Mahershala Ali

4. ✖ John Ottman

Question Number : 45 Question Id : 5096478651 Question Type : MCQ Option Shuffling : Yes

Correct Marks : 1 Wrong Marks : 0.25

91वें अकादमी (ऑस्कर) पुरस्कार समारोह में सर्वश्रेष्ठ प्रॉडक्शन डिजाइन पुरस्कार किसने जीता?

Options :

1. ✓ हना बकलर

2. ✖ नीना हारस्टोन

3. ✖ महरशला अली

## 4. \* जॉन ओटमैन

Question Number : 46 Question Id : 5096478652 Question Type : MCQ Option Shuffling : Yes  
Correct Marks : 1 Wrong Marks : 0.25

Which country has started BeiDou Navigation Satellite System (BDS), which has started its global services in December 2018?

Options :

1. \* Japan
2. \* United States of America
3. ✓ China
4. \* Russia

Question Number : 46 Question Id : 5096478652 Question Type : MCQ Option Shuffling : Yes  
Correct Marks : 1 Wrong Marks : 0.25

दिसंबर 2018 से अपनी वैश्विक सेवाएं शुरू करने वाले BeiDou नेविगेशन सैटेलाइट सिस्टम (BDS) की शुरुआत किस देश ने की है?

Options :

1. \* जापान
2. \* संयुक्त राज्य अमरीका
3. ✓ चीन
4. \* रूस

Question Number : 47 Question Id : 5096478653 Question Type : MCQ Option Shuffling : Yes  
Correct Marks : 1 Wrong Marks : 0.25

Who among the following was conferred with Mohammad Rafi life time achievement award by the NGO Spandan arts for the year 2018?

Options :

1. \* Sonu Nigam
2. \* Asha Bhosle
3. \* Kumar Sanu

## 4. ✓ Laxmikant Shantaram Kudalkar

Question Number : 47 Question Id : 5096478653 Question Type : MCQ Option Shuffling : Yes  
Correct Marks : 1 Wrong Marks : 0.25

निम्नलिखित में से किसे एक एनजीओ स्पंदन कला द्वारा वर्ष 2018 के लिए मोहम्मद रफी लाइफ टाइम अचीवमेंट अवार्ड से सम्मानित किया गया?

Options :

1. ✗ सोनू निगम
2. ✗ आशा भोंसले
3. ✗ कुमार सानू
4. ✓ लक्ष्मीकांत शांताराम कुडलकर

Question Number : 48 Question Id : 5096478654 Question Type : MCQ Option Shuffling : Yes  
Correct Marks : 1 Wrong Marks : 0.25

Which day is celebrated as the International Dance Day every year?

Options :

1. ✓ 29th April
2. ✗ 29th May
3. ✗ 29th March
4. ✗ 29th February

Question Number : 48 Question Id : 5096478654 Question Type : MCQ Option Shuffling : Yes  
Correct Marks : 1 Wrong Marks : 0.25

“अंतर्राष्ट्रीय नृत्य दिवस” हर साल किस दिन मनाया जाता है?

Options :

1. ✓ 29 अप्रैल
2. ✗ 29 मई
3. ✗ 29 मार्च

## 4. \* 29 फरवरी

Question Number : 49 Question Id : 5096478655 Question Type : MCQ Option Shuffling : Yes  
Correct Marks : 1 Wrong Marks : 0.25

Which dynasty among the following immediately preceded the Maurya dynasty?

Options :

1. \* Sunga dynasty
2. \* Haryanka dynasty
3. ✓ Nanda dynasty
4. \* Sisunga dynasty

Question Number : 49 Question Id : 5096478655 Question Type : MCQ Option Shuffling : Yes  
Correct Marks : 1 Wrong Marks : 0.25

मौर्य वंश के तुरन्त पहले निम्नलिखित में से किस वंश का शासन था?

Options :

1. \* सुंग वंश
2. \* हर्यका वंश
3. ✓ नंद वंश
4. \* सिसुंगा वंश

Question Number : 50 Question Id : 5096478656 Question Type : MCQ Option Shuffling : Yes  
Correct Marks : 1 Wrong Marks : 0.25

Which one of the following dynasties of India was founded by Vijayalaya?

Options :

1. \* Pala dynasty
2. ✓ Chola dynasty
3. \* Tomara dynasty
4. \* Solanki dynasty

Question Number : 50 Question Id : 5096478656 Question Type : MCQ Option Shuffling : Yes

Correct Marks : 1 Wrong Marks : 0.25

भारत के निम्नलिखित राजवंशों में से किसकी स्थापना विजयालय द्वारा की गई थी?

Options :

1. ✖ पाल वंश
2. ✔ चोल वंश
3. ✖ तोमर वंश
4. ✖ सोलंकी वंश

Question Number : 51 Question Id : 5096478657 Question Type : MCQ Option Shuffling : Yes

Correct Marks : 1 Wrong Marks : 0.25

When was Vikrama Era began?

Options :

1. ✔ 57 BC
2. ✖ 55 BC
3. ✖ 50 BC
4. ✖ 47 BC

Question Number : 51 Question Id : 5096478657 Question Type : MCQ Option Shuffling : Yes

Correct Marks : 1 Wrong Marks : 0.25

विक्रम युग कब शुरू हुआ था?

Options :

1. ✔ 57 ई.पू.
2. ✖ 55 ई.पू.
3. ✖ 50 ई.पू.
4. ✖ 47 ई.पू.

Question Number : 52 Question Id : 5096478658 Question Type : MCQ Option Shuffling : Yes

Correct Marks : 1 Wrong Marks : 0.25

During the term of which viceroy, the Indian councils act was passed in the year 1892?

Options :

1. \* Lord Chelmsford
2. \* Lord Canning
3. \* Lord Minto
4. ✓ Lord Lansdowne

Question Number : 52 Question Id : 5096478658 Question Type : MCQ Option Shuffling : Yes

Correct Marks : 1 Wrong Marks : 0.25

1892 में, किस वायसराय के कार्यकाल के दौरान, भारतीय काउंसिल अधिनियम पारित किया गया था?

Options :

1. \* लॉर्ड चेम्सफोर्ड
2. \* लॉर्ड कैनिंग
3. \* लॉर्ड मिंटो
4. ✓ लॉर्ड लैंसडाउन

Question Number : 53 Question Id : 5096478659 Question Type : MCQ Option Shuffling : Yes

Correct Marks : 1 Wrong Marks : 0.25

Which one of the following is not a directive principle?

Options :

1. ✓ Separation of executive from legislature
2. \* Uniform civil code
3. \* Promotion of International peace and security
4. \* Participation of workers in management of industries

Question Number : 53 Question Id : 5096478659 Question Type : MCQ Option Shuffling : Yes

Correct Marks : 1 Wrong Marks : 0.25

निम्नलिखित में से कौन सा एक निर्देशक सिद्धांत नहीं है?

Options :

1. ✓ विधायिका से पृथक कार्यकारिणी
2. ✘ समान नागरिक संहिता
3. ✘ अंतर्राष्ट्रीय शांति और सुरक्षा को बढ़ावा देना
4. ✘ उद्योगों के प्रबंधन में श्रमिकों की भागीदारी

Question Number : 54 Question Id : 5096478660 Question Type : MCQ Option Shuffling : Yes  
Correct Marks : 1 Wrong Marks : 0.25

The tenure of the estimates committee of Loksabha is:

Options :

1. ✘ 3 years
2. ✘ 2 years
3. ✓ 1 year
4. ✘ 4 years

Question Number : 54 Question Id : 5096478660 Question Type : MCQ Option Shuffling : Yes  
Correct Marks : 1 Wrong Marks : 0.25

लोकसभा की आकलन समिति का कार्यकाल होता है:

Options :

1. ✘ 3 वर्ष
2. ✘ 2 वर्ष
3. ✓ 1 वर्ष
4. ✘ 4 वर्ष

Question Number : 55 Question Id : 5096478661 Question Type : MCQ Option Shuffling : Yes  
Correct Marks : 1 Wrong Marks : 0.25

The Swaran Singh Committee recommended:

Options :

1. ✓ Inclusion of Fundamental Duties in the Indian Constitution.
2. ✘ Interlinking of Himalayan and peninsular rivers.

3. \* The Constitution of State-Level Election Commissions.

4. \* Panchayati - Raj reforms.

Question Number : 55 Question Id : 5096478661 Question Type : MCQ Option Shuffling : Yes

Correct Marks : 1 Wrong Marks : 0.25

स्वर्ण सिंह समिति ने निम्न की सिफारिश की:

Options :

1. ✓ भारतीय संविधान में मौलिक कर्तव्यों का समावेश
2. \* हिमालयी और प्रायद्वीपीय नदियों को परस्पर जोड़ना
3. \* राज्य स्तरीय चुनाव आयोगों का गठन
4. \* पंचायती-राज सुधार

Question Number : 56 Question Id : 5096478662 Question Type : MCQ Option Shuffling : Yes

Correct Marks : 1 Wrong Marks : 0.25

Which article of the Indian constitution says, "It shall be duty of Prime Minister to communicate to the president all decision of Council of Ministers relating to the administration of the affairs of the union and proposals for legislation"?

Options :

1. \* Article 68
2. ✓ Article 78
3. \* Article 58
4. \* Article 88

Question Number : 56 Question Id : 5096478662 Question Type : MCQ Option Shuffling : Yes

Correct Marks : 1 Wrong Marks : 0.25

भारतीय संविधान के किस अनुच्छेद में कहा गया है कि "प्रधानमंत्री का यह कर्तव्य होगा कि वह संघ के मामलों के प्रशासन से संबंधित मंत्रिपरिषद के सभी निर्णय और कानून के प्रस्तावों के लिए राष्ट्रपति से संवाद करे"?

Options :



1. \* अनुच्छेद 68

2. ✓ अनुच्छेद 78

3. \* अनुच्छेद 58

4. \* अनुच्छेद 88

Question Number : 57 Question Id : 5096478663 Question Type : MCQ Option Shuffling : Yes  
Correct Marks : 1 Wrong Marks : 0.25

Under which article of the Indian constitution, the council of ministers of a State will aid and advice the Governor?

Options :

1. ✓ Article 163

2. \* Article 263

3. \* Article 363

4. \* Article 463

Question Number : 57 Question Id : 5096478663 Question Type : MCQ Option Shuffling : Yes  
Correct Marks : 1 Wrong Marks : 0.25

भारतीय संविधान के किस अनुच्छेद के तहत, मंत्रिपरिषद एक राज्यवार सहायता और राज्यपाल की सलाहकार है?

Options :

1. ✓ अनुच्छेद 163

2. \* अनुच्छेद 263

3. \* अनुच्छेद 363

4. \* अनुच्छेद 463

Question Number : 58 Question Id : 5096478664 Question Type : MCQ Option Shuffling : Yes  
Correct Marks : 1 Wrong Marks : 0.25

Which article of the Indian constitution is about the administrative tribunals?

Options :

1. ✖ 423
2. ✖ 123
3. ✖ 223
4. ✔ 323A

Question Number : 58 Question Id : 5096478664 Question Type : MCQ Option Shuffling : Yes  
Correct Marks : 1 Wrong Marks : 0.25

भारतीय संविधान का कौन सा अनुच्छेद प्रशासनिक अधिकरणों के बारे में बताता है?

Options :

1. ✖ 423
2. ✖ 123
3. ✖ 223
4. ✔ 323A

Question Number : 59 Question Id : 5096478665 Question Type : MCQ Option Shuffling : Yes  
Correct Marks : 1 Wrong Marks : 0.25

The term 'Over-Trick' is associated with which one of the following sports?

Options :

1. ✖ Rugby
2. ✔ Bridge
3. ✖ Hockey
4. ✖ Polo

Question Number : 59 Question Id : 5096478665 Question Type : MCQ Option Shuffling : Yes  
Correct Marks : 1 Wrong Marks : 0.25

'ओवर-ट्रिक' शब्द निम्न में से किस खेल से संबंधित है?

Options :

1. ✖ रग्बी

2. ✓ ब्रिज

3. \* हॉकी

4. \* पोलो

Question Number : 60 Question Id : 5096478666 Question Type : MCQ Option Shuffling : Yes  
Correct Marks : 1 Wrong Marks : 0.25

With which game the Scindia Gold Cup is associated in India?

Options :

1. ✓ Hockey

2. \* Football

3. \* Table Tennis

4. \* Badminton

Question Number : 60 Question Id : 5096478666 Question Type : MCQ Option Shuffling : Yes  
Correct Marks : 1 Wrong Marks : 0.25

भारत में सिंधिया गोल्ड कप किस खेल से संबंधित है?

Options :

1. ✓ हॉकी

2. \* फुटबॉल

3. \* टेबल टेनिस

4. \* बैडमिंटन

## General Awareness2

Group Number :	4
Group Id :	509647135
Group Maximum Duration :	0
Group Minimum Duration :	0
Show Attended Group? :	No
Edit Attended Group? :	No
Break time:	0
Group Marks:	20
Is this Group for Examiner? :	No
Revisit allowed for group Instructions? :	Yes
Maximum Instruction Time:	0

## General Awareness2

Section Id :	509647295
Section Number :	1
Section type :	Online
Mandatory or Optional:	Mandatory
Number of Questions:	20
Number of Questions to be attempted:	20
Section Marks:	20

Sub-Section Number:	1
Sub-Section Id:	509647427
Question Shuffling Allowed :	Yes

Question Number : 61 Question Id : 5096478667 Question Type : MCQ Option Shuffling : Yes  
Correct Marks : 1 Wrong Marks : 0.25

By what margin India won its first ever world cup cricket championship final in the year 1983 against West indies?

Options :

1. \* 23 runs
2. \* 33 runs
3. ✓ 43 runs
4. \* 53 runs

Question Number : 61 Question Id : 5096478667 Question Type : MCQ Option Shuffling : Yes  
Correct Marks : 1 Wrong Marks : 0.25

भारत ने अपना पहला विश्व कप क्रिकेट चैम्पियनशिप फाइनल 1983 में वेस्ट इंडीज के खिलाफ कितने रनों से / किस अंतर से जीता?

Options :

1. \* 23 रन
2. \* 33 रन
3. ✓ 43 रन
4. \* 53 रन

Question Number : 62 Question Id : 5096478668 Question Type : MCQ Option Shuffling : Yes

Correct Marks : 1 Wrong Marks : 0.25

In which Indian state, the Modhera Dance festival is celebrated?

Options :

1. ✖ Manipur
2. ✖ Maharashtra
3. ✔ Gujarat
4. ✖ Uttarakhand

Question Number : 62 Question Id : 5096478668 Question Type : MCQ Option Shuffling : Yes

Correct Marks : 1 Wrong Marks : 0.25

मोहेरा नृत्य उत्सव, किस भारतीय राज्य में मनाया जाता है?

Options :

1. ✖ मणिपुर
2. ✖ महाराष्ट्र
3. ✔ गुजरात
4. ✖ उत्तराखंड

Question Number : 63 Question Id : 5096478669 Question Type : MCQ Option Shuffling : Yes

Correct Marks : 1 Wrong Marks : 0.25

The 'Dhumal' dance is famous in which state of India?

Options :

1. ✖ Rajasthan
2. ✖ Assam
3. ✔ Jammu & Kashmir
4. ✖ Odisha

Question Number : 63 Question Id : 5096478669 Question Type : MCQ Option Shuffling : Yes

Correct Marks : 1 Wrong Marks : 0.25

'धूमल' नृत्य भारत के किस राज्य में प्रसिद्ध है?

Options :

1. ✖ राजस्थान
2. ✖ असम
3. ✔ जम्मू और कश्मीर
4. ✖ ओडिशा

Question Number : 64 Question Id : 5096478670 Question Type : MCQ Option Shuffling : Yes  
Correct Marks : 1 Wrong Marks : 0.25

The epic painting 'Shakuntala' is the work of which famous painter of India?

Options :

1. ✖ Abanindranath Tagore
2. ✔ Raja Ravi Varma
3. ✖ Amrita Sher Gill
4. ✖ Tyeb Mehta

Question Number : 64 Question Id : 5096478670 Question Type : MCQ Option Shuffling : Yes  
Correct Marks : 1 Wrong Marks : 0.25

महाकाव्य चित्रकला 'शकुंतला' भारत के किस प्रसिद्ध चित्रकार की कृति है?

Options :

1. ✖ अबनिंद्रनाथ टैगोर
2. ✔ राजा रवि वर्मा
3. ✖ अमृता शेर गिल
4. ✖ तैयब मेहता

Question Number : 65 Question Id : 5096478671 Question Type : MCQ Option Shuffling : Yes  
Correct Marks : 1 Wrong Marks : 0.25

Which country's capital is Tallinn?

Options :

1. ✖ Cyprus

2. ✓ Estonia

3. ✗ Samoa

4. ✗ Finland

Question Number : 65 Question Id : 5096478671 Question Type : MCQ Option Shuffling : Yes

Correct Marks : 1 Wrong Marks : 0.25

तेलिन किस देश की राजधानी है?

Options :

1. ✗ साइप्रस

2. ✓ एस्टोनिया

3. ✗ समोआ

4. ✗ फिनलैंड

Question Number : 66 Question Id : 5096478672 Question Type : MCQ Option Shuffling : Yes

Correct Marks : 1 Wrong Marks : 0.25

The Baspa Hydroelectric project is located in which state of India?

Options :

1. ✗ Jharkhand

2. ✓ Himachal Pradesh

3. ✗ Telangana

4. ✗ Rajasthan

Question Number : 66 Question Id : 5096478672 Question Type : MCQ Option Shuffling : Yes

Correct Marks : 1 Wrong Marks : 0.25

बासपा जलविद्युत परियोजना भारत के किस राज्य में स्थित है?

Options :

1. ✗ झारखंड

2. ✓ हिमाचल प्रदेश

3. ✗ तेलंगाना

## 4. \* राजस्थान

Question Number : 67 Question Id : 5096478673 Question Type : MCQ Option Shuffling : Yes  
Correct Marks : 1 Wrong Marks : 0.25

The river Krishna originates from which state of India?

Options :

1. \* Karnataka
2. \* Andhra Pradesh
3. ✓ Maharashtra
4. \* Telangana

Question Number : 67 Question Id : 5096478673 Question Type : MCQ Option Shuffling : Yes  
Correct Marks : 1 Wrong Marks : 0.25

कृष्णा नदी भारत के किस राज्य से निकलती है?

Options :

1. \* कर्नाटक
2. \* आंध्र प्रदेश
3. ✓ महाराष्ट्र
4. \* तेलंगाना

Question Number : 68 Question Id : 5096478674 Question Type : MCQ Option Shuffling : Yes  
Correct Marks : 1 Wrong Marks : 0.25

In which year, the Mahila Samridhi Yojana was launched by Government of India?

Options :

1. \* 1996
2. ✓ 1993
3. \* 1999
4. \* 2001

Question Number : 68 Question Id : 5096478674 Question Type : MCQ Option Shuffling : Yes  
Correct Marks : 1 Wrong Marks : 0.25



महिला समृद्धि योजना, भारत सरकार द्वारा किस वर्ष में शुरू की गई थी?

Options :

1. ✘ 1996
2. ✔ 1993
3. ✘ 1999
4. ✘ 2001

Question Number : 69 Question Id : 5096478675 Question Type : MCQ Option Shuffling : Yes  
Correct Marks : 1 Wrong Marks : 0.25

The concept of Navaratna's was introduced by government of India in the year:

Options :

1. ✔ 1997
2. ✘ 1991
3. ✘ 1999
4. ✘ 2002

Question Number : 69 Question Id : 5096478675 Question Type : MCQ Option Shuffling : Yes  
Correct Marks : 1 Wrong Marks : 0.25

भारत सरकार द्वारा नवरत्न की अवधारणा किस वर्ष में प्रस्तुत की गई थी:

Options :

1. ✔ 1997
2. ✘ 1991
3. ✘ 1999
4. ✘ 2002

Question Number : 70 Question Id : 5096478676 Question Type : MCQ Option Shuffling : Yes  
Correct Marks : 1 Wrong Marks : 0.25

The Foreign investments promotion board (FIBP) works under ministry of?

Options :

1. ✖ Industries and Commerce
2. ✔ Finance
3. ✖ Consumer affairs
4. ✖ External affairs

Question Number : 70 Question Id : 5096478676 Question Type : MCQ Option Shuffling : Yes

Correct Marks : 1 Wrong Marks : 0.25

विदेश निवेश संवर्धन बोर्ड (FIBP) किस मंत्रालय के तहत काम करता है?

Options :

1. ✖ उद्योग और वाणिज्य
2. ✔ वित्त
3. ✖ उपभोक्ता मामलों का मंत्रालय
4. ✖ विदेश मंत्रालय

Question Number : 71 Question Id : 5096478677 Question Type : MCQ Option Shuffling : Yes

Correct Marks : 1 Wrong Marks : 0.25

The antibiotic 'mitomycin' is used to treat?

Options :

1. ✖ Swine Flu
2. ✔ Cancer
3. ✖ AIDS
4. ✖ Polio

Question Number : 71 Question Id : 5096478677 Question Type : MCQ Option Shuffling : Yes

Correct Marks : 1 Wrong Marks : 0.25

एंटीबायोटिक 'माइटोमाइसिन' का उपयोग किस रोग के उपचार के लिए किया जाता है?

Options :

1. ✖ स्वाइन फ्लू
2. ✔ कैंसर
3. ✖ एड्स
4. ✖ पोलियो

Question Number : 72 Question Id : 5096478678 Question Type : MCQ Option Shuffling : Yes  
Correct Marks : 1 Wrong Marks : 0.25

The instrument used for measuring the growth of plants is called?

Options :

1. ✔ Auxanometer
2. ✖ Bolometer
3. ✖ Celiometer
4. ✖ Ceranograph

Question Number : 72 Question Id : 5096478678 Question Type : MCQ Option Shuffling : Yes  
Correct Marks : 1 Wrong Marks : 0.25

पौधों के विकास को मापने के लिए प्रयुक्त उपकरण को कहा जाता है?

Options :

1. ✔ ऑक्सनोमीटर
2. ✖ बोलोमीटर
3. ✖ सेलियोमीटर
4. ✖ सेरानोग्राफ

Question Number : 73 Question Id : 5096478679 Question Type : MCQ Option Shuffling : Yes  
Correct Marks : 1 Wrong Marks : 0.25

The percentage weight of copper in 22 carat gold is?

Options :

1. ✖ 0.1
2. ✔ 0.02

3. ✖ 0.15

4. ✖ 0.18

Question Number : 73 Question Id : 5096478679 Question Type : MCQ Option Shuffling : Yes  
Correct Marks : 1 Wrong Marks : 0.25

22 कैरेट सोने में तांबे का प्रतिशत वजन होता है?

Options :

1. ✖ 0.1

2. ✔ 0.02

3. ✖ 0.15

4. ✖ 0.18

Question Number : 74 Question Id : 5096478680 Question Type : MCQ Option Shuffling : Yes  
Correct Marks : 1 Wrong Marks : 0.25

The other name of the explosive RDX is?

Options :

1. ✖ Cyanohydrin

2. ✖ Dextran

3. ✔ Cyclonite

4. ✖ Furan

Question Number : 74 Question Id : 5096478680 Question Type : MCQ Option Shuffling : Yes  
Correct Marks : 1 Wrong Marks : 0.25

विस्फोटक RDX का दूसरा नाम है?

Options :

1. ✖ सायनोहाइड्रिन

2. ✖ डेक्स्ट्रॉन

3. ✔ साइक्लोनाइट

4. ✖ फ्युरान

Question Number : 75 Question Id : 5096478681 Question Type : MCQ Option Shuffling : Yes

Correct Marks : 1 Wrong Marks : 0.25

What is the acronym for the world's largest ground-based telescope inaugurated in the year 2013 in Chile?

Options :

1. ✖ CDAC
2. ✔ ALMA
3. ✖ CLAN
4. ✖ TOSS

Question Number : 75 Question Id : 5096478681 Question Type : MCQ Option Shuffling : Yes

Correct Marks : 1 Wrong Marks : 0.25

चिली में वर्ष 2013 में स्थापित दुनिया के सबसे बड़े ग्राउंड-टेलीस्कोप का संक्षिप्त नाम क्या है?

Options :

1. ✖ सीडीएसी
2. ✔ एएलएमए
3. ✖ सीएलएएन
4. ✖ टीओएसएस

Question Number : 76 Question Id : 5096478682 Question Type : MCQ Option Shuffling : Yes

Correct Marks : 1 Wrong Marks : 0.25

In which mission Indian-born American astronaut Kalpana Chawla was lost aboard?

Options :

1. ✖ STS - 100
2. ✖ STS - 103
3. ✔ STS - 107
4. ✖ STS - 102

Question Number : 76 Question Id : 5096478682 Question Type : MCQ Option Shuffling : Yes

Correct Marks : 1 Wrong Marks : 0.25

भारतीय मूल की अमेरिकी अंतरिक्ष यात्री कल्पना चावला की मृत्यु किस अंतरिक्ष अभियान के दौरान हुई थी?

Options :

1. ✖ STS - 100
2. ✖ STS - 103
3. ✔ STS - 107
4. ✖ STS - 102

Question Number : 77 Question Id : 5096478683 Question Type : MCQ Option Shuffling : Yes  
Correct Marks : 1 Wrong Marks : 0.25

The Hubble Space Telescope (HST) was carried into orbit by space shuttle in the year of?

Options :

1. ✖ 1993
2. ✔ 1990
3. ✖ 1996
4. ✖ 1988

Question Number : 77 Question Id : 5096478683 Question Type : MCQ Option Shuffling : Yes  
Correct Marks : 1 Wrong Marks : 0.25

हबल स्पेस टेलीस्कोप (HST) को किस वर्ष अंतरिक्ष यान द्वारा इसकी कक्षा में स्थापित किया गया था?

Options :

1. ✖ 1993
2. ✔ 1990
3. ✖ 1996
4. ✖ 1988

Question Number : 78 Question Id : 5096478684 Question Type : MCQ Option Shuffling : Yes  
Correct Marks : 1 Wrong Marks : 0.25

The headquarters of Food and Agricultural Organization (FAO) of UNO is located in?

Options :

1. \* Paris, France
2. \* Geneva, Switzerland
3. ✓ Rome, Italy
4. \* Dublin, Ireland

Question Number : 78 Question Id : 5096478684 Question Type : MCQ Option Shuffling : Yes

Correct Marks : 1 Wrong Marks : 0.25

UNO के खाद्य और कृषि संगठन (FAO) का मुख्यालय कहां स्थित है?

Options :

1. \* पेरिस, फ्रांस
2. \* जिनेवा, स्विट्जरलैंड
3. ✓ रोम, इटली
4. \* डबलिन, आयरलैंड

Question Number : 79 Question Id : 5096478685 Question Type : MCQ Option Shuffling : Yes

Correct Marks : 1 Wrong Marks : 0.25

Institute of Nano Science and Technology (INST) is located in?

Options :

1. \* Delhi
2. ✓ Punjab
3. \* Rajasthan
4. \* Karnataka

Question Number : 79 Question Id : 5096478685 Question Type : MCQ Option Shuffling : Yes

Correct Marks : 1 Wrong Marks : 0.25

नैनो विज्ञान और प्रौद्योगिकी संस्थान (INST) कहां स्थित है?

Options :

1. \* दिल्ली

2. ✓ पंजाब

3. ✘ राजस्थान

4. ✘ कर्नाटक

Question Number : 80 Question Id : 5096478686 Question Type : MCQ Option Shuffling : Yes  
Correct Marks : 1 Wrong Marks : 0.25

Where is the Central Silk Board located in India?

Options :

1. ✘ Jaipur

2. ✘ Hyderabad

3. ✘ Pune

4. ✓ Bengaluru

Question Number : 80 Question Id : 5096478686 Question Type : MCQ Option Shuffling : Yes  
Correct Marks : 1 Wrong Marks : 0.25

भारत में केंद्रीय रेशम बोर्ड कहाँ स्थित है?

Options :

1. ✘ जयपुर

2. ✘ हैदराबाद

3. ✘ पुणे

4. ✓ बेंगलुरु

## Arithmetic Ability1

Group Number :	5
Group Id :	509647136
Group Maximum Duration :	0
Group Minimum Duration :	0
Show Attended Group? :	No
Edit Attended Group? :	No
Break time:	0
Group Marks:	20
Is this Group for Examiner?:	No
Revisit allowed for group Instructions? :	Yes
Maximum Instruction Time:	0



# Arithmetic Ability1

Section Id :	509647296
Section Number :	1
Section type :	Online
Mandatory or Optional:	Mandatory
Number of Questions:	20
Number of Questions to be attempted:	20
Section Marks:	20

Sub-Section Number:	1
Sub-Section Id:	509647428
Question Shuffling Allowed :	Yes

Question Number : 81 Question Id : 5096478687 Question Type : MCQ Option Shuffling : Yes  
Correct Marks : 1 Wrong Marks : 0.25

Given  $(3^8 - 3^7)(3^6 - 3^5) = x$ . What is the value of 'x'?

Options :

1. ✖  $4.3^6$

2. ✖  $64.3^6$

3. ✔  $2916.3^6$

4. ✖  $256.3^6$

Question Number : 81 Question Id : 5096478687 Question Type : MCQ Option Shuffling : Yes  
Correct Marks : 1 Wrong Marks : 0.25

यदि  $(3^8 - 3^7)(3^6 - 3^5) = x$  है, तो 'x' का मान पता करें?

Options :

1. ✖  $4.3^6$

2. ✖  $64.3^6$

3. ✔  $2916.3^6$

4. ✖  $256.3^6$

Question Number : 82 Question Id : 5096478688 Question Type : MCQ Option Shuffling : Yes  
Correct Marks : 1 Wrong Marks : 0.25

If  $\left(x^2 + \frac{1}{x^2}\right) = \frac{33}{4}$ , then what is the value of  $\left(x^3 - \frac{1}{x^3}\right)$ ?

Options :

1. ✖  $\frac{125}{8}$

2. ✔  $\frac{185}{8}$

3. ✖  $\frac{155}{8}$

4. ✖  $\frac{140}{8}$

Question Number : 82 Question Id : 5096478688 Question Type : MCQ Option Shuffling : Yes  
Correct Marks : 1 Wrong Marks : 0.25

यदि  $\left(x^2 + \frac{1}{x^2}\right) = \frac{33}{4}$  है, तो  $\left(x^3 - \frac{1}{x^3}\right)$  का मान पता करें?

Options :

1. ✖  $\frac{125}{8}$

2. ✓  $\frac{185}{8}$

3. ✗  $\frac{155}{8}$

4. ✗  $\frac{140}{8}$

Question Number : 83 Question Id : 5096478689 Question Type : MCQ Option Shuffling : Yes

Correct Marks : 1 Wrong Marks : 0.25

$$(0.64)^4 \times (0.512)^4 \div (0.4096)^4 = (80 \div 100)^{?+3}$$

What should come in the place of '?' for the above equation to be correct?

Options :

1. ✓ 1

2. ✗ 2

3. ✗ 3

4. ✗ 4

Question Number : 83 Question Id : 5096478689 Question Type : MCQ Option Shuffling : Yes

Correct Marks : 1 Wrong Marks : 0.25

$$(0.64)^4 \times (0.512)^4 \div (0.4096)^4 = (80 \div 100)^{?+3}$$

उपरोक्त समीकरण को सही होने के लिए '?' के स्थान पर क्या आना चाहिए?

Options :

1. ✓ 1

2. ✖ 2

3. ✖ 3

4. ✖ 4

Question Number : 84 Question Id : 5096478690 Question Type : MCQ Option Shuffling : Yes  
Correct Marks : 1 Wrong Marks : 0.25

Evaluate:

$$\frac{\sqrt{0.0001} \times \sqrt[3]{1000000}}{\sqrt[3]{0.001331} \times \sqrt{0.729}}$$

Options :

1. ✖  $100.\overline{101}$

2. ✖  $100.\overline{101}$

3. ✖  $10.\overline{101}$

4. ✔  $10.\overline{10}$

Question Number : 84 Question Id : 5096478690 Question Type : MCQ Option Shuffling : Yes  
Correct Marks : 1 Wrong Marks : 0.25

हल करें:

$$\frac{\sqrt{0.0001} \times \sqrt[3]{1000000}}{\sqrt[3]{0.001331} \times \sqrt{0.729}}$$

Options :

1. ✖  $100.\overline{101}$

2. ✖  $100.\overline{101}$

3. ✖  $10.\overline{101}$

4. ✔  $10.\overline{10}$

Question Number : 85 Question Id : 5096478691 Question Type : MCQ Option Shuffling : Yes  
Correct Marks : 1 Wrong Marks : 0.25

Evaluate:

$$31.752 - (4.98 + 8.0112) \div \frac{1}{4}$$

Options :

1. ✖ - 28.5042

2. ✔ - 20.2128

3. ✖ 28.5042

4. ✖ 20.2128

Question Number : 85 Question Id : 5096478691 Question Type : MCQ Option Shuffling : Yes  
Correct Marks : 1 Wrong Marks : 0.25

हल करें:

$$31.752 - (4.98 + 8.0112) \div \frac{1}{4}$$

Options :

1. ✖ - 28.5042

2. ✓ - 20.2128

3. ✗ 28.5042

4. ✗ 20.2128

Question Number : 86 Question Id : 5096478692 Question Type : MCQ Option Shuffling : Yes  
Correct Marks : 1 Wrong Marks : 0.25

Given  $\frac{2424}{0.5} = \frac{6.06 \times x}{0.005}$ . What is the value of  $\sqrt{x}$ ?

Options :

1. ✗ 1

2. ✗  $\sqrt[3]{27}$

3. ✓  $\sqrt[5]{32}$

4. ✗  $\sqrt[3]{64}$

Question Number : 86 Question Id : 5096478692 Question Type : MCQ Option Shuffling : Yes  
Correct Marks : 1 Wrong Marks : 0.25

यदि  $\frac{2424}{0.5} = \frac{6.06 \times x}{0.005}$  है, तो  $\sqrt{x}$  का मान पता करें?

Options :

1. ✗ 1

2. ✗  $\sqrt[3]{27}$

3. ✓  $\sqrt[5]{32}$

4. ✗  $\sqrt[3]{64}$

Question Number : 87 Question Id : 5096478693 Question Type : MCQ Option Shuffling : Yes  
Correct Marks : 1 Wrong Marks : 0.25

What is the value of  $\sqrt{0.4 \times \left[ \frac{7.2 \times 0.96 \times 7.50}{0.24 \times 0.18 \times 1.5} \right]}$

(consider  $\sqrt{5} = 2.236$   $\sqrt{2} = 1.414$ )?

Options :

1. ✗ 16.888

2. ✓ 17.888

3. ✗ 18.888

4. ✗ 15.888

Question Number : 87 Question Id : 5096478693 Question Type : MCQ Option Shuffling : Yes  
Correct Marks : 1 Wrong Marks : 0.25

$\sqrt{0.4 \times \left[ \frac{7.2 \times 0.96 \times 7.50}{0.24 \times 0.18 \times 1.5} \right]}$  का मान पता करें

(यदि  $\sqrt{5} = 2.236$   $\sqrt{2} = 1.414$ ) है?

Options :

1. ✗ 16.888

2. ✓ 17.888

3. ✖ 18.888

4. ✖ 15.888

Question Number : 88 Question Id : 5096478694 Question Type : MCQ Option Shuffling : Yes  
Correct Marks : 1 Wrong Marks : 0.25

Evaluate:

$$\left( \frac{0.04}{0.03} \times \frac{\left(3\frac{1}{2} - 2\right) \div \frac{1}{2} \text{ of } 1\frac{1}{4}}{\frac{1}{3} + \frac{1}{5} \text{ of } \frac{1}{9}} \right)^2 = ?$$

Options :

1. ✔ 81

2. ✖ 9

3. ✖ 64

4. ✖ 16

Question Number : 88 Question Id : 5096478694 Question Type : MCQ Option Shuffling : Yes  
Correct Marks : 1 Wrong Marks : 0.25

हल करें:

$$\left( \frac{0.04}{0.03} \times \frac{\left(3\frac{1}{2} - 2\right) \div \frac{1}{2} \text{ of } 1\frac{1}{4}}{\frac{1}{3} + \frac{1}{5} \text{ of } \frac{1}{9}} \right)^2 = ?$$

Options :

1. ✔ 81



2. ✖ 9

3. ✖ 64

4. ✖ 16

Question Number : 89 Question Id : 5096478695 Question Type : MCQ Option Shuffling : Yes

Correct Marks : 1 Wrong Marks : 0.25

The sum of three fractions is  $4\frac{12}{24}$ . If the greatest fraction is divided by the smallest fraction, the result is  $\frac{9}{10}$ , which is greater than the middle fraction by  $\frac{1}{5}$ . The three fractions, respectively, are:

Options :

1. ✖  $\frac{9}{5}, \frac{7}{10}, 3$

2. ✖  $\frac{9}{5}, \frac{7}{10}, 4$

3. ✔  $\frac{9}{5}, \frac{7}{10}, 2$

4. ✖  $\frac{9}{5}, \frac{7}{10}, 0$

Question Number : 89 Question Id : 5096478695 Question Type : MCQ Option Shuffling : Yes

Correct Marks : 1 Wrong Marks : 0.25

तीन अंशों का योग  $4\frac{12}{24}$  है। यदि सबसे बड़े अंश को सबसे छोटे अंश से विभाजित किया जाता है, तो परिणाम  $\frac{9}{10}$  होता है, जो कि मध्य वाले अंश से  $\frac{1}{5}$  बड़ा है। क्रमशः तीनों अंश पता करें:

Options :

1. ✖  $\frac{9}{5}, \frac{7}{10}, 3$

2. ✘  $\frac{9}{5}, \frac{7}{10}, 4$

3. ✔  $\frac{9}{5}, \frac{7}{10}, 2$

4. ✘  $\frac{9}{5}, \frac{7}{10}, 0$

Question Number : 90 Question Id : 5096478696 Question Type : MCQ Option Shuffling : Yes

Correct Marks : 1 Wrong Marks : 0.25

Sachin read  $\frac{1}{8}$ <sup>th</sup> of a book on a day and  $\frac{3}{7}$  of the remainder on the second day. If the number of pages still unread were 320, then how many pages did the book contain?

Options :

1. ✔ 640

2. ✘ 320

3. ✘ 160

4. ✘ 80

Question Number : 90 Question Id : 5096478696 Question Type : MCQ Option Shuffling : Yes

Correct Marks : 1 Wrong Marks : 0.25

सचिन ने एक दिन में एक पुस्तक का  $\frac{1}{8}$ वां हिस्सा पढ़ा और दूसरे दिन शेष  $\frac{3}{7}$ वां हिस्सा पढ़ा। यदि अभी भी 320 पृष्ठ पढ़े जाने शेष थे, तो पता करें कि पुस्तक में कितने पृष्ठ थे?

Options :

1. ✔ 640

2. ✘ 320

3. ✖ 160

4. ✖ 80

Question Number : 91 Question Id : 5096478697 Question Type : MCQ Option Shuffling : Yes

Correct Marks : 1 Wrong Marks : 0.25

What is the sum of the digits of the least number that leaves remainder 15 each time it is divided by 60, 80 and 90?

Options :

1. ✖ 10

2. ✖ 12

3. ✔ 15

4. ✖ 18

Question Number : 91 Question Id : 5096478697 Question Type : MCQ Option Shuffling : Yes

Correct Marks : 1 Wrong Marks : 0.25

एक सबसे छोटी संख्या जिसे 60, 80 और 90 से हर बार विभाजित करने पर 15 शेष बचता है, उस संख्या के अंकों का योग पता करें?

Options :

1. ✖ 10

2. ✖ 12

3. ✔ 15

4. ✖ 18

Question Number : 92 Question Id : 5096478698 Question Type : MCQ Option Shuffling : Yes

Correct Marks : 1 Wrong Marks : 0.25

The HCF and LCM of two numbers are 42 and 9282 respectively. If one of the numbers lies between 500 and 600, then what is the product of the digits of the other number?

Options :

1. ✔ 28

2. ✖ 120

3. ✖ 12

4. ✖ 10

Question Number : 92 Question Id : 5096478698 Question Type : MCQ Option Shuffling : Yes

Correct Marks : 1 Wrong Marks : 0.25

दो संख्याओं का महत्तम समापवर्त्य और लघुत्तम समापवर्त्य क्रमशः 42 और 9282 है। यदि उनमें से एक संख्या 500 और 600 के बीच आती है, तो दूसरी संख्या के अंकों का गुणन पता करें?

Options :

1. ✔ 28

2. ✖ 120

3. ✖ 12

4. ✖ 10

Question Number : 93 Question Id : 5096478699 Question Type : MCQ Option Shuffling : Yes

Correct Marks : 1 Wrong Marks : 0.25

What is the side of the largest possible square slab that can be paved on the floor of a room, whose measurements are 15 m \* 50 cm long and 8 m \* 50 cm broad? Also find the number of such slabs to pave the floor.

Note: For this question, discrepancy is found in question/answer. So, this question is ignored for all candidates.

Options :

1. 627

2. 327

3. 527

4. 427

Question Number : 93 Question Id : 5096478699 Question Type : MCQ Option Shuffling : Yes

Correct Marks : 1 Wrong Marks : 0.25

उस सबसे बड़ी संभव वर्गाकार स्लैब की भुजा पता करें, जो एक कमरे के फर्श पर बिछाई जा सकती है और जिसका माप लंबाई अनुसार 15 m \* 50 cm और चौड़ाई के अनुसार 8 m \* 50 cm है। इसके अलावा फर्श में बिछाने के लिए स्लैब की संख्या भी पता करें।

Note: For this question, discrepancy is found in question/answer. So, this question is ignored for all candidates.

Options :

1. 627

2. 327

3. 527

4. 427

Question Number : 94 Question Id : 5096478700 Question Type : MCQ Option Shuffling : Yes

Correct Marks : 1 Wrong Marks : 0.25

Two sisters Swapna and Sadhana had some savings in the ratio 6 : 7. They decided to buy a gift for their brother Raja, sharing the cost in the ratio 5 : 6. After they bought the gift, Swapna was left with  $\frac{2}{3}$ <sup>rd</sup> of her amount, whereas Sadhana was left with Rs. 161. Then the value of the gift (in rupees) is:

Options :

1. ✖ 150

2. ✖ 175

3. ✖ 164

4. ✔ 154

Question Number : 94 Question Id : 5096478700 Question Type : MCQ Option Shuffling : Yes

Correct Marks : 1 Wrong Marks : 0.25

दो बहनों स्वप्ना और साधना की बचत 6 : 7 के अनुपात में है। उन्होंने अपने भाई राजा के लिए एक उपहार खरीदने का फैसला किया, जिसमें 5 : 6 के अनुपात में खर्चा किया। उपहार खरीदने के बाद, स्वप्ना के पास अपनी राशि का  $\frac{2}{3}$  हिस्सा बचा, जबकि साधना के पास रुपये 161। उपहार का मूल्य (रुपये में) पता करें:

Options :

1. ✖ 150

2. ✖ 175

3. ✖ 164

4. ✔ 154

Question Number : 95 Question Id : 5096478701 Question Type : MCQ Option Shuffling : Yes

Correct Marks : 1 Wrong Marks : 0.25

Rs. 1880 is divided among Ram, Robert and Rahim such that Rs. 80 more than  $\frac{1}{5}$ <sup>th</sup> of Ram's share, Rs. 40 more than  $\frac{1}{7}$ <sup>th</sup> of Robert's share and Rs. 20 more than  $\frac{1}{17}$ <sup>th</sup> of Rahim's share all point to the same number. What is Rahim's share?

Options :

1. ✘ Rs. 100

2. ✔ Rs. 1360

3. ✘ Rs. 420

4. ✘ Rs. 1000

Question Number : 95 Question Id : 5096478701 Question Type : MCQ Option Shuffling : Yes

Correct Marks : 1 Wrong Marks : 0.25

रुपये 1880 को राम, रॉबर्ट और रहीम के बीच इस तरह विभाजित किया गया है कि राम के  $\frac{1}{5}$ <sup>वें</sup> हिस्से से रुपये 80 अधिक, रॉबर्ट के  $\frac{1}{7}$ <sup>वें</sup> हिस्से से रुपये 40 अधिक और रहीम के  $\frac{1}{17}$ <sup>वें</sup> हिस्से से रुपये 20 अधिक एक ही संख्या को इंगित करते हैं। रहीम का हिस्सा पता करें?

Options :

1. ✘ रुपये 100

2. ✔ रुपये 1360

3. ✘ रुपये 420

4. ✘ रुपये 1000

Question Number : 96 Question Id : 5096478702 Question Type : MCQ Option Shuffling : Yes

Correct Marks : 1 Wrong Marks : 0.25

Evaluate:

$$24 \text{ of } 52\% \text{ of } \frac{5}{156} \text{ of } 78\% \text{ of } \frac{7}{312} \text{ of } 100000 = ?$$

Options :

1. ✖ 70

2. ✖ 100

3. ✔ 700

4. ✖ 1000

Question Number : 96 Question Id : 5096478702 Question Type : MCQ Option Shuffling : Yes

Correct Marks : 1 Wrong Marks : 0.25

हल करें:

$$100000 \text{ का } \frac{7}{312} \text{ का } 78\% \text{ का } \frac{5}{156} \text{ का } 52\% \text{ का } 24 = ?$$

Options :

1. ✖ 70

2. ✖ 100

3. ✔ 700

4. ✖ 1000

Question Number : 97 Question Id : 5096478703 Question Type : MCQ Option Shuffling : Yes

Correct Marks : 1 Wrong Marks : 0.25

The population of a town is 1161600. If it has been increasing at the rate of 10% per annum, then what was the population of the town 2 years ago?



Options :

1. ✓ 960000

2. ✗ 106000

3. ✗ 860000

4. ✗ 100000

Question Number : 97 Question Id : 5096478703 Question Type : MCQ Option Shuffling : Yes

Correct Marks : 1 Wrong Marks : 0.25

एक कस्बे की जनसंख्या 1161600 है। यदि यह 10% प्रतिवर्ष की दर से बढ़ रही है, तो पता करें कि 2 वर्ष पहले कस्बे की जनसंख्या कितनी थी?

Options :

1. ✓ 960000

2. ✗ 106000

3. ✗ 860000

4. ✗ 100000

Question Number : 98 Question Id : 5096478704 Question Type : MCQ Option Shuffling : Yes

Correct Marks : 1 Wrong Marks : 0.25

From 2014 to 2015, the sale of a mobile phone decreased by 60%. If the sale in 2016 was the same as that in 2014, by what percent did it increase from 2015 to 2016?

Options :

1. ✗ 100%

2. ✓ 150%

3. ✗ 120%

4. ✗ 200%

Question Number : 98 Question Id : 5096478704 Question Type : MCQ Option Shuffling : Yes

Correct Marks : 1 Wrong Marks : 0.25

2014 से 2015 तक, मोबाइल फोन की बिक्री में 60% की गिरावट आई। यदि 2016 की बिक्री 2014 की बिक्री के बराबर ही थी, तो 2015 से 2016 तक बिक्री कितने प्रतिशत बढ़ी?

Options :

1. ✗ 100%

2. ✓ 150%

3. ✗ 120%

4. ✗ 200%

Question Number : 99 Question Id : 5096478705 Question Type : MCQ Option Shuffling : Yes

Correct Marks : 1 Wrong Marks : 0.25

A batsman had a certain average for 15 innings. In the sixteenth inning, he scored 156 runs, thereby increasing his average by 8 runs. What is his new average?

Options :

1. ✗ 28

2. ✗ 38

3. ✖ 20

4. ✔ 36

Question Number : 99 Question Id : 5096478705 Question Type : MCQ Option Shuffling : Yes

Correct Marks : 1 Wrong Marks : 0.25

एक बल्लेबाज की 15 पारियों की एक निश्चित औसत थी। लेकिन उसने सोलहवीं पारी में 156 रन बनाए, जिससे उसकी औसत 8 रन बढ़ गई। उसकी नई औसत पता करें?

Options :

1. ✖ 28

2. ✖ 38

3. ✖ 20

4. ✔ 36

Question Number : 100 Question Id : 5096478706 Question Type : MCQ Option Shuffling : Yes

Correct Marks : 1 Wrong Marks : 0.25

In a college, there are 600 students and their average marks are 45. If the average marks of passed students were 50 and of failed students were 30, then what is the number of students who have passed?

Options :

1. ✔ 450

2. ✖ 150

3. ✖ 350

4. ✖ 325

Question Number : 100 Question Id : 5096478706 Question Type : MCQ Option Shuffling : Yes

Correct Marks : 1 Wrong Marks : 0.25

एक कॉलेज में, 600 छात्र हैं और उनके औसत अंक 45 हैं। यदि उत्तीर्ण छात्रों के औसत अंक 50 और अनुत्तीर्ण छात्रों के औसत अंक 30 थे, तो उत्तीर्ण छात्रों की संख्या पता करें?

Options :

1. ✔ 450

2. ✖ 150

3. ✖ 350

4. ✖ 325

## Arithmetic Ability2

Group Number :	6
Group Id :	509647137
Group Maximum Duration :	0
Group Minimum Duration :	0
Show Attended Group? :	No
Edit Attended Group? :	No
Break time:	0
Group Marks:	20
Is this Group for Examiner?:	No
Revisit allowed for group Instructions? :	Yes
Maximum Instruction Time:	0
Minimum Instruction Time:	0

## Arithmetic Ability2

Section Id :	509647297
Section Number :	1
Section type :	Online

<b>Mandatory or Optional:</b>	Mandatory
<b>Number of Questions:</b>	20
<b>Number of Questions to be attempted:</b>	20
<b>Section Marks:</b>	20

<b>Sub-Section Number:</b>	1
<b>Sub-Section Id:</b>	509647429
<b>Question Shuffling Allowed :</b>	Yes

Question Number : 101 Question Id : 5096478707 Question Type : MCQ Option Shuffling : Yes

Correct Marks : 1 Wrong Marks : 0.25

Ravi sold two laptops for Rs. 18000 each. On one he gained 25% and on the other he lost 25%. What is his gain or loss percent on the whole transaction?

Options :

1. ✘ 6.25% profit

2. ✘ 5% profit

3. ✘ 5% loss

4. ✔ 6.25% loss

Question Number : 101 Question Id : 5096478707 Question Type : MCQ Option Shuffling : Yes

Correct Marks : 1 Wrong Marks : 0.25

रवि ने प्रति लैपटॉप रुपये 18000 के हिसाब से दो लैपटॉप बेचे। उसे एक लैपटॉप पर 25% लाभ हुआ और दूसरे लैपटॉप पर 25% हानि हुई। उसे पूरे लेन-देन पर हुए लाभ या हानि का प्रतिशत पता करें?

Options :

1. ✘ 6.25% लाभ

2. ✘ 5% लाभ

3. ✘ 5% हानि

4. ✓ 6.25% हानि

Question Number : 102 Question Id : 5096478708 Question Type : MCQ Option Shuffling : Yes

Correct Marks : 1 Wrong Marks : 0.25

If Ajay purchased 30 chocolates for Rs. 75 and sold 16 chocolates for Rs. 50, then what is his gain percentage?

Options :

1. ✗ 20%

2. ✓ 25%

3. ✗ 30%

4. ✗ 15%

Question Number : 102 Question Id : 5096478708 Question Type : MCQ Option Shuffling : Yes

Correct Marks : 1 Wrong Marks : 0.25

यदि अजय ने रुपये 75 में 30 चॉकलेट खरीदे है और रुपये 50 के 16 चॉकलेट बेच दिए, तो उसका लाभ प्रतिशत पता करें?

Options :

1. ✗ 20%

2. ✓ 25%

3. ✗ 30%

4. ✗ 15%

Question Number : 103 Question Id : 5096478709 Question Type : MCQ Option Shuffling : Yes

Correct Marks : 1 Wrong Marks : 0.25

Radhika sold an article for a profit of 60%. If she had bought it at 60% less and sold for Rs. 23 less, she would have gained 70%. What is the cost price of the article (in rupees)?

Options :

1. ✘ 20

2. ✘ 30

3. ✔ 25

4. ✘ 40

Question Number : 103 Question Id : 5096478709 Question Type : MCQ Option Shuffling : Yes

Correct Marks : 1 Wrong Marks : 0.25

राधिका ने एक वस्तु को 60% लाभ पर बेचा। यदि उसने इसे 60% कम कीमत में खरीदा है और रुपये 23 कम में बेचा है, तो उसे 70% का लाभ फायदा होगा। वस्तु की लागत मूल्य (रुपये में) पता करें?

Options :

1. ✘ 20

2. ✘ 30

3. ✔ 25

4. ✘ 40

Question Number : 104 Question Id : 5096478710 Question Type : MCQ Option Shuffling : Yes

Correct Marks : 1 Wrong Marks : 0.25

A man bought bluetooth speakers marked at Rs. 7500, with a discount of 20% offered on the marked price. How much additional discount must be offered to the man to bring the net price to Rs. 5280?

Options :

1. ✓ 12%

2. ✘ 10%

3. ✘ 8%

4. ✘ 15%

Question Number : 104 Question Id : 5096478710 Question Type : MCQ Option Shuffling : Yes

Correct Marks : 1 Wrong Marks : 0.25

एक आदमी ने रुपये 7500 अंकित मूल्य वाले ब्लूटूथ स्पीकर 20% की छूट पर खरीदे। स्पीकर को रुपये 5280 के शुद्ध मूल्य पर खरीदने के लिए आदमी को कितनी अतिरिक्त छूट दी जानी चाहिए?

Options :

1. ✓ 12%

2. ✘ 10%

3. ✘ 8%

4. ✘ 15%

Question Number : 105 Question Id : 5096478711 Question Type : MCQ Option Shuffling : Yes

Correct Marks : 1 Wrong Marks : 0.25

Atul sold a carpet by allowing a discount of 40% on the marked price and thereby he incurred a loss of 30%. If he were to sell it at the marked price, his profit percent would have been:

Options :

1. ✘  $25\frac{2}{3}\%$



2. ✖ 25%

3. ✖ 16%

4. ✔  $16\frac{2}{3}\%$

Question Number : 105 Question Id : 5096478711 Question Type : MCQ Option Shuffling : Yes

Correct Marks : 1 Wrong Marks : 0.25

अतुल ने अंकित मूल्य पर 40% की छूट देकर एक कालीन बेचा और इससे उसे 30% की हानि हुई। यदि वह इसे अंकित मूल्य पर बेचता, तो उसका लाभ प्रतिशत कितना होता:

Options :

1. ✖  $25\frac{2}{3}\%$

2. ✖ 25%

3. ✖ 16%

4. ✔  $16\frac{2}{3}\%$

Question Number : 106 Question Id : 5096478712 Question Type : MCQ Option Shuffling : Yes

Correct Marks : 1 Wrong Marks : 0.25

What will be the simple interest for 1 year and 8 months on a sum of Rs. 51600 at the rate of 12% per annum?

Options :

1. ✖ Rs. 9320

2. ✔ Rs. 10320

3. ✖ Rs. 11320

4. ✖ Rs. 8320

Question Number : 106 Question Id : 5096478712 Question Type : MCQ Option Shuffling : Yes

Correct Marks : 1 Wrong Marks : 0.25

रुपये 51600 की राशि पर 12% वार्षिक की दर से 1 वर्ष और 8 महीने के लिए साधारण ब्याज क्या होगा?

Options :

1. ✖ ₹ 9320

2. ✔ ₹ 10320

3. ✖ ₹ 11320

4. ✖ ₹ 8320

Question Number : 107 Question Id : 5096478713 Question Type : MCQ Option Shuffling : Yes

Correct Marks : 1 Wrong Marks : 0.25

A sum of money amounts to Rs. 11100 at 8% per annum simple interest in 6 years. The simple interest on the same sum for 9 months at 7.5 % per annum is:

Options :

1. ✖ Rs. 420.875

2. ✖ Rs. 428.875

3. ✖ Rs. 431.875

4. ✓ Rs. 421.875

Question Number : 107 Question Id : 5096478713 Question Type : MCQ Option Shuffling : Yes

Correct Marks : 1 Wrong Marks : 0.25

एक निश्चित राशि 8% वार्षिक साधारण ब्याज की दर से 6 वर्षों में रुपये 11100 रुपये हो जाती है। तो इस निश्चित राशि पर 7.5% वार्षिक साधारण ब्याज की दर से 9 महीने के लिए साधारण ब्याज पता करें:

Options :

1. ✗ रुपये 420.875

2. ✗ रुपये 428.875

3. ✗ रुपये 431.875

4. ✓ रुपये 421.875

Question Number : 108 Question Id : 5096478714 Question Type : MCQ Option Shuffling : Yes

Correct Marks : 1 Wrong Marks : 0.25

A principal amounts to Rs. 4720 in 6 years and to Rs. 5200 in 8 years, each sum being invested at the same simple interest. The principal was:

Options :

1. ✓ Rs. 3280

2. ✗ Rs. 3180

3. ✗ Rs. 3080

4. ✗ Rs. 3380

Question Number : 108 Question Id : 5096478714 Question Type : MCQ Option Shuffling : Yes

Correct Marks : 1 Wrong Marks : 0.25

एक मूलधन 6 वर्षों में रुपये 4720 और 8 वर्षों में रुपये 5200 हो जाता है, प्रत्येक राशि को उसी साधारण ब्याज पर निवेश किया जा रहा है। तो पता करें कि मूलधन क्या था:

Options :

1. ✓ रुपये 3280

2. ✗ रुपये 3180

3. ✗ रुपये 3080

4. ✗ रुपये 3380

Question Number : 109 Question Id : 5096478715 Question Type : MCQ Option Shuffling : Yes

Correct Marks : 1 Wrong Marks : 0.25

The simple interest on a certain sum for 2 years is Rs. 600 and the compound interest is Rs. 645. What is the rate of interest?

Options :

1. ✗ 10%

2. ✗ 12%

3. ✓ 15%

4. ✗ 18%

Question Number : 109 Question Id : 5096478715 Question Type : MCQ Option Shuffling : Yes

Correct Marks : 1 Wrong Marks : 0.25

एक निश्चित राशि पर 2 वर्षों के लिए साधारण ब्याज रुपये 600 और चक्रवृद्धि ब्याज रुपये 645 है। ब्याज दर पता करें?

Options :

1. ✖ 10%

2. ✖ 12%

3. ✔ 15%

4. ✖ 18%

Question Number : 110 Question Id : 5096478716 Question Type : MCQ Option Shuffling : Yes

Correct Marks : 1 Wrong Marks : 0.25

A sum has been invested for 3 years, compounded at 6%, 12% and 24% respectively. In 3 years, if the sum amounts to Rs. 184016, find original sum.

Options :

1. ✖ Rs. 115000

2. ✔ Rs. 125000

3. ✖ Rs. 135000

4. ✖ Rs. 140000

Question Number : 110 Question Id : 5096478716 Question Type : MCQ Option Shuffling : Yes

Correct Marks : 1 Wrong Marks : 0.25

एक निश्चित राशि को क्रमशः 6%, 12% और 24% के मिश्रित ब्याज पर 3 वर्षों के लिए निवेश किया जाता है। 3 वर्षों में, यदि राशि रुपये 184016 हो जाती है, तो मूल राशि पता करें।

Options :

1. ✖ ₹ 115000

2. ✓ ₹ 125000

3. ✗ ₹ 135000

4. ✗ ₹ 140000

Question Number : 111 Question Id : 5096478717 Question Type : MCQ Option Shuffling : Yes  
Correct Marks : 1 Wrong Marks : 0.25

The diagonal of a cube is  $\sqrt{6912}$  cm. What is its volume (in  $\text{cm}^3$ )?

Options :

1. ✓ 110592

2. ✗ 110295

3. ✗ 110529

4. ✗ 101592

Question Number : 111 Question Id : 5096478717 Question Type : MCQ Option Shuffling : Yes  
Correct Marks : 1 Wrong Marks : 0.25

एक घन का विकर्ण  $\sqrt{6912}$  cm है। इसका आयतन ( $\text{cm}^3$  में) पता करें?

Options :

1. ✓ 110592

2. ✗ 110295

3. ✖ 110529

4. ✖ 101592

Question Number : 112 Question Id : 5096478718 Question Type : MCQ Option Shuffling : Yes

Correct Marks : 1 Wrong Marks : 0.25

The radius and height of a cone are each increased by 40%. Then the volume of the cone increases by:

Options :

1. ✖ 100%

2. ✖ 155.5%

3. ✔ 174.4%

4. ✖ 196.6%

Question Number : 112 Question Id : 5096478718 Question Type : MCQ Option Shuffling : Yes

Correct Marks : 1 Wrong Marks : 0.25

शंकु की त्रिज्या और ऊंचाई दोनों में 40% की वृद्धि की जाती है। तो पता करें कि शंकु के आयतन में कितनी वृद्धि हुई:

Options :

1. ✖ 100%

2. ✖ 155.5%

3. ✔ 174.4%

4. ✖ 196.6%

Question Number : 113 Question Id : 5096478719 Question Type : MCQ Option Shuffling : Yes

Correct Marks : 1 Wrong Marks : 0.25

A cylindrical vessel of radius of 8 cm contains water. A solid sphere of radius 6 cm is dipped into the water until it is completely immersed. The water level in the vessel will rise by:

Options :

1. ✖ 5.5 cm

2. ✖ 3.5 cm

3. ✖ 4.0 cm

4. ✔ 4.5 cm

Question Number : 113 Question Id : 5096478719 Question Type : MCQ Option Shuffling : Yes

Correct Marks : 1 Wrong Marks : 0.25

8 cm त्रिज्या वाले बेलनाकार बर्तन में कुछ पानी है। 6 cm त्रिज्या वाली एक ठोस गेंद को उसमें पूरी तरह से डुबोया जाता है। तो पता करें कि बर्तन में पानी का स्तर कितना बढ़ेगा:

Options :

1. ✖ 5.5 cm

2. ✖ 3.5 cm

3. ✖ 4.0 cm

4. ✔ 4.5 cm



Question Number : 114 Question Id : 5096478720 Question Type : MCQ Option Shuffling : Yes

Correct Marks : 1 Wrong Marks : 0.25

Sampath can finish a piece of work in 80 days. He works on it for 16 days, then leaves, and then Mohan finishes it in 32 days. Working together, how long will they take to complete the same work?

Options :

1. ✓  $26\frac{2}{3}$  days

2. ✗ 112 days

3. ✗  $25\frac{2}{3}$  days

4. ✗ 80 days

Question Number : 114 Question Id : 5096478720 Question Type : MCQ Option Shuffling : Yes

Correct Marks : 1 Wrong Marks : 0.25

संपत को एक कार्य पूरा करने में 80 दिन का समय लगता है। वह 16 दिनों तक इस पर काम करता है, फिर काम छोड़ देता है, और फिर मोहन इसे 32 दिनों में पूरा करता है। यदि दोनों एक-साथ मिलकर काम करें, उन्हें कार्य को पूरा करने में कितना समय लगेगा?

Options :

1. ✓  $26\frac{2}{3}$  दिन

2. ✗ 112 दिन

3. ✗  $25\frac{2}{3}$  दिन

4. ✗ 80 दिन

Question Number : 115 Question Id : 5096478721 Question Type : MCQ Option Shuffling : Yes

Correct Marks : 1 Wrong Marks : 0.25

A can finish a piece of work in 30 days and B can finish the same piece of work in 50 days. They start the work together, but B leaves after some time, and A finishes the work in 14 days. After how many days from the start did B leave?

Options :

1. ✘ 15 days

2. ✘ 12 days

3. ✔ 10 days

4. ✘ 20 days

Question Number : 115 Question Id : 5096478721 Question Type : MCQ Option Shuffling : Yes

Correct Marks : 1 Wrong Marks : 0.25

A को एक कार्य करने में 30 दिन का समय लगता है और B को यही काम करने में 50 दिन का समय लगता है। वे एक साथ काम करना शुरू करते हैं, लेकिन कुछ समय बाद B काम छोड़ देता है, और A 14 दिनों में काम पूरा करता है। तो पता करें कि कार्य शुरू होने के कितने दिनों बाद B ने काम छोड़ दिया था?

Options :

1. ✘ 15 दिन

2. ✘ 12 दिन

3. ✔ 10 दिन

4. ✘ 20 दिन

Question Number : 116 Question Id : 5096478722 Question Type : MCQ Option Shuffling : Yes

Correct Marks : 1 Wrong Marks : 0.25

An aeroplane covers a certain distance at a speed of 140 kmph in 7 hours. To cover the same distance in  $1\frac{4}{3}$  hours, it must travel at a speed of (in kmph):

Options :

1. ✓ 420

2. ✘ 720

3. ✘ 840

4. ✘ 520

Question Number : 116 Question Id : 5096478722 Question Type : MCQ Option Shuffling : Yes

Correct Marks : 1 Wrong Marks : 0.25

एक हवाई जहाज 140 kmph की गति से 7 घंटे में एक निश्चित दूरी तय करता है। इतनी ही दूरी को  $1\frac{4}{3}$  घंटे में पूरी करने के लिए, इसे कितनी गति (kmph में) से सफर तय करने होगा:

Options :

1. ✓ 420

2. ✘ 720

3. ✘ 840

4. ✘ 520

Question Number : 117 Question Id : 5096478723 Question Type : MCQ Option Shuffling : Yes

Correct Marks : 1 Wrong Marks : 0.25

Priya can cover a certain distance in 168 minutes by covering two-third of the distance at 8 km/h and the rest at 10km/h. What is the total distance covered by Priya?

Options :

1. ✘ 20 km

2. ✖ 15 km

3. ✖ 18 km

4. ✔ 24 km

Question Number : 117 Question Id : 5096478723 Question Type : MCQ Option Shuffling : Yes

Correct Marks : 1 Wrong Marks : 0.25

प्रिया एक निश्चित दूरी के दो-तिहाई हिस्से को 8 km/h और बाकी की दूरी को 10 km/h की गति से तय करती है जिसमें उसे 168 मिनट का समय लगता है। तो पता करें कि प्रिया ने कुल कितनी दूरी तय की?

Options :

1. ✖ 20 km

2. ✖ 15 km

3. ✖ 18 km

4. ✔ 24 km

Question Number : 118 Question Id : 5096478724 Question Type : MCQ Option Shuffling : Yes

Correct Marks : 1 Wrong Marks : 0.25

By riding a bike, Vijay crosses a bridge with the speed of 108 kmph. What is the length of the bridge, if he takes 8 min to cross the bridge?

Options :

1. ✖ 12200 m

2. ✔ 14400 m

3. ✖ 13600 m

4. ✖ 15000 m

Question Number : 118 Question Id : 5096478724 Question Type : MCQ Option Shuffling : Yes

Correct Marks : 1 Wrong Marks : 0.25

विजय बाइक पर 108 kmph की गति से एक पुल पार करता है। यदि उसे पुल पार करने में 8 min का समय लगा है, तो पुल की लंबाई पता करें?

Options :

1. ✖ 12200 m

2. ✔ 14400 m

3. ✖ 13600 m

4. ✖ 15000 m

Question Number : 119 Question Id : 5096478725 Question Type : MCQ Option Shuffling : Yes

Correct Marks : 1 Wrong Marks : 0.25

An international school has four sections of Class VIII students: S1, S2, S3, S4.

The results of Summative Assessment -1 and Summative Assessment-2 are shown in the table given below.

Result	No. of Students			
	Section S1	Section S2	Section S3	Section S4
Students failed in both Exams	56	46	34	54
Students failed in Summative Assessment-1 but passed in Summative Assessment-2	28	24	16	26
Students passed in Summative Assessment-1 but failed in Summative Assessment-2	12	34	18	30
Students passed in both Exams	128	110	92	152

Which section has the maximum pass percentage in at least one of the two examinations?

Options :

1. ✘ S2

2. ✘ S1

3. ✔ S4

4. ✘ S3

Question Number : 119 Question Id : 5096478725 Question Type : MCQ Option Shuffling : Yes

Correct Marks : 1 Wrong Marks : 0.25

एक अंतरराष्ट्रीय स्कूल में VIII कक्षा के छात्रों के चार सेक्शन हैं: S1, S2, S3, S4

नीचे दी गई तालिका में योगात्मक मूल्यांकन - 1 और योगात्मक मूल्यांकन - 2 के परिणाम दिए गए हैं।

परिणाम	छात्रों की संख्या			
	सेक्शन S1	सेक्शन S2	सेक्शन S3	सेक्शन S4
दोनों परीक्षाओं में विफल छात्र	56	46	34	54
योगात्मक मूल्यांकन - 1 में विफल लेकिन योगात्मक मूल्यांकन - 2 में सफल छात्र	28	24	16	26
योगात्मक मूल्यांकन - 1 में सफल लेकिन योगात्मक मूल्यांकन - 2 में विफल छात्र	12	34	18	30
दोनों परीक्षाओं में सफल छात्र	128	110	92	152

इनमें से किस सेक्शन ने कम से कम दो परीक्षाओं में अधिकतम उत्तीर्ण प्रतिशत प्राप्त की है?

Options :

1. ✘ S2

2. ✘ S1

3. ✔ S4

4. ✘ S3

Question Number : 120 Question Id : 5096478726 Question Type : MCQ Option Shuffling : Yes

Correct Marks : 1 Wrong Marks : 0.25

एक अंतरराष्ट्रीय स्कूल में VIII कक्षा के छात्रों के चार सेक्शन हैं: S1, S2, S3, S4

नीचे दी गई तालिका में योगात्मक मूल्यांकन - 1 और योगात्मक मूल्यांकन - 2 के परिणाम दिए गए हैं।

परिणाम	छात्रों की संख्या			
	सेक्शन S1	सेक्शन S2	सेक्शन S3	सेक्शन S4
दोनों परीक्षाओं में विफल छात्र	56	46	34	54
योगात्मक मूल्यांकन - 1 में विफल लेकिन योगात्मक मूल्यांकन - 2 में सफल छात्र	28	24	16	26
योगात्मक मूल्यांकन - 1 में सफल लेकिन योगात्मक मूल्यांकन - 2 में विफल छात्र	12	34	18	30
दोनों परीक्षाओं में सफल छात्र	128	110	92	152

इनमें से किस सेक्शन ने योगात्मक मूल्यांकन - 2 की परीक्षा में अधिकतम सफलता दर प्राप्त की है?

Options :

1. ✘ S4

2. ✔ S1

3. ✘ S2

4. ✘ S3

Question Number : 120 Question Id : 5096478726 Question Type : MCQ Option Shuffling : Yes

Correct Marks : 1 Wrong Marks : 0.25



An international school has four sections of Class VIII students: S1, S2, S3, S4.

The results of Summative Assessment -1 and Summative Assessment-2 are shown in the table given below.

Result	No. of Students			
	Section S1	Section S2	Section S3	Section S4
Students failed in both Exams	56	46	34	54
Students failed in Summative Assessment-1 but passed in Summative Assessment -2	28	24	16	26
Students passed in Summative Assessment-1 but failed in Summative Assessment-2	12	34	18	30
Students passed in both Exams	128	110	92	152

Which Section has the maximum success rate in Summative Assessment-2 Examination?

Options :

1. ✘ S4

2. ✔ S1

3. ✘ S2

4. ✘ S3

## General English1

Group Number :	7
Group Id :	509647138
Group Maximum Duration :	0
Group Minimum Duration :	0
Show Attended Group? :	No
Edit Attended Group? :	No
Break time:	0
Group Marks:	20
Is this Group for Examiner?:	No
Revisit allowed for group Instructions? :	Yes
Maximum Instruction Time:	0
Minimum Instruction Time:	0

# General English1

Section Id :	509647298
Section Number :	1
Section type :	Online
Mandatory or Optional:	Mandatory
Number of Questions:	20
Number of Questions to be attempted:	20
Section Marks:	20

Sub-Section Number:	1
Sub-Section Id:	509647430
Question Shuffling Allowed :	Yes

Question Number : 121 Question Id : 5096478727 Question Type : MCQ Option Shuffling : Yes  
Correct Marks : 1 Wrong Marks : 0.25

Fill in the blanks with the most appropriate word.

An interview is an excellent opportunity for a candidate to \_\_\_\_\_ himself or herself before the employer.

Options :

1. ✖ protect
2. ✖ perfect
3. ✔ project
4. ✖ prefect

Question Number : 121 Question Id : 5096478727 Question Type : MCQ Option Shuffling : Yes  
Correct Marks : 1 Wrong Marks : 0.25

Fill in the blanks with the most appropriate word.

An interview is an excellent opportunity for a candidate to \_\_\_\_\_ himself or herself before the employer.

Options :

1. ✖ protect
2. ✖ perfect

3. ✓ project

4. ✗ prefect

Question Number : 122 Question Id : 5096478728 Question Type : MCQ Option Shuffling : Yes

Correct Marks : 1 Wrong Marks : 0.25

Fill in the blanks with the most appropriate word.

Does that mean that you are against economic \_\_\_\_\_ in the country and want more controls?

Options :

1. ✓ liberalization

2. ✗ licentiousness

3. ✗ restriction

4. ✗ rashness

Question Number : 122 Question Id : 5096478728 Question Type : MCQ Option Shuffling : Yes

Correct Marks : 1 Wrong Marks : 0.25

Fill in the blanks with the most appropriate word.

Does that mean that you are against economic \_\_\_\_\_ in the country and want more controls?

Options :

1. ✓ liberalization

2. ✗ licentiousness

3. ✗ restriction

4. ✗ rashness

Question Number : 123 Question Id : 5096478729 Question Type : MCQ Option Shuffling : Yes

Correct Marks : 1 Wrong Marks : 0.25

Fill in the blanks with the most appropriate word.

Shreya's hard work and \_\_\_\_\_ paid rich dividends when his employer gave him a promotion.

Options :

1. ✖ preservation
2. ✖ prevarication
3. ✖ persistence
4. ✔ perseverance

Question Number : 123 Question Id : 5096478729 Question Type : MCQ Option Shuffling : Yes  
Correct Marks : 1 Wrong Marks : 0.25

Fill in the blanks with the most appropriate word.

Shreya's hard work and \_\_\_\_\_ paid rich dividends when his employer gave him a promotion.

Options :

1. ✖ preservation
2. ✖ prevarication
3. ✖ persistence
4. ✔ perseverance

Question Number : 124 Question Id : 5096478730 Question Type : MCQ Option Shuffling : Yes  
Correct Marks : 1 Wrong Marks : 0.25

Fill in the blanks with the most appropriate word.

Seeing the \_\_\_\_\_ errors in the report the Editor shouted at the trainee correspondents.

Options :

1. ✖ glowing

2. ✖ gleaming

3. ✔ glaring

4. ✖ glazing

Question Number : 124 Question Id : 5096478730 Question Type : MCQ Option Shuffling : Yes  
Correct Marks : 1 Wrong Marks : 0.25

Fill in the blanks with the most appropriate word.

Seeing the \_\_\_\_\_ errors in the report the Editor shouted at the trainee correspondents.

Options :

1. ✖ glowing

2. ✖ gleaming

3. ✔ glaring

4. ✖ glazing

Question Number : 125 Question Id : 5096478731 Question Type : MCQ Option Shuffling : Yes  
Correct Marks : 1 Wrong Marks : 0.25

Select the correct meaning of the idiom given.

Hand in glove

Options :

1. ✖ Wearing warm clothes

2. ✖ Trying to keep away from infection

3. ✔ In close association with

4. ✖ Unable to keep up with friends

Question Number : 125 Question Id : 5096478731 Question Type : MCQ Option Shuffling : Yes  
Correct Marks : 1 Wrong Marks : 0.25

Select the correct meaning of the idiom given.

Hand in glove

Options :

1. ✖ Wearing warm clothes
2. ✖ Trying to keep away from infection
3. ✔ In close association with
4. ✖ Unable to keep up with friends

Question Number : 126 Question Id : 5096478732 Question Type : MCQ Option Shuffling : Yes  
Correct Marks : 1 Wrong Marks : 0.25

Select the grammatically correct option to fill in the blanks.

When I entered the room it was dark so I \_\_\_\_\_ a match.

Options :

1. ✖ light
2. ✔ lit
3. ✖ lights
4. ✖ lighting

Question Number : 126 Question Id : 5096478732 Question Type : MCQ Option Shuffling : Yes  
Correct Marks : 1 Wrong Marks : 0.25

Select the grammatically correct option to fill in the blanks.

When I entered the room it was dark so I \_\_\_\_\_ a match.

Options :

1. ✖ light
2. ✔ lit

3. ✖ lights

4. ✖ lighting

Question Number : 127 Question Id : 5096478733 Question Type : MCQ Option Shuffling : Yes

Correct Marks : 1 Wrong Marks : 0.25

Select the grammatically correct option to fill in the blanks.

Do you think he is \_\_\_\_\_ right person to be made \_\_\_\_\_ Chief Minister of the State?

Options :

1. ✔ the, the

2. ✖ a, a

3. ✖ a, the

4. ✖ the, a

Question Number : 127 Question Id : 5096478733 Question Type : MCQ Option Shuffling : Yes

Correct Marks : 1 Wrong Marks : 0.25

Select the grammatically correct option to fill in the blanks.

Do you think he is \_\_\_\_\_ right person to be made \_\_\_\_\_ Chief Minister of the State?

Options :

1. ✔ the, the

2. ✖ a, a

3. ✖ a, the

4. ✖ the, a

Question Number : 128 Question Id : 5096478734 Question Type : MCQ Option Shuffling : Yes

Correct Marks : 1 Wrong Marks : 0.25

Select the grammatically correct option to fill in the blanks.

She didn't hesitate even \_\_\_\_\_ a moment before selecting the dress \_\_\_\_\_ her choice.

Options :

1. ✘ of, for
2. ✘ to, by
3. ✘ to, from
4. ✔ for, of

Question Number : 128 Question Id : 5096478734 Question Type : MCQ Option Shuffling : Yes  
Correct Marks : 1 Wrong Marks : 0.25

Select the grammatically correct option to fill in the blanks.

She didn't hesitate even \_\_\_\_\_ a moment before selecting the dress \_\_\_\_\_ her choice.

Options :

1. ✘ of, for
2. ✘ to, by
3. ✘ to, from
4. ✔ for, of

Question Number : 129 Question Id : 5096478735 Question Type : MCQ Option Shuffling : Yes  
Correct Marks : 1 Wrong Marks : 0.25

Select the grammatically correct option to fill in the blanks.

The person \_\_\_\_\_ we went to consult is a senior lawyer in this court.

Options :

1. ✘ who



2. ✓ whom

3. ✗ which

4. ✗ what

Question Number : 129 Question Id : 5096478735 Question Type : MCQ Option Shuffling : Yes  
Correct Marks : 1 Wrong Marks : 0.25

Select the grammatically correct option to fill in the blanks.

The person \_\_\_\_\_ we went to consult is a senior lawyer in this court.

Options :

1. ✗ who

2. ✓ whom

3. ✗ which

4. ✗ what

Question Number : 130 Question Id : 5096478736 Question Type : MCQ Option Shuffling : Yes  
Correct Marks : 1 Wrong Marks : 0.25

Select the grammatically correct option to fill in the blanks.

Tanvika is short but she \_\_\_\_\_ than Ritika.

Options :

1. ✗ more taller

2. ✗ tallest

3. ✓ taller

4. ✗ tall

Question Number : 130 Question Id : 5096478736 Question Type : MCQ Option Shuffling : Yes  
Correct Marks : 1 Wrong Marks : 0.25

Select the grammatically correct option to fill in the blanks.

Tanvika is short but she \_\_\_\_\_ than Ritika.

Options :

1. ✖ more taller
2. ✖ tallest
3. ✔ taller
4. ✖ tall

Question Number : 131 Question Id : 5096478737 Question Type : MCQ Option Shuffling : Yes  
Correct Marks : 1 Wrong Marks : 0.25

Select the correct passive form of the sentence.

Robert can speak three languages fluently.

Options :

1. ✔ Three languages can be spoken fluently by Robert
2. ✖ Three languages have been spoken fluently by Robert
3. ✖ Three languages are speaking fluently by Robert
4. ✖ Three languages are being spoken fluently by Robert

Question Number : 131 Question Id : 5096478737 Question Type : MCQ Option Shuffling : Yes  
Correct Marks : 1 Wrong Marks : 0.25

Select the correct passive form of the sentence.

Robert can speak three languages fluently.

Options :

1. ✔ Three languages can be spoken fluently by Robert
2. ✖ Three languages have been spoken fluently by Robert

3. ✖ Three languages are speaking fluently by Robert
4. ✖ Three languages are being spoken fluently by Robert

Question Number : 132 Question Id : 5096478738 Question Type : MCQ Option Shuffling : Yes  
Correct Marks : 1 Wrong Marks : 0.25

Select the correct direct form of the sentence.

She said that I had to see the doctor the following week.

Options :

1. ✖ She said, "you have seen the doctor next week."
2. ✔ She said, "you have to see the doctor next week."
3. ✖ She said, "you have to see the doctor the following week."
4. ✖ She said, "she will have to see the doctor next week."

Question Number : 132 Question Id : 5096478738 Question Type : MCQ Option Shuffling : Yes  
Correct Marks : 1 Wrong Marks : 0.25

Select the correct direct form of the sentence.

She said that I had to see the doctor the following week.

Options :

1. ✖ She said, "you have seen the doctor next week."
2. ✔ She said, "you have to see the doctor next week."
3. ✖ She said, "you have to see the doctor the following week."
4. ✖ She said, "she will have to see the doctor next week."

Question Number : 133 Question Id : 5096478739 Question Type : MCQ Option Shuffling : Yes  
Correct Marks : 1 Wrong Marks : 0.25

Select the grammatically correct option to fill in the blanks.

The tourist industry in India brings \_\_\_\_\_ a considerable foreign exchange.

Options :

1. ✘ out

2. ✘ up

3. ✘ on

4. ✔ in

Question Number : 133 Question Id : 5096478739 Question Type : MCQ Option Shuffling : Yes

Correct Marks : 1 Wrong Marks : 0.25

Select the grammatically correct option to fill in the blanks.

The tourist industry in India brings \_\_\_\_\_ a considerable foreign exchange.

Options :

1. ✘ out

2. ✘ up

3. ✘ on

4. ✔ in

Question Number : 134 Question Id : 5096478740 Question Type : MCQ Option Shuffling : Yes

Correct Marks : 1 Wrong Marks : 0.25

Select the grammatically correct option to fill in the blanks.

The superintendent of examinations told us that \_\_\_\_\_ and we could start writing after the bell rang.

Options :

1. ✔ nothing was the matter

2. ✖ there was no any matter

3. ✖ there wasn't any matter

4. ✖ nothing were the matter

Question Number : 134 Question Id : 5096478740 Question Type : MCQ Option Shuffling : Yes  
Correct Marks : 1 Wrong Marks : 0.25

Select the grammatically correct option to fill in the blanks.

The superintendent of examinations told us that \_\_\_\_\_ and we could start writing after the bell rang.

Options :

1. ✔ nothing was the matter

2. ✖ there was no any matter

3. ✖ there wasn't any matter

4. ✖ nothing were the matter

Question Number : 135 Question Id : 5096478741 Question Type : MCQ Option Shuffling : Yes  
Correct Marks : 1 Wrong Marks : 0.25

Select the grammatically correct option to fill in the blanks.

Diya has no confidence \_\_\_\_\_ her employees.

Options :

1. ✖ on

2. ✔ in

3. ✖ with

4. ✖ for

Question Number : 135 Question Id : 5096478741 Question Type : MCQ Option Shuffling : Yes  
Correct Marks : 1 Wrong Marks : 0.25

Select the grammatically correct option to fill in the blanks.

Diya has no confidence \_\_\_\_\_ her employees.

Options :

1. ✖ on
2. ✔ in
3. ✖ with
4. ✖ for

Question Number : 136 Question Id : 5096478742 Question Type : MCQ Option Shuffling : Yes  
Correct Marks : 1 Wrong Marks : 0.25

Given below are four segments of a sentence. Select the option that gives the correct order of the segments to form a logical sentence.

- A. are of ancient origin
- B. the games
- C. we now play
- D. most of

Options :

1. ✖ DACB
2. ✖ CBDA
3. ✔ DBCA
4. ✖ BACD

Question Number : 136 Question Id : 5096478742 Question Type : MCQ Option Shuffling : Yes  
Correct Marks : 1 Wrong Marks : 0.25

Given below are four segments of a sentence. Select the option that gives the correct order of the segments to form a logical sentence.

- A. are of ancient origin
- B. the games
- C. we now play
- D. most of

Options :

- 1. ✘ DACB
- 2. ✘ CBDA
- 3. ✔ DBCA
- 4. ✘ BACD

Question Number : 137 Question Id : 5096478743 Question Type : MCQ Option Shuffling : Yes  
Correct Marks : 1 Wrong Marks : 0.25

Given below are four segments of a sentence. Select the option that gives the correct order of the segments to form a logical sentence.

- A. has led to
- B. massive industrialization too
- C. of the environment
- D. serious pollution

Options :

- 1. ✔ BADC
- 2. ✘ DCAB

3. ✖ BCDA

4. ✖ CDBA

Question Number : 137 Question Id : 5096478743 Question Type : MCQ Option Shuffling : Yes  
Correct Marks : 1 Wrong Marks : 0.25

Given below are four segments of a sentence. Select the option that gives the correct order of the segments to form a logical sentence.

A. has led to

B. massive industrialization too

C. of the environment

D. serious pollution

Options :

1. ✔ BADC

2. ✖ DCAB

3. ✖ BCDA

4. ✖ CDBA

Question Number : 138 Question Id : 5096478744 Question Type : MCQ Option Shuffling : Yes  
Correct Marks : 1 Wrong Marks : 0.25

Given below are four segments of a sentence. Select the option that gives the correct order of the segments to form a logical sentence.

A. have ensured that the company

B. some clever steps

C. taken by the Chairman

D. gets brisk business



Options :

1. ✖ CABD

2. ✖ ABDC

3. ✔ BCAD

4. ✖ BADC

Question Number : 138 Question Id : 5096478744 Question Type : MCQ Option Shuffling : Yes

Correct Marks : 1 Wrong Marks : 0.25

Given below are four segments of a sentence. Select the option that gives the correct order of the segments to form a logical sentence.

A. have ensured that the company

B. some clever steps

C. taken by the Chairman

D. gets brisk business

Options :

1. ✖ CABD

2. ✖ ABDC

3. ✔ BCAD

4. ✖ BADC

Question Number : 139 Question Id : 5096478745 Question Type : MCQ Option Shuffling : Yes

Correct Marks : 1 Wrong Marks : 0.25

Given below are four segments of a sentence. Select the option that gives the correct order of the segments to form a logical sentence.

- A. naturally quiet and
- B. some people are
- C. others are speaking
- D. enjoy listening while

Options :

- 1. ✖ BCAD
- 2. ✖ BDCA
- 3. ✖ ACBD
- 4. ✔ BADC

Question Number : 139 Question Id : 5096478745 Question Type : MCQ Option Shuffling : Yes  
Correct Marks : 1 Wrong Marks : 0.25

Given below are four segments of a sentence. Select the option that gives the correct order of the segments to form a logical sentence.

- A. naturally quiet and
- B. some people are
- C. others are speaking
- D. enjoy listening while

Options :

- 1. ✖ BCAD
- 2. ✖ BDCA
- 3. ✖ ACBD

#### 4. ✓ BADC

Question Number : 140 Question Id : 5096478746 Question Type : MCQ Option Shuffling : Yes  
Correct Marks : 1 Wrong Marks : 0.25

Given below are four segments of a sentence. Select the option that gives the correct order of the segments to form a logical sentence.

- A. to think that computers
- B. they cannot
- C. can think like people
- D. it is very misleading

Options :

- 1. ✗ BACD
- 2. ✓ DACB
- 3. ✗ DBAC
- 4. ✗ ACBD

Question Number : 140 Question Id : 5096478746 Question Type : MCQ Option Shuffling : Yes  
Correct Marks : 1 Wrong Marks : 0.25

Given below are four segments of a sentence. Select the option that gives the correct order of the segments to form a logical sentence.

- A. to think that computers
- B. they cannot
- C. can think like people
- D. it is very misleading

Options :

1. ✘ BACD

2. ✔ DACB

3. ✘ DBAC

4. ✘ ACBD

## General English2

Group Number :	8
Group Id :	509647139
Group Maximum Duration :	0
Group Minimum Duration :	0
Show Attended Group? :	No
Edit Attended Group? :	No
Break time:	0
Group Marks:	20
Is this Group for Examiner?:	No
Revisit allowed for group Instructions? :	Yes
Maximum Instruction Time:	0
Minimum Instruction Time:	0

## General English2

Section Id :	509647299
Section Number :	1
Section type :	Online
Mandatory or Optional:	Mandatory
Number of Questions:	12
Number of Questions to be attempted:	12
Section Marks:	20

Sub-Section Number:	1
Sub-Section Id:	509647431
Question Shuffling Allowed :	Yes

Question Number : 141 Question Id : 5096478747 Question Type : MCQ Option Shuffling : Yes  
Correct Marks : 1 Wrong Marks : 0.25

Select the most appropriate synonym of the underlined word.

This winter the tree was devoid of any greenery.

Options :

1. ✖ crowd
2. ✖ decent
3. ✔ empty
4. ✖ cramped

Question Number : 141 Question Id : 5096478747 Question Type : MCQ Option Shuffling : Yes  
Correct Marks : 1 Wrong Marks : 0.25

Select the most appropriate synonym of the underlined word.

This winter the tree was devoid of any greenery.

Options :

1. ✖ crowd
2. ✖ decent
3. ✔ empty
4. ✖ cramped

Question Number : 142 Question Id : 5096478748 Question Type : MCQ Option Shuffling : Yes  
Correct Marks : 1 Wrong Marks : 0.25

Select the most appropriate synonym of the underlined word.

Compared with the abundant rainfall last year this year's rainfall here has been scanty.

Options :

1. ✖ scarce
2. ✖ common
3. ✖ limited
4. ✔ plentiful

Question Number : 142 Question Id : 5096478748 Question Type : MCQ Option Shuffling : Yes  
Correct Marks : 1 Wrong Marks : 0.25

Select the most appropriate synonym of the underlined word.

Compared with the abundant rainfall last year this year's rainfall here has been scanty.

Options :

1. ✖ scarce
2. ✖ common
3. ✖ limited
4. ✔ plentiful

Question Number : 143 Question Id : 5096478749 Question Type : MCQ Option Shuffling : Yes  
Correct Marks : 1 Wrong Marks : 0.25

Select the most appropriate synonym of the underlined word.

It is common to invite film stars to endorse cosmetic products.

Options :

1. ✖ discard
2. ✔ certify
3. ✖ reject
4. ✖ deny

Question Number : 143 Question Id : 5096478749 Question Type : MCQ Option Shuffling : Yes  
Correct Marks : 1 Wrong Marks : 0.25

Select the most appropriate synonym of the underlined word.

It is common to invite film stars to endorse cosmetic products.

Options :

1. ✖ discard

2. ✓ certify

3. ✗ reject

4. ✗ deny

Question Number : 144 Question Id : 5096478750 Question Type : MCQ Option Shuffling : Yes  
Correct Marks : 1 Wrong Marks : 0.25

Select the most appropriate synonym of the underlined word.

To deflect the child's attention, the mother showed him a new toy.

Options :

1. ✗ focus

2. ✗ involve

3. ✓ distract

4. ✗ comprise

Question Number : 144 Question Id : 5096478750 Question Type : MCQ Option Shuffling : Yes  
Correct Marks : 1 Wrong Marks : 0.25

Select the most appropriate synonym of the underlined word.

To deflect the child's attention, the mother showed him a new toy.

Options :

1. ✗ focus

2. ✗ involve

3. ✓ distract

4. ✗ comprise

Question Number : 145 Question Id : 5096478751 Question Type : MCQ Option Shuffling : Yes  
Correct Marks : 1 Wrong Marks : 0.25

Select the most appropriate synonym of the underlined word.

The fire accident caused a commotion in the neighbourhood.

Options :

1. ✖ movement

2. ✔ uproar

3. ✖ crowd

4. ✖ multitude

Question Number : 145 Question Id : 5096478751 Question Type : MCQ Option Shuffling : Yes

Correct Marks : 1 Wrong Marks : 0.25

Select the most appropriate synonym of the underlined word.

The fire accident caused a commotion in the neighbourhood.

Options :

1. ✖ movement

2. ✔ uproar

3. ✖ crowd

4. ✖ multitude

Question Number : 146 Question Id : 5096478752 Question Type : MCQ Option Shuffling : Yes

Correct Marks : 1 Wrong Marks : 0.25

Select the most appropriate antonym of the underlined word.

It would be a wonder if the player accedes to the umpire's decision of a no-ball.

Options :

1. ✖ surpasses

2. ✖ overcomes



3. ✓ rejects

4. ✗ consents

Question Number : 146 Question Id : 5096478752 Question Type : MCQ Option Shuffling : Yes

Correct Marks : 1 Wrong Marks : 0.25

Select the most appropriate antonym of the underlined word.

It would be a wonder if the player accedes to the umpire's decision of a no-ball.

Options :

1. ✗ surpasses

2. ✗ overcomes

3. ✓ rejects

4. ✗ consents

Question Number : 147 Question Id : 5096478753 Question Type : MCQ Option Shuffling : Yes

Correct Marks : 1 Wrong Marks : 0.25

Select the most appropriate antonym of the underlined word.

The notice requested all the residents to comply with rules and regulations regarding waste disposal.

Options :

1. ✗ Fulfil

2. ✓ Disobey

3. ✗ Agree

4. ✗ Settle

Question Number : 147 Question Id : 5096478753 Question Type : MCQ Option Shuffling : Yes

Correct Marks : 1 Wrong Marks : 0.25

Select the most appropriate antonym of the underlined word.

The notice requested all the residents to comply with rules and regulations regarding waste disposal.

Options :

1. ✘ Fulfil
2. ✔ Disobey
3. ✘ Agree
4. ✘ Settle

Question Number : 148 Question Id : 5096478754 Question Type : MCQ Option Shuffling : Yes  
Correct Marks : 1 Wrong Marks : 0.25

Select the most appropriate antonym of the underlined word.

The summer thunderstorms caused sporadic power shut downs.

Options :

1. ✘ random
2. ✘ tedious
3. ✔ regular
4. ✘ dreary

Question Number : 148 Question Id : 5096478754 Question Type : MCQ Option Shuffling : Yes  
Correct Marks : 1 Wrong Marks : 0.25

Select the most appropriate antonym of the underlined word.

The summer thunderstorms caused sporadic power shut downs.

Options :

1. ✖ random

2. ✖ tedious

3. ✔ regular

4. ✖ dreary

Question Number : 149 Question Id : 5096478755 Question Type : MCQ Option Shuffling : Yes

Correct Marks : 1 Wrong Marks : 0.25

Select the most appropriate antonym of the underlined word.

Films and television create an illusion of social behaviour that influences young minds.

Options :

1. ✔ reality

2. ✖ deception

3. ✖ imagination

4. ✖ dream

Question Number : 149 Question Id : 5096478755 Question Type : MCQ Option Shuffling : Yes

Correct Marks : 1 Wrong Marks : 0.25

Select the most appropriate antonym of the underlined word.

Films and television create an illusion of social behaviour that influences young minds.

Options :

1. ✔ reality

2. ✖ deception

3. ✖ imagination

4. ✖ dream

Question Number : 150 Question Id : 5096478756 Question Type : MCQ Option Shuffling : Yes

Correct Marks : 1 Wrong Marks : 0.25

Select the most appropriate antonym of the underlined word.

Her arguments in favour of the project were cogent and forceful.

Options :

1. ✓ **unconvincing**

2. ✗ **rational**

3. ✗ **strong**

4. ✗ **confusing**

Question Number : 150 Question Id : 5096478756 Question Type : MCQ Option Shuffling : Yes

Correct Marks : 1 Wrong Marks : 0.25

Select the most appropriate antonym of the underlined word.

Her arguments in favour of the project were cogent and forceful.

Options :

1. ✓ **unconvincing**

2. ✗ **rational**

3. ✗ **strong**

4. ✗ **confusing**

Sub-Section Number:	2
Sub-Section Id:	509647432
Question Shuffling Allowed :	Yes

Question Id : 5096478757 Question Type : COMPREHENSION Sub Question Shuffling Allowed : Yes Group Comprehension Questions : No

Question Numbers : (151 to 155)

Question Label : Comprehension

Read the following passage and answer the questions that follow.

The Sumerians were the first known people to settle in Mesopotamia over 7,000 years ago. Located in the southernmost part of Mesopotamia between the Tigris and Euphrates rivers (modern day Iraq), Sumer was often called the cradle of civilization. By the 4th millennium BC, it had established an advanced system of writing, spectacular arts and architecture, astronomy and mathematics. The Akkadians would follow the Sumerians, borrowing from their culture, producing a new language of their own, and creating the world's first empire.

The Sumerians were among the first known cultures to develop many benchmarks that are used to define a "civilization". They are credited with the establishing codes of law, the plough, the sailboat, and a lunar calendar. They also developed a numerical system, based on the number 60 that is still used to measure seconds and minutes. However, probably the most famous legacy is their writing system. The Sumerians devised one of the earliest writing system known as cuneiform or wedge-shaped symbols. The earliest known cuneiform inscriptions were found in the lower Tigris-Euphrates Valley in what is now south-eastern Iraq and date from about 3,000 BC. Writers made the symbols by pressing a pointed instrument called a stylus into wet clay tablets.

The Sumerians, however, did not invent paper and used a different medium for their cuneiform script. Documents and text were inscribed by the Sumerians on clay tablets, which has the advantage of greater durability than paper. One of the consequences of this is that a large number of Sumerian clay tablets have survived over the millennia and have been unearthed by archaeologists. Once the Sumerian language was deciphered, much information could be obtained from these tablets. The Sumerian language is considered to be a language isolate, which means that there is currently no known language related to it. This language emerged in the Sumerian civilization, which was based in southern Mesopotamia (modern day southern Iraq), and was first attested around 3100 BC. In the millennium that followed, the Sumerian civilization flourished and with it their language. During the 24th century BC, northern and southern Mesopotamia were unified under the Akkadians, who created the world's first empire. The Akkadian language gradually replaced Sumerian as a spoken language. Nevertheless, the Sumerian language continued as a written language for a much longer period of time, though its usage was greatly diminished. Written Akkadian ceased to be used around the beginning of the Christian period and Sumerian went extinct shortly before this happened.

## Sub questions

Question Number : 151 Question Id : 5096478758 Question Type : MCQ Option Shuffling : Yes

Correct Marks : 1 Wrong Marks : 0.25

This passage is mainly about the:

Options :

1. ✖ Spectacular arts and architecture of Mesopotamia
2. ✔ The unique contributions of the Sumerian civilization
3. ✖ The first-known people of Mesopotamia
4. ✖ The benchmarks of a great civilization

Question Number : 152 Question Id : 5096478759 Question Type : MCQ Option Shuffling : Yes

Correct Marks : 1 Wrong Marks : 0.25

The script of the Sumerian language was called:

Options :

1. ✖ Stylus
2. ✖ Isolate
3. ✔ Cuneiform
4. ✖ Wedge

Question Number : 153 Question Id : 5096478760 Question Type : MCQ Option Shuffling : Yes

Correct Marks : 1 Wrong Marks : 0.25

According to the passage the greatest contribution of the Sumerian civilization was the invention of :

Options :

1. ✖ codes of law
2. ✖ the plough, the sailboat, and a lunar calendar
3. ✖ a numerical system, based on the number 60
4. ✔ a system of writing

Question Number : 154 Question Id : 5096478761 Question Type : MCQ Option Shuffling : Yes

Correct Marks : 1 Wrong Marks : 0.25

How do we know about the Sumerian language?

Options :

1. \* The Akkadians's inscriptions on their monuments describe it.
2. \* Archaeologists have found references to it recorded in books.
3. ✓ Sumerian inscriptions were found on clay tablets.
4. \* The Akkadian language has written documents about it.

Question Number : 155 Question Id : 5096478762 Question Type : MCQ Option Shuffling : Yes  
Correct Marks : 1 Wrong Marks : 0.25

Which statement is not true according to the passage?

Options :

1. \* Akkadian language came later than the Sumerian language.
2. \* Sumerian clay tablets have survived over many million years.
3. ✓ The first empire was created by the Sumerians.
4. \* Northern and southern Mesopotamia were not unified under the Akkadians

Question Id : 5096478757 Question Type : COMPREHENSION Sub Question Shuffling Allowed : Yes Group Comprehension  
Questions : No  
Question Numbers : (151 to 155)

Question Label : Comprehension



Read the following passage and answer the questions that follow.

The Sumerians were the first known people to settle in Mesopotamia over 7,000 years ago. Located in the southernmost part of Mesopotamia between the Tigris and Euphrates rivers (modern day Iraq), Sumer was often called the cradle of civilization. By the 4th millennium BC, it had established an advanced system of writing, spectacular arts and architecture, astronomy and mathematics. The Akkadians would follow the Sumerians, borrowing from their culture, producing a new language of their own, and creating the world's first empire.

The Sumerians were among the first known cultures to develop many benchmarks that are used to define a "civilization". They are credited with the establishing codes of law, the plough, the sailboat, and a lunar calendar. They also developed a numerical system, based on the number 60 that is still used to measure seconds and minutes. However, probably the most famous legacy is their writing system. The Sumerians devised one of the earliest writing system known as cuneiform or wedge-shaped symbols. The earliest known cuneiform inscriptions were found in the lower Tigris-Euphrates Valley in what is now south-eastern Iraq and date from about 3,000 BC. Writers made the symbols by pressing a pointed instrument called a stylus into wet clay tablets.

The Sumerians, however, did not invent paper and used a different medium for their cuneiform script. Documents and text were inscribed by the Sumerians on clay tablets, which has the advantage of greater durability than paper. One of the consequences of this is that a large number of Sumerian clay tablets have survived over the millennia and have been unearthed by archaeologists. Once the Sumerian language was deciphered, much information could be obtained from these tablets. The Sumerian language is considered to be a language isolate, which means that there is currently no known language related to it. This language emerged in the Sumerian civilization, which was based in southern Mesopotamia (modern day southern Iraq), and was first attested around 3100 BC. In the millennium that followed, the Sumerian civilization flourished and with it their language. During the 24th century BC, northern and southern Mesopotamia were unified under the Akkadians, who created the world's first empire. The Akkadian language gradually replaced Sumerian as a spoken language. Nevertheless, the Sumerian language continued as a written language for a much longer period of time, though its usage was greatly diminished. Written Akkadian ceased to be used around the beginning of the Christian period and Sumerian went extinct shortly before this happened.

### Sub questions

Question Number : 151 Question Id : 5096478758 Question Type : MCQ Option Shuffling : Yes  
Correct Marks : 1 Wrong Marks : 0.25

This passage is mainly about the:

Options :

1. ✘ Spectacular arts and architecture of Mesopotamia
2. ✔ The unique contributions of the Sumerian civilization
3. ✘ The first-known people of Mesopotamia
4. ✘ The benchmarks of a great civilization

Question Number : 152 Question Id : 5096478759 Question Type : MCQ Option Shuffling : Yes  
Correct Marks : 1 Wrong Marks : 0.25

The script of the Sumerian language was called:

Options :

1. ✘ Stylus
2. ✘ Isolate
3. ✔ Cuneiform
4. ✘ Wedge

Question Number : 153 Question Id : 5096478760 Question Type : MCQ Option Shuffling : Yes  
Correct Marks : 1 Wrong Marks : 0.25

According to the passage the greatest contribution of the Sumerian civilization was the invention of :

Options :

1. ✘ codes of law
2. ✘ the plough, the sailboat, and a lunar calendar
3. ✘ a numerical system, based on the number 60
4. ✔ a system of writing

Question Number : 154 Question Id : 5096478761 Question Type : MCQ Option Shuffling : Yes  
Correct Marks : 1 Wrong Marks : 0.25

How do we know about the Sumerian language?

Options :

1. ✖ The Akkadians's inscriptions on their monuments describe it.
2. ✖ Archaeologists have found references to it recorded in books.
3. ✔ Sumerian inscriptions were found on clay tablets.
4. ✖ The Akkadian language has written documents about it.

Question Number : 155 Question Id : 5096478762 Question Type : MCQ Option Shuffling : Yes  
Correct Marks : 1 Wrong Marks : 0.25

Which statement is not true according to the passage?

Options :

1. ✖ Akkadian language came later than the Sumerian language.
2. ✖ Sumerian clay tablets have survived over many million years.
3. ✔ The first empire was created by the Sumerians.
4. ✖ Northern and southern Mesopotamia were not unified under the Akkadians

Sub-Section Number:	3
Sub-Section Id:	509647433
Question Shuffling Allowed :	Yes

Question Id : 5096478763 Question Type : COMPREHENSION Sub Question Shuffling Allowed : Yes Group Comprehension  
Questions : No  
Question Numbers : (156 to 160)

Question Label : Comprehension

Read the following passage and answer the questions that follow.

The world is full of possibilities and some folks are able to find jobs that one never imagined existed.

Take Surjeet, for example. The young gentleman is a train driver. Nothing unusual. But he drives a toy train that doesn't chug along in a zoo or an adventure park but in a city shopping mall.

"I spend the whole day driving the train here on the mall's ground floor," he says, as his four-coach train halts at the ticket counter—the service is operated by an adventure games company. The mall is huge and the rupees 200 joy-ride consists of two rounds that take about ten minutes.

One might naturally be curious about the series of circumstances that led Surjeet to such an unlikely line of employment. But it is not so surprising on following the arc of his life. He began his career at a 'fun park' in Silliguri, West Bengal, where he manned the counter at a video games parlour. Soon afterwards, he says, the park started a toy train service for kids and I successfully applied for the vacancy. He went on to do more such 'toy train jobs' in Kolkata and Raipur before settling down in this Gurugram mall some six months ago.

"I watch little children having such a good time and that makes me feel good," says the driver while waiting for a fresh batch of customers.

Some minutes later the mall starts echoing with the sound of bells. That's Surjeet warning the mall shoppers to make way for his express.

Sub questions

Question Number : 156 Question Id : 5096478764 Question Type : MCQ Option Shuffling : Yes  
Correct Marks : 1 Wrong Marks : 0.25

This passage is mainly about:

Options :

1. ✖ Making children feel happy
2. ✖ Enjoying one's tough job
3. ✔ Joining a different kind of profession
4. ✖ Working in a shopping mall

Question Number : 157 Question Id : 5096478765 Question Type : MCQ Option Shuffling : Yes  
Correct Marks : 1 Wrong Marks : 0.25

Which one of the following sums up Surjeet's career path?

Options :

1. ✖ He never dreamt of doing such work
2. ✖ His decision shocked his family
3. ✖ He had planned to apply for it all along
4. ✔ He worked in similar professions throughout

Question Number : 158 Question Id : 5096478766 Question Type : MCQ Option Shuffling : Yes  
Correct Marks : 1 Wrong Marks : 0.25

From the passage we can infer that Surjeet is:

Options :

1. ✖ Kind-hearted
2. ✖ Hard-working
3. ✔ Contented
4. ✖ Impatient

Question Number : 159 Question Id : 5096478767 Question Type : MCQ Option Shuffling : Yes  
Correct Marks : 1 Wrong Marks : 0.25

Where is the toy train being run?

Options :

1. ✖ In the fun park in the zoo

2. ✓ On the ground floor of a mall

3. ✖ Near a video games parlour

4. ✖ On a busy street

Question Number : 160 Question Id : 5096478768 Question Type : MCQ Option Shuffling : Yes  
Correct Marks : 1 Wrong Marks : 0.25

Which one of the following is NOT true about the passage?

Options :

1. ✓ Surjeet had worked with trains in a zoo

2. ✖ The joy-ride is organized by an adventure games company

3. ✖ Surjeet joined this job about six months ago

4. ✖ It is not all surprising that he is doing this job

Question Id : 5096478763 Question Type : COMPREHENSION Sub Question Shuffling Allowed : Yes Group Comprehension  
Questions : No

Question Numbers : (156 to 160)

Question Label : Comprehension

Read the following passage and answer the questions that follow.

The world is full of possibilities and some folks are able to find jobs that one never imagined existed.

Take Surjeet, for example. The young gentleman is a train driver. Nothing unusual. But he drives a toy train that doesn't chug along in a zoo or an adventure park but in a city shopping mall.

"I spend the whole day driving the train here on the mall's ground floor," he says, as his four-coach train halts at the ticket counter—the service is operated by an adventure games company. The mall is huge and the rupees 200 joy-ride consists of two rounds that take about ten minutes.

One might naturally be curious about the series of circumstances that led Surjeet to such an unlikely line of employment. But it is not so surprising on following the arc of his life. He began his career at a 'fun park' in Silliguri, West Bengal, where he manned the counter at a video games parlour. Soon afterwards, he says, the park started a toy train service for kids and I successfully applied for the vacancy. He went on to do more such 'toy train jobs' in Kolkata and Raipur before settling down in this Gurugram mall some six months ago.

"I watch little children having such a good time and that makes me feel good," says the driver while waiting for a fresh batch of customers.

Some minutes later the mall starts echoing with the sound of bells. That's Surjeet warning the mall shoppers to make way for his express.



Sub questions

Question Number : 156 Question Id : 5096478764 Question Type : MCQ Option Shuffling : Yes  
Correct Marks : 1 Wrong Marks : 0.25

This passage is mainly about:

Options :

1. ✘ Making children feel happy
2. ✘ Enjoying one's tough job
3. ✔ Joining a different kind of profession
4. ✘ Working in a shopping mall

Question Number : 157 Question Id : 5096478765 Question Type : MCQ Option Shuffling : Yes  
Correct Marks : 1 Wrong Marks : 0.25

Which one of the following sums up Surjeet's career path?

Options :

1. ✘ He never dreamt of doing such work
2. ✘ His decision shocked his family
3. ✘ He had planned to apply for it all along
4. ✔ He worked in similar professions throughout

Question Number : 158 Question Id : 5096478766 Question Type : MCQ Option Shuffling : Yes  
Correct Marks : 1 Wrong Marks : 0.25

From the passage we can infer that Surjeet is:

Options :

1. ✘ Kind-hearted
2. ✘ Hard-working
3. ✔ Contented
4. ✘ Impatient

Question Number : 159 Question Id : 5096478767 Question Type : MCQ Option Shuffling : Yes  
Correct Marks : 1 Wrong Marks : 0.25

Where is the toy train being run?

Options :

1. ✘ In the fun park in the zoo
2. ✔ On the ground floor of a mall
3. ✘ Near a video games parlour
4. ✘ On a busy street

Question Number : 160 Question Id : 5096478768 Question Type : MCQ Option Shuffling : Yes

Correct Marks : 1 Wrong Marks : 0.25

Which one of the following is NOT true about the passage?

Options :

1. ✔ Surjeet had worked with trains in a zoo
2. ✘ The joy-ride is organized by an adventure games company
3. ✘ Surjeet joined this job about six months ago
4. ✘ It is not all surprising that he is doing this job

## General Hindi1

Group Number :	9
Group Id :	509647140
Group Maximum Duration :	0
Group Minimum Duration :	0
Show Attended Group? :	No
Edit Attended Group? :	No
Break time:	0
Group Marks:	20
Is this Group for Examiner?:	No
Revisit allowed for group Instructions? :	Yes
Maximum Instruction Time:	0
Minimum Instruction Time:	0

## General Hindi1

Section Id :	509647300
Section Number :	1
Section type :	Online
Mandatory or Optional:	Mandatory
Number of Questions:	20
Number of Questions to be attempted:	20
Section Marks:	20

Sub-Section Number:	1
Sub-Section Id:	509647434
Question Shuffling Allowed :	Yes

Question Number : 161 Question Id : 5096478769 Question Type : MCQ Option Shuffling : Yes  
Correct Marks : 1 Wrong Marks : 0.25

शत शत निरङ्गर निङ्गारिणी कल मुखरित देवदारु कानन में पंक्ति में रेखांकित शब्द का अर्थ है:

Options :

1. ✓ जंगल
2. \* झरना
3. \* तड़ाग
4. \* भूधर

Question Number : 161 Question Id : 5096478769 Question Type : MCQ Option Shuffling : Yes  
Correct Marks : 1 Wrong Marks : 0.25

शत शत निरङ्गर निङ्गारिणी कल मुखरित देवदारु कानन में पंक्ति में रेखांकित शब्द का अर्थ है:

Options :

1. ✓ जंगल
2. \* झरना
3. \* तड़ाग
4. \* भूधर

Question Number : 162 Question Id : 5096478770 Question Type : MCQ Option Shuffling : Yes  
Correct Marks : 1 Wrong Marks : 0.25

बीती विभावरी जाग री। पंक्ति में रेखांकित का अर्थ नहीं है:

Options :

1. \* रात
2. \* निशा
3. \* रजनी
4. ✓ भोर

Question Number : 162 Question Id : 5096478770 Question Type : MCQ Option Shuffling : Yes  
Correct Marks : 1 Wrong Marks : 0.25

बीती विभावरी जाग री। पंक्ति में रेखांकित का अर्थ नहीं है:

Options :

1. \* रात
2. \* निशा
3. \* रजनी
4. ✓ भोर

Question Number : 163 Question Id : 5096478771 Question Type : MCQ Option Shuffling : Yes  
Correct Marks : 1 Wrong Marks : 0.25

‘इतिहास को जानने वाला’ के लिए एक शब्द होगा:

Options :

1. ✓ इतिहासज्ञ
2. \* इतिहासकार
3. \* ऐतिहासिक
4. \* पुरातत्ववेत्ता

Question Number : 163 Question Id : 5096478771 Question Type : MCQ Option Shuffling : Yes  
Correct Marks : 1 Wrong Marks : 0.25

‘इतिहास को जानने वाला’ के लिए एक शब्द होगा:

Options :

1. ✓ इतिहासज्ञ
2. \* इतिहासकार
3. \* ऐतिहासिक

## 4. \* पुरातत्ववेत्ता

Question Number : 164 Question Id : 5096478772 Question Type : MCQ Option Shuffling : Yes  
Correct Marks : 1 Wrong Marks : 0.25

‘कुल – कूल’ शब्द युग्म का अर्थ होगा:

Options :

1. \* किनारा - वंश
2. \* शेष - नदी
3. ✓ वंश - किनारा
4. \* तटस्थ - प्रसन्न

Question Number : 164 Question Id : 5096478772 Question Type : MCQ Option Shuffling : Yes  
Correct Marks : 1 Wrong Marks : 0.25

‘कुल – कूल’ शब्द युग्म का अर्थ होगा:

Options :

1. \* किनारा - वंश
2. \* शेष - नदी
3. ✓ वंश - किनारा
4. \* तटस्थ - प्रसन्न

Question Number : 165 Question Id : 5096478773 Question Type : MCQ Option Shuffling : Yes  
Correct Marks : 1 Wrong Marks : 0.25

कौन से वाक्य का अर्थ नष्ट करना है:

Options :

1. \* मेरे वस्त्र खराब हो गए।
2. ✓ मेरा समय खराब मत करो।
3. \* यहाँ की जलवायु खराब है।
4. \* वह बहुत खराब आदमी है।

Question Number : 165 Question Id : 5096478773 Question Type : MCQ Option Shuffling : Yes  
Correct Marks : 1 Wrong Marks : 0.25

कौन से वाक्य का अर्थ नष्ट करना है:

Options :

1. \* मेरे वस्त्र खराब हो गए।
2. ✓ मेरा समय खराब मत करो।
3. \* यहाँ की जलवायु खराब है।
4. \* वह बहुत खराब आदमी है।

Question Number : 166 Question Id : 5096478774 Question Type : MCQ Option Shuffling : Yes  
Correct Marks : 1 Wrong Marks : 0.25

“यह धन यौवन अस्थिर है सब” रेखांकित का भेद है:

Options :

1. ✓ भाववाची संज्ञा
2. \* सर्वनाम
3. \* विशेषण
4. \* क्रिया विशेषण

Question Number : 166 Question Id : 5096478774 Question Type : MCQ Option Shuffling : Yes  
Correct Marks : 1 Wrong Marks : 0.25

“यह धन यौवन अस्थिर है सब” रेखांकित का भेद है:

Options :

1. ✓ भाववाची संज्ञा
2. \* सर्वनाम
3. \* विशेषण
4. \* क्रिया विशेषण

Question Number : 167 Question Id : 5096478775 Question Type : MCQ Option Shuffling : Yes  
Correct Marks : 1 Wrong Marks : 0.25

“देखना दूध में कुछ पड़ा है।” सर्वनाम का भेद है:

Options :

1. \* प्रश्नवाचक सर्वनाम
2. ✓ अनिश्चयवाचक सर्वनाम
3. \* निश्चयवाचक सर्वनाम

## 4. \* निजवाचक सर्वनाम

Question Number : 167 Question Id : 5096478775 Question Type : MCQ Option Shuffling : Yes  
Correct Marks : 1 Wrong Marks : 0.25

“देखना दूध में कुछ पड़ा है।” सर्वनाम का भेद है:

Options :

1. \* प्रश्नवाचक सर्वनाम
2. ✓ अनिश्चयवाचक सर्वनाम
3. \* निश्चयवाचक सर्वनाम
4. \* निजवाचक सर्वनाम

Question Number : 168 Question Id : 5096478776 Question Type : MCQ Option Shuffling : Yes  
Correct Marks : 1 Wrong Marks : 0.25

‘मर्म’ का विशेषण होगा:

Options :

1. ✓ मार्मिक
2. \* मर्मित
3. \* मारक
4. \* मृत

Question Number : 168 Question Id : 5096478776 Question Type : MCQ Option Shuffling : Yes  
Correct Marks : 1 Wrong Marks : 0.25

‘मर्म’ का विशेषण होगा:

Options :

1. ✓ मार्मिक
2. \* मर्मित
3. \* मारक
4. \* मृत

Question Number : 169 Question Id : 5096478777 Question Type : MCQ Option Shuffling : Yes  
Correct Marks : 1 Wrong Marks : 0.25

“मैं नहीं चढ़ सकता” में रेखांकित क्रिया है:

Options :

1. ✖ सकर्मक
2. ✔ अकर्मक
3. ✖ द्विकर्मक
4. ✖ प्रेरणार्थक

Question Number : 169 Question Id : 5096478777 Question Type : MCQ Option Shuffling : Yes  
Correct Marks : 1 Wrong Marks : 0.25

“मैं नहीं चढ़ सकता” में रेखांकित क्रिया है:

Options :

1. ✖ सकर्मक
2. ✔ अकर्मक
3. ✖ द्विकर्मक
4. ✖ प्रेरणार्थक

Question Number : 170 Question Id : 5096478778 Question Type : MCQ Option Shuffling : Yes  
Correct Marks : 1 Wrong Marks : 0.25

“वह घर के भीतर घुसा बैठा है”! वाक्य में रेखांकित पद है:

Options :

1. ✔ संबंधबोधक अव्यय
2. ✖ समुच्चयबोधक अव्यय
3. ✖ विस्मयादिबोधक अव्यय
4. ✖ निपात

Question Number : 170 Question Id : 5096478778 Question Type : MCQ Option Shuffling : Yes  
Correct Marks : 1 Wrong Marks : 0.25

“वह घर के भीतर घुसा बैठा है”! वाक्य में रेखांकित पद है:

Options :

1. ✔ संबंधबोधक अव्यय
2. ✖ समुच्चयबोधक अव्यय
3. ✖ विस्मयादिबोधक अव्यय



## 4. \* निपात

Question Number : 171 Question Id : 5096478779 Question Type : MCQ Option Shuffling : Yes  
Correct Marks : 1 Wrong Marks : 0.25

कौन-सा शब्द पुल्लिंग है?

Options :

1. \* आमदनी
2. \* उड़ान
3. \* सूरत
4. ✓ गोधन

Question Number : 171 Question Id : 5096478779 Question Type : MCQ Option Shuffling : Yes  
Correct Marks : 1 Wrong Marks : 0.25

कौन-सा शब्द पुल्लिंग है?

Options :

1. \* आमदनी
2. \* उड़ान
3. \* सूरत
4. ✓ गोधन

Question Number : 172 Question Id : 5096478780 Question Type : MCQ Option Shuffling : Yes  
Correct Marks : 1 Wrong Marks : 0.25

कौन सा शब्द स्त्रीलिंग है?

Options :

1. \* सत्य
2. \* भवन
3. \* प्रयास
4. ✓ धौंस

Question Number : 172 Question Id : 5096478780 Question Type : MCQ Option Shuffling : Yes  
Correct Marks : 1 Wrong Marks : 0.25

कौन सा शब्द स्त्रीलिंग है?

Options :

1. \* सत्य
2. \* भवन
3. \* प्रयास
4. ✓ धौंस

Question Number : 173 Question Id : 5096478781 Question Type : MCQ Option Shuffling : Yes  
Correct Marks : 1 Wrong Marks : 0.25

शीला को बुखार है। इस वाक्य के रेखांकित भाग में कारक है:

Options :

1. ✓ कर्ता
2. \* कर्म
3. \* करण
4. \* अधिकरण

Question Number : 173 Question Id : 5096478781 Question Type : MCQ Option Shuffling : Yes  
Correct Marks : 1 Wrong Marks : 0.25

शीला को बुखार है। इस वाक्य के रेखांकित भाग में कारक है:

Options :

1. ✓ कर्ता
2. \* कर्म
3. \* करण
4. \* अधिकरण

Question Number : 174 Question Id : 5096478782 Question Type : MCQ Option Shuffling : Yes  
Correct Marks : 1 Wrong Marks : 0.25

निम्नलिखित में से कौन-सी क्रिया प्रेरणार्थक है:

Options :

1. \* उड़ना
2. \* उठना
3. \* चलना

## 4. ✓ जगाना

Question Number : 174 Question Id : 5096478782 Question Type : MCQ Option Shuffling : Yes  
Correct Marks : 1 Wrong Marks : 0.25

निम्नलिखित में से कौन-सी क्रिया प्रेरणार्थाक है:

Options :

1. ✘ उड़ना
2. ✘ उठना
3. ✘ चलना
4. ✓ जगाना

Question Number : 175 Question Id : 5096478783 Question Type : MCQ Option Shuffling : Yes  
Correct Marks : 1 Wrong Marks : 0.25

कवि शब्द का स्त्रीलिंग बनेगा:

Options :

1. ✘ कवित्री
2. ✘ कवियित्री
3. ✘ कवियत्री
4. ✓ कवयित्री

Question Number : 175 Question Id : 5096478783 Question Type : MCQ Option Shuffling : Yes  
Correct Marks : 1 Wrong Marks : 0.25

कवि शब्द का स्त्रीलिंग बनेगा:

Options :

1. ✘ कवित्री
2. ✘ कवियित्री
3. ✘ कवियत्री
4. ✓ कवयित्री

Question Number : 176 Question Id : 5096478784 Question Type : MCQ Option Shuffling : Yes  
Correct Marks : 1 Wrong Marks : 0.25

निम्नलिखित में से कौन-सा वाक्य संयुक्त वाक्य है:

Options :

1. \* अगले सप्ताह मुझे विदेश जाना है।
2. ✓ कल मुझे दिल्ली फिर कलकत्ता जाना है।
3. \* मुझे पता चला की मुझे दिल्ली जाना है।
4. \* जब मैं घर गया तो मेहमान आए हुए थे।

Question Number : 176 Question Id : 5096478784 Question Type : MCQ Option Shuffling : Yes  
Correct Marks : 1 Wrong Marks : 0.25

निम्नलिखित में से कौन-सा वाक्य संयुक्त वाक्य है:

Options :

1. \* अगले सप्ताह मुझे विदेश जाना है।
2. ✓ कल मुझे दिल्ली फिर कलकत्ता जाना है।
3. \* मुझे पता चला की मुझे दिल्ली जाना है।
4. \* जब मैं घर गया तो मेहमान आए हुए थे।

Question Number : 177 Question Id : 5096478785 Question Type : MCQ Option Shuffling : Yes  
Correct Marks : 1 Wrong Marks : 0.25

निम्नलिखित में से सरल वाक्य छांटिए:

Options :

1. ✓ मेरे पिता जी घर पहुँच चुके हैं।
2. \* मैं आया और भाई चल पड़ा।
3. \* मैंने वहीं प्लॉट खरीदा जहाँ आप रहते हैं।
4. \* वह ऐसे चल रही थी, जैसे बीमार चलते हैं।

Question Number : 177 Question Id : 5096478785 Question Type : MCQ Option Shuffling : Yes  
Correct Marks : 1 Wrong Marks : 0.25

निम्नलिखित में से सरल वाक्य छांटिए:

Options :

1. ✓ मेरे पिता जी घर पहुँच चुके हैं।
2. \* मैं आया और भाई चल पड़ा।
3. \* मैंने वहीं प्लॉट खरीदा जहाँ आप रहते हैं।

4. \* वह ऐसे चल रही थी, जैसे बीमार चलते हैं।

Question Number : 178 Question Id : 5096478786 Question Type : MCQ Option Shuffling : Yes

Correct Marks : 1 Wrong Marks : 0.25

निम्नलिखित में से मिश्र वाक्य छाँटिए:

Options :

1. ✓ भाई ने कहा वह बीमार है
2. \* आज बाजार है, अतः कुछ नहीं मिलेगा
3. \* वह खाना खाकर गया
4. \* जैसा है, वैसा कोई हो नहीं सकता

Question Number : 178 Question Id : 5096478786 Question Type : MCQ Option Shuffling : Yes

Correct Marks : 1 Wrong Marks : 0.25

निम्नलिखित में से मिश्र वाक्य छाँटिए:

Options :

1. ✓ भाई ने कहा वह बीमार है
2. \* आज बाजार है, अतः कुछ नहीं मिलेगा
3. \* वह खाना खाकर गया
4. \* जैसा है, वैसा कोई हो नहीं सकता

Question Number : 179 Question Id : 5096478787 Question Type : MCQ Option Shuffling : Yes

Correct Marks : 1 Wrong Marks : 0.25

“जब मैं जवान था, बहुत काम करता था”। इस वाक्य में उपवाक्य का प्रकार बताइए।

Options :

1. ✓ कालवाचक क्रियाविशेषण उपवाक्य
2. \* स्थानवाचक क्रिया विशेषण उपवाक्य
3. \* रीतिवाचक क्रिया विशेषण उपवाक्य
4. \* परिमाणवाचक क्रिया विशेषण उपवाक्य

Question Number : 179 Question Id : 5096478787 Question Type : MCQ Option Shuffling : Yes

Correct Marks : 1 Wrong Marks : 0.25

“जब मैं जवान था, बहुत काम करता था”। इस वाक्य में उपवाक्य का प्रकार बताइए।

Options :

1. ✓ कालवाचक क्रियाविशेषण उपवाक्य
2. ✗ स्थानवाचक क्रिया विशेषण उपवाक्य
3. ✗ रीतिवाचक क्रिया विशेषण उपवाक्य
4. ✗ परिमाणवाचक क्रिया विशेषण उपवाक्य

Question Number : 180 Question Id : 5096478788 Question Type : MCQ Option Shuffling : Yes

Correct Marks : 1 Wrong Marks : 0.25

‘जहाँ वे रहते हैं वहीं एक सुन्दर होटल है’। उक्त वाक्य में उपवाक्य का प्रकार बताइए।

Options :

1. ✗ परिमाणवाचक क्रिया विशेषण उपवाक्य
2. ✗ रीतिवाचक क्रिया विशेषण उपवाक्य
3. ✓ स्थानवाचक क्रिया विशेषण उपवाक्य
4. ✗ समयवाचक क्रिया विशेषण उपवाक्य

Question Number : 180 Question Id : 5096478788 Question Type : MCQ Option Shuffling : Yes

Correct Marks : 1 Wrong Marks : 0.25

‘जहाँ वे रहते हैं वहीं एक सुन्दर होटल है’। उक्त वाक्य में उपवाक्य का प्रकार बताइए।

Options :

1. ✗ परिमाणवाचक क्रिया विशेषण उपवाक्य
2. ✗ रीतिवाचक क्रिया विशेषण उपवाक्य
3. ✓ स्थानवाचक क्रिया विशेषण उपवाक्य
4. ✗ समयवाचक क्रिया विशेषण उपवाक्य

General Hindi2

Group Id :	509647141
Group Maximum Duration :	0
Group Minimum Duration :	120
Show Attended Group? :	No
Edit Attended Group? :	No
Break time:	0
Group Marks:	20
Is this Group for Examiner?:	No
Revisit allowed for group Instructions? :	Yes
Maximum Instruction Time:	0
Minimum Instruction Time:	0

## General Hindi2

Section Id :	509647301
Section Number :	1
Section type :	Online
Mandatory or Optional:	Mandatory
Number of Questions:	12
Number of Questions to be attempted:	12
Section Marks:	20

Sub-Section Number:	1
Sub-Section Id:	509647435
Question Shuffling Allowed :	Yes

Question Number : 181 Question Id : 5096478789 Question Type : MCQ Option Shuffling : Yes  
Correct Marks : 1 Wrong Marks : 0.25

‘सुगन्धि’ का पर्यायवाची शब्द है:

Options :

1. \* सुषमा
2. ✓ सुरभि
3. \* इत्र
4. \* पुष्पित

Question Number : 181 Question Id : 5096478789 Question Type : MCQ Option Shuffling : Yes  
Correct Marks : 1 Wrong Marks : 0.25

‘सुगन्धि’ का पर्यायवाची शब्द है:

Options :

1. \* सुषमा
2. ✓ सुरभि

3. \* इत्र

4. \* पुष्पित

Question Number : 182 Question Id : 5096478790 Question Type : MCQ Option Shuffling : Yes

Correct Marks : 1 Wrong Marks : 0.25

‘पति’ के लिए इनमें से कौन-सा शब्द प्रयुक्त नहीं होता है।

Options :

1. \* कान्त

2. \* वल्लभ

3. \* भर्ता

4. ✓ कलत्र

Question Number : 182 Question Id : 5096478790 Question Type : MCQ Option Shuffling : Yes

Correct Marks : 1 Wrong Marks : 0.25

‘पति’ के लिए इनमें से कौन-सा शब्द प्रयुक्त नहीं होता है।

Options :

1. \* कान्त

2. \* वल्लभ

3. \* भर्ता

4. ✓ कलत्र

Question Number : 183 Question Id : 5096478791 Question Type : MCQ Option Shuffling : Yes

Correct Marks : 1 Wrong Marks : 0.25

‘लाल तिहारे नयन सर अचरज करें अचूक’ पंक्ति के रेखांकित पद का पर्याय नहीं है:

Options :

1. \* नेत्र

2. \* लोचन

3. \* दृग

4. ✓ मृगाक्षी

Question Number : 183 Question Id : 5096478791 Question Type : MCQ Option Shuffling : Yes

Correct Marks : 1 Wrong Marks : 0.25



‘लाल तिहारे नयन सर अचरज करें अचूक’ पंक्ति के रेखांकित पद का पर्याय नहीं है:

Options :

1. \* नेत्र
2. \* लोचन
3. \* दृग
4. ✓ मृगाक्षी

Question Number : 184 Question Id : 5096478792 Question Type : MCQ Option Shuffling : Yes  
Correct Marks : 1 Wrong Marks : 0.25

‘नर हो न निराश करो मन को’ पंक्ति में ‘नर’ शब्द का पर्याय है:

Options :

1. ✓ मानव
2. \* अजर
3. \* व्याध
4. \* मनसिज

Question Number : 184 Question Id : 5096478792 Question Type : MCQ Option Shuffling : Yes  
Correct Marks : 1 Wrong Marks : 0.25

‘नर हो न निराश करो मन को’ पंक्ति में ‘नर’ शब्द का पर्याय है:

Options :

1. ✓ मानव
2. \* अजर
3. \* व्याध
4. \* मनसिज

Question Number : 185 Question Id : 5096478793 Question Type : MCQ Option Shuffling : Yes  
Correct Marks : 1 Wrong Marks : 0.25

संसार शब्द का पर्याय नहीं है:

Options :

1. \* विश्व

2. \* जगत
3. \* दुनिया
4. ✓ सर्वस्व

Question Number : 185 Question Id : 5096478793 Question Type : MCQ Option Shuffling : Yes  
Correct Marks : 1 Wrong Marks : 0.25

संसार शब्द का पर्याय नहीं है:

Options :

1. \* विश्व
2. \* जगत
3. \* दुनिया
4. ✓ सर्वस्व

Question Number : 186 Question Id : 5096478794 Question Type : MCQ Option Shuffling : Yes  
Correct Marks : 1 Wrong Marks : 0.25

‘सार्थक’ शब्द का विलोम होता है:

Options :

1. ✓ निरर्थक
2. \* अर्थवान
3. \* साफल्य
4. \* निर्भात

Question Number : 186 Question Id : 5096478794 Question Type : MCQ Option Shuffling : Yes  
Correct Marks : 1 Wrong Marks : 0.25

‘सार्थक’ शब्द का विलोम होता है:

Options :

1. ✓ निरर्थक
2. \* अर्थवान
3. \* साफल्य
4. \* निर्भात

Question Number : 187 Question Id : 5096478795 Question Type : MCQ Option Shuffling : Yes  
Correct Marks : 1 Wrong Marks : 0.25

‘कृत्रिम’ शब्द का विलोम बताइए:

Options :

1. \* निर्मित
2. ✓ स्वाभाविक
3. \* बनावटी
4. \* सज्जा

Question Number : 187 Question Id : 5096478795 Question Type : MCQ Option Shuffling : Yes  
Correct Marks : 1 Wrong Marks : 0.25

‘कृत्रिम’ शब्द का विलोम बताइए:

Options :

1. \* निर्मित
2. ✓ स्वाभाविक
3. \* बनावटी
4. \* सज्जा

Question Number : 188 Question Id : 5096478796 Question Type : MCQ Option Shuffling : Yes  
Correct Marks : 1 Wrong Marks : 0.25

‘सामिष’ शब्द का विलोम होता है:

Options :

1. \* मांसाहार
2. \* फलाहार
3. \* सदाभिष
4. ✓ निरामिष

Question Number : 188 Question Id : 5096478796 Question Type : MCQ Option Shuffling : Yes  
Correct Marks : 1 Wrong Marks : 0.25

‘सामिष’ शब्द का विलोम होता है:

Options :

1. \* मांसाहार

2. ✖ फलाहार
3. ✖ सदामिष
4. ✔ निरामिष

Question Number : 189 Question Id : 5096478797 Question Type : MCQ Option Shuffling : Yes  
Correct Marks : 1 Wrong Marks : 0.25

‘उत्कृष्ट’ का विलोम होता है:

Options :

1. ✔ निकृष्ट
2. ✖ श्रेष्ठ
3. ✖ अपावन
4. ✖ उच्चतम

Question Number : 189 Question Id : 5096478797 Question Type : MCQ Option Shuffling : Yes  
Correct Marks : 1 Wrong Marks : 0.25

‘उत्कृष्ट’ का विलोम होता है:

Options :

1. ✔ निकृष्ट
2. ✖ श्रेष्ठ
3. ✖ अपावन
4. ✖ उच्चतम

Question Number : 190 Question Id : 5096478798 Question Type : MCQ Option Shuffling : Yes  
Correct Marks : 1 Wrong Marks : 0.25

‘जंगम’ का विलोम शब्द है:

Options :

1. ✔ स्थावर
2. ✖ गतिशील
3. ✖ चलायमान
4. ✖ चंचल

Question Number : 190 Question Id : 5096478798 Question Type : MCQ Option Shuffling : Yes

Correct Marks : 1 Wrong Marks : 0.25

‘जंगम’ का विलोम शब्द है:

Options :

1. ✓ स्थावर
2. ✗ गतिशील
3. ✗ चलायमान
4. ✗ चंचल

Sub-Section Number:	2
Sub-Section Id:	509647436
Question Shuffling Allowed :	Yes

Question Id : 5096478799 Question Type : COMPREHENSION Sub Question Shuffling Allowed : Yes Group Comprehension Questions : No

Question Numbers : (191 to 195)

Question Label : Comprehension

निम्नलिखित गद्यांश को पढ़कर उसके सही उत्तर दीजिये।

प्रकृति और मानव का सम्बन्ध अत्यंत प्राचीन है। प्रकृति का मानव से हृदय से और आत्मा जैसा सम्बन्ध है। आदिकाल से ही प्रकृति मानव की सहचरी रही है। आदिकाल में मानव ने प्रकृति की गोद में ही जन्म लिया और उसी से अपने भरण पोषण की सामग्री प्राप्त की। प्रकृति ने मानव जीवन को संपन्न किया। प्रकृति के उपकारों के कारण ही भारत के महान ऋषियों ने इसके तत्वों जैसे सूर्य, चन्द्रमा नदियाँ, पर्वत, वृक्ष, आदि को पवित्र मानते हुए उन्हें देवत्व का रूप प्रदान करके उनकी स्तुति की। पृथ्वी को माता कहकर सम्बोधित करने के पीछे भी मानव की प्रकृति के प्रति आभार प्रदर्शन की भावना ही निहित है। सभ्यता के विकास तथा वैज्ञानिक प्रगति के कारण मनुष्य प्रकृति को अपनी सहचरी के स्थान पर चेरी बनाने का दुःस्वप्न देखने लगा और उसने प्रकृति का दोहन शुरू कर दिया जिसका परिणाम उसे अनेक प्राकृतिक विपदाओं के रूप में झेलना पड़ा। मानव प्रकृति के गूढ़ रहस्यों को खोजने में संलग्न है तथा प्रकृति से विमुख होता जा रहा है। अदूरदर्शी एवं स्वार्थी मानव यह नहीं जानता कि प्रकृति ही उसके निर्माण, सृजन तथा विकास की जननी है। प्रकृति के बिना किसी प्रकार के विकास एवं प्रगति की कल्पना भी नहीं की जा सकती।

Sub questions

Question Number : 191 Question Id : 5096478800 Question Type : MCQ Option Shuffling : Yes  
Correct Marks : 1 Wrong Marks : 0.25

मानव ने अपने खाने पीने की चीजें कहाँ से ली हैं?

Options :

1. \* खेतों से
2. ✓ कुदरत से
3. \* प्रपातों से
4. \* एक-दूसरे से

Question Number : 192 Question Id : 5096478801 Question Type : MCQ Option Shuffling : Yes  
Correct Marks : 1 Wrong Marks : 0.25

गद्यांश के अनुसार मुनियों ने सूर्यादि की स्तुति की क्योंकि उन्होंने इन्हें माना है:

Options :

1. \* देव
2. \* पवित्र

3. ✓ उपकारी

4. \* जीवनदाता

Question Number : 193 Question Id : 5096478802 Question Type : MCQ Option Shuffling : Yes  
Correct Marks : 1 Wrong Marks : 0.25

गद्यांश के आधार पर बताइए कि पृथ्वी को माता कहकर मानव उसका:

Options :

1. ✓ आभार व्यक्त करना चाहता है

2. \* पालन करने का ऋणी है

3. \* वह मानव का भरण-पोषण करती है

4. \* वह अन्न जल प्रदान करती है

Question Number : 194 Question Id : 5096478803 Question Type : MCQ Option Shuffling : Yes  
Correct Marks : 1 Wrong Marks : 0.25

गद्यांश का मूल विषय है:

Options :

1. \* हृदय और आत्मा

2. ✓ प्रकृति और मानव

3. \* प्रकृति का ऋण

4. \* विकास एवं प्रगति

Question Number : 195 Question Id : 5096478804 Question Type : MCQ Option Shuffling : Yes  
Correct Marks : 1 Wrong Marks : 0.25

गद्यांश के अनुसार विकास एवं प्रगति आधार है:

Options :

1. \* विज्ञान

2. ✓ प्रकृति

3. \* अनुसंधान

4. \* सृजन

Question Id : 5096478799 Question Type : COMPREHENSION Sub Question Shuffling Allowed : Yes Group Comprehension  
Questions : No

Question Numbers : (191 to 195)

Question Label : Comprehension

निम्नलिखित गद्यांश को पढ़कर उसके सही उत्तर दीजिये।

प्रकृति और मानव का सम्बन्ध अत्यंत प्राचीन है। प्रकृति का मानव से हृदय से और आत्मा जैसा सम्बन्ध है। आदिकाल से ही प्रकृति मानव की सहचरी रही है। आदिकाल में मानव ने प्रकृति की गोद में ही जन्म लिया और उसी से अपने भरण पोषण की सामग्री प्राप्त की। प्रकृति ने मानव जीवन को संपन्न किया। प्रकृति के उपकारों के कारण ही भारत के महान ऋषियों ने इसके तत्वों जैसे सूर्य, चन्द्रमा नदियाँ, पर्वत, वृक्ष, आदि को पवित्र मानते हुए उन्हें देवत्व का रूप प्रदान करके उनकी स्तुति की। पृथ्वी को माता कहकर सम्बोधित करने के पीछे भी मानव की प्रकृति के प्रति आभार प्रदर्शन की भावना ही निहित है। सभ्यता के विकास तथा वैज्ञानिक प्रगति के कारण मनुष्य प्रकृति को अपनी सहचरी के स्थान पर चेरी बनाने का दुःस्वप्न देखने लगा और उसने प्रकृति का दोहन शुरू कर दिया जिसका परिणाम उसे अनेक प्राकृतिक विपदाओं के रूप में झेलना पड़ा। मानव प्रकृति के गूढ़ रहस्यों को खोजने में संलग्न है तथा प्रकृति से विमुख होता जा रहा है। अदूरदर्शी एवं स्वार्थी मानव यह नहीं जानता कि प्रकृति ही उसके निर्माण, सृजन तथा विकास की जननी है। प्रकृति के बिना किसी प्रकार के विकास एवं प्रगति की कल्पना भी नहीं की जा सकती।

Sub questions

Question Number : 191 Question Id : 5096478800 Question Type : MCQ Option Shuffling : Yes  
Correct Marks : 1 Wrong Marks : 0.25

मानव ने अपने खाने पीने की चीज़ें कहाँ से ली हैं?

Options :

1. ✖ खेतों से
2. ✔ कुदरत से



3. \* प्रपातों से

4. \* एक-दूसरे से

Question Number : 192 Question Id : 5096478801 Question Type : MCQ Option Shuffling : Yes

Correct Marks : 1 Wrong Marks : 0.25

गद्यांश के अनुसार मुनियों ने सूर्यादि की स्तुति की क्योंकि उन्होंने इन्हें माना है:

Options :

1. \* देव

2. \* पवित्र

3. ✓ उपकारी

4. \* जीवनदाता

Question Number : 193 Question Id : 5096478802 Question Type : MCQ Option Shuffling : Yes

Correct Marks : 1 Wrong Marks : 0.25

गद्यांश के आधार पर बताइए कि पृथ्वी को माता कहकर मानव उसका:

Options :

1. ✓ आभार व्यक्त करना चाहता है

2. \* पालन करने का ऋणी है

3. \* वह मानव का भरण-पोषण करती है

4. \* वह अन्न जल प्रदान करती है

Question Number : 194 Question Id : 5096478803 Question Type : MCQ Option Shuffling : Yes

Correct Marks : 1 Wrong Marks : 0.25

गद्यांश का मूल विषय है:

Options :

1. \* हृदय और आत्मा

2. ✓ प्रकृति और मानव

3. \* प्रकृति का ऋण

## 4. \* विकास एवं प्रगति

Question Number : 195 Question Id : 5096478804 Question Type : MCQ Option Shuffling : Yes  
Correct Marks : 1 Wrong Marks : 0.25

गद्यांश के अनुसार विकास एवं प्रगति आधार है:

Options :

1. \* विज्ञान
2. ✓ प्रकृति
3. \* अनुसंधान
4. \* सृजन

Sub-Section Number: 3  
Sub-Section Id: 509647437  
Question Shuffling Allowed : Yes

Question Id : 5096478805 Question Type : COMPREHENSION Sub Question Shuffling Allowed : Yes Group Comprehension Questions : No

Question Numbers : (196 to 200)

Question Label : Comprehension

निम्नलिखित गद्यांश को पढ़कर उसके सही उत्तर दीजिये।

भोर का झुटपुटा छँटने लगा था। शीतल, मंद-सुगन्धित हवा में ताज़गी और उत्फुल्लता बढ़ चली थी। तभी पूर्व के आकाश में, मंदिर के शिखर के ठीक पीछे से सूर्य का लाल अंगार-सा गोला उठा जो देखते-देखते पीताभ होकर सुनहरी रश्मियों का जाल-सा बनकर चकाचौंध पैदा करने लगा। क्षण-भर में ही असंख्य फूल मुस्करा उठे और देखते-देखते जाने कहाँ से सतरंगी तितलियां और मधु-लोभी भौरे उन पर मँडराने लगे। सारा दृश्य ही मनोमुग्धकारी हो उठा था।

Sub questions

Question Number : 196 Question Id : 5096478806 Question Type : MCQ Option Shuffling : Yes  
Correct Marks : 1 Wrong Marks : 0.25

गद्यांश में वर्णन है:

Options :

1. ✓ प्रातःकाल का

2. \* संध्या का
3. \* मध्याह्न का
4. \* प्रकाश का

Question Number : 197 Question Id : 5096478807 Question Type : MCQ Option Shuffling : Yes  
Correct Marks : 1 Wrong Marks : 0.25

‘पीताभ’ का अर्थ होता है:

Options :

1. \* पीने वाला
2. \* पिलाने वाला
3. ✓ पीली चमक वाला
4. \* सुनहरी

Question Number : 198 Question Id : 5096478808 Question Type : MCQ Option Shuffling : Yes  
Correct Marks : 1 Wrong Marks : 0.25

गद्यांश में जिक्र नहीं है:

Options :

1. ✓ हरी दूब का
2. \* पर्वतमालाओं का
3. \* तितलियों का
4. \* परवर्तमालाओं का

Question Number : 199 Question Id : 5096478809 Question Type : MCQ Option Shuffling : Yes  
Correct Marks : 1 Wrong Marks : 0.25

निम्नलिखित में से लेखक ने किसके साथ विशेषण का प्रयोग नहीं किया है?

Options :

1. ✓ ओसबिन्दु
2. \* मधुलोभी भौरें
3. \* सतरंगी तितलियाँ
4. \* असंख्य फूल

Question Number : 200 Question Id : 5096478810 Question Type : MCQ Option Shuffling : Yes  
Correct Marks : 1 Wrong Marks : 0.25

सोने की जाली जैसा क्या लग रहा है?

Note: For this question, discrepancy is found in question/answer. So, this question is ignored for all candidates.

Options :

1. मंदिर शिखर
2. सुनहरी रश्मियाँ
3. सुनहली धूप
4. अंगार-सा गोला

Question Id : 5096478805 Question Type : COMPREHENSION Sub Question Shuffling Allowed : Yes Group Comprehension Questions : No

Question Numbers : (196 to 200)

Question Label : Comprehension

निम्नलिखित गद्यांश को पढ़कर उसके सही उत्तर दीजिये।

भोर का झुटपुटा छँटने लगा था। शीतल, मंद-सुगन्धित हवा में ताज़गी और उत्फुल्लता बढ़ चली थी। तभी पूर्व के आकाश में, मंदिर के शिखर के ठीक पीछे से सूर्य का लाल अंगार-सा गोला उठा जो देखते-देखते पीताभ होकर सुनहरी रश्मियों का जाल-सा बनकर चकाचौंध पैदा करने लगा। क्षण-भर में ही असंख्य फूल मुस्करा उठे और देखते-देखते जाने कहाँ से सतरंगी तितलियाँ और मधु-लोभी भौरे उन पर मँडराने लगे। सारा दृश्य ही मनोमुग्धकारी हो उठा था।

Sub questions

Question Number : 196 Question Id : 5096478806 Question Type : MCQ Option Shuffling : Yes

Correct Marks : 1 Wrong Marks : 0.25

गद्यांश में वर्णन है:

Options :

1. ✓ प्रातःकाल का
2. \* संध्या का
3. \* मध्याह्न का

## 4. \* प्रकाश का

Question Number : 197 Question Id : 5096478807 Question Type : MCQ Option Shuffling : Yes  
Correct Marks : 1 Wrong Marks : 0.25

‘पीताम्भ’ का अर्थ होता है:

Options :

1. \* पीने वाला
2. \* पिलाने वाला
3. ✓ पीली चमक वाला
4. \* सुनहरी

Question Number : 198 Question Id : 5096478808 Question Type : MCQ Option Shuffling : Yes  
Correct Marks : 1 Wrong Marks : 0.25

गद्यांश में जिक्र नहीं है:

Options :

1. ✓ हरी दूब का
2. \* पर्वतमालाओं का
3. \* तितलियों का
4. \* परवर्तमालाओं का

Question Number : 199 Question Id : 5096478809 Question Type : MCQ Option Shuffling : Yes  
Correct Marks : 1 Wrong Marks : 0.25

निम्नलिखित में से लेखक ने किसके साथ विशेषण का प्रयोग नहीं किया है?

Options :

1. ✓ ओसबिन्दु
2. \* मधुलोभी भौरें
3. \* सतरंगी तितलियाँ
4. \* असंख्य फूल

Question Number : 200 Question Id : 5096478810 Question Type : MCQ Option Shuffling : Yes

Correct Marks : 1 Wrong Marks : 0.25

सोने की जाली जैसा क्या लग रहा है?

Note: For this question, discrepancy is found in question/answer. So, this question is ignored for all candidates.

Options :

1. मंदिर शिखर
2. सुनहरी रश्मियाँ
3. सुनहली धूप
4. अंगार-सा गोला