

Education Consultant India Ltd.

Notations :

1.Options shown in green color and with ✓ icon are correct.

2.Options shown in red color and with ✗ icon are incorrect.

Question Paper Name:	GRADE II DASS 18th July 2019 Shift 1
Subject Name:	GRADE II DASS
Creation Date:	2019-07-18 12:02:41
Duration:	120
Total Marks:	200
Display Marks:	Yes
Share Answer Key With Delivery Engine:	No
Actual Answer Key:	Yes
Calculator:	None
Magnifying Glass Required?:	No
Ruler Required?:	No
Eraser Required?:	No
Scratch Pad Required?:	No
Rough Sketch/Notepad Required?:	No
Protractor Required?:	No
Show Watermark on Console?:	Yes
Highlighter:	No
Auto Save on Console?:	No

Mental Ability1

Group Number :	1
Group Id :	509647162
Group Maximum Duration :	0
Group Minimum Duration :	0
Show Attended Group? :	No
Edit Attended Group? :	No
Break time:	0
Group Marks:	20
Is this Group for Examiner?:	No
Revisit allowed for group Instructions? :	Yes
Maximum Instruction Time:	0
Minimum Instruction Time:	0

Mental Ability1

Section Id :	509647322
Section Number :	1

Section type :	Online
Mandatory or Optional:	Mandatory
Number of Questions:	20
Number of Questions to be attempted:	20
Section Marks:	20

Sub-Section Number:	1
Sub-Section Id:	509647466
Question Shuffling Allowed :	Yes

Question Number : 1 Question Id : 5096479219 Question Type : MCQ Option Shuffling : Yes

Correct Marks : 1 Wrong Marks : 0.25

Select the letter cluster which is related to third letter cluster in the same way as the second letter cluster is related to first letter cluster.

PURSE : LSNOC :: DARING : ?

Options :

1. ✘ ZWNEKC

2. ✘ ZENGJB

3. ✘ ZYMGJC

4. ✔ ZYNGJC

Question Number : 1 Question Id : 5096479219 Question Type : MCQ Option Shuffling : Yes

Correct Marks : 1 Wrong Marks : 0.25

वह वर्ण समूह चुनें जो तीसरे वर्ण समूह से उसी तरह से संबंधित है, जिस तरह से दूसरा वर्ण समूह पहले वर्ण समूह से संबंधित है।

PURSE : LSNOC :: DARING : ?

Options :

1. ✘ ZWNEKC

2. ✘ ZENGJB

3. ✘ ZYMGJC

4. ✔ ZYNGJC

Question Number : 2 Question Id : 5096479220 Question Type : MCQ Option Shuffling : Yes

Correct Marks : 1 Wrong Marks : 0.25

Select the number which is related to third number in the same way as the second number is related to first number.

5332 : 94 :: 2842 : ?

Options :

1. ✘ 164

2. ✘ 174

3. ✔ 176

4. ✘ 197

Question Number : 2 Question Id : 5096479220 Question Type : MCQ Option Shuffling : Yes

Correct Marks : 1 Wrong Marks : 0.25

वह संख्या चुनें जो तीसरी संख्या से उसी तरह से संबंधित है, जिस तरह से दूसरी संख्या पहली संख्या से संबंधित है।

5332 : 94 :: 2842 : ?

Options :

1. ✘ 164

2. ✘ 174

3. ✓ 176

4. ✗ 197

Question Number : 3 Question Id : 5096479221 Question Type : MCQ Option Shuffling : Yes

Correct Marks : 1 Wrong Marks : 0.25

Three of the given four number pairs are similar in a certain manner while one is different. Choose the odd one out.

Options :

1. ✗ 235 : 52

2. ✗ 264 : 62

3. ✗ 996 : 83

4. ✓ 245 : 58

Question Number : 3 Question Id : 5096479221 Question Type : MCQ Option Shuffling : Yes

Correct Marks : 1 Wrong Marks : 0.25

चार प्रदत्त संख्या युग्मों में से तीन एक तरीके से समान हैं, जबकि उनमें से एक अलग है। इनमें से विषम चुनें।

Options :

1. ✗ 235 : 52

2. ✗ 264 : 62

3. ✗ 996 : 83

4. ✓ 245 : 58

Question Number : 4 Question Id : 5096479222 Question Type : MCQ Option Shuffling : Yes

Correct Marks : 1 Wrong Marks : 0.25

Four siblings are to share 5 pieces of cake amongst themselves. It was decided that the youngest amongst them would get to eat the extra piece. If

- Karan is one year younger than Raman.
- Raman is two years older than Gaurav, who is three years younger than Naman.

Who should get the extra piece of cake?

Options :

1. ✗ Naman

2. ✗ Karan

3. ✓ Gaurav

4. ✗ Raman

Question Number : 4 Question Id : 5096479222 Question Type : MCQ Option Shuffling : Yes

Correct Marks : 1 Wrong Marks : 0.25

चार भाई-बहनों को आपस में केक के 5 पीस बाँटने हैं। यह तय हुआ कि उनमें से सबसे छोटे को अतिरिक्त पीस खाने को मिलेगा।

यदि

- करण रमन से एक साल छोटा है।
- रमन गौरव से दो साल बड़ा है, जो नमन से तीन साल छोटा है।

इनमें से किसे केक का अतिरिक्त पीस मिलना चाहिए?

Options :

1. ✗ नमन

2. ✗ करण

3. ✓ गौरव

4. ✗ रमन

Question Number : 5 Question Id : 5096479223 Question Type : MCQ Option Shuffling : Yes

Correct Marks : 1 Wrong Marks : 0.25

Three of the given four letter cluster pairs are similar in a certain manner while one is different. Choose the odd one out.

Options :

1. ✗ ADMIRER : OFCGOBO

2. ✗ CHERISH : GJEPEPF

3. ✓ DURABLE : PSBYBHZ

4. ✗ BRACKET : CTDAQBH

Question Number : 5 Question Id : 5096479223 Question Type : MCQ Option Shuffling : Yes

Correct Marks : 1 Wrong Marks : 0.25

चार प्रदत्त वर्ण समूह युग्मों में से तीन एक तरीके से समान हैं, जबकि उनमें से एक अलग है। इनमें से विषम चुनें।

Options :

1. ✗ ADMIRER : OFCGOBO

2. ✗ CHERISH : GJEPEPF

3. ✓ DURABLE : PSBYBHZ

4. ✖ BRACKET : CTDAQBH

Question Number : 6 Question Id : 5096479224 Question Type : MCQ Option Shuffling : Yes

Correct Marks : 1 Wrong Marks : 0.25

Select the figure amongst the option figures which has the same characteristics as the two Problem figures.



Problem Figures

Options :



Question Number : 6 Question Id : 5096479224 Question Type : MCQ Option Shuffling : Yes

Correct Marks : 1 Wrong Marks : 0.25

इन वैकल्पिक आकृतियों में से वह आकृति चुनें जिसके अभिलक्षण दो समस्या आकृतियों के समान हैं।



Problem Figures

Options :



1. ✘



2. ✘



3. ✔



4. ✘

Question Number : 7 Question Id : 5096479225 Question Type : MCQ Option Shuffling : Yes

Correct Marks : 1 Wrong Marks : 0.25

Three of the given four word pairs are similar in a certain manner while one is different. Choose the odd one out.

Options :

1. ✘ Annoying : Exasperating

2. ✘ Busy : Swamped

3. ✓ Large : Indolent

4. ✘ Dangerous : Perilous

Question Number : 7 Question Id : 5096479225 Question Type : MCQ Option Shuffling : Yes
Correct Marks : 1 Wrong Marks : 0.25

चार प्रदत्त शब्द युग्मों में से तीन एक तरीके से समान हैं, जबकि उनमें से एक अलग है। इनमें से विषम चुनें।

Options :

1. ✘ कष्टकर : उत्तेजक

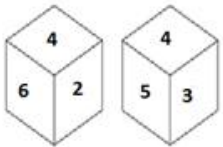
2. ✘ व्यस्त : अनूप

3. ✓ बड़ा : अकर्मण्य

4. ✘ खतरनाक : संकटमय

Question Number : 8 Question Id : 5096479226 Question Type : MCQ Option Shuffling : Yes
Correct Marks : 1 Wrong Marks : 0.25

Two different positions of the same dice, the faces of which are numbered 1 to 6, are shown below. Which number is on the face opposite the face showing 2?



Options :

1. ✘ 1

2. ✓ 3

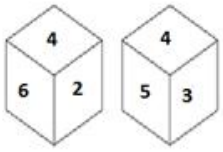
3. ✖ 5

4. ✖ 6

Question Number : 8 Question Id : 5096479226 Question Type : MCQ Option Shuffling : Yes

Correct Marks : 1 Wrong Marks : 0.25

एक ही डाइस (पासे) की दो विभिन्न स्थितियाँ, जिनके फलक को 1 से 6 तक अंकित किया गया है, नीचे दिखाए गए हैं। संख्या 2 दिखाने वाले फलक के विरुद्ध वाले फलक पर संख्या पता करें।



Options :

1. ✖ 1

2. ✔ 3

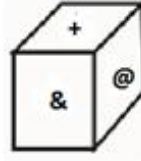
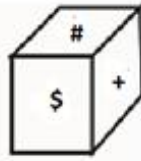
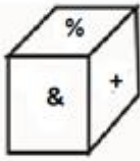
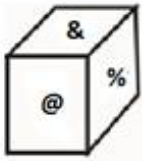
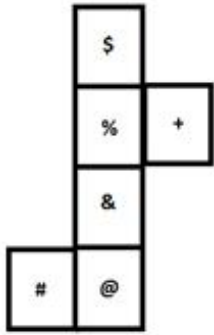
3. ✖ 5

4. ✖ 6

Question Number : 9 Question Id : 5096479227 Question Type : MCQ Option Shuffling : Yes

Correct Marks : 1 Wrong Marks : 0.25

Which of the following patterns of the dices can be formed when the sheet given below is folded?



Options :

1. ✘ Only 1 and 2

2. ✘ Only 2 and 3

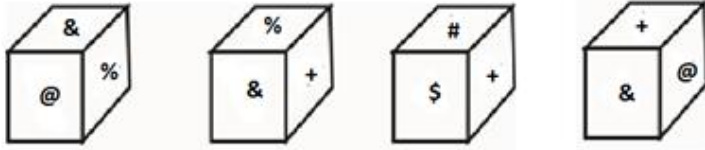
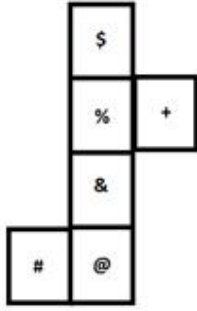
3. ✔ Only 2 and 4

4. ✘ Only 1 and 4

Question Number : 9 Question Id : 5096479227 Question Type : MCQ Option Shuffling : Yes

Correct Marks : 1 Wrong Marks : 0.25

जब प्रदत्त शीट को फ़ोल्ड किया जाता है, तब डाइस (पासे) के पैटर्न में से कौन सा पैटर्न बन सकता है?



Options :

1. ✘ केवल 1 और 2
2. ✘ केवल 2 और 3
3. ✔ केवल 2 और 4
4. ✘ केवल 1 और 4

Question Number : 10 Question Id : 5096479228 Question Type : MCQ Option Shuffling : Yes

Correct Marks : 1 Wrong Marks : 0.25

Jonita travels 25 m towards north from her home and reaches her shop. From there, she turns right and walks 35 m. Then she takes right turn and walks 15 m. Then she takes left turn and walks 20 m. She finally takes right turn and walks 30 m and reaches an ATM.

What is the approximate shortest distance between Jonita's shop and the ATM?

Options :

1. ✘ 70 m

2. ✓ 71 m

3. ✖ 73 m

4. ✖ 75 m

Question Number : 10 Question Id : 5096479228 Question Type : MCQ Option Shuffling : Yes

Correct Marks : 1 Wrong Marks : 0.25

जोनिता अपने घर से 25 m उत्तर की ओर चलकर अपनी दुकान पहुँचती है। वहाँ से वह दाईं ओर मुड़कर 35 m चलती है। फिर वह दाईं ओर मुड़कर 15 m चलती है। फिर वह बाईं ओर मुड़कर 20 m चलती है। अंत में वह दाईं ओर मुड़कर 30 m चलती है और एक एटीएम में पहुँच जाती है।

जोनिता की दुकान और एटीएम के बीच सन्निकट अल्पतम दूरी पता करें।

Options :

1. ✖ 70 m

2. ✓ 71 m

3. ✖ 73 m

4. ✖ 75 m

Question Number : 11 Question Id : 5096479229 Question Type : MCQ Option Shuffling : Yes

Correct Marks : 1 Wrong Marks : 0.25

Which number will replace the question mark in the given matrix?

12	58	5	2
14	79	6	5
18	56	4	16
39	90	3	?

Options :

1. ✖ 12

2. ✖ 35

3. ✖ 42

4. ✔ 27

Question Number : 11 Question Id : 5096479229 Question Type : MCQ Option Shuffling : Yes
Correct Marks : 1 Wrong Marks : 0.25

प्रदत्त आव्यूह में प्रश्न चिह्न के स्थान पर कौन सी संख्या आएगी?

12	58	5	2
14	79	6	5
18	56	4	16
39	90	3	?

Options :

1. ✖ 12

2. ✖ 35

3. ✖ 42

4. ✔ 27

Question Number : 12 Question Id : 5096479230 Question Type : MCQ Option Shuffling : Yes

Correct Marks : 1 Wrong Marks : 0.25

Four girls, A, B, C and D, and four boys, E, F, G and H are sitting around a round table facing the centre and at equal distance from each other. C is sitting between A and B. F is third to the left of B. D is sitting just opposite H. C is at equal distance from F from both left and right. B is sitting between two girls. G is at second left place of E.

Which of the following statement is NOT correct?

Options :

1. ✖ F is sitting between G and E.

2. ✖ D is sitting between B and E.

3. ✔ H is third to the left of B.

4. ✖ B and G are sitting opposite each other.

Question Number : 12 Question Id : 5096479230 Question Type : MCQ Option Shuffling : Yes

Correct Marks : 1 Wrong Marks : 0.25

चार लड़कियाँ A, B, C और D, और चार लड़के E, F, G और H एक गोल मेज़ के इर्द-गिर्द सामने की ओर देखते हुए एक दूसरे से समान दूरी पर बैठे हैं। C, A और B के बीच में बैठी है। F, B से बाईं ओर तीसरे स्थान पर बैठा है। D ठीक H के सामने बैठी है। C बाईं और दाईं ओर से F से समान दूरी पर बैठी है। B दो लड़कियों के बीच बैठी है। G, E से बाईं ओर दूसरे स्थान पर बैठा है।

इनमें से कौन सा कथन सही नहीं है?

Options :

1. ✖ F, G और E के बीच बैठा है।

2. ✖ D, B और E के बीच बैठी है।

3. ✔ H, B से बाईं ओर तीसरे स्थान पर बैठा है।

4. ✖ B और G एक दूसरे के सामने बैठे हैं।

Question Number : 13 Question Id : 5096479231 Question Type : MCQ Option Shuffling : Yes

Correct Marks : 1 Wrong Marks : 0.25

Eight persons P, Q, R, S, T, U, V and W are sitting clockwise around a circular table at equal distance clockwise from each other facing the centre. If R is sitting in North-west then which direction is U facing?

Options :

1. ✖ South – east

2. ✖ East

3. ✔ West

4. ✖ North – east

Question Number : 13 Question Id : 5096479231 Question Type : MCQ Option Shuffling : Yes

Correct Marks : 1 Wrong Marks : 0.25

आठ व्यक्ति P, Q, R, S, T, U, V और W एक गोल मेज़ के इर्द-गिर्द घड़ी की दिशा में सामने की ओर देखते हुए एक दूसरे से समान दूरी पर बैठे हैं। यदि R उत्तर - पश्चिम दिशा में है, तो U किस तरफ देख रहा है?

Options :

1. ✖ दक्षिण - पूर्व

2. ✖ पूर्व

3. ✓ पश्चिम

4. ✘ उत्तर - पूर्व

Question Number : 14 Question Id : 5096479232 Question Type : MCQ Option Shuffling : Yes

Correct Marks : 1 Wrong Marks : 0.25

Three teachers Priti, Rehman and Sanaya teach one of three subjects i.e. Molecular Biology, Biochemistry and Zoology to one of three batches A, B and C, but not necessarily in the same order. Priti does not teach Biochemistry. Rehman teaches Biochemistry to Batch B. Priti does not teach Batch A. Sanaya does not teach Molecular Biology. Batch A is not taught Biochemistry.

Which subject and batch is taught by Priti?

Options :

1. ✘ Molecular Biology – A

2. ✘ Zoology – A

3. ✓ Molecular Biology – C

4. ✘ Zoology – C

Question Number : 14 Question Id : 5096479232 Question Type : MCQ Option Shuffling : Yes

Correct Marks : 1 Wrong Marks : 0.25

तीन शिक्षक प्रीति, रहमान और सनाया, A, B और C तीन बैचों में से एक को आणविक जीव-विज्ञान, जैव-रसायन और प्राणी-विज्ञान में से कोई एक विषय पढ़ाते हैं, लेकिन ज़रूरी नहीं कि इसी कर्म में पढ़ाते हैं। प्रीति जैव-रसायन नहीं पढ़ाती है। रहमान बैच B को जैव-रसायन पढ़ाता है। प्रीति बैच A को नहीं पढ़ाती है। सनाया आणविक जीव-विज्ञान नहीं पढ़ाती है। बैच A को जैव-रसायन नहीं पढ़ाया जाता है।

प्रीति कौन सा विषय और किस बैच को पढ़ाती है।

Options :

1. ✘ आणविक जैव-विज्ञान - A

2. ✖ प्राणी-विज्ञान - A

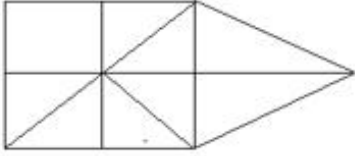
3. ✔ आणविक जैव-विज्ञान - C

4. ✖ प्राणी-विज्ञान - C

Question Number : 15 Question Id : 5096479233 Question Type : MCQ Option Shuffling : Yes

Correct Marks : 1 Wrong Marks : 0.25

Count the number of triangles in the given figure.



Options :

1. ✖ 11

2. ✖ 12

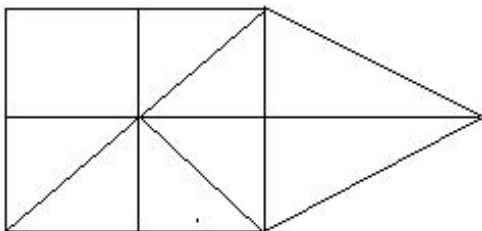
3. ✖ 10

4. ✔ 15

Question Number : 15 Question Id : 5096479233 Question Type : MCQ Option Shuffling : Yes

Correct Marks : 1 Wrong Marks : 0.25

प्रदत्त आकृति में त्रिभुजों की संख्या पता करें।



Options :

1. ✖ 11

2. ✖ 12

3. ✖ 10

4. ✔ 15

Question Number : 16 Question Id : 5096479234 Question Type : MCQ Option Shuffling : Yes

Correct Marks : 1 Wrong Marks : 0.25

Three statements are given, followed by three conclusions. The symbols used in them have meanings as follows:

P @ Q means P is neither smaller than nor greater than Q.

P # Q means P is neither greater than nor equal to Q.

P & Q means P is neither smaller than nor equal to Q.

P % Q means P is not greater than Q.

P \$ Q means P is not smaller than Q.

Now read the following statements and decide which of the conclusions is/are true.

Statements:

A & B

C @ D

B # D

Conclusions:

I. B # C

II. A % D

III. A # C

Options :

1. ✔ Only conclusion I is true.

2. ✖ Only conclusion II is true.

3. ✖ Only conclusion III is true.

4. ✖ All conclusions I, II and III are true.

Question Number : 16 Question Id : 5096479234 Question Type : MCQ Option Shuffling : Yes

Correct Marks : 1 Wrong Marks : 0.25

तीन कथन दिए गए हैं और उनके बाद तीन निष्कर्ष भी दिए गए हैं। इनमें प्रयुक्त प्रतीकों का अर्थ निम्नानुसार है:

P @ Q का अर्थ है कि P न तो Q से छोटा है और न बड़ा है।

P # Q का अर्थ है कि P न तो Q से बड़ा है और न बराबर है।

P & Q का अर्थ है कि P न तो Q से छोटा है और न बराबर है।

P % Q का अर्थ है कि P Q से बड़ा नहीं है।

P \$ Q का अर्थ है कि P Q से छोटा नहीं है।

अब निम्न कथनों को पढ़ें और तय करें कि इनमें से कौन सा/से निष्कर्ष सही है/हैं।

कथन:

A & B

C @ D

B # D

निष्कर्ष:

I. B # C

II. A % D

III. A # C

Options :

1. ✔ केवल निष्कर्ष I सही है।

2. ✖ केवल निष्कर्ष II सही है।

3. ✖ केवल निष्कर्ष III सही है।

4. ✖ सभी निष्कर्ष I, II और III सही हैं।

Question Number : 17 Question Id : 5096479235 Question Type : MCQ Option Shuffling : Yes

Correct Marks : 1 Wrong Marks : 0.25

Three statements are given, followed by four conclusions numbered I to IV. Assuming the statements to be true even if they seem to be at variance with commonly known facts, decide which of the conclusions logically follow(s) from the given statements.

Statements:

All wires are plastics.

Some wires are particles.

Some particles are rods.

Conclusions:

I. Some plastics are particles.

II. Some rods are wires.

III. No rod is wire.

IV. No plastic is particle.

Options :

1. ✘ Only conclusion I and II follow.

2. ✘ Either conclusion II or III follow.

3. ✔ Only conclusion I and either II or III follow.

4. ✘ Either conclusion I or IV and either II or III follow.

Question Number : 17 Question Id : 5096479235 Question Type : MCQ Option Shuffling : Yes

Correct Marks : 1 Wrong Marks : 0.25

तीन कथन दिए हैं और उसके बाद I से IV अंकित चार निष्कर्ष भी दिए गए हैं। मान लें कि कथन सही हैं, भले ही वास्तविक तथ्यों से परे हैं, तय करें कि कौन सा निष्कर्ष तार्किक रूप से प्रदत्त कथन का अनुसरण करता है।

कथन:

सभी तारें प्लास्टिक हैं।

कुछ तारें पार्टिकल हैं।

कुछ पार्टिकल रॉड हैं।

निष्कर्ष:

I. कुछ प्लास्टिक पार्टिकल हैं।

II. कुछ रॉड तारें हैं।

III. कोई रॉड तार नहीं है।

IV. कोई प्लास्टिक पार्टिकल नहीं है।

Options :

1. ✘ केवल निष्कर्ष I और II अनुसरण करते हैं।

2. ✘ निष्कर्ष II या III में से कोई अनुसरण करता है।

3. ✔ केवल निष्कर्ष I और II या III में से कोई अनुसरण करता है।

4. ✘ निष्कर्ष I या IV और निष्कर्ष II या III में से कोई अनुसरण करता है।

Question Number : 18 Question Id : 5096479236 Question Type : MCQ Option Shuffling : Yes

Correct Marks : 1 Wrong Marks : 0.25

A team of six persons is to be selected from among five boys, A, B, C, D and E, and five girls, P, Q, R, S and T, such that there are equal number of boys and girls in the team and it meets the following criteria:

- i. A and T cannot go together.
- ii. B and E cannot go together.
- iii. D and T must be together.
- iv. E and S have to be put together.
- v. R and T have to be put together.

Which of the following teams can be formed?

1. CRDETS
2. BQTESR
3. ASDERT
4. DQBTRC

Options :

1. ✖ 1 and 3

2. ✖ 2 and 3

3. ✔ 1 and 4

4. ✖ 1, 3 and 4

Question Number : 18 Question Id : 5096479236 Question Type : MCQ Option Shuffling : Yes

Correct Marks : 1 Wrong Marks : 0.25

पाँच लड़कों A, B, C, D और E, और पाँच लड़कियों P, Q, R, S और T में से कुछ इस प्रकार से छह की टीम चुनी जानी है कि टीम में लड़के और लड़कियों की संख्या बराबर हो और निम्न मानदंड पूरे करती हो:

- i. A और T एक साथ नहीं हो सकते।
- ii. B और E एक साथ नहीं हो सकते।
- iii. D और T एक साथ होने चाहिए।
- iv. E और S को एक साथ रखना होगा।
- v. R और T को एक साथ रखना होगा।

इनमें से कौन सी टीम बनायी जा सकती है?

1. CRDETS
2. BQTESR
3. ASDERT
4. DQBTRC

Options :

1. ✖ 1 और 3

2. ✖ 2 और 3

3. ✔ 1 और 4

4. ✖ 1, 3 और 4

Question Number : 19 Question Id : 5096479237 Question Type : MCQ Option Shuffling : Yes

Correct Marks : 1 Wrong Marks : 0.25

The criteria for selecting a candidate for the post of 'Software Engineer' are as follow.

The candidate:

1. must have passed Bachelor of Computer Applications (B.C.A.) examination with at least 70% marks.
2. must have secured more than 65% marks in the written test and more than 75% in the interview.
3. must not be less than 24 years and not more than 35 years of age as on 1 January 2019.

However, if a candidate fulfils all the above criteria EXCEPT:

- a. no. 2, but has got more than 80% marks in B.C.A. examination, his/her case is to be referred to the Senior Software Engineer.
- b. no. 3, but has completed M.C.A. with at least 75% marks, his/her case is to be referred to the Head (Software Development).

Based on the criteria given and without assuming any additional information, you have to a take a decision for the following candidate.

Pulkit completed B.C.A. with 82% marks. He was born on 24th December 1994. He has got 65% marks in the written test and 76% marks in the interview.

Options :

1. ✖ The candidate is to be selected.

2. ✖ The candidate is not to be selected.

3. ✔ The candidate's case is to be referred to the Senior Software Engineer.

4. ✖ The candidate's case is to be referred to Head (Software Development).

Question Number : 19 Question Id : 5096479237 Question Type : MCQ Option Shuffling : Yes

Correct Marks : 1 Wrong Marks : 0.25

'सॉफ्टवेयर इंजीनियर' के पद के लिए उम्मीदवार चुनने के लिए मानदंड निम्नानुसार हैं:

उम्मीदवार:

1. बैचलर ऑफ कंप्यूटर एप्लीकेशनस (B.C.A.) होना चाहिए और उसके न्यूनतम 70% अंक होने चाहिए।
2. लिखित परीक्षा में अंक 65% से अधिक होने चाहिए और साक्षात्कार में 75% से अधिक होने चाहिए।
3. 1 जनवरी 2019 तक उसकी उम्र 24 साल से कम या 35 साल से अधिक नहीं होनी चाहिए।

हालाँकि, यदि उम्मीदवार उक्त सभी मानदंड पूरे करता है, सिवाए:

- a. नं. 2, लेकिन उसके B.C.A. में 80% से अधिक अंक हैं, तो उसका मामला वरिष्ठ सॉफ्टवेयर इंजीनियर को भेजा जाएगा।
- b. नं. 3, लेकिन न्यूनतम 75% अंकों के साथ M.C.A. पूरी की है, तो उसका मामला प्रमुख (सॉफ्टवेयर डेवलपमेंट) को भेजा जाएगा।

प्रदत्त मानदंडों के आधार पर और किसी भी अतिरिक्त जानकारी पर गौर किए बिना, आपको निम्न उम्मीदवार के लिए फैसला लेना है।

पुलकित ने 82% अंकों के साथ B.C.A. पूरी की है। उसका जन्म 24 दिसंबर 1994 को हुआ था। उसके लिखित परीक्षा में 65% और साक्षात्कार में 76% अंक मिले हैं।

Options :

1. ✘ उम्मीदवार चुना जाना चाहिए।
2. ✘ उम्मीदवार को नहीं चुना जाना चाहिए।
3. ✔ उम्मीदवार के मामले को वरिष्ठ सॉफ्टवेयर इंजीनियर के पास भेज देना चाहिए।
4. ✘ उम्मीदवार के मामले को प्रमुख (सॉफ्टवेयर डेवलपमेंट) के पास भेज देना चाहिए।

Question Number : 20 Question Id : 5096479238 Question Type : MCQ Option Shuffling : Yes

Correct Marks : 1 Wrong Marks : 0.25

The criteria for selecting a candidate for the post of 'Legal Advisor' are as follow.

The candidate:

1. must have completed Master of Legislative Law (L.L.M.) with at least 75% marks.
2. must not be less than 24 years and not more than 35 years of age as on 1 January 2019.
3. must have at least two years experience of practising as a lawyer.

However, if a candidate fulfils all the above criteria EXCEPT:

- a. no. 2, but has got more than 4 years practising experience as a lawyer, his/her case is to be referred to the Senior Legal Advisor.
- b. no. 3, but is ready to fill a bond of not leaving the job for at least 2 years, his/her case is to be referred to the Director.

Based on the criteria given and without assuming any additional information, you have to a take a decision for the following candidate.

Tanya has done L.L.M. with 75% marks. She was born on December 30, 1994. She has got two years practising experience as a lawyer. She is ready to fill a bond of not leaving the job for two years.

Options :

1. ✓ The candidate is to be selected.
2. ✗ The candidate is not to be selected.
3. ✗ The candidate's case is to be referred to the Senior Legal Advisor.
4. ✗ The candidate's case is to be referred to the Director.

Question Number : 20 Question Id : 5096479238 Question Type : MCQ Option Shuffling : Yes
Correct Marks : 1 Wrong Marks : 0.25

‘विधि सलाहकार’ के पद के लिए उम्मीदवार चुनने के लिए मानदंड निम्नानुसार हैं:

उम्मीदवार:

1. मास्टर ऑफ लेजिस्लेटिव लॉ (L.L.M.) होना चाहिए और उसके न्यूनतम 75% अंक होने चाहिए।
2. 1 जनवरी 2019 तक उसकी उम्र 24 साल से कम या 35 साल से अधिक नहीं होनी चाहिए।
3. अधिवक्ता के रूप में काम करने का कम से कम दो साल का अनुभव होना चाहिए।

हालाँकि, यदि उम्मीदवार उक्त सभी मानदंड पूरे करता है, सिवाए:

- a. नं. 2, लेकिन उसके पास अधिवक्ता के रूप में काम करने का 4 सालों का अनुभव है, तो उसका मामला वरिष्ठ विधि सलाहकार को भेजा जाएगा।
- b. नं. 3, लेकिन 2 सालों तक नौकरी न छोड़ने का बॉन्ड भरने के लिए तैयार है, तो उसका मामला निदेशक को भेजा जाएगा।

प्रदत्त मानदंडों के आधार पर और किसी भी अतिरिक्त जानकारी पर गौर किए बिना, आपको निम्न उम्मीदवार के लिए फैसला लेना है।

तान्या ने 75% अंकों के साथ L.L.M. की है। उसका जन्म 30 दिसंबर 1994 को हुआ था। उसके पास दो सालों का अधिवक्ता के रूप में काम करने का अनुभव है। वह दो सालों तक नौकरी न छोड़ने का बांड भरने के लिए तैयार है।

Options :

1. ✓ उम्मीदवार चुना जाना चाहिए।
2. ✗ उम्मीदवार को नहीं चुना जाना चाहिए।
3. ✗ उम्मीदवार के मामले को वरिष्ठ विधि सलाहकार के पास भेज देना चाहिए।
4. ✗ उम्मीदवार के मामले को निदेशक के पास भेज देना चाहिए।

Mental Ability2

Group Number :

2

Group Id :

509647163

Group Maximum Duration :	0
Group Minimum Duration :	0
Show Attended Group? :	No
Edit Attended Group? :	No
Break time:	0
Group Marks:	20
Is this Group for Examiner?:	No
Revisit allowed for group Instructions? :	Yes
Maximum Instruction Time:	0
Minimum Instruction Time:	0

Mental Ability2

Section Id :	509647323
Section Number :	1
Section type :	Online
Mandatory or Optional:	Mandatory
Number of Questions:	20
Number of Questions to be attempted:	20
Section Marks:	20

Sub-Section Number:	1
Sub-Section Id:	509647467
Question Shuffling Allowed :	Yes

Question Number : 21 Question Id : 5096479239 Question Type : MCQ Option Shuffling : Yes
 Correct Marks : 1 Wrong Marks : 0.25

Which of the option figures represents the correct water image of the figure given below?



Options :





Question Number : 21 Question Id : 5096479239 Question Type : MCQ Option Shuffling : Yes
Correct Marks : 1 Wrong Marks : 0.25

इन आकृतियों में से कौन सी आकृति प्रदत्त आकृति की दर्पण छवि दर्शाती है।



Options :



Question Number : 22 Question Id : 5096479240 Question Type : MCQ Option Shuffling : Yes

Correct Marks : 1 Wrong Marks : 0.25

Select the correct mirror image of the given cluster when a vertical mirror is placed on the right of the word.

ty7kmp3h9s2qz

Options :

1. ✘ zp5tYkmp3h9s2qz

2. ✘ tYkmp3h9s2qz

3. ✔ zp2s2ehEqmkYt

4. ✘ tYkmp3h9s2qz

Question Number : 22 Question Id : 5096479240 Question Type : MCQ Option Shuffling : Yes

Correct Marks : 1 Wrong Marks : 0.25

प्रदत्त समूह की सही दर्पण छवि चुनें, अगर शब्द के दाहिने ओर एक ऊर्ध्वाधर दर्पण रखा जाता है।

ty7kmp3h9s2qz

Options :

1. ✘ zp5tYkmp3h9s2qz

2. ✘ tYkmp3h9s2qz

3. ✔ zp2s2ehEqmkYt

4. ✘ tYkmp3h9s2qz

Question Number : 23 Question Id : 5096479241 Question Type : MCQ Option Shuffling : Yes

Correct Marks : 1 Wrong Marks : 0.25

Eight symbol-number clusters are given below three of which are same. Find the three clusters that are exactly same.

(A) % \$ 8 ^ # & 3 *) 4 # @ \$ 5 * \$

(B) % \$ ^ 8 # & 3 * (4 # @ \$ 5 * \$

(C) % \$ ^ 6 # & 3 * (4 # @ \$ 5 * \$

(D) % \$ ^ 8 # & 3 * (4 \$ @ \$ 5 * \$

(E) % \$ ^ 8 # \$ 3 * (4 # @ \$ 5 * \$

(F) % \$ ^ 8 # & 3 * (4 # @ \$ 5 * \$

(G) % \$ ^ 8 # & 3 * (4 # @ # 5 * \$

(H) % \$ ^ 8 # & 3 * (4 # @ \$ 5 * \$

Options :

1. ✘ B, C and E

2. ✘ A, C and D

3. ✘ B, D and H

4. ✔ B, F and H

Question Number : 23 Question Id : 5096479241 Question Type : MCQ Option Shuffling : Yes

Correct Marks : 1 Wrong Marks : 0.25

नीचे आठ प्रतीक-संख्या के समूह दिए गए हैं, इनमें से तीन एक समान हैं। बिलकुल समान तीन समूह पता करें।

(A) % \$ 8 ^ # & 3 *) 4 # @ \$ 5 * \$

(B) % \$ ^ 8 # & 3 * (4 # @ \$ 5 * \$

(C) % \$ ^ 6 # & 3 * (4 # @ \$ 5 * \$

(D) % \$ ^ 8 # & 3 * (4 \$ @ \$ 5 * \$

(E) % \$ ^ 8 # \$ 3 * (4 # @ \$ 5 * \$

(F) % \$ ^ 8 # & 3 * (4 # @ \$ 5 * \$

(G) % \$ ^ 8 # & 3 * (4 # @ # 5 * \$

(H) % \$ ^ 8 # & 3 * (4 # @ \$ 5 * \$

Options :

1. ✘ B, C और E

2. ✘ A, C और D

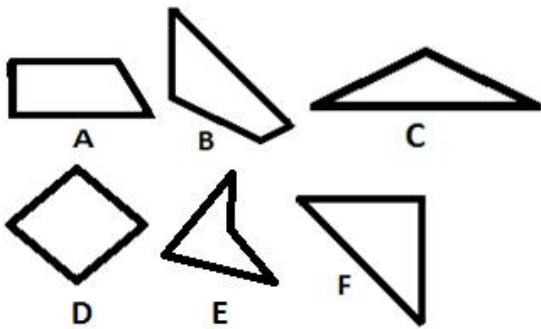
3. ✘ B, D और H

4. ✔ B, F और H

Question Number : 24 Question Id : 5096479242 Question Type : MCQ Option Shuffling : Yes

Correct Marks : 1 Wrong Marks : 0.25

Which of the given figures, when fitted into each other would form a hexagon? Select an appropriate combination from the given options.



Options :

1. ✘ ABCE

2. ✘ ABCD

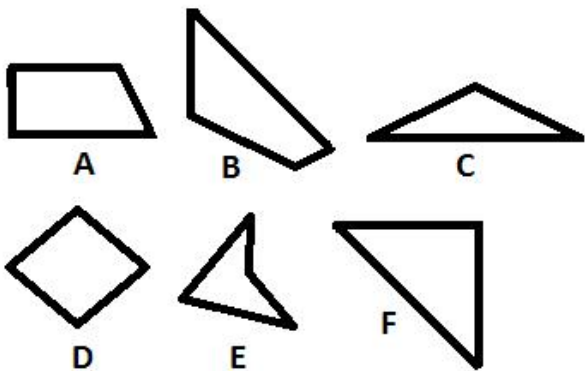
3. ✔ ABCF

4. ✘ BCDF

Question Number : 24 Question Id : 5096479242 Question Type : MCQ Option Shuffling : Yes

Correct Marks : 1 Wrong Marks : 0.25

इनमें से किस आकृति को जब एक एक दूसरे में फिट किया जाता है, तो एक षट्कोण बनेगा? प्रदत्त विकल्पों में से समुचित संयोजन चुनें।



Options :

1. ✘ ABCE

2. ✘ ABCD

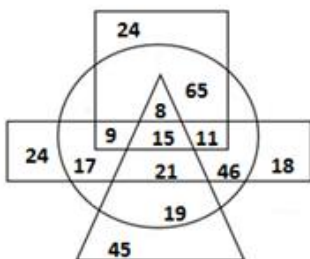
3. ✔ ABCF

4. ✘ BCDF

Question Number : 25 Question Id : 5096479243 Question Type : MCQ Option Shuffling : Yes

Correct Marks : 1 Wrong Marks : 0.25

In the diagram given below, the circle stands for 'Married persons', the triangle stands for 'Trainers', the rectangle stands for 'Teachers', and the square stands for 'Ph.D. holders'. The numbers in different segments represent the number of persons.



Which of following statement is NOT correct?

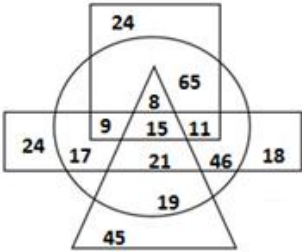
Note: For this question, discrepancy is found in question/answer. So, this question is ignored for all candidates.

Options :

1. A total of 111 persons are not married.
2. The number of married teachers who are trainers also is 21.
3. The number of teachers who are Ph.D. holders and trainers both is 11.
4. Ph.D. holder trainers are 23.

Question Number : 25 Question Id : 5096479243 Question Type : MCQ Option Shuffling : Yes
Correct Marks : 1 Wrong Marks : 0.25

नीचे प्रदत्त आरेख में, वृत्त 'विवाहित व्यक्तियों' को दर्शाता है, त्रिभुज 'प्रशिक्षकों' को दर्शाता है, आयत 'शिक्षकों' को दर्शाता है और वर्ग 'पी.एचडी. धारकों' को दर्शाता है। अलग-अलग खंडों की दी गई संख्याएँ व्यक्तियों की संख्या को दर्शाती हैं।



इनमें से कौन सा कथन सही नहीं है?

Note: For this question, discrepancy is found in question/answer. So, this question is ignored for all candidates.

Options :

1. कुल 111 व्यक्ति विवाहित नहीं हैं।
2. विवाहित शिक्षक जो प्रशिक्षक भी हैं, उनकी संख्या 21 है।

3. शिक्षक जो पी.एचडी धारक के साथ-साथ प्रशिक्षक भी हैं, उनकी संख्या 11 है।

4. पी.एच.डी धारक प्रशिक्षक 23 हैं।

Question Number : 26 Question Id : 5096479244 Question Type : MCQ Option Shuffling : Yes

Correct Marks : 1 Wrong Marks : 0.25

Select the option figure which contains figure X embedded in it as its part.



Figure-X

Options :



4. ✖



Question Number : 26 Question Id : 5096479244 Question Type : MCQ Option Shuffling : Yes
Correct Marks : 1 Wrong Marks : 0.25

इनमें से वह आकृति चुनें जिसमें आकृति X इसका एक भाग है।



Figure-X

Options :

1. ✖



2. ✔



3. ✖



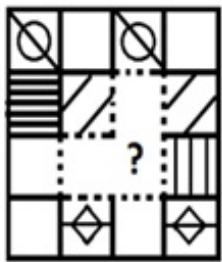


4. ✘

Question Number : 27 Question Id : 5096479245 Question Type : MCQ Option Shuffling : Yes

Correct Marks : 1 Wrong Marks : 0.25

Which of the following option figure will complete the pattern in the figure given below?



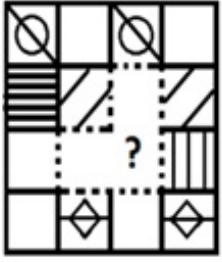
Options :



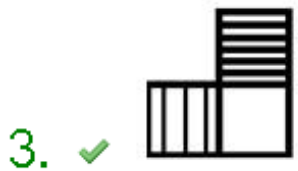
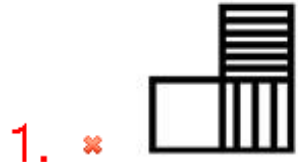
Question Number : 27 Question Id : 5096479245 Question Type : MCQ Option Shuffling : Yes

Correct Marks : 1 Wrong Marks : 0.25

इनमें से कौन सी आकृति नीचे प्रदत्त आकृति पैटर्न को पूरा करेगी?



Options :



Question Number : 28 Question Id : 5096479246 Question Type : MCQ Option Shuffling : Yes

Correct Marks : 1 Wrong Marks : 0.25

Garvita is only daughter of Ankit. Ritesh's father's sister is Alpa's mother. Yamini is mother-in-law of Divya. Ritesh is son of Prateek. Yamini is maternal grandmother of Alpa. Garvita's brother is Divya's husband. How is Ankit related to Yamini?

Options :

1. ✘ Brother

2. ✖ Nephew

3. ✖ Son

4. ✔ Husband

Question Number : 28 Question Id : 5096479246 Question Type : MCQ Option Shuffling : Yes

Correct Marks : 1 Wrong Marks : 0.25

गर्विता अंकित की इकलौती बेटी है। रितेश के पिता की बहन अल्पा की माता है। यामिनी दिव्या की सास है। रितेश प्रतीक का बेटा है। यामिनी अल्पा की नानी है। गर्विता का भाई दिव्या का पति है। अंकित और यामिनी का रिश्ता पता करें।

Options :

1. ✖ भाई

2. ✖ भतीजा

3. ✖ बेटा

4. ✔ पति

Question Number : 29 Question Id : 5096479247 Question Type : MCQ Option Shuffling : Yes

Correct Marks : 1 Wrong Marks : 0.25

Select the option that is related to the fourth term in the same way as first is related to second.

Bhutan : Thimphu :: _____ : Vienna

Options :

1. ✖ Bulgaria

2. ✓ Austria

3. ✘ Egypt

4. ✘ Germany

Question Number : 29 Question Id : 5096479247 Question Type : MCQ Option Shuffling : Yes

Correct Marks : 1 Wrong Marks : 0.25

वह विकल्प चुनें जो चौथे पद से उसी तरह से संबंधित है जिस तरह से पहला दूसरे से संबंधित है।

भूटान : थिम्पू :: _____ : वियना

Options :

1. ✘ बुल्गारिया

2. ✓ ऑस्ट्रिया

3. ✘ मिस्र

4. ✘ जर्मनी

Question Number : 30 Question Id : 5096479248 Question Type : MCQ Option Shuffling : Yes

Correct Marks : 1 Wrong Marks : 0.25

A question is given, followed by four statements labelled I, II, III and IV, each containing some information. Decide which of the statements is/are sufficient/necessary to answer the question.

Question:

How is A related to D?

Statements:

- I. Q is son of A, who is married to P.
- II. P is mother of D.
- III. Q has a daughter S.
- IV. D is paternal uncle of S's sister.

Options :

- 1. ✓ Statement I and II together are sufficient.
- 2. ✗ Statement I, II and III together are sufficient.
- 3. ✗ Statement I, III and IV together are sufficient.
- 4. ✗ All the statements together are necessary.

Question Number : 30 Question Id : 5096479248 Question Type : MCQ Option Shuffling : Yes
Correct Marks : 1 Wrong Marks : 0.25

एक प्रश्न के बाद I, II, III और IV लेबल के तहत चार कथन दिए गए हैं, प्रत्येक में कुछ न कुछ जानकारी दी गई है। तय करें कि प्रश्न का उत्तर देने के लिए इनमें से कौन सा/से कथन पर्याप्त/ज़रूरी है/हैं।

प्रश्न:

A और D का रिश्ता पता करें?

कथन

- I. Q, A का बेटा है, जिसकी शादी P से हुई है।
- II. P, D की माता है।
- III. S, Q की बेटी है
- IV. D, S की बहन का चाचा/ताया है।

Options :

1. ✓ कथन I और II एकसाथ पर्याप्त हैं।
2. ✗ कथन I, II और III एकसाथ पर्याप्त हैं।
3. ✗ कथन I, III और IV एकसाथ पर्याप्त हैं।
4. ✗ सभी कथन एकसाथ ज़रूरी हैं।

Question Number : 31 Question Id : 5096479249 Question Type : MCQ Option Shuffling : Yes

Correct Marks : 1 Wrong Marks : 0.25

If 'MODIFY' is coded as 78 in a code language, how would 'ZODIAC' be coded in the same code language?

Options :

1. ✓ 89

2. ✖ 90

3. ✖ 93

4. ✖ 94

Question Number : 31 Question Id : 5096479249 Question Type : MCQ Option Shuffling : Yes

Correct Marks : 1 Wrong Marks : 0.25

यदि किसी कोड भाषा में 'MODIFY' को 78 किया गया है, तो उसी कोड भाषा में 'ZODIAC' को क्या कोड किया जाएगा?

Options :

1. ✔ 89

2. ✖ 90

3. ✖ 93

4. ✖ 94

Question Number : 32 Question Id : 5096479250 Question Type : MCQ Option Shuffling : Yes

Correct Marks : 1 Wrong Marks : 0.25

Which of the following pairs of numbers and signs, when their positions are interchanged, will correctly solve the given mathematical equation?

$$24 \times 27 + 632 - 471 \div 158 = 181$$

Options :

1. ✖ 471 and 158, + and ÷

2. ✖ 632 and 471, - and ×

3. ✖ 632 and 24, + and ÷

4. ✔ 632 and 471, + and -

Question Number : 32 Question Id : 5096479250 Question Type : MCQ Option Shuffling : Yes

Correct Marks : 1 Wrong Marks : 0.25

संख्याओं और चिहनों के इन युग्मों में से कौन सा युग्म उनकी स्थिति आपस में बदलने पर एक प्रदत्त गणितीय समीकरण को सही से हल करेगा?

$$24 \times 27 + 632 - 471 \div 158 = 181$$

Options :

1. ✖ 471 और 158, + और ÷

2. ✖ 632 और 471, - और ×

3. ✖ 632 और 24, + और ÷

4. ✔ 632 और 471, + और -

Question Number : 33 Question Id : 5096479251 Question Type : MCQ Option Shuffling : Yes

Correct Marks : 1 Wrong Marks : 0.25

A total of 200 students play one of the three games tennis, badminton and hockey. Only 8% play all the three games. The number of students who play any two and only two games is 18% of the total students. The number of students who play hockey alone is 32. What is the total number of students who play badminton alone or tennis alone?

Options :

1. ✖ 110

2. ✔ 116

3. ✖ 118

4. ✖ 120

Question Number : 33 Question Id : 5096479251 Question Type : MCQ Option Shuffling : Yes
Correct Marks : 1 Wrong Marks : 0.25

कुल 200 छात्र टेनिस, बैडमिंटन और हॉकी में से एक खेल खेलते हैं। केवल 8% ही सारी गेम्स खेलते हैं। बाकी बचे छात्रों में से कोई दो या केवल दो गेम्स खेलते हैं, उनकी संख्या कुल छात्रों की 18% है। केवल हॉकी खेलने वाले छात्रों की संख्या 32 है। केवल बैडमिंटन या केवल टेनिस खेलने वाले छात्रों की संख्या पता करें।

Options :

1. ✖ 110

2. ✔ 116

3. ✖ 118

4. ✖ 120

Question Number : 34 Question Id : 5096479252 Question Type : MCQ Option Shuffling : Yes
Correct Marks : 1 Wrong Marks : 0.25

Among five objects A, B, C, D and E; C is two and a half times heavier than D; B is twice heavier than A; A is one and a half times heavier than C. E is half as heavy as B. Which of the following the statements is NOT correct?

Options :

1. ✖ B is three times heavier than C.

2. ✖ A and E are equally heavy.

3. ✖ B is the heaviest among all the objects.

4. ✓ B is 5 times heavier than D.

Question Number : 34 Question Id : 5096479252 Question Type : MCQ Option Shuffling : Yes

Correct Marks : 1 Wrong Marks : 0.25

पाँच वस्तुओं A, B, C, D और E में से; C, D से ढाई गुना भारी है; B, A से दोगुनी भारी है; A, C से डेढ़ गुना भारी है। E, B से आधी भारी है। इनमें से कौन सा कथन सही नहीं है?

Options :

1. ✗ B, C से तीन गुना भारी है।
2. ✗ A और E दोनों बराबर भारी हैं।
3. ✗ B सभी वस्तुओं में सबसे भारी है।
4. ✓ B, D से 5 गुना भारी है।

Question Number : 35 Question Id : 5096479253 Question Type : MCQ Option Shuffling : Yes

Correct Marks : 1 Wrong Marks : 0.25

Four persons A, B, C and D have different amount of rupees with them. B says to D, 'If you give me 5 rupees, I will have five rupees less than A.' C says to D, 'If I give you one rupee, I will have exactly double amount than you.' C says to A, 'If I give you 8 rupees, I will have 5 rupees more than you'. If A and B together have total 86 rupees, how many rupees does D have?

Options :

1. ✗ 28
2. ✓ 33
3. ✗ 30

4. ✖ 31

Question Number : 35 Question Id : 5096479253 Question Type : MCQ Option Shuffling : Yes

Correct Marks : 1 Wrong Marks : 0.25

चार व्यक्तियों A, B, C और D के पास अलग-अलग रुपये हैं। B, D से कहता है, "अगर तुम मुझे 5 रुपये दे दो, तो मेरे पास A से पाँच रुपये कम होंगे।" C, D से कहता है, "अगर तुम मुझे एक रुपया दे दो, तो मेरे पास तुमसे दोगुने रुपये हो जाएँगे।" C, A से कहता है, "अगर तुम मुझे 8 रुपये दे दो, तो मेरे पास तुमसे 5 रुपये ज़्यादा होंगे।" यदि A और B दोनों के पास कुल 86 रुपये हैं, तो D के पास कितने रुपये हैं?

Options :

1. ✖ 28

2. ✔ 33

3. ✖ 30

4. ✖ 31

Question Number : 36 Question Id : 5096479254 Question Type : MCQ Option Shuffling : Yes

Correct Marks : 1 Wrong Marks : 0.25

Three of the given four words are similar in a certain manner while one is different. Choose the odd one out.

Options :

1. ✖ Veil

2. ✖ Mask

3. ✖ Camouflage

4. ✔ Bare

Question Number : 36 Question Id : 5096479254 Question Type : MCQ Option Shuffling : Yes

Correct Marks : 1 Wrong Marks : 0.25

प्रदत्त चार शब्दों में से तीन एक तरीके से समान हैं, जबकि एक अलग है। इनमें से विषम चुनें।

Options :

1. ✘ आवरण

2. ✘ मुखौटा

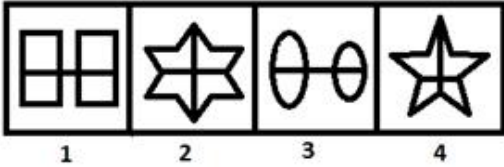
3. ✘ छलावरण

4. ✔ खाली

Question Number : 37 Question Id : 5096479255 Question Type : MCQ Option Shuffling : Yes

Correct Marks : 1 Wrong Marks : 0.25

Three of the given four figures are similar in a certain manner while one is different. Choose the odd one out.



Options :

1. ✘ 1

2. ✘ 2

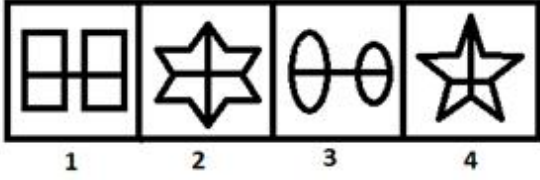
3. ✔ 3

4. ✘ 4

Question Number : 37 Question Id : 5096479255 Question Type : MCQ Option Shuffling : Yes

Correct Marks : 1 Wrong Marks : 0.25

प्रदत्त चार आकृतियों में से तीन एक तरीके से समान हैं, जबकि एक अलग है। इनमें से विषम चुनें।



Options :

1. ✘ 1

2. ✘ 2

3. ✔ 3

4. ✘ 4

Question Number : 38 Question Id : 5096479256 Question Type : MCQ Option Shuffling : Yes

Correct Marks : 1 Wrong Marks : 0.25

Which number will replace the question mark (?) in the following series?

6, 7, 7, 9, ?, 21

Options :

1. ✔ 18

2. ✘ 20

3. ✘ 22

4. ✖ 24

Question Number : 38 Question Id : 5096479256 Question Type : MCQ Option Shuffling : Yes
Correct Marks : 1 Wrong Marks : 0.25

वह विकल्प चुनें जो श्रृंखला में प्रश्न चिन्ह (?) को सही प्रतिस्थापित करेगा।

6, 7, 7, 9, ?, 21

Options :

1. ✔ 18

2. ✖ 20

3. ✖ 22

4. ✖ 24

Question Number : 39 Question Id : 5096479257 Question Type : MCQ Option Shuffling : Yes
Correct Marks : 1 Wrong Marks : 0.25

Which number will replace the question mark (?) in the following series?

95, 99, 110, 140, ?

Options :

1. ✖ 205

2. ✖ 206

3. ✔ 207

4. ✖ 208

Question Number : 39 Question Id : 5096479257 Question Type : MCQ Option Shuffling : Yes
Correct Marks : 1 Wrong Marks : 0.25

वह विकल्प चुनें जो श्रृंखला में प्रश्न चिन्ह (?)को सही प्रतिस्थापित करेगा।

95, 99, 110, 140, ?

Options :

1. ✖ 205

2. ✖ 206

3. ✔ 207

4. ✖ 208

Question Number : 40 Question Id : 5096479258 Question Type : MCQ Option Shuffling : Yes
Correct Marks : 1 Wrong Marks : 0.25

Which number will replace the question mark (?) in the following series?

161, 190, 231, 287, 362, 461, ?

Options :

1. ✖ 588

2. ✔ 590

3. ✖ 595

4. ✘ 608

Question Number : 40 Question Id : 5096479258 Question Type : MCQ Option Shuffling : Yes
Correct Marks : 1 Wrong Marks : 0.25

वह विकल्प चुनें जो श्रृंखला में प्रश्न चिन्ह (?)को सही प्रतिस्थापित करेगा।

161, 190, 231, 287, 362, 461, ?

Options :

1. ✘ 588

2. ✔ 590

3. ✘ 595

4. ✘ 608

General Awareness1

Group Number :	3
Group Id :	509647164
Group Maximum Duration :	0
Group Minimum Duration :	0
Show Attended Group? :	No
Edit Attended Group? :	No
Break time:	0
Group Marks:	20
Is this Group for Examiner? :	No
Revisit allowed for group Instructions? :	Yes
Maximum Instruction Time:	0
Minimum Instruction Time:	0

General Awareness1

Section Id :	509647324
Section Number :	1
Section type :	Online
Mandatory or Optional:	Mandatory
Number of Questions:	20
Number of Questions to be attempted:	20
Section Marks:	20

Sub-Section Number:	1
Sub-Section Id:	509647468
Question Shuffling Allowed :	Yes

Question Number : 41 Question Id : 5096479259 Question Type : MCQ Option Shuffling : Yes

Correct Marks : 1 Wrong Marks : 0.25

Which of these sports is always an individual single-player sport? There is no tournament known in which more than one player plays per side.

Options :

1. * Rowing
2. * Tennis
3. ✓ Chess
4. * Carrom

Question Number : 41 Question Id : 5096479259 Question Type : MCQ Option Shuffling : Yes

Correct Marks : 1 Wrong Marks : 0.25

इनमें से कौन सा खेल हमेशा केवल एक खिलाड़ी द्वारा खेला जाता है? ऐसा कोई टूर्नामेंट नहीं है जिसमें प्रत्येक मैच में दोनों तरफ एक से अधिक खिलाड़ी ने खेला है।

Options :

1. * रोइंग
2. * टेनिस
3. ✓ शतरंज
4. * कैरम

Question Number : 42 Question Id : 5096479260 Question Type : MCQ Option Shuffling : Yes

Correct Marks : 1 Wrong Marks : 0.25

In the cyber world of Snapchat, WhatsApp, Facebook, Twitter, and Instagram, what is the most widely accepted full form of LOL?

Options :

1. ✖ Literally One Life
2. ✔ Laughing Out Loud
3. ✖ Live On Life
4. ✖ Life of Legends

Question Number : 42 Question Id : 5096479260 Question Type : MCQ Option Shuffling : Yes

Correct Marks : 1 Wrong Marks : 0.25

स्नैपचैट, व्हाट्सएप, फेसबुक, ट्विटर और इंस्टाग्राम की साइबर दुनिया में, LOL को व्यापक रूप से निम्नलिखित में से किस अर्थ में स्वीकार किया गया है?

Options :

1. ✖ लिट्रली वन लाइफ (Literally One Life)
2. ✔ लफिंग आउट लाउड (Laughing Out Loud)
3. ✖ लिव ऑन लाइफ (Live On Life)
4. ✖ लाइफ ऑफ लेजेंड्स (Life of Legends)

Question Number : 43 Question Id : 5096479261 Question Type : MCQ Option Shuffling : Yes

Correct Marks : 1 Wrong Marks : 0.25

As per Indian mythology, Airavata, the white elephant, is the mount of which of these Gods?

Options :

1. ✖ Varuna
2. ✖ Yama
3. ✔ Indra
4. ✖ Agni

Question Number : 43 Question Id : 5096479261 Question Type : MCQ Option Shuffling : Yes

Correct Marks : 1 Wrong Marks : 0.25

भारतीय पौराणिक कथाओं के अनुसार, सफेद हाथी ऐरावत, इनमें से किस देवता की सवारी है?

Options :

1. ✖ वरुण
2. ✖ यम
3. ✔ इंद्र
4. ✖ अग्नि

Question Number : 44 Question Id : 5096479262 Question Type : MCQ Option Shuffling : Yes

Correct Marks : 1 Wrong Marks : 0.25

The Latin motto 'Doctrina Vim Promovet Insitam' (which means 'Learning Promotes Natural Talent') is the motto of which of these universities?

Options :

1. ✔ University of Madras
2. ✖ Jawaharlal Nehru University
3. ✖ Anna University
4. ✖ University of Hyderabad

Question Number : 44 Question Id : 5096479262 Question Type : MCQ Option Shuffling : Yes

Correct Marks : 1 Wrong Marks : 0.25

लैटिन भाषा का एक आदर्श वाक्य 'डॉक्ट्रिना विम प्रोमोवेट इन्सिटम' [Doctrina Vim Promovet Insitam] (जिसका अर्थ है 'शिक्षा जन्मजात प्रतिभा को बढ़ावा देती है') निम्नलिखित में से किस विश्वविद्यालय का एक आदर्श वाक्य है?

Options :

1. ✔ मद्रास विश्वविद्यालय

2. * जवाहरलाल नेहरू विश्वविद्यालय

3. * अन्ना यूनिवर्सिटी

4. * हैदराबाद विश्वविद्यालय

Question Number : 45 Question Id : 5096479263 Question Type : MCQ Option Shuffling : Yes
Correct Marks : 1 Wrong Marks : 0.25

Name the company that is currently fighting litigation with farmers of Gujarat over the growing of a specific variety of potato. The company claims that it has an exclusive plant variety protection (PVP) for that type of potato?

Options :

1. * Coca Cola

2. ✓ PepsiCo

3. * Unilever

4. * Kellogg's

Question Number : 45 Question Id : 5096479263 Question Type : MCQ Option Shuffling : Yes
Correct Marks : 1 Wrong Marks : 0.25

निम्नलिखित में से उस कंपनी का नाम बताइए जो वर्तमान में आलू की एक विशिष्ट किस्म के बढ़ने पर गुजरात के किसानों के साथ मुकदमे लड़ रही है। कंपनी का दावा है कि उस प्रकार के आलू के लिए उसके पास विशेष पौधों की विविध सुरक्षा (PVP) मौजूद है।

Options :

1. * कोका कोला

2. ✓ पेप्सिको

3. * यूनीलीवर

4. * केलॉग

Question Number : 46 Question Id : 5096479264 Question Type : MCQ Option Shuffling : Yes
Correct Marks : 1 Wrong Marks : 0.25

Name the unified script that has been created by IIT Madras that uses a multi-lingual optical character recognition (OCR) scheme for integrating and unifying 9 Indian languages?

Options :

1. ✓ Bharati
2. ✗ Sanskriti
3. ✗ Parampara
4. ✗ Lipi

Question Number : 46 Question Id : 5096479264 Question Type : MCQ Option Shuffling : Yes

Correct Marks : 1 Wrong Marks : 0.25

IIT मद्रास द्वारा बनाई गई उस एकीकृत स्क्रिप्ट का क्या नाम है जो 9 भारतीय भाषाओं को जोड़ने और एकीकृत करने के लिए बहु-भाषी ऑप्टिकल कैरेक्टर रिकग्निशन (OCR) व्यवस्था का इस्तेमाल करती है?

Options :

1. ✓ भारती
2. ✗ संस्कृति
3. ✗ परंपरा
4. ✗ लिपि

Question Number : 47 Question Id : 5096479265 Question Type : MCQ Option Shuffling : Yes

Correct Marks : 1 Wrong Marks : 0.25

Name the Indian university whose researchers have developed an ultrasensitive quantum thermometer using graphene quantum dots. The thermometer can measure very minute (micro Kelvin) changes in temperature.

Options :

1. ✗ Osmanabad University
2. ✗ Kamaraj University
3. ✓ Jamia Millia Islamia University

4. * Kerala University

Question Number : 47 Question Id : 5096479265 Question Type : MCQ Option Shuffling : Yes
Correct Marks : 1 Wrong Marks : 0.25

उस भारतीय विश्वविद्यालय का क्या नाम है जिसके शोधकर्ताओं ने ग्राफीन क्वांटम डॉट्स का उपयोग करके एक अल्ट्रासाउंडेनस क्वांटम थर्मामीटर विकसित किया है? यह थर्मामीटर तापमान में हर मिनट (माइक्रो केल्विन) होने वाले परिवर्तन को माप सकता है।

Options :

1. * उस्मानाबाद विश्वविद्यालय
2. * कामराज विश्वविद्यालय
3. ✓ जामिया मिलिया इस्लामिया विश्वविद्यालय
4. * केरल विश्वविद्यालय

Question Number : 48 Question Id : 5096479266 Question Type : MCQ Option Shuffling : Yes
Correct Marks : 1 Wrong Marks : 0.25

Which politician from below has won the Chhindwara Lok Sabha seat in the state of Madhya Pradesh 9 times?

Options :

1. * Digvijay Singh
2. ✓ Kamal Nath
3. * Shivraj Singh Chouhan
4. * Madhavrao Scindia

Question Number : 48 Question Id : 5096479266 Question Type : MCQ Option Shuffling : Yes
Correct Marks : 1 Wrong Marks : 0.25

निम्नलिखित में से किस राजनेता ने 9 बार मध्य प्रदेश राज्य के छिंदवाड़ा लोकसभा की सीट जीती है?

Options :

1. * दिग्विजय सिंह

2. ✓ कमल नाथ

3. ✖ शिवराज सिंह चौहान

4. ✖ माधवराव सिंधिया

Question Number : 49 Question Id : 5096479267 Question Type : MCQ Option Shuffling : Yes
Correct Marks : 1 Wrong Marks : 0.25

Name the saint who was born in West Bengal, is considered an avatar of Lord Krishna and is the founder of the sect called Gaudiya Vaishnavism?

Options :

1. ✖ Swami Vivekananda

2. ✖ Sri Ramakrishna Paramahansa

3. ✓ Chaitanya Mahaprabhu

4. ✖ Keshab Chandra Sen

Question Number : 49 Question Id : 5096479267 Question Type : MCQ Option Shuffling : Yes
Correct Marks : 1 Wrong Marks : 0.25

निम्नलिखित में से उस संत का क्या नाम है जिनका जन्म पश्चिम बंगाल में हुआ था, उन्हें भगवान कृष्ण का अवतार माना जाता है और वे गौड़ीय वैष्णववाद नामक संप्रदाय के संस्थापक हैं?

Options :

1. ✖ स्वामी विवेकानंद

2. ✖ श्री रामकृष्ण परमहंस

3. ✓ चैतन्य महाप्रभु

4. ✖ केशव चंद्र सेन

Question Number : 50 Question Id : 5096479268 Question Type : MCQ Option Shuffling : Yes
Correct Marks : 1 Wrong Marks : 0.25

The famous Buddhist scholar Ashvaghosha was a contemporary of which one of the following?

Options :

1. ✖ Ashoka
2. ✔ Kanishka
3. ✖ Harsha
4. ✖ Bindusara

Question Number : 50 Question Id : 5096479268 Question Type : MCQ Option Shuffling : Yes

Correct Marks : 1 Wrong Marks : 0.25

प्रसिद्ध बौद्ध विद्वान अश्वघोष निम्नलिखित में से किसके समकालीन थे?

Options :

1. ✖ अशोक
2. ✔ कनिष्क
3. ✖ हर्ष
4. ✖ बिन्दुसार

Question Number : 51 Question Id : 5096479269 Question Type : MCQ Option Shuffling : Yes

Correct Marks : 1 Wrong Marks : 0.25

Business magnate and philanthropist Adamjee Peerbhoy and his son Abdul Hussein Peerbhoy built which of these toy train services in India?

Options :

1. ✖ Kalka-Shimla Train Service
2. ✔ Neral-Matheran Train Service
3. ✖ Nilgiris Mountain Train Service
4. ✖ Kangra Valley Train Service

Question Number : 51 Question Id : 5096479269 Question Type : MCQ Option Shuffling : Yes

Correct Marks : 1 Wrong Marks : 0.25

बिजनेस मैग्नेट और परोपकारी एडमजी पीरभाय और उनके बेटे अब्दुल हुसैन पीरभाय ने भारत में किस टॉय ट्रेन सेवा का निर्माण किया?

Options :

1. ✖ कालका-शिमला ट्रेन सेवा
2. ✔ नेरल-माथेरान ट्रेन सेवा
3. ✖ नीलगिरी पर्वत ट्रेन सेवा
4. ✖ कांगड़ा घाटी ट्रेन सेवा

Question Number : 52 Question Id : 5096479270 Question Type : MCQ Option Shuffling : Yes
Correct Marks : 1 Wrong Marks : 0.25

Name the famous Malayalam poet who was instrumental in the revival of Kathakali as an art form. He was instrumental in setting up the renowned Kerala Kalamandalam to preserve and teach the Kathakali art form?

Options :

1. ✖ Kumaranasan
2. ✖ Ulloor S Parameswara Iyer
3. ✔ Vallathol Narayana Menon
4. ✖ Vyloppilli Sreedhara Menon

Question Number : 52 Question Id : 5096479270 Question Type : MCQ Option Shuffling : Yes
Correct Marks : 1 Wrong Marks : 0.25

उस प्रसिद्ध मलयालम कवि का क्या नाम है जो एक कला के रूप में कथकली के पुनरुद्धार में सहायक थे? उन्होंने कथकली कला के संरक्षण और शिक्षा देने के लिए प्रसिद्ध केरल कलामंडलम की स्थापना में महत्वपूर्ण भूमिका निभाई थी।

Options :

1. ✖ कुमाराणासन
2. ✖ उल्लर एस परमेस्वर अय्यर
3. ✔ वल्लथोल नारायण मेनन
4. ✖ वायलोपिल्ली श्रीधर मेनन

Question Number : 53 Question Id : 5096479271 Question Type : MCQ Option Shuffling : Yes
Correct Marks : 1 Wrong Marks : 0.25

BJP leader Narendra Modi contested and won two seats in the 2014 Lok Sabha elections. He retained Varanasi. Name the seat that he won and relinquished.

Options :

1. ✖ Ahmedabad
2. ✖ Surat
3. ✖ Mumbai (South)
4. ✔ Vadodara

Question Number : 53 Question Id : 5096479271 Question Type : MCQ Option Shuffling : Yes
Correct Marks : 1 Wrong Marks : 0.25

भाजपा नेता नरेंद्र मोदी ने 2014 के लोकसभा चुनावों में दो सीटों पर चुनाव लड़ा और जीता हासिल की। उन्होंने वाराणसी की सीट को अपनाते हुए निम्नलिखित में किस सीट का त्याग किया था?

Options :

1. ✖ अहमदाबाद
2. ✖ सूरत
3. ✖ मुंबई (दक्षिण)
4. ✔ वडोदरा

Question Number : 54 Question Id : 5096479272 Question Type : MCQ Option Shuffling : Yes
Correct Marks : 1 Wrong Marks : 0.25

Name the Indian Prime Minister who signed the Assam Accord with the All Assam Students Union, ending a prolonged 6-year agitation in the state?

Options :

1. ✖ Morarji Desai
2. ✖ Chandrasekhar
3. ✖ Indira Gandhi

4. ✓ Rajiv Gandhi

Question Number : 54 Question Id : 5096479272 Question Type : MCQ Option Shuffling : Yes
Correct Marks : 1 Wrong Marks : 0.25

निम्नलिखित में से वह कौन से भारतीय प्रधानमंत्री हैं जिन्होंने ऑल असम स्टूडेंट्स यूनियन के साथ असम समझौते पर हस्ताक्षर कर राज्य में लंबे समय से चलने वाले 6 साल के आंदोलन को समाप्त किया?

Options :

1. ✘ मोरारजी देसाई
2. ✘ चंद्रशेखर
3. ✘ इंदिरा गांधी
4. ✓ राजीव गांधी

Question Number : 55 Question Id : 5096479273 Question Type : MCQ Option Shuffling : Yes
Correct Marks : 1 Wrong Marks : 0.25

What is the full form of the Indian regulatory entity called TRAI?

Options :

1. ✘ Transportation Regulatory Authority of India
2. ✓ Telecom Regulatory Authority of India
3. ✘ Traffic Regulatory Authority of India
4. ✘ Tariff Regulatory Authority of India

Question Number : 55 Question Id : 5096479273 Question Type : MCQ Option Shuffling : Yes
Correct Marks : 1 Wrong Marks : 0.25

TRAI नामक भारतीय नियामक संस्था का पूरा नाम क्या है?

Options :

1. ✘ ट्रांसपोर्टेशन रेगुलेटरी अथॉरिटी ऑफ इंडिया
2. ✓ टेलीकॉम रेगुलेटरी अथॉरिटी ऑफ इंडिया
3. ✘ ट्राफिक रेगुलेटरी अथॉरिटी ऑफ इंडिया

4. * टैरिफ रेगुलेटरी अथॉरिटी ऑफ इंडिया

Question Number : 56 Question Id : 5096479274 Question Type : MCQ Option Shuffling : Yes
Correct Marks : 1 Wrong Marks : 0.25

In 1947, India appointed her 7-member Constitution Drafting Committee. Who among those listed below was NOT a part of that committee?

Options :

1. * N. Gopalaswami
2. * K. M. Munshi
3. ✓ V. K. Krishna Menon
4. * D. P. Khaitan

Question Number : 56 Question Id : 5096479274 Question Type : MCQ Option Shuffling : Yes
Correct Marks : 1 Wrong Marks : 0.25

1947 में, भारत ने अपनी 7-सदस्यीय संविधान मसौदा समिति की नियुक्ति की। निम्नलिखित में कौन उस समिति का हिस्सा नहीं था?

Options :

1. * एन. गोपालस्वामी
2. * के. एम. मुंशी
3. ✓ वी. के. कृष्ण मेनन
4. * डी. पी. खेतान

Question Number : 57 Question Id : 5096479275 Question Type : MCQ Option Shuffling : Yes
Correct Marks : 1 Wrong Marks : 0.25

What was the key thrust of the commission set up by the Government of India in 1964 called the Kothari Commission?

Options :

1. * Banking Privatisation reforms
2. * Hindu marriage act reforms
3. * Land ownership reforms

4. ✓ Educational reforms

Question Number : 57 Question Id : 5096479275 Question Type : MCQ Option Shuffling : Yes
Correct Marks : 1 Wrong Marks : 0.25

1964 में कोठारी आयोग के नाम से जाने जाने वाले भारत सरकार द्वारा गठित आयोग का मुख्य जोर निम्नलिखित में से किसके ऊपर था?

Options :

1. ✖ बैंकिंग निजीकरण सुधार
2. ✖ हिंदू विवाह अधिनियम में सुधार
3. ✖ भूमि स्वामित्व सुधार
4. ✓ शैक्षिक सुधार

Question Number : 58 Question Id : 5096479276 Question Type : MCQ Option Shuffling : Yes
Correct Marks : 1 Wrong Marks : 0.25

Who among these categories of offenders get defined in Section 310 of The Indian Penal Code (IPC 310)?

Options :

1. ✖ Prostitute
2. ✖ Rapist
3. ✖ Drug Peddler
4. ✓ Thug

Question Number : 58 Question Id : 5096479276 Question Type : MCQ Option Shuffling : Yes
Correct Marks : 1 Wrong Marks : 0.25

अपराधियों की निम्नलिखित श्रेणियों में से कौन भारतीय दंड संहिता (IPC 310) की धारा 310 में परिभाषित हैं?

Options :

1. ✖ वैश्यापन
2. ✖ बलात्कारी

3. ✖ नशीली दवाईयों के विक्रेता

4. ✔ ठग

Question Number : 59 Question Id : 5096479277 Question Type : MCQ Option Shuffling : Yes

Correct Marks : 1 Wrong Marks : 0.25

Two types of cards are used in football matches to discipline players for various misconducts that they indulge during the game. Which are those cards?

Options :

1. ✖ Green and red cards

2. ✖ White and black cards

3. ✔ Yellow and red cards

4. ✖ Blue and pink cards

Question Number : 59 Question Id : 5096479277 Question Type : MCQ Option Shuffling : Yes

Correct Marks : 1 Wrong Marks : 0.25

विभिन्न प्रकार के कदाचारों के प्रति खिलाड़ियों को अनुशासित करने के लिए फुटबॉल मैचों में दो प्रकार के कार्डों का उपयोग किया जाता है, जिसे वे खेल के दौरान शामिल करते हैं। वे कार्ड कौन से हैं?

Options :

1. ✖ हरे और लाल कार्ड

2. ✖ सफेद और काले कार्ड

3. ✔ पीले और लाल कार्ड

4. ✖ नीले और गुलाबी कार्ड

Question Number : 60 Question Id : 5096479278 Question Type : MCQ Option Shuffling : Yes

Correct Marks : 1 Wrong Marks : 0.25

Sachin Tendulkar hit his 100th international century against which among the following team?

Options :

1. ✔ Bangladesh

2. * Sri Lanka

3. * Pakistan

4. * South Africa

Question Number : 60 Question Id : 5096479278 Question Type : MCQ Option Shuffling : Yes

Correct Marks : 1 Wrong Marks : 0.25

सचिन तेंदुलकर ने अपना 100वां अंतर्राष्ट्रीय शतक किस टीम के खिलाफ लगाया था?

Options :

1. ✓ बांग्लादेश

2. * श्रीलंका

3. * पाकिस्तान

4. * दक्षिण अफ्रीका

General Awareness2

Group Number :	4
Group Id :	509647165
Group Maximum Duration :	0
Group Minimum Duration :	0
Show Attended Group? :	No
Edit Attended Group? :	No
Break time:	0
Group Marks:	20
Is this Group for Examiner?:	No
Revisit allowed for group Instructions? :	Yes
Maximum Instruction Time:	0
Minimum Instruction Time:	0

General Awareness2

Section Id :	509647325
Section Number :	1
Section type :	Online
Mandatory or Optional:	Mandatory
Number of Questions:	20
Number of Questions to be attempted:	20
Section Marks:	20

Sub-Section Number: 1
Sub-Section Id: 509647469
Question Shuffling Allowed : Yes

Question Number : 61 Question Id : 5096479279 Question Type : MCQ Option Shuffling : Yes
Correct Marks : 1 Wrong Marks : 0.25

Conchita Martínez and Arantxa Sánchez are two legendary lady tennis stars representing which country?

Options :

1. * France
2. ✓ Spain
3. * Portugal
4. * Netherlands

Question Number : 61 Question Id : 5096479279 Question Type : MCQ Option Shuffling : Yes
Correct Marks : 1 Wrong Marks : 0.25

कोंचिता मार्टिनेज़ और अरांटा सानचेज़ दो दिग्गज महिला टेनिस स्टार हैं। यह दोनों निम्नलिखित में से किस देश का प्रतिनिधित्व करती हैं?

Options :

1. * फ्रांस
2. ✓ स्पेन
3. * पुर्तगाल
4. * नीदरलैंड

Question Number : 62 Question Id : 5096479280 Question Type : MCQ Option Shuffling : Yes
Correct Marks : 1 Wrong Marks : 0.25

In which state of India would you find the Hadimba Temple?

Options :

1. * Kerala
2. ✓ Himachal Pradesh
3. * Tamil Nadu

4. * Assam

Question Number : 62 Question Id : 5096479280 Question Type : MCQ Option Shuffling : Yes
Correct Marks : 1 Wrong Marks : 0.25

हडिम्बा मंदिर भारत के निम्नलिखित किस राज्य में स्थित है?

Options :

1. * केरल
2. ✓ हिमाचल प्रदेश
3. * तमिलनाडु
4. * असम

Question Number : 63 Question Id : 5096479281 Question Type : MCQ Option Shuffling : Yes
Correct Marks : 1 Wrong Marks : 0.25

In the context of Indian art and craft, which of these categories is represented by the word 'dhurrie'?

Options :

1. ✓ Blankets, carpets, rugs
2. * Metal wall hangings
3. * Decorative pottery work
4. * Oil paintings in canvas

Question Number : 63 Question Id : 5096479281 Question Type : MCQ Option Shuffling : Yes
Correct Marks : 1 Wrong Marks : 0.25

भारतीय कला और शिल्प के संदर्भ में 'धुरीं' शब्द द्वारा निम्नलिखित में से किस श्रेणी को दर्शाया गया है?

Options :

1. ✓ कंबल, कार्पीन, गलीचा
2. * दीवार पर धातु की लटकन
3. * सजावटी मिट्टी के बर्तनों का काम
4. * कैनवास में ऑयल पेंट

Question Number : 64 Question Id : 5096479282 Question Type : MCQ Option Shuffling : Yes

Correct Marks : 1 Wrong Marks : 0.25

In which Indian state is the town Paithan, the home to the famous line of Paithani sarees?

Options :

1. ✖ West Bengal
2. ✖ Odisha
3. ✖ Gujarat
4. ✔ Maharashtra

Question Number : 64 Question Id : 5096479282 Question Type : MCQ Option Shuffling : Yes

Correct Marks : 1 Wrong Marks : 0.25

पैठनी साड़ियों की प्रसिद्ध लाइन शहर पैठण, भारत के निम्नलिखित किस राज्य में स्थित है?

Options :

1. ✖ पश्चिम बंगाल
2. ✖ ओडिशा
3. ✖ गुजरात
4. ✔ महाराष्ट्र

Question Number : 65 Question Id : 5096479283 Question Type : MCQ Option Shuffling : Yes

Correct Marks : 1 Wrong Marks : 0.25

The renowned Golden Throne (also known as Chinnada Simhasana or Ratna Simhasana) is the throne of which of these royal dynasties?

Options :

1. ✔ Wodiyar Dynasty Mysore
2. ✖ Travancore Dynasty Kerala
3. ✖ Holkar Dynasty Indore
4. ✖ Scindia Dynasty Gwalior

Question Number : 65 Question Id : 5096479283 Question Type : MCQ Option Shuffling : Yes

Correct Marks : 1 Wrong Marks : 0.25

प्रसिद्ध स्वर्ण सिंहासन (जिसे चिन्नदा सिंहासन या रत्न सिंहासन के नाम से भी जाना जाता है), इनमें से किस शाही राजवंश का सिंहासन है?

Options :

1. ✓ वोडियार राजवंश मैसूर
2. ✗ त्रावणकोर राजवंश केरल
3. ✗ होलकर राजवंश इंदौर
4. ✗ सिंधिया राजवंश ग्वालियर

Question Number : 66 Question Id : 5096479284 Question Type : MCQ Option Shuffling : Yes

Correct Marks : 1 Wrong Marks : 0.25

Name the town that is the winter capital of Himachal Pradesh.

Options :

1. ✗ Champa
2. ✗ Manali
3. ✓ Dharamshala
4. ✗ Mandi

Question Number : 66 Question Id : 5096479284 Question Type : MCQ Option Shuffling : Yes

Correct Marks : 1 Wrong Marks : 0.25

निम्नलिखित में से कौन हिमाचल प्रदेश की शीतकालीन राजधानी है?

Options :

1. ✗ चंपा
2. ✗ मनाली
3. ✓ धर्मशाला
4. ✗ मंडी

Question Number : 67 Question Id : 5096479285 Question Type : MCQ Option Shuffling : Yes

Correct Marks : 1 Wrong Marks : 0.25

Of the four mountain passes given below, one of them is in Rajasthan in the Aravalli mountain range. Which is that mountain pass?

Options :

1. ✖ Malshej Ghat Pass
2. ✖ Nane Ghat Pass
3. ✔ Haldighati Pass
4. ✖ Aryankavu Pass

Question Number : 67 Question Id : 5096479285 Question Type : MCQ Option Shuffling : Yes

Correct Marks : 1 Wrong Marks : 0.25

नीचे दिए गए चार पर्वतीय दर्रे में से कौन सा एक पर्वत राजस्थान में अरावली पर्वत श्रृंखला में स्थित है?

Options :

1. ✖ मालशेज घाट दर्रा
2. ✖ नाने घाट दर्रा
3. ✔ हल्दीघाटी दर्रा
4. ✖ आर्यनकवु दर्रा

Question Number : 68 Question Id : 5096479286 Question Type : MCQ Option Shuffling : Yes

Correct Marks : 1 Wrong Marks : 0.25

The possibility of existing shareholders of a company being allowed to purchase additional shares in proportion to their existing holdings is known as:

Options :

1. ✔ Rights issue
2. ✖ Bonus issue
3. ✖ Debentures
4. ✖ Preference shares

Question Number : 68 Question Id : 5096479286 Question Type : MCQ Option Shuffling : Yes
Correct Marks : 1 Wrong Marks : 0.25

एक कंपनी के मौजूदा शेयरधारकों की संभावना को उनकी मौजूदा होल्डिंग्स के अनुपात में अतिरिक्त शेयर खरीदने की अनुमति दी जाती है, इसे निम्नलिखित में से किस रूप में जाना जाता है?

Options :

1. ✓ आधिकारिक समस्या
2. ✗ बोनस निगमन
3. ✗ ऋणपत्र
4. ✗ अधिमान अंश

Question Number : 69 Question Id : 5096479287 Question Type : MCQ Option Shuffling : Yes
Correct Marks : 1 Wrong Marks : 0.25

Till recently, the health drink Horlicks was a GlaxoSmithkline (GSK) brand. After a recent acquisition, which company owns the Horlicks brand today?

Options :

1. ✗ Patanjali
2. ✓ Hindustan Unilever
3. ✗ Nestle
4. ✗ Dabur

Question Number : 69 Question Id : 5096479287 Question Type : MCQ Option Shuffling : Yes
Correct Marks : 1 Wrong Marks : 0.25

वर्तमान समय तक, हेल्थ ड्रिंक हॉर्लिक्स एक ग्लैक्सोस्मिथलाइन (जीएसके) ब्रांड था। हाल ही में अधिग्रहण के बाद, हॉर्लिक्स ब्रांड का स्वामित्व आज किस कंपनी के पास है?

Options :

1. ✗ पतंजलि
2. ✓ हिंदुस्तान यूनीलीवर

3. * नेस्ले (Nestle)

4. * डाबर

Question Number : 70 Question Id : 5096479288 Question Type : MCQ Option Shuffling : Yes

Correct Marks : 1 Wrong Marks : 0.25

Name the Indian jurist and economist who wrote the best seller book called 'We, the Nation: the Lost Decades'?

Options :

1. * Amartya Sen

2. ✓ Nani Palkhivala

3. * Ramachandra Guha

4. * Romilla Thapar

Question Number : 70 Question Id : 5096479288 Question Type : MCQ Option Shuffling : Yes

Correct Marks : 1 Wrong Marks : 0.25

उस भारतीय न्यायज्ञ और अर्थशास्त्री का नाम क्या है जिसने 'वी, द नेशन: द लॉस्ट डिकेड्स' नामक सर्वश्रेष्ठ विक्रेता पुस्तक (द बेस्ट सेलर बुक) लिखी?

Options :

1. * अमर्त्य सेन

2. ✓ नानी पालखीवाला

3. * रामचंद्र गुहा

4. * रोमिला थापर

Question Number : 71 Question Id : 5096479289 Question Type : MCQ Option Shuffling : Yes

Correct Marks : 1 Wrong Marks : 0.25

What is the medical name given to the flat triangular bone at the back of the shoulder?

Options :

1. * Sternum

2. ✓ Scapula

3. * Mandible

4. * Carpal

Question Number : 71 Question Id : 5096479289 Question Type : MCQ Option Shuffling : Yes

Correct Marks : 1 Wrong Marks : 0.25

चिकित्सा के संदर्भ में कंधे के पीछे फ्लैट त्रिकोणीय हड्डी को निम्नलिखित में से कौन सा नाम दिया जाता है?

Options :

1. * स्टेर्नम

2. ✓ स्कापुला

3. * मैन्डिबल

4. * कार्पल

Question Number : 72 Question Id : 5096479290 Question Type : MCQ Option Shuffling : Yes

Correct Marks : 1 Wrong Marks : 0.25

एडविन हबल विज्ञान के निम्नलिखित किस क्षेत्र में प्रसिद्ध है?

Options :

1. ✓ खगोलशास्त्र

2. * कीटाणु-विज्ञान

3. * परमाणु भौतिकी

4. * तंत्रिका-विज्ञान (न्युरोलजी)

Question Number : 72 Question Id : 5096479290 Question Type : MCQ Option Shuffling : Yes

Correct Marks : 1 Wrong Marks : 0.25

In which area of science is Edwin Hubble famous?

Options :

1. ✓ Astronomy

2. * Microbiology

3. * Atomic physics

4. * Neurology

Question Number : 73 Question Id : 5096479291 Question Type : MCQ Option Shuffling : Yes

Correct Marks : 1 Wrong Marks : 0.25

Name the scientist who formulated the heat theorem, known as the third law of thermodynamics, which earned him the 1920 Nobel Prize for Chemistry?

Options :

1. ✖ Arthur Eddington
2. ✔ Walther Nernst
3. ✖ Henry Norris Russel
4. ✖ Pierre Duhem

Question Number : 73 Question Id : 5096479291 Question Type : MCQ Option Shuffling : Yes

Correct Marks : 1 Wrong Marks : 0.25

ऊष्मा प्रमेय को ऊष्मप्रवैगिकी के तीसरे नियम के रूप में जाना जाता है।

इसे बनाने वाले उस वैज्ञानिक का क्या नाम है जिसे रसायन विज्ञान के लिए 1920 का नोबेल पुरस्कार प्राप्त हुआ था?

Options :

1. ✖ आर्थर एडिंगटन
2. ✔ वाल्थर नेर्नस्ट
3. ✖ हेनरी नॉरिस रसेल
4. ✖ पियरे डुहम

Question Number : 74 Question Id : 5096479292 Question Type : MCQ Option Shuffling : Yes

Correct Marks : 1 Wrong Marks : 0.25

Name the scientist whose path breaking sea voyages in the ship HMS Beagle led to his famous and enduring scientific discoveries?

Options :

1. ✖ Michael Faraday
2. ✖ Benjamin Franklin

3. ✓ Charles Darwin

4. ✘ Richard Owen

Question Number : 74 Question Id : 5096479292 Question Type : MCQ Option Shuffling : Yes

Correct Marks : 1 Wrong Marks : 0.25

निम्नलिखित में से उस वैज्ञानिक का क्या नाम है जिसका समुद्री जहाज HMS बीगल द्वारा समुद्री रास्तों को खोजना उसकी प्रसिद्ध और स्थायी वैज्ञानिक खोजों की ओर ले गई?

Options :

1. ✘ माइकल फैराडे

2. ✘ बेंजामिन फ्रैंकलिन

3. ✓ चार्ल्स डार्विन

4. ✘ रिचर्ड ओवेन

Question Number : 75 Question Id : 5096479293 Question Type : MCQ Option Shuffling : Yes

Correct Marks : 1 Wrong Marks : 0.25

In research methodology, what is the name given to the sampling technique where current research participants themselves recruit other participants for a test or study?

Options :

1. ✘ Multi-stage sampling

2. ✘ Cluster sampling

3. ✓ Snowball sampling

4. ✘ Stratified random sampling

Question Number : 75 Question Id : 5096479293 Question Type : MCQ Option Shuffling : Yes

Correct Marks : 1 Wrong Marks : 0.25

शोध पद्धति में उस नमूना / सैंपलिंग तकनीक को क्या नाम दिया गया है, जहां वर्तमान शोध प्रतिभागी स्वयं किसी परीक्षण या अध्ययन के लिए अन्य प्रतिभागियों को भर्ती करते हैं?

Options :

1. * मल्टी - स्टेज सैंपलिंग
2. * क्लस्टर सैंपलिंग
3. ✓ स्नोबॉल सैंपलिंग
4. * स्ट्रैटीफाइड रैंडम सैंपलिंग

Question Number : 76 Question Id : 5096479294 Question Type : MCQ Option Shuffling : Yes
Correct Marks : 1 Wrong Marks : 0.25

A chance meeting between two great Indians, Jamsetji Tata and Swami Vivekananda, aboard a ship to America led to the creation of one of the iconic research institutions. It is now known by which name?

Options :

1. * Tata Institute of Fundamental Research, Mumbai
2. * Bhabha Atomic Research Center, Mumbai
3. ✓ Indian Institute of Science, Bangalore
4. * Tata Institute of Social Sciences, Mumbai

Question Number : 76 Question Id : 5096479294 Question Type : MCQ Option Shuffling : Yes
Correct Marks : 1 Wrong Marks : 0.25

अमेरिका की ओर जाने वाले जहाज में दो महान भारतीयों, जमशेदजी टाटा और स्वामी विवेकानंद के अचानक मिलने पर एक प्रतिष्ठित अनुसंधान संस्थान का निर्माण हुआ। इस संस्थान को अब किस नाम से जाना जाता है?

Options :

1. * टाटा इंस्टीट्यूट ऑफ फंडामेंटल रिसर्च, मुंबई
2. * भाभा परमाणु अनुसंधान केंद्र, मुंबई
3. ✓ इंडियन इंस्टीट्यूट ऑफ साइंस, बेंगलोर
4. * टाटा इंस्टीट्यूट ऑफ सोशल साइंसेज, मुंबई

Question Number : 77 Question Id : 5096479295 Question Type : MCQ Option Shuffling : Yes
Correct Marks : 1 Wrong Marks : 0.25

In research methodology, an open interview is simultaneously conducted with a small group of people to explore ideas on a particular topic. This uncovers additional information through participants' exchange of ideas. What this type of group is called?

Options :

1. * Delphi Group
2. ✓ Focus Group
3. * Oracle Group
4. * Value group

Question Number : 77 Question Id : 5096479295 Question Type : MCQ Option Shuffling : Yes
Correct Marks : 1 Wrong Marks : 0.25

अनुसंधान पद्धति में, किसी विशेष विषय पर विचारों का पता लगाने के लिए एक छोटे से समूह के साथ एक खुला साक्षात्कार किया जाता है। यह प्रतिभागियों के विचारों के आदान - प्रदान के माध्यम से अतिरिक्त जानकारी को उजागर करता है। इस प्रकार के समूह को क्या कहा जाता है?

Options :

1. * डेल्फी समूह
2. ✓ फोकस समूह
3. * ओरेकल समूह
4. * वैल्यू समूह

Question Number : 78 Question Id : 5096479296 Question Type : MCQ Option Shuffling : Yes
Correct Marks : 1 Wrong Marks : 0.25

Where is the headquarters of the Maintenance Command of the Indian Air Force?

Options :

1. * Mumbai
2. * Trivandrum
3. ✓ Nagpur
4. * Coimbatore

Question Number : 78 Question Id : 5096479296 Question Type : MCQ Option Shuffling : Yes
Correct Marks : 1 Wrong Marks : 0.25

भारतीय वायु सेना के रखरखाव / मेंटेनेंस कमांड का मुख्यालय कहाँ पर स्थित है?

Options :

1. * मुंबई
2. * त्रिवेंद्रम
3. ✓ नागपुर
4. * कोयंबटूर

Question Number : 79 Question Id : 5096479297 Question Type : MCQ Option Shuffling : Yes
Correct Marks : 1 Wrong Marks : 0.25

Where is the headquarters of the Eastern Naval Command of the Indian Navy?

Options :

1. ✓ Visakhapatnam
2. * Kolkata
3. * Haldia
4. * Kakinada

Question Number : 79 Question Id : 5096479297 Question Type : MCQ Option Shuffling : Yes
Correct Marks : 1 Wrong Marks : 0.25

भारतीय नौसेना के पूर्वी नौसेना कमांड का मुख्यालय कहाँ पर स्थित है?

Options :

1. ✓ विशाखापट्टनम

2. * कोलकाता

3. * हल्दिया

4. * काकीनाडा

Question Number : 80 Question Id : 5096479298 Question Type : MCQ Option Shuffling : Yes
Correct Marks : 1 Wrong Marks : 0.25

Which of these towns / cities in Karnataka has an Indian Institution of Technology (IIT)?

Options :

1. * Udupi

2. * Belgaum

3. * Mangalore

4. ✓ Dharwad

Question Number : 80 Question Id : 5096479298 Question Type : MCQ Option Shuffling : Yes
Correct Marks : 1 Wrong Marks : 0.25

कर्नाटक के निम्नलिखित किस शहर में भारतीय प्रौद्योगिकी संस्थान (IIT) है?

Options :

1. * उडुपी

2. * बेलगाम

3. * मंगलौर

4. ✓ धारवाड़

Arithmetic Ability1

Group Number :	5
Group Id :	509647166
Group Maximum Duration :	0
Group Minimum Duration :	0
Show Attended Group? :	No
Edit Attended Group? :	No
Break time:	0

Group Marks:	20
Is this Group for Examiner?:	No
Revisit allowed for group Instructions? :	Yes
Maximum Instruction Time:	0
Minimum Instruction Time:	0

Arithmetic Ability1

Section Id :	509647326
Section Number :	1
Section type :	Online
Mandatory or Optional:	Mandatory
Number of Questions:	20
Number of Questions to be attempted:	20
Section Marks:	20

Sub-Section Number:	1
Sub-Section Id:	509647470
Question Shuffling Allowed :	Yes

Question Number : 81 Question Id : 5096479299 Question Type : MCQ Option Shuffling : Yes

Correct Marks : 1 Wrong Marks : 0.25

Simplify:

$$2 + \sqrt{2} + \frac{1}{2+\sqrt{2}} + \frac{1}{2-\sqrt{2}}$$

Options :

1. ✘ $2\sqrt{2}$

2. ✘ $2 + \sqrt{2}$

3. ✔ $4 + \sqrt{2}$

4. ✘ $4 - \sqrt{2}$

Question Number : 81 Question Id : 5096479299 Question Type : MCQ Option Shuffling : Yes

Correct Marks : 1 Wrong Marks : 0.25

निम्नलिखित समीकरण का सरलीकरण कीजिए:

$$2 + \sqrt{2} + \frac{1}{2 + \sqrt{2}} + \frac{1}{2 - \sqrt{2}}$$

Options :

1. ✘ $2\sqrt{2}$

2. ✘ $2 + \sqrt{2}$

3. ✔ $4 + \sqrt{2}$

4. ✘ $4 - \sqrt{2}$

Question Number : 82 Question Id : 5096479300 Question Type : MCQ Option Shuffling : Yes

Correct Marks : 1 Wrong Marks : 0.25

If $\frac{w^2+x^2}{y^2+z^2} = \frac{wx}{yz}$, then the value of $\frac{w+x}{w-x}$ in terms of y and z only is:

Options :

1. ✘ $\pm \frac{y-z}{y+z}$

2. ✘ $\left(\frac{y+z}{y-z}\right)^2$

3. ✘ $\left(\frac{y-z}{y+z}\right)^2$

4. ✔ $\pm \frac{y+z}{y-z}$

Question Number : 82 Question Id : 5096479300 Question Type : MCQ Option Shuffling : Yes

Correct Marks : 1 Wrong Marks : 0.25

यदि $\frac{w^2+x^2}{y^2+z^2} = \frac{wx}{yz}$ हो तो, $\frac{w+x}{w-x}$ का मान केवल y और z के संदर्भ में होगा:

Options :

1. ✘ $\pm \frac{y-z}{y+z}$

2. ✘ $\left(\frac{y+z}{y-z}\right)^2$

3. ✘ $\left(\frac{y-z}{y+z}\right)^2$

4. ✔ $\pm \frac{y+z}{y-z}$

Question Number : 83 Question Id : 5096479301 Question Type : MCQ Option Shuffling : Yes

Correct Marks : 1 Wrong Marks : 0.25

If $\sqrt{x} - \sqrt{y} = 1$ and $\sqrt{x} + \sqrt{y} = 17$, then \sqrt{xy} equals:

Options :

1. ✘ 51

2. ✘ 16

3. ✘ $\sqrt{17}$

4. ✔ 72

Question Number : 83 Question Id : 5096479301 Question Type : MCQ Option Shuffling : Yes

Correct Marks : 1 Wrong Marks : 0.25

यदि $\sqrt{x} - \sqrt{y} = 1$ तथा $\sqrt{x} + \sqrt{y} = 17$ हो तो, \sqrt{xy} निम्न के बराबर होगा:

Options :

1. ✖ 51

2. ✖ 16

3. ✖ $\sqrt{17}$

4. ✔ 72

Question Number : 84 Question Id : 5096479302 Question Type : MCQ Option Shuffling : Yes

Correct Marks : 1 Wrong Marks : 0.25

The highest score in an innings was $\frac{2}{9}$ of the total score, and the next highest was $\frac{2}{9}$ of the remainder. These scores differed by 8 runs. Then the total score in the innings is:

Options :

1. ✖ 138

2. ✖ 181

3. ✔ 162

4. ✖ 186

Question Number : 84 Question Id : 5096479302 Question Type : MCQ Option Shuffling : Yes

Correct Marks : 1 Wrong Marks : 0.25

एक पारी में उच्चतम स्कोर कुल स्कोर का $\frac{2}{9}$ था, और अगला उच्चतम स्कोर शेष का $\frac{2}{9}$ था। इन दोनों स्कोरों में 8 रनों का अंतर था। इस पारी में बने कुल स्कोर की गणना कीजिए:

Options :

1. ✖ 138

2. ✖ 181

3. ✔ 162

4. ✖ 186

Question Number : 85 Question Id : 5096479303 Question Type : MCQ Option Shuffling : Yes
Correct Marks : 1 Wrong Marks : 0.25

Evaluate:

$$\frac{(0.30)^2 + (0.05)^2 + (0.035)^2}{(0.030)^2 + (0.005)^2 + (0.0035)^2}$$

Options :

1. ✔ 100

2. ✖ 75

3. ✖ 60

4. ✖ 50

Question Number : 85 Question Id : 5096479303 Question Type : MCQ Option Shuffling : Yes
Correct Marks : 1 Wrong Marks : 0.25

मूल्यांकन कीजिए:

$$\frac{(0.30)^2 + (0.05)^2 + (0.035)^2}{(0.030)^2 + (0.005)^2 + (0.0035)^2}$$

Options :

1. ✓ 100

2. ✗ 75

3. ✗ 60

4. ✗ 50

Question Number : 86 Question Id : 5096479304 Question Type : MCQ Option Shuffling : Yes

Correct Marks : 1 Wrong Marks : 0.25

Evaluate:

$$\frac{(0.15)^2 + (0.028)^2}{(0.45)^2 + (0.084)^2} - \frac{(0.28)^3 + (0.47)^3 - (0.75)^3}{3(0.28)(0.47)(0.75)}$$

Options :

1. ✗ 2.5

2. ✓ $\frac{10}{9}$

3. ✗ $\frac{8}{10}$

4. ✗ $\frac{-8}{9}$

Question Number : 86 Question Id : 5096479304 Question Type : MCQ Option Shuffling : Yes

Correct Marks : 1 Wrong Marks : 0.25

मूल्यांकन कीजिए:

$$\frac{(0.15)^2 + (0.028)^2}{(0.45)^2 + (0.084)^2} - \frac{(0.28)^3 + (0.47)^3 - (0.75)^3}{3(0.28)(0.47)(0.75)}$$

Options :

1. ✘ 2.5

2. ✔ $\frac{10}{9}$

3. ✘ $\frac{8}{10}$

4. ✘ $\frac{-8}{9}$

Question Number : 87 Question Id : 5096479305 Question Type : MCQ Option Shuffling : Yes
Correct Marks : 1 Wrong Marks : 0.25

If $\sqrt{\sqrt[3]{0.000001 \times a}} = 0.4$, then the value of a is:

Options :

1. ✔ 4096

2. ✘ $4^{1/3}$

3. ✘ $2^{1/6}$

4. ✘ $4^{1/6}$

Question Number : 87 Question Id : 5096479305 Question Type : MCQ Option Shuffling : Yes
Correct Marks : 1 Wrong Marks : 0.25

यदि $\sqrt{\sqrt[3]{0.000001 \times a}} = 0.4$ है, तो a का मान होगा:

Options :

1. ✓ 4096

2. ✗ $4^{1/3}$

3. ✗ $2^{1/6}$

4. ✗ $4^{1/6}$

Question Number : 88 Question Id : 5096479306 Question Type : MCQ Option Shuffling : Yes

Correct Marks : 1 Wrong Marks : 0.25

A decimal fraction is multiplied by itself. If the product is 477.4225, then the fraction is:

Options :

1. ✗ 18.65

2. ✗ 22.75

3. ✓ 21.85

4. ✗ 23.15

Question Number : 88 Question Id : 5096479306 Question Type : MCQ Option Shuffling : Yes

Correct Marks : 1 Wrong Marks : 0.25

एक दशमलव भिन्न को खुद से गुणा किया जाता है। यदि गुणनफल 477.4225 है, तो भिन्न होगी:

Options :

1. ✗ 18.65

2. ✖ 22.75

3. ✔ 21.85

4. ✖ 23.15

Question Number : 89 Question Id : 5096479307 Question Type : MCQ Option Shuffling : Yes
Correct Marks : 1 Wrong Marks : 0.25

Evaluate:

$$2\frac{1}{2} \text{ of } \frac{3}{4} \times \frac{1}{2} \div \frac{3}{2} + \frac{1}{2} \div \frac{3}{2} \left(\frac{2}{3} - \frac{1}{2} \text{ of } \frac{2}{3} \right)$$

Options :

1. ✖ $2\frac{7}{3}$

2. ✖ $1\frac{7}{8}$

3. ✔ $1\frac{5}{8}$

4. ✖ $2\frac{3}{4}$

Question Number : 89 Question Id : 5096479307 Question Type : MCQ Option Shuffling : Yes
Correct Marks : 1 Wrong Marks : 0.25

मूल्यांकन कीजिए:

$$2\frac{1}{2} \text{ of } \frac{3}{4} \times \frac{1}{2} \div \frac{3}{2} + \frac{1}{2} \div \frac{3}{2} \left(\frac{2}{3} - \frac{1}{2} \text{ of } \frac{2}{3} \right)$$

Options :

1. ✘ $2\frac{7}{3}$

2. ✘ $1\frac{7}{8}$

3. ✔ $1\frac{5}{8}$

4. ✘ $2\frac{3}{4}$

Question Number : 90 Question Id : 5096479308 Question Type : MCQ Option Shuffling : Yes
Correct Marks : 1 Wrong Marks : 0.25

Evaluate:

$$2.5 - \frac{1}{3.25 - \frac{2.5}{0.75 + 0.50}}$$

Options :

1. ✘ 0.80

2. ✘ 1.25

3. ✘ 1.18

4. ✔ 1.70

Question Number : 90 Question Id : 5096479308 Question Type : MCQ Option Shuffling : Yes
Correct Marks : 1 Wrong Marks : 0.25

मूल्यांकन कीजिए:

$$2.5 - \frac{1}{3.25 - \frac{2.5}{0.75 + 0.50}}$$

Options :

1. ✖ 0.80

2. ✖ 1.25

3. ✖ 1.18

4. ✔ 1.70

Question Number : 91 Question Id : 5096479309 Question Type : MCQ Option Shuffling : Yes

Correct Marks : 1 Wrong Marks : 0.25

Which of the following is the least number that leaves the remainder 6 every time it is divided by 27, 35, 45 and 49?

Options :

1. ✔ 6621

2. ✖ 6405

3. ✖ 6211

4. ✖ 6425

Question Number : 91 Question Id : 5096479309 Question Type : MCQ Option Shuffling : Yes

Correct Marks : 1 Wrong Marks : 0.25

निम्नलिखित में से कौन सी वह छोटी से छोटी संख्या है जो 27, 35, 45 और 49 से विभाजित करने पर हर बार 6 का शेष छोड़ती है?

Options :

1. ✔ 6621

2. ✖ 6405

3. ✖ 6211

4. ✖ 6425

Question Number : 92 Question Id : 5096479310 Question Type : MCQ Option Shuffling : Yes

Correct Marks : 1 Wrong Marks : 0.25

Which of the following is the greatest number that will divide 148, 246 and 623 leaving the remainder 4, 6 and 11 respectively?

Options :

1. ✖ 16

2. ✖ 24

3. ✔ 12

4. ✖ 18

Question Number : 92 Question Id : 5096479310 Question Type : MCQ Option Shuffling : Yes

Correct Marks : 1 Wrong Marks : 0.25

निम्नलिखित में से कौन सी वह बड़ी से बड़ी संख्या है जो 148, 246 और 623 को विभाजित कर क्रमशः 4, 6 और 11 का शेष छोड़ती है?

Options :

1. ✖ 16

2. ✖ 24

3. ✓ 12

4. ✗ 18

Question Number : 93 Question Id : 5096479311 Question Type : MCQ Option Shuffling : Yes

Correct Marks : 1 Wrong Marks : 0.25

Which of the following is the greatest number of three digits which, when added to 45, is exactly divisible by 6, 8, 12?

Options :

1. ✗ 980

2. ✗ 963

3. ✓ 987

4. ✗ 984

Question Number : 93 Question Id : 5096479311 Question Type : MCQ Option Shuffling : Yes

Correct Marks : 1 Wrong Marks : 0.25

निम्नलिखित में से कौन सी वह तीन अंकों की सबसे बड़ी संख्या है, जो 45 में जोड़े जाने पर 6, 8, 12 से पूर्ण विभाज्य हो जाती है?

Options :

1. ✗ 980

2. ✗ 963

3. ✓ 987

4. ✖ 984

Question Number : 94 Question Id : 5096479312 Question Type : MCQ Option Shuffling : Yes

Correct Marks : 1 Wrong Marks : 0.25

The sum of shares of A, B, C and D is Rs. 6300. If $A : B = 2 : 3$; $B : C = 4 : 5$; and $C : D = 3 : 7$; then B's share is:

Options :

1. ✔ Rs. 1080

2. ✖ Rs. 720

3. ✖ Rs. 1350

4. ✖ Rs. 3150

Question Number : 94 Question Id : 5096479312 Question Type : MCQ Option Shuffling : Yes

Correct Marks : 1 Wrong Marks : 0.25

A, B, C और D के हिस्सों का कुल योग ₹ 6300 है।

यदि $A : B = 2 : 3$; $B : C = 4 : 5$; और $C : D = 3 : 7$; है तो B का हिस्सा होगा:

Options :

1. ✔ रुपये 1080

2. ✖ रुपये 720

3. ✖ रुपये 1350

4. ✖ रुपये 3150

Question Number : 95 Question Id : 5096479313 Question Type : MCQ Option Shuffling : Yes

Correct Marks : 1 Wrong Marks : 0.25

A person distributes his pens among four friends A, B, C and D in the ratio $\frac{1}{3} : \frac{1}{4} : \frac{1}{5} : \frac{1}{6}$. Then the minimum number of pens that a person could have are:

Options :

1. ✘ 53

2. ✔ 57

3. ✘ 48

4. ✘ 62

Question Number : 95 Question Id : 5096479313 Question Type : MCQ Option Shuffling : Yes

Correct Marks : 1 Wrong Marks : 0.25

एक व्यक्ति अपने चार दोस्तों A, B, C और D के बीच $\frac{1}{3} : \frac{1}{4} : \frac{1}{5} : \frac{1}{6}$ के अनुपात में पेन वितरित करता है। गणना करें कि किसी एक व्यक्ति को अधिकतम कितने पेन मिल सकते हैं?

Options :

1. ✘ 53

2. ✔ 57

3. ✘ 48

4. ✘ 62

Question Number : 96 Question Id : 5096479314 Question Type : MCQ Option Shuffling : Yes

Correct Marks : 1 Wrong Marks : 0.25

If $2\frac{1}{2}\%$ of the weight of a television stand is 0.2 kg, then what will be 120% of it?

Options :

1. ✖ 8.8 kg

2. ✖ 9.2 kg

3. ✔ 9.6 kg

4. ✖ 6.6 kg

Question Number : 96 Question Id : 5096479314 Question Type : MCQ Option Shuffling : Yes

Correct Marks : 1 Wrong Marks : 0.25

यदि एक टेलीविजन स्टैंड के वजन का $2\frac{1}{2}\%$ 0.2 kg है, तो इसका 120% कितना होगा?

Options :

1. ✖ 8.8 kg

2. ✖ 9.2 kg

3. ✔ 9.6 kg

4. ✖ 6.6 kg

Question Number : 97 Question Id : 5096479315 Question Type : MCQ Option Shuffling : Yes

Correct Marks : 1 Wrong Marks : 0.25

If the price of one kg of sugar is increased by 25%, the increase is Rs. 10. Then the new price of the sugar (per kg) is:

Options :

1. ✖ 40

2. ✖ 30

3. ✔ 50

4. ✖ 45

Question Number : 97 Question Id : 5096479315 Question Type : MCQ Option Shuffling : Yes

Correct Marks : 1 Wrong Marks : 0.25

यदि एक kg चीनी की कीमतों में 25% की वृद्धि रुपये 10 की वृद्धि के बराबर होती है। तो चीनी की नई कीमत (प्रति kg) होगी:

Options :

1. ✖ 40

2. ✖ 30

3. ✔ 50

4. ✖ 45

Question Number : 98 Question Id : 5096479316 Question Type : MCQ Option Shuffling : Yes

Correct Marks : 1 Wrong Marks : 0.25

एक वर्ग की भुजा को 10% बढ़ाया जाता है। इसका क्षेत्रफल कितने प्रतिशत बढ़ेगा?

Options :

1. ✔ 21%

2. ✖ 11%

3. ✖ 18%

4. ✖ 32%

Question Number : 98 Question Id : 5096479316 Question Type : MCQ Option Shuffling : Yes

Correct Marks : 1 Wrong Marks : 0.25

The side of a square increases by 10%. Then by what percentage does its area increase?

Options :

1. ✔ 21%

2. ✖ 11%

3. ✖ 18%

4. ✖ 32%

Question Number : 99 Question Id : 5096479317 Question Type : MCQ Option Shuffling : Yes

Correct Marks : 1 Wrong Marks : 0.25

The average age of X and Y is 20 years. If Z were to replace X, the average would be 19. If Z were to replace Y, the average would be 21. Then the ages of X, Y and Z (in years), respectively, are:

Options :

1. ✔ 22, 18, 20

2. ✖ 24, 20, 22

3. ✖ 20, 16, 18

4. ✖ 23, 19, 21

Question Number : 99 Question Id : 5096479317 Question Type : MCQ Option Shuffling : Yes

Correct Marks : 1 Wrong Marks : 0.25

X और Y की औसत आयु 20 वर्ष है। यदि Z X को प्रतिस्थापित करता है, तो यह औसत 19 हो जाता है। यदि Z Y को प्रतिस्थापित करता है, तो यह औसत 21 हो जाता है। X, Y और Z की आयु (वर्षों में) क्रमशः है:

Options :

1. ✓ 22, 18, 20

2. ✗ 24, 20, 22

3. ✗ 20, 16, 18

4. ✗ 23, 19, 21

Question Number : 100 Question Id : 5096479318 Question Type : MCQ Option Shuffling : Yes

Correct Marks : 1 Wrong Marks : 0.25

The total runs scored by a batsman just before the last match of the season is 630. In the last match of the season, he could not open his account and thereby his average dropped by 3. Then his average runs for the entire season is:

Options :

1. ✗ 40

2. ✓ 42

3. ✗ 41.5

4. ✗ 43.5

Question Number : 100 Question Id : 5096479318 Question Type : MCQ Option Shuffling : Yes

Correct Marks : 1 Wrong Marks : 0.25

सीजन के आखिरी मैच से पहले किसी बल्लेबाज द्वारा बनाए गए रनों की संख्या 630 है। सीजन के आखिरी मैच में वह बल्लेबाज अपना खाता नहीं खोल सका और परिणामस्वरूप उसका औसत कुल 3 कम हो गया है। बल्लेबाज के पूरे सीजन के औसत की गणना करें:

Options :

1. ✘ 40

2. ✔ 42

3. ✘ 41.5

4. ✘ 43.5

Arithmetic Ability2

Group Number :	6
Group Id :	509647167
Group Maximum Duration :	0
Group Minimum Duration :	0
Show Attended Group? :	No
Edit Attended Group? :	No
Break time:	0
Group Marks:	20
Is this Group for Examiner?:	No
Revisit allowed for group Instructions? :	Yes
Maximum Instruction Time:	0
Minimum Instruction Time:	0

Arithmetic Ability2

Section Id :	509647327
Section Number :	1
Section type :	Online
Mandatory or Optional:	Mandatory
Number of Questions:	20
Number of Questions to be attempted:	20
Section Marks:	20

Sub-Section Number: 1
Sub-Section Id: 509647471
Question Shuffling Allowed : Yes

Question Number : 101 Question Id : 5096479319 Question Type : MCQ Option Shuffling : Yes
Correct Marks : 1 Wrong Marks : 0.25

A man sold two wooden chairs for Rs. 4800 each. On one chair he gained 25%, and on the other chair he lost 20%. Then how much percentage (correct up to two decimals) he gained or lost in these transactions?

Options :

1. ✓ 2.44% loss
2. ✗ 2.22% gain
3. ✗ 1.75% loss
4. ✗ 1.85% gain

Question Number : 101 Question Id : 5096479319 Question Type : MCQ Option Shuffling : Yes
Correct Marks : 1 Wrong Marks : 0.25

एक व्यक्ति ने लकड़ी की दो कुर्सियां रुपये 4800 प्रति कुर्सी के हिसाब से बेची। उसे एक कुर्सी पर 25% का लाभ और दूसरी कुर्सी पर 20% की हानि हुई। इस सौदे में व्यक्ति को हुए प्रतिशत लाभ या प्रतिशत हानि की गणना करें (दशमलव के दो स्थानों तक)।

Options :

1. ✓ 2.44% हानि
2. ✗ 2.22% लाभ
3. ✗ 1.75% हानि
4. ✗ 1.85% लाभ

Question Number : 102 Question Id : 5096479320 Question Type : MCQ Option Shuffling : Yes

Correct Marks : 1 Wrong Marks : 0.25

A person purchases 90 time pieces and sells 40 time pieces for a gain of 10% and 50 time pieces for a gain of 20%. If he were to sell all of them at a uniform profit of 15%, then he would have got Rs. 40 less. The cost price of each time piece is:

Options :

1. ✘ Rs. 90

2. ✔ Rs. 80

3. ✘ Rs. 50

4. ✘ Rs. 60

Question Number : 102 Question Id : 5096479320 Question Type : MCQ Option Shuffling : Yes

Correct Marks : 1 Wrong Marks : 0.25

एक व्यक्ति 90 घड़ियां खरीदता है और उनमें से 40 घड़ियों को 10% लाभ पर तथा 50 घड़ियों को 20% लाभ पर बेच देता है। यदि वह सभी घड़ियों को 15% के एकसमान लाभ पर बेचता तो उसके लाभ में रुपये 40 की कमी हो जाती। प्रत्येक घड़ी की कीमत ज्ञात कीजिए:

Options :

1. ✘ रुपये 90

2. ✔ रुपये 80

3. ✘ रुपये 50

4. ✘ रुपये 60

Question Number : 103 Question Id : 5096479321 Question Type : MCQ Option Shuffling : Yes

Correct Marks : 1 Wrong Marks : 0.25

A trader purchased 180 boxes of apples at Rs. 900 per box. He sold 70 boxes at 20% profit and 50 boxes at 6% loss. At what rate per box should the remainder be sold so as to gain 9% on the whole transaction?

Options :

1. ✘ Rs. 969 per box
2. ✘ Rs. 983 per box
3. ✘ Rs. 936 per box
4. ✔ Rs. 978 per box

Question Number : 103 Question Id : 5096479321 Question Type : MCQ Option Shuffling : Yes

Correct Marks : 1 Wrong Marks : 0.25

एक व्यापारी ने सेब की 180 पेटियां रुपये 900 प्रति पेटि के हिसाब से खरीदी। उसने 70 पेटियों को 20% लाभ पर और 50 पेटियों को 6% हानि पर बेच दिया। पूरे सौदे में 9% का कुल लाभ प्राप्त करने के लिए बची हुई पेटियों को किस दर पर बेचा जाना चाहिए?

Options :

1. ✘ रुपये 969 प्रति पेटि
2. ✘ रुपये 983 प्रति पेटि
3. ✘ रुपये 936 प्रति पेटि
4. ✔ रुपये 978 प्रति पेटि

Question Number : 104 Question Id : 5096479322 Question Type : MCQ Option Shuffling : Yes

Correct Marks : 1 Wrong Marks : 0.25

A shopkeeper offers 15% discount on all children toys. He offers a further discount of 4% on the reduced price to those customers who pay cash. What does a customer have to pay in cash for a toy of price Rs. 500?

Options :

1. ✖ Rs. 436

2. ✔ Rs. 408

3. ✖ Rs. 463

4. ✖ Rs. 432

Question Number : 104 Question Id : 5096479322 Question Type : MCQ Option Shuffling : Yes

Correct Marks : 1 Wrong Marks : 0.25

एक दुकानदार सभी खिलौनों पर 15% की छूट देता है। इसके अलावा वह नकद भुगतान करने वाले ग्राहकों को 4% की अतिरिक्त छूट प्रदान करता है। रुपये 500 अंकित मूल्य वाले खिलौने के लिए नकद में भुगतान करने वाले किसी ग्राहक को कितना भुगतान करना होगा?

Options :

1. ✖ रुपये 436

2. ✔ रुपये 408

3. ✖ रुपये 463

4. ✖ रुपये 432

Question Number : 105 Question Id : 5096479323 Question Type : MCQ Option Shuffling : Yes

Correct Marks : 1 Wrong Marks : 0.25

A trader offers his customers 20% discount and still makes a profit of 26%. What is the actual cost to him of an article marked Rs. 315?

Options :

1. ✖ Rs. 225

2. ✖ Rs. 235

3. ✔ Rs. 200

4. ✖ Rs. 250

Question Number : 105 Question Id : 5096479323 Question Type : MCQ Option Shuffling : Yes

Correct Marks : 1 Wrong Marks : 0.25

एक व्यापारी अपने ग्राहकों को 20% की छूट देता है और फिर भी 26% का लाभ कमाता है। रुपये 315 अंकित मूल्य वाली वस्तु का वास्तविक लागत मूल्य ज्ञात करें।

Options :

1. ✖ रुपये 225

2. ✖ रुपये 235

3. ✔ रुपये 200

4. ✖ रुपये 250

Question Number : 106 Question Id : 5096479324 Question Type : MCQ Option Shuffling : Yes

Correct Marks : 1 Wrong Marks : 0.25

At what rate of simple interest per annum will a sum double itself in 8 years?

Options :

1. ✖ 13.5%

2. ✖ 10.5%

3. ✓ 12.5%

4. ✖ 11.5%

Question Number : 106 Question Id : 5096479324 Question Type : MCQ Option Shuffling : Yes
Correct Marks : 1 Wrong Marks : 0.25

कितने प्रतिशत सालाना साधारण ब्याज की दर से 8 वर्षों में राशि दोगुनी हो जाएगी?

Options :

1. ✖ 13.5%

2. ✖ 10.5%

3. ✓ 12.5%

4. ✖ 11.5%

Question Number : 107 Question Id : 5096479325 Question Type : MCQ Option Shuffling : Yes
Correct Marks : 1 Wrong Marks : 0.25

What annual installment (per year) will discharge a debt of Rs. 4800 due in 5 years at 10% simple interest?

Note: For this question, discrepancy is found in question/answer. So, this question is ignored for all candidates.

Options :

1. Rs. 600

2. Rs. 700

3. Rs. 1200

4. Rs. 900

Question Number : 107 Question Id : 5096479325 Question Type : MCQ Option Shuffling : Yes

Correct Marks : 1 Wrong Marks : 0.25

10% साधारण ब्याज पर 5 साल के लिए लिए गए रुपये 4800 के पूर्ण भुगतान के लिए वार्षिक किस्त (हर साल) की गणना करें।

Note: For this question, discrepancy is found in question/answer. So, this question is ignored for all candidates.

Options :

1. रुपये 600

2. रुपये 700

3. रुपये 1200

4. रुपये 900

Question Number : 108 Question Id : 5096479326 Question Type : MCQ Option Shuffling : Yes

Correct Marks : 1 Wrong Marks : 0.25

A man borrowed Rs. 3000 total from two moneylenders. For one loan, he paid 4% p.a. and, for the other, he paid 7% p.a. The total interest paid for two years was Rs. 270. How much did he borrow at 4%?

Options :

1. ✓ Rs. 2500

2. ✗ Rs. 1875

3. ✗ Rs. 2250

4. ✗ Rs. 2750

Question Number : 108 Question Id : 5096479326 Question Type : MCQ Option Shuffling : Yes

Correct Marks : 1 Wrong Marks : 0.25

एक व्यक्ति ने दो साहूकारों से रुपये 3000 का कुल कर्ज लिया। एक कर्ज के लिए उसने 4% सालाना और दूसरे के लिए 7% सालाना की ब्याज दर से ब्याज का भुगतान किया। इन दो सालों में उसने कुल रुपये 270 का ब्याज के रूप में भुगतान किया। उसने 4% की दर पर कितना उधार लिया था?

Options :

1. ✓ रुपये 2500

2. ✗ रुपये 1875

3. ✗ रुपये 2250

4. ✗ रुपये 2750

Question Number : 109 Question Id : 5096479327 Question Type : MCQ Option Shuffling : Yes

Correct Marks : 1 Wrong Marks : 0.25

Rs. 15470 is divided between David and Mishra such that the amount of David's share after five years at the rate of 10% — compounded annually — will be equal to that of Mishra's share at the end of three years at 10% rate of interest — compounded annually. Find the share of David.

Options :

1. ✓ Rs. 7000

2. ✗ Rs. 8470

3. ✗ Rs. 7500

4. ✗ Rs. 6500

Question Number : 109 Question Id : 5096479327 Question Type : MCQ Option Shuffling : Yes

Correct Marks : 1 Wrong Marks : 0.25

रुपये 15470 की राशि को डेविड और मिश्रा के बीच इस प्रकार से विभाजित किया गया है कि डेविड के हिस्से को 10% की दर पर जिसमें हर साल ब्याज जोड़ा जाता है, 5 सालों के लिए निवेश करने पर प्राप्त राशि, मिश्रा के हिस्से को 10% की दर पर जिसमें हर साल ब्याज जोड़ा जाता है, 3 सालों के लिए निवेश करने पर प्राप्त राशि के बराबर होगी। डेविड के हिस्से की गणना करें।

Options :

1. ✓ रुपये 7000

2. ✗ रुपये 8470

3. ✗ रुपये 7500

4. ✗ रुपये 6500

Question Number : 110 Question Id : 5096479328 Question Type : MCQ Option Shuffling : Yes

Correct Marks : 1 Wrong Marks : 0.25

A certain sum of money lent at a certain rate of compound interest grows to 1.44 times its value in 2 years. If the same sum is lent at simple interest at the same rate, in how many years would it double itself?

Options :

1. ✗ 4 years

2. ✓ 5 years

3. ✗ 6 years

4. ✗ 8 years

Question Number : 110 Question Id : 5096479328 Question Type : MCQ Option Shuffling : Yes

Correct Marks : 1 Wrong Marks : 0.25

चक्रवृद्धि ब्याज की एक निश्चित दर पर उधार दिया गया धन का 2 वर्षों में मूलधन का 1.44 गुना हो जाता है। यदि यही राशि समान दर पर साधारण ब्याज पर उधार दी जाती है, तो यह कितने वर्षों में दोगुनी हो जाएगी?

Options :

1. ✖ 4 सालों में
2. ✔ 5 सालों में
3. ✖ 6 सालों में
4. ✖ 8 सालों में

Question Number : 111 Question Id : 5096479329 Question Type : MCQ Option Shuffling : Yes

Correct Marks : 1 Wrong Marks : 0.25

A rectangular path of length 20 m and breadth 18 m is to be bounded by a 2 m wide jogging track from outside. What will be the area of the track?

Options :

1. ✖ $182 m^2$
2. ✔ $168 m^2$
3. ✖ $162 m^2$
4. ✖ $174 m^2$

Question Number : 111 Question Id : 5096479329 Question Type : MCQ Option Shuffling : Yes

Correct Marks : 1 Wrong Marks : 0.25

20 m लंबाई और 18 m चौड़ाई वाले एक एक आयताकार पथ को बाहर की ओर से 2 m चौड़े जॉगिंग ट्रैक से घेरा जाना है। ट्रैक का क्षेत्रफल क्या होगा?

Options :

1. ✖ $182 m^2$

2. ✓ 168 m^2

3. ✗ 162 m^2

4. ✗ 174 m^2

Question Number : 112 Question Id : 5096479330 Question Type : MCQ Option Shuffling : Yes

Correct Marks : 1 Wrong Marks : 0.25

The area of a trapezium-shaped field is 480 m^2 . The distance between two parallel sides is 15 m and one of the parallel sides is 20 m. Then the length of the other parallel side is:

Options :

1. ✗ 34 m

2. ✗ 38 m

3. ✗ 41 m

4. ✓ 44 m

Question Number : 112 Question Id : 5096479330 Question Type : MCQ Option Shuffling : Yes

Correct Marks : 1 Wrong Marks : 0.25

एक समलम्बीय (ट्रैपेज़ियम) नुमा खेत 480 m^2 है। इसकी दो समानांतर भुजाओं के बीच की दूरी 15 m है और समानांतर भुजाओं में से एक की लंबाई 20 m है। दूसरी समानांतर भुजा की लंबाई ज्ञात करें:

Options :

1. ✗ 34 m

2. ✗ 38 m

3. ✖ 41 m

4. ✔ 44 m

Question Number : 113 Question Id : 5096479331 Question Type : MCQ Option Shuffling : Yes

Correct Marks : 1 Wrong Marks : 0.25

The two adjacent sides of a parallelogram are 12 m and 14 m respectively. If the diagonal connecting the ends is 22 m, then the area of the parallelogram is (given $\sqrt{10} = 3.16$):

Options :

1. ✖ 160.72 m^2

2. ✖ 148.24 m^2

3. ✔ 151.68 m^2

4. ✖ 158.18 m^2

Question Number : 113 Question Id : 5096479331 Question Type : MCQ Option Shuffling : Yes

Correct Marks : 1 Wrong Marks : 0.25

समांतर चतुर्भुज की दो समीपवर्ती भुजाएं क्रमशः 12 m और 14 m हैं। यदि सिरों को जोड़ने वाला विकर्ण 22 m है, तो समांतर चतुर्भुज का क्षेत्रफल होगा: (दिया है $\sqrt{10} = 3.16$)

Options :

1. ✖ 160.72 m^2

2. ✖ 148.24 m^2

3. ✔ 151.68 m^2

4. ✖ 158.18 m²

Question Number : 114 Question Id : 5096479332 Question Type : MCQ Option Shuffling : Yes

Correct Marks : 1 Wrong Marks : 0.25

यदि 8 पुरुष और 12 महिलाएं मिलकर एक काम को 10 दिनों में पूरा कर सकते हैं, तो 4 पुरुषों और 4 महिलाओं को उसी काम को पूरा करने में कितने दिनों का समय लगेगा:

Note: For this question, discrepancy is found in question/answer. So, this question is ignored for all candidates.

Options :

1. 8

2. 10

3. 12

4. 14

Question Number : 114 Question Id : 5096479332 Question Type : MCQ Option Shuffling : Yes

Correct Marks : 1 Wrong Marks : 0.25

If 8 men and 12 women can finish a piece of work in 10 days, then the number of days required by 4 men and 4 women to finish the same work is:

Note: For this question, discrepancy is found in question/answer. So, this question is ignored for all candidates.

Options :

1. 8

2. 10

3. 12

4. 14

Question Number : 115 Question Id : 5096479333 Question Type : MCQ Option Shuffling : Yes

Correct Marks : 1 Wrong Marks : 0.25

X works twice as fast as Y. If Y can complete a task in 12 days independently, then the number of days in which X and Y can together finish the same task is:

Options :

1. ✓ 4

2. ✗ 6

3. ✗ 8

4. ✗ 12

Question Number : 115 Question Id : 5096479333 Question Type : MCQ Option Shuffling : Yes

Correct Marks : 1 Wrong Marks : 0.25

X, Y से दोगुना तेजी से काम करता है। यदि Y अकेले किसी काम को 12 दिनों को पूरा कर सकता है, तो X और Y को एक साथ मिलकर उसी काम को पूरा करने में कितने दिनों का समय लगेगा:

Options :

1. ✓ 4

2. ✗ 6

3. ✗ 8

4. ✗ 12

Question Number : 116 Question Id : 5096479334 Question Type : MCQ Option Shuffling : Yes

Correct Marks : 1 Wrong Marks : 0.25

A train starts from X to Y, and another train from Y to X at the same time. After crossing each other, they complete their journey in $3\frac{1}{2}$ and $2\frac{4}{7}$ hours respectively. If the speed of the first train is 60 kmph, then the speed of the second train is:

Options :

1. ✘ 80 kmph

2. ✘ 60 kmph

3. ✔ 70 kmph

4. ✘ 50 kmph

Question Number : 116 Question Id : 5096479334 Question Type : MCQ Option Shuffling : Yes

Correct Marks : 1 Wrong Marks : 0.25

एक ट्रेन X से Y तक, और दूसरी ट्रेन उसी समय Y से X तक गति करना शुरू करती है। एक दूसरे को पार करने के बाद, ये ट्रेनें क्रमशः $3\frac{1}{2}$ तथा $2\frac{4}{7}$ घंटे अपनी यात्रा पूरी कर लेती हैं। यदि पहली ट्रेन की गति 60 kmph है, तो दूसरी ट्रेन की गति है:

Options :

1. ✘ 80 kmph

2. ✘ 60 kmph

3. ✔ 70 kmph

4. ✘ 50 kmph

Question Number : 117 Question Id : 5096479335 Question Type : MCQ Option Shuffling : Yes

Correct Marks : 1 Wrong Marks : 0.25

A train passes a station platform in 36 seconds and a man standing on the platform in 20 seconds. If the speed of the train is 54 kmph, then the length of the platform is:

Options :

1. ✘ 300 m

2. ✔ 240 m

3. ✘ 180 m

4. ✘ 120 m

Question Number : 117 Question Id : 5096479335 Question Type : MCQ Option Shuffling : Yes

Correct Marks : 1 Wrong Marks : 0.25

एक ट्रेन किसी स्टेशन पर बने प्लेटफॉर्म को पार करने में 36 सेकंड और इसमें मौजूद मैनस्टैंडिंग को पार करने में 20 सेकंड का समय लेती है। यदि ट्रेन की गति 54 kmph है, तो प्लेटफॉर्म की लंबाई है:

Options :

1. ✘ 300 m

2. ✔ 240 m

3. ✘ 180 m

4. ✘ 120 m

Question Number : 118 Question Id : 5096479336 Question Type : MCQ Option Shuffling : Yes

Correct Marks : 1 Wrong Marks : 0.25

A train, after travelling 50 km, meets with repair due to engine problem. It then proceeds at $\frac{4}{5}$ of its former speed and arrives at the terminal 45 minutes late. Had the repair happened 20 km further on, it would have arrived 12 minutes sooner. Then the speed of the train and the distance travelled by it, respectively, are:

Options :

1. ✘ 25 kmph, 75 km
2. ✔ 25 kmph, 125 km
3. ✘ 30 kmph, 120 km
4. ✘ 35 kmph, 140 km

Question Number : 118 Question Id : 5096479336 Question Type : MCQ Option Shuffling : Yes

Correct Marks : 1 Wrong Marks : 0.25

एक ट्रेन को, 50 km की यात्रा के बाद, इंजन की समस्या के कारण मरम्मत करवानी पड़ती है। इस कारण से यह अपनी पहले की गति से $\frac{4}{5}$ गति से चलती है और टर्मिनल पर 45 मिनट देरी से पहुंचती है। यदि मरम्मत 20 km आगे की जाती, तो ट्रेन 12 मिनट जल्दी पहुंच जाती। तो ट्रेन की गति और उसके द्वारा तय की गई दूरी, क्रमशः हैं:

Options :

1. ✘ 25 kmph, 75 km
2. ✔ 25 kmph, 125 km
3. ✘ 30 kmph, 120 km
4. ✘ 35 kmph, 140 km

Question Number : 119 Question Id : 5096479337 Question Type : MCQ Option Shuffling : Yes

Correct Marks : 1 Wrong Marks : 0.25

The following table shows the number of candidates appeared and qualified in a competitive examination from different states over the years.

State	Year									
	2014		2015		2016		2017		2018	
	App.	Qual.	App.	Qual.	App.	Qual.	App.	Qual.	App.	Qual.
M	5200	720	8500	980	7400	850	6800	775	9500	1125
N	7500	840	9200	1050	8450	920	9200	980	8800	1020
P	6400	780	8800	1020	7800	890	8750	1010	9750	1250
Q	8100	950	9500	1240	8700	980	9700	1200	8950	995
R	7800	870	7600	940	9800	1350	7600	945	7990	885

Combining the states P and Q together in 2015, what is the percentage of the candidates qualified to that of the candidate appeared?

Options :

1. ✘ 12.54%

2. ✔ 12.35%

3. ✘ 11.49%

4. ✘ 10.87%

Question Number : 119 Question Id : 5096479337 Question Type : MCQ Option Shuffling : Yes

Correct Marks : 1 Wrong Marks : 0.25

नीचे दी गई टेबल में पिछले कुछ सालों में विभिन्न राज्यों से प्रतिस्पर्धी परीक्षा में भाग लेने वाले और उत्तीर्ण होने वाले छात्रों की संख्या दर्शाई गई है।

राज्य	साल									
	2014		2015		2016		2017		2018	
	भाग लेने वाले	उत्तीर्ण होने वाले	भाग लेने वाले	उत्तीर्ण होने वाले	भाग लेने वाले	उत्तीर्ण होने वाले	भाग लेने वाले	उत्तीर्ण होने वाले	भाग लेने वाले	उत्तीर्ण होने वाले
M	5200	720	8500	980	7400	850	6800	775	9500	1125
N	7500	840	9200	1050	8450	920	9200	980	8800	1020
P	6400	780	8800	1020	7800	890	8750	1010	9750	1250
Q	8100	950	9500	1240	8700	980	9700	1200	8950	995
R	7800	870	7600	940	9800	1350	7600	945	7990	885

2015 में P और Q राज्यों को एक साथ मिलाकर, परीक्षा देने वाले उम्मीदवारों में से उत्तीर्ण होने वाले उम्मीदवारों का प्रतिशत ज्ञात कीजिए?

Options :

1. ✘ 12.54%

2. ✔ 12.35%

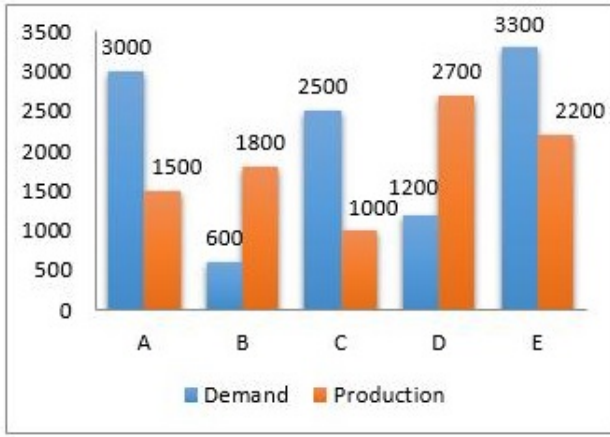
3. ✘ 11.49%

4. ✘ 10.87%

Question Number : 120 Question Id : 5096479338 Question Type : MCQ Option Shuffling : Yes

Correct Marks : 1 Wrong Marks : 0.25

The following graph shows the demand and production of five companies:



The difference between the average demand and average production of the five companies taken together is:

Options :

1. ✘ 138

2. ✔ 280

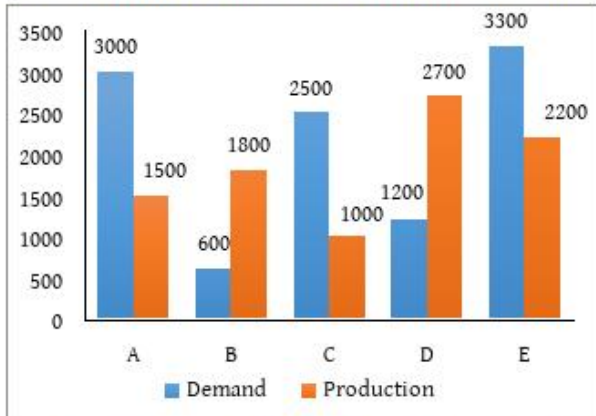
3. ✘ 400

4. ✘ 1400

Question Number : 120 Question Id : 5096479338 Question Type : MCQ Option Shuffling : Yes

Correct Marks : 1 Wrong Marks : 0.25

निम्नलिखित ग्राफ पांच कंपनियों की मांग और उत्पादन को दर्शाता है:



एक साथ मिलाकर गणना करने पर पांचों कंपनियों की औसत मांग और औसत उत्पादन के बीच का अंतर है:

Options :

1. ✖ 138

2. ✔ 280

3. ✖ 400

4. ✖ 1400

General English1

Group Number :	7
Group Id :	509647168
Group Maximum Duration :	0
Group Minimum Duration :	0
Show Attended Group? :	No
Edit Attended Group? :	No
Break time:	0
Group Marks:	20
Is this Group for Examiner?:	No
Revisit allowed for group Instructions? :	Yes
Maximum Instruction Time:	0
Minimum Instruction Time:	0

General English1

Section Id :	509647328
Section Number :	1
Section type :	Online
Mandatory or Optional:	Mandatory
Number of Questions:	20
Number of Questions to be attempted:	20
Section Marks:	20

Sub-Section Number:	1
Sub-Section Id:	509647472
Question Shuffling Allowed :	Yes

Question Number : 121 Question Id : 5096479339 Question Type : MCQ Option Shuffling : Yes
Correct Marks : 1 Wrong Marks : 0.25

Select the option that can be used as a one-word substitute for the given group of words.

Collection of weapons and military equipment

Options :

1. ✖ battalion
2. ✖ contingent
3. ✖ horde
4. ✔ arsenal

Question Number : 121 Question Id : 5096479339 Question Type : MCQ Option Shuffling : Yes
Correct Marks : 1 Wrong Marks : 0.25

Select the option that can be used as a one-word substitute for the given group of words.

Collection of weapons and military equipment

Options :

1. ✖ battalion
2. ✖ contingent
3. ✖ horde
4. ✔ arsenal

Question Number : 122 Question Id : 5096479340 Question Type : MCQ Option Shuffling : Yes
Correct Marks : 1 Wrong Marks : 0.25

Select the option that best gives the meaning of the following word.

Speleology

Options :

1. ✖ Study of special metals

2. ✔ Study of caves

3. ✖ Study of species

4. ✖ Study of spleens

Question Number : 122 Question Id : 5096479340 Question Type : MCQ Option Shuffling : Yes
Correct Marks : 1 Wrong Marks : 0.25

Select the option that best gives the meaning of the following word.

Speleology

Options :

1. ✖ Study of special metals

2. ✔ Study of caves

3. ✖ Study of species

4. ✖ Study of spleens

Question Number : 123 Question Id : 5096479341 Question Type : MCQ Option Shuffling : Yes
Correct Marks : 1 Wrong Marks : 0.25

Select the option that best gives the meaning of the underlined idiomatic phrase.

She joined the election contest with all guns blazing.

Options :

1. ✔ She put in all her effort and energy in contesting the election.

2. ✖ She joined the election contest forcibly using her gun.

3. ✖ She jumped into the election contest suddenly.

4. ✖ She was too angry to join the election contest.

Question Number : 123 Question Id : 5096479341 Question Type : MCQ Option Shuffling : Yes

Correct Marks : 1 Wrong Marks : 0.25

Select the option that best gives the meaning of the underlined idiomatic phrase.

She joined the election contest with all guns blazing.

Options :

1. ✓ She put in all her effort and energy in contesting the election.
2. ✗ She joined the election contest forcibly using her gun.
3. ✗ She jumped into the election contest suddenly.
4. ✗ She was too angry to join the election contest.

Question Number : 124 Question Id : 5096479342 Question Type : MCQ Option Shuffling : Yes

Correct Marks : 1 Wrong Marks : 0.25

Fill in the blanks with the most appropriate option.

The civil liberties group and other critics said that internet _____ would violate constitutional _____ of free speech and _____ and put India in the same league as autocratic countries like China and Russia.

Options :

1. ✗ violations, right, business
2. ✗ protections, membership, privacy
3. ✓ censorship, protections, privacy
4. ✗ censorship, views, rights

Question Number : 124 Question Id : 5096479342 Question Type : MCQ Option Shuffling : Yes

Correct Marks : 1 Wrong Marks : 0.25

Fill in the blanks with the most appropriate option.

The civil liberties group and other critics said that internet _____ would violate constitutional _____ of free speech and _____ and put India in the same league as autocratic countries like China and Russia.

Options :

1. ✖ violations, right, business
2. ✖ protections, membership, privacy
3. ✔ censorship, protections, privacy
4. ✖ censorship, views, rights

Question Number : 125 Question Id : 5096479343 Question Type : MCQ Option Shuffling : Yes
Correct Marks : 1 Wrong Marks : 0.25

Fill in the blanks with the most appropriate phrasal verb.

The Chipko movement in the 70s _____ a big change in environmental activism.

Options :

1. ✖ broke down
2. ✔ brought about
3. ✖ brought up
4. ✖ checked out

Question Number : 125 Question Id : 5096479343 Question Type : MCQ Option Shuffling : Yes
Correct Marks : 1 Wrong Marks : 0.25

Fill in the blanks with the most appropriate phrasal verb.

The Chipko movement in the 70s _____ a big change in environmental activism.

Options :

1. ✘ broke down
2. ✔ brought about
3. ✘ brought up
4. ✘ checked out

Question Number : 126 Question Id : 5096479344 Question Type : MCQ Option Shuffling : Yes
Correct Marks : 1 Wrong Marks : 0.25

Complete the following conditional sentence.

If the scientists had not correctly predicted the course of the cyclone:

Options :

1. ✘ they could have saved human lives.
2. ✘ they cannot save more people.
3. ✘ they would save more people.
4. ✔ there would have been even worse damage to human lives.

Question Number : 126 Question Id : 5096479344 Question Type : MCQ Option Shuffling : Yes
Correct Marks : 1 Wrong Marks : 0.25

Complete the following conditional sentence.

If the scientists had not correctly predicted the course of the cyclone:

Options :

1. ✖ they could have saved human lives.
2. ✖ they cannot save more people.
3. ✖ they would save more people.
4. ✔ there would have been even worse damage to human lives.

Question Number : 127 Question Id : 5096479345 Question Type : MCQ Option Shuffling : Yes

Correct Marks : 1 Wrong Marks : 0.25

Select the grammatically correct sentence from the given options.

Options :

1. ✖ Fossil fuels are non-renewable – this mean that nature cannot recreate them as fast as people using them up today.
2. ✖ Ram advised Ravi that he cannot go on to punish himself for so long over something that wasn't his fault.
3. ✖ The project team members were all present this summer. One of them have already took a vacation for three weeks.
4. ✔ In our company all our employees have professional degrees.

Question Number : 127 Question Id : 5096479345 Question Type : MCQ Option Shuffling : Yes

Correct Marks : 1 Wrong Marks : 0.25

Select the grammatically correct sentence from the given options.

Options :

1. ✖ Fossil fuels are non-renewable - this mean that nature cannot recreate them as fast as people using them up today.

2. ✖ Ram advised Ravi that he cannot go on to punish himself for so long over something that wasn't his fault.

3. ✖ The project team members were all present this summer. One of them have already took a vacation for three weeks.

4. ✔ In our company all our employees have professional degrees.

Question Number : 128 Question Id : 5096479346 Question Type : MCQ Option Shuffling : Yes
Correct Marks : 1 Wrong Marks : 0.25

Fill in the blanks with the most appropriate option ensuring that the verbs correctly agree with the given subjects.

The questions of the rights of the national minorities and the enforcement of the Land Act _____ among the problems of the day in the 1950s. The government still _____ not devised any new laws to solve these issues.

Options :

1. ✖ was, have

2. ✔ were, has

3. ✖ were, have

4. ✖ was, has

Question Number : 128 Question Id : 5096479346 Question Type : MCQ Option Shuffling : Yes
Correct Marks : 1 Wrong Marks : 0.25

Fill in the blanks with the most appropriate option ensuring that the verbs correctly agree with the given subjects.

The questions of the rights of the national minorities and the enforcement of the Land Act _____ among the problems of the day in the 1950s. The government still _____ not devised any new laws to solve these issues.

Options :

1. ✖ was, have
2. ✔ were, has
3. ✖ were, have
4. ✖ was, has

Question Number : 129 Question Id : 5096479347 Question Type : MCQ Option Shuffling : Yes
Correct Marks : 1 Wrong Marks : 0.25

Match the following nouns with their respective adjectives.

Match the following nouns with their respective adjectives.

Adjectives	Nouns
a) delicious	i) accident
b) great	ii) journey
c) fatal	iii) difficulty
d) beautiful	iv) food

Options :

1. ✖ a-ii, b- i, c-iii, d-iv
2. ✖ a-ii, b-iv, c-i, d-ii
3. ✔ a-iv, b-iii, c-i, d-ii
4. ✖ a-iii, b-i, c-ii, d-i

Question Number : 129 Question Id : 5096479347 Question Type : MCQ Option Shuffling : Yes

Correct Marks : 1 Wrong Marks : 0.25

Match the following nouns with their respective adjectives.

Match the following nouns with their respective adjectives.

Adjectives	Nouns
a) delicious	i) accident
b) great	ii) journey
c) fatal	iii) difficulty
d) beautiful	iv) food

Options :

1. ✘ a-ii, b- i, c-iii, d-iv

2. ✘ a-ii, b-iv, c-i, d-ii

3. ✔ a-iv, b-iii, c-i, d-ii

4. ✘ a-iii, b-i, c-ii, d-i

Question Number : 130 Question Id : 5096479348 Question Type : MCQ Option Shuffling : Yes

Correct Marks : 1 Wrong Marks : 0.25

Select the option that expresses the given sentence in passive voice.

The rising temperature during this summer has scorched Chennai.

Options :

1. ✘ Chennai is scorched by the risen temperature this summer.

2. ✔ Chennai has been scorched by the rising temperature during this summer.

3. ✖ Chennai is being scorched by the rising temperature during this summer.

4. ✖ During this summer, Chennai has scorched by the rising temperature.

Question Number : 130 Question Id : 5096479348 Question Type : MCQ Option Shuffling : Yes
Correct Marks : 1 Wrong Marks : 0.25

Select the option that expresses the given sentence in passive voice.

The rising temperature during this summer has scorched Chennai.

Options :

1. ✖ Chennai is scorched by the risen temperature this summer.

2. ✔ Chennai has been scorched by the rising temperature during this summer.

3. ✖ Chennai is being scorched by the rising temperature during this summer.

4. ✖ During this summer, Chennai has scorched by the rising temperature.

Question Number : 131 Question Id : 5096479349 Question Type : MCQ Option Shuffling : Yes
Correct Marks : 1 Wrong Marks : 0.25

There are two statements numbered I and II. There may be cause and effect relationship between them. Or both might be effects of some independent cause or independent causes.

Choose the appropriate option after reading the following two statements:

I. The number of people suffering from lung-related diseases has increased in the recent years.

II. There is a gradual increase in the crime rate in the city.

Options :

1. ✖ Statement I is the cause and Statement II is the effect
2. ✖ Statement II is the cause and Statement I is the effect
3. ✖ Both statements are independent causes with inter relation to each other.
4. ✔ Both statements are independent causes with no relation to each other

Question Number : 131 Question Id : 5096479349 Question Type : MCQ Option Shuffling : Yes

Correct Marks : 1 Wrong Marks : 0.25

There are two statements numbered I and II. There may be cause and effect relationship between them. Or both might be effects of some independent cause or independent causes.

Choose the appropriate option after reading the following two statements:

- I. The number of people suffering from lung-related diseases has increased in the recent years.
- II. There is a gradual increase in the crime rate in the city.

Options :

1. ✖ Statement I is the cause and Statement II is the effect
2. ✖ Statement II is the cause and Statement I is the effect
3. ✖ Both statements are independent causes with inter relation to each other.
4. ✔ Both statements are independent causes with no relation to each other

Question Number : 132 Question Id : 5096479350 Question Type : MCQ Option Shuffling : Yes
Correct Marks : 1 Wrong Marks : 0.25

Fill in the blank with the most appropriate option.

The sudden fall in the growth of the information technology industry _____ poor placement among engineering students.

Options :

1. ✖ because of

2. ✓ resulted in

3. ✗ although

4. ✗ inspite of

Question Number : 132 Question Id : 5096479350 Question Type : MCQ Option Shuffling : Yes
Correct Marks : 1 Wrong Marks : 0.25

Fill in the blank with the most appropriate option.

The sudden fall in the growth of the information technology industry _____ poor placement among engineering students.

Options :

1. ✗ because of

2. ✓ resulted in

3. ✗ although

4. ✗ inspite of

Question Number : 133 Question Id : 5096479351 Question Type : MCQ Option Shuffling : Yes
Correct Marks : 1 Wrong Marks : 0.25

Select the option that expresses the given sentence in reported speech.

Stephen Hawking said, “I would ask Einstein why he didn’t believe in black holes”.

Options :

1. ✗ Stephen Hawking responded that he will ask Einstein why didn’t he believe in black holes.

2. ✗ Stephen Hawking answered that he would ask Einstein about his belief in black holes.

3. ✖ Stephen Hawking said that he would have asked Einstein about black holes.

4. ✔ Stephen Hawking said that he would ask Einstein why he had not believed in black holes.

Question Number : 133 Question Id : 5096479351 Question Type : MCQ Option Shuffling : Yes
Correct Marks : 1 Wrong Marks : 0.25

Select the option that expresses the given sentence in reported speech.

Stephen Hawking said, "I would ask Einstein why he didn't believe in black holes".

Options :

1. ✖ Stephen Hawking responded that he will ask Einstein why didn't he believe in black holes.

2. ✖ Stephen Hawking answered that he would ask Einstein about his belief in black holes.

3. ✖ Stephen Hawking said that he would have asked Einstein about black holes.

4. ✔ Stephen Hawking said that he would ask Einstein why he had not believed in black holes.

Question Number : 134 Question Id : 5096479352 Question Type : MCQ Option Shuffling : Yes
Correct Marks : 1 Wrong Marks : 0.25

Fill in the blanks with the most appropriate option.

The Taj Mahal is an architectural wonder. _____, it is the largest generator of tourist money in the state.

Options :

1. ✖ On the other hand

2. ✖ In order to

3. ✔ Furthermore

4. ✖ Whereas

Question Number : 134 Question Id : 5096479352 Question Type : MCQ Option Shuffling : Yes
Correct Marks : 1 Wrong Marks : 0.25

Fill in the blanks with the most appropriate option.

The Taj Mahal is an architectural wonder. _____, it is the largest generator of tourist money in the state.

Options :

1. ✖ On the other hand

2. ✖ In order to

3. ✔ Furthermore

4. ✖ Whereas

Question Number : 135 Question Id : 5096479353 Question Type : MCQ Option Shuffling : Yes
Correct Marks : 1 Wrong Marks : 0.25

Fill in the blanks with the most appropriate option.

The reporters said that they would not leave the place _____ the Chairman tenders an apology for mistreating the press.

Options :

1. ✖ as long as

2. ✔ until

3. ✖ so that

4. ✖ if

Question Number : 135 Question Id : 5096479353 Question Type : MCQ Option Shuffling : Yes

Correct Marks : 1 Wrong Marks : 0.25

Fill in the blanks with the most appropriate option.

The reporters said that they would not leave the place _____ the Chairman tenders an apology for mistreating the press.

Options :

1. ✘ as long as
2. ✔ until
3. ✘ so that
4. ✘ if

Question Number : 136 Question Id : 5096479354 Question Type : MCQ Option Shuffling : Yes
Correct Marks : 1 Wrong Marks : 0.25

In which of the following four sentences is the order of the words correct?

Options :

1. ✘ For our holidays we are planning to go to Andaman.
2. ✘ Their team will lose the match the children were worried.
3. ✘ To go to our hometown this weekend we are planning.
4. ✔ We will be travelling by flight for the rest of the journey.

Question Number : 136 Question Id : 5096479354 Question Type : MCQ Option Shuffling : Yes
Correct Marks : 1 Wrong Marks : 0.25

In which of the following four sentences is the order of the words correct?

Options :

1. ✘ For our holidays we are planning to go to Andaman.

2. ✖ Their team will lose the match the children were worried.

3. ✖ To go to our hometown this weekend we are planning.

4. ✔ We will be travelling by flight for the rest of the journey.

Question Number : 137 Question Id : 5096479355 Question Type : MCQ Option Shuffling : Yes

Correct Marks : 1 Wrong Marks : 0.25

Sentences of a paragraph are given below. While the first and the last sentences are in correct order, the sentences in between are jumbled up. Arrange the sentences in the right order to form a meaningful and coherent paragraph.

1. School is the first avenue of socialising for a child.

P. And familiarity is a breeding ground of stagnancy.

Q. This instills sociable practices such as empathy, friendship, participation and assistance, which turn out to be important in their adulthood.

R. With schools, children are exposed not only to new ideas but also to same aged compatriots.

S. Up till then, parents and immediate family members are the only people the child has human interactions with.

6. Hence, it becomes essential to enroll the child in a good school.

Options :

1. ✖ PRSQ

2. ✔ SPRQ

3. ✖ QPRS

4. ✖ SRQP

Question Number : 137 Question Id : 5096479355 Question Type : MCQ Option Shuffling : Yes

Correct Marks : 1 Wrong Marks : 0.25

Sentences of a paragraph are given below. While the first and the last sentences are in correct order, the sentences in between are jumbled up. Arrange the sentences in the right order to form a meaningful and coherent paragraph.

1. School is the first avenue of socialising for a child.

P. And familiarity is a breeding ground of stagnancy.

Q. This instills sociable practices such as empathy, friendship, participation and assistance, which turn out to be important in their adulthood.

R. With schools, children are exposed not only to new ideas but also to same aged compatriots.

S. Up till then, parents and immediate family members are the only people the child has human interactions with.

6. Hence, it becomes essential to enroll the child in a good school.

Options :

1. ✘ PRSQ

2. ✔ SPRQ

3. ✘ QPRS

4. ✘ SRQP

Question Number : 138 Question Id : 5096479356 Question Type : MCQ Option Shuffling : Yes

Correct Marks : 1 Wrong Marks : 0.25

Sentences of a paragraph are given below. While the first and the last sentences are in correct order, the sentences in between are jumbled up. Arrange the sentences in the right order to form a meaningful and coherent paragraph.

1. The Internet was the result of some visionary thinking by people in the early 1960s who saw great potential value in allowing computers to share information on research and development in scientific and military fields.

P. Next Leonard Kleinrock of MIT and later UCLA developed the theory of packet switching, which was to form the basis of Internet connections.

Q. J.C.R. Licklider of MIT first proposed a global network of computers in 1962, and moved over to the Defense Advanced Research Projects Agency (DARPA) in late 1962 to head the work to develop it.

R. Later Roberts moved over to DARPA in 1966 and developed his plan for ARPANET.

S. Lawrence Roberts of MIT connected a Massachusetts computer with a California computer in 1965 over dial-up telephone lines but it had issues in circuit switching.

6. These visionaries and many more left unnamed here are the real founders of the Internet.

Options :

1. ✓ QPSR

2. ✗ PRSQ

3. ✗ SQRP

4. ✗ QRSP

Correct Marks : 1 Wrong Marks : 0.25

Sentences of a paragraph are given below. While the first and the last sentences are in correct order, the sentences in between are jumbled up. Arrange the sentences in the right order to form a meaningful and coherent paragraph.

1. The Internet was the result of some visionary thinking by people in the early 1960s who saw great potential value in allowing computers to share information on research and development in scientific and military fields.

P. Next Leonard Kleinrock of MIT and later UCLA developed the theory of packet switching, which was to form the basis of Internet connections.

Q. J.C.R. Licklider of MIT first proposed a global network of computers in 1962, and moved over to the Defense Advanced Research Projects Agency (DARPA) in late 1962 to head the work to develop it.

R. Later Roberts moved over to DARPA in 1966 and developed his plan for ARPANET.

S. Lawrence Roberts of MIT connected a Massachusetts computer with a California computer in 1965 over dial-up telephone lines but it had issues in circuit switching.

6. These visionaries and many more left unnamed here are the real founders of the Internet.

Options :

1. ✓ QPSR

2. ✗ PRSQ

3. ✗ SQRP

4. ✗ QRSP

Question Number : 139 Question Id : 5096479357 Question Type : MCQ Option Shuffling : Yes

Correct Marks : 1 Wrong Marks : 0.25

Fill in the blank with the most appropriate option.

Prem Lal is quite rich _____ he is not contented.

Options :

1. ✗ although

2. ✓ but

3. ✗ so

4. ✗ because

Question Number : 139 Question Id : 5096479357 Question Type : MCQ Option Shuffling : Yes

Correct Marks : 1 Wrong Marks : 0.25

Fill in the blank with the most appropriate option.

Prem Lal is quite rich _____ he is not contented.

Options :

1. ✗ although

2. ✓ but

3. ✗ so

4. ✗ because

Question Number : 140 Question Id : 5096479358 Question Type : MCQ Option Shuffling : Yes

Correct Marks : 1 Wrong Marks : 0.25

Select the most appropriate idiom to fill in the blank.

Registering in a wrong course by chance turned out to be a _____ for her.

Options :

1. ✖ making a long story short
2. ✔ blessing in disguise
3. ✖ killing two birds with one stone
4. ✖ jumping on the bandwagon

Question Number : 140 Question Id : 5096479358 Question Type : MCQ Option Shuffling : Yes
Correct Marks : 1 Wrong Marks : 0.25

Select the most appropriate idiom to fill in the blank.

Registering in a wrong course by chance turned out to be a _____ for her.

Options :

1. ✖ making a long story short
2. ✔ blessing in disguise
3. ✖ killing two birds with one stone
4. ✖ jumping on the bandwagon

General English2

Group Number :	8
Group Id :	509647169
Group Maximum Duration :	0
Group Minimum Duration :	0
Show Attended Group? :	No
Edit Attended Group? :	No
Break time:	0
Group Marks:	20
Is this Group for Examiner?:	No

Revisit allowed for group Instructions? :	Yes
Maximum Instruction Time:	0
Minimum Instruction Time:	0

General English2

Section Id :	509647329
Section Number :	1
Section type :	Online
Mandatory or Optional:	Mandatory
Number of Questions:	12
Number of Questions to be attempted:	12
Section Marks:	20

Sub-Section Number:	1
Sub-Section Id:	509647473
Question Shuffling Allowed :	Yes

Question Number : 141 Question Id : 5096479359 Question Type : MCQ Option Shuffling : Yes
Correct Marks : 1 Wrong Marks : 0.25

Select the most appropriate synonym of the underlined word.

The volunteers were forced to admonish the revelers when the noise level went too high.

Options :

1. ✖ upset
2. ✔ censure
3. ✖ recommend
4. ✖ overpower

Question Number : 141 Question Id : 5096479359 Question Type : MCQ Option Shuffling : Yes
Correct Marks : 1 Wrong Marks : 0.25

Select the most appropriate synonym of the underlined word.

The volunteers were forced to admonish the revelers when the noise level went too high.

Options :

1. ✖ upset
2. ✔ censure
3. ✖ recommend
4. ✖ overpower

Question Number : 142 Question Id : 5096479360 Question Type : MCQ Option Shuffling : Yes
Correct Marks : 1 Wrong Marks : 0.25

Select the most appropriate synonym of the underlined word.

The physiotherapy sessions exhausted and debilitated my grandmother.

Options :

1. ✖ depressed
2. ✖ angered
3. ✖ nauseous
4. ✔ attenuated

Question Number : 142 Question Id : 5096479360 Question Type : MCQ Option Shuffling : Yes
Correct Marks : 1 Wrong Marks : 0.25

Select the most appropriate synonym of the underlined word.

The physiotherapy sessions exhausted and debilitated my grandmother.

Options :

1. ✖ depressed
2. ✖ angered
3. ✖ nauseous
4. ✔ attenuated

Question Number : 143 Question Id : 5096479361 Question Type : MCQ Option Shuffling : Yes

Correct Marks : 1 Wrong Marks : 0.25

Select the most appropriate synonym of the underlined word.

My colleague was often accused of mendacity.

Options :

1. ✓ prevarication

2. ✗ veracity

3. ✗ treachery

4. ✗ persistence

Question Number : 143 Question Id : 5096479361 Question Type : MCQ Option Shuffling : Yes

Correct Marks : 1 Wrong Marks : 0.25

Select the most appropriate synonym of the underlined word.

My colleague was often accused of mendacity.

Options :

1. ✓ prevarication

2. ✗ veracity

3. ✗ treachery

4. ✗ persistence

Question Number : 144 Question Id : 5096479362 Question Type : MCQ Option Shuffling : Yes

Correct Marks : 1 Wrong Marks : 0.25

Select the most appropriate synonym of the underlined word.

My friend has read a prodigious number of novels.

Options :

1. ✗ infinitesimal

2. ✗ horrible

3. ✖ superb

4. ✔ colossal

Question Number : 144 Question Id : 5096479362 Question Type : MCQ Option Shuffling : Yes

Correct Marks : 1 Wrong Marks : 0.25

Select the most appropriate synonym of the underlined word.

My friend has read a prodigious number of novels.

Options :

1. ✖ infinitesimal

2. ✖ horrible

3. ✖ superb

4. ✔ colossal

Question Number : 145 Question Id : 5096479363 Question Type : MCQ Option Shuffling : Yes

Correct Marks : 1 Wrong Marks : 0.25

Select the most appropriate synonym of the underlined word.

In today's world, mobile phones have become the most ubiquitous electronic gadgets.

Options :

1. ✖ fashionable

2. ✖ usable

3. ✖ permissive

4. ✔ omnipresent

Question Number : 145 Question Id : 5096479363 Question Type : MCQ Option Shuffling : Yes

Correct Marks : 1 Wrong Marks : 0.25

Select the most appropriate synonym of the underlined word.

In today's world, mobile phones have become the most ubiquitous electronic gadgets.

Options :

1. ✘ fashionable
2. ✘ usable
3. ✘ permissive
4. ✔ omnipresent

Question Number : 146 Question Id : 5096479364 Question Type : MCQ Option Shuffling : Yes

Correct Marks : 1 Wrong Marks : 0.25

Select the most appropriate ANTONYM of the underlined word.

The defending lawyer pointed out a glaring anomaly in the evidence presented by the prosecution.

Options :

1. ✘ difference
2. ✘ abnormality
3. ✔ conformity
4. ✘ strength

Question Number : 146 Question Id : 5096479364 Question Type : MCQ Option Shuffling : Yes

Correct Marks : 1 Wrong Marks : 0.25

Select the most appropriate ANTONYM of the underlined word.

The defending lawyer pointed out a glaring anomaly in the evidence presented by the prosecution.

Options :

1. ✖ difference
2. ✖ abnormality
3. ✔ conformity
4. ✖ strength

Question Number : 147 Question Id : 5096479365 Question Type : MCQ Option Shuffling : Yes

Correct Marks : 1 Wrong Marks : 0.25

Select the most appropriate ANTONYM of the given word.

OPAQUE

Options :

1. ✖ rigid
2. ✔ transparent
3. ✖ obscure
4. ✖ dense

Question Number : 147 Question Id : 5096479365 Question Type : MCQ Option Shuffling : Yes

Correct Marks : 1 Wrong Marks : 0.25

Select the most appropriate ANTONYM of the given word.

OPAQUE

Options :

1. ✖ rigid

2. ✓ transparent

3. ✗ obscure

4. ✗ dense

Question Number : 148 Question Id : 5096479366 Question Type : MCQ Option Shuffling : Yes
Correct Marks : 1 Wrong Marks : 0.25

Select the most appropriate ANTONYM of the underlined word.

The professional tennis player's skin became desiccated when he was stranded in his boat for more than three hours.

Options :

1. ✗ embittered

2. ✗ angered

3. ✓ moistened

4. ✗ blotchy

Question Number : 148 Question Id : 5096479366 Question Type : MCQ Option Shuffling : Yes
Correct Marks : 1 Wrong Marks : 0.25

Select the most appropriate ANTONYM of the underlined word.

The professional tennis player's skin became desiccated when he was stranded in his boat for more than three hours.

Options :

1. ✗ embittered

2. ✗ angered

3. ✓ moistened

4. ✖ blotchy

Question Number : 149 Question Id : 5096479367 Question Type : MCQ Option Shuffling : Yes
Correct Marks : 1 Wrong Marks : 0.25

Select the most appropriate ANTONYM of the given word.

PREVARICATE

Options :

1. ✔ confront
2. ✖ belie
3. ✖ equivocate
4. ✖ hedge

Question Number : 149 Question Id : 5096479367 Question Type : MCQ Option Shuffling : Yes
Correct Marks : 1 Wrong Marks : 0.25

Select the most appropriate ANTONYM of the given word.

PREVARICATE

Options :

1. ✔ confront
2. ✖ belie
3. ✖ equivocate
4. ✖ hedge

Question Number : 150 Question Id : 5096479368 Question Type : MCQ Option Shuffling : Yes
Correct Marks : 1 Wrong Marks : 0.25

Select the most appropriate ANTONYM of the underlined word.

His desperation to get a good job precipitated him into action.

Options :

1. ✖ triggered

2. ✔ blocked

3. ✖ pushed

4. ✖ quite

Question Number : 150 Question Id : 5096479368 Question Type : MCQ Option Shuffling : Yes
Correct Marks : 1 Wrong Marks : 0.25

Select the most appropriate ANTONYM of the underlined word.

His desperation to get a good job precipitated him into action.

Options :

1. ✖ triggered

2. ✔ blocked

3. ✖ pushed

4. ✖ quite

Sub-Section Number:	2
Sub-Section Id:	509647474
Question Shuffling Allowed :	Yes

Question Id : 5096479369 Question Type : COMPREHENSION Sub Question Shuffling Allowed : Yes Group Comprehension Questions : No

Question Numbers : (151 to 155)

Question Label : Comprehension

Read the passage and answer the questions that follow.

Businesses use the Internet for a variety of reasons. Some businesses are virtual – they have no bricks and mortar locations, and conduct all of their selling activities online. Consumers love the convenience that the Internet provides – we can shop at any hour and on any day. Most virtual businesses are never closed. However, consumers also love instant gratification – we want it now, or as soon as possible. Many consumers are willing to pay more for speedy delivery of their orders. Virtual businesses rely heavily on information and transportation technology to get their goods and services to consumers as quickly and efficiently as possible. The process of delivering items to consumers is called fulfillment.

Amazon.com is one of the earliest and largest examples of virtual retailers. People seek out these sites in order to buy things. Amazon sells downloads of music and books at its site for use in various electronic devices. Amazon also sells a wide variety of physical objects for delivery to consumers' homes. It also acts as a fulfillment service for many other businesses. These businesses have decided to contract for Amazon's services rather than bear the cost of these capacities on their own. Similarly, small-scale sellers can tap into the resources that eBay provides so that those who sell only occasionally can reach a national or global market.

Other businesses rely primarily on physical locations for their sales. They may use their websites to advertise new products and specials to generate traffic for their stores. Their websites provide locations, directions and hours for those stores. If the business is a restaurant, its website will offer menus and perhaps a means of reserving a table.

Sub questions

Question Number : 151 Question Id : 5096479370 Question Type : MCQ Option Shuffling : Yes

Correct Marks : 1 Wrong Marks : 0.25

Which one of the following is NOT listed in the passage as an advantage of online shopping?

Options :

1. ✖ We can shop at any hour we would like
2. ✔ We get lot of discounts while we shop online
3. ✖ It is very convenient to sit at home and shop
4. ✖ Online shops do not have any fixed timings

Question Number : 152 Question Id : 5096479371 Question Type : MCQ Option Shuffling : Yes

Correct Marks : 1 Wrong Marks : 0.25

Which one of the following statements is true according to the passage?

Options :

1. ✖ Amazon is the only largest online retail shop.
2. ✖ Amazon sells only physical objects in its website.
3. ✖ Amazon sells mostly books in its online shop.
4. ✔ Amazon sells third-party products.

Question Number : 153 Question Id : 5096479372 Question Type : MCQ Option Shuffling : Yes

Correct Marks : 1 Wrong Marks : 0.25

What does the author mean by 'fulfillment' in this passage?

Options :

1. ✖ It is the process of getting feedback from the customers.
2. ✔ It is the process of delivering items to customers.
3. ✖ It means fulfilling the orders in the customers' wishlists.
4. ✖ It means fulfilling our heartfelt desires.

Question Number : 154 Question Id : 5096479373 Question Type : MCQ Option Shuffling : Yes

Correct Marks : 1 Wrong Marks : 0.25

As per the passage, what do the customers who shop online want the most?

Options :

1. ✖ They want to browse as much as they want to
2. ✔ They want speedy delivery of their orders
3. ✖ They prefer window shopping more than actual shopping
4. ✖ They prefer selling to buying from online shops

Question Number : 155 Question Id : 5096479374 Question Type : MCQ Option Shuffling : Yes

Correct Marks : 1 Wrong Marks : 0.25

What would be the most suitable title for this passage?

Options :

1. ✖ Amazon vs eBay
2. ✖ Fulfillment
3. ✔ Virtual retailers
4. ✖ Instant gratification

Question Id : 5096479369 Question Type : COMPREHENSION Sub Question Shuffling Allowed : Yes Group Comprehension Questions : No

Question Numbers : (151 to 155)

Question Label : Comprehension

Read the passage and answer the questions that follow.

Businesses use the Internet for a variety of reasons. Some businesses are virtual - they have no bricks and mortar locations, and conduct all of their selling activities online. Consumers love the convenience that the Internet provides - we can shop at any hour and on any day. Most virtual businesses are never closed. However, consumers also love instant gratification - we want it now, or as soon as possible. Many consumers are willing to pay more for speedy delivery of their orders. Virtual businesses rely heavily on information and transportation technology to get their goods and services to consumers as quickly and efficiently as possible. The process of delivering items to consumers is called fulfillment.

Amazon.com is one of the earliest and largest examples of virtual retailers. People seek out these sites in order to buy things. Amazon sells downloads of music and books at its site for use in various electronic devices. Amazon also sells a wide variety of physical objects for delivery to consumers' homes. It also acts as a fulfillment service for many other businesses. These businesses have decided to contract for Amazon's services rather than bear the cost of these capacities on their own. Similarly, small-scale sellers can tap into the resources that eBay provides so that those who sell only occasionally can reach a national or global market.

Other businesses rely primarily on physical locations for their sales. They may use their websites to advertise new products and specials to generate traffic for their stores. Their websites provide locations, directions and hours for those stores. If the business is a restaurant, its website will offer menus and perhaps a means of reserving a table.

Sub questions

Question Number : 151 Question Id : 5096479370 Question Type : MCQ Option Shuffling : Yes

Correct Marks : 1 Wrong Marks : 0.25

Which one of the following is NOT listed in the passage as an advantage of online shopping?

Options :

1. ✘ We can shop at any hour we would like
2. ✔ We get lot of discounts while we shop online
3. ✘ It is very convenient to sit at home and shop
4. ✘ Online shops do not have any fixed timings

Question Number : 152 Question Id : 5096479371 Question Type : MCQ Option Shuffling : Yes

Correct Marks : 1 Wrong Marks : 0.25

Which one of the following statements is true according to the passage?

Options :

1. ✘ Amazon is the only largest online retail shop.
2. ✘ Amazon sells only physical objects in its website.
3. ✘ Amazon sells mostly books in its online shop.
4. ✔ Amazon sells third-party products.

Question Number : 153 Question Id : 5096479372 Question Type : MCQ Option Shuffling : Yes

Correct Marks : 1 Wrong Marks : 0.25

What does the author mean by 'fulfillment' in this passage?

Options :

1. ✘ It is the process of getting feedback from the customers.
2. ✔ It is the process of delivering items to customers.

3. ✖ It means fulfilling the orders in the customers' wishlists.

4. ✖ It means fulfilling our heartfelt desires.

Question Number : 154 Question Id : 5096479373 Question Type : MCQ Option Shuffling : Yes

Correct Marks : 1 Wrong Marks : 0.25

As per the passage, what do the customers who shop online want the most?

Options :

1. ✖ They want to browse as much as they want to

2. ✔ They want speedy delivery of their orders

3. ✖ They prefer window shopping more than actual shopping

4. ✖ They prefer selling to buying from online shops

Question Number : 155 Question Id : 5096479374 Question Type : MCQ Option Shuffling : Yes

Correct Marks : 1 Wrong Marks : 0.25

What would be the most suitable title for this passage?

Options :

1. ✖ Amazon vs eBay

2. ✖ Fulfillment

3. ✔ Virtual retailers

4. ✖ Instant gratification

Sub-Section Number:	3
Sub-Section Id:	509647475
Question Shuffling Allowed :	Yes

Question Id : 5096479375 Question Type : COMPREHENSION Sub Question Shuffling Allowed : Yes Group Comprehension Questions : No

Question Numbers : (156 to 160)

Question Label : Comprehension

Read the passage and answer the questions that follow.

What if India had not invented the zero? Perhaps computers would not have seen the light of the day and the world would not be connected through information technology. With the Digital India programme, India may have an opportunity to inspire and transform the world yet again.

Will it be able to transform the country into a digitally empowered society and a knowledge economy using a gamut of electronic services, applications, products and devices?

Time will tell. But imagine farmers in remote villages using mobile phones to find out the right price of their food grains, or to check for monsoon updates. Imagine modern cities whose transport systems, healthcare facilities and civic services are controlled through gadgets and apps.

All this may seem like a distant dream, but with technology galloping away into the future, you have to jump on to it and take control of the reins, now. Smart cities are springing up across the globe and the idea of Internet of Things (IOT), where all devices at home or in office are connected to the internet and are able to speak to each other, are being developed as we speak.

This power of technology, however, has to be delivered to every citizen of the country. Digital accessibility is a prerequisite to, and a mandatory goal of, the idea of Digital India. A digital network, which will form part of this mammoth effort, will belong to the people, just like roads, railways and power lines.

Sub questions

Question Number : 156 Question Id : 5096479376 Question Type : MCQ Option Shuffling : Yes
Correct Marks : 1 Wrong Marks : 0.25

The author sees India as:

Options :

1. ✖ a superpower that could lead the world
2. ✖ a nuclear country that can control other superpowers
3. ✖ a country that depends on other developed countries for its digital needs
4. ✔ a country that would inspire and transform the world as it did before

Question Number : 157 Question Id : 5096479377 Question Type : MCQ Option Shuffling : Yes
Correct Marks : 1 Wrong Marks : 0.25

Which of the following may NOT be a part of digital India in the future?

Options :

1. ✖ Students carrying preloaded educational content on their tablets instead of carrying many books in their school bags
2. ✔ People preferring to use pagers for communication
3. ✖ Paying for basic services online
4. ✖ Making an online complaint against the government and sorting out grievances

Question Number : 158 Question Id : 5096479378 Question Type : MCQ Option Shuffling : Yes
Correct Marks : 1 Wrong Marks : 0.25

What is Internet of Things (IoT) as per the passage?

Options :

1. ✖ Internet services that are useful for day-to-day activities such as shopping are called IoT
2. ✔ IoT is a concept wherein all electronic devices both, in office and at home are interconnected and able to communicate with each other

3. * The software used by farmers to know the status of their crops is called Internet of Things

4. * The basic code that is essential to make the internet work is called Internet of Things

Question Number : 159 Question Id : 5096479379 Question Type : MCQ Option Shuffling : Yes
Correct Marks : 1 Wrong Marks : 0.25

What does the author recommend in relation to technology?

Options :

1. * Everyone should know how to use internet these days.

2. * Technology must be utilised effectively to collect data for using various gadgets.

3. ✓ Readers must keep themselves updated with the latest technology, otherwise they will be left behind.

4. * The changes in technology are not long lasting, so teachers need not change anything in the learning environment.

Question Number : 160 Question Id : 5096479380 Question Type : MCQ Option Shuffling : Yes
Correct Marks : 1 Wrong Marks : 0.25

What is the most important aspect of Digital India as per the passage?

Options :

1. ✓ Digital accessibility

2. * Internet of Things

3. * Digital networks

4. * Digital devices

Question Id : 5096479375 Question Type : COMPREHENSION Sub Question Shuffling Allowed : Yes Group Comprehension
Questions : No

Question Numbers : (156 to 160)

Question Label : Comprehension

Read the passage and answer the questions that follow.

What if India had not invented the zero? Perhaps computers would not have seen the light of the day and the world would not be connected through information technology. With the Digital India programme, India may have an opportunity to inspire and transform the world yet again.

Will it be able to transform the country into a digitally empowered society and a knowledge economy using a gamut of electronic services, applications, products and devices? Time will tell. But imagine farmers in remote villages using mobile phones to find out the right price of their food grains, or to check for monsoon updates. Imagine modern cities whose transport systems, healthcare facilities and civic services are controlled through gadgets and apps. All this may seem like a distant dream, but with technology galloping away into the future, you have to jump on to it and take control of the reins, now. Smart cities are springing up across the globe and the idea of Internet of Things (IOT), where all devices at home or in office are connected to the internet and are able to speak to each other, are being developed as we speak.

This power of technology, however, has to be delivered to every citizen of the country. Digital accessibility is a prerequisite to, and a mandatory goal of, the idea of Digital India. A digital network, which will form part of this mammoth effort, will belong to the people, just like roads, railways and power lines.

Sub questions

Question Number : 156 Question Id : 5096479376 Question Type : MCQ Option Shuffling : Yes

Correct Marks : 1 Wrong Marks : 0.25

The author sees India as:

Options :

1. ✖ a superpower that could lead the world
2. ✖ a nuclear country that can control other superpowers
3. ✖ a country that depends on other developed countries for its digital needs
4. ✔ a country that would inspire and transform the world as it did before

Question Number : 157 Question Id : 5096479377 Question Type : MCQ Option Shuffling : Yes

Correct Marks : 1 Wrong Marks : 0.25

Which of the following may NOT be a part of digital India in the future?

Options :

1. ✖ Students carrying preloaded educational content on their tablets instead of carrying many books in their school bags
2. ✔ People preferring to use pagers for communication
3. ✖ Paying for basic services online
4. ✖ Making an online complaint against the government and sorting out grievances

Question Number : 158 Question Id : 5096479378 Question Type : MCQ Option Shuffling : Yes

Correct Marks : 1 Wrong Marks : 0.25

What is Internet of Things (IoT) as per the passage?

Options :

1. ✖ Internet services that are useful for day-to-day activities such as shopping are called IoT
2. ✔ IoT is a concept wherein all electronic devices both, in office and at home are interconnected and able to communicate with each other
3. ✖ The software used by farmers to know the status of their crops is called Internet of Things
4. ✖ The basic code that is essential to make the internet work is called Internet of Things

Question Number : 159 Question Id : 5096479379 Question Type : MCQ Option Shuffling : Yes
Correct Marks : 1 Wrong Marks : 0.25

What does the author recommend in relation to technology?

Options :

1. ✖ Everyone should know how to use internet these days.
2. ✖ Technology must be utilised effectively to collect data for using various gadgets.
3. ✔ Readers must keep themselves updated with the latest technology, otherwise they will be left behind.
4. ✖ The changes in technology are not long lasting, so teachers need not change anything in the learning environment.

Question Number : 160 Question Id : 5096479380 Question Type : MCQ Option Shuffling : Yes
Correct Marks : 1 Wrong Marks : 0.25

What is the most important aspect of Digital India as per the passage?

Options :

1. ✓ Digital accessibility
2. ✗ Internet of Things
3. ✗ Digital networks
4. ✗ Digital devices

General Hindi1

Group Number :	9
Group Id :	509647170
Group Maximum Duration :	0
Group Minimum Duration :	0
Show Attended Group? :	No
Edit Attended Group? :	No
Break time:	0
Group Marks:	20
Is this Group for Examiner? :	No
Revisit allowed for group Instructions? :	Yes
Maximum Instruction Time:	0
Minimum Instruction Time:	0

General Hindi1

Section Id :	509647330
Section Number :	1
Section type :	Online
Mandatory or Optional:	Mandatory
Number of Questions:	20
Number of Questions to be attempted:	20
Section Marks:	20

Sub-Section Number:	1
Sub-Section Id:	509647476
Question Shuffling Allowed :	Yes

Question Number : 161 Question Id : 5096479381 Question Type : MCQ Option Shuffling : Yes
Correct Marks : 1 Wrong Marks : 0.25

‘कटोरा’ कैसा शब्द है?

Options :

1. ✓ देशज

2. * विदेशी

3. * तद्भव

4. * तत्सम

Question Number : 161 Question Id : 5096479381 Question Type : MCQ Option Shuffling : Yes
Correct Marks : 1 Wrong Marks : 0.25

‘कटोरा’ कैसा शब्द है?

Options :

1. ✓ देशज

2. * विदेशी

3. * तद्भव

4. * तत्सम

Question Number : 162 Question Id : 5096479382 Question Type : MCQ Option Shuffling : Yes
Correct Marks : 1 Wrong Marks : 0.25

निम्न में से कौन सा शब्द तद्भव है?

Options :

1. * आश्चर्य

2. ✓ अदरक

3. * आखेट

4. * अमृत

Question Number : 162 Question Id : 5096479382 Question Type : MCQ Option Shuffling : Yes
Correct Marks : 1 Wrong Marks : 0.25

निम्न में से कौन सा शब्द तद्भव है?

Options :

1. * आश्चर्य

2. ✓ अदरक

3. * आखेट

4. * अमृत

Question Number : 163 Question Id : 5096479383 Question Type : MCQ Option Shuffling : Yes
Correct Marks : 1 Wrong Marks : 0.25

निम्न में से कौन सा शब्द तत्सम है?

Options :

1. * छत
2. * छाता
3. * छेद
4. ✓ छाया

Question Number : 163 Question Id : 5096479383 Question Type : MCQ Option Shuffling : Yes
Correct Marks : 1 Wrong Marks : 0.25

निम्न में से कौन सा शब्द तत्सम है?

Options :

1. * छत
2. * छाता
3. * छेद
4. ✓ छाया

Question Number : 164 Question Id : 5096479384 Question Type : MCQ Option Shuffling : Yes
Correct Marks : 1 Wrong Marks : 0.25

निम्न में से शुद्ध वर्तनी वाला शब्द है?

Options :

1. * प्रतीध्वनि
2. * प्रतीध्वनी
3. ✓ प्रतिध्वनि
4. * प्रतिध्वनी

Question Number : 164 Question Id : 5096479384 Question Type : MCQ Option Shuffling : Yes
Correct Marks : 1 Wrong Marks : 0.25

निम्न में से शुद्ध वर्तनी वाला शब्द है?

Options :

1. * प्रतीध्वनि

2. ✖ प्रतीध्वनी

3. ✔ प्रतिध्वनि

4. ✖ प्रतिध्वनी

Question Number : 165 Question Id : 5096479385 Question Type : MCQ Option Shuffling : Yes
Correct Marks : 1 Wrong Marks : 0.25

‘कुल – कूल’ शब्द युग्म का सही अर्थ है:

Options :

1. ✖ पूरा – वंश

2. ✖ वंश – पूरा

3. ✔ वंश – किनारा

4. ✖ किनारा – वंश

Question Number : 165 Question Id : 5096479385 Question Type : MCQ Option Shuffling : Yes
Correct Marks : 1 Wrong Marks : 0.25

‘कुल – कूल’ शब्द युग्म का सही अर्थ है:

Options :

1. ✖ पूरा - वंश

2. ✖ वंश - पूरा

3. ✔ वंश - किनारा

4. ✖ किनारा - वंश

Question Number : 166 Question Id : 5096479386 Question Type : MCQ Option Shuffling : Yes
Correct Marks : 1 Wrong Marks : 0.25

‘सफाई’ किस प्रकार की संज्ञा है?

Options :

1. ✖ व्यक्तिवाचक

2. ✖ जातिवाचक

3. ✖ पदार्थवाचक

4. ✔ भाववाचक

Question Number : 166 Question Id : 5096479386 Question Type : MCQ Option Shuffling : Yes

Correct Marks : 1 Wrong Marks : 0.25

‘सफाई’ किस प्रकार की संज्ञा है?

Options :

1. ✖ व्यक्तिवाचक
2. ✖ जातिवाचक
3. ✖ पदार्थवाचक
4. ✔ भाववाचक

Question Number : 167 Question Id : 5096479387 Question Type : MCQ Option Shuffling : Yes

Correct Marks : 1 Wrong Marks : 0.25

‘किस’ किस सर्वनाम का रूप है?

Options :

1. ✔ कौन
2. ✖ यह
3. ✖ वह
4. ✖ जो

Question Number : 167 Question Id : 5096479387 Question Type : MCQ Option Shuffling : Yes

Correct Marks : 1 Wrong Marks : 0.25

‘किस’ किस सर्वनाम का रूप है?

Options :

1. ✔ कौन
2. ✖ यह
3. ✖ वह
4. ✖ जो

Question Number : 168 Question Id : 5096479388 Question Type : MCQ Option Shuffling : Yes

Correct Marks : 1 Wrong Marks : 0.25

‘सब पेड़’ में सब कैसा विशेषण है?

Options :

1. ✖ निश्चित संख्यावाचक

2. ✓ अनिश्चित संख्यावाचक

3. ✘ परिमाण बोधक

4. ✘ गुणवाचक

Question Number : 168 Question Id : 5096479388 Question Type : MCQ Option Shuffling : Yes
Correct Marks : 1 Wrong Marks : 0.25

‘सब पेड़’ में सब कैसा विशेषण है?

Options :

1. ✘ निश्चित संख्यावाचक

2. ✓ अनिश्चित संख्यावाचक

3. ✘ परिमाण बोधक

4. ✘ गुणवाचक

Question Number : 169 Question Id : 5096479389 Question Type : MCQ Option Shuffling : Yes
Correct Marks : 1 Wrong Marks : 0.25

निम्न में सकर्मक धातु है?

Options :

1. ✘ बँधना

2. ✘ मरना

3. ✘ पिटना

4. ✓ पाटना

Question Number : 169 Question Id : 5096479389 Question Type : MCQ Option Shuffling : Yes
Correct Marks : 1 Wrong Marks : 0.25

निम्न में सकर्मक धातु है:

Options :

1. ✘ बँधना

2. ✘ मरना

3. ✘ पिटना

4. ✓ पाटना

Question Number : 170 Question Id : 5096479390 Question Type : MCQ Option Shuffling : Yes
Correct Marks : 1 Wrong Marks : 0.25

‘लड़का उठकर भागने लगा’ वाक्य में क्रिया विशेषण है?

Options :

1. * लड़का
2. ✓ उठकर
3. * भागने
4. * लगा

Question Number : 170 Question Id : 5096479390 Question Type : MCQ Option Shuffling : Yes
Correct Marks : 1 Wrong Marks : 0.25

‘लड़का उठकर भागने लगा’ वाक्य में क्रिया विशेषण है:

Options :

1. * लड़का
2. ✓ उठकर
3. * भागने
4. * लगा

Question Number : 171 Question Id : 5096479391 Question Type : MCQ Option Shuffling : Yes
Correct Marks : 1 Wrong Marks : 0.25

‘नाविक’ का संधि विच्छेद होगा:

Options :

1. ✓ नौ + इक
2. * नो + इक
3. * ने + इक
4. * ना + इक

Question Number : 171 Question Id : 5096479391 Question Type : MCQ Option Shuffling : Yes
Correct Marks : 1 Wrong Marks : 0.25

‘नाविक’ का संधि विच्छेद होगा:

Options :

1. ✓ नौ + इक

2. * नो + इक

3. * ने + इक

4. * ना + इक

Question Number : 172 Question Id : 5096479392 Question Type : MCQ Option Shuffling : Yes

Correct Marks : 1 Wrong Marks : 0.25

‘दशानन’ में कौन सा समास है?

Options :

1. * तत्पुरुष

2. * द्वंद्व

3. ✓ बहुब्रीहि

4. * द्विगु

Question Number : 172 Question Id : 5096479392 Question Type : MCQ Option Shuffling : Yes

Correct Marks : 1 Wrong Marks : 0.25

‘दशानन’ में कौन सा समास है?

Options :

1. * तत्पुरुष

2. * द्वंद्व

3. ✓ बहुब्रीहि

4. * द्विगु

Question Number : 173 Question Id : 5096479393 Question Type : MCQ Option Shuffling : Yes

Correct Marks : 1 Wrong Marks : 0.25

‘अंतःकरण’ में किस उपसर्ग का प्रयोग हुआ है?

Options :

1. ✓ अन्तर्

2. * अंत

3. * अ

4. * करण

Question Number : 173 Question Id : 5096479393 Question Type : MCQ Option Shuffling : Yes

Correct Marks : 1 Wrong Marks : 0.25

‘अंतः करण’ में किस उपसर्ग का प्रयोग हुआ है?

Options :

1. ✓ अन्तर
2. ✗ अंत
3. ✗ अ
4. ✗ करण

Question Number : 174 Question Id : 5096479394 Question Type : MCQ Option Shuffling : Yes

Correct Marks : 1 Wrong Marks : 0.25

‘पाथेय’ में किस प्रत्यय का प्रयोग हुआ है?

Options :

1. ✗ पा
2. ✗ य
3. ✓ एय
4. ✗ थेय

Question Number : 174 Question Id : 5096479394 Question Type : MCQ Option Shuffling : Yes

Correct Marks : 1 Wrong Marks : 0.25

‘पाथेय’ में किस प्रत्यय का प्रयोग हुआ है?

Options :

1. ✗ पा
2. ✗ य
3. ✓ एय
4. ✗ थेय

Question Number : 175 Question Id : 5096479395 Question Type : MCQ Option Shuffling : Yes

Correct Marks : 1 Wrong Marks : 0.25

निम्न में कौन सा शब्द स्त्रीलिंग नहीं है?

Options :

1. ✗ धरोहर

2. ✓ धन

3. ✘ ध्वजा

4. ✘ धड़कन

Question Number : 175 Question Id : 5096479395 Question Type : MCQ Option Shuffling : Yes
Correct Marks : 1 Wrong Marks : 0.25

निम्न में कौन सा शब्द स्त्रीलिंग नहीं है?

Options :

1. ✘ धरोहर

2. ✓ धन

3. ✘ ध्वजा

4. ✘ धड़कन

Question Number : 176 Question Id : 5096479396 Question Type : MCQ Option Shuffling : Yes
Correct Marks : 1 Wrong Marks : 0.25

'लिखा जा सकता है' किस पदबन्ध का उदाहरण है?

Options :

1. ✘ संज्ञा पदबन्ध

2. ✘ सर्वनाम पदबन्ध

3. ✘ विशेषण पदबन्ध

4. ✓ क्रिया पदबन्ध

Question Number : 176 Question Id : 5096479396 Question Type : MCQ Option Shuffling : Yes
Correct Marks : 1 Wrong Marks : 0.25

'लिखा जा सकता है' किस पदबन्ध का उदाहरण है?

Options :

1. ✘ संज्ञा पदबन्ध

2. ✘ सर्वनाम पदबन्ध

3. ✘ विशेषण पदबन्ध

4. ✓ क्रिया पदबन्ध

Question Number : 177 Question Id : 5096479397 Question Type : MCQ Option Shuffling : Yes
Correct Marks : 1 Wrong Marks : 0.25

‘श्याम ने कहा कि मैं जाऊँगा।’ वाक्य में ‘मैं जाऊँगा’ किस प्रकार का उपवाक्य है?

Options :

1. ✓ संज्ञा उपवाक्य
2. * विशेषण उपवाक्य
3. * क्रिया उपवाक्य
4. * क्रिया विशेषण उपवाक्य

Question Number : 177 Question Id : 5096479397 Question Type : MCQ Option Shuffling : Yes
Correct Marks : 1 Wrong Marks : 0.25

‘श्याम ने कहा कि मैं जाऊँगा।’ वाक्य में ‘मैं जाऊँगा’ किस प्रकार का उपवाक्य है?

Options :

1. ✓ संज्ञा उपवाक्य
2. * विशेषण उपवाक्य
3. * क्रिया उपवाक्य
4. * क्रिया विशेषण उपवाक्य

Question Number : 178 Question Id : 5096479398 Question Type : MCQ Option Shuffling : Yes
Correct Marks : 1 Wrong Marks : 0.25

‘सूरज निकलता है।’ किस प्रकार का वाक्य है?

Options :

1. * उपवाक्य
2. * मिश्र वाक्य
3. * संयुक्त वाक्य
4. ✓ सरल वाक्य

Question Number : 178 Question Id : 5096479398 Question Type : MCQ Option Shuffling : Yes
Correct Marks : 1 Wrong Marks : 0.25

‘सूरज निकलता है।’ किस प्रकार का वाक्य है?

Options :

1. * उपवाक्य
2. * मिश्र वाक्य
3. * संयुक्त वाक्य
4. ✓ सरल वाक्य

Question Number : 179 Question Id : 5096479399 Question Type : MCQ Option Shuffling : Yes
Correct Marks : 1 Wrong Marks : 0.25

पदक्रम की दृष्टि से कौन सा वाक्य शुद्ध है?

Options :

1. * गरीबों पर दया करें, हे प्रभु।
2. * दया करें गरीबों पर, हे प्रभु।
3. ✓ हे प्रभु, गरीबों पर दया करें।
4. * हे प्रभु, दया करें गरीबों पर।

Question Number : 179 Question Id : 5096479399 Question Type : MCQ Option Shuffling : Yes
Correct Marks : 1 Wrong Marks : 0.25

पदक्रम की दृष्टि से कौन सा वाक्य शुद्ध है?

Options :

1. * गरीबों पर दया करें, हे प्रभु।
2. * दया करें गरीबों पर, हे प्रभु।
3. ✓ हे प्रभु, गरीबों पर दया करें।
4. * हे प्रभु, दया करें गरीबों पर।

Question Number : 180 Question Id : 5096479400 Question Type : MCQ Option Shuffling : Yes
Correct Marks : 1 Wrong Marks : 0.25

अन्वय की दृष्टि से कौन सा वाक्य शुद्ध है?

Options :

1. * इप्सिता ने पुस्तक खरीदा।
2. ✓ इप्सिता ने पुस्तक खरीदी।
3. * इप्सिता ने पुस्तक खरीदे।

4. * इप्सिता ने पुस्तक खरीदो।

Question Number : 180 Question Id : 5096479400 Question Type : MCQ Option Shuffling : Yes
Correct Marks : 1 Wrong Marks : 0.25

अन्वय की दृष्टि से कौन सा वाक्य शुद्ध है?

Options :

1. * इप्सिता ने पुस्तक खरीदा।
2. ✓ इप्सिता ने पुस्तक खरीदी।
3. * इप्सिता ने पुस्तक खरीदे।
4. * इप्सिता ने पुस्तक खरीदो।

General Hindi2

Group Number :	10
Group Id :	509647171
Group Maximum Duration :	0
Group Minimum Duration :	120
Show Attended Group? :	No
Edit Attended Group? :	No
Break time:	0
Group Marks:	20
Is this Group for Examiner? :	No
Revisit allowed for group Instructions? :	Yes
Maximum Instruction Time:	0
Minimum Instruction Time:	0

General Hindi2

Section Id :	509647331
Section Number :	1
Section type :	Online
Mandatory or Optional:	Mandatory
Number of Questions:	12
Number of Questions to be attempted:	12
Section Marks:	20

Sub-Section Number:	1
Sub-Section Id:	509647477
Question Shuffling Allowed :	Yes

Question Number : 181 Question Id : 5096479401 Question Type : MCQ Option Shuffling : Yes
Correct Marks : 1 Wrong Marks : 0.25

‘पक्षी’ का पर्यायवाची है?

Options :

1. ✖ वायुसखा
2. ✖ केशरी
3. ✖ पादप
4. ✔ परिन्दा

Question Number : 181 Question Id : 5096479401 Question Type : MCQ Option Shuffling : Yes
Correct Marks : 1 Wrong Marks : 0.25

‘पक्षी’ का पर्यायवाची है?

Options :

1. ✖ वायुसखा
2. ✖ केशरी
3. ✖ पादप
4. ✔ परिन्दा

Question Number : 182 Question Id : 5096479402 Question Type : MCQ Option Shuffling : Yes
Correct Marks : 1 Wrong Marks : 0.25

‘सूर्य’ का पर्यायवाची नहीं है:

Options :

1. ✖ मरीची
2. ✔ केशरी
3. ✖ हंस
4. ✖ अंशुमाली

Question Number : 182 Question Id : 5096479402 Question Type : MCQ Option Shuffling : Yes
Correct Marks : 1 Wrong Marks : 0.25

‘सूर्य’ का पर्यायवाची नहीं है:

Options :

1. ✖ मरीची

2. ✓ केशरी

3. ✘ हंस

4. ✘ अंशुमाली

Question Number : 183 Question Id : 5096479403 Question Type : MCQ Option Shuffling : Yes
Correct Marks : 1 Wrong Marks : 0.25

‘मयूख’ किसका पर्यायवाची है?

Options :

1. ✓ किरण

2. ✘ बाण

3. ✘ बिजली

4. ✘ स्वर्ण

Question Number : 183 Question Id : 5096479403 Question Type : MCQ Option Shuffling : Yes
Correct Marks : 1 Wrong Marks : 0.25

‘मयूख’ किसका पर्यायवाची है?

Options :

1. ✓ किरण

2. ✘ बाण

3. ✘ बिजली

4. ✘ स्वर्ण

Question Number : 184 Question Id : 5096479404 Question Type : MCQ Option Shuffling : Yes
Correct Marks : 1 Wrong Marks : 0.25

‘कृशानु’ किसका पर्यायवाची है?

Options :

1. ✘ वायु

2. ✘ जल

3. ✓ अग्नि

4. ✘ राक्षस

Question Number : 184 Question Id : 5096479404 Question Type : MCQ Option Shuffling : Yes

Correct Marks : 1 Wrong Marks : 0.25

‘कृशानु’ किसका पर्यायवाची है?

Options :

1. ✖ वायु
2. ✖ जल
3. ✔ अग्नि
4. ✖ राक्षस

Question Number : 185 Question Id : 5096479405 Question Type : MCQ Option Shuffling : Yes

Correct Marks : 1 Wrong Marks : 0.25

‘अर्थ’ किसका पर्यायवाची नहीं है?

Options :

1. ✔ धरती
2. ✖ धन
3. ✖ मतलब
4. ✖ कारण

Question Number : 185 Question Id : 5096479405 Question Type : MCQ Option Shuffling : Yes

Correct Marks : 1 Wrong Marks : 0.25

‘अर्थ’ किसका पर्यायवाची नहीं है?

Options :

1. ✔ धरती
2. ✖ धन
3. ✖ मतलब
4. ✖ कारण

Question Number : 186 Question Id : 5096479406 Question Type : MCQ Option Shuffling : Yes

Correct Marks : 1 Wrong Marks : 0.25

‘अंतर्मुखी’ का विलोम शब्द है:

Options :

1. ✖ मुखी

2. * सुमुखी
3. ✓ बहिर्मुखी
4. * दुखी

Question Number : 186 Question Id : 5096479406 Question Type : MCQ Option Shuffling : Yes
Correct Marks : 1 Wrong Marks : 0.25

‘अंतर्मुखी’ का विलोम शब्द है:

Options :

1. * मुखी
2. * सुमुखी
3. ✓ बहिर्मुखी
4. * दुखी

Question Number : 187 Question Id : 5096479407 Question Type : MCQ Option Shuffling : Yes
Correct Marks : 1 Wrong Marks : 0.25

‘अन्वय’ का विलोम होगा:

Options :

1. * द्वेष
2. * हास
3. * समन्वय
4. ✓ अनन्वय

Question Number : 187 Question Id : 5096479407 Question Type : MCQ Option Shuffling : Yes
Correct Marks : 1 Wrong Marks : 0.25

‘अन्वय’ का विलोम होगा:

Options :

1. * द्वेष
2. * हास
3. * समन्वय
4. ✓ अनन्वय

Question Number : 188 Question Id : 5096479408 Question Type : MCQ Option Shuffling : Yes
Correct Marks : 1 Wrong Marks : 0.25

‘आगामी’ किसका विलोम है?

Options :

1. ✖ आगत
2. ✔ विगत
3. ✖ अनागत
4. ✖ प्रगामी

Question Number : 188 Question Id : 5096479408 Question Type : MCQ Option Shuffling : Yes
Correct Marks : 1 Wrong Marks : 0.25

‘आगामी’ किसका विलोम है?

Options :

1. ✖ आगत
2. ✔ विगत
3. ✖ अनागत
4. ✖ प्रगामी

Question Number : 189 Question Id : 5096479409 Question Type : MCQ Option Shuffling : Yes
Correct Marks : 1 Wrong Marks : 0.25

‘ईश्वर विपत्ति से रक्षा करो।’ पंक्ति के रेखांकित शब्द का विलोम होगा:

Options :

1. ✖ आपत्ति
2. ✖ निष्पत्ति
3. ✔ संपत्ति
4. ✖ प्रपत्ति

Question Number : 189 Question Id : 5096479409 Question Type : MCQ Option Shuffling : Yes
Correct Marks : 1 Wrong Marks : 0.25

‘ईश्वर विपत्ति से रक्षा करो।’ पंक्ति के रेखांकित शब्द का विलोम होगा:

Options :

1. ✖ आपत्ति

2. ✖ निष्पत्ति

3. ✔ संपत्ति

4. ✖ प्रपत्ति

Question Number : 190 Question Id : 5096479410 Question Type : MCQ Option Shuffling : Yes
Correct Marks : 1 Wrong Marks : 0.25

‘उद्विग्न’ का विलोम है:

Options :

1. ✔ शांत

2. ✖ अशांत

3. ✖ उत्तेजित

4. ✖ धृष्ट

Question Number : 190 Question Id : 5096479410 Question Type : MCQ Option Shuffling : Yes
Correct Marks : 1 Wrong Marks : 0.25

‘उद्विग्न’ का विलोम है:

Options :

1. ✔ शांत

2. ✖ अशांत

3. ✖ उत्तेजित

4. ✖ धृष्ट

Sub-Section Number: 2
Sub-Section Id: 509647478
Question Shuffling Allowed : Yes

Question Id : 5096479411 Question Type : COMPREHENSION Sub Question Shuffling Allowed : Yes Group Comprehension
Questions : No

Question Numbers : (191 to 195)

Question Label : Comprehension

नीचे दिये गए गद्यांश को पढ़कर पूछे गये प्रश्नों के उत्तर दीजिए।
भक्तिकाल के कवि तमाम विसंगतियों से टकराते हुए ये न सिर्फ उसका प्रतिकार करते हैं बल्कि उसका समाधान भी सुझाते हैं जो आज अधिक समीचीन है। रंगभेद, नस्लभेद जैसे अनेक भेद जो मनुष्य को मनुष्य नहीं समझते, आज भी वर्तमान समय में व्याप्त हैं। यह कवि उस समय 'जाति-पाति पूछे नहीं कोई'¹ लिखकर उसका उत्तर देते हैं। कबीर का मनुष्य के धरातल पर आकर कविता करना और मानव मात्र के कल्याण की बात करना उनकी कविता का उद्देश्य रहा है। तुलसी की लोकमंगल की अवधारणा और परहित की बात आज तत्कालीन समय से ज्यादा प्रासंगिक हो उठी है। जब इंच-इंच जमीन और अपने स्वार्थ के लिए लोग भाई, पुत्र पिता के संबंधों का खून कर देते हैं तब तुलसी, राम और भरत के सत्ता के तिरस्कार को केवल भ्रातृ प्रेम कारण बताते हैं।

Sub questions

Question Number : 191 Question Id : 5096479412 Question Type : MCQ Option Shuffling : Yes
Correct Marks : 1 Wrong Marks : 0.25

गद्यांश का केंद्रीय विषय है:

Options :

1. * आदिकालीन कविता
2. ✓ भक्तिकालीन कविता
3. * रीतिकालीन कविता
4. * आधुनिक कविता

Question Number : 192 Question Id : 5096479413 Question Type : MCQ Option Shuffling : Yes
Correct Marks : 1 Wrong Marks : 0.25

'समीचीन' का आशय है:

Options :

1. * महत्वपूर्ण
2. * आदर्श
3. * अनुचित
4. ✓ उचित

Question Number : 193 Question Id : 5096479414 Question Type : MCQ Option Shuffling : Yes
Correct Marks : 1 Wrong Marks : 0.25

'प्रतिकार' का आशय है:

Options :

1. * समर्थन
2. ✓ विरोध
3. * सामंजस्य
4. * अनुकूलन

Question Number : 194 Question Id : 5096479415 Question Type : MCQ Option Shuffling : Yes
Correct Marks : 1 Wrong Marks : 0.25

‘तिरस्कार’ का अर्थ होता है:

Options :

1. * नकार
2. * स्वीकार
3. * सम्मान
4. ✓ अपमान

Question Number : 195 Question Id : 5096479416 Question Type : MCQ Option Shuffling : Yes
Correct Marks : 1 Wrong Marks : 0.25

भक्तिकालीन कवियों के काव्य में किसका समर्थन है:

Options :

1. * रंगभेद
2. * नस्लभेद
3. ✓ मानवतावाद
4. * जातिवाद

Question Id : 5096479411 Question Type : COMPREHENSION Sub Question Shuffling Allowed : Yes Group Comprehension
Questions : No

Question Numbers : (191 to 195)

Question Label : Comprehension

नीचे दिये गए गद्यांश को पढ़कर पूछे गये प्रश्नों के उत्तर दीजिए। भक्तिकाल के कवि तमाम विसंगतियों से टकराते हुए ये न सिर्फ उसका प्रतिकार करते हैं बल्कि उसका समाधान भी सुझाते हैं जो आज अधिक समीचीन है। रंगभेद, नस्लभेद जैसे अनेक भेद जो मनुष्य को मनुष्य नहीं समझते, आज भी वर्तमान समय में व्याप्त हैं। यह कवि उस समय 'जाति-पाति पूछे नहीं कोई'¹ लिखकर उसका उत्तर देते हैं। कबीर का मनुष्य के धरातल पर आकर कविता करना और मानव मात्र के कल्याण की बात करना उनकी कविता का उद्देश्य रहा है। तुलसी की लोकमंगल की अवधारणा और परहित की बात आज तत्कालीन समय से ज्यादा प्रासंगिक हो उठी है। जब इंच-इंच जमीन और अपने स्वार्थ के लिए लोग भाई, पुत्र पिता के संबंधों का खून कर देते हैं तब तुलसी, राम और भरत के सत्ता के तिरस्कार को केवल भ्रातृ प्रेम कारण बताते हैं।

Sub questions

Question Number : 191 Question Id : 5096479412 Question Type : MCQ Option Shuffling : Yes
Correct Marks : 1 Wrong Marks : 0.25

गद्यांश का केंद्रीय विषय है:

Options :

1. * आदिकालीन कविता
2. ✓ भक्तिकालीन कविता
3. * रीतिकालीन कविता
4. * आधुनिक कविता

Question Number : 192 Question Id : 5096479413 Question Type : MCQ Option Shuffling : Yes
Correct Marks : 1 Wrong Marks : 0.25

'समीचीन' का आशय है:

Options :

1. ✖ महत्वपूर्ण
2. ✖ आदर्श
3. ✖ अनुचित
4. ✔ उचित

Question Number : 193 Question Id : 5096479414 Question Type : MCQ Option Shuffling : Yes
Correct Marks : 1 Wrong Marks : 0.25

‘प्रतिकार’ का आशय है:

Options :

1. ✖ समर्थन
2. ✔ विरोध
3. ✖ सामंजस्य
4. ✖ अनुकूलन

Question Number : 194 Question Id : 5096479415 Question Type : MCQ Option Shuffling : Yes
Correct Marks : 1 Wrong Marks : 0.25

‘तिरस्कार’ का अर्थ होता है:

Options :

1. ✖ नकार
2. ✖ स्वीकार
3. ✖ सम्मान
4. ✔ अपमान

Question Number : 195 Question Id : 5096479416 Question Type : MCQ Option Shuffling : Yes
Correct Marks : 1 Wrong Marks : 0.25

भक्तिकालीन कवियों के काव्य में किसका समर्थन है:

Options :

1. ✖ रंगभेद
2. ✖ नस्लभेद

3. ✓ मानवतावाद

4. ✘ जातिवाद

Sub-Section Number: 3
Sub-Section Id: 509647479
Question Shuffling Allowed : Yes

Question Id : 5096479417 Question Type : COMPREHENSION Sub Question Shuffling Allowed : Yes Group Comprehension Questions : No

Question Numbers : (196 to 200)

Question Label : Comprehension

नीचे दिये गए गद्यांश को पढ़कर पूछे गये प्रश्नों के उत्तर दीजिए।
सच्ची यथार्थदृष्टि वस्तुनिष्ठ होती है परंतु वह संकलनात्मक नहीं होती है। यथार्थवादी लेखक सत्य को ब्योरेवार प्रस्तुत करता है परंतु उसे मात्र फोटोग्राफिक नहीं बना देता। यथार्थवादी रचनाकार इस अनंत रूपात्मक जगत तथा उसके समूचे विस्तार को पैनी नजरों से देखता है। वह व्यापक सामाजिक जीवन में प्रविष्ट होकर नाना प्रकार की स्थितियों तथा चरित्रों से साक्षात्कार करता है, अनुभवों की एक मूल्यवान समष्टि का स्वामी बनता है, किंतु सारी बातों को फोटोग्राफिक शैली में ज्यों का त्यों प्रस्तुत नहीं कर देता। वह सारी घटनाओं तथा पात्रों को सामाजिक जीवन से प्राप्त यथार्थ अनुभवों की खराद पर चढ़ाता है, उन्हें तराशता है, नुकीला बनाता है और अपनी कृति के अंतर्गत उनकी कलात्मक नियोजना करता है। इसलिए यथार्थ के चिंतकों ने रचनाकार की दृष्टि को पात्रों तथा परिस्थितियों के भीतर व्यंजित होने की बात कही है।

Sub questions

Question Number : 196 Question Id : 5096479418 Question Type : MCQ Option Shuffling : Yes
Correct Marks : 1 Wrong Marks : 0.25

गद्यांश का केंद्रीय विषय है:

Options :

1. ✓ यथार्थवादी दृष्टि
2. ✘ समाजवादी दृष्टि
3. ✘ मनोविश्लेषणवादी दृष्टि
4. ✘ कलावादी दृष्टि

Question Number : 197 Question Id : 5096479419 Question Type : MCQ Option Shuffling : Yes
Correct Marks : 1 Wrong Marks : 0.25

‘अनंत’ का अर्थ होता है:

Options :

1. * विलक्षण
2. * प्राणी
3. ✓ असीम
4. * विविध

Question Number : 198 Question Id : 5096479420 Question Type : MCQ Option Shuffling : Yes

Correct Marks : 1 Wrong Marks : 0.25

‘समष्टि’ का आशय है:

Options :

1. * एकांगिता
2. ✓ सामूहिकता
3. * विशिष्टता
4. * विविधता

Question Number : 199 Question Id : 5096479421 Question Type : MCQ Option Shuffling : Yes

Correct Marks : 1 Wrong Marks : 0.25

‘व्यंजित’ का अर्थ है:

Options :

1. ✓ अभिव्यक्त
2. * समाहित
3. * गुप्त
4. * रहस्य

Question Number : 200 Question Id : 5096479422 Question Type : MCQ Option Shuffling : Yes

Correct Marks : 1 Wrong Marks : 0.25

सच्ची यथार्थवादी दृष्टि कैसी होती है?

Options :

1. * कल्पनात्मक
2. * संकल्पनात्मक
3. * व्यक्तिनिष्ठ
4. ✓ वस्तुनिष्ठ

Question Label : Comprehension

नीचे दिये गए गद्यांश को पढ़कर पूछे गये प्रश्नों के उत्तर दीजिए। सच्ची यथार्थदृष्टि वस्तुनिष्ठ होती है परंतु वह संकलनात्मक नहीं होती है। यथार्थवादी लेखक सत्य को ब्योरेवार प्रस्तुत करता है परंतु उसे मात्र फोटोग्राफिक नहीं बना देता। यथार्थवादी रचनाकार इस अनंत रूपात्मक जगत तथा उसके समूचे विस्तार को पैनी नजरों से देखता है। वह व्यापक सामाजिक जीवन में प्रविष्ट होकर नाना प्रकार की स्थितियों तथा चरित्रों से साक्षात्कार करता है, अनुभवों की एक मूल्यवान समष्टि का स्वामी बनता है, किंतु सारी बातों को फोटोग्राफिक शैली में ज्यों का त्यों प्रस्तुत नहीं कर देता। वह सारी घटनाओं तथा पात्रों को सामाजिक जीवन से प्राप्त यथार्थ अनुभवों की खराद पर चढ़ाता है, उन्हें तराशता है, नुकीला बनाता है और अपनी कृति के अंतर्गत उनकी कलात्मक नियोजना करता है। इसलिए यथार्थ के चिंतकों ने रचनाकार की दृष्टि को पात्रों तथा परिस्थितियों के भीतर व्यंजित होने की बात कही है।

Sub questions

Question Number : 196 Question Id : 5096479418 Question Type : MCQ Option Shuffling : Yes

Correct Marks : 1 Wrong Marks : 0.25

गद्यांश का केंद्रीय विषय है:

Options :

1. ✓ यथार्थवादी दृष्टि
2. ✗ समाजवादी दृष्टि
3. ✗ मनोविश्लेषणवादी दृष्टि
4. ✗ कलावादी दृष्टि

Question Number : 197 Question Id : 5096479419 Question Type : MCQ Option Shuffling : Yes

Correct Marks : 1 Wrong Marks : 0.25

‘अनंत’ का अर्थ होता है:

Options :

1. ✖ विलक्षण
2. ✖ प्राणी
3. ✔ असीम
4. ✖ विविध

Question Number : 198 Question Id : 5096479420 Question Type : MCQ Option Shuffling : Yes

Correct Marks : 1 Wrong Marks : 0.25

‘समष्टि’ का आशय है:

Options :

1. ✖ एकांगिता
2. ✔ सामूहिकता
3. ✖ विशिष्टता
4. ✖ विविधता

Question Number : 199 Question Id : 5096479421 Question Type : MCQ Option Shuffling : Yes

Correct Marks : 1 Wrong Marks : 0.25

‘व्यंजित’ का अर्थ है:

Options :

1. ✔ अभिव्यक्त
2. ✖ समाहित
3. ✖ गुप्त
4. ✖ रहस्य

Question Number : 200 Question Id : 5096479422 Question Type : MCQ Option Shuffling : Yes

Correct Marks : 1 Wrong Marks : 0.25

सच्ची यथार्थवादी दृष्टि कैसी होती है?

Options :

1. ✖ कल्पनात्मक
2. ✖ संकल्पनात्मक
3. ✖ व्यक्तिनिष्ठ
4. ✔ वस्तुनिष्ठ