

Education Consultant India Ltd.

Notations :

1.Options shown in green color and with ✓ icon are correct.

2.Options shown in red color and with ✖ icon are incorrect.

Question Paper Name:	GRADE II DASS 18th Jul 2019 Shift 2
Subject Name:	GRADE II DASS
Creation Date:	2019-07-18 16:00:27
Duration:	120
Total Marks:	200
Display Marks:	Yes
Share Answer Key With Delivery Engine:	No
Actual Answer Key:	Yes
Calculator:	None
Magnifying Glass Required?:	No
Ruler Required?:	No
Eraser Required?:	No
Scratch Pad Required?:	No
Rough Sketch/Notepad Required?:	No
Protractor Required?:	No
Show Watermark on Console?:	Yes
Highlighter:	No
Auto Save on Console?:	No

Mental Ability1

Group Number :	1
Group Id :	998367217
Group Maximum Duration :	0
Group Minimum Duration :	0
Show Attended Group? :	No
Edit Attended Group? :	No
Break time:	0
Group Marks:	20
Is this Group for Examiner?:	No
Revisit allowed for group Instructions? :	Yes
Maximum Instruction Time:	0
Minimum Instruction Time:	0

Mental Ability1

Section Id :	998367223
Section Number :	1

Section type :	Online
Mandatory or Optional:	Mandatory
Number of Questions:	20
Number of Questions to be attempted:	20
Section Marks:	20

Sub-Section Number:	1
Sub-Section Id:	998367327
Question Shuffling Allowed :	Yes

Question Number : 1 Question Id : 9983675601 Question Type : MCQ Option Shuffling : Yes

Correct Marks : 1 Wrong Marks : 0.25

Select the letter cluster which is related to third letter cluster in the same way as the second letter cluster is related to first letter cluster.

PIXEL : LKTCH :: COSMOS : ?

Options :

1. ✓ YQOIQO

2. ✗ YOQIOU

3. ✗ ZQOIQP

4. ✗ YMOIMO

Question Number : 1 Question Id : 9983675601 Question Type : MCQ Option Shuffling : Yes

Correct Marks : 1 Wrong Marks : 0.25

वह वर्ण समूह चुनें जो तीसरे वर्ण समूह से उसी तरह से संबंधित है, जिस तरह से दूसरा वर्ण समूह पहले वर्ण समूह से संबंधित है।

PIXEL : LKTCH :: COSMOS : ?

Options :

1. ✓ YQOIQO

2. ✗ YOQIOU

3. ✖ ZQOIQP

4. ✖ YMOIMO

Question Number : 2 Question Id : 9983675602 Question Type : MCQ Option Shuffling : Yes

Correct Marks : 1 Wrong Marks : 0.25

Select the number which is related to third number in the same way as the second number is related to first number.

3665 : 106 :: 7291 : ?

Options :

1. ✖ 132

2. ✔ 135

3. ✖ 172

4. ✖ 188

Question Number : 2 Question Id : 9983675602 Question Type : MCQ Option Shuffling : Yes

Correct Marks : 1 Wrong Marks : 0.25

वह संख्या चुनें जो तीसरी संख्या से उसी तरह से संबंधित है, जिस तरह से दूसरी संख्या पहली संख्या से संबंधित है।

3665 : 106 :: 7291 : ?

Options :

1. ✖ 132

2. ✔ 135

3. ✖ 172

4. ✖ 188

Question Number : 3 Question Id : 9983675603 Question Type : MCQ Option Shuffling : Yes

Correct Marks : 1 Wrong Marks : 0.25

Three of the given four number pairs are similar in a certain manner while one is different. Choose the odd one out.

Options :

1. ✖ 234 : 52

2. ✖ 148 : 27

3. ✖ 568 : 54

4. ✔ 246 : 19

Question Number : 3 Question Id : 9983675603 Question Type : MCQ Option Shuffling : Yes

Correct Marks : 1 Wrong Marks : 0.25

चार प्रदत्त संख्या युग्मों में से तीन एक तरीके से समान हैं, जबकि उनमें से एक अलग है। इनमें से विषम चुनें।

Options :

1. ✖ 234 : 52

2. ✖ 148 : 27


3. ✖ 568 : 54

4. ✓ 246 : 19

Question Number : 4 Question Id : 9983675604 Question Type : MCQ Option Shuffling : Yes

Correct Marks : 1 Wrong Marks : 0.25

Select a figure from the options figures that would complete the figure matrix.



Options :

1. ✘

2. ✘

3. ✓

4. ✘

Question Number : 4 Question Id : 9983675604 Question Type : MCQ Option Shuffling : Yes

Correct Marks : 1 Wrong Marks : 0.25

इन वैकल्पिक आकृतियों में से वह आकृति चुनें जो इस आकृति आव्यूह को पूरा करती है?



Options :

1. ✘ 4

2. ✘ †

3. ✔ ‡

4. ✘ †

Question Number : 5 Question Id : 9983675605 Question Type : MCQ Option Shuffling : Yes

Correct Marks : 1 Wrong Marks : 0.25

Three of the given four letter cluster pairs are similar in a certain manner while one is different. Choose the odd one out.

Options :

1. ✔ MAGNIFY : CWIJUBE

2. ✘ MYSTERY : OUIRUNA

3. ✘ DEVELOP : RAZCLKH

4. ✘ LANTERN : JWHRJNA

Question Number : 5 Question Id : 9983675605 Question Type : MCQ Option Shuffling : Yes

Correct Marks : 1 Wrong Marks : 0.25

चार प्रदत्त वर्ण समूह युग्मों में से तीन एक तरीके से समान हैं, जबकि उनमें से एक अलग है। इनमें से विषम चुनें।

Options :

1. ✓ MAGNIFY : CWIJUBE

2. ✗ MYSTERY : OUIRUNA

3. ✗ DEVELOP : RAZCLKH


4. ✗ LANTERN : JWHRJNA

Question Number : 6 Question Id : 9983675606 Question Type : MCQ Option Shuffling : Yes

Correct Marks : 1 Wrong Marks : 0.25

Select the figure amongst the option figures which has the same characteristics as the two Problem figures have.

Problem Figures



Options :



4. ✖




Question Number : 6 Question Id : 9983675606 Question Type : MCQ Option Shuffling : Yes

Correct Marks : 1 Wrong Marks : 0.25

इन वैकल्पिक आकृतियों में से वह आकृति चुनें जिसके अभिलक्षण दो समस्या आकृतियों के समान हैं।

उत्तर आकृति



Options :

1. ✖



2. ✖



3. ✔



4. ✖



Question Number : 7 Question Id : 9983675607 Question Type : MCQ Option Shuffling : Yes

Correct Marks : 1 Wrong Marks : 0.25

Three of the given four word pairs are similar in a certain manner while one is different. Choose the odd one out.

Options :

1. ✖ Detailed : Meticulous

2. ✖ Friendly : Amiable

3. ✖ Loose : Slack

4. ✔ Poor : Affluent

Question Number : 7 Question Id : 9983675607 Question Type : MCQ Option Shuffling : Yes

Correct Marks : 1 Wrong Marks : 0.25

चार प्रदत्त शब्द युग्मों में से तीन एक तरीके से समान हैं, जबकि उनमें से एक अलग है। इनमें से विषम चुनें।

Options :

1. ✖ सविस्तार : सूक्ष्मावधायी

2. ✖ मित्रतापूर्ण : सर्वप्रिय

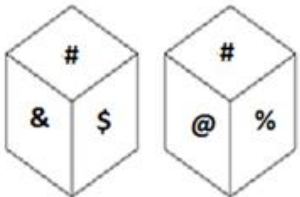
3. ✖ ढीला : लापरवाह

4. ✔ गरीब : अमीर

Question Number : 8 Question Id : 9983675608 Question Type : MCQ Option Shuffling : Yes

Correct Marks : 1 Wrong Marks : 0.25

Two different positions of the same dice are shown below. Which symbol is on the face opposite the face showing '@'?



Options :

1. ✖ #

2. ✖ %

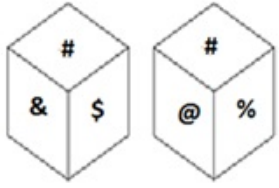
3. ✔ &

4. ✖ \$

Question Number : 8 Question Id : 9983675608 Question Type : MCQ Option Shuffling : Yes

Correct Marks : 1 Wrong Marks : 0.25

नीचे एक ही डाइस (पासे) की दो अलग-अलग स्थितियाँ दी गई हैं। '@' दिखा रहे फलक के विरुद्ध वाले फलक पर कौन सा प्रतीक है?



Options :

1. ✖ #

2. ✖ %

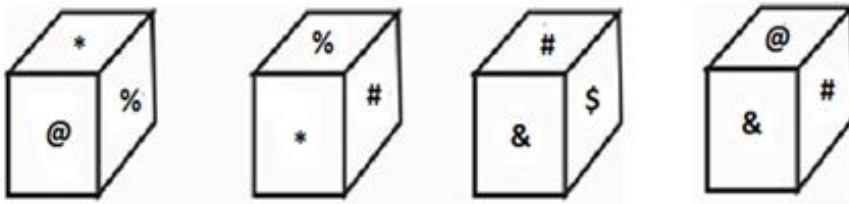
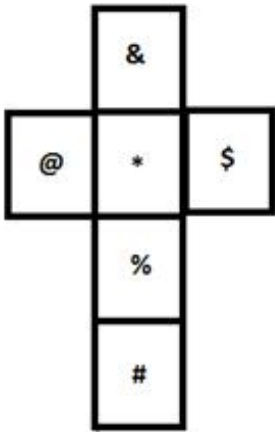
3. ✔ &

4. ✖ \$

Question Number : 9 Question Id : 9983675609 Question Type : MCQ Option Shuffling : Yes

Correct Marks : 1 Wrong Marks : 0.25

Which of the following patterns of the dices can be formed when the sheet given below is folded?

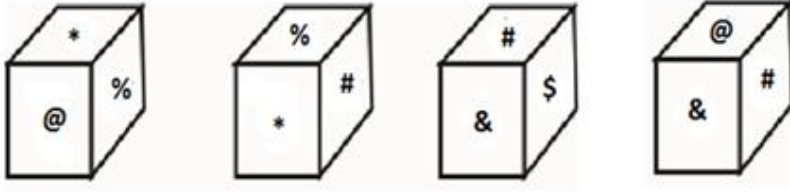
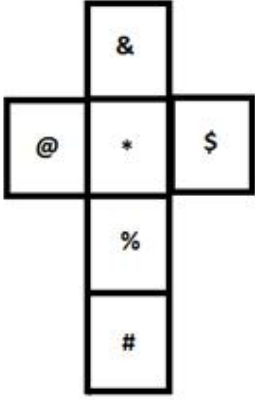


Options :

- 1. ✘ Only 1 and 3
- 2. ✘ Only 3 and 4
- 3. ✘ Only 1, 2 and 4
- 4. ✔ Only 1, 3 and 4

Question Number : 9 Question Id : 9983675609 Question Type : MCQ Option Shuffling : Yes
Correct Marks : 1 Wrong Marks : 0.25

जब प्रदत्त शीट को फ़ोल्ड किया जाता है, तब डाइस (पासे) के पैटर्न में से कौन सा पैटर्न बन सकता है?



Options :

1. ✘ केवल 1 और 3
2. ✘ केवल 3 और 4
3. ✘ केवल 1, 2 और 4
4. ✔ केवल 1, 3 और 4

Question Number : 10 Question Id : 9983675610 Question Type : MCQ Option Shuffling : Yes

Correct Marks : 1 Wrong Marks : 0.25

Zenith starts from his home and goes 30 m towards West. From there, he turns left and walks 28 m and reaches his shop. From his shop he goes 17 m towards West and then turns left and walks 14 m. After than he turns right and walks 20 m. He finally turns right and walks 24 m and reaches his friend's Ankit's home.

What is the shortest distance between Ankit's home and Zenith's shop?

Options :

1. ✖ 36 m

2. ✖ 37 m

3. ✔ 38 m

4. ✖ 40 m

Question Number : 10 Question Id : 9983675610 Question Type : MCQ Option Shuffling : Yes

Correct Marks : 1 Wrong Marks : 0.25

जेनिथ अपने घर से 30 m पश्चिम की ओर चलता है। वहाँ से वह बाईं ओर मुड़कर 28 m चलता है और अपनी दुकान पर पहुँच जाता है। फिर वह अपनी दुकान से 17 m पश्चिम की ओर चलता है और फिर बाईं ओर मुड़कर 14 m चलता है। उसके बाद वह फिर वह दाईं ओर मुड़कर 20 m चलता है। अंत में वह दाईं ओर मुड़कर 24 m चलता है और अपने दोस्त अंकित के घर पहुँच जाता है।

अंकित के घर और जेनिथ की दुकान के बीच अल्पतम दूरी पता करें।

Options :

1. ✖ 36 m

2. ✖ 37 m

3. ✔ 38 m

4. ✖ 40 m

Question Number : 11 Question Id : 9983675611 Question Type : MCQ Option Shuffling : Yes

Correct Marks : 1 Wrong Marks : 0.25

Which number will replace the question mark in the given matrix?

42	8	7	30
64	27	12	43
48	1	13	23
77	?	18	46

Options :

1. ✖ 27

2. ✖ 64

3. ✔ 125

4. ✖ 216

Question Number : 11 Question Id : 9983675611 Question Type : MCQ Option Shuffling : Yes
Correct Marks : 1 Wrong Marks : 0.25

प्रदत्त आव्यूह में प्रश्न चिह्न के स्थान पर कौन सी संख्या आएगी?

42	8	7	30
64	27	12	43
48	1	13	23
77	?	18	46

Options :

1. ✖ 27

2. ✖ 64

3. ✓ 125

4. ✘ 216

Question Number : 12 Question Id : 9983675612 Question Type : MCQ Option Shuffling : Yes

Correct Marks : 1 Wrong Marks : 0.25

Eight friends P, Q, R, S, W, X, Y and Z are sitting around a round table facing the centre. P is not sitting near R. Q is second to the left of Z. R is second to the right of Y. S is sitting exactly to the right of Z. W is sitting between Q and R. P is at fourth place from X's left.

Which of the following statement is NOT correct?

Options :

1. ✘ R is sitting between W and X.

2. ✓ X is third to the left of Q and third to right of Y.

3. ✘ Q is sitting between P and W.

4. ✘ R is at equal distance from Z from both the ends.

Question Number : 12 Question Id : 9983675612 Question Type : MCQ Option Shuffling : Yes

Correct Marks : 1 Wrong Marks : 0.25

आठ दोस्त P, Q, R, S, W, X, Y और Z एक गोल मेज़ के इर्द-गिर्द सामने की ओर देखते हुए बैठे हैं। P, R के निकट नहीं बैठा है। Q, Z के बाईं ओर दूसरे स्थान पर है। R, Y के दाईं ओर दूसरे स्थान पर है। S ठीक Z की दाईं ओर बैठा है। W, Q और R के बीच बैठा है। P, X की बाईं ओर चौथे स्थान पर है।

इनमें से कौन सा कथन सही नहीं है?

Options :

1. ✘ R, W और X के बीच बैठा है।

2. ✓ X, Q की बाईं ओर तीसरे स्थान पर और Y की दाईं ओर तीसरे स्थान पर है।

3. ✗ Q, P और W के बीच बैठा है।

4. ✗ R दोनों तरफ से Z से समान दूरी पर है।

Question Number : 13 Question Id : 9983675613 Question Type : MCQ Option Shuffling : Yes

Correct Marks : 1 Wrong Marks : 0.25

Rajendra and Sunaina are sitting facing each other. At the time of sunrise, if the shadow of Sunaina falls to the left of Rajendra, which direction is Rajendra facing?

Options :

1. ✗ East

2. ✗ West

3. ✓ North

4. ✗ South

Question Number : 13 Question Id : 9983675613 Question Type : MCQ Option Shuffling : Yes

Correct Marks : 1 Wrong Marks : 0.25

राजेंद्र और सुनयना एक दूसरे की तरफ मुंह करके बैठे हैं। सूर्योदय के समय, यदि सुनयना की छाया राजेंद्र की बाईं ओर पड़ती है, तो राजेंद्र किस दिशा में मुंह करके बैठा है?

Options :

1. ✗ पूर्व

2. ✗ पश्चिम

3. ✓ उत्तर

4. ✘ दक्षिण

Question Number : 14 Question Id : 9983675614 Question Type : MCQ Option Shuffling : Yes

Correct Marks : 1 Wrong Marks : 0.25

Three passengers Harsh, Kripal and Vedavati have to catch flights for one of three cities Chennai, Hyderabad and Mumbai. The flights' timings are 7:00 a.m., 8:00 a.m. and 9:00 a.m. The first flight will take off at 7:00 a.m. for Chennai. Vedavati is not travelling to Chennai. Mumbai flight is at 9:00 a.m. Kripal takes 8:00 a.m. flight.

Which flight will Harsh take and at what time?

Note: For this question, discrepancy is found in question/answer. So, this question is ignored for all candidates.

Options :

1. Chitra – 10:00 a.m. – Bengaluru

2. Mumal – 7:00 a.m. – Chennai

3. Kripal – 9:00 a.m. – Mumbai

4. Farah – 12:00 noon - Delhi

Question Number : 14 Question Id : 9983675614 Question Type : MCQ Option Shuffling : Yes

Correct Marks : 1 Wrong Marks : 0.25

तीन मुसाफिर हर्ष, कृपाल और वेदावती को इन तीन शहरों चेन्नई, हैदराबाद और मुंबई में से एक शहर की फ्लाइट पकड़नी है। फ्लाइट का समय है सुबह 7 बजे, सुबह 8 बजे और सुबह 9 बजे। पहली फ्लाइट चेन्नई के लिए सुबह 7 बजे उड़ान भरेगी। वेदावती चेन्नई नहीं जा रही है। मुंबई की फ्लाइट सुबह 9 बजे है। कृपाल सुबह 8 बजे की फ्लाइट लेता है।

हर्ष इनमें से कौन सी फ्लाइट लेगा और समय भी पता करें?

Note: For this question, discrepancy is found in question/answer. So, this question is ignored for all candidates.

Options :

1. चित्रा - सुबह 10 बजे - बेंगलुरु

2. मूमल - सुबह 7 बजे - चेन्नई

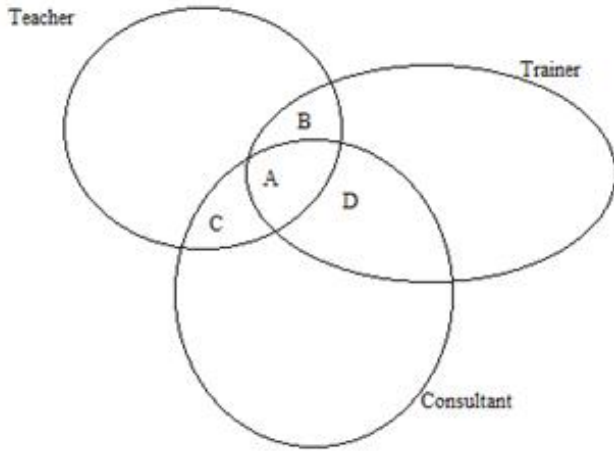
3. कृपाल - सुबह 9 बजे - मुंबई

4. फराह - दोपहर 12 बजे - दिल्ली

Question Number : 15 Question Id : 9983675615 Question Type : MCQ Option Shuffling : Yes

Correct Marks : 1 Wrong Marks : 0.25

In the below Venn diagram, identify a teacher and trainer who is NOT a consultant.



Options :

1. ✘ A

2. ✔ B

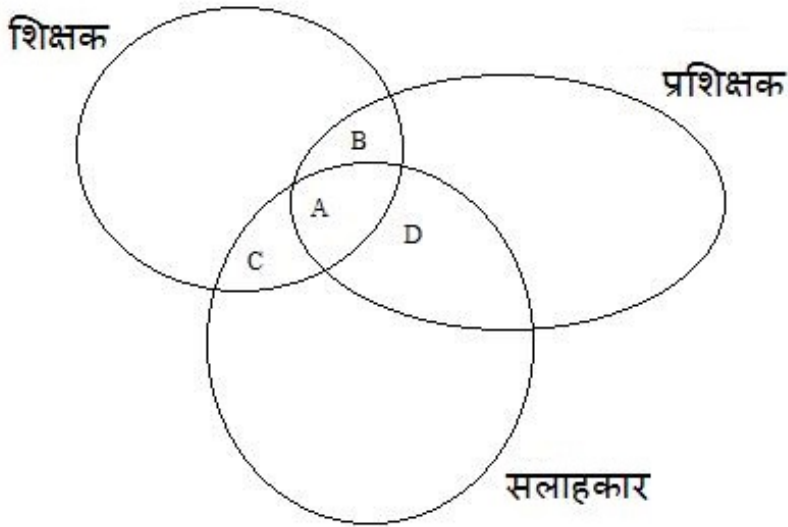
3. ✘ C

4. ✘ D

Question Number : 15 Question Id : 9983675615 Question Type : MCQ Option Shuffling : Yes

Correct Marks : 1 Wrong Marks : 0.25

इस वेन-आरेख में, ऐसे शिक्षक और प्रशिक्षक की पहचान करें, जो सलाहकार नहीं हैं।



Options :

1. ✘ A

2. ✔ B

3. ✘ C

4. ✘ D

Question Number : 16 Question Id : 9983675616 Question Type : MCQ Option Shuffling : Yes

Correct Marks : 1 Wrong Marks : 0.25

Four people saw a robber who burgled a house in the neighborhood the previous day. Whose description about the robber is most likely to be correct?

Person 1; He was tall, fair and thin.

Person 2; He was bald, young and thin.

Person 3; He was thin, bald and tall.

Person 4; He was fair, short and bald.

Options :

1. ✖ Person 4

2. ✖ Person 2

3. ✔ Person 3

4. ✖ Person 1

Question Number : 16 Question Id : 9983675616 Question Type : MCQ Option Shuffling : Yes

Correct Marks : 1 Wrong Marks : 0.25

चार लोगों ने एक लुटेरा देखा जिसने कल पड़ोसी के घर में चोरी की थी। लुटेरे का हुलिया इनमें से किसका सबसे सही होने की संभावना है?

व्यक्ति 1: वह लंबा, गोरा और पतला था।

व्यक्ति 2: वह गंजा, नौजवान और पतला था।

व्यक्ति 3: वह पतला, गंजा और लंबा था।

व्यक्ति 4: वह गोरा, नाटा और गंजा था।

Options :

1. ✖ व्यक्ति 4

2. ✖ व्यक्ति 2

3. ✔ व्यक्ति 3

4. ✖ व्यक्ति 1

Question Number : 17 Question Id : 9983675617 Question Type : MCQ Option Shuffling : Yes

Correct Marks : 1 Wrong Marks : 0.25

Three statements are given, followed by four conclusions numbered I to IV. Assuming the statements to be true even if they seem to be at variance with commonly known facts, decide which of the conclusions logically follow(s) from the given statements:

Statements:

All whistles are test tubes.
Some test tubes are utensils.
All utensils are bulbs.

Conclusions:

- I. Some utensils are wires.
- II. Some utensils are test tubes.
- III. Some bulbs are utensils.
- IV. No utensil is wire.

Options :

- 1. ✓ Only conclusion II and III follow.
- 2. ✗ Either conclusion I or IV follows.
- 3. ✗ Conclusion II and either I or IV follows.
- 4. ✗ Conclusion II and III and either I or IV follows.

Question Number : 17 Question Id : 9983675617 Question Type : MCQ Option Shuffling : Yes
Correct Marks : 1 Wrong Marks : 0.25

तीन कथन दिए हैं और उसके बाद I से IV अंकित चार निष्कर्ष भी दिए गए हैं। मान लें कि कथन सही हैं, भले ही वास्तविक तथ्यों से परे हैं, तय करें कि कौन सा निष्कर्ष तार्किक रूप से प्रदत्त कथन का अनुसरण करता है।

कथन:

सभी सीटियाँ टेस्ट ट्यूब हैं।

कुछ टेस्ट ट्यूब बर्तन हैं।

सभी बर्तन बल्ब हैं।

निष्कर्ष:

- I. कुछ बर्तन वायर हैं।
- II. कुछ बर्तन टेस्ट ट्यूब हैं।
- III. कुछ बल्ब बर्तन हैं।
- IV. कोई बर्तन वायर नहीं है।

Options :

1. ✓ केवल निष्कर्ष II और III अनुसरण करते हैं।
2. ✗ निष्कर्ष I या IV में से कोई अनुसरण करता है।
3. ✗ निष्कर्ष II और I या IV में से कोई अनुसरण करता है।
4. ✗ निष्कर्ष II और III और I या IV में से कोई अनुसरण करता है।

Question Number : 18 Question Id : 9983675618 Question Type : MCQ Option Shuffling : Yes
Correct Marks : 1 Wrong Marks : 0.25

A team of six persons is to be selected from among five boys, A, B, C, D and E, and five girls, P, Q, R, S and T, such that there are at least three girls in the team and it meets the following criteria:

- i. Q and T cannot go together.
- ii. C and E must be together.
- iii. A and C cannot be together.
- iv. C and Q must be together.
- v. P and A must be together.

Which of the following teams can be formed?

1. APQCER
2. BRSCQE
3. RSTAPB
4. SACRQE

Options :

1. ✖ 1 and 3

2. ✔ 2 and 3

3. ✖ 3 and 4

4. ✖ 1, 3 and 4

Question Number : 18 Question Id : 9983675618 Question Type : MCQ Option Shuffling : Yes

Correct Marks : 1 Wrong Marks : 0.25

पाँच लड़कों A, B, C, D और E, और पाँच लड़कियों P, Q, R, S और T में से कुछ इस प्रकार से छह की टीम चुनी जानी है कि टीम में कम से कम तीन लड़कियाँ हों और निम्न मानदंड पूरे करती हों:

- i. Q और T एक साथ नहीं हो सकते।
- ii. C और E एक साथ होने चाहिए।
- iii. A और C एक साथ नहीं हो सकते।
- iv. C और Q एक साथ होने चाहिए।
- v. P और A एक साथ होने चाहिए।

इनमें से कौन सा विकल्प एक टीम बन सकती है?

1. APQCER
2. BRSCQE
3. RSTAPB
4. SACRQE

Options :

1. ✘ 1 और 3

2. ✔ 2 और 3

3. ✘ 3 और 4

4. ✘ 1, 3 और 4

Question Number : 19 Question Id : 9983675619 Question Type : MCQ Option Shuffling : Yes

Correct Marks : 1 Wrong Marks : 0.25

The criteria for selecting a candidate for the post of 'Metallurgical Engineer' are as follow:

The candidate:

1. must have passed M.Tech. in Metallurgical Engineering with more than 80% marks.
2. must have secured more than 82% marks in the written test and more than 81% in the interview.
3. must not be less than 30 years and not more than 35 years of age as on 1 January 2019.

However, if a candidate fulfils all the above criteria EXCEPT:

- a. no. 2, but has got more than more than 85% marks in M.Tech, his/her case is to be referred to the Chief Executive Officer.
- b. no. 3, but has obtained more than 85% marks in both written test and interview., his/her case is to be referred to the Director (Production).

Based on the criteria given and without assuming any additional information, you have to a take a decision for the following candidate.

Ashok completed M.Tech with 80.2% marks in Metallurgical Engineering. He was born on 24th December 1991. He has got 83% marks in both written test and interview.

Options :

1. ✘ The candidate is to be selected.
2. ✔ The candidate is not to be selected.
3. ✘ The candidate's case is to be referred to the Chief Executive Officer.
4. ✘ The candidate's case is to be referred to Director (Production).

Question Number : 19 Question Id : 9983675619 Question Type : MCQ Option Shuffling : Yes
Correct Marks : 1 Wrong Marks : 0.25

‘मेटलर्जिकल इंजीनियर’ के पद के लिए उम्मीदवार चुनने के लिए मानदंड निम्नानुसार हैं:

उम्मीदवार:

1. एम.टेक मेटलर्जिकल इंजीनियर होना चाहिए और उसके अंक 80% से अधिक होने चाहिए।
2. लिखित परीक्षा में अंक 82% से अधिक होने चाहिए और साक्षात्कार(इंटरव्यू) में 81% से अधिक होने चाहिए।
3. 1 जनवरी 2019 तक उसकी उम्र 30 साल से कम या 35 साल से अधिक नहीं होनी चाहिए।

हालाँकि, यदि उम्मीदवार उक्त सभी मानदंड पूरे करता है, सिवाए:

- a. नं. 2, लेकिन उसके एम.टेक मेटलर्जिकल इंजीनियरिंग में 85% से अधिक अंक हैं, तो उसका मामला मुख्य कार्यकारी अधिकारी को भेजा जाएगा।
- b. नं. 3, लेकिन लिखित परीक्षा और साक्षात्कार दोनों में 85% से अधिक अंक हासिल किए हैं, तो उसका मामला निदेशक (उत्पादन) को भेजा जाएगा।

प्रदत्त मानदंडों के आधार पर और किसी भी अतिरिक्त जानकारी पर गौर किए बिना, आपको निम्न उम्मीदवार के लिए फैसला लेना है।

अशोक ने 80.2% अंकों के साथ मेटलर्जिकल इंजीनियरिंग में एम.टेक पूरी की है। उसका जन्म 24 दिसंबर 1991 को हुआ था। उसे लिखित परीक्षा और साक्षात्कार(इंटरव्यू) दोनों में 83% अंक मिले हैं।

Options :

1. ✘ उम्मीदवार चुना जाना चाहिए।
2. ✔ उम्मीदवार को नहीं चुना जाना चाहिए।
3. ✘ उम्मीदवार के मामले को मुख्य कार्यकारी अधिकारी को भेजा जाएगा।
4. ✘ उम्मीदवार के मामले को निदेशक (उत्पादन) को भेजा जाएगा।

Question Number : 20 Question Id : 9983675620 Question Type : MCQ Option Shuffling : Yes

Correct Marks : 1 Wrong Marks : 0.25

The criteria for selecting a candidate for the post of 'Cashier' are as follows:

The candidate:

1. must have passed M.Com in Accountancy with more than 80% marks.
2. must have secured at least 90% marks in the Mathematics paper in Class 12 examination.
3. must have at least two years' experience of working as a Cashier.

However, if a candidate fulfils all the above criteria EXCEPT:

- a. no. 2, but has got more than four years' experience of working as a Cashier, his/her case is to be referred to the Chief Manager.
- b. no. 3, but is ready to sign a bond of not leaving the job for at least 2 years, his/her case is to be referred to the General Manager.

Based on the criteria given and without assuming any additional information, you have to take a decision for the following candidate.

Hrushali has M.Com with 80% marks. She has got 90% marks in Mathematics paper of Class-12 examination. She has got two years of work experience as a Cashier.

Options :

1. ✘ The candidate is to be selected.
2. ✔ The candidate is not to be selected.
3. ✘ The candidate's case is to be referred to the Chief Manager.
4. ✘ The candidate's case is to be referred to General Manager.

Question Number : 20 Question Id : 9983675620 Question Type : MCQ Option Shuffling : Yes

Correct Marks : 1 Wrong Marks : 0.25

'कोषाध्यक्ष' के पद के लिए उम्मीदवार चुनने के लिए मानदंड निम्नानुसार हैं:

उम्मीदवार:

1. एम.कॉम लेखाशास्त्र होना चाहिए और उसके अंक 80% से अधिक होने चाहिए।
2. 12वीं कक्षा की परीक्षा में गणित में 90% अंक होने चाहिए।
3. कोषाध्यक्ष के रूप में कम से कम दो साल का अनुभव होना चाहिए।

हालाँकि, यदि उम्मीदवार उक्त सभी मानदंड पूरे करता है, सिवाए:

- a. नं. 2, लेकिन उसके पास कोषाध्यक्ष के रूप में काम करने का चार साल से अधिक का अनुभव है, तो उसका मामला मुख्य प्रबंधक को भेजा जाएगा।
- b. नं. 3, लेकिन वह 2 सालों तक नौकरी न छोड़ने का बांड भरने को तैयार है, तो उसका मामला महा-प्रबंधक को भेजा जाएगा।

प्रदत्त मानदंडों के आधार पर और किसी भी अतिरिक्त जानकारी पर गौर किए बिना, आपको निम्न उम्मीदवार के लिए फैसला लेना है।

हशाली ने 80% अंकों के साथ एम.कॉम पूरी की है। उसने 12वीं की परीक्षा में गणित में 90% अंक हासिल किए हैं। उसके पास कोषाध्यक्ष के रूप में काम करने का दो साल का अनुभव है।

Options :

1. ✘ उम्मीदवार चुना जाना चाहिए।
2. ✔ उम्मीदवार को नहीं चुना जाना चाहिए।
3. ✘ उम्मीदवार के मामले को मुख्य प्रबंधक को भेजा जाएगा।
4. ✘ उम्मीदवार के मामले को महा-प्रबंधक को भेजा जाएगा।

Mental Ability2

Group Id :	998367218
Group Maximum Duration :	0
Group Minimum Duration :	0
Show Attended Group? :	No
Edit Attended Group? :	No
Break time:	0
Group Marks:	20
Is this Group for Examiner?:	No
Revisit allowed for group Instructions? :	Yes
Maximum Instruction Time:	0
Minimum Instruction Time:	0

Mental Ability2

Section Id :	998367224
Section Number :	1
Section type :	Online
Mandatory or Optional:	Mandatory
Number of Questions:	20
Number of Questions to be attempted:	20
Section Marks:	20

Sub-Section Number:	1
Sub-Section Id:	998367328
Question Shuffling Allowed :	Yes

Question Number : 21 Question Id : 9983675621 Question Type : MCQ Option Shuffling : Yes

Correct Marks : 1 Wrong Marks : 0.25

Which of the option figures represents the correct water image of the figure given below?



Options :



1. ✘

2. ✓



3. ✘



4. ✘



Question Number : 21 Question Id : 9983675621 Question Type : MCQ Option Shuffling : Yes

Correct Marks : 1 Wrong Marks : 0.25

इन आकृतियों में से कौन सी आकृति प्रदत्त आकृति का जल प्रतिबिंब दर्शाती है?



Options :

1. ✘



2. ✓





3. ✘



4. ✘

Question Number : 22 Question Id : 9983675622 Question Type : MCQ Option Shuffling : Yes

Correct Marks : 1 Wrong Marks : 0.25

Select the correct mirror image of the given cluster when a vertical mirror is placed on the right of the word.

pqsd54f78tvn65m

Options :

1. ✘ m29nvt87f42fbsbd

2. ✘ m29nvt87f42fbsbd

3. ✔ m29nvt87f42fbsbd

4. ✘ m29nvt87f42fbsbd

Question Number : 22 Question Id : 9983675622 Question Type : MCQ Option Shuffling : Yes

Correct Marks : 1 Wrong Marks : 0.25

प्रदत्त समूह की सही दर्पण छवि चुनें, अगर शब्द के दाहिने ओर एक ऊर्ध्वाधर दर्पण रखा जाता है।

pqsd54f78tvn65m

Options :

1. ✘ m29nvt87f42fbzpq

2. ✘ m29nvt87f42fbsbd

3. ✔ m29nvt87f42fbzpq

4. ✘ m29nvt87f42fpzpq

Question Number : 23 Question Id : 9983675623 Question Type : MCQ Option Shuffling : Yes

Correct Marks : 1 Wrong Marks : 0.25

Eight symbol-number clusters are given below three of which are same. Find the three clusters that are exactly same.

(A) # 5 6 S @ 4 5 * 7 % 6 4 3 @ S S

(B) # 5 6 S @ 4 5 * 7 # 6 4 3 @ # S

(C) # 5 6 S @ 4 5 * 7 % 6 5 3 @ # S

(D) # 5 6 S @ 4 5 * 7 % 6 4 3 @ # S

(E) # 5 6 S @ 4 5 * 7 % 6 4 8 @ # S

(F) # 5 6 S @ 4 5 * 7 % 6 4 3 @ # S

(G) # 5 6 S @ 5 4 * 7 % 6 4 3 @ # S

(H) # 5 6 S @ 4 5 * 7 % 6 4 3 @ # S

Options :

1. ✘ A, C and E

2. ✘ B, C and D

3. ✓ D, F and H

4. ✘ C, F and H

Question Number : 23 Question Id : 9983675623 Question Type : MCQ Option Shuffling : Yes
Correct Marks : 1 Wrong Marks : 0.25

नीचे आठ प्रतीक-संख्या के समूह दिए गए हैं, इनमें से तीन एक समान हैं। बिल्कुल समान तीन समूह पता करें।

(A) # 5 6 \$ @ 4 5 * 7 % 6 4 3 @ \$ \$

(B) # 5 6 \$ @ 4 5 * 7 # 6 4 3 @ # \$

(C) # 5 6 \$ @ 4 5 * 7 % 6 5 3 @ # \$

(D) # 5 6 \$ @ 4 5 * 7 % 6 4 3 @ # \$

(E) # 5 6 \$ @ 4 5 * 7 % 6 4 8 @ # \$

(F) # 5 6 \$ @ 4 5 * 7 % 6 4 3 @ # \$

(G) # 5 6 \$ @ 5 4 * 7 % 6 4 3 @ # \$

(H) # 5 6 \$ @ 4 5 * 7 % 6 4 3 @ # \$

Options :

1. ✘ A, C और E

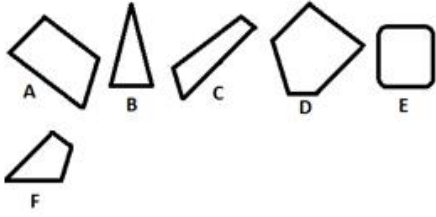
2. ✘ B, C और D

3. ✓ D, F और H

4. ✘ C, F और H

Question Number : 24 Question Id : 9983675624 Question Type : MCQ Option Shuffling : Yes
Correct Marks : 1 Wrong Marks : 0.25

Which of the given figures, when fitted into each other would form a pentagon? Select an appropriate combination from the given options.



Options :

1. ✘ ABCE

2. ✔ ACDF

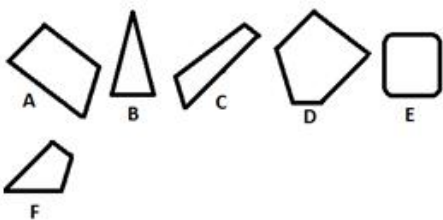
3. ✘ BCEF

4. ✘ BCDF

Question Number : 24 Question Id : 9983675624 Question Type : MCQ Option Shuffling : Yes

Correct Marks : 1 Wrong Marks : 0.25

इनमें से किस आकृति को जब एक एक दूसरे में फिट किया जाता है, तो एक पंचकोण बनेगा? प्रदत्त विकल्पों में से समुचित संयोजन चुनें।



Options :

1. ✘ ABCE

2. ✔ ACDF

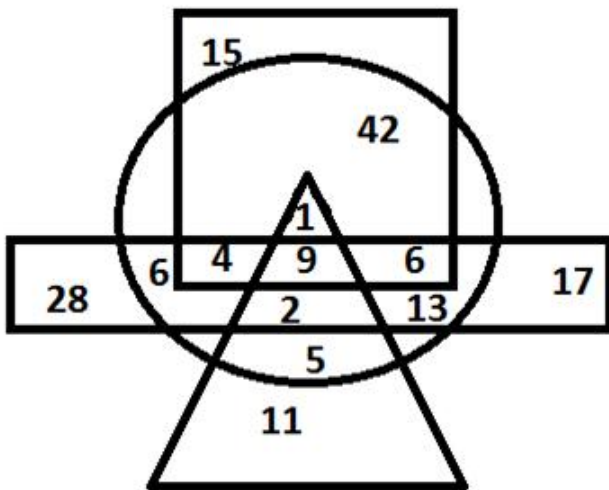
3. ✘ BCEF

4. ✖ BCDF

Question Number : 25 Question Id : 9983675625 Question Type : MCQ Option Shuffling : Yes

Correct Marks : 1 Wrong Marks : 0.25

In the diagram given below, the circle stands for 'Managers', the triangle stands for 'MBA degree holders', the rectangle stands for 'Business owners', and the square stands for 'Income Tax payers'. The numbers in different segments represent the number of persons.



Which of following statement is NOT correct?

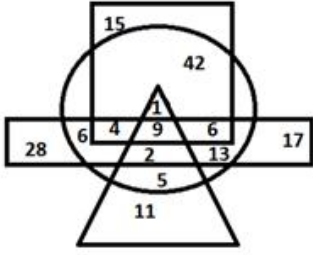
Options :

1. ✖ A total of 85 persons are business owners.
2. ✔ The number of managers who are MBA degree holders but are not income tax payers is 2.
3. ✖ The number of managers who are business owners and income tax payers both is 19.
4. ✖ Managers who are MBA degree holders are 17.

Question Number : 25 Question Id : 9983675625 Question Type : MCQ Option Shuffling : Yes

Correct Marks : 1 Wrong Marks : 0.25

नीचे प्रदत्त आरेख में, वृत्त 'प्रबंधकों' को दर्शाता है, त्रिभुज 'एमबीए डिग्री धारकों' को दर्शाता है, आयत 'व्यवसायियों' को दर्शाता है और वर्ग 'आयकर दाताओं' को दर्शाता है। अलग-अलग खंडों की दी गई संख्याएँ व्यक्तियों की संख्या को दर्शाती हैं।



इनमें से कौन सा कथन सही नहीं है?

Options :

1. ✘ कुल 85 व्यक्ति कारोबार के मालिक हैं।
2. ✔ एमबीए की डिग्री वाले प्रबंधकों की संख्या 2 है, जो आयकर दाता नहीं हैं।
3. ✘ ऐसे प्रबंधकों की संख्या 19 है, जो कारोबार के मालिक और आयकर दाता दोनों हैं।
4. ✘ एमबीए की डिग्री वाले प्रबंधकों की संख्या 17 है।

Question Number : 26 Question Id : 9983675626 Question Type : MCQ Option Shuffling : Yes

Correct Marks : 1 Wrong Marks : 0.25

Select the option figure which contains figure X embedded in it as its part.



Figure-X

Options :



1. ✘



Question Number : 26 Question Id : 9983675626 Question Type : MCQ Option Shuffling : Yes
Correct Marks : 1 Wrong Marks : 0.25

इनमें से वह आकृति चुनें जिसमें आकृति X इसका एक भाग है।



Figure-X

Options :



3. ✓



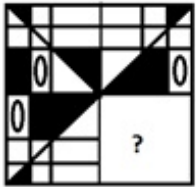
4. ✗



Question Number : 27 Question Id : 9983675627 Question Type : MCQ Option Shuffling : Yes

Correct Marks : 1 Wrong Marks : 0.25

Which of the following option figure will complete the pattern in the figure given below?



Options :

1. ✓



2. ✗



3. ✗

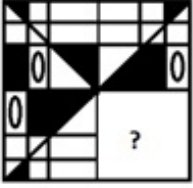


4. ✘



Question Number : 27 Question Id : 9983675627 Question Type : MCQ Option Shuffling : Yes Correct Marks : 1 Wrong Marks : 0.25

इनमें से कौन सी आकृति नीचे प्रदत्त आकृति पैटर्न को पूरा करेगी?



Options :

1. ✔



2. ✘



3. ✘



4. ✘



Question Number : 28 Question Id : 9983675628 Question Type : MCQ Option Shuffling : Yes Correct Marks : 1 Wrong Marks : 0.25

Darshi is Madhavi's sister's daughter. Anvesha is mother of Yukta. Vaidehi is daughter of Karan. Karan is Madhavi's only sister's husband. Ranvijay's daughter is married to Karan. Anvesha is Vaidehi's maternal grandmother. Madhavi is unmarried. How is Darshi related to Ranvijay?

Options :

1. ✘ Daughter

2. ✘ Sister

3. ✘ Niece

4. ✔ Granddaughter

Question Number : 28 Question Id : 9983675628 Question Type : MCQ Option Shuffling : Yes

Correct Marks : 1 Wrong Marks : 0.25

दर्शी माधवी की बहन की लड़की है। अन्वेषा युक्ता की माता है। वैदेही करण की लड़की है। करण माधवी की इकलौती बहन का पति है। रणविजय की लड़की की शादी करण से हुई है। अन्वेषा वैदेही की नानी है। माधवी की शादी नहीं हुई है। दर्शी और रणविजय का रिश्ता पता करें।

Options :

1. ✘ बेटा

2. ✘ बहन

3. ✘ भांजी

4. ✔ पोती

Question Number : 29 Question Id : 9983675629 Question Type : MCQ Option Shuffling : Yes

Correct Marks : 1 Wrong Marks : 0.25

$A + B$ means 'A is brother of B'

$A - B$ means 'A is mother of B'

$A \times B$ means 'A is father of B'

$A \div B$ means 'A is son of B'

$A \% B$ means 'A is sister of B'

If $U + V - K - R + T \div U \times S \% K$, then which of the following statement is NOT correct?

Options :

1. ✖ V is mother-in-law of U.

2. ✖ S is sister of T.

3. ✔ K is husband of U.

4. ✖ V is maternal grandmother of S.

Question Number : 29 Question Id : 9983675629 Question Type : MCQ Option Shuffling : Yes

Correct Marks : 1 Wrong Marks : 0.25

$A + B$ का अर्थ है 'A, B का भाई है'

$A - B$ का अर्थ है 'A, B की माता है'

$A \times B$ का अर्थ है 'A, B का पिता है'

$A \div B$ का अर्थ है 'A, B का बेटा है'

$A \% B$ का अर्थ है 'A, B की बहन है'

यदि $U + V - K - R + T \div U \times S \% K$ है, तो इनमें से कौन सा कथन सही नहीं है?

Options :

1. ✖ V, U की सास है।

2. ✖ S, T की बहन है।

3. ✓ K, U का पति है।

4. ✗ V, S की नानी है।

Question Number : 30 Question Id : 9983675630 Question Type : MCQ Option Shuffling : Yes

Correct Marks : 1 Wrong Marks : 0.25

A question is given, followed by two statements labelled I and II, each containing some information. Decide which of the statements is/are sufficient/necessary to answer the question.

Question:

How is P related to Q?

Statements

- I. R is son of P who is married to T.
- II. V is married to P.
- III. S is sister of Q.
- IV. R is the father of S

Options :

- 1. ✗ Statement I and II together are sufficient.
- 2. ✗ Statement I, II and III together are sufficient.
- 3. ✓ Statement I, III and IV together are sufficient.
- 4. ✗ All the statements together are necessary.

Question Number : 30 Question Id : 9983675630 Question Type : MCQ Option Shuffling : Yes

Correct Marks : 1 Wrong Marks : 0.25

एक प्रश्न के बाद I और II लेबल के तहत दो कथन दिए गए हैं, प्रत्येक में कुछ न कुछ जानकारी दी गई है। तय करें कि प्रश्न का उत्तर देने के लिए इनमें से कौन सा/से कथन पर्याप्त/ज़रूरी है/हैं।

प्रश्न:

P, Q से कैसे सम्बंधित है?

कथन:

- I. R, P का बेटा है, जिसकी शादी T से हुई है।
- II. V की शादी P से हुई है।
- III. S, Q की बेटी है।
- IV. R, S के पिता है।

Options :

1. ✘ कथन I और II एकसाथ पर्याप्त हैं।
2. ✘ कथन I, II और III एकसाथ पर्याप्त हैं।
3. ✔ कथन I, III और IV एकसाथ पर्याप्त हैं।
4. ✘ सभी कथन एकसाथ ज़रूरी हैं।

Question Number : 31 Question Id : 9983675631 Question Type : MCQ Option Shuffling : Yes

Correct Marks : 1 Wrong Marks : 0.25

If 'TRACTOR' is coded as 117 in a code language, how would 'MEDICAL' be coded in the same code language?

Options :

1. ✘ 95
2. ✔ 98

3. ✖ 100

4. ✖ 102

Question Number : 31 Question Id : 9983675631 Question Type : MCQ Option Shuffling : Yes

Correct Marks : 1 Wrong Marks : 0.25

यदि किसी कोड भाषा में 'TRACTOR' को 117 कोड किया गया है, तो उसी कोड भाषा में 'MEDICAL' को क्या कोड किया जाएगा?

Options :

1. ✖ 95

2. ✔ 98

3. ✖ 100

4. ✖ 102

Question Number : 32 Question Id : 9983675632 Question Type : MCQ Option Shuffling : Yes

Correct Marks : 1 Wrong Marks : 0.25

Which of the following pairs of numbers and signs, when their positions are interchanged, will correctly solve the given mathematical equation?

$$38 \times 18 \div 64 - 418 + 26 = 521$$

Options :

1. ✖ 418 and 64, \times and \div

2. ✖ 26 and 18, $+$ and \div

3. ✖ 26 and 38, $+$ and $-$

4. ✓ 26 and 38, + and ÷

Question Number : 32 Question Id : 9983675632 Question Type : MCQ Option Shuffling : Yes

Correct Marks : 1 Wrong Marks : 0.25

संख्याओं और चिहनों के इन युग्मों में से कौन सा युग्म उनकी स्थिति आपस में बदलने पर एक प्रदत्त गणितीय समीकरण को सही से हल करेगा?

$$38 \times 18 \div 64 - 418 + 26 = 521$$

Options :

1. ✗ 418 और 64, × और ÷

2. ✗ 26 और 18, + और ÷

3. ✗ 26 और 38, + और -

4. ✓ 26 और 38, + और ÷

Question Number : 33 Question Id : 9983675633 Question Type : MCQ Option Shuffling : Yes

Correct Marks : 1 Wrong Marks : 0.25

A total of 160 students participate in one of three events solo song, solo dance and mime. Only 10% participate in all three events. The number of students who participate in any two and only two events is 35% of the total students. The number of students who participate in solo song alone is 26. What is the total number of students who participate in solo dance alone or mime alone?

Options :

1. ✗ 52

2. ✗ 60

3. ✓ 62

4. ✖ 72

Question Number : 33 Question Id : 9983675633 Question Type : MCQ Option Shuffling : Yes

Correct Marks : 1 Wrong Marks : 0.25

सोलो सोंग, सोलो डांस और माइम तीन कार्यक्रमों में कुल 160 छात्र हिस्सा ले रहे हैं। केवल 10% ही सभी कार्यक्रमों में भाग ले रहे हैं। किन्ही दो कार्यक्रमों या केवल दो कार्यक्रमों में भाग लेने वाले छात्रों की संख्या कुल छात्रों की 35% है। केवल सोलो सोंग में भाग लेने वाले छात्रों की संख्या 26 है। केवल सोलो डांस या केवल माइम में भाग लेने वाले कुल छात्रों की संख्या पता करें?

Options :

1. ✖ 52

2. ✖ 60

3. ✔ 62

4. ✖ 72

Question Number : 34 Question Id : 9983675634 Question Type : MCQ Option Shuffling : Yes

Correct Marks : 1 Wrong Marks : 0.25

Among five objects A, B, C, D and E; A is one and a half times heavier than C; B is two and a half times heavier than E; C is one and a half times heavier than D. E is twice as heavy as A. Which of the following the statements is NOT correct?

Options :

1. ✖ B is heavier than D.

2. ✖ E is heavier than C.

3. ✖ B is heavier than A.

4. ✓ A is three times heavier than D.

Question Number : 34 Question Id : 9983675634 Question Type : MCQ Option Shuffling : Yes

Correct Marks : 1 Wrong Marks : 0.25

पाँच वस्तुओं A, B, C, D और E में से; A, C से डेढ़ गुना भारी है; B, E से ढाई गुना भारी है; C, D से डेढ़ गुना भारी है। E, A से दोगुना भारी है। इनमें से कौन सा कथन सही नहीं है?

Options :

1. ✗ B, D से भारी है।

2. ✗ E, C से भारी है।

3. ✗ B, A से भारी है।

4. ✓ A, D से तीन गुना भारी है।

Question Number : 35 Question Id : 9983675635 Question Type : MCQ Option Shuffling : Yes

Correct Marks : 1 Wrong Marks : 0.25

Four persons A, B, C and D have different amount of rupees with them. A says to B, 'If I give you 8 rupees, I will have four rupees more than C' B says to C, 'If you give me 7 rupees, I will have equal amount of rupees as D'. C says to A, 'If you give me 13 rupees, I will have 8 rupees less than B'. If B and C together have total 75 rupees, how many rupees does A have?

Options :

1. ✗ 38

2. ✓ 39

3. ✗ 40

4. ✗ 42

Question Number : 35 Question Id : 9983675635 Question Type : MCQ Option Shuffling : Yes

Correct Marks : 1 Wrong Marks : 0.25

चार व्यक्तियों A, B, C और D के पास अलग-अलग रुपये हैं। A, B से कहता है, "अगर तुम मुझे 8 रुपये दे दो, तो मेरे पास C से चार रुपये ज़्यादा होंगे।" B, C से कहता है, "अगर तुम मुझे 7 रुपये दे दो, तो मेरे पास D जितने रुपये हो जाएँगे।" C, A से कहता है, "अगर तुम मुझे 13 रुपये दे दो, तो मेरे पास B से 8 रुपये कम होंगे।" यदि B और C दोनों के पास कुल 75 रुपये हैं, तो A के पास कितने रुपये हैं?

Options :

1. ✘ 38

2. ✔ 39

3. ✘ 40

4. ✘ 42

Question Number : 36 Question Id : 9983675636 Question Type : MCQ Option Shuffling : Yes

Correct Marks : 1 Wrong Marks : 0.25

Three of the given four words are similar in a certain manner while one is different. Choose the odd one out.

Options :

1. ✘ Annihilation

2. ✘ Decimation

3. ✔ Refurbishment

4. ✘ Destruction

Question Number : 36 Question Id : 9983675636 Question Type : MCQ Option Shuffling : Yes

Correct Marks : 1 Wrong Marks : 0.25

प्रदत्त चार शब्दों में से तीन एक तरीके से समान हैं, जबकि एक अलग है। इनमें से विषम चुनें।

Options :

1. ✘ संहार

2. ✘ विनाश

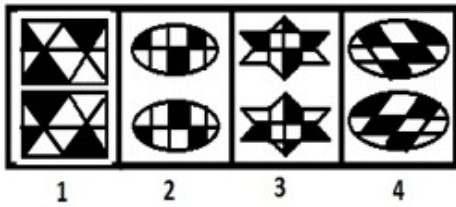
3. ✔ नवीनीकरण

4. ✘ तबाही

Question Number : 37 Question Id : 9983675637 Question Type : MCQ Option Shuffling : Yes

Correct Marks : 1 Wrong Marks : 0.25

Three of the given four figures are similar in a certain manner while one is different. Choose the odd one out.



Options :

1. ✘ 1

2. ✘ 2

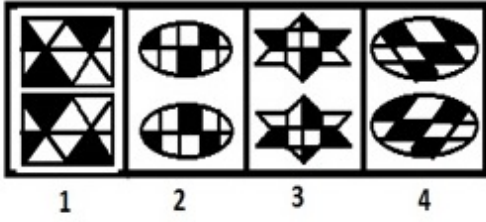
3. ✘ 3

4. ✔ 4

Question Number : 37 Question Id : 9983675637 Question Type : MCQ Option Shuffling : Yes

Correct Marks : 1 Wrong Marks : 0.25

प्रदत्त चार आकृतियों में से तीन एक तरीके से समान हैं, जबकि एक अलग है। इनमें से विषम चुनें।



Options :

1. ✖ 1

2. ✖ 2

3. ✖ 3

4. ✔ 4

Question Number : 38 Question Id : 9983675638 Question Type : MCQ Option Shuffling : Yes

Correct Marks : 1 Wrong Marks : 0.25

Which number will replace the question mark (?) in the following series?

4, 6, 12, 15, ?, 49

Options :

1. ✖ 25

2. ✖ 30

3. ✖ 35

4. ✔ 45

Question Number : 38 Question Id : 9983675638 Question Type : MCQ Option Shuffling : Yes

Correct Marks : 1 Wrong Marks : 0.25

वह विकल्प चुनें जो श्रृंखला में प्रश्न चिन्ह (?) को सही प्रतिस्थापित करेगा।

4, 6, 12, 15, ?, 49

Options :

1. ✖ 25

2. ✖ 30

3. ✖ 35

4. ✔ 45

Question Number : 39 Question Id : 9983675639 Question Type : MCQ Option Shuffling : Yes

Correct Marks : 1 Wrong Marks : 0.25

Which number will replace the question mark (?) in the following series?

31, 35, 46, 76, ?

Options :

1. ✖ 141

2. ✔ 143

3. ✖ 145

4. ✖ 147

Question Number : 39 Question Id : 9983675639 Question Type : MCQ Option Shuffling : Yes

Correct Marks : 1 Wrong Marks : 0.25

वह विकल्प चुनें जो श्रृंखला में प्रश्न चिन्ह (?) को सही प्रतिस्थापित करेगा।

31, 35, 46, 76, ?

Options :

1. ✘ 141

2. ✔ 143

3. ✘ 145

4. ✘ 147

Question Number : 40 Question Id : 9983675640 Question Type : MCQ Option Shuffling : Yes
Correct Marks : 1 Wrong Marks : 0.25

Which number will replace the question mark (?) in the following series?

105, 133, 177, 236, 309, ?

Options :

1. ✔ 395

2. ✘ 405

3. ✘ 495

4. ✘ 505

Question Number : 40 Question Id : 9983675640 Question Type : MCQ Option Shuffling : Yes
Correct Marks : 1 Wrong Marks : 0.25

वह विकल्प चुनें जो श्रृंखला में प्रश्न चिन्ह (?) को सही प्रतिस्थापित करेगा।

105, 133, 177, 236, 309, ?

Options :

1. ✓ 395

2. ✗ 405

3. ✗ 495

4. ✗ 505

General Awareness1

Group Number :	3
Group Id :	998367219
Group Maximum Duration :	0
Group Minimum Duration :	0
Show Attended Group? :	No
Edit Attended Group? :	No
Break time:	0
Group Marks:	20
Is this Group for Examiner?:	No
Revisit allowed for group Instructions? :	Yes
Maximum Instruction Time:	0
Minimum Instruction Time:	0

General Awareness1

Section Id :	998367225
Section Number :	1
Section type :	Online
Mandatory or Optional:	Mandatory
Number of Questions:	20
Number of Questions to be attempted:	20
Section Marks:	20

Sub-Section Number: 1
Sub-Section Id: 998367329
Question Shuffling Allowed : Yes

Question Number : 41 Question Id : 9983675641 Question Type : MCQ Option Shuffling : Yes
Correct Marks : 1 Wrong Marks : 0.25

“Darr ke Aage Jeet Hai” is the tag line of which of the following soft drinks?

Options :

1. ✖ Thums Up
2. ✔ Mountain Dew
3. ✖ Coca Cola
4. ✖ Pepsi

Question Number : 41 Question Id : 9983675641 Question Type : MCQ Option Shuffling : Yes
Correct Marks : 1 Wrong Marks : 0.25

"डर के आगे जीत है" निम्नलिखित में से किस कोल्ड ड्रिंक की टैग लाइन है?

Options :

1. ✖ थम्स अप
2. ✔ माउंटेन ड्यू
3. ✖ कोको कोला
4. ✖ पेप्सी

Question Number : 42 Question Id : 9983675642 Question Type : MCQ Option Shuffling : Yes
Correct Marks : 1 Wrong Marks : 0.25

International Dance Day, to promote art and culture, is celebrated on which date?

Options :

1. ✔ 29 April
2. ✖ 5 April

3. * 10 April

4. * 15 April

Question Number : 42 Question Id : 9983675642 Question Type : MCQ Option Shuffling : Yes

Correct Marks : 1 Wrong Marks : 0.25

कला और संस्कृति को बढ़ावा देने के लिए अंतर्राष्ट्रीय नृत्य दिवस, इनमें से किस तारीख को मनाया जाता है?

Options :

1. ✓ 29-अप्रैल

2. * 5-अप्रैल

3. * 10-अप्रैल

4. * 15-अप्रैल

Question Number : 43 Question Id : 9983675643 Question Type : MCQ Option Shuffling : Yes

Correct Marks : 1 Wrong Marks : 0.25

S class Series is associated with which brand of car?

Options :

1. * Audi

2. * Rolls Royce

3. ✓ Mercedes-Benz

4. * BMW

Question Number : 43 Question Id : 9983675643 Question Type : MCQ Option Shuffling : Yes

Correct Marks : 1 Wrong Marks : 0.25

S क्लास सीरीज, निम्नलिखित किस कार के ब्रांड से संबंधित है?

Options :

1. * ऑडी

2. * रोल्स रॉयस

3. ✓ मर्सिडीज बेंज

4. * बीएमडब्ल्यू

Question Number : 44 Question Id : 9983675644 Question Type : MCQ Option Shuffling : Yes

Correct Marks : 1 Wrong Marks : 0.25

What was the name of the cyclone that hit Tamil Nadu in December 2016?

Options :

1. * Fani
2. * Nilam
3. * Ockhi
4. ✓ Vardah

Question Number : 44 Question Id : 9983675644 Question Type : MCQ Option Shuffling : Yes

Correct Marks : 1 Wrong Marks : 0.25

दिसंबर 2016 में तमिलनाडु में आए चक्रवात का क्या नाम था?

Options :

1. * फ़ानी
2. * नीलम
3. * ओखी
4. ✓ वर्धा

Question Number : 45 Question Id : 9983675645 Question Type : MCQ Option Shuffling : Yes

Correct Marks : 1 Wrong Marks : 0.25

Three Indians made it to the 2019 Time 100 most influential people list. Who among the following is NOT one of them?

Options :

1. * Arundhati Katju
2. ✓ Anand Mahindra
3. * Menaka Guruswamy
4. * Mukesh Ambani

Question Number : 45 Question Id : 9983675645 Question Type : MCQ Option Shuffling : Yes

Correct Marks : 1 Wrong Marks : 0.25

वर्ष 2019 में तीन भारतीयों ने टाइम 100 में सबसे प्रभावशाली लोगों की सूची में अपनी जगह बनाई है। निम्नलिखित में से कौन व्यक्ति इन तीनों के अंतर्गत नहीं आता है?

Options :

1. * अरुन्धती काटजू
2. ✓ आनंद महिंद्रा
3. * मेनका गुरुस्वामी
4. * मुकेश अंबानी

Question Number : 46 Question Id : 9983675646 Question Type : MCQ Option Shuffling : Yes

Correct Marks : 1 Wrong Marks : 0.25

The central government has mandated the state transport departments to use which colour plate for all electric vehicles?

Options :

1. ✓ Green
2. * Red
3. * Black
4. * White

Question Number : 46 Question Id : 9983675646 Question Type : MCQ Option Shuffling : Yes

Correct Marks : 1 Wrong Marks : 0.25

केंद्र सरकार ने राज्य परिवहन विभागों को सभी इलेक्ट्रिक वाहनों के लिए किस रंग की प्लेट का उपयोग करने के लिए आज्ञापत्र जारी किया है?

Options :

1. ✓ हरा
2. * लाल
3. * काला

4. * सफेद

Question Number : 47 Question Id : 9983675647 Question Type : MCQ Option Shuffling : Yes
Correct Marks : 1 Wrong Marks : 0.25

Virtual Assistant Alexa is a product of which of the following companies?

Note: For this question, discrepancy is found in question/answer. So, this question is ignored for all candidates.

Options :

1. Apple
2. Google
3. Amazon
4. Bixby

Question Number : 47 Question Id : 9983675647 Question Type : MCQ Option Shuffling : Yes
Correct Marks : 1 Wrong Marks : 0.25

निम्नलिखित में से किस तारीख को 2019 लोकसभा चुनाव के परिणाम घोषित किए गए थे?

Note: For this question, discrepancy is found in question/answer. So, this question is ignored for all candidates.

Options :

1. ऐप्पल
2. गूगल
3. अमेज़न
4. बिक्सबी

Question Number : 48 Question Id : 9983675648 Question Type : MCQ Option Shuffling : Yes
Correct Marks : 1 Wrong Marks : 0.25

On which of the following dates were the results of the 2019 Lok Sabha Elections declared?

Options :

1. * 20 May 2019
2. ✓ 23 May 2019

3. * 30 May 2019

4. * 25 May 2019

Question Number : 48 Question Id : 9983675648 Question Type : MCQ Option Shuffling : Yes

Correct Marks : 1 Wrong Marks : 0.25

निम्नलिखित में से किस तारीख को 2019 लोकसभा चुनाव के परिणाम घोषित किए गए थे?

Options :

1. * 20-मई-2019

2. ✓ 23-मई-2019

3. * 30-मई-2019

4. * 25-मई-2019

Question Number : 49 Question Id : 9983675649 Question Type : MCQ Option Shuffling : Yes

Correct Marks : 1 Wrong Marks : 0.25

By which act the trade monopoly of the East India Company in India was ended and trade with India was thrown open to all British subjects?

Options :

1. ✓ The Charter Act of 1813.

2. * The Regulating Act of 1773.

3. * The Pitts India Act of 1784.

4. * The Government of India Act of 1858.

Question Number : 49 Question Id : 9983675649 Question Type : MCQ Option Shuffling : Yes

Correct Marks : 1 Wrong Marks : 0.25

किस अधिनियम के द्वारा भारत में ईस्ट इंडिया कंपनी के व्यापार एकाधिकार को समाप्त कर दिया गया और भारत के साथ सभी ब्रिटिश विषयों से सम्बंधित व्यापार के दरवाजे खोल दिए गए?

Options :

1. ✓ 1813 का चार्टर अधिनियम

2. * 1773 का विनियमन अधिनियम
3. * 1784 का पिट्स इंडिया अधिनियम
4. * 1858 का भारत सरकार अधिनियम

Question Number : 50 Question Id : 9983675650 Question Type : MCQ Option Shuffling : Yes
Correct Marks : 1 Wrong Marks : 0.25

The famous song, “Aye Mere Watan Ke Logon”, was sung by Lata Mangeshkar as a tribute to soldiers who died during:

Options :

1. * Kargil War of 1999.
2. * Indo-Pakistan war of 1965.
3. ✓ Sino-Indian War of 1962.
4. * Indo-Pakistan war of 1971.

Question Number : 50 Question Id : 9983675650 Question Type : MCQ Option Shuffling : Yes
Correct Marks : 1 Wrong Marks : 0.25

निम्नलिखित में से किस युद्ध के दौरान मारे जाने वाले सैनिकों के लिए लता मंगेशकर द्वारा प्रसिद्ध गीत, "ऐ मेरे वतन के लोगों" गाया गया था?

Options :

1. * 1999 का कारगिल युद्ध
2. * 1965 का भारत-पाकिस्तान युद्ध
3. ✓ 1962 का भारत-चीन युद्ध
4. * 1971 का भारत-पाकिस्तान युद्ध

Question Number : 51 Question Id : 9983675651 Question Type : MCQ Option Shuffling : Yes
Correct Marks : 1 Wrong Marks : 0.25

Who among the following is the author of the book, “The Story of My Deportation”?

Options :

1. ✓ Lala Lajpat Rai
2. ✖ Subhash Chandra Bose
3. ✖ Vinayak Damodar Savarkar
4. ✖ Batukeshwar Dutt

Question Number : 51 Question Id : 9983675651 Question Type : MCQ Option Shuffling : Yes
Correct Marks : 1 Wrong Marks : 0.25

पुस्तक "द स्टोरी ऑफ माय डिपोर्टेशन" के लेखक इनमें से कौन हैं?

Options :

1. ✓ लाला लाजपत राय
2. ✖ सुभाष चंद्र बोस
3. ✖ विनायक दामोदर सावरकर
4. ✖ बटुकेश्वर दत्त

Question Number : 52 Question Id : 9983675652 Question Type : MCQ Option Shuffling : Yes
Correct Marks : 1 Wrong Marks : 0.25

Name the accomplice of Bhagat Singh who, along with him, threw bombs at the Central Legislative Assembly at Delhi on 8 April, 1929.

Options :

1. ✖ Rajguru
2. ✓ Batukeshwar Dutt
3. ✖ Sukhdev
4. ✖ Chandrashekar Azad

Question Number : 52 Question Id : 9983675652 Question Type : MCQ Option Shuffling : Yes
Correct Marks : 1 Wrong Marks : 0.25

निम्नलिखित में से भगत सिंह के उस साथी का क्या नाम है जिन्होंने उनके साथ 8 अप्रैल 1929 को दिल्ली में केंद्रीय विधान सभा में बम फेंका था?

Options :

1. ✖ राजगुरु
2. ✔ बटुकेश्वर दत्त
3. ✖ सुखदेव
4. ✖ चंद्रशेखर आज़ाद

Question Number : 53 Question Id : 9983675653 Question Type : MCQ Option Shuffling : Yes
Correct Marks : 1 Wrong Marks : 0.25

In which year was the NEET exam held the first time in India?

Options :

1. ✖ 2012
2. ✖ 2010
3. ✔ 2013
4. ✖ 2009

Question Number : 53 Question Id : 9983675653 Question Type : MCQ Option Shuffling : Yes
Correct Marks : 1 Wrong Marks : 0.25

NEET परीक्षा भारत में पहली बार किस वर्ष आयोजित की गई थी?

Options :

1. ✖ 2012
2. ✖ 2010
3. ✔ 2013
4. ✖ 2009

Question Number : 54 Question Id : 9983675654 Question Type : MCQ Option Shuffling : Yes
Correct Marks : 1 Wrong Marks : 0.25

What is the general lock-in period of Public Provident Fund (PPF) in India, except for some pre-mature withdrawal rules?

Options :

1. ✖ 5 Years

2. ✓ 15 years

3. ✗ 10 years

4. ✗ 20 Years

Question Number : 54 Question Id : 9983675654 Question Type : MCQ Option Shuffling : Yes
Correct Marks : 1 Wrong Marks : 0.25

कुछ पूर्व परिपक्व निकासी नियमों को छोड़कर, भारत में सार्वजनिक भविष्य निधि (पीपीएफ) की सामान्य लॉक-इन अवधि कितनी है?

Options :

1. ✗ 5 वर्षों

2. ✓ 15 वर्षों

3. ✗ 10 वर्षों

4. ✗ 20 वर्षों

Question Number : 55 Question Id : 9983675655 Question Type : MCQ Option Shuffling : Yes
Correct Marks : 1 Wrong Marks : 0.25

As of May 2019, who among the following is the Chief Executive Officer (CEO) of Unique Identification Authority of India UIDAI?

Options :

1. ✓ Ajay Bhushan Pandey

2. ✗ Anand Deshpande

3. ✗ J Satyanarayana

4. ✗ Nandan Nilekani

Question Number : 55 Question Id : 9983675655 Question Type : MCQ Option Shuffling : Yes
Correct Marks : 1 Wrong Marks : 0.25

मई 2019 तक, UIDAI की विशिष्ट पहचान प्राधिकरण के मुख्य कार्यकारी अधिकारी (CEO) निम्नलिखित में से कौन हैं?

Options :

1. ✓ अजय भूषण पांडे

2. * आनंद देशपांडे

3. * जे सत्यनारायण

4. * नंदन नीलेकणी

Question Number : 56 Question Id : 9983675656 Question Type : MCQ Option Shuffling : Yes

Correct Marks : 1 Wrong Marks : 0.25

The Sexual Harassment of Women at Workplace (Prevention, Prohibition and Redressal) Act was passed in which year?

Options :

1. ✓ 2013

2. * 2010

3. * 2015

4. * 2016

Question Number : 56 Question Id : 9983675656 Question Type : MCQ Option Shuffling : Yes

Correct Marks : 1 Wrong Marks : 0.25

कार्यस्थल पर महिलाओं का यौन उत्पीड़न (रोकथाम, निषेध और निवारण) अधिनियम किस वर्ष पारित किया गया था?

Options :

1. ✓ 2013

2. * 2010

3. * 2015

4. * 2016

Question Number : 57 Question Id : 9983675657 Question Type : MCQ Option Shuffling : Yes

Correct Marks : 1 Wrong Marks : 0.25

Article 45 and Article 21A of Indian Constitution are related to which of the following?

Options :

1. * Sexual abuse

2. ✖ Election

3. ✔ Education

4. ✖ Appointment of President

Question Number : 57 Question Id : 9983675657 Question Type : MCQ Option Shuffling : Yes
Correct Marks : 1 Wrong Marks : 0.25

भारतीय संविधान का अनुच्छेद 45 और अनुच्छेद 21A निम्नलिखित में से किस से संबंधित हैं?

Options :

1. ✖ यौन शोषण

2. ✖ चुनाव

3. ✔ शिक्षा

4. ✖ राष्ट्रपति की नियुक्ति

Question Number : 58 Question Id : 9983675658 Question Type : MCQ Option Shuffling : Yes
Correct Marks : 1 Wrong Marks : 0.25

Which one of the following committees examined and suggested financial sector reforms in India?

Options :

1. ✖ Chelliah Committee

2. ✖ Bhagawati Committee

3. ✔ Narasimham Committee

4. ✖ Abid Hussain Committee

Question Number : 58 Question Id : 9983675658 Question Type : MCQ Option Shuffling : Yes
Correct Marks : 1 Wrong Marks : 0.25

निम्नलिखित में से किस एक समिति ने भारत में वित्तीय क्षेत्र सुधारों की जांच की और सुझाव दिया?

Options :

1. ✖ चेल्या समिति

2. ✖ भगवती समिति

3. ✔ नरसिम्हम समिति

4. ✖ आबिद हुसैन समिति

Question Number : 59 Question Id : 9983675659 Question Type : MCQ Option Shuffling : Yes
Correct Marks : 1 Wrong Marks : 0.25

In which year did Ramesh Krishnan win the Wimbledon junior title?

Options :

1. ✖ 1982

2. ✖ 1978

3. ✔ 1979

4. ✖ 1980

Question Number : 59 Question Id : 9983675659 Question Type : MCQ Option Shuffling : Yes
Correct Marks : 1 Wrong Marks : 0.25

रमेश कृष्णन ने विंबलडन जूनियर खिताब किस वर्ष जीता था?

Options :

1. ✖ 1982

2. ✖ 1978

3. ✔ 1979

4. ✖ 1980

Question Number : 60 Question Id : 9983675660 Question Type : MCQ Option Shuffling : Yes
Correct Marks : 1 Wrong Marks : 0.25

Sports Day in India is celebrated on the birthday of one of the legendary Indian sportspersons. Who is this legendary sportsperson?

Options :

1. ✖ Milkha Singh

2. * Sunil Gavaskar

3. * P T Usha

4. ✓ Dhyan Chand

Question Number : 60 Question Id : 9983675660 Question Type : MCQ Option Shuffling : Yes

Correct Marks : 1 Wrong Marks : 0.25

भारत में खेल दिवस, भारत के एक महान खिलाड़ी के जन्मदिन के अवसर पर मनाया जाता है। उस दिग्गज खिलाड़ी का नाम क्या है?

Options :

1. * मिल्खा सिंह

2. * सुनील गावस्कर

3. * पी टी उषा

4. ✓ ध्यानचंद

General Awareness2

Group Number :	4
Group Id :	998367220
Group Maximum Duration :	0
Group Minimum Duration :	0
Show Attended Group? :	No
Edit Attended Group? :	No
Break time:	0
Group Marks:	20
Is this Group for Examiner?:	No
Revisit allowed for group Instructions? :	Yes
Maximum Instruction Time:	0
Minimum Instruction Time:	0

General Awareness2

Section Id :	998367226
Section Number :	1
Section type :	Online
Mandatory or Optional:	Mandatory
Number of Questions:	20
Number of Questions to be attempted:	20
Section Marks:	20

Sub-Section Number: 1
Sub-Section Id: 998367330
Question Shuffling Allowed : Yes

Question Number : 61 Question Id : 9983675661 Question Type : MCQ Option Shuffling : Yes
Correct Marks : 1 Wrong Marks : 0.25

Who is the recipient of the New Zealand Prime Minister's Sir Edmund Hillary Fellowship for 2019?

Options :

1. ✖ Mariyappan Thangavelu
2. ✔ Deepa Malik
3. ✖ Devendra Jhajharia
4. ✖ Varun Singh Bhati

Question Number : 61 Question Id : 9983675661 Question Type : MCQ Option Shuffling : Yes
Correct Marks : 1 Wrong Marks : 0.25

वर्ष 2019 के लिए, इनमें से किसे न्यूजीलैंड के प्रधानमंत्री सर एडमंड हिलेरी फैलोशिप प्राप्त हुआ है?

Options :

1. ✖ मरियप्पन थंगावेलु
2. ✔ दीपा मलिक
3. ✖ देवेंद्र झाझरिया
4. ✖ वरुण सिंह भाटी

Question Number : 62 Question Id : 9983675662 Question Type : MCQ Option Shuffling : Yes
Correct Marks : 1 Wrong Marks : 0.25

Budhaditya Mukherjee, who was awarded the Padma Bhushan in 2019, is associated with which of the following musical instruments?

Options :

1. ✔ Sitar

2. * Veena

3. * Violin

4. * Tabla

Question Number : 62 Question Id : 9983675662 Question Type : MCQ Option Shuffling : Yes

Correct Marks : 1 Wrong Marks : 0.25

बुधादित्य मुखर्जी, जिन्हें 2019 में पद्म भूषण से सम्मानित किया गया था, वह निम्नलिखित में से किस वाद्ययंत्र से सम्बंधित हैं?

Options :

1. ✓ सितार

2. * वीना

3. * वायलिन

4. * तबला

Question Number : 63 Question Id : 9983675663 Question Type : MCQ Option Shuffling : Yes

Correct Marks : 1 Wrong Marks : 0.25

The Tamil historic novel, Ponniyin Selvan, is based on the story of which of the following rulers?

Options :

1. * Rajendra Chola 1

2. * Vikramaditya

3. ✓ Raja Raja Chola

4. * Jayasimha

Question Number : 63 Question Id : 9983675663 Question Type : MCQ Option Shuffling : Yes

Correct Marks : 1 Wrong Marks : 0.25

तमिल ऐतिहासिक उपन्यास, पोन्नियिन सेलवन, निम्न में से किस शासक की कहानी पर आधारित है?

Options :

1. * राजेंद्र चोल प्रथम

2. ✖ विक्रमादित्य

3. ✔ राजा राजा चोल

4. ✖ जयसिम्हा

Question Number : 64 Question Id : 9983675664 Question Type : MCQ Option Shuffling : Yes
Correct Marks : 1 Wrong Marks : 0.25

Bihu festival is celebrated in which Indian state?

Options :

1. ✔ Assam

2. ✖ West Bengal

3. ✖ Odisha

4. ✖ Bihar

Question Number : 64 Question Id : 9983675664 Question Type : MCQ Option Shuffling : Yes
Correct Marks : 1 Wrong Marks : 0.25

बिहू त्योहार निम्नलिखित में से किस भारतीय राज्य में मनाया जाता है?

Options :

1. ✔ असम

2. ✖ पश्चिम बंगाल

3. ✖ ओडिशा

4. ✖ बिहार

Question Number : 65 Question Id : 9983675665 Question Type : MCQ Option Shuffling : Yes
Correct Marks : 1 Wrong Marks : 0.25

Which of the following rivers originates from Sihawa in Raipur district of Chhattisgarh and runs through Madhya Pradesh and Odisha?

Options :

1. ✖ Godavari

2. ✓ Mahanadi

3. ✘ Sarayu

4. ✘ Kosi

Question Number : 65 Question Id : 9983675665 Question Type : MCQ Option Shuffling : Yes

Correct Marks : 1 Wrong Marks : 0.25

निम्नलिखित में से कौन सी नदी छत्तीसगढ़ के रायपुर जिले में सिहावा से निकलती है और मध्य प्रदेश और ओडिशा से होकर गुजरती है?

Options :

1. ✘ गोदावरी

2. ✓ महानदी

3. ✘ सरयू

4. ✘ कोसी

Question Number : 66 Question Id : 9983675666 Question Type : MCQ Option Shuffling : Yes

Correct Marks : 1 Wrong Marks : 0.25

The world's largest monazite deposits are found in two districts of Kerala. One of the districts is Kollam. Which is the other?

Options :

1. ✘ Wayanad

2. ✘ Iduki

3. ✓ Palakkad

4. ✘ Kannur

Question Number : 66 Question Id : 9983675666 Question Type : MCQ Option Shuffling : Yes

Correct Marks : 1 Wrong Marks : 0.25

दुनिया का सबसे बड़ा मोनज़ाइट भण्डार केरल के दो जिलों में पाया जाता है। इन दोनों जिलों में से एक कोल्लम जिला है, दूसरे जिले का नाम क्या है?

Options :

1. ✖ वायनाड
2. ✖ इडुक्की
3. ✔ पलक्कड़
4. ✖ कन्नूर

Question Number : 67 Question Id : 9983675667 Question Type : MCQ Option Shuffling : Yes
Correct Marks : 1 Wrong Marks : 0.25

Which among the following are known as the monsoon forests?

Options :

1. ✖ Tropical evergreen forests.
2. ✔ Tropical deciduous forests.
3. ✖ Tropical thorn forests.
4. ✖ Littoral forests.

Question Number : 67 Question Id : 9983675667 Question Type : MCQ Option Shuffling : Yes
Correct Marks : 1 Wrong Marks : 0.25

निम्नलिखित में से किसे मानसून वन के रूप में जाना जाता है?

Options :

1. ✖ उष्णकटिबंधीय सदाबहार वन
2. ✔ उष्णकटिबंधीय पर्णपाती वन
3. ✖ उष्ण कटिबंधीय कटीले वन
4. ✖ चित्तीदार वन

Question Number : 68 Question Id : 9983675668 Question Type : MCQ Option Shuffling : Yes
Correct Marks : 1 Wrong Marks : 0.25

“Progressive Achievement of Self-Reliance” was the objective of which Five Year Plan?

Options :

1. ✔ Fourth

2. * Sixth

3. * Eleventh

4. * Third

Question Number : 68 Question Id : 9983675668 Question Type : MCQ Option Shuffling : Yes
Correct Marks : 1 Wrong Marks : 0.25

निम्नलिखित में से किस पंचवर्षीय योजना का उद्देश्य " आत्म-निर्भरता की प्रगतिशील उपलब्धि" था?

Options :

1. ✓ चौथा

2. * छठवाँ

3. * ग्यारहवाँ

4. * तीसरा

Question Number : 69 Question Id : 9983675669 Question Type : MCQ Option Shuffling : Yes
Correct Marks : 1 Wrong Marks : 0.25

In which year was the name changing took place from Confederation of Engineering Industry (CEI) to Confederation of Indian Industry (CII)?

Options :

1. * 1970

2. ✓ 1992

3. * 1995

4. * 1980

Question Number : 69 Question Id : 9983675669 Question Type : MCQ Option Shuffling : Yes
Correct Marks : 1 Wrong Marks : 0.25

निम्नलिखित में से किस वर्ष, इंजीनियरिंग उद्योग परिसंघ (CEI) का नाम बदलकर भारतीय उद्योग परिसंघ (CII) हो गया था?

Options :

1. ✖ 1970

2. ✔ 1992

3. ✖ 1995

4. ✖ 1980

Question Number : 70 Question Id : 9983675670 Question Type : MCQ Option Shuffling : Yes
Correct Marks : 1 Wrong Marks : 0.25

Which of the following is NOT a part of the human development index?

Options :

1. ✔ Happiness

2. ✖ Longevity

3. ✖ Education

4. ✖ Standard of living

Question Number : 70 Question Id : 9983675670 Question Type : MCQ Option Shuffling : Yes
Correct Marks : 1 Wrong Marks : 0.25

निम्नलिखित में से कौन मानव विकास सूचकांक का हिस्सा नहीं है?

Options :

1. ✔ खुशी

2. ✖ दीर्घ जीवन

3. ✖ शिक्षा

4. ✖ जीवन स्तर

Question Number : 71 Question Id : 9983675671 Question Type : MCQ Option Shuffling : Yes
Correct Marks : 1 Wrong Marks : 0.25

Sodium benzoate can be used as:

Options :

1. ✖ Baking powder

2. ✔ Food preservative

3. * Bleaching powder

4. * Chalk

Question Number : 71 Question Id : 9983675671 Question Type : MCQ Option Shuffling : Yes

Correct Marks : 1 Wrong Marks : 0.25

सोडियम बेंजोएट का उपयोग निम्नलिखित में से किस रूप में किया जा सकता है?

Options :

1. * बेकिंग पाउडर

2. ✓ खाद्य परिरक्षक (फ़ूड प्रेज़रवेटिव)

3. * ब्लैचिंग पाउडर

4. * चाक

Question Number : 72 Question Id : 9983675672 Question Type : MCQ Option Shuffling : Yes

Correct Marks : 1 Wrong Marks : 0.25

Which of the following is used as a moth ball?

Options :

1. ✓ Paradichlorobenzene

2. * Sodium sulphate

3. * Sodium bicarbonate

4. * Calcium carbonate

Question Number : 72 Question Id : 9983675672 Question Type : MCQ Option Shuffling : Yes

Correct Marks : 1 Wrong Marks : 0.25

निम्नलिखित में से किसे एक मॉथ बॉल के रूप में उपयोग किया जाता है?

Options :

1. ✓ पैरडिक्लोरोबेन्ज़ेन

2. * सोडियम सल्फ़ेट

3. * सोडियम बाइकार्बोनेट

4. * कैल्शियम कार्बोनेट

Question Number : 73 Question Id : 9983675673 Question Type : MCQ Option Shuffling : Yes
Correct Marks : 1 Wrong Marks : 0.25

What is the physics concept behind a ball point pen?

Options :

1. ✓ Gravity and surface tension
2. * Centrifugal force
3. * Thermodynamics
4. * Principle of optics

Question Number : 73 Question Id : 9983675673 Question Type : MCQ Option Shuffling : Yes
Correct Marks : 1 Wrong Marks : 0.25

बॉल पॉइंट पेन इनमें से किस भौतिक अवधारणा पर काम करता है?

Options :

1. ✓ गुरुत्वाकर्षण और पृष्ठ तनाव
2. * अभिकेन्द्रीय बल
3. * ऊष्मागतिकी
4. * प्रकाशिकी का सिद्धांत

Question Number : 74 Question Id : 9983675674 Question Type : MCQ Option Shuffling : Yes
Correct Marks : 1 Wrong Marks : 0.25

The high-speed magnetic levitation (Maglev) trains are based on which technology?

Options :

1. * Optic fibre
2. ✓ Super conductivity
3. * Internet of Things
4. * Cloud computing

Question Number : 74 Question Id : 9983675674 Question Type : MCQ Option Shuffling : Yes
Correct Marks : 1 Wrong Marks : 0.25

उच्च गति की चुंबकीय उत्तोलन (मैग्नेट) ट्रेनें निम्नलिखित में से किस तकनीक पर आधारित हैं?

Options :

1. ✖ ऑप्टिक फाइबर
2. ✔ सुपर कंडक्टिविटी
3. ✖ इंटरनेट ऑफ थिंग्स
4. ✖ क्लाउड कंप्यूटिंग

Question Number : 75 Question Id : 9983675675 Question Type : MCQ Option Shuffling : Yes

Correct Marks : 1 Wrong Marks : 0.25

Who among the following discovered and patented the rotating magnetic field, the basis of most alternating-current machinery?

Options :

1. ✔ Nikola Tesla
2. ✖ Thomas Edison
3. ✖ Albert Einstein
4. ✖ Ernest Rutherford

Question Number : 75 Question Id : 9983675675 Question Type : MCQ Option Shuffling : Yes

Correct Marks : 1 Wrong Marks : 0.25

निम्नलिखित में से किसने घूमने वाले चुंबकीय क्षेत्र का पता लगाया और प्रत्यावर्ती धारा (अल्टरनेटिंग करेंट) मशीनरी का आधार बनाया?

Options :

1. ✔ निकोला टेस्ला
2. ✖ थॉमस एडिसन
3. ✖ अल्बर्ट आइंस्टीन
4. ✖ अर्नेस्ट रदरफोर्ड

Question Number : 76 Question Id : 9983675676 Question Type : MCQ Option Shuffling : Yes
Correct Marks : 1 Wrong Marks : 0.25

In which state is the Institute of Nano Science and Technology situated?

Options :

1. ✖ Gujarat
2. ✔ Punjab
3. ✖ Karnataka
4. ✖ Andhra Pradesh

Question Number : 76 Question Id : 9983675676 Question Type : MCQ Option Shuffling : Yes
Correct Marks : 1 Wrong Marks : 0.25

नैनो विज्ञान और प्रौद्योगिकी संस्थान इनमें से किस राज्य में स्थित है?

Options :

1. ✖ गुजरात
2. ✔ पंजाब
3. ✖ कर्नाटक
4. ✖ आंध्र प्रदेश

Question Number : 77 Question Id : 9983675677 Question Type : MCQ Option Shuffling : Yes
Correct Marks : 1 Wrong Marks : 0.25

The Indian Council of Medical Research (ICMR) has launched the 'Malaria Elimination Research Alliance (MERA) India' to eliminate malaria by which year?

Options :

1. ✖ 2020
2. ✖ 2025
3. ✔ 2030
4. ✖ 2035

Question Number : 77 Question Id : 9983675677 Question Type : MCQ Option Shuffling : Yes
Correct Marks : 1 Wrong Marks : 0.25

भारतीय चिकित्सा अनुसंधान परिषद (ICMR) ने किस वर्ष मलेरिया को खत्म करने के लिए 'मलेरिया उन्मूलन अनुसंधान गठबंधन (MERA) भारत' शुरू किया है?

Options :

1. * 2020
2. * 2025
3. ✓ 2030
4. * 2035

Question Number : 78 Question Id : 9983675678 Question Type : MCQ Option Shuffling : Yes
Correct Marks : 1 Wrong Marks : 0.25

One of the most premier institutes of India, the National Institute of Design, is located in which city?

Options :

1. * New Delhi
2. ✓ Ahmedabad
3. * Mumbai
4. * Pune

Question Number : 78 Question Id : 9983675678 Question Type : MCQ Option Shuffling : Yes
Correct Marks : 1 Wrong Marks : 0.25

भारत के सबसे प्रमुख संस्थानों में से एक, नेशनल इंस्टीट्यूट ऑफ डिजाइन, निम्नलिखित में से किस शहर में स्थित है?

Options :

1. * नई दिल्ली
2. ✓ अहमदाबाद
3. * मुंबई
4. * पुणे

Question Number : 79 Question Id : 9983675679 Question Type : MCQ Option Shuffling : Yes
Correct Marks : 1 Wrong Marks : 0.25

The Tata Institute of Fundamental Research started functioning in which city when it was founded?

Options :

1. * Pune
2. * Mumbai
3. ✓ Bangalore (Bengaluru)
4. * New Delhi

Question Number : 79 Question Id : 9983675679 Question Type : MCQ Option Shuffling : Yes
Correct Marks : 1 Wrong Marks : 0.25

टाटा इंस्टीट्यूट ऑफ फंडामेंटल रिसर्च की स्थापना किस शहर में हुई थी?

Options :

1. * पुणे
2. * मुम्बई
3. ✓ बैंगलोर (बेंगलुरु)
4. * नई दिल्ली

Question Number : 80 Question Id : 9983675680 Question Type : MCQ Option Shuffling : Yes
Correct Marks : 1 Wrong Marks : 0.25

The headquarter of Universal Postal Union (UPU) is situated in:

Options :

1. * California, USA
2. * Tokyo, Japan
3. ✓ Bern, Switzerland
4. * Berlin, Germany

Question Number : 80 Question Id : 9983675680 Question Type : MCQ Option Shuffling : Yes
Correct Marks : 1 Wrong Marks : 0.25

यूनिवर्सल पोस्टल यूनियन (UPU) का मुख्यालय निम्नलिखित में से किस स्थान पर स्थित है?

Options :

1. ✘ कैलिफोर्निया, संयुक्त राज्य अमेरिका
2. ✘ टोक्यो, जापान
3. ✔ बर्न, स्विट्जरलैंड
4. ✘ बर्लिन, जर्मनी

Arithmetic Ability1

Group Number :	5
Group Id :	998367221
Group Maximum Duration :	0
Group Minimum Duration :	0
Show Attended Group? :	No
Edit Attended Group? :	No
Break time:	0
Group Marks:	20
Is this Group for Examiner?:	No
Revisit allowed for group Instructions? :	Yes
Maximum Instruction Time:	0
Minimum Instruction Time:	0

Arithmetic Ability1

Section Id :	998367227
Section Number :	1
Section type :	Online
Mandatory or Optional:	Mandatory
Number of Questions:	20
Number of Questions to be attempted:	20
Section Marks:	20

Sub-Section Number:	1
Sub-Section Id:	998367331
Question Shuffling Allowed :	Yes

Question Number : 81 Question Id : 9983675681 Question Type : MCQ Option Shuffling : Yes
Correct Marks : 1 Wrong Marks : 0.25

Simplify the following:

$$\sqrt{20 - \sqrt{20 - \sqrt{20 - \sqrt{20 - \sqrt{20}} \dots}}}$$

Options :

1. ✘ -5

2. ✘ 1

3. ✔ 4

4. ✘ $\sqrt{20}$

Question Number : 81 Question Id : 9983675681 Question Type : MCQ Option Shuffling : Yes

Correct Marks : 1 Wrong Marks : 0.25

निम्नलिखित समीकरण का सरलीकरण कीजिए:

$$\sqrt{20 - \sqrt{20 - \sqrt{20 - \sqrt{20 - \sqrt{20}} \dots}}}$$

Options :

1. ✘ -5

2. ✘ 1

3. ✔ 4

4. ✘ $\sqrt{20}$

Question Number : 82 Question Id : 9983675682 Question Type : MCQ Option Shuffling : Yes
Correct Marks : 1 Wrong Marks : 0.25

Simplify the following:

$$\frac{6}{1 + \frac{6}{1 + \frac{6}{1 + \frac{6}{1 + \dots}}}}$$

Options :

1. ✘ -2

2. ✔ 2

3. ✘ 3

4. ✘ 6

Question Number : 82 Question Id : 9983675682 Question Type : MCQ Option Shuffling : Yes
Correct Marks : 1 Wrong Marks : 0.25

निम्नलिखित समीकरण का सरलीकरण कीजिए:

$$\frac{6}{1 + \frac{6}{1 + \frac{6}{1 + \frac{6}{1 + \dots}}}}$$

Options :

1. ✘ -2

2. ✓ 2

3. ✗ 3

4. ✗ 6

Question Number : 83 Question Id : 9983675683 Question Type : MCQ Option Shuffling : Yes
Correct Marks : 1 Wrong Marks : 0.25

Simplify the following:

$$\frac{\left(1 + \frac{1}{1+\frac{1}{10}}\right)\left(1 + \frac{1}{1+\frac{1}{10}}\right) - \left(1 - \frac{1}{1+\frac{1}{10}}\right)\left(1 - \frac{1}{1+\frac{1}{10}}\right)}{\left(1 + \frac{1}{1+\frac{1}{10}}\right) + \left(1 - \frac{1}{1+\frac{1}{10}}\right)}$$

Options :

1. ✗ $\frac{1}{10}$

2. ✗ $\frac{21}{11}$

3. ✗ $\frac{1}{11}$

4. ✓ $\frac{20}{11}$

Question Number : 83 Question Id : 9983675683 Question Type : MCQ Option Shuffling : Yes
Correct Marks : 1 Wrong Marks : 0.25

निम्नलिखित समीकरण का सरलीकरण कीजिए:

$$\frac{\left(1 + \frac{1}{1+\frac{1}{10}}\right)\left(1 + \frac{1}{1+\frac{1}{10}}\right) - \left(1 - \frac{1}{1+\frac{1}{10}}\right)\left(1 - \frac{1}{1+\frac{1}{10}}\right)}{\left(1 + \frac{1}{1+\frac{1}{10}}\right) + \left(1 - \frac{1}{1+\frac{1}{10}}\right)}$$

Options :

1. ✘ $\frac{1}{10}$

2. ✘ $\frac{21}{11}$

3. ✘ $\frac{1}{11}$

4. ✔ $\frac{20}{11}$

Question Number : 84 Question Id : 9983675684 Question Type : MCQ Option Shuffling : Yes

Correct Marks : 1 Wrong Marks : 0.25

Simplify the following:

$$\frac{1}{\sqrt{9}+\sqrt{8}} + \frac{1}{\sqrt{8}+\sqrt{7}} + \frac{1}{\sqrt{7}+\sqrt{6}} + \frac{1}{\sqrt{6}+5} + \frac{1}{\sqrt{5}+\sqrt{4}}$$

Options :

1. ✔ 1

2. ✘ 2

3. ✘ 3

4. ✖ 5

Question Number : 84 Question Id : 9983675684 Question Type : MCQ Option Shuffling : Yes
Correct Marks : 1 Wrong Marks : 0.25

निम्नलिखित समीकरण का सरलीकरण कीजिए:

$$\frac{1}{\sqrt{9} + \sqrt{8}} + \frac{1}{\sqrt{8} + \sqrt{7}} + \frac{1}{\sqrt{7} + \sqrt{6}} + \frac{1}{\sqrt{6} + 5} + \frac{1}{\sqrt{5} + \sqrt{4}}$$

Options :

1. ✔ 1

2. ✖ 2

3. ✖ 3

4. ✖ 5

Question Number : 85 Question Id : 9983675685 Question Type : MCQ Option Shuffling : Yes
Correct Marks : 1 Wrong Marks : 0.25

Evaluate:

$$\sqrt{\frac{(0.02)^2 + (0.22)^2 + (0.025)^2}{(0.002)^2 + (0.022)^2 + (0.0025)^2}}$$

Options :

1. ✔ 10

2. ✖ 100

3. ✖ 1000

4. ✖ 10,000

Question Number : 85 Question Id : 9983675685 Question Type : MCQ Option Shuffling : Yes
Correct Marks : 1 Wrong Marks : 0.25

मूल्यांकन करें:

$$\sqrt{\frac{(0.02)^2 + (0.22)^2 + (0.025)^2}{(0.002)^2 + (0.022)^2 + (0.0025)^2}}$$

Options :

1. ✔ 10

2. ✖ 100

3. ✖ 1000

4. ✖ 10,000

Question Number : 86 Question Id : 9983675686 Question Type : MCQ Option Shuffling : Yes
Correct Marks : 1 Wrong Marks : 0.25

If $\sqrt{9765625} = 3125$, then $\sqrt{9765625} + \sqrt{97656.25} + \sqrt{976.5625} + \sqrt{9.765625}$ is:

Options :

1. ✖ 3125.275

2. ✖ 3741.875

3. ✓ 3471.875

4. ✗ 3215.275

Question Number : 86 Question Id : 9983675686 Question Type : MCQ Option Shuffling : Yes

Correct Marks : 1 Wrong Marks : 0.25

यदि $\sqrt{9765625} = 3125$ है, तो $\sqrt{9765625} + \sqrt{97656.25} + \sqrt{976.5625} + \sqrt{9.765625}$ होगा:

Options :

1. ✗ 3125.275

2. ✗ 3741.875

3. ✓ 3471.875

4. ✗ 3215.275

Question Number : 87 Question Id : 9983675687 Question Type : MCQ Option Shuffling : Yes

Correct Marks : 1 Wrong Marks : 0.25

Evaluate: $\left(\frac{11.25 \times 11.25 \times 11.25 + 1}{11.25 \times 11.25 - 11.25 + 1}\right)^{\frac{1}{2}}$

Options :

1. ✗ 2.5

2. ✓ 3.5

3. ✗ 4.5

4. ✖ 5.5

Question Number : 87 Question Id : 9983675687 Question Type : MCQ Option Shuffling : Yes
Correct Marks : 1 Wrong Marks : 0.25

मूल्यांकन करें: $\left(\frac{11.25 \times 11.25 \times 11.25 + 1}{11.25 \times 11.25 - 11.25 + 1}\right)^{\frac{1}{2}}$

Options :

1. ✖ 2.5

2. ✔ 3.5

3. ✖ 4.5

4. ✖ 5.5

Question Number : 88 Question Id : 9983675688 Question Type : MCQ Option Shuffling : Yes
Correct Marks : 1 Wrong Marks : 0.25

Let $\frac{97}{19} = x + \frac{1}{y + \frac{1}{z}}$, where x, y and z are positive integers. Then the product xyz is:

Options :

1. ✖ 16

2. ✔ 90

3. ✖ 95

4. ✖ 105

Question Number : 88 Question Id : 9983675688 Question Type : MCQ Option Shuffling : Yes

Correct Marks : 1 Wrong Marks : 0.25

मान लीजिए $\frac{97}{19} = x + \frac{1}{y + \frac{1}{z}}$, जहाँ x, y तथा z धनात्मक पूर्णांक हैं। तो xyz का गुणनफल होगा:

Options :

1. ✖ 16

2. ✔ 90

3. ✖ 95

4. ✖ 105

Question Number : 89 Question Id : 9983675689 Question Type : MCQ Option Shuffling : Yes

Correct Marks : 1 Wrong Marks : 0.25

Simplify the following:

$$\left[\left(1 - \frac{1}{2}\right)^{-1} \left(1 - \frac{1}{3}\right)^{-1} \left(1 - \frac{1}{4}\right)^{-1} \dots \left(1 - \frac{1}{100}\right)^{-1} \right]$$

Options :

1. ✖ $\frac{1}{100}$

2. ✖ $\frac{99}{100}$

3. ✔ 100

4. ✖ $\frac{1}{50}$

Question Number : 89 Question Id : 9983675689 Question Type : MCQ Option Shuffling : Yes
Correct Marks : 1 Wrong Marks : 0.25

निम्नलिखित समीकरण का सरलीकरण कीजिए:

$$\left[\left(1 - \frac{1}{2}\right)^{-1} \left(1 - \frac{1}{3}\right)^{-1} \left(1 - \frac{1}{4}\right)^{-1} \dots \left(1 - \frac{1}{100}\right)^{-1} \right]$$

Options :

1. ✖ $\frac{1}{100}$

2. ✖ $\frac{99}{100}$

3. ✔ 100

4. ✖ $\frac{1}{50}$

Question Number : 90 Question Id : 9983675690 Question Type : MCQ Option Shuffling : Yes
Correct Marks : 1 Wrong Marks : 0.25

Evaluate:

$$\frac{1}{20} + \frac{1}{30} + \frac{1}{42} + \frac{1}{56} + \frac{1}{72} + \frac{1}{90}$$

Options :

1. ✖ $\frac{1}{10}$

2. ✘ $\frac{4}{45}$

3. ✘ $\frac{2}{35}$

4. ✔ $\frac{3}{20}$

Question Number : 90 Question Id : 9983675690 Question Type : MCQ Option Shuffling : Yes
Correct Marks : 1 Wrong Marks : 0.25

मूल्यांकन करें:

$$\frac{1}{20} + \frac{1}{30} + \frac{1}{42} + \frac{1}{56} + \frac{1}{72} + \frac{1}{90}$$

Options :

1. ✘ $\frac{1}{10}$

2. ✘ $\frac{4}{45}$

3. ✘ $\frac{2}{35}$

4. ✔ $\frac{3}{20}$

Question Number : 91 Question Id : 9983675691 Question Type : MCQ Option Shuffling : Yes
Correct Marks : 1 Wrong Marks : 0.25

In a city, three consecutive traffic lights change after 32, 48 and 76 seconds respectively. If the lights are first switched on at 7.00 AM sharp, then the time they will change simultaneously is:

Options :

1. ✘ 7:30:04 AM

2. ✔ 7:30:24 AM

3. ✘ 7:30:34 AM

4. ✘ 7:30:44 AM

Question Number : 91 Question Id : 9983675691 Question Type : MCQ Option Shuffling : Yes

Correct Marks : 1 Wrong Marks : 0.25

एक शहर में, तीन लगातार चलने वाली ट्रैफिक लाइटें एक के बाद एक क्रमशः 32, 48 व 76 सेकंड बाद बदलती हैं। यदि पहली लाइट को ठीक सुबहे 7 बजे चालू कर दिया जाए तो उस समय की गणना कीजिए जब वे सभी एक साथ बदलेंगी:

Options :

1. ✘ 7:30:04 AM

2. ✔ 7:30:24 AM

3. ✘ 7:30:34 AM

4. ✘ 7:30:44 AM

Question Number : 92 Question Id : 9983675692 Question Type : MCQ Option Shuffling : Yes

Correct Marks : 1 Wrong Marks : 0.25

The LCM of two numbers is 14 times their HCF. The sum of HCF and LCM is 345. If one number is 46, find the other number.

Options :

1. ✘ 92

2. ✖ 115

3. ✖ 138

4. ✔ 161

Question Number : 92 Question Id : 9983675692 Question Type : MCQ Option Shuffling : Yes

Correct Marks : 1 Wrong Marks : 0.25

दो संख्याओं का लघुत्तम समापवर्त्य उनके महत्तम समापवर्त्य से 14 गुना अधिक है। महत्तम समापवर्त्य और लघुत्तम समापवर्त्य का योग 345 है। यदि एक संख्या 46 है, तो दूसरी संख्या ज्ञात कीजिए।

Options :

1. ✖ 92

2. ✖ 115

3. ✖ 138

4. ✔ 161

Question Number : 93 Question Id : 9983675693 Question Type : MCQ Option Shuffling : Yes

Correct Marks : 1 Wrong Marks : 0.25

The sum of two numbers is 270 and their HCF is 18. How many pairs of such numbers can be formed?

Options :

1. ✖ 2

2. ✔ 4

3. ✖ 5

4. ✖ 3

Question Number : 93 Question Id : 9983675693 Question Type : MCQ Option Shuffling : Yes

Correct Marks : 1 Wrong Marks : 0.25

दो संख्याओं का योग 270 है और उनका महत्तम समापवर्त्य 18 है। ऐसी संख्याओं के कितने जोड़े बनाए जा सकते हैं?

Options :

1. ✖ 2

2. ✔ 4

3. ✖ 5

4. ✖ 3

Question Number : 94 Question Id : 9983675694 Question Type : MCQ Option Shuffling : Yes

Correct Marks : 1 Wrong Marks : 0.25

A mixture contains petrol and ethanol in the ratio 4 : 3. If 5 litre of ethanol is added to the mixture, the ratio becomes 4 :

5. The quantity of petrol in the given mixture is:

Options :

1. ✔ 10 litre

2. ✖ 15 litre

3. ✖ 20 litre

4. ✖ 25 litre

Question Number : 94 Question Id : 9983675694 Question Type : MCQ Option Shuffling : Yes

Correct Marks : 1 Wrong Marks : 0.25

किसी मिश्रण में पेट्रोल और एथेनॉल को 4 : 3 के अनुपात में मिलाया गया है। यदि इस मिश्रण में 5 लीटर एथेनॉल और मिला दिया जाए तो यह अनुपात 4 : 5 हो जाता है। दिए गए मिश्रण में पेट्रोल की मात्रा होगी:

Options :

1. ✔ 10 लीटर

2. ✖ 15 लीटर

3. ✖ 20 लीटर

4. ✖ 25 लीटर

Question Number : 95 Question Id : 9983675695 Question Type : MCQ Option Shuffling : Yes

Correct Marks : 1 Wrong Marks : 0.25

The ratio of three numbers is 3 : 4 : 5 and the sum of their squares is 1250. The sum of the numbers is:

Options :

1. ✖ 30

2. ✖ 50

3. ✔ 60

4. ✖ 90

Question Number : 95 Question Id : 9983675695 Question Type : MCQ Option Shuffling : Yes

Correct Marks : 1 Wrong Marks : 0.25

तीन संख्याओं का अनुपात 3 : 4 : 5 है और उनके वर्गों का योग 1250 है। इन संख्याओं का योग होगा:

Options :

1. ✘ 30

2. ✘ 50

3. ✔ 60

4. ✘ 90

Question Number : 96 Question Id : 9983675696 Question Type : MCQ Option Shuffling : Yes

Correct Marks : 1 Wrong Marks : 0.25

Suppose that X invested 10% more than Y and Y invested 10% less than Z. If the total sum of investments of X and Y is Rs. 14450, then the actual investment of Y is:

Options :

1. ✘ Rs. 4000

2. ✘ Rs. 4450

3. ✔ Rs. 4500

4. ✘ Rs. 5000

Question Number : 96 Question Id : 9983675696 Question Type : MCQ Option Shuffling : Yes

Correct Marks : 1 Wrong Marks : 0.25

मान लीजिए कि X ने Y की तुलना में 10% अधिक और Y ने Z की तुलना में 10% कम निवेश किया। यदि X और Y दोनों ने मिलाकर रुपये 14450 का निवेश किया है तो Y के वास्तविक निवेश की गणना कीजिए:

Options :

1. ✘ रुपये 4000

2. ✘ रुपये 4450

3. ✔ रुपये 4500

4. ✘ रुपये 5000

Question Number : 97 Question Id : 9983675697 Question Type : MCQ Option Shuffling : Yes

Correct Marks : 1 Wrong Marks : 0.25

A Mathematics test had 75 problems, with 10 problems on number sense, 30 problems on algebra, and 35 problems on geometry. A person X answered 70% of number sense, 40% of algebra and 60% of geometry problems correctly.

However, X didn't pass the test because his score was less than 60% of the right problems. How many more problems he would have need to answer correctly to obtain 60% passing grade?

Options :

1. ✘ 2

2. ✔ 5

3. ✘ 7

4. ✘ 10

Question Number : 97 Question Id : 9983675697 Question Type : MCQ Option Shuffling : Yes

Correct Marks : 1 Wrong Marks : 0.25

एक गणित की परीक्षा में 75 सवाल दिए गए थे, इन सवालों में से 10 सवाल अंकगणित के, 30 सवाल बीजगणित के और 35 सवाल ज्यामिती के थे। एक छात्र X ने अंकगणित के 70% सवाल, बीजगणित के 40% सवाल और ज्यामिती के 60% सवालों के सही जबाब दिए। हालांकि कुल अंक 60% से कम होने के कारण X परीक्षा में पास नहीं हो सका। 60% अंक प्राप्त करके परीक्षा उत्तीर्ण करने के लिए उसे कितने और सवालों का सही उत्तर देना होगा?

Options :

1. ✖ 2

2. ✔ 5

3. ✖ 7

4. ✖ 10

Question Number : 98 Question Id : 9983675698 Question Type : MCQ Option Shuffling : Yes

Correct Marks : 1 Wrong Marks : 0.25

During a certain year, the population of a village increased by 5% and, during the next year, the population decreased by 5%. If the total population is 9975 at the end of the second year, then what was the population size at the beginning of the first year?

Options :

1. ✖ 7000

2. ✖ 9000

3. ✔ 10000

4. ✖ 11000

Question Number : 98 Question Id : 9983675698 Question Type : MCQ Option Shuffling : Yes

Correct Marks : 1 Wrong Marks : 0.25

एक निश्चित वर्ष के दौरान, एक गाँव की जनसंख्या में 5% की वृद्धि हुई और, अगले वर्ष के दौरान, जनसंख्या में 5% की कमी आई। यदि दूसरे वर्ष के अंत में कुल जनसंख्या 9975 है, तो पहले वर्ष की शुरुआत में जनसंख्या की गणना करें?

Options :

1. ✘ 7000

2. ✘ 9000

3. ✔ 10000

4. ✘ 11000

Question Number : 99 Question Id : 9983675699 Question Type : MCQ Option Shuffling : Yes

Correct Marks : 1 Wrong Marks : 0.25

A drone flies along the four sides of a square field at the speeds of 200, 400, 600 and 800 m/h. Then the average speed of the drone around the field is:

Options :

1. ✔ 384 m/h

2. ✘ 370 m/h

3. ✘ 368 m/h

4. ✘ 354 m/h

Question Number : 99 Question Id : 9983675699 Question Type : MCQ Option Shuffling : Yes

Correct Marks : 1 Wrong Marks : 0.25

एक ड्रोन 200, 400, 600 और 800 m/h की गति से एक चौकोर क्षेत्र के चारों ओर उड़ता है। तो मैदान के चारों ओर ड्रोन की औसत गति है:

Options :

1. ✔ 384 m/h

2. ✖ 370 m/h

3. ✖ 368 m/h

4. ✖ 354 m/h

Question Number : 100 Question Id : 9983675700 Question Type : MCQ Option Shuffling : Yes

Correct Marks : 1 Wrong Marks : 0.25

The average age of X and Y is 20 years. If Z replaces X, the average becomes 19, and if Z replaces Y, the average becomes 21. Then the ages of X, Y and Z, respectively, are:

Options :

1. ✔ 22, 18, 20

2. ✖ 20, 20, 18

3. ✖ 18, 22, 20

4. ✖ 22, 20, 18

Question Number : 100 Question Id : 9983675700 Question Type : MCQ Option Shuffling : Yes

Correct Marks : 1 Wrong Marks : 0.25

X और Y की औसत आयु 20 वर्ष है। यदि Z, X की जगह लेता है, तो यह औसत 19 हो जाता है, और यदि Z, Y की जगह लेता है, तो औसत 21 हो जाता है। तो X, Y और Z की आयु क्रमशः है?

Options :

1. ✔ 22, 18, 20

2. ✖ 20, 20, 18

3. ✖ 18, 22, 20

4. ✖ 22, 20, 18

Arithmetic Ability2

Group Number :	6
Group Id :	998367222
Group Maximum Duration :	0
Group Minimum Duration :	0
Show Attended Group? :	No
Edit Attended Group? :	No
Break time:	0
Group Marks:	20
Is this Group for Examiner?:	No
Revisit allowed for group Instructions? :	Yes
Maximum Instruction Time:	0
Minimum Instruction Time:	0

Arithmetic Ability2

Section Id :	998367228
Section Number :	1
Section type :	Online
Mandatory or Optional:	Mandatory
Number of Questions:	20
Number of Questions to be attempted:	20
Section Marks:	20

Sub-Section Number:	1
Sub-Section Id:	998367332
Question Shuffling Allowed :	Yes

Question Number : 101 Question Id : 9983675701 Question Type : MCQ Option Shuffling : Yes
Correct Marks : 1 Wrong Marks : 0.25

A dishonest shop keeper sells his products at the cost price; however, he uses a weight of 900 g for 1 kg. Then the gain percentage is:

Options :

1. ✘ $5\frac{5}{19}\%$

2. ✔ $11\frac{1}{9}\%$

3. ✘ $5\frac{1}{9}\%$

4. ✘ $11\frac{5}{19}\%$

Question Number : 101 Question Id : 9983675701 Question Type : MCQ Option Shuffling : Yes

Correct Marks : 1 Wrong Marks : 0.25

एक बेईमान दुकानदार अपने उत्पादों को लागत मूल्य पर बेचता है; हालांकि, वह तौल में गड़बड़ी कर 1 kg की जगह उन्हें 900 g वजन ही देता है। दुकानदार का लाभ प्रतिशत क्या होगा:

Options :

1. ✘ $5\frac{5}{19}\%$

2. ✔ $11\frac{1}{9}\%$

3. ✘ $5\frac{1}{9}\%$

4. ✘ $11\frac{5}{19}\%$

Question Number : 102 Question Id : 9983675702 Question Type : MCQ Option Shuffling : Yes

Correct Marks : 1 Wrong Marks : 0.25

A person sold a book at a profit of 15%. If he had bought it at 10% less and sold it for Rs. 4.5 more, he would have gained 25%. The cost price of the book is:

Options :

1. ✘ Rs. 130

2. ✘ Rs. 150

3. ✔ Rs. 180

4. ✘ Rs. 190

Question Number : 102 Question Id : 9983675702 Question Type : MCQ Option Shuffling : Yes

Correct Marks : 1 Wrong Marks : 0.25

एक व्यक्ति ने एक पुस्तक 15% के लाभ पर बेची। अगर उसने पुस्तक को 10% कम मूल्य पर खरीदा होता और पिछले विक्रय मूल्य से रुपये 4.5 अधिक पर बेचा होता तो उसे 25% का लाभ हुआ होता। पुस्तक का लागत मूल्य है:

Options :

1. ✘ रुपये 130

2. ✘ रुपये 150

3. ✔ रुपये 180

4. ✘ रुपये 190

Question Number : 103 Question Id : 9983675703 Question Type : MCQ Option Shuffling : Yes

Correct Marks : 1 Wrong Marks : 0.25

A shopkeeper purchases 8 pencil erasers from a wholesale dealer for Rs. 10 and sells 10 pencil erasers for Rs. 8. The profit or loss percentage is:

Options :

1. ✖ 30% profit

2. ✖ 30% loss

3. ✖ 36% profit

4. ✔ 36% loss

Question Number : 103 Question Id : 9983675703 Question Type : MCQ Option Shuffling : Yes

Correct Marks : 1 Wrong Marks : 0.25

एक दुकानदार एक थोक व्यापारी से 8 पेंसिल रबर 10 में खरीदता है, और 10 पेंसिल रबर रुपये 8 में बेच देता है। लाभ या हानि प्रतिशत होगा:

Options :

1. ✖ 30% लाभ

2. ✖ 30% हानि

3. ✖ 36% लाभ

4. ✔ 36% हानि

Question Number : 104 Question Id : 9983675704 Question Type : MCQ Option Shuffling : Yes

Correct Marks : 1 Wrong Marks : 0.25

An article whose marked price is Rs. 800 is sold at Rs. 699.20 after two successive discounts. If the first discount given is 8%, then what is the percentage of the second discount?

Options :

1. ✖ 4.5%

2. ✓ 5%

3. ✗ 6%

4. ✗ 6.4%

Question Number : 104 Question Id : 9983675704 Question Type : MCQ Option Shuffling : Yes

Correct Marks : 1 Wrong Marks : 0.25

एक वस्तु जिसका अंकित मूल्य रुपये 800 है, दो लगातार दो छूटों के बाद रुपये 699.20 में बेची जाती है। यदि पहली छूट 8% है, तो दूसरी छूट का प्रतिशत ज्ञात करें?

Options :

1. ✗ 4.5%

2. ✓ 5%

3. ✗ 6%

4. ✗ 6.4%

Question Number : 105 Question Id : 9983675705 Question Type : MCQ Option Shuffling : Yes

Correct Marks : 1 Wrong Marks : 0.25

A shopkeeper sold an article for Rs. 3135 after giving 5% discount on the marked price. Had he not given the discount, he would have earned a profit of 10%. Find the cost price of the article.

Options :

1. ✗ Rs. 3150

2. ✗ Rs. 3300

3. ✖ Rs. 3600

4. ✔ Rs. 3000

Question Number : 105 Question Id : 9983675705 Question Type : MCQ Option Shuffling : Yes

Correct Marks : 1 Wrong Marks : 0.25

एक दुकानदार ने किसी वस्तु के अंकित मूल्य पर 5% की छूट देने के बाद उसे रुपये 3135 में बेचा। यदि उसने छूट नहीं दी होती, तो उसे 10% का लाभ हुआ होता। वस्तु का लागत मूल्य ज्ञात कीजिए।

Options :

1. ✖ रुपये 3150

2. ✖ रुपये 3300

3. ✖ रुपये 3600

4. ✔ रुपये 3000

Question Number : 106 Question Id : 9983675706 Question Type : MCQ Option Shuffling : Yes

Correct Marks : 1 Wrong Marks : 0.25

A certain sum of money amounts to Rs. 756 in 2 years and to Rs. 873 in 4 years. The rate of interest is:

Options :

1. ✖ 9%

2. ✔ 9.15%

3. ✖ 9.25%

4. ✘ 9.3%

Question Number : 106 Question Id : 9983675706 Question Type : MCQ Option Shuffling : Yes

Correct Marks : 1 Wrong Marks : 0.25

एक निश्चित राशि 2 सालों में रुपये 756 और 4 सालों में रुपये 873 हो जाती है। ब्याज की दर की गणना करें:

Options :

1. ✘ 9%

2. ✔ 9.15%

3. ✘ 9.25%

4. ✘ 9.3%

Question Number : 107 Question Id : 9983675707 Question Type : MCQ Option Shuffling : Yes

Correct Marks : 1 Wrong Marks : 0.25

A certain sum of money was put at simple interest at a certain rate for 2 years. If it had been put at 3% higher rate, it would have fetched Rs. 330 more. The sum of money is:

Options :

1. ✘ Rs. 5000

2. ✔ Rs. 5500

3. ✘ Rs. 6000

4. ✘ Rs. 6500

Question Number : 107 Question Id : 9983675707 Question Type : MCQ Option Shuffling : Yes

Correct Marks : 1 Wrong Marks : 0.25

किसी निश्चित राशि को 2 सालों के लिए साधारण ब्याज पर निवेशित किया गया। यदि इसे 3% उच्च दर पर लगाया गया होता, तो ब्याज के रूप में रुपये 330 अधिक मिले होते। कूल राशि की गणना कीजिए:

Options :

1. ✘ रुपये 5000

2. ✔ रुपये 5500

3. ✘ रुपये 6000

4. ✘ रुपये 6500

Question Number : 108 Question Id : 9983675708 Question Type : MCQ Option Shuffling : Yes

Correct Marks : 1 Wrong Marks : 0.25

The simple interest on a sum of money is $\frac{1}{16}$ of the principal, and the number of years is equal to the rate percent per annum. The rate percentage is:

Options :

1. ✘ 2%

2. ✔ 2.5%

3. ✘ 4%

4. ✘ 4.5%

Question Number : 108 Question Id : 9983675708 Question Type : MCQ Option Shuffling : Yes

Correct Marks : 1 Wrong Marks : 0.25

किसी राशि पर साधारण ब्याज मूलधन का $\frac{1}{16}$ है और वर्षों की संख्या प्रति वर्ष की दर प्रतिशत के बराबर है। दर प्रतिशत की गणना करें:

Options :

1. ✖ 2%

2. ✔ 2.5%

3. ✖ 4%

4. ✖ 4.5%

Question Number : 109 Question Id : 9983675709 Question Type : MCQ Option Shuffling : Yes

Correct Marks : 1 Wrong Marks : 0.25

The difference between the compound interest and the simple interest on a sum of Rs. 60,000 for 2 years is Rs. 96, the rate of interest being the same in both cases The rate of interest per annum is:

Options :

1. ✖ 2%

2. ✖ 3%

3. ✔ 4%

4. ✖ 8%

Question Number : 109 Question Id : 9983675709 Question Type : MCQ Option Shuffling : Yes

Correct Marks : 1 Wrong Marks : 0.25

रुपये 60,000 की राशि को 2 सालों के लिए चक्रवृद्धि ब्याज और साधारण ब्याज पर निवेशित करने पर इन दोनों ब्याजों के बीच रुपये 96 का अंतर प्राप्त होता है, यह मानते हुए कि दोनों मामलों में ब्याज की दर एक समान है, प्रतिवर्ष ब्याज की दर की गणना करें:

Options :

1. ✖ 2%

2. ✖ 3%

3. ✔ 4%

4. ✖ 8%

Question Number : 110 Question Id : 9983675710 Question Type : MCQ Option Shuffling : Yes

Correct Marks : 1 Wrong Marks : 0.25

Find the compound interest on Rs. 15,000 in 2 years, the rate of interest being 4% for the first year and 8% for the second year.

Options :

1. ✖ Rs. 1448

2. ✖ Rs. 1844

3. ✔ Rs. 1848

4. ✖ Rs. 1884

Question Number : 110 Question Id : 9983675710 Question Type : MCQ Option Shuffling : Yes

Correct Marks : 1 Wrong Marks : 0.25

रुपये 15,000 पर 2 सालों के लिए चक्रवृद्धि ब्याज की गणना करें, जबकि ब्याज की दर पहले साल 4% और दूसरे साल 8% है।

Options :

1. ✖ रुपये 1448

2. ✖ रुपये 1844

3. ✓ रुपये 1848

4. ✗ रुपये 1884

Question Number : 111 Question Id : 9983675711 Question Type : MCQ Option Shuffling : Yes

Correct Marks : 1 Wrong Marks : 0.25

Consider a triangle whose sides are 50 cm, 78 cm and 112 cm respectively. The length of the perpendicular line from the opposite angle on the side that is 112 cm in length is:

Options :

1. ✓ 30 cm

2. ✗ 32 cm

3. ✗ 34 cm

4. ✗ 36 cm

Question Number : 111 Question Id : 9983675711 Question Type : MCQ Option Shuffling : Yes

Correct Marks : 1 Wrong Marks : 0.25

एक त्रिभुज की तीन भुजाएं क्रमशः 50 cm, 78 cm और 112 cm हैं। 112 cm वाली भुजा के विपरीत कोण से खींची गई लंबवत रेखा की लंबाई होगी:

Options :

1. ✓ 30 cm

2. ✗ 32 cm

3. ✗ 34 cm

4. ✘ 36 cm

Question Number : 112 Question Id : 9983675712 Question Type : MCQ Option Shuffling : Yes

Correct Marks : 1 Wrong Marks : 0.25

A rectangular park 60 m long and 40 m wide has two concrete crossroads running in the middle of the park. The rest of the park has been used as a lawn. If the area of the lawn is 2204 m^2 , then what is the width of the road?

Options :

1. ✘ 3 m

2. ✘ 2.5 m

3. ✔ 2 m

4. ✘ 1 m

Question Number : 112 Question Id : 9983675712 Question Type : MCQ Option Shuffling : Yes

Correct Marks : 1 Wrong Marks : 0.25

एक आयताकार पार्क 60 m लंबा और 40 m चौड़ा है, पार्क के बीचों बीच दो कंक्रीट के मार्ग बने हुए हैं। बचे हुए पार्क का इस्तेमाल बगीचे के रूप में किया जा रहा है। यदि बगीचे का क्षेत्रफल 2204 m^2 है तो कंक्रीट के मार्ग की चौड़ाई होगी?

Options :

1. ✘ 3 m

2. ✘ 2.5 m

3. ✔ 2 m

4. ✖ 1 m

Question Number : 113 Question Id : 9983675713 Question Type : MCQ Option Shuffling : Yes

Correct Marks : 1 Wrong Marks : 0.25

A hollow cylindrical tube, open at both ends, is made of plastic 2 mm thick. If the external diameter is 50 mm and the length of the tube is 70 mm, the volume of plastic in it is:

Options :

1. ✖ 20120 mm³

2. ✖ 21220 mm³

3. ✖ 21210 mm³

4. ✔ 21120 mm³

Question Number : 113 Question Id : 9983675713 Question Type : MCQ Option Shuffling : Yes

Correct Marks : 1 Wrong Marks : 0.25

एक खोखला बेलनाकार ट्यूब, दोनों सिरों पर खुला है और 2 mm मोटे प्लास्टिक से बना है। यदि इसका बाहरी व्यास 50 mm और ट्यूब की लंबाई 70 mm है तो इसमें लगे प्लास्टिक का आयतन ज्ञात करें।

Options :

1. ✖ 20120 mm³

2. ✖ 21220 mm³

3. ✖ 21210 mm³

4. ✔ 21120 mm³

Question Number : 114 Question Id : 9983675714 Question Type : MCQ Option Shuffling : Yes

Correct Marks : 1 Wrong Marks : 0.25

15 Men can plant 120 trees in 5 hours. If 5 men left the job, how many trees will be planted in 10 hours?

Options :

1. ✖ 120

2. ✖ 140

3. ✖ 150

4. ✔ 160

Question Number : 114 Question Id : 9983675714 Question Type : MCQ Option Shuffling : Yes

Correct Marks : 1 Wrong Marks : 0.25

15 पुरुष मिलकर 5 घंटों में 120 पेड़ लगा सकते हैं। यदि इनमें से 5 पुरुष काम छोड़कर चले जाते हैं तो 10 घंटों में कितने पेड़ लगाए जा सकेंगे?

Options :

1. ✖ 120

2. ✖ 140

3. ✖ 150

4. ✔ 160

Question Number : 115 Question Id : 9983675715 Question Type : MCQ Option Shuffling : Yes

Correct Marks : 1 Wrong Marks : 0.25

5 Men can prepare 20 chairs in 8 days working 6 hours a day. Then in how many days can 9 men prepare 30 chairs working 8 hours a day?

Options :

1. ✓ 5 days

2. ✘ 10 days

3. ✘ 15 days

4. ✘ 20 days

Question Number : 115 Question Id : 9983675715 Question Type : MCQ Option Shuffling : Yes

Correct Marks : 1 Wrong Marks : 0.25

5 पुरुष 8 दिनों तक रोजाना 6 घंटे काम करके 20 कुर्सियां बना सकते हैं। तो गणना करें कि 9 पुरुषों को 8 घंटे रोजाना काम करके 30 कुर्सियां बनाने में कितने दिनों का समय लगेगा?

Options :

1. ✓ 5 दिन

2. ✘ 10 दिन

3. ✘ 15 दिन

4. ✘ 20 दिन

Question Number : 116 Question Id : 9983675716 Question Type : MCQ Option Shuffling : Yes

Correct Marks : 1 Wrong Marks : 0.25

Two persons X and Y jog around a circle of circumference 3600 m at speeds of 150 m and 180 m per minute respectively. If both start simultaneously from the same point and walk in the same direction, after how many minutes will they both be together again at the starting point for the first time?

Options :

1. ✘ 30 minutes

2. ✖ 60 minutes

3. ✖ 90 minutes

4. ✔ 120 minutes

Question Number : 116 Question Id : 9983675716 Question Type : MCQ Option Shuffling : Yes

Correct Marks : 1 Wrong Marks : 0.25

दो लोग X और Y एक 3600 m परिधि के वृत्ताकार घरे के चारों ओर दौड़ लगा रहे हैं, दोनों की गति क्रमशः 150 m और 180 m प्रति मिनट है। यदि दोनों एक ही बिंदु से एक साथ शुरू करते हैं और एक ही दिशा में चलते हैं, तो कितने मिनट बाद वे दोनों पहली बार शुरुआती बिंदु पर फिर से एक साथ होंगे?

Options :

1. ✖ 30 मिनट

2. ✖ 60 मिनट

3. ✖ 90 मिनट

4. ✔ 120 मिनट

Question Number : 117 Question Id : 9983675717 Question Type : MCQ Option Shuffling : Yes

Correct Marks : 1 Wrong Marks : 0.25

A bus travels continuously for 14 hours. For the first half of the distance, it travels at an average speed of 60 kmph and at 80 kmph for the second half. Then the distance travelled by the bus is:

Options :

1. ✖ 620 km

2. ✖ 740 km

3. ✖ 830 km

4. ✔ 960 km

Question Number : 117 Question Id : 9983675717 Question Type : MCQ Option Shuffling : Yes

Correct Marks : 1 Wrong Marks : 0.25

एक बस लगातार 14 घंटे तक चलती रहती है। पहली आधी दूरी यह 60 kmph और अगली आधी दूरी 80 kmph की गति से तय करती है। तो बस द्वारा तय की गई दूरी है:

Options :

1. ✖ 620 km

2. ✖ 740 km

3. ✖ 830 km

4. ✔ 960 km

Question Number : 118 Question Id : 9983675718 Question Type : MCQ Option Shuffling : Yes

Correct Marks : 1 Wrong Marks : 0.25

A bus running at a speed of 60 kmph leaves a place at 10 am. Another bus running at a speed of 80 kmph leaves the same place at 3 pm in the same direction. After how much distance from the starting point will they be together?

Options :

1. ✖ 500 km

2. ✖ 600 km

3. ✖ 1000 km

4. ✓ 1200 km

Question Number : 118 Question Id : 9983675718 Question Type : MCQ Option Shuffling : Yes

Correct Marks : 1 Wrong Marks : 0.25

60 kmph की गति से चल रही एक बस एक स्थान से 10 am पर चलती है। 80 kmph की रफ्तार से चल रही एक दूसरी बस 3 pm पर उसी दिशा की ओर निकलती है। ये दोनों बसें शुरुआती बिंदु से कितनी दूरी के बाद वे एक साथ होंगी?

Options :

1. ✗ 500 km

2. ✗ 600 km

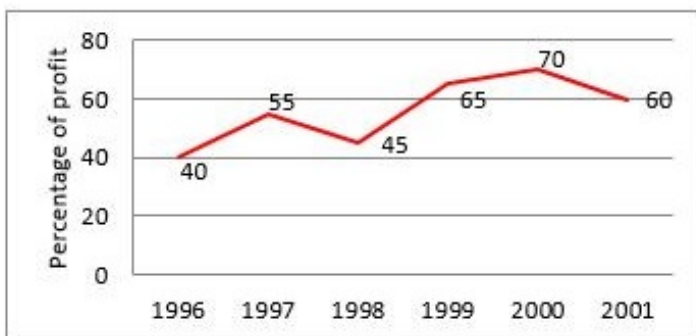
3. ✗ 1000 km

4. ✓ 1200 km

Question Number : 119 Question Id : 9983675719 Question Type : MCQ Option Shuffling : Yes

Correct Marks : 1 Wrong Marks : 0.25

The following graph shows the annual profit percentage of a company during 1996-2001:



If the income in 1999 was Rs. 264 crore, then the expenditure in 1999 is:

Options :

1. ✗ Rs. 104 crore

2. ✘ Rs. 145 crore

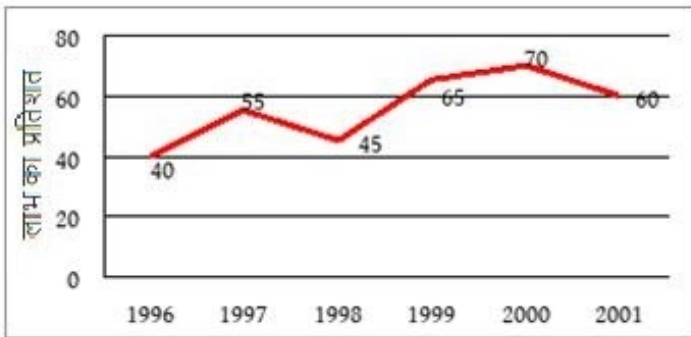
3. ✔ Rs. 160 crore

4. ✘ Rs. 185 crore

Question Number : 119 Question Id : 9983675719 Question Type : MCQ Option Shuffling : Yes

Correct Marks : 1 Wrong Marks : 0.25

निम्नलिखित ग्राफ 1996-2001 के दौरान एक कंपनी के वार्षिक लाभ प्रतिशत को दर्शाता है:



यदि कंपनी की 1999 में आय रुपये 264 करोड़ थी तो 1999 में व्यय था:

Options :

1. ✘ रुपये 104 करोड़

2. ✘ रुपये 145 करोड़

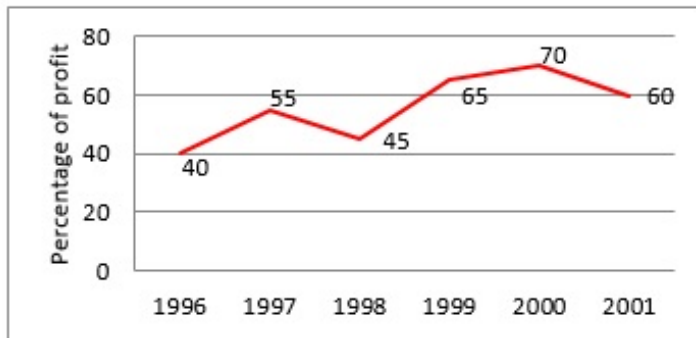
3. ✔ रुपये 160 करोड़

4. ✘ रुपये 185 करोड़

Question Number : 120 Question Id : 9983675720 Question Type : MCQ Option Shuffling : Yes

Correct Marks : 1 Wrong Marks : 0.25

The following graph shows the annual profit percentage of a company during 1996-2001.



What is the average profit of the company during the given years?

Options :

1. ✘ $50\frac{2}{3}\%$

2. ✔ $55\frac{5}{6}\%$

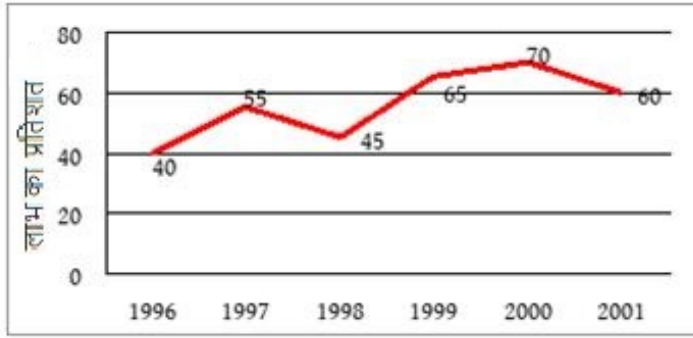
3. ✘ $57\frac{2}{3}\%$

4. ✘ $60\frac{5}{6}\%$

Question Number : 120 Question Id : 9983675720 Question Type : MCQ Option Shuffling : Yes

Correct Marks : 1 Wrong Marks : 0.25

निम्नलिखित ग्राफ 1996-2001 के दौरान एक कंपनी के वार्षिक लाभ प्रतिशत को दर्शाता है।



दिए गए वर्षों के दौरान कंपनी का औसत लाभ कितना रहा?

Options :

1. ✘ $50\frac{2}{3}\%$

2. ✔ $55\frac{5}{6}\%$

3. ✘ $57\frac{2}{3}\%$

4. ✘ $60\frac{5}{6}\%$

General English1

Group Number :	7
Group Id :	998367223
Group Maximum Duration :	0
Group Minimum Duration :	0
Show Attended Group? :	No
Edit Attended Group? :	No
Break time:	0
Group Marks:	20
Is this Group for Examiner?:	No

Revisit allowed for group Instructions? :	Yes
Maximum Instruction Time:	0
Minimum Instruction Time:	0

General English1

Section Id :	998367229
Section Number :	1
Section type :	Online
Mandatory or Optional:	Mandatory
Number of Questions:	20
Number of Questions to be attempted:	20
Section Marks:	20

Sub-Section Number:	1
Sub-Section Id:	998367333
Question Shuffling Allowed :	Yes

Question Number : 121 Question Id : 9983675721 Question Type : MCQ Option Shuffling : Yes
Correct Marks : 1 Wrong Marks : 0.25

Fill in the blank with the most appropriate option.

Anita is very stubborn and never listens to other people. Her friends call her _____.

Options :

1. ✖ wild
2. ✖ naughty
3. ✖ perseverant
4. ✔ headstrong

Question Number : 121 Question Id : 9983675721 Question Type : MCQ Option Shuffling : Yes
Correct Marks : 1 Wrong Marks : 0.25

Fill in the blank with the most appropriate option.

Anita is very stubborn and never listens to other people. Her friends call her _____.

Options :

1. ✖ wild
2. ✖ naughty
3. ✖ perseverant
4. ✔ headstrong

Question Number : 122 Question Id : 9983675722 Question Type : MCQ Option Shuffling : Yes
Correct Marks : 1 Wrong Marks : 0.25

Select the most appropriate meaning of the following word.

DOXOLOGY

Options :

1. ✖ The study of old religions
2. ✖ The ancient study of manuscripts
3. ✖ Cave paintings found in ancient times
4. ✔ A short hymn or song praising God

Question Number : 122 Question Id : 9983675722 Question Type : MCQ Option Shuffling : Yes
Correct Marks : 1 Wrong Marks : 0.25

Select the most appropriate meaning of the following word.

DOXOLOGY

Options :

1. ✖ The study of old religions
2. ✖ The ancient study of manuscripts
3. ✖ Cave paintings found in ancient times
4. ✔ A short hymn or song praising God

Question Number : 123 Question Id : 9983675723 Question Type : MCQ Option Shuffling : Yes
Correct Marks : 1 Wrong Marks : 0.25

Select the most appropriate meaning of the underlined idiomatic phrase.

The child's constant whining drove his mother up the wall.

Options :

1. ✓ Irritated the mother
2. ✗ Saddened the mother
3. ✗ Tired the mother
4. ✗ Upset the mother

Question Number : 123 Question Id : 9983675723 Question Type : MCQ Option Shuffling : Yes
Correct Marks : 1 Wrong Marks : 0.25

Select the most appropriate meaning of the underlined idiomatic phrase.

The child's constant whining drove his mother up the wall.

Options :

1. ✓ Irritated the mother
2. ✗ Saddened the mother
3. ✗ Tired the mother
4. ✗ Upset the mother

Question Number : 124 Question Id : 9983675724 Question Type : MCQ Option Shuffling : Yes
Correct Marks : 1 Wrong Marks : 0.25

Fill in the blank with the most appropriate option.

Hearing about the sudden loss in the stock market, the manager completely _____.

Options :

1. ✓ broke down

2. ✖ broke up

3. ✖ blew up

4. ✖ broke into

Question Number : 124 Question Id : 9983675724 Question Type : MCQ Option Shuffling : Yes
Correct Marks : 1 Wrong Marks : 0.25

Fill in the blank with the most appropriate option.

Hearing about the sudden loss in the stock market, the manager completely _____.

Options :

1. ✔ broke down

2. ✖ broke up

3. ✖ blew up

4. ✖ broke into

Question Number : 125 Question Id : 9983675725 Question Type : MCQ Option Shuffling : Yes
Correct Marks : 1 Wrong Marks : 0.25

Fill in the blanks with the most appropriate option.

The events that _____ the festival of Hanukkah took place during a particularly _____ phase of Jewish _____.

Options :

1. ✖ inspired, horrible, life

2. ✖ influenced, turbulent, lifestyle

3. ✔ inspired, turbulent, history

4. ✖ motivated, terrible, history

Question Number : 125 Question Id : 9983675725 Question Type : MCQ Option Shuffling : Yes
Correct Marks : 1 Wrong Marks : 0.25

Fill in the blanks with the most appropriate option.

The events that _____ the festival of Hanukkah took place during a particularly _____ phase of Jewish _____.

Options :

1. ✖ inspired, horrible, life
2. ✖ influenced, turbulent, lifestyle
3. ✔ inspired, turbulent, history
4. ✖ motivated, terrible, history

Question Number : 126 Question Id : 9983675726 Question Type : MCQ Option Shuffling : Yes

Correct Marks : 1 Wrong Marks : 0.25

Fill in the blanks with verbs that correctly agree with the given subjects.

“Economics,” said Nassau Senior, “____ a science of wealth, not of welfare.” That is, industry ____ itself with the production of the greatest possible quantity of goods, and ____ not worry about the results to producer and consumer.

Options :

1. ✔ is, concerns, does
2. ✖ are, concerns, does
3. ✖ is, concern, do
4. ✖ are, concern, does

Question Number : 126 Question Id : 9983675726 Question Type : MCQ Option Shuffling : Yes

Correct Marks : 1 Wrong Marks : 0.25

Fill in the blanks with verbs that correctly agree with the given subjects.

“Economics,” said Nassau Senior, “_____ a science of wealth, not of welfare.” That is, industry _____ itself with the production of the greatest possible quantity of goods, and _____ not worry about the results to producer and consumer.

Options :

1. ✓ is, concerns, does
2. ✗ are, concerns, does
3. ✗ is, concern, do
4. ✗ are, concern, does

Question Number : 127 Question Id : 9983675727 Question Type : MCQ Option Shuffling : Yes
Correct Marks : 1 Wrong Marks : 0.25

Complete the following conditional sentence:

If the soldiers stay awake _____.

Options :

1. ✓ they will be able to see the mysterious beast roaming in the nights.
2. ✗ they would see the mysterious beast roaming in the nights.
3. ✗ they would have seen the mysterious beast roaming in the nights.

4. ✖ they could have seen the mysterious beast roaming in the nights.

Question Number : 127 Question Id : 9983675727 Question Type : MCQ Option Shuffling : Yes
Correct Marks : 1 Wrong Marks : 0.25

Complete the following conditional sentence:

If the soldiers stay awake _____.

Options :

1. ✔ they will be able to see the mysterious beast roaming in the nights.

2. ✖ they would see the mysterious beast roaming in the nights.

3. ✖ they would have seen the mysterious beast roaming in the nights.

4. ✖ they could have seen the mysterious beast roaming in the nights.

Question Number : 128 Question Id : 9983675728 Question Type : MCQ Option Shuffling : Yes
Correct Marks : 1 Wrong Marks : 0.25

Select the grammatically correct sentence from the given options.

Options :

1. ✖ Ram won €1 millions in the lottery.

2. ✖ Ram likes playing cricket in the weekend.

3. ✖ Ram works very hardly to achieve success early in his life.

4. ✔ Ram completed his master's degree in Administration.

Question Number : 128 Question Id : 9983675728 Question Type : MCQ Option Shuffling : Yes

Correct Marks : 1 Wrong Marks : 0.25

Select the grammatically correct sentence from the given options.

Options :

1. ✖ Ram won €1 millions in the lottery.
2. ✖ Ram likes playing cricket in the weekend.
3. ✖ Ram works very hardly to achieve success early in his life.
4. ✔ Ram completed his master's degree in Administration.

Question Number : 129 Question Id : 9983675729 Question Type : MCQ Option Shuffling : Yes

Correct Marks : 1 Wrong Marks : 0.25

Fill in the blank with the most appropriate adjective.

The thief had procured an I.D. card using a _____ name and it is going to be tough to trace him. We need a _____ detective to find the thief.

Options :

1. ✖ fictional, obsessed
2. ✖ imaginary, zealous
3. ✖ legendary, enthusiastic
4. ✔ fictitious, smart

Question Number : 129 Question Id : 9983675729 Question Type : MCQ Option Shuffling : Yes

Correct Marks : 1 Wrong Marks : 0.25

Fill in the blank with the most appropriate adjective.

The thief had procured an I.D. card using a _____ name and it is going to be tough to trace him. We need a _____ detective to find the thief.

Options :

1. ✖ fictional, obsessed
2. ✖ imaginary, zealous
3. ✖ legendary, enthusiastic
4. ✔ fictitious, smart

Question Number : 130 Question Id : 9983675730 Question Type : MCQ Option Shuffling : Yes

Correct Marks : 1 Wrong Marks : 0.25

Select the option that expresses the given sentence in passive voice.

Three members of the inspection committee observed the security measures followed by the employees during the change of shift.

Options :

1. ✖ The security measures were followed by employees during the change of shift were observed by the three members.
2. ✖ Three members of the inspection committee were observed by the employees during the change of shift.
3. ✖ The inspection committee members observed the security measures that were being followed by the employees during the change of shift.

4. ✓ The security measures followed by the employees during the change of shift were observed by the three members of the inspection committee.

Question Number : 130 Question Id : 9983675730 Question Type : MCQ Option Shuffling : Yes
Correct Marks : 1 Wrong Marks : 0.25

Select the option that expresses the given sentence in passive voice.

Three members of the inspection committee observed the security measures followed by the employees during the change of shift.

Options :

1. ✘ The security measures were followed by employees during the change of shift were observed by the three members.

2. ✘ Three members of the inspection committee were observed by the employees during the change of shift.

3. ✘ The inspection committee members observed the security measures that were being followed by the employees during the change of shift.

4. ✓ The security measures followed by the employees during the change of shift were observed by the three members of the inspection committee.

Question Number : 131 Question Id : 9983675731 Question Type : MCQ Option Shuffling : Yes
Correct Marks : 1 Wrong Marks : 0.25

There are two statements numbered I and II. There may be cause and effect relationship between them. Or both might be effects of some independent cause or independent causes.

Choose the appropriate option after reading the following two statements:

- I. In this year's Class 10 results, among the Government schools, the pass percentage of girls was higher than the boys.
- II. Many math teachers in private schools resigned from their jobs preferring to do online teaching.

Options :

- 1. ✖ Statement I is the cause and Statement II is the effect.
- 2. ✖ Statement II is the cause and Statement I is the effect.
- 3. ✖ Both statements are effects of one specific cause.
- 4. ✔ Both statements are independent statements with no relation to each other.

Question Number : 131 Question Id : 9983675731 Question Type : MCQ Option Shuffling : Yes
Correct Marks : 1 Wrong Marks : 0.25

There are two statements numbered I and II. There may be cause and effect relationship between them. Or both might be effects of some independent cause or independent causes.

Choose the appropriate option after reading the following two statements:

I. In this year's Class 10 results, among the Government schools, the pass percentage of girls was higher than the boys.

II. Many math teachers in private schools resigned from their jobs preferring to do online teaching.

Options :

1. ✖ Statement I is the cause and Statement II is the effect.
2. ✖ Statement II is the cause and Statement I is the effect.
3. ✖ Both statements are effects of one specific cause.
4. ✔ Both statements are independent statements with no relation to each other.

Question Number : 132 Question Id : 9983675732 Question Type : MCQ Option Shuffling : Yes

Correct Marks : 1 Wrong Marks : 0.25

Fill in the blank with the most appropriate option.

_____ both your parents are working in a government service, you are not eligible for the corporate scholarship.

Options :

1. ✓ As
2. ✗ For
3. ✗ Where
4. ✗ In spite of

Question Number : 132 Question Id : 9983675732 Question Type : MCQ Option Shuffling : Yes
Correct Marks : 1 Wrong Marks : 0.25

Fill in the blank with the most appropriate option.

_____ both your parents are working in a government service, you are not eligible for the corporate scholarship.

Options :

1. ✓ As
2. ✗ For
3. ✗ Where
4. ✗ In spite of

Question Number : 133 Question Id : 9983675733 Question Type : MCQ Option Shuffling : Yes
Correct Marks : 1 Wrong Marks : 0.25

Select the option that expresses the given sentence in reported speech.

Andrew Mattioda said, “When the coal mines shut down in, I guess, the 1950s in Oklahoma, my family opened a full-service gas station.”

Options :

1. ✓ Andrew Mattioda said that when the coal mines shut down in the 1950s, in Oklahoma his family had opened a full-service gas station.
2. ✗ Andrew Mattioda answered that after the coal mines were shut down in Oklahoma in the 1950s they opened a full-service gas station.
3. ✗ Andrew Mattioda said that when the coal mines were shut down in the 1950s in Oklahoma, his family opened a full-service gas station.
4. ✗ Andrew Mattioda worked in a full-service gas station before the coal mines were shut down in the 1950s.

Question Number : 133 Question Id : 9983675733 Question Type : MCQ Option Shuffling : Yes

Correct Marks : 1 Wrong Marks : 0.25

Select the option that expresses the given sentence in reported speech.

Andrew Mattioda said, “When the coal mines shut down in, I guess, the 1950s in Oklahoma, my family opened a full-service gas station.”

Options :

1. ✓ Andrew Mattioda said that when the coal mines shut down in the 1950s, in Oklahoma his family had opened a full-service gas station.

2. ✗ Andrew Mattioda answered that after the coal mines were shut down in Oklahoma in the 1950s they opened a full-service gas station.

3. ✗ Andrew Mattioda said that when the coal mines were shut down in the 1950s in Oklahoma, his family opened a full-service gas station.

4. ✗ Andrew Mattioda worked in a full-service gas station before the coal mines were shut down in the 1950s.

Question Number : 134 Question Id : 9983675734 Question Type : MCQ Option Shuffling : Yes
Correct Marks : 1 Wrong Marks : 0.25

Fill in the blank with the most appropriate option.

The Chief Engineer has delayed his departure to his head office _____ he can complete the project on time.

Options :

1. ✗ because

2. ✗ until

3. ✗ as soon as

4. ✓ so that

Question Number : 134 Question Id : 9983675734 Question Type : MCQ Option Shuffling : Yes
Correct Marks : 1 Wrong Marks : 0.25

Fill in the blank with the most appropriate option.

The Chief Engineer has delayed his departure to his head office _____ he can complete the project on time.

Options :

1. ✘ because
2. ✘ until
3. ✘ as soon as
4. ✔ so that

Question Number : 135 Question Id : 9983675735 Question Type : MCQ Option Shuffling : Yes
Correct Marks : 1 Wrong Marks : 0.25

Given in the options is a complete sentence that has been divided into four parts. The four parts are jumbled. Rearrange the jumbled parts and find the part that has a grammatical error.

Options :

1. ✘ she started working
2. ✘ and so after her graduation
3. ✔ she wanted always to be a writer
4. ✘ in a publishing house

Question Number : 135 Question Id : 9983675735 Question Type : MCQ Option Shuffling : Yes
Correct Marks : 1 Wrong Marks : 0.25

Given in the options is a complete sentence that has been divided into four parts. The four parts are jumbled.

Rearrange the jumbled parts and find the part that has a grammatical error.

Options :

1. ✖ she started working
2. ✖ and so after her graduation
3. ✔ she wanted always to be a writer
4. ✖ in a publishing house

Question Number : 136 Question Id : 9983675736 Question Type : MCQ Option Shuffling : Yes
Correct Marks : 1 Wrong Marks : 0.25

Of the four sentences given in the options which one has the correct word order?

Options :

1. ✖ From ancient times earthquakes were associated with volcanic eruptions.
2. ✖ The volcano Vesuvius in the history of the study of seismic signals associated with volcanic activity occupies a special place.
3. ✖ The seismic signals originating from volcanic activity the first observations of volcanic earthquakes showed that had different waveforms.
4. ✔ Volcanic eruptions are divided into four types according to the location of their foci, their relationship to the eruptions, and the nature of the earthquake motion.

Question Number : 136 Question Id : 9983675736 Question Type : MCQ Option Shuffling : Yes
Correct Marks : 1 Wrong Marks : 0.25

Of the four sentences given in the options which one has the correct word order?

Options :

1. ✖ From ancient times earthquakes were associated with volcanic eruptions.

2. ✖ The volcano Vesuvius in the history of the study of seismic signals associated with volcanic activity occupies a special place.

3. ✖ The seismic signals originating from volcanic activity the first observations of volcanic earthquakes showed that had different waveforms.

4. ✔ Volcanic eruptions are divided into four types according to the location of their foci, their relationship to the eruptions, and the nature of the earthquake motion.

Question Number : 137 Question Id : 9983675737 Question Type : MCQ Option Shuffling : Yes
Correct Marks : 1 Wrong Marks : 0.25

Sentences of a paragraph are given below. While the first and the last sentences are in correct order, the sentences in between are jumbled up. Arrange the sentences in the right order to form a meaningful and coherent paragraph.

1. Formed from wood pulp or plant fiber, paper is chiefly used for written communication.
- P. Paper was next made by the Chinese in the second century, probably by a Chinese court official named Cai Lun.
- Q. Recognised almost immediately as a valuable secret, it was 500 years before the Japanese acquired knowledge of the method.
- R. His paper was made from such things as tree bark and old fish netting.
- S. The earliest paper was papyrus, made from reeds by the ancient Egyptians.
6. Papermaking was known in the Islamic world only from the end of the 8th century A.D.

Options :

1. ✖ PRSQ
2. ✔ SPRQ
3. ✖ QRPS
4. ✖ SRQP

Question Number : 137 Question Id : 9983675737 Question Type : MCQ Option Shuffling : Yes
Correct Marks : 1 Wrong Marks : 0.25

Sentences of a paragraph are given below. While the first and the last sentences are in correct order, the sentences in between are jumbled up. Arrange the sentences in the right order to form a meaningful and coherent paragraph.

1. Formed from wood pulp or plant fiber, paper is chiefly used for written communication.

P. Paper was next made by the Chinese in the second century, probably by a Chinese court official named Cai Lun.

Q. Recognised almost immediately as a valuable secret, it was 500 years before the Japanese acquired knowledge of the method.

R. His paper was made from such things as tree bark and old fish netting.

S. The earliest paper was papyrus, made from reeds by the ancient Egyptians.

6. Papermaking was known in the Islamic world only from the end of the 8th century A.D.

Options :

1. ✘ PRSQ

2. ✔ SPRQ

3. ✘ QRPS

4. ✘ SRQP

Question Number : 138 Question Id : 9983675738 Question Type : MCQ Option Shuffling : Yes
Correct Marks : 1 Wrong Marks : 0.25

Select the most appropriate option to fill in the blank.

Pushpa arrived for the meeting by the _____flight.

Options :

1. ✘ early morning first
2. ✘ early first morning
3. ✘ first morning early
4. ✔ first early morning

Question Number : 138 Question Id : 9983675738 Question Type : MCQ Option Shuffling : Yes
Correct Marks : 1 Wrong Marks : 0.25

Select the most appropriate option to fill in the blank.

Pushpa arrived for the meeting by the _____flight.

Options :

1. ✘ early morning first
2. ✘ early first morning
3. ✘ first morning early
4. ✔ first early morning

Question Number : 139 Question Id : 9983675739 Question Type : MCQ Option Shuffling : Yes
Correct Marks : 1 Wrong Marks : 0.25

One sentence has been removed from the following passage.

(A) The traditional view is that scientific knowledge is cumulative. (B) Like doing a jigsaw that may take time and involves taking pieces out as well as putting them in place, the traditional view was that science is the process of assembling a picture of the world that will one day be complete. (C) The scientific method rests on induction. (D)

The sentence to be inserted is:

Such marvelous achievement was thought possible because of the scientific method.

Options :

1. ✖ A

2. ✖ B

3. ✔ C

4. ✖ D

Question Number : 139 Question Id : 9983675739 Question Type : MCQ Option Shuffling : Yes

Correct Marks : 1 Wrong Marks : 0.25

One sentence has been removed from the following passage.

(A) The traditional view is that scientific knowledge is cumulative. (B) Like doing a jigsaw that may take time and involves taking pieces out as well as putting them in place, the traditional view was that science is the process of assembling a picture of the world that will one day be complete. (C) The scientific method rests on induction. (D) The sentence to be inserted is:

Such marvelous achievement was thought possible because of the scientific method.

Options :

1. ✖ A
2. ✖ B
3. ✔ C
4. ✖ D

Question Number : 140 Question Id : 9983675740 Question Type : MCQ Option Shuffling : Yes
Correct Marks : 1 Wrong Marks : 0.25

Which one of the following options when rearranged forms the answer of the following question?

How did you write your examination?

Options :

1. ✖ For the bus / to go to college / but took a cab / for the bus

2. ✓ As I completely forgot / at the last minute / I didn't write it well / what all I read

3. ✖ Late and / unlike my friends / I like waking up / sleeping late too

4. ✖ But not reading books / in my free time / I like watching / movies

Question Number : 140 Question Id : 9983675740 Question Type : MCQ Option Shuffling : Yes

Correct Marks : 1 Wrong Marks : 0.25

Which one of the following options when rearranged forms the answer of the following question?

How did you write your examination?

Options :

1. ✖ For the bus / to go to college / but took a cab / for the bus

2. ✓ As I completely forgot / at the last minute / I didn't write it well / what all I read

3. ✖ Late and / unlike my friends / I like waking up / sleeping late too

4. ✖ But not reading books / in my free time / I like watching / movies

General English2

Group Number :	8
Group Id :	998367224
Group Maximum Duration :	0
Group Minimum Duration :	0
Show Attended Group? :	No

Edit Attended Group? :	No
Break time:	0
Group Marks:	20
Is this Group for Examiner?:	No
Revisit allowed for group Instructions? :	Yes
Maximum Instruction Time:	0
Minimum Instruction Time:	0

General English2

Section Id :	998367230
Section Number :	1
Section type :	Online
Mandatory or Optional:	Mandatory
Number of Questions:	12
Number of Questions to be attempted:	12
Section Marks:	20

Sub-Section Number:	1
Sub-Section Id:	998367334
Question Shuffling Allowed :	Yes

Question Number : 141 Question Id : 9983675741 Question Type : MCQ Option Shuffling : Yes
Correct Marks : 1 Wrong Marks : 0.25

Select the most appropriate synonym of the underlined word.

He tried to assuage his younger sister's fears.

Options :

1. ✖ aggravate
2. ✖ progress
3. ✖ degenerate
4. ✔ alleviate

Question Number : 141 Question Id : 9983675741 Question Type : MCQ Option Shuffling : Yes
Correct Marks : 1 Wrong Marks : 0.25

Select the most appropriate synonym of the underlined word.

He tried to assuage his younger sister's fears.

Options :

1. ✖ aggravate
2. ✖ progress
3. ✖ degenerate
4. ✔ alleviate

Question Number : 142 Question Id : 9983675742 Question Type : MCQ Option Shuffling : Yes
Correct Marks : 1 Wrong Marks : 0.25

Select the most appropriate synonym of the underlined word.

Ram's improvident habits left him with no retirement savings.

Options :

1. ✖ Thrifty
2. ✔ Spendthrift
3. ✖ Expended
4. ✖ Responsible

Question Number : 142 Question Id : 9983675742 Question Type : MCQ Option Shuffling : Yes
Correct Marks : 1 Wrong Marks : 0.25

Select the most appropriate synonym of the underlined word.

Ram's improvident habits left him with no retirement savings.

Options :

1. ✖ Thrifty
2. ✔ Spendthrift
3. ✖ Expended
4. ✖ Responsible

Question Number : 143 Question Id : 9983675743 Question Type : MCQ Option Shuffling : Yes
Correct Marks : 1 Wrong Marks : 0.25

Select the most appropriate synonym of the following word.

PONDEROUS

Options :

1. ✖ thoughtful
2. ✖ unaware
3. ✔ awkward
4. ✖ murderous

Question Number : 143 Question Id : 9983675743 Question Type : MCQ Option Shuffling : Yes

Correct Marks : 1 Wrong Marks : 0.25

Select the most appropriate synonym of the following word.

PONDEROUS

Options :

1. ✖ thoughtful
2. ✖ unaware
3. ✔ awkward
4. ✖ murderous

Question Number : 144 Question Id : 9983675744 Question Type : MCQ Option Shuffling : Yes

Correct Marks : 1 Wrong Marks : 0.25

Select the option that can be used as a one-word substitute for the given group of words.

To support or improve something or make it stronger

Options :

1. ✔ Bolster
2. ✖ Burden

3. ✖ Challenge

4. ✖ Stable

Question Number : 144 Question Id : 9983675744 Question Type : MCQ Option Shuffling : Yes

Correct Marks : 1 Wrong Marks : 0.25

Select the option that can be used as a one-word substitute for the given group of words.

To support or improve something or make it stronger

Options :

1. ✔ Bolster

2. ✖ Burden

3. ✖ Challenge

4. ✖ Stable

Question Number : 145 Question Id : 9983675745 Question Type : MCQ Option Shuffling : Yes

Correct Marks : 1 Wrong Marks : 0.25

Select the most appropriate synonym of the underlined word.

My sister is very reserved and taciturn

Options :

1. ✖ Distance

2. ✔ Reticent

3. ✖ Garrulous

4. ✖ Playful

Question Number : 145 Question Id : 9983675745 Question Type : MCQ Option Shuffling : Yes

Correct Marks : 1 Wrong Marks : 0.25

Select the most appropriate synonym of the underlined word.

My sister is very reserved and taciturn

Options :

1. ✖ Distance
2. ✔ Reticent
3. ✖ Garrulous
4. ✖ Playful

Question Number : 146 Question Id : 9983675746 Question Type : MCQ Option Shuffling : Yes

Correct Marks : 1 Wrong Marks : 0.25

Match the following words with their respective ANTONYMS.

Words	Antonyms
(a) Rue	(i) Scarce
(b) Copious	(ii) Dissuade
(c) Spur	(iii) Delight

Options :

1. ✖ a-iii, b-ii, c-i
2. ✖ a-i, b-ii, c-iii
3. ✔ a-iii, b-i, c-ii
4. ✖ a-ii, b-iii, c-i

Question Number : 146 Question Id : 9983675746 Question Type : MCQ Option Shuffling : Yes

Correct Marks : 1 Wrong Marks : 0.25

Match the following words with their respective ANTONYMS.

Match the following words with their respective ANTONYMS.

Words	Antonyms
(a) Rue	(i) Scarce
(b) Copious	(ii) Dissuade
(c) Spur	(iii) Delight

Options :

1. ✘ a-iii, b-ii, c-i
2. ✘ a-i, b-ii, c-iii
3. ✔ a-iii, b-i, c-ii
4. ✘ a-ii, b-iii, c-i

Question Number : 147 Question Id : 9983675747 Question Type : MCQ Option Shuffling : Yes
Correct Marks : 1 Wrong Marks : 0.25

Select the most appropriate ANTONYM of the underlined word.

His pithy response irritated his father.

Options :

1. ✔ Verbose
2. ✘ Meaty
3. ✘ Innocuous
4. ✘ Immediate

Question Number : 147 Question Id : 9983675747 Question Type : MCQ Option Shuffling : Yes
Correct Marks : 1 Wrong Marks : 0.25

Select the most appropriate ANTONYM of the underlined word.

His pithy response irritated his father.

Options :

1. ✓ **Verbose**
2. ✗ **Meaty**
3. ✗ **Innocuous**
4. ✗ **Immediate**

Question Number : 148 Question Id : 9983675748 Question Type : MCQ Option Shuffling : Yes
Correct Marks : 1 Wrong Marks : 0.25

Select the most appropriate ANTONYM of the following word.

DEPREDATION

Options :

1. ✗ **deception**
2. ✓ **construction**
3. ✗ **devastation**
4. ✗ **consumption**

Question Number : 148 Question Id : 9983675748 Question Type : MCQ Option Shuffling : Yes
Correct Marks : 1 Wrong Marks : 0.25

Select the most appropriate ANTONYM of the following word.

DEPREDATION

Options :

1. ✗ **deception**

2. ✓ construction

3. ✗ devastation

4. ✗ consumption

Question Number : 149 Question Id : 9983675749 Question Type : MCQ Option Shuffling : Yes
Correct Marks : 1 Wrong Marks : 0.25

Select the most appropriate ANTONYM of the following word.

ABSTAIN

Options :

1. ✗ upset

2. ✗ abscond

3. ✓ indulge

4. ✗ litter

Question Number : 149 Question Id : 9983675749 Question Type : MCQ Option Shuffling : Yes
Correct Marks : 1 Wrong Marks : 0.25

Select the most appropriate ANTONYM of the following word.

ABSTAIN

Options :

1. ✗ upset

2. ✗ abscond

3. ✓ indulge

4. ✗ litter

Question Number : 150 Question Id : 9983675750 Question Type : MCQ Option Shuffling : Yes
Correct Marks : 1 Wrong Marks : 0.25

Select the most appropriate ANTONYM of the following word.

INGENUOUS

Options :

1. ✖ spontaneous
2. ✖ impulsive
3. ✖ ignorant
4. ✔ devious

Question Number : 150 Question Id : 9983675750 Question Type : MCQ Option Shuffling : Yes

Correct Marks : 1 Wrong Marks : 0.25

Select the most appropriate ANTONYM of the following word.

INGENUOUS

Options :

1. ✖ spontaneous
2. ✖ impulsive
3. ✖ ignorant
4. ✔ devious

Sub-Section Number:	2
Sub-Section Id:	998367335
Question Shuffling Allowed :	Yes

Question Id : 9983675751 Question Type : COMPREHENSION Sub Question Shuffling Allowed : Yes Group Comprehension Questions : No

Question Numbers : (151 to 155)

Question Label : Comprehension

Read the following passage and answer the questions given below:

They say that crime doesn't pay. But for the authors who dabble in the art of crafting crafty crooks and the brilliant (and, at times, maudlin) detectives who end up catching them, crime most definitely does pay. It pays so well that entire regions (Scandinavia being a prime example) get transformed into giant crime fiction-producing factories.

It pays so well that icons are created – both, of the fictional detectives and their very real makers. Sherlock Holmes and Arthur Conan Doyle, respectively, being a case in point. In India, only two have truly reached such an iconic status – Satyajit Ray with Feluda and Sharadindu Bandyopadhyay with Byomkesh Bakshi – but there is no need to despair. There is time, still.

Author Ashwin Sanghi, who has co-written two crime fiction novels based in India with James Patterson, believes that it is all a matter of time. And that the genre will soon be as popular as romance and mythology in India. “We have to understand the fact that commercial fiction writing is only ten years old in India. We've not had the necessary amount of time to evolve. I believe in the next two or three years, it will become one of the dominant categories in the bestseller space,” says Sanghi.

Anita Nair, who has delved into the disturbing world of crime with ‘Cut Like Wound’ and ‘Chain of Custody’, too believes that the genre is in its early stages in India. “Crime fiction is still in its primary stage in India,” she says. “The chances of it going global like Scandinavian noir will happen when characters and issues written about have greater dimensions than just the usual run-of-the-mill crime scene. We will have to wait and see if that will happen.”

Sub questions

Question Number : 151 Question Id : 9983675752 Question Type : MCQ Option Shuffling : Yes

Correct Marks : 1 Wrong Marks : 0.25

What is the meaning of the phrase 'crime doesn't pay'?

Options :

1. ✘ People commit crime for money but they don't get paid easily.
2. ✔ Committing crime doesn't give any benefits.
3. ✘ Committing crime is very difficult and not profitable.
4. ✘ Committing crime is worthwhile these days.

Question Number : 152 Question Id : 9983675753 Question Type : MCQ Option Shuffling : Yes

Correct Marks : 1 Wrong Marks : 0.25

Which one of the following is NOT a fictional detective character?

Options :

1. ✘ Feluda
2. ✔ Sharadindu Bandyopadhyay
3. ✘ Sherlock Holmes
4. ✘ Byomkesh Bakshi

Question Number : 153 Question Id : 9983675754 Question Type : MCQ Option Shuffling : Yes

Correct Marks : 1 Wrong Marks : 0.25

Which of the following genres is the most popular one in India?

Options :

1. ✘ Neo Noir
2. ✘ Dark Comedy
3. ✘ Detective
4. ✔ Romance

Question Number : 154 Question Id : 9983675755 Question Type : MCQ Option Shuffling : Yes

Correct Marks : 1 Wrong Marks : 0.25

What was the reason given by Ashwin Sanghi for crime fiction not being popular in India?

Options :

1. ✖ The reading public does not prefer Indian crime fiction.
2. ✖ India has a strong presence in regional crime fiction; English crime fiction is not preferred among readers.
3. ✔ Commercial fiction writing is still evolving. Crime fiction needs more time to become popular.
4. ✖ The Indian audience prefers reading subaltern and alienation stories rather than crime stories.

Question Number : 155 Question Id : 9983675756 Question Type : MCQ Option Shuffling : Yes

Correct Marks : 1 Wrong Marks : 0.25

According to Anita Nair, when will Indian crime fiction go global?

Options :

1. ✖ When our regional stories are translated in English, we can easily gain global readership.
2. ✖ It can become global if the plot is set in an international setting.
3. ✖ When we have the demand from international audience, we will be able to meet the demands.
4. ✔ It will go global only when characters and issues have greater dimensions than stereotypical plots.

Question Id : 9983675751 Question Type : COMPREHENSION Sub Question Shuffling Allowed : Yes Group Comprehension Questions : No

Question Numbers : (151 to 155)

Question Label : Comprehension

Read the following passage and answer the questions given below:

They say that crime doesn't pay. But for the authors who dabble in the art of crafting crafty crooks and the brilliant (and, at times, maudlin) detectives who end up catching them, crime most definitely does pay. It pays so well that entire regions (Scandinavia being a prime example) get transformed into giant crime fiction-producing factories.

It pays so well that icons are created - both, of the fictional detectives and their very real makers. Sherlock Holmes and Arthur Conan Doyle, respectively, being a case in point. In India, only two have truly reached such an iconic status - Satyajit Ray with Feluda and Sharadindu Bandyopadhyay with Byomkesh Bakshi - but there is no need to despair. There is time, still.

Author Ashwin Sanghi, who has co-written two crime fiction novels based in India with James Patterson, believes that it is all a matter of time. And that the genre will soon be as popular as romance and mythology in India. "We have to understand the fact that commercial fiction writing is only ten years old in India. We've not had the necessary amount of time to evolve. I believe in the next two or three years, it will become one of the dominant categories in the bestseller space," says Sanghi.

Anita Nair, who has delved into the disturbing world of crime with 'Cut Like Wound' and 'Chain of Custody', too believes that the genre is in its early stages in India. "Crime fiction is still in its primary stage in India," she says. "The chances of it going global like Scandinavian noir will happen when characters and issues written about have greater dimensions than just the usual run-of-the-mill crime scene. We will have to wait and see if that will happen."

Sub questions

Question Number : 151 Question Id : 9983675752 Question Type : MCQ Option Shuffling : Yes

Correct Marks : 1 Wrong Marks : 0.25

What is the meaning of the phrase 'crime doesn't pay'?

Options :

1. ✖ People commit crime for money but they don't get paid easily.
2. ✔ Committing crime doesn't give any benefits.
3. ✖ Committing crime is very difficult and not profitable.
4. ✖ Committing crime is worthwhile these days.

Question Number : 152 Question Id : 9983675753 Question Type : MCQ Option Shuffling : Yes

Correct Marks : 1 Wrong Marks : 0.25

Which one of the following is NOT a fictional detective character?

Options :

1. ✖ Feluda
2. ✔ Sharadindu Bandyopadhyay
3. ✖ Sherlock Holmes
4. ✖ Byomkesh Bakshi

Question Number : 153 Question Id : 9983675754 Question Type : MCQ Option Shuffling : Yes

Correct Marks : 1 Wrong Marks : 0.25

Which of the following genres is the most popular one in India?

Options :

1. ✖ Neo Noir
2. ✖ Dark Comedy

3. ✖ Detective

4. ✔ Romance

Question Number : 154 Question Id : 9983675755 Question Type : MCQ Option Shuffling : Yes

Correct Marks : 1 Wrong Marks : 0.25

What was the reason given by Ashwin Sanghi for crime fiction not being popular in India?

Options :

1. ✖ The reading public does not prefer Indian crime fiction.

2. ✖ India has a strong presence in regional crime fiction; English crime fiction is not preferred among readers.

3. ✔ Commercial fiction writing is still evolving. Crime fiction needs more time to become popular.

4. ✖ The Indian audience prefers reading subaltern and alienation stories rather than crime stories.

Question Number : 155 Question Id : 9983675756 Question Type : MCQ Option Shuffling : Yes

Correct Marks : 1 Wrong Marks : 0.25

According to Anita Nair, when will Indian crime fiction go global?

Options :

1. ✖ When our regional stories are translated in English, we can easily gain global readership.

2. ✖ It can become global if the plot is set in an international setting.

3. ✖ When we have the demand from international audience, we will be able to meet the demands.

4. ✓ It will go global only when characters and issues have greater dimensions than stereotypical plots.

Sub-Section Number:	3
Sub-Section Id:	998367336
Question Shuffling Allowed :	Yes

Question Id : 9983675757 Question Type : COMPREHENSION Sub Question Shuffling Allowed : Yes Group Comprehension Questions : No

Question Numbers : (156 to 160)

Question Label : Comprehension

Read the passage and answer the questions that follow.

Data science is a detailed study of the flow of information from colossal amounts of data present in an organisation's repository. It involves obtaining meaningful insights from raw and unstructured data, which is processed through analytical, programming and business skills.

In a world that is increasingly becoming a digital space, organisations deal with zetta and yottabytes of structured and unstructured information every day. Evolving technologies have enabled better cost savings and smarter storage spaces to store critical data.

In the current industry, there is a huge need for skilled, certified data scientists. They are among the highest-paid professionals in the IT industry. According to Forbes, "the best job in America is as a Data Scientist with a median base salary of \$110,000" annually. Only a few people have the capability to process it and provide valuable insight out of it. Furthermore, looking at the huge requirement that is increasing at a continual pace, McKinsey has predicted that there will be a 50% gap in the supply of data scientists versus its demand in the upcoming years. In the recent years, there has been a huge growth in the field of Internet of Things (IoT), due to which 90% of the data that is present in the current world has been generated. Every day 2.5 quintillion bytes of data is generated, and it accelerates with the growth of IoT.

Sub questions

Question Number : 156 Question Id : 9983675758 Question Type : MCQ Option Shuffling : Yes
Correct Marks : 1 Wrong Marks : 0.25

What is data science?

Options :

1. ✖ It is a branch of science dealing with data coding.
2. ✖ It is a detailed study of the backed up data of an organization.
3. ✔ It is a detailed study of information culled from various types of data and the forming of meaningful insights.
4. ✖ This branch of science manipulates data and converts data so as to make it appropriate to the organization.

Question Number : 157 Question Id : 9983675759 Question Type : MCQ Option Shuffling : Yes
Correct Marks : 1 Wrong Marks : 0.25

Which one of the following sentences is true according to the given passage?

Options :

1. ✔ Advanced technologies have helped in storing critical data in a better way.
2. ✖ Data scientist as a profession is not very lucrative.
3. ✖ Technological advancements have proved there is no need for data analysis.
4. ✖ As data can be easily accessible people do not analyse data anymore.

Question Number : 158 Question Id : 9983675760 Question Type : MCQ Option Shuffling : Yes
Correct Marks : 1 Wrong Marks : 0.25

Why are data scientists paid so well?

Options :

1. ✖ Data science is an extremely exclusive subject and we don't have many people wanting to do the course. So there is a high demand for data scientists.

2. ✖ Only very few data scientists are available in the world today and that is why they are paid well.
3. ✖ Data science is a classified area of work and people who work in this field are paid high salaries.
4. ✔ With so much data available in the digital world today, there is a high demand for people to decipher the flow of information.

Question Number : 159 Question Id : 9983675761 Question Type : MCQ Option Shuffling : Yes
Correct Marks : 1 Wrong Marks : 0.25

What is the prediction by McKinsey?

Options :

1. ✖ There won't be any jobs for data scientists in the future.
2. ✖ Data science will become a field suitable only for men in the future.
3. ✔ In the future, there will be a huge gap between demand and supply of data scientists.
4. ✖ In the future, data science jobs will be offered only to people from developed countries.

Question Number : 160 Question Id : 9983675762 Question Type : MCQ Option Shuffling : Yes
Correct Marks : 1 Wrong Marks : 0.25

As per the passage, which of the following has accelerated the sudden growth of data generation?

Options :

1. ✖ Use of iPads by the younger generation
2. ✔ Growth in the field of IoT
3. ✖ Spread of social media
4. ✖ Importance of Internet among the common public

Question Id : 9983675757 Question Type : COMPREHENSION Sub Question Shuffling Allowed : Yes Group Comprehension Questions : No

Question Numbers : (156 to 160)

Question Label : Comprehension

Read the passage and answer the questions that follow.

Data science is a detailed study of the flow of information from colossal amounts of data present in an organisation's repository. It involves obtaining meaningful insights from raw and unstructured data, which is processed through analytical, programming and business skills.

In a world that is increasingly becoming a digital space, organisations deal with zetta and yottabytes of structured and unstructured information every day. Evolving technologies have enabled better cost savings and smarter storage spaces to store critical data.

In the current industry, there is a huge need for skilled, certified data scientists. They are among the highest-paid professionals in the IT industry. According to Forbes, "the best job in America is as a Data Scientist with a median base salary of \$110,000" annually. Only a few people have the capability to process it and provide valuable insight out of it. Furthermore, looking at the huge requirement that is increasing at a continual pace, McKinsey has predicted that there will be a 50% gap in the supply of data scientists versus its demand in the upcoming years. In the recent years, there has been a huge growth in the field of Internet of Things (IoT), due to which 90% of the data that is present in the current world has been generated. Every day 2.5 quintillion bytes of data is generated, and it accelerates with the growth of IoT.

Sub questions

Question Number : 156 Question Id : 9983675758 Question Type : MCQ Option Shuffling : Yes

Correct Marks : 1 Wrong Marks : 0.25

What is data science?

Options :

1. ✖ It is a branch of science dealing with data coding.
2. ✖ It is a detailed study of the backed up data of an organization.
3. ✔ It is a detailed study of information culled from various types of data and the forming of meaningful insights.
4. ✖ This branch of science manipulates data and converts data so as to make it appropriate to the organization.

Question Number : 157 Question Id : 9983675759 Question Type : MCQ Option Shuffling : Yes

Correct Marks : 1 Wrong Marks : 0.25

Which one of the following sentences is true according to the given passage?

Options :

1. ✔ Advanced technologies have helped in storing critical data in a better way.
2. ✖ Data scientist as a profession is not very lucrative.
3. ✖ Technological advancements have proved there is no need for data analysis.
4. ✖ As data can be easily accessible people do not analyse data anymore.

Question Number : 158 Question Id : 9983675760 Question Type : MCQ Option Shuffling : Yes

Correct Marks : 1 Wrong Marks : 0.25

Why are data scientists paid so well?

Options :

1. ✖ Data science is an extremely exclusive subject and we don't have many people wanting to do the course. So there is a high demand for data scientists.
2. ✖ Only very few data scientists are available in the world today and that is why they are paid well.
3. ✖ Data science is a classified area of work and people who work in this field are paid high salaries.
4. ✔ With so much data available in the digital world today, there is a high demand for people to decipher the flow of information.

Question Number : 159 Question Id : 9983675761 Question Type : MCQ Option Shuffling : Yes
Correct Marks : 1 Wrong Marks : 0.25

What is the prediction by McKinsey?

Options :

1. ✖ There won't be any jobs for data scientists in the future.
2. ✖ Data science will become a field suitable only for men in the future.
3. ✔ In the future, there will be a huge gap between demand and supply of data scientists.
4. ✖ In the future, data science jobs will be offered only to people from developed countries.

Question Number : 160 Question Id : 9983675762 Question Type : MCQ Option Shuffling : Yes

Correct Marks : 1 Wrong Marks : 0.25

As per the passage, which of the following has accelerated the sudden growth of data generation?

Options :

1. ✘ Use of iPads by the younger generation
2. ✔ Growth in the field of IoT
3. ✘ Spread of social media
4. ✘ Importance of Internet among the common public

General Hindi1

Group Number :	9
Group Id :	998367225
Group Maximum Duration :	0
Group Minimum Duration :	0
Show Attended Group? :	No
Edit Attended Group? :	No
Break time:	0
Group Marks:	20
Is this Group for Examiner?:	No
Revisit allowed for group Instructions? :	Yes
Maximum Instruction Time:	0
Minimum Instruction Time:	0

General Hindi1

Section Id :	998367231
Section Number :	1
Section type :	Online
Mandatory or Optional:	Mandatory
Number of Questions:	20
Number of Questions to be attempted:	20
Section Marks:	20

Sub-Section Number:	1
Sub-Section Id:	998367337
Question Shuffling Allowed :	Yes

Question Number : 161 Question Id : 9983675763 Question Type : MCQ Option Shuffling : Yes

Correct Marks : 1 Wrong Marks : 0.25

‘खिड़की’ कैसा शब्द है?

Options :

1. * विदेशी
2. ✓ देशज
3. * तद्भव
4. * तत्सम

Question Number : 161 Question Id : 9983675763 Question Type : MCQ Option Shuffling : Yes

Correct Marks : 1 Wrong Marks : 0.25

‘खिड़की’ कैसा शब्द है?

Options :

1. * विदेशी
2. ✓ देशज
3. * तद्भव
4. * तत्सम

Question Number : 162 Question Id : 9983675764 Question Type : MCQ Option Shuffling : Yes

Correct Marks : 1 Wrong Marks : 0.25

निम्न में से कौन सा शब्द तद्भव है?

Options :

1. ✓ अमिय
2. * अंगुष्ठ
3. * अमूल्य
4. * आशीष

Question Number : 162 Question Id : 9983675764 Question Type : MCQ Option Shuffling : Yes

Correct Marks : 1 Wrong Marks : 0.25

निम्न में से कौन सा शब्द तद्भव है?

Options :

1. ✓ अमिय
2. * अंगुष्ठ

3. * अमूल्य

4. * आशीष

Question Number : 163 Question Id : 9983675765 Question Type : MCQ Option Shuffling : Yes

Correct Marks : 1 Wrong Marks : 0.25

निम्न में से कौन सा शब्द तत्सम है?

Options :

1. * जड़

2. * जवान

3. ✓ जंघा

4. * जीभ

Question Number : 163 Question Id : 9983675765 Question Type : MCQ Option Shuffling : Yes

Correct Marks : 1 Wrong Marks : 0.25

निम्न में से कौन सा शब्द तत्सम है?

Options :

1. * जड़

2. * जवान

3. ✓ जंघा

4. * जीभ

Question Number : 164 Question Id : 9983675766 Question Type : MCQ Option Shuffling : Yes

Correct Marks : 1 Wrong Marks : 0.25

निम्न में से शुद्ध वर्तनी वाला शब्द है?

Options :

1. * प्रतीनिधि

2. * प्रतीनिधी

3. * प्रतिनिधी

4. ✓ प्रतिनिधि

Question Number : 164 Question Id : 9983675766 Question Type : MCQ Option Shuffling : Yes

Correct Marks : 1 Wrong Marks : 0.25

निम्न में से शुद्ध वर्तनी वाला शब्द है?

Options :

1. * प्रतीनिधि
2. * प्रतीनिधी
3. * प्रतिनिधी
4. ✓ प्रतिनिधि

Question Number : 165 Question Id : 9983675767 Question Type : MCQ Option Shuffling : Yes
Correct Marks : 1 Wrong Marks : 0.25

‘ऋत – ऋतु’ शब्द युग्म का सही अर्थ है:

Options :

1. * सच – वसंत
2. * झूठ – मौसम
3. ✓ सत्य – मौसम
4. * ऋण – वर्षा

Question Number : 165 Question Id : 9983675767 Question Type : MCQ Option Shuffling : Yes
Correct Marks : 1 Wrong Marks : 0.25

‘ऋत - ऋतु’ शब्द युग्म का सही अर्थ है-

Options :

1. * सच - वसंत
2. * झूठ - मौसम
3. ✓ सत्य - मौसम
4. * ऋण - वर्षा

Question Number : 166 Question Id : 9983675768 Question Type : MCQ Option Shuffling : Yes
Correct Marks : 1 Wrong Marks : 0.25

‘उजाला’ किस प्रकार की संज्ञा है?

Options :

1. * पदार्थवाचक
2. ✓ भाववाचक

3. * व्यक्तिवाचक

4. * जातिवाचक

Question Number : 166 Question Id : 9983675768 Question Type : MCQ Option Shuffling : Yes
Correct Marks : 1 Wrong Marks : 0.25

‘उजाला’ किस प्रकार की संज्ञा है?

Options :

1. * पदार्थवाचक

2. ✓ भाववाचक

3. * व्यक्तिवाचक

4. * जातिवाचक

Question Number : 167 Question Id : 9983675769 Question Type : MCQ Option Shuffling : Yes
Correct Marks : 1 Wrong Marks : 0.25

‘जिस’ किस सर्वनाम का रूप है?

Options :

1. * यह

2. * वह

3. * सो

4. ✓ जो

Question Number : 167 Question Id : 9983675769 Question Type : MCQ Option Shuffling : Yes
Correct Marks : 1 Wrong Marks : 0.25

‘जिस’ किस सर्वनाम का रूप है?

Options :

1. * यह

2. * वह

3. * सो

4. ✓ जो

Question Number : 168 Question Id : 9983675770 Question Type : MCQ Option Shuffling : Yes
Correct Marks : 1 Wrong Marks : 0.25

‘बहुत आदमी’ में बहुत कैसा विशेषण है?

Options :

1. ✓ अनिश्चित संख्यावाचक
2. * निश्चित संख्यावाचक
3. * परिमाण बोधक
4. * गुणवाचक

Question Number : 168 Question Id : 9983675770 Question Type : MCQ Option Shuffling : Yes

Correct Marks : 1 Wrong Marks : 0.25

‘बहुत आदमी’ में बहुत कैसा विशेषण है?

Options :

1. ✓ अनिश्चित संख्यावाचक
2. * निश्चित संख्यावाचक
3. * परिमाण बोधक
4. * गुणवाचक

Question Number : 169 Question Id : 9983675771 Question Type : MCQ Option Shuffling : Yes

Correct Marks : 1 Wrong Marks : 0.25

निम्न में सकर्मक धातु है:

Options :

1. ✓ सीना
2. * निकलना
3. * सम्हलना
4. * उखड़ना

Question Number : 169 Question Id : 9983675771 Question Type : MCQ Option Shuffling : Yes

Correct Marks : 1 Wrong Marks : 0.25

निम्न में सकर्मक धातु है-

Options :

1. ✓ सीना
2. * निकलना

3. * सम्हलना

4. * उखड़ना

Question Number : 170 Question Id : 9983675772 Question Type : MCQ Option Shuffling : Yes

Correct Marks : 1 Wrong Marks : 0.25

‘वह लड़का परसों जायेगा’ वाक्य में क्रिया विशेषण है:

Options :

1. * वह

2. * लड़का

3. ✓ परसों

4. * जायेगा

Question Number : 170 Question Id : 9983675772 Question Type : MCQ Option Shuffling : Yes

Correct Marks : 1 Wrong Marks : 0.25

‘वह लड़का परसों जायेगा’ वाक्य में क्रिया विशेषण है-

Options :

1. * वह

2. * लड़का

3. ✓ परसों

4. * जायेगा

Question Number : 171 Question Id : 9983675773 Question Type : MCQ Option Shuffling : Yes

Correct Marks : 1 Wrong Marks : 0.25

‘नयन’ का संधि-विच्छेद होगा:

Options :

1. * नै + अन

2. ✓ ने + अन

3. * नो + अन

4. * नौ + अन

Question Number : 171 Question Id : 9983675773 Question Type : MCQ Option Shuffling : Yes

Correct Marks : 1 Wrong Marks : 0.25

‘नयन’ का संधि-विच्छेद होगा:

Options :

1. * नै + अन
2. ✓ ने + अन
3. * नो + अन
4. * नौ + अन

Question Number : 172 Question Id : 9983675774 Question Type : MCQ Option Shuffling : Yes
Correct Marks : 1 Wrong Marks : 0.25

‘कृतकार्य’ में कौन सा समास है?

Options :

1. * तत्पुरुष
2. * द्वंद्व
3. * द्विगु
4. ✓ बहुब्रीहि

Question Number : 172 Question Id : 9983675774 Question Type : MCQ Option Shuffling : Yes
Correct Marks : 1 Wrong Marks : 0.25

‘कृतकार्य’ में कौन सा समास है?

Options :

1. * तत्पुरुष
2. * द्वंद्व
3. * द्विगु
4. ✓ बहुब्रीहि

Question Number : 173 Question Id : 9983675775 Question Type : MCQ Option Shuffling : Yes
Correct Marks : 1 Wrong Marks : 0.25

‘अधोभाग’ में किस उपसर्ग का प्रयोग हुआ है?

Options :

1. * अ
2. * अध

3. ✖ अधि

4. ✔ अधस्

Question Number : 173 Question Id : 9983675775 Question Type : MCQ Option Shuffling : Yes
Correct Marks : 1 Wrong Marks : 0.25

‘अधोभाग’ में किस उपसर्ग का प्रयोग हुआ है?

Options :

1. ✖ अ

2. ✖ अध

3. ✖ अधि

4. ✔ अधस्

Question Number : 174 Question Id : 9983675776 Question Type : MCQ Option Shuffling : Yes
Correct Marks : 1 Wrong Marks : 0.25

‘आग्नेय’ में किस प्रत्यय का प्रयोग हुआ है?

Options :

1. ✖ आ

2. ✖ य

3. ✔ एय

4. ✖ नेय

Question Number : 174 Question Id : 9983675776 Question Type : MCQ Option Shuffling : Yes
Correct Marks : 1 Wrong Marks : 0.25

‘आग्नेय’ में किस प्रत्यय का प्रयोग हुआ है?

Options :

1. ✖ आ

2. ✖ य

3. ✔ एय

4. ✖ नेय

Question Number : 175 Question Id : 9983675777 Question Type : MCQ Option Shuffling : Yes
Correct Marks : 1 Wrong Marks : 0.25

निम्न में कौन सा शब्द स्त्रीलिंग नहीं है?

Options :

1. * दरार
2. ✓ दरबार
3. * दस्तक
4. * दिनचर्या

Question Number : 175 Question Id : 9983675777 Question Type : MCQ Option Shuffling : Yes

Correct Marks : 1 Wrong Marks : 0.25

निम्न में कौन सा शब्द स्त्रीलिंग नहीं है?

Options :

1. * दरार
2. ✓ दरबार
3. * दस्तक
4. * दिनचर्या

Question Number : 176 Question Id : 9983675778 Question Type : MCQ Option Shuffling : Yes

Correct Marks : 1 Wrong Marks : 0.25

‘गाता रहता था’ किस पदबन्ध का उदाहरण है?

Options :

1. ✓ क्रिया पदबन्ध
2. * सर्वनाम पदबन्ध
3. * विशेषण पदबन्ध
4. * संज्ञा पदबन्ध

Question Number : 176 Question Id : 9983675778 Question Type : MCQ Option Shuffling : Yes

Correct Marks : 1 Wrong Marks : 0.25

‘गाता रहता था’ किस पदबन्ध का उदाहरण है?

Options :

1. ✓ क्रिया पदबन्ध
2. * सर्वनाम पदबन्ध

3. * विशेषण पदबन्ध

4. * संज्ञा पदबन्ध

Question Number : 177 Question Id : 9983675779 Question Type : MCQ Option Shuffling : Yes

Correct Marks : 1 Wrong Marks : 0.25

‘मैं नहीं जानता कि वह कहाँ है।’ वाक्य में ‘वह कहाँ है’ किस प्रकार का उपवाक्य है?

Options :

1. * विशेषण उपवाक्य

2. ✓ संज्ञा उपवाक्य

3. * क्रिया उपवाक्य

4. * क्रिया विशेषण उपवाक्य

Question Number : 177 Question Id : 9983675779 Question Type : MCQ Option Shuffling : Yes

Correct Marks : 1 Wrong Marks : 0.25

‘मैं नहीं जानता कि वह कहाँ है।’ वाक्य में ‘वह कहाँ है’ किस प्रकार का उपवाक्य है?

Options :

1. * विशेषण उपवाक्य

2. ✓ संज्ञा उपवाक्य

3. * क्रिया उपवाक्य

4. * क्रिया विशेषण उपवाक्य

Question Number : 178 Question Id : 9983675780 Question Type : MCQ Option Shuffling : Yes

Correct Marks : 1 Wrong Marks : 0.25

‘नदी बहती है।’ किस प्रकार का वाक्य है?

Options :

1. ✓ सरल वाक्य

2. * मिश्र वाक्य

3. * संयुक्त वाक्य

4. * उपवाक्य

Question Number : 178 Question Id : 9983675780 Question Type : MCQ Option Shuffling : Yes

Correct Marks : 1 Wrong Marks : 0.25

‘नदी बहती है।’ किस प्रकार का वाक्य है?

Options :

1. ✓ सरल वाक्य
2. ✘ मिश्र वाक्य
3. ✘ संयुक्त वाक्य
4. ✘ उपवाक्य

Question Number : 179 Question Id : 9983675781 Question Type : MCQ Option Shuffling : Yes

Correct Marks : 1 Wrong Marks : 0.25

पदक्रम की दृष्टि से कौन सा वाक्य शुद्ध है?

Options :

1. ✘ मेरी कमीज उजली कहीं खो गयी।
2. ✘ मेरी कमीज उजली खो गयी कहीं।
3. ✓ मेरी उजली कमीज कहीं खो गयी।
4. ✘ मेरी उजली कमीज खो गयी कहीं।

Question Number : 179 Question Id : 9983675781 Question Type : MCQ Option Shuffling : Yes

Correct Marks : 1 Wrong Marks : 0.25

पदक्रम की दृष्टि से कौन सा वाक्य शुद्ध है?

Options :

1. ✘ मेरी कमीज उजली कहीं खो गयी।
2. ✘ मेरी कमीज उजली खो गयी कहीं।
3. ✓ मेरी उजली कमीज कहीं खो गयी।
4. ✘ मेरी उजली कमीज खो गयी कहीं।

Question Number : 180 Question Id : 9983675782 Question Type : MCQ Option Shuffling : Yes

Correct Marks : 1 Wrong Marks : 0.25

अन्वय की दृष्टि से कौन सा वाक्य शुद्ध है?

Options :

1. ✘ मानव ने पुस्तक को पढ़े।

2. ✖ मानव ने पुस्तक को पढ़ों।
3. ✖ मानव ने पुस्तक को पढ़ी।
4. ✔ मानव ने पुस्तक को पढ़ा।

Question Number : 180 Question Id : 9983675782 Question Type : MCQ Option Shuffling : Yes
Correct Marks : 1 Wrong Marks : 0.25

अन्वय की दृष्टि से कौन सा वाक्य शुद्ध है?

Options :

1. ✖ मानव ने पुस्तक को पढ़े।
2. ✖ मानव ने पुस्तक को पढ़ों।
3. ✖ मानव ने पुस्तक को पढ़ी।
4. ✔ मानव ने पुस्तक को पढ़ा।

General Hindi2

Group Number :	10
Group Id :	998367226
Group Maximum Duration :	0
Group Minimum Duration :	120
Show Attended Group? :	No
Edit Attended Group? :	No
Break time:	0
Group Marks:	20
Is this Group for Examiner?:	No
Revisit allowed for group Instructions? :	Yes
Maximum Instruction Time:	0
Minimum Instruction Time:	0

General Hindi2

Section Id :	998367232
Section Number :	1
Section type :	Online
Mandatory or Optional:	Mandatory
Number of Questions:	12
Number of Questions to be attempted:	12
Section Marks:	20

Sub-Section Number: 1
Sub-Section Id: 998367338
Question Shuffling Allowed : Yes

Question Number : 181 Question Id : 9983675783 Question Type : MCQ Option Shuffling : Yes
Correct Marks : 1 Wrong Marks : 0.25

‘हवा’ का पर्यायवाची है:

Options :

1. ✖ अनल
2. ✖ सलिल
3. ✔ समीर
4. ✖ रजनी

Question Number : 181 Question Id : 9983675783 Question Type : MCQ Option Shuffling : Yes
Correct Marks : 1 Wrong Marks : 0.25

‘हवा’ का पर्यायवाची है:

Options :

1. ✖ अनल
2. ✖ सलिल
3. ✔ समीर
4. ✖ रजनी

Question Number : 182 Question Id : 9983675784 Question Type : MCQ Option Shuffling : Yes
Correct Marks : 1 Wrong Marks : 0.25

‘स्वर्ण’ का पर्यायवाची नहीं है:

Options :

1. ✔ कान्ता
2. ✖ कंचन
3. ✖ हिरण्य
4. ✖ हाटक

Question Number : 182 Question Id : 9983675784 Question Type : MCQ Option Shuffling : Yes
Correct Marks : 1 Wrong Marks : 0.25

‘स्वर्ण’ का पर्यायवाची नहीं है:

Options :

1. ✓ कान्ता

2. ✘ कंचन

3. ✘ हिरण्य

4. ✘ हाटक

Question Number : 183 Question Id : 9983675785 Question Type : MCQ Option Shuffling : Yes
Correct Marks : 1 Wrong Marks : 0.25

‘अहि’ किसका पर्यायवाची है?

Options :

1. ✘ धरती

2. ✘ पर्वत

3. ✘ बाण

4. ✓ सर्प

Question Number : 183 Question Id : 9983675785 Question Type : MCQ Option Shuffling : Yes
Correct Marks : 1 Wrong Marks : 0.25

‘अहि’ किसका पर्यायवाची है?

Options :

1. ✘ धरती

2. ✘ पर्वत

3. ✘ बाण

4. ✓ सर्प

Question Number : 184 Question Id : 9983675786 Question Type : MCQ Option Shuffling : Yes
Correct Marks : 1 Wrong Marks : 0.25

‘केशव’ किसका पर्यायवाची है?

Options :

1. ✘ ब्रह्मा

2. ✓ विष्णु

3. ✘ शिव

4. * इन्द्र

Question Number : 184 Question Id : 9983675786 Question Type : MCQ Option Shuffling : Yes
Correct Marks : 1 Wrong Marks : 0.25

‘केशव’ किसका पर्यायवाची है?

Options :

1. * ब्रह्मा

2. ✓ विष्णु

3. * शिव

4. * इन्द्र

Question Number : 185 Question Id : 9983675787 Question Type : MCQ Option Shuffling : Yes
Correct Marks : 1 Wrong Marks : 0.25

‘अक्ष’ किसका पर्यायवाची नहीं है?

Options :

1. * आँख

2. * रथ

3. ✓ कोण

4. * धुरी

Question Number : 185 Question Id : 9983675787 Question Type : MCQ Option Shuffling : Yes
Correct Marks : 1 Wrong Marks : 0.25

‘अक्ष’ किसका पर्यायवाची नहीं है?

Options :

1. * आँख

2. * रथ

3. ✓ कोण

4. * धुरी

Question Number : 186 Question Id : 9983675788 Question Type : MCQ Option Shuffling : Yes
Correct Marks : 1 Wrong Marks : 0.25

‘अग्रज’ का विलोम शब्द है:

Options :

1. ✓ अनुज
2. ✗ दनुज
3. ✗ तनुज
4. ✗ शैशव

Question Number : 186 Question Id : 9983675788 Question Type : MCQ Option Shuffling : Yes
Correct Marks : 1 Wrong Marks : 0.25

‘अग्रज’ का विलोम शब्द है:

Options :

1. ✓ अनुज
2. ✗ दनुज
3. ✗ तनुज
4. ✗ शैशव

Question Number : 187 Question Id : 9983675789 Question Type : MCQ Option Shuffling : Yes
Correct Marks : 1 Wrong Marks : 0.25

‘अनुरक्ति’ का विलोम होगा:

Options :

1. ✗ विरक्त
2. ✓ विरक्ति
3. ✗ विकर्षण
4. ✗ पुनरुक्ति

Question Number : 187 Question Id : 9983675789 Question Type : MCQ Option Shuffling : Yes
Correct Marks : 1 Wrong Marks : 0.25

‘अनुरक्ति’ का विलोम होगा:

Options :

1. ✗ विरक्त
2. ✓ विरक्ति
3. ✗ विकर्षण

4. * पुनरुक्ति

Question Number : 188 Question Id : 9983675790 Question Type : MCQ Option Shuffling : Yes

Correct Marks : 1 Wrong Marks : 0.25

‘आद्य’ किसका विलोम है?

Options :

1. * खाद्य
2. * प्रतिपाद्य
3. * अनित्य
4. ✓ अन्त्य

Question Number : 188 Question Id : 9983675790 Question Type : MCQ Option Shuffling : Yes

Correct Marks : 1 Wrong Marks : 0.25

‘आद्य’ किसका विलोम है?

Options :

1. * खाद्य
2. * प्रतिपाद्य
3. * अनित्य
4. ✓ अन्त्य

Question Number : 189 Question Id : 9983675791 Question Type : MCQ Option Shuffling : Yes

Correct Marks : 1 Wrong Marks : 0.25

‘जीवन में हास अवश्यम्भावी है’ पंक्ति के रेखांकित शब्द का विलोम होगा:

Options :

1. * विनाश
2. ✓ विकास
3. * विकृति
4. * उपहास

Question Number : 189 Question Id : 9983675791 Question Type : MCQ Option Shuffling : Yes

Correct Marks : 1 Wrong Marks : 0.25

‘जीवन में हास अवश्यम्भावी है।’ पंक्ति के रेखांकित शब्द का विलोम होगा:

Options :

1. ✖ विनाश
2. ✔ विकास
3. ✖ विकृति
4. ✖ उपहास

Question Number : 190 Question Id : 9983675792 Question Type : MCQ Option Shuffling : Yes
Correct Marks : 1 Wrong Marks : 0.25

‘विधि’ का विलोम है:

Options :

1. ✖ दण्ड
2. ✖ न्याय
3. ✔ निषेध
4. ✖ प्रतिशोध

Question Number : 190 Question Id : 9983675792 Question Type : MCQ Option Shuffling : Yes
Correct Marks : 1 Wrong Marks : 0.25

‘विधि’ का विलोम है:

Options :

1. ✖ दण्ड
2. ✖ न्याय
3. ✔ निषेध
4. ✖ प्रतिशोध

Sub-Section Number:	2
Sub-Section Id:	998367339
Question Shuffling Allowed :	Yes

Question Label : Comprehension

नीचे दिये गए गद्यांश को पढ़कर पूछे गये प्रश्नों के उत्तर दीजिए।

मीराबाई अपनी अनोखी चाल और धारदार तथा बेधक वाणी को लेकर हिन्दी भक्ति काव्य में प्रकट हुईं। मीरा अपनी भाषा और व्यवहार से सामंती समाज को चुनौती देती हैं। स्त्रियों की दशा परतंत्र थी। वह गुलामी, लाचारगी और बेबसी का जीवन जीने को अभिशप्त थीं। मीरा लिखती हैं- 'राणाजी म्हाने या बदनामी लगे मीठी' मीरा को बदनामी मीठी लगने लगती है जो तत्कालीन क्या वर्तमान समाज में भी लगभग आश्चर्य की बात है। मीरा स्त्री मुक्ति की पहली सशक्त कवयित्री हैं। कौन स्त्री आज वर्तमान में भी बदनामी पसंद करेगी। मीरा प्रगतिशीलता के उस आदर्श की स्थापना करती हैं जो आज भी प्रासंगिक हैं। मीरा की कविता सामंतवाद के प्रतिकार की कविता है। मीरा की कविता स्वच्छंदतावाद की कविता है- 'सिसोद्यौ रूठ्यो म्हारों कोई करलेसि' लिखते हुए मीरा को जो आत्मबल मिल रहा था वह उनका चारित्रिक और आध्यात्मिक आत्मबल तथा नैतिक मूल्य था।

Sub questions

Question Number : 191 Question Id : 9983675794 Question Type : MCQ Option Shuffling : Yes

Correct Marks : 1 Wrong Marks : 0.25

मीरा किसकी कवयित्री हैं?

Options :

1. * आदिकाव्य
2. * रीतिकाव्य
3. * आधुनिक काव्य
4. ✓ भक्ति काव्य

Question Number : 192 Question Id : 9983675795 Question Type : MCQ Option Shuffling : Yes

Correct Marks : 1 Wrong Marks : 0.25

'अनोखी चाल' का आशय है:

Options :

1. ✓ विलक्षण आचरण
2. * बेढंगा आचरण

3. * परंपरागत आचरण

4. * रीतियुक्त आचरण

Question Number : 193 Question Id : 9983675796 Question Type : MCQ Option Shuffling : Yes
Correct Marks : 1 Wrong Marks : 0.25

‘अभिशप्त’ का अर्थ है:

Options :

1. * शापमुक्त

2. ✓ शापग्रस्त

3. * अकिंचन

4. * दीन

Question Number : 194 Question Id : 9983675797 Question Type : MCQ Option Shuffling : Yes
Correct Marks : 1 Wrong Marks : 0.25

‘प्रतिकार’ का अर्थ है:

Options :

1. ✓ विरोध

2. * समर्थन

3. * अनुकरण

4. * सामंजस्य

Question Number : 195 Question Id : 9983675798 Question Type : MCQ Option Shuffling : Yes
Correct Marks : 1 Wrong Marks : 0.25

मीरा की कविता किसके प्रतिकार की कविता है?

Options :

1. * संप्रदायवाद

2. * साम्राज्यवाद

3. ✓ सामंतवाद

4. * स्वच्छंदतावाद

Question Id : 9983675793 Question Type : COMPREHENSION Sub Question Shuffling Allowed : Yes Group Comprehension
Questions : No

Question Numbers : (191 to 195)

Question Label : Comprehension

नीचे दिये गए गद्यांश को पढ़कर पूछे गये प्रश्नों के उत्तर दीजिए।

मीराबाई अपनी अनोखी चाल और धारदार तथा बेधक वाणी को लेकर हिन्दी भक्ति काव्य में प्रकट हुईं। मीरा अपनी भाषा और व्यवहार से सामंती समाज को चुनौती देती हैं। स्त्रियों की दशा परतंत्र थी। वह गुलामी, लाचारगी और बेबसी का जीवन जीने को अभिशप्त थीं। मीरा लिखती हैं- 'राणाजी म्हाने या बदनामी लगे मीठी' मीरा को बदनामी मीठी लगने लगती है जो तत्कालीन क्या वर्तमान समाज में भी लगभग आश्चर्य की बात है। मीरा स्त्री मुक्ति की पहली सशक्त कवयित्री हैं। कौन स्त्री आज वर्तमान में भी बदनामी पसंद करेगी। मीरा प्रगतिशीलता के उस आदर्श की स्थापना करती हैं जो आज भी प्रासंगिक हैं। मीरा की कविता सामंतवाद के प्रतिकार की कविता है। मीरा की कविता स्वच्छंदतावाद की कविता है- सिसोद्यौ रूठ्यो म्हारों कोई करलेसि' लिखते हुए मीरा को जो आत्मबल मिल रहा था वह उनका चारित्रिक और आध्यात्मिक आत्मबल तथा नैतिक मूल्य था।

Sub questions

Question Number : 191 Question Id : 9983675794 Question Type : MCQ Option Shuffling : Yes
Correct Marks : 1 Wrong Marks : 0.25

मीरा किसकी कवयित्री हैं?

Options :

1. * आदिकाव्य
2. * रीतिकाव्य
3. * आधुनिक काव्य
4. ✓ भक्ति काव्य

Question Number : 192 Question Id : 9983675795 Question Type : MCQ Option Shuffling : Yes
Correct Marks : 1 Wrong Marks : 0.25

‘अनोखी चाल’ का आशय है:

Options :

1. ✓ विलक्षण आचरण
2. ✗ बेढंगा आचरण
3. ✗ परंपरागत आचरण
4. ✗ रीतियुक्त आचरण

Question Number : 193 Question Id : 9983675796 Question Type : MCQ Option Shuffling : Yes
Correct Marks : 1 Wrong Marks : 0.25

‘अभिशप्त’ का अर्थ है:

Options :

1. ✗ शापमुक्त
2. ✓ शापग्रस्त
3. ✗ अकिंचन
4. ✗ दीन

Question Number : 194 Question Id : 9983675797 Question Type : MCQ Option Shuffling : Yes
Correct Marks : 1 Wrong Marks : 0.25

‘प्रतिकार’ का अर्थ है:

Options :

1. ✓ विरोध
2. ✗ समर्थन
3. ✗ अनुकरण
4. ✗ सामंजस्य

Question Number : 195 Question Id : 9983675798 Question Type : MCQ Option Shuffling : Yes
Correct Marks : 1 Wrong Marks : 0.25

मीरा की कविता किसके प्रतिकार की कविता है?

Options :

1. * संप्रदायवाद
2. * साम्राज्यवाद
3. ✓ सामंतवाद
4. * स्वच्छंदतावाद

Sub-Section Number: 3
Sub-Section Id: 998367340
Question Shuffling Allowed : Yes

Question Id : 9983675799 Question Type : COMPREHENSION Sub Question Shuffling Allowed : Yes Group Comprehension
Questions : No
Question Numbers : (196 to 200)

Question Label : Comprehension

नीचे दिये गए गद्यांश को पढ़कर पूछे गये प्रश्नों के उत्तर दीजिए।

कहानीकार कहानी में चित्रित घटना एवं परिवेश के माध्यम से समाज की जीवंत सच्चाई को उद्घाटित करता है। साथ ही समाज में क्रियाशील विभिन्न सामाजिक संगठनों की समसामयिक प्रासंगिकता और उसके सामाजिक अवदान की विवेचना करता है। लेखक की पैनी दृष्टि, उसकी संवेदनशीलता गहरे स्तर पर अपने परिवेश से जोड़ती है। आजादी के बाद देश की सामाजिक संरचना में अभूतपूर्व परिवर्तन हुआ जिसका प्रभाव धर्म, राजनीति, विवाह, परिवार तथा सरकारी, गैरसरकारी, सामाजिक संस्थाओं में परिलक्षित होता है। देश की भ्रष्ट राजनीति के कारण समाज में भ्रष्टाचार, बेरोजगारी, गरीबी, अशिक्षा और परिवारिक बिखराव-बदलाव आदि जैसी अनेक समस्याएँ उद्दीप्त हुई हैं। देश की स्वाधीनता एक विभाजन रेखा है जो समाज और साहित्य को देखने का सारा दृष्टिकोण बदल देती है। इसलिए इस दौर में साहित्यकारों ने सामाजिक संस्थाओं की तत्कालीन भूमिका का बड़ी गहराई से अन्वेषण अपनी रचनाओं में किया है।

Sub questions

Question Number : 196 Question Id : 9983675800 Question Type : MCQ Option Shuffling : Yes
Correct Marks : 1 Wrong Marks : 0.25

गद्यांश में साहित्यकार के किस रूप का जिक्र है?

Options :

1. * कवि

2. * नाटककार
3. * उपन्यासकार
4. ✓ कहानीकार

Question Number : 197 Question Id : 9983675801 Question Type : MCQ Option Shuffling : Yes
Correct Marks : 1 Wrong Marks : 0.25

गद्यांश में प्रयुक्त 'परिवेश' का आशय है:

Options :

1. ✓ वातावरण
2. * उद्देश्य
3. * शिल्प
4. * भाषा

Question Number : 198 Question Id : 9983675802 Question Type : MCQ Option Shuffling : Yes
Correct Marks : 1 Wrong Marks : 0.25

'अवदान' का अर्थ है:

Options :

1. * महत्ता
2. * सीमा
3. ✓ अंशदान
4. * आदान

Question Number : 199 Question Id : 9983675803 Question Type : MCQ Option Shuffling : Yes
Correct Marks : 1 Wrong Marks : 0.25

समसामयिक' का अर्थ है:

Options :

1. * प्राचीन
2. * मध्यकालीन
3. * शाश्वत
4. ✓ समकालीन

Question Number : 200 Question Id : 9983675804 Question Type : MCQ Option Shuffling : Yes
Correct Marks : 1 Wrong Marks : 0.25

'अन्वेषण' का अर्थ होता है:

Options :

1. * अनुकरण
2. ✓ खोज
3. * साध्य
4. * साधन

Question Id : 9983675799 Question Type : COMPREHENSION Sub Question Shuffling Allowed : Yes Group Comprehension Questions : No

Question Numbers : (196 to 200)

Question Label : Comprehension

नीचे दिये गए गद्यांश को पढ़कर पूछे गये प्रश्नों के उत्तर दीजिए।

कहानीकार कहानी में चित्रित घटना एवं परिवेश के माध्यम से समाज की जीवंत सच्चाई को उद्घाटित करता है। साथ ही समाज में क्रियाशील विभिन्न सामाजिक संगठनों की समसामयिक प्रासंगिकता और उसके सामाजिक अवदान की विवेचना करता है। लेखक की पैनी दृष्टि, उसकी संवेदनशीलता गहरे स्तर पर अपने परिवेश से जोड़ती है। आजादी के बाद देश की सामाजिक संरचना में अभूतपूर्व परिवर्तन हुआ जिसका प्रभाव धर्म, राजनीति, विवाह, परिवार तथा सरकारी, गैरसरकारी, सामाजिक संस्थाओं में परिलक्षित होता है। देश की भ्रष्ट राजनीति के कारण समाज में भ्रष्टाचार, बेरोजगारी, गरीबी, अशिक्षा और परिवारिक बिखराव-बदलाव आदि जैसी अनेक समस्याएँ उद्दीप्त हुई हैं। देश की स्वाधीनता एक विभाजन रेखा है जो समाज और साहित्य को देखने का सारा दृष्टिकोण बदल देती है। इसलिए इस दौर में साहित्यकारों ने सामाजिक संस्थाओं की तत्कालीन भूमिका का बड़ी गहराई से अन्वेषण अपनी रचनाओं में किया है।

Sub questions

Question Number : 196 Question Id : 9983675800 Question Type : MCQ Option Shuffling : Yes

Correct Marks : 1 Wrong Marks : 0.25

गद्यांश में साहित्यकार के किस रूप का जिक्र है?

Options :

1. ✖ कवि
2. ✖ नाटककार
3. ✖ उपन्यासकार
4. ✔ कहानीकार

Question Number : 197 Question Id : 9983675801 Question Type : MCQ Option Shuffling : Yes

Correct Marks : 1 Wrong Marks : 0.25

गद्यांश में प्रयुक्त 'परिवेश' का आशय है:

Options :

1. ✔ वातावरण
2. ✖ उद्देश्य
3. ✖ शिल्प
4. ✖ भाषा

Question Number : 198 Question Id : 9983675802 Question Type : MCQ Option Shuffling : Yes

Correct Marks : 1 Wrong Marks : 0.25

'अवदान' का अर्थ है:

Options :

1. ✖ महत्ता
2. ✖ सीमा
3. ✔ अंशदान
4. ✖ आदान

Question Number : 199 Question Id : 9983675803 Question Type : MCQ Option Shuffling : Yes

Correct Marks : 1 Wrong Marks : 0.25

समसामयिक' का अर्थ है:

Options :

1. ✖ प्राचीन
2. ✖ मध्यकालीन
3. ✖ शाश्वत
4. ✔ समकालीन

Question Number : 200 Question Id : 9983675804 Question Type : MCQ Option Shuffling : Yes
Correct Marks : 1 Wrong Marks : 0.25

‘अन्वेषण’ का अर्थ होता है:

Options :

1. ✖ अनुकरण
2. ✔ खोज
3. ✖ साध्य
4. ✖ साधन