

Education Consultant India Ltd.

Notations :

1.Options shown in **green** color and with ✓ icon are correct.

2.Options shown in **red** color and with ✖ icon are incorrect.

Question Paper Name:	GRADE II DASS 19th July 2019 Shift 1
Subject Name:	GRADE II DASS
Creation Date:	2019-07-19 12:30:19
Duration:	120
Total Marks:	200
Display Marks:	Yes
Share Answer Key With Delivery Engine:	No
Actual Answer Key:	Yes
Calculator:	None
Magnifying Glass Required?:	No
Ruler Required?:	No
Eraser Required?:	No
Scratch Pad Required?:	No
Rough Sketch/Notepad Required?:	No
Protractor Required?:	No
Show Watermark on Console?:	Yes
Highlighter:	No
Auto Save on Console?:	No

Mental Ability1

Group Number :	1
Group Id :	586180182
Group Maximum Duration :	0
Group Minimum Duration :	0
Show Attended Group? :	No
Edit Attended Group? :	No
Break time:	0
Group Marks:	20
Is this Group for Examiner?:	No
Revisit allowed for group Instructions? :	Yes
Maximum Instruction Time:	0
Minimum Instruction Time:	0

Mental Ability1

Section Id :	586180186
Section Number :	1

Section type :	Online
Mandatory or Optional:	Mandatory
Number of Questions:	20
Number of Questions to be attempted:	20
Section Marks:	20

Sub-Section Number:	1
Sub-Section Id:	586180257
Question Shuffling Allowed :	Yes

Question Number : 1 Question Id : 5861803851 Question Type : MCQ Option Shuffling : Yes

Correct Marks : 1 Wrong Marks : 0.25

Select the letter cluster which is related to third letter cluster in the same way as the second letter cluster is related to first letter cluster.

NURSE : JSNOC :: CARING : ?

Options :

1. ✘ YWNEKC

2. ✘ ZENGJB

3. ✘ YYMGJC

4. ✔ YYNGJC

Question Number : 1 Question Id : 5861803851 Question Type : MCQ Option Shuffling : Yes

Correct Marks : 1 Wrong Marks : 0.25

वह वर्ण समूह चुनें जो तीसरे वर्ण समूह से उसी तरह से संबंधित है, जिस तरह से दूसरा वर्ण समूह पहले वर्ण समूह से संबंधित है।

NURSE : JSNOC :: CARING : ?

Options :

1. ✘ YWNEKC

2. ✘ ZENGJB

3. ✖ YYMGJC

4. ✔ YYNGJC

Question Number : 2 Question Id : 5861803852 Question Type : MCQ Option Shuffling : Yes

Correct Marks : 1 Wrong Marks : 0.25

Select the number which is related to third number in the same way as the second number is related to first number.

7552 : 103 :: 6665 : ?

Options :

1. ✖ 131

2. ✖ 132

3. ✔ 133

4. ✖ 134

Question Number : 2 Question Id : 5861803852 Question Type : MCQ Option Shuffling : Yes

Correct Marks : 1 Wrong Marks : 0.25

वह संख्या चुनें जो तीसरी संख्या से उसी तरह से संबंधित है, जिस तरह से दूसरी संख्या पहली संख्या से संबंधित है।

7552 : 103 :: 6665 : ?

Options :

1. ✖ 131

2. ✖ 132

3. ✓ 133

4. ✗ 134

Question Number : 3 Question Id : 5861803853 Question Type : MCQ Option Shuffling : Yes

Correct Marks : 1 Wrong Marks : 0.25

Three of the given four number pairs are similar in a certain manner while one is different. Choose the odd one out.

Options :

1. ✗ 774 : 66

2. ✗ 822 : 64

3. ✓ 896 : 76

4. ✗ 246 : 38

Question Number : 3 Question Id : 5861803853 Question Type : MCQ Option Shuffling : Yes

Correct Marks : 1 Wrong Marks : 0.25

चार प्रदत्त संख्या युग्मों में से तीन एक तरीके से समान हैं, जबकि उनमें से एक अलग है। इनमें से विषम चुनें।

Options :

1. ✗ 774 : 66

2. ✗ 822 : 64


3. ✓ 896 : 76

4. ✖ 246 : 38

Question Number : 4 Question Id : 5861803854 Question Type : MCQ Option Shuffling : Yes

Correct Marks : 1 Wrong Marks : 0.25

Select a figure from the options figures that would complete the figure matrix.




Options :



Question Number : 4 Question Id : 5861803854 Question Type : MCQ Option Shuffling : Yes

Correct Marks : 1 Wrong Marks : 0.25

इन वैकल्पिक आकृतियों में से वह आकृति चुनें जो इस आकृति आव्यूह को पूरा करती है?



Options :



Question Number : 5 Question Id : 5861803855 Question Type : MCQ Option Shuffling : Yes

Correct Marks : 1 Wrong Marks : 0.25

Three of the given four letter cluster pairs are similar in a certain manner while one is different. Choose the odd one out.

Options :

1. ✘ CHALLENGE : IXEZPBDKB

2. ✘ SOMETHING : BJLPXDKFE

3. ✓ POLLUTION : IJLMYKMFQ

4. ✘ SECRETARY : OZBPIVOXQ

Question Number : 5 Question Id : 5861803855 Question Type : MCQ Option Shuffling : Yes

Correct Marks : 1 Wrong Marks : 0.25

चार प्रदत्त वर्ण समूह युग्मों में से तीन एक तरीके से समान हैं, जबकि उनमें से एक अलग है। इनमें से विषम चुनें।

Options :

1. ✘ CHALLENGE : IXEZPBDBK

2. ✘ SOMETHING : BJLPXDKFE

3. ✓ POLLUTION : IJLMYKMFQ

4. ✘ SECRETARY : OZBPIVOXQ

Question Number : 6 Question Id : 5861803856 Question Type : MCQ Option Shuffling : Yes

Correct Marks : 1 Wrong Marks : 0.25

Select the figure amongst the option figures which has the same characteristics as the two Problem figures.



Problem Figures

Options :



1. ✘



Question Number : 6 Question Id : 5861803856 Question Type : MCQ Option Shuffling : Yes

Correct Marks : 1 Wrong Marks : 0.25

इन वैकल्पिक आकृतियों में से वह आकृति चुनें जिसके अभिलक्षण दो समस्या आकृतियों के समान हैं।



Problem Figures

Options :





3. ✓



4. ✗

Question Number : 7 Question Id : 5861803857 Question Type : MCQ Option Shuffling : Yes

Correct Marks : 1 Wrong Marks : 0.25

Three of the given four word pairs are similar in a certain manner while one is different. Choose the odd one out.

Options :

1. ✗ Dry : Arid

2. ✗ Easy : Effortless

3. ✗ Hot : Sweltering

4. ✓ Sad : Petrified

Question Number : 7 Question Id : 5861803857 Question Type : MCQ Option Shuffling : Yes

Correct Marks : 1 Wrong Marks : 0.25

चार प्रदत्त वर्ण समूह युग्मों में से तीन एक तरीके से समान हैं, जबकि उनमें से एक अलग है। इनमें से विषम चुनें।

Options :

1. ✗ शुष्क : बंजर

2. ✗ सरल : सहज

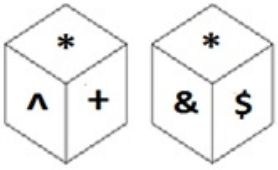
3. ✖ गर्म : तपता

4. ✔ उदास : पाषाणकृत

Question Number : 8 Question Id : 5861803858 Question Type : MCQ Option Shuffling : Yes

Correct Marks : 1 Wrong Marks : 0.25

Two different positions of the same dice, the faces of which are having some symbols/signs, are shown below. Which sign/symbol is on the face opposite the face showing '+' sign?



Options :

1. ✖ *

2. ✖ &

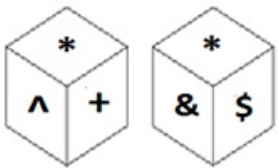
3. ✔ \$

4. ✖ ^

Question Number : 8 Question Id : 5861803858 Question Type : MCQ Option Shuffling : Yes

Correct Marks : 1 Wrong Marks : 0.25

नीचे एक ही डाइस (पासे) की दो अलग-अलग स्थितियाँ दी गई हैं, जिनके फलक पर एक जैसे प्रतीक/चिह्न बने हुए हैं। '+' दिखा रहे फलक के सामने वाले फलक पर कौन सा प्रतीक है?



Options :

1. ✖ *

2. ✖ &

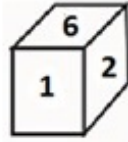
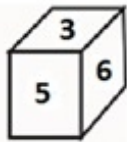
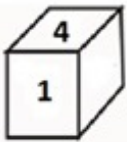
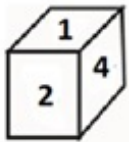
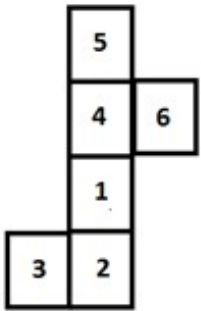
3. ✔ \$

4. ✖ ^

Question Number : 9 Question Id : 5861803859 Question Type : MCQ Option Shuffling : Yes

Correct Marks : 1 Wrong Marks : 0.25

Which of the following patterns of the dices can be formed when the sheet given below is folded?



Note: For this question, discrepancy is found in question/answer. So, this question is ignored for all candidates.

Options :

1. Only 1 and 2

2. Only 1, 2 and 3

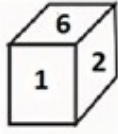
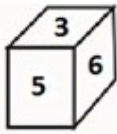
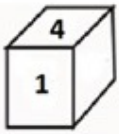
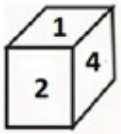
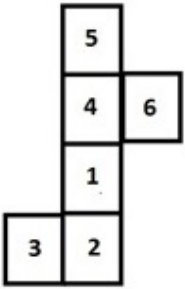
3. Only 2 and 4

4. Only 1, 2 and 4

Question Number : 9 Question Id : 5861803859 Question Type : MCQ Option Shuffling : Yes

Correct Marks : 1 Wrong Marks : 0.25

जब प्रदत्त शीट को फ़ोल्ड किया जाता है, तब डाइस (पासे) के पैटर्न में से कौन सा पैटर्न बन सकता है?



Note: For this question, discrepancy is found in question/answer. So, this question is ignored for all candidates.

Options :

1. केवल 1 और 2

2. केवल 1, 2 और 3

3. केवल 2 और 4

4. केवल 1, 2 और 4

Question Number : 10 Question Id : 5861803860 Question Type : MCQ Option Shuffling : Yes

Correct Marks : 1 Wrong Marks : 0.25

Kavya travels 30 m towards west from her home and reaches her friend Ariba's house. From there, she turns right and walks 45 m. Then she takes right turn and walks 20 m. Then she takes right turn and walks 60 m. What is the approximate shortest distance between Kavya's current position and her home?

Options :

1. ✘ 17 m

2. ✔ 18 m

3. ✘ 20 m

4. ✘ 16 m

Question Number : 10 Question Id : 5861803860 Question Type : MCQ Option Shuffling : Yes

Correct Marks : 1 Wrong Marks : 0.25

काव्या अपने घर से 30 m पश्चिम की ओर चलती है और अपनी दोस्त अरिबा के घर पहुँच जाती है। वहाँ से वह दाईं ओर मुड़कर 45 m चलती है। फिर वह दाईं ओर मुड़कर 20 m चलती है। फिर वह दाईं ओर मुड़कर 60 m चलती है। काव्या के वर्तमान स्थान और उसके घर के बीच की सन्निकट अल्पतम दूरी पता करें?

Options :

1. ✘ 17 m

2. ✔ 18 m

3. ✘ 20 m

4. ✘ 16 m

Question Number : 11 Question Id : 5861803861 Question Type : MCQ Option Shuffling : Yes

Correct Marks : 1 Wrong Marks : 0.25

Which number will replace the question mark in the given matrix?

8	291	4	211
4	153	6	?
7	235	8	122
9	245	3	155

Options :

1. ✘ 103

2. ✔ 101

3. ✘ 95

4. ✘ 87

Question Number : 11 Question Id : 5861803861 Question Type : MCQ Option Shuffling : Yes
Correct Marks : 1 Wrong Marks : 0.25

प्रदत्त आव्यूह में प्रश्न चिह्न के स्थान पर कौन सी संख्या आएगी?

8	291	4	211
4	153	6	?
7	235	8	122
9	245	3	155

Options :

1. ✘ 103

2. ✔ 101

3. ✖ 95

4. ✖ 87

Question Number : 12 Question Id : 5861803862 Question Type : MCQ Option Shuffling : Yes

Correct Marks : 1 Wrong Marks : 0.25

Four boys A, B, C and D, and four girls, E, F, G and H are sitting around a round table facing the centre and at equal distance from each other. D is second to the left of B. G is sitting between H and C. E is sitting just opposite H. F is at equal distance from B from both left and right. E is sitting between two boys. G is at second left place of E.

Which of the following statement is NOT correct?

Note: For this question, discrepancy is found in question/answer. So, this question is ignored for all candidates.

Options :

1. A and C are sitting opposite each other.

2. D is sitting between F and E.

3. A is third to the right of G.

4. H is sitting between G and F

Question Number : 12 Question Id : 5861803862 Question Type : MCQ Option Shuffling : Yes

Correct Marks : 1 Wrong Marks : 0.25

चार लड़के A, B, C और D और चार लड़कियाँ E, F, G और H एक गोल मेज़ के इर्द-गिर्द सामने की तरफ देखते हुए एक दूसरे से समान दूरी पर बैठे हैं। D B की बाईं ओर दूसरे स्थान पर बैठा है। G H और C के बीच बैठी है। E ठीक H के सामने बैठी है। F बाईं और दाईं ओर से B से समान दूरी पर है। E दो लड़कों के बीच बैठी है। G E से बाईं ओर दूसरे स्थान पर है।

इनमें से कौन सा कथन सही नहीं है?

Note: For this question, discrepancy is found in question/answer. So, this question is ignored for all candidates.

Options :

1. A और C एक दूसरे के सामने बैठे हैं।
2. D F और E के बीच बैठा है।
3. A G से दाईं ओर तीसरे स्थान पर है।
4. H G और F के बीच बैठा है।

Question Number : 13 Question Id : 5861803863 Question Type : MCQ Option Shuffling : Yes

Correct Marks : 1 Wrong Marks : 0.25

In an evening, Lakhan and Bhavesh are sitting on a beach with their backs facing each other's back. If the shadow of Bhavesh falls to the right of Lakhan, which direction is Bhavesh facing?

Options :

1. ✘ East
2. ✘ West
3. ✘ North
4. ✔ South

Question Number : 13 Question Id : 5861803863 Question Type : MCQ Option Shuffling : Yes

Correct Marks : 1 Wrong Marks : 0.25

एक शाम, लखन और भावेश समुद्र तट पर एक दूसरे की ओर अपनी पीठ करके बैठे थे। यदि भावेश की छाया लखन की दाईं ओर पड़ती है, तो भावेश किस दिशा में बैठा है?

Options :

1. ✘ पूर्व

2. ✘ पश्चिम

3. ✘ उत्तर

4. ✔ दक्षिण

Question Number : 14 Question Id : 5861803864 Question Type : MCQ Option Shuffling : Yes

Correct Marks : 1 Wrong Marks : 0.25

चार व्यक्ति अमित, करीम, वीर और प्रीत सोमवार से गुरुवार के चार दिनों में से A, B, C और D चार कैफे में से एक में जाते हैं। वीर बुधवार को कैफे जाता है, लेकिन वो कैफे D नहीं जाता है। एक व्यक्ति मंगलवार को कैफे C जाता है, और वो व्यक्ति प्रीत नहीं है। अमित सोमवार को कैफे D जाता है। कोई भी गुरुवार को कैफे D नहीं जाता है। व्यक्ति-कैफे-दिन का इनमें से कौन सा संयोजन सही है?

Options :

1. ✘ वीर - कैफे B - सोमवार

2. ✘ अमित - कैफे D - बुधवार

3. ✘ प्रीत - कैफे A - मंगलवार

4. ✔ करीम - कैफे C - मंगलवार

Question Number : 14 Question Id : 5861803864 Question Type : MCQ Option Shuffling : Yes

Correct Marks : 1 Wrong Marks : 0.25

Four persons Amit, Kareem, Veer, Preet each goes to one of four cafes A, B, C and D on one of the four days i.e. Monday to Thursday. Veer goes to a café on Wednesday but he does not go to Café D. One person goes to Café C on Tuesday but that person is not Preet. Amit goes to the café D on Monday. Nobody comes to café D on Thursday.

Which of the following combination of person-café-day is correct?

Options :

1. ✘ Veer–Café B – Monday

2. ✘ Amit – Café D – Wednesday

3. ✘ Preet – Café A - Tuesday

4. ✔ Kareem – Café C - Tuesday

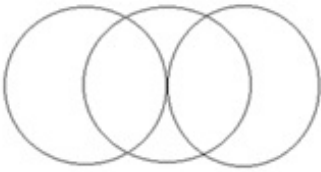
Question Number : 15 Question Id : 5861803865 Question Type : MCQ Option Shuffling : Yes

Correct Marks : 1 Wrong Marks : 0.25

Select the Venn diagram that best represents the given set of classes:

Mind, Bipolar and Schizophrenia

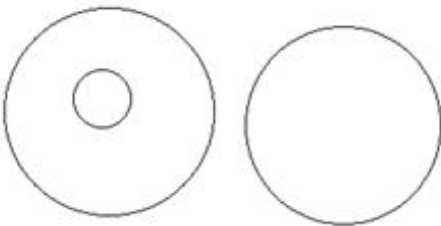
Options :



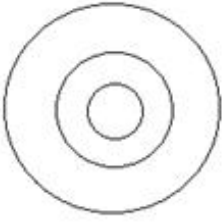
1. ✘



2. ✔



3. ✘



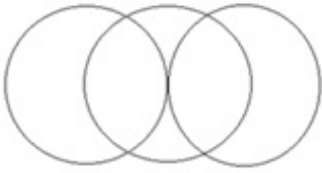
4. ✘

Question Number : 15 Question Id : 5861803865 Question Type : MCQ Option Shuffling : Yes
Correct Marks : 1 Wrong Marks : 0.25

वह वेन आरेख चुनें, जो प्रदत्त समुच्चय श्रेणियों को सबसे अच्छे से दर्शाता है।

मस्तिष्क (Mind), द्विध्रुवीय (Bipolar) और विखंडितमनस्कताग्रस्त (Schizophrenia)

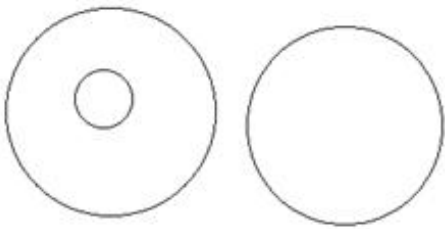
Options :



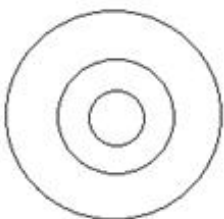
1. ✘



2. ✔



3. ✘



4. ✘

Question Number : 16 Question Id : 5861803866 Question Type : MCQ Option Shuffling : Yes

Correct Marks : 1 Wrong Marks : 0.25

Three statements are given, followed by three conclusions.

The symbols used in them have meanings as follows:

$P @ Q$ means P is neither smaller than nor greater than Q.

$P \# Q$ means P is neither greater than nor equal to Q.

$P \& Q$ means P is neither smaller than nor equal to Q.

$P \% Q$ means P is not greater than Q.

$P \$ Q$ means P is not smaller than Q.

Now read the following statements and decide which of the conclusions is/are true.

Statements:

$M \& Q$

$R @ K$

$Q \# K$

Conclusions:

I. $Q \# R$

II. $M \% K$

III. $M \# R$

Options :

1. ✓ Only conclusion I is true.

2. ✗ Only conclusion II is true.

3. ✗ Only conclusion III is true.

4. ✗ All conclusions I, II and III are true.

Question Number : 16 Question Id : 5861803866 Question Type : MCQ Option Shuffling : Yes

Correct Marks : 1 Wrong Marks : 0.25

तीन कथन दिए गए हैं और उनके बाद तीन निष्कर्ष भी दिए गए हैं। इनमें प्रयुक्त प्रतीकों का अर्थ निम्नानुसार है:

$P @ Q$ का अर्थ है कि P न तो Q से छोटा है और न बड़ा है।

$P \# Q$ का अर्थ है कि P न तो Q से बड़ा है और न बराबर है।

$P \& Q$ का अर्थ है कि P न तो Q से छोटा है और न बराबर है।

$P \% Q$ का अर्थ है कि P Q से बड़ा नहीं है।

$P \$ Q$ का अर्थ है कि P Q से छोटा नहीं है।

अब निम्न कथनों को पढ़ें और तय करें कि इनमें से कौन सा/से निष्कर्ष सही है/हैं।

कथन:

$M \& Q$

$R @ K$

$Q \# K$

निष्कर्ष:

I. $Q \# R$

II. $M \% K$

III. $M \# R$

Options :

1. ✓ केवल निष्कर्ष I सही है।

2. ✗ केवल निष्कर्ष II सही है।

3. ✗ केवल निष्कर्ष III सही है।

4. ✗ सभी निष्कर्ष I, II और III सही हैं।

Question Number : 17 Question Id : 5861803867 Question Type : MCQ Option Shuffling : Yes

Correct Marks : 1 Wrong Marks : 0.25

Three statements are given, followed by four conclusions numbered I to IV. Assuming the statements to be true even if they seem to be at variance with commonly known facts, decide which of the conclusions logically follow(s) from the given statements.

Statements:

All pixels are photos.
Some pixels are boxes.
Some boxes are lenses.

Conclusions:

- I. Some photos are boxes.
- II. Some lenses are pixels.
- III. No lens is pixel.
- IV. No photo is box.

Options :

- 1. ✖ Only conclusion I and II follow.
- 2. ✖ Either conclusion II or III follow.
- 3. ✔ Only conclusion I and either II or III follow.
- 4. ✖ Either conclusion I or IV and either II or III follow.

Question Number : 17 Question Id : 5861803867 Question Type : MCQ Option Shuffling : Yes
Correct Marks : 1 Wrong Marks : 0.25

तीन कथन दिए हैं और उसके बाद I से IV अंकित चार निष्कर्ष भी दिए गए हैं। मान लें कि कथन सही हैं, भले ही वास्तविक तथ्यों से परे हैं, तय करें कि कौन सा निष्कर्ष तार्किक रूप से प्रदत्त कथन का अनुसरण करता है।

कथन:

सभी पिक्सेल तस्वीरें हैं।

कुछ पिक्सेल बॉक्स हैं।

कुछ बॉक्स लेंस हैं।

निष्कर्ष:

I. कुछ तस्वीरें बॉक्स हैं।

II. कुछ लेंस पिक्सेल हैं।

III. कोई लेंस पिक्सेल नहीं है।

IV. कोई तस्वीर बॉक्स नहीं है।

Options :

1. ✘ केवल निष्कर्ष I और II अनुसरण करते हैं।

2. ✘ निष्कर्ष II और III में से कोई अनुसरण करता है।

3. ✔ निष्कर्ष I और II या III में से कोई अनुसरण करता है।

4. ✘ निष्कर्ष I या IV और II या III में से कोई अनुसरण करता है।

Question Number : 18 Question Id : 5861803868 Question Type : MCQ Option Shuffling : Yes
Correct Marks : 1 Wrong Marks : 0.25

A team of six persons is to be selected from among five boys, K, L, M, N and O, and five girls, U, V, W, X and Y, such that there are equal number of boys and girls in the team and it meets the following criteria:

- i. W and Y have to be put together.
- ii. K and Y cannot go together.
- iii. N and Y must be together.
- iv. O and X have to be put together.
- v. L and O cannot go together.

Which of the following teams can be formed?

1. LVYOXW
2. KXNOWY
3. NVLYWM
4. MUNOYX

Options :

1. ✓ 3 only

2. ✗ 1 and 3

3. ✗ 4 only

4. ✗ 3 and 4

Question Number : 18 Question Id : 5861803868 Question Type : MCQ Option Shuffling : Yes

Correct Marks : 1 Wrong Marks : 0.25

पाँच लड़कों K, L, M, N और O और पाँच लड़कियों U, V, W, X और Y में से कुछ इस प्रकार से छह की टीम चुनी जानी है कि टीम में लड़के और लड़कियों की संख्या बराबर हो और निम्न मानदंड पूरे करती हो:

- i. W और Y को एक साथ रखना होगा।
- ii. K और Y एक साथ नहीं आ सकते।
- iii. N और Y एक साथ होने चाहिए।
- iv. O और X को एक साथ रखना होगा।
- v. L और O एक साथ नहीं आ सकते।

इनमें से कौन सा विकल्प एक टीम बन सकती है?

1. LVYOXW
2. KXNOWY
3. NVLYWM
4. MUNOYX

Options :

1. ✓ केवल 3

2. ✗ 1 और 3

3. ✗ केवल 4

4. ✗ 3 और 4

Question Number : 19 Question Id : 5861803869 Question Type : MCQ Option Shuffling : Yes

Correct Marks : 1 Wrong Marks : 0.25

The criteria for selecting a candidate for the post of 'Computer Engineer' are as follow.

The candidate:

1. must have passed Master of Computer Applications (M.C.A.) examination with at least 70% marks.
2. must have secured more than 65% marks in the written test and more than 75% in the interview.
3. must not be less than 24 years and not more than 35 years of age as on 1 January 2019.

However, if a candidate fulfils all the above criteria EXCEPT:

- a. no. 2, but has got more than 80% marks in M.C.A. examination, his/her case is to be referred to the Senior Engineer.
- b. no. 3, but has 2 years work experience as a computer engineer, his/her case is to be referred to the Unit Head.

Based on the criteria given and without assuming any additional information, you have to a take a decision for the following candidate.

Rajan completed M.C.A. with 72% marks. He has worked as software engineer for two years before applying for the current position. He was born on 24th December 1994. He has got 65% marks in the written test and 76% marks in the interview.

Options :

1. ✗ The candidate is to be selected.

2. ✓ The candidate is not to be selected.

3. ✗ The candidate's case is to be referred to the Senior Engineer.

4. ✖ The candidate's case is to be referred to Unit Head.

Question Number : 19 Question Id : 5861803869 Question Type : MCQ Option Shuffling : Yes
Correct Marks : 1 Wrong Marks : 0.25

'कंप्यूटर इंजीनियर' के पद के लिए उम्मीदवार चुनने के लिए मानदंड निम्नानुसार हैं:

उम्मीदवार:

1. मास्टर ऑफ कंप्यूटर एप्लीकेशन (एम.सी.ए.) होना चाहिए और उसके न्यूनतम 70% अंक होने चाहिए।
2. लिखित परीक्षा में अंक 65% से अधिक होने चाहिए और साक्षात्कार में 75% से अधिक होने चाहिए।
3. 1 जनवरी 2019 तक उसकी उम्र 24 साल से कम या 35 साल से अधिक नहीं होनी चाहिए।

हालाँकि, यदि उम्मीदवार उक्त सभी मानदंड पूरे करता है, सिवाए:

- a. नं. 2, लेकिन उसके एम.सी.ए. में 80% से अधिक अंक हैं, तो उसका मामला वरिष्ठ इंजीनियर को भेजा जाएगा।
- b. नं. 3, लेकिन उसके पास कंप्यूटर इंजीनियर के तौर पर काम करने का 2 साल का अनुभव है, तो उसका मामला इकाई मुखिया को भेजा जाएगा।

प्रदत्त मानदंडों के आधार पर और किसी भी अतिरिक्त जानकारी पर गौर किए बिना, आपको निम्न उम्मीदवार के लिए फैसला लेना है।

राजन ने 72% अंकों के साथ एम.सी.ए. पूरी की है। उसने वर्तमान पद के लिए आवेदन करने से पहले सॉफ्टवेर इंजीनियर के तौर पर 2 साल काम किया हुआ है। उसका जन्म 24 दिसंबर 1994 को हुआ था। उसे लिखित परीक्षा में 65% और साक्षात्कार में 76% अंक मिले हैं।

Options :

1. ✖ उम्मीदवार चुना जाना चाहिए।

2. ✔ उम्मीदवार को नहीं चुना जाना चाहिए।

3. ✖ उम्मीदवार के मामले को वरिष्ठ इंजीनियर को भेजा जाएगा।

4. ✖ उम्मीदवार के मामले को इकाई मुखिया को भेजा जाएगा।

Question Number : 20 Question Id : 5861803870 Question Type : MCQ Option Shuffling : Yes

Correct Marks : 1 Wrong Marks : 0.25

The criteria for selecting a candidate for the post of 'Sales Executive' are as follow.

The candidate:

1. must have completed graduation in any stream with at least 60% marks.
2. must have secured at least 60% marks in the Mathematics paper in Class 12 examination.
3. must have at least two years experience of working as a sales executive.

However, if a candidate fulfils all the above criteria EXCEPT:

- a. no. 2, but has got more than 70% marks in graduation, his/her case is to be referred to the Deputy Director.
- b. no. 1, but has 4 years of work experience as sales executive, his/her case is to be referred to the Senior Sales Manager.

Based on the criteria given and without assuming any additional information, you have to take a decision for the following candidate.

Tanya has passed Class 12 examination with 60% marks. She is pursuing her graduation. She has got four years work experience as sales executive She obtained 62% marks in Mathematics in class 12.

Options :

1. ✖ The candidate is to be selected.

2. ✖ The candidate is not to be selected.

3. ✖ The candidate's case is to be referred to the Deputy Director.

4. ✔ The candidate's case is to be referred to Senior Sales Manager.

Question Number : 20 Question Id : 5861803870 Question Type : MCQ Option Shuffling : Yes

Correct Marks : 1 Wrong Marks : 0.25

'विक्रय कार्यकारी' के पद के लिए उम्मीदवार चुनने के लिए मानदंड निम्नानुसार हैं:

उम्मीदवार:

1. किसी भी विषय में स्नातक होना चाहिए और उसके न्यूनतम 60% अंक होने चाहिए।
2. 12वीं कक्षा की परीक्षा में गणित में न्यूनतम 60% अंक होने चाहिए।
3. कम से कम 2 सालों का विक्रय कार्यकारी का अनुभव होना चाहिए।

हालाँकि, यदि उम्मीदवार उक्त सभी मानदंड पूरे करता है, सिवाए:

- a. नं. 2, लेकिन उसके स्नातक में 70% से अधिक अंक हैं, तो उसका मामला उप-निदेशक को भेजा जाएगा।
- b. नं. 1, लेकिन उसके पास विक्रय कार्यकारी के तौर पर काम करने का 4 साल का अनुभव है, तो उसका मामला वरिष्ठ विक्रय प्रबंधक को भेजा जाएगा।

प्रदत्त मानदंडों के आधार पर और किसी भी अतिरिक्त जानकारी पर गौर किए बिना, आपको निम्न उम्मीदवार के लिए फैसला लेना है।

तान्या ने 12वीं कक्षा 60% अंकों के साथ पास की है। वह अभी स्नातक कर रही है। उसके पास विक्रय कार्यकारी के तौर पर काम करने का चार साल का अनुभव है। उसे 12वीं कक्षा में गणित में 62% अंक मिले हैं।

Options :

1. ✘ उम्मीदवार चुना जाना चाहिए।
2. ✘ उम्मीदवार को नहीं चुना जाना चाहिए।
3. ✘ उम्मीदवार के मामले को उप-निदेशक को भेजा जाएगा।
4. ✔ उम्मीदवार के मामले को वरिष्ठ विक्रय प्रबंधक को भेजा जाएगा।

Mental Ability2

Group Number :

2

Group Id :

586180183

Group Maximum Duration :	0
Group Minimum Duration :	0
Show Attended Group? :	No
Edit Attended Group? :	No
Break time:	0
Group Marks:	20
Is this Group for Examiner?:	No
Revisit allowed for group Instructions? :	Yes
Maximum Instruction Time:	0
Minimum Instruction Time:	0

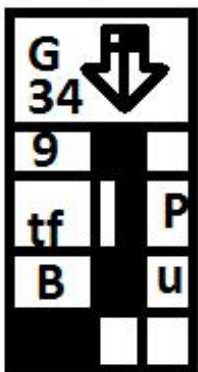
Mental Ability2

Section Id :	586180187
Section Number :	1
Section type :	Online
Mandatory or Optional:	Mandatory
Number of Questions:	20
Number of Questions to be attempted:	20
Section Marks:	20

Sub-Section Number:	1
Sub-Section Id:	586180258
Question Shuffling Allowed :	Yes

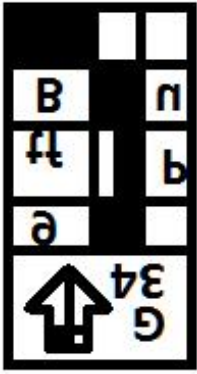
Question Number : 21 Question Id : 5861803871 Question Type : MCQ Option Shuffling : Yes
 Correct Marks : 1 Wrong Marks : 0.25

Which of the option figures represents the correct water image of the figure given below?

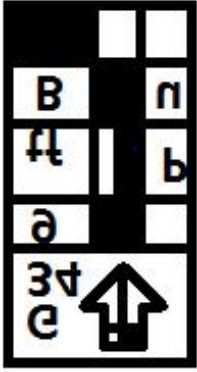


Options :

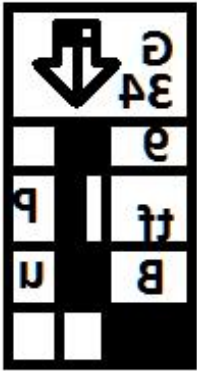
1. ✖



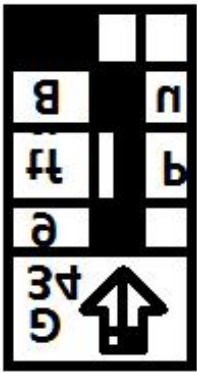
2. ✔



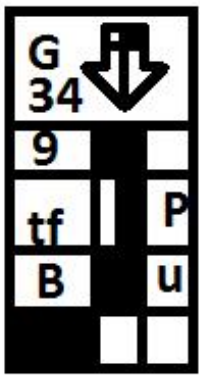
3. ✖



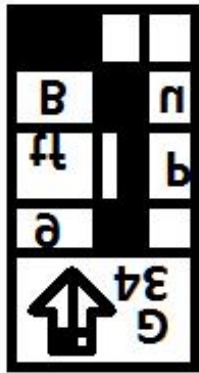
4. ✖



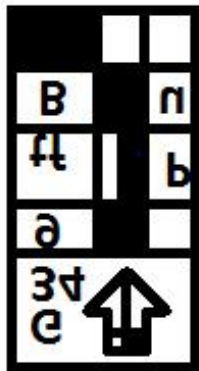
निम्न में से कौन सा विकल्प आंकड़ा नीचे दी गई आकृति की सही जल प्रतिबिंब को दर्शाता है?



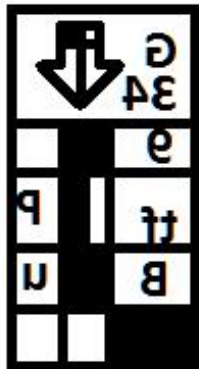
Options :



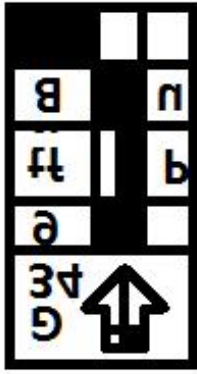
1. ✘



2. ✔



3. ✘



4. ✘

Question Number : 22 Question Id : 5861803872 Question Type : MCQ Option Shuffling : Yes

Correct Marks : 1 Wrong Marks : 0.25

Select the correct mirror image of the given cluster when a vertical mirror is placed on the right of the word.

kt54etznp6QNoprW

Options :

1. ✘ **W1rqoN09dnzt9451K**

2. ✔ **W1rqoN09dnzt9451K**

3. ✘ **W1rqoN09dnzt9451K**

4. ✘ **W1rqoN09dnzt9451K**

Question Number : 22 Question Id : 5861803872 Question Type : MCQ Option Shuffling : Yes

Correct Marks : 1 Wrong Marks : 0.25

प्रदत्त समूह की सही दर्पण छवि चुनें, अगर शब्द के दाहिने ओर एक ऊर्ध्वाधर दर्पण रखा जाता है।

kt54etznp6QNoprW

Options :

1. ✘ **W1rqoN09dnzt9451K**

2. ✓ W1qoN09dnzte42tl

3. ✗ W1qoN09dnzte42tl

4. ✗ W1qoN09dnzte42tl

Question Number : 23 Question Id : 5861803873 Question Type : MCQ Option Shuffling : Yes

Correct Marks : 1 Wrong Marks : 0.25

Eight symbol-number clusters are given below three of which are same. Find the three clusters that are exactly same.

(A) @ 5 & 7& 4 # S 5 ^ & * 7 8 %

(B) @ 5 & 7& 4 # & 5 ^ & * 8 6 %

(C) @ 5 & 7& 9 # & 5 ^ & * 7 8 %

(D) @ 5 & 8 & 4 # & 5 ^ & * 7 8 %

(E) @ 5 & 7& 4 # & 5 + & * 7 8 %

(F) @ 5 & 7& 4 # & 5 ^ & * 7 8 %

(G) @ 5 & 7& 4 # & 5 ^ & * 7 8 %

(H) @ 5 & 7& 4 # & 5 ^ & * 7 8 %

Options :

1. ✗ B, C and E

2. ✗ A, C and D

3. ✗ B, D and H

4. ✓ F, G and H

Question Number : 23 Question Id : 5861803873 Question Type : MCQ Option Shuffling : Yes

Correct Marks : 1 Wrong Marks : 0.25

नीचे आठ प्रतीक-संख्या के समूह दिए गए हैं, इनमें से तीन एक समान हैं। बिलकुल समान तीन समूह पता करें।

- (A) @ 5 & 7& 4 # \$ 5 ^ & * 7 8 %
(B) @ 5 & 7& 4 # & 5 ^ & * 8 6 %
(C) @ 5 & 7& 9 # & 5 ^ & * 7 8 %
(D) @ 5 & 8 & 4 # & 5 ^ & * 7 8 %
(E) @ 5 & 7& 4 # & 5 + & * 7 8 %
(F) @ 5 & 7& 4 # & 5 ^ & * 7 8 %
(G) @ 5 & 7& 4 # & 5 ^ & * 7 8 %
(H) @ 5 & 7& 4 # & 5 ^ & * 7 8 %

Options :

1. ✘ B, C और E

2. ✘ A, C और D

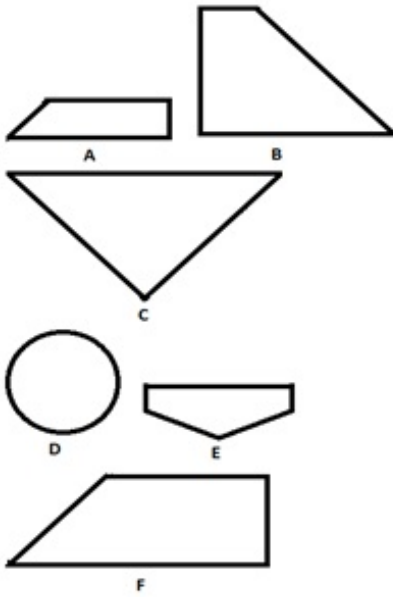
3. ✘ B, D और H

4. ✔ F, G और H

Question Number : 24 Question Id : 5861803874 Question Type : MCQ Option Shuffling : Yes

Correct Marks : 1 Wrong Marks : 0.25

Which of the given figures, when fitted into each other would form rectangle?
Select an appropriate combination from the given options.



Options :

1. ✘ ABCE

2. ✘ ABCD

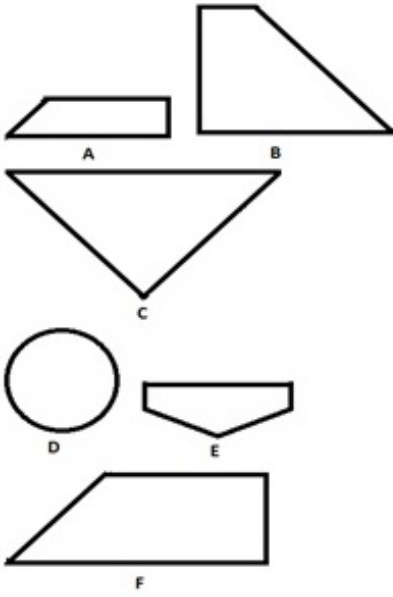
3. ✔ ABCF

4. ✘ BCDF

Question Number : 24 Question Id : 5861803874 Question Type : MCQ Option Shuffling : Yes

Correct Marks : 1 Wrong Marks : 0.25

इनमें से कौन सी आकृतियाँ एक दूसरे से जोड़े जाने पर एक आयात बनाएँगी?
प्रदत्त विकल्पों में से समुचित संयोजन चुनें।



Options :

1. ✘ ABCE

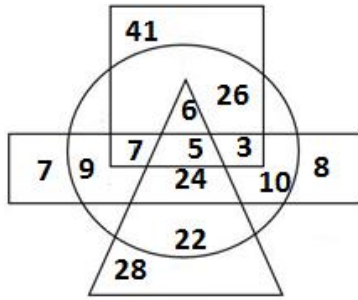
2. ✘ ABCD

3. ✔ ABCF

4. ✘ BCDF

Question Number : 25 Question Id : 5861803875 Question Type : MCQ Option Shuffling : Yes
Correct Marks : 1 Wrong Marks : 0.25

In the diagram given below, the circle stands for 'coffee lovers', the triangle stands for 'Ice-cream lovers', the rectangle stands for 'Tea lovers', and the square stands for 'Cake lovers'. The numbers in different segments represent the number of persons.



Which of following statement is NOT correct?

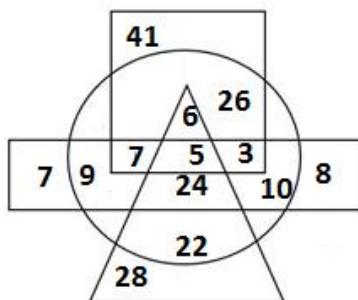
Options :

1. ✖ The number of persons who love tea, coffee and cake but not ice-cream is 10.
2. ✔ The number of persons who love tea, cake and ice-cream but not coffee is 41
3. ✖ The number of persons who love tea, coffee and ice-cream but not cake is 24.
4. ✖ The total number of persons who love tea and coffee only is 19.

Question Number : 25 Question Id : 5861803875 Question Type : MCQ Option Shuffling : Yes

Correct Marks : 1 Wrong Marks : 0.25

नीचे प्रदत्त आरेख में, वृत्त 'काँफी प्रेमियों' को दर्शाता है, त्रिभुज 'आइसक्रीम प्रेमियों' को दर्शाता है, आयत 'चाय प्रेमियों' को दर्शाता है और वर्ग 'केक प्रेमियों' को दर्शाता है। अलग-अलग खंडों की दी गई संख्याएँ व्यक्तियों की संख्या को दर्शाती हैं।



इनमें से कौन सा कथन सही नहीं है?

Options :

1. ✘ आइसक्रीम छोड़कर चाय, कॉफी और केक पसंद करने वाले लोगों की संख्या 10 है।
2. ✔ कॉफी छोड़कर चाय, केक और आइसक्रीम पसंद करने वाले लोगों की संख्या 41 है।
3. ✘ केक छोड़कर चाय, कॉफी और आइसक्रीम पसंद करने वाले लोगों की संख्या 24 है।
4. ✘ केवल चाय और कॉफी पसंद करने वाले लोगों की संख्या 19 है।

Question Number : 26 Question Id : 5861803876 Question Type : MCQ Option Shuffling : Yes
 Correct Marks : 1 Wrong Marks : 0.25

Select the option figure which contains figure X embedded in it as its part.

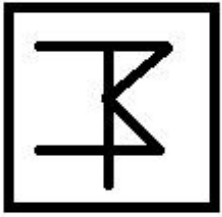
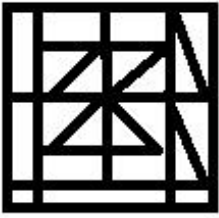


Figure-X

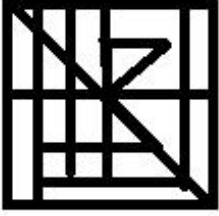
Options :



3. ✓



4. ✘



Question Number : 26 Question Id : 5861803876 Question Type : MCQ Option Shuffling : Yes

Correct Marks : 1 Wrong Marks : 0.25

इनमें से वह आकृति चुनें जिसमें आकृति X इसका एक भाग है।

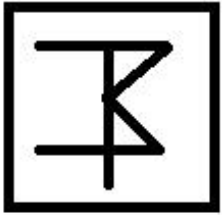
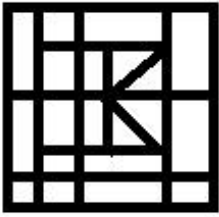


Figure-X

Options :

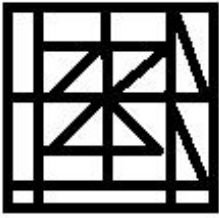
1. ✘



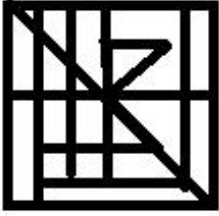
2. ✘



3. ✓



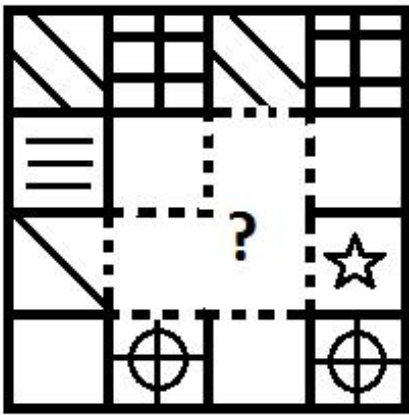
4. ✘



Question Number : 27 Question Id : 5861803877 Question Type : MCQ Option Shuffling : Yes

Correct Marks : 1 Wrong Marks : 0.25

Which of the following option figure will complete the pattern in the figure given below?

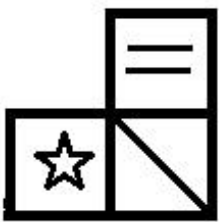


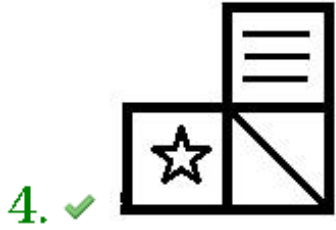
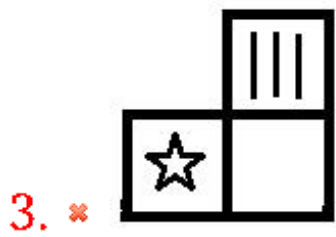
Options :

1. ✘



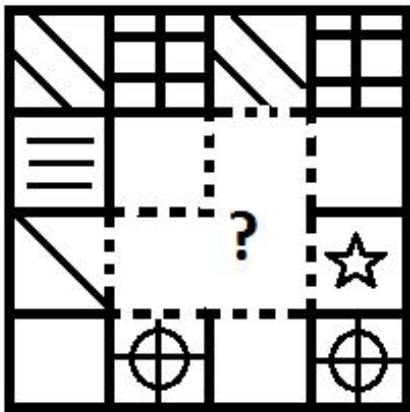
2. ✘





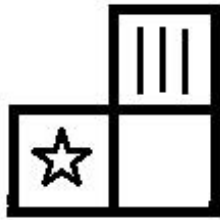
Question Number : 27 Question Id : 5861803877 Question Type : MCQ Option Shuffling : Yes
 Correct Marks : 1 Wrong Marks : 0.25

इनमें से कौन सी आकृति नीचे प्रदत्त आकृति पैटर्न को पूरा करेगी?



Options :





3. ✖



4. ✔

Question Number : 28 Question Id : 5861803878 Question Type : MCQ Option Shuffling : Yes

Correct Marks : 1 Wrong Marks : 0.25

Pointing towards Abdul, Safeeq said, "He is the son of the father of the mother of my daughter." How is Abdul related to Safeeq?

Options :

1. ✖ Father-in-law

2. ✔ Brother-in-law

3. ✖ Uncle

4. ✖ Brother

Question Number : 28 Question Id : 5861803878 Question Type : MCQ Option Shuffling : Yes

Correct Marks : 1 Wrong Marks : 0.25

अब्दुल की ओर इशारा करते हुए, सफीक ने कहा कि, "वह मेरी लड़की की माता के पिता का बेटा है।" अब्दुल और सफीक का रिश्ता पता करें।

Options :

1. ✖ ससुर

2. ✓ बहनोई

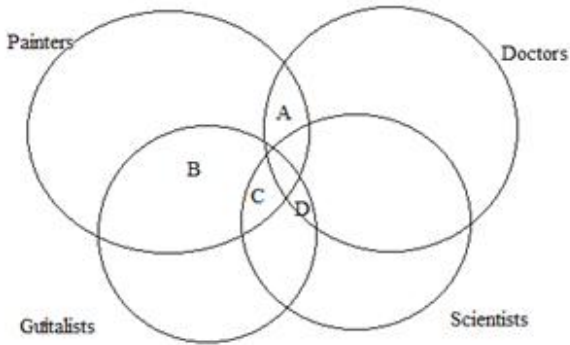
3. ✗ चाचा

4. ✗ भाई

Question Number : 29 Question Id : 5861803879 Question Type : MCQ Option Shuffling : Yes

Correct Marks : 1 Wrong Marks : 0.25

In the given image, which letter represents the doctors who are guitarists and scientists but not painters?



Options :

1. ✗ A

2. ✗ B

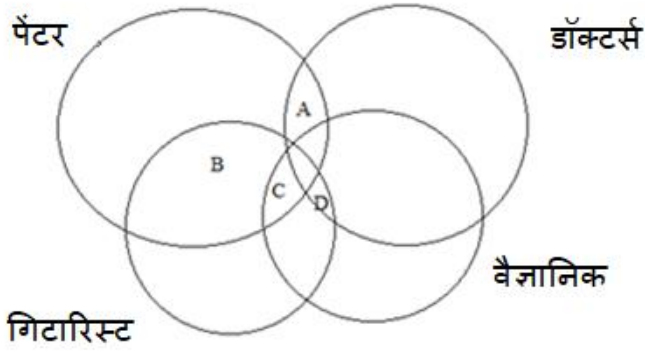
3. ✗ C

4. ✓ D

Question Number : 29 Question Id : 5861803879 Question Type : MCQ Option Shuffling : Yes

Correct Marks : 1 Wrong Marks : 0.25

प्रदत्त चित्र में कौन सा वर्ण डॉक्टर्स का प्रतिनिधित्व करता है, जो गिटारिस्ट और वैज्ञानिक हैं, परंतु पेंटर नहीं हैं?



Options :

1. ✘ A

2. ✘ B

3. ✘ C

4. ✔ D

Question Number : 30 Question Id : 5861803880 Question Type : MCQ Option Shuffling : Yes

Correct Marks : 1 Wrong Marks : 0.25

A question is given, followed by four statements labelled I, II, III and IV each containing some information. Decide which of the statements is/are sufficient/necessary to answer the question.

Question:

How is Q related to P?

Statements:

- I. C is son of P, who is married to M.
- II. C has a daughter S.
- III. Q is paternal uncle of S's sister.
- IV. M is mother of Q.

Options :

1. ✘ Statement I and II together are sufficient.
2. ✔ Statement I, II and III together are sufficient.
3. ✘ Statement I, III and IV together are sufficient.
4. ✘ All the statements together are necessary.

Question Number : 30 Question Id : 5861803880 Question Type : MCQ Option Shuffling : Yes

Correct Marks : 1 Wrong Marks : 0.25

एक प्रश्न के बाद I, II, III और IV लेबल के तहत चार कथन दिए गए हैं, प्रत्येक में कुछ न कुछ जानकारी दी गई है। तय करें कि प्रश्न का उत्तर देने के लिए इनमें से कौन सा/से कथन पर्याप्त/ज़रूरी है/हैं।

प्रश्न:

Q P से कैसे सम्बंधित है?

कथन:

- I. C P का बेटा है, जिसकी शादी M से हुई है।
- II. S C की लड़की है।
- III. Q S की बहन का चाचा/ताया है।
- IV. M Q की माता है।

Options :

1. ✘ कथन I और II एकसाथ पर्याप्त हैं।
2. ✔ कथन I, II और III एकसाथ पर्याप्त हैं।
3. ✘ कथन I, III और IV एकसाथ पर्याप्त हैं।

4. ✖ सभी कथन एकसाथ पर्याप्त हैं।

Question Number : 31 Question Id : 5861803881 Question Type : MCQ Option Shuffling : Yes

Correct Marks : 1 Wrong Marks : 0.25

If 'NECTER' is coded as 99 in a code language, how would 'REGION' be coded in the same code language?

Options :

1. ✖ 88

2. ✔ 91

3. ✖ 95

4. ✖ 97

Question Number : 31 Question Id : 5861803881 Question Type : MCQ Option Shuffling : Yes

Correct Marks : 1 Wrong Marks : 0.25

यदि किसी कोड भाषा में 'NECTER' को 99 कोड किया गया है, तो उसी कोड भाषा में 'REGION' को क्या कोड किया जाएगा?

Options :

1. ✖ 88

2. ✔ 91

3. ✖ 95

4. ✖ 97

Question Number : 32 Question Id : 5861803882 Question Type : MCQ Option Shuffling : Yes

Correct Marks : 1 Wrong Marks : 0.25

Which of the following pairs of numbers and signs, when their positions are interchanged, will correctly solve the given mathematical equation?

$$515 + 832 - 48 \times 32 \div 8 = 1755$$

Options :

1. ✘ 515 and 48, + and \div

2. ✘ 832 and 48, - and \times

3. ✔ 32 and 48, - and \div

4. ✘ 32 and 48, + and -

Question Number : 32 Question Id : 5861803882 Question Type : MCQ Option Shuffling : Yes

Correct Marks : 1 Wrong Marks : 0.25

संख्याओं और चिहनों के इन युग्मों में से कौन सा युग्म उनकी स्थिति आपस में बदलने पर एक प्रदत्त गणितीय समीकरण को सही से हल करेगा?

$$515 + 832 - 48 \times 32 \div 8 = 1755$$

Options :

1. ✘ 515 और 48, + और \div

2. ✘ 832 और 48, - और \times

3. ✔ 32 और 48, - और \div

4. ✘ 32 और 48, + और -

Question Number : 33 Question Id : 5861803883 Question Type : MCQ Option Shuffling : Yes

Correct Marks : 1 Wrong Marks : 0.25

A total of 550 students play one of the three games tennis, badminton and hockey. Only 12% play all the three games. The number of students who play any two and only two games is 24% of the total students. The number of students who play hockey alone is 148. What is the total number of students who play badminton alone or tennis alone?

Options :

1. ✖ 198

2. ✖ 202

3. ✔ 204

4. ✖ 208

Question Number : 33 Question Id : 5861803883 Question Type : MCQ Option Shuffling : Yes

Correct Marks : 1 Wrong Marks : 0.25

टेनिस, बैडमिंटन और हॉकी की तीनों गेम्स में कुल 550 छात्र हिस्सा ले रहे हैं। केवल 12% ही तीनों गेम्स में भाग ले रहे हैं। किन्हीं दो गेम्स या केवल दो गेम्स में खेलने वाले छात्रों की संख्या कुल छात्रों की 24% है। केवल हॉकी खेलने वाले छात्रों की संख्या 148 है। केवल बैडमिंटन या केवल टेनिस खेलने वाले कुल छात्रों की संख्या पता करें?

Options :

1. ✖ 198

2. ✖ 202

3. ✔ 204

4. ✖ 208

Question Number : 34 Question Id : 5861803884 Question Type : MCQ Option Shuffling : Yes

Correct Marks : 1 Wrong Marks : 0.25

Among five objects P, Q, R, S and T; R is two and a half times heavier than S; Q is twice heavier than P; P is one and a half times heavier than R. T is half as heavy as Q. Which of the following the statements is NOT correct?

Options :

1. ✓ Q is two times heavier than R.
2. ✘ P and T are equally heavy.
3. ✘ Q is the heaviest among all the objects.
4. ✘ Q is 7.5 times heavier than S.

Question Number : 34 Question Id : 5861803884 Question Type : MCQ Option Shuffling : Yes

Correct Marks : 1 Wrong Marks : 0.25

पाँच वस्तुओं P, Q, R, S और T में से; R S से ढाई गुना भारी है; Q P से दोगुनी भारी है; P R से डेढ़ गुना भारी है; T Q से आधी भारी है। इनमें से कौन सा कथन सही नहीं है?

Options :

1. ✓ Q R से दोगुना भारी है।
2. ✘ P और T दोनों बराबर भारी हैं।
3. ✘ Q सभी वस्तुओं में सबसे भारी है।
4. ✘ Q S से 7.5 गुना भारी है।

Question Number : 35 Question Id : 5861803885 Question Type : MCQ Option Shuffling : Yes

Correct Marks : 1 Wrong Marks : 0.25

Four persons A, B, C and D have different amount of rupees with them. B says to D, 'If you give me 5 rupees, I will have five rupees less than A.' C says to D, 'If I give you one rupee, I will have exactly double amount than you.' C says to A, 'If I give you 8 rupees, I will have 5 rupees more than you'. If A and B together have total 86 rupees, how many rupees does A have?

Options :

1. ✘ 45

2. ✖ 46

3. ✖ 47

4. ✔ 48

Question Number : 35 Question Id : 5861803885 Question Type : MCQ Option Shuffling : Yes

Correct Marks : 1 Wrong Marks : 0.25

चार व्यक्तियों A, B, C और D के पास अलग-अलग रुपये हैं। B, D से कहता है, "अगर तुम मुझे 5 रुपये दे दो, तो मेरे पास A से पांच रुपये कम होंगे।" C, D से कहता है, "अगर मैं तुम्हें 1 रुपया दे दूँ, तो मेरे पास तुमसे ठीक दोगुने रुपये हो जाएँगे।" C, A से कहता है, "अगर मैं तुम्हें 8 रुपये दे दूँ, तो मेरे पास तुमसे 5 रुपये ज्यादा होंगे।" यदि A और B दोनों के पास कुल 86 रुपये हैं, तो A के पास कितने रुपये हैं?

Options :

1. ✖ 45

2. ✖ 46

3. ✖ 47

4. ✔ 48

Question Number : 36 Question Id : 5861803886 Question Type : MCQ Option Shuffling : Yes

Correct Marks : 1 Wrong Marks : 0.25

Three of the given four words are similar in a certain manner while one is different. Choose the odd one out.

Options :

1. ✖ Hertz

2. ✖ Pascal

3. ✓ Density

4. ✗ Joule

Question Number : 36 Question Id : 5861803886 Question Type : MCQ Option Shuffling : Yes
Correct Marks : 1 Wrong Marks : 0.25

प्रदत्त चार शब्दों में से तीन एक तरीके से समान हैं, जबकि एक अलग है। इनमें से विषम चुनें।

Options :

1. ✗ हर्ट्ज़

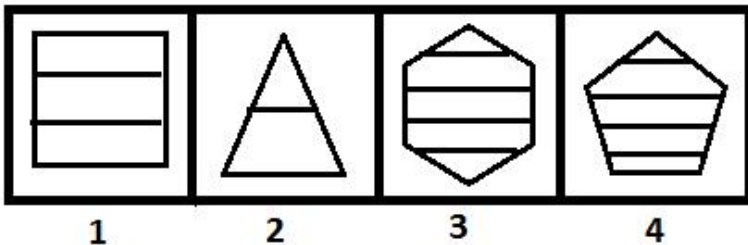
2. ✗ पास्कल

3. ✓ घनत्व

4. ✗ जूल

Question Number : 37 Question Id : 5861803887 Question Type : MCQ Option Shuffling : Yes
Correct Marks : 1 Wrong Marks : 0.25

Three of the given four figures are similar in a certain manner while one is different. Choose the odd one out.



Options :

1. ✗ 1

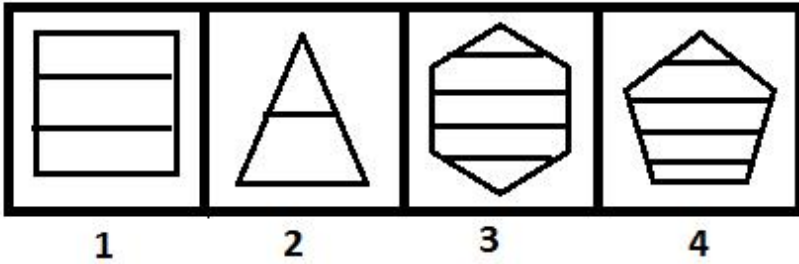
2. ✗ 2

3. ✖ 3

4. ✔ 4

Question Number : 37 Question Id : 5861803887 Question Type : MCQ Option Shuffling : Yes
Correct Marks : 1 Wrong Marks : 0.25

प्रदत्त चार आकृतियों में से तीन एक तरीके से समान हैं, जबकि एक अलग है। इनमें से विषम चुनें।



Options :

1. ✖ 1

2. ✖ 2

3. ✖ 3

4. ✔ 4

Question Number : 38 Question Id : 5861803888 Question Type : MCQ Option Shuffling : Yes
Correct Marks : 1 Wrong Marks : 0.25

Which number will replace the question mark (?) in the following series?

4, 5, 5, 7, ?, 17

Options :

1. ✖ 12

2. ✓ 14

3. ✖ 15

4. ✖ 13

Question Number : 38 Question Id : 5861803888 Question Type : MCQ Option Shuffling : Yes

Correct Marks : 1 Wrong Marks : 0.25

वह विकल्प चुनें जो श्रृंखला में प्रश्न चिन्ह (?)को सही प्रतिस्थापित करेगा।

4, 5, 5, 7, ?, 17

Options :

1. ✖ 12

2. ✓ 14

3. ✖ 15

4. ✖ 13

Question Number : 39 Question Id : 5861803889 Question Type : MCQ Option Shuffling : Yes

Correct Marks : 1 Wrong Marks : 0.25

Which number will replace the question mark (?) in the following series?

28, 32, 43, 73, ?

Options :

1. ✖ 139

2. ✓ 140

3. ✖ 141

4. ✖ 142

Question Number : 39 Question Id : 5861803889 Question Type : MCQ Option Shuffling : Yes

Correct Marks : 1 Wrong Marks : 0.25

वह विकल्प चुनें जो श्रृंखला में प्रश्न चिन्ह (?)को सही प्रतिस्थापित करेगा।

28, 32, 43, 73, ?

Options :

1. ✖ 139

2. ✓ 140

3. ✖ 141

4. ✖ 142

Question Number : 40 Question Id : 5861803890 Question Type : MCQ Option Shuffling : Yes

Correct Marks : 1 Wrong Marks : 0.25

Which number will replace the question mark (?) in the following series?

32,41,55,80,122, ?

Options :

1. ✖ 190

2. ✖ 210

3. ✖ 185

4. ✔ 187

Question Number : 40 Question Id : 5861803890 Question Type : MCQ Option Shuffling : Yes

Correct Marks : 1 Wrong Marks : 0.25

वह विकल्प चुनें जो श्रृंखला में प्रश्न चिन्ह (?) को सही प्रतिस्थापित करेगा।

32,41,55,80,122, ?

Options :

1. ✖ 190

2. ✖ 210

3. ✖ 185

4. ✔ 187

General Awareness1

Group Number :	3
Group Id :	586180184
Group Maximum Duration :	0
Group Minimum Duration :	0
Show Attended Group? :	No
Edit Attended Group? :	No
Break time:	0
Group Marks:	20
Is this Group for Examiner?:	No

Revisit allowed for group Instructions? :	Yes
Maximum Instruction Time:	0
Minimum Instruction Time:	0

General Awareness1

Section Id :	586180188
Section Number :	1
Section type :	Online
Mandatory or Optional:	Mandatory
Number of Questions:	20
Number of Questions to be attempted:	20
Section Marks:	20

Sub-Section Number:	1
Sub-Section Id:	586180259
Question Shuffling Allowed :	Yes

Question Number : 41 Question Id : 5861803891 Question Type : MCQ Option Shuffling : Yes
Correct Marks : 1 Wrong Marks : 0.25

In the text, SMS, email and chat language, what does the abbreviation RSVP mean?

Options :

1. ✖ Mark my words
2. ✔ Please reply
3. ✖ See you later
4. ✖ End of discussion

Question Number : 41 Question Id : 5861803891 Question Type : MCQ Option Shuffling : Yes
Correct Marks : 1 Wrong Marks : 0.25

टेक्स्ट, एसएमएस, ईमेल और चैट भाषा में, संक्षिप्त नाम आरएसवीपी (RSVP) का क्या अर्थ है?

Options :

1. ✖ मेरी बातों को मार्क करें
2. ✔ कृपया उत्तर दें
3. ✖ बाद में मिलते हैं

4. * चर्चा का अंत करना

Question Number : 42 Question Id : 5861803892 Question Type : MCQ Option Shuffling : Yes
Correct Marks : 1 Wrong Marks : 0.25

Name the Hindu deity for whom the agricultural plough is the typically depicted weapon (Ayudha).

Options :

1. * Parasurama
2. * Ganesh
3. ✓ Balarama
4. * Subramanya

Question Number : 42 Question Id : 5861803892 Question Type : MCQ Option Shuffling : Yes
Correct Marks : 1 Wrong Marks : 0.25

कृषि के लिए इस्तेमाल किया जाने वाला हल, निम्नलिखित में से किस हिंदू देवता का शस्त्र है?

Options :

1. * परशुराम
2. * गणेश
3. ✓ बलराम
4. * सुब्रमण्य

Question Number : 43 Question Id : 5861803893 Question Type : MCQ Option Shuffling : Yes
Correct Marks : 1 Wrong Marks : 0.25

What is the actual meaning of the commonly used English phrase, 'Let the cat out of the bag'?

Options :

1. * Going for an expensive shopping spree
2. * Start creating nuisance
3. ✓ Accidentally reveal a secret
4. * Something that will never ever happen

Question Number : 43 Question Id : 5861803893 Question Type : MCQ Option Shuffling : Yes

Correct Marks : 1 Wrong Marks : 0.25

अंग्रेजी भाषा में आमतौर पर उपयोग किए जाने वाक्यांश 'Let the cat out of the bag' का वास्तविक अर्थ क्या है?

Options :

1. * एक महंगी खरीदारी के लिए जाना
2. * उपद्रव शुरू करना
3. ✓ अकस्मात एक रहस्य का पता चलता है
4. * कुछ ऐसा जो कभी नहीं होगा

Question Number : 44 Question Id : 5861803894 Question Type : MCQ Option Shuffling : Yes

Correct Marks : 1 Wrong Marks : 0.25

Which of these everyday household appliances works on the basis of a compressor?

Options :

1. ✓ Refrigerator
2. * Microwave oven
3. * Washing machine
4. * Television set

Question Number : 44 Question Id : 5861803894 Question Type : MCQ Option Shuffling : Yes

Correct Marks : 1 Wrong Marks : 0.25

इनमें से कौन सा रोजमर्रा का घरेलू उपकरण कंप्रेसर के आधार पर काम करता है?

Options :

1. ✓ फ्रिज (रेफ्रिजरेटर)
2. * माइक्रोवेव ओवन
3. * वॉशिंग मशीन
4. * टेलिविजन सेट

Question Number : 45 Question Id : 5861803895 Question Type : MCQ Option Shuffling : Yes

Correct Marks : 1 Wrong Marks : 0.25

Name the country that recently imposed a 2-year jail sentence on business tycoon Ness Wadia for the possession of drugs while vacationing in that country.

Options :

1. ✖ Malaysia
2. ✖ Indonesia
3. ✖ Thailand
4. ✔ Japan

Question Number : 45 Question Id : 5861803895 Question Type : MCQ Option Shuffling : Yes

Correct Marks : 1 Wrong Marks : 0.25

निम्नलिखित में से वह कौन सा देश है जिसने हाल ही में उस देश में छुट्टियां मनाते समय ड्रग्स रखने के आरोप में बिजनेस टायकून नेस वाडिया पर 2 साल की जेल की सजा सुनाई थी?

Options :

1. ✖ मलेशिया
2. ✖ इंडोनेशिया
3. ✖ थाईलैंड
4. ✔ जापान

Question Number : 46 Question Id : 5861803896 Question Type : MCQ Option Shuffling : Yes

Correct Marks : 1 Wrong Marks : 0.25

Over the last few years, all cyclones are given a name by which they can be tracked. What is the name of the latest cyclone that hit the Bay of Bengal coast in early May 2019?

Options :

1. ✔ Cyclone Fani
2. ✖ Cyclone Bijli

3. * Cyclone Akash

4. * Cyclone Titli

Question Number : 46 Question Id : 5861803896 Question Type : MCQ Option Shuffling : Yes

Correct Marks : 1 Wrong Marks : 0.25

पिछले कुछ वर्षों में, सभी चक्रवातों को एक नाम दिया गया है जिसके द्वारा उन्हें ट्रैक किया जा सकता है। मई 2019 की शुरुआत में बंगाल की खाड़ी के तट पर आने वाले नवीनतम चक्रवात (cyclone) का क्या नाम है?

Options :

1. ✓ चक्रवात फेनी

2. * चक्रवात बिजली

3. * चक्रवात आकाश

4. * चक्रवात तितली

Question Number : 47 Question Id : 5861803897 Question Type : MCQ Option Shuffling : Yes

Correct Marks : 1 Wrong Marks : 0.25

Name the country where the current Emperor has abdicated his throne in May 2019. This is the first abdication of throne happening in this country in the last 200 years.

Options :

1. * Thailand

2. ✓ Japan

3. * Bhutan

4. * Denmark

Question Number : 47 Question Id : 5861803897 Question Type : MCQ Option Shuffling : Yes

Correct Marks : 1 Wrong Marks : 0.25

निम्नलिखित में से किस देश के वर्तमान सम्राट ने मई 2019 में अपना सिंहासन छोड़ दिया है? यह पिछले 200 वर्षों में इस देश में होने वाले सिंहासन का पहला राज-त्याग है।

Options :

1. * थाईलैंड
2. ✓ जापान
3. * भूटान
4. * डेनमार्क

Question Number : 48 Question Id : 5861803898 Question Type : MCQ Option Shuffling : Yes
Correct Marks : 1 Wrong Marks : 0.25

In which South American country is a tussle currently going on between its President Nicolás Maduro and opposition leader Juan Guaidó? The country is in the brink of an armed rebellion.

Options :

1. * Ecuador
2. * Columbia
3. ✓ Venezuela
4. * Peru

Question Number : 48 Question Id : 5861803898 Question Type : MCQ Option Shuffling : Yes
Correct Marks : 1 Wrong Marks : 0.25

निम्नलिखित में से किस दक्षिण अमेरिकी देश में, वर्तमान राष्ट्रपति निकोलस मादुरो और विपक्षी नेता जुआन गुआदो के बीच एक झगड़ा चल रहा है? यह देश सशस्त्र विद्रोह के कगार पर है।

Options :

1. * ईक्वाडोर
2. * कोलंबिया

3. ✓ वेनेजुएला

4. ✖ पेरू

Question Number : 49 Question Id : 5861803899 Question Type : MCQ Option Shuffling : Yes

Correct Marks : 1 Wrong Marks : 0.25

What is the name of the ancient type of writing in Egypt which primarily employs characters in the form of pictures? This type of writing can extensively be found in Egyptian monuments.

Options :

1. ✖ Cherokee writing

2. ✓ Hieroglyphic writing

3. ✖ Jaihu writing

4. ✖ Etruscan writing

Question Number : 49 Question Id : 5861803899 Question Type : MCQ Option Shuffling : Yes

Correct Marks : 1 Wrong Marks : 0.25

निम्नलिखित में से मिस्र की उस सबसे प्राचीन लेखन कला का क्या नाम है जो अक्षरों को मुख्य रूप से चित्रों के रूप में प्रयुक्त करता है? इस प्रकार का लेखन मिस्र के स्मारकों में बड़े पैमाने पर पाया जा सकता है।

Options :

1. ✖ चरोकी लेखन

2. ✓ चित्रलिपि लेखन

3. ✖ जाइहु लेखन

4. ✖ इट्रस्केन लेखन

Question Number : 50 Question Id : 5861803900 Question Type : MCQ Option Shuffling : Yes

Correct Marks : 1 Wrong Marks : 0.25

The travel of Ibn Battuta to India during the reign of Mohamad bin Tughlaq is well documented in history. From which country did this ancient traveler come to India?

Options :

1. * Iraq
2. * Egypt
3. * Greece
4. ✓ Morocco

Question Number : 50 Question Id : 5861803900 Question Type : MCQ Option Shuffling : Yes

Correct Marks : 1 Wrong Marks : 0.25

मोहम्मद बिन तुगलक के शासनकाल के दौरान इब्न बतूता की भारत यात्रा इतिहास में विशेष तरह से उल्लेखित है। यह प्राचीन यात्री किस देश से भारत आया था?

Options :

1. * इराक
2. * मिस्र
3. * ग्रीस
4. ✓ मोरक्को

Question Number : 51 Question Id : 5861803901 Question Type : MCQ Option Shuffling : Yes

Correct Marks : 1 Wrong Marks : 0.25

According to ancient Indian history, which modern city's ancient name was 'Lavapuri', the city of Lav, the son of Lord Rama?

Options :

1. * Lucknow
2. * Lakhapur
3. ✓ Lahore

4. * Ludhiana

Question Number : 51 Question Id : 5861803901 Question Type : MCQ Option Shuffling : Yes
Correct Marks : 1 Wrong Marks : 0.25

प्राचीन भारतीय इतिहास के अनुसार, भगवान राम के पुत्र लव के शहर 'लवपुरी' का आधुनिक नाम क्या है?

Options :

1. * लखनऊ
2. * लखनपुर
3. ✓ लाहौर
4. * लुधियाना

Question Number : 52 Question Id : 5861803902 Question Type : MCQ Option Shuffling : Yes
Correct Marks : 1 Wrong Marks : 0.25

The famous letter 'Zafarnama' (meaning letter of victory), composed by Guru Gobind Singh and delivered to Mughal Emperor Aurangzeb, was written in which language?

Options :

1. * Urdu
2. ✓ Persian
3. * Punjabi
4. * Sanskrit

Question Number : 52 Question Id : 5861803902 Question Type : MCQ Option Shuffling : Yes
Correct Marks : 1 Wrong Marks : 0.25

गुरु गोबिंद सिंह द्वारा रचित और मुगल सम्राट औरंगजेब को दिया गया प्रसिद्ध पत्र 'ज़फ़रनामा' (जीत का अर्थ), किस भाषा में लिखा गया था?

Options :

1. * उर्दू

2. ✓ फ़ारसी

3. ✘ पंजाबी

4. ✘ संस्कृत

Question Number : 53 Question Id : 5861803903 Question Type : MCQ Option Shuffling : Yes
Correct Marks : 1 Wrong Marks : 0.25

Which of these Presidents was NOT the Vice President of India before he became the President?

Options :

1. ✘ Sarvepalli Radhakrishnan

2. ✘ Zakir Husain

3. ✘ VV Giri

4. ✓ Giani Zail Singh

Question Number : 53 Question Id : 5861803903 Question Type : MCQ Option Shuffling : Yes
Correct Marks : 1 Wrong Marks : 0.25

निम्नलिखित में से कौन राष्ट्रपति बनने से पहले, भारत के उपराष्ट्रपति नहीं थे?

Options :

1. ✘ सर्वेपल्ली राधाकृष्णन

2. ✘ ज़ाकिर हुसैन

3. ✘ वीवी गिरि

4. ✓ ज़ानी जैल सिंह

Question Number : 54 Question Id : 5861803904 Question Type : MCQ Option Shuffling : Yes
Correct Marks : 1 Wrong Marks : 0.25

Who signed the epoch making Shimla Agreement?

Options :

1. ✘ Jawaharlal Nehru and Chou En-Lai

2. ✘ Lal Bahadur Sastri and Chou En-Lai

3. ✓ Indira Gandhi and Zulfikar Ali Bhutto

4. ✘ Indira Gandhi and Yahya Khan

Question Number : 54 Question Id : 5861803904 Question Type : MCQ Option Shuffling : Yes

Correct Marks : 1 Wrong Marks : 0.25

शिमला समझौता करते हुए निम्नलिखित में किन दो व्यक्तियों ने हस्ताक्षर किए थे?

Options :

1. ✘ जवाहरलाल नेहरू और चाऊ एन-लाई

2. ✘ लाल बहादुर शास्त्री और चाउ एन-लाई

3. ✓ इंदिरा गांधी और जुल्फिकार अली भुट्टो

4. ✘ इंदिरा गांधी और याहया खान

Question Number : 55 Question Id : 5861803905 Question Type : MCQ Option Shuffling : Yes

Correct Marks : 1 Wrong Marks : 0.25

Under the Seventh Schedule of the Constitution of India, there are three lists – the Union, State and Concurrent. Which of these subjects comes under the Union List?

Options :

1. ✓ Railways

2. ✘ Technical education

3. ✘ Family planning

4. ✘ Protection of forests

Question Number : 55 Question Id : 5861803905 Question Type : MCQ Option Shuffling : Yes

Correct Marks : 1 Wrong Marks : 0.25

भारत के संविधान की सातवीं अनुसूची के तहत, तीन सूचियाँ हैं - संघ, राज्य और समवर्ती। इनमें से कौन सा विषय संघ सूची के अंतर्गत आता है?

Options :

1. ✓ रेलवे
2. ✖ तकनीकी शिक्षा
3. ✖ परिवार नियोजन
4. ✖ वनों की सुरक्षा

Question Number : 56 Question Id : 5861803906 Question Type : MCQ Option Shuffling : Yes
Correct Marks : 1 Wrong Marks : 0.25

What is the name of the executive order issued by the President of India that holds the same force and effect as an act passed by Parliament?

These are issued when both the houses are NOT in session.

Options :

1. ✓ Ordinance
2. ✖ Writ
3. ✖ Summons
4. ✖ Veto

Question Number : 56 Question Id : 5861803906 Question Type : MCQ Option Shuffling : Yes
Correct Marks : 1 Wrong Marks : 0.25

भारत के राष्ट्रपति द्वारा जारी उस कार्यकारी आदेश का क्या नाम है जो संसद द्वारा पारित अधिनियम के समान बल और प्रभाव रखता है?

ये तब जारी किए जाते हैं जब दोनों सदन सत्र में नहीं होते हैं।

Options :

1. ✓ अध्यादेश
2. ✖ रिट
3. ✖ सम्मन

4. ✖ वीटो

Question Number : 57 Question Id : 5861803907 Question Type : MCQ Option Shuffling : Yes
Correct Marks : 1 Wrong Marks : 0.25

The 123rd Amendment Bill which was tabled and passed in the Lok Sabha in 2017 is focused on which of these aspects?

Options :

1. ✖ Economic Reservation
2. ✔ National Commission for Backward Classes
3. ✖ Panchayati Raj
4. ✖ Indo-Bangladesh Border

Question Number : 57 Question Id : 5861803907 Question Type : MCQ Option Shuffling : Yes
Correct Marks : 1 Wrong Marks : 0.25

वर्ष 2017 में लोकसभा में प्रस्तावित और पारित किया गया 123 वां संशोधन विधेयक, निम्नलिखित में से किस पहलू पर केंद्रित है?

Options :

1. ✖ आर्थिक आरक्षण
2. ✔ राष्ट्रीय पिछड़ा वर्ग आयोग
3. ✖ पंचायती राज
4. ✖ भारत-बांग्लादेश सीमा

Question Number : 58 Question Id : 5861803908 Question Type : MCQ Option Shuffling : Yes
Correct Marks : 1 Wrong Marks : 0.25

Article 239, 239A and 239AA are all related to which of these administrative aspects?

Options :

1. ✖ Appointment of Judges
2. ✔ Administration of Union Territories
3. ✖ Bills Presented in Parliament
4. ✖ Dissolution of Parliament

Question Number : 58 Question Id : 5861803908 Question Type : MCQ Option Shuffling : Yes

Correct Marks : 1 Wrong Marks : 0.25

अनुच्छेद 239, 239 ए और 239 एए तीनों, निम्नलिखित में से किन प्रशासनिक पहलुओं से संबंधित हैं?

Options :

1. * न्यायाधीशों की नियुक्ति
2. ✓ केंद्र शासित प्रदेशों का प्रशासन
3. * संसद में प्रस्तुत बिल
4. * संसद का विघटन

Question Number : 59 Question Id : 5861803909 Question Type : MCQ Option Shuffling : Yes

Correct Marks : 1 Wrong Marks : 0.25

Name the former Indian cricketer who has contested the 2019 Lok Sabha elections as a BJP candidate from the East Delhi constituency.

Options :

1. * Bishen Singh Bedi
2. * Virendra Sehwag
3. ✓ Gautam Gambhir
4. * Chetan Chauhan

Question Number : 59 Question Id : 5861803909 Question Type : MCQ Option Shuffling : Yes

Correct Marks : 1 Wrong Marks : 0.25

निम्नलिखित में से किस पूर्व भारतीय क्रिकेटर ने पूर्वी दिल्ली निर्वाचन क्षेत्र से भाजपा उम्मीदवार के रूप में 2019 का लोकसभा चुनाव लड़ा था?

Options :

1. * बिशन सिंह बेदी
2. * वीरेंद्र सहवाग

3. ✓ गौतम गंभीर

4. ✘ चेतन चौहान

Question Number : 60 Question Id : 5861803910 Question Type : MCQ Option Shuffling : Yes

Correct Marks : 1 Wrong Marks : 0.25

The Indian boxers won 13 medals (including two gold) at the recently concluded Asian Boxing Championship in April 2019. Which country hosted the championship?

Options :

1. ✘ Japan

2. ✘ China

3. ✘ Indonesia

4. ✓ Thailand

Question Number : 60 Question Id : 5861803910 Question Type : MCQ Option Shuffling : Yes

Correct Marks : 1 Wrong Marks : 0.25

भारतीय मुक्केबाजों ने अप्रैल 2019 में हाल ही में संपन्न एशियाई मुक्केबाजी चैंपियनशिप में 13 पदक (दो स्वर्ण सहित) जीते। इस चैंपियनशिप की मेजबानी इनमें से किस देश ने की थी?

Options :

1. ✘ जापान

2. ✘ चीन

3. ✘ इंडोनेशिया

4. ✓ थाईलैंड

General Awareness2

Group Number :

4

Group Id :

586180185

Group Maximum Duration :

0

Group Minimum Duration :

0

Show Attended Group? :

No

Edit Attended Group? :	No
Break time:	0
Group Marks:	20
Is this Group for Examiner?:	No
Revisit allowed for group Instructions? :	Yes
Maximum Instruction Time:	0
Minimum Instruction Time:	0

General Awareness2

Section Id :	586180189
Section Number :	1
Section type :	Online
Mandatory or Optional:	Mandatory
Number of Questions:	20
Number of Questions to be attempted:	20
Section Marks:	20

Sub-Section Number:	1
Sub-Section Id:	586180260
Question Shuffling Allowed :	Yes

Question Number : 61 Question Id : 5861803911 Question Type : MCQ Option Shuffling : Yes
Correct Marks : 1 Wrong Marks : 0.25

The Chennai-based professional football club Chennaiyin FC is co-owned by three people of whom one is a celebrated film star. Name the film star who is the co-owner of Chennaiyin FC.

Options :

1. * Shah Rukh Khan
2. * Kamal Hassan
3. ✓ Abhishek Bachchan
4. * Mohanlal

Question Number : 61 Question Id : 5861803911 Question Type : MCQ Option Shuffling : Yes
Correct Marks : 1 Wrong Marks : 0.25

चेन्नई स्थित पेशेवर फुटबॉल क्लब चेन्नईयिन एफसी का सह-स्वामित्व तीन लोगों के पास है और इनमें से एक प्रसिद्ध फिल्म स्टार है। उस फिल्म स्टार का नाम क्या है जो चेन्नईयिन एफसी के सह-मालिक हैं?

Options :

1. * शाहरुख खान
2. * कमल हसन
3. ✓ अभिषेक बच्चन
4. * मोहनलाल

Question Number : 62 Question Id : 5861803912 Question Type : MCQ Option Shuffling : Yes
Correct Marks : 1 Wrong Marks : 0.25

What category of musical instrument is a Tambourine?

Options :

1. * Plucking instrument
2. * Wind instrument
3. * Bowing instrument
4. ✓ Percussion instrument

Question Number : 62 Question Id : 5861803912 Question Type : MCQ Option Shuffling : Yes
Correct Marks : 1 Wrong Marks : 0.25

टैम्बोरिन निम्नलिखित किस वाद्य यंत्र की श्रेणी से सम्बंधित है?

Options :

1. * प्लक करने वाला वाद्ययंत्र
2. * वायु वाद्ययंत्र
3. * धनुष वाद्ययंत्र
4. ✓ तबला वाद्ययंत्र

Question Number : 63 Question Id : 5861803913 Question Type : MCQ Option Shuffling : Yes
Correct Marks : 1 Wrong Marks : 0.25

Which of these siblings are famous for the Dhrupad, an ancient style of Hindustani classical music?

Options :

1. * The Trichur Brothers
2. ✓ The Dagar Brothers

3. * The Ganguly Brothers

4. * The Ranjini-Gayatri Sisters

Question Number : 63 Question Id : 5861803913 Question Type : MCQ Option Shuffling : Yes

Correct Marks : 1 Wrong Marks : 0.25

निम्नलिखित में से कौन से भाई-बहन हिंदुस्तानी शास्त्रीय संगीत की प्राचीन शैली ध्रुपद के लिए प्रसिद्ध हैं?

Options :

1. * द त्रिचूर भाई

2. ✓ द डागर भाई

3. * द गांगुली भाई

4. * द रंजिनी-गायत्री बहनें

Question Number : 64 Question Id : 5861803914 Question Type : MCQ Option Shuffling : Yes

Correct Marks : 1 Wrong Marks : 0.25

The KPAC is one of the oldest theatrical movements of Kerala. What is the full form of KPAC, a group that was closely tied with the Left-wing political ideology of Kerala?

Options :

1. * Kerala Pradesh Action Committee

2. * Kerala's Popular Arts Club

3. ✓ Kerala People's Arts Club

4. * Kerala Political Activity Committee

Question Number : 64 Question Id : 5861803914 Question Type : MCQ Option Shuffling : Yes

Correct Marks : 1 Wrong Marks : 0.25

केपीएसी (KPAC) केरल के सबसे पुराने नाटकीय आंदोलनों में से एक है और यह एक समूह है जो केरल के वामपंथी राजनीतिक विचारधारा के साथ निकटता से जुड़ा था। KPAC का पूरा नाम क्या है?

Options :

1. * केरल प्रदेश एक्शन कमिटी
2. * केरल का पॉपुलर आर्ट्स क्लब
3. ✓ केरल पीपुल्स आर्ट्स क्लब
4. * केरल पोलिटिकल एक्टिविटी कमिटी

Question Number : 65 Question Id : 5861803915 Question Type : MCQ Option Shuffling : Yes
Correct Marks : 1 Wrong Marks : 0.25

In which state of India would you find the famous Chandrabhaga beach?

Options :

1. * Tamil Nadu
2. * Karnataka
3. ✓ Odisha
4. * Goa

Question Number : 65 Question Id : 5861803915 Question Type : MCQ Option Shuffling : Yes
Correct Marks : 1 Wrong Marks : 0.25

प्रसिद्ध चंद्रभागा समुद्र तट निम्नलिखित किस भारतीय राज्य में स्थित है?

Options :

1. * तमिलनाडु
2. * कर्नाटक
3. ✓ ओडिशा
4. * गोवा

Question Number : 66 Question Id : 5861803916 Question Type : MCQ Option Shuffling : Yes
Correct Marks : 1 Wrong Marks : 0.25

Athlete Gomathi Marimuthu recently won the women's 800 metres gold at the 23rd Asian Athletics Championship (AAC) in Doha, Qatar. Which state does she hail from?

Options :

1. ✖ Kerala
2. ✔ Tamil Nadu
3. ✖ Karnataka
4. ✖ Telangana

Question Number : 66 Question Id : 5861803916 Question Type : MCQ Option Shuffling : Yes

Correct Marks : 1 Wrong Marks : 0.25

एथलीट गोमथी मारिमुथु ने हाल ही में दोहा, कतर में होने वाले 23 वीं एशियाई एथलेटिक्स चैम्पियनशिप (AAC) की महिलाओं के 800 मीटर दौड़ में स्वर्ण पदक जीता है। वह निम्नलिखित किस राज्य से है?

Options :

1. ✖ केरल
2. ✔ तमिलनाडु
3. ✖ कर्नाटक
4. ✖ तेलंगाना

Question Number : 67 Question Id : 5861803917 Question Type : MCQ Option Shuffling : Yes

Correct Marks : 1 Wrong Marks : 0.25

The city of Montevideo is the capital of which South American country?

Options :

1. ✖ Chile
2. ✔ Uruguay
3. ✖ Bolivia
4. ✖ Peru

Question Number : 67 Question Id : 5861803917 Question Type : MCQ Option Shuffling : Yes

Correct Marks : 1 Wrong Marks : 0.25

मोंटेवीडियो शहर निम्नलिखित किस दक्षिण अमेरिकी देश की राजधानी है?

Options :

1. ✖ चिली
2. ✔ उरुग्वे
3. ✖ बोलीविया
4. ✖ पेरू

Question Number : 68 Question Id : 5861803918 Question Type : MCQ Option Shuffling : Yes
Correct Marks : 1 Wrong Marks : 0.25

Which of these groups owns the Indian retail chain called Big Bazaar?

Options :

1. ✖ Reliance group
2. ✖ Aditya Birla group
3. ✖ Mahindra group
4. ✔ Future group

Question Number : 68 Question Id : 5861803918 Question Type : MCQ Option Shuffling : Yes
Correct Marks : 1 Wrong Marks : 0.25

इनमें से किस समूह ने बिग बाजार नामक भारतीय खुदरा श्रृंखला को खरीदा है?

Options :

1. ✖ रिलायंस ग्रुप
2. ✖ आदित्य बिड़ला ग्रुप
3. ✖ महिंद्रा ग्रुप
4. ✔ फ्यूचर ग्रुप

Question Number : 69 Question Id : 5861803919 Question Type : MCQ Option Shuffling : Yes
Correct Marks : 1 Wrong Marks : 0.25

Spencer's Retail Limited, a multi-format retailer, is a part of which business group?

Spencer's runs over 100 stores and several hyper stores all over India.

Options :

1. ✓ RP Sanjiv Goenka group
2. ✗ Reliance group
3. ✗ Future group
4. ✗ Aditya Birla group

Question Number : 69 Question Id : 5861803919 Question Type : MCQ Option Shuffling : Yes

Correct Marks : 1 Wrong Marks : 0.25

स्पेंसर रिटेल लिमिटेड जो कि एक बहु-प्रारूप रिटेलर है, वह निम्नलिखित में से किस बिजनेस ग्रुप का एक हिस्सा है?

पूरे भारत में स्पेंसर के 100 से अधिक स्टोर और कई हाइपर स्टोर मौजूद हैं।

Options :

1. ✓ आरपी संजीव गोयनका ग्रुप
2. ✗ रिलायंस ग्रुप
3. ✗ फ्यूचर ग्रुप
4. ✗ आदित्य बिरला ग्रुप

Question Number : 70 Question Id : 5861803920 Question Type : MCQ Option Shuffling : Yes

Correct Marks : 1 Wrong Marks : 0.25

What does the ADDA247 app do?

Options :

1. ✗ Dating platform

2. ✖ Marriage platform

3. ✔ Educational platform

4. ✖ Hail cab service

Question Number : 70 Question Id : 5861803920 Question Type : MCQ Option Shuffling : Yes
Correct Marks : 1 Wrong Marks : 0.25

ADDA247 ऐप इनमें से किस तरह का प्लेटफॉर्म है?

Options :

1. ✖ डेटिंग प्लेटफॉर्म

2. ✖ वैवाहिक (marriage) प्लेटफॉर्म

3. ✔ शैक्षिक (educational) प्लेटफॉर्म

4. ✖ हेल कैब सर्विस

Question Number : 71 Question Id : 5861803921 Question Type : MCQ Option Shuffling : Yes
Correct Marks : 1 Wrong Marks : 0.25

In the 'Cormorant fishing technique' what is a Cormorant?

Options :

1. ✖ A type of angler used for fishing

2. ✖ A type of net used for fishing

3. ✔ A type of bird used for fishing

4. ✖ A type of blast used for fishing

Question Number : 71 Question Id : 5861803921 Question Type : MCQ Option Shuffling : Yes
Correct Marks : 1 Wrong Marks : 0.25

'कॉमोरेंट फिशिंग तकनीक' में एक कॉमोरेंट क्या होता है?

Options :

1. ✖ मछली पकड़ने के लिए इस्तेमाल की जाने वाली एक प्रकार की बंसी

2. ✖ मछली पकड़ने के लिए प्रयुक्त एक प्रकार का जाल

3. ✔ मछली पकड़ने के लिए प्रयुक्त एक प्रकार का पक्षी

4. * मछली पकड़ने के लिए इस्तेमाल किया जाने वाला एक प्रकार का धमाका

Question Number : 72 Question Id : 5861803922 Question Type : MCQ Option Shuffling : Yes
Correct Marks : 1 Wrong Marks : 0.25

Name the planet which looks red in color because of rusty iron minerals on its surface.

Options :

1. * Mercury
2. * Venus
3. ✓ Mars
4. * Jupiter

Question Number : 72 Question Id : 5861803922 Question Type : MCQ Option Shuffling : Yes
Correct Marks : 1 Wrong Marks : 0.25

निम्नलिखित में से वह कौन सा ग्रह है जो अपनी सतह पर जंग लगे लोहे के खनिजों के कारण लाल दिखता है?

Options :

1. * बुध
2. * शुक्र
3. ✓ मंगल
4. * बृहस्पति

Question Number : 73 Question Id : 5861803923 Question Type : MCQ Option Shuffling : Yes
Correct Marks : 1 Wrong Marks : 0.25

What is the name of the dome shaped, light structural framework arranged as a set of polygons in the form of a shell and covered with sheeting made of plastic, plywood, metal, etc.? The structure was first developed by Buckminster Fuller.

Options :

1. * Onion Dome
2. * Vault Dome
3. ✓ Geodesic Dome
4. * Saucer Dome

Question Number : 73 Question Id : 5861803923 Question Type : MCQ Option Shuffling : Yes
Correct Marks : 1 Wrong Marks : 0.25

गुंबद के आकार का उस हल्के संरचनात्मक ढांचे का क्या नाम है जिसे खोल के रूप में बहुभुज के सेट के रूप में व्यवस्थित किया गया है और प्लास्टिक, प्लाईवुड, धातु, आदि से बने शीटिंग के साथ कवर किया गया है? संरचना को पहली बार बकमिनस्टर फुलर द्वारा विकसित किया गया था।

Options :

1. * अनियन गुंबद
2. * वॉल्ट गुंबद
3. ✓ जोडेसिस गुंबद
4. * सौसर गुंबद

Question Number : 74 Question Id : 5861803924 Question Type : MCQ Option Shuffling : Yes
Correct Marks : 1 Wrong Marks : 0.25

In medical terms, what is the meaning of the word 'Otolaryngology'?

Options :

1. ✓ Study of the ear, nose and throat
2. * Study of skin diseases
3. * Study of urinary tract problems
4. * Study of child diseases

Question Number : 74 Question Id : 5861803924 Question Type : MCQ Option Shuffling : Yes
Correct Marks : 1 Wrong Marks : 0.25

चिकित्सकीय शब्दों में, 'ओटोलर्यनोलोजी' शब्द का अर्थ क्या है?

Options :

1. ✓ कान, नाक और गले का अध्ययन
2. ✗ त्वचा रोगों का अध्ययन
3. ✗ मूत्र पथ की समस्याओं का अध्ययन
4. ✗ बाल रोगों का अध्ययन

Question Number : 75 Question Id : 5861803925 Question Type : MCQ Option Shuffling : Yes

Correct Marks : 1 Wrong Marks : 0.25

In which year did NASA launch and deploy its most famous telescope, the Hubble Space Telescope?

Options :

1. ✗ 1980
2. ✓ 1990
3. ✗ 2000
4. ✗ 2010

Question Number : 75 Question Id : 5861803925 Question Type : MCQ Option Shuffling : Yes

Correct Marks : 1 Wrong Marks : 0.25

NASA ने किस वर्ष में अपने सबसे प्रसिद्ध टेलिस्कोप, हबल स्पेस टेलीस्कोप को लॉन्च और तैनात किया?

Options :

1. ✗ 1980
2. ✓ 1990
3. ✗ 2000
4. ✗ 2010

Question Number : 76 Question Id : 5861803926 Question Type : MCQ Option Shuffling : Yes

Correct Marks : 1 Wrong Marks : 0.25

In research methodology, a study conducted over a large and prolonged period of time is called by which of these names?

Options :

1. ✓ Longitudinal study
2. ✗ Latitudinal study
3. ✗ Suspended study
4. ✗ Clustered study

Question Number : 76 Question Id : 5861803926 Question Type : MCQ Option Shuffling : Yes

Correct Marks : 1 Wrong Marks : 0.25

शोध पद्धति में, एक बड़े और लंबे समय तक किए गए अध्ययन को निम्नलिखित में से किस नाम से पुकारा जाता है?

Options :

1. ✓ लॉगिट्यूशनल स्टडी
2. ✗ लैटिट्यूशनल स्टडी
3. ✗ सस्पेंडेड स्टडी
4. ✗ क्लस्टर्ड स्टडी

Question Number : 77 Question Id : 5861803927 Question Type : MCQ Option Shuffling : Yes

Correct Marks : 1 Wrong Marks : 0.25

Electroencephalography is a sophisticated imaging technique used to detect the behavior of which part of the human body?

Options :

1. ✓ Brain
2. ✗ Lungs
3. ✗ Heart
4. ✗ Kidneys

Question Number : 77 Question Id : 5861803927 Question Type : MCQ Option Shuffling : Yes

Correct Marks : 1 Wrong Marks : 0.25

इलेक्ट्रोएन्सेफलोग्राफी एक परिष्कृत इमेजिंग तकनीक है जिसका उपयोग मानव शरीर के इनमें से किस अंग के व्यवहार का पता लगाने के लिए किया जाता है?

Options :

1. ✓ दिमाग
2. ✘ फेफड़े
3. ✘ दिल
4. ✘ गुर्दे

Question Number : 78 Question Id : 5861803928 Question Type : MCQ Option Shuffling : Yes

Correct Marks : 1 Wrong Marks : 0.25

ऐतिहासिक जिंजी किला (जिसे सेनजी किला भी कहा जाता है) भारत के निम्नलिखित किस राज्य में स्थित है?

Options :

1. ✘ केरल
2. ✘ ओडिशा
3. ✓ तमिलनाडु
4. ✘ कर्नाटक

Question Number : 78 Question Id : 5861803928 Question Type : MCQ Option Shuffling : Yes

Correct Marks : 1 Wrong Marks : 0.25

In which of these states of India would you find the historic Gingee Fort (also called Senji Fort)?

Options :

1. ✘ Kerala
2. ✘ Orissa
3. ✓ Tamil Nadu
4. ✘ Karnataka

Question Number : 79 Question Id : 5861803929 Question Type : MCQ Option Shuffling : Yes
Correct Marks : 1 Wrong Marks : 0.25

Commissioned to mark the beginning of the twenty-first century, which of these cities built the Millennium Dome, a 100,000 square metre adaptable space for exhibitions and performance events?

Options :

1. * New York
2. * Tokyo
3. * Singapore
4. ✓ London

Question Number : 79 Question Id : 5861803929 Question Type : MCQ Option Shuffling : Yes
Correct Marks : 1 Wrong Marks : 0.25

इक्कीसवीं सदी की शुरुआत को चिह्नित करने के लिए, इनमें से किस शहर ने मिलेनियम डोम का निर्माण किया, जो प्रदर्शनियों और प्रदर्शन की घटनाओं के लिए एक 100,000 वर्ग मीटर का अनुकूलनीय स्थान था?

Options :

1. * न्यूयॉर्क
2. * टोक्यो
3. * सिंगापुर
4. ✓ लंदन

Question Number : 80 Question Id : 5861803930 Question Type : MCQ Option Shuffling : Yes
Correct Marks : 1 Wrong Marks : 0.25

In which city of India would you find the Sanjay Gandhi National Park, an 87 sq. km protected wildlife park?

Options :

1. ✓ Mumbai
2. * Bhubaneswar

3. * Bangalore

4. * Lucknow

Question Number : 80 Question Id : 5861803930 Question Type : MCQ Option Shuffling : Yes

Correct Marks : 1 Wrong Marks : 0.25

संजय गांधी राष्ट्रीय उद्यान, 87 वर्ग किलोमीटर संरक्षित वन्यजीव पार्क भारत के निम्नलिखित किस शहर में स्थित है?

Options :

1. ✓ मुंबई

2. * भुवनेश्वर

3. * बेंगलोर

4. * लखनऊ

Arithmetic Ability1

Group Number :	5
Group Id :	586180186
Group Maximum Duration :	0
Group Minimum Duration :	0
Show Attended Group? :	No
Edit Attended Group? :	No
Break time:	0
Group Marks:	20
Is this Group for Examiner?:	No
Revisit allowed for group Instructions? :	Yes
Maximum Instruction Time:	0
Minimum Instruction Time:	0

Arithmetic Ability1

Section Id :	586180190
Section Number :	1
Section type :	Online
Mandatory or Optional:	Mandatory
Number of Questions:	20
Number of Questions to be attempted:	20
Section Marks:	20

Sub-Section Number: 1
Sub-Section Id: 586180261
Question Shuffling Allowed : Yes

Question Number : 81 Question Id : 5861803931 Question Type : MCQ Option Shuffling : Yes
Correct Marks : 1 Wrong Marks : 0.25

Evaluate:

$$\frac{(8+8+8+8) \div 8}{4+4+4+4+4}$$

Options :

1. ✘ $\frac{1}{2}$

2. ✘ $\frac{1}{4}$

3. ✔ $\frac{1}{5}$

4. ✘ $\frac{1}{8}$

Question Number : 81 Question Id : 5861803931 Question Type : MCQ Option Shuffling : Yes
Correct Marks : 1 Wrong Marks : 0.25

हल करें:

$$\frac{(8 + 8 + 8 + 8) \div 8}{4 + 4 + 4 + 4 + 4}$$

Options :

1. ✘ $\frac{1}{2}$

2. ✘ $\frac{1}{4}$

3. ✓ $\frac{1}{5}$

4. ✗ $\frac{1}{8}$

Question Number : 82 Question Id : 5861803932 Question Type : MCQ Option Shuffling : Yes
Correct Marks : 1 Wrong Marks : 0.25

If $x + y = 32$ and $x^2 + y^2 = 826$, then the value of xy is:

Options :

1. ✗ 90

2. ✓ 99

3. ✗ 98

4. ✗ 89

Question Number : 82 Question Id : 5861803932 Question Type : MCQ Option Shuffling : Yes
Correct Marks : 1 Wrong Marks : 0.25

यदि $x + y = 32$ और $x^2 + y^2 = 826$ है, तो xy का मान पता करें।

Options :

1. ✗ 90

2. ✓ 99

3. ✗ 98

4. ✖ 89

Question Number : 83 Question Id : 5861803933 Question Type : MCQ Option Shuffling : Yes

Correct Marks : 1 Wrong Marks : 0.25

A boy goes to a shop to buy 50 kg of rice. He buys two varieties of rice, which cost him Rs. 3.50 per kg and Rs. 5 per kg. He spends a total of Rs. 220. What was the quantity of the rice bought that cost him Rs. 3.50 per kg?

Options :

1. ✖ 10 kg

2. ✖ 12 kg

3. ✔ 20 kg

4. ✖ 30 kg

Question Number : 83 Question Id : 5861803933 Question Type : MCQ Option Shuffling : Yes

Correct Marks : 1 Wrong Marks : 0.25

एल लड़का 50 kg चावल खरीदने एक दुकान पर जाता है। यह दो तरह के चावल खरीदता है, जिनकी कीमत ₹ 3.50 प्रति kg और ₹ 5 प्रति kg है। उसने कुल ₹ 220 खर्च किए हैं। उसने ₹ 3.50 प्रति kg मिलने वाले कितने चावल खरीदे?

Options :

1. ✖ 10 kg

2. ✖ 12 kg

3. ✔ 20 kg

4. ✖ 30 kg

Question Number : 84 Question Id : 5861803934 Question Type : MCQ Option Shuffling : Yes

Correct Marks : 1 Wrong Marks : 0.25

$\frac{3}{4}$ of Raju's savings in provident fund is equal to $\frac{4}{5}$ of his savings in National Saving Certificate. If he has Rs. 6,20,000 as total savings, then how much has he saved in National Saving Certificate?

Options :

1. ✖ Rs. 3,20,000

2. ✖ Rs. 3,40,000

3. ✔ Rs. 3,00,000

4. ✖ Rs. 4,00,000

Question Number : 84 Question Id : 5861803934 Question Type : MCQ Option Shuffling : Yes

Correct Marks : 1 Wrong Marks : 0.25

राजू की भविष्य निधि में $\frac{3}{4}$ बचत उसकी राष्ट्रीय बचत प्रमाणपत्र में बचत के $\frac{4}{5}$ के बराबर है। यदि उसकी कुल बचत ₹ 6,20,000 है, तो उसकी राष्ट्रीय बचत प्रमाणपत्र में बचत पता करें?

Options :

1. ✖ ₹ 3,20,000

2. ✖ ₹ 3,40,000

3. ✔ ₹ 3,00,000

4. ✖ ₹ 4,00,000

Question Number : 85 Question Id : 5861803935 Question Type : MCQ Option Shuffling : Yes

Correct Marks : 1 Wrong Marks : 0.25

Evaluate:

$$\frac{(0.35)^2 - (0.07)^2}{0.21}$$

Options :

1. ✘ 0.42

2. ✘ 0.54

3. ✔ 0.56

4. ✘ 0.58

Question Number : 85 Question Id : 5861803935 Question Type : MCQ Option Shuffling : Yes
Correct Marks : 1 Wrong Marks : 0.25

हल करें:

$$\frac{(0.35)^2 - (0.07)^2}{0.21}$$

Options :

1. ✘ 0.42

2. ✘ 0.54

3. ✔ 0.56

4. ✘ 0.58

Question Number : 86 Question Id : 5861803936 Question Type : MCQ Option Shuffling : Yes
Correct Marks : 1 Wrong Marks : 0.25

If $x = 10$ and $y = 0.1$, which of the following has the smallest value?

Options :

1. ✖ $x^2 + y^2$

2. ✖ $x^2 - y^2$

3. ✖ x^2y^2

4. ✔ $\frac{y^2}{x^2}$

Question Number : 86 Question Id : 5861803936 Question Type : MCQ Option Shuffling : Yes
Correct Marks : 1 Wrong Marks : 0.25

यदि $x = 10$ और $y = 0.1$, इनमें से सबसे छोटा मान किसका है?

Options :

1. ✖ $x^2 + y^2$

2. ✖ $x^2 - y^2$

3. ✖ x^2y^2

4. ✔ $\frac{y^2}{x^2}$

Question Number : 87 Question Id : 5861803937 Question Type : MCQ Option Shuffling : Yes
Correct Marks : 1 Wrong Marks : 0.25

Which of the following is closest to zero?

Options :

1. ✔ $(0.09)^2$

2. ✖ 0.09

3. ✖ $(0.9)^2$

4. ✖ $1 - (0.9)^2$

Question Number : 87 Question Id : 5861803937 Question Type : MCQ Option Shuffling : Yes

Correct Marks : 1 Wrong Marks : 0.25

इनमें से शून्य के सबसे निकट कौन है?

Options :

1. ✔ $(0.09)^2$

2. ✖ 0.09

3. ✖ $(0.9)^2$

4. ✖ $1 - (0.9)^2$

Question Number : 88 Question Id : 5861803938 Question Type : MCQ Option Shuffling : Yes

Correct Marks : 1 Wrong Marks : 0.25

If $1.5x = 0.02y$, then the value of $\left(\frac{y-x}{y+x}\right)$ is:

Options :

1. ✔ $\frac{37}{38}$

2. ✖ $\frac{36}{37}$

3. ✖ $\frac{37}{39}$

4. ✖ $\frac{38}{39}$

Question Number : 88 Question Id : 5861803938 Question Type : MCQ Option Shuffling : Yes
Correct Marks : 1 Wrong Marks : 0.25

यदि $1.5x = 0.02y$ है, तो $\left(\frac{y-x}{y+x}\right)$ का मान पता करें।

Options :

1. ✔ $\frac{37}{38}$

2. ✖ $\frac{36}{37}$

3. ✖ $\frac{37}{39}$

4. ✖ $\frac{38}{39}$

Question Number : 89 Question Id : 5861803939 Question Type : MCQ Option Shuffling : Yes
Correct Marks : 1 Wrong Marks : 0.25

The fraction equivalent to $\frac{4}{7}\%$ is:

Options :

1. ✖ $\frac{1}{195}$

2. ✔ $\frac{1}{175}$

3. ✖ $\frac{1}{40}$

4. ✖ $\frac{1}{120}$

Question Number : 89 Question Id : 5861803939 Question Type : MCQ Option Shuffling : Yes
Correct Marks : 1 Wrong Marks : 0.25

$\frac{4}{7}\%$ का भिन्न समतुल्य पता करें।

Options :

1. ✖ $\frac{1}{195}$

2. ✔ $\frac{1}{175}$

3. ✖ $\frac{1}{40}$

4. ✖ $\frac{1}{120}$

Question Number : 90 Question Id : 5861803940 Question Type : MCQ Option Shuffling : Yes
Correct Marks : 1 Wrong Marks : 0.25

$1.\overline{36}$ in the form of $\frac{p}{q}$ is equal to:

Options :

1. ✔ $\frac{45}{33}$

2. ✖ $\frac{11}{15}$

3. ✖ $\frac{19}{18}$

4. ✖ $\frac{36}{35}$

Question Number : 90 Question Id : 5861803940 Question Type : MCQ Option Shuffling : Yes
Correct Marks : 1 Wrong Marks : 0.25

$1.\overline{36}$ का $\frac{p}{q}$ के रूप में समतुल्य पता करें।

Options :

1. ✔ $\frac{45}{33}$

2. ✖ $\frac{11}{15}$

3. ✖ $\frac{19}{18}$

4. ✖ $\frac{36}{35}$

Question Number : 91 Question Id : 5861803941 Question Type : MCQ Option Shuffling : Yes
Correct Marks : 1 Wrong Marks : 0.25

The highest common factor of 36 and 192 is:

Options :

1. ✖ 2

2. ✖ 3

3. ✖ 6

4. ✔ 12

Question Number : 91 Question Id : 5861803941 Question Type : MCQ Option Shuffling : Yes
Correct Marks : 1 Wrong Marks : 0.25

36 और 192 का महत्तम समापवर्तक पता करें।

Options :

1. ✖ 2

2. ✖ 3

3. ✖ 6

4. ✔ 12

Question Number : 92 Question Id : 5861803942 Question Type : MCQ Option Shuffling : Yes
Correct Marks : 1 Wrong Marks : 0.25

The product of two numbers is 7605. If the HCF of these numbers is 39, then the greater number is:

Options :

1. ✖ 185

2. ✖ 190

3. ✔ 195

4. ✖ 197

Question Number : 92 Question Id : 5861803942 Question Type : MCQ Option Shuffling : Yes

Correct Marks : 1 Wrong Marks : 0.25

दो संख्याओं का गुणनफल 7605 है। यदि इन संख्याओं का महत्तम समापवर्तक 39 है, तो बड़ी संख्या पता करें।

Options :

1. ✖ 185

2. ✖ 190

3. ✔ 195

4. ✖ 197

Question Number : 93 Question Id : 5861803943 Question Type : MCQ Option Shuffling : Yes

Correct Marks : 1 Wrong Marks : 0.25

The sum of two numbers is 2000 and their LCM is 21879. The two numbers are:

Options :

1. ✖ 1993, 7

2. ✖ 1991, 9

3. ✖ 1987, 13

4. ✔ 1989, 11

Question Number : 93 Question Id : 5861803943 Question Type : MCQ Option Shuffling : Yes

Correct Marks : 1 Wrong Marks : 0.25

दो संख्याओं का योग 2000 है और उनका लघुत्तम समापवर्तक 21879 है। दोनों संख्याएँ पता करें।

Options :

1. ✘ 1993, 7

2. ✘ 1991, 9

3. ✘ 1987, 13

4. ✔ 1989, 11

Question Number : 94 Question Id : 5861803944 Question Type : MCQ Option Shuffling : Yes
Correct Marks : 1 Wrong Marks : 0.25

If $x : y = 2 : 5$ and $a : b = 1 : 3$, then the value of $\frac{3xa+2yb}{5yb-6xa}$ is:

Options :

1. ✔ $\frac{4}{7}$

2. ✘ $\frac{12}{13}$

3. ✘ $\frac{12}{23}$

4. ✘ $\frac{11}{23}$

Question Number : 94 Question Id : 5861803944 Question Type : MCQ Option Shuffling : Yes
Correct Marks : 1 Wrong Marks : 0.25

यदि $x : y = 2 : 5$ और $a : b = 1 : 3$ है, तो $\frac{3xa+2yb}{5yb-6xa}$ का मान पता करें।

Options :

1. ✓ $\frac{4}{7}$

2. ✗ $\frac{12}{13}$

3. ✗ $\frac{12}{23}$

4. ✗ $\frac{11}{23}$

Question Number : 95 Question Id : 5861803945 Question Type : MCQ Option Shuffling : Yes
Correct Marks : 1 Wrong Marks : 0.25

If $a : b = 2 : 5$ and $b : c = 3 : 4$, then $\frac{a+b+c}{c} = ?$

Options :

1. ✗ $\frac{2}{3}$

2. ✗ $\frac{12}{13}$

3. ✗ $\frac{2}{5}$

4. ✓ $\frac{41}{20}$

Question Number : 95 Question Id : 5861803945 Question Type : MCQ Option Shuffling : Yes
Correct Marks : 1 Wrong Marks : 0.25

यदि $a : b = 2 : 5$ और $b : c = 3 : 4$ है, तो $\frac{a+b+c}{c}$ का मान पता करें।

Options :

1. ✖ $\frac{2}{3}$

2. ✖ $\frac{12}{13}$

3. ✖ $\frac{2}{5}$

4. ✔ $\frac{41}{20}$

Question Number : 96 Question Id : 5861803946 Question Type : MCQ Option Shuffling : Yes
Correct Marks : 1 Wrong Marks : 0.25

The difference between 10% of 5 and 5% of 10 is:

Options :

1. ✔ 0

2. ✖ 5

3. ✖ 10

4. ✖ 15

Question Number : 96 Question Id : 5861803946 Question Type : MCQ Option Shuffling : Yes
Correct Marks : 1 Wrong Marks : 0.25

5 के 10% और 10 के 5% के बीच अंतर पता करें।

Options :

1. ✔ 0

2. ✖ 5

3. ✖ 10

4. ✖ 15

Question Number : 97 Question Id : 5861803947 Question Type : MCQ Option Shuffling : Yes

Correct Marks : 1 Wrong Marks : 0.25

The difference between the value of a number increased by 20% and the value of the original number decreased by 15% is 63. What is the original number?

Options :

1. ✖ 220

2. ✖ 200

3. ✔ 180

4. ✖ 166

Question Number : 97 Question Id : 5861803947 Question Type : MCQ Option Shuffling : Yes

Correct Marks : 1 Wrong Marks : 0.25

एक संख्या जिसका मान 20% बढ़ाया गया है और एक संख्या जिसका मान 15% घटाया गया है, इन दोनों संख्याओं के बीच अंतर 63 है। मूल संख्या पता करें?

Options :

1. ✖ 220

2. ✖ 200

3. ✓ 180

4. ✗ 166

Question Number : 98 Question Id : 5861803948 Question Type : MCQ Option Shuffling : Yes

Correct Marks : 1 Wrong Marks : 0.25

A number when reduced by 20% becomes 320. By what percentage should it be increased so that it becomes 460?

Options :

1. ✗ 10%

2. ✗ 12%

3. ✓ 15%

4. ✗ 18%

Question Number : 98 Question Id : 5861803948 Question Type : MCQ Option Shuffling : Yes

Correct Marks : 1 Wrong Marks : 0.25

एक संख्या को जब 20% घटाया जाता है, तो वह 320 हो जाती है। उसे 460 बनाने के लिए उसमें कितने प्रतिशत बढ़ोतरी करनी होगी?

Options :

1. ✗ 10%

2. ✗ 12%

3. ✓ 15%

4. ✖ 18%

Question Number : 99 Question Id : 5861803949 Question Type : MCQ Option Shuffling : Yes

Correct Marks : 1 Wrong Marks : 0.25

The average of 4 positive integers is 70. The highest integer is 82 and the lowest integer is 63. The difference between the remaining two integers is 5. Which of the following integers is smaller of the remaining two integers?

Options :

1. ✖ 70

2. ✖ 68

3. ✔ 65

4. ✖ 64

Question Number : 99 Question Id : 5861803949 Question Type : MCQ Option Shuffling : Yes

Correct Marks : 1 Wrong Marks : 0.25

4 धनात्मक पूर्णाकों की औसत 70 है। सबसे बड़ा पूर्णांक 82 है और सबसे छोटा पूर्णांक 63 है। बाकी बचे दोनों पूर्णाकों के बीच अंतर 5 है। इनमें से कौन सा पूर्णांक बाकी बचे दोनों पूर्णाकों में से छोटा है?

Options :

1. ✖ 70

2. ✖ 68

3. ✔ 65

4. ✖ 64

Question Number : 100 Question Id : 5861803950 Question Type : MCQ Option Shuffling : Yes

Correct Marks : 1 Wrong Marks : 0.25

Out of 7 persons, 5 persons spent Rs. 45 each for their meals. Remaining two persons each spent Rs. 20 more than the average expenditure of all the seven. The total money spent by all of them was:

Options :

1. ✘ Rs. 365

2. ✔ Rs. 371

3. ✘ Rs. 375

4. ✘ Rs. 380

Question Number : 100 Question Id : 5861803950 Question Type : MCQ Option Shuffling : Yes

Correct Marks : 1 Wrong Marks : 0.25

7 व्यक्तियों में से, 5 व्यक्तियों में से हर एक अपने खाने पर ₹ 45 खर्च करता है। बाकी बचे दो व्यक्तियों में से हर एक सातों के औसत से ₹ 20 अधिक खर्च करता है। उन सबने कुल कितने पैसे खर्च किए?

Options :

1. ✘ ₹ 365

2. ✔ ₹ 371

3. ✘ ₹ 375

4. ✘ ₹ 380

Arithmetic Ability2

Group Number :

Group Id :

6

586180187

Group Maximum Duration :	0
Group Minimum Duration :	0
Show Attended Group? :	No
Edit Attended Group? :	No
Break time:	0
Group Marks:	20
Is this Group for Examiner?:	No
Revisit allowed for group Instructions? :	Yes
Maximum Instruction Time:	0
Minimum Instruction Time:	0

Arithmetic Ability2

Section Id :	586180191
Section Number :	1
Section type :	Online
Mandatory or Optional:	Mandatory
Number of Questions:	20
Number of Questions to be attempted:	20
Section Marks:	20

Sub-Section Number:	1
Sub-Section Id:	586180262
Question Shuffling Allowed :	Yes

Question Number : 101 Question Id : 5861803951 Question Type : MCQ Option Shuffling : Yes
Correct Marks : 1 Wrong Marks : 0.25

Arvind purchased a refrigerator for Rs. 18000 and sold it Rs. 15750. What was the loss percentage?

Options :

1. ✓ 12.5%

2. ✗ 14%

3. ✗ 16%

4. ✗ 18.5%

Question Number : 101 Question Id : 5861803951 Question Type : MCQ Option Shuffling : Yes
Correct Marks : 1 Wrong Marks : 0.25

अरविन्द ने ₹ 18000 में एक फ्रिज खरीदकर उसे ₹ 15750 में बेच दिया। हानि प्रतिशत पता करें?

Options :

1. ✓ 12.5%

2. ✗ 14%

3. ✗ 16%

4. ✗ 18.5%

Question Number : 102 Question Id : 5861803952 Question Type : MCQ Option Shuffling : Yes

Correct Marks : 1 Wrong Marks : 0.25

The profit earned by selling an article at Rs. 5520 is equal to the loss incurred on selling the same article at Rs. 4080. What will be the percentage of profit, if the article is sold at Rs.7200?

Options :

1. ✗ 20%

2. ✗ 30%

3. ✗ 40%

4. ✓ 50%

Question Number : 102 Question Id : 5861803952 Question Type : MCQ Option Shuffling : Yes

Correct Marks : 1 Wrong Marks : 0.25

एक वस्तु को ₹5520 में बेचने से मिलना वाला लाभ उसी वस्तु को ₹4080 में बेचने से होने वाले नुकसान के बराबर है। यदि वस्तु को ₹7200 में बेचा जाता है, तो लाभ प्रतिशत पता करें।

Options :

1. ✗ 20%

2. ✖ 30%

3. ✖ 40%

4. ✔ 50%

Question Number : 103 Question Id : 5861803953 Question Type : MCQ Option Shuffling : Yes

Correct Marks : 1 Wrong Marks : 0.25

A trader marked the price of a product in such a way that it is 20% more than the cost price. If he allows 10% discount on the marked price to the customer, then his gain is:

Options :

1. ✖ 5%

2. ✔ 8%

3. ✖ 10%

4. ✖ 15%

Question Number : 103 Question Id : 5861803953 Question Type : MCQ Option Shuffling : Yes

Correct Marks : 1 Wrong Marks : 0.25

एक व्यापारी ने अपने सामान का अंकित मूल्य इस प्रकार से निर्धारित किया है कि वह क्रय मूल्य से 20% हो। यदि वह ग्राहक को अंकित मूल्य पर 10% की छूट दे देता है, तो उसका मुनाफा पता करें।

Options :

1. ✖ 5%

2. ✔ 8%

3. ✖ 10%

4. ✖ 15%

Question Number : 104 Question Id : 5861803954 Question Type : MCQ Option Shuffling : Yes

Correct Marks : 1 Wrong Marks : 0.25

The marked price of an article is Rs. 4000. It is sold with two successive discounts of 10% and $x\%$. If the amount of the selling price of the article is equal to twelve times Rs. 276, then what is the value of x ?

Options :

1. ✖ 12

2. ✖ 6

3. ✖ 9

4. ✔ 8

Question Number : 104 Question Id : 5861803954 Question Type : MCQ Option Shuffling : Yes

Correct Marks : 1 Wrong Marks : 0.25

एक वस्तु का अंकित मूल्य ₹4000 है। इसे 10% और $x\%$ के दो क्रमागत छूटों के साथ बेच दिया जाता है। यदि वस्तु का विक्रय मूल्य ₹ 276 के 12 गुना के बराबर है, तो x का मान पता करें?

Options :

1. ✖ 12

2. ✖ 6

3. ✖ 9

4. ✓ 8

Question Number : 105 Question Id : 5861803955 Question Type : MCQ Option Shuffling : Yes

Correct Marks : 1 Wrong Marks : 0.25

An article goes through four stages of rise in price - 10%, 8%, 6%, 4% respectively — from the manufacturer to the retailer. How much percentage (correct to nearest integer) discount with reference to the retail price can the manufacturer afford to offer to a buyer of the said article?

Options :

1. ✗ 28%

2. ✗ 30%

3. ✓ 31%

4. ✗ 32%

Question Number : 105 Question Id : 5861803955 Question Type : MCQ Option Shuffling : Yes

Correct Marks : 1 Wrong Marks : 0.25

एक वस्तु की कीमत निर्माता से लेकर दुकानदार तक पहुँचने में क्रमशः रूप से 10%, 8%, 6%, 4% कीमतों में उछाल के चार दौर से गुजरती है। उसी वस्तु को खरीददार के लिए किफायती बनाने के लिए निर्माता एक दुकानदार को कितने प्रतिशत छूट (निकटतम पूर्णांक तक) दे सकता है?

Options :

1. ✗ 28%

2. ✗ 30%

3. ✓ 31%

4. ✖ 32%

Question Number : 106 Question Id : 5861803956 Question Type : MCQ Option Shuffling : Yes

Correct Marks : 1 Wrong Marks : 0.25

What would be the simple interest obtained on a sum of Rs. 7000 at the rate of 6% per annum after 4 years?

Options :

1. ✔ Rs. 1680

2. ✖ Rs. 1280

3. ✖ Rs. 1100

4. ✖ Rs. 1580

Question Number : 106 Question Id : 5861803956 Question Type : MCQ Option Shuffling : Yes

Correct Marks : 1 Wrong Marks : 0.25

6% की वार्षिक दर से 4 सालों के बाद ₹ 7000 की राशि पर कितना साधारण ब्याज मिलता है?

Options :

1. ✔ ₹ 1680

2. ✖ ₹ 1280

3. ✖ ₹ 1100

4. ✖ ₹ 1580

Question Number : 107 Question Id : 5861803957 Question Type : MCQ Option Shuffling : Yes

Correct Marks : 1 Wrong Marks : 0.25

A man invests a certain sum of money at 6% p.a. simple interest and another sum at 7% p.a. simple interest. His income from interest after 2 years was Rs. 590. $\frac{1}{4}$ of the first sum is equal to $\frac{1}{5}$ of the second sum. The total sum invested was:

Options :

1. ✘ Rs. 5000

2. ✔ Rs. 4500

3. ✘ Rs. 3500

4. ✘ Rs. 2800

Question Number : 107 Question Id : 5861803957 Question Type : MCQ Option Shuffling : Yes

Correct Marks : 1 Wrong Marks : 0.25

एक व्यक्ति 6% वार्षिक साधारण ब्याज पर एक निश्चित राशि निवेश करता है और एक 7% वार्षिक साधारण ब्याज पर एक और निश्चित राशि निवेश करता है। 2 सालों के बाद उसे ब्याज से ₹590 की कमाई होती है। पहली राशि का $\frac{1}{4}$ दूसरी राशि के $\frac{1}{5}$ के बराबर है। कुल निवेश की गई राशि पता करें।

Options :

1. ✘ ₹ 5000

2. ✔ ₹ 4500

3. ✘ ₹ 3500

4. ✘ ₹ 2800

Question Number : 108 Question Id : 5861803958 Question Type : MCQ Option Shuffling : Yes

Correct Marks : 1 Wrong Marks : 0.25

A sum was put at simple interest at a certain rate for 3 years. Had it been put at 2% higher rate, it would have fetched Rs. 6000 more. The sum invested is:

Options :

1. ✓ Rs. 100000

2. ✗ Rs. 120000

3. ✗ Rs. 150000

4. ✗ Rs. 200000

Question Number : 108 Question Id : 5861803958 Question Type : MCQ Option Shuffling : Yes

Correct Marks : 1 Wrong Marks : 0.25

एक निश्चित ब्याज दर पर एक निश्चित राशि साधारण ब्याज पर 3 सालों के लिए निवेश की गई है। यदि ब्याज दर 2% अधिक होती, तो ₹6000 अधिक मिलते। निवेश की गई राशि पता करें।

Options :

1. ✓ ₹ 100000

2. ✗ ₹ 120000

3. ✗ ₹ 150000

4. ✗ ₹ 200000

Question Number : 109 Question Id : 5861803959 Question Type : MCQ Option Shuffling : Yes

Correct Marks : 1 Wrong Marks : 0.25

A sum of Rs. 15000 deposited at compound interest becomes double after 5 years. After 20 years, it will become:

Options :

1. ✗ Rs. 200000

2. ✓ Rs. 240000

3. ✗ Rs. 280000

4. ✗ Rs. 320000

Question Number : 109 Question Id : 5861803959 Question Type : MCQ Option Shuffling : Yes

Correct Marks : 1 Wrong Marks : 0.25

₹15000 की जमा राशि मिश्रित ब्याज पर 5 सालों में दोगुनी हो जाती है। 20 सालों के बाद यह कितनी हो जाएगी?

Options :

1. ✗ ₹ 200000

2. ✓ ₹ 240000

3. ✗ ₹ 280000

4. ✗ ₹ 320000

Question Number : 110 Question Id : 5861803960 Question Type : MCQ Option Shuffling : Yes

Correct Marks : 1 Wrong Marks : 0.25

A sum of money at compound interest doubles itself in 15 years. It will become eight times of itself in:

Options :

1. ✓ 45 years

2. ✗ 48 years

3. ✗ 54 years

4. ✖ 60 years

Question Number : 110 Question Id : 5861803960 Question Type : MCQ Option Shuffling : Yes

Correct Marks : 1 Wrong Marks : 0.25

मिश्रित ब्याज पर एक निश्चित राशि 15 सालों में दोगुनी हो जाती है। वही राशि कितने सालों में आठ गुना हो जाएगी?

Options :

1. ✔ 45 सालों में

2. ✖ 48 सालों में

3. ✖ 54 सालों में

4. ✖ 60 सालों में

Question Number : 111 Question Id : 5861803961 Question Type : MCQ Option Shuffling : Yes

Correct Marks : 1 Wrong Marks : 0.25

The length of a rectangle is 12 cm and its breadth is 8 cm. When the length is increased to 24 cm, what will be the breadth of the rectangle if the area remains the same?

Options :

1. ✖ 5 cm

2. ✔ 4 cm

3. ✖ 3 cm

4. ✖ 2.5 cm

Question Number : 111 Question Id : 5861803961 Question Type : MCQ Option Shuffling : Yes

Correct Marks : 1 Wrong Marks : 0.25

एक आयत की लंबाई 12 cm है और इसकी चौड़ाई 8 cm है। जब लंबाई में 24 cm की बढ़ोतरी की जाती है, तो अगर क्षेत्रफल वही रहता है, तो आयत की चौड़ाई पता करें?

Options :

1. ✘ 5 cm

2. ✔ 4 cm

3. ✘ 3 cm

4. ✘ 2.5 cm

Question Number : 112 Question Id : 5861803962 Question Type : MCQ Option Shuffling : Yes

Correct Marks : 1 Wrong Marks : 0.25

The length, breadth and height of a cuboid are in the ratio 1: 2 : 3. The length, breadth and height of the cuboid are increased by 100%, 200% and 100% respectively. Then the increase in the volume of the cuboid is:

Options :

1. ✘ 6 times

2. ✘ 8 times

3. ✘ 10 times

4. ✔ 12 times

Question Number : 112 Question Id : 5861803962 Question Type : MCQ Option Shuffling : Yes

Correct Marks : 1 Wrong Marks : 0.25

एक घनाभ की लंबाई, चौड़ाई और ऊँचाई का अनुपात 1:2:3 है। घनाभ की लंबाई, चौड़ाई और ऊँचाई में क्रमशः रूप से 100%, 200% और 100% की बढ़ोतरी की जाती है। तो इससे घनाभ के आयतन में कितनी बढ़ोतरी होगी?

Options :

1. ✖ 6 गुना

2. ✖ 8 गुना

3. ✖ 10 गुना

4. ✔ 12 गुना

Question Number : 113 Question Id : 5861803963 Question Type : MCQ Option Shuffling : Yes

Correct Marks : 1 Wrong Marks : 0.25

A metallic cone of radius 12 cm and height 24 cm is melted and made into spheres of radius 1 cm each. How many such spheres are possible?

Options :

1. ✖ 762

2. ✔ 864

3. ✖ 912

4. ✖ 924

Question Number : 113 Question Id : 5861803963 Question Type : MCQ Option Shuffling : Yes

Correct Marks : 1 Wrong Marks : 0.25

12 cm त्रिज्या और 24 cm ऊँचे एक धातुई शंकु को पिघलाया जाता है और उससे 1 cm त्रिज्या के पोलक बनाए जाते हैं। ऐसे कितने पोलक बनाए जा सकते हैं?

Options :

1. ✖ 762

2. ✓ 864

3. ✗ 912

4. ✗ 924

Question Number : 114 Question Id : 5861803964 Question Type : MCQ Option Shuffling : Yes

Correct Marks : 1 Wrong Marks : 0.25

Two workers A and B are engaged to do a certain work. If A worked alone, it takes 8 more hours to complete the job than if both worked together. If B worked alone, he would need 4.5 hours more to complete the job than when they both working together. What time would they take to finish the work together?

Options :

1. ✗ 4 hours

2. ✗ 5 hours

3. ✓ 6 hours

4. ✗ 7 hours

Question Number : 114 Question Id : 5861803964 Question Type : MCQ Option Shuffling : Yes

Correct Marks : 1 Wrong Marks : 0.25

A और B दो श्रमिकों को एक काम पूरा करने के लिए रखा जाता है। यदि A अकेले काम करता है, तो उसे दोनों को साथ मिलकर लगने वाले समय से 8 घंटे अधिक लगते हैं। यदि B अकेले काम करता है, तो उसे दोनों को साथ मिलकर लगने वाले समय से 4.5 घंटे अधिक लगेंगे। दोनों को साथ मिलकर काम पूरा करने में कितना समय लगेगा?

Options :

1. ✗ 4 घंटे

2. ✖ 5 घंटे

3. ✔ 6 घंटे

4. ✖ 7 घंटे

Question Number : 115 Question Id : 5861803965 Question Type : MCQ Option Shuffling : Yes

Correct Marks : 1 Wrong Marks : 0.25

A takes 5 days more than B and 9 days more than C to finish a certain job. A and B together can finish the job in the same time as C. How many days A alone would take to finish the job?

Options :

1. ✖ 5 days

2. ✖ 10 days

3. ✔ 15 days

4. ✖ 20 days

Question Number : 115 Question Id : 5861803965 Question Type : MCQ Option Shuffling : Yes

Correct Marks : 1 Wrong Marks : 0.25

A को एक निश्चित काम करने में B से 5 दिन और C से 9 दिन ज्यादा लगते हैं। A और B दोनों साथ मिलकर उसी काम को C को लगने वाले समय के बराबर समय में पूरा कर सकते हैं। A को अकेले काम पूरा करने में कितने दिन लगेंगे?

Options :

1. ✖ 5 दिन

2. ✖ 10 दिन

3. ✓ 15 दिन

4. ✗ 20 दिन

Question Number : 116 Question Id : 5861803966 Question Type : MCQ Option Shuffling : Yes
Correct Marks : 1 Wrong Marks : 0.25

A train travels at 90 km/h. How many metre will it travel in 10 minutes?

Options :

1. ✓ 15000 m

2. ✗ 13000 m

3. ✗ 12000 m

4. ✗ 10000 m

Question Number : 116 Question Id : 5861803966 Question Type : MCQ Option Shuffling : Yes
Correct Marks : 1 Wrong Marks : 0.25

एक रेलगाड़ी 90 kmph की गति पर चलती है। ये 10 मिनट में कितने मीटर सफर तय करेगी?

Options :

1. ✓ 15000 m

2. ✗ 13000 m

3. ✗ 12000 m

4. ✖ 10000 m

Question Number : 117 Question Id : 5861803967 Question Type : MCQ Option Shuffling : Yes

Correct Marks : 1 Wrong Marks : 0.25

दो रेलगाड़ियाँ अलग-अलग समांतर पटरी पर विपरीत दिशाओं से 75 kmph और 100 kmph की गति से एक दूसरे की ओर बढ़ रही हैं। एक समय में उनके बीच की दूरी 100 km है। T घंटों के बाद, उनके बीच की दूरी फिर से 100 km है। तो T का मान पता करें।

Options :

1. ✖ 1 hr

2. ✔ $1\frac{1}{7}$ hr

3. ✖ $1\frac{1}{2}$ hr

4. ✖ 2 hr

Question Number : 117 Question Id : 5861803967 Question Type : MCQ Option Shuffling : Yes

Correct Marks : 1 Wrong Marks : 0.25

Two trains are coming from opposite directions with speeds of 75 km/h and 100 km/h on two parallel tracks. At some moment, the distance between them is 100 km. After T hours, the distance between them is again 100 km. Then T is equal to:

Options :

1. ✖ 1 hr

2. ✔ $1\frac{1}{7}$ hr

3. ✖ $1\frac{1}{2}$ hr

4. ✖ 2 hr

Question Number : 118 Question Id : 5861803968 Question Type : MCQ Option Shuffling : Yes

Correct Marks : 1 Wrong Marks : 0.25

A train passes two bridges of lengths 500 m and 250 m in 100 seconds and 60 seconds respectively. The length of the train is:

Options :

1. ✖ 100 m

2. ✖ 120 m

3. ✔ 125 m

4. ✖ 130 m

Question Number : 118 Question Id : 5861803968 Question Type : MCQ Option Shuffling : Yes

Correct Marks : 1 Wrong Marks : 0.25

एक रेलगाड़ी 500 m और 250 m लंबे दो पुलों को क्रमशः 100 सेकंड और 60 सेकंड में पार करती है। रेलगाड़ी की लंबाई पता करें।

Options :

1. ✖ 100 m

2. ✖ 120 m

3. ✔ 125 m

4. ✖ 130 m

Question Number : 119 Question Id : 5861803969 Question Type : MCQ Option Shuffling : Yes

Correct Marks : 1 Wrong Marks : 0.25

The number of candidates (in lakh) appearing in an entrance examination from six different cities is given below:

City	A	B	C	D	E	F
No. of candidates	1.25	3.14	1.08	2.27	1.85	2.73

The ratio of candidates passing and failing per city is given below:

City	Ratio of passing and failing
A	7:3
B	5:3
C	4:5
D	1:3
E	3:2
F	7:5

Among the following cities, in which the number of failure is the highest?

F, C, B, D

Options :

1. ✖ F

2. ✖ C

3. ✖ B

4. ✔ D

Question Number : 119 Question Id : 5861803969 Question Type : MCQ Option Shuffling : Yes

Correct Marks : 1 Wrong Marks : 0.25

नीचे छह अलग-अलग शहरों से प्रवेश परीक्षा में बैठने वाले परीक्षार्थियों का संख्या (लाखों में) दिखाई गई है:

शहर	A	B	C	D	E	F
परीक्षार्थियों की संख्या	1.25	3.14	1.08	2.27	1.85	2.73

हर शहर से उत्तीर्ण और फेल परीक्षार्थियों की संख्या का अनुपात नीचे दिया गया है:

शहर	उत्तीर्ण और फेल परीक्षार्थियों का अनुपात
A	7 : 3
B	5 : 3
C	4 : 5
D	1 : 3
E	3 : 2
F	7 : 5

इन शहरों में से, किस शहर के परीक्षार्थी प्रवेश परीक्षा में सबसे अधिक फेल हुए हैं?

F, C, B, D

Options :

1. ✘ F

2. ✘ C

3. ✘ B

4. ✔ D

Question Number : 120 Question Id : 5861803970 Question Type : MCQ Option Shuffling : Yes
Correct Marks : 1 Wrong Marks : 0.25

The number of candidates (in lakh) appearing in an entrance examination from six different cities is given below:

City	A	B	C	D	E	F
No. of candidates	1.25	3.14	1.08	2.27	1.85	2.73

The ratio of candidates passing and failing per city is given below:

City	Ratio of passing and failing
A	7 : 3
B	5 : 3
C	4 : 5
D	1 : 3
E	3 : 2
F	7 : 5

Among the following cities, in which the number of failure is the least?

D, F, A, B

Options :

1. ✖ D

2. ✖ F

3. ✔ A

4. ✖ B

Question Number : 120 Question Id : 5861803970 Question Type : MCQ Option Shuffling : Yes

Correct Marks : 1 Wrong Marks : 0.25

नीचे छह अलग-अलग शहरों से प्रवेश परीक्षा में बैठने वाले परीक्षार्थियों का संख्या (लाखों में) दिखाई गई है:

शहर	A	B	C	D	E	F
परीक्षार्थियों की संख्या	1.25	3.14	1.08	2.27	1.85	2.73

हर शहर से उत्तीर्ण और फेल परीक्षार्थियों की संख्या का अनुपात नीचे दिया गया है:

शहर	उत्तीर्ण और फेल परीक्षार्थियों का अनुपात
A	7 : 3
B	5 : 3
C	4 : 5
D	1 : 3
E	3 : 2
F	7 : 5

इन शहरों में से, किस शहर के परीक्षार्थी प्रवेश परीक्षा में सबसे कम फेल हुए हैं?

D, F, A, B

Options :

1. ✘ D

2. ✘ F

3. ✔ A

4. ✘ B

General English1

Group Number :	7
Group Id :	586180188
Group Maximum Duration :	0
Group Minimum Duration :	0
Show Attended Group? :	No
Edit Attended Group? :	No
Break time:	0
Group Marks:	20
Is this Group for Examiner?:	No
Revisit allowed for group Instructions? :	Yes
Maximum Instruction Time:	0
Minimum Instruction Time:	0

General English1

Section Id :	586180192
Section Number :	1
Section type :	Online
Mandatory or Optional:	Mandatory
Number of Questions:	20
Number of Questions to be attempted:	20
Section Marks:	20

Sub-Section Number:	1
Sub-Section Id:	586180263
Question Shuffling Allowed :	Yes

Question Number : 121 Question Id : 5861803971 Question Type : MCQ Option Shuffling : Yes
Correct Marks : 1 Wrong Marks : 0.25

Identify the meaning of the following word.

NEOPHYTE

Options :

1. ✖ Someone who acts like a stranger in a place
2. ✔ Someone who has recently started a new activity and is still learning about it
3. ✖ Someone who believes he is always ill
4. ✖ Someone who believes in transient nature of life

Question Number : 121 Question Id : 5861803971 Question Type : MCQ Option Shuffling : Yes

Correct Marks : 1 Wrong Marks : 0.25

Identify the meaning of the following word.

NEOPHYTE

Options :

1. ✖ Someone who acts like a stranger in a place
2. ✔ Someone who has recently started a new activity and is still learning about it
3. ✖ Someone who believes he is always ill
4. ✖ Someone who believes in transient nature of life

Question Number : 122 Question Id : 5861803972 Question Type : MCQ Option Shuffling : Yes

Correct Marks : 1 Wrong Marks : 0.25

Select the option that can be used as a one-word substitute for the given group of words.

A person who works for an organisation but secretly gives information to its competitor enemy.

Options :

1. ✖ Scout
2. ✖ Detective
3. ✖ Emissary
4. ✔ Mole

Question Number : 122 Question Id : 5861803972 Question Type : MCQ Option Shuffling : Yes

Correct Marks : 1 Wrong Marks : 0.25

Select the option that can be used as a one-word substitute for the given group of words.

A person who works for an organisation but secretly gives information to its competitor enemy.

Options :

1. ✖ Scout
2. ✖ Detective
3. ✖ Emissary
4. ✔ Mole

Question Number : 123 Question Id : 5861803973 Question Type : MCQ Option Shuffling : Yes

Correct Marks : 1 Wrong Marks : 0.25

Select the option that means the same as the underlined idiomatic phrase.

Ram was planning to go to Canada for higher studies, but at the last minute he got cold feet.

Options :

1. ✖ Ram became ill with pneumonia
2. ✔ Ram became nervous or frightened
3. ✖ Ram got wet
4. ✖ Ram got sick

Question Number : 123 Question Id : 5861803973 Question Type : MCQ Option Shuffling : Yes

Correct Marks : 1 Wrong Marks : 0.25

Select the option that means the same as the underlined idiomatic phrase.

Ram was planning to go to Canada for higher studies, but at the last minute he got cold feet.

Options :

1. ✖ Ram became ill with pneumonia
2. ✔ Ram became nervous or frightened
3. ✖ Ram got wet
4. ✖ Ram got sick

Question Number : 124 Question Id : 5861803974 Question Type : MCQ Option Shuffling : Yes

Correct Marks : 1 Wrong Marks : 0.25

Fill in the blank with the most appropriate option.

My brother _____ not doing any work at home.

Options :

1. ✖ come upon
2. ✖ get back
3. ✖ get around
4. ✔ gets away with

Question Number : 124 Question Id : 5861803974 Question Type : MCQ Option Shuffling : Yes

Correct Marks : 1 Wrong Marks : 0.25

Fill in the blank with the most appropriate option.

My brother _____ not doing any work at home.

Options :

1. ✖ come upon

2. ✖ get back

3. ✖ get around

4. ✔ gets away with

Question Number : 125 Question Id : 5861803975 Question Type : MCQ Option Shuffling : Yes
Correct Marks : 1 Wrong Marks : 0.25

Fill in the blanks with the most appropriate option.

Challenging a _____ perception, a new study suggests primitive ponds may have provided a suitable _____ for creating Earth's first life forms, more so than _____.

Options :

1. ✖ known, atmosphere, rivers

2. ✔ common, environment, oceans

3. ✖ popular, place, land

4. ✖ common, atmosphere, ponds

Question Number : 125 Question Id : 5861803975 Question Type : MCQ Option Shuffling : Yes
Correct Marks : 1 Wrong Marks : 0.25

Fill in the blanks with the most appropriate option.

Challenging a _____ perception, a new study suggests primitive ponds may have provided a suitable _____ for creating Earth's first life forms, more so than _____.

Options :

1. ✖ known, atmosphere, rivers

2. ✔ common, environment, oceans

3. ✖ popular, place, land

4. ✖ common, atmosphere, ponds

Question Number : 126 Question Id : 5861803976 Question Type : MCQ Option Shuffling : Yes
Correct Marks : 1 Wrong Marks : 0.25

Identify the correct conditional form of the given sentences.
The meaning of the given sentences shouldn't be changed.

Hema didn't know reading the novel was important for the class debate. She didn't read it.

Options :

1. ✖ If Hema knew that reading the novel is important for the class debate, she would read it.
2. ✔ If Hema had known that reading the novel was important for the class debate, she would have read it.
3. ✖ Hema will read the novel if it is important for the class debate.
4. ✖ Hema would read the novel if it is important for the class debate.

Question Number : 126 Question Id : 5861803976 Question Type : MCQ Option Shuffling : Yes
Correct Marks : 1 Wrong Marks : 0.25

Identify the correct conditional form of the given sentences.
The meaning of the given sentences shouldn't be changed.

Hema didn't know reading the novel was important for the class debate. She didn't read it.

Options :

1. ✖ If Hema knew that reading the novel is important for the class debate, she would read it.

2. ✓ If Hema had known that reading the novel was important for the class debate, she would have read it.

3. ✖ Hema will read the novel if it is important for the class debate.

4. ✖ Hema would read the novel if it is important for the class debate.

Question Number : 127 Question Id : 5861803977 Question Type : MCQ Option Shuffling : Yes
Correct Marks : 1 Wrong Marks : 0.25

Select the grammatically correct sentence from the given options.

Options :

1. ✖ Three years before, we had a severe water crisis in our hometown.

2. ✖ Water scarcity, both natural and of human origin, is the lack of insufficient available water resources to meet the demands within a region.

3. ✖ There is no global water scarcity as such, but a number of places and regions are chronically short of water because its use at the global level have increased more than twice as fast as the population in the last century.

4. ✓ Due to global warming, there are an increasing number of droughts, floods and heat waves.

Question Number : 127 Question Id : 5861803977 Question Type : MCQ Option Shuffling : Yes
Correct Marks : 1 Wrong Marks : 0.25

Select the grammatically correct sentence from the given options.

Options :

1. ✖ Three years before, we had a severe water crisis in our hometown.
2. ✖ Water scarcity, both natural and of human origin, is the lack of insufficient available water resources to meet the demands within a region.
3. ✖ There is no global water scarcity as such, but a number of places and regions are chronically short of water because its use at the global level have increased more than twice as fast as the population in the last century.
4. ✔ Due to global warming, there are an increasing number of droughts, floods and heat waves.

Question Number : 128 Question Id : 5861803978 Question Type : MCQ Option Shuffling : Yes
Correct Marks : 1 Wrong Marks : 0.25

Fill in the blanks with verbs that correctly agree with the given subjects.

Human rights are believed to be rights granted by some higher power and everyone ____ human rights even if legislation ____ protect them or if oppressive governments ____ respect them.

Options :

1. ✖ have, don't, doesn't
2. ✖ has, don't, doesn't
3. ✔ has, doesn't, don't
4. ✖ have, doesn't, don't

Question Number : 128 Question Id : 5861803978 Question Type : MCQ Option Shuffling : Yes
Correct Marks : 1 Wrong Marks : 0.25

Fill in the blanks with verbs that correctly agree with the given subjects.

Human rights are believed to be rights granted by some higher power and everyone _____ human rights even if legislation _____ protect them or if oppressive governments _____ respect them.

Options :

1. ✖ have, don't, doesn't
2. ✖ has, don't, doesn't
3. ✔ has, doesn't, don't
4. ✖ have, doesn't, don't

Question Number : 129 Question Id : 5861803979 Question Type : MCQ Option Shuffling : Yes
Correct Marks : 1 Wrong Marks : 0.25

Match the following nouns with their respective adjectives.

Adjective	Noun
a) embarrassing	i) animal
b) dangerous	ii) attire
c) crowded	iii) question
d) casual	iv) bus

Options :

1. ✖ a-ii, b-iii, c-i, d-iv
2. ✖ a-i, b-iv, c-ii, d-iii
3. ✖ a-iii, b-iv, c-i, d-ii
4. ✔ a-iii, b-i, c-iv, d-ii

Question Number : 129 Question Id : 5861803979 Question Type : MCQ Option Shuffling : Yes
Correct Marks : 1 Wrong Marks : 0.25

Match the following nouns with their respective adjectives.

Adjective	Noun
a) embarrassing	i) animal
b) dangerous	ii) attire
c) crowded	iii) question
d) casual	iv) bus

Options :

- ✘ a-ii, b-iii, c-i, d-iv
- ✘ a-i, b-iv, c-ii, d-iii
- ✘ a-iii, b-iv, c-i, d-ii
- ✔ a-iii, b-i, c-iv, d-ii

Question Number : 130 Question Id : 5861803980 Question Type : MCQ Option Shuffling : Yes
Correct Marks : 1 Wrong Marks : 0.25

Select the option that expresses the given sentence in passive voice.

The thieves broke into the shop and took the safe box with them.

Options :

- ✘ The shop was broken by the thieves and the safe box was taken by them.
- ✘ The shop was looted by the thieves.
- ✘ The shop was broken into by the thieves who also carried the safe box.
- ✔ The shop was broken into and the safe box was taken by the thieves.

Question Number : 130 Question Id : 5861803980 Question Type : MCQ Option Shuffling : Yes
Correct Marks : 1 Wrong Marks : 0.25

Select the option that expresses the given sentence in passive voice.

The thieves broke into the shop and took the safe box with them.

Options :

1. ✖ The shop was broken by the thieves and the safe box was taken by them.
2. ✖ The shop was looted by the thieves.
3. ✖ The shop was broken into by the thieves who also carried the safe box.
4. ✔ The shop was broken into and the safe box was taken by the thieves.

Question Number : 131 Question Id : 5861803981 Question Type : MCQ Option Shuffling : Yes
Correct Marks : 1 Wrong Marks : 0.25

There are two statements numbered I and II. There may be cause and effect relationship between them. Or both might be effects of some independent cause or independent causes. Choose the appropriate option after reading the following two statements:

- I. Relief camps for people affected by a cyclone were set up all over the coastal regions.
- II. The cyclone had a landfall near the coast.

Options :

1. ✖ Statement I is the cause and Statement II is the effect
2. ✔ Statement II is the cause and Statement I is the effect

3. * Both statements are independent causes with no relation to each other

4. * Both statements are effects of an independent cause

Question Number : 131 Question Id : 5861803981 Question Type : MCQ Option Shuffling : Yes

Correct Marks : 1 Wrong Marks : 0.25

There are two statements numbered I and II. There may be cause and effect relationship between them. Or both might be effects of some independent cause or independent causes. Choose the appropriate option after reading the following two statements:

I. Relief camps for people affected by a cyclone were set up all over the coastal regions.

II. The cyclone had a landfall near the coast.

Options :

1. * Statement I is the cause and Statement II is the effect

2. ✓ Statement II is the cause and Statement I is the effect

3. * Both statements are independent causes with no relation to each other

4. * Both statements are effects of an independent cause

Question Number : 132 Question Id : 5861803982 Question Type : MCQ Option Shuffling : Yes

Correct Marks : 1 Wrong Marks : 0.25

Fill in the blank with the most appropriate option.

The field notes recorded by the lab assistant were extremely organised _____ the lead scientist's were messy.

Options :

1. ✖ but
2. ✖ instead
3. ✖ although
4. ✔ whereas

Question Number : 132 Question Id : 5861803982 Question Type : MCQ Option Shuffling : Yes
Correct Marks : 1 Wrong Marks : 0.25

Fill in the blank with the most appropriate option.

The field notes recorded by the lab assistant were extremely organised _____ the lead scientist's were messy.

Options :

1. ✖ but
2. ✖ instead
3. ✖ although
4. ✔ whereas

Question Number : 133 Question Id : 5861803983 Question Type : MCQ Option Shuffling : Yes
Correct Marks : 1 Wrong Marks : 0.25

Select the option that expresses the given sentence in reported speech.

Dhoni said, "Practice and preparation will always help you perfect your skills and get you in the zone. If your skills go up, stress goes down."

Options :

1. ✖ Dhoni said that practice and preparation will always help them to perfect their skills to get them in the zone. He also added that when their skills goes up, stress goes down.

2. ✓ Dhoni said that practice and preparation would always help them to perfect their skills and get them in the zone. He added that when their skills went up, stress would go down.

3. ✖ Dhoni said that practice and preparation would always help us to perfect their skills and get us in the zone. He also added that when their skills went up, stress goes down.

4. ✖ Dhoni said that practice and preparation would always help us to perfect our skills get us in the zone. He also added that when our skills is going up, stress would have gone down.

Question Number : 133 Question Id : 5861803983 Question Type : MCQ Option Shuffling : Yes
Correct Marks : 1 Wrong Marks : 0.25

Select the option that expresses the given sentence in reported speech.

Dhoni said, "Practice and preparation will always help you perfect your skills and get you in the zone. If your skills go up, stress goes down."

Options :

1. ✖ Dhoni said that practice and preparation will always help them to perfect their skills to get them in the zone. He also added that when their skills goes up, stress goes down.

2. ✓ Dhoni said that practice and preparation would always help them to perfect their skills and get them in the zone. He added that when their skills went up, stress would go down.

3. ✖ Dhoni said that practice and preparation would always help us to perfect their skills and get us in the zone. He also added that when their skills went up, stress goes down.

4. ✖ Dhoni said that practice and preparation would always help us to perfect our skills get us in the zone. He also added that when our skills is going up, stress would have gone down.

Question Number : 134 Question Id : 5861803984 Question Type : MCQ Option Shuffling : Yes

Correct Marks : 1 Wrong Marks : 0.25

Given in the options is a complete sentence that has been divided into four parts. The four parts are jumbled. Rearrange the jumbled parts and find the part that has a grammatical error.

Options :

1. ✔ so worst

2. ✖ to breathe fresh air in the city

3. ✖ Environmental pollution has become

4. ✖ that it has become difficult

Question Number : 134 Question Id : 5861803984 Question Type : MCQ Option Shuffling : Yes

Correct Marks : 1 Wrong Marks : 0.25

Given in the options is a complete sentence that has been divided into four parts. The four parts are jumbled.

Rearrange the jumbled parts and find the part that has a grammatical error.

Options :

1. ✔ so worst

2. ✖ to breathe fresh air in the city
3. ✖ Environmental pollution has become
4. ✖ that it has become difficult

Question Number : 135 Question Id : 5861803985 Question Type : MCQ Option Shuffling : Yes
Correct Marks : 1 Wrong Marks : 0.25

Fill in the blank with the most appropriate option.

Asha is a good Bharatanatyam dancer. _____, she is also very good at singing.

Options :

1. ✔ Moreover
2. ✖ On the other hand
3. ✖ In addition to
4. ✖ Because

Question Number : 135 Question Id : 5861803985 Question Type : MCQ Option Shuffling : Yes
Correct Marks : 1 Wrong Marks : 0.25

Fill in the blank with the most appropriate option.

Asha is a good Bharatanatyam dancer. _____, she is also very good at singing.

Options :

1. ✔ Moreover
2. ✖ On the other hand
3. ✖ In addition to
4. ✖ Because

Question Number : 136 Question Id : 5861803986 Question Type : MCQ Option Shuffling : Yes
Correct Marks : 1 Wrong Marks : 0.25

The following sentence has been divided into three parts. One of them may be incorrect. Choose the INCORRECT part from the given options. If you don't find any error, mark 'No error' as your answer.

He did not / give me / some money.

Options :

1. ✖ He did not
2. ✖ give me
3. ✔ some money
4. ✖ No error

Question Number : 136 Question Id : 5861803986 Question Type : MCQ Option Shuffling : Yes
Correct Marks : 1 Wrong Marks : 0.25

The following sentence has been divided into three parts. One of them may be incorrect. Choose the INCORRECT part from the given options. If you don't find any error, mark 'No error' as your answer.

He did not / give me / some money.

Options :

1. ✖ He did not
2. ✖ give me
3. ✔ some money
4. ✖ No error

Question Number : 137 Question Id : 5861803987 Question Type : MCQ Option Shuffling : Yes
Correct Marks : 1 Wrong Marks : 0.25

Of the four sentences given in the options which one has the correct word order?

Options :

1. ✓ The shift of thoughts from bookish knowledge to knowledge of life, in schools, has brought forth a sea of change.
2. ✖ To become adult citizens of tomorrow, the children of today are gearing up.
3. ✖ The cultivation of a healthy thought process education must facilitate and groom our cognitive abilities.
4. ✖ Education is a basic necessity in the present competitive world for human beings after food, clothes and shelter.

Question Number : 137 Question Id : 5861803987 Question Type : MCQ Option Shuffling : Yes

Correct Marks : 1 Wrong Marks : 0.25

Of the four sentences given in the options which one has the correct word order?

Options :

1. ✓ The shift of thoughts from bookish knowledge to knowledge of life, in schools, has brought forth a sea of change.
2. ✖ To become adult citizens of tomorrow, the children of today are gearing up.
3. ✖ The cultivation of a healthy thought process education must facilitate and groom our cognitive abilities.

4. * Education is a basic necessity in the present competitive world for human beings after food, clothes and shelter.

Question Number : 138 Question Id : 5861803988 Question Type : MCQ Option Shuffling : Yes

Correct Marks : 1 Wrong Marks : 0.25

Sentences of a paragraph are given below. While the first and the last sentences are in correct order, the sentences in between are jumbled up. Arrange the sentences in the right order to form a meaningful and coherent paragraph.

1. It takes several quite distinct steps to make a product out of natural rubber.

P. That involves making a wide, V-shaped cut in the tree's bark.

Q. The rubber made this way is unprocessed and it is pressed into slabs or sheets and then dried, ready for the next stages of production.

R. As the latex drips out, it is collected in a cup. The latex from many trees is then filtered, washed, and reacted with acid to make the particles of rubber coagulate (stick together).

S. First, you have to gather your latex from the rubber trees using a traditional process called rubber tapping.

6. By itself, unprocessed rubber is not all that useful. It tends to be brittle when cold and smelly and sticky when it warms up.

Options :

1. * SQPR

2. * PRSQ

3. ✓ SPRQ

4. * RPSQ

Question Number : 138 Question Id : 5861803988 Question Type : MCQ Option Shuffling : Yes

Correct Marks : 1 Wrong Marks : 0.25

Sentences of a paragraph are given below. While the first and the last sentences are in correct order, the sentences in between are jumbled up. Arrange the sentences in the right order to form a meaningful and coherent paragraph.

1. It takes several quite distinct steps to make a product out of natural rubber.

P. That involves making a wide, V-shaped cut in the tree's bark.

Q. The rubber made this way is unprocessed and it is pressed into slabs or sheets and then dried, ready for the next stages of production.

R. As the latex drips out, it is collected in a cup. The latex from many trees is then filtered, washed, and reacted with acid to make the particles of rubber coagulate (stick together).

S. First, you have to gather your latex from the rubber trees using a traditional process called rubber tapping.

6. By itself, unprocessed rubber is not all that useful. It tends to be brittle when cold and smelly and sticky when it warms up.

Options :

1. ✖ SQPR

2. ✖ PRSQ

3. ✔ SPRQ

4. ✖ RPSQ

Question Number : 139 Question Id : 5861803989 Question Type : MCQ Option Shuffling : Yes

Correct Marks : 1 Wrong Marks : 0.25

Sentences of a paragraph are given below. While the first and the last sentences are in correct order, the sentences in between are jumbled up. Arrange the sentences in the right order to form a meaningful and coherent paragraph.

1. Marie Curie was born Maria Sklodowska on 7 November 1867 in Warsaw, Poland.

P. While there she met Pierre and married him in a simple civil ceremony in July 1895. After their marriage, Marie and Pierre began working together on research into radioactive substances.

Q. She grew up in a family that greatly valued education, and in 1891, she moved to Paris to study mathematics, chemistry and physics at the Sorbonne.

R. Marie thought that the emission of rays by uranium compounds could be an atomic property of the element uranium – something built into the very structure of its atoms.

S. One of their discoveries was that uranium ore contained much more radioactivity than could be explained solely by the uranium content itself.

6. Marie's simple hypothesis would ultimately contribute to a fundamental shift in scientific understanding.

Options :

1. ✖ RPSQ

2. ✖ QRSQ

3. ✖ PRSQ

4. ✔ QPSR

Question Number : 139 Question Id : 5861803989 Question Type : MCQ Option Shuffling : Yes
Correct Marks : 1 Wrong Marks : 0.25

Sentences of a paragraph are given below. While the first and the last sentences are in correct order, the sentences in between are jumbled up. Arrange the sentences in the right order to form a meaningful and coherent paragraph.

1. Marie Curie was born Maria Sklodowska on 7 November 1867 in Warsaw, Poland.

P. While there she met Pierre and married him in a simple civil ceremony in July 1895. After their marriage, Marie and Pierre began working together on research into radioactive substances.

Q. She grew up in a family that greatly valued education, and in 1891, she moved to Paris to study mathematics, chemistry and physics at the Sorbonne.

R. Marie thought that the emission of rays by uranium compounds could be an atomic property of the element uranium - something built into the very structure of its atoms.

S. One of their discoveries was that uranium ore contained much more radioactivity than could be explained solely by the uranium content itself.

6. Marie's simple hypothesis would ultimately contribute to a fundamental shift in scientific understanding.

Options :

1. * RPSQ

2. ✖ QRSP

3. ✖ PRSQ

4. ✔ QPSR

Question Number : 140 Question Id : 5861803990 Question Type : MCQ Option Shuffling : Yes
Correct Marks : 1 Wrong Marks : 0.25

Which option when rearranged forms the answer for the following question?

How was the lecture?

Options :

1. ✖ Yesterday / I went home / very early

2. ✖ a cycle / inside the campus / I would like to buy / for commuting

3. ✖ if you had come / the movie / We would / with us / have enjoyed

4. ✔ that I fell asleep / so boring / the lecture was / in the middle of it

Question Number : 140 Question Id : 5861803990 Question Type : MCQ Option Shuffling : Yes
Correct Marks : 1 Wrong Marks : 0.25

Which option when rearranged forms the answer for the following question?

How was the lecture?

Options :

1. ✖ Yesterday / I went home / very early

2. ✖ a cycle / inside the campus / I would like to buy / for commuting

3. ✖ if you had come / the movie / We would / with us /
have enjoyed

4. ✔ that I fell asleep / so boring / the lecture was / in the
middle of it

General English2

Group Number :	8
Group Id :	586180189
Group Maximum Duration :	0
Group Minimum Duration :	0
Show Attended Group? :	No
Edit Attended Group? :	No
Break time:	0
Group Marks:	20
Is this Group for Examiner?:	No
Revisit allowed for group Instructions? :	Yes
Maximum Instruction Time:	0
Minimum Instruction Time:	0

General English2

Section Id :	586180193
Section Number :	1
Section type :	Online
Mandatory or Optional:	Mandatory
Number of Questions:	12
Number of Questions to be attempted:	12
Section Marks:	20

Sub-Section Number:	1
Sub-Section Id:	586180264
Question Shuffling Allowed :	Yes

Question Number : 141 Question Id : 5861803991 Question Type : MCQ Option Shuffling : Yes
Correct Marks : 1 Wrong Marks : 0.25

Select the most appropriate synonym of the underlined word.

The latter part of the talk was remarkable for its fervid presentation of the controversial topic.

Options :

1. ✖ Half-hearted
2. ✖ Tender
3. ✔ Passionate
4. ✖ Indulgent

Question Number : 141 Question Id : 5861803991 Question Type : MCQ Option Shuffling : Yes

Correct Marks : 1 Wrong Marks : 0.25

Select the most appropriate synonym of the underlined word.

The latter part of the talk was remarkable for its fervid presentation of the controversial topic.

Options :

1. ✖ Half-hearted
2. ✖ Tender
3. ✔ Passionate
4. ✖ Indulgent

Question Number : 142 Question Id : 5861803992 Question Type : MCQ Option Shuffling : Yes

Correct Marks : 1 Wrong Marks : 0.25

Select the most appropriate synonym of the underlined word.

The University included bucolic poems for the curriculum.

Options :

1. ✔ Pastoral
2. ✖ Agitated
3. ✖ Willful
4. ✖ Peaceful

Question Number : 142 Question Id : 5861803992 Question Type : MCQ Option Shuffling : Yes

Correct Marks : 1 Wrong Marks : 0.25

Select the most appropriate synonym of the underlined word.

The University included bucolic poems for the curriculum.

Options :

1. ✓ Pastoral
2. ✗ Agitated
3. ✗ Willful
4. ✗ Peaceful

Question Number : 143 Question Id : 5861803993 Question Type : MCQ Option Shuffling : Yes
Correct Marks : 1 Wrong Marks : 0.25

Select the most appropriate synonym of the underlined word.

The school boy did not understand the seriousness of the situation when he saw the laconic message, “We are done!”

Options :

1. ✓ Terse
2. ✗ Lengthy
3. ✗ Vague
4. ✗ Witty

Question Number : 143 Question Id : 5861803993 Question Type : MCQ Option Shuffling : Yes
Correct Marks : 1 Wrong Marks : 0.25

Select the most appropriate synonym of the underlined word.

The school boy did not understand the seriousness of the situation when he saw the laconic message, “We are done!”

Options :

1. ✓ Terse

2. ✖ Lengthy

3. ✖ Vague

4. ✖ Witty

Question Number : 144 Question Id : 5861803994 Question Type : MCQ Option Shuffling : Yes
Correct Marks : 1 Wrong Marks : 0.25

Select the most appropriate synonym of the following word.

EQUIVOCATE

Options :

1. ✖ equalise

2. ✖ decide

3. ✔ prevaricate

4. ✖ settle

Question Number : 144 Question Id : 5861803994 Question Type : MCQ Option Shuffling : Yes
Correct Marks : 1 Wrong Marks : 0.25

Select the most appropriate synonym of the following word.

EQUIVOCATE

Options :

1. ✖ equalise

2. ✖ decide

3. ✔ prevaricate

4. ✖ settle

Question Number : 145 Question Id : 5861803995 Question Type : MCQ Option Shuffling : Yes
Correct Marks : 1 Wrong Marks : 0.25

Select the most appropriate synonym of the following word.

CONGRUENCE

Options :

1. ✖ **accordance**
2. ✖ **condolence**
3. ✔ **agreement**
4. ✖ **beneficiary**

Question Number : 145 Question Id : 5861803995 Question Type : MCQ Option Shuffling : Yes

Correct Marks : 1 Wrong Marks : 0.25

Select the most appropriate synonym of the following word.

CONGRUENCE

Options :

1. ✖ **accordance**
2. ✖ **condolence**
3. ✔ **agreement**
4. ✖ **beneficiary**

Question Number : 146 Question Id : 5861803996 Question Type : MCQ Option Shuffling : Yes

Correct Marks : 1 Wrong Marks : 0.25

Select the most appropriate ANTONYM of the following word.

UNDERMINE

Options :

1. ✖ **co-operate**
2. ✖ **understand**
3. ✔ **strengthen**

4. ✖ underneath

Question Number : 146 Question Id : 5861803996 Question Type : MCQ Option Shuffling : Yes
Correct Marks : 1 Wrong Marks : 0.25

Select the most appropriate ANTONYM of the following word.

UNDERMINE

Options :

1. ✖ co-operate
2. ✖ understand
3. ✔ strengthen
4. ✖ underneath

Question Number : 147 Question Id : 5861803997 Question Type : MCQ Option Shuffling : Yes
Correct Marks : 1 Wrong Marks : 0.25

Select the most appropriate ANTONYM of the following word.

MISANTHROPIC

Options :

1. ✔ philanthropic
2. ✖ misogynist
3. ✖ cynic
4. ✖ skeptic

Question Number : 147 Question Id : 5861803997 Question Type : MCQ Option Shuffling : Yes
Correct Marks : 1 Wrong Marks : 0.25

Select the most appropriate ANTONYM of the following word.

MISANTHROPIC

Options :

1. ✓ philanthropic

2. ✗ misogynist

3. ✗ cynic

4. ✗ skeptic

Question Number : 148 Question Id : 5861803998 Question Type : MCQ Option Shuffling : Yes

Correct Marks : 1 Wrong Marks : 0.25

Select the most appropriate ANTONYM of the following word.

COALESCE

Options :

1. ✗ recuperate

2. ✓ separate

3. ✗ converse

4. ✗ spoil

Question Number : 148 Question Id : 5861803998 Question Type : MCQ Option Shuffling : Yes

Correct Marks : 1 Wrong Marks : 0.25

Select the most appropriate ANTONYM of the following word.

COALESCE

Options :

1. ✗ recuperate

2. ✓ separate

3. ✗ converse

4. ✗ spoil

Question Number : 149 Question Id : 5861803999 Question Type : MCQ Option Shuffling : Yes

Correct Marks : 1 Wrong Marks : 0.25

Select the most appropriate ANTONYM of the underlined word.

The visiting professor's answers to students' questions were wonderfully lucid and entertaining.

Options :

1. ✖ Clear
2. ✖ Vital
3. ✔ Obscure
4. ✖ Simple

Question Number : 149 Question Id : 5861803999 Question Type : MCQ Option Shuffling : Yes
Correct Marks : 1 Wrong Marks : 0.25

Select the most appropriate ANTONYM of the underlined word.

The visiting professor's answers to students' questions were wonderfully lucid and entertaining.

Options :

1. ✖ Clear
2. ✖ Vital
3. ✔ Obscure
4. ✖ Simple

Question Number : 150 Question Id : 5861804000 Question Type : MCQ Option Shuffling : Yes
Correct Marks : 1 Wrong Marks : 0.25

Select the most appropriate ANTONYM of the underlined word.

The mystery surrounding MH370 has been a focus of continued investigation and a source of sometimes feverish public speculation.

Options :

1. ✓ Reality
2. ✗ Conjecture
3. ✗ Guess
4. ✗ Gossip

Question Number : 150 Question Id : 5861804000 Question Type : MCQ Option Shuffling : Yes
Correct Marks : 1 Wrong Marks : 0.25

Select the most appropriate ANTONYM of the underlined word.

The mystery surrounding MH370 has been a focus of continued investigation and a source of sometimes feverish public speculation.

Options :

1. ✓ Reality
2. ✗ Conjecture
3. ✗ Guess
4. ✗ Gossip

Sub-Section Number:	2
Sub-Section Id:	586180265
Question Shuffling Allowed :	Yes

Question Id : 5861804001 Question Type : COMPREHENSION Sub Question Shuffling Allowed : Yes Group Comprehension Questions : No

Question Numbers : (151 to 155)

Question Label : Comprehension

Read the following passage and answer the questions that follow.

Bartering is trading services or goods with another person when there is no money involved. This type of exchange was relied upon by early civilizations. A barter system is an old method of exchange. This system has been used for centuries and long before money was invented. People exchanged services and goods for other services and goods in return. Today, bartering has made a comeback using techniques that are more sophisticated to aid in trading; for instance, the Internet. In ancient times, this system involved people in the same area, however today bartering is global. The value of bartering items can be negotiated with the other party. Bartering doesn't involve money which is one of the advantages. You can buy items by exchanging an item you have but no longer want or need. Generally, trading in this manner is done through Online auctions and swap markets. The history of bartering dates all the way back to 6000 BC. Introduced by Mesopotamia tribes, bartering was adopted by Phoenicians. Phoenicians bartered goods to those located in various other cities across oceans. Babylonians also developed an improved bartering system. Goods were exchanged for food, tea, weapons and spices. At times, human skulls were used as well. Salt was another popular item exchanged. Salt was so valuable that Roman soldiers' salaries were paid with it. In the Middle Ages, Europeans travelled around the globe to barter crafts and furs in exchange for silks and perfumes. Colonial Americans exchanged musket balls, deer skins, and wheat. When money was invented, bartering did not end, it became more organised.

Sub questions

Question Number : 151 Question Id : 5861804002 Question Type : MCQ Option Shuffling : Yes

Correct Marks : 1 Wrong Marks : 0.25

As per the passage, bartering is:

Options :

1. ✓ the exchange of services or goods for other services or goods in return.
2. ✗ the exchange of information for money
3. ✗ the exchange of agricultural products between two countries
4. ✗ trading partners gifting goods to each other

Question Number : 152 Question Id : 5861804003 Question Type : MCQ Option Shuffling : Yes

Correct Marks : 1 Wrong Marks : 0.25

Bartering in today's world exists in the form of _____.

Options :

1. ✗ start ups
2. ✗ digital stores
3. ✗ second-hand shops
4. ✓ online auctions and exchange markets

Question Number : 153 Question Id : 5861804004 Question Type : MCQ Option Shuffling : Yes

Correct Marks : 1 Wrong Marks : 0.25

As per the passage who were the first to use bartering as a trade practice?

Options :

1. ✗ Phoenicians
2. ✓ Mesopotamians
3. ✗ Babylonians
4. ✗ Romans

Question Number : 154 Question Id : 5861804005 Question Type : MCQ Option Shuffling : Yes

Correct Marks : 1 Wrong Marks : 0.25

What was the most valued commodity in the olden days?

Options :

1. ✖ Fur
2. ✖ Perfumes
3. ✔ Salt
4. ✖ Weapons

Question Number : 155 Question Id : 5861804006 Question Type : MCQ Option Shuffling : Yes
Correct Marks : 1 Wrong Marks : 0.25

Match the following people with the products they were trading.

People	Product
(a) Babylonians	(i) Perfumes
(b) Romans	(ii) Wheat
(c) Europeans	(iii) Spices
(d) Americans	(iv) Salt

Options :

1. ✖ a-iv, b-i, c-ii, d-iv
2. ✔ a-iii, b-iv, c-i, d-ii
3. ✖ a-ii, b-i, c-iv, d-iii
4. ✖ a-i, b-iv, c-iii, d-ii

Question Id : 5861804001 Question Type : COMPREHENSION Sub Question Shuffling Allowed : Yes Group Comprehension Questions : No

Question Numbers : (151 to 155)

Question Label : Comprehension

Read the following passage and answer the questions that follow.

Bartering is trading services or goods with another person when there is no money involved. This type of exchange was relied upon by early civilizations. A barter system is an old method of exchange. This system has been used for centuries and long before money was invented. People exchanged services and goods for other services and goods in return. Today, bartering has made a comeback using techniques that are more sophisticated to aid in trading; for instance, the Internet. In ancient times, this system involved people in the same area, however today bartering is global. The value of bartering items can be negotiated with the other party. Bartering doesn't involve money which is one of the advantages. You can buy items by exchanging an item you have but no longer want or need. Generally, trading in this manner is done through Online auctions and swap markets.

The history of bartering dates all the way back to 6000 BC. Introduced by Mesopotamia tribes, bartering was adopted by Phoenicians. Phoenicians bartered goods to those located in various other cities across oceans. Babylonians also developed an improved bartering system. Goods were exchanged for food, tea, weapons and spices. At times, human skulls were used as well. Salt was another popular item exchanged. Salt was so valuable that Roman soldiers' salaries were paid with it. In the Middle Ages, Europeans travelled around the globe to barter crafts and furs in exchange for silks and perfumes. Colonial Americans exchanged musket balls, deer skins, and wheat. When money was invented, bartering did not end, it became more organised.

Sub questions

Question Number : 151 Question Id : 5861804002 Question Type : MCQ Option Shuffling : Yes
Correct Marks : 1 Wrong Marks : 0.25

As per the passage, bartering is:

Options :

1. ✓ the exchange of services or goods for other services or goods in return.
2. ✗ the exchange of information for money
3. ✗ the exchange of agricultural products between two countries
4. ✗ trading partners gifting goods to each other

Question Number : 152 Question Id : 5861804003 Question Type : MCQ Option Shuffling : Yes
Correct Marks : 1 Wrong Marks : 0.25

Bartering in today's world exists in the form of _____.

Options :

1. ✗ start ups
2. ✗ digital stores
3. ✗ second-hand shops
4. ✓ online auctions and exchange markets

Question Number : 153 Question Id : 5861804004 Question Type : MCQ Option Shuffling : Yes
Correct Marks : 1 Wrong Marks : 0.25

As per the passage who were the first to use bartering as a trade practice?

Options :

1. ✗ Phoenicians
2. ✓ Mesopotamians

3. ✖ Babylonians

4. ✖ Romans

Question Number : 154 Question Id : 5861804005 Question Type : MCQ Option Shuffling : Yes

Correct Marks : 1 Wrong Marks : 0.25

What was the most valued commodity in the olden days?

Options :

1. ✖ Fur

2. ✖ Perfumes

3. ✔ Salt

4. ✖ Weapons

Question Number : 155 Question Id : 5861804006 Question Type : MCQ Option Shuffling : Yes

Correct Marks : 1 Wrong Marks : 0.25

Match the following people with the products they were trading.

People	Product
(a) Babylonians	(i) Perfumes
(b) Romans	(ii) Wheat
(c) Europeans	(iii) Spices
(d) Americans	(iv) Salt

Options :

1. ✖ a-iv, b-i, c-ii, d-iv

2. ✔ a-iii, b-iv, c-i, d-ii

3. ✖ a-ii, b-i, c-iv, d-iii

4. ✖ a-i, b-iv, c-iii, d-ii

Sub-Section Number:

3

Sub-Section Id:

586180266

Question Shuffling Allowed :

Yes

Question Id : 5861804007 Question Type : COMPREHENSION Sub Question Shuffling Allowed : Yes Group Comprehension Questions : No

Question Numbers : (156 to 160)

Question Label : Comprehension

Read the following passage and answer the questions that follow.

Augmented reality is an enhanced version of reality where live direct or indirect views of physical real-world environments are augmented with superimposed computer-generated images over a user's view of the real-world, thus enhancing one's current perception of reality. The origin of the word 'augmented' is augment, which means to add or enhance something. In the case of Augmented Reality (also called AR), graphics, sounds and touch feedback are added into our natural world to create an enhanced user experience.

Unlike virtual reality, which requires you to inhabit an entirely virtual environment, augmented reality uses your existing natural environment and simply overlays virtual information on top of it. As both, virtual and real worlds harmoniously co-exist, users of augmented reality experience a new and improved natural world where virtual information is used as a tool to provide assistance in everyday activities.

Applications of augmented reality can be as simple as a text-notification or as complicated as an instruction on how to perform a life-threatening surgical procedure. They can highlight certain features, enhance understandings, and provide accessible and timely data. Cell phone apps and business applications by companies using augmented reality are a few of the many applications driving augmented reality application development. The key point is that the information provided is highly topical and relevant to what you want or what you are doing.

Sub questions

Question Number : 156 Question Id : 5861804008 Question Type : MCQ Option Shuffling : Yes

Correct Marks : 1 Wrong Marks : 0.25

As per the passage, what is Augmented Reality?

Options :

1. ✖ It is the censored version of reality where the real world merges with the reel world and gives us a completely new world.
2. ✖ It is a realistic view of the real world but it is super imposed by our own imaginary world.
3. ✖ It is a virtual world where everything is computer generated.
4. ✔ It enhances real-time view by augmenting it with superimposed computer-generated images.

Question Number : 157 Question Id : 5861804009 Question Type : MCQ Option Shuffling : Yes

Correct Marks : 1 Wrong Marks : 0.25

Which one of the following is NOT added to augment the real world view?

Options :

1. ✖ Graphics
2. ✖ Sounds
3. ✔ Real time items
4. ✖ Touch feedback

Question Number : 158 Question Id : 5861804010 Question Type : MCQ Option Shuffling : Yes

Correct Marks : 1 Wrong Marks : 0.25

Fill in the blank with the most appropriate option.

In virtual reality the user _____.

Options :

1. ✓ enters into a completely virtual environment and there is nothing real in it.
2. ✖ will be experiencing a mix of virtual and real environment.
3. ✖ will be experiencing a completely real-time environment and there is nothing imaginary about it.
4. ✖ will not experience anything but just play a game on a console.

Question Number : 159 Question Id : 5861804011 Question Type : MCQ Option Shuffling : Yes
Correct Marks : 1 Wrong Marks : 0.25

Which of the following CANNOT be done by AR technology?

Options :

1. ✖ Giving text notifications
2. ✖ Conducting surgery
3. ✖ Giving directions
4. ✓ Making decisions

Question Number : 160 Question Id : 5861804012 Question Type : MCQ Option Shuffling : Yes
Correct Marks : 1 Wrong Marks : 0.25

Which one of the following options is NOT true based on the passage?

Options :

1. ✖ The health sector has benefited a lot with augmented reality.
2. ✓ Biometric system works using augmented reality.
3. ✖ Cell phone apps use AR.
4. ✖ AR helps in giving access to information which is very relevant.

Question Id : 5861804007 Question Type : COMPREHENSION Sub Question Shuffling Allowed : Yes Group Comprehension Questions : No

Question Numbers : (156 to 160)

Question Label : Comprehension

Read the following passage and answer the questions that follow.

Augmented reality is an enhanced version of reality where live direct or indirect views of physical real-world environments are augmented with superimposed computer-generated images over a user's view of the real-world, thus enhancing one's current perception of reality. The origin of the word 'augmented' is augment, which means to add or enhance something. In the case of Augmented Reality (also called AR), graphics, sounds and touch feedback are added into our natural world to create an enhanced user experience.

Unlike virtual reality, which requires you to inhabit an entirely virtual environment, augmented reality uses your existing natural environment and simply overlays virtual information on top of it. As both, virtual and real worlds harmoniously co-exist, users of augmented reality experience a new and improved natural world where virtual information is used as a tool to provide assistance in everyday activities.

Applications of augmented reality can be as simple as a text-notification or as complicated as an instruction on how to perform a life-threatening surgical procedure. They can highlight certain features, enhance understandings, and provide accessible and timely data. Cell phone apps and business applications by companies using augmented reality are a few of the many applications driving augmented reality application development. The key point is that the information provided is highly topical and relevant to what you want or what you are doing.

Sub questions

Question Number : 156 Question Id : 5861804008 Question Type : MCQ Option Shuffling : Yes

Correct Marks : 1 Wrong Marks : 0.25

As per the passage, what is Augmented Reality?

Options :

1. ✖ It is the censored version of reality where the real world merges with the reel world and gives us a completely new world.
2. ✖ It is a realistic view of the real world but it is super imposed by our own imaginary world.
3. ✖ It is a virtual world where everything is computer generated.
4. ✔ It enhances real-time view by augmenting it with superimposed computer-generated images.

Question Number : 157 Question Id : 5861804009 Question Type : MCQ Option Shuffling : Yes

Correct Marks : 1 Wrong Marks : 0.25

Which one of the following is NOT added to augment the real world view?

Options :

1. ✖ Graphics
2. ✖ Sounds
3. ✔ Real time items
4. ✖ Touch feedback

Question Number : 158 Question Id : 5861804010 Question Type : MCQ Option Shuffling : Yes

Correct Marks : 1 Wrong Marks : 0.25

Fill in the blank with the most appropriate option.

In virtual reality the user _____.

Options :

1. ✓ enters into a completely virtual environment and there is nothing real in it.
2. ✗ will be experiencing a mix of virtual and real environment.
3. ✗ will be experiencing a completely real-time environment and there is nothing imaginary about it.
4. ✗ will not experience anything but just play a game on a console.

Question Number : 159 Question Id : 5861804011 Question Type : MCQ Option Shuffling : Yes
Correct Marks : 1 Wrong Marks : 0.25

Which of the following CANNOT be done by AR technology?

Options :

1. ✗ Giving text notifications
2. ✗ Conducting surgery
3. ✗ Giving directions
4. ✓ Making decisions

Question Number : 160 Question Id : 5861804012 Question Type : MCQ Option Shuffling : Yes
Correct Marks : 1 Wrong Marks : 0.25

Which one of the following options is NOT true based on the passage?

Options :

1. ✖ The health sector has benefited a lot with augmented reality.
2. ✔ Biometric system works using augmented reality.
3. ✖ Cell phone apps use AR.
4. ✖ AR helps in giving access to information which is very relevant.

General Hindi1

Group Number :	9
Group Id :	586180190
Group Maximum Duration :	0
Group Minimum Duration :	0
Show Attended Group? :	No
Edit Attended Group? :	No
Break time:	0
Group Marks:	20
Is this Group for Examiner?:	No
Revisit allowed for group Instructions? :	Yes
Maximum Instruction Time:	0
Minimum Instruction Time:	0

General Hindi1

Section Id :	586180194
Section Number :	1
Section type :	Online
Mandatory or Optional:	Mandatory
Number of Questions:	20
Number of Questions to be attempted:	20
Section Marks:	20

Sub-Section Number:	1
Sub-Section Id:	586180267
Question Shuffling Allowed :	Yes

Question Number : 161 Question Id : 5861804013 Question Type : MCQ Option Shuffling : Yes
Correct Marks : 1 Wrong Marks : 0.25

‘कलाई’ कैसा शब्द है?

Options :

1. * विदेशी
2. ✓ देशज
3. * तद्भव
4. * तत्सम

Question Number : 161 Question Id : 5861804013 Question Type : MCQ Option Shuffling : Yes
Correct Marks : 1 Wrong Marks : 0.25

‘कलाई’ कैसा शब्द है?

Options :

1. * विदेशी
2. ✓ देशज
3. * तद्भव
4. * तत्सम

Question Number : 162 Question Id : 5861804014 Question Type : MCQ Option Shuffling : Yes
Correct Marks : 1 Wrong Marks : 0.25

निम्न में से कौन सा शब्द तद्भव है?

Options :

1. ✓ आसरा
2. * आत्मा
3. * आलस्य
4. * आशा

Question Number : 162 Question Id : 5861804014 Question Type : MCQ Option Shuffling : Yes
Correct Marks : 1 Wrong Marks : 0.25

निम्न में से कौन सा शब्द तद्भव है?

Options :

1. ✓ आसरा
2. * आत्मा
3. * आलस्य

4. * आशा

Question Number : 163 Question Id : 5861804015 Question Type : MCQ Option Shuffling : Yes
Correct Marks : 1 Wrong Marks : 0.25

निम्न में से कौन सा शब्द तत्सम है?

Options :

1. * झरना
2. * ठंडा
3. * डर
4. ✓ दण्ड

Question Number : 163 Question Id : 5861804015 Question Type : MCQ Option Shuffling : Yes
Correct Marks : 1 Wrong Marks : 0.25

निम्न में से कौन सा शब्द तत्सम है?

Options :

1. * झरना
2. * ठंडा
3. * डर
4. ✓ दण्ड

Question Number : 164 Question Id : 5861804016 Question Type : MCQ Option Shuffling : Yes
Correct Marks : 1 Wrong Marks : 0.25

निम्न में से शुद्ध वर्तनी वाला शब्द है?

Options :

1. * प्रतीपूर्ति
2. * प्रतीपुर्ति
3. ✓ प्रतिपूर्ति
4. * प्रतिपुर्ति

Question Number : 164 Question Id : 5861804016 Question Type : MCQ Option Shuffling : Yes
Correct Marks : 1 Wrong Marks : 0.25

निम्न में से शुद्ध वर्तनी वाला शब्द है?

Options :

1. ✖ प्रतीपूर्ति
2. ✖ प्रतीपुर्ति
3. ✔ प्रतिपूर्ति
4. ✖ प्रतिपुर्ति

Question Number : 165 Question Id : 5861804017 Question Type : MCQ Option Shuffling : Yes
Correct Marks : 1 Wrong Marks : 0.25

‘इत्र – इतर’ शब्द युग्म का सही अर्थ है:

Options :

1. ✖ पवित्र – इधर
2. ✖ गोत्र – इशारा
3. ✖ दूसरा – सुगंध
4. ✔ सुगंध – दूसरा

Question Number : 165 Question Id : 5861804017 Question Type : MCQ Option Shuffling : Yes
Correct Marks : 1 Wrong Marks : 0.25

‘इत्र - इतर’ शब्द युग्म का सही अर्थ है:

Options :

1. ✖ पवित्र - इधर
2. ✖ गोत्र - इशारा
3. ✖ दूसरा - सुगंध
4. ✔ सुगंध - दूसरा

Question Number : 166 Question Id : 5861804018 Question Type : MCQ Option Shuffling : Yes
Correct Marks : 1 Wrong Marks : 0.25

‘बुढ़ापा’ किस प्रकार की संज्ञा है?

Options :

1. ✖ व्यक्तिवाचक
2. ✖ जातिवाचक
3. ✔ भाववाचक

4. * पदार्थवाचक

Question Number : 166 Question Id : 5861804018 Question Type : MCQ Option Shuffling : Yes
Correct Marks : 1 Wrong Marks : 0.25

‘बुढ़ापा’ किस प्रकार की संज्ञा है?

Options :

1. * व्यक्तिवाचक
2. * जातिवाचक
3. ✓ भाववाचक
4. * पदार्थवाचक

Question Number : 167 Question Id : 5861804019 Question Type : MCQ Option Shuffling : Yes
Correct Marks : 1 Wrong Marks : 0.25

‘उस’ किस सर्वनाम का रूप है?

Options :

1. * यह
2. ✓ वह
3. * जो
4. * सो

Question Number : 167 Question Id : 5861804019 Question Type : MCQ Option Shuffling : Yes
Correct Marks : 1 Wrong Marks : 0.25

‘उस’ किस सर्वनाम का रूप है?

Options :

1. * यह
2. ✓ वह
3. * जो
4. * सो

Question Number : 168 Question Id : 5861804020 Question Type : MCQ Option Shuffling : Yes
Correct Marks : 1 Wrong Marks : 0.25

‘गीला’ किस प्रकार का विशेषण है?

Options :

1. ✓ गुणवाचक
2. * संख्यावाचक
3. * परिमाण बोधक
4. * सार्वनामिक

Question Number : 168 Question Id : 5861804020 Question Type : MCQ Option Shuffling : Yes
Correct Marks : 1 Wrong Marks : 0.25

‘गीला’ किस प्रकार का विशेषण है?

Options :

1. ✓ गुणवाचक
2. * संख्यावाचक
3. * परिमाण बोधक
4. * सार्वनामिक

Question Number : 169 Question Id : 5861804021 Question Type : MCQ Option Shuffling : Yes
Correct Marks : 1 Wrong Marks : 0.25

निम्न में सकर्मक धातु है:

Options :

1. * घुलना
2. ✓ छेड़ना
3. * मुड़ना
4. * जुटना

Question Number : 169 Question Id : 5861804021 Question Type : MCQ Option Shuffling : Yes
Correct Marks : 1 Wrong Marks : 0.25

निम्न में सकर्मक धातु है:

Options :

1. * घुलना
2. ✓ छेड़ना
3. * मुड़ना

4. * जुटना

Question Number : 170 Question Id : 5861804022 Question Type : MCQ Option Shuffling : Yes

Correct Marks : 1 Wrong Marks : 0.25

‘यह पुस्तक मुझे वैसे ही मिली।’ वाक्य में क्रिया विशेषण है:

Options :

1. * यह पुस्तक
2. * मुझे
3. ✓ वैसे ही
4. * मिली

Question Number : 170 Question Id : 5861804022 Question Type : MCQ Option Shuffling : Yes

Correct Marks : 1 Wrong Marks : 0.25

‘यह पुस्तक मुझे वैसे ही मिली।’ वाक्य में क्रिया विशेषण है:

Options :

1. * यह पुस्तक
2. * मुझे
3. ✓ वैसे ही
4. * मिली

Question Number : 171 Question Id : 5861804023 Question Type : MCQ Option Shuffling : Yes

Correct Marks : 1 Wrong Marks : 0.25

‘स्वागत’ का संधि विच्छेद होगा:

Options :

1. ✓ सु + आगत
2. * सू + आगत
3. * सु + गत
4. * सू + गत

Question Number : 171 Question Id : 5861804023 Question Type : MCQ Option Shuffling : Yes

Correct Marks : 1 Wrong Marks : 0.25

‘स्वागत’ का संधि विच्छेद होगा:

Options :

1. ✓ सु + आगत

2. ✗ सू + आगत

3. ✗ सु + गत

4. ✗ सू + गत

Question Number : 172 Question Id : 5861804024 Question Type : MCQ Option Shuffling : Yes
Correct Marks : 1 Wrong Marks : 0.25

‘चतुर्भुज’ में कौन सा समास है?

Options :

1. ✗ तत्पुरुष

2. ✗ द्वंद्व

3. ✗ अव्ययीभाव

4. ✓ बहुब्रीहि

Question Number : 172 Question Id : 5861804024 Question Type : MCQ Option Shuffling : Yes
Correct Marks : 1 Wrong Marks : 0.25

‘चतुर्भुज’ में कौन सा समास है?

Options :

1. ✗ तत्पुरुष

2. ✗ द्वंद्व

3. ✗ अव्ययीभाव

4. ✓ बहुब्रीहि

Question Number : 173 Question Id : 5861804025 Question Type : MCQ Option Shuffling : Yes
Correct Marks : 1 Wrong Marks : 0.25

‘अलंकार’ में किस उपसर्ग का प्रयोग हुआ है?

Options :

1. ✗ अ

2. ✗ अल

3. ✗ अलन्

4. ✓ अलम्

Question Number : 173 Question Id : 5861804025 Question Type : MCQ Option Shuffling : Yes
Correct Marks : 1 Wrong Marks : 0.25

‘अलंकार’ में किस उपसर्ग का प्रयोग हुआ है?

Options :

1. ✗ अ

2. ✗ अल

3. ✗ अलन्

4. ✓ अलम्

Question Number : 174 Question Id : 5861804026 Question Type : MCQ Option Shuffling : Yes
Correct Marks : 1 Wrong Marks : 0.25

‘मार्कण्डेय’ में किस प्रत्यय का प्रयोग हुआ है?

Options :

1. ✗ य

2. ✓ एय

3. ✗ डेय

4. ✗ मा

Question Number : 174 Question Id : 5861804026 Question Type : MCQ Option Shuffling : Yes
Correct Marks : 1 Wrong Marks : 0.25

‘मार्कण्डेय’ में किस प्रत्यय का प्रयोग हुआ है?

Options :

1. ✗ य

2. ✓ एय

3. ✗ डेय

4. ✗ मा

Question Number : 175 Question Id : 5861804027 Question Type : MCQ Option Shuffling : Yes
Correct Marks : 1 Wrong Marks : 0.25

निम्न में कौन सा शब्द स्त्रीलिंग नहीं है?

Options :

1. * डगर
2. * डाक
3. ✓ डंठल
4. * डोर

Question Number : 175 Question Id : 5861804027 Question Type : MCQ Option Shuffling : Yes
Correct Marks : 1 Wrong Marks : 0.25

निम्न में कौन सा शब्द स्त्रीलिंग नहीं है?

Options :

1. * डगर
2. * डाक
3. ✓ डंठल
4. * डोर

Question Number : 176 Question Id : 5861804028 Question Type : MCQ Option Shuffling : Yes
Correct Marks : 1 Wrong Marks : 0.25

‘चाँद से भी प्यारा’ किस पदबन्ध का उदाहरण है?

Options :

1. ✓ विशेषण पदबन्ध
2. * संज्ञा पदबन्ध
3. * क्रिया पदबन्ध
4. * सर्वनाम पदबन्ध

Question Number : 176 Question Id : 5861804028 Question Type : MCQ Option Shuffling : Yes
Correct Marks : 1 Wrong Marks : 0.25

‘चाँद से भी प्यारा’ किस पदबन्ध का उदाहरण है?

Options :

1. ✓ विशेषण पदबन्ध
2. * संज्ञा पदबन्ध
3. * क्रिया पदबन्ध

4. * सर्वनाम पदबन्ध

Question Number : 177 Question Id : 5861804029 Question Type : MCQ Option Shuffling : Yes

Correct Marks : 1 Wrong Marks : 0.25

‘विजय नहीं जानता कि वह कहाँ है।’ वाक्य में ‘वह कहाँ है’ किस प्रकार का उपवाक्य है?

Options :

1. * विशेषण उपवाक्य
2. * क्रिया उपवाक्य
3. * क्रिया विशेषण उपवाक्य
4. ✓ संज्ञा उपवाक्य

Question Number : 177 Question Id : 5861804029 Question Type : MCQ Option Shuffling : Yes

Correct Marks : 1 Wrong Marks : 0.25

‘विजय नहीं जानता कि वह कहाँ है।’ वाक्य में ‘वह कहाँ है’ किस प्रकार का उपवाक्य है?

Options :

1. * विशेषण उपवाक्य
2. * क्रिया उपवाक्य
3. * क्रिया विशेषण उपवाक्य
4. ✓ संज्ञा उपवाक्य

Question Number : 178 Question Id : 5861804030 Question Type : MCQ Option Shuffling : Yes

Correct Marks : 1 Wrong Marks : 0.25

‘सूरज निकला।’ किस प्रकार का वाक्य है?

Options :

1. * उप वाक्य
2. ✓ सरल वाक्य
3. * मिश्र वाक्य
4. * संयुक्त वाक्य

Question Number : 178 Question Id : 5861804030 Question Type : MCQ Option Shuffling : Yes

Correct Marks : 1 Wrong Marks : 0.25

‘सूरज निकला।’ किस प्रकार का वाक्य है?

Options :

1. * उप वाक्य
2. ✓ सरल वाक्य
3. * मिश्र वाक्य
4. * संयुक्त वाक्य

Question Number : 179 Question Id : 5861804031 Question Type : MCQ Option Shuffling : Yes
Correct Marks : 1 Wrong Marks : 0.25

पदक्रम की दृष्टि से कौन सा वाक्य शुद्ध है?

Options :

1. * कीमती मकान बिक गया उसका।
2. * बिक गया उसका कीमती मकान।
3. ✓ उसका कीमती मकान बिक गया।
4. * उसका मकान कीमती बिक गया।

Question Number : 179 Question Id : 5861804031 Question Type : MCQ Option Shuffling : Yes
Correct Marks : 1 Wrong Marks : 0.25

पदक्रम की दृष्टि से कौन सा वाक्य शुद्ध है?

Options :

1. * कीमती मकान बिक गया उसका।
2. * बिक गया उसका कीमती मकान।
3. ✓ उसका कीमती मकान बिक गया।
4. * उसका मकान कीमती बिक गया।

Question Number : 180 Question Id : 5861804032 Question Type : MCQ Option Shuffling : Yes
Correct Marks : 1 Wrong Marks : 0.25

अन्वय की दृष्टि से कौन सा वाक्य शुद्ध है?

Options :

1. ✓ सीता ने राम को ध्यान से देखा।
2. * सीता ने राम को ध्यान से देखी।

3. * सीता ने राम को ध्यान से देखे।

4. * सीता ने राम को ध्यान से देखो।

Question Number : 180 Question Id : 5861804032 Question Type : MCQ Option Shuffling : Yes
Correct Marks : 1 Wrong Marks : 0.25

अन्वय की दृष्टि से कौन सा वाक्य शुद्ध है?

Options :

1. ✓ सीता ने राम को ध्यान से देखा।

2. * सीता ने राम को ध्यान से देखी।

3. * सीता ने राम को ध्यान से देखे।

4. * सीता ने राम को ध्यान से देखो।

General Hindi2

Group Number :	10
Group Id :	586180191
Group Maximum Duration :	0
Group Minimum Duration :	120
Show Attended Group? :	No
Edit Attended Group? :	No
Break time:	0
Group Marks:	20
Is this Group for Examiner?:	No
Revisit allowed for group Instructions? :	Yes
Maximum Instruction Time:	0
Minimum Instruction Time:	0

General Hindi2

Section Id :	586180195
Section Number :	1
Section type :	Online
Mandatory or Optional:	Mandatory
Number of Questions:	12
Number of Questions to be attempted:	12
Section Marks:	20

Sub-Section Number:	1
Sub-Section Id:	586180268

Question Number : 181 Question Id : 5861804033 Question Type : MCQ Option Shuffling : Yes

Correct Marks : 1 Wrong Marks : 0.25

‘नदी’ का पर्यायवाची है?

Options :

1. ✓ सरिता
2. ✗ वनिता
3. ✗ दुहिता
4. ✗ तरिणी

Question Number : 181 Question Id : 5861804033 Question Type : MCQ Option Shuffling : Yes

Correct Marks : 1 Wrong Marks : 0.25

‘नदी’ का पर्यायवाची है?

Options :

1. ✓ सरिता
2. ✗ वनिता
3. ✗ दुहिता
4. ✗ तरिणी

Question Number : 182 Question Id : 5861804034 Question Type : MCQ Option Shuffling : Yes

Correct Marks : 1 Wrong Marks : 0.25

‘राजा’ का पर्यायवाची नहीं है:

Options :

1. ✗ नृप
2. ✓ भूमिधर
3. ✗ भूप
4. ✗ महीप

Question Number : 182 Question Id : 5861804034 Question Type : MCQ Option Shuffling : Yes

Correct Marks : 1 Wrong Marks : 0.25

‘राजा’ का पर्यायवाची नहीं है:

Options :

1. ✖ नृप
2. ✔ भूमिधर
3. ✖ भूप
4. ✖ महीप

Question Number : 183 Question Id : 5861804035 Question Type : MCQ Option Shuffling : Yes
Correct Marks : 1 Wrong Marks : 0.25

‘पन्नग’ किसका पर्यायवाची है?

Options :

1. ✖ स्वर्ण
2. ✖ पर्वत
3. ✔ सर्प
4. ✖ राजा

Question Number : 183 Question Id : 5861804035 Question Type : MCQ Option Shuffling : Yes
Correct Marks : 1 Wrong Marks : 0.25

‘पन्नग’ किसका पर्यायवाची है?

Options :

1. ✖ स्वर्ण
2. ✖ पर्वत
3. ✔ सर्प
4. ✖ राजा

Question Number : 184 Question Id : 5861804036 Question Type : MCQ Option Shuffling : Yes
Correct Marks : 1 Wrong Marks : 0.25

‘भारती’ किसका पर्यायवाची है?

Options :

1. ✖ स्त्री
2. ✖ नौका
3. ✖ लक्ष्मी

4. ✓ सरस्वती

Question Number : 184 Question Id : 5861804036 Question Type : MCQ Option Shuffling : Yes
Correct Marks : 1 Wrong Marks : 0.25

‘भारती’ किसका पर्यायवाची है?

Options :

1. ✘ स्त्री
2. ✘ नौका
3. ✘ लक्ष्मी
4. ✓ सरस्वती

Question Number : 185 Question Id : 5861804037 Question Type : MCQ Option Shuffling : Yes
Correct Marks : 1 Wrong Marks : 0.25

‘अक्षर’ किसका पर्यायवाची नहीं है?

Options :

1. ✓ सूर्य
2. ✘ वर्ण
3. ✘ मोक्ष
4. ✘ सत्य

Question Number : 185 Question Id : 5861804037 Question Type : MCQ Option Shuffling : Yes
Correct Marks : 1 Wrong Marks : 0.25

‘अक्षर’ किसका पर्यायवाची नहीं है?

Options :

1. ✓ सूर्य
2. ✘ वर्ण
3. ✘ मोक्ष
4. ✘ सत्य

Question Number : 186 Question Id : 5861804038 Question Type : MCQ Option Shuffling : Yes
Correct Marks : 1 Wrong Marks : 0.25

‘अनुराग’ का विलोम शब्द है:

Options :

1. * राग
2. ✓ विराग
3. * पराग
4. * सुहाग

Question Number : 186 Question Id : 5861804038 Question Type : MCQ Option Shuffling : Yes
Correct Marks : 1 Wrong Marks : 0.25

‘अनुराग’ का विलोम शब्द है:

Options :

1. * राग
2. ✓ विराग
3. * पराग
4. * सुहाग

Question Number : 187 Question Id : 5861804039 Question Type : MCQ Option Shuffling : Yes
Correct Marks : 1 Wrong Marks : 0.25

‘अधिगत’ का विलोम होगा:

Options :

1. * गत
2. * आगत
3. ✓ अनधिगत
4. * अधोगत

Question Number : 187 Question Id : 5861804039 Question Type : MCQ Option Shuffling : Yes
Correct Marks : 1 Wrong Marks : 0.25

‘अधिगत’ का विलोम होगा:

Options :

1. * गत
2. * आगत
3. ✓ अनधिगत

4. * अधोगत

Question Number : 188 Question Id : 5861804040 Question Type : MCQ Option Shuffling : Yes

Correct Marks : 1 Wrong Marks : 0.25

‘आर्द्र’ किसका विलोम है?

Options :

1. * रौद्र
2. * शीत
3. * शीतोष्ण
4. ✓ शुष्क

Question Number : 188 Question Id : 5861804040 Question Type : MCQ Option Shuffling : Yes

Correct Marks : 1 Wrong Marks : 0.25

‘आर्द्र’ किसका विलोम है?

Options :

1. * रौद्र
2. * शीत
3. * शीतोष्ण
4. ✓ शुष्क

Question Number : 189 Question Id : 5861804041 Question Type : MCQ Option Shuffling : Yes

Correct Marks : 1 Wrong Marks : 0.25

‘बालक वाचाल होते हैं।’ पंक्ति के रेखांकित शब्द का विलोम होगा:

Options :

1. ✓ मूक
2. * मुखर
3. * चंचल
4. * शिथिल

Question Number : 189 Question Id : 5861804041 Question Type : MCQ Option Shuffling : Yes

Correct Marks : 1 Wrong Marks : 0.25

‘बालक वाचाल होते हैं।’ पंक्ति के रेखांकित शब्द का विलोम होगा:

Options :

1. ✓ मूक
2. ✘ मुखर
3. ✘ चंचल
4. ✘ शिथिल

Question Number : 190 Question Id : 5861804042 Question Type : MCQ Option Shuffling : Yes
Correct Marks : 1 Wrong Marks : 0.25

‘ऋजु’ का विलोम है:

Options :

1. ✘ सरल
2. ✓ वक्र
3. ✘ सरस
4. ✘ त्रुटि

Question Number : 190 Question Id : 5861804042 Question Type : MCQ Option Shuffling : Yes
Correct Marks : 1 Wrong Marks : 0.25

‘ऋजु’ का विलोम है:

Options :

1. ✘ सरल
2. ✓ वक्र
3. ✘ सरस
4. ✘ त्रुटि

Sub-Section Number: 2
Sub-Section Id: 586180269
Question Shuffling Allowed : Yes

Question Id : 5861804043 Question Type : COMPREHENSION Sub Question Shuffling Allowed : Yes Group Comprehension
Questions : No

Question Numbers : (191 to 195)

Question Label : Comprehension

नीचे दिये गए गद्यांश को पढ़कर पूछे गये प्रश्नों के उत्तर दीजिए।
कवि को कालद्रष्टा या युगद्रष्टा कहा जाता है। आज इक्कीसवीं सदी के पूर्वार्द्ध में भी हम जाति-पाति, वर्ण भेद, वर्ग भेद से ऊपर नहीं उठ पाये हैं। उसी की मैली-कुचली रुग्ण हो चुकी परंपरा के पोषक बने हुए हैं। इन सब के खतरों से महाकवि कबीर भली-भाँति परिचित थे। वह जानते थे कि ये वही बुराइयाँ हैं जो समाज को दीमक की तरह खोखला करने को आतुर हैं और इस संकट को पहचानते हुए वह एक रास्ता सुझा रहे थे जिस पर चलकर हम मनुष्यता की उस भावाभूमि को प्राप्त कर सकते हैं। जहाँ पर जाति-पाँति, छोटा-बड़ा, ऊँच-नीच, कर्मकांड सभी खत्म हो जाते हैं और इंसानियत ही बची रहती है। मानव मात्र का एक ही धर्म बचा रहता है इंसानियत। मानवता के इसी समाज की कल्पना कबीर कर रहे थे।

Sub questions

Question Number : 191 Question Id : 5861804044 Question Type : MCQ Option Shuffling : Yes
Correct Marks : 1 Wrong Marks : 0.25

गद्यांश में किस कवि का वर्णन है?

Options :

1. * तुलसीदास
2. * सूरदास
3. ✓ कबीरदास
4. * रैदास

Question Number : 192 Question Id : 5861804045 Question Type : MCQ Option Shuffling : Yes
Correct Marks : 1 Wrong Marks : 0.25

‘रुग्ण’ का आशय है:

Options :

1. * स्वस्थ
2. * उपयोगी
3. * सार्थक
4. ✓ दूषित

Question Number : 193 Question Id : 5861804046 Question Type : MCQ Option Shuffling : Yes
Correct Marks : 1 Wrong Marks : 0.25

गद्यांश में ‘पोषक’ का आशय है:

Options :

1. * भक्षक
2. * अत्याचारी
3. * विरोधी
4. ✓ सहायक

Question Number : 194 Question Id : 5861804047 Question Type : MCQ Option Shuffling : Yes
Correct Marks : 1 Wrong Marks : 0.25

‘आतुर’ का अर्थ है:

Options :

1. * अकर्मण्य
2. * निष्क्रिय
3. ✓ उतावला
4. * लालची

Question Number : 195 Question Id : 5861804048 Question Type : MCQ Option Shuffling : Yes
Correct Marks : 1 Wrong Marks : 0.25

गद्यांश में प्रयुक्त ‘धर्म’ का आशय है:

Options :

1. * अधिकार
2. ✓ कर्तव्य
3. * संप्रदाय
4. * उपासना

Question Id : 5861804043 Question Type : COMPREHENSION Sub Question Shuffling Allowed : Yes Group Comprehension
Questions : No

Question Numbers : (191 to 195)

Question Label : Comprehension

नीचे दिये गए गद्यांश को पढ़कर पूछे गये प्रश्नों के उत्तर दीजिए।
कवि को कालद्रष्टा या युगद्रष्टा कहा जाता है। आज इक्कीसवीं सदी के पूर्वार्द्ध में भी हम जाति-पाति, वर्ण भेद, वर्ग भेद से ऊपर नहीं उठ पाये हैं। उसी की मैली-कुचली रुग्ण हो चुकी परंपरा के पोषक बने हुए हैं। इन सब के खतरों से महाकवि कबीर भली-भाँति परिचित थे। वह जानते थे कि ये वही बुराइयाँ हैं जो समाज को दीमक की तरह खोखला करने को आतुर हैं और इस संकट को पहचानते हुए वह एक रास्ता सुझा रहे थे जिस पर चलकर हम मनुष्यता की उस भावाभूमि को प्राप्त कर सकते हैं। जहाँ पर जाति-पाँति, छोटा-बड़ा, ऊँच-नीच, कर्मकांड सभी खत्म हो जाते हैं और इंसानियत ही बची रहती है। मानव मात्र का एक ही धर्म बचा रहता है इंसानियत। मानवता के इसी समाज की कल्पना कबीर कर रहे थे।

Sub questions

Question Number : 191 Question Id : 5861804044 Question Type : MCQ Option Shuffling : Yes

Correct Marks : 1 Wrong Marks : 0.25

गद्यांश में किस कवि का वर्णन है?

Options :

1. * तुलसीदास
2. * सूरदास
3. ✓ कबीरदास
4. * रैदास

Question Number : 192 Question Id : 5861804045 Question Type : MCQ Option Shuffling : Yes

Correct Marks : 1 Wrong Marks : 0.25

‘रुग्ण’ का आशय है:

Options :

1. * स्वस्थ

2. ✖ उपयोगी

3. ✖ सार्थक

4. ✔ दूषित

Question Number : 193 Question Id : 5861804046 Question Type : MCQ Option Shuffling : Yes
Correct Marks : 1 Wrong Marks : 0.25

गद्यांश में 'पोषक' का आशय है:

Options :

1. ✖ भक्षक

2. ✖ अत्याचारी

3. ✖ विरोधी

4. ✔ सहायक

Question Number : 194 Question Id : 5861804047 Question Type : MCQ Option Shuffling : Yes
Correct Marks : 1 Wrong Marks : 0.25

'आतुर' का अर्थ है:

Options :

1. ✖ अकर्मण्य

2. ✖ निष्क्रिय

3. ✔ उतावला

4. ✖ लालची

Question Number : 195 Question Id : 5861804048 Question Type : MCQ Option Shuffling : Yes
Correct Marks : 1 Wrong Marks : 0.25

गद्यांश में प्रयुक्त 'धर्म' का आशय है:

Options :

1. ✖ अधिकार

2. ✔ कर्तव्य

3. ✖ संप्रदाय

4. * उपासना

Sub-Section Number: 3
Sub-Section Id: 586180270
Question Shuffling Allowed : Yes

Question Id : 5861804049 Question Type : COMPREHENSION Sub Question Shuffling Allowed : Yes Group Comprehension Questions : No

Question Numbers : (196 to 200)

Question Label : Comprehension

नीचे दिये गए गद्यांश को पढ़कर पूछे गये प्रश्नों के उत्तर दीजिए।

भारतेन्दु का उदय हिन्दी के उद्धारकर्ता के रूप में हुआ। सन 1873 ई० में भारतेन्दु ने 'कालचक्र' नामक अपनी पुस्तिका में नोट किया 'हिन्दी नये चाल में ढली'। यह कथन हिन्दी भाषा के लिए युगानुरूप कथन था क्योंकि भारतेन्दु के समय व स्वयं भारतेन्दु के द्वारा ही हिन्दी अपने नये आयाम विकसित कर रही थी या यूँ कहें खड़ी बोली गद्य के प्रसार में आने के साथ-साथ हिन्दी में कई नवीन विधाएँ अपने शैशव काल की ओर अग्रसर हो रही थीं। भारतेन्दु ने न केवल हिन्दी भाषा का परिमार्जन किया अपितु नाटक, यात्रा साहित्य, आलोचना आदि गद्य विधाओं की शुरुआत की। दरअसल यही वह विधाएँ थीं जो हमारी भावना व सच को सही मायनों में प्रतिबिंबित कर सकती हैं। आचार्य शुक्ल ने भी स्वीकार किया कि 'हमारे साहित्य को नये-नये विषयों की ओर प्रवृत्त करने वाले हरिश्चंद्र ही हुए।'

Sub questions

Question Number : 196 Question Id : 5861804050 Question Type : MCQ Option Shuffling : Yes
Correct Marks : 1 Wrong Marks : 0.25

गद्यांश में किस लेखक के साहित्य कर्म का विश्लेषण है?

Options :

1. ✓ भारतेन्दु हरिश्चंद्र
2. * महावीर प्रसाद द्विवेदी
3. * प्रेमचंद्र
4. * जयशंकर प्रसाद

Question Number : 197 Question Id : 5861804051 Question Type : MCQ Option Shuffling : Yes
Correct Marks : 1 Wrong Marks : 0.25

‘शैशवकाल’ का अर्थ है:

Options :

1. ✓ बाल्य काल
2. * युवा काल
3. * प्रौढ़ काल
4. * वृद्ध काल

Question Number : 198 Question Id : 5861804052 Question Type : MCQ Option Shuffling : Yes
Correct Marks : 1 Wrong Marks : 0.25

‘परिमार्जन’ का अर्थ है:

Options :

1. * अनुकरण
2. * बहिष्करण
3. ✓ परिष्करण
4. * अलंकरण

Question Number : 199 Question Id : 5861804053 Question Type : MCQ Option Shuffling : Yes
Correct Marks : 1 Wrong Marks : 0.25

‘आयाम’ का अर्थ होता है:

Options :

1. * सीमा
2. ✓ विस्तार
3. * असीम
4. * अनंत

Question Number : 200 Question Id : 5861804054 Question Type : MCQ Option Shuffling : Yes
Correct Marks : 1 Wrong Marks : 0.25

‘विधा’ का अर्थ है:

Options :

1. * अनुभव
2. * ज्ञान
3. * यथार्थ

4. ✓ ढंग

Question Id : 5861804049 Question Type : COMPREHENSION Sub Question Shuffling Allowed : Yes Group Comprehension Questions : No

Question Numbers : (196 to 200)

Question Label : Comprehension

नीचे दिये गए गद्यांश को पढ़कर पूछे गये प्रश्नों के उत्तर दीजिए।

भारतेन्दु का उदय हिन्दी के उद्धारकर्ता के रूप में हुआ। सन 1873 ई० में भारतेन्दु ने 'कालचक्र' नामक अपनी पुस्तिका में नोट किया 'हिन्दी नये चाल में ढली'। यह कथन हिन्दी भाषा के लिए युगानुरूप कथन था क्योंकि भारतेन्दु के समय व स्वयं भारतेन्दु के द्वारा ही हिन्दी अपने नये आयाम विकसित कर रही थी या यूँ कहें खड़ी बोली गद्य के प्रसार में आने के साथ-साथ हिन्दी में कई नवीन विधाएँ अपने शैशव काल की ओर अग्रसर हो रही थीं। भारतेन्दु ने न केवल हिन्दी भाषा का परिमार्जन किया अपितु नाटक, यात्रा साहित्य, आलोचना आदि गद्य विधाओं की शुरुआत की। दरअसल यही वह विधाएँ थीं जो हमारी भावना व सच को सही मायनों में प्रतिबिंबित कर सकती हैं। आचार्य शुक्ल ने भी स्वीकार किया कि 'हमारे साहित्य को नये-नये विषयों की ओर प्रवृत्त करने वाले हरिश्चंद्र ही हुए।'

Sub questions

Question Number : 196 Question Id : 5861804050 Question Type : MCQ Option Shuffling : Yes

Correct Marks : 1 Wrong Marks : 0.25

गद्यांश में किस लेखक के साहित्य कर्म का विश्लेषण है?

Options :

1. ✓ भारतेन्दु हरिश्चंद्र
2. ✘ महावीर प्रसाद दिववेदी

3. * प्रेमचंद

4. * जयशंकर प्रसाद

Question Number : 197 Question Id : 5861804051 Question Type : MCQ Option Shuffling : Yes
Correct Marks : 1 Wrong Marks : 0.25

‘शैशवकाल’ का अर्थ है:

Options :

1. ✓ बाल्य काल

2. * युवा काल

3. * प्रौढ़ काल

4. * वृद्ध काल

Question Number : 198 Question Id : 5861804052 Question Type : MCQ Option Shuffling : Yes
Correct Marks : 1 Wrong Marks : 0.25

‘परिमार्जन’ का अर्थ है:

Options :

1. * अनुकरण

2. * बहिष्करण

3. ✓ परिष्करण

4. * अलंकरण

Question Number : 199 Question Id : 5861804053 Question Type : MCQ Option Shuffling : Yes
Correct Marks : 1 Wrong Marks : 0.25

‘आयाम’ का अर्थ होता है:

Options :

1. * सीमा

2. ✓ विस्तार

3. * असीम

4. * अनंत

Question Number : 200 Question Id : 5861804054 Question Type : MCQ Option Shuffling : Yes

Correct Marks : 1 Wrong Marks : 0.25

‘विधा’ का अर्थ है:

Options :

1. ✖ अनुभव

2. ✖ ज्ञान

3. ✖ यथार्थ

4. ✔ ढंग