

## Education Consultant India Ltd.

Notations :

1.Options shown in green color and with ✓ icon are correct.

2.Options shown in red color and with ✖ icon are incorrect.

<b>Question Paper Name:</b>	GRADE II DASS 19th July 2019 Shift 3
<b>Subject Name:</b>	GRADE II DASS
<b>Creation Date:</b>	2019-07-19 19:30:57
<b>Duration:</b>	120
<b>Total Marks:</b>	200
<b>Display Marks:</b>	Yes
<b>Share Answer Key With Delivery Engine:</b>	No
<b>Actual Answer Key:</b>	Yes
<b>Calculator:</b>	None
<b>Magnifying Glass Required?:</b>	No
<b>Ruler Required?:</b>	No
<b>Eraser Required?:</b>	No
<b>Scratch Pad Required?:</b>	No
<b>Rough Sketch/Notepad Required?:</b>	No
<b>Protractor Required?:</b>	No
<b>Show Watermark on Console?:</b>	Yes
<b>Highlighter:</b>	No
<b>Auto Save on Console?:</b>	No

## Mental Ability1

<b>Group Number :</b>	1
<b>Group Id :</b>	586180192
<b>Group Maximum Duration :</b>	0
<b>Group Minimum Duration :</b>	0
<b>Show Attended Group? :</b>	No
<b>Edit Attended Group? :</b>	No
<b>Break time:</b>	0
<b>Group Marks:</b>	20
<b>Is this Group for Examiner?:</b>	No
<b>Revisit allowed for group Instructions? :</b>	Yes
<b>Maximum Instruction Time:</b>	0
<b>Minimum Instruction Time:</b>	0

## Mental Ability1

<b>Section Id :</b>	586180196
<b>Section Number :</b>	1

Section type :	Online
Mandatory or Optional:	Mandatory
Number of Questions:	20
Number of Questions to be attempted:	20
Section Marks:	20

Sub-Section Number:	1
Sub-Section Id:	586180271
Question Shuffling Allowed :	Yes

Question Number : 1 Question Id : 5861804055 Question Type : MCQ Option Shuffling : Yes

Correct Marks : 1 Wrong Marks : 0.25

Select the letter cluster which is related to third letter cluster in the same way as the second letter cluster is related to first letter cluster.

PROUD : MOMSA :: LOGICAL : ?

Options :

1. ✘ ILDGZYI

2. ✘ INDGZXI

3. ✘ JMDGZYJ

4. ✔ IMDGZYI

Question Number : 1 Question Id : 5861804055 Question Type : MCQ Option Shuffling : Yes

Correct Marks : 1 Wrong Marks : 0.25

वह वर्ण समूह चुनें जो तीसरे वर्ण समूह से उसी तरह से संबंधित है, जिस तरह से दूसरा वर्ण समूह पहले वर्ण समूह से संबंधित है।

PROUD : MOMSA :: LOGICAL : ?

Options :

1. ✘ ILDGZYI

2. ✘ INDGZXI

3. ✖ JMDGZYJ

4. ✔ IMDGZYI

Question Number : 2 Question Id : 5861804056 Question Type : MCQ Option Shuffling : Yes

Correct Marks : 1 Wrong Marks : 0.25

Select the number which is related to third number in the same way as the second number is related to first number.

3312 : 46 :: 1842 : ?

Options :

1. ✔ 170

2. ✖ 175

3. ✖ 180

4. ✖ 185

Question Number : 2 Question Id : 5861804056 Question Type : MCQ Option Shuffling : Yes

Correct Marks : 1 Wrong Marks : 0.25

वह संख्या चुनें जो तीसरी संख्या से उसी तरह से संबंधित है, जिस तरह से दूसरी संख्या पहली संख्या से संबंधित है।

3312 : 46 :: 1842 : ?

Options :

1. ✔ 170

2. ✖ 175

3. ✖ 180

4. ✖ 185

Question Number : 3 Question Id : 5861804057 Question Type : MCQ Option Shuffling : Yes

Correct Marks : 1 Wrong Marks : 0.25

Three of the given four number pairs are similar in a certain manner while one is different. Choose the odd one out.

Options :

1. ✖ 26 : 126

2. ✖ 7 : 65

3. ✔ 63 : 125

4. ✖ 124 : 344

Question Number : 3 Question Id : 5861804057 Question Type : MCQ Option Shuffling : Yes

Correct Marks : 1 Wrong Marks : 0.25

चार प्रदत्त संख्या युग्मों में से तीन एक तरीके से समान हैं, जबकि उनमें से एक अलग है। इनमें से विषम चुनें।

Options :

1. ✖ 26 : 126

2. ✖ 7 : 65


3. ✔ 63 : 125

4. ✖ 124 : 344

Question Number : 4 Question Id : 5861804058 Question Type : MCQ Option Shuffling : Yes

Correct Marks : 1 Wrong Marks : 0.25

इन वैकल्पिक आकृतियों में से वह आकृति चुनें जो इस आकृति आव्यूह को पूरा करती है?




Options :



Question Number : 4 Question Id : 5861804058 Question Type : MCQ Option Shuffling : Yes

Correct Marks : 1 Wrong Marks : 0.25

Select a figure from the options figures that would complete the figure matrix.



Options :

1. ✓

2. ✗

3. ✗

4. ✗

Question Number : 5 Question Id : 5861804059 Question Type : MCQ Option Shuffling : Yes

Correct Marks : 1 Wrong Marks : 0.25

Three of the given four letter cluster pairs are similar in a certain manner while one is different. Choose the odd one out.

Options :

1. ✗ ADVERSE : SAXHBPO

2. ✓ BLANKET : XIYKQBH

3. ✗ CHASSIS : XEZVPFP

4. ✗ DECENCY : ZBAHVZK

Question Number : 5 Question Id : 5861804059 Question Type : MCQ Option Shuffling : Yes

Correct Marks : 1 Wrong Marks : 0.25

चार प्रदत्त शब्द युग्मों में से तीन एक तरीके से समान हैं, जबकि उनमें से एक अलग है। इनमें से विषम चुनें।

Options :

1. ✗ ADVERSE : SAXHBPO

2. ✓ BLANKET : XIYKQBH

3. ✗ CHASSIS : XEZVPFP

4. ✗ DECENCY : ZBAHVZK

Question Number : 6 Question Id : 5861804060 Question Type : MCQ Option Shuffling : Yes

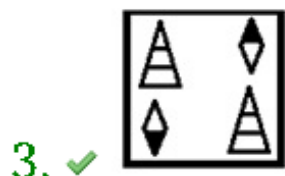
Correct Marks : 1 Wrong Marks : 0.25

Select the figure amongst the option figures which has the same characteristics as the two Problem figures have.



Problem Figures

Options :



4. ✖



Question Number : 6 Question Id : 5861804060 Question Type : MCQ Option Shuffling : Yes

Correct Marks : 1 Wrong Marks : 0.25

इन वैकल्पिक आकृतियों में से वह आकृति चुनें जिसके अभिलक्षण दो समस्या आकृतियों के समान हैं।



समस्या आकृति

Options :

1. ✖



2. ✖



3. ✔



4. ✖



Question Number : 7 Question Id : 5861804061 Question Type : MCQ Option Shuffling : Yes

Correct Marks : 1 Wrong Marks : 0.25



Three of the given four word pairs are similar in a certain manner while one is different. Choose the odd one out.

Options :

1. ✓ Certain : Keen

2. ✗ Sorry : Apologetic

3. ✗ Worried : Distressed

4. ✗ Ugly : Hideous

Question Number : 7 Question Id : 5861804061 Question Type : MCQ Option Shuffling : Yes

Correct Marks : 1 Wrong Marks : 0.25

चार प्रदत्त शब्द युग्मों में से तीन एक तरीके से समान हैं, जबकि उनमें से एक अलग है। इनमें से विषम चुनें।

Options :

1. ✓ निश्चित : तीक्ष्ण

2. ✗ क्षमा : क्षमायाचक

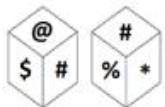
3. ✗ चिंतित : व्यथित

4. ✗ भद्दा : घिनौना

Question Number : 8 Question Id : 5861804062 Question Type : MCQ Option Shuffling : Yes

Correct Marks : 1 Wrong Marks : 0.25

Two different positions of the same dice are shown below. Which symbol is on the face opposite the face showing 'S'?



Options :

1. ✖ @

2. ✖ #

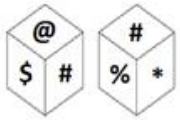
3. ✔ \*

4. ✖ %

Question Number : 8 Question Id : 5861804062 Question Type : MCQ Option Shuffling : Yes

Correct Marks : 1 Wrong Marks : 0.25

नीचे एक ही डाइस (पासे) की दो अलग-अलग स्थितियाँ दी गई हैं। '\$' दिखा रहे फलक के सामने वाले फलक पर कौन सा प्रतीक है?



Options :

1. ✖ @

2. ✖ #

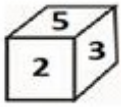
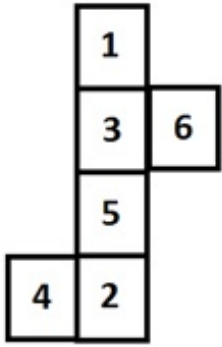
3. ✔ \*

4. ✖ %

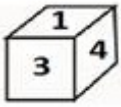
Question Number : 9 Question Id : 5861804063 Question Type : MCQ Option Shuffling : Yes

Correct Marks : 1 Wrong Marks : 0.25

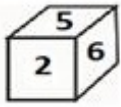
Which of the following patterns of the dices can be formed when the sheet given below is folded?



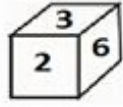
(1)



(2)



(3)



(4)

Options :

1. ✖ All 1, 2, 3 and 4

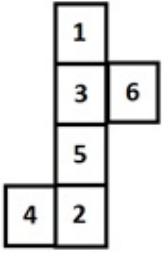
2. ✖ Only 1 and 3

3. ✖ Only 2 and 4

4. ✔ Only 2 and 3

Question Number : 9 Question Id : 5861804063 Question Type : MCQ Option Shuffling : Yes  
Correct Marks : 1 Wrong Marks : 0.25

जब प्रदत्त शीट को फ़ोल्ड किया जाता है, तब डाइस (पासे) के पैटर्न में से कौन सा पैटर्न बन सकता है?



(1) (2) (3) (4)

Options :

1. ✘ सभी 1, 2, 3 और 4

2. ✘ केवल 1 और 3

3. ✘ केवल 2, और 4

4. ✔ केवल 2 और 3

Question Number : 10 Question Id : 5861804064 Question Type : MCQ Option Shuffling : Yes

Correct Marks : 1 Wrong Marks : 0.25

Arpita starts walking from her home and goes 28 m towards east. From there, she turns right and walks 45 m. Then she turns left and walks 15 m. Then she turns left and walks 12 m. She turns right now and walks 27 m. She then turns right and walks 25 m. After that, she finally turns right and walks 14 m. How far and in which direction is she from her home?

Note: For this question, discrepancy is found in question/answer. So, this question is ignored for all candidates.

Options :

1. 36 m, South

2. 32 m, South

3. 32 m, North

4. 36 m, North

Question Number : 10 Question Id : 5861804064 Question Type : MCQ Option Shuffling : Yes

Correct Marks : 1 Wrong Marks : 0.25

अर्पिता अपने घर से शुरू करके 28 m पूर्व की ओर चलती है। वहाँ से वह दाईं ओर मुड़कर 45 m चलती है। फिर वह बाईं ओर मुड़कर 15 m चलती है। फिर वह बाईं ओर मुड़कर 12 m चलती है। अब वह दाईं ओर मुड़कर 27 m चलती है। फिर वह दाईं ओर मुड़कर 25 m चलती है। उसके बाद अंत में वह दाईं ओर मुड़कर 14 m चलती है। वह अपने घर से कितनी दूर है और किस दिशा में है?

Note: For this question, discrepancy is found in question/answer. So, this question is ignored for all candidates.

Options :

1. 36 m, दक्षिण

2. 32 m, दक्षिण

3. 32 m, उत्तर

4. 36 m, उत्तर

Question Number : 11 Question Id : 5861804065 Question Type : MCQ Option Shuffling : Yes

Correct Marks : 1 Wrong Marks : 0.25

Which number will replace the question mark in the given matrix?

84	73	65	54
129	105	96	72
145	?	79	28

Options :

1. ✓ 94

2. ✗ 96

3. ✗ 98

4. ✗ 102

Question Number : 11 Question Id : 5861804065 Question Type : MCQ Option Shuffling : Yes  
Correct Marks : 1 Wrong Marks : 0.25

प्रदत्त आव्यूह में प्रश्न चिह्न के स्थान पर कौन सी संख्या आएगी?

84	73	65	54
129	105	96	72
145	?	79	28

Options :

1. ✓ 94

2. ✗ 96

3. ✗ 98

4. ✗ 102

Question Number : 12 Question Id : 5861804066 Question Type : MCQ Option Shuffling : Yes  
Correct Marks : 1 Wrong Marks : 0.25

Eight friends P, Q, R, S, T, U, V and W have their houses which are arranged in two rows having four houses in each row. Both rows face each other. P's house is not adjacent to U but is in the same row. Q's house and P's house is not in the same row. R's house does not face S's and V's house. Q's and S's houses are diagonally located to each other. U's and W's houses are diagonally located to each other. T's house is second to the left of W. T's and S's houses are not at the corner. R's house is in the opposite row of P's house but is not facing P's house. Which of the following statement is NOT correct?

Options :

1. ✓ S's house is diagonally located to T's house.
2. ✗ Q's house is facing P's house.
3. ✗ P's and T's houses are diagonally located to each other.
4. ✗ R's house is between T's house and W's house.

Question Number : 12 Question Id : 5861804066 Question Type : MCQ Option Shuffling : Yes

Correct Marks : 1 Wrong Marks : 0.25

आठ दोस्तों P, Q, R, S, T, U, V और W के घर दो पंक्तियों में इस प्रकार से व्यवस्थित हैं कि प्रत्येक पंक्ति में चार घर हैं। दोनों पंक्तियाँ एक दूसरे के सामने हैं। P का घर U के साथ वाला नहीं है, लेकिन एक ही पंक्ति में है। Q का घर और P का घर एक पंक्ति में नहीं है। R का घर S और V के घर के सामने नहीं है। Q और S के घर एक दूसरे के तिरछे में हैं। U और W के घर एक दूसरे से तिरछे हैं। T का घर W की बाईं ओर से दूसरा है। T और S के घर किसी छोर पर नहीं हैं। R का घर P के घर की पंक्ति के सामने वाली पंक्ति में है, लेकिन P के घर के सामने नहीं है। इनमें से क्या सही नहीं है?

Options :

1. ✓ S का घर T के घर से तिरछे में है।
2. ✗ Q का घर P के घर के सामने है।
3. ✗ P और T के घर एक दूसरे के तिरछे में हैं।
4. ✗ R का घर T और W के घर के बीच है।

Question Number : 13 Question Id : 5861804067 Question Type : MCQ Option Shuffling : Yes

Correct Marks : 1 Wrong Marks : 0.25

Eight persons P, Q, R, S, T, U, V and W are sitting around a circular table at equal distance from each other facing the centre. Then R and W interchange their positions. Now, if U is sitting in East then which direction is W facing?

Options :

1. ✓ South-east

2. ✗ South

3. ✗ North-west

4. ✗ North

Question Number : 13 Question Id : 5861804067 Question Type : MCQ Option Shuffling : Yes

Correct Marks : 1 Wrong Marks : 0.25

आठ व्यक्ति P, Q, R, S, T, U, V और W एक गोल मेज़ के इर्द-गिर्द सामने की ओर मुंह करके एक दूसरे से समान दूरी पर बैठे हैं। फिर R और W अपने स्थान बदल लेते हैं। अब, यदि U पूर्व में है, तो W की दिशा पता करें?

Options :

1. ✓ दक्षिण-पूर्व

2. ✗ दक्षिण

3. ✗ उत्तर-पश्चिम

4. ✗ उत्तर

Question Number : 14 Question Id : 5861804068 Question Type : MCQ Option Shuffling : Yes

Correct Marks : 1 Wrong Marks : 0.25



Four friends Soumya, Mrinal, Vedika and Arpita are players of one of the four teams P, Q, R and S. Each team play one of the four sports i.e. football, Badminton, volleyball and table tennis. Mrinal plays badminton but she is not the member of team R and S. Arpita plays table tennis. Vedika does not play football. Team Q does not play football and Badminton.

Who is the player of team P and which game does she play?

Options :

1. ✘ Arpita – Table Tennis
2. ✔ Mrinal – Badminton
3. ✘ Vedika – Volleyball
4. ✘ Soumya – Football

Question Number : 14 Question Id : 5861804068 Question Type : MCQ Option Shuffling : Yes

Correct Marks : 1 Wrong Marks : 0.25

चार दोस्त सौम्या, मृणाल, वेदिका और अर्पिता P, Q, R और S चार टीमों में से एक के खिलाड़ी हैं। प्रत्येक टीम फुटबॉल, बैडमिंटन, वॉलीबॉल और टेबल-टेनिस में से एक खेल खेलती है। मृणाल बैडमिंटन खेलती है लेकिन वो टीम R और S की सदस्य नहीं हैं। अर्पिता टेबल-टेनिस खेलती है। वेदिका फुटबॉल नहीं खेलती है। टीम Q फुटबॉल या बैडमिंटन नहीं खेलती है।

इनमें से कौन टीम P की खिलाड़ी है और कौन सा खेल खेलती है?

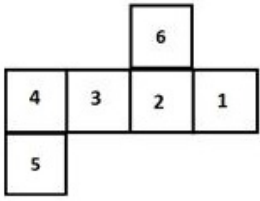
Options :

1. ✘ अर्पिता - टेबल-टेनिस
2. ✔ मृणाल - बैडमिंटन
3. ✘ वेदिका - वॉलीबॉल
4. ✘ सौम्या - फुटबॉल

Question Number : 15 Question Id : 5861804069 Question Type : MCQ Option Shuffling : Yes

Correct Marks : 1 Wrong Marks : 0.25

If the following sheet is folded along the lines to form a cube, then which number will be on the face opposite to the one having '3'?



Options :

1. ✓ 1

2. ✗ 2

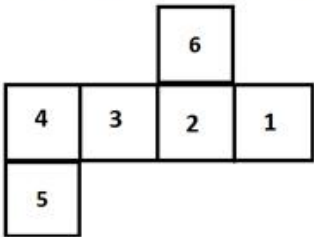
3. ✗ 4

4. ✗ 5

Question Number : 15 Question Id : 5861804069 Question Type : MCQ Option Shuffling : Yes

Correct Marks : 1 Wrong Marks : 0.25

यदि दी गई शीट को एक घन का आकार देने के लिए मोड़ दिया जाता है, तो '3' लिखी हुई सतह की विपरीत सतह पर निम्न में से कौन सी संख्या दिखाई देगी?



Options :

1. ✓ 1

2. ✗ 2

3. ✗ 4

4. ✖ 5

Question Number : 16 Question Id : 5861804070 Question Type : MCQ Option Shuffling : Yes  
Correct Marks : 1 Wrong Marks : 0.25

Four statements are given, followed by three conclusions.

The symbols used in them have meanings as follows:

$P @ Q$  means P is neither smaller than nor greater than Q.

$P \# Q$  means P is neither greater than nor equal to Q.

$P \& Q$  means P is neither smaller than nor equal to Q.

$P \% Q$  means P is not greater than Q.

$P \$ Q$  means P is not smaller than Q.

Now read the following statements and decide which of the conclusions is/are true.

**Statements:**

$B \# D$

$D \# J$

$B @ C$

$T \& B$

**Conclusions:**

I.  $B \$ J$

II.  $J \% B$

III.  $T \& C$

**Options :**

1. ✖ Only conclusion I is true.

2. ✖ Only conclusion II is true.

3. ✓ Only conclusion III is true.

4. ✖ All conclusions are true.

Question Number : 16 Question Id : 5861804070 Question Type : MCQ Option Shuffling : Yes  
Correct Marks : 1 Wrong Marks : 0.25

चार कथन दिए गए हैं और उनके बाद तीन निष्कर्ष भी दिए गए हैं। इनमें प्रयुक्त प्रतीकों का अर्थ निम्नानुसार है:

$P @ Q$  का अर्थ है कि  $P$  न तो  $Q$  से छोटा है और न बड़ा है।

$P \# Q$  का अर्थ है कि  $P$  न तो  $Q$  से बड़ा है और न बराबर है।

$P \& Q$  का अर्थ है कि  $P$  न तो  $Q$  से छोटा है और न बराबर है।

$P \% Q$  का अर्थ है कि  $P, Q$  से बड़ा नहीं है।

$P \$ Q$  का अर्थ है कि  $P, Q$  से छोटा नहीं है।

अब निम्न कथनों को पढ़ें और तय करें कि इनमें से कौन सा/से निष्कर्ष सही है/हैं।

कथन:

$B \# D$

$D \# J$

$B @ C$

$T \& B$

निष्कर्ष:

I.  $B \$ J$

II.  $J \% B$

III.  $T \& C$

Options :

1. ✖ केवल निष्कर्ष I सही है।

2. ✖ केवल निष्कर्ष II सही है।

3. ✔ केवल निष्कर्ष III सही है।

4. ✖ सभी निष्कर्ष सही हैं।

Question Number : 17 Question Id : 5861804071 Question Type : MCQ Option Shuffling : Yes

Correct Marks : 1 Wrong Marks : 0.25

Three statements are given, followed by four conclusions numbered I to IV. Assuming the statements to be true even if they seem to be at variance with commonly known facts, decide which of the conclusions logically follow(s) from the given statements.

**Statements:**

All heaters are motors.

Some motors are pumps.

All pipes are motors.

**Conclusions:**

I. Some pumps are heaters.

II. Some heaters are pipes.

III. Some motors are heaters.

IV. No heater is pipe.

**Options :**

1. ✖ Only conclusion II and III follow.

2. ✖ Either conclusion II or IV follows.

3. ✖ Conclusion III and either I or IV follows.

4. ✔ Conclusion III and either II or IV follows.

Question Number : 17 Question Id : 5861804071 Question Type : MCQ Option Shuffling : Yes

Correct Marks : 1 Wrong Marks : 0.25

तीन कथन दिए हैं और उसके बाद I से IV अंकित चार निष्कर्ष भी दिए गए हैं। मान लें कि कथन सही हैं, भले ही वास्तविक तथ्यों से परे हैं, तय करें कि कौन सा निष्कर्ष तार्किक रूप से प्रदत्त कथन का अनुसरण करता है।

**कथन:**

सभी हीटर मोटर हैं।

कुछ मोटर पंप हैं।

सभी पाइप मोटर हैं।

**निष्कर्ष:**

- I. कुछ पंप हीटर हैं।
- II. कुछ हीटर पाइप हैं।
- III. कुछ मोटर हीटर हैं।
- IV. कोई हीटर पाइप नहीं है।

**Options :**

1. ✘ केवल निष्कर्ष II और III अनुसरण करते हैं।
2. ✘ निष्कर्ष II और IV में से कोई अनुसरण करता है।
3. ✘ निष्कर्ष III और I या IV में से कोई अनुसरण करता है।
4. ✔ निष्कर्ष III और II या IV में से कोई अनुसरण करता है।

**Question Number : 18 Question Id : 5861804072 Question Type : MCQ Option Shuffling : Yes**

**Correct Marks : 1 Wrong Marks : 0.25**

A team of six persons is to be selected from among five boys, A, B, C, D and E, and five girls, P, Q, R, S and T, such that there are at most two boys in the team and it meets the following criteria:

- i. B and D cannot be together.
- ii. Q and R must be together.
- iii. A and C cannot be together.
- iv. E and A must be together.
- v. D and S must be together.

Which of the following teams can be formed?

1. AQERTS
2. BPQCDS
3. AREPTQ
4. SQDRCT

Options :

1. ✘ Only 4

2. ✘ 2 and 3

3. ✔ 3 and 4

4. ✘ Only 3

Question Number : 18 Question Id : 5861804072 Question Type : MCQ Option Shuffling : Yes

Correct Marks : 1 Wrong Marks : 0.25

पाँच लड़कों A, B, C, D और E, और पाँच लड़कियों P, Q, R, S और T में से कुछ इस प्रकार से छह की टीम चुनी जानी है कि टीम में ज़्यादा से ज़्यादा दो लड़के हों और निम्न मानदंड पूरे करती हो:

- i. B और D एक साथ नहीं हो सकते।
- ii. Q और R एक साथ होने चाहिए।
- iii. A और C एक साथ नहीं हो सकते।
- iv. E और A एक साथ होने चाहिए।
- v. D और S एक साथ होने चाहिए।

इनमें से कौन सा विकल्प एक टीम बन सकती है?

1. AQERTS
2. BPQCDS
3. AREPTQ
4. SQDRCT

Options :

1. ✘ केवल 4

2. ✘ 2 और 3

3. ✔ 3 और 4



#### 4. ✖ केवल 3

Question Number : 19 Question Id : 5861804073 Question Type : MCQ Option Shuffling : Yes  
Correct Marks : 1 Wrong Marks : 0.25

The criteria for selecting a candidate for the post of 'Gynaecologist' are as follow.

The candidate:

1. must have completed M.S. Gynaecology with more than 80% marks.
2. must be willing to sign a bond of not leaving the job for at least 2 years.
3. must have at least four years experience of working as a doctor at a reputed hospital.

However, if a candidate fulfils all the above criteria EXCEPT:

- a. no. 2, but has more than 8 years of work experience, his/her case is to be referred to the General Manager.
- b. no. 3, but has obtained more than 90% marks in M.S. Gynaecology, his/her case is to be referred to the Head Human Resources (HR).

Based on the criteria given and without assuming any additional information, you have to a take a decision for the following candidate.

Dr. Shah has obtained 83% marks in both MBBS and M.S. Gynaecology. He has worked at a hospital for four years. He is willing to sign a bond of not leaving the job for one year.

Options :

1. ✖ The candidate is to be selected.
2. ✔ The candidate is not to be selected.
3. ✖ The candidate's case is to be referred to the General Manager.
4. ✖ The candidate's case is to be referred to the Head Human Resources (HR).

Question Number : 19 Question Id : 5861804073 Question Type : MCQ Option Shuffling : Yes  
Correct Marks : 1 Wrong Marks : 0.25

'गाइनोकोलॉजिस्ट' के पद के लिए उम्मीदवार चुनने के लिए मानदंड निम्नानुसार हैं:

उम्मीदवार:

1. गाइनोकोलॉजी में एम.एस. होना चाहिए और 80% से अधिक अंक होने चाहिए।
2. कम से कम 2 सालों तक नौकरी न छोड़ने के लिए बांड भरने को तैयार होना चाहिए।
3. किसी प्रतिष्ठित अस्पताल में डॉक्टर के रूप में काम करने का कम से कम चार साल का अनुभव होना चाहिए।

हालाँकि, यदि उम्मीदवार उक्त सभी मानदंड पूरे करता है, सिवाए:

- a. नं. 2, लेकिन उसके पास आठ सालों से अधिक का अनुभव है, तो उसका मामला महा-प्रबंधक को भेजा जाएगा।
- b. नं. 3, लेकिन एम.एस. गाइनोकोलॉजी में 90% से अधिक हासिल किए हैं, तो उसका मामला प्रमुख मानव संसाधन (एच.आर.) को भेजा जाएगा।

प्रदत्त मानदंडों के आधार पर और किसी भी अतिरिक्त जानकारी पर गौर किए बिना, आपको निम्न उम्मीदवार के लिए फैसला लेना है।

डॉ. शाह ने एम.बी.बी.एस. और एम.एस. गाइनोकोलॉजी दोनों में 83% अंक हासिल किए हैं। उन्होंने अस्पताल में चार सालों तक काम किया है। वह एक साल तक नौकरी न छोड़ने के लिए बांड भरने को तैयार हैं।

Options :

1. ✘ उम्मीदवार चुना जाना चाहिए।
2. ✔ उम्मीदवार को नहीं चुना जाना चाहिए।
3. ✘ उम्मीदवार के मामले को महाप्रबंधक के पास भेज दिया जाएगा।
4. ✘ उम्मीदवार के मामले को प्रमुख मानव संसाधन (एच.आर.) के पास भेज दिया जाएगा।

Question Number : 20 Question Id : 5861804074 Question Type : MCQ Option Shuffling : Yes

Correct Marks : 1 Wrong Marks : 0.25

The criteria for selecting a candidate for the post of 'Head Accountant' are as follow.

The candidate:

1. must be a qualified Chartered Accountant (C.A.)
2. must not be less than 35 years and not more than 45 years of age as on 1 January 2019.
3. must have worked previously as Accountant for at least 5 years.

However, if a candidate fulfils all the above criteria EXCEPT:

- a. no. 2, but has more than 7 years of work experience as Accountant , his/her case is to be referred to the Deputy General Manager.
- b. no. 3, but has also qualified Company Secretary (C.S.) examination, his/her case is to be referred to the Head (Accounts Division).

Based on the criteria given and without assuming any additional information, you have to a take a decision for the following candidate.

Vishal is a qualified Chartered Accountant and Company Secretary. He was born on 6 July 1976. He has worked previously as Accountant for last 5 years.

Options :

1. ✓ The candidate is to be selected.
2. ✗ The candidate is not to be selected.
3. ✗ The candidate's case is to be referred to the Deputy General Manager.
4. ✗ The candidate's case is to be referred to the Head (Accounts Division).

Question Number : 20 Question Id : 5861804074 Question Type : MCQ Option Shuffling : Yes  
Correct Marks : 1 Wrong Marks : 0.25

'प्रमुख लेखाकार' के पद के लिए उम्मीदवार चुनने के लिए मानदंड निम्नानुसार हैं:

उम्मीदवार:

1. योग्यताप्राप्त सनदी लेखाकार (C.A) होना चाहिए।
2. 1 जनवरी 2019 तक, उसकी उम्र 35 साल से कम और 45 साल से अधिक नहीं होनी चाहिए।
3. कम से कम 5 सालों का लेखाकार का अनुभव होना चाहिए।

हालाँकि, यदि उम्मीदवार उक्त सभी मानदंड पूरे करता है, सिवाए

- a. नं. 2, लेकिन उसके पास 7 सालों से अधिक का अनुभव है, तो उसका मामला उप-महाप्रबंधक को भेजा जाएगा।
- b. नं. 3, लेकिन वह एक योग्यताप्राप्त कंपनी सचिव (सी.एस.) भी है, तो उसका मामला प्रमुख (लेखा विभाग) को भेजा जाएगा।

प्रदत्त मानदंडों के आधार पर और किसी भी अतिरिक्त जानकारी पर गौर किए बिना, आपको निम्न उम्मीदवार के लिए फैसला लेना है।

विशाल एक योग्यताप्राप्त सनदी लेखाकार और कंपनी सचिव है। उसका जन्म 6 जुलाई 1976 को हुआ था। उसने पिछले 5 सालों में लेखाकार के तौर पर काम किया हुआ है।

Options :

1. ✓ उम्मीदवार चुना जाना चाहिए।
2. ✗ उम्मीदवार को नहीं चुना जाना चाहिए।
3. ✗ उम्मीदवार के मामले को उप-महाप्रबंधक के पास भेज दिया जाएगा।
4. ✗ उम्मीदवार के मामले को प्रमुख (लेखा विभाग) के पास भेज दिया जाएगा।

# Mental Ability2

Group Number :	2
Group Id :	586180193
Group Maximum Duration :	0
Group Minimum Duration :	0
Show Attended Group? :	No
Edit Attended Group? :	No
Break time:	0
Group Marks:	20
Is this Group for Examiner?:	No
Revisit allowed for group Instructions? :	Yes
Maximum Instruction Time:	0
Minimum Instruction Time:	0

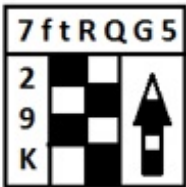
# Mental Ability2

Section Id :	586180197
Section Number :	1
Section type :	Online
Mandatory or Optional:	Mandatory
Number of Questions:	20
Number of Questions to be attempted:	20
Section Marks:	20

Sub-Section Number:	1
Sub-Section Id:	586180272
Question Shuffling Allowed :	Yes

Question Number : 21 Question Id : 5861804075 Question Type : MCQ Option Shuffling : Yes  
Correct Marks : 1 Wrong Marks : 0.25

Which of the option figures represents the correct water image of the figure given below?



Options :



1. ✖

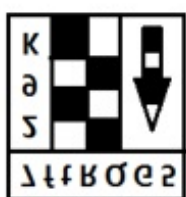
2. ✓



3. ✘

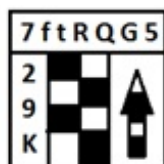


4. ✘



Question Number : 21 Question Id : 5861804075 Question Type : MCQ Option Shuffling : Yes  
Correct Marks : 1 Wrong Marks : 0.25

इन आकृतियों में से कौन सी आकृति प्रदत्त आकृति की दर्पण छवि दर्शाती है?



Options :

1. ✘



2. ✓





3. ✘



4. ✘

Question Number : 22 Question Id : 5861804076 Question Type : MCQ Option Shuffling : Yes

Correct Marks : 1 Wrong Marks : 0.25

Select the correct mirror image of the given cluster when a vertical mirror is placed on the right of the word.

**RGHUtY78fG42WaQ9**

Options :

1. ✘ 6D6W5A9f8VfUH9R

2. ✘ 9Q6W5A9f8ZLyUH9R

3. ✔ 9Q6W5A9f8VfUH9R

4. ✘ 9Q6W5A9f8VfUH9R

Question Number : 22 Question Id : 5861804076 Question Type : MCQ Option Shuffling : Yes

Correct Marks : 1 Wrong Marks : 0.25

प्रदत्त समूह की सही दर्पण छवि चुनें, अगर शब्द के दाहिने ओर एक ऊर्ध्वाधर दर्पण रखा जाता है।

**RGHUtY78fG42WaQ9**

Options :

1. ✘ 6D6W5A9f8VfUH9R

2. ✘ ९०६W॒5॒4॒७॒18॒7॒1॒UH॒७॒Я

3. ✔ ९०६W॒5॒4॒७॒18॒7॒1॒UH॒७॒Я

4. ✘ ९०६W॒5॒4॒७॒18॒7॒1॒UH॒७॒Я

Question Number : 23 Question Id : 5861804077 Question Type : MCQ Option Shuffling : Yes

Correct Marks : 1 Wrong Marks : 0.25

नीचे आठ प्रतीक-संख्या के समूह दिए गए हैं, इनमें से तीन एक समान हैं। बिलकुल समान तीन समूह पता करें।

(A) & ^ \* 5 1 # 2 7 % \$ 4 ( 4 % + # 5 \$ @ 3

(B) & ^ \* 5 1 # 2 7 % \$ 4 ( 0 % + # 5 \$ # 3

(C) & ^ \* 5 1 # 2 7 % \$ 4 ( 0 % + # 5 \$ # 3

(D) & ^ \* 5 1 # 2 4 % \$ 4 ( 4 % + # 5 \$ # 3

(E) & ^ \* 5 1 # 2 7 % \$ 4 ( 4 % + # 5 \$ # 3

(F) & ^ \* 5 7 # 2 7 % \$ 4 ( 4 % + # 5 \$ # 3

(G) & ^ \* 5 1 # 2 7 % # 4 ( 4 % + # 5 \$ # 3

(H) & ^ \* 5 1 # 2 7 % \$ 4 ( 4 % + # 5 \$ # 3

Options :

1. ✘ A, C और E

2. ✘ B, C और E

3. ✔ B, E और H

4. ✘ C, F और H



Question Number : 23 Question Id : 5861804077 Question Type : MCQ Option Shuffling : Yes

Correct Marks : 1 Wrong Marks : 0.25

Eight symbol-number clusters are given below three of which are same. Find the three clusters that are exactly same.

(A) & ^ \* 5 1 # 2 7 % \$ 4 ( 4 % + # 5 \$ @ 3

(B) & ^ \* 5 1 # 2 7 % \$ 4 ( 4 % + # 5 \$ # 3

(C) & ^ \* 5 1 # 2 7 % \$ 4 ( 0 % + # 5 \$ # 3

(D) & ^ \* 5 1 # 2 4 % \$ 4 ( 4 % + # 5 \$ # 3

(E) & ^ \* 5 1 # 2 7 % \$ 4 ( 4 % + # 5 \$ # 3

(F) & ^ \* 5 7 # 2 7 % \$ 4 ( 4 % + # 5 \$ # 3

(G) & ^ \* 5 1 # 2 7 % # 4 ( 4 % + # 5 \$ # 3

(H) & ^ \* 5 1 # 2 7 % \$ 4 ( 4 % + # 5 \$ # 3

Options :

1. ✘ A, C and E

2. ✘ B, C and E

3. ✔ B, E and H

4. ✘ C, F and H

Question Number : 24 Question Id : 5861804078 Question Type : MCQ Option Shuffling : Yes

Correct Marks : 1 Wrong Marks : 0.25

Which of the given figures, when fitted into each other would form a hexagon? Select an appropriate combination from the given options.



Options :

1. ✔ ABEF

2. ✘ ABDF

3. ✖ BCDE

4. ✖ BCDF

Question Number : 24 Question Id : 5861804078 Question Type : MCQ Option Shuffling : Yes

Correct Marks : 1 Wrong Marks : 0.25

इनमें से किस आकृति को जब एक एक दूसरे में फिट किया जाता है, तो एक षट्कोण बनेगा? प्रदत्त विकल्पों में से समुचित संयोजन चुनें।



Options :

1. ✔ ABEF

2. ✖ ABDF

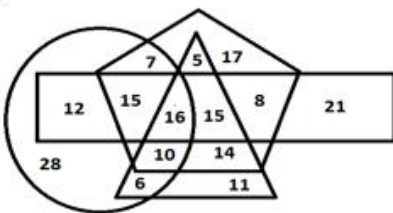
3. ✖ BCDE

4. ✖ BCDF

Question Number : 25 Question Id : 5861804079 Question Type : MCQ Option Shuffling : Yes

Correct Marks : 1 Wrong Marks : 0.25

In the diagram given below, the pentagon stands for 'doctors', the triangle stands for 'fathers', the rectangle stands for 'morning walkers', and the oval stands for 'house owners'. The numbers in different segments represent the number of persons.



Which of following statement is NOT correct?

Options :

1. ✖

The number of doctors who are morning walkers and fathers both but are not house owners is 15.

2. ✖

The number of doctors who are fathers but are neither morning walkers nor house owners is 19.

3. ✖

The number of persons who are house owners and morning walkers both but are neither doctors nor fathers is 12.

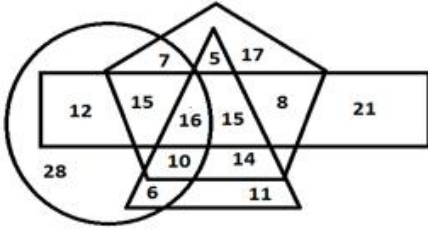
4. ✔

The number of doctors who are fathers and house owners both but are not morning walkers is 16.

Question Number : 25 Question Id : 5861804079 Question Type : MCQ Option Shuffling : Yes

Correct Marks : 1 Wrong Marks : 0.25

नीचे प्रदत्त आरेख में, पंचकोण 'डॉक्टर्स' को दर्शाता है, त्रिभुज 'पिता' को दर्शाता है, आयत 'मॉर्निंग वॉकर्स' को दर्शाता है और अंडाकार 'मकान मालिक' को दर्शाता है। अलग-अलग खंडों की दी गई संख्याएँ व्यक्तियों की संख्या को दर्शाती हैं।



इनमें से कौन सा कथन सही नहीं है?

Options :

1. ✖

ऐसे डॉक्टर्स की संख्या 15 है, जो सुबह की सैर करते हैं और पिता भी हैं, लेकिन मकान मालिक नहीं हैं।

2. ✖

ऐसे डॉक्टर्स की संख्या 19 है, जो पिता तो हैं, लेकिन न तो सुबह की सैर करते हैं और न ही मकान मालिक हैं।

3. ✖

ऐसे व्यक्तियों की संख्या 12 है, जो मकान मालिक भी हैं और सुबह की सैर भी करते हैं, लेकिन न तो डॉक्टर हैं और न ही पिता हैं।

4. ✓

ऐसे डॉक्टर्स की संख्या 16 है, जो पिता और मकान मालिक दोनों हैं, लेकिन सुबह की सैर नहीं करते हैं।

Question Number : 26 Question Id : 5861804080 Question Type : MCQ Option Shuffling : Yes

Correct Marks : 1 Wrong Marks : 0.25

Select the option figure which contains figure X embedded in it as its part.

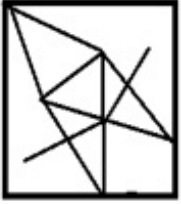


Figure-X

Options :

1. ✖



2. ✖



3. ✓



4. ✖



Question Number : 26 Question Id : 5861804080 Question Type : MCQ Option Shuffling : Yes

Correct Marks : 1 Wrong Marks : 0.25

इनमें से वह आकृति चुनें जिसमें आकृति X इसका एक भाग है।



आकृति X

Options :



1. ✘



2. ✘



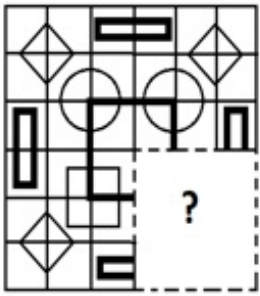
3. ✔



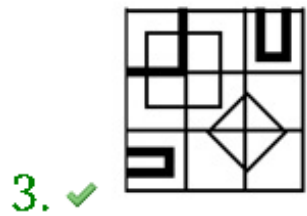
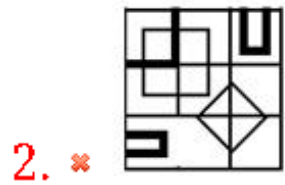
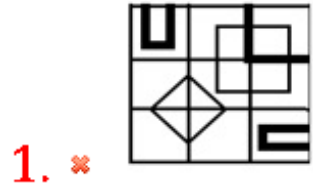
4. ✘

Question Number : 27 Question Id : 5861804081 Question Type : MCQ Option Shuffling : Yes  
Correct Marks : 1 Wrong Marks : 0.25

Which of the following option figure will complete the pattern in the figure given below?

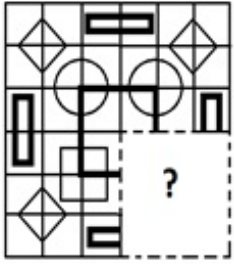


Options :

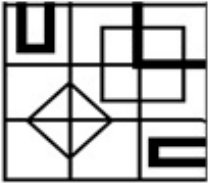


Question Number : 27 Question Id : 5861804081 Question Type : MCQ Option Shuffling : Yes  
 Correct Marks : 1 Wrong Marks : 0.25

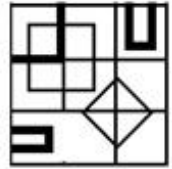
इनमें से कौन सी आकृति नीचे प्रदत्त आकृति पैटर्न को पूरा करेगी?



Options :



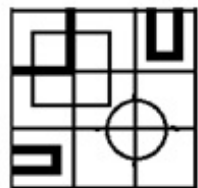
1. ✘



2. ✘



3. ✔



4. ✘

Question Number : 28 Question Id : 5861804082 Question Type : MCQ Option Shuffling : Yes

Correct Marks : 1 Wrong Marks : 0.25

Akriti is daughter of Vibhor. Amit is the brother of Kavya. Kavya is daughter of Vinod's father. Sadhna is mother of Amit. Divij is Akriti's only sister's husband. Sadhna is sister of Akriti. How is Vibhor related to Kavya?

Options :

1. ✖ Father

2. ✔ Maternal grandfather

3. ✖ Brother

4. ✖ Uncle

Question Number : 28 Question Id : 5861804082 Question Type : MCQ Option Shuffling : Yes

Correct Marks : 1 Wrong Marks : 0.25

आकृति विभोर की बेटी है। अमित काव्या का भाई है। काव्या विनोद के पिता की बेटी है। साधना अमित की माँ है। दिविज आकृति की इकलौती बहन का पति है। साधना आकृति की बहन है। विभोर और काव्या का रिश्ता पता करें?

Options :

1. ✖ पिता

2. ✔ नाना

3. ✖ भाई

4. ✖ चाचा

Question Number : 29 Question Id : 5861804083 Question Type : MCQ Option Shuffling : Yes

Correct Marks : 1 Wrong Marks : 0.25

If in a code language TODAY is coded as SPCBX, then how will you code YESTERDAY.

Options :

1. ✖ RFXSDUXCB



2. ✖ FRUDXXCBS

3. ✖ RUDSCBXXF

4. ✔ XFRUDSCBX

Question Number : 29 Question Id : 5861804083 Question Type : MCQ Option Shuffling : Yes

Correct Marks : 1 Wrong Marks : 0.25

यदि किसी कोड भाषा में 'TODAY' को SPCBX कोड किया गया है, तो उसी कोड भाषा में 'YESTERDAY' को क्या कोड किया जाएगा?

Options :

1. ✖ RFXSDUXCB

2. ✖ FRUDXXCBS

3. ✖ RUDSCBXXF

4. ✔ XFRUDSCBX

Question Number : 30 Question Id : 5861804084 Question Type : MCQ Option Shuffling : Yes

Correct Marks : 1 Wrong Marks : 0.25

A question is given, followed by four statements labelled I, II, III and IV each containing some information. Decide which of the statements is/are sufficient/necessary to answer the question.

**Question:**

How is M related to P?

**Statements**

- I. N is M's wife whose daughter is Q.
- II. Q is O's sister.
- III. M is father of O.
- IV. P's mother is sister of O.

**Options :**

- 1. ✖ Statement I and II together are sufficient.
- 2. ✖ Statement II and III together are sufficient.
- 3. ✖ Statement II and IV together are sufficient.
- 4. ✔ Statement III and IV together are sufficient.

Question Number : 30 Question Id : 5861804084 Question Type : MCQ Option Shuffling : Yes

Correct Marks : 1 Wrong Marks : 0.25

एक प्रश्न के बाद I, II, III और IV लेबल के तहत दो कथन दिए गए हैं, प्रत्येक में कुछ न कुछ जानकारी दी गई है। तय करें कि प्रश्न का उत्तर देने के लिए इनमें से कौन सा/से कथन पर्याप्त/ज़रूरी है/हैं।

**प्रश्न:**

M, P से कैसे सम्बंधित है?

**कथन:**

- I. N, M की पत्नी है जिसकी लड़की Q है।
- II. Q, O की बहन है
- III. M, O का पिता है।
- IV. P की माता O की बहन है।

**Options :**

1. ✘ कथन I और II एकसाथ पर्याप्त हैं।
2. ✘ कथन II और III एकसाथ पर्याप्त हैं।
3. ✘ कथन II और IV एकसाथ पर्याप्त हैं।
4. ✔ कथन III और IV एकसाथ पर्याप्त हैं।

Question Number : 31 Question Id : 5861804085 Question Type : MCQ Option Shuffling : Yes

Correct Marks : 1 Wrong Marks : 0.25

If 'ARTERY' is coded as 129 in a code language, how would 'CREATE' be coded in the same code language?

Options :

1. ✘ 110
2. ✔ 111
3. ✘ 112
4. ✘ 113

Question Number : 31 Question Id : 5861804085 Question Type : MCQ Option Shuffling : Yes

Correct Marks : 1 Wrong Marks : 0.25

यदि किसी कोड भाषा में 'ARTERY' को 129 कोड किया गया है, तो उसी कोड भाषा में 'CREATE' को क्या कोड किया जाएगा?

Options :

1. ✘ 110

2. ✓ 111

3. ✗ 112

4. ✗ 113

Question Number : 32 Question Id : 5861804086 Question Type : MCQ Option Shuffling : Yes

Correct Marks : 1 Wrong Marks : 0.25

Which of the following pairs of numbers and signs, when their positions are interchanged, will correctly solve the given mathematical equation?

$$448 + 151 - 28 \div 14 \times 15 = 75$$

Options :

1. ✗ 28 and 448,  $\times$  and  $\div$

2. ✗ 448 and 151,  $+$  and  $\div$

3. ✓ 151 and 28,  $+$  and  $\div$

4. ✗ 28 and 15,  $\times$  and  $\div$

Question Number : 32 Question Id : 5861804086 Question Type : MCQ Option Shuffling : Yes

Correct Marks : 1 Wrong Marks : 0.25

संख्याओं और चिह्नों के इन युग्मों में से कौन सा युग्म उनकी स्थिति आपस में बदलने पर एक प्रदत्त गणितीय समीकरण को सही से हल करेगा?

$$448 + 151 - 28 \div 14 \times 15 = 75$$

Options :

1. ✗ 28 और 448,  $\times$  और  $\div$

2. ✖ 448 और 151, + और ÷

3. ✔ 151 और 28, + और ÷

4. ✖ 28 और 15, × और ÷

Question Number : 33 Question Id : 5861804087 Question Type : MCQ Option Shuffling : Yes

Correct Marks : 1 Wrong Marks : 0.25

A total of 260 students take part in one or more of three events drawing, sculpture and face painting. Only 30% participate in all three events. The number of students who participate in any two and only two events is 80. The number of students who participate in drawing alone is 37. What is the total number of students who participate in sculpture alone or face painting alone?

Options :

1. ✖ 64

2. ✔ 65

3. ✖ 66

4. ✖ 67

Question Number : 33 Question Id : 5861804087 Question Type : MCQ Option Shuffling : Yes

Correct Marks : 1 Wrong Marks : 0.25

कुल 260 छात्र चित्रकारी, मूर्तिकला और चेहरा रंगने में से एक कार्यक्रम में भाग लेते हैं। केवल 30% ही सभी कार्यक्रमों में भाग लेते हैं। किन्हीं दो या केवल दो कार्यक्रमों में भाग लेने वाले छात्रों की संख्या 80 है। केवल चित्रकारी में भाग लेने वाले छात्रों की संख्या 37 है। केवल मूर्तिकला या केवल चेहरा रंगने के कार्यक्रम में भाग लेने वाले छात्रों की संख्या पता करें।

Options :

1. ✖ 64

2. ✓ 65

3. ✗ 66

4. ✗ 67

Question Number : 34 Question Id : 5861804088 Question Type : MCQ Option Shuffling : Yes

Correct Marks : 1 Wrong Marks : 0.25

Among five objects V, W, X, Y and Z; V is three times costlier than X; W is one and a half times costlier than Z; X is two and a half times costlier than Y. Z is thrice as costly as V. Which of the following statements is NOT correct?

Note: For this question, discrepancy is found in question/answer. So, this question is ignored for all candidates.

Options :

1. Z is 6 times heavier than X.
2. W is 4.5 times heavier than V.
3. V is 7.5 times heavier than Y.
4. Z is heavier than V but lighter than W.

Question Number : 34 Question Id : 5861804088 Question Type : MCQ Option Shuffling : Yes

Correct Marks : 1 Wrong Marks : 0.25

पाँच वस्तुओं V, W, X, Y और Z में से; V, X से तीन गुना महंगी है; W, Z से डेढ़ गुना महंगी है; X, Y से ढाई गुना महंगी है। Z, V से तीन गुना महंगी है। इनमें से कौन सा कथन सही नहीं है?

Note: For this question, discrepancy is found in question/answer. So, this question is ignored for all candidates.

Options :

1. Z, X से छह गुना भारी है।

2. W, V से 4.5 गुना भारी है।
3. V, Y से 7.5 गुना भारी है।
4. Z, V से भारी है लेकिन W से हल्की है।

Question Number : 35 Question Id : 5861804089 Question Type : MCQ Option Shuffling : Yes

Correct Marks : 1 Wrong Marks : 0.25

Four persons A, B, C and D have different amount of rupees with them. B says to C, 'If I give you 1 rupee, you will have half the rupees than D' B says to D, 'If you give me 8 rupees, I will have 10 rupees less than A.'. C says to D, 'If you give me 21 rupees, I will have 30 rupees less than A'. If C and D together have total 104 rupees, how many rupees does A have?

Options :

1. ✖ 82
2. ✖ 83
3. ✖ 84
4. ✔ 85

Question Number : 35 Question Id : 5861804089 Question Type : MCQ Option Shuffling : Yes

Correct Marks : 1 Wrong Marks : 0.25

चार व्यक्तियों A, B, C और D के पास अलग-अलग रुपये हैं। B, C से कहता है, "अगर मैं तुम्हें 1 रुपया दे दूँ, तो तुम्हारे पास D से आधे रुपये होंगे।" B, D से कहता है, "अगर तुम मुझे 8 रुपये दे दो, तो मेरे पास A से 10 रुपये कम होंगे।" C, D से कहता है, "अगर तुम मुझे 21 रुपये दे दो, तो मेरे पास A से 30 रुपये कम होंगे।" यदि C और D दोनों के पास कुल 104 रुपये हैं, तो A के पास कितने रुपये हैं?

Options :

1. ✖ 82

2. ✖ 83

3. ✖ 84

4. ✔ 85

Question Number : 36 Question Id : 5861804090 Question Type : MCQ Option Shuffling : Yes

Correct Marks : 1 Wrong Marks : 0.25

Three of the given four words are similar in a certain manner while one is different. Choose the odd one out.

Options :

1. ✖ Jealousy

2. ✖ Fear

3. ✔ Love

4. ✖ Disgust

Question Number : 36 Question Id : 5861804090 Question Type : MCQ Option Shuffling : Yes

Correct Marks : 1 Wrong Marks : 0.25

प्रदत्त चार शब्दों में से तीन एक तरीके से समान हैं, जबकि एक अलग है। इनमें से विषम चुनें।

Options :

1. ✖ ईर्ष्या

2. ✖ भय



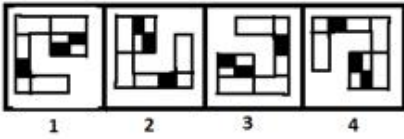
3. ✓ प्रेम

4. ✗ अरुचि

Question Number : 37 Question Id : 5861804091 Question Type : MCQ Option Shuffling : Yes

Correct Marks : 1 Wrong Marks : 0.25

Three of the given four figures are similar in a certain manner while one is different. Choose the odd one out.



Options :

1. ✗ 1

2. ✗ 2

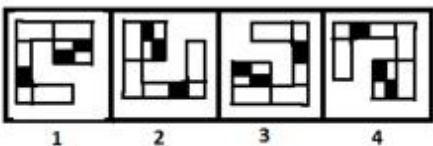
3. ✓ 3

4. ✗ 4

Question Number : 37 Question Id : 5861804091 Question Type : MCQ Option Shuffling : Yes

Correct Marks : 1 Wrong Marks : 0.25

प्रदत्त चार आकृतियों में से तीन एक तरीके से समान हैं, जबकि एक अलग है। इनमें से विषम चुनें।



Options :

1. ✗ 1

2. ✖ 2

3. ✔ 3

4. ✖ 4

Question Number : 38 Question Id : 5861804092 Question Type : MCQ Option Shuffling : Yes  
Correct Marks : 1 Wrong Marks : 0.25

Which number will replace the question mark (?) in the following series?

11, 12, 12, 14, ?, 31

Options :

1. ✖ 20

2. ✖ 24

3. ✖ 26

4. ✔ 28

Question Number : 38 Question Id : 5861804092 Question Type : MCQ Option Shuffling : Yes  
Correct Marks : 1 Wrong Marks : 0.25

वह विकल्प चुनें जो श्रृंखला में प्रश्न चिन्ह (?) को सही प्रतिस्थापित करेगा।

11, 12, 12, 14, ?, 31

Options :

1. ✖ 20

2. ✖ 24

3. ✖ 26

4. ✔ 28

Question Number : 39 Question Id : 5861804093 Question Type : MCQ Option Shuffling : Yes

Correct Marks : 1 Wrong Marks : 0.25

Which number will replace the question mark (?) in the following series?

146, 150, 161, 191, ?

Options :

1. ✖ 257

2. ✔ 258

3. ✖ 259

4. ✖ 260

Question Number : 39 Question Id : 5861804093 Question Type : MCQ Option Shuffling : Yes

Correct Marks : 1 Wrong Marks : 0.25

वह विकल्प चुनें जो श्रृंखला में प्रश्न चिन्ह (?) को सही प्रतिस्थापित करेगा।

146, 150, 161, 191, ?

Options :

1. ✖ 257

2. ✓ 258

3. ✗ 259

4. ✗ 260

Question Number : 40 Question Id : 5861804094 Question Type : MCQ Option Shuffling : Yes  
Correct Marks : 1 Wrong Marks : 0.25

Which number will replace the question mark (?) in the following series?

64, 79, 98, 125, 164, ?

Options :

1. ✗ 201

2. ✗ 211

3. ✗ 216

4. ✓ 219

Question Number : 40 Question Id : 5861804094 Question Type : MCQ Option Shuffling : Yes  
Correct Marks : 1 Wrong Marks : 0.25

वह विकल्प चुनें जो श्रृंखला में प्रश्न चिन्ह (?) को सही प्रतिस्थापित करेगा।

64, 79, 98, 125, 164, ?

Options :

1. ✗ 201

2. ✖ 211

3. ✖ 216

4. ✔ 219

## General Awareness1

<b>Group Number :</b>	3
<b>Group Id :</b>	586180194
<b>Group Maximum Duration :</b>	0
<b>Group Minimum Duration :</b>	0
<b>Show Attended Group? :</b>	No
<b>Edit Attended Group? :</b>	No
<b>Break time:</b>	0
<b>Group Marks:</b>	20
<b>Is this Group for Examiner?:</b>	No
<b>Revisit allowed for group Instructions? :</b>	Yes
<b>Maximum Instruction Time:</b>	0
<b>Minimum Instruction Time:</b>	0

## General Awareness1

<b>Section Id :</b>	586180198
<b>Section Number :</b>	1
<b>Section type :</b>	Online
<b>Mandatory or Optional:</b>	Mandatory
<b>Number of Questions:</b>	20
<b>Number of Questions to be attempted:</b>	20
<b>Section Marks:</b>	20

<b>Sub-Section Number:</b>	1
<b>Sub-Section Id:</b>	586180273
<b>Question Shuffling Allowed :</b>	Yes

Question Number : 41 Question Id : 5861804095 Question Type : MCQ Option Shuffling : Yes  
Correct Marks : 1 Wrong Marks : 0.25

In the context of eutrophication, which of the following statements is correct?

Options :

1. \* It refers to a sudden boom in any of the nitrogen compounds only in a water body.
2. ✓ One of its effects is algal boom.
3. \* It increases the quality of water for human consumption.
4. \* Additional nutrients in water makes it well-suited for agricultural purpose.

Question Number : 41 Question Id : 5861804095 Question Type : MCQ Option Shuffling : Yes

Correct Marks : 1 Wrong Marks : 0.25

सुपोषण के संदर्भ में, निम्न में से कौन सा कथन सही है?

Options :

1. \* यह केवल किसी जल निकाय में किसी नाइट्रोजन यौगिक में अचानक वृद्धि से संबंधित है।
2. ✓ शैवाल वृद्धि इसका एक प्रभाव है।
3. \* यह मानवीय उपभोग हेतु जल गुणवत्ता में वृद्धि करता है।
4. \* जल में अतिरिक्त पोषण, इसे कृषि उद्देश्यों हेतु उपयुक्त बनाता है।

Question Number : 42 Question Id : 5861804096 Question Type : MCQ Option Shuffling : Yes

Correct Marks : 1 Wrong Marks : 0.25

\_\_\_\_\_ is the study or cultivation of fruit crops.

Options :

1. ✓ Pomology
2. \* Perfusionology
3. \* Olericulture
4. \* Systemology

Question Number : 42 Question Id : 5861804096 Question Type : MCQ Option Shuffling : Yes  
Correct Marks : 1 Wrong Marks : 0.25

\_\_\_\_\_ फलदार फसलों का अध्ययन या खेती है।

Options :

1. ✓ पॉमोलॉजी
2. ✗ परफ्यूजनोलॉजी
3. ✗ ओलेरीकल्चर
4. ✗ सिस्टमोलॉजी

Question Number : 43 Question Id : 5861804097 Question Type : MCQ Option Shuffling : Yes  
Correct Marks : 1 Wrong Marks : 0.25

What is the full form of BOD?

Options :

1. ✗ Bacterial Oxygen Demand
2. ✗ Biological Oxide Demand
3. ✓ Biological Oxygen Demand
4. ✗ Bacterial Oxide Demand

Question Number : 43 Question Id : 5861804097 Question Type : MCQ Option Shuffling : Yes  
Correct Marks : 1 Wrong Marks : 0.25

बीओडी (BOD) का पूर्ण रूप क्या है?

Options :

1. ✗ बैक्टीरियल ऑक्सीजन डिमांड
2. ✗ बायोलॉजिकल ऑक्साइड डिमांड
3. ✓ बायोलॉजिकल ऑक्सीजन डिमांड
4. ✗ बैक्टीरियल ऑक्साइड डिमांड

Question Number : 44 Question Id : 5861804098 Question Type : MCQ Option Shuffling : Yes  
Correct Marks : 1 Wrong Marks : 0.25

As per the India State of Forest Report, 2017, which of the following states has the third largest forest cover in India?

Options :

1. \* Maharashtra
2. \* Odisha
3. ✓ Chhattisgarh
4. \* Jharkhand

Question Number : 44 Question Id : 5861804098 Question Type : MCQ Option Shuffling : Yes  
Correct Marks : 1 Wrong Marks : 0.25

भारतीय वन स्थिति रिपोर्ट 2017 के अनुसार, निम्न में से किस राज्य में वन आच्छादित क्षेत्र, भारत में तीसरा सर्वाधिक है?

Options :

1. \* महाराष्ट्र
2. \* ओडिशा
3. ✓ छत्तीसगढ़
4. \* झारखंड

Question Number : 45 Question Id : 5861804099 Question Type : MCQ Option Shuffling : Yes  
Correct Marks : 1 Wrong Marks : 0.25

In February 2019, the Union Cabinet approved the National Mineral Policy, 2019. The policy is broadly based on the recommendations of the committee headed by:

Options :

1. ✓ K. Rajeswara Rao
2. \* P. Basu
3. \* G. Nagaraja
4. \* Amitabh Kant

Question Number : 45 Question Id : 5861804099 Question Type : MCQ Option Shuffling : Yes  
Correct Marks : 1 Wrong Marks : 0.25



फरवरी 2019 में केंद्रीय मंत्रिमंडल ने राष्ट्रीय खनिज नीति 2019 अनुमोदित की। यह नीति व्यापक रूप से \_\_\_\_\_ की अध्यक्षता वाली समिति की सिफारिशों पर आधारित है।

Options :

1. ✓ के. राजेश्वर राव
2. ✗ पी. बसु
3. ✗ जी. नागराजा
4. ✗ अमिताभ कांत

Question Number : 46 Question Id : 5861804100 Question Type : MCQ Option Shuffling : Yes

Correct Marks : 1 Wrong Marks : 0.25

In March, 2019, ISRO sealed an agreement to set up a joint maritime surveillance system with:

Options :

1. ✗ JAXSA
2. ✗ Roscosmos
3. ✓ CNES
4. ✗ ISA

Question Number : 46 Question Id : 5861804100 Question Type : MCQ Option Shuffling : Yes

Correct Marks : 1 Wrong Marks : 0.25

मार्च, 2019 में इसरो ने \_\_\_\_\_ के साथ एक संयुक्त सामुद्रिक निगरानी प्रणाली स्थापित करने के लिए करार किया।

Options :

1. ✗ JAXSA
2. ✗ Roscosmos
3. ✓ CNES
4. ✗ ISA

Question Number : 47 Question Id : 5861804101 Question Type : MCQ Option Shuffling : Yes  
Correct Marks : 1 Wrong Marks : 0.25

In the context of colour coded warning systems for weather, yellow colour refers to:

Options :

1. ✖ no severe weather
2. ✖ be prepared
3. ✖ take action
4. ✔ be aware

Question Number : 47 Question Id : 5861804101 Question Type : MCQ Option Shuffling : Yes  
Correct Marks : 1 Wrong Marks : 0.25

मौसम के लिए रंगों के कोड वाली चेतावनी प्रणाली के संदर्भ में, पीले रंग का अर्थ \_\_\_\_\_ होता है।

Options :

1. ✖ गंभीर मौसम नहीं
2. ✖ तैयार रहें
3. ✖ कार्यवाही करें
4. ✔ सतर्क रहें

Question Number : 48 Question Id : 5861804102 Question Type : MCQ Option Shuffling : Yes  
Correct Marks : 1 Wrong Marks : 0.25

Recently, the Indian Navy had a joint exercise named Varuna 2019 with the navy of:

Options :

1. ✔ France
2. ✖ The United Kingdom
3. ✖ Japan
4. ✖ Bangladesh

Question Number : 48 Question Id : 5861804102 Question Type : MCQ Option Shuffling : Yes  
Correct Marks : 1 Wrong Marks : 0.25

हाल ही में भारतीय नौसेना ने \_\_\_\_\_ की नौसेना के साथ मिलकर वरूणा 2019 नामक एक संयुक्त अभ्यास किया।

Options :

1. ✓ फ्रांस
2. ✗ यूनाइटेड किंगडम
3. ✗ जापान
4. ✗ बांग्लादेश

Question Number : 49 Question Id : 5861804103 Question Type : MCQ Option Shuffling : Yes

Correct Marks : 1 Wrong Marks : 0.25

Who was the ruler of the kingdom between the rivers Jhelum and Chenab?

Options :

1. ✗ Chandragupta Maurya
2. ✓ King Porus
3. ✗ Darius III
4. ✗ Alexander the Great

Question Number : 49 Question Id : 5861804103 Question Type : MCQ Option Shuffling : Yes

Correct Marks : 1 Wrong Marks : 0.25

झेलम और चेनाब नदियों के बीच स्थित राज्य का शासक कौन था?

Options :

1. ✗ चंद्रगुप्त मौर्य
2. ✓ राजा पोरस
3. ✗ डेरियस III
4. ✗ सिकंदर महान

Question Number : 50 Question Id : 5861804104 Question Type : MCQ Option Shuffling : Yes

Correct Marks : 1 Wrong Marks : 0.25

Who was the governor - general during the Revolt of 1857?

Options :

1. ✓ Lord Canning
2. ✘ Lord Irwin
3. ✘ Lord Lytton
4. ✘ Lord Willington

Question Number : 50 Question Id : 5861804104 Question Type : MCQ Option Shuffling : Yes  
Correct Marks : 1 Wrong Marks : 0.25

1857 के विद्रोह के समय गर्वनर-जनरल कौन था?

Options :

1. ✓ लॉर्ड कैनिंग
2. ✘ लॉर्ड इरविन
3. ✘ लॉर्ड लिटन
4. ✘ लॉर्ड विलिंगटन

Question Number : 51 Question Id : 5861804105 Question Type : MCQ Option Shuffling : Yes  
Correct Marks : 1 Wrong Marks : 0.25

In which year was the Indian Forest Act passed by the colonial government in India?

Options :

1. ✘ 1858
2. ✓ 1865
3. ✘ 1866
4. ✘ 1868

Question Number : 51 Question Id : 5861804105 Question Type : MCQ Option Shuffling : Yes  
Correct Marks : 1 Wrong Marks : 0.25

भारत की औपनिवेशिक सरकार द्वारा किस वर्ष भारतीय वन अधिनियम पारित किया गया?

Options :

1. ✘ 1858

2. ✓ 1865

3. ✗ 1866

4. ✗ 1868

Question Number : 52 Question Id : 5861804106 Question Type : MCQ Option Shuffling : Yes  
Correct Marks : 1 Wrong Marks : 0.25

Which of the following statements about the Swaraj Party is correct?

Options :

1. ✗ It was founded by CR Das and JL Nehru.

2. ✓ CR Das was its first president.

3. ✗ It supported the participation in the council elections under the Act of 1907.

4. ✗ It succeeded in electing Vallabhbhai Patel as the President of the Central Legislative Assembly.

Question Number : 52 Question Id : 5861804106 Question Type : MCQ Option Shuffling : Yes  
Correct Marks : 1 Wrong Marks : 0.25

स्वराज पार्टी के बारे में निम्न में से कौन सा कथन सही है?

Options :

1. ✗ इसकी स्थापना सीआर दास और जेएल नेहरू द्वारा की गई।

2. ✓ सीआर दास, इसके प्रथम अध्यक्ष थे।

3. ✗ इसने 1907 के अधिनियम के अंतर्गत प्रान्तीय चुनावों में भागीदारी का समर्थन किया।

4. ✗ इसने केंद्रीय विधानसभा के अध्यक्ष के रूप में वल्लभभाई पटेल को निर्वाचित कराने में सफलता प्राप्त की।

Question Number : 53 Question Id : 5861804107 Question Type : MCQ Option Shuffling : Yes  
Correct Marks : 1 Wrong Marks : 0.25

Which of the following states has the third largest number of seats in the Rajya Sabha?

Options :

1. ✖ Madhya Pradesh
2. ✖ Andhra Pradesh
3. ✖ West Bengal
4. ✔ Tamil Nadu

Question Number : 53 Question Id : 5861804107 Question Type : MCQ Option Shuffling : Yes

Correct Marks : 1 Wrong Marks : 0.25

राज्य सभा में निम्न में से किस राज्य की सीटों की संख्या तीसरी सर्वाधिक है?

Options :

1. ✖ मध्य प्रदेश
2. ✖ आंध्र प्रदेश
3. ✖ पश्चिम बंगाल
4. ✔ तमिलनाडु

Question Number : 54 Question Id : 5861804108 Question Type : MCQ Option Shuffling : Yes

Correct Marks : 1 Wrong Marks : 0.25

Which of the following sets of the union territories is NOT represented in Rajya Sabha?

Options :

1. ✖ Puducherry, Chandigarh, Andaman and Nicobar Islands
2. ✖ Daman and Diu, Lakshadweep, Puducherry
3. ✖ Dadra and Nagar Haveli, Lakshadweep, Puducherry
4. ✔ Dadra and Nagar Haveli, Lakshadweep, Chandigarh

Question Number : 54 Question Id : 5861804108 Question Type : MCQ Option Shuffling : Yes

Correct Marks : 1 Wrong Marks : 0.25

संघशासित क्षेत्रों के किस सेट का, राज्य सभा में प्रतिनिधित्व नहीं है?

Options :

1. \* पुदुचेरी, चंडीगढ़, अंडमान और निकोबार द्वीप समूह
2. \* दमन और दीव, लक्षद्वीप, पुदुचेरी
3. \* दादरा और नगर हवेली, लक्षद्वीप, पुदुचेरी
4. ✓ दादरा और नगर हवेली, लक्षद्वीप, चंडीगढ़

Question Number : 55 Question Id : 5861804109 Question Type : MCQ Option Shuffling : Yes

Correct Marks : 1 Wrong Marks : 0.25

The National Disaster Management Authority (NDMA) is the apex body mandated to lay down the policies, plans and guidelines for disaster management to ensure timely and effective response to disasters. The body has been set up under the Ministry of:

Options :

1. ✓ Home Affairs
2. \* Natural Disaster Management
3. \* Environment, Forest and Climate Change
4. \* Science and Technology

Question Number : 55 Question Id : 5861804109 Question Type : MCQ Option Shuffling : Yes

Correct Marks : 1 Wrong Marks : 0.25

राष्ट्रीय आपदा प्रबंधन प्राधिकरण (एनडीएमए) आपदाओं के प्रति समयबद्ध व प्रभावी प्रतिक्रिया सुनिश्चित करने के लिए आपदा प्रबंधन की नीतियां, योजनाएं, और दिशानिर्देश लागू कराने वाला शीर्षस्तरीय अधिसूचित निकाय है। इस निकाय को \_\_\_\_\_ मंत्रालय के अंतर्गत स्थापित किया गया है।

Options :

1. ✓ गृह मामले
2. \* प्राकृतिक आपदा प्रबंधन

3. \* पर्यावरण, वन एवं जलवायु परिवर्तन

4. \* विज्ञान एवं प्रौद्योगिकी

Question Number : 56 Question Id : 5861804110 Question Type : MCQ Option Shuffling : Yes

Correct Marks : 1 Wrong Marks : 0.25

\_\_\_\_\_ was the first Deputy Speaker of the Lok Sabha.

Options :

1. ✓ M. A. Ayyangar

2. \* M. Asaf Ali

3. \* A. K. Ayyar

4. \* A. V. Thakkar

Question Number : 56 Question Id : 5861804110 Question Type : MCQ Option Shuffling : Yes

Correct Marks : 1 Wrong Marks : 0.25

\_\_\_\_\_ लोकसभा के प्रथम उपाध्यक्ष थे।

Options :

1. ✓ एम. ए. अयंगर

2. \* एम. आसफ अली

3. \* ए. के. अय्यर

4. \* ए. वी. ठक्कर

Question Number : 57 Question Id : 5861804111 Question Type : MCQ Option Shuffling : Yes

Correct Marks : 1 Wrong Marks : 0.25

The \_\_\_\_\_ Schedule provides for the forms of oaths and affirmations.

Options :

1. \* 2nd

2. ✓ 3rd

3. \* 4th

4. \* 5th



Question Number : 57 Question Id : 5861804111 Question Type : MCQ Option Shuffling : Yes  
Correct Marks : 1 Wrong Marks : 0.25

\_\_\_\_\_ अनुसूची शपथों और प्रतिज्ञाओं हेतु स्वरूप प्रदान करती है।

Options :

1. ✖ दूसरी
2. ✔ तीसरी
3. ✖ चौथी
4. ✖ पांचवी

Question Number : 58 Question Id : 5861804112 Question Type : MCQ Option Shuffling : Yes  
Correct Marks : 1 Wrong Marks : 0.25

How long should a person have practiced in a high court to be eligible to be appointed as a Judge of the Supreme Court of India?

Options :

1. ✖ 5 years
2. ✖ 20 years
3. ✔ 10 years
4. ✖ 25 years

Question Number : 58 Question Id : 5861804112 Question Type : MCQ Option Shuffling : Yes  
Correct Marks : 1 Wrong Marks : 0.25

उच्च न्यायालय में कितने वर्ष तक प्रैक्टिस करने के बाद व्यक्ति भारत के उच्चतम न्यायालय में न्यायाधीश के रूप में नियुक्त किए जाने हेतु योग्य हो जाता है?

Options :

1. ✖ 5 वर्ष
2. ✖ 20 वर्ष
3. ✔ 10 वर्ष
4. ✖ 25 वर्ष

Question Number : 59 Question Id : 5861804113 Question Type : MCQ Option Shuffling : Yes

Correct Marks : 1 Wrong Marks : 0.25

The Commonwealth Games, 2022 will be hosted by:

Options :

1. ✘ London
2. ✘ Bahamas
3. ✔ Birmingham
4. ✘ Glasgow

Question Number : 59 Question Id : 5861804113 Question Type : MCQ Option Shuffling : Yes

Correct Marks : 1 Wrong Marks : 0.25

राष्ट्रमंडल खेल 2022 \_\_\_\_\_ द्वारा आयोजित किए जाएंगे।

Options :

1. ✘ लंदन
2. ✘ बहमास
3. ✔ बर्मिंघम
4. ✘ ग्लासगो

Question Number : 60 Question Id : 5861804114 Question Type : MCQ Option Shuffling : Yes

Correct Marks : 1 Wrong Marks : 0.25

Anish Bhanwala, a gold medallist at the Commonwealth Games, 2018 belongs to which of the following games?

Options :

1. ✘ Boxing
2. ✘ Wrestling
3. ✘ Archery
4. ✔ Shooting

Question Number : 60 Question Id : 5861804114 Question Type : MCQ Option Shuffling : Yes

Correct Marks : 1 Wrong Marks : 0.25

राष्ट्रमंडल खेल 2018 में स्वर्णपदक विजेता अनीश भानवाला, निम्न में से किस खेल से संबंधित हैं?

Options :

1. ✖ मुक्केबाज़ी
2. ✖ कुश्ती
3. ✖ तीरंदाजी
4. ✔ शूटिंग

## General Awareness2

Group Number :	4
Group Id :	586180195
Group Maximum Duration :	0
Group Minimum Duration :	0
Show Attended Group? :	No
Edit Attended Group? :	No
Break time:	0
Group Marks:	20
Is this Group for Examiner?:	No
Revisit allowed for group Instructions? :	Yes
Maximum Instruction Time:	0
Minimum Instruction Time:	0

## General Awareness2

Section Id :	586180199
Section Number :	1
Section type :	Online
Mandatory or Optional:	Mandatory
Number of Questions:	20
Number of Questions to be attempted:	20
Section Marks:	20

Sub-Section Number:	1
Sub-Section Id:	586180274
Question Shuffling Allowed :	Yes

Question Number : 61 Question Id : 5861804115 Question Type : MCQ Option Shuffling : Yes  
Correct Marks : 1 Wrong Marks : 0.25

In the context of the Golden Glove award, which of the following statements is NOT true?

Options :

1. \* The award is given by FIFA.
2. \* Earlier it was known as the Yashin Award.
3. ✓ It is awarded to the best goal keeper of the year.
4. \* Belgium's Thibaut Courtois bagged the award for the year 2018.

Question Number : 61 Question Id : 5861804115 Question Type : MCQ Option Shuffling : Yes

Correct Marks : 1 Wrong Marks : 0.25

गोल्डन ग्लोव पुरस्कार के संदर्भ में, निम्न में से कौन सा कथन सही नहीं है?

Options :

1. \* यह पुरस्कार, फीफा द्वारा दिया जाता है।
2. \* पहले यह यशीन पुरस्कार कहलाता था।
3. ✓ यह वर्ष के सर्वश्रेष्ठ गोलरक्षक को दिया जाता है।
4. \* वर्ष 2018 में बेल्जियम के थिबाउट कोर्टोइस ने यह पुरस्कार प्राप्त किया।

Question Number : 62 Question Id : 5861804116 Question Type : MCQ Option Shuffling : Yes

Correct Marks : 1 Wrong Marks : 0.25

Sankirtana, an intangible cultural heritage, belongs to which of the following states?

Options :

1. ✓ Manipur
2. \* Punjab
3. \* Himachal Pradesh
4. \* Odisha

Question Number : 62 Question Id : 5861804116 Question Type : MCQ Option Shuffling : Yes  
Correct Marks : 1 Wrong Marks : 0.25

एक अमूर्त सांस्कृतिक विरासत संकीर्तन, निम्न में से किस राज्य से संबंधित है?

Options :

1. ✓ मणिपुर
2. \* पंजाब
3. \* हिमाचल प्रदेश
4. \* ओडिशा

Question Number : 63 Question Id : 5861804117 Question Type : MCQ Option Shuffling : Yes  
Correct Marks : 1 Wrong Marks : 0.25

In the context of Ek Bharat Shreshth Bharat, which of the following statements is NOT correct?

Options :

1. \* It is a project of the Ministry of Human Resources and Development.
2. \* To celebrate the unity in diversity of our nation is one of its objectives.
3. \* It aims to promote the spirit of national integration through a deep and structured engagement between all Indian states and union territories.
4. ✓ It aims to showcase the rich heritage and culture, customs and traditions of the country to attract foreign tourists.

Question Number : 63 Question Id : 5861804117 Question Type : MCQ Option Shuffling : Yes  
Correct Marks : 1 Wrong Marks : 0.25

एक भारत श्रेष्ठ भारत के संदर्भ में, निम्न में से कौन सा कथन सही नहीं है?

Options :

1. \* यह मानव संसाधन एवं विकास मंत्रालय की एक परियोजना है।
2. \* हमारे देश की विविधता में एकता को रेखांकित करना इसका एक उद्देश्य है।
3. \* सभी भारतीय राज्यों और संघशासित क्षेत्रों के बीच गहरी और संरचनागत सहभागिता के माध्यम से राष्ट्रीय एकीकरण की भावना को प्रोत्साहित करना इसका ध्येय है।
4. ✓ विदेशी पर्यटकों को आकृष्ट करने के लिए देश की समृद्ध विरासत और संस्कृति, प्रथाओं और परंपराओं को प्रदर्शित करना इसका ध्येय है।

Question Number : 64 Question Id : 5861804118 Question Type : MCQ Option Shuffling : Yes  
Correct Marks : 1 Wrong Marks : 0.25

Bhand Jashn, a traditional theatre form belongs to which of the following states?

Options :

1. ✓ Jammu and Kashmir
2. \* Uttar Pradesh
3. \* Odisha
4. \* West Bengal

Question Number : 64 Question Id : 5861804118 Question Type : MCQ Option Shuffling : Yes  
Correct Marks : 1 Wrong Marks : 0.25

एक पारंपरिक नाटक भांड जशन निम्न में से किस राज्य से संबंधित है?

Options :

1. ✓ जम्मू और कश्मीर
2. \* उत्तर प्रदेश
3. \* ओडिशा
4. \* पश्चिम बंगाल

Question Number : 65 Question Id : 5861804119 Question Type : MCQ Option Shuffling : Yes  
Correct Marks : 1 Wrong Marks : 0.25

During its journey, the Indus river emerges out of the hills near Attock. The river which joins it as a tributary near this place is:

Options :

1. ✓ Kabul
2. ✗ Gomal
3. ✗ Viboa
4. ✗ Gilgit

Question Number : 65 Question Id : 5861804119 Question Type : MCQ Option Shuffling : Yes

Correct Marks : 1 Wrong Marks : 0.25

अपने प्रवाह में सिंधु नदी, अटक के निकट पहाड़ियों से निकलती है। इस स्थान पर इसकी सहायक नदी के रूप में इससे \_\_\_\_\_ नदी मिलती है।

Options :

1. ✓ काबुल
2. ✗ गोमल
3. ✗ वीबोआ
4. ✗ गिलगित

Question Number : 66 Question Id : 5861804120 Question Type : MCQ Option Shuffling : Yes

Correct Marks : 1 Wrong Marks : 0.25

On which of the tributaries of Ganga, has Gandhi Sagar Dam been constructed?

Options :

1. ✗ Yamuna
2. ✓ Chambal
3. ✗ Gandak
4. ✗ Ghaghra

Question Number : 66 Question Id : 5861804120 Question Type : MCQ Option Shuffling : Yes  
Correct Marks : 1 Wrong Marks : 0.25

गंगा की किस सहायक नदी पर गांधी सागर बांध निर्मित किया गया है?

Options :

1. ✖ यमुना
2. ✔ चंबल
3. ✖ गंडक
4. ✖ घाघरा

Question Number : 67 Question Id : 5861804121 Question Type : MCQ Option Shuffling : Yes  
Correct Marks : 1 Wrong Marks : 0.25

Which of the following is the largest land-locked country?

Options :

1. ✔ Kazakhstan
2. ✖ Kyrgystan
3. ✖ Afghanistan
4. ✖ Mongolia

Question Number : 67 Question Id : 5861804121 Question Type : MCQ Option Shuffling : Yes  
Correct Marks : 1 Wrong Marks : 0.25

निम्न में से कौन सबसे बड़ा स्थलरुद्ध देश है?

Options :

1. ✔ कज़ाखिस्तान
2. ✖ किर्गिज़स्तान
3. ✖ अफ़ग़ानिस्तान
4. ✖ मंगोलिया

Question Number : 68 Question Id : 5861804122 Question Type : MCQ Option Shuffling : Yes  
Correct Marks : 1 Wrong Marks : 0.25

Which among the following is a qualitative tool of monetary policy?

Options :



1. \* Bank rate
2. \* Credit ceiling
3. ✓ Credit rationing
4. \* Cash reserve ratio

Question Number : 68 Question Id : 5861804122 Question Type : MCQ Option Shuffling : Yes  
Correct Marks : 1 Wrong Marks : 0.25

निम्न में से कौन, मौद्रिक नीति का एक गुणात्मक उपकरण है?

Options :

1. \* बैंक दर
2. \* क्रेडिट सीलिंग
3. ✓ क्रेडिट राशनिंग
4. \* नकद आरक्षित अनुपात

Question Number : 69 Question Id : 5861804123 Question Type : MCQ Option Shuffling : Yes  
Correct Marks : 1 Wrong Marks : 0.25

Which of the following statements about Gini Coefficient is correct?

Options :

1. \* It is a popular measure to gauge rich - poor divide in terms of quality of life.
2. ✓ Its value varies anywhere from zero to 1.
3. \* Value zero indicates perfect inequality whereas value 1 indicates perfect equality.
4. \* A decline in Gini Coefficient is generally taken as an indication that government policies are not inclusive.

Question Number : 69 Question Id : 5861804123 Question Type : MCQ Option Shuffling : Yes  
Correct Marks : 1 Wrong Marks : 0.25

गिनी गुणांक के बारे में निम्न में से कौन सा कथन सही है?

Options :

1. \* जीवन गुणवत्ता के संदर्भ में धनी-निर्धन विभाजन को मापने के लिए यह एक लोकप्रिय उपाय है।
2. ✓ इसका मान शून्य से 1 के बीच हो सकता है।
3. \* शून्य मान, पूर्ण असमानता जबकि 1 मान पूर्ण समानता इंगित करता है।
4. \* गिनी गुणांक में गिरावट को प्रायः सरकारी नीतियों के समावेशी न होने के संकेत के रूप में माना जाता है।

Question Number : 70 Question Id : 5861804124 Question Type : MCQ Option Shuffling : Yes  
Correct Marks : 1 Wrong Marks : 0.25

Which of the following concepts states an inverse relationship between the inflation and unemployment in any economy?

Options :

1. \* Law of diminishing return
2. \* Fisher equation
3. ✓ Phillips curve
4. \* Lorenz curve

Question Number : 70 Question Id : 5861804124 Question Type : MCQ Option Shuffling : Yes  
Correct Marks : 1 Wrong Marks : 0.25

निम्न में से कौन अवधारणा, किसी अर्थव्यवस्था में मुद्रास्फीति और बेरोजगारी के मध्य व्युत्क्रम संबंध दर्शाती है?

Options :

1. \* घटते प्रतिफल का सिद्धांत
2. \* फिशर समीकरण
3. ✓ फिलिप्स वक्र
4. \* लॉरेंज वक्र

Question Number : 71 Question Id : 5861804125 Question Type : MCQ Option Shuffling : Yes

Correct Marks : 1 Wrong Marks : 0.25

Which of the following waves are used by the common TV remote control?

Options :

1. ✖ Radio waves
2. ✖ Lasers
3. ✔ Infrared waves
4. ✖ Ultrasonic waves

Question Number : 71 Question Id : 5861804125 Question Type : MCQ Option Shuffling : Yes

Correct Marks : 1 Wrong Marks : 0.25

सामान्य टीवी रिमोट कंट्रोल में निम्न में से किन तरंगों का उपयोग किया जाता है?

Options :

1. ✖ रेडियो तरंगों
2. ✖ लेज़र
3. ✔ अवरक्त तरंगों
4. ✖ पराश्रव्य तरंगों

Question Number : 72 Question Id : 5861804126 Question Type : MCQ Option Shuffling : Yes

Correct Marks : 1 Wrong Marks : 0.25

The products of the process of neutralisation, i.e. reaction between an acid and a base, are:

Options :

1. ✖ water and carbon dioxide
2. ✔ water and salt
3. ✖ oxygen and salt
4. ✖ salt and carbon dioxide

Question Number : 72 Question Id : 5861804126 Question Type : MCQ Option Shuffling : Yes

Correct Marks : 1 Wrong Marks : 0.25

उदासीनीकरण प्रक्रम अर्थात अम्ल और क्षार के बीच अभिक्रिया के उत्पाद \_\_\_\_\_ हैं।

Options :

1. ✖ जल और कार्बन डाइऑक्साइड
2. ✔ जल और लवण
3. ✖ ऑक्सीजन और लवण
4. ✖ लवण और कार्बन डाइऑक्साइड

Question Number : 73 Question Id : 5861804127 Question Type : MCQ Option Shuffling : Yes

Correct Marks : 1 Wrong Marks : 0.25

One gram of protein provides \_\_\_ Kcal of energy.

Options :

1. ✔ 4
2. ✖ 5
3. ✖ 6
4. ✖ 7

Question Number : 73 Question Id : 5861804127 Question Type : MCQ Option Shuffling : Yes

Correct Marks : 1 Wrong Marks : 0.25

एक ग्राम प्रोटीन \_\_\_\_\_ किलो कैलोरी ऊर्जा प्रदान करता है।

Options :

1. ✔ 4
2. ✖ 5
3. ✖ 6
4. ✖ 7

Question Number : 74 Question Id : 5861804128 Question Type : MCQ Option Shuffling : Yes

Correct Marks : 1 Wrong Marks : 0.25

Which of the following is NOT an acid?

Options :

1. ✖  $\text{HNO}_3$

2. ✖  $\text{CH}_3\text{COOH}$

3. ✖  $\text{CH}_2\text{O}_2$

4. ✔  $\text{NaHCO}_3$

Question Number : 74 Question Id : 5861804128 Question Type : MCQ Option Shuffling : Yes

Correct Marks : 1 Wrong Marks : 0.25

निम्न में से कौन एक अम्ल नहीं है?

Options :

1. ✖  $\text{HNO}_3$

2. ✖  $\text{CH}_3\text{COOH}$

3. ✖  $\text{CH}_2\text{O}_2$

4. ✔  $\text{NaHCO}_3$

Question Number : 75 Question Id : 5861804129 Question Type : MCQ Option Shuffling : Yes

Correct Marks : 1 Wrong Marks : 0.25

Which of the following districts of Maharashtra has been identified as the preferred site for LIGO project in India?

Options :

1. ✖ Nashik

2. ✖ Palghar

3. ✖ Amravati

4. ✔ Hingoli

Question Number : 75 Question Id : 5861804129 Question Type : MCQ Option Shuffling : Yes

Correct Marks : 1 Wrong Marks : 0.25

महाराष्ट्र के निम्न में से किस जिले को भारत में लीगो (LIGO) परियोजना हेतु उपयुक्त स्थल के रूप में चिन्हित किया गया है।

Options :

1. ✖ नासिक

2. ✖ पालघर

3. ✖ अमरावती

4. ✔ हिंगोली

Question Number : 76 Question Id : 5861804130 Question Type : MCQ Option Shuffling : Yes

Correct Marks : 1 Wrong Marks : 0.25

What is the name of the indigenously developed helicopter launched anti - tank guided missile developed by DRDO?

Options :

1. ✖ Shaurya

2. ✖ Meghdoot

3. ✖ Astra

4. ✔ Helina

Question Number : 76 Question Id : 5861804130 Question Type : MCQ Option Shuffling : Yes

Correct Marks : 1 Wrong Marks : 0.25

डीआरडीओ द्वारा स्वदेशी विकसित हेलीकॉप्टर द्वारा प्रक्षेपित की जाने वाली विकसित टैंकरोधक गाइडेड मिसाइल का क्या नाम है?

Options :

1. ✖ शौर्य

2. ✖ मेघदूत

3. ✖ एस्ट्रा

4. ✔ हेलिना

Question Number : 77 Question Id : 5861804131 Question Type : MCQ Option Shuffling : Yes

Correct Marks : 1 Wrong Marks : 0.25

How many types of unique hepatitis viruses are known so far?

Options :

1. ✖ 4

2. ✔ 5

3. ✖ 6

4. ✖ 7

Question Number : 77 Question Id : 5861804131 Question Type : MCQ Option Shuffling : Yes

Correct Marks : 1 Wrong Marks : 0.25

अब तक कितने प्रकार के अद्वितीय हैपेटाइटिस विषाणु ज्ञात हैं?

Options :

1. ✖ 4

2. ✔ 5

3. ✖ 6

4. ✖ 7

Question Number : 78 Question Id : 5861804132 Question Type : MCQ Option Shuffling : Yes

Correct Marks : 1 Wrong Marks : 0.25

The Birbal Sahni Institute of Palaeosciences (BSIP) is located at:

Options :

1. ✔ Lucknow

2. ✖ Meerut

3. ✖ Karnal

4. ✖ Allahabad

Question Number : 78 Question Id : 5861804132 Question Type : MCQ Option Shuffling : Yes  
Correct Marks : 1 Wrong Marks : 0.25

बीरबल साहनी पुराविज्ञान संस्थान (बीएसआईपी) \_\_\_\_\_ में स्थित है।

Options :

1. ✓ लखनऊ
2. ✗ मेरठ
3. ✗ करनाल
4. ✗ इलाहाबाद

Question Number : 79 Question Id : 5861804133 Question Type : MCQ Option Shuffling : Yes  
Correct Marks : 1 Wrong Marks : 0.25

अंतर्राष्ट्रीय सामुद्रिक संगठन द्वारा स्थापित विश्व सामुद्रिक विश्वविद्यालय \_\_\_\_\_ में स्थित है।

Options :

1. ✓ माल्मो, स्वीडन
2. ✗ मार्सिले, फ्रांस
3. ✗ फ्लोरेंस, इटली
4. ✗ गोटिंगेन, जर्मनी

Question Number : 79 Question Id : 5861804133 Question Type : MCQ Option Shuffling : Yes  
Correct Marks : 1 Wrong Marks : 0.25

The World Maritime University, established by the International Maritime Organization, is located at:

Options :

1. ✓ Malmo, Sweden
2. ✗ Marseille, France
3. ✗ Florence, Italy
4. ✗ Gottingen, Germany

Question Number : 80 Question Id : 5861804134 Question Type : MCQ Option Shuffling : Yes  
Correct Marks : 1 Wrong Marks : 0.25



The Indian Institute of Food Processing Technology (IIFPT) is located at:

Options :

1. \* Kundli, Haryana
2. \* Manesar, Haryana
3. \* Neem Rana, Rajasthan
4. ✓ Thanjavur, Tamil Nadu

Question Number : 80 Question Id : 5861804134 Question Type : MCQ Option Shuffling : Yes

Correct Marks : 1 Wrong Marks : 0.25

भारतीय खाद्य प्रसंस्करण प्रौद्योगिकी संस्थान (आईआईएफपीटी) \_\_\_\_\_ में स्थित है।

Options :

1. \* कुंडली, हरियाणा
2. \* मानेसर, हरियाणा
3. \* नीम राणा, राजस्थान
4. ✓ तंजावुर, तमिलनाडु

## Arithmetic Ability1

Group Number :	5
Group Id :	586180196
Group Maximum Duration :	0
Group Minimum Duration :	0
Show Attended Group? :	No
Edit Attended Group? :	No
Break time:	0
Group Marks:	20
Is this Group for Examiner?:	No
Revisit allowed for group Instructions? :	Yes
Maximum Instruction Time:	0
Minimum Instruction Time:	0

## Arithmetic Ability1

Section Id :	586180200
Section Number :	1
Section type :	Online
Mandatory or Optional:	Mandatory
Number of Questions:	20
Number of Questions to be attempted:	20
Section Marks:	20

Sub-Section Number:	1
Sub-Section Id:	586180275
Question Shuffling Allowed :	Yes

Question Number : 81 Question Id : 5861804135 Question Type : MCQ Option Shuffling : Yes

Correct Marks : 1 Wrong Marks : 0.25

Evaluate:

$$\frac{0.25 + 0.5 \times 0.8 + 0.64}{0.512 - 0.125}$$

Options :

1. ✘  $\frac{1}{3}$

2. ✔  $\frac{10}{3}$

3. ✘  $\frac{2}{3}$

4. ✘  $\frac{1}{30}$

Question Number : 81 Question Id : 5861804135 Question Type : MCQ Option Shuffling : Yes

Correct Marks : 1 Wrong Marks : 0.25

हल करें:

$$\frac{0.25 + 0.5 \times 0.8 + 0.64}{0.512 - 0.125}$$

Options :

1. ✘  $\frac{1}{3}$

2. ✔  $\frac{10}{3}$

3. ✘  $\frac{2}{3}$

4. ✘  $\frac{1}{30}$

Question Number : 82 Question Id : 5861804136 Question Type : MCQ Option Shuffling : Yes  
Correct Marks : 1 Wrong Marks : 0.25

The sum of the first 25 terms of  $\frac{1}{3 \times 2} + \frac{1}{3 \times 4} + \frac{1}{4 \times 5} + \frac{1}{5 \times 6} + \frac{1}{6 \times 7} + \dots$  is equal to:

Options :

1. ✔  $\frac{25}{54}$

2. ✘  $\frac{25}{14}$

3. ✘  $\frac{2}{27}$

4. ✘  $\frac{1}{54}$

Question Number : 82 Question Id : 5861804136 Question Type : MCQ Option Shuffling : Yes  
Correct Marks : 1 Wrong Marks : 0.25

$\frac{1}{3 \times 2} + \frac{1}{3 \times 4} + \frac{1}{4 \times 5} + \frac{1}{5 \times 6} + \frac{1}{6 \times 7} + \dots$  के पहले 25 पदों के योग का मान पता करें।

Options :

1. ✓  $\frac{25}{54}$

2. ✗  $\frac{25}{14}$

3. ✗  $\frac{2}{27}$

4. ✗  $\frac{1}{54}$

Question Number : 83 Question Id : 5861804137 Question Type : MCQ Option Shuffling : Yes  
Correct Marks : 1 Wrong Marks : 0.25

Evaluate:

$$\frac{6.75 \times 6.75 \times 6.75 + 3.25 \times 3.25 \times 3.25}{675 \times 675 + 325 \times 325 - 675 \times 325} = ?$$

Options :

1. ✗ 0.1

2. ✗ 0.0

3. ✓ 0.001

4. ✗ 0.0001

Question Number : 83 Question Id : 5861804137 Question Type : MCQ Option Shuffling : Yes  
Correct Marks : 1 Wrong Marks : 0.25

हल करें:

$$\frac{6.75 \times 6.75 \times 6.75 + 3.25 \times 3.25 \times 3.25}{675 \times 675 + 325 \times 325 - 675 \times 325} = ?$$

Options :

1. ✘ 0.1

2. ✘ 0.0

3. ✔ 0.001

4. ✘ 0.0001

Question Number : 84 Question Id : 5861804138 Question Type : MCQ Option Shuffling : Yes  
Correct Marks : 1 Wrong Marks : 0.25

Evaluate:

$$\frac{0.0203 \times 116.8}{0.00073 \times 14.5 \times 7} = ?$$

Options :

1. ✘ 0.32

2. ✘ 0.032

3. ✔ 32

4. ✘ 3.2

Question Number : 84 Question Id : 5861804138 Question Type : MCQ Option Shuffling : Yes  
Correct Marks : 1 Wrong Marks : 0.25

हल करें:  $\frac{0.0203 \times 116.8}{0.00073 \times 14.5 \times 7} = ?$

Options :

1. ✖ 0.32

2. ✖ 0.032

3. ✔ 32

4. ✖ 3.2

Question Number : 85 Question Id : 5861804139 Question Type : MCQ Option Shuffling : Yes

Correct Marks : 1 Wrong Marks : 0.25

Evaluate:

$$249.3 + 24.93 + 2.493 + 0.2493$$

Options :

1. ✖ 276.19863

2. ✔ 276.9723

3. ✖ 276.44973

4. ✖ 276.34793

Question Number : 85 Question Id : 5861804139 Question Type : MCQ Option Shuffling : Yes

Correct Marks : 1 Wrong Marks : 0.25

हल करें:  $249.3 + 24.93 + 2.493 + 0.2493$

Options :

1. ✖ 276.19863

2. ✓ 276.9723

3. ✗ 276.44973

4. ✗ 276.34793

Question Number : 86 Question Id : 5861804140 Question Type : MCQ Option Shuffling : Yes  
Correct Marks : 1 Wrong Marks : 0.25

हल करें:

$$0.\overline{32} + 1.0\overline{96}$$

Options :

1. ✓  $1.4\overline{20}$

2. ✗  $1.5\overline{05}$

3. ✗  $1.6\overline{28}$

4. ✗  $1.7\overline{04}$

Question Number : 86 Question Id : 5861804140 Question Type : MCQ Option Shuffling : Yes  
Correct Marks : 1 Wrong Marks : 0.25

Evaluate:

$$0.\overline{32} + 1.0\overline{96}$$

Options :

1. ✓  $1.4\overline{20}$

2. ✗  $1.5\overline{05}$

3. ✗  $1.6\overline{28}$

4. ✗  $1.7\overline{04}$

Question Number : 87 Question Id : 5861804141 Question Type : MCQ Option Shuffling : Yes

Correct Marks : 1 Wrong Marks : 0.25

Evaluate:

$$5.55 + 5 + 5.5 - 5.005$$

Options :

1. ✗ 9.075

2. ✗ 9.825

3. ✗ 10.055

4. ✓ 11.045

Question Number : 87 Question Id : 5861804141 Question Type : MCQ Option Shuffling : Yes

Correct Marks : 1 Wrong Marks : 0.25

हल करें:  $5.55 + 5 + 5.5 - 5.005$

Options :

1. ✗ 9.075



2. ✖ 9.825

3. ✖ 10.055

4. ✔ 11.045

Question Number : 88 Question Id : 5861804142 Question Type : MCQ Option Shuffling : Yes  
Correct Marks : 1 Wrong Marks : 0.25

Evaluate:

$$8.25 + \frac{4.5}{1 - \frac{1}{3 - \frac{1}{4/5}}}$$

Options :

1. ✖ -9.25

2. ✖ -10.75

3. ✔ 18.75

4. ✖ 17.65

Question Number : 88 Question Id : 5861804142 Question Type : MCQ Option Shuffling : Yes  
Correct Marks : 1 Wrong Marks : 0.25

हल करें:

$$8.25 + \frac{4.5}{1 - \frac{1}{3 - \frac{1}{4/5}}}$$

Options :

1. ✘ -9.25

2. ✘ -10.75

3. ✔ 18.75

4. ✘ 17.65

Question Number : 89 Question Id : 5861804143 Question Type : MCQ Option Shuffling : Yes

Correct Marks : 1 Wrong Marks : 0.25

Evaluate:

$$18 - 10 \times \frac{2\frac{1}{5} - 1\frac{2}{7}}{2 - \frac{1}{6 - \frac{1}{6}}}$$

Options :

1. ✘ 12

2. ✘  $\frac{21}{2}$

3. ✔ 13

4. ✘  $\frac{51}{4}$

Question Number : 89 Question Id : 5861804143 Question Type : MCQ Option Shuffling : Yes

Correct Marks : 1 Wrong Marks : 0.25

हल करें:

$$18 - 10 \times \frac{2\frac{1}{5} - 1\frac{2}{7}}{2 - \frac{1}{6 - \frac{1}{6}}}$$

Options :

1. ✖ 12

2. ✖  $\frac{21}{2}$

3. ✔ 13

4. ✖  $\frac{51}{4}$

Question Number : 90 Question Id : 5861804144 Question Type : MCQ Option Shuffling : Yes

Correct Marks : 1 Wrong Marks : 0.25

A man spends  $\frac{3}{5}$  of his salary on food and  $\frac{1}{5}$  on rent. The remaining  $\frac{1}{5}$  he spends on conveyance. If he is left with ₹ 2900, what is his salary (in ₹)?

Options :

1. ✖ 18225

2. ✔ 18125

3. ✖ 28125

4. ✖ 29000

Question Number : 90 Question Id : 5861804144 Question Type : MCQ Option Shuffling : Yes

Correct Marks : 1 Wrong Marks : 0.25

एक व्यक्ति अपनी आमदनी का  $\frac{3}{5}$  हिस्सा भोजन पर और  $\frac{1}{5}$  हिस्सा किराए पर खर्च करता है। वह शेष राशि का  $\frac{1}{5}$  हिस्सा सुविधाओं पर खर्च करता है। यदि उसके बाद केवल ₹ 2900 बचते हैं, तो उसकी आमदनी (₹ में) पता करें?

Options :

1. ✘ 18225

2. ✔ 18125

3. ✘ 28125

4. ✘ 29000

Question Number : 91 Question Id : 5861804145 Question Type : MCQ Option Shuffling : Yes

Correct Marks : 1 Wrong Marks : 0.25

A rectangular courtyard 15 metre \* 17 cm long and 17 metre \* 22 cm wide is to be paved exactly with square tiles, all of the same size. What is the largest size (in  $\text{cm}^2$ ) of the tile that could be used for this purpose?

Options :

1. ✔ 41

2. ✘ 36

3. ✘ 35

4. ✘ 17

Question Number : 91 Question Id : 5861804145 Question Type : MCQ Option Shuffling : Yes

Correct Marks : 1 Wrong Marks : 0.25

एक आयताकार आंगन जिसकी लंबाई 15 m \* 17 cm और चौड़ाई 17 m \* 22 cm है और इसे एक ही आकार वाली चौकोर टाइल्स से पक्का किया जाना है। इस प्रयोजन के लिए उपयोग की जा सकने वाली टाइल का सबसे बड़ा आकार (cm<sup>2</sup> में) पता करें?

Options :

1. ✓ 41

2. ✗ 36

3. ✗ 35

4. ✗ 17

Question Number : 92 Question Id : 5861804146 Question Type : MCQ Option Shuffling : Yes

Correct Marks : 1 Wrong Marks : 0.25

Which of the following is the least number that should be added to 2019 such that the resulting number can be divided by 3, 4, 5 and 6 leaving no remainder.

Options :

1. ✗ 24

2. ✗ 39

3. ✓ 21

4. ✗ 31

Question Number : 92 Question Id : 5861804146 Question Type : MCQ Option Shuffling : Yes

Correct Marks : 1 Wrong Marks : 0.25

इनमें से कौन सी ऐसी सबसे छोटी संख्या है जिसे 2019 में जोड़ने पर, प्राप्त हुई संख्या को 3, 4, 5 और 6 से विभाजित करने पर कोई शेष नहीं बचता है।

Options :

1. ✖ 24

2. ✖ 39

3. ✔ 21

4. ✖ 31

Question Number : 93 Question Id : 5861804147 Question Type : MCQ Option Shuffling : Yes

Correct Marks : 1 Wrong Marks : 0.25

A farmer wants to utilise his unused field and plans to plant some trees. He plants 176 guava trees, 660 papaya trees and 220 sugarcane trees in equal rows, that is, each row having same number of trees. Also, he wants to make distinct rows of trees, that is, only one type of tree in one row. The minimum number of such rows that can be formed is:

Options :

1. ✖ 20

2. ✔ 24

3. ✖ 28

4. ✖ 30

Question Number : 93 Question Id : 5861804147 Question Type : MCQ Option Shuffling : Yes

Correct Marks : 1 Wrong Marks : 0.25

एक किसान के पास खाली जमीन का कुछ हिस्सा है, जहाँ उसने कुछ पेड़ लगाने की योजना बनाई है। उसने अमरूद के 176 पेड़, पपीते के 660 पेड़ और गन्ने के 220 पेड़ समान पंक्तियों में इस तरह लगाए हैं कि प्रत्येक पंक्ति में समान संख्या में पेड़ हैं। साथ ही, वह पेड़ों की अलग-अलग पंक्तियाँ बनाना चाहता है, यानी कि एक पंक्ति में केवल एक प्रकार का ही पेड़ रहे। तो पता करें की इस तरह कम से कम कितनी पंक्तियाँ बनाई जा सकती हैं।

Options :

1. ✖ 20

2. ✔ 24

3. ✖ 28

4. ✖ 30

Question Number : 94 Question Id : 5861804148 Question Type : MCQ Option Shuffling : Yes

Correct Marks : 1 Wrong Marks : 0.25

The ratio of two numbers is  $8 : 3$ . On adding 5 to both numbers, the ratio becomes  $5 : 2$ . Which is the smaller number of the two?

Options :

1. ✔ 45

2. ✖ 15

3. ✖ 50

4. ✖ 13

Question Number : 94 Question Id : 5861804148 Question Type : MCQ Option Shuffling : Yes

Correct Marks : 1 Wrong Marks : 0.25

दो संख्याओं का अनुपात  $8 : 3$  है। दोनों संख्याओं में 5 जोड़ने पर, यह अनुपात  $5 : 2$  हो जाता है। दोनों संख्याओं में छोटी संख्या पता करें।

Options :

1. ✔ 45

2. ✖ 15

3. ✖ 50

4. ✖ 13

Question Number : 95 Question Id : 5861804149 Question Type : MCQ Option Shuffling : Yes

Correct Marks : 1 Wrong Marks : 0.25

Seema scored twice as many marks in Science as in English. Her total marks in English, Science and Mathematics is 240. If the ratio of her marks in Mathematics and Science is 3 : 2, what are her marks in Mathematics?

Options :

1. ✖ 100

2. ✖ 60

3. ✖ 80

4. ✔ 120

Question Number : 95 Question Id : 5861804149 Question Type : MCQ Option Shuffling : Yes

Correct Marks : 1 Wrong Marks : 0.25

सीमा ने अंग्रेज़ी की तुलना में विज्ञान में दोगुने अंक प्राप्त किए। उसके अंग्रेज़ी, विज्ञान और गणित में कुल प्राप्त अंक 240 हैं। यदि गणित और विज्ञान में उसके अंकों का अनुपात 3 : 2 है, तो पता करें कि उसने गणित में कितने अंक प्राप्त किए?

Options :

1. ✖ 100



2. ✖ 60

3. ✖ 80

4. ✔ 120

Question Number : 96 Question Id : 5861804150 Question Type : MCQ Option Shuffling : Yes

Correct Marks : 1 Wrong Marks : 0.25

In an examination, 35% of the students failed in Mathematics and 44% failed in English. If 28% of the students failed in both the subjects, then the percentage of students who passed in both the subjects is:

Options :

1. ✖ 51%

2. ✖ 39%

3. ✖ 61%

4. ✔ 49%

Question Number : 96 Question Id : 5861804150 Question Type : MCQ Option Shuffling : Yes

Correct Marks : 1 Wrong Marks : 0.25

एक परीक्षा में, 35% छात्र गणित में और 44% अंग्रेजी में अनुत्तीर्ण रहे। यदि 28% छात्र दोनों विषयों में अनुत्तीर्ण रहे हैं, तो पता करें कि कितने प्रतिशत छात्र दोनों विषयों में उत्तीर्ण रहे हैं।

Options :

1. ✖ 51%

2. ✖ 39%

3. ✖ 61%

4. ✔ 49%

Question Number : 97 Question Id : 5861804151 Question Type : MCQ Option Shuffling : Yes

Correct Marks : 1 Wrong Marks : 0.25

A's salary is 30% more than B's. By how much percentage is B's salary less than A's?

Options :

1. ✔  $23\frac{1}{13}\%$

2. ✖  $23\frac{3}{7}\%$

3. ✖  $23\frac{4}{7}\%$

4. ✖  $24\frac{1}{7}\%$

Question Number : 97 Question Id : 5861804151 Question Type : MCQ Option Shuffling : Yes

Correct Marks : 1 Wrong Marks : 0.25

A की आमदनी B से 30% अधिक है। तो पता करें कि B की आमदनी A से कितने प्रतिशत कम है?

Options :

1. ✔  $23\frac{1}{13}\%$

2. ✖  $23\frac{3}{7}\%$

3. ✖  $23\frac{4}{7}\%$

4. ✖  $24\frac{1}{7}\%$

Question Number : 98 Question Id : 5861804152 Question Type : MCQ Option Shuffling : Yes

Correct Marks : 1 Wrong Marks : 0.25

The price of an article was increased two times successively by 17% each time. By what percentage should the new price be reduced so as to restore the original price (correct to the nearest integer)?

Options :

1. ✖ 21%

2. ✖ 15%

3. ✖ 24%

4. ✔ 27%

Question Number : 98 Question Id : 5861804152 Question Type : MCQ Option Shuffling : Yes

Correct Marks : 1 Wrong Marks : 0.25

एक वस्तु के मूल्य को हर बार 17% की वृद्धि के साथ दो बार बढ़ाया गया है। तो नए मूल्य को मूल मूल्य (निकटतम पूर्णांक के लिए सही) तक लाने के लिए कितनी प्रतिशत की कमी की जानी चाहिए?

Options :

1. ✖ 21%

2. ✖ 15%

3. ✖ 24%

4. ✓ 27%

Question Number : 99 Question Id : 5861804153 Question Type : MCQ Option Shuffling : Yes

Correct Marks : 1 Wrong Marks : 0.25

The average of 27 numbers is 70. The average of the first 14 numbers is 65 and the average of the last 14 numbers is 74. If the 14<sup>th</sup> number is excluded, what is the average of the remaining numbers (approximate to one decimal place)?

Options :

1. ✗ 71.5

2. ✓ 70.5

3. ✗ 72

4. ✗ 70

Question Number : 99 Question Id : 5861804153 Question Type : MCQ Option Shuffling : Yes

Correct Marks : 1 Wrong Marks : 0.25

27 संख्याओं का औसत 70 है। पहली 14 संख्याओं का औसत 65 है और अंतिम 14 संख्याओं का औसत 74 है। यदि 14 वीं संख्या को निकाल दिया जाए, तो शेष संख्याओं का औसत (एक दशमलव स्थान तक सही) पता करें?

Options :

1. ✗ 71.5

2. ✓ 70.5

3. ✗ 72

4. ✗ 70

Question Number : 100 Question Id : 5861804154 Question Type : MCQ Option Shuffling : Yes

Correct Marks : 1 Wrong Marks : 0.25

The average weight of a group of 8 girls is 51 kg. If 2 girls, A and B, replace C and D, the average weight becomes 49 kg. The weight of A is equal to weight of B and the weight of C is equal to weight of D. Another girl E is included in the new group and then the average weight becomes 49 kg. weight of E is equal to weight of C. What is the weight of B (in kg)?

Options :

1. ✓ 57

2. ✗ 55

3. ✗ 48

4. ✗ 40

Question Number : 100 Question Id : 5861804154 Question Type : MCQ Option Shuffling : Yes

Correct Marks : 1 Wrong Marks : 0.25

8 लड़कियों वाले एक समूह का औसत वजन 51 kg है। यदि 2 लड़कियां, A और B, C और D की जगह ले लेती हैं, तो नया औसत वजन 49 kg हो जाता है। A का वजन B के बराबर है और C का वजन D के बराबर है। एक अन्य लड़की E को नए समूह में शामिल किया जाता है और नया औसत वजन का 49 kg हो जाता है। E का वजन C के बराबर है। B का वजन (kg में) पता करें?

Options :

1. ✓ 57

2. ✗ 55

3. ✗ 48

4. ✗ 40

## Arithmetic Ability2

Group Number :	6
Group Id :	586180197
Group Maximum Duration :	0
Group Minimum Duration :	0
Show Attended Group? :	No
Edit Attended Group? :	No
Break time:	0
Group Marks:	20
Is this Group for Examiner?:	No
Revisit allowed for group Instructions? :	Yes
Maximum Instruction Time:	0
Minimum Instruction Time:	0

## Arithmetic Ability2

Section Id :	586180201
Section Number :	1
Section type :	Online
Mandatory or Optional:	Mandatory
Number of Questions:	20
Number of Questions to be attempted:	20
Section Marks:	20

Sub-Section Number:	1
Sub-Section Id:	586180276
Question Shuffling Allowed :	Yes

Question Number : 101 Question Id : 5861804155 Question Type : MCQ Option Shuffling : Yes

Correct Marks : 1 Wrong Marks : 0.25

If the selling price of 21 articles is equal to the cost price of 25 articles, the approximate loss or gain percentage is:

Options :

1. ✓ 19% gain

2. ✗ 19% loss

3. ✗ 21% gain

4. ✗ 21% loss

Question Number : 101 Question Id : 5861804155 Question Type : MCQ Option Shuffling : Yes

Correct Marks : 1 Wrong Marks : 0.25

यदि 21 वस्तुओं का बिक्री मूल्य 25 वस्तुओं के लागत मूल्य के बराबर है, तो अनुमानित हानि या लाभ प्रतिशत पता करें।

Options :

1. ✓ 19% लाभ

2. ✗ 19% हानि

3. ✗ 21% लाभ

4. ✗ 21% हानि

Question Number : 102 Question Id : 5861804156 Question Type : MCQ Option Shuffling : Yes

Correct Marks : 1 Wrong Marks : 0.25

A shopkeeper earns a profit of 20% after selling a book at 22% discount on the printed price. The ratio of the cost price and the printed price of the book is:

Options :

1. ✗ 15 : 11

2. ✓ 13 : 20

3. ✗ 3 : 5

4. ✗ 10 : 11

Question Number : 102 Question Id : 5861804156 Question Type : MCQ Option Shuffling : Yes

Correct Marks : 1 Wrong Marks : 0.25

एक दुकानदार अंकित मूल्य पर 22% की छूट देकर पुस्तक बेच कर 20% का लाभ कमाता है। पुस्तक के लागत मूल्य और अंकित मूल्य का अनुपात पता करें।

Options :

1. ✘ 15 : 11

2. ✔ 13 : 20

3. ✘ 3 : 5

4. ✘ 10 : 11

Question Number : 103 Question Id : 5861804157 Question Type : MCQ Option Shuffling : Yes

Correct Marks : 1 Wrong Marks : 0.25

A watch dealer incurs an expense of ₹ 150 for producing every watch. He also incurs an additional expenditure of ₹ 20,000, which is independent of the number of watches produced. If he is able to sell a watch during the season, he sells it for ₹ 250. If he fails to do so, he has to sell each watch for ₹ 100. If he produces 2000 watches, what is the number of watches that he must sell during the season in order to breakeven (no profit or no loss), given that he is able to sell all the watches produced?

Options :

1. ✘ 700

2. ✘ 1000

3. ✔ 800

4. ✘ 1200

Question Number : 103 Question Id : 5861804157 Question Type : MCQ Option Shuffling : Yes

Correct Marks : 1 Wrong Marks : 0.25



एक घड़ी विक्रेता प्रत्येक घड़ी के उत्पादन के लिए ₹ 150 का खर्च वहन करता है। वह ₹ 20,000 का अतिरिक्त खर्च भी करता है, जो उत्पादित घड़ियों की संख्या से अलग होता है। यदि वह सीजन के दौरान घड़ी बेचने में सक्षम होता है, तो वह इसे ₹ 250 के लिए बेचता है। यदि वह ऐसा करने में विफल रहता है, तो उसे प्रत्येक घड़ी को ₹ 100 में बेचना पड़ता है। यदि वह 2000 घड़ियों का उत्पादन करता है, तो पता करें कि उसे सीजन के दौरान कितनी घड़ियाँ बेचनी चाहिए कि (उसे कोई लाभ या हानि न हो), याद रखें कि वह उत्पादित सभी घड़ियों को बेचने में सक्षम है?

Options :

1. ✖ 700

2. ✖ 1000

3. ✔ 800

4. ✖ 1200

Question Number : 104 Question Id : 5861804158 Question Type : MCQ Option Shuffling : Yes

Correct Marks : 1 Wrong Marks : 0.25

A person bought an article for 35% discount. If he were to get no discount, then he would have had to pay ₹ 224 more. How much did he pay for the article (in ₹)?

Options :

1. ✔ 416

2. ✖ 640

3. ✖ 864

4. ✖ 224

Question Number : 104 Question Id : 5861804158 Question Type : MCQ Option Shuffling : Yes

Correct Marks : 1 Wrong Marks : 0.25

एक व्यक्ति ने 35% छूट पर एक वस्तु खरीदी। यदि उसे कोई छूट नहीं मिलती, तो उसे ₹ 224 का अधिक भुगतान करना पड़ता। तो पता करें कि उसने वस्तु के लिए कितना भुगतान (₹ में) किया?

Options :

1. ✓ 416

2. ✗ 640

3. ✗ 864

4. ✗ 224

Question Number : 105 Question Id : 5861804159 Question Type : MCQ Option Shuffling : Yes

Correct Marks : 1 Wrong Marks : 0.25

When the payment is made online to buy a TV from an electronic store, the discount offered is 10%. Additional discount of 5% is given to credit card holders. Ram buys a TV set of ₹ 25000 by paying online and pays through his credit card. How much does he need to pay (in ₹)?

Options :

1. ✗ 22500

2. ✓ 21375

3. ✗ 11590

4. ✗ 18250

Question Number : 105 Question Id : 5861804159 Question Type : MCQ Option Shuffling : Yes

Correct Marks : 1 Wrong Marks : 0.25

एक इलेक्ट्रॉनिक स्टोर से टीवी खरीदते समय, ऑनलाइन भुगतान करने पर 10% की छूट दी जाती है। क्रेडिट कार्ड धारकों को 5% की अतिरिक्त छूट दी जाती है। राम ऑनलाइन खरीददारी करके, अपने क्रेडिट कार्ड के माध्यम से भुगतान करके ₹ 25000 का टीवी सेट खरीदता है। तो पता करें कि उसने कितना भुगतान (₹ में) किया?

Options :

1. ✘ 22500

2. ✔ 21375

3. ✘ 11590

4. ✘ 18250

Question Number : 106 Question Id : 5861804160 Question Type : MCQ Option Shuffling : Yes

Correct Marks : 1 Wrong Marks : 0.25

In 9 years, the simple interest on certain sum of money is  $\frac{9}{20}$  of the principal. The annual rate of interest is:

Options :

1. ✘ 3%

2. ✔ 5%

3. ✘ 4.5%

4. ✘ 4%

Question Number : 106 Question Id : 5861804160 Question Type : MCQ Option Shuffling : Yes

Correct Marks : 1 Wrong Marks : 0.25

9 वर्षों में, एक निश्चित राशि पर साधारण ब्याज मूलधन का  $\frac{9}{20}$  हो जाएगा। वार्षिक ब्याज दर पता करें।

Options :

1. ✖ 3%

2. ✔ 5%

3. ✖ 4.5%

4. ✖ 4%

Question Number : 107 Question Id : 5861804161 Question Type : MCQ Option Shuffling : Yes

Correct Marks : 1 Wrong Marks : 0.25

A man earns 6% per annum at simple interest on his deposits in Bank A, while he earns 8% per annum simple interest on his deposits in Bank B. If the total interest he earns is ₹18000 in three years on an investment of ₹ 90000, what is the difference in amount (in ₹) invested at 6 % and the amount invested at 8%?

Options :

1. ✔ 30000

2. ✖ 60000

3. ✖ 18000

4. ✖ 54000

Question Number : 107 Question Id : 5861804161 Question Type : MCQ Option Shuffling : Yes

Correct Marks : 1 Wrong Marks : 0.25

एक व्यक्ति बैंक A में अपनी जमा राशि पर 6% प्रतिवर्ष की दर से साधारण ब्याज अर्जित करता है, जबकि वह बैंक B में अपनी जमा राशि पर 8% प्रतिवर्ष की दर से साधारण ब्याज अर्जित करता है। यदि वह तीन वर्षों में ₹ 90000 के निवेश पर कुल ₹ 18000 ब्याज अर्जित करता है, तो पता करें उसने 6% और 8% दर पर कितनी राशि (₹ में) का निवेश किया?

Options :

1. ✓ 30000

2. ✗ 60000

3. ✗ 18000

4. ✗ 54000

Question Number : 108 Question Id : 5861804162 Question Type : MCQ Option Shuffling : Yes

Correct Marks : 1 Wrong Marks : 0.25

Arun took a loan of ₹ 1500 with simple interest for as many years as the rate of interest. If he paid ₹ 240 as interest at the end of the loan period, what was the rate percent of interest per annum?

Options :

1. ✗ 8

2. ✗ 6

3. ✗ 7

4. ✓ 4

Question Number : 108 Question Id : 5861804162 Question Type : MCQ Option Shuffling : Yes

Correct Marks : 1 Wrong Marks : 0.25

अरुण ने ब्याज दर के बराबर के वर्षों के लिए साधारण ब्याज पर ₹ 1500 का ऋण लिया। यदि उसने ऋण अवधि के अंत में ब्याज के रूप में ₹ 240 का भुगतान किया है, तो वार्षिक ब्याज दर पता करें?

Options :

1. ✗ 8

2. ✖ 6

3. ✖ 7

4. ✔ 4

Question Number : 109 Question Id : 5861804163 Question Type : MCQ Option Shuffling : Yes

Correct Marks : 1 Wrong Marks : 0.25

A sum of money lent at compound interest for 2 years at 20% per annum would fetch ₹ 3615 more, if the interest was payable half yearly than if it was payable annually. The sum (in ₹) is:

Options :

1. ✖ 180000

2. ✖ 120000

3. ✖ 240000

4. ✔ 150000

Question Number : 109 Question Id : 5861804163 Question Type : MCQ Option Shuffling : Yes

Correct Marks : 1 Wrong Marks : 0.25

एक निश्चित राशि को 20% वार्षिक चक्रवृद्धि ब्याज दर पर 2 वर्ष के लिए उधार देने पर ₹ 3615 अधिक प्राप्त होते हैं, यदि ब्याज देय प्रतिवर्ष की बजाए अर्धवार्षिक होता। राशि (₹ में) पता करें।

Options :

1. ✖ 180000

2. ✖ 120000

3. ✖ 240000

4. ✔ 150000

Question Number : 110 Question Id : 5861804164 Question Type : MCQ Option Shuffling : Yes

Correct Marks : 1 Wrong Marks : 0.25

A sum of money has been invested on compound interest. The amount to which it grows in four years is 116.64% times more than to what it grows in two years. What is the percentage rate of interest per annum?

Options :

1. ✖ 7.5%

2. ✔ 8%

3. ✖ 8.4%

4. ✖ 8.75%

Question Number : 110 Question Id : 5861804164 Question Type : MCQ Option Shuffling : Yes

Correct Marks : 1 Wrong Marks : 0.25

एक निश्चित राशि चक्रवृद्धि ब्याज पर निवेश की गई है। जब इस राशि को चार वर्ष के लिए निवेश किया जाता है, तो यह 2 वर्ष के लिए निवेश करने की तुलना में 116.64% बढ़ती है। वार्षिक ब्याज दर पता करें?

Options :

1. ✖ 7.5%

2. ✔ 8%

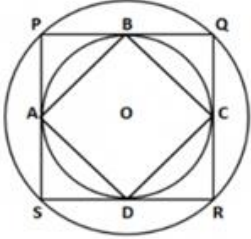
3. ✖ 8.4%

4. ✘ 8.75%

Question Number : 111 Question Id : 5861804165 Question Type : MCQ Option Shuffling : Yes

Correct Marks : 1 Wrong Marks : 0.25

The following figure shows two concentric circles with centre O. PQRS is a square inscribed in the outer circle. The inner circle is inscribed within the square, touching it at points B, C, D and A. What is the ratio of the circumference of the outer circle to that of the perimeter of ABCD, if the length of each side of square PQRS is 5 cm?



Options :

1. ✘  $\pi : 4$

2. ✘  $\pi : 8$

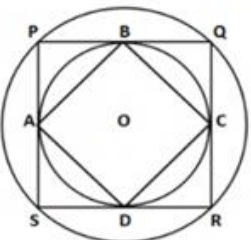
3. ✔  $\pi : 2$

4. ✘  $\pi : 6$

Question Number : 111 Question Id : 5861804165 Question Type : MCQ Option Shuffling : Yes

Correct Marks : 1 Wrong Marks : 0.25

नीचे दी गई आकृति केंद्र O वाले दो संकेंद्रित वृत्त दर्शाती है। PQRS बाहरी वृत्त में बना एक वर्ग है। यह आंतरिक वृत्त को भी परिगत करता है, और इसे बिंदु B, C, D और A पर स्पर्श करता है। यदि PQRS वर्ग की प्रत्येक भुजा की लंबाई 5 cm है, तो बाहरी वृत्त की परिधि और ABCD की परिधि का अनुपात पता करें?



Options :

1. ✘  $\pi : 4$



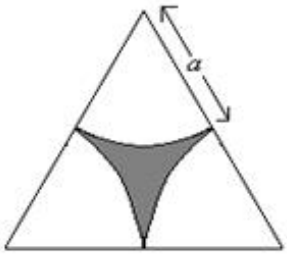
2. ✘  $\pi : 8$

3. ✔  $\pi : 2$

4. ✘  $\pi : 6$

Question Number : 112 Question Id : 5861804166 Question Type : MCQ Option Shuffling : Yes  
Correct Marks : 1 Wrong Marks : 0.25

In an equilateral triangle, three symmetrical sections are cut as shown.



What is the area of the shaded region?

Options :

1. ✔  $\frac{a^2}{2}(2\sqrt{3} - \pi)$

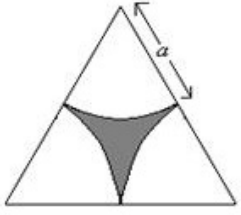
2. ✘  $\frac{a^2}{2}(2\sqrt{3} + \pi)$

3. ✘  $\frac{a^2}{2}(\sqrt{3} - \pi)$

4. ✘  $\frac{a^2}{2}(\sqrt{3} + \pi)$

Question Number : 112 Question Id : 5861804166 Question Type : MCQ Option Shuffling : Yes  
Correct Marks : 1 Wrong Marks : 0.25

समबाहु त्रिभुज में, तीन सममित खंडों को दिखाए अनुसार काटा गया है। समबाहु छायांकित क्षेत्र के क्षेत्रफल पता करें?



Options :

1. ✓  $\frac{a^2}{2}(2\sqrt{3} - \pi)$

2. ✗  $\frac{a^2}{2}(2\sqrt{3} + \pi)$

3. ✗  $\frac{a^2}{2}(\sqrt{3} - \pi)$

4. ✗  $\frac{a^2}{2}(\sqrt{3} + \pi)$

Question Number : 113 Question Id : 5861804167 Question Type : MCQ Option Shuffling : Yes

Correct Marks : 1 Wrong Marks : 0.25

What will be the cost of polishing the curved surface area of a solid cylinder at the rate of ₹ 12 per sq. m, if its diameter is 50 cm and height is 7 m (use  $\pi = \frac{22}{7}$ )?

Note: For this question, discrepancy is found in question/answer. So, this question is ignored for all candidates.

Options :

1. ₹ 264

2. ₹ 250

3. ₹ 284

4. ₹ 300

Question Number : 113 Question Id : 5861804167 Question Type : MCQ Option Shuffling : Yes

Correct Marks : 1 Wrong Marks : 0.25

एक ठोस सिलेंडर के घुमावदार सतह क्षेत्र को ₹ 12 प्रति sq.m की दर से पोलिश करने की लागत क्या होगी, यदि

इसका व्यास 50 cm और ऊंचाई 7 m है ( $\pi = \frac{22}{7}$ )?

Note: For this question, discrepancy is found in question/answer. So, this question is ignored for all candidates.

Options :

1. ₹ 264

2. ₹ 250

3. ₹ 284

4. ₹ 300

Question Number : 114 Question Id : 5861804168 Question Type : MCQ Option Shuffling : Yes

Correct Marks : 1 Wrong Marks : 0.25

A can finish a task in 24 days and B can finish the same task in one third the time taken by A. Then, working together, what part of the same work they can finish in six days?

Options :

1. ✖ 97.8%

2. ✔ 100%

3. ✖ 98%

4. ✖ 96%

Question Number : 114 Question Id : 5861804168 Question Type : MCQ Option Shuffling : Yes

Correct Marks : 1 Wrong Marks : 0.25

A एक कार्य को 24 दिनों में पूरा कर सकता है और B उसी कार्य को A द्वारा लिए गए समय के एक तिहाई समय में पूरा कर सकता है। फिर, एक साथ काम करते हुए, उसी कार्य के किस भाग को वे छह दिनों में पूरा कर सकते हैं?

Options :

1. ✖ 97.8%

2. ✔ 100%

3. ✖ 98%

4. ✖ 96%

Question Number : 115 Question Id : 5861804169 Question Type : MCQ Option Shuffling : Yes

Correct Marks : 1 Wrong Marks : 0.25

7 men, 8 women and 14 boys can complete a task in 5 days. A woman does double the work a man does and a boy does half the work a man does. How many women alone can complete this task in 3 days?

Options :

1. ✖ 15

2. ✖ 10

3. ✖ 20

4. ✔ 25

Question Number : 115 Question Id : 5861804169 Question Type : MCQ Option Shuffling : Yes

Correct Marks : 1 Wrong Marks : 0.25

7 पुरुष, 8 महिलाएँ और 14 लड़के एक कार्य को 5 दिनों में पूरा कर सकते हैं। एक महिला एक पुरुष से दोगुना काम करती है और एक लड़का एक पुरुष से आधा काम करता है। तो पता करें कि अकेले कितनी महिलाएँ इस कार्य को 3 दिन में पूरा कर सकती हैं?

Options :

1. ✖ 15

2. ✖ 10

3. ✖ 20

4. ✔ 25

Question Number : 116 Question Id : 5861804170 Question Type : MCQ Option Shuffling : Yes

Correct Marks : 1 Wrong Marks : 0.25

A person goes to his office at  $\frac{1}{3}$ rd of the speed at which he returns from his office. If the average speed during the whole trip is 18 kmph, what is the speed (in kmph) of the person while he was going to his office?

Options :

1. ✖ 8

2. ✖ 10

3. ✔ 12

4. ✖ 14

Question Number : 116 Question Id : 5861804170 Question Type : MCQ Option Shuffling : Yes

Correct Marks : 1 Wrong Marks : 0.25

एक व्यक्ति के घर से कार्यालय जाने की गति कार्यालय से घर आने की गति का  $\frac{1}{3}$  है। यदि पूरी यात्रा की औसत गति 18 kmph है, तो व्यक्ति की कार्यालय जाते समय की गति (kmph में) पता करें?

Options :

1. ✖ 8

2. ✖ 10

3. ✔ 12

4. ✖ 14

Question Number : 117 Question Id : 5861804171 Question Type : MCQ Option Shuffling : Yes

Correct Marks : 1 Wrong Marks : 0.25

A man can row 5 km upstream and 4 km downstream in 36 minutes. He can also row 10 km upstream and 2 km downstream in  $51\frac{3}{7}$  minutes. What is the ratio of the speed of his rowing in still water to that of the stream?

Options :

1. ✖ 7 : 1

2. ✖ 11 : 3

3. ✔ 23 : 3

4. ✖ 8 : 1

Question Number : 117 Question Id : 5861804171 Question Type : MCQ Option Shuffling : Yes

Correct Marks : 1 Wrong Marks : 0.25

एक व्यक्ति 36 मिनट में 5 km प्रतिप्रवाह और 4 km अनुप्रवाह नाव चला सकता है। वह  $51\frac{3}{7}$  मिनट में 10 km प्रतिप्रवाह और 2 km अनुप्रवाह नाव चला सकता है। उसकी स्थिर पानी और प्रवाह में नाव चलाने की गति का अनुपात पता करें?

Options :

1. ✘ 7 : 1

2. ✘ 11 : 3

3. ✔ 23 : 3

4. ✘ 8 : 1

Question Number : 118 Question Id : 5861804172 Question Type : MCQ Option Shuffling : Yes

Correct Marks : 1 Wrong Marks : 0.25

What is the area of the square field if a train 600-metre long passes the field with a speed of 120 kmph in one minute?

Options :

1. ✘ 1.44 km<sup>2</sup>

2. ✔ 1.96 km<sup>2</sup>

3. ✘ 2.56 km<sup>2</sup>

4. ✘ 1.26 km<sup>2</sup>

Question Number : 118 Question Id : 5861804172 Question Type : MCQ Option Shuffling : Yes

Correct Marks : 1 Wrong Marks : 0.25

यदि एक 600 मीटर लंबी ट्रेन 120 kmph की गति से एक क्षेत्र को एक मिनट में पार करती है, तो उस वर्ग क्षेत्र का क्षेत्रफल कितना होगा?

Options :

1. ✘ 1.44 km<sup>2</sup>

2. ✓ 1.96 km<sup>2</sup>

3. ✗ 2.56 km<sup>2</sup>

4. ✗ 1.26 km<sup>2</sup>

Question Number : 119 Question Id : 5861804173 Question Type : MCQ Option Shuffling : Yes

Correct Marks : 1 Wrong Marks : 0.25

The following table shows the number of seats reserved in different classes in a train on five different days. The capacity of each class is given in the bracket.

Day	2 <sup>nd</sup> Class Non- AC (900)	1 <sup>st</sup> Class Non- AC (500)	III Tier AC (500)	II Tier AC (250)	I Tier AC (150)
Monday	750	410	390	240	145
Tuesday	820	400	450	230	120
Wednesday	730	360	480	220	130
Thursday	640	480	490	190	122
Friday	700	490	495	210	140

What is the ratio of the number of vacant seats in AC classes on Monday to the number of reservations in non-AC classes on Friday?

Options :

1. ✗ 238 : 17

2. ✓ 25 : 238

3. ✗ 343 : 9

4. ✗ 9 : 343

Question Number : 119 Question Id : 5861804173 Question Type : MCQ Option Shuffling : Yes

Correct Marks : 1 Wrong Marks : 0.25



नीचे दी गई तालिका एक ट्रेन में पाँच अलग-अलग दिनों में विभिन्न श्रेणियों में आरक्षित सीटों की संख्या को दर्शाती है। प्रत्येक श्रेणी की क्षमता ब्रैकेट में दी गई है।

दिन	द्वितीय श्रेणी गैर-एसी (900)	प्रथम श्रेणी गैर-एसी (500)	III टीयर एसी (500)	II टीयर एसी (250)	I टीयर एसी (150)
सोमवार	750	410	390	240	145
मंगलवार	820	400	450	230	120
बुधवार	730	360	480	220	130
गुरुवार	640	480	490	190	122
शुक्रवार	700	490	495	210	140

सोमवार को एसी श्रेणी में रिक्त सीटों की संख्या और शुक्रवार को गैर-एसी श्रेणियों में आरक्षण की संख्या का अनुपात पता करें?

Options :

1. ✘ 238 : 17

2. ✔ 25 : 238

3. ✘ 343 : 9

4. ✘ 9 : 343

Question Number : 120 Question Id : 5861804174 Question Type : MCQ Option Shuffling : Yes Correct Marks : 1 Wrong Marks : 0.25

The following table shows the number of seats reserved in different classes in a train on five different days. The capacity of each class is given in the bracket.

Day	2 <sup>nd</sup> Class Non-AC (900)	1 <sup>st</sup> Class Non-AC (500)	III Tier AC (500)	II Tier AC (250)	I Tier AC (150)
Monday	750	410	390	240	145
Tuesday	820	400	450	230	120
Wednesday	730	360	480	220	130
Thursday	640	480	490	190	122
Friday	700	490	495	210	140

If the data related to the I Tier AC reserved seats is represented by a pie-chart, then the central angle of the sector representing reserved seats in I Tier AC for Friday is (correct to nearest integer):

Options :

1. ✓ 77°

2. ✗ 89°

3. ✗ 78°

4. ✗ 76°

Question Number : 120 Question Id : 5861804174 Question Type : MCQ Option Shuffling : Yes

Correct Marks : 1 Wrong Marks : 0.25

नीचे दी गई तालिका एक ट्रेन में पाँच अलग-अलग दिनों में विभिन्न श्रेणियों में आरक्षित सीटों की संख्या को दर्शाती है। प्रत्येक श्रेणी की क्षमता ब्रैकेट में दी गई है।

दिन	द्वितीय श्रेणी गैर-एसी (900)	प्रथम श्रेणी गैर-एसी (500)	III टियर एसी (500)	II टियर एसी (250)	I टियर एसी (150)
सोमवार	750	410	390	240	145
मंगलवार	820	400	450	230	120
बुधवार	730	360	480	220	130
गुरुवार	640	480	490	190	122
शुक्रवार	700	490	495	210	140

यदि I टियर एसी में एसी आरक्षित सीटों से संबंधित डेटा को पाई-चार्ट द्वारा दर्शाया गया है, तो शुक्रवार के लिए I टियर एसी में एसी आरक्षित सीटों को दर्शाने वाले सेक्टर का केंद्रीय कोण (निकटतम पूर्णांक के लिए सही) पता करें।

Options :

1. ✓ 77°

2. ✘ 89°

3. ✘ 78°

4. ✘ 76°

## General English1

<b>Group Number :</b>	7
<b>Group Id :</b>	586180198
<b>Group Maximum Duration :</b>	0
<b>Group Minimum Duration :</b>	0
<b>Show Attended Group? :</b>	No
<b>Edit Attended Group? :</b>	No
<b>Break time:</b>	0
<b>Group Marks:</b>	20
<b>Is this Group for Examiner?:</b>	No
<b>Revisit allowed for group Instructions? :</b>	Yes
<b>Maximum Instruction Time:</b>	0
<b>Minimum Instruction Time:</b>	0

## General English1

<b>Section Id :</b>	586180202
<b>Section Number :</b>	1
<b>Section type :</b>	Online
<b>Mandatory or Optional:</b>	Mandatory
<b>Number of Questions:</b>	20
<b>Number of Questions to be attempted:</b>	20
<b>Section Marks:</b>	20

<b>Sub-Section Number:</b>	1
<b>Sub-Section Id:</b>	586180277
<b>Question Shuffling Allowed :</b>	Yes

Question Number : 121 Question Id : 5861804175 Question Type : MCQ Option Shuffling : Yes  
Correct Marks : 1 Wrong Marks : 0.25

Choose then option that conveys the meaning of the underlined idiom:

I have read the passage a couple of times but I still can't get the hang of it.

Options :

1. ✓ get the main idea
2. ✗ miss the meaning
3. ✗ easy to understand
4. ✗ difficult to imagine

Question Number : 121 Question Id : 5861804175 Question Type : MCQ Option Shuffling : Yes  
Correct Marks : 1 Wrong Marks : 0.25

Choose then option that conveys the meaning of the underlined idiom:

I have read the passage a couple of times but I still can't get the hang of it.

Options :

1. ✓ get the main idea
2. ✗ miss the meaning
3. ✗ easy to understand
4. ✗ difficult to imagine

Question Number : 122 Question Id : 5861804176 Question Type : MCQ Option Shuffling : Yes  
Correct Marks : 1 Wrong Marks : 0.25

Choose then option that conveys the meaning of the underlined idiom:

Sooner or later you have to support either your wife or your parents. You just can't sit on the fence for a long time.

Options :

1. ✖ taking sides
2. ✔ being neutral
3. ✖ supporting one side
4. ✖ to be impractical

Question Number : 122 Question Id : 5861804176 Question Type : MCQ Option Shuffling : Yes  
Correct Marks : 1 Wrong Marks : 0.25

Choose then option that conveys the meaning of the underlined idiom:

Sooner or later you have to support either your wife or your parents. You just can't sit on the fence for a long time.

Options :

1. ✖ taking sides
2. ✔ being neutral
3. ✖ supporting one side
4. ✖ to be impractical

Question Number : 123 Question Id : 5861804177 Question Type : MCQ Option Shuffling : Yes  
Correct Marks : 1 Wrong Marks : 0.25

Fill in the blanks with the correct expression:

His conduct \_\_\_\_\_ a severe punishment.

Options :

1. ✓ calls for
2. ✗ calls after
3. ✗ calls out
4. ✗ call in

Question Number : 123 Question Id : 5861804177 Question Type : MCQ Option Shuffling : Yes  
Correct Marks : 1 Wrong Marks : 0.25

Fill in the blanks with the correct expression:

His conduct \_\_\_\_\_ a severe punishment.

Options :

1. ✓ calls for
2. ✗ calls after
3. ✗ calls out
4. ✗ call in

Question Number : 124 Question Id : 5861804178 Question Type : MCQ Option Shuffling : Yes  
Correct Marks : 1 Wrong Marks : 0.25

Fill in the blanks with the correct expression:

Far from the applause she expected, her speech \_\_\_\_\_.

Options :

1. ✗ fell out
2. ✗ fell off
3. ✓ fell flat
4. ✗ fell foul

Question Number : 124 Question Id : 5861804178 Question Type : MCQ Option Shuffling : Yes  
Correct Marks : 1 Wrong Marks : 0.25

Fill in the blanks with the correct expression:

Far from the applause she expected, her speech \_\_\_\_\_.

Options :

1. ✖ fell out
2. ✖ fell off
3. ✔ fell flat
4. ✖ fell foul

Question Number : 125 Question Id : 5861804179 Question Type : MCQ Option Shuffling : Yes  
Correct Marks : 1 Wrong Marks : 0.25

Choose the option that is the correct one word substitution for the given phrase.

related to sound

Options :

1. ✖ oral
2. ✖ aquatic
3. ✖ opaque
4. ✔ acoustics

Question Number : 125 Question Id : 5861804179 Question Type : MCQ Option Shuffling : Yes  
Correct Marks : 1 Wrong Marks : 0.25

Choose the option that is the correct one word substitution for the given phrase.

related to sound

Options :

1. ✖ oral

2. ✖ aquatic

3. ✖ opaque

4. ✔ acoustics

Question Number : 126 Question Id : 5861804180 Question Type : MCQ Option Shuffling : Yes  
Correct Marks : 1 Wrong Marks : 0.25

Choose the correct option to fill in the blank:

No one can predict how \_\_\_\_\_ politician will act after winning \_\_\_\_\_ election.

Options :

1. ✖ an, the

2. ✔ a, the

3. ✖ an, an

4. ✖ the, a

Question Number : 126 Question Id : 5861804180 Question Type : MCQ Option Shuffling : Yes  
Correct Marks : 1 Wrong Marks : 0.25

Choose the correct option to fill in the blank:

No one can predict how \_\_\_\_\_ politician will act after winning \_\_\_\_\_ election.

Options :

1. ✖ an, the

2. ✔ a, the

3. ✖ an, an

4. ✖ the, a

Question Number : 127 Question Id : 5861804181 Question Type : MCQ Option Shuffling : Yes  
Correct Marks : 1 Wrong Marks : 0.25



Choose the correct option to fill in the blank:

When purchasing something you will have for \_\_\_\_\_ long time, like a house, \_\_\_\_\_ insurance etc, choose \_\_\_\_\_ best within your means.

Options :

1. ✘ a, a, the
2. ✘ the, an, the
3. ✘ a, the, the
4. ✔ a, an, the

Question Number : 127 Question Id : 5861804181 Question Type : MCQ Option Shuffling : Yes  
Correct Marks : 1 Wrong Marks : 0.25

Choose the correct option to fill in the blank:

When purchasing something you will have for \_\_\_\_\_ long time, like a house, \_\_\_\_\_ insurance etc, choose \_\_\_\_\_ best within your means.

Options :

1. ✘ a, a, the
2. ✘ the, an, the
3. ✘ a, the, the
4. ✔ a, an, the

Question Number : 128 Question Id : 5861804182 Question Type : MCQ Option Shuffling : Yes  
Correct Marks : 1 Wrong Marks : 0.25

Choose the correct option to fill in the blank:

Distribute the sweets \_\_\_\_\_ the children, and share the chocolate \_\_\_\_\_ your sister.

Options :

1. ✘ between, between
2. ✔ among, with
3. ✘ with, between
4. ✘ for, with

Question Number : 128 Question Id : 5861804182 Question Type : MCQ Option Shuffling : Yes  
Correct Marks : 1 Wrong Marks : 0.25

Choose the correct option to fill in the blank:

Distribute the sweets \_\_\_\_\_ the children, and share the chocolate \_\_\_\_\_ your sister.

Options :

1. ✘ between, between
2. ✔ among, with
3. ✘ with, between
4. ✘ for, with

Question Number : 129 Question Id : 5861804183 Question Type : MCQ Option Shuffling : Yes  
Correct Marks : 1 Wrong Marks : 0.25

Choose the correct option to fill in the blank:

The injured horse tried to jump \_\_\_\_\_ the wall and fell \_\_\_\_\_ the ground.

Options :

1. ✘ above, in

2. ✖ above, on

3. ✔ over, on

4. ✖ over, in

Question Number : 129 Question Id : 5861804183 Question Type : MCQ Option Shuffling : Yes  
Correct Marks : 1 Wrong Marks : 0.25

Choose the correct option to fill in the blank:

The injured horse tried to jump \_\_\_\_\_ the wall and fell \_\_\_\_\_ the ground.

Options :

1. ✖ above, in

2. ✖ above, on

3. ✔ over, on

4. ✖ over, in

Question Number : 130 Question Id : 5861804184 Question Type : MCQ Option Shuffling : Yes  
Correct Marks : 1 Wrong Marks : 0.25

Choose the correct option to fill in the blank:

I don't read much, \_\_\_\_\_ my sister who reads a book a day.

Options :

1. ✖ however

2. ✖ whereas

3. ✖ nevertheless

4. ✔ unlike

Question Number : 130 Question Id : 5861804184 Question Type : MCQ Option Shuffling : Yes  
Correct Marks : 1 Wrong Marks : 0.25

Choose the correct option to fill in the blank:

I don't read much, \_\_\_\_\_ my sister who reads a book a day.

Options :

1. ✘ however
2. ✘ whereas
3. ✘ nevertheless
4. ✔ unlike

Question Number : 131 Question Id : 5861804185 Question Type : MCQ Option Shuffling : Yes  
Correct Marks : 1 Wrong Marks : 0.25

Choose the correct option to fill in the blank:

I am not feeling too good, \_\_\_\_\_ I will come to your party in the evening.

Options :

1. ✘ therefore
2. ✘ whereas
3. ✘ hence
4. ✔ nevertheless

Question Number : 131 Question Id : 5861804185 Question Type : MCQ Option Shuffling : Yes  
Correct Marks : 1 Wrong Marks : 0.25

Choose the correct option to fill in the blank:

I am not feeling too good, \_\_\_\_\_ I will come to your party in the evening.

Options :

1. ✖ therefore

2. ✖ whereas

3. ✖ hence

4. ✔ nevertheless

Question Number : 132 Question Id : 5861804186 Question Type : MCQ Option Shuffling : Yes

Correct Marks : 1 Wrong Marks : 0.25

Choose the correct option to fill in the blank:

We saw my aunt in the park, but \_\_\_\_\_ did not see \_\_\_\_\_.

Options :

1. ✖ she, her

2. ✔ she, us

3. ✖ we, her

4. ✖ we, us

Question Number : 132 Question Id : 5861804186 Question Type : MCQ Option Shuffling : Yes

Correct Marks : 1 Wrong Marks : 0.25

Choose the correct option to fill in the blank:

We saw my aunt in the park, but \_\_\_\_\_ did not see

\_\_\_\_\_.

Options :

1. ✖ she, her

2. ✔ she, us

3. ✖ we, her

4. ✖ we, us

Question Number : 133 Question Id : 5861804187 Question Type : MCQ Option Shuffling : Yes

Correct Marks : 1 Wrong Marks : 0.25

Choose the correct option to fill in the blank:

Those two books on Nutrition are \_\_\_\_\_. My father gave \_\_\_\_\_ to me.

Options :

1. ✓ mine, them

2. ✗ his, it

3. ✗ hers, them

4. ✗ ours, it

Question Number : 133 Question Id : 5861804187 Question Type : MCQ Option Shuffling : Yes

Correct Marks : 1 Wrong Marks : 0.25

Choose the correct option to fill in the blank:

Those two books on Nutrition are \_\_\_\_\_. My father gave \_\_\_\_\_ to me.

Options :

1. ✓ mine, them

2. ✗ his, it

3. ✗ hers, them

4. ✗ ours, it

Question Number : 134 Question Id : 5861804188 Question Type : MCQ Option Shuffling : Yes

Correct Marks : 1 Wrong Marks : 0.25

Choose the correct option to fill in the blank:

As for \_\_\_\_\_, I allow people to have \_\_\_\_\_ own way.

Options :

1. ✗ mine, our

2. ✖ me, its

3. ✔ me, their

4. ✖ you, their

Question Number : 134 Question Id : 5861804188 Question Type : MCQ Option Shuffling : Yes  
Correct Marks : 1 Wrong Marks : 0.25

Choose the correct option to fill in the blank:

As for \_\_\_\_\_, I allow people to have \_\_\_\_\_ own way.

Options :

1. ✖ mine, our

2. ✖ me, its

3. ✔ me, their

4. ✖ you, their

Question Number : 135 Question Id : 5861804189 Question Type : MCQ Option Shuffling : Yes  
Correct Marks : 1 Wrong Marks : 0.25

Choose the correct option to fill in the blank:

\_\_\_\_\_ my friends came to see me when I was ill.

Options :

1. ✔ None of

2. ✖ No one

3. ✖ None

4. ✖ No one of

Question Number : 135 Question Id : 5861804189 Question Type : MCQ Option Shuffling : Yes  
Correct Marks : 1 Wrong Marks : 0.25

Choose the correct option to fill in the blank:

\_\_\_\_\_ my friends came to see me when I was ill.

Options :

1. ✓ None of
2. ✗ No one
3. ✗ None
4. ✗ No one of

Question Number : 136 Question Id : 5861804190 Question Type : MCQ Option Shuffling : Yes  
Correct Marks : 1 Wrong Marks : 0.25

Choose the option that is the correct passive voice of the given sentence:

Don't buy these apples as they are not sweet.

Options :

1. ✗ These apples will not to be bought as they are not sweet.
2. ✓ These apples should not be bought as they are not sweet.
3. ✗ These apples were not bought as they were not sweet.
4. ✗ These apples can not be bought as they are not sweet.

Question Number : 136 Question Id : 5861804190 Question Type : MCQ Option Shuffling : Yes  
Correct Marks : 1 Wrong Marks : 0.25

Choose the option that is the correct passive voice of the given sentence:

Don't buy these apples as they are not sweet.

Options :



1. ✖ These apples will not to be bought as they are not sweet.
2. ✔ These apples should not be bought as they are not sweet.
3. ✖ These apples were not bought as they were not sweet.
4. ✖ These apples can not be bought as they are not sweet.

Question Number : 137 Question Id : 5861804191 Question Type : MCQ Option Shuffling : Yes  
Correct Marks : 1 Wrong Marks : 0.25

Choose the option that is the correct active voice of the given sentence:

These keys should always be kept in this box.

Options :

1. ✔ Always keep these keys in this box.
2. ✖ Always kept these keys in this box.
3. ✖ You keep these keys in this box.
4. ✖ You will keep these keys in this box.

Question Number : 137 Question Id : 5861804191 Question Type : MCQ Option Shuffling : Yes  
Correct Marks : 1 Wrong Marks : 0.25

Choose the option that is the correct active voice of the given sentence:

These keys should always be kept in this box.

Options :

1. ✔ Always keep these keys in this box.
2. ✖ Always kept these keys in this box.

3. ✖ You keep these keys in this box.

4. ✖ You will keep these keys in this box.

Question Number : 138 Question Id : 5861804192 Question Type : MCQ Option Shuffling : Yes

Correct Marks : 1 Wrong Marks : 0.25

Choose the option that is the correct indirect form of the given sentence:

Ramesh said to Gita, "Don't ever cross your limits with me."

Options :

1. ✖ Ramesh said to Gita to never cross her limits with her.

2. ✔ Ramesh warned Gita to never cross her limits with him.

3. ✖ Ramesh warned Gita to never cross his limits with her.

4. ✖ Ramesh warned Gita to never cross her limits with them.

Question Number : 138 Question Id : 5861804192 Question Type : MCQ Option Shuffling : Yes

Correct Marks : 1 Wrong Marks : 0.25

Choose the option that is the correct indirect form of the given sentence:

Ramesh said to Gita, "Don't ever cross your limits with me."

Options :

1. ✖ Ramesh said to Gita to never cross her limits with her.

2. ✔ Ramesh warned Gita to never cross her limits with him.

3. ✖ Ramesh warned Gita to never cross his limits with her.

4. ✖ Ramesh warned Gita to never cross her limits with them.

Question Number : 139 Question Id : 5861804193 Question Type : MCQ Option Shuffling : Yes

Correct Marks : 1 Wrong Marks : 0.25

Choose the option that is the correct direct speech of the given sentence:

My father advised me not to keep the cell phone under my pillow.

Options :

1. ✖ My father said to me, “You will not keep the cell phone under your pillow.”
2. ✖ My father said to me, “You may not keep the cell phone.”
3. ✔ My father said to me, “You should not keep the cell phone under your pillow.”
4. ✖ My father said to me, “You cannot keep the cell phone under your pillow.”

Question Number : 139 Question Id : 5861804193 Question Type : MCQ Option Shuffling : Yes

Correct Marks : 1 Wrong Marks : 0.25

Choose the option that is the correct direct speech of the given sentence:

My father advised me not to keep the cell phone under my pillow.

Options :

1. ✖ My father said to me, “You will not keep the cell phone under your pillow.”
2. ✖ My father said to me, “You may not keep the cell phone.”
3. ✔ My father said to me, “You should not keep the cell phone under your pillow.”

4. ✖ My father said to me, “You cannot keep the cell phone under your pillow.”

Question Number : 140 Question Id : 5861804194 Question Type : MCQ Option Shuffling : Yes  
Correct Marks : 1 Wrong Marks : 0.25

There are four parts of a sentence. Choose the option with the error :

I was waiting for you in the park since two o'clock.

(1) (2) (3) (4)

Options :

1. ✔ I was waiting

2. ✖ for you

3. ✖ in the park

4. ✖ since two o'clock.

Question Number : 140 Question Id : 5861804194 Question Type : MCQ Option Shuffling : Yes  
Correct Marks : 1 Wrong Marks : 0.25

There are four parts of a sentence. Choose the option with the error :

I was waiting for you in the park since two o'clock.

(1) (2) (3) (4)

Options :

1. ✔ I was waiting

2. ✖ for you

3. ✖ in the park

4. ✖ since two o'clock.

## General English2

Group Number :	8
Group Id :	586180199
Group Maximum Duration :	0
Group Minimum Duration :	0
Show Attended Group? :	No
Edit Attended Group? :	No
Break time:	0
Group Marks:	20

Is this Group for Examiner?: No  
Revisit allowed for group Instructions? : Yes  
Maximum Instruction Time: 0  
Minimum Instruction Time: 0

## General English2

Section Id : 586180203  
Section Number : 1  
Section type : Online  
Mandatory or Optional: Mandatory  
Number of Questions: 12  
Number of Questions to be attempted: 12  
Section Marks: 20

Sub-Section Number: 1  
Sub-Section Id: 586180278  
Question Shuffling Allowed : Yes

Question Number : 141 Question Id : 5861804195 Question Type : MCQ Option Shuffling : Yes  
Correct Marks : 1 Wrong Marks : 0.25

Choose the option which is the synonym of the given word.

Venerate

Options :

1. ✖ dishonor
2. ✖ offend
3. ✔ respect
4. ✖ disrespect

Question Number : 141 Question Id : 5861804195 Question Type : MCQ Option Shuffling : Yes  
Correct Marks : 1 Wrong Marks : 0.25

Choose the option which is the synonym of the given word.

Venerate

Options :

1. ✖ dishonor

2. ✖ offend

3. ✔ respect

4. ✖ disrespect

Question Number : 142 Question Id : 5861804196 Question Type : MCQ Option Shuffling : Yes  
Correct Marks : 1 Wrong Marks : 0.25

Choose the option which is the synonym of the given word:

derision

Options :

1. ✖ appreciate

2. ✔ ridicule

3. ✖ applause

4. ✖ praise

Question Number : 142 Question Id : 5861804196 Question Type : MCQ Option Shuffling : Yes  
Correct Marks : 1 Wrong Marks : 0.25

Choose the option which is the synonym of the given word:

derision

Options :

1. ✖ appreciate

2. ✔ ridicule

3. ✖ applause

4. ✖ praise

Question Number : 143 Question Id : 5861804197 Question Type : MCQ Option Shuffling : Yes  
Correct Marks : 1 Wrong Marks : 0.25

Choose the option which is the synonym of the given word:

veracity

Options :

1. ✖ hypocrisy
2. ✖ deceit
3. ✖ virtuousness
4. ✔ truthfulness

Question Number : 143 Question Id : 5861804197 Question Type : MCQ Option Shuffling : Yes

Correct Marks : 1 Wrong Marks : 0.25

Choose the option which is the synonym of the given word:

veracity

Options :

1. ✖ hypocrisy
2. ✖ deceit
3. ✖ virtuousness
4. ✔ truthfulness

Question Number : 144 Question Id : 5861804198 Question Type : MCQ Option Shuffling : Yes

Correct Marks : 1 Wrong Marks : 0.25

Choose the option which is the synonym of the given word:

paucity

Options :

1. ✖ poverty
2. ✔ scarcity
3. ✖ abundance

## 4. ✖ weakness

Question Number : 144 Question Id : 5861804198 Question Type : MCQ Option Shuffling : Yes

Correct Marks : 1 Wrong Marks : 0.25

Choose the option which is the synonym of the given word:

paucity

Options :

1. ✖ poverty
2. ✔ scarcity
3. ✖ abundance
4. ✖ weakness

Question Number : 145 Question Id : 5861804199 Question Type : MCQ Option Shuffling : Yes

Correct Marks : 1 Wrong Marks : 0.25

Choose the option which is the synonym of the given word:

temerity

Options :

1. ✔ audacity
2. ✖ modesty
3. ✖ calmness
4. ✖ shyness

Question Number : 145 Question Id : 5861804199 Question Type : MCQ Option Shuffling : Yes

Correct Marks : 1 Wrong Marks : 0.25

Choose the option which is the synonym of the given word:

temerity

Options :



1. ✓ audacity
2. ✗ modesty
3. ✗ calmness
4. ✗ shyness

Question Number : 146 Question Id : 5861804200 Question Type : MCQ Option Shuffling : Yes  
Correct Marks : 1 Wrong Marks : 0.25

Choose the option which is the antonym of the given word:

elucidate

Options :

1. ✗ clarify
2. ✗ explain
3. ✓ confuse
4. ✗ analyse

Question Number : 146 Question Id : 5861804200 Question Type : MCQ Option Shuffling : Yes  
Correct Marks : 1 Wrong Marks : 0.25

Choose the option which is the antonym of the given word:

elucidate

Options :

1. ✗ clarify
2. ✗ explain
3. ✓ confuse
4. ✗ analyse

Question Number : 147 Question Id : 5861804201 Question Type : MCQ Option Shuffling : Yes  
Correct Marks : 1 Wrong Marks : 0.25

Choose the option which is the antonym of the given word:

scathing

Options :

1. ✖ incisive
2. ✖ sharp tongued
3. ✖ rough
4. ✔ gentle

Question Number : 147 Question Id : 5861804201 Question Type : MCQ Option Shuffling : Yes

Correct Marks : 1 Wrong Marks : 0.25

Choose the option which is the antonym of the given word:

scathing

Options :

1. ✖ incisive
2. ✖ sharp tongued
3. ✖ rough
4. ✔ gentle

Question Number : 148 Question Id : 5861804202 Question Type : MCQ Option Shuffling : Yes

Correct Marks : 1 Wrong Marks : 0.25

Choose the option which is the antonym of the given word:

restive

Options :

1. ✖ unlawful
2. ✖ disobedient
3. ✖ defiant

## 4. ✓ cooperative

Question Number : 148 Question Id : 5861804202 Question Type : MCQ Option Shuffling : Yes

Correct Marks : 1 Wrong Marks : 0.25

Choose the option which is the antonym of the given word:

restive

Options :

1. ✗ unlawful
2. ✗ disobedient
3. ✗ defiant
4. ✓ cooperative

Question Number : 149 Question Id : 5861804203 Question Type : MCQ Option Shuffling : Yes

Correct Marks : 1 Wrong Marks : 0.25

Choose the option which is the antonym of the given word.

Latent

Options :

1. ✗ dormant
2. ✓ active
3. ✗ dead
4. ✗ non functional

Question Number : 149 Question Id : 5861804203 Question Type : MCQ Option Shuffling : Yes

Correct Marks : 1 Wrong Marks : 0.25

Choose the option which is the antonym of the given word.

Latent

Options :

1. ✖ dormant
2. ✔ active
3. ✖ dead
4. ✖ non functional

Question Number : 150 Question Id : 5861804204 Question Type : MCQ Option Shuffling : Yes  
Correct Marks : 1 Wrong Marks : 0.25

Choose the option which is the antonym of the given word.

Vacillate

Options :

1. ✖ uncertain
2. ✖ hesitate
3. ✔ decisive
4. ✖ falter

Question Number : 150 Question Id : 5861804204 Question Type : MCQ Option Shuffling : Yes  
Correct Marks : 1 Wrong Marks : 0.25

Choose the option which is the antonym of the given word.

Vacillate

Options :

1. ✖ uncertain
2. ✖ hesitate
3. ✔ decisive
4. ✖ falter

Question Shuffling Allowed : Yes

Question Id : 5861804205 Question Type : COMPREHENSION Sub Question Shuffling Allowed : Yes Group Comprehension Questions : No

Question Numbers : (151 to 155)

Question Label : Comprehension

Read the passage and answer the following questions:

It's the poster characteristic of the teenager years: adolescent rebellion. And it's one that causes many conflicts with parents. Two common types of rebellion are against fitting in socially (rebellion of non-conformity) and against adult authority (rebellion of non-compliance). In both types, rebellion attracts adult attention by offending it.

The young person proudly asserts individuality from what parents like or independence of what parents want and in each case succeeds in provoking their disapproval. This is why rebellion, which is simply behavior that deliberately opposes the ruling norms or powers that be, has been given a good name by adolescents and a bad one by adults.

The reason why parents usually dislike adolescent rebellion is not only that it creates more resistance to their job of providing structure, guidance, and supervision, but because rebellion can lead to serious kinds of harm. Rebellion can cause young people to rebel against their own self-interests — rejecting childhood interests, activities, and relationships that often support self-esteem. It can cause them to engage in self-defeating and self-destructive behavior — refusing to do school work or even physically hurting themselves.

It can cause them to experiment with high-risk excitement — accepting dares that as children they would have refused. It can cause them to reject safe rules and restraints — letting impulse overrule judgment to dangerous effect and it can cause them to injure valued relationships — pushing against those they care about and pushing them away.

So adolescent rebellion is not simply a matter of parental aggravation; it is also a matter of concern. Although the young person thinks rebellion is an act of independence, it actually never is. It is really an act of dependency. Rebellion causes the young person to suspend self-definition and do the opposite of what other people want.

That's why the antidote for rebellion is the true independence offered by creating and accepting a challenge — the young person deciding to do something hard with themselves for themselves in order to grow themselves. The teenager who finds a lot of challenges to engage with, and who has parents who support those challenges, doesn't need a lot of rebellion to transform or redefine him or herself in adolescence.

Serious rebellion typically begins at the outset of adolescence, and when it does many parents think this opposition is against them. They are usually mistaken. Rebellion is not against them; it is only acted out against them.

Rebellion at the beginning of teens is primarily a process through which the young person rejects the old child identity that he or she now wants to shed to clear the way for more grown up redefinition ahead. Rebellion at this early adolescent age proclaims: "I refuse to be defined and treated as a child any more!" Now he knows how he doesn't want to be, but he has yet to discover and establish how he does want to be.

How should parents respond to strong rebellion at this stage? When requests are met with delay, use patient insistence to wear down resistance. And try to move the early adolescent from acting out to talking out. Begin by asking, "can you help me better understand what you need?" See if you can get the young person to put their feelings into words. Having been given a full hearing and having had his or her say, the young person may now be more inclined to let parents have their way.

## Sub questions

Question Number : 151 Question Id : 5861804206 Question Type : MCQ Option Shuffling : Yes

Correct Marks : 1 Wrong Marks : 0.25

‘poster characteristic of teenage years’ means:

Options :

1. ✖ a poster of a teenager.
2. ✖ a poster showing activities of a teenager.
3. ✔ a trait which epitomizes a teenager.
4. ✖ characteristics of a good teenage poster

Question Number : 152 Question Id : 5861804207 Question Type : MCQ Option Shuffling : Yes

Correct Marks : 1 Wrong Marks : 0.25

According to the passage, parents do not like teen ager’s rebellion because:

Options :

1. ✔ It hinders their duties as parents and also they think that the children would come to harm.
2. ✖ Parents think that their children must follow them.
3. ✖ Parents think that rebellion leads to violent behaviour.
4. ✖ Parents do not like their teenagers becoming independent.

Question Number : 153 Question Id : 5861804208 Question Type : MCQ Option Shuffling : Yes

Correct Marks : 1 Wrong Marks : 0.25

Which of these is NOT a form of teen age rebellion?

Options :

1. ✖ Indulging in risky activities.
2. ✔ Continuing to enjoy childhood activities.
3. ✖ Messing up relationships.
4. ✖ Ignoring rules for safety.

Question Number : 154 Question Id : 5861804209 Question Type : MCQ Option Shuffling : Yes

Correct Marks : 1 Wrong Marks : 0.25

Which of these ideas does the writer NOT believe in?

Options :

1. ✖ Teenage rebellion is against conformity and compliance.
2. ✔ There is no way to stop teenager rebellion.
3. ✖ A teenager may not need to rebel in order to redefine him/herself.
4. ✖ Patient listening by the parents and allowing the teen to talk can help the child.

Question Number : 155 Question Id : 5861804210 Question Type : MCQ Option Shuffling : Yes  
Correct Marks : 1 Wrong Marks : 0.25

What are the first signs of teenage rebellion?

Options :

1. ✔ Not wanting to be thought of as a child.
2. ✖ Not wanting to be seen with parents.
3. ✖ Saying no to all adults.
4. ✖ Wanting parental guidance.

Question Id : 5861804205 Question Type : COMPREHENSION Sub Question Shuffling Allowed : Yes Group Comprehension  
Questions : No  
Question Numbers : (151 to 155)

Question Label : Comprehension



Read the passage and answer the following questions:

It's the poster characteristic of the teenager years:

adolescent rebellion. And it's one that causes many conflicts with parents.

Two common types of rebellion are against fitting in socially (rebellion of non-conformity) and against adult authority (rebellion of non-compliance). In both types, rebellion attracts adult attention by offending it.

The young person proudly asserts individuality from what parents like or independence of what parents want and in each case succeeds in provoking their disapproval. This is why rebellion, which is simply behavior that deliberately opposes the ruling norms or powers that be, has been given a good name by adolescents and a bad one by adults.

The reason why parents usually dislike adolescent rebellion is not only that it creates more resistance to their job of providing structure, guidance, and supervision, but because rebellion can lead to serious kinds of harm. Rebellion can cause young people to rebel against their own self-interests – rejecting childhood interests, activities, and relationships that often support self-esteem. It can cause them to engage in self-defeating and self-destructive behavior – refusing to do school work or even physically hurting themselves.

It can cause them to experiment with high-risk excitement – accepting dares that as children they would have refused. It can cause them to reject safe rules and restraints – letting impulse overrule judgment to dangerous effect and it can cause them to injure valued relationships – pushing against those they care about and pushing them away.

So adolescent rebellion is not simply a matter of parental aggravation; it is also a matter of concern. Although the young person thinks rebellion is an act of independence, it actually never is. It is really an act of dependency.

Rebellion causes the young person to suspend self-definition and do the opposite of what other people want.

That's why the antidote for rebellion is the true independence offered by creating and accepting a challenge – the young person deciding to do something hard with themselves for themselves in order to grow themselves. The teenager who finds a lot of challenges to engage with, and who has parents who support those challenges, doesn't need a lot of rebellion to transform or redefine him or herself in adolescence.

Serious rebellion typically begins at the outset of adolescence, and when it does many parents think this opposition is against them. They are usually mistaken. Rebellion is not against them; it is only acted out against them.

Rebellion at the beginning of teens is primarily a process through which the young person rejects the old child identity that he or she now wants to shed to clear the way for more grown up redefinition ahead. Rebellion at this early adolescent age proclaims: "I refuse to be defined and treated as a child any more!" Now he knows how he doesn't want to be, but he has yet to discover and establish how he does want to be.

How should parents respond to strong rebellion at this stage? When requests are met with delay, use patient insistence to wear down resistance. And try to move the early adolescent from acting out to talking out. Begin by asking, "can you help me better understand what you need?" See if you can get the young person to put their feelings into words. Having been given a full hearing and having had his or her say, the young person may now be more inclined to let parents have their way.

## Sub questions

Question Number : 151 Question Id : 5861804206 Question Type : MCQ Option Shuffling : Yes

Correct Marks : 1 Wrong Marks : 0.25

‘poster characteristic of teenage years’ means:

Options :

1. ✘ a poster of a teenager.
2. ✘ a poster showing activities of a teenager.
3. ✔ a trait which epitomizes a teenager.
4. ✘ characteristics of a good teenage poster

Question Number : 152 Question Id : 5861804207 Question Type : MCQ Option Shuffling : Yes

Correct Marks : 1 Wrong Marks : 0.25

According to the passage, parents do not like teen ager’s rebellion because:

Options :

1. ✔ It hinders their duties as parents and also they think that the children would come to harm.
2. ✘ Parents think that their children must follow them.
3. ✘ Parents think that rebellion leads to violent behaviour.
4. ✘ Parents do not like their teenagers becoming independent.

Question Number : 153 Question Id : 5861804208 Question Type : MCQ Option Shuffling : Yes

Correct Marks : 1 Wrong Marks : 0.25

Which of these is NOT a form of teen age rebellion?

Options :

1. ✘ Indulging in risky activities.
2. ✔ Continuing to enjoy childhood activities.

3. ✖ Messing up relationships.

4. ✖ Ignoring rules for safety.

Question Number : 154 Question Id : 5861804209 Question Type : MCQ Option Shuffling : Yes

Correct Marks : 1 Wrong Marks : 0.25

Which of these ideas does the writer NOT believe in?

Options :

1. ✖ Teenage rebellion is against conformity and compliance.

2. ✔ There is no way to stop teenager rebellion.

3. ✖ A teenager may not need to rebel in order to redefine him/herself.

4. ✖ Patient listening by the parents and allowing the teen to talk can help the child.

Question Number : 155 Question Id : 5861804210 Question Type : MCQ Option Shuffling : Yes

Correct Marks : 1 Wrong Marks : 0.25

What are the first signs of teenage rebellion?

Options :

1. ✔ Not wanting to be thought of as a child.

2. ✖ Not wanting to be seen with parents.

3. ✖ Saying no to all adults.

4. ✖ Wanting parental guidance.

Sub-Section Number:	3
Sub-Section Id:	586180280
Question Shuffling Allowed :	Yes

Question Id : 5861804211 Question Type : COMPREHENSION Sub Question Shuffling Allowed : Yes Group Comprehension Questions : No

Question Numbers : (156 to 160)

Question Label : Comprehension

Read the passage and answer the following questions:

Consider yourself lucky whenever you pour yourself a glass of water. Today, on every continent in the world, there are people who, because of water scarcity, spend their entire day looking for clean water.

According to reports the United Nations created as part of the Water for Life initiative and the non-profit water.org, one in ten people do not have access to clean water. Worldwide, that is roughly 783 million people. Imagine 783 million people who struggle daily for the clean drink of water that luckier people wake up to.

There are two kinds of water scarcity. The first is physical water scarcity, which occurs in areas without natural water resources, such as deserts like the Sahara. The second is economic water scarcity, which occurs in areas where there are enough water resources for people to use, but they are poorly managed and allowed to be contaminated.

Physical water scarcity is most often caused by drought. Droughts can be declared after as little as 15 days without rainfall and can continue indefinitely. The longest drought in recorded history lasted for 400 years in the Atacama Desert in Chile.

Droughts are a natural process that have occurred throughout history. The effects of prolonged drought often depend on both severity and how people react to them. Sometimes, like in California, drought can simply lead to a change of what is easily available for purchase in grocery stores. Others, like the 1900 drought in India, which had a death toll between 250,000 and 3.25 million, can lead to mass migration, famine, and humanitarian crisis.

Droughts can start unexpectedly and last indefinitely. This unpredictability is a major factor in what turns droughts from unpleasant to deadly. Climate scientists are currently predicting that the same human activities which will lead to global climate change will trigger more droughts. The droughts triggered will be less natural and therefore even more unpredictable.

Economic water scarcity, on the other hand, is the result of plentiful water resources being mismanaged and leading to contamination and disease, sometimes as a result of war or conflict. In addition, water overuse and pollution are increasing global water insecurity. Contamination occurs whenever something is mixed into a water supply; if it is harmful to humans, animals, or plants, it is then referred to as pollution. Pollution can be as simple as a dead animal dumped into the river that supplies a village, or as complex as large multinational corporations building factories that pollute water sources.

Worldwide, water is not always contaminated as a result of corporate pollution. In Mexico City, after the 1985 earthquake damaged the pipes and tunnels the city had built for water, the government could not manage to repair the damage. Now, over 30 years later, the city still does not have access to clean drinking water. When a region is embroiled in a conflict or war, it becomes much more difficult for the people in that region to access water.

Water is life. That's not an exaggeration or a metaphor. Large swaths of people die from waterborne diseases, or from dehydration, as a direct consequence of water scarcity. A human body is largely made of water, and daily water intake is absolutely necessary to replenish that. Water is more important for survival than food, and global access to water is a fundamental human issue.

## Sub questions

Question Number : 156 Question Id : 5861804212 Question Type : MCQ Option Shuffling : Yes  
Correct Marks : 1 Wrong Marks : 0.25

The passage is mainly about:

Options :

1. ✖ droughts
2. ✖ effects of droughts
3. ✔ worldwide water scarcity
4. ✖ effects of water borne diseases

Question Number : 157 Question Id : 5861804213 Question Type : MCQ Option Shuffling : Yes  
Correct Marks : 1 Wrong Marks : 0.25

Which of these statements is NOT true of economic water scarcity?

Options :

1. ✔ Not enough natural water resources.
2. ✖ Water resources are not managed well.
3. ✖ Water is allowed to get contaminated.
4. ✖ Over use of water.

Question Number : 158 Question Id : 5861804214 Question Type : MCQ Option Shuffling : Yes  
Correct Marks : 1 Wrong Marks : 0.25

How did people react to drought in California?

Options :

1. ✖ They were not affected by it at all.
2. ✖ They migrated to different places.
3. ✖ They managed with less water.
4. ✔ They started buying water from stores.

Question Number : 159 Question Id : 5861804215 Question Type : MCQ Option Shuffling : Yes  
Correct Marks : 1 Wrong Marks : 0.25

Which one of these is a reason for economic water shortage?

Options :

1. ✖ droughts
2. ✔ resources not being managed well
3. ✖ the government not addressing the issue
4. ✖ climate change

Question Number : 160 Question Id : 5861804216 Question Type : MCQ Option Shuffling : Yes  
Correct Marks : 1 Wrong Marks : 0.25

The effects of long lasting droughts depend upon:

Options :

1. ✖ Climate conditions of the particular region.
2. ✖ How water is managed in that region.
3. ✔ How severe they are and how people react to them.
4. ✖ How polluted the water in that region is.

Question Id : 5861804211 Question Type : COMPREHENSION Sub Question Shuffling Allowed : Yes Group Comprehension  
Questions : No

Question Numbers : (156 to 160)

Question Label : Comprehension

Read the passage and answer the following questions:

Consider yourself lucky whenever you pour yourself a glass of water. Today, on every continent in the world, there are people who, because of water scarcity, spend their entire day looking for clean water.

According to reports the United Nations created as part of the Water for Life initiative and the non-profit water.org, one in ten people do not have access to clean water.

Worldwide, that is roughly 783 million people. Imagine 783 million people who struggle daily for the clean drink of water that luckier people wake up to.

There are two kinds of water scarcity. The first is physical water scarcity, which occurs in areas without natural water resources, such as deserts like the Sahara. The second is economic water scarcity, which occurs in areas where there are enough water resources for people to use, but they are poorly managed and allowed to be contaminated.

Physical water scarcity is most often caused by drought. Droughts can be declared after as little as 15 days without rainfall and can continue indefinitely. The longest drought in recorded history lasted for 400 years in the Atacama Desert in Chile.

Droughts are a natural process that have occurred throughout history. The effects of prolonged drought often depend on both severity and how people react to them. Sometimes, like in California, drought can simply lead to a change of what is easily available for purchase in grocery stores. Others, like the 1900 drought in India, which had a death toll between 250,000 and 3.25 million, can lead to mass migration, famine, and humanitarian crisis.

Droughts can start unexpectedly and last indefinitely. This unpredictability is a major factor in what turns droughts from unpleasant to deadly. Climate scientists are currently predicting that the same human activities which will lead to global climate change will trigger more droughts. The droughts triggered will be less natural and therefore even more unpredictable.

Economic water scarcity, on the other hand, is the result of plentiful water resources being mismanaged and leading to contamination and disease, sometimes as a result of war or conflict. In addition, water overuse and pollution are increasing global water insecurity. Contamination occurs whenever something is mixed into a water supply; if it is harmful to humans, animals, or plants, it is then referred to as pollution. Pollution can be as simple as a dead animal dumped into the river that supplies a village, or as complex as large multinational corporations building factories that pollute water sources

Worldwide, water is not always contaminated as a result of corporate pollution. In Mexico City, after the 1985 earthquake damaged the pipes and tunnels the city had built for water, the government could not manage to repair the damage. Now, over 30 years later, the city still does not have access to clean drinking water. When a region is embroiled in a conflict or war, it becomes much more difficult for the people in that region to access water.

Water is life. That's not an exaggeration or a metaphor. Large swaths of people die from waterborne diseases, or from dehydration, as a direct consequence of water scarcity. A human body is largely made of water, and daily water intake is absolutely necessary to replenish that. Water is more important for survival than food, and global access to water is a fundamental human issue.

## Sub questions

Question Number : 156 Question Id : 5861804212 Question Type : MCQ Option Shuffling : Yes  
Correct Marks : 1 Wrong Marks : 0.25

The passage is mainly about:

Options :

1. ✘ droughts
2. ✘ effects of droughts
3. ✔ worldwide water scarcity
4. ✘ effects of water borne diseases

Question Number : 157 Question Id : 5861804213 Question Type : MCQ Option Shuffling : Yes  
Correct Marks : 1 Wrong Marks : 0.25

Which of these statements is NOT true of economic water scarcity?

Options :

1. ✔ Not enough natural water resources.
2. ✘ Water resources are not managed well.
3. ✘ Water is allowed to get contaminated.
4. ✘ Over use of water.

Question Number : 158 Question Id : 5861804214 Question Type : MCQ Option Shuffling : Yes  
Correct Marks : 1 Wrong Marks : 0.25

How did people react to drought in California?

Options :

1. ✘ They were not affected by it at all.
2. ✘ They migrated to different places.
3. ✘ They managed with less water.
4. ✔ They started buying water from stores.



Question Number : 159 Question Id : 5861804215 Question Type : MCQ Option Shuffling : Yes  
Correct Marks : 1 Wrong Marks : 0.25

Which one of these is a reason for economic water shortage?

Options :

1. ✘ droughts
2. ✔ resources not being managed well
3. ✘ the government not addressing the issue
4. ✘ climate change

Question Number : 160 Question Id : 5861804216 Question Type : MCQ Option Shuffling : Yes  
Correct Marks : 1 Wrong Marks : 0.25

The effects of long lasting droughts depend upon:

Options :

1. ✘ Climate conditions of the particular region.
2. ✘ How water is managed in that region.
3. ✔ How severe they are and how people react to them.
4. ✘ How polluted the water in that region is.

## General Hindi1

Group Number :	9
Group Id :	586180200
Group Maximum Duration :	0
Group Minimum Duration :	0
Show Attended Group? :	No
Edit Attended Group? :	No
Break time:	0
Group Marks:	20
Is this Group for Examiner?:	No
Revisit allowed for group Instructions? :	Yes
Maximum Instruction Time:	0
Minimum Instruction Time:	0

# General Hindi1

Section Id :	586180204
Section Number :	1
Section type :	Online
Mandatory or Optional:	Mandatory
Number of Questions:	20
Number of Questions to be attempted:	20
Section Marks:	20

Sub-Section Number:	1
Sub-Section Id:	586180281
Question Shuffling Allowed :	Yes

Question Number : 161 Question Id : 5861804217 Question Type : MCQ Option Shuffling : Yes  
Correct Marks : 1 Wrong Marks : 0.25

‘खिचड़ी’ कैसा शब्द है?

Options :

1. \* तद्भव
2. \* तत्सम
3. \* विदेशी
4. ✓ देशज

Question Number : 161 Question Id : 5861804217 Question Type : MCQ Option Shuffling : Yes  
Correct Marks : 1 Wrong Marks : 0.25

‘खिचड़ी’ कैसा शब्द है?

Options :

1. \* तद्भव
2. \* तत्सम
3. \* विदेशी
4. ✓ देशज

Question Number : 162 Question Id : 5861804218 Question Type : MCQ Option Shuffling : Yes  
Correct Marks : 1 Wrong Marks : 0.25

निम्न में से कौन सा शब्द तद्भव है?

Options :

1. \* कपाट

2. \* कूप

3. ✓ कंगन

4. \* कमल

Question Number : 162 Question Id : 5861804218 Question Type : MCQ Option Shuffling : Yes  
Correct Marks : 1 Wrong Marks : 0.25

निम्न में से कौन सा शब्द तद्भव है?

Options :

1. \* कपाट

2. \* कूप

3. ✓ कंगन

4. \* कमल

Question Number : 163 Question Id : 5861804219 Question Type : MCQ Option Shuffling : Yes  
Correct Marks : 1 Wrong Marks : 0.25

निम्न में से कौन सा शब्द तत्सम है?

Options :

1. ✓ तृण

2. \* तिरछा

3. \* तीखा

4. \* तुम

Question Number : 163 Question Id : 5861804219 Question Type : MCQ Option Shuffling : Yes  
Correct Marks : 1 Wrong Marks : 0.25

निम्न में से कौन सा शब्द तत्सम है?

Options :

1. ✓ तृण

2. \* तिरछा

3. \* तीखा

4. \* तुम

Question Number : 164 Question Id : 5861804220 Question Type : MCQ Option Shuffling : Yes

Correct Marks : 1 Wrong Marks : 0.25

निम्न में शुद्ध वर्तनी वाला शब्द है:

Options :

1. ✖ प्रतिसेध
2. ✔ प्रतिषेध
3. ✖ प्रतिशेध
4. ✖ प्रतीषेध

Question Number : 164 Question Id : 5861804220 Question Type : MCQ Option Shuffling : Yes

Correct Marks : 1 Wrong Marks : 0.25

निम्न में शुद्ध वर्तनी वाला शब्द है:

Options :

1. ✖ प्रतिसेध
2. ✔ प्रतिषेध
3. ✖ प्रतिशेध
4. ✖ प्रतीषेध

Question Number : 165 Question Id : 5861804221 Question Type : MCQ Option Shuffling : Yes

Correct Marks : 1 Wrong Marks : 0.25

‘आभरण – आमरण’ शब्द युग्म का सही अर्थ है:

Options :

1. ✖ अभयारण्य – अनशन
2. ✖ पोषण – माल्यार्पण
3. ✖ मरण तक – गहना
4. ✔ गहना – मरण तक

Question Number : 165 Question Id : 5861804221 Question Type : MCQ Option Shuffling : Yes

Correct Marks : 1 Wrong Marks : 0.25

‘आभरण - आमरण’ शब्द युग्म का सही अर्थ है:

Options :

1. ✖ अभयारण्य - अनशन
2. ✖ पोषण - माल्यार्पण

3. ✖ मरण तक - गहना

4. ✔ गहना - मरण तक

Question Number : 166 Question Id : 5861804222 Question Type : MCQ Option Shuffling : Yes

Correct Marks : 1 Wrong Marks : 0.25

‘चलन’ किस प्रकार की संज्ञा है?

Options :

1. ✖ पदार्थवाचक

2. ✔ भाववाचक

3. ✖ व्यक्तिवाचक

4. ✖ जातिवाचक

Question Number : 166 Question Id : 5861804222 Question Type : MCQ Option Shuffling : Yes

Correct Marks : 1 Wrong Marks : 0.25

‘चलन’ किस प्रकार की संज्ञा है?

Options :

1. ✖ पदार्थवाचक

2. ✔ भाववाचक

3. ✖ व्यक्तिवाचक

4. ✖ जातिवाचक

Question Number : 167 Question Id : 5861804223 Question Type : MCQ Option Shuffling : Yes

Correct Marks : 1 Wrong Marks : 0.25

‘कौन’ सर्वनाम का गुणवाचक विशेषण है:

Options :

1. ✖ ऐसा

2. ✖ वैसा

3. ✔ कैसा

4. ✖ जैसा

Question Number : 167 Question Id : 5861804223 Question Type : MCQ Option Shuffling : Yes

Correct Marks : 1 Wrong Marks : 0.25

‘कौन’ सर्वनाम का गुणवाचक विशेषण है:

Options :

1. ✖ ऐसा
2. ✖ वैसा
3. ✔ कैसा
4. ✖ जैसा

Question Number : 168 Question Id : 5861804224 Question Type : MCQ Option Shuffling : Yes  
Correct Marks : 1 Wrong Marks : 0.25

‘चमकीला’ किस प्रकार का विशेषण है?

Options :

1. ✔ गुणवाचक
2. ✖ संख्यावाचक
3. ✖ परिमाण बोधक
4. ✖ सार्वनामिक

Question Number : 168 Question Id : 5861804224 Question Type : MCQ Option Shuffling : Yes  
Correct Marks : 1 Wrong Marks : 0.25

‘चमकीला’ किस प्रकार का विशेषण है?

Options :

1. ✔ गुणवाचक
2. ✖ संख्यावाचक
3. ✖ परिमाण बोधक
4. ✖ सार्वनामिक

Question Number : 169 Question Id : 5861804225 Question Type : MCQ Option Shuffling : Yes  
Correct Marks : 1 Wrong Marks : 0.25

निम्न में अकर्मक धातु है:

Options :

1. ✖ काटना
2. ✖ पीसना

3. ✖ लूटना

4. ✔ दबना

Question Number : 169 Question Id : 5861804225 Question Type : MCQ Option Shuffling : Yes  
Correct Marks : 1 Wrong Marks : 0.25

निम्न में अकर्मक धातु है:

Options :

1. ✖ काटना

2. ✖ पीसना

3. ✖ लूटना

4. ✔ दबना

Question Number : 170 Question Id : 5861804226 Question Type : MCQ Option Shuffling : Yes  
Correct Marks : 1 Wrong Marks : 0.25

‘वह ऐसे ही रोता है।’ वाक्य में क्रिया विशेषण है:

Options :

1. ✖ वह

2. ✔ ऐसे ही

3. ✖ रोता

4. ✖ है

Question Number : 170 Question Id : 5861804226 Question Type : MCQ Option Shuffling : Yes  
Correct Marks : 1 Wrong Marks : 0.25

‘वह ऐसे ही रोता है।’ वाक्य में क्रिया विशेषण है:

Options :

1. ✖ वह

2. ✔ ऐसे ही

3. ✖ रोता

4. ✖ है

Question Number : 171 Question Id : 5861804227 Question Type : MCQ Option Shuffling : Yes  
Correct Marks : 1 Wrong Marks : 0.25

‘प्रत्येक’ का संधि विच्छेद होगा:

Options :

1. ✓ प्रति + एक
2. \* प्रति + येक
3. \* प्रती + एक
4. \* प्रती + येक

Question Number : 171 Question Id : 5861804227 Question Type : MCQ Option Shuffling : Yes

Correct Marks : 1 Wrong Marks : 0.25

‘प्रत्येक’ का संधि विच्छेद होगा:

Options :

1. ✓ प्रति + एक
2. \* प्रति + येक
3. \* प्रती + एक
4. \* प्रती + येक

Question Number : 172 Question Id : 5861804228 Question Type : MCQ Option Shuffling : Yes

Correct Marks : 1 Wrong Marks : 0.25

‘चक्रपाणि’ में कौन सा समास है?

Options :

1. \* तत्पुरुष
2. \* द्वंद्व
3. ✓ बहुब्रीहि
4. \* अव्ययीभाव

Question Number : 172 Question Id : 5861804228 Question Type : MCQ Option Shuffling : Yes

Correct Marks : 1 Wrong Marks : 0.25

‘चक्रपाणि’ में कौन सा समास है?

Options :

1. \* तत्पुरुष
2. \* द्वंद्व



3. ✓ बहुब्रीहि

4. ✘ अव्ययीभाव

Question Number : 173 Question Id : 5861804229 Question Type : MCQ Option Shuffling : Yes

Correct Marks : 1 Wrong Marks : 0.25

‘संरक्षण’ में किस उपसर्ग का प्रयोग हुआ है?

Options :

1. ✘ स

2. ✘ सन्

3. ✓ सम्

4. ✘ क्षण

Question Number : 173 Question Id : 5861804229 Question Type : MCQ Option Shuffling : Yes

Correct Marks : 1 Wrong Marks : 0.25

‘संरक्षण’ में किस उपसर्ग का प्रयोग हुआ है?

Options :

1. ✘ स

2. ✘ सन्

3. ✓ सम्

4. ✘ क्षण

Question Number : 174 Question Id : 5861804230 Question Type : MCQ Option Shuffling : Yes

Correct Marks : 1 Wrong Marks : 0.25

‘भवदीय’ में किस प्रत्यय का प्रयोग हुआ है?

Options :

1. ✘ य

2. ✓ ईय

3. ✘ दीय

4. ✘ भ

Question Number : 174 Question Id : 5861804230 Question Type : MCQ Option Shuffling : Yes

Correct Marks : 1 Wrong Marks : 0.25

‘भवदीय’ में किस प्रत्यय का प्रयोग हुआ है?

Options :

1. \* य
2. ✓ ईय
3. \* दीय
4. \* भ

Question Number : 175 Question Id : 5861804231 Question Type : MCQ Option Shuffling : Yes  
Correct Marks : 1 Wrong Marks : 0.25

निम्न में कौन सा शब्द स्त्रीलिंग नहीं है?

Options :

1. \* टक्कर
2. \* टिप्पणी
3. \* ट्रेन
4. ✓ टिकट

Question Number : 175 Question Id : 5861804231 Question Type : MCQ Option Shuffling : Yes  
Correct Marks : 1 Wrong Marks : 0.25

निम्न में कौन सा शब्द स्त्रीलिंग नहीं है?

Options :

1. \* टक्कर
2. \* टिप्पणी
3. \* ट्रेन
4. ✓ टिकट

Question Number : 176 Question Id : 5861804232 Question Type : MCQ Option Shuffling : Yes  
Correct Marks : 1 Wrong Marks : 0.25

‘रात को पहरा देने वाला’ किस पदबन्ध का उदाहरण है?

Options :

1. ✓ संज्ञा पदबन्ध
2. \* सर्वनाम पदबन्ध

3. \* विशेषण पदबन्ध

4. \* क्रिया पदबन्ध

Question Number : 176 Question Id : 5861804232 Question Type : MCQ Option Shuffling : Yes  
Correct Marks : 1 Wrong Marks : 0.25

‘रात को पहरा देने वाला’ किस पदबन्ध का उदाहरण है?

Options :

1. ✓ संज्ञा पदबन्ध

2. \* सर्वनाम पदबन्ध

3. \* विशेषण पदबन्ध

4. \* क्रिया पदबन्ध

Question Number : 177 Question Id : 5861804233 Question Type : MCQ Option Shuffling : Yes  
Correct Marks : 1 Wrong Marks : 0.25

‘वह आदमी, जो कल आया था, आज भी आया है।’ वाक्य में ‘जो कल आया था’ किस प्रकार का उपवाक्य है?

Options :

1. \* संज्ञा उपवाक्य

2. ✓ विशेषण उपवाक्य

3. \* क्रिया उपवाक्य

4. \* क्रिया विशेषण उपवाक्य

Question Number : 177 Question Id : 5861804233 Question Type : MCQ Option Shuffling : Yes  
Correct Marks : 1 Wrong Marks : 0.25

‘वह आदमी, जो कल आया था, आज भी आया है।’ वाक्य में ‘जो कल आया था’ किस प्रकार का उपवाक्य है?

Options :

1. \* संज्ञा उपवाक्य

2. ✓ विशेषण उपवाक्य

3. \* क्रिया उपवाक्य

## 4. \* क्रिया विशेषण उपवाक्य

Question Number : 178 Question Id : 5861804234 Question Type : MCQ Option Shuffling : Yes  
Correct Marks : 1 Wrong Marks : 0.25

‘वे जा चुके।’ किस प्रकार का वाक्य है?

Options :

1. ✓ सरल वाक्य
2. \* मिश्र वाक्य
3. \* संयुक्त वाक्य
4. \* उपवाक्य

Question Number : 178 Question Id : 5861804234 Question Type : MCQ Option Shuffling : Yes  
Correct Marks : 1 Wrong Marks : 0.25

‘वे जा चुके।’ किस प्रकार का वाक्य है?

Options :

1. ✓ सरल वाक्य
2. \* मिश्र वाक्य
3. \* संयुक्त वाक्य
4. \* उपवाक्य

Question Number : 179 Question Id : 5861804235 Question Type : MCQ Option Shuffling : Yes  
Correct Marks : 1 Wrong Marks : 0.25

पदक्रम की दृष्टि से कौन सा वाक्य शुद्ध है?

Options :

1. \* तेज दौड़ता है घोड़ा
2. \* दौड़ता है तेज घोड़ा
3. \* घोड़ा दौड़ता है तेजा
4. ✓ घोड़ा तेज दौड़ता है

Question Number : 179 Question Id : 5861804235 Question Type : MCQ Option Shuffling : Yes  
Correct Marks : 1 Wrong Marks : 0.25

पदक्रम की दृष्टि से कौन सा वाक्य शुद्ध है?

Options :

1. \* तेज दौड़ता है घोड़ा।
2. \* दौड़ता है तेज घोड़ा।
3. \* घोड़ा दौड़ता है तेज।
4. ✓ घोड़ा तेज दौड़ता है।

Question Number : 180 Question Id : 5861804236 Question Type : MCQ Option Shuffling : Yes  
Correct Marks : 1 Wrong Marks : 0.25

अन्वय की दृष्टि से कौन सा वाक्य शुद्ध है?

Options :

1. \* अलका को रसोई बनानी नहीं आता।
2. \* अलका को रसोई बनाने नहीं आते।
3. ✓ अलका को रसोई बनाना नहीं आता।
4. \* अलका को रसोई बनाना नहीं आती।

Question Number : 180 Question Id : 5861804236 Question Type : MCQ Option Shuffling : Yes  
Correct Marks : 1 Wrong Marks : 0.25

अन्वय की दृष्टि से कौन सा वाक्य शुद्ध है?

Options :

1. \* अलका को रसोई बनानी नहीं आता।
2. \* अलका को रसोई बनाने नहीं आते।
3. ✓ अलका को रसोई बनाना नहीं आता।
4. \* अलका को रसोई बनाना नहीं आती।

## General Hindi2

Group Number :	10
Group Id :	586180201
Group Maximum Duration :	0
Group Minimum Duration :	120
Show Attended Group? :	No
Edit Attended Group? :	No
Break time:	0
Group Marks:	20
Is this Group for Examiner?:	No

Revisit allowed for group Instructions? :	Yes
Maximum Instruction Time:	0
Minimum Instruction Time:	0

## General Hindi2

Section Id :	586180205
Section Number :	1
Section type :	Online
Mandatory or Optional:	Mandatory
Number of Questions:	12
Number of Questions to be attempted:	12
Section Marks:	20

Sub-Section Number:	1
Sub-Section Id:	586180282
Question Shuffling Allowed :	Yes

Question Number : 181 Question Id : 5861804237 Question Type : MCQ Option Shuffling : Yes  
Correct Marks : 1 Wrong Marks : 0.25

‘चन्द्र’ का पर्यायवाची है:

Options :

1. \* महेश
2. \* सुरेश
3. \* दिनेश
4. ✓ राकेश

Question Number : 181 Question Id : 5861804237 Question Type : MCQ Option Shuffling : Yes  
Correct Marks : 1 Wrong Marks : 0.25

‘चन्द्र’ का पर्यायवाची है:

Options :

1. \* महेश
2. \* सुरेश
3. \* दिनेश
4. ✓ राकेश

Question Number : 182 Question Id : 5861804238 Question Type : MCQ Option Shuffling : Yes  
Correct Marks : 1 Wrong Marks : 0.25

‘बादल’ का पर्यायवाची नहीं है:

Options :

1. ✓ हेम
2. ✘ मेघ
3. ✘ घन
4. ✘ पयोद

Question Number : 182 Question Id : 5861804238 Question Type : MCQ Option Shuffling : Yes

Correct Marks : 1 Wrong Marks : 0.25

‘बादल’ का पर्यायवाची नहीं है:

Options :

1. ✓ हेम
2. ✘ मेघ
3. ✘ घन
4. ✘ पयोद

Question Number : 183 Question Id : 5861804239 Question Type : MCQ Option Shuffling : Yes

Correct Marks : 1 Wrong Marks : 0.25

‘केशरी’ किसका पर्यायवाची है?

Options :

1. ✘ सम्राट
2. ✘ पुष्प
3. ✓ सिंह
4. ✘ हाथी

Question Number : 183 Question Id : 5861804239 Question Type : MCQ Option Shuffling : Yes

Correct Marks : 1 Wrong Marks : 0.25

‘केशरी’ किसका पर्यायवाची है?

Options :

1. ✘ सम्राट
2. ✘ पुष्प

3. ✓ सिंह

4. ✖ हाथी

Question Number : 184 Question Id : 5861804240 Question Type : MCQ Option Shuffling : Yes

Correct Marks : 1 Wrong Marks : 0.25

‘गिरा’ किसका पर्यायवाची है?

Options :

1. ✖ लक्ष्मी

2. ✓ सरस्वती

3. ✖ नदी

4. ✖ धरती

Question Number : 184 Question Id : 5861804240 Question Type : MCQ Option Shuffling : Yes

Correct Marks : 1 Wrong Marks : 0.25

‘गिरा’ किसका पर्यायवाची है?

Options :

1. ✖ लक्ष्मी

2. ✓ सरस्वती

3. ✖ नदी

4. ✖ धरती

Question Number : 185 Question Id : 5861804241 Question Type : MCQ Option Shuffling : Yes

Correct Marks : 1 Wrong Marks : 0.25

‘खर’ का पर्यायवाची नहीं है?

Options :

1. ✖ दुष्ट

2. ✖ गधा

3. ✓ बाण

4. ✖ तिनका

Question Number : 185 Question Id : 5861804241 Question Type : MCQ Option Shuffling : Yes

Correct Marks : 1 Wrong Marks : 0.25



‘खर’ का पर्यायवाची नहीं है?

Options :

1. \* दुष्ट
2. \* गधा
3. ✓ बाण
4. \* तिनका

Question Number : 186 Question Id : 5861804242 Question Type : MCQ Option Shuffling : Yes  
Correct Marks : 1 Wrong Marks : 0.25

‘उत्कर्ष’ का विलोम शब्द है:

Options :

1. \* निष्कर्ष
2. ✓ अपकर्ष
3. \* सहर्ष
4. \* विकर्षण

Question Number : 186 Question Id : 5861804242 Question Type : MCQ Option Shuffling : Yes  
Correct Marks : 1 Wrong Marks : 0.25

‘उत्कर्ष’ का विलोम शब्द है:

Options :

1. \* निष्कर्ष
2. ✓ अपकर्ष
3. \* सहर्ष
4. \* विकर्षण

Question Number : 187 Question Id : 5861804243 Question Type : MCQ Option Shuffling : Yes  
Correct Marks : 1 Wrong Marks : 0.25

‘अनंत’ का विलोम होगा:

Options :

1. ✓ ससीम
2. \* असीम

3. ✖ नश्वर

4. ✖ शाश्वत

Question Number : 187 Question Id : 5861804243 Question Type : MCQ Option Shuffling : Yes  
Correct Marks : 1 Wrong Marks : 0.25

‘अनंत’ का विलोम होगा:

Options :

1. ✔ ससीम

2. ✖ असीम

3. ✖ नश्वर

4. ✖ शाश्वत

Question Number : 188 Question Id : 5861804244 Question Type : MCQ Option Shuffling : Yes  
Correct Marks : 1 Wrong Marks : 0.25

‘इहलोक’ किसका विलोम है?

Options :

1. ✖ आकाश

2. ✖ पाताल

3. ✖ नरलोक

4. ✔ परलोक

Question Number : 188 Question Id : 5861804244 Question Type : MCQ Option Shuffling : Yes  
Correct Marks : 1 Wrong Marks : 0.25

‘इहलोक’ किसका विलोम है?

Options :

1. ✖ आकाश

2. ✖ पाताल

3. ✖ नरलोक

4. ✔ परलोक

Question Number : 189 Question Id : 5861804245 Question Type : MCQ Option Shuffling : Yes  
Correct Marks : 1 Wrong Marks : 0.25

‘लक्ष्मण को मूर्छित देखकर राम चिंतातुर हो गये।’ पंक्ति के रेखांकित शब्द का विलोम होगा-

Options :

1. \* अचेत
2. \* अवचेत
3. ✓ सचेत
4. \* जीवित

Question Number : 189 Question Id : 5861804245 Question Type : MCQ Option Shuffling : Yes

Correct Marks : 1 Wrong Marks : 0.25

‘लक्ष्मण को मूर्छित देखकर राम चिंतातुर हो गये।’ पंक्ति के रेखांकित शब्द का विलोम होगा-

Options :

1. \* अचेत
2. \* अवचेत
3. ✓ सचेत
4. \* जीवित

Question Number : 190 Question Id : 5861804246 Question Type : MCQ Option Shuffling : Yes

Correct Marks : 1 Wrong Marks : 0.25

‘वैमनस्य’ का विलोम है:

Options :

1. \* घृणा
2. \* द्वेष
3. \* अनबन
4. ✓ सौमनस्य

Question Number : 190 Question Id : 5861804246 Question Type : MCQ Option Shuffling : Yes

Correct Marks : 1 Wrong Marks : 0.25

‘वैमनस्य’ का विलोम है:

Options :

1. ✖ घृणा
2. ✖ द्वेष
3. ✖ अनबन
4. ✔ सौमनस्य

Sub-Section Number: 2  
Sub-Section Id: 586180283  
Question Shuffling Allowed : Yes

Question Id : 5861804247 Question Type : COMPREHENSION Sub Question Shuffling Allowed : Yes Group Comprehension Questions : No

Question Numbers : (191 to 195)

Question Label : Comprehension

नीचे दिये गए गद्यांश को पढ़कर पूछे गये प्रश्नों के उत्तर दीजिए।

मध्ययुगीन भक्त कवियों में मीरा और सूर ने जिस आदर्श समाज की कल्पना की वह आज भी वरेण्य है। सूर के यहाँ स्त्रियाँ अपने संपूर्ण स्त्रीत्व भाव में आती हैं। वे न तो देवी हैं और न ही शोषिता नंद को सलाह देती यशोदा तो आदर्श पत्नी हैं ही, कृष्ण की पालित माता भी वही हैं। उनके वात्सल्य के समक्ष वास्तविक माता का वात्सल्य उपेक्षणीय है। सूर की गोपियाँ ज्ञान और प्रेम में प्रेम को अधिक महत्व देती हैं और ज्ञान की उपेक्षा करती हैं। क्या ऐसा आदर्श समाज जो स्त्रियों को उनका स्त्रीत्व प्रदान करे आज तक बन पाया, नहीं। भक्त कवि आज की इस चिंता को उस समय देख रहे थे। इसलिए भक्तिकाल और भी प्रासंगिक हो जाता है। स्त्री की स्वतन्त्रता और समानता जैसे मानवीय मूल्य के लिए मीरा आजीवन लड़ती रहीं। तमाम बंदिशों के बावजूद मीरा अपने को स्थापित करने में सफल रहीं। मीरा का यह संघर्षपूर्ण जीवन हमारे लिए आज भी प्रासंगिक है।

Sub questions

Question Number : 191 Question Id : 5861804248 Question Type : MCQ Option Shuffling : Yes  
Correct Marks : 1 Wrong Marks : 0.25

गद्यांश में किस कवयित्री का उल्लेख है?

Options :

1. ✔ मीरा

2. \* महादेवी
3. \* यशोदा
4. \* गोपियाँ

Question Number : 192 Question Id : 5861804249 Question Type : MCQ Option Shuffling : Yes  
Correct Marks : 1 Wrong Marks : 0.25

‘चरेण्य’ का अर्थ होता है:

Options :

1. \* त्याज्य
2. ✓ पूजनीय
3. \* काल्पनिक
4. \* वर्जित

Question Number : 193 Question Id : 5861804250 Question Type : MCQ Option Shuffling : Yes  
Correct Marks : 1 Wrong Marks : 0.25

‘वात्सल्य’ का अर्थ है:

Options :

1. \* आदर
2. \* श्रद्धा
3. \* भक्ति
4. ✓ स्नेह

Question Number : 194 Question Id : 5861804251 Question Type : MCQ Option Shuffling : Yes  
Correct Marks : 1 Wrong Marks : 0.25

‘उपेक्षणीय’ का अर्थ है:

Options :

1. \* अपेक्षित
2. \* अनपेक्षित
3. ✓ उपेक्षा करने योग्य
4. \* आदरणीय

Question Number : 195 Question Id : 5861804252 Question Type : MCQ Option Shuffling : Yes  
Correct Marks : 1 Wrong Marks : 0.25

गद्यांश में ‘बंदिश’ का आशय नहीं हो सकता:

Options :

1. \* बंधन
2. ✓ शब्द समर्थन
3. \* व्यवधान
4. \* रुकावट

Question Id : 5861804247 Question Type : COMPREHENSION Sub Question Shuffling Allowed : Yes Group Comprehension Questions : No

Question Numbers : (191 to 195)

Question Label : Comprehension

नीचे दिये गए गद्यांश को पढ़कर पूछे गये प्रश्नों के उत्तर दीजिए।

मध्ययुगीन भक्त कवियों में मीरा और सूर ने जिस आदर्श समाज की कल्पना की वह आज भी वरेण्य है। सूर के यहाँ स्त्रियाँ अपने संपूर्ण स्त्रीत्व भाव में आती हैं। वे न तो देवी हैं और न ही शोषित। नंद को सलाह देती यशोदा तो आदर्श पत्नी हैं ही, कृष्ण की पालित माता भी वही हैं। उनके वात्सल्य के समक्ष वास्तविक माता का वात्सल्य उपेक्षणीय है। सूर की गोपियाँ ज्ञान और प्रेम में प्रेम को अधिक महत्व देती हैं और ज्ञान की उपेक्षा करती हैं। क्या ऐसा आदर्श समाज जो स्त्रियों को उनका स्त्रीत्व प्रदान करे आज तक बन पाया, नहीं। भक्त कवि आज की इस चिंता को उस समय देख रहे थे। इसलिए भक्तिकाल और भी प्रासंगिक हो जाता है। स्त्री की स्वतन्त्रता और समानता जैसे मानवीय मूल्य के लिए मीरा आजीवन लड़ती रहीं। तमाम बंदिशों के बावजूद मीरा अपने को स्थापित करने में सफल रहीं। मीरा का यह संघर्षपूर्ण जीवन हमारे लिए आज भी प्रासंगिक है।

Sub questions

Question Number : 191 Question Id : 5861804248 Question Type : MCQ Option Shuffling : Yes

Correct Marks : 1 Wrong Marks : 0.25

गद्यांश में किस कवयित्री का उल्लेख है?

Options :

1. ✓ मीरा
2. ✘ महादेवी
3. ✘ यशोदा
4. ✘ गोपियाँ

Question Number : 192 Question Id : 5861804249 Question Type : MCQ Option Shuffling : Yes  
Correct Marks : 1 Wrong Marks : 0.25

‘वरेण्य’ का अर्थ होता है:

Options :

1. ✘ त्याज्य
2. ✓ पूजनीय
3. ✘ काल्पनिक
4. ✘ वर्जित

Question Number : 193 Question Id : 5861804250 Question Type : MCQ Option Shuffling : Yes  
Correct Marks : 1 Wrong Marks : 0.25

‘वात्सल्य’ का अर्थ है:

Options :

1. ✘ आदर
2. ✘ श्रद्धा
3. ✘ भक्ति
4. ✓ स्नेह

Question Number : 194 Question Id : 5861804251 Question Type : MCQ Option Shuffling : Yes  
Correct Marks : 1 Wrong Marks : 0.25

उपेक्षणीय’ का अर्थ है:

Options :

1. \* अपेक्षित
2. \* अनपेक्षित
3. ✓ उपेक्षा करने योग्य
4. \* आदरणीय

Question Number : 195 Question Id : 5861804252 Question Type : MCQ Option Shuffling : Yes  
Correct Marks : 1 Wrong Marks : 0.25

गद्यांश में 'बंदिश' का आशय नहीं हो सकता:

Options :

1. \* बंधन
2. ✓ शब्द समर्थन
3. \* व्यवधान
4. \* रुकावट

Sub-Section Number:	3
Sub-Section Id:	586180284
Question Shuffling Allowed :	Yes

Question Id : 5861804253 Question Type : COMPREHENSION Sub Question Shuffling Allowed : Yes Group Comprehension  
Questions : No

Question Numbers : (196 to 200)

Question Label : Comprehension



नीचे दिये गए गद्यांश को पढ़कर पूछे गये प्रश्नों के उत्तर दीजिए।

बदरीनारायण चौधरी 'प्रेमघन' ने 'आनंद कादंबनी' में 'दृश्य रूपक व नाटक' शीर्षक से लेखमाला प्रकाशित की किंतु उनका यह निबंध भारतेन्दु के निबंध की तरह व्यापक और समावेशी न था। भारतेन्दु युग में पत्र-पत्रिकाओं का प्रकाशन विपुल रूप से होने लगा था और साहित्यिक पत्रिकाएं हिन्दी जगत को खूब समृद्ध कर रही थीं। आलोचना के पहले चरण का विकास पत्र-पत्रिकाओं में छपने वाली पुस्तक समीक्षा और निबंधों में दृष्टिगोचर होता है। आचार्य शुक्ल ने इस युग में होने वाली आलोचना को 'समालोचना' शीर्षक से अभिहित किया है, जिसका उद्देश्य था गुण दोष का विवेचन। इस युग की प्रमुख पत्रिकाओं में भारतेन्दु के संपादन में कविवचन सुधा (1868 ई.) और हरिश्चंद्र चंद्रिका (1873 ई.) में समीक्षा के स्तंभ रहते थे। अन्य महत्वपूर्ण पत्रिकाओं में बालकृष्ण भट्ट की 'हिन्दी प्रदीप' (1877 ई.) प्रताप नारायण मिश्र की 'ब्राह्मण' (1883 ई.) और प्रेमघन की 'आनंद कादंबिनी' (1881 ई.) थी। इसी समय श्रीनिवास का नाटक 'संयोगिता स्वयंवर' (1886 ई.) प्रकाश में आया। बालकृष्ण भट्ट और प्रेमघन ने इस नाटक की समीक्षा की। भट्ट जी के समालोचना का शीर्षक था 'सच्ची समालोचना'। भट्ट जी ने इस नाटक के ऐतिहासिकता की पड़ताल की है।

Sub questions

Question Number : 196 Question Id : 5861804254 Question Type : MCQ Option Shuffling : Yes

Correct Marks : 1 Wrong Marks : 0.25

गद्यांश में किस युग के लेखन का उल्लेख है?

Options :

1. ✓ भारतेन्दु युग
2. \* द्विवेदी युग
3. \* शुक्ल युग
4. \* प्रेमचंद युग

Question Number : 197 Question Id : 5861804255 Question Type : MCQ Option Shuffling : Yes

Correct Marks : 1 Wrong Marks : 0.25

'विपुल' का अर्थ है:

Options :

1. \* अधिक
2. ✓ बहुत अधिक

3. \* विशिष्ट

4. \* कम

Question Number : 198 Question Id : 5861804256 Question Type : MCQ Option Shuffling : Yes  
Correct Marks : 1 Wrong Marks : 0.25

गद्यांश में उल्लेखित युग की आलोचना का उद्देश्य था:

Options :

1. \* गुण का विवेचन

2. \* दोष का विवेचन

3. ✓ गुण दोष का विवेचन

4. \* समाजशास्त्रीय विवेचन

Question Number : 199 Question Id : 5861804257 Question Type : MCQ Option Shuffling : Yes  
Correct Marks : 1 Wrong Marks : 0.25

‘अभिहित’ का अर्थ है:

Options :

1. ✓ उल्लिखित

2. \* लक्षित

3. \* वांछित

4. \* प्रस्फुटित

Question Number : 200 Question Id : 5861804258 Question Type : MCQ Option Shuffling : Yes  
Correct Marks : 1 Wrong Marks : 0.25

भट्ट जी ने ‘सच्ची समालोचना’ शीर्षक से किस नाटक की आलोचना की?

Options :

1. \* हिन्दी प्रदीप

2. \* ब्राह्मण

3. \* आनंद कादंबिनी

4. ✓ संयोगिता स्वयंवर

Question Id : 5861804253 Question Type : COMPREHENSION Sub Question Shuffling Allowed : Yes Group Comprehension  
Questions : No

Question Numbers : (196 to 200)

Question Label : Comprehension

नीचे दिये गए गद्यांश को पढ़कर पूछे गये प्रश्नों के उत्तर दीजिए।

बदरीनारायण चौधरी 'प्रेमघन' ने 'आनंद कादंबनी' में 'दृश्य रूपक व नाटक' शीर्षक से लेखमाला प्रकाशित की किंतु उनका यह निबंध भारतेन्दु के निबंध की तरह व्यापक और समावेशी न था। भारतेन्दु युग में पत्र-पत्रिकाओं का प्रकाशन विपुल रूप से होने लगा था और साहित्यिक पत्रिकाएं हिन्दी जगत को खूब समृद्ध कर रही थीं। आलोचना के पहले चरण का विकास पत्र-पत्रिकाओं में छपने वाली पुस्तक समीक्षा और निबंधों में दृष्टिगोचर होता है। आचार्य शुक्ल ने इस युग में होने वाली आलोचना को 'समालोचना' शीर्षक से अभिहित किया है, जिसका उद्देश्य था गुण दोष का विवेचन। इस युग की प्रमुख पत्रिकाओं में भारतेन्दु के संपादन में कविवचन सुधा (1868 ई.) और हरिश्चंद्र चंद्रिका (1873 ई.) में समीक्षा के स्तंभ रहते थे। अन्य महत्वपूर्ण पत्रिकाओं में बालकृष्ण भट्ट की 'हिन्दी प्रदीप' (1877 ई.) प्रताप नारायण मिश्र की 'ब्राह्मण' (1883 ई.) और प्रेमघन की 'आनंद कादंबिनी' (1881 ई.) थी। इसी समय श्रीनिवास का नाटक 'संयोगिता स्वयंवर' (1886 ई.) प्रकाश में आया। बालकृष्ण भट्ट और प्रेमघन ने इस नाटक की समीक्षा की। भट्ट जी के समालोचना का शीर्षक था 'सच्ची समालोचना'। भट्ट जी ने इस नाटक के ऐतिहासिकता की पड़ताल की है।

Sub questions

Question Number : 196 Question Id : 5861804254 Question Type : MCQ Option Shuffling : Yes  
Correct Marks : 1 Wrong Marks : 0.25

गद्यांश में किस युग के लेखन का उल्लेख है?

Options :

1. ✓ भारतेन्दु युग
2. \* दिववेदी युग

3. \* शुक्ल युग

4. \* प्रेमचंद युग

Question Number : 197 Question Id : 5861804255 Question Type : MCQ Option Shuffling : Yes

Correct Marks : 1 Wrong Marks : 0.25

‘विपुल’ का अर्थ है:

Options :

1. \* अधिक

2. ✓ बहुत अधिक

3. \* विशिष्ट

4. \* कम

Question Number : 198 Question Id : 5861804256 Question Type : MCQ Option Shuffling : Yes

Correct Marks : 1 Wrong Marks : 0.25

गद्यांश में उल्लेखित युग की आलोचना का उद्देश्य था:

Options :

1. \* गुण का विवेचन

2. \* दोष का विवेचन

3. ✓ गुण दोष का विवेचन

4. \* समाजशास्त्रीय विवेचन

Question Number : 199 Question Id : 5861804257 Question Type : MCQ Option Shuffling : Yes

Correct Marks : 1 Wrong Marks : 0.25

‘अभिहित’ का अर्थ है:

Options :

1. ✓ उल्लिखित

2. \* लक्षित

3. \* वांछित

4. \* प्रस्फुटित

Question Number : 200 Question Id : 5861804258 Question Type : MCQ Option Shuffling : Yes

Correct Marks : 1 Wrong Marks : 0.25

भट्ट जी ने 'सच्ची समालोचना' शीर्षक से किस नाटक की आलोचना की?

Options :

1. ✖ हिन्दी प्रदीप
2. ✖ ब्राह्मण
3. ✖ आनंद कादंबिनी
4. ✔ संयोगिता स्वयंवर