

## Education Consultant India Ltd.

Notations :

1.Options shown in green color and with ✓ icon are correct.

2.Options shown in red color and with ✖ icon are incorrect.

Question Paper Name:	GRADE II DASS 19th July 2019 Shift 2
Subject Name:	GRADE II DASS
Creation Date:	2019-07-19 16:18:47
Duration:	120
Total Marks:	200
Display Marks:	Yes
Share Answer Key With Delivery Engine:	No
Actual Answer Key:	Yes
Calculator:	None
Magnifying Glass Required?:	No
Ruler Required?:	No
Eraser Required?:	No
Scratch Pad Required?:	No
Rough Sketch/Notepad Required?:	No
Protractor Required?:	No
Show Watermark on Console?:	Yes
Highlighter:	No
Auto Save on Console?:	No

## Mental Ability1

Group Number :	1
Group Id :	998367237
Group Maximum Duration :	0
Group Minimum Duration :	0
Show Attended Group? :	No
Edit Attended Group? :	No
Break time:	0
Group Marks:	20
Is this Group for Examiner?:	No
Revisit allowed for group Instructions? :	Yes
Maximum Instruction Time:	0
Minimum Instruction Time:	0

## Mental Ability1

Section Id :	998367243
Section Number :	1

Section type :	Online
Mandatory or Optional:	Mandatory
Number of Questions:	20
Number of Questions to be attempted:	20
Section Marks:	20

Sub-Section Number:	1
Sub-Section Id:	998367355
Question Shuffling Allowed :	Yes

Question Number : 1 Question Id : 9983675805 Question Type : MCQ Option Shuffling : Yes

Correct Marks : 1 Wrong Marks : 0.25

Select the letter cluster which is related to third letter cluster in the same way as the second letter cluster is related to first letter cluster.

HOTEL: DMPCH :: SCHOOL : ?

Options :

1. ✘ OYDMMJ
2. ✔ OYDMMH
3. ✘ PYEMMH
4. ✘ OXDMMI

Question Number : 1 Question Id : 9983675805 Question Type : MCQ Option Shuffling : Yes

Correct Marks : 1 Wrong Marks : 0.25

वह वर्ण समूह चुनें जो तीसरे वर्ण समूह से उसी तरह से संबंधित है, जिस तरह से दूसरा वर्ण समूह पहले वर्ण समूह से संबंधित है।

HOTEL : DMPCH :: SCHOOL : ?

Options :

1. ✘ OYDMMJ
2. ✔ OYDMMH

3. ✖ PYEMMH

4. ✖ OXDMMI

Question Number : 2 Question Id : 9983675806 Question Type : MCQ Option Shuffling : Yes

Correct Marks : 1 Wrong Marks : 0.25

Select the number which is related to third number in the same way as the second number is related to first number.

2242: 28:: 1424: ?

Options :

1. ✖ 35

2. ✖ 36

3. ✔ 37

4. ✖ 38

Question Number : 2 Question Id : 9983675806 Question Type : MCQ Option Shuffling : Yes

Correct Marks : 1 Wrong Marks : 0.25

वह संख्या चुनें जो तीसरी संख्या से उसी तरह से संबंधित है, जिस तरह से दूसरी संख्या पहली संख्या से संबंधित है।

2242 : 28 :: 1424 : ?

Options :

1. ✖ 35

2. ✖ 36

3. ✓ 37

4. ✗ 38

Question Number : 3 Question Id : 9983675807 Question Type : MCQ Option Shuffling : Yes

Correct Marks : 1 Wrong Marks : 0.25

Three of the given four number pairs are similar in a certain manner while one is different. Choose the odd one out.

Options :

1. ✓ 118 : 61

2. ✗ 334 : 168

3. ✗ 252 : 127

4. ✗ 622 : 312

Question Number : 3 Question Id : 9983675807 Question Type : MCQ Option Shuffling : Yes

Correct Marks : 1 Wrong Marks : 0.25

दिए गए चार संख्या युग्मों में से तीन एक तरीके से समान हैं, जबकि उनमें से एक अलग है। इनमें से विषम चुनें।

Options :

1. ✓ 118 : 61

2. ✗ 334 : 168


3. ✗ 252 : 127



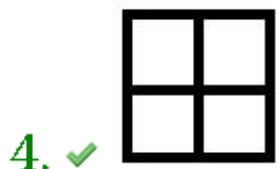
4. ✖ 622 : 312

Question Number : 4 Question Id : 9983675808 Question Type : MCQ Option Shuffling : Yes  
Correct Marks : 1 Wrong Marks : 0.25

Select a figure from the options figures that would complete the figure matrix.




Options :

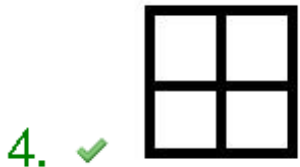


Question Number : 4 Question Id : 9983675808 Question Type : MCQ Option Shuffling : Yes  
Correct Marks : 1 Wrong Marks : 0.25

इन वैकल्पिक आकृतियों में से वह आकृति चुनें जो इस आकृति आव्यूह को पूरा करती है?



Options :



Question Number : 5 Question Id : 9983675809 Question Type : MCQ Option Shuffling : Yes

Correct Marks : 1 Wrong Marks : 0.25

Three of the given four letter cluster pairs are similar in a certain manner while one is different. Choose the odd one out.

Options :

1. ✘ COUNTABLE : JQKYRAHXW

2. ✘ DEFORMITY : KBAZPUPEI

3. ✓ INSPECTOR : LOJECOKPZ

4. ✘ EMULATION : HQIAYJKEP

Question Number : 5 Question Id : 9983675809 Question Type : MCQ Option Shuffling : Yes

Correct Marks : 1 Wrong Marks : 0.25

दिए गए चार शब्द युग्मों में से तीन एक तरीके से समान हैं, जबकि उनमें से एक अलग है। इनमें से विषम चुनें।

Options :

1. ✘ COUNTABLE : JQKYRAHXW

2. ✘ DEFORMITY : KBAZPUPEI

3. ✓ INSPECTOR : LOJECOKPZ

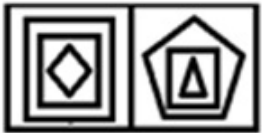
4. ✘ EMULATION : HQIAYJKEP

Question Number : 6 Question Id : 9983675810 Question Type : MCQ Option Shuffling : Yes

Correct Marks : 1 Wrong Marks : 0.25

Select the figure amongst the option figures which has the same characteristics as the two Problem figures have.

**Problem Figure:**



Options :



1. ✘

2. ✖



3. ✖



4. ✔

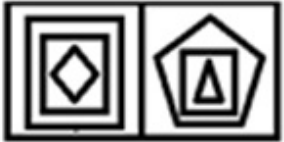


Question Number : 6 Question Id : 9983675810 Question Type : MCQ Option Shuffling : Yes

Correct Marks : 1 Wrong Marks : 0.25

इन वैकल्पिक आकृतियों में से वह आकृति चुनें जिसके अभिलक्षण दो समस्या आकृतियों के समान हैं।

प्रश्न आकृति:



Options :

1. ✖





2. ✘



3. ✘



4. ✔

Question Number : 7 Question Id : 9983675811 Question Type : MCQ Option Shuffling : Yes

Correct Marks : 1 Wrong Marks : 0.25

Three of the given four word pairs are similar in a certain manner while one is different. Choose the odd one out.

Options :

1. ✘ Boring : Dull

2. ✘ Clean : Spotless

3. ✘ Difficult : Arduous

4. ✔ Sluggish : Rapid

Question Number : 7 Question Id : 9983675811 Question Type : MCQ Option Shuffling : Yes

Correct Marks : 1 Wrong Marks : 0.25

दिए गए चार शब्द युग्मों में से तीन एक तरीके से समान हैं, जबकि उनमें से एक अलग है। इनमें से विषम चुनें।

Options :

1. ✘ उदास : मंद

2. ✘ साफ़ : बेदाग

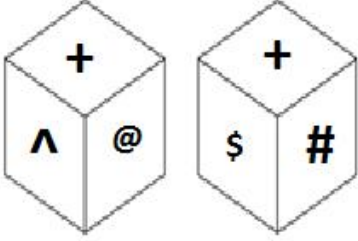
3. ✘ कठिन : मुश्किल

4. ✔ सुस्त : तीव्र

Question Number : 8 Question Id : 9983675812 Question Type : MCQ Option Shuffling : Yes

Correct Marks : 1 Wrong Marks : 0.25

Two different positions of the same dice are shown below. Which symbol is on the face opposite the face showing 'S'?



Options :

1. ✘ #

2. ✔ ^

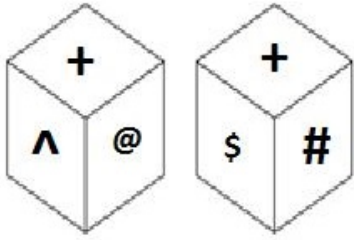
3. ✘ +

4. ✘ @

Question Number : 8 Question Id : 9983675812 Question Type : MCQ Option Shuffling : Yes

Correct Marks : 1 Wrong Marks : 0.25

एक ही डाइस (पासे) की दो विभिन्न स्थितियाँ नीचे दिखाई गई हैं। '\$' दिखाने वाले फलक के विरुद्ध वाले फलक पर चिह्नित प्रतीक पता करें।



Options :

1. ✖ #

2. ✔ ^

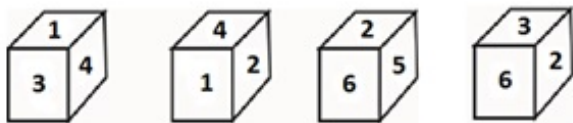
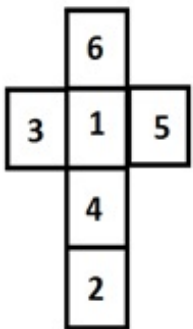
3. ✖ +

4. ✖ @

Question Number : 9 Question Id : 9983675813 Question Type : MCQ Option Shuffling : Yes

Correct Marks : 1 Wrong Marks : 0.25

Which of the following patterns of the dices can be formed when the sheet given below is folded?



Options :

1. ✖ Only 1 and 3

2. ✖ Only 3 and 4

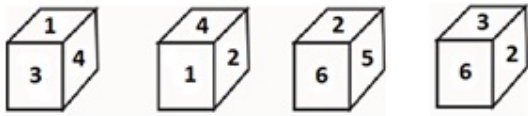
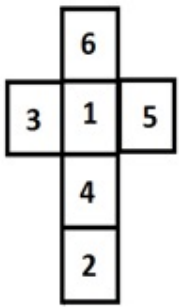
3. ✖ Only 1, 2 and 4

4. ✔ Only 1, 3 and 4

Question Number : 9 Question Id : 9983675813 Question Type : MCQ Option Shuffling : Yes

Correct Marks : 1 Wrong Marks : 0.25

जब दी गई शीट को फ़ोल्ड किया जाता है, तब डाइस (पासे) के पैटर्नों में से कौन सा पैटर्न बन सकता है?



Options :

1. ✖ केवल 1 और 3

2. ✖ केवल 3 और 4

3. ✖ केवल 1, 2 और 4

4. ✔ केवल 1, 3 और 4

Question Number : 10 Question Id : 9983675814 Question Type : MCQ Option Shuffling : Yes

Correct Marks : 1 Wrong Marks : 0.25



Devansh starts his journey from his home and goes 29 m towards East. From there, he turns right and walks 14 m. From there, he turns left and goes 19 m and then he turns left and walks 27 m. After that he turns left and walks 18 m. He finally turns right and walks 13 m and reaches his shop. What is the approximate shortest distance between his home and shop?

Options :

1. ✓ 40 m

2. ✗ 50 m

3. ✗ 60 m

4. ✗ 70 m

Question Number : 10 Question Id : 9983675814 Question Type : MCQ Option Shuffling : Yes

Correct Marks : 1 Wrong Marks : 0.25

देवांश अपने घर से अपना सफर शुरू करता है और 29 m पूर्व की ओर चलता है। वहाँ से वह दाईं ओर मुड़कर 14 m चलता है। वहाँ से वह बाईं ओर मुड़कर 19 m चलता है और फिर बाईं ओर मुड़कर 27 m चलता है। उसके बाद वह बाईं ओर मुड़कर 18 m चलता है। अंत में वह दाईं ओर मुड़कर 13 m चलता है और अपनी दुकान पर पहुँच जाता है। उसके घर और उसकी दुकान के बीच की सन्निकट अल्पतम दूरी पता करें।

Options :

1. ✓ 40 m

2. ✗ 50 m

3. ✗ 60 m

4. ✗ 70 m

Question Number : 11 Question Id : 9983675815 Question Type : MCQ Option Shuffling : Yes

Correct Marks : 1 Wrong Marks : 0.25

Which number will replace the question mark (?) in the given matrix?

42	6	2	96
18	5	3	69
17	2	4	?

Options :

1. ✖ 77

2. ✔ 76

3. ✖ 87

4. ✖ 89

Question Number : 11 Question Id : 9983675815 Question Type : MCQ Option Shuffling : Yes

Correct Marks : 1 Wrong Marks : 0.25

दिए गए आव्यूह में प्रश्न चिह्न (?) के स्थान पर कौन सी संख्या आएगी?

42	6	2	96
18	5	3	69
17	2	4	?

Options :

1. ✖ 77

2. ✔ 76

3. ✖ 87

4. ✖ 89

Question Number : 12 Question Id : 9983675816 Question Type : MCQ Option Shuffling : Yes

Correct Marks : 1 Wrong Marks : 0.25

Eight friends Arva, Akram, Rachit, Pratham, Rupal, Virendra, Carol and Anthony are sitting around a round table facing the centre. Arva is not sitting near Rachit. Akram is second to the left of Anthony. Rachit is second to the right of Carol. Pratham is sitting exactly to the right of Anthony. Rupal is sitting between Akram and Rachit. Arva is at fourth place from Virendra's left.

Which of the following statement is NOT correct?

Options :

1. ✓ Virendra is third to the left of Akram and third to right of Carol.

2. ✖ Rachit is sitting between Rupal and Virendra.

3. ✖ Akram is sitting between Arva and Rupal.

4. ✖ Rachit is at equal distance from Anthony from both the ends.

Question Number : 12 Question Id : 9983675816 Question Type : MCQ Option Shuffling : Yes

Correct Marks : 1 Wrong Marks : 0.25

आठ दोस्त अर्वा, अकरम, रचित, प्रथम, रूपल, वीरेंद्र, कैरोल और एंथोनी एक गोल मेज़ के सामने की तरफ मुंह करके बैठे हैं। अर्वा रचित के निकट नहीं बैठी है। अकरम एंथोनी से बाईं ओर दूसरे स्थान पर बैठा है। रचित कैरोल से दाईं ओर दूसरे स्थान पर बैठा है। प्रथम ठीक एंथोनी की दाईं ओर बैठा है। रूपल अकरम और रचित के बीच बैठी है। अर्वा वीरेंद्र की बाईं ओर से चौथे स्थान पर है।

इनमें से कौन सा कथन सही नहीं है?

Options :

1. ✓ वीरेंद्र अकरम के बाईं ओर तीसरे स्थान पर और कैरोल के दाईं ओर तीसरे स्थान पर है।

2. ✖ रचित रूपल और वीरेंद्र के बीच बैठा है।
3. ✖ अकरम अर्वा और रूपल के बीच में बैठा है।
4. ✖ रचित दोनों तरफ से एंथोनी से समान दूरी पर है।

Question Number : 13 Question Id : 9983675817 Question Type : MCQ Option Shuffling : Yes

Correct Marks : 1 Wrong Marks : 0.25

Eight persons P, Q, R, S, T, U, V and W are sitting around a circular table at equal distance clockwise from each other facing the centre. Q interchanges his position with T. Now, if W is facing North then which direction is Q facing?

Options :

1. ✖ South - east
2. ✔ South - west
3. ✖ North - east
4. ✖ North

Question Number : 13 Question Id : 9983675817 Question Type : MCQ Option Shuffling : Yes

Correct Marks : 1 Wrong Marks : 0.25

आठ व्यक्ति P, Q, R, S, T, U, V और W घड़ी की सूई के अनुसार, एक दूसरे के सामने केंद्र की ओर एक समान दूरी पर एक गोलाकार टेबल के चारों ओर बैठे हैं। Q अपना स्थान T के साथ बदल लेता है। यदि W उत्तर की ओर है, तो Q किस दिशा की ओर है?

Options :

1. ✖ दक्षिण - पूर्व



2. ✓ दक्षिण - पश्चिम

3. ✗ उत्तर - पूर्व

4. ✗ उत्तर

Question Number : 14 Question Id : 9983675818 Question Type : MCQ Option Shuffling : Yes

Correct Marks : 1 Wrong Marks : 0.25

Four travelers Tanya, Nisha, Dushyant, and Neeraj have to take their buses for one of the destinations Kanpur, Agra, Faizabad and Lucknow. The Buses' timings are 7:00 a.m., 8:00 a.m., 9:00 a.m. and 10:00 a.m. The first bus will depart for Agra. Neeraj does not travel to Agra. Nisha does not travel to Agra. Neeraj departs before Nisha. The second bus of the day is for Lucknow. Tanya travels by 10:00 a.m. bus. To which city and at what time Neeraj will depart?

Options :

1. ✓ Lucknow – 8:00 a.m.

2. ✗ Faizabad – 9:00 a.m.

3. ✗ Kanpur – 10:00 a.m.

4. ✗ Faizabad – 10:00 a.m.

Question Number : 14 Question Id : 9983675818 Question Type : MCQ Option Shuffling : Yes

Correct Marks : 1 Wrong Marks : 0.25

चार मुसाफिर तान्या, निशा, दुष्यंत और नीरज को कानपुर, आगरा, फैजाबाद और लखनऊ में से एक के लिए बस पकड़नी है। बस का समय है सुबह 7:00 बजे, सुबह 8:00 बजे, सुबह 9:00 बजे और सुबह 10:00 बजे। पहली बस आगरा के लिए जाएगी। नीरज को आगरा नहीं जाना है। निशा को आगरा नहीं जाना है। नीरज निशा से पहले जाता है। दिन की दूसरी बस लखनऊ के लिए है। तान्या सुबह 10:00 बजे की बस से जाती है। नीरज किस शहर के लिए और किस समय जाएगा?

Options :

1. ✓ लखनऊ - सुबह 8:00 बजे

2. ✖ फैज़ाबाद - सुबह 9:00 बजे

3. ✖ कानपूर - सुबह 10:00 बजे

4. ✖ फैज़ाबाद - सुबह 10:00 बजे

Question Number : 15 Question Id : 9983675819 Question Type : MCQ Option Shuffling : Yes

Correct Marks : 1 Wrong Marks : 0.25

P is the wife of Q, who is the only child of R. S is the grandson of R's wife.

How is S related to P?

Options :

1. ✓ Son

2. ✖ Father

3. ✖ Brother

4. ✖ Nephew

Question Number : 15 Question Id : 9983675819 Question Type : MCQ Option Shuffling : Yes

Correct Marks : 1 Wrong Marks : 0.25

P, Q की पत्नी है, जो R की इकलौती संतान है। S, R की पत्नी का पोता/दोहता है।

S, P से कैसे संबंधित है?

Options :

1. ✓ बेटा

2. ✖ पिता

3. ✖ भाई

4. ✖ भतीजा/भांजा

Question Number : 16 Question Id : 9983675820 Question Type : MCQ Option Shuffling : Yes

Correct Marks : 1 Wrong Marks : 0.25

Four statements are given, followed by three conclusions. The symbols used in them have meanings as follows:

P @ Q means P is neither smaller than nor greater than Q.

P # Q means P is neither greater than nor equal to Q.

P & Q means P is neither smaller than nor equal to Q.

P % Q means P is not greater than Q.

P \$ Q means P is not smaller than Q.

Now read the following statements and decide which of the conclusions is/are true.

**Statements:**

S @ Z

J # Q

S & P

P & J

**Conclusions:**

I. S & J

II. Z & J

III. Q @ P

**Options :**

1. ✔ Only conclusion I and II is true.

2. ✖ Only conclusion II and III is true.

3. ✖ Only conclusion I and III is true.

4. ✖ All conclusions I, II and III are true.

Question Number : 16 Question Id : 9983675820 Question Type : MCQ Option Shuffling : Yes

Correct Marks : 1 Wrong Marks : 0.25

चार कथन दिए गए हैं और उनके बाद तीन निष्कर्ष भी दिए गए हैं। इनमें प्रयुक्त प्रतीकों का अर्थ निम्नानुसार है:

P @ Q का अर्थ है कि P न तो Q से छोटा है और न बड़ा है।

P # Q का अर्थ है कि P न तो Q से बड़ा है और न बराबर है।

P & Q का अर्थ है कि P न तो Q से छोटा है और न बराबर है।

P % Q का अर्थ है कि P Q से बड़ा नहीं है।

P \$ Q का अर्थ है कि P Q से छोटा नहीं है।

अब निम्नलिखित कथनों को पढ़ें और तय करें कि इनमें से कौन सा/से निष्कर्ष सही है/हैं।

कथन:

S @ Z

J # Q

S & P

P & J

निष्कर्ष:

I. S & J

II. Z & J

III. Q @ P

Options :

1. ✔ केवल निष्कर्ष I और II सही है।

2. ✖ केवल निष्कर्ष II और III सही है।

3. ✖ केवल निष्कर्ष I और III सही है।



4. ✘ सभी निष्कर्ष I, II और III सही हैं।

Question Number : 17 Question Id : 9983675821 Question Type : MCQ Option Shuffling : Yes

Correct Marks : 1 Wrong Marks : 0.25

Three statements are given, followed by four conclusions numbered I to IV. Assuming the statements to be true even if they seem to be at variance with commonly known facts, decide which of the conclusions logically follow(s) from the given statements.

**Statements:**

All chalks are boards.

Some boards are pens.

All pens are pencils.

**Conclusions:**

I. Some pens are chalks.

II. Some pens are boards.

III. Some pencils are pens.

IV. No pen is chalk.

**Options :**

1. ✘ Only conclusion II and III follow.

2. ✘ Either conclusion I or IV follows.

3. ✘ Conclusion II and either I or IV follows.

4. ✔ Conclusion II and III and either I or IV follows.

Question Number : 17 Question Id : 9983675821 Question Type : MCQ Option Shuffling : Yes

Correct Marks : 1 Wrong Marks : 0.25

तीन कथन दिए हैं और उसके बाद I से IV अंकित चार निष्कर्ष भी दिए गए हैं। मान लें कि कथन सही है, भले ही वास्तविक तथ्यों से परे हैं, तय करें कि कौन सा निष्कर्ष तार्किक रूप से दिए गए कथन का अनुसरण करता है।

**कथन:**

सभी चाक बोर्ड हैं।

कुछ बोर्ड पेन हैं।

सभी पेन पेंसिल हैं।

**निष्कर्ष:**

I. कुछ पेन चाक हैं।

II. कुछ पेन बोर्ड हैं।

III. कुछ पेंसिल पेन हैं।

IV. कोई पेन चाक नहीं है।

**Options :**

1. ✘ केवल निष्कर्ष II और III अनुसरण करते हैं।

2. ✘ निष्कर्ष I और IV में से कोई अनुसरण करता है।

3. ✘ निष्कर्ष II और I या IV में से कोई अनुसरण करता है।

4. ✔ निष्कर्ष II और III और I या IV में से कोई अनुसरण करता है।

Question Number : 18 Question Id : 9983675822 Question Type : MCQ Option Shuffling : Yes  
Correct Marks : 1 Wrong Marks : 0.25

A team of six persons is to be selected from among five boys, K, L, M, N and O, and five girls, P, Q, R, S and T, such that there are at least three girls in the team and it meets the following criteria:

- i. Q and T cannot go together.
- ii. M and O must be together.
- iii. K and M cannot be together.
- iv. M and Q must be together.
- v. P and K must be together.

Which of the following teams can be formed?

1. KPQMOR
2. LRSMQO
3. RSTKPL
4. SKMRQO

Options :

1. ✘ 1 and 3

2. ✔ 2 and 3

3. ✘ 3 and 4

4. ✘ 1, 3 and 4

Question Number : 18 Question Id : 9983675822 Question Type : MCQ Option Shuffling : Yes  
Correct Marks : 1 Wrong Marks : 0.25

पाँच लड़कों K, L, M, N और O, और पाँच लड़कियों P, Q, R, S और T में से कुछ इस प्रकार से छह की टीम चुनी जानी है कि टीम में कम से कम तीन लड़कियां हों और निम्नलिखित मानदंड पूरे करती हो:

- i. Q और T एक साथ नहीं हो सकते।
- ii. M और O एक साथ होने चाहिए।
- iii. K और M एक साथ नहीं हो सकते।
- iv. M और Q एक साथ होने चाहिए।
- v. P और K एक साथ होने चाहिए।

इनमें से कौन सा विकल्प से एक टीम बन सकती है?

1. KPQMOR
2. LRSMQO
3. RSTKPL
4. SKMRQO

Options :

1. ✘ 1 और 3

2. ✔ 2 और 3

3. ✘ 3 और 4

4. ✘ 1, 3 और 4

Question Number : 19 Question Id : 9983675823 Question Type : MCQ Option Shuffling : Yes  
Correct Marks : 1 Wrong Marks : 0.25

The criteria for selecting a candidate for the post of 'Mechanical Engineer' are as follow.

The candidate:

1. must have passed M.Tech in Mechanical Engineering with more than 75% marks.
2. must have secured more than 65% marks in the written test and more than 70% in the interview.
3. must not be less than 30 years and not more than 35 years of age as on 1 January 2019.

However, if a candidate fulfils all the above criteria EXCEPT:

- a. no. 2, but has obtained more than 80% marks in M.Tech, his/her case is to be referred to the Chief Engineer.
- b. no. 3, but has got more than five years experience of working as a Mechanical Engineer, his/her case is to be referred to the Deputy Director.

Based on the criteria given and without assuming any additional information, you have to a take a decision for the following candidate.

Vijendra completed M.Tech with 76% marks in Mechanical Engineering. He was born on 14<sup>th</sup> November 1983. He has got 73% marks in both written test and interview. He has worked as Mechanical Engineer for three years.

Options :

1. ✘ The candidate is to be selected.
2. ✔ The candidate is not to be selected.
3. ✘ The candidate's case is to be referred to the Chief Engineer.
4. ✘ The candidate's case is to be referred to Deputy Director.

Question Number : 19 Question Id : 9983675823 Question Type : MCQ Option Shuffling : Yes

Correct Marks : 1 Wrong Marks : 0.25



'मैकेनिकल इंजीनियर' के पद के लिए उम्मीदवार चुनने के लिए मानदंड निम्नानुसार हैं:

उम्मीदवार:

1. मैकेनिकल इंजीनियरिंग में एम.टेक होना चाहिए और 75% से अधिक अंक होने चाहिए।
2. लिखित परीक्षा में अंक 65% से अधिक होने चाहिए और साक्षात्कार में 70% से अधिक होने चाहिए।
3. 1 जनवरी 2019 तक उसकी उम्र 30 साल से कम या 35 साल से अधिक नहीं होनी चाहिए।

हालाँकि, यदि उम्मीदवार उक्त सभी मानदंड पूरे करता है, सिवाए:

- a. नं. 2, लेकिन उसके एम.टेक. में 80% से अधिक अंक हैं, तो उसका मामला मुख्य इंजीनियर को भेजा जाएगा।
- b. नं. 3, लेकिन उसके पास मैकेनिकल इंजीनियर के तौर पर काम करने का 5 साल का अनुभव, तो उसका मामला उप-निदेशक को भेजा जाएगा।

प्रदत्त मानदंडों के आधार पर और किसी भी अतिरिक्त जानकारी पर गौर किए बिना, आपको निम्नलिखित उम्मीदवार के लिए फैसला लेना है।

विजेंद्र ने 76% अंकों के साथ मैकेनिकल इंजीनियरिंग में एम.टेक पूरी की है। उसका जन्म 14 नवंबर 1983 को हुआ था। उसे लिखित परीक्षा और साक्षात्कार दोनों में 73% अंक मिले हैं। उसने तीन साल मैकेनिकल इंजीनियर के तौर पर काम किया हुआ है।

Options :

1. ✘ उम्मीदवार चुना जाना चाहिए।
2. ✔ उम्मीदवार को नहीं चुना जाना चाहिए।
3. ✘ उम्मीदवार के मामले को मुख्य इंजीनियर के पास भेज देना चाहिए।
4. ✘ उम्मीदवार के मामले को उप-निदेशक के पास भेज देना चाहिए।

Question Number : 20 Question Id : 9983675824 Question Type : MCQ Option Shuffling : Yes  
Correct Marks : 1 Wrong Marks : 0.25

The criteria for selecting a candidate for the post of 'Lecturer - History' are as follow.

The candidate:

1. must have passed M.A. in History with more than 70% marks.
2. must not be more than 40 years of age as on 1 January 2019.
3. must have passed UGC-NET examination in History.

However, if a candidate fulfils all the above criteria EXCEPT:

- a. no. 2, but has got more than five years experience of working as a Lecturer - History, his/her case is to be referred to the Principal
- b. no. 3, but has completed Ph.D. in History, his/her case is to be referred to the Director.

Based on the criteria given and without assuming any additional information, you have to a take a decision for the following candidate.

Manushi has completed M.A. and Ph.D. in History. She got 72% in M.A. She was born on 25 May 1983.

Options :

1. ✘ She is to be selected.
2. ✘ She is not to be selected.
3. ✘ Her case is to be referred to the Principal.
4. ✔ Her case is to be referred to Director.

Question Number : 20 Question Id : 9983675824 Question Type : MCQ Option Shuffling : Yes  
Correct Marks : 1 Wrong Marks : 0.25

'लेक्चरर - इतिहास' के पद के लिए उम्मीदवार चुनने के लिए मानदंड निम्नानुसार हैं:

उम्मीदवार:

1. इतिहास में एम.ए. होना चाहिए और 70% से अधिक अंक होने चाहिए।
2. 1 जनवरी 2019 तक उसकी उम्र 40 साल से अधिक नहीं होनी चाहिए।
3. इतिहास में यू.जी.सी.-एन.ई.टी. की परीक्षा पास होनी चाहिए।

हालाँकि, यदि उम्मीदवार उक्त सभी मानदंड पूरे करता है, सिवाए:

- a. नं. 2, लेकिन उसके लेक्चरर-इतिहास के तौर पर काम करने का 5 साल से अधिक का अनुभव है, तो उसका मामला प्रिंसिपल को भेजा जाएगा।
- b. नं. 3, लेकिन उसने इतिहास में पी.एच.डी. की है, तो उसका मामला निदेशक को भेजा जाएगा।

प्रदत्त मानदंडों के आधार पर और किसी भी अतिरिक्त जानकारी पर गौर किए बिना, आपको निम्न उम्मीदवार के लिए फैसला लेना है।

मानुषी ने इतिहास में एम.ए. और पी.एच.डी. पूरी की है। उसके एम.ए. में 72% अंक हैं। उसका जन्म 25 मई 1983 को हुआ था।

Options :

1. ✘ उसे चुन लिया जाएगा।
2. ✘ उसे नहीं चुना जाएगा।
3. ✘ उसका मामला प्रिंसिपल को भेज दिया जाएगा।
4. ✔ उसका मामला निदेशक को भेज दिया जाएगा।

## Mental Ability2

Group Number :	2
Group Id :	998367238
Group Maximum Duration :	0
Group Minimum Duration :	0
Show Attended Group? :	No
Edit Attended Group? :	No



**Break time:** 0  
**Group Marks:** 20  
**Is this Group for Examiner?:** No  
**Revisit allowed for group Instructions? :** Yes  
**Maximum Instruction Time:** 0  
**Minimum Instruction Time:** 0

## Mental Ability2

**Section Id :** 998367244  
**Section Number :** 1  
**Section type :** Online  
**Mandatory or Optional:** Mandatory  
**Number of Questions:** 20  
**Number of Questions to be attempted:** 20  
**Section Marks:** 20

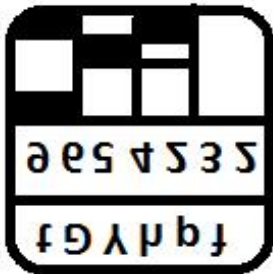
**Sub-Section Number:** 1  
**Sub-Section Id:** 998367356  
**Question Shuffling Allowed :** Yes

**Question Number : 21 Question Id : 9983675825 Question Type : MCQ Option Shuffling : Yes**  
**Correct Marks : 1 Wrong Marks : 0.25**

Which of the option figures represents the correct water image of the figure given below?

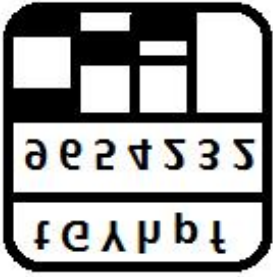


Options :

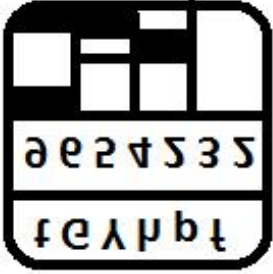


1. ✖

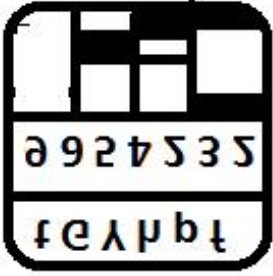
2. ✓



3. ✗



4. ✗



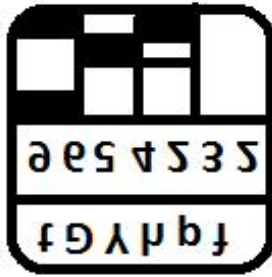
Question Number : 21 Question Id : 9983675825 Question Type : MCQ Option Shuffling : Yes

Correct Marks : 1 Wrong Marks : 0.25

इन आकृतियों में से कौन सी आकृति दी गई आकृति का जल प्रतिबिंब दर्शाती है?



Options :



1. ✘



2. ✔



3. ✘



4. ✘

Question Number : 22 Question Id : 9983675826 Question Type : MCQ Option Shuffling : Yes

Correct Marks : 1 Wrong Marks : 0.25

Select the correct mirror image of the given cluster when a vertical mirror is placed on the right of the word.

**SphtG74RB82pmN**

Options :

1. ✘ NmqS8B9PZGtq2

2. ✘ NmqS8B9PZGtq2

3. ✔ NmqS8B9PZGtq2

4. ✘ NmqS8B9PZGtq2

Question Number : 22 Question Id : 9983675826 Question Type : MCQ Option Shuffling : Yes

Correct Marks : 1 Wrong Marks : 0.25

दिए गए समूह की सही दर्पण छवि चुनें, अगर शब्द के दाहिने ओर एक लम्बवत दर्पण रखा जाता है।

**NmqS8B9PZGtq2**

Options :

1. ✘ NmqS8B9PZGtq2

2. ✘ NmqS8B9PZGtq2

3. ✔ NmqS8B9PZGtq2

4. ✘ NmqS8B9PZGtq2

Question Number : 23 Question Id : 9983675827 Question Type : MCQ Option Shuffling : Yes

Correct Marks : 1 Wrong Marks : 0.25

Eight symbol-number clusters are given below three of which are same. Find the three clusters that are exactly same.

- A. % 6 # \$ 6 @ 7 \* 4 # \$ @ # % 5 %
- B. % 6 # \$ 4 @ 7 \* 4 \$ @ @ # % 5 %
- C. % 6 # \$ 4 @ 7 \* 4 # \$ @ # % 5 %
- D. % 6 # \$ 4 @ 7 \* 4 # \$ @ # % 7 %
- E. % 6 # \$ 4 @ 7 \* 4 # \$ @ # % 5 %
- F. % 6 # \$ 9 @ 7 \* 4 # \$ @ # % 5 %
- G. % 6 # \$ 4 @ 7 \* 4 # \$ @ # % 5 %
- H. % 6 # \$ 4 @ 7 \* 4 # \$ @ ## 5 %

Options :

1. ✘ A, C and E

2. ✘ B, C and D

3. ✘ D, F and H

4. ✔ C, E and G

Question Number : 23 Question Id : 9983675827 Question Type : MCQ Option Shuffling : Yes

Correct Marks : 1 Wrong Marks : 0.25

नीचे आठ प्रतीक-संख्या के समूह दिए गए हैं, इनमें से तीन एक समान हैं। बिलकुल समान तीन समूह पता करें।

- A. % 6 # \$ 6 @ 7 \* 4 # \$ @ # % 5 %
- B. % 6 # \$ 4 @ 7 \* 4 \$ @ @ # % 5 %
- C. % 6 # \$ 4 @ 7 \* 4 # \$ @ # % 5 %
- D. % 6 # \$ 4 @ 7 \* 4 # \$ @ # % 7 %
- E. % 6 # \$ 4 @ 7 \* 4 # \$ @ # % 5 %
- F. % 6 # \$ 9 @ 7 \* 4 # \$ @ # % 5 %
- G. % 6 # \$ 4 @ 7 \* 4 # \$ @ # % 5 %
- H. % 6 # \$ 4 @ 7 \* 4 # \$ @ ## 5 %

Options :

1. ✘ A, C और E

2. ✘ B, C और D

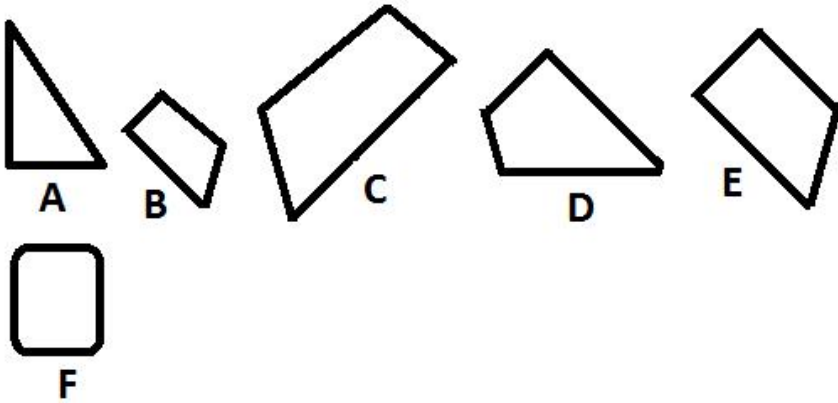
3. ✘ D, F और H

4. ✔ C, E और G

Question Number : 24 Question Id : 9983675828 Question Type : MCQ Option Shuffling : Yes

Correct Marks : 1 Wrong Marks : 0.25

Which of the given figures, when fitted into each other would form a pentagon? Select an appropriate combination from the given options.



Options :

1. ✘ ABCE

2. ✘ ACDF

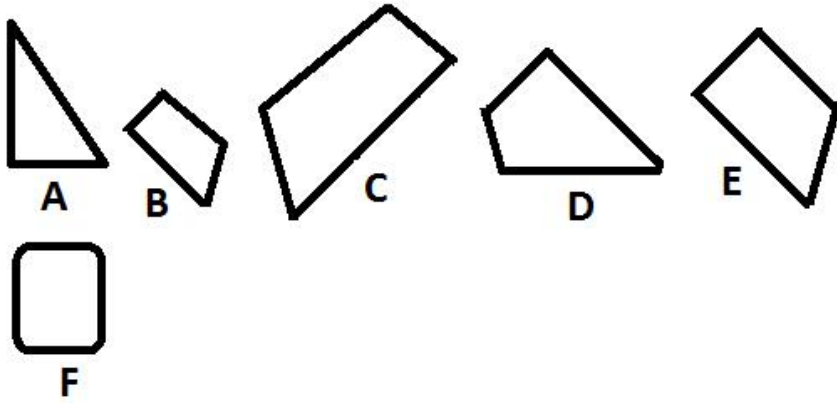
3. ✘ BCEF

4. ✔ BCDE

Question Number : 24 Question Id : 9983675828 Question Type : MCQ Option Shuffling : Yes

Correct Marks : 1 Wrong Marks : 0.25

इनमें से किस आकृति को जब एक एक दूसरे में फिट किया जाता है, तो एक पंचकोण बनेगा? दिए गए विकल्पों में से समुचित संयोजन का चयन करें।



Options :

1. ✖ ABCE

2. ✖ ACDF

3. ✖ BCEF

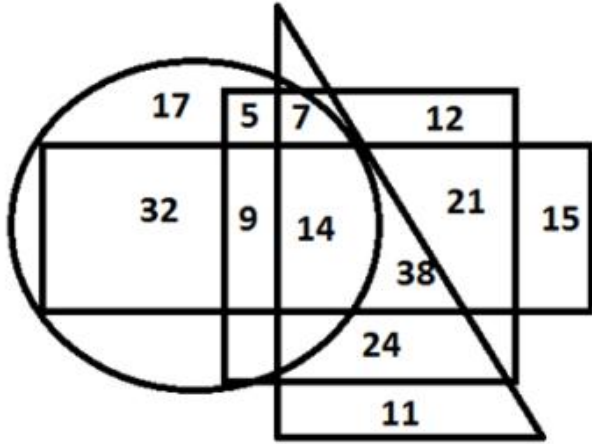
4. ✔ BCDE

Question Number : 25 Question Id : 9983675829 Question Type : MCQ Option Shuffling : Yes

Correct Marks : 1 Wrong Marks : 0.25



In the diagram given below, the circle stands for 'HR Managers', the triangle stands for 'MBA degree holders', the rectangle stands for 'Males', and the square stands for 'Permanent Employees'. The numbers in different segments represent the number of persons.



Which of following statement is NOT correct?

Options :

1. ✘

The number of Male HR Managers who are permanent employees but are not MBA degree holders is 9.

2. ✘

The number of Male HR managers who do not hold an MBA degree and are not permanent employees is 32.

3. ✘

The number of Male MBA degree holders who are permanent employees but are not HR managers is 38.

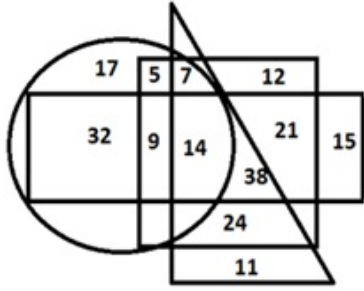
4. ✔ The number of Permanent Male employees is 24.

Question Number : 25 Question Id : 9983675829 Question Type : MCQ Option Shuffling : Yes

Correct Marks : 1 Wrong Marks : 0.25



दिए गए आरेख में, वृत्त 'एच.आर. प्रबंधकों' को दर्शाता है, त्रिभुज 'एमबीए डिग्री धारकों' को दर्शाता है, आयत 'पुरुषों' को दर्शाता है और वर्ग 'स्थायी कर्मचारियों' को दर्शाता है। अलग-अलग खंडों की दी गई संख्याएँ व्यक्तियों की संख्या को दर्शाती हैं।



इनमें से कौन सा कथन सही नहीं है?

Options :

1. ✖

ऐसे पुरुष एच.आर. प्रबंधकों की संख्या 9 है, जो स्थायी कर्मचारी तो हैं, लेकिन उनके पास एम.बी.ए. की डिग्री नहीं है।

2. ✖

ऐसे पुरुष एच.आर. प्रबंधकों की संख्या 32 है, जो न तो स्थायी कर्मचारी हैं और न ही उनके पास एम.बी.ए. डिग्री है।

3. ✖

ऐसे पुरुष एम.बी.ए. डिग्री धारकों की संख्या 38 है, जो स्थायी कर्मचारी तो हैं, लेकिन एच.आर. प्रबंधक नहीं हैं।

4. ✔ स्थायी पुरुष कर्मचारियों की संख्या 24 है।

Question Number : 26 Question Id : 9983675830 Question Type : MCQ Option Shuffling : Yes

Correct Marks : 1 Wrong Marks : 0.25

Select the option figure which contains figure X embedded in it as its part.



Figure X

Options :

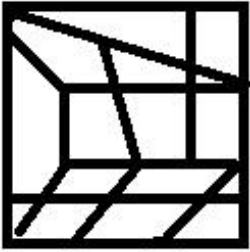
1. ✖



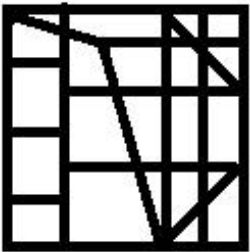
2. ✔



3. ✖

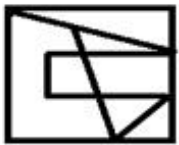


4. ✖



Question Number : 26 Question Id : 9983675830 Question Type : MCQ Option Shuffling : Yes  
Correct Marks : 1 Wrong Marks : 0.25

इनमें से वह आकृति चुनें जिसमें आकृति X इसका एक भाग है।

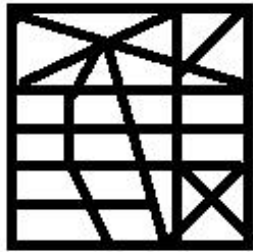


आकृति X

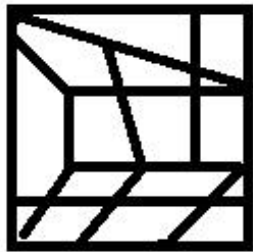
Options :



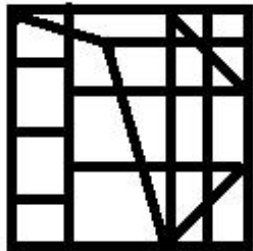
1. ✘



2. ✔



3. ✘



4. ✘

Question Number : 27 Question Id : 9983675831 Question Type : MCQ Option Shuffling : Yes

Correct Marks : 1 Wrong Marks : 0.25

Which of the following option figure will complete the pattern in the figure given below?



Options :



Question Number : 27 Question Id : 9983675831 Question Type : MCQ Option Shuffling : Yes  
Correct Marks : 1 Wrong Marks : 0.25

इनमें से कौन सी आकृति नीचे दी गई आकृति पैटर्न को पूरा करेगी?



Options :



2. ✖



3. ✔



4. ✖



Question Number : 28 Question Id : 9983675832 Question Type : MCQ Option Shuffling : Yes

Correct Marks : 1 Wrong Marks : 0.25

Payal is unmarried. Rukmini is Sarika's maternal grandmother. Sarika is daughter of Raju. Kavya is Payal's sister's daughter. Rukmini is mother of Surbhi. Raju is Payal's only sister's husband. Sunil's daughter is married to Raju. How is Kavya related to Sunil?

Options :

1. ✖ Daughter

2. ✖ Sister

3. ✖ Niece

4. ✔ Granddaughter

Question Number : 28 Question Id : 9983675832 Question Type : MCQ Option Shuffling : Yes

Correct Marks : 1 Wrong Marks : 0.25

पायल अविवाहित है। रुकमनी सारिका की नानी है। सारिका राजू की बेटी है। काव्या पायल की बहन की बेटी है। रुकमनी सुरभि की माँ है। राजू पायल की इकलौती बहन का पति है। सुनील की बेटी की शादी राजू से हुई है। काव्या सुनील से कैसे संबंधित है?

Options :

1. ✘ बेटी
2. ✘ बहन
3. ✘ भांजी/भतीजी
4. ✔ पोती/नवासी

Question Number : 29 Question Id : 9983675833 Question Type : MCQ Option Shuffling : Yes

Correct Marks : 1 Wrong Marks : 0.25

A + B means 'A is brother of B'

A - B means 'A is mother of B'

A × B means 'A is father of B'

A ÷ B means 'A is son of B'

A % B means 'A is sister of B'

If  $W + X - P - Q + T \div W \times S \% J$ , then which of the following statement is NOT correct?

Note: For this question, discrepancy is found in question/answer. So, this question is ignored for all candidates.

Options :

1. X is mother-in-law of W.
2. S is sister of T.
3. J is husband of W.
4. X is maternal grandmother of S.

Question Number : 29 Question Id : 9983675833 Question Type : MCQ Option Shuffling : Yes



Correct Marks : 1 Wrong Marks : 0.25

A + B का अर्थ है 'A, B का भाई है'

A - B का अर्थ है 'A, B की माँ है'

A × B का अर्थ है 'A, B का पिता है'

A ÷ B का अर्थ है 'A, B का बेटा है'

A % B का अर्थ है 'A, B की बहन है'

यदि  $W + X - P - Q + T \div W \times S \% J$  है, तो इनमें से कौन सा कथन सही नहीं है?

Note: For this question, discrepancy is found in question/answer. So, this question is ignored for all candidates.

Options :

1. X, W की सास है।

2. S, T की बहन है।

3. J, W का पति है।

4. X, S की नानी है।

Question Number : 30 Question Id : 9983675834 Question Type : MCQ Option Shuffling : Yes

Correct Marks : 1 Wrong Marks : 0.25

A question is given, followed by four statements labelled I, II, III and IV, each containing some information. Decide which of the statements is/are sufficient/necessary to answer the question.

**Question:**

How is T related to A?

**Statements**

I. R is son of P whose wife is T.

II. J is married to R.

III. D is sister of A.

IV. R is the father of D.

Options :

1. \* Statement I and II together are sufficient.

2. ✖ Statement I, II and III together are sufficient.

3. ✔ Statement I, III and IV together are sufficient.

4. ✖ All the statements together are necessary.

Question Number : 30 Question Id : 9983675834 Question Type : MCQ Option Shuffling : Yes

Correct Marks : 1 Wrong Marks : 0.25

एक प्रश्न के बाद I, II, III और IV लेबल के तहत चार कथन दिए गए हैं, प्रत्येक में कुछ न कुछ जानकारी दी गई है। तय करें कि प्रश्न का उत्तर देने के लिए इनमें से कौन सा/से कथन पर्याप्त/ज़रूरी है/हैं।

**प्रश्न:**

T, A से कैसे सम्बंधित है?

**कथन:**

- I. R, P का बेटा है जिसकी पत्नी T है।
- II. J की शादी R से हुई है।
- III. D, A की बहन है।
- IV. R, D का पिता है।

**Options :**

1. ✖ कथन I और II एकसाथ पर्याप्त हैं।

2. ✖ कथन I, II और III एकसाथ पर्याप्त हैं।

3. ✔ कथन I, III और IV एकसाथ पर्याप्त हैं।

4. ✖ सभी कथन एकसाथ पर्याप्त हैं।

Question Number : 31 Question Id : 9983675835 Question Type : MCQ Option Shuffling : Yes

Correct Marks : 1 Wrong Marks : 0.25

If 'MATCHING' is coded as 109 in a code language, how would 'TRACHEA' be coded in the same code language?

Options :

1. ✖ 120

2. ✔ 123

3. ✖ 127

4. ✖ 129

Question Number : 31 Question Id : 9983675835 Question Type : MCQ Option Shuffling : Yes

Correct Marks : 1 Wrong Marks : 0.25

यदि किसी कोड भाषा में 'MATCHING' को 109 कोड किया गया है, तो उसी कोड भाषा में 'TRACHEA' को क्या कोड किया जाएगा?

Options :

1. ✖ 120

2. ✔ 123

3. ✖ 127

4. ✖ 129

Question Number : 32 Question Id : 9983675836 Question Type : MCQ Option Shuffling : Yes

Correct Marks : 1 Wrong Marks : 0.25

Which of the following pairs of numbers and signs, when their positions are interchanged, will correctly solve the given mathematical equation?

$$137 + 548 \div 274 \times 18 - 228 = 430$$

Options :

1. ✘ 18 and 548, × and ÷

2. ✘ 548 and 137, + and ÷

3. ✔ 137 and 274, + and -

4. ✘ 137 and 274, + and ÷

Question Number : 32 Question Id : 9983675836 Question Type : MCQ Option Shuffling : Yes

Correct Marks : 1 Wrong Marks : 0.25

संख्याओं और चिहनों के इन युग्मों में से कौन सा युग्म उनकी स्थिति आपस में बदलने पर दिए गए गणितीय समीकरण को सही से हल करेगा?

$$137 + 548 \div 274 \times 18 - 228 = 430$$

Options :

1. ✘ 18 और 548, × और ÷

2. ✘ 548 और 137, + और ÷

3. ✔ 137 और 274, + और -

4. ✘ 137 और 274, + और ÷

Question Number : 33 Question Id : 9983675837 Question Type : MCQ Option Shuffling : Yes

Correct Marks : 1 Wrong Marks : 0.25

A total of 440 students participate in one of three events music, dance and mimicry. Only 15% participate in all three events. The number of students who participate in any two and only two events is 40% of the total students. The number of students who participate in mimicry alone is 96. What is the total number of students who participate in music alone or dance alone?

Options :

1. ✖ 105

2. ✔ 102

3. ✖ 95

4. ✖ 92

Question Number : 33 Question Id : 9983675837 Question Type : MCQ Option Shuffling : Yes

Correct Marks : 1 Wrong Marks : 0.25

संगीत, नृत्य और मिमिक्री के तीनों कार्यक्रमों में कुल 440 छात्र हिस्सा ले रहे हैं। केवल 15% ही तीनों कार्यक्रमों में भाग ले रहे हैं। किन्हीं दो या केवल दो कार्यक्रमों में भाग लेने वाले छात्रों की संख्या कुल छात्रों की 40% है। केवल मिमिक्री करने वाले छात्रों की संख्या 96 है। केवल संगीत या केवल नृत्य कार्यक्रम में भाग लेने वाले कुल छात्रों की संख्या पता करें?

Options :

1. ✖ 105

2. ✔ 102

3. ✖ 95

4. ✖ 92

Question Number : 34 Question Id : 9983675838 Question Type : MCQ Option Shuffling : Yes

Correct Marks : 1 Wrong Marks : 0.25

Among five objects K, L, M, N and O; O is twice as heavy as K; L is two and a half times heavier than O; M is one and a half times heavier than N. K is one and a half times heavier than M. Which of the following the statements is NOT correct?

Note: For this question, discrepancy is found in question/answer. So, this question is ignored for all candidates.

Options :



1. K is 2.75 times heavier than N.

2. M is lighter than O.

3. L is heavier than K.

4. L is five times heavier than N.

Question Number : 34 Question Id : 9983675838 Question Type : MCQ Option Shuffling : Yes

Correct Marks : 1 Wrong Marks : 0.25

पाँच वस्तुओं K, L, M, N और O में से; O K से दोगुनी भारी है; L O से ढाई गुना भारी है; M N से डेढ़ गुना भारी है। K M से डेढ़ गुना भारी है। इनमें से कौन सा कथन सही नहीं है?

Note: For this question, discrepancy is found in question/answer. So, this question is ignored for all candidates.

Options :

1. K, N से 2.75 गुना भारी है।

2. M, O से हल्का है।

3. L, K से भारी है।

4. L, N से पाँच गुना भारी है।

Question Number : 35 Question Id : 9983675839 Question Type : MCQ Option Shuffling : Yes

Correct Marks : 1 Wrong Marks : 0.25

Four persons A, B, C and D have different amount of rupees with them. A says to B, 'If I give you 8 rupees, I will have four rupees more than C' B says to C, 'If you give me 7 rupees, I will have equal amount of rupees as D'. C says to A, 'If you give me 13 rupees, I will have 8 rupees less than B'. If B and C together have total 75 rupees, how many rupees does C have?

Options :



1. ✖ 25

2. ✔ 27

3. ✖ 29

4. ✖ 30

Question Number : 35 Question Id : 9983675839 Question Type : MCQ Option Shuffling : Yes

Correct Marks : 1 Wrong Marks : 0.25

चार व्यक्तियों A, B, C और D के पास अलग-अलग रुपये हैं। A, B से कहता है, "अगर मैं तुम्हें 8 रुपये दे दूँ, तो मेरे पास C से चार रुपये ज़्यादा होंगे।" B, C से कहता है, "अगर तुम मुझे 7 रुपये दे दो, तो मेरे पास D जितने रुपये हो जाएँगे।" C, A से कहता है, "अगर तुम मुझे 13 रुपये दे दो, तो मेरे पास B से 8 रुपये कम होंगे।" यदि B और C दोनों के पास कुल 75 रुपये हैं, तो C के पास कितने रुपये हैं?

Options :

1. ✖ 25

2. ✔ 27

3. ✖ 29

4. ✖ 30

Question Number : 36 Question Id : 9983675840 Question Type : MCQ Option Shuffling : Yes

Correct Marks : 1 Wrong Marks : 0.25

Three of the given four words are similar in a certain manner while one is different. Choose the odd one out.

Options :

1. ✖ Creativity

2. ✖ Intelligence

3. ✖ Memory

4. ✔ Eyesight

Question Number : 36 Question Id : 9983675840 Question Type : MCQ Option Shuffling : Yes

Correct Marks : 1 Wrong Marks : 0.25

दिए गए चार शब्दों में से तीन एक तरीके से समान हैं, जबकि एक अलग है। इनमें से विषम चुनें।

Options :

1. ✖ रचनात्मकता

2. ✖ बौद्धिकता

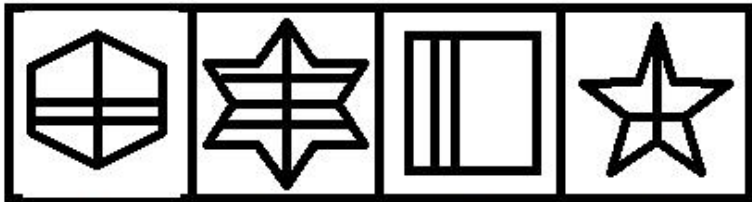
3. ✖ समृति

4. ✔ नज़र

Question Number : 37 Question Id : 9983675841 Question Type : MCQ Option Shuffling : Yes

Correct Marks : 1 Wrong Marks : 0.25

Three of the given four figures are similar in a certain manner while one is different. Choose the odd one out.



1

2

3

4

Options :

1. ✖ 1

2. ✖ 2

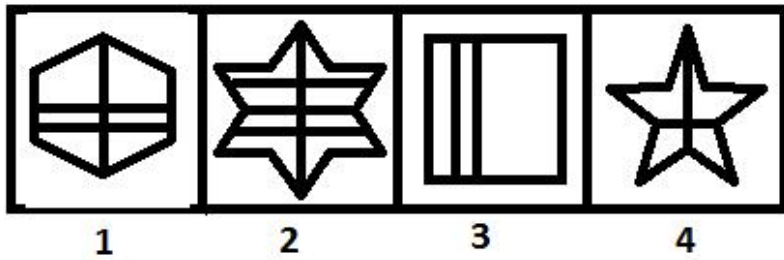
3. ✔ 3

4. ✖ 4

Question Number : 37 Question Id : 9983675841 Question Type : MCQ Option Shuffling : Yes

Correct Marks : 1 Wrong Marks : 0.25

दिए गए चार आकृतियों में से तीन एक तरीके से समान हैं, जबकि एक अलग है। इनमें से विषम चुनें।



Options :

1. ✖ 1

2. ✖ 2

3. ✔ 3

4. ✖ 4

Question Number : 38 Question Id : 9983675842 Question Type : MCQ Option Shuffling : Yes

Correct Marks : 1 Wrong Marks : 0.25

Which number will replace the question mark (?) in the following series?

2, 3, 3, 5, ?, 13

Options :

1. ✖ 9

2. ✔ 10

3. ✖ 11

4. ✖ 12

Question Number : 38 Question Id : 9983675842 Question Type : MCQ Option Shuffling : Yes

Correct Marks : 1 Wrong Marks : 0.25

वह विकल्प चुनें जो श्रृंखला में प्रश्न चिन्ह (?) को सही प्रतिस्थापित करेगा।

2, 3, 3, 5, ?, 13

Options :

1. ✖ 9

2. ✔ 10

3. ✖ 11

4. ✖ 12

Question Number : 39 Question Id : 9983675843 Question Type : MCQ Option Shuffling : Yes

Correct Marks : 1 Wrong Marks : 0.25

Which number will replace the question mark (?) in the following series?

17, 21, 32, 62, ?

Options :

1. ✖ 127

2. ✔ 129

3. ✖ 131

4. ✖ 133

Question Number : 39 Question Id : 9983675843 Question Type : MCQ Option Shuffling : Yes

Correct Marks : 1 Wrong Marks : 0.25

वह विकल्प चुनें जो श्रृंखला में प्रश्न चिन्ह (?) को सही प्रतिस्थापित करेगा।

17, 21, 32, 62, ?

Options :

1. ✖ 127

2. ✔ 129

3. ✖ 131

4. ✖ 133

Question Number : 40 Question Id : 9983675844 Question Type : MCQ Option Shuffling : Yes

Correct Marks : 1 Wrong Marks : 0.25

Which number will replace the question mark (?) in the following series?

8, 15, 34, 71, 132, ?

Options :

1. ✖ 220

2. ✖ 221

3. ✔ 223

4. ✖ 227

Question Number : 40 Question Id : 9983675844 Question Type : MCQ Option Shuffling : Yes

Correct Marks : 1 Wrong Marks : 0.25

वह विकल्प चुनें जो श्रृंखला में प्रश्न चिन्ह (?) को सही प्रतिस्थापित करेगा।

8, 15, 34, 71, 132, ?

Options :

1. ✖ 220

2. ✖ 221

3. ✔ 223

4. ✖ 227

## General Awareness1

Group Number :	3
Group Id :	998367239
Group Maximum Duration :	0
Group Minimum Duration :	0
Show Attended Group? :	No
Edit Attended Group? :	No



Break time:	0
Group Marks:	20
Is this Group for Examiner?:	No
Revisit allowed for group Instructions? :	Yes
Maximum Instruction Time:	0
Minimum Instruction Time:	0

## General Awareness1

Section Id :	998367245
Section Number :	1
Section type :	Online
Mandatory or Optional:	Mandatory
Number of Questions:	20
Number of Questions to be attempted:	20
Section Marks:	20

Sub-Section Number:	1
Sub-Section Id:	998367357
Question Shuffling Allowed :	Yes

Question Number : 41 Question Id : 9983675845 Question Type : MCQ Option Shuffling : Yes  
Correct Marks : 1 Wrong Marks : 0.25

In which of the following cities has world's largest e-waste recycling facility been opened?

Options :

1. ✓ Dubai
2. ✗ Abu Dhabi
3. ✗ Beirut
4. ✗ Riyadh

Question Number : 41 Question Id : 9983675845 Question Type : MCQ Option Shuffling : Yes  
Correct Marks : 1 Wrong Marks : 0.25

निम्नलिखित में से किस शहर में दुनिया की सबसे बड़ी ई-अपशिष्ट (ई-वेस्ट) रिसाइक्लिंग सुविधा खोली गई है?

Options :

1. ✓ दुबई
2. ✗ अबु धाबी

3. ✖ बेरूत

4. ✖ रियाद

Question Number : 42 Question Id : 9983675846 Question Type : MCQ Option Shuffling : Yes

Correct Marks : 1 Wrong Marks : 0.25

The National Air Quality Index is based on the measurement of 8 pollutants. Which of the followings is NOT one of them?

Options :

1. ✖ SO<sub>2</sub>

2. ✖ NH<sub>3</sub>

3. ✓ CO<sub>2</sub>

4. ✖ Pb

Question Number : 42 Question Id : 9983675846 Question Type : MCQ Option Shuffling : Yes

Correct Marks : 1 Wrong Marks : 0.25

राष्ट्रीय वायु गुणवत्ता सूचकांक 8 प्रदूषकों की माप पर आधारित है। निम्नलिखित में से कौन उनमें से एक नहीं है?

Options :

1. ✖ SO<sub>2</sub>

2. ✖ NH<sub>3</sub>

3. ✓ CO<sub>2</sub>

4. ✖ Pb

Question Number : 43 Question Id : 9983675847 Question Type : MCQ Option Shuffling : Yes

Correct Marks : 1 Wrong Marks : 0.25

In the context of environment friendliness, the Blue Flag certification is applicable to which of the following landscapes?

Options :

1. ✓ Beach
2. ✘ Forest
3. ✘ River
4. ✘ Wetland

Question Number : 43 Question Id : 9983675847 Question Type : MCQ Option Shuffling : Yes  
Correct Marks : 1 Wrong Marks : 0.25

पर्यावरण अनुकूलता के संदर्भ में, ब्ल्यू फ्लैग प्रमाणन निम्नलिखित में से किस भूदृश्य (लैंडस्केप) पर लागू है?

Options :

1. ✓ समुद्र तट
2. ✘ जंगल
3. ✘ नदी
4. ✘ वेटलैंड

Question Number : 44 Question Id : 9983675848 Question Type : MCQ Option Shuffling : Yes  
Correct Marks : 1 Wrong Marks : 0.25

Bhagwan Mahavir Wildlife Sanctuary is located in:

Options :

1. ✓ Goa
2. ✘ Gujarat
3. ✘ Tamil Nadu
4. ✘ Andhra Pradesh

Question Number : 44 Question Id : 9983675848 Question Type : MCQ Option Shuffling : Yes  
Correct Marks : 1 Wrong Marks : 0.25

भगवान महावीर वन्यजीव अभ्यारण्य \_\_\_\_\_ में स्थित है।

Options :

1. ✓ गोवा
2. ✘ गुजरात

3. \* तमिलनाडु

4. \* आंध्र प्रदेश

Question Number : 45 Question Id : 9983675849 Question Type : MCQ Option Shuffling : Yes

Correct Marks : 1 Wrong Marks : 0.25

In which of the following fields, is the Maharshi Badrayan Vyas Samman awarded by the Government of India?

Options :

1. \* Journalism

2. ✓ Literature

3. \* Ayurvedic research

4. \* Astronomical research

Question Number : 45 Question Id : 9983675849 Question Type : MCQ Option Shuffling : Yes

Correct Marks : 1 Wrong Marks : 0.25

भारत सरकार द्वारा निम्नलिखित में से किस क्षेत्र में, महर्षि बादरायण व्यास सम्मान प्रदान किया जाता है?

Options :

1. \* पत्रकारिता

2. ✓ साहित्य

3. \* आयुर्वेदिक शोध

4. \* खगोलीय शोध

Question Number : 46 Question Id : 9983675850 Question Type : MCQ Option Shuffling : Yes

Correct Marks : 1 Wrong Marks : 0.25

In the Ease of Doing Business Index released in 2018 Ranking of States, the third place has been bagged by:

Options :

1. \* Telangana

2. \* Gujarat

3. ✓ Haryana

## 4. \* Maharashtra

Question Number : 46 Question Id : 9983675850 Question Type : MCQ Option Shuffling : Yes  
Correct Marks : 1 Wrong Marks : 0.25

2018 में ईज ऑफ इंडिंग बिजनेस सूचकांक में राज्यों की श्रेणी में, तीसरा स्थान \_\_\_\_\_ के द्वारा प्राप्त किया गया।

Options :

1. \* तेलंगाना
2. \* गुजरात
3. ✓ हरियाणा
4. \* महाराष्ट्र

Question Number : 47 Question Id : 9983675851 Question Type : MCQ Option Shuffling : Yes  
Correct Marks : 1 Wrong Marks : 0.25

Dokdo / Takeshima Islands are disputed territory between:

Options :

1. \* Japan and China
2. \* China and North Korea
3. \* China and Vietnam
4. ✓ Japan and South Korea

Question Number : 47 Question Id : 9983675851 Question Type : MCQ Option Shuffling : Yes  
Correct Marks : 1 Wrong Marks : 0.25

डोकडो / ताकेशिमा द्वीप समूह \_\_\_\_\_ के बीच विवादग्रस्त स्थल हैं।

Options :

1. \* जापान और चीन
2. \* चीन और उत्तर कोरिया
3. \* चीन और वियतनाम
4. ✓ जापान और दक्षिण कोरिया

Question Number : 48 Question Id : 9983675852 Question Type : MCQ Option Shuffling : Yes

Correct Marks : 1 Wrong Marks : 0.25

Which of the following statements about Mission Shakti is NOT correct?

Options :

1. \* Under this mission, DRDO successfully test-fired Anti-Satellite Missile.
2. \* The missile was test-fired from Dr APJ Abdul Kalam Island in Odisha.
3. ✓ India is the fifth country to have achieved this capability after US, Russia, China and France.
4. \* The satellite used in the mission was one of India's existing satellites operating in lower orbit.

Question Number : 48 Question Id : 9983675852 Question Type : MCQ Option Shuffling : Yes

Correct Marks : 1 Wrong Marks : 0.25

निम्नलिखित में से मिशन शक्ति के बारे में कौन सा कथन सही नहीं है?

Options :

1. \* इस मिशन के अधीन डीआरडीओ (DRDO) ने एंटी - सैटेलाइट मिसाइल का सफलतापूर्वक परीक्षण किया।
2. \* इस मिसाइल का परीक्षण ओडिशा में डॉ. एपीजे अब्दुल कलाम द्वीप से किया गया था।
3. ✓ अमेरिका, रूस, चीन और फ्रांस के बाद यह क्षमता हासिल करने वाला भारत पांचवा देश है।
4. \* इस मिशन में प्रयुक्त उपग्रह, निचली कक्षा में भारत का एक मौजूदा संचालित उपग्रह था।

Question Number : 49 Question Id : 9983675853 Question Type : MCQ Option Shuffling : Yes

Correct Marks : 1 Wrong Marks : 0.25



उपनिषद \_\_\_\_\_ की पुस्तकें हैं।

Options :

1. ✖ राजनीति
2. ✔ दर्शनशास्त्र
3. ✖ दंत चिकित्सा
4. ✖ भौतिक विज्ञान

Question Number : 49 Question Id : 9983675853 Question Type : MCQ Option Shuffling : Yes  
Correct Marks : 1 Wrong Marks : 0.25

Upnishads are books on:

Options :

1. ✖ politics
2. ✔ philosophy
3. ✖ dental
4. ✖ physics

Question Number : 50 Question Id : 9983675854 Question Type : MCQ Option Shuffling : Yes  
Correct Marks : 1 Wrong Marks : 0.25

The famous warriors named Alha and Udal served the ruling house of:

Options :

1. ✖ Chahamanas
2. ✖ Tomars
3. ✔ Chandelas
4. ✖ Parmaras

Question Number : 50 Question Id : 9983675854 Question Type : MCQ Option Shuffling : Yes  
Correct Marks : 1 Wrong Marks : 0.25

आल्हा और ऊदल नाम के प्रसिद्ध योद्धाओं ने \_\_\_\_\_ राजघराने की सेवा की।

Options :

1. ✖ चाहमान
2. ✖ तोमर
3. ✔ चंदेल
4. ✖ परमार

Question Number : 51 Question Id : 9983675855 Question Type : MCQ Option Shuffling : Yes  
Correct Marks : 1 Wrong Marks : 0.25

In the context of the regional state of Bengal, which of the following statements is NOT correct?

Options :

1. ✖ It was founded by Murshid Quli Khan.
2. ✔ Murshid Quli Khan was appointed the Nazim of Bengal by Aurangzeb.
3. ✖ During the reign of Farrukhsiyar, Murshid Quli Khan enjoyed the office of both Nazim and Diwan.
4. ✖ The foundation of Murshid Quli Khan's power was his successful revenue administration.

Question Number : 51 Question Id : 9983675855 Question Type : MCQ Option Shuffling : Yes  
Correct Marks : 1 Wrong Marks : 0.25

बंगाल क्षेत्रीय प्रान्त के संदर्भ में, निम्नलिखित में से कौन सा कथन सही नहीं है?

Options :

1. ✖ इसे मुर्शिद कुली खान द्वारा स्थापित किया गया था।
2. ✔ औरंगजेब द्वारा मुर्शिद कुली खान को बंगाल का नाजिम नियुक्त किया गया था।
3. ✖ फ़रूखसियर के शासनकाल में, मुर्शिद कुली खान ने नाजिम और दीवान का पद प्राप्त किया।

4. \* मुर्शिद कुली खान का सफल राजस्व प्रशासन, उसकी शक्तियों का आधार था।

Question Number : 52 Question Id : 9983675856 Question Type : MCQ Option Shuffling : Yes  
Correct Marks : 1 Wrong Marks : 0.25

Who among the following headed the Linguistic Provinces Commission of 1948?

Options :

1. ✓ Justice S. K. Dar
2. \* Sardar Patel
3. \* Pattabhi Sitaramayya
4. \* KM Munshi

Question Number : 52 Question Id : 9983675856 Question Type : MCQ Option Shuffling : Yes  
Correct Marks : 1 Wrong Marks : 0.25

निम्नलिखित में से किसने भाषाई प्रान्त आयोग 1948 की अध्यक्षता की?

Options :

1. ✓ जस्टिस एस. के. दर
2. \* सरदार पटेल
3. \* पट्टाभि सीतारमैया
4. \* के एम मुंशी

Question Number : 53 Question Id : 9983675857 Question Type : MCQ Option Shuffling : Yes  
Correct Marks : 1 Wrong Marks : 0.25

In the context of Beti Bachao Beti Padhao, which of the following statements is NOT correct?

Options :

1. \* It is a triministerial effort of Ministries of Women and Child Development, Health and Family Welfare, and Human Resource Development.
2. \* It addresses the declining Child Sex Ratio (CSR) and related issues of women empowerment.
3. \* It aims to change mindsets to value girl child.
4. ✓ It covers only those districts of the country which show the trend of declining Child Sex Ratio.

Question Number : 53 Question Id : 9983675857 Question Type : MCQ Option Shuffling : Yes  
Correct Marks : 1 Wrong Marks : 0.25

बेटी बचाओ बेटी पढ़ाओ के संदर्भ में, निम्नलिखित में से कौन सा कथन सही नहीं है?

- Options :
1. \* यह तीन मंत्रालयों, महिला एवं बाल विकास, स्वास्थ्य एवं परिवार कल्याण, और मानव संसाधन विभाग की सम्मिलित पहल है।
  2. \* यह घटते बाल लिंग अनुपात (सीएसआर) और महिला सशक्तिकरण के संबंधित मुद्दों का समाधान करता है।
  3. \* बालिकाओं के प्रति मानसिकता बदलना इसका ध्येय है।
  4. ✓ इसमें देश के केवल वे जिले शामिल किए गए हैं जिनमें बाल लिंग अनुपात में गिरावट प्रदर्शित है।

Question Number : 54 Question Id : 9983675858 Question Type : MCQ Option Shuffling : Yes  
Correct Marks : 1 Wrong Marks : 0.25

In the context of Model Code of Conduct (MCC), which of the following statements is NOT correct?

Options :

1. \* MCC is a set of guidelines issued by the Election Commission of India.
2. \* Implementation of MCC is ensured by the Election Commission.
3. ✓ MCC comes into effect with the beginning of the nomination of the first phase of polling.
4. \* MCC remains in effect till the date results are announced.

Question Number : 54 Question Id : 9983675858 Question Type : MCQ Option Shuffling : Yes  
Correct Marks : 1 Wrong Marks : 0.25

मॉडल कोड ऑफ कंडक्ट (एमसीसी) के संदर्भ में, निम्नलिखित में से कौन सा कथन सही नहीं है?

- Options :
1. \* एमसीसी, भारत के निर्वाचन आयोग द्वारा जारी दिशानिर्देशों का एक सेट है।
  2. \* एमसीसी का क्रियान्वयन, निर्वाचन आयोग द्वारा सुनिश्चित किया जाता है।
  3. ✓ एमसीसी, प्रथम चरण के मतदान हेतु नामांकन के आरंभ में लागू हो जाता है।
  4. \* परिणामों की घोषणा होने की तिथि तक एमसीसी लागू रहता है।

Question Number : 55 Question Id : 9983675859 Question Type : MCQ Option Shuffling : Yes  
Correct Marks : 1 Wrong Marks : 0.25

Which of the following cities is ranked first in India as per the Ease of Living Index 2018?

- Options :
1. \* Chandigarh
  2. ✓ Pune
  3. \* Raipur

## 4. \* Bhopal

Question Number : 55 Question Id : 9983675859 Question Type : MCQ Option Shuffling : Yes  
Correct Marks : 1 Wrong Marks : 0.25

निम्नलिखित में से कौन सा शहर भारत में ईज ऑफ लिविंग सूचकांक 2018 में पहले स्थान पर है?

Options :

1. \* चंडीगढ़
2. ✓ पुणे
3. \* रायपुर
4. \* भोपाल

Question Number : 56 Question Id : 9983675860 Question Type : MCQ Option Shuffling : Yes  
Correct Marks : 1 Wrong Marks : 0.25

The recently passed 124th Constitutional Amendment Bill is related to the:

Options :

1. \* grant of constitutional status to the National Commission on Backward Classes.
2. \* goods and services tax.
3. \* creation of the National Judicial Appointment Commission (NJAC).
4. ✓ reservation of up to 10% for 'economically weaker sections' in educational institutions and public employment.

Question Number : 56 Question Id : 9983675860 Question Type : MCQ Option Shuffling : Yes  
Correct Marks : 1 Wrong Marks : 0.25

हाल ही में पारित 124वां संवैधानिक संशोधन विधेयक निम्नलिखित में से संबंधित है:

Options :



1. \* राष्ट्रीय पिछड़ा वर्ग आयोग को संवैधानिक दर्जा प्रदान किया जाना ।
2. \* वस्तु और सेवा कर।
3. \* राष्ट्रीय न्यायिक नियुक्ति आयोग (एनजेएसी) का गठन।
4. ✓ शैक्षिक संस्थानों और सार्वजनिक नौकरियों में 'आर्थिक रूप से कमजोर वर्गों' को 10% तक का आरक्षण।

Question Number : 57 Question Id : 9983675861 Question Type : MCQ Option Shuffling : Yes  
Correct Marks : 1 Wrong Marks : 0.25

Article 51A of the constitution, which lists the fundamental duties of Indian citizens, does NOT expect Indian citizens to:

Options :

1. \* protect and improve the natural environment.
2. \* safeguard public property and to abjure violence.
3. \* value and preserve the rich heritage of our composite culture.
4. ✓ not wage war against the friendly nations.

Question Number : 57 Question Id : 9983675861 Question Type : MCQ Option Shuffling : Yes  
Correct Marks : 1 Wrong Marks : 0.25

संविधान का अनुच्छेद 51A, जो भारतीय नागरिकों के मौलिक कर्तव्यों को सूचीबद्ध करता है, भारतीय नागरिकों से यह अपेक्षा नहीं करता है:

Options :

1. \* प्राकृतिक पर्यावरण का संरक्षण और सुधार
2. \* सार्वजनिक संपत्ति की सुरक्षा करना, और हिंसा को समाप्त करना ।
3. \* हमारी साझा संस्कृति की समृद्ध विरासत को महत्त्व देना और इसे संरक्षित करना।

## 4. ✓ मित्र राष्ट्रों के खिलाफ युद्ध न छेड़ना।

Question Number : 58 Question Id : 9983675862 Question Type : MCQ Option Shuffling : Yes  
Correct Marks : 1 Wrong Marks : 0.25

Which of the following schedules of the Indian Constitution is known for provisions seeking disqualification of the members of Parliament and State Legislatures on the grounds of defection?

Options :

1. ✓ 10th
2. ✗ 11th
3. ✗ 12th
4. ✗ 13th

Question Number : 58 Question Id : 9983675862 Question Type : MCQ Option Shuffling : Yes  
Correct Marks : 1 Wrong Marks : 0.25

भारतीय संविधान की निम्नलिखित में से कौन सी अनुसूची, संसद सदस्यों और राज्य विधायिकाओं के सदस्यों को दलबदल के आधार पर अयोग्य ठहराने का प्रावधान करती है?

Options :

1. ✓ 10 वीं
2. ✗ 11 वीं
3. ✗ 12 वीं
4. ✗ 13 वीं

Question Number : 59 Question Id : 9983675863 Question Type : MCQ Option Shuffling : Yes  
Correct Marks : 1 Wrong Marks : 0.25

In the field of sports, the Maulana Abul Kalam Azad Trophy is awarded for:

Options :

1. ✓ overall top performing university in inter-university tournaments
2. \* overall top performing state in national games
3. \* identification and Nurturing of Budding and Young Talent
4. \* encouragement to Sports through Corporate Social Responsibility

Question Number : 59 Question Id : 9983675863 Question Type : MCQ Option Shuffling : Yes  
Correct Marks : 1 Wrong Marks : 0.25

खेल के क्षेत्र में, मौलाना अबुल कलाम आज़ाद ट्रॉफी \_\_\_\_\_ के लिए दी जाती है।

Options :

1. ✓ अंतरविश्वविद्यालयी टूर्नामेन्ट में सर्वोच्च प्रदर्शन करने वाले विश्वविद्यालय को
2. \* राष्ट्रीय खेलों में सर्वोच्च प्रदर्शन करने वाले राज्य को
3. \* उभरती व नई प्रतिभाओं की पहचान और प्रोत्साहन हेतु
4. \* कॉर्पोरेट सामाजिक उत्तरदायित्व के माध्यम से खेल को प्रोत्साहन हेतु

Question Number : 60 Question Id : 9983675864 Question Type : MCQ Option Shuffling : Yes  
Correct Marks : 1 Wrong Marks : 0.25

Thibaut Courtois who was awarded with the Golden Glove Award 2018, belongs to:

Options :

1. \* France
2. \* Germany
3. ✓ Belgium
4. \* Spain

Question Number : 60 Question Id : 9983675864 Question Type : MCQ Option Shuffling : Yes

Correct Marks : 1 Wrong Marks : 0.25

थिबाउट कोर्टोइस जिन्हें गोल्डन ग्लोव पुरस्कार 2018 प्रदान किया गया \_\_\_\_\_ से संबंधित हैं।

Options :

1. ✖ फ्रांस
2. ✖ जर्मनी
3. ✔ बेल्जियम
4. ✖ स्पेन

## General Awareness2

Group Number :	4
Group Id :	998367240
Group Maximum Duration :	0
Group Minimum Duration :	0
Show Attended Group? :	No
Edit Attended Group? :	No
Break time:	0
Group Marks:	20
Is this Group for Examiner? :	No
Revisit allowed for group Instructions? :	Yes
Maximum Instruction Time:	0
Minimum Instruction Time:	0

## General Awareness2

Section Id :	998367246
Section Number :	1
Section type :	Online
Mandatory or Optional:	Mandatory
Number of Questions:	20
Number of Questions to be attempted:	20
Section Marks:	20

Sub-Section Number:	1
Sub-Section Id:	998367358
Question Shuffling Allowed :	Yes

Question Number : 61 Question Id : 9983675865 Question Type : MCQ Option Shuffling : Yes  
Correct Marks : 1 Wrong Marks : 0.25

Harmanpreet Kaur and Smriti Mandhana are the sports personalities belonging to the game of:

Options :

1. ✓ cricket
2. ✗ hockey
3. ✗ judo
4. ✗ table-tennis

Question Number : 61 Question Id : 9983675865 Question Type : MCQ Option Shuffling : Yes

Correct Marks : 1 Wrong Marks : 0.25

हरमनप्रीत कौर और स्मृति मंधाना \_\_\_\_\_ खेल से संबंधित प्रसिद्ध नाम हैं।

Options :

1. ✓ क्रिकेट
2. ✗ हॉकी
3. ✗ जुडो
4. ✗ टेबल टेनिस

Question Number : 62 Question Id : 9983675866 Question Type : MCQ Option Shuffling : Yes

Correct Marks : 1 Wrong Marks : 0.25

In which of the following states, is Champaner-Pavagadh Archaeological Park, a World Cultural Heritage site, located?

Options :

1. ✓ Gujarat
2. ✗ Madhya Pradesh
3. ✗ Haryana
4. ✗ Uttar Pradesh

Question Number : 62 Question Id : 9983675866 Question Type : MCQ Option Shuffling : Yes

Correct Marks : 1 Wrong Marks : 0.25

निम्नलिखित में से किस राज्य में चंपानेर-पावागढ़ पुरातात्विक उद्यान नामक विश्व सांस्कृतिक धरोहर स्थल स्थित है?

Options :

1. ✓ गुजरात
2. ✗ मध्य प्रदेश
3. ✗ हरियाणा
4. ✗ उत्तर प्रदेश

Question Number : 63 Question Id : 9983675867 Question Type : MCQ Option Shuffling : Yes  
Correct Marks : 1 Wrong Marks : 0.25

In the context of Zonal Cultural Centres, which of the following statements is correct?

Options :

1. ✓ These are aimed at raising awareness of the local culture.
2. ✗ Every state has one Zonal Cultural Centre.
3. ✗ Promotion of tourism is one of the objectives of these centres.
4. ✗ These have been set up under the Ministry of Tourism.

Question Number : 63 Question Id : 9983675867 Question Type : MCQ Option Shuffling : Yes  
Correct Marks : 1 Wrong Marks : 0.25

मंडलीय सांस्कृतिक केंद्रों के संदर्भ में, निम्न में से कौन सा कथन सही है?

Options :

1. ✓ स्थानीय संस्कृति के बारे में जागरूकता बढ़ाना इनका उद्देश्य है।
2. ✗ हर राज्य में एक मंडलीय सांस्कृतिक केंद्र है।
3. ✗ पर्यटन को बढ़ावा देना इन केन्द्रों का एक उद्देश्य है।
4. ✗ ये पर्यटन मंत्रालय के तहत स्थापित किए गए हैं।

Question Number : 64 Question Id : 9983675868 Question Type : MCQ Option Shuffling : Yes

Correct Marks : 1 Wrong Marks : 0.25

Rashtriya Ekta Diwas is celebrated on \_\_\_\_\_ every year.

Options :

1. ✖ 31 August
2. ✖ 31 Spetember
3. ✔ 31 October
4. ✖ 31 November

Question Number : 64 Question Id : 9983675868 Question Type : MCQ Option Shuffling : Yes

Correct Marks : 1 Wrong Marks : 0.25

राष्ट्रीय एकता दिवस हर साल \_\_\_\_\_ को मनाया जाता है।

Options :

1. ✖ 31 अगस्त
2. ✖ 30 सितंबर
3. ✔ 31 अक्टूबर
4. ✖ 30 नवंबर

Question Number : 65 Question Id : 9983675869 Question Type : MCQ Option Shuffling : Yes

Correct Marks : 1 Wrong Marks : 0.25

River \_\_\_\_\_ is also known as Singi Khamban or Lion's mouth.

Options :

1. ✖ Brahmaputra
2. ✖ Chenab
3. ✖ Beas
4. ✔ Indus

Question Number : 65 Question Id : 9983675869 Question Type : MCQ Option Shuffling : Yes

Correct Marks : 1 Wrong Marks : 0.25

\_\_\_\_\_ नदी को सिंगी खंबन या शेर के मुंह के रूप में भी जाना जाता है।

Options :



1. ✖ ब्रह्मपुत्र
2. ✖ चिनाब
3. ✖ ब्यास
4. ✔ सिंधु

Question Number : 66 Question Id : 9983675870 Question Type : MCQ Option Shuffling : Yes  
Correct Marks : 1 Wrong Marks : 0.25

According to the World Bank, only about \_\_\_\_\_ of the total agricultural land in India was reliably irrigated in 2010.

Options :

1. ✖ 23%
2. ✖ 75%
3. ✖ 83%
4. ✔ 35%

Question Number : 66 Question Id : 9983675870 Question Type : MCQ Option Shuffling : Yes  
Correct Marks : 1 Wrong Marks : 0.25

विश्व बैंक के अनुसार, भारत में कुल कृषि भूमि का केवल \_\_\_\_\_ 2010 में विश्वसनीय सिंचित था।

Options :

1. ✖ 23%
2. ✖ 75%
3. ✖ 83%
4. ✔ 35%

Question Number : 67 Question Id : 9983675871 Question Type : MCQ Option Shuffling : Yes  
Correct Marks : 1 Wrong Marks : 0.25

Which of the following European countries does NOT have coastline at Mediterranean Sea?

Options :

1. ✓ Belgium

2. ✘ Spain

3. ✘ France

4. ✘ Italy

Question Number : 67 Question Id : 9983675871 Question Type : MCQ Option Shuffling : Yes

Correct Marks : 1 Wrong Marks : 0.25

निम्नलिखित में से किस यूरोपीय देश में भूमध्य सागर की तटरेखा नहीं है?

Options :

1. ✓ बेल्जियम

2. ✘ स्पेन

3. ✘ फ्रांस

4. ✘ इटली

Question Number : 68 Question Id : 9983675872 Question Type : MCQ Option Shuffling : Yes

Correct Marks : 1 Wrong Marks : 0.25

Which of the following Central Public Sector Enterprises is NOT a Maharatna company?

Options :

1. ✘ Bharat Heavy Electricals Limited

2. ✘ Coal India Limited

3. ✘ Indian Oil Corporation Limited

4. ✓ Oil India Limited

Question Number : 68 Question Id : 9983675872 Question Type : MCQ Option Shuffling : Yes

Correct Marks : 1 Wrong Marks : 0.25

निम्नलिखित में से कौन सा केंद्रीय सार्वजनिक क्षेत्र का उपक्रम, एक महारत्न कंपनी नहीं है?

Options :

1. \* भारत हैवी इलेक्ट्रिकल्स लिमिटेड
2. \* कोल इंडिया लिमिटेड
3. \* इंडियन ऑयल कॉर्पोरेशन लिमिटेड
4. ✓ ऑयल इंडिया लिमिटेड

Question Number : 69 Question Id : 9983675873 Question Type : MCQ Option Shuffling : Yes  
Correct Marks : 1 Wrong Marks : 0.25

Under the Pradhan Mantri MUDRA Yojana (PMMY) loans upto Rs. \_\_\_\_ are provided to the non-corporate, non-farm small/micro enterprises.

Options :

1. \* 1 Lakh
2. ✓ 10 Lakh
3. \* 15 Lakh
4. \* 20 Lakh

Question Number : 69 Question Id : 9983675873 Question Type : MCQ Option Shuffling : Yes  
Correct Marks : 1 Wrong Marks : 0.25

प्रधानमंत्री मुद्रा योजना (पीएमएमवाई) के अंतर्गत गैर-कार्पोरेट, गैर-कृषि लघु / सूक्ष्म उद्यमों को रूपये \_\_\_\_\_ तक के ऋण प्रदान किए जाते हैं

|

Options :

1. \* 1 लाख
2. ✓ 10 लाख
3. \* 15 लाख
4. \* 20 लाख

Question Number : 70 Question Id : 9983675874 Question Type : MCQ Option Shuffling : Yes  
Correct Marks : 1 Wrong Marks : 0.25

In the context of forecast for India's growth during the year 2019-20, which of the following is NOT correctly matched?

Options :

1. \* International Monetary Fund – 7.3%
2. \* Asian Development Bank – 7.2%
3. ✓ Reserve Bank of India – 7.4%
4. \* World Bank – 7.5%

Question Number : 70 Question Id : 9983675874 Question Type : MCQ Option Shuffling : Yes

Correct Marks : 1 Wrong Marks : 0.25

वर्ष 2019 - 20 के दौरान भारत की वृद्धि के पूर्वानुमानों के संदर्भ में, निम्नलिखित में से किसका मिलान सही नहीं है?

Options :

1. \* अंतराष्ट्रीय मुद्रा कोष - 7.3%
2. \* एशियाई विकास बैंक - 7.2%
3. ✓ भारतीय रिजर्व बैंक - 7.4%
4. \* विश्व बैंक - 7.5%

Question Number : 71 Question Id : 9983675875 Question Type : MCQ Option Shuffling : Yes

Correct Marks : 1 Wrong Marks : 0.25

The irritation caused by the sting of an ant is due to the release of \_\_\_\_\_ in body.

Options :

1. ✓ methanic acid
2. \* acetic acid
3. \* carbonic acid
4. \* hydrochloric acid

Question Number : 71 Question Id : 9983675875 Question Type : MCQ Option Shuffling : Yes

Correct Marks : 1 Wrong Marks : 0.25

चींटी के काटने से शरीर में \_\_\_\_\_ पहुंचने के कारण जलन होती है।

Options :

1. ✓ मेथेनिक अम्ल
2. ✗ एसेटिक अम्ल
3. ✗ कार्बोनिक अम्ल
4. ✗ हाइड्रोक्लोरिक अम्ल

Question Number : 72 Question Id : 9983675876 Question Type : MCQ Option Shuffling : Yes  
Correct Marks : 1 Wrong Marks : 0.25

Calcium sulphate hemihydrate is the chemical name of:

Options :

1. ✗ cement
2. ✗ bleaching powder
3. ✓ plaster of Paris.
4. ✗ baking soda.

Question Number : 72 Question Id : 9983675876 Question Type : MCQ Option Shuffling : Yes  
Correct Marks : 1 Wrong Marks : 0.25

कैल्शियम सल्फेट हेमीहाइड्रेट का रासायनिक नाम \_\_\_\_\_ है।

Options :

1. ✗ सीमेंट
2. ✗ ब्लीचिंग पाउडर
3. ✓ प्लास्टर ऑफ पेरिस
4. ✗ बेकिंग सोडा

Question Number : 73 Question Id : 9983675877 Question Type : MCQ Option Shuffling : Yes  
Correct Marks : 1 Wrong Marks : 0.25

Which of the following nutrients is made of chains of amino acids?

Options :

1. ✓ Protein
2. ✗ Vitamin

### 3. \* Carbohydrate

### 4. \* Fat

Question Number : 73 Question Id : 9983675877 Question Type : MCQ Option Shuffling : Yes

Correct Marks : 1 Wrong Marks : 0.25

निम्नलिखित पोषक तत्वों में से कौन सा अमीनो एसिड की श्रृंखला से बना है?

Options :

1. ✓ प्रोटीन

2. \* विटामिन

3. \* कार्बोहाइड्रेट

4. \* फैट

Question Number : 74 Question Id : 9983675878 Question Type : MCQ Option Shuffling : Yes

Correct Marks : 1 Wrong Marks : 0.25

Carbohydrates provide \_\_\_\_\_ Kcal per 1 gram of energy.

Options :

1. ✓ 4

2. \* 5

3. \* 6

4. \* 7

Question Number : 74 Question Id : 9983675878 Question Type : MCQ Option Shuffling : Yes

Correct Marks : 1 Wrong Marks : 0.25

कार्बोहाइड्रेट \_\_\_\_\_ किलोकैलोरी प्रति 1 ग्राम ऊर्जा प्रदान करता है।

Options :

1. ✓ 4

2. \* 5

3. \* 6

4. \* 7

Question Number : 75 Question Id : 9983675879 Question Type : MCQ Option Shuffling : Yes

Correct Marks : 1 Wrong Marks : 0.25

ISRO is planning to launch its second mission, Chandrayaan - 2 to the moon. The mission will be launched by its vehicle:

Options :

1. ✓ GSLV MK - III
2. ✗ GSLV MK - IV
3. ✗ GSLV MC - III
4. ✗ GSLV MC - IV

Question Number : 75 Question Id : 9983675879 Question Type : MCQ Option Shuffling : Yes

Correct Marks : 1 Wrong Marks : 0.25

इसरो, चंद्रमा के लिए अपना दूसरा मिशन चंद्रयान - 2 लांच करने की योजना बना रहा है। यह मिशन इसके \_\_\_\_\_ वाहन द्वारा लांच किया जाएगा।

Options :

1. ✓ जीएसएलवी एमके - III
2. ✗ जीएसएलवी एमके - IV
3. ✗ जीएसएलवी एमसी - III
4. ✗ जीएसएलवी एमसी - IV

Question Number : 76 Question Id : 9983675880 Question Type : MCQ Option Shuffling : Yes

Correct Marks : 1 Wrong Marks : 0.25

The ballpoint pen was invented by:

Options :

1. ✗ Wilson
2. ✗ Oscar
3. ✓ Laszlo Biro
4. ✗ Waterman

Question Number : 76 Question Id : 9983675880 Question Type : MCQ Option Shuffling : Yes



Correct Marks : 1 Wrong Marks : 0.25

\_\_\_\_\_ के द्वारा बॉलपॉइंट पेन का अविष्कार किया गया था।

Options :

1. \* विल्सन
2. \* ऑस्कर
3. ✓ लाजलो बिरो
4. \* वॉटर्मन

Question Number : 77 Question Id : 9983675881 Question Type : MCQ Option Shuffling : Yes

Correct Marks : 1 Wrong Marks : 0.25

The NASA mission called OSIRIS - REX was aimed at:

Options :

1. ✓ collecting samples from a near-Earth asteroid called Bennu.
2. \* observing the surface of the sun.
3. \* observing the chromosphere of sun.
4. \* collecting information on the behavior of solar winds.

Question Number : 77 Question Id : 9983675881 Question Type : MCQ Option Shuffling : Yes

Correct Marks : 1 Wrong Marks : 0.25

नासा के OSIRIS - REX नामक मिशन का लक्ष्य \_\_\_\_\_ है।

Options :

1. ✓ पृथ्वी के निकट बेन्नू नामक क्षुद्रग्रह से नमूने एकत्र करना
2. \* सूर्य की सतह का अवलोकन करना
3. \* सूर्य के वर्णमंडल का अवलोकन करना
4. \* सौर पवनों के व्यवहार के विषय में जानकारी एकत्र करना

Question Number : 78 Question Id : 9983675882 Question Type : MCQ Option Shuffling : Yes

Correct Marks : 1 Wrong Marks : 0.25

The Secretariat of International Maritime Organization is located at:

Options :

1. ✓ London
2. ✗ San Francisco
3. ✗ Geneva
4. ✗ France

Question Number : 78 Question Id : 9983675882 Question Type : MCQ Option Shuffling : Yes  
Correct Marks : 1 Wrong Marks : 0.25

अंतर्राष्ट्रीय सामुद्रिक संगठन का सचिवालय \_\_\_\_\_ में स्थित है।

Options :

1. ✓ लंदन
2. ✗ सैन फ्रांसिस्को
3. ✗ जिनेवा
4. ✗ फ्रांस

Question Number : 79 Question Id : 9983675883 Question Type : MCQ Option Shuffling : Yes  
Correct Marks : 1 Wrong Marks : 0.25

Which among the following statements about the Human Development Index is NOT correct?

Options :

1. ✗ The Human Capital Index was recently launched by the World Bank.
2. ✗ It is a part of the World Development Report 2019.
3. ✗ It measures the index outcomes for each country as a fraction of the maximum value of 1.
4. ✓ One of its components is survival as measured by mortality rates under the age of 6 years.

Question Number : 79 Question Id : 9983675883 Question Type : MCQ Option Shuffling : Yes  
Correct Marks : 1 Wrong Marks : 0.25

मानव विकास सूचकांक के संबंध में निम्न में से कौन सा कथन सही नहीं है?

Options :

1. \* मानव विकास सूचकांक को हाल ही में विश्व बैंक द्वारा लांच किया गया।
2. \* यह विश्व विकास रिपोर्ट 2019 का एक अंग है।
3. \* यह अधिकतम मूल्य 1 के अंश के रूप में प्रत्येक देश के सूचकांक परिणामों की माप करता है।
4. ✓ इसके एक घटक उत्तरजीविता को 6 वर्ष से कम आयु की मृत्यु दर के रूप में मापा जाता है।

Question Number : 80 Question Id : 9983675884 Question Type : MCQ Option Shuffling : Yes

Correct Marks : 1 Wrong Marks : 0.25

The National Institute of Food Technology, Entrepreneurship and Management (NIFTEM) is located at:

Options :

1. \* Lucknow, Uttar Pradesh
2. \* Kanpur, Uttar Pradesh
3. ✓ Kundli, Haryana
4. \* Gurugram, Haryana

Question Number : 80 Question Id : 9983675884 Question Type : MCQ Option Shuffling : Yes

Correct Marks : 1 Wrong Marks : 0.25

राष्ट्रीय खाद्य प्रौद्योगिकी, उद्यमिता एवं प्रबंधन संस्थान (एनआईएफटीईएम) \_\_\_\_\_ में स्थित है।

Options :

1. \* लखनऊ, उत्तर प्रदेश
2. \* कानपुर, उत्तर प्रदेश

3. ✓ कुंडली, हरियाणा

4. \* गुरुग्राम, हरियाणा

## Arithmetic Ability1

Group Number :	5
Group Id :	998367241
Group Maximum Duration :	0
Group Minimum Duration :	0
Show Attended Group? :	No
Edit Attended Group? :	No
Break time:	0
Group Marks:	20
Is this Group for Examiner? :	No
Revisit allowed for group Instructions? :	Yes
Maximum Instruction Time:	0
Minimum Instruction Time:	0

## Arithmetic Ability1

Section Id :	998367247
Section Number :	1
Section type :	Online
Mandatory or Optional:	Mandatory
Number of Questions:	20
Number of Questions to be attempted:	20
Section Marks:	20

Sub-Section Number:	1
Sub-Section Id:	998367359
Question Shuffling Allowed :	Yes

Question Number : 81 Question Id : 9983675885 Question Type : MCQ Option Shuffling : Yes  
Correct Marks : 1 Wrong Marks : 0.25

Evaluate:

$$\frac{0.36 + 0.6 \times 0.9 + 0.81}{0.729 - 0.216}$$

Options :

1. \*  $\frac{1}{3}$

2. ✓  $\frac{10}{3}$

3. ✗  $\frac{2}{3}$

4. ✗  $\frac{1}{30}$

Question Number : 81 Question Id : 9983675885 Question Type : MCQ Option Shuffling : Yes  
Correct Marks : 1 Wrong Marks : 0.25

हल करें:

$$\frac{0.36 + 0.6 \times 0.9 + 0.81}{0.729 - 0.216}$$

Options :

1. ✗  $\frac{1}{3}$

2. ✓  $\frac{10}{3}$

3. ✗  $\frac{2}{3}$

4. ✗  $\frac{1}{30}$

Question Number : 82 Question Id : 9983675886 Question Type : MCQ Option Shuffling : Yes  
Correct Marks : 1 Wrong Marks : 0.25

The sum of first 20 terms of  $\frac{1}{2 \times 3} + \frac{1}{3 \times 4} + \frac{1}{4 \times 5} + \frac{1}{5 \times 6} + \frac{1}{6 \times 7} + \dots$  is equal to:

Options :

1. ✓  $\frac{5}{11}$

2. ✖  $\frac{5}{14}$

3. ✖  $\frac{2}{21}$

4. ✖  $\frac{1}{22}$

Question Number : 82 Question Id : 9983675886 Question Type : MCQ Option Shuffling : Yes

Correct Marks : 1 Wrong Marks : 0.25

$\frac{1}{2 \times 3} + \frac{1}{3 \times 4} + \frac{1}{4 \times 5} + \frac{1}{5 \times 6} + \frac{1}{6 \times 7} + \dots$  के पहले 20 पदों के योग का मान पता करें।

Options :

1. ✔  $\frac{5}{11}$

2. ✖  $\frac{5}{14}$

3. ✖  $\frac{2}{21}$

4. ✖  $\frac{1}{22}$

Question Number : 83 Question Id : 9983675887 Question Type : MCQ Option Shuffling : Yes

Correct Marks : 1 Wrong Marks : 0.25

Evaluate:

$$\frac{5.75 \times 5.75 \times 5.75 + 3.25 \times 3.25 \times 3.25}{575 \times 575 + 325 \times 325 - 575 \times 325} = ?$$

Options :

1. ✖ 0.9

2. ✖ 0.09

3. ✖ 0.009

4. ✔ 0.0009

Question Number : 83 Question Id : 9983675887 Question Type : MCQ Option Shuffling : Yes  
Correct Marks : 1 Wrong Marks : 0.25

हल करें:

$$\frac{5.75 \times 5.75 \times 5.75 + 3.25 \times 3.25 \times 3.25}{575 \times 575 + 325 \times 325 - 575 \times 325} = ?$$

Options :

1. ✖ 0.9

2. ✖ 0.09

3. ✖ 0.009

4. ✔ 0.0009

Question Number : 84 Question Id : 9983675888 Question Type : MCQ Option Shuffling : Yes  
Correct Marks : 1 Wrong Marks : 0.25

Evaluate:

$$\frac{0.0203 \times 29.2}{0.00073 \times 14.5 \times 7} = ?$$

Options :

1. ✖ 0.8



2. ✖ 0.08

3. ✔ 8

4. ✖ 80

Question Number : 84 Question Id : 9983675888 Question Type : MCQ Option Shuffling : Yes  
Correct Marks : 1 Wrong Marks : 0.25

हल करें:

$$\frac{0.0203 \times 29.2}{0.00073 \times 14.5 \times 7} = ?$$

Options :

1. ✖ 0.8

2. ✖ 0.08

3. ✔ 8

4. ✖ 80

Question Number : 85 Question Id : 9983675889 Question Type : MCQ Option Shuffling : Yes  
Correct Marks : 1 Wrong Marks : 0.25

Evaluate:

$$24.93 + 2.493 + 0.2493 + 0.02493 :$$

Options :

1. ✖ 27.19863

2. ✓ 27.69723

3. ✖ 27.67923

4. ✖ 27.18963

Question Number : 85 Question Id : 9983675889 Question Type : MCQ Option Shuffling : Yes  
Correct Marks : 1 Wrong Marks : 0.25

हल करें:

$$24.93 + 2.493 + 0.2493 + 0.02493 :$$

Options :

1. ✖ 27.19863

2. ✓ 27.69723

3. ✖ 27.67923

4. ✖ 27.18963

Question Number : 86 Question Id : 9983675890 Question Type : MCQ Option Shuffling : Yes  
Correct Marks : 1 Wrong Marks : 0.25

Evaluate:

$$0.\overline{64} + 1.0\overline{96}$$

Options :

1. ✓  $\frac{863}{495}$

2. ✘  $\frac{826}{495}$

3. ✘  $\frac{423}{385}$

4. ✘  $\frac{429}{385}$

Question Number : 86 Question Id : 9983675890 Question Type : MCQ Option Shuffling : Yes  
Correct Marks : 1 Wrong Marks : 0.25

हल करें:

$$0.\overline{64} + 1.0\overline{96}$$

Options :

1. ✔  $\frac{863}{495}$

2. ✘  $\frac{826}{495}$

3. ✘  $\frac{423}{385}$

4. ✘  $\frac{429}{385}$

Question Number : 87 Question Id : 9983675891 Question Type : MCQ Option Shuffling : Yes  
Correct Marks : 1 Wrong Marks : 0.25

What will be the value of  $\frac{1}{0.0004659}$ , given  $\frac{1}{4.659} = 0.2146$ ?

Options :

1. ✘ 2.146

2. ✖ 21.46

3. ✖ 214.6

4. ✔ 2146

Question Number : 87 Question Id : 9983675891 Question Type : MCQ Option Shuffling : Yes

Correct Marks : 1 Wrong Marks : 0.25

यदि  $\frac{1}{4.659} = 0.2146$  है, तो  $\frac{1}{0.0004659}$  का मान पता करें?

Options :

1. ✖ 2.146

2. ✖ 21.46

3. ✖ 214.6

4. ✔ 2146

Question Number : 88 Question Id : 9983675892 Question Type : MCQ Option Shuffling : Yes

Correct Marks : 1 Wrong Marks : 0.25

Evaluate:

$$8.25 + \frac{7.5}{1 - \frac{1}{3 - \frac{1}{4/5}}}$$

Options :

1. ✖ 9.25

2. ✖ -11.75

3. ✓ 25.75

4. ✖ 27.65

Question Number : 88 Question Id : 9983675892 Question Type : MCQ Option Shuffling : Yes  
Correct Marks : 1 Wrong Marks : 0.25

हल करें:

$$8.25 + \frac{7.5}{1 - \frac{1}{3 - \frac{1}{4/5}}}$$

Options :

1. ✖ 9.25

2. ✖ -11.75

3. ✓ 25.75

4. ✖ 27.65

Question Number : 89 Question Id : 9983675893 Question Type : MCQ Option Shuffling : Yes  
Correct Marks : 1 Wrong Marks : 0.25

Evaluate:

$$8 - 8 \times \frac{2\frac{1}{5} - 1\frac{2}{7}}{2 - \frac{1}{6 - \frac{1}{6}}}$$

Options :

1. ✖ 2

2. ✖  $\frac{1}{2}$

3. ✔ 4

4. ✖  $\frac{1}{4}$

Question Number : 89 Question Id : 9983675893 Question Type : MCQ Option Shuffling : Yes

Correct Marks : 1 Wrong Marks : 0.25

हल करें:

$$8 - 8 \times \frac{2\frac{1}{5} - 1\frac{2}{7}}{2 - \frac{1}{6 - \frac{1}{6}}}$$

Options :

1. ✖ 2

2. ✖  $\frac{1}{2}$

3. ✔ 4

4. ✖  $\frac{1}{4}$

Question Number : 90 Question Id : 9983675894 Question Type : MCQ Option Shuffling : Yes

Correct Marks : 1 Wrong Marks : 0.25

A man spends  $\frac{3}{5}$  of his salary on food,  $\frac{1}{5}$  on rent and  $\frac{1}{5}$  of the remaining amount on conveyance. If he is left with ₹ 1350, what is his salary (in ₹)?

Options :

1. ✖ 8473.5

2. ✓ 8437.5

3. ✗ 8374.5

4. ✗ 8347.5

Question Number : 90 Question Id : 9983675894 Question Type : MCQ Option Shuffling : Yes

Correct Marks : 1 Wrong Marks : 0.25

एक व्यक्ति अपनी आमदनी का  $\frac{3}{5}$  हिस्सा खाने पर और  $\frac{1}{5}$  हिस्सा किराए पर और शेष राशि का  $\frac{1}{5}$  हिस्सा सुविधाओं पर खर्च करता है। यदि उसके बाद केवल ₹ 1350 बचते हैं, तो उसकी आमदनी (₹ में) पता करें?

Options :

1. ✗ 8473.5

2. ✓ 8437.5

3. ✗ 8374.5

4. ✗ 8347.5

Question Number : 91 Question Id : 9983675895 Question Type : MCQ Option Shuffling : Yes

Correct Marks : 1 Wrong Marks : 0.25

A rectangular courtyard 15.17 m long and 8.61 m wide is to be paved exactly with square tiles, all having the same size. What is the largest possible area (in  $\text{cm}^2$ ) of such a tile?

Options :

1. ✓ 1681

2. ✗ 1296



3. ✖ 1225

4. ✖ 289

Question Number : 91 Question Id : 9983675895 Question Type : MCQ Option Shuffling : Yes

Correct Marks : 1 Wrong Marks : 0.25

एक आयताकार आंगन जिसकी लंबाई 15.17 m और चौड़ाई 8.61 m है और इसे एक ही आकार वाली चौकोर टाइल्स से पक्का किया जाना है। इस प्रयोजन के लिए उपयोग की जा सकने वाली टाइल का सबसे बड़ा संभवतः क्षेत्रफल ( $\text{cm}^2$  में) पता करें?

Options :

1. ✔ 1681

2. ✖ 1296

3. ✖ 1225

4. ✖ 289

Question Number : 92 Question Id : 9983675896 Question Type : MCQ Option Shuffling : Yes

Correct Marks : 1 Wrong Marks : 0.25

Which of the following is the least number that should be added to 2016 such that the resulting number can be divided by 3, 4, 5 and 6 leaving no remainder?

Options :

1. ✖ 26

2. ✖ 36

3. ✔ 24

4. ✖ 34

Question Number : 92 Question Id : 9983675896 Question Type : MCQ Option Shuffling : Yes

Correct Marks : 1 Wrong Marks : 0.25

इनमें से कौन सी ऐसी सबसे छोटी संख्या है जिसे 2016 में जोड़ने पर, प्राप्त हुई संख्या को 3, 4, 5 और 6 से विभाजित करने पर कोई शेष नहीं बचता है।

Options :

1. ✖ 26

2. ✖ 36

3. ✔ 24

4. ✖ 34

Question Number : 93 Question Id : 9983675897 Question Type : MCQ Option Shuffling : Yes

Correct Marks : 1 Wrong Marks : 0.25

A farmer wants to utilise the unused portion of his field by planting some trees. He plants 176 guava trees, 132 papaya trees and 220 sugarcane trees in rows such that each row has the same number of trees. He also makes distinct rows of trees, i.e., only one type of tree in one row. The minimum number of rows that can be formed is:

Options :

1. ✖ 10

2. ✔ 12

3. ✖ 20

4. ✖ 24

Question Number : 93 Question Id : 9983675897 Question Type : MCQ Option Shuffling : Yes

Correct Marks : 1 Wrong Marks : 0.25

एक किसान के पास खाली जमीन का कुछ हिस्सा है, जहाँ उसने कुछ पेड़ लगाने की योजना बनाई है। उसने अमरूद के 176 पेड़, पपीते के 132 पेड़ और गन्ने के 220 पेड़ समान पंक्तियों में इस तरह लगाए हैं कि प्रत्येक पंक्ति में समान संख्या में पेड़ हैं। साथ ही, वह पेड़ों की अलग-अलग पंक्तियाँ बनाता है, यानी कि एक पंक्ति में केवल एक प्रकार का ही पेड़ रहे। तो पता करें की इस तरह कम से कम कितनी पंक्तियाँ बनाई जा सकती हैं।

Options :

1. ✘ 10

2. ✔ 12

3. ✘ 20

4. ✘ 24

Question Number : 94 Question Id : 9983675898 Question Type : MCQ Option Shuffling : Yes

Correct Marks : 1 Wrong Marks : 0.25

5 men working 8 hours a day can finish certain work in 12 days and 8 women working 7 hours a day can finish the same work in 15 days. In how much time can 6 men and 7 women can finish the same work, all working 10 hours a day?

Options :

1. ✘ 5 days and 2 hours

2. ✔ 4 days and 8 hours

3. ✘ 4 days, 19 hours and 12 minutes

4. ✘ 4 days, 18 hours and 36 minutes

Question Number : 94 Question Id : 9983675898 Question Type : MCQ Option Shuffling : Yes

Correct Marks : 1 Wrong Marks : 0.25

5 पुरुष एक दिन में 8 घंटे काम करते हुए एक कार्य को 12 दिनों में पूरा कर सकते हैं और 8 महिलाएँ दिन में 7 घंटे काम करते हुए एक कार्य को 15 दिनों में पूरा कर सकती हैं। 6 पुरुष और 7 महिलाएँ एक ही काम को कितने समय में पूरा कर सकते हैं, यदि वह एक दिन में 10 घंटे काम करें?

Options :

1. ✘ 5 दिन और 2 घंटे
2. ✔ 4 दिन और 8 घंटे
3. ✘ 4 दिन, 19 घंटे और 12 मिनट
4. ✘ 4 दिन, 18 घंटे और 36 मिनट

Question Number : 95 Question Id : 9983675899 Question Type : MCQ Option Shuffling : Yes

Correct Marks : 1 Wrong Marks : 0.25

Seema scored twice as many marks in Science as in English. Her total marks in English, Science and Mathematics is 240. If the ratio of her marks in Mathematics and Science is 3 : 2, what are her marks in Science?

Options :

1. ✘ 40
2. ✘ 60
3. ✔ 80
4. ✘ 120

Question Number : 95 Question Id : 9983675899 Question Type : MCQ Option Shuffling : Yes

Correct Marks : 1 Wrong Marks : 0.25

सीमा ने अंग्रेजी की तुलना में विज्ञान में दो गुने अंक प्राप्त किए। उसके अंग्रेजी, विज्ञान और गणित में कुल प्राप्त अंक 240 हैं। यदि गणित और विज्ञान में उसके अंकों का अनुपात 3 : 2 है, तो पता करें कि उसने विज्ञान में कितने अंक प्राप्त किए?

Options :

1. ✖ 40

2. ✖ 60

3. ✔ 80

4. ✖ 120

Question Number : 96 Question Id : 9983675900 Question Type : MCQ Option Shuffling : Yes

Correct Marks : 1 Wrong Marks : 0.25

In an examination, 35% of the students failed in Mathematics and 44% failed in English. If 23% of the students failed in both the subjects, then the percentage of students who passed in both the subjects is:

Options :

1. ✖ 56%

2. ✖ 35%

3. ✖ 65%

4. ✔ 44%

Question Number : 96 Question Id : 9983675900 Question Type : MCQ Option Shuffling : Yes

Correct Marks : 1 Wrong Marks : 0.25

एक परीक्षा में, 35% छात्र गणित में और 44% अंग्रेजी में अनुत्तीर्ण रहे। यदि 23% छात्र दोनों विषयों में अनुत्तीर्ण रहे हैं, तो पता करें कि कितने प्रतिशत छात्र दोनों विषयों में उत्तीर्ण रहे हैं।

Options :

1. ✖ 56%

2. ✖ 35%

3. ✖ 65%

4. ✔ 44%

Question Number : 97 Question Id : 9983675901 Question Type : MCQ Option Shuffling : Yes

Correct Marks : 1 Wrong Marks : 0.25

The employees of an MNC spend 85% of their office hours on work.  $33\frac{1}{3}\%$  of the remaining time is utilised for lunch and tea breaks. 75% of the further remaining time is spent for library work and rest on personal requirements, which is for only 15 minutes per day. Then what is the total time for which an employee works in a five-day week?

Options :

1. ✖ 40 hr

2. ✖ 40 hr 48 min

3. ✔ 42 hr 30 min

4. ✖ 42 hr

Question Number : 97 Question Id : 9983675901 Question Type : MCQ Option Shuffling : Yes

Correct Marks : 1 Wrong Marks : 0.25

एक एमएनसी (MNC) के कर्मचारी ने अपने कार्यालय समय का 85% समय काम पर खर्च करते हैं। शेष समय का  $33\frac{1}{3}\%$  दोपहर के भोजन और चाय पीने पर खर्च करते हैं। फिर शेष बचे समय का 75% समय लाइब्रेरी के काम और निजी आवश्यकताओं पर खर्च करते हैं, जो कि प्रतिदिन केवल 15 मिनट का समय बनता है। तो पता करें कि कर्मचारी पाँच दिनों के सप्ताह में कुल कितने समय काम करता है?

Options :



1. ✖ 40 घंटे

2. ✖ 40 घंटे 48 मिनट

3. ✔ 42 घंटे 30 मिनट

4. ✖ 42 घंटे

Question Number : 98 Question Id : 9983675902 Question Type : MCQ Option Shuffling : Yes

Correct Marks : 1 Wrong Marks : 0.25

The price of an article was increased two times successively by 15% each time. By what percentage should the new price be reduced so as to restore the original price (correct to two decimal places)?

Options :

1. ✖ 26.54%

2. ✖ 25.48%

3. ✖ 23.58%

4. ✔ 24.39%

Question Number : 98 Question Id : 9983675902 Question Type : MCQ Option Shuffling : Yes

Correct Marks : 1 Wrong Marks : 0.25

एक वस्तु के मूल्य को हर बार 15% की वृद्धि के साथ दो बार बढ़ाया गया है। तो नए मूल्य को मूल मूल्य (दो दशमलव स्थानों तक सही) तक लाने के लिए कितनी प्रतिशत की कमी की जानी चाहिए?

Options :

1. ✖ 26.54%



2. ✖ 25.48%

3. ✖ 23.58%

4. ✔ 24.39%

Question Number : 99 Question Id : 9983675903 Question Type : MCQ Option Shuffling : Yes

Correct Marks : 1 Wrong Marks : 0.25

The average of 29 numbers is 70. The average of the first 15 numbers is 65 and the average of the last 15 numbers is 74. If 15<sup>th</sup> number is excluded, what is the average (correct to one decimal place) of the remaining numbers?

Options :

1. ✖ 71.5

2. ✔ 70.5

3. ✖ 72.5

4. ✖ 70

Question Number : 99 Question Id : 9983675903 Question Type : MCQ Option Shuffling : Yes

Correct Marks : 1 Wrong Marks : 0.25

29 संख्याओं का औसत 70 है। पहली 15 संख्याओं का औसत 65 है और अंतिम 15 संख्याओं का औसत 74 है। यदि 15वीं संख्या को निकाल दिया जाए, तो शेष संख्याओं का औसत (एक दशमलव स्थान तक सही) पता करें?

Options :

1. ✖ 71.5

2. ✔ 70.5

3. ✖ 72.5

4. ✖ 70

Question Number : 100 Question Id : 9983675904 Question Type : MCQ Option Shuffling : Yes

Correct Marks : 1 Wrong Marks : 0.25

The average weight of a group of eight girls is 50 kg. If two girls, R and S, replace P and Q, the new average weight becomes 48 kg. The weights of P and Q are equal, so are the weights of R and S. Another girl T, whose weight is equal to that of R, is included in the group and the new average weight becomes 48 kg. What is the weight (in kg) of Q?

Options :

1. ✔ 56

2. ✖ 54

3. ✖ 48

4. ✖ 40

Question Number : 100 Question Id : 9983675904 Question Type : MCQ Option Shuffling : Yes

Correct Marks : 1 Wrong Marks : 0.25

8 लड़कियों वाले एक समूह का औसत वजन 50 kg है। यदि 2 लड़कियां, R और S, P और Q की जगह ले लेती हैं, तो नया औसत वजन 48 kg हो जाता है। P का वजन Q के बराबर है और R का वजन S के बराबर है। एक अन्य लड़की T, जिसका वजन R के बराबर, को नए समूह में शामिल किया जाता है और नया औसत वजन 48 kg हो जाता है। Q का वजन (kg में) पता करें?

Options :

1. ✔ 56

2. ✖ 54

3. ✖ 48

4. ✖ 40

## Arithmetic Ability2

Group Number :	6
Group Id :	998367242
Group Maximum Duration :	0
Group Minimum Duration :	0
Show Attended Group? :	No
Edit Attended Group? :	No
Break time:	0
Group Marks:	20
Is this Group for Examiner?:	No
Revisit allowed for group Instructions? :	Yes
Maximum Instruction Time:	0
Minimum Instruction Time:	0

## Arithmetic Ability2

Section Id :	998367248
Section Number :	1
Section type :	Online
Mandatory or Optional:	Mandatory
Number of Questions:	20
Number of Questions to be attempted:	20
Section Marks:	20

Sub-Section Number:	1
Sub-Section Id:	998367360
Question Shuffling Allowed :	Yes

Question Number : 101 Question Id : 9983675905 Question Type : MCQ Option Shuffling : Yes  
Correct Marks : 1 Wrong Marks : 0.25

A dealer offers a cash discount of 20% and still makes a profit of 20%. By how much percentage is the marked price above the cost price?

Options :

1. ✖ 30%

2. ✖ 32%

3. ✖ 40%

4. ✔ 50%

Question Number : 101 Question Id : 9983675905 Question Type : MCQ Option Shuffling : Yes

Correct Marks : 1 Wrong Marks : 0.25

एक विक्रेता 20% की छूट देकर भी 20% का लाभ कमाता है। पता करें कि अंकित मूल्य क्रय मूल्य से कितने प्रतिशत अधिक है।

Options :

1. ✖ 30%

2. ✖ 32%

3. ✖ 40%

4. ✔ 50%

Question Number : 102 Question Id : 9983675906 Question Type : MCQ Option Shuffling : Yes

Correct Marks : 1 Wrong Marks : 0.25

A shopkeeper earns a profit of 20% after selling a book at 12% discount on the printed price. The ratio of the cost price and the printed price of the book is:

Options :

1. ✖ 14 : 11

2. ✔ 11 : 15

3. ✖ 3 : 5

4. ✖ 10 : 11

Question Number : 102 Question Id : 9983675906 Question Type : MCQ Option Shuffling : Yes

Correct Marks : 1 Wrong Marks : 0.25

एक दूकानदार अंकित मूल्य पर 12% की छूट देकर पुस्तक बेच कर 20% का लाभ कमाता है। पुस्तक के क्रय मूल्य और अंकित मूल्य का अनुपात पता करें।

Options :

1. ✖ 14 : 11

2. ✔ 11 : 15

3. ✖ 3 : 5

4. ✖ 10 : 11

Question Number : 103 Question Id : 9983675907 Question Type : MCQ Option Shuffling : Yes

Correct Marks : 1 Wrong Marks : 0.25

A watch dealer produces 1500 watches, the production cost per watch being ₹ 150. He also incurs an additional expenditure of ₹ 30,000, which is independent of the number of watches produced. He sells all the watches such that for a certain number of them, he makes a gain of 20% and for the rest he incurs a loss of 20%. If he makes an overall gain of  $1\frac{1}{3}\%$  in the whole transaction, then for how many watches did he incur loss?

Options :

1. ✔ 700

2. ✖ 1000

3. ✖ 800

4. ✖ 1200

Question Number : 103 Question Id : 9983675907 Question Type : MCQ Option Shuffling : Yes

Correct Marks : 1 Wrong Marks : 0.25

एक घड़ी विक्रेता, 1500 घड़ियों का उत्पादन करता है, प्रत्येक घड़ी की उत्पादन लागत ₹ 150 है। वह ₹ 30,000 का अतिरिक्त खर्च भी करता है, जो उत्पादित घड़ियों की संख्या से अलग होता है। वह घड़ियों की कुछ हिस्से को 20% लाभ पर और शेष हिस्से को 20% हानि पर बेचता है। यदि इस पूर्ण लेनदेन पर  $1\frac{1}{3}\%$  का लाभ होता है, तो पता करें कि उसे कितनी घड़ियों पर हानि हुई?

Options :

1. ✔ 700

2. ✖ 1000

3. ✖ 800

4. ✖ 1200

Question Number : 104 Question Id : 9983675908 Question Type : MCQ Option Shuffling : Yes

Correct Marks : 1 Wrong Marks : 0.25

A person bought a new mobile phone for 35% discount. If he were not to get any discount, then he would have had to pay ₹ 2240 more. How much did he pay for the mobile (in ₹)?

Options :

1. ✔ 4160

2. ✖ 6400

3. ✖ 8640

4. ✖ 2240

Question Number : 104 Question Id : 9983675908 Question Type : MCQ Option Shuffling : Yes

Correct Marks : 1 Wrong Marks : 0.25

एक व्यक्ति ने 35% छूट पर एक मोबाइल फोन खरीदा। यदि उसे कोई छूट नहीं मिलती, तो उसे ₹ 2240 का अधिक भुगतान करना पड़ता। तो पता करें कि उसने मोबाइल फोन के लिए कितना भुगतान (₹ में) किया?

Options :

1. ✔ 4160

2. ✖ 6400

3. ✖ 8640

4. ✖ 2240

Question Number : 105 Question Id : 9983675909 Question Type : MCQ Option Shuffling : Yes

Correct Marks : 1 Wrong Marks : 0.25

When payment is made online, discount offered is 10%. Additional discount of 5% is given to credit card holders. Ram buys a laptop of ₹ 150000 by paying online and pays through his credit card. How much does he need to pay (in ₹)?

Options :

1. ✖ 140000

2. ✔ 128250

3. ✖ 135000



4. ✖ 108250

Question Number : 105 Question Id : 9983675909 Question Type : MCQ Option Shuffling : Yes

Correct Marks : 1 Wrong Marks : 0.25

ऑनलाइन भुगतान करने पर 10% की छूट दी जाती है। क्रेडिट कार्ड धारकों को 5% की अतिरिक्त छूट दी जाती है। राम ऑनलाइन खरीददारी करके, अपने क्रेडिट कार्ड के माध्यम से भुगतान करके ₹ 150000 का लैपटॉप खरीदता है। तो पता करें कि उसने कितना भुगतान (₹ में) किया?

Options :

1. ✖ 140000

2. ✔ 128250

3. ✖ 135000

4. ✖ 108250

Question Number : 106 Question Id : 9983675910 Question Type : MCQ Option Shuffling : Yes

Correct Marks : 1 Wrong Marks : 0.25

In 10 years, the simple interest on certain sum of money is  $\frac{7}{20}$  of the principal. The annual rate of interest is:

Options :

1. ✖ 3%

2. ✔ 3.5%

3. ✖ 3.75%

4. ✖ 4%

Question Number : 106 Question Id : 9983675910 Question Type : MCQ Option Shuffling : Yes

Correct Marks : 1 Wrong Marks : 0.25

10 वर्षों में, एक निश्चित राशि पर साधारण ब्याज मूलधन का  $\frac{7}{20}$  हो जाएगा। वार्षिक ब्याज दर पता करें।

Options :

1. ✘ 3%

2. ✔ 3.5%

3. ✘ 3.75%

4. ✘ 4%

Question Number : 107 Question Id : 9983675911 Question Type : MCQ Option Shuffling : Yes

Correct Marks : 1 Wrong Marks : 0.25

A man earns 6% per annum at simple interest on his deposits in Bank A, while he earns 8% per annum simple interest on his deposits in Bank B. If the total interest he earns is ₹ 18000 in three years on an investment of ₹ 90000, what is the amount (in ₹) invested at 6 %?

Options :

1. ✘ 30000

2. ✔ 60000

3. ✘ 18000

4. ✘ 54000

Question Number : 107 Question Id : 9983675911 Question Type : MCQ Option Shuffling : Yes

Correct Marks : 1 Wrong Marks : 0.25

एक व्यक्ति बैंक A में अपनी जमा राशि पर 6% प्रतिवर्ष की दर से साधारण ब्याज अर्जित करता है, जबकि वह बैंक B में अपनी जमा राशि पर 8% प्रतिवर्ष की दर से साधारण ब्याज अर्जित करता है। यदि वह तीन वर्षों में ₹ 90000 के निवेश पर कुल ₹ 18000 ब्याज अर्जित करता है, तो पता करें उसने 6% की दर पर कितनी राशि (₹ में) का निवेश किया?

Options :

1. ✘ 30000

2. ✔ 60000

3. ✘ 18000

4. ✘ 54000

Question Number : 108 Question Id : 9983675912 Question Type : MCQ Option Shuffling : Yes

Correct Marks : 1 Wrong Marks : 0.25

अरुण ने साधारण ब्याज पर ₹ 1500 का ऋण उतने वर्षों के लिए लिया जितनी ब्याज की दर है। यदि उसने ऋण अवधि के अंत में ब्याज के रूप में ₹ 960 का भुगतान किया है, तो वार्षिक रूप से प्रतिशत दर पता करें?

Options :

1. ✔ 8

2. ✘ 6

3. ✘ 7

4. ✘ 4

Question Number : 108 Question Id : 9983675912 Question Type : MCQ Option Shuffling : Yes

Correct Marks : 1 Wrong Marks : 0.25

Arun took a loan of ₹ 1500 with simple interest for as many years as the rate of interest. If he paid ₹ 960 as interest at the end of the loan period, what was the rate percent of interest per annum?

Options :

1. ✓ 8

2. ✗ 6

3. ✗ 7

4. ✗ 4

Question Number : 109 Question Id : 9983675913 Question Type : MCQ Option Shuffling : Yes

Correct Marks : 1 Wrong Marks : 0.25

A sum of money lent at compound interest for 2 years at 20% per annum would fetch ₹ 1205 more, if the interest was payable half yearly than if it was payable annually. The sum (in ₹ ) is:

Options :

1. ✗ 10000

2. ✗ 20000

3. ✗ 40000

4. ✓ 50000

Question Number : 109 Question Id : 9983675913 Question Type : MCQ Option Shuffling : Yes

Correct Marks : 1 Wrong Marks : 0.25

एक निश्चित राशि को 20% वार्षिक चक्रवृद्धि ब्याज दर पर 2 वर्ष के लिए उधार देने पर ₹ 1205 अधिक प्राप्त होते हैं, यदि ब्याज देय प्रतिवर्ष की बजाए अर्धवार्षिक होता। कुल राशि (₹ में) पता करें।

Options :

1. ✘ 10000

2. ✘ 20000

3. ✘ 40000

4. ✔ 50000

Question Number : 110 Question Id : 9983675914 Question Type : MCQ Option Shuffling : Yes

Correct Marks : 1 Wrong Marks : 0.25

A sum of money invested on compound interest at a particular rate grows to ₹ 172800 in six years and to ₹ 100000 in three years. What is the rate of interest?

Options :

1. ✘ 12%

2. ✘ 16%

3. ✔ 20%

4. ✘ 24%

Question Number : 110 Question Id : 9983675914 Question Type : MCQ Option Shuffling : Yes

Correct Marks : 1 Wrong Marks : 0.25

एक निश्चित राशि एक विशेष दर पर चक्रवृद्धि ब्याज पर निवेश करने से छह वर्षों में ₹ 172800 और तीन वर्षों में ₹ 100000 हो जाती है। ब्याज दर पता करें?

Options :

1. ✘ 12%

2. ✘ 16%

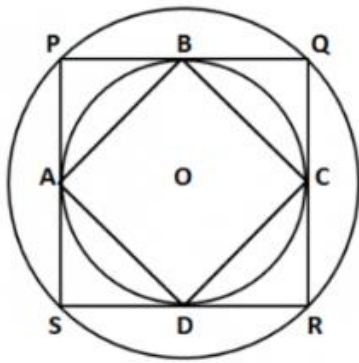
3. ✔ 20%

4. ✘ 24%

Question Number : 111 Question Id : 9983675915 Question Type : MCQ Option Shuffling : Yes

Correct Marks : 1 Wrong Marks : 0.25

The following figure shows two concentric circles with centre O. PQRS is a square inscribed in the outer circle. It also circumscribes the inner circle, touching it at point B, C, D and A. What is the ratio of the circumference of the outer circle to that of the perimeter of ABCD?



Options :

1. ✘  $\pi : 4$

2. ✘  $\pi : 8$

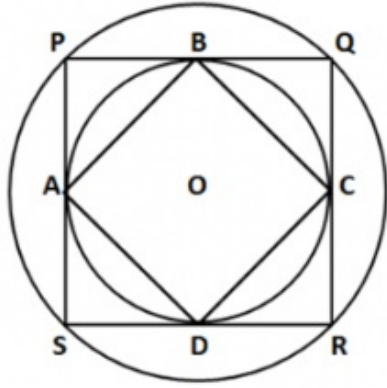
3. ✔  $\pi : 2$

4. ✘  $\pi : 6$

Question Number : 111 Question Id : 9983675915 Question Type : MCQ Option Shuffling : Yes

Correct Marks : 1 Wrong Marks : 0.25

नीचे दी गई आकृति केंद्र O वाले दो संकेंद्रित वृत्त दर्शाती है। PQRS बाहरी वृत्त में बना एक वर्ग है। यह आंतरिक वृत्त को भी परिगत करता है, और इसे बिंदु B, C, D और A पर स्पर्श करता है। ABCD की परिधि के साथ बाहरी वृत्त की परिधि का अनुपात पता करें?



Options :

1. ✘  $\pi : 4$

2. ✘  $\pi : 8$

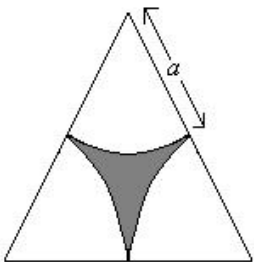
3. ✔  $\pi : 2$

4. ✘  $\pi : 6$

Question Number : 112 Question Id : 9983675916 Question Type : MCQ Option Shuffling : Yes

Correct Marks : 1 Wrong Marks : 0.25

In an equilateral triangle, three symmetrical sections are cut as shown. What is the ratio of the shaded region to that of the equilateral triangle as fraction?



Options :



1. ✓  $1 - \frac{\pi}{2\sqrt{3}}$

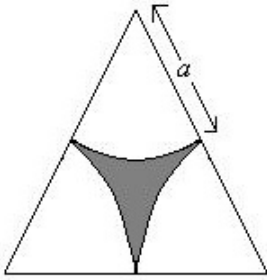
2. ✗  $1 + \frac{\pi}{2\sqrt{3}}$

3. ✗  $1 - \frac{\pi}{\sqrt{3}}$

4. ✗  $1 + \frac{\pi}{\sqrt{3}}$

Question Number : 112 Question Id : 9983675916 Question Type : MCQ Option Shuffling : Yes  
Correct Marks : 1 Wrong Marks : 0.25

समबाहु त्रिभुज में, तीन सममित खंडों को नीचे प्रदर्शित आकृति के अनुसार काटा गया है। भिन्न के रूप में छायांकित क्षेत्र और समबाहु त्रिभुज का अनुपात पता करें?



Options :

1. ✓  $1 - \frac{\pi}{2\sqrt{3}}$

2. ✗  $1 + \frac{\pi}{2\sqrt{3}}$

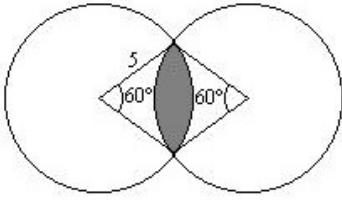
3. ✗  $1 - \frac{\pi}{\sqrt{3}}$

4. ✗  $1 + \frac{\pi}{\sqrt{3}}$

Question Number : 113 Question Id : 9983675917 Question Type : MCQ Option Shuffling : Yes

Correct Marks : 1 Wrong Marks : 0.25

Two circles of radius 5 cm each intersect each other as shown in the figure. The area of the overlapping (shaded) regions so formed is:



Options :

1. ✓  $25 \left( \frac{\pi}{3} - \frac{\sqrt{3}}{2} \right)$

2. ✗  $25 \left( \frac{\pi}{3} + \frac{\sqrt{3}}{2} \right)$

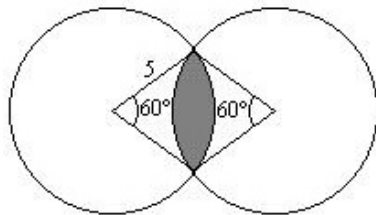
3. ✗  $25 \left( \frac{\pi}{3} - \frac{\sqrt{3}}{4} \right)$

4. ✗  $25 \left( \frac{\pi}{3} + \frac{\sqrt{3}}{4} \right)$

Question Number : 113 Question Id : 9983675917 Question Type : MCQ Option Shuffling : Yes

Correct Marks : 1 Wrong Marks : 0.25

5 cm त्रिज्या वाले दो वृत्त एक दूसरे को प्रतिच्छेद करते हैं जैसा कि आकृति में दिखाया गया है। अतिव्यापी (छायांकित) क्षेत्रों का क्षेत्रफल पता करें।



Options :

1. ✓  $25 \left( \frac{\pi}{3} - \frac{\sqrt{3}}{2} \right)$

2. ✘  $25\left(\frac{\pi}{3} + \frac{\sqrt{3}}{2}\right)$

3. ✘  $25\left(\frac{\pi}{3} - \frac{\sqrt{3}}{4}\right)$

4. ✘  $25\left(\frac{\pi}{3} + \frac{\sqrt{3}}{4}\right)$

Question Number : 114 Question Id : 9983675918 Question Type : MCQ Option Shuffling : Yes

Correct Marks : 1 Wrong Marks : 0.25

12 men engaged by a contractor A can do a piece of work in 10 days by working for 14 hours a day. 16 men engaged by a contractor B can do the same work in 5 days working 9 hours a day. 7 men from contractor A were entrusted with the work by spending 15 hours a day, but they could work only for 8 days. Then 8 men from contractor B were engaged to complete the work by spending the same duration per day as that by the previous group. In how many days the work got completed?

Options :

1. ✘ 10

2. ✔ 11

3. ✘ 12

4. ✘ 13

Question Number : 114 Question Id : 9983675918 Question Type : MCQ Option Shuffling : Yes

Correct Marks : 1 Wrong Marks : 0.25

ठेकेदार A द्वारा काम पर रखे 12 पुरुष एक कार्य को एक दिन में 14 घंटे काम करके 10 दिनों में पूरा कर सकते हैं। ठेकेदार B द्वारा काम पर रखे 16 पुरुष इस कार्य को एक दिन में 9 घंटे काम करके 5 दिनों में पूरा कर सकते हैं। ठेकेदार A के 7 पुरुषों को एक दिन में 15 घंटे काम करने के लिए कहा गया था, लेकिन वे केवल 8 दिन ही काम कर पाए। फिर ठेकेदार B के रखे 8 पुरुष पिछले समूह जैसे ही प्रति दिन उतने ही समय काम करके काम को पूरा करने लग गए। पता करें कि कितने दिनों में काम पूरा होगा?

Options :

1. ✖ 10

2. ✔ 11

3. ✖ 12

4. ✖ 13

Question Number : 115 Question Id : 9983675919 Question Type : MCQ Option Shuffling : Yes

Correct Marks : 1 Wrong Marks : 0.25

7 men, 8 women and 14 boys can complete a certain work in 5 days. A woman does double the work a man does and a boy does half the work a man does. How many women alone can complete this work in 25 days?

Options :

1. ✖ 15

2. ✖ 10

3. ✖ 5

4. ✔ 3

Question Number : 115 Question Id : 9983675919 Question Type : MCQ Option Shuffling : Yes

Correct Marks : 1 Wrong Marks : 0.25

7 पुरुष, 8 महिलाएँ और 14 लड़के एक कार्य को 5 दिनों में पूरा कर सकते हैं। एक महिला एक पुरुष से दोगुना काम करती है और एक लड़का एक पुरुष से आधा काम करता है। तो पता करें कि अकेले कितनी महिलाएँ इस कार्य को 25 दिन में पूरा कर सकती हैं?

Options :

1. ✖ 15

2. ✖ 10

3. ✖ 5

4. ✔ 3

Question Number : 116 Question Id : 9983675920 Question Type : MCQ Option Shuffling : Yes

Correct Marks : 1 Wrong Marks : 0.25

A car of length 4 m wants to overtake a trailer truck of length 20 m within 12 seconds. The truck is travelling at a speed of 108 kmph.. At what speed should the car travel?

Options :

1. ✖ 12 m/s

2. ✖ 24 m/s

3. ✔ 32 m/s

4. ✖ 36 m/s

Question Number : 116 Question Id : 9983675920 Question Type : MCQ Option Shuffling : Yes

Correct Marks : 1 Wrong Marks : 0.25

एक 4 m लंबी कार 12 सेकंड के भीतर 20 m लंबे ट्रेलर ट्रक से आगे निकलना चाहती है। ट्रक की गति 108 kmph है। पता करें कि ट्रक से आगे निकलने के लिए कार की गति कितनी होनी चाहिए?

Options :

1. ✖ 12 m/s

2. ✖ 24 m/s

3. ✓ 32 m/s

4. ✗ 36 m/s

Question Number : 117 Question Id : 9983675921 Question Type : MCQ Option Shuffling : Yes

Correct Marks : 1 Wrong Marks : 0.25

A boat can go 5 km downstream and 4 km upstream in 36 minutes. The boat can also travel 10 km downstream and 2 km upstream in 28 minutes 48 seconds. What is the ratio of the speed of the boat in still water to that of the stream?

Options :

1. ✓ 3 : 2

2. ✗ 4 : 3

3. ✗ 6 : 5

4. ✗ 9 : 8

Question Number : 117 Question Id : 9983675921 Question Type : MCQ Option Shuffling : Yes

Correct Marks : 1 Wrong Marks : 0.25

एक नाव 36 मिनट में 5 km प्रतिप्रवाह और 4 km अनुप्रवाह जा सकती है। वह नाव 28 मिनट 48 सेकंड में 10 km प्रतिप्रवाह और 2 km अनुप्रवाह जा सकती है। नाव की स्थिर पानी और प्रवाह में चलने की गति का अनुपात पता करें?

Options :

1. ✓ 3 : 2

2. ✗ 4 : 3

3. ✗ 6 : 5

4. ✖ 9 : 8

Question Number : 118 Question Id : 9983675922 Question Type : MCQ Option Shuffling : Yes

Correct Marks : 1 Wrong Marks : 0.25

A starts walking at 5 kmph, and 5 hours later, B starts cycling in the same direction and from the same point as that of A at 10 kmph. After how much distance (in km) will B catch up with A?

Options :

1. ✖ 40

2. ✔ 50

3. ✖ 25

4. ✖ 10

Question Number : 118 Question Id : 9983675922 Question Type : MCQ Option Shuffling : Yes

Correct Marks : 1 Wrong Marks : 0.25

A, 5 kmph की गति से चलना शुरू करता है और 5 घंटे बाद, जहाँ से A ने चलना शुरू किया था, B भी उसी दिशा से 10 kmph की गति से साइकिल चलाना शुरू करता है। B कितनी दूरी (km में) बाद A के साथ होगा?

Options :

1. ✖ 40

2. ✔ 50

3. ✖ 25

4. ✖ 10



Question Number : 119 Question Id : 9983675923 Question Type : MCQ Option Shuffling : Yes  
Correct Marks : 1 Wrong Marks : 0.25

The following table shows the number of seats reserved in different classes in a train on five different days. The capacity of each class is given in the bracket.

Day	2 <sup>nd</sup> Class Non- AC (900)	1 <sup>st</sup> Class Non- AC (500)	AC III Tier (500)	AC II Tier (250)	AC 1 <sup>st</sup> Class (150)
Monday	750	410	390	240	145
Tuesday	820	400	450	230	120
Wednesday	730	360	480	220	130
Thursday	640	480	490	190	122
Friday	700	490	495	210	140

What is the ratio of the number of vacant seats in AC classes on Monday and Friday to the number of reservations in non-AC classes on Tuesday, Wednesday and Thursday?

Options :

1. ✘ 343 : 18

2. ✔ 18 : 343

3. ✘ 343 : 9

4. ✘ 9 : 343

Question Number : 119 Question Id : 9983675923 Question Type : MCQ Option Shuffling : Yes  
Correct Marks : 1 Wrong Marks : 0.25



नीचे दी गई तालिका एक ट्रेन में पाँच अलग-अलग दिनों में विभिन्न श्रेणियों में आरक्षित सीटों की संख्या को दर्शाती है। प्रत्येक श्रेणी की क्षमता ब्रैकेट में दी गई है।

दिन	द्वितीय श्रेणी गैर-एसी (900)	प्रथम श्रेणी गैर-एसी (500)	एसी तृतीय श्रेणी (500)	एसी द्वितीय श्रेणी (250)	एसी प्रथम श्रेणी (150)
सोमवार	750	410	390	240	145
मंगलवार	820	400	450	230	120
बुधवार	730	360	480	220	130
गुरुवार	640	480	490	190	122
शुक्रवार	700	490	495	210	140

मंगलवार, बुधवार और गुरुवार को गैर-एसी श्रेणियों में आरक्षण की संख्या के साथ सोमवार और शुक्रवार को एसी श्रेणियों में रिक्त सीटों की संख्या का अनुपात पता करें?

Options :

1. ✘ 343 : 18

2. ✔ 18 : 343

3. ✘ 343 : 9

4. ✘ 9 : 343

Question Number : 120 Question Id : 9983675924 Question Type : MCQ Option Shuffling : Yes  
Correct Marks : 1 Wrong Marks : 0.25

The following table shows the number of seats reserved in different classes in a train on five different days of a particular week. The capacity of each class is given in the bracket.

Day	2 <sup>nd</sup> Class Non- AC (900)	1 <sup>st</sup> Class Non- AC (500)	AC III Tier (500)	AC II Tier (250)	AC 1 <sup>st</sup> Class (150)
Monday	750	410	390	240	145
Tuesday	820	400	450	230	120
Wednesday	730	360	480	220	130
Thursday	640	480	490	190	122
Friday	700	490	495	210	140

What is the ratio of the seats remaining vacant on Monday, Thursday and Friday in all the AC classes to that of the seats remaining vacant on Tuesday and Wednesday in all the Non-AC classes?

Options :

1. ✓ 139 : 245

2. ✗ 187 : 280

3. ✗ 3 : 7

4. ✗ 2 : 5

Question Number : 120 Question Id : 9983675924 Question Type : MCQ Option Shuffling : Yes  
Correct Marks : 1 Wrong Marks : 0.25

नीचे दी गई तालिका एक ट्रेन में पाँच अलग-अलग दिनों में विभिन्न श्रेणियों में आरक्षित सीटों की संख्या को दर्शाती है। प्रत्येक श्रेणी की क्षमता ब्रैकेट में दी गई है।

दिन	द्वितीय श्रेणी गैर-एसी (900)	प्रथम श्रेणी गैर-एसी (500)	एसी तृतीय श्रेणी (500)	एसी द्वितीय श्रेणी (250)	एसी प्रथम श्रेणी (150)
सोमवार	750	410	390	240	145
मंगलवार	820	400	450	230	120
बुधवार	730	360	480	220	130
गुरुवार	640	480	490	190	122
शुक्रवार	700	490	495	210	140

सभी गैर-एसी श्रेणियों में मंगलवार और बुधवार को रिक्त सीटों की संख्या के साथ सभी एसी श्रेणियों में सोमवार, गुरुवार और शुक्रवार को रिक्त सीटों का अनुपात पता करें?

Options :

1. ✓ 139 : 245

2. ✗ 187 : 280

3. ✗ 3 : 7

4. ✗ 2 : 5

## General English1

Group Number :	7
Group Id :	998367243
Group Maximum Duration :	0
Group Minimum Duration :	0
Show Attended Group? :	No
Edit Attended Group? :	No
Break time:	0

Group Marks:	20
Is this Group for Examiner?:	No
Revisit allowed for group Instructions? :	Yes
Maximum Instruction Time:	0
Minimum Instruction Time:	0

## General English1

Section Id :	998367249
Section Number :	1
Section type :	Online
Mandatory or Optional:	Mandatory
Number of Questions:	20
Number of Questions to be attempted:	20
Section Marks:	20

Sub-Section Number:	1
Sub-Section Id:	998367361
Question Shuffling Allowed :	Yes

Question Number : 121 Question Id : 9983675925 Question Type : MCQ Option Shuffling : Yes  
Correct Marks : 1 Wrong Marks : 0.25

Choose the option that conveys the meaning of the underlined idiom.

He was very aggressive in the beginning but when the principal arrived he changed his tune.

Options :

1. ✖ started singing
2. ✖ sang a different song
3. ✔ adopted a different attitude
4. ✖ did not give in to pressure

Question Number : 121 Question Id : 9983675925 Question Type : MCQ Option Shuffling : Yes  
Correct Marks : 1 Wrong Marks : 0.25

Choose the option that conveys the meaning of the underlined idiom.

He was very aggressive in the beginning but when the principal arrived he changed his tune.

Options :

1. ✖ started singing
2. ✖ sang a different song
3. ✔ adopted a different attitude
4. ✖ did not give in to pressure

Question Number : 122 Question Id : 9983675926 Question Type : MCQ Option Shuffling : Yes

Correct Marks : 1 Wrong Marks : 0.25

Choose the option that conveys the meaning of the underlined idiom.

Our car turned turtle several times when it was hit by another speeding car.

Options :

1. ✖ avoided an accident
2. ✖ turned sideways
3. ✖ moved ahead
4. ✔ turned upside down

Question Number : 122 Question Id : 9983675926 Question Type : MCQ Option Shuffling : Yes

Correct Marks : 1 Wrong Marks : 0.25

Choose the option that conveys the meaning of the underlined idiom.

Our car turned turtle several times when it was hit by another speeding car.

Options :

1. ✖ avoided an accident
2. ✖ turned sideways
3. ✖ moved ahead
4. ✔ turned upside down

Question Number : 123 Question Id : 9983675927 Question Type : MCQ Option Shuffling : Yes

Correct Marks : 1 Wrong Marks : 0.25

Fill in the blanks with the most appropriate option.

He pretended to be a very honest person, but it did not take me long to \_\_\_\_\_ his intentions.

Options :

1. ✖ see into
2. ✔ see through
3. ✖ see about
4. ✖ see over

Question Number : 123 Question Id : 9983675927 Question Type : MCQ Option Shuffling : Yes

Correct Marks : 1 Wrong Marks : 0.25

Fill in the blanks with the most appropriate option.

He pretended to be a very honest person, but it did not take me long to \_\_\_\_\_ his intentions.

Options :

1. ✘ see into
2. ✔ see through
3. ✘ see about
4. ✘ see over

Question Number : 124 Question Id : 9983675928 Question Type : MCQ Option Shuffling : Yes  
Correct Marks : 1 Wrong Marks : 0.25

Fill in the blanks with the most appropriate option.

I always \_\_\_\_\_ the main points of my presentation before going to any meeting.

Options :

1. ✘ run over
2. ✘ run by
3. ✔ run through
4. ✘ run in

Question Number : 124 Question Id : 9983675928 Question Type : MCQ Option Shuffling : Yes  
Correct Marks : 1 Wrong Marks : 0.25

Fill in the blanks with the most appropriate option.

I always \_\_\_\_\_ the main points of my presentation before going to any meeting.

Options :



1. ✖ run over
2. ✖ run by
3. ✔ run through
4. ✖ run in

Question Number : 125 Question Id : 9983675929 Question Type : MCQ Option Shuffling : Yes  
Correct Marks : 1 Wrong Marks : 0.25

Choose the option that is the correct one - word substitution for the given group of words.

One who does not tire easily

Options :

1. ✖ Infallible
2. ✔ Indefatigable
3. ✖ Inevitable
4. ✖ Indelible

Question Number : 125 Question Id : 9983675929 Question Type : MCQ Option Shuffling : Yes  
Correct Marks : 1 Wrong Marks : 0.25

Choose the option that is the correct one - word substitution for the given group of words.

One who does not tire easily

Options :

1. ✖ Infallible
2. ✔ Indefatigable
3. ✖ Inevitable
4. ✖ Indelible

Question Number : 126 Question Id : 9983675930 Question Type : MCQ Option Shuffling : Yes

Correct Marks : 1 Wrong Marks : 0.25

Fill in the blanks with the most appropriate option.

\_\_\_\_\_ honorarium of Rs. 5000 was given to my father for volunteering to help \_\_\_\_\_ flood affected people.

Options :

1. ✖ A, an

2. ✖ The, an

3. ✔ An, the

4. ✖ A, of

Question Number : 126 Question Id : 9983675930 Question Type : MCQ Option Shuffling : Yes

Correct Marks : 1 Wrong Marks : 0.25

Fill in the blanks with the most appropriate option.

\_\_\_\_\_ honorarium of Rs. 5000 was given to my father for volunteering to help \_\_\_\_\_ flood affected people.

Options :

1. ✖ A, an

2. ✖ The, an

3. ✔ An, the

4. ✖ A, of

Question Number : 127 Question Id : 9983675931 Question Type : MCQ Option Shuffling : Yes

Correct Marks : 1 Wrong Marks : 0.25

Fill in the blanks with the most appropriate option.

Have you ever selected \_\_\_\_\_ cheaper dish from \_\_\_\_\_ menu than \_\_\_\_\_ one you really wanted?

Options :

1. ✓ a, a, the
2. ✗ a, an, the
3. ✗ a, the, an
4. ✗ an, a, the

Question Number : 127 Question Id : 9983675931 Question Type : MCQ Option Shuffling : Yes

Correct Marks : 1 Wrong Marks : 0.25

Fill in the blanks with the most appropriate option.

Have you ever selected \_\_\_\_\_ cheaper dish from \_\_\_\_\_ menu than \_\_\_\_\_ one you really wanted?

Options :

1. ✓ a, a, the
2. ✗ a, an, the
3. ✗ a, the, an
4. ✗ an, a, the

Question Number : 128 Question Id : 9983675932 Question Type : MCQ Option Shuffling : Yes

Correct Marks : 1 Wrong Marks : 0.25

Fill in the blanks with the most appropriate option.

We know the world only \_\_\_\_\_ the window \_\_\_\_\_ our mind.

Options :

1. ✗ by, of
2. ✓ through, of
3. ✗ by, for
4. ✗ through, by

Question Number : 128 Question Id : 9983675932 Question Type : MCQ Option Shuffling : Yes

Correct Marks : 1 Wrong Marks : 0.25

Fill in the blanks with the most appropriate option.

We know the world only \_\_\_\_\_ the window \_\_\_\_\_ our mind.

Options :

1. ✘ by, of
2. ✔ through, of
3. ✘ by, for
4. ✘ through, by

Question Number : 129 Question Id : 9983675933 Question Type : MCQ Option Shuffling : Yes  
Correct Marks : 1 Wrong Marks : 0.25

Fill in the blanks with the most appropriate option.

We like to talk \_\_\_\_\_ things external \_\_\_\_\_ ourselves because our minds are accustomed to flowing out \_\_\_\_\_ the world.

Options :

1. ✘ of, by, in
2. ✘ of, to, with
3. ✔ about, to, into
4. ✘ about, with, in

Question Number : 129 Question Id : 9983675933 Question Type : MCQ Option Shuffling : Yes  
Correct Marks : 1 Wrong Marks : 0.25

Fill in the blanks with the most appropriate option.

We like to talk \_\_\_\_\_ things external \_\_\_\_\_ ourselves because our minds are accustomed to flowing out \_\_\_\_\_ the world.

Options :

1. ✖ of, by, in
2. ✖ of, to, with
3. ✔ about, to, into
4. ✖ about, with, in

Question Number : 130 Question Id : 9983675934 Question Type : MCQ Option Shuffling : Yes

Correct Marks : 1 Wrong Marks : 0.25

Fill in the blank with the most appropriate option.

My sister's handwriting is neat, \_\_\_\_\_ mine is very untidy.

Options :

1. ✔ whereas
2. ✖ despite
3. ✖ so
4. ✖ therefore

Question Number : 130 Question Id : 9983675934 Question Type : MCQ Option Shuffling : Yes

Correct Marks : 1 Wrong Marks : 0.25

Fill in the blank with the most appropriate option.

My sister's handwriting is neat, \_\_\_\_\_ mine is very untidy.

Options :

1. ✔ whereas

2. ✖ despite

3. ✖ so

4. ✖ therefore

Question Number : 131 Question Id : 9983675935 Question Type : MCQ Option Shuffling : Yes  
Correct Marks : 1 Wrong Marks : 0.25

Fill in the blank with the most appropriate option.

My friend did not get admission in the medical college, so she decided to try Law \_\_\_\_\_.

Options :

1. ✖ otherwise

2. ✔ instead

3. ✖ hence

4. ✖ therefore

Question Number : 131 Question Id : 9983675935 Question Type : MCQ Option Shuffling : Yes  
Correct Marks : 1 Wrong Marks : 0.25

Fill in the blank with the most appropriate option.

My friend did not get admission in the medical college, so she decided to try Law \_\_\_\_\_.

Options :

1. ✖ otherwise

2. ✔ instead

3. ✖ hence

4. ✖ therefore

Question Number : 132 Question Id : 9983675936 Question Type : MCQ Option Shuffling : Yes  
Correct Marks : 1 Wrong Marks : 0.25

Fill in the blank with the most appropriate option.

“Is this dress for me?” “Yes, it is for \_\_\_\_\_.”

Options :

1. ✖ him
2. ✖ her
3. ✔ you
4. ✖ me

Question Number : 132 Question Id : 9983675936 Question Type : MCQ Option Shuffling : Yes

Correct Marks : 1 Wrong Marks : 0.25

Fill in the blank with the most appropriate option.

“Is this dress for me?” “Yes, it is for \_\_\_\_\_.”

Options :

1. ✖ him
2. ✖ her
3. ✔ you
4. ✖ me

Question Number : 133 Question Id : 9983675937 Question Type : MCQ Option Shuffling : Yes

Correct Marks : 1 Wrong Marks : 0.25

Fill in the blank with the most appropriate option.

I just met a student of \_\_\_\_\_.

Options :

1. ✖ your
2. ✔ yours
3. ✖ yourself



#### 4. ✖ you

Question Number : 133 Question Id : 9983675937 Question Type : MCQ Option Shuffling : Yes  
Correct Marks : 1 Wrong Marks : 0.25

Fill in the blank with the most appropriate option.

I just met a student of \_\_\_\_\_.

Options :

1. ✖ your

2. ✔ yours

3. ✖ yourself

4. ✖ you

Question Number : 134 Question Id : 9983675938 Question Type : MCQ Option Shuffling : Yes  
Correct Marks : 1 Wrong Marks : 0.25

Fill in the blank with the most appropriate option.

Although I have \_\_\_\_\_ talent for music, I love listening to good music.

Options :

1. ✖ much

2. ✔ little

3. ✖ a lot of

4. ✖ many

Question Number : 134 Question Id : 9983675938 Question Type : MCQ Option Shuffling : Yes  
Correct Marks : 1 Wrong Marks : 0.25

Fill in the blank with the most appropriate option.

Although I have \_\_\_\_\_ talent for music, I love listening to good music.

Options :

1. ✘ much
2. ✔ little
3. ✘ a lot of
4. ✘ many

Question Number : 135 Question Id : 9983675939 Question Type : MCQ Option Shuffling : Yes  
Correct Marks : 1 Wrong Marks : 0.25

Fill in the blanks with the most appropriate option.

\_\_\_\_\_ he \_\_\_\_\_ his friends know how to play football.

Options :

1. ✘ Either, or
2. ✘ Either, none
3. ✔ Neither, nor
4. ✘ Neither, or

Question Number : 135 Question Id : 9983675939 Question Type : MCQ Option Shuffling : Yes  
Correct Marks : 1 Wrong Marks : 0.25

Fill in the blanks with the most appropriate option.

\_\_\_\_\_ he \_\_\_\_\_ his friends know how to play football.

Options :

1. ✘ Either, or

2. ✖ Either, none

3. ✔ Neither, nor

4. ✖ Neither, or

Question Number : 136 Question Id : 9983675940 Question Type : MCQ Option Shuffling : Yes  
Correct Marks : 1 Wrong Marks : 0.25

Select the option that expresses the given sentence in passive voice.

Orange peel cleans the skin and improves blood circulation.

Options :

1. ✖ The skin is clean and blood circulation improves by orange peel.

2. ✖ The skin can be cleaned and blood circulation can be improved by orange peel.

3. ✔ The skin is cleaned and blood circulation is improved by orange peel.

4. ✖ The skin is cleaned and blood circulation is improving by orange peel.

Question Number : 136 Question Id : 9983675940 Question Type : MCQ Option Shuffling : Yes  
Correct Marks : 1 Wrong Marks : 0.25

Select the option that expresses the given sentence in passive voice.

Orange peel cleans the skin and improves blood circulation.

Options :

1. ✖ The skin is clean and blood circulation improves by orange peel.

2. ✖ The skin can be cleaned and blood circulation can be improved by orange peel.

3. ✔ The skin is cleaned and blood circulation is improved by orange peel.

4. ✖ The skin is cleaned and blood circulation is improving by orange peel.

Question Number : 137 Question Id : 9983675941 Question Type : MCQ Option Shuffling : Yes  
Correct Marks : 1 Wrong Marks : 0.25

Select the option that expresses the given sentence in active voice.

I have not been told about the meeting by anyone.

Options :

1. ✖ No one told me about the meeting.

2. ✔ No one has told me about the meeting.

3. ✖ No one had told me about the meeting.

4. ✖ No one is telling me about the meeting.

Question Number : 137 Question Id : 9983675941 Question Type : MCQ Option Shuffling : Yes  
Correct Marks : 1 Wrong Marks : 0.25

Select the option that expresses the given sentence in active voice.

I have not been told about the meeting by anyone.

Options :

1. ✖ No one told me about the meeting.

2. ✔ No one has told me about the meeting.

3. ✖ No one had told me about the meeting.

4. ✖ No one is telling me about the meeting.

Question Number : 138 Question Id : 9983675942 Question Type : MCQ Option Shuffling : Yes

Correct Marks : 1 Wrong Marks : 0.25

Select the option that expresses the given sentence in reported speech.

My teacher said to me, “Are your parents going to attend the PTA meeting tomorrow?”

Options :

1. ✖ My teacher asked me if my parents are attending the PTA meeting the next day.

2. ✖ My teacher asked me if my parents were going to attend the PTA meeting tomorrow.

3. ✖ My teacher told me that my parents were going to attend the PTA meeting the next day.

4. ✔ My teacher asked me if my parents were going to attend the PTA meeting the next day.

Question Number : 138 Question Id : 9983675942 Question Type : MCQ Option Shuffling : Yes

Correct Marks : 1 Wrong Marks : 0.25

Select the option that expresses the given sentence in reported speech.

My teacher said to me, “Are your parents going to attend the PTA meeting tomorrow?”

Options :

1. ✖ My teacher asked me if my parents are attending the PTA meeting the next day.
2. ✖ My teacher asked me if my parents were going to attend the PTA meeting tomorrow.
3. ✖ My teacher told me that my parents were going to attend the PTA meeting the next day.
4. ✔ My teacher asked me if my parents were going to attend the PTA meeting the next day.

Question Number : 139 Question Id : 9983675943 Question Type : MCQ Option Shuffling : Yes  
Correct Marks : 1 Wrong Marks : 0.25

Select the option that expresses the given sentence in direct speech.

The boss told Rameet if he had come to ask for an advance, he would not get it.

Options :

1. ✔ The boss said to Rameet, “If you have come to ask for an advance, you will not get it.”
2. ✖ The boss said to Rameet, “If you had come to ask for an advance, you will not get it.”
3. ✖ The boss said to Rameet, “If he had come to ask for an advance, he will not get it.”
4. ✖ The boss said to Rameet, “If you have came asking for an advance, you will not get it.”

Question Number : 139 Question Id : 9983675943 Question Type : MCQ Option Shuffling : Yes  
Correct Marks : 1 Wrong Marks : 0.25

Select the option that expresses the given sentence in direct speech.

The boss told Rameet if he had come to ask for an advance, he would not get it.

Options :

1. ✓ The boss said to Rameet, "If you have come to ask for an advance, you will not get it."
2. ✘ The boss said to Rameet, "If you had come to ask for an advance, you will not get it."
3. ✘ The boss said to Rameet, "If he had come to ask for an advance, he will not get it."
4. ✘ The boss said to Rameet, "If you have come asking for an advance, you will not get it."

Question Number : 140 Question Id : 9983675944 Question Type : MCQ Option Shuffling : Yes  
Correct Marks : 1 Wrong Marks : 0.25

The following sentence has been divided into four parts. Select the words/phrase that contains an error.

You are / preparing well / for your exams, / are you?

Options :

1. ✘ You are
2. ✘ preparing well
3. ✘ for your exams,
4. ✓ are you?

Question Number : 140 Question Id : 9983675944 Question Type : MCQ Option Shuffling : Yes

Correct Marks : 1 Wrong Marks : 0.25

The following sentence has been divided into four parts.  
Select the words/phrase that contains an error.

You are / preparing well / for your exams, / are you?

Options :

1. ✖ You are
2. ✖ preparing well
3. ✖ for your exams,
4. ✔ are you?

## General English2

Group Number :	8
Group Id :	998367244
Group Maximum Duration :	0
Group Minimum Duration :	0
Show Attended Group? :	No
Edit Attended Group? :	No
Break time:	0
Group Marks:	20
Is this Group for Examiner?:	No
Revisit allowed for group Instructions? :	Yes
Maximum Instruction Time:	0
Minimum Instruction Time:	0

## General English2

Section Id :	998367250
Section Number :	1
Section type :	Online
Mandatory or Optional:	Mandatory
Number of Questions:	12
Number of Questions to be attempted:	12
Section Marks:	20

Sub-Section Number:	1
Sub-Section Id:	998367362



Question Number : 141 Question Id : 9983675945 Question Type : MCQ Option Shuffling : Yes

Correct Marks : 1 Wrong Marks : 0.25

Select the most appropriate synonym of the given word.

ALTRUISTIC

Options :

1. ✖ uncharitable
2. ✖ small hearted
3. ✔ humanitarian
4. ✖ ill - disposed

Question Number : 141 Question Id : 9983675945 Question Type : MCQ Option Shuffling : Yes

Correct Marks : 1 Wrong Marks : 0.25

Select the most appropriate synonym of the given word.

ALTRUISTIC

Options :

1. ✖ uncharitable
2. ✖ small hearted
3. ✔ humanitarian
4. ✖ ill - disposed

Question Number : 142 Question Id : 9983675946 Question Type : MCQ Option Shuffling : Yes

Correct Marks : 1 Wrong Marks : 0.25

Select the most appropriate synonym of the given word.

OBLITERATE

Options :

1. ✖ construct

2. ✓ destroy

3. ✗ build

4. ✗ create

Question Number : 142 Question Id : 9983675946 Question Type : MCQ Option Shuffling : Yes  
Correct Marks : 1 Wrong Marks : 0.25

Select the most appropriate synonym of the given word.

OBLITERATE

Options :

1. ✗ construct

2. ✓ destroy

3. ✗ build

4. ✗ create

Question Number : 143 Question Id : 9983675947 Question Type : MCQ Option Shuffling : Yes  
Correct Marks : 1 Wrong Marks : 0.25

Select the most appropriate synonym of the given word.

JUVENILE

Options :

1. ✗ mature

2. ✗ adult

3. ✗ criminal

4. ✓ youthful

Question Number : 143 Question Id : 9983675947 Question Type : MCQ Option Shuffling : Yes  
Correct Marks : 1 Wrong Marks : 0.25

Select the most appropriate synonym of the given word.

JUVENILE

Options :

1. ✖ mature
2. ✖ adult
3. ✖ criminal
4. ✔ youthful

Question Number : 144 Question Id : 9983675948 Question Type : MCQ Option Shuffling : Yes  
Correct Marks : 1 Wrong Marks : 0.25

Select the most appropriate synonym of the given word.

COGENT

Options :

1. ✖ disorganised
2. ✔ convincing
3. ✖ confusing
4. ✖ ineffective

Question Number : 144 Question Id : 9983675948 Question Type : MCQ Option Shuffling : Yes  
Correct Marks : 1 Wrong Marks : 0.25

Select the most appropriate synonym of the given word.

COGENT

Options :

1. ✖ disorganised
2. ✔ convincing

3. ✖ confusing

4. ✖ ineffective

Question Number : 145 Question Id : 9983675949 Question Type : MCQ Option Shuffling : Yes

Correct Marks : 1 Wrong Marks : 0.25

Select the most appropriate synonym of the given word.

TURBID

Options :

1. ✔ muddy

2. ✖ clear

3. ✖ transparent

4. ✖ clean

Question Number : 145 Question Id : 9983675949 Question Type : MCQ Option Shuffling : Yes

Correct Marks : 1 Wrong Marks : 0.25

Select the most appropriate synonym of the given word.

TURBID

Options :

1. ✔ muddy

2. ✖ clear

3. ✖ transparent

4. ✖ clean

Question Number : 146 Question Id : 9983675950 Question Type : MCQ Option Shuffling : Yes

Correct Marks : 1 Wrong Marks : 0.25

Select the most appropriate ANTONYM of the given word.

CIRCUMSPECT

Options :

1. ✖ meticulous
2. ✖ judicious
3. ✔ incautious
4. ✖ discriminating

Question Number : 146 Question Id : 9983675950 Question Type : MCQ Option Shuffling : Yes  
Correct Marks : 1 Wrong Marks : 0.25

Select the most appropriate ANTONYM of the given word.

CIRCUMSPECT

Options :

1. ✖ meticulous
2. ✖ judicious
3. ✔ incautious
4. ✖ discriminating

Question Number : 147 Question Id : 9983675951 Question Type : MCQ Option Shuffling : Yes  
Correct Marks : 1 Wrong Marks : 0.25

Select the most appropriate ANTONYM of the given word.

SURREPTITIOUS

Options :

1. ✔ forthright
2. ✖ hidden
3. ✖ sly
4. ✖ stealthy

Question Number : 147 Question Id : 9983675951 Question Type : MCQ Option Shuffling : Yes  
Correct Marks : 1 Wrong Marks : 0.25

Select the most appropriate ANTONYM of the given word.

SURREPTITIOUS

Options :

1. ✓ forthright
2. ✗ hidden
3. ✗ sly
4. ✗ stealthy

Question Number : 148 Question Id : 9983675952 Question Type : MCQ Option Shuffling : Yes  
Correct Marks : 1 Wrong Marks : 0.25

Select the most appropriate ANTONYM of the given word.

ADROIT

Options :

1. ✗ skillful
2. ✗ adept
3. ✓ clumsy
4. ✗ expert

Question Number : 148 Question Id : 9983675952 Question Type : MCQ Option Shuffling : Yes  
Correct Marks : 1 Wrong Marks : 0.25

Select the most appropriate ANTONYM of the given word.

ADROIT

Options :

1. ✗ skillful
2. ✗ adept

3. ✓ clumsy

4. ✗ expert

Question Number : 149 Question Id : 9983675953 Question Type : MCQ Option Shuffling : Yes

Correct Marks : 1 Wrong Marks : 0.25

Select the most appropriate ANTONYM of the given word.

INANE

Options :

1. ✗ frivolous

2. ✗ absurd

3. ✗ pointless

4. ✓ smart

Question Number : 149 Question Id : 9983675953 Question Type : MCQ Option Shuffling : Yes

Correct Marks : 1 Wrong Marks : 0.25

Select the most appropriate ANTONYM of the given word.

INANE

Options :

1. ✗ frivolous

2. ✗ absurd

3. ✗ pointless

4. ✓ smart

Question Number : 150 Question Id : 9983675954 Question Type : MCQ Option Shuffling : Yes

Correct Marks : 1 Wrong Marks : 0.25

Select the most appropriate ANTONYM of the given word.

ODIOUS

Options :

1. ✖ horrible
2. ✔ agreeable
3. ✖ creepy
4. ✖ foul

Question Number : 150 Question Id : 9983675954 Question Type : MCQ Option Shuffling : Yes  
Correct Marks : 1 Wrong Marks : 0.25

Select the most appropriate ANTONYM of the given word.

ODIOUS

Options :

1. ✖ horrible
2. ✔ agreeable
3. ✖ creepy
4. ✖ foul

Sub-Section Number:	2
Sub-Section Id:	998367363
Question Shuffling Allowed :	Yes

Question Id : 9983675955 Question Type : COMPREHENSION Sub Question Shuffling Allowed : Yes Group Comprehension Questions : No

Question Numbers : (151 to 155)

Question Label : Comprehension



Read the passage and answer the questions that follow.

The term “herd behaviour” comes from the behaviour of animals in herds, particularly when they are in a dangerous situation such as escaping a predator. All of the animals band closely together in a group and, in panic mode, move together as a unit. It is very unusual for a member of the herd to stray from the movement of the unit.

The term also applies to human behaviour, and it usually describes large numbers of people acting in the same way at the same time. It often has a connotation of irrationality, as people’s actions are driven by emotion rather than by thinking through a situation. Human herd behaviour can be observed at large-scale demonstrations, riots, strikes, religious gatherings, sports events and outbreaks of mob violence. When herd behaviour sets in, an individual person’s judgment and opinion-forming process shut down as he or she automatically follows the group’s movement and behaviour.

Herd behaviour in humans is frequently observed at times of danger and panic; for example, a fire in a building often causes herd behaviour, with people often suspending their individual reasoning and fleeing together in a pack. People in a crisis that requires escape will attempt to move faster than normal, copy the actions of others, interact physically with each other and ignore alternative strategies in favour of following the mass escape trend.

A more obvious example of human herd behaviour occurs in dense public crowds or mobs. Crowds that gather because of a grievance or protest can involve herding behaviour that becomes violent. Psychologists posit that a “group mind” can overtake a mob and embolden people to act in ways they would not individually, increasing the likelihood that situations become violent.

Sporting events can also create herd behaviour on a violent scale. The football hooliganism prevalent in Europe in the 1980s is a well-known example of sports-related herding behaviour and violence. Overzealous fans of football teams often engaged in unruly or destructive behaviour in the name of supporting their team and intimidating the rival team, to the extent that people involved could be badly injured or even killed.

Some historians believe that Adolf Hitler purposefully took advantage of herd behaviour psychology by planting a significant number of undercover German officers in the crowds at his speeches. These officers would enthusiastically cheer for Hitler, and the rest of the crowd followed suit, making it seem as if the entire crowd supported Hitler. These speeches would then be broadcast to a larger public audience, magnifying the effect.

Herd behaviour does not always have such harmful effects; it can be influential in people’s every day, simple decisions. For example, suppose that a family is walking down the street looking for a restaurant to have dinner. If they pass a restaurant that is empty and one that is relatively crowded with patrons, they are far more likely to choose the crowded one, on the assumption that it’s better because there are more people there. Herding can be subtle in this way; it simply involves people’s tendency to follow a crowd rather than carve out an individual path in many situations.

Sub questions

Question Number : 151 Question Id : 9983675956 Question Type : MCQ Option Shuffling : Yes

Correct Marks : 1 Wrong Marks : 0.25

What does the phrase 'move together as a unit' mean?

Options :

1. ✖ Moving individually
2. ✖ Moving in small groups
3. ✔ Moving as one group
4. ✖ Moving one after the other

Question Number : 152 Question Id : 9983675957 Question Type : MCQ Option Shuffling : Yes

Correct Marks : 1 Wrong Marks : 0.25

In a majority of cases, 'human herd behaviour' indicates:

Options :

1. ✔ rash behaviour
2. ✖ mature behaviour
3. ✖ well considered behaviour
4. ✖ logical behaviour

Question Number : 153 Question Id : 9983675958 Question Type : MCQ Option Shuffling : Yes

Correct Marks : 1 Wrong Marks : 0.25

Which of the following statements is NOT true based on the passage?

Options :

1. ✖ There is no place for personal opinions in herd behaviour.
2. ✖ Herd behaviour need not always be harmful.
3. ✔ Mature adults are never part of a herd.
4. ✖ Herd behaviour can be instigated.

Question Number : 154 Question Id : 9983675959 Question Type : MCQ Option Shuffling : Yes

Correct Marks : 1 Wrong Marks : 0.25

Hitler is referred to in the passage as:

Options :

1. ✖ an undercover German officer
2. ✔ an example of using herd behaviour to get mass support
3. ✖ an intimidator of the public during war time
4. ✖ a concerned leader of his people

Question Number : 155 Question Id : 9983675960 Question Type : MCQ Option Shuffling : Yes  
Correct Marks : 1 Wrong Marks : 0.25

How does herd behaviour affect sporting events?

Options :

1. ✖ Players are inspired by the cheering crowds.
2. ✔ Supporters of a team can become violent and frighten the members of the other team.
3. ✖ Players on the field do not pay any attention to the crowds.
4. ✖ Players play well to impress the crowds.

Question Id : 9983675955 Question Type : COMPREHENSION Sub Question Shuffling Allowed : Yes Group Comprehension  
Questions : No

Question Numbers : (151 to 155)

Question Label : Comprehension

Read the passage and answer the questions that follow.

The term “herd behaviour” comes from the behaviour of animals in herds, particularly when they are in a dangerous situation such as escaping a predator. All of the animals band closely together in a group and, in panic mode, move together as a unit. It is very unusual for a member of the herd to stray from the movement of the unit.

The term also applies to human behaviour, and it usually describes large numbers of people acting in the same way at the same time. It often has a connotation of irrationality, as people’s actions are driven by emotion rather than by thinking through a situation. Human herd behaviour can be observed at large-scale demonstrations, riots, strikes, religious gatherings, sports events and outbreaks of mob violence. When herd behaviour sets in, an individual person’s judgment and opinion-forming process shut down as he or she automatically follows the group’s movement and behaviour.

Herd behaviour in humans is frequently observed at times of danger and panic; for example, a fire in a building often causes herd behaviour, with people often suspending their individual reasoning and fleeing together in a pack. People in a crisis that requires escape will attempt to move faster than normal, copy the actions of others, interact physically with each other and ignore alternative strategies in favour of following the mass escape trend.

A more obvious example of human herd behaviour occurs in dense public crowds or mobs. Crowds that gather because of a grievance or protest can involve herding behaviour that becomes violent. Psychologists posit that a “group mind” can overtake a mob and embolden people to act in ways they would not individually, increasing the likelihood that situations become violent.

Sporting events can also create herd behaviour on a violent scale. The football hooliganism prevalent in Europe in the 1980s is a well-known example of sports-related herding behaviour and violence. Overzealous fans of football teams often engaged in unruly or destructive behaviour in the name of supporting their team and intimidating the rival team, to the extent that people involved could be badly injured or even killed.

Some historians believe that Adolf Hitler purposefully took advantage of herd behaviour psychology by planting a significant number of undercover German officers in the crowds at his speeches. These officers would enthusiastically cheer for Hitler, and the rest of the crowd followed suit, making it seem as if the entire crowd supported Hitler. These speeches would then be broadcast to a larger public audience, magnifying the effect.

Herd behaviour does not always have such harmful effects; it can be influential in people’s every day, simple decisions. For example, suppose that a family is walking down the street looking for a restaurant to have dinner. If they pass a restaurant that is empty and one that is relatively crowded with patrons, they are far more likely to choose the crowded one, on the assumption that it’s better because there are more people there. Herding can be subtle in this way; it simply involves people’s tendency to follow a crowd rather than carve out an individual path in many situations.

## Sub questions

Question Number : 151 Question Id : 9983675956 Question Type : MCQ Option Shuffling : Yes

Correct Marks : 1 Wrong Marks : 0.25

What does the phrase 'move together as a unit' mean?

Options :

1. ✖ Moving individually
2. ✖ Moving in small groups
3. ✔ Moving as one group
4. ✖ Moving one after the other

Question Number : 152 Question Id : 9983675957 Question Type : MCQ Option Shuffling : Yes

Correct Marks : 1 Wrong Marks : 0.25

In a majority of cases, 'human herd behaviour' indicates:

Options :

1. ✔ rash behaviour
2. ✖ mature behaviour
3. ✖ well considered behaviour
4. ✖ logical behaviour

Question Number : 153 Question Id : 9983675958 Question Type : MCQ Option Shuffling : Yes

Correct Marks : 1 Wrong Marks : 0.25

Which of the following statements is NOT true based on the passage?

Options :

1. ✖ There is no place for personal opinions in herd behaviour.
2. ✖ Herd behaviour need not always be harmful.
3. ✔ Mature adults are never part of a herd.

4. ✖ Herd behaviour can be instigated.

Question Number : 154 Question Id : 9983675959 Question Type : MCQ Option Shuffling : Yes  
Correct Marks : 1 Wrong Marks : 0.25

Hitler is referred to in the passage as:

Options :

1. ✖ an undercover German officer
2. ✔ an example of using herd behaviour to get mass support
3. ✖ an intimidator of the public during war time
4. ✖ a concerned leader of his people

Question Number : 155 Question Id : 9983675960 Question Type : MCQ Option Shuffling : Yes  
Correct Marks : 1 Wrong Marks : 0.25

How does herd behaviour affect sporting events?

Options :

1. ✖ Players are inspired by the cheering crowds.
2. ✔ Supporters of a team can become violent and frighten the members of the other team.
3. ✖ Players on the field do not pay any attention to the crowds.
4. ✖ Players play well to impress the crowds.

Sub-Section Number:	3
Sub-Section Id:	998367364
Question Shuffling Allowed :	Yes

Question Id : 9983675961 Question Type : COMPREHENSION Sub Question Shuffling Allowed : Yes Group Comprehension Questions : No

Question Numbers : (156 to 160)

Question Label : Comprehension

Read the passage and answer the questions that follow.

An online identity, sometimes called an Internet persona, is an identity established by a user to interact with others through social media such as Facebook, Twitter, blogs, or multi-player games. Although some people use their real names online, many Internet users prefer to be anonymous, identifying themselves by pseudonyms. Some users can be deceptive about their identity.

Users express online identity both explicitly and implicitly. Users express themselves explicitly through usernames, pictures, and the information about themselves that they choose to give others, such as their hometown. They can also explicitly express their identity by choosing an avatar, an icon-sized graphic image, or by creating user profiles in social media networks, such as Facebook. Implicitly, users express their identity through what they say to other users and the opinions they express. As other users interact with an established online identity, it gains a reputation, which enables them to decide whether the identity is worthy of trust.

Social networking services and online avatars have made the notion of identity far more complex, because the identities that people define in the social media are not necessarily the identities that they actually have. For example, several studies have shown that people lie about themselves in online dating profiles, or in communication with potential partners. A person may feel that she is able to lie about her identity on the Internet because it creates a “mask” effect, where no one can see her “true self.” Social theorists believe that whenever an individual interacts with others online, she portrays a mask of her identity, not her true identity.

This is partly due to the fact that in some online contexts, such as Facebook, she must answer specific questions to create an online profile. Further, as she begins to interact with others, she adds more and more layers to her mask through the vocabulary she uses and the topics she writes about. The kind of mask one chooses, reveals at least something about the person who chooses it. While the online mask does not reveal the actual identity of the person, it does reveal an example of what lies behind the mask. For instance, if a person chooses to act like a rock star online, this may mean that he or she has an interest in rock music. Even a person choosing to hide behind a totally false identity says something about the fear and lack of self-esteem he or she may be experiencing.

Online identity offers potential social benefits to those with physical and sensory disabilities, because others cannot see them. These users can free themselves from their disabilities by creating online personas that are not disabled. This is called “disembodiment,” and gives these users the opportunity to operate outside the constraints of social stigmatisation. They can be treated on their merits as a person, rather than being seen as someone inferior due to a disability. Most concerns about virtual identity revolve around the contrast between online and offline existence. The ability to challenge the notion of what “real” means has raised questions about how virtual experience may affect one’s offline emotions.

Sub questions

Question Number : 156 Question Id : 9983675962 Question Type : MCQ Option Shuffling : Yes

Correct Marks : 1 Wrong Marks : 0.25

What is the difference between being anonymous and using a pseudonym?

Options :

1. ✖ In both cases the real identity remains unknown.
2. ✔ The real identity is unknown by being anonymous but it is changed by using a pseudonym.
3. ✖ Being anonymous is being implicit and using a pseudonym one is explicit.
4. ✖ By being anonymous one is safer and by using a pseudonym one's identity is not safe.

Question Number : 157 Question Id : 9983675963 Question Type : MCQ Option Shuffling : Yes

Correct Marks : 1 Wrong Marks : 0.25

A user expresses his/her identity implicitly when he / she:

Options :

1. ✖ uses pictures and usernames.
2. ✖ creates profiles on the social media networks.
3. ✔ expresses opinions and reactions to what others say.
4. ✖ does not reveal anything about him / herself.

Question Number : 158 Question Id : 9983675964 Question Type : MCQ Option Shuffling : Yes

Correct Marks : 1 Wrong Marks : 0.25

As per the passage, how have social networking services made identities more complex?

Options :

1. ✔ It is difficult to figure out the difference between real and virtual identities.
2. ✖ Some users use multiple identities.
3. ✖ Some users send confusing messages.



4. \* Many users tell lies about themselves on dating profiles.

Question Number : 159 Question Id : 9983675965 Question Type : MCQ Option Shuffling : Yes

Correct Marks : 1 Wrong Marks : 0.25

How does a user using a mask still reveal something about himself / herself?

Options :

1. \* If the user is not careful, he/she can reveal his/her identity.
2. \* The social networking services can find out their identity.
3. \* Their online friends can recognise them.
4. ✓ The user's interests and fears, among other things, reveal things about him / her.

Question Number : 160 Question Id : 9983675966 Question Type : MCQ Option Shuffling : Yes

Correct Marks : 1 Wrong Marks : 0.25

According to the passage, how does online identity benefit some people?

Options :

1. \* They make many more friends online.
2. \* Some people learn a lot from what they read and see about other people.
3. ✓ People need not reveal their disabilities.
4. \* Even very shy people can express themselves.

Question Id : 9983675961 Question Type : COMPREHENSION Sub Question Shuffling Allowed : Yes Group Comprehension Questions : No

Question Numbers : (156 to 160)

Question Label : Comprehension

Read the passage and answer the questions that follow.

An online identity, sometimes called an Internet persona, is an identity established by a user to interact with others through social media such as Facebook, Twitter, blogs, or multi-player games. Although some people use their real names online, many Internet users prefer to be anonymous, identifying themselves by pseudonyms. Some users can be deceptive about their identity.

Users express online identity both explicitly and implicitly. Users express themselves explicitly through usernames, pictures, and the information about themselves that they choose to give others, such as their hometown. They can also explicitly express their identity by choosing an avatar, an icon-sized graphic image, or by creating user profiles in social media networks, such as Facebook. Implicitly, users express their identity through what they say to other users and the opinions they express. As other users interact with an established online identity, it gains a reputation, which enables them to decide whether the identity is worthy of trust.

Social networking services and online avatars have made the notion of identity far more complex, because the identities that people define in the social media are not necessarily the identities that they actually have. For example, several studies have shown that people lie about themselves in online dating profiles, or in communication with potential partners. A person may feel that she is able to lie about her identity on the Internet because it creates a "mask" effect, where no one can see her "true self." Social theorists believe that whenever an individual interacts with others online, she portrays a mask of her identity, not her true identity.

This is partly due to the fact that in some online contexts, such as Facebook, she must answer specific questions to create an online profile. Further, as she begins to interact with others, she adds more and more layers to her mask through the vocabulary she uses and the topics she writes about. The kind of mask one chooses, reveals at least something about the person who chooses it. While the online mask does not reveal the actual identity of the person, it does reveal an example of what lies behind the mask. For instance, if a person chooses to act like a rock star online, this may mean that he or she has an interest in rock music. Even a person choosing to hide behind a totally false identity says something about the fear and lack of self-esteem he or she may be experiencing.

Online identity offers potential social benefits to those with physical and sensory disabilities, because others cannot see them. These users can free themselves from their disabilities by creating online personas that are not disabled. This is called "disembodiment," and gives these users the opportunity to operate outside the constraints of social stigmatisation. They can be treated on their merits as a person, rather than being seen as someone inferior due to a disability. Most concerns about virtual identity revolve around the contrast between online and offline existence. The ability to challenge the notion of what "real" means has raised questions about how virtual experience may affect one's offline emotions.

Sub questions

Question Number : 156 Question Id : 9983675962 Question Type : MCQ Option Shuffling : Yes

Correct Marks : 1 Wrong Marks : 0.25

What is the difference between being anonymous and using a pseudonym?

Options :

1. ✘ In both cases the real identity remains unknown.
2. ✔ The real identity is unknown by being anonymous but it is changed by using a pseudonym.
3. ✘ Being anonymous is being implicit and using a pseudonym one is explicit.
4. ✘ By being anonymous one is safer and by using a pseudonym one's identity is not safe.

Question Number : 157 Question Id : 9983675963 Question Type : MCQ Option Shuffling : Yes

Correct Marks : 1 Wrong Marks : 0.25

A user expresses his/her identity implicitly when he / she:

Options :

1. ✘ uses pictures and usernames.
2. ✘ creates profiles on the social media networks.
3. ✔ expresses opinions and reactions to what others say.
4. ✘ does not reveal anything about him/herself.

Question Number : 158 Question Id : 9983675964 Question Type : MCQ Option Shuffling : Yes

Correct Marks : 1 Wrong Marks : 0.25

As per the passage, how have social networking services made identities more complex?

Options :

1. ✓ It is difficult to figure out the difference between real and virtual identities.
2. ✗ Some users use multiple identities.
3. ✗ Some users send confusing messages.
4. ✗ Many users tell lies about themselves on dating profiles.

Question Number : 159 Question Id : 9983675965 Question Type : MCQ Option Shuffling : Yes  
Correct Marks : 1 Wrong Marks : 0.25

How does a user using a mask still reveal something about himself / herself?

- Options :
1. ✗ If the user is not careful, he/she can reveal his/her identity.
  2. ✗ The social networking services can find out their identity.
  3. ✗ Their online friends can recognise them.
  4. ✓ The user's interests and fears, among other things, reveal things about him / her.

Question Number : 160 Question Id : 9983675966 Question Type : MCQ Option Shuffling : Yes  
Correct Marks : 1 Wrong Marks : 0.25

According to the passage, how does online identity benefit some people?

- Options :
1. ✗ They make many more friends online.
  2. ✗ Some people learn a lot from what they read and see about other people.

3. ✓ People need not reveal their disabilities.

4. ✘ Even very shy people can express themselves.

## General Hindi1

Group Number :	9
Group Id :	998367245
Group Maximum Duration :	0
Group Minimum Duration :	0
Show Attended Group? :	No
Edit Attended Group? :	No
Break time:	0
Group Marks:	20
Is this Group for Examiner?:	No
Revisit allowed for group Instructions? :	Yes
Maximum Instruction Time:	0
Minimum Instruction Time:	0

## General Hindi1

Section Id :	998367251
Section Number :	1
Section type :	Online
Mandatory or Optional:	Mandatory
Number of Questions:	20
Number of Questions to be attempted:	20
Section Marks:	20

Sub-Section Number:	1
Sub-Section Id:	998367365
Question Shuffling Allowed :	Yes

Question Number : 161 Question Id : 9983675967 Question Type : MCQ Option Shuffling : Yes

Correct Marks : 1 Wrong Marks : 0.25

‘फुनगी’ कैसा शब्द है?

Options :

1. ✓ देशज

2. ✘ विदेशी

3. ✘ तत्सम

4. ✘ तद्भव

Question Number : 161 Question Id : 9983675967 Question Type : MCQ Option Shuffling : Yes  
Correct Marks : 1 Wrong Marks : 0.25

‘फुनगी’ कैसा शब्द है?

Options :

1. ✓ देशज
2. ✗ विदेशी
3. ✗ तत्सम
4. ✗ तद्भव

Question Number : 162 Question Id : 9983675968 Question Type : MCQ Option Shuffling : Yes  
Correct Marks : 1 Wrong Marks : 0.25

निम्न में से कौन सा शब्द तद्भव है?

Options :

1. ✗ उत्साह
2. ✓ इतवार
3. ✗ उलूक
4. ✗ अंगुलि

Question Number : 162 Question Id : 9983675968 Question Type : MCQ Option Shuffling : Yes  
Correct Marks : 1 Wrong Marks : 0.25

निम्न में से कौन सा शब्द तद्भव है?

Options :

1. ✗ उत्साह
2. ✓ इतवार
3. ✗ उलूक
4. ✗ अंगुलि

Question Number : 163 Question Id : 9983675969 Question Type : MCQ Option Shuffling : Yes  
Correct Marks : 1 Wrong Marks : 0.25

निम्न में से कौन सा शब्द तत्सम है?

Options :

1. \* ढीला
2. \* तालाब
3. ✓ ताप
4. \* तलवार

Question Number : 163 Question Id : 9983675969 Question Type : MCQ Option Shuffling : Yes  
Correct Marks : 1 Wrong Marks : 0.25

निम्न में से कौन सा शब्द तत्सम है?

Options :

1. \* ढीला
2. \* तालाब
3. ✓ ताप
4. \* तलवार

Question Number : 164 Question Id : 9983675970 Question Type : MCQ Option Shuffling : Yes  
Correct Marks : 1 Wrong Marks : 0.25

निम्न में से शुद्ध वर्तनी वाला शब्द है:

Options :

1. \* प्रतीसोध
2. \* प्रतीशोध
3. \* प्रतिसोध
4. ✓ प्रतिशोध

Question Number : 164 Question Id : 9983675970 Question Type : MCQ Option Shuffling : Yes  
Correct Marks : 1 Wrong Marks : 0.25

निम्न में से शुद्ध वर्तनी वाला शब्द है:

Options :

1. \* प्रतीसोध
2. \* प्रतीशोध
3. \* प्रतिसोध

## 4. ✓ प्रतिशोध

Question Number : 165 Question Id : 9983675971 Question Type : MCQ Option Shuffling : Yes  
Correct Marks : 1 Wrong Marks : 0.25

‘आर्त – आर्द्र’ शब्द युग्म का सही अर्थ है:

Options :

1. \* गीला – दुखी
2. ✓ दुखी – गीला
3. \* प्रसन्न – उष्ण
4. \* करुण – शोक

Question Number : 165 Question Id : 9983675971 Question Type : MCQ Option Shuffling : Yes  
Correct Marks : 1 Wrong Marks : 0.25

‘आर्त - आर्द्र’ शब्द युग्म का सही अर्थ है:

Options :

1. \* गीला - दुखी
2. ✓ दुखी - गीला
3. \* प्रसन्न - उष्ण
4. \* करुण - शोक

Question Number : 166 Question Id : 9983675972 Question Type : MCQ Option Shuffling : Yes  
Correct Marks : 1 Wrong Marks : 0.25

‘दासत्व’ किस प्रकार की संज्ञा है?

Options :

1. \* व्यक्तिवाचक
2. \* जातिवाचक
3. \* पदार्थवाचक
4. ✓ भाववाचक

Question Number : 166 Question Id : 9983675972 Question Type : MCQ Option Shuffling : Yes  
Correct Marks : 1 Wrong Marks : 0.25

‘दासत्व’ किस प्रकार की संज्ञा है?

Options :



1. ✖ व्यक्तिवाचक
2. ✖ जातिवाचक
3. ✖ पदार्थवाचक
4. ✔ भाववाचक

Question Number : 167 Question Id : 9983675973 Question Type : MCQ Option Shuffling : Yes  
Correct Marks : 1 Wrong Marks : 0.25

‘इस’ किस सर्वनाम का रूप है?

Options :

1. ✔ यह
2. ✖ वह
3. ✖ जो
4. ✖ सो

Question Number : 167 Question Id : 9983675973 Question Type : MCQ Option Shuffling : Yes  
Correct Marks : 1 Wrong Marks : 0.25

‘इस’ किस सर्वनाम का रूप है?

Options :

1. ✔ यह
2. ✖ वह
3. ✖ जो
4. ✖ सो

Question Number : 168 Question Id : 9983675974 Question Type : MCQ Option Shuffling : Yes  
Correct Marks : 1 Wrong Marks : 0.25

‘घना’ किस प्रकार का विशेषण है?

Options :

1. ✖ सार्वनामिक
2. ✖ संख्यावाचक
3. ✔ गुणवाचक

## 4. \* परिमाण बोधक

Question Number : 168 Question Id : 9983675974 Question Type : MCQ Option Shuffling : Yes  
Correct Marks : 1 Wrong Marks : 0.25

‘घना’ किस प्रकार का विशेषण है?

Options :

1. \* सार्वनामिक
2. \* संख्यावाचक
3. ✓ गुणवाचक
4. \* परिमाण बोधक

Question Number : 169 Question Id : 9983675975 Question Type : MCQ Option Shuffling : Yes  
Correct Marks : 1 Wrong Marks : 0.25

निम्न में सकर्मक धातु है:

Options :

1. \* छूटना
2. ✓ तोड़ना
3. \* फटना
4. \* फूटना

Question Number : 169 Question Id : 9983675975 Question Type : MCQ Option Shuffling : Yes  
Correct Marks : 1 Wrong Marks : 0.25

निम्न में सकर्मक धातु है:

Options :

1. \* छूटना
2. ✓ तोड़ना
3. \* फटना
4. \* फूटना

Question Number : 170 Question Id : 9983675976 Question Type : MCQ Option Shuffling : Yes  
Correct Marks : 1 Wrong Marks : 0.25

‘लड़का यों ही फिरा करता है।’ वाक्य में क्रिया विशेषण है:

Options :

1. \* लड़का
2. \* फिरा
3. \* करता है।
4. ✓ यों ही

Question Number : 170 Question Id : 9983675976 Question Type : MCQ Option Shuffling : Yes  
Correct Marks : 1 Wrong Marks : 0.25

‘लड़का यों ही फिरा करता है।’ वाक्य में क्रिया विशेषण है:

Options :

1. \* लड़का
2. \* फिरा
3. \* करता है।
4. ✓ यों ही

Question Number : 171 Question Id : 9983675977 Question Type : MCQ Option Shuffling : Yes  
Correct Marks : 1 Wrong Marks : 0.25

‘मन्वंतर’ का संधि विच्छेद होगा:

Options :

1. \* मनू + अंतर
2. \* मनू + वंतर
3. ✓ मनु + अंतर
4. \* मनु + वंतर

Question Number : 171 Question Id : 9983675977 Question Type : MCQ Option Shuffling : Yes  
Correct Marks : 1 Wrong Marks : 0.25

‘मन्वंतर’ का संधि विच्छेद होगा:

Options :

1. \* मनू + अंतर
2. \* मनू + वंतर
3. ✓ मनु + अंतर

## 4. \* मनु + वंतर

Question Number : 172 Question Id : 9983675978 Question Type : MCQ Option Shuffling : Yes

Correct Marks : 1 Wrong Marks : 0.25

‘नीलकंठ’ में कौन सा समास है?

Options :

1. ✓ बहुब्रीहि
2. \* तत्पुरुष
3. \* द्वंद्व
4. \* अव्ययीभाव

Question Number : 172 Question Id : 9983675978 Question Type : MCQ Option Shuffling : Yes

Correct Marks : 1 Wrong Marks : 0.25

‘नीलकंठ’ में कौन सा समास है?

Options :

1. ✓ बहुब्रीहि
2. \* तत्पुरुष
3. \* द्वंद्व
4. \* अव्ययीभाव

Question Number : 173 Question Id : 9983675979 Question Type : MCQ Option Shuffling : Yes

Correct Marks : 1 Wrong Marks : 0.25

‘संहार’ में किस उपसर्ग का प्रयोग हुआ है?

Options :

1. \* हार
2. \* स
3. \* सन्
4. ✓ सम्

Question Number : 173 Question Id : 9983675979 Question Type : MCQ Option Shuffling : Yes

Correct Marks : 1 Wrong Marks : 0.25

‘संहार’ में किस उपसर्ग का प्रयोग हुआ है?

Options :

1. ✖ हार
2. ✖ स
3. ✖ सन्
4. ✔ सम्

Question Number : 174 Question Id : 9983675980 Question Type : MCQ Option Shuffling : Yes  
Correct Marks : 1 Wrong Marks : 0.25

‘मातुल’ में किस प्रत्यय का प्रयोग हुआ है?

Options :

1. ✖ ल
2. ✔ उल
3. ✖ तुल
4. ✖ मा

Question Number : 174 Question Id : 9983675980 Question Type : MCQ Option Shuffling : Yes  
Correct Marks : 1 Wrong Marks : 0.25

‘मातुल’ में किस प्रत्यय का प्रयोग हुआ है?

Options :

1. ✖ ल
2. ✔ उल
3. ✖ तुल
4. ✖ मा

Question Number : 175 Question Id : 9983675981 Question Type : MCQ Option Shuffling : Yes  
Correct Marks : 1 Wrong Marks : 0.25

निम्न में कौन सा शब्द स्त्रीलिंग नहीं है?

Options :

1. ✖ ठण्डक
2. ✖ ठोकर
3. ✔ ठप्पा

## 4. \* ठेस

Question Number : 175 Question Id : 9983675981 Question Type : MCQ Option Shuffling : Yes  
Correct Marks : 1 Wrong Marks : 0.25

निम्न में कौन सा शब्द स्त्रीलिंग नहीं है?

Options :

1. \* ठण्डक
2. \* ठोकर
3. ✓ ठप्पा
4. \* ठेस

Question Number : 176 Question Id : 9983675982 Question Type : MCQ Option Shuffling : Yes  
Correct Marks : 1 Wrong Marks : 0.25

‘मिट्टी का तेल’ किस पदबन्ध का उदाहरण है?

Options :

1. ✓ संज्ञा पदबन्ध
2. \* सर्वनाम पदबन्ध
3. \* विशेषण पदबन्ध
4. \* क्रिया पदबन्ध

Question Number : 176 Question Id : 9983675982 Question Type : MCQ Option Shuffling : Yes  
Correct Marks : 1 Wrong Marks : 0.25

‘मिट्टी का तेल’ किस पदबन्ध का उदाहरण है?

Options :

1. ✓ संज्ञा पदबन्ध
2. \* सर्वनाम पदबन्ध
3. \* विशेषण पदबन्ध
4. \* क्रिया पदबन्ध

Question Number : 177 Question Id : 9983675983 Question Type : MCQ Option Shuffling : Yes  
Correct Marks : 1 Wrong Marks : 0.25

‘संजय ने कहा कि मैं खेलूँगा’ वाक्य में ‘मैं खेलूँगा’ किस प्रकार का उपवाक्य है?

Options :

1. ✓ संज्ञा उपवाक्य
2. \* क्रिया उपवाक्य
3. \* क्रिया विशेषण उपवाक्य
4. \* विशेषण उपवाक्य

Question Number : 177 Question Id : 9983675983 Question Type : MCQ Option Shuffling : Yes

Correct Marks : 1 Wrong Marks : 0.25

‘संजय ने कहा कि मैं खेलूँगा।’ वाक्य में ‘मैं खेलूँगा’ किस प्रकार का उपवाक्य है?

Options :

1. ✓ संज्ञा उपवाक्य
2. \* क्रिया उपवाक्य
3. \* क्रिया विशेषण उपवाक्य
4. \* विशेषण उपवाक्य

Question Number : 178 Question Id : 9983675984 Question Type : MCQ Option Shuffling : Yes

Correct Marks : 1 Wrong Marks : 0.25

‘बादल गरजा।’ किस प्रकार का वाक्य है?

Options :

1. \* मिश्र वाक्य
2. \* संयुक्त वाक्य
3. ✓ सरल वाक्य
4. \* उपवाक्य

Question Number : 178 Question Id : 9983675984 Question Type : MCQ Option Shuffling : Yes

Correct Marks : 1 Wrong Marks : 0.25

‘बादल गरजा।’ किस प्रकार का वाक्य है?

Options :

1. \* मिश्र वाक्य
2. \* संयुक्त वाक्य

3. ✓ सरल वाक्य

4. ✖ उपवाक्य

Question Number : 179 Question Id : 9983675985 Question Type : MCQ Option Shuffling : Yes

Correct Marks : 1 Wrong Marks : 0.25

पदक्रम की दृष्टि से कौन सा वाक्य शुद्ध है?

Options :

1. ✖ मेरी घड़ी कीमती नहीं मिल रही है।

2. ✓ मेरी कीमती घड़ी नहीं मिल रही है।

3. ✖ नहीं मिल रही है मेरी कीमती घड़ी।

4. ✖ नहीं मिल रही है कीमती घड़ी मेरी।

Question Number : 179 Question Id : 9983675985 Question Type : MCQ Option Shuffling : Yes

Correct Marks : 1 Wrong Marks : 0.25

पदक्रम की दृष्टि से कौन सा वाक्य शुद्ध है?

Options :

1. ✖ मेरी घड़ी कीमती नहीं मिल रही है।

2. ✓ मेरी कीमती घड़ी नहीं मिल रही है।

3. ✖ नहीं मिल रही है मेरी कीमती घड़ी।

4. ✖ नहीं मिल रही है कीमती घड़ी मेरी।

Question Number : 180 Question Id : 9983675986 Question Type : MCQ Option Shuffling : Yes

Correct Marks : 1 Wrong Marks : 0.25

अन्वय की दृष्टि से कौन सा वाक्य शुद्ध है?

Options :

1. ✖ तुमको पुस्तक पढ़ना नहीं आती।

2. ✖ तुमको पुस्तक पढ़ने नहीं आते।

3. ✖ तुमको पुस्तक पढ़नी नहीं आती।

4. ✓ तुमको पुस्तक पढ़ना नहीं आता।

Question Number : 180 Question Id : 9983675986 Question Type : MCQ Option Shuffling : Yes

Correct Marks : 1 Wrong Marks : 0.25



अन्वय की दृष्टि से कौन सा वाक्य शुद्ध है?

Options :

1. ✖ तुमको पुस्तक पढ़ना नहीं आती।
2. ✖ तुमको पुस्तक पढ़ने नहीं आते।
3. ✖ तुमको पुस्तक पढ़नी नहीं आती।
4. ✔ तुमको पुस्तक पढ़ना नहीं आता।

## General Hindi2

Group Number :	10
Group Id :	998367246
Group Maximum Duration :	0
Group Minimum Duration :	120
Show Attended Group? :	No
Edit Attended Group? :	No
Break time:	0
Group Marks:	20
Is this Group for Examiner?:	No
Revisit allowed for group Instructions? :	Yes
Maximum Instruction Time:	0
Minimum Instruction Time:	0

## General Hindi2

Section Id :	998367252
Section Number :	1
Section type :	Online
Mandatory or Optional:	Mandatory
Number of Questions:	12
Number of Questions to be attempted:	12
Section Marks:	20

Sub-Section Number:	1
Sub-Section Id:	998367366
Question Shuffling Allowed :	Yes

Question Number : 181 Question Id : 9983675987 Question Type : MCQ Option Shuffling : Yes

Correct Marks : 1 Wrong Marks : 0.25

‘तालाब’ का पर्यायवाची है:

Options :

1. \* रत्नाकर
2. ✓ पद्माकर
3. \* प्रभाकर
4. \* सुधाकर

Question Number : 181 Question Id : 9983675987 Question Type : MCQ Option Shuffling : Yes  
Correct Marks : 1 Wrong Marks : 0.25

‘तालाब’ का पर्यायवाची है?

Options :

1. \* रत्नाकर
2. ✓ पद्माकर
3. \* प्रभाकर
4. \* सुधाकर

Question Number : 182 Question Id : 9983675988 Question Type : MCQ Option Shuffling : Yes  
Correct Marks : 1 Wrong Marks : 0.25

‘रात्रि’ का पर्यायवाची नहीं है:

Options :

1. \* शर्वरी
2. \* निशा
3. ✓ इला
4. \* क्षणदा

Question Number : 182 Question Id : 9983675988 Question Type : MCQ Option Shuffling : Yes  
Correct Marks : 1 Wrong Marks : 0.25

‘रात्रि’ का पर्यायवाची नहीं है:

Options :

1. \* शर्वरी
2. \* निशा
3. ✓ इला

## 4. \* क्षणदा

Question Number : 183 Question Id : 9983675989 Question Type : MCQ Option Shuffling : Yes  
Correct Marks : 1 Wrong Marks : 0.25

‘शार्दूल’ किसका पर्यायवाची है?

Options :

1. ✓ सिंह
2. \* सूर्य
3. \* चन्द्र
4. \* गगन

Question Number : 183 Question Id : 9983675989 Question Type : MCQ Option Shuffling : Yes  
Correct Marks : 1 Wrong Marks : 0.25

‘शार्दूल’ किसका पर्यायवाची है?

Options :

1. ✓ सिंह
2. \* सूर्य
3. \* चन्द्र
4. \* गगन

Question Number : 184 Question Id : 9983675990 Question Type : MCQ Option Shuffling : Yes  
Correct Marks : 1 Wrong Marks : 0.25

‘ब्राह्मी’ किसका पर्यायवाची है?

Options :

1. \* धरती
2. \* नदी
3. \* लक्ष्मी
4. ✓ सरस्वती

Question Number : 184 Question Id : 9983675990 Question Type : MCQ Option Shuffling : Yes  
Correct Marks : 1 Wrong Marks : 0.25

‘ब्राह्मी’ किसका पर्यायवाची है?

Options :

1. ✖ धरती
2. ✖ नदी
3. ✖ लक्ष्मी
4. ✔ सरस्वती

Question Number : 185 Question Id : 9983675991 Question Type : MCQ Option Shuffling : Yes  
Correct Marks : 1 Wrong Marks : 0.25

‘कर’ किसका पर्यायवाची नहीं है?

Options :

1. ✖ हाथ
2. ✔ दण्ड
3. ✖ सूँड़
4. ✖ किरण

Question Number : 185 Question Id : 9983675991 Question Type : MCQ Option Shuffling : Yes  
Correct Marks : 1 Wrong Marks : 0.25

‘कर’ किसका पर्यायवाची नहीं है?

Options :

1. ✖ हाथ
2. ✔ दण्ड
3. ✖ सूँड़
4. ✖ किरण

Question Number : 186 Question Id : 9983675992 Question Type : MCQ Option Shuffling : Yes  
Correct Marks : 1 Wrong Marks : 0.25

‘अनुलोम’ का विलोम शब्द है:

Options :

1. ✖ प्रतिकार
2. ✖ प्रतिघात
3. ✔ प्रतिलोम

## 4. \* सुलोम

Question Number : 186 Question Id : 9983675992 Question Type : MCQ Option Shuffling : Yes  
Correct Marks : 1 Wrong Marks : 0.25

‘अनुलोम’ का विलोम शब्द है:

Options :

1. \* प्रतिकार
2. \* प्रतिघात
3. ✓ प्रतिलोम
4. \* सुलोम

Question Number : 187 Question Id : 9983675993 Question Type : MCQ Option Shuffling : Yes  
Correct Marks : 1 Wrong Marks : 0.25

‘आहूत’ का विलोम होगा:

Options :

1. \* हत
2. \* आहत
3. \* अनाहत
4. ✓ अनाहूत

Question Number : 187 Question Id : 9983675993 Question Type : MCQ Option Shuffling : Yes  
Correct Marks : 1 Wrong Marks : 0.25

‘आहूत’ का विलोम होगा:

Options :

1. \* हत
2. \* आहत
3. \* अनाहत
4. ✓ अनाहूत

Question Number : 188 Question Id : 9983675994 Question Type : MCQ Option Shuffling : Yes  
Correct Marks : 1 Wrong Marks : 0.25

‘आविर्भाव’ किसका विलोम है?

Options :

1. ✓ तिरोभाव
2. \* प्रादुर्भाव
3. \* उद्भव
4. \* सद्भाव

Question Number : 188 Question Id : 9983675994 Question Type : MCQ Option Shuffling : Yes  
Correct Marks : 1 Wrong Marks : 0.25

‘आविर्भाव’ किसका विलोम है?

Options :

1. ✓ तिरोभाव
2. \* प्रादुर्भाव
3. \* उद्भव
4. \* सद्भाव

Question Number : 189 Question Id : 9983675995 Question Type : MCQ Option Shuffling : Yes  
Correct Marks : 1 Wrong Marks : 0.25

‘नाबालिग का विवाह कानूनन अपराध है।’ पंक्ति के रेखांकित शब्द का विलोम होगा:

Options :

1. \* अवयस्क
2. \* अल्पव्यस्क
3. \* वृद्ध
4. ✓ वयस्क

Question Number : 189 Question Id : 9983675995 Question Type : MCQ Option Shuffling : Yes  
Correct Marks : 1 Wrong Marks : 0.25

‘नाबालिग का विवाह कानूनन अपराध है।’ पंक्ति के रेखांकित शब्द का विलोम होगा:

Options :

1. \* अवयस्क
2. \* अल्पव्यस्क

3. ✖ वृद्ध

4. ✔ वयस्क

Question Number : 190 Question Id : 9983675996 Question Type : MCQ Option Shuffling : Yes

Correct Marks : 1 Wrong Marks : 0.25

‘क्षति’ का विलोम है:

Options :

1. ✖ हानि

2. ✖ उद्धार

3. ✔ लाभ

4. ✖ प्रकाश

Question Number : 190 Question Id : 9983675996 Question Type : MCQ Option Shuffling : Yes

Correct Marks : 1 Wrong Marks : 0.25

‘क्षति’ का विलोम है:

Options :

1. ✖ हानि

2. ✖ उद्धार

3. ✔ लाभ

4. ✖ प्रकाश

Sub-Section Number: 2

Sub-Section Id: 998367367

Question Shuffling Allowed : Yes

Question Id : 9983675997 Question Type : COMPREHENSION Sub Question Shuffling Allowed : Yes Group Comprehension Questions : No

Question Numbers : (191 to 195)

Question Label : Comprehension

नीचे दिये गए गद्यांश को पढ़कर पूछे गये प्रश्नों के उत्तर दीजिए।

गोस्वामी तुलसीदास मनुष्यों में दैहिक, दैविक, भौतिक, तापा, रामराज अस काहु न व्यापा कहकर शांत होने वाले व्यक्ति नहीं है। वे तो ऐसे आदर्श समाज की परिकल्पना करते हैं जहाँ पशुओं में भी प्रेम हो। वो अपनी वैमनस्यता भूलकर एक ही साथ रह रहे हों। ऐसी परिकल्पना तो आज भी मुश्किल है। महाकवि तुलसी चूँकि जन कवि हैं इसलिए जनता के दुःख दर्द को समझते हैं। ये एक ऐसे युगद्रष्टा हैं जो अपने प्रबंध काव्य की शुरुआत ही 'स्वांतः सुखाय तुलसी रघुनाथ गाथा' से करते हैं और परहित, परोपकार पर जाकर वे अपने मंतव्य तक पहुँच जाते हैं। तुलसी के राम मर्यादा पुरुषोत्तम राम हैं जो जन कल्याण के लिए ही धरती पर अवतार लिए हुए हैं। तुलसी रामचरितमानस में ऐसे भातृ आदर्श, पति आदर्श, पत्नी आदर्श आदि का जिक्र करते हैं जो आज भी प्रासंगिक बना हुआ है। जहाँ व्यक्ति के मन मस्तिष्क में भाई-भाई के प्रति वैमनस्य भरा पड़ा है वहीं तुलसी उस वैमनस्यता के बरक्स ऐसा आदर्श प्रस्तुत करते हैं जो पूरे हिन्दी-साहित्य क्या विश्व के किसी भी साहित्य में नहीं मिलता। राम और भरत का मिलन और दोनों का विदेह हो जाना, सुध-बुध भूलकर भरत का बारंबार भाई राम के चरणों में गिरना और राम द्वारा उन्हें बार-बार गले लगाना आदि ऐसे ही आदर्श हैं। मध्यकालीन भक्त कवियों का उद्देश्य विषमता रहित एक ऐसे समाज की परिकल्पना थी जहाँ सर्वधर्म समभाव हो।

Sub questions

Question Number : 191 Question Id : 9983675998 Question Type : MCQ Option Shuffling : Yes  
Correct Marks : 1 Wrong Marks : 0.25

गद्यांश में किस कवि का उल्लेख है?

Options :

1. ✓ तुलसीदास
2. \* सूरदास
3. \* कबीरदास
4. \* रैदास

Question Number : 192 Question Id : 9983675999 Question Type : MCQ Option Shuffling : Yes  
Correct Marks : 1 Wrong Marks : 0.25

'वैमनस्यता' का अर्थ है:

Options :



1. \* मित्रता
2. ✓ शत्रुता
3. \* क्रोध
4. \* घृणा

Question Number : 193 Question Id : 9983676000 Question Type : MCQ Option Shuffling : Yes  
Correct Marks : 1 Wrong Marks : 0.25

‘मंतव्य’ का आशय है:

Options :

1. ✓ विचार
2. \* कल्पना
3. \* संवेदना
4. \* रहस्य

Question Number : 194 Question Id : 9983676001 Question Type : MCQ Option Shuffling : Yes  
Correct Marks : 1 Wrong Marks : 0.25

‘विदेह जो जाना’ का आशय है:

Options :

1. \* मृत्यु को प्राप्त होना
2. \* सांसारिकता में रम जाना
3. \* शरीर धारण करना
4. ✓ सांसारिक बातों से विरक्त हो जाना

Question Number : 195 Question Id : 9983676002 Question Type : MCQ Option Shuffling : Yes  
Correct Marks : 1 Wrong Marks : 0.25

मध्यकालीन भक्त कवि किस समाज की परिकल्पना करते हैं:

Options :

1. \* स्वतन्त्रतामूलक
2. ✓ समतामूलक
3. \* विषमतामूलक
4. \* स्वार्थमूलक

Question Id : 9983675997 Question Type : COMPREHENSION Sub Question Shuffling Allowed : Yes Group Comprehension  
Questions : No

Question Label : Comprehension

नीचे दिये गए गद्यांश को पढ़कर पूछे गये प्रश्नों के उत्तर दीजिए।

गोस्वामी तुलसीदास मनुष्यों में दैहिक, दैविक, भौतिक, तापा, रामराज अस काहु न व्यापा कहकर शांत होने वाले व्यक्ति नहीं है। वे तो ऐसे आदर्श समाज की परिकल्पना करते हैं जहाँ पशुओं में भी प्रेम हो। वो अपनी वैमनस्यता भूलकर एक ही साथ रह रहे हों। ऐसी परिकल्पना तो आज भी मुश्किल है। महाकवि तुलसी चूँकि जन कवि हैं इसलिए जनता के दुःख दर्द को समझते हैं। ये एक ऐसे युगद्रष्टा हैं जो अपने प्रबंध काव्य की शुरुआत ही 'स्वांतः सुखाय तुलसी रघुनाथ गाथा' से करते हैं और परहित, परोपकार पर जाकर वे अपने मंतव्य तक पहुँच जाते हैं। तुलसी के राम मर्यादा पुरुषोत्तम राम हैं जो जन कल्याण के लिए ही धरती पर अवतार लिए हुए हैं। तुलसी रामचरितमानस में ऐसे भातृ आदर्श, पति आदर्श, पत्नी आदर्श आदि का जिक्र करते हैं जो आज भी प्रासंगिक बना हुआ है। जहाँ व्यक्ति के मन मस्तिष्क में भाई-भाई के प्रति वैमनस्य भरा पड़ा है वहीं तुलसी उस वैमनस्यता के बरक्स ऐसा आदर्श प्रस्तुत करते हैं जो पूरे हिन्दी-साहित्य क्या विश्व के किसी भी साहित्य में नहीं मिलता। राम और भरत का मिलन और दोनों का विदेह हो जाना, सुध-बुध भूलकर भरत का बारंबार भाई राम के चरणों में गिरना और राम द्वारा उन्हें बार-बार गले लगाना आदि ऐसे ही आदर्श हैं। मध्यकालीन भक्त कवियों का उद्देश्य विषमता रहित एक ऐसे समाज की परिकल्पना थी जहाँ सर्वधर्म समभाव हो।

गद्यांश में किस कवि का उल्लेख है?

Question Number : 191 Question Id : 9983675998 Question Type : MCQ Option Shuffling : Yes  
Correct Marks : 1 Wrong Marks : 0.25

गद्यांश में किस कवि का उल्लेख है?

Options :

1. ✓ तुलसीदास
2. ✗ सूरदास
3. ✗ कबीरदास
4. ✗ रैदास

Question Number : 192 Question Id : 9983675999 Question Type : MCQ Option Shuffling : Yes  
Correct Marks : 1 Wrong Marks : 0.25

‘वैमनस्यता’ का अर्थ है:

Options :

1. ✗ मित्रता
2. ✓ शत्रुता
3. ✗ क्रोध
4. ✗ घृणा

Question Number : 193 Question Id : 9983676000 Question Type : MCQ Option Shuffling : Yes  
Correct Marks : 1 Wrong Marks : 0.25

‘मंतव्य’ का आशय है:

Options :

1. ✓ विचार
2. ✗ कल्पना
3. ✗ संवेदना
4. ✗ रहस्य

Question Number : 194 Question Id : 9983676001 Question Type : MCQ Option Shuffling : Yes  
Correct Marks : 1 Wrong Marks : 0.25

‘विदेह जो जाना’ का आशय है:

Options :

1. \* मृत्यु को प्राप्त होना
2. \* सांसारिकता में रम जाना
3. \* शरीर धारण करना
4. ✓ सांसारिक बातों से विरक्त हो जाना

Question Number : 195 Question Id : 9983676002 Question Type : MCQ Option Shuffling : Yes  
Correct Marks : 1 Wrong Marks : 0.25

मध्यकालीन भक्त कवि किस समाज की परिकल्पना करते हैं:

Options :

1. \* स्वतन्त्रतामूलक
2. ✓ समतामूलक
3. \* विषमतामूलक
4. \* स्वार्थमूलक

Sub-Section Number:	3
Sub-Section Id:	998367368
Question Shuffling Allowed :	Yes

Question Id : 9983676003 Question Type : COMPREHENSION Sub Question Shuffling Allowed : Yes Group Comprehension Questions : No

Question Numbers : (196 to 200)

Question Label : Comprehension

नीचे दिये गए गद्यांश को पढ़कर पूछे गये प्रश्नों के उत्तर दीजिए।

हिन्दी साहित्य में व्यावहारिक आलोचना का उदय भारतेन्दु के निबंध 'नाटक' (1883 ई०) से माना जाता है। आलोचना के क्षेत्र में यह कोई यकायक नयी आई हुई विधा नहीं थी। अतः भारतेन्दु से पूर्व हुई सैद्धांतिक आलोचना को अनदेखा करके आलोचना की कोई नई पृष्ठभूमि नहीं तैयार की जा सकती। हमें इस आलोचना के स्वरूप व विकास को समझते हुए आगे बढ़ना चाहिए। भारतेन्दु युग से पूर्व हिन्दी आलोचना में जो रूप प्रचलित थे, वे रीतिकालीन लक्षण ग्रंथों की परिपाटी पर थे। संस्कृत साहित्य से रीतिकाल को विपुल सामग्री प्राप्त हुई व रीतिकालीन आचार्यों ने कविता संबंधी अवधारणाओं की व्याख्या उन्हीं लक्षणग्रंथों से की है। रीतिकालीन आलोचना प्रमुखतः महत्वपूर्ण काव्य रचनाओं की टीका पद्धति व कवि की प्रशंसात्मक उक्तियों तथा लक्षण ग्रंथों को आधार बनाकर की गयी।

Sub questions

Question Number : 196 Question Id : 9983676004 Question Type : MCQ Option Shuffling : Yes  
Correct Marks : 1 Wrong Marks : 0.25

गद्यांश का केंद्रीय विषय है:

Options :

1. \* कविता
2. \* कहानी
3. ✓ आलोचना
4. \* निबंध

Question Number : 197 Question Id : 9983676005 Question Type : MCQ Option Shuffling : Yes  
Correct Marks : 1 Wrong Marks : 0.25

'विपुल' का अर्थ है:

Options :

1. \* कम
2. \* अधिक
3. ✓ बहुत अधिक
4. \* विलक्षण

Question Number : 198 Question Id : 9983676006 Question Type : MCQ Option Shuffling : Yes  
Correct Marks : 1 Wrong Marks : 0.25

‘परिपाटी’ का अर्थ है:

Options :

1. ✓ प्रथा
2. \* प्रयोग
3. \* नकल
4. \* वैशिष्ट्य

Question Number : 199 Question Id : 9983676007 Question Type : MCQ Option Shuffling : Yes

Correct Marks : 1 Wrong Marks : 0.25

‘अवधारणा’ का आशय है:

Options :

1. \* कल्पना
2. \* पूर्वाग्रह
3. \* पूर्व धारणा
4. ✓ सुविचारित धारणा

Question Number : 200 Question Id : 9983676008 Question Type : MCQ Option Shuffling : Yes

Correct Marks : 1 Wrong Marks : 0.25

गद्यांश में भारतेन्दु से पूर्व किस आलोचना का उल्लेख है?

Options :

1. \* व्यावहारिक आलोचना
2. ✓ सैद्धान्तिक आलोचना
3. \* समाजशास्त्रीय आलोचना
4. \* मनोविश्लेषणात्मक आलोचना

Question Id : 9983676003 Question Type : COMPREHENSION Sub Question Shuffling Allowed : Yes Group Comprehension Questions : No

Question Numbers : (196 to 200)

Question Label : Comprehension

नीचे दिये गए गद्यांश को पढ़कर पूछे गये प्रश्नों के उत्तर दीजिए।

हिन्दी साहित्य में व्यावहारिक आलोचना का उदय भारतेंदु के निबंध 'नाटक' (1883 ई०) से माना जाता है। आलोचना के क्षेत्र में यह कोई यकायक नयी आई हुई विधा नहीं थी। अतः भारतेंदु से पूर्व हुई सैद्धांतिक आलोचना को अनदेखा करके आलोचना की कोई नई पृष्ठभूमि नहीं तैयार की जा सकती। हमें इस आलोचना के स्वरूप व विकास को समझते हुए आगे बढ़ना चाहिए। भारतेंदु युग से पूर्व हिन्दी आलोचना में जो रूप प्रचलित थे, वे रीतिकालीन लक्षण ग्रंथों की परिपाटी पर थे। संस्कृत साहित्य से रीतिकाल को विपुल सामग्री प्राप्त हुई व रीतिकालीन आचार्यों ने कविता संबंधी अवधारणाओं की व्याख्या उन्हीं लक्षणग्रंथों से की है। रीतिकालीन आलोचना प्रमुखतः महत्वपूर्ण काव्य रचनाओं की टीका पद्धति व कवि की प्रशंसात्मक उक्तियों तथा लक्षण ग्रंथों को आधार बनाकर की गयी।

Sub questions

Question Number : 196 Question Id : 9983676004 Question Type : MCQ Option Shuffling : Yes

Correct Marks : 1 Wrong Marks : 0.25

गद्यांश का केंद्रीय विषय है:

Options :

1. \* कविता
2. \* कहानी
3. ✓ आलोचना
4. \* निबंध

Question Number : 197 Question Id : 9983676005 Question Type : MCQ Option Shuffling : Yes

Correct Marks : 1 Wrong Marks : 0.25

'विपुल' का अर्थ है:

Options :

1. \* कम
2. \* अधिक
3. ✓ बहुत अधिक
4. \* विलक्षण

Question Number : 198 Question Id : 9983676006 Question Type : MCQ Option Shuffling : Yes  
Correct Marks : 1 Wrong Marks : 0.25

‘परिपाटी’ का अर्थ है:

Options :

1. ✓ प्रथा
2. \* प्रयोग
3. \* नकल
4. \* वैशिष्ट्य

Question Number : 199 Question Id : 9983676007 Question Type : MCQ Option Shuffling : Yes  
Correct Marks : 1 Wrong Marks : 0.25

‘अवधारणा’ का आशय है:

Options :

1. \* कल्पना
2. \* पूर्वाग्रह
3. \* पूर्व धारणा
4. ✓ सुविचारित धारणा

Question Number : 200 Question Id : 9983676008 Question Type : MCQ Option Shuffling : Yes  
Correct Marks : 1 Wrong Marks : 0.25

गद्यांश में भारतेन्दु से पूर्व किस आलोचना का उल्लेख है?

Options :

1. \* व्यावहारिक आलोचना
2. ✓ सैद्धान्तिक आलोचना



3. \* समाजशास्त्रीय आलोचना

4. \* मनोविश्लेषणात्मक आलोचना