

Education Consultant India Ltd.

Notations :

1.Options shown in **green** color and with ✓ icon are correct.

2.Options shown in **red** color and with ✖ icon are incorrect.

Question Paper Name:	GRADE II DASS 24th July 2019 Shift 3
Subject Name:	GRADE II DASS
Creation Date:	2019-07-24 19:21:58
Duration:	120
Total Marks:	200
Display Marks:	Yes
Share Answer Key With Delivery Engine:	No
Actual Answer Key:	Yes
Calculator:	None
Magnifying Glass Required?:	No
Ruler Required?:	No
Eraser Required?:	No
Scratch Pad Required?:	No
Rough Sketch/Notepad Required?:	No
Protractor Required?:	No
Show Watermark on Console?:	Yes
Highlighter:	No
Auto Save on Console?:	No

Mental Ability1

Group Number :	1
Group Id :	998367317
Group Maximum Duration :	0
Group Minimum Duration :	0
Show Attended Group? :	No
Edit Attended Group? :	No
Break time:	0
Group Marks:	20
Is this Group for Examiner?:	No
Revisit allowed for group Instructions? :	Yes
Maximum Instruction Time:	0
Minimum Instruction Time:	0

Mental Ability1

Section Id :	998367323
Section Number :	1

Section type :	Online
Mandatory or Optional:	Mandatory
Number of Questions:	20
Number of Questions to be attempted:	20
Section Marks:	20

Sub-Section Number:	1
Sub-Section Id:	998367467
Question Shuffling Allowed :	Yes

Question Number : 1 Question Id : 9983677437 Question Type : MCQ Option Shuffling : Yes

Correct Marks : 1 Wrong Marks : 0.25

There is a certain relationship between two given words on one side of :: and one word is given on another side of :: while another word is to be found from the given alternatives, having the same relation with the word as the words of the given pair.

Choose the correct alternative.

Won : Korea :: Mark : ?

Options :

1. ✓ Germany

2. ✗ Ruble

3. ✗ Sweden

4. ✗ Burma

Question Number : 1 Question Id : 9983677437 Question Type : MCQ Option Shuffling : Yes

Correct Marks : 1 Wrong Marks : 0.25

:: के एक ओर दिए दो शब्दों के बीच एक निश्चित संबंध है, और :: के दूसरी ओर एक शब्द दिया गया है, जबकि दिए गए विकल्पों में से अन्य शब्द खोजना है जिसका उस शब्द से वही संबंध हो जो दिए गए जोड़े के शब्दों के बीच है।

निम्नलिखित में से सही विकल्प चुनें।

वॉन : कोरिया :: मार्क : ?

Options :

1. ✓ जर्मनी

2. ✖ रूबल

3. ✖ स्वीडन

4. ✖ बर्मा

Question Number : 2 Question Id : 9983677438 Question Type : MCQ Option Shuffling : Yes

Correct Marks : 1 Wrong Marks : 0.25

There is a certain relationship between two given numbers on one side of :: and one number is given on another side of :: while another number is to be found from the given alternatives, having the same relation with the number as the number of the given pair.

Choose the correct alternative.

24 : 144 :: 52 : ?

Options :

1. ✖ 242

2. ✖ 324

3. ✖ 452

4. ✔ 676

Question Number : 2 Question Id : 9983677438 Question Type : MCQ Option Shuffling : Yes

Correct Marks : 1 Wrong Marks : 0.25

:: के एक ओर दी गई दो संख्याओं के बीच एक निश्चित संबंध है, और :: के दूसरी ओर एक संख्या दी गई है, आपको दिए गए विकल्पों में से वह संख्या खोजनी है जिसका उस संख्या से वही संबंध हो जो दिए गए जोड़े की संख्याओं के बीच है।

निम्नलिखित में से सही विकल्प चुनें।

24 : 144 :: 52 : ?

Options :

1. ✖ 242

2. ✖ 324

3. ✖ 452

4. ✔ 676

Question Number : 3 Question Id : 9983677439 Question Type : MCQ Option Shuffling : Yes

Correct Marks : 1 Wrong Marks : 0.25

A group of three interrelated word is given. Choose a word from the given alternatives that is similar to the given words and hence belongs to the same group.

Nairobi : Athens : Cairo

Options :

1. ✔ Vienna

2. ✖ Denmark

3. ✖ Spain

4. ✖ Krona

Question Number : 3 Question Id : 9983677439 Question Type : MCQ Option Shuffling : Yes

Correct Marks : 1 Wrong Marks : 0.25

प्रश्न में तीन परस्पर संबंधित शब्दों का एक समूह दिया गया है। दिए गए विकल्पों में से उस शब्द का चुनाव करें जो प्रश्न में दिए गए शब्दों से समानता रखता हो, और परिणामस्वरूप उसी समूह से संबंधित हो।

नैरोबी : एथेंस : काइरो

Options :

1. ✓ विएना

2. ✗ डेनमार्क

3. ✗ स्पेन

4. ✗ क्रोना

Question Number : 4 Question Id : 9983677440 Question Type : MCQ Option Shuffling : Yes

Correct Marks : 1 Wrong Marks : 0.25

A group of three interrelated numbers is given. Choose a numbers from the given alternatives that is similar to the given numbers and hence belongs to the same group.

385 : 473 : 143

Options :

1. ✗ 180

2. ✓ 253

3. ✗ 270

4. ✗ 221

Question Number : 4 Question Id : 9983677440 Question Type : MCQ Option Shuffling : Yes

Correct Marks : 1 Wrong Marks : 0.25

प्रश्न में तीन परस्पर संबंधित संख्याओं का एक समूह दिया गया है। दिए गए विकल्पों में से उस संख्या का चुनाव करें जो प्रश्न में दी गई संख्या से समानता रखता हो, और परिणामस्वरूप उसी समूह से संबंधित हो।

385 : 473 : 143

Options :

1. ✖ 180

2. ✔ 253

3. ✖ 270

4. ✖ 221

Question Number : 5 Question Id : 9983677441 Question Type : MCQ Option Shuffling : Yes

Correct Marks : 1 Wrong Marks : 0.25

Which of the following is the same as **Taxonomy, Selenography and Pedology**?

Options :

1. ✔ Eccrinology

2. ✖ Virus

3. ✖ Moon

4. ✖ Skull

Question Number : 5 Question Id : 9983677441 Question Type : MCQ Option Shuffling : Yes

Correct Marks : 1 Wrong Marks : 0.25

निम्नलिखित में से कौन सा शब्द वर्गीकरण विज्ञान, चन्द्रमा विज्ञान और मृदा विज्ञान से समानता रखता है?

Options :

1. ✔ बाह्यस्त्रावी विज्ञान (Eccrinology)

2. ✖ वायरस

3. ✖ चन्द्र

4. ✖ खोपड़ी

Question Number : 6 Question Id : 9983677442 Question Type : MCQ Option Shuffling : Yes

Correct Marks : 1 Wrong Marks : 0.25

Four pairs of words are given out of which the words in three pairs bear a certain common relationship. Choose the pair in which the words are differently related.

Options :

1. ✖ Fan – Blade

2. ✖ Book – Chapter

3. ✔ Circle – Cube

4. ✖ Pen – Nib

Question Number : 6 Question Id : 9983677442 Question Type : MCQ Option Shuffling : Yes

Correct Marks : 1 Wrong Marks : 0.25

नीचे चार शब्द समूह दिए गए हैं, जिनमें से तीन शब्द समूह आपस में किसी ना किसी तरीके से संबंधित हैं। आपस में संबंध ना रखने वाले शब्द समूहों का विकल्प चुनें।

Options :

1. ✖ पंखा - ताड़ी (ब्लेड)

2. ✖ पुस्तक - अध्याय

3. ✓ वृत्त - घन

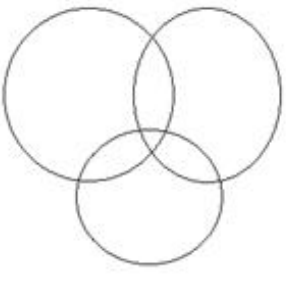
4. ✗ पेन - निब

Question Number : 7 Question Id : 9983677443 Question Type : MCQ Option Shuffling : Yes
Correct Marks : 1 Wrong Marks : 0.25


Which of the following Venn diagrams depicts the correct relation between:

Snakes, King Cobra and Russell's Viper

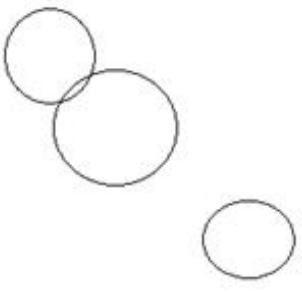
Options :



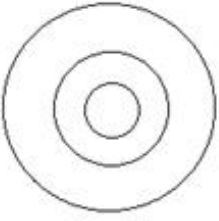
1. ✗



2. ✓



3. ✗



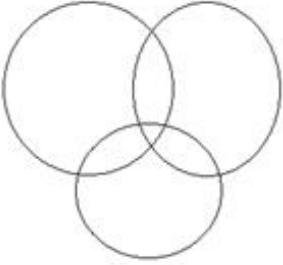
4. ✘

Question Number : 7 Question Id : 9983677443 Question Type : MCQ Option Shuffling : Yes
Correct Marks : 1 Wrong Marks : 0.25


नीचे दिए गए विकल्पों में से कौन सा वेन आरेख निम्नलिखित के बीच का सही संबंध दर्शाता है:

सांप, किंग कोबरा और रसेल वाइपर

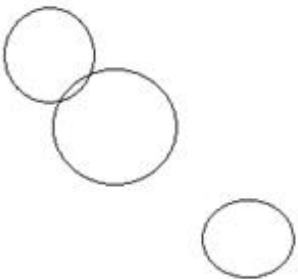
Options :



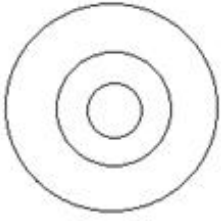
1. ✘



2. ✔



3. ✘



4. ✘

Question Number : 8 Question Id : 9983677444 Question Type : MCQ Option Shuffling : Yes

Correct Marks : 1 Wrong Marks : 0.25

My school is in the East of my house, Temple is North of my house and Market is South of my house and Post office is West of my house. If all are at equal distance from my house, in which direction the School is with respect to the Post office?

Options :

1. ✔ East

2. ✘ North

3. ✘ South

4. ✘ West

Question Number : 8 Question Id : 9983677444 Question Type : MCQ Option Shuffling : Yes

Correct Marks : 1 Wrong Marks : 0.25

मेरा स्कूल मेरे घर की पूर्व दिशा में है, मंदिर मेरे घर की उत्तर दिशा में है और बाज़ार मेरे घर की दक्षिण दिशा में है और पोस्ट ऑफिस मेरे घर की पश्चिम दिशा में है। अगर ये सभी मेरे घर से समान दूरी पर हैं, तो पोस्ट ऑफिस के संबंध में स्कूल किस दिशा में स्थित है?

Options :

1. ✔ पूर्व

2. ✘ उत्तर

3. ✖ दक्षिण

4. ✖ पश्चिम

Question Number : 9 Question Id : 9983677445 Question Type : MCQ Option Shuffling : Yes

Correct Marks : 1 Wrong Marks : 0.25

Sachin, Sahil, Sandhya, Sani, Sanju, Saurabh, Shweta and Sunil are sitting around a round table in the same order for lunch at equal distance. Their positions are Anti-clockwise. If Sandhya sits facing South, then in which direction Sunil is facing?

Options :

1. ✖ North – East

2. ✔ North – West

3. ✖ South – East

4. ✖ South - West

Question Number : 9 Question Id : 9983677445 Question Type : MCQ Option Shuffling : Yes

Correct Marks : 1 Wrong Marks : 0.25

सचिन, साहिल, संध्या, सानी, संजू, सौरभ, श्वेता और सुनील दोपहर का भोजन करने के लिए इसी क्रम में एक गोल मेज के चारों ओर बैठे हैं। उनकी स्थिति घड़ी की दिशा के विपरीत है। यदि संध्या दक्षिण की ओर मुंह करके बैठी है, तो सुनील किस दिशा में मुंह करके बैठा है?

Options :

1. ✖ उत्तर - पूर्व

2. ✔ उत्तर - पश्चिम

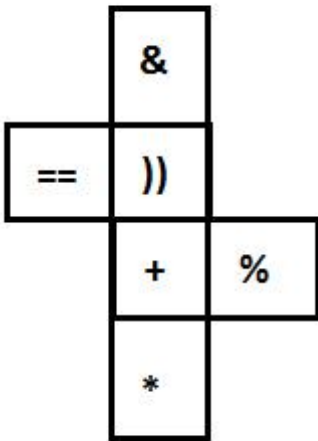
3. ✖ दक्षिण - पूर्व

4. ✖ दक्षिण - पश्चिम

Question Number : 10 Question Id : 9983677446 Question Type : MCQ Option Shuffling : Yes

Correct Marks : 1 Wrong Marks : 0.25

The sheet of paper in fig X is folded to form a cube. Which will come opposite to face showing ‘)’?



X

Options :

1. ✖ &

2. ✔ *

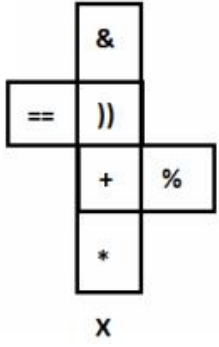
3. ✖ +

4. ✖ %

Question Number : 10 Question Id : 9983677446 Question Type : MCQ Option Shuffling : Yes

Correct Marks : 1 Wrong Marks : 0.25

चित्र X में कागज की एक शीट को मोड़कर एक घन बनाया गया है। इसका जो भाग '))' दिखा गया है, उसके ठीक विपरीत क्या होगा?



Options :

1. ✖ &

2. ✔ *

3. ✖ +

4. ✖ %

Question Number : 11 Question Id : 9983677447 Question Type : MCQ Option Shuffling : Yes

Correct Marks : 1 Wrong Marks : 0.25

Children A, B, C, D, E, F and G are standing in a line. F is to the left of A and right of B. D is between G and B. E is standing left of C and G is right of C. Who is standing at the middle?

Options :

1. ✖ C

2. ✖ A

3. ✖ E

4. ✓ D

Question Number : 11 Question Id : 9983677447 Question Type : MCQ Option Shuffling : Yes

Correct Marks : 1 Wrong Marks : 0.25

A, B, C, D, E, F और G बच्चे एक कतार में खड़े हैं। F, A के बाईं ओर और B के दाईं ओर खड़ा है। D, G और B के बीच में खड़ा है। E, C के बाएं खड़ा है और G, C के दाएं खड़ा है। सबके बीच में कौन खड़ा है?

Options :

1. ✗ C

2. ✗ A

3. ✗ E

4. ✓ D

Question Number : 12 Question Id : 9983677448 Question Type : MCQ Option Shuffling : Yes

Correct Marks : 1 Wrong Marks : 0.25

Harmeet has kept four of her puzzle books in the cupboard between two bookends. She one day thinks of re-arranging the four books in all possible combinations. The time taken to move one book was one minute, how many minutes will Harmeet take to complete all possible combinations?

Options :

1. ✗ 15 mins

2. ✗ 20 mins

3. ✓ 24 mins

4. ✗ 30 mins

Question Number : 12 Question Id : 9983677448 Question Type : MCQ Option Shuffling : Yes

Correct Marks : 1 Wrong Marks : 0.25

हरमीत ने अपनी पहली की किताबों को दो आलमारीयों में व्यवस्थित रखा है। एक दिन उसने चारों किताबों को सभी संभावित संयोजनों में फिर से व्यवस्थित रखने के लिए सोचा। उसे एक पुस्तक को स्थानांतरित करने में एक मिनट का समय लगता है, हरमीत को सभी संभावित संयोजनों को पूरा करने में कितने मिनट लगेंगे?

Options :

1. ✘ 15 मिनट

2. ✘ 20 मिनट

3. ✔ 24 मिनट

4. ✘ 30 मिनट

Question Number : 13 Question Id : 9983677449 Question Type : MCQ Option Shuffling : Yes

Correct Marks : 1 Wrong Marks : 0.25

- I. Doby is sister of John and John is brother of Shreya.
- II. Shreya is daughter Jones and sister of Jani.
- III. John is brother of Jani.

If the first two statements are true, the third statement is:

Options :

1. ✔ True

2. ✘ False

3. ✘ May be true

4. ✘ Uncertain

Question Number : 13 Question Id : 9983677449 Question Type : MCQ Option Shuffling : Yes

Correct Marks : 1 Wrong Marks : 0.25

- i. डाँबी, जॉन की बहन है और जॉन, श्रेया का भाई है।
- ii. श्रेया, जॉन्स की बेटी और जानी, की बहन है।
- iii. जॉन, जानी का भाई है।

यदि पहले दो कथन सत्य हैं, तो तीसरा कथन कौन सा होगा?

Options :

1. ✓ सत्य
2. ✗ असत्य
3. ✗ सत्य हो सकता है
4. ✗ निर्धारित नहीं कर सकते

Question Number : 14 Question Id : 9983677450 Question Type : MCQ Option Shuffling : Yes

Correct Marks : 1 Wrong Marks : 0.25

Anas, Bipin, Chandan, Dev, Easa and Fatima are friends. No two friends are of the same age, but all have birthdays on the same date. The youngest is 23 years old and the oldest is 28 years. Easa is somewhere between Chandan and Anas. Dev is older than Bipin. Fatima is older than Chandan. Anas is oldest and Chandan is youngest among all. If Fatima is younger than Bipin, Bipin is younger than Easa. Dev is older than Easa.

Which of the following is false?

Options :

1. ✗ Bipin is 25 years old
2. ✗ Easa is 26 years old
3. ✓ Dev is 23 years old

4. ✖ Fatima is 24 years old

Question Number : 14 Question Id : 9983677450 Question Type : MCQ Option Shuffling : Yes

Correct Marks : 1 Wrong Marks : 0.25

अनस, बिपिन, चंदन, देव, ईसा और फातिमा दोस्त हैं। कोई भी दो दोस्त समान उम्र के नहीं हैं, लेकिन सभी का जन्मदिन एक ही तारीख को आता है। इनमें सबसे छोटा व्यक्ति 23 साल का और सबसे बड़ा 28 साल का है। ईसा की उम्र, चंदन और अनस के बीच की है। देव, बिपिन से बड़ा है। फातिमा, चंदन से बड़ी हैं। अनस सबसे बड़ा है और चंदन सबसे छोटा है। अगर फातिमा, बिपिन से छोटी है और बिपिन, ईसा से छोटा है और देव, ईसा से बड़ा है।

निम्नलिखित में से कौन सा गलत है?

Options :

1. ✖ बिपिन की उम्र 25 साल है

2. ✖ ईसा की उम्र 26 साल है

3. ✔ देव की उम्र 23 साल है

4. ✖ फातिमा की उम्र 24 साल है

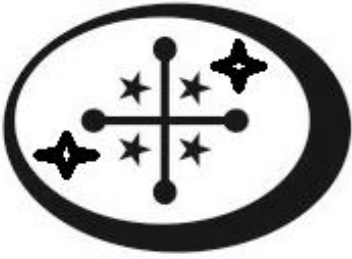
Question Number : 15 Question Id : 9983677451 Question Type : MCQ Option Shuffling : Yes

Correct Marks : 1 Wrong Marks : 0.25

What will be the mirror image of



Options :



1. ✖



2. ✖



3. ✖



4. ✔

नीचे दी गई छवि की दर्पण छवि क्या होगी?



Options :



1. ✖



2. ✖



3. ✖



4. ✓

Question Number : 16 Question Id : 9983677452 Question Type : MCQ Option Shuffling : Yes

Correct Marks : 1 Wrong Marks : 0.25

Following are the criteria to recruit a Teacher in a college:

- I. The Applicant must be science graduate with 75% marks.
- II. Have his/her age in between 25 to 32 years as on 10-05-2019.
- III. Have a PG degree/ 3 years diploma or must have completed B.Ed. with more than 65% marks.
- IV. Have minimum 3 years' experience in Teaching.
- V. Be ready to join 2 year probation.

If a candidate satisfies all the criteria except

- i. at III above, but is an Arts with Mathematics graduate with minimum 72% marks and has an experience of more than 5 years and more her/his case is to be referred to the Vice President.
- ii. At IV above, but master degrees with minimum 60% marks, her/his is to be referred to the President.

A detail of applicant is given below in the questions. On the basis of the following decision which is based on the data given above, mark the answer.

- I. Sabih is a B.Sc. Graduate with 80% marks and has completed PG in Mathematics with 59% marks. He completed 28 years of age in 2018 and has 5 years' experience as a Mathematics Faculty. He is ready to join probation period of 2 year.

Options :

1. ✗ If case is to be referred to President.
2. ✗ If case is to be referred to Vice President.
3. ✓ If candidate is to be selected.
4. ✗ If candidate is not to be selected.

Question Number : 16 Question Id : 9983677452 Question Type : MCQ Option Shuffling : Yes

Correct Marks : 1 Wrong Marks : 0.25

एक कॉलेज में शिक्षकों की भर्ती करने के लिए निम्नलिखित मानदंड निर्धारित किए गए हैं:

I. आवेदक को 75% अंकों से विज्ञान में स्नातक होना चाहिए।

II. आवेदक की उम्र 10-05-2019 को 25 से 32 साल के बीच होनी चाहिए।

III. आवेदक 65% से अधिक अंकों से स्नातकोत्तर डिग्री या 3 साल का डिप्लोमा या बी.एड पूरा किया होना चाहिए।

IV. आवेदक के पास न्यूनतम 3 साल का शिक्षण अनुभव होना चाहिए।

V. वह 2 साल की परीक्षा अवधि के लिए सहमत होना चाहिए।

i. यदि कोई अभ्यर्थी ऊपर दिए गए मानदंडों में से III के अलावा सभी मानदंडों को पूरा करता है, लेकिन वह न्यूनतम 72% अंकों से कला एवं गणित में स्नातक है और उसके पास 5 साल से ज्यादा का कार्यानुभव है, तो उसके मामले को उपाध्यक्ष के पास भेजा जाएगा।

ii. यदि कोई अभ्यर्थी ऊपर दिए गए मानदंडों में से IV के अलावा सभी मानदंडों को पूरा करता है, लेकिन वह न्यूनतम 60% अंकों से स्नातकोत्तर डिग्रीधारी है, तो उसके मामले को अध्यक्ष के पास भेजा जाएगा।

नीचे दिए गए प्रश्न में एक आवेदक के बारे में कुछ जानकारियां दी गई हैं। निम्नलिखित निष्कर्ष के आधार पर जो ऊपर दिए गए डेटा पर आधारित है, सही उत्तर का पता लगाएं।

i. साबिह ने 80% अंकों से B.Sc. स्नातक और 59% अंकों से गणित में स्नातकोत्तर किया है। उसने 2018 में 28 साल की उम्र पूरी कर ली है और गणित में संकाय के रूप में 5 साल का अनुभव प्राप्त किया है। वह 2 साल की परीक्षा अवधि के लिए तैयार है।

Options :

1. * यह मामला अध्यक्ष के पास भेजा जाएगा।

2. * यह मामला उपाध्यक्ष के पास भेजा जाएगा।

3. ✓ इस अभ्यर्थी का चयन किया जाएगा।

4. ✘ इस अभ्यर्थी का चयन नहीं किया जाएगा।

Question Number : 17 Question Id : 9983677453 Question Type : MCQ Option Shuffling : Yes

Correct Marks : 1 Wrong Marks : 0.25

Following are qualifications for a technical assistant post in company Alpha.

The candidate must:-

- I. Be an Engineering graduate with atleast 70% marks.
- II. Not less than 23 years and not more than 30 years of age on 1.7.2019.
- III. Have passed the selection test with atleast 60% marks.
- IV. Willing to join immediate for training and ready to pay a deposit of ₹ 20000, to be refunded on completion of training.

However, if a candidate fulfils the above mentioned criteria except :

- i. At (I) above, but he has appeared for the last semester examination and obtained an aggregate of 65% marks in previous semester, his/her case may be referred to the V.P. of the company.
- ii. At (II) his/her age is less than 23 years but he secured 80% marks in graduation, the case may be referred to the General Manager of the company.

The detail of the candidate is given as regards his/her candidature. You have to read the information provided and decide his/her status based on the conditions given above.

Rahim is an IT engineer passed his graduation with 80% marks. After getting the engineering degree he has done MCA. He has cleared the selection test with 70% marks.

He is ready to deposit above said amount and want to join immediately. His date of birth is 2.10.1995.

Options :

1. ✓ If the candidate is to be selected.

2. ✘ If the candidate is not selected.

3. ✘ If the case is referred to the V. P.

4. ✘ If the case is referred to the General Manager.

अल्फा कंपनी में एक तकनीकी सहायक के पद के लिए पात्रताएं नीचे दी गई हैं।

अभ्यर्थी के लिए निम्नलिखित अनिवार्य है:-

- I. 70% अंकों से इंजीनियरिंग स्नातक हो।
- II. 1-7-2019 को उसकी आयु 23 साल से कम और 30 साल से अधिक न हो।
- III. 60% अंकों से चयन परीक्षा उत्तीर्ण की हो।
- IV. प्रशिक्षण के लिए तत्काल नियुक्त होने का इच्छुक हो और ₹ 20000 की राशि जमा करने के लिए तैयार हो, जो प्रशिक्षण पूर्ण होने पर वापस कर दी जाएगी।

हालांकि निम्न के सिवाय उक्तान्कित मानदंड पूरे करता है तो:

- I. यदि कोई अभ्यर्थी ऊपर दिए गए मानदंडों में से (I.) के अलावा सभी मानदंड पूरा करता है, लेकिन वह अंतिम सेमिस्टर परीक्षा के लिए उपस्थित हुआ है और पिछले सेमिस्टर में कुल अंकों में से 65% अंक प्राप्त किए हैं, तो उसका मामला कंपनी के उपाध्यक्ष को भेजा जा सकता है।
- II. यदि कोई अभ्यर्थी ऊपर दिए गए मानदंडों में से (II.) के अलावा सभी मानदंड पूरा करता है, लेकिन उसकी आयु 23 साल से कम है, पर उसने स्नातक में 80% अंक प्राप्त किए हैं, तो उसका मामला कंपनी के महाप्रबंधक को भेजा जा सकता है।

अभ्यर्थी के अभ्यर्थन के संबंध में विवरण नीचे दिए गए हैं। आपको दी गई जानकारी पढ़नी है और ऊपर दिए गए शर्तों के आधार पर उसकी स्थिति निर्धारित करनी है।

रहीम एक IT इंजीनियर हैं जिसने स्नातक 80% अंकों के साथ पास किया है। इंजीनियरिंग की डिग्री लेने के बाद उसने MCA किया है। उसने 70% अंकों से चयन परीक्षा उत्तीर्ण की है।

वह ऊपर लिखी गई राशि को जमा करने और तत्काल नियुक्ति लेने के लिए तैयार है। उसकी जन्मतिथि 2-10-1995 है।

1. ✓ इस अभ्यर्थी का चयन किया जाएगा।
2. ✗ इस अभ्यर्थी का चयन नहीं किया जाएगा।
3. ✗ यह मामला उपाध्यक्ष को भेजा जाना है।
4. ✗ यह मामला महाप्रबंधक को भेजा जाना है।

Question Number : 18 Question Id : 9983677454 Question Type : MCQ Option Shuffling : Yes

Correct Marks : 1 Wrong Marks : 0.25

The statement given below is followed by two decisions labeled I, and II. You have to assume everything in the statement to be true, and then decide which of the two suggested decisions logically follows for pursuing.

Statement: Without active cooperation between officers and office staffs of the company, it cannot remain profitable to run business from this office.

Decisions:

I: The office should be trained to cooperate officers.

II: The office staff should be suspended.

Options :

1. ✓ Only I follows
2. ✗ Both I and II follow
3. ✗ Neither I nor II follow
4. ✗ Only II follows

Question Number : 18 Question Id : 9983677454 Question Type : MCQ Option Shuffling : Yes

Correct Marks : 1 Wrong Marks : 0.25

नीचे दिए गए कथन के बाद दो निष्कर्ष I और II दिए गए हैं। आपको इस कथन को पूर्णतया सत्य मानना है और फिर यह निर्धारित करना है कि दोनों में से कौन सा निष्कर्ष तर्कसंगत रूप से अनुसरण करता है।

कथन: कंपनी के अधिकारियों और कार्यालय के कर्मचारियों के बीच सक्रिय सहयोग के बिना, इस कार्यालय से व्यापार करना लाभ का सौदा नहीं रहेगा।

निष्कर्ष:

I: कार्यालय को अधिकारियों का सहयोग करने के लिए प्रशिक्षित किया जाना चाहिए।

II: कार्यालय के कर्मचारियों को निलंबित किया जाना चाहिए।

Options :

1. ✓ केवल I अनुसरण करता है।
2. ✗ I और II दोनों अनुसरण करते हैं।
3. ✗ न तो I और न ही II अनुसरण करता है।
4. ✗ केवल II अनुसरण करता है।

Question Number : 19 Question Id : 9983677455 Question Type : MCQ Option Shuffling : Yes

Correct Marks : 1 Wrong Marks : 0.25

The statement given below is followed by two decisions labeled I, and II. You have to assume everything in the statement to be true, and then decide which of the two suggested decisions logically follows for pursuing.

Statement: People living in rural areas are far from education and health awareness.

Decisions:

I: New schools and college should be open in these areas.

II: A mass awareness program must be initiated in these areas.

Options :

1. ✗ Only I follows
2. ✓ Both I and II follow

3. ✖ Either I or II follow

4. ✖ Only II follows

Question Number : 19 Question Id : 9983677455 Question Type : MCQ Option Shuffling : Yes
Correct Marks : 1 Wrong Marks : 0.25

नीचे दिए गए कथन के बाद दो निष्कर्ष I, और II दिए गए हैं। आपको कथन को पूर्णतया सत्य मानना है और फिर यह निर्धारित करना है कि दोनों में से कौन सा निष्कर्ष तर्कसंगत रूप से अनुसरण करता है।

कथन: ग्रामीण क्षेत्रों में रहने वाले लोग शिक्षा और स्वास्थ्य जागरूकता से वंचित हैं।

निष्कर्ष:

I: इन क्षेत्रों में नए स्कूल और कॉलेज खोले जाने चाहिए।

II: इन क्षेत्रों में जन जागरूकता अभियान शुरू किया जाना चाहिए।

Options :

1. ✖ केवल I अनुसरण करता है।

2. ✔ I और II दोनों अनुसरण करते हैं

3. ✖ या तो I या II अनुसरण करता है

4. ✖ केवल II अनुसरण करता है

Question Number : 20 Question Id : 9983677456 Question Type : MCQ Option Shuffling : Yes
Correct Marks : 1 Wrong Marks : 0.25

The statement given below is followed by two decisions labeled I, and II. You have to assume everything in the statement to be true, and then decide which of the two suggested decisions logically follows for pursuing.

Statement: The ground water level is decreasing day by day and creating big water problem in many parts of India.

Decisions:

I: All the concern authority should interfere in this matter to resolve issue.

II: Government should ban water harvesting.

Options :

1. ✓ Only I follows
2. ✗ Both I and II follow
3. ✗ Either I or II follow
4. ✗ Only II follows

Question Number : 20 Question Id : 9983677456 Question Type : MCQ Option Shuffling : Yes

Correct Marks : 1 Wrong Marks : 0.25

नीचे दिए कथन के बाद दो निष्कर्ष I, और II दिए गए हैं। आपको कथन को पूर्णतया सत्य मानना है और फिर यह निर्धारित करना है कि दोनों में से कौन सा निष्कर्ष तर्कसंगत रूप से सही है।

कथन: भारत के कई हिस्सों में भूजल स्तर दिन-प्रतिदिन गिर रहा है और इससे पानी की बड़ी समस्या पैदा हो रही है।

निष्कर्ष:

I: समस्या को हल करने के लिए सभी संबंधित प्राधिकरणों को इस मामले में हस्तक्षेप करना चाहिए।

II: सरकार को जल संचयन पर प्रतिबंध लगाना चाहिए।

Options :

1. ✓ केवल I अनुसरण करता है।
2. ✗ I और II दोनों अनुसरण करते हैं।
3. ✗ या तो I या II अनुसरण करता है।
4. ✗ केवल II अनुसरण करता है।

Mental Ability2

Group Number :	2
Group Id :	998367318
Group Maximum Duration :	0
Group Minimum Duration :	0
Show Attended Group? :	No
Edit Attended Group? :	No
Break time:	0
Group Marks:	20
Is this Group for Examiner?:	No
Revisit allowed for group Instructions? :	Yes
Maximum Instruction Time:	0
Minimum Instruction Time:	0

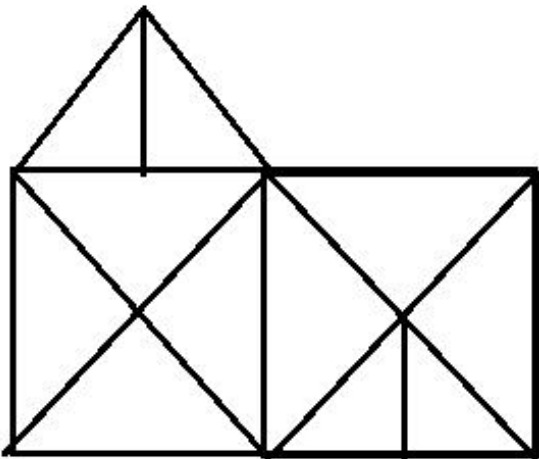
Mental Ability2

Section Id :	998367324
Section Number :	1
Section type :	Online
Mandatory or Optional:	Mandatory
Number of Questions:	20
Number of Questions to be attempted:	20
Section Marks:	20

Sub-Section Number:	1
Sub-Section Id:	998367468
Question Shuffling Allowed :	Yes

Question Number : 21 Question Id : 9983677457 Question Type : MCQ Option Shuffling : Yes
Correct Marks : 1 Wrong Marks : 0.25

How many triangles are in the figure?



Options :

1. ✖ 20

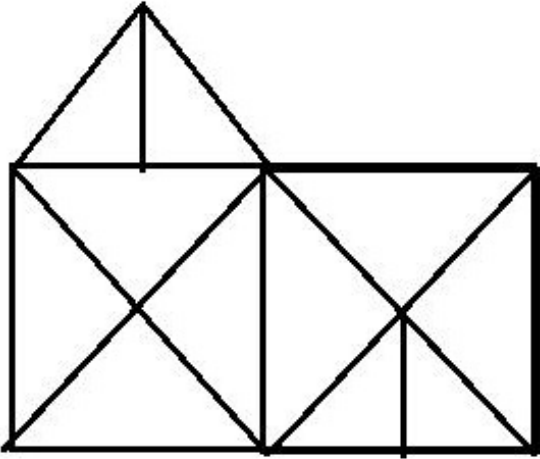
2. ✖ 22

3. ✖ 21

4. ✔ 23

Question Number : 21 Question Id : 9983677457 Question Type : MCQ Option Shuffling : Yes
Correct Marks : 1 Wrong Marks : 0.25

निम्न आकृति में कितने त्रिभुज हैं?



Options :

1. ✖ 20

2. ✖ 22

3. ✖ 21

4. ✔ 23

Question Number : 22 Question Id : 9983677458 Question Type : MCQ Option Shuffling : Yes

Correct Marks : 1 Wrong Marks : 0.25

Given below is a statement followed by three courses of action numbered I, II and III. You have to assume everything in the statement to be true and on the basis of the information given in the statement, decide which of the suggested courses of action logically follow(s).

Statement:

Besides looking presentable, one should also focus on developing oneself intellectually.

Course of Action:

- I) People should not follow fashion.
- II) People should keep themselves more socially awakened so as to have logically correct ideologies.
- III) People should focus on gaining maximum knowledge of their domain.

Options :

1. ✖ Only I follows

2. ✖ Only II follows

3. ✖ Both I and II follow

4. ✔ Both II and III follow

Question Number : 22 Question Id : 9983677458 Question Type : MCQ Option Shuffling : Yes

Correct Marks : 1 Wrong Marks : 0.25

नीचे दिए कथन के बाद तीन कार्यवाहियां I, II और दी गई हैं। आपको कथन को पूर्णतया सत्य मानना है और फिर दी गई जानकारी के आधार पर यह निर्धारित करना है कि दी गई कार्यवाहियों में से कौन सी कार्यवाही तर्कसंगत रूप से अनुसरण करती है।

कथन:

सिर्फ सुंदर दिखने पर ध्यान देने के अलावा, किसी व्यक्ति को स्वयं को बौद्धिक रूप से विकसित करने पर भी ध्यान देना चाहिए।

कार्यवाहियों के दौरान:

- I. लोगों को फैशन के अनुसार नहीं चलना चाहिए।
- II. लोगों को खुद अपनी सामाजिक जागरूकता बढ़ानी चाहिए और तार्किक रूप से सही विचारधाराओं का पालन करना चाहिए।
- III. लोगों को अपने क्षेत्र में अधिकतम ज्ञान प्राप्त करने पर ध्यान केंद्रित करना चाहिए।

Options :

1. ✘ केवल I अनुसरण करता है।
2. ✘ केवल II अनुसरण करता है।
3. ✘ I और II दोनों अनुसरण करते हैं।
4. ✔ II और III दोनों अनुसरण करते हैं।

Question Number : 23 Question Id : 9983677459 Question Type : MCQ Option Shuffling : Yes

Correct Marks : 1 Wrong Marks : 0.25

Four letter clusters are given out of which the three letter clusters bear a certain common relationship. Choose the option in which the letter clusters are differently related.

Options :

1. ✘ CXIR
2. ✘ DWJQ
3. ✘ PKVE
4. ✔ GTKL

Question Number : 23 Question Id : 9983677459 Question Type : MCQ Option Shuffling : Yes

Correct Marks : 1 Wrong Marks : 0.25

नीचे चार अक्षर समूह दिए गए हैं, जिनमें से तीन अक्षर समूह आपस में किसी ना किसी तरीके से संबंधित हैं। आपस में संबंध ना रखने वाले अक्षर समूहों वाला विकल्प चुनें।

Options :

1. ✘ CXIR

2. ✖ DWJQ

3. ✖ PKVE

4. ✔ GTKL

Question Number : 24 Question Id : 9983677460 Question Type : MCQ Option Shuffling : Yes

Correct Marks : 1 Wrong Marks : 0.25

Four numbers are given out of which the three numbers bear a certain common relationship. Choose the number which is different from others.

Options :

1. ✖ 112

2. ✖ 176

3. ✖ 208

4. ✔ 274

Question Number : 24 Question Id : 9983677460 Question Type : MCQ Option Shuffling : Yes

Correct Marks : 1 Wrong Marks : 0.25

चार संख्याएं दी गई हैं, जिनमें से तीन संख्याओं के बीच एक निश्चित समानता है। भिन्न संख्या का चुनाव करें।

Options :

1. ✖ 112

2. ✖ 176

3. ✖ 208

4. ✔ 274

Question Number : 25 Question Id : 9983677461 Question Type : MCQ Option Shuffling : Yes

Correct Marks : 1 Wrong Marks : 0.25

Four figures are given out of which the three figures bear a certain common relationship. Choose the figure which is different from others.

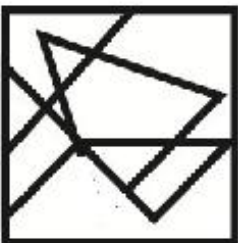
Options :



1. ✖



2. ✖



3. ✔



4. ✖

Question Number : 25 Question Id : 9983677461 Question Type : MCQ Option Shuffling : Yes

Correct Marks : 1 Wrong Marks : 0.25

प्रश्न में चार आकृतियां दी गई हैं जिनमें से तीन आकृतियों के बीच एक निश्चित सामान्य संबंध है। भिन्न आकृति का चुनाव करें।

Options :



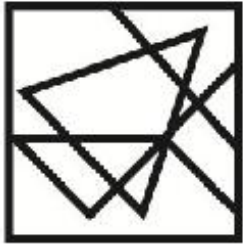
1. ✖



2. ✖



3. ✔



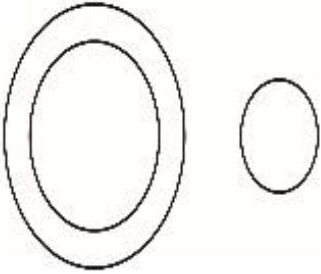
4. ✘

Question Number : 26 Question Id : 9983677462 Question Type : MCQ Option Shuffling : Yes
Correct Marks : 1 Wrong Marks : 0.25

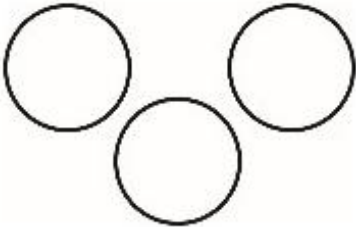
Venn diagram that best represents the given set of classes:

DOGS, HORSES, GOAT

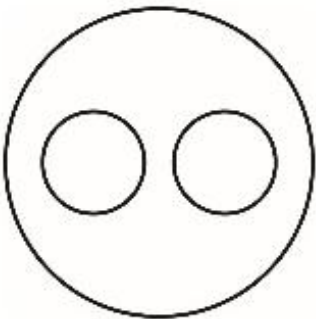
Options :



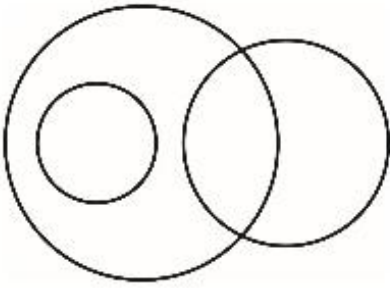
1. ✘



2. ✔



3. ✘



4. ✖

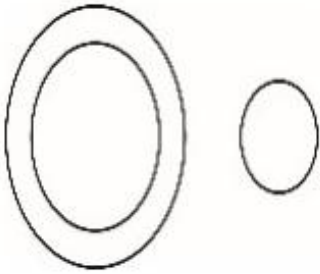
Question Number : 26 Question Id : 9983677462 Question Type : MCQ Option Shuffling : Yes

Correct Marks : 1 Wrong Marks : 0.25

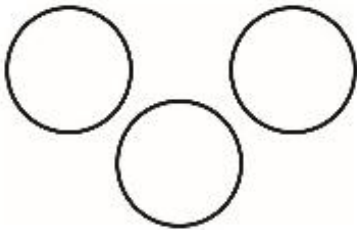
निम्न में से कौन सा वेन आरेख, दिए गए वर्गों के सेट को सर्वोत्तम रीति से दर्शाता है?

कुत्ते, घोड़े, बकरी

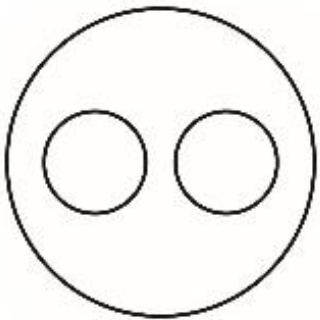
Options :



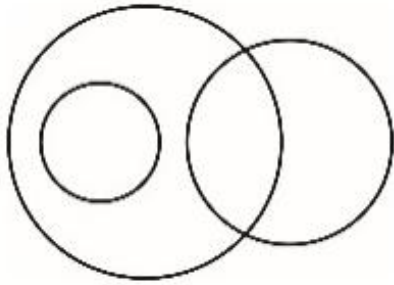
1. ✖



2. ✔



3. ✖



4. ✘

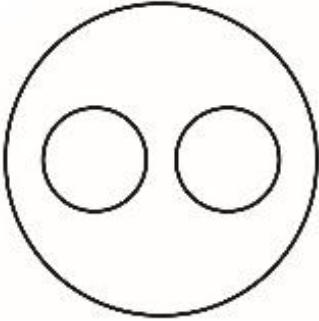
Question Number : 27 Question Id : 9983677463 Question Type : MCQ Option Shuffling : Yes

Correct Marks : 1 Wrong Marks : 0.25


Venn diagram that best represents the given set of classes:

ARTICHOKE, VEGETABLES, BROCCOLI

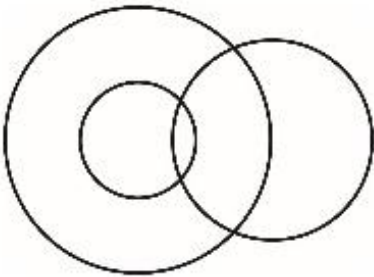
Options :



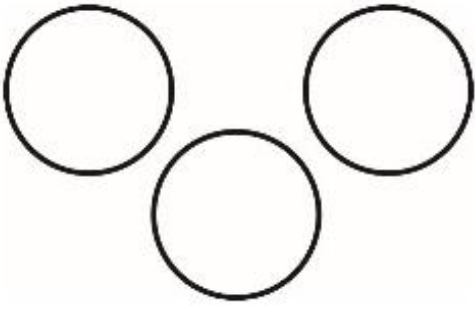
1. ✔



2. ✘



3. ✘



4. ✘


Question Number : 27 Question Id : 9983677463 Question Type : MCQ Option Shuffling : Yes

Correct Marks : 1 Wrong Marks : 0.25


निम्न में से कौन सा वेन आरेख, दिए गए वर्गों के सेट को सर्वोत्तम रीति से दर्शाता है?

हाथीचक, सब्जियां, ब्रोकोली (पत्तागोभी)

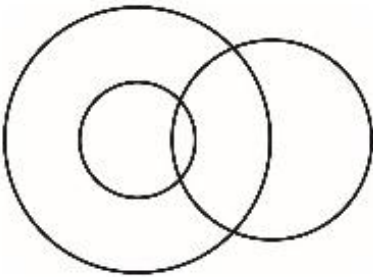
Options :



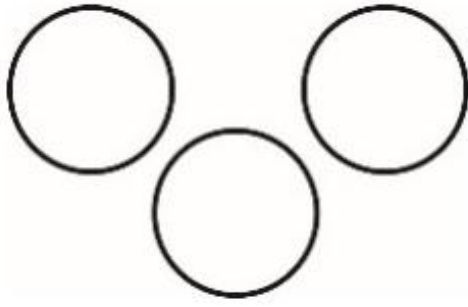
1. ✔



2. ✘



3. ✘



4. ✖

Question Number : 28 Question Id : 9983677464 Question Type : MCQ Option Shuffling : Yes

Correct Marks : 1 Wrong Marks : 0.25

If 'A - B' means A is mother of B, 'A \$ B', A is sister of B, 'A @ B' means A is father of B and 'A=B' means A is son of B.

If $R = S - O @ P$, then how R is related to P?

Options :

1. ✖ Nephew

2. ✔ Uncle

3. ✖ Brother

4. ✖ Niece

Question Number : 28 Question Id : 9983677464 Question Type : MCQ Option Shuffling : Yes

Correct Marks : 1 Wrong Marks : 0.25

यदि 'A - B' का अर्थ A, B की मां है; 'A \$ B' का अर्थ A, B की बहन है; 'A @ B' का अर्थ A, B का पिता है और 'A = B' का अर्थ A, B का पुत्र है।

यदि $R = S - O @ P$ है, तो R, P से किस प्रकार से संबंधित है?

Options :

1. ✖ भतीजा

2. ✔ चाचा/मामा

3. ✖ भाई

4. ✖ भांजी

Question Number : 29 Question Id : 9983677465 Question Type : MCQ Option Shuffling : Yes

Correct Marks : 1 Wrong Marks : 0.25

Shahini and Mohani are sisters. Dev and Anu are brothers. Dinesh is husband of Manju and son of Jyoti. Dev is son of Jyoti and Jyoti is mother of Shahini. How Anu is related to Dinesh?

Note: For this question, discrepancy is found in question/answer. So, this question is ignored for all candidates.

Options :

1. Son

2. Brother

3. Father

4. Brother in law

Question Number : 29 Question Id : 9983677465 Question Type : MCQ Option Shuffling : Yes

Correct Marks : 1 Wrong Marks : 0.25

शाहिनी और मोहनी बहनें हैं। देव और अनु भाई हैं। दिनेश, मंजू का पति और ज्योति का बेटा है। देव, ज्योति का बेटा है और ज्योति, शाहिनी की मां हैं। अनु, दिनेश से किस प्रकार से संबंधित है?

Note: For this question, discrepancy is found in question/answer. So, this question is ignored for all candidates.

Options :

1. बेटा

2. भाई

3. पिता

4. बहनोई

Question Number : 30 Question Id : 9983677466 Question Type : MCQ Option Shuffling : Yes

Correct Marks : 1 Wrong Marks : 0.25

If 'P * Q' means P is father of Q, 'P % Q', P is daughter of Q, 'P # Q' means P is mother of Q and 'P = Q' means Q is son of P

I. If M * N % O # R * S, then how R is related to N?

Options :

1. ✓ Brother

2. ✗ Son

3. ✗ Father

4. ✗ Mother

Question Number : 30 Question Id : 9983677466 Question Type : MCQ Option Shuffling : Yes

Correct Marks : 1 Wrong Marks : 0.25

यदि 'P * Q' का अर्थ P, Q का पिता है; 'P % Q' का अर्थ P, Q की बेटी है; 'P # Q' का अर्थ है P, Q की माँ है और 'P = Q' का अर्थ है, Q, P का पुत्र है।

I. यदि M * N % O # R * S है, तो R, N से किस प्रकार संबंधित है?

Options :

1. ✓ भाई

2. ✗ बेटा

3. ✖ पिता

4. ✖ मां

Question Number : 31 Question Id : 9983677467 Question Type : MCQ Option Shuffling : Yes

Correct Marks : 1 Wrong Marks : 0.25

In certain code BLADE is written as 2151235, How will be CLOCK written in that code?

Options :

1. ✔ 315152411

2. ✖ 315162411

3. ✖ 31515411

4. ✖ 31515211

Question Number : 31 Question Id : 9983677467 Question Type : MCQ Option Shuffling : Yes

Correct Marks : 1 Wrong Marks : 0.25

किसी कोड में BLADE को 2151235 लिखा जाता है, उसी कोड में CLOCK को कैसे लिखा जाएगा?

Options :

1. ✔ 315152411

2. ✖ 315162411

3. ✖ 31515411

4. ✖ 31515211

Question Number : 32 Question Id : 9983677468 Question Type : MCQ Option Shuffling : Yes

Correct Marks : 1 Wrong Marks : 0.25

In certain code BOTANY is written as 462, How will be ZOOLOGY written in that code?

Options :

1. ✖ 575

2. ✖ 150

3. ✔ 805

4. ✖ 775

Question Number : 32 Question Id : 9983677468 Question Type : MCQ Option Shuffling : Yes

Correct Marks : 1 Wrong Marks : 0.25

किसी कोड में BOTANY को 462 लिखा जाता है, उसी कोड में ZOOLOGY को कैसे लिखा जाएगा?

Options :

1. ✖ 575

2. ✖ 150

3. ✔ 805

4. ✖ 775

Question Number : 33 Question Id : 9983677469 Question Type : MCQ Option Shuffling : Yes

Correct Marks : 1 Wrong Marks : 0.25

Which of the following pairs of signs, when their positions are interchanged, will correctly solve the given mathematical equation?

$$20 + 5 - 25 \div 5 \times 5 = 100$$

Options :

1. ✖ \div and \times

2. ✖ \div and $+$

3. ✔ $+$ and \times

4. ✖ $+$ and $-$

Question Number : 33 Question Id : 9983677469 Question Type : MCQ Option Shuffling : Yes

Correct Marks : 1 Wrong Marks : 0.25

निम्नलिखित में से चिन्हों के कौन से जोड़े में, उनकी स्थितियों को परस्पर बदल दिए जाने पर, नीचे दिए गए गणितीय समीकरण को सही ढंग से हल करेंगे?

$$20 + 5 - 25 \div 5 \times 5 = 100$$

Options :

1. ✖ \div और \times

2. ✖ \div और $+$

3. ✔ $+$ और \times

4. ✖ $+$ और $-$

Question Number : 34 Question Id : 9983677470 Question Type : MCQ Option Shuffling : Yes

Correct Marks : 1 Wrong Marks : 0.25

Which of the following pairs of numbers and signs, when their positions are interchanged, will correctly solve the given mathematical equation?

$$36 \div 4 \times 12 + 14 - 7 = 5$$

Options :

1. ✘ 36 and 12, + and -

2. ✘ 7 and 36, - and \times

3. ✔ 14 and 7, \times and \div

4. ✘ 12 and 7, + and -

Question Number : 34 Question Id : 9983677470 Question Type : MCQ Option Shuffling : Yes

Correct Marks : 1 Wrong Marks : 0.25

निम्नलिखित में से कौन सी संख्याओं व चिन्हों के जोड़े में, उनकी स्थितियों को परस्पर बदल दिए जाने पर, नीचे दिए गए गणितीय समीकरण को सही ढंग से हल करेंगे?

$$36 \div 4 \times 12 + 14 - 7 = 5$$

Options :

1. ✘ 36 और 12, + और -

2. ✘ 7 और 36, - और \times

3. ✔ 14 और 7, \times और \div

4. ✘ 12 और 7, + और -

Question Number : 35 Question Id : 9983677471 Question Type : MCQ Option Shuffling : Yes

Correct Marks : 1 Wrong Marks : 0.25

In the year 2017, India celebrated its Republic Day on Thursday. On which day of the same year it celebrated its Independence Day?

Options :

1. ✘ Wednesday

2. ✘ Thursday

3. ✘ Sunday

4. ✔ Tuesday

Question Number : 35 Question Id : 9983677471 Question Type : MCQ Option Shuffling : Yes

Correct Marks : 1 Wrong Marks : 0.25

भारत ने, साल 2017 में, अपना गणतंत्र दिवस गुरुवार को मनाया। उसी साल स्वतंत्रता दिवस किस दिन मनाया गया?

Options :

1. ✘ बुधवार

2. ✘ गुरुवार

3. ✘ रविवार

4. ✔ मंगलवार

Question Number : 36 Question Id : 9983677472 Question Type : MCQ Option Shuffling : Yes

Correct Marks : 1 Wrong Marks : 0.25

P, Q, R, S and T are sitting in a row facing North. P is sitting next to Q and R is sitting next to S. P is sitting between Q and R and R is sitting on the second position from the right.

Who is sitting at the extreme left?

Options :

1. ✘ Q

2. ✘ S

3. ✔ T

4. ✘ P

Question Number : 36 Question Id : 9983677472 Question Type : MCQ Option Shuffling : Yes

Correct Marks : 1 Wrong Marks : 0.25

P, Q, R, S और T उत्तर की ओर मुंह करके एक कतार में बैठे हैं। P, Q के बगल में बैठा है और R, S के बगल में बैठा है। P, Q और R के बीच में बैठा है और R, दाईं ओर से दूसरे स्थान पर बैठा है। सबसे बाईं ओर कौन बैठा है?

Options :

1. ✘ Q

2. ✘ S

3. ✔ T

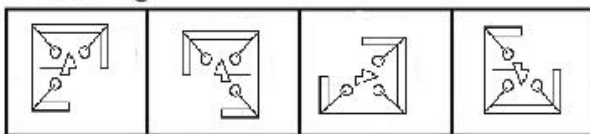
4. ✘ P

Question Number : 37 Question Id : 9983677473 Question Type : MCQ Option Shuffling : Yes

Correct Marks : 1 Wrong Marks : 0.25

In problem, out of four figures marked 1, 2, 3 and 4, three are similar in a certain manner. However one figure is not like the other three. Choose the figure which is different from the rest.

Answer Fig.



1

2

3

4

Options :

1. ✖ 1

2. ✖ 2

3. ✔ 3

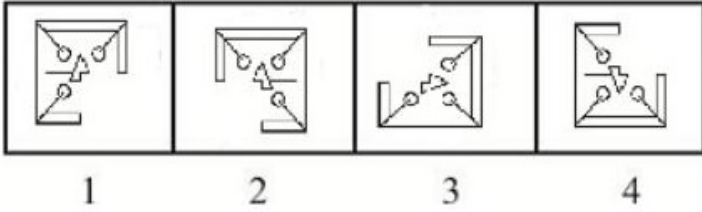
4. ✖ 4

Question Number : 37 Question Id : 9983677473 Question Type : MCQ Option Shuffling : Yes

Correct Marks : 1 Wrong Marks : 0.25

नीचे दिए गए प्रश्न में, चार आकृतियां 1, 2, 3 और 4 दी गई हैं, तीन आकृतियां आपस में किसी ना किसी प्रकार से समानता रखती हैं। हालांकि एक आकृति अन्य तीनों से अलग है। भिन्न आकृति का चुनाव करें।

उत्तर आकृति



Options :

1. ✖ 1

2. ✖ 2

3. ✔ 3

4. ✖ 4

Question Number : 38 Question Id : 9983677474 Question Type : MCQ Option Shuffling : Yes

Correct Marks : 1 Wrong Marks : 0.25

Select the option that will correctly replace the question mark (?) in the series.

15, 19, 38, 42, 84, ?

Options :

1. ✘ 168

2. ✘ 146

3. ✘ 87

4. ✔ 88

Question Number : 38 Question Id : 9983677474 Question Type : MCQ Option Shuffling : Yes

Correct Marks : 1 Wrong Marks : 0.25

उस विकल्प का चयन करें जो नीचे दी गई श्रृंखला में प्रश्न चिन्ह (?) की जगह ले पाएगा।

15, 19, 38, 42, 84, ?

Options :

1. ✘ 168

2. ✘ 146

3. ✘ 87

4. ✔ 88

Question Number : 39 Question Id : 9983677475 Question Type : MCQ Option Shuffling : Yes

Correct Marks : 1 Wrong Marks : 0.25

Select the option that will correctly replace the question mark (?) in the series.

21, 25, 41, 77, ?

Options :

1. ✖ 121

2. ✔ 141

3. ✖ 95

4. ✖ 105

Question Number : 39 Question Id : 9983677475 Question Type : MCQ Option Shuffling : Yes

Correct Marks : 1 Wrong Marks : 0.25

उस विकल्प का चयन करें जो नीचे दी गई श्रृंखला में प्रश्न चिन्ह (?) की जगह ले जाएगा।

21, 25, 41, 77, ?

Options :

1. ✖ 121

2. ✔ 141

3. ✖ 95

4. ✖ 105

Question Number : 40 Question Id : 9983677476 Question Type : MCQ Option Shuffling : Yes

Correct Marks : 1 Wrong Marks : 0.25

One term in the number series is wrong. Find out the wrong term.

12, 18, 54, 60, 180, 188, 558

Options :

1. ✘ 60

2. ✘ 180

3. ✔ 188

4. ✘ 54

Question Number : 40 Question Id : 9983677476 Question Type : MCQ Option Shuffling : Yes
Correct Marks : 1 Wrong Marks : 0.25

दी गई संख्या श्रृंखला में एक पद गलत है। गलत पद का पता लगाएं।
12, 18, 54, 60, 180, 188, 558

Options :

1. ✘ 60

2. ✘ 180

3. ✔ 188

4. ✘ 54

General Awareness1

Group Number :	3
Group Id :	998367319
Group Maximum Duration :	0
Group Minimum Duration :	0
Show Attended Group? :	No
Edit Attended Group? :	No
Break time:	0

Group Marks:	20
Is this Group for Examiner?:	No
Revisit allowed for group Instructions? :	Yes
Maximum Instruction Time:	0
Minimum Instruction Time:	0

General Awareness1

Section Id :	998367325
Section Number :	1
Section type :	Online
Mandatory or Optional:	Mandatory
Number of Questions:	20
Number of Questions to be attempted:	20
Section Marks:	20

Sub-Section Number:	1
Sub-Section Id:	998367469
Question Shuffling Allowed :	Yes

Question Number : 41 Question Id : 9983677477 Question Type : MCQ Option Shuffling : Yes
Correct Marks : 1 Wrong Marks : 0.25

‘Operation Save Kurma’ was conducted to:

Options :

1. ✘ Combat terrorist attacks
2. ✔ Combat illegal trade in live turtles
3. ✘ Combat illegal trade in tiger skin
4. ✘ Combat human trafficking

Question Number : 41 Question Id : 9983677477 Question Type : MCQ Option Shuffling : Yes
Correct Marks : 1 Wrong Marks : 0.25

'ऑपरेशन सेव कुर्मा' _____ के लिए आयोजित किया गया।

Options :

1. ✘ आतंकवादी हमलों का सामना करने
2. ✔ जीवित कछुओं का गैरकानूनी व्यापार रोकने
3. ✘ बाघ की खाल का गैरकानूनी व्यापार रोकने
4. ✘ मानव तस्करी रोकने

Question Number : 42 Question Id : 9983677478 Question Type : MCQ Option Shuffling : Yes
Correct Marks : 1 Wrong Marks : 0.25

In which year was 'Namami Gange' initiated?

Options :

1. ✓ 2014
2. ✗ 2010
3. ✗ 2004
4. ✗ 2000

Question Number : 42 Question Id : 9983677478 Question Type : MCQ Option Shuffling : Yes
Correct Marks : 1 Wrong Marks : 0.25

'नमामि गंगे' किस वर्ष शुरू किया गया?

Options :

1. ✓ 2014
2. ✗ 2010
3. ✗ 2004
4. ✗ 2000

Question Number : 43 Question Id : 9983677479 Question Type : MCQ Option Shuffling : Yes
Correct Marks : 1 Wrong Marks : 0.25

The World Environment Day is celebrated on_____.

Options :

1. ✓ 5 June
2. ✗ 12 July
3. ✗ 10 April
4. ✗ 23 June

Question Number : 43 Question Id : 9983677479 Question Type : MCQ Option Shuffling : Yes
Correct Marks : 1 Wrong Marks : 0.25

विश्व पर्यावरण दिवस _____को मनाया जाता है।

Options :

1. ✓ 5 जून

2. ✗ 12 जुलाई

3. ✗ 10 अप्रैल

4. ✗ 23 जून

Question Number : 44 Question Id : 9983677480 Question Type : MCQ Option Shuffling : Yes
Correct Marks : 1 Wrong Marks : 0.25

What is India's rank on the Climate Change Performance Index 2019?

Options :

1. ✓ 11th

2. ✗ 17th

3. ✗ 22nd

4. ✗ 37th

Question Number : 44 Question Id : 9983677480 Question Type : MCQ Option Shuffling : Yes
Correct Marks : 1 Wrong Marks : 0.25

जलवायु परिवर्तन प्रदर्शन सूचकांक 2019 में भारत किस स्थान पर है?

Options :

1. ✓ 11वाँ

2. ✗ 17वाँ

3. ✗ 22वाँ

4. ✗ 37वाँ

Question Number : 45 Question Id : 9983677481 Question Type : MCQ Option Shuffling : Yes
Correct Marks : 1 Wrong Marks : 0.25

Which Mission will carry the first woman astronaut to the Moon in 2024?

Options :

1. ✗ Mission Apollo

2. ✓ Mission Artemis

3. ✘ Mission Luna 7

4. ✘ Mission Beresheet

Question Number : 45 Question Id : 9983677481 Question Type : MCQ Option Shuffling : Yes

Correct Marks : 1 Wrong Marks : 0.25

कौन सा मिशन, 2024 में प्रथम महिला अंतरिक्षयात्री को चंद्रमा पर ले जाएगा?

Options :

1. ✘ मिशन अपोलो

2. ✓ मिशन आर्टेमिस

3. ✘ मिशन लुना 7

4. ✘ मिशन बेरेशिट

Question Number : 46 Question Id : 9983677482 Question Type : MCQ Option Shuffling : Yes

Correct Marks : 1 Wrong Marks : 0.25

DRDO has come up with an indigenously produced Advanced Air Defence interceptor missile. The name of the missile is:

Options :

1. ✘ Karanj

2. ✘ Arihant

3. ✓ Ashwin

4. ✘ Tejas

Question Number : 46 Question Id : 9983677482 Question Type : MCQ Option Shuffling : Yes

Correct Marks : 1 Wrong Marks : 0.25

डीआरडीओ ने एक स्वदेशी निर्मित उन्नत वायु रक्षा इंटरसेप्टर मिसाइल तैयार की है। इस मिसाइल का नाम _____ है।

Options :

1. ✘ करंज

2. ✖ अरिहंत

3. ✔ अश्विन

4. ✖ तेजस

Question Number : 47 Question Id : 9983677483 Question Type : MCQ Option Shuffling : Yes
Correct Marks : 1 Wrong Marks : 0.25

Who amongst the following has been awarded with Seoul Peace Prize 2018?

Options :

1. ✔ Narendra Modi

2. ✖ Imran Khan

3. ✖ Nirmala Sitharaman

4. ✖ Aung san suu Kyi

Question Number : 47 Question Id : 9983677483 Question Type : MCQ Option Shuffling : Yes
Correct Marks : 1 Wrong Marks : 0.25

निम्न में से किसे सियोल शांति पुरस्कार 2018 प्रदान किया गया?

Options :

1. ✔ नरेंद्र मोदी

2. ✖ इमरान खान

3. ✖ निर्मला सीतारमण

4. ✖ ऑन्ग सैन सू की

Question Number : 48 Question Id : 9983677484 Question Type : MCQ Option Shuffling : Yes
Correct Marks : 1 Wrong Marks : 0.25

Who is the first female pilot in the world to complete a solo flight across the Greenland Ice Cap in Light Sport Aircraft?

Options :

1. ✖ Avni Chaturvedi

2. ✖ Neerja Kohli

3. ✓ Aarohi Pandit

4. ✘ Prachee Rawat

Question Number : 48 Question Id : 9983677484 Question Type : MCQ Option Shuffling : Yes

Correct Marks : 1 Wrong Marks : 0.25

हल्के स्पोर्ट विमान में अकेले उड़ान भरकर ग्रीनलैंड हिमशिखर (Greenland Ice Cap) को पार करने वाली विश्व की प्रथम महिला पायलट कौन है?

Options :

1. ✘ अवनी चतुर्वेदी

2. ✘ नीरजा कोहली

3. ✓ आरोही पंडित

4. ✘ प्राची रावत

Question Number : 49 Question Id : 9983677485 Question Type : MCQ Option Shuffling : Yes

Correct Marks : 1 Wrong Marks : 0.25

Who amongst the followings is known as Grand Old Man of India?

Options :

1. ✘ Surendranath Banerjee

2. ✓ Dadabhai Naoroji

3. ✘ Anand Charlu

4. ✘ Badruddin Tyabji

Question Number : 49 Question Id : 9983677485 Question Type : MCQ Option Shuffling : Yes

Correct Marks : 1 Wrong Marks : 0.25

निम्न में से किसे भारत का महान वयोवृद्ध पुरुष कहा जाता है?

Options :

1. ✘ सुरेन्द्रनाथ बनर्जी

2. ✓ दादाभाई नौरोजी

3. * आनंद चार्लू

4. * बदरुद्दीन तैयबजी

Question Number : 50 Question Id : 9983677486 Question Type : MCQ Option Shuffling : Yes

Correct Marks : 1 Wrong Marks : 0.25

Doctrine of Lapse policy was introduced by:

Options :

1. ✓ Lord Dalhousie

2. * Lord Wellesely

3. * Lord Cornwallis

4. * Thomas Munro

Question Number : 50 Question Id : 9983677486 Question Type : MCQ Option Shuffling : Yes

Correct Marks : 1 Wrong Marks : 0.25

हडप नीति (Lapse policy) सिद्धांत _____ द्वारा लागू किया गया।

Options :

1. ✓ लॉर्ड डलहौजी

2. * लॉर्ड वेलनेस

3. * लॉर्ड कार्नवालिस

4. * थॉमस मुनरो

Question Number : 51 Question Id : 9983677487 Question Type : MCQ Option Shuffling : Yes

Correct Marks : 1 Wrong Marks : 0.25

The evidence of a ploughed field has been found in the Harappan site of:

Options :

1. ✓ Kalibangan

2. * Rakhigarhi

3. * Kot Diji

4. * Nageshwar

Question Number : 51 Question Id : 9983677487 Question Type : MCQ Option Shuffling : Yes
Correct Marks : 1 Wrong Marks : 0.25

हड़प्पा के _____ स्थान पर जुते हुए खेत के साक्ष्य पाए गए हैं।

Options :

1. ✓ कालीबंगन
2. ✗ राखीगढ़ी
3. ✗ कोट दीजी
4. ✗ नागेश्वर

Question Number : 52 Question Id : 9983677488 Question Type : MCQ Option Shuffling : Yes
Correct Marks : 1 Wrong Marks : 0.25

Which one of the followings is NOT a school of Indian Philosophy?

Options :

1. ✗ Nyaya
2. ✗ Samkhya
3. ✗ Vedanta
4. ✓ Gramika

Question Number : 52 Question Id : 9983677488 Question Type : MCQ Option Shuffling : Yes
Correct Marks : 1 Wrong Marks : 0.25

निम्न में से कौन सी, भारतीय दार्शनिक विचारधारा नहीं है?

Options :

1. ✗ न्याय
2. ✗ सांख्य
3. ✗ वेदान्त
4. ✓ ग्रामिक

Question Number : 53 Question Id : 9983677489 Question Type : MCQ Option Shuffling : Yes
Correct Marks : 1 Wrong Marks : 0.25

The 'Operation Blue Star' is associated to which of the following events of Indian Politics?

Options :

1. ✖ Indo-pak war of 1962
2. ✔ Military Raid of Golden Temple
3. ✖ Dravidian Movement
4. ✖ The demand of Azad kashmir

Question Number : 53 Question Id : 9983677489 Question Type : MCQ Option Shuffling : Yes

Correct Marks : 1 Wrong Marks : 0.25

'ऑपरेशन ब्ल्यू स्टार' भारतीय राजनीति की निम्न में से किस घटना से संबंधित है?

Options :

1. ✖ 1962 का भारत-पाक युद्ध
2. ✔ स्वर्ण मंदिर पर सैन्य अभियान
3. ✖ द्रविड़ आंदोलन
4. ✖ आज़ाद कश्मीर की मांग

Question Number : 54 Question Id : 9983677490 Question Type : MCQ Option Shuffling : Yes

Correct Marks : 1 Wrong Marks : 0.25

Which government implemented the recommendations of Mandal Commission?

Options :

1. ✔ Janata Dal
2. ✖ Congress
3. ✖ Bahujan Samajwadi Party
4. ✖ DMK

Question Number : 54 Question Id : 9983677490 Question Type : MCQ Option Shuffling : Yes

Correct Marks : 1 Wrong Marks : 0.25

किस सरकार ने मंडल आयोग की सिफारिशों को लागू किया?

Options :

1. ✓ जनता दल
2. ✘ कांग्रेस
3. ✘ बहुजन समाजवादी पार्टी
4. ✘ डीएमके

Question Number : 55 Question Id : 9983677491 Question Type : MCQ Option Shuffling : Yes

Correct Marks : 1 Wrong Marks : 0.25

In 1972, the Dalit Panthers, a militant organization of the Dalit youth was formed in which state of India?

Options :

1. ✘ Uttar Pradesh
2. ✘ Andhra Pradesh
3. ✓ Maharashtra
4. ✘ Karnataka

Question Number : 55 Question Id : 9983677491 Question Type : MCQ Option Shuffling : Yes

Correct Marks : 1 Wrong Marks : 0.25

1972 में दलित युवाओं का दलित पैंथर्स नामक एक उग्रवादी संगठन भारत के किस राज्य में गठित किया गया?

Options :

1. ✘ उत्तर प्रदेश
2. ✘ आंध्र प्रदेश
3. ✓ महाराष्ट्र
4. ✘ कर्नाटक

Question Number : 56 Question Id : 9983677492 Question Type : MCQ Option Shuffling : Yes

Correct Marks : 1 Wrong Marks : 0.25

Which Amendment to the Indian Constitution has eliminated the Right to Property?

Options :

1. ✖ 42nd Amendment
2. ✔ 44th Amendment
3. ✖ 86th Amendment
4. ✖ 52nd Amendment

Question Number : 56 Question Id : 9983677492 Question Type : MCQ Option Shuffling : Yes
Correct Marks : 1 Wrong Marks : 0.25

भारतीय संविधान के किस संशोधन ने, संपत्ति के अधिकार को समाप्त किया?

Options :

1. ✖ 42वां संशोधन
2. ✔ 44वां संशोधन
3. ✖ 86वां संशोधन
4. ✖ 52वां संशोधन

Question Number : 57 Question Id : 9983677493 Question Type : MCQ Option Shuffling : Yes
Correct Marks : 1 Wrong Marks : 0.25

The Fundamental Duties are enshrined in which part of the Indian Constitution?

Options :

1. ✔ Part IVA
2. ✖ Part III B
3. ✖ Part VI C
4. ✖ Part IX A

Question Number : 57 Question Id : 9983677493 Question Type : MCQ Option Shuffling : Yes
Correct Marks : 1 Wrong Marks : 0.25

भारतीय संविधान के किस भाग में मौलिक कर्तव्य दिए गए हैं?

Options :

1. ✔ भाग IV ए

2. * भाग III बी
3. * भाग VI सी
4. * भाग IX ए

Question Number : 58 Question Id : 9983677494 Question Type : MCQ Option Shuffling : Yes
Correct Marks : 1 Wrong Marks : 0.25

The first Health Minister of India was_____.

Options :

1. * Vijayalaxmi Pandit
2. ✓ Raj Kumari Amrit Kaur
3. * Saronjini Naidu
4. * Amrita Pritam

Question Number : 58 Question Id : 9983677494 Question Type : MCQ Option Shuffling : Yes
Correct Marks : 1 Wrong Marks : 0.25

भारत के प्रथम स्वास्थ्य मंत्री _____ थीं।

Options :

1. * विजयलक्ष्मी पंडित
2. ✓ राज कुमारी अमृत कौर
3. * सरोजनी नायडू
4. * अमृता प्रीतम

Question Number : 59 Question Id : 9983677495 Question Type : MCQ Option Shuffling : Yes
Correct Marks : 1 Wrong Marks : 0.25

Who won in men's singles at Indian Open Badminton 2019?

Options :

1. * Ajay Jayaram
2. * Lee Yang
3. * Srikanth Kidambi
4. ✓ Viktor Axelsen

Question Number : 59 Question Id : 9983677495 Question Type : MCQ Option Shuffling : Yes
Correct Marks : 1 Wrong Marks : 0.25

इंडियन ओपन बैडमिंटन 2019 में पुरुष एकल किसने जीता?

Options :

1. * अजय जयराम
2. * ली यांग
3. * श्रीकांत किदांबी
4. ✓ विक्टर एक्सेलसेन

Question Number : 60 Question Id : 9983677496 Question Type : MCQ Option Shuffling : Yes
Correct Marks : 1 Wrong Marks : 0.25

Which tournament has the motto 'Let me win. But if I cannot win, let me be brave in the attempt.'?

Options :

1. * All England Open Badminton Championships
2. ✓ Special Olympics World Games
3. * Gee Bee Boxing Tournament
4. * Pro Volleyball League

Question Number : 60 Question Id : 9983677496 Question Type : MCQ Option Shuffling : Yes
Correct Marks : 1 Wrong Marks : 0.25

किस टूर्नामेंट का आदर्श वाक्य 'लेट मी विन, बट इफ आय कैननॉट विन, लेट मी बी ब्रेव इन दि अटेम्प्ट' है?

Options :

1. * ऑल इंग्लैण्ड ओपन बैडमिंटन चैंपियनशिप्स
2. ✓ स्पेशल ओलम्पिक्स वर्ल्ड गेम्स
3. * जी बी बॉक्सिंग टूर्नामेंट
4. * प्रो वॉलीबॉल लीग

General Awareness2

Group Number :	4
Group Id :	998367320
Group Maximum Duration :	0
Group Minimum Duration :	0
Show Attended Group? :	No
Edit Attended Group? :	No
Break time:	0
Group Marks:	20
Is this Group for Examiner?:	No
Revisit allowed for group Instructions? :	Yes
Maximum Instruction Time:	0
Minimum Instruction Time:	0

General Awareness2

Section Id :	998367326
Section Number :	1
Section type :	Online
Mandatory or Optional:	Mandatory
Number of Questions:	20
Number of Questions to be attempted:	20
Section Marks:	20

Sub-Section Number:	1
Sub-Section Id:	998367470
Question Shuffling Allowed :	Yes

Question Number : 61 Question Id : 9983677497 Question Type : MCQ Option Shuffling : Yes
Correct Marks : 1 Wrong Marks : 0.25

La Liga title is associated with _____.

Options :

1. ✓ Football
2. ✗ Swimming
3. ✗ Judo
4. ✗ Fencing

Question Number : 61 Question Id : 9983677497 Question Type : MCQ Option Shuffling : Yes
Correct Marks : 1 Wrong Marks : 0.25

ला लीगा खिताब _____ से संबंधित है।

Options :

1. ✓ फुटबॉल
2. ✘ तैराकी
3. ✘ जूडो
4. ✘ फेन्सिंग

Question Number : 62 Question Id : 9983677498 Question Type : MCQ Option Shuffling : Yes
Correct Marks : 1 Wrong Marks : 0.25

The famous Lingaraj Temple is situated at _____.

Options :

1. ✘ Nainital
2. ✘ Ujjain
3. ✓ Bhubaneswar
4. ✘ Hyderabad

Question Number : 62 Question Id : 9983677498 Question Type : MCQ Option Shuffling : Yes
Correct Marks : 1 Wrong Marks : 0.25

प्रसिद्ध लिंगराज मंदिर _____ में स्थित है।

Options :

1. ✘ नैनीताल
2. ✘ उज्जैन
3. ✓ भुवनेश्वर
4. ✘ हैदराबाद

Question Number : 63 Question Id : 9983677499 Question Type : MCQ Option Shuffling : Yes
Correct Marks : 1 Wrong Marks : 0.25

In January 2019, Which city has been designated by UNESCO as World Capital of Architecture for 2020?

Options :

1. ✓ Rio de Janeiro
2. ✘ Venice

3. * Istanbul

4. * London

Question Number : 63 Question Id : 9983677499 Question Type : MCQ Option Shuffling : Yes

Correct Marks : 1 Wrong Marks : 0.25

जनवरी 2019 में, यूनेस्को द्वारा किस शहर को 2020 के लिए विश्व की वास्तुकला राजधानी के रूप में नामित किया गया?

Options :

1. ✓ रियो डी जनेरियो

2. * वेनिस

3. * इस्तांबुल

4. * लंदन

Question Number : 64 Question Id : 9983677500 Question Type : MCQ Option Shuffling : Yes

Correct Marks : 1 Wrong Marks : 0.25

To which Gharana, Pandit Bhimsen Joshi was associated with?

Options :

1. * Rangeela Gharana

2. * Gwalior Gharana

3. * Jaipur Atroli

4. ✓ Kirana Gharana

Question Number : 64 Question Id : 9983677500 Question Type : MCQ Option Shuffling : Yes

Correct Marks : 1 Wrong Marks : 0.25

पंडित भीमसेन जोशी किस घराने से संबंधित थे?

Options :

1. * रंगीला घराना

2. * ग्वालियर घराना

3. * जयपुर अतरोली

4. ✓ किराना घराना

Question Number : 65 Question Id : 9983677501 Question Type : MCQ Option Shuffling : Yes
Correct Marks : 1 Wrong Marks : 0.25

The Pench Tiger Reserve is situated in _____.

Options :

1. ✓ Madhya Pradesh
2. ✗ Uttarakhand
3. ✗ Bihar
4. ✗ Kerala

Question Number : 65 Question Id : 9983677501 Question Type : MCQ Option Shuffling : Yes
Correct Marks : 1 Wrong Marks : 0.25

पेंच बाघ अभ्यारण्य _____ में स्थित है।

Options :

1. ✓ मध्य प्रदेश
2. ✗ उत्तराखंड
3. ✗ बिहार
4. ✗ केरल

Question Number : 66 Question Id : 9983677502 Question Type : MCQ Option Shuffling : Yes
Correct Marks : 1 Wrong Marks : 0.25

The famous Dhuandhar fall is in _____.

Options :

1. ✗ Kolhapur
2. ✓ Jabalpur
3. ✗ Sambalpur
4. ✗ Samastipur

Question Number : 66 Question Id : 9983677502 Question Type : MCQ Option Shuffling : Yes
Correct Marks : 1 Wrong Marks : 0.25

प्रसिद्ध धुआंधार प्रपात _____ में स्थित है।

Options :

1. ✖ कोल्हापुर
2. ✔ जबलपुर
3. ✖ संबलपुर
4. ✖ समस्तीपुर

Question Number : 67 Question Id : 9983677503 Question Type : MCQ Option Shuffling : Yes
Correct Marks : 1 Wrong Marks : 0.25

The Ganga originates from the Gangotri glacier as:

Options :

1. ✖ Alaknanda
2. ✖ Padma
3. ✔ Bhagirathi
4. ✖ Meghna

Question Number : 67 Question Id : 9983677503 Question Type : MCQ Option Shuffling : Yes
Correct Marks : 1 Wrong Marks : 0.25

गंगा, गंगोत्री हिमनद से _____ के रूप में निकलती है।

Options :

1. ✖ अलकनंदा
2. ✖ पद्म
3. ✔ भागीरथी
4. ✖ मेघना

Question Number : 68 Question Id : 9983677504 Question Type : MCQ Option Shuffling : Yes
Correct Marks : 1 Wrong Marks : 0.25

The Pradhan Mantri Gram Sadak Yojna was launched in the year:

Options :

1. ✖ 1997
2. ✖ 1998

3. ✖ 1999

4. ✔ 2000

Question Number : 68 Question Id : 9983677504 Question Type : MCQ Option Shuffling : Yes

Correct Marks : 1 Wrong Marks : 0.25

प्रधानमंत्री ग्राम सड़क योजना, वर्ष _____ में आरंभ की गई।

Options :

1. ✖ 1997

2. ✖ 1998

3. ✖ 1999

4. ✔ 2000

Question Number : 69 Question Id : 9983677505 Question Type : MCQ Option Shuffling : Yes

Correct Marks : 1 Wrong Marks : 0.25

'Kudumbashree' is a women-oriented community based poverty reduction program of which of the following states?

Options :

1. ✖ Maharashtra

2. ✖ Karnataka

3. ✖ Odisha

4. ✔ Kerala

Question Number : 69 Question Id : 9983677505 Question Type : MCQ Option Shuffling : Yes

Correct Marks : 1 Wrong Marks : 0.25

'कदम्बश्री' महिला-उन्मुख सामुदायिक निर्धनता न्यूनीकरण कार्यक्रम किस राज्य का है?

Options :

1. ✖ महाराष्ट्र

2. ✖ कर्नाटक

3. ✖ ओडिशा

4. ✓ केरल

Question Number : 70 Question Id : 9983677506 Question Type : MCQ Option Shuffling : Yes
Correct Marks : 1 Wrong Marks : 0.25

The celebrated work, 'The Wealth Of Nations' was authored by_____.

Options :

1. * John Maynard Keynes
2. * John Nash
3. ✓ Adam Smith
4. * Alfred Marshall

Question Number : 70 Question Id : 9983677506 Question Type : MCQ Option Shuffling : Yes
Correct Marks : 1 Wrong Marks : 0.25

प्रसिद्ध कृति 'दि वेल्थ ऑफ नेशंस' के लेखक _____ थे।

Options :

1. * जॉन मेनार्ड कीन्स
2. * जॉन नैश
3. ✓ एडम स्मिथ
4. * अल्फ्रेड मार्शल

Question Number : 71 Question Id : 9983677507 Question Type : MCQ Option Shuffling : Yes
Correct Marks : 1 Wrong Marks : 0.25

Which soil is rich in loam and clay?

Options :

1. * Desert soil
2. * Red soil
3. * Black soil
4. ✓ Alluvial soil

Question Number : 71 Question Id : 9983677507 Question Type : MCQ Option Shuffling : Yes
Correct Marks : 1 Wrong Marks : 0.25

किस मृदा में दोमट और चिकनी मिट्टी की अधिकता होती है?

Options :

1. * मरूस्थलीय मृदा
2. * लाल मृदा
3. * काली मृदा
4. ✓ जलोढ़ मृदा

Question Number : 72 Question Id : 9983677508 Question Type : MCQ Option Shuffling : Yes
Correct Marks : 1 Wrong Marks : 0.25

Which bacteria causes food poisoning?

Options :

1. * Streptococcus
2. ✓ Salmonella
3. * Anaplasma
4. * Bacillus

Question Number : 72 Question Id : 9983677508 Question Type : MCQ Option Shuffling : Yes
Correct Marks : 1 Wrong Marks : 0.25

कौन सा जीवाणु, खाद्य विषाक्तता का कारण है?

Options :

1. * स्ट्रेप्टोकोकस
2. ✓ साल्मोनेला
3. * एनाप्लाज्मा
4. * बैसिलस

Question Number : 73 Question Id : 9983677509 Question Type : MCQ Option Shuffling : Yes
Correct Marks : 1 Wrong Marks : 0.25

Calcium Hydroxide is present in:

Options :

1. * Soap

2. ✖ Milk of Magnesia

3. ✔ Lime water

4. ✖ Amla

Question Number : 73 Question Id : 9983677509 Question Type : MCQ Option Shuffling : Yes
Correct Marks : 1 Wrong Marks : 0.25

_____ में कैल्शियम हाइड्रॉक्साइड होता है।

Options :

1. ✖ साबुन

2. ✖ मिल्क ऑफ मैग्नीशिया

3. ✔ नींबू पानी

4. ✖ आंवला

Question Number : 74 Question Id : 9983677510 Question Type : MCQ Option Shuffling : Yes
Correct Marks : 1 Wrong Marks : 0.25

What is the full form of MRI scan?

Options :

1. ✔ Magnetic Resonance Imaging

2. ✖ Molecular Reflection Imaging

3. ✖ Magnetic Resistance Imaging

4. ✖ Mind Research Imaging

Question Number : 74 Question Id : 9983677510 Question Type : MCQ Option Shuffling : Yes
Correct Marks : 1 Wrong Marks : 0.25

एमआरआई (MRI) स्कैन का पूर्ण रूप क्या है?

Options :

1. ✔ मैग्नेटिक रेजोनेंस इमेजिंग

2. ✖ मैग्नेटिक रिफ्लेक्शन इमेजिंग

3. ✖ मैग्नेटिक रेजिस्टेंस इमेजिंग

4. ✖ माइंड रिसर्च इमेजिंग

Question Number : 75 Question Id : 9983677511 Question Type : MCQ Option Shuffling : Yes
Correct Marks : 1 Wrong Marks : 0.25

Mission Shakti is:

Options :

1. * Empowering rural women
2. * Earth observation satellite
3. ✓ Anti-satellite missile test
4. * Utilisation of solar energy

Question Number : 75 Question Id : 9983677511 Question Type : MCQ Option Shuffling : Yes
Correct Marks : 1 Wrong Marks : 0.25

मिशन शक्ति _____ है।

Options :

1. * ग्रामीण महिलाओं का सशक्तिकरण
2. * पृथ्वी पर्यवेक्षण उपग्रह
3. ✓ उपग्रहभेदी मिसाइल परीक्षण
4. * सौर ऊर्जा का उपयोग

Question Number : 76 Question Id : 9983677512 Question Type : MCQ Option Shuffling : Yes
Correct Marks : 1 Wrong Marks : 0.25

Apophis is a/an:

Options :

1. * Bacteria
2. ✓ Asteroid
3. * Plant
4. * Insect

Question Number : 76 Question Id : 9983677512 Question Type : MCQ Option Shuffling : Yes
Correct Marks : 1 Wrong Marks : 0.25

एपोफिस एक _____ है।

Options :

1. ✖ जीवाणु

2. ✔ क्षुद्रगृह

3. ✖ पौधा

4. ✖ कीट

Question Number : 77 Question Id : 9983677513 Question Type : MCQ Option Shuffling : Yes
Correct Marks : 1 Wrong Marks : 0.25

Where is the Sindol hydro-power project located?

Options :

1. ✖ Karnataka

2. ✖ Gujarat

3. ✖ Uttarakhand

4. ✔ Odisha

Question Number : 77 Question Id : 9983677513 Question Type : MCQ Option Shuffling : Yes
Correct Marks : 1 Wrong Marks : 0.25

सिंधोल जलविद्युत परियोजना पर कहां स्थित है?

Options :

1. ✖ कर्नाटक

2. ✖ गुजरात

3. ✖ उत्तराखंड

4. ✔ ओडिशा

Question Number : 78 Question Id : 9983677514 Question Type : MCQ Option Shuffling : Yes
Correct Marks : 1 Wrong Marks : 0.25

The Forest Research Institute is situated at:

Options :

1. ✖ Gorakhpur

2. ✔ Dehradun

3. ✖ Cuttack

4. * Rishikesh

Question Number : 78 Question Id : 9983677514 Question Type : MCQ Option Shuffling : Yes
Correct Marks : 1 Wrong Marks : 0.25

वन अनुसंधान संस्थान _____ में स्थित है।

Options :

1. * गोरखपुर
2. ✓ देहरादून
3. * कटक
4. * ऋषिकेश

Question Number : 79 Question Id : 9983677515 Question Type : MCQ Option Shuffling : Yes
Correct Marks : 1 Wrong Marks : 0.25

The ICAR-National Research Centre for Banana was established in August 1993 at _____.

Options :

1. * Palakkad, Kerala
2. * Belgaum, Karnataka
3. * Jalgaon, Maharashtra
4. ✓ Tiruchirappalli, Tamil Nadu

Question Number : 79 Question Id : 9983677515 Question Type : MCQ Option Shuffling : Yes
Correct Marks : 1 Wrong Marks : 0.25

आईसीएआर-राष्ट्रीय केला अनुसंधान केंद्र को अगस्त 1993 में _____ में स्थापित किया गया।

Options :

1. * पलक्कड़, केरल
2. * बेलगाम, कर्नाटक
3. * जलगाँव, महाराष्ट्र
4. ✓ तिरुचिरापल्ली, तमिलनाडु

Question Number : 80 Question Id : 9983677516 Question Type : MCQ Option Shuffling : Yes

Correct Marks : 1 Wrong Marks : 0.25

The Indian Institute of Spices Research is stationed at:

Options :

1. ✖ Coorg
2. ✔ Kozikode
3. ✖ Ooty
4. ✖ Shimla

Question Number : 80 Question Id : 9983677516 Question Type : MCQ Option Shuffling : Yes

Correct Marks : 1 Wrong Marks : 0.25

भारतीय मसाला अनुसंधान संस्थान _____ में स्थित है।

Options :

1. ✖ कूर्ग
2. ✔ कोड़िकोड
3. ✖ ऊटी
4. ✖ शिमला

Arithmetic Ability1

Group Number :	5
Group Id :	998367321
Group Maximum Duration :	0
Group Minimum Duration :	0
Show Attended Group? :	No
Edit Attended Group? :	No
Break time:	0
Group Marks:	20
Is this Group for Examiner?:	No
Revisit allowed for group Instructions? :	Yes
Maximum Instruction Time:	0
Minimum Instruction Time:	0

Arithmetic Ability1

Section Id :

998367327

Section Number :	1
Section type :	Online
Mandatory or Optional:	Mandatory
Number of Questions:	20
Number of Questions to be attempted:	20
Section Marks:	20

Sub-Section Number:	1
Sub-Section Id:	998367471
Question Shuffling Allowed :	Yes

Question Number : 81 Question Id : 9983677517 Question Type : MCQ Option Shuffling : Yes
 Correct Marks : 1 Wrong Marks : 0.25

The value of $\left(\frac{\sqrt[5]{\sqrt{2\sqrt{65536}}}}{\sqrt[5]{\sqrt{2\sqrt{38416}}}}\right)^{\frac{5}{2}} =$

Options :

1. ✖ $\frac{6}{7}$

2. ✖ $\frac{7}{6}$

3. ✔ $\frac{8}{7}$

4. ✖ $\frac{7}{8}$

Question Number : 81 Question Id : 9983677517 Question Type : MCQ Option Shuffling : Yes
 Correct Marks : 1 Wrong Marks : 0.25

$\left(\frac{\sqrt[5]{\sqrt{2\sqrt{65536}}}}{\sqrt[5]{\sqrt{2\sqrt{38416}}}}\right)^{\frac{5}{2}}$ का मान = _____ होगा।

Options :

1. ✘ $\frac{6}{7}$

2. ✘ $\frac{7}{6}$

3. ✔ $\frac{8}{7}$

4. ✘ $\frac{7}{8}$

Question Number : 82 Question Id : 9983677518 Question Type : MCQ Option Shuffling : Yes
Correct Marks : 1 Wrong Marks : 0.25

If $\frac{X}{Y} = \frac{6}{1^2 2^2} + \frac{10}{2^2 3^2} + \frac{14}{3^2 4^2} + \frac{18}{4^2 5^2} + \frac{22}{5^2 6^2} + \frac{26}{6^2 7^2} + \frac{30}{7^2 8^2}$, and X and Y are prime number to each other,
then (X-Y) is equal to:

Options :

1. ✘ 10

2. ✘ 25

3. ✔ 31

4. ✘ 35

Question Number : 82 Question Id : 9983677518 Question Type : MCQ Option Shuffling : Yes
Correct Marks : 1 Wrong Marks : 0.25

यदि $\frac{X}{Y} = \frac{6}{1^2 2^2} + \frac{10}{2^2 3^2} + \frac{14}{3^2 4^2} + \frac{18}{4^2 5^2} + \frac{22}{5^2 6^2} + \frac{26}{6^2 7^2} + \frac{30}{7^2 8^2}$, और X और Y एक दूसरे के लिए अभाज्य संख्या है,
तो (X-Y) का मान क्या होगा?

Options :

1. ✘ 10

2. ✘ 25

3. ✔ 31

4. ✘ 35

Question Number : 83 Question Id : 9983677519 Question Type : MCQ Option Shuffling : Yes
Correct Marks : 1 Wrong Marks : 0.25

The value of
$$\frac{\left(1 + \frac{1}{1+100}\right)\left(1 + \frac{1}{1+100}\right)\left(1 + \frac{1}{1+100}\right) - \left(1 - \frac{1}{1+100}\right)\left(1 - \frac{1}{1+100}\right)\left(1 - \frac{1}{1+100}\right)}{\left(\frac{100}{101}\right)^2 + \left(\frac{1}{101}\right)^2 + \frac{201}{(101)^2}} = ?$$

Options :

1. ✘ $\frac{201}{101}$

2. ✔ $\frac{200}{101}$

3. ✘ $\frac{210}{101}$

4. ✘ $\frac{210}{103}$

Question Number : 83 Question Id : 9983677519 Question Type : MCQ Option Shuffling : Yes
Correct Marks : 1 Wrong Marks : 0.25

$$\frac{\left(1 + \frac{1}{1 + \frac{1}{100}}\right)\left(1 + \frac{1}{1 + \frac{1}{100}}\right)\left(1 + \frac{1}{1 + \frac{1}{100}}\right) - \left(1 - \frac{1}{1 + \frac{1}{100}}\right)\left(1 - \frac{1}{1 + \frac{1}{100}}\right)\left(1 - \frac{1}{1 + \frac{1}{100}}\right)}{\left(1 + \frac{100}{101}\right)^2 + \left(\frac{1}{101}\right)^2 + \frac{201}{(101)^2}}$$

का मान क्या होगा?

Options :

1. ✘ $\frac{201}{101}$

2. ✔ $\frac{200}{101}$

3. ✘ $\frac{210}{101}$

4. ✘ $\frac{210}{103}$

Question Number : 84 Question Id : 9983677520 Question Type : MCQ Option Shuffling : Yes
Correct Marks : 1 Wrong Marks : 0.25

I give one-fifth of the oranges I have to a boy and $\frac{4}{7}$ of the remaining to a girl. I still have 12 oranges left. How many oranges did I have at the beginning?

Options :

1. ✘ 30

2. ✔ 35

3. ✘ 40

4. ✘ 45

Question Number : 84 Question Id : 9983677520 Question Type : MCQ Option Shuffling : Yes
Correct Marks : 1 Wrong Marks : 0.25

मेरे पास कुछ संतरे हैं, मैं उसका पांचवां हिस्सा एक लड़के को और $\frac{4}{7}$ हिस्सा एक लड़की को देता हूँ। मेरे पास अब भी 12 संतरे बचे हैं। शुरुआत में मेरे पास कितने संतरे थे?

Options :

1. ✖ 30

2. ✔ 35

3. ✖ 40

4. ✖ 45

Question Number : 85 Question Id : 9983677521 Question Type : MCQ Option Shuffling : Yes

Correct Marks : 1 Wrong Marks : 0.25

What is the value of $4 \times \frac{2.7 \times 0.56 \times 2.52}{0.12 \times 0.09 \times 0.7}$?

Options :

1. ✖ 2000

2. ✔ 2016

3. ✖ 1018

4. ✖ 2019

Question Number : 85 Question Id : 9983677521 Question Type : MCQ Option Shuffling : Yes

Correct Marks : 1 Wrong Marks : 0.25

$4 \times \frac{2.7 \times 0.56 \times 2.52}{0.12 \times 0.09 \times 0.7}$ का मान क्या होगा?

Options :

1. ✖ 2000

2. ✔ 2016

3. ✖ 1018

4. ✖ 2019

Question Number : 86 Question Id : 9983677522 Question Type : MCQ Option Shuffling : Yes

Correct Marks : 1 Wrong Marks : 0.25

If $83.34 = 8 \times A + \frac{3}{B} + 3 \times C + \frac{4}{D}$, then the value of $4 \times A + 2 \times B + 7 \times C + \frac{3}{D}$ is equal to:

Options :

1. ✔ 42.73

2. ✖ 42.37

3. ✖ 40.72

4. ✖ 42.27

Question Number : 86 Question Id : 9983677522 Question Type : MCQ Option Shuffling : Yes

Correct Marks : 1 Wrong Marks : 0.25

यदि $83.34 = 8 \times A + \frac{3}{B} + 3 \times C + \frac{4}{D}$, हो तो $4 \times A + 2 \times B + 7 \times C + \frac{3}{D}$ निम्नलिखित में से किस के बराबर होगा?

Options :

1. ✔ 42.73

2. ✖ 42.37

3. ✖ 40.72

4. ✖ 42.27

Question Number : 87 Question Id : 9983677523 Question Type : MCQ Option Shuffling : Yes
Correct Marks : 1 Wrong Marks : 0.25

Represent $0.\overline{2341}$ in the form of p/q where $q \neq 0$.

Options :

1. ✖ $\frac{781}{3330}$

2. ✖ $\frac{1171}{4995}$

3. ✖ $\frac{2341}{9990}$

4. ✔ $\frac{2339}{9990}$

Question Number : 87 Question Id : 9983677523 Question Type : MCQ Option Shuffling : Yes
Correct Marks : 1 Wrong Marks : 0.25

$0.\overline{2341}$ को p/q के रूप में व्यक्त करें, जहां पर $q \neq 0$ है।

Options :

1. ✖ $\frac{781}{3330}$

2. ✖ $\frac{1171}{4995}$

3. ✖ $\frac{2341}{9990}$

4. ✔ $\frac{2339}{9990}$

Question Number : 88 Question Id : 9983677524 Question Type : MCQ Option Shuffling : Yes

Correct Marks : 1 Wrong Marks : 0.25

If $x = \frac{1}{1 \times 2} + \frac{1}{2 \times 3} + \frac{1}{3 \times 4} + \dots + (10 \text{ terms})$ and $y = \frac{1}{4 \times 5} + \frac{1}{5 \times 6} + \frac{1}{6 \times 7} + \frac{1}{7 \times 8} + \dots + (10 \text{ terms})$ then find the average of
of x and y?

Options :

1. ✖ $\frac{353}{616}$

2. ✖ $\frac{533}{616}$

3. ✔ $\frac{335}{616}$

4. ✖ $\frac{435}{616}$

Question Number : 88 Question Id : 9983677524 Question Type : MCQ Option Shuffling : Yes

Correct Marks : 1 Wrong Marks : 0.25

यदि $x = \frac{1}{1 \times 2} + \frac{1}{2 \times 3} + \frac{1}{3 \times 4} + \dots + (10 \text{ पद})$ तथा $y = \frac{1}{4 \times 5} + \frac{1}{5 \times 6} + \frac{1}{6 \times 7} + \frac{1}{7 \times 8} + \dots + (10 \text{ पद})$ है तो फिर x और y का
औसत ज्ञात करें?

Options :

1. ✘ $\frac{353}{616}$

2. ✘ $\frac{533}{616}$

3. ✔ $\frac{335}{616}$

4. ✘ $\frac{435}{616}$

Question Number : 89 Question Id : 9983677525 Question Type : MCQ Option Shuffling : Yes

Correct Marks : 1 Wrong Marks : 0.25

In a class of 100 students, $\frac{1}{4}$ of the total number of students like to play football only, $\frac{2}{5}$ of the total number of students like to play volleyball only and the remaining students like to play both. What fraction of the total number of students likes to play both games?

Options :

1. ✘ $\frac{3}{20}$

2. ✘ $\frac{1}{20}$

3. ✔ $\frac{7}{20}$

4. ✘ $\frac{9}{20}$

Question Number : 89 Question Id : 9983677525 Question Type : MCQ Option Shuffling : Yes

Correct Marks : 1 Wrong Marks : 0.25

100 छात्रों की एक कक्षा में, कुल छात्रों के $\frac{1}{4}$ को केवल फुटबॉल खेलना पसंद है, कुल छात्रों के $\frac{2}{5}$ को केवल वॉलीबॉल खेलना पसंद है, जबकि बचे हुए लोगों को दोनों खेल खेलना पसंद है। कुल छात्रों के कितने भाग को दोनों खेल खेलना पसंद है?

Options :

1. ✘ $\frac{3}{20}$

2. ✘ $\frac{1}{20}$

3. ✔ $\frac{7}{20}$

4. ✘ $\frac{9}{20}$

Question Number : 90 Question Id : 9983677526 Question Type : MCQ Option Shuffling : Yes

Correct Marks : 1 Wrong Marks : 0.25

If a fraction is multiplied by itself and then divided by the reciprocal of the same fraction, then the result is $18\frac{26}{27}$, What is the fraction?

Options :

1. ✘ $\frac{8}{27}$

2. ✘ $\frac{11}{3}$

3. ✘ $\frac{3}{11}$

4. ✓ $\frac{8}{3}$

Question Number : 90 Question Id : 9983677526 Question Type : MCQ Option Shuffling : Yes

Correct Marks : 1 Wrong Marks : 0.25

जब किसी भिन्न को अपने आप से गुणा किया जाता है और फिर गुणनफल को उसके व्युत्क्रम से विभाजित किया जाता है, तो परिणाम $8\frac{26}{27}$ प्राप्त होता है। तो वह भिन्न क्या होगा?

Options :

1. ✗ $\frac{8}{27}$

2. ✗ $\frac{11}{3}$

3. ✗ $\frac{3}{11}$

4. ✓ $\frac{8}{3}$

Question Number : 91 Question Id : 9983677527 Question Type : MCQ Option Shuffling : Yes

Correct Marks : 1 Wrong Marks : 0.25

How many numbers between 500 and 700 will have a remainder 3 on being divided by 10, 12 and 15?

Options :

1. ✗ 1

2. ✗ 2

3. ✓ 3

4. ✖ 4

Question Number : 91 Question Id : 9983677527 Question Type : MCQ Option Shuffling : Yes

Correct Marks : 1 Wrong Marks : 0.25

500 और 700 के बीच की कितनी संख्याएं ऐसी हैं जिन्हें 10, 12 और 15 से विभाजित करने पर शेष 3 बचेगा?

Options :

1. ✖ 1

2. ✖ 2

3. ✔ 3

4. ✖ 4

Question Number : 92 Question Id : 9983677528 Question Type : MCQ Option Shuffling : Yes

Correct Marks : 1 Wrong Marks : 0.25

The number of candidates who have appeared for the faculty position in three different branches C.S.E., E.C.E., and Civil are 18, 24, and 88 respectively. The written test is to be conducted for these candidates such that only the candidate of the same branch is allowed in one room. Also, the number of candidates in each room must be same. What is the minimum number of rooms that should be arranged to meet all these conditions?

Options :

1. ✖ 45

2. ✖ 55

3. ✔ 65

4. ✖ 75

Question Number : 92 Question Id : 9983677528 Question Type : MCQ Option Shuffling : Yes

Correct Marks : 1 Wrong Marks : 0.25

तीन अलग-अलग शाखाओं C.S.E., E.C.E., और सिविल में प्राध्यापक पद के लिए उपस्थित होने वाले उम्मीदवारों की संख्या क्रमशः 18, 24 और 88 है। इन उम्मीदवारों के लिए लिखित परीक्षा आयोजित की जानी है और परीक्षा के दौरान एक कमरे में एक ही शाखा के उम्मीदवारों को रखा जाना है। साथ ही, प्रत्येक कमरे में उम्मीदवारों की संख्या भी समान होनी चाहिए। इन सभी शर्तों को पूरा करने के लिए न्यूनतम कितने कमरों की आवश्यकता होगी?

Options :

1. ✘ 45

2. ✘ 55

3. ✔ 65

4. ✘ 75

Question Number : 93 Question Id : 9983677529 Question Type : MCQ Option Shuffling : Yes

Correct Marks : 1 Wrong Marks : 0.25

The traffic lights at three different junctions in a city change after every 30 sec, 48 sec and 112 sec respectively. If they all change simultaneously at 9:10:00 hours, then find the next time at which they will change simultaneously.

Options :

1. ✔ 9:38:00 hours

2. ✘ 9:28:00 hours

3. ✘ 9:18:00 hours

4. ✘ 9:48:00 hours

Question Number : 93 Question Id : 9983677529 Question Type : MCQ Option Shuffling : Yes

Correct Marks : 1 Wrong Marks : 0.25

एक शहर में तीन अलग-अलग जंक्शनों पर ट्रैफिक लाइट्स क्रमशः हर 30 सेकंड, 48 सेकंड और 112 सेकंड के बाद बदल जाती हैं। यदि वे सभी लाइट्स 9:10:00 बजे एक साथ बदलती हैं, तो गणना करें कि अगली बार वे एक साथ कब बदलेंगी।

Options :

1. ✓ 9:38:00 बजे

2. ✗ 9:28:00 बजे

3. ✗ 9:18:00 बजे

4. ✗ 9:48:00 बजे

Question Number : 94 Question Id : 9983677530 Question Type : MCQ Option Shuffling : Yes

Correct Marks : 1 Wrong Marks : 0.25

₹ 3,000 is distributed among A, B and C. If the money given to them decreased by 20, 30 and 10 respectively, then they have money in the ratio of 2 : 2 : 1. What is the amount given to A?

Note: For this question, discrepancy is found in question/answer. So, this question is ignored for all candidates.

Options :

1. ₹ 1,176

2. ₹ 1,174

3. ₹ 1,200

4. ₹ 588

Question Number : 94 Question Id : 9983677530 Question Type : MCQ Option Shuffling : Yes

Correct Marks : 1 Wrong Marks : 0.25

₹ 3,000 की राशि को A, B और C के बीच वितरित किया जाता है। यदि उनको दी गई राशि को क्रमशः 20, 30 और 10 तक कम कर दिया जाए, तो उनके पास 2 : 2 : 1 के अनुपात में राशि बच जाती है। A को मिली राशि की गणना करें।

Note: For this question, discrepancy is found in question/answer. So, this question is ignored for all candidates.

Options :

1. ₹ 1,176
2. ₹ 1,174
3. ₹ 1,200
4. ₹ 588

Question Number : 95 Question Id : 9983677531 Question Type : MCQ Option Shuffling : Yes

Correct Marks : 1 Wrong Marks : 0.25

Arun, Balaji and Vimal enter into a partnership by investing ₹ 24000, ₹ 48000 and ₹ 12000 respectively. Arun is a working partner and gets one-fourth of the profit for his services. The remaining profit is divided among the three in the rate of their investments. What is the amount of profit that Balaji gets if Arun gets a total of ₹ 2,600?

Options :

1. ✘ ₹ 2,160
2. ✘ ₹ 2,320
3. ✔ ₹ 2,400
4. ✘ ₹ 2,460

Question Number : 95 Question Id : 9983677531 Question Type : MCQ Option Shuffling : Yes

Correct Marks : 1 Wrong Marks : 0.25

अरुण, बालाजी और विमल में क्रमशः ₹ 24000, ₹ 48000 और ₹ 12000 का निवेश करके एक साझेदारी में प्रवेश करते हैं। इनमें से अरुण काम करने वाला साझेदार है, और वह अपनी सेवाओं के बदले लाभ का एक चौथाई हिस्सा लेता है। बचे हुए लाभ को तीनों के बीच उनके द्वारा किए गए निवेश के अनुपात में बांटा जाता है। यदि अरुण को कुल ₹2600 मिलते हैं तो बालाजी को मिलने वाले लाभ की गणना करें।

Options :

1. ✘ ₹ 2,160

2. ✘ ₹ 2,320

3. ✔ ₹ 2,400

4. ✘ ₹ 2,460

Question Number : 96 Question Id : 9983677532 Question Type : MCQ Option Shuffling : Yes

Correct Marks : 1 Wrong Marks : 0.25

A man loses 40% of his money. After spending 50% of the remaining amount, he has ₹ 480 left. What is the amount of money he originally had?

Options :

1. ✘ ₹ 1,650

2. ✘ ₹ 1,400

3. ✔ ₹ 1,600

4. ✘ ₹ 1,450

Question Number : 96 Question Id : 9983677532 Question Type : MCQ Option Shuffling : Yes

Correct Marks : 1 Wrong Marks : 0.25

एक आदमी अपने धन का 40% गंवा देता है। शेष राशि का 50% खर्च करने के बाद, उसके पास ₹ 480 बाकी बचते हैं। उसके पास प्रारंभ में कितना धन था?

Options :

1. ✘ ₹ 1,650

2. ✘ ₹ 1,400

3. ✔ ₹ 1,600

4. ✘ ₹ 1,450

Question Number : 97 Question Id : 9983677533 Question Type : MCQ Option Shuffling : Yes

Correct Marks : 1 Wrong Marks : 0.25

A candidate scored 30% and failed by 50 marks, while another candidate scored 40% and got 30 marks more than the minimum required marks to pass the examination. What is the maximum number of marks?

Options :

1. ✔ 800

2. ✘ 900

3. ✘ 600

4. ✘ 1000

Question Number : 97 Question Id : 9983677533 Question Type : MCQ Option Shuffling : Yes

Correct Marks : 1 Wrong Marks : 0.25

एक परीक्षार्थी ने 30% अंक प्राप्त किए और 50 अंकों से अनुत्तीर्ण हो गया, जबकि एक अन्य परीक्षार्थी ने 40% अंक प्राप्त किए और परीक्षा में उत्तीर्ण होने के लिए आवश्यक न्यूनतम अंकों से 30 अंक अधिक पाए। परीक्षा के अधिकतम अंक कितने थे?

Options :

1. ✓ 800

2. ✗ 900

3. ✗ 600

4. ✗ 1000

Question Number : 98 Question Id : 9983677534 Question Type : MCQ Option Shuffling : Yes

Correct Marks : 1 Wrong Marks : 0.25

Two business men A and B buy two gift articles for ₹ 1000 and ₹ 2000 respectively. A marks his article up by $x\%$, while B marks article up by $2x\%$ and offers a discount of $x\%$. If both make the same non-zero profit. What is the value of x ?

Options :

1. ✓ 25

2. ✗ 12.5

3. ✗ 37.5

4. ✗ 40

Question Number : 98 Question Id : 9983677534 Question Type : MCQ Option Shuffling : Yes

Correct Marks : 1 Wrong Marks : 0.25

दो व्यापारी A और B, दो उपहार वस्तुओं को क्रमशः ₹ 1000 और ₹ 2000 में खरीदते हैं। A अपनी वस्तु पर $x\%$ बढ़ाकर अंकित मूल्य डाल देता है, जबकि B $2x\%$ बढ़ाकर अंकित मूल्य डालता है और $x\%$ छूट देता है और फिर दोनों बराबर लाभ कमाते हैं, जो कि शून्य नहीं है। x का मान ज्ञात करें?

Options :

1. ✓ 25

2. ✖ 12.5

3. ✖ 37.5

4. ✖ 40

Question Number : 99 Question Id : 9983677535 Question Type : MCQ Option Shuffling : Yes

Correct Marks : 1 Wrong Marks : 0.25

The average weight of a team of 25 players is increased by 4 kg when one player of 40 kg left and another player joined. After a few months, this new player left and another player joined whose weight was 8 kg less than the player who just left. What is the difference between the final and initial averages?

Options :

1. ✖ 4.86 kg

2. ✔ 3.68 kg

3. ✖ 3.86 kg

4. ✖ 4.68 kg

Question Number : 99 Question Id : 9983677535 Question Type : MCQ Option Shuffling : Yes

Correct Marks : 1 Wrong Marks : 0.25

25 खिलाड़ियों की एक टीम में से जब 40 kg वजन का एक खिलाड़ी निकल जाता है, और एक दूसरा खिलाड़ी उसकी जगह ले लेता है, तो टीम का औसत वजन 4 kg बढ़ जाता है। कुछ महीनों बाद यह नया खिलाड़ी भी टीम छोड़ देता है और उसकी जगह उससे 8 kg कम वजन वाला खिलाड़ी आ जाता है। अंतिम और प्रारंभिक औसत के बीच का अंतर ज्ञात करें?

Options :

1. ✖ 4.86 kg

2. ✓ 3.68 kg

3. ✗ 3.86 kg

4. ✗ 4.68 kg

Question Number : 100 Question Id : 9983677536 Question Type : MCQ Option Shuffling : Yes

Correct Marks : 1 Wrong Marks : 0.25

The average age of 4 members of a family is 25 years. If the youngest member is 5 years old, what was average age of the family at the time of the birth of the youngest member?

Options :

1. ✓ $\frac{80}{3}$

2. ✗ 24

3. ✗ 20

4. ✗ $\frac{79}{3}$

Question Number : 100 Question Id : 9983677536 Question Type : MCQ Option Shuffling : Yes

Correct Marks : 1 Wrong Marks : 0.25

एक परिवार के 4 सदस्यों की औसत आयु 25 वर्ष है। यदि सबसे छोटा सदस्य 5 वर्ष का है, तो सबसे कम उम्र के सदस्य के जन्म के समय परिवार की औसत आयु क्या थी?

Options :

1. ✓ $\frac{80}{3}$

2. ✖ 24

3. ✖ 20

4. ✖ $\frac{79}{3}$

Arithmetic Ability2

Group Number :	6
Group Id :	998367322
Group Maximum Duration :	0
Group Minimum Duration :	0
Show Attended Group? :	No
Edit Attended Group? :	No
Break time:	0
Group Marks:	20
Is this Group for Examiner?:	No
Revisit allowed for group Instructions? :	Yes
Maximum Instruction Time:	0
Minimum Instruction Time:	0

Arithmetic Ability2

Section Id :	998367328
Section Number :	1
Section type :	Online
Mandatory or Optional:	Mandatory
Number of Questions:	20
Number of Questions to be attempted:	20
Section Marks:	20

Sub-Section Number:	1
Sub-Section Id:	998367472
Question Shuffling Allowed :	Yes

Question Number : 101 Question Id : 9983677537 Question Type : MCQ Option Shuffling : Yes
Correct Marks : 1 Wrong Marks : 0.25

Two pencils, three books and four erasers cost ₹ 15. Three pencils, two books and one eraser cost ₹ 10. I bought 3 pencils, 3 books and 3 erasers. How much did I pay?

Options :

1. ✘ ₹ 10

2. ✔ ₹ 15

3. ✘ ₹ 20

4. ✘ ₹ 25

Question Number : 101 Question Id : 9983677537 Question Type : MCQ Option Shuffling : Yes

Correct Marks : 1 Wrong Marks : 0.25

दो पेंसिलों, तीन किताबों और चार रबरों की कीमत ₹ 15 है। तीन पेंसिलों, दो किताबों और एक रबर की कीमत ₹ 10 है। मैंने 3 पेंसिलें, 3 किताबें और 3 रबर खरीदे। मैंने कितना भुगतान किया?

Options :

1. ✘ ₹ 10

2. ✔ ₹ 15

3. ✘ ₹ 20

4. ✘ ₹ 25

Question Number : 102 Question Id : 9983677538 Question Type : MCQ Option Shuffling : Yes

Correct Marks : 1 Wrong Marks : 0.25

The price of rice per kg is increased by 20% but a person increases his expenditure by 15% only. By how much percentage (correct to two decimal places) should he reduce his consumption so as to maintain the same level of expenses?

Options :

1. ✖ 3.61

2. ✖ 3.82

3. ✔ 4.17

4. ✖ 4.28

Question Number : 102 Question Id : 9983677538 Question Type : MCQ Option Shuffling : Yes

Correct Marks : 1 Wrong Marks : 0.25

प्रति किलो चावल की कीमत में 20% की वृद्धि होती है, लेकिन एक व्यक्ति अपने खर्च में केवल 15% की वृद्धि करता है। उस व्यक्ति को अपने खर्चों को उतना ही बनाए रखने के लिए अपने उपभोग में कितने प्रतिशत की कमी करनी होगी (दशमलव के दो स्थानों तक गणना करें)?

Options :

1. ✖ 3.61

2. ✖ 3.82

3. ✔ 4.17

4. ✖ 4.28

Question Number : 103 Question Id : 9983677539 Question Type : MCQ Option Shuffling : Yes

Correct Marks : 1 Wrong Marks : 0.25

I purchased 250 copies of a book from a wholesaler. I sold 150 of them at a profit of 20% and 100 of them at a loss of 10%. What was my gain or loss percentage?

Options :

1. ✖ 7.5% gain

2. ✘ 7.5% loss

3. ✔ 8% gain

4. ✘ 8% loss

Question Number : 103 Question Id : 9983677539 Question Type : MCQ Option Shuffling : Yes

Correct Marks : 1 Wrong Marks : 0.25

मैंने एक थोक व्यापारी से एक पुस्तक की 250 प्रतियां खरीदीं। मैंने उनमें से 150 को 20% के लाभ पर और 100 को 10% की हानि पर बेच दिया। मेरा लाभ या हानि प्रतिशत क्या था?

Options :

1. ✘ 7.5% लाभ

2. ✘ 7.5% हानि

3. ✔ 8% लाभ

4. ✘ 8% हानि

Question Number : 104 Question Id : 9983677540 Question Type : MCQ Option Shuffling : Yes

Correct Marks : 1 Wrong Marks : 0.25

Akhilesh went to buy furniture and noticed that there is a discount of 30% on a particular brand of chairs. If he wants to save ₹ 2,227.5 in discounts, where the cost of each chair is ₹ 675 then how many chairs does he need to buy?

Options :

1. ✘ 9

2. ✔ 11

3. ✖ 13

4. ✖ 17

Question Number : 104 Question Id : 9983677540 Question Type : MCQ Option Shuffling : Yes

Correct Marks : 1 Wrong Marks : 0.25

अखिलेश फर्नीचर खरीदने गया और उसने देखा कि एक विशेष ब्रांड की कुर्सियों पर 30% की छूट मिल रही है। यदि हर कुर्सी की कीमत ₹675 है और वह छूट के माध्यम से ₹2,227.5 की बचत करना चाहता है, तो उसे कुल कितनी कुर्सियां खरीदनी होंगी?

Options :

1. ✖ 9

2. ✔ 11

3. ✖ 13

4. ✖ 17

Question Number : 105 Question Id : 9983677541 Question Type : MCQ Option Shuffling : Yes

Correct Marks : 1 Wrong Marks : 0.25

Three successive discounts of 20, 15 and 12 percent on the marked price of an article are equivalent to a discount of $x\%$. What is the value of x correct up to two decimal places?

Note: For this question, discrepancy is found in question/answer. So, this question is ignored for all candidates.

Options :

1. 37.00

2. 38.12

3. 40.16

4. 41.27

Question Number : 105 Question Id : 9983677541 Question Type : MCQ Option Shuffling : Yes

Correct Marks : 1 Wrong Marks : 0.25

किसी वस्तु के अंकित मूल्य पर 20, 15 और 12 प्रतिशत की तीन क्रमिक छूटें, $x\%$ की छूट के बराबर हैं। दशमलव के दो स्थानों तक x के मान की गणना करें?

Note: For this question, discrepancy is found in question/answer. So, this question is ignored for all candidates.

Options :

1. 37.00

2. 38.12

3. 40.16

4. 41.27

Question Number : 106 Question Id : 9983677542 Question Type : MCQ Option Shuffling : Yes

Correct Marks : 1 Wrong Marks : 0.25

How long will a sum of money invested at 10% per annum simple interest take to increase its value by 50%?

Options :

1. ✘ 4 years

2. ✔ 5 years

3. ✘ 8 years

4. ✖ 10 years

Question Number : 106 Question Id : 9983677542 Question Type : MCQ Option Shuffling : Yes

Correct Marks : 1 Wrong Marks : 0.25

किसी राशि को 10% प्रतिवर्ष की दर से साधारण ब्याज पर निवेशित करने पर इस राशि को 50% बढ़ने में कितना समय लगेगा?

Options :

1. ✖ 4 साल

2. ✔ 5 साल

3. ✖ 8 साल

4. ✖ 10 साल

Question Number : 107 Question Id : 9983677543 Question Type : MCQ Option Shuffling : Yes

Correct Marks : 1 Wrong Marks : 0.25

A sum of ₹ 2,000 was lent partly at 5% per annum and partly at 10% per annum simple interest. The total interest received after 2 years was ₹ 400. Find the amount that was lent at 5%.

Options :

1. ✖ 1000

2. ✖ 1500

3. ✖ 1600

4. ✔ Nothing

Question Number : 107 Question Id : 9983677543 Question Type : MCQ Option Shuffling : Yes

Correct Marks : 1 Wrong Marks : 0.25

₹ 2,000 की राशि को आंशिक रूप से 5% प्रति वर्ष और आंशिक रूप से 10% प्रति वर्ष साधारण ब्याज पर उधार दिया गया था। 2 वर्षों के बाद प्राप्त कुल ब्याज ₹400 था। 5% ब्याज पर उधार दी गई राशि की गणना करें।

Options :

1. ✘ 1000

2. ✘ 1500

3. ✘ 1600

4. ✔ शून्य

Question Number : 108 Question Id : 9983677544 Question Type : MCQ Option Shuffling : Yes

Correct Marks : 1 Wrong Marks : 0.25

Devendar borrows a sum of ₹ 4,000 from his colleague at the beginning of a year. After four months ₹ 2,000 more is borrowed at double the previous rate of interest.. At the end of one year, the sum of interest on both the loans is ₹ 560. What is the first rate of interest per annum?

Note: For this question, discrepancy is found in question/answer. So, this question is ignored for all candidates.

Options :

1. 6%

2. 6.5%

3. 7.5%

4. 8%

Question Number : 108 Question Id : 9983677544 Question Type : MCQ Option Shuffling : Yes

Correct Marks : 1 Wrong Marks : 0.25

साल की शुरुआत में देवेन्द्र अपने एक साथी से ₹ 4000 की राशि उधार लेता है। चार महीनों बाद वह ₹ 2000 और उधार लेता है और इस बार ब्याज की दर पिछली बार के मुकाबले दोगुनी होती है। साल के अंत में दोनों उधारों पर कुल ब्याज ₹560 बनता है। पहली बार राशि किस ब्याज दर पर उधार ली गई थी?

Note: For this question, discrepancy is found in question/answer. So, this question is ignored for all candidates.

Options :

1. 6%
2. 6.5%
3. 7.5%
4. 8%

Question Number : 109 Question Id : 9983677545 Question Type : MCQ Option Shuffling : Yes

Correct Marks : 1 Wrong Marks : 0.25

Charan had invested the same amount of sums at simple as well as compound interests. The time period of both the interests was 2 years and the rate was the same, 10% per annum. At the end he found a difference of ₹ 2500 in the interest received. What was the sum invested by Charan?

Options :

1. ✘ ₹ 2,00,000
2. ✘ ₹ 2,25,000
3. ✔ ₹ 2,50,000
4. ✘ ₹ 2,56,000

Question Number : 109 Question Id : 9983677545 Question Type : MCQ Option Shuffling : Yes

Correct Marks : 1 Wrong Marks : 0.25

चरण ने एक समान राशि साधारण और साथ ही चक्रवृद्धि ब्याज पर निवेश की। दोनों राशियां 2 सालों की समान अवधि के लिए और प्रतिवर्ष 10% की समान दर पर निवेश की गई थी। अंत में उसे दोनों निवेशों से प्राप्त ब्याजों में ₹ 2500 का अंतर मिला। चरण द्वारा निवेशित राशि की गणना करें?

Options :

1. ✘ ₹ 2,00,000

2. ✘ ₹ 2,25,000

3. ✔ ₹ 2,50,000

4. ✘ ₹ 2,56,000

Question Number : 110 Question Id : 9983677546 Question Type : MCQ Option Shuffling : Yes

Correct Marks : 1 Wrong Marks : 0.25

A sum of ₹ 8448 is to be divided between A and B who are respectively 18 and 19 years old, in such a way that if their shares are invested at 6.25% per annum at compound interest, they will receive equal amounts on attaining the age of 21 years. Find the present share of A?

Options :

1. ✘ 4225

2. ✘ 4352

3. ✔ 4096

4. ✘ 4000

Question Number : 110 Question Id : 9983677546 Question Type : MCQ Option Shuffling : Yes

Correct Marks : 1 Wrong Marks : 0.25

₹ 8448 को A और B, जो क्रमशः 18 और 19 वर्ष के हैं, के बीच इस प्रकार से विभाजित किया जाता है कि यदि उनके हिस्से को 6.25% प्रतिवर्ष चक्रवृद्धि ब्याज पर निवेश किया जाए, तो 21 वर्ष की आयु पूरी करने पर उन दोनों को समान राशि मिलती है। A का वर्तमान हिस्सा ज्ञात कीजिये?

Options :

1. ✘ 4225

2. ✘ 4352

3. ✔ 4096

4. ✘ 4000

Question Number : 111 Question Id : 9983677547 Question Type : MCQ Option Shuffling : Yes

Correct Marks : 1 Wrong Marks : 0.25

The base of a pyramid is a square whose side is 30 cm and height is equal to the radius of a circle having circumference is 44 cm. Find its volume.

Options :

1. ✔ 2100 cm³

2. ✘ 2000 cm³

3. ✘ 2500 cm³

4. ✘ 2200 cm³

Question Number : 111 Question Id : 9983677547 Question Type : MCQ Option Shuffling : Yes

Correct Marks : 1 Wrong Marks : 0.25

एक पिरामिड का आधार एक वर्ग है जिसकी भुजाएं 30 cm हैं और उंचाई 44 cm परिधि वाले वृत्त की त्रिज्या के बराबर है। इसके आयतन की गणना कीजिए।

Options :

1. ✓ 2100 cm³

2. ✗ 2000 cm³

3. ✗ 2500 cm³

4. ✗ 2200 cm³

Question Number : 112 Question Id : 9983677548 Question Type : MCQ Option Shuffling : Yes

Correct Marks : 1 Wrong Marks : 0.25

Assume that a drop of water is spherical and its diameter is $\frac{1}{20}$ of a cm. A conical glass has height equal to the diameter of its rim. If 1,63,84,000 drops of water fill the glass completely, then what is the height of the glass?

Options :

1. ✗ 12 cm

2. ✗ 14 cm

3. ✓ 16 cm

4. ✗ 18 cm

Question Number : 112 Question Id : 9983677548 Question Type : MCQ Option Shuffling : Yes

Correct Marks : 1 Wrong Marks : 0.25

मान लीजिए कि पानी की एक बूंद गोलाकार है और इसका व्यास एक cm के $\frac{1}{20}$ के बराबर है। एक शंक्वाकार ग्लास की ऊंचाई उसके रिम के व्यास के बराबर है। यदि गिलास को पूरी तरह से भरने के लिए 1,63,84,000 पानी की बूंदों की आवश्यकता होती है, तो गिलास की ऊंचाई की गणना करें?

Options :

1. ✘ 12 cm

2. ✘ 14 cm

3. ✔ 16 cm

4. ✘ 18 cm

Question Number : 113 Question Id : 9983677549 Question Type : MCQ Option Shuffling : Yes

Correct Marks : 1 Wrong Marks : 0.25

A conical cup is filled with chocolate ice cream. The ice cream forms a hemispherical shape on its top. The height of the hemispherical part is 14 cm. If the radius of the hemispherical part equals the height of the cone, then the volume of the ice cream is?

Options :

1. ✘ $8,264 \text{ cm}^3$

2. ✔ $8,624 \text{ cm}^3$

3. ✘ $6,284 \text{ cm}^3$

4. ✘ $6,824 \text{ cm}^3$

Question Number : 113 Question Id : 9983677549 Question Type : MCQ Option Shuffling : Yes

Correct Marks : 1 Wrong Marks : 0.25

एक शंकवाकार कप चॉकलेट आइसक्रीम से भरा है। आइसक्रीम अपने शीर्ष पर एक अर्द्धगोलाकार आकार बनाती है। अर्द्धगोलाकार भाग की ऊंचाई 14 cm है। यदि अर्द्धगोलाकार भाग की त्रिज्या शंकु की ऊंचाई के बराबर है, तो आइसक्रीम की मात्रा (volume) कितनी होगी?

Options :

1. ✘ $8,264 \text{ cm}^3$

2. ✔ $8,624 \text{ cm}^3$

3. ✘ $6,284 \text{ cm}^3$

4. ✘ $6,824 \text{ cm}^3$

Question Number : 114 Question Id : 9983677550 Question Type : MCQ Option Shuffling : Yes

Correct Marks : 1 Wrong Marks : 0.25

Valve A can fill a sump in 10 hours and valve B can fill the same sump in 8 hours. Only valve A is opened first. After how many hours should valve B be opened so that the sump will be filled in 6 hours?

Options :

1. ✔ $2\frac{4}{5}$ hours

2. ✘ $3\frac{4}{5}$ hours

3. ✘ $3\frac{5}{4}$ hours

4. ✘ $2\frac{5}{4}$ hours

Question Number : 114 Question Id : 9983677550 Question Type : MCQ Option Shuffling : Yes

Correct Marks : 1 Wrong Marks : 0.25

वाल्व A एक हौदी को 10 घंटों में और वाल्व B उसी हौदी को 8 घंटों में भर सकता है। पहले केवल वाल्व A को खोला जाता है। हौदी को 6 घंटों में भर देने के लिए वाल्व B को कितने घंटों बाद खोला जाना चाहिए?

Options :

1. ✓ $2\frac{4}{5}$ घंटों बाद

2. ✗ $3\frac{4}{5}$ घंटों बाद

3. ✗ $3\frac{5}{4}$ घंटों बाद

4. ✗ $2\frac{5}{4}$ घंटों बाद

Question Number : 115 Question Id : 9983677551 Question Type : MCQ Option Shuffling : Yes

Correct Marks : 1 Wrong Marks : 0.25

When valve A alone is opened to fill a sump, it takes 12 hours more than the time taken to fill the sump when both valves A and B are opened together. But valve B alone takes 27 hours more than the time taken to fill the sump when both valves A and B are opened together. In how much time can valves A and B together fill the sump?

Options :

1. ✗ 10 hours

2. ✗ 14 hours

3. ✓ 18 hours

4. ✗ 22 hours

Question Number : 115 Question Id : 9983677551 Question Type : MCQ Option Shuffling : Yes

Correct Marks : 1 Wrong Marks : 0.25

जब केवल वाल्व A को खोला जाता है तो हौदी को भरने में, वाल्व A और B दोनों को एकसाथ खोलने पर हौदी को भरने में लगने वाले समय से 12 घंटे ज्यादा लगते हैं। इसी प्रकार केवल वाल्व B खोलने पर, दोनों वाल्वों द्वारा हौदी को भरने में लगने वाले समय से 27 घंटे ज्यादा लगते हैं। वाल्व A और B दोनों को एक साथ खोलने पर हौदी को भरने में लगने वाले समय की गणना करें?

Options :

1. ✖ 10 घंटे

2. ✖ 14 घंटे

3. ✔ 18 घंटे

4. ✖ 22 घंटे

Question Number : 116 Question Id : 9983677552 Question Type : MCQ Option Shuffling : Yes

Correct Marks : 1 Wrong Marks : 0.25

Two trains travelling in opposite directions cross each other in 10 sec, and when they travel in the same direction, the faster train overtakes the slower train in 40 sec. What is the ratio of the speeds of the faster train to that of the slower train?

Options :

1. ✖ 4 : 1

2. ✔ 5 : 3

3. ✖ 12 : 11

4. ✖ 17 : 12

Question Number : 116 Question Id : 9983677552 Question Type : MCQ Option Shuffling : Yes

Correct Marks : 1 Wrong Marks : 0.25

दो ट्रेनें जब विपरीत दिशा में चल रही हो तो ये एक दूसरे को 10 सेकंड में पार कर लेती हैं, परन्तु जब ये एक ही दिशा में जा रही हों, तो तेज चलने वाली ट्रेन धीमे चलने वाली ट्रेन को 40 सेकंड में पार कर लेती हैं। तेज गति से चलने वाली ट्रेन और धीमी गति से चलने वाली ट्रेन की गतियों का अनुपात क्या होगा?

Options :

1. ✘ 4 : 1

2. ✔ 5 : 3

3. ✘ 12 : 11

4. ✘ 17 : 12

Question Number : 117 Question Id : 9983677553 Question Type : MCQ Option Shuffling : Yes

Correct Marks : 1 Wrong Marks : 0.25

The population of a city is increased from 2,50,000 to 3,25,000 in a decade. What is the average percent increase of population per year?

Note: For this question, discrepancy is found in question/answer. So, this question is ignored for all candidates.

Options :

1. 15%

2. 24%

3. 26%

4. 30%

Question Number : 117 Question Id : 9983677553 Question Type : MCQ Option Shuffling : Yes

Correct Marks : 1 Wrong Marks : 0.25

किसी शहर की जनसंख्या एक दशक में 2,50,000 से बढ़कर 3,25,000 हो जाती है। प्रति वर्ष जनसंख्या की औसत प्रतिशत वृद्धि क्या है?

Note: For this question, discrepancy is found in question/answer. So, this question is ignored for all candidates.

Options :

1. 15%

2. 24%

3. 26%

4. 30%

Question Number : 118 Question Id : 9983677554 Question Type : MCQ Option Shuffling : Yes

Correct Marks : 1 Wrong Marks : 0.25

A train having a length of 400 m crosses a bridge of length 800 m. If the speed of the train is 60 km/hr. How much time will the train take to cross the bridge?

Options :

1. ✘ 60 sec

2. ✔ 72 sec

3. ✘ 84 sec

4. ✘ 96 sec

Question Number : 118 Question Id : 9983677554 Question Type : MCQ Option Shuffling : Yes

Correct Marks : 1 Wrong Marks : 0.25

400 m की लंबाई वाली ट्रेन 800 m लंबाई के एक पुल को पार करती है। ट्रेन की गति 60 km/hr है। पुल को पार करने में ट्रेन को कितना समय लगेगा?

Options :

1. ✘ 60 sec

2. ✓ 72 sec

3. ✗ 84 sec

4. ✗ 96 sec

Question Number : 119 Question Id : 9983677555 Question Type : MCQ Option Shuffling : Yes

Correct Marks : 1 Wrong Marks : 0.25

Five students of class X in a school appeared for a test in five different subjects. The following table consists of the marks obtained by them in five different subjects.

Students	Physics (Out of 75)	Mathematics (Out of 100)	Chemistry (Out of 75)	Biology (Out of 75)	English (Out of 150)
A	56	65	45	38	95
B	57	52	62	55	88
C	50	78	70	58	88
D	55	82	65	66	110
E	42	96	64	72	104

Find the difference between the percentage of marks obtained by E in English and that of B in Physics?

Options :

1. ✓ 6.67%

2. ✗ 4.59%

3. ✗ 5.53%

4. ✗ 3.12%

Question Number : 119 Question Id : 9983677555 Question Type : MCQ Option Shuffling : Yes

Correct Marks : 1 Wrong Marks : 0.25

एक स्कूल में दसवीं कक्षा के पांच छात्रों ने, पांच अलग-अलग विषयों की परीक्षाएं दीं। निम्न तालिका में पांच अलग-अलग विषयों में उनके द्वारा प्राप्त अंकों का विवरण दिया गया है।

छात्र	भौतिकी (75 में से)	गणित (100 में से)	रसायन-विज्ञान (75 में से)	जीव-विज्ञान (75 में से)	अंग्रेजी (150 में से)
A	56	65	45	38	95
B	57	52	62	55	88
C	50	78	70	58	88
D	55	82	65	66	110
E	42	96	64	72	104

E के अंग्रेजी और B के भौतिकी में प्राप्त प्रतिशत अंकों के बीच का अंतर क्या होगा?

Options :

1. ✓ 6.67%

2. ✗ 4.59%

3. ✗ 5.53%

4. ✗ 3.12%

Question Number : 120 Question Id : 9983677556 Question Type : MCQ Option Shuffling : Yes

Correct Marks : 1 Wrong Marks : 0.25

Five students of class X in a school appeared for a test in five different subjects. The following table consists of the marks obtained by them in five different subjects.

Students	Physics (Out of 75)	Mathematics (Out of 100)	Chemistry (Out of 75)	Biology (Out of 75)	English (Out of 150)
A	56	65	45	38	95
B	57	52	62	55	88
C	50	78	70	58	88
D	55	82	65	66	110
E	42	96	64	72	104

The marks obtained by A in Chemistry and Biology together is what percent of the marks obtained by D in Physics and Mathematics together?

Options :

1. ✘ 66.23%

2. ✔ 60.58%

3. ✘ 58.34%

4. ✘ 54.32%

Question Number : 120 Question Id : 9983677556 Question Type : MCQ Option Shuffling : Yes

Correct Marks : 1 Wrong Marks : 0.25

एक स्कूल में दसवीं कक्षा के पांच छात्रों ने, पांच अलग-अलग विषयों की परीक्षाएं दीं। निम्न तालिका में पांच अलग-अलग विषयों में उनके द्वारा प्राप्त अंकों का विवरण दिया गया है।

छात्र	भौतिकी (75 में से)	गणित (100 में से)	रसायन-विज्ञान (75 में से)	जीव-विज्ञान (75 में से)	अंग्रेजी (150 में से)
A	56	65	45	38	95
B	57	52	62	55	88
C	50	78	70	58	88
D	55	82	65	66	110
E	42	96	64	72	104

A के रसायन विज्ञान और जीव विज्ञान में प्राप्त कुल अंक, D के भौतिकी और गणित में प्राप्त कुल अंकों का कितना प्रतिशत है?

Options :

1. ✘ 66.23%

2. ✔ 60.58%

3. ✘ 58.34%

4. ✘ 54.32%

General English1

Group Number :	7
Group Id :	998367323
Group Maximum Duration :	0
Group Minimum Duration :	0
Show Attended Group? :	No
Edit Attended Group? :	No
Break time:	0
Group Marks:	20
Is this Group for Examiner?:	No
Revisit allowed for group Instructions? :	Yes
Maximum Instruction Time:	0
Minimum Instruction Time:	0

General English1

Section Id :	998367329
Section Number :	1
Section type :	Online
Mandatory or Optional:	Mandatory
Number of Questions:	20
Number of Questions to be attempted:	20
Section Marks:	20

Sub-Section Number:	1
Sub-Section Id:	998367473
Question Shuffling Allowed :	Yes

Question Number : 121 Question Id : 9983677557 Question Type : MCQ Option Shuffling : Yes
Correct Marks : 1 Wrong Marks : 0.25

Choose the option which is the meaning of the underlined idiom.

Rajiv left no stone unturned in trying to patch up with his wife.

Options :

1. ✖ turning everything upside down
2. ✖ not doing enough
3. ✔ to try everything possible
4. ✖ effort going waste

Question Number : 121 Question Id : 9983677557 Question Type : MCQ Option Shuffling : Yes
Correct Marks : 1 Wrong Marks : 0.25

Choose the option which is the meaning of the underlined idiom.

Rajiv left no stone unturned in trying to patch up with his wife.

Options :

1. ✖ turning everything upside down
2. ✖ not doing enough
3. ✔ to try everything possible
4. ✖ effort going waste

Question Number : 122 Question Id : 9983677558 Question Type : MCQ Option Shuffling : Yes
Correct Marks : 1 Wrong Marks : 0.25

Choose the option which is the meaning of the underlined idiom.

Whenever Tanisha comes home she complains about her mother. I wish she does not air her dirty linen in public.

Options :

1. ✔ to talk about private matters in public
2. ✖ hanging out clothes outside
3. ✖ someone who always complains
4. ✖ someone who is always ready to fight

Question Number : 122 Question Id : 9983677558 Question Type : MCQ Option Shuffling : Yes
Correct Marks : 1 Wrong Marks : 0.25

Choose the option which is the meaning of the underlined idiom.

Whenever Tanisha comes home she complains about her mother. I wish she does not air her dirty linen in public.

Options :

1. ✔ to talk about private matters in public
2. ✖ hanging out clothes outside

3. ✖ someone who always complains
4. ✖ someone who is always ready to fight

Question Number : 123 Question Id : 9983677559 Question Type : MCQ Option Shuffling : Yes
Correct Marks : 1 Wrong Marks : 0.25

Select the option that will improve the underlined part of the sentence. In case there is no improvement needed then select 'No improvement' option.

When I was young, I was afraid from dogs.

Options :

1. ✖ afraid with
2. ✔ afraid of
3. ✖ afraid by
4. ✖ no improvement

Question Number : 123 Question Id : 9983677559 Question Type : MCQ Option Shuffling : Yes
Correct Marks : 1 Wrong Marks : 0.25

Select the option that will improve the underlined part of the sentence. In case there is no improvement needed then select 'No improvement' option.

When I was young, I was afraid from dogs.

Options :

1. ✖ afraid with
2. ✔ afraid of
3. ✖ afraid by
4. ✖ no improvement

Question Number : 124 Question Id : 9983677560 Question Type : MCQ Option Shuffling : Yes
Correct Marks : 1 Wrong Marks : 0.25

Select the option that will improve the underlined part of the sentence. In case there is no improvement needed then select 'No improvement' option.

I will be happy to get rid of these clothes.

Options :

1. ✖ get rid from
2. ✖ get rid by
3. ✖ get rid off
4. ✔ no improvement

Question Number : 124 Question Id : 9983677560 Question Type : MCQ Option Shuffling : Yes
Correct Marks : 1 Wrong Marks : 0.25

Select the option that will improve the underlined part of the sentence. In case there is no improvement needed then select 'No improvement' option.

I will be happy to get rid of these clothes.

Options :

1. ✖ get rid from
2. ✖ get rid by
3. ✖ get rid off
4. ✔ no improvement

Question Number : 125 Question Id : 9983677561 Question Type : MCQ Option Shuffling : Yes
Correct Marks : 1 Wrong Marks : 0.25

Choose the option that is one word substitution for the given phrase.

One who knows everything.

Options :

1. ✘ omnipresent
2. ✘ omnipotent
3. ✘ omnivorous
4. ✔ omniscient

Question Number : 125 Question Id : 9983677561 Question Type : MCQ Option Shuffling : Yes
Correct Marks : 1 Wrong Marks : 0.25

Choose the option that is one word substitution for the given phrase.

One who knows everything.

Options :

1. ✘ omnipresent
2. ✘ omnipotent
3. ✘ omnivorous
4. ✔ omniscient

Question Number : 126 Question Id : 9983677562 Question Type : MCQ Option Shuffling : Yes
Correct Marks : 1 Wrong Marks : 0.25

Choose the correct option to fill in the blanks.

_____ American and _____ European met at _____ restaurant.

Options :

1. ✘ an, an, a

2. ✓ an, a, a

3. ✗ a, an, a

4. ✗ an, an, the

Question Number : 126 Question Id : 9983677562 Question Type : MCQ Option Shuffling : Yes
Correct Marks : 1 Wrong Marks : 0.25

Choose the correct option to fill in the blanks.

_____ American and _____ European met at _____
restaurant.

Options :

1. ✗ an, an, a

2. ✓ an, a, a

3. ✗ a, an, a

4. ✗ an, an, the

Question Number : 127 Question Id : 9983677563 Question Type : MCQ Option Shuffling : Yes
Correct Marks : 1 Wrong Marks : 0.25

Choose the correct option to fill in the blanks.

The days seemed endless and _____ nights were even longer.
We travelled through _____ incredibly beautiful landscape
and came to one of _____ largest lakes, Nam Tso.

Options :

1. ✓ the, an, the

2. ✗ the, a, a

3. ✗ a, an, the

4. ✗ the a, an

Question Number : 127 Question Id : 9983677563 Question Type : MCQ Option Shuffling : Yes

Correct Marks : 1 Wrong Marks : 0.25

Choose the correct option to fill in the blanks.

The days seemed endless and _____ nights were even longer. We travelled through _____ incredibly beautiful landscape and came to one of _____ largest lakes, Nam Tso.

Options :

1. ✓ the, an, the
2. ✗ the, a, a
3. ✗ a, an, the
4. ✗ the a, an

Question Number : 128 Question Id : 9983677564 Question Type : MCQ Option Shuffling : Yes
Correct Marks : 1 Wrong Marks : 0.25

Choose the correct option to fill in the blanks.

We are _____ the hospital to see a friend who has been _____ the hospital _____ Monday.

Options :

1. ✗ before, in, from
2. ✗ into, at, for
3. ✓ at, in, since
4. ✗ at, at, from

Question Number : 128 Question Id : 9983677564 Question Type : MCQ Option Shuffling : Yes
Correct Marks : 1 Wrong Marks : 0.25

Choose the correct option to fill in the blanks.

We are _____ the hospital to see a friend who has been _____ the hospital _____ Monday.

Options :

1. ✘ before, in, from
2. ✘ into, at, for
3. ✔ at, in, since
4. ✘ at, at, from

Question Number : 129 Question Id : 9983677565 Question Type : MCQ Option Shuffling : Yes
Correct Marks : 1 Wrong Marks : 0.25

Choose the correct option to fill in the blanks.

He placed his hand _____ the table, resting his elbows _____ it, and spoke _____ the problem calmly.

Options :

1. ✘ above, in, about
2. ✔ over, upon, about
3. ✘ under, upon, for
4. ✘ over, under, after

Question Number : 129 Question Id : 9983677565 Question Type : MCQ Option Shuffling : Yes
Correct Marks : 1 Wrong Marks : 0.25

Choose the correct option to fill in the blanks.

He placed his hand _____ the table, resting his elbows _____ it, and spoke _____ the problem calmly.

Options :

1. ✖ above, in, about
2. ✔ over, upon, about
3. ✖ under, upon, for
4. ✖ over, under, after

Question Number : 130 Question Id : 9983677566 Question Type : MCQ Option Shuffling : Yes
Correct Marks : 1 Wrong Marks : 0.25

Choose the correct option to fill in the blanks.

Between _____ and _____, _____ is the more sensible one.

Options :

1. ✖ his, her, she
2. ✔ him, her, she
3. ✖ him, she, she
4. ✖ he, she, she

Question Number : 130 Question Id : 9983677566 Question Type : MCQ Option Shuffling : Yes
Correct Marks : 1 Wrong Marks : 0.25

Choose the correct option to fill in the blanks.

Between _____ and _____, _____ is the more sensible one.

Options :

1. ✖ his, her, she
2. ✔ him, her, she
3. ✖ him, she, she
4. ✖ he, she, she

Question Number : 131 Question Id : 9983677567 Question Type : MCQ Option Shuffling : Yes

Correct Marks : 1 Wrong Marks : 0.25

Choose the correct option to fill in the blanks.

Rani came to _____ house, while Gaurav went to _____ and the twins went to _____.

Options :

1. ✖ mine, his, their
2. ✖ ours, their, their
3. ✖ our, his, hers
4. ✔ our, his, theirs

Question Number : 131 Question Id : 9983677567 Question Type : MCQ Option Shuffling : Yes

Correct Marks : 1 Wrong Marks : 0.25

Choose the correct option to fill in the blanks.

Rani came to _____ house, while Gaurav went to _____ and the twins went to _____.

Options :

1. ✖ mine, his, their
2. ✖ ours, their, their
3. ✖ our, his, hers
4. ✔ our, his, theirs

Question Number : 132 Question Id : 9983677568 Question Type : MCQ Option Shuffling : Yes

Correct Marks : 1 Wrong Marks : 0.25

Choose the correct option to fill in the blanks.

_____ I was born abroad, _____ my mother _____ my father were born in India.

Options :

1. ✖ However, either, or
2. ✔ Although, both, and
3. ✖ Although, instead, and
4. ✖ Since, both, and

Question Number : 132 Question Id : 9983677568 Question Type : MCQ Option Shuffling : Yes
Correct Marks : 1 Wrong Marks : 0.25

Choose the correct option to fill in the blanks.

_____ I was born abroad, _____ my mother _____ my father were born in India.

Options :

1. ✖ However, either, or
2. ✔ Although, both, and
3. ✖ Although, instead, and
4. ✖ Since, both, and

Question Number : 133 Question Id : 9983677569 Question Type : MCQ Option Shuffling : Yes
Correct Marks : 1 Wrong Marks : 0.25

Choose the correct option to fill in the blanks.

Umesh is a person _____ likes to do his work honestly, _____ anyone else likes it _____ not.

Options :

1. ✔ who, whether, or
2. ✖ whom, if, or
3. ✖ who, if, or
4. ✖ who, whether, and

Question Number : 133 Question Id : 9983677569 Question Type : MCQ Option Shuffling : Yes

Correct Marks : 1 Wrong Marks : 0.25

Choose the correct option to fill in the blanks.

Umesh is a person _____ likes to do his work honestly,
_____ anyone else likes it _____ not.

Options :

1. ✓ who, whether, or
2. ✗ whom, if, or
3. ✗ who, if, or
4. ✗ who, whether, and

Question Number : 134 Question Id : 9983677570 Question Type : MCQ Option Shuffling : Yes

Correct Marks : 1 Wrong Marks : 0.25

Choose the correct option to fill in the blanks.

Is _____ or _____ bothering you? I can do _____ to help you.

Options :

1. ✗ none, no one, something
2. ✗ some, anyone, anything
3. ✓ someone, anyone, something
4. ✗ somebody, nobody, some

Question Number : 134 Question Id : 9983677570 Question Type : MCQ Option Shuffling : Yes

Correct Marks : 1 Wrong Marks : 0.25

Choose the correct option to fill in the blanks.

Is _____ or _____ bothering you? I can do _____ to
help you.

Options :

1. ✖ none, no one, something
2. ✖ some, anyone, anything
3. ✔ someone, anyone, something
4. ✖ somebody, nobody, some

Question Number : 135 Question Id : 9983677571 Question Type : MCQ Option Shuffling : Yes
Correct Marks : 1 Wrong Marks : 0.25

Choose the correct option to fill in the blanks.

Bring me _____ nuts, _____ ginger and _____ sugar.

Options :

1. ✖ much, a few, some
2. ✖ many, few, much
3. ✖ a little, many, some
4. ✔ some, lots of, a little

Question Number : 135 Question Id : 9983677571 Question Type : MCQ Option Shuffling : Yes
Correct Marks : 1 Wrong Marks : 0.25

Choose the correct option to fill in the blanks.

Bring me _____ nuts, _____ ginger and _____ sugar.

Options :

1. ✖ much, a few, some
2. ✖ many, few, much
3. ✖ a little, many, some
4. ✔ some, lots of, a little

Question Number : 136 Question Id : 9983677572 Question Type : MCQ Option Shuffling : Yes
Correct Marks : 1 Wrong Marks : 0.25

Choose the option which is the correct passive form of the given sentence :

People thought that the earth was flat.

Options :

1. ✓ It was thought by the people that the earth was flat.
2. ✗ It is thought by the people that the earth was flat.
3. ✗ It is thought by the people that the earth is flat.
4. ✗ It had been thought by the people that the earth was flat.

Question Number : 136 Question Id : 9983677572 Question Type : MCQ Option Shuffling : Yes
Correct Marks : 1 Wrong Marks : 0.25

Choose the option which is the correct passive form of the given sentence :

People thought that the earth was flat.

Options :

1. ✓ It was thought by the people that the earth was flat.
2. ✗ It is thought by the people that the earth was flat.
3. ✗ It is thought by the people that the earth is flat.
4. ✗ It had been thought by the people that the earth was flat.

Question Number : 137 Question Id : 9983677573 Question Type : MCQ Option Shuffling : Yes
Correct Marks : 1 Wrong Marks : 0.25

Choose the option which is the correct indirect form of the given sentence :

My mother said, "I am going to be the chief guest for the function tomorrow."

Options :

1. ✖ My mother announced that she is going to be the chief guest for the function the next day.
2. ✔ My mother announced that she was going to be the chief guest for the function the next day.
3. ✖ My mother announced that she was going to be the chief guest for the function tomorrow.
4. ✖ My mother announced that I was going to be the chief guest for the function the next day.

Question Number : 137 Question Id : 9983677573 Question Type : MCQ Option Shuffling : Yes

Correct Marks : 1 Wrong Marks : 0.25

Choose the option which is the correct indirect form of the given sentence :

My mother said, "I am going to be the chief guest for the function tomorrow."

Options :

1. ✖ My mother announced that she is going to be the chief guest for the function the next day.
2. ✔ My mother announced that she was going to be the chief guest for the function the next day.

3. ✖ My mother announced that she was going to be the chief guest for the function tomorrow.

4. ✖ My mother announced that I was going to be the chief guest for the function the next day.

Question Number : 138 Question Id : 9983677574 Question Type : MCQ Option Shuffling : Yes
Correct Marks : 1 Wrong Marks : 0.25

Choose the option that is the correct order of this jumbled sentence.

would apologize/I had/that he/foolishly hoped

Options :

1. ✖ I would apologize had foolishly hoped he that.

2. ✔ I had foolishly hoped that he would apologize.

3. ✖ That he would apologize foolishly I had hoped.

4. ✖ I had he would foolishly hoped that apologize.

Question Number : 138 Question Id : 9983677574 Question Type : MCQ Option Shuffling : Yes
Correct Marks : 1 Wrong Marks : 0.25

Choose the option that is the correct order of this jumbled sentence.

would apologize/I had/that he/foolishly hoped

Options :

1. ✖ I would apologize had foolishly hoped he that.

2. ✔ I had foolishly hoped that he would apologize.

3. ✖ That he would apologize foolishly I had hoped.

4. ✖ I had he would foolishly hoped that apologize.

Question Number : 139 Question Id : 9983677575 Question Type : MCQ Option Shuffling : Yes
Correct Marks : 1 Wrong Marks : 0.25

Choose the option that is the correct order of this jumbled sentence :

we are/meeting you/all looking/forward to

Options :

1. ✖ We are meeting you all looking forward to.
2. ✖ All looking forward to meeting you we are.
3. ✖ We are all looking meeting you forward to.
4. ✔ We are all looking forward to meeting you.

Question Number : 139 Question Id : 9983677575 Question Type : MCQ Option Shuffling : Yes
Correct Marks : 1 Wrong Marks : 0.25

Choose the option that is the correct order of this jumbled sentence :

we are/meeting you/all looking/forward to

Options :

1. ✖ We are meeting you all looking forward to.
2. ✖ All looking forward to meeting you we are.
3. ✖ We are all looking meeting you forward to.
4. ✔ We are all looking forward to meeting you.

Question Number : 140 Question Id : 9983677576 Question Type : MCQ Option Shuffling : Yes
Correct Marks : 1 Wrong Marks : 0.25

Choose the option that is the correct order of this jumbled sentence :

Please raise/ to the mountain/ to go/if you want/your hands

Options :

1. ✖ Please raise if you want to go your hands to the mountain.
2. ✔ Please raise your hands if you want to go to the mountain.
3. ✖ Please raise your hands to go to the mountain if you want.
4. ✖ Please raise your hands to the mountain. if you want to go

Question Number : 140 Question Id : 9983677576 Question Type : MCQ Option Shuffling : Yes
Correct Marks : 1 Wrong Marks : 0.25

Choose the option that is the correct order of this jumbled sentence :

Please raise/ to the mountain/ to go/if you want/your hands

Options :

1. ✖ Please raise if you want to go your hands to the mountain.
2. ✔ Please raise your hands if you want to go to the mountain.
3. ✖ Please raise your hands to go to the mountain if you want.
4. ✖ Please raise your hands to the mountain. if you want to go

General English2

Group Number :	8
Group Id :	998367324
Group Maximum Duration :	0
Group Minimum Duration :	0
Show Attended Group? :	No
Edit Attended Group? :	No
Break time:	0
Group Marks:	20
Is this Group for Examiner?:	No

Revisit allowed for group Instructions? : Yes
Maximum Instruction Time: 0
Minimum Instruction Time: 0

General English2

Section Id : 998367330
Section Number : 1
Section type : Online
Mandatory or Optional: Mandatory
Number of Questions: 12
Number of Questions to be attempted: 12
Section Marks: 20

Sub-Section Number: 1
Sub-Section Id: 998367474
Question Shuffling Allowed : Yes

Question Number : 141 Question Id : 9983677577 Question Type : MCQ Option Shuffling : Yes
Correct Marks : 1 Wrong Marks : 0.25

Choose the option which is the synonym of the given word :

embed

Options :

1. ✖ pull out
2. ✔ insert
3. ✖ dig out
4. ✖ divert

Question Number : 141 Question Id : 9983677577 Question Type : MCQ Option Shuffling : Yes
Correct Marks : 1 Wrong Marks : 0.25

Choose the option which is the synonym of the given word :

embed

Options :

1. ✖ pull out

2. ✓ insert

3. ✗ dig out

4. ✗ divert

Question Number : 142 Question Id : 9983677578 Question Type : MCQ Option Shuffling : Yes
Correct Marks : 1 Wrong Marks : 0.25

Choose the option which is the synonym of the given word :

fortify

Options :

1. ✓ strengthen

2. ✗ formulate

3. ✗ weaken

4. ✗ fasten

Question Number : 142 Question Id : 9983677578 Question Type : MCQ Option Shuffling : Yes
Correct Marks : 1 Wrong Marks : 0.25

Choose the option which is the synonym of the given word :

fortify

Options :

1. ✓ strengthen

2. ✗ formulate

3. ✗ weaken

4. ✗ fasten

Question Number : 143 Question Id : 9983677579 Question Type : MCQ Option Shuffling : Yes
Correct Marks : 1 Wrong Marks : 0.25

Choose the option which is the synonym of the given word :

adhere

Options :

1. ✖ **complicate**
2. ✖ **abandon**
3. ✔ **comply**
4. ✖ **ignore**

Question Number : 143 Question Id : 9983677579 Question Type : MCQ Option Shuffling : Yes

Correct Marks : 1 Wrong Marks : 0.25

Choose the option which is the synonym of the given word :

adhere

Options :

1. ✖ **complicate**
2. ✖ **abandon**
3. ✔ **comply**
4. ✖ **ignore**

Question Number : 144 Question Id : 9983677580 Question Type : MCQ Option Shuffling : Yes

Correct Marks : 1 Wrong Marks : 0.25

Choose the option which is the synonym of the given word :

decadence

Options :

1. ✖ **improvement**
2. ✖ **development**
3. ✔ **degeneration**

4. ✖ rise

Question Number : 144 Question Id : 9983677580 Question Type : MCQ Option Shuffling : Yes
Correct Marks : 1 Wrong Marks : 0.25

Choose the option which is the synonym of the given word :

decadence

Options :

1. ✖ improvement
2. ✖ development
3. ✔ degeneration
4. ✖ rise

Question Number : 145 Question Id : 9983677581 Question Type : MCQ Option Shuffling : Yes
Correct Marks : 1 Wrong Marks : 0.25

Choose the option which is the synonym of the given word :

erode

Options :

1. ✖ preserve
2. ✔ disintegrate
3. ✖ rebuild
4. ✖ restore

Question Number : 145 Question Id : 9983677581 Question Type : MCQ Option Shuffling : Yes
Correct Marks : 1 Wrong Marks : 0.25

Choose the option which is the synonym of the given word :

erode

Options :

1. ✖ preserve
2. ✔ disintegrate
3. ✖ rebuild
4. ✖ restore

Question Number : 146 Question Id : 9983677582 Question Type : MCQ Option Shuffling : Yes
Correct Marks : 1 Wrong Marks : 0.25

Choose the option which is the antonym of the given word :

inception

Options :

1. ✖ commencement
2. ✔ end
3. ✖ growth
4. ✖ precedence

Question Number : 146 Question Id : 9983677582 Question Type : MCQ Option Shuffling : Yes
Correct Marks : 1 Wrong Marks : 0.25

Choose the option which is the antonym of the given word :

inception

Options :

1. ✖ commencement
2. ✔ end
3. ✖ growth
4. ✖ precedence

Question Number : 147 Question Id : 9983677583 Question Type : MCQ Option Shuffling : Yes
Correct Marks : 1 Wrong Marks : 0.25

Choose the option which is the antonym of the given word :

buoyant

Options :

1. ✖ bouncy
2. ✖ resilient
3. ✖ quick
4. ✔ heavy

Question Number : 147 Question Id : 9983677583 Question Type : MCQ Option Shuffling : Yes

Correct Marks : 1 Wrong Marks : 0.25

Choose the option which is the antonym of the given word :

buoyant

Options :

1. ✖ bouncy
2. ✖ resilient
3. ✖ quick
4. ✔ heavy

Question Number : 148 Question Id : 9983677584 Question Type : MCQ Option Shuffling : Yes

Correct Marks : 1 Wrong Marks : 0.25

Choose the option which is the antonym of the given word :

occult

Options :

1. ✔ natural
2. ✖ supernatural
3. ✖ mystery

4. ✖ magic

Question Number : 148 Question Id : 9983677584 Question Type : MCQ Option Shuffling : Yes

Correct Marks : 1 Wrong Marks : 0.25

Choose the option which is the antonym of the given word :

occult

Options :

1. ✔ natural

2. ✖ supernatural

3. ✖ mystery

4. ✖ magic

Question Number : 149 Question Id : 9983677585 Question Type : MCQ Option Shuffling : Yes

Correct Marks : 1 Wrong Marks : 0.25

Choose the option which is the antonym of the given word :

cynical

Options :

1. ✖ doubtful

2. ✖ mocking

3. ✔ trusting

4. ✖ disbelieving

Question Number : 149 Question Id : 9983677585 Question Type : MCQ Option Shuffling : Yes

Correct Marks : 1 Wrong Marks : 0.25

Choose the option which is the antonym of the given word :

cynical

Options :

1. ✖ doubtful
2. ✖ mocking
3. ✔ trusting
4. ✖ disbelieving

Question Number : 150 Question Id : 9983677586 Question Type : MCQ Option Shuffling : Yes
Correct Marks : 1 Wrong Marks : 0.25

Choose the option which is the antonym of the given word :

devious

Options :

1. ✖ insincere
2. ✖ crooked
3. ✖ evasive
4. ✔ forthright

Question Number : 150 Question Id : 9983677586 Question Type : MCQ Option Shuffling : Yes
Correct Marks : 1 Wrong Marks : 0.25

Choose the option which is the antonym of the given word :

devious

Options :

1. ✖ insincere
2. ✖ crooked
3. ✖ evasive
4. ✔ forthright

Question Shuffling Allowed : Yes

Question Id : 9983677587 Question Type : COMPREHENSION Sub Question Shuffling Allowed : Yes Group Comprehension Questions : No

Question Numbers : (151 to 155)

Question Label : Comprehension

Read the following passage and answer the questions that follow:

There seems to be a lot of talk these days about what is fair, and what is not. We clearly have no choice about how we come into this world, we have little choice early in life, but as we grow older choices abound. I have long believed that while we have no control over the beginning of our life, the overwhelming majority of us have the ability to influence the outcomes we attain. Fair is a state of mind, and most often, an unhealthy state of mind.

In business, in politics, and in life, most of us are beneficiaries of the outcomes we have contributed to. Our station in life cannot, or at least should not, be blamed on our parents, our teachers, our pastors, our government, or our society — it's largely based on the choices we make, and the attitudes we adopt. People have overcome poverty, drug addiction, incarceration, abuse, divorce, mental illness, victimization, and virtually every challenge known to man. Life is full of examples of the uneducated, the mentally and physically challenged, people born into war-torn impoverished backgrounds, who could have complained about life being unfair, but who instead chose a different path — they chose to overcome the odds and to leave the world better than they found it. Regardless of the challenges they faced, they had the character to choose contribution over complaint.

I don't dispute that challenges exist. I don't even dispute that many have an uphill battle due to the severity of the challenges they face. What I vehemently dispute is attempting to regulate, adjudicate, or legislate fairness somehow solves the world's problems. Mandates don't create fairness, but people's desire and determination can work around or overcome most life challenges.

It's not the circumstances by which you come into this world, but what you make of them once you arrive that matter. One of my clients came to this country from Africa in his late teens, barely spoke the language, drove a cab while working his way through college, and is now the president of a large technology services firm. Stories such as this are all around us — they are not miracles, nor are they the rare exception. They do however demonstrate blindness to the mindset of the fairness doctrine.

We all face challenges, and life treats us all unfairly.. When I suffered a debilitating stroke at an early age, I certainly asked myself "why did this happen to me?" I could have felt sorry for myself and become bitter, I could have thrown in the towel and quit on my family and myself — I didn't. It took two years of gut-wrenching effort, but what I thought was a great injustice at the time changed my life for the better. Today, you couldn't tell I ever had a stroke. The greatest adversity life can throw at you simply affords you an opportunity to make changes, improve, and get better.

Sub questions

Question Number : 151 Question Id : 9983677588 Question Type : MCQ Option Shuffling : Yes
Correct Marks : 1 Wrong Marks : 0.25

What does the writer think about 'fair'?

Options :

1. ✓ It is a matter of attitude.
2. ✘ It is a matter of fate.
3. ✘ we have control over it.
4. ✘ It is what our parents taught us.

Question Number : 152 Question Id : 9983677589 Question Type : MCQ Option Shuffling : Yes
Correct Marks : 1 Wrong Marks : 0.25

'Contribution over complaint' means:

Options :

1. ✘ using both fair and unfair means
2. ✓ being useful despite all odds
3. ✘ wealth over poverty
4. ✘ fight for fairness

Question Number : 153 Question Id : 9983677590 Question Type : MCQ Option Shuffling : Yes
Correct Marks : 1 Wrong Marks : 0.25

According to the writer which of these is important?

Options :

1. ✘ family one is born into
2. ✘ upbringing during childhood
3. ✘ contribution of teachers, govt and society
4. ✓ What one makes of one's circumstances

Question Number : 154 Question Id : 9983677591 Question Type : MCQ Option Shuffling : Yes
Correct Marks : 1 Wrong Marks : 0.25

'Throw in the towel' means:

Options :

1. ✘ stand up and face the situation

2. ✖ run away from the situation
3. ✖ spend time considering the course of action
4. ✔ give up and admit defeat

Question Number : 155 Question Id : 9983677592 Question Type : MCQ Option Shuffling : Yes
Correct Marks : 1 Wrong Marks : 0.25

‘Today, you couldn’t tell if I ever had a stroke’ from this we can infer that the writer:

Options :

1. ✖ considered the stroke early in life very unfair
2. ✖ blamed his family and his fate for the stroke
3. ✔ used the adverse situation as an opportunity
4. ✖ made a choice that he regretted in life

Question Id : 9983677587 Question Type : COMPREHENSION Sub Question Shuffling Allowed : Yes Group Comprehension Questions : No
Question Numbers : (151 to 155)

Question Label : Comprehension

Read the following passage and answer the questions that follow:

There seems to be a lot of talk these days about what is fair, and what is not. We clearly have no choice about how we come into this world, we have little choice early in life, but as we grow older choices abound. I have long believed that while we have no control over the beginning of our life, the overwhelming majority of us have the ability to influence the outcomes we attain. Fair is a state of mind, and most often, an unhealthy state of mind.

In business, in politics, and in life, most of us are beneficiaries of the outcomes we have contributed to. Our station in life cannot, or at least should not, be blamed on our parents, our teachers, our pastors, our government, or our society – it's largely based on the choices we make, and the attitudes we adopt. People have overcome poverty, drug addiction, incarceration, abuse, divorce, mental illness, victimization, and virtually every challenge known to man. Life is full of examples of the uneducated, the mentally and physically challenged, people born into war-torn impoverished backgrounds, who could have complained about life being unfair, but who instead chose a different path – they chose to overcome the odds and to leave the world better than they found it. Regardless of the challenges they faced, they had the character to choose contribution over complaint.

I don't dispute that challenges exist. I don't even dispute that many have an uphill battle due to the severity of the challenges they face. What I vehemently dispute is attempting to regulate, adjudicate, or legislate fairness somehow solves the world's problems. Mandates don't create fairness, but people's desire and determination can work around or overcome most life challenges.

It's not the circumstances by which you come into this world, but what you make of them once you arrive that matter. One of my clients came to this country from Africa in his late teens, barely spoke the language, drove a cab while working his way through college, and is now the president of a large technology services firm. Stories such as this are all around us – they are not miracles, nor are they the rare exception. They do however demonstrate blindness to the mindset of the fairness doctrine.

We all face challenges, and life treats us all unfairly.. When I suffered a debilitating stroke at an early age, I certainly asked myself "why did this happen to me?" I could have felt sorry for myself and became bitter, I could have thrown in the towel and quit on my family and myself – I didn't. It took two years of gut-wrenching effort, but what I thought was a great injustice at the time changed my life for the better. Today, you couldn't tell I ever had a stroke. The greatest adversity life can throw at you simply affords you an opportunity to make changes, improve, and get better.

Sub questions

Question Number : 151 Question Id : 9983677588 Question Type : MCQ Option Shuffling : Yes
Correct Marks : 1 Wrong Marks : 0.25

What does the writer think about 'fair'?

Options :

1. ✓ It is a matter of attitude.
2. ✗ It is a matter of fate.
3. ✗ we have control over it.
4. ✗ It is what our parents taught us.

Question Number : 152 Question Id : 9983677589 Question Type : MCQ Option Shuffling : Yes
Correct Marks : 1 Wrong Marks : 0.25

'Contribution over complaint' means:

Options :

1. ✗ using both fair and unfair means
2. ✓ being useful despite all odds
3. ✗ wealth over poverty
4. ✗ fight for fairness

Question Number : 153 Question Id : 9983677590 Question Type : MCQ Option Shuffling : Yes
Correct Marks : 1 Wrong Marks : 0.25

According to the writer which of these is important?

Options :

1. ✗ family one is born into
2. ✗ upbringing during childhood
3. ✗ contribution of teachers, govt and society
4. ✓ What one makes of one's circumstances

Question Number : 154 Question Id : 9983677591 Question Type : MCQ Option Shuffling : Yes
Correct Marks : 1 Wrong Marks : 0.25

'Throw in the towel' means:

Options :

1. ✖ stand up and face the situation
2. ✖ run away from the situation
3. ✖ spend time considering the course of action
4. ✔ give up and admit defeat

Question Number : 155 Question Id : 9983677592 Question Type : MCQ Option Shuffling : Yes
Correct Marks : 1 Wrong Marks : 0.25

'Today, you couldn't tell if I ever had a stroke' from this we can infer that the writer:

Options :

1. ✖ considered the stroke early in life very unfair
2. ✖ blamed his family and his fate for the stroke
3. ✔ used the adverse situation as an opportunity
4. ✖ made a choice that he regretted in life

Sub-Section Number:	3
Sub-Section Id:	998367476
Question Shuffling Allowed :	Yes

Question Id : 9983677593 Question Type : COMPREHENSION Sub Question Shuffling Allowed : Yes Group Comprehension Questions : No

Question Numbers : (156 to 160)

Question Label : Comprehension

Read the following passage and answer the questions that follow :

One of the talks from the TED2 stage in Long Beach, Calif., this week came from Richard Turere, an inventor. He is a Maasai from Kenya. And he's 13.

"From ages 6 to 9, I started looking after my father's cows," Richard says. "I'd take them out in the morning and bring them back in the evening. We put them in a small cow shed at night," and that's when the trouble would start. Lions would jump in the shed and kill the cows, which are enclosed and an easy target.

Lions are the top tourist attraction to Kenya, especially in the Nairobi National Park, which is near where Richard lives. Lions are also considered critically endangered in Kenya. The Kenya Wildlife Service estimates there are just 2,000 lions left in the country. One of the main causes of their demise, "is that people kill them in retaliation for lions attacking their livestock," says Paula Kahumbu, executive director of Wildlife Direct, a wildlife conservation organization in Africa.

She has been studying the conflict between humans and lions, and her work led her to Richard. In one week, she monitored over 50 cases where lions attacked livestock. "It's a very, very serious problem," she says.

One night he was walking around with a flashlight and discovered the lions were scared of a moving light. A light went on inside him and an idea was born.

Three weeks and much tinkering later, Richard had invented a system of lights that flash around the cow shed, mimicking a human walking around with a flashlight. His system is made from broken flashlight parts and an indicator box from a motorcycle.

"The only thing I bought was a solar panel," which charges a battery that supplies power to the lights at night, Richard says. He calls the system Lion Lights.

"There have been a lot of efforts to try to protect the lions," Kahumbu says. "It's a crisis and everyone is looking for a solution. One idea was land leases, another was lion-proof fences. And basically no one even knew that Richard had already come up with something that worked."

His simple solution was so successful, his neighbors heard about it and wanted Lion Lights, too. He installed the lights for them and for six other homes in his community. From there, the lights spread and are now being used all around Kenya. Someone in India is trying them out for tigers. In Zambia and Tanzania they're being used, as well.

To get to the TED stage, Richard traveled on an airplane for the first time in his life. He says he has a lot to tell his friends about when he goes back home, and among the scholars and prize winners, scientists and poets, what impressed him the most on his trip was something he saw at the nearby Aquarium of the Pacific: "It was my first time seeing a shark. I've never seen a shark."

Sub questions

Question Number : 156 Question Id : 9983677594 Question Type : MCQ Option Shuffling : Yes

Correct Marks : 1 Wrong Marks : 0.25

Why were the cows an easy target?

Options :

1. ✖ They were not as fast as the lions.
2. ✔ There was no way to escape from the enclosure.
3. ✖ They were too scared to escape.
4. ✖ They did not know that the lions would attack them.

Question Number : 157 Question Id : 9983677595 Question Type : MCQ Option Shuffling : Yes

Correct Marks : 1 Wrong Marks : 0.25

“It is a very serious problem.’ What problem is being referred to here?

Options :

1. ✖ people killing the lions
2. ✔ lions attacking the livestock
3. ✖ lions becoming endangered
4. ✖ lions being the top tourist attraction

Question Number : 158 Question Id : 9983677596 Question Type : MCQ Option Shuffling : Yes

Correct Marks : 1 Wrong Marks : 0.25

What are lion lights?

Options :

1. ✖ powerful lights to frighten the lions
2. ✖ lights in the cowshed
3. ✔ lights that seem like humans with flash lights
4. ✖ lights that show the movements of the lions at night.

Question Number : 159 Question Id : 9983677597 Question Type : MCQ Option Shuffling : Yes

Correct Marks : 1 Wrong Marks : 0.25

‘the lights spread’ means:

Options :

1. ✓ The lion lights started being used in many countries.
2. ✖ The light from the lion lights covered a large area.
3. ✖ The lights lit six other homes in Richard's community.
4. ✖ The lights helped Richard travel at night.

Question Number : 160 Question Id : 9983677598 Question Type : MCQ Option Shuffling : Yes
Correct Marks : 1 Wrong Marks : 0.25

Which of these qualities is NOT applicable to Richard?

Options :

1. ✖ simple
2. ✖ enterprising
3. ✖ creative
4. ✓ complacent

Question Id : 9983677593 Question Type : COMPREHENSION Sub Question Shuffling Allowed : Yes Group Comprehension Questions : No

Question Numbers : (156 to 160)

Question Label : Comprehension

Read the following passage and answer the questions that follow :

One of the talks from the TED2 stage in Long Beach, Calif., this week came from Richard Turere, an inventor. He is a Maasai from Kenya. And he's 13.

"From ages 6 to 9, I started looking after my father's cows," Richard says. "I'd take them out in the morning and bring them back in the evening. We put them in a small cow shed at night," and that's when the trouble would start. Lions would jump in the shed and kill the cows, which are enclosed and an easy target.

Lions are the top tourist attraction to Kenya, especially in the Nairobi National Park, which is near where Richard lives. Lions are also considered critically endangered in Kenya. The Kenya Wildlife Service estimates there are just 2,000 lions left in the country. One of the main causes of their demise, "is that people kill them in retaliation for lions attacking their livestock," says Paula Kahumbu, executive director of Wildlife Direct, a wildlife conservation organization in Africa.

She has been studying the conflict between humans and lions, and her work led her to Richard. In one week, she monitored over 50 cases where lions attacked livestock. "It's a very, very serious problem," she says.

One night he was walking around with a flashlight and discovered the lions were scared of a moving light. A light went on inside him and an idea was born.

Three weeks and much tinkering later, Richard had invented a system of lights that flash around the cow shed, mimicking a human walking around with a flashlight. His system is made from broken flashlight parts and an indicator box from a motorcycle.

"The only thing I bought was a solar panel," which charges a battery that supplies power to the lights at night, Richard says. He calls the system Lion Lights.

"There have been a lot of efforts to try to protect the lions," Kahumbu says. "It's a crisis and everyone is looking for a solution. One idea was land leases, another was lion-proof fences. And basically no one even knew that Richard had already come up with something that worked."

His simple solution was so successful, his neighbors heard about it and wanted Lion Lights, too. He installed the lights for them and for six other homes in his community. From there, the lights spread and are now being used all around Kenya. Someone in India is trying them out for tigers. In Zambia and Tanzania they're being used, as well.

To get to the TED stage, Richard traveled on an airplane for the first time in his life. He says he has a lot to tell his friends about when he goes back home, and among the scholars and prize winners, scientists and poets, what impressed him the most on his trip was something he saw at the nearby Aquarium of the Pacific: "It was my first time seeing a shark. I've never seen a shark."

Sub questions

Question Number : 156 Question Id : 9983677594 Question Type : MCQ Option Shuffling : Yes
Correct Marks : 1 Wrong Marks : 0.25

Why were the cows an easy target?

Options :

1. ✘ They were not as fast as the lions.
2. ✔ There was no way to escape from the enclosure.
3. ✘ They were too scared to escape.
4. ✘ They did not know that the lions would attack them.

Question Number : 157 Question Id : 9983677595 Question Type : MCQ Option Shuffling : Yes
Correct Marks : 1 Wrong Marks : 0.25

“It is a very serious problem.’ What problem is being referred to here?

Options :

1. ✘ people killing the lions
2. ✔ lions attacking the livestock
3. ✘ lions becoming endangered
4. ✘ lions being the top tourist attraction

Question Number : 158 Question Id : 9983677596 Question Type : MCQ Option Shuffling : Yes
Correct Marks : 1 Wrong Marks : 0.25

What are lion lights?

Options :

1. ✘ powerful lights to frighten the lions
2. ✘ lights in the cowshed
3. ✔ lights that seem like humans with flash lights
4. ✘ lights that show the movements of the lions at night.

Question Number : 159 Question Id : 9983677597 Question Type : MCQ Option Shuffling : Yes
Correct Marks : 1 Wrong Marks : 0.25

'the lights spread' means:

Options :

1. ✓ The lion lights started being used in many countries.
2. ✗ The light from the lion lights covered a large area.
3. ✗ The lights lit six other homes in Richard's community.
4. ✗ The lights helped Richard travel at night.

Question Number : 160 Question Id : 9983677598 Question Type : MCQ Option Shuffling : Yes
Correct Marks : 1 Wrong Marks : 0.25

Which of these qualities is NOT applicable to Richard?

Options :

1. ✗ simple
2. ✗ enterprising
3. ✗ creative
4. ✓ complacent

General Hindi1

Group Number :	9
Group Id :	998367325
Group Maximum Duration :	0
Group Minimum Duration :	0
Show Attended Group? :	No
Edit Attended Group? :	No
Break time:	0
Group Marks:	20
Is this Group for Examiner?:	No
Revisit allowed for group Instructions? :	Yes
Maximum Instruction Time:	0
Minimum Instruction Time:	0

General Hindi1

Section Id :	998367331
Section Number :	1
Section type :	Online
Mandatory or Optional:	Mandatory
Number of Questions:	20
Number of Questions to be attempted:	20
Section Marks:	20

Sub-Section Number:	1
Sub-Section Id:	998367477
Question Shuffling Allowed :	Yes

Question Number : 161 Question Id : 9983677599 Question Type : MCQ Option Shuffling : Yes
Correct Marks : 1 Wrong Marks : 0.25

‘सरकार’ कैसा शब्द है?

Options :

1. ✓ विदेशी
2. * देशज
3. * तद्भव
4. * तत्सम

Question Number : 161 Question Id : 9983677599 Question Type : MCQ Option Shuffling : Yes
Correct Marks : 1 Wrong Marks : 0.25

‘सरकार’ कैसा शब्द है?

Options :

1. ✓ विदेशी
2. * देशज
3. * तद्भव
4. * तत्सम

Question Number : 162 Question Id : 9983677600 Question Type : MCQ Option Shuffling : Yes
Correct Marks : 1 Wrong Marks : 0.25

निम्न में से कौन सा शब्द तद्भव है?

Options :

1. * चक्र
2. * चन्द्र

3. ✓ चना

4. ✘ चूर्ण

Question Number : 162 Question Id : 9983677600 Question Type : MCQ Option Shuffling : Yes
Correct Marks : 1 Wrong Marks : 0.25

निम्न में से कौन सा शब्द तद्भव है?

Options :

1. ✘ चक्र

2. ✘ चन्द्र

3. ✓ चना

4. ✘ चूर्ण

Question Number : 163 Question Id : 9983677601 Question Type : MCQ Option Shuffling : Yes
Correct Marks : 1 Wrong Marks : 0.25

निम्न में से कौन सा शब्द तत्सम है?

Options :

1. ✘ नीम

2. ✘ पंख

3. ✘ प्यास

4. ✓ पक्षी

Question Number : 163 Question Id : 9983677601 Question Type : MCQ Option Shuffling : Yes
Correct Marks : 1 Wrong Marks : 0.25

निम्न में से कौन सा शब्द तत्सम है?

Options :

1. ✘ नीम

2. ✘ पंख

3. ✘ प्यास

4. ✓ पक्षी

Question Number : 164 Question Id : 9983677602 Question Type : MCQ Option Shuffling : Yes
Correct Marks : 1 Wrong Marks : 0.25

निम्न में शुद्ध वर्तनी वाला शब्द है:

Options :

1. * प्रारंभीक
2. ✓ प्रारंभिक
3. * प्ररंभिक
4. * प्ररंभीक

Question Number : 164 Question Id : 9983677602 Question Type : MCQ Option Shuffling : Yes

Correct Marks : 1 Wrong Marks : 0.25

निम्न में शुद्ध वर्तनी वाला शब्द है:

Options :

1. * प्रारंभीक
2. ✓ प्रारंभिक
3. * प्ररंभिक
4. * प्ररंभीक

Question Number : 165 Question Id : 9983677603 Question Type : MCQ Option Shuffling : Yes

Correct Marks : 1 Wrong Marks : 0.25

‘अंस – अंश’ शब्द युग्म का सही अर्थ है:

Options :

1. * हिस्सा – कन्धा
2. ✓ कन्धा – हिस्सा
3. * कन्धा – कोण
4. * भाग्य – हिस्सा

Question Number : 165 Question Id : 9983677603 Question Type : MCQ Option Shuffling : Yes

Correct Marks : 1 Wrong Marks : 0.25

‘अंस - अंश’ शब्द युग्म का सही अर्थ है:

Options :

1. * हिस्सा - कन्धा
2. ✓ कन्धा - हिस्सा

3. * कन्धा - कोण

4. * भाग्य - हिस्सा

Question Number : 166 Question Id : 9983677604 Question Type : MCQ Option Shuffling : Yes

Correct Marks : 1 Wrong Marks : 0.25

‘गरमी’ किस प्रकार की संज्ञा है?

Options :

1. * व्यक्तिवाचक

2. * जातिवाचक

3. * पदार्थवाचक

4. ✓ भाववाचक

Question Number : 166 Question Id : 9983677604 Question Type : MCQ Option Shuffling : Yes

Correct Marks : 1 Wrong Marks : 0.25

‘गरमी’ किस प्रकार की संज्ञा है?

Options :

1. * व्यक्तिवाचक

2. * जातिवाचक

3. * पदार्थवाचक

4. ✓ भाववाचक

Question Number : 167 Question Id : 9983677605 Question Type : MCQ Option Shuffling : Yes

Correct Marks : 1 Wrong Marks : 0.25

‘यह’ सर्वनाम का गुणवाचक विशेषण है?

Options :

1. ✓ ऐसा

2. * वैसा

3. * इतना

4. * उतना

Question Number : 167 Question Id : 9983677605 Question Type : MCQ Option Shuffling : Yes

Correct Marks : 1 Wrong Marks : 0.25

‘यह’ सर्वनाम का गुणवाचक विशेषण है?

Options :

1. ✓ ऐसा
2. ✘ वैसा
3. ✘ इतना
4. ✘ उतना

Question Number : 168 Question Id : 9983677606 Question Type : MCQ Option Shuffling : Yes
Correct Marks : 1 Wrong Marks : 0.25

‘आगामी’ किस प्रकार का विशेषण है?

Options :

1. ✘ सार्वनामिक
2. ✘ संख्यावाचक
3. ✓ गुणवाचक
4. ✘ परिमाण बोधक

Question Number : 168 Question Id : 9983677606 Question Type : MCQ Option Shuffling : Yes
Correct Marks : 1 Wrong Marks : 0.25

‘आगामी’ किस प्रकार का विशेषण है?

Options :

1. ✘ सार्वनामिक
2. ✘ संख्यावाचक
3. ✓ गुणवाचक
4. ✘ परिमाण बोधक

Question Number : 169 Question Id : 9983677607 Question Type : MCQ Option Shuffling : Yes
Correct Marks : 1 Wrong Marks : 0.25

निम्न में प्रेरणार्थक क्रिया है:

Options :

1. ✘ चमकना
2. ✓ समझाना

3. * छूना

4. * देना

Question Number : 169 Question Id : 9983677607 Question Type : MCQ Option Shuffling : Yes
Correct Marks : 1 Wrong Marks : 0.25

Question Number : 170 Question Id : 9983677608 Question Type : MCQ Option Shuffling : Yes
Correct Marks : 1 Wrong Marks : 0.25

‘यह काम आप कभी भी कर सकते हैं।’ वाक्य में क्रिया विशेषण है:

Options :

1. * यह काम

2. * आप

3. ✓ कभी भी

4. * कर सकते हैं

Question Number : 170 Question Id : 9983677608 Question Type : MCQ Option Shuffling : Yes
Correct Marks : 1 Wrong Marks : 0.25

‘यह काम आप कभी भी कर सकते हैं।’ वाक्य में क्रिया विशेषण है:

Options :

1. * यह काम

2. * आप

3. ✓ कभी भी

4. * कर सकते हैं

Question Number : 171 Question Id : 9983677609 Question Type : MCQ Option Shuffling : Yes
Correct Marks : 1 Wrong Marks : 0.25

‘संतोष’ का संधि विच्छेद होगा:

Options :

1. * सन् + तोष

2. * सन + तोष

3. * सम + तोष

4. ✓ सम् + तोष

Question Number : 171 Question Id : 9983677609 Question Type : MCQ Option Shuffling : Yes

Correct Marks : 1 Wrong Marks : 0.25

‘संतोष’ का संधि विच्छेद होगा:

Options :

1. * सन् + तोष
2. * सन + तोष
3. * सम + तोष
4. ✓ सम् + तोष

Question Number : 172 Question Id : 9983677610 Question Type : MCQ Option Shuffling : Yes

Correct Marks : 1 Wrong Marks : 0.25

‘मुद्राराक्षस’ में कौन सा समास है?

Options :

1. ✓ बहुव्रीहि
2. * तत्पुरुष
3. * द्वंद्व
4. * अव्ययीभाव

Question Number : 172 Question Id : 9983677610 Question Type : MCQ Option Shuffling : Yes

Correct Marks : 1 Wrong Marks : 0.25

‘मुद्राराक्षस’ में कौन सा समास है?

Options :

1. ✓ बहुव्रीहि
2. * तत्पुरुष
3. * द्वंद्व
4. * अव्ययीभाव

Question Number : 173 Question Id : 9983677611 Question Type : MCQ Option Shuffling : Yes

Correct Marks : 1 Wrong Marks : 0.25

‘परावर्तन’ में किस उपसर्ग का प्रयोग हुआ है?

Options :

1. * प

2. ✖ पर

3. ✔ परा

4. ✖ वर्तन

Question Number : 173 Question Id : 9983677611 Question Type : MCQ Option Shuffling : Yes
Correct Marks : 1 Wrong Marks : 0.25

‘परावर्तन’ में किस उपसर्ग का प्रयोग हुआ है?

Options :

1. ✖ प

2. ✖ पर

3. ✔ परा

4. ✖ वर्तन

Question Number : 174 Question Id : 9983677612 Question Type : MCQ Option Shuffling : Yes
Correct Marks : 1 Wrong Marks : 0.25

‘अग्रिम’ में किस प्रत्यय का प्रयोग हुआ है?

Options :

1. ✖ म

2. ✔ इम

3. ✖ ग्रिम

4. ✖ अ

Question Number : 174 Question Id : 9983677612 Question Type : MCQ Option Shuffling : Yes
Correct Marks : 1 Wrong Marks : 0.25

‘अग्रिम’ में किस प्रत्यय का प्रयोग हुआ है?

Options :

1. ✖ म

2. ✔ इम

3. ✖ ग्रिम

4. ✖ अ

Question Number : 175 Question Id : 9983677613 Question Type : MCQ Option Shuffling : Yes
Correct Marks : 1 Wrong Marks : 0.25

निम्न में से कौन सा शब्द स्त्रीलिंग है?

Options :

1. ✓ कसरत
2. ✗ कलह
3. ✗ कवित्त
4. ✗ कवच

Question Number : 175 Question Id : 9983677613 Question Type : MCQ Option Shuffling : Yes
Correct Marks : 1 Wrong Marks : 0.25

निम्न में से कौन सा शब्द स्त्रीलिंग है?

Options :

1. ✓ कसरत
2. ✗ कलह
3. ✗ कवित्त
4. ✗ कवच

Question Number : 176 Question Id : 9983677614 Question Type : MCQ Option Shuffling : Yes
Correct Marks : 1 Wrong Marks : 0.25

‘इतने धनी मानी व्यक्ति’ किस पदबन्ध का उदाहरण है?

Options :

1. ✗ क्रिया पदबन्ध
2. ✗ विशेषण पदबन्ध
3. ✗ सर्वनाम पदबन्ध
4. ✓ संज्ञा पदबन्ध

Question Number : 176 Question Id : 9983677614 Question Type : MCQ Option Shuffling : Yes
Correct Marks : 1 Wrong Marks : 0.25

‘इतने धनी मानी व्यक्ति’ किस पदबन्ध का उदाहरण है?

Options :

1. ✗ क्रिया पदबन्ध

2. * विशेषण पदबन्ध

3. * सर्वनाम पदबन्ध

4. ✓ संज्ञा पदबन्ध

Question Number : 177 Question Id : 9983677615 Question Type : MCQ Option Shuffling : Yes

Correct Marks : 1 Wrong Marks : 0.25

‘जहाँ वर्षा होती है, वहाँ फसल अच्छी होती है।’ वाक्य में ‘जहाँ वर्षा होती है’ किस प्रकार का उपवाक्य है?

Options :

1. ✓ क्रिया विशेषण उपवाक्य

2. * विशेषण उपवाक्य

3. * क्रिया उपवाक्य

4. * संज्ञा उपवाक्य

Question Number : 177 Question Id : 9983677615 Question Type : MCQ Option Shuffling : Yes

Correct Marks : 1 Wrong Marks : 0.25

‘जहाँ वर्षा होती है, वहाँ फसल अच्छी होती है।’ वाक्य में ‘जहाँ वर्षा होती है’ किस प्रकार का उपवाक्य है?

Options :

1. ✓ क्रिया विशेषण उपवाक्य

2. * विशेषण उपवाक्य

3. * क्रिया उपवाक्य

4. * संज्ञा उपवाक्य

Question Number : 178 Question Id : 9983677616 Question Type : MCQ Option Shuffling : Yes

Correct Marks : 1 Wrong Marks : 0.25

‘उसने खाना खाया और उसकी भूख मिट गयी।’ किस प्रकार का वाक्य है?

Options :

1. * उपवाक्य

2. * सरल वाक्य

3. * मिश्र वाक्य

4. ✓ संयुक्त वाक्य

Question Number : 178 Question Id : 9983677616 Question Type : MCQ Option Shuffling : Yes
Correct Marks : 1 Wrong Marks : 0.25

‘उसने खाना खाया और उसकी भूख मिट गयी।’ किस प्रकार का वाक्य है?

Options :

1. * उपवाक्य
2. * सरल वाक्य
3. * मिश्र वाक्य
4. ✓ संयुक्त वाक्य

Question Number : 179 Question Id : 9983677617 Question Type : MCQ Option Shuffling : Yes
Correct Marks : 1 Wrong Marks : 0.25

पदक्रम की दृष्टि से कौन सा वाक्य शुद्ध है?

Options :

1. * अच्छे लड़के बोलते हैं धीरे-धीरे।
2. ✓ अच्छे लड़के धीरे-धीरे बोलते हैं।
3. * धीरे-धीरे बोलते हैं अच्छे लड़के।
4. * अच्छे लड़के धीरे-धीरे हैं बोलते।

Question Number : 179 Question Id : 9983677617 Question Type : MCQ Option Shuffling : Yes
Correct Marks : 1 Wrong Marks : 0.25

पदक्रम की दृष्टि से कौन सा वाक्य शुद्ध है?

Options :

1. * अच्छे लड़के बोलते हैं धीरे-धीरे।
2. ✓ अच्छे लड़के धीरे-धीरे बोलते हैं।
3. * धीरे-धीरे बोलते हैं अच्छे लड़के।
4. * अच्छे लड़के धीरे-धीरे हैं बोलते।

Question Number : 180 Question Id : 9983677618 Question Type : MCQ Option Shuffling : Yes
Correct Marks : 1 Wrong Marks : 0.25

अन्वय की दृष्टि से कौन सा वाक्य शुद्ध है?

Options :

1. * प्रत्येक व्यक्ति जीने चाहते हैं।
2. * प्रत्येक व्यक्ति जीना चाहते हैं।
3. ✓ प्रत्येक व्यक्ति जीना चाहता है।
4. * प्रत्येक व्यक्ति जीना चाहती है।

Question Number : 180 Question Id : 9983677618 Question Type : MCQ Option Shuffling : Yes

Correct Marks : 1 Wrong Marks : 0.25

अन्वय की दृष्टि से कौन सा वाक्य शुद्ध है?

Options :

1. * प्रत्येक व्यक्ति जीने चाहते हैं।
2. * प्रत्येक व्यक्ति जीना चाहते हैं।
3. ✓ प्रत्येक व्यक्ति जीना चाहता है।
4. * प्रत्येक व्यक्ति जीना चाहती है।

General Hindi2

Group Number :	10
Group Id :	998367326
Group Maximum Duration :	0
Group Minimum Duration :	120
Show Attended Group? :	No
Edit Attended Group? :	No
Break time:	0
Group Marks:	20
Is this Group for Examiner? :	No
Revisit allowed for group Instructions? :	Yes
Maximum Instruction Time:	0
Minimum Instruction Time:	0

General Hindi2

Section Id :	998367332
Section Number :	1
Section type :	Online
Mandatory or Optional:	Mandatory
Number of Questions:	12

Number of Questions to be attempted: 12
Section Marks: 20

Sub-Section Number: 1
Sub-Section Id: 998367478
Question Shuffling Allowed : Yes

Question Number : 181 Question Id : 9983677619 Question Type : MCQ Option Shuffling : Yes
Correct Marks : 1 Wrong Marks : 0.25

‘अग्नि’ का पर्यायवाची है?

Options :

1. * क्षिति
2. * अनिल
3. ✓ पावक
4. * वसन

Question Number : 181 Question Id : 9983677619 Question Type : MCQ Option Shuffling : Yes
Correct Marks : 1 Wrong Marks : 0.25

‘अग्नि’ का पर्यायवाची है?

Options :

1. * क्षिति
2. * अनिल
3. ✓ पावक
4. * वसन

Question Number : 182 Question Id : 9983677620 Question Type : MCQ Option Shuffling : Yes
Correct Marks : 1 Wrong Marks : 0.25

‘पुत्र’ का पर्यायवाची नहीं है:

Options :

1. * तनय
2. * तनुज
3. * सुत
4. ✓ वल्लभ

Question Number : 182 Question Id : 9983677620 Question Type : MCQ Option Shuffling : Yes
Correct Marks : 1 Wrong Marks : 0.25

‘पुत्र’ का पर्यायवाची नहीं है:

Options :

1. ✖ तनय
2. ✖ तनुज
3. ✖ सुत
4. ✔ वल्लभ

Question Number : 183 Question Id : 9983677621 Question Type : MCQ Option Shuffling : Yes
Correct Marks : 1 Wrong Marks : 0.25

‘मार्तण्ड’ किसका पर्यायवाची है?

Options :

1. ✔ सूर्य
2. ✖ चन्द्र
3. ✖ समुद्र
4. ✖ बादल

Question Number : 183 Question Id : 9983677621 Question Type : MCQ Option Shuffling : Yes
Correct Marks : 1 Wrong Marks : 0.25

‘मार्तण्ड’ किसका पर्यायवाची है?

Options :

1. ✔ सूर्य
2. ✖ चन्द्र
3. ✖ समुद्र
4. ✖ बादल

Question Number : 184 Question Id : 9983677622 Question Type : MCQ Option Shuffling : Yes
Correct Marks : 1 Wrong Marks : 0.25

‘कालिन्दी’ किसका पर्यायवाची है?

Options :

1. ✖ गंगा

2. ✓ यमुना

3. ✘ नदी

4. ✘ धरती

Question Number : 184 Question Id : 9983677622 Question Type : MCQ Option Shuffling : Yes
Correct Marks : 1 Wrong Marks : 0.25

‘कालिन्दी’ किसका पर्यायवाची है?

Options :

1. ✘ गंगा

2. ✓ यमुना

3. ✘ नदी

4. ✘ धरती

Question Number : 185 Question Id : 9983677623 Question Type : MCQ Option Shuffling : Yes
Correct Marks : 1 Wrong Marks : 0.25

‘हरि’ किसका पर्यायवाची नहीं है?

Options :

1. ✘ सर्प

2. ✘ मेढक

3. ✘ घोड़ा

4. ✓ हिरण

Question Number : 185 Question Id : 9983677623 Question Type : MCQ Option Shuffling : Yes
Correct Marks : 1 Wrong Marks : 0.25

‘हरि’ किसका पर्यायवाची नहीं है?

Options :

1. ✘ सर्प

2. ✘ मेढक

3. ✘ घोड़ा

4. ✓ हिरण

Question Number : 186 Question Id : 9983677624 Question Type : MCQ Option Shuffling : Yes
Correct Marks : 1 Wrong Marks : 0.25

‘आस्तिक’ का विलोम शब्द है:

Options :

1. * स्वास्तिक
2. ✓ नास्तिक
3. * प्राश्निक
4. * दुराग्रही

Question Number : 186 Question Id : 9983677624 Question Type : MCQ Option Shuffling : Yes
Correct Marks : 1 Wrong Marks : 0.25

‘आस्तिक’ का विलोम शब्द है:

Options :

1. * स्वास्तिक
2. ✓ नास्तिक
3. * प्राश्निक
4. * दुराग्रही

Question Number : 187 Question Id : 9983677625 Question Type : MCQ Option Shuffling : Yes
Correct Marks : 1 Wrong Marks : 0.25

‘अग्र’ का विलोम होगा:

Options :

1. * अग्रिम
2. ✓ पश्च
3. * निम्न
4. * उच्च

Question Number : 187 Question Id : 9983677625 Question Type : MCQ Option Shuffling : Yes
Correct Marks : 1 Wrong Marks : 0.25

‘अग्र’ का विलोम होगा:

Options :

1. * अग्रिम

2. ✓ पश्च

3. ✘ निम्न

4. ✘ उच्च

Question Number : 188 Question Id : 9983677626 Question Type : MCQ Option Shuffling : Yes
Correct Marks : 1 Wrong Marks : 0.25

‘अर्पण’ किसका विलोम है?

Options :

1. ✓ ग्रहण

2. ✘ त्याग

3. ✘ दर्पण

4. ✘ कृपण

Question Number : 188 Question Id : 9983677626 Question Type : MCQ Option Shuffling : Yes
Correct Marks : 1 Wrong Marks : 0.25

‘अर्पण’ किसका विलोम है?

Options :

1. ✓ ग्रहण

2. ✘ त्याग

3. ✘ दर्पण

4. ✘ कृपण

Question Number : 189 Question Id : 9983677627 Question Type : MCQ Option Shuffling : Yes
Correct Marks : 1 Wrong Marks : 0.25

‘स्वतन्त्रता प्राकृतिक अधिकार है।’ पंक्ति के रेखांकित शब्द का विलोम होगा:

Options :

1. ✘ नैसर्गिक

2. ✘ अनिवार्य

3. ✘ भौतिक

4. ✓ कृत्रिम

Question Number : 189 Question Id : 9983677627 Question Type : MCQ Option Shuffling : Yes

Correct Marks : 1 Wrong Marks : 0.25

‘स्वतन्त्रता प्राकृतिक अधिकार है।’ पंक्ति के रेखांकित शब्द का विलोम होगा:

Options :

1. * नैसर्गिक
2. * अनिवार्य
3. * भौतिक
4. ✓ कृत्रिम

Question Number : 190 Question Id : 9983677628 Question Type : MCQ Option Shuffling : Yes

Correct Marks : 1 Wrong Marks : 0.25

‘निर्मल’ का विलोम है:

Options :

1. * उज्वल
2. ✓ मलिन
3. * शीतल
4. * उष्ण

Question Number : 190 Question Id : 9983677628 Question Type : MCQ Option Shuffling : Yes

Correct Marks : 1 Wrong Marks : 0.25

‘निर्मल’ का विलोम है:

Options :

1. * उज्वल
2. ✓ मलिन
3. * शीतल
4. * उष्ण

Sub-Section Number:

2

Sub-Section Id:

998367479

Question Shuffling Allowed :

Yes

Question Label : Comprehension

नीचे दिये गए गद्यांश को पढ़कर पूछे गये प्रश्नों के उत्तर दीजिए।

यथार्थ उसे कहते हैं जो किसी सत्य या घटना को बिना काट छांट के उद्घाटित करता हो। यथार्थ एक ऐसी सच्चाई है जिसे किसी भी युग का साहित्यकार चाहते हुए भी अनदेखा नहीं कर सका है और कदाचित यही कारण है कि पश्चिम में ही नहीं पूर्व में भी यथार्थ का स्वर कभी स्पष्टतः तो कभी दबे-दबे रूप में अवश्य बना रहा। यथार्थ केवल जीवन के ऐंद्रिय रूप का आकलन नहीं बल्कि मानसिक, बौद्धिक, आध्यात्मिक सभी पहलू उसमें समाविष्ट हैं। समाजवादी यथार्थवाद, अतियथार्थवाद, प्रकृतवाद, मनोविज्ञानवाद, अस्तित्ववाद आदि समस्त जीवन विषयक दृष्टिकोण अपनी-अपनी विशिष्ट दृष्टि से जीवन को देखकर उसके यथार्थ को गहरे स्तर पर समझने बूझने का प्रयत्न करते हैं।

Sub questions

Question Number : 191 Question Id : 9983677630 Question Type : MCQ Option Shuffling : Yes

Correct Marks : 1 Wrong Marks : 0.25

गद्यांश का केंद्रीय विषय है:

Options :

1. * आदर्श
2. * कल्पना
3. ✓ यथार्थ
4. * मूल्य

Question Number : 192 Question Id : 9983677631 Question Type : MCQ Option Shuffling : Yes

Correct Marks : 1 Wrong Marks : 0.25

‘कदाचित’ का अर्थ है:

Options :

1. ✓ शायद
2. * निश्चित
3. * सर्वत्र
4. * हमेशा

Question Number : 193 Question Id : 9983677632 Question Type : MCQ Option Shuffling : Yes

Correct Marks : 1 Wrong Marks : 0.25

‘यथार्थ’ का अर्थ होता है:

Options :

1. * काल्पनिक
2. * व्यावहारिक
3. * सैद्धान्तिक
4. ✓ वास्तविक

Question Number : 194 Question Id : 9983677633 Question Type : MCQ Option Shuffling : Yes

Correct Marks : 1 Wrong Marks : 0.25

‘समाविष्ट’ का अर्थ है:

Options :

1. ✓ व्याप्त
2. * इच्छित
3. * निर्देशित
4. * चित्रित

Question Number : 195 Question Id : 9983677634 Question Type : MCQ Option Shuffling : Yes

Correct Marks : 1 Wrong Marks : 0.25

‘आकलन’ का अर्थ नहीं होता है:

Options :

1. * गिनना
2. * समझना
3. ✓ भविष्यवाणी
4. * पूर्वानुमान

Question Id : 9983677629 Question Type : COMPREHENSION Sub Question Shuffling Allowed : Yes Group Comprehension Questions : No

Question Numbers : (191 to 195)

Question Label : Comprehension

नीचे दिये गए गद्यांश को पढ़कर पूछे गये प्रश्नों के उत्तर दीजिए।
यथार्थ उसे कहते हैं जो किसी सत्य या घटना को बिना काट छांट के उद्घाटित करता हो। यथार्थ एक ऐसी सच्चाई है जिसे किसी भी युग का साहित्यकार चाहते हुए भी अनदेखा नहीं कर सका है और कदाचित यही कारण है कि पश्चिम में ही नहीं पूर्व में भी यथार्थ का स्वर कभी स्पष्टतः तो कभी दबे-दबे रूप में अवश्य बना रहा। यथार्थ केवल जीवन के ऐंद्रिय रूप का आकलन नहीं बल्कि मानसिक, बौद्धिक, आध्यात्मिक सभी पहलू उसमें समाविष्ट हैं। समाजवादी यथार्थवाद, अतियथार्थवाद, प्रकृतवाद, मनोविज्ञानवाद, अस्तित्ववाद आदि समस्त जीवन विषयक दृष्टिकोण अपनी-अपनी विशिष्ट दृष्टि से जीवन को देखकर उसके यथार्थ को गहरे स्तर पर समझने बूझने का प्रयत्न करते हैं।

Sub questions

Question Number : 191 Question Id : 9983677630 Question Type : MCQ Option Shuffling : Yes
Correct Marks : 1 Wrong Marks : 0.25

गद्यांश का केंद्रीय विषय है:

Options :

1. ✖ आदर्श
2. ✖ कल्पना
3. ✔ यथार्थ
4. ✖ मूल्य

Question Number : 192 Question Id : 9983677631 Question Type : MCQ Option Shuffling : Yes
Correct Marks : 1 Wrong Marks : 0.25

‘कदाचित’ का अर्थ है:

Options :

1. ✔ शायद
2. ✖ निश्चित

3. * सर्वत्र

4. * हमेशा

Question Number : 193 Question Id : 9983677632 Question Type : MCQ Option Shuffling : Yes
Correct Marks : 1 Wrong Marks : 0.25

‘यथार्थ’ का अर्थ होता है:

Options :

1. * काल्पनिक

2. * व्यावहारिक

3. * सैद्धान्तिक

4. ✓ वास्तविक

Question Number : 194 Question Id : 9983677633 Question Type : MCQ Option Shuffling : Yes
Correct Marks : 1 Wrong Marks : 0.25

‘समाविष्ट’ का अर्थ है:

Options :

1. ✓ व्याप्त

2. * इच्छित

3. * निर्देशित

4. * चित्रित

Question Number : 195 Question Id : 9983677634 Question Type : MCQ Option Shuffling : Yes
Correct Marks : 1 Wrong Marks : 0.25

‘आकलन’ का अर्थ नहीं होता है:

Options :

1. * गिनना

2. * समझना

3. ✓ भविष्यवाणी

4. * पूर्वानुमान

Sub-Section Number: 3
Sub-Section Id: 998367480
Question Shuffling Allowed : Yes

Question Id : 9983677635 Question Type : COMPREHENSION Sub Question Shuffling Allowed : Yes Group Comprehension Questions : No

Question Numbers : (196 to 200)

Question Label : Comprehension

नीचे दिये गए गद्यांश को पढ़कर पूछे गये प्रश्नों के उत्तर दीजिए।

माक्स एंगेल्स साहित्य का निश्चित प्रयोजन मानते हैं लेकिन साहित्य में उसे सीधे-सीधे व्यक्त करने के समर्थक नहीं हैं। मित्रा काउत्स्की को दिये पत्र में एंगेल्स ने लिखा है- 'मैं यों प्रयोजनमुखी काव्य का कदापि विरोधी नहीं हूँ.... परंतु मैं सोचता हूँ कि प्रयोजन को स्वयं परिस्थिति तथा कार्यकलाप में अपने को व्यक्त करना चाहिए, विशेष रूप से लक्षित किये बिना और लेखक अपने द्वारा वर्णित सामाजिक टकरावों का भावी ऐतिहासिक समाधान पाठक के सामने तैयारशुदा रूप में प्रस्तुत करने के लिए कर्तव्यबद्ध नहीं है। एंगेल्स ने अन्यत्र लिखा है- 'लेखक के विचार जितने छुपे रहें, कला की कृति उतनी ही अच्छी होती है। मैं जिस यथार्थवाद की बात कर रहा हूँ वह लेखक के दृष्टिकोण के बावजूद उभर सकता है। मागरिट हार्कनेस को 1888 में लिखे पत्र में उन्होंने यथार्थवाद के बारे में लिखा है- 'मेरी राय में, यथार्थवाद का अर्थ तफसील की सच्चाई का, आम परिस्थितियों में आम चरित्रों का सच्चाई भरा पुनर्सृजन है।' इस प्रकार स्पष्ट है कि माक्स एंगेल्स कलात्मक सौन्दर्य की उपेक्षा नहीं करते। वे विचारधारात्मक आग्रह की माँग करते हैं लेकिन रचना की कीमत पर नहीं। यही नहीं, वे यथार्थ चित्रण को विचारधारा से अधिक महत्वपूर्ण मानते हैं।

Sub questions

Question Number : 196 Question Id : 9983677636 Question Type : MCQ Option Shuffling : Yes
Correct Marks : 1 Wrong Marks : 0.25

‘कदापि’ का अर्थ है:

Options :

1. * हमेशा
2. ✓ कभी
3. * प्रायः

4. * संभवतः

Question Number : 197 Question Id : 9983677637 Question Type : MCQ Option Shuffling : Yes
Correct Marks : 1 Wrong Marks : 0.25

‘प्रयोजन’ का अर्थ है:

Options :

1. ✓ उपयोग
2. * आधार
3. * ढंग
4. * व्यवस्था

Question Number : 198 Question Id : 9983677638 Question Type : MCQ Option Shuffling : Yes
Correct Marks : 1 Wrong Marks : 0.25

‘तफसील’ का अर्थ है:

Options :

1. * घटना
2. ✓ ब्यौरा
3. * शोषण
4. * प्रदर्शन

Question Number : 199 Question Id : 9983677639 Question Type : MCQ Option Shuffling : Yes
Correct Marks : 1 Wrong Marks : 0.25

एंगेल्स के अनुसार श्रेष्ठ कृति में क्या जरूरी है?

Options :

1. * विचारधारा की अभिव्यक्ति न हो
2. * विचार की स्पष्ट अभिव्यक्ति हो
3. ✓ विचार छिपे रहें
4. * कलात्मक हो

Question Number : 200 Question Id : 9983677640 Question Type : MCQ Option Shuffling : Yes
Correct Marks : 1 Wrong Marks : 0.25

माक्स एंगेल्स किसे अधिक महत्वपूर्ण मानते हैं?

Options :

1. * कला को

2. * विचारधारा को

3. * प्रयोजन को

4. ✓ यथार्थ चित्रण को

Question Id : 9983677635 Question Type : COMPREHENSION Sub Question Shuffling Allowed : Yes Group Comprehension Questions : No

Question Numbers : (196 to 200)

Question Label : Comprehension

नीचे दिये गए गद्यांश को पढ़कर पूछे गये प्रश्नों के उत्तर दीजिए।

मार्क्स एंगेल्स साहित्य का निश्चित प्रयोजन मानते हैं लेकिन साहित्य में उसे सीधे-सीधे व्यक्त करने के समर्थक नहीं हैं। मिन्ना काउत्स्की को दिये पत्र में एंगेल्स ने लिखा है- 'मैं यों प्रयोजनमुखी काव्य का कदापि विरोधी नहीं हूँ।.... परंतु मैं सोचता हूँ कि प्रयोजन को स्वयं परिस्थिति तथा कार्यकलाप में अपने को व्यक्त करना चाहिए, विशेष रूप से लक्षित किये बिना और लेखक अपने द्वारा वर्णित सामाजिक टकरावों का भावी ऐतिहासिक समाधान पाठक के सामने तैयारशुदा रूप में प्रस्तुत करने के लिए कर्तव्यबद्ध नहीं है। एंगेल्स ने अन्यत्र लिखा है- 'लेखक के विचार जितने छुपे रहें, कला की कृति उतनी ही अच्छी होती है। मैं जिस यथार्थवाद की बात कर रहा हूँ वह लेखक के दृष्टिकोण के बावजूद उभर सकता है। मार्गरेट हार्कनेस को 1888 में लिखे पत्र में उन्होंने यथार्थवाद के बारे में लिखा है- 'मेरी राय में, यथार्थवाद का अर्थ तफसील की सच्चाई का, आम परिस्थितियों में आम चरित्रों का सच्चाई भरा पुनर्सृजन है।' इस प्रकार स्पष्ट है कि मार्क्स एंगेल्स कलात्मक सौन्दर्य की उपेक्षा नहीं करते। वे विचारधारात्मक आग्रह की माँग करते हैं लेकिन रचना की कीमत पर नहीं। यही नहीं, वे यथार्थ चित्रण को विचारधारा से अधिक महत्वपूर्ण मानते हैं।

Sub questions

Question Number : 196 Question Id : 9983677636 Question Type : MCQ Option Shuffling : Yes
Correct Marks : 1 Wrong Marks : 0.25

‘कदापि’ का अर्थ है:

Options :

1. ✖ हमेशा
2. ✔ कभी
3. ✖ प्रायः
4. ✖ संभवतः

Question Number : 197 Question Id : 9983677637 Question Type : MCQ Option Shuffling : Yes
Correct Marks : 1 Wrong Marks : 0.25

‘प्रयोजन’ का अर्थ है:

Options :

1. ✔ उपयोग
2. ✖ आधार
3. ✖ ढंग
4. ✖ व्यवस्था

Question Number : 198 Question Id : 9983677638 Question Type : MCQ Option Shuffling : Yes
Correct Marks : 1 Wrong Marks : 0.25

‘तफसील’ का अर्थ है:

Options :

1. ✖ घटना
2. ✔ ब्यौरा
3. ✖ शोषण
4. ✖ प्रदर्शन

Question Number : 199 Question Id : 9983677639 Question Type : MCQ Option Shuffling : Yes
Correct Marks : 1 Wrong Marks : 0.25

एंगोल्स के अनुसार श्रेष्ठ कृति में क्या जरूरी है?

Options :

1. * विचारधारा की अभिव्यक्ति न हो
2. * विचार की स्पष्ट अभिव्यक्ति हो
3. ✓ विचार छिपे रहें
4. * कलात्मक हो

Question Number : 200 Question Id : 9983677640 Question Type : MCQ Option Shuffling : Yes

Correct Marks : 1 Wrong Marks : 0.25

माक्स एंगोल्स किसे अधिक महत्वपूर्ण मानते हैं?

Options :

1. * कला को
2. * विचारधारा को
3. * प्रयोजन को
4. ✓ यथार्थ चित्रण को