

## Education Consultant India Ltd.

Notations :

1.Options shown in green color and with ✓ icon are correct.

2.Options shown in red color and with ✖ icon are incorrect.

<b>Question Paper Name:</b>	GRADE II DASS 24th July 2019 Shift 1
<b>Subject Name:</b>	GRADE II DASS
<b>Creation Date:</b>	2019-07-24 14:07:57
<b>Duration:</b>	120
<b>Total Marks:</b>	200
<b>Display Marks:</b>	Yes
<b>Share Answer Key With Delivery Engine:</b>	No
<b>Actual Answer Key:</b>	Yes
<b>Calculator:</b>	None
<b>Magnifying Glass Required?:</b>	No
<b>Ruler Required?:</b>	No
<b>Eraser Required?:</b>	No
<b>Scratch Pad Required?:</b>	No
<b>Rough Sketch/Notepad Required?:</b>	No
<b>Protractor Required?:</b>	No
<b>Show Watermark on Console?:</b>	Yes
<b>Highlighter:</b>	No
<b>Auto Save on Console?:</b>	No

## Mental Ability1

<b>Group Number :</b>	1
<b>Group Id :</b>	586180352
<b>Group Maximum Duration :</b>	0
<b>Group Minimum Duration :</b>	0
<b>Show Attended Group? :</b>	No
<b>Edit Attended Group? :</b>	No
<b>Break time:</b>	0
<b>Group Marks:</b>	20
<b>Is this Group for Examiner?:</b>	No
<b>Revisit allowed for group Instructions? :</b>	Yes
<b>Maximum Instruction Time:</b>	0
<b>Minimum Instruction Time:</b>	0

## Mental Ability1

<b>Section Id :</b>	586180356
<b>Section Number :</b>	1

Section type :	Online
Mandatory or Optional:	Mandatory
Number of Questions:	20
Number of Questions to be attempted:	20
Section Marks:	20

Sub-Section Number:	1
Sub-Section Id:	586180495
Question Shuffling Allowed :	Yes

Question Number : 1 Question Id : 5861807319 Question Type : MCQ Option Shuffling : Yes

Correct Marks : 1 Wrong Marks : 0.25

There is a certain relationship between two given words on one side of : : and one word is given on another side of : : while another word is to be found from the given alternatives, having the same relation with the word as the words of the given pair.

Choose the correct alternative.

Curios : Museum : : Gun : ?

Options :

1. ✖ Man
2. ✔ Armory
3. ✖ Arm
4. ✖ Granary

Question Number : 1 Question Id : 5861807319 Question Type : MCQ Option Shuffling : Yes

Correct Marks : 1 Wrong Marks : 0.25

: : के एक ओर दिए दो शब्दों के बीच एक निश्चित संबंध है, और : : के दूसरी ओर एक शब्द दिया गया है, जबकि दिए गए विकल्पों में से अन्य शब्द खोजना है जिसका उस शब्द से वही संबंध हो जो दिए गए जोड़े के शब्दों के बीच है।

निम्न में से सही विकल्प चुनें।

जिज्ञासु : संग्रहालय : : बंदूक : ?

Options :

1. ✘ आदमी

2. ✔ शस्त्रशाला

3. ✘ शस्त्र

4. ✘ धान्यागार

Question Number : 2 Question Id : 5861807320 Question Type : MCQ Option Shuffling : Yes

Correct Marks : 1 Wrong Marks : 0.25

There is a certain relationship between two given numbers on one side of :: and one number is given on another side of :: while another number is to be found from the given alternatives, having the same relation with the number as the number of the given pair.

Choose the correct alternative.

22 : 528 :: 52 : ?

Options :

1. ✔ 2808

2. ✘ 2575

3. ✘ 2754

4. ✘ 5212

Question Number : 2 Question Id : 5861807320 Question Type : MCQ Option Shuffling : Yes

Correct Marks : 1 Wrong Marks : 0.25

:: के एक ओर दी दो संख्याओं के बीच एक निश्चित संबंध है, और :: के दूसरी ओर एक संख्या दी गई है, आपको दिए गए विकल्पों में से वह संख्या खोजनी है जिसका उस संख्या से वही संबंध हो जो दिए गए जोड़े की संख्याओं के बीच है।

निम्न में से सही विकल्प चुनें।

22 : 528 :: 52 : ?

Options :

1. ✓ 2808

2. ✗ 2575

3. ✗ 2754

4. ✗ 5212

Question Number : 3 Question Id : 5861807321 Question Type : MCQ Option Shuffling : Yes

Correct Marks : 1 Wrong Marks : 0.25

A group of three interrelated word is given. Choose a word from the given alternatives that is similar to the given words and hence belongs to the same group.

Camel : Cat : Goat

Options :

1. ✗ Owl

2. ✗ Hen

3. ✗ Snake

4. ✓ Donkey

Question Number : 3 Question Id : 5861807321 Question Type : MCQ Option Shuffling : Yes



Correct Marks : 1 Wrong Marks : 0.25

प्रश्न में तीन परस्पर संबंधित शब्दों का एक समूह दिया गया है। दिए गए विकल्पों में से उस शब्द का चुनाव करें, जो प्रश्न में दिए गए शब्दों से समानता रखता हो, और परिणामस्वरूप उसी समूह से संबंधित हो।

ऊंट : बिल्ली : बकरी

Options :

1. ✘ उल्लू

2. ✘ मुर्गी

3. ✘ साँप

4. ✔ गधा

Question Number : 4 Question Id : 5861807322 Question Type : MCQ Option Shuffling : Yes

Correct Marks : 1 Wrong Marks : 0.25

Find the related number to complete the analogy.

18 : 30 :: 36 : ?

Options :

1. ✘ 64

2. ✔ 66

3. ✘ 68

4. ✘ 62

Question Number : 4 Question Id : 5861807322 Question Type : MCQ Option Shuffling : Yes

Correct Marks : 1 Wrong Marks : 0.25

निम्न सादृश्यता (analogy) को पूरा करने के लिए आवश्यक संख्या ज्ञात करें।

18 : 30 :: 36 : ?

Options :

1. ✖ 64

2. ✔ 66

3. ✖ 68

4. ✖ 62

Question Number : 5 Question Id : 5861807323 Question Type : MCQ Option Shuffling : Yes

Correct Marks : 1 Wrong Marks : 0.25

Which of the following is the same as **Caw, Roar and Neigh**?

Options :

1. ✖ Frog

2. ✖ Monkey

3. ✖ Lion

4. ✔ Mew

Question Number : 5 Question Id : 5861807323 Question Type : MCQ Option Shuffling : Yes

Correct Marks : 1 Wrong Marks : 0.25

निम्नलिखित में से कौन सा कांव - कांव, दहाड़ और हिनहिनाने से समानता रखता है?

Options :

1. ✖ मेंढक

2. ✖ बंदर

3. ✖ शेर

4. ✔ म्याउ

Question Number : 6 Question Id : 5861807324 Question Type : MCQ Option Shuffling : Yes

Correct Marks : 1 Wrong Marks : 0.25

Four pairs of words are given out of which the words in three pairs bear a certain common relationship. Choose the pair in which the words are differently related.

Options :

1. ✖ Cruel : Kind

2. ✖ Fresh : Stale

3. ✔ Blend : Mix

4. ✖ Affirm : Deny

Question Number : 6 Question Id : 5861807324 Question Type : MCQ Option Shuffling : Yes

Correct Marks : 1 Wrong Marks : 0.25

नीचे चार शब्द समूह दिए गए हैं, जिनमें से तीन शब्द समूह आपस में किसी ना किसी तरीके से संबंधित हैं। आपस में संबंध ना रखने वाले शब्द समूह का विकल्प चुनें?

Options :

1. ✖ क्रूर : दयालु

2. ✖ ताजा : बासी

3. ✔ मथना : मिलाना

4. ✖ पुष्टि : इनकार

Question Number : 7 Question Id : 5861807325 Question Type : MCQ Option Shuffling : Yes

Correct Marks : 1 Wrong Marks : 0.25

Four pairs of numbers are given out of which the numbers in three pairs bear a certain common relationship. Choose the pair in which the numbers are differently related.

Options :

1. ✖ 175 - 571

2. ✖ 283 - 382

3. ✔ 507 - 705

4. ✖ 247 - 742

Question Number : 7 Question Id : 5861807325 Question Type : MCQ Option Shuffling : Yes

Correct Marks : 1 Wrong Marks : 0.25

नीचे चार संख्या समूह दिए गए हैं, जिनमें से तीन संख्या समूह आपस में किसी ना किसी तरीके से संबंधित हैं। आपस में संबंध ना रखने वाले संख्या समूह का विकल्प चुनें।

Options :

1. ✖ 175 - 571

2. ✖ 283 - 382

3. ✓ 507 - 705

4. ✗ 247 - 742

Question Number : 8 Question Id : 5861807326 Question Type : MCQ Option Shuffling : Yes

Correct Marks : 1 Wrong Marks : 0.25

My school is in the East of my house, Temple is North of my house and Market is South of my house. If all are at equal distance from my house, in which direction the School is with respect to the Market?

Options :

1. ✗ East

2. ✗ North

3. ✓ North - East

4. ✗ North - West

Question Number : 8 Question Id : 5861807326 Question Type : MCQ Option Shuffling : Yes

Correct Marks : 1 Wrong Marks : 0.25

मेरा स्कूल मेरे घर की पूर्व दिशा में है, मंदिर मेरे घर की उत्तर दिशा में है और बाजार मेरे घर की दक्षिण दिशा में है। यदि ये सभी मेरे घर से समान दूरी पर हैं, तो स्कूल, बाजार के संबंध में किस दिशा में स्थित है?

Options :

1. ✗ पूर्व

2. ✗ उत्तर

3. ✓ उत्तर - पूर्व

## 4. ✖ उत्तर - पश्चिम

Question Number : 9 Question Id : 5861807327 Question Type : MCQ Option Shuffling : Yes

Correct Marks : 1 Wrong Marks : 0.25

Sachin, Sahil, Sandhya, Sani, Sanju, Saurabh, Shweta and Sunil are sitting around a round table in the same order for lunch at equal distance. Their positions are Anti - clockwise. If Sandhya sits facing North, then in which direction Sanju is facing?

Options :

1. ✖ East

2. ✔ West

3. ✖ South - East

4. ✖ South - West

Question Number : 9 Question Id : 5861807327 Question Type : MCQ Option Shuffling : Yes

Correct Marks : 1 Wrong Marks : 0.25

सचिन, साहिल, संध्या, सानी, संजू, सौरभ, श्वेता और सुनील दोपहर का भोजन करने के लिए इसी क्रम में एक गोल मेज के चारों ओर बैठे हैं। उनकी स्थिति घड़ी की दिशा के विपरीत है। यदि संध्या उत्तर की ओर मुंह करके बैठी है, तो संजू का मुंह किस ओर है?

Options :

1. ✖ पूर्व

2. ✔ पश्चिम

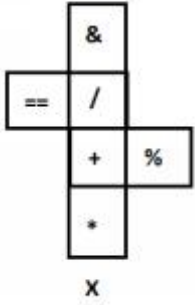
3. ✖ दक्षिण - पूर्व

#### 4. ✖ दक्षिण - पश्चिम

Question Number : 10 Question Id : 5861807328 Question Type : MCQ Option Shuffling : Yes

Correct Marks : 1 Wrong Marks : 0.25

The sheet of paper in fig X is folded to form a cube. Which will come opposite to face showing '+'?



Options :

1. ✖ ==

2. ✖ \*

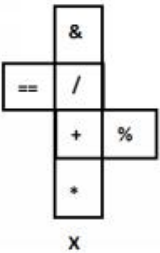
3. ✓ &

4. ✖ %

Question Number : 10 Question Id : 5861807328 Question Type : MCQ Option Shuffling : Yes

Correct Marks : 1 Wrong Marks : 0.25

चित्र X में कागज की एक शीट को मोड़कर एक घन बनाया गया है। इसका जो भाग '+' दिखा रहा है, उसके ठीक विपरीत क्या होगा?



Options :



1. ✖ ==

2. ✖ \*

3. ✔ &

4. ✖ %

Question Number : 11 Question Id : 5861807329 Question Type : MCQ Option Shuffling : Yes

Correct Marks : 1 Wrong Marks : 0.25

Children A, B, C, D, E, F and G are standing in a line. F is to the left of A and right of B. D is between G and B. E is standing left of C and G is right of C. Who is standing at the fourth left of A?

Options :

1. ✖ C

2. ✔ G

3. ✖ E

4. ✖ D

Question Number : 11 Question Id : 5861807329 Question Type : MCQ Option Shuffling : Yes

Correct Marks : 1 Wrong Marks : 0.25

A, B, C, D, E, F और G बच्चे एक कतार में खड़े हैं। F, A के बाईं ओर और B के दाईं ओर खड़ा है। D, G और B के बीच में खड़ा है। E, C के बाएं खड़ा है और G, C के दाएं खड़ा है। A के बाईं ओर से चौथे स्थान पर कौन खड़ा है?

Options :

1. ✖ C

2. ✓ G

3. ✗ E

4. ✗ D

Question Number : 12 Question Id : 5861807330 Question Type : MCQ Option Shuffling : Yes

Correct Marks : 1 Wrong Marks : 0.25

In a row of children, Harish is eleventh from the left and Mangesh is seventeenth from the right. When they exchange their places, Harish will be thirteenth from the left. Which of the following will be the new position of Mangesh from the right?

Options :

1. ✗ Eleventh

2. ✗ Twenty - first

3. ✓ Nineteenth

4. ✗ Twenty - ninth

Question Number : 12 Question Id : 5861807330 Question Type : MCQ Option Shuffling : Yes

Correct Marks : 1 Wrong Marks : 0.25

कुछ बच्चे एक कतार में खड़े हैं, इनमें हरीश बाएं से ग्यारहवें और मंगेश दाहिने से सत्रहवें स्थान पर है। यदि ये आपस में अपने स्थान बदल लेते हैं, तो हरीश बाईं ओर से तेरहवें स्थान पर आ जाता है। निम्नलिखित में दाहिने से मंगेश की नई स्थिति क्या होगी?

Options :

1. ✗ ग्यारहवीं

2. ✖ इक्कीसवीं

3. ✔ उन्नीसवीं

4. ✖ उनत्तीसवीं

Question Number : 13 Question Id : 5861807331 Question Type : MCQ Option Shuffling : Yes

Correct Marks : 1 Wrong Marks : 0.25

- I. Doby is sister of John and John is brother of Shreya.
- II. Shreya is daughter Jones and sister of Jani.
- III. John is son of Jones and Jani.

If the first two statements are true, the third statement is:

Options :

1. ✖ True

2. ✔ False

3. ✖ May be true

4. ✖ Uncertain

Question Number : 13 Question Id : 5861807331 Question Type : MCQ Option Shuffling : Yes

Correct Marks : 1 Wrong Marks : 0.25

- i. डॉबी, जॉन की बहन है और जॉन, श्रेया का भाई है।
- ii. श्रेया, जोन्स की बेटी और जानी की बहन है।
- iii. जॉन, जोन्स और जानी का बेटा है।

यदि पहले दो कथन सत्य हैं, तो तीसरा कथन होगा:

Options :

1. ✖ सत्य
2. ✔ असत्य
3. ✖ सत्य हो सकता है।
4. ✖ निर्धारित नहीं कर सकते।

Question Number : 14 Question Id : 5861807332 Question Type : MCQ Option Shuffling : Yes

Correct Marks : 1 Wrong Marks : 0.25

Anas, Bipin, Chandan, Dev, Easa and Fatima are friends. No two friends are of the same age, but all have birthdays on the same date. The youngest is 23 years old and the oldest is 28 years. Easa is somewhere between Chandan and Anas. Dev is older than Bipin. Fatima is older than Chandan. Anas is oldest and Chandan is youngest among all. If Fatima is younger than Bipin, Bipin is younger than Easa. Dev is older than Easa. Then

Which of the following is false?

Options :

1. ✖ Bipin is 25 years old
2. ✖ Easa is 26 years old
3. ✖ Chandan is 23 years old

4. ✓ Fatima is 27 years old

Question Number : 14 Question Id : 5861807332 Question Type : MCQ Option Shuffling : Yes

Correct Marks : 1 Wrong Marks : 0.25

अनस, बिपिन, चंदन, देव, ईसा और फातिमा दोस्त हैं। कोई भी दो दोस्त समान उम्र के नहीं हैं, लेकिन सभी का जन्मदिन एक ही तारीख को आता है। इनमें सबसे छोटा व्यक्ति 23 साल का और सबसे बड़ा 28 साल का है। ईसा की उम्र चंदन और अनस के कहीं बीच की है। देव, बिपिन से बड़ा है। फातिमा, चंदन से बड़ी हैं। अनस सबसे बड़ा है और चंदन सभी में सबसे छोटा है। यदि फातिमा, बिपिन से छोटी है और बिपिन, ईसा से छोटा है व देव, ईसा से बड़ा है, तो फिर

निम्नलिखित में से कौन सा विकल्प असत्य है?

Options :

1. ✗ बिपिन की उम्र 25 साल है।

2. ✗ ईसा की उम्र 26 साल है।


3. ✗ चंदन की उम्र 23 साल है।

4. ✓ फातिमा की उम्र 27 साल है।


Question Number : 15 Question Id : 5861807333 Question Type : MCQ Option Shuffling : Yes

Correct Marks : 1 Wrong Marks : 0.25


What will be the water image of ?




Options :



1. ✖



2. ✖



3. ✖



4. ✔

निम्न आकृति की जल छवि क्या होगी?



Options :



1. ✘



2. ✘



3. ✘



4. ✔

Question Number : 16 Question Id : 5861807334 Question Type : MCQ Option Shuffling : Yes

Correct Marks : 1 Wrong Marks : 0.25



Following are the criteria to recruit a Teacher in a college:

- I. The Applicant must be science post graduate with 75% marks.
- II. Have his / her age in between 25 to 32 years as on 10-05-2019.
- III. Have a PG degree / 3 years diploma or must have completed B.Ed. with more than 65% marks.
- IV. Have minimum 3 years' experience in Teaching.
- V. Be ready to join 2 year probation.

If a candidate satisfies all the criteria except

at III above, but is an Arts and Mathematics graduate with minimum 72% marks and has an experience of more than 5 years and more her / his case is to be referred to the Vice President.

at IV above, but master degree's with minimum 60% marks, her / his is to be referred to the President

A detail of applicant is given below in the questions. On the basis of the following decision which is based on the data given above, mark the answer.

Shalendra is a B.Sc. Graduate with 80% marks and has completed PG in Mathematics with 59% marks. He completed 28 years of age in 2019 and has 4 years' experience as a Mathematics Faculty. He is ready to join probation period of 2 year.

Options :

1. ✘ If case is to be referred to President.
2. ✘ If case is to be referred to Vice President.
3. ✘ If candidate is to be selected.
4. ✔ If candidate is not to be selected.

Question Number : 16 Question Id : 5861807334 Question Type : MCQ Option Shuffling : Yes  
Correct Marks : 1 Wrong Marks : 0.25

एक कॉलेज में शिक्षकों की भर्ती करने के लिए निम्नलिखित मापदंड निर्धारित किए गए हैं:

- i. आवेदक 75% अंकों के साथ विज्ञान स्नातकोत्तर होना चाहिए।
- ii. आवेदक की उम्र 10-05-2019 को 25 से 32 साल के बीच होनी चाहिए।
- iii. स्नातकोत्तर डिग्री / 3 साल का डिप्लोमा किया हो या 65% से अधिक अंकों के साथ बी.एड पूरा किया हो।
- iv. आवेदक के पास न्यूनतम 3 साल का शिक्षण अनुभव होना चाहिए।
- v. वह 2 साल की परीक्षा अवधि के लिए सहमत होना चाहिए।

ऊपर दिए मानदंडों में से III के अलावा यदि एक उम्मीदवार सभी मानदंडों को पूरा करता है, लेकिन वह न्यूनतम 72% अंकों के साथ कला और गणित में स्नातक है और उसके पास 5 साल से अधिक का कार्यानुभव है, तो उसके मामले को उपाध्यक्ष के पास भेजा जाएगा।

ऊपर दिए मानदंडों में से IV के अलावा यदि एक उम्मीदवार सभी मानदंडों को पूरा करता है, लेकिन वह न्यूनतम 60% अंकों के साथ स्नातकोत्तर डिग्रीधारी है तो उसके मामले को अध्यक्ष को भेजा जाएगा।

नीचे दिए गए प्रश्न में एक आवेदक के बारे में कुछ जानकारियां दी गई हैं। निम्नलिखित निष्कर्ष के आधार पर जो ऊपर दिए गए डेटा पर आधारित है, सही उत्तर का ज्ञात करें।

शैलेंद्र ने 80% अंकों के साथ B.Sc. (बीएससी) स्नातक और 59% अंकों के साथ गणित में स्नातकोत्तर किया है। उसने 2019 में 28 साल की उम्र पूरी कर ली है और गणित संकाय में 4 साल का अनुभव प्राप्त किया है। वह 2 साल की परीक्षा अवधि के लिए तैयार है।

Options :

1. ✘ यदि मामला अध्यक्ष के पास भेजा जाएगा।
2. ✘ यदि मामला उपाध्यक्ष के पास भेजा जाएगा।
3. ✘ यदि उम्मीदवार का चयन किया जाएगा।
4. ✔ यदि उम्मीदवार का चयन नहीं किया जाएगा।

Question Number : 17 Question Id : 5861807335 Question Type : MCQ Option Shuffling : Yes

Correct Marks : 1 Wrong Marks : 0.25

Following are qualifications for a technical assistant post in company Alpha.

The candidate must:-

- I. Be an Engineering graduate with atleast 70% marks.
- II. Not less than 23 years and not more than 30 years of age on 1.7.2019.
- III. Have passed the selection test with atleast 60% marks.
- IV. Willing to join immediate for training and ready to pay a deposit of Rs. 20000, to be refunded on completion of training.

However, if a candidate fulfils the above mentioned criteria except:

At (I) above, but he has appeared for the last semester examination and obtained an aggregate of 65% marks in previous semester, his / her case may be referred to the V.P. of the company.

At (II) his / her age is less than 23 years but he secured 80% marks in graduation, the case may be referred to the General Manager of the company.

The detail of the candidate is given as regards his / her candidature. You have to read the information provided and decide his / her status based on the conditions given above.

Rajan is an IT engineer passed his graduation with 85% marks. After getting the engineering degree he has done MCA. He has cleared the selection test with 70% marks.

He is ready to deposit above said amount and want to join immediately. His date of birth is 2.10.1998.

Options :

1. ✘ If the candidate is to be selected.
2. ✘ If the candidate is not selected.
3. ✘ If the case is referred to the V. P.
4. ✔ If the case is referred to the General Manager.

Question Number : 17 Question Id : 5861807335 Question Type : MCQ Option Shuffling : Yes  
Correct Marks : 1 Wrong Marks : 0.25



अल्फा कंपनी में एक तकनीकी सहायक पद हेतु पात्रताएं नीचे दी गई हैं।

अभ्यर्थी के लिए निम्न अनिवार्य हैं:-

- I. न्यूनतम 70% अंकों के साथ इंजीनियरिंग स्नातक हो।
- II. 1.7.2019 को आयु 23 साल से कम और 30 साल से अधिक न हो।
- III. न्यूनतम 60% अंकों के साथ चयन परीक्षा उत्तीर्ण की हो।
- IV. प्रशिक्षण हेतु तत्काल नियुक्त होने का इच्छुक हो और रुपये 20,000 की राशि जमा करने के लिए तैयार हो, जो प्रशिक्षण पूर्ण होने पर वापस कर दी जाएगी।

हालांकि यदि कोई अभ्यर्थी, निम्न के सिवाय उक्तांकित मापदंड पूरे करता है, तो:

उक्त (I) के सिवाय, लेकिन वह पिछले सेमेस्टर की परीक्षा में उपस्थित हुआ हो और पिछले सेमेस्टर में कुल 65% अंक प्राप्त किए हों, तो उसका मामला कंपनी के उपाध्यक्ष को संदर्भित किया जा सकता है।

उक्त (II) के सिवाय, लेकिन उसकी आयु 23 साल से कम हो लेकिन उसने स्नातक में 80% अंक प्राप्त किए हों, तो उसका मामला कंपनी के महाप्रबंधक को संदर्भित किया जा सकता है।

अभ्यर्थी के अभ्यर्थन के संबंध में विवरण नीचे दिए गए हैं। आपको दी गई सूचना पढ़नी है और उक्त शर्तों के आधार पर उसकी स्थिति निर्धारित करनी है।

राजन एक आईटी इंजीनियर है जिसने 85% अंकों के साथ स्नातक उत्तीर्ण किया है। इंजीनियरिंग की डिग्री लेने के बाद उसने एमसीए किया। उसने 70% अंकों के साथ चयन परीक्षा उत्तीर्ण की है।

वह उक्त राशि को जमा करने और तत्काल नियुक्ति के लिए तैयार है। उसकी जन्मतिथि 2.10.1998 है।

Options :

1. ✘ यदि उम्मीदवार का चयन किया जाएगा।
2. ✘ यदि उम्मीदवार का चयन नहीं किया जाएगा।
3. ✘ यदि मामला उपाध्यक्ष को संदर्भित किया जाना हो।
4. ✔ यदि मामला महाप्रबंधक को संदर्भित किया जाना हो।

Question Number : 18 Question Id : 5861807336 Question Type : MCQ Option Shuffling : Yes

Correct Marks : 1 Wrong Marks : 0.25

The statement given below is followed by two decisions labeled I, and II. You have to assume everything in the statement to be true, and then decide which of the two suggested decisions logically follows for pursuing.

**Statement:** Without active cooperation between officers and office staffs of the company, it cannot remain profitable to run business from this office.

**Decisions:**

**I:** There should be dialogue on cooperation and activeness of staff.

**II:** The office staff should be motivated to cooperate officers.

Options :

1. ✘ Only I follows

2. ✔ Both I and II follow

3. ✘ Neither I nor II follow

4. ✘ Only II follows

Question Number : 18 Question Id : 5861807336 Question Type : MCQ Option Shuffling : Yes

Correct Marks : 1 Wrong Marks : 0.25

नीचे दिए कथन के बाद दो निष्कर्ष I और II दिए गए हैं। आपको कथन को पूर्णतया सत्य मानना है और फिर यह निर्धारित करना है कि दोनों में से कौन से निष्कर्ष तर्कसंगत रूप से सही हैं।

**कथन:** कंपनी के अधिकारियों और कार्यालय कर्मचारियों के बीच सक्रिय सहयोग के बिना, इस कार्यालय से व्यापार करना लाभ का सौदा नहीं रहेगा।

**निष्कर्ष:**

**I:** कर्मचारियों के बीच सहयोग और सक्रियता बढ़ाने पर बातचीत होनी चाहिए।

**II:** कार्यालय के कर्मचारियों को अधिकारियों का सहयोग करने के लिए प्रेरित किया जाना चाहिए।

Options :

1. ✘ केवल निष्कर्ष I अनुसरण करता है।

2. ✓ निष्कर्ष । और ॥ दोनों अनुसरण करते हैं।

3. ✗ न तो निष्कर्ष । और न ही ॥ अनुसरण करता है।

4. ✗ केवल निष्कर्ष ॥ अनुसरण करता है।

Question Number : 19 Question Id : 5861807337 Question Type : MCQ Option Shuffling : Yes

Correct Marks : 1 Wrong Marks : 0.25

Pointing towards a man, Vishakha said, "He is the only son of my husband's father-in-law". How is the man related to Vishakha?

Options :

1. ✗ Brother-in-law

2. ✗ Husband

3. ✓ Brother

4. ✗ Uncle

Question Number : 19 Question Id : 5861807337 Question Type : MCQ Option Shuffling : Yes

Correct Marks : 1 Wrong Marks : 0.25

विशाखा ने, एक व्यक्ति की ओर इशारा करते हुए कहा, "वह मेरे पति के ससुर का एकमात्र बेटा है"। विशाखा का अमुक व्यक्ति से क्या संबंध है?

Options :

1. ✗ बहनोई

2. ✗ पति



3. ✓ भाई

4. ✗ चाचा

Question Number : 20 Question Id : 5861807338 Question Type : MCQ Option Shuffling : Yes

Correct Marks : 1 Wrong Marks : 0.25

The statement given below is followed by two decisions labeled I, and II. You have to assume everything in the statement to be true, and then decide which of the two suggested decisions logically follows for pursuing.

**Statement:** All employees of the office have taken holidays without prior information.

**Decisions:**

**I:** Show cause notice should be served to all with warning of termination.

**II:** All the employees should be immediately terminated from job.

Options :

1. ✓ Only I follows

2. ✗ Both I and II follow

3. ✗ Either I or II follow

4. ✗ Only II follows

Question Number : 20 Question Id : 5861807338 Question Type : MCQ Option Shuffling : Yes

Correct Marks : 1 Wrong Marks : 0.25

नीचे दिए कथन के बाद दो निष्कर्ष I और II दिए गए हैं। आपको कथन को पूर्णतया सत्य मानना है और फिर यह निर्धारित करना है कि दोनों में से कौन से निष्कर्ष तर्कसंगत रूप से सही हैं।

**कथन:** कार्यालय के सभी कर्मचारियों ने बिना किसी पूर्वसूचना के छुट्टियां ली हैं।

**निष्कर्ष:**

**I:** सभी को नौकरी से निकालने की चेतावनी के साथ कारण बताओ नोटिस दिया जाना चाहिए।

**II:** सभी कर्मचारियों को तुरंत नौकरी से निकाल दिया जाना चाहिए।

Options :



1. ✓ केवल निष्कर्ष । अनुसरण करता है।
2. ✘ निष्कर्ष । और ॥ दोनों अनुसरण करते हैं।
3. ✘ या तो निष्कर्ष । या ॥ अनुसरण करता है।
4. ✘ केवल निष्कर्ष ॥ अनुसरण करता है।

## Mental Ability2

Group Number :	2
Group Id :	586180353
Group Maximum Duration :	0
Group Minimum Duration :	0
Show Attended Group? :	No
Edit Attended Group? :	No
Break time:	0
Group Marks:	20
Is this Group for Examiner? :	No
Revisit allowed for group Instructions? :	Yes
Maximum Instruction Time:	0
Minimum Instruction Time:	0

## Mental Ability2

Section Id :	586180357
Section Number :	1
Section type :	Online
Mandatory or Optional:	Mandatory
Number of Questions:	20
Number of Questions to be attempted:	20
Section Marks:	20

Sub-Section Number:	1
Sub-Section Id:	586180496
Question Shuffling Allowed :	Yes

Question Number : 21 Question Id : 5861807339 Question Type : MCQ Option Shuffling : Yes

Correct Marks : 1 Wrong Marks : 0.25

In a family, there are six members, Anil, Bindu, Champak, Deenu, Elfee and Fiona. Anil and Bindu are a couple; Anil is the male member. Deenu is the only son of Champak, who is the brother of Anil. Elfee is the sister of Deenu. Bindu is the daughter - in - law of Fiona, whose husband is no more.

How is Deenu related to Anil?

Options :

1. ✖ Brother

2. ✔ Nephew

3. ✖ Uncle

4. ✖ Son - in - law

Question Number : 21 Question Id : 5861807339 Question Type : MCQ Option Shuffling : Yes

Correct Marks : 1 Wrong Marks : 0.25

एक परिवार में, छह सदस्य हैं, अनिल, बिंदू, चंपक, दीनू, एल्फी और फियोना। अनिल और बिंदू पति - पत्नी हैं; अनिल, पुरुष सदस्य हैं। दीनू, चंपक का इकलौता बेटा है, जो अनिल का भाई है। एल्फी, दीनू की बहन है। बिंदू, फियोना की बहू है, जिसका पति अब जीवित नहीं है।

दीनू, अनिल से किस प्रकार से संबंधित है?

Options :

1. ✖ भाई

2. ✔ भतीजा

3. ✖ चाचा / मामा

## 4. ✖ दामाद

Question Number : 22 Question Id : 5861807340 Question Type : MCQ Option Shuffling : Yes

Correct Marks : 1 Wrong Marks : 0.25

Given is a statement followed by two conclusions. Read the statement and the conclusions carefully and decide which of the conclusions logically follow(s) from the statement.

### Statement:

Hockey as a game has strong connection with rural lifestyle.

### Conclusions:

- I. Hockey is popular in rural society.
- II. All hockey enthusiasts are from rural areas.

Options :

- 1. ✔ Only conclusion I follows.
- 2. ✖ Only conclusion II follows.
- 3. ✖ Both the conclusions follow.
- 4. ✖ Either conclusion I or conclusion II follows.

Question Number : 22 Question Id : 5861807340 Question Type : MCQ Option Shuffling : Yes

Correct Marks : 1 Wrong Marks : 0.25

दिए गए एक कथन के बाद दो निष्कर्ष हैं। कथन और निष्कर्ष को ध्यान से पढ़ें और निर्णय लें कि कथन में से कौन सा / से निष्कर्ष तार्किक रूप से अनुसरण करता है / हैं।

**कथन:**

हॉकी खेल का, ग्रामीण जीवन शैली के साथ एक मजबूत संबंध है।

**निष्कर्ष:**

- I. हॉकी ग्रामीण समाज में लोकप्रिय है।
- II. सभी हॉकी पसंद करने वाले लोग ग्रामीण क्षेत्रों में रहते हैं।

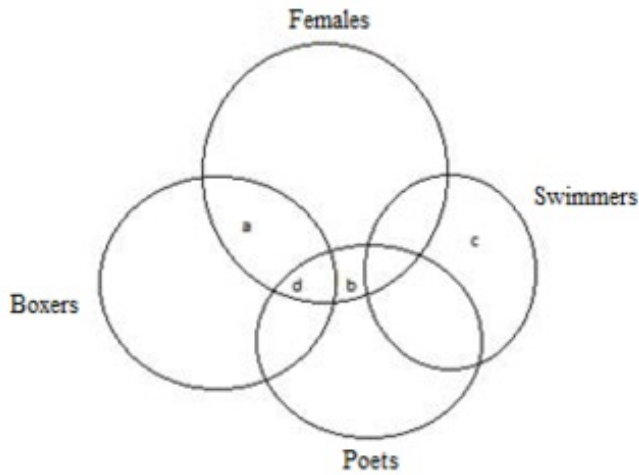
**Options :**

1. ✓ केवल निष्कर्ष I अनुसरण करता है।
2. ✗ केवल निष्कर्ष II अनुसरण करता है।
3. ✗ दोनों निष्कर्ष अनुसरण करते हैं।
4. ✗ या तो निष्कर्ष I या निष्कर्ष II अनुसरण करता है।

Question Number : 23 Question Id : 5861807341 Question Type : MCQ Option Shuffling : Yes

Correct Marks : 1 Wrong Marks : 0.25

Who are 'b' in the given image?

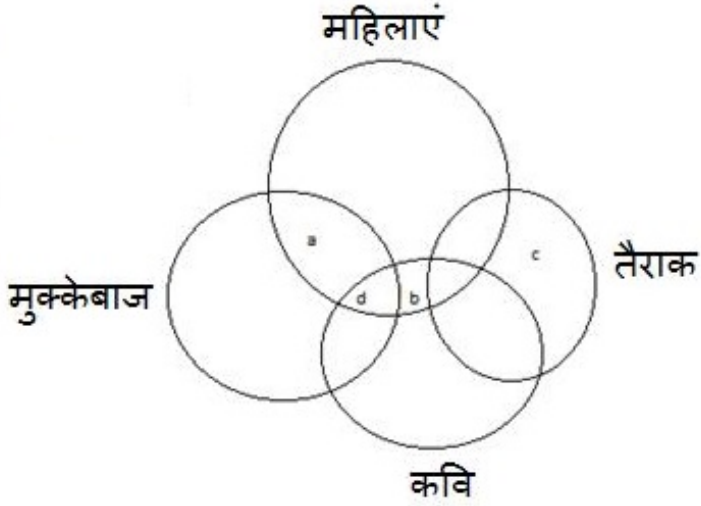


Options :

1. ✘ A group of female boxers who are swimmers as well as poets
2. ✔ A group of female poets who are neither swimmers nor boxers
3. ✘ A group of female swimmers who are not boxers
4. ✘ A group of female poets who are boxers as well

Question Number : 23 Question Id : 5861807341 Question Type : MCQ Option Shuffling : Yes  
Correct Marks : 1 Wrong Marks : 0.25

दी गई छवि में 'b' निम्न में से कौन होंगे?



Options :

1. ✘ महिला मुक्केबाजों का एक समूह जो तैराक होने के साथ - साथ कवि भी हैं।
2. ✔ महिला कवियों का एक समूह जो न तो तैराक है और न ही मुक्केबाज है।
3. ✘ महिला तैराकों का एक समूह जो मुक्केबाज नहीं हैं।
4. ✘ महिला कवियों का एक समूह जो मुक्केबाज भी हैं।

Question Number : 24 Question Id : 5861807342 Question Type : MCQ Option Shuffling : Yes

Correct Marks : 1 Wrong Marks : 0.25

Four numbers are given out of which the three numbers bear a certain common relationship. Choose the number which is different from others.

Options :

1. ✘ 187

2. ✘ 221

3. ✖ 323

4. ✔ 437

Question Number : 24 Question Id : 5861807342 Question Type : MCQ Option Shuffling : Yes

Correct Marks : 1 Wrong Marks : 0.25

चार संख्याएं दी गई हैं, जिनमें से तीन संख्याओं के बीच एक निश्चित समानता है। उस संख्या का चुनाव करें जो अन्य से भिन्न है।

Options :

1. ✖ 187

2. ✖ 221

3. ✖ 323

4. ✔ 437

Question Number : 25 Question Id : 5861807343 Question Type : MCQ Option Shuffling : Yes

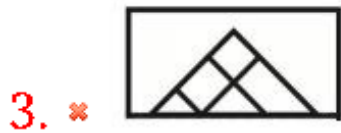
Correct Marks : 1 Wrong Marks : 0.25

Four figures are given out of which the three figures bear a certain common relationship. Choose the figures which is different from others.

Options :







Question Number : 25 Question Id : 5861807343 Question Type : MCQ Option Shuffling : Yes

Correct Marks : 1 Wrong Marks : 0.25

प्रश्न में चार आकृतियां दी गई हैं जिनमें से तीन आकृतियों के बीच एक निश्चित सामान्य संबंध है। उस आकृति का चुनाव करें जो अन्य से भिन्न है।

Options :



Question Number : 26 Question Id : 5861807344 Question Type : MCQ Option Shuffling : Yes

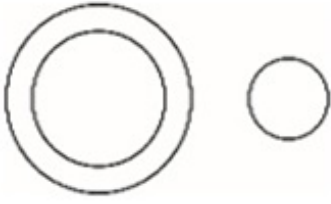
Correct Marks : 1 Wrong Marks : 0.25

Venn diagram that best represents the given set of classes / items:

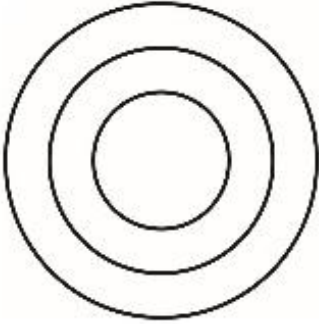
**NITROGEN, KRYPTON, GASES**

Options :

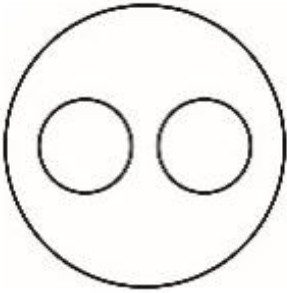
1. ✖



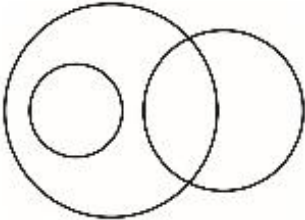
2. ✖



3. ✔



4. ✖



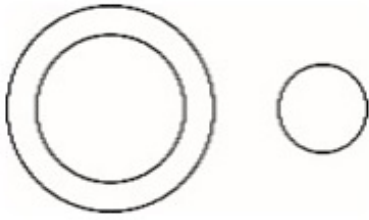
Question Number : 26 Question Id : 5861807344 Question Type : MCQ Option Shuffling : Yes

Correct Marks : 1 Wrong Marks : 0.25

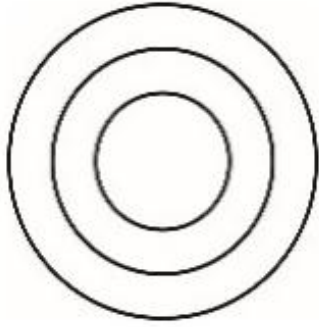
निम्न में से कौन सा वेन आरेख वर्गों / वस्तुओं के दिए गए सेट का सबसे अच्छा प्रतिनिधित्व करता है:

नाइट्रोजन, क्रिप्टॉन, गैस

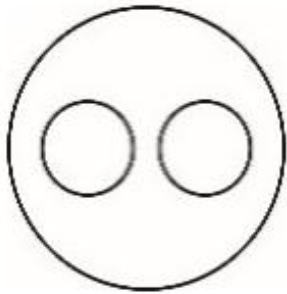
Options :



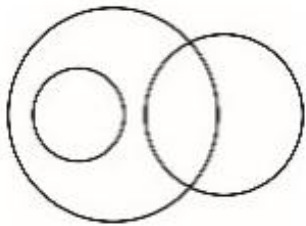
1. ✘



2. ✘



3. ✔



4. ✘

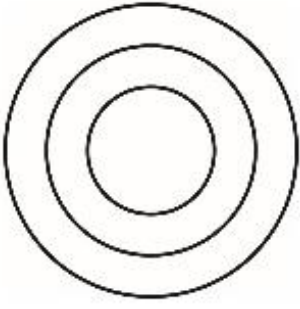
Question Number : 27 Question Id : 5861807345 Question Type : MCQ Option Shuffling : Yes

Correct Marks : 1 Wrong Marks : 0.25

Venn diagram that best represents the given set of classes:

**FOOD, CEREAL GRAINS, WHEAT**

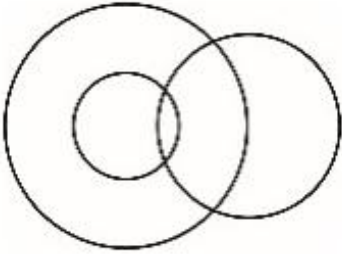
Options :



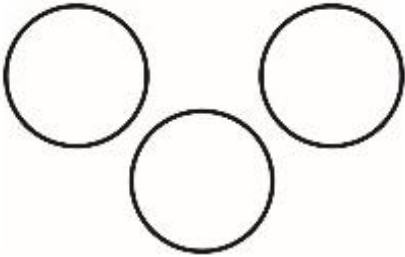
1. ✓



2. ✘



3. ✘



4. ✘

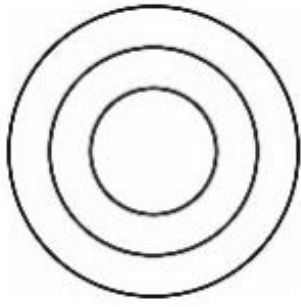
Question Number : 27 Question Id : 5861807345 Question Type : MCQ Option Shuffling : Yes

Correct Marks : 1 Wrong Marks : 0.25

निम्न में से कौन सा वेन आरेख, दिए गए वर्गों के सेट का सबसे अच्छा प्रतिनिधित्व करता है:

खाद्य पदार्थ, अनाज, गेहूं

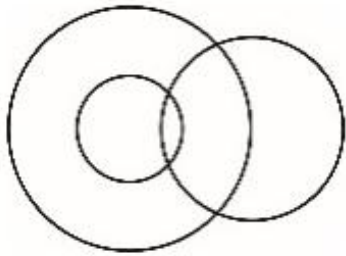
Options :



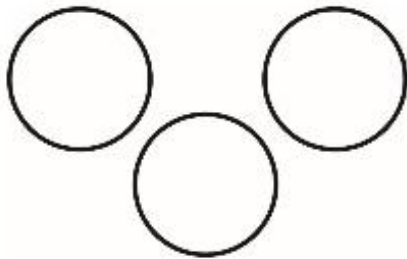
1. ✓



2. ✗



3. ✗



4. ✗

Question Number : 28 Question Id : 5861807346 Question Type : MCQ Option Shuffling : Yes

Correct Marks : 1 Wrong Marks : 0.25

If 'A - B' means A is mother of B, 'A S B', A is sister of B, 'A @ B' means A is father of B and 'A=B' means A is son of B.

If  $P = Q - S S R$ , then how P is related to R?

Options :

1. ✗ Nephew

2. ✖ Son

3. ✔ Brother

4. ✖ Niece

Question Number : 28 Question Id : 5861807346 Question Type : MCQ Option Shuffling : Yes

Correct Marks : 1 Wrong Marks : 0.25

यदि 'A - B' का अर्थ A, B की माँ है, 'A \$ B' का अर्थ A, B की बहन है, 'A @ B' का अर्थ A, B का पिता है और 'A = B' का अर्थ A, B का पुत्र है।

यदि  $P = Q - S \$ R$  है, तो P, R से किस प्रकार से संबंधित है?

Options :

1. ✖ भतीजा

2. ✖ बेटा

3. ✔ भाई

4. ✖ भांजी

Question Number : 29 Question Id : 5861807347 Question Type : MCQ Option Shuffling : Yes

Correct Marks : 1 Wrong Marks : 0.25

Shahini and Mohani are sisters. Dev and Anu are brothers. Dinesh is husband of Manju and son of Jyoti. Dev is son of Jyoti and Jyoti is mother of Shahini. How Mohini's father is related to Manju?

Options :

1. ✖ Son

2. ✖ Brother



3. ✓ Father-in-law

4. ✗ Brother-in-law

Question Number : 29 Question Id : 5861807347 Question Type : MCQ Option Shuffling : Yes

Correct Marks : 1 Wrong Marks : 0.25

शाहिनी और मोहनी बहनें हैं। देव और अनु भाई हैं। दिनेश, मंजू का पति और ज्योति का बेटा है। देव, ज्योति का बेटा है और ज्योति, शाहिनी की माँ हैं। मोहिनी के पिता का मंजू से क्या संबंध है?

Options :

1. ✗ बेटा

2. ✗ भाई

3. ✓ ससुर

4. ✗ बहनोई

Question Number : 30 Question Id : 5861807348 Question Type : MCQ Option Shuffling : Yes

Correct Marks : 1 Wrong Marks : 0.25

If 'P \* Q' means P is father of Q, 'P % Q', P is daughter of Q, 'P # Q' means P is mother of Q and 'P = Q' means Q is son of P.

If S \* N = R \* M, then how S is related to M?

Options :

1. ✗ Brother

2. ✗ Grand grand son

3. ✓ Grand grand Father

#### 4. ✖ Grand grand Mother

Question Number : 30 Question Id : 5861807348 Question Type : MCQ Option Shuffling : Yes

Correct Marks : 1 Wrong Marks : 0.25

यदि 'P \* Q' का अर्थ P, Q का पिता है, 'P % Q' का अर्थ P, Q की बेटी है, 'P # Q' का अर्थ P, Q की माता है और 'P = Q' का अर्थ Q, P का पुत्र है।

यदि  $S * N = R * M$  है, तो S, M से किस प्रकार से संबंधित है?

Options :

1. ✖ भाई

2. ✖ परपोता

3. ✔ परदादा

4. ✖ परदादी

Question Number : 31 Question Id : 5861807349 Question Type : MCQ Option Shuffling : Yes

Correct Marks : 1 Wrong Marks : 0.25

Number of medals won by four nations in six Olympic games are as given in the following table.

YEAR	COUNTRY			
	USA	China	India	Russia
1996	120	65	35	65
2000	140	60	70	36
2004	42	50	56	42
2008	132	38	108	41
2012	90	74	76	45
2016	64	46	82	69

Which among the given nations won the second highest number of medals over all the Olympic games taken together?

Options :

1. ✖ USA

2. ✖ China

3. ✔ India

4. ✖ Russia

Question Number : 31 Question Id : 5861807349 Question Type : MCQ Option Shuffling : Yes

Correct Marks : 1 Wrong Marks : 0.25

निम्न तालिका में छह ओलंपिक खेलों में चार देशों द्वारा जीते गए पदकों की संख्या दर्शाई गई है।

साल	देश			
	यूएसए	चीन	भारत	रूस
1996	120	65	35	65
2000	140	60	70	36
2004	42	50	56	42
2008	132	38	108	41
2012	90	74	76	45
2016	64	46	82	69

सभी ओलंपिक खेलों को मिलाकर दिए गए देशों में से किसने द्वितीय सर्वाधिक पदक जीते?

Options :

1. ✖ यूएसए

2. ✖ चीन

3. ✔ भारत

4. ✖ रूस

Question Number : 32 Question Id : 5861807350 Question Type : MCQ Option Shuffling : Yes

Correct Marks : 1 Wrong Marks : 0.25

In certain code PINK is written as 232, How will be GREEN written in that code?

Options :

1. ✖ 200

2. ✖ 150

3. ✖ 245

4. ✔ 430

Question Number : 32 Question Id : 5861807350 Question Type : MCQ Option Shuffling : Yes

Correct Marks : 1 Wrong Marks : 0.25

किसी कोड में PINK को 232 लिखा जाता है, उस कोड में GREEN को कैसे लिखा जाएगा?

Options :

1. ✖ 200

2. ✖ 150

3. ✖ 245

4. ✔ 430

Question Number : 33 Question Id : 5861807351 Question Type : MCQ Option Shuffling : Yes

Correct Marks : 1 Wrong Marks : 0.25

Which of the following pairs of signs, when their positions are interchanged, will correctly solve the given mathematical equation?

$$25 + 5 - 210 \div 15 \times 5 = 116$$

Options :

1. ✖  $\div$  and  $\times$

2. ✖  $\div$  and  $+$

3. ✔  $+$  and  $\times$

4. ✖  $+$  and  $-$

Question Number : 33 Question Id : 5861807351 Question Type : MCQ Option Shuffling : Yes

Correct Marks : 1 Wrong Marks : 0.25

निम्नलिखित में से कौन से चिह्न, उनकी स्थितियों को परस्पर बदल दिए जाने पर, दिए गए गणितीय समीकरण को सही ढंग से हल करेंगे?

$$25 + 5 - 210 \div 15 \times 5 = 116$$

Options :

1. ✖  $\div$  और  $\times$

2. ✖  $\div$  और  $+$

3. ✔  $+$  और  $\times$

4. ✖  $+$  और  $-$

Question Number : 34 Question Id : 5861807352 Question Type : MCQ Option Shuffling : Yes

Correct Marks : 1 Wrong Marks : 0.25

Which of the following pairs of numbers and signs, when their positions are interchanged, will correctly solve the given mathematical equation?

$$12 \div 4 \times 16 + 2 - 7 = 43$$

Options :

1. ✘ 7 and 12, + and -

2. ✘ 7 and 16, - and ×

3. ✘ 4 and 7, × and ÷

4. ✔ 2 and 7, + and -

Question Number : 34 Question Id : 5861807352 Question Type : MCQ Option Shuffling : Yes

Correct Marks : 1 Wrong Marks : 0.25

निम्नलिखित में से कौन सी संख्या व चिह्न, उनकी स्थितियों को परस्पर बदल दिए जाने पर, दिए गए गणितीय समीकरण को सही ढंग से हल करेंगे?

$$12 \div 4 \times 16 + 2 - 7 = 43$$

Options :

1. ✘ 7 और 12, + और -

2. ✘ 7 और 16, - और ×

3. ✘ 4 और 7, × और ÷

4. ✔ 2 और 7, + और -

Question Number : 35 Question Id : 5861807353 Question Type : MCQ Option Shuffling : Yes

Correct Marks : 1 Wrong Marks : 0.25

If you write down all the numbers from 1 to 50, then how many times do you write 5?



Options :

1. ✖ 5

2. ✔ 6

3. ✖ 7

4. ✖ 14

Question Number : 35 Question Id : 5861807353 Question Type : MCQ Option Shuffling : Yes

Correct Marks : 1 Wrong Marks : 0.25

यदि आप 1 से 50 तक की सभी संख्याओं को लिखते हैं, तो आप 5 को कितनी बार लिखेंगे?

Options :

1. ✖ 5

2. ✔ 6

3. ✖ 7

4. ✖ 14

Question Number : 36 Question Id : 5861807354 Question Type : MCQ Option Shuffling : Yes

Correct Marks : 1 Wrong Marks : 0.25

Four words have been given out of which three are alike in some manner, while the fourth one is different. Choose out the odd one.

Options :

1. ✖ Cobbler

2. ✖ Chef

3. ✖ Poet

4. ✔ Crop

Question Number : 36 Question Id : 5861807354 Question Type : MCQ Option Shuffling : Yes

Correct Marks : 1 Wrong Marks : 0.25

नीचे चार शब्द दिए गए हैं, जिनमें से तीन शब्द किसी ना किसी प्रकार से आपस में समानता रखते हैं, जबकि चौथा शब्द अन्य शब्दों से अलग है। विषम शब्द का चयन करें।

Options :

1. ✖ मोची

2. ✖ खानसमा

3. ✖ कवि

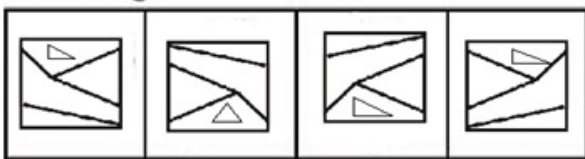
4. ✔ फसल

Question Number : 37 Question Id : 5861807355 Question Type : MCQ Option Shuffling : Yes

Correct Marks : 1 Wrong Marks : 0.25

In problem, out of four figures marked 1, 2, 3 and 4, three are similar in a certain manner. However one figure is not like the other three. Choose the figure which is different from the rest.

Answer Fig.



1

2

3

4

Options :

1. ✘ 1

2. ✔ 2

3. ✘ 3

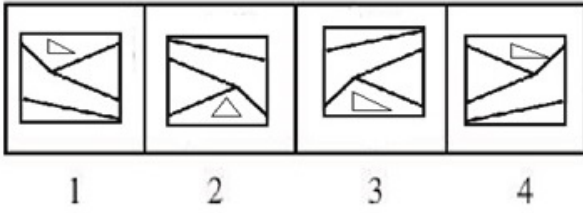
4. ✘ 4

Question Number : 37 Question Id : 5861807355 Question Type : MCQ Option Shuffling : Yes

Correct Marks : 1 Wrong Marks : 0.25

नीचे दिए गए प्रश्न में, चार आकृतियां 1, 2, 3 और 4 दी गई हैं, तीन जो आपस में किसी ना किसी प्रकार से समानता रखती हैं। हालांकि एक आकृति अन्य तीनों से अलग है। अन्य से अलग आकृति का चुनाव करें।

उत्तर आकृति,



Options :

1. ✘ 1

2. ✔ 2

3. ✘ 3

4. ✘ 4

Question Number : 38 Question Id : 5861807356 Question Type : MCQ Option Shuffling : Yes

Correct Marks : 1 Wrong Marks : 0.25

Select the option that will correctly replace the question mark (?) in the series.

26, 51, 100, 181, ?

Options :

1. ✖ 209

2. ✖ 249

3. ✔ 302

4. ✖ 386

Question Number : 38 Question Id : 5861807356 Question Type : MCQ Option Shuffling : Yes

Correct Marks : 1 Wrong Marks : 0.25

नीचे दी गई श्रृंखला में उस विकल्प का चयन करें जो प्रश्न चिन्ह (?) की जगह पर आएगा।

26, 51, 100, 181, ?

Options :

1. ✖ 209

2. ✖ 249

3. ✔ 302

4. ✖ 386

Question Number : 39 Question Id : 5861807357 Question Type : MCQ Option Shuffling : Yes

Correct Marks : 1 Wrong Marks : 0.25

Select the option that will correctly replace the question mark (?) in the series.

12, 48, 112, 212, ?

Options :

1. ✖ 296

2. ✖ 340

3. ✔ 356

4. ✖ 440

Question Number : 39 Question Id : 5861807357 Question Type : MCQ Option Shuffling : Yes

Correct Marks : 1 Wrong Marks : 0.25

नीचे दी गई श्रृंखला में उस विकल्प का चयन करें जो प्रश्न चिन्ह (?) की जगह पर आएगा।

12, 48, 112, 212, ?

Options :

1. ✖ 296

2. ✖ 340

3. ✔ 356

4. ✖ 440

Question Number : 40 Question Id : 5861807358 Question Type : MCQ Option Shuffling : Yes

Correct Marks : 1 Wrong Marks : 0.25

One term in the number series is wrong. Find out the wrong term.

54, 60, 180, 188, 558, 564.

Options :

1. ✖ 180

2. ✖ 60

3. ✔ 188

4. ✖ 558

Question Number : 40 Question Id : 5861807358 Question Type : MCQ Option Shuffling : Yes

Correct Marks : 1 Wrong Marks : 0.25

दी गई संख्या श्रृंखला में एक पद गलत है। गलत पद ज्ञात करें।

54, 60, 180, 188, 558, 564

Options :

1. ✖ 180

2. ✖ 60

3. ✔ 188

4. ✖ 558

General Awareness1



Group Id :	586180354
Group Maximum Duration :	0
Group Minimum Duration :	0
Show Attended Group? :	No
Edit Attended Group? :	No
Break time:	0
Group Marks:	20
Is this Group for Examiner?:	No
Revisit allowed for group Instructions? :	Yes
Maximum Instruction Time:	0
Minimum Instruction Time:	0

## General Awareness1

Section Id :	586180358
Section Number :	1
Section type :	Online
Mandatory or Optional:	Mandatory
Number of Questions:	20
Number of Questions to be attempted:	20
Section Marks:	20

Sub-Section Number:	1
Sub-Section Id:	586180497
Question Shuffling Allowed :	Yes

Question Number : 41 Question Id : 5861807359 Question Type : MCQ Option Shuffling : Yes  
Correct Marks : 1 Wrong Marks : 0.25

In which year was the National Green Tribunal established?

Options :

1. ✓ 2010
2. ✗ 2008
3. ✗ 2005
4. ✗ 2000

Question Number : 41 Question Id : 5861807359 Question Type : MCQ Option Shuffling : Yes  
Correct Marks : 1 Wrong Marks : 0.25

राष्ट्रीय हरित अधिकरण (नेशनल ग्रीन ट्रिब्यूनल) की स्थापना किस वर्ष हुई?

Options :

1. ✓ 2010

2. ✖ 2008

3. ✖ 2005

4. ✖ 2000

Question Number : 42 Question Id : 5861807360 Question Type : MCQ Option Shuffling : Yes  
Correct Marks : 1 Wrong Marks : 0.25

‘Aviral Dhara’ mission is related to:

Options :

1. ✖ Production of cow milk

2. ✖ Production of oil

3. ✔ Flowing of rivers

4. ✖ Distribution of petrol

Question Number : 42 Question Id : 5861807360 Question Type : MCQ Option Shuffling : Yes  
Correct Marks : 1 Wrong Marks : 0.25

'अविरल धारा' \_\_\_\_\_ से संबंधित मिशन है।

Options :

1. ✖ गाय के दूध का उत्पादन

2. ✖ तेल का उत्पादन

3. ✔ नदियों का प्रवाह

4. ✖ पेट्रोल का वितरण

Question Number : 43 Question Id : 5861807361 Question Type : MCQ Option Shuffling : Yes  
Correct Marks : 1 Wrong Marks : 0.25

Where is the headquarters of International Solar Alliance located?

Options :

1. ✖ Nepal

2. ✔ India

3. ✖ Pakistan

## 4. \* Singapore

Question Number : 43 Question Id : 5861807361 Question Type : MCQ Option Shuffling : Yes  
Correct Marks : 1 Wrong Marks : 0.25

अंतर्राष्ट्रीय सौर गठबंधन का मुख्यालय कहाँ स्थित है?

Options :

1. \* नेपाल
2. ✓ भारत
3. \* पाकिस्तान
4. \* सिंगापुर

Question Number : 44 Question Id : 5861807362 Question Type : MCQ Option Shuffling : Yes  
Correct Marks : 1 Wrong Marks : 0.25

Ramsar Convention is also known as:

Options :

1. \* Convention on climate change
2. \* Convention on peace keeping
3. \* Convention on forced labour
4. ✓ Convention on wetlands

Question Number : 44 Question Id : 5861807362 Question Type : MCQ Option Shuffling : Yes  
Correct Marks : 1 Wrong Marks : 0.25

रामसर सम्मेलन \_\_\_\_\_ के नाम से भी जाना जाता है।

Options :

1. \* जलवायु परिवर्तन पर सम्मेलन
2. \* शांति बनाए रखने पर सम्मेलन
3. \* बलात् श्रम पर सम्मेलन
4. ✓ जलमग्न भूमि पर सम्मेलन

Question Number : 45 Question Id : 5861807363 Question Type : MCQ Option Shuffling : Yes  
Correct Marks : 1 Wrong Marks : 0.25

What is the theme of World Migratory Bird Day 2019?

Options :

1. ✓ **Protect Birds: Be the Solution to Plastic Pollution**
2. ✖ **A Healthy Planet for Migratory Birds and People**
3. ✖ **Stop the illegal killing, taking and trade of Migratory Birds**
4. ✖ **Energy - Make it Bird - Friendly!**

Question Number : 45 Question Id : 5861807363 Question Type : MCQ Option Shuffling : Yes

Correct Marks : 1 Wrong Marks : 0.25

विश्व प्रवासी पक्षी दिवस 2019 की मुख्य विषय क्या है?

Options :

1. ✓ **पक्षियों का संरक्षण: प्लास्टिक प्रदूषण का समाधान बनें**
2. ✖ **प्रवासी पक्षियों और व्यक्तियों के लिए एक स्वस्थ ग्रह**
3. ✖ **प्रवासी पक्षियों के गैरकानूनी शिकार, पालन और व्यापार को रोकें**
4. ✖ **ऊर्जा - इसे पक्षी अनुकूल बनाएं!**

Question Number : 46 Question Id : 5861807364 Question Type : MCQ Option Shuffling : Yes

Correct Marks : 1 Wrong Marks : 0.25

Tijjani Muhammad Bande has been appointed as the president of the \_\_\_\_\_.

Options :

1. ✓ **UNGA**
2. ✖ **ILO**
3. ✖ **UNESCO**
4. ✖ **UNICEF**

Question Number : 46 Question Id : 5861807364 Question Type : MCQ Option Shuffling : Yes

Correct Marks : 1 Wrong Marks : 0.25

तिजानी मुहम्मद बंदे \_\_\_\_\_ के राष्ट्रपति के रूप में नियुक्त किए गए हैं।

Options :

1. ✓ यूएनजीए
2. ✖ आईएलओ
3. ✖ यूनेस्को
4. ✖ यूनिसेफ

Question Number : 47 Question Id : 5861807365 Question Type : MCQ Option Shuffling : Yes  
Correct Marks : 1 Wrong Marks : 0.25

Which of the following Companies has the tagline 'Experience Certainty, Experience Energy'?

Note: For this question, discrepancy is found in question/answer. So, this question is ignored for all candidates.

Options :

1. Adidas
2. Infosys
3. Tata Consultancy Services
4. Mercedes - Benz

Question Number : 47 Question Id : 5861807365 Question Type : MCQ Option Shuffling : Yes  
Correct Marks : 1 Wrong Marks : 0.25

निम्न में से किस कंपनी की प्रचार वाक्य (टैगलाइन) 'एक्सपीरियंस सरटनटी, एक्सपीरियंस एनर्जी' है?

Note: For this question, discrepancy is found in question/answer. So, this question is ignored for all candidates.

Options :

1. एडिडास
2. इंफोसिस
3. टाटा कंसल्टेंसी सर्विसेस
4. मर्सिडीज़ बेन्ज़

Question Number : 48 Question Id : 5861807366 Question Type : MCQ Option Shuffling : Yes  
Correct Marks : 1 Wrong Marks : 0.25

Which country has reported its first case of the rare MonkeyPox virus in May 2019?

Options :

1. \* Brazil
2. ✓ Singapore
3. \* Portugal
4. \* Nigeria

Question Number : 48 Question Id : 5861807366 Question Type : MCQ Option Shuffling : Yes

Correct Marks : 1 Wrong Marks : 0.25

किस देश ने मई 2019 में दुर्लभ मंकीपॉक्स विषाणु (वायरस) का अपना पहला मामला सूचित किया?

Options :

1. \* ब्राज़ील
2. ✓ सिंगापुर
3. \* पुर्तगाल
4. \* नाईजीरिया

Question Number : 49 Question Id : 5861807367 Question Type : MCQ Option Shuffling : Yes

Correct Marks : 1 Wrong Marks : 0.25

A work on Dramaturgy, Natyashastra was written by\_\_\_\_\_.

Options :

1. \* Varahamihira
2. \* Panini
3. ✓ Bharata
4. \* Vishnusharma

Question Number : 49 Question Id : 5861807367 Question Type : MCQ Option Shuffling : Yes

Correct Marks : 1 Wrong Marks : 0.25

नाट्यकला पर आधारित नाट्यशास्त्र \_\_\_\_\_ द्वारा लिखी गई।

Options :



1. ✖ वराहमिहिर
2. ✖ पाणिनि
3. ✔ भरत
4. ✖ विष्णुशर्मा

Question Number : 50 Question Id : 5861807368 Question Type : MCQ Option Shuffling : Yes  
Correct Marks : 1 Wrong Marks : 0.25

With reference to the events of Gautama Buddha's life, which of the followings is NOT matched correctly?

Options :

1. ✔ First Sermon - Amaravati
2. ✖ Birth - Lumbini
3. ✖ Enlightenment - Bodh Gaya
4. ✖ Death - Kusinagara

Question Number : 50 Question Id : 5861807368 Question Type : MCQ Option Shuffling : Yes  
Correct Marks : 1 Wrong Marks : 0.25

गौतम बुद्ध के जीवन की घटनाओं के संदर्भ में, निम्न में से किसका मिलान सही नहीं है?

Options :

1. ✔ प्रथम उपदेश - अमरावती
2. ✖ जन्म - लुंबिनी
3. ✖ ज्ञान की प्राप्ति - बोध गया
4. ✖ मृत्यु - कुशीनगर

Question Number : 51 Question Id : 5861807369 Question Type : MCQ Option Shuffling : Yes  
Correct Marks : 1 Wrong Marks : 0.25

Which of the followings is NOT a book by Mahatma Gandhi?

Options :

1. ✖ My Experiments With Truth

2. ✓ Satyarth Prakash

3. ✘ Hind Swaraj

4. ✘ Path To God

Question Number : 51 Question Id : 5861807369 Question Type : MCQ Option Shuffling : Yes  
Correct Marks : 1 Wrong Marks : 0.25

निम्न में से कौन, महात्मा गांधी की पुस्तक नहीं है?

Options :

1. ✘ सत्य के साथ मेरे प्रयोग (माय एक्सपिरियन्स विथ ट्रुथ)

2. ✓ सत्यार्थ प्रकाश

3. ✘ हिंद स्वराज

4. ✘ ईश्वर का मार्ग (पाथ टू गॉड)

Question Number : 52 Question Id : 5861807370 Question Type : MCQ Option Shuffling : Yes  
Correct Marks : 1 Wrong Marks : 0.25

On 8 August, 1942 the AICC met at Bombay and passed the Resolution and proposed the starting of a massive non - violent struggle under the leadership of Gandhiji. The name of the struggle was:

Options :

1. ✓ Quit India

2. ✘ Civil Disobedience

3. ✘ Rowlatt

4. ✘ Non - cooperation

Question Number : 52 Question Id : 5861807370 Question Type : MCQ Option Shuffling : Yes  
Correct Marks : 1 Wrong Marks : 0.25

8 अगस्त 1942 को, बम्बई में एआईसीसी की बैठक हुई और गांधीजी के नेतृत्व में एक व्यापक अहिंसात्मक संघर्ष शुरू करने का प्रस्ताव पारित किया गया। इस संघर्ष का नाम \_\_\_\_\_ था।

Options :

1. ✓ भारत छोड़ो
2. ✘ सविनय अवज्ञा
3. ✘ रॉलेट
4. ✘ असहयोग

Question Number : 53 Question Id : 5861807371 Question Type : MCQ Option Shuffling : Yes  
Correct Marks : 1 Wrong Marks : 0.25

The Deputy Chairman of the Rajya Sabha is chosen by:

Options :

1. ✓ The Rajya Sabha members
2. ✘ The Rajya Sabha and Lok Sabha Members
3. ✘ The members of Rajya Sabha, Lok Sabha and State Legislatures
4. ✘ The people directly

Question Number : 53 Question Id : 5861807371 Question Type : MCQ Option Shuffling : Yes  
Correct Marks : 1 Wrong Marks : 0.25

राज्यसभा का उपसभापति, \_\_\_\_\_ द्वारा चुना जाता है।

Options :

1. ✓ राज्यसभा सदस्यों
2. ✘ राज्यसभा और लोकसभा सदस्यों
3. ✘ राज्यसभा, लोकसभा, और राज्य विधायिकाओं के सदस्य
4. ✘ सीधे जनता द्वारा

Question Number : 54 Question Id : 5861807372 Question Type : MCQ Option Shuffling : Yes  
Correct Marks : 1 Wrong Marks : 0.25

Who is considered as the first Law Officer of the Government of India?

Options :

1. ✘ Solicitor - General

2. \* Chief Justice of India

3. ✓ Attorney - General

4. \* Law Minister

Question Number : 54 Question Id : 5861807372 Question Type : MCQ Option Shuffling : Yes

Correct Marks : 1 Wrong Marks : 0.25

किसे भारत सरकार का प्रथम विधि अधिकारी माना जाता है?

Options :

1. \* सॉलिसिटर जनरल

2. \* भारत के मुख्य न्यायाधीश

3. ✓ अटार्नी जनरल

4. \* कानून मंत्री

Question Number : 55 Question Id : 5861807373 Question Type : MCQ Option Shuffling : Yes

Correct Marks : 1 Wrong Marks : 0.25

Which Article of Indian Constitution defines a Money bill?

Options :

1. \* Article 244

2. ✓ Article 110

3. \* Article 233

4. \* Article 276

Question Number : 55 Question Id : 5861807373 Question Type : MCQ Option Shuffling : Yes

Correct Marks : 1 Wrong Marks : 0.25

भारतीय संविधान का कौन सा अनुच्छेद धन विधेयक को पारिभाषित करता है?

Options :

1. \* अनुच्छेद 244

2. ✓ अनुच्छेद 110

3. \* अनुच्छेद 233

## 4. \* अनुच्छेद 276

Question Number : 56 Question Id : 5861807374 Question Type : MCQ Option Shuffling : Yes  
Correct Marks : 1 Wrong Marks : 0.25

The distance travelled by an object is \_\_\_\_\_ to its speed.

Options :

1. \* inversely proportional
2. \* not related
3. \* equal
4. ✓ directly proportional

Question Number : 56 Question Id : 5861807374 Question Type : MCQ Option Shuffling : Yes  
Correct Marks : 1 Wrong Marks : 0.25

एक वस्तु द्वारा तय की गई दूरी, इसकी चाल के \_\_\_\_\_ होती है।

Options :

1. \* व्युत्क्रमानुपाती
2. \* संबंधित नहीं
3. \* समान
4. ✓ अनुक्रमानुपाती

Question Number : 57 Question Id : 5861807375 Question Type : MCQ Option Shuffling : Yes  
Correct Marks : 1 Wrong Marks : 0.25

Which of the following is part of the Concurrent List?

Options :

1. ✓ Education
2. \* Defence
3. \* Fisheries
4. \* Ports

Question Number : 57 Question Id : 5861807375 Question Type : MCQ Option Shuffling : Yes  
Correct Marks : 1 Wrong Marks : 0.25

निम्न में से कौन, समवर्ती सूची का भाग है?

Options :

1. ✓ शिक्षा
2. ✗ रक्षा
3. ✗ मछली पालन
4. ✗ बंदरगाहों

Question Number : 58 Question Id : 5861807376 Question Type : MCQ Option Shuffling : Yes  
Correct Marks : 1 Wrong Marks : 0.25

Who amongst the followings is known as the chief architect of Second Five Year Plan in India?

Options :

1. ✗ Jagjivan Ram
2. ✗ Chaudhary Charan Singh
3. ✗ Ram Manohar Lohia
4. ✓ Prasanta Chandra Mahalanobis

Question Number : 58 Question Id : 5861807376 Question Type : MCQ Option Shuffling : Yes  
Correct Marks : 1 Wrong Marks : 0.25

निम्न में से किसे भारत में द्वितीय पंचवर्षीय योजना का मुख्य रचनाकार माना जाता है?

Options :

1. ✗ जगजीवन राम
2. ✗ चौधरी चरण सिंह
3. ✗ राम मनोहर लोहिया
4. ✓ प्रशान्त चन्द्र महालनोबिस

Question Number : 59 Question Id : 5861807377 Question Type : MCQ Option Shuffling : Yes  
Correct Marks : 1 Wrong Marks : 0.25

Who became World Number One in women's 10m Air Rifle at ISSF World Cup in China?

Options :



1. \* Anjum Moudgil
2. \* Li Du
3. ✓ Apurvi Singh Chandela
4. \* Nancy Johnson

Question Number : 59 Question Id : 5861807377 Question Type : MCQ Option Shuffling : Yes  
Correct Marks : 1 Wrong Marks : 0.25

चीन में आईएसएसएफ विश्व कप में महिलाओं की 10m एयर राइफल में विश्व में प्रथम स्थान किसने प्राप्त किया?

Options :

1. \* अंजुम मौदगिल
2. \* ली दू
3. ✓ अपूर्वी सिंह चंदेला
4. \* नैन्सी जॉनसन

Question Number : 60 Question Id : 5861807378 Question Type : MCQ Option Shuffling : Yes  
Correct Marks : 1 Wrong Marks : 0.25

Who has been named as the Goodwill Ambassador for Street Child Cricket World Cup?

Options :

1. \* M S Dhoni
2. ✓ Mithali Raj
3. \* Virat Kohli
4. \* Smriti Mandhana

Question Number : 60 Question Id : 5861807378 Question Type : MCQ Option Shuffling : Yes  
Correct Marks : 1 Wrong Marks : 0.25

स्ट्रीट चाइल्ड क्रिकेट वर्ल्ड कप के लिए गुडविल एम्बेसेडर के रूप में किसे नामित किया गया?

Options :

1. ✖ एम एस धोनी
2. ✔ मिताली राज
3. ✖ विराट कोहली
4. ✖ स्मृति मंधाना

## General Awareness2

Group Number :	4
Group Id :	586180355
Group Maximum Duration :	0
Group Minimum Duration :	0
Show Attended Group? :	No
Edit Attended Group? :	No
Break time:	0
Group Marks:	20
Is this Group for Examiner? :	No
Revisit allowed for group Instructions? :	Yes
Maximum Instruction Time:	0
Minimum Instruction Time:	0

## General Awareness2

Section Id :	586180359
Section Number :	1
Section type :	Online
Mandatory or Optional:	Mandatory
Number of Questions:	20
Number of Questions to be attempted:	20
Section Marks:	20

Sub-Section Number:	1
Sub-Section Id:	586180498
Question Shuffling Allowed :	Yes

Question Number : 61 Question Id : 5861807379 Question Type : MCQ Option Shuffling : Yes  
Correct Marks : 1 Wrong Marks : 0.25

Who won gold at the Cologne Boxing World Cup 2019?

Options :

1. ✔ Meena Kumari Maisnam

2. \* Pinki Rani

3. \* Parveen

4. \* Mary Kom

Question Number : 61 Question Id : 5861807379 Question Type : MCQ Option Shuffling : Yes

Correct Marks : 1 Wrong Marks : 0.25

कोलोन मुक्केबाजी विश्व कप 2019 में किसने स्वर्ण पदक जीता?

Options :

1. ✓ मीना कुमारी मैसनम

2. \* पिंकी रानी

3. \* परवीन

4. \* मैरी कॉम

Question Number : 62 Question Id : 5861807380 Question Type : MCQ Option Shuffling : Yes

Correct Marks : 1 Wrong Marks : 0.25

In Mahabharata, who was the Son of Dronacharya?

Options :

1. \* Ghatotkacha

2. \* Dhrishtadyumna

3. ✓ Aswathama

4. \* Yuyutsu

Question Number : 62 Question Id : 5861807380 Question Type : MCQ Option Shuffling : Yes

Correct Marks : 1 Wrong Marks : 0.25

महाभारत में, द्रोणाचार्य का पुत्र कौन था?

Options :

1. \* घटोत्कच

2. \* धृष्टद्युम्न

3. ✓ अश्वत्थामा

4. \* युयुत्सु

Question Number : 63 Question Id : 5861807381 Question Type : MCQ Option Shuffling : Yes

Correct Marks : 1 Wrong Marks : 0.25

In the context of folk dances of India, which of the followings is correctly matched?

Options :

1. ✖ Mahari - Bihar
2. ✔ Yakshagana - Karnataka
3. ✖ Garba - Rajasthan
4. ✖ Thali - Madhya Pradesh

Question Number : 63 Question Id : 5861807381 Question Type : MCQ Option Shuffling : Yes

Correct Marks : 1 Wrong Marks : 0.25

भारत में लोक नृत्यों के संदर्भ में, निम्न में से किसका मिलान सही है?

Options :

1. ✖ महरी - बिहार
2. ✔ यक्षगान - कर्नाटक
3. ✖ गरबा - राजस्थान
4. ✖ थाली - मध्य प्रदेश

Question Number : 64 Question Id : 5861807382 Question Type : MCQ Option Shuffling : Yes

Correct Marks : 1 Wrong Marks : 0.25

The famous Sikh shrine Hemkund Sahib is located in \_\_\_\_\_.

Options :

1. ✖ Himachal Pradesh
2. ✖ Maharashtra
3. ✔ Uttarakhand
4. ✖ Punjab

Question Number : 64 Question Id : 5861807382 Question Type : MCQ Option Shuffling : Yes

Correct Marks : 1 Wrong Marks : 0.25

प्रसिद्ध सिख तीर्थस्थल हेमकुंड साहिब \_\_\_\_\_ में स्थित है।

Options :

1. ✖ हिमाचल प्रदेश
2. ✖ महाराष्ट्र
3. ✔ उत्तराखंड
4. ✖ पंजाब

Question Number : 65 Question Id : 5861807383 Question Type : MCQ Option Shuffling : Yes  
Correct Marks : 1 Wrong Marks : 0.25

Which of the followings is NOT a Cold Desert?

Options :

1. ✖ Gobi
2. ✖ Antarctica
3. ✖ Great Basin
4. ✔ Kalahari

Question Number : 65 Question Id : 5861807383 Question Type : MCQ Option Shuffling : Yes  
Correct Marks : 1 Wrong Marks : 0.25

निम्न में से कौन, ठंडा मरुस्थल नहीं है?

Options :

1. ✖ गोबी
2. ✖ अंटार्कटिका
3. ✖ ग्रेट बेसिन
4. ✔ कालाहारी

Question Number : 66 Question Id : 5861807384 Question Type : MCQ Option Shuffling : Yes  
Correct Marks : 1 Wrong Marks : 0.25

Baku is the capital of \_\_\_\_\_.

Options :

1. ✔ Azerbaijan
2. ✖ Barbados
3. ✖ Bolivia

## 4. \* Chile

Question Number : 66 Question Id : 5861807384 Question Type : MCQ Option Shuffling : Yes  
Correct Marks : 1 Wrong Marks : 0.25

बाकू, \_\_\_\_\_ की राजधानी है।

Options :

1. ✓ आज़रबाइजान
2. \* बारबाडोस
3. \* बोलीविया
4. \* चिली

Question Number : 67 Question Id : 5861807385 Question Type : MCQ Option Shuffling : Yes  
Correct Marks : 1 Wrong Marks : 0.25

As per the State of Forest Report 2017, which Indian State has the largest forest cover in terms of area?

Options :

1. \* Andhra Pradesh
2. \* Arunachal Pradesh
3. ✓ Madhya Pradesh
4. \* Maharashtra

Question Number : 67 Question Id : 5861807385 Question Type : MCQ Option Shuffling : Yes  
Correct Marks : 1 Wrong Marks : 0.25

वन स्थिति रिपोर्ट 2017 के अनुसार, क्षेत्रफल के संदर्भ में किस भारतीय राज्य का वन आच्छादन सर्वाधिक है?

Options :

1. \* आंध्र प्रदेश
2. \* अरुणाचल प्रदेश
3. ✓ मध्य प्रदेश
4. \* महाराष्ट्र



Question Number : 68 Question Id : 5861807386 Question Type : MCQ Option Shuffling : Yes  
Correct Marks : 1 Wrong Marks : 0.25

Which of the followings is a Miniratna Public Sector Enterprise?

Options :

1. \* Indian Oil Corporation Limited
2. \* Steel Authority of India Limited
3. ✓ Airport Authority of India
4. \* Hindustan Aeronautics Limited

Question Number : 68 Question Id : 5861807386 Question Type : MCQ Option Shuffling : Yes  
Correct Marks : 1 Wrong Marks : 0.25

निम्न में से कौन एक मिनीरत्न सार्वजनिक क्षेत्र उपक्रम है?

Options :

1. \* इंडियन ऑयल कॉर्पोरेशन लिमिटेड
2. \* स्टील अथॉरिटी ऑफ इंडिया लिमिटेड
3. ✓ एयरपोर्ट अथॉरिटी ऑफ इंडिया
4. \* हिंदुस्तान एयरोनॉटिक्स लिमिटेड

Question Number : 69 Question Id : 5861807387 Question Type : MCQ Option Shuffling : Yes  
Correct Marks : 1 Wrong Marks : 0.25

In the context of Food Security in India, what does MSP stand for?

Options :

1. ✓ Minimum Support Price
2. \* Minimum Standard Price
3. \* Maximum Support Price
4. \* Maximum Sustenance Price

Question Number : 69 Question Id : 5861807387 Question Type : MCQ Option Shuffling : Yes  
Correct Marks : 1 Wrong Marks : 0.25

भारत में खाद्य सुरक्षा के संदर्भ में, MSP (एमएसपी) का क्या अर्थ है?

Options :

1. ✓ Minimum Support Price (मिनिमम सपोर्ट प्राइस)
2. ✗ Minimum Standard Price (मिनिमम स्टैंडर्ड प्राइस)
3. ✗ Maximum Support Price (मैक्सिमम सपोर्ट प्राइस)
4. ✗ Maximum Sustenance Price (मैक्सिमम सस्टेनेंस प्राइस)

Question Number : 70 Question Id : 5861807388 Question Type : MCQ Option Shuffling : Yes

Correct Marks : 1 Wrong Marks : 0.25

Who of the followings is employed in Informal Sector?

Options :

1. ✗ Doctor of Government Hospital
2. ✓ Driver of a Teacher
3. ✗ Bank Manager
4. ✗ An IAS officer

Question Number : 70 Question Id : 5861807388 Question Type : MCQ Option Shuffling : Yes

Correct Marks : 1 Wrong Marks : 0.25

निम्न में से कौन, अनौपचारिक क्षेत्र में नियुक्त है?

Options :

1. ✗ सरकारी अस्पताल का चिकित्सक
2. ✓ शिक्षक का चालक (डाइवर)
3. ✗ बैंक प्रबंधक
4. ✗ एक आईएएस अधिकारी

Question Number : 71 Question Id : 5861807389 Question Type : MCQ Option Shuffling : Yes

Correct Marks : 1 Wrong Marks : 0.25

The process of separating fibres of cotton from the seeds by combing is known as:

Options :

1. ✖ Threshing
2. ✔ Ginning
3. ✖ Churning
4. ✖ Winnowing

Question Number : 71 Question Id : 5861807389 Question Type : MCQ Option Shuffling : Yes  
Correct Marks : 1 Wrong Marks : 0.25

कॉम्बिंग (combing) द्वारा बीजों से कपास के रेशों को पृथक करने की प्रक्रिया, \_\_\_\_\_ कहलाती है।

Options :

1. ✖ श्रेशिंग
2. ✔ गिनिंग
3. ✖ चर्निंग
4. ✖ विनोइंग

Question Number : 72 Question Id : 5861807390 Question Type : MCQ Option Shuffling : Yes  
Correct Marks : 1 Wrong Marks : 0.25

Which property makes a gas differ from a liquid?

Options :

1. ✔ Compressibility
2. ✖ Volume
3. ✖ Flexibility
4. ✖ Density

Question Number : 72 Question Id : 5861807390 Question Type : MCQ Option Shuffling : Yes  
Correct Marks : 1 Wrong Marks : 0.25

कौन सा गुण, गैस को द्रव से भिन्न बनाता है?

Options :

1. ✔ संपीड्यता (कंप्रेसिबिलिटी)
2. ✖ आयतन (वॉल्यूम)

3. \* लचीलापन (फ्लेक्सिबिलिटी)

4. \* घनत्व (डेंसिटी)

Question Number : 73 Question Id : 5861807391 Question Type : MCQ Option Shuffling : Yes

Correct Marks : 1 Wrong Marks : 0.25

The condition in which a person can clearly see distant objects but nearby objects are blurry is known as:

Options :

1. \* Myopia

2. \* Presbyopia

3. ✓ Hypermetropia

4. \* Astigmatism

Question Number : 73 Question Id : 5861807391 Question Type : MCQ Option Shuffling : Yes

Correct Marks : 1 Wrong Marks : 0.25

वह दशा, जिसमें व्यक्ति दूरस्थ वस्तुओं को स्पष्ट देख पाता है किन्तु निकटवर्ती वस्तुएं धुंधली दिखाई देती हैं, \_\_\_\_\_ कहलाती है।

Options :

1. \* मायोपिया

2. \* प्रेसबायोपिया

3. ✓ हाइपरमेट्रोपिया

4. \* एस्टिग्मेटिज्म

Question Number : 74 Question Id : 5861807392 Question Type : MCQ Option Shuffling : Yes

Correct Marks : 1 Wrong Marks : 0.25

Which protozoan parasite causes Malaria?

Options :

1. \* Amoebas

2. \* Paramecia

3. \* Excavata

## 4. ✓ Plasmodium

Question Number : 74 Question Id : 5861807392 Question Type : MCQ Option Shuffling : Yes  
Correct Marks : 1 Wrong Marks : 0.25

मलेरिया किस प्रोटोजोआ परजीवी के कारण होता है?

Options :

1. ✘ अमीबा
2. ✘ पैरामीशिया
3. ✘ एक्सकावटा
4. ✓ प्लास्मोडियम

Question Number : 75 Question Id : 5861807393 Question Type : MCQ Option Shuffling : Yes  
Correct Marks : 1 Wrong Marks : 0.25

Electron was discovered by:

Options :

1. ✓ J.J.Thomson
2. ✘ Johann Ritter
3. ✘ Ernest Rutherford
4. ✘ Benjamin Franklin

Question Number : 75 Question Id : 5861807393 Question Type : MCQ Option Shuffling : Yes  
Correct Marks : 1 Wrong Marks : 0.25

इलेक्ट्रॉन की खोज \_\_\_\_\_ द्वारा की गई थी।

Options :

1. ✓ जे जे थॉमसन
2. ✘ जोहान रिटर
3. ✘ अर्नेस्ट रदरफोर्ड
4. ✘ बेंजामिन फ्रैंकलिन

Question Number : 76 Question Id : 5861807394 Question Type : MCQ Option Shuffling : Yes  
Correct Marks : 1 Wrong Marks : 0.25

Who was the first to give an experimentally useful definition of an element?

Options :

1. ✖ Richard Altmann
2. ✔ Antoine Laurent Lavoisier
3. ✖ Albert von Kolliker
4. ✖ James Chadwick

Question Number : 76 Question Id : 5861807394 Question Type : MCQ Option Shuffling : Yes

Correct Marks : 1 Wrong Marks : 0.25

पहली बार किसने किसी तत्व की प्रायोगिक उपयोगी परिभाषा दी थी?

Options :

1. ✖ रिचर्ड अल्टमैन
2. ✔ एंटोनी लॉरेंट लेवोज़ियर
3. ✖ अल्बर्ट वॉन कोल्लिकर
4. ✖ जेम्स चैडविक

Question Number : 77 Question Id : 5861807395 Question Type : MCQ Option Shuffling : Yes

Correct Marks : 1 Wrong Marks : 0.25

What is the name of India's upcoming manned space mission?

Options :

1. ✖ Mangalyaan
2. ✖ Aditya – L1
3. ✔ Gaganyaan
4. ✖ Chandrayaan - 2

Question Number : 77 Question Id : 5861807395 Question Type : MCQ Option Shuffling : Yes

Correct Marks : 1 Wrong Marks : 0.25

भारत के आगामी मानवयुक्त अंतरिक्ष अभियान का नाम क्या है?

Options :

1. ✖ मंगलयान

2. \* आदित्य - L1

3. ✓ गगनयान

4. \* चंद्रयान - 2

Question Number : 78 Question Id : 5861807396 Question Type : MCQ Option Shuffling : Yes  
Correct Marks : 1 Wrong Marks : 0.25

The International Crops Research Institute For The Semi - arid Tropics(ICRISAT) is stationed at:

Options :

1. \* Thiruvananthpuram

2. ✓ Hyderabad

3. \* Panaji

4. \* Mohali

Question Number : 78 Question Id : 5861807396 Question Type : MCQ Option Shuffling : Yes  
Correct Marks : 1 Wrong Marks : 0.25

अर्ध-शुष्क उष्णकटिबंधीय हेतु अंतर्राष्ट्रीय फसल अनुसंधान संस्थान {The International Crops Research Institute For The Semi-arid Tropics (ICRISAT)} \_\_\_\_\_ में स्थित है।

Options :

1. \* तिरुवनंतपुरम

2. ✓ हैदराबाद

3. \* पणजी

4. \* मोहाली

Question Number : 79 Question Id : 5861807397 Question Type : MCQ Option Shuffling : Yes  
Correct Marks : 1 Wrong Marks : 0.25

The headquarters of Asian Development Bank is situated at

\_\_\_\_\_.

Options :



1. \* Thimpu
2. \* Tokyo
3. \* Kathmandu
4. ✓ Manila

Question Number : 79 Question Id : 5861807397 Question Type : MCQ Option Shuffling : Yes  
Correct Marks : 1 Wrong Marks : 0.25

एशियाई विकास बैंक का मुख्यालय \_\_\_\_\_ में स्थित है।

Options :

1. \* थिम्पू
2. \* टोक्यो
3. \* काठमांडू
4. ✓ मनीला

Question Number : 80 Question Id : 5861807398 Question Type : MCQ Option Shuffling : Yes  
Correct Marks : 1 Wrong Marks : 0.25

Which of the followings is a BRICS country?

Options :

1. \* Bhutan
2. ✓ Russia
3. \* South Korea
4. \* Italy

Question Number : 80 Question Id : 5861807398 Question Type : MCQ Option Shuffling : Yes  
Correct Marks : 1 Wrong Marks : 0.25

निम्न में से कौन, एक ब्रिक्स (BRICS) देश है?

Options :

1. \* भूटान
2. ✓ रूस
3. \* दक्षिण कोरिया

## 4. \* इटली

### Arithmetic Ability1

Group Number :	5
Group Id :	586180356
Group Maximum Duration :	0
Group Minimum Duration :	0
Show Attended Group? :	No
Edit Attended Group? :	No
Break time:	0
Group Marks:	20
Is this Group for Examiner?:	No
Revisit allowed for group Instructions? :	Yes
Maximum Instruction Time:	0
Minimum Instruction Time:	0

### Arithmetic Ability1

Section Id :	586180360
Section Number :	1
Section type :	Online
Mandatory or Optional:	Mandatory
Number of Questions:	20
Number of Questions to be attempted:	20
Section Marks:	20

Sub-Section Number:	1
Sub-Section Id:	586180499
Question Shuffling Allowed :	Yes

Question Number : 81 Question Id : 5861807399 Question Type : MCQ Option Shuffling : Yes  
Correct Marks : 1 Wrong Marks : 0.25

The value of  $\left[ \frac{35 + (5 \times 9) \div 3 + 6}{\left(-2\frac{2}{3} + 3\frac{1}{4}\right) \div 2} \right] \div 12 = ?$

Options :

1. \* 4

2. \* 14

3. ✖ 6

4. ✔ 16

Question Number : 81 Question Id : 5861807399 Question Type : MCQ Option Shuffling : Yes  
Correct Marks : 1 Wrong Marks : 0.25

$$\left[ \frac{35 + (5 \times 9) \div 3 + 6}{\left(-2\frac{2}{3} + 3\frac{1}{4}\right) \div 2} \right] \div 12 \text{ का मान ज्ञात करें?}$$

Options :

1. ✖ 4

2. ✖ 14

3. ✖ 6

4. ✔ 16

Question Number : 82 Question Id : 5861807400 Question Type : MCQ Option Shuffling : Yes  
Correct Marks : 1 Wrong Marks : 0.25

$$\text{The value of } \frac{(3.4)^3 - (7.6)^3 + (4.2)^3 + 12.6 \times 25.84}{(34)^2 + (76)^2 + (42)^2 + 34 \times 76 + 76 \times 42 - 42 \times 34} = ?$$

Options :

1. ✔ 0

2. ✖ 0.1

3. ✖ 0.01

4. ✖ 0.001

Question Number : 82 Question Id : 5861807400 Question Type : MCQ Option Shuffling : Yes  
Correct Marks : 1 Wrong Marks : 0.25

$$\frac{(3.4)^3 - (7.6)^3 + (4.2)^3 + 12.6 \times 25.84}{(34)^2 + (76)^2 + (42)^2 + 34 \times 76 + 76 \times 42 - 42 \times 34}$$
 का मान ज्ञात करें?

Options :

1. ✔ 0

2. ✖ 0.1

3. ✖ 0.01

4. ✖ 0.001

Question Number : 83 Question Id : 5861807401 Question Type : MCQ Option Shuffling : Yes  
Correct Marks : 1 Wrong Marks : 0.25

The value of  $\left( \frac{83.7 \times 83.7 + 16.3 \times 16.3 - 83.7 \times 16.3}{0.837 \times 0.837 \times 0.837 + 0.163 \times 0.163 \times 0.163} \right) \div 333\frac{1}{3}$  is:

Options :

1. ✖ 10

2. ✖ 20

3. ✔ 30

4. ✖ 0.1

Question Number : 83 Question Id : 5861807401 Question Type : MCQ Option Shuffling : Yes  
Correct Marks : 1 Wrong Marks : 0.25

$$\left( \frac{83.7 \times 83.7 + 16.3 \times 16.3 - 83.7 \times 16.3}{0.837 \times 0.837 + 0.163 \times 0.163 + 0.837 \times 0.163} \right) \div 333\frac{1}{3} \text{ का मान होगा:}$$

Options :

1. ✖ 10

2. ✖ 20

3. ✔ 30

4. ✖ 0.1

Question Number : 84 Question Id : 5861807402 Question Type : MCQ Option Shuffling : Yes  
Correct Marks : 1 Wrong Marks : 0.25

$$\text{The value of } \left( \frac{1.5 \times 1.5 + 2.7 \times 2.7 + 0.8 \times 0.8 - 25}{0.15 \times 0.27 + 0.27 \times 0.08 + 0.08 \times 0.15} \right) \div \left( -33\frac{1}{3} \right) = ?$$

Options :

1. ✖ 0

2. ✖ 2

3. ✖ 4

4. ✔ 6

Question Number : 84 Question Id : 5861807402 Question Type : MCQ Option Shuffling : Yes  
Correct Marks : 1 Wrong Marks : 0.25

$$\left( \frac{1.5 \times 1.5 + 2.7 \times 2.7 + 0.8 \times 0.8 - 25}{0.15 \times 0.27 + 0.27 \times 0.08 + 0.08 \times 0.15} \right) \div \left( -33\frac{1}{3} \right) \text{ का मान होगा:}$$

Options :

1. ✖ 0

2. ✖ 2

3. ✖ 4

4. ✔ 6

Question Number : 85 Question Id : 5861807403 Question Type : MCQ Option Shuffling : Yes

Correct Marks : 1 Wrong Marks : 0.25

The price of share A increases by 60 paise every year, while the price of share B increases by 33 paise every year. If in 1991, the price of share A was Rs. 6.20 and that of share B was Rs. 8.30, in which year will share A cost 60 paise more than share B?

Options :

1. ✔ 2001

2. ✖ 2003

3. ✖ 2005

4. ✖ 2007

Question Number : 85 Question Id : 5861807403 Question Type : MCQ Option Shuffling : Yes

Correct Marks : 1 Wrong Marks : 0.25

शेयर A की कीमत हर साल 60 पैसे बढ़ जाती है, जबकि शेयर B की कीमत हर साल 33 पैसे बढ़ जाती है। यदि 1991 में शेयर A की कीमत रुपये 6.20 और शेयर B की कीमत रुपये 8.30 थी, तो किस वर्ष में शेयर A की कीमत शेयर B की कीमत से 60 पैसे अधिक हो जाएगी?

Options :

1. ✓ 2001

2. ✗ 2003

3. ✗ 2005

4. ✗ 2007

Question Number : 86 Question Id : 5861807404 Question Type : MCQ Option Shuffling : Yes

Correct Marks : 1 Wrong Marks : 0.25

If  $5x = 12y$  and  $6z = 7y$ , then  $x : y : z$  is equal to:

Options :

1. ✓ 72 : 30 : 35

2. ✗ 66 : 6 : 15

3. ✗ 22 : 12 : 30

4. ✗ 55 : 30 : 12

Question Number : 86 Question Id : 5861807404 Question Type : MCQ Option Shuffling : Yes

Correct Marks : 1 Wrong Marks : 0.25

यदि  $5x = 12y$  और  $6z = 7y$  है, तो  $x : y : z$  किसके समान होगा?

Options :

1. ✓ 72 : 30 : 35



2. ✖ 66 : 6 : 15

3. ✖ 22 : 12 : 30

4. ✖ 55 : 30 : 12

Question Number : 87 Question Id : 5861807405 Question Type : MCQ Option Shuffling : Yes  
Correct Marks : 1 Wrong Marks : 0.25

The value of  $\frac{(1.6667)(0.4444)(2.6666)}{(0.3500)(1.3333)(0.2222)}$  is:

Options :

1. ✖ 19.408

2. ✔ 19.048

3. ✖ 19.804

4. ✖ 18.048

Question Number : 87 Question Id : 5861807405 Question Type : MCQ Option Shuffling : Yes  
Correct Marks : 1 Wrong Marks : 0.25

$\frac{(1.6667)(0.4444)(2.6666)}{(0.3500)(1.3333)(0.2222)}$  का मान होगा:

Options :

1. ✖ 19.408

2. ✔ 19.048

3. ✖ 19.804

4. ✖ 18.048

Question Number : 88 Question Id : 5861807406 Question Type : MCQ Option Shuffling : Yes  
Correct Marks : 1 Wrong Marks : 0.25

What is the real cube root of the expression  $[(13.26)(175.8276) + (527.4828)(0.74) + (39.78)(0.5476) + (0.5476)(0.74)]$  ?

Options :

1. ✖ 13.26

2. ✖ 12

3. ✔ 14

4. ✖ 0.74

Question Number : 88 Question Id : 5861807406 Question Type : MCQ Option Shuffling : Yes  
Correct Marks : 1 Wrong Marks : 0.25

निम्न अभिव्यक्ति का वास्तविक घनमूल क्या होगा?

$[(13.26)(175.8276) + (527.4828)(0.74) + (39.78)(0.5476) + (0.5476)(0.74)]$

Options :

1. ✖ 13.26

2. ✖ 12

3. ✓ 14

4. ✗ 0.74

Question Number : 89 Question Id : 5861807407 Question Type : MCQ Option Shuffling : Yes  
Correct Marks : 1 Wrong Marks : 0.25

When a fraction is multiplied by itself and then the product is divided by its reciprocal, its results is  $10\frac{296}{1728}$ . Find the average of the squares of the numerator and the denominator, when they appear as co-primes, in the original fraction expressed.

Options :

1. ✗ 101.5

2. ✓ 102.5

3. ✗ 100.5

4. ✗ 108.5

Question Number : 89 Question Id : 5861807407 Question Type : MCQ Option Shuffling : Yes  
Correct Marks : 1 Wrong Marks : 0.25

जब किसी भिन्न को अपने आप से गुणा किया जाता है और फिर गुणनफल को उसके व्युत्क्रम से विभाजित किया जाता है, तो परिणाम  $10\frac{296}{1728}$  प्राप्त होता है। अभिव्यक्त मूल भिन्न में, अंश और हर के वर्गों, जब वे असहभाज्य संख्या में प्रकट होते हैं, के औसत ज्ञात करें।

Options :

1. ✗ 101.5

2. ✓ 102.5

3. ✖ 100.5

4. ✖ 108.5

Question Number : 90 Question Id : 5861807408 Question Type : MCQ Option Shuffling : Yes

Correct Marks : 1 Wrong Marks : 0.25

In a class of 40 students,  $\frac{1}{5}$  of the total number of students like to play cricket only,  $\frac{2}{5}$  of the total number of students like to play chess only and the remaining students like to play both. What fraction of the total number of students like to play both?

Options :

1. ✖  $\frac{3}{5}$

2. ✔  $\frac{2}{5}$

3. ✖  $\frac{1}{5}$

4. ✖  $\frac{4}{5}$

Question Number : 90 Question Id : 5861807408 Question Type : MCQ Option Shuffling : Yes

Correct Marks : 1 Wrong Marks : 0.25

40 छात्रों की एक कक्षा में, कुल छात्रों के  $\frac{1}{5}$  को केवल क्रिकेट खेलना पसंद है, कुल छात्रों के  $\frac{2}{5}$  को केवल शतरंज खेलना पसंद है, जबकि बचे हुए लोगों को दोनों खेल खेलना पसंद है। कुल छात्रों के कितने भाग को दोनों खेल खेलना पसंद है?

Options :

1. ✖  $\frac{3}{5}$

2. ✓  $\frac{2}{5}$

3. ✗  $\frac{1}{5}$

4. ✗  $\frac{4}{5}$

Question Number : 91 Question Id : 5861807409 Question Type : MCQ Option Shuffling : Yes

Correct Marks : 1 Wrong Marks : 0.25

The HCF of two numbers is 8 and their sum is 96. If both numbers are two digit numbers, what is the sum of their reciprocals?

Options :

1. ✗  $\frac{1}{70}$

2. ✗  $\frac{13}{70}$

3. ✓  $\frac{3}{70}$

4. ✗  $\frac{11}{70}$

Question Number : 91 Question Id : 5861807409 Question Type : MCQ Option Shuffling : Yes

Correct Marks : 1 Wrong Marks : 0.25

दो संख्याओं का महत्तम समापवर्तक 8 है और उनका योग 96 है। यदि दोनों संख्याएं दो अंकीय संख्याएं हैं, तो उनके व्युत्क्रमों का योग क्या होगा?

Options :

1. ✗  $\frac{1}{70}$

2. ✘  $\frac{13}{70}$

3. ✔  $\frac{3}{70}$

4. ✘  $\frac{11}{70}$

Question Number : 92 Question Id : 5861807410 Question Type : MCQ Option Shuffling : Yes

Correct Marks : 1 Wrong Marks : 0.25

A sweet shop arranges sweets in rows for display. If the sweets are arranged 10 in each row then there will be 4 left. If 14 are arranged in each row then 8 will be left. If 16 are arranged in each row then 10 will be left. If 18 are arranged in each row then 12 will be left. What is the minimum number of sweets the sweet shop has?

Options :

1. ✘ 5040

2. ✔ 5034

3. ✘ 5004

4. ✘ 5028

Question Number : 92 Question Id : 5861807410 Question Type : MCQ Option Shuffling : Yes

Correct Marks : 1 Wrong Marks : 0.25

एक मिठाई की दुकान पर विभिन्न मिठाइयां पंक्तियों में प्रदर्शन के लिए रखी हुई है। यदि हर पंक्ति में 10 मिठाइयों को व्यवस्थित किया जाता है तो 4 मिठाइयां बाकी बचती हैं। यदि 14 को प्रत्येक पंक्ति में व्यवस्थित किया जाता है, तो 8 मिठाइयां बाकी बचती हैं। इसी प्रकार हर पंक्ति में 16 मिठाइयों को व्यवस्थित किया जाता है तो 10 मिठाइयां बाकी बचती हैं। यदि हर पंक्ति में 18 मिठाइयों को व्यवस्थित किया जाता है, तो 12 मिठाइयां बाकी बचती हैं। मिठाई की दुकान में उपलब्ध न्यूनतम मिठाइयों की गणना करें?

Options :

1. ✘ 5040

2. ✓ 5034

3. ✗ 5004

4. ✗ 5028

Question Number : 93 Question Id : 5861807411 Question Type : MCQ Option Shuffling : Yes

Correct Marks : 1 Wrong Marks : 0.25

A shopkeeper gets milk from two dairy farmers. They bring 80 and 120 litres of milk respectively to the shopkeeper, who then pours the milk in cans of equal size, so that they get filled completely. Thereafter the shopkeeper is left with 8 litres of milk from the second dairy farmer. What is the maximum possible capacity of a can?

Options :

1. ✗ 18 litres

2. ✓ 16 litres

3. ✗ 22 litres

4. ✗ 24 litres

Question Number : 93 Question Id : 5861807411 Question Type : MCQ Option Shuffling : Yes

Correct Marks : 1 Wrong Marks : 0.25

एक दुकानदार दो दूधवालों से दूध खरीदता है। वे दुकानदार के पास क्रमशः 80 और 120 लीटर दूध लाते हैं, और बाद में बराबर आकार के डिब्बों में दूध डालते हैं, जिससे कि वे डिब्बे पूरी तरह से भर जाएं। अब अंत में दुकानदार के पास दूसरे दूधवाले का 8 लीटर दूध बच जाता है। डिब्बे की अधिकतम क्षमता की गणना करें?

Options :

1. ✗ 18 लीटर



2. ✓ 16 लीटर

3. ✗ 22 लीटर

4. ✗ 24 लीटर

Question Number : 94 Question Id : 5861807412 Question Type : MCQ Option Shuffling : Yes

Correct Marks : 1 Wrong Marks : 0.25

Three glasses contain a liquid mixed with water. The ratios of the quantities of liquid and water in the three glasses are 1 : 4, 2 : 1 and 4 : 1 respectively. If a new mixture is formed by taking out the mixtures from each glass in the proportion, 5 : 9 : 10, then what is the ratio of the quantities of liquid and water in the new mixture?

Options :

1. ✗ 3 : 5

2. ✓ 5 : 3

3. ✗ 3 : 4

4. ✗ 4 : 3

Question Number : 94 Question Id : 5861807412 Question Type : MCQ Option Shuffling : Yes

Correct Marks : 1 Wrong Marks : 0.25

तीन गिलासों में पानी के साथ एक तरल पदार्थ मिलाया जाता है। इन तीन गिलासों में तरल और पानी की मात्राओं का अनुपात क्रमशः 1 : 4, 2 : 1, और 4 : 1 है। यदि हर गिलास में से 5 : 9 : 10 के अनुपात में मिश्रण निकालकर एक नया मिश्रण बनाया जाता है, तो नए मिश्रण में तरल और पानी की मात्राओं का अनुपात ज्ञात कीजिए?

Options :

1. ✗ 3 : 5

2. ✓ 5 : 3

3. ✗ 3 : 4

4. ✗ 4 : 3

Question Number : 95 Question Id : 5861807413 Question Type : MCQ Option Shuffling : Yes

Correct Marks : 1 Wrong Marks : 0.25

A vessel contains 50 litres of milk. 5 litres of milk is taken out from it and replaced by water. Then from the mixture, 5 litres are taken out and replaced by water. Find the quantity of milk in the final mixture.

Options :

1. ✗ 41.5 litres

2. ✓ 40.5 litres

3. ✗ 45.1 litres

4. ✗ 43.2 litres

Question Number : 95 Question Id : 5861807413 Question Type : MCQ Option Shuffling : Yes

Correct Marks : 1 Wrong Marks : 0.25

एक बर्तन में 50 लीटर दूध है। इसमें से 5 लीटर दूध निकालकर इसकी जगह पानी मिला दिया जाता है। अब मिश्रण से 5 लीटर दूध और निकाला जाता है और इसमें फिर से पानी मिला दिया जाता है। अंतिम मिश्रण में दूध की मात्रा ज्ञात करें।

Options :

1. ✗ 41.5 लीटर

2. ✓ 40.5 लीटर

3. ✖ 45.1 लीटर

4. ✖ 43.2 लीटर

Question Number : 96 Question Id : 5861807414 Question Type : MCQ Option Shuffling : Yes

Correct Marks : 1 Wrong Marks : 0.25

Rachana goes to market with a certain amount. She can buy 60 balloons or 40 pencils. She retains 20% of the amount for bus fares and buys 20 pencils and of the balance, she purchases balloons. The number of balloons she purchases is:

Options :

1. ✖ 16

2. ✔ 18

3. ✖ 20

4. ✖ 22

Question Number : 96 Question Id : 5861807414 Question Type : MCQ Option Shuffling : Yes

Correct Marks : 1 Wrong Marks : 0.25

रचना एक निश्चित राशि लेकर बाजार जाती है। इस राशि से वह 60 गुब्बारे या 40 पेंसिल खरीद सकती है। वह राशि के 20% को बस के भाड़े के लिए रख लेती है, और बची हुई राशि से 20 पेंसिल तथा इसके बाद बाकी बची राशि के गुब्बारे खरीद लेती है। उसने कुल कितने गुब्बारे खरीदे:

Options :

1. ✖ 16

2. ✔ 18

3. ✖ 20

4. ✖ 22

Question Number : 97 Question Id : 5861807415 Question Type : MCQ Option Shuffling : Yes

Correct Marks : 1 Wrong Marks : 0.25

A commission has submitted its report in a particular code which consists of 20 sheets, each of 55 lines and each such line consisting of 65 characters. This report is reduced into sheets each of 65 lines such that each line consists of 70 characters. The percentage reduction in number of sheets is closest to:

Options :

1. ✔ 20%

2. ✖ 25%

3. ✖ 5%

4. ✖ 30%

Question Number : 97 Question Id : 5861807415 Question Type : MCQ Option Shuffling : Yes

Correct Marks : 1 Wrong Marks : 0.25

एक आयोग ने एक विशेष कोड में अपनी रिपोर्ट प्रस्तुत की है जिसमें 20 शीटें, हर शीट में 55 लाइनें और हर लाइन में 65 वर्ण हैं। अब इस रिपोर्ट में शीटों की संख्या को कम कर दिया जाता है और हर शीट में 65 लाइनें और हर लाइन में 70 वर्ण शामिल कर दिए जाते हैं। शीटों की संख्या में प्रतिशत कमी निम्न आंकड़े के आस पास होगी:

Options :

1. ✔ 20%

2. ✖ 25%

3. ✖ 5%

4. ✖ 30%

Question Number : 98 Question Id : 5861807416 Question Type : MCQ Option Shuffling : Yes

Correct Marks : 1 Wrong Marks : 0.25

At the election for the President of Students' Union in a university, the number of votes not cast for the person A increased by 25% over those not cast for her in the previous election, and A lost by a majority twice as large as that by which she had won the previous election. If a total of 26000 students voted each time, how many voted for A in the previous election?

Options :

1. ✖ 11000

2. ✖ 12000

3. ✖ 13000

4. ✔ 14000

Question Number : 98 Question Id : 5861807416 Question Type : MCQ Option Shuffling : Yes

Correct Marks : 1 Wrong Marks : 0.25

एक विश्वविद्यालय में छात्र संघ के अध्यक्ष के लिए हुए चुनावों में, A के पक्ष में पिछली साल ना पड़े वोटों के मुकाबले इस साल ना पड़े वोटों की संख्या 25% बढ़ गई और नतीजतन A पिछले चुनाव में जितने वोटों से जीती थी, उसके मुकाबले इस चुनाव में दोगुने वोटों से हार गई। यदि हर चुनाव में मतदान करने वाले छात्रों की कुल संख्या 26000 थी, तो पिछले चुनाव में A के पक्ष में कितने छात्रों ने मतदान किया था?

Options :

1. ✖ 11000

2. ✖ 12000

3. ✖ 13000



4. ✓ 14000

Question Number : 99 Question Id : 5861807417 Question Type : MCQ Option Shuffling : Yes

Correct Marks : 1 Wrong Marks : 0.25

The ages of four cricket players in a team in the year 1995 was  $x$ ,  $x + 12$ ,  $x + 24$  and  $x + 36$ . After some years the oldest player among them retired and as a result, the average age of the team was reduced by 3 years. After how many years from his retirement, will the average age become the same as in 1995?

Options :

1. ✗ 2 years

2. ✓ 3 years

3. ✗ 4 years

4. ✗ 6 years

Question Number : 99 Question Id : 5861807417 Question Type : MCQ Option Shuffling : Yes

Correct Marks : 1 Wrong Marks : 0.25

वर्ष 1995 में एक टीम में चार क्रिकेट खिलाड़ियों की उम्र  $x$ ,  $x + 12$ ,  $x + 24$ , तथा  $x + 36$  थी। कुछ वर्षों के बाद उनमें से सबसे पुराना खिलाड़ी रिटायर हो गया और परिणामस्वरूप, टीम की औसत आयु 3 वर्ष कम हो गई। गणना करें कि उसके रिटायरमेंट के कितने सालों के बाद, औसत आयु फिर से 1995 की औसत आयु के बराबर हो जाएगी?

Options :

1. ✗ 2 साल

2. ✓ 3 साल

3. ✗ 4 साल

#### 4. ✖ 6 साल

Question Number : 100 Question Id : 5861807418 Question Type : MCQ Option Shuffling : Yes

Correct Marks : 1 Wrong Marks : 0.25

A famous college building has five floors and they are running a hostel on the third, fourth and fifth floors. The rooms are numbered from 3001 to 3030 on the third floor, 4001 to 4200 on the fourth floor and 5001 to 5330 on the fifth floor. In the month of June, the room occupancy was 40% on the third floor, 75% on the fourth floor and 30% on the fifth floor. If it is also known that the room charges are Rs. 100, Rs. 150 and Rs. 200 on each of the floors respectively, then find the average income per each occupied room in the hostel for the month of June?

Options :

1. ✖ Rs. 165.65

2. ✔ Rs. 166.67

3. ✖ Rs. 166.92

4. ✖ Rs. 167.25

Question Number : 100 Question Id : 5861807418 Question Type : MCQ Option Shuffling : Yes

Correct Marks : 1 Wrong Marks : 0.25

एक प्रसिद्ध कॉलेज के पास एक पांच मंजिला भवन है और वे इसके तीसरी, चौथी और पांचवीं मंजिल पर छात्रावास चला रहे हैं। तीसरी मंजिल पर 3001 से 3030, चौथी मंजिल पर 4001 से 4200 और पांचवीं मंजिल पर 5001 से 5330 तक कमरे हैं। जून के महीने में तीसरी मंजिल पर 40%, चौथी मंजिल पर 75% और पांचवीं मंजिल पर 30% कमरे भरे हुए थे। अब यदि हर मंजिल पर कमरे के लिए क्रमशः रुपये 100, रुपये 150 और रुपये 200 का शुल्क भरना पड़ता है, तो गणना करें कि जून के महीने में छात्रावास के हर भरे हुए कमरे से होने वाली औसत आय कितनी है?

Options :

1. ✖ रुपये 165.65

2. ✔ रुपये 166.67



3. ✖ रुपये 166.92

4. ✖ रुपये 167.25

## Arithmetic Ability2

Group Number :	6
Group Id :	586180357
Group Maximum Duration :	0
Group Minimum Duration :	0
Show Attended Group? :	No
Edit Attended Group? :	No
Break time:	0
Group Marks:	20
Is this Group for Examiner? :	No
Revisit allowed for group Instructions? :	Yes
Maximum Instruction Time:	0
Minimum Instruction Time:	0

## Arithmetic Ability2

Section Id :	586180361
Section Number :	1
Section type :	Online
Mandatory or Optional:	Mandatory
Number of Questions:	20
Number of Questions to be attempted:	20
Section Marks:	20

Sub-Section Number:	1
Sub-Section Id:	586180500
Question Shuffling Allowed :	Yes

Question Number : 101 Question Id : 5861807419 Question Type : MCQ Option Shuffling : Yes  
Correct Marks : 1 Wrong Marks : 0.25

A plastic merchant can buy some items at the rate of Rs. 45 per item. The particular item is part of an overall collection and the value is linked to the number of items that are already on the market. So, the merchant sells the first item for Rs. 3, the second one for Rs. 6, the third for Rs. 9 and so on. If he wants to make an overall profit of at least 30%, what is the minimum number of items he should sell?

Options :

1. ✖ 28

2. ✖ 30

3. ✖ 32

4. ✔ 38

Question Number : 101 Question Id : 5861807419 Question Type : MCQ Option Shuffling : Yes

Correct Marks : 1 Wrong Marks : 0.25

एक प्लास्टिक व्यापारी कुछ वस्तुओं को रुपये 45 प्रति वस्तु के हिसाब से खरीदता है। इनमें से एक विशेष वस्तु एक समग्र संग्रह का हिस्सा है और इसकी कीमत बाजार में उपलब्ध वस्तुओं की संख्या से जुड़ी हुई है। तो व्यापारी पहली वस्तु रुपये 3, दूसरी वस्तु रुपये 6, तीसरी वस्तु रुपये 9 और आगे भी इसी प्रकार से बेचता है। यदि वह कम से कम 30% का समग्र लाभ कमाना चाहता है, तो उसके द्वारा बेची जाने वाली वस्तुओं की न्यूनतम संख्या होगी?

Options :

1. ✖ 28

2. ✖ 30

3. ✖ 32

4. ✔ 38

Question Number : 102 Question Id : 5861807420 Question Type : MCQ Option Shuffling : Yes

Correct Marks : 1 Wrong Marks : 0.25

The owner of a novelty shop is following a certain business strategy. Every once in a while he raises his prices for  $y\%$ , then a while later he reduces all the new prices by  $y\%$ . After one such up - down cycle the price of a certain gift article decreased by Rs. 441. After a second up -down cycle the gift article was sold for Rs. 1944.81. What was the original price of the gift article?

Options :

1. ✖ Rs. 2286.25

2. ✔ Rs. 2756.25

3. ✖ Rs. 2700

4. ✖ Rs. 2786.25

Question Number : 102 Question Id : 5861807420 Question Type : MCQ Option Shuffling : Yes

Correct Marks : 1 Wrong Marks : 0.25

एक नॉवल्टी दुकान एक निश्चित व्यापारिक रणनीति का पालन करता है। यह दुकान कुछ समय में अपनी कीमतों में  $y\%$  की बढ़ोत्तरी कर देती है, और कुछ दिनों बाद उनकी कीमतों में  $y\%$  की कमी कर देती है। इसी प्रकार से कमी - बढ़ोत्तरी करने के फलस्वरूप एक बार एक गिफ्ट वस्तु की कीमत रुपये 441 कम हो जाती है। दूसरी बार कमी - बढ़ोत्तरी करने के बाद यह गिफ्ट वस्तु रुपये 1944.81 में बेची जाती है। गिफ्ट वस्तु की मूल कीमत की गणना करें?

Options :

1. ✖ रुपये 2286.25

2. ✔ रुपये 2756.25

3. ✖ रुपये 2700

4. ✖ रुपये 2786.25

Question Number : 103 Question Id : 5861807421 Question Type : MCQ Option Shuffling : Yes

Correct Marks : 1 Wrong Marks : 0.25

A sells his car at a loss of 20% to B, and B sells it to C at a loss of 12%, C sells to D at a gain of 15%. If D pays ₹ 2,83,360 for the car, then how much was paid by A?

Options :

1. ✘ Rs. 3,20,000

2. ✘ Rs. 3,40,000

3. ✔ Rs. 3,50,000

4. ✘ Rs. 4,50,000

Question Number : 103 Question Id : 5861807421 Question Type : MCQ Option Shuffling : Yes

Correct Marks : 1 Wrong Marks : 0.25

A अपनी कार को 20% की हानि पर B को, और B इसे 12% की हानि पर C को, और C इसे 15% के लाभ पर D को बेच देता है। यदि D ने इस कार के लिए रुपये 2,83,360 का भुगतान किया, तो A द्वारा भुगतान की गई राशि की गणना करें?

Options :

1. ✘ रुपये 3,20,000

2. ✘ रुपये 3,40,000

3. ✔ रुपये 3,50,000

4. ✘ रुपये 4,50,000

Question Number : 104 Question Id : 5861807422 Question Type : MCQ Option Shuffling : Yes

Correct Marks : 1 Wrong Marks : 0.25

Raghu went to buy shirts and found that there is a discount of 25% on the purchase of shirts. He wanted to save Rs. 500 through discount where the cost of each shirt is Rs. 250. Then how many shirts does he need to buy?

Options :

1. ✔ 8

2. ✖ 10

3. ✖ 12

4. ✖ 13

Question Number : 104 Question Id : 5861807422 Question Type : MCQ Option Shuffling : Yes

Correct Marks : 1 Wrong Marks : 0.25

रघु शर्ट खरीदने गया और उसे पता चला कि शर्ट खरीदने पर 25% की छूट चल रही है। प्रत्येक शर्ट की कीमत रुपये 250 है और रघु चाहता है कि वह इस छूट के माध्यम से रुपये 500 की बचत कर ले। रघु को कितनी शर्ट खरीदनी पड़ेगी?

Options :

1. ✔ 8

2. ✖ 10

3. ✖ 12

4. ✖ 13

Question Number : 105 Question Id : 5861807423 Question Type : MCQ Option Shuffling : Yes

Correct Marks : 1 Wrong Marks : 0.25

When payment is made online, the discount offered is 12%. An additional discount of 5% is given to credit card holders. Kamlesh buys an article worth Rs. 12,500 by paying online and pays through his credit card. How much does he need to pay?

Options :

1. ✔ Rs. 10,450



2. ✖ Rs. 10,000

3. ✖ Rs. 10,350

4. ✖ Rs. 10,250

Question Number : 105 Question Id : 5861807423 Question Type : MCQ Option Shuffling : Yes

Correct Marks : 1 Wrong Marks : 0.25

ऑनलाइन भुगतान करने पर 12% की छूट दी जाती है। क्रेडिट कार्ड धारकों को 5% की अतिरिक्त छूट दी जाती है। कमलेश रुपये 12,500 की एक वस्तु ऑनलाइन भुगतान करके खरीदता है और इसके लिए वह अपने क्रेडिट कार्ड से भुगतान करता है। उसे कितनी राशि भुगतान करनी होगी?

Options :

1. ✔ रुपये 10,450

2. ✖ रुपये 10,000

3. ✖ रुपये 10,350

4. ✖ रुपये 10,250

Question Number : 106 Question Id : 5861807424 Question Type : MCQ Option Shuffling : Yes

Correct Marks : 1 Wrong Marks : 0.25

Rajan has invested a certain amount in simple interest for X years. It amounts to Rs. 500 at 10% per annum. But when invested at 4% per annum, it amounts to Rs. 300. What is the value of X?

Options :

1. ✖ 15

2. ✔ 20

3. ✖ 25

4. ✖ 16

Question Number : 106 Question Id : 5861807424 Question Type : MCQ Option Shuffling : Yes

Correct Marks : 1 Wrong Marks : 0.25

राजन ने साधारण ब्याज पर  $X$  वर्षों के लिए एक निश्चित राशि का निवेश किया। 10% प्रतिवर्ष की दर से यह राशि रुपये 500 हो जाती है। लेकिन जब इसे 4% प्रति वर्ष की दर से निवेश किया जाता है, तो यह राशि रुपये 300 हो जाती है।  $X$  का मान ज्ञात करें?

Options :

1. ✖ 15

2. ✔ 20

3. ✖ 25

4. ✖ 16

Question Number : 107 Question Id : 5861807425 Question Type : MCQ Option Shuffling : Yes

Correct Marks : 1 Wrong Marks : 0.25

A hardware merchant claims to be lending money to a private bank at simple interest, but he includes the interest every six months for calculating the principal. If he is charging an interest of 12%, then what is the effective rate of interest after one year?

Options :

1. ✖ 12.25%

2. ✔ 12.36%

3. ✖ 15.25%

4. ✖ 15.36%

Question Number : 107 Question Id : 5861807425 Question Type : MCQ Option Shuffling : Yes

Correct Marks : 1 Wrong Marks : 0.25

एक हार्डवेयर व्यापारी एक निजी बैंक को साधारण ब्याज पर पैसा उधार देने का दावा करता है, लेकिन वह मूलधन की गणना के लिए इसमें हर छह महीने में ब्याज जोड़ता रहता है। यदि वह 12% की दर से ब्याज वसूल कर रहा है, तो एक वर्ष के बाद ब्याज की प्रभावी दर क्या होगी?

Options :

1. ✖ 12.25%

2. ✔ 12.36%

3. ✖ 15.25%

4. ✖ 15.36%

Question Number : 108 Question Id : 5861807426 Question Type : MCQ Option Shuffling : Yes

Correct Marks : 1 Wrong Marks : 0.25

Mr. John invested an amount of Rs. 15,000 divided between two different schemes A and B respectively, at the simple interest rates of 18% p.a. and 15% p.a. respectively. If the total amount of simple interest earned in 4 years is Rs. 9750, what was the amount invested in scheme B?

Options :

1. ✖ Rs. 7,875

2. ✔ Rs. 8,750



3. ✖ Rs. 8,875

4. ✖ Rs. 7,750

Question Number : 108 Question Id : 5861807426 Question Type : MCQ Option Shuffling : Yes

Correct Marks : 1 Wrong Marks : 0.25

श्री जॉन अपने रुपये 15,000 की राशि के निवेश को दो अलग - अलग योजनाओं A और B में विभाजित कर देते हैं, जो क्रमशः 18% प्रतिवर्ष और 15% प्रतिवर्ष की दर से ब्याज का भुगतान करती है। यदि चार सालों में उसे साधारण ब्याज के रूप में कुल रुपये 9,750 की प्राप्ति हुई, तो B योजना में निवेशित राशि की गणना कीजिए?

Options :

1. ✖ रुपये 7,875

2. ✔ रुपये 8,750

3. ✖ रुपये 8,875

4. ✖ रुपये 7,750

Question Number : 109 Question Id : 5861807427 Question Type : MCQ Option Shuffling : Yes

Correct Marks : 1 Wrong Marks : 0.25

Ramu had invested the same amount of sums at simple as well as compound interests. The time period of both the sums was 2 years and the rate of interest was the same 10% per annum. At the end he found a difference of Rs. 1500 in both the interest received. Find the sum invested.

Options :

1. ✔ Rs. 1,50,000

2. ✖ Rs. 1,40,000

3. ✖ Rs. 1,30,000

4. ✖ Rs. 15,000

Question Number : 109 Question Id : 5861807427 Question Type : MCQ Option Shuffling : Yes

Correct Marks : 1 Wrong Marks : 0.25

रामू ने साधारण ब्याज और चक्रवृद्धि ब्याज पर एक समान धनराशियों का निवेश किया। दोनों धनराशियों को 2 साल की अवधि के लिए और 10% प्रतिवर्ष की ब्याज दर पर निवेशित किया गया था। अंत में उसे दोनों निवेशों से प्राप्त ब्याज में रुपये 1,500 का अंतर प्राप्त हुआ। निवेशित राशि की ज्ञात करें।

Options :

1. ✔ रुपये 1,50,000

2. ✖ रुपये 1,40,000

3. ✖ रुपये 1,30,000

4. ✖ रुपये 15,000

Question Number : 110 Question Id : 5861807428 Question Type : MCQ Option Shuffling : Yes

Correct Marks : 1 Wrong Marks : 0.25

A sum of money amounts to ₹ 81,000 in 4 years and ₹ 64,000 in 2 years compounded annually. Find the rate of interest.

Options :

1. ✖ 12%

2. ✔ 12.5%

3. ✖ 10.5%

4. ✖ 9%

Question Number : 110 Question Id : 5861807428 Question Type : MCQ Option Shuffling : Yes

Correct Marks : 1 Wrong Marks : 0.25

एक निश्चित राशि वार्षिक दर से संयोजित होने पर 4 सालों में रुपये 81,000 और 2 सालों में रुपये 64000 हो जाती है। ब्याज दर ज्ञात कीजिये।

Options :

1. ✖ 12%

2. ✔ 12.5%

3. ✖ 10.5%

4. ✖ 9%

Question Number : 111 Question Id : 5861807429 Question Type : MCQ Option Shuffling : Yes

Correct Marks : 1 Wrong Marks : 0.25

The base of a prism is a square having sides of 10 cm. If its height is 8 cm, what is the ratio of the numerical values of the volume of the prism and its total surface area?

Options :

1. ✖ 10 : 13

2. ✖ 13 : 10

3. ✔ 20 : 13

4. ✖ 13 : 20

Question Number : 111 Question Id : 5861807429 Question Type : MCQ Option Shuffling : Yes

Correct Marks : 1 Wrong Marks : 0.25

एक प्रिज्म का आधार 10 cm की भुजाओं वाला एक वर्ग है। यदि इसकी ऊंचाई 8 cm है, तो प्रिज्म के आयतन और उसके कुल पृष्ठीय क्षेत्रफल के संख्यात्मक मानों का अनुपात ज्ञात करें?

Options :

1. ✖ 10 : 13

2. ✖ 13 : 10

3. ✔ 20 : 13

4. ✖ 13 : 20

Question Number : 112 Question Id : 5861807430 Question Type : MCQ Option Shuffling : Yes

Correct Marks : 1 Wrong Marks : 0.25

A tank is 8 m long and 5 m wide. At what speed should water run through a pipe 6 cm broad and 5 cm deep so that in 3 hr and 20 minutes, the water level in the tank rises by 6.5 m?

Options :

1. ✖ 22 km/hr

2. ✖ 24 km/hr

3. ✔ 26 km/hr

4. ✖ 28 km/hr

Question Number : 112 Question Id : 5861807430 Question Type : MCQ Option Shuffling : Yes

Correct Marks : 1 Wrong Marks : 0.25

एक टैंक 8 m लंबा और 5 m चौड़ा है। 6 cm चौड़ी और 5 cm गहरी पाइप से किस गति से पानी चलाया जाए ताकि 3 घंटे और 20 मिनट में, टैंक में जलस्तर 6.5 m बढ़ जाए?

Options :

1. ✖ 22 km/hr

2. ✖ 24 km/hr

3. ✔ 26 km/hr

4. ✖ 28 km/hr

Question Number : 113 Question Id : 5861807431 Question Type : MCQ Option Shuffling : Yes

Correct Marks : 1 Wrong Marks : 0.25

Marbles of different colours of diameter 1.4 cm are dropped into a cylindrical container having some water. The marbles get completely submerged. The diameter of the container is 14 cm. How many marbles have been dropped in it, if the water level rises by 6.3 cm?

Options :

1. ✖ 545

2. ✖ 645

3. ✖ 575

4. ✔ 675

Question Number : 113 Question Id : 5861807431 Question Type : MCQ Option Shuffling : Yes

Correct Marks : 1 Wrong Marks : 0.25

एक बेलनाकार कंटेनर में 1.4 cm व्यास के विभिन्न रंगों के पत्थर गिराए जाते हैं। ये पत्थर पानी में पूरी तरह से डूब जाते हैं। कंटेनर का व्यास 14 cm है। यदि जलस्तर 6.3 cm बढ़ जाता है, तो गणना करें कि इसमें कितने पत्थर गिराए गए हैं?

Options :

1. ✖ 545

2. ✖ 645

3. ✖ 575

4. ✔ 675

Question Number : 114 Question Id : 5861807432 Question Type : MCQ Option Shuffling : Yes

Correct Marks : 1 Wrong Marks : 0.25

When valve A alone is opened to fill a sump, it takes 25 hours more than the time taken to fill the sump when valves A and B are opened together. But B alone takes 9 hours more than the time taken to fill the sump when both valves are opened together. In how much time can valves A and B together fill the sump?

Options :

1. ✖ 12 hours

2. ✖ 13 hours

3. ✔ 15 hours

4. ✖ 16 hours

Question Number : 114 Question Id : 5861807432 Question Type : MCQ Option Shuffling : Yes

Correct Marks : 1 Wrong Marks : 0.25

जब वाल्व A को अकेले एक नाबदान को भरने के लिए खोला जाता है तो नाबदान को भरने में, वाल्व A और B दोनों को खोलने पर नाबदान को भरने में लगने वाले समय से 25 घंटे अधिक लगते हैं। इसी प्रकार से B अकेले, दोनों वाल्वों द्वारा नाबदान को भरने में लिए गए समय से 9 घंटे अधिक लेता है। वाल्व A और B दोनों को एक साथ खोलने पर नाबदान को भरने में लगने वाले समय की गणना करें?

Options :



1. ✖ 12 घंटे

2. ✖ 13 घंटे

3. ✔ 15 घंटे

4. ✖ 16 घंटे

Question Number : 115 Question Id : 5861807433 Question Type : MCQ Option Shuffling : Yes

Correct Marks : 1 Wrong Marks : 0.25

Valve A can fill a sump in 16 hours and valve B can fill the same sump in 10 hours. Only valve A is opened first. After how many hours should valve B be opened so that the sump will be filled in 8 hours?

Options :

1. ✖ 3 hours 30 mins

2. ✖ 5 hours

3. ✖ 4 hours

4. ✔ 3 hours

Question Number : 115 Question Id : 5861807433 Question Type : MCQ Option Shuffling : Yes

Correct Marks : 1 Wrong Marks : 0.25

वाल्व A एक नाबदान को 16 घंटों में और वाल्व B उसी नाबदान को 10 घंटों में भर सकता है। पहले केवल वाल्व A को खोला जाता है। नाबदान को 8 घंटों में भर देने के लिए वाल्व B को कितने घंटों बाद खोला जाना चाहिए?

Options :

1. ✖ 3 घंटे 30 मिनट

2. ✖ 5 घंटे

3. ✖ 4 घंटे

4. ✔ 3 घंटे

Question Number : 116 Question Id : 5861807434 Question Type : MCQ Option Shuffling : Yes

Correct Marks : 1 Wrong Marks : 0.25

Nithya drives her car from her home at a speed of 30 km/h and reaches the theatre 60 minutes late. The next time she increases her speed by 5 km/h but still arrives late by 30 minutes. Find the distance from her home to theatre?

Options :

1. ✖ 107 km

2. ✔ 105 km

3. ✖ 104 km

4. ✖ 108 km

Question Number : 116 Question Id : 5861807434 Question Type : MCQ Option Shuffling : Yes

Correct Marks : 1 Wrong Marks : 0.25

नित्या अपने घर से कार से 30 km/h की गति से निकलती है और उसे थिएटर पहुंचने में 60 मिनट की देरी हो जाती है। अगली बार वह अपनी गति 5 km/h बढ़ाती है लेकिन फिर भी 30 मिनट देरी से पहुंचती है। उसके घर से थिएटर की दूरी की ज्ञात करें?

Options :

1. ✖ 107 km

2. ✔ 105 km



3. ✖ 104 km

4. ✖ 108 km

Question Number : 117 Question Id : 5861807435 Question Type : MCQ Option Shuffling : Yes

Correct Marks : 1 Wrong Marks : 0.25

Two mini busses A and B start together in the same direction from the same place X. The first mini bus A runs at a uniform speed of 8 km/hr. The second mini bus B runs at a speed of 6 km/hr in the first hour and increases the speed by  $\frac{1}{4}$  km/hr after each succeeding hour. After how many hours will the second bus B overtake the first bus A if both run nonstop?

Options :

1. ✖ 16 hrs

2. ✖ 18 hrs

3. ✔ 17 hrs

4. ✖ 15 hrs

Question Number : 117 Question Id : 5861807435 Question Type : MCQ Option Shuffling : Yes

Correct Marks : 1 Wrong Marks : 0.25

दो मिनी बस A और B, X बिंदु से एक ही दिशा में एक ही जगह से चलना शुरू होती है। पहली मिनी बस A, 8 km/hr की एक नियत गति से चलती है। दूसरी मिनी बस B, पहले घंटे में 6 km/hr की गति से चलती है और उसके बाद हर घंटे  $\frac{1}{4}$  km/hr से अपनी गति बढ़ाती रहती है। यदि ये दोनों बसे बिना रुके लगातार चल रही हैं तो दूसरी बस B को पहली बस A को ओवरटेक करने में कितने घंटों का समय लगेगा?

Options :

1. ✖ 16 hrs

2. ✖ 18 hrs

3. ✓ 17 hrs

4. ✗ 15 hrs

Question Number : 118 Question Id : 5861807436 Question Type : MCQ Option Shuffling : Yes

Correct Marks : 1 Wrong Marks : 0.25

The speed of a boat in still water is 20 km/hr. It can go 24 km upstream and return downstream to the original point in

$2\frac{1}{2}$  hours. What is the speed of the stream in km/hr?

Options :

1. ✗ 2 km/hr

2. ✗ 3 km/hr

3. ✓ 4 km/hr

4. ✗ 8 km/hr

Question Number : 118 Question Id : 5861807436 Question Type : MCQ Option Shuffling : Yes

Correct Marks : 1 Wrong Marks : 0.25

स्थिर जल में एक नाव की गति 20 km/hr है। यह नाव आगे की ओर धारा के साथ 24 km जाने और धारा के

विपरीत वापस लौटने में  $2\frac{1}{2}$  घंटों का समय लेती है। km/hr में धारा की गति की गणना करें?

Options :

1. ✗ 2 km/hr

2. ✗ 3 km/hr

3. ✓ 4 km/hr

4. ✗ 8 km/hr

Question Number : 119 Question Id : 5861807437 Question Type : MCQ Option Shuffling : Yes

Correct Marks : 1 Wrong Marks : 0.25

The percentage distribution of the population of five districts  $D_1$ ,  $D_2$ ,  $D_3$ ,  $D_4$  and  $D_5$  in a state on the basis of the poverty line and also on education is provided in the following table.

District	% of population below the poverty line	Proportion of Educated and Uneducated	
		Below Poverty line	Above Poverty line
		E : U	E : U
$D_1$	35	5:6	6:7
$D_2$	25	3:5	4:5
$D_3$	24	1:2	2:3
$D_4$	19	3:2	4:3
$D_5$	15	5:3	3:2

If the educated population above the poverty line in the district  $D_3$  is 19 lakhs, then the total population of district  $D_3$  is?

Options :

1. ✗ 45.5 lakhs

2. ✓ 62.5 lakhs

3. ✗ 58.5 lakhs

4. ✗ 48.5 lakhs

Question Number : 119 Question Id : 5861807437 Question Type : MCQ Option Shuffling : Yes

Correct Marks : 1 Wrong Marks : 0.25

निम्नलिखित तालिका में गरीबी रेखा और शिक्षा के आधार पर किसी राज्य के पांच जिलों  $D_1$ ,  $D_2$ ,  $D_3$ ,  $D_4$  और  $D_5$  की जनसंख्या का प्रतिशत वितरण दर्शाया गया है।

जिले	गरीबी रेखा से नीचे जनसंख्या का प्रतिशत वितरण	शिक्षित और अशिक्षित का अनुपात	
		गरीबी रेखा से नीचे	गरीबी रेखा से ऊपर
		E : U	E : U
$D_1$	35	5 : 6	6 : 7
$D_2$	25	3 : 5	4 : 5
$D_3$	24	1 : 2	2 : 3
$D_4$	19	3 : 2	4 : 3
$D_5$	15	5 : 3	3 : 2

यदि जिला  $D_3$  में गरीबी रेखा से ऊपर शिक्षित आबादी 19 लाख है, तो जिला  $D_3$  की कुल जनसंख्या कितनी है?

Options :

1. ✘ 45.5 लाख

2. ✔ 62.5 लाख

3. ✘ 58.5 लाख

4. ✘ 48.5 लाख

Question Number : 120 Question Id : 5861807438 Question Type : MCQ Option Shuffling : Yes

Correct Marks : 1 Wrong Marks : 0.25

The percentage distribution of the population of five districts  $D_1$ ,  $D_2$ ,  $D_3$ ,  $D_4$  and  $D_5$  in a state on the basis of the poverty line and also on education is provided in the following table.

District	% of population below the poverty line	Proportion of Educated and Uneducated	
		Below Poverty line	Above Poverty line
		E : U	E : U
$D_1$	35	5:6	6:7
$D_2$	25	3:5	4:5
$D_3$	24	1:2	2:3
$D_4$	19	3:2	4:3
$D_5$	15	5:3	3:2

What will the educated population above the poverty line be for district  $D_1$  if the uneducated population below the poverty line for district  $D_1$  is 21 lakhs?

Options :

1. ✘ 27 lakhs

2. ✔ 33 lakhs

3. ✘ 38 lakhs

4. ✘ 42 lakhs

Question Number : 120 Question Id : 5861807438 Question Type : MCQ Option Shuffling : Yes Correct Marks : 1 Wrong Marks : 0.25

निम्नलिखित तालिका में गरीबी रेखा और शिक्षा के आधार पर किसी राज्य के पांच जिलों  $D_1$ ,  $D_2$ ,  $D_3$ ,  $D_4$  और  $D_5$  की जनसंख्या का प्रतिशत वितरण दर्शाया गया है।

जिले	गरीबी रेखा से नीचे जनसंख्या का प्रतिशत वितरण	शिक्षित और अशिक्षित का अनुपात	
		गरीबी रेखा से नीचे	गरीबी रेखा से ऊपर
		E : U	E : U
$D_1$	35	5 : 6	6 : 7
$D_2$	25	3 : 5	4 : 5
$D_3$	24	1 : 2	2 : 3
$D_4$	19	3 : 2	4 : 3
$D_5$	15	5 : 3	3 : 2

यदि जिले  $D_1$  में गरीबी रेखा से नीचे अशिक्षित आबादी की संख्या 21 लाख है तो जिला  $D_1$  में गरीबी रेखा से ऊपर शिक्षित जनसंख्या की गणना करें?

Options :

1. ✘ 27 लाख

2. ✔ 33 लाख

3. ✘ 38 लाख

4. ✘ 42 लाख

## General English1

Group Number :	7
Group Id :	586180358
Group Maximum Duration :	0
Group Minimum Duration :	0
Show Attended Group? :	No
Edit Attended Group? :	No
Break time:	0
Group Marks:	20

Is this Group for Examiner?:	No
Revisit allowed for group Instructions? :	Yes
Maximum Instruction Time:	0
Minimum Instruction Time:	0

## General English1

Section Id :	586180362
Section Number :	1
Section type :	Online
Mandatory or Optional:	Mandatory
Number of Questions:	20
Number of Questions to be attempted:	20
Section Marks:	20

Sub-Section Number:	1
Sub-Section Id:	586180501
Question Shuffling Allowed :	Yes

Question Number : 121 Question Id : 5861807439 Question Type : MCQ Option Shuffling : Yes  
Correct Marks : 1 Wrong Marks : 0.25

Choose the option which is the meaning of the underlined idiom.

We had an amazing stay at the resort, though it costed an arm and a leg.

Options :

1. ✖ rather cheap
2. ✖ not worth it
3. ✔ very expensive
4. ✖ very disappointing

Question Number : 121 Question Id : 5861807439 Question Type : MCQ Option Shuffling : Yes  
Correct Marks : 1 Wrong Marks : 0.25



Choose the option which is the meaning of the underlined idiom.

We had an amazing stay at the resort, though it costed an arm and a leg.

Options :

1. ✖ rather cheap
2. ✖ not worth it
3. ✔ very expensive
4. ✖ very disappointing

Question Number : 122 Question Id : 5861807440 Question Type : MCQ Option Shuffling : Yes  
Correct Marks : 1 Wrong Marks : 0.25

Choose the option which is the meaning of the underlined idiom.

Ranbir is in hot water again for his stupid actions.

Options :

1. ✖ in prison
2. ✖ in the shower
3. ✖ wet in the rain
4. ✔ in trouble

Question Number : 122 Question Id : 5861807440 Question Type : MCQ Option Shuffling : Yes  
Correct Marks : 1 Wrong Marks : 0.25

Choose the option which is the meaning of the underlined idiom.

Ranbir is in hot water again for his stupid actions.

Options :

1. ✖ in prison
2. ✖ in the shower
3. ✖ wet in the rain
4. ✔ in trouble

Question Number : 123 Question Id : 5861807441 Question Type : MCQ Option Shuffling : Yes

Correct Marks : 1 Wrong Marks : 0.25

Select the option that will improve the underlined part of the sentence. In case there is no improvement needed then select 'No improvement' option.

She filed a divorce case on the basis of home violence.

Options :

1. ✔ domestic
2. ✖ private
3. ✖ cruel
4. ✖ no improvement

Question Number : 123 Question Id : 5861807441 Question Type : MCQ Option Shuffling : Yes

Correct Marks : 1 Wrong Marks : 0.25

Select the option that will improve the underlined part of the sentence. In case there is no improvement needed then select 'No improvement' option.

She filed a divorce case on the basis of home violence.

Options :

1. ✓ domestic
2. ✗ private
3. ✗ cruel
4. ✗ no improvement

Question Number : 124 Question Id : 5861807442 Question Type : MCQ Option Shuffling : Yes

Correct Marks : 1 Wrong Marks : 0.25

Select the option that will improve the underlined part of the sentence. In case there is no improvement needed then select 'No improvement' option.

There is fragrance in the room, please open all the windows.

Options :

1. ✗ aroma
2. ✓ odour
3. ✗ scent
4. ✗ no improvement

Question Number : 124 Question Id : 5861807442 Question Type : MCQ Option Shuffling : Yes

Correct Marks : 1 Wrong Marks : 0.25

Select the option that will improve the underlined part of the sentence. In case there is no improvement needed then select 'No improvement' option.

There is fragrance in the room, please open all the windows.

Options :

1. ✖ aroma
2. ✔ odour
3. ✖ scent
4. ✖ no improvement

Question Number : 125 Question Id : 5861807443 Question Type : MCQ Option Shuffling : Yes

Correct Marks : 1 Wrong Marks : 0.25

Choose the option that is one word substitution for the given phrase.

one who is all powerful

Options :

1. ✔ omnipotent
2. ✖ omnipresent
3. ✖ omniscient
4. ✖ ominous

Question Number : 125 Question Id : 5861807443 Question Type : MCQ Option Shuffling : Yes

Correct Marks : 1 Wrong Marks : 0.25

Choose the option that is one word substitution for the given phrase.

one who is all powerful

Options :

1. ✓ omnipotent
2. ✗ omnipresent
3. ✗ omniscient
4. ✗ ominous

Question Number : 126 Question Id : 5861807444 Question Type : MCQ Option Shuffling : Yes  
Correct Marks : 1 Wrong Marks : 0.25

Choose the correct option to fill in the blanks.

“I have to leave home on \_\_\_\_\_ urgent office work. Please find \_\_\_\_\_ documents I gave you, by \_\_\_\_\_ time I come back in \_\_\_\_\_ evening.”

Options :

1. ✗ a, the, a, the
2. ✗ the, the, a the
3. ✓ an, the, the, the
4. ✗ the, the, the, the

Question Number : 126 Question Id : 5861807444 Question Type : MCQ Option Shuffling : Yes  
Correct Marks : 1 Wrong Marks : 0.25

Choose the correct option to fill in the blanks.

“I have to leave home on \_\_\_\_\_ urgent office work. Please find \_\_\_\_\_ documents I gave you, by \_\_\_\_\_ time I come back in \_\_\_\_\_ evening.”

Options :

1. ✖ a, the, a, the
2. ✖ the, the, a the
3. ✔ an, the, the, the
4. ✖ the, the, the, the

Question Number : 127 Question Id : 5861807445 Question Type : MCQ Option Shuffling : Yes

Correct Marks : 1 Wrong Marks : 0.25

Choose the correct option to fill in the blanks.

Savita came down \_\_\_\_\_ stairs and fell down. She uttered \_\_\_\_\_ cry of pain and said, “I was in \_\_\_\_\_ great hurry.”

Options :

1. ✖ a, a, a
2. ✖ a, the, a
3. ✖ the, the, a
4. ✔ the, a, a

Question Number : 127 Question Id : 5861807445 Question Type : MCQ Option Shuffling : Yes

Correct Marks : 1 Wrong Marks : 0.25

Choose the correct option to fill in the blanks.

Savita came down \_\_\_\_\_ stairs and fell down. She uttered \_\_\_\_\_ cry of pain and said, "I was in \_\_\_\_\_ great hurry."

Options :

1. ✘ a, a, a
2. ✘ a, the, a
3. ✘ the, the, a
4. ✔ the, a, a

Question Number : 128 Question Id : 5861807446 Question Type : MCQ Option Shuffling : Yes  
Correct Marks : 1 Wrong Marks : 0.25

Choose the correct option to fill in the blanks.

He held his breath \_\_\_\_\_ a long time, and walked \_\_\_\_\_ the scene \_\_\_\_\_ the accident.

Options :

1. ✘ after, across, of
2. ✘ for, forward, by
3. ✘ since, towards, at
4. ✔ for, towards, of

Question Number : 128 Question Id : 5861807446 Question Type : MCQ Option Shuffling : Yes  
Correct Marks : 1 Wrong Marks : 0.25

Choose the correct option to fill in the blanks.

He held his breath \_\_\_\_\_ a long time, and walked \_\_\_\_\_ the scene \_\_\_\_\_ the accident.

Options :



1. ✖ after, across, of
2. ✖ for, forward, by
3. ✖ since, towards, at
4. ✔ for, towards, of

Question Number : 129 Question Id : 5861807447 Question Type : MCQ Option Shuffling : Yes  
Correct Marks : 1 Wrong Marks : 0.25

Choose the correct option to fill in the blanks.

If you do good \_\_\_\_\_ others, good things will happen \_\_\_\_\_ you. \_\_\_\_\_ remember this.

Options :

1. ✖ for, for, never
2. ✔ to, to, always
3. ✖ to, by, always
4. ✖ for, with, never

Question Number : 129 Question Id : 5861807447 Question Type : MCQ Option Shuffling : Yes  
Correct Marks : 1 Wrong Marks : 0.25

Choose the correct option to fill in the blanks.

If you do good \_\_\_\_\_ others, good things will happen \_\_\_\_\_ you. \_\_\_\_\_ remember this.

Options :

1. ✖ for, for, never
2. ✔ to, to, always
3. ✖ to, by, always
4. ✖ for, with, never

Question Number : 130 Question Id : 5861807448 Question Type : MCQ Option Shuffling : Yes

Correct Marks : 1 Wrong Marks : 0.25

Choose the correct option to fill in the blanks.

The boy \_\_\_\_\_ broke the window, was scolded by \_\_\_\_\_ father for \_\_\_\_\_ negligence.

Options :

1. ✓ who, his, his
2. ✗ whom, her, his
3. ✗ who, his, her
4. ✗ whose, him, his

Question Number : 130 Question Id : 5861807448 Question Type : MCQ Option Shuffling : Yes

Correct Marks : 1 Wrong Marks : 0.25

Choose the correct option to fill in the blanks.

The boy \_\_\_\_\_ broke the window, was scolded by \_\_\_\_\_ father for \_\_\_\_\_ negligence.

Options :

1. ✓ who, his, his
2. ✗ whom, her, his
3. ✗ who, his, her
4. ✗ whose, him, his

Question Number : 131 Question Id : 5861807449 Question Type : MCQ Option Shuffling : Yes

Correct Marks : 1 Wrong Marks : 0.25

Choose the correct option to fill in the blanks.

Jessica hugged \_\_\_\_\_ doll while Neeta dressed \_\_\_\_\_. \_\_\_\_\_ both like \_\_\_\_\_ dolls.

Options :

1. ✖ her, her, them, their
2. ✖ hers, her, they, her
3. ✔ her, hers, they, their
4. ✖ hers, her, they, their

Question Number : 131 Question Id : 5861807449 Question Type : MCQ Option Shuffling : Yes

Correct Marks : 1 Wrong Marks : 0.25

Choose the correct option to fill in the blanks.

Jessica hugged \_\_\_\_\_ doll while Neeta dressed \_\_\_\_\_.  
\_\_\_\_\_ both like \_\_\_\_\_ dolls.

Options :

1. ✖ her, her, them, their
2. ✖ hers, her, they, her
3. ✔ her, hers, they, their
4. ✖ hers, her, they, their

Question Number : 132 Question Id : 5861807450 Question Type : MCQ Option Shuffling : Yes

Correct Marks : 1 Wrong Marks : 0.25

Choose the correct option to fill in the blanks.

He \_\_\_\_\_ encouraged her \_\_\_\_\_ helped her financially, \_\_\_\_\_  
she is very grateful to him.

Options :

1. ✖ both, but, so
2. ✖ also, and, but
3. ✖ so, and, so
4. ✔ not only, but also, so

Question Number : 132 Question Id : 5861807450 Question Type : MCQ Option Shuffling : Yes  
Correct Marks : 1 Wrong Marks : 0.25

Choose the correct option to fill in the blanks.

He \_\_\_\_\_ encouraged her \_\_\_\_\_ helped her financially,  
\_\_\_\_\_ she is very grateful to him.

Options :

1. ✖ both, but, so
2. ✖ also, and, but
3. ✖ so, and, so
4. ✔ not only, but also, so

Question Number : 133 Question Id : 5861807451 Question Type : MCQ Option Shuffling : Yes  
Correct Marks : 1 Wrong Marks : 0.25

Choose the correct option to fill in the blanks.

\_\_\_\_\_ is she tall \_\_\_\_\_ is she fat, \_\_\_\_\_ she is intelligent.

Options :

1. ✖ either, or and
2. ✔ neither, nor, but
3. ✖ however, and, but
4. ✖ instead, and, and

Question Number : 133 Question Id : 5861807451 Question Type : MCQ Option Shuffling : Yes  
Correct Marks : 1 Wrong Marks : 0.25

Choose the correct option to fill in the blanks.

\_\_\_\_\_ is she tall \_\_\_\_\_ is she fat, \_\_\_\_\_ she is  
intelligent.

Options :

1. ✖ either, or and
2. ✔ neither, nor, but
3. ✖ however, and, but
4. ✖ instead, and, and

Question Number : 134 Question Id : 5861807452 Question Type : MCQ Option Shuffling : Yes  
Correct Marks : 1 Wrong Marks : 0.25

Choose the correct option to fill in the blanks.

Has \_\_\_\_\_ seen the book I was reading? I have \_\_\_\_\_ pages to read to finish the book. I have \_\_\_\_\_ time now to read.

Options :

1. ✖ none, a little, little
2. ✖ some, the few, much
3. ✔ anyone, a few, some
4. ✖ no one, much, few

Question Number : 134 Question Id : 5861807452 Question Type : MCQ Option Shuffling : Yes  
Correct Marks : 1 Wrong Marks : 0.25

Choose the correct option to fill in the blanks.

Has \_\_\_\_\_ seen the book I was reading? I have \_\_\_\_\_ pages to read to finish the book. I have \_\_\_\_\_ time now to read.

Options :

1. ✖ none, a little, little
2. ✖ some, the few, much
3. ✔ anyone, a few, some

#### 4. ✖ no one, much, few

Question Number : 135 Question Id : 5861807453 Question Type : MCQ Option Shuffling : Yes  
Correct Marks : 1 Wrong Marks : 0.25

Choose the correct option to fill in the blanks.

There is too \_\_\_\_\_ traffic on the road. Just look at the \_\_\_\_\_ of cars. I have never seen these \_\_\_\_\_ cars on the road.

Options :

1. ✔ much, number, many
2. ✖ many, amount, many
3. ✖ much, few, few
4. ✖ few, amount, many

Question Number : 135 Question Id : 5861807453 Question Type : MCQ Option Shuffling : Yes  
Correct Marks : 1 Wrong Marks : 0.25

Choose the correct option to fill in the blanks.

There is too \_\_\_\_\_ traffic on the road. Just look at the \_\_\_\_\_ of cars. I have never seen these \_\_\_\_\_ cars on the road.

Options :

1. ✔ much, number, many
2. ✖ many, amount, many
3. ✖ much, few, few
4. ✖ few, amount, many

Question Number : 136 Question Id : 5861807454 Question Type : MCQ Option Shuffling : Yes  
Correct Marks : 1 Wrong Marks : 0.25

Choose the option which is the correct passive form of the given sentence.

The firemen have to do a safety drill every year.

Options :

1. ✘ A safety drill is to be done every year by the firemen.
2. ✘ A safety drill had to be done every year by the firemen.
3. ✔ A safety drill has to be done every year by the firemen.
4. ✘ A safety drill has been done every year by the firemen.

Question Number : 136 Question Id : 5861807454 Question Type : MCQ Option Shuffling : Yes  
Correct Marks : 1 Wrong Marks : 0.25

Choose the option which is the correct passive form of the given sentence.

The firemen have to do a safety drill every year.

Options :

1. ✘ A safety drill is to be done every year by the firemen.
2. ✘ A safety drill had to be done every year by the firemen.
3. ✔ A safety drill has to be done every year by the firemen.
4. ✘ A safety drill has been done every year by the firemen.

Question Number : 137 Question Id : 5861807455 Question Type : MCQ Option Shuffling : Yes  
Correct Marks : 1 Wrong Marks : 0.25

Choose the option which is the correct indirect form of the given sentence.

The traffic policeman said to the driver, “Why did you not stop when the traffic light was red?”

Options :



1. ✖ The traffic policeman asked the driver why you had not stopped when the traffic light was red.
2. ✖ The traffic policeman asked the driver why he has not stopped when the traffic light was red.
3. ✔ The traffic policeman asked the driver why he had not stopped when the traffic light was red.
4. ✖ The traffic policeman asked the driver if he had stopped when the traffic light was red.

Question Number : 137 Question Id : 5861807455 Question Type : MCQ Option Shuffling : Yes  
Correct Marks : 1 Wrong Marks : 0.25

Choose the option which is the correct indirect form of the given sentence.

The traffic policeman said to the driver, "Why did you not stop when the traffic light was red?"

Options :

1. ✖ The traffic policeman asked the driver why you had not stopped when the traffic light was red.
2. ✖ The traffic policeman asked the driver why he has not stopped when the traffic light was red.
3. ✔ The traffic policeman asked the driver why he had not stopped when the traffic light was red.
4. ✖ The traffic policeman asked the driver if he had stopped when the traffic light was red.

Question Number : 138 Question Id : 5861807456 Question Type : MCQ Option Shuffling : Yes  
Correct Marks : 1 Wrong Marks : 0.25

Choose the option that is the correct order of this jumbled sentence:

the same exercise / you are / today also / doing

Options :

1. ✘ The same exercise you are doing today also.
2. ✘ You are doing today also the same exercise.
3. ✔ You are doing the same exercise today also.
4. ✘ Doing the same exercise you are today also

Question Number : 138 Question Id : 5861807456 Question Type : MCQ Option Shuffling : Yes  
Correct Marks : 1 Wrong Marks : 0.25

Choose the option that is the correct order of this jumbled sentence:

the same exercise / you are / today also / doing

Options :

1. ✘ The same exercise you are doing today also.
2. ✘ You are doing today also the same exercise.
3. ✔ You are doing the same exercise today also.
4. ✘ Doing the same exercise you are today also

Question Number : 139 Question Id : 5861807457 Question Type : MCQ Option Shuffling : Yes  
Correct Marks : 1 Wrong Marks : 0.25

Choose the option that is the correct order of this jumbled sentence:

to buy /a car / I decided / monthly instalments / by paying

Options :

1. ✔ I decided to buy a car by paying monthly instalments.

2. ✖ I decided by paying monthly instalments to buy a car.
3. ✖ To buy a car by paying monthly instalments I decided.
4. ✖ By paying monthly instalments. I decided a car to buy.

Question Number : 139 Question Id : 5861807457 Question Type : MCQ Option Shuffling : Yes  
Correct Marks : 1 Wrong Marks : 0.25

Choose the option that is the correct order of this jumbled sentence:

to buy /a car / I decided / monthly instalments / by paying

Options :

1. ✔ I decided to buy a car by paying monthly instalments.
2. ✖ I decided by paying monthly instalments to buy a car.
3. ✖ To buy a car by paying monthly instalments I decided.
4. ✖ By paying monthly instalments. I decided a car to buy.

Question Number : 140 Question Id : 5861807458 Question Type : MCQ Option Shuffling : Yes  
Correct Marks : 1 Wrong Marks : 0.25

Choose the option that is the correct order of this jumbled sentence:

should be / by 8 am / the garbage / put outside

Options :

1. ✖ The garbage put outside should be by 8 am.
2. ✖ The garbage by 8 am should be put outside.
3. ✖ Should be put outside the garbage by 8 am.
4. ✔ The garbage should be put outside by 8 am.

Question Number : 140 Question Id : 5861807458 Question Type : MCQ Option Shuffling : Yes  
Correct Marks : 1 Wrong Marks : 0.25

Choose the option that is the correct order of this jumbled sentence:

should be / by 8 am / the garbage / put outside

Options :

1. ✘ The garbage put outside should be by 8 am.
2. ✘ The garbage by 8 am should be put outside.
3. ✘ Should be put outside the garbage by 8 am.
4. ✔ The garbage should be put outside by 8 am.

## General English2

Group Number :	8
Group Id :	586180359
Group Maximum Duration :	0
Group Minimum Duration :	0
Show Attended Group? :	No
Edit Attended Group? :	No
Break time:	0
Group Marks:	20
Is this Group for Examiner?:	No
Revisit allowed for group Instructions? :	Yes
Maximum Instruction Time:	0
Minimum Instruction Time:	0

## General English2

Section Id :	586180363
Section Number :	1
Section type :	Online
Mandatory or Optional:	Mandatory
Number of Questions:	12
Number of Questions to be attempted:	12
Section Marks:	20

Sub-Section Number:	1
Sub-Section Id:	586180502
Question Shuffling Allowed :	Yes

Question Number : 141 Question Id : 5861807459 Question Type : MCQ Option Shuffling : Yes

Correct Marks : 1 Wrong Marks : 0.25

Choose the option which is the synonym of the given word:

parsimonious

Options :

1. ✖ liberal
2. ✖ spendthrift
3. ✔ stingy
4. ✖ generous

Question Number : 141 Question Id : 5861807459 Question Type : MCQ Option Shuffling : Yes

Correct Marks : 1 Wrong Marks : 0.25

Choose the option which is the synonym of the given word:

parsimonious

Options :

1. ✖ liberal
2. ✖ spendthrift
3. ✔ stingy
4. ✖ generous

Question Number : 142 Question Id : 5861807460 Question Type : MCQ Option Shuffling : Yes

Correct Marks : 1 Wrong Marks : 0.25

Choose the option which is the synonym of the given word:

eerie

Options :

1. ✖ funny
2. ✔ creepy

3. ✖ normal

4. ✖ silly

Question Number : 142 Question Id : 5861807460 Question Type : MCQ Option Shuffling : Yes

Correct Marks : 1 Wrong Marks : 0.25

Choose the option which is the synonym of the given word:

eerie

Options :

1. ✖ funny

2. ✔ creepy

3. ✖ normal

4. ✖ silly

Question Number : 143 Question Id : 5861807461 Question Type : MCQ Option Shuffling : Yes

Correct Marks : 1 Wrong Marks : 0.25

Choose the option which is the synonym of the given word:

COMBUSTIBLE

Options :

1. ✖ nonexplosive

2. ✖ harmless

3. ✖ violent

4. ✔ inflammable

Question Number : 143 Question Id : 5861807461 Question Type : MCQ Option Shuffling : Yes

Correct Marks : 1 Wrong Marks : 0.25

Choose the option which is the synonym of the given word:

COMBUSTIBLE

Options :

1. ✘ nonexplosive
2. ✘ harmless
3. ✘ violent
4. ✔ inflammable

Question Number : 144 Question Id : 5861807462 Question Type : MCQ Option Shuffling : Yes  
Correct Marks : 1 Wrong Marks : 0.25

Choose the option which is the synonym of the given word:

**PRESUMPTUOUS**

Options :

1. ✔ overconfident
2. ✘ humble
3. ✘ quiet
4. ✘ cautious

Question Number : 144 Question Id : 5861807462 Question Type : MCQ Option Shuffling : Yes  
Correct Marks : 1 Wrong Marks : 0.25

Choose the option which is the synonym of the given word:

**PRESUMPTUOUS**

Options :

1. ✔ overconfident
2. ✘ humble
3. ✘ quiet
4. ✘ cautious

Question Number : 145 Question Id : 5861807463 Question Type : MCQ Option Shuffling : Yes  
Correct Marks : 1 Wrong Marks : 0.25



Choose the option which is the synonym of the given word:

ANTAGONISTIC

Options :

1. ✖ friend
2. ✖ assistant
3. ✖ associate
4. ✔ adversary

Question Number : 145 Question Id : 5861807463 Question Type : MCQ Option Shuffling : Yes

Correct Marks : 1 Wrong Marks : 0.25

Choose the option which is the synonym of the given word:

ANTAGONISTIC

Options :

1. ✖ friend
2. ✖ assistant
3. ✖ associate
4. ✔ adversary

Question Number : 146 Question Id : 5861807464 Question Type : MCQ Option Shuffling : Yes

Correct Marks : 1 Wrong Marks : 0.25

Choose the option which is the antonym of the given word:

CORROBORATE

Options :

1. ✖ support
2. ✖ ratify
3. ✔ contradict

## 4. ✖ endorse

Question Number : 146 Question Id : 5861807464 Question Type : MCQ Option Shuffling : Yes  
Correct Marks : 1 Wrong Marks : 0.25

Choose the option which is the antonym of the given word:

CORROBORATE

Options :

1. ✖ support

2. ✖ ratify

3. ✔ contradict

4. ✖ endorse

Question Number : 147 Question Id : 5861807465 Question Type : MCQ Option Shuffling : Yes  
Correct Marks : 1 Wrong Marks : 0.25

Choose the option which is the antonym of the given word:

INORDINATE

Options :

1. ✔ sensible

2. ✖ disproportionate

3. ✖ exorbitant

4. ✖ surplus

Question Number : 147 Question Id : 5861807465 Question Type : MCQ Option Shuffling : Yes  
Correct Marks : 1 Wrong Marks : 0.25

Choose the option which is the antonym of the given word:

INORDINATE

Options :

1. ✓ sensible
2. ✗ disproportionate
3. ✗ exorbitant
4. ✗ surplus

Question Number : 148 Question Id : 5861807466 Question Type : MCQ Option Shuffling : Yes  
Correct Marks : 1 Wrong Marks : 0.25

Choose the option which is the antonym of the given word:

GALVANISE

Options :

1. ✗ energise
2. ✓ dishearten
3. ✗ encourage
4. ✗ astonish

Question Number : 148 Question Id : 5861807466 Question Type : MCQ Option Shuffling : Yes  
Correct Marks : 1 Wrong Marks : 0.25

Choose the option which is the antonym of the given word:

GALVANISE

Options :

1. ✗ energise
2. ✓ dishearten
3. ✗ encourage
4. ✗ astonish

Question Number : 149 Question Id : 5861807467 Question Type : MCQ Option Shuffling : Yes  
Correct Marks : 1 Wrong Marks : 0.25

Choose the option which is the antonym of the given word:

MOROSE

Options :

1. ✖ sullen
2. ✖ ugly
3. ✖ troubled
4. ✔ uplifted

Question Number : 149 Question Id : 5861807467 Question Type : MCQ Option Shuffling : Yes

Correct Marks : 1 Wrong Marks : 0.25

Choose the option which is the antonym of the given word:

MOROSE

Options :

1. ✖ sullen
2. ✖ ugly
3. ✖ troubled
4. ✔ uplifted

Question Number : 150 Question Id : 5861807468 Question Type : MCQ Option Shuffling : Yes

Correct Marks : 1 Wrong Marks : 0.25

Choose the option which is the antonym of the given word:

NONDESCRIPT

Options :

1. ✔ remarkable
2. ✖ ordinary
3. ✖ vague

## 4. ✖ confused

Question Number : 150 Question Id : 5861807468 Question Type : MCQ Option Shuffling : Yes  
Correct Marks : 1 Wrong Marks : 0.25

Choose the option which is the antonym of the given word:

NONDESCRIPT

Options :

1. ✔ remarkable

2. ✖ ordinary

3. ✖ vague

4. ✖ confused

Sub-Section Number:	2
Sub-Section Id:	586180503
Question Shuffling Allowed :	Yes

Question Id : 5861807469 Question Type : COMPREHENSION Sub Question Shuffling Allowed : Yes Group Comprehension Questions : No

Question Numbers : (151 to 155)

Question Label : Comprehension

Read the following passage and answer the questions that follow:

We've all felt confused before, and it can be one of the most frustrating feelings to deal with. Students might be confused about how to do a math problem or finish a project. Young people might be confused about who they are and what to do in the future. No matter what is making us confused, the feeling of not knowing what the answers or solutions are can make us feel useless, stupid, and cause us to worry.

A lot of people are hard on themselves and others when there's a lack of understanding. People often tend to think the person who has all of the answers is smarter than the one who asks a lot of questions. Because of the negative judgment that surrounds confusion, people often try to hide their confusion in a variety of ways. Instead of admitting or accepting that they don't have the solution, people sometimes try to pretend they have the answers. At other times, people make educated guesses or create an answer even if they know it isn't right.

Students are often guilty of hiding their lack of understanding. If confused about a topic in school, they might pretend to know the answers. They can sometimes be embarrassed to ask questions. As young individuals, they can be confused about who they are, and might try harder to behave in a particular way. They can be too embarrassed to explore other groups or identities, afraid perhaps of being called a "wannabe". They can be afraid people will know they're confused.

But confusion might actually be a good thing. When we jump to an answer, we don't have time to explore and understand the thing we're confused about. Fighting confusion ends up making us more confused. Instead of fighting or trying to ignore your confusion, accepting it and taking the opportunity to analyze what's confusing can benefit our learning. In fact, scientific studies show that confusion actually leads to deeper understanding.

Confusion isn't just an important step to learning in school, it's also important for learning who you are. Psychologists call that sense of who you are identity. Your identity can involve being part of groups like race, gender, subcultures. Identity is also made up of your values and goals. A study published in the International Journal of Behavioral Development found that people who do the most exploring about who they are have better outcomes such as higher self-esteem later in life. Confusion gives us the space to try new things and be creative. Allowing ourselves to be confused and ask questions leads to deeper understanding, more learning, and higher self-confidence. So, try not to be embarrassed when you're confused about something. Instead of trying to hide or fight your confusion, try to resolve it by trying new things.

Embrace the confusion and explore different solutions to your problem.

Sub questions

Question Number : 151 Question Id : 5861807470 Question Type : MCQ Option Shuffling : Yes

Correct Marks : 1 Wrong Marks : 0.25

Which of these feelings is NOT created by a sense of confusion?

Options :

1. ✖ frustration
2. ✖ worry
3. ✔ contentedness
4. ✖ uselessness

Question Number : 152 Question Id : 5861807471 Question Type : MCQ Option Shuffling : Yes

Correct Marks : 1 Wrong Marks : 0.25

What do people do to hide their confusion?

Options :

1. ✔ make guesses or create answers
2. ✖ become overconfident
3. ✖ blame others
4. ✖ ask for solutions

Question Number : 153 Question Id : 5861807472 Question Type : MCQ Option Shuffling : Yes

Correct Marks : 1 Wrong Marks : 0.25

A 'wanna - be' is someone who:

Options :

1. ✖ wants to be great
2. ✔ tries to be someone else
3. ✖ feels isolated
4. ✖ is an anti social

Question Number : 154 Question Id : 5861807473 Question Type : MCQ Option Shuffling : Yes

Correct Marks : 1 Wrong Marks : 0.25

What according to the writer is the best way to deal with confusion?



Options :

1. ✖ taking a quick action
2. ✖ fighting the feeling of confusion
3. ✖ ignoring the feeling of confusion
4. ✔ accepting and analyzing confusion

Question Number : 155 Question Id : 5861807474 Question Type : MCQ Option Shuffling : Yes

Correct Marks : 1 Wrong Marks : 0.25

Which of the following is NOT an advantage of confusion?

Options :

1. ✖ scope for exploring one's identity
2. ✖ opportunity to try new things
3. ✖ leads to deeper understanding
4. ✔ leads to lowering of self esteem

Question Id : 5861807469 Question Type : COMPREHENSION Sub Question Shuffling Allowed : Yes Group Comprehension Questions : No

Question Numbers : (151 to 155)

Question Label : Comprehension

Read the following passage and answer the questions that follow:

We've all felt confused before, and it can be one of the most frustrating feelings to deal with. Students might be confused about how to do a math problem or finish a project. Young people might be confused about who they are and what to do in the future. No matter what is making us confused, the feeling of not knowing what the answers or solutions are can make us feel useless, stupid, and cause us to worry.

A lot of people are hard on themselves and others when there's a lack of understanding. People often tend to think the person who has all of the answers is smarter than the one who asks a lot of questions. Because of the negative judgment that surrounds confusion, people often try to hide their confusion in a variety of ways. Instead of admitting or accepting that they don't have the solution, people sometimes try to pretend they have the answers. At other times, people make educated guesses or create an answer even if they know it isn't right.

Students are often guilty of hiding their lack of understanding. If confused about a topic in school, they might pretend to know the answers. They can sometimes be embarrassed to ask questions. As young individuals, they can be confused about who they are, and might try harder to behave in a particular way. They can be too embarrassed to explore other groups or identities, afraid perhaps of being called a "wannabe". They can be afraid people will know they're confused.

But confusion might actually be a good thing. When we jump to an answer, we don't have time to explore and understand the thing we're confused about. Fighting confusion ends up making us more confused. Instead of fighting or trying to ignore your confusion, accepting it and taking the opportunity to analyze what's confusing can benefit our learning. In fact, scientific studies show that confusion actually leads to deeper understanding.

Confusion isn't just an important step to learning in school, it's also important for learning who you are. Psychologists call that sense of who you are identity. Your identity can involve being part of groups like race, gender, subcultures. Identity is also made up of your values and goals. A study published in the International Journal of Behavioral Development found that people who do the most exploring about who they are have better outcomes such as higher self-esteem later in life. Confusion gives us the space to try new things and be creative. Allowing ourselves to be confused and ask questions leads to deeper understanding, more learning, and higher self-confidence. So, try not to be embarrassed when you're confused about something. Instead of trying to hide or fight your confusion, try to resolve it by trying new things. Embrace the confusion and explore different solutions to your problem.

Sub questions

Question Number : 151 Question Id : 5861807470 Question Type : MCQ Option Shuffling : Yes  
Correct Marks : 1 Wrong Marks : 0.25

Which of these feelings is NOT created by a sense of confusion?

Options :

1. ✘ frustration
2. ✘ worry
3. ✔ contentedness
4. ✘ uselessness

Question Number : 152 Question Id : 5861807471 Question Type : MCQ Option Shuffling : Yes  
Correct Marks : 1 Wrong Marks : 0.25

What do people do to hide their confusion?

Options :

1. ✔ make guesses or create answers
2. ✘ become overconfident
3. ✘ blame others
4. ✘ ask for solutions

Question Number : 153 Question Id : 5861807472 Question Type : MCQ Option Shuffling : Yes  
Correct Marks : 1 Wrong Marks : 0.25

A 'wanna - be' is someone who:

Options :

1. ✘ wants to be great
2. ✔ tries to be someone else
3. ✘ feels isolated
4. ✘ is an anti social

Question Number : 154 Question Id : 5861807473 Question Type : MCQ Option Shuffling : Yes  
Correct Marks : 1 Wrong Marks : 0.25

What according to the writer is the best way to deal with confusion?

Options :

1. ✖ taking a quick action
2. ✖ fighting the feeling of confusion
3. ✖ ignoring the feeling of confusion
4. ✔ accepting and analyzing confusion

Question Number : 155 Question Id : 5861807474 Question Type : MCQ Option Shuffling : Yes  
Correct Marks : 1 Wrong Marks : 0.25

Which of the following is NOT an advantage of confusion?

Options :

1. ✖ scope for exploring one's identity
2. ✖ opportunity to try new things
3. ✖ leads to deeper understanding
4. ✔ leads to lowering of self esteem

Sub-Section Number:	3
Sub-Section Id:	586180504
Question Shuffling Allowed :	Yes

Question Id : 5861807475 Question Type : COMPREHENSION Sub Question Shuffling Allowed : Yes Group Comprehension Questions : No

Question Numbers : (156 to 160)

Question Label : Comprehension

Read the following passage and answer the questions that follow:

Look up from this screen right now. Take a look around. On a bus. In a cafe. Even at a stoplight. Chances are, most of the other people in your line of sight are staring at their phones or other devices. And if they don't happen to have one out, it is certainly tucked away in a pocket or bag. But are we truly addicted to technology? And what about our kids? It's a scary question, and a big one for scientists right now. Still, while the debate rages on, some doctors and technologists are focusing on solutions.

Though tech addiction isn't officially recognized yet in the United States, there are in-patient treatment facilities for teens that try to address the problem. I interviewed a teenage boy who attended a wilderness therapy program in Utah called Outback.

"I started playing [video games] when I was around 9 years old," said Griffin, whose last name I didn't use to protect his privacy. He chose email over a phone interview. "I played because I found it fun, but after a while I played mostly because I preferred it over socializing and confronting my problems." After he spent weeks hiking through the wilderness, his mother saw a lot of improvement in his demeanor and focus. However, Griffin came home to a reality where he still needed a laptop for high school and still used a smartphone to connect with friends.

Bishop, who runs therapeutic Summerland camps in California and North Carolina, says the teens who come to him fall into two broad categories. There are the ones, overwhelmingly boys, who spend so much time playing video games that, in his words, they "fall behind in their social skills." Often they are battling depression or anxiety, or they may be on the autism spectrum.

Then there is a group of mostly girls who misuse and overuse social media. They may be obsessed with taking selfies — Bishop calls them "selfists" — or they may have sent inappropriate pictures of themselves or bullied others online. Regardless of the problem, "We feel the issue is best conceptualized as a 'habit' over an 'addiction,'" Bishop says. "When teens think about their behavior as a habit, they are more empowered to change."

In today's world, technology may be more like food than it is like alcohol. Video games or social media may be avoidable, but most students need to use computers for school assignments, build tech skills for the workplace. How can people, especially young people, forge healthier relationships with technology while continuing to use it every day? You don't need a doctor's official pronouncement to work on putting the devices down more often — or to encourage your kids to do so as well.

Sub questions

Question Number : 156 Question Id : 5861807476 Question Type : MCQ Option Shuffling : Yes

Correct Marks : 1 Wrong Marks : 0.25

What does the writer convey through the first paragraph?

Options :

1. ✖ One finds many people in buses and cafes.
2. ✖ One needs to look up from the screens often.
3. ✔ Almost everyone is addicted to technology.
4. ✖ Possessing technical devices has become fashionable.

Question Number : 157 Question Id : 5861807477 Question Type : MCQ Option Shuffling : Yes

Correct Marks : 1 Wrong Marks : 0.25

Did the ‘wilderness therapy‘ really help ‘Griffin’?

Options :

1. ✔ to a certain extent
2. ✖ Yes, completely
3. ✖ No, a total failure
4. ✖ not sure

Question Number : 158 Question Id : 5861807478 Question Type : MCQ Option Shuffling : Yes

Correct Marks : 1 Wrong Marks : 0.25

How does technology addiction affect boys and girls?

Options :

1. ✖ They begin to indulge in anti - social behavior
2. ✔ Boys stop being social and girls obsess over social media.
3. ✖ Boys bully and girls get bullied.
4. ✖ Both boys and girls face depression and anxiety

Question Number : 159 Question Id : 5861807479 Question Type : MCQ Option Shuffling : Yes

Correct Marks : 1 Wrong Marks : 0.25

Which of these statements does NOT support the writer’s view that technology is like food and not like alcohol?

Options :

1. ✖ Can't completely give up technology.
2. ✖ Alcohol has to be eliminated.
3. ✖ No need for doctor's treatment to reduce technology time.
4. ✔ food can also become an addiction.

Question Number : 160 Question Id : 5861807480 Question Type : MCQ Option Shuffling : Yes  
Correct Marks : 1 Wrong Marks : 0.25

According to the passage the simplest solution at present to overcome technology addiction is to:

Options :

1. ✖ give up using the devices
2. ✖ make the devices unavailable
3. ✔ curtailing the use of these devices
4. ✖ devices to be used only in schools and workplaces

Question Id : 5861807475 Question Type : COMPREHENSION Sub Question Shuffling Allowed : Yes Group Comprehension Questions : No

Question Numbers : (156 to 160)

Question Label : Comprehension

Read the following passage and answer the questions that follow:

Look up from this screen right now. Take a look around. On a bus. In a cafe. Even at a stoplight. Chances are, most of the other people in your line of sight are staring at their phones or other devices. And if they don't happen to have one out, it is certainly tucked away in a pocket or bag. But are we truly addicted to technology? And what about our kids? It's a scary question, and a big one for scientists right now. Still, while the debate rages on, some doctors and technologists are focusing on solutions.

Though tech addiction isn't officially recognized yet in the United States, there are in - patient treatment facilities for teens that try to address the problem. I interviewed a teenage boy who attended a wilderness therapy program in Utah called Outback.

"I started playing [video games] when I was around 9 years old," said Griffin, whose last name I didn't use to protect his privacy. He chose email over a phone interview. "I played because I found it fun, but after a while I played mostly because I preferred it over socializing and confronting my problems." After he spent weeks hiking through the wilderness, his mother saw a lot of improvement in his demeanor and focus. However, Griffin came home to a reality where he still needed a laptop for high school and still used a smartphone to connect with friends.

Bishop, who runs therapeutic Summerland camps in California and North Carolina, says the teens who come to him fall into two broad categories. There are the ones, overwhelmingly boys, who spend so much time playing video games that, in his words, they "fall behind in their social skills." Often they are battling depression or anxiety, or they may be on the autism spectrum.

Then there is a group of mostly girls who misuse and overuse social media. They may be obsessed with taking selfies – Bishop calls them "selfists" – or they may have sent inappropriate pictures of themselves or bullied others online. Regardless of the problem, "We feel the issue is best conceptualized as a 'habit' over an 'addiction,'" Bishop says. "When teens think about their behavior as a habit, they are more empowered to change."

In today's world, technology may be more like food than it is like alcohol. Video games or social media may be avoidable, but most students need to use computers for school assignments, build tech skills for the workplace. How can people, especially young people, forge healthier relationships with technology while continuing to use it every day?

You don't need a doctor's official pronouncement to work on putting the devices down more often – or to encourage your kids to do so as well.



## Sub questions

Question Number : 156 Question Id : 5861807476 Question Type : MCQ Option Shuffling : Yes

Correct Marks : 1 Wrong Marks : 0.25

What does the writer convey through the first paragraph?

Options :

1. ✖ One finds many people in buses and cafes.
2. ✖ One needs to look up from the screens often.
3. ✔ Almost everyone is addicted to technology.
4. ✖ Possessing technical devices has become fashionable.

Question Number : 157 Question Id : 5861807477 Question Type : MCQ Option Shuffling : Yes

Correct Marks : 1 Wrong Marks : 0.25

Did the 'wilderness therapy' really help 'Griffin'?

Options :

1. ✔ to a certain extent
2. ✖ Yes, completely
3. ✖ No, a total failure
4. ✖ not sure

Question Number : 158 Question Id : 5861807478 Question Type : MCQ Option Shuffling : Yes

Correct Marks : 1 Wrong Marks : 0.25

How does technology addiction affect boys and girls?

Options :

1. ✖ They begin to indulge in anti - social behavior
2. ✔ Boys stop being social and girls obsess over social media.
3. ✖ Boys bully and girls get bullied.
4. ✖ Both boys and girls face depression and anxiety

Question Number : 159 Question Id : 5861807479 Question Type : MCQ Option Shuffling : Yes  
Correct Marks : 1 Wrong Marks : 0.25

Which of these statements does NOT support the writer's view that technology is like food and not like alcohol?

Options :

1. ✘ Can't completely give up technology.
2. ✘ Alcohol has to be eliminated.
3. ✘ No need for doctor's treatment to reduce technology time.
4. ✔ food can also become an addiction.

Question Number : 160 Question Id : 5861807480 Question Type : MCQ Option Shuffling : Yes  
Correct Marks : 1 Wrong Marks : 0.25

According to the passage the simplest solution at present to overcome technology addiction is to:

Options :

1. ✘ give up using the devices
2. ✘ make the devices unavailable
3. ✔ curtailing the use of these devices
4. ✘ devices to be used only in schools and workplaces

## General Hindi1

Group Number :	9
Group Id :	586180360
Group Maximum Duration :	0
Group Minimum Duration :	0
Show Attended Group? :	No
Edit Attended Group? :	No
Break time:	0
Group Marks:	20
Is this Group for Examiner? :	No
Revisit allowed for group Instructions? :	Yes
Maximum Instruction Time:	0

## General Hindi1

Section Id :	586180364
Section Number :	1
Section type :	Online
Mandatory or Optional:	Mandatory
Number of Questions:	20
Number of Questions to be attempted:	20
Section Marks:	20

Sub-Section Number:	1
Sub-Section Id:	586180505
Question Shuffling Allowed :	Yes

Question Number : 161 Question Id : 5861807481 Question Type : MCQ Option Shuffling : Yes  
Correct Marks : 1 Wrong Marks : 0.25

‘हफ्ता’ कैसा शब्द है?

Options :

1. \* देशज
2. ✓ विदेशी
3. \* तत्सम
4. \* तद्भव

Question Number : 161 Question Id : 5861807481 Question Type : MCQ Option Shuffling : Yes  
Correct Marks : 1 Wrong Marks : 0.25

‘हफ्ता’ कैसा शब्द है?

Options :

1. \* देशज
2. ✓ विदेशी
3. \* तत्सम
4. \* तद्भव

Question Number : 162 Question Id : 5861807482 Question Type : MCQ Option Shuffling : Yes  
Correct Marks : 1 Wrong Marks : 0.25

निम्न में से कौन सा शब्द तद्भव है?

Options :

1. \* घटिका
2. \* गृह
3. \* घृणा
4. ✓ घोड़ा

Question Number : 162 Question Id : 5861807482 Question Type : MCQ Option Shuffling : Yes  
Correct Marks : 1 Wrong Marks : 0.25

निम्न में से कौन सा शब्द तद्भव है?

Options :

1. \* घटिका
2. \* गृह
3. \* घृणा
4. ✓ घोड़ा

Question Number : 163 Question Id : 5861807483 Question Type : MCQ Option Shuffling : Yes  
Correct Marks : 1 Wrong Marks : 0.25

निम्न में से कौन सा शब्द तत्सम है?

Options :

1. \* नारियल
2. \* लोहा
3. ✓ लवण
4. \* नीबू

Question Number : 163 Question Id : 5861807483 Question Type : MCQ Option Shuffling : Yes  
Correct Marks : 1 Wrong Marks : 0.25

निम्न में से कौन सा शब्द तत्सम है?

Options :

1. \* नारियल
2. \* लोहा
3. ✓ लवण

## 4. \* नीबू

Question Number : 164 Question Id : 5861807484 Question Type : MCQ Option Shuffling : Yes  
Correct Marks : 1 Wrong Marks : 0.25

निम्न में से शुद्ध वर्तनी वाला शब्द है:

Options :

1. ✓ प्रायोगिक
2. \* प्रायोगीक
3. \* प्रयोगिक
4. \* प्रयोगीक

Question Number : 164 Question Id : 5861807484 Question Type : MCQ Option Shuffling : Yes  
Correct Marks : 1 Wrong Marks : 0.25

निम्न में से शुद्ध वर्तनी वाला शब्द है:

Options :

1. ✓ प्रायोगिक
2. \* प्रायोगीक
3. \* प्रयोगिक
4. \* प्रयोगीक

Question Number : 165 Question Id : 5861807485 Question Type : MCQ Option Shuffling : Yes  
Correct Marks : 1 Wrong Marks : 0.25

‘असन – आसन’ शब्द युग्म का सही अर्थ है:

Options :

1. \* कपड़ा – भोजन
2. \* कपड़ा – बैठने की वस्तु
3. ✓ भोजन – बैठने की वस्तु
4. \* भोजन – व्यायाम

Question Number : 165 Question Id : 5861807485 Question Type : MCQ Option Shuffling : Yes  
Correct Marks : 1 Wrong Marks : 0.25

‘असन - आसन’ शब्द युग्म का सही अर्थ है:

Options :

1. \* कपड़ा - भोजन
2. \* कपड़ा - बैठने की वस्तु
3. ✓ भोजन - बैठने की वस्तु
4. \* भोजन - व्यायाम

Question Number : 166 Question Id : 5861807486 Question Type : MCQ Option Shuffling : Yes  
Correct Marks : 1 Wrong Marks : 0.25

‘सरदी’ किस प्रकार की संज्ञा है?

Options :

1. \* पदार्थवाचक
2. ✓ भाववाचक
3. \* व्यक्तिवाचक
4. \* जातिवाचक

Question Number : 166 Question Id : 5861807486 Question Type : MCQ Option Shuffling : Yes  
Correct Marks : 1 Wrong Marks : 0.25

‘सरदी’ किस प्रकार की संज्ञा है?

Options :

1. \* पदार्थवाचक
2. ✓ भाववाचक
3. \* व्यक्तिवाचक
4. \* जातिवाचक

Question Number : 167 Question Id : 5861807487 Question Type : MCQ Option Shuffling : Yes  
Correct Marks : 1 Wrong Marks : 0.25

‘वह’ सर्वनाम का परिमाणवाचक विशेषण है:

Options :

1. \* ऐसा
2. \* वैसा
3. \* इतना

## 4. ✓ उतना

Question Number : 167 Question Id : 5861807487 Question Type : MCQ Option Shuffling : Yes  
Correct Marks : 1 Wrong Marks : 0.25

‘वह’ सर्वनाम का परिमाणवाचक विशेषण है:

Options :

1. ✘ ऐसा
2. ✘ वैसा
3. ✘ इतना
4. ✓ उतना

Question Number : 168 Question Id : 5861807488 Question Type : MCQ Option Shuffling : Yes  
Correct Marks : 1 Wrong Marks : 0.25

‘टिकाऊ’ किस प्रकार का विशेषण है?

Options :

1. ✓ गुणवाचक
2. ✘ परिमाण बोधक
3. ✘ संख्यावाचक
4. ✘ सार्वनामिक

Question Number : 168 Question Id : 5861807488 Question Type : MCQ Option Shuffling : Yes  
Correct Marks : 1 Wrong Marks : 0.25

‘टिकाऊ’ किस प्रकार का विशेषण है?

Options :

1. ✓ गुणवाचक
2. ✘ परिमाण बोधक
3. ✘ संख्यावाचक
4. ✘ सार्वनामिक

Question Number : 169 Question Id : 5861807489 Question Type : MCQ Option Shuffling : Yes  
Correct Marks : 1 Wrong Marks : 0.25

निम्न में प्रेरणार्थक क्रिया है:

Options :

1. ✓ फैलाना
2. \* पढ़ना
3. \* गिरना
4. \* ओढ़ना

Question Number : 169 Question Id : 5861807489 Question Type : MCQ Option Shuffling : Yes  
Correct Marks : 1 Wrong Marks : 0.25

Question Number : 170 Question Id : 5861807490 Question Type : MCQ Option Shuffling : Yes  
Correct Marks : 1 Wrong Marks : 0.25

‘मैंने उसे देखा तक नहीं’ वाक्य में क्रिया विशेषण है:

Options :

1. \* मैंने
2. \* उसे देखा
3. ✓ तक
4. \* नहीं

Question Number : 170 Question Id : 5861807490 Question Type : MCQ Option Shuffling : Yes  
Correct Marks : 1 Wrong Marks : 0.25

‘मैंने उसे देखा तक नहीं’ वाक्य में क्रिया विशेषण है:

Options :

1. \* मैंने
2. \* उसे देखा
3. ✓ तक
4. \* नहीं

Question Number : 171 Question Id : 5861807491 Question Type : MCQ Option Shuffling : Yes  
Correct Marks : 1 Wrong Marks : 0.25

‘संकल्प’ का संधि विच्छेद होगा:

Options :

1. \* सन् + कल्प
2. ✓ सम् + कल्प



3. \* सन + कल्प

4. \* सम + कल्प

Question Number : 171 Question Id : 5861807491 Question Type : MCQ Option Shuffling : Yes  
Correct Marks : 1 Wrong Marks : 0.25

‘संकल्प’ का संधि विच्छेद होगा:

Options :

1. \* सन् + कल्प

2. ✓ सम् + कल्प

3. \* सन + कल्प

4. \* सम + कल्प

Question Number : 172 Question Id : 5861807492 Question Type : MCQ Option Shuffling : Yes  
Correct Marks : 1 Wrong Marks : 0.25

‘गजानन’ में कौन सा समास है?

Options :

1. \* तत्पुरुष

2. \* अव्ययीभाव

3. \* द्वंद्व

4. ✓ बहुव्रीहि

Question Number : 172 Question Id : 5861807492 Question Type : MCQ Option Shuffling : Yes  
Correct Marks : 1 Wrong Marks : 0.25

‘गजानन’ में कौन सा समास है?

Options :

1. \* तत्पुरुष

2. \* अव्ययीभाव

3. \* द्वंद्व

4. ✓ बहुव्रीहि

Question Number : 173 Question Id : 5861807493 Question Type : MCQ Option Shuffling : Yes  
Correct Marks : 1 Wrong Marks : 0.25

‘परामर्श’ में किस उपसर्ग का प्रयोग हुआ है?

Options :

1. \* प
2. \* पर
3. ✓ परा
4. \* मर्श

Question Number : 173 Question Id : 5861807493 Question Type : MCQ Option Shuffling : Yes

Correct Marks : 1 Wrong Marks : 0.25

‘परामर्श’ में किस उपसर्ग का प्रयोग हुआ है?

Options :

1. \* प
2. \* पर
3. ✓ परा
4. \* मर्श

Question Number : 174 Question Id : 5861807494 Question Type : MCQ Option Shuffling : Yes

Correct Marks : 1 Wrong Marks : 0.25

‘अंतिम’ में किस प्रत्यय का प्रयोग हुआ है?

Options :

1. \* म
2. ✓ इम
3. \* तिम
4. \* अं

Question Number : 174 Question Id : 5861807494 Question Type : MCQ Option Shuffling : Yes

Correct Marks : 1 Wrong Marks : 0.25

‘अंतिम’ में किस प्रत्यय का प्रयोग हुआ है?

Options :

1. \* म
2. ✓ इम

3. \* तिम

4. \* अं

Question Number : 175 Question Id : 5861807495 Question Type : MCQ Option Shuffling : Yes  
Correct Marks : 1 Wrong Marks : 0.25

निम्न में से कौन सा शब्द स्त्रीलिंग है?

Options :

1. \* खलिहान

2. \* खाका

3. \* खुमार

4. ✓ खबर

Question Number : 175 Question Id : 5861807495 Question Type : MCQ Option Shuffling : Yes  
Correct Marks : 1 Wrong Marks : 0.25

निम्न में से कौन सा शब्द स्त्रीलिंग है?

Options :

1. \* खलिहान

2. \* खाका

3. \* खुमार

4. ✓ खबर

Question Number : 176 Question Id : 5861807496 Question Type : MCQ Option Shuffling : Yes  
Correct Marks : 1 Wrong Marks : 0.25

‘भारत के प्रधानमंत्री’ किस पदबन्ध का उदाहरण है?

Options :

1. ✓ संज्ञा पदबन्ध

2. \* सर्वनाम पदबन्ध

3. \* विशेषण पदबन्ध

4. \* क्रिया पदबन्ध

Question Number : 176 Question Id : 5861807496 Question Type : MCQ Option Shuffling : Yes  
Correct Marks : 1 Wrong Marks : 0.25

‘भारत के प्रधानमंत्री’ किस पदबन्ध का उदाहरण है?

Options :

1. ✓ संज्ञा पदबन्ध
2. ✘ सर्वनाम पदबन्ध
3. ✘ विशेषण पदबन्ध
4. ✘ क्रिया पदबन्ध

Question Number : 177 Question Id : 5861807497 Question Type : MCQ Option Shuffling : Yes

Correct Marks : 1 Wrong Marks : 0.25

‘जहाँ सूरज निकलता है, वहाँ अँधेरा गायब हो जाता है।’ वाक्य में ‘जहाँ सूरज निकलता है’ किस प्रकार का उपवाक्य है?

Options :

1. ✘ क्रिया उपवाक्य
2. ✓ क्रिया विशेषण उपवाक्य
3. ✘ संज्ञा उपवाक्य
4. ✘ विशेषण उपवाक्य

Question Number : 177 Question Id : 5861807497 Question Type : MCQ Option Shuffling : Yes

Correct Marks : 1 Wrong Marks : 0.25

‘जहाँ सूरज निकलता है, वहाँ अँधेरा गायब हो जाता है।’ वाक्य में ‘जहाँ सूरज निकलता है’ किस प्रकार का उपवाक्य है?

Options :

1. ✘ क्रिया उपवाक्य
2. ✓ क्रिया विशेषण उपवाक्य
3. ✘ संज्ञा उपवाक्य
4. ✘ विशेषण उपवाक्य

Question Number : 178 Question Id : 5861807498 Question Type : MCQ Option Shuffling : Yes

Correct Marks : 1 Wrong Marks : 0.25

‘वह आया और मैं गया।’ किस प्रकार का वाक्य है?

Options :

1. \* सरल वाक्य
2. \* मिश्र वाक्य
3. ✓ संयुक्त वाक्य
4. \* उपवाक्य

Question Number : 178 Question Id : 5861807498 Question Type : MCQ Option Shuffling : Yes  
Correct Marks : 1 Wrong Marks : 0.25

‘वह आया और मैं गया।’ किस प्रकार का वाक्य है?

Options :

1. \* सरल वाक्य
2. \* मिश्र वाक्य
3. ✓ संयुक्त वाक्य
4. \* उपवाक्य

Question Number : 179 Question Id : 5861807499 Question Type : MCQ Option Shuffling : Yes  
Correct Marks : 1 Wrong Marks : 0.25

पदक्रम की दृष्टि से कौन सा वाक्य शुद्ध है?

Options :

1. ✓ मेरी खूबसूरत कलम नहीं मिल रही है।
2. \* मेरी कलम खूबसूरत नहीं मिल रही है।
3. \* नहीं मिल रही है मेरी खूबसूरत कलम।
4. \* खूबसूरत कलम मेरी नहीं मिल रही है।

Question Number : 179 Question Id : 5861807499 Question Type : MCQ Option Shuffling : Yes  
Correct Marks : 1 Wrong Marks : 0.25

पदक्रम की दृष्टि से कौन सा वाक्य शुद्ध है?

Options :

1. ✓ मेरी खूबसूरत कलम नहीं मिल रही है।
2. \* मेरी कलम खूबसूरत नहीं मिल रही है।
3. \* नहीं मिल रही है मेरी खूबसूरत कलम।

4. \* खूबसूरत कलम मेरी नहीं मिल रही है।

Question Number : 180 Question Id : 5861807500 Question Type : MCQ Option Shuffling : Yes

Correct Marks : 1 Wrong Marks : 0.25

अन्वय की दृष्टि से कौन सा वाक्य शुद्ध है?

Options :

1. \* संचित ने दूध और रोटी खिलाओ।
2. \* संचित ने दूध और रोटी खिलाये।
3. \* संचित ने दूध और रोटी खिलाया।
4. ✓ संचित ने दूध और रोटी खिलाई।

Question Number : 180 Question Id : 5861807500 Question Type : MCQ Option Shuffling : Yes

Correct Marks : 1 Wrong Marks : 0.25

अन्वय की दृष्टि से कौन सा वाक्य शुद्ध है?

Options :

1. \* संचित ने दूध और रोटी खिलाओ।
2. \* संचित ने दूध और रोटी खिलाये।
3. \* संचित ने दूध और रोटी खिलाया।
4. ✓ संचित ने दूध और रोटी खिलाई।

## General Hindi2

Group Number :	10
Group Id :	586180361
Group Maximum Duration :	0
Group Minimum Duration :	120
Show Attended Group? :	No
Edit Attended Group? :	No
Break time:	0
Group Marks:	20
Is this Group for Examiner?:	No
Revisit allowed for group Instructions? :	Yes
Maximum Instruction Time:	0
Minimum Instruction Time:	0

# General Hindi2

Section Id :	586180365
Section Number :	1
Section type :	Online
Mandatory or Optional:	Mandatory
Number of Questions:	12
Number of Questions to be attempted:	12
Section Marks:	20

Sub-Section Number:	1
Sub-Section Id:	586180506
Question Shuffling Allowed :	Yes

Question Number : 181 Question Id : 5861807501 Question Type : MCQ Option Shuffling : Yes  
Correct Marks : 1 Wrong Marks : 0.25

‘अमृत’ का पर्यायवाची है:

Options :

1. \* हय
2. ✓ अमिय
3. \* सलिल
4. \* निलय

Question Number : 181 Question Id : 5861807501 Question Type : MCQ Option Shuffling : Yes  
Correct Marks : 1 Wrong Marks : 0.25

‘अमृत’ का पर्यायवाची है:

Options :

1. \* हय
2. ✓ अमिय
3. \* सलिल
4. \* निलय

Question Number : 182 Question Id : 5861807502 Question Type : MCQ Option Shuffling : Yes  
Correct Marks : 1 Wrong Marks : 0.25

‘पुत्री’ का पर्यायवाची नहीं है:

Options :

1. \* तनया

2. \* तनुजा

3. ✓ वनिता

4. \* दुहिता

Question Number : 182 Question Id : 5861807502 Question Type : MCQ Option Shuffling : Yes  
Correct Marks : 1 Wrong Marks : 0.25

‘पुत्री’ का पर्यायवाची नहीं है:

Options :

1. \* तनया

2. \* तनुजा

3. ✓ वनिता

4. \* दुहिता

Question Number : 183 Question Id : 5861807503 Question Type : MCQ Option Shuffling : Yes  
Correct Marks : 1 Wrong Marks : 0.25

‘सविता’ किसका पर्यायवाची है?

Options :

1. \* स्त्री

2. \* नदी

3. \* चन्द्र

4. ✓ सूर्य

Question Number : 183 Question Id : 5861807503 Question Type : MCQ Option Shuffling : Yes  
Correct Marks : 1 Wrong Marks : 0.25

‘सविता’ किसका पर्यायवाची है?

Options :

1. \* स्त्री

2. \* नदी

3. \* चन्द्र

4. ✓ सूर्य



Question Number : 184 Question Id : 5861807504 Question Type : MCQ Option Shuffling : Yes  
Correct Marks : 1 Wrong Marks : 0.25

‘नग’ किसका पर्यायवाची है?

Options :

1. ✓ पर्वत
2. \* आकाश
3. \* समुद्र
4. \* बादल

Question Number : 184 Question Id : 5861807504 Question Type : MCQ Option Shuffling : Yes  
Correct Marks : 1 Wrong Marks : 0.25

‘नग’ किसका पर्यायवाची है?

Options :

1. ✓ पर्वत
2. \* आकाश
3. \* समुद्र
4. \* बादल

Question Number : 185 Question Id : 5861807505 Question Type : MCQ Option Shuffling : Yes  
Correct Marks : 1 Wrong Marks : 0.25

‘वर्ण’ किसका पर्यायवाची नहीं है?

Options :

1. \* जाति
2. \* रंग
3. ✓ वर्ग
4. \* अक्षर

Question Number : 185 Question Id : 5861807505 Question Type : MCQ Option Shuffling : Yes  
Correct Marks : 1 Wrong Marks : 0.25

‘वर्ण’ किसका पर्यायवाची नहीं है?

Options :

1. \* जाति

2. ✖ रंग

3. ✔ वर्ग

4. ✖ अक्षर

Question Number : 186 Question Id : 5861807506 Question Type : MCQ Option Shuffling : Yes  
Correct Marks : 1 Wrong Marks : 0.25

‘आयात’ का विलोम शब्द है:

Options :

1. ✖ प्रवास

2. ✔ निर्यात

3. ✖ निकास

4. ✖ नियोजन

Question Number : 186 Question Id : 5861807506 Question Type : MCQ Option Shuffling : Yes  
Correct Marks : 1 Wrong Marks : 0.25

‘आयात’ का विलोम शब्द है:

Options :

1. ✖ प्रवास

2. ✔ निर्यात

3. ✖ निकास

4. ✖ नियोजन

Question Number : 187 Question Id : 5861807507 Question Type : MCQ Option Shuffling : Yes  
Correct Marks : 1 Wrong Marks : 0.25

‘अज्ञ’ का विलोम होगा:

Options :

1. ✔ विज्ञ

2. ✖ अनभिज्ञ

3. ✖ अल्पज्ञ

4. ✖ बहुज्ञ

Question Number : 187 Question Id : 5861807507 Question Type : MCQ Option Shuffling : Yes

Correct Marks : 1 Wrong Marks : 0.25

‘अज़’ का विलोम होगा:

Options :

1. ✓ विज़
2. ✗ अनभिज़
3. ✗ अल्पज़
4. ✗ बहुज़

Question Number : 188 Question Id : 5861807508 Question Type : MCQ Option Shuffling : Yes

Correct Marks : 1 Wrong Marks : 0.25

‘अर्जन’ किसका विलोम है?

Options :

1. ✗ दुर्जन
2. ✗ सज्जन
3. ✗ व्यंजन
4. ✓ व्ययन

Question Number : 188 Question Id : 5861807508 Question Type : MCQ Option Shuffling : Yes

Correct Marks : 1 Wrong Marks : 0.25

‘अर्जन’ किसका विलोम है?

Options :

1. ✗ दुर्जन
2. ✗ सज्जन
3. ✗ व्यंजन
4. ✓ व्ययन

Question Number : 189 Question Id : 5861807509 Question Type : MCQ Option Shuffling : Yes

Correct Marks : 1 Wrong Marks : 0.25

‘यह एक अर्वाचीन ग्रंथ है’ पंक्ति के रेखांकित शब्द का विलोम होगा:

Options :

1. ✗ नवीन

2. ✖ समकालीन

3. ✔ प्राचीन

4. ✖ मध्यकालीन

Question Number : 189 Question Id : 5861807509 Question Type : MCQ Option Shuffling : Yes

Correct Marks : 1 Wrong Marks : 0.25

‘यह एक अर्वाचीन ग्रंथ है।’ पंक्ति के रेखांकित शब्द का विलोम होगा:

Options :

1. ✖ नवीन

2. ✖ समकालीन

3. ✔ प्राचीन

4. ✖ मध्यकालीन

Question Number : 190 Question Id : 5861807510 Question Type : MCQ Option Shuffling : Yes

Correct Marks : 1 Wrong Marks : 0.25

‘मसृण’ का विलोम है:

Options :

1. ✖ ऋण

2. ✖ उऋण

3. ✖ तृण

4. ✔ रुक्ष

Question Number : 190 Question Id : 5861807510 Question Type : MCQ Option Shuffling : Yes

Correct Marks : 1 Wrong Marks : 0.25

‘मसृण’ का विलोम है:

Options :

1. ✖ ऋण

2. ✖ उऋण

3. ✖ तृण

4. ✔ रुक्ष

Sub-Section Number: 2  
Sub-Section Id: 586180507  
Question Shuffling Allowed : Yes

Question Id : 5861807511 Question Type : COMPREHENSION Sub Question Shuffling Allowed : Yes Group Comprehension Questions : No

Question Numbers : (191 to 195)

Question Label : Comprehension

नीचे दिये गए गद्यांश को पढ़कर पूछे गये प्रश्नों के उत्तर दीजिए।

साहित्य समाज का दर्पण होता है। किसी भी युग के तात्कालिक सांस्कृतिक जीवन का वास्तविक ज्ञान हमें साहित्य के माध्यम से ही होता है। साहित्य में समाज गहरे रूप से समाहित होता है। समाज में जो भी घटनाएं घटित होती हैं, वही साहित्य का हिस्सा बनती हैं और समाज उन्हीं आदर्शों पर चलता है जो साहित्य में दृष्टिगत होते हैं। अतः सामाजिक अनुभूतियाँ और संवेदना ही साहित्य का विषय बनती हैं। सामाजिकता का वास्तविक चित्रण ही 'यथार्थ' है। जीवन की सच्ची अनुभूति ही 'यथार्थ' है, जो मानव मस्तिष्क रूपी उपवन में अंकुरित होता है। मनुष्य जिस समाज में रहता है, सांस लेता है, अपने भावों विचारों का आदान - प्रदान करता है उससे अनभिज्ञ कैसे रह सकता है? समाज के प्रत्येक व्यक्ति को उस यथार्थ से टकराना पड़ता है। प्रत्येक व्यक्ति अपने जीवन में सुख - दुख आदि भावनाओं का अनुभव करता है। परिवेश समान होने पर भी प्रत्येक व्यक्ति के अनुभव अलग - अलग होते हैं।

Sub questions

Question Number : 191 Question Id : 5861807512 Question Type : MCQ Option Shuffling : Yes

Correct Marks : 1 Wrong Marks : 0.25

गद्यांश का उपयुक्त शीर्षक होगा:

Options :

1. \* साहित्य
2. ✓ साहित्य और समाज
3. \* समाज
4. \* यथार्थ

Question Number : 192 Question Id : 5861807513 Question Type : MCQ Option Shuffling : Yes

Correct Marks : 1 Wrong Marks : 0.25

‘उपवन’ का अर्थ होता है:

Options :

1. ✓ बगीचा
2. \* पठार
3. \* मैदान
4. \* रेगिस्तान

Question Number : 193 Question Id : 5861807514 Question Type : MCQ Option Shuffling : Yes

Correct Marks : 1 Wrong Marks : 0.25

‘आदान’ का अर्थ है:

Options :

1. \* देना
2. \* त्याग करना
3. ✓ ग्रहण
4. \* आयात

Question Number : 194 Question Id : 5861807515 Question Type : MCQ Option Shuffling : Yes

Correct Marks : 1 Wrong Marks : 0.25

‘अनभिज्ञ’ का अर्थ होता है:

Options :

1. \* ज्ञात
2. \* अज्ञात
3. \* पहचान
4. ✓ अनजान

Question Number : 195 Question Id : 5861807516 Question Type : MCQ Option Shuffling : Yes

Correct Marks : 1 Wrong Marks : 0.25

‘यथार्थ’ है:

Options :

1. \* समाज का काल्पनिक चित्रण
2. ✓ समाज का वास्तविक चित्रण
3. \* काल्पनिक अनुभूति
4. \* लंकारिक चित्रण

## Question Label : Comprehension

नीचे दिये गए गद्यांश को पढ़कर पूछे गये प्रश्नों के उत्तर दीजिए।

साहित्य समाज का दर्पण होता है। किसी भी युग के तात्कालिक सांस्कृतिक जीवन का वास्तविक ज्ञान हमें साहित्य के माध्यम से ही होता है। साहित्य में समाज गहरे रूप से समाहित होता है। समाज में जो भी घटनाएं घटित होती हैं, वही साहित्य का हिस्सा बनती हैं और समाज उन्हीं आदर्शों पर चलता है जो साहित्य में दृष्टिगत होते हैं। अतः सामाजिक अनुभूतियाँ और संवेदना ही साहित्य का विषय बनती हैं।

सामाजिकता का वास्तविक चित्रण ही 'यथार्थ' है। जीवन की सच्ची अनुभूति ही 'यथार्थ' है, जो मानव मस्तिष्क रूपी उपवन में अंकुरित होता है। मनुष्य जिस समाज में रहता है, सांस लेता है, अपने भावों विचारों का आदान - प्रदान करता है उससे अनभिज्ञ कैसे रह सकता है? समाज के प्रत्येक व्यक्ति को उस यथार्थ से टकराना पड़ता है। प्रत्येक व्यक्ति अपने जीवन में सुख - दुख आदि भावनाओं का अनुभव करता है। परिवेश समान होने पर भी प्रत्येक व्यक्ति के अनुभव अलग - अलग होते हैं।

### Sub questions

Question Number : 191 Question Id : 5861807512 Question Type : MCQ Option Shuffling : Yes

Correct Marks : 1 Wrong Marks : 0.25

गद्यांश का उपयुक्त शीर्षक होगा:

Options :

1. \* साहित्य
2. ✓ साहित्य और समाज

3. ✖ समाज

4. ✖ यथार्थ

Question Number : 192 Question Id : 5861807513 Question Type : MCQ Option Shuffling : Yes  
Correct Marks : 1 Wrong Marks : 0.25

‘उपवन’ का अर्थ होता है:

Options :

1. ✔ बगीचा

2. ✖ पठार

3. ✖ मैदान

4. ✖ रेगिस्तान

Question Number : 193 Question Id : 5861807514 Question Type : MCQ Option Shuffling : Yes  
Correct Marks : 1 Wrong Marks : 0.25

‘आदान’ का अर्थ है:

Options :

1. ✖ देना

2. ✖ त्याग करना

3. ✔ ग्रहण

4. ✖ आयात

Question Number : 194 Question Id : 5861807515 Question Type : MCQ Option Shuffling : Yes  
Correct Marks : 1 Wrong Marks : 0.25

‘अनभिज्ञ’ का अर्थ होता है:

Options :

1. ✖ ज्ञात

2. ✖ अज्ञात

3. ✖ पहचान

4. ✔ अनजान



Question Number : 195 Question Id : 5861807516 Question Type : MCQ Option Shuffling : Yes

Correct Marks : 1 Wrong Marks : 0.25

‘यथार्थ’ है:

Options :

1. ✖ समाज का काल्पनिक चित्रण
2. ✔ समाज का वास्तविक चित्रण
3. ✖ काल्पनिक अनुभूति
4. ✖ लंकारिक चित्रण

Sub-Section Number:	3
Sub-Section Id:	586180508
Question Shuffling Allowed :	Yes

Question Id : 5861807517 Question Type : COMPREHENSION Sub Question Shuffling Allowed : Yes Group Comprehension Questions : No

Question Numbers : (196 to 200)

Question Label : Comprehension

नीचे दिये गए गद्यांश को पढ़कर पूछे गये प्रश्नों के उत्तर दीजिए।

यह निश्चित है कि जो साहित्य में रूप अथवा शिल्प को ही महत्वपूर्ण मानते हैं वे साहित्य को जनता से दूर रखने का प्रयास करते हैं। कुछ ऐसे भी हैं जो साहित्य में अंतर्वस्तु को इतना महत्व देते हैं कि रूप अथवा शिल्प की आवश्यकता ही नहीं समझते अथवा उसे गौण समझते हैं। ऐसे लोग साहित्य में विचारधारा की सीधी अथवा स्पष्ट अभिव्यक्ति चाहते हैं। लेनिन ने ‘पार्टी संगठन तथा पार्टी साहित्य’ में स्पष्ट रूप से लिखा कि - ‘साहित्य को सर्वहारा वर्ग की पार्टी के एक आवश्यक तत्व के रूप में उससे अभिन्न हो जाना चाहिए।’ जाहिर है कि साहित्य तथा कला के प्रसंग में यह अतिवादी दृष्टिकोण है। कुछ लोग मार्क्स के विचारों को भी कुछ इस प्रकार का मानते हैं, जबकि सच्चाई यह है, मार्क्स ने साहित्य में ‘रूप और अंतर्वस्तु’ के समन्वय पर जोर दिया है। वे रूप और अंतर्वस्तु दोनों को महत्व देते हैं।

Sub questions

Question Number : 196 Question Id : 5861807518 Question Type : MCQ Option Shuffling : Yes

Correct Marks : 1 Wrong Marks : 0.25

गद्यांश का उपयुक्त शीर्षक होगा:

Options :

1. ✓ साहित्य में रूप और अंतर्वस्तु
2. \* साहित्य में रूप
3. \* साहित्य में अंतर्वस्तु
4. \* विचारधारा

Question Number : 197 Question Id : 5861807519 Question Type : MCQ Option Shuffling : Yes

Correct Marks : 1 Wrong Marks : 0.25

‘गौण’ का अर्थ है:

Options :

1. \* प्रधान
2. \* मुख्य
3. ✓ अप्रधान
4. \* महत्वपूर्ण

Question Number : 198 Question Id : 5861807520 Question Type : MCQ Option Shuffling : Yes

Correct Marks : 1 Wrong Marks : 0.25

‘समन्वय’ का अर्थ होता है:

Options :

1. \* समान
2. \* असमान
3. \* अंतर्विरोध
4. ✓ मेल

Question Number : 199 Question Id : 5861807521 Question Type : MCQ Option Shuffling : Yes

Correct Marks : 1 Wrong Marks : 0.25

‘अभिन्न’ का अर्थ है:

Options :

1. \* अलग
2. ✓ एकरूप
3. \* सहायक
4. \* अनुकर्ता

Question Number : 200 Question Id : 5861807522 Question Type : MCQ Option Shuffling : Yes

Correct Marks : 1 Wrong Marks : 0.25

माक्स ने साहित्य में किसे महत्व दिया है?

Options :

1. ✓ रूप और अंतर्वस्तु दोनों को
2. \* रूप को
3. \* अंतर्वस्तु को
4. \* कला को

Question Id : 5861807517 Question Type : COMPREHENSION Sub Question Shuffling Allowed : Yes Group Comprehension Questions : No

Question Numbers : (196 to 200)

Question Label : Comprehension

नीचे दिये गए गद्यांश को पढ़कर पूछे गये प्रश्नों के उत्तर दीजिए।

यह निश्चित है कि जो साहित्य में रूप अथवा शिल्प को ही महत्वपूर्ण मानते हैं वे साहित्य को जनता से दूर रखने का प्रयास करते हैं। कुछ ऐसे भी हैं जो साहित्य में अंतर्वस्तु को इतना महत्व देते हैं कि रूप अथवा शिल्प की आवश्यकता ही नहीं समझते अथवा उसे गौण समझते हैं। ऐसे लोग साहित्य में विचारधारा की सीधी अथवा स्पष्ट अभिव्यक्ति चाहते हैं। लेनिन ने 'पार्टी संगठन तथा पार्टी साहित्य' में स्पष्ट रूप से लिखा कि - 'साहित्य को सर्वहारा वर्ग की पार्टी के एक आवश्यक तत्व के रूप में उससे अभिन्न हो जाना चाहिए।' जाहिर है कि साहित्य तथा कला के प्रसंग में यह अतिवादी दृष्टिकोण है। कुछ लोग माक्स के विचारों को भी कुछ इस प्रकार का मानते हैं, जबकि सच्चाई यह है, माक्स ने साहित्य में 'रूप और अंतर्वस्तु' के समन्वय पर जोर दिया है। वे रूप और अंतर्वस्तु दोनों को महत्व देते हैं।

Sub questions

Question Number : 196 Question Id : 5861807518 Question Type : MCQ Option Shuffling : Yes

Correct Marks : 1 Wrong Marks : 0.25

गद्यांश का उपयुक्त शीर्षक होगा:

Options :

1. ✓ साहित्य में रूप और अंतर्वस्तु
2. ✗ साहित्य में रूप
3. ✗ साहित्य में अंतर्वस्तु
4. ✗ विचारधारा

Question Number : 197 Question Id : 5861807519 Question Type : MCQ Option Shuffling : Yes

Correct Marks : 1 Wrong Marks : 0.25

‘गौण’ का अर्थ है:

Options :

1. ✗ प्रधान
2. ✗ मुख्य
3. ✓ अप्रधान
4. ✗ महत्वपूर्ण

Question Number : 198 Question Id : 5861807520 Question Type : MCQ Option Shuffling : Yes

Correct Marks : 1 Wrong Marks : 0.25

‘समन्वय’ का अर्थ होता है:

Options :

1. ✗ समान
2. ✗ असमान
3. ✗ अंतर्विरोध
4. ✓ मेल

Question Number : 199 Question Id : 5861807521 Question Type : MCQ Option Shuffling : Yes

Correct Marks : 1 Wrong Marks : 0.25

‘अभिन्न’ का अर्थ है:

Options :

1. ✖ अलग
2. ✔ एकरूप
3. ✖ सहायक
4. ✖ अनुकर्ता

Question Number : 200 Question Id : 5861807522 Question Type : MCQ Option Shuffling : Yes  
Correct Marks : 1 Wrong Marks : 0.25

माक्स ने साहित्य में किसे महत्व दिया है?

Options :

1. ✔ रूप और अंतर्वस्तु दोनों को
2. ✖ रूप को
3. ✖ अंतर्वस्तु को
4. ✖ कला को