

Education Consultant India Ltd.

Notations :

1.Options shown in green color and with ✓ icon are correct.

2.Options shown in red color and with ✖ icon are incorrect.

Question Paper Name:	GRADE II DASS 25th July 2019 Shift 1
Subject Name:	GRADE II DASS
Creation Date:	2019-07-25 15:56:19
Duration:	120
Total Marks:	200
Display Marks:	Yes
Share Answer Key With Delivery Engine:	No
Actual Answer Key:	Yes
Calculator:	None
Magnifying Glass Required?:	No
Ruler Required?:	No
Eraser Required?:	No
Scratch Pad Required?:	No
Rough Sketch/Notepad Required?:	No
Protractor Required?:	No
Show Watermark on Console?:	Yes
Highlighter:	No
Auto Save on Console?:	No

Mental Ability1

Group Number :	1
Group Id :	998367347
Group Maximum Duration :	0
Group Minimum Duration :	0
Show Attended Group? :	No
Edit Attended Group? :	No
Break time:	0
Group Marks:	20
Is this Group for Examiner?:	No
Revisit allowed for group Instructions? :	Yes
Maximum Instruction Time:	0
Minimum Instruction Time:	0

Mental Ability1

Section Id :	998367353
Section Number :	1

Section type :	Online
Mandatory or Optional:	Mandatory
Number of Questions:	20
Number of Questions to be attempted:	20
Section Marks:	20

Sub-Section Number:	1
Sub-Section Id:	998367507
Question Shuffling Allowed :	Yes

Question Number : 1 Question Id : 9983678047 Question Type : MCQ Option Shuffling : Yes
Correct Marks : 1 Wrong Marks : 0.25

निम्नलिखित प्रश्न में उस विकल्प का चयन करें जो प्रश्न चिह्न (?) को प्रतिस्थापित करेगा।

वनस्पति विज्ञान (Botany) : पौधा (Plants) :: एरेमोलोजी (Eremology) : ?

Options :

1. ✘ कीट

2. ✘ साँप

3. ✘ मृदा

4. ✔ रेगिस्तान

Question Number : 1 Question Id : 9983678047 Question Type : MCQ Option Shuffling : Yes
Correct Marks : 1 Wrong Marks : 0.25

In the following question, find out the alternative which will replace the question mark.

Botany : Plants :: Eremology : ?

Options :

1. ✘ Insects

2. ✖ snakes

3. ✖ soils

4. ✔ Deserts

Question Number : 2 Question Id : 9983678048 Question Type : MCQ Option Shuffling : Yes

Correct Marks : 1 Wrong Marks : 0.25

Identify the odd word from the given options.

Options :

1. ✖ Bangkok

2. ✔ Armenia

3. ✖ Ottawa

4. ✖ Buenos Aires

Question Number : 2 Question Id : 9983678048 Question Type : MCQ Option Shuffling : Yes

Correct Marks : 1 Wrong Marks : 0.25

दिए गए विकल्पों में से विषम शब्द चुनें।

Options :

1. ✖ बैंकॉक

2. ✔ आर्मेनिया

3. ✖ ओटावा

4. ✖ ब्यूनस आयर्स

Question Number : 3 Question Id : 9983678049 Question Type : MCQ Option Shuffling : Yes

Correct Marks : 1 Wrong Marks : 0.25

Two statements followed by two conclusions numbered I and II are given. Consider the statements to be true, even if they seem to be at variance with commonly known facts, and decide which of the conclusions logically follow(s) from the statements.

Statements:

All shampoos are gels.
No lotion is a shampoo.

Conclusions:

- I. No lotion is a gel.
- II. Some lotions are gel.

Options :

1. ✖ Only conclusion I follows.
2. ✖ Only conclusion II follows.
3. ✖ Both conclusions I and II follow.
4. ✔ Either conclusion I or II follows.

Question Number : 3 Question Id : 9983678049 Question Type : MCQ Option Shuffling : Yes

Correct Marks : 1 Wrong Marks : 0.25

दो कथन और दो निष्कर्ष I और II दिए गए हैं। यदि कथन सामान्यतः ज्ञात तथ्यों से भिन्नता रखते हों तो भी उन्हें सत्य मानें, और ज्ञात करें कि कौन सा/से निष्कर्ष, तार्किक रूप से कथन का अनुसरण करता है/हैं।

कथन:

सभी शैम्पू जैल हैं।
कोई लोशन शैम्पू नहीं है।

निष्कर्ष:

- I. कोई लोशन जैल नहीं है।
- II. कुछ लोशन जैल हैं।

Options :

1. ✖ केवल निष्कर्ष । अनुसरण करता है।
2. ✖ केवल निष्कर्ष ॥ अनुसरण करता है।
3. ✖ दोनों निष्कर्ष । और निष्कर्ष ॥ अनुसरण करते हैं।
4. ✔ या तो निष्कर्ष । या निष्कर्ष ॥ अनुसरण करता है।

Question Number : 4 Question Id : 9983678050 Question Type : MCQ Option Shuffling : Yes

Correct Marks : 1 Wrong Marks : 0.25

In a code language, BINOLA is written as 291415121. What will PACIFY be written as in the same code language?

Options :

1. ✖ 16149625
2. ✖ 15139625
3. ✖ 16139552
4. ✔ 16139625

Question Number : 4 Question Id : 9983678050 Question Type : MCQ Option Shuffling : Yes

Correct Marks : 1 Wrong Marks : 0.25

एक कोड भाषा में, BINOLA को 291415121 के रूप में लिखा जाता है। उसी कोड भाषा में PACIFY को कैसे लिखा जाएगा?

Options :

1. ✖ 16149625

2. ✖ 15139625

3. ✖ 16139552

4. ✔ 16139625

Question Number : 5 Question Id : 9983678051 Question Type : MCQ Option Shuffling : Yes

Correct Marks : 1 Wrong Marks : 0.25

Four of the following are alike in a certain way and so form a group. Which one does not belong to that group?

Options :

1. ✖ EFT

2. ✖ TUP

3. ✖ DOB

4. ✔ PEI

Question Number : 5 Question Id : 9983678051 Question Type : MCQ Option Shuffling : Yes

Correct Marks : 1 Wrong Marks : 0.25

निम्नलिखित में से चार आपस में किसी ना किसी प्रकार से समानता रखते हैं और अतः एक समूह का गठन करते हैं। निम्न में से कौनसा उस समूह से संबंधित नहीं है?

Options :

1. ✖ EFT

2. ✖ TUP

3. ✖ DOB

4. ✔ PEI

Question Number : 6 Question Id : 9983678052 Question Type : MCQ Option Shuffling : Yes

Correct Marks : 1 Wrong Marks : 0.25

In the following question, select the one which is different from other three alternatives:

Options :

1. ✖ (46, 28)

2. ✖ (72, 54)

3. ✔ (58, 78)

4. ✖ (36, 90)

Question Number : 6 Question Id : 9983678052 Question Type : MCQ Option Shuffling : Yes

Correct Marks : 1 Wrong Marks : 0.25

निम्नलिखित प्रश्न में उस विकल्प का चयन करें जो अन्य तीन विकल्पों से भिन्न हो।

Options :

1. ✖ (46, 28)

2. ✖ (72, 54)

3. ✔ (58, 78)

4. ✖ (36, 90)

Question Number : 7 Question Id : 9983678053 Question Type : MCQ Option Shuffling : Yes

Correct Marks : 1 Wrong Marks : 0.25

In the following question, select the one which is different from the other three alternatives.

Woman = 66

Ravan = 56

Pencil = 58

Geeta = 38

Options :

1. ✖ Ravan

2. ✖ Woman

3. ✖ Geeta

4. ✔ Pencil

Question Number : 7 Question Id : 9983678053 Question Type : MCQ Option Shuffling : Yes

Correct Marks : 1 Wrong Marks : 0.25

निम्नलिखित प्रश्न में उस विकल्प का चयन करें जो अन्य तीन विकल्पों से भिन्न हो।

Woman = 66

Ravan = 56

Pencil = 58

Geeta = 38

Options :

1. ✖ Ravan

2. ✘ Woman

3. ✘ Geeta

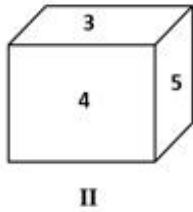
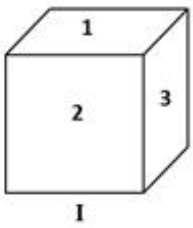
4. ✔ Pencil

Question Number : 8 Question Id : 9983678054 Question Type : MCQ Option Shuffling : Yes

Correct Marks : 1 Wrong Marks : 0.25

In the following question, two positions of a single dice are given.

Find the face which is opposite to the face having digit 1?



Options :

1. ✘ 3

2. ✔ 4

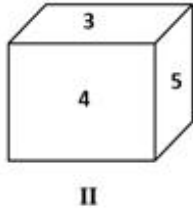
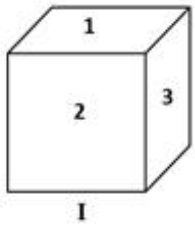
3. ✘ 5

4. ✘ 2

Question Number : 8 Question Id : 9983678054 Question Type : MCQ Option Shuffling : Yes

Correct Marks : 1 Wrong Marks : 0.25

निम्नलिखित प्रश्न में, एक पासे की दो विभिन्न स्थितियां दर्शाई गई हैं। संख्या 1 वाले फलक के विपरीत फलक पर कौन सी संख्या होगी?



Options :

1. ✖ 3

2. ✔ 4

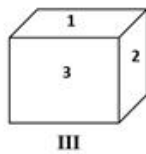
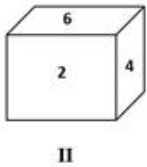
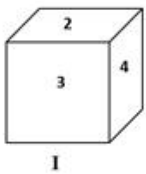
3. ✖ 5

4. ✖ 2

Question Number : 9 Question Id : 9983678055 Question Type : MCQ Option Shuffling : Yes

Correct Marks : 1 Wrong Marks : 0.25

In the following question, three positions of the same dice are given. What will be the digit on the face opposite to the face having digit 4?



Options :

1. ✖ 5

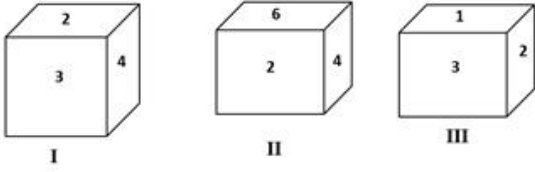
2. ✖ 3

3. ✖ 2

4. ✔ 1

Question Number : 9 Question Id : 9983678055 Question Type : MCQ Option Shuffling : Yes
Correct Marks : 1 Wrong Marks : 0.25

निम्नलिखित प्रश्न में, एक पासे की तीन विभिन्न स्थितियां दर्शाई गई हैं। संख्या 4 वाले फलक के विपरीत फलक पर कौन सी संख्या होगी?



Options :

1. ✖ 5

2. ✖ 3

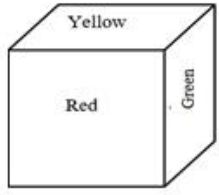
3. ✖ 2

4. ✔ 1

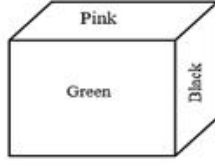
Question Number : 10 Question Id : 9983678056 Question Type : MCQ Option Shuffling : Yes
Correct Marks : 1 Wrong Marks : 0.25

Six faces of a block have been painted with green, yellow, pink, black, red and white. Two positions of the block are given below.

If the pink colour be at the top, then which colour will be at the bottom?



I



II

Options :

1. ✓ Red

2. ✗ Yellow

3. ✗ Green

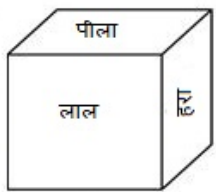
4. ✗ Black

Question Number : 10 Question Id : 9983678056 Question Type : MCQ Option Shuffling : Yes

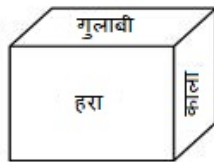
Correct Marks : 1 Wrong Marks : 0.25

एक ब्लॉक की छह फलकों को हरे, पीले, गुलाबी, काले, लाल और सफेद रंग से रंगा गया है। नीचे इस ब्लॉक की दो विभिन्न स्थितियां दर्शाई गई हैं।

यदि गुलाबी रंग सबसे ऊपर है, तो सबसे निचले फलक पर कौन सा रंग होगा?



I



II

Options :

1. ✓ लाल

2. ✗ पीला

3. ✖ हरा

4. ✖ काला

Question Number : 11 Question Id : 9983678057 Question Type : MCQ Option Shuffling : Yes

Correct Marks : 1 Wrong Marks : 0.25

If '+' stands for division, '÷' stands for multiplication, '×' stands for subtraction and '-' for addition, which one of the following is correct?

Options :

1. ✖ $36 \div 12 - 14 + 10 \times 4 = 400$

2. ✔ $36 + 12 \div 14 \times 10 - 4 = 36$

3. ✖ $36 \times 12 + 14 \div 10 - 4 = 32$

4. ✖ $36 \div 12 \times 14 + 10 - 4 = 440$

Question Number : 11 Question Id : 9983678057 Question Type : MCQ Option Shuffling : Yes

Correct Marks : 1 Wrong Marks : 0.25

यदि '+' का अर्थ भाग देना है, '÷' का अर्थ गुणा करना है, '×' का अर्थ घटाना है और '-' का अर्थ जोड़ना है, तो निम्नलिखित में से कौन सा सही है?

Options :

1. ✖ $36 \div 12 - 14 + 10 \times 4 = 400$

2. ✔ $36 + 12 \div 14 \times 10 - 4 = 36$

3. ✖ $36 \times 12 + 14 \div 10 - 4 = 32$

4. ✖ $36 \div 12 \times 14 + 10 - 4 = 440$

Question Number : 12 Question Id : 9983678058 Question Type : MCQ Option Shuffling : Yes
Correct Marks : 1 Wrong Marks : 0.25

Select the set of symbols which can be fitted correctly in the equation.

10 ___ 6 ___ 16 ___ 8 ___ 4 = 74

Options :

1. ✖ +, ×, +, ÷

2. ✔ ×, +, -, ÷

3. ✖ -, ×, +, ÷

4. ✖ +, ×, -, ÷

Question Number : 12 Question Id : 9983678058 Question Type : MCQ Option Shuffling : Yes
Correct Marks : 1 Wrong Marks : 0.25

नीचे दिए गए समीकरण में सही ढंग से समायोजित हो सकने वाले प्रतीकों के समूह का चयन करें।

10 ___ 6 ___ 16 ___ 8 ___ 4 = 74

Options :

1. ✖ +, ×, +, ÷

2. ✔ ×, +, -, ÷

3. ✖ -, ×, +, ÷

4. ✘ +, ×, -, ÷

Question Number : 13 Question Id : 9983678059 Question Type : MCQ Option Shuffling : Yes

Correct Marks : 1 Wrong Marks : 0.25

In the following question two statements are given followed by two conclusions, I and II. You have to consider the statement to be true, even it seems to be at variance from commonly known facts. You are to decide which of the given conclusions can definitely be drawn from the given statements.

Statements:

All cycles are cars.

All cars are buses.

Conclusions:

I. All cycles are buses.

II. All buses are cycles.

Options :

1. ✔ Only conclusion I follows

2. ✘ Only conclusion II follows

3. ✘ Both conclusion I and II follows

4. ✘ Neither conclusion I nor conclusion II follows.

Question Number : 13 Question Id : 9983678059 Question Type : MCQ Option Shuffling : Yes

Correct Marks : 1 Wrong Marks : 0.25

निम्नलिखित प्रश्न में दो कथन और दो निष्कर्ष I और II दिए गए हैं। यदि कथन सामान्यतः ज्ञात तथ्यों से भिन्नता रखते हों तो भी उन्हें सत्य मानें। निर्धारित करें कि दिए गए कथनों से कौन सा निष्कर्ष निश्चित रूप से निकाला जा सकता है।

कथन:

सभी साइकिल कार हैं।

सभी कार बस हैं।

निष्कर्ष:

I. सभी साइकिल बस हैं।

II. सभी बस साइकिल हैं।

Options :

1. ✓ केवल निष्कर्ष I अनुसरण करता है।

2. ✗ केवल निष्कर्ष II अनुसरण करता है।

3. ✗ निष्कर्ष I और II दोनों अनुसरण करते हैं।

4. ✗ न तो निष्कर्ष I न ही निष्कर्ष II अनुसरण करता है।

Question Number : 14 Question Id : 9983678060 Question Type : MCQ Option Shuffling : Yes

Correct Marks : 1 Wrong Marks : 0.25

In the following question three statements are given followed by four conclusions, I, II, III & IV. You have to consider the statement to be true, even it seems to be at variance from commonly known facts. You are to decide which of the given conclusions can definitely be drawn from the given statements.

Statements:

1. Some trees are papers
2. All papers are ink
3. Some ink are blue

Conclusions:

- I. Some inks are trees
- II. Some papers are trees
- III. Some blue are papers
- IV. Some blue are ink

Options :

1. ✘ Only I and III follows.

2. ✘ Only I and II follows.

3. ✘ Only I, II and III follows.

4. ✔ Only I, II and IV follows.

Question Number : 14 Question Id : 9983678060 Question Type : MCQ Option Shuffling : Yes

Correct Marks : 1 Wrong Marks : 0.25

निम्नलिखित प्रश्न में तीन कथन और चार निष्कर्ष I, II, III और IV दिए गए हैं। यदि कथन सामान्यतः ज्ञात तथ्यों से भिन्नता रखते हों तो भी उन्हें सत्य मानें। निर्धारित करें कि दिए गए कथनों से कौन सा निष्कर्ष निश्चित रूप से निकाला जा सकता है।

कथन:

1. कुछ पेड़ कागज हैं।
2. सभी कागज स्याही हैं।
3. कुछ स्याही, नीले रंग हैं।

निष्कर्ष:

- I. कुछ स्याही पेड़ हैं।
- II. कुछ कागज पेड़ हैं।
- III. कुछ नीले रंग, कागज हैं।
- IV. कुछ नीले रंग, स्याही हैं।

Options :

1. ✘ केवल I और III अनुसरण करते हैं।
2. ✘ केवल I और II अनुसरण करते हैं।
3. ✘ केवल I, II और III अनुसरण करते हैं।
4. ✔ केवल I, II और IV अनुसरण करता है।

Question Number : 15 Question Id : 9983678061 Question Type : MCQ Option Shuffling : Yes
Correct Marks : 1 Wrong Marks : 0.25

In the following question four statements are given followed by three conclusions, I, II, III. You have to consider the statement to be true, even it seems to be at variance from commonly known facts. You are to decide which of the given conclusions can definitely be drawn from the given statements.

Statements:

1. Some ducks are boxes.
2. Some boxes are famous.
3. All famous are players.
4. Some singers are boxes.

Conclusions:

- I. Some boxes are not singers.
- II. Some boxes are players
- III. Some players are famous

Options :

1. ✖ Only I follow.

2. ✔ Only II and III follow.

3. ✖ Only I and II follow.

4. ✖ All follows.

Question Number : 15 Question Id : 9983678061 Question Type : MCQ Option Shuffling : Yes

Correct Marks : 1 Wrong Marks : 0.25

निम्नलिखित प्रश्न में चार कथन और तीन निष्कर्ष I, II और III दिए गए हैं। यदि कथन सामान्यतः ज्ञात तथ्यों से भिन्नता रखते हों तो भी उन्हें सत्य मानें। निर्धारित करें कि दिए गए कथनों से कौन सा निष्कर्ष निश्चित रूप से निकाला जा सकता है।

कथन:

1. कुछ बत्तख बक्से हैं।
2. कुछ बक्से प्रसिद्ध हैं।
3. सभी प्रसिद्ध खिलाड़ी हैं।
4. कुछ गायक बक्से हैं।

निष्कर्ष:

- I. कुछ बक्से गायक नहीं हैं।
- II. कुछ बक्से खिलाड़ी हैं।
- III. कुछ खिलाड़ी प्रसिद्ध हैं।

Options :

1. ✘ केवल I अनुसरण करता है।
2. ✔ केवल II और III अनुसरण करते हैं।
3. ✘ केवल I और II अनुसरण करते हैं।
4. ✘ सभी अनुसरण करते हैं।

Question Number : 16 Question Id : 9983678062 Question Type : MCQ Option Shuffling : Yes
Correct Marks : 1 Wrong Marks : 0.25

Seven boys A, B, C, D, E, F, and G are standing in a straight line as follows:

- i) C is standing between A and G.
- ii) B is standing to the left of E.
- iii) G is standing between C and E.
- iv) D and F are to the right of C
- v) F is standing to the right of D

Who is standing to the extreme left?

Options :

1. ✘ E
2. ✘ F
3. ✘ G
4. ✔ B

Question Number : 16 Question Id : 9983678062 Question Type : MCQ Option Shuffling : Yes
Correct Marks : 1 Wrong Marks : 0.25

सात लड़के A, B, C, D, E, F और G एक सीधी कतार में निम्नानुसार खड़े हैं:

- i. C, A और G के बीच में खड़ा है।
- ii. B, E के बाईं ओर खड़ा है।
- iii. G, C और E के बीच में खड़ा है।
- iv. D और F, C के दाईं ओर खड़े हैं।
- v. F, D के दाईं ओर खड़ा है।

दी गई जानकारी के अनुसार सबसे बाईं ओर कौन खड़ा है?

Options :

1. ✘ E

2. ✘ F

3. ✘ G

4. ✔ B

Question Number : 17 Question Id : 9983678063 Question Type : MCQ Option Shuffling : Yes

Correct Marks : 1 Wrong Marks : 0.25

Seven boys A, B, C, D, E, F, and G are standing in a straight line as follows:

- i) C is standing between A and G.
- ii) B is standing to the left of E.
- iii) G is standing between C and E.
- iv) D and F are to the right of C
- v) F is standing to the right of D

Who is standing exactly in the middle?

Note: For this question, discrepancy is found in question/answer. So, this question is ignored for all candidates.

Options :

1. C

2. G

3. A

4. E

Question Number : 17 Question Id : 9983678063 Question Type : MCQ Option Shuffling : Yes

Correct Marks : 1 Wrong Marks : 0.25

सात लड़के A, B, C, D, E, F और G एक सीधी कतार में निम्नानुसार खड़े हैं:

- i. C, A और G के बीच में खड़ा है।
- ii. B, E के बाईं ओर खड़ा है।
- iii. G, C और E के बीच में खड़ा है।
- iv. D और F, C के दाईं ओर खड़े हैं।
- v. F, D के दाईं ओर खड़ा है।

दी गई जानकारी के अनुसार सबसे बीच में कौन खड़ा है?

Note: For this question, discrepancy is found in question/answer. So, this question is ignored for all candidates.

Options :

1. C

2. G

3. A

4. E

Question Number : 18 Question Id : 9983678064 Question Type : MCQ Option Shuffling : Yes
Correct Marks : 1 Wrong Marks : 0.25

Read the given information and answer the question the follows.

'A + B' means 'A is the mother of B'.

'A - B' means 'A is the brother of B'.

'A × B' means 'A is the father of B'.

'A ÷ B' means 'A is the wife of B'.

If $P + Q - R \times S \div T \times U$, then how is R related to U?

Options :

1. ✖ Uncle

2. ✖ Brother

3. ✖ Father

4. ✔ Grandfather

Question Number : 18 Question Id : 9983678064 Question Type : MCQ Option Shuffling : Yes
Correct Marks : 1 Wrong Marks : 0.25

नीचे दी गई जानकारी को पढ़ें और उसके अनुसार प्रश्न का उत्तर दें।

'A + B' का अर्थ है 'A, B की माँ है'।

'A - B' का अर्थ है 'A, B का भाई है'।

'A × B' का अर्थ है 'A, B का पिता है'।

'A ÷ B' का अर्थ है 'A, B की पत्नी है'।

यदि $P + Q - R \times S \div T \times U$ है, तो R का U से क्या संबंध है?

Options :

1. ✘ चाचा/मामा

2. ✘ भाई

3. ✘ पिता

4. ✔ दादा/नाना

Question Number : 19 Question Id : 9983678065 Question Type : MCQ Option Shuffling : Yes

Correct Marks : 1 Wrong Marks : 0.25

Positions of which two signs need to be interchanged in the given mathematical equation to make it correct?

$$30 \div 2 - 56 \times 8 + 2 = 55$$

Options :

1. ✘ \div and $-$

2. ✘ \div and $+$

3. ✔ \div and \times

4. ✘ $+$ and \times

Question Number : 19 Question Id : 9983678065 Question Type : MCQ Option Shuffling : Yes

Correct Marks : 1 Wrong Marks : 0.25

निम्नलिखित में से किन दो चिह्नों को आपस में बदल दिए जाने पर दिया गया गणितीय समीकरण सही हो जाएगा?

$$30 \div 2 - 56 \times 8 + 2 = 55$$

Options :

1. ✖ ÷ और -

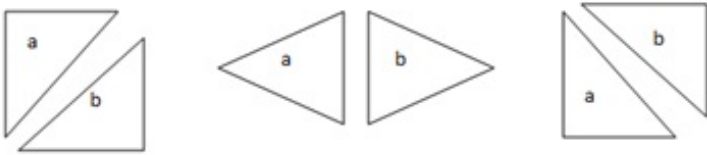
2. ✖ ÷ और +

3. ✔ ÷ और ×

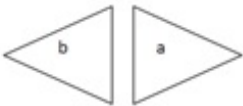
4. ✖ + और ×

Question Number : 20 Question Id : 9983678066 Question Type : MCQ Option Shuffling : Yes
Correct Marks : 1 Wrong Marks : 0.25

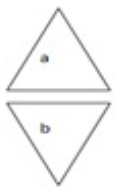
Which figure will follow in the given series?



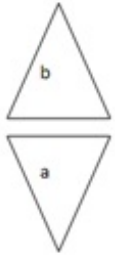
Options :



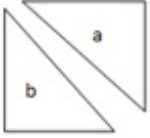
1. ✖



2. ✖



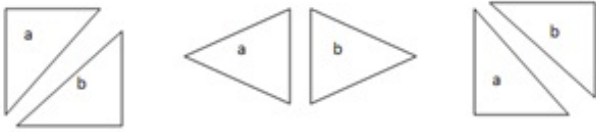
3. ✓



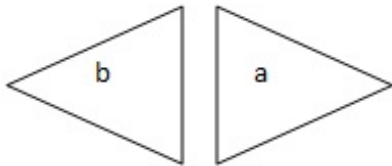
4. ✗

Question Number : 20 Question Id : 9983678066 Question Type : MCQ Option Shuffling : Yes
Correct Marks : 1 Wrong Marks : 0.25

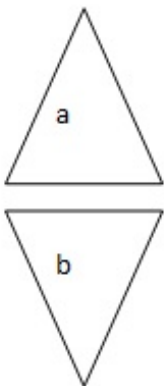
दी गई श्रृंखला में कौन-सी आकृति बाद में आएगी?



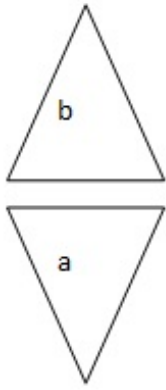
Options :



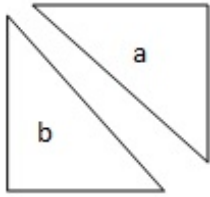
1. ✗



2. ✗



3. ✓



4. ✗

Mental Ability2

Group Number :	2
Group Id :	998367348
Group Maximum Duration :	0
Group Minimum Duration :	0
Show Attended Group? :	No
Edit Attended Group? :	No
Break time:	0
Group Marks:	20
Is this Group for Examiner?:	No
Revisit allowed for group Instructions? :	Yes
Maximum Instruction Time:	0
Minimum Instruction Time:	0

Mental Ability2

Section Id :	998367354
Section Number :	1
Section type :	Online
Mandatory or Optional:	Mandatory
Number of Questions:	20
Number of Questions to be attempted:	20
Section Marks:	20

Sub-Section Number: 1

Sub-Section Id:

998367508

Question Shuffling Allowed :

Yes

Question Number : 21 Question Id : 9983678067 Question Type : MCQ Option Shuffling : Yes

Correct Marks : 1 Wrong Marks : 0.25

Read the given information and answer the question the follows.

'A + B' means 'A is the mother of B'.

'A - B' means 'A is the brother of B'.

'A × B' means 'A is the father of B'.

'A ÷ B' means 'A is the husband of B'.

If $V \times P - Q \div R + S \div T + U$, then how is S related to V?

Options :

1. ✖ Son

2. ✖ Brother

3. ✖ Father

4. ✔ Grandson

Question Number : 21 Question Id : 9983678067 Question Type : MCQ Option Shuffling : Yes

Correct Marks : 1 Wrong Marks : 0.25

नीचे दी गई जानकारी को पढ़ें और उसके अनुसार प्रश्न का उत्तर दें।

'A + B' का अर्थ है 'A, B की माँ है'।

'A - B' का अर्थ है 'A, B का भाई है'।

'A × B' का अर्थ है 'A, B का पिता है'।

'A ÷ B' का अर्थ है 'A, B का पति है'।

यदि $V \times P - Q \div R + S \div T + U$ है, तो S का V से क्या संबंध है?

Options :

1. ✖ बेटा

2. ✖ भाई

3. ✖ पिता

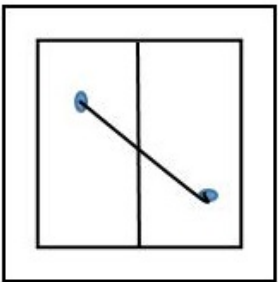
4. ✔ पोता

Question Number : 22 Question Id : 9983678068 Question Type : MCQ Option Shuffling : Yes

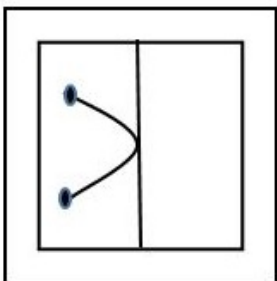
Correct Marks : 1 Wrong Marks : 0.25

A square transparent sheet with a pattern is given. Figure out from amongst the four alternatives as to how the pattern would appear when the transparent sheet is folded at the middle line shown.

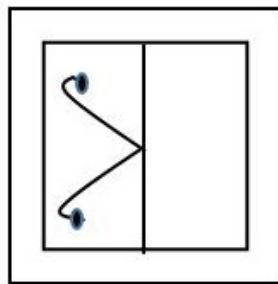
Question figures:



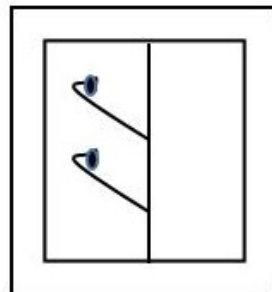
Answer figures:



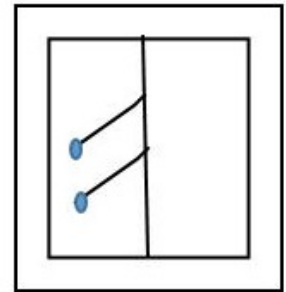
(1)



(2)



(3)



(4)

Options :

1. ✖ 2

2. ✖ 4

3. ✔ 1

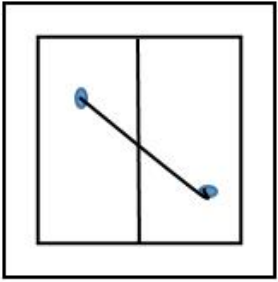
4. ✖ 3

Question Number : 22 Question Id : 9983678068 Question Type : MCQ Option Shuffling : Yes

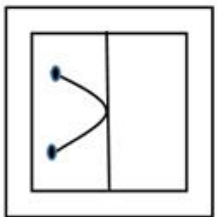
Correct Marks : 1 Wrong Marks : 0.25

एक पैटर्न के साथ एक वर्ग पारदर्शी शीट दर्शाई गई है। जब शीट को दिखाए अनुसार मध्य रेखा पर मोड़ा जाएगा तो पैटर्न दिए गए चार विकल्पों में से किस विकल्प के जैसा दिखेगा।

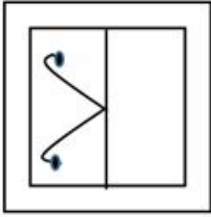
प्रश्न आकृति:



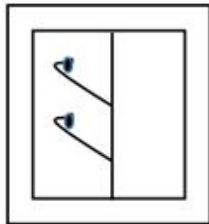
उत्तर आकृतियां:



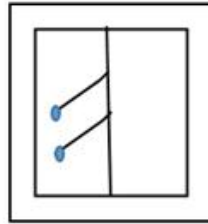
(1)



(2)



(3)



(4)

Options :

1. ✖ 2


2. ✖ 4

3. ✓ 1

4. ✗ 3

Question Number : 23 Question Id : 9983678069 Question Type : MCQ Option Shuffling : Yes
Correct Marks : 1 Wrong Marks : 0.25

Count the number of triangles and squares in the following figure:



Options :

1. ✗ 20 triangles, 5 square

2. ✗ 24 triangles, 6 squares

3. ✓ 28 triangles, 5 squares

4. ✗ 30 triangles , 6 squares

Question Number : 23 Question Id : 9983678069 Question Type : MCQ Option Shuffling : Yes
Correct Marks : 1 Wrong Marks : 0.25

निम्नलिखित आकृति में त्रिभुजों और वर्गों की संख्या की गणना करें।



Options :

1. ✗ 20 त्रिभुज, 5 वर्ग

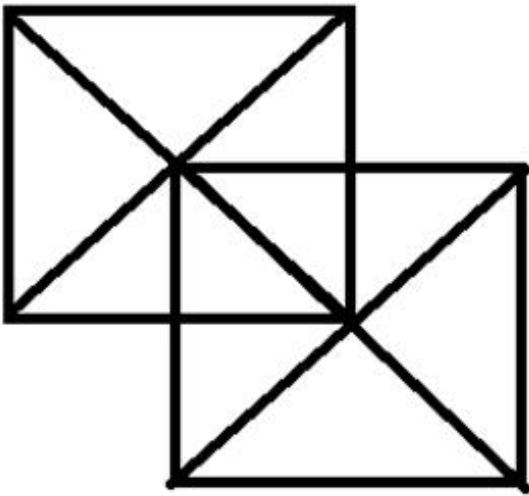
2. ✗ 24 त्रिभुज, 6 वर्ग

3. ✓ 28 त्रिभुज, 5 वर्ग

4. ✘ 30 त्रिभुज, 6 वर्ग

Question Number : 24 Question Id : 9983678070 Question Type : MCQ Option Shuffling : Yes
Correct Marks : 1 Wrong Marks : 0.25

Count the number of triangles in the given diagram and select the correct option.



Options :

1. ✘ 19

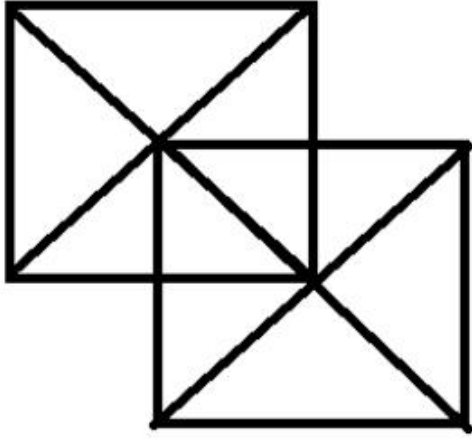
2. ✘ 20

3. ✘ 21

4. ✓ 22

Question Number : 24 Question Id : 9983678070 Question Type : MCQ Option Shuffling : Yes
Correct Marks : 1 Wrong Marks : 0.25

दिए गए आरेख में त्रिभुजों की संख्या की गणना करें और दिए गए विकल्पों में से सही विकल्प का चयन करें।



Options :

1. ✘ 19

2. ✘ 20

3. ✘ 21

4. ✔ 22

Question Number : 25 Question Id : 9983678071 Question Type : MCQ Option Shuffling : Yes

Correct Marks : 1 Wrong Marks : 0.25

Select the word from the following options that CANNOT be formed using the letters of the given word only as many times as the letters have been used in the word.

TRANSLUCENT

Options :

1. ✘ TENT

2. ✘ CENT

3. ✖ RENT

4. ✔ BENT

Question Number : 25 Question Id : 9983678071 Question Type : MCQ Option Shuffling : Yes

Correct Marks : 1 Wrong Marks : 0.25

निम्नलिखित विकल्पों में से उस शब्द का चयन करें जिसे नीचे दिए गए शब्द के अक्षरों का उतनी ही बार उपयोग करके नहीं बनाया जा सकता।

TRANSLUCENT

Options :

1. ✖ TENT

2. ✖ CENT

3. ✖ RENT

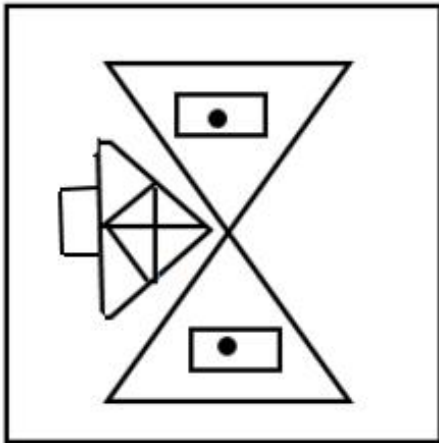
4. ✔ BENT

Question Number : 26 Question Id : 9983678072 Question Type : MCQ Option Shuffling : Yes

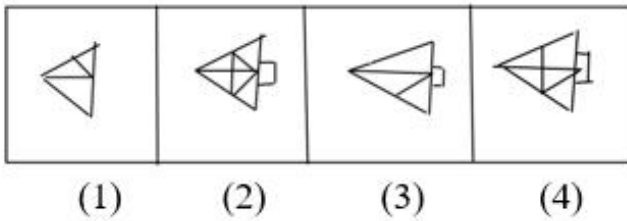
Correct Marks : 1 Wrong Marks : 0.25

Which one of the answer figures shall complete the given question figure?

Question figures:



Answer figures:



Options :

1. ✓ 2

2. ✗ 1

3. ✗ 3

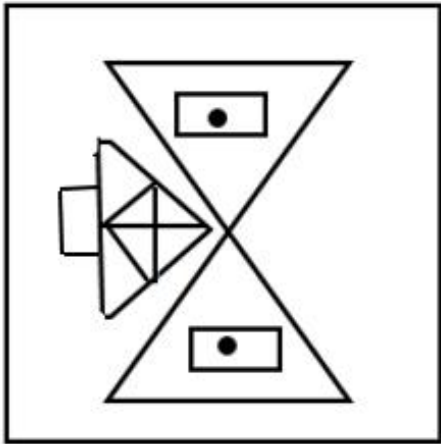
4. ✗ 4

Question Number : 26 Question Id : 9983678072 Question Type : MCQ Option Shuffling : Yes

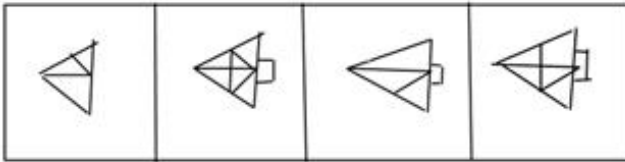
Correct Marks : 1 Wrong Marks : 0.25

निम्न में से कौन सी उत्तर आकृति, दी गई प्रश्न आकृति को पूर्ण करेगी?

प्रश्न आकृति:



उत्तर आकृति:



(1)

(2)

(3)

(4)

Options :

1. ✓ 2

2. ✗ 1

3. ✗ 3

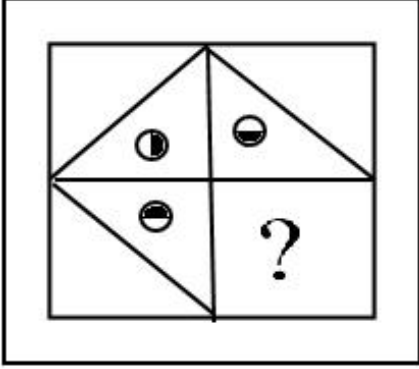
4. ✗ 4

Question Number : 27 Question Id : 9983678073 Question Type : MCQ Option Shuffling : Yes

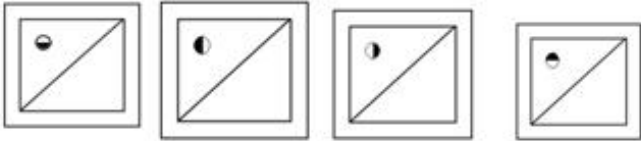
Correct Marks : 1 Wrong Marks : 0.25

निम्न में से कौन सी उत्तर आकृति, दी गई प्रश्न आकृति को पूर्ण करेगी?

प्रश्न आकृति:



उत्तर आकृति:



(1)

(2)

(3)

(4)

Options :

1. ✘ 1

2. ✘ 3

3. ✔ 2

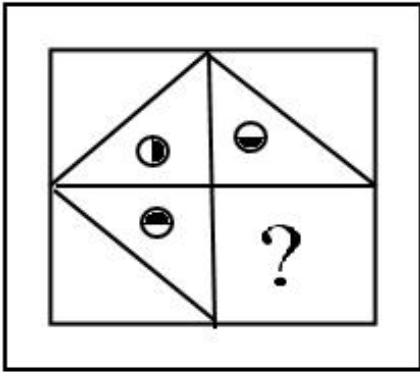
4. ✘ 4

Question Number : 27 Question Id : 9983678073 Question Type : MCQ Option Shuffling : Yes

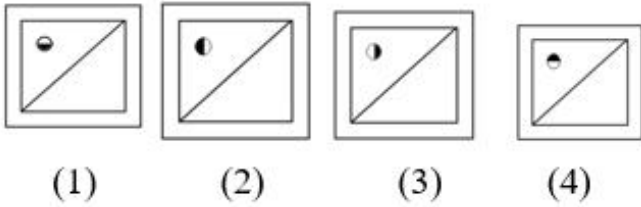
Correct Marks : 1 Wrong Marks : 0.25

Which one of the answer figure shall complete the given question figure?

Question figures:



Answer figures:



Options :

1. ✖ 1

2. ✖ 3

3. ✔ 2

4. ✖ 4

Question Number : 28 Question Id : 9983678074 Question Type : MCQ Option Shuffling : Yes

Correct Marks : 1 Wrong Marks : 0.25

Pointing to Ashok, Sandhya says, "He is the son of my grandmother's only child". How is Ashok related to Sandhya?

Options :

1. ✖ Cousin

2. ✓ Brother

3. ✘ Uncle

4. ✘ Brother-in-law

Question Number : 28 Question Id : 9983678074 Question Type : MCQ Option Shuffling : Yes

Correct Marks : 1 Wrong Marks : 0.25

संध्या, अशोक की ओर इशारा करते हुए कहती है, "वह मेरी दादी के इकलौते बच्चे का बेटा है"। अशोक का संध्या से क्या संबंध है?

Options :

1. ✘ चचेरा भाई

2. ✓ भाई

3. ✘ चाचा/मामा

4. ✘ बहनोई

Question Number : 29 Question Id : 9983678075 Question Type : MCQ Option Shuffling : Yes

Correct Marks : 1 Wrong Marks : 0.25

Vineet starts his journey on a motorcycle from his shop and rides 10 km towards the west. Then, he turns left and rides 10 km. Finally, he turns left again and travels 20 km to reach a bike service centre. In which direction is his shop with respect to the service centre?

Options :

1. ✓ North-west

2. ✘ South-west

3. ✖ South-east

4. ✖ West

Question Number : 29 Question Id : 9983678075 Question Type : MCQ Option Shuffling : Yes
Correct Marks : 1 Wrong Marks : 0.25

विनीत अपनी दुकान से मोटरसाइकिल पर यात्रा शुरू करता है और पश्चिम की ओर 10 km की दूरी तय करता है। फिर, वह बाएं मुड़ता है और 10 km तक की सवारी करता है। अंत में, वह फिर से बाएं मुड़ता है और एक बाइक सेवा केंद्र तक पहुंचने के लिए 20 km की यात्रा तय करता है। बाइक सेवा केंद्र के संदर्भ में उसकी दुकान की दिशा ज्ञात करें?

Options :

1. ✔ उत्तर-पश्चिम

2. ✖ दक्षिण-पश्चिम

3. ✖ दक्षिण-पूर्व

4. ✖ पश्चिम

Question Number : 30 Question Id : 9983678076 Question Type : MCQ Option Shuffling : Yes
Correct Marks : 1 Wrong Marks : 0.25

Six persons, P, Q, R, S, T and U, are sitting around a circular table facing the centre and at equal distance from each other. P is second to the right of Q. U is between R and S. T is second to the right of S. Who is sitting third to the left of T?

Options :

1. ✖ P

2. ✔ U

3. ✖ S

4. ✖ R

Question Number : 30 Question Id : 9983678076 Question Type : MCQ Option Shuffling : Yes

Correct Marks : 1 Wrong Marks : 0.25

छह व्यक्ति, P, Q, R, S, T और U, एक गोल मेज के चारों ओर मेज के केन्द्र की ओर मुंह करके और एक दूसरे से समान दूरी पर बैठे हैं। P, Q के दाईं ओर से दूसरा है। U, R और S के बीच में बैठा है। T, S के दाईं ओर से दूसरा है। T के बाएं से तीसरा, कौन बैठा है?

Options :

1. ✖ P

2. ✔ U

3. ✖ S

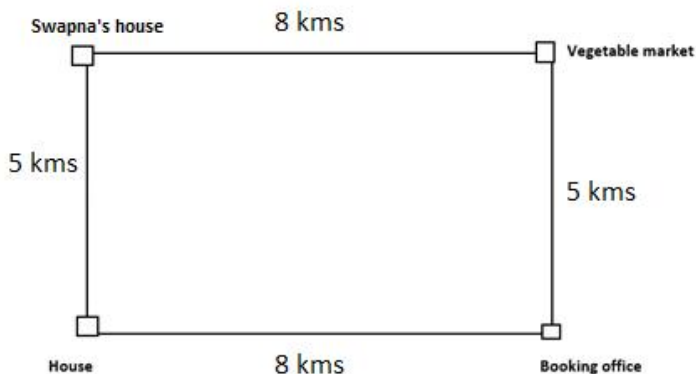
4. ✖ R

Question Number : 31 Question Id : 9983678077 Question Type : MCQ Option Shuffling : Yes

Correct Marks : 1 Wrong Marks : 0.25

Ashwin wants to book a ticket to Tirupathi. He starts and covers 8km to reach the booking Office which is in the East of his house. From there he turns to the North towards the vegetable market by travelling 5 kms. From there he turns left to his friend Swapna's house which is 8kms away. Now he has to get back to his house.

How far he has to cover to reach his house?



Options :

1. ✘ 8 km

2. ✔ 5 km

3. ✘ 26 km


4. ✘ 3 km

Question Number : 31 Question Id : 9983678077 Question Type : MCQ Option Shuffling : Yes

Correct Marks : 1 Wrong Marks : 0.25

अश्विन तिरुपति जाने के लिए टिकट बुक करना चाहता है। बुकिंग कार्यालय उसके घर से पूर्व दिशा की ओर स्थित है, और घर से वहां तक पहुंचने के लिए वह 8 km की दूरी तय करता है। वहां से वह 5 km उत्तर की ओर चलता है और सब्जी मंडी पहुंच जाता है। वहां से वह बाएं मुड़कर अपनी दोस्त स्वप्ना के घर जाता है, जो यहां से 8 km की दूरी पर स्थित है। अब उसे अपने घर वापस जाना है।

अपने घर तक पहुंचने के लिए उसे कितनी दूरी तय करनी होगी?



Options :

1. ✘ 8 km

2. ✔ 5 km

3. ✘ 26 km

4. ✘ 3 km

Question Number : 32 Question Id : 9983678078 Question Type : MCQ Option Shuffling : Yes

Correct Marks : 1 Wrong Marks : 0.25

Aparna starts walking towards North. After walking 30 meters she turns towards south and walks 50metres. She then turns towards east and walks 20 meters. Then again, she walks 20 meters towards North. How far is she from her starting point and in which direction?

Options :

1. ✘ 20 m west

2. ✘ 10 m East

3. ✘ 10 m North

4. ✔ 20 m East

Question Number : 32 Question Id : 9983678078 Question Type : MCQ Option Shuffling : Yes

Correct Marks : 1 Wrong Marks : 0.25

अपर्णा उत्तर की ओर चलना शुरू करती है। 30 मीटर चलने के बाद वह दक्षिण की ओर मुड़ती है और 50 मीटर चलती है। अब वह फिर पूर्व की ओर मुड़ती है और 20 मीटर चलती है। फिर वह उत्तर की ओर 20 मीटर चलती है। गणना करें कि वह अपने शुरुआती बिंदु से कितनी दूर है और किस दिशा में है?

Options :

1. ✘ 20 मीटर पश्चिम

2. ✘ 10 मीटर पूर्व

3. ✘ 10 मीटर उत्तर

4. ✓ 20 मीटर पूर्व

Question Number : 33 Question Id : 9983678079 Question Type : MCQ Option Shuffling : Yes

Correct Marks : 1 Wrong Marks : 0.25

A prime number between 50 and 130 remains unchanged if its digits are reversed. Then the square of that number is:

Options :

1. ✗ 11881

2. ✗ 14641

3. ✓ 10201

4. ✗ 9801

Question Number : 33 Question Id : 9983678079 Question Type : MCQ Option Shuffling : Yes

Correct Marks : 1 Wrong Marks : 0.25

50 और 130 के बीच की एक ऐसी अभाज्य संख्या जिसके अंकों को उलट दिया जाए तो भी यह संख्या अपरिवर्तित रहती है। उस संख्या का वर्ग क्या होगा?

Options :

1. ✗ 11881

2. ✗ 14641

3. ✓ 10201

4. ✗ 9801

Question Number : 34 Question Id : 9983678080 Question Type : MCQ Option Shuffling : Yes

Correct Marks : 1 Wrong Marks : 0.25

Select the option that is related to the third term in the same way as the second term is related to the first term.

COT : 450 :: BMN : ?

Options :

1. ✖ 364

2. ✖ 728

3. ✖ 210

4. ✔ 182

Question Number : 34 Question Id : 9983678080 Question Type : MCQ Option Shuffling : Yes

Correct Marks : 1 Wrong Marks : 0.25

उस विकल्प का चयन करें जो तीसरे पद से उसी प्रकार संबंधित है जिस प्रकार दूसरा पद, पहले पद से संबंधित है।

COT : 450 :: BMN : ?

Options :

1. ✖ 364

2. ✖ 728

3. ✖ 210

4. ✔ 182

Question Number : 35 Question Id : 9983678081 Question Type : MCQ Option Shuffling : Yes

Correct Marks : 1 Wrong Marks : 0.25

A cab driver wants to travel a distance of 400km. He travels with the speed of 80 kmph. He takes rest at 3 different places for 30 minutes, 60 minutes and 30 minutes respectively. He started his journey at 10:00 am. At what time does he reach his final destination?

Options :

1. ✘ 1:00 pm

2. ✘ 5:00 am

3. ✔ 5:00 pm

4. ✘ 3:00 pm

Question Number : 35 Question Id : 9983678081 Question Type : MCQ Option Shuffling : Yes

Correct Marks : 1 Wrong Marks : 0.25

एक कैब ड्राइवर 400 km की दूरी तक यात्रा करना चाहता है। वह 80 kmph की रफ्तार से चलता है। फिर वह 3 अलग-अलग स्थानों पर क्रमशः 30 मिनट, 60 मिनट और 30 मिनट तक आराम करता है। ड्राइवर ने अपनी यात्रा सुबह 10:00 am पर शुरू की थी। वह अपनी मंजिल पर किस समय पहुंचेगा?

Options :

1. ✘ 1:00 pm

2. ✘ 5:00 am

3. ✔ 5:00 pm

4. ✘ 3:00 pm

Question Number : 36 Question Id : 9983678082 Question Type : MCQ Option Shuffling : Yes

Correct Marks : 1 Wrong Marks : 0.25

Given is a statement followed by two courses of action. Assuming the statement to be true, decide which of the given courses of action logically follow(s) from the statement.

Statement:

ABC Ltd. has been incurring losses for the past 1 year.

Courses of Action:

- I. The company should put a check on wasteful expenditure.
- II. The company should be closed forever.

Options :

1. ✓ Only I follows.

2. ✗ Only II follows.

3. ✗ Both I and II follow.

4. ✗ Either I or II follows.

Question Number : 36 Question Id : 9983678082 Question Type : MCQ Option Shuffling : Yes

Correct Marks : 1 Wrong Marks : 0.25

नीचे एक कथन और उससे संबंधित दो कार्यवाइयां दी गई हैं। कथन को पूरी तरह से सत्य मानते हुए निर्धारित करें कि निम्न में से कौनसी कार्यवाइ तार्किक रूप से कथन का अनुसरण करती है।

कथन:

एक कंपनी ABC Ltd. पिछले 1 साल से घाटे में चल रही है।

कार्यवाइ:

- I. कंपनी को फिजूल खर्चों की जांच करनी चाहिए।
- II. कंपनी को हमेशा के लिए बंद कर देना चाहिए।

Options :

1. ✓ केवल I अनुसरण करता है।


2. ✗ केवल II अनुसरण करता है।

3. ✖ । और ॥ दोनों अनुसरण करते हैं।

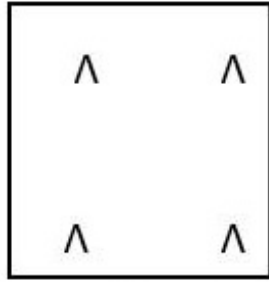
4. ✖ या तो । या ॥ अनुसरण करता है।

Question Number : 37 Question Id : 9983678083 Question Type : MCQ Option Shuffling : Yes
Correct Marks : 1 Wrong Marks : 0.25

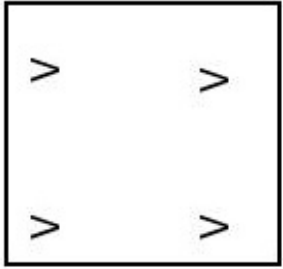
Which figure is different from the rest?




(1)



(2)



(3)



(4)

Options :

1. ✓ 4

2. ✖ 3


3. ✖ 2

4. ✖ 1

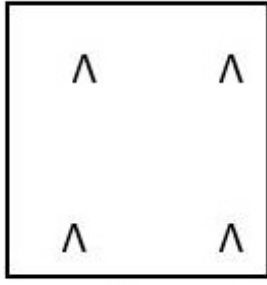
Question Number : 37 Question Id : 9983678083 Question Type : MCQ Option Shuffling : Yes

Correct Marks : 1 Wrong Marks : 0.25

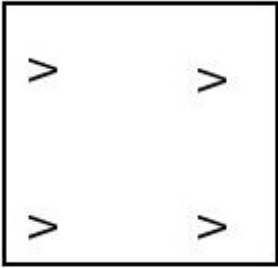
निम्न में से कौनसी आकृति अन्य आकृतियों से भिन्न है?




(1)



(2)



(3)



(4)

Options :

1. ✓ 4

2. ✗ 3

3. ✗ 2

4. ✗ 1

Question Number : 38 Question Id : 9983678084 Question Type : MCQ Option Shuffling : Yes

Correct Marks : 1 Wrong Marks : 0.25

Choose the correct alternative from the given ones that will complete the series.

6, 14, 30, 62, 126, 254, ?

Options :

1. ✖ 520

2. ✖ 458

3. ✔ 510

4. ✖ 500

Question Number : 38 Question Id : 9983678084 Question Type : MCQ Option Shuffling : Yes

Correct Marks : 1 Wrong Marks : 0.25

उस विकल्प का चयन करें जो श्रृंखला को पूरा करेगा।

6, 14, 30, 62, 126, 254, ?

Options :

1. ✖ 520

2. ✖ 458

3. ✔ 510

4. ✖ 500

Question Number : 39 Question Id : 9983678085 Question Type : MCQ Option Shuffling : Yes

Correct Marks : 1 Wrong Marks : 0.25

Choose the correct alternative from the given ones that will complete the series.

18, 54, 62, 310, 320, 2240, _____.

Options :

1. ✖ 2265

2. ✔ 2252

3. ✖ 1600

4. ✖ 960

Question Number : 39 Question Id : 9983678085 Question Type : MCQ Option Shuffling : Yes

Correct Marks : 1 Wrong Marks : 0.25

उस विकल्प का चयन करें जो श्रृंखला को पूरा करेगा।

18, 54, 62, 310, 320, 2240, _____

Options :

1. ✖ 2265

2. ✔ 2252

3. ✖ 1600

4. ✖ 960

Question Number : 40 Question Id : 9983678086 Question Type : MCQ Option Shuffling : Yes

Correct Marks : 1 Wrong Marks : 0.25

Find the missing term in the given series:

4 14 20 44 36 74 52 ?

Options :

1. ✖ 96

2. ✖ 100

3. ✖ 102

4. ✔ 104

Question Number : 40 Question Id : 9983678086 Question Type : MCQ Option Shuffling : Yes

Correct Marks : 1 Wrong Marks : 0.25

दी गई श्रृंखला में लुप्त पद ज्ञात करें:

4 14 20 44 36 74 52 ?

Options :

1. ✖ 96

2. ✖ 100

3. ✖ 102

4. ✔ 104

General Awareness1

Group Number :	3
Group Id :	998367349
Group Maximum Duration :	0
Group Minimum Duration :	0
Show Attended Group? :	No

Edit Attended Group? :	No
Break time:	0
Group Marks:	20
Is this Group for Examiner?:	No
Revisit allowed for group Instructions? :	Yes
Maximum Instruction Time:	0
Minimum Instruction Time:	0

General Awareness1

Section Id :	998367355
Section Number :	1
Section type :	Online
Mandatory or Optional:	Mandatory
Number of Questions:	20
Number of Questions to be attempted:	20
Section Marks:	20

Sub-Section Number:	1
Sub-Section Id:	998367509
Question Shuffling Allowed :	Yes

Question Number : 41 Question Id : 9983678087 Question Type : MCQ Option Shuffling : Yes
Correct Marks : 1 Wrong Marks : 0.25

The term cyclone is derived from Greek word 'Cyclos' which literally means?

Options :

1. ✖ Coils of Snow
2. ✔ Coils of snake
3. ✖ Coils of fire
4. ✖ Coils of stone

Question Number : 41 Question Id : 9983678087 Question Type : MCQ Option Shuffling : Yes
Correct Marks : 1 Wrong Marks : 0.25

‘साइक्लोन’ (चक्रवात) शब्द की उत्पत्ति ग्रीक शब्द 'साइक्लोस' से हुई है, जिसका शाब्दिक अर्थ है?

Options :

1. ✖ हिम के कुंडल (Coils of Snow)

2. ✓ सांप के कुंडल (Coils of snake)

3. * अग्नि कुंडल (Coils of fire)

4. * पत्थर का कुंडल (Coils of stone)

Question Number : 42 Question Id : 9983678088 Question Type : MCQ Option Shuffling : Yes

Correct Marks : 1 Wrong Marks : 0.25

The Richter Scale is used for measuring the intensity of?

Options :

1. * Sound pollution

2. * Acid Rain

3. * Light

4. ✓ Earth quake

Question Number : 42 Question Id : 9983678088 Question Type : MCQ Option Shuffling : Yes

Correct Marks : 1 Wrong Marks : 0.25

रिक्टर स्केल का उपयोग निम्न में से किसकी तीव्रता मापने के लिए किया जाता है?

Options :

1. * ध्वनि प्रदूषण

2. * अम्ल वर्षा

3. * प्रकाश

4. ✓ भूकंप

Question Number : 43 Question Id : 9983678089 Question Type : MCQ Option Shuffling : Yes

Correct Marks : 1 Wrong Marks : 0.25

Kanha National park is located at _____.

Options :

1. ✓ Madhya Pradesh

2. * Punjab

3. * Maharashtra

4. * Haryana

Question Number : 43 Question Id : 9983678089 Question Type : MCQ Option Shuffling : Yes
Correct Marks : 1 Wrong Marks : 0.25

कान्हा राष्ट्रीय उद्यान _____ में स्थित है।

Options :

1. ✓ मध्य प्रदेश
2. * पंजाब
3. * महाराष्ट्र
4. * हरियाणा

Question Number : 44 Question Id : 9983678090 Question Type : MCQ Option Shuffling : Yes
Correct Marks : 1 Wrong Marks : 0.25

Which one of the following is not an acronym synthetic non-biodegradable polymer?

Options :

1. * PVC
2. * LDPE
3. ✓ PHBV
4. * HDPE

Question Number : 44 Question Id : 9983678090 Question Type : MCQ Option Shuffling : Yes
Correct Marks : 1 Wrong Marks : 0.25

निम्नलिखित में से कौन सा एक कृत्रिम जैव अविघटनीय बहुलक (synthetic non-biodegradable polymer) का लघुरूप नहीं है?

Options :

1. * पीवीसी (PVC)
2. * एलडीपीई (LDPE)
3. ✓ पीएचबीवी (PHBV)
4. * एचडीपीई (HDPE)

Question Number : 45 Question Id : 9983678091 Question Type : MCQ Option Shuffling : Yes

Correct Marks : 1 Wrong Marks : 0.25

Who has won the best actor in leading role award at the 91st academy (Oscar) awards ceremony?

Options :

1. ✖ Alfonso Cuarian
2. ✔ Rami Malek
3. ✖ Mahershala Ali
4. ✖ John Ottman

Question Number : 45 Question Id : 9983678091 Question Type : MCQ Option Shuffling : Yes

Correct Marks : 1 Wrong Marks : 0.25

91 वें अकादमी (ऑस्कर) पुरस्कार समारोह में अग्रणी भूमिका में सर्वश्रेष्ठ अभिनेता का पुरस्कार किसने जीता?

Options :

1. ✖ अल्फांसो क्यूरियन
2. ✔ रामी मालेक
3. ✖ महरशला अली
4. ✖ जॉन ओटमैन

Question Number : 46 Question Id : 9983678092 Question Type : MCQ Option Shuffling : Yes

Correct Marks : 1 Wrong Marks : 0.25

The Mount Etna which erupted on 24th December 2018 is a present in which country?

Options :

1. ✔ Italy
2. ✖ Portugal
3. ✖ Germany
4. ✖ Spain

Question Number : 46 Question Id : 9983678092 Question Type : MCQ Option Shuffling : Yes

Correct Marks : 1 Wrong Marks : 0.25

24 दिसंबर 2018 को जागृत हुआ माउंट एटना वर्तमान में किस देश में मौजूद है?

Options :

1. ✓ इटली
2. * पुर्तगाल
3. * जर्मनी
4. * स्पेन

Question Number : 47 Question Id : 9983678093 Question Type : MCQ Option Shuffling : Yes

Correct Marks : 1 Wrong Marks : 0.25

Where was the 26th Edition of National Children's Science Congress held in India?

Options :

1. * New Delhi
2. * Raipur
3. * Hyderabad
4. ✓ Bhubaneswar

Question Number : 47 Question Id : 9983678093 Question Type : MCQ Option Shuffling : Yes

Correct Marks : 1 Wrong Marks : 0.25

भारत में राष्ट्रीय बाल विज्ञान कांग्रेस का 26वां संस्करण कहाँ आयोजित किया गया था?

Options :

1. * नई दिल्ली
2. * रायपुर
3. * हैदराबाद
4. ✓ भुवनेश्वर

Question Number : 48 Question Id : 9983678094 Question Type : MCQ Option Shuffling : Yes

Correct Marks : 1 Wrong Marks : 0.25

Which high court has ordered a ban on sale of medicines online across the county in December 2018?

Options :

1. ✖ Patna High Court
2. ✖ Bombay High Court
3. ✔ Delhi High Court
4. ✖ Allahabad High Court

Question Number : 48 Question Id : 9983678094 Question Type : MCQ Option Shuffling : Yes

Correct Marks : 1 Wrong Marks : 0.25

किस उच्च न्यायालय ने दिसंबर 2018 में देश भर में ऑनलाइन दवाओं की बिक्री पर प्रतिबंध लगाने का आदेश दिया?

Options :

1. ✖ पटना उच्च न्यायालय
2. ✖ बंबई उच्च न्यायालय
3. ✔ दिल्ली उच्च न्यायालय
4. ✖ इलाहाबाद उच्च न्यायालय

Question Number : 49 Question Id : 9983678095 Question Type : MCQ Option Shuffling : Yes

Correct Marks : 1 Wrong Marks : 0.25

With which modern place India do you associate the Kakatiya dynasty?

Options :

1. ✖ Aurangabad
2. ✔ Warangal
3. ✖ Mysore
4. ✖ Madurai

Question Number : 49 Question Id : 9983678095 Question Type : MCQ Option Shuffling : Yes

Correct Marks : 1 Wrong Marks : 0.25

आधुनिक भारत का कौन सा स्थान काकतीय राजवंश से संबंधित है?

Options :

1. ✖ औरंगाबाद
2. ✔ वारंगल
3. ✖ मैसूर
4. ✖ मदुरै

Question Number : 50 Question Id : 9983678096 Question Type : MCQ Option Shuffling : Yes
Correct Marks : 1 Wrong Marks : 0.25

Which Gupta king is popularly known as 'Vikramaditya'?

Options :

1. ✔ Chandragupta II
2. ✖ Kumaragupta
3. ✖ Skandagupta
4. ✖ Samudragupta

Question Number : 50 Question Id : 9983678096 Question Type : MCQ Option Shuffling : Yes
Correct Marks : 1 Wrong Marks : 0.25

किस गुप्त राजा को 'विक्रमादित्य' के नाम से जाना जाता है?

Options :

1. ✔ चन्द्रगुप्त II
2. ✖ कुमारगुप्त
3. ✖ स्कंदगुप्त
4. ✖ समुद्रगुप्त

Question Number : 51 Question Id : 9983678097 Question Type : MCQ Option Shuffling : Yes
Correct Marks : 1 Wrong Marks : 0.25

Vijayanagara Empire of south India is divided into four dynasties. Which one of the following is not one among them?

Options :

1. * Sangam dynasty
2. * Saluva dynasty
3. * Tuluva dynasty
4. ✓ Chola dynasty

Question Number : 51 Question Id : 9983678097 Question Type : MCQ Option Shuffling : Yes
Correct Marks : 1 Wrong Marks : 0.25

दक्षिण भारत का विजयनगर साम्राज्य चार राजवंशों में विभाजित था। निम्नलिखित में से कौन सा उनमें से एक नहीं है?

Options :

1. * संगम वंश
2. * सालुव वंश
3. * तुलुव वंश
4. ✓ चोल वंश

Question Number : 52 Question Id : 9983678098 Question Type : MCQ Option Shuffling : Yes
Correct Marks : 1 Wrong Marks : 0.25

Who founded the Abhinav Bharat Society in India in the year 1903?

Options :

1. * Rasbehari Bose
2. * Lala Lajpat Rai
3. * Bal Gangadhar Tilak
4. ✓ Vinayak Damodar Savarkar

Question Number : 52 Question Id : 9983678098 Question Type : MCQ Option Shuffling : Yes
Correct Marks : 1 Wrong Marks : 0.25

वर्ष 1903 में भारत में “अभिनव भारत सोसायटी” की स्थापना किसने की?

Options :

1. * रासबिहारी बोस
2. * लाला लाजपत राय
3. * बाल गंगाधर तिलक
4. ✓ विनायक दामोदर सावरकर

Question Number : 53 Question Id : 9983678099 Question Type : MCQ Option Shuffling : Yes
Correct Marks : 1 Wrong Marks : 0.25

Which constitutional amendment act gives constitutional status for Panchayati Raj Institutions?

Options :

1. * 63rd Constitutional amendment act
2. ✓ 73rd Constitutional amendment act
3. * 53rd Constitutional amendment act
4. * 93rd Constitutional amendment act

Question Number : 53 Question Id : 9983678099 Question Type : MCQ Option Shuffling : Yes
Correct Marks : 1 Wrong Marks : 0.25

कौन सा संवैधानिक संशोधन अधिनियम पंचायती राज संस्थाओं को संवैधानिक दर्जा देता है?

Options :

1. * 63वां संवैधानिक संशोधन अधिनियम
2. ✓ 73वां संवैधानिक संशोधन अधिनियम
3. * 53वां संवैधानिक संशोधन अधिनियम
4. * 93वां संवैधानिक संशोधन अधिनियम

Question Number : 54 Question Id : 9983678100 Question Type : MCQ Option Shuffling : Yes
Correct Marks : 1 Wrong Marks : 0.25

As per which constitutional amendment act, the age of retirement of High court judges has been increased from 60 years to 62 years?

Options :

1. ✖ 35th amendment act
2. ✖ 25th amendment act
3. ✔ 15th amendment act
4. ✖ 45th amendment act

Question Number : 54 Question Id : 9983678100 Question Type : MCQ Option Shuffling : Yes

Correct Marks : 1 Wrong Marks : 0.25

किस संवैधानिक संशोधन अधिनियम की पालना में, उच्च न्यायालय के न्यायाधीशों की सेवानिवृत्ति की आयु 60 वर्ष से बढ़ाकर 62 वर्ष की गई है?

Options :

1. ✖ 35वां संशोधन अधिनियम
2. ✖ 25वां संशोधन अधिनियम
3. ✔ 15वां संशोधन अधिनियम
4. ✖ 45वां संशोधन अधिनियम

Question Number : 55 Question Id : 9983678101 Question Type : MCQ Option Shuffling : Yes

Correct Marks : 1 Wrong Marks : 0.25

In which year was the Lokpal and Lokayukta bill passed by the Lok Sabha?

Options :

1. ✖ 2007
2. ✖ 2009
3. ✔ 2011
4. ✖ 2010

Question Number : 55 Question Id : 9983678101 Question Type : MCQ Option Shuffling : Yes

Correct Marks : 1 Wrong Marks : 0.25

लोकसभा द्वारा लोकपाल और लोकायुक्त बिल किस वर्ष में पारित किया गया था?

Options :

1. ✖ 2007
2. ✖ 2009
3. ✔ 2011
4. ✖ 2010

Question Number : 56 Question Id : 9983678102 Question Type : MCQ Option Shuffling : Yes
Correct Marks : 1 Wrong Marks : 0.25

Which article of the Indian constitution says the state shall endeavour to organize agricultural and animal husbandry on modern and scientific lines?

Options :

1. ✖ Article 38
2. ✔ Article 48
3. ✖ Article 28
4. ✖ Article 18

Question Number : 56 Question Id : 9983678102 Question Type : MCQ Option Shuffling : Yes
Correct Marks : 1 Wrong Marks : 0.25

भारतीय संविधान के किस अनुच्छेद में कहा गया है कि राज्य कृषि और पशुपालन को आधुनिक और वैज्ञानिक तर्ज पर संगठित करने का प्रयास करेगा?

Options :

1. ✖ अनुच्छेद 38
2. ✔ अनुच्छेद 48
3. ✖ अनुच्छेद 28

4. * अनुच्छेद 18

Question Number : 57 Question Id : 9983678103 Question Type : MCQ Option Shuffling : Yes
Correct Marks : 1 Wrong Marks : 0.25

With which article of the Indian constitution do you associate promotion of the International peace and security?

Options :

1. ✓ Article 51
2. * Article 41
3. * Article 31
4. * Article 61

Question Number : 57 Question Id : 9983678103 Question Type : MCQ Option Shuffling : Yes
Correct Marks : 1 Wrong Marks : 0.25

भारतीय संविधान का कौन सा अनुच्छेद अंतर्राष्ट्रीय शांति और सुरक्षा को बढ़ावा देने से संबंधित है?

Options :

1. ✓ अनुच्छेद 51
2. * अनुच्छेद 41
3. * अनुच्छेद 31
4. * अनुच्छेद 61

Question Number : 58 Question Id : 9983678104 Question Type : MCQ Option Shuffling : Yes
Correct Marks : 1 Wrong Marks : 0.25

Which article of the Indian constitution grants rights of citizenship to certain migrants from Pakistan?

Options :

1. * Article 5
2. ✓ Article 7
3. * Article 9
4. * Article 10

Question Number : 58 Question Id : 9983678104 Question Type : MCQ Option Shuffling : Yes

Correct Marks : 1 Wrong Marks : 0.25

भारतीय संविधान के किस अनुच्छेद के तहत पाकिस्तान से आने वाले कुछ प्रवासियों को नागरिकता के अधिकार दिए गए हैं?

Options :

1. * अनुच्छेद 5
2. ✓ अनुच्छेद 7
3. * अनुच्छेद 9
4. * अनुच्छेद 10

Question Number : 59 Question Id : 9983678105 Question Type : MCQ Option Shuffling : Yes

Correct Marks : 1 Wrong Marks : 0.25

The term stone-walling is associated with which one of the following sports?

Options :

1. * Rugby
2. ✓ Cricket
3. * Hockey
4. * Polo

Question Number : 59 Question Id : 9983678105 Question Type : MCQ Option Shuffling : Yes

Correct Marks : 1 Wrong Marks : 0.25

'स्टोन वॉलिंग' शब्द निम्नलिखित में से किस खेल से संबंधित है?

Options :

1. * रग्बी
2. ✓ क्रिकेट
3. * हॉकी
4. * पोलो

Question Number : 60 Question Id : 9983678106 Question Type : MCQ Option Shuffling : Yes

Correct Marks : 1 Wrong Marks : 0.25

With which game the Claret Jug Trophy is associated?

Options :

1. ✓ Golf
2. ✗ Chess
3. ✗ Table Tennis
4. ✗ Badminton

Question Number : 60 Question Id : 9983678106 Question Type : MCQ Option Shuffling : Yes
Correct Marks : 1 Wrong Marks : 0.25

क्लैरट जग ट्रॉफी किस खेल से संबंधित है?

Options :

1. ✓ गोल्फ़
2. ✗ शतरंज
3. ✗ टेबल टेनिस
4. ✗ बैडमिंटन

General Awareness2

Group Number :	4
Group Id :	998367350
Group Maximum Duration :	0
Group Minimum Duration :	0
Show Attended Group? :	No
Edit Attended Group? :	No
Break time:	0
Group Marks:	20
Is this Group for Examiner? :	No
Revisit allowed for group Instructions? :	Yes
Maximum Instruction Time:	0
Minimum Instruction Time:	0

General Awareness2

Section Id :	998367356
Section Number :	1
Section type :	Online
Mandatory or Optional:	Mandatory

Number of Questions: 20
Number of Questions to be attempted: 20
Section Marks: 20

Sub-Section Number: 1
Sub-Section Id: 998367510
Question Shuffling Allowed : Yes

Question Number : 61 Question Id : 9983678107 Question Type : MCQ Option Shuffling : Yes
Correct Marks : 1 Wrong Marks : 0.25

Who won the player of the series award for 1992 ICC cricket World Cup?

Options :

1. * Dilip Vengsarkar
2. * Imran Khan
3. ✓ Martin Crowe
4. * Vivian Richards

Question Number : 61 Question Id : 9983678107 Question Type : MCQ Option Shuffling : Yes
Correct Marks : 1 Wrong Marks : 0.25

1992 के ICC क्रिकेट विश्व कप में 'प्लेयर ऑफ द सीरिज अवार्ड' किसने जीता?

Options :

1. * दिलीप वेंगसरकर
2. * इमरान खान
3. ✓ मार्टिन क्रो
4. * विवियन रिचर्ड्स

Question Number : 62 Question Id : 9983678108 Question Type : MCQ Option Shuffling : Yes
Correct Marks : 1 Wrong Marks : 0.25

In which India state, the hornbill festival is celebrated?

Options :

1. ✓ Nagaland
2. * Assam

3. * Rajasthan

4. * Uttarakhand

Question Number : 62 Question Id : 9983678108 Question Type : MCQ Option Shuffling : Yes

Correct Marks : 1 Wrong Marks : 0.25

हॉर्नबिल त्योहार भारत के किस राज्य में मनाया जाता है?

Options :

1. ✓ नागालैंड

2. * असम

3. * राजस्थान

4. * उत्तराखंड

Question Number : 63 Question Id : 9983678109 Question Type : MCQ Option Shuffling : Yes

Correct Marks : 1 Wrong Marks : 0.25

The Zu tea is famous in which Indian state?

Options :

1. * Rajasthan

2. * Assam

3. ✓ Mizoram

4. * Odisha

Question Number : 63 Question Id : 9983678109 Question Type : MCQ Option Shuffling : Yes

Correct Marks : 1 Wrong Marks : 0.25

जू चाय (Zu tea) भारत के किस राज्य में प्रसिद्ध है?

Options :

1. * राजस्थान

2. * असम

3. ✓ मिजोरम

4. * ओडिशा

Question Number : 64 Question Id : 9983678110 Question Type : MCQ Option Shuffling : Yes

Correct Marks : 1 Wrong Marks : 0.25

The Ghoomar dance is famous in which Indian states?

Options :

1. ✖ Kashmir
2. ✔ Rajasthan
3. ✖ Madhya Pradesh
4. ✖ Kerala

Question Number : 64 Question Id : 9983678110 Question Type : MCQ Option Shuffling : Yes

Correct Marks : 1 Wrong Marks : 0.25

घूमर नृत्य भारत के किस राज्य में प्रसिद्ध है?

Options :

1. ✖ कश्मीर
2. ✔ राजस्थान
3. ✖ मध्य प्रदेश
4. ✖ केरल

Question Number : 65 Question Id : 9983678111 Question Type : MCQ Option Shuffling : Yes

Correct Marks : 1 Wrong Marks : 0.25

Which country's capital is Apia?

Options :

1. ✖ Cyprus
2. ✖ Estonia
3. ✔ Samoa
4. ✖ Finland

Question Number : 65 Question Id : 9983678111 Question Type : MCQ Option Shuffling : Yes

Correct Marks : 1 Wrong Marks : 0.25

अपिया किस देश की राजधानी है?

Options :

1. ✖ साइप्रस

2. ✖ एस्टोनिया

3. ✔ समोआ

4. ✖ फिनलैंड

Question Number : 66 Question Id : 9983678112 Question Type : MCQ Option Shuffling : Yes
Correct Marks : 1 Wrong Marks : 0.25

Rajghat Dam is an interstate project between which two states in India?

Options :

1. ✖ Orissa and Jharkhand

2. ✔ Madhya Pradesh and Uttar Pradesh

3. ✖ Andhra Pradesh and Telangana

4. ✖ Rajasthan and Gujarat

Question Number : 66 Question Id : 9983678112 Question Type : MCQ Option Shuffling : Yes
Correct Marks : 1 Wrong Marks : 0.25

राजघाट बांध भारत के किन दो राज्यों के बीच की एक अंतरराज्यीय परियोजना है?

Options :

1. ✖ ओडिशा और झारखंड

2. ✔ मध्य प्रदेश और उत्तर प्रदेश

3. ✖ आंध्र प्रदेश और तेलंगाना

4. ✖ राजस्थान और गुजरात

Question Number : 67 Question Id : 9983678113 Question Type : MCQ Option Shuffling : Yes
Correct Marks : 1 Wrong Marks : 0.25

What is the total number of districts in Himachal Pradesh?

Options :

1. ✖ 20

2. ✖ 18

3. ✓ 12

4. ✗ 15

Question Number : 67 Question Id : 9983678113 Question Type : MCQ Option Shuffling : Yes

Correct Marks : 1 Wrong Marks : 0.25

हिमाचल प्रदेश में कुल कितने जिले हैं?

Options :

1. ✗ 20

2. ✗ 18

3. ✓ 12

4. ✗ 15

Question Number : 68 Question Id : 9983678114 Question Type : MCQ Option Shuffling : Yes

Correct Marks : 1 Wrong Marks : 0.25

Saansad Adarsh Gram Yojana (SAGY) was launched by Prime Minister Shri.Narendra Modi in 2014 to mark birth anniversary of?

Options :

1. ✗ Lal Bahadur Shastri

2. ✓ Lok Nayak Jay Prakash Narayan

3. ✗ Acharya Vinoba Bhave

4. ✗ Sardar Vallabhai Patel

Question Number : 68 Question Id : 9983678114 Question Type : MCQ Option Shuffling : Yes

Correct Marks : 1 Wrong Marks : 0.25

सांसद आदर्श ग्राम योजना (SAGY) का शुभारंभ प्रधानमंत्री श्री नरेंद्र मोदी ने 2014 में निम्न के जन्म दिवस के अवसर पर किया?

Options :

1. ✗ लाल बहादुर शास्त्री

2. ✓ लोक नायक जय प्रकाश नारायण

3. * आचार्य विनोबा भावे

4. * सरदार वल्लभ भाई पटेल

Question Number : 69 Question Id : 9983678115 Question Type : MCQ Option Shuffling : Yes

Correct Marks : 1 Wrong Marks : 0.25

Who is the chairman of 14th finance commission of India?

Options :

1. ✓ Y.V.Reddy

2. * RangaRajan

3. * D.Subba Rao

4. * Vijay Kelkar

Question Number : 69 Question Id : 9983678115 Question Type : MCQ Option Shuffling : Yes

Correct Marks : 1 Wrong Marks : 0.25

भारत के 14 वें वित्त आयोग के अध्यक्ष कौन हैं?

Options :

1. ✓ वाई.वी रेड्डी

2. * रंगराजन

3. * डी. सुब्बा राव

4. * विजय केलकर

Question Number : 70 Question Id : 9983678116 Question Type : MCQ Option Shuffling : Yes

Correct Marks : 1 Wrong Marks : 0.25

The headquarters of Asian Development Bank (ADB) is located in?

Options :

1. ✓ Manila, Philippines

2. * Kuala Lumpur, Malaysia

3. * Tokyo, Japan

4. * Doha, Qatar

Question Number : 70 Question Id : 9983678116 Question Type : MCQ Option Shuffling : Yes
Correct Marks : 1 Wrong Marks : 0.25

एशियाई विकास बैंक {Asian Development Bank (ADB)} का मुख्यालय कहां स्थित है?

Options :

1. ✓ मनीला, फिलीपींस
2. ✘ कुआलालम्पुर, मलेशिया
3. ✘ टोक्यो, जापान
4. ✘ दोहा, कतर

Question Number : 71 Question Id : 9983678117 Question Type : MCQ Option Shuffling : Yes
Correct Marks : 1 Wrong Marks : 0.25

'CETANE' number is used to express the quality of which one of the following fuels?

Options :

1. ✘ Coal
2. ✘ Petrol
3. ✓ Diesel
4. ✘ Wood

Question Number : 71 Question Id : 9983678117 Question Type : MCQ Option Shuffling : Yes
Correct Marks : 1 Wrong Marks : 0.25

CETANE (सिटेन)' संख्या का उपयोग निम्न में से किस ईंधन की गुणवत्ता को व्यक्त करने के लिए किया जाता है?

Options :

1. ✘ कोयला
2. ✘ पेट्रोल
3. ✓ डीज़ल
4. ✘ लकड़ी

Question Number : 72 Question Id : 9983678118 Question Type : MCQ Option Shuffling : Yes
Correct Marks : 1 Wrong Marks : 0.25

What can be measured using Pyknometer?

Options :

1. ✓ Relative density of liquids and solids
2. ✗ Purity of milk
3. ✗ Internal cracks in ornaments
4. ✗ Refractive index gems

Question Number : 72 Question Id : 9983678118 Question Type : MCQ Option Shuffling : Yes
Correct Marks : 1 Wrong Marks : 0.25

पिकनोमीटर का उपयोग करके क्या मापा जा सकता है?

Options :

1. ✓ तरल और ठोस का आपेक्षिक घनत्व
2. ✗ दूध की शुद्धता
3. ✗ आभूषणों में आंतरिक दरार
4. ✗ रत्नों का अपवर्तक सूचकांक

Question Number : 73 Question Id : 9983678119 Question Type : MCQ Option Shuffling : Yes
Correct Marks : 1 Wrong Marks : 0.25

Alizarin is a type of?

Options :

1. ✗ Detergent
2. ✓ Dye
3. ✗ Cement
4. ✗ Glass

Question Number : 73 Question Id : 9983678119 Question Type : MCQ Option Shuffling : Yes
Correct Marks : 1 Wrong Marks : 0.25

ऐलिजरिन (Alizarin) एक प्रकार का _____ है।

Options :

1. ✗ अपमार्जक (Detergent)

2. ✓ रंग (Dye)

3. ✖ सीमेंट (Cement)

4. ✖ कांच (Glass)

Question Number : 74 Question Id : 9983678120 Question Type : MCQ Option Shuffling : Yes
Correct Marks : 1 Wrong Marks : 0.25

Pantothenic acid is the chemical name of which one of the following vitamins?

Options :

1. ✖ Vitamin B7

2. ✖ Vitamin B12

3. ✓ Vitamin B5

4. ✖ Vitamin B10

Question Number : 74 Question Id : 9983678120 Question Type : MCQ Option Shuffling : Yes
Correct Marks : 1 Wrong Marks : 0.25

निम्नलिखित में से किस विटामिन का रासायनिक नाम पैंटोथेनिक एसिड है?

Options :

1. ✖ विटामिन B7

2. ✖ विटामिन B12

3. ✓ विटामिन B5

4. ✖ विटामिन B10

Question Number : 75 Question Id : 9983678121 Question Type : MCQ Option Shuffling : Yes
Correct Marks : 1 Wrong Marks : 0.25

MAGELLAN is the name of mission to which planet by NASA?

Options :

1. ✖ Jupiter

2. ✓ Venus

3. * Uranus

4. * Mars

Question Number : 75 Question Id : 9983678121 Question Type : MCQ Option Shuffling : Yes

Correct Marks : 1 Wrong Marks : 0.25

मैगलियान (MAGELLAN) मिशन, नासा (NASA) के किस ग्रह के लिए एक मिशन का नाम है?

Options :

1. * बृहस्पति (Jupiter)

2. ✓ शुक्र (Venus)

3. * यूरेनस (Uranus)

4. * मंगल (Mars)

Question Number : 76 Question Id : 9983678122 Question Type : MCQ Option Shuffling : Yes

Correct Marks : 1 Wrong Marks : 0.25

Which launch vehicle lifted off the Mars Orbiter Mission (MOM) (also known as Mangalyaan)?

Options :

1. * PSLV C-29

2. * PSLV C-27

3. ✓ PSLV C-25

4. * PSLV C-35

Question Number : 76 Question Id : 9983678122 Question Type : MCQ Option Shuffling : Yes

Correct Marks : 1 Wrong Marks : 0.25

मार्स ऑर्बिटर मिशन {Mars Orbiter Mission (MOM)} (जिसे मंगलयान के नाम से भी जाना जाता है) को किस प्रक्षेपण यान से प्रक्षेपित किया गया था?

Options :

1. * पीएसएलवी सी -29 (PSLV C-29)

2. ✖ पीएसएलवी सी -27 (PSLV C-27)

3. ✔ पीएसएलवी सी -25 (PSLV C-25)

4. ✖ पीएसएलवी सी -35 (PSLV C-35)

Question Number : 77 Question Id : 9983678123 Question Type : MCQ Option Shuffling : Yes
Correct Marks : 1 Wrong Marks : 0.25

India's first beam weapon KALI-5000 was developed by?

Options :

1. ✖ Hindustan Aeronautics Limited

2. ✔ Bhaba Atomic Research Centre

3. ✖ Birla Institute of Technology

4. ✖ India Space Research Organization

Question Number : 77 Question Id : 9983678123 Question Type : MCQ Option Shuffling : Yes
Correct Marks : 1 Wrong Marks : 0.25

भारत का पहला बीम हथियार KALI-5000 किसके द्वारा विकसित किया गया था?

Options :

1. ✖ हिन्दुस्तान ऐरोनॉटिक्स लिमिटेड

2. ✔ भाभा परमाणु अनुसंधान केंद्र

3. ✖ बिरला प्रौद्योगिकी संस्थान

4. ✖ भारत अंतरिक्ष अनुसंधान संगठन

Question Number : 78 Question Id : 9983678124 Question Type : MCQ Option Shuffling : Yes
Correct Marks : 1 Wrong Marks : 0.25

The headquarters of International Court of Justice is located in?

Options :

1. ✖ Paris, France

2. ✖ Geneva, Switzerland

3. ✓ Hague, Netherlands

4. ✘ Dublin, Ireland

Question Number : 78 Question Id : 9983678124 Question Type : MCQ Option Shuffling : Yes

Correct Marks : 1 Wrong Marks : 0.25

अंतर्राष्ट्रीय न्यायालय {International Court of Justice (ICJ) का मुख्यालय कहां स्थित है?

Options :

1. ✘ पेरिस, फ्रांस

2. ✘ जिनेवा, स्विट्जरलैंड

3. ✓ हेग, नीदरलैंड

4. ✘ डबलिन, आयरलैंड

Question Number : 79 Question Id : 9983678125 Question Type : MCQ Option Shuffling : Yes

Correct Marks : 1 Wrong Marks : 0.25

What is the rank of ONGC (Oil and Natural Gas Corporation) among global energy majors as per S&P Global Platts ranking for the year 2018?

Options :

1. ✘ 1st

2. ✘ 9th

3. ✘ 15th

4. ✓ 21st

Question Number : 79 Question Id : 9983678125 Question Type : MCQ Option Shuffling : Yes

Correct Marks : 1 Wrong Marks : 0.25

S&P ग्लोबल प्लैट्स रैंकिंग, जो विश्वस्तरीय उर्जा कंपनियों को दी जाने वाली रेटिंग है, के अनुसार वर्ष 2018 में ओएनजीसी (तेल और प्राकृतिक गैस निगम) की रैंक कौन सी है?

Options :

1. ✖ 1
2. ✖ 9
3. ✖ 15
4. ✔ 21

Question Number : 80 Question Id : 9983678126 Question Type : MCQ Option Shuffling : Yes
Correct Marks : 1 Wrong Marks : 0.25

Who is the present chairman of Securities and Exchange Board of India (SEBI)?

Options :

1. ✖ Ananta Barua
2. ✖ I.Srinivas
3. ✖ S.K.Mohanty
4. ✔ Ajay Tyagi

Question Number : 80 Question Id : 9983678126 Question Type : MCQ Option Shuffling : Yes
Correct Marks : 1 Wrong Marks : 0.25

भारतीय प्रतिभूति और विनिमय बोर्ड {Securities and Exchange Board of India (SEBI)} के वर्तमान अध्यक्ष कौन हैं?

Options :

1. ✖ अनंत बरुआ
2. ✖ आई. श्रीनिवास
3. ✖ एस. के मोहंती
4. ✔ अजय त्यागी

Arithmetic Ability1

Group Number : 5
Group Id : 998367351
Group Maximum Duration : 0
Group Minimum Duration : 0

Show Attended Group? :	No
Edit Attended Group? :	No
Break time:	0
Group Marks:	20
Is this Group for Examiner?:	No
Revisit allowed for group Instructions? :	Yes
Maximum Instruction Time:	0
Minimum Instruction Time:	0

Arithmetic Ability1

Section Id :	998367357
Section Number :	1
Section type :	Online
Mandatory or Optional:	Mandatory
Number of Questions:	20
Number of Questions to be attempted:	20
Section Marks:	20

Sub-Section Number:	1
Sub-Section Id:	998367511
Question Shuffling Allowed :	Yes

Question Number : 81 Question Id : 9983678127 Question Type : MCQ Option Shuffling : Yes
Correct Marks : 1 Wrong Marks : 0.25

Find the value of:

$$2 + 2 \div 2 + 2 \times 2 + 2 - 2 \times 2 = ?$$

Options :

1. ✖ 2

2. ✖ 4

3. ✔ 5

4. ✖ 6

Question Number : 81 Question Id : 9983678127 Question Type : MCQ Option Shuffling : Yes
Correct Marks : 1 Wrong Marks : 0.25

निम्नलिखित का मान ज्ञात करें:

$$2 + 2 \div 2 + 2 \times 2 + 2 - 2 \times 2 = ?$$

Options :

1. ✘ 2

2. ✘ 4

3. ✔ 5

4. ✘ 6

Question Number : 82 Question Id : 9983678128 Question Type : MCQ Option Shuffling : Yes

Correct Marks : 1 Wrong Marks : 0.25

Solve the following:

$$\frac{405}{\sqrt{0.81}} = ?$$

Options :

1. ✘ 405

2. ✔ 450

3. ✘ 45

4. ✘ 45.5

Question Number : 82 Question Id : 9983678128 Question Type : MCQ Option Shuffling : Yes

Correct Marks : 1 Wrong Marks : 0.25

निम्नलिखित को हल करें:

$$\frac{405}{\sqrt{0.81}} = ?$$

Options :

1. ✖ 405

2. ✔ 450

3. ✖ 45

4. ✖ 45.5

Question Number : 83 Question Id : 9983678129 Question Type : MCQ Option Shuffling : Yes

Correct Marks : 1 Wrong Marks : 0.25

Simplify: $\frac{\frac{2}{5} \times \frac{2}{5} - \frac{6}{7} \times \frac{6}{7}}{\frac{2}{5} + \frac{6}{7}}$

Options :

1. ✔ $-\frac{16}{35}$

2. ✖ $\frac{16}{35}$

3. ✖ -1

4. ✖ 1

Question Number : 83 Question Id : 9983678129 Question Type : MCQ Option Shuffling : Yes

Correct Marks : 1 Wrong Marks : 0.25

सरलीकरण करें: $\frac{\frac{2}{5} \times \frac{2}{5} - \frac{6}{7} \times \frac{6}{7}}{\frac{2}{5} + \frac{6}{7}}$

Options :

1. ✓ $-\frac{16}{35}$

2. ✗ $\frac{16}{35}$

3. ✗ -1

4. ✗ 1

Question Number : 84 Question Id : 9983678130 Question Type : MCQ Option Shuffling : Yes
Correct Marks : 1 Wrong Marks : 0.25

Find the value of:

$$\frac{1}{1 + \frac{1}{1 + \frac{1}{1 + \frac{1}{2}}}}$$

Options :

1. ✗ 1

2. ✗ $\frac{1}{2}$

3. ✓ $\frac{5}{8}$

4. ✘ $\frac{1}{8}$

Question Number : 84 Question Id : 9983678130 Question Type : MCQ Option Shuffling : Yes
Correct Marks : 1 Wrong Marks : 0.25

निम्नलिखित का मान ज्ञात करें:

$$\frac{1}{1 + \frac{1}{1 + \frac{1}{1 + \frac{1}{2}}}}$$

Options :

1. ✘ 1

2. ✘ $\frac{1}{2}$

3. ✔ $\frac{5}{8}$

4. ✘ $\frac{1}{8}$

Question Number : 85 Question Id : 9983678131 Question Type : MCQ Option Shuffling : Yes
Correct Marks : 1 Wrong Marks : 0.25

What is the fraction of the below number?

0.616161

Options :

1. ✘ $\frac{1}{61}$

2. ✘ $\frac{61}{100}$

3. ✘ $\frac{61}{1000}$

4. ✔ $\frac{61}{99}$

Question Number : 85 Question Id : 9983678131 Question Type : MCQ Option Shuffling : Yes

Correct Marks : 1 Wrong Marks : 0.25

नीचे दी गई संख्या का भिन्न क्या होगा?

0.616161

Options :

1. ✘ $\frac{1}{61}$

2. ✘ $\frac{61}{100}$

3. ✘ $\frac{61}{1000}$

4. ✔ $\frac{61}{99}$

Question Number : 86 Question Id : 9983678132 Question Type : MCQ Option Shuffling : Yes

Correct Marks : 1 Wrong Marks : 0.25

A decimal number has 16 decimal places. The number of decimal places in the square root of this number will be _____.

Options :

1. ✖ 2

2. ✖ 4

3. ✖ 6

4. ✔ 8

Question Number : 86 Question Id : 9983678132 Question Type : MCQ Option Shuffling : Yes

Correct Marks : 1 Wrong Marks : 0.25

एक दशमलव संख्या, 16 दशमलव स्थानों तक की है। इस संख्या के वर्गमूल में दशमलव स्थानों की संख्या _____ होगी।

Options :

1. ✖ 2

2. ✖ 4

3. ✖ 6

4. ✔ 8

Question Number : 87 Question Id : 9983678133 Question Type : MCQ Option Shuffling : Yes

Correct Marks : 1 Wrong Marks : 0.25

The value of:

$$3.\overline{5} = ?$$

Options :

1. ✓ $\frac{32}{9}$

2. ✗ $\frac{35}{9}$

3. ✗ $\frac{35}{10}$

4. ✗ $\frac{32}{100}$

Question Number : 87 Question Id : 9983678133 Question Type : MCQ Option Shuffling : Yes
Correct Marks : 1 Wrong Marks : 0.25

निम्नलिखित का मान ज्ञात करें:

3. $\overline{5} = ?$

Options :

1. ✓ $\frac{32}{9}$

2. ✗ $\frac{35}{9}$

3. ✗ $\frac{35}{10}$

4. ✗ $\frac{32}{100}$

Question Number : 88 Question Id : 9983678134 Question Type : MCQ Option Shuffling : Yes
Correct Marks : 1 Wrong Marks : 0.25

Express $0.\overline{057}$ as a vulgar fraction.

Options :

1. ✘ $\frac{19}{33}$

2. ✘ $\frac{57}{100}$

3. ✔ $\frac{19}{333}$

4. ✘ $\frac{57}{1000}$

Question Number : 88 Question Id : 9983678134 Question Type : MCQ Option Shuffling : Yes
Correct Marks : 1 Wrong Marks : 0.25

$0.\overline{057}$ को एक साधारण भिन्न (vulgar fraction) के रूप में अभिव्यक्त करें।

Options :

1. ✘ $\frac{19}{33}$

2. ✘ $\frac{57}{100}$

3. ✔ $\frac{19}{333}$

4. ✘ $\frac{57}{1000}$

Question Number : 89 Question Id : 9983678135 Question Type : MCQ Option Shuffling : Yes

Correct Marks : 1 Wrong Marks : 0.25

Which of the following fractions is the smallest?

Options :

1. ✘ $\frac{27}{100}$

2. ✘ $\frac{29}{95}$

3. ✘ $\frac{7}{11}$

4. ✔ $\frac{2}{9}$

Question Number : 89 Question Id : 9983678135 Question Type : MCQ Option Shuffling : Yes

Correct Marks : 1 Wrong Marks : 0.25

निम्नलिखित में से सबसे छोटी भिन्न कौन सी है?

Options :

1. ✘ $\frac{27}{100}$

2. ✘ $\frac{29}{95}$

3. ✘ $\frac{7}{11}$

4. ✓ $\frac{2}{9}$

Question Number : 90 Question Id : 9983678136 Question Type : MCQ Option Shuffling : Yes

Correct Marks : 1 Wrong Marks : 0.25

Let $F = 0.841\overline{81}$. When F is written as a fraction in lowest terms, the denominator exceeds the numerator by _____.

Options :

1. ✗ 85

2. ✓ 87

3. ✗ 40

4. ✗ 14

Question Number : 90 Question Id : 9983678136 Question Type : MCQ Option Shuffling : Yes

Correct Marks : 1 Wrong Marks : 0.25

मान लें, $F = 0.841\overline{81}$. यदि F को निम्नतम पदों वाली भिन्न के रूप में अभिव्यक्त किया जाता है तो इसका हर, अंश से _____ अधिक हो जाएगा।

Options :

1. ✗ 85

2. ✓ 87

3. ✗ 40

4. ✗ 14

Question Number : 91 Question Id : 9983678137 Question Type : MCQ Option Shuffling : Yes
Correct Marks : 1 Wrong Marks : 0.25

Two numbers are in the ratio of 4 : 3 . If their HCF is 15, find the numbers.

Options :

1. ✘ 40 , 30

2. ✘ 120 , 90

3. ✔ 60 , 45

4. ✘ 360 , 270

Question Number : 91 Question Id : 9983678137 Question Type : MCQ Option Shuffling : Yes
Correct Marks : 1 Wrong Marks : 0.25

दो संख्याएं 4 : 3 के अनुपात में हैं। यदि उनका महत्तम समापवर्तक 15 है, तो संख्याएं ज्ञात करें।

Options :

1. ✘ 40 , 30

2. ✘ 120 , 90

3. ✔ 60 , 45

4. ✘ 360 , 270

Question Number : 92 Question Id : 9983678138 Question Type : MCQ Option Shuffling : Yes
Correct Marks : 1 Wrong Marks : 0.25

The smallest number of four digits, which when divided by 6, 8, 12 and 20 leaves no remainder is:

Options :

1. ✓ 1080

2. ✘ 1040

3. ✘ 1250

4. ✘ 1200

Question Number : 92 Question Id : 9983678138 Question Type : MCQ Option Shuffling : Yes

Correct Marks : 1 Wrong Marks : 0.25

चार अंकों की वह सबसे छोटी संख्या कौन सी होगी, जिसे 6, 8, 12 और 20 से विभाजित करने पर कोई शेष नहीं बचता है?

Options :

1. ✓ 1080

2. ✘ 1040

3. ✘ 1250

4. ✘ 1200

Question Number : 93 Question Id : 9983678139 Question Type : MCQ Option Shuffling : Yes

Correct Marks : 1 Wrong Marks : 0.25

The ratio of the efficiencies of A, B and C is 8 : 5 : 7. Working together, they can complete a work in 70 days. C alone will complete 30% of that work in:

Options :

1. ✘ 63 days

2. ✓ 60 days

3. ✗ 72 days

4. ✗ 84 days

Question Number : 93 Question Id : 9983678139 Question Type : MCQ Option Shuffling : Yes

Correct Marks : 1 Wrong Marks : 0.25

A, B और C की कार्यक्षमताओं का अनुपात 8 : 5 : 7 है। यदि ये तीनों एक साथ मिलकर काम करते हैं, तो किसी काम को 70 दिनों में पूरा कर सकते हैं। C अकेले उस काम का 30% कितने दिनों में पूरा करेगा?

Options :

1. ✗ 63 दिन

2. ✓ 60 दिन

3. ✗ 72 दिन

4. ✗ 84 दिन

Question Number : 94 Question Id : 9983678140 Question Type : MCQ Option Shuffling : Yes

Correct Marks : 1 Wrong Marks : 0.25

If $5x + 2y : 3x + 4y = 5 : 7$, find $x : y$.

Options :

1. ✗ 1 : 3

2. ✗ 11 : 4

3. ✓ 3 : 10

4. ✗ 1 : 2

Question Number : 94 Question Id : 9983678140 Question Type : MCQ Option Shuffling : Yes
Correct Marks : 1 Wrong Marks : 0.25

यदि $5x + 2y : 3x + 4y = 5 : 7$ है, तो $x : y$ का मान ज्ञात करें।

Options :

1. ✗ 1 : 3

2. ✗ 11 : 4

3. ✓ 3 : 10

4. ✗ 1 : 2

Question Number : 95 Question Id : 9983678141 Question Type : MCQ Option Shuffling : Yes
Correct Marks : 1 Wrong Marks : 0.25

If the income of Vimal is 10% more than that of Deepak and the income of Deepak is 20% less than that of Shekar, then the incomes of Vimal, Deepak and Shekar are respectively in the ratio:

Options :

1. ✗ 11 : 15 : 17

2. ✓ 22 : 20 : 25

3. ✗ 20 : 22 : 24

4. ✖ 18 : 21 : 23

Question Number : 95 Question Id : 9983678141 Question Type : MCQ Option Shuffling : Yes

Correct Marks : 1 Wrong Marks : 0.25

यदि विमल की आय दीपक की आय की तुलना में 10% अधिक है और दीपक की आय शेखर की आय की तुलना में 20% कम है, विमल, दीपक और शेखर की आय क्रमशः निम्न अनुपात में होगी:

Options :

1. ✖ 11 : 15 : 17

2. ✔ 22 : 20 : 25

3. ✖ 20 : 22 : 24

4. ✖ 18 : 21 : 23

Question Number : 96 Question Id : 9983678142 Question Type : MCQ Option Shuffling : Yes

Correct Marks : 1 Wrong Marks : 0.25

If two numbers are 30% and 50% of a number, what percent is the first number of the second number?

Options :

1. ✖ 35%

2. ✖ 40%

3. ✖ 55%

4. ✔ 60%

Question Number : 96 Question Id : 9983678142 Question Type : MCQ Option Shuffling : Yes

Correct Marks : 1 Wrong Marks : 0.25

यदि दो संख्याएं किसी एक संख्या की 30% और 50% हैं, तो पहली संख्या दूसरी संख्या की कितनी प्रतिशत है?

Options :

1. ✘ 35%

2. ✘ 40%

3. ✘ 55%

4. ✔ 60%

Question Number : 97 Question Id : 9983678143 Question Type : MCQ Option Shuffling : Yes

Correct Marks : 1 Wrong Marks : 0.25

Mukesh spends 80% of his income. His income is increased by 20% and his expenditure is also increased by 15%. What is the percentage increase/decrease in his savings?

Options :

1. ✘ 20% increase

2. ✔ 40% increase

3. ✘ 10% decrease

4. ✘ 25% decrease

Question Number : 97 Question Id : 9983678143 Question Type : MCQ Option Shuffling : Yes

Correct Marks : 1 Wrong Marks : 0.25

मुकेश अपनी आय का 80% खर्च कर देता है। उसकी आय में 20% की वृद्धि हो जाती है और साथ ही उसका खर्च भी 15% बढ़ जाता है। उसकी बचत में प्रतिशत वृद्धि / कमी कितनी होगी?

Options :

1. ✘ 20% वृद्धि

2. ✔ 40% वृद्धि

3. ✘ 10% कमी

4. ✘ 25% कमी

Question Number : 98 Question Id : 9983678144 Question Type : MCQ Option Shuffling : Yes

Correct Marks : 1 Wrong Marks : 0.25

If Nithin's salary is 25% more than Vinith's, how much percent is Vinith's salary less than Nithin's salary?

Options :

1. ✔ 20%

2. ✘ 25%

3. ✘ 30%

4. ✘ 75%

Question Number : 98 Question Id : 9983678144 Question Type : MCQ Option Shuffling : Yes

Correct Marks : 1 Wrong Marks : 0.25

यदि नितिन का वेतन विनीत के वेतन से 25% अधिक है, तो विनीत का वेतन नितिन के वेतन से कितना प्रतिशत कम है?

Options :

1. ✔ 20%

2. ✖ 25%

3. ✖ 30%

4. ✖ 75%

Question Number : 99 Question Id : 9983678145 Question Type : MCQ Option Shuffling : Yes
Correct Marks : 1 Wrong Marks : 0.25

What is the average of the first ten prime numbers?

Options :

1. ✖ 10

2. ✖ 11.9

3. ✔ 12.9

4. ✖ 13

Question Number : 99 Question Id : 9983678145 Question Type : MCQ Option Shuffling : Yes
Correct Marks : 1 Wrong Marks : 0.25

पहली दस अभाज्य संख्याओं का औसत क्या होगा?

Options :

1. ✖ 10

2. ✖ 11.9

3. ✓ 12.9

4. ✗ 13

Question Number : 100 Question Id : 9983678146 Question Type : MCQ Option Shuffling : Yes

Correct Marks : 1 Wrong Marks : 0.25

The present ages of Kavya and Veena are 18 years and 22 years respectively. What will the average of their ages be after 9 years?

Options :

1. ✗ 20 years

2. ✗ 26 years

3. ✗ 28 years

4. ✓ 29 years

Question Number : 100 Question Id : 9983678146 Question Type : MCQ Option Shuffling : Yes

Correct Marks : 1 Wrong Marks : 0.25

काव्या और वीणा की वर्तमान आयु क्रमशः 18 वर्ष और 22 वर्ष है। 9 वर्ष बाद उनकी आयु का औसत क्या होगा?

Options :

1. ✗ 20 साल

2. ✗ 26 साल

3. ✗ 28 साल

4. ✓ 29 साल

Arithmetic Ability2

Group Number :	6
Group Id :	998367352
Group Maximum Duration :	0
Group Minimum Duration :	0
Show Attended Group? :	No
Edit Attended Group? :	No
Break time:	0
Group Marks:	20
Is this Group for Examiner?:	No
Revisit allowed for group Instructions? :	Yes
Maximum Instruction Time:	0
Minimum Instruction Time:	0

Arithmetic Ability2

Section Id :	998367358
Section Number :	1
Section type :	Online
Mandatory or Optional:	Mandatory
Number of Questions:	20
Number of Questions to be attempted:	20
Section Marks:	20

Sub-Section Number:	1
Sub-Section Id:	998367512
Question Shuffling Allowed :	Yes

Question Number : 101 Question Id : 9983678147 Question Type : MCQ Option Shuffling : Yes
Correct Marks : 1 Wrong Marks : 0.25

Varun buys a fish tank for ₹ 5,500. For how much should he sell it to a gain a profit of 6%?

Options :

1. ✓ ₹ 5830

2. ✘ ₹ 5858

3. ✖ ₹ 5925

4. ✖ ₹ 6000

Question Number : 101 Question Id : 9983678147 Question Type : MCQ Option Shuffling : Yes

Correct Marks : 1 Wrong Marks : 0.25

वरुण ₹ 5,500 में एक फिश टैंक खरीदता है। यदि वह इस पर 6% लाभ कमाना चाहता है, तो वरुण को फिश टैंक किस मूल्य पर बेचना चाहिए?

Options :

1. ✔ ₹ 5830

2. ✖ ₹ 5858

3. ✖ ₹ 5925

4. ✖ ₹ 6000

Question Number : 102 Question Id : 9983678148 Question Type : MCQ Option Shuffling : Yes

Correct Marks : 1 Wrong Marks : 0.25

Raja buys 4 goats and 9 ducks for ₹ 13,400. If he sells the goats at 10% profit and the ducks at 20% profit, then he earns a total profit of ₹ 1,880. What is the cost of the goats?

Options :

1. ✖ ₹ 1500

2. ✔ ₹ 2000

3. ✖ ₹ 2500

4. ✖ ₹ 6650

Question Number : 102 Question Id : 9983678148 Question Type : MCQ Option Shuffling : Yes

Correct Marks : 1 Wrong Marks : 0.25

राजा ने ₹ 13,400 में 4 बकरियां और 9 बत्तख खरीदीं। यदि वह बकरियों को 10% लाभ पर और बत्तखों को 20% लाभ पर बेचता है, तो उसे कुल ₹ 1,880 का लाभ प्राप्त होता है। बकरी की कीमत कितनी होगी?

Options :

1. ✖ ₹ 1500

2. ✔ ₹ 2000

3. ✖ ₹ 2500

4. ✖ ₹ 6650

Question Number : 103 Question Id : 9983678149 Question Type : MCQ Option Shuffling : Yes

Correct Marks : 1 Wrong Marks : 0.25

Gupta loses 15% by selling an article for ₹ 765. For how much should he sell the article to earn a profit of 15%?

Options :

1. ✖ ₹ 1000

2. ✖ ₹ 1250

3. ✔ ₹ 1035

4. ✖ ₹ 1350

Question Number : 103 Question Id : 9983678149 Question Type : MCQ Option Shuffling : Yes

Correct Marks : 1 Wrong Marks : 0.25

गुप्ता किसी वस्तु को ₹ 765 में बेचता है और इस सौदे में उसे 15% की हानि होती है। 15% का लाभ कमाने के लिए उसे वस्तु को किस कीमत पर बेचना होगा?

Options :

1. ✘ ₹ 1000

2. ✘ ₹ 1250

3. ✔ ₹ 1035

4. ✘ ₹ 1350

Question Number : 104 Question Id : 9983678150 Question Type : MCQ Option Shuffling : Yes

Correct Marks : 1 Wrong Marks : 0.25

A trader lists the selling price of an article at 10% more than the purchasing price. He allows some discount and bears a loss of 1%. What is the rate of discount?

Options :

1. ✔ 10%

2. ✘ 12%

3. ✘ 12.5%

4. ✘ 20%

Question Number : 104 Question Id : 9983678150 Question Type : MCQ Option Shuffling : Yes

Correct Marks : 1 Wrong Marks : 0.25

एक व्यापारी किसी वस्तु का विक्रय मूल्य उसके क्रय मूल्य से 10% अधिक लिख देता है। वह उस वस्तु पर कुछ छूट देता है और कुल 1% का नुकसान उठाता है। दी गई छूट की दर क्या है?

Options :

1. ✓ 10%

2. ✗ 12%

3. ✗ 12.5%

4. ✗ 20%

Question Number : 105 Question Id : 9983678151 Question Type : MCQ Option Shuffling : Yes

Correct Marks : 1 Wrong Marks : 0.25

After giving a discount of 9% on the marked price of a certain medicine at a pharmacy, its gain is 30%. The marked price of the medicine on which the gain is ₹ 42, will be:

Options :

1. ✗ ₹ 120

2. ✗ ₹ 150

3. ✗ ₹ 180

4. ✓ ₹ 200

Question Number : 105 Question Id : 9983678151 Question Type : MCQ Option Shuffling : Yes

Correct Marks : 1 Wrong Marks : 0.25

एक दवा की दुकान, एक निश्चित दवा के अंकित मूल्य पर 9% की छूट देने के बाद, इसकी बिक्री पर 30% का लाभ कमाती है। यदि दवा पर मिलने वाला लाभ ₹42 है तो इसका अंकित मूल्य होगा:

Options :

1. ✗ ₹ 120

2. ✖ ₹ 150

3. ✖ ₹ 180

4. ✔ ₹ 200

Question Number : 106 Question Id : 9983678152 Question Type : MCQ Option Shuffling : Yes

Correct Marks : 1 Wrong Marks : 0.25

Kumar borrowed a sum of ₹ 20,000 at 12% per annum from Narayan on 13 January 2015, and returned the money on 8 June 2015 to clear the debt. What was the amount paid by Kumar?

Options :

1. ✖ ₹ 20,280

2. ✔ ₹ 20,960

3. ✖ ₹ 21,980

4. ✖ ₹ 22,100

Question Number : 106 Question Id : 9983678152 Question Type : MCQ Option Shuffling : Yes

Correct Marks : 1 Wrong Marks : 0.25

कुमार ने 13 जनवरी 2015 को नारायण से 12% प्रतिवर्ष की ब्याज दर पर ₹ 20,000 की राशि उधार ली और 8 जून 2015 को सूद समेत वापस लौटा दी। कुमार ने कितनी राशि का भुगतान किया?

Options :

1. ✖ ₹ 20,280

2. ✔ ₹ 20,960

3. ✖ ₹ 21,980

4. ✖ ₹ 22,100

Question Number : 107 Question Id : 9983678153 Question Type : MCQ Option Shuffling : Yes

Correct Marks : 1 Wrong Marks : 0.25

A sum of money doubles itself in 8 years at simple interest. What is the rate of interest?

Options :

1. ✖ 10%

2. ✔ $12\frac{1}{2}\%$

3. ✖ $14\frac{1}{2}\%$

4. ✖ 16%

Question Number : 107 Question Id : 9983678153 Question Type : MCQ Option Shuffling : Yes

Correct Marks : 1 Wrong Marks : 0.25

एक राशि साधारण ब्याज पर 8 वर्षों में मूल राशि की दोगुनी हो जाती है। ब्याज दर की गणना करें?

Options :

1. ✖ 10%

2. ✔ $12\frac{1}{2}\%$

3. ✖ $14\frac{1}{2}\%$

4. ✖ 16%

Question Number : 108 Question Id : 9983678154 Question Type : MCQ Option Shuffling : Yes

Correct Marks : 1 Wrong Marks : 0.25

A sum of ₹ 8,320 is lent out in 2 parts in such a way that the interest on one part at 10% for 5 years is equal to that on the other part at 9% for 6 years. The sum lent out at 9% is:

Options :

1. ✔ ₹ 4000

2. ✖ ₹ 4320

3. ✖ ₹ 4300

4. ✖ ₹ 5000

Question Number : 108 Question Id : 9983678154 Question Type : MCQ Option Shuffling : Yes

Correct Marks : 1 Wrong Marks : 0.25

₹ 8,320 की राशि को दो भागों में इस प्रकार से उधार दिया जाता है कि इसके एक भाग पर 10% की दर से 5 वर्ष का ब्याज दूसरे भाग पर 9% की दर से 6 वर्ष के ब्याज के बराबर होगा। 9% की दर पर उधार दी गई राशि की गणना करें।

Options :

1. ✔ ₹ 4,000

2. ✖ ₹ 4,320

3. ✖ ₹ 4,300

4. ✖ ₹ 5,000

Question Number : 109 Question Id : 9983678155 Question Type : MCQ Option Shuffling : Yes

Correct Marks : 1 Wrong Marks : 0.25

Dilip borrows a certain sum of money from a money lender at the rate of 15% per annum at compound interest, interest being compounded annually and agrees to return it on two equal yearly instalments of ₹ 1,200 each. Find the sum borrowed:

Options :

1. ✘ ₹ 1945.85

2. ✔ ₹ 1950.85

3. ✘ ₹ 1990.25

4. ✘ ₹ 2000

Question Number : 109 Question Id : 9983678155 Question Type : MCQ Option Shuffling : Yes

Correct Marks : 1 Wrong Marks : 0.25

दिलीप एक साहूकार से 15% प्रतिवर्ष की दर से चक्रवृद्धि ब्याज पर एक निश्चित राशि उधार लेता है जिस पर ब्याज सालाना जोड़ा जाता है, और वह इस राशि को ₹ 1,200 की दो बराबर सालाना किश्तों पर चुकाने के लिए सहमत होता है। उधार ली गई राशि की गणना करें।

Options :

1. ✘ ₹ 1945.85

2. ✔ ₹ 1950.85

3. ✘ ₹ 1990.25

4. ✘ ₹ 2000

Question Number : 110 Question Id : 9983678156 Question Type : MCQ Option Shuffling : Yes

Correct Marks : 1 Wrong Marks : 0.25

What is the compound interest on ₹ 6,250 at 4% per annum compounded annually for 3 years?

Options :

1. ✘ ₹ 750.50

2. ✘ ₹ 760

3. ✔ ₹ 780.40

4. ✘ ₹ 790.25

Question Number : 110 Question Id : 9983678156 Question Type : MCQ Option Shuffling : Yes

Correct Marks : 1 Wrong Marks : 0.25

₹ 6,250 को यदि प्रति वर्ष 4% की ब्याज दर पर जहां सालाना ब्याज जोड़ा जाए, 3 सालों के लिए निवेशित किया जाता है, तो इस पर कुल कितना चक्रवृद्धि ब्याज बनेगा?

Options :

1. ✘ ₹ 750.50

2. ✘ ₹ 760

3. ✔ ₹ 780.40

4. ✘ ₹ 790.25

Question Number : 111 Question Id : 9983678157 Question Type : MCQ Option Shuffling : Yes

Correct Marks : 1 Wrong Marks : 0.25

A cubical vessel contains 8 litres of water. Find the total surface area of the vessel.

Options :

1. ✘ 1950 cm^2

2. ✖ 2000 cm²

3. ✖ 2200 cm²

4. ✔ 2400 cm²

Question Number : 111 Question Id : 9983678157 Question Type : MCQ Option Shuffling : Yes

Correct Marks : 1 Wrong Marks : 0.25

एक घनीय पात्र में 8 लीटर पानी है। पात्र के कुल पृष्ठीय क्षेत्रफल की गणना करें।

Options :

1. ✖ 1950 cm²

2. ✖ 2000 cm²

3. ✖ 2200 cm²

4. ✔ 2400 cm²

Question Number : 112 Question Id : 9983678158 Question Type : MCQ Option Shuffling : Yes

Correct Marks : 1 Wrong Marks : 0.25

The size of a wooden block is 5 cm × 9 cm × 25 cm. How many whole such blocks will be required to construct a solid wooden cube of minimum possible size?

Options :

1. ✔ 3

2. ✖ 6

3. ✖ 9

4. ✖ 10

Question Number : 112 Question Id : 9983678158 Question Type : MCQ Option Shuffling : Yes

Correct Marks : 1 Wrong Marks : 0.25

एक लकड़ी के ब्लॉक का आकार $5 \text{ cm} \times 9 \text{ cm} \times 25 \text{ cm}$ है। ठोस लकड़ी के एक न्यूनतम संभव आकार के घन को बनाने के लिए ऐसे कितने पूरे ब्लॉक लगेंगे?

Options :

1. ✔ 3

2. ✖ 6

3. ✖ 9

4. ✖ 10

Question Number : 113 Question Id : 9983678159 Question Type : MCQ Option Shuffling : Yes

Correct Marks : 1 Wrong Marks : 0.25

If each side of a square is increased by 20%, find the percentage change in its area.

Options :

1. ✖ 39%

2. ✖ 40%

3. ✖ 42%

4. ✓ 44%

Question Number : 113 Question Id : 9983678159 Question Type : MCQ Option Shuffling : Yes

Correct Marks : 1 Wrong Marks : 0.25

यदि किसी वर्ग की प्रत्येक भुजा में 20% की वृद्धि की जाती है, तो उसके क्षेत्रफल में प्रतिशत परिवर्तन ज्ञात करें।

Options :

1. ✗ 39%

2. ✗ 40%

3. ✗ 42%

4. ✓ 44%

Question Number : 114 Question Id : 9983678160 Question Type : MCQ Option Shuffling : Yes

Correct Marks : 1 Wrong Marks : 0.25

A can complete a piece of work in 10 days, whereas A and B together can complete the same work in 8 days. How long will it take for B alone to complete the work?

Options :

1. ✗ 30 days

2. ✗ 35 days

3. ✓ 40 days

4. ✗ 42 days

Question Number : 114 Question Id : 9983678160 Question Type : MCQ Option Shuffling : Yes

Correct Marks : 1 Wrong Marks : 0.25

A किसी काम को 10 दिनों में पूरा कर सकता है, जबकि A और B एक साथ मिलकर उस काम को 8 दिनों में पूरा कर सकते हैं। B को अकेले उसी काम को पूरा करने में कितना समय लगेगा?

Options :

1. ✘ 30 दिन

2. ✘ 35 दिन

3. ✔ 40 दिन

4. ✘ 42 दिन

Question Number : 115 Question Id : 9983678161 Question Type : MCQ Option Shuffling : Yes

Correct Marks : 1 Wrong Marks : 0.25

X and Y can complete a piece of work in 12 days, Y and Z can complete it in 15 days and Z and X can complete it in 10 days. In how many days will all three of them complete it together?

Options :

1. ✘ 3

2. ✘ 4

3. ✘ 6

4. ✔ 8

Question Number : 115 Question Id : 9983678161 Question Type : MCQ Option Shuffling : Yes

Correct Marks : 1 Wrong Marks : 0.25

X और Y एक काम को 12 दिनों में पूरा कर सकते हैं, Y और Z इसे 15 दिनों में पूरा कर सकते हैं और Z और X इसे 10 दिनों में पूरा कर सकते हैं। वे तीनों मिलकर इसे कितने दिनों में पूरा कर पाएंगे?

Options :

1. ✖ 3

2. ✖ 4

3. ✖ 6

4. ✔ 8

Question Number : 116 Question Id : 9983678162 Question Type : MCQ Option Shuffling : Yes

Correct Marks : 1 Wrong Marks : 0.25

If Ram walks 8 km in 4 hours, the time taken by him in travelling a distance of 32 km will be _____.

Options :

1. ✖ 12 hours

2. ✖ 15 hours

3. ✔ 16 hours

4. ✖ 18 hours

Question Number : 116 Question Id : 9983678162 Question Type : MCQ Option Shuffling : Yes

Correct Marks : 1 Wrong Marks : 0.25

यदि राम 4 घंटे में 8 km चलता है, तो उसे 32 km की दूरी तय करने में _____ का समय लगेगा।

Options :

1. ✖ 12 घंटे

2. ✖ 15 घंटे

3. ✔ 16 घंटे

4. ✖ 18 घंटे

Question Number : 117 Question Id : 9983678163 Question Type : MCQ Option Shuffling : Yes

Correct Marks : 1 Wrong Marks : 0.25

If a bus runs at 40 km per hour, it reaches its destination late by 11 minutes. If it runs at 50 km per hour, it is late by 5 minutes only. What is the correct time for the bus to complete its journey?

Options :

1. ✖ 17 minutes

2. ✔ 19 minutes

3. ✖ 20 minutes

4. ✖ 25 minutes

Question Number : 117 Question Id : 9983678163 Question Type : MCQ Option Shuffling : Yes

Correct Marks : 1 Wrong Marks : 0.25

यदि कोई बस 40 kmph की रफ्तार से चलती है, तो वह अपने गंतव्य पर 11 मिनट देरी से पहुंचती है। यदि यह 50 kmph की रफ्तार से चलती है, तो इसे केवल 5 मिनट की देरी होती है। बस को अपनी यात्रा पूरी करने में वास्तव में कितना समय लगेगा?

Options :

1. ✖ 17 मिनट

2. ✔ 19 मिनट

3. ✖ 20 मिनट

4. ✖ 25 मिनट

Question Number : 118 Question Id : 9983678164 Question Type : MCQ Option Shuffling : Yes

Correct Marks : 1 Wrong Marks : 0.25

Anitha and Punitha start together to walk to a certain destination, Anitha walks at 3 km per hour and Punitha walks at 3.75 km per hour. Punitha arrives half an hour before Anitha. The distance is:

Options :

1. ✔ 7.5 km

2. ✖ 8 km

3. ✖ 9.5 km

4. ✖ 10 km

Question Number : 118 Question Id : 9983678164 Question Type : MCQ Option Shuffling : Yes

Correct Marks : 1 Wrong Marks : 0.25

अनीता और पुनीता एक निश्चित गंतव्य तक जाने के लिए एक साथ चलना शुरू करती हैं, अनीता 3 kmph की रफ्तार से चलती है और पुनीता 3.75 kmph की रफ्तार से चलती है। पुनीता, अनीता से आधा घंटा पहले पहुंच जाती है। दूरी की गणना कीजिए।

Options :

1. ✔ 7.5 km

2. ✖ 8 km

3. ✖ 9.5 km

4. ✖ 10 km

Question Number : 119 Question Id : 9983678165 Question Type : MCQ Option Shuffling : Yes

Correct Marks : 1 Wrong Marks : 0.25

Read the following information carefully and answer the questions given below:

Assume all colleges sent an equal number of students in all subjects for the examination.

Percentage of results for subjects

College	English	Maths	Physics	Accounts
P	52	65	62	47
Q	47	62	52	35
R	53	70	46	54
S	35	72	58	62

Taking the performance in all the subjects into account, which college has shown the lowest level?

Options :

1. ✖ P

2. ✔ Q

3. ✖ R

4. ✖ S

Question Number : 119 Question Id : 9983678165 Question Type : MCQ Option Shuffling : Yes

Correct Marks : 1 Wrong Marks : 0.25

निम्नलिखित जानकारी को ध्यान से पढ़ें और नीचे दिए गए प्रश्न के उत्तर दें:
मान लीजिए कि सभी कॉलेजों से सभी विषयों में समान संख्या में छात्रों ने हिस्सा लिया।

सभी विषयों का प्रतिशत परिणाम

कॉलेज	अंग्रेज़ी	गणित	भौतिक विज्ञान	लेखांकन
P	52	65	62	47
Q	47	62	52	35
R	53	70	46	54
S	35	72	58	62

सभी विषयों के प्रदर्शन को ध्यान में रखते हुए पता लगाएं कि किस कॉलेज का प्रदर्शन सबसे खराब रहा है?

Options :

1. ✘ P

2. ✔ Q

3. ✘ R

4. ✘ S

Question Number : 120 Question Id : 9983678166 Question Type : MCQ Option Shuffling : Yes

Correct Marks : 1 Wrong Marks : 0.25

Read the following information carefully and answer the questions given below:

Assume all colleges sent an equal number of students in all subjects for the examination.

Percentage of results for subjects

College	English	Maths	Physics	Accounts
P	52	65	62	47
Q	47	62	52	35
R	53	70	46	54
S	35	72	58	62

Taking all the colleges into account, which subject has shown the highest percentage result?

Options :

1. ✖ Physics

2. ✖ English

3. ✖ Accounts

4. ✔ Maths

Question Number : 120 Question Id : 9983678166 Question Type : MCQ Option Shuffling : Yes

Correct Marks : 1 Wrong Marks : 0.25

निम्नलिखित जानकारी को ध्यान से पढ़ें और नीचे दिए गए प्रश्न के उत्तर दें:

मान लीजिए कि सभी कॉलेजों से सभी विषयों में समान संख्या में छात्रों ने हिस्सा लिया।

सभी विषयों का प्रतिशत परिणाम

कॉलेज	अंग्रेज़ी	गणित	भौतिक विज्ञान	लेखांकन
P	52	65	62	47
Q	47	62	52	35
R	53	70	46	54
S	35	72	58	62

सभी कॉलेजों को गणना में शामिल करते हुए उच्चतम प्रतिशत परिणाम दिखाने वाला विषय कौन सा है?

Options :

1. ✖ भौतिक विज्ञान

2. ✖ अंग्रेज़ी

3. ✖ लेखांकन

4. ✔ गणित

General English1

Group Number :	7
Group Id :	998367353
Group Maximum Duration :	0
Group Minimum Duration :	0
Show Attended Group? :	No
Edit Attended Group? :	No
Break time:	0
Group Marks:	20
Is this Group for Examiner?:	No
Revisit allowed for group Instructions? :	Yes
Maximum Instruction Time:	0
Minimum Instruction Time:	0

General English1

Section Id :	998367359
Section Number :	1
Section type :	Online
Mandatory or Optional:	Mandatory
Number of Questions:	20
Number of Questions to be attempted:	20
Section Marks:	20

Sub-Section Number:	1
Sub-Section Id:	998367513
Question Shuffling Allowed :	Yes

Question Number : 121 Question Id : 9983678167 Question Type : MCQ Option Shuffling : Yes
Correct Marks : 1 Wrong Marks : 0.25

Select the option that best gives the meaning of the underlined words/phrase.

When pigs fly, Priti will start studying every day.

Options :

1. ✖ When pigs will start flying
2. ✖ Something that always happen
3. ✔ Something that will never happen
4. ✖ Something that is very easy to do

Question Number : 121 Question Id : 9983678167 Question Type : MCQ Option Shuffling : Yes
Correct Marks : 1 Wrong Marks : 0.25

Select the option that best gives the meaning of the underlined words/phrase.

When pigs fly, Priti will start studying every day.

Options :

1. ✖ When pigs will start flying
2. ✖ Something that always happen
3. ✔ Something that will never happen
4. ✖ Something that is very easy to do

Question Number : 122 Question Id : 9983678168 Question Type : MCQ Option Shuffling : Yes
Correct Marks : 1 Wrong Marks : 0.25

Which of the idioms in the options means the same as the following?

To do something too soon without proper thought

Options :

1. ✖ Make hay while the sun shines
2. ✔ Jump the gun
3. ✖ Stick to your guns
4. ✖ A stitch in time saves nine

Question Number : 122 Question Id : 9983678168 Question Type : MCQ Option Shuffling : Yes
Correct Marks : 1 Wrong Marks : 0.25

Which of the idioms in the options means the same as the following?

To do something too soon without proper thought

Options :

1. ✘ Make hay while the sun shines
2. ✔ Jump the gun
3. ✘ Stick to your guns
4. ✘ A stitch in time saves nine

Question Number : 123 Question Id : 9983678169 Question Type : MCQ Option Shuffling : Yes
Correct Marks : 1 Wrong Marks : 0.25

Select the option that can be used as a one-word substitute for the given group of words.

A person who is controlled by his wife.

Options :

1. ✔ Henpecked
2. ✘ Henlicked
3. ✘ Hencooped
4. ✘ Henchman

Question Number : 123 Question Id : 9983678169 Question Type : MCQ Option Shuffling : Yes
Correct Marks : 1 Wrong Marks : 0.25

Select the option that can be used as a one-word substitute for the given group of words.

A person who is controlled by his wife.

Options :

1. ✓ Henpecked

2. ✗ Henlicked

3. ✗ Hencooped

4. ✗ Henchman

Question Number : 124 Question Id : 9983678170 Question Type : MCQ Option Shuffling : Yes

Correct Marks : 1 Wrong Marks : 0.25

Which of the following options means the same as the idiom highlighted in the below sentence?

Although he has been trained for months, yet he **puts the cart before the horse**.

Options :

1. ✗ He rides the horse backwards.

2. ✗ He prefers the cart over the horse.

3. ✗ He is afraid of the horse.

4. ✓ He does things in the reverse order.

Question Number : 124 Question Id : 9983678170 Question Type : MCQ Option Shuffling : Yes

Correct Marks : 1 Wrong Marks : 0.25

Which of the following options means the same as the idiom highlighted in the below sentence?

Although he has been trained for months, yet he **puts the cart before the horse**.

Options :

1. ✗ He rides the horse backwards.

2. ✗ He prefers the cart over the horse.

3. ✖ He is afraid of the horse.

4. ✔ He does things in the reverse order.

Question Number : 125 Question Id : 9983678171 Question Type : MCQ Option Shuffling : Yes

Correct Marks : 1 Wrong Marks : 0.25

Select the most appropriate synonym of the given word.

ORACULAR

Options :

1. ✖ livid

2. ✖ lucid

3. ✖ distinct

4. ✔ cryptic

Question Number : 125 Question Id : 9983678171 Question Type : MCQ Option Shuffling : Yes

Correct Marks : 1 Wrong Marks : 0.25

Select the most appropriate synonym of the given word.

ORACULAR

Options :

1. ✖ livid

2. ✖ lucid

3. ✖ distinct

4. ✔ cryptic

Question Number : 126 Question Id : 9983678172 Question Type : MCQ Option Shuffling : Yes

Correct Marks : 1 Wrong Marks : 0.25

Select the most appropriate synonym of the highlighted word.

The lost wallet was **restored** to the owner.

Options :

1. ✓ Returned

2. ✗ United

3. ✗ Shown

4. ✗ Donated

Question Number : 126 Question Id : 9983678172 Question Type : MCQ Option Shuffling : Yes
Correct Marks : 1 Wrong Marks : 0.25

Select the most appropriate synonym of the highlighted word.

The lost wallet was restored to the owner.

Options :

1. ✓ Returned

2. ✗ United

3. ✗ Shown

4. ✗ Donated

Question Number : 127 Question Id : 9983678173 Question Type : MCQ Option Shuffling : Yes
Correct Marks : 1 Wrong Marks : 0.25

Select the option that can be used as a one-word substitute for the given group of words.

A cure for all diseases.

Options :

1. ✗ Eternal

2. ✓ Panacea

3. ✗ Germicide

4. ✗ Forgery

Question Number : 127 Question Id : 9983678173 Question Type : MCQ Option Shuffling : Yes
Correct Marks : 1 Wrong Marks : 0.25

Select the option that can be used as a one-word substitute for the given group of words.

A cure for all diseases.

Options :

1. ✘ Eternal
2. ✔ Panacea
3. ✘ Germicide
4. ✘ Forgery

Question Number : 128 Question Id : 9983678174 Question Type : MCQ Option Shuffling : Yes

Correct Marks : 1 Wrong Marks : 0.25

Transform the following sentence without changing its meaning:

Nilesh was too God-fearing to leave the fallen man to his fate.

Options :

1. ✘ Nilesh was so God-fearing that he left the fallen man to his fate.
2. ✔ Nilesh was so God-fearing that he couldn't leave the fallen man to his fate.
3. ✘ Nilesh was less God-fearing and left the fallen man to his fate.
4. ✘ Nilesh is God-fearing enough and left the fallen man to his fate.

Question Number : 128 Question Id : 9983678174 Question Type : MCQ Option Shuffling : Yes

Correct Marks : 1 Wrong Marks : 0.25

Transform the following sentence without changing its meaning:

Nilesh was too God-fearing to leave the fallen man to his fate.

Options :

1. ✘ Nilesh was so God-fearing that he left the fallen man to his fate.
2. ✔ Nilesh was so God-fearing that he couldn't leave the fallen man to his fate.
3. ✘ Nilesh was less God-fearing and left the fallen man to his fate.
4. ✘ Nilesh is God-fearing enough and left the fallen man to his fate.

Question Number : 129 Question Id : 9983678175 Question Type : MCQ Option Shuffling : Yes
Correct Marks : 1 Wrong Marks : 0.25

Which of the following options is INCORRECT?

Note: For this question, discrepancy is found in question/answer. So, this question is ignored for all candidates.

Options :

1. You cannot live peacefully if you are contented.
2. You can live peacefully unless you are contented.
3. You cannot live peacefully unless you are contented.
4. You must live peacefully unless you are contented.

Question Number : 129 Question Id : 9983678175 Question Type : MCQ Option Shuffling : Yes
Correct Marks : 1 Wrong Marks : 0.25

Which of the following options is INCORRECT?

Note: For this question, discrepancy is found in question/answer. So, this question is ignored for all candidates.

Options :

1. You cannot live peacefully if you are contented.
2. You can live peacefully unless you are contented.
3. You cannot live peacefully unless you are contented.
4. You must live peacefully unless you are contented.

Question Number : 130 Question Id : 9983678176 Question Type : MCQ Option Shuffling : Yes

Correct Marks : 1 Wrong Marks : 0.25

Fill in the blanks with the most appropriate articles.

Simon is _____ European, but his wife is _____ Indonesian.

Options :

1. ✘ the, an
2. ✘ a, the
3. ✘ an, the
4. ✔ a, an

Question Number : 130 Question Id : 9983678176 Question Type : MCQ Option Shuffling : Yes

Correct Marks : 1 Wrong Marks : 0.25

Fill in the blanks with the most appropriate articles.

Simon is _____ European, but his wife is _____ Indonesian.

Options :

1. ✘ the, an
2. ✘ a, the
3. ✘ an, the
4. ✔ a, an

Question Number : 131 Question Id : 9983678177 Question Type : MCQ Option Shuffling : Yes
Correct Marks : 1 Wrong Marks : 0.25

Fill in the blank with the most appropriate option.

_____the weather was cold, we decided not to wear our woollen clothing.

Note: For this question, discrepancy is found in question/answer. So, this question is ignored for all candidates.

Options :

1. Because
2. Owing
3. Since
4. As long as

Question Number : 131 Question Id : 9983678177 Question Type : MCQ Option Shuffling : Yes
Correct Marks : 1 Wrong Marks : 0.25

Fill in the blank with the most appropriate option.

_____the weather was cold, we decided not to wear our woollen clothing.

Note: For this question, discrepancy is found in question/answer. So, this question is ignored for all candidates.

Options :

1. Because
2. Owing
3. Since
4. As long as

Question Number : 132 Question Id : 9983678178 Question Type : MCQ Option Shuffling : Yes
Correct Marks : 1 Wrong Marks : 0.25

The following sentence has been divided into four parts.
Select the part that contains an error.

Set against the Bay of Bengal, / eastern states like West Bengal and Odisha / are homes to a largely humid climate, / epic rainfalls, rivers and lakes.

Options :

1. ✖ Set against the Bay of Bengal
2. ✖ eastern states like West Bengal and Odisha
3. ✔ are homes to a largely humid climate
4. ✖ epic rainfalls, rivers and lakes

Question Number : 132 Question Id : 9983678178 Question Type : MCQ Option Shuffling : Yes
Correct Marks : 1 Wrong Marks : 0.25

The following sentence has been divided into four parts.
Select the part that contains an error.

Set against the Bay of Bengal, / eastern states like West Bengal and Odisha / are homes to a largely humid climate, / epic rainfalls, rivers and lakes.

Options :

1. ✖ Set against the Bay of Bengal
2. ✖ eastern states like West Bengal and Odisha
3. ✔ are homes to a largely humid climate
4. ✖ epic rainfalls, rivers and lakes

Question Number : 133 Question Id : 9983678179 Question Type : MCQ Option Shuffling : Yes
Correct Marks : 1 Wrong Marks : 0.25

The following sentence has been divided into four parts.
Select the part that contains an error.

The conversation with Seemas / mother had a more profound / effect on her / than she expected.

Options :

1. ✓ The conversation with Seemas
2. ✗ mother had a more profound
3. ✗ effect on her
4. ✗ than she expected

Question Number : 133 Question Id : 9983678179 Question Type : MCQ Option Shuffling : Yes
Correct Marks : 1 Wrong Marks : 0.25

The following sentence has been divided into four parts.
Select the part that contains an error.

The conversation with Seemas / mother had a more profound / effect on her / than she expected.

Options :

1. ✓ The conversation with Seemas
2. ✗ mother had a more profound
3. ✗ effect on her
4. ✗ than she expected

Question Number : 134 Question Id : 9983678180 Question Type : MCQ Option Shuffling : Yes
Correct Marks : 1 Wrong Marks : 0.25

Fill in the blank with the most appropriate pronoun.

I hate _____ sleeping too much.

Options :

1. ✖ him
2. ✔ his
3. ✖ its
4. ✖ himself

Question Number : 134 Question Id : 9983678180 Question Type : MCQ Option Shuffling : Yes
Correct Marks : 1 Wrong Marks : 0.25

Fill in the blank with the most appropriate pronoun.

I hate _____ sleeping too much.

Options :

1. ✖ him
2. ✔ his
3. ✖ its
4. ✖ himself

Question Number : 135 Question Id : 9983678181 Question Type : MCQ Option Shuffling : Yes
Correct Marks : 1 Wrong Marks : 0.25

Fill in the blank with the most appropriate option.

Neena: Has the chief guest arrived?

Simmi: She _____ be here any moment.

Options :

1. ✖ must
2. ✔ should
3. ✖ can
4. ✖ may

Question Number : 135 Question Id : 9983678181 Question Type : MCQ Option Shuffling : Yes
Correct Marks : 1 Wrong Marks : 0.25

Fill in the blank with the most appropriate option.

Neena: Has the chief guest arrived?

Simmi: She _____ be here any moment.

Options :

1. ✘ must

2. ✔ should

3. ✘ can

4. ✘ may

Question Number : 136 Question Id : 9983678182 Question Type : MCQ Option Shuffling : Yes

Correct Marks : 1 Wrong Marks : 0.25

Parts of a sentence are given below in jumbled order. Arrange the parts in the right order to form a meaningful sentence.

1) and was always in a bad mood

2) unfortunate person and the whole village was tired

3) Rakesh who lived in the village was one of the most

4) of him because he was always gloomy

Options :

1. ✘ 3, 4, 2, 1

2. ✔ 3, 2, 4, 1

3. ✘ 1, 3, 4, 2

4. ✘ 2, 4, 1, 3

Question Number : 136 Question Id : 9983678182 Question Type : MCQ Option Shuffling : Yes

Correct Marks : 1 Wrong Marks : 0.25

Parts of a sentence are given below in jumbled order.
Arrange the parts in the right order to form a meaningful sentence.

- 1) and was always in a bad mood
- 2) unfortunate person and the whole village was tired
- 3) Rakesh who lived in the village was one of the most
- 4) of him because he was always gloomy

Options :

1. ✖ 3, 4, 2, 1
2. ✔ 3, 2, 4, 1
3. ✖ 1, 3, 4, 2
4. ✖ 2, 4, 1, 3

Question Number : 137 Question Id : 9983678183 Question Type : MCQ Option Shuffling : Yes
Correct Marks : 1 Wrong Marks : 0.25

Select the correctly spelt word.

Options :

1. ✖ unnumerable
2. ✖ inumerable
3. ✔ innumerable
4. ✖ innumarable

Question Number : 137 Question Id : 9983678183 Question Type : MCQ Option Shuffling : Yes
Correct Marks : 1 Wrong Marks : 0.25

Select the correctly spelt word.

Options :

1. ✖ unnumerable

2. ✖ innumerable

3. ✔ innumerable

4. ✖ innumarable

Question Number : 138 Question Id : 9983678184 Question Type : MCQ Option Shuffling : Yes
Correct Marks : 1 Wrong Marks : 0.25

Into three parts. One of them may contain an error. Select the part that contains the error from the given options. If you don't find any error, mark 'No error' as your answer.

They kept us / waiting / since half an hour.

Options :

1. ✖ They kept us

2. ✖ waiting

3. ✔ since half an hour

4. ✖ No error

Question Number : 138 Question Id : 9983678184 Question Type : MCQ Option Shuffling : Yes
Correct Marks : 1 Wrong Marks : 0.25

Into three parts. One of them may contain an error. Select the part that contains the error from the given options. If you don't find any error, mark 'No error' as your answer.

They kept us / waiting / since half an hour.

Options :

1. ✖ They kept us

2. ✖ waiting

3. ✔ since half an hour

4. ✖ No error

Question Number : 139 Question Id : 9983678185 Question Type : MCQ Option Shuffling : Yes
Correct Marks : 1 Wrong Marks : 0.25

Choose the correctly formed sentence from among the given options.

Options :

1. ✖ The world's earliest known printed book, shows the widespread availability and practicality of paper in China using woodblock printing, the Diamond Sutra.
2. ✖ The world's earliest woodblock printing, the Diamond Sutra printed book, shows the widespread availability and practicality of paper in China.
3. ✖ Using woodblock printing, paper in China the Diamond Sutra of the world's earliest known printed book, shows the widespread availability and practicality.
4. ✔ The world's earliest known printed book (using woodblock printing), the Diamond Sutra, shows the widespread availability and practicality of paper in China.

Question Number : 139 Question Id : 9983678185 Question Type : MCQ Option Shuffling : Yes
Correct Marks : 1 Wrong Marks : 0.25

Choose the correctly formed sentence from among the given options.

Options :

1. ✖ The world's earliest known printed book, shows the widespread availability and practicality of paper in China using woodblock printing, the Diamond Sutra.

2. ✖ The world's earliest woodblock printing, the Diamond Sutra printed book, shows the widespread availability and practicality of paper in China.

3. ✖ Using woodblock printing, paper in China the Diamond Sutra of the world's earliest known printed book, shows the widespread availability and practicality.

4. ✔ The world's earliest known printed book (using woodblock printing), the Diamond Sutra, shows the widespread availability and practicality of paper in China.

Question Number : 140 Question Id : 9983678186 Question Type : MCQ Option Shuffling : Yes
Correct Marks : 1 Wrong Marks : 0.25

Select the most appropriate synonym of the highlighted word.

The news of Ashish's failure in the board examination caused **depression** in the family.

Options :

1. ✖ surge

2. ✖ convexity

3. ✔ gloominess

4. ✖ protuberance

Question Number : 140 Question Id : 9983678186 Question Type : MCQ Option Shuffling : Yes
Correct Marks : 1 Wrong Marks : 0.25

Select the most appropriate synonym of the highlighted word.

The news of Ashish's failure in the board examination caused **depression** in the family.

Options :

1. ✖ surge
2. ✖ convexity
3. ✔ gloominess
4. ✖ protuberance

General English2

Group Number :	8
Group Id :	998367354
Group Maximum Duration :	0
Group Minimum Duration :	0
Show Attended Group? :	No
Edit Attended Group? :	No
Break time:	0
Group Marks:	20
Is this Group for Examiner?:	No
Revisit allowed for group Instructions? :	Yes
Maximum Instruction Time:	0
Minimum Instruction Time:	0

General English2

Section Id :	998367360
Section Number :	1
Section type :	Online
Mandatory or Optional:	Mandatory
Number of Questions:	12
Number of Questions to be attempted:	12
Section Marks:	20

Sub-Section Number:	1
Sub-Section Id:	998367514
Question Shuffling Allowed :	Yes

Question Number : 141 Question Id : 9983678187 Question Type : MCQ Option Shuffling : Yes
Correct Marks : 1 Wrong Marks : 0.25

Select the most appropriate ANTONYM of the given word:

SALUTARY

Options :

1. ✖ curative
2. ✖ wholesome
3. ✔ unhealthy
4. ✖ healthy

Question Number : 141 Question Id : 9983678187 Question Type : MCQ Option Shuffling : Yes
Correct Marks : 1 Wrong Marks : 0.25

Select the most appropriate ANTONYM of the given word:

SALUTARY

Options :

1. ✖ curative
2. ✖ wholesome
3. ✔ unhealthy
4. ✖ healthy

Question Number : 142 Question Id : 9983678188 Question Type : MCQ Option Shuffling : Yes
Correct Marks : 1 Wrong Marks : 0.25

Fill in the blank with the correct form of the tense.

The accused _____ the verdict of the jury with anxiety.

Note: For this question, discrepancy is found in question/answer. So, this question is ignored for all candidates.

Options :

1. awaits
2. awaited
3. will awaits
4. will been awaiting

Question Number : 142 Question Id : 9983678188 Question Type : MCQ Option Shuffling : Yes
Correct Marks : 1 Wrong Marks : 0.25

Fill in the blank with the correct form of the tense.

The accused _____ the verdict of the jury with anxiety.

Note: For this question, discrepancy is found in question/answer. So, this question is ignored for all candidates.

Options :

1. awaits
2. awaited
3. will awaits
4. will been awaiting

Question Number : 143 Question Id : 9983678189 Question Type : MCQ Option Shuffling : Yes

Correct Marks : 1 Wrong Marks : 0.25

Fill in the blank with the most appropriate option.

The Mughal Emperor was deeply moved when he saw _____ dead and _____ wounded on _____ battlefield.

Options :

1. ✖ a; a; the
2. ✔ the; the; the
3. ✖ no word required; the; a
4. ✖ the; the; no word required

Question Number : 143 Question Id : 9983678189 Question Type : MCQ Option Shuffling : Yes

Correct Marks : 1 Wrong Marks : 0.25

Fill in the blank with the most appropriate option.

The Mughal Emperor was deeply moved when he saw _____ dead and _____ wounded on _____ battlefield.

Options :

1. ✖ a; a; the
2. ✔ the; the; the
3. ✖ no word required; the; a
4. ✖ the; the; no word required

Question Number : 144 Question Id : 9983678190 Question Type : MCQ Option Shuffling : Yes
Correct Marks : 1 Wrong Marks : 0.25

Choose the one-word substitute that can replace the underlined word without changing the meaning of the sentence.

We should not allow our kids to watch movies with profane references.

Options :

1. ✖ Moral
2. ✔ Obscene
3. ✖ Religious
4. ✖ Reverent

Question Number : 144 Question Id : 9983678190 Question Type : MCQ Option Shuffling : Yes
Correct Marks : 1 Wrong Marks : 0.25

Choose the one-word substitute that can replace the underlined word without changing the meaning of the sentence.

We should not allow our kids to watch movies with profane references.

Options :

1. ✖ Moral

2. ✓ **Obscene**

3. ✗ **Religious**

4. ✗ **Reverent**

Question Number : 145 Question Id : 9983678191 Question Type : MCQ Option Shuffling : Yes
Correct Marks : 1 Wrong Marks : 0.25

Select the most appropriate synonym of the underlined word.

During the ancient times, the tribal people often made human sacrifices to appease their Gods.

Options :

1. ✓ **Deities**

2. ✗ **Conquerors**

3. ✗ **Heroes**

4. ✗ **Monarchs**

Question Number : 145 Question Id : 9983678191 Question Type : MCQ Option Shuffling : Yes
Correct Marks : 1 Wrong Marks : 0.25

Select the most appropriate synonym of the underlined word.

During the ancient times, the tribal people often made human sacrifices to appease their Gods.

Options :

1. ✓ **Deities**

2. ✗ **Conquerors**

3. ✗ **Heroes**

4. ✗ **Monarchs**

Question Number : 146 Question Id : 9983678192 Question Type : MCQ Option Shuffling : Yes
Correct Marks : 1 Wrong Marks : 0.25

Select the most appropriate ANTONYM of the given word:

ENDORSE

Options :

1. ✖ Advocate
2. ✔ Disapprove
3. ✖ Countenance
4. ✖ Accredit

Question Number : 146 Question Id : 9983678192 Question Type : MCQ Option Shuffling : Yes

Correct Marks : 1 Wrong Marks : 0.25

Select the most appropriate ANTONYM of the given word:

ENDORSE

Options :

1. ✖ Advocate
2. ✔ Disapprove
3. ✖ Countenance
4. ✖ Accredit

Question Number : 147 Question Id : 9983678193 Question Type : MCQ Option Shuffling : Yes

Correct Marks : 1 Wrong Marks : 0.25

Select the most appropriate ANTONYM of the given word:

FEEBLE

Options :

1. ✖ Enervated
2. ✖ Frail
3. ✔ Competent

4. ✖ Languid

Question Number : 147 Question Id : 9983678193 Question Type : MCQ Option Shuffling : Yes
Correct Marks : 1 Wrong Marks : 0.25

Select the most appropriate ANTONYM of the given word:

FEEBLE

Options :

1. ✖ Enervated
2. ✖ Frail
3. ✔ Competent
4. ✖ Languid

Question Number : 148 Question Id : 9983678194 Question Type : MCQ Option Shuffling : Yes
Correct Marks : 1 Wrong Marks : 0.25

Select the most appropriate ANTONYM of the underlined word.

Most teenagers are criticised for their lax attitude.

Options :

1. ✔ Concerned
2. ✖ Careless
3. ✖ Flaccid
4. ✖ Delinquent

Question Number : 148 Question Id : 9983678194 Question Type : MCQ Option Shuffling : Yes
Correct Marks : 1 Wrong Marks : 0.25

Select the most appropriate ANTONYM of the underlined word.

Most teenagers are criticised for their lax attitude.

Options :

1. ✓ Concerned
2. ✗ Careless
3. ✗ Flaccid
4. ✗ Delinquent

Question Number : 149 Question Id : 9983678195 Question Type : MCQ Option Shuffling : Yes
Correct Marks : 1 Wrong Marks : 0.25

Select the most appropriate ANTONYM of the underlined word.

It is absurd to believe that young children can run faster than policemen.

Options :

1. ✗ Incongruous
2. ✓ Realistic
3. ✗ Preposterous
4. ✗ Ludicrous

Question Number : 149 Question Id : 9983678195 Question Type : MCQ Option Shuffling : Yes
Correct Marks : 1 Wrong Marks : 0.25

Select the most appropriate ANTONYM of the underlined word.

It is absurd to believe that young children can run faster than policemen.

Options :

1. ✖ Incongruous
2. ✔ Realistic
3. ✖ Preposterous
4. ✖ Ludicrous

Question Number : 150 Question Id : 9983678196 Question Type : MCQ Option Shuffling : Yes

Correct Marks : 1 Wrong Marks : 0.25

Select the most appropriate ANTONYM of the underlined word.

They had a queer feeling that they were being followed.

Options :

1. ✖ Weird
2. ✔ Typical
3. ✖ Irrational
4. ✖ Bizarre

Question Number : 150 Question Id : 9983678196 Question Type : MCQ Option Shuffling : Yes

Correct Marks : 1 Wrong Marks : 0.25

Select the most appropriate ANTONYM of the underlined word.

They had a queer feeling that they were being followed.

Options :

1. ✘ Weird
2. ✔ Typical
3. ✘ Irrational
4. ✘ Bizarre

Sub-Section Number:	2
Sub-Section Id:	998367515
Question Shuffling Allowed :	Yes

Question Id : 9983678197 Question Type : COMPREHENSION Sub Question Shuffling Allowed : Yes Group Comprehension Questions : No

Question Numbers : (151 to 155)

Question Label : Comprehension

Read the given passage and answer the questions that follow.

Marie was born in 1867 in Warsaw, Poland, where her father was a Professor of Physics. At an early age, she displayed a brilliant mind and a blithe personality. Her great exuberance for learning prompted her to continue with her studies after high school. She became disgruntled, however, when she learned that the university in Warsaw was closed to women. Determined to receive a higher education, she defiantly left Poland and in 1891 entered the Sorbonne, a French university, where she earned her master's degree and doctorate in physics.

Marie was fortunate to have studied at the Sorbonne with some of the greatest scientists of her day, one of whom was Pierre Curie. Marie and Pierre were married in 1895 and spent many productive years working together in the physics laboratory. A short time after they discovered radium, Pierre was killed by a horse-drawn wagon in 1906. Marie was stunned by this horrible misfortune and endured heart-breaking anguish. Despondently, she recalled their close relationship and the joy that they had shared in scientific research. The fact that she had two young daughters to raise by herself greatly increased her distress.

Curie's feeling of desolation finally began to fade when she was asked to succeed her husband as a physics professor at the Sorbonne. She was the first woman to be given a professorship at the world-famous university. In 1911, she received the Nobel Prize in chemistry for isolating radium. Although Marie Curie eventually suffered a fatal illness from her long exposure to radium, she never became disillusioned about her work. Regardless of the consequences, she had dedicated herself to science and to revealing the mysteries of the physical world.

Sub questions

Question Number : 151 Question Id : 9983678198 Question Type : MCQ Option Shuffling : Yes

Correct Marks : 1 Wrong Marks : 0.25

Which among the following options is NOT true about Marie according to the passage?

Options :

1. ✖ She received the Nobel Prize.
2. ✖ She was the first woman to be appointed as a professor at a world-famous university.
3. ✖ She was born in Poland.
4. ✔ She was killed by a horse-drawn wagon.

Question Number : 152 Question Id : 9983678199 Question Type : MCQ Option Shuffling : Yes

Correct Marks : 1 Wrong Marks : 0.25

According to the passage why did Marie's distress increase?

Options :

1. ✖ Because her husband was killed.
2. ✔ Because she had two daughters to look after all by herself.
3. ✖ Because she suffered from a fatal disease.
4. ✖ Because she learned that the university in Warsaw was closed to women.

Question Number : 153 Question Id : 9983678200 Question Type : MCQ Option Shuffling : Yes

Correct Marks : 1 Wrong Marks : 0.25

Select the most appropriate synonym of the given word.

EXUBERANCE

Options :

1. ✔ exhilaration
2. ✖ coolness
3. ✖ apathy
4. ✖ lethargy

Question Number : 154 Question Id : 9983678201 Question Type : MCQ Option Shuffling : Yes

Correct Marks : 1 Wrong Marks : 0.25

Select the most appropriate ANTONYM of the given word.

DISGRUNTLED

Options :

1. ✖ annoyed

2. ✖ irritated

3. ✖ vexed

4. ✔ contented

Question Number : 155 Question Id : 9983678202 Question Type : MCQ Option Shuffling : Yes

Correct Marks : 1 Wrong Marks : 0.25

Which of the following options can replace the highlighted word in the given sentence?

Although Marie Curie eventually suffered a fatal illness from her long exposure to radium, she never became **disillusioned** about her work.

Options :

1. ✖ Contended

2. ✔ Disenchanted

3. ✖ Enchanted

4. ✖ Satisfied

Question Id : 9983678197 Question Type : COMPREHENSION Sub Question Shuffling Allowed : Yes Group Comprehension Questions : No

Question Numbers : (151 to 155)

Question Label : Comprehension

Read the given passage and answer the questions that follow.

Marie was born in 1867 in Warsaw, Poland, where her father was a Professor of Physics. At an early age, she displayed a brilliant mind and a blithe personality. Her great exuberance for learning prompted her to continue with her studies after high school. She became disgruntled, however, when she learned that the university in Warsaw was closed to women. Determined to receive a higher education, she defiantly left Poland and in 1891 entered the Sorbonne, a French university, where she earned her master's degree and doctorate in physics.

Marie was fortunate to have studied at the Sorbonne with some of the greatest scientists of her day, one of whom was Pierre Curie. Marie and Pierre were married in 1895 and spent many productive years working together in the physics laboratory. A short time after they discovered radium, Pierre was killed by a horse-drawn wagon in 1906. Marie was stunned by this horrible misfortune and endured heart-breaking anguish. Despondently, she recalled their close relationship and the joy that they had shared in scientific research. The fact that she had two young daughters to raise by herself greatly increased her distress.

Curie's feeling of desolation finally began to fade when she was asked to succeed her husband as a physics professor at the Sorbonne. She was the first woman to be given a professorship at the world-famous university. In 1911, she received the Nobel Prize in chemistry for isolating radium. Although Marie Curie eventually suffered a fatal illness from her long exposure to radium, she never became disillusioned about her work. Regardless of the consequences, she had dedicated herself to science and to revealing the mysteries of the physical world.

Sub questions

Question Number : 151 Question Id : 9983678198 Question Type : MCQ Option Shuffling : Yes

Correct Marks : 1 Wrong Marks : 0.25

Which among the following options is NOT true about Marie according to the passage?

Options :

1. ✖ She received the Nobel Prize.
2. ✖ She was the first woman to be appointed as a professor at a world-famous university.
3. ✖ She was born in Poland.
4. ✔ She was killed by a horse-drawn wagon.

Question Number : 152 Question Id : 9983678199 Question Type : MCQ Option Shuffling : Yes

Correct Marks : 1 Wrong Marks : 0.25

According to the passage why did Marie's distress increase?

Options :

1. ✖ Because her husband was killed.
2. ✔ Because she had two daughters to look after all by herself.
3. ✖ Because she suffered from a fatal disease.
4. ✖ Because she learned that the university in Warsaw was closed to women.

Question Number : 153 Question Id : 9983678200 Question Type : MCQ Option Shuffling : Yes

Correct Marks : 1 Wrong Marks : 0.25

Select the most appropriate synonym of the given word.

EXUBERANCE

Options :

1. ✓ exhilaration

2. ✗ coolness

3. ✗ apathy

4. ✗ lethargy

Question Number : 154 Question Id : 9983678201 Question Type : MCQ Option Shuffling : Yes

Correct Marks : 1 Wrong Marks : 0.25

Select the most appropriate ANTONYM of the given word.

DISGRUNTLED

Options :

1. ✗ annoyed

2. ✗ irritated

3. ✗ vexed

4. ✓ contented

Question Number : 155 Question Id : 9983678202 Question Type : MCQ Option Shuffling : Yes

Correct Marks : 1 Wrong Marks : 0.25

Which of the following options can replace the highlighted word in the given sentence?

Although Marie Curie eventually suffered a fatal illness from her long exposure to radium, she never became **disillusioned** about her work.

Options :

1. ✗ Contended

2. ✓ Disenchanted

3. ✖ Enchanted

4. ✖ Satisfied

Sub-Section Number:	3
Sub-Section Id:	998367516
Question Shuffling Allowed :	Yes

Question Id : 9983678203 Question Type : COMPREHENSION Sub Question Shuffling Allowed : Yes Group Comprehension Questions : No

Question Numbers : (156 to 160)

Question Label : Comprehension

Read the given passage and answer the questions that follow. Of the forces that can best overcome all difficulties, love is the most potent force because the greatest law of God is love, which holds the key to all problems.

This mighty force not only enables you to put the ideal of selfless service into practice, but also transforms one into God. It has been possible through love for man to become God; and when God becomes man, it is also due to His Love for us.

Love is dynamic in action and contagious in effect. Pure love is matchless in majesty; it has no parallel in power and there is no darkness it cannot dispel.

It is the undying flame that has set life aglow. Our emancipation depends upon our love for God and upon God's love for us. Where there is love, there is Oneness and, in complete Oneness, the Infinite is realised completely in every sphere of life, be it science, art or religion.

To those whose hearts are pure and simple, true love comes as a gift through the activating grace of a Perfect Master, and this Divine Love will perform the supreme miracle of bringing God into the hearts of men.

To realise God, we must love Him, losing ourselves in His Infinite Self. We can love God by surrendering to the Perfect Master who is God's personal manifestation.

The beginning of real love is obedience, and the highest aspect of this love that surpasses love itself is the aspect that culminates into the perfect obedience or supreme resignation to the Will and Wish of the Beloved. In this love are embodied all Yogas known to saints and seekers.

Question Number : 156 Question Id : 9983678204 Question Type : MCQ Option Shuffling : Yes
Correct Marks : 1 Wrong Marks : 0.25

According to the passage which of the following is the greatest law that holds the key to all problems?

Options :

1. ✓ Love
2. ✗ God
3. ✗ Religion
4. ✗ Faith

Question Number : 157 Question Id : 9983678205 Question Type : MCQ Option Shuffling : Yes
Correct Marks : 1 Wrong Marks : 0.25

According to the passage which of the following is NOT a feature of true love?

Options :

1. ✗ It has no parallel in power.
2. ✗ It can dispel all darkness.
3. ✓ It has limits.
4. ✗ It is the undying flame that sets life aglow.

Question Number : 158 Question Id : 9983678206 Question Type : MCQ Option Shuffling : Yes
Correct Marks : 1 Wrong Marks : 0.25

“Love is dynamic in action and **contagious** in effect.”

Which of the following words has the OPPOSITE meaning as the highlighted word?

Options :

1. ✗ Transmittable
2. ✓ Non communicable
3. ✗ Pestilent
4. ✗ Catching

Question Number : 159 Question Id : 9983678207 Question Type : MCQ Option Shuffling : Yes

Correct Marks : 1 Wrong Marks : 0.25

According to the passage what is considered as a supreme miracle?

Options :

1. ✖ Divine love
2. ✔ Bringing God into the hearts of men
3. ✖ Complete oneness
4. ✖ Obedience

Question Number : 160 Question Id : 9983678208 Question Type : MCQ Option Shuffling : Yes

Correct Marks : 1 Wrong Marks : 0.25

What is the meaning of the word 'emancipation' in the passage?

Options :

1. ✖ Hold
2. ✖ Restraint
3. ✔ Liberation
4. ✖ Servitude

Question Id : 9983678203 Question Type : COMPREHENSION Sub Question Shuffling Allowed : Yes Group Comprehension Questions : No

Question Numbers : (156 to 160)

Question Label : Comprehension

Read the given passage and answer the questions that follow.

Of the forces that can best overcome all difficulties, love is the most potent force because the greatest law of God is love, which holds the key to all problems.

This mighty force not only enables you to put the ideal of selfless service into practice, but also transforms one into God. It has been possible through love for man to become God; and when God becomes man, it is also due to His Love for us.

Love is dynamic in action and contagious in effect. Pure love is matchless in majesty; it has no parallel in power and there is no darkness it cannot dispel.

It is the undying flame that has set life aglow. Our emancipation depends upon our love for God and upon God's love for us. Where there is love, there is Oneness and, in complete Oneness, the Infinite is realised completely in every sphere of life, be it science, art or religion.

To those whose hearts are pure and simple, true love comes as a gift through the activating grace of a Perfect Master, and this Divine Love will perform the supreme miracle of bringing God into the hearts of men.

To realise God, we must love Him, losing ourselves in His Infinite Self. We can love God by surrendering to the Perfect Master who is God's personal manifestation.

The beginning of real love is obedience, and the highest aspect of this love that surpasses love itself is the aspect that culminates into the perfect obedience or supreme resignation to the Will and Wish of the Beloved. In this love are embodied all Yogas known to saints and seekers.

Sub questions

Question Number : 156 Question Id : 9983678204 Question Type : MCQ Option Shuffling : Yes

Correct Marks : 1 Wrong Marks : 0.25

According to the passage which of the following is the greatest law that holds the key to all problems?

Options :

1. ✓ Love
2. ✗ God
3. ✗ Religion
4. ✗ Faith

Question Number : 157 Question Id : 9983678205 Question Type : MCQ Option Shuffling : Yes

Correct Marks : 1 Wrong Marks : 0.25

According to the passage which of the following is NOT a feature of true love?

Options :

1. ✗ It has no parallel in power.
2. ✗ It can dispel all darkness.
3. ✓ It has limits.
4. ✗ It is the undying flame that sets life aglow.

Question Number : 158 Question Id : 9983678206 Question Type : MCQ Option Shuffling : Yes

Correct Marks : 1 Wrong Marks : 0.25

“Love is dynamic in action and **contagious** in effect.”

Which of the following words has the OPPOSITE meaning as the highlighted word?

Options :

1. ✗ Transmittable

2. ✓ Non communicable

3. ✗ Pestilent

4. ✗ Catching

Question Number : 159 Question Id : 9983678207 Question Type : MCQ Option Shuffling : Yes
Correct Marks : 1 Wrong Marks : 0.25

According to the passage what is considered as a supreme miracle?

Options :

1. ✗ Divine love

2. ✓ Bringing God into the hearts of men

3. ✗ Complete oneness

4. ✗ Obedience

Question Number : 160 Question Id : 9983678208 Question Type : MCQ Option Shuffling : Yes
Correct Marks : 1 Wrong Marks : 0.25

What is the meaning of the word 'emancipation' in the passage?

Options :

1. ✗ Hold

2. ✗ Restraint

3. ✓ Liberation

4. ✗ Servitude

General Hindi1

Group Number : 9
Group Id : 998367355
Group Maximum Duration : 0
Group Minimum Duration : 0

Show Attended Group? :	No
Edit Attended Group? :	No
Break time:	0
Group Marks:	20
Is this Group for Examiner?:	No
Revisit allowed for group Instructions? :	Yes
Maximum Instruction Time:	0
Minimum Instruction Time:	0

General Hindi1

Section Id :	998367361
Section Number :	1
Section type :	Online
Mandatory or Optional:	Mandatory
Number of Questions:	20
Number of Questions to be attempted:	20
Section Marks:	20

Sub-Section Number:	1
Sub-Section Id:	998367517
Question Shuffling Allowed :	Yes

Question Number : 161 Question Id : 9983678209 Question Type : MCQ Option Shuffling : Yes
Correct Marks : 1 Wrong Marks : 0.25

निम्नलिखित में से किस शब्द की वर्तनी अशुद्ध है?

Options :

1. * आविष्कार
2. * अनधिकार
3. ✓ अत्याधिक
4. * नमस्कार

Question Number : 161 Question Id : 9983678209 Question Type : MCQ Option Shuffling : Yes
Correct Marks : 1 Wrong Marks : 0.25

निम्नलिखित में से किस शब्द की वर्तनी अशुद्ध है?

Options :

1. * आविष्कार
2. * अनधिकार
3. ✓ अत्याधिक

4. * नमस्कार

Question Number : 162 Question Id : 9983678210 Question Type : MCQ Option Shuffling : Yes
Correct Marks : 1 Wrong Marks : 0.25

निम्नलिखित में से किस शब्द की वर्तनी शुद्ध है?

Options :

1. * कालीदास
2. ✓ भागीरथी
3. * ग्रहस्थी
4. * बृजभाषा

Question Number : 162 Question Id : 9983678210 Question Type : MCQ Option Shuffling : Yes
Correct Marks : 1 Wrong Marks : 0.25

निम्नलिखित में से किस शब्द की वर्तनी शुद्ध है?

Options :

1. * कालीदास
2. ✓ भागीरथी
3. * ग्रहस्थी
4. * बृजभाषा

Question Number : 163 Question Id : 9983678211 Question Type : MCQ Option Shuffling : Yes
Correct Marks : 1 Wrong Marks : 0.25

कौन सा शब्द शुद्ध वर्तनी का परिचायक है?

Options :

1. * आप्रत्याशित
2. * अप्रत्याशीत
3. * आप्रत्याशीत
4. ✓ अप्रत्याशित

Question Number : 163 Question Id : 9983678211 Question Type : MCQ Option Shuffling : Yes
Correct Marks : 1 Wrong Marks : 0.25

कौन सा शब्द शुद्ध वर्तनी का परिचायक है?

Options :

1. * आप्रत्याशित
2. * अप्रत्याशीत
3. * आप्रत्याशीत
4. ✓ अप्रत्याशित

Question Number : 164 Question Id : 9983678212 Question Type : MCQ Option Shuffling : Yes
Correct Marks : 1 Wrong Marks : 0.25

'जगन्नाथ' शब्द में कौन सा समास है?

Note: For this question, discrepancy is found in question/answer. So, this question is ignored for all candidates.

Options :

1. बहुव्रीहि
2. तत्पुरुष
3. कर्मधारय
4. अव्ययीभाव

Question Number : 164 Question Id : 9983678212 Question Type : MCQ Option Shuffling : Yes
Correct Marks : 1 Wrong Marks : 0.25

'जगन्नाथ' शब्द में कौन सा समास है?

Note: For this question, discrepancy is found in question/answer. So, this question is ignored for all candidates.

Options :

1. बहुव्रीहि
2. तत्पुरुष
3. कर्मधारय
4. अव्ययीभाव

Question Number : 165 Question Id : 9983678213 Question Type : MCQ Option Shuffling : Yes
Correct Marks : 1 Wrong Marks : 0.25

कौन से शब्द तत्सम हैं?

Options :

1. * गाहक, चमड़ा, कोयल, कपूत

2. * सतसई, सावन, किवाड़, कंगन

3. ✓ कोष्ठक, चक्र, गमन, क्षत्रिय

4. * फागुन, बादल, मछली, लवंग

Question Number : 165 Question Id : 9983678213 Question Type : MCQ Option Shuffling : Yes
Correct Marks : 1 Wrong Marks : 0.25

कौन से शब्द तत्सम हैं?

Options :

1. * गाहक, चमड़ा, कोयल, कपूत

2. * सतसई, सावन, किवाड़, कंगन

3. ✓ कोष्ठक, चक्र, गमन, क्षत्रिय

4. * फागुन, बादल, मछली, लवंग

Question Number : 166 Question Id : 9983678214 Question Type : MCQ Option Shuffling : Yes
Correct Marks : 1 Wrong Marks : 0.25

निम्नलिखित में कौन सा वर्ग विशेषणों का है?

Options :

1. * अपेक्षा, कल्पना, चक्षु

2. * अनुकरण, बभ्रुक्षा, विकल्प

3. * स्वप्न, नियंत्रण, नगर

4. ✓ उत्कृष्ट, अनूदित, आग्नेय

Question Number : 166 Question Id : 9983678214 Question Type : MCQ Option Shuffling : Yes
Correct Marks : 1 Wrong Marks : 0.25

निम्नलिखित में कौन सा वर्ग विशेषणों का है?

Options :

1. * अपेक्षा, कल्पना, चक्षु

2. * अनुकरण, बभ्रुक्षा, विकल्प

3. * स्वप्न, नियंत्रण, नगर

4. ✓ उत्कृष्ट, अनूदित, आग्नेय

Question Number : 167 Question Id : 9983678215 Question Type : MCQ Option Shuffling : Yes
Correct Marks : 1 Wrong Marks : 0.25

'बीकानेरी' शब्द किस प्रकार का विशेषण है?

Options :

1. * परिमाणवाचक
2. * पुरुषवाचक
3. ✓ गुणवाचक
4. * संकेतवाचक

Question Number : 167 Question Id : 9983678215 Question Type : MCQ Option Shuffling : Yes
Correct Marks : 1 Wrong Marks : 0.25

'बीकानेरी' शब्द किस प्रकार का विशेषण है?

Options :

1. * परिमाणवाचक
2. * पुरुषवाचक
3. ✓ गुणवाचक
4. * संकेतवाचक

Question Number : 168 Question Id : 9983678216 Question Type : MCQ Option Shuffling : Yes
Correct Marks : 1 Wrong Marks : 0.25

निम्नलिखित में जातिवाचक संज्ञा का उदाहरण नहीं है:

Options :

1. ✓ हिमालय
2. * नदी
3. * पर्वत
4. * झील

Question Number : 168 Question Id : 9983678216 Question Type : MCQ Option Shuffling : Yes
Correct Marks : 1 Wrong Marks : 0.25

निम्नलिखित में जातिवाचक संज्ञा का उदाहरण नहीं है:

Options :

1. ✓ हिमालय

2. * नदी
3. * पर्वत
4. * झील

Question Number : 169 Question Id : 9983678217 Question Type : MCQ Option Shuffling : Yes
Correct Marks : 1 Wrong Marks : 0.25

'तुम' शब्द किस प्रकार का सर्वनाम है?

Options :

1. * निजवाचक
2. ✓ पुरुषवाचक
3. * प्रश्नवाचक
4. * संबंधवाचक

Question Number : 169 Question Id : 9983678217 Question Type : MCQ Option Shuffling : Yes
Correct Marks : 1 Wrong Marks : 0.25

'तुम' शब्द किस प्रकार का सर्वनाम है?

Options :

1. * निजवाचक
2. ✓ पुरुषवाचक
3. * प्रश्नवाचक
4. * संबंधवाचक

Question Number : 170 Question Id : 9983678218 Question Type : MCQ Option Shuffling : Yes
Correct Marks : 1 Wrong Marks : 0.25

'पुकार' शब्द का लिंग भेद है?

Options :

1. * उभयलिंग
2. ✓ स्त्रीलिंग
3. * पुल्लिंग
4. * नपुंसक लिंग

Question Number : 170 Question Id : 9983678218 Question Type : MCQ Option Shuffling : Yes

Correct Marks : 1 Wrong Marks : 0.25

'पुकार' शब्द का लिंग भेद है?

Options :

1. * उभयलिंग
2. ✓ स्त्रीलिंग
3. * पुल्लिंग
4. * नपुंसक लिंग

Question Number : 171 Question Id : 9983678219 Question Type : MCQ Option Shuffling : Yes

Correct Marks : 1 Wrong Marks : 0.25

कौन सा शब्द यौगिक शब्द है?

Options :

1. * जलज
2. * पीतांबर
3. ✓ छायादार
4. * विज्ञान

Question Number : 171 Question Id : 9983678219 Question Type : MCQ Option Shuffling : Yes

Correct Marks : 1 Wrong Marks : 0.25

कौन सा शब्द यौगिक शब्द है?

Options :

1. * जलज
2. * पीतांबर
3. ✓ छायादार
4. * विज्ञान

Question Number : 172 Question Id : 9983678220 Question Type : MCQ Option Shuffling : Yes

Correct Marks : 1 Wrong Marks : 0.25

'सपना पत्र लिखती है' वाक्य का वाच्य-परिचय क्या है?

Options :

1. * भाववाच्य

2. * कर्मवाच्य
3. ✓ कर्तृवाच्य
4. * अनिश्चित वाच्य

Question Number : 172 Question Id : 9983678220 Question Type : MCQ Option Shuffling : Yes
Correct Marks : 1 Wrong Marks : 0.25

'सपना पत्र लिखती है' वाक्य का वाच्य-परिचय क्या है?

Options :

1. * भाववाच्य
2. * कर्मवाच्य
3. ✓ कर्तृवाच्य
4. * अनिश्चित वाच्य

Question Number : 173 Question Id : 9983678221 Question Type : MCQ Option Shuffling : Yes
Correct Marks : 1 Wrong Marks : 0.25

'चौरस' शब्द किस प्रकार के विशेषण का उदाहरण है:

Options :

1. * परिमाणवाचक
2. ✓ गुणवाचक
3. * संकेतवाचक
4. * संख्यावाचक

Question Number : 173 Question Id : 9983678221 Question Type : MCQ Option Shuffling : Yes
Correct Marks : 1 Wrong Marks : 0.25

'चौरस' शब्द किस प्रकार के विशेषण का उदाहरण है:

Options :

1. * परिमाणवाचक
2. ✓ गुणवाचक
3. * संकेतवाचक
4. * संख्यावाचक

Question Number : 174 Question Id : 9983678222 Question Type : MCQ Option Shuffling : Yes
Correct Marks : 1 Wrong Marks : 0.25

'संकल्प' शब्द का संधि-विच्छेद क्या होगा?

Options :

1. * सं+कल्प
2. * स+न+कल्प
3. * सन्+कल्प
4. ✓ सम्+कल्प

Question Number : 174 Question Id : 9983678222 Question Type : MCQ Option Shuffling : Yes
Correct Marks : 1 Wrong Marks : 0.25

'संकल्प' शब्द का संधि-विच्छेद क्या होगा?

Options :

1. * सं+कल्प
2. * स+न+कल्प
3. * सन्+कल्प
4. ✓ सम्+कल्प

Question Number : 175 Question Id : 9983678223 Question Type : MCQ Option Shuffling : Yes
Correct Marks : 1 Wrong Marks : 0.25

'रखैया' शब्द में कौन सा प्रत्यय है?

Options :

1. * ईया
2. * या
3. ✓ ऐया
4. * इया

Question Number : 175 Question Id : 9983678223 Question Type : MCQ Option Shuffling : Yes
Correct Marks : 1 Wrong Marks : 0.25

'रखैया' शब्द में कौन सा प्रत्यय है?

Options :

1. * ईया

2. ✖ या

3. ✔ ऐया

4. ✖ इया

Question Number : 176 Question Id : 9983678224 Question Type : MCQ Option Shuffling : Yes
Correct Marks : 1 Wrong Marks : 0.25

निम्नलिखित में से कौन सा वाक्य संयुक्त वाक्य है?

Options :

1. ✖ अनीता चाहती है कि वह नौकरी करे।

2. ✔ मयंक ने खाना खाया और सो गया।

3. ✖ सानवी जिस घर में रहती है, बहुत गंदा है।

4. ✖ जय गाना गाकर चला गया।

Question Number : 176 Question Id : 9983678224 Question Type : MCQ Option Shuffling : Yes
Correct Marks : 1 Wrong Marks : 0.25

निम्नलिखित में से कौन सा वाक्य संयुक्त वाक्य है?

Options :

1. ✖ अनीता चाहती है कि वह नौकरी करे।

2. ✔ मयंक ने खाना खाया और सो गया।

3. ✖ सानवी जिस घर में रहती है, बहुत गंदा है।

4. ✖ जय गाना गाकर चला गया।

Question Number : 177 Question Id : 9983678225 Question Type : MCQ Option Shuffling : Yes
Correct Marks : 1 Wrong Marks : 0.25

'स्पर्श से अब अकेले नहीं रहा जाता' वाक्य किस प्रकार के वाच्य का उदाहरण है?

Options :

1. ✖ कर्मवाच्य

2. ✖ कर्तृवाच्य

3. ✖ निषेधवाच्य

4. ✔ भाववाच्य

Question Number : 177 Question Id : 9983678225 Question Type : MCQ Option Shuffling : Yes

Correct Marks : 1 Wrong Marks : 0.25

'स्पर्श से अब अकेले नहीं रहा जाता' वाक्य किस प्रकार के वाच्य का उदाहरण है?

Options :

1. * कर्मवाच्य
2. * कर्तृवाच्य
3. * निषेधवाच्य
4. ✓ भाववाच्य

Question Number : 178 Question Id : 9983678226 Question Type : MCQ Option Shuffling : Yes

Correct Marks : 1 Wrong Marks : 0.25

'संसार में संतोष से बढ़कर कोई सुख नहीं।' कैसा वाक्य है?

Options :

1. * मिश्र वाक्य
2. * संयुक्त वाक्य
3. ✓ सरल वाक्य
4. * प्रश्नवाचक वाक्य

Question Number : 178 Question Id : 9983678226 Question Type : MCQ Option Shuffling : Yes

Correct Marks : 1 Wrong Marks : 0.25

'संसार में संतोष से बढ़कर कोई सुख नहीं।' कैसा वाक्य है?

Options :

1. * मिश्र वाक्य
2. * संयुक्त वाक्य
3. ✓ सरल वाक्य
4. * प्रश्नवाचक वाक्य

Question Number : 179 Question Id : 9983678227 Question Type : MCQ Option Shuffling : Yes

Correct Marks : 1 Wrong Marks : 0.25

रचना के आधार पर वाक्य कितने प्रकार के होते हैं?

Options :

1. * चार
2. ✓ तीन
3. * सात
4. * पांच

Question Number : 179 Question Id : 9983678227 Question Type : MCQ Option Shuffling : Yes
Correct Marks : 1 Wrong Marks : 0.25

रचना के आधार पर वाक्य कितने प्रकार के होते हैं?

Options :

1. * चार
2. ✓ तीन
3. * सात
4. * पांच

Question Number : 180 Question Id : 9983678228 Question Type : MCQ Option Shuffling : Yes
Correct Marks : 1 Wrong Marks : 0.25

'इस मूल्य से किताब नहीं मिलेगी।' – वाक्य में किस प्रकार की अशुद्धि है:

Options :

1. * क्रिया-विशेषण की अशुद्धि
2. * सर्वनाम की अशुद्धि
3. ✓ परसर्ग की अशुद्धि
4. * विशेषण संबंधी अशुद्धि

Question Number : 180 Question Id : 9983678228 Question Type : MCQ Option Shuffling : Yes
Correct Marks : 1 Wrong Marks : 0.25

'इस मूल्य से किताब नहीं मिलेगी।' - वाक्य में किस प्रकार की अशुद्धि है:

Options :

1. * क्रिया-विशेषण की अशुद्धि
2. * सर्वनाम की अशुद्धि

3. ✓ परसर्ग की अशुद्धि

4. ✘ विशेषण संबंधी अशुद्धि

General Hindi2

Group Number :	10
Group Id :	998367356
Group Maximum Duration :	0
Group Minimum Duration :	120
Show Attended Group? :	No
Edit Attended Group? :	No
Break time:	0
Group Marks:	20
Is this Group for Examiner? :	No
Revisit allowed for group Instructions? :	Yes
Maximum Instruction Time:	0
Minimum Instruction Time:	0

General Hindi2

Section Id :	998367362
Section Number :	1
Section type :	Online
Mandatory or Optional:	Mandatory
Number of Questions:	12
Number of Questions to be attempted:	12
Section Marks:	20

Sub-Section Number:	1
Sub-Section Id:	998367518
Question Shuffling Allowed :	Yes

Question Number : 181 Question Id : 9983678229 Question Type : MCQ Option Shuffling : Yes
Correct Marks : 1 Wrong Marks : 0.25

कौन सा शब्द 'ब्रह्मा' का पर्यायवाची नहीं है?

Options :

1. ✘ चतुरानन

2. ✘ विरंचि

3. ✓ आशुतोष

4. ✘ प्रजापति

Question Number : 181 Question Id : 9983678229 Question Type : MCQ Option Shuffling : Yes
Correct Marks : 1 Wrong Marks : 0.25

कौन सा शब्द 'ब्रह्मा' का पर्यायवाची नहीं है?

Options :

1. ✖ चतुरानन
2. ✖ विरंचि
3. ✔ आशुतोष
4. ✖ प्रजापति

Question Number : 182 Question Id : 9983678230 Question Type : MCQ Option Shuffling : Yes
Correct Marks : 1 Wrong Marks : 0.25

'खर' शब्द का पर्यायवाची शब्द क्या है?

Options :

1. ✖ केसरी
2. ✖ अहि
3. ✖ मर्कट
4. ✔ गर्दभ

Question Number : 182 Question Id : 9983678230 Question Type : MCQ Option Shuffling : Yes
Correct Marks : 1 Wrong Marks : 0.25

'खर' शब्द का पर्यायवाची शब्द क्या है?

Options :

1. ✖ केसरी
2. ✖ अहि
3. ✖ मर्कट
4. ✔ गर्दभ

Question Number : 183 Question Id : 9983678231 Question Type : MCQ Option Shuffling : Yes
Correct Marks : 1 Wrong Marks : 0.25

'पिशुन' शब्द का पर्यायवाची शब्द क्या है?

Options :

1. ✔ चुगलखोर

2. * प्रवंचक
3. * बाजीगर
4. * पिशाच

Question Number : 183 Question Id : 9983678231 Question Type : MCQ Option Shuffling : Yes
Correct Marks : 1 Wrong Marks : 0.25

'पिशुन' शब्द का पर्यायवाची शब्द क्या है?

Options :

1. ✓ चुगलखोर
2. * प्रवंचक
3. * बाजीगर
4. * पिशाच

Question Number : 184 Question Id : 9983678232 Question Type : MCQ Option Shuffling : Yes
Correct Marks : 1 Wrong Marks : 0.25

कौन सा शब्द 'बादल' का पर्यायवाची नहीं है?

Options :

1. * मेघ
2. * जलद
3. ✓ वारिधि
4. * नीरद

Question Number : 184 Question Id : 9983678232 Question Type : MCQ Option Shuffling : Yes
Correct Marks : 1 Wrong Marks : 0.25

कौन सा शब्द 'बादल' का पर्यायवाची नहीं है?

Options :

1. * मेघ
2. * जलद
3. ✓ वारिधि
4. * नीरद

Question Number : 185 Question Id : 9983678233 Question Type : MCQ Option Shuffling : Yes
Correct Marks : 1 Wrong Marks : 0.25

'भुजंग' का पर्यायवाची नहीं है:

Options :

1. * उरग
2. ✓ केहरि
3. * पन्नग
4. * सारंग

Question Number : 185 Question Id : 9983678233 Question Type : MCQ Option Shuffling : Yes
Correct Marks : 1 Wrong Marks : 0.25

'भुजंग' का पर्यायवाची नहीं है:

Options :

1. * उरग
2. ✓ केहरि
3. * पन्नग
4. * सारंग

Question Number : 186 Question Id : 9983678234 Question Type : MCQ Option Shuffling : Yes
Correct Marks : 1 Wrong Marks : 0.25

'उदार' का विलोम शब्द क्या है?

Options :

1. * कठोर
2. * पाषाण
3. * दरिद्र
4. ✓ अनुदार

Question Number : 186 Question Id : 9983678234 Question Type : MCQ Option Shuffling : Yes
Correct Marks : 1 Wrong Marks : 0.25

'उदार' का विलोम शब्द क्या है?

Options :

1. * कठोर

2. ✖ पाषाण

3. ✖ दरिद्र

4. ✔ अनुदार

Question Number : 187 Question Id : 9983678235 Question Type : MCQ Option Shuffling : Yes
Correct Marks : 1 Wrong Marks : 0.25

'स्थावर' का विलोम शब्द क्या है?

Options :

1. ✔ जंगम

2. ✖ चंचल

3. ✖ अस्थिर

4. ✖ चेतन

Question Number : 187 Question Id : 9983678235 Question Type : MCQ Option Shuffling : Yes
Correct Marks : 1 Wrong Marks : 0.25

'स्थावर' का विलोम शब्द क्या है?

Options :

1. ✔ जंगम

2. ✖ चंचल

3. ✖ अस्थिर

4. ✖ चेतन

Question Number : 188 Question Id : 9983678236 Question Type : MCQ Option Shuffling : Yes
Correct Marks : 1 Wrong Marks : 0.25

कौन सा युग्म विलोम शब्द का उदाहरण नहीं है?

Options :

1. ✖ शोषण-पोषण

2. ✖ सक्षम-अक्षम

3. ✔ गणेश-दिनेश

4. ✖ शुष्क-आर्द्र

Question Number : 188 Question Id : 9983678236 Question Type : MCQ Option Shuffling : Yes

Correct Marks : 1 Wrong Marks : 0.25

कौन सा युग्म विलोम शब्द का उदाहरण नहीं है?

Options :

1. * शोषण-पोषण
2. * सक्षम-अक्षम
3. ✓ गणेश-दिनेश
4. * शुष्क-आर्द्र

Question Number : 189 Question Id : 9983678237 Question Type : MCQ Option Shuffling : Yes

Correct Marks : 1 Wrong Marks : 0.25

'उत्तम' का विलोम क्या होगा?

Options :

1. * निकृष्ट
2. * तुच्छ
3. * त्याज्य
4. ✓ अधम

Question Number : 189 Question Id : 9983678237 Question Type : MCQ Option Shuffling : Yes

Correct Marks : 1 Wrong Marks : 0.25

'उत्तम' का विलोम क्या होगा?

Options :

1. * निकृष्ट
2. * तुच्छ
3. * त्याज्य
4. ✓ अधम

Question Number : 190 Question Id : 9983678238 Question Type : MCQ Option Shuffling : Yes

Correct Marks : 1 Wrong Marks : 0.25

'यश' का विलोम शब्द क्या होगा?

Options :

1. * सुयश

2. ✓ अपयश

3. ✘ कुख्यात

4. ✘ लब्ध-प्रतिष्ठ

Question Number : 190 Question Id : 9983678238 Question Type : MCQ Option Shuffling : Yes
Correct Marks : 1 Wrong Marks : 0.25

'यश' का विलोम शब्द क्या होगा?

Options :

1. ✘ सुयश

2. ✓ अपयश

3. ✘ कुख्यात

4. ✘ लब्ध-प्रतिष्ठ

Sub-Section Number: 2
Sub-Section Id: 998367519
Question Shuffling Allowed : Yes

Question Id : 9983678239 Question Type : COMPREHENSION Sub Question Shuffling Allowed : Yes Group Comprehension
Questions : No
Question Numbers : (191 to 195)

Question Label : Comprehension

नीचे दिये गए गद्यांश को पढ़कर पूछे गये प्रश्नों के उत्तर दीजिए।

समय का दिव्य रथ हर किसी के द्वार पर आता है। कुछ लोग नींद में, आलस्य में पड़े रहकर उसके रथ की घरघराहट को नहीं सुन पाते और करवट बदलकर पुनः सो जाते हैं। कुछ लोग होते हैं जो तुरंत द्वार खोलकर समय का स्वागत करते हैं, उसे पहचानकर उसका कहा स्वीकारते हैं। समय ऐसे ही सौभाग्यशालियों की झोली में वरदान के फूल डालकर आगे बढ़ जाता है, किंतु जो अभागे उसे पहचान नहीं पाते और करवट बदलकर सोए रहते हैं या उसके प्रति उदासीनता व्यक्त करते हैं, समय का रथ-चक्र उन्हें कुचलकर आगे बढ़ जाता है। विद्यार्थी जीवन के लिए तो समय सर्वाधिक महत्वपूर्ण है। उसका हर पल हीरे-मोती सा कीमती होता है। यही कारण है कि समय का सदुपयोग करने वाले सफलता के आसमान में भ्रमण करते हैं और समय को व्यर्थ बरबाद करने वाले होनहार, बुद्धिमान युवक भी बुरी तरह असफल हो जाते हैं।

Sub questions

Question Number : 191 Question Id : 9983678240 Question Type : MCQ Option Shuffling : Yes
Correct Marks : 1 Wrong Marks : 0.25

सफलता के आसमान में कौन भ्रमण करता है?

Options :

1. * जो समय की कभी परवाह नहीं करते।
2. * जो समय से भी आगे निकल जाते हैं।
3. * जो समय को अपना गुलाम बना लेते हैं।
4. ✓ जो समय का सर्वदा सदुपयोग करते हैं।

Question Number : 192 Question Id : 9983678241 Question Type : MCQ Option Shuffling : Yes
Correct Marks : 1 Wrong Marks : 0.25

जीवन में असफलता का मुंह कौन देखते हैं?

Options :

1. ✓ जो समय को व्यर्थ करते हैं, उसका सम्मान नहीं करते हैं।
2. * जो भाग्य को सर्वोपरि मानते हैं।
3. * जो अवसरों की बाट जोहते रहते हैं।
4. * जो श्रम करने की योजनाएं बनाते रहते हैं।

Question Number : 193 Question Id : 9983678242 Question Type : MCQ Option Shuffling : Yes
Correct Marks : 1 Wrong Marks : 0.25

समय का रथ किनकी झोली में वरदान के फूल डालकर आगे निकल जाता है?

Options :

1. * जो आलस्य करके सोए रहते हैं।
2. * जो बुद्धिमान और होनहार समय को महत्व नहीं देते।
3. ✓ जो समय के रथ की आवाज़ से द्वार खोलकर उसका स्वागत करते हैं।
4. * जो आज के कार्य को कल पर टाल देते हैं।

Question Number : 194 Question Id : 9983678243 Question Type : MCQ Option Shuffling : Yes

Correct Marks : 1 Wrong Marks : 0.25

समय का रथ चक्र किन्हें कुचलकर आगे निकल जाता है?

Options :

1. * जो केवल भाग्य और नियति पर भरोसा करते हैं।
2. ✓ जो समय की दस्तक सुनकर भी उदासीन बने रहते हैं, सोए रहते हैं।
3. * जो समय की उपयोगिता से ज्यादा अपनी श्रम-साधना को महत्व देते हैं।
4. * जो होनहार होने के कारण समय को अनदेखा करते हैं।

Question Number : 195 Question Id : 9983678244 Question Type : MCQ Option Shuffling : Yes

Correct Marks : 1 Wrong Marks : 0.25

गद्यांश का उपयुक्त शीर्षक होगा:

Options :

1. * सफलता की कसौटी
2. ✓ समय की गति
3. * भाग्य और दुर्भाग्य
4. * का बरखा जब कृषि सुखाने

Question Id : 9983678239 Question Type : COMPREHENSION Sub Question Shuffling Allowed : Yes Group Comprehension Questions : No

Question Numbers : (191 to 195)

Question Label : Comprehension

नीचे दिये गए गद्यांश को पढ़कर पूछे गये प्रश्नों के उत्तर दीजिए।

समय का दिव्य रथ हर किसी के द्वार पर आता है। कुछ लोग नींद में, आलस्य में पड़े रहकर उसके रथ की घरघराहट को नहीं सुन पाते और करवट बदलकर पुनः सो जाते हैं। कुछ लोग होते हैं जो तुरंत द्वार खोलकर समय का स्वागत करते हैं, उसे पहचानकर उसका कहा स्वीकारते हैं। समय ऐसे ही सौभाग्यशालियों की झोली में वरदान के फूल डालकर आगे बढ़ जाता है, किंतु जो अभागे उसे पहचान नहीं पाते और करवट बदलकर सोए रहते हैं या उसके प्रति उदासीनता व्यक्त करते हैं, समय का रथ-चक्र उन्हें कुचलकर आगे बढ़ जाता है। विद्यार्थी जीवन के लिए तो समय सर्वाधिक महत्वपूर्ण है। उसका हर पल हीरे-मोती सा कीमती होता है। यही कारण है कि समय का सदुपयोग करने वाले सफलता के आसमान में भ्रमण करते हैं और समय को व्यर्थ बरबाद करने वाले होनहार, बुद्धिमान युवक भी बुरी तरह असफल हो जाते हैं।

Sub questions

Question Number : 191 Question Id : 9983678240 Question Type : MCQ Option Shuffling : Yes

Correct Marks : 1 Wrong Marks : 0.25

सफलता के आसमान में कौन भ्रमण करता है?

Options :

1. * जो समय की कभी परवाह नहीं करते।
2. * जो समय से भी आगे निकल जाते हैं।
3. * जो समय को अपना गुलाम बना लेते हैं।
4. ✓ जो समय का सर्वदा सदुपयोग करते हैं।

Question Number : 192 Question Id : 9983678241 Question Type : MCQ Option Shuffling : Yes

Correct Marks : 1 Wrong Marks : 0.25

जीवन में असफलता का मुंह कौन देखते हैं?

Options :

1. ✓ जो समय को व्यर्थ करते हैं, उसका सम्मान नहीं करते हैं।
2. ✘ जो भाग्य को सर्वोपरि मानते हैं।
3. ✘ जो अवसरों की बाट जोहते रहते हैं।
4. ✘ जो श्रम करने की योजनाएं बनाते रहते हैं।

Question Number : 193 Question Id : 9983678242 Question Type : MCQ Option Shuffling : Yes

Correct Marks : 1 Wrong Marks : 0.25

समय का रथ किनकी झोली में वरदान के फूल डालकर आगे निकल जाता है?

Options :

1. ✘ जो आलस्य करके सोए रहते हैं।
2. ✘ जो बुद्धिमान और होनहार समय को महत्व नहीं देते।
3. ✓ जो समय के रथ की आवाज़ से द्वार खोलकर उसका स्वागत करते हैं।
4. ✘ जो आज के कार्य को कल पर टाल देते हैं।

Question Number : 194 Question Id : 9983678243 Question Type : MCQ Option Shuffling : Yes

Correct Marks : 1 Wrong Marks : 0.25

समय का रथ चक्र किन्हें कुचलकर आगे निकल जाता है?

Options :

1. ✘ जो केवल भाग्य और नियति पर भरोसा करते हैं।
2. ✓ जो समय की दस्तक सुनकर भी उदासीन बने रहते हैं, सोए रहते हैं।
3. ✘ जो समय की उपयोगिता से ज्यादा अपनी श्रम-साधना को महत्व देते हैं।

4. * जो होनहार होने के कारण समय को अनदेखा करते हैं।

Question Number : 195 Question Id : 9983678244 Question Type : MCQ Option Shuffling : Yes

Correct Marks : 1 Wrong Marks : 0.25

गद्यांश का उपयुक्त शीर्षक होगा:

Options :

1. * सफलता की कसौटी
2. ✓ समय की गति
3. * भाग्य और दुर्भाग्य
4. * का बरखा जब कृषि सुखाने

Sub-Section Number:

3

Sub-Section Id:

998367520

Question Shuffling Allowed :

Yes

Question Id : 9983678245 Question Type : COMPREHENSION Sub Question Shuffling Allowed : Yes Group Comprehension Questions : No

Question Numbers : (196 to 200)

Question Label : Comprehension

नीचे दिये गए गद्यांश को पढ़कर पूछे गये प्रश्नों के उत्तर दीजिए।

विज्ञान ने वरदान के रूप में मानवजाति की अपार सेवा की है। वैज्ञानिक आविष्कारों ने आज असंभव को भी संभव बना दिया है। तेजगति से उड़ने वाले वायुयानों ने विश्व को एक परिधि में समेट कर छोटी इकाई बना दिया है। मनुष्य विज्ञान के कारण ही आकाश में गरुड़ की तरह द्रुत गति से विचरण कर सकता है, समुद्र की छाती को चीर कर उसे लांघ सकता है, अंधेरे में प्रकाश का आलोक बिखेर सकता है। कंप्यूटर, रॉकेट, दूरदर्शन, चलचित्र, दूरभाष, मोबाइल और ऐसे ही न जाने कितने आश्चर्यजनक अद्भुत उपकरणों तथा यंत्रों से मनुष्य ने सर्वत्र अपना साम्राज्य स्थापित कर लिया है।

चिकित्सा के क्षेत्र में भी विज्ञान वरदान सिद्ध हुआ है। शिक्षा, कृषि, यातायात, उद्योग, मनोरंजन आदि समस्त क्षेत्रों में विज्ञान ने अपना लोहा मनवाया है। जड़ बन गया है। मानवता को नष्ट-किनष्ट करने वाले अणु-अस्त्र अब मानव जाति के लिए बड़ा संकट बन रहे हैं। 'संपूर्ण विनाश' की दस्तक भी विज्ञान ही दे रहा है।

Sub questions

Question Number : 196 Question Id : 9983678246 Question Type : MCQ Option Shuffling : Yes

Correct Marks : 1 Wrong Marks : 0.25

विज्ञान क्यो वरदान सिद्ध हुआ है?

Options :

1. * क्योकि उसने प्रकृति पर विजय प्राप्त कर ली है।
2. * क्योकि उसने मनुष्य को ईश्वर से ऊपर सिद्ध कर दिया है।
3. ✓ क्योकि वैज्ञानिक आविष्कारों ने असंभव को भी संभव बना दिया है।
4. * क्योकि विज्ञान ने आस्था के सभी स्तंभ गिरा दिए हैं।

Question Number : 197 Question Id : 9983678247 Question Type : MCQ Option Shuffling : Yes

Correct Marks : 1 Wrong Marks : 0.25

नए-नए उपकरणों और यंत्रों के आविष्कार से मनुष्य ने क्या कर दिया है?

Options :

1. ✓ मनुष्य ने सर्वत्र अपना साम्राज्य स्थापित कर दिया है।
2. * दुनिया को अपनी शक्ति का गुलाम बना लिया है।
3. * विज्ञान को कुछ भी कर सकने वाला अनुशासन बना दिया है।
4. * मृत्यु पर विजय हासिल कर ली है।

Question Number : 198 Question Id : 9983678248 Question Type : MCQ Option Shuffling : Yes

Correct Marks : 1 Wrong Marks : 0.25

गद्यांश का मूल संदेश क्या है?

Options :

1. * विज्ञान के खतरों से अवगत कराना
2. * विज्ञान की उपलब्धियों पर अर्थ करना
3. ✓ विज्ञान के वरदायी और अभिशप्त बनाने वाले रूपों को उजागर करना
4. * विज्ञान को नए भारत की वास्तविक शक्ति सिद्ध करना

Question Number : 199 Question Id : 9983678249 Question Type : MCQ Option Shuffling : Yes

Correct Marks : 1 Wrong Marks : 0.25

विज्ञान से मनुष्य और मनुष्यता को क्या खतरे हैं?

Options :

1. ✓ मानवता के विनाशक अणु-अस्त्रों के निर्माण का खतरा
2. * मनुष्य के बेरोजगार हो जाने का खतरा

3. * मानवता से नैतिकता और आस्था के अंत का खतरा

4. * मनुष्य को हताश, निराश और अकर्मण्य बना देने का खतरा

Question Number : 200 Question Id : 9983678250 Question Type : MCQ Option Shuffling : Yes

Correct Marks : 1 Wrong Marks : 0.25

गद्यांश का सटीक एवं उपयुक्त शीर्षक क्या होना चाहिए?

Options :

1. * विज्ञान के चमत्कार

2. * विज्ञान के उपकार

3. * विज्ञान एक विलक्षण उपलब्धि

4. ✓ विज्ञान : वरदान भी, अभिशाप भी

Question Id : 9983678245 Question Type : COMPREHENSION Sub Question Shuffling Allowed : Yes Group Comprehension

Questions : No

Question Numbers : (196 to 200)

Question Label : Comprehension

नीचे दिये गए गद्यांश को पढ़कर पूछे गये प्रश्नों के उत्तर दीजिए।

विज्ञान ने वरदान के रूप में मानवजाति की अपार सेवा की है। वैज्ञानिक आविष्कारों ने आज असंभव को भी संभव बना दिया है। तेजगति से उड़ने वाले वायुयानों ने विश्व को एक परिधि में समेट कर छोटी इकाई बना दिया है। मनुष्य विज्ञान के कारण ही आकाश में गरुड़ की तरह द्रुत गति से विचरण कर सकता है, समुद्र की छाती को चीर कर उसे लांघ सकता है, अंधेरे में प्रकाश का आलोक बिखेर सकता है। कंप्यूटर, रॉकेट, दूरदर्शन, चलचित्र, दूरभाष, मोबाइल और ऐसे ही न जाने कितने आश्चर्यजनक अद्भुत उपरणों तथा यंत्रों से मनुष्य ने सर्वत्र अपना साम्राज्य स्थापित कर लिया है। चिकित्सा के क्षेत्र में भी विज्ञान वरदान सिद्ध हुआ है। शिक्षा, कृषि, यातायात, उद्योग, मनोरंजन आदि समस्त क्षेत्रों में विज्ञान ने अपना लोहा मनवाया है। जड़ बन गया है। मानवता को नष्ट-किनष्ट करने वाले अणु-अस्त्र अब मानव जाति के लिए बड़ा संकट बन रहे हैं। 'संपूर्ण विनाश' की दस्तक भी विज्ञान ही दे रहा है।

Sub questions

Question Number : 196 Question Id : 9983678246 Question Type : MCQ Option Shuffling : Yes

Correct Marks : 1 Wrong Marks : 0.25

विज्ञान क्यों वरदान सिद्ध हुआ है?

Options :

1. * क्योंकि उसने प्रकृति पर विजय प्राप्त कर ली है।
2. * क्योंकि उसने मनुष्य को ईश्वर से ऊपर सिद्ध कर दिया है।
3. ✓ क्योंकि वैज्ञानिक आविष्कारों ने असंभव को भी संभव बना दिया है।

|

4. * क्योंकि विज्ञान ने आस्था के सभी स्तंभ गिरा दिए हैं।

Question Number : 197 Question Id : 9983678247 Question Type : MCQ Option Shuffling : Yes
Correct Marks : 1 Wrong Marks : 0.25

नए-नए उपकरणों और यंत्रों के आविष्कार से मनुष्य ने क्या कर दिया है?

Options :

1. ✓ मनुष्य ने सर्वत्र अपना साम्राज्य स्थापित कर दिया है।
2. * दुनिया को अपनी शक्ति का गुलाम बना लिया है।
3. * विज्ञान को कुछ भी कर सकने वाला अनुशासन बना दिया है।
4. * मृत्यु पर विजय हासिल कर ली है।

Question Number : 198 Question Id : 9983678248 Question Type : MCQ Option Shuffling : Yes
Correct Marks : 1 Wrong Marks : 0.25

गद्यांश का मूल संदेश क्या है?

Options :

1. * विज्ञान के खतरों से अवगत कराना
2. * विज्ञान की उपलब्धियों पर अर्थ करना
3. ✓ विज्ञान के वरदायी और अभिशप्त बनाने वाले रूपों को उजागर करना
4. * विज्ञान को नए भारत की वास्तविक शक्ति सिद्ध करना

Question Number : 199 Question Id : 9983678249 Question Type : MCQ Option Shuffling : Yes
Correct Marks : 1 Wrong Marks : 0.25

विज्ञान से मनुष्य और मनुष्यता को क्या खतरे हैं?

Options :

1. ✓ मानवता के विनाशक अणु-अस्त्रों के निर्माण का खतरा
2. * मनुष्य के बेरोजगार हो जाने का खतरा
3. * मानवता से नैतिकता और आस्था के अंत का खतरा

4. * मनुष्य को हताश, निराश और अकर्मण्य बना देने का खतरा

Question Number : 200 Question Id : 9983678250 Question Type : MCQ Option Shuffling : Yes

Correct Marks : 1 Wrong Marks : 0.25

गद्यांश का सटीक एवं उपयुक्त शीर्षक क्या होना चाहिए?

Options :

1. * विज्ञान के चमत्कार
2. * विज्ञान के उपकार
3. * विज्ञान एक विलक्षण उपलब्धि
4. ✓ विज्ञान : वरदान भी, अभिशाप भी