

Education Consultant India Ltd.

Notations :

1.Options shown in green color and with ✓ icon are correct.

2.Options shown in red color and with ✘ icon are incorrect.

Question Paper Name:	MEDICAL RECORD CLERK 25th July 2019 Shift 2
Subject Name:	MEDICAL RECORD CLERK
Creation Date:	2019-07-25 16:31:02
Duration:	120
Total Marks:	200
Display Marks:	Yes
Share Answer Key With Delivery Engine:	No
Actual Answer Key:	Yes
Calculator:	None
Magnifying Glass Required?:	No
Ruler Required?:	No
Eraser Required?:	No
Scratch Pad Required?:	No
Rough Sketch/Notepad Required?:	No
Protractor Required?:	No
Show Watermark on Console?:	Yes
Highlighter:	No
Auto Save on Console?:	No

Mental Ability1

Group Number :	1
Group Id :	998367377
Group Maximum Duration :	0
Group Minimum Duration :	0
Show Attended Group? :	No
Edit Attended Group? :	No
Break time:	0
Group Marks:	20
Is this Group for Examiner?:	No
Revisit allowed for group Instructions? :	Yes
Maximum Instruction Time:	0
Minimum Instruction Time:	0

Mental Ability1

Section Id :	998367383
Section Number :	1

Section type :	Online
Mandatory or Optional:	Mandatory
Number of Questions:	20
Number of Questions to be attempted:	20
Section Marks:	20

Sub-Section Number:	1
Sub-Section Id:	998367545
Question Shuffling Allowed :	Yes

Question Number : 1 Question Id : 9983678655 Question Type : MCQ Option Shuffling : Yes
Correct Marks : 1 Wrong Marks : 0.25

Find the last letter in the following letter series.

A, E , J ,P, V, __

Options :

1. ✘ B

2. ✘ H

3. ✘ A

4. ✔ C

Question Number : 1 Question Id : 9983678655 Question Type : MCQ Option Shuffling : Yes
Correct Marks : 1 Wrong Marks : 0.25

निम्न अक्षर श्रृंखला में अंतिम अक्षर ज्ञात करें।

A, E, J, P, V, __

Options :

1. ✘ B

2. ✘ H

3. ✘ A

4. ✔ C

Question Number : 2 Question Id : 9983678656 Question Type : MCQ Option Shuffling : Yes
Correct Marks : 1 Wrong Marks : 0.25

Find the last letters in the following letter series.

KJL, ONP, SRT, WVX, AZB, _____

Options :

1. ✓ EDF

2. ✗ EFD

3. ✗ DCE

4. ✗ CDE

Question Number : 2 Question Id : 9983678656 Question Type : MCQ Option Shuffling : Yes

Correct Marks : 1 Wrong Marks : 0.25

निम्न अक्षर श्रृंखला में अंतिम अक्षर ज्ञात करें।

KJL, ONP, SRT, WVX, AZB, _____

Options :

1. ✓ EDF

2. ✗ EFD

3. ✗ DCE

4. ✗ CDE

Question Number : 3 Question Id : 9983678657 Question Type : MCQ Option Shuffling : Yes

Correct Marks : 1 Wrong Marks : 0.25

निम्नलिखित प्रश्न में, दिए गए शब्द द्वारा इन विकल्पों में से एक विकल्प गठित नहीं किया जा सकता। उस शब्द को खोजें।

ENCYCLOPEDIA

Options :

1. ✗ CYCLE

2. ✗ PEACE

3. ✖ CAPED

4. ✔ CLARE

Question Number : 3 Question Id : 9983678657 Question Type : MCQ Option Shuffling : Yes

Correct Marks : 1 Wrong Marks : 0.25

In the following question, one of the option cannot be formed by the word, given in the question. Find that word.

ENCYCLOPEDIA

Options :

1. ✖ CYCLE

2. ✖ PEACE

3. ✖ CAPED

4. ✔ CLARE

Question Number : 4 Question Id : 9983678658 Question Type : MCQ Option Shuffling : Yes

Correct Marks : 1 Wrong Marks : 0.25

Out of the given options, three are similar in a certain manner. However, one option is NOT like the other three. Select the option which is different from the rest.

Options :

1. ✖ Car

2. ✖ Bus

3. ✖ Jeep

4. ✔ Boat

Question Number : 4 Question Id : 9983678658 Question Type : MCQ Option Shuffling : Yes

Correct Marks : 1 Wrong Marks : 0.25

दिए गए विकल्पों में से, तीन एक निश्चित तरीके से समान हैं। हालाँकि, एक विकल्प अन्य तीन की तरह नहीं है। उस विकल्प का चयन करें जो अन्य से अलग है।

Options :

1. ✖ कार
2. ✖ बस
3. ✖ जीप
4. ✔ बोट

Question Number : 5 Question Id : 9983678659 Question Type : MCQ Option Shuffling : Yes

Correct Marks : 1 Wrong Marks : 0.25

Out of the given options, three are similar in a certain manner. However, one option is NOT like the other three. Select the option which is different from the rest.

Options :

1. ✖ MNO
2. ✔ WSF
3. ✖ YZA
4. ✖ KLM

Question Number : 5 Question Id : 9983678659 Question Type : MCQ Option Shuffling : Yes

Correct Marks : 1 Wrong Marks : 0.25

दिए गए विकल्पों में से, तीन एक निश्चित तरीके से समान हैं। हालाँकि, एक विकल्प अन्य तीन की तरह नहीं है। उस विकल्प का चयन करें जो अन्य से अलग है।

Options :

1. ✖ MNO
2. ✔ WSF
3. ✖ YZA
4. ✖ KLM

Question Number : 6 Question Id : 9983678660 Question Type : MCQ Option Shuffling : Yes

Correct Marks : 1 Wrong Marks : 0.25

In the given options 3 pair of words are similarly related and one pair is differently related. Find the pair which is differently related.

Options :

1. * Feet : Shoes
2. * Head : Cap
3. * Neck : Tie
4. ✓ Legs : Shirt

Question Number : 6 Question Id : 9983678660 Question Type : MCQ Option Shuffling : Yes

Correct Marks : 1 Wrong Marks : 0.25

दिए गए विकल्पों में शब्दों की 3 जोड़ियाँ समान रूप से संबंधित हैं और एक जोड़ी भिन्न रूप से संबंधित है। उस जोड़ी को ज्ञात करें जो अलग तरह से संबंधित है।

Options :

1. * पैर : जूते
2. * सिर : टोपी
3. * गर्दन : टाई
4. ✓ पैर : शर्ट

Question Number : 7 Question Id : 9983678661 Question Type : MCQ Option Shuffling : Yes

Correct Marks : 1 Wrong Marks : 0.25

Select the option that is related to the third term on the same basis as the second term is related to the first term.

Hen : Coops :: Dog : ?

Options :

1. * Stable
2. ✓ Kennels
3. * Den

4. * Holes

Question Number : 7 Question Id : 9983678661 Question Type : MCQ Option Shuffling : Yes
Correct Marks : 1 Wrong Marks : 0.25

उस विकल्प का चयन करें जो तीसरे पद से उसी प्रकार से संबंधित है जिस प्रकार से पहला पद दूसरे पद से संबंधित है।

मुर्गी : कूप :: कुत्ता : ?

Options :

1. * स्टेबल
2. ✓ केनल
3. * डेन
4. * होल्स

Question Number : 8 Question Id : 9983678662 Question Type : MCQ Option Shuffling : Yes
Correct Marks : 1 Wrong Marks : 0.25

उस विकल्प का चयन करें जो तीसरे पद से उसी प्रकार से संबंधित है जिस प्रकार से पहला पद दूसरे पद से संबंधित है।

TRG : SQF :: RBZ : ?

Options :

1. * OYW
2. ✓ QAY
3. * SCA
4. * TDB

Question Number : 8 Question Id : 9983678662 Question Type : MCQ Option Shuffling : Yes
Correct Marks : 1 Wrong Marks : 0.25

Select the option that is related to the third term on the same basis as the second term is related to the first term.

TRG : SQF :: RBZ : ?

Options :

1. ✖ OYW
2. ✔ QAY
3. ✖ SCA
4. ✖ TDB

Question Number : 9 Question Id : 9983678663 Question Type : MCQ Option Shuffling : Yes
Correct Marks : 1 Wrong Marks : 0.25

Select the option that is related to the third term on the same basis as the second term is related to the first term.

Wood : Trees :: Metal : ?

Options :

1. ✖ Alloy
2. ✖ Non-metal
3. ✖ Element
4. ✔ Ore

Question Number : 9 Question Id : 9983678663 Question Type : MCQ Option Shuffling : Yes
Correct Marks : 1 Wrong Marks : 0.25

उस विकल्प का चयन करें जो तीसरे पद से उसी प्रकार से संबंधित है जिस प्रकार से पहला पद दूसरे पद से संबंधित है।

लकड़ी : पेड़ :: धातु : ?

Options :

1. ✖ मिश्रधातु

2. ✖ अधातु

3. ✖ तत्त्व

4. ✔ अयस्क

Question Number : 10 Question Id : 9983678664 Question Type : MCQ Option Shuffling : Yes
Correct Marks : 1 Wrong Marks : 0.25

In a certain code language, 461 means 'apple is red', 246 means 'sea is deep' and 696 means 'sky looks red'. What number is the code for 'Red'?

Options :

1. ✔ 6

2. ✖ 8

3. ✖ 4

4. ✖ 5

Question Number : 10 Question Id : 9983678664 Question Type : MCQ Option Shuffling : Yes
Correct Marks : 1 Wrong Marks : 0.25

एक निश्चित कोड भाषा में, 461 का अर्थ है 'apple is red', 246 का अर्थ है 'sea is deep' और 696 का अर्थ है 'sky looks red'। 'Red' के लिए कोड क्या है?

Options :

1. ✔ 6

2. ✖ 8

3. ✖ 4

4. ✖ 5

Question Number : 11 Question Id : 9983678665 Question Type : MCQ Option Shuffling : Yes
Correct Marks : 1 Wrong Marks : 0.25

If CLEANUP is coded as ZIBXKRM, then how will HID be coded as?

Options :

1. ✖ SRW
2. ✖ GHC
3. ✔ EFA
4. ✖ IJE

Question Number : 11 Question Id : 9983678665 Question Type : MCQ Option Shuffling : Yes

Correct Marks : 1 Wrong Marks : 0.25

यदि CLEANUP को ZIBXKRM के रूप में कोडित किया जाता है, तो HID को कैसे कोडित किया जाएगा?

Options :

1. ✖ SRW
2. ✖ GHC
3. ✔ EFA
4. ✖ IJE

Question Number : 12 Question Id : 9983678666 Question Type : MCQ Option Shuffling : Yes

Correct Marks : 1 Wrong Marks : 0.25

Here are some words from an artificial language.

'pivtem' means 'handsome',

'kastem' means 'someday'

'kasnol' means 'daytime'

Which word would mean 'lifetime'?

Options :

1. ✖ kaspow
2. ✖ kedtem
3. ✖ ragpiv
4. ✔ nolrej

Question Number : 12 Question Id : 9983678666 Question Type : MCQ Option Shuffling : Yes

Correct Marks : 1 Wrong Marks : 0.25

यहाँ एक कृत्रिम भाषा के कुछ शब्द दिए हैं।

'pivtem' का अर्थ है 'handsome',

'kastem' का अर्थ है 'someday'

'kasnol' का अर्थ है 'daytime' x

किस शब्द का अर्थ 'lifetime' है?

Options :

1. ✘ kaspow

2. ✘ kedtem

3. ✘ ragpiv

4. ✔ nolrej

Question Number : 13 Question Id : 9983678667 Question Type : MCQ Option Shuffling : Yes

Correct Marks : 1 Wrong Marks : 0.25

If it was 10:11 PM 4,587 minutes ago, what time is it now?

Options :

1. ✔ 02:38 AM

2. ✘ 05:44 PM

3. ✘ 02:38 PM

4. ✘ 05:44 AM

Question Number : 13 Question Id : 9983678667 Question Type : MCQ Option Shuffling : Yes

Correct Marks : 1 Wrong Marks : 0.25

यदि 4,587 मिनिट पहले 10:11 अपराह्न बजे थे, तो अब कितने बजे हैं?

Options :

1. ✓ 02:38 AM

2. ✗ 05:44 PM

3. ✗ 02:38 PM

4. ✗ 05:44 AM

Question Number : 14 Question Id : 9983678668 Question Type : MCQ Option Shuffling : Yes

Correct Marks : 1 Wrong Marks : 0.25

If A \$ B means A is daughter of B, A # B means A is sister of B and If A * B means A is mother of B, then what does X \$ Y * Z # W mean?

Options :

1. ✓ X is sister of W

2. ✗ X is mother of W

3. ✗ X is sister-in-law of W

4. ✗ X is mother's sister of W

Question Number : 14 Question Id : 9983678668 Question Type : MCQ Option Shuffling : Yes

Correct Marks : 1 Wrong Marks : 0.25

यदि A \$ B का अर्थ A, B की बेटी है, A # B का अर्थ A, B की बहन है और यदि A * B का अर्थ A, B की माता है, तो X \$ Y * Z # W का क्या अर्थ है?

Options :

1. ✓ X, W की बहन है

2. ✗ X, W की माँ है

3. ✗ X, W की भाभी/ननद/जेठानी/साली है

4. ✗ X, W की माँ की बहन है

Question Number : 15 Question Id : 9983678669 Question Type : MCQ Option Shuffling : Yes

Correct Marks : 1 Wrong Marks : 0.25

Vikas's daughter Neeta, said to Leela's mother Manju, that your father's brother's son is Vikas, then how is Neeta related to Manju?

Options :

1. * Neeta's father's brother's wife is Manju
2. * Neeta's father's father's wife is Manju
3. * Neeta's mother is Manju
4. ✓ Neeta's father's father's brother's daughter is Manju

Question Number : 15 Question Id : 9983678669 Question Type : MCQ Option Shuffling : Yes

Correct Marks : 1 Wrong Marks : 0.25

विकास की बेटी नीता ने लीला की माँ मंजू से कहा, कि आपके पिता के भाई का बेटा विकास है, तो नीता मंजू से कैसे संबंधित है?

Options :

1. * नीता के पिता के भाई की पत्नी का नाम मंजू है
2. * नीता के पिता के पिता की पत्नी मंजू है
3. * नीता की माँ मंजू हैं
4. ✓ नीता के पिता के पिता के भाई की बेटी का नाम मंजू है

Question Number : 16 Question Id : 9983678670 Question Type : MCQ Option Shuffling : Yes

Correct Marks : 1 Wrong Marks : 0.25

Anwar, Chintu, Dhruv, Bunty, and Emran are sitting on a bench. Chintu is between Dhruv and Bunty, Emran is to the left of Dhruv and Emran is not at the end. Who is to the left of Emran?

Options :

1. * Chintu
2. * Emran
3. * Bunty
4. ✓ Anwar

Question Number : 16 Question Id : 9983678670 Question Type : MCQ Option Shuffling : Yes

Correct Marks : 1 Wrong Marks : 0.25

अनवर, चिटू, ध्रुव, बंटी और इमरान एक बेंच पर बैठे हैं। चिटू ध्रुव और बंटी के बीच है, इमरान ध्रुव के बाईं ओर है और इमरान अंत में नहीं है। इमरान के बाईं ओर कौन है?

Options :

1. * चिटू
2. * इमरान
3. * बंटी
4. ✓ अनवर

Question Number : 17 Question Id : 9983678671 Question Type : MCQ Option Shuffling : Yes

Correct Marks : 1 Wrong Marks : 0.25

Five class mates were comparing the marks each of them scored in a test. D's marks are the mean of A's and E's marks. C's mark's are the mean of A's and B's marks. A scored lesser than C but greater than D. Who got the second highest marks?

Options :

1. ✓ C
2. * A
3. * B
4. * D

Question Number : 17 Question Id : 9983678671 Question Type : MCQ Option Shuffling : Yes

Correct Marks : 1 Wrong Marks : 0.25

एक कक्षा के पाँच साथी उन के द्वारा एक परीक्षा में प्राप्त किए गए अंकों की तुलना कर रहे थे। D के अंक A और E के अंकों का माध्य है। C के अंक A और B के अंकों का माध्य है। A ने C से कम अंक प्राप्त किए लेकिन D से अधिक प्राप्त किए। दूसरे सर्वोच्च अंक किसे मिले?

Options :

1. ✓ C

2. ✗ A

3. ✗ B

4. ✗ D

Question Number : 18 Question Id : 9983678672 Question Type : MCQ Option Shuffling : Yes

Correct Marks : 1 Wrong Marks : 0.25

Read the given statement and conclusions carefully. Assuming that the information in the statement is true, even if they appear to be in variance with commonly known facts, select which of the conclusions logically follow(s) from the statement beyond reasonable doubt.

Statements :

I. All camels are horses.

II. No horse is a dog.

Conclusions :

I. No dog is a camel.

II. No camel is a dog

Options :

1. ✗ Only Conclusion I follows.

2. * Only Conclusion II follows.

3. * Neither of the conclusion follows.

4. ✓ Both I and II follows

Question Number : 18 Question Id : 9983678672 Question Type : MCQ Option Shuffling : Yes

Correct Marks : 1 Wrong Marks : 0.25

दिए गए कथन और निष्कर्षों को ध्यान से पढ़ें। यह मानते हुए कि कथन में दी गई जानकारी सत्य है, भले ही वे सामान्यतः ज्ञात तथ्यों के साथ विचरण करते हुए दिखाई देते हों, उस निष्कर्ष का चयन करें जो उचित संदेह से परे उस कथन का तार्किक रूप से अनुसरण करता/करते हो/हों।

कथन:

- I. सभी ऊंट घोड़े हैं।
- II. कोई घोड़ा कुत्ता नहीं है।

निष्कर्ष:

- I. कोई कुत्ता ऊंट नहीं है।
- II. कोई ऊंट कुत्ता नहीं है।

Options :

1. * केवल निष्कर्ष I अनुसरण करता है।
2. * केवल निष्कर्ष II अनुसरण करता है।
3. * कोई भी निष्कर्ष अनुसरण नहीं करता है।
4. ✓ I और II दोनों अनुसरण करते हैं।

Question Number : 19 Question Id : 9983678673 Question Type : MCQ Option Shuffling : Yes

Correct Marks : 1 Wrong Marks : 0.25

Read the given statement and conclusions carefully. Assuming that the information in the statement is true, even if they appear to be in variance with commonly known facts, select which of the conclusions logically follow(s) from the statement beyond reasonable doubt.

Statements :

- I. All dyes are colours
- II. All Pigments are Paints
- III. Some dyes are pigments

Conclusions :

- I. Some colours are paints
- II. No colours are paints

Options :

- 1. ✓ Only Conclusion I follows.
- 2. ✗ Only Conclusion II follows.
- 3. ✗ Both I and II follows
- 4. ✗ Neither of the conclusion follows.

Question Number : 19 Question Id : 9983678673 Question Type : MCQ Option Shuffling : Yes
Correct Marks : 1 Wrong Marks : 0.25

दिए गए कथन और निष्कर्षों को ध्यान से पढ़ें। यह मानते हुए कि कथनों में दी गई जानकारी सत्य है, भले ही वे सामान्यतः ज्ञात तथ्यों के साथ विचरण करते हुए दिखाई देते हों, उस निष्कर्ष का चयन करें जो उचित संदेह से परे उस कथन का तार्किक रूप से अनुसरण करता/करते हो/हों।

कथन:

- I. सभी डाईज रंग हैं।
- II. सभी पिगमेंट पेंट हैं।
- III. कुछ डाईज पिगमेंट हैं।

निष्कर्ष:

- I. कुछ रंग पेंट हैं।
- II. कोई रंग पेंट नहीं है।

Options :

1. ✓ केवल निष्कर्ष I अनुसरण करता है।
2. * केवल निष्कर्ष II अनुसरण करता है।
3. * I और II दोनों अनुसरण करते हैं।
4. * कोई भी निष्कर्ष अनुसरण नहीं करता है।

Question Number : 20 Question Id : 9983678674 Question Type : MCQ Option Shuffling : Yes

Correct Marks : 1 Wrong Marks : 0.25

Out of the given options, three are similar in a certain manner. However, one option is NOT like the other three. Select the option which is different from the rest.

Options :

1. * 168

2. ✓ 256

3. ✖ 126

4. ✖ 112

Question Number : 20 Question Id : 9983678674 Question Type : MCQ Option Shuffling : Yes

Correct Marks : 1 Wrong Marks : 0.25

दिए गए विकल्पों में से, तीन एक निश्चित तरीके से समान हैं। हालाँकि, एक विकल्प अन्य तीन की तरह नहीं है। उस विकल्प का चयन करें जो बाकी से अलग है।

Options :

1. ✖ 168

2. ✓ 256

3. ✖ 126

4. ✖ 112

Mental Ability2

Group Number :	2
Group Id :	998367378
Group Maximum Duration :	0
Group Minimum Duration :	0
Show Attended Group? :	No
Edit Attended Group? :	No
Break time:	0
Group Marks:	20
Is this Group for Examiner?:	No
Revisit allowed for group Instructions? :	Yes
Maximum Instruction Time:	0
Minimum Instruction Time:	0

Mental Ability2

Section Id :	998367384
Section Number :	1
Section type :	Online
Mandatory or Optional:	Mandatory
Number of Questions:	20

Number of Questions to be attempted: 20
Section Marks: 20

Sub-Section Number: 1
Sub-Section Id: 998367546
Question Shuffling Allowed : Yes

Question Number : 21 Question Id : 9983678675 Question Type : MCQ Option Shuffling : Yes
Correct Marks : 1 Wrong Marks : 0.25

In the given options 3 pair of numbers are similarly related and one pair is differently related. Find the pair which is differently related.

Options :

1. ✓ 222 : 676
2. ✗ 457 : 913
3. ✗ 112 : 568
4. ✗ 450 : 906

Question Number : 21 Question Id : 9983678675 Question Type : MCQ Option Shuffling : Yes
Correct Marks : 1 Wrong Marks : 0.25

दिए गए विकल्पों में संख्याओं की 3 जोड़ियाँ एक समान संबंधित हैं और एक जोड़ी अलग तरीके से संबंधित है। उस जोड़ी को ज्ञात करें जो अलग तरह से संबंधित है।

Options :

1. ✓ 222 : 676
2. ✗ 457 : 913
3. ✗ 112 : 568
4. ✗ 450 : 906

Question Number : 22 Question Id : 9983678676 Question Type : MCQ Option Shuffling : Yes
Correct Marks : 1 Wrong Marks : 0.25

Select the option that is related to the third number on the same basis as the second number is related to the first number.

91 : 109 :: 94 : ?

Options :

1. ✓ 106

2. ✗ 104

3. ✗ 96

4. ✗ 98

Question Number : 22 Question Id : 9983678676 Question Type : MCQ Option Shuffling : Yes

Correct Marks : 1 Wrong Marks : 0.25

उस विकल्प का चयन करें जो तीसरी संख्या से उसी प्रकार से संबंधित है जिस प्रकार से दूसरी संख्या पहली संख्या से संबंधित है।

91 : 109 :: 94 : ?

Options :

1. ✓ 106

2. ✗ 104

3. ✗ 96

4. ✗ 98

Question Number : 23 Question Id : 9983678677 Question Type : MCQ Option Shuffling : Yes

Correct Marks : 1 Wrong Marks : 0.25

Select the option that is related to the third number on the same basis as the second number is related to the first number.

$$95 : 19 :: 110 : ?$$

Options :

1. ✖ 11

2. ✖ 20

3. ✔ 22

4. ✖ 10

Question Number : 23 Question Id : 9983678677 Question Type : MCQ Option Shuffling : Yes

Correct Marks : 1 Wrong Marks : 0.25

उस विकल्प का चयन करें जो तीसरी संख्या से उसी प्रकार से संबंधित है जिस प्रकार से दूसरी संख्या पहली संख्या से संबंधित है।

$$95 : 19 :: 110 : ?$$

Options :

1. ✖ 11

2. ✖ 20

3. ✔ 22

4. ✖ 10

Question Number : 24 Question Id : 9983678678 Question Type : MCQ Option Shuffling : Yes

Correct Marks : 1 Wrong Marks : 0.25

The given equation is incorrect. Which two signs should be interchanged to correct the given equation?

$$12 - 3 + 8 \times 2 \div 4 = 16$$

Options :

1. * ÷ and ×

2. ✓ ÷ and -

3. * × and +

4. * ÷ and +

Question Number : 24 Question Id : 9983678678 Question Type : MCQ Option Shuffling : Yes
Correct Marks : 1 Wrong Marks : 0.25

दिया गया समीकरण गलत है। दिए गए समीकरण को सही करने के लिए किन दो चिन्हों को परस्पर बदलना चाहिए?

$$12 - 3 + 8 \times 2 \div 4 = 16$$

Options :

1. * ÷ और ×

2. ✓ ÷ और -

3. * × और +

4. * ÷ और +

Question Number : 25 Question Id : 9983678679 Question Type : MCQ Option Shuffling : Yes
Correct Marks : 1 Wrong Marks : 0.25

In a certain code language, '+' represents '-', '-' represents '×', '×' represents '÷' and '÷' represents '+'. Find out the answer to the following question.

$$410 \div 40 + 540 \times 20 - 15 = ?$$

Options :

1. ✓ 45

2. * 107

3. * 90

4. * 69

Question Number : 25 Question Id : 9983678679 Question Type : MCQ Option Shuffling : Yes

Correct Marks : 1 Wrong Marks : 0.25

एक निश्चित कोड भाषा में, '+' , '-' का प्रतिनिधित्व करता है, '-' , '×' का प्रतिनिधित्व करता है, '×' , '÷' का प्रतिनिधित्व करता है और '÷' , '+' का प्रतिनिधित्व करता है। निम्नलिखित प्रश्न का उत्तर ज्ञात करें।

$$410 \div 40 + 540 \times 20 - 15 = ?$$

Options :

1. ✓ 45

2. ✗ 107

3. ✗ 90

4. ✗ 69

Question Number : 26 Question Id : 9983678680 Question Type : MCQ Option Shuffling : Yes

Correct Marks : 1 Wrong Marks : 0.25

Find the missing number in the following number series.

-6, ?, 7, 15, 24, 34

Options :

1. ✗ -1

2. ✓ 0

3. ✗ 1

4. ✗ 2

Question Number : 26 Question Id : 9983678680 Question Type : MCQ Option Shuffling : Yes

Correct Marks : 1 Wrong Marks : 0.25

निम्नलिखित संख्या श्रृंखला में लापता संख्या ज्ञात करें।

-6, ?, 7, 15, 24, 34

Options :

1. ✖ -1

2. ✔ 0

3. ✖ 1

4. ✖ 2

Question Number : 27 Question Id : 9983678681 Question Type : MCQ Option Shuffling : Yes

Correct Marks : 1 Wrong Marks : 0.25

Find the missing number in the following number series.

6, 5.2, 4.4, ?, 2.8, 2

Options :

1. ✖ 3.8

2. ✔ 3.6

3. ✖ 3.4

4. ✖ 3.2

Question Number : 27 Question Id : 9983678681 Question Type : MCQ Option Shuffling : Yes

Correct Marks : 1 Wrong Marks : 0.25

निम्नलिखित संख्या श्रृंखला में लापता संख्या ज्ञात करें।

6, 5.2, 4.4, ?, 2.8, 2

Options :

1. ✖ 3.8

2. ✔ 3.6

3. ✖ 3.4

4. ✖ 3.2

Question Number : 28 Question Id : 9983678682 Question Type : MCQ Option Shuffling : Yes

Correct Marks : 1 Wrong Marks : 0.25

The weights of 4 boxes are 33, 4.5, 1.5 and 6 kilograms. Which of the following cannot be the total weight, in kilograms, of any combination of these boxes?

Options :

1. ✖ 15

2. ✖ 13.5

3. ✖ 12

4. ✔ 14

Question Number : 28 Question Id : 9983678682 Question Type : MCQ Option Shuffling : Yes

Correct Marks : 1 Wrong Marks : 0.25

4 डिब्बों का वजन 33, 4.5, 1.5 और 6 किलोग्राम है। इन डिब्बों के किसी भी संयोजन का निम्नलिखित में से किलोग्राम में कौन सा कुल वजन नहीं हो सकता है?

Options :

1. ✖ 15

2. ✖ 13.5

3. ✖ 12

4. ✔ 14

Question Number : 29 Question Id : 9983678683 Question Type : MCQ Option Shuffling : Yes

Correct Marks : 1 Wrong Marks : 0.25

If $12@6=4$, $15@3=10$, $8@2=8$, then find $10@5= ?$

Options :

1. ✖ 2

2. ✖ 20

3. ✖ 15

4. ✔ 4

Question Number : 29 Question Id : 9983678683 Question Type : MCQ Option Shuffling : Yes

Correct Marks : 1 Wrong Marks : 0.25

यदि $12@6=4$, $15@3=10$, $8@2=8$, तो $10@5=?$ ज्ञात करें।

Options :

1. ✖ 2

2. ✖ 20

3. ✖ 15

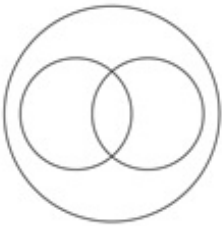
4. ✔ 4

Question Number : 30 Question Id : 9983678684 Question Type : MCQ Option Shuffling : Yes


Correct Marks : 1 Wrong Marks : 0.25

Which of the following Venn diagrams best represents the relationship between pineapples, apples and fruits?

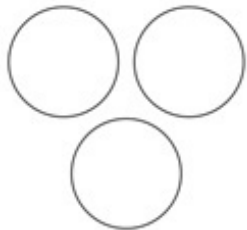
Options :



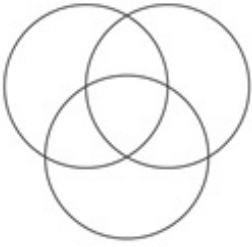
1. ✖



2. ✔



3. ✖

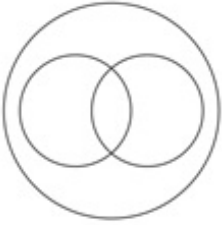


4. ✖


Question Number : 30 Question Id : 9983678684 Question Type : MCQ Option Shuffling : Yes
Correct Marks : 1 Wrong Marks : 0.25

निम्नलिखित में से कौन सा वेन आरेख अनानास, सेब और फलों के बीच संबंध को सबसे अच्छा दर्शाता है?

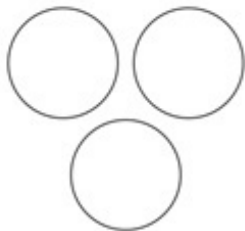
Options :



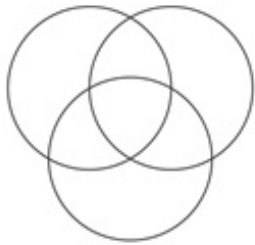
1. ✖



2. ✔



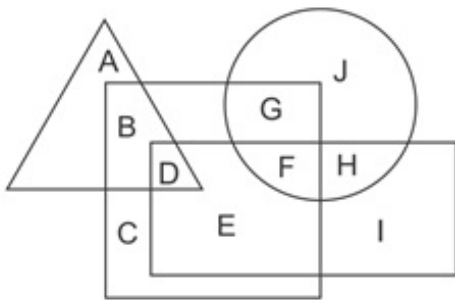
3. ✖



4. ✘

Question Number : 31 Question Id : 9983678685 Question Type : MCQ Option Shuffling : Yes
 Correct Marks : 1 Wrong Marks : 0.25

In the following figure, rectangle represents drivers, triangle represents fathers, circle represents artist and square represents Indians. Which set of letters represents artists who are either fathers or Indians?



Options :

1. ✘ BDCE

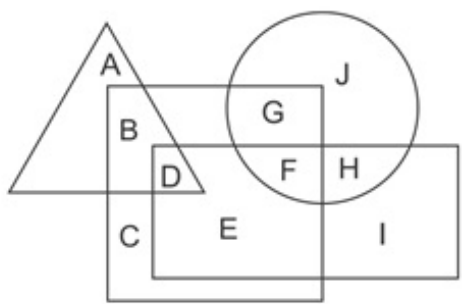
2. ✘ GFH

3. ✔ GF

4. ✘ BDGFH

Question Number : 31 Question Id : 9983678685 Question Type : MCQ Option Shuffling : Yes
 Correct Marks : 1 Wrong Marks : 0.25

निम्नलिखित आकृति में, आयत ड्राइवरों का प्रतिनिधित्व करता है, त्रिकोण पिता का प्रतिनिधित्व करता है, वृत्त कलाकारों का प्रतिनिधित्व करता है और वर्ग भारतीयों प्रतिनिधित्व करता है। अक्षरों का कौन सा सेट उन कलाकारों का प्रतिनिधित्व करता है जो या तो पिता हैं या भारतीय हैं?

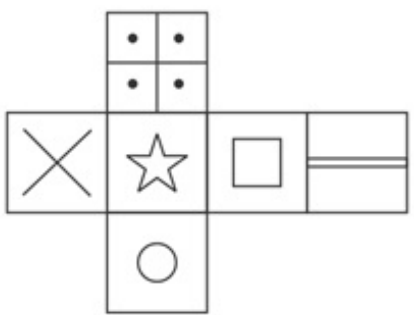


Options :

- 1. ✘ BDCE
- 2. ✘ GFH
- 3. ✔ GF
- 4. ✘ BDGFH

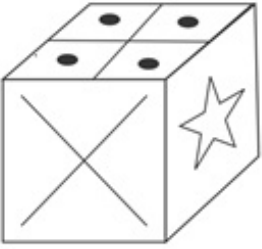
Question Number : 32 Question Id : 9983678686 Question Type : MCQ Option Shuffling : Yes Correct Marks : 1 Wrong Marks : 0.25

Which of the following cubes in the answer figure CANNOT be made based on the unfolded cube in the question figure?

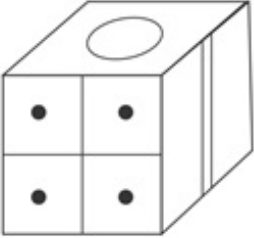


Options :

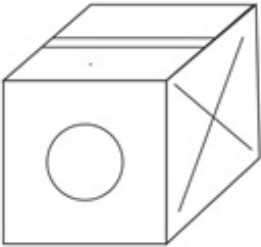
1. ✖



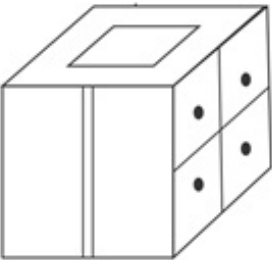
2. ✔



3. ✖

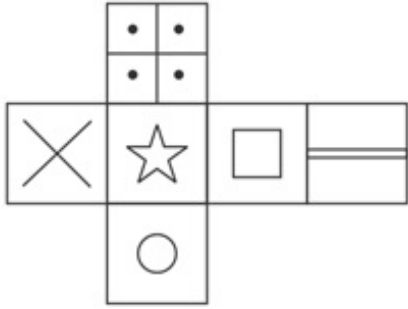


4. ✖

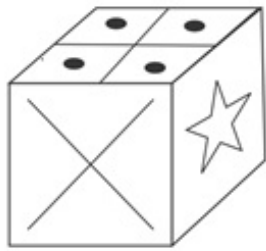


Question Number : 32 Question Id : 9983678686 Question Type : MCQ Option Shuffling : Yes
Correct Marks : 1 Wrong Marks : 0.25

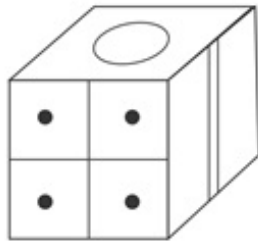
उत्तर आकृति में निम्नलिखित में से कौन सा घन प्रश्न आकृति में बिना तह किए घन के आधार पर बनाया नहीं जा सकता?



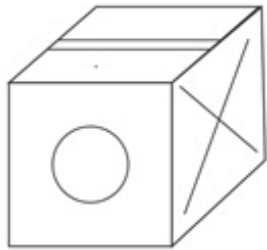
Options :



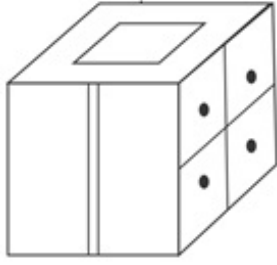
1. ✘



2. ✔



3. ✘



4. ✖

Question Number : 33 Question Id : 9983678687 Question Type : MCQ Option Shuffling : Yes
Correct Marks : 1 Wrong Marks : 0.25

Two men A and B start from the same point. A walks 8 km northwards, then turns westwards and walks 6 km, then turns to his right and walks 4 km. B walks 4 km westwards, then turns northwards and walks 12 km, then turns to his right and walks 9 km. Where is B now with respect to the current position of A?

Options :

1. ✖ 11 km west
2. ✔ 11 km east
3. ✖ 19 km east
4. ✖ 19 km west

Question Number : 33 Question Id : 9983678687 Question Type : MCQ Option Shuffling : Yes
Correct Marks : 1 Wrong Marks : 0.25

दो पुरुष A और B एक ही बिंदु से चलना शुरू करते हैं। A उत्तर की ओर 8 km चलता है, फिर पश्चिम की ओर मुड़ जाता है और 6 km चलता है, फिर अपनी दाईं ओर मुड़ता है और 4 km चलता है। B पश्चिम की ओर 4 km चलता है, फिर उत्तर की ओर मुड़ता है और 12 km चलता है, फिर अपनी दाईं ओर मुड़ता है और 9 km चलता है।

B, A के वर्तमान स्थान से अब कहाँ है?

Options :

1. ✖ 11 km पश्चिम

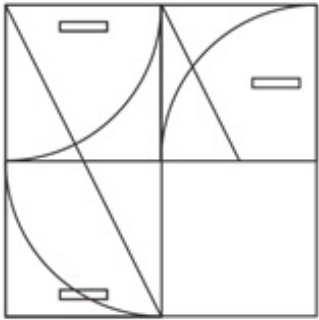
2. ✓ 11 km पूर्व

3. ✗ 19 km पूर्व

4. ✗ 19 km पश्चिम

Question Number : 34 Question Id : 9983678688 Question Type : MCQ Option Shuffling : Yes
Correct Marks : 1 Wrong Marks : 0.25

Which answer figure will complete the pattern in the question figure?



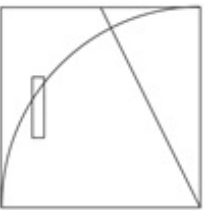
Options :



1. ✗



2. ✓



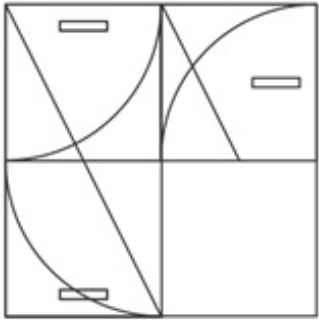
3. ✗

4. ✖



Question Number : 34 Question Id : 9983678688 Question Type : MCQ Option Shuffling : Yes
Correct Marks : 1 Wrong Marks : 0.25

कौन सी उत्तर आकृति प्रश्न आकृति पैटर्न को पूरा करेगी?



Options :

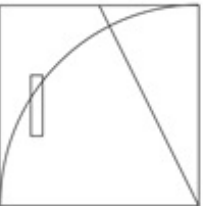
1. ✖

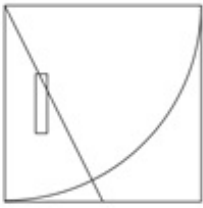


2. ✔



3. ✖



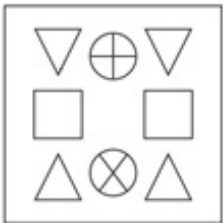


4. ✘

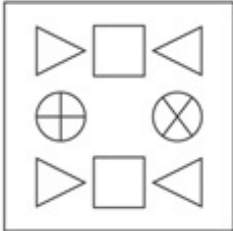
Question Number : 35 Question Id : 9983678689 Question Type : MCQ Option Shuffling : Yes
 Correct Marks : 1 Wrong Marks : 0.25

Out of the given options, three are similar in a certain manner. However, one option is NOT like the other three. Select the option which is different from the rest.

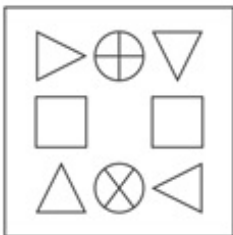
Options :



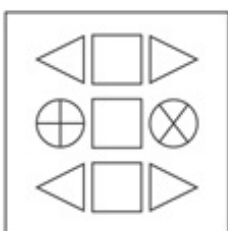
1. ✘



2. ✘



3. ✘



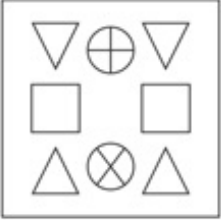
4. ✔

Question Number : 35 Question Id : 9983678689 Question Type : MCQ Option Shuffling : Yes

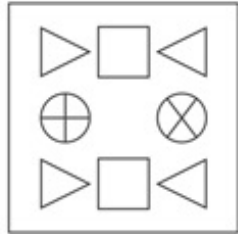
Correct Marks : 1 Wrong Marks : 0.25

दिए गए विकल्पों में से तीन एक निश्चित तरीके से समान हैं। हालाँकि, एक विकल्प अन्य तीन की तरह नहीं है। उस विकल्प का चयन करें जो अन्य से अलग है।

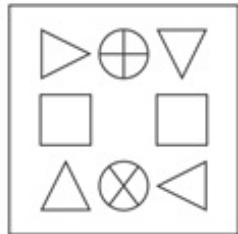
Options :



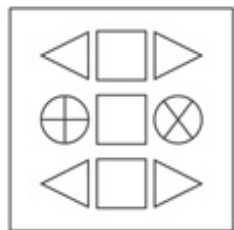
1. ✘



2. ✘



3. ✘

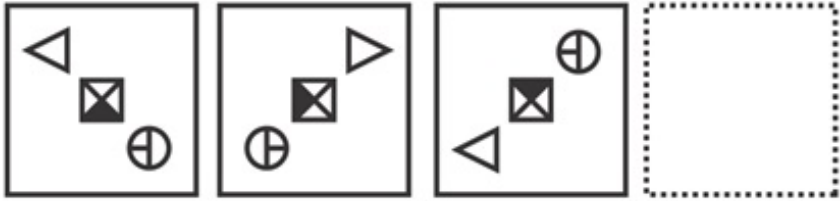


4. ✔

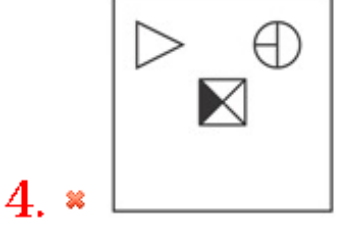
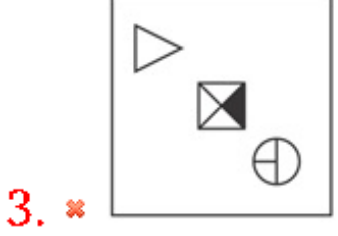
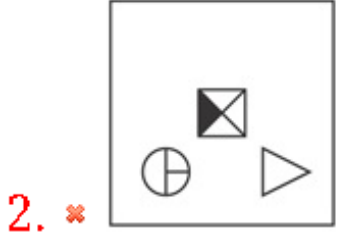
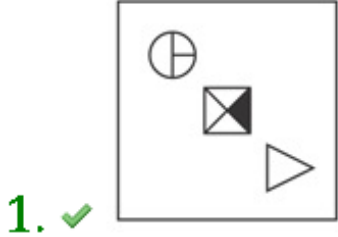
Question Number : 36 Question Id : 9983678690 Question Type : MCQ Option Shuffling : Yes

Correct Marks : 1 Wrong Marks : 0.25

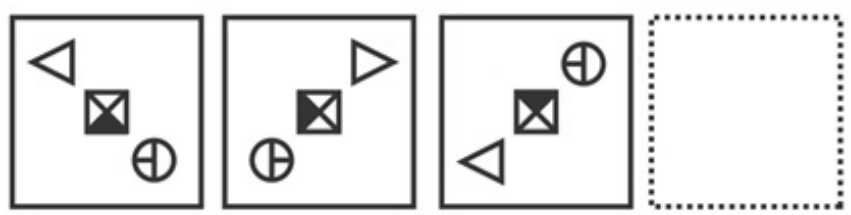
Which of the following answer figure completes the series of the question figure?



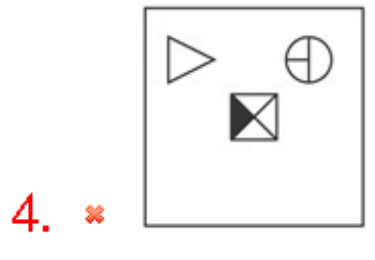
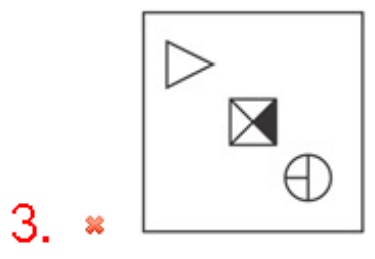
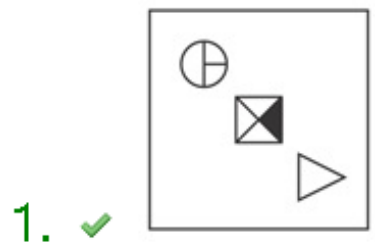
Options :



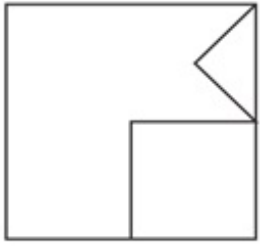
निम्नलिखित उत्तर आकृतियों में से कौनसी प्रश्न आकृति की श्रृंखला को पूरा करती है।



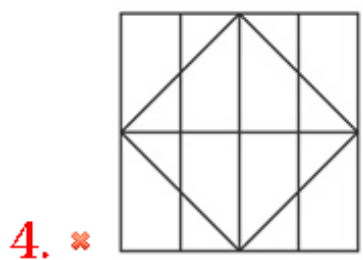
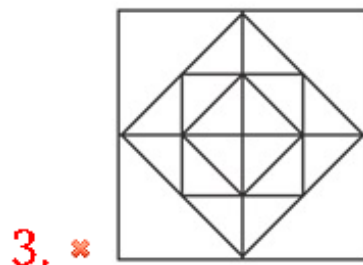
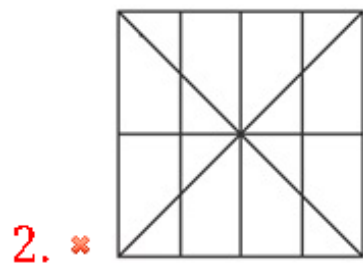
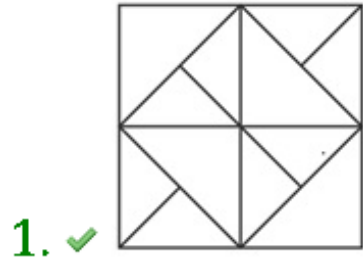
Options :



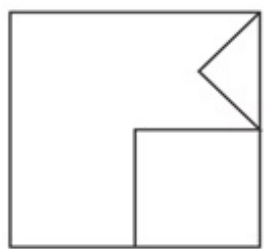
From the given answer figure, select the one in which the question figure is hidden / embedded.



Options :

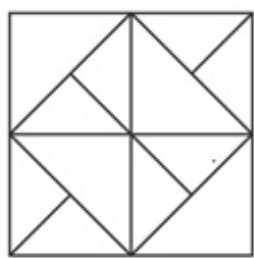


दी गई उत्तर आकृतियों में से, उस एक का चयन करें जिसमें प्रश्न आकृति निहित हैं।

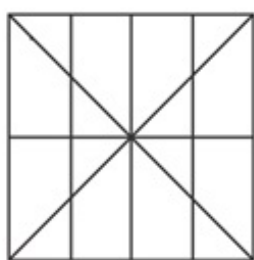


Options :

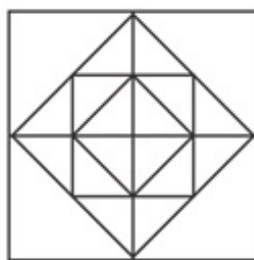
1. ✓



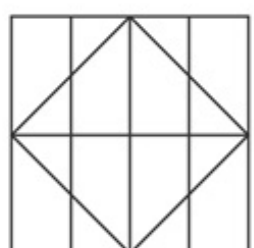
2. ✗



3. ✗



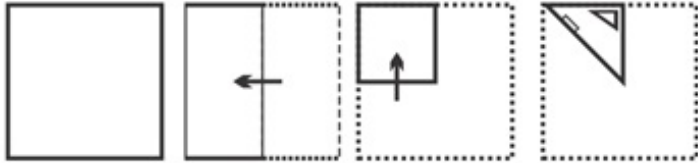
4. ✗




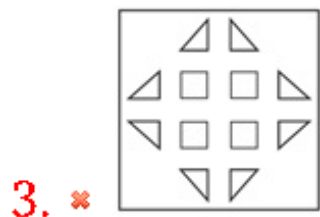
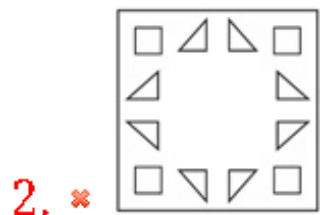
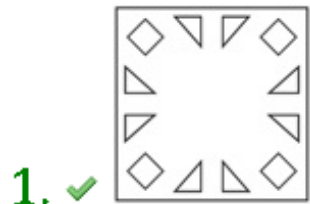
Question Number : 38 Question Id : 9983678692 Question Type : MCQ Option Shuffling : Yes

Correct Marks : 1 Wrong Marks : 0.25

A piece of paper is folded and punched as shown below in the question figures. From the given answer figures, indicate how it will appear when opened.



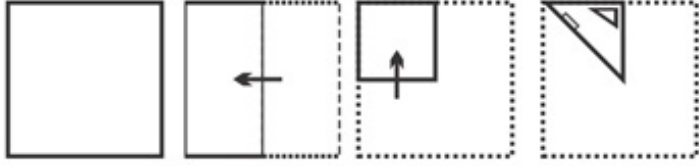
Options :



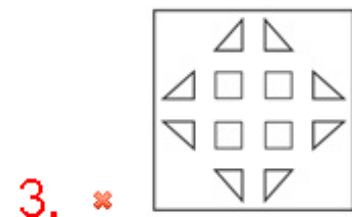
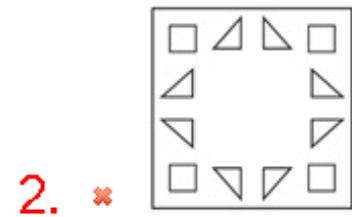
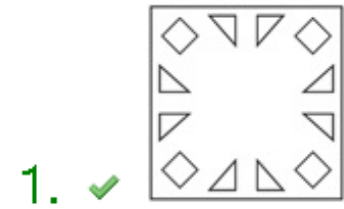
Question Number : 38 Question Id : 9983678692 Question Type : MCQ Option Shuffling : Yes

Correct Marks : 1 Wrong Marks : 0.25

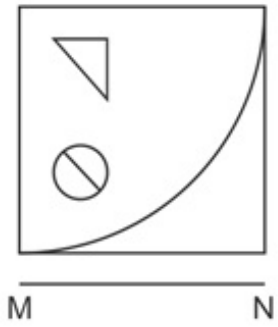
प्रश्न आकृति में नीचे दिखाए अनुसार पेपर के टुकड़े को मोड़कर उसमें छेद किए गए हैं। दी गई उत्तर आकृतियों से, इंगित करें कि इसे खोले जाने पर यह कैसे दिखाई देगा।



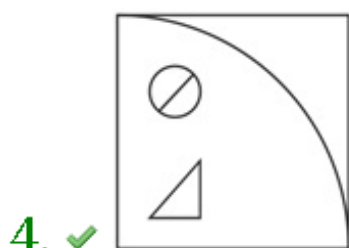
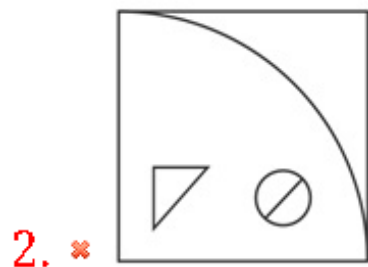
Options :



If a mirror is placed on the line MN, then which of the answer figures will be the right mirror image of the given figure?

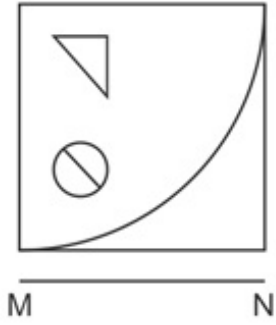


Options :



Correct Marks : 1 Wrong Marks : 0.25

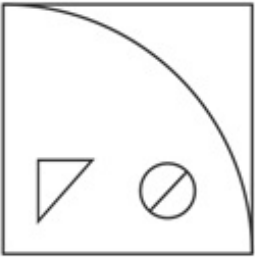
यदि एक दर्पण को रेखा MN पर रेखा गया है, तो कौन सी उत्तर आकृति दी गई आकृति का सही दर्पण प्रतिबिंब है?



Options :



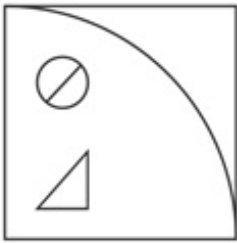
1. ✖



2. ✖



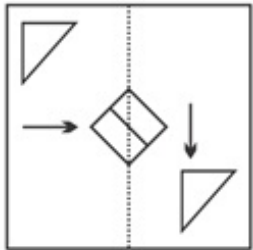
3. ✖



4. ✓

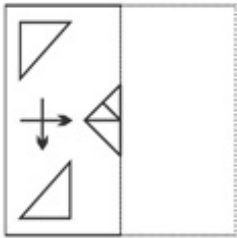
Question Number : 40 Question Id : 9983678694 Question Type : MCQ Option Shuffling : Yes
 Correct Marks : 1 Wrong Marks : 0.25

Find out from amongst the four alternatives as to how the pattern would appear when the transparent sheet is folded at the dotted line.

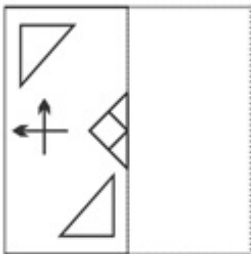


Options :

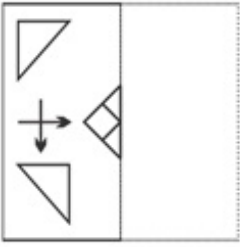
1. ✗



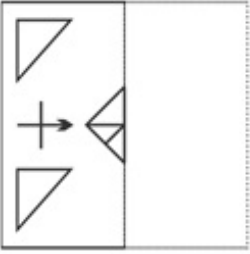
2. ✗



3. ✓



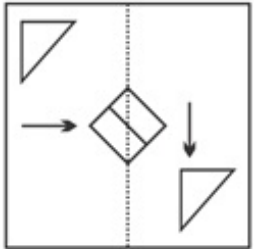
4. ✖



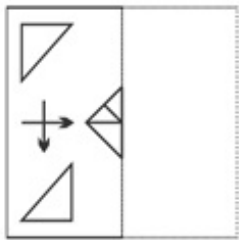
Question Number : 40 Question Id : 9983678694 Question Type : MCQ Option Shuffling : Yes

Correct Marks : 1 Wrong Marks : 0.25

चार विकल्पों में से यह पता करें कि बिन्दूदार रेखा पर पारदर्शी कागज़ को मोड़ने पर आकृति कैसे दिखाई देगी।

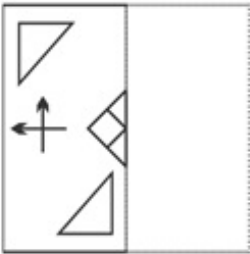


Options :

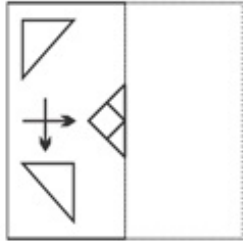


1. ✖

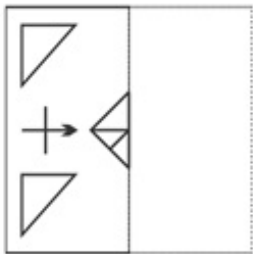
2. ✘



3. ✔



4. ✘



General Awareness1

Group Number :	3
Group Id :	998367379
Group Maximum Duration :	0
Group Minimum Duration :	0
Show Attended Group? :	No
Edit Attended Group? :	No
Break time:	0
Group Marks:	20
Is this Group for Examiner?:	No
Revisit allowed for group Instructions? :	Yes
Maximum Instruction Time:	0
Minimum Instruction Time:	0

General Awareness1

Section Id :	998367385
Section Number :	1
Section type :	Online

Mandatory or Optional:	Mandatory
Number of Questions:	20
Number of Questions to be attempted:	20
Section Marks:	20

Sub-Section Number:	1
Sub-Section Id:	998367547
Question Shuffling Allowed :	Yes

Question Number : 41 Question Id : 9983678695 Question Type : MCQ Option Shuffling : Yes
Correct Marks : 1 Wrong Marks : 0.25

लोहड़ी के त्योहार में, किस तत्व की पूजा की जाती है?

Options :

1. ✓ आग
2. ✗ पानी
3. ✗ वायु
4. ✗ भूमि

Question Number : 41 Question Id : 9983678695 Question Type : MCQ Option Shuffling : Yes
Correct Marks : 1 Wrong Marks : 0.25

In the festival of Lohri, which element is worshipped?

Options :

1. ✓ Fire
2. ✗ Water
3. ✗ Air
4. ✗ Land

Question Number : 42 Question Id : 9983678696 Question Type : MCQ Option Shuffling : Yes
Correct Marks : 1 Wrong Marks : 0.25

_____ was built by Akbar to commemorate his victory over Gujarat in 1601.

Options :

1. ✓ Buland Darwaza
2. ✗ Agra Fort

3. * Allahabad Fort

4. * Begum Shahi Mosque

Question Number : 42 Question Id : 9983678696 Question Type : MCQ Option Shuffling : Yes

Correct Marks : 1 Wrong Marks : 0.25

_____ को अकबर द्वारा 1601 में गुजरात पर अपनी जीत की याद में बनाया गया था।

Options :

1. ✓ बुलंद दरवाजा

2. * आगरा किला

3. * इलाहाबाद किला

4. * बेगम शाही मस्जिद

Question Number : 43 Question Id : 9983678697 Question Type : MCQ Option Shuffling : Yes

Correct Marks : 1 Wrong Marks : 0.25

Which state of India is associated with the traditional folk theatre form known as "Tamasha"?

Options :

1. * Goa

2. * Assam

3. * Kerala

4. ✓ Maharashtra

Question Number : 43 Question Id : 9983678697 Question Type : MCQ Option Shuffling : Yes

Correct Marks : 1 Wrong Marks : 0.25

भारत का कौन सा राज्य "तमाशा" नामक पारंपरिक लोक रंगमंच से जुड़ा है?

Options :

1. * गोवा

2. * असम

3. ✖ केरल

4. ✔ महाराष्ट्र

Question Number : 44 Question Id : 9983678698 Question Type : MCQ Option Shuffling : Yes
Correct Marks : 1 Wrong Marks : 0.25

Kajari folk music is related to which state?

Options :

1. ✖ Jammu & Kashmir

2. ✔ Uttar Pradesh

3. ✖ Himachal Pradesh

4. ✖ Assam

Question Number : 44 Question Id : 9983678698 Question Type : MCQ Option Shuffling : Yes
Correct Marks : 1 Wrong Marks : 0.25

कजरी लोक संगीत किस राज्य से सम्बंधित है?

Options :

1. ✖ जम्मू-कश्मीर

2. ✔ उत्तर प्रदेश

3. ✖ हिमाचल प्रदेश

4. ✖ असम

Question Number : 45 Question Id : 9983678699 Question Type : MCQ Option Shuffling : Yes
Correct Marks : 1 Wrong Marks : 0.25

Who was the first Indian Governor of Reserve Bank of India?

Options :

1. ✔ Shri C.D. Deshmukh

2. ✖ Benegal Rama Rau

3. ✖ K. G. Ambegaonkar

4. ✖ H. V. R. Iyengar

Question Number : 45 Question Id : 9983678699 Question Type : MCQ Option Shuffling : Yes
Correct Marks : 1 Wrong Marks : 0.25

भारतीय रिजर्व बैंक के प्रथम भारतीय राज्यपाल कौन थे?

Options :

1. ✓ श्री सी. डी. देशमुख
2. ✗ बेनेगल रामा राउ
3. ✗ के जी अम्बेगांवकर
4. ✗ एच. वी. आर. आयंगर

Question Number : 46 Question Id : 9983678700 Question Type : MCQ Option Shuffling : Yes

Correct Marks : 1 Wrong Marks : 0.25

Who presented the first Union Budget of independent India on November 26, 1947?

Options :

1. ✓ R K Shanmukham Chetty
2. ✗ Morarji Desai
3. ✗ Jawaharlal Nehru
4. ✗ P Chidambaram

Question Number : 46 Question Id : 9983678700 Question Type : MCQ Option Shuffling : Yes

Correct Marks : 1 Wrong Marks : 0.25

26 नवंबर, 1947 को स्वतंत्र भारत का पहला केंद्रीय बजट किसने पेश किया था?

Options :

1. ✓ आर के शनमुखम चेट्टी
2. ✗ मोरारजी देसाई
3. ✗ जवाहरलाल नेहरू
4. ✗ पी चिदंबरम

Question Number : 47 Question Id : 9983678701 Question Type : MCQ Option Shuffling : Yes

Correct Marks : 1 Wrong Marks : 0.25

What is the minimum support price (MSP) of fair average quality of raw jute for 2019-20 season?

Options :

1. ✓ Rs. 3,950 per quintal
2. ✗ Rs. 3,700 per quintal
3. ✗ Rs. 3,850 per quintal
4. ✗ Rs. 4,000 per quintal

Question Number : 47 Question Id : 9983678701 Question Type : MCQ Option Shuffling : Yes

Correct Marks : 1 Wrong Marks : 0.25

2019-20 के लिए कच्चे जूट की उचित औसत गुणवत्ता का न्यूनतम समर्थन मूल्य (एमएसपी) क्या है?

Options :

1. ✓ रुपये 3,950 प्रति क्विंटल
2. ✗ रुपये 3,700 प्रति क्विंटल
3. ✗ रुपये 3,850 प्रति क्विंटल
4. ✗ रुपये 4,000 प्रति क्विंटल

Question Number : 48 Question Id : 9983678702 Question Type : MCQ Option Shuffling : Yes

Correct Marks : 1 Wrong Marks : 0.25

Fingernails in food is an example of _____ contamination.

Options :

1. ✓ physical
2. ✗ biological
3. ✗ chemical
4. ✗ natural

Question Number : 48 Question Id : 9983678702 Question Type : MCQ Option Shuffling : Yes

Correct Marks : 1 Wrong Marks : 0.25

भोजन में नाखून _____ संदूषण का एक उदाहरण है।

Options :

1. ✓ भौतिक
2. ✘ जैविक
3. ✘ रासायनिक
4. ✘ प्राकृतिक

Question Number : 49 Question Id : 9983678703 Question Type : MCQ Option Shuffling : Yes
Correct Marks : 1 Wrong Marks : 0.25

In _____ system along with domestic sewage, the run-off resulting from storms is carried through the same conduit of sewerage system.

Options :

1. ✘ partially combined
2. ✓ combined
3. ✘ separate
4. ✘ partially separate

Question Number : 49 Question Id : 9983678703 Question Type : MCQ Option Shuffling : Yes
Correct Marks : 1 Wrong Marks : 0.25

घरेलू अपजल के साथ-साथ _____ प्रणाली में, तूफान के कारण बहने वाला पानी निकास प्रणाली की एक ही नाली से बहता है।

Options :

1. ✘ आंशिक रूप से संयुक्त
2. ✓ संयुक्त
3. ✘ अलग
4. ✘ आंशिक रूप से अलग

Question Number : 50 Question Id : 9983678704 Question Type : MCQ Option Shuffling : Yes
Correct Marks : 1 Wrong Marks : 0.25

Which among the following is not a water disinfection method?

Options :

1. * Boiling
2. * Chlorination
3. * Ceramic filters
4. ✓ Lunar rays

Question Number : 50 Question Id : 9983678704 Question Type : MCQ Option Shuffling : Yes

Correct Marks : 1 Wrong Marks : 0.25

निम्नलिखित में से कौन सी एक जल कीटाणुशोधन विधि नहीं है?

Options :

1. * उबलना
2. * क्लोरीनीकरण
3. * सिरेमिक फिल्टर
4. ✓ चांद की किरणें

Question Number : 51 Question Id : 9983678705 Question Type : MCQ Option Shuffling : Yes

Correct Marks : 1 Wrong Marks : 0.25

What does an Ammeter measure?

Options :

1. * Length
2. ✓ Electric current
3. * Intensity of sound
4. * Intensity of colours

Question Number : 51 Question Id : 9983678705 Question Type : MCQ Option Shuffling : Yes

Correct Marks : 1 Wrong Marks : 0.25

एम्मीटर का उपयोग किसे मापने के लिए किया जाता है?

Options :

1. * लंबाई
2. ✓ विद्युत धारा

3. * ध्वनि की तीव्रता

4. * रंगों की तीव्रता

Question Number : 52 Question Id : 9983678706 Question Type : MCQ Option Shuffling : Yes

Correct Marks : 1 Wrong Marks : 0.25

What is the chemical name of table salt?

Options :

1. * Calcium Oxide

2. * Calcium Hydroxide

3. ✓ Sodium Chloride

4. * Sucrose

Question Number : 52 Question Id : 9983678706 Question Type : MCQ Option Shuffling : Yes

Correct Marks : 1 Wrong Marks : 0.25

टेबल सॉल्ट का रासायनिक नाम क्या है?

Options :

1. * कैल्शियम आक्साइड

2. * कैल्शियम हाइड्रॉक्साइड

3. ✓ सोडियम क्लोराइड

4. * इक्षुशर्करा

Question Number : 53 Question Id : 9983678707 Question Type : MCQ Option Shuffling : Yes

Correct Marks : 1 Wrong Marks : 0.25

Which of the following enzymes splits proteins into amino acids?

Options :

1. * Lipolytic Enzyme

2. ✓ Proteolytic Enzyme

3. * Amylolytic Enzyme

4. * Nucleolytic Enzyme

Question Number : 53 Question Id : 9983678707 Question Type : MCQ Option Shuffling : Yes
Correct Marks : 1 Wrong Marks : 0.25

निम्नलिखित में से कौन सा प्रकिण्व प्रोटीन को अमीनो अम्ल में तोड़ता है?

Options :

1. ✖ लिपोलाइटिक एंजाइम
2. ✔ प्रोटीओलाइटिक एंजाइम
3. ✖ एमाइलोलिटिक एंजाइम
4. ✖ न्यूक्लियोलाइटिक एंजाइम

Question Number : 54 Question Id : 9983678708 Question Type : MCQ Option Shuffling : Yes
Correct Marks : 1 Wrong Marks : 0.25

What is the common name of *Ocimum sanctum*?

Options :

1. ✖ Neem
2. ✖ Sandalwood
3. ✔ Tulsi
4. ✖ Banyan

Question Number : 54 Question Id : 9983678708 Question Type : MCQ Option Shuffling : Yes
Correct Marks : 1 Wrong Marks : 0.25

ऑसीमम सैक्टम का साधारण नाम क्या है?

Options :

1. ✖ नीम
2. ✖ चंदन
3. ✔ तुलसी
4. ✖ बरगद

Question Number : 55 Question Id : 9983678709 Question Type : MCQ Option Shuffling : Yes
Correct Marks : 1 Wrong Marks : 0.25

Which animal is preserved in the "Dachigam National Park"?

Options :

1. * Siberian Crane
2. * Musk Deer
3. ✓ Hangul
4. * Golden Oriole

Question Number : 55 Question Id : 9983678709 Question Type : MCQ Option Shuffling : Yes
Correct Marks : 1 Wrong Marks : 0.25

"दाचीगाम राष्ट्रीय उद्यान" में कौन सा जानवर संरक्षित है?

Options :

1. * साइबेरियन क्रेन (सारस)
2. * कस्तूरी हिरन
3. ✓ हानगुल
4. * गोल्डन ओरियल

Question Number : 56 Question Id : 9983678710 Question Type : MCQ Option Shuffling : Yes
Correct Marks : 1 Wrong Marks : 0.25

Which type of soil requires least tilling because of its characteristics of self-ploughing?

Options :

1. ✓ Black Soil
2. * Red Soil
3. * Alkaline Soil
4. * Laterite Soil

Question Number : 56 Question Id : 9983678710 Question Type : MCQ Option Shuffling : Yes
Correct Marks : 1 Wrong Marks : 0.25

स्व-जुताई की अपनी विशेषताओं के कारण किस प्रकार की मिट्टी को कम से कम टिलिंग (जोतने) की आवश्यकता होती है?

Options :

1. ✓ काली मिट्टी

2. * लाल मिट्टी
3. * क्षारीय भूमि
4. * लैटेराइट मृदा

Question Number : 57 Question Id : 9983678711 Question Type : MCQ Option Shuffling : Yes
Correct Marks : 1 Wrong Marks : 0.25

Which among the following states is the largest producer of onion in India?

Options :

1. * Tamil Nadu
2. * Jammu and Kashmir
3. ✓ Maharashtra
4. * Gujarat

Question Number : 57 Question Id : 9983678711 Question Type : MCQ Option Shuffling : Yes
Correct Marks : 1 Wrong Marks : 0.25

निम्नलिखित में से कौन सा राज्य भारत में प्याज का सबसे बड़ा उत्पादक है?

Options :

1. * तमिल नाडु
2. * जम्मू और कश्मीर
3. ✓ महाराष्ट्र
4. * गुजरात

Question Number : 58 Question Id : 9983678712 Question Type : MCQ Option Shuffling : Yes
Correct Marks : 1 Wrong Marks : 0.25

How many countries are there is North America?

Options :

1. ✓ 23
2. * 25

3. ✖ 21

4. ✖ 22

Question Number : 58 Question Id : 9983678712 Question Type : MCQ Option Shuffling : Yes
Correct Marks : 1 Wrong Marks : 0.25

उत्तरी अमेरिका में कितने देश हैं?

Options :

1. ✔ 23

2. ✖ 25

3. ✖ 21

4. ✖ 22

Question Number : 59 Question Id : 9983678713 Question Type : MCQ Option Shuffling : Yes
Correct Marks : 1 Wrong Marks : 0.25

Belle Isle Strait connects the Gulf of St. Lawrence with the

_____.

Options :

1. ✔ Atlantic Ocean

2. ✖ Arctic Ocean

3. ✖ Indian Ocean

4. ✖ Antarctic Ocean

Question Number : 59 Question Id : 9983678713 Question Type : MCQ Option Shuffling : Yes
Correct Marks : 1 Wrong Marks : 0.25

बेले आइल स्ट्रेट (जल संधि) सेंट लॉरेंस की खाड़ी को _____ से जोड़ती है।

Options :

1. ✔ अटलांटिक महासागर

2. ✖ उत्तरध्रुवीय महासागर

3. ✖ हिंद महासागर

4. * अंटार्कटिक महासागर

Question Number : 60 Question Id : 9983678714 Question Type : MCQ Option Shuffling : Yes
Correct Marks : 1 Wrong Marks : 0.25

Betwa river is a tributary of which of the following rivers?

Options :

1. ✓ Yamuna
2. * Hooghly
3. * Ghagra
4. * Sindh

Question Number : 60 Question Id : 9983678714 Question Type : MCQ Option Shuffling : Yes
Correct Marks : 1 Wrong Marks : 0.25

बेतवा नदी किस नदी की सहायक नदी है?

Options :

1. ✓ यमुना
2. * हुगली
3. * घाघरा
4. * सिंध

General Awareness2

Group Number :	4
Group Id :	998367380
Group Maximum Duration :	0
Group Minimum Duration :	0
Show Attended Group? :	No
Edit Attended Group? :	No
Break time:	0
Group Marks:	20
Is this Group for Examiner?:	No
Revisit allowed for group Instructions? :	Yes
Maximum Instruction Time:	0
Minimum Instruction Time:	0

General Awareness2

Section Id :	998367386
Section Number :	1
Section type :	Online
Mandatory or Optional:	Mandatory
Number of Questions:	20
Number of Questions to be attempted:	20
Section Marks:	20

Sub-Section Number:	1
Sub-Section Id:	998367548
Question Shuffling Allowed :	Yes

Question Number : 61 Question Id : 9983678715 Question Type : MCQ Option Shuffling : Yes
Correct Marks : 1 Wrong Marks : 0.25

Which of the following mountains has the highest peak in Africa?

Options :

1. ✖ Mount Kenya
2. ✔ Mount Kilimanjaro
3. ✖ Mount Ruwenzori
4. ✖ Mount Emin

Question Number : 61 Question Id : 9983678715 Question Type : MCQ Option Shuffling : Yes
Correct Marks : 1 Wrong Marks : 0.25

अफ्रीका में किस पर्वत की चोटी सबसे ऊंची है?

Options :

1. ✖ माउंट केन्या
2. ✔ माउंट किलिमंजारो
3. ✖ माउंट रुन्जोरी
4. ✖ माउंट एमिन

Question Number : 62 Question Id : 9983678716 Question Type : MCQ Option Shuffling : Yes
Correct Marks : 1 Wrong Marks : 0.25

Who was the founder of the Chalukya Dynasty?

Options :

1. * Aditya I
2. * Rajendra II
3. ✓ Pulakeshin I
4. * Krishna III

Question Number : 62 Question Id : 9983678716 Question Type : MCQ Option Shuffling : Yes
Correct Marks : 1 Wrong Marks : 0.25

चालुक्य राजवंश का संस्थापक कौन था?

Options :

1. * आदित्य I
2. * राजेंद्र II
3. ✓ पुलकेसि I
4. * कृष्ण III

Question Number : 63 Question Id : 9983678717 Question Type : MCQ Option Shuffling : Yes
Correct Marks : 1 Wrong Marks : 0.25

Who started the "Khilafat Movement"?

Options :

1. * Fakhruddin Ali Ahmed
2. ✓ Shaukat and Muhammad Ali
3. * Muhammad Ali Jinnah
4. * Dr. Zakir Hussain

Question Number : 63 Question Id : 9983678717 Question Type : MCQ Option Shuffling : Yes
Correct Marks : 1 Wrong Marks : 0.25

"खिलाफत आंदोलन" किसने शुरू किया था?

Options :

1. * फखरुद्दीन अली अहमद
2. ✓ शौकत और मुअम्मद अली
3. * मोहम्मद अली जिन्नाह

4. * डॉ. जाकिर हुसैन

Question Number : 64 Question Id : 9983678718 Question Type : MCQ Option Shuffling : Yes
Correct Marks : 1 Wrong Marks : 0.25

When was the Indian National Congress (INC) formed?

Options :

1. * 1895
2. ✓ 1885
3. * 1889
4. * 1880

Question Number : 64 Question Id : 9983678718 Question Type : MCQ Option Shuffling : Yes
Correct Marks : 1 Wrong Marks : 0.25

भारतीय राष्ट्रीय कांग्रेस (आईएनसी) का गठन कब हुआ था?

Options :

1. * 1895
2. ✓ 1885
3. * 1889
4. * 1880

Question Number : 65 Question Id : 9983678719 Question Type : MCQ Option Shuffling : Yes
Correct Marks : 1 Wrong Marks : 0.25

Which of the following Sufi saint was given the title - "Roshan Chirag-e-Delhi"?

Options :

1. * Alauddin Khalji
2. * Aurangzeb
3. ✓ Hazrat Nasiruddin Mahmood
4. * Qutbuddin Bakhtiyar Kaki

Question Number : 65 Question Id : 9983678719 Question Type : MCQ Option Shuffling : Yes
Correct Marks : 1 Wrong Marks : 0.25

निम्नलिखित में से किस सूफी संत को "रोशन चिराग-ए-दिल्ली" का शीर्षक दिया गया था?

Options :

1. * अलाउद्दीन खिलजी
2. * औरंगजेब
3. ✓ हज़रत नसीरुद्दीन महमूद
4. * कुतुबुद्दीन बख्तियार काकी

Question Number : 66 Question Id : 9983678720 Question Type : MCQ Option Shuffling : Yes
Correct Marks : 1 Wrong Marks : 0.25

Who was the founder of the Chandela dynasty?

Options :

1. ✓ Nanuka
2. * Vakpati
3. * Rahila
4. * Vijaypala

Question Number : 66 Question Id : 9983678720 Question Type : MCQ Option Shuffling : Yes
Correct Marks : 1 Wrong Marks : 0.25

चंदेल राजवंश का संस्थापक कौन था?

Options :

1. ✓ ननुका
2. * वाक्पति
3. * राहिला
4. * विजयपाल

Question Number : 67 Question Id : 9983678721 Question Type : MCQ Option Shuffling : Yes
Correct Marks : 1 Wrong Marks : 0.25

Hiuen-Tsang visited India under the reign of _____.

Options :

1. ✓ Harshavardhana
2. ✘ Chandragupta Maurya
3. ✘ Chandragupta II Vikramaditya
4. ✘ Muhammad-Bin-Tughlaq

Question Number : 67 Question Id : 9983678721 Question Type : MCQ Option Shuffling : Yes
Correct Marks : 1 Wrong Marks : 0.25

हवेन त्सांग ने _____ के शासन में भारत का दौरा किया था।

Options :

1. ✓ हर्षवर्धन
2. ✘ चंद्रगुप्त मौर्य
3. ✘ चंद्रगुप्त II विक्रमादित्य
4. ✘ मुहम्मद-बिन-तुगलक

Question Number : 68 Question Id : 9983678722 Question Type : MCQ Option Shuffling : Yes
Correct Marks : 1 Wrong Marks : 0.25

Where is the headquarter of Human Spaceflight Centre located?

Options :

1. ✘ New Delhi
2. ✓ Bengaluru
3. ✘ Mumbai
4. ✘ Kolkata

Question Number : 68 Question Id : 9983678722 Question Type : MCQ Option Shuffling : Yes
Correct Marks : 1 Wrong Marks : 0.25

मानव अंतरिक्ष उड़ान केंद्र का मुख्यालय कहाँ स्थित है?

Options :

1. ✘ नई दिल्ली
2. ✓ बेंगलुरु

3. * मुंबई

4. * कोलकाता

Question Number : 69 Question Id : 9983678723 Question Type : MCQ Option Shuffling : Yes

Correct Marks : 1 Wrong Marks : 0.25

Name the first woman Chief Minister in India. She also founded the political party named "All India Mahilla Congress".

Options :

1. * Shashikala Kakodkar

2. * Nandini Satpathy

3. ✓ Sucheta Kriplani

4. * Anwara Taimur

Question Number : 69 Question Id : 9983678723 Question Type : MCQ Option Shuffling : Yes

Correct Marks : 1 Wrong Marks : 0.25

भारत की पहली महिला मुख्यमंत्री का नाम बताएं। उन्होंने "अखिल भारतीय महिला कांग्रेस" नाम की राजनीतिक पार्टी की स्थापना भी की थी।

Options :

1. * शशिकला काकोडकर

2. * नंदिनी सत्पथी

3. ✓ सुचेता कृपलानी

4. * अनवरा तैमूर

Question Number : 70 Question Id : 9983678724 Question Type : MCQ Option Shuffling : Yes

Correct Marks : 1 Wrong Marks : 0.25

Who received the Dadasaheb Phalke award in 2018?

Options :

1. * Sridevi

2. * Pankaj Tiwari

3. ✖ Riddhi Sen

4. ✔ Vinod Khanna

Question Number : 70 Question Id : 9983678724 Question Type : MCQ Option Shuffling : Yes
Correct Marks : 1 Wrong Marks : 0.25

2018 में दादासाहब फालके पुरस्कार किसे मिला था?

Options :

1. ✖ श्रीदेवी

2. ✖ पंकज तिवारी

3. ✖ रिद्धि सेन

4. ✔ विनोद खन्ना

Question Number : 71 Question Id : 9983678725 Question Type : MCQ Option Shuffling : Yes
Correct Marks : 1 Wrong Marks : 0.25

Who was the first receipient of Param Vir Chakra Award?

Options :

1. ✔ Somnath Sharma

2. ✖ Vikram Batra

3. ✖ Vikram Khanolkar

4. ✖ Karam Singh

Question Number : 71 Question Id : 9983678725 Question Type : MCQ Option Shuffling : Yes
Correct Marks : 1 Wrong Marks : 0.25

पहला परमवीर चक्र पुरस्कार किसे दिया गया था?

Options :

1. ✔ सोमनाथ शर्मा

2. ✖ विक्रम बत्रा

3. ✖ विक्रम खानोलकर

4. ✖ करम सिंह

Question Number : 72 Question Id : 9983678726 Question Type : MCQ Option Shuffling : Yes

Correct Marks : 1 Wrong Marks : 0.25

"A Flight of Pigeon" was written by _____.

Options :

1. ✓ Ruskin Bond
2. ✗ David Davidar
3. ✗ R K Narayan
4. ✗ Mulk Raj Anand

Question Number : 72 Question Id : 9983678726 Question Type : MCQ Option Shuffling : Yes

Correct Marks : 1 Wrong Marks : 0.25

"ए फ्लाइट ऑफ पीज़न" _____ द्वारा लिखी गई थी।

Options :

1. ✓ रस्किन बॉण्ड
2. ✗ डेविड डेविडर
3. ✗ आर के नारायण
4. ✗ मुल्क राज आनंद

Question Number : 73 Question Id : 9983678727 Question Type : MCQ Option Shuffling : Yes

Correct Marks : 1 Wrong Marks : 0.25

Which of the following was replaced by the World Trade Organisation?

Options :

1. ✓ General Agreement on Tariffs and Trade
2. ✗ International Business Organisation
3. ✗ International Chamber of Commerce
4. ✗ International Monetary Fund

Question Number : 73 Question Id : 9983678727 Question Type : MCQ Option Shuffling : Yes

Correct Marks : 1 Wrong Marks : 0.25

निम्नलिखित में से किसे विश्व व्यापार संगठन से प्रतिस्थापित किया गया था?

Options :

1. ✓ शुल्क एवं व्यापार पर सामान्य समझौता
2. ✘ अंतर्राष्ट्रीय व्यापार संगठन
3. ✘ अंतर्राष्ट्रीय वाणिज्य मण्डल
4. ✘ अंतरराष्ट्रीय मुद्रा कोष

Question Number : 74 Question Id : 9983678728 Question Type : MCQ Option Shuffling : Yes
Correct Marks : 1 Wrong Marks : 0.25

How many members of Lok Sabha are elected from the Union Territories currently?

Options :

1. ✓ 13
2. ✘ 15
3. ✘ 12
4. ✘ 18

Question Number : 74 Question Id : 9983678728 Question Type : MCQ Option Shuffling : Yes
Correct Marks : 1 Wrong Marks : 0.25

वर्तमान में केंद्र शासित प्रदेशों से लोक सभा के कितने सदस्य चुने गए हैं?

Options :

1. ✓ 13
2. ✘ 15
3. ✘ 12
4. ✘ 18

Question Number : 75 Question Id : 9983678729 Question Type : MCQ Option Shuffling : Yes
Correct Marks : 1 Wrong Marks : 0.25

How long did it take for the constitution to form?

Options :

1. ✘ 2 years, 5 months and 13 days

2. ✓ 2 years, 11 months and 17 days

3. ✖ 2 years, 6 months and 17 days

4. ✖ 2 years, 7 months and 11 days

Question Number : 75 Question Id : 9983678729 Question Type : MCQ Option Shuffling : Yes
Correct Marks : 1 Wrong Marks : 0.25

संविधान बनने में कितना समय लगा था?

Options :

1. ✖ 2 साल, 5 महीने और 13 दिन

2. ✓ 2 साल, 11 महीने और 17 दिन

3. ✖ 2 साल, 6 महीने और 17 दिन

4. ✖ 2 साल, 7 महीने और 11 दिन

Question Number : 76 Question Id : 9983678730 Question Type : MCQ Option Shuffling : Yes
Correct Marks : 1 Wrong Marks : 0.25

Through which amendment Socialism and Secularism were inserted in the preamble?

Options :

1. ✖ 62nd

2. ✖ 58th

3. ✖ 54th

4. ✓ 42nd

Question Number : 76 Question Id : 9983678730 Question Type : MCQ Option Shuffling : Yes
Correct Marks : 1 Wrong Marks : 0.25

किस संशोधन के माध्यम से समाजवाद और धर्मनिरपेक्षता को उद्देशिका में सम्मिलित किया गया था?

Options :

1. ✖ 62 वें

2. ✖ 58 वें

3. ✖ 54 वें

4. ✔ 42 वें

Question Number : 77 Question Id : 9983678731 Question Type : MCQ Option Shuffling : Yes

Correct Marks : 1 Wrong Marks : 0.25

The _____ schedule of the Indian Constitution contains the list of 22 recognized languages.

Options :

1. ✔ Eighth

2. ✖ Twelfth

3. ✖ Ninth

4. ✖ Third

Question Number : 77 Question Id : 9983678731 Question Type : MCQ Option Shuffling : Yes

Correct Marks : 1 Wrong Marks : 0.25

भारतीय संविधान की _____ अनुसूची में 22 मान्यता प्राप्त भाषाओं की सूची शामिल है।

Options :

1. ✔ आठवीं

2. ✖ बारहवीं

3. ✖ नौवीं

4. ✖ तीसरी

Question Number : 78 Question Id : 9983678732 Question Type : MCQ Option Shuffling : Yes

Correct Marks : 1 Wrong Marks : 0.25

Who among the following is the youngest captain in international cricket?

Options :

1. ✖ Sachin Tendulkar

2. ✔ Rashid Khan

3. ✖ Shakib Al Hasan

4. * Waqar Younis

Question Number : 78 Question Id : 9983678732 Question Type : MCQ Option Shuffling : Yes
Correct Marks : 1 Wrong Marks : 0.25

निम्नलिखित में से कौन अंतर्राष्ट्रीय क्रिकेट में सबसे कम उम्र का कप्तान है?

Options :

1. * सचिन तेंदुलकर
2. ✓ राशिद खान
3. * शाकिब अल हसन
4. * वकार युनुस

Question Number : 79 Question Id : 9983678733 Question Type : MCQ Option Shuffling : Yes
Correct Marks : 1 Wrong Marks : 0.25

राष्ट्रमंडल खेलों में पदक जीतने वाले पहले भारतीय जिमनास्ट कौन थे?

Options :

1. ✓ आशीष कुमार
2. * अरुणा रेड्डी
3. * दीपा कर्माकर
4. * पी. हरिकृष्ण

Question Number : 79 Question Id : 9983678733 Question Type : MCQ Option Shuffling : Yes
Correct Marks : 1 Wrong Marks : 0.25

Who was the first Indian gymnast to win a medal at the Commonwealth Games?

Options :

1. ✓ Ashish Kumar
2. * Aruna Reddy
3. * Dipa Karmakar
4. * P. Harikrishna

Question Number : 80 Question Id : 9983678734 Question Type : MCQ Option Shuffling : Yes

Correct Marks : 1 Wrong Marks : 0.25

Who was the youngest male player ever to win Wimbledon in singles?

Options :

1. * Margaret Smith
2. * Steffi Graf
3. * Pete Sampras
4. ✓ Boris Becker

Question Number : 80 Question Id : 9983678734 Question Type : MCQ Option Shuffling : Yes

Correct Marks : 1 Wrong Marks : 0.25

सिंगल्स में विंबलडन जीतने वाला सबसे कम उम्र का पुरुष खिलाड़ी कौन था?

Options :

1. * मार्गरेट स्मिथ
2. * स्टेफी ग्राफ
3. * पीट सेम्प्रास
4. ✓ बोरिस बेकर

Arithmetic Ability1

Group Number :	5
Group Id :	998367381
Group Maximum Duration :	0
Group Minimum Duration :	0
Show Attended Group? :	No
Edit Attended Group? :	No
Break time:	0
Group Marks:	20
Is this Group for Examiner?:	No
Revisit allowed for group Instructions? :	Yes
Maximum Instruction Time:	0
Minimum Instruction Time:	0

Arithmetic Ability1

Section Id :	998367387
Section Number :	1
Section type :	Online
Mandatory or Optional:	Mandatory
Number of Questions:	20
Number of Questions to be attempted:	20
Section Marks:	20

Sub-Section Number:	1
Sub-Section Id:	998367549
Question Shuffling Allowed :	Yes

Question Number : 81 Question Id : 9983678735 Question Type : MCQ Option Shuffling : Yes
Correct Marks : 1 Wrong Marks : 0.25

Which of the following numbers is divisible by 11?

Options :

1. ✓ 13915

2. ✗ 11234

3. ✗ 23411

4. ✗ 61234

Question Number : 81 Question Id : 9983678735 Question Type : MCQ Option Shuffling : Yes
Correct Marks : 1 Wrong Marks : 0.25

निम्नलिखित में से कौन सी संख्या 11 से विभाज्य है?

Options :

1. ✓ 13915

2. ✗ 11234

3. ✗ 23411

4. ✗ 61234

Question Number : 82 Question Id : 9983678736 Question Type : MCQ Option Shuffling : Yes
Correct Marks : 1 Wrong Marks : 0.25

Which of the following numbers is divisible by 4?

Options :

1. ✗ 32462

2. ✖ 63582

3. ✔ 27728

4. ✖ 32146

Question Number : 82 Question Id : 9983678736 Question Type : MCQ Option Shuffling : Yes
Correct Marks : 1 Wrong Marks : 0.25

निम्नलिखित में से कौन सी संख्या 4 से विभाज्य है?

Options :

1. ✖ 32462

2. ✖ 63582

3. ✔ 27728

4. ✖ 32146

Question Number : 83 Question Id : 9983678737 Question Type : MCQ Option Shuffling : Yes
Correct Marks : 1 Wrong Marks : 0.25

Select the most appropriate option to solve the equation:

$$512 \div 4 \text{ of } 2 + 39 \div 3 \times 4 = ?$$

Note: For this question, discrepancy is found in question/answer. So, this question is ignored for all candidates.

Options :

1. 168

2. 116

3. 393.33

4. 131.25

Question Number : 83 Question Id : 9983678737 Question Type : MCQ Option Shuffling : Yes
Correct Marks : 1 Wrong Marks : 0.25

समीकरण को हल करने के लिए सबसे उचित विकल्प चुनें।

$$2 + 39 \div 3 \times 4 \text{ का } 512 \div 4 = ?$$

Note: For this question, discrepancy is found in question/answer. So, this question is ignored for all candidates.

Options :

1. 168
2. 116
3. 393.33
4. 131.25

Question Number : 84 Question Id : 9983678738 Question Type : MCQ Option Shuffling : Yes

Correct Marks : 1 Wrong Marks : 0.25

Select the most appropriate option to solve the equation:

$$325 \div 5 \times 15 \div 3 + 84 \times 1/2 = ?$$

Options :

1. ✖ 301.5
2. ✖ 354
3. ✖ 204.5
4. ✔ 367

Question Number : 84 Question Id : 9983678738 Question Type : MCQ Option Shuffling : Yes

Correct Marks : 1 Wrong Marks : 0.25

समीकरण को हल करने के लिए सबसे उचित विकल्प चुनें।

$$325 \div 5 \times 15 \div 3 + 84 \times 1/2 = ?$$

Options :

1. ✖ 301.5
2. ✖ 354
3. ✖ 204.5
4. ✔ 367

Question Number : 85 Question Id : 9983678739 Question Type : MCQ Option Shuffling : Yes

Correct Marks : 1 Wrong Marks : 0.25

The LCM of two numbers is 54. Their ratio is 2 : 3. What is the sum of the numbers?

Options :

- 1. ✖ 40
- 2. ✖ 48
- 3. ✔ 45
- 4. ✖ 65

Question Number : 85 Question Id : 9983678739 Question Type : MCQ Option Shuffling : Yes

Correct Marks : 1 Wrong Marks : 0.25

दो संख्याओं का लघुत्तम समापवर्तक 54 है। उनका अनुपात 2 : 3 है।
उन संख्याओं का योग क्या है?

Options :

- 1. ✖ 40
- 2. ✖ 48
- 3. ✔ 45
- 4. ✖ 65

Question Number : 86 Question Id : 9983678740 Question Type : MCQ Option Shuffling : Yes

Correct Marks : 1 Wrong Marks : 0.25

What is the greatest number of 4 digits which is divisible by 30, 36, 60 and 72?

Options :

- 1. ✖ 9930
- 2. ✖ 9351
- 3. ✔ 9720
- 4. ✖ 9990

Question Number : 86 Question Id : 9983678740 Question Type : MCQ Option Shuffling : Yes

Correct Marks : 1 Wrong Marks : 0.25

4 अंकों की सबसे बड़ी संख्या क्या है जो 30, 36, 60 और 72 से विभाज्य है?

Options :

1. ✖ 9930
2. ✖ 9351
3. ✔ 9720
4. ✖ 9990

Question Number : 87 Question Id : 9983678741 Question Type : MCQ Option Shuffling : Yes
Correct Marks : 1 Wrong Marks : 0.25

If $285/15 = 114/x$, then what is the value of $12x + 14$?

Options :

1. ✖ 84
2. ✖ 124
3. ✔ 86
4. ✖ 92

Question Number : 87 Question Id : 9983678741 Question Type : MCQ Option Shuffling : Yes
Correct Marks : 1 Wrong Marks : 0.25

यदि $285/15 = 114/x$ है, तो $12x + 14$ का मान क्या है?

Options :

1. ✖ 84
2. ✖ 124
3. ✔ 86
4. ✖ 92

Question Number : 88 Question Id : 9983678742 Question Type : MCQ Option Shuffling : Yes
Correct Marks : 1 Wrong Marks : 0.25

What decimal of a day is a minute?

Options :

1. ✓ 0.00069

2. ✗ 0.00062

3. ✗ 0.00075

4. ✗ 0.00058

Question Number : 88 Question Id : 9983678742 Question Type : MCQ Option Shuffling : Yes
Correct Marks : 1 Wrong Marks : 0.25

एक मिनिट एक दिन का कितना दशमलव है?

Options :

1. ✓ 0.00069

2. ✗ 0.00062

3. ✗ 0.00075

4. ✗ 0.00058

Question Number : 89 Question Id : 9983678743 Question Type : MCQ Option Shuffling : Yes
Correct Marks : 1 Wrong Marks : 0.25

When 144 is multiplied by a number then it gives the square of 6 times the number. What is the number?

Options :

1. ✓ 4

2. ✗ 5

3. ✗ 6

4. ✗ 7

Question Number : 89 Question Id : 9983678743 Question Type : MCQ Option Shuffling : Yes
Correct Marks : 1 Wrong Marks : 0.25

जब 144 का किसी संख्या से गुणा किया जाता है वह तो उस संख्या के 6 गुना का वर्ग देता है। वह संख्या क्या है?

Options :

1. ✓ 4

2. ✖ 5

3. ✖ 6

4. ✖ 7

Question Number : 90 Question Id : 9983678744 Question Type : MCQ Option Shuffling : Yes
Correct Marks : 1 Wrong Marks : 0.25

If $0.045 \div X^3 = 45$, then $3X$ is equal to _____.

Options :

1. ✖ 0.003

2. ✖ 30

3. ✔ 0.3

4. ✖ 3

Question Number : 90 Question Id : 9983678744 Question Type : MCQ Option Shuffling : Yes
Correct Marks : 1 Wrong Marks : 0.25

यदि $0.045 \div X^3 = 45$ है, तो $3X$ _____ के बराबर है।

Options :

1. ✖ 0.003

2. ✖ 30

3. ✔ 0.3

4. ✖ 3

Question Number : 91 Question Id : 9983678745 Question Type : MCQ Option Shuffling : Yes
Correct Marks : 1 Wrong Marks : 0.25

The average age of 5 teachers in school is 40 years. If a teacher aged 35 resigns and a teacher aged 25 joins the school, then what is the new average age of the 5 teachers?

Options :

1. ✖ 35

2. ✓ 38

3. ✗ 36

4. ✗ 37

Question Number : 91 Question Id : 9983678745 Question Type : MCQ Option Shuffling : Yes
Correct Marks : 1 Wrong Marks : 0.25

स्कूल में 5 शिक्षकों की औसत उम्र 40 वर्ष है। यदि 35 वर्ष की उम्र के एक शिक्षक इस्तीफा देते हैं और 25 वर्ष के एक शिक्षक स्कूल में शामिल हो जाते हैं, तो उन 5 शिक्षकों की नई औसत उम्र क्या है?

Options :

1. ✗ 35

2. ✓ 38

3. ✗ 36

4. ✗ 37

Question Number : 92 Question Id : 9983678746 Question Type : MCQ Option Shuffling : Yes
Correct Marks : 1 Wrong Marks : 0.25

The average weight of 6 girls increases by 2.5 kg when a girl weighing 20 kg is replaced by a new girl. What is the weight of the new girl?

Options :

1. ✓ 35 kg

2. ✗ 22.5 kg

3. ✗ 25 kg

4. ✗ 20 kg

Question Number : 92 Question Id : 9983678746 Question Type : MCQ Option Shuffling : Yes
Correct Marks : 1 Wrong Marks : 0.25

6 लड़कियों का औसत वजन 2.5 kg बढ़ जाता है जब 20 kg वजन वाली लड़की को एक नई लड़की द्वारा बदल दिया जाता है। नई लड़की का वजन क्या है?

Options :

1. ✓ 35 kg
2. ✗ 22.5 kg
3. ✗ 25 kg
4. ✗ 20 kg

Question Number : 93 Question Id : 9983678747 Question Type : MCQ Option Shuffling : Yes
Correct Marks : 1 Wrong Marks : 0.25

Simran bought a table for 25% discount. Had she got no discount, she would have paid Rs. 225 more. What was the price paid by Simran?

Options :

1. ✗ Rs. 850
2. ✗ Rs. 900
3. ✓ Rs. 675
4. ✗ Rs. 725

Question Number : 93 Question Id : 9983678747 Question Type : MCQ Option Shuffling : Yes
Correct Marks : 1 Wrong Marks : 0.25

सिमरन ने 25% छूट पर एक मेज खरीदी। अगर उसे कोई छूट नहीं मिलती, तो वह रुपये 225 अधिक का भुगतान करती। सिमरन द्वारा भुगतान की गई कीमत क्या थी?

Options :

1. ✗ रुपये 850
2. ✗ रुपये 900
3. ✓ रुपये 675

4. * रुपये 725

Question Number : 94 Question Id : 9983678748 Question Type : MCQ Option Shuffling : Yes
Correct Marks : 1 Wrong Marks : 0.25

X's salary is 60% more than Y's salary. How much percent is Y's salary less than X's?

Options :

- 1. * 50.50%
- 2. * 60%
- 3. ✓ 37.50%
- 4. * 75%

Question Number : 94 Question Id : 9983678748 Question Type : MCQ Option Shuffling : Yes
Correct Marks : 1 Wrong Marks : 0.25

X का वेतन Y के वेतन से 60% अधिक है। X की तुलना में Y का वेतन कितना प्रतिशत कम है?

Options :

- 1. * 50.50%
- 2. * 60%
- 3. ✓ 37.50%
- 4. * 75%

Question Number : 95 Question Id : 9983678749 Question Type : MCQ Option Shuffling : Yes
Correct Marks : 1 Wrong Marks : 0.25

A batsman scored 150 runs which included 15 fours and 5 sixes. What percent of his runs was scored by boundaries?

Note: For this question, discrepancy is found in question/answer. So, this question is ignored for all candidates.

Options :

- 1. 40%
- 2. 45%
- 3. 50%

4. 25%

Question Number : 95 Question Id : 9983678749 Question Type : MCQ Option Shuffling : Yes
Correct Marks : 1 Wrong Marks : 0.25

एक बल्लेबाज ने 150 रन बनाए जिसमें 15 चौके और 5 छक्के शामिल थे। उनके कितने प्रतिशत रन बाउंड्री द्वारा बनाए गए थे?

Note: For this question, discrepancy is found in question/answer. So, this question is ignored for all candidates.

Options :

1. 40%
2. 45%
3. 50%
4. 25%

Question Number : 96 Question Id : 9983678750 Question Type : MCQ Option Shuffling : Yes
Correct Marks : 1 Wrong Marks : 0.25

If A earns 30% more than B and B earns 25% more than C, then how much does A earn if C earns Rs. 160?

Options :

1. * Rs. 250
2. * Rs. 240
3. * Rs. 225
4. ✓ Rs. 260

Question Number : 96 Question Id : 9983678750 Question Type : MCQ Option Shuffling : Yes
Correct Marks : 1 Wrong Marks : 0.25

यदि A, B से 30% अधिक कमाता है और B, C से 25% अधिक कमाता है, तो A कितना कमाता है, यदि C, 160 रुपये कमाता है?

Options :

1. * रुपये 250
2. * रुपये 240

3. ✖ रूपये 225

4. ✔ रूपये 260

Question Number : 97 Question Id : 9983678751 Question Type : MCQ Option Shuffling : Yes

Correct Marks : 1 Wrong Marks : 0.25

An article was sold for Rs. 2376 at a discount of 20% after 2 successive mark-ups of 10% and 20%. Find the cost price of the article.

Options :

1. ✔ Rs. 2250

2. ✖ Rs. 2500

3. ✖ Rs. 2345

4. ✖ Rs. 2000

Question Number : 97 Question Id : 9983678751 Question Type : MCQ Option Shuffling : Yes

Correct Marks : 1 Wrong Marks : 0.25

एक वस्तु को 10% और 20% के 2 क्रमिक अंकन के बाद 20% की छूट पर 2376 रूपयों में बेचा गया था। उस वस्तु की लागत मूल्य ज्ञात करें।

Options :

1. ✔ रूपये 2250

2. ✖ रूपये 2500

3. ✖ रूपये 2345

4. ✖ रूपये 2000

Question Number : 98 Question Id : 9983678752 Question Type : MCQ Option Shuffling : Yes

Correct Marks : 1 Wrong Marks : 0.25

A vendor bought 12 candies for a rupee. How many candies should he sell for a rupee to gain 20%?

Options :

1. ✔ 10

2. ✖ 5

3. ✖ 8

4. ✖ 6

Question Number : 98 Question Id : 9983678752 Question Type : MCQ Option Shuffling : Yes

Correct Marks : 1 Wrong Marks : 0.25

एक वेंडर ने एक रुपये में 12 कैंडी खरीदी। 20% लाभ हासिल करने के लिए उसे 1 रुपये में कितनी कैंडी बेचनी चाहिए?

Options :

1. ✔ 10

2. ✖ 5

3. ✖ 8

4. ✖ 6

Question Number : 99 Question Id : 9983678753 Question Type : MCQ Option Shuffling : Yes

Correct Marks : 1 Wrong Marks : 0.25

If the selling price is doubled, the profit increases 4 times. Find the profit percent.

Options :

1. ✔ 50%

2. ✖ 75%

3. ✖ 25%

4. ✖ 200%

Question Number : 99 Question Id : 9983678753 Question Type : MCQ Option Shuffling : Yes

Correct Marks : 1 Wrong Marks : 0.25

यदि बिक्री मूल्य दोगुना किया जाता है, तो लाभ 4 गुना बढ़ जाता है। लाभ प्रतिशत ज्ञात कीजिए।

Options :

1. ✔ 50%

2. ✖ 75%

3. ✖ 25%

4. ✖ 200%

Question Number : 100 Question Id : 9983678754 Question Type : MCQ Option Shuffling : Yes
Correct Marks : 1 Wrong Marks : 0.25

65 chocolates are to be distributed between Ashish and Isha in the ratio of 4 : 9, how many more chocolates does Isha get than Ashish?

Options :

1. ✔ 25

2. ✖ 45

3. ✖ 20

4. ✖ 35

Question Number : 100 Question Id : 9983678754 Question Type : MCQ Option Shuffling : Yes
Correct Marks : 1 Wrong Marks : 0.25

आशीष और ईशा के बीच 4 : 9 के अनुपात में 65 चॉकलेट वितरित की जानी हैं, ईशा को आशीष से कितने अधिक चॉकलेट मिलती हैं?

Options :

1. ✔ 25

2. ✖ 45

3. ✖ 20

4. ✖ 35

Arithmetic Ability2

Group Number :	6
Group Id :	998367382
Group Maximum Duration :	0
Group Minimum Duration :	0

Show Attended Group? :	No
Edit Attended Group? :	No
Break time:	0
Group Marks:	20
Is this Group for Examiner?:	No
Revisit allowed for group Instructions? :	Yes
Maximum Instruction Time:	0
Minimum Instruction Time:	0

Arithmetic Ability2

Section Id :	998367388
Section Number :	1
Section type :	Online
Mandatory or Optional:	Mandatory
Number of Questions:	20
Number of Questions to be attempted:	20
Section Marks:	20

Sub-Section Number:	1
Sub-Section Id:	998367550
Question Shuffling Allowed :	Yes

Question Number : 101 Question Id : 9983678755 Question Type : MCQ Option Shuffling : Yes
Correct Marks : 1 Wrong Marks : 0.25

If $x : y = 3 : 2$, then what is $(5x + 3y) : (3x + 2y)$ equal to?

Options :

- ✘ 13/21
- ✘ 16/5
- ✘ 5/16
- ✔ 21/13

Question Number : 101 Question Id : 9983678755 Question Type : MCQ Option Shuffling : Yes
Correct Marks : 1 Wrong Marks : 0.25

यदि $x : y = 3 : 2$, तो $(5x + 3y) : (3x + 2y)$ किसके बराबर होगा?

Options :

- ✘ 13/21
- ✘ 16/5

3. ✖ 5/16

4. ✔ 21/13

Question Number : 102 Question Id : 9983678756 Question Type : MCQ Option Shuffling : Yes
Correct Marks : 1 Wrong Marks : 0.25

Find the fourth proportional.

228 : 95 :: 132 : ?

Options :

1. ✖ 60

2. ✔ 55

3. ✖ 75

4. ✖ 80

Question Number : 102 Question Id : 9983678756 Question Type : MCQ Option Shuffling : Yes
Correct Marks : 1 Wrong Marks : 0.25

चौथा आनुपातिक ज्ञात करें।

228 : 95 :: 132 : ?

Options :

1. ✖ 60

2. ✔ 55

3. ✖ 75

4. ✖ 80

Question Number : 103 Question Id : 9983678757 Question Type : MCQ Option Shuffling : Yes
Correct Marks : 1 Wrong Marks : 0.25

Find the rate of interest if the simple interest on Rs. 2500 for 5 years is Rs. 625.

Options :

1. ✔ 5%

2. ✖ 4%

3. ✖ 6%

4. ✖ 8%

Question Number : 103 Question Id : 9983678757 Question Type : MCQ Option Shuffling : Yes
Correct Marks : 1 Wrong Marks : 0.25

ब्याज की दर ज्ञात करें यदि 2500 रुपयों पर 5 वर्ष के लिए साधारण ब्याज 625 रूपये है।

Options :

1. ✔ 5%

2. ✖ 4%

3. ✖ 6%

4. ✖ 8%

Question Number : 104 Question Id : 9983678758 Question Type : MCQ Option Shuffling : Yes
Correct Marks : 1 Wrong Marks : 0.25

A loan of Rs.1200 is taken with simple interest for as many years as the rate of interest. If Rs. 300 is the interest earned, what is the rate of interest?

Options :

1. ✖ 7%

2. ✖ 6%

3. ✔ 5%

4. ✖ 4%

Question Number : 104 Question Id : 9983678758 Question Type : MCQ Option Shuffling : Yes
Correct Marks : 1 Wrong Marks : 0.25

ब्याज दर जितना है उतने वर्षों के लिए 1200 रुपयों का ऋण साधारण ब्याज पर लिया जाता है। यदि 300 रूपये अर्जित ब्याज है, तो ब्याज दर क्या है?

Options :

1. ✖ 7%

2. ✖ 6%

3. ✔ 5%

4. ✖ 4%

Question Number : 105 Question Id : 9983678759 Question Type : MCQ Option Shuffling : Yes

Correct Marks : 1 Wrong Marks : 0.25

X took a loan of Rs. 1500 with simple interest for as many years as the rate of interest. If he paid Rs. 540 as interest at the end of the period, what was the rate of the interest?

Options :

1. ✖ 5%

2. ✔ 6%

3. ✖ 7%

4. ✖ 8%

Question Number : 105 Question Id : 9983678759 Question Type : MCQ Option Shuffling : Yes

Correct Marks : 1 Wrong Marks : 0.25

X ने ब्याज की दर जितना है उतने वर्षों के लिए साधारण ब्याज पर 1500 रुपयों का ऋण लिया। यदि उसने अवधि के अंत में ब्याज के रूप में 540 रुपये का भुगतान किया, तो ब्याज की दर क्या थी?

Options :

1. ✖ 5%

2. ✔ 6%

3. ✖ 7%

4. ✖ 8%

Question Number : 106 Question Id : 9983678760 Question Type : MCQ Option Shuffling : Yes

Correct Marks : 1 Wrong Marks : 0.25

John travelled a distance of 90 km in 8 hours He travelled partly by a cycle at 5 km/h and partly by a car at 15 km/h. Find the distance covered by him on the cycle.

Options :

1. ✖ 30 km
2. ✖ 10 km
3. ✔ 15 km
4. ✖ 45 km

Question Number : 106 Question Id : 9983678760 Question Type : MCQ Option Shuffling : Yes

Correct Marks : 1 Wrong Marks : 0.25

जॉन ने 8 घंटे में 90 km की दूरी तय की। उसने आंशिक रूप से 5 km/h की गति से साइकिल से यात्रा की और आंशिक रूप से 15 km/h गति से कार से यात्रा की। साइकिल पर उसके द्वारा तय की गई दूरी ज्ञात करें।

Options :

1. ✖ 30 km
2. ✖ 10 km
3. ✔ 15 km
4. ✖ 45 km

Question Number : 107 Question Id : 9983678761 Question Type : MCQ Option Shuffling : Yes

Correct Marks : 1 Wrong Marks : 0.25

Raman covers a certain distance by train at 42 km/h and an equal distance by cycle at 7 km/h. If the time taken by him for the whole journey be 4 hrs, what is the total distance travelled?

Options :

1. ✖ 30 km
2. ✖ 35 km

3. ✖ 45 km

4. ✔ 48 km

Question Number : 107 Question Id : 9983678761 Question Type : MCQ Option Shuffling : Yes

Correct Marks : 1 Wrong Marks : 0.25

रमन 42 km/h की गति से रेलगाड़ी से एक निश्चित दूरी तय करता है और 7 km/h की गति से साइकिल से उतनी ही दूरी तय करता है। यदि उसके द्वारा पूरी यात्रा के लिए लिया गया समय 4 घंटे है, तो यात्रा की कुल दूरी कितनी है?

Options :

1. ✖ 30 km

2. ✖ 35 km

3. ✖ 45 km

4. ✔ 48 km

Question Number : 108 Question Id : 9983678762 Question Type : MCQ Option Shuffling : Yes

Correct Marks : 1 Wrong Marks : 0.25

A man on a tour travels the first 120 km at 72 km/h and the next 120 km at 60 km/h. What is the average speed of the journey?

Options :

1. ✖ 66 km/h

2. ✔ 65.45 km/h

3. ✖ 66.54 km/h

4. ✖ 65 km/h

Question Number : 108 Question Id : 9983678762 Question Type : MCQ Option Shuffling : Yes

Correct Marks : 1 Wrong Marks : 0.25

दौरे पर जाने वाला एक व्यक्ति पहले 120 km की 72 km/h की गति से और अगले 120 km की 60 km/h की गति से यात्रा करता है। यात्रा की औसत गति क्या है?

Options :

1. ✖ 66 km/h
2. ✔ 65.45 km/h
3. ✖ 66.54 km/h
4. ✖ 65 km/h

Question Number : 109 Question Id : 9983678763 Question Type : MCQ Option Shuffling : Yes
Correct Marks : 1 Wrong Marks : 0.25

A takes 25 days to complete a piece of work and B takes 30 days to complete the same work. They worked together for 10 days and then B left the work. How many days will A take to complete the work?

Options :

1. ✖ 5.65 days
2. ✔ 6.67 days
3. ✖ 8.25 days
4. ✖ 10.25 days

Question Number : 109 Question Id : 9983678763 Question Type : MCQ Option Shuffling : Yes
Correct Marks : 1 Wrong Marks : 0.25

A को किसी काम को पूरा करने में 25 दिन लगते हैं और B को उसी काम को पूरा करने में 30 दिन लगते हैं। उन्होंने 10 दिनों तक एक साथ काम किया और फिर B ने वह काम छोड़ दिया। A को वह काम पूरा करने में कितने दिन लगेंगे?

Options :

1. ✖ 5. 65 दिन

2. ✓ 6. 67 दिन

3. ✗ 8. 25 दिन

4. ✗ 10. 25 दिन

Question Number : 110 Question Id : 9983678764 Question Type : MCQ Option Shuffling : Yes
Correct Marks : 1 Wrong Marks : 0.25

Harshita and Nisha can do a piece of work in 6 days. Nisha and Anjali can do the same work in 15 days. Anjali and Harshita can do the same work in 10 days. If Harshita, Nisha and Anjali work together, then in how many days will they complete the work?

Options :

1. ✗ 4 days

2. ✗ 5 days

3. ✓ 6 days

4. ✗ 8 days

Question Number : 110 Question Id : 9983678764 Question Type : MCQ Option Shuffling : Yes
Correct Marks : 1 Wrong Marks : 0.25

हर्षिता और निशा 6 दिनों में एक काम कर सकती हैं। निशा और अंजलि वही काम 15 दिनों में कर सकती हैं। अंजलि और हर्षिता वही काम 10 दिनों में कर सकती हैं। यदि हर्षिता, निशा और अंजलि एक साथ काम करती हैं, तो वे कितने दिनों में काम पूरा करेंगी?

Options :

1. ✗ 4 दिन

2. ✗ 5 दिन

3. ✓ 6 दिन

4. ✗ 8 दिन

Question Number : 111 Question Id : 9983678765 Question Type : MCQ Option Shuffling : Yes

Correct Marks : 1 Wrong Marks : 0.25

$1/24$ of a work is completed in half a day by 4 persons. Then, $1/16$ of the work, can be completed by 6 persons in how many days?

Options :

1. ✓ $1/2$ day
2. ✗ 1 day
3. ✗ 2 days
4. ✗ 3 days

Question Number : 111 Question Id : 9983678765 Question Type : MCQ Option Shuffling : Yes

Correct Marks : 1 Wrong Marks : 0.25

किसी कार्य का $1/24$ भाग 4 व्यक्तियों द्वारा आधे दिन में पूरा किया जाता है। तो, उस काम का $1/16$ भाग, 6 व्यक्तियों द्वारा कितने दिनों में पूरा किया जा सकता है?

Options :

1. ✓ $1/2$ दिन
2. ✗ 1 दिन
3. ✗ 2 दिन
4. ✗ 3 दिन

Question Number : 112 Question Id : 9983678766 Question Type : MCQ Option Shuffling : Yes

Correct Marks : 1 Wrong Marks : 0.25

A tank is 10 m long, 12 m wide and 10 m deep. What is the cost of plastering its walls and bottom at 60 paise per sq. m?

Options :

1. ✗ Rs. 256
2. ✗ Rs. 288
3. ✗ Rs. 348
4. ✓ Rs. 336

Question Number : 112 Question Id : 9983678766 Question Type : MCQ Option Shuffling : Yes

Correct Marks : 1 Wrong Marks : 0.25

एक टैंक 10 m लंबा, 12 m चौड़ा और 10 m गहरा है। 60 पैसे प्रति वर्ग मीटर की दर से इसकी दीवारों और नीचे तले में पलस्तर कराने की लागत क्या होगी?

Options :

1. * रूपये 256
2. * रूपये 288
3. * रूपये 348
4. ✓ रूपये 336

Question Number : 113 Question Id : 9983678767 Question Type : MCQ Option Shuffling : Yes

Correct Marks : 1 Wrong Marks : 0.25

What is the cost of plastering a wall from all 4 sides as well as the top which is 5 m long, 2.5 m high and 400 mm thick, if the rate of plastering is Rs. 15 per sq. m?

Options :

1. ✓ Rs. 435
2. * Rs. 450
3. * Rs. 525
4. * Rs. 532

Question Number : 113 Question Id : 9983678767 Question Type : MCQ Option Shuffling : Yes

Correct Marks : 1 Wrong Marks : 0.25

एक दीवार को सभी 4 तरफ से और साथ ही ऊपर से प्लास्टर करने की लागत क्या है, जो 5 m लंबी, 2.5 m ऊँची और 400 mm मोटी है, अगर प्लास्टर की दर 15 रूपये प्रति वर्ग मीटर है?

Options :

1. ✓ रूपये 435

2. * रुपये 450

3. * रुपये 525

4. * रुपये 532

Question Number : 114 Question Id : 9983678768 Question Type : MCQ Option Shuffling : Yes

Correct Marks : 1 Wrong Marks : 0.25

A cistern 6 m long and 5 m wide contains water upto a depth of 2 m. What is the area of the wet surface?

Options :

1. * 85 m^2

2. * 56 m^2

3. ✓ 74 m^2

4. * 104 m^2

Question Number : 114 Question Id : 9983678768 Question Type : MCQ Option Shuffling : Yes

Correct Marks : 1 Wrong Marks : 0.25

6 m लंबे और 5 m चौड़े जलाशय में 2 m की गहराई तक पानी होता है। गीली सतह का क्षेत्रफल क्या है?

Options :

1. * 85 m^2

2. * 56 m^2

3. ✓ 74 m^2

4. * 104 m^2

Question Number : 115 Question Id : 9983678769 Question Type : MCQ Option Shuffling : Yes

Correct Marks : 1 Wrong Marks : 0.25

The following table shows various expenses of an economy (in Rs. 1000s) from 2014 to 2018. What is the percentage increase in the total amount spent by the economy on imports and exports from 2015 to 2018?

Years	Consumption Expenditure	Investment Expenditure	Government Expenditure	Exports	Imports
2014	1250	1000	800	425	400
2015	1300	1250	850	500	500
2016	1650	1350	900	500	600
2017	1500	1400	975	575	700
2018	1750	1450	1050	600	800

Options :

1. ✓ 40%
2. ✗ 50%
3. ✗ 45%
4. ✗ 55%

Question Number : 115 Question Id : 9983678769 Question Type : MCQ Option Shuffling : Yes Correct Marks : 1 Wrong Marks : 0.25

निम्नलिखित तालिका 2014 से 2018 तक एक अर्थव्यवस्था (रु. 1000 में) के विभिन्न खर्चों को दर्शाता है। 2015 से 2018 तक आयात और निर्यात पर उस अर्थव्यवस्था द्वारा खर्च की गई कुल राशि में प्रतिशत वृद्धि क्या है?

वर्ष	उपभोग व्यय	निवेश का खर्च	सरकारी खर्च	निर्यात	आयात
2014	1250	1000	800	425	400
2015	1300	1250	850	500	500
2016	1650	1350	900	500	600
2017	1500	1400	975	575	700
2018	1750	1450	1050	600	800

Options :

1. ✓ 40%

2. ✗ 50%

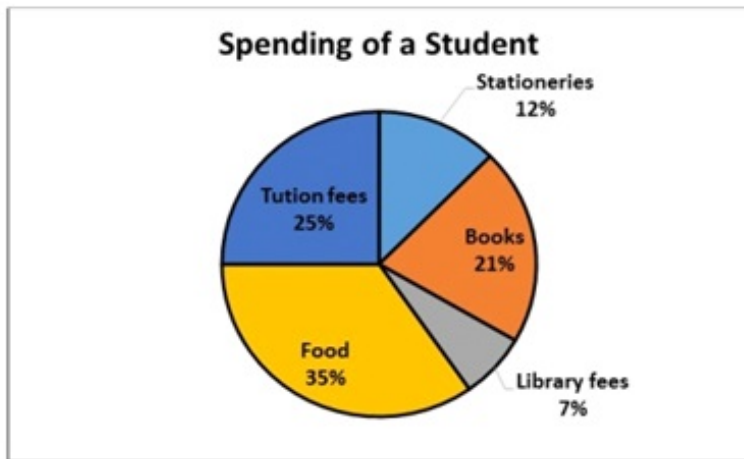
3. ✗ 45%

4. ✗ 55%

Question Number : 116 Question Id : 9983678770 Question Type : MCQ Option Shuffling : Yes

Correct Marks : 1 Wrong Marks : 0.25

The pie chart shows the spending of a student. If the amount spent by him on books is Rs. 3150, then what is the amount spent on food?



Options :

1. ✗ Rs. 4,800

2. ✗ Rs. 7,200

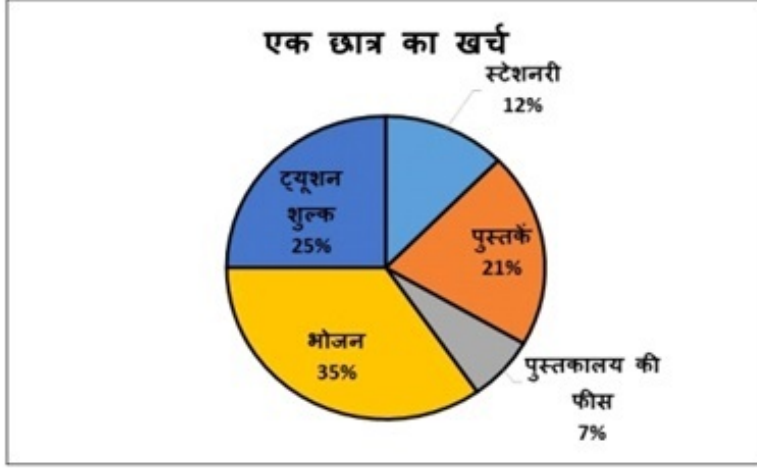
3. ✓ Rs. 5250

4. ✗ Rs. 4,320

Question Number : 116 Question Id : 9983678770 Question Type : MCQ Option Shuffling : Yes

Correct Marks : 1 Wrong Marks : 0.25

यह पाई चार्ट एक छात्र के खर्च को दर्शाता है। यदि पुस्तकों पर उसके द्वारा खर्च की गई राशि 3,150 रुपये है, तो भोजन पर खर्च की जाने वाली राशि क्या है?



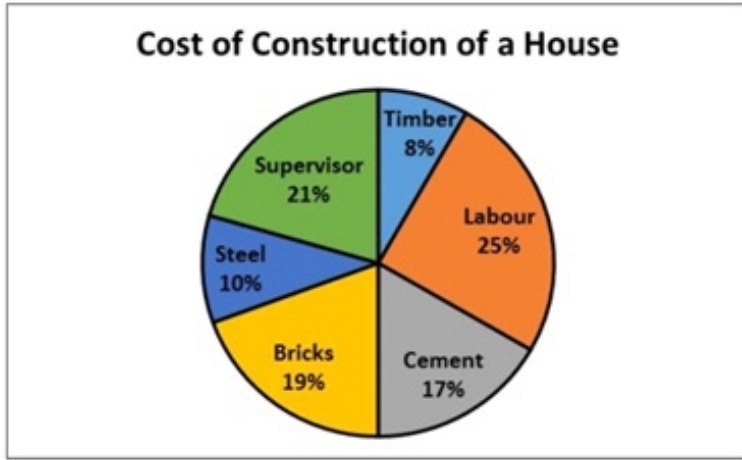
Options :

1. ✘ रुपये 4,800
2. ✘ रुपये 7,200
3. ✔ रुपये 5,250
4. ✘ रुपये 4,320

Question Number : 117 Question Id : 9983678771 Question Type : MCQ Option Shuffling : Yes

Correct Marks : 1 Wrong Marks : 0.25

The pie graph shows the break-up of the cost of construction of a house. If the spending on Timber was Rs. 20,000 less than the spending on Steel, then how was the cost of Labour?

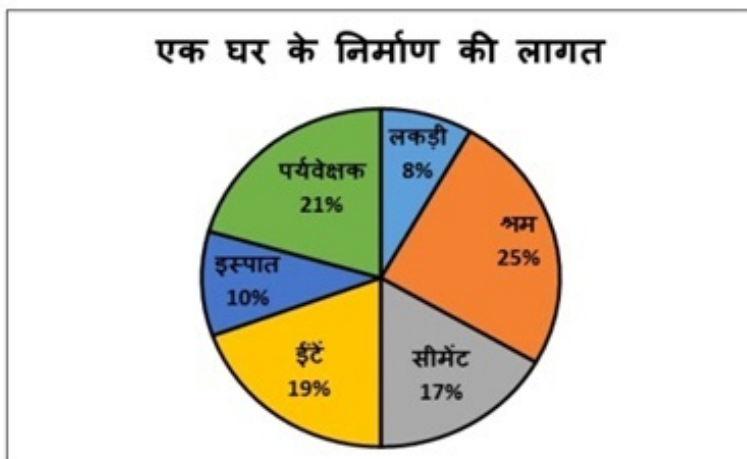


Options :

1. ✓ Rs. 2,50,000
2. ✗ Rs. 3,20,000
3. ✗ Rs. 3,50,000
4. ✗ Rs. 3,60,000

Question Number : 117 Question Id : 9983678771 Question Type : MCQ Option Shuffling : Yes
Correct Marks : 1 Wrong Marks : 0.25

यह पाई आलेख एक घर के निर्माण की लागत के वितरण को दर्शाता है । यदि टिम्बर पर किया खर्च स्टील पर किए खर्च से 20,000 रुपये कम है, तो श्रमिकों पर कितना खर्च हुआ?



Options :

1. ✓ रुपये 2,50,000
2. ✗ रुपये 3,20,000
3. ✗ रुपये 3,50,000
4. ✗ रुपये 3,60,000

Question Number : 118 Question Id : 9983678772 Question Type : MCQ Option Shuffling : Yes

Correct Marks : 1 Wrong Marks : 0.25

The bar graph given below shows the data of the production of cloth (in lakh tonnes) by three different companies A, B and C over the years. The average production for five years was maximum for which company?



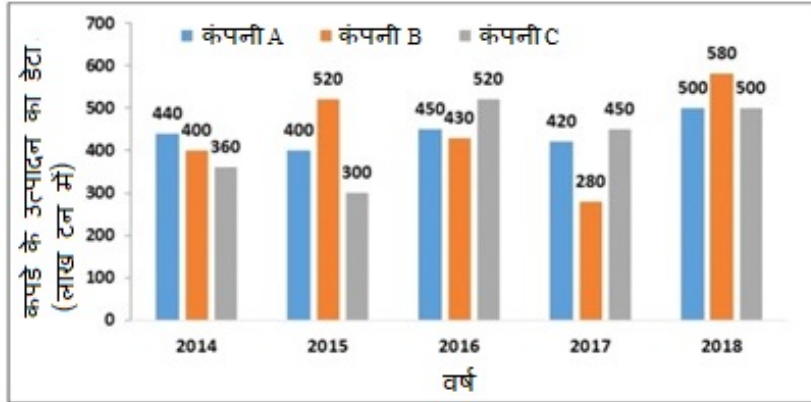
Options :

1. ✗ A
2. ✗ C
3. ✓ A and B
4. ✗ A and C

Question Number : 118 Question Id : 9983678772 Question Type : MCQ Option Shuffling : Yes

Correct Marks : 1 Wrong Marks : 0.25

नीचे दिए गए स्तंभ आरेख में पिछले वर्षों में तीन अलग-अलग कंपनियों A, B और C द्वारा कपड़े (लाख टन में) के उत्पादन के आंकड़ों को दिखाया गया है। किस कंपनी के लिए पांच वर्ष का औसत उत्पादन अधिकतम था?

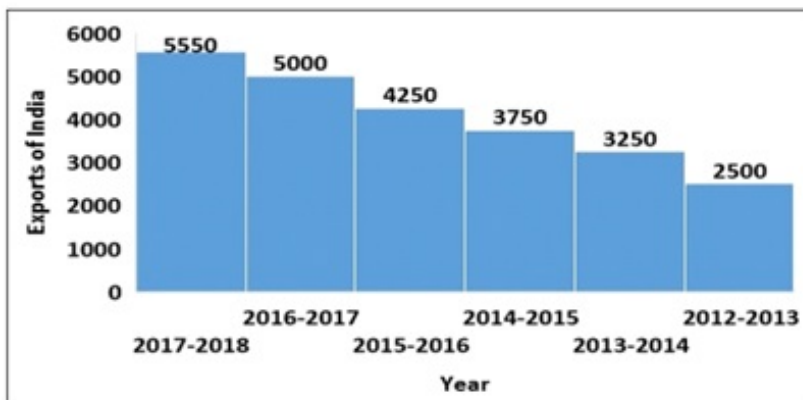


Options :

1. ✘ A
2. ✘ C
3. ✔ A और B
4. ✘ A और C

Question Number : 119 Question Id : 9983678773 Question Type : MCQ Option Shuffling : Yes
Correct Marks : 1 Wrong Marks : 0.25

The histogram shows the exports of India over different years. What is the rate of growth from 2014-15 to 2017-18?



Options :

1. ✖ 54%

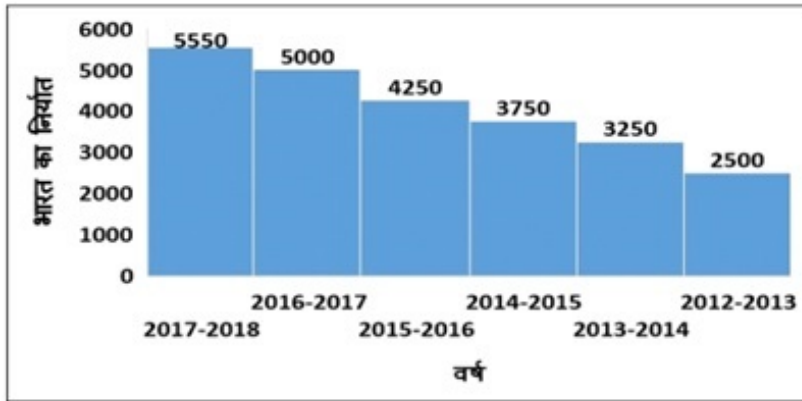
2. ✔ 48%

3. ✖ 45%

4. ✖ 38%

Question Number : 119 Question Id : 9983678773 Question Type : MCQ Option Shuffling : Yes
Correct Marks : 1 Wrong Marks : 0.25

यह आयतचित्र विभिन्न वर्षों में भारत के निर्यात दर्शाता है। 2014-15 से 2017-18 तक विकास दर क्या है?



Options :

1. ✖ 54%

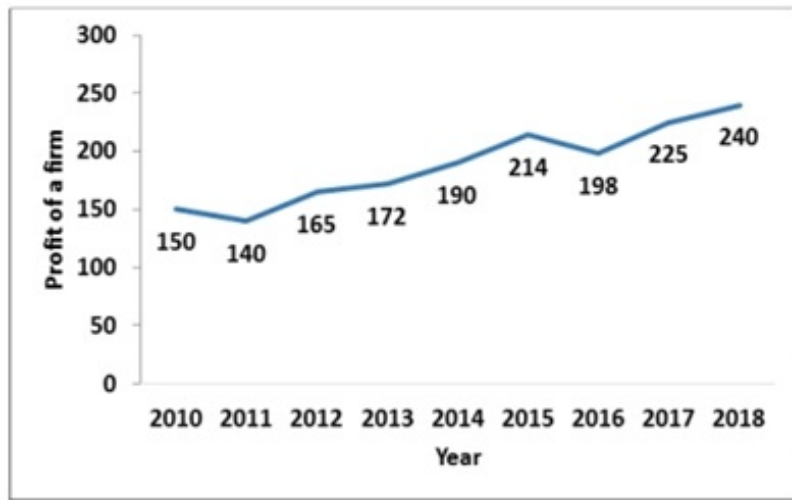
2. ✔ 48%

3. ✖ 45%

4. ✖ 38%

Question Number : 120 Question Id : 9983678774 Question Type : MCQ Option Shuffling : Yes
Correct Marks : 1 Wrong Marks : 0.25

The line chart shows the profit (in Rs. 1000s) of a firm for various years. What is the arithmetic average rate of growth of profit in the given years?



Options :

1. ✘ 6.33%

2. ✘ 6.45%

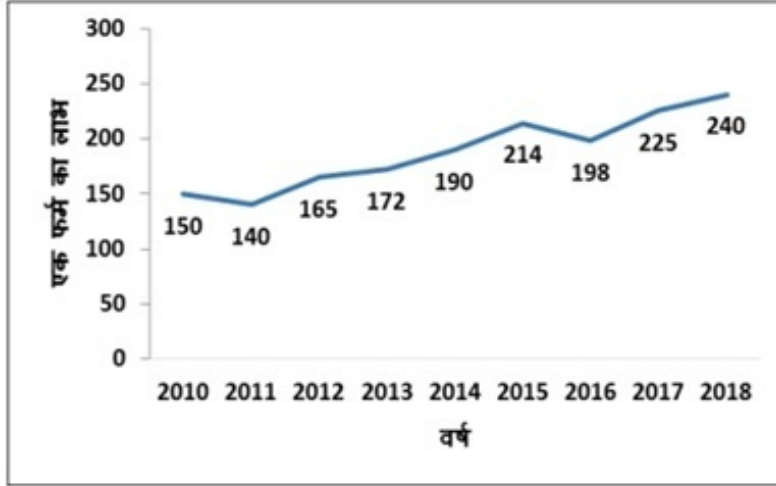
3. ✘ 6.67%

4. ✔ 6.42%

Question Number : 120 Question Id : 9983678774 Question Type : MCQ Option Shuffling : Yes

Correct Marks : 1 Wrong Marks : 0.25

यह रेखा चार्ट विभिन्न वर्षों के लिए एक फर्म के लाभ में (रु. 1000 में) दिखाता है। दिए गए वर्षों में लाभ के विकास की अंकगणितीय औसत दर क्या है?



Options :

1. ✖ 6.33%
2. ✖ 6.45%
3. ✖ 6.67%
4. ✔ 6.42%

General English1

Group Number :	7
Group Id :	998367383
Group Maximum Duration :	0
Group Minimum Duration :	0
Show Attended Group? :	No
Edit Attended Group? :	No
Break time:	0
Group Marks:	20
Is this Group for Examiner?:	No
Revisit allowed for group Instructions? :	Yes
Maximum Instruction Time:	0
Minimum Instruction Time:	0

General English1

Section Id :	998367389
Section Number :	1
Section type :	Online
Mandatory or Optional:	Mandatory
Number of Questions:	20
Number of Questions to be attempted:	20
Section Marks:	20

Sub-Section Number:	1
Sub-Section Id:	998367551
Question Shuffling Allowed :	Yes

Question Number : 121 Question Id : 9983678775 Question Type : MCQ Option Shuffling : Yes
Correct Marks : 1 Wrong Marks : 0.25

In the following statement, one part of the sentence may have an error. Find out which part of the sentence has an error and click the button corresponding to it. If the sentence is free from error, select the "No error" option.

(A) My mother/ (B) is not in good mood/ (C) today./ (D) No error

Options :

1. ✘ A
2. ✔ B
3. ✘ C
4. ✘ D

Question Number : 121 Question Id : 9983678775 Question Type : MCQ Option Shuffling : Yes
Correct Marks : 1 Wrong Marks : 0.25

In the following statement, one part of the sentence may have an error. Find out which part of the sentence has an error and click the button corresponding to it. If the sentence is free from error, select the "No error" option.

(A) My mother/ (B) is not in good mood/ (C) today./ (D) No error

Options :

1. ✘ A

2. ✔ B

3. ✘ C

4. ✘ D

Question Number : 122 Question Id : 9983678776 Question Type : MCQ Option Shuffling : Yes
Correct Marks : 1 Wrong Marks : 0.25

In the following statement, one part of the sentence may have an error. Find out which part of the sentence has an error and click the button corresponding to it. If the sentence is free from error, select the "No error" option.

(A) My boss is/ (B) enough kind to/ (C) help me with my problems./ (D) No error

Options :

1. ✘ A

2. ✔ B

3. ✘ C

4. ✘ D

Question Number : 122 Question Id : 9983678776 Question Type : MCQ Option Shuffling : Yes
Correct Marks : 1 Wrong Marks : 0.25

In the following statement, one part of the sentence may have an error. Find out which part of the sentence has an error and click the button corresponding to it. If the sentence is free from error, select the "No error" option.

(A) My boss is/ (B) enough kind to/ (C) help me with my problems./ (D) No error

Options :

1. ✘ A

2. ✔ B

3. ✘ C

4. ✘ D

Question Number : 123 Question Id : 9983678777 Question Type : MCQ Option Shuffling : Yes
Correct Marks : 1 Wrong Marks : 0.25

In the following statement, one part of the sentence may have an error. Find out which part of the sentence has an error and click the button corresponding to it. If the sentence is free from error, select the "No error" option.

(A) Modern Bollywood movies/ (B) have often been described/ (C)as fantasy brought to live. / (D) No error

Options :

1. ✘ A

2. ✘ B

3. ✔ C

4. ✖ D

Question Number : 123 Question Id : 9983678777 Question Type : MCQ Option Shuffling : Yes
Correct Marks : 1 Wrong Marks : 0.25

In the following statement, one part of the sentence may have an error. Find out which part of the sentence has an error and click the button corresponding to it. If the sentence is free from error, select the "No error" option.

(A) Modern Bollywood movies/ (B) have often been described/ (C)as fantasy brought to live. / (D) No error

Options :

1. ✖ A

2. ✖ B

3. ✔ C

4. ✖ D

Question Number : 124 Question Id : 9983678778 Question Type : MCQ Option Shuffling : Yes
Correct Marks : 1 Wrong Marks : 0.25

In the following statement, one part of the sentence may have an error. Find out which part of the sentence has an error and click the button corresponding to it. If the sentence is free from error, select the "No error" option.

(A) The teacher didn't know / (B) who of the students / (C) broke the glass. / (D) No error

Options :

1. ✖ A

2. ✓ B

3. ✗ C

4. ✗ D

Question Number : 124 Question Id : 9983678778 Question Type : MCQ Option Shuffling : Yes
Correct Marks : 1 Wrong Marks : 0.25

In the following statement, one part of the sentence may have an error. Find out which part of the sentence has an error and click the button corresponding to it. If the sentence is free from error, select the "No error" option.

(A) The teacher didn't know / (B) who of the students / (C) broke the glass. / (D) No error

Options :

1. ✗ A

2. ✓ B

3. ✗ C

4. ✗ D

Question Number : 125 Question Id : 9983678779 Question Type : MCQ Option Shuffling : Yes
Correct Marks : 1 Wrong Marks : 0.25

In the following statement, one part of the sentence may have an error. Find out which part of the sentence has an error and click the button corresponding to it. If the sentence is free from error, select the "No error" option.

(A) She said that she/ (B) will mind if/ (C) I refused to go with her./ (D) No error

Options :

1. ✖ A

2. ✔ B

3. ✖ C

4. ✖ D

Question Number : 125 Question Id : 9983678779 Question Type : MCQ Option Shuffling : Yes

Correct Marks : 1 Wrong Marks : 0.25

In the following statement, one part of the sentence may have an error. Find out which part of the sentence has an error and click the button corresponding to it. If the sentence is free from error, select the "No error" option.

(A) She said that she/ (B) will mind if/ (C) I refused to go with her./ (D) No error

Options :

1. ✖ A

2. ✔ B

3. ✖ C

4. ✖ D

Question Number : 126 Question Id : 9983678780 Question Type : MCQ Option Shuffling : Yes
Correct Marks : 1 Wrong Marks : 0.25

Replace the words in the bracket from the set of options given.

Raman (told his mother) to explain the comprehension to him.

Options :

1. ✖ said to his mother
2. ✔ asked his mother
3. ✖ exclaimed with joy
4. ✖ ordered his mother

Question Number : 126 Question Id : 9983678780 Question Type : MCQ Option Shuffling : Yes
Correct Marks : 1 Wrong Marks : 0.25

Replace the words in the bracket from the set of options given.

Raman (told his mother) to explain the comprehension to him.

Options :

1. ✖ said to his mother
2. ✔ asked his mother
3. ✖ exclaimed with joy
4. ✖ ordered his mother

Question Number : 127 Question Id : 9983678781 Question Type : MCQ Option Shuffling : Yes
Correct Marks : 1 Wrong Marks : 0.25

Replace the words in the bracket from the set of options given.

(In case if) it rains, I shall not visit Reema's house.

Options :

1. ✖ If so
2. ✖ In case of
3. ✔ If
4. ✖ Case

Question Number : 127 Question Id : 9983678781 Question Type : MCQ Option Shuffling : Yes

Correct Marks : 1 Wrong Marks : 0.25

Replace the words in the bracket from the set of options given.

(In case if) it rains, I shall not visit Reema's house.

Options :

1. ✖ If so
2. ✖ In case of
3. ✔ If
4. ✖ Case

Question Number : 128 Question Id : 9983678782 Question Type : MCQ Option Shuffling : Yes

Correct Marks : 1 Wrong Marks : 0.25

Replace the words in the bracket from the set of options given.

Simran (gave) the entrance examination in April.

Options :

1. ✖ appeared
2. ✔ took

3. ✖ giving

4. ✖ given

Question Number : 128 Question Id : 9983678782 Question Type : MCQ Option Shuffling : Yes

Correct Marks : 1 Wrong Marks : 0.25

Replace the words in the bracket from the set of options given.

Simran (gave) the entrance examination in April.

Options :

1. ✖ appeared

2. ✔ took

3. ✖ giving

4. ✖ given

Question Number : 129 Question Id : 9983678783 Question Type : MCQ Option Shuffling : Yes

Correct Marks : 1 Wrong Marks : 0.25

Replace the words in the bracket from the set of options given.

Garima did not know (paint and cook).

Options :

1. ✖ how to paint and how to cook

2. ✔ how to paint and cook

3. ✖ painted and cooked

4. ✖ to painting and cooking

Question Number : 129 Question Id : 9983678783 Question Type : MCQ Option Shuffling : Yes

Correct Marks : 1 Wrong Marks : 0.25

Replace the words in the bracket from the set of options given.

Garima did not know (paint and cook).

Options :

1. ✘ how to paint and how to cook
2. ✔ how to paint and cook
3. ✘ painted and cooked
4. ✘ to painting and cooking

Question Number : 130 Question Id : 9983678784 Question Type : MCQ Option Shuffling : Yes
Correct Marks : 1 Wrong Marks : 0.25

Replace the words in the bracket from the set of options given.

Godan was Premchand's (last) work.

Options :

1. ✔ last
2. ✘ latter
3. ✘ recent
4. ✘ better

Question Number : 130 Question Id : 9983678784 Question Type : MCQ Option Shuffling : Yes
Correct Marks : 1 Wrong Marks : 0.25

Replace the words in the bracket from the set of options given.

Godan was Premchand's (last) work.

Options :

1. ✔ last

2. ✖ latter

3. ✖ recent

4. ✖ better

Question Number : 131 Question Id : 9983678785 Question Type : MCQ Option Shuffling : Yes
Correct Marks : 1 Wrong Marks : 0.25

Fill in the blank with an appropriate preposition.

Sita exclaimed that she read an amazing book _____ author John Green.

Options :

1. ✖ to

2. ✔ of

3. ✖ from

4. ✖ with

Question Number : 131 Question Id : 9983678785 Question Type : MCQ Option Shuffling : Yes
Correct Marks : 1 Wrong Marks : 0.25

Fill in the blank with an appropriate preposition.

Sita exclaimed that she read an amazing book _____ author John Green.

Options :

1. ✖ to

2. ✔ of

3. ✖ from

4. ✖ with

Question Number : 132 Question Id : 9983678786 Question Type : MCQ Option Shuffling : Yes
Correct Marks : 1 Wrong Marks : 0.25

Fill in the blank with an appropriate preposition.

The bus must reach its destination _____ sunrise.

Options :

1. ✓ before

2. ✗ to

3. ✗ with

4. ✗ on

Question Number : 132 Question Id : 9983678786 Question Type : MCQ Option Shuffling : Yes

Correct Marks : 1 Wrong Marks : 0.25

Fill in the blank with an appropriate preposition.

The bus must reach its destination _____ sunrise.

Options :

1. ✓ before

2. ✗ to

3. ✗ with

4. ✗ on

Question Number : 133 Question Id : 9983678787 Question Type : MCQ Option Shuffling : Yes

Correct Marks : 1 Wrong Marks : 0.25

Choose the correct form of verb from the given options.

Australia _____ against Bangladesh in today's match.

Options :

1. ✓ is playing

2. ✗ has been playing

3. ✗ is played

4. ✖ will be played

Question Number : 133 Question Id : 9983678787 Question Type : MCQ Option Shuffling : Yes
Correct Marks : 1 Wrong Marks : 0.25

Choose the correct form of verb from the given options.

Australia _____ against Bangladesh in today's match.

Options :

1. ✔ is playing
2. ✖ has been playing
3. ✖ is played
4. ✖ will be played

Question Number : 134 Question Id : 9983678788 Question Type : MCQ Option Shuffling : Yes
Correct Marks : 1 Wrong Marks : 0.25

Choose the correct form of verb from the given options.

Jasmine has found the camera, which she _____.

Options :

1. ✖ lose
2. ✔ had lost
3. ✖ is losing
4. ✖ will lose

Question Number : 134 Question Id : 9983678788 Question Type : MCQ Option Shuffling : Yes
Correct Marks : 1 Wrong Marks : 0.25

Choose the correct form of verb from the given options.

Jasmine has found the camera, which she _____.

Options :

1. ✖ lose
2. ✔ had lost
3. ✖ is losing
4. ✖ will lose

Question Number : 135 Question Id : 9983678789 Question Type : MCQ Option Shuffling : Yes
Correct Marks : 1 Wrong Marks : 0.25

Fill in the blank with an appropriate preposition.

Joseph was very good _____ telling lies.

Options :

1. ✖ in
2. ✔ at
3. ✖ with
4. ✖ on

Question Number : 135 Question Id : 9983678789 Question Type : MCQ Option Shuffling : Yes
Correct Marks : 1 Wrong Marks : 0.25

Fill in the blank with an appropriate preposition.

Joseph was very good _____ telling lies.

Options :

1. ✖ in
2. ✔ at
3. ✖ with
4. ✖ on

Question Number : 136 Question Id : 9983678790 Question Type : MCQ Option Shuffling : Yes
Correct Marks : 1 Wrong Marks : 0.25

Fill in the blank with an appropriate preposition.

Sanjana is never _____ home on Mondays.

Options :

1. ✖ in
2. ✔ at
3. ✖ upon
4. ✖ on

Question Number : 136 Question Id : 9983678790 Question Type : MCQ Option Shuffling : Yes

Correct Marks : 1 Wrong Marks : 0.25

Fill in the blank with an appropriate preposition.

Sanjana is never _____ home on Mondays.

Options :

1. ✖ in
2. ✔ at
3. ✖ upon
4. ✖ on

Question Number : 137 Question Id : 9983678791 Question Type : MCQ Option Shuffling : Yes

Correct Marks : 1 Wrong Marks : 0.25

Fill in the blank with an appropriate preposition.

Everyone gaped _____ the film stars.

Options :

1. ✔ at
2. ✖ from
3. ✖ in

4. ✖ to

Question Number : 137 Question Id : 9983678791 Question Type : MCQ Option Shuffling : Yes
Correct Marks : 1 Wrong Marks : 0.25

Fill in the blank with an appropriate preposition.

Everyone gaped _____ the film stars.

Options :

1. ✔ at

2. ✖ from

3. ✖ in

4. ✖ to

Question Number : 138 Question Id : 9983678792 Question Type : MCQ Option Shuffling : Yes
Correct Marks : 1 Wrong Marks : 0.25

Fill in the blank with an appropriate preposition.

Ben was thankful to Julie _____ her help.

Options :

1. ✖ at

2. ✖ with

3. ✖ of

4. ✔ for

Question Number : 138 Question Id : 9983678792 Question Type : MCQ Option Shuffling : Yes
Correct Marks : 1 Wrong Marks : 0.25

Fill in the blank with an appropriate preposition.

Ben was thankful to Julie _____ her help.

Options :

1. ✖ at
2. ✖ with
3. ✖ of
4. ✔ for

Question Number : 139 Question Id : 9983678793 Question Type : MCQ Option Shuffling : Yes
Correct Marks : 1 Wrong Marks : 0.25

The question given below consist of a set of labelled parts of a sentence. Out of the four options given, select the most logical order of the parts which form a coherent sentence.

Nita was:

P : that she could go with him

Q : very excited

R : when her brother told her

S : and stay for a few days in Chennai

Options :

1. ✖ QPSR
2. ✔ QRPS
3. ✖ RSQP
4. ✖ SQRS

Question Number : 139 Question Id : 9983678793 Question Type : MCQ Option Shuffling : Yes
Correct Marks : 1 Wrong Marks : 0.25

The question given below consist of a set of labelled parts of a sentence. Out of the four options given, select the most logical order of the parts which form a coherent sentence.

Nita was:

P : that she could go with him

Q : very excited

R : when her brother told her

S : and stay for a few days in Chennai

Options :

1. ✘ QPSR

2. ✔ QRPS

3. ✘ RSQP

4. ✘ SQRS

Question Number : 140 Question Id : 9983678794 Question Type : MCQ Option Shuffling : Yes
Correct Marks : 1 Wrong Marks : 0.25

The question given below consist of a set of labelled parts of a sentence. Out of the four options given, select the most logical order of the parts which form a coherent sentence.

A steam engine is a:

P : performs mechanical work

Q : heat engine that

R : as its working fluid

S : using steam

Options :

1. ✖ QRPS

2. ✔ QPSR

3. ✖ RQSP

4. ✖ SPRQ

Question Number : 140 Question Id : 9983678794 Question Type : MCQ Option Shuffling : Yes

Correct Marks : 1 Wrong Marks : 0.25

The question given below consist of a set of labelled parts of a sentence. Out of the four options given, select the most logical order of the parts which form a coherent sentence.

A steam engine is a:

P : performs mechanical work

Q : heat engine that

R : as its working fluid

S : using steam

Options :

1. ✘ QRPS

2. ✔ QPSR

3. ✘ RQSP

4. ✘ SPRQ

General English2

Group Number :	8
Group Id :	998367384
Group Maximum Duration :	0
Group Minimum Duration :	0
Show Attended Group? :	No
Edit Attended Group? :	No
Break time:	0
Group Marks:	20
Is this Group for Examiner?:	No
Revisit allowed for group Instructions? :	Yes
Maximum Instruction Time:	0
Minimum Instruction Time:	0

General English2

Section Id :	998367390
Section Number :	1
Section type :	Online
Mandatory or Optional:	Mandatory
Number of Questions:	16
Number of Questions to be attempted:	16
Section Marks:	20

Sub-Section Number:	1
Sub-Section Id:	998367552
Question Shuffling Allowed :	Yes

Question Number : 141 Question Id : 9983678795 Question Type : MCQ Option Shuffling : Yes
Correct Marks : 1 Wrong Marks : 0.25

The question below consist of a set of labelled sentences. Out of four options given, select the most logical order of the sentences which form a paragraph.

To answer why consumers became so eager to buy, some historians have pointed to the ability of manufacturers to advertise in a relatively uncensored press.

P : The middling sort bought goods and services because they wanted to follow fashions set by the rich.

Q : McKendrick favours a Veblen model of conspicuous consumption stimulated by competition for status.

R : This, however, hardly seems a sufficient answer.

S : Again, we may wonder if this explanation is sufficient.

Do people not enjoy buying things as a form of self-gratification?

Options :

1. ✓ RQPS

2. ✖ SQRP

3. ✖ RPQS

4. ✖ QPRS

Question Number : 141 Question Id : 9983678795 Question Type : MCQ Option Shuffling : Yes
Correct Marks : 1 Wrong Marks : 0.25

The question below consist of a set of labelled sentences. Out of four options given, select the most logical order of the sentences which form a paragraph.

To answer why consumers became so eager to buy, some historians have pointed to the ability of manufacturers to advertise in a relatively uncensored press.

P : The middling sort bought goods and services because they wanted to follow fashions set by the rich.

Q : McKendrick favours a Veblen model of conspicuous consumption stimulated by competition for status.

R : This, however, hardly seems a sufficient answer.

S : Again, we may wonder if this explanation is sufficient.

Do people not enjoy buying things as a form of self-gratification?

Options :

1. ✔ RQPS

2. ✖ SQRP

3. ✖ RPQS

4. ✖ QPRS

Question Number : 142 Question Id : 9983678796 Question Type : MCQ Option Shuffling : Yes
Correct Marks : 1 Wrong Marks : 0.25

Out of the four alternatives, choose the word which best expresses the meaning of the given word.

Whim

Options :

1. ✖ Gloomy

2. ✔ Fancy

3. ✖ Lazy

4. ✖ Loyal

Question Number : 142 Question Id : 9983678796 Question Type : MCQ Option Shuffling : Yes
Correct Marks : 1 Wrong Marks : 0.25

Out of the four alternatives, choose the word which best expresses the meaning of the given word.

Whim

Options :

1. ✖ Gloomy

2. ✔ Fancy

3. ✖ Lazy

4. ✖ Loyal

Question Number : 143 Question Id : 9983678797 Question Type : MCQ Option Shuffling : Yes
Correct Marks : 1 Wrong Marks : 0.25

Out of the four alternatives, choose the word which best expresses the meaning of the given word.

Hoist

Options :

1. ✓ Uplift
2. ✗ Degrade
3. ✗ Control
4. ✗ Conceal

Question Number : 143 Question Id : 9983678797 Question Type : MCQ Option Shuffling : Yes
Correct Marks : 1 Wrong Marks : 0.25

Out of the four alternatives, choose the word which best expresses the meaning of the given word.

Hoist

Options :

1. ✓ Uplift
2. ✗ Degrade
3. ✗ Control
4. ✗ Conceal

Question Number : 144 Question Id : 9983678798 Question Type : MCQ Option Shuffling : Yes
Correct Marks : 1 Wrong Marks : 0.25

Out of the four alternatives, choose the word which best expresses the meaning of the given word.

Perturbed

Options :

1. ✗ Vague

2. ✖ Distinct

3. ✖ Calm

4. ✔ Anxious

Question Number : 144 Question Id : 9983678798 Question Type : MCQ Option Shuffling : Yes
Correct Marks : 1 Wrong Marks : 0.25

Out of the four alternatives, choose the word which best expresses the meaning of the given word.

Perturbed

Options :

1. ✖ Vague

2. ✖ Distinct

3. ✖ Calm

4. ✔ Anxious

Question Number : 145 Question Id : 9983678799 Question Type : MCQ Option Shuffling : Yes
Correct Marks : 1 Wrong Marks : 0.25

Out of the four alternatives, choose the word which is OPPOSITE in meaning to the given word.

Subjugate

Options :

1. ✔ Liberate

2. ✖ Conquer

3. ✖ Defeat

4. ✖ Crush

Question Number : 145 Question Id : 9983678799 Question Type : MCQ Option Shuffling : Yes
Correct Marks : 1 Wrong Marks : 0.25

Out of the four alternatives, choose the word which is OPPOSITE in meaning to the given word.

Subjugate

Options :

1. ✓ Liberate
2. ✗ Conquer
3. ✗ Defeat
4. ✗ Crush

Question Number : 146 Question Id : 9983678800 Question Type : MCQ Option Shuffling : Yes
Correct Marks : 1 Wrong Marks : 0.25

Out of the four alternatives, choose the word which is OPPOSITE in meaning to the given word.

Impetuous

Options :

1. ✗ Impulsive
2. ✓ Careful
3. ✗ Hinder
4. ✗ Foolish

Question Number : 146 Question Id : 9983678800 Question Type : MCQ Option Shuffling : Yes
Correct Marks : 1 Wrong Marks : 0.25

Out of the four alternatives, choose the word which is OPPOSITE in meaning to the given word.

Impetuous

Options :

1. ✖ Impulsive

2. ✔ Careful

3. ✖ Hinder

4. ✖ Foolish

Question Number : 147 Question Id : 9983678801 Question Type : MCQ Option Shuffling : Yes

Correct Marks : 1 Wrong Marks : 0.25

Four words are given, out of which only one word is spelt correctly. Choose the correctly spelt word.

Options :

1. ✔ Inoculate

2. ✖ Inaculate

3. ✖ Inocolate

4. ✖ Inacolate

Question Number : 147 Question Id : 9983678801 Question Type : MCQ Option Shuffling : Yes

Correct Marks : 1 Wrong Marks : 0.25

Four words are given, out of which only one word is spelt correctly. Choose the correctly spelt word.

Options :

1. ✔ Inoculate

2. ✖ Inaculate

3. ✖ Inocolate

4. ✖ Inacolate

Question Number : 148 Question Id : 9983678802 Question Type : MCQ Option Shuffling : Yes

Correct Marks : 1 Wrong Marks : 0.25

Four words are given, out of which only one word is spelt correctly. Choose the correctly spelt word.

Options :

1. ✓ Voracious
2. ✗ Vorcious
3. ✗ Vorecious
4. ✗ Voraecious

Question Number : 148 Question Id : 9983678802 Question Type : MCQ Option Shuffling : Yes
Correct Marks : 1 Wrong Marks : 0.25

Four words are given, out of which only one word is spelt correctly. Choose the correctly spelt word.

Options :

1. ✓ Voracious
2. ✗ Vorcious
3. ✗ Vorecious
4. ✗ Voraecious

Question Number : 149 Question Id : 9983678803 Question Type : MCQ Option Shuffling : Yes
Correct Marks : 1 Wrong Marks : 0.25

Four words are given, out of which only one word is spelt correctly. Choose the correctly spelt word.

Options :

1. ✓ Conscientious
2. ✗ Consciencious
3. ✗ Consciencous
4. ✗ Conscientous

Question Number : 149 Question Id : 9983678803 Question Type : MCQ Option Shuffling : Yes
Correct Marks : 1 Wrong Marks : 0.25

Four words are given, out of which only one word is spelt correctly. Choose the correctly spelt word.

Options :

1. ✓ Conscientious
2. ✗ Consciencious
3. ✗ Consciencous
4. ✗ Conscientous

Question Number : 150 Question Id : 9983678804 Question Type : MCQ Option Shuffling : Yes
Correct Marks : 1 Wrong Marks : 0.25

What does the following idiom mean?

Baker's dozen

Options :

1. ✓ Thirteen
2. ✗ Fourteen
3. ✗ Twelve
4. ✗ Eleven

Question Number : 150 Question Id : 9983678804 Question Type : MCQ Option Shuffling : Yes
Correct Marks : 1 Wrong Marks : 0.25

What does the following idiom mean?

Baker's dozen

Options :

1. ✓ Thirteen
2. ✗ Fourteen
3. ✗ Twelve
4. ✗ Eleven

Question Number : 151 Question Id : 9983678805 Question Type : MCQ Option Shuffling : Yes
Correct Marks : 1 Wrong Marks : 0.25

What does the following idiom mean?

Toil and moil

Options :

1. ✖ Complete
2. ✖ Everywhere
3. ✔ Hard labour
4. ✖ With all force

Question Number : 151 Question Id : 9983678805 Question Type : MCQ Option Shuffling : Yes
Correct Marks : 1 Wrong Marks : 0.25

What does the following idiom mean?

Toil and moil

Options :

1. ✖ Complete
2. ✖ Everywhere
3. ✔ Hard labour
4. ✖ With all force

Question Number : 152 Question Id : 9983678806 Question Type : MCQ Option Shuffling : Yes
Correct Marks : 1 Wrong Marks : 0.25

What does the following idiom mean?

Wash one's dirty linen in public

Options :

1. ✖ To appreciate one's good deeds in public.
2. ✔ Discuss one's personal affairs in public.
3. ✖ To fight with someone in public.

4. ✖ To do some ugly work in public.

Question Number : 152 Question Id : 9983678806 Question Type : MCQ Option Shuffling : Yes
Correct Marks : 1 Wrong Marks : 0.25

What does the following idiom mean?

Wash one's dirty linen in public

Options :

1. ✖ To appreciate one's good deeds in public.
2. ✔ Discuss one's personal affairs in public.
3. ✖ To fight with someone in public.
4. ✖ To do some ugly work in public.

Question Number : 153 Question Id : 9983678807 Question Type : MCQ Option Shuffling : Yes
Correct Marks : 1 Wrong Marks : 0.25

In the following question, out of four alternatives, select the alternative which is the best substitute of the given words/sentence.

A person who has renounced a religious or political belief

Options :

1. ✖ Atheist
2. ✔ Apostate
3. ✖ Arsonist
4. ✖ Agnostic

Question Number : 153 Question Id : 9983678807 Question Type : MCQ Option Shuffling : Yes
Correct Marks : 1 Wrong Marks : 0.25

In the following question, out of four alternatives, select the alternative which is the best substitute of the given words/sentence.

A person who has renounced a religious or political belief

Options :

1. ✖ Atheist
2. ✔ Apostate
3. ✖ Arsonist
4. ✖ Agnostic

Question Number : 154 Question Id : 9983678808 Question Type : MCQ Option Shuffling : Yes

Correct Marks : 1 Wrong Marks : 0.25

In the following question, out of four alternatives, select the alternative which is the best substitute of the given words/sentence.

A writing that cannot be read

Options :

1. ✖ Infallible
2. ✔ Illegible
3. ✖ Indispensable
4. ✖ Ineligible

Question Number : 154 Question Id : 9983678808 Question Type : MCQ Option Shuffling : Yes

Correct Marks : 1 Wrong Marks : 0.25

In the following question, out of four alternatives, select the alternative which is the best substitute of the given words/sentence.

A writing that cannot be read

Options :

1. ✖ Infallible
2. ✔ Illegible
3. ✖ Indispensable
4. ✖ Ineligible

Question Number : 155 Question Id : 9983678809 Question Type : MCQ Option Shuffling : Yes

Correct Marks : 1 Wrong Marks : 0.25

In the following question, out of four alternatives, select the alternative which is the best substitute of the given words/sentence.

One who studies history relating to the development of man from primitive ages.

Options :

1. ✖ Archaeologist
2. ✖ Dermatologist
3. ✔ Anthropologist
4. ✖ Ecclesiologist

Question Number : 155 Question Id : 9983678809 Question Type : MCQ Option Shuffling : Yes

Correct Marks : 1 Wrong Marks : 0.25

In the following question, out of four alternatives, select the alternative which is the best substitute of the given words/sentence.

One who studies history relating to the development of man from primitive ages.

Options :

1. ✘ Archaeologist
2. ✘ Dermatologist
3. ✔ Anthropologist
4. ✘ Ecclesiologist

Sub-Section Number:	2
Sub-Section Id:	998367553
Question Shuffling Allowed :	Yes

Question Id : 9983678810 Question Type : COMPREHENSION Sub Question Shuffling Allowed : Yes Group Comprehension Questions : No

Question Numbers : (156 to 160)

Question Label : Comprehension

Read the passage carefully and answer the given question.

Television can be very helpful to people who carefully choose the shows that they watch. It can increase our knowledge of the outside world. On the other hand, there are several serious disadvantages of television. In some countries, people watch the 'idiot-box' for an average of six hours. Many children stare at television screen for more hours each day than they do anything else including studying and sleeping. Many studies show the people become more violent after certain programmes. The most negative effect if the television might be people's addiction to it.

Sub questions

Question Number : 156 Question Id : 9983678811 Question Type : MCQ Option Shuffling : Yes
Correct Marks : 1 Wrong Marks : 0.25

What is one of the advantages of watching Television?

Options :

1. ✖ It can make us violent.
2. ✔ It increases our knowledge of the outside world.
3. ✖ It can improve our concentration.
4. ✖ We can get addicted to it.

Question Number : 157 Question Id : 9983678812 Question Type : MCQ Option Shuffling : Yes
Correct Marks : 1 Wrong Marks : 0.25

According to studies, what do people become after watching certain programmes?

Options :

1. ✖ It can make them quiet by nature.
2. ✖ It can make them calm.
3. ✖ It can stress them out.

4. ✓ It can make them violent.

Question Number : 158 Question Id : 9983678813 Question Type : MCQ Option Shuffling : Yes
Correct Marks : 1 Wrong Marks : 0.25

On an average how many hours do people watch the "idiot-box"?

Options :

1. ✖ seven

2. ✖ eight

3. ✓ six

4. ✖ five

Question Number : 159 Question Id : 9983678814 Question Type : MCQ Option Shuffling : Yes
Correct Marks : 1 Wrong Marks : 0.25

What is the most negative effect of watching Television?

Options :

1. ✖ It can make us violent.

2. ✖ It can make people lazy.

3. ✖ It can affect our studies.

4. ✓ We can get addicted to it.

Question Number : 160 Question Id : 9983678815 Question Type : MCQ Option Shuffling : Yes
Correct Marks : 1 Wrong Marks : 0.25

Which among the following will be an apt title for the given passage?

Options :

1. ✖ The importance of Television

2. ✓ Television - Boon or Curse?

3. ✖ Reasons of distraction from studies.

4. ✖ Television, an addiction.

Question Id : 9983678810 Question Type : COMPREHENSION Sub Question Shuffling Allowed : Yes Group Comprehension
Questions : No

Question Numbers : (156 to 160)

Question Label : Comprehension

Read the passage carefully and answer the given question.

Television can be very helpful to people who carefully choose the shows that they watch. It can increase our knowledge of the outside world. On the other hand, there are several serious disadvantages of television. In some countries, people watch the 'idiot-box' for an average of six hours. Many children stare at television screen for more hours each day than they do anything else including studying and sleeping. Many studies show the people become more violent after certain programmes. The most negative effect if the television might be people's addiction to it.

Sub questions

Question Number : 156 Question Id : 9983678811 Question Type : MCQ Option Shuffling : Yes
Correct Marks : 1 Wrong Marks : 0.25

What is one of the advantages of watching Television?

Options :

1. ✘ It can make us violent.
2. ✔ It increases our knowledge of the outside world.
3. ✘ It can improve our concentration.
4. ✘ We can get addicted to it.

Question Number : 157 Question Id : 9983678812 Question Type : MCQ Option Shuffling : Yes
Correct Marks : 1 Wrong Marks : 0.25

According to studies, what do people become after watching certain programmes?

Options :

1. ✘ It can make them quiet by nature.
2. ✘ It can make them calm.
3. ✘ It can stress them out.
4. ✔ It can make them violent.

Question Number : 158 Question Id : 9983678813 Question Type : MCQ Option Shuffling : Yes
Correct Marks : 1 Wrong Marks : 0.25

On an average how many hours do people watch the "idiot-box"?

Options :

1. ✘ seven
2. ✘ eight
3. ✔ six
4. ✘ five

Question Number : 159 Question Id : 9983678814 Question Type : MCQ Option Shuffling : Yes
Correct Marks : 1 Wrong Marks : 0.25

What is the most negative effect of watching Television?

Options :

1. ✘ It can make us violent.
2. ✘ It can make people lazy.
3. ✘ It can affect our studies.
4. ✔ We can get addicted to it.

Question Number : 160 Question Id : 9983678815 Question Type : MCQ Option Shuffling : Yes
Correct Marks : 1 Wrong Marks : 0.25

Which among the following will be an apt title for the given passage?

Options :

1. ✖ The importance of Television
2. ✔ Television - Boon or Curse?
3. ✖ Reasons of distraction from studies.
4. ✖ Television, an addiction.

General Hindi1

Group Number :	9
Group Id :	998367385
Group Maximum Duration :	0
Group Minimum Duration :	0
Show Attended Group? :	No
Edit Attended Group? :	No
Break time:	0
Group Marks:	20
Is this Group for Examiner?:	No
Revisit allowed for group Instructions? :	Yes
Maximum Instruction Time:	0
Minimum Instruction Time:	0

General Hindi1

Section Id :	998367391
Section Number :	1
Section type :	Online
Mandatory or Optional:	Mandatory
Number of Questions:	20
Number of Questions to be attempted:	20
Section Marks:	20

Sub-Section Number:	1
Sub-Section Id:	998367554
Question Shuffling Allowed :	Yes

Question Number : 161 Question Id : 9983678816 Question Type : MCQ Option Shuffling : Yes
Correct Marks : 1 Wrong Marks : 0.25

निम्नलिखित प्रश्न में, चार विकल्पों में से, उस विकल्प का चयन करें जो उपसर्ग से बना है।

Options :

1. ✓ अखंड
2. ✘ धोबिन
3. ✘ शिशुता
4. ✘ चालक

Question Number : 161 Question Id : 9983678816 Question Type : MCQ Option Shuffling : Yes
Correct Marks : 1 Wrong Marks : 0.25

निम्नलिखित प्रश्न में, चार विकल्पों में से, उस विकल्प का चयन करें जो उपसर्ग से बना है।

Options :

1. ✓ अखंड
2. ✘ धोबिन
3. ✘ शिशुता
4. ✘ चालक

Question Number : 162 Question Id : 9983678817 Question Type : MCQ Option Shuffling : Yes
Correct Marks : 1 Wrong Marks : 0.25

निम्नलिखित प्रश्न में, चार विकल्पों में से, उस सही विकल्प का चयन करें जो प्रत्यय से बना शब्द है।

Options :

1. ✘ अथाह
2. ✘ सपूत
3. ✘ भरमार
4. ✓ स्थगित

Question Number : 162 Question Id : 9983678817 Question Type : MCQ Option Shuffling : Yes
Correct Marks : 1 Wrong Marks : 0.25

निम्नलिखित प्रश्न में, चार विकल्पों में से, उस सही विकल्प का चयन करें जो प्रत्यय से बना शब्द है।

Options :

1. ✖ अथाह
2. ✖ सपूत
3. ✖ भरमार
4. ✔ स्थगित

Question Number : 163 Question Id : 9983678818 Question Type : MCQ Option Shuffling : Yes

Correct Marks : 1 Wrong Marks : 0.25

निम्नलिखित प्रश्न में, चार विकल्पों में से, रिक्त स्थान के लिए निर्देशानुसार उचित विकल्प का चयन करें।

वह पेड़ _____ बैठ गया। (संबंधबोधक अव्यय)

Options :

1. ✖ पर
2. ✖ में
3. ✔ के नीचे
4. ✖ ऊपर

Question Number : 163 Question Id : 9983678818 Question Type : MCQ Option Shuffling : Yes

Correct Marks : 1 Wrong Marks : 0.25

निम्नलिखित प्रश्न में, चार विकल्पों में से, रिक्त स्थान के लिए निर्देशानुसार उचित विकल्प का चयन करें।

वह पेड़ _____ बैठ गया। (संबंधबोधक अव्यय)

Options :

1. ✖ पर
2. ✖ में

3. ✓ के नीचे

4. ✖ ऊपर

Question Number : 164 Question Id : 9983678819 Question Type : MCQ Option Shuffling : Yes

Correct Marks : 1 Wrong Marks : 0.25

निम्नलिखित प्रश्न में, चार विकल्पों में से, उस विकल्प का चयन करें जो दिए गए शब्द का तद्भव रूप हो।

अक्षि

Options :

1. ✓ आँख

2. ✖ अश्रु

3. ✖ अनजान

4. ✖ आम

Question Number : 164 Question Id : 9983678819 Question Type : MCQ Option Shuffling : Yes

Correct Marks : 1 Wrong Marks : 0.25

निम्नलिखित प्रश्न में, चार विकल्पों में से, उस विकल्प का चयन करें जो दिए गए शब्द का तद्भव रूप हो।

अक्षि

Options :

1. ✓ आँख

2. ✖ अश्रु

3. ✖ अनजान

4. ✖ आम

Question Number : 165 Question Id : 9983678820 Question Type : MCQ Option Shuffling : Yes

Correct Marks : 1 Wrong Marks : 0.25

निम्नलिखित प्रश्न में, चार विकल्पों में से, उस विकल्प का चयन करें जो दिए गए शब्द का तत्सम रूप हो।

नखत

Options :

1. * नाखून
2. ✓ नक्षत्र
3. * नयन
4. * नया

Question Number : 165 Question Id : 9983678820 Question Type : MCQ Option Shuffling : Yes

Correct Marks : 1 Wrong Marks : 0.25

निम्नलिखित प्रश्न में, चार विकल्पों में से, उस विकल्प का चयन करें जो दिए गए शब्द का तत्सम रूप हो।

नखत

Options :

1. * नाखून
2. ✓ नक्षत्र
3. * नयन
4. * नया

Question Number : 166 Question Id : 9983678821 Question Type : MCQ Option Shuffling : Yes

Correct Marks : 1 Wrong Marks : 0.25

निम्नलिखित प्रश्न में, चार विकल्पों में से, उस विकल्प का चयन करें जो सही कर्मधारण समास का विकल्प हो।

Options :

1. ✓ नीला है जो कमल
2. * तीन लोकों का समाहार
3. * शक्ति के अनुसार

4. * विद्या के लिए आलय

Question Number : 166 Question Id : 9983678821 Question Type : MCQ Option Shuffling : Yes
Correct Marks : 1 Wrong Marks : 0.25

निम्नलिखित प्रश्न में, चार विकल्पों में से, उस विकल्प का चयन करें जो सही कर्मधारण समास का विकल्प हो।

Options :

1. ✓ नीला है जो कमल
2. * तीन लोकों का समाहार
3. * शक्ति के अनुसार
4. * विद्या के लिए आलय

Question Number : 167 Question Id : 9983678822 Question Type : MCQ Option Shuffling : Yes
Correct Marks : 1 Wrong Marks : 0.25

निम्नलिखित प्रश्न में, चार विकल्पों में से, उस विकल्प का चयन करें जो दिए गए शब्द से बनी भाववाचक संज्ञा का सही विकल्प हो।

पंडित

Options :

1. ✓ पांडित्य
2. * पंडताई
3. * पंडित्व
4. * पंडितपन

Question Number : 167 Question Id : 9983678822 Question Type : MCQ Option Shuffling : Yes
Correct Marks : 1 Wrong Marks : 0.25

निम्नलिखित प्रश्न में, चार विकल्पों में से, उस विकल्प का चयन करें जो दिए गए शब्द से बनी भाववाचक संज्ञा का सही विकल्प हो।

पंडित

Options :

1. ✓ पांडित्य
2. ✘ पंडताई
3. ✘ पंडित्व
4. ✘ पंडितपन

Question Number : 168 Question Id : 9983678823 Question Type : MCQ Option Shuffling : Yes
Correct Marks : 1 Wrong Marks : 0.25

निम्नलिखित प्रश्न में, चार विकल्पों में से, उस विकल्प का चयन करें जो बताता है कि बोलने वाला अपने लिए कौन से सर्वनाम का प्रयोग करता है।

Options :

1. ✘ मध्यम पुरुष
2. ✓ उत्तम पुरुष
3. ✘ अन्य पुरुष
4. ✘ निश्चय वाचक

Question Number : 168 Question Id : 9983678823 Question Type : MCQ Option Shuffling : Yes
Correct Marks : 1 Wrong Marks : 0.25

निम्नलिखित प्रश्न में, चार विकल्पों में से, उस विकल्प का चयन करें जो बताता है कि बोलने वाला अपने लिए कौन से सर्वनाम का प्रयोग करता है।

Options :

1. ✘ मध्यम पुरुष
2. ✓ उत्तम पुरुष
3. ✘ अन्य पुरुष
4. ✘ निश्चय वाचक

Question Number : 169 Question Id : 9983678824 Question Type : MCQ Option Shuffling : Yes
Correct Marks : 1 Wrong Marks : 0.25

निम्नलिखित प्रश्न में, चार विकल्पों में से, उस विकल्प का चयन करें जो विशेषण के भेद वाला विकल्प हो।

कोई सज्जन आपको बुला रहा है।

Options :

1. ✓ सार्वनामिक
2. * निश्चित परिमाण वाचक
3. * निश्चित संख्यावाचक
4. * गुणवाचक

Question Number : 169 Question Id : 9983678824 Question Type : MCQ Option Shuffling : Yes

Correct Marks : 1 Wrong Marks : 0.25

निम्नलिखित प्रश्न में, चार विकल्पों में से, उस विकल्प का चयन करें जो विशेषण के भेद वाला विकल्प हो।

कोई सज्जन आपको बुला रहा है।

Options :

1. ✓ सार्वनामिक
2. * निश्चित परिमाण वाचक
3. * निश्चित संख्यावाचक
4. * गुणवाचक

Question Number : 170 Question Id : 9983678825 Question Type : MCQ Option Shuffling : Yes

Correct Marks : 1 Wrong Marks : 0.25

निम्नलिखित प्रश्न में, चार विकल्पों में से, उस विकल्प का चयन करें जो क्रिया के भेद वाला सही विकल्प हो।

तुम प्रतिदिन पढ़ने आया करो।

Options :

1. * पूर्वकालिक क्रिया

2. ✓ संयुक्त क्रिया
3. * द्विकर्मक क्रिया
4. * तात्कालिक क्रिया

Question Number : 170 Question Id : 9983678825 Question Type : MCQ Option Shuffling : Yes
Correct Marks : 1 Wrong Marks : 0.25

निम्नलिखित प्रश्न में, चार विकल्पों में से, उस विकल्प का चयन करें जो क्रिया के भेद वाला सही विकल्प हो।

तुम प्रतिदिन पढ़ने आया करो।

Options :

1. * पूर्वकालिक क्रिया
2. ✓ संयुक्त क्रिया
3. * द्विकर्मक क्रिया
4. * तात्कालिक क्रिया

Question Number : 171 Question Id : 9983678826 Question Type : MCQ Option Shuffling : Yes
Correct Marks : 1 Wrong Marks : 0.25

निम्नलिखित प्रश्न में, चार विकल्पों में से, उस विकल्प का चयन करें जो विलोम शब्द का सबसे अच्छा विकल्प है।

प्रसाद

Options :

1. * हर्ष
2. * आनंद
3. * सहित
4. ✓ कोप

Question Number : 171 Question Id : 9983678826 Question Type : MCQ Option Shuffling : Yes
Correct Marks : 1 Wrong Marks : 0.25

निम्नलिखित प्रश्न में, चार विकल्पों में से, उस विकल्प का चयन करें जो विलोम शब्द का सबसे अच्छा विकल्प है।

प्रसाद

Options :

1. * हर्ष
2. * आनंद
3. * सहित
4. ✓ कोप

Question Number : 172 Question Id : 9983678827 Question Type : MCQ Option Shuffling : Yes

Correct Marks : 1 Wrong Marks : 0.25

निम्नलिखित प्रश्न में, चार विकल्पों में से, उस विकल्प का चयन करें जो समानार्थी शब्द का सही विकल्प नहीं है।

अंक

Options :

1. ✓ अंश
2. * गोद
3. * चिन्ह
4. * संख्या

Question Number : 172 Question Id : 9983678827 Question Type : MCQ Option Shuffling : Yes

Correct Marks : 1 Wrong Marks : 0.25

निम्नलिखित प्रश्न में, चार विकल्पों में से, उस विकल्प का चयन करें जो समानार्थी शब्द का सही विकल्प नहीं है।

अंक

Options :

1. ✓ अंश
2. ✖ गोद
3. ✖ चिन्ह
4. ✖ संख्या

Question Number : 173 Question Id : 9983678828 Question Type : MCQ Option Shuffling : Yes
Correct Marks : 1 Wrong Marks : 0.25

निम्नलिखित प्रश्न में, चार विकल्पों में से, उस विकल्प का चयन करे जो उचित विकल्प हो।

जो असफलता से नहीं घबराता है वही _____ का स्वाद चख पाता है।

Options :

1. ✖ फल
2. ✓ सफलता
3. ✖ विफलता
4. ✖ सफल

Question Number : 173 Question Id : 9983678828 Question Type : MCQ Option Shuffling : Yes
Correct Marks : 1 Wrong Marks : 0.25

निम्नलिखित प्रश्न में, चार विकल्पों में से, उस विकल्प का चयन करे जो उचित विकल्प हो।

जो असफलता से नहीं घबराता है वही _____ का स्वाद चख पाता है।

Options :

1. ✖ फल
2. ✓ सफलता
3. ✖ विफलता

4. * सफल

Question Number : 174 Question Id : 9983678829 Question Type : MCQ Option Shuffling : Yes

Correct Marks : 1 Wrong Marks : 0.25

निम्नलिखित प्रश्न में, चार विकल्पों में से, उस सही विकल्प का चयन करें जो वाक्यांशों के लिए एक शब्द का विकल्प हो।

फेंक कर चलाया जाने वाला हथियार:

Options :

1. * शस्त्र
2. ✓ अस्त्र
3. * तलवार
4. * हथियार

Question Number : 174 Question Id : 9983678829 Question Type : MCQ Option Shuffling : Yes

Correct Marks : 1 Wrong Marks : 0.25

निम्नलिखित प्रश्न में, चार विकल्पों में से, उस सही विकल्प का चयन करें जो वाक्यांशों के लिए एक शब्द का विकल्प हो।

फेंक कर चलाया जाने वाला हथियार:

Options :

1. * शस्त्र
2. ✓ अस्त्र
3. * तलवार
4. * हथियार

Question Number : 175 Question Id : 9983678830 Question Type : MCQ Option Shuffling : Yes

Correct Marks : 1 Wrong Marks : 0.25

निम्नलिखित प्रश्न में, चार विकल्पों में से, उस सही विकल्प का चयन करें जो रिक्त स्थान के लिए उचित विकल्प हो।

मेरी दादी जी बहुत स्वादिष्ट _____ बनाती हैं।

Options :

1. * अचर
2. ✓ अचार
3. * आचार
4. * आचरण

Question Number : 175 Question Id : 9983678830 Question Type : MCQ Option Shuffling : Yes

Correct Marks : 1 Wrong Marks : 0.25

निम्नलिखित प्रश्न में, चार विकल्पों में से, उस सही विकल्प का चयन करें जो रिक्त स्थान के लिए उचित विकल्प हो।

मेरी दादी जी बहुत स्वादिष्ट _____ बनाती हैं।

Options :

1. * अचर
2. ✓ अचार
3. * आचार
4. * आचरण

Question Number : 176 Question Id : 9983678831 Question Type : MCQ Option Shuffling : Yes

Correct Marks : 1 Wrong Marks : 0.25

निम्नलिखित प्रश्न में, चार विकल्पों में से, उस सही विकल्प का चयन करें जो रिक्त स्थान के लिए उचित विकल्प हो।

भारत में अतिथि सत्कार की परंपरा _____ काल से चली आ रही हैं।

Options :

1. * आदी

2. ✓ आदि

3. ✖ आड़ी

4. ✖ अदि

Question Number : 176 Question Id : 9983678831 Question Type : MCQ Option Shuffling : Yes
Correct Marks : 1 Wrong Marks : 0.25

निम्नलिखित प्रश्न में, चार विकल्पों में से, उस सही विकल्प का चयन करें जो रिक्त स्थान के लिए उचित विकल्प हो।

भारत में अतिथि सत्कार की परंपरा _____ काल से चली आ रही हैं।

Options :

1. ✖ आदी

2. ✓ आदि

3. ✖ आड़ी

4. ✖ अदि

Question Number : 177 Question Id : 9983678832 Question Type : MCQ Option Shuffling : Yes
Correct Marks : 1 Wrong Marks : 0.25

निम्नलिखित प्रश्न में, चार विकल्पों में से, उस सही विकल्प का चयन करें जो रिक्त स्थान के लिए उचित शब्द-युग्म का विकल्प हो।

_____ पर पोलियो ड्रॉप का प्रचार किया गया।

Options :

1. ✖ क्या-क्या

2. ✓ स्थान-स्थान

3. ✖ कौन-कौन

4. ✖ खड़े-खड़े

Question Number : 177 Question Id : 9983678832 Question Type : MCQ Option Shuffling : Yes
Correct Marks : 1 Wrong Marks : 0.25

निम्नलिखित प्रश्न में, चार विकल्पों में से, उस सही विकल्प का चयन करें जो रिक्त स्थान के लिए उचित शब्द-युग्म का विकल्प हो।

_____ पर पोलियो ड्रॉप का प्रचार किया गया।

Options :

1. ✖ क्या-क्या
2. ✔ स्थान-स्थान
3. ✖ कौन-कौन
4. ✖ खड़े-खड़े

Question Number : 178 Question Id : 9983678833 Question Type : MCQ Option Shuffling : Yes

Correct Marks : 1 Wrong Marks : 0.25

निम्नलिखित प्रश्न में, चार विकल्पों में से, उस सही विकल्प का चयन करें जो रिक्त स्थान के लिए उचित शब्द-युग्म का विकल्प हो।

हम नदी के _____ चलकर पहाड़ी पर पहुंच गए।

Options :

1. ✖ स्थान-स्थान
2. ✔ किनारे-किनारे
3. ✖ क्या-क्या
4. ✖ छोटे-बड़े

Question Number : 178 Question Id : 9983678833 Question Type : MCQ Option Shuffling : Yes

Correct Marks : 1 Wrong Marks : 0.25

निम्नलिखित प्रश्न में, चार विकल्पों में से, उस सही विकल्प का चयन करें जो रिक्त स्थान के लिए उचित शब्द-युग्म का विकल्प हो।

हम नदी के _____ चलकर पहाड़ी पर पहुंच गए।

Options :

1. * स्थान-स्थान
2. ✓ किनारे-किनारे
3. * क्या-क्या
4. * छोटे-बड़े

Question Number : 179 Question Id : 9983678834 Question Type : MCQ Option Shuffling : Yes
Correct Marks : 1 Wrong Marks : 0.25

निम्नलिखित प्रश्न में, चार विकल्पों में से, उस विकल्प का चयन करें जो शुद्ध शब्द का सही विकल्प है।

Options :

1. ✓ ऋषि
2. * रिशी
3. * रिषी
4. * ऋषी

Question Number : 179 Question Id : 9983678834 Question Type : MCQ Option Shuffling : Yes
Correct Marks : 1 Wrong Marks : 0.25

निम्नलिखित प्रश्न में, चार विकल्पों में से, उस विकल्प का चयन करें जो शुद्ध शब्द का सही विकल्प है।

Options :

1. ✓ ऋषि
2. * रिशी
3. * रिषी
4. * ऋषी

Question Number : 180 Question Id : 9983678835 Question Type : MCQ Option Shuffling : Yes
Correct Marks : 1 Wrong Marks : 0.25

निम्नलिखित प्रश्न में, चार विकल्पों में से, उस विकल्प का चयन करें जो शुद्ध शब्द का सही विकल्प है।

Options :

1. * पड़ाई

2. * पढाई

3. ✓ पढ़ाई

4. * पढ़ाड़

Question Number : 180 Question Id : 9983678835 Question Type : MCQ Option Shuffling : Yes
Correct Marks : 1 Wrong Marks : 0.25

निम्नलिखित प्रश्न में, चार विकल्पों में से, उस विकल्प का चयन करें जो शुद्ध शब्द का सही विकल्प है।

Options :

1. * पड़ाई

2. * पढाई

3. ✓ पढ़ाई

4. * पढ़ाड़

General Hindi2

Group Number :	10
Group Id :	998367386
Group Maximum Duration :	0
Group Minimum Duration :	120
Show Attended Group? :	No
Edit Attended Group? :	No
Break time:	0
Group Marks:	20
Is this Group for Examiner? :	No
Revisit allowed for group Instructions? :	Yes
Maximum Instruction Time:	0
Minimum Instruction Time:	0

General Hindi2

Section Id :	998367392
Section Number :	1
Section type :	Online
Mandatory or Optional:	Mandatory
Number of Questions:	16
Number of Questions to be attempted:	16
Section Marks:	20

Sub-Section Number: 1
Sub-Section Id: 998367555
Question Shuffling Allowed : Yes

Question Number : 181 Question Id : 9983678836 Question Type : MCQ Option Shuffling : Yes
Correct Marks : 1 Wrong Marks : 0.25

निम्नलिखित प्रश्न में, चार विकल्पों में से, उस विकल्प का चयन करें जो दिए गए शब्द के पर्यायवाची शब्द का विकल्प नहीं है।

पुष्प

Options :

1. ✓ उदक
2. * कुसुम
3. * प्रसून
4. * सुमन

Question Number : 181 Question Id : 9983678836 Question Type : MCQ Option Shuffling : Yes
Correct Marks : 1 Wrong Marks : 0.25

निम्नलिखित प्रश्न में, चार विकल्पों में से, उस विकल्प का चयन करें जो दिए गए शब्द के पर्यायवाची शब्द का विकल्प नहीं है।

पुष्प

Options :

1. ✓ उदक
2. * कुसुम
3. * प्रसून
4. * सुमन

Question Number : 182 Question Id : 9983678837 Question Type : MCQ Option Shuffling : Yes
Correct Marks : 1 Wrong Marks : 0.25

निम्नलिखित प्रश्न में, चार विकल्पों में से, उस विकल्प का चयन करें जो दिए गए शब्द के पर्यायवाची शब्द का विकल्प नहीं है।

जल

Options :

1. * उदक
2. * अम्बु
3. * पय
4. ✓ सिन्धु

Question Number : 182 Question Id : 9983678837 Question Type : MCQ Option Shuffling : Yes

Correct Marks : 1 Wrong Marks : 0.25

निम्नलिखित प्रश्न में, चार विकल्पों में से, उस विकल्प का चयन करें जो दिए गए शब्द के पर्यायवाची शब्द का विकल्प नहीं है।

जल

Options :

1. * उदक
2. * अम्बु
3. * पय
4. ✓ सिन्धु

Question Number : 183 Question Id : 9983678838 Question Type : MCQ Option Shuffling : Yes

Correct Marks : 1 Wrong Marks : 0.25

निम्नलिखित प्रश्न में, चार विकल्पों में से, उस विकल्प का चयन करें जो दिए गए वाक्य के काल का सही विकल्प हो।

उसकी परीक्षा समाप्त हो चुकी होगी

Options :

1. ✓ संदिग्ध भूतकाल

2. * हेतुहेतु मद भूतकाल
3. * सामान्य वर्तमानकाल
4. * आसन्न भूतकाल

Question Number : 183 Question Id : 9983678838 Question Type : MCQ Option Shuffling : Yes
Correct Marks : 1 Wrong Marks : 0.25

निम्नलिखित प्रश्न में, चार विकल्पों में से, उस विकल्प का चयन करें जो दिए गए वाक्य के काल का सही विकल्प हो।

उसकी परीक्षा समाप्त हो चुकी होगी

Options :

1. ✓ संदिग्ध भूतकाल
2. * हेतुहेतु मद भूतकाल
3. * सामान्य वर्तमानकाल
4. * आसन्न भूतकाल

Question Number : 184 Question Id : 9983678839 Question Type : MCQ Option Shuffling : Yes
Correct Marks : 1 Wrong Marks : 0.25

निम्नलिखित प्रश्न में, चार विकल्पों में से, उस विकल्प का चयन करें जो सही वाक्य भेद का विकल्प हो।

सब दोस्तों ने खाना खाया।

Options :

1. * मिश्र वाक्य
2. ✓ सरल वाक्य
3. * संयुक्त वाक्य
4. * आज्ञावाचक वाक्य

Question Number : 184 Question Id : 9983678839 Question Type : MCQ Option Shuffling : Yes
Correct Marks : 1 Wrong Marks : 0.25

निम्नलिखित प्रश्न में, चार विकल्पों में से, उस विकल्प का चयन करें जो सही वाक्य भेद का विकल्प हो।

सब दोस्तों ने खाना खाया।

Options :

1. ✖ मिश्र वाक्य
2. ✔ सरल वाक्य
3. ✖ संयुक्त वाक्य
4. ✖ आज्ञावाचक वाक्य

Question Number : 185 Question Id : 9983678840 Question Type : MCQ Option Shuffling : Yes

Correct Marks : 1 Wrong Marks : 0.25

निम्नलिखित प्रश्न में, चार विकल्पों में से, उस विकल्प का चयन करें जो सही वाक्य भेद का विकल्प हो।

मेरे पास एक कार है और वह बहुत सुन्दर है।

Options :

1. ✖ मिश्र वाक्य
2. ✖ विधानवाचक वाक्य
3. ✔ संयुक्त वाक्य
4. ✖ आज्ञावाचक वाक्य

Question Number : 185 Question Id : 9983678840 Question Type : MCQ Option Shuffling : Yes

Correct Marks : 1 Wrong Marks : 0.25

निम्नलिखित प्रश्न में, चार विकल्पों में से, उस विकल्प का चयन करें जो सही वाक्य भेद का विकल्प हो।

मेरे पास एक कार है और वह बहुत सुन्दर है।

Options :

1. * मिश्र वाक्य
2. * विधानवाचक वाक्य
3. ✓ संयुक्त वाक्य
4. * आज्ञावाचक वाक्य

Question Number : 186 Question Id : 9983678841 Question Type : MCQ Option Shuffling : Yes

Correct Marks : 1 Wrong Marks : 0.25

निम्नलिखित प्रश्न में, चार विकल्पों में से, उस विकल्प का चयन करें जो स्त्रीलिंग शब्द का सबसे अच्छा विकल्प है।

Options :

1. * अमेरीका
2. * कान
3. * जल
4. ✓ अमावस्या

Question Number : 186 Question Id : 9983678841 Question Type : MCQ Option Shuffling : Yes

Correct Marks : 1 Wrong Marks : 0.25

निम्नलिखित प्रश्न में, चार विकल्पों में से, उस विकल्प का चयन करें जो स्त्रीलिंग शब्द का सबसे अच्छा विकल्प है।

Options :

1. * अमेरीका
2. * कान
3. * जल
4. ✓ अमावस्या

Question Number : 187 Question Id : 9983678842 Question Type : MCQ Option Shuffling : Yes

Correct Marks : 1 Wrong Marks : 0.25

निम्नलिखित प्रश्न में, चार विकल्पों में से, उस विकल्प का चयन करें जो रिक्त स्थान के लिए बहुवचन शब्द का सबसे अच्छा विकल्प है।

कक्षा में _____ को शांत होने के लिए कहें।

Options :

1. ✓ बालकों
2. ✘ बालके
3. ✘ बालकें
4. ✘ बालको

Question Number : 187 Question Id : 9983678842 Question Type : MCQ Option Shuffling : Yes

Correct Marks : 1 Wrong Marks : 0.25

निम्नलिखित प्रश्न में, चार विकल्पों में से, उस विकल्प का चयन करें जो रिक्त स्थान के लिए बहुवचन शब्द का सबसे अच्छा विकल्प है।

कक्षा में _____ को शांत होने के लिए कहें।

Options :

1. ✓ बालकों
2. ✘ बालके
3. ✘ बालकें
4. ✘ बालको

Question Number : 188 Question Id : 9983678843 Question Type : MCQ Option Shuffling : Yes

Correct Marks : 1 Wrong Marks : 0.25

निम्नलिखित प्रश्न में, चार विकल्पों में से, उस विकल्प का चयन करें जो दिए गए वाक्य के लिए पक्ष के भेद का सबसे अच्छा विकल्प है।

अब बच्चा दौड़ने लगा है।

Options :

1. ✘ प्रगतिद्योतक

2. * सातप्यबोधक

3. ✓ आरंभद्योतक

4. * पूर्णताद्योतक

Question Number : 188 Question Id : 9983678843 Question Type : MCQ Option Shuffling : Yes
Correct Marks : 1 Wrong Marks : 0.25

निम्नलिखित प्रश्न में, चार विकल्पों में से, उस विकल्प का चयन करें जो दिए गए वाक्य के लिए पक्ष के भेद का सबसे अच्छा विकल्प है।

अब बच्चा दौड़ने लगा है।

Options :

1. * प्रगतिद्योतक

2. * सातप्यबोधक

3. ✓ आरंभद्योतक

4. * पूर्णताद्योतक

Question Number : 189 Question Id : 9983678844 Question Type : MCQ Option Shuffling : Yes
Correct Marks : 1 Wrong Marks : 0.25

निम्नलिखित प्रश्न में, चार विकल्पों में से, उस विकल्प का चयन करें जो दिए गए वाक्य के लिए वृत्ति के भेद का सबसे अच्छा विकल्प है।

जरा सामान पहुँचाने में मेरी मदद कीजिए।

Options :

1. * संभावनार्थ

2. * संदेहार्थ

3. * संकेतार्थ

4. ✓ विध्यर्थ

Question Number : 189 Question Id : 9983678844 Question Type : MCQ Option Shuffling : Yes
Correct Marks : 1 Wrong Marks : 0.25

निम्नलिखित प्रश्न में, चार विकल्पों में से, उस विकल्प का चयन करें जो दिए गए वाक्य के लिए वृत्ति के भेद का सबसे अच्छा विकल्प है।

जरा सामान पहुँचाने में मेरी मदद कीजिए।

Options :

1. * संभावनार्थ
2. * संदेहार्थ
3. * संकेतार्थ
4. ✓ विध्यर्थ

Question Number : 190 Question Id : 9983678845 Question Type : MCQ Option Shuffling : Yes

Correct Marks : 1 Wrong Marks : 0.25

निम्नलिखित प्रश्न में, चार विकल्पों में से, उस विकल्प का चयन करें जो कोष्ठक में दिए गए शब्द के अनुसार उत्तम पुरुष वाचक सर्वनाम का सही विकल्प हो।

Options :

1. * (तुमको) किसी दूसरी जगह जाना चाहिए।
2. * यह किताब (उसकी) है।
3. ✓ (मैं) दिन में तीन बार खाना खाता हूँ।
4. * (उन) सबको यहाँ लेकर आओ।

Question Number : 190 Question Id : 9983678845 Question Type : MCQ Option Shuffling : Yes

Correct Marks : 1 Wrong Marks : 0.25

निम्नलिखित प्रश्न में, चार विकल्पों में से, उस विकल्प का चयन करें जो कोष्ठक में दिए गए शब्द के अनुसार उत्तम पुरुष वाचक सर्वनाम का सही विकल्प हो।

Options :

1. * (तुमको) किसी दूसरी जगह जाना चाहिए।
2. * यह किताब (उसकी) है।
3. ✓ (मैं) दिन में तीन बार खाना खाता हूँ।

4. * (उन) सबको यहाँ लेकर आओ।

Question Number : 191 Question Id : 9983678846 Question Type : MCQ Option Shuffling : Yes

Correct Marks : 1 Wrong Marks : 0.25

निम्नलिखित प्रश्न में, चार विकल्पों में से, उस विकल्प का चयन करें जो दिए गए मुहावरे का सही अर्थ वाला विकल्प है।

ऊँची दुकान फीका पकवान

Options :

1. ✓ बड़ी प्रसिद्धि वाले प्रायः ओछा काम करते हैं
2. * फीका खाना
3. * बेस्वाद काम करना
4. * किसी काम को करने का मन न करना

Question Number : 191 Question Id : 9983678846 Question Type : MCQ Option Shuffling : Yes

Correct Marks : 1 Wrong Marks : 0.25

निम्नलिखित प्रश्न में, चार विकल्पों में से, उस विकल्प का चयन करें जो दिए गए मुहावरे का सही अर्थ वाला विकल्प है।

ऊँची दुकान फीका पकवान

Options :

1. ✓ बड़ी प्रसिद्धि वाले प्रायः ओछा काम करते हैं
2. * फीका खाना
3. * बेस्वाद काम करना
4. * किसी काम को करने का मन न करना

Question Number : 192 Question Id : 9983678847 Question Type : MCQ Option Shuffling : Yes

Correct Marks : 1 Wrong Marks : 0.25

निम्नलिखित प्रश्न में, चार विकल्पों में से, उस विकल्प का चयन करें जो दिए गए मुहावरे का सही अर्थ वाला विकल्प है।

घी कहाँ गया, खिचड़ी में

Options :

1. * सब घी कहा जाना
2. ✓ अपनी चीज अपने ही काम आना
3. * अपना सामान गायब हो जाना
4. * घर में ही चोरी हो जाना

Question Number : 192 Question Id : 9983678847 Question Type : MCQ Option Shuffling : Yes

Correct Marks : 1 Wrong Marks : 0.25

निम्नलिखित प्रश्न में, चार विकल्पों में से, उस विकल्प का चयन करें जो दिए गए मुहावरे का सही अर्थ वाला विकल्प है।

घी कहाँ गया, खिचड़ी में

Options :

1. * सब घी कहा जाना
2. ✓ अपनी चीज अपने ही काम आना
3. * अपना सामान गायब हो जाना
4. * घर में ही चोरी हो जाना

Question Number : 193 Question Id : 9983678848 Question Type : MCQ Option Shuffling : Yes

Correct Marks : 1 Wrong Marks : 0.25

निम्नलिखित प्रश्न में, चार विकल्पों में से, उस विकल्प का चयन करें जो दिए गए मुहावरे का सही अर्थ वाला विकल्प है।

देखे ऊँट किस करवट बैठता है

Options :

1. * ऊँट के बैठने का इंतजार करना

2. ✓ न जाने क्या होगा
3. ✖ समय व्यतीत करना
4. ✖ कुछ भी कम न होना

Question Number : 193 Question Id : 9983678848 Question Type : MCQ Option Shuffling : Yes
Correct Marks : 1 Wrong Marks : 0.25

निम्नलिखित प्रश्न में, चार विकल्पों में से, उस विकल्प का चयन करें जो दिए गए मुहावरे का सही अर्थ वाला विकल्प है।

देखे ऊँट किस करवट बैठता है

Options :

1. ✖ ऊँट के बैठने का इंतजार करना
2. ✓ न जाने क्या होगा
3. ✖ समय व्यतीत करना
4. ✖ कुछ भी कम न होना

Question Number : 194 Question Id : 9983678849 Question Type : MCQ Option Shuffling : Yes
Correct Marks : 1 Wrong Marks : 0.25

निम्नलिखित प्रश्न में, चार विकल्पों में से, उस विकल्प का चयन करें जो दी गई लोकोक्तियों का सही अर्थ वाला विकल्प है।

जैसा मुंह वैसा तमाचा

Options :

1. ✖ झगडा करना
2. ✓ जैसा आदमी वैसा व्यवहार
3. ✖ बिना सोचे समझे काम करना
4. ✖ कमज़ोर व्यक्ति

Question Number : 194 Question Id : 9983678849 Question Type : MCQ Option Shuffling : Yes
Correct Marks : 1 Wrong Marks : 0.25

निम्नलिखित प्रश्न में, चार विकल्पों में से, उस विकल्प का चयन करें जो दी गई लोकोक्तियों का सही अर्थ वाला विकल्प है।

जैसा मुंह वैसा तमाचा

Options :

1. * झगडा करना
2. ✓ जैसा आदमी वैसा व्यवहार
3. * बिना सोचे समझे काम करना
4. * कमजोर व्यक्ति

Question Number : 195 Question Id : 9983678850 Question Type : MCQ Option Shuffling : Yes

Correct Marks : 1 Wrong Marks : 0.25

निम्नलिखित प्रश्न में, चार विकल्पों में से, उस विकल्प का चयन करें जो बताता है कि शोक, घृणा, आश्चर्य आदि भावों को प्रकट करने के लिए किस चिह्न का प्रयोग किया जाता है?

Options :

1. * उद्धरण चिह्न
2. ✓ विस्मय सूचक चिह्न
3. * विवरण चिह्न
4. * विस्मरण

Question Number : 195 Question Id : 9983678850 Question Type : MCQ Option Shuffling : Yes

Correct Marks : 1 Wrong Marks : 0.25

निम्नलिखित प्रश्न में, चार विकल्पों में से, उस विकल्प का चयन करें जो बताता है कि शोक, घृणा, आश्चर्य आदि भावों को प्रकट करने के लिए किस चिह्न का प्रयोग किया जाता है?

Options :

1. * उद्धरण चिह्न
2. ✓ विस्मय सूचक चिह्न

3. * विवरण चिह्न

4. * विस्मरण

Sub-Section Number: 2
Sub-Section Id: 998367556
Question Shuffling Allowed : Yes

Question Id : 9983678851 Question Type : COMPREHENSION Sub Question Shuffling Allowed : Yes Group Comprehension Questions : No

Question Numbers : (196 to 200)

Question Label : Comprehension

नीचे दिये गये गद्यांश को ध्यानपूर्वक पढ़ें और दिए गये प्रश्न के उत्तर दें।

अगर तुम भविष्य को अपनी मुट्टी में बंद करना चाहते हो तो समय के प्रत्येक क्षण का उपयोग करो। प्रत्येक क्षण तुम्हारी प्रगति का क्षण है। जिन विद्यार्थियों की दृष्टि अपने लक्ष्य को पाने में लगी होती है, वे विश्राम नहीं करते। विद्या चाहने वालों को सुख कहाँ और सुख चाहने वालों को विद्या कहाँ? श्रम की एक सहचरी लक्ष्मी है तो दूसरी सरस्वती। नव वधु रूपी भाग्यश्री का मुख आँचल से ढका हुआ है। वह नगरों, गांवों, कुटियाओं और खेतों-खलिहानों में जाती है। वह जिस विद्यार्थी के माथे पर परिश्रम की बूंदें देखती है उसकी बगल में बैठ जाती है, जो विद्यार्थी अपने परिश्रमी हाथ से इस वधु का घूँघट हटाता है, उसे ही वह वरमाला पहनाती है।

Sub questions

Question Number : 196 Question Id : 9983678852 Question Type : MCQ Option Shuffling : Yes
Correct Marks : 1 Wrong Marks : 0.25

‘भविष्य को अपनी मुट्टी में बंद करना’ का क्या अर्थ है?

Options :

1. * भविष्य को बंद कर देना
2. ✓ भविष्य को अपनी इच्छा के अनुसार बनाना
3. * उसका अनादर करना
4. * उसे व्यर्थ करना

Question Number : 197 Question Id : 9983678853 Question Type : MCQ Option Shuffling : Yes
Correct Marks : 1 Wrong Marks : 0.25

कैसे विद्यार्थी विश्राम नहीं करते?

Options :

1. * जो दूसरों के लक्ष्य पर ध्यान रखते हैं
2. * जो समय का सदुपयोग नहीं करते
3. * जिन्हें विद्या नहीं चाहिए
4. ✓ जो अपने लक्ष्य को पाने में लगे रहते हैं

Question Number : 198 Question Id : 9983678854 Question Type : MCQ Option Shuffling : Yes

Correct Marks : 1 Wrong Marks : 0.25

अनुच्छेद में नव वधु किसे कहा गया है?

Options :

1. ✓ भाग्यश्री
2. * विद्या
3. * परिश्रम
4. * सुख

Question Number : 199 Question Id : 9983678855 Question Type : MCQ Option Shuffling : Yes

Correct Marks : 1 Wrong Marks : 0.25

इनमें से कौन सा सहचरी का पर्यायवाची नहीं है?

Options :

1. * सहेली
2. * पत्नी
3. ✓ माता
4. * सखी

Question Number : 200 Question Id : 9983678856 Question Type : MCQ Option Shuffling : Yes

Correct Marks : 1 Wrong Marks : 0.25

इस अनुच्छेद का कोई उपयुक्त शीर्षक _____ है।

Options :

1. * श्रमिक व्यक्ति
2. ✓ समय और श्रम
3. * छात्र जीवन
4. * समय का अनुपयोग

Question Label : Comprehension

नीचे दिये गये गद्यांश को ध्यानपूर्वक पढ़ें और दिए गये प्रश्न के उत्तर दें।

अगर तुम भविष्य को अपनी मुट्ठी में बंद करना चाहते हो तो समय के प्रत्येक क्षण का उपयोग करो। प्रत्येक क्षण तुम्हारी प्रगति का क्षण है। जिन विद्यार्थियों की दृष्टि अपने लक्ष्य को पाने में लगी होती है, वे विश्राम नहीं करते। विद्या चाहने वालों को सुख कहाँ और सुख चाहने वालों को विद्या कहाँ? श्रम की एक सहचरी लक्ष्मी है तो दूसरी सरस्वती। नव वधु रूपी भाग्यश्री का मुख आँचल से ढका हुआ है। वह नगरों, गांवों, कुटियाओं और खेतों-खलिहानों में जाती है। वह जिस विद्यार्थी के माथे पर परिश्रम की बूंदें देखती है उसकी बगल में बैठ जाती हैं, जो विद्यार्थी अपने परिश्रमी हाथ से इस वधू का घूँघट हटाता है, उसे ही वह वरमाला पहनाती है।

Sub questions

Question Number : 196 Question Id : 9983678852 Question Type : MCQ Option Shuffling : Yes

Correct Marks : 1 Wrong Marks : 0.25

‘भविष्य को अपनी मुट्ठी में बंद करना’ का क्या अर्थ है?

Options :

1. * भविष्य को बंद कर देना
2. ✓ भविष्य को अपनी इच्छा के अनुसार बनाना
3. * उसका अनादर करना
4. * उसे व्यर्थ करना

Correct Marks : 1 Wrong Marks : 0.25

कैसे विद्यार्थी विश्राम नहीं करते?

Options :

1. * जो दूसरों के लक्ष्य पर ध्यान रखते हैं
2. * जो समय का सदुपयोग नहीं करते
3. * जिन्हें विद्या नहीं चाहिए
4. ✓ जो अपने लक्ष्य को पाने में लगे रहते हैं

Question Number : 198 Question Id : 9983678854 Question Type : MCQ Option Shuffling : Yes

Correct Marks : 1 Wrong Marks : 0.25

अनुच्छेद में नव वधु किसे कहा गया है?

Options :

1. ✓ भाग्यश्री
2. * विद्या
3. * परिश्रम
4. * सुख

Question Number : 199 Question Id : 9983678855 Question Type : MCQ Option Shuffling : Yes

Correct Marks : 1 Wrong Marks : 0.25

इनमें से कौन सा सहचरी का पर्यायवाची नहीं है?

Options :

1. * सहेली
2. * पत्नी
3. ✓ माता
4. * सखी

Question Number : 200 Question Id : 9983678856 Question Type : MCQ Option Shuffling : Yes

Correct Marks : 1 Wrong Marks : 0.25

इस अनुच्छेद का कोई उपयुक्त शीर्षक _____ है।

Options :

1. * श्रमिक व्यक्ति
2. ✓ समय और श्रम
3. * छात्र जीवन
4. * समय का अनुपयोग