

## Education Consultant India Ltd.

Notations :

1.Options shown in **green** color and with ✓ icon are correct.

2.Options shown in **red** color and with ✖ icon are incorrect.

<b>Question Paper Name:</b>	MEDICAL RECORD CLERK 25th July 2019 Shift 3
<b>Subject Name:</b>	MEDICAL RECORD CLERK
<b>Creation Date:</b>	2019-07-25 19:40:20
<b>Duration:</b>	120
<b>Total Marks:</b>	200
<b>Display Marks:</b>	Yes
<b>Share Answer Key With Delivery Engine:</b>	No
<b>Actual Answer Key:</b>	Yes
<b>Calculator:</b>	None
<b>Magnifying Glass Required?:</b>	No
<b>Ruler Required?:</b>	No
<b>Eraser Required?:</b>	No
<b>Scratch Pad Required?:</b>	No
<b>Rough Sketch/Notepad Required?:</b>	No
<b>Protractor Required?:</b>	No
<b>Show Watermark on Console?:</b>	Yes
<b>Highlighter:</b>	No
<b>Auto Save on Console?:</b>	No

## Mental Ability1

<b>Group Number :</b>	1
<b>Group Id :</b>	586180392
<b>Group Maximum Duration :</b>	0
<b>Group Minimum Duration :</b>	0
<b>Show Attended Group? :</b>	No
<b>Edit Attended Group? :</b>	No
<b>Break time:</b>	0
<b>Group Marks:</b>	20
<b>Is this Group for Examiner?:</b>	No
<b>Revisit allowed for group Instructions? :</b>	Yes
<b>Maximum Instruction Time:</b>	0
<b>Minimum Instruction Time:</b>	0

## Mental Ability1

<b>Section Id :</b>	586180396
<b>Section Number :</b>	1

Section type :	Online
Mandatory or Optional:	Mandatory
Number of Questions:	20
Number of Questions to be attempted:	20
Section Marks:	20

Sub-Section Number:	1
Sub-Section Id:	586180545
Question Shuffling Allowed :	Yes

Question Number : 1 Question Id : 5861808129 Question Type : MCQ Option Shuffling : Yes  
Correct Marks : 1 Wrong Marks : 0.25

निम्नलिखित प्रश्न में, दिए गए शब्द द्वारा इन विकल्पों में से एक विकल्प गठित नहीं किया जा सकता। उस शब्द को खोजें।

## NECESSITY

Options :

1. ✖ NICE
2. ✖ CITY
3. ✔ SEAT
4. ✖ SCENT

Question Number : 1 Question Id : 5861808129 Question Type : MCQ Option Shuffling : Yes  
Correct Marks : 1 Wrong Marks : 0.25

In the following question, one of the option cannot be formed by the word, given in the question. Find that word.

## NECESSITY

Options :

1. ✖ NICE
2. ✖ CITY
3. ✔ SEAT
4. ✖ SCENT

Question Number : 2 Question Id : 5861808130 Question Type : MCQ Option Shuffling : Yes

Correct Marks : 1 Wrong Marks : 0.25

Find the last letter in the following letter series.

XT, VP, WL, UH, VP, \_\_\_\_\_.

Options :

1. ✓ TZ

2. ✗ NA

3. ✗ WX

4. ✗ UB

Question Number : 2 Question Id : 5861808130 Question Type : MCQ Option Shuffling : Yes

Correct Marks : 1 Wrong Marks : 0.25

निम्न अक्षर श्रृंखला में अंतिम अक्षर ज्ञात करें।

XT, VP, WL, UH, VP, \_\_\_\_\_.

Options :

1. ✓ TZ

2. ✗ NA

3. ✗ WX

4. ✗ UB

Question Number : 3 Question Id : 5861808131 Question Type : MCQ Option Shuffling : Yes

Correct Marks : 1 Wrong Marks : 0.25

Find the last letters in the following letter series.

GFE, LKJ, QPO, VUT, AZY, \_\_\_\_\_.

Options :

1. ✗ DEF

2. ✓ FED

3. ✗ CDE

4. ✗ EDC

Question Number : 3 Question Id : 5861808131 Question Type : MCQ Option Shuffling : Yes

Correct Marks : 1 Wrong Marks : 0.25

निम्न अक्षर श्रृंखला में अंतिम अक्षर ज्ञात करें।

GFE, LKJ, QPO, VUT, AZY, \_\_\_\_\_.

Options :

1. ✘ DEF

2. ✔ FED

3. ✘ CDE

4. ✘ EDC

Question Number : 4 Question Id : 5861808132 Question Type : MCQ Option Shuffling : Yes

Correct Marks : 1 Wrong Marks : 0.25

In the given options 3 pair of words are similarly related and one pair is differently related. Find the pair which is differently related.

Options :

1. ✘ Captain : Ship

2. ✔ Student : School

3. ✘ President : Country

4. ✘ Chairman : Company

Question Number : 4 Question Id : 5861808132 Question Type : MCQ Option Shuffling : Yes

Correct Marks : 1 Wrong Marks : 0.25

दिए गए विकल्पों में शब्दों की 3 जोड़ियाँ समान रूप से संबंधित हैं और एक जोड़ी भिन्न रूप से संबंधित है। उस जोड़ी को ज्ञात करें जो भिन्न रूप से संबंधित है।

Options :

1. ✘ कप्तान : जहाज

2. ✓ छात्र : स्कूल

3. \* राष्ट्रपति : देश

4. \* अध्यक्ष : कंपनी

Question Number : 5 Question Id : 5861808133 Question Type : MCQ Option Shuffling : Yes

Correct Marks : 1 Wrong Marks : 0.25

Out of the given options, three are similar in a certain manner. However, one option is NOT like the other three. Select the option which is different from the rest.

Options :

1. ✓ Shorts

2. \* Shirts

3. \* Sweater

4. \* Jacket

Question Number : 5 Question Id : 5861808133 Question Type : MCQ Option Shuffling : Yes

Correct Marks : 1 Wrong Marks : 0.25

दिए गए विकल्पों में से, तीन एक निश्चित तरीके से समान हैं। हालाँकि, एक विकल्प अन्य तीन की तरह नहीं है। उस विकल्प का चयन करें जो बाकी से अलग है।

Options :

1. ✓ शॉर्ट्स

2. \* शर्ट्स

3. \* स्वेटर

4. \* जैकेट

Question Number : 6 Question Id : 5861808134 Question Type : MCQ Option Shuffling : Yes

Correct Marks : 1 Wrong Marks : 0.25

Out of the given options, three are similar in a certain manner. However, one option is NOT like the other three. Select the option which is different from the rest.

Options :

1. ✖ TSR
2. ✖ MLK
3. ✖ UTS
4. ✔ CDE

Question Number : 6 Question Id : 5861808134 Question Type : MCQ Option Shuffling : Yes

Correct Marks : 1 Wrong Marks : 0.25

दिए गए विकल्पों में से, तीन एक निश्चित तरीके से समान हैं। हालाँकि, एक विकल्प अन्य तीन की तरह नहीं है। उस विकल्प का चयन करें जो बाकी से अलग है।

Options :

1. ✖ TSR
2. ✖ MLK
3. ✖ UTS
4. ✔ CDE

Question Number : 7 Question Id : 5861808135 Question Type : MCQ Option Shuffling : Yes

Correct Marks : 1 Wrong Marks : 0.25

Select the option that is related to the third term on the same basis as the second term is related to the first term.

Iron : Clothes :: Polish : ?

Options :

1. ✔ Shoes
2. ✖ Shine
3. ✖ Black

## 4. \* Wax

Question Number : 7 Question Id : 5861808135 Question Type : MCQ Option Shuffling : Yes  
Correct Marks : 1 Wrong Marks : 0.25

उस विकल्प का चयन करें जो तीसरे पद से उसी प्रकार से संबंधित है जिस प्रकार से दूसरा पद पहले पद से संबंधित है।

इस्त्री : कपड़े :: पॉलिश : ?

Options :

1. ✓ जूते
2. \* चमक
3. \* काला
4. \* मोम

Question Number : 8 Question Id : 5861808136 Question Type : MCQ Option Shuffling : Yes  
Correct Marks : 1 Wrong Marks : 0.25

Select the option that is related to the third term on the same basis as the second term is related to the first term.

Kangaroo : Joey :: Deer : ?

Options :

1. \* Lamb
2. \* Colt
3. ✓ Fawn
4. \* Cub

Question Number : 8 Question Id : 5861808136 Question Type : MCQ Option Shuffling : Yes  
Correct Marks : 1 Wrong Marks : 0.25

उस विकल्प का चयन करें जो तीसरे पद से उसी प्रकार से संबंधित है जिस प्रकार से दूसरा पद पहले पद से संबंधित है।

कंगारू : जॉयी :: हिरण : ?

Options :

1. \* मेमना
2. \* बछड़ा
3. ✓ हिरन का बच्चा
4. \* पशुशावक

Question Number : 9 Question Id : 5861808137 Question Type : MCQ Option Shuffling : Yes  
Correct Marks : 1 Wrong Marks : 0.25

Select the option that is related to the third term on the same basis as the second term is related to the first term.

HYO : IZP :: FVE : ?

Options :

1. \* UEV
2. \* EUD
3. \* DTC
4. ✓ GWF

Question Number : 9 Question Id : 5861808137 Question Type : MCQ Option Shuffling : Yes  
Correct Marks : 1 Wrong Marks : 0.25

उस विकल्प का चयन करें जो तीसरे पद से उसी प्रकार से संबंधित है जिस प्रकार से दूसरा पद पहले पद से संबंधित है।

HYO : IZP :: FVE : ?

Options :



1. ✖ UEV
2. ✖ EUD
3. ✖ DTC
4. ✔ GWF

Question Number : 10 Question Id : 5861808138 Question Type : MCQ Option Shuffling : Yes  
Correct Marks : 1 Wrong Marks : 0.25

यदि SUPREMO को UWRTGOQ के रूप में कोडित किया जाता है,  
तो HAT को कैसे कोडित किया जाएगा?

Options :

1. ✖ SZG
2. ✖ GZS
3. ✔ JCV
4. ✖ IBU

Question Number : 10 Question Id : 5861808138 Question Type : MCQ Option Shuffling : Yes  
Correct Marks : 1 Wrong Marks : 0.25

If SUPREMO is coded as UWRTGOQ, then how will HAT be  
coded as?

Options :

1. ✖ SZG
2. ✖ GZS
3. ✔ JCV
4. ✖ IBU

Question Number : 11 Question Id : 5861808139 Question Type : MCQ Option Shuffling : Yes  
Correct Marks : 1 Wrong Marks : 0.25

Here are some words from an artificial language.

'gibpok' means 'superman',

'nasgib' means 'watchman'

'poktif' means 'supervise'

Which word would mean 'improvise'?

Options :

1. \* pokbip

2. \* gibsuf

3. \* naszuf

4. ✓ tifhur

Question Number : 11 Question Id : 5861808139 Question Type : MCQ Option Shuffling : Yes

Correct Marks : 1 Wrong Marks : 0.25

यहाँ एक कृत्रिम भाषा के कुछ शब्द दिए हैं।

'gibpok' का अर्थ है 'superman',

'nasgib' का अर्थ है 'watchman'

'poktif' का अर्थ है 'supervise'

किस शब्द का अर्थ 'improvise' है?

Options :

1. \* pokbip

2. \* gibsuf

3. \* naszuf

4. ✓ tifhur

Question Number : 12 Question Id : 5861808140 Question Type : MCQ Option Shuffling : Yes  
Correct Marks : 1 Wrong Marks : 0.25

In a code language, 349 means 'singing is art', 749 means 'drawing is art' and 573 means 'singing and drawing'. Find the code for 'and'.

Options :

1. ✓ 5
2. ✗ 7
3. ✗ 3
4. ✗ 9

Question Number : 12 Question Id : 5861808140 Question Type : MCQ Option Shuffling : Yes  
Correct Marks : 1 Wrong Marks : 0.25

एक निश्चित कोड भाषा में, 349 का अर्थ है 'singing is art', 749 का अर्थ है 'drawing is art' और 573 का अर्थ है 'singing and drawing'। 'and' के लिए कोड खोजें।

Options :

1. ✓ 5
2. ✗ 7
3. ✗ 3
4. ✗ 9

Question Number : 13 Question Id : 5861808141 Question Type : MCQ Option Shuffling : Yes  
Correct Marks : 1 Wrong Marks : 0.25

If A \$ B means A is father of B, A # B means A is daughter of B and If A \* B means A is son of B, then what does X \$ Y \* Z # W mean?

Options :

1. ✗ X is son of W
2. ✗ X is father of W

3. ✓ X is son-in-law of W

4. ✗ X is brother of W

Question Number : 13 Question Id : 5861808141 Question Type : MCQ Option Shuffling : Yes

Correct Marks : 1 Wrong Marks : 0.25

यदि A \$ B का अर्थ A, B का पिता है; A # B का अर्थ A, B की बेटी है और यदि A \* B का अर्थ A, B का पुत्र है, तो X \$ Y \* Z # W का क्या अर्थ है?

Options :

1. ✗ X, W का पुत्र है

2. ✗ X, W का पिता है

3. ✓ X, W का दामाद है

4. ✗ X, W का भाई है

Question Number : 14 Question Id : 5861808142 Question Type : MCQ Option Shuffling : Yes

Correct Marks : 1 Wrong Marks : 0.25

V, W, X, Y and Z are sitting in a row. W is between Z and V. Z is neither next to X nor at the end. V is to the left of X. Who is to the right of Z?

Options :

1. ✗ V

2. ✗ X

3. ✓ W

4. ✗ Y

Question Number : 14 Question Id : 5861808142 Question Type : MCQ Option Shuffling : Yes

Correct Marks : 1 Wrong Marks : 0.25

V, W, X, Y और Z एक पंक्ति में बैठे हैं। W, Z और V के बीच है। Z न तो X के बगल में है और न ही अंत में है। V, X के बाईं ओर है। Z के दाईं ओर कौन है?

Options :

1. ✖ V

2. ✖ X

3. ✔ W

4. ✖ Y

Question Number : 15 Question Id : 5861808143 Question Type : MCQ Option Shuffling : Yes

Correct Marks : 1 Wrong Marks : 0.25

Five candidates arrived for an interview. The time of arrival of S was the mean of the arrival times of Q and T. P came as many minutes after Q as T came before R. If S had come 15 minutes earlier he would have arrived with Q. If P arrived second who arrived third?

Options :

1. ✔ S

2. ✖ Q

3. ✖ T

4. ✖ R

Question Number : 15 Question Id : 5861808143 Question Type : MCQ Option Shuffling : Yes

Correct Marks : 1 Wrong Marks : 0.25

पांच उम्मीदवार साक्षात्कार के लिए पहुंचे। S के आने का समय Q और T के आगमन का औसत समय था। P, Q के उतने मिनट देर बाद आया जितने मिनट R से पहले T आया था। यदि S 15 मिनट पहले आया होता, तो वह Q के साथ आया होता। यदि P दूसरा आया है, तो तीसरा कौन आया?

Options :

1. ✔ S

2. ✖ Q

3. \* T

4. \* R

Question Number : 16 Question Id : 5861808144 Question Type : MCQ Option Shuffling : Yes  
Correct Marks : 1 Wrong Marks : 0.25

Rekha and Tanvi are sisters. Vinay is Jhanvi's husband and Tushar's son. Tushar is Tanvi's sister's husband. If Rekha has one sister and two brothers, then how is Jhanvi related to Tanvi?

Options :

1. \* Tanvi is Jhanvi's mother-in-law
2. \* Tanvi is Jhanvi's sister's mother-in-law
3. ✓ Tanvi is Jhanvi's mother-in-law's sister
4. \* Tanvi is Jhanvi's mother's sister

Question Number : 16 Question Id : 5861808144 Question Type : MCQ Option Shuffling : Yes  
Correct Marks : 1 Wrong Marks : 0.25

रेखा और तन्वी बहनें हैं। विनय, जानवी के पति और तुषार का बेटा है। तुषार तन्वी की बहन का पति है। यदि रेखा की एक बहन और दो भाई हैं, तो जानवी, तन्वी से कैसे संबंधित है?

Options :

1. \* तन्वी, जानवी की सास है
2. \* तन्वी, जानवी के बहन की सास है
3. ✓ तन्वी, जानवी की सास की बहन है
4. \* तन्वी, जानवी की माँ की बहन है

Question Number : 17 Question Id : 5861808145 Question Type : MCQ Option Shuffling : Yes  
Correct Marks : 1 Wrong Marks : 0.25

If it was 9:27 AM 7, 545 minutes ago, what time is it now?

Options :

1. \* 4:42 AM

2. ✖ 3:12 AM

3. ✔ 3:12 PM

4. ✖ 4:42 PM

Question Number : 17 Question Id : 5861808145 Question Type : MCQ Option Shuffling : Yes  
Correct Marks : 1 Wrong Marks : 0.25

यदि 7, 545 मिनिट पहले सुबह के 9:27 बजे थे, तो अभी कितना बजा है?

Options :

1. ✖ 4:42 AM

2. ✖ 3:12 AM

3. ✔ 3:12 PM

4. ✖ 4:42 PM

Question Number : 18 Question Id : 5861808146 Question Type : MCQ Option Shuffling : Yes  
Correct Marks : 1 Wrong Marks : 0.25

Read the given statement and conclusions carefully. Assuming that the information in the statement is true, even if they appear to be in variance with commonly known facts, select which of the conclusions logically follow(s) from the statement beyond reasonable doubt.

Statements:

- I. All trucks are cars
- II. All jeeps are trucks
- III. No SUVs are cars

Conclusions:

- I. No trucks are SUVs
- II. No Jeeps are SUVs

Options :

1. \* Only Conclusion I follows.
2. \* Only Conclusion II follows.
3. ✓ Both I and II follows
4. \* Neither of the conclusion follows.

Question Number : 18 Question Id : 5861808146 Question Type : MCQ Option Shuffling : Yes

Correct Marks : 1 Wrong Marks : 0.25

दिए गए कथन और निष्कर्षों को ध्यान से पढ़ें। यह मानते हुए कि कथनों में दी गई जानकारी सत्य है - भले ही वे सामान्यतः ज्ञात तथ्यों के साथ मेल न खाते हों, उस निष्कर्ष का चयन करें जो उचित संदेह से परे उस कथन का तार्किक रूप से अनुसरण करता हो।

कथन:

- I. सभी ट्रक कार हैं।
- II. सभी जीप ट्रक हैं।
- III. कोई भी एसयूवी (SUV) कार नहीं है।

निष्कर्ष:

- I. कोई ट्रक एसयूवी (SUV) नहीं है।
- II. कोई भी जीप एसयूवी (SUV) नहीं है।

Options :

1. \* केवल निष्कर्ष I अनुसरण करता है।
2. \* केवल निष्कर्ष II अनुसरण करता है।
3. ✓ I और II दोनों अनुसरण करते हैं।
4. \* कोई भी निष्कर्ष अनुसरण नहीं करता है।

Question Number : 19 Question Id : 5861808147 Question Type : MCQ Option Shuffling : Yes



Correct Marks : 1 Wrong Marks : 0.25

Read the given statement and conclusions carefully. Assuming that the information in the statement is true, even if they appear to be in variance with commonly known facts, select which of the conclusions logically follow(s) from the statement beyond reasonable doubt.

Statements:

- I. All pigeons are crows.
- II. All parrots are pigeons.

Conclusions :

- I. All parrots are crows.
- II. All crows are parrots.

Options :

- 1. ✓ Only Conclusion I follows.
- 2. ✖ Only Conclusion II follows.
- 3. ✖ Neither of the conclusion follows.
- 4. ✖ Both I and II follows.

Question Number : 19 Question Id : 5861808147 Question Type : MCQ Option Shuffling : Yes  
Correct Marks : 1 Wrong Marks : 0.25

दिए गए कथन और निष्कर्षों को ध्यान से पढ़ें। यह मानते हुए कि कथनों में दी गई जानकारी सत्य है, भले ही वे सामान्यतः ज्ञात तथ्यों से मेल न खाते हों, उस निष्कर्ष का चयन करें जो उचित संदेह से परे उस कथन का तार्किक रूप से अनुसरण करता हो।

कथन:

- I. सभी कबूतर कौवे हैं।
- II. सभी तोते कबूतर हैं।

निष्कर्ष:

- I. सभी तोते कौवे हैं।
- II. सभी कौवे तोते हैं।

Options :

1. ✓ केवल निष्कर्ष I अनुसरण करता है।
2. ✗ केवल निष्कर्ष II अनुसरण करता है।
3. ✗ कोई भी निष्कर्ष अनुसरण नहीं करता है।
4. ✗ I और II दोनों अनुसरण करते हैं।

Question Number : 20 Question Id : 5861808148 Question Type : MCQ Option Shuffling : Yes

Correct Marks : 1 Wrong Marks : 0.25

Out of the given options, three are similar in a certain manner. However, one option is NOT like the other three. Select the option which is different from the rest.

Options :

1. ✗ 285
2. ✓ 275
3. ✗ 255

4. ✖ 225

Question Number : 20 Question Id : 5861808148 Question Type : MCQ Option Shuffling : Yes  
Correct Marks : 1 Wrong Marks : 0.25

दिए गए विकल्पों में से, तीन एक निश्चित तरीके से समान हैं।  
हालाँकि, एक विकल्प अन्य तीन की तरह नहीं है। उस विकल्प का  
चयन करें जो बाकी से अलग है।

Options :

1. ✖ 285

2. ✔ 275

3. ✖ 255

4. ✖ 225

## Mental Ability2

Group Number :	2
Group Id :	586180393
Group Maximum Duration :	0
Group Minimum Duration :	0
Show Attended Group? :	No
Edit Attended Group? :	No
Break time:	0
Group Marks:	20
Is this Group for Examiner? :	No
Revisit allowed for group Instructions? :	Yes
Maximum Instruction Time:	0
Minimum Instruction Time:	0

## Mental Ability2

Section Id :	586180397
Section Number :	1
Section type :	Online
Mandatory or Optional:	Mandatory
Number of Questions:	20
Number of Questions to be attempted:	20
Section Marks:	20

Sub-Section Number: 1  
Sub-Section Id: 586180546  
Question Shuffling Allowed : Yes

Question Number : 21 Question Id : 5861808149 Question Type : MCQ Option Shuffling : Yes  
Correct Marks : 1 Wrong Marks : 0.25

In the given options 3 pair of numbers are similarly related and one pair is differently related. Find the pair which is differently related.

Options :

1. ✖ 123 : 369
2. ✖ 238 : 714
3. ✖ 316 : 948
4. ✔ 234 : 456

Question Number : 21 Question Id : 5861808149 Question Type : MCQ Option Shuffling : Yes  
Correct Marks : 1 Wrong Marks : 0.25

दिए गए विकल्पों में संख्याओं की 3 जोड़ियाँ एक समान संबंधित हैं और एक जोड़ी अलग तरीके से संबंधित है। उस जोड़ी को ज्ञात करें जो अलग तरह से संबंधित है।

Options :

1. ✖ 123 : 369
2. ✖ 238 : 714
3. ✖ 316 : 948
4. ✔ 234 : 456

Question Number : 22 Question Id : 5861808150 Question Type : MCQ Option Shuffling : Yes  
Correct Marks : 1 Wrong Marks : 0.25

Select the option that is related to the third number on the same basis as the second number is related to the first number.

42 : 56 :: 57 : ?

Options :

1. ✖ 52

2. ✔ 76

3. ✖ 67

4. ✖ 81

Question Number : 22 Question Id : 5861808150 Question Type : MCQ Option Shuffling : Yes

Correct Marks : 1 Wrong Marks : 0.25

उस विकल्प का चयन करें जो तीसरी संख्या से उसी प्रकार से संबंधित है जिस प्रकार से दूसरी संख्या पहली संख्या से संबंधित है।

42 : 56 :: 57 : ?

Options :

1. ✖ 52

2. ✔ 76

3. ✖ 67

4. ✖ 81

Question Number : 23 Question Id : 5861808151 Question Type : MCQ Option Shuffling : Yes

Correct Marks : 1 Wrong Marks : 0.25

Select the option that is related to the third number on the same basis as the second number is related to the first number.

222 : 74 :: 333 : ?

Options :

1. ✓ 111

2. ✗ 94

3. ✗ 64

4. ✗ 101

Question Number : 23 Question Id : 5861808151 Question Type : MCQ Option Shuffling : Yes

Correct Marks : 1 Wrong Marks : 0.25

उस विकल्प का चयन करें जो तीसरी संख्या से उसी प्रकार से संबंधित है जिस प्रकार से दूसरी संख्या पहली संख्या से संबंधित है।

222 : 74 :: 333 : ?

Options :

1. ✓ 111

2. ✗ 94

3. ✗ 64

4. ✗ 101

Question Number : 24 Question Id : 5861808152 Question Type : MCQ Option Shuffling : Yes

Correct Marks : 1 Wrong Marks : 0.25

In a certain code language, '+' represents '-', '-' represents '×', '×' represents '÷' and '÷' represents '+'. Find out the answer to the following question.

$$240 \div 60 \times 15 + 30 - 5 = ?$$

Options :

1. ✓ 94

2. ✗ 85

3. ✗ 74

4. ✗ 41

Question Number : 24 Question Id : 5861808152 Question Type : MCQ Option Shuffling : Yes

Correct Marks : 1 Wrong Marks : 0.25

एक निश्चित कोड भाषा में, '+' का प्रतिनिधित्व करता है; '-', '×' का प्रतिनिधित्व करता है; '×', '÷' का प्रतिनिधित्व करता है और '÷', '+' का प्रतिनिधित्व करता है। निम्नलिखित प्रश्न का उत्तर ज्ञात करें।

$$240 \div 60 \times 15 + 30 - 5 = ?$$

Options :

1. ✓ 94

2. ✗ 85

3. ✗ 74

4. ✗ 41

Question Number : 25 Question Id : 5861808153 Question Type : MCQ Option Shuffling : Yes

Correct Marks : 1 Wrong Marks : 0.25

दिया गया समीकरण गलत है। दिए गए समीकरण को सही करने के लिए किन दो चिन्हों को परस्पर बदलना चाहिए?

$$10 \div 3 - 8 \times 2 = 26$$

Options :

1. ✓  $\div$  और  $\times$

2.  $\times$   $\div$  और  $-$

3.  $\times$   $\times$  और  $+$

4.  $\times$   $\div$  और  $+$

Question Number : 25 Question Id : 5861808153 Question Type : MCQ Option Shuffling : Yes

Correct Marks : 1 Wrong Marks : 0.25

The given equation is incorrect. Which two signs should be interchanged to correct the given equation?

$$10 \div 3 - 8 \times 2 = 26$$

Options :

1. ✓  $\div$  and  $\times$

2.  $\times$   $\div$  and  $-$

3.  $\times$   $\times$  and  $+$

4.  $\times$   $\div$  and  $+$

Question Number : 26 Question Id : 5861808154 Question Type : MCQ Option Shuffling : Yes

Correct Marks : 1 Wrong Marks : 0.25

Find the missing number in the following number series.

8, 7.1, 6.2, ?, 4.4, 3.5

Options :

1. ✓ 5.3

2.  $\times$  5.2



3. ✖ 5.4

4. ✖ 5.5

Question Number : 26 Question Id : 5861808154 Question Type : MCQ Option Shuffling : Yes

Correct Marks : 1 Wrong Marks : 0.25

निम्नलिखित संख्या श्रृंखला में लुप्त संख्या ज्ञात करें।

8, 7.1, 6.2, ?, 4.4, 3.5

Options :

1. ✔ 5.3

2. ✖ 5.2

3. ✖ 5.4

4. ✖ 5.5

Question Number : 27 Question Id : 5861808155 Question Type : MCQ Option Shuffling : Yes

Correct Marks : 1 Wrong Marks : 0.25

Find the missing number in the following number series.

7, ?, 4.2, 2.8, 1.4, 0

Options :

1. ✔ 5.6

2. ✖ 5.8

3. ✖ 6.2

4. ✖ 6.4

Question Number : 27 Question Id : 5861808155 Question Type : MCQ Option Shuffling : Yes

Correct Marks : 1 Wrong Marks : 0.25

निम्नलिखित संख्या श्रृंखला में लुप्त संख्या ज्ञात करें।

7, ?, 4.2, 2.8, 1.4, 0

Options :

1. ✓ 5.6

2. ✗ 5.8

3. ✗ 6.2

4. ✗ 6.4

Question Number : 28 Question Id : 5861808156 Question Type : MCQ Option Shuffling : Yes  
Correct Marks : 1 Wrong Marks : 0.25

If  $6@36=2$ ,  $4@64=3$ ,  $3@81=4$ , then find  $3@243= ?$

Options :

1. ✓ 5

2. ✗ 3

3. ✗ 4

4. ✗ 6

Question Number : 28 Question Id : 5861808156 Question Type : MCQ Option Shuffling : Yes  
Correct Marks : 1 Wrong Marks : 0.25

यदि  $6@36=2$ ,  $4@64=3$ ,  $3@81=4$ , तो  $3@243=?$

Options :

1. ✓ 5

2. ✗ 3

3. ✗ 4

4. ✗ 6

Question Number : 29 Question Id : 5861808157 Question Type : MCQ Option Shuffling : Yes  
Correct Marks : 1 Wrong Marks : 0.25

The weights of 4 boxes are 5, 2.5, 1.5, and 7 kilograms. Which of the following cannot be the total weight, in kilograms, of any combination of these boxes?

Options :

1. ✗ 16

2. ✖ 14.5

3. ✖ 13.5

4. ✔ 15

Question Number : 29 Question Id : 5861808157 Question Type : MCQ Option Shuffling : Yes  
Correct Marks : 1 Wrong Marks : 0.25

4 डिब्बों का वजन 5, 2.5, 1.5, और 7 किलोग्राम है। इन डिब्बों के निम्नलिखित में से किसी भी संयोजन का किलोग्राम में कुल वजन कौन सा नहीं हो सकता है?

Options :

1. ✖ 16

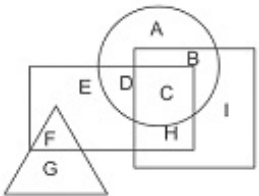
2. ✖ 14.5

3. ✖ 13.5

4. ✔ 15

Question Number : 30 Question Id : 5861808158 Question Type : MCQ Option Shuffling : Yes  
Correct Marks : 1 Wrong Marks : 0.25

In the following figure, circle represents pilots, triangle represents dancers, square represents women and rectangle represents Americans. Which set of letters represent women who are either pilots or dancers?



Options :

1. ✖ BCFG

2. ✔ BC

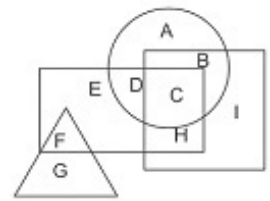
3. ✖ ABCD

## 4. \* CHI

Question Number : 30 Question Id : 5861808158 Question Type : MCQ Option Shuffling : Yes

Correct Marks : 1 Wrong Marks : 0.25

निम्नलिखित आकृति में वृत्त पायलटों का प्रतिनिधित्व करता है, त्रिकोण नर्तकियों का प्रतिनिधित्व करता है, वर्ग महिलाओं का प्रतिनिधित्व करता है और आयत अमेरिकियों का प्रतिनिधित्व करता है। अक्षरों का कौन सा सेट उन महिलाओं का प्रतिनिधित्व करता है जो या तो पायलट हैं या नर्तकी हैं?



Options :

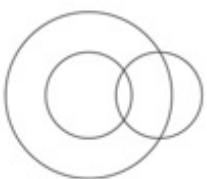
1. \* BCFG
2. ✓ BC
3. \* ABCD
4. \* CHI

Question Number : 31 Question Id : 5861808159 Question Type : MCQ Option Shuffling : Yes

Correct Marks : 1 Wrong Marks : 0.25

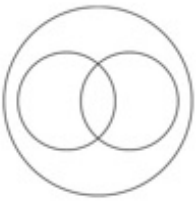
Which of the following Venn diagrams best represents the relationship between cats, animals and pets?

Options :

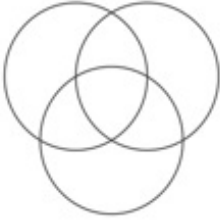


1. \*

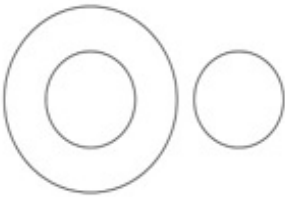
2. ✓



3. ✘



4. ✘

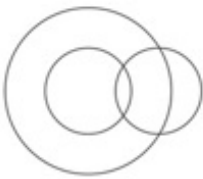


Question Number : 31 Question Id : 5861808159 Question Type : MCQ Option Shuffling : Yes  
Correct Marks : 1 Wrong Marks : 0.25

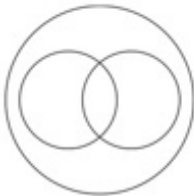
निम्न में से कौन सा वेन आरेख बिल्लियों, जानवरों और पालतू जानवरों के बीच संबंध का सबसे अच्छा दर्शाता है?

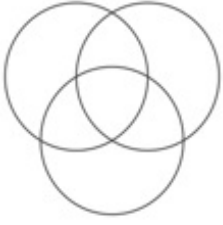
Options :

1. ✘



2. ✓





3. ✘



4. ✘

Question Number : 32 Question Id : 5861808160 Question Type : MCQ Option Shuffling : Yes

Correct Marks : 1 Wrong Marks : 0.25

If North becomes West, then what will North-East become?

Options :

1. ✓ North-West

2. ✘ South -East

3. ✘ North

4. ✘ South

Question Number : 32 Question Id : 5861808160 Question Type : MCQ Option Shuffling : Yes

Correct Marks : 1 Wrong Marks : 0.25

अगर उत्तर-पश्चिम हो जाएगा, तो उत्तर-पूर्व क्या बनेगा?

Options :

1. ✓ उत्तर-पश्चिम

2. ✘ दक्षिण-पूर्व

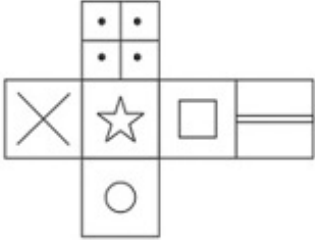
3. ✘ उत्तर

4. ✘ दक्षिण

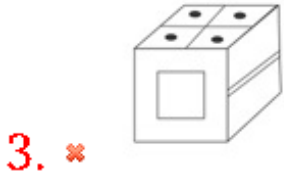
Question Number : 33 Question Id : 5861808161 Question Type : MCQ Option Shuffling : Yes

Correct Marks : 1 Wrong Marks : 0.25

Which of the following cubes in the answer figure CANNOT be made based on the unfolded cube in the question figure?

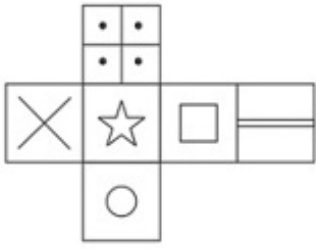


Options :

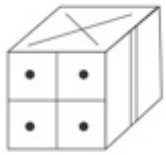


Question Number : 33 Question Id : 5861808161 Question Type : MCQ Option Shuffling : Yes  
 Correct Marks : 1 Wrong Marks : 0.25

उत्तर आकृति में निम्नलिखित में से कौन सा घन प्रश्न आकृति में खुले हुए घन के आधार पर बनाया नहीं जा सकता?



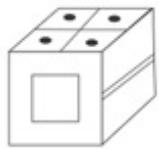
Options :



1. ✘



2. ✔



3. ✘



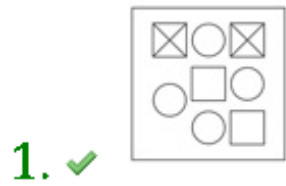
4. ✘

Question Number : 34 Question Id : 5861808162 Question Type : MCQ Option Shuffling : Yes  
 Correct Marks : 1 Wrong Marks : 0.25



Out of the given options, three are similar in a certain manner. However, one option is NOT like the other three. Select the option which is different from the rest.

Options :



Question Number : 34 Question Id : 5861808162 Question Type : MCQ Option Shuffling : Yes

Correct Marks : 1 Wrong Marks : 0.25

दिए गए विकल्पों में से तीन एक निश्चित तरीके से समान हैं। हालाँकि, एक विकल्प अन्य तीन की तरह नहीं है। उस विकल्प का चयन करें जो अन्य से अलग है।

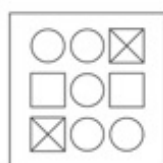
Options :



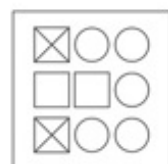
1. ✓



2. ✗



3. ✗

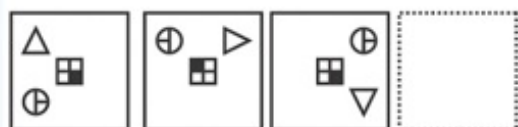


4. ✗

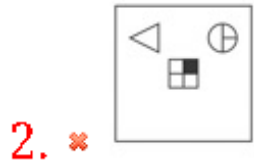
Question Number : 35 Question Id : 5861808163 Question Type : MCQ Option Shuffling : Yes

Correct Marks : 1 Wrong Marks : 0.25

which of the following answer figure completes the series of the question figure?

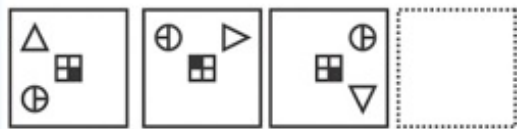


Options :

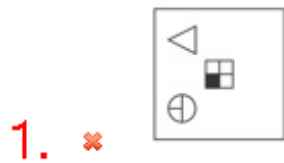


Question Number : 35 Question Id : 5861808163 Question Type : MCQ Option Shuffling : Yes  
Correct Marks : 1 Wrong Marks : 0.25

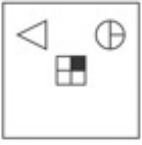
निम्नलिखित में से कौन सी उत्तर आकृति प्रश्न आकृति की श्रृंखला को पूरा करती है?



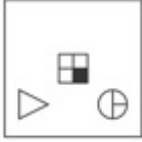
Options :



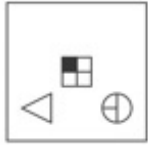
2. ✘



3. ✘

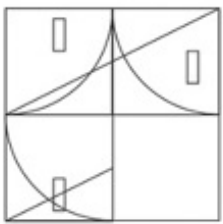


4. ✔



Question Number : 36 Question Id : 5861808164 Question Type : MCQ Option Shuffling : Yes Correct Marks : 1 Wrong Marks : 0.25

Which answer figure will complete the pattern in the question figure?



Options :

1. ✔



2. ✘



3. ✘

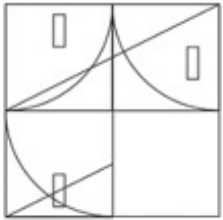


4. ✘



Question Number : 36 Question Id : 5861808164 Question Type : MCQ Option Shuffling : Yes  
Correct Marks : 1 Wrong Marks : 0.25

कौन सी उत्तर आकृति प्रश्न के पैटर्न को पूरा करेगी?



Options :

1. ✔



2. ✘





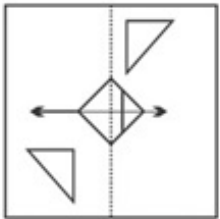
3. ✘



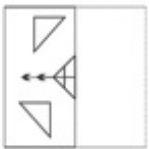
4. ✘

Question Number : 37 Question Id : 5861808165 Question Type : MCQ Option Shuffling : Yes  
 Correct Marks : 1 Wrong Marks : 0.25

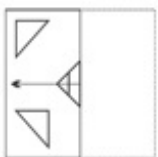
Find out from amongst the four alternatives as to how the pattern would appear when the transparent sheet is folded at the dotted line?



Options :

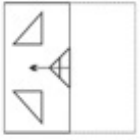


1. ✘

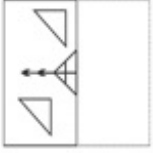


2. ✘

3. ✖

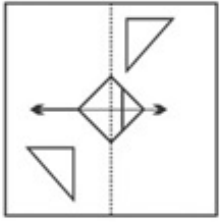


4. ✔



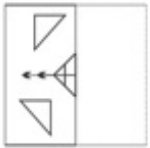
Question Number : 37 Question Id : 5861808165 Question Type : MCQ Option Shuffling : Yes  
Correct Marks : 1 Wrong Marks : 0.25

चार विकल्पों में से यह पता करें कि बिन्दुओं वाली रेखा पर पारदर्शी कागज़ को मोड़ने पर आकृति कैसी दिखाई देगी?

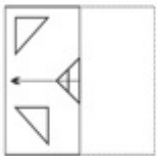


Options :

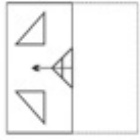
1. ✖



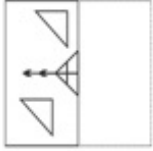
2. ✖



3. ✘



4. ✔



Question Number : 38 Question Id : 5861808166 Question Type : MCQ Option Shuffling : Yes

Correct Marks : 1 Wrong Marks : 0.25

If a mirror is placed on the line MN, then which of the answer figures will be the right mirror image of the given figure?



Options :

1. ✔



2. ✘





3. ✖

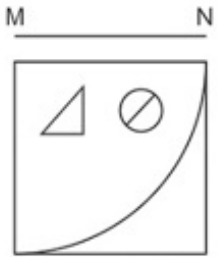


4. ✖



Question Number : 38 Question Id : 5861808166 Question Type : MCQ Option Shuffling : Yes  
Correct Marks : 1 Wrong Marks : 0.25

यदि एक दर्पण को रेखा MN पर रखा गया है, तो कौन सी उत्तर आकृति नीचे दी गई आकृति का सही दर्पण प्रतिबिंब है?



Options :

1. ✔



2. ✖



3. ✖

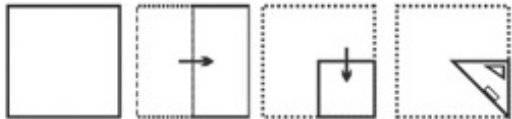


4. ✖



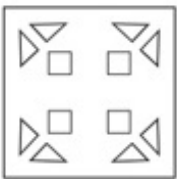
Question Number : 39 Question Id : 5861808167 Question Type : MCQ Option Shuffling : Yes  
 Correct Marks : 1 Wrong Marks : 0.25

A piece of paper is folded and punched as shown below in the question figures. From the given answer figures, indicate how it will appear when opened.



Options :

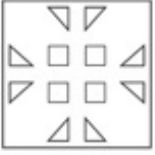
1. ✖




2. ✔



3. ✖

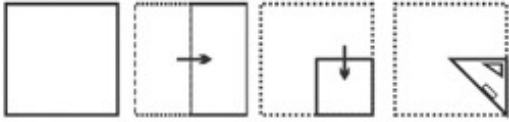


4. ✖



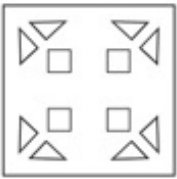
Question Number : 39 Question Id : 5861808167 Question Type : MCQ Option Shuffling : Yes  
Correct Marks : 1 Wrong Marks : 0.25

प्रश्न आकृति में नीचे दिखाए अनुसार पेपर के टुकड़े को मोड़कर उसमें छेद किए गए हैं। दी गई उत्तर आकृतियों से, दर्शाएं कि इसे खोले जाने पर यह कैसा दिखाई देगा।



Options :

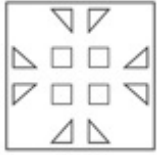
1. ✖



2. ✔



3. ✘



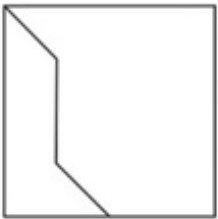
4. ✘



Question Number : 40 Question Id : 5861808168 Question Type : MCQ Option Shuffling : Yes

Correct Marks : 1 Wrong Marks : 0.25

From the given answers figures, select the one in which the question figure is hidden/embedded.



Options :

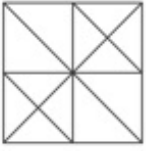
1. ✘



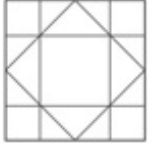
2. ✔



3. ✖

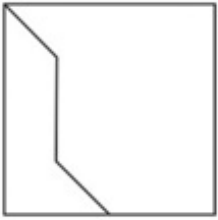


4. ✖



Question Number : 40 Question Id : 5861808168 Question Type : MCQ Option Shuffling : Yes  
Correct Marks : 1 Wrong Marks : 0.25

दी गई उत्तर आकृतियों में से, उस एक का चयन करे जिसमे प्रश्न आकृति निहित है।



Options :

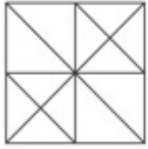
1. ✖



2. ✔



3. ✖



4. ✖



## General Awareness1

<b>Group Number :</b>	3
<b>Group Id :</b>	586180394
<b>Group Maximum Duration :</b>	0
<b>Group Minimum Duration :</b>	0
<b>Show Attended Group? :</b>	No
<b>Edit Attended Group? :</b>	No
<b>Break time:</b>	0
<b>Group Marks:</b>	20
<b>Is this Group for Examiner?:</b>	No
<b>Revisit allowed for group Instructions? :</b>	Yes
<b>Maximum Instruction Time:</b>	0
<b>Minimum Instruction Time:</b>	0

## General Awareness1

<b>Section Id :</b>	586180398
<b>Section Number :</b>	1
<b>Section type :</b>	Online
<b>Mandatory or Optional:</b>	Mandatory
<b>Number of Questions:</b>	20
<b>Number of Questions to be attempted:</b>	20
<b>Section Marks:</b>	20

<b>Sub-Section Number:</b>	1
<b>Sub-Section Id:</b>	586180547
<b>Question Shuffling Allowed :</b>	Yes

Question Number : 41 Question Id : 5861808169 Question Type : MCQ Option Shuffling : Yes  
Correct Marks : 1 Wrong Marks : 0.25

Which among the following dance forms is also known as 'The Harvest Dance' ?

Options :

1. ✖ Bhagoria Dance
2. ✔ Jawara Dance
3. ✖ Suwa Dance
4. ✖ Teratali Dance

Question Number : 41 Question Id : 5861808169 Question Type : MCQ Option Shuffling : Yes

Correct Marks : 1 Wrong Marks : 0.25

निम्नलिखित नृत्य प्रकारों में से किसे 'द हार्वेस्ट डांस' के नाम से भी जाना जाता है?

Options :

1. ✖ भगोरिया नृत्य
2. ✔ जावरा नृत्य
3. ✖ सुआ नृत्य
4. ✖ तेराताली नृत्य

Question Number : 42 Question Id : 5861808170 Question Type : MCQ Option Shuffling : Yes

Correct Marks : 1 Wrong Marks : 0.25

"Pandavani" is a famous folk song which narrates the heroics of \_\_\_\_\_.

Options :

1. ✔ Characters of Mahabharata
2. ✖ Characters of Ramayana
3. ✖ soldiers
4. ✖ Rabindranath Tagore

Question Number : 42 Question Id : 5861808170 Question Type : MCQ Option Shuffling : Yes

Correct Marks : 1 Wrong Marks : 0.25

"पंडवानी" एक प्रसिद्ध लोक गीत है जो \_\_\_\_\_ की वीरताओं का वर्णन करता है।

Options :

1. ✓ महाभारत के पात्र
2. ✗ रामायण के पात्र
3. ✗ सैनिकों
4. ✗ रविंद्रनाथ टैगोर

Question Number : 43 Question Id : 5861808171 Question Type : MCQ Option Shuffling : Yes

Correct Marks : 1 Wrong Marks : 0.25

Which of the following monuments was built by Hamida Banu Begum?

Options :

1. ✗ Jahaz Mahal
2. ✗ Bada Imambara
3. ✗ Akbar Tomb
4. ✓ Humayun Tomb

Question Number : 43 Question Id : 5861808171 Question Type : MCQ Option Shuffling : Yes

Correct Marks : 1 Wrong Marks : 0.25

निम्नलिखित में से कौन सा स्मारक हमीदा बानो बेगम द्वारा बनाया गया था?

Options :

1. ✗ जहाज महल
2. ✗ बड़ा इमामबाड़ा
3. ✗ अकबर का मकबरा
4. ✓ हुमायूँ का मकबरा

Question Number : 44 Question Id : 5861808172 Question Type : MCQ Option Shuffling : Yes

Correct Marks : 1 Wrong Marks : 0.25



The third day of Pongal - Mattu Pongal is meant to worship

\_\_\_\_\_.

Options :

1. ✖ birds
2. ✔ cattle
3. ✖ sun
4. ✖ water

Question Number : 44 Question Id : 5861808172 Question Type : MCQ Option Shuffling : Yes

Correct Marks : 1 Wrong Marks : 0.25

पोंगल का तीसरा दिन - मट्टू पोंगल \_\_\_\_\_ की पूजा करने के लिए है।

Options :

1. ✖ पक्षी
2. ✔ पशु
3. ✖ सूरज
4. ✖ पानी

Question Number : 45 Question Id : 5861808173 Question Type : MCQ Option Shuffling : Yes

Correct Marks : 1 Wrong Marks : 0.25

The Union Budget presented on February 28, 1997 by the finance minister \_\_\_\_\_ was termed as "Dream Budget" as a number of economic reforms were done.

Options :

1. ✖ Morarji Desai
2. ✔ P Chidambaram
3. ✖ R K Shanmukham Chetty
4. ✖ C.D. Deshmukh

Question Number : 45 Question Id : 5861808173 Question Type : MCQ Option Shuffling : Yes

Correct Marks : 1 Wrong Marks : 0.25

28 फरवरी, 1997 को वित्त मंत्री \_\_\_\_\_ द्वारा प्रस्तुत केंद्रीय बजट को "ड्रीम बजट" का नाम दिया गया था। यह बजट कई आर्थिक सुधारों की रूपरेखा थी।

Options :

1. \* मोरारजी देसाई
2. ✓ पी चिदंबरम
3. \* आर के शनमुखम चेट्टी
4. \* सी.डी. देशमुख

Question Number : 46 Question Id : 5861808174 Question Type : MCQ Option Shuffling : Yes

Correct Marks : 1 Wrong Marks : 0.25

What is the Minimum Support Price (MSP) of the common variety of paddy for 2018-19?

Options :

1. \* Rs. 1,500 per quintal
2. ✓ Rs. 1,750 per quintal
3. \* Rs. 1,900 per quintal
4. \* Rs. 1,850 per quintal

Question Number : 46 Question Id : 5861808174 Question Type : MCQ Option Shuffling : Yes

Correct Marks : 1 Wrong Marks : 0.25

2018-19 के लिए सामान्य किस्म की धान का न्यूनतम समर्थन मूल्य (एमएसपी) क्या है?

Options :

1. \* रुपये 1,500 प्रति क्विंटल
2. ✓ रुपये 1,750 प्रति क्विंटल
3. \* रुपये 1,900 प्रति क्विंटल
4. \* रुपये 1,850 प्रति क्विंटल

Question Number : 47 Question Id : 5861808175 Question Type : MCQ Option Shuffling : Yes  
Correct Marks : 1 Wrong Marks : 0.25

Which among the following is the largest public sector bank according to market capitalisation?

Options :

1. \* Punjab National Bank
2. \* IDBI Bank
3. \* Bank of Baroda
4. ✓ State Bank of India

Question Number : 47 Question Id : 5861808175 Question Type : MCQ Option Shuffling : Yes  
Correct Marks : 1 Wrong Marks : 0.25

निम्नलिखित में से बाजार पूंजीकरण के अनुसार सबसे बड़ा सार्वजनिक क्षेत्र का बैंक कौन सा है?

Options :

1. \* पंजाब नेशनल बैंक
2. \* आईडीबीआई बैंक
3. \* बैंक ऑफ बड़ौदा
4. ✓ भारतीय स्टेट बैंक

Question Number : 48 Question Id : 5861808176 Question Type : MCQ Option Shuffling : Yes  
Correct Marks : 1 Wrong Marks : 0.25

In which state is the "Keoladeo Ghana National Park" situated?

Options :

1. ✓ Rajasthan
2. \* Karnataka
3. \* Uttar Pradesh
4. \* Assam

Question Number : 48 Question Id : 5861808176 Question Type : MCQ Option Shuffling : Yes  
Correct Marks : 1 Wrong Marks : 0.25

"केवलादेव घना राष्ट्रीय उद्यान" किस राज्य में स्थित है?

Options :

1. ✓ राजस्थान
2. ✘ कर्नाटक
3. ✘ उत्तर प्रदेश
4. ✘ असम

Question Number : 49 Question Id : 5861808177 Question Type : MCQ Option Shuffling : Yes  
Correct Marks : 1 Wrong Marks : 0.25

What is the common name of *Azadirachta indica*?

Options :

1. ✓ Neem
2. ✘ Tobacco
3. ✘ Mint
4. ✘ Coriander

Question Number : 49 Question Id : 5861808177 Question Type : MCQ Option Shuffling : Yes  
Correct Marks : 1 Wrong Marks : 0.25

अज़दिरचता इंडिका का साधारण नाम क्या है?

Options :

1. ✓ नीम
2. ✘ तंबाकू
3. ✘ पुदीना
4. ✘ धनिया

Question Number : 50 Question Id : 5861808178 Question Type : MCQ Option Shuffling : Yes  
Correct Marks : 1 Wrong Marks : 0.25

Which of the following enzymes splits nucleic acids into nucleotides?

Options :

1. ✓ Nucleolytic Enzyme
2. ✘ Amylase Enzyme

### 3. \* Ptyalin Enzyme

### 4. \* Proteolytic Enzyme

Question Number : 50 Question Id : 5861808178 Question Type : MCQ Option Shuffling : Yes

Correct Marks : 1 Wrong Marks : 0.25

निम्नलिखित में से कौन सा प्रकिण्व (enzymes) नाभिकीय अम्ल को न्यूक्लियोटाइड में तोड़ता है?

Options :

1. ✓ न्यूक्लियोलाइटिक एंजाइम
2. \* एमाइलेज एंजाइम
3. \* पत्ताइलीन एंजाइम
4. \* प्रोटीओलाइटिक एंजाइम

Question Number : 51 Question Id : 5861808179 Question Type : MCQ Option Shuffling : Yes

Correct Marks : 1 Wrong Marks : 0.25

What is the chemical name of table sugar?

Options :

1. \* Hydrochloric Acid
2. ✓ Sucrose
3. \* Methyl Alcohol
4. \* Silicon Dioxide

Question Number : 51 Question Id : 5861808179 Question Type : MCQ Option Shuffling : Yes

Correct Marks : 1 Wrong Marks : 0.25

टेबल शुगर का रासायनिक नाम क्या है?

Options :

1. \* हाइड्रोक्लोरिक एसिड
2. ✓ सुक्रोज
3. \* मिथाइल अल्कोहल
4. \* सिलिकॉन डाइऑक्साइड

Question Number : 52 Question Id : 5861808180 Question Type : MCQ Option Shuffling : Yes

Correct Marks : 1 Wrong Marks : 0.25

Which among the following chemicals is not used for water purification?

Options :

1. ✖ Iodine
2. ✖ Ozone
3. ✖ Chlorine
4. ✔ Nitrogen

Question Number : 52 Question Id : 5861808180 Question Type : MCQ Option Shuffling : Yes

Correct Marks : 1 Wrong Marks : 0.25

निम्नलिखित में से किस रसायन का उपयोग जल शोधन के लिए नहीं किया जाता है?

Options :

1. ✖ आयोडिन
2. ✖ ओजोन
3. ✖ क्लोरीन
4. ✔ नाइट्रोजन

Question Number : 53 Question Id : 5861808181 Question Type : MCQ Option Shuffling : Yes

Correct Marks : 1 Wrong Marks : 0.25

What does a Pyrheliometer measure?

Options :

1. ✖ Quantity of heat
2. ✖ Low Temperature
3. ✖ Electric power
4. ✔ Solar radiation

Question Number : 53 Question Id : 5861808181 Question Type : MCQ Option Shuffling : Yes

Correct Marks : 1 Wrong Marks : 0.25

सूर्याग्निमान (पाइरेलियोमीटर) का उपयोग किसे मापने के लिए किया जाता है?

Options :

1. ✖ ताप की मात्रा
2. ✖ कम तापमान
3. ✖ विद्युत शक्ति
4. ✔ सौर विकिरण

Question Number : 54 Question Id : 5861808182 Question Type : MCQ Option Shuffling : Yes  
Correct Marks : 1 Wrong Marks : 0.25

World Toilet Day is celebrated on \_\_\_\_\_.

Options :

1. ✖ 18th October
2. ✖ 15th August
3. ✔ 19th November
4. ✖ 12th April

Question Number : 54 Question Id : 5861808182 Question Type : MCQ Option Shuffling : Yes  
Correct Marks : 1 Wrong Marks : 0.25

विश्व शौचालय दिवस \_\_\_\_\_ को मनाया जाता है।

Options :

1. ✖ 18 अक्टूबर
2. ✖ 15 अगस्त
3. ✔ 19 नवंबर
4. ✖ 12 अप्रैल

Question Number : 55 Question Id : 5861808183 Question Type : MCQ Option Shuffling : Yes  
Correct Marks : 1 Wrong Marks : 0.25

In \_\_\_\_\_ system part of the storm water especially collected from roofs and paved courtyards of the buildings is admitted in the same drain along with sewage from residences and institutions, etc.

Options :

1. ✖ separate
2. ✔ partially separate
3. ✖ combined
4. ✖ partially combined

Question Number : 55 Question Id : 5861808183 Question Type : MCQ Option Shuffling : Yes  
Correct Marks : 1 Wrong Marks : 0.25

\_\_\_\_\_ प्रणाली में, विशेष रूप से छतों और भवनों के पक्के आंगनों में एकत्रित तूफान का पानी निवासों और संस्थानों, आदि के अपजल के साथ साथ एक ही नाली में प्रवेश करता है।

Options :

1. ✖ अलग
2. ✔ आंशिक रूप से अलग
3. ✖ संयुक्त
4. ✖ आंशिक रूप से संयुक्त

Question Number : 56 Question Id : 5861808184 Question Type : MCQ Option Shuffling : Yes  
Correct Marks : 1 Wrong Marks : 0.25

Which one is the longest tributary of Narmada river?

Options :

1. ✖ Indravati
2. ✖ Betwa
3. ✖ Tapti
4. ✔ Tawa



Question Number : 56 Question Id : 5861808184 Question Type : MCQ Option Shuffling : Yes  
Correct Marks : 1 Wrong Marks : 0.25

नर्मदा नदी की सबसे लंबी सहायक नदी कौन सी है?

Options :

1. ✖ इंद्रावती
2. ✖ बेतवा
3. ✖ ताप्ती
4. ✔ तवा

Question Number : 57 Question Id : 5861808185 Question Type : MCQ Option Shuffling : Yes  
Correct Marks : 1 Wrong Marks : 0.25

Denmark Strait separates Iceland from \_\_\_\_\_.

Options :

1. ✖ Mexico
2. ✔ Greenland
3. ✖ Cuba
4. ✖ Baffin island

Question Number : 57 Question Id : 5861808185 Question Type : MCQ Option Shuffling : Yes  
Correct Marks : 1 Wrong Marks : 0.25

डेनमार्क जलसन्धि आइसलैंड को \_\_\_\_\_ से अलग करती है।

Options :

1. ✖ मेक्सिको
2. ✔ ग्रीनलैंड
3. ✖ क्यूबा
4. ✖ बैफ़िन द्वीप

Question Number : 58 Question Id : 5861808186 Question Type : MCQ Option Shuffling : Yes  
Correct Marks : 1 Wrong Marks : 0.25

Which among the following soils is commonly described as ferralitic soils?

Options :

1. \* Black soil
2. ✓ Laterite soil
3. \* Alkaline soil
4. \* Alluvial soils

Question Number : 58 Question Id : 5861808186 Question Type : MCQ Option Shuffling : Yes  
Correct Marks : 1 Wrong Marks : 0.25

निम्नलिखित में से किस मिट्टी को आमतौर पर फेरलिटिक मिट्टी के रूप में वर्णित किया जाता है?

Options :

1. \* काली मिट्टी
2. ✓ लैटेराइट मृदा
3. \* क्षारीय भूमि
4. \* जलोढ़ मिट्टी

Question Number : 59 Question Id : 5861808187 Question Type : MCQ Option Shuffling : Yes  
Correct Marks : 1 Wrong Marks : 0.25

How many countries are there in Asia?

Options :

1. \* 45
2. ✓ 48
3. \* 52
4. \* 58

Question Number : 59 Question Id : 5861808187 Question Type : MCQ Option Shuffling : Yes  
Correct Marks : 1 Wrong Marks : 0.25

एशिया में कितने देश हैं?

Options :

1. \* 45
2. ✓ 48

3. ✖ 52

4. ✖ 58

Question Number : 60 Question Id : 5861808188 Question Type : MCQ Option Shuffling : Yes  
Correct Marks : 1 Wrong Marks : 0.25

What among the following is the largest coffee producing state of India?

Options :

1. ✖ Assam

2. ✔ Karnataka

3. ✖ Gujarat

4. ✖ Tamil Nadu

Question Number : 60 Question Id : 5861808188 Question Type : MCQ Option Shuffling : Yes  
Correct Marks : 1 Wrong Marks : 0.25

निम्नलिखित में से कौन सा राज्य भारत का सबसे बड़ा कॉफी उत्पादक है?

Options :

1. ✖ असम

2. ✔ कर्नाटक

3. ✖ गुजरात

4. ✖ तमिल नाडु

## General Awareness2

Group Number :	4
Group Id :	586180395
Group Maximum Duration :	0
Group Minimum Duration :	0
Show Attended Group? :	No
Edit Attended Group? :	No
Break time:	0
Group Marks:	20
Is this Group for Examiner?:	No

Revisit allowed for group Instructions? :	Yes
Maximum Instruction Time:	0
Minimum Instruction Time:	0

## General Awareness2

Section Id :	586180399
Section Number :	1
Section type :	Online
Mandatory or Optional:	Mandatory
Number of Questions:	20
Number of Questions to be attempted:	20
Section Marks:	20

Sub-Section Number:	1
Sub-Section Id:	586180548
Question Shuffling Allowed :	Yes

Question Number : 61 Question Id : 5861808189 Question Type : MCQ Option Shuffling : Yes  
Correct Marks : 1 Wrong Marks : 0.25

Which of the following mountains has the highest peak in USA?

Options :

1. ✓ Denali
2. ✗ Mount Saint Elias
3. ✗ Mount Blackburn
4. ✗ Mount Sanford

Question Number : 61 Question Id : 5861808189 Question Type : MCQ Option Shuffling : Yes  
Correct Marks : 1 Wrong Marks : 0.25

संयुक्त राज्य अमेरिका में किस पर्वत की चोटी सबसे ऊंची है?

Options :

1. ✓ देनाली
2. ✗ माउंट सेंट एलियास
3. ✗ माउंट ब्लैकबर्न
4. ✗ माउंट सैनफोर्ड

Question Number : 62 Question Id : 5861808190 Question Type : MCQ Option Shuffling : Yes  
Correct Marks : 1 Wrong Marks : 0.25

When did Jallianwala Bagh Massacre take place?

Options :

1. \* April 25, 1919
2. \* May 20, 1920
3. \* April 15, 1920
4. ✓ April 13, 1919

Question Number : 62 Question Id : 5861808190 Question Type : MCQ Option Shuffling : Yes  
Correct Marks : 1 Wrong Marks : 0.25

जलियाँवाला बाग हत्याकांड कब हुआ था?

Options :

1. \* 25 अप्रैल, 1919
2. \* 20 मई, 1920
3. \* 15 अप्रैल, 1920
4. ✓ 13 अप्रैल, 1919

Question Number : 63 Question Id : 5861808191 Question Type : MCQ Option Shuffling : Yes  
Correct Marks : 1 Wrong Marks : 0.25

Which among the following Vedas is the oldest?

Options :

1. \* Atharvaveda
2. \* Yajurveda
3. ✓ Rigveda
4. \* Samaveda

Question Number : 63 Question Id : 5861808191 Question Type : MCQ Option Shuffling : Yes  
Correct Marks : 1 Wrong Marks : 0.25

निम्नलिखित में से कौन सा वेद सबसे पुराना है?

Options :

1. \* अथर्ववेद
2. \* यजुर्वेद
3. ✓ ऋग्वेद
4. \* सामवेद

Question Number : 64 Question Id : 5861808192 Question Type : MCQ Option Shuffling : Yes  
Correct Marks : 1 Wrong Marks : 0.25

Diwan-i-Wizarat of Delhi Sultanate was the department of \_\_\_\_\_.

Options :

1. \* Military
2. \* Religious Affairs
3. \* Royal Correspondence
4. ✓ Revenue and Finance

Question Number : 64 Question Id : 5861808192 Question Type : MCQ Option Shuffling : Yes  
Correct Marks : 1 Wrong Marks : 0.25

दिल्ली सल्तनत का दीवान-ए-विज़रात \_\_\_\_\_ का विभाग था।

Options :

1. \* सेना
2. \* धार्मिक मामले
3. \* शाही पत्राचार
4. ✓ राजस्व और वित्त

Question Number : 65 Question Id : 5861808193 Question Type : MCQ Option Shuffling : Yes  
Correct Marks : 1 Wrong Marks : 0.25

Who was the founder of the Khalji Dynasty?

Options :

1. ✓ Jalal-al-Din Firuj Khalji
2. \* Qutb-al-Din Mubarak Shah

3. \* Juna Khan

4. \* Malik Kafur

Question Number : 65 Question Id : 5861808193 Question Type : MCQ Option Shuffling : Yes  
Correct Marks : 1 Wrong Marks : 0.25

खिलजी राजवंश का संस्थापक कौन था?

Options :

1. ✓ जलाल-अल-दीन फिरुज खलजी

2. \* कुतुब-अल-दीन मुबारक शाह

3. \* जूना खान

4. \* मलिक काफूर

Question Number : 66 Question Id : 5861808194 Question Type : MCQ Option Shuffling : Yes  
Correct Marks : 1 Wrong Marks : 0.25

When was the first battle of Panipat fought?

Options :

1. \* 1535

2. \* 1530

3. \* 1520

4. ✓ 1526

Question Number : 66 Question Id : 5861808194 Question Type : MCQ Option Shuffling : Yes  
Correct Marks : 1 Wrong Marks : 0.25

पानीपत का पहला युद्ध कब लड़ा गया था?

Options :

1. \* 1535

2. \* 1530

3. \* 1520

4. ✓ 1526

Question Number : 67 Question Id : 5861808195 Question Type : MCQ Option Shuffling : Yes

Correct Marks : 1 Wrong Marks : 0.25

When was the Azad Hind Fauj formed?

Options :

1. ✖ 1940
2. ✖ 1945
3. ✔ 1942
4. ✖ 1938

Question Number : 67 Question Id : 5861808195 Question Type : MCQ Option Shuffling : Yes

Correct Marks : 1 Wrong Marks : 0.25

आजाद हिंद फौज का गठन कब हुआ था?

Options :

1. ✖ 1940
2. ✖ 1945
3. ✔ 1942
4. ✖ 1938

Question Number : 68 Question Id : 5861808196 Question Type : MCQ Option Shuffling : Yes

Correct Marks : 1 Wrong Marks : 0.25

Who received the best actor award in the National Film Award 2017?

Options :

1. ✖ Aamir Khan
2. ✔ Akshay Kumar
3. ✖ Shahrukh Khan
4. ✖ Adil Hussain

Question Number : 68 Question Id : 5861808196 Question Type : MCQ Option Shuffling : Yes

Correct Marks : 1 Wrong Marks : 0.25

राष्ट्रीय फिल्म पुरस्कार 2017 में सर्वश्रेष्ठ अभिनेता का पुरस्कार किसे मिला था?

Options :



1. ✖ आमिर खान
2. ✔ अक्षय कुमार
3. ✖ शाहरुख खान
4. ✖ आदिल हुसैन

Question Number : 69 Question Id : 5861808197 Question Type : MCQ Option Shuffling : Yes  
Correct Marks : 1 Wrong Marks : 0.25

Name the first Indian woman to receive the Doctorate of Science from an Indian university. She was a noted Indian chemist, working in the fields of organic chemistry, and phytomedicine.

Options :

1. ✔ Asima Chatterjee
2. ✖ Kamaladevi Chattopadhyay
3. ✖ Sonia Gandhi
4. ✖ Shashikala Kakodkar

Question Number : 69 Question Id : 5861808197 Question Type : MCQ Option Shuffling : Yes  
Correct Marks : 1 Wrong Marks : 0.25

भारतीय विश्वविद्यालय से डॉक्टरेट ऑफ साइंस की उपाधि प्राप्त करने वाली पहली भारतीय महिला का नाम बताएं। वह एक प्रसिद्ध भारतीय रसायनज्ञ थी, जो कार्बनिक रसायन विज्ञान और फाइटोमेडिसिन के क्षेत्र में काम कर रही थी।

Options :

1. ✔ असीमा चटर्जी
2. ✖ कमलादेवी चट्टोपाध्याय
3. ✖ सोनिया गांधी
4. ✖ शशिकला काकोडकर

Question Number : 70 Question Id : 5861808198 Question Type : MCQ Option Shuffling : Yes  
Correct Marks : 1 Wrong Marks : 0.25

World Bank comprises of five institutions. Which among the following is one of them?

Options :

1. \* World Health Organization
2. \* International Chamber of Commerce
3. \* International Business Organization
4. ✓ International Bank for Reconstruction and Development (IBRD)

Question Number : 70 Question Id : 5861808198 Question Type : MCQ Option Shuffling : Yes  
Correct Marks : 1 Wrong Marks : 0.25

विश्व बैंक में पांच संस्थान शामिल हैं। निम्नलिखित में से कौन सा उनमें से एक है?

Options :

1. \* विश्व स्वास्थ्य संगठन
2. \* अंतर्राष्ट्रीय वाणिज्य मण्डल
3. \* अंतर्राष्ट्रीय व्यापार संगठन
4. ✓ अंतर्राष्ट्रीय पुनर्निर्माण एवं विकास बैंक (आईबीआरडी)

Question Number : 71 Question Id : 5861808199 Question Type : MCQ Option Shuffling : Yes  
Correct Marks : 1 Wrong Marks : 0.25

Who wrote "Tigers for Dinner"?

Options :

1. \* A.P.J.Abdul Kalam
2. \* Vikram Seth
3. \* David Davidar
4. ✓ Ruskin Bond

Question Number : 71 Question Id : 5861808199 Question Type : MCQ Option Shuffling : Yes  
Correct Marks : 1 Wrong Marks : 0.25

"टाइगर फॉर डिनर" किसने लिखी है?

Options :

1. \* ए.पी.जे. अब्दुल कलाम
2. \* विक्रम सेठ
3. \* डेविड डेविडर
4. ✓ रस्किन बॉण्ड

Question Number : 72 Question Id : 5861808200 Question Type : MCQ Option Shuffling : Yes  
Correct Marks : 1 Wrong Marks : 0.25

Who among the following did NOT receive the Bharat Ratna Award in 2019?

Options :

1. \* Bhupen Hazarika
2. \* Nanaji Deshmukh
3. \* Pranab Mukherjee
4. ✓ Madan Mohan Malaviya

Question Number : 72 Question Id : 5861808200 Question Type : MCQ Option Shuffling : Yes  
Correct Marks : 1 Wrong Marks : 0.25

निम्नलिखित में से किसने 2019 में भारत रत्न पुरस्कार प्राप्त नहीं किया?

Options :

1. \* भूपेन हजारिका
2. \* नानाजी देशमुख
3. \* प्रणब मुखर्जी
4. ✓ मदन मोहन मालवीय

Question Number : 73 Question Id : 5861808201 Question Type : MCQ Option Shuffling : Yes  
Correct Marks : 1 Wrong Marks : 0.25

Which among the following is the highest Literary Honour Award in the Literature of India?

Options :

1. \* Bhasha Samman
2. ✓ Jnanpith Award
3. \* Translation Awards
4. \* Premchand Fellowship

Question Number : 73 Question Id : 5861808201 Question Type : MCQ Option Shuffling : Yes

Correct Marks : 1 Wrong Marks : 0.25

निम्नलिखित में से कौन सा भारतीय साहित्य में सर्वोच्च साहित्यिक सम्मान पुरस्कार है?

Options :

1. \* भाषा सम्मान
2. ✓ ज्ञानपीठ पुरस्कार
3. \* अनुवाद पुरस्कार
4. \* प्रेमचंद फैलोशिप

Question Number : 74 Question Id : 5861808202 Question Type : MCQ Option Shuffling : Yes

Correct Marks : 1 Wrong Marks : 0.25

Who was the chairman of the Rules of Procedure Committee of the Constituent Assembly?

Options :

1. ✓ Rajendra Prasad
2. \* Sardar Vallabhbhai Patel
3. \* Jawaharlal Nehru
4. \* B. R. Ambedkar

Question Number : 74 Question Id : 5861808202 Question Type : MCQ Option Shuffling : Yes

Correct Marks : 1 Wrong Marks : 0.25

संविधान सभा की प्रक्रिया समिति के नियमों के अध्यक्ष कौन थे?

Options :

1. ✓ राजेंद्र प्रसाद
2. ✘ सरदार वल्लभ भाई पटेल
3. ✘ जवाहरलाल नेहरू
4. ✘ बी. आर. आम्बेडकर

Question Number : 75 Question Id : 5861808203 Question Type : MCQ Option Shuffling : Yes  
Correct Marks : 1 Wrong Marks : 0.25

भारतीय संविधान की \_\_\_\_\_ अनुसूची में नगर पालिकाओं की शक्तियां, अधिकार और जिम्मेदारियां शामिल हैं।

Options :

1. ✘ पांचवां
2. ✘ छठा
3. ✘ नौवां
4. ✓ बारहवां

Question Number : 75 Question Id : 5861808203 Question Type : MCQ Option Shuffling : Yes  
Correct Marks : 1 Wrong Marks : 0.25

The \_\_\_\_\_ schedule of the Indian Constitution contains the powers, authority and responsibilities of Municipalities.

Options :

1. ✘ Fifth
2. ✘ Sixth
3. ✘ Ninth
4. ✓ Twelfth

Question Number : 76 Question Id : 5861808204 Question Type : MCQ Option Shuffling : Yes  
Correct Marks : 1 Wrong Marks : 0.25

Who was the first person to put forward the idea of the Indian Constitution?

Options :

1. \* B. R. Ambedkar
2. \* Jawaharlal Nehru
3. \* Sardar Vallabhbhai Patel
4. ✓ M.N.Roy

Question Number : 76 Question Id : 5861808204 Question Type : MCQ Option Shuffling : Yes  
Correct Marks : 1 Wrong Marks : 0.25

भारतीय संविधान के विचार को सामने रखने वाला पहला व्यक्ति कौन था?

Options :

1. \* बी. आर. आम्बेडकर
2. \* जवाहरलाल नेहरू
3. \* सरदार वल्लभ भाई पटेल
4. ✓ एम.एन. रॉय

Question Number : 77 Question Id : 5861808205 Question Type : MCQ Option Shuffling : Yes  
Correct Marks : 1 Wrong Marks : 0.25

Which of the following article deals with amendments of the Indian Constitution?

Options :

1. \* Article 330
2. \* Article 332
3. ✓ Article 368
4. \* Article 386

Question Number : 77 Question Id : 5861808205 Question Type : MCQ Option Shuffling : Yes  
Correct Marks : 1 Wrong Marks : 0.25

निम्नलिखित में से कौन सा अनुच्छेद भारतीय संविधान के संशोधनों से संबंधित है?

Options :

1. \* अनुच्छेद 330
2. \* अनुच्छेद 332
3. ✓ अनुच्छेद 368
4. \* अनुच्छेद 386

Question Number : 78 Question Id : 5861808206 Question Type : MCQ Option Shuffling : Yes  
Correct Marks : 1 Wrong Marks : 0.25

Who was the first Indian woman to win an individual medal at the Olympic Games?

Options :

1. \* P.V. Sindhu
2. \* Saina Nehwal
3. \* Mary Kom
4. ✓ Karnam Malleswari

Question Number : 78 Question Id : 5861808206 Question Type : MCQ Option Shuffling : Yes  
Correct Marks : 1 Wrong Marks : 0.25

ओलिंपिक खेलों में पदक जीतने वाली पहली भारतीय महिला कौन थी?

Options :

1. \* पी. वी. सिंधु
2. \* साइना नेहवाल
3. \* मैरी कॉम
4. ✓ कर्णम मल्लेश्वरी

Question Number : 79 Question Id : 5861808207 Question Type : MCQ Option Shuffling : Yes  
Correct Marks : 1 Wrong Marks : 0.25

Who among the following is the record holder of maximum number of Grand Slam Mens' Doubles titles?

Note: For this question, discrepancy is found in question/answer. So, this question is ignored for all candidates.

Options :

1. Todd Woodbridge
2. Roger Federer
3. Rafael Nadal
4. Leander Paes

Question Number : 79 Question Id : 5861808207 Question Type : MCQ Option Shuffling : Yes  
Correct Marks : 1 Wrong Marks : 0.25

निम्नलिखित में से किसने ग्रैंड स्लैम मेन्स डबल्स के सबसे अधिक खिताब जीते हैं?

Note: For this question, discrepancy is found in question/answer. So, this question is ignored for all candidates.

Options :

1. टोड वुडब्रिज
2. रोजर फ़ेडरर
3. रफ़ाएल नडाल
4. लिण्डर पेस

Question Number : 80 Question Id : 5861808208 Question Type : MCQ Option Shuffling : Yes  
Correct Marks : 1 Wrong Marks : 0.25

Who among the following cricketers has scored the highest career total runs in the test cricket format?

Options :

1. ✓ Sachin Tendulkar
2. ✗ Ricky Ponting
3. ✗ Brian Lara
4. ✗ Kumar Sangakkara

Question Number : 80 Question Id : 5861808208 Question Type : MCQ Option Shuffling : Yes  
Correct Marks : 1 Wrong Marks : 0.25

निम्नलिखित में से किस क्रिकेटर ने अपने क्रिकेट करियर में टेस्ट क्रिकेट फार्मेट में सबसे अधिक रन बनाए हैं?



Options :

1. ✓ सचिन तेंदुलकर
2. ✘ रिकी पॉटिंग
3. ✘ ब्रायन लारा
4. ✘ कुमार संगकारा

## Arithmetic Ability1

Group Number :	5
Group Id :	586180396
Group Maximum Duration :	0
Group Minimum Duration :	0
Show Attended Group? :	No
Edit Attended Group? :	No
Break time:	0
Group Marks:	20
Is this Group for Examiner?:	No
Revisit allowed for group Instructions? :	Yes
Maximum Instruction Time:	0
Minimum Instruction Time:	0

## Arithmetic Ability1

Section Id :	586180400
Section Number :	1
Section type :	Online
Mandatory or Optional:	Mandatory
Number of Questions:	20
Number of Questions to be attempted:	20
Section Marks:	20

Sub-Section Number:	1
Sub-Section Id:	586180549
Question Shuffling Allowed :	Yes

Question Number : 81 Question Id : 5861808209 Question Type : MCQ Option Shuffling : Yes

Correct Marks : 1 Wrong Marks : 0.25

Select the most appropriate option to solve the equation :

$$684 \div 4 \text{ of } 5 + 96 \div 8 \times 3 = ?$$

Options :

1. ✖ 684

2. ✔ 891

3. ✖ 728

4. ✖ 512

Question Number : 81 Question Id : 5861808209 Question Type : MCQ Option Shuffling : Yes  
Correct Marks : 1 Wrong Marks : 0.25

समीकरण को हल करने के लिए सबसे उचित विकल्प चुनें।

$5 + 96 \div 8 \times 3$  का  $684 \div 4 = ?$

Options :

1. ✖ 684

2. ✔ 891

3. ✖ 728

4. ✖ 512

Question Number : 82 Question Id : 5861808210 Question Type : MCQ Option Shuffling : Yes  
Correct Marks : 1 Wrong Marks : 0.25

The HCF of two numbers are 19 and the other two factors of their LCM are 13 and 15. What is the smaller number of the two?

Options :

1. ✖ 285

2. ✔ 247

3. ✖ 266

4. ✖ 195

Question Number : 82 Question Id : 5861808210 Question Type : MCQ Option Shuffling : Yes  
Correct Marks : 1 Wrong Marks : 0.25

दो संख्याओं का महत्तम समापवर्तक 19 है और उनके लघुत्तम समापवर्तक के अन्य दो कारक 13 और 15 हैं। दोनों में से छोटी संख्या क्या है?

Options :

1. ✖ 285
2. ✔ 247
3. ✖ 266
4. ✖ 195

Question Number : 83 Question Id : 5861808211 Question Type : MCQ Option Shuffling : Yes  
Correct Marks : 1 Wrong Marks : 0.25

0.05 x 0.0125 is equal to \_\_\_\_\_.

Options :

1. ✔ 0.000625
2. ✖ 0.00625
3. ✖ 0.0000625
4. ✖ 0.00000625

Question Number : 83 Question Id : 5861808211 Question Type : MCQ Option Shuffling : Yes  
Correct Marks : 1 Wrong Marks : 0.25

0.05 × 0.0125 \_\_\_\_\_ के बराबर है।

Options :

1. ✔ 0.000625
2. ✖ 0.00625
3. ✖ 0.0000625
4. ✖ 0.00000625

Question Number : 84 Question Id : 5861808212 Question Type : MCQ Option Shuffling : Yes  
Correct Marks : 1 Wrong Marks : 0.25

Find the value of:

$$\sqrt{(2 + \sqrt{(43 + \sqrt{(30 + \sqrt{36})})})} = ?$$

Options :

1. ✓ 3

2. ✗ 4

3. ✗ 5

4. ✗ 6

Question Number : 84 Question Id : 5861808212 Question Type : MCQ Option Shuffling : Yes  
Correct Marks : 1 Wrong Marks : 0.25

निम्न का मान ज्ञात करें:

$$\sqrt{(2 + \sqrt{(43 + \sqrt{(30 + \sqrt{36})})})} = ?$$

Options :

1. ✓ 3

2. ✗ 4

3. ✗ 5

4. ✗ 6

Question Number : 85 Question Id : 5861808213 Question Type : MCQ Option Shuffling : Yes  
Correct Marks : 1 Wrong Marks : 0.25

Which of the following numbers is divisible by 8?

Options :

1. ✗ 28692

2. ✓ 63504

3. ✖ 36518

4. ✖ 96842

Question Number : 85 Question Id : 5861808213 Question Type : MCQ Option Shuffling : Yes

Correct Marks : 1 Wrong Marks : 0.25

निम्नलिखित में से कौन सी संख्या 8 से विभाज्य है?

Options :

1. ✖ 28692

2. ✔ 63504

3. ✖ 36518

4. ✖ 96842

Question Number : 86 Question Id : 5861808214 Question Type : MCQ Option Shuffling : Yes

Correct Marks : 1 Wrong Marks : 0.25

Select the most appropriate option to solve the equation:

$$10 + 5 \times (112 + 32) \div 4 = ?$$

Options :

1. ✖ 55

2. ✖ 225

3. ✔ 190

4. ✖ 540

Question Number : 86 Question Id : 5861808214 Question Type : MCQ Option Shuffling : Yes

Correct Marks : 1 Wrong Marks : 0.25

समीकरण को हल करने के लिए सबसे उचित विकल्प चुनें।

$$10 + 5 \times (112 + 32) \div 4 = ?$$

Options :

1. ✖ 55

2. ✖ 225

3. ✔ 190

4. ✖ 540

Question Number : 87 Question Id : 5861808215 Question Type : MCQ Option Shuffling : Yes  
Correct Marks : 1 Wrong Marks : 0.25

Select the most appropriate option to solve the equation:

$$2.06 \times 10^4 + 5 \times 10^3 + 3 \times 10 = ?$$

Note: For this question, discrepancy is found in question/answer. So, this question is ignored for all candidates.

Options :

1. 26530

2. 25630

3. 26053

4. 26350

Question Number : 87 Question Id : 5861808215 Question Type : MCQ Option Shuffling : Yes  
Correct Marks : 1 Wrong Marks : 0.25

समीकरण को हल करने के लिए सबसे उचित विकल्प चुनें।

$$2.06 \times 10^4 + 5 \times 10^3 + 3 \times 10 = ?$$

Note: For this question, discrepancy is found in question/answer. So, this question is ignored for all candidates.

Options :

1. 26530

2. 25630

3. 26053

4. 26350

Question Number : 88 Question Id : 5861808216 Question Type : MCQ Option Shuffling : Yes  
Correct Marks : 1 Wrong Marks : 0.25

If  $0.434343\dots$  is converted to a fraction, then the result is:

Options :

1. ✓  $43/99$
2. ✗  $43/100$
3. ✗  $1/3$
4. ✗  $23/140$

Question Number : 88 Question Id : 5861808216 Question Type : MCQ Option Shuffling : Yes  
Correct Marks : 1 Wrong Marks : 0.25

यदि  $0.434343 \dots$  को भिन्न में परिवर्तित किया जाता है, तो परिणाम है:

Options :

1. ✓  $43/99$
2. ✗  $43/100$
3. ✗  $1/3$
4. ✗  $23/140$

Question Number : 89 Question Id : 5861808217 Question Type : MCQ Option Shuffling : Yes  
Correct Marks : 1 Wrong Marks : 0.25

The HCF of two numbers is 13 and their LCM is 1131. If one of the numbers is 39, what is the other number?

Options :

1. ✓ 377
2. ✗ 256
3. ✗ 281
4. ✗ 345

Question Number : 89 Question Id : 5861808217 Question Type : MCQ Option Shuffling : Yes  
Correct Marks : 1 Wrong Marks : 0.25

दो संख्याओं का महत्तम समापवर्तक 13 है और उनका लघुत्तम समापवर्तक 1131 है। यदि उन संख्याओं में से एक 39 है, तो दूसरी संख्या क्या है?

Options :

1. ✓ 377
2. ✗ 256
3. ✗ 281
4. ✗ 345

Question Number : 90 Question Id : 5861808218 Question Type : MCQ Option Shuffling : Yes  
Correct Marks : 1 Wrong Marks : 0.25

Which of the following numbers is divisible by 9?

Options :

1. ✓ 475434
2. ✗ 534373
3. ✗ 964213
4. ✗ 634546

Question Number : 90 Question Id : 5861808218 Question Type : MCQ Option Shuffling : Yes  
Correct Marks : 1 Wrong Marks : 0.25

निम्नलिखित में से कौन सी संख्या 9 से विभाज्य है?

Options :

1. ✓ 475434
2. ✗ 534373
3. ✗ 964213
4. ✗ 634546

Question Number : 91 Question Id : 5861808219 Question Type : MCQ Option Shuffling : Yes  
Correct Marks : 1 Wrong Marks : 0.25



A seller marks his goods 20% above his cost price. If he allows his customers 15% discount, then how much profit or loss does he make?

Options :

1. ✖ 2% loss
2. ✔ 2% profit
3. ✖ 5% loss
4. ✖ 5% profit

Question Number : 91 Question Id : 5861808219 Question Type : MCQ Option Shuffling : Yes

Correct Marks : 1 Wrong Marks : 0.25

एक विक्रेता अपने माल को अपनी लागत मूल्य से 20% ऊपर रखता है। यदि वह अपने ग्राहकों को 15% की छूट देता है, तो उसे कितना लाभ या हानि होती है?

Options :

1. ✖ 2% हानि
2. ✔ 2% लाभ
3. ✖ 5% हानि
4. ✖ 5% लाभ

Question Number : 92 Question Id : 5861808220 Question Type : MCQ Option Shuffling : Yes

Correct Marks : 1 Wrong Marks : 0.25

If the average of 20%, 25%, 50% and 65% of a number is 24, then what is the number?

Options :

1. ✔ 60
2. ✖ 45
3. ✖ 50
4. ✖ 75

Question Number : 92 Question Id : 5861808220 Question Type : MCQ Option Shuffling : Yes  
Correct Marks : 1 Wrong Marks : 0.25

यदि किसी संख्या का 20%, 25%, 50% और 65% का औसत 24 है, तो वह संख्या क्या है?

Options :

1. ✓ 60
2. ✗ 45
3. ✗ 50
4. ✗ 75

Question Number : 93 Question Id : 5861808221 Question Type : MCQ Option Shuffling : Yes  
Correct Marks : 1 Wrong Marks : 0.25

The average age of Hari, Shyam and Ankit 3 years ago was 25 years and that of Shyam and Ankit 5 years ago was 22 year. What is the present age of Hari?

Options :

1. ✗ 22 years
2. ✗ 28 years
3. ✗ 25 years
4. ✓ 30 years

Question Number : 93 Question Id : 5861808221 Question Type : MCQ Option Shuffling : Yes  
Correct Marks : 1 Wrong Marks : 0.25

3 वर्ष पहले हरि, श्याम और अंकित की औसत उम्र 25 वर्ष थी और 5 वर्ष पहले श्याम और अंकित की उम्र 22 वर्ष थी। हरि की वर्तमान उम्र क्या है?

Options :

1. ✗ 22 वर्ष
2. ✗ 28 वर्ष
3. ✗ 25 वर्ष

#### 4. ✓ 30 वर्ष

Question Number : 94 Question Id : 5861808222 Question Type : MCQ Option Shuffling : Yes  
Correct Marks : 1 Wrong Marks : 0.25

What is the percentage increase in the area of a rectangle if both the length and the breadth is increased by 20%?

Options :

1. ✓ 44 percent
2. ✗ 40 percent
3. ✗ 48 percent
4. ✗ 52 percent

Question Number : 94 Question Id : 5861808222 Question Type : MCQ Option Shuffling : Yes  
Correct Marks : 1 Wrong Marks : 0.25

एक आयत के क्षेत्र में हुई प्रतिशत वृद्धि क्या है यदि लंबाई और चौड़ाई दोनों में 20% की वृद्धि की गई है?

Options :

1. ✓ 44 प्रतिशत
2. ✗ 40 प्रतिशत
3. ✗ 48 प्रतिशत
4. ✗ 52 प्रतिशत

Question Number : 95 Question Id : 5861808223 Question Type : MCQ Option Shuffling : Yes  
Correct Marks : 1 Wrong Marks : 0.25

If a equals 25% of c and b equals 50% of c, then which one of the following is 75% of b?

Options :

1. ✗ 50% of a
2. ✗ 75% of c
3. ✗ 125% of c
4. ✓ 150% of a

Question Number : 95 Question Id : 5861808223 Question Type : MCQ Option Shuffling : Yes

Correct Marks : 1 Wrong Marks : 0.25

यदि  $a$ ,  $c$  के 25% के बराबर और  $b$ ,  $c$  के 50% के बराबर है, तो निम्नलिखित में से कौन सा  $b$  का 75% है?

Options :

1. \*  $a$  के 50%
2. \*  $c$  के 75%
3. \*  $c$  के 125%
4. ✓  $a$  के 150%

Question Number : 96 Question Id : 5861808224 Question Type : MCQ Option Shuffling : Yes

Correct Marks : 1 Wrong Marks : 0.25

If X earns 25% more than Y and Y earns 20% more than Z, then how much does X earn if Z earns Rs. 100?

Options :

1. ✓ Rs. 150
2. \* Rs. 115
3. \* Rs. 130
4. \* Rs. 125

Question Number : 96 Question Id : 5861808224 Question Type : MCQ Option Shuffling : Yes

Correct Marks : 1 Wrong Marks : 0.25

यदि  $X$ ,  $Y$  से 25% अधिक कमाता है और  $Y$ ,  $Z$  से 20% अधिक कमाता है, तो यदि  $Z$  100 रुपये कमाता है, तो  $X$  कितना कमाता है?

Options :

1. ✓ 150 रुपये
2. \* 115 रुपये
3. \* 130 रुपये
4. \* 125 रुपये

Question Number : 97 Question Id : 5861808225 Question Type : MCQ Option Shuffling : Yes

Correct Marks : 1 Wrong Marks : 0.25

When an item is sold for Rs. 12000, the owner loses 20%, at what price should it be sold so as to gain 10%?

Options :

1. \* Rs. 15,000
2. \* Rs. 18000
3. \* Rs. 17000
4. ✓ Rs. 16,500

Question Number : 97 Question Id : 5861808225 Question Type : MCQ Option Shuffling : Yes

Correct Marks : 1 Wrong Marks : 0.25

जब कोई वस्तु 12000 रुपयों में बेची जाती है, तो मालिक को 20% नुकसान होता है, इसे किस कीमत पर बेचा जाना चाहिए ताकि 10% लाभ हो सके?

Options :

1. \* 15,000 रुपये
2. \* 18,000 रुपये
3. \* 17,000 रुपये
4. ✓ 16,500 रुपये

Question Number : 98 Question Id : 5861808226 Question Type : MCQ Option Shuffling : Yes

Correct Marks : 1 Wrong Marks : 0.25

An article was sold for Rs. 3,950 at a discount of 10% after 2 successive mark-ups of 15% and 20%. Find the cost price of the article.

Options :

1. \* Rs. 3250.5
2. \* Rs. 3259.25
3. \* Rs. 3125.35

#### 4. ✓ Rs. 3180.35

Question Number : 98 Question Id : 5861808226 Question Type : MCQ Option Shuffling : Yes

Correct Marks : 1 Wrong Marks : 0.25

एक वस्तु को 15% और 20% के 2 क्रमिक अंकन के बाद 10% की छूट पर 3,950 रुपयों में बेचा गया था। वस्तु का लागत मूल्य ज्ञात कीजिए।

Options :

1. ✗ 3250.5 रुपये

2. ✗ 3259.25 रुपये

3. ✗ 3125.35 रुपये

4. ✓ 3180.35 रुपये

Question Number : 99 Question Id : 5861808227 Question Type : MCQ Option Shuffling : Yes

Correct Marks : 1 Wrong Marks : 0.25

A shopkeeper expects a gain of 25% on his cost price. If in a month, his sale was of Rs. 300, what was his profit?

Options :

1. ✓ Rs. 60

2. ✗ Rs. 240

3. ✗ Rs. 120

4. ✗ Rs. 180

Question Number : 99 Question Id : 5861808227 Question Type : MCQ Option Shuffling : Yes

Correct Marks : 1 Wrong Marks : 0.25

एक दुकानदार को अपनी लागत मूल्य पर 25% का लाभ होने की उम्मीद है। यदि एक महीने में, उसकी बिक्री 300 रुपयों की थी, तो उसका लाभ क्या था?

Options :

1. ✓ 60 रुपये

2. ✖ 240 रूपये

3. ✖ 120 रूपये

4. ✖ 180 रूपये

Question Number : 100 Question Id : 5861808228 Question Type : MCQ Option Shuffling : Yes  
Correct Marks : 1 Wrong Marks : 0.25

Two numbers are in the ratio of 2 : 3. When 6 is added to each, the ratio becomes 5 : 6. Then the greater number of the two is \_\_\_\_\_ .

Options :

1. ✖ 2

2. ✖ 4

3. ✖ 9

4. ✔ 6

Question Number : 100 Question Id : 5861808228 Question Type : MCQ Option Shuffling : Yes  
Correct Marks : 1 Wrong Marks : 0.25

दो संख्याएँ 2 : 3 के अनुपात में हैं। जब प्रत्येक में 6 जोड़ा जाता है, तो यह अनुपात 5 : 6 हो जाता है। तो दोनों में से बड़ी संख्या \_\_\_\_\_ है।

Options :

1. ✖ 2

2. ✖ 4

3. ✖ 9

4. ✔ 6

## Arithmetic Ability2

Group Number :  
Group Id :

6  
586180397

Group Maximum Duration :	0
Group Minimum Duration :	0
Show Attended Group? :	No
Edit Attended Group? :	No
Break time:	0
Group Marks:	20
Is this Group for Examiner?:	No
Revisit allowed for group Instructions? :	Yes
Maximum Instruction Time:	0
Minimum Instruction Time:	0

## Arithmetic Ability2

Section Id :	586180401
Section Number :	1
Section type :	Online
Mandatory or Optional:	Mandatory
Number of Questions:	20
Number of Questions to be attempted:	20
Section Marks:	20

Sub-Section Number:	1
Sub-Section Id:	586180550
Question Shuffling Allowed :	Yes

Question Number : 101 Question Id : 5861808229 Question Type : MCQ Option Shuffling : Yes  
Correct Marks : 1 Wrong Marks : 0.25

If Rs. 760 is to be divided among A, B and C in the ratio  $3/5 : 1/3 : 2/5$ , then what is the share of B?

Options :

1. ✓ Rs. 190
2. ✗ Rs. 342
3. ✗ Rs. 228
4. ✗ Rs. 250

Question Number : 101 Question Id : 5861808229 Question Type : MCQ Option Shuffling : Yes  
Correct Marks : 1 Wrong Marks : 0.25

यदि 760 रुपयों को A, B और C के बीच  $3/5 : 1/3 : 2/5$  के अनुपात में विभाजित किया जाना है, तो B का हिस्सा क्या है?

Options :



1. ✓ 190 रूपये

2. ✗ 342 रूपये

3. ✗ 228 रूपये

4. ✗ 250 रूपये

Question Number : 102 Question Id : 5861808230 Question Type : MCQ Option Shuffling : Yes  
Correct Marks : 1 Wrong Marks : 0.25

दो संख्याएँ तीसरी संख्या से 60% और 40% अधिक हैं। इन दो संख्याओं का अनुपात क्या है?

Options :

1. ✗ 3:4

2. ✗ 4:3

3. ✓ 8:7

4. ✗ 4:7

Question Number : 102 Question Id : 5861808230 Question Type : MCQ Option Shuffling : Yes  
Correct Marks : 1 Wrong Marks : 0.25

Two numbers are 60% and 40% more than a third number.  
What is the ratio of these two numbers?

Options :

1. ✗ 3:4

2. ✗ 4:3

3. ✓ 8:7

4. ✗ 4:7

Question Number : 103 Question Id : 5861808231 Question Type : MCQ Option Shuffling : Yes  
Correct Marks : 1 Wrong Marks : 0.25

A person has invested Rs. 45000 of his income at 4% simple interest for 2 years and the rest of his income at 6% simple interest for 2 years. If the return from both the investments are same, then what is the person's income?

Options :

1. \* Rs. 30,000
2. \* Rs. 45,000
3. \* Rs. 55,000
4. ✓ Rs. 75,000

Question Number : 103 Question Id : 5861808231 Question Type : MCQ Option Shuffling : Yes

Correct Marks : 1 Wrong Marks : 0.25

एक व्यक्ति ने अपनी आय का 45000 रुपयों का 4% साधारण ब्याज पर 2 वर्ष के लिए और शेष आय 6% साधारण ब्याज पर 2 वर्ष के लिए निवेश किया। यदि दोनों निवेशों से वापसी समान है, तो उस व्यक्ति की आय क्या है?

Options :

1. \* 30,000 रूपये
2. \* 45,000 रूपये
3. \* 55,000 रूपये
4. ✓ 75,000 रूपये

Question Number : 104 Question Id : 5861808232 Question Type : MCQ Option Shuffling : Yes

Correct Marks : 1 Wrong Marks : 0.25

What will be the compound interest for the 2nd year earned on Rs. 1500 at the compound interest rate of 4% per annum?

Options :

1. \* Rs. 70
2. \* Rs 74.4

3. ✖ Rs. 60

4. ✔ Rs. 62.4

Question Number : 104 Question Id : 5861808232 Question Type : MCQ Option Shuffling : Yes

Correct Marks : 1 Wrong Marks : 0.25

प्रति वर्ष 4% की चक्रवृद्धि ब्याज दर पर 1500 रुपयों पर दूसरे वर्ष अर्जित चक्रवृद्धि ब्याज क्या होगा?

Options :

1. ✖ 70 रुपये

2. ✖ 74.4 रुपये

3. ✖ 60 रुपये

4. ✔ 62.4 रुपये

Question Number : 105 Question Id : 5861808233 Question Type : MCQ Option Shuffling : Yes

Correct Marks : 1 Wrong Marks : 0.25

A sum of 10500 amounts to Rs. 14700 in 5 year. What is the simple rate of interest?

Options :

1. ✖ 5 percent

2. ✖ 6 percent

3. ✖ 7 percent

4. ✔ 8 percent

Question Number : 105 Question Id : 5861808233 Question Type : MCQ Option Shuffling : Yes

Correct Marks : 1 Wrong Marks : 0.25

5 वर्षों में 10500 रुपये की राशि 14700 रुपये हो जाती है। ब्याज की साधारण दर क्या है?

Options :

1. ✖ 5 प्रतिशत

2. ✖ 6 प्रतिशत

3. ✖ 7 प्रतिशत

4. ✔ 8 प्रतिशत

Question Number : 106 Question Id : 5861808234 Question Type : MCQ Option Shuffling : Yes

Correct Marks : 1 Wrong Marks : 0.25

A train travels a certain distance at a speed of 15 km/h and travels double the same distance at a speed of 30 km/h. What is the average speed of the train?

Options :

1. ✔ 22.5 km/h

2. ✖ 30 km/h

3. ✖ 27.5 km/h

4. ✖ 25 km/h

Question Number : 106 Question Id : 5861808234 Question Type : MCQ Option Shuffling : Yes

Correct Marks : 1 Wrong Marks : 0.25

एक रेलगाड़ी 15 km/h की गति से एक निश्चित दूरी तय करती है और 30 km/h की गति से दोगुनी दूरी तय करती है। रेलगाड़ी की औसत गति क्या है?

Options :

1. ✔ 22.5 km/h

2. ✖ 30 km/h

3. ✖ 27.5 km/h

4. ✖ 25 km/h

Question Number : 107 Question Id : 5861808235 Question Type : MCQ Option Shuffling : Yes

Correct Marks : 1 Wrong Marks : 0.25

A man travelled a distance of 81 km in 10 hours. He travelled partly by foot at a speed of 3 km/h and partly by bicycle at a speed of 15 km/h. What is the distance travelled on bicycle?

Options :

1. ✓ 63.75 km

2. ✗ 68.25 km

3. ✗ 61.5 km

4. ✗ 50.25 km

Question Number : 107 Question Id : 5861808235 Question Type : MCQ Option Shuffling : Yes

Correct Marks : 1 Wrong Marks : 0.25

एक आदमी ने 10 घंटे में 81 km की दूरी तय की। उसने आंशिक रूप से 3 km/h की गति से पैदल और आंशिक रूप से साइकिल से 15 km/h की गति से यात्रा की। साइकिल पर तय की गई दूरी कितनी है?

Options :

1. ✓ 63.75 km

2. ✗ 68.25 km

3. ✗ 61.5 km

4. ✗ 50.25 km

Question Number : 108 Question Id : 5861808236 Question Type : MCQ Option Shuffling : Yes

Correct Marks : 1 Wrong Marks : 0.25

A worker travelled a distance of 97 km in 11 hours. He travelled partly by foot at 5 km/h and partly by bicycle at 11 km/h. What is the distance travelled on foot?

Options :

1. ✗ 17.5 km

2. ✗ 15 km

3. ✓ 20 km

4. ✗ 25 km

Question Number : 108 Question Id : 5861808236 Question Type : MCQ Option Shuffling : Yes

Correct Marks : 1 Wrong Marks : 0.25

एक कार्यकर्ता ने 11 घंटे में 97 km की दूरी तय की। उसने आंशिक रूप से पैदल 5 km/h और आंशिक रूप से साइकिल पर 11 km/h से यात्रा की। पैदल यात्रा की दूरी कितनी है?

Options :

1. ✖ 17.5 km
2. ✖ 15 km
3. ✔ 20 km
4. ✖ 25 km

Question Number : 109 Question Id : 5861808237 Question Type : MCQ Option Shuffling : Yes  
Correct Marks : 1 Wrong Marks : 0.25

Anita and Rashi can do a piece of work in 12 days. Rashi and Anamika can do the same work in 20 days. Anamika and Anita can do the same work in 15 days. If Anita, Rashi and Anamika work together, then in how many days will they complete the work?

Options :

1. ✖ 5 days
2. ✔ 10 days
3. ✖ 15 days
4. ✖ 20 days

Question Number : 109 Question Id : 5861808237 Question Type : MCQ Option Shuffling : Yes  
Correct Marks : 1 Wrong Marks : 0.25

अनीता और राशी 12 दिनों में एक काम पूरा कर सकती हैं। राशी और अनामिका 20 दिनों में वही काम कर सकती हैं। अनामिका और अनीता 15 दिनों में वही काम कर सकती हैं। अगर अनीता, राशी और अनामिका साथ काम करती हैं, तो वे कितने दिनों में काम पूरा करेंगी?

Options :

1. ✖ 5 दिन
2. ✔ 10 दिन
3. ✖ 15 दिन
4. ✖ 20 दिन

Question Number : 110 Question Id : 5861808238 Question Type : MCQ Option Shuffling : Yes  
Correct Marks : 1 Wrong Marks : 0.25

P, Q and R can do a job in 10, 15 and 20 days respectively. In how many days can P do the work if he is assisted by Q and R every fourth day?

Options :

1. ✖ 5.36 days
2. ✔ 7.74 days
3. ✖ 6.48 days
4. ✖ 7.25 days

Question Number : 110 Question Id : 5861808238 Question Type : MCQ Option Shuffling : Yes  
Correct Marks : 1 Wrong Marks : 0.25

P, Q और R क्रमशः 10, 15 और 20 दिनों में एक काम कर सकते हैं। यदि P को हर चौथे दिन Q और R द्वारा सहायता प्रदान होती है, तो वह कितने दिनों में कार्य पूरा कर सकता है?

Options :

1. ✖ 5. 36 दिन
2. ✔ 7. 74 दिन
3. ✖ 6. 48 दिन
4. ✖ 7.25 दिन

Question Number : 111 Question Id : 5861808239 Question Type : MCQ Option Shuffling : Yes  
Correct Marks : 1 Wrong Marks : 0.25

10 men can complete a work in 6 days and 10 women take 12 days to complete the work. How many days will 5 men and 10 women take to complete the work?

Options :

1. \* 4 days
2. \* 5 days
3. ✓ 6 days
4. \* 8 days

Question Number : 111 Question Id : 5861808239 Question Type : MCQ Option Shuffling : Yes

Correct Marks : 1 Wrong Marks : 0.25

10 पुरुष 6 दिनों में एक काम पूरा कर सकते हैं और 10 महिलाओं को काम पूरा करने में 12 दिन लगते हैं। 5 पुरुषों और 10 महिलाओं को काम पूरा करने में कितने दिन लगेंगे?

Options :

1. \* 4 दिन
2. \* 5 दिन
3. ✓ 6 दिन
4. \* 8 दिन

Question Number : 112 Question Id : 5861808240 Question Type : MCQ Option Shuffling : Yes

Correct Marks : 1 Wrong Marks : 0.25

If the circum radius of an equilateral triangle be 10 cm, then what is the height of the triangle?

Options :

1. ✓ 15 cm
2. \* 5 cm
3. \* 12 cm
4. \* 6 cm



Question Number : 112 Question Id : 5861808240 Question Type : MCQ Option Shuffling : Yes  
Correct Marks : 1 Wrong Marks : 0.25

यदि समबाहु त्रिभुज की परिधि त्रिज्या 10 cm है, तो उस त्रिभुज की ऊँचाई क्या है?

Options :

1. ✓ 15 cm
2. ✗ 5 cm
3. ✗ 12 cm
4. ✗ 6 cm

Question Number : 113 Question Id : 5861808241 Question Type : MCQ Option Shuffling : Yes  
Correct Marks : 1 Wrong Marks : 0.25

The length of the side of a square is  $(x + 2)$ . The length of a rectangle is  $2x$  and the breadth is  $3x$ . If the perimeter of the square and rectangle is same, what is the value of  $x$ ?

Options :

1. ✗  $4/5$
2. ✗ 3
3. ✓  $4/3$
4. ✗ 5

Question Number : 113 Question Id : 5861808241 Question Type : MCQ Option Shuffling : Yes  
Correct Marks : 1 Wrong Marks : 0.25

एक वर्ग के भुजा की लंबाई  $(x + 2)$  है। एक आयत की लंबाई  $2x$  है और चौड़ाई  $3x$  है। यदि वर्ग और आयत की परिधि समान है, तो  $x$  का मान क्या है?

Options :

1. ✗  $4/5$
2. ✗ 3
3. ✓  $4/3$

4. ✖ 5

Question Number : 114 Question Id : 5861808242 Question Type : MCQ Option Shuffling : Yes  
Correct Marks : 1 Wrong Marks : 0.25

The total surface area of a right circular cone is  $792 \text{ cm}^2$ . If its radius is 12 cm, what is its slant height?

Options :

1. ✖ 15 cm

2. ✔ 9 cm

3. ✖ 12 cm

4. ✖ 18 cm

Question Number : 114 Question Id : 5861808242 Question Type : MCQ Option Shuffling : Yes  
Correct Marks : 1 Wrong Marks : 0.25

एक समकोण गोलाकार शंकु की कुल सतह का क्षेत्रफल  $792 \text{ cm}^2$  है।  
यदि इसकी त्रिज्या 12 cm है, तो इसकी तिरछी ऊंचाई क्या है?

Options :

1. ✖ 15 cm

2. ✔ 9 cm

3. ✖ 12 cm

4. ✖ 18 cm

Question Number : 115 Question Id : 5861808243 Question Type : MCQ Option Shuffling : Yes  
Correct Marks : 1 Wrong Marks : 0.25

The following table shows the number of students enrolled for different subjects from 2015 to 2018. By what percentage has the number of students enrolled for Biology has increased from 2016 to 2018?

Subjects	2015	2016	2017	2018
Physics	50	65	70	80
Maths	45	50	65	75
Chemistry	42	38	50	56
Biology	28	30	40	45

Options :

1. ✖ 40 percent
2. ✖ 35 percent
3. ✖ 45 percent
4. ✔ 50 percent

Question Number : 115 Question Id : 5861808243 Question Type : MCQ Option Shuffling : Yes  
Correct Marks : 1 Wrong Marks : 0.25

निम्न तालिका 2015 से 2018 तक विभिन्न विषयो के लिए नामांकित छात्रों संख्या को दर्शाती है। 2016 से 2018 तक विज्ञान के लिए नामांकित छात्रों संख्या कितने प्रतिशत बढी है?

विषय	2015	2016	2017	2018
भौतिक विज्ञान	50	65	70	80
गणित	45	50	65	75
रसायन शास्त्र	42	38	50	56
जीव विज्ञान	28	30	40	45

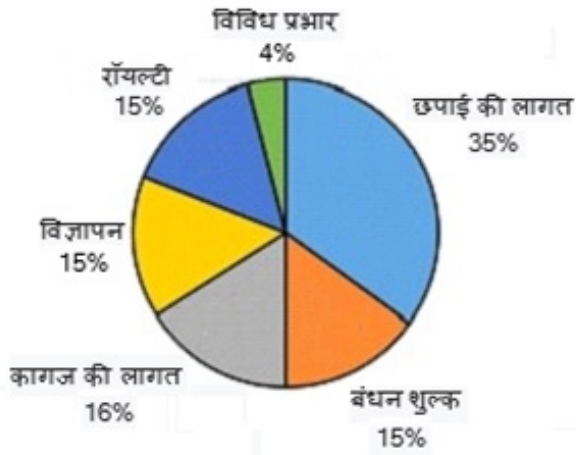
Options :

1. ✖ 40 प्रतिशत
2. ✖ 35 प्रतिशत
3. ✖ 45 प्रतिशत
4. ✔ 50 प्रतिशत

Question Number : 116 Question Id : 5861808244 Question Type : MCQ Option Shuffling : Yes  
Correct Marks : 1 Wrong Marks : 0.25

यह पायी चार्ट एक पत्रिका निर्माता के खर्च को दर्शाता है। यदि विविध शुल्क 8,000 रूपये है, तो कागज की कीमत क्या है?

एक पत्रिका निर्माता का व्यय



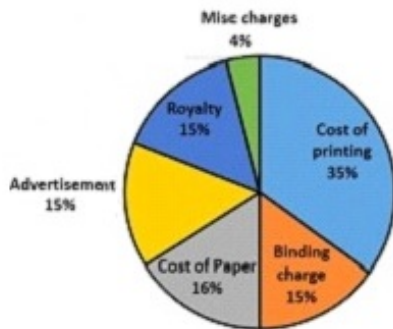
Options :

1. ✓ 32,000 रूपये
2. ✗ 25,000 रूपये
3. ✗ 30,000 रूपये
4. ✗ 48,000 रूपये

Question Number : 116 Question Id : 5861808244 Question Type : MCQ Option Shuffling : Yes Correct Marks : 1 Wrong Marks : 0.25

The pie chart shows the expenditure of a magazine producer. If the miscellaneous charges are Rs. 8,000, then what is the cost of paper?

Expenditure of a Magazine Producer



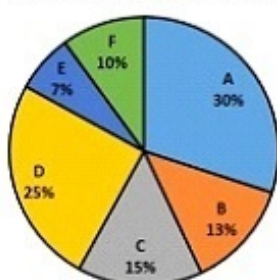
Options :

1. ✓ Rs. 32,000
2. ✗ Rs. 25,000
3. ✗ Rs. 30,000
4. ✗ Rs. 48,000

Question Number : 117 Question Id : 5861808245 Question Type : MCQ Option Shuffling : Yes  
Correct Marks : 1 Wrong Marks : 0.25

The pie chart shows the sale of different soaps in 2019. the total revenue earned by this sector was 120 crores. How much money did Company C make than Company E?

Sales of Different Soaps



Options :

1. ✗ Rs. 11.5 crores

2. ✖ Rs. 10.2 crores

3. ✔ Rs. 9.6 crores

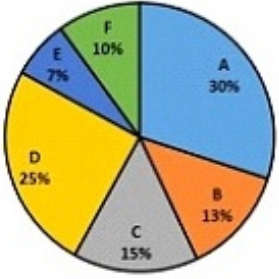
4. ✖ Rs. 8.4 crores

Question Number : 117 Question Id : 5861808245 Question Type : MCQ Option Shuffling : Yes

Correct Marks : 1 Wrong Marks : 0.25

यह पायी चार्ट 2019 में विभिन्न साबुनो की बिक्री को दर्शाता है। इस क्षेत्र द्वारा अर्जित कूल आय 120 करोड़ थी। कंपनी E की तुलना में कंपनी C ने कितना अधिक पैसा कमाया?

विभिन्न साबुनों की बिक्री



Options :

1. ✖ रूपये 11.5 करोड़

2. ✖ रूपये 10.2 करोड़

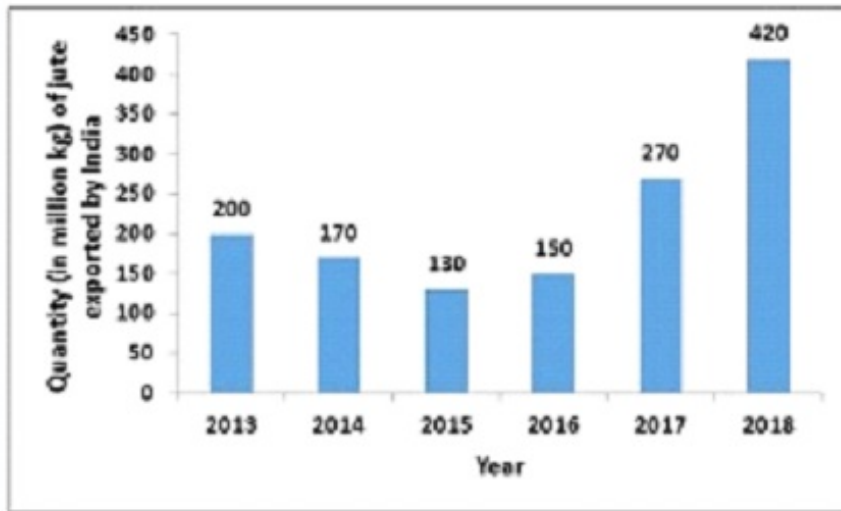
3. ✔ रूपये 9.6 करोड़

4. ✖ रूपये 8.4 करोड़

Question Number : 118 Question Id : 5861808246 Question Type : MCQ Option Shuffling : Yes

Correct Marks : 1 Wrong Marks : 0.25

The following bar chart shows the quantity (in million kg) of jute exported by India from 2013-2018. For how many years is the quantity exported higher than the average quantity exported across all years?



Options :

1. ✘ 1
2. ✘ 3
3. ✘ 4
4. ✔ 2

Question Number : 118 Question Id : 5861808246 Question Type : MCQ Option Shuffling : Yes  
Correct Marks : 1 Wrong Marks : 0.25



निम्न स्तंभ आरेख 2013 - 2018 में भारत द्वारा निर्यात जूट की मात्रा (मिलियन kg में) दिखाता है। कितने वर्षों के लिए निर्यात की गई औसत मात्रा से अधिक है?

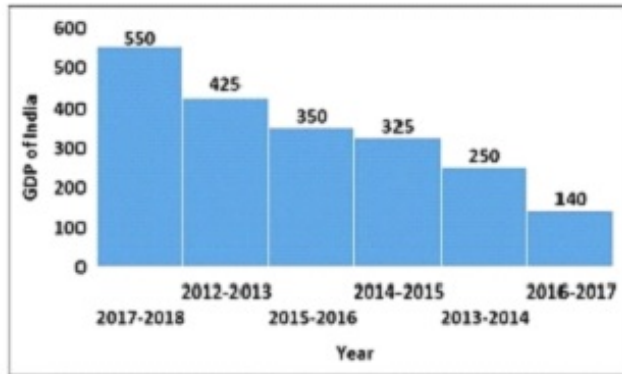


Options :

1. ✘ 1
2. ✘ 3
3. ✘ 4
4. ✔ 2

Question Number : 119 Question Id : 5861808247 Question Type : MCQ Option Shuffling : Yes  
Correct Marks : 1 Wrong Marks : 0.25

The histogram shows the GDP (in Rs. billion) of India over different years. In how many years the GDP is more than average GDP?

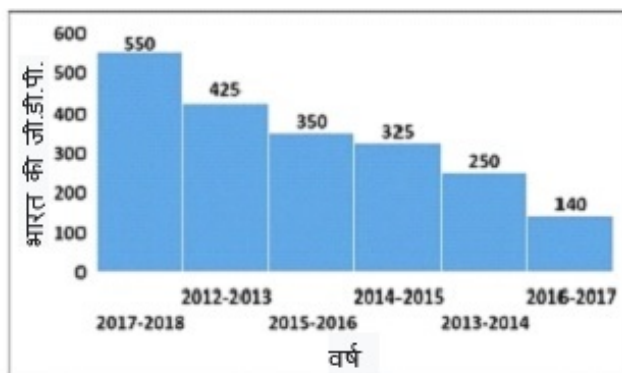


Options :

1. ✖ 1
2. ✖ 2
3. ✔ 3
4. ✖ 4

Question Number : 119 Question Id : 5861808247 Question Type : MCQ Option Shuffling : Yes  
Correct Marks : 1 Wrong Marks : 0.25

यदि आयतचित्र विभिन्न वर्षों में भारत के सकल उत्पाद (अरब रुपये में) को दर्शाता है। यह GDP कितने वर्षों में औसत GDP से अधिक है?



Options :

1. ✘ 1

2. ✘ 2

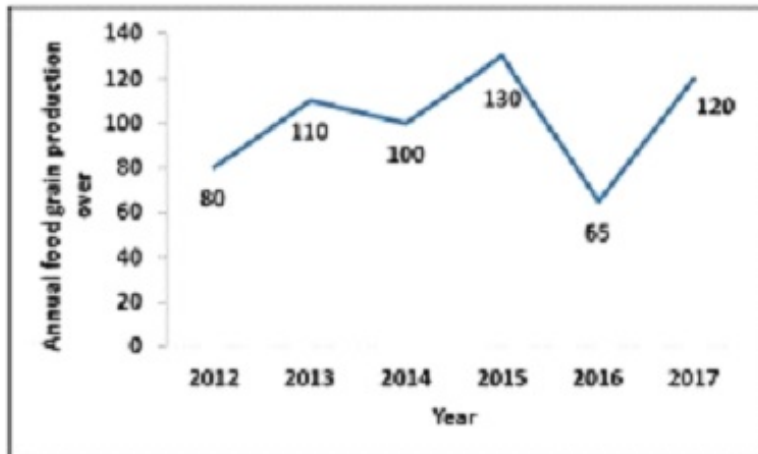
3. ✔ 3

4. ✘ 4

Question Number : 120 Question Id : 5861808248 Question Type : MCQ Option Shuffling : Yes

Correct Marks : 1 Wrong Marks : 0.25

The line graph shows the annual food grain production over the years 2012-2017. If the production in 2012 is estimated to be 60% more than that in 2011, the estimate of 2011 production is \_\_\_\_\_.



Options :

1. ✔ 50 units

2. ✘ 120 units

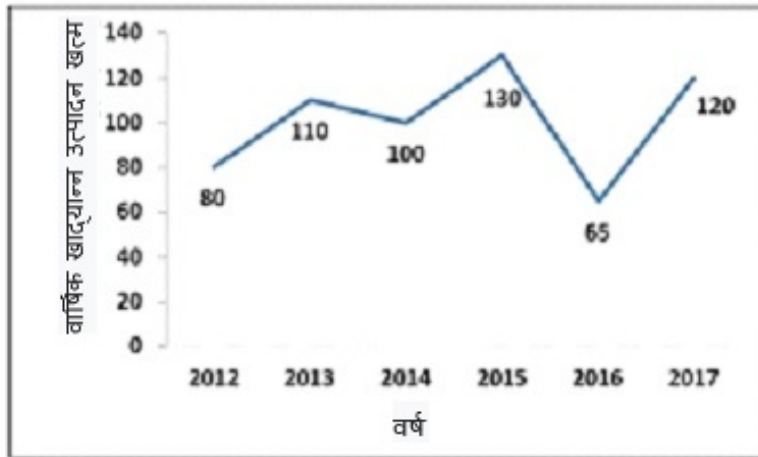
3. ✘ 55 units

4. ✘ 100 units

Question Number : 120 Question Id : 5861808248 Question Type : MCQ Option Shuffling : Yes

Correct Marks : 1 Wrong Marks : 0.25

यह रेखा ग्राफ 2012 - 2017 के दौरान वार्षिक खाद्यान्न उत्पादन को दर्शाता है। यदि 2012 में उत्पादन 2011 में हुए उत्पादन से 60% अधिक अनुमानित है, तो 2011 के उत्पादन का अनुमान \_\_\_\_\_ है।



Options :

1. ✓ 50 इकाइयाँ
2. ✗ 120 इकाइयाँ
3. ✗ 55 इकाइयाँ
4. ✗ 100 इकाइयाँ

## General English1

Group Number :	7
Group Id :	586180398
Group Maximum Duration :	0
Group Minimum Duration :	0
Show Attended Group? :	No
Edit Attended Group? :	No
Break time:	0
Group Marks:	20
Is this Group for Examiner?:	No
Revisit allowed for group Instructions? :	Yes
Maximum Instruction Time:	0
Minimum Instruction Time:	0

# General English1

Section Id :	586180402
Section Number :	1
Section type :	Online
Mandatory or Optional:	Mandatory
Number of Questions:	20
Number of Questions to be attempted:	20
Section Marks:	20

Sub-Section Number:	1
Sub-Section Id:	586180551
Question Shuffling Allowed :	Yes

Question Number : 121 Question Id : 5861808249 Question Type : MCQ Option Shuffling : Yes  
Correct Marks : 1 Wrong Marks : 0.25

In the following statement, one part of the sentence may have an error. Find out which part of the sentence has an error and click the button corresponding to it. If the sentence is free from error, select the "No error" option.

(A) Raj go to the bed/ (B) at ten/ (C) everyday./ (D) No error

Options :

1. ✓ A

2. ✗ B

3. ✗ C

4. ✗ D

Question Number : 121 Question Id : 5861808249 Question Type : MCQ Option Shuffling : Yes  
Correct Marks : 1 Wrong Marks : 0.25

In the following statement, one part of the sentence may have an error. Find out which part of the sentence has an error and click the button corresponding to it. If the sentence is free from error, select the "No error" option.

(A) Raj go to the bed/ (B) at ten/ (C) everyday./ (D) No error

Options :

1. ✓ A

2. ✗ B

3. ✗ C

4. ✗ D

Question Number : 122 Question Id : 5861808250 Question Type : MCQ Option Shuffling : Yes  
Correct Marks : 1 Wrong Marks : 0.25

In the following statement, one part of the sentence may have an error. Find out which part of the sentence has an error and click the button corresponding to it. If the sentence is free from error, select the "No error" option.

(A) Abhay didn't/ (B) wanting to go/ (C) to the school./ (D) No error

Options :

1. ✗ A

2. ✓ B

3. ✗ C

4. ✗ D

Question Number : 122 Question Id : 5861808250 Question Type : MCQ Option Shuffling : Yes  
Correct Marks : 1 Wrong Marks : 0.25

In the following statement, one part of the sentence may have an error. Find out which part of the sentence has an error and click the button corresponding to it. If the sentence is free from error, select the "No error" option.

(A) Abhay didn't/ (B) wanting to go/ (C) to the school./ (D)  
No error

Options :

1. ✖ A

2. ✔ B

3. ✖ C

4. ✖ D

Question Number : 123 Question Id : 5861808251 Question Type : MCQ Option Shuffling : Yes  
Correct Marks : 1 Wrong Marks : 0.25

In the following statement, one part of the sentence may have an error. Find out which part of the sentence has an error and click the button corresponding to it. If the sentence is free from error, select the "No error" option.

(A) Harry is / (B) keen in studying / (C) French in school./ (D)  
No error

Options :

1. ✖ A

2. ✔ B

3. ✖ C

4. ✖ D

Question Number : 123 Question Id : 5861808251 Question Type : MCQ Option Shuffling : Yes  
Correct Marks : 1 Wrong Marks : 0.25

In the following statement, one part of the sentence may have an error. Find out which part of the sentence has an error and click the button corresponding to it. If the sentence is free from error, select the "No error" option.

(A) Harry is / (B) keen in studying / (C) French in school./  
(D) No error

Options :

1. ✖ A

2. ✔ B

3. ✖ C

4. ✖ D

Question Number : 124 Question Id : 5861808252 Question Type : MCQ Option Shuffling : Yes  
Correct Marks : 1 Wrong Marks : 0.25

In the following statement, one part of the sentence may have an error. Find out which part of the sentence has an error and click the button corresponding to it. If the sentence is free from error, select the "No error" option.

(A) Each boy was / (B) given a chocolate which / (C)  
delighted him very much. / (D) No error

Options :

1. ✖ A



2. ✖ B

3. ✔ C

4. ✖ D

Question Number : 124 Question Id : 5861808252 Question Type : MCQ Option Shuffling : Yes  
Correct Marks : 1 Wrong Marks : 0.25

In the following statement, one part of the sentence may have an error. Find out which part of the sentence has an error and click the button corresponding to it. If the sentence is free from error, select the "No error" option.

(A) Each boy was / (B) given a chocolate which / (C) delighted him very much. / (D) No error

Options :

1. ✖ A

2. ✖ B

3. ✔ C

4. ✖ D

Question Number : 125 Question Id : 5861808253 Question Type : MCQ Option Shuffling : Yes  
Correct Marks : 1 Wrong Marks : 0.25

In the following statement, one part of the sentence may have an error. Find out which part of the sentence has an error and click the button corresponding to it. If the sentence is free from error, select the "No error" option.

(A) Rita's boss told her that/ (B) if she is promoted/ (C) she will get a higher salary./ (D) No error

Options :

1. ✖ A

2. ✖ B

3. ✖ C

4. ✔ D

Question Number : 125 Question Id : 5861808253 Question Type : MCQ Option Shuffling : Yes  
Correct Marks : 1 Wrong Marks : 0.25

In the following statement, one part of the sentence may have an error. Find out which part of the sentence has an error and click the button corresponding to it. If the sentence is free from error, select the "No error" option.

(A) Rita's boss told her that/ (B) if she is promoted/ (C) she will get a higher salary./ (D) No error

Options :

1. ✖ A

2. ✖ B

3. ✖ C

4. ✔ D

Question Number : 126 Question Id : 5861808254 Question Type : MCQ Option Shuffling : Yes  
Correct Marks : 1 Wrong Marks : 0.25

Replace the words in the bracket from the set of options given.

He plays piano and violin (also).

Options :

1. ✔ too

2. ✖ to

3. ✖ both

#### 4. ✖ also

Question Number : 126 Question Id : 5861808254 Question Type : MCQ Option Shuffling : Yes  
Correct Marks : 1 Wrong Marks : 0.25

Replace the words in the bracket from the set of options given.

He plays piano and violin (also).

Options :

1. ✔ too

2. ✖ to

3. ✖ both

4. ✖ also

Question Number : 127 Question Id : 5861808255 Question Type : MCQ Option Shuffling : Yes  
Correct Marks : 1 Wrong Marks : 0.25

Replace the words in the bracket from the set of options given.

Pari requested Aman (to open) the knot.

Options :

1. ✔ to untie

2. ✖ to push

3. ✖ to pull

4. ✖ to break

Question Number : 127 Question Id : 5861808255 Question Type : MCQ Option Shuffling : Yes  
Correct Marks : 1 Wrong Marks : 0.25

Replace the words in the bracket from the set of options given.

Pari requested Aman (to open) the knot.

Options :

1. ✓ to untie
2. ✗ to push
3. ✗ to pull
4. ✗ to break

Question Number : 128 Question Id : 5861808256 Question Type : MCQ Option Shuffling : Yes  
Correct Marks : 1 Wrong Marks : 0.25

Replace the words in the bracket from the set of options given.

Jhanvi arrived (at) Bombay last August.

Options :

1. ✓ in
2. ✗ with
3. ✗ for
4. ✗ on

Question Number : 128 Question Id : 5861808256 Question Type : MCQ Option Shuffling : Yes  
Correct Marks : 1 Wrong Marks : 0.25

Replace the words in the bracket from the set of options given.

Jhanvi arrived (at) Bombay last August.

Options :

1. ✓ in

2. ✖ with

3. ✖ for

4. ✖ on

Question Number : 129 Question Id : 5861808257 Question Type : MCQ Option Shuffling : Yes  
Correct Marks : 1 Wrong Marks : 0.25

Replace the words in the bracket from the set of options given.

Julie was in I.C.U. for a month (after) the accident.

Options :

1. ✖ with

2. ✖ to

3. ✔ following

4. ✖ from

Question Number : 129 Question Id : 5861808257 Question Type : MCQ Option Shuffling : Yes  
Correct Marks : 1 Wrong Marks : 0.25

Replace the words in the bracket from the set of options given.

Julie was in I.C.U. for a month (after) the accident.

Options :

1. ✖ with

2. ✖ to

3. ✔ following

4. ✖ from

Question Number : 130 Question Id : 5861808258 Question Type : MCQ Option Shuffling : Yes  
Correct Marks : 1 Wrong Marks : 0.25

Replace the words in the bracket from the set of options given.

The girl (which) came to see me had come from Bangalore.

Options :

1. ✖ whom
2. ✔ who
3. ✖ that
4. ✖ which

Question Number : 130 Question Id : 5861808258 Question Type : MCQ Option Shuffling : Yes

Correct Marks : 1 Wrong Marks : 0.25

Replace the words in the bracket from the set of options given.

The girl (which) came to see me had come from Bangalore.

Options :

1. ✖ whom
2. ✔ who
3. ✖ that
4. ✖ which

Question Number : 131 Question Id : 5861808259 Question Type : MCQ Option Shuffling : Yes

Correct Marks : 1 Wrong Marks : 0.25

Fill in the blank with an appropriate preposition.

Did the girls turn \_\_\_\_ for the singing rehearsals?

Options :

1. ✖ for
2. ✖ on

3. ✖ in

4. ✔ up

Question Number : 131 Question Id : 5861808259 Question Type : MCQ Option Shuffling : Yes  
Correct Marks : 1 Wrong Marks : 0.25

Fill in the blank with an appropriate preposition.

Did the girls turn \_\_\_\_\_ for the singing rehearsals?

Options :

1. ✖ for

2. ✖ on

3. ✖ in

4. ✔ up

Question Number : 132 Question Id : 5861808260 Question Type : MCQ Option Shuffling : Yes  
Correct Marks : 1 Wrong Marks : 0.25

Fill in the blank with appropriate Conjunction.

Sanjay told me \_\_\_\_\_ you reached the station half an hour ago.

Options :

1. ✔ that

2. ✖ but

3. ✖ and

4. ✖ because

Question Number : 132 Question Id : 5861808260 Question Type : MCQ Option Shuffling : Yes  
Correct Marks : 1 Wrong Marks : 0.25

Fill in the blank with appropriate Conjunction.

Sanjay told me \_\_\_\_\_ you reached the station half an hour ago.

Options :

1. ✓ that
2. ✗ but
3. ✗ and
4. ✗ because

Question Number : 133 Question Id : 5861808261 Question Type : MCQ Option Shuffling : Yes  
Correct Marks : 1 Wrong Marks : 0.25

Choose the correct form of verb from the given options.

When Ram lived in Pune, he \_\_\_\_\_ to the cinema once a week.

Options :

1. ✗ goes
2. ✗ will be going
3. ✗ was going
4. ✓ went

Question Number : 133 Question Id : 5861808261 Question Type : MCQ Option Shuffling : Yes  
Correct Marks : 1 Wrong Marks : 0.25

Choose the correct form of verb from the given options.

When Ram lived in Pune, he \_\_\_\_\_ to the cinema once a week.

Options :



1. ✖ goes
2. ✖ will be going
3. ✖ was going
4. ✔ went

Question Number : 134 Question Id : 5861808262 Question Type : MCQ Option Shuffling : Yes  
Correct Marks : 1 Wrong Marks : 0.25

Choose the correct form of verb from the given options.

When Joe was in India, he \_\_\_\_\_ the Taj Mahal, the Gateway of India and the Red Fort.

Options :

1. ✖ was visiting
2. ✖ was visited
3. ✔ visited
4. ✖ have visited

Question Number : 134 Question Id : 5861808262 Question Type : MCQ Option Shuffling : Yes  
Correct Marks : 1 Wrong Marks : 0.25

Choose the correct form of verb from the given options.

When Joe was in India, he \_\_\_\_\_ the Taj Mahal, the Gateway of India and the Red Fort.

Options :

1. ✖ was visiting
2. ✖ was visited
3. ✔ visited
4. ✖ have visited

Question Number : 135 Question Id : 5861808263 Question Type : MCQ Option Shuffling : Yes

Correct Marks : 1 Wrong Marks : 0.25

Fill in the blank with an appropriate preposition.

Rakesh suggested his friend to not depend \_\_\_\_ others.

Options :

1. ✓ on
2. ✗ for
3. ✗ with
4. ✗ upon

Question Number : 135 Question Id : 5861808263 Question Type : MCQ Option Shuffling : Yes

Correct Marks : 1 Wrong Marks : 0.25

Fill in the blank with an appropriate preposition.

Rakesh suggested his friend to not depend \_\_\_\_\_ others.

Options :

1. ✓ on
2. ✗ for
3. ✗ with
4. ✗ upon

Question Number : 136 Question Id : 5861808264 Question Type : MCQ Option Shuffling : Yes

Correct Marks : 1 Wrong Marks : 0.25

Fill in the blank with an appropriate preposition.

The beggar was charged \_\_\_\_\_ theft.

Options :

1. ✓ with
2. ✗ at

3. ✖ of

4. ✖ in

Question Number : 136 Question Id : 5861808264 Question Type : MCQ Option Shuffling : Yes  
Correct Marks : 1 Wrong Marks : 0.25

Fill in the blank with an appropriate preposition.

The beggar was charged \_\_\_\_\_ theft.

Options :

1. ✔ with

2. ✖ at

3. ✖ of

4. ✖ in

Question Number : 137 Question Id : 5861808265 Question Type : MCQ Option Shuffling : Yes  
Correct Marks : 1 Wrong Marks : 0.25

Fill in the blank with an appropriate preposition.

The road was named \_\_\_\_\_ Dr. A.P.J. Abdul Kalam.

Options :

1. ✖ on

2. ✖ with

3. ✔ after

4. ✖ in

Question Number : 137 Question Id : 5861808265 Question Type : MCQ Option Shuffling : Yes  
Correct Marks : 1 Wrong Marks : 0.25

Fill in the blank with an appropriate preposition.

The road was named \_\_\_\_\_ Dr. A.P.J. Abdul Kalam.

Options :

1. ✘ on
2. ✘ with
3. ✔ after
4. ✘ in

Question Number : 138 Question Id : 5861808266 Question Type : MCQ Option Shuffling : Yes  
Correct Marks : 1 Wrong Marks : 0.25

Fill in the blank with an appropriate preposition.

They furnished the library \_\_\_\_\_ new books.

Options :

1. ✘ at
2. ✘ from
3. ✘ of
4. ✔ with

Question Number : 138 Question Id : 5861808266 Question Type : MCQ Option Shuffling : Yes  
Correct Marks : 1 Wrong Marks : 0.25

Fill in the blank with an appropriate preposition.

They furnished the library \_\_\_\_\_ new books.

Options :

1. ✘ at
2. ✘ from
3. ✘ of
4. ✔ with

Question Number : 139 Question Id : 5861808267 Question Type : MCQ Option Shuffling : Yes  
Correct Marks : 1 Wrong Marks : 0.25

The question given below consist of a set of labelled parts of a sentence. Out of the four options given, select the most logical order of the parts which form a coherent sentence.

In 1923, Premchand

P :- and publishing house

Q :- christened "Saraswati Press"

R :- established a printing press

S :- in Banaras

Options :

1. \* SPQR

2. \* RQPS

3. ✓ RPSQ

4. \* QRPS

Question Number : 139 Question Id : 5861808267 Question Type : MCQ Option Shuffling : Yes

Correct Marks : 1 Wrong Marks : 0.25

The question given below consist of a set of labelled parts of a sentence. Out of the four options given, select the most logical order of the parts which form a coherent sentence.

In 1923, Premchand

P :- and publishing house

Q :- christened "Saraswati Press"

R :- established a printing press

S :- in Banaras

Options :

1. ✖ SPQR

2. ✖ RQPS

3. ✔ RPSQ

4. ✖ QRPS

Question Number : 140 Question Id : 5861808268 Question Type : MCQ Option Shuffling : Yes

Correct Marks : 1 Wrong Marks : 0.25

The question given below consist of a set of labelled parts of a sentence. Out of the four options given, select the most logical order of the parts which form a coherent sentence.

Tamana is

P : with her father and brother

Q : the hill station

R : planning to go to

S : to spend the vacation

Options :

1. ✔ RQPS

2. ✖ PQRS

3. ✖ PSRQ

4. ✖ RSPQ

Question Number : 140 Question Id : 5861808268 Question Type : MCQ Option Shuffling : Yes

Correct Marks : 1 Wrong Marks : 0.25

The question given below consist of a set of labelled parts of a sentence. Out of the four options given, select the most logical order of the parts which form a coherent sentence.

Tamana is

P : with her father and brother

Q : the hill station

R : planning to go to

S : to spend the vacation

Options :

1. ✓ RQPS

2. ✗ PQRS

3. ✗ PSRQ

4. ✗ RSPQ

## General English2

Group Number :	8
Group Id :	586180399
Group Maximum Duration :	0
Group Minimum Duration :	0
Show Attended Group? :	No
Edit Attended Group? :	No
Break time:	0
Group Marks:	20
Is this Group for Examiner?:	No
Revisit allowed for group Instructions? :	Yes
Maximum Instruction Time:	0
Minimum Instruction Time:	0

## General English2

Section Id :	586180403
Section Number :	1
Section type :	Online
Mandatory or Optional:	Mandatory
Number of Questions:	16
Number of Questions to be attempted:	16
Section Marks:	20

Sub-Section Number:	1
Sub-Section Id:	586180552
Question Shuffling Allowed :	Yes

Question Number : 141 Question Id : 5861808269 Question Type : MCQ Option Shuffling : Yes  
Correct Marks : 1 Wrong Marks : 0.25

The question below consist of a set of labelled sentences. Out of four options given, select the most logical order of the sentences which form a paragraph.

In fact most theatre buffs say that English theatre in Mumbai has survived against all odds.

P : It has had to overcome an acute financial impoverishment which meant that most who were doing 'serious' plays were doing it only for the love of it.

Q : Producers of comedies and musicals find it easiest to attract sponsors.

R : What sells today is religion and sex.

S : To get money a new marketing ruse is to sell the entire show to a corporate sponsor.

Bharat Dabholkar's Bottoms Up series has enthralled the city's audiences for years with its sexual innuendoes and double entendres.

Options :



1. ✖ PRQS

2. ✔ PSQR

3. ✖ SRPQ

4. ✖ RQSP

Question Number : 141 Question Id : 5861808269 Question Type : MCQ Option Shuffling : Yes  
Correct Marks : 1 Wrong Marks : 0.25

The question below consist of a set of labelled sentences. Out of four options given, select the most logical order of the sentences which form a paragraph.

In fact most theatre buffs say that English theatre in Mumbai has survived against all odds.

P : It has had to overcome an acute financial impoverishment which meant that most who were doing 'serious' plays were doing it only for the love of it.

Q : Producers of comedies and musicals find it easiest to attract sponsors.

R : What sells today is religion and sex.

S : To get money a new marketing ruse is to sell the entire show to a corporate sponsor.

Bharat Dabholkar's Bottoms Up series has enthralled the city's audiences for years with its sexual innuendoes and double entendres.

Options :

1. ✘ PRQS
2. ✔ PSQR
3. ✘ SRPQ
4. ✘ RQSP

Question Number : 142 Question Id : 5861808270 Question Type : MCQ Option Shuffling : Yes  
Correct Marks : 1 Wrong Marks : 0.25

Out of the four alternatives, choose the word which best expresses the meaning of the given word.

Triumph

Options :

1. ✔ Victory
2. ✘ Failure
3. ✘ Excitement
4. ✘ Foolish

Question Number : 142 Question Id : 5861808270 Question Type : MCQ Option Shuffling : Yes  
Correct Marks : 1 Wrong Marks : 0.25

Out of the four alternatives, choose the word which best expresses the meaning of the given word.

Triumph

Options :

1. ✔ Victory
2. ✘ Failure
3. ✘ Excitement

## 4. ✖ Foolish

Question Number : 143 Question Id : 5861808271 Question Type : MCQ Option Shuffling : Yes  
Correct Marks : 1 Wrong Marks : 0.25

Out of the four alternatives, choose the word which best expresses the meaning of the given word.

Acumen

Options :

1. ✔ Brilliance
2. ✖ Ignorance
3. ✖ Fancy
4. ✖ Forgive

Question Number : 143 Question Id : 5861808271 Question Type : MCQ Option Shuffling : Yes  
Correct Marks : 1 Wrong Marks : 0.25

Out of the four alternatives, choose the word which best expresses the meaning of the given word.

Acumen

Options :

1. ✔ Brilliance
2. ✖ Ignorance
3. ✖ Fancy
4. ✖ Forgive

Question Number : 144 Question Id : 5861808272 Question Type : MCQ Option Shuffling : Yes  
Correct Marks : 1 Wrong Marks : 0.25

Out of the four alternatives, choose the word which best expresses the meaning of the given word.

Ratify

Options :

1. ✖ Plain
2. ✖ Deny
3. ✔ Consent
4. ✖ Usual

Question Number : 144 Question Id : 5861808272 Question Type : MCQ Option Shuffling : Yes  
Correct Marks : 1 Wrong Marks : 0.25

Out of the four alternatives, choose the word which best expresses the meaning of the given word.

Ratify

Options :

1. ✖ Plain
2. ✖ Deny
3. ✔ Consent
4. ✖ Usual

Question Number : 145 Question Id : 5861808273 Question Type : MCQ Option Shuffling : Yes  
Correct Marks : 1 Wrong Marks : 0.25

Out of the four alternatives, choose the word which is OPPOSITE in meaning to the given word.

Mammoth

Options :

1. ✖ Giant

2. ✖ Enormous

3. ✖ Huge

4. ✔ Tiny

Question Number : 145 Question Id : 5861808273 Question Type : MCQ Option Shuffling : Yes  
Correct Marks : 1 Wrong Marks : 0.25

Out of the four alternatives, choose the word which is OPPOSITE in meaning to the given word.

Mammoth

Options :

1. ✖ Giant

2. ✖ Enormous

3. ✖ Huge

4. ✔ Tiny

Question Number : 146 Question Id : 5861808274 Question Type : MCQ Option Shuffling : Yes  
Correct Marks : 1 Wrong Marks : 0.25

Out of the four alternatives, choose the word which is OPPOSITE in meaning to the given word.

Disdain

Options :

1. ✔ Praise

2. ✖ Defend

3. ✖ Reveal

4. ✖ Distort

Question Number : 146 Question Id : 5861808274 Question Type : MCQ Option Shuffling : Yes  
Correct Marks : 1 Wrong Marks : 0.25

Out of the four alternatives, choose the word which is OPPOSITE in meaning to the given word.

Disdain

Options :

1. ✓ Praise
2. ✗ Defend
3. ✗ Reveal
4. ✗ Distort

Question Number : 147 Question Id : 5861808275 Question Type : MCQ Option Shuffling : Yes  
Correct Marks : 1 Wrong Marks : 0.25

Four words are given, out of which only one word is spelt correctly. Choose the correctly spelt word.

Options :

1. ✗ Adumbrat
2. ✗ Adumbrete
3. ✓ Adumbrate
4. ✗ Adumbret

Question Number : 147 Question Id : 5861808275 Question Type : MCQ Option Shuffling : Yes  
Correct Marks : 1 Wrong Marks : 0.25

Four words are given, out of which only one word is spelt correctly. Choose the correctly spelt word.

Options :

1. ✗ Adumbrat
2. ✗ Adumbrete
3. ✓ Adumbrate

## 4. ✖ Adumbret

Question Number : 148 Question Id : 5861808276 Question Type : MCQ Option Shuffling : Yes  
Correct Marks : 1 Wrong Marks : 0.25

Four words are given, out of which only one word is spelt correctly. Choose the correctly spelt word.

Options :

1. ✔ Dilate
2. ✖ Dialate
3. ✖ Diallate
4. ✖ Dialete

Question Number : 148 Question Id : 5861808276 Question Type : MCQ Option Shuffling : Yes  
Correct Marks : 1 Wrong Marks : 0.25

Four words are given, out of which only one word is spelt correctly. Choose the correctly spelt word.

Options :

1. ✔ Dilate
2. ✖ Dialate
3. ✖ Diallate
4. ✖ Dialete

Question Number : 149 Question Id : 5861808277 Question Type : MCQ Option Shuffling : Yes  
Correct Marks : 1 Wrong Marks : 0.25

Four words are given, out of which only one word is spelt correctly. Choose the correctly spelt word.

Options :

1. ✖ Orangutang
2. ✔ Orangutan
3. ✖ Oragutan

## 4. ✖ Oragutang

Question Number : 149 Question Id : 5861808277 Question Type : MCQ Option Shuffling : Yes  
Correct Marks : 1 Wrong Marks : 0.25

Four words are given, out of which only one word is spelt correctly. Choose the correctly spelt word.

Options :

1. ✖ Orangutang
2. ✔ Orangutan
3. ✖ Oragutan
4. ✖ Oragutang

Question Number : 150 Question Id : 5861808278 Question Type : MCQ Option Shuffling : Yes  
Correct Marks : 1 Wrong Marks : 0.25

What does the following idiom mean?

Head and shoulder above

Options :

1. ✖ Inferior
2. ✔ Superior
3. ✖ Excited
4. ✖ Devoted

Question Number : 150 Question Id : 5861808278 Question Type : MCQ Option Shuffling : Yes  
Correct Marks : 1 Wrong Marks : 0.25

What does the following idiom mean?

Head and shoulder above

Options :

1. ✖ Inferior



2. ✓ Superior

3. ✗ Excited

4. ✗ Devoted

Question Number : 151 Question Id : 5861808279 Question Type : MCQ Option Shuffling : Yes  
Correct Marks : 1 Wrong Marks : 0.25

What does the following idiom mean?

Necessity is the mother of invention

Options :

1. ✓ When the need for something becomes essential, you are forced to find ways of getting or achieving it.

2. ✗ One cannot achieve anything without the blessings of their mother.

3. ✗ To do the thing you've been wanting to do so you can move on

4. ✗ No matter how hard you work, there is no guarantee of success.

Question Number : 151 Question Id : 5861808279 Question Type : MCQ Option Shuffling : Yes  
Correct Marks : 1 Wrong Marks : 0.25

What does the following idiom mean?

Necessity is the mother of invention

Options :

1. ✓ When the need for something becomes essential, you are forced to find ways of getting or achieving it.

2. ✗ One cannot achieve anything without the blessings of their mother.

3. \* To do the thing you've been wanting to do so you can move on

4. \* No matter how hard you work, there is no guarantee of success.

Question Number : 152 Question Id : 5861808280 Question Type : MCQ Option Shuffling : Yes  
Correct Marks : 1 Wrong Marks : 0.25

What does the following idiom mean?

Through thick and thin

Options :

1. \* To be odd one out in a group.

2. \* Someone who was fat has become thin.

3. ✓ To support someone no matter how difficult the situation is.

4. \* To get into trouble.

Question Number : 152 Question Id : 5861808280 Question Type : MCQ Option Shuffling : Yes  
Correct Marks : 1 Wrong Marks : 0.25

What does the following idiom mean?

Through thick and thin

Options :

1. \* To be odd one out in a group.

2. \* Someone who was fat has become thin.

3. ✓ To support someone no matter how difficult the situation is.

4. \* To get into trouble.

Question Number : 153 Question Id : 5861808281 Question Type : MCQ Option Shuffling : Yes  
Correct Marks : 1 Wrong Marks : 0.25

In the following question, out of four alternatives, select the alternative which is the best substitute of the given words/sentence.

One who is filled with excessive enthusiasm in religious matters

Options :

1. ✖ Arsonist
2. ✖ Atheist
3. ✔ Fanatic
4. ✖ Connoisseur

Question Number : 153 Question Id : 5861808281 Question Type : MCQ Option Shuffling : Yes  
Correct Marks : 1 Wrong Marks : 0.25

In the following question, out of four alternatives, select the alternative which is the best substitute of the given words/sentence.

One who is filled with excessive enthusiasm in religious matters

Options :

1. ✖ Arsonist
2. ✖ Atheist
3. ✔ Fanatic
4. ✖ Connoisseur

Question Number : 154 Question Id : 5861808282 Question Type : MCQ Option Shuffling : Yes  
Correct Marks : 1 Wrong Marks : 0.25

In the following question, out of four alternatives, select the alternative which is the best substitute of the given words/sentence.

A person who deliberately sets fire to a building.

Options :

1. ✖ Agnostic
2. ✔ Arsonist
3. ✖ Atheist
4. ✖ Ascetic

Question Number : 154 Question Id : 5861808282 Question Type : MCQ Option Shuffling : Yes  
Correct Marks : 1 Wrong Marks : 0.25

In the following question, out of four alternatives, select the alternative which is the best substitute of the given words/sentence.

A person who deliberately sets fire to a building.

Options :

1. ✖ Agnostic
2. ✔ Arsonist
3. ✖ Atheist
4. ✖ Ascetic

Question Number : 155 Question Id : 5861808283 Question Type : MCQ Option Shuffling : Yes  
Correct Marks : 1 Wrong Marks : 0.25

In the following question, out of four alternatives, select the alternative which is the best substitute of the given words/sentence.

One who treats skin diseases

Options :

1. ✖ Archaeologist
2. ✔ Dermatologist
3. ✖ Anthropologist
4. ✖ Ecclesiologist

Question Number : 155 Question Id : 5861808283 Question Type : MCQ Option Shuffling : Yes  
Correct Marks : 1 Wrong Marks : 0.25

In the following question, out of four alternatives, select the alternative which is the best substitute of the given words/sentence.

One who treats skin diseases

Options :

1. ✖ Archaeologist
2. ✔ Dermatologist
3. ✖ Anthropologist
4. ✖ Ecclesiologist

Sub-Section Number:	2
Sub-Section Id:	586180553
Question Shuffling Allowed :	Yes

Question Id : 5861808284 Question Type : COMPREHENSION Sub Question Shuffling Allowed : Yes Group Comprehension Questions : No  
Question Numbers : (156 to 160)

Question Label : Comprehension

Read the passage carefully and answer the given question.

Dr. Kalam has a literary bent of mind. 'Wings of Fire' is his autobiography wherein he describes his humble journey, shares his life experiences and aspirations with the people. He has also written 'Ignited Minds' and 'India 2020, a vision of New Millennium'. India 2020 is his pathway of developing India into a Developed Nation by 2020. 'Ignited Minds - unleashing the power within India' is dedicated to Snehal Thakkar who had questioned Kalam on April 12, 2002 "Who is our enemy?". His love for children is revealed in the fact that even after holding the highest Constitutional title he has been touring the entire nation, meeting school students, lecturing them and interacting with them. All he wants to do is open a small school in Rameshwaram and teach the children there, once he retires. He reads both the Quran and Bhagwat Gita and his book 'Guiding Souls: Dialogues on the purpose of life' reveals his spiritual facets too.

Sub questions

Question Number : 156 Question Id : 5861808285 Question Type : MCQ Option Shuffling : Yes

Correct Marks : 1 Wrong Marks : 0.25

Which of the following statements prove Kalam's love for children?

Options :

1. ✖ He had 5 children
2. ✖ He used to play with children everyday
3. ✔ He used to travel the entire nation to meet and lecture students

#### 4. ✖ He used to teach children everyday

Question Number : 157 Question Id : 5861808286 Question Type : MCQ Option Shuffling : Yes

Correct Marks : 1 Wrong Marks : 0.25

Which of the following books of Kalam describes the pathway towards the development of India ?

Options :

1. ✖ Wings of Fire
2. ✔ India 2020, a vision of New Millennium
3. ✖ Guiding Souls: Dialogues on the purpose of life
4. ✖ Ignited Minds - unleashing the power within India

Question Number : 158 Question Id : 5861808287 Question Type : MCQ Option Shuffling : Yes

Correct Marks : 1 Wrong Marks : 0.25

Which of the following book contains the life aspirations of Kalam?

Options :

1. ✔ Wings of Fire
2. ✖ India 2020, a vision of New Millennium
3. ✖ Guiding Souls: Dialogues on the purpose of life
4. ✖ Ignited Minds - unleashing the power within India

Question Number : 159 Question Id : 5861808288 Question Type : MCQ Option Shuffling : Yes

Correct Marks : 1 Wrong Marks : 0.25

What does Kalam plan to do after he retires?

Options :

1. ✖ Go on a world tour.
2. ✖ Carry scientific research.
3. ✖ Start writing books.
4. ✔ Teach at a small school in Rameshwaram.

Question Number : 160 Question Id : 5861808289 Question Type : MCQ Option Shuffling : Yes

Correct Marks : 1 Wrong Marks : 0.25

Which of the following books reveals Kalam's spiritual aspects?

Options :

1. ✖ Wings of Fire
2. ✖ India 2020, a vision of New Millennium
3. ✔ Guiding Souls: Dialogues on the purpose of life
4. ✖ Ignited Minds - unleashing the power within India

Question Id : 5861808284 Question Type : COMPREHENSION Sub Question Shuffling Allowed : Yes Group Comprehension Questions : No

Question Numbers : (156 to 160)

Question Label : Comprehension



Read the passage carefully and answer the given question.

Dr. Kalam has a literary bent of mind. 'Wings of Fire' is his autobiography wherein he describes his humble journey, shares his life experiences and aspirations with the people. He has also written 'Ignited Minds' and 'India 2020, a vision of New Millennium'. India 2020 is his pathway of developing India into a Developed Nation by 2020. 'Ignited Minds - unleashing the power within India' is dedicated to Snehal Thakkar who had questioned Kalam on April 12, 2002 "Who is our enemy?". His love for children is revealed in the fact that even after holding the highest Constitutional title he has been touring the entire nation, meeting school students, lecturing them and interacting with them. All he wants to do is open a small school in Rameshwaram and teach the children there, once he retires. He reads both the Quran and Bhagwat Gita and his book 'Guiding Souls: Dialogues on the purpose of life' reveals his spiritual facets too.

**Sub questions**

Question Number : 156 Question Id : 5861808285 Question Type : MCQ Option Shuffling : Yes

Correct Marks : 1 Wrong Marks : 0.25

Which of the following statements prove Kalam's love for children?

Options :

1. \* He had 5 children

2. ✖ He used to play with children everyday

3. ✔ He used to travel the entire nation to meet and lecture students

4. ✖ He used to teach children everyday

Question Number : 157 Question Id : 5861808286 Question Type : MCQ Option Shuffling : Yes  
Correct Marks : 1 Wrong Marks : 0.25

Which of the following books of Kalam describes the pathway towards the development of India ?

Options :

1. ✖ Wings of Fire

2. ✔ India 2020, a vision of New Millennium

3. ✖ Guiding Souls: Dialogues on the purpose of life

4. ✖ Ignited Minds - unleashing the power within India

Question Number : 158 Question Id : 5861808287 Question Type : MCQ Option Shuffling : Yes  
Correct Marks : 1 Wrong Marks : 0.25

Which of the following book contains the life aspirations of Kalam?

Options :

1. ✔ Wings of Fire

2. ✖ India 2020, a vision of New Millennium

3. ✖ Guiding Souls: Dialogues on the purpose of life

4. ✖ Ignited Minds - unleashing the power within India

Question Number : 159 Question Id : 5861808288 Question Type : MCQ Option Shuffling : Yes  
Correct Marks : 1 Wrong Marks : 0.25

What does Kalam plan to do after he retires?

Options :

1. ✖ Go on a world tour.
2. ✖ Carry scientific research.
3. ✖ Start writing books.
4. ✔ Teach at a small school in Rameshwaram.

Question Number : 160 Question Id : 5861808289 Question Type : MCQ Option Shuffling : Yes  
Correct Marks : 1 Wrong Marks : 0.25

Which of the following books reveals Kalam's spiritual aspects?

Options :

1. ✖ Wings of Fire
2. ✖ India 2020, a vision of New Millennium
3. ✔ Guiding Souls: Dialogues on the purpose of life
4. ✖ Ignited Minds - unleashing the power within India

## General Hindi1

Group Number :	9
Group Id :	586180400
Group Maximum Duration :	0
Group Minimum Duration :	0
Show Attended Group? :	No
Edit Attended Group? :	No
Break time:	0
Group Marks:	20
Is this Group for Examiner?:	No
Revisit allowed for group Instructions? :	Yes
Maximum Instruction Time:	0
Minimum Instruction Time:	0

## General Hindi1

Section Id :	586180404
Section Number :	1
Section type :	Online
Mandatory or Optional:	Mandatory

Number of Questions:	20
Number of Questions to be attempted:	20
Section Marks:	20

Sub-Section Number:	1
Sub-Section Id:	586180554
Question Shuffling Allowed :	Yes

Question Number : 161 Question Id : 5861808290 Question Type : MCQ Option Shuffling : Yes  
Correct Marks : 1 Wrong Marks : 0.25

निम्नलिखित प्रश्न में, चार विकल्पों में से, उस विकल्प का चयन करें जो उपसर्ग से बना है।

Options :

1. ✓ सुपुत्र
2. \* तिहरा
3. \* जेठानी
4. \* लुटेरा

Question Number : 161 Question Id : 5861808290 Question Type : MCQ Option Shuffling : Yes  
Correct Marks : 1 Wrong Marks : 0.25

निम्नलिखित प्रश्न में, चार विकल्पों में से, उस विकल्प का चयन करें जो उपसर्ग से बना है।

Options :

1. ✓ सुपुत्र
2. \* तिहरा
3. \* जेठानी
4. \* लुटेरा

Question Number : 162 Question Id : 5861808291 Question Type : MCQ Option Shuffling : Yes  
Correct Marks : 1 Wrong Marks : 0.25

निम्नलिखित प्रश्न में, चार विकल्पों में से, उस सही विकल्प का चयन करें जो प्रत्यय से बना शब्द है।

Options :

1. \* आजीवन

2. \* उपकरण
3. \* कुचाल
4. ✓ कड़कड़ाती

Question Number : 162 Question Id : 5861808291 Question Type : MCQ Option Shuffling : Yes  
Correct Marks : 1 Wrong Marks : 0.25

निम्नलिखित प्रश्न में, चार विकल्पों में से, उस सही विकल्प का चयन करें जो प्रत्यय से बना शब्द है

Options :

1. \* आजीवन
2. \* उपकरण
3. \* कुचाल
4. ✓ कड़कड़ाती

Question Number : 163 Question Id : 5861808292 Question Type : MCQ Option Shuffling : Yes  
Correct Marks : 1 Wrong Marks : 0.25

निम्नलिखित प्रश्न में, चार विकल्पों में से, रिक्त स्थान के लिए निर्देशानुसार उचित विकल्प का चयन करें।

क्या तुम \_\_\_\_\_ घर जा रहे हो। (रीतिवाचक क्रियाविशेषण)

Options :

1. \* ज्यादा
2. \* हमेशा
3. \* सदा
4. ✓ सचमुच

Question Number : 163 Question Id : 5861808292 Question Type : MCQ Option Shuffling : Yes  
Correct Marks : 1 Wrong Marks : 0.25

निम्नलिखित प्रश्न में, चार विकल्पों में से, रिक्त स्थान के लिए निर्देशानुसार उचित विकल्प का चयन करें।

क्या तुम \_\_\_\_\_ घर जा रहे हो। (रीतिवाचक क्रियाविशेषण)

Options :

1. \* ज्यादा
2. \* हमेशा
3. \* सदा
4. ✓ सचमुच

Question Number : 164 Question Id : 5861808293 Question Type : MCQ Option Shuffling : Yes

Correct Marks : 1 Wrong Marks : 0.25

निम्नलिखित प्रश्न में, चार विकल्पों में से, उस विकल्प का चयन करें जो दिए गए शब्द का तद्भव रूप हो।

कपर्दिका

Options :

1. \* कण
2. \* काठ
3. \* कपूर
4. ✓ कौड़ी

Question Number : 164 Question Id : 5861808293 Question Type : MCQ Option Shuffling : Yes

Correct Marks : 1 Wrong Marks : 0.25

निम्नलिखित प्रश्न में, चार विकल्पों में से, उस विकल्प का चयन करें जो दिए गए शब्द का तद्भव रूप हो।

कपर्दिका

Options :

1. ✖ कण
2. ✖ काठ
3. ✖ कपूर
4. ✔ कौड़ी

Question Number : 165 Question Id : 5861808294 Question Type : MCQ Option Shuffling : Yes  
Correct Marks : 1 Wrong Marks : 0.25

निम्नलिखित प्रश्न में, चार विकल्पों में से, उस विकल्प का चयन करें जो दिए गए शब्द का तत्सम रूप हो।

नाक

Options :

1. ✖ नाथ
2. ✖ नापित
3. ✔ नक्र
4. ✖ नस्या

Question Number : 165 Question Id : 5861808294 Question Type : MCQ Option Shuffling : Yes  
Correct Marks : 1 Wrong Marks : 0.25

निम्नलिखित प्रश्न में, चार विकल्पों में से, उस विकल्प का चयन करें जो दिए गए शब्द का तत्सम रूप हो।

नाक

Options :

1. ✖ नाथ
2. ✖ नापित
3. ✔ नक्र
4. ✖ नस्या

Question Number : 166 Question Id : 5861808295 Question Type : MCQ Option Shuffling : Yes  
Correct Marks : 1 Wrong Marks : 0.25

निम्नलिखित प्रश्न में, चार विकल्पों में से, उस विकल्प का चयन करें जो सही सम्प्रदान तत्पुरुष समास का विकल्प हो।

Options :

1. \* पुरुषों में उत्तम
2. \* राजा का कुमार
3. ✓ रसोई के लिए घर
4. \* जाति से च्युत

Question Number : 166 Question Id : 5861808295 Question Type : MCQ Option Shuffling : Yes  
Correct Marks : 1 Wrong Marks : 0.25

निम्नलिखित प्रश्न में, चार विकल्पों में से, उस विकल्प का चयन करें जो सही सम्प्रदान तत्पुरुष समास का विकल्प हो।

Options :

1. \* पुरुषों में उत्तम
2. \* राजा का कुमार
3. ✓ रसोई के लिए घर
4. \* जाति से च्युत

Question Number : 167 Question Id : 5861808296 Question Type : MCQ Option Shuffling : Yes  
Correct Marks : 1 Wrong Marks : 0.25

निम्नलिखित प्रश्न में, चार विकल्पों में से, उस विकल्प का चयन करें जो दिए गए शब्द से बनी भाववाचक संज्ञा का सही विकल्प हो।

युवक

Options :

1. \* युवा
2. \* युवती
3. ✓ यौवन
4. \* युवापन



Question Number : 167 Question Id : 5861808296 Question Type : MCQ Option Shuffling : Yes  
Correct Marks : 1 Wrong Marks : 0.25

निम्नलिखित प्रश्न में, चार विकल्पों में से, उस विकल्प का चयन करें जो दिए गए शब्द से बनी भाववाचक संज्ञा का सही विकल्प हो।

युवक

Options :

1. \* युवा
2. \* युवती
3. ✓ यौवन
4. \* युवापन

Question Number : 168 Question Id : 5861808297 Question Type : MCQ Option Shuffling : Yes  
Correct Marks : 1 Wrong Marks : 0.25

निम्नलिखित प्रश्न में, चार विकल्पों में से, उस विकल्प का चयन करें जो बताता है कि वाक्य में एक सर्वनाम का दूसरे सर्वनाम से संबंध बताने वाले सर्वनाम को क्या कहते हैं?

Options :

1. ✓ सम्बन्ध वाचक
2. \* उत्तम पुरुष
3. \* मध्यम पुरुष
4. \* निजवाचक

Question Number : 168 Question Id : 5861808297 Question Type : MCQ Option Shuffling : Yes  
Correct Marks : 1 Wrong Marks : 0.25

निम्नलिखित प्रश्न में, चार विकल्पों में से, उस विकल्प का चयन करें जो बताता है कि वाक्य में एक सर्वनाम का दूसरे सर्वनाम से संबंध बताने वाले सर्वनाम को क्या कहते हैं?

Options :

1. ✓ सम्बन्ध वाचक

2. \* उत्तम पुरुष
3. \* मध्यम पुरुष
4. \* निजवाचक

Question Number : 169 Question Id : 5861808298 Question Type : MCQ Option Shuffling : Yes  
Correct Marks : 1 Wrong Marks : 0.25

निम्नलिखित प्रश्न में, चार विकल्पों में से, उस विकल्प का चयन करें जो विशेषण के भेद वाला विकल्प हो।

दो गमले मिट्टी यहाँ भी रख दीजिए।

Options :

1. ✓ निश्चित परिमाणवाचक
2. \* गुणवाचक
3. \* अनिश्चित संख्यावाचक
4. \* सार्वनामिक

Question Number : 169 Question Id : 5861808298 Question Type : MCQ Option Shuffling : Yes  
Correct Marks : 1 Wrong Marks : 0.25

निम्नलिखित प्रश्न में, चार विकल्पों में से, उस विकल्प का चयन करें जो विशेषण के भेद वाला विकल्प हो।

दो गमले मिट्टी यहाँ भी रख दीजिए।

Options :

1. ✓ निश्चित परिमाणवाचक
2. \* गुणवाचक
3. \* अनिश्चित संख्यावाचक
4. \* सार्वनामिक

Question Number : 170 Question Id : 5861808299 Question Type : MCQ Option Shuffling : Yes  
Correct Marks : 1 Wrong Marks : 0.25

निम्नलिखित प्रश्न में, चार विकल्पों में से, उस विकल्प का चयन करें जो क्रिया के भेद वाला सही विकल्प हो।

मालिक नौकर से काम करवाता है।

Options :

1. ✓ प्रेरणार्थक क्रिया
2. \* नामधातु
3. \* पूर्वकालिक
4. \* संयुक्त

Question Number : 170 Question Id : 5861808299 Question Type : MCQ Option Shuffling : Yes

Correct Marks : 1 Wrong Marks : 0.25

निम्नलिखित प्रश्न में, चार विकल्पों में से, उस विकल्प का चयन करें जो क्रिया के भेद वाला सही विकल्प हो।

मालिक नौकर से काम करवाता है।

Options :

1. ✓ प्रेरणार्थक क्रिया
2. \* नामधातु
3. \* पूर्वकालिक
4. \* संयुक्त

Question Number : 171 Question Id : 5861808300 Question Type : MCQ Option Shuffling : Yes

Correct Marks : 1 Wrong Marks : 0.25

निम्नलिखित प्रश्न में, चार विकल्पों में से, उस विकल्प का चयन करें जो विलोम शब्द का सबसे अच्छा विकल्प है।

पक्षपाती

Options :

1. \* पक्षधर

2. ✓ तटस्थ

3. ✘ सपक्ष

4. ✘ प्राच्य

Question Number : 171 Question Id : 5861808300 Question Type : MCQ Option Shuffling : Yes  
Correct Marks : 1 Wrong Marks : 0.25

निम्नलिखित प्रश्न में, चार विकल्पों में से, उस विकल्प का चयन करें जो विलोम शब्द का सबसे अच्छा विकल्प है।

पक्षपाती

Options :

1. ✘ पक्षधर

2. ✓ तटस्थ

3. ✘ सपक्ष

4. ✘ प्राच्य

Question Number : 172 Question Id : 5861808301 Question Type : MCQ Option Shuffling : Yes  
Correct Marks : 1 Wrong Marks : 0.25

निम्नलिखित प्रश्न में, चार विकल्पों में से, उस विकल्प का चयन करें जो समानार्थी शब्द का सही विकल्प नहीं है।

अतिथि

Options :

1. ✘ मेहमान

2. ✘ अभ्यागत

3. ✓ अमित

4. ✘ पाहुना

Question Number : 172 Question Id : 5861808301 Question Type : MCQ Option Shuffling : Yes  
Correct Marks : 1 Wrong Marks : 0.25

निम्नलिखित प्रश्न में, चार विकल्पों में से, उस विकल्प का चयन करें जो समानार्थी शब्द का सही विकल्प नहीं है।

अतिथि

Options :

1. \* मेहमान
2. \* अभ्यागत
3. ✓ अमित
4. \* पाहुना

Question Number : 173 Question Id : 5861808302 Question Type : MCQ Option Shuffling : Yes

Correct Marks : 1 Wrong Marks : 0.25

निम्नलिखित प्रश्न में, चार विकल्पों में से, उस विकल्प का चयन करें जो उचित विकल्प हो।

कर्मवीर प्रतिकूल परिस्थितियों को \_\_\_\_\_ परिस्थितियों में बदल डालते हैं।

Options :

1. ✓ अनुकूल
2. \* बाधक
3. \* कठिन
4. \* बेकार

Question Number : 173 Question Id : 5861808302 Question Type : MCQ Option Shuffling : Yes

Correct Marks : 1 Wrong Marks : 0.25

निम्नलिखित प्रश्न में, चार विकल्पों में से, उस विकल्प का चयन करें जो उचित विकल्प हो।

कर्मवीर प्रतिकूल परिस्थितियों को \_\_\_\_\_ परिस्थितियों में बदल डालते हैं।

Options :

1. ✓ अनुकूल
2. ✘ बाधक
3. ✘ कठिन
4. ✘ बेकार

Question Number : 174 Question Id : 5861808303 Question Type : MCQ Option Shuffling : Yes

Correct Marks : 1 Wrong Marks : 0.25

निम्नलिखित प्रश्न में, चार विकल्पों में से, उस सही विकल्प का चयन करें जो वाक्यांशों के लिए एक शब्द का विकल्प हो।

परस्पर दूसरों पर आश्रित

Options :

1. ✓ अन्योन्याश्रित
2. ✘ स्वावलंबी
3. ✘ स्वाश्रित
4. ✘ आत्मनिर्भर

Question Number : 174 Question Id : 5861808303 Question Type : MCQ Option Shuffling : Yes

Correct Marks : 1 Wrong Marks : 0.25

निम्नलिखित प्रश्न में, चार विकल्पों में से, उस सही विकल्प का चयन करें जो वाक्यांशों के लिए एक शब्द का विकल्प हो।

परस्पर दूसरों पर आश्रित

Options :

1. ✓ अन्योन्याश्रित
2. ✘ स्वावलंबी
3. ✘ स्वाश्रित
4. ✘ आत्मनिर्भर

Question Number : 175 Question Id : 5861808304 Question Type : MCQ Option Shuffling : Yes

Correct Marks : 1 Wrong Marks : 0.25

निम्नलिखित प्रश्न में, चार विकल्पों में से, उस सही विकल्प का चयन करें जो रिक्त स्थान के लिए उचित विकल्प हो।

वह \_\_\_\_\_ समय पर स्टेशन पहुँच गया।

Options :

1. ✓ नियत
2. \* नीयत
3. \* नयत
4. \* नायात

Question Number : 175 Question Id : 5861808304 Question Type : MCQ Option Shuffling : Yes

Correct Marks : 1 Wrong Marks : 0.25

निम्नलिखित प्रश्न में, चार विकल्पों में से, उस सही विकल्प का चयन करें जो रिक्त स्थान के लिए उचित विकल्प हो।

वह \_\_\_\_\_ समय पर स्टेशन पहुँच गया।

Options :

1. ✓ नियत
2. \* नीयत
3. \* नयत
4. \* नायात

Question Number : 176 Question Id : 5861808305 Question Type : MCQ Option Shuffling : Yes

Correct Marks : 1 Wrong Marks : 0.25

निम्नलिखित प्रश्न में, चार विकल्पों में से, उस सही विकल्प का चयन करें जो रिक्त स्थान के लिए उचित विकल्प हो।

बारिश के बाद \_\_\_\_\_ साफ़ हो गया।

Options :

1. ✓ आसमान
2. ✘ असमान
3. ✘ अस्मन
4. ✘ आसान

Question Number : 176 Question Id : 5861808305 Question Type : MCQ Option Shuffling : Yes  
Correct Marks : 1 Wrong Marks : 0.25

निम्नलिखित प्रश्न में, चार विकल्पों में से, उस सही विकल्प का चयन करें जो रिक्त स्थान के लिए उचित विकल्प हो।

बारिश के बाद \_\_\_\_\_ साफ़ हो गया।

Options :

1. ✓ आसमान
2. ✘ असमान
3. ✘ अस्मन
4. ✘ आसान

Question Number : 177 Question Id : 5861808306 Question Type : MCQ Option Shuffling : Yes  
Correct Marks : 1 Wrong Marks : 0.25

निम्नलिखित प्रश्न में, चार विकल्पों में से, उस सही विकल्प का चयन करें जो रिक्त स्थान के लिए उचित विकल्प हो।

महापुरुष \_\_\_\_\_ का भेदभाव नहीं करते।

Options :

1. ✓ अमीर-गरीब
2. ✘ पशु-पक्षी
3. ✘ इधर-उधर
4. ✘ कहा-सुनी

Question Number : 177 Question Id : 5861808306 Question Type : MCQ Option Shuffling : Yes  
Correct Marks : 1 Wrong Marks : 0.25



निम्नलिखित प्रश्न में, चार विकल्पों में से, उस सही विकल्प का चयन करें जो रिक्त स्थान के लिए उचित विकल्प हो।

महापुरुष \_\_\_\_\_ का भेदभाव नहीं करते।

Options :

1. ✓ अमीर-गरीब
2. ✗ पशु-पक्षी
3. ✗ इधर-उधर
4. ✗ कहा-सुनी

Question Number : 178 Question Id : 5861808307 Question Type : MCQ Option Shuffling : Yes

Correct Marks : 1 Wrong Marks : 0.25

निम्नलिखित प्रश्न में, चार विकल्पों में से, उस सही विकल्प का चयन करें जो रिक्त स्थान के लिए उचित विकल्प हो।

नया किरायेदार \_\_\_\_\_ से ठीक नहीं लगता।

Options :

1. ✓ चाल-ढाल
2. ✗ हार-जीत
3. ✗ इधर-उधर
4. ✗ उलट-फेर

Question Number : 178 Question Id : 5861808307 Question Type : MCQ Option Shuffling : Yes

Correct Marks : 1 Wrong Marks : 0.25

निम्नलिखित प्रश्न में, चार विकल्पों में से, उस सही विकल्प का चयन करें जो रिक्त स्थान के लिए उचित विकल्प हो।

नया किरायेदार \_\_\_\_\_ से ठीक नहीं लगता।

Options :

1. ✓ चाल-ढाल
2. ✖ हार-जीत
3. ✖ इधर-उधर
4. ✖ उलट-फेर

Question Number : 179 Question Id : 5861808308 Question Type : MCQ Option Shuffling : Yes  
Correct Marks : 1 Wrong Marks : 0.25

निम्नलिखित प्रश्न में, चार विकल्पों में से, उस विकल्प का चयन करें जो शुद्ध शब्द का सही विकल्प है।

Options :

1. ✖ ऐकता
2. ✖ एकटा
3. ✓ एकता
4. ✖ ऐक्ता

Question Number : 179 Question Id : 5861808308 Question Type : MCQ Option Shuffling : Yes  
Correct Marks : 1 Wrong Marks : 0.25

निम्नलिखित प्रश्न में, चार विकल्पों में से, उस विकल्प का चयन करें जो शुद्ध शब्द का सही विकल्प है।

Options :

1. ✖ ऐकता
2. ✖ एकटा
3. ✓ एकता
4. ✖ ऐक्ता

Question Number : 180 Question Id : 5861808309 Question Type : MCQ Option Shuffling : Yes  
Correct Marks : 1 Wrong Marks : 0.25

निम्नलिखित प्रश्न में, चार विकल्पों में से, उस विकल्प का चयन करें जो शुद्ध शब्द का सही विकल्प है।

Options :

1. ✓ विश्वास

2. \* विस्वास

3. \* विश्वास

4. \* विसावश

Question Number : 180 Question Id : 5861808309 Question Type : MCQ Option Shuffling : Yes  
Correct Marks : 1 Wrong Marks : 0.25

निम्नलिखित प्रश्न में, चार विकल्पों में से, उस विकल्प का चयन करें जो शुद्ध शब्द का सही विकल्प है।

Options :

1. ✓ विश्वास

2. \* विस्वास

3. \* विश्वास

4. \* विसावश

## General Hindi2

Group Number :	10
Group Id :	586180401
Group Maximum Duration :	0
Group Minimum Duration :	120
Show Attended Group? :	No
Edit Attended Group? :	No
Break time:	0
Group Marks:	20
Is this Group for Examiner? :	No
Revisit allowed for group Instructions? :	Yes
Maximum Instruction Time:	0
Minimum Instruction Time:	0

## General Hindi2

Section Id :	586180405
Section Number :	1
Section type :	Online
Mandatory or Optional:	Mandatory
Number of Questions:	16
Number of Questions to be attempted:	16
Section Marks:	20

Sub-Section Number: 1  
Sub-Section Id: 586180555  
Question Shuffling Allowed : Yes

Question Number : 181 Question Id : 5861808310 Question Type : MCQ Option Shuffling : Yes  
Correct Marks : 1 Wrong Marks : 0.25

निम्नलिखित प्रश्न में, चार विकल्पों में से, उस विकल्प का चयन करें जो दिए गए शब्द के पर्यायवाची शब्द का सही विकल्प नहीं है।

सिंह

Options :

1. \* मृगेंद्र
2. \* हरि
3. ✓ विपिन
4. \* केसरी

Question Number : 181 Question Id : 5861808310 Question Type : MCQ Option Shuffling : Yes  
Correct Marks : 1 Wrong Marks : 0.25

निम्नलिखित प्रश्न में, चार विकल्पों में से, उस विकल्प का चयन करें जो दिए गए शब्द के पर्यायवाची शब्द का सही विकल्प नहीं है।

सिंह

Options :

1. \* मृगेंद्र
2. \* हरि
3. ✓ विपिन
4. \* केसरी

Question Number : 182 Question Id : 5861808311 Question Type : MCQ Option Shuffling : Yes  
Correct Marks : 1 Wrong Marks : 0.25

निम्नलिखित प्रश्न में, चार विकल्पों में से, उस विकल्प का चयन करें जो दिए गए शब्द के पर्यायवाची शब्द का सही विकल्प नहीं है।

अश्व

Options :

1. ✓ कृशानु
2. \* हय
3. \* वाजि
4. \* सैंधव

Question Number : 182 Question Id : 5861808311 Question Type : MCQ Option Shuffling : Yes

Correct Marks : 1 Wrong Marks : 0.25

निम्नलिखित प्रश्न में, चार विकल्पों में से, उस विकल्प का चयन करें जो दिए गए शब्द के पर्यायवाची शब्द का सही विकल्प नहीं है।

अश्व

Options :

1. ✓ कृशानु
2. \* हय
3. \* वाजि
4. \* सैंधव

Question Number : 183 Question Id : 5861808312 Question Type : MCQ Option Shuffling : Yes

Correct Marks : 1 Wrong Marks : 0.25

निम्नलिखित प्रश्न में, चार विकल्पों में से, उस विकल्प का चयन करें जो दिए गए वाक्य के काल का सही विकल्प हो।

यदि बादल आते तो वर्षा होती

Options :

1. \* संभाव्य भविष्यकाल

2. \* संदिग्ध भूतकाल
3. \* अपूर्ण भूतकाल
4. ✓ हेतुहेतु मद  
भूतकाल

Question Number : 183 Question Id : 5861808312 Question Type : MCQ Option Shuffling : Yes  
Correct Marks : 1 Wrong Marks : 0.25

निम्नलिखित प्रश्न में, चार विकल्पों में से, उस विकल्प का चयन करें जो दिए गए वाक्य के काल का सही विकल्प हो।

यदि बादल आते तो वर्षा होती

Options :

1. \* संभाव्य भविष्यकाल
2. \* संदिग्ध भूतकाल
3. \* अपूर्ण भूतकाल
4. ✓ हेतुहेतु मद  
भूतकाल

Question Number : 184 Question Id : 5861808313 Question Type : MCQ Option Shuffling : Yes  
Correct Marks : 1 Wrong Marks : 0.25

निम्नलिखित प्रश्न में, चार विकल्पों में से, उस विकल्प का चयन करें जो सही वाक्य भेद का विकल्प हो।

नौकर बाज़ार इसलिए गया क्योंकि उसे सब्जी लानी थी।

Options :

1. ✓ मिश्र वाक्य
2. \* संयुक्त वाक्य
3. \* निषेधवाचक वाक्य
4. \* संकेतवाचक वाक्य

Question Number : 184 Question Id : 5861808313 Question Type : MCQ Option Shuffling : Yes  
Correct Marks : 1 Wrong Marks : 0.25

निम्नलिखित प्रश्न में, चार विकल्पों में से, उस विकल्प का चयन करें जो सही वाक्य भेद का विकल्प हो।

नौकर बाज़ार इसलिए गया क्योंकि उसे सब्जी लानी थी।

Options :

1. ✓ मिश्र वाक्य
2. ✘ संयुक्त वाक्य
3. ✘ निषेधवाचक वाक्य
4. ✘ संकेतवाचक वाक्य

Question Number : 185 Question Id : 5861808314 Question Type : MCQ Option Shuffling : Yes  
Correct Marks : 1 Wrong Marks : 0.25

निम्नलिखित प्रश्न में, चार विकल्पों में से, उस विकल्प का चयन करें जो सही वाक्य भेद का विकल्प हो।

अध्यापिका पढ़ाने के लिए कक्षा में जा रही हैं।

Options :

1. ✘ मिश्र वाक्य
2. ✘ संयुक्त वाक्य
3. ✘ निषेधवाचक वाक्य
4. ✓ सरल वाक्य

Question Number : 185 Question Id : 5861808314 Question Type : MCQ Option Shuffling : Yes  
Correct Marks : 1 Wrong Marks : 0.25

निम्नलिखित प्रश्न में, चार विकल्पों में से, उस विकल्प का चयन करें जो सही वाक्य भेद का विकल्प हो।

अध्यापिका पढ़ाने के लिए कक्षा में जा रही हैं।

Options :

1. \* मिश्र वाक्य
2. \* संयुक्त वाक्य
3. \* निषेधवाचक वाक्य
4. ✓ सरल वाक्य

Question Number : 186 Question Id : 5861808315 Question Type : MCQ Option Shuffling : Yes

Correct Marks : 1 Wrong Marks : 0.25

निम्नलिखित प्रश्न में, चार विकल्पों में से, उस विकल्प का चयन करें जो स्त्रीलिंग शब्द का सबसे अच्छा विकल्प है।

Options :

1. ✓ आयु
2. \* घी
3. \* चावल
4. \* मरण

Question Number : 186 Question Id : 5861808315 Question Type : MCQ Option Shuffling : Yes

Correct Marks : 1 Wrong Marks : 0.25

निम्नलिखित प्रश्न में, चार विकल्पों में से, उस विकल्प का चयन करें जो स्त्रीलिंग शब्द का सबसे अच्छा विकल्प है।

Options :

1. ✓ आयु
2. \* घी
3. \* चावल
4. \* मरण

Question Number : 187 Question Id : 5861808316 Question Type : MCQ Option Shuffling : Yes

Correct Marks : 1 Wrong Marks : 0.25



निम्नलिखित प्रश्न में, चार विकल्पों में से, उस विकल्प का चयन करें जो रिक्त स्थान के लिए बहुवचन शब्द का सबसे अच्छा विकल्प है।

गुस्सा होने पर रेनू की \_\_\_\_\_ उसे मना रही थी।

Options :

1. \* सखीया
2. ✓ सखियाँ
3. \* सखी
4. \* सखिया

Question Number : 187 Question Id : 5861808316 Question Type : MCQ Option Shuffling : Yes

Correct Marks : 1 Wrong Marks : 0.25

निम्नलिखित प्रश्न में, चार विकल्पों में से, उस विकल्प का चयन करें जो रिक्त स्थान के लिए बहुवचन शब्द का सबसे अच्छा विकल्प है।

गुस्सा होने पर रेनू की \_\_\_\_\_ उसे मना रही थी।

Options :

1. \* सखीया
2. ✓ सखियाँ
3. \* सखी
4. \* सखिया

Question Number : 188 Question Id : 5861808317 Question Type : MCQ Option Shuffling : Yes

Correct Marks : 1 Wrong Marks : 0.25

निम्नलिखित प्रश्न में, चार विकल्पों में से, उस विकल्प का चयन करें जो दिए गए वाक्य के लिए पक्ष के भेद का सबसे अच्छा विकल्प है।

सीता कितना अच्छा नृत्य कर रही है।

Options :

1. ✓ सातप्यबोधक

2. \* नित्यताद्योतक
3. \* अभ्यासद्योतक
4. \* आरंभद्योतक

Question Number : 188 Question Id : 5861808317 Question Type : MCQ Option Shuffling : Yes  
Correct Marks : 1 Wrong Marks : 0.25

निम्नलिखित प्रश्न में, चार विकल्पों में से, उस विकल्प का चयन करें जो दिए गए वाक्य के लिए पक्ष के भेद का सबसे अच्छा विकल्प है।

सीता कितना अच्छा नृत्य कर रही है।

Options :

1. ✓ सातप्यबोधक
2. \* नित्यताद्योतक
3. \* अभ्यासद्योतक
4. \* आरंभद्योतक

Question Number : 189 Question Id : 5861808318 Question Type : MCQ Option Shuffling : Yes  
Correct Marks : 1 Wrong Marks : 0.25

निम्नलिखित प्रश्न में, चार विकल्पों में से, उस विकल्प का चयन करें जो दिए गए वाक्य के लिए वृत्ति के भेद का सबसे अच्छा विकल्प है।

रोहन पढ़ाई कर रहा है।

Options :

1. \* संदेहार्थ
2. ✓ निश्चयार्थ
3. \* विध्यर्थ
4. \* संकेतार्थ

Question Number : 189 Question Id : 5861808318 Question Type : MCQ Option Shuffling : Yes  
Correct Marks : 1 Wrong Marks : 0.25

निम्नलिखित प्रश्न में, चार विकल्पों में से, उस विकल्प का चयन करें जो दिए गए वाक्य के लिए वृत्ति के भेद का सबसे अच्छा विकल्प है।

रोहन पढ़ाई कर रहा है।

Options :

1. \* संदेहार्थ
2. ✓ निश्चयार्थ
3. \* विध्यर्थ
4. \* संकेतार्थ

Question Number : 190 Question Id : 5861808319 Question Type : MCQ Option Shuffling : Yes

Correct Marks : 1 Wrong Marks : 0.25

निम्नलिखित प्रश्न में, चार विकल्पों में से, उस विकल्प का चयन करें जो कोष्ठक में दिए गए शब्द के अनुसार मध्यम पुरुष वाचक सर्वनाम का सही विकल्प हो।

Options :

1. \* (उसका) सपना एक दिन पूरा होगा।
2. \* (मुझे) स्कूल जाना पसंद है।
3. \* (मैं) कल दिल जाऊँगा।
4. ✓ (तुम) जब तक आए तब तक वह चला गया।

Question Number : 190 Question Id : 5861808319 Question Type : MCQ Option Shuffling : Yes

Correct Marks : 1 Wrong Marks : 0.25

निम्नलिखित प्रश्न में, चार विकल्पों में से, उस विकल्प का चयन करें जो कोष्ठक में दिए गए शब्द के अनुसार मध्यम पुरुष वाचक सर्वनाम का सही विकल्प हो।

Options :

1. \* (उसका) सपना एक दिन पूरा होगा।
2. \* (मुझे) स्कूल जाना पसंद है।
3. \* (मैं) कल दिल जाऊँगा।

4. ✓ (तुम) जब तक आए तब तक वह चला गया।

Question Number : 191 Question Id : 5861808320 Question Type : MCQ Option Shuffling : Yes

Correct Marks : 1 Wrong Marks : 0.25

निम्नलिखित प्रश्न में, चार विकल्पों में से, उस विकल्प का चयन करें जो दिए गए मुहावरे का सही अर्थ वाला विकल्प है।

एक थैले के चट्टे-बट्टे

Options :

1. ✖ सब एक परिवार
2. ✖ जी हुजूरी करना
3. ✖ सब साथ में खाना खाना
4. ✓ सब एक सामान

Question Number : 191 Question Id : 5861808320 Question Type : MCQ Option Shuffling : Yes

Correct Marks : 1 Wrong Marks : 0.25

निम्नलिखित प्रश्न में, चार विकल्पों में से, उस विकल्प का चयन करें जो दिए गए मुहावरे का सही अर्थ वाला विकल्प है।

एक थैले के चट्टे-बट्टे

Options :

1. ✖ सब एक परिवार
2. ✖ जी हुजूरी करना
3. ✖ सब साथ में खाना खाना
4. ✓ सब एक सामान

Question Number : 192 Question Id : 5861808321 Question Type : MCQ Option Shuffling : Yes

Correct Marks : 1 Wrong Marks : 0.25

निम्नलिखित प्रश्न में, चार विकल्पों में से, उस विकल्प का चयन करें जो दिए गए मुहावरे का सही अर्थ वाला विकल्प है।

झूठ के पाँव नहीं होते

Options :

1. \* लंगड़ा होना
2. \* झूठ बोल के भाग न पाना
3. ✓ झूठा व्यक्ति वाद-विवाद में हार जाता है
4. \* सदा सच बोलना चाहिए

Question Number : 192 Question Id : 5861808321 Question Type : MCQ Option Shuffling : Yes

Correct Marks : 1 Wrong Marks : 0.25

निम्नलिखित प्रश्न में, चार विकल्पों में से, उस विकल्प का चयन करें जो दिए गए मुहावरे का सही अर्थ वाला विकल्प है।

झूठ के पाँव नहीं होते

Options :

1. \* लंगड़ा होना
2. \* झूठ बोल के भाग न पाना
3. ✓ झूठा व्यक्ति वाद-विवाद में हार जाता है
4. \* सदा सच बोलना चाहिए

Question Number : 193 Question Id : 5861808322 Question Type : MCQ Option Shuffling : Yes

Correct Marks : 1 Wrong Marks : 0.25

निम्नलिखित प्रश्न में, चार विकल्पों में से, उस विकल्प का चयन करें जो दिए गए मुहावरे का सही अर्थ वाला विकल्प है।

पर उपदेश कुशल बहुतेरे

Options :

1. ✓ दूसरों को उपदेश देना बहुत आसान है

2. \* कुशलता सि कार्य करना
3. \* उपदेश देने का कार्य करने वाला
4. \* लोगों का उपदेश सुनना

Question Number : 193 Question Id : 5861808322 Question Type : MCQ Option Shuffling : Yes  
Correct Marks : 1 Wrong Marks : 0.25

निम्नलिखित प्रश्न में, चार विकल्पों में से, उस विकल्प का चयन करें जो दिए गए मुहावरे का सही अर्थ वाला विकल्प है।

पर उपदेश कुशल बहुतेरे

Options :

1. ✓ दूसरों को उपदेश देना बहुत आसान है
2. \* कुशलता सि कार्य करना
3. \* उपदेश देने का कार्य करने वाला
4. \* लोगों का उपदेश सुनना

Question Number : 194 Question Id : 5861808323 Question Type : MCQ Option Shuffling : Yes  
Correct Marks : 1 Wrong Marks : 0.25

निम्नलिखित प्रश्न में, चार विकल्पों में से, उस विकल्प का चयन करें जो दी गई लोकोक्तियों का सही अर्थ वाला विकल्प है।

क्या बरखा जब कृषि सुखाने

Options :

1. \* बेकार फसल
2. \* देरी से बारिश होना
3. ✓ काम बिगड़ने पर सहायता व्यर्थ
4. \* नामुमकिन काम

Question Number : 194 Question Id : 5861808323 Question Type : MCQ Option Shuffling : Yes  
Correct Marks : 1 Wrong Marks : 0.25

निम्नलिखित प्रश्न में, चार विकल्पों में से, उस विकल्प का चयन करें जो दी गई लोकोक्तियों का सही अर्थ वाला विकल्प है।

क्या बरखा जब कृषि सुखाने

Options :

1. \* बेकार फसल
2. \* देरी से बारिश होना
3. ✓ काम बिगड़ने पर सहायता व्यर्थ
4. \* नामुमकिन काम

Question Number : 195 Question Id : 5861808324 Question Type : MCQ Option Shuffling : Yes

Correct Marks : 1 Wrong Marks : 0.25

निम्नलिखित प्रश्न में, चार विकल्पों में से, उस विकल्प का चयन करें जो बताता है कि विवरण या स्पष्टीकरण के लिए किस चिह्न का उपयोग किया जाता है?

Options :

1. \* विस्मरण
2. ✓ निर्देशक चिह्न
3. \* अल्प विराम
4. \* लाघव

Question Number : 195 Question Id : 5861808324 Question Type : MCQ Option Shuffling : Yes

Correct Marks : 1 Wrong Marks : 0.25

निम्नलिखित प्रश्न में, चार विकल्पों में से, उस विकल्प का चयन करें जो बताता है कि विवरण या स्पष्टीकरण के लिए किस चिह्न का उपयोग किया जाता है?

Options :

1. \* विस्मरण
2. ✓ निर्देशक चिह्न
3. \* अल्प विराम

## 4. \* लाघव

Sub-Section Number: 2  
Sub-Section Id: 586180556  
Question Shuffling Allowed : Yes

Question Id : 5861808325 Question Type : COMPREHENSION Sub Question Shuffling Allowed : Yes Group Comprehension Questions : No

Question Numbers : (196 to 200)

Question Label : Comprehension

नीचे दिए गये गद्यांश को ध्यानपूर्वक पढ़ें और दिए गये प्रश्न के उत्तर दें।

उसी समय ब्राह्मणों की पंक्ति से ब्राह्मण वेशधारी अर्जुन सामने आए। उन्होंने एक तीर से लक्ष्य-संधान किया। तीर मछली की आँख में जा लगा। ब्राह्मण मंडली हर्ष से जय-जयकार करने लगी। परंतु उपस्थित राजाओं ने लक्ष्य भेद पर शंका प्रकट किया। तब अर्जुन ने दूसरी बार निशाना लगाया और तीर से बिद्ध मछली जमीन पर आ गिरी। द्रोपदी ने ब्राह्मण वेशधारी अर्जुन के गले में सहर्ष माला पहना दी। राजाओं में क्षोभ की लहर दौड़ गई। वे ब्राह्मण युवक से द्रोपदी को छीन लेने का विचार करने लगे। स्वयंवर में कृष्ण और बलदेव भी आए हुए थे। कृष्ण ने राजाओं को समझाया। उन्होंने धीरे से बलराम से कहा , "भैया, हो न हो ये अर्जुन ही है। सुना है वारणावत के लाक्षा-गृह से बुआ कुंती समेत पाँचों पांडव बच निकले हैं।

Sub questions

Question Number : 196 Question Id : 5861808326 Question Type : MCQ Option Shuffling : Yes  
Correct Marks : 1 Wrong Marks : 0.25

अर्जुन ने ब्राह्मणों की पंक्ति से आगे आकर क्या किया?

Options :

1. ✓ मछली पर निशाना लगाया
2. \* ब्राह्मण वेश धरा
3. \* जय-जयकार किया
4. \* शंका प्रकट किया

Question Number : 197 Question Id : 5861808327 Question Type : MCQ Option Shuffling : Yes  
Correct Marks : 1 Wrong Marks : 0.25

अर्जुन को दूसरी बार निशाना क्यों लगाना पड़ा?



Options :

1. \* निशाना सही न लगने के कारण
2. \* लक्ष्य-संधान में बाधा पड़ने के कारण
3. ✓ राजाओं के शक को दूर करने के लिए
4. \* ब्राह्मण मंडली के खुश होने के कारण

Question Number : 198 Question Id : 5861808328 Question Type : MCQ Option Shuffling : Yes  
Correct Marks : 1 Wrong Marks : 0.25

राजाओं में क्षोभ क्यों छा गया?

Options :

1. \* मछली का जमीन पर गिरने के कारण
2. \* तीर मछली को न लगने के कारण
3. \* अर्जुन का दूसरी बार निशाना लगाने के कारण
4. ✓ द्रोपदी का अर्जुन को वरमाला पहनाने के कारण

Question Number : 199 Question Id : 5861808329 Question Type : MCQ Option Shuffling : Yes  
Correct Marks : 1 Wrong Marks : 0.25

इनमें से कौन - सा क्षोभ का पर्यायवाची नहीं है?

Options :

1. \* पश्चाताप
2. ✓ धीर
3. \* हलचल
4. \* व्याकुलता

Question Number : 200 Question Id : 5861808330 Question Type : MCQ Option Shuffling : Yes  
Correct Marks : 1 Wrong Marks : 0.25

इस अनुच्छेद का कोई उपयुक्त शीर्षक-

Options :

1. \* वेशधारी अर्जुन
2. ✓ धनुधारी अर्जुन
3. \* अर्जुन व अन्य राजा
4. \* अर्जुन व लाक्षा-गृह

## Question Label : Comprehension

नीचे दिए गये गद्यांश को ध्यानपूर्वक पढ़ें और दिए गये प्रश्न के उत्तर दें।

उसी समय ब्राह्मणों की पंक्ति से ब्राह्मण वेशधारी अर्जुन सामने आए। उन्होंने एक तीर से लक्ष्य-संधान किया। तीर मछली की आँख में जा लगा। ब्राह्मण मंडली हर्ष से जय-जयकार करने लगी। परंतु उपस्थित राजाओं ने लक्ष्य भेद पर शंका प्रकट किया। तब अर्जुन ने दूसरी बार निशाना लगाया और तीर से बिद्ध मछली जमीन पर आ गिरी। द्रोपदी ने ब्राह्मण वेशधारी अर्जुन के गले में सहर्ष माला पहना दी। राजाओं में क्षोभ की लहर दौड़ गई। वे ब्राह्मण युवक से द्रोपदी को छीन लेने का विचार करने लगे। स्वयंवर में कृष्ण और बलदेव भी आए हुए थे। कृष्ण ने राजाओं को समझाया। उन्होंने धीरे से बलराम से कहा , "भैया, हो न हो ये अर्जुन ही है। सुना है वारणावत के लाक्षा-गृह से बुआ कुंती समेत पाँचों पांडव बच निकले हैं।

### Sub questions

Question Number : 196 Question Id : 5861808326 Question Type : MCQ Option Shuffling : Yes

Correct Marks : 1 Wrong Marks : 0.25

अर्जुन ने ब्राह्मणों की पंक्ति से आगे आकर क्या किया?

Options :

1. ✓ मछली पर निशाना लगाया
2. ✗ ब्राह्मण वेश धरा
3. ✗ जय-जयकार किया
4. ✗ शंका प्रकट किया

Question Number : 197 Question Id : 5861808327 Question Type : MCQ Option Shuffling : Yes  
Correct Marks : 1 Wrong Marks : 0.25

अर्जुन को दूसरी बार निशाना क्यों लगाना पड़ा?

Options :

1. \* निशाना सही न लगने के कारण
2. \* लक्ष्य-संधान में बाधा पड़ने के कारण
3. ✓ राजाओं के शक को दूर करने के लिए
4. \* ब्राह्मण मंडली के खुश होने के कारण

Question Number : 198 Question Id : 5861808328 Question Type : MCQ Option Shuffling : Yes  
Correct Marks : 1 Wrong Marks : 0.25

राजाओं में क्षोभ क्यों छा गया?

Options :

1. \* मछली का जमीन पर गिरने के कारण
2. \* तीर मछली को न लगने के कारण
3. \* अर्जुन का दूसरी बार निशाना लगाने के कारण
4. ✓ द्रोपदी का अर्जुन को वरमाला पहनाने के कारण

Question Number : 199 Question Id : 5861808329 Question Type : MCQ Option Shuffling : Yes  
Correct Marks : 1 Wrong Marks : 0.25

इनमें से कौन - सा क्षोभ का पर्यायवाची नहीं है?

Options :

1. \* पश्चाताप
2. ✓ धीर
3. \* हलचल
4. \* व्याकुलता

Question Number : 200 Question Id : 5861808330 Question Type : MCQ Option Shuffling : Yes  
Correct Marks : 1 Wrong Marks : 0.25

इस अनुच्छेद का कोई उपयुक्त शीर्षक-

Options :

1. \* वेशधारी अर्जुन
2. ✓ धनुर्धारी अर्जुन
3. \* अर्जुन व अन्य राजा
4. \* अर्जुन व लाक्षा-गृह