

Education Consultant India Ltd.

Notations :

1.Options shown in green color and with ✓ icon are correct.

2.Options shown in red color and with ✘ icon are incorrect.

Question Paper Name:	MEDICAL RECORD CLERK 26th July 2019 Shift 1
Subject Name:	MEDICAL RECORD CLERK
Creation Date:	2019-07-26 12:25:50
Duration:	120
Total Marks:	200
Display Marks:	Yes
Share Answer Key With Delivery Engine:	No
Actual Answer Key:	Yes
Calculator:	None
Magnifying Glass Required?:	No
Ruler Required?:	No
Eraser Required?:	No
Scratch Pad Required?:	No
Rough Sketch/Notepad Required?:	No
Protractor Required?:	No
Show Watermark on Console?:	Yes
Highlighter:	No
Auto Save on Console?:	No

Mental Ability1

Group Number :	1
Group Id :	509647222
Group Maximum Duration :	0
Group Minimum Duration :	0
Show Attended Group? :	No
Edit Attended Group? :	No
Break time:	0
Group Marks:	20
Is this Group for Examiner?:	No
Revisit allowed for group Instructions? :	Yes
Maximum Instruction Time:	0
Minimum Instruction Time:	0

Mental Ability1

Section Id :	509647382
Section Number :	1

Section type :	Online
Mandatory or Optional:	Mandatory
Number of Questions:	20
Number of Questions to be attempted:	20
Section Marks:	20

Sub-Section Number:	1
Sub-Section Id:	509647540
Question Shuffling Allowed :	Yes

Question Number : 1 Question Id : 50964710433 Question Type : MCQ Option Shuffling : Yes
Correct Marks : 1 Wrong Marks : 0.25

Find the last letters in the following letter series.

SRQ, WVU, AZY, EDC, IHG, _____.

Options :

1. ✘ KLM
2. ✔ MLK
3. ✘ LKJ
4. ✘ JKL

Question Number : 1 Question Id : 50964710433 Question Type : MCQ Option Shuffling : Yes
Correct Marks : 1 Wrong Marks : 0.25

निम्न अक्षर-समूह श्रृंखला में अंतिम अक्षर-समूह ज्ञात करें।

SRQ, WVU, AZY, EDC, IHG, _____

Options :

1. ✘ KLM
2. ✔ MLK
3. ✘ LKJ
4. ✘ JKL

Question Number : 2 Question Id : 50964710434 Question Type : MCQ Option Shuffling : Yes
Correct Marks : 1 Wrong Marks : 0.25

In the following question, one of the option CANNOT be formed by the word, given in the question. Find that word.

UNDERMINED

Options :

1. ✓ DRAIN
2. ✗ UNDER
3. ✗ MINE
4. ✗ DINNER

Question Number : 2 Question Id : 50964710434 Question Type : MCQ Option Shuffling : Yes

Correct Marks : 1 Wrong Marks : 0.25

निम्नलिखित प्रश्न में, दिए गए शब्द द्वारा इन विकल्पों में से एक विकल्प गठित नहीं किया जा सकता। उस शब्द को खोजें।

UNDERMINED

Options :

1. ✓ DRAIN
2. ✗ UNDER
3. ✗ MINE
4. ✗ DINNER

Question Number : 3 Question Id : 50964710435 Question Type : MCQ Option Shuffling : Yes

Correct Marks : 1 Wrong Marks : 0.25

Find the last letter in the following letter series.

B, D, G, K, P, _____.

Options :

1. ✗ X

2. ✖ U

3. ✔ V

4. ✖ W

Question Number : 3 Question Id : 50964710435 Question Type : MCQ Option Shuffling : Yes
Correct Marks : 1 Wrong Marks : 0.25

निम्न अक्षर श्रृंखला में अंतिम अक्षर ज्ञात करें।

B, D, G, K, P, _____

Options :

1. ✖ X

2. ✖ U

3. ✔ V

4. ✖ W

Question Number : 4 Question Id : 50964710436 Question Type : MCQ Option Shuffling : Yes
Correct Marks : 1 Wrong Marks : 0.25

In the given options 3 pair of words are similarly related and one pair is differently related. Find the pair which is differently related?

Options :

1. ✔ Pencil : Blackboard

2. ✖ Needle : Thread

3. ✖ Hammer : Nail

4. ✖ Nut : Spanner

Question Number : 4 Question Id : 50964710436 Question Type : MCQ Option Shuffling : Yes
Correct Marks : 1 Wrong Marks : 0.25

दिए गए विकल्पों में शब्दों की 3 जोड़ियाँ समान रूप से संबंधित हैं और एक जोड़ी भिन्न रूप से संबंधित है। उस जोड़ी को ज्ञात करें जो भिन्न रूप से संबंधित है।

Options :

1. ✓ पेंसिल : ब्लैकबोर्ड
2. * नीडल : थ्रेड
3. * हैमर : नेल
4. * नट: स्पैनर

Question Number : 5 Question Id : 50964710437 Question Type : MCQ Option Shuffling : Yes
Correct Marks : 1 Wrong Marks : 0.25

Out of the given options, three are similar in a certain manner. However, one option is NOT like the other three. Select the option which is different from the rest?

Options :

1. * MNO
2. * KLM
3. ✓ WVU
4. * HIJ

Question Number : 5 Question Id : 50964710437 Question Type : MCQ Option Shuffling : Yes
Correct Marks : 1 Wrong Marks : 0.25

दिए गए विकल्पों में से, तीन एक निश्चित तरीके से समान हैं। हालाँकि, एक विकल्प अन्य तीन की तरह नहीं है। उस विकल्प का चयन करें जो शेष से भिन्न है।

Options :

1. * MNO
2. * KLM

3. ✓ WVU

4. ✗ HIJ

Question Number : 6 Question Id : 50964710438 Question Type : MCQ Option Shuffling : Yes
Correct Marks : 1 Wrong Marks : 0.25

Out of the given options, three are similar in a certain manner. However, one option is NOT like the other three. Select the option which is different from the rest?

Options :

1. ✗ Pizza

2. ✗ Sizzler

3. ✗ Noodles

4. ✓ Ice-cream

Question Number : 6 Question Id : 50964710438 Question Type : MCQ Option Shuffling : Yes
Correct Marks : 1 Wrong Marks : 0.25

दिए गए विकल्पों में से, तीन एक निश्चित तरीके से समान हैं। हालाँकि, एक विकल्प अन्य तीन की तरह नहीं है। उस विकल्प का चयन करें जो शेष से भिन्न है।

Options :

1. ✗ पिज़्ज़ा

2. ✗ सिज़्लर

3. ✗ नूडल्स

4. ✓ आइसक्रीम

Question Number : 7 Question Id : 50964710439 Question Type : MCQ Option Shuffling : Yes
Correct Marks : 1 Wrong Marks : 0.25

Select the option that is related to the third term on the same basis as the second term is related to the first term.

TDX : GWC :: SUF : ?

Options :

1. ✖ TVG
2. ✖ UWH
3. ✖ VXI
4. ✔ HFU

Question Number : 7 Question Id : 50964710439 Question Type : MCQ Option Shuffling : Yes
Correct Marks : 1 Wrong Marks : 0.25

उस विकल्प का चयन करें जो तीसरे पद से उसी प्रकार से संबंधित है जिस प्रकार से दूसरा पद पहले पद से संबंधित है।

TDX : GWC :: SUF : ?

Options :

1. ✖ TVG
2. ✖ UWH
3. ✖ VXI
4. ✔ HFU

Question Number : 8 Question Id : 50964710440 Question Type : MCQ Option Shuffling : Yes
Correct Marks : 1 Wrong Marks : 0.25

Select the option that is related to the third term on the same basis as the second term is related to the first term.

Drama : Stage :: Cricket : ?

Options :

1. ✖ Team

2. * Game

3. * Bat

4. ✓ Field

Question Number : 8 Question Id : 50964710440 Question Type : MCQ Option Shuffling : Yes

Correct Marks : 1 Wrong Marks : 0.25

उस विकल्प का चयन करें जो तीसरे पद से उसी प्रकार से संबंधित है जिस प्रकार से दूसरा पद पहले पद से संबंधित है।

नाटक : मंच :: क्रिकेट : ?

Options :

1. * टीम

2. * खेल

3. * बल्ला

4. ✓ फ़ील्ड

Question Number : 9 Question Id : 50964710441 Question Type : MCQ Option Shuffling : Yes

Correct Marks : 1 Wrong Marks : 0.25

Select the option that is related to the third term on the same basis as the second term is related to the first term.

Tokyo : Japan :: Beijing : ?

Options :

1. * Iraq

2. ✓ China

3. * Bangladesh

4. * Russia

Question Number : 9 Question Id : 50964710441 Question Type : MCQ Option Shuffling : Yes

Correct Marks : 1 Wrong Marks : 0.25

उस विकल्प का चयन करें जो तीसरे पद से उसी प्रकार से संबंधित है जिस प्रकार से दूसरा पद पहले पद से संबंधित है।

टोक्यो : जापान :: बीजिंग : ?

Options :

1. ✖ इराक
2. ✔ चीन
3. ✖ बांग्लादेश
4. ✖ रूस

Question Number : 10 Question Id : 50964710442 Question Type : MCQ Option Shuffling : Yes
Correct Marks : 1 Wrong Marks : 0.25

If VOLTAGE is coded as XQNVCIG, then how will MUG be coded as?

Options :

1. ✔ OWI
2. ✖ NFT
3. ✖ LTF
4. ✖ NVH

Question Number : 10 Question Id : 50964710442 Question Type : MCQ Option Shuffling : Yes
Correct Marks : 1 Wrong Marks : 0.25

यदि VOLTAGE को XQNVCIG के रूप में कोडित किया जाता है, तो MUG को कैसे कोडित किया जाएगा?

Options :

1. ✔ OWI
2. ✖ NFT
3. ✖ LTF

4. * NVH

Question Number : 11 Question Id : 50964710443 Question Type : MCQ Option Shuffling : Yes
Correct Marks : 1 Wrong Marks : 0.25

Here are some words from an artificial language.

'kapbis' means 'anyone',

'defbis' means 'someone'

'defgix' means 'something'

Which word would mean 'everything'?

Options :

1. * bundef

2. * kapdip

3. * bismeg

4. ✓ hodgix

Question Number : 11 Question Id : 50964710443 Question Type : MCQ Option Shuffling : Yes
Correct Marks : 1 Wrong Marks : 0.25

यहाँ एक कृत्रिम भाषा के कुछ शब्द दिए हैं।

'kapbis' का अर्थ है 'anyone',

'defbis' का अर्थ है 'someone'

'defgix' का अर्थ है 'something'

किस शब्द का अर्थ 'everything' है?

Options :

1. * bundef

2. * kapdip

3. * bismeg

4. ✓ hodgix

Question Number : 12 Question Id : 50964710444 Question Type : MCQ Option Shuffling : Yes
Correct Marks : 1 Wrong Marks : 0.25

In a certain code language, 286 means 'egg is white', 586 means 'milk is white' and 524 means 'egg or milk'. Find the code for 'or'.

Options :

1. ✓ 4

2. ✗ 8

3. ✗ 6

4. ✗ 2

Question Number : 12 Question Id : 50964710444 Question Type : MCQ Option Shuffling : Yes
Correct Marks : 1 Wrong Marks : 0.25

एक निश्चित कोड भाषा में, 286 का अर्थ 'egg is white' है, 586 का अर्थ 'milk is white' है और 524 का अर्थ 'egg or milk' है। 'or' के लिए कोड खोजें।

Options :

1. ✓ 4

2. ✗ 8

3. ✗ 6

4. ✗ 2

Question Number : 13 Question Id : 50964710445 Question Type : MCQ Option Shuffling : Yes
Correct Marks : 1 Wrong Marks : 0.25

A, B, C, D and E are sitting on a bench. C is neither at the end nor next to B or E. E is between A and B. B is not to the left of E. D is to the left of _____.

Options :

1. ✗ A

2. ✖ B

3. ✖ E

4. ✔ C

Question Number : 13 Question Id : 50964710445 Question Type : MCQ Option Shuffling : Yes
Correct Marks : 1 Wrong Marks : 0.25

A, B, C, D और E एक बेंच पर बैठे हैं। C, न तो अंत में है और न ही B या E के बगल में है। E, A और B के बीच में है। B, E के बाईं ओर नहीं है। D, _____ के बाईं ओर है।

Options :

1. ✖ A

2. ✖ B

3. ✖ E

4. ✔ C

Question Number : 14 Question Id : 50964710446 Question Type : MCQ Option Shuffling : Yes
Correct Marks : 1 Wrong Marks : 0.25

Ramesh is Arjun's brother. Arjun is Vikas's son and husband of Gita. Pointing to Rohit, Ramesh said, "He is Gita's mother-in-law's brother." How is Rohit related to Ramesh?

Options :

1. ✖ Rohit is Ramesh's brother

2. ✖ Rohit is Ramesh's father's brother

3. ✔ Rohit is Ramesh's mother's brother

4. ✖ Rohit is Ramesh's father

Question Number : 14 Question Id : 50964710446 Question Type : MCQ Option Shuffling : Yes
Correct Marks : 1 Wrong Marks : 0.25

रमेश, अर्जुन का भाई है। अर्जुन, विकास का बेटा और गीता का पति है। रोहित की ओर इशारा करते हुए रमेश ने कहा, "वह गीता की साँस का भाई है।

"रोहित, रमेश से कैसे संबंधित है?

Options :

1. ✖ रोहित, रमेश का भाई है
2. ✖ रोहित, रमेश के पिता का भाई है
3. ✔ रोहित, रमेश की माँ का भाई है
4. ✖ रोहित, रमेश के पिता हैं

Question Number : 15 Question Id : 50964710447 Question Type : MCQ Option Shuffling : Yes

Correct Marks : 1 Wrong Marks : 0.25

If it is 1: 52 PM now, what was the time 8,891 minutes ago?

Options :

1. ✖ 6:03 PM
2. ✖ 9:41 PM
3. ✖ 6:03 AM
4. ✔ 9:41 AM

Question Number : 15 Question Id : 50964710447 Question Type : MCQ Option Shuffling : Yes

Correct Marks : 1 Wrong Marks : 0.25

यदि अभी 1:52 PM हैं, तो 8,891 मिनिट पहले कितने बजे थे?

Options :

1. ✖ 6:03 PM
2. ✖ 9:41 PM
3. ✖ 6:03 AM
4. ✔ 9:41 AM

Question Number : 16 Question Id : 50964710448 Question Type : MCQ Option Shuffling : Yes

Correct Marks : 1 Wrong Marks : 0.25

Five students took a practice test from the same test paper. No two took the test at the same time. L took hints from the markings made by M on the paper. When it was O's turn, he deleted all the markings made by L before handing the paper over to P. If N was the first to take the test, who was the second last?

Options :

1. ✖ M
2. ✔ O
3. ✖ L
4. ✖ P

Question Number : 16 Question Id : 50964710448 Question Type : MCQ Option Shuffling : Yes
Correct Marks : 1 Wrong Marks : 0.25

पांच छात्रों ने एक ही टेस्ट पेपर से अभ्यास परीक्षा दी। किन्ही भी दो छात्रों ने एक ही समय परीक्षा नहीं दी। L ने M द्वारा प्रश्नपत्र पर अंकित चिहनों से संकेत लिए। जब O की बारी आई, तो उसने P को प्रश्नपत्र सौंपने से पहले L द्वारा बनाए गए सभी चिहनों को मिटा दिया। यदि परीक्षा देने वाला N पहला छात्र था, तो अंतिम से दूसरा कौन था?

Options :

1. ✖ M
2. ✔ O
3. ✖ L
4. ✖ P

Question Number : 17 Question Id : 50964710449 Question Type : MCQ Option Shuffling : Yes
Correct Marks : 1 Wrong Marks : 0.25

यदि A \$ B का अर्थ A, B की पत्नी है, A # B का अर्थ A, B की बहन है और यदि A * B का अर्थ A, B के बेटी का पति है, तो X \$ Y * Z # W का क्या अर्थ है?

Options :

1. * W की बेटी X है
2. * W की बहन X है
3. ✓ W की बहन की बेटी X है
4. * W की माँ X है

Question Number : 17 Question Id : 50964710449 Question Type : MCQ Option Shuffling : Yes

Correct Marks : 1 Wrong Marks : 0.25

If A \$ B means A is wife of B, A # B means A is sister of B and If A * B means A is daughter's husband of B, then what does X \$ Y * Z # W mean?

Options :

1. * W's daughter is X
2. * W's sister is X
3. ✓ W's sister's daughter is X
4. * W's mother is X

Question Number : 18 Question Id : 50964710450 Question Type : MCQ Option Shuffling : Yes

Correct Marks : 1 Wrong Marks : 0.25

Read the given statement and conclusions carefully. Assuming that the information in the statement is true, even if they appear to be in variance with commonly known facts, select which of the conclusions logically follow(s) from the statement beyond reasonable doubt.

Statements :-

- I. All painters are good dancers.
- II. All good dancers are cricketers.

Conclusion :-

- I. Some cricketers are painters.
- II. Some painters are good dancers.

Options :

- 1. ✖ Only Conclusion I follows.
- 2. ✖ Only Conclusion II follows.
- 3. ✔ Both conclusion I and II follows
- 4. ✖ Neither of the conclusion follows.

Question Number : 18 Question Id : 50964710450 Question Type : MCQ Option Shuffling : Yes
Correct Marks : 1 Wrong Marks : 0.25

दिए गए कथन और निष्कर्षों को ध्यान से पढ़ें। यह मानते हुए कि कथनों में दी गई जानकारी सत्य है, भले ही वे सामान्यतः ज्ञात तथ्यों के साथ विचरण करते हुए दिखाई देते हों, उस निष्कर्ष का चयन करें जो उचित संदेह से परे उस कथन का तार्किक रूप से अनुसरण करता हो।

कथन:-

- I. सभी चित्रकार अच्छे नर्तक हैं।
- II. सभी अच्छे नर्तक क्रिकेटर्स हैं।

निष्कर्ष:-

- I. कुछ क्रिकेटर्स चित्रकार हैं।
- II. कुछ चित्रकार अच्छे नर्तक हैं।

Options :

1. * केवल निष्कर्ष I अनुसरण करता है।
2. * केवल निष्कर्ष II अनुसरण करता है।
3. ✓ निष्कर्ष I और II दोनों अनुसरण करते हैं।
4. * कोई भी निष्कर्ष अनुसरण नहीं करता है।

Question Number : 19 Question Id : 50964710451 Question Type : MCQ Option Shuffling : Yes
Correct Marks : 1 Wrong Marks : 0.25

Read the given statement and conclusions carefully. Assuming that the information in the statement is true, even if they appear to be in variance with commonly known facts, select which of the conclusions logically follow(s) from the statement beyond reasonable doubt.

Statements :-

I. All threads are ropes

II. All wires are ropes

III. No filaments are ropes and some threads are wires

Conclusions :-

I. Some wires are filaments

II. No threads are filaments

Options :

1. ✖ Only Conclusion I follows.

2. ✔ Only Conclusion II follows.

3. ✖ Both conclusion I and II follows

4. ✖ Neither of the conclusion follows.

Question Number : 19 Question Id : 50964710451 Question Type : MCQ Option Shuffling : Yes

Correct Marks : 1 Wrong Marks : 0.25

दिए गए कथन और निष्कर्षों को ध्यान से पढ़ें। यह मानते हुए कि कथनों में दी गई जानकारी सत्य है, भले ही वे सामान्यतः ज्ञात तथ्यों के साथ विचरण करते हुए दिखाई देते हों, उस निष्कर्ष का चयन करें जो उचित संदेह से परे उस कथन का तार्किक रूप से अनुसरण करता हो।

कथन:-

- I. सभी धागे रस्सी हैं।
- II. सभी तार रस्सी हैं।
- III. कोई तंतु रस्सी नहीं है और कुछ धागे तार हैं।

निष्कर्ष:-

- I. कुछ तार तंतु हैं।
- II. कोई धागे तंतु नहीं हैं।

Options :

1. * केवल निष्कर्ष I अनुसरण करता है।
2. ✓ केवल निष्कर्ष II अनुसरण करता है।
3. * निष्कर्ष I और II दोनों अनुसरण करते हैं।
4. * कोई भी निष्कर्ष अनुसरण नहीं करता है।

Question Number : 20 Question Id : 50964710452 Question Type : MCQ Option Shuffling : Yes

Correct Marks : 1 Wrong Marks : 0.25

In the given options 3 pair of numbers are similarly related and one pair is differently related. Find the pair which is differently related.

Options :

1. * 123 : 666

2. ✓ 144 : 441

3. ✘ 444 : 987

4. ✘ 121 : 664

Question Number : 20 Question Id : 50964710452 Question Type : MCQ Option Shuffling : Yes

Correct Marks : 1 Wrong Marks : 0.25

दिए गए विकल्पों में संख्याओं की 3 जोड़ियाँ एक समान संबंधित हैं और एक जोड़ी अलग तरीके से संबंधित है। उस जोड़ी को ज्ञात करें जो अलग तरह से संबंधित है।

Options :

1. ✘ 123 : 666

2. ✓ 144 : 441

3. ✘ 444 : 987

4. ✘ 121 : 664

Mental Ability2

Group Number :	2
Group Id :	509647223
Group Maximum Duration :	0
Group Minimum Duration :	0
Show Attended Group? :	No
Edit Attended Group? :	No
Break time:	0
Group Marks:	20
Is this Group for Examiner?:	No
Revisit allowed for group Instructions? :	Yes
Maximum Instruction Time:	0
Minimum Instruction Time:	0

Mental Ability2

Section Id :	509647383
Section Number :	1
Section type :	Online
Mandatory or Optional:	Mandatory
Number of Questions:	20

Number of Questions to be attempted: 20
Section Marks: 20

Sub-Section Number: 1
Sub-Section Id: 509647541
Question Shuffling Allowed : Yes

Question Number : 21 Question Id : 50964710453 Question Type : MCQ Option Shuffling : Yes
Correct Marks : 1 Wrong Marks : 0.25

Out of the given options, three are similar in a certain manner. However, one option is NOT like the other three. Select the option which is different from the rest.

Options :

1. ✓ 356
2. ✗ 192
3. ✗ 468
4. ✗ 216

Question Number : 21 Question Id : 50964710453 Question Type : MCQ Option Shuffling : Yes
Correct Marks : 1 Wrong Marks : 0.25

दिए गए विकल्पों में से, तीन एक निश्चित तरीके से समान हैं। हालाँकि, एक विकल्प अन्य तीन की तरह नहीं है। उस विकल्प का चयन करें जो शेष से भिन्न है।

Options :

1. ✓ 356
2. ✗ 192
3. ✗ 468
4. ✗ 216

Question Number : 22 Question Id : 50964710454 Question Type : MCQ Option Shuffling : Yes
Correct Marks : 1 Wrong Marks : 0.25

Select the option that is related to the third number on the same basis as the second number is related to the first number.

125 : 25 :: 729 : ?

Options :

1. ✖ 79
2. ✖ 72
3. ✖ 529
4. ✔ 81

Question Number : 22 Question Id : 50964710454 Question Type : MCQ Option Shuffling : Yes
Correct Marks : 1 Wrong Marks : 0.25

उस विकल्प का चयन करें जो तीसरी संख्या से उसी प्रकार से संबंधित है जिस प्रकार से दूसरी संख्या पहली संख्या से संबंधित है।

125 : 25 :: 729 : ?

Options :

1. ✖ 79
2. ✖ 72
3. ✖ 529
4. ✔ 81

Question Number : 23 Question Id : 50964710455 Question Type : MCQ Option Shuffling : Yes
Correct Marks : 1 Wrong Marks : 0.25

Select the option that is related to the third number on the same basis as the second number is related to the first number.

$$343 : 1331 :: 7 : ?$$

Options :

1. ✖ 13

2. ✔ 11

3. ✖ 17

4. ✖ 9

Question Number : 23 Question Id : 50964710455 Question Type : MCQ Option Shuffling : Yes

Correct Marks : 1 Wrong Marks : 0.25

उस विकल्प का चयन करें जो तीसरी संख्या से उसी प्रकार से संबंधित है जिस प्रकार से दूसरी संख्या पहली संख्या से संबंधित है।

$$343 : 1331 :: 7 : ?$$

Options :

1. ✖ 13

2. ✔ 11

3. ✖ 17

4. ✖ 9

Question Number : 24 Question Id : 50964710456 Question Type : MCQ Option Shuffling : Yes

Correct Marks : 1 Wrong Marks : 0.25

The given equation is incorrect. Which two signs should be interchanged to correct the given equation?

$$9 \div 3 + 8 \times 2 - 15 = 2$$

Options :

1. * ÷ and ×

2. * ÷ and -

3. * × and +

4. ✓ + and -

Question Number : 24 Question Id : 50964710456 Question Type : MCQ Option Shuffling : Yes

Correct Marks : 1 Wrong Marks : 0.25

दिया गया समीकरण गलत है। दिए गए समीकरण को सही करने के लिए किन दो चिन्हों को परस्पर बदलना चाहिए?

$$9 \div 3 + 8 \times 2 - 15 = 2$$

Options :

1. * ÷ और ×

2. * ÷ और -

3. * × और +

4. ✓ + और -

Question Number : 25 Question Id : 50964710457 Question Type : MCQ Option Shuffling : Yes

Correct Marks : 1 Wrong Marks : 0.25

In a certain code language, '+' represents '-', '-' represents '×', '×' represents '÷' and '÷' represents '+'. Find out the answer to the following question.

$$40 - 8 + 240 \times 30 \div 15 = ?$$

Options :

1. * 512

2. ✓ 327

3. * 72

4. * 94

Question Number : 25 Question Id : 50964710457 Question Type : MCQ Option Shuffling : Yes

Correct Marks : 1 Wrong Marks : 0.25

एक निश्चित कोड भाषा में, '+' , '-' का प्रतिनिधित्व करता है, '-', '×' का प्रतिनिधित्व करता है, '×', '÷' का प्रतिनिधित्व करता है और '÷', '+' का प्रतिनिधित्व करता है। निम्नलिखित प्रश्न का उत्तर ज्ञात करें।

$$40 - 8 + 240 \times 30 \div 15 = ?$$

Options :

1. ✖ 512

2. ✔ 327

3. ✖ 72

4. ✖ 94

Question Number : 26 Question Id : 50964710458 Question Type : MCQ Option Shuffling : Yes

Correct Marks : 1 Wrong Marks : 0.25

Find the missing number in the following number series.

$$-3, ?, -2.5, -2.25, -2, -1.75$$

Options :

1. ✖ -2.65

2. ✔ -2.75

3. ✖ -2.85

4. ✖ -2.95

Question Number : 26 Question Id : 50964710458 Question Type : MCQ Option Shuffling : Yes

Correct Marks : 1 Wrong Marks : 0.25

निम्नलिखित संख्या श्रृंखला में लुप्त संख्या ज्ञात करें।

$$-3, ?, -2.5, -2.25, -2, -1.75$$

Options :

1. ✘ -2.65

2. ✔ -2.75

3. ✘ -2.85

4. ✘ -2.95

Question Number : 27 Question Id : 50964710459 Question Type : MCQ Option Shuffling : Yes
Correct Marks : 1 Wrong Marks : 0.25

Find the missing number in the following number series.

9, 8.4, ?, 7.2, 6.6, 6

Options :

1. ✘ 7.6

2. ✔ 7.8

3. ✘ 7.4

4. ✘ 8

Question Number : 27 Question Id : 50964710459 Question Type : MCQ Option Shuffling : Yes
Correct Marks : 1 Wrong Marks : 0.25

निम्नलिखित संख्या श्रृंखला में लुप्त संख्या ज्ञात करें।

9, 8.4, ?, 7.2, 6.6, 6

Options :

1. ✘ 7.6

2. ✔ 7.8

3. ✘ 7.4

4. ✘ 8

Question Number : 28 Question Id : 50964710460 Question Type : MCQ Option Shuffling : Yes
Correct Marks : 1 Wrong Marks : 0.25

The weights of 4 boxes are 4.5, 1.5, 6 and 8 kilograms. Which of the following cannot be the total weight, in kilograms, of any combination of these boxes?

Options :

1. ✖ 15.5

2. ✔ 19

3. ✖ 20

4. ✖ 18.5

Question Number : 28 Question Id : 50964710460 Question Type : MCQ Option Shuffling : Yes

Correct Marks : 1 Wrong Marks : 0.25

4 डिब्बों का वजन 4.5, 1.5, 6 और 8 किलोग्राम है। इन डिब्बों के किसी भी संयोजन का निम्नलिखित में से किलोग्राम में कौन सा कुल वजन नहीं हो सकता है?

Options :

1. ✖ 15.5

2. ✔ 19

3. ✖ 20

4. ✖ 18.5

Question Number : 29 Question Id : 50964710461 Question Type : MCQ Option Shuffling : Yes

Correct Marks : 1 Wrong Marks : 0.25

If $11@23=17$, $5@13=9$, $14@8=11$, then find $26@6= ?$

Options :

1. ✔ 16

2. ✖ 32

3. ✖ 66

4. ✖ 22

Question Number : 29 Question Id : 50964710461 Question Type : MCQ Option Shuffling : Yes

Correct Marks : 1 Wrong Marks : 0.25

यदि $11@23=17$, $5@13=9$, $14@8=11$ है, तो $26@6=?$ ज्ञात करें।

Options :

1. ✓ 16

2. ✗ 32

3. ✗ 66

4. ✗ 22

Question Number : 30 Question Id : 50964710462 Question Type : MCQ Option Shuffling : Yes

Correct Marks : 1 Wrong Marks : 0.25

Select the option that is related to the third term on the same basis as the second term is related to the first term.

17 : 4913 :: 19 : ?

Options :

1. ✓ 6859

2. ✗ 8599

3. ✗ 6589

4. ✗ 5564

Question Number : 30 Question Id : 50964710462 Question Type : MCQ Option Shuffling : Yes

Correct Marks : 1 Wrong Marks : 0.25

उस विकल्प का चयन करें जो तीसरे पद से उसी प्रकार से संबंधित है जिस प्रकार से दूसरा पद पहले पद से संबंधित है।

17 : 4913 :: 19 : ?

Options :

1. ✓ 6859

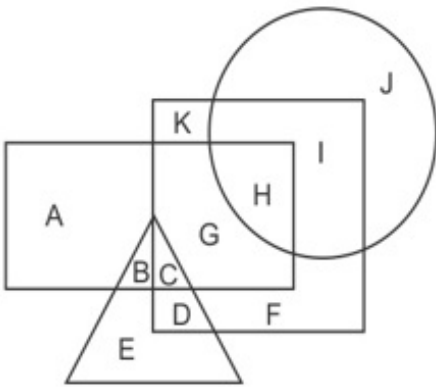
2. ✗ 8599

3. ✗ 6589

4. ✖ 5564

Question Number : 31 Question Id : 50964710463 Question Type : MCQ Option Shuffling : Yes
Correct Marks : 1 Wrong Marks : 0.25

In the following figure, triangle represents car drivers, square represents singers, circle represents vegetarians and rectangle represents fathers. Which set of letters represents car drivers who are singers who are also fathers?

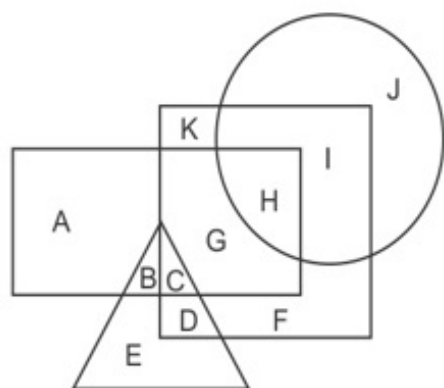


Options :

- 1. ✖ CD
- 2. ✖ G
- 3. ✔ C
- 4. ✖ CG

Question Number : 31 Question Id : 50964710463 Question Type : MCQ Option Shuffling : Yes
Correct Marks : 1 Wrong Marks : 0.25

निम्नलिखित आकृति में, त्रिभुज, कार चालकों का प्रतिनिधित्व करता है, वर्ग, गायकों का प्रतिनिधित्व करता है, वृत्त, शाकाहारियों का प्रतिनिधित्व करता है और आयत, पिताओं का प्रतिनिधित्व करता है।
अक्षरों का कौन सा सेट उन कार चालकों का प्रतिनिधित्व करता है जो गायक हैं और जो पिता भी हैं?



Options :

1. ✖ CD
2. ✖ G
3. ✔ C
4. ✖ CG

Question Number : 32 Question Id : 50964710464 Question Type : MCQ Option Shuffling : Yes

Correct Marks : 1 Wrong Marks : 0.25

If East becomes South-West, then what will West become?

Options :

1. ✖ North
2. ✔ North-East
3. ✖ East
4. ✖ North-West

Question Number : 32 Question Id : 50964710464 Question Type : MCQ Option Shuffling : Yes

Correct Marks : 1 Wrong Marks : 0.25

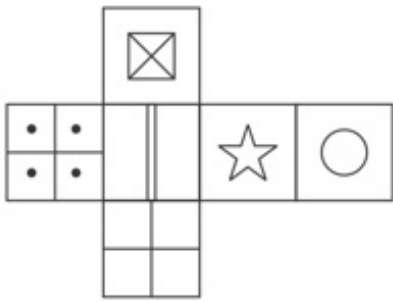
यदि पूर्व दक्षिण-पश्चिम हो गया, तो पश्चिम क्या बनेगा?

Options :

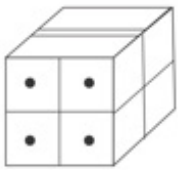
1. ✖ उत्तर
2. ✔ उत्तर-पूर्व
3. ✖ पूर्व
4. ✖ उत्तर-पश्चिम

Question Number : 33 Question Id : 50964710465 Question Type : MCQ Option Shuffling : Yes
Correct Marks : 1 Wrong Marks : 0.25

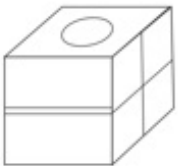
Which of the following cubes in the answer figure CANNOT be made based on the unfolded cube in the question figure?



Options :



1. ✖

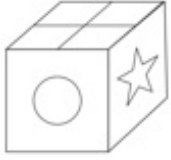


2. ✔

3. ✖

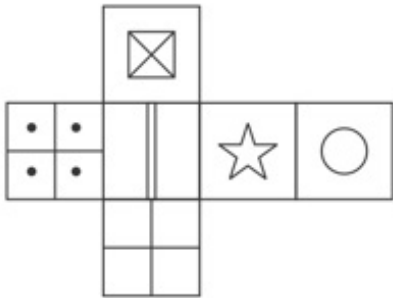


4. ✖

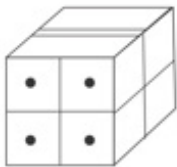


Question Number : 33 Question Id : 50964710465 Question Type : MCQ Option Shuffling : Yes
Correct Marks : 1 Wrong Marks : 0.25

उत्तर आकृति में निम्नलिखित में से कौन सा घन प्रश्न आकृति में खुले हुए घन के आधार पर नहीं बनाया जा सकता?

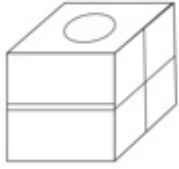


Options :

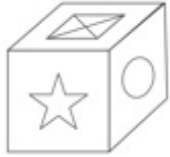


1. ✖

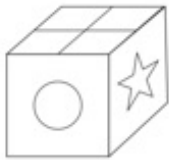
2. ✓



3. ✗

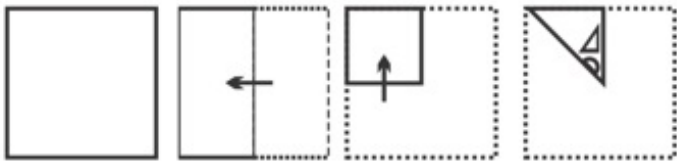


4. ✗



Question Number : 34 Question Id : 50964710466 Question Type : MCQ Option Shuffling : Yes Correct Marks : 1 Wrong Marks : 0.25

A piece of paper is folded and punched as shown below in the question figures. From the given answer figures, indicate how it will appear when opened.



Options :



1. ✗

2. ✓



3. ✘

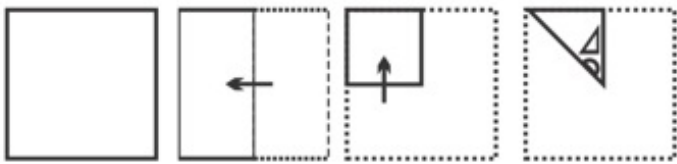


4. ✘



Question Number : 34 Question Id : 50964710466 Question Type : MCQ Option Shuffling : Yes
Correct Marks : 1 Wrong Marks : 0.25

प्रश्न आकृति में नीचे दिखाए अनुसार पेपर के टुकड़े को मोड़कर उसमें छेद किए गए हैं। दी गई उत्तर आकृतियों से, इंगित करें कि इसे खोले जाने पर यह कैसा दिखाई देगा।



Options :



1. ✘

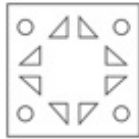
2. ✓



3. ✗

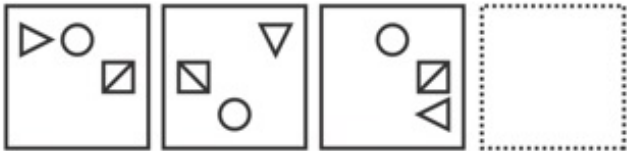


4. ✗



Question Number : 35 Question Id : 50964710467 Question Type : MCQ Option Shuffling : Yes
Correct Marks : 1 Wrong Marks : 0.25

Which of the following answer figure completes the series of the question figure?



Options :

1. ✗



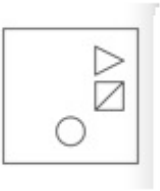
2. ✓



3. ✖

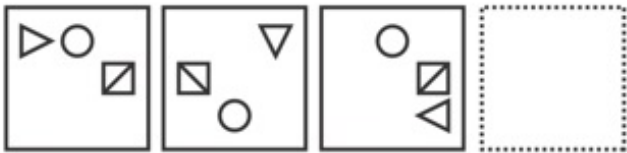


4. ✖



Question Number : 35 Question Id : 50964710467 Question Type : MCQ Option Shuffling : Yes
Correct Marks : 1 Wrong Marks : 0.25

निम्नलिखित में से कौन सी उत्तर आकृति प्रश्न आकृति की श्रृंखला को पूरा करती है?



Options :

1. ✖

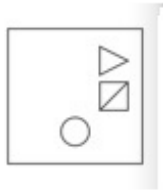


2. ✔



3. ✖

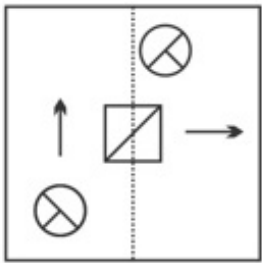




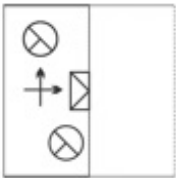
4. ✘

Question Number : 36 Question Id : 50964710468 Question Type : MCQ Option Shuffling : Yes
 Correct Marks : 1 Wrong Marks : 0.25

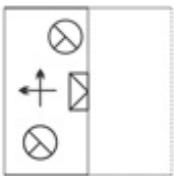
Find out from amongst the four alternatives as to how the pattern would appear when the transparent sheet is folded at the dotted line.



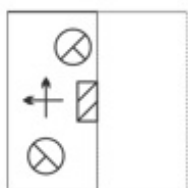
Options :



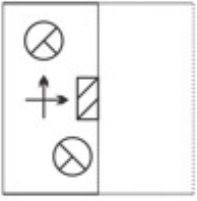
1. ✘



2. ✔



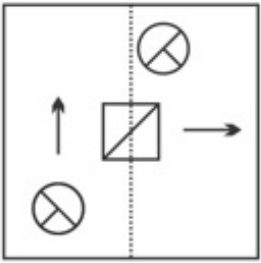
3. ✘



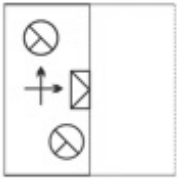
4. ✘

Question Number : 36 Question Id : 50964710468 Question Type : MCQ Option Shuffling : Yes
 Correct Marks : 1 Wrong Marks : 0.25

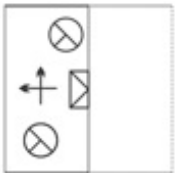
चार विकल्पों में से यह ज्ञात करें कि बिन्दूदार रेखा पर पारदर्शी शीट को मोड़ने पर आकृति कैसे दिखाई देगी।



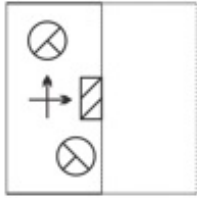
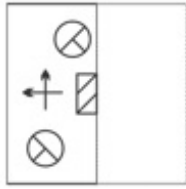
Options :



1. ✘



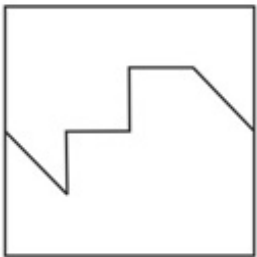
2. ✔



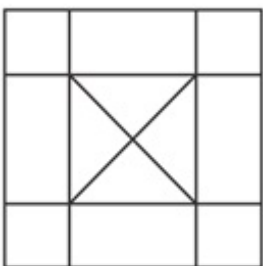
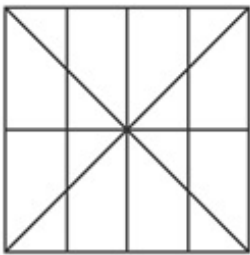
Question Number : 37 Question Id : 50964710469 Question Type : MCQ Option Shuffling : Yes

Correct Marks : 1 Wrong Marks : 0.25

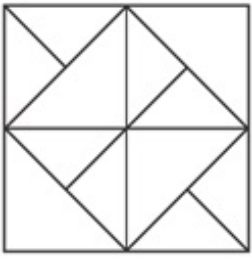
From the given answer figures, select the one in which the question figure is hidden/embedded ?



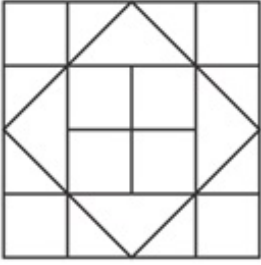
Options :



3. ✖

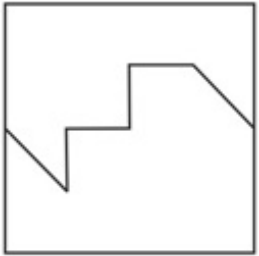


4. ✔

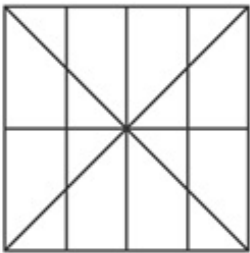


Question Number : 37 Question Id : 50964710469 Question Type : MCQ Option Shuffling : Yes
Correct Marks : 1 Wrong Marks : 0.25

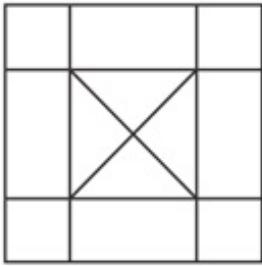
दी गई उत्तर आकृतियों में से उस एक का चयन करें जिसमें प्रश्न आकृति निहित है।



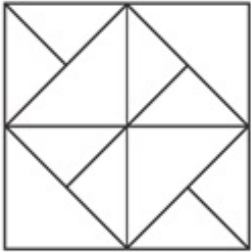
Options :



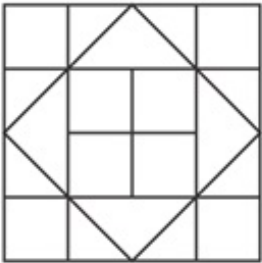
1. ✖



2. ✘



3. ✘



4. ✔

Question Number : 38 Question Id : 50964710470 Question Type : MCQ Option Shuffling : Yes
 Correct Marks : 1 Wrong Marks : 0.25

Find the last letter in the following letter series.

A, E, K, S, ____.

Note: For this question, discrepancy is found in question/answer. So, this question is ignored for all candidates.

Options :

1. B
2. E
3. U
4. Y

Question Number : 38 Question Id : 50964710470 Question Type : MCQ Option Shuffling : Yes
 Correct Marks : 1 Wrong Marks : 0.25

निम्न अक्षर श्रृंखला में अंतिम अक्षर ज्ञात करें।

A, E, K, S, _____.

Note: For this question, discrepancy is found in question/answer. So, this question is ignored for all candidates.

Options :

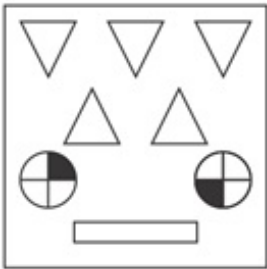
1. B
2. E
3. U
4. Y

Question Number : 39 Question Id : 50964710471 Question Type : MCQ Option Shuffling : Yes

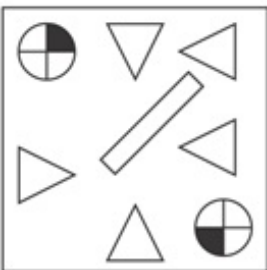
Correct Marks : 1 Wrong Marks : 0.25

Out of the given options, three are similar in a certain manner. However, one option is NOT like the other three. Select the option which is different from the rest.

Options :

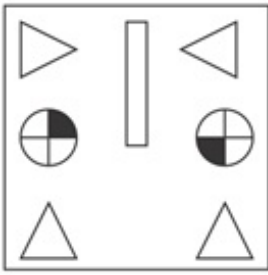


1. ✖

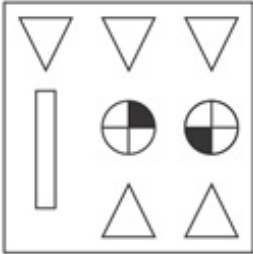


2. ✖

3. ✓



4. ✘

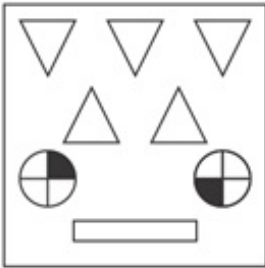


Question Number : 39 Question Id : 50964710471 Question Type : MCQ Option Shuffling : Yes
Correct Marks : 1 Wrong Marks : 0.25

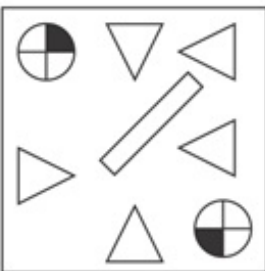
दिए गए विकल्पों में से तीन एक निश्चित तरीके से समान हैं।
हालाँकि, एक विकल्प अन्य तीन की तरह नहीं है। उस विकल्प का
चयन करें जो शेष से भिन्न है।

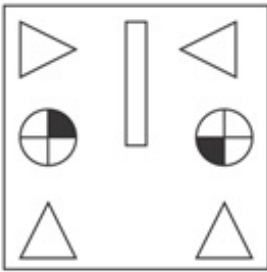
Options :

1. ✘

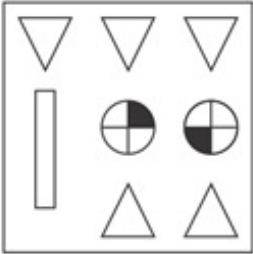


2. ✘





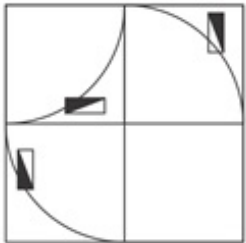
3. ✓



4. ✗

Question Number : 40 Question Id : 50964710472 Question Type : MCQ Option Shuffling : Yes
 Correct Marks : 1 Wrong Marks : 0.25

Which answer figure will complete the pattern in the question figure?

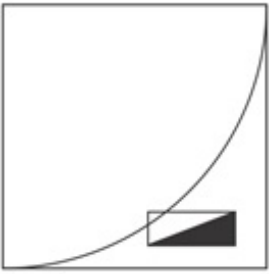


Options :

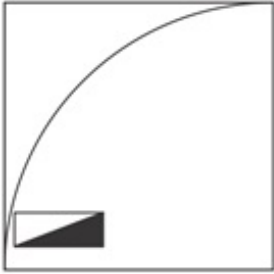


1. ✗

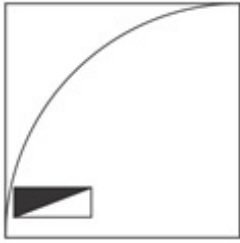
2. ✖



3. ✔

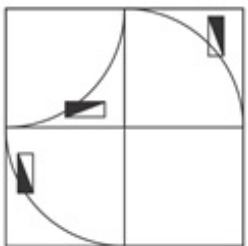


4. ✖



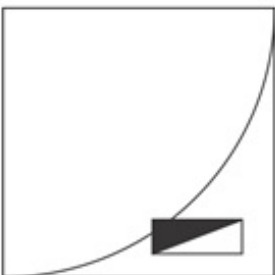
Question Number : 40 Question Id : 50964710472 Question Type : MCQ Option Shuffling : Yes
 Correct Marks : 1 Wrong Marks : 0.25

कौन सी उत्तर आकृति प्रश्न आकृति के पैटर्न को पूरा करेगी?

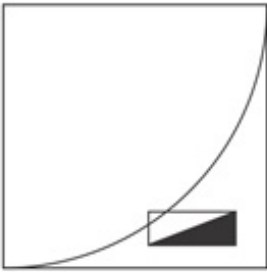


Options :

1. ✖



2. ✘



3. ✔



4. ✘



General Awareness1

Group Number :	3
Group Id :	509647224
Group Maximum Duration :	0
Group Minimum Duration :	0
Show Attended Group? :	No
Edit Attended Group? :	No
Break time:	0
Group Marks:	20
Is this Group for Examiner?:	No
Revisit allowed for group Instructions? :	Yes
Maximum Instruction Time:	0
Minimum Instruction Time:	0

General Awareness1

Section Id :	509647384
Section Number :	1
Section type :	Online
Mandatory or Optional:	Mandatory

Number of Questions: 20
Number of Questions to be attempted: 20
Section Marks: 20

Sub-Section Number: 1
Sub-Section Id: 509647542
Question Shuffling Allowed : Yes

Question Number : 41 Question Id : 50964710473 Question Type : MCQ Option Shuffling : Yes
Correct Marks : 1 Wrong Marks : 0.25

With which state is "Bhatiali" (a folk song) associated?

Options :

1. * Karnataka
2. * Assam
3. ✓ West Bengal
4. * Tamil Nadu

Question Number : 41 Question Id : 50964710473 Question Type : MCQ Option Shuffling : Yes
Correct Marks : 1 Wrong Marks : 0.25

"भटियाली" (एक लोक गीत) किस राज्य से जुड़ा है?

Options :

1. * कर्नाटक
2. * असम
3. ✓ पश्चिम बंगाल
4. * तमिल नाडु

Question Number : 42 Question Id : 50964710474 Question Type : MCQ Option Shuffling : Yes
Correct Marks : 1 Wrong Marks : 0.25

"Mohiniyattam" is famous dance form associated with which state?

Options :

1. ✓ Kerala
2. * Karnataka
3. * Tamil Nadu

4. * Uttar Pradesh

Question Number : 42 Question Id : 50964710474 Question Type : MCQ Option Shuffling : Yes
Correct Marks : 1 Wrong Marks : 0.25

"मोहिनीअट्टम" किस राज्य का प्रसिद्ध नृत्य है?

Options :

1. ✓ केरल
2. * कर्नाटक
3. * तमिल नाडु
4. * उत्तर प्रदेश

Question Number : 43 Question Id : 50964710475 Question Type : MCQ Option Shuffling : Yes
Correct Marks : 1 Wrong Marks : 0.25

Gudi Padwa is the first day of _____ that marks the beginning of the new year according to lunisolar Hindu calendar.

Options :

1. * Kartika
2. * Ashadha
3. * Vaisakha
4. ✓ Chaitra

Question Number : 43 Question Id : 50964710475 Question Type : MCQ Option Shuffling : Yes
Correct Marks : 1 Wrong Marks : 0.25

गुड़ी पड़वा _____ का पहला दिन है जो चान्द्र-सौर हिंदू कैलेंडर के अनुसार नए साल की शुरुआत का प्रतीक है।

Options :

1. * कार्तिक
2. * आषाढ़
3. * वैशाख

4. ✓ चैत्र

Question Number : 44 Question Id : 50964710476 Question Type : MCQ Option Shuffling : Yes
Correct Marks : 1 Wrong Marks : 0.25

Mehrangarh Fort of Rajasthan was built by_____ in the year 1459.

Options :

1. ✘ Maharana Pratap Singh
2. ✘ Rana Kumbha
3. ✓ Rao Jodha
4. ✘ Hammir Dev Chauhan

Question Number : 44 Question Id : 50964710476 Question Type : MCQ Option Shuffling : Yes
Correct Marks : 1 Wrong Marks : 0.25

राजस्थान का मेहरानगढ़ किला वर्ष 1459 में _____ द्वारा बनाया गया था।

Options :

1. ✘ महाराणा प्रताप सिंह
2. ✘ राणा कुंभा
3. ✓ राव जोधा
4. ✘ हम्मीर देव चौहान

Question Number : 45 Question Id : 50964710477 Question Type : MCQ Option Shuffling : Yes
Correct Marks : 1 Wrong Marks : 0.25

_____, the former finance minister, has presented the budget for the highest number of times.

Options :

1. ✘ P Chidambaram
2. ✘ R K Shanmukham Chetty
3. ✘ C.D. Deshmukh
4. ✓ Morarji Desai

Question Number : 45 Question Id : 50964710477 Question Type : MCQ Option Shuffling : Yes

Correct Marks : 1 Wrong Marks : 0.25

_____, पूर्व वित्त मंत्री, ने सबसे अधिक बार बजट पेश किया है।

Options :

1. * पी चिदंबरम
2. * आर के शनमुखम चेट्टी
3. * सी.डी. देशमुख
4. ✓ मोरारजी देसाई

Question Number : 46 Question Id : 50964710478 Question Type : MCQ Option Shuffling : Yes

Correct Marks : 1 Wrong Marks : 0.25

_____ is a step of water purification in which chemicals are added that cause small particles suspended in the water to clump together.

Options :

1. ✓ Coagulation
2. * Flocculation
3. * Filtration
4. * Disinfection

Question Number : 46 Question Id : 50964710478 Question Type : MCQ Option Shuffling : Yes

Correct Marks : 1 Wrong Marks : 0.25

_____ जल शोधन का एक चरण है जिसमें रसायन मिलाए जाते हैं जिसके कारण छोटे कण एक साथ युग्मित (क्लम्प) होने के लिए पानी में निलंबित हो जाते हैं।

Options :

1. ✓ स्कंदन (Coagulation)
2. * उर्णन (Flocculation)
3. * निस्स्यंदन (Filtration)

4. * विसंक्रमण (Disinfection)

Question Number : 47 Question Id : 50964710479 Question Type : MCQ Option Shuffling : Yes
Correct Marks : 1 Wrong Marks : 0.25

Which among the following type of parasitic infection is caused by Schistosoma haematobium?

Options :

1. ✓ Urine
2. * Sullage
3. * Faeces
4. * Malaria

Question Number : 47 Question Id : 50964710479 Question Type : MCQ Option Shuffling : Yes
Correct Marks : 1 Wrong Marks : 0.25

निम्नलिखित में से किस प्रकार का परजीविजन्य संक्रमण शिस्टोसोमा हेमेटोबियम के कारण होता है?

Options :

1. ✓ मूत्र (Urine)
2. * मलिनजल (Sullage)
3. * मल (Faeces)
4. * मलेरिया (Malaria)

Question Number : 48 Question Id : 50964710480 Question Type : MCQ Option Shuffling : Yes
Correct Marks : 1 Wrong Marks : 0.25

The minimum rate below which banks are not allowed to lend money except in cases specified by the Reserve Bank of India is called _____.

Options :

1. * Bank rate
2. ✓ Base rate
3. * Repo rate

4. * Reverse Repo rate

Question Number : 48 Question Id : 50964710480 Question Type : MCQ Option Shuffling : Yes

Correct Marks : 1 Wrong Marks : 0.25

भारतीय रिज़र्व बैंक द्वारा निर्दिष्ट मामलों को छोड़कर जिन बैंकों को ऋण देने की अनुमति नहीं है, उनकी न्यूनतम दर से कम की दर को _____ कहा जाता है।

Options :

1. * बैंक दर
2. ✓ आधार दर
3. * रेपो दर
4. * रिवर्स रेपो दर

Question Number : 49 Question Id : 50964710481 Question Type : MCQ Option Shuffling : Yes

Correct Marks : 1 Wrong Marks : 0.25

मेसोथेलियोमा एक आक्रामक कैंसर है जो _____ के अन्तःश्वसन के कारण होता है।

Options :

1. ✓ अदह (asbestos)
2. * सिलिका धूल (silica dust)
3. * सीसा (lead)
4. * पारा (Mercury)

Question Number : 49 Question Id : 50964710481 Question Type : MCQ Option Shuffling : Yes

Correct Marks : 1 Wrong Marks : 0.25

Mesothelioma is an aggressive cancer that is caused by the inhalation of _____.

Options :

1. ✓ asbestos
2. * silica dust

3. ✖ lead

4. ✖ mercury

Question Number : 50 Question Id : 50964710482 Question Type : MCQ Option Shuffling : Yes

Correct Marks : 1 Wrong Marks : 0.25

What is the minimum support price (MSP) of bajra for 2018-19?

Options :

1. ✖ Rs. 1,425 per quintal

2. ✖ Rs. 1,800 per quintal

3. ✖ Rs. 1,750 per quintal

4. ✔ Rs. 1,950 per quintal

Question Number : 50 Question Id : 50964710482 Question Type : MCQ Option Shuffling : Yes

Correct Marks : 1 Wrong Marks : 0.25

2018-19 के लिए बाजरा का न्यूनतम समर्थन मूल्य {minimum support price (MSP)} क्या है?

Options :

1. ✖ रूपये 1,425 प्रति क्विंटल

2. ✖ रूपये 1,800 प्रति क्विंटल

3. ✖ रूपये 1,750 प्रति क्विंटल

4. ✔ रूपये 1,950 प्रति क्विंटल

Question Number : 51 Question Id : 50964710483 Question Type : MCQ Option Shuffling : Yes

Correct Marks : 1 Wrong Marks : 0.25

Acid rain results when sulfur dioxide and _____ are emitted into the atmosphere and transported by wind and air currents.

Options :

1. ✖ ammonia

2. ✖ methane

3. ✓ nitrogen oxide

4. ✘ calcium oxide

Question Number : 51 Question Id : 50964710483 Question Type : MCQ Option Shuffling : Yes

Correct Marks : 1 Wrong Marks : 0.25

जब सल्फर डाइऑक्साइड और _____ वायुमंडल में उत्सर्जित होते हैं और हवा और वायु धाराओं द्वारा ले जाये जाते हैं तब अम्लीय वर्षा होती है।

Options :

1. ✘ अमोनिया

2. ✘ मिथेन

3. ✓ नाइट्रोजन ऑक्साइड

4. ✘ कैल्शियम ऑक्साइड

Question Number : 52 Question Id : 50964710484 Question Type : MCQ Option Shuffling : Yes

Correct Marks : 1 Wrong Marks : 0.25

What is the common name of Sorghum vulgare?

Options :

1. ✘ Maize

2. ✘ Wheat

3. ✘ Rice

4. ✓ Jowar

Question Number : 52 Question Id : 50964710484 Question Type : MCQ Option Shuffling : Yes

Correct Marks : 1 Wrong Marks : 0.25

सोरघम वल्गारे (Sorghum vulgare) का साधारण नाम क्या है?

Options :

1. ✘ मक्का

2. ✘ गेहूँ

3. ✘ चावल

4. ✓ ज्वार

Question Number : 53 Question Id : 50964710485 Question Type : MCQ Option Shuffling : Yes
Correct Marks : 1 Wrong Marks : 0.25

What does a Wattmeter measure?

Options :

1. ✘ Temperature
2. ✘ Wavelength of radiowave
3. ✓ Electric power
4. ✘ Solar radiation

Question Number : 53 Question Id : 50964710485 Question Type : MCQ Option Shuffling : Yes
Correct Marks : 1 Wrong Marks : 0.25

वाटमीटर का उपयोग किसे मापने के लिए किया जाता है?

Options :

1. ✘ तापमान
2. ✘ रेडियो तरंग की तरंग दैर्घ्यता
3. ✓ विद्युत शक्ति
4. ✘ सौर विकिरण

Question Number : 54 Question Id : 50964710486 Question Type : MCQ Option Shuffling : Yes
Correct Marks : 1 Wrong Marks : 0.25

Which of the following enzymes splits carbohydrate into simple sugars?

Options :

1. ✘ Lipolytic Enzyme
2. ✘ Proteolytic Enzyme
3. ✘ Betaine Enzyme
4. ✓ Amylolytic Enzyme

Question Number : 54 Question Id : 50964710486 Question Type : MCQ Option Shuffling : Yes
Correct Marks : 1 Wrong Marks : 0.25

निम्नलिखित में से कौन सा प्रकिण्व (एंजाइम) कार्बोहाइड्रेट को सरल शर्करा में विभाजित करता है?

Options :

1. * लिपोलाइटिक एंजाइम
2. * प्रोटियोलिटिक एंजाइम
3. * बीटाइन एंजाइम
4. ✓ एमाइलोलिटिक एंजाइम

Question Number : 55 Question Id : 50964710487 Question Type : MCQ Option Shuffling : Yes

Correct Marks : 1 Wrong Marks : 0.25

What is the chemical name of caustic soda?

Options :

1. * Sodium Perborate
2. * Calcium Oxide
3. * Sodium Bicarbonate
4. ✓ Sodium Hydroxide

Question Number : 55 Question Id : 50964710487 Question Type : MCQ Option Shuffling : Yes

Correct Marks : 1 Wrong Marks : 0.25

कास्टिक सोडा का रासायनिक नाम क्या है?

Options :

1. * सोडियम परबोरेट
2. * कैल्शियम ऑक्साइड
3. * सोडियम बाइकार्बोनेट
4. ✓ सोडियम हाइड्रॉक्साइड

Question Number : 56 Question Id : 50964710488 Question Type : MCQ Option Shuffling : Yes

Correct Marks : 1 Wrong Marks : 0.25

Which of the following river is known as Sorrow of Bihar?

Options :

1. ✖ Betwa

2. ✔ Koshi

3. ✖ Tawa

4. ✖ Ghagra

Question Number : 56 Question Id : 50964710488 Question Type : MCQ Option Shuffling : Yes
Correct Marks : 1 Wrong Marks : 0.25

निम्नलिखित में से किस नदी को बिहार का अभिशाप कहा जाता है?

Options :

1. ✖ बेतवा

2. ✔ कोसी

3. ✖ तवा

4. ✖ घाघरा

Question Number : 57 Question Id : 50964710489 Question Type : MCQ Option Shuffling : Yes
Correct Marks : 1 Wrong Marks : 0.25

Korea Strait separates South Korea from _____.

Options :

1. ✖ China

2. ✔ Japan

3. ✖ Mexico

4. ✖ Greece

Question Number : 57 Question Id : 50964710489 Question Type : MCQ Option Shuffling : Yes
Correct Marks : 1 Wrong Marks : 0.25

कोरिया जलसन्धि दक्षिण कोरिया को _____ से अलग करता है।

Options :

1. ✖ चीन

2. ✔ जापान

3. ✖ मेक्सिको

4. * यूनान

Question Number : 58 Question Id : 50964710490 Question Type : MCQ Option Shuffling : Yes
Correct Marks : 1 Wrong Marks : 0.25

Which among the following soils is formed by weathering of rocks in dry conditions?

Options :

1. * Alluvial soil
2. * Black soil
3. * Saline soil
4. ✓ Arid soil

Question Number : 58 Question Id : 50964710490 Question Type : MCQ Option Shuffling : Yes
Correct Marks : 1 Wrong Marks : 0.25

निम्नलिखित में से कौन सी मिट्टी शुष्क परिस्थितियों में चट्टानों के अपक्षय से बनती है?

Options :

1. * जलोढ़ मिट्टी (Alluvial soil)
2. * काली मिट्टी (Black soil)
3. * लवण मिट्टी (Saline soil)
4. ✓ शुष्क मिट्टी (Arid soil)

Question Number : 59 Question Id : 50964710491 Question Type : MCQ Option Shuffling : Yes
Correct Marks : 1 Wrong Marks : 0.25

Which of the following mountains has the highest peak in Europe?

Options :

1. * Mont Blanc
2. * Monte Rosa
3. ✓ Mount Elbrus
4. * Mount Kazbek

Question Number : 59 Question Id : 50964710491 Question Type : MCQ Option Shuffling : Yes

Correct Marks : 1 Wrong Marks : 0.25

यूरोप में किस पर्वत की चोटी सबसे ऊंची है?

Options :

1. * मोंट ब्लैंक
2. * मोंटे रोजा
3. ✓ माउंट एल्ब्रुस
4. * माउंट काज़बेक

Question Number : 60 Question Id : 50964710492 Question Type : MCQ Option Shuffling : Yes

Correct Marks : 1 Wrong Marks : 0.25

What among the following is the largest jute producing state of India?

Options :

1. ✓ West Bengal
2. * Tamil Nadu
3. * Jammu and Kashmir
4. * Maharashtra

Question Number : 60 Question Id : 50964710492 Question Type : MCQ Option Shuffling : Yes

Correct Marks : 1 Wrong Marks : 0.25

निम्नलिखित में से कौन सा राज्य भारत का सबसे बड़ा जूट उत्पादक है?

Options :

1. ✓ पश्चिम बंगाल
2. * तमिल नाडु
3. * जम्मू और कश्मीर
4. * महाराष्ट्र

General Awareness2

Group Number :	4
Group Id :	509647225
Group Maximum Duration :	0
Group Minimum Duration :	0
Show Attended Group? :	No
Edit Attended Group? :	No
Break time:	0
Group Marks:	20
Is this Group for Examiner?:	No
Revisit allowed for group Instructions? :	Yes
Maximum Instruction Time:	0
Minimum Instruction Time:	0

General Awareness2

Section Id :	509647385
Section Number :	1
Section type :	Online
Mandatory or Optional:	Mandatory
Number of Questions:	20
Number of Questions to be attempted:	20
Section Marks:	20

Sub-Section Number:	1
Sub-Section Id:	509647543
Question Shuffling Allowed :	Yes

Question Number : 61 Question Id : 50964710493 Question Type : MCQ Option Shuffling : Yes
Correct Marks : 1 Wrong Marks : 0.25

How many countries are there in Africa?

Options :

1. ✖ 50
2. ✔ 54
3. ✖ 58
4. ✖ 48

Question Number : 61 Question Id : 50964710493 Question Type : MCQ Option Shuffling : Yes
Correct Marks : 1 Wrong Marks : 0.25

अफ्रीका में कितने देश हैं?

Options :

1. ✖ 50

2. ✔ 54

3. ✖ 58

4. ✖ 48

Question Number : 62 Question Id : 50964710494 Question Type : MCQ Option Shuffling : Yes
Correct Marks : 1 Wrong Marks : 0.25

When did the Quit India Movement start?

Options :

1. ✖ 1945

2. ✖ 1947

3. ✖ 1940

4. ✔ 1942

Question Number : 62 Question Id : 50964710494 Question Type : MCQ Option Shuffling : Yes
Correct Marks : 1 Wrong Marks : 0.25

भारत छोड़ो आंदोलन कब शुरू हुआ था?

Options :

1. ✖ 1945

2. ✖ 1947

3. ✖ 1940

4. ✔ 1942

Question Number : 63 Question Id : 50964710495 Question Type : MCQ Option Shuffling : Yes
Correct Marks : 1 Wrong Marks : 0.25

Which among the following is known as the Veda of Melodies?

Options :

1. ✖ Rigveda

2. ✔ Samaveda

3. ✖ Yajurveda

4. * Atharvaveda

Question Number : 63 Question Id : 50964710495 Question Type : MCQ Option Shuffling : Yes
Correct Marks : 1 Wrong Marks : 0.25

निम्नलिखित में से किसे सुस्वरता के वेद (वेद ऑफ मेलोडीज) के नाम से जाना जाता है?

Options :

1. * ऋग्वेद
2. ✓ सामवेद
3. * यजुर्वेद
4. * अथर्ववेद

Question Number : 64 Question Id : 50964710496 Question Type : MCQ Option Shuffling : Yes
Correct Marks : 1 Wrong Marks : 0.25

When was the battle of Haldighati fought?

Options :

1. * 1570
2. * 1586
3. ✓ 1576
4. * 1585

Question Number : 64 Question Id : 50964710496 Question Type : MCQ Option Shuffling : Yes
Correct Marks : 1 Wrong Marks : 0.25

हल्दीघाटी का युद्ध कब लड़ा गया था?

Options :

1. * 1570
2. * 1586
3. ✓ 1576
4. * 1585

Question Number : 65 Question Id : 50964710497 Question Type : MCQ Option Shuffling : Yes

Correct Marks : 1 Wrong Marks : 0.25

Which Mughal Emperor was also known as "Ali Gohar"?

Options :

1. ✓ Shah Alam II
2. ✗ Aurangzeb
3. ✗ Akbar
4. ✗ Jahangir

Question Number : 65 Question Id : 50964710497 Question Type : MCQ Option Shuffling : Yes

Correct Marks : 1 Wrong Marks : 0.25

किस मुगल सम्राट को "अली गौहर" के नाम से भी जाना जाता था?

Options :

1. ✓ शाह आलम II
2. ✗ औरंगजेब
3. ✗ अकबर
4. ✗ जहाँगीर

Question Number : 66 Question Id : 50964710498 Question Type : MCQ Option Shuffling : Yes

Correct Marks : 1 Wrong Marks : 0.25

When did Civil Disobedience movement start?

Options :

1. ✓ 12th March, 1930
2. ✗ 15th March, 1931
3. ✗ 12th March, 1935
4. ✗ 18th March, 1932

Question Number : 66 Question Id : 50964710498 Question Type : MCQ Option Shuffling : Yes

Correct Marks : 1 Wrong Marks : 0.25

सविनय अवज्ञा आंदोलन कब शुरू हुआ था?

Options :

1. ✓ 12 मार्च, 1930

2. ✖ 15 मार्च, 1931

3. ✖ 12 मार्च, 1935

4. ✖ 18 मार्च, 1932

Question Number : 67 Question Id : 50964710499 Question Type : MCQ Option Shuffling : Yes

Correct Marks : 1 Wrong Marks : 0.25

Who was the god of the air in Mesopotamian civilisation?

Options :

1. ✖ Anu

2. ✓ Enlil

3. ✖ Nanna

4. ✖ Utu

Question Number : 67 Question Id : 50964710499 Question Type : MCQ Option Shuffling : Yes

Correct Marks : 1 Wrong Marks : 0.25

मेसोपोटामिया की सभ्यता में वायु के देवता कौन थे?

Options :

1. ✖ अनु

2. ✓ एनलिल

3. ✖ नन्ना

4. ✖ उटु

Question Number : 68 Question Id : 50964710500 Question Type : MCQ Option Shuffling : Yes

Correct Marks : 1 Wrong Marks : 0.25

Who won the best actress award in the National Film Award 2018?

Options :

1. ✓ Sridevi

2. ✖ Sonam Kapoor

3. ✖ Alia Bhatt

4. * Deepika Padukone

Question Number : 68 Question Id : 50964710500 Question Type : MCQ Option Shuffling : Yes
Correct Marks : 1 Wrong Marks : 0.25

राष्ट्रीय फिल्म पुरस्कार 2018 में सर्वश्रेष्ठ अभिनेत्री का पुरस्कार किसने जीता था?

Options :

1. ✓ श्रीदेवी
2. * सोनम कपूर
3. * आलिया भट्ट
4. * दीपिका पादुकोण

Question Number : 69 Question Id : 50964710501 Question Type : MCQ Option Shuffling : Yes
Correct Marks : 1 Wrong Marks : 0.25

Which of the following institutions was formed to assist the poor countries which could not afford to borrow capital at market rates?

Options :

1. ✓ International Development Association
2. * World Health Organisation
3. * International Chamber of Commerce
4. * International Business Organization

Question Number : 69 Question Id : 50964710501 Question Type : MCQ Option Shuffling : Yes
Correct Marks : 1 Wrong Marks : 0.25

निम्नलिखित में से किस संस्थान का गठन उन गरीब देशों की सहायता के लिए किया गया था जो बाजारी दरों पर पूंजी उधार नहीं ले सकते थे?

Options :

1. ✓ अंतर्राष्ट्रीय विकास संस्था

2. * विश्व स्वास्थ्य संगठन
3. * अंतर्राष्ट्रीय वाणिज्य मण्डल
4. * अंतर्राष्ट्रीय व्यापार संगठन

Question Number : 70 Question Id : 50964710502 Question Type : MCQ Option Shuffling : Yes
Correct Marks : 1 Wrong Marks : 0.25

परमवीर चक्र _____ द्वारा प्रदान किया जाता है।

Options :

1. * भारत के मुख्यमंत्री
2. * भारत के प्रधान मंत्री
3. ✓ भारत के राष्ट्रपति
4. * भारत के मुख्य न्यायाधीश

Question Number : 70 Question Id : 50964710502 Question Type : MCQ Option Shuffling : Yes
Correct Marks : 1 Wrong Marks : 0.25

Param Vir Chakra is awarded by the _____.

Options :

1. * Chief Minister of India
2. * Prime Minister of India
3. ✓ President of India
4. * Chief Justice of India

Question Number : 71 Question Id : 50964710503 Question Type : MCQ Option Shuffling : Yes
Correct Marks : 1 Wrong Marks : 0.25

Which award among the following holds the highest rank in the sports award category?

Options :

1. ✓ Rajiv Gandhi Khel Ratna
2. * Dronacharya Award
3. * Arjuna Award

4. * Dhyan Chand Award

Question Number : 71 Question Id : 50964710503 Question Type : MCQ Option Shuffling : Yes
Correct Marks : 1 Wrong Marks : 0.25

निम्नलिखित में से कौन सा एक खेलों में सर्वोच्च पुरस्कार है?

Options :

1. ✓ राजीव गांधी खेल रत्न
2. * द्रोणाचार्य पुरस्कार
3. * अर्जुन पुरस्कार
4. * ध्यानचंद पुरस्कार

Question Number : 72 Question Id : 50964710504 Question Type : MCQ Option Shuffling : Yes
Correct Marks : 1 Wrong Marks : 0.25

Who was the first female judge in India and the first woman in India to become a High Court judge?

Options :

1. * Fathima Beevi
2. ✓ Anna Chandy
3. * Sujata Manohar
4. * Indu Malhotra

Question Number : 72 Question Id : 50964710504 Question Type : MCQ Option Shuffling : Yes
Correct Marks : 1 Wrong Marks : 0.25

भारत की पहली महिला न्यायाधीश और भारतीय उच्च न्यायालय की पहली महिला न्यायाधीश कौन थीं?

Options :

1. * फातिमा बीबी
2. ✓ अन्ना चांडी
3. * सुजाता मनोहर
4. * इंदु मल्होत्रा

Question Number : 73 Question Id : 50964710505 Question Type : MCQ Option Shuffling : Yes
Correct Marks : 1 Wrong Marks : 0.25

"The Golden Gate" is written by _____.

Options :

1. ✖ Ruskin Bond
2. ✖ David Davidar
3. ✖ R K Narayan
4. ✔ Vikram Seth

Question Number : 73 Question Id : 50964710505 Question Type : MCQ Option Shuffling : Yes
Correct Marks : 1 Wrong Marks : 0.25

"द गोल्डन गेट" _____ द्वारा लिखी गई थी।

Options :

1. ✖ रस्किन बॉण्ड
2. ✖ डेविड डेविडर
3. ✖ आर के नारायण
4. ✔ विक्रम सेठ

Question Number : 74 Question Id : 50964710506 Question Type : MCQ Option Shuffling : Yes
Correct Marks : 1 Wrong Marks : 0.25

In which of the amendment was the age limit for voting rights reduced from 21 years to 18 years?

Options :

1. ✖ 54th
2. ✖ 62nd
3. ✖ 55th
4. ✔ 61st

Question Number : 74 Question Id : 50964710506 Question Type : MCQ Option Shuffling : Yes
Correct Marks : 1 Wrong Marks : 0.25

किस संशोधन में मतदान के अधिकार की आयु सीमा 21 वर्ष से घटाकर 18 वर्ष की गई थी?

Options :

1. ✖ 54वें
2. ✖ 62वें
3. ✖ 55वें
4. ✔ 61वें

Question Number : 75 Question Id : 50964710507 Question Type : MCQ Option Shuffling : Yes
Correct Marks : 1 Wrong Marks : 0.25

The _____ schedule of the Indian Constitution contains the powers, authority and responsibilities of Panchayats.

Options :

1. ✖ Tenth
2. ✔ Eleventh
3. ✖ Seventh
4. ✖ Fifth

Question Number : 75 Question Id : 50964710507 Question Type : MCQ Option Shuffling : Yes
Correct Marks : 1 Wrong Marks : 0.25

भारतीय संविधान की _____ अनुसूची में पंचायतों की शक्तियां, अधिकार और जिम्मेदारियां शामिल हैं।

Options :

1. ✖ दसवीं
2. ✔ ग्यारहवीं
3. ✖ सातवीं
4. ✖ पांचवीं

Question Number : 76 Question Id : 50964710508 Question Type : MCQ Option Shuffling : Yes
Correct Marks : 1 Wrong Marks : 0.25

When did the first meeting of the Constituent assembly take place?

Options :

1. ✖ 12th December 1945
2. ✖ 15th December 1946
3. ✔ 9th December 1946
4. ✖ 16th December 1945

Question Number : 76 Question Id : 50964710508 Question Type : MCQ Option Shuffling : Yes
Correct Marks : 1 Wrong Marks : 0.25

संविधान सभा की पहली बैठक कब की गई थी?

Options :

1. ✖ 12 दिसंबर 1945
2. ✖ 15 दिसंबर 1946
3. ✔ 9 दिसंबर 1946
4. ✖ 16 दिसंबर 1945

Question Number : 77 Question Id : 50964710509 Question Type : MCQ Option Shuffling : Yes
Correct Marks : 1 Wrong Marks : 0.25

When is the Constitution Day of India celebrated?

Options :

1. ✔ 26th November
2. ✖ 28th October
3. ✖ 26th January
4. ✖ 15th August

Question Number : 77 Question Id : 50964710509 Question Type : MCQ Option Shuffling : Yes
Correct Marks : 1 Wrong Marks : 0.25

भारत का संविधान दिवस कब मनाया जाता है?

Options :

1. ✔ 26 नवंबर

2. ✖ 28 अक्टूबर
3. ✖ 26 जनवरी
4. ✖ 15 अगस्त

Question Number : 78 Question Id : 50964710510 Question Type : MCQ Option Shuffling : Yes
Correct Marks : 1 Wrong Marks : 0.25

Who among the following is the record holder of maximum number of Grand Slam Womens' Doubles titles?

Options :

1. ✖ Venus Williams
2. ✖ Maria Sharapova
3. ✖ Serena Williams
4. ✔ Martina Navratilova

Question Number : 78 Question Id : 50964710510 Question Type : MCQ Option Shuffling : Yes
Correct Marks : 1 Wrong Marks : 0.25

निम्नलिखित में से किसने ग्रैंड स्लैम महिला डबल्स के सबसे अधिक खिताब जीते हैं?

Options :

1. ✖ वीनस विलियम्स
2. ✖ मारिया शारापोवा
3. ✖ सेरेना विलियम्स
4. ✔ मार्टिना नवरातिलोवा

Question Number : 79 Question Id : 50964710511 Question Type : MCQ Option Shuffling : Yes
Correct Marks : 1 Wrong Marks : 0.25

Who among the following cricketers has scored the highest individual score in a single match in the ODI format?

Options :

1. ✔ Rohit Sharma

2. * Sachin Tendulkar

3. * Virender Sehwag

4. * Chris Gayle

Question Number : 79 Question Id : 50964710511 Question Type : MCQ Option Shuffling : Yes

Correct Marks : 1 Wrong Marks : 0.25

निम्नलिखित में से किस क्रिकेटर ने ODI फॉर्मेट में एक मैच में अकेले सबसे अधिक रन बनाए हैं?

Options :

1. ✓ रोहित शर्मा

2. * सचिन तेंदुलकर

3. * वीरेंद्र सहवाग

4. * क्रिस गेल

Question Number : 80 Question Id : 50964710512 Question Type : MCQ Option Shuffling : Yes

Correct Marks : 1 Wrong Marks : 0.25

Who was the first Indian to swim across the English Channel?

Options :

1. * Kamaljeet Sandhu

2. ✓ Mihir Sen

3. * Bula Chaudhary

4. * P. Harikrishna

Question Number : 80 Question Id : 50964710512 Question Type : MCQ Option Shuffling : Yes

Correct Marks : 1 Wrong Marks : 0.25

इंग्लिश चैनल में तैरने वाले पहले भारतीय कौन थे?

Options :

1. * कमल जीत संधू

2. ✓ मिहिर सेन

3. * बुला चौधरी

4. * पी. हरिकृष्ण

Arithmetic Ability1

Group Number :	5
Group Id :	509647226
Group Maximum Duration :	0
Group Minimum Duration :	0
Show Attended Group? :	No
Edit Attended Group? :	No
Break time:	0
Group Marks:	20
Is this Group for Examiner?:	No
Revisit allowed for group Instructions? :	Yes
Maximum Instruction Time:	0
Minimum Instruction Time:	0

Arithmetic Ability1

Section Id :	509647386
Section Number :	1
Section type :	Online
Mandatory or Optional:	Mandatory
Number of Questions:	20
Number of Questions to be attempted:	20
Section Marks:	20

Sub-Section Number:	1
Sub-Section Id:	509647544
Question Shuffling Allowed :	Yes

Question Number : 81 Question Id : 50964710513 Question Type : MCQ Option Shuffling : Yes
Correct Marks : 1 Wrong Marks : 0.25

Four bells commence tolling together and toll at intervals of 3, 9, 12 and 18 seconds respectively. In 9 minutes, how many times do they toll together?

Options :

1. ✓ 16

2. * 27

3. * 15

4. ✖ 12

Question Number : 81 Question Id : 50964710513 Question Type : MCQ Option Shuffling : Yes
Correct Marks : 1 Wrong Marks : 0.25

चार घंटियाँ क्रमशः 3, 9, 12 और 18 सेकंड के अंतराल पर एक साथ बजना शुरू करती हैं। 9 मिनट में, वे कितनी बार एक साथ बजती हैं?

Options :

1. ✔ 16

2. ✖ 27

3. ✖ 15

4. ✖ 12

Question Number : 82 Question Id : 50964710514 Question Type : MCQ Option Shuffling : Yes
Correct Marks : 1 Wrong Marks : 0.25

In an examination a student must get 38% marks to pass. A student who gets 180 marks failed by 48 marks. What is the total marks in that examination?

Options :

1. ✖ 525

2. ✖ 700

3. ✖ 625

4. ✔ 600

Question Number : 82 Question Id : 50964710514 Question Type : MCQ Option Shuffling : Yes
Correct Marks : 1 Wrong Marks : 0.25

एक परीक्षा में एक छात्र को उत्तीर्ण होने के लिए 38% अंक प्राप्त करने होते हैं। एक छात्र जो 180 अंक प्राप्त करता है, वह 48 अंकों से असफल हो जाता है। उस परीक्षा में कुल अंक कितने हैं?

Options :

1. ✖ 525

2. ✖ 700

3. ✖ 625

4. ✔ 600

Question Number : 83 Question Id : 50964710515 Question Type : MCQ Option Shuffling : Yes
Correct Marks : 1 Wrong Marks : 0.25

If $x/y=3/5$ and $8x + 6y= 27$, find the value of y .

Options :

1. ✖ 2

2. ✖ 2.25

3. ✖ 2.375

4. ✔ 2.5

Question Number : 83 Question Id : 50964710515 Question Type : MCQ Option Shuffling : Yes
Correct Marks : 1 Wrong Marks : 0.25

यदि $x / y = 3/5$ और $8x + 6y = 27$ है, तो y का मान ज्ञात करें।

Options :

1. ✖ 2

2. ✖ 2.25

3. ✖ 2.375

4. ✔ 2.5

Question Number : 84 Question Id : 50964710516 Question Type : MCQ Option Shuffling : Yes
Correct Marks : 1 Wrong Marks : 0.25

Select the most appropriate option to solve the equation:

$$(129 \text{ of } 4 + 4) \div 8 - 20 \times 2 = ?$$

Options :

1. ✖ 218

2. ✖ 89

3. ✖ 90

4. ✔ 25

Question Number : 84 Question Id : 50964710516 Question Type : MCQ Option Shuffling : Yes

Correct Marks : 1 Wrong Marks : 0.25

समीकरण को हल करने के लिए सबसे उचित विकल्प चुनें।

$$(129 \text{ of } 4 + 4) \div 8 - 20 \times 2 = ?$$

Options :

1. ✖ 218

2. ✖ 89

3. ✖ 90

4. ✔ 25

Question Number : 85 Question Id : 50964710517 Question Type : MCQ Option Shuffling : Yes

Correct Marks : 1 Wrong Marks : 0.25

Which of the following numbers is divisible by 12?

Options :

1. ✖ 98746

2. ✖ 32968

3. ✖ 45698

4. ✔ 19584

Question Number : 85 Question Id : 50964710517 Question Type : MCQ Option Shuffling : Yes

Correct Marks : 1 Wrong Marks : 0.25

निम्नलिखित में से कौन सी संख्या 12 से विभाज्य है?

Options :

1. ✖ 98746

2. ✖ 32968

3. ✖ 45698

4. ✓ 19584

Question Number : 86 Question Id : 50964710518 Question Type : MCQ Option Shuffling : Yes
Correct Marks : 1 Wrong Marks : 0.25

Which of the following numbers is divisible by 3?

Options :

1. ✗ 69536

2. ✗ 89365

3. ✗ 69821

4. ✓ 19374

Question Number : 86 Question Id : 50964710518 Question Type : MCQ Option Shuffling : Yes
Correct Marks : 1 Wrong Marks : 0.25

निम्नलिखित में से कौन सी संख्या 3 से विभाज्य है?

Options :

1. ✗ 69536

2. ✗ 89365

3. ✗ 69821

4. ✓ 19374

Question Number : 87 Question Id : 50964710519 Question Type : MCQ Option Shuffling : Yes
Correct Marks : 1 Wrong Marks : 0.25

Select the most appropriate option to solve the equation:

$$527 + 5.027 + 0.527 + 5.0027 = ?$$

Options :

1. ✗ 5375.567

2. ✗ 5.37557

3. ✗ 53.75567

4. ✓ 537.5567

Question Number : 87 Question Id : 50964710519 Question Type : MCQ Option Shuffling : Yes

Correct Marks : 1 Wrong Marks : 0.25

समीकरण को हल करने के लिए सबसे उचित विकल्प चुनें।

$$527 + 5.027 + 0.527 + 5.0027 = ?$$

Options :

1. ✘ 5375.567

2. ✘ 5.37557

3. ✘ 53.75567

4. ✔ 537.5567

Question Number : 88 Question Id : 50964710520 Question Type : MCQ Option Shuffling : Yes

Correct Marks : 1 Wrong Marks : 0.25

Find the greatest number that will divide 30, 66 and 86 and so as to leave the same remainder in each case.

Options :

1. ✘ 2

2. ✘ 3

3. ✔ 4

4. ✘ 6

Question Number : 88 Question Id : 50964710520 Question Type : MCQ Option Shuffling : Yes

Correct Marks : 1 Wrong Marks : 0.25

वह सबसे बड़ी संख्या ज्ञात करें जो 30, 66 और 86 को इस तरह विभाजित करेगी कि प्रत्येक मामले में समान शेष बचेगा।

Options :

1. ✘ 2

2. ✘ 3

3. ✔ 4

4. ✘ 6

Question Number : 89 Question Id : 50964710521 Question Type : MCQ Option Shuffling : Yes

Correct Marks : 1 Wrong Marks : 0.25

Select the most appropriate option to solve the equation:

$$(567 \div 9) \text{ of } 8 \times 27 \div 3 + 9 = ?$$

Options :

1. ✖ 124

2. ✖ 3586

3. ✖ 36585

4. ✔ 4545

Question Number : 89 Question Id : 50964710521 Question Type : MCQ Option Shuffling : Yes

Correct Marks : 1 Wrong Marks : 0.25

समीकरण को हल करने के लिए सबसे उचित विकल्प चुनें।

$$(567 \div 9) \text{ of } 8 \times 27 \div 3 + 9 = ?$$

Options :

1. ✖ 124

2. ✖ 3586

3. ✖ 36585

4. ✔ 4545

Question Number : 90 Question Id : 50964710522 Question Type : MCQ Option Shuffling : Yes

Correct Marks : 1 Wrong Marks : 0.25

Find the least number by which 1800 must be multiplied so as to make it a perfect square.

Options :

1. ✔ 2

2. ✖ 3

3. ✖ 5

4. ✖ 7

Question Number : 90 Question Id : 50964710522 Question Type : MCQ Option Shuffling : Yes
Correct Marks : 1 Wrong Marks : 0.25

वह न्यूनतम संख्या ज्ञात करें जिसके द्वारा 1800 को गुणा किया जाना चाहिए ताकि इसे एक पूर्ण वर्ग बनाया जा सके।

Options :

1. ✔ 2

2. ✖ 3

3. ✖ 5

4. ✖ 7

Question Number : 91 Question Id : 50964710523 Question Type : MCQ Option Shuffling : Yes
Correct Marks : 1 Wrong Marks : 0.25

The marked price of an article is Rs. 600. A man bought the same article for Rs. 513, after getting two successive discounts. If the first discount is 10%, what is the second discount rate?

Options :

1. ✖ 8 percent

2. ✖ 15 percent

3. ✖ 12 percent

4. ✔ 5 percent

Question Number : 91 Question Id : 50964710523 Question Type : MCQ Option Shuffling : Yes
Correct Marks : 1 Wrong Marks : 0.25

एक वस्तु की चिह्नित कीमत 600 रुपये है। एक आदमी ने लगातार दो छूट मिलने के बाद वही वस्तु 513 रुपयों में खरीदी। यदि पहली छूट 10% है, तो दूसरी छूट दर क्या है?

Options :

1. ✖ 8 प्रतिशत

2. ✖ 15 प्रतिशत

3. ✖ 12 प्रतिशत

4. ✔ 5 प्रतिशत

Question Number : 92 Question Id : 50964710524 Question Type : MCQ Option Shuffling : Yes

Correct Marks : 1 Wrong Marks : 0.25

A restaurant has an average of 250 people visiting on a Sunday and 130 on other days. What is the average number of people visiting per day in a month of 30 days beginning with a Sunday?

Options :

1. ✖ 180

2. ✔ 150

3. ✖ 160

4. ✖ 120

Question Number : 92 Question Id : 50964710524 Question Type : MCQ Option Shuffling : Yes

Correct Marks : 1 Wrong Marks : 0.25

एक रेस्तरां में औसतन 250 लोग रविवार को और 130 लोग अन्य दिनों में आते हैं। रविवार से शुरू होने वाले 30 दिनों के एक महीने में प्रति दिन आने वाले लोगों की औसत संख्या क्या है?

Options :

1. ✖ 180

2. ✔ 150

3. ✖ 160

4. ✖ 120

Question Number : 93 Question Id : 50964710525 Question Type : MCQ Option Shuffling : Yes

Correct Marks : 1 Wrong Marks : 0.25

The average of 4 numbers is 38. Two of the numbers are 32 and 36. The other two numbers differ by 2. Find the larger number.

Options :

1. ✖ 41

2. ✔ 43

3. ✖ 36

4. ✖ 38

Question Number : 93 Question Id : 50964710525 Question Type : MCQ Option Shuffling : Yes

Correct Marks : 1 Wrong Marks : 0.25

4 संख्याओं का औसत 38 है। उनमें से दो संख्याएँ 32 और 36 हैं। अन्य दो संख्याओं में 2 का अंतर है। बड़ी संख्या ज्ञात कीजिए।

Options :

1. ✖ 41

2. ✔ 43

3. ✖ 36

4. ✖ 38

Question Number : 94 Question Id : 50964710526 Question Type : MCQ Option Shuffling : Yes

Correct Marks : 1 Wrong Marks : 0.25

A batsman scored 120 runs which included 14 fours and 4 sixes. What percent of his runs was scored by running between the wickets?

Options :

1. ✖ 35 percent

2. ✖ 26.67 percent

3. ✖ 25 percent

4. ✔ 33.33 percent

Question Number : 94 Question Id : 50964710526 Question Type : MCQ Option Shuffling : Yes
Correct Marks : 1 Wrong Marks : 0.25

एक बल्लेबाज ने 120 रन बनाए जिसमें 14 चौके और 4 छक्के शामिल थे। विकेटों के बीच दौड़कर उसने कितने प्रतिशत रन बनाए?

Options :

1. ✖ 35 प्रतिशत
2. ✖ 26.67 प्रतिशत
3. ✖ 25 प्रतिशत
4. ✔ 33.33 प्रतिशत

Question Number : 95 Question Id : 50964710527 Question Type : MCQ Option Shuffling : Yes
Correct Marks : 1 Wrong Marks : 0.25

The price of wheat has increased by 25%. By what percent should a person reduce his consumption of wheat such that his expenditure remains the same?

Options :

1. ✔ 20 percent
2. ✖ 25 percent
3. ✖ 30 percent
4. ✖ 35 percent

Question Number : 95 Question Id : 50964710527 Question Type : MCQ Option Shuffling : Yes
Correct Marks : 1 Wrong Marks : 0.25

गेहूं की कीमत में 25% की वृद्धि हुई है। किसी व्यक्ति को अपने गेहूं की खपत को कितने प्रतिशत कम करना चाहिए ताकि उसका खर्च उतना ही रहे?

Options :

1. ✔ 20 प्रतिशत
2. ✖ 25 प्रतिशत
3. ✖ 30 प्रतिशत

4. * 35 प्रतिशत

Question Number : 96 Question Id : 50964710528 Question Type : MCQ Option Shuffling : Yes
Correct Marks : 1 Wrong Marks : 0.25

The price of petrol has increased by 20%. By what percent should a person reduce his consumption of wheat such that his expenditure remains the same?

Options :

1. * 25 percent
2. ✓ 16.67 percent
3. * 33.33 percent
4. * 20 percent

Question Number : 96 Question Id : 50964710528 Question Type : MCQ Option Shuffling : Yes
Correct Marks : 1 Wrong Marks : 0.25

पेट्रोल की कीमत में 20% की वृद्धि हुई है। किसी व्यक्ति को अपने पेट्रोल की खपत को कितने प्रतिशत कम करना चाहिए ताकि उसका खर्च समान रहे?

Options :

1. * 25 प्रतिशत
2. ✓ 16.67 प्रतिशत
3. * 33.33 प्रतिशत
4. * 20 प्रतिशत

Question Number : 97 Question Id : 50964710529 Question Type : MCQ Option Shuffling : Yes
Correct Marks : 1 Wrong Marks : 0.25

A trader sells 2 items at Rs. 9,900 each. He gains 10% on the first and loses 10% on the second. What is the profit or loss percent on whole?

Options :

1. * 1% profit

2. ✓ 1% loss

3. ✗ 2% loss

4. ✗ Neither profit nor loss

Question Number : 97 Question Id : 50964710529 Question Type : MCQ Option Shuffling : Yes

Correct Marks : 1 Wrong Marks : 0.25

एक व्यापारी दो वस्तुएं प्रत्येक 9,900 रुपयों में बेचता है। उसे पहले पर 10% लाभ और दूसरे पर 10% हानि होता है। पूरे कारोबार में हुए लाभ या हानि का प्रतिशत क्या है?

Options :

1. ✗ 1% लाभ

2. ✓ 1% हानि

3. ✗ 2% हानि

4. ✗ न तो लाभ न हानि

Question Number : 98 Question Id : 50964710530 Question Type : MCQ Option Shuffling : Yes

Correct Marks : 1 Wrong Marks : 0.25

An article was bought for Rs. 2,500. He allows a discount of 10% on the marked price and still gains 20%. Find the marked price of the article.

Options :

1. ✗ Rs. 3529.10

2. ✓ Rs. 3333.33

3. ✗ Rs. 3666.67

4. ✗ Rs. 3525.15

Question Number : 98 Question Id : 50964710530 Question Type : MCQ Option Shuffling : Yes

Correct Marks : 1 Wrong Marks : 0.25

एक वस्तु 2,500 रुपयों में खरीदी गई थी। व्यापारी चिह्नित मूल्य पर 10% की छूट देता है और फिर भी 20% लाभ प्राप्त करता है। वस्तु का चिह्नित मूल्य ज्ञात कीजिए।

Options :

1. * 3529.10 रुपये
2. ✓ 3333.33 रुपये
3. * 3666.67 रुपये
4. * 3525.15 रुपये

Question Number : 99 Question Id : 50964710531 Question Type : MCQ Option Shuffling : Yes

Correct Marks : 1 Wrong Marks : 0.25

Sam purchased 15 dozen of toys at the rate of Rs. 552 per dozen. He sold each one of them at Rs. 52. What is his profit or loss percent?

Options :

1. * 13.04% loss
2. * 12.05% profit
3. * 12.05% loss
4. ✓ 13.04% profit

Question Number : 99 Question Id : 50964710531 Question Type : MCQ Option Shuffling : Yes

Correct Marks : 1 Wrong Marks : 0.25

सैम ने 552 रुपये प्रति दर्जन की दर से 15 दर्जन खिलौने खरीदे। उन्होंने उनमें से प्रत्येक को रुपये 52 में बेचा। उसका लाभ या हानि का प्रतिशत क्या है?

Options :

1. * 13.04% हानि
2. * 12.05% लाभ
3. * 12.05% हानि

4. ✓ 13.04% लाभ

Question Number : 100 Question Id : 50964710532 Question Type : MCQ Option Shuffling : Yes
Correct Marks : 1 Wrong Marks : 0.25

If $6A = 9B = 12C$, then find $A : B : C$

Options :

1. ✗ 3:4:6

2. ✓ 6:4:3

3. ✗ 4:3:6

4. ✗ 1:2:3

Question Number : 100 Question Id : 50964710532 Question Type : MCQ Option Shuffling : Yes
Correct Marks : 1 Wrong Marks : 0.25

यदि $6A = 9B = 12C$, तो $A:B:C$ ज्ञात कीजिए।

Options :

1. ✗ 3:4:6

2. ✓ 6:4:3

3. ✗ 4:3:6

4. ✗ 1:2:3

Arithmetic Ability2

Group Number :	6
Group Id :	509647227
Group Maximum Duration :	0
Group Minimum Duration :	0
Show Attended Group? :	No
Edit Attended Group? :	No
Break time:	0
Group Marks:	20
Is this Group for Examiner?:	No
Revisit allowed for group Instructions? :	Yes
Maximum Instruction Time:	0
Minimum Instruction Time:	0

Arithmetic Ability2

Section Id :	509647387
Section Number :	1
Section type :	Online
Mandatory or Optional:	Mandatory
Number of Questions:	20
Number of Questions to be attempted:	20
Section Marks:	20

Sub-Section Number:	1
Sub-Section Id:	509647545
Question Shuffling Allowed :	Yes

Question Number : 101 Question Id : 50964710533 Question Type : MCQ Option Shuffling : Yes
Correct Marks : 1 Wrong Marks : 0.25

If $a:b = 9:7$ and $b:c = 8:5$, then what is $a:b:c = ?$

Options :

- ✘ 56:72:35
- ✘ 45:35:40
- ✘ 63:72:45
- ✔ 72:56:35

Question Number : 101 Question Id : 50964710533 Question Type : MCQ Option Shuffling : Yes
Correct Marks : 1 Wrong Marks : 0.25

यदि $a:b = 9:7$ और $b:c = 8:5$ है, तो $a: b: c =$ क्या है?

Options :

- ✘ 56:72:35
- ✘ 45:35:40
- ✘ 63:72:45
- ✔ 72:56:35

Question Number : 102 Question Id : 50964710534 Question Type : MCQ Option Shuffling : Yes
Correct Marks : 1 Wrong Marks : 0.25

Seats for Economics, Maths and Chemistry in a college is in the ratio of 2:3:5. There is a proposal by the Board to increase these seats by 25%, 50% and 20% respectively. What will be the ratio of the increased seats?

Options :

1. ✓ 5:9:12
2. ✗ 12:9:5
3. ✗ 6:15:7
4. ✗ 7:9:5

Question Number : 102 Question Id : 50964710534 Question Type : MCQ Option Shuffling : Yes

Correct Marks : 1 Wrong Marks : 0.25

एक कॉलेज में अर्थशास्त्र, गणित और रसायन विज्ञान के लिए सीटें 2:3:5 के अनुपात में हैं। बोर्ड द्वारा इन सीटों को क्रमशः 25%, 50% और 20% तक बढ़ाने का प्रस्ताव है। बढ़ी हुई सीटों का अनुपात क्या होगा?

Options :

1. ✓ 5:9:12
2. ✗ 12:9:5
3. ✗ 6:15:7
4. ✗ 7:9:5

Question Number : 103 Question Id : 50964710535 Question Type : MCQ Option Shuffling : Yes

Correct Marks : 1 Wrong Marks : 0.25

A person invest Rs. 1000 in an investment where interest is compounded annually. If after 2 years, he gets back Rs. 1144.9, then what is the rate of interest?

Options :

1. ✗ 6 percent
2. ✓ 7 percent
3. ✗ 5 percent

4. * 4 percent

Question Number : 103 Question Id : 50964710535 Question Type : MCQ Option Shuffling : Yes
Correct Marks : 1 Wrong Marks : 0.25

एक व्यक्ति एक योजना में 1000 रुपयों का निवेश करता है, जहाँ ब्याज वार्षिक रूप से संयोजित होता है। यदि 2 वर्ष बाद, उसे 1144.9 रुपये मिलते हैं, तो ब्याज की दर क्या है?

Options :

1. * 6 प्रतिशत
2. ✓ 7 प्रतिशत
3. * 5 प्रतिशत
4. * 4 प्रतिशत

Question Number : 104 Question Id : 50964710536 Question Type : MCQ Option Shuffling : Yes
Correct Marks : 1 Wrong Marks : 0.25

X took a loan of Rs. 2000 with simple interest for as many years as the rate of interest. If he paid Rs. 980 as interest at the end of the period, what was the rate of the interest?

Options :

1. * 5 percent
2. * 6 percent
3. ✓ 7 percent
4. * 8 percent

Question Number : 104 Question Id : 50964710536 Question Type : MCQ Option Shuffling : Yes
Correct Marks : 1 Wrong Marks : 0.25

X ने ब्याज की दर के रूप में कई वर्षों के लिए साधारण ब्याज पर 2000 रुपयों का ऋण लिया। यदि उसने अवधि के अंत में ब्याज के रूप में 980 रुपयों का भुगतान किया, तो ब्याज की दर क्या थी?

Options :

1. ✖ 5 प्रतिशत

2. ✖ 6 प्रतिशत

3. ✔ 7 प्रतिशत

4. ✖ 8 प्रतिशत

Question Number : 105 Question Id : 50964710537 Question Type : MCQ Option Shuffling : Yes
Correct Marks : 1 Wrong Marks : 0.25

There is a 50% increase in an amount in 5 years at simple interest. What will be the compound interest of Rs. 8000 after 3 years at the same rate?

Options :

1. ✖ Rs. 2560

2. ✔ Rs. 2648

3. ✖ Rs. 2728

4. ✖ Rs. 2884

Question Number : 105 Question Id : 50964710537 Question Type : MCQ Option Shuffling : Yes
Correct Marks : 1 Wrong Marks : 0.25

साधारण ब्याज पर 5 वर्षों में किसी धनराशि में 50% की वृद्धि होती है।
उसी दर पर 3 वर्ष बाद 8000 रूपयों का चक्रवृद्धि ब्याज क्या होगा?

Options :

1. ✖ 2560 रूपये

2. ✔ 2648 रूपये

3. ✖ 2728 रूपये

4. ✖ 2884 रूपये

Question Number : 106 Question Id : 50964710538 Question Type : MCQ Option Shuffling : Yes
Correct Marks : 1 Wrong Marks : 0.25

A gun is fired at a distance of 2.73 km away from Sanjay. He hears the sound 13 seconds late. What is the speed of the sound?

Options :

1. ✖ 0.025 km/sec
2. ✔ 210 m/sec
3. ✖ 250 m/sec
4. ✖ 0.021km/sec

Question Number : 106 Question Id : 50964710538 Question Type : MCQ Option Shuffling : Yes

Correct Marks : 1 Wrong Marks : 0.25

संजय से 2.73 km दूर एक बंदूक की गोली चलाई जाती है। वह 13 सेकंड देर से आवाज सुनता है। ध्वनि की गति क्या है?

Options :

1. ✖ 0.025 km/sec
2. ✔ 210 m/sec
3. ✖ 250 m/sec
4. ✖ 0.021km/sec

Question Number : 107 Question Id : 50964710539 Question Type : MCQ Option Shuffling : Yes

Correct Marks : 1 Wrong Marks : 0.25

A man completes a journey in 8 hours. He travels first half of the journey at 24 km/h and the second half at 32 km/h. Find the total journey.

Options :

1. ✔ 219.43 km
2. ✖ 225 km
3. ✖ 223.57 km
4. ✖ 220 km

Question Number : 107 Question Id : 50964710539 Question Type : MCQ Option Shuffling : Yes
Correct Marks : 1 Wrong Marks : 0.25

एक आदमी 8 घंटे में एक यात्रा पूरी करता है। वह यात्रा का पहला आधा भाग 24 km/h और दूसरा आधा भाग 32 km/h की गति से तय करता है। कुल यात्रा ज्ञात कीजिए।

Options :

1. ✓ 219.43 km
2. ✗ 225 km
3. ✗ 223.57 km
4. ✗ 220 km

Question Number : 108 Question Id : 50964710540 Question Type : MCQ Option Shuffling : Yes
Correct Marks : 1 Wrong Marks : 0.25

एक रेलगाड़ी 96 km/h की गति से यात्रा करती है जबकि दूसरी रेलगाड़ी 36 m/s की गति से यात्रा करती है। वे एक ही बिंदु सेर शुरू करते हैं। 300 सेकंड के बाद उनके बीच की दूरी ज्ञात करें।

Options :

1. ✗ 700 m
2. ✗ 1400 m
3. ✗ 2100 m
4. ✓ 2800 m

Question Number : 108 Question Id : 50964710540 Question Type : MCQ Option Shuffling : Yes
Correct Marks : 1 Wrong Marks : 0.25

A train travels at a speed of 96 km/h while another train travels at a speed of 36 m/s . They start at the same point. Find the distance between them after 300 seconds.

Options :

1. ✗ 700 m

2. ✖ 1400 m

3. ✖ 2100 m

4. ✔ 2800 m

Question Number : 109 Question Id : 50964710541 Question Type : MCQ Option Shuffling : Yes
Correct Marks : 1 Wrong Marks : 0.25

P takes 10 days to complete a piece of work while Q takes 15 days to complete the same work. They worked together for 3 days and then Q left the work. How many days will P take to complete the work?

Options :

1. ✖ 4 days

2. ✖ 8 days

3. ✔ 5 days

4. ✖ 6 days

Question Number : 109 Question Id : 50964710541 Question Type : MCQ Option Shuffling : Yes
Correct Marks : 1 Wrong Marks : 0.25

P को एक काम को पूरा करने में 10 दिन लगते हैं जबकि Q को उसी काम को पूरा करने में 15 दिन लगते हैं। उन्होंने 3 दिनों तक साथ काम किया और फिर Q ने काम छोड़ दिया। P को वह काम पूरा करने में कितने दिन लगेंगे?

Options :

1. ✖ 4 दिन

2. ✖ 8 दिन

3. ✔ 5 दिन

4. ✖ 6 दिन

Question Number : 110 Question Id : 50964710542 Question Type : MCQ Option Shuffling : Yes
Correct Marks : 1 Wrong Marks : 0.25

Binita & Disha can complete a task in 38 days while Anita, Binita & Disha can complete the task in 19 days. In how many days can Anita complete the task alone?

Options :

1. ✖ 29 days
2. ✖ 19 days
3. ✖ 48 days
4. ✔ 38 days

Question Number : 110 Question Id : 50964710542 Question Type : MCQ Option Shuffling : Yes

Correct Marks : 1 Wrong Marks : 0.25

बिनीता और दिशा 38 दिनों में एक काम पूरा कर सकती हैं जबकि अनीता, बिनीता और दिशा वह काम 19 दिनों में पूरा कर सकती हैं। अनीता अकेले कितने दिनों में वह काम पूरा कर सकती है?

Options :

1. ✖ 29 दिन
2. ✖ 19 दिन
3. ✖ 48 दिन
4. ✔ 38 दिन

Question Number : 111 Question Id : 50964710543 Question Type : MCQ Option Shuffling : Yes

Correct Marks : 1 Wrong Marks : 0.25

Varun is four times as good a workman as Arun and takes 60 days less than Arun. In how many days can they do the work by working together?

Options :

1. ✖ 14 days
2. ✔ 16 days
3. ✖ 12 days

4. * 10 days

Question Number : 111 Question Id : 50964710543 Question Type : MCQ Option Shuffling : Yes

Correct Marks : 1 Wrong Marks : 0.25

वरुण, अरुण की तुलना में चार गुना अच्छा कर्मकार है और अरुण से 60 दिन कम लेता है। एक साथ काम करके वे कितने दिनों में काम पूरा कर सकते हैं?

Options :

1. * 14 दिन
2. ✓ 16 दिन
3. * 12 दिन
4. * 10 दिन

Question Number : 112 Question Id : 50964710544 Question Type : MCQ Option Shuffling : Yes

Correct Marks : 1 Wrong Marks : 0.25

The length of the side of square is $(x+1)$ and that of an equilateral triangle be $3x$. If the perimeter of the triangle and square is same, what is the value of x ?

Options :

1. * 2
2. ✓ $4/5$
3. * $3/4$
4. * 4

Question Number : 112 Question Id : 50964710544 Question Type : MCQ Option Shuffling : Yes

Correct Marks : 1 Wrong Marks : 0.25

वर्ग की भुजा की लंबाई $(x + 1)$ है और समबाहु त्रिभुज की भुजा की लंबाई $3x$ है। यदि त्रिभुज और वर्ग की परिमाप समान है, तो x का मान क्या है?

Options :

1. ✖ 2

2. ✔ 4/5

3. ✖ 3/4

4. ✖ 4

Question Number : 113 Question Id : 50964710545 Question Type : MCQ Option Shuffling : Yes

Correct Marks : 1 Wrong Marks : 0.25

What is the percentage increase in the area of a rectangle if one of its sides is increased by 30% and the other side is decreased by 20%?

Options :

1. ✔ 4 percent

2. ✖ 6 percent

3. ✖ 8 percent

4. ✖ 10 percent

Question Number : 113 Question Id : 50964710545 Question Type : MCQ Option Shuffling : Yes

Correct Marks : 1 Wrong Marks : 0.25

आयत के क्षेत्रफल में प्रतिशत वृद्धि क्या होगी यदि इसके एक भुजा को 30% बढ़ाया जाता है और दूसरी भुजा को 20% घटाया जाता है?

Options :

1. ✔ 4 प्रतिशत

2. ✖ 6 प्रतिशत

3. ✖ 8 प्रतिशत

4. ✖ 10 प्रतिशत

Question Number : 114 Question Id : 50964710546 Question Type : MCQ Option Shuffling : Yes

Correct Marks : 1 Wrong Marks : 0.25

The surface area of a sphere is 616 cm^2 . What is the diameter of the sphere?

Options :

1. ✓ 14 cm
2. ✗ 28 cm
3. ✗ 24 cm
4. ✗ 7 cm

Question Number : 114 Question Id : 50964710546 Question Type : MCQ Option Shuffling : Yes
Correct Marks : 1 Wrong Marks : 0.25

एक गोले के पृष्ठ का क्षेत्रफल 616 cm^2 है। उस गोले का व्यास क्या है?

Options :

1. ✓ 14 cm
2. ✗ 28 cm
3. ✗ 24 cm
4. ✗ 7 cm

Question Number : 115 Question Id : 50964710547 Question Type : MCQ Option Shuffling : Yes
Correct Marks : 1 Wrong Marks : 0.25

The following table gives year wise outlay in lakhs of rupees in a certain 5-year plan (2012-17) of a state. What was the percentage increase during 2015-16 over 2014-15 in social welfare outlay?

Years	Transport and Communication	Education	Health	Social Welfare
2012-13	56210	75450	9500	2000
2013-14	71250	80650	10150	2500
2014-15	73550	61200	11000	3250
2015-16	74100	75250	12250	4000
2016-17	80250	90500	19500	6500

Options :

1. ✖ 22.5 percent
2. ✔ 23.08 percent
3. ✖ 26.28 percent
4. ✖ 27.12 percent

Question Number : 115 Question Id : 50964710547 Question Type : MCQ Option Shuffling : Yes
Correct Marks : 1 Wrong Marks : 0.25

निम्न तालिका एक राज्य की एक निश्चित 5 वर्षीय योजना (2012-2017) में लाखों रुपये में वर्षवार परिव्यय में दर्शाती है। सामाजिक कल्याण परिव्यय में 2014-2015 पर 2015-16 के दौरान प्रतिशत वृद्धि क्या थी?

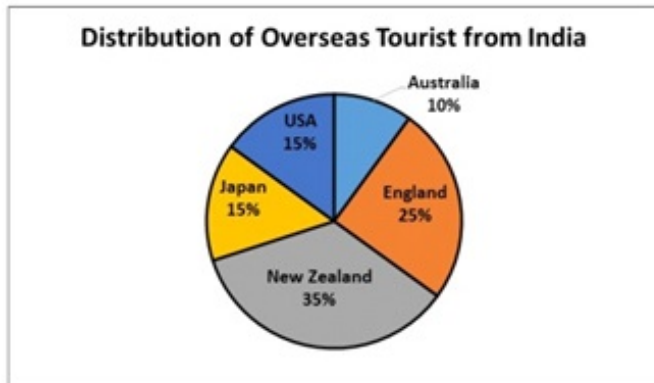
वर्ष	परिवहन और संचार	शिक्षा	स्वास्थ्य	सामाजिक कल्याण
2012-13	56210	75450	9500	2000
2013-14	71250	80650	10150	2500
2014-15	73550	61200	11000	3250
2015-16	74100	75250	12250	4000
2016-17	80250	90500	19500	6500

Options :

1. ✖ 22.5 प्रतिशत
2. ✔ 23.08 प्रतिशत
3. ✖ 26.28 प्रतिशत
4. ✖ 27.12 प्रतिशत

Question Number : 116 Question Id : 50964710548 Question Type : MCQ Option Shuffling : Yes
Correct Marks : 1 Wrong Marks : 0.25

The pie chart shows the distribution of the overseas tourist from India. If the number of Indian tourist visiting New Zealand is 10,000 more than the number of Indian tourist visiting England, then what is the number of Indian tourist visiting Japan?

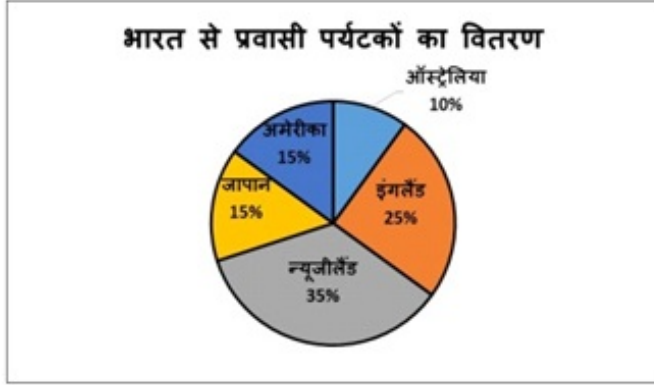


Options :

1. ✖ 12000
2. ✔ 15000
3. ✖ 10000
4. ✖ 25000

Question Number : 116 Question Id : 50964710548 Question Type : MCQ Option Shuffling : Yes
Correct Marks : 1 Wrong Marks : 0.25

यह पाई चाई भारतसे विदेश जाने वाले पर्यटकों के वितरण को दर्शाता है । यदि नेवजीलैंड जाने वाले भारतीय पर्यटकों की सांख्या इंग्लैंड आने वाले भारतीय पर्यटकों की सांख्या से 10,000 अधिक है, तो जापान आने वाले भारतीय पर्यटकों की सांख्या क्या है?



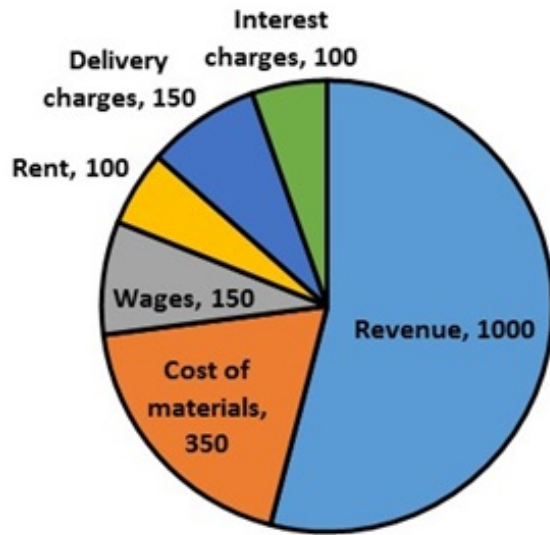
Options :

1. ✘ 12000
2. ✔ 15000
3. ✘ 10000
4. ✘ 25000

Question Number : 117 Question Id : 50964710549 Question Type : MCQ Option Shuffling : Yes
Correct Marks : 1 Wrong Marks : 0.25

The pie chart shows the revenue and various expenses for a firm for the year 2018. What is profit margin?

Revenue and various expenses for a firm for the year 2018



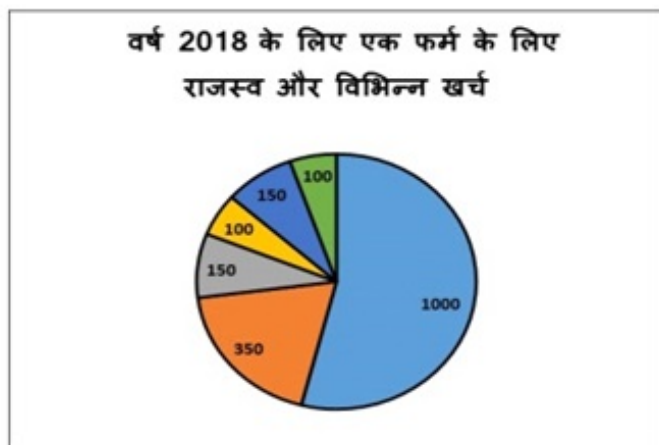
Note: For this question, discrepancy is found in question/answer. So, this question is ignored for all candidates.

Options :

1. 0.125
2. 0.15
3. 0.175
4. 0.2

Question Number : 117 Question Id : 50964710549 Question Type : MCQ Option Shuffling : Yes
Correct Marks : 1 Wrong Marks : 0.25

यह पाई चार्ट वर्ष 2018 के लिए एक फर्म के लिए राजस्व और विभिन्न खर्चों को दर्शाता है। उसका लाभ मार्जिन क्या है?



Note: For this question, discrepancy is found in question/answer. So, this question is ignored for all candidates.

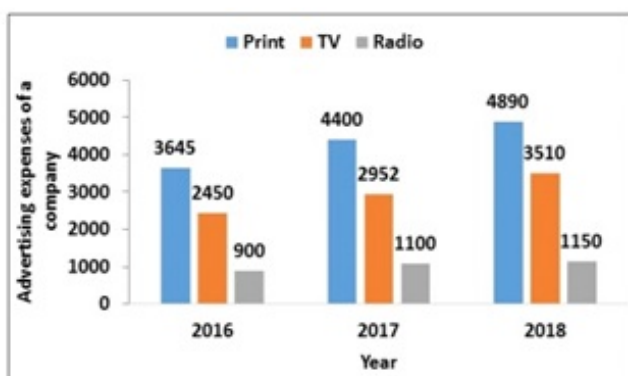
Options :

1. 0.125
2. 0.15
3. 0.175
4. 0.2

Question Number : 118 Question Id : 50964710550 Question Type : MCQ Option Shuffling : Yes

Correct Marks : 1 Wrong Marks : 0.25

The following chart shows advertising expenses of a company across various platforms. In which year and in which platform did the cost grow by a maximum percent ?



Options :

1. ✓ Radio- 2016 to 2017

2. ✘ TV- 2017 to 2018

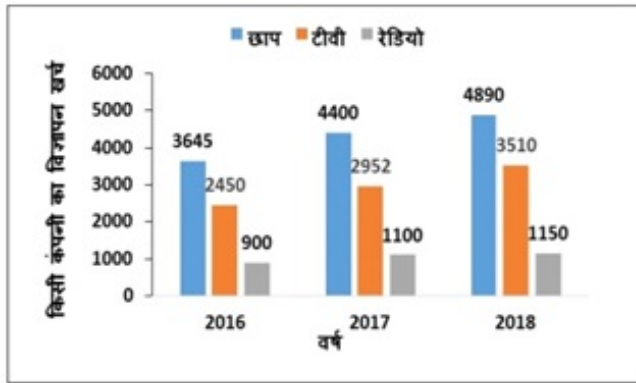
3. ✘ TV- 2016 to 2017

4. ✘ Print- 2016 to 2017

Question Number : 118 Question Id : 50964710550 Question Type : MCQ Option Shuffling : Yes

Correct Marks : 1 Wrong Marks : 0.25

निम्नलिखित चार्ट विभिन्न प्लेटफार्म में एक कंपनी के विज्ञापन खर्च को दर्शाता है। किस वर्ष और किस प्लेटफार्म में यह लागत अधिकतम प्रतिशत से बढ़ी?



Options :

1. ✓ रेडियो- 2016 से 2017

2. ✘ टीवी- 2017 से 2018

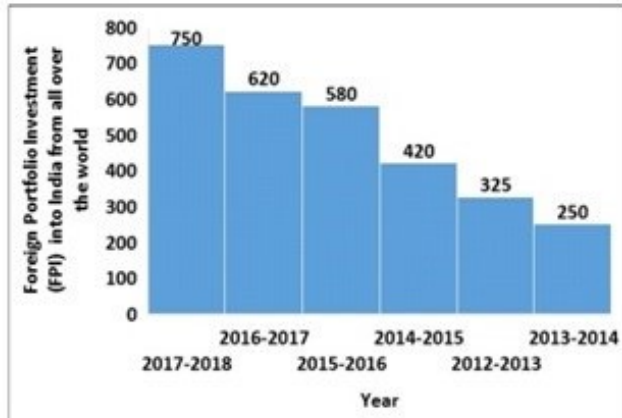
3. ✘ टीवी- 2016 से 2017

4. ✘ छाप- 2016 से 2017

Question Number : 119 Question Id : 50964710551 Question Type : MCQ Option Shuffling : Yes

Correct Marks : 1 Wrong Marks : 0.25

The histogram shows the trends of Foreign Portfolio Investment (FPI) (in Rs. Billion) into India from all over the world for different years. What is the rate of growth of FPI from 2013-14 to 2015-16?



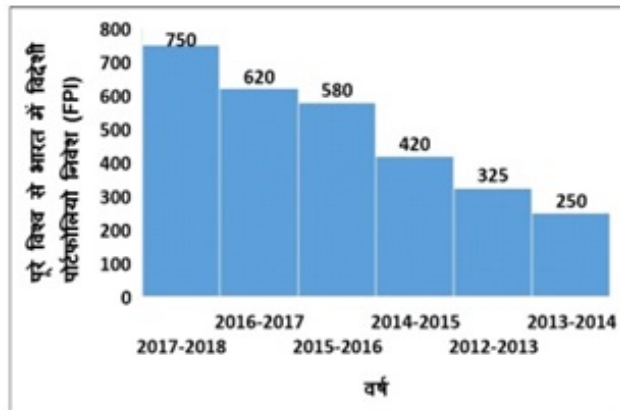
Options :

1. ✘ 1.1
2. ✘ 1.5
3. ✘ 1.28
4. ✔ 1.32

Question Number : 119 Question Id : 50964710551 Question Type : MCQ Option Shuffling : Yes

Correct Marks : 1 Wrong Marks : 0.25

यह आयतचित्र विभिन्न वर्षों के लिए दुनिया भर से भारत में विदेशी पोर्टफोलियो निवेश (FPI) (अरब रुपये में) के रुझानों को दिखाता है। 2013 -14 से 2015 -16 तक FPI की वृद्धि दर क्या है?



Options :

1. ✖ 1.1
2. ✖ 1.5
3. ✖ 1.28
4. ✔ 1.32

Question Number : 120 Question Id : 50964710552 Question Type : MCQ Option Shuffling : Yes
Correct Marks : 1 Wrong Marks : 0.25

The line graph shows the monthly production of cycles of two companies. What is the difference between the total production of two companies in the given months?



Options :

1. ✖ 24

2. ✔ 26

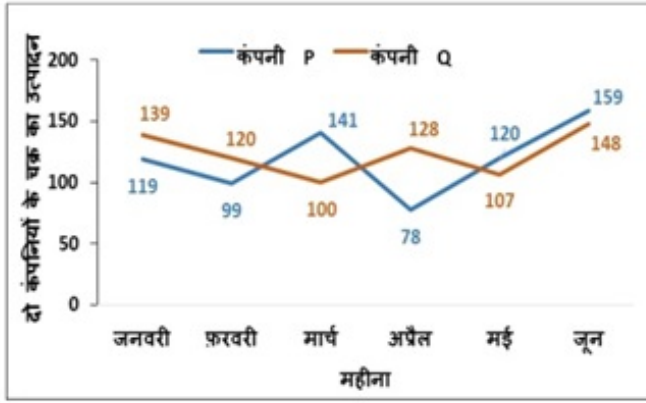
3. ✖ 30

4. ✖ 32

Question Number : 120 Question Id : 50964710552 Question Type : MCQ Option Shuffling : Yes

Correct Marks : 1 Wrong Marks : 0.25

यह रेखा ग्राफ दो कंपनियों के साइकिलों के मासिक उत्पादन को दर्शाता है। दिए गए महीनों में दो कंपनियों के कुल उत्पादन में क्या अंतर है?



Options :

1. ✖ 24

2. ✔ 26

3. ✖ 30

4. ✖ 32

General English1

Group Number :

7

Group Id :

509647228

Group Maximum Duration :

0

Group Minimum Duration :

0

Show Attended Group? :

No

Edit Attended Group? :

No

Break time:

0

Group Marks:

20

Is this Group for Examiner?:	No
Revisit allowed for group Instructions? :	Yes
Maximum Instruction Time:	0
Minimum Instruction Time:	0

General English1

Section Id :	509647388
Section Number :	1
Section type :	Online
Mandatory or Optional:	Mandatory
Number of Questions:	20
Number of Questions to be attempted:	20
Section Marks:	20

Sub-Section Number:	1
Sub-Section Id:	509647546
Question Shuffling Allowed :	Yes

Question Number : 121 Question Id : 50964710553 Question Type : MCQ Option Shuffling : Yes
Correct Marks : 1 Wrong Marks : 0.25

In the following statement, one part of the sentence may have an error. Find out which part of the sentence has an error and click the button corresponding to it. If the sentence is free from error, select the "No error" option.

(A) My tutor/ (B) comes/ (C) five days week./ (D) No error

Options :

1. ✘ A
2. ✘ B
3. ✔ C
4. ✘ D

Question Number : 121 Question Id : 50964710553 Question Type : MCQ Option Shuffling : Yes
Correct Marks : 1 Wrong Marks : 0.25

In the following statement, one part of the sentence may have an error. Find out which part of the sentence has an error and click the button corresponding to it. If the sentence is free from error, select the "No error" option.

(A) My tutor/ (B) comes/ (C) five days week./ (D) No error

Options :

1. ✖ A

2. ✖ B

3. ✔ C

4. ✖ D

Question Number : 122 Question Id : 50964710554 Question Type : MCQ Option Shuffling : Yes

Correct Marks : 1 Wrong Marks : 0.25

In the following statement, one part of the sentence may have an error. Find out which part of the sentence has an error and click the button corresponding to it. If the sentence is free from error, select the "No error" option.

(A) Simran packed/ (B) her dresses/ (C) neat/ (D) No error

Options :

1. ✖ A

2. ✖ B

3. ✔ C

4. ✖ D

Question Number : 122 Question Id : 50964710554 Question Type : MCQ Option Shuffling : Yes

Correct Marks : 1 Wrong Marks : 0.25

In the following statement, one part of the sentence may have an error. Find out which part of the sentence has an error and click the button corresponding to it. If the sentence is free from error, select the "No error" option.

(A) Simran packed/ (B) her dresses/ (C) neat/ (D) No error

Options :

1. ✘ A

2. ✘ B

3. ✔ C

4. ✘ D

Question Number : 123 Question Id : 50964710555 Question Type : MCQ Option Shuffling : Yes

Correct Marks : 1 Wrong Marks : 0.25

In the following statement, one part of the sentence may have an error. Find out which part of the sentence has an error and click the button corresponding to it. If the sentence is free from error, select the "No error" option.

(A) It being a rainy day, / (B) the boys decided / (C) not to go out and play./ (D) No error

Options :

1. ✘ A

2. ✘ B

3. ✘ C

4. ✔ D

Question Number : 123 Question Id : 50964710555 Question Type : MCQ Option Shuffling : Yes

Correct Marks : 1 Wrong Marks : 0.25

In the following statement, one part of the sentence may have an error. Find out which part of the sentence has an error and click the button corresponding to it. If the sentence is free from error, select the "No error" option.

(A) It being a rainy day, / (B) the boys decided / (C) not to go out and play./ (D) No error

Options :

1. ✘ A

2. ✘ B

3. ✘ C

4. ✔ D

Question Number : 124 Question Id : 50964710556 Question Type : MCQ Option Shuffling : Yes
Correct Marks : 1 Wrong Marks : 0.25

In the following statement, one part of the sentence may have an error. Find out which part of the sentence has an error and click the button corresponding to it. If the sentence is free from error, select the "No error" option.

(A) As the interview was about to end / (B) Raman insisted to ask / (C) few more questions. / (D) No error

Options :

1. ✘ A

2. ✔ B

3. ✘ C

4. ✘ D

Question Number : 124 Question Id : 50964710556 Question Type : MCQ Option Shuffling : Yes
Correct Marks : 1 Wrong Marks : 0.25

In the following statement, one part of the sentence may have an error. Find out which part of the sentence has an error and click the button corresponding to it. If the sentence is free from error, select the "No error" option.

(A) As the interview was about to end / (B) Raman insisted to ask / (C) few more questions. / (D) No error

Options :

1. ✘ A

2. ✔ B

3. ✘ C

4. ✘ D

Question Number : 125 Question Id : 50964710557 Question Type : MCQ Option Shuffling : Yes
Correct Marks : 1 Wrong Marks : 0.25

In the following statement, one part of the sentence may have an error. Find out which part of the sentence has an error and click the button corresponding to it. If the sentence is free from error, select the "No error" option.

(A) The reason Ankita/ (B) is absent in the class/ (C) is because she is unwell./ (D) No error

Options :

1. ✔ A

2. ✘ B

3. ✘ C

4. ✖ D

Question Number : 125 Question Id : 50964710557 Question Type : MCQ Option Shuffling : Yes

Correct Marks : 1 Wrong Marks : 0.25

In the following statement, one part of the sentence may have an error. Find out which part of the sentence has an error and click the button corresponding to it. If the sentence is free from error, select the "No error" option.

(A) The reason Ankita/ (B) is absent in the class/ (C) is because she is unwell./ (D) No error

Options :

1. ✔ A

2. ✖ B

3. ✖ C

4. ✖ D

Question Number : 126 Question Id : 50964710558 Question Type : MCQ Option Shuffling : Yes

Correct Marks : 1 Wrong Marks : 0.25

Replace the words in the bracket from the set of options given.

The teacher said that the earth (has been revolving) around the sun.

Options :

1. ✖ had been revolving

2. ✖ has revolved

3. ✔ revolves

4. ✖ had revolved

Question Number : 126 Question Id : 50964710558 Question Type : MCQ Option Shuffling : Yes

Correct Marks : 1 Wrong Marks : 0.25

Replace the words in the bracket from the set of options given.

The teacher said that the earth (has been revolving) around the sun.

Options :

1. ✖ had been revolving
2. ✖ has revolved
3. ✔ revolves
4. ✖ had revolved

Question Number : 127 Question Id : 50964710559 Question Type : MCQ Option Shuffling : Yes
Correct Marks : 1 Wrong Marks : 0.25

Replace the words in the bracket from the set of options given.

It has been raining (from) day before yesterday.

Options :

1. ✖ before
2. ✖ with
3. ✖ between
4. ✔ since

Question Number : 127 Question Id : 50964710559 Question Type : MCQ Option Shuffling : Yes
Correct Marks : 1 Wrong Marks : 0.25

Replace the words in the bracket from the set of options given.

It has been raining (from) day before yesterday.

Options :

1. ✖ before
2. ✖ with
3. ✖ between
4. ✔ since

Question Number : 128 Question Id : 50964710560 Question Type : MCQ Option Shuffling : Yes
Correct Marks : 1 Wrong Marks : 0.25

Replace the words in the bracket from the set of options given.

Though Shiksha was exhausted (but) she went to school.

Options :

1. ✖ even
2. ✔ yet
3. ✖ if
4. ✖ when

Question Number : 128 Question Id : 50964710560 Question Type : MCQ Option Shuffling : Yes
Correct Marks : 1 Wrong Marks : 0.25

Replace the words in the bracket from the set of options given.

Though Shiksha was exhausted (but) she went to school.

Options :

1. ✖ even
2. ✔ yet
3. ✖ if
4. ✖ when

Question Number : 129 Question Id : 50964710561 Question Type : MCQ Option Shuffling : Yes
Correct Marks : 1 Wrong Marks : 0.25

Replace the words in the bracket from the set of options given.

Shamita is the (most prettiest) girl in the class.

Options :

1. ✖ most pretty
2. ✔ prettiest
3. ✖ more pretty
4. ✖ prettier

Question Number : 129 Question Id : 50964710561 Question Type : MCQ Option Shuffling : Yes
Correct Marks : 1 Wrong Marks : 0.25

Replace the words in the bracket from the set of options given.

Shamita is the (most prettiest) girl in the class.

Options :

1. ✖ most pretty
2. ✔ prettiest
3. ✖ more pretty
4. ✖ prettier

Question Number : 130 Question Id : 50964710562 Question Type : MCQ Option Shuffling : Yes
Correct Marks : 1 Wrong Marks : 0.25

Replace the words in the bracket from the set of options given.

Shweta denied to go (till Ravi arrives).

Options :

1. ✔ unless Ravi arrived

2. ✖ until Ravi arrives
3. ✖ till Ravi has arrived
4. ✖ till Ravi arrives

Question Number : 130 Question Id : 50964710562 Question Type : MCQ Option Shuffling : Yes
Correct Marks : 1 Wrong Marks : 0.25

Replace the words in the bracket from the set of options given.

Shweta denied to go (till Ravi arrives).

Options :

1. ✔ unless Ravi arrived
2. ✖ until Ravi arrives
3. ✖ till Ravi has arrived
4. ✖ till Ravi arrives

Question Number : 131 Question Id : 50964710563 Question Type : MCQ Option Shuffling : Yes
Correct Marks : 1 Wrong Marks : 0.25

Fill in the blank with an appropriate preposition.

Mr. Bose congratulated Rakesh _____ getting the scholarship.

Options :

1. ✔ for
2. ✖ to
3. ✖ at
4. ✖ with

Question Number : 131 Question Id : 50964710563 Question Type : MCQ Option Shuffling : Yes
Correct Marks : 1 Wrong Marks : 0.25

Fill in the blank with an appropriate preposition.

Mr. Bose congratulated Rakesh _____ getting the scholarship.

Options :

1. ✓ for
2. ✗ to
3. ✗ at
4. ✗ with

Question Number : 132 Question Id : 50964710564 Question Type : MCQ Option Shuffling : Yes
Correct Marks : 1 Wrong Marks : 0.25

Choose the correct form of verb from the given options.

Rashi _____ to Bombay but she will be back in a month.

Options :

1. ✓ has gone
2. ✗ is gone
3. ✗ is being gone
4. ✗ have been going

Question Number : 132 Question Id : 50964710564 Question Type : MCQ Option Shuffling : Yes
Correct Marks : 1 Wrong Marks : 0.25

Choose the correct form of verb from the given options.

Rashi _____ to Bombay but she will be back in a month.

Options :

1. ✓ has gone

2. ✖ is gone
3. ✖ is being gone
4. ✖ have been going

Question Number : 133 Question Id : 50964710565 Question Type : MCQ Option Shuffling : Yes
Correct Marks : 1 Wrong Marks : 0.25

Choose the correct form of verb from the given options.

Ben _____ the work yesterday.

Options :

1. ✖ will be completing
2. ✔ has completed
3. ✖ will complete
4. ✖ is completing

Question Number : 133 Question Id : 50964710565 Question Type : MCQ Option Shuffling : Yes
Correct Marks : 1 Wrong Marks : 0.25

Choose the correct form of verb from the given options.

Ben _____ the work yesterday.

Options :

1. ✖ will be completing
2. ✔ has completed
3. ✖ will complete
4. ✖ is completing

Question Number : 134 Question Id : 50964710566 Question Type : MCQ Option Shuffling : Yes
Correct Marks : 1 Wrong Marks : 0.25

Choose the correct form of verb from the given options.

Raj _____ his baggage for the trip.

Options :

1. ✖ will packed
2. ✔ has packed
3. ✖ was packed
4. ✖ pack

Question Number : 134 Question Id : 50964710566 Question Type : MCQ Option Shuffling : Yes

Correct Marks : 1 Wrong Marks : 0.25

Choose the correct form of verb from the given options.

Raj _____ his baggage for the trip.

Options :

1. ✖ will packed
2. ✔ has packed
3. ✖ was packed
4. ✖ pack

Question Number : 135 Question Id : 50964710567 Question Type : MCQ Option Shuffling : Yes

Correct Marks : 1 Wrong Marks : 0.25

Fill in the blank with an appropriate preposition.

Seven _____ two makes nine.

Options :

1. ✖ on
2. ✖ with
3. ✔ and

4. ✖ to

Question Number : 135 Question Id : 50964710567 Question Type : MCQ Option Shuffling : Yes
Correct Marks : 1 Wrong Marks : 0.25

Fill in the blank with an appropriate preposition.

Seven _____ two makes nine.

Options :

1. ✖ on

2. ✖ with

3. ✓ and

4. ✖ to

Question Number : 136 Question Id : 50964710568 Question Type : MCQ Option Shuffling : Yes
Correct Marks : 1 Wrong Marks : 0.25

Fill in the blank with an appropriate preposition.

The book is lying _____ the table.

Options :

1. ✖ with

2. ✖ at

3. ✖ in

4. ✓ on

Question Number : 136 Question Id : 50964710568 Question Type : MCQ Option Shuffling : Yes
Correct Marks : 1 Wrong Marks : 0.25

Fill in the blank with an appropriate preposition.

The book is lying _____ the table.

Options :

1. ✖ with

2. ✖ at

3. ✖ in

4. ✔ on

Question Number : 137 Question Id : 50964710569 Question Type : MCQ Option Shuffling : Yes
Correct Marks : 1 Wrong Marks : 0.25

Fill in the blank with an appropriate preposition.

There was an increase_____ college fees this year.

Options :

1. ✔ in

2. ✖ at

3. ✖ on

4. ✖ with

Question Number : 137 Question Id : 50964710569 Question Type : MCQ Option Shuffling : Yes
Correct Marks : 1 Wrong Marks : 0.25

Fill in the blank with an appropriate preposition.

There was an increase_____ college fees this year.

Options :

1. ✔ in

2. ✖ at

3. ✖ on

4. ✖ with

Question Number : 138 Question Id : 50964710570 Question Type : MCQ Option Shuffling : Yes
Correct Marks : 1 Wrong Marks : 0.25

Fill in the blank with an appropriate preposition.

My brother swims every day _____ the summer.

Options :

1. ✖ from
2. ✖ through
3. ✔ during
4. ✖ within

Question Number : 138 Question Id : 50964710570 Question Type : MCQ Option Shuffling : Yes

Correct Marks : 1 Wrong Marks : 0.25

Fill in the blank with an appropriate preposition.

My brother swims every day _____ the summer.

Options :

1. ✖ from
2. ✖ through
3. ✔ during
4. ✖ within

Question Number : 139 Question Id : 50964710571 Question Type : MCQ Option Shuffling : Yes

Correct Marks : 1 Wrong Marks : 0.25

The question given below consist of a set of labelled parts of a sentence. Out of the four options given, select the most logical order of the parts which form a coherent sentence.

Sachin's retirement

P : in his interviews

Q : his interest in the game

R : as is obvious

S : has not reduced

Options :

1. ✖ RQSP

2. ✔ SQRP

3. ✖ RSQP

4. ✖ PSRQ

Question Number : 139 Question Id : 50964710571 Question Type : MCQ Option Shuffling : Yes

Correct Marks : 1 Wrong Marks : 0.25

The question given below consist of a set of labelled parts of a sentence. Out of the four options given, select the most logical order of the parts which form a coherent sentence.

Sachin's retirement

P : in his interviews

Q : his interest in the game

R : as is obvious

S : has not reduced

Options :

1. ✖ RQSP

2. ✔ SQRP

3. ✖ RSQP

4. ✖ PSRQ

Question Number : 140 Question Id : 50964710572 Question Type : MCQ Option Shuffling : Yes

Correct Marks : 1 Wrong Marks : 0.25

The question given below consist of a set of labelled parts of a sentence. Out of the four options given, select the most logical order of the parts which form a coherent sentence.

A glasshouse is a:

P : requiring regulated conditions are grown

Q : structure with walls and

R : roof made chiefly of

S : transparent material in which plants

Options :

1. ✖ RQSP

2. ✖ PSQR

3. ✖ RSPQ

4. ✔ QRSP

Question Number : 140 Question Id : 50964710572 Question Type : MCQ Option Shuffling : Yes

Correct Marks : 1 Wrong Marks : 0.25

The question given below consist of a set of labelled parts of a sentence. Out of the four options given, select the most logical order of the parts which form a coherent sentence.

A glasshouse is a:

P : requiring regulated conditions are grown

Q : structure with walls and

R : roof made chiefly of

S : transparent material in which plants

Options :

1. ✘ RQSP

2. ✘ PSQR

3. ✘ RSPQ

4. ✔ QRSP

General English2

Group Number :	8
Group Id :	509647229
Group Maximum Duration :	0
Group Minimum Duration :	0
Show Attended Group? :	No
Edit Attended Group? :	No
Break time:	0
Group Marks:	20
Is this Group for Examiner?:	No
Revisit allowed for group Instructions? :	Yes
Maximum Instruction Time:	0
Minimum Instruction Time:	0

General English2

Section Id :	509647389
Section Number :	1
Section type :	Online
Mandatory or Optional:	Mandatory
Number of Questions:	16
Number of Questions to be attempted:	16
Section Marks:	20

Sub-Section Number:	1
Sub-Section Id:	509647547
Question Shuffling Allowed :	Yes

**Question Number : 141 Question Id : 50964710573 Question Type : MCQ Option Shuffling : Yes
Correct Marks : 1 Wrong Marks : 0.25**

The question below consist of a set of labelled sentences. Out of four options given, select the most logical order of the sentences which form a paragraph.

The President who understood best the need for organised disagreement was probably Franklin D. Roosevelt.

P : Whenever anything of importance came up, he would take aside one of his aides and say to him "I want you to work on this for me, but keep it a secret."

Q : As a result he could be reasonably certain that all important aspects of every matter were through and presented to him well that everybody in Washington heard about it immediately.

R : Then Roosevelt would take aside a few other men, known to differ from the first and would give them the same assignment, again in "strictest confidence".

S : This made sure, as he knew perfectly, that everybody got to know about it.

He could be certain that he would not become the prisoner of somebody's preconceived conclusions.

Options :

1. ✖ QPSR

2. ✖ PQRS

3. ✖ QRSP

4. ✔ PRSQ

The question below consist of a set of labelled sentences. Out of four options given, select the most logical order of the sentences which form a paragraph.

The President who understood best the need for organised disagreement was probably Franklin D. Roosevelt.

P : Whenever anything of importance came up, he would take aside one of his aides and say to him "I want you to work on this for me, but keep it a secret."

Q : As a result he could be reasonably certain that all important aspects of every matter were through and presented to him well that everybody in Washington heard about it immediately.

R : Then Roosevelt would take aside a few other men, known to differ from the first and would give them the same assignment, again in "strictest confidence".

S : This made sure, as he knew perfectly, that everybody got to know about it.

He could be certain that he would not become the prisoner of somebody's preconceived conclusions.

Options :

1. * QPSR

2. * PQRS

3. * QRSP

4. ✓ PRSQ

Question Number : 142 Question Id : 50964710574 Question Type : MCQ Option Shuffling : Yes
Correct Marks : 1 Wrong Marks : 0.25

Out of the four alternatives, choose the word which best expresses the meaning of the given word.

Masticate

Options :

1. ✖ Sit
2. ✖ Stare
3. ✖ Stand
4. ✓ Munch

Question Number : 142 Question Id : 50964710574 Question Type : MCQ Option Shuffling : Yes
Correct Marks : 1 Wrong Marks : 0.25

Out of the four alternatives, choose the word which best expresses the meaning of the given word.

Masticate

Options :

1. ✖ Sit
2. ✖ Stare
3. ✖ Stand
4. ✓ Munch

Question Number : 143 Question Id : 50964710575 Question Type : MCQ Option Shuffling : Yes
Correct Marks : 1 Wrong Marks : 0.25

Out of the four alternatives, choose the word which best expresses the meaning of the given word.

Contempt

Options :

1. ✖ Reveal
2. ✖ Praise
3. ✖ Start
4. ✔ Disregard

Question Number : 143 Question Id : 50964710575 Question Type : MCQ Option Shuffling : Yes
Correct Marks : 1 Wrong Marks : 0.25

Out of the four alternatives, choose the word which best expresses the meaning of the given word.

Contempt

Options :

1. ✖ Reveal
2. ✖ Praise
3. ✖ Start
4. ✔ Disregard

Question Number : 144 Question Id : 50964710576 Question Type : MCQ Option Shuffling : Yes
Correct Marks : 1 Wrong Marks : 0.25

Out of the four alternatives, choose the word which best expresses the meaning of the given word.

Squalid

Options :

1. ✔ Dirty

2. ✖ Clean
3. ✖ Mock
4. ✖ Praise

Question Number : 144 Question Id : 50964710576 Question Type : MCQ Option Shuffling : Yes
Correct Marks : 1 Wrong Marks : 0.25

Out of the four alternatives, choose the word which best expresses the meaning of the given word.

Squalid

Options :

1. ✔ Dirty
2. ✖ Clean
3. ✖ Mock
4. ✖ Praise

Question Number : 145 Question Id : 50964710577 Question Type : MCQ Option Shuffling : Yes
Correct Marks : 1 Wrong Marks : 0.25

Out of the four alternatives, choose the word which is OPPOSITE in meaning to the given word.

Delicate

Options :

1. ✖ Flexible
2. ✔ Tough
3. ✖ Soft
4. ✖ Fine

Question Number : 145 Question Id : 50964710577 Question Type : MCQ Option Shuffling : Yes
Correct Marks : 1 Wrong Marks : 0.25

Out of the four alternatives, choose the word which is OPPOSITE in meaning to the given word.

Delicate

Options :

1. ✘ Flexible
2. ✔ Tough
3. ✘ Soft
4. ✘ Fine

Question Number : 146 Question Id : 50964710578 Question Type : MCQ Option Shuffling : Yes
Correct Marks : 1 Wrong Marks : 0.25

Out of the four alternatives, choose the word which is OPPOSITE in meaning to the given word.

Guile

Options :

1. ✔ Honesty
2. ✘ Violent
3. ✘ Desert
4. ✘ Greed

Question Number : 146 Question Id : 50964710578 Question Type : MCQ Option Shuffling : Yes
Correct Marks : 1 Wrong Marks : 0.25

Out of the four alternatives, choose the word which is OPPOSITE in meaning to the given word.

Guile

Options :

1. ✓ Honesty

2. ✗ Violent

3. ✗ Desert

4. ✗ Greed

Question Number : 147 Question Id : 50964710579 Question Type : MCQ Option Shuffling : Yes

Correct Marks : 1 Wrong Marks : 0.25

Four words are given, out of which only one word is spelt correctly. Choose the correctly spelt word.

Options :

1. ✗ Conduet

2. ✓ Conduit

3. ✗ Condute

4. ✗ Conduat

Question Number : 147 Question Id : 50964710579 Question Type : MCQ Option Shuffling : Yes

Correct Marks : 1 Wrong Marks : 0.25

Four words are given, out of which only one word is spelt correctly. Choose the correctly spelt word.

Options :

1. ✗ Conduet

2. ✓ Conduit

3. ✗ Condute

4. ✗ Conduat

Question Number : 148 Question Id : 50964710580 Question Type : MCQ Option Shuffling : Yes

Correct Marks : 1 Wrong Marks : 0.25

Four words are given, out of which only one word is spelt correctly. Choose the correctly spelt word.

Options :

1. ✖ Sacreligious
2. ✖ Sacreligious
3. ✖ Sacrelegious
4. ✔ Sacrilegious

Question Number : 148 Question Id : 50964710580 Question Type : MCQ Option Shuffling : Yes
Correct Marks : 1 Wrong Marks : 0.25

Four words are given, out of which only one word is spelt correctly. Choose the correctly spelt word.

Options :

1. ✖ Sacreligious
2. ✖ Sacreligious
3. ✖ Sacrelegious
4. ✔ Sacrilegious

Question Number : 149 Question Id : 50964710581 Question Type : MCQ Option Shuffling : Yes
Correct Marks : 1 Wrong Marks : 0.25

Four words are given, out of which only one word is spelt correctly. Choose the correctly spelt word.

Options :

1. ✔ Abstinence
2. ✖ Abstenance
3. ✖ Abistence
4. ✖ Abstinece

Question Number : 149 Question Id : 50964710581 Question Type : MCQ Option Shuffling : Yes
Correct Marks : 1 Wrong Marks : 0.25

Four words are given, out of which only one word is spelt correctly. Choose the correctly spelt word.

Options :

1. ✓ Abstinence

2. ✗ Abstenince

3. ✗ Abistence

4. ✗ Abstinece

Question Number : 150 Question Id : 50964710582 Question Type : MCQ Option Shuffling : Yes
Correct Marks : 1 Wrong Marks : 0.25

What does the following idiom mean?

Milk and water

Options :

1. ✓ If someone's suggestions or ideas are weak.

2. ✗ If someone's suggestions or ideas are other's ideas.

3. ✗ If someone is dependent on another for their livelihood.

4. ✗ If someone's suggestions or ideas are impactful.

Question Number : 150 Question Id : 50964710582 Question Type : MCQ Option Shuffling : Yes
Correct Marks : 1 Wrong Marks : 0.25

What does the following idiom mean?

Milk and water

Options :

1. ✓ If someone's suggestions or ideas are weak.

2. ✗ If someone's suggestions or ideas are other's ideas.

3. ✗ If someone is dependent on another for their livelihood.

4. ✗ If someone's suggestions or ideas are impactful.

Question Number : 151 Question Id : 50964710583 Question Type : MCQ Option Shuffling : Yes
Correct Marks : 1 Wrong Marks : 0.25

What does the following idiom mean?

Break a leg

Options :

1. ✖ Bad luck
2. ✔ Good luck
3. ✖ Start over
4. ✖ Go to sleep

Question Number : 151 Question Id : 50964710583 Question Type : MCQ Option Shuffling : Yes
Correct Marks : 1 Wrong Marks : 0.25

What does the following idiom mean?

Break a leg

Options :

1. ✖ Bad luck
2. ✔ Good luck
3. ✖ Start over
4. ✖ Go to sleep

Question Number : 152 Question Id : 50964710584 Question Type : MCQ Option Shuffling : Yes
Correct Marks : 1 Wrong Marks : 0.25

What does the following idiom mean?

Muster in force

Options :

1. ✖ To seek out faults in someone.
2. ✔ To make great arrangements and efforts, usually to prepare for an attack or event.

3. ✖ To assemble in large numbers.

4. ✖ To provoke someone to fight.

Question Number : 152 Question Id : 50964710584 Question Type : MCQ Option Shuffling : Yes
Correct Marks : 1 Wrong Marks : 0.25

What does the following idiom mean?

Muster in force

Options :

1. ✖ To seek out faults in someone.

2. ✔ To make great arrangements and efforts, usually to prepare for an attack or event.

3. ✖ To assemble in large numbers.

4. ✖ To provoke someone to fight.

Question Number : 153 Question Id : 50964710585 Question Type : MCQ Option Shuffling : Yes
Correct Marks : 1 Wrong Marks : 0.25

In the following question, out of four alternatives, select the alternative which is the best substitute of the given words/sentence.

A system of government by one person with absolute power

Options :

1. ✔ Autocracy

2. ✖ Aristocracy

3. ✖ Democracy

4. ✖ Bureaucracy

Question Number : 153 Question Id : 50964710585 Question Type : MCQ Option Shuffling : Yes
Correct Marks : 1 Wrong Marks : 0.25

In the following question, out of four alternatives, select the alternative which is the best substitute of the given words/sentence.

A system of government by one person with absolute power

Options :

1. ✓ Autocracy
2. ✗ Aristocracy
3. ✗ Democracy
4. ✗ Bureaucracy

Question Number : 154 Question Id : 50964710586 Question Type : MCQ Option Shuffling : Yes

Correct Marks : 1 Wrong Marks : 0.25

In the following question, out of four alternatives, select the alternative which is the best substitute of the given words/sentence.

A collection of beehives.

Options :

1. ✗ Aviary
2. ✗ Archive
3. ✗ Abattoir
4. ✓ Apiary

Question Number : 154 Question Id : 50964710586 Question Type : MCQ Option Shuffling : Yes

Correct Marks : 1 Wrong Marks : 0.25

In the following question, out of four alternatives, select the alternative which is the best substitute of the given words/sentence.

A collection of beehives.

Options :

1. ✖ Aviary
2. ✖ Archive
3. ✖ Abattoir
4. ✔ Apiary

Question Number : 155 Question Id : 50964710587 Question Type : MCQ Option Shuffling : Yes
Correct Marks : 1 Wrong Marks : 0.25

In the following question, out of four alternatives, select the alternative which is the best substitute of the given words/sentence.

A person controlled by his wife.

Options :

1. ✔ Henpecked
2. ✖ Introvert
3. ✖ Fatalist
4. ✖ Gourmand

Question Number : 155 Question Id : 50964710587 Question Type : MCQ Option Shuffling : Yes
Correct Marks : 1 Wrong Marks : 0.25

In the following question, out of four alternatives, select the alternative which is the best substitute of the given words/sentence.

A person controlled by his wife.

Options :

1. ✓ Henpecked
2. ✗ Introvert
3. ✗ Fatalist
4. ✗ Gourmand

Sub-Section Number:	2
Sub-Section Id:	509647548
Question Shuffling Allowed :	Yes

Question Id : 50964710588 Question Type : COMPREHENSION Sub Question Shuffling Allowed : Yes Group Comprehension Questions : No

Question Numbers : (156 to 160)

Question Label : Comprehension

Read the passage carefully and answer the given question.

The most vulnerable part of society to drugs are adolescents - the students in high schools and colleges. In order to merely try new and adventurous things or under peer pressure or many a times imitating the actions of their favourite stars - children get caught into the vicious cycle of drug intake, unknowingly and innocently. Gradually, they get habitual and what had initially started off as fun and adventure becomes their need and compulsion. By the time they realise, it is too late for them to break away without any outside help. The addiction becomes chronic because the adventurer starts hiding it due to parental fear and social stigma. Thus, the addict struggles all alone even if he/she wants to break free but fails in all his/her attempts.

Sub questions

Question Number : 156 Question Id : 50964710589 Question Type : MCQ Option Shuffling : Yes
Correct Marks : 1 Wrong Marks : 0.25

What is the most apt title for the passage?

Options :

1. ✖ Peer pressure
2. ✔ Drug Abuse
3. ✖ Parental Fear
4. ✖ Students life

Question Number : 157 Question Id : 50964710590 Question Type : MCQ Option Shuffling : Yes
Correct Marks : 1 Wrong Marks : 0.25

Which of the following is not one of the reasons for children to get caught into the vicious circle of drug intake?

Options :

1. ✖ To try new or adventurous things.

2. ✖ Under peer pressure.
3. ✔ Due to parental fear.
4. ✖ Imitating the actions of their favourite stars.

Question Number : 158 Question Id : 50964710591 Question Type : MCQ Option Shuffling : Yes
Correct Marks : 1 Wrong Marks : 0.25

Which part of society is the most vulnerable to drugs?

Options :

1. ✔ Students
2. ✖ Film stars
3. ✖ Adults
4. ✖ Parents

Question Number : 159 Question Id : 50964710592 Question Type : MCQ Option Shuffling : Yes
Correct Marks : 1 Wrong Marks : 0.25

Why does the adventure of drug intake become chronic?

Options :

1. ✖ They started it due to peer pressure.
2. ✖ It's too late for them to break free.
3. ✔ The drug taker starts hiding it due to parental pressure.
4. ✖ They get habitual to drugs.

Question Number : 160 Question Id : 50964710593 Question Type : MCQ Option Shuffling : Yes
Correct Marks : 1 Wrong Marks : 0.25

According to the author why does a drug addict struggle?

Options :

1. ✖ The addict doesn't want to break free.
2. ✖ The addict enjoys it.
3. ✖ The addict is under peer pressure.
4. ✔ The addict hides it due to parental fear.

Question Id : 50964710588 Question Type : COMPREHENSION Sub Question Shuffling Allowed : Yes Group Comprehension
Questions : No

Question Numbers : (156 to 160)

Question Label : Comprehension

Read the passage carefully and answer the given question.

The most vulnerable part of society to drugs are adolescents - the students in high schools and colleges. In order to merely try new and adventurous things or under peer pressure or many a times imitating the actions of their favourite stars - children get caught into the vicious cycle of drug intake, unknowingly and innocently. Gradually, they get habitual and what had initially started off as fun and adventure becomes their need and compulsion. By the time they realise, it is too late for them to break away without any outside help. The addiction becomes chronic because the adventurer starts hiding it due to parental fear and social stigma. Thus, the addict struggles all alone even if he/she wants to break free but fails in all his/her attempts.

Sub questions

Question Number : 156 Question Id : 50964710589 Question Type : MCQ Option Shuffling : Yes

Correct Marks : 1 Wrong Marks : 0.25

What is the most apt title for the passage?

Options :

1. ✖ Peer pressure
2. ✔ Drug Abuse
3. ✖ Parental Fear
4. ✖ Students life

Question Number : 157 Question Id : 50964710590 Question Type : MCQ Option Shuffling : Yes
Correct Marks : 1 Wrong Marks : 0.25

Which of the following is not one of the reasons for children to get caught into the vicious circle of drug intake?

Options :

1. ✖ To try new or adventurous things.
2. ✖ Under peer pressure.
3. ✔ Due to parental fear.
4. ✖ Imitating the actions of their favourite stars.

Question Number : 158 Question Id : 50964710591 Question Type : MCQ Option Shuffling : Yes
Correct Marks : 1 Wrong Marks : 0.25

Which part of society is the most vulnerable to drugs?

Options :

1. ✔ Students
2. ✖ Film stars
3. ✖ Adults
4. ✖ Parents

Question Number : 159 Question Id : 50964710592 Question Type : MCQ Option Shuffling : Yes
Correct Marks : 1 Wrong Marks : 0.25

Why does the adventure of drug intake become chronic?

Options :

1. ✖ They started it due to peer pressure.
2. ✖ It's too late for them to break free.
3. ✔ The drug taker starts hiding it due to parental pressure.
4. ✖ They get habitual to drugs.

Question Number : 160 Question Id : 50964710593 Question Type : MCQ Option Shuffling : Yes

Correct Marks : 1 Wrong Marks : 0.25

According to the author why does a drug addict struggle?

Options :

1. ✘ The addict doesn't want to break free.
2. ✘ The addict enjoys it.
3. ✘ The addict is under peer pressure.
4. ✔ The addict hides it due to parental fear.

General Hindi1

Group Number :	9
Group Id :	509647230
Group Maximum Duration :	0
Group Minimum Duration :	0
Show Attended Group? :	No
Edit Attended Group? :	No
Break time:	0
Group Marks:	20
Is this Group for Examiner?:	No
Revisit allowed for group Instructions? :	Yes
Maximum Instruction Time:	0
Minimum Instruction Time:	0

General Hindi1

Section Id :	509647390
Section Number :	1
Section type :	Online
Mandatory or Optional:	Mandatory
Number of Questions:	20
Number of Questions to be attempted:	20
Section Marks:	20

Sub-Section Number:	1
Sub-Section Id:	509647549
Question Shuffling Allowed :	Yes

Question Number : 161 Question Id : 50964710594 Question Type : MCQ Option Shuffling : Yes
Correct Marks : 1 Wrong Marks : 0.25

निम्नलिखित प्रश्न में, चार विकल्पों में से, उस विकल्प का चयन करें जो उपसर्ग से बना है

|

Options :

1. * निचली
2. * तरावट
3. ✓ सचेत
4. * बुढ़िया

Question Number : 161 Question Id : 50964710594 Question Type : MCQ Option Shuffling : Yes

Correct Marks : 1 Wrong Marks : 0.25

निम्नलिखित प्रश्न में, चार विकल्पों में से, उस विकल्प का चयन करें जो उपसर्ग से बना है।

Options :

1. * निचली
2. * तरावट
3. ✓ सचेत
4. * बुढ़िया

Question Number : 162 Question Id : 50964710595 Question Type : MCQ Option Shuffling : Yes

Correct Marks : 1 Wrong Marks : 0.25

निम्नलिखित प्रश्न में, चार विकल्पों में से, उस सही विकल्प का चयन करें जो प्रत्यय से बना शब्द है।

Options :

1. ✓ सच्चाई
2. * अधजला
3. * सरल
4. * भरमार

Question Number : 162 Question Id : 50964710595 Question Type : MCQ Option Shuffling : Yes

Correct Marks : 1 Wrong Marks : 0.25

निम्नलिखित प्रश्न में, चार विकल्पों में से, उस सही विकल्प का चयन करें जो प्रत्यय से बना शब्द है।

Options :

1. ✓ सच्चाई
2. ✗ अधजला
3. ✗ सरल
4. ✗ भरमार

Question Number : 163 Question Id : 50964710596 Question Type : MCQ Option Shuffling : Yes
Correct Marks : 1 Wrong Marks : 0.25

निम्नलिखित प्रश्न में, चार विकल्पों में से, रिक्त स्थान के लिए निर्देशानुसार उचित विकल्प का चयन करें।

दीपा को घूमना _____ पढ़ना पसंद है।

Options :

1. ✗ से ज्यादा
2. ✓ और
3. ✗ पर
4. ✗ से

Question Number : 163 Question Id : 50964710596 Question Type : MCQ Option Shuffling : Yes
Correct Marks : 1 Wrong Marks : 0.25

निम्नलिखित प्रश्न में, चार विकल्पों में से, रिक्त स्थान के लिए निर्देशानुसार उचित विकल्प का चयन करें।

दीपा को घूमना _____ पढ़ना पसंद है।

Options :

1. ✗ से ज्यादा
2. ✓ और

3. * पर

4. * से

Question Number : 164 Question Id : 50964710597 Question Type : MCQ Option Shuffling : Yes

Correct Marks : 1 Wrong Marks : 0.25

निम्नलिखित प्रश्न में, चार विकल्पों में से, उस विकल्प का चयन करें जो दिए गए शब्द का तद्भव रूप हो।

निर्गलन

Options :

1. * जलना

2. ✓ निगलना

3. * पिघलना

4. * गलना

Question Number : 164 Question Id : 50964710597 Question Type : MCQ Option Shuffling : Yes

Correct Marks : 1 Wrong Marks : 0.25

निम्नलिखित प्रश्न में, चार विकल्पों में से, उस विकल्प का चयन करें जो दिए गए शब्द का तद्भव रूप हो।

निर्गलन

Options :

1. * जलना

2. ✓ निगलना

3. * पिघलना

4. * गलना

Question Number : 165 Question Id : 50964710598 Question Type : MCQ Option Shuffling : Yes

Correct Marks : 1 Wrong Marks : 0.25

निम्नलिखित प्रश्न में, चार विकल्पों में से, उस विकल्प का चयन करें जो दिए गए शब्द का तत्सम रूप हो।

पंसारी

Options :

1. ✓ पन्यशालिक
2. * प्रस्तर
3. * पत्र
4. * उपरि

Question Number : 165 Question Id : 50964710598 Question Type : MCQ Option Shuffling : Yes

Correct Marks : 1 Wrong Marks : 0.25

निम्नलिखित प्रश्न में, चार विकल्पों में से, उस विकल्प का चयन करें जो दिए गए शब्द का तत्सम रूप हो।

पंसारी

Options :

1. ✓ पन्यशालिक
2. * प्रस्तर
3. * पत्र
4. * उपरि

Question Number : 166 Question Id : 50964710599 Question Type : MCQ Option Shuffling : Yes

Correct Marks : 1 Wrong Marks : 0.25

निम्नलिखित प्रश्न में, चार विकल्पों में से, उस विकल्प का चयन करें जो सही द्विगु समास का विकल्प हो।

Options :

1. * लाल है जो छड़ी
2. ✓ आठ अध्यायों का समाहार
3. * आशा की लता

4. * भूख से मरा

Question Number : 166 Question Id : 50964710599 Question Type : MCQ Option Shuffling : Yes
Correct Marks : 1 Wrong Marks : 0.25

निम्नलिखित प्रश्न में, चार विकल्पों में से, उस विकल्प का चयन करें जो सही द्विगु समास का विकल्प हो।

Options :

1. * लाल है जो छड़ी
2. ✓ आठ अध्यायों का समाहार
3. * आशा की लता
4. * भूख से मरा

Question Number : 167 Question Id : 50964710600 Question Type : MCQ Option Shuffling : Yes
Correct Marks : 1 Wrong Marks : 0.25

निम्नलिखित प्रश्न में, चार विकल्पों में से, उस विकल्प का चयन करें जो दिए गए शब्द से बनी भाववाचक संज्ञा का सही विकल्प हो।

उचित

Options :

1. * उचितता
2. * उचितपन
3. * औचित्य
4. ✓ औचित्य

Question Number : 167 Question Id : 50964710600 Question Type : MCQ Option Shuffling : Yes
Correct Marks : 1 Wrong Marks : 0.25

निम्नलिखित प्रश्न में, चार विकल्पों में से, उस विकल्प का चयन करें जो दिए गए शब्द से बनी भाववाचक संज्ञा का सही विकल्प हो।

उचित

Options :

1. * उचितता
2. * उचितपन
3. * ओचित्य
4. ✓ औचित्य

Question Number : 168 Question Id : 50964710601 Question Type : MCQ Option Shuffling : Yes
Correct Marks : 1 Wrong Marks : 0.25

निम्नलिखित प्रश्न में, चार विकल्पों में से, उस विकल्प का चयन करें जो सर्वनाम के भेद का सही विकल्प हो।

मैं नहीं जा पाऊंगा, तुम स्वयं चले जाओ।

Options :

1. * निश्चय वाचक
2. * संबंध वाचक
3. * उत्तम पुरुष
4. ✓ निजवाचक

Question Number : 168 Question Id : 50964710601 Question Type : MCQ Option Shuffling : Yes
Correct Marks : 1 Wrong Marks : 0.25

निम्नलिखित प्रश्न में, चार विकल्पों में से, उस विकल्प का चयन करें जो सर्वनाम के भेद का सही विकल्प हो।

मैं नहीं जा पाऊंगा, तुम स्वयं चले जाओ।

Options :

1. * निश्चय वाचक
2. * संबंध वाचक
3. * उत्तम पुरुष
4. ✓ निजवाचक

Question Number : 169 Question Id : 50964710602 Question Type : MCQ Option Shuffling : Yes
Correct Marks : 1 Wrong Marks : 0.25

निम्नलिखित प्रश्न में, चार विकल्पों में से, उस विकल्प का चयन करें जो विशेषण के भेद वाला विकल्प हो।

छपाई में कुछ मीटर कपड़ा ही काम आया।

Options :

1. * अनिश्चित संख्यावाचक
2. ✓ अनिश्चित परिमाणवाचक
3. * गुणवाचक
4. * संख्यावाचक

Question Number : 169 Question Id : 50964710602 Question Type : MCQ Option Shuffling : Yes
Correct Marks : 1 Wrong Marks : 0.25

निम्नलिखित प्रश्न में, चार विकल्पों में से, उस विकल्प का चयन करें जो विशेषण के भेद वाला विकल्प हो।

छपाई में कुछ मीटर कपड़ा ही काम आया।

Options :

1. * अनिश्चित संख्यावाचक
2. ✓ अनिश्चित परिमाणवाचक
3. * गुणवाचक
4. * संख्यावाचक

Question Number : 170 Question Id : 50964710603 Question Type : MCQ Option Shuffling : Yes
Correct Marks : 1 Wrong Marks : 0.25

निम्नलिखित प्रश्न में, चार विकल्पों में से, उस विकल्प का चयन करें जो क्रिया के भेद वाला सही विकल्प हो।

सीमा ने पुस्तक से देखकर उत्तर लिखा।

Options :

1. * नामधातु
2. * द्विकर्मक क्रिया
3. ✓ पूर्वकालिक क्रिया
4. * कृदंत

Question Number : 170 Question Id : 50964710603 Question Type : MCQ Option Shuffling : Yes
Correct Marks : 1 Wrong Marks : 0.25

निम्नलिखित प्रश्न में, चार विकल्पों में से, उस विकल्प का चयन करें जो क्रिया के भेद वाला सही विकल्प हो।

सीमा ने पुस्तक से देखकर उत्तर लिखा।

Options :

1. * नामधातु
2. * द्विकर्मक क्रिया
3. ✓ पूर्वकालिक क्रिया
4. * कृदंत

Question Number : 171 Question Id : 50964710604 Question Type : MCQ Option Shuffling : Yes
Correct Marks : 1 Wrong Marks : 0.25

निम्नलिखित प्रश्न में, चार विकल्पों में से, उस विकल्प का चयन करें जो विलोम शब्द का सबसे अच्छा विकल्प है।

उदार

Options :

1. * अंत
2. * चेतन
3. * परोक्ष
4. ✓ संकीर्ण

Question Number : 171 Question Id : 50964710604 Question Type : MCQ Option Shuffling : Yes
Correct Marks : 1 Wrong Marks : 0.25

निम्नलिखित प्रश्न में, चार विकल्पों में से, उस विकल्प का चयन करें जो विलोम शब्द का सबसे अच्छा विकल्प है।

उदार

Options :

1. * अंत
2. * चेतन
3. * परोक्ष
4. ✓ संकीर्ण

Question Number : 172 Question Id : 50964710605 Question Type : MCQ Option Shuffling : Yes

Correct Marks : 1 Wrong Marks : 0.25

निम्नलिखित प्रश्न में, चार विकल्पों में से, उस विकल्प का चयन करें जो समानार्थी शब्द का सही विकल्प नहीं है।

अगणित

Options :

1. * अमित
2. ✓ विगत
3. * अनंत
4. * अपार

Question Number : 172 Question Id : 50964710605 Question Type : MCQ Option Shuffling : Yes

Correct Marks : 1 Wrong Marks : 0.25

निम्नलिखित प्रश्न में, चार विकल्पों में से, उस विकल्प का चयन करें जो समानार्थी शब्द का सही विकल्प नहीं है।

अगणित

Options :

1. ✖ अमित

2. ✔ विगत

3. ✖ अनंत

4. ✖ अपार

Question Number : 173 Question Id : 50964710606 Question Type : MCQ Option Shuffling : Yes

Correct Marks : 1 Wrong Marks : 0.25

निम्नलिखित प्रश्न में, चार विकल्पों में से, उस विकल्प का चयन करे जो रेखांकित शब्द के लिए उचित विकल्प हो।

हमारा _____ ही हमारी सबसे बड़ी निधि है।

Options :

1. ✖ आकार

2. ✖ अस्वास्थ्य

3. ✖ स्वस्थ

4. ✔ स्वास्थ्य

Question Number : 173 Question Id : 50964710606 Question Type : MCQ Option Shuffling : Yes

Correct Marks : 1 Wrong Marks : 0.25

निम्नलिखित प्रश्न में, चार विकल्पों में से, उस विकल्प का चयन करे जो रेखांकित शब्द के लिए उचित विकल्प हो।

हमारा _____ ही हमारी सबसे बड़ी निधि है।

Options :

1. ✖ आकार

2. ✖ अस्वास्थ्य

3. ✖ स्वस्थ

4. ✔ स्वास्थ्य

Question Number : 174 Question Id : 50964710607 Question Type : MCQ Option Shuffling : Yes
Correct Marks : 1 Wrong Marks : 0.25

निम्नलिखित प्रश्न में, चार विकल्पों में से, उस सही विकल्प का चयन करें जो वाक्यांशों के लिए एक शब्द का विकल्प हो।

दूसरों के पीछे चलनेवाला

Options :

1. * सहचर
2. ✓ अनुयायी
3. * अनुपम
4. * असह्य

Question Number : 174 Question Id : 50964710607 Question Type : MCQ Option Shuffling : Yes
Correct Marks : 1 Wrong Marks : 0.25

निम्नलिखित प्रश्न में, चार विकल्पों में से, उस सही विकल्प का चयन करें जो वाक्यांशों के लिए एक शब्द का विकल्प हो।

दूसरों के पीछे चलनेवाला

Options :

1. * सहचर
2. ✓ अनुयायी
3. * अनुपम
4. * असह्य

Question Number : 175 Question Id : 50964710608 Question Type : MCQ Option Shuffling : Yes
Correct Marks : 1 Wrong Marks : 0.25

निम्नलिखित प्रश्न में, चार विकल्पों में से, उस सही विकल्प का चयन करें जो रिक्त स्थान के लिए उचित विकल्प हो।

तुम्हारे पास तुम्हारी सत्यता का क्या _____ है।

Options :

1. * परिमाण
2. * परिणाम
3. ✓ प्रमाण
4. * प्रकार

Question Number : 175 Question Id : 50964710608 Question Type : MCQ Option Shuffling : Yes
Correct Marks : 1 Wrong Marks : 0.25

निम्नलिखित प्रश्न में, चार विकल्पों में से, उस सही विकल्प का चयन करें जो रिक्त स्थान के लिए उचित विकल्प हो।

तुम्हारे पास तुम्हारी सत्यता का क्या _____ है।

Options :

1. * परिमाण
2. * परिणाम
3. ✓ प्रमाण
4. * प्रकार

Question Number : 176 Question Id : 50964710609 Question Type : MCQ Option Shuffling : Yes
Correct Marks : 1 Wrong Marks : 0.25

निम्नलिखित प्रश्न में, चार विकल्पों में से, उस सही विकल्प का चयन करें जो रिक्त स्थान के लिए उचित विकल्प हो।

दुर्घटना में घायल हुए लोगों की _____ ठीक नहीं थी।

Options :

1. * दिशा
2. * दिसा
3. ✓ दशा
4. * दीशा

Question Number : 176 Question Id : 50964710609 Question Type : MCQ Option Shuffling : Yes
Correct Marks : 1 Wrong Marks : 0.25

निम्नलिखित प्रश्न में, चार विकल्पों में से, उस सही विकल्प का चयन करें जो रिक्त स्थान के लिए उचित विकल्प हो।

दुर्घटना में घायल हुए लोगों की _____ ठीक नहीं थी।

Options :

1. * दिशा
2. * दिसा
3. ✓ दशा
4. * दीशा

Question Number : 177 Question Id : 50964710610 Question Type : MCQ Option Shuffling : Yes

Correct Marks : 1 Wrong Marks : 0.25

निम्नलिखित प्रश्न में, चार विकल्पों में से, उस सही विकल्प का चयन करें जो रिक्त स्थान के लिए उचित विकल्प हो।

चुनावों में करारी हार से कालूराम की पार्टी _____ पड़ गई।

Options :

1. * साथ-साथ
2. * हार-जीत
3. ✓ अलग-थलग
4. * जय-पराजय

Question Number : 177 Question Id : 50964710610 Question Type : MCQ Option Shuffling : Yes

Correct Marks : 1 Wrong Marks : 0.25

निम्नलिखित प्रश्न में, चार विकल्पों में से, उस सही विकल्प का चयन करें जो रिक्त स्थान के लिए उचित विकल्प हो।

चुनावों में करारी हार से कालूराम की पार्टी _____ पड़ गई।

Options :

1. * साथ-साथ
2. * हार-जीत
3. ✓ अलग-थलग
4. * जय-पराजय

Question Number : 178 Question Id : 50964710611 Question Type : MCQ Option Shuffling : Yes
Correct Marks : 1 Wrong Marks : 0.25

निम्नलिखित प्रश्न में, चार विकल्पों में से, उस सही विकल्प का चयन करें जो रिक्त स्थान के लिए उचित विकल्प हो।

बदमाश पुलिस से _____ भागता हुआ गायब हो गया।

Options :

1. * अफरा-तफरी
2. * छोटा-बड़ा
3. ✓ आगे-ही-आगे
4. * कोई-न-कोई

Question Number : 178 Question Id : 50964710611 Question Type : MCQ Option Shuffling : Yes
Correct Marks : 1 Wrong Marks : 0.25

निम्नलिखित प्रश्न में, चार विकल्पों में से, उस सही विकल्प का चयन करें जो रिक्त स्थान के लिए उचित विकल्प हो।

बदमाश पुलिस से _____ भागता हुआ गायब हो गया।

Options :

1. * अफरा-तफरी
2. * छोटा-बड़ा
3. ✓ आगे-ही-आगे
4. * कोई-न-कोई

Question Number : 179 Question Id : 50964710612 Question Type : MCQ Option Shuffling : Yes
Correct Marks : 1 Wrong Marks : 0.25

निम्नलिखित प्रश्न में, चार विकल्पों में से, उस विकल्प का चयन करें जो शुद्ध शब्द का सही विकल्प है।

Options :

1. * ऐश्वर्य
2. ✓ ऐश्वर्य
3. * ऐशवरय
4. * ऐशवर्या

Question Number : 179 Question Id : 50964710612 Question Type : MCQ Option Shuffling : Yes
Correct Marks : 1 Wrong Marks : 0.25

निम्नलिखित प्रश्न में, चार विकल्पों में से, उस विकल्प का चयन करें जो शुद्ध शब्द का सही विकल्प है।

Options :

1. * ऐश्वर्य
2. ✓ ऐश्वर्य
3. * ऐशवरय
4. * ऐशवर्या

Question Number : 180 Question Id : 50964710613 Question Type : MCQ Option Shuffling : Yes
Correct Marks : 1 Wrong Marks : 0.25

निम्नलिखित प्रश्न में, चार विकल्पों में से, उस विकल्प का चयन करें जो शुद्ध शब्द का सही विकल्प है।

Options :

1. * मिस्थानं
2. * मिस्थान्न
3. * मिष्टान्न
4. ✓ मिष्ठान्न

Question Number : 180 Question Id : 50964710613 Question Type : MCQ Option Shuffling : Yes
Correct Marks : 1 Wrong Marks : 0.25

निम्नलिखित प्रश्न में, चार विकल्पों में से, उस विकल्प का चयन करें जो शुद्ध शब्द का सही विकल्प है।

Options :

1. * मिस्थानं
2. * मिस्थान्न
3. * मिष्टान्न
4. ✓ मिष्ठान्न

General Hindi2

Group Number :	10
Group Id :	509647231
Group Maximum Duration :	0
Group Minimum Duration :	120
Show Attended Group? :	No
Edit Attended Group? :	No
Break time:	0
Group Marks:	20
Is this Group for Examiner?:	No
Revisit allowed for group Instructions? :	Yes
Maximum Instruction Time:	0
Minimum Instruction Time:	0

General Hindi2

Section Id :	509647391
Section Number :	1
Section type :	Online
Mandatory or Optional:	Mandatory
Number of Questions:	16
Number of Questions to be attempted:	16
Section Marks:	20

Sub-Section Number:	1
Sub-Section Id:	509647550
Question Shuffling Allowed :	Yes

Question Number : 181 Question Id : 50964710614 Question Type : MCQ Option Shuffling : Yes
Correct Marks : 1 Wrong Marks : 0.25

निम्नलिखित प्रश्न में, चार विकल्पों में से, उस विकल्प का चयन करें जो दिए गए शब्द के पर्यायवाची शब्द का सही विकल्प नहीं है।

इंद्र

Options :

1. * देवेन्द्र
2. ✓ अरविंद
3. * मधवा
4. * पुरंदर

Question Number : 181 Question Id : 50964710614 Question Type : MCQ Option Shuffling : Yes

Correct Marks : 1 Wrong Marks : 0.25

निम्नलिखित प्रश्न में, चार विकल्पों में से, उस विकल्प का चयन करें जो दिए गए शब्द के पर्यायवाची शब्द का सही विकल्प नहीं है।

इंद्र

Options :

1. * देवेन्द्र
2. ✓ अरविंद
3. * मधवा
4. * पुरंदर

Question Number : 182 Question Id : 50964710615 Question Type : MCQ Option Shuffling : Yes

Correct Marks : 1 Wrong Marks : 0.25

निम्नलिखित प्रश्न में, चार विकल्पों में से, उस विकल्प का चयन करें जो दिए गए शब्द के पर्यायवाची शब्द का सही विकल्प नहीं है।

असुर

Options :

1. * दनुज

2. ✓ अक्षि

3. ✘ तमीचर

4. ✘ दानव

Question Number : 182 Question Id : 50964710615 Question Type : MCQ Option Shuffling : Yes

Correct Marks : 1 Wrong Marks : 0.25

निम्नलिखित प्रश्न में, चार विकल्पों में से, उस विकल्प का चयन करें जो दिए गए शब्द के पर्यायवाची शब्द का सही विकल्प नहीं है।

असुर

Options :

1. ✘ दनुज

2. ✓ अक्षि

3. ✘ तमीचर

4. ✘ दानव

Question Number : 183 Question Id : 50964710616 Question Type : MCQ Option Shuffling : Yes

Correct Marks : 1 Wrong Marks : 0.25

निम्नलिखित प्रश्न में, चार विकल्पों में से, उस विकल्प का चयन करें जो दिए गए वाक्य के काल का सही विकल्प हो।

शायद मैं गाँव घूमने जाऊँ

Options :

1. ✓ संभाव्य भविष्यकाल

2. ✘ आसन्न भूतकाल

3. ✘ सामान्य वर्तमान काल

4. ✘ अपूर्ण वर्तमान काल

Question Number : 183 Question Id : 50964710616 Question Type : MCQ Option Shuffling : Yes

Correct Marks : 1 Wrong Marks : 0.25

निम्नलिखित प्रश्न में, चार विकल्पों में से, उस विकल्प का चयन करें जो दिए गए वाक्य के काल का सही विकल्प हो।

शायद मैं गाँव घूमने जाऊँ

Options :

1. ✓ संभाव्य भविष्यकाल
2. * आसन्न भूतकाल
3. * सामान्य वर्तमान काल
4. * अपूर्ण वर्तमान काल

Question Number : 184 Question Id : 50964710617 Question Type : MCQ Option Shuffling : Yes

Correct Marks : 1 Wrong Marks : 0.25

निम्नलिखित प्रश्न में, चार विकल्पों में से, उस विकल्प का चयन करें जो सही वाक्य भेद का विकल्प हो।

मोनिका नाराज थी, इसलिए नहीं बोली।

Options :

1. ✓ संयुक्त वाक्य
2. * मिश्र वाक्य
3. * संदेहवाचक वाक्य
4. * संकेतवाचक वाक्य

Question Number : 184 Question Id : 50964710617 Question Type : MCQ Option Shuffling : Yes

Correct Marks : 1 Wrong Marks : 0.25

निम्नलिखित प्रश्न में, चार विकल्पों में से, उस विकल्प का चयन करें जो सही वाक्य भेद का विकल्प हो।

मोनिका नाराज थी, इसलिए नहीं बोली।

Options :

1. ✓ संयुक्त वाक्य
2. * मिश्र वाक्य
3. * संदेहवाचक वाक्य
4. * संकेतवाचक वाक्य

Question Number : 185 Question Id : 50964710618 Question Type : MCQ Option Shuffling : Yes
Correct Marks : 1 Wrong Marks : 0.25

निम्नलिखित प्रश्न में, चार विकल्पों में से, उस विकल्प का चयन करें जो सही वाक्य भेद का विकल्प हो।

यदि वह मेहनत करेगा, तो सफल होगा।

Options :

1. * संयुक्त वाक्य
2. ✓ मिश्र वाक्य
3. * संदेहवाचक वाक्य
4. * संकेतवाचक वाक्य

Question Number : 185 Question Id : 50964710618 Question Type : MCQ Option Shuffling : Yes
Correct Marks : 1 Wrong Marks : 0.25

निम्नलिखित प्रश्न में, चार विकल्पों में से, उस विकल्प का चयन करें जो सही वाक्य भेद का विकल्प हो।

यदि वह मेहनत करेगा, तो सफल होगा।

Options :

1. * संयुक्त वाक्य
2. ✓ मिश्र वाक्य
3. * संदेहवाचक वाक्य
4. * संकेतवाचक वाक्य

Question Number : 186 Question Id : 50964710619 Question Type : MCQ Option Shuffling : Yes
Correct Marks : 1 Wrong Marks : 0.25

निम्नलिखित प्रश्न में, चार विकल्पों में से, उस विकल्प का चयन करें जो स्त्रीलिंग शब्द का सबसे अच्छा विकल्प है।

Options :

1. * मच्छर
2. ✓ मछली
3. * उपवन
4. * पन्ना

Question Number : 186 Question Id : 50964710619 Question Type : MCQ Option Shuffling : Yes
Correct Marks : 1 Wrong Marks : 0.25

निम्नलिखित प्रश्न में, चार विकल्पों में से, उस विकल्प का चयन करें जो स्त्रीलिंग शब्द का सबसे अच्छा विकल्प है।

Options :

1. * मच्छर
2. ✓ मछली
3. * उपवन
4. * पन्ना

Question Number : 187 Question Id : 50964710620 Question Type : MCQ Option Shuffling : Yes
Correct Marks : 1 Wrong Marks : 0.25

निम्नलिखित प्रश्न में, चार विकल्पों में से, उस विकल्प का चयन करें जो रिक्त स्थान के लिए बहुवचन शब्द का सबसे अच्छा विकल्प है।

मेज पर बहुत सारी _____ रखी हुई हैं।

Options :

1. * पुस्तक
2. * पुस्तके
3. * पुस्तके
4. ✓ पुस्तकें

Question Number : 187 Question Id : 50964710620 Question Type : MCQ Option Shuffling : Yes
Correct Marks : 1 Wrong Marks : 0.25

निम्नलिखित प्रश्न में, चार विकल्पों में से, उस विकल्प का चयन करें जो रिक्त स्थान के लिए बहुवचन शब्द का सबसे अच्छा विकल्प है।

मेज पर बहुत सारी _____ रखी हुई हैं।

Options :

1. * पुस्तक
2. * पुस्तके
3. * पुस्तके
4. ✓ पुस्तकें

Question Number : 188 Question Id : 50964710621 Question Type : MCQ Option Shuffling : Yes
Correct Marks : 1 Wrong Marks : 0.25

निम्नलिखित प्रश्न में, चार विकल्पों में से, उस विकल्प का चयन करें जो दिए गए वाक्य के लिए पक्ष के भेद का सबसे अच्छा विकल्प है।

बाढ़ का पानी बढ़ता जा रहा है।

Options :

1. * आरंभद्योतक
2. ✓ प्रगतिद्योतक
3. * सातप्यबोधक
4. * पूर्णताद्योतक

Question Number : 188 Question Id : 50964710621 Question Type : MCQ Option Shuffling : Yes
Correct Marks : 1 Wrong Marks : 0.25

निम्नलिखित प्रश्न में, चार विकल्पों में से, उस विकल्प का चयन करें जो दिए गए वाक्य के लिए पक्ष के भेद का सबसे अच्छा विकल्प है।

बाढ़ का पानी बढ़ता जा रहा है।

Options :

1. ✖ आरंभद्योतक
2. ✔ प्रगतिद्योतक
3. ✖ सातप्यबोधक
4. ✖ पूर्णताद्योतक

Question Number : 189 Question Id : 50964710622 Question Type : MCQ Option Shuffling : Yes

Correct Marks : 1 Wrong Marks : 0.25

निम्नलिखित प्रश्न में, चार विकल्पों में से, उस विकल्प का चयन करें जो दिए गए वाक्य के लिए वृत्ति के भेद का सबसे अच्छा विकल्प है।

दीपा अपना काम कर चुकी होगी।

Options :

1. ✖ विध्यर्थ
2. ✖ संकेतार्थ
3. ✔ संदेहार्थ
4. ✖ निश्चयार्थ

Question Number : 189 Question Id : 50964710622 Question Type : MCQ Option Shuffling : Yes

Correct Marks : 1 Wrong Marks : 0.25

निम्नलिखित प्रश्न में, चार विकल्पों में से, उस विकल्प का चयन करें जो दिए गए वाक्य के लिए वृत्ति के भेद का सबसे अच्छा विकल्प है।

दीपा अपना काम कर चुकी होगी।

Options :

1. ✖ विध्यर्थ
2. ✖ संकेतार्थ
3. ✔ संदेहार्थ
4. ✖ निश्चयार्थ

Question Number : 190 Question Id : 50964710623 Question Type : MCQ Option Shuffling : Yes

Correct Marks : 1 Wrong Marks : 0.25

निम्नलिखित प्रश्न में, चार विकल्पों में से, उस विकल्प का चयन करें जो कोष्ठक में दिए गए शब्द के अनुसार अन्य पुरुष वाचक सर्वनाम का सही विकल्प हो।

Options :

1. ✓ मैंने आपको बताया था (वह) पढ़ाई में बहुत तेज़ है।
2. * (आप) बाज़ार से सामान लेकर आओ।
3. * आजकल (आप) कहाँ रहते हैं?
4. * इस साल (मेरे) नंबर काफी अच्छे आये हैं।

Question Number : 190 Question Id : 50964710623 Question Type : MCQ Option Shuffling : Yes

Correct Marks : 1 Wrong Marks : 0.25

निम्नलिखित प्रश्न में, चार विकल्पों में से, उस विकल्प का चयन करें जो कोष्ठक में दिए गए शब्द के अनुसार अन्य पुरुष वाचक सर्वनाम का सही विकल्प हो।

Options :

1. ✓ मैंने आपको बताया था (वह) पढ़ाई में बहुत तेज़ है।
2. * (आप) बाज़ार से सामान लेकर आओ।
3. * आजकल (आप) कहाँ रहते हैं?
4. * इस साल (मेरे) नंबर काफी अच्छे आये हैं।

Question Number : 191 Question Id : 50964710624 Question Type : MCQ Option Shuffling : Yes

Correct Marks : 1 Wrong Marks : 0.25

निम्नलिखित प्रश्न में, चार विकल्पों में से, उस विकल्प का चयन करें जो दिए गए मुहावरे का सही अर्थ वाला विकल्प है।

कौड़ी नहीं पास मेला लगे उदास

Options :

1. * खराब तरह का मेला
2. ✓ धन के अभाव में कुछ भी अच्छा न लगाना
3. * अकेले मेला जाना

4. * किसी चीज की कमी

Question Number : 191 Question Id : 50964710624 Question Type : MCQ Option Shuffling : Yes
Correct Marks : 1 Wrong Marks : 0.25

निम्नलिखित प्रश्न में, चार विकल्पों में से, उस विकल्प का चयन करें जो दिए गए मुहावरे का सही अर्थ वाला विकल्प है।

कौड़ी नहीं पास मेला लगे उदास

Options :

1. * खराब तरह का मेला
2. ✓ धन के अभाव में कुछ भी अच्छा न लगाना
3. * अकेले मेला जाना
4. * किसी चीज की कमी

Question Number : 192 Question Id : 50964710625 Question Type : MCQ Option Shuffling : Yes
Correct Marks : 1 Wrong Marks : 0.25

निम्नलिखित प्रश्न में, चार विकल्पों में से, उस विकल्प का चयन करें जो दिए गए मुहावरे का सही अर्थ वाला विकल्प है।

तेते पाँव पसारिये जेती लांबी सौर

Options :

1. ✓ आय के अनुसार व्यय करना चाहिए
2. * लम्बाई के अनुसार कार्य करना
3. * जहाँ जगह मिले वहाँ रहना
4. * सैर पर जाना

Question Number : 192 Question Id : 50964710625 Question Type : MCQ Option Shuffling : Yes
Correct Marks : 1 Wrong Marks : 0.25

निम्नलिखित प्रश्न में, चार विकल्पों में से, उस विकल्प का चयन करें जो दिए गए मुहावरे का सही अर्थ वाला विकल्प है।

तेते पाँव पसारिये जेती लांबी सौर

Options :

1. ✓ आय के अनुसार व्यय करना चाहिए
2. * लम्बाई के अनुसार कार्य करना
3. * जहाँ जगह मिले वहाँ रहना
4. * सैर पर जाना

Question Number : 193 Question Id : 50964710626 Question Type : MCQ Option Shuffling : Yes

Correct Marks : 1 Wrong Marks : 0.25

निम्नलिखित प्रश्न में, चार विकल्पों में से, उस विकल्प का चयन करें जो दिए गए मुहावरे का सही अर्थ वाला विकल्प है।

लकड़ी के बल बन्दर नाचे

Options :

1. * पेड़ के नीचे नाचना
2. * लकड़ी लेकर नाचना
3. ✓ भय से ही काम होता है
4. * बंदर की तरह नाचना

Question Number : 193 Question Id : 50964710626 Question Type : MCQ Option Shuffling : Yes

Correct Marks : 1 Wrong Marks : 0.25

निम्नलिखित प्रश्न में, चार विकल्पों में से, उस विकल्प का चयन करें जो दिए गए मुहावरे का सही अर्थ वाला विकल्प है।

लकड़ी के बल बन्दर नाचे

Options :

1. * पेड़ के नीचे नाचना
2. * लकड़ी लेकर नाचना
3. ✓ भय से ही काम होता है
4. * बंदर की तरह नाचना

Question Number : 194 Question Id : 50964710627 Question Type : MCQ Option Shuffling : Yes
Correct Marks : 1 Wrong Marks : 0.25

निम्नलिखित प्रश्न में, चार विकल्पों में से, उस सही विकल्प का चयन करें जो दी गई लोकोक्तियों का सही अर्थ वाला विकल्प है।

चमड़ी जाए पर दमड़ी नहीं

Options :

1. ✓ बहुत कंजूस
2. * बहुत कष्ट सहना
3. * कुछ न बिगड़ना
4. * बहुत खर्च होना

Question Number : 194 Question Id : 50964710627 Question Type : MCQ Option Shuffling : Yes
Correct Marks : 1 Wrong Marks : 0.25

निम्नलिखित प्रश्न में, चार विकल्पों में से, उस सही विकल्प का चयन करें जो दी गई लोकोक्तियों का सही अर्थ वाला विकल्प है।

चमड़ी जाए पर दमड़ी नहीं

Options :

1. ✓ बहुत कंजूस
2. * बहुत कष्ट सहना
3. * कुछ न बिगड़ना
4. * बहुत खर्च होना

Question Number : 195 Question Id : 50964710628 Question Type : MCQ Option Shuffling : Yes

Correct Marks : 1 Wrong Marks : 0.25

निम्नलिखित प्रश्न में, चार विकल्पों में से, उस विकल्प का चयन करें जो बताता है कि लिखते समय कुछ अंश छूट जाए तो किस चिह्न का उपयोग किया जाता है?

Options :

1. * कोष्ठक
2. * अर्धविराम
3. ✓ हंसपद
4. * विवरण

Question Number : 195 Question Id : 50964710628 Question Type : MCQ Option Shuffling : Yes

Correct Marks : 1 Wrong Marks : 0.25

निम्नलिखित प्रश्न में, चार विकल्पों में से, उस विकल्प का चयन करें जो बताता है कि लिखते समय कुछ अंश छूट जाए तो किस चिह्न का उपयोग किया जाता है?

Options :

1. * कोष्ठक
2. * अर्धविराम
3. ✓ हंसपद
4. * विवरण

Sub-Section Number:	2
Sub-Section Id:	509647551
Question Shuffling Allowed :	Yes

Question Id : 50964710629 Question Type : COMPREHENSION Sub Question Shuffling Allowed : Yes Group Comprehension Questions : No

Question Numbers : (196 to 200)

Question Label : Comprehension

नीचे दिए गये गद्यांश को ध्यानपूर्वक पढ़ें और दिए गये प्रश्न के उत्तर दें।

मनुष्य के लिए प्रतिभा की इतनी आवश्यकता नहीं जितनी उद्देश्य की आवश्यकता है। विश्वास कीजिए आँख मीचकर फेंका हुआ तीर अपने लक्ष्य तक नहीं पहुँच सकता, अंधे होकर भागने से मार्ग नहीं कट सकता। आपको वह व्यक्ति कैसा लगेगा जो गाड़ी पर सवार होने के लिए स्टेशन पर तो पहुँच गया है, पर उसे यह पता नहीं कि उसे जाना कहाँ है। हम सब इस संसार के रंगमंच पर आए हुए हैं। जीवन रूपी नौका को खेने से पहले हमें यह जान लेना चाहिए कि हमारे जीवन का उद्देश्य क्या है, हमें जाना कहाँ है। यदि हमने अपने जीवन का उद्देश्य निश्चित नहीं किया तो हम कभी-भी भटक जाएँगे। हमें परिस्थितियाँ जिधर चाहेंगी, ले जाएँगी। पर याद रखो - हमें भाग्य के नाम पर जीवन में बहना नहीं है, जीवन के प्रवाह को अपने अनुरूप बदलना है।

Sub questions

Question Number : 196 Question Id : 50964710630 Question Type : MCQ Option Shuffling : Yes

Correct Marks : 1 Wrong Marks : 0.25

अनुच्छेद के अनुसार मनुष्य के लिए सबसे ज्यादा आवश्यक क्या है?

Options :

1. * प्रतिभा
2. * विश्वास
3. ✓ उद्देश्य
4. * परिस्थिति

Question Number : 197 Question Id : 50964710631 Question Type : MCQ Option Shuffling : Yes

Correct Marks : 1 Wrong Marks : 0.25

जीवन के प्रवाह को अपने अनुरूप बदलना' का क्या अर्थ है?

Options :

1. * संसार के रंगमंच पर चलना
2. * जीवन रूपी नौका को खेना
3. * परिस्थितियों के अनुसार चले जाना
4. ✓ परिस्थितियों को अपने अनुसार बनाना

Question Number : 198 Question Id : 50964710632 Question Type : MCQ Option Shuffling : Yes

Correct Marks : 1 Wrong Marks : 0.25

जीवन का उद्देश्य तय नहीं होने पर क्या होता है?

Options :

1. * नौका लेकर आगे जा सकते हैं
2. ✓ पथभ्रष्ट हो सकते हैं
3. * लक्ष्य हासिल कर सकते हैं
4. * व्यस्त हो सकते हैं

Question Number : 199 Question Id : 50964710633 Question Type : MCQ Option Shuffling : Yes
Correct Marks : 1 Wrong Marks : 0.25

इनमें से कौन - सा प्रवाह का पर्यायवाची नहीं है?

Options :

1. ✓ ठहराव
2. * बहाव
3. * धारा
4. * धार

Question Number : 200 Question Id : 50964710634 Question Type : MCQ Option Shuffling : Yes
Correct Marks : 1 Wrong Marks : 0.25

इस अनुच्छेद का कोई उपयुक्त शीर्षक:

Options :

1. * मनुष्य की प्रतिभा
2. * जीवन रूपी नौका
3. * जीवन का आराम
4. ✓ जीवन का उद्देश्य

Question Id : 50964710629 Question Type : COMPREHENSION Sub Question Shuffling Allowed : Yes Group Comprehension
Questions : No

Question Numbers : (196 to 200)

Question Label : Comprehension

नीचे दिए गये गद्यांश को ध्यानपूर्वक पढ़ें और दिए गये प्रश्न के उत्तर दें।

मनुष्य के लिए प्रतिभा की इतनी आवश्यकता नहीं जितनी उद्देश्य की आवश्यकता है। विश्वास कीजिए आँख मीचकर फेंका हुआ तीर अपने लक्ष्य तक नहीं पहुँच सकता, अंधे होकर भागने से मार्ग नहीं कट सकता। आपको वह व्यक्ति कैसा लगेगा जो गाड़ी पर सवार होने के लिए स्टेशन पर तो पहुँच गया है, पर उसे यह पता नहीं कि उसे जाना कहाँ है। हम सब इस संसार के रंगमंच पर आए हुए हैं। जीवन रूपी नौका को खेने से पहले हमें यह जान लेना चाहिए कि हमारे जीवन का उद्देश्य क्या है, हमें जाना कहाँ है। यदि हमने अपने जीवन का उद्देश्य निश्चित नहीं किया तो हम कभी-भी भटक जाएँगे। हमें परिस्थितियाँ जिधर चाहेंगी, ले जाएँगी। पर याद रखो - हमें भाग्य के नाम पर जीवन में बहना नहीं है, जीवन के प्रवाह को अपने अनुरूप बदलना है।

Sub questions

Question Number : 196 Question Id : 50964710630 Question Type : MCQ Option Shuffling : Yes
Correct Marks : 1 Wrong Marks : 0.25

अनुच्छेद के अनुसार मनुष्य के लिए सबसे ज्यादा आवश्यक क्या है?

Options :

1. * प्रतिभा
2. * विश्वास
3. ✓ उद्देश्य
4. * परिस्थिति

Question Number : 197 Question Id : 50964710631 Question Type : MCQ Option Shuffling : Yes
Correct Marks : 1 Wrong Marks : 0.25

जीवन के प्रवाह को अपने अनुरूप बदलना' का क्या अर्थ है?

Options :

1. ✖ संसार के रंगमंच पर चलना
2. ✖ जीवन रूपी नौका को खेना
3. ✖ परिस्थितियों के अनुसार चले जाना
4. ✔ परिस्थितियों को अपने अनुसार बनाना

Question Number : 198 Question Id : 50964710632 Question Type : MCQ Option Shuffling : Yes
Correct Marks : 1 Wrong Marks : 0.25

जीवन का उद्देश्य तय नहीं होने पर क्या होता है?

Options :

1. ✖ नौका लेकर आगे जा सकते हैं
2. ✔ पथभ्रष्ट हो सकते हैं
3. ✖ लक्ष्य हासिल कर सकते हैं
4. ✖ व्यस्त हो सकते हैं

Question Number : 199 Question Id : 50964710633 Question Type : MCQ Option Shuffling : Yes
Correct Marks : 1 Wrong Marks : 0.25

इनमें से कौन - सा प्रवाह का पर्यायवाची नहीं है?

Options :

1. ✔ ठहराव
2. ✖ बहाव
3. ✖ धारा
4. ✖ धार

Question Number : 200 Question Id : 50964710634 Question Type : MCQ Option Shuffling : Yes
Correct Marks : 1 Wrong Marks : 0.25

इस अनुच्छेद का कोई उपयुक्त शीर्षक:

Options :

1. ✖ मनुष्य की प्रतिभा
2. ✖ जीवन रूपी नौका

3. ✖ जीवन का आराम

4. ✔ जीवन का उद्देश्य