

Education Consultant India Ltd.

Notations :

1.Options shown in **green** color and with ✓ icon are correct.

2.Options shown in **red** color and with ✖ icon are incorrect.

Question Paper Name:	MEDICAL RECORD CLERK 26th July 2019 Shift 2
Subject Name:	MEDICAL RECORD CLERK
Creation Date:	2019-07-26 18:08:30
Duration:	120
Total Marks:	200
Display Marks:	Yes
Share Answer Key With Delivery Engine:	No
Actual Answer Key:	Yes
Calculator:	None
Magnifying Glass Required?:	No
Ruler Required?:	No
Eraser Required?:	No
Scratch Pad Required?:	No
Rough Sketch/Notepad Required?:	No
Protractor Required?:	No
Show Watermark on Console?:	Yes
Highlighter:	No
Auto Save on Console?:	No

Mental Ability1

Group Number :	1
Group Id :	509647232
Group Maximum Duration :	0
Group Minimum Duration :	0
Show Attended Group? :	No
Edit Attended Group? :	No
Break time:	0
Group Marks:	20
Is this Group for Examiner?:	No
Revisit allowed for group Instructions? :	Yes
Maximum Instruction Time:	0
Minimum Instruction Time:	0

Mental Ability1

Section Id :	509647392
Section Number :	1

Section type :	Online
Mandatory or Optional:	Mandatory
Number of Questions:	20
Number of Questions to be attempted:	20
Section Marks:	20

Sub-Section Number:	1
Sub-Section Id:	509647552
Question Shuffling Allowed :	Yes

Question Number : 1 Question Id : 50964710635 Question Type : MCQ Option Shuffling : Yes
Correct Marks : 1 Wrong Marks : 0.25

Find the last letter in the following letter series.

V, T, R, P, N, _____

Options :

1. ✓ L
2. ✗ M
3. ✗ K
4. ✗ J

Question Number : 1 Question Id : 50964710635 Question Type : MCQ Option Shuffling : Yes
Correct Marks : 1 Wrong Marks : 0.25

निम्न अक्षर श्रृंखला में अंतिम अक्षर ज्ञात करें।

V, T, R, P, N, _____

Options :

1. ✓ L
2. ✗ M
3. ✗ K
4. ✗ J

Question Number : 2 Question Id : 50964710636 Question Type : MCQ Option Shuffling : Yes
Correct Marks : 1 Wrong Marks : 0.25

Find the last letters in the following letter series.

PRQ, TVU, XZY, BDC, FHG, _____

Options :

1. ✓ JLK

2. ✗ JKL

3. ✗ IKJ

4. ✗ IJK

Question Number : 2 Question Id : 50964710636 Question Type : MCQ Option Shuffling : Yes

Correct Marks : 1 Wrong Marks : 0.25

निम्न अक्षर श्रृंखला में अंतिम अक्षर ज्ञात करें।

PRQ, TVU, XZY, BDC, FHG, _____

Options :

1. ✓ JLK

2. ✗ JKL

3. ✗ IKJ

4. ✗ IJK

Question Number : 3 Question Id : 50964710637 Question Type : MCQ Option Shuffling : Yes

Correct Marks : 1 Wrong Marks : 0.25

In the following question, one of the option cannot be formed by the word, given in the question. Find that word.

COMPLICATED

Options :

1. ✗ PACE

2. ✓ COMB

3. * LACE

4. * TAIL

Question Number : 3 Question Id : 50964710637 Question Type : MCQ Option Shuffling : Yes

Correct Marks : 1 Wrong Marks : 0.25

निम्नलिखित प्रश्न में, दिए गए शब्द द्वारा इन विकल्पों में से एक विकल्प गठित नहीं किया जा सकता। उस शब्द को खोजें।

COMPLICATED

Options :

1. * PACE

2. ✓ COMB

3. * LACE

4. * TAIL

Question Number : 4 Question Id : 50964710638 Question Type : MCQ Option Shuffling : Yes

Correct Marks : 1 Wrong Marks : 0.25

Out of the given options, three are similar in a certain manner. However, one option is NOT like the other three. Select the option which is different from the rest.

Options :

1. * Cake

2. * Icecream

3. ✓ Soup

4. * Pudding

Question Number : 4 Question Id : 50964710638 Question Type : MCQ Option Shuffling : Yes

Correct Marks : 1 Wrong Marks : 0.25

दिए गए विकल्पों में से, तीन एक निश्चित तरीके से समान हैं। हालाँकि, एक विकल्प अन्य तीन की तरह नहीं है। उस विकल्प का चयन करें जो बाकी से अलग है।

Options :

1. ✖ केक
2. ✖ आइसक्रीम
3. ✔ सूप
4. ✖ पुडिंग

Question Number : 5 Question Id : 50964710639 Question Type : MCQ Option Shuffling : Yes

Correct Marks : 1 Wrong Marks : 0.25

Out of the given options, three are similar in a certain manner. However, one option is NOT like the other three. Select the option which is different from the rest.

Options :

1. ✔ XYW
2. ✖ BDZ
3. ✖ NPL
4. ✖ MOK

Question Number : 5 Question Id : 50964710639 Question Type : MCQ Option Shuffling : Yes

Correct Marks : 1 Wrong Marks : 0.25

दिए गए विकल्पों में से, तीन एक निश्चित तरीके से समान हैं। हालाँकि, एक विकल्प अन्य तीन की तरह नहीं है। उस विकल्प का चयन करें जो बाकी से अलग है।

Options :

1. ✔ XYW
2. ✖ BDZ

3. * NPL

4. * MOK

Question Number : 6 Question Id : 50964710640 Question Type : MCQ Option Shuffling : Yes
Correct Marks : 1 Wrong Marks : 0.25

In the given options 3 pair of words are similarly related and one pair is differently related. Find the pair which is differently related.

Options :

1. ✓ Hen : Egg

2. * Bird : Worms

3. * Rabbit : Carrots

4. * Mouse : Cheese

Question Number : 6 Question Id : 50964710640 Question Type : MCQ Option Shuffling : Yes
Correct Marks : 1 Wrong Marks : 0.25

दिए गए विकल्पों में शब्दों की 3 जोड़ियाँ समान रूप से संबंधित हैं और एक जोड़ी भिन्न रूप से संबंधित है। उस जोड़ी को ज्ञात करें जो अलग तरह से संबंधित है।

Options :

1. ✓ मुर्गी: अंडा

2. * पक्षी: कीड़े

3. * खरगोश: गाजर

4. * चूहा: पनीर

Question Number : 7 Question Id : 50964710641 Question Type : MCQ Option Shuffling : Yes
Correct Marks : 1 Wrong Marks : 0.25

Select the option that is related to the third term on the same basis as the second term is related to the first term.

Chennai : Tamil Nadu :: Panaji : ?

Options :

1. * Patna
2. * Maharashtra
3. ✓ Goa
4. * Odisha

Question Number : 7 Question Id : 50964710641 Question Type : MCQ Option Shuffling : Yes
Correct Marks : 1 Wrong Marks : 0.25

उस विकल्प का चयन करें जो तीसरे पद से उसी प्रकार से संबंधित है जिस प्रकार से दूसरा पद पहले पद से संबंधित है।

चेन्नई : तमिल नाडु :: पणजी : ?

Options :

1. * पटना
2. * महाराष्ट्र
3. ✓ गोवा
4. * ओडिशा

Question Number : 8 Question Id : 50964710642 Question Type : MCQ Option Shuffling : Yes
Correct Marks : 1 Wrong Marks : 0.25

Select the option that is related to the third term on the same basis as the second term is related to the first term.

EOA : GQC :: VGX : ?

Options :

1. * TEV

2. ✓ XIZ

3. ✗ SDU

4. ✗ WHY

Question Number : 8 Question Id : 50964710642 Question Type : MCQ Option Shuffling : Yes
Correct Marks : 1 Wrong Marks : 0.25

उस विकल्प का चयन करें जो तीसरे पद से उसी प्रकार से संबंधित है जिस प्रकार से दूसरा पद पहले पद से संबंधित है।

EOA : GQC :: VGX : ?

Options :

1. ✗ TEV

2. ✓ XIZ

3. ✗ SDU

4. ✗ WHY

Question Number : 9 Question Id : 50964710643 Question Type : MCQ Option Shuffling : Yes
Correct Marks : 1 Wrong Marks : 0.25

Select the option that is related to the third term on the same basis as the second term is related to the first term.

Stream : River :: Lake : ?

Options :

1. ✗ Waterfall

2. ✓ Sea

3. ✗ Dam

4. ✗ Flood

Question Number : 9 Question Id : 50964710643 Question Type : MCQ Option Shuffling : Yes
Correct Marks : 1 Wrong Marks : 0.25

उस विकल्प का चयन करें जो तीसरे पद से उसी प्रकार से संबंधित है जिस प्रकार से दूसरा पद पहले पद से संबंधित है।

धारा : नदी :: झील : ?

Options :

1. ✖ झरना
2. ✔ समुद्र
3. ✖ बांध
4. ✖ बाढ़

Question Number : 10 Question Id : 50964710644 Question Type : MCQ Option Shuffling : Yes
Correct Marks : 1 Wrong Marks : 0.25

In a certain code language, 9513 means 'this glass is half', 7295 means 'glass is like brick' and 6294 means 'brick is empty dry'. Find the code for 'brick'.

Options :

1. ✔ 2
2. ✖ 5
3. ✖ 4
4. ✖ 9

Question Number : 10 Question Id : 50964710644 Question Type : MCQ Option Shuffling : Yes
Correct Marks : 1 Wrong Marks : 0.25

एक निश्चित कोड भाषा में, 9513 का अर्थ है 'this glass is half', 7295 का अर्थ है 'glass is like brick' और 6294 का अर्थ है 'brick is empty dry'। 'brick' के लिए कोड खोजें।

Options :

1. ✔ 2
2. ✖ 5

3. ✖ 4

4. ✖ 9

Question Number : 11 Question Id : 50964710645 Question Type : MCQ Option Shuffling : Yes

Correct Marks : 1 Wrong Marks : 0.25

If CREATION is coded as XIVZGRLM, then how will SKY be coded as?

Options :

1. ✖ RFV

2. ✔ HPB

3. ✖ MHT

4. ✖ IGC

Question Number : 11 Question Id : 50964710645 Question Type : MCQ Option Shuffling : Yes

Correct Marks : 1 Wrong Marks : 0.25

यदि CREATION को XIVZGRLM के रूप में कोडित किया जाता है, तो SKY को कैसे कोडित किया जाएगा?

Options :

1. ✖ RFV

2. ✔ HPB

3. ✖ MHT

4. ✖ IGC

Question Number : 12 Question Id : 50964710646 Question Type : MCQ Option Shuffling : Yes

Correct Marks : 1 Wrong Marks : 0.25

Here are some words from an artificial language.

'renlof' means 'footprint',

'lofdeb' means 'football'

'debsom' means 'baseball'

Which word would mean 'wheelbase'?

Options :

1. ✖ deblik

2. ✖ feplof

3. ✔ bersom

4. ✖ rensiw

Question Number : 12 Question Id : 50964710646 Question Type : MCQ Option Shuffling : Yes

Correct Marks : 1 Wrong Marks : 0.25

यहाँ एक कृत्रिम भाषा के कुछ शब्द दिए हैं।

'renlof' का अर्थ है 'footprint',

'lofdeb' का अर्थ है 'football'

'debsom' का अर्थ है 'baseball'

किस शब्द का अर्थ 'wheelbase' है?

Options :

1. ✖ deblik

2. ✖ feplof

3. ✔ bersom

4. ✖ rensiw

Question Number : 13 Question Id : 50964710647 Question Type : MCQ Option Shuffling : Yes
Correct Marks : 1 Wrong Marks : 0.25

If it is 3 : 33 AM now, what was the time 6,070 minutes ago?

Options :

1. ✖ 08:43 AM
2. ✖ 10:23 AM
3. ✖ 08:43 PM
4. ✔ 10:23 PM

Question Number : 13 Question Id : 50964710647 Question Type : MCQ Option Shuffling : Yes
Correct Marks : 1 Wrong Marks : 0.25

यदि अभी 3:33 AM है, तो 6,070 मिनिट पहले कितने बजे थे?

Options :

1. ✖ 08:43 AM
2. ✖ 10:23 AM
3. ✖ 08:43 PM
4. ✔ 10:23 PM

Question Number : 14 Question Id : 50964710648 Question Type : MCQ Option Shuffling : Yes
Correct Marks : 1 Wrong Marks : 0.25

If A \$ B means A is son's son of B, A # B means A is son of B and If A * B means A is father of B, then what does X \$ Y * Z # W mean, if Y is mother of one child?

Options :

1. ✔ X is son' son of W
2. ✖ X is son of W
3. ✖ X is father's father of W
4. ✖ X is brother of W

Question Number : 14 Question Id : 50964710648 Question Type : MCQ Option Shuffling : Yes
Correct Marks : 1 Wrong Marks : 0.25

यदि A \$ B का अर्थ A, B के बेटे का बेटा है, A # B का अर्थ A, B का पुत्र है और यदि A * B का अर्थ A, B का पिता है, तो X \$ Y * Z # W का क्या अर्थ है, यदि Y इकलौते बच्चे की माता है?

Options :

1. ✓ X, W के बेटे का बेटा है
2. * X, W का पुत्र है
3. * X, W के पिता का पिता है
4. * X, W का भाई है

Question Number : 15 Question Id : 50964710649 Question Type : MCQ Option Shuffling : Yes

Correct Marks : 1 Wrong Marks : 0.25

Introducing Rehman, Mansur said, "his father is my wife's father-in-law." How is Rehman related to Firoz, If Firoz is Mansur's son.

Options :

1. * Firoz's brother is Rehman
2. * Firoz's father is Rehman
3. ✓ Firoz's father's brother is Rehman
4. * Firoz's brother's father-in-law is Rehman

Question Number : 15 Question Id : 50964710649 Question Type : MCQ Option Shuffling : Yes

Correct Marks : 1 Wrong Marks : 0.25

रहमान का परिचय देते हुए, मंसूर ने कहा, "उनके पिता मेरी पत्नी के ससुर हैं।" रहमान का फिरोज से क्या संबंध है, अगर फिरोज मंसूर का बेटा है।

Options :

1. * फिरोज का भाई रहमान है
2. * फिरोज के पिता रहमान हैं
3. ✓ फिरोज के पिता का भाई रहमान है

4. * फिरोज के भाई का ससुर रहमान है

Question Number : 16 Question Id : 50964710650 Question Type : MCQ Option Shuffling : Yes
Correct Marks : 1 Wrong Marks : 0.25

Atul, Ibrahim, Shams, Raj and Vaibhav are sitting in a row. Raj is between Shams and Vaibhav, Atul is to the left of Ibrahim. Atul is not at the end. Atul is not next to Shams. Who is to the right of Vaibhav?

Options :

1. * Ibrahim
2. * Raj
3. ✓ Atul
4. * Vaibhav

Question Number : 16 Question Id : 50964710650 Question Type : MCQ Option Shuffling : Yes
Correct Marks : 1 Wrong Marks : 0.25

अतुल, इब्राहिम, शम्स, राज और वैभव एक पंक्ति में बैठे हैं। राज शम्स और वैभव के बीच है, अतुल इब्राहिम के बाईं ओर है। अतुल अंत में नहीं है। अतुल शम्स के बगल में नहीं है। वैभव के दाहिनी तरफ कौन है?

Options :

1. * इब्राहिम
2. * राज
3. ✓ अतुल
4. * वैभव

Question Number : 17 Question Id : 50964710651 Question Type : MCQ Option Shuffling : Yes
Correct Marks : 1 Wrong Marks : 0.25

This is the ownership history of a car. G was the one who sold the car to the scrap yard. F replaced the tyres which were fitted by J. K sold it to G after driving it for 1200 km. If H was the second user who was the third?

Options :

1. ✖ J
2. ✖ K
3. ✖ G
4. ✔ F

Question Number : 17 Question Id : 50964710651 Question Type : MCQ Option Shuffling : Yes

Correct Marks : 1 Wrong Marks : 0.25

यह एक कार का स्वामित्व इतिहास है। G ने कार को स्कैप यार्ड में बेचा था। F ने उन टायरों को बदल दिया जिन्हें J द्वारा फिट किया गया था। K ने इसे 1200 km तक चलाने के बाद G को बेच दिया। यदि H दूसरा उपयोगकर्ता था, तो तीसरा कौन था?

Options :

1. ✖ J
2. ✖ K
3. ✖ G
4. ✔ F

Question Number : 18 Question Id : 50964710652 Question Type : MCQ Option Shuffling : Yes

Correct Marks : 1 Wrong Marks : 0.25

Read the given statement and conclusions carefully. Assuming that the information in the statement is true, even if they appear to be in variance with commonly known facts, select which of the conclusions logically follow(s) from the statement beyond reasonable doubt.

Statements :

- I. All men are good speakers.
- II. All good speakers are good listeners.

Conclusions :

- I. Some good speakers are men.
- II. All good listeners are men.

Options :

- 1. ✓ Only Conclusion I follows.
- 2. ✖ Only Conclusion II follows.
- 3. ✖ Both I and II follows.
- 4. ✖ Neither of the conclusion follows.

Question Number : 18 Question Id : 50964710652 Question Type : MCQ Option Shuffling : Yes
Correct Marks : 1 Wrong Marks : 0.25

दिए गए कथन और निष्कर्षों को ध्यान से पढ़ें। यह मानते हुए कि कथनों में दी गई जानकारीयाँ सत्य हैं, भले ही वे सामान्यतः ज्ञात तथ्यों के साथ विचरण करती हुई दिखाई देती हों, उस निष्कर्ष का चयन करें जो उचित संदेह से परे उस कथन का तार्किक रूप से अनुसरण करता/करते हैं/हैं।

कथन:

- I. सभी पुरुष अच्छे वक्ता हैं।
- II. सभी अच्छे वक्ता अच्छे श्रोता हैं।

निष्कर्ष:

- I. कुछ अच्छे वक्ता पुरुष हैं।
- II. सभी अच्छे श्रोता पुरुष हैं।

Options :

1. ✓ केवल निष्कर्ष I अनुसरण करता है।
2. ✖ केवल निष्कर्ष II अनुसरण करता है।
3. ✖ I और II दोनों अनुसरण करते हैं।
4. ✖ कोई भी निष्कर्ष अनुसरण नहीं करता है।

Question Number : 19 Question Id : 50964710653 Question Type : MCQ Option Shuffling : Yes
Correct Marks : 1 Wrong Marks : 0.25

Read the given statement and conclusions carefully. Assuming that the information in the statement is true, even if they appear to be in variance with commonly known facts, select which of the conclusions logically follow(s) from the statement beyond reasonable doubt.

Statements :

- I. All books are albums
- II. All albums are magazines
- III. Some diaries are books

Conclusions :

- I. Some magazines are diaries
- II. Some diaries are albums

Options :

- 1. ✖ Only Conclusion I follows.
- 2. ✖ Only Conclusion II follows.
- 3. ✔ Both I and II follows
- 4. ✖ Neither of the conclusion follows.

Question Number : 19 Question Id : 50964710653 Question Type : MCQ Option Shuffling : Yes
Correct Marks : 1 Wrong Marks : 0.25

दिए गए कथन और निष्कर्षों को ध्यान से पढ़ें। यह मानते हुए कि कथनों में दी गई जानकारी सत्य है, भले ही वे सामान्यतः ज्ञात तथ्यों के साथ विचरण करते हुए दिखाई देते हों, उस निष्कर्ष का चयन करें जो उचित संदेह से परे उस कथन का तार्किक रूप से अनुसरण करता/करते है/हैं।

कथन:

- I. सभी पुस्तकें एल्बम हैं।
- II. सभी एल्बम पत्रिकाएँ हैं।
- III. कुछ डायरियाँ पुस्तकें हैं।

निष्कर्ष:

- I. कुछ पत्रिकाएँ डायरी हैं।
- II. कुछ डायरियाँ एल्बम हैं।

Options :

1. * केवल निष्कर्ष I अनुसरण करता है।
2. * केवल निष्कर्ष II अनुसरण करता है।
3. ✓ I और II दोनों अनुसरण करते हैं।
4. * कोई भी निष्कर्ष अनुसरण नहीं करता है।

Question Number : 20 Question Id : 50964710654 Question Type : MCQ Option Shuffling : Yes

Correct Marks : 1 Wrong Marks : 0.25

Out of the given options, three are similar in a certain manner. However, one option is NOT like the other three. Select the option which is different from the rest.

Note: For this question, discrepancy is found in question/answer. So, this question is ignored for all candidates.

Options :

1. 27
2. 81
3. 343
4. 169

Question Number : 20 Question Id : 50964710654 Question Type : MCQ Option Shuffling : Yes
Correct Marks : 1 Wrong Marks : 0.25

दिए गए विकल्पों में से, तीन एक निश्चित तरीके से समान हैं। जबकि, एक विकल्प अन्य तीन की तरह नहीं है। उस विकल्प का चयन करें जो बाकी से अलग है।

Note: For this question, discrepancy is found in question/answer. So, this question is ignored for all candidates.

Options :

1. 27
2. 81
3. 343
4. 169

Mental Ability2

Group Number :	2
Group Id :	509647233
Group Maximum Duration :	0
Group Minimum Duration :	0
Show Attended Group? :	No
Edit Attended Group? :	No
Break time:	0
Group Marks:	20
Is this Group for Examiner? :	No
Revisit allowed for group Instructions? :	Yes
Maximum Instruction Time:	0
Minimum Instruction Time:	0

Mental Ability2

Section Id :

509647393

Section Number :	1
Section type :	Online
Mandatory or Optional:	Mandatory
Number of Questions:	20
Number of Questions to be attempted:	20
Section Marks:	20

Sub-Section Number:	1
Sub-Section Id:	509647553
Question Shuffling Allowed :	Yes

Question Number : 21 Question Id : 50964710655 Question Type : MCQ Option Shuffling : Yes
Correct Marks : 1 Wrong Marks : 0.25

In the given options 3 pair of numbers are similarly related and one pair is differently related. Find the pair which is differently related.

Options :

1. ✖ 951 : 634
2. ✖ 519 : 346
3. ✔ 548 : 342
4. ✖ 642 : 428

Question Number : 21 Question Id : 50964710655 Question Type : MCQ Option Shuffling : Yes
Correct Marks : 1 Wrong Marks : 0.25

दिए गए विकल्पों में संख्याओं की 3 जोड़ियाँ एक समान संबंधित हैं और एक जोड़ी अलग तरीके से संबंधित है। उस जोड़ी को ज्ञात करें जो अलग तरह से संबंधित है।

Options :

1. ✖ 951 : 634
2. ✖ 519 : 346
3. ✔ 548 : 342
4. ✖ 642 : 428

Question Number : 22 Question Id : 50964710656 Question Type : MCQ Option Shuffling : Yes
Correct Marks : 1 Wrong Marks : 0.25

Select the option that is related to the third number on the same basis as the second number is related to the first number.

20 : -40 :: -16 : ?

Options :

1. ✖ -32

2. ✖ 8

3. ✖ -8

4. ✔ 32

Question Number : 22 Question Id : 50964710656 Question Type : MCQ Option Shuffling : Yes

Correct Marks : 1 Wrong Marks : 0.25

उस विकल्प का चयन करें जो तीसरी संख्या से उसी प्रकार से संबंधित है जिस प्रकार से दूसरी संख्या पहली संख्या से संबंधित है।

20 : -40 :: -16 : ?

Options :

1. ✖ -32

2. ✖ 8

3. ✖ -8

4. ✔ 32

Question Number : 23 Question Id : 50964710657 Question Type : MCQ Option Shuffling : Yes

Correct Marks : 1 Wrong Marks : 0.25

Select the option that is related to the third number on the same basis as the second number is related to the first number.

$$0.0144 : 0.12 :: 0.0016 : ?$$

Options :

1. ✖ $1/20$
2. ✖ 0.0625
3. ✔ $1/25$
4. ✖ 0.08

Question Number : 23 Question Id : 50964710657 Question Type : MCQ Option Shuffling : Yes
Correct Marks : 1 Wrong Marks : 0.25

उस विकल्प का चयन करें जो तीसरी संख्या से उसी प्रकार से संबंधित है जिस प्रकार से दूसरी संख्या पहली संख्या से संबंधित है।

$$0.0144 : 0.12 :: 0.0016 : ?$$

Options :

1. ✖ $1/20$
2. ✖ 0.0625
3. ✔ $1/25$
4. ✖ 0.08

Question Number : 24 Question Id : 50964710658 Question Type : MCQ Option Shuffling : Yes
Correct Marks : 1 Wrong Marks : 0.25

The given equation is incorrect. Which two signs should be interchanged to correct the given equation?

$$18 \div 3 + 2 \times 10 - 6 = 16$$

Options :

1. * ÷ and ×

2. * ÷ and -

3. ✓ + and ×

4. * + and -

Question Number : 24 Question Id : 50964710658 Question Type : MCQ Option Shuffling : Yes

Correct Marks : 1 Wrong Marks : 0.25

दिया गया समीकरण गलत है। दिए गए समीकरण को सही करने के लिए किन दो चिन्हों को परस्पर बदलना चाहिए?

$$18 \div 3 + 2 \times 10 - 6 = 16$$

Options :

1. * ÷ और ×

2. * ÷ और -

3. ✓ + और ×

4. * + और -

Question Number : 25 Question Id : 50964710659 Question Type : MCQ Option Shuffling : Yes

Correct Marks : 1 Wrong Marks : 0.25

In a certain code language, '+' represents '-', '-' represents '×', '×' represents '÷' and '÷' represents '+'. Find out the answer to the following question.

$$180 + 25 - 8 \div 240 \times 15 = ?$$

Options :

1. * 204.5

2. * 99

3. * -24

4. ✓ -4

Question Number : 25 Question Id : 50964710659 Question Type : MCQ Option Shuffling : Yes

Correct Marks : 1 Wrong Marks : 0.25

एक निश्चित कोड भाषा में, '+' , '-' का प्रतिनिधित्व करता है, '-' , '×' का प्रतिनिधित्व करता है, '×' , '÷' का प्रतिनिधित्व करता है और '÷' , '+' का प्रतिनिधित्व करता है। निम्नलिखित प्रश्न का उत्तर ज्ञात करें।

$$180 + 25 - 8 \div 240 \times 15 = ?$$

Options :

1. ✖ 204.5

2. ✖ 99

3. ✖ -24

4. ✔ -4

Question Number : 26 Question Id : 50964710660 Question Type : MCQ Option Shuffling : Yes

Correct Marks : 1 Wrong Marks : 0.25

Find the missing number in the following number series.

-5, -2.75, ?, 1.75, 4, 6.25

Options :

1. ✖ 0.5

2. ✔ -0.5

3. ✖ -0.25

4. ✖ 0.25

Question Number : 26 Question Id : 50964710660 Question Type : MCQ Option Shuffling : Yes

Correct Marks : 1 Wrong Marks : 0.25

निम्नलिखित संख्या श्रृंखला में लापता संख्या ज्ञात करें।

-5, -2.75 , ?, 1.75, 4, 6.25

Options :

1. ✖ 0.5

2. ✔ -0.5

3. ✖ -0.25

4. ✖ 0.25

Question Number : 27 Question Id : 50964710661 Question Type : MCQ Option Shuffling : Yes
Correct Marks : 1 Wrong Marks : 0.25

Find the missing number in the following number series.

-20, -16.25, ?, -8.75, -5, -1.25

Options :

1. ✖ -11.5

2. ✔ -12.5

3. ✖ -13.5

4. ✖ -14.5

Question Number : 27 Question Id : 50964710661 Question Type : MCQ Option Shuffling : Yes
Correct Marks : 1 Wrong Marks : 0.25

निम्नलिखित संख्या श्रृंखला में लापता संख्या ज्ञात करें।

-20, -16.25, ?, -8.75, -5, -1.25

Options :

1. ✖ -11.5

2. ✔ -12.5

3. ✖ -13.5

4. ✖ -14.5

Question Number : 28 Question Id : 50964710662 Question Type : MCQ Option Shuffling : Yes
Correct Marks : 1 Wrong Marks : 0.25

The weights of 4 boxes are 1.5, 3, 4.5 and 8 kilograms. Which of the following cannot be the total weight, in kilograms, of any combination of these boxes?

Options :

1. ✖ 14
2. ✔ 16
3. ✖ 17
4. ✖ 15.5

Question Number : 28 Question Id : 50964710662 Question Type : MCQ Option Shuffling : Yes

Correct Marks : 1 Wrong Marks : 0.25

4 डिब्बों का वजन 1.5, 3, 4.5 और 8 किलोग्राम है। इन डिब्बों के किसी भी संयोजन का निम्नलिखित में से किलोग्राम में कौन सा कुल वजन नहीं हो सकता है?

Options :

1. ✖ 14
2. ✔ 16
3. ✖ 17
4. ✖ 15.5

Question Number : 29 Question Id : 50964710663 Question Type : MCQ Option Shuffling : Yes

Correct Marks : 1 Wrong Marks : 0.25

If $5@7=53$, $7@3=12$, $8@4=23$, then find $6@9= ?$

Options :

1. ✖ 54
2. ✖ 12
3. ✔ 45
4. ✖ 23

Question Number : 29 Question Id : 50964710663 Question Type : MCQ Option Shuffling : Yes

Correct Marks : 1 Wrong Marks : 0.25

यदि $5@7=53$, $7@3=12$, $8@4=23$, तो $6@9=?$ ज्ञात करें।

Options :

1. ✖ 54

2. ✖ 12

3. ✔ 45

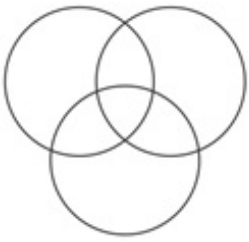
4. ✖ 23

Question Number : 30 Question Id : 50964710664 Question Type : MCQ Option Shuffling : Yes


Correct Marks : 1 Wrong Marks : 0.25

Which of the following Venn diagrams best represents the relationship between crocodiles, lions and herbivores?

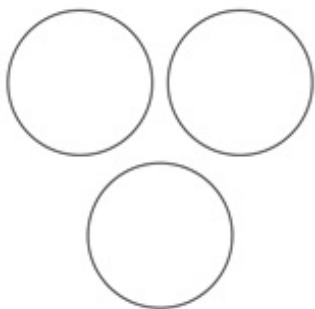
Options :



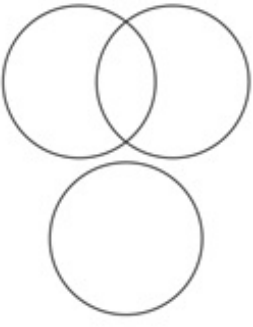
1. ✖



2. ✖



3. ✔

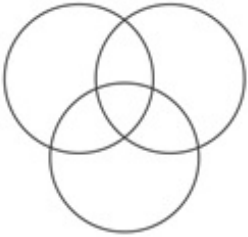


4. ✖


Question Number : 30 Question Id : 50964710664 Question Type : MCQ Option Shuffling : Yes
Correct Marks : 1 Wrong Marks : 0.25

निम्न में से कौन सा वेन आरेख मगरमच्छ, शेरों और शाकाहारी लोगों के बीच के संबंध को सबसे अच्छा दर्शाता है?

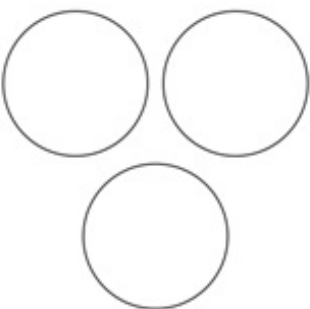
Options :



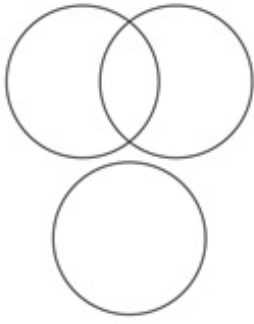
1. ✖



2. ✖



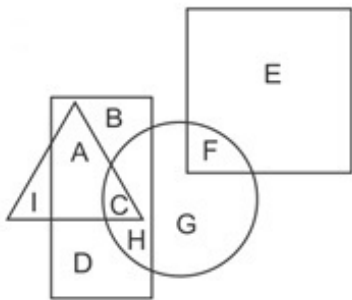
3. ✔



4. ✖

Question Number : 31 Question Id : 50964710665 Question Type : MCQ Option Shuffling : Yes
 Correct Marks : 1 Wrong Marks : 0.25

In the following figure, rectangle represents lawyers, triangle represents musicians, circle represents dentists and square represents mothers. Which set of letters represents dentists who are either musicians or lawyers?

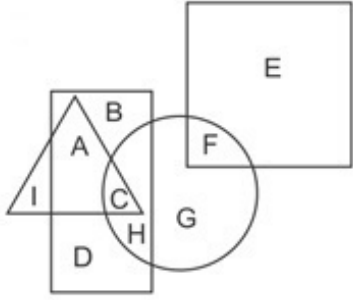


Options :

- 1. ✖ C
- 2. ✖ CHG
- 3. ✖ CF
- 4. ✔ CH

Question Number : 31 Question Id : 50964710665 Question Type : MCQ Option Shuffling : Yes
 Correct Marks : 1 Wrong Marks : 0.25

निम्नलिखित आकृति में, आयत वकीलों का प्रतिनिधित्व करता है, त्रिकोण संगीतकारों का प्रतिनिधित्व करता है, वृत्त दंत चिकिस्तको का प्रतिनिधित्व करता है और वर्ग माताओ का प्रतिनिधित्व करता है।
अक्षरों का कौन सा सेट दंत चिकिस्तको का प्रतिनिधित्व करता है जो या तो संगीतकार है या वकील है?



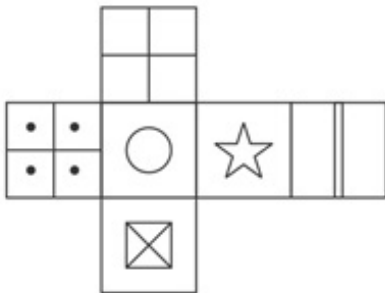
Options :

1. ✖ C
2. ✖ CHG
3. ✖ CF
4. ✔ CH

Question Number : 32 Question Id : 50964710666 Question Type : MCQ Option Shuffling : Yes

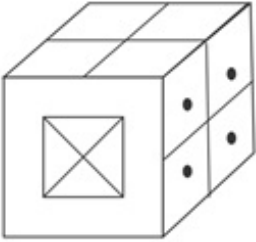
Correct Marks : 1 Wrong Marks : 0.25

Which of the following cubes in the answer figure CANNOT be made based on the unfolded cube in the question figure?

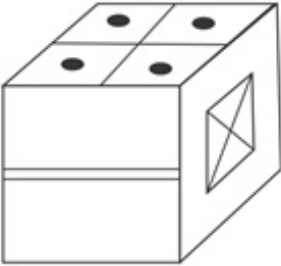


Options :

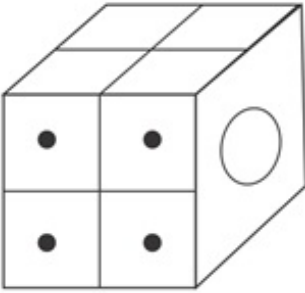
1. ✓



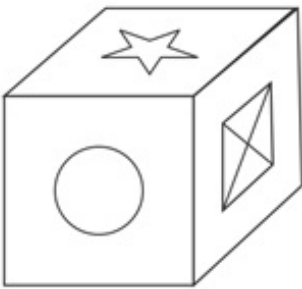
2. ✘



3. ✘

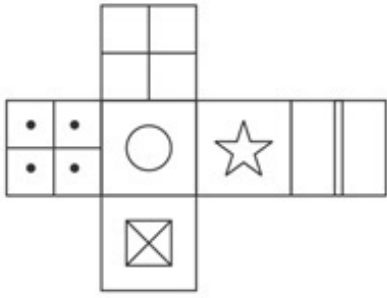


4. ✘

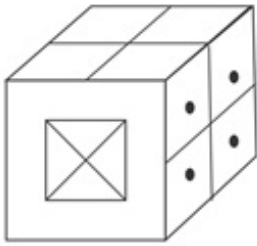


Question Number : 32 Question Id : 50964710666 Question Type : MCQ Option Shuffling : Yes
Correct Marks : 1 Wrong Marks : 0.25

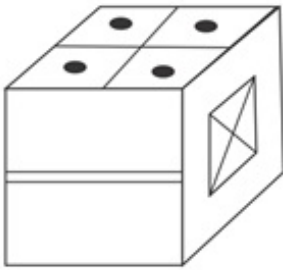
उत्तर आकृति में निम्नलिखित में से कौन सा घन प्रश्न आकृति में दिये गए खुले घन के आधार पर बनाया नहीं जा सकता?



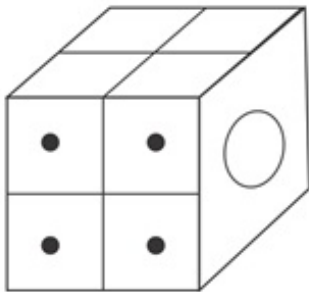
Options :



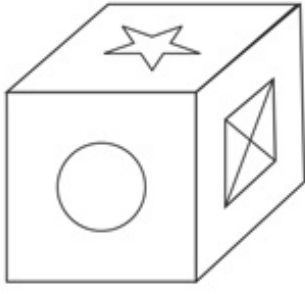
1. ✓



2. ✗



3. ✗



4. ✖

Question Number : 33 Question Id : 50964710667 Question Type : MCQ Option Shuffling : Yes

Correct Marks : 1 Wrong Marks : 0.25

If North becomes South, then what will North-East become?

Options :

1. ✓ South-West

2. ✖ North-West

3. ✖ East

4. ✖ West

Question Number : 33 Question Id : 50964710667 Question Type : MCQ Option Shuffling : Yes

Correct Marks : 1 Wrong Marks : 0.25

अगर उत्तर, दक्षिण बन जाएगा, तो उत्तर-पूर्व क्या बनेगा?

Options :

1. ✓ दक्षिण-पश्चिम

2. ✖ उत्तर-पश्चिम

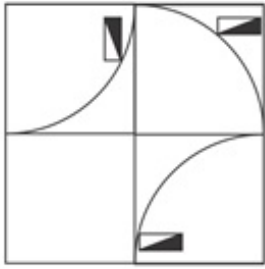
3. ✖ पूर्व

4. ✖ पश्चिम

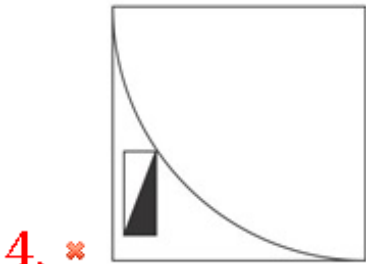
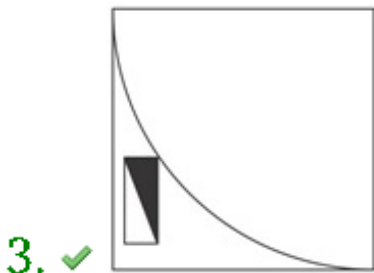
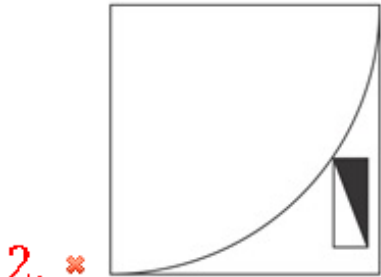
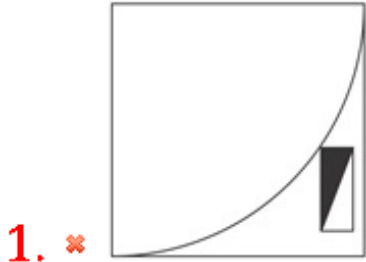
Question Number : 34 Question Id : 50964710668 Question Type : MCQ Option Shuffling : Yes

Correct Marks : 1 Wrong Marks : 0.25

Which answer figure will complete the pattern in the question figure?

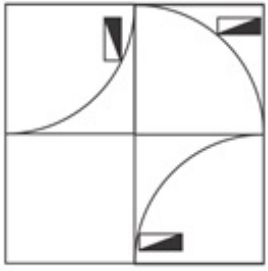


Options :



Correct Marks : 1 Wrong Marks : 0.25

कौन सी उत्तर आकृति प्रश्न आकृति के पैटर्न को पूरा करेगी?



Options :

1. ✘



2. ✘



3. ✔



4. ✘

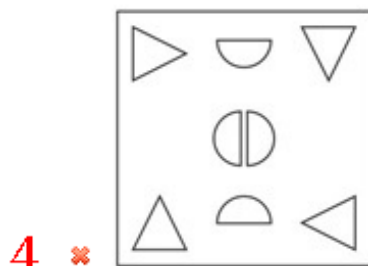
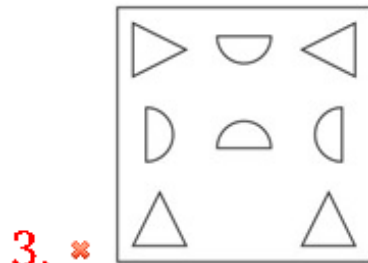
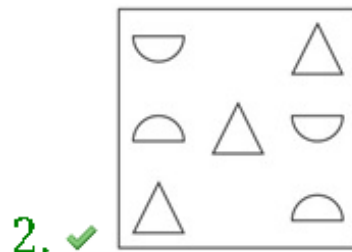


Question Number : 35 Question Id : 50964710669 Question Type : MCQ Option Shuffling : Yes

Correct Marks : 1 Wrong Marks : 0.25

Out of the given options, three are similar in a certain manner. However, one option is NOT like the other three. Select the option which is different from the rest.

Options :

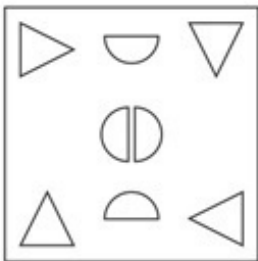
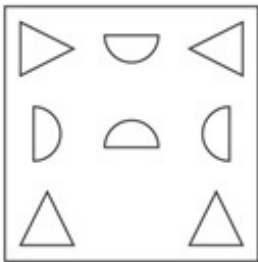
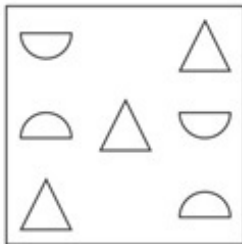
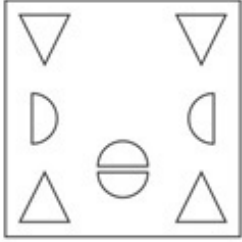


Question Number : 35 Question Id : 50964710669 Question Type : MCQ Option Shuffling : Yes

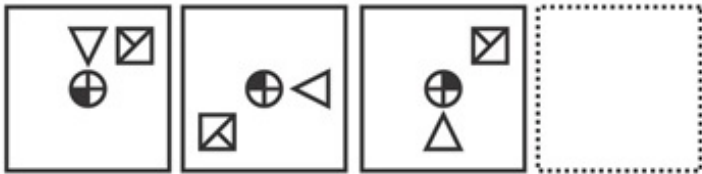
Correct Marks : 1 Wrong Marks : 0.25

दिए गए विकल्पों में से तीन एक निश्चित तरीके से समान हैं।
हालाँकि, एक विकल्प अन्य तीन की तरह नहीं है। उस विकल्प का
चयन करें जो अन्य से अलग है।

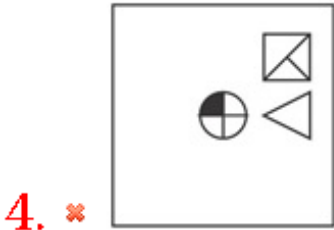
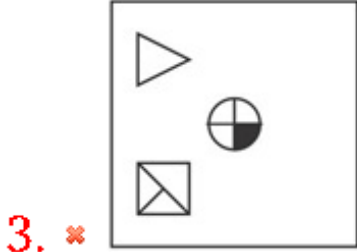
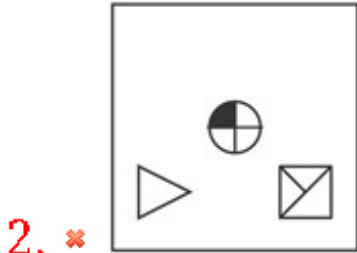
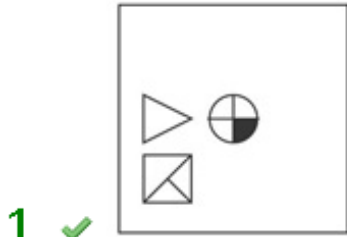
Options :



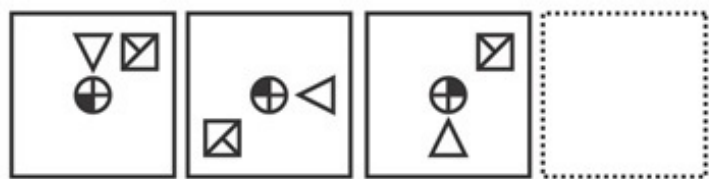
Which of the following answer figure completes the series of the question figure?



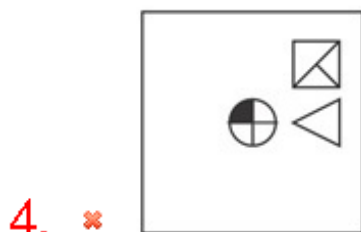
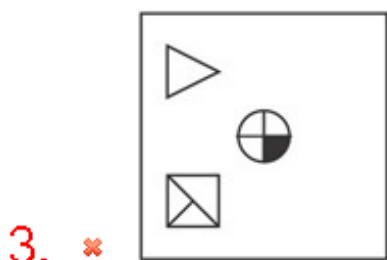
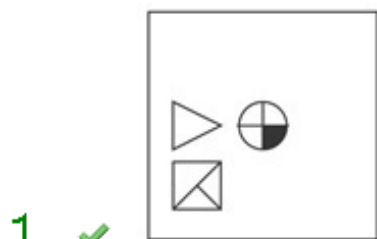
Options :



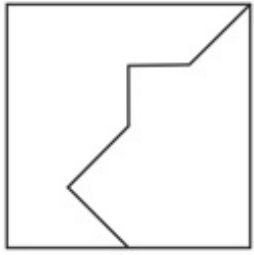
निम्नलिखित में से कौन सी उत्तर आकृति प्रश्न आकृति की श्रृंखला को पूरा करती है?



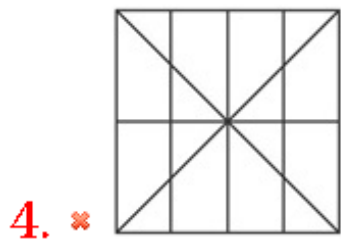
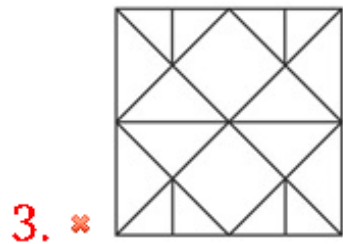
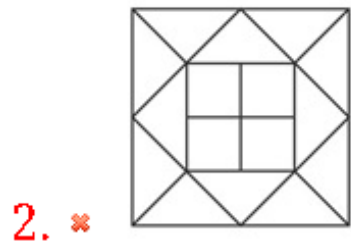
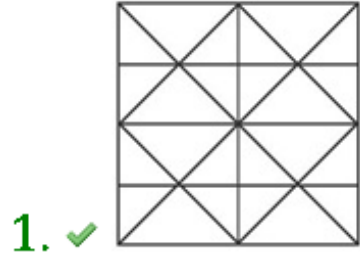
Options :



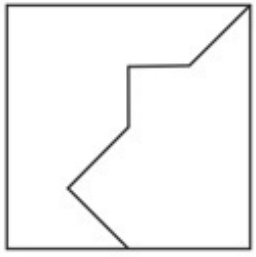
From the given answer figures, select the one in which the question figure is hidden/embedded.



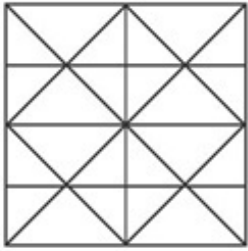
Options :



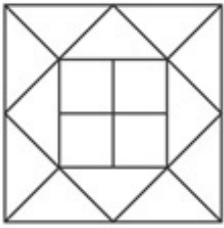
दी गई उत्तर आकृतियों में से, उस एक का चयन करे जिसमें प्रश्न आकृति निहित है।



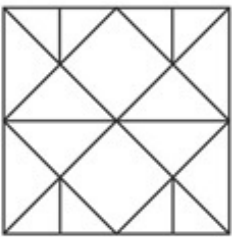
Options :



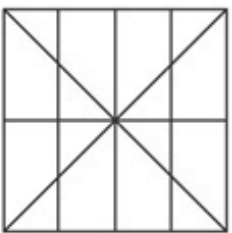
1. ✓



2. ✗



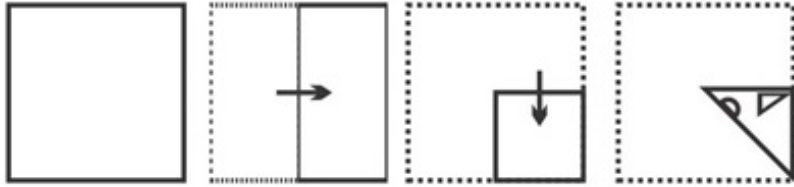
3. ✗



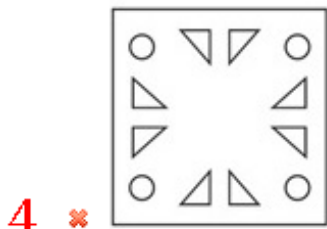
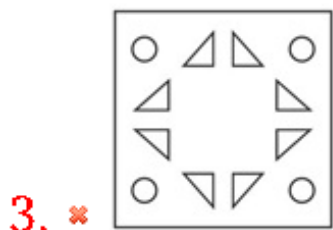
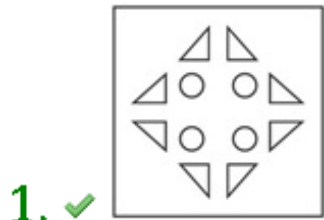
4. ✗

Correct Marks : 1 Wrong Marks : 0.25

A piece of paper is folded and punched as shown below in the question figures. From the given answer figures, indicate how it will appear when opened.



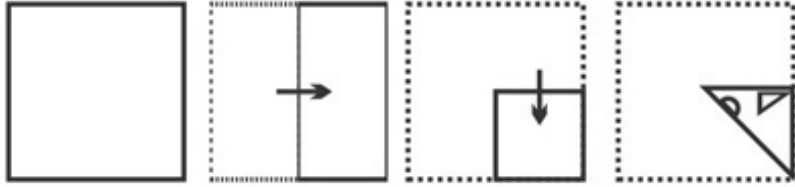
Options :



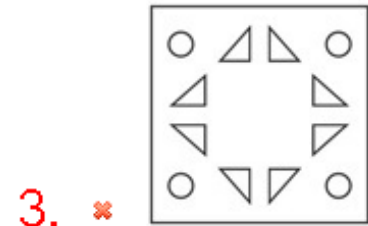
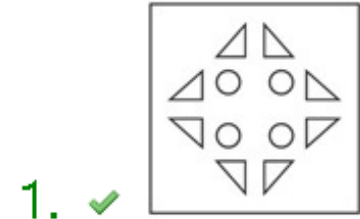
Question Number : 38 Question Id : 50964710672 Question Type : MCQ Option Shuffling : Yes

Correct Marks : 1 Wrong Marks : 0.25

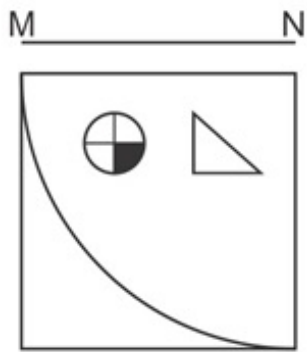
प्रश्न आकृति में नीचे दिखाए अनुसार पेपर के टुकड़े को मोड़कर उसमें छेद किया गया है। दी गई उत्तर आकृतियों से, इंगित करे कि इसे खोले जाने पर यह कैसा दिखाई देगा।



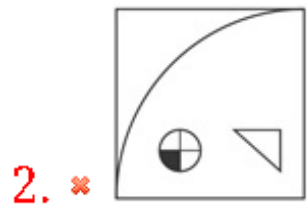
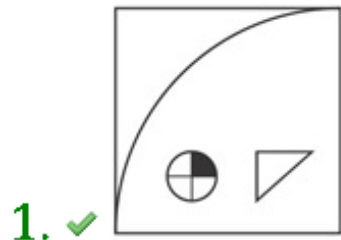
Options :



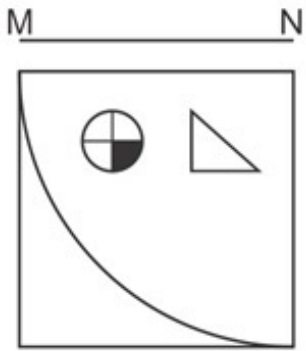
If a mirror is placed on the line MN, then which of the answer figures will be the right mirror image of the given figure?



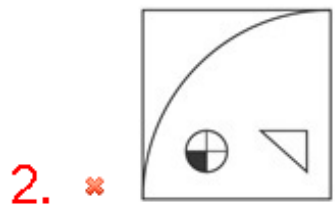
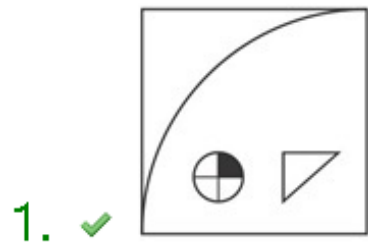
Options :



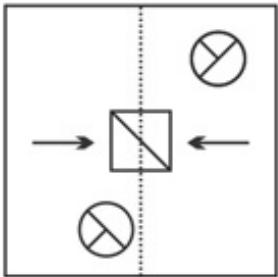
यदि एक दर्पण को रेखा MN पर रखा गया है, तो कौन सी उत्तर आकृति दी गई आकृति का सही दर्पण प्रतिबिंब है?



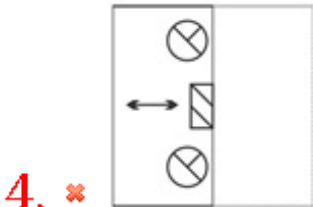
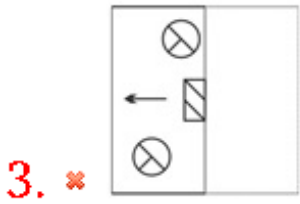
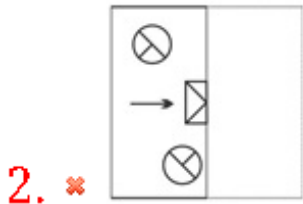
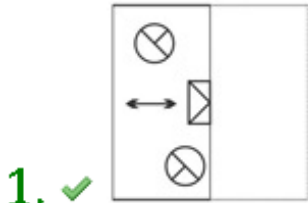
Options :



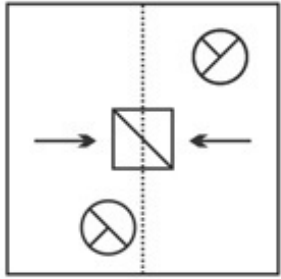
Find out from amongst the four alternatives as to how the pattern would appear when the transparent sheet is folded at the dotted line.



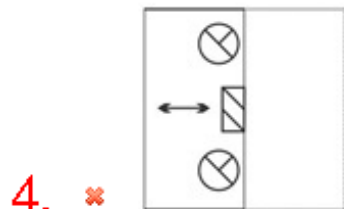
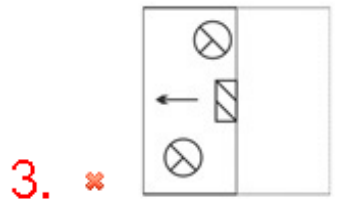
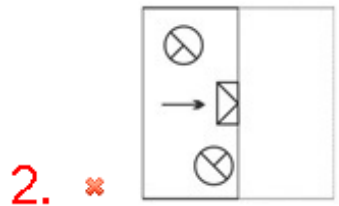
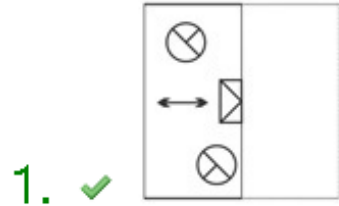
Options :



चार विकल्पों में से यह पता करे कि बिन्दूदार रेखा पर पारदर्शी कागज को मोड़ने पर आकृति कैसे दिखाई देगी।



Options :



Group Number :	3
Group Id :	509647234
Group Maximum Duration :	0
Group Minimum Duration :	0
Show Attended Group? :	No
Edit Attended Group? :	No
Break time:	0
Group Marks:	20
Is this Group for Examiner?:	No
Revisit allowed for group Instructions? :	Yes
Maximum Instruction Time:	0
Minimum Instruction Time:	0

General Awareness1

Section Id :	509647394
Section Number :	1
Section type :	Online
Mandatory or Optional:	Mandatory
Number of Questions:	20
Number of Questions to be attempted:	20
Section Marks:	20

Sub-Section Number:	1
Sub-Section Id:	509647554
Question Shuffling Allowed :	Yes

Question Number : 41 Question Id : 50964710675 Question Type : MCQ Option Shuffling : Yes
Correct Marks : 1 Wrong Marks : 0.25

With which of the following states Bonalu festival is associated?

Options :

1. * Punjab
2. * West Bengal
3. ✓ Telangana
4. * Maharashtra

Question Number : 41 Question Id : 50964710675 Question Type : MCQ Option Shuffling : Yes
Correct Marks : 1 Wrong Marks : 0.25

बोनालू त्योहार किस राज्य से जुड़ा है?

Options :

1. * पंजाब
2. * पश्चिम बंगाल
3. ✓ तेलंगाना
4. * महाराष्ट्र

Question Number : 42 Question Id : 50964710676 Question Type : MCQ Option Shuffling : Yes
Correct Marks : 1 Wrong Marks : 0.25

_____ was built to honour the location where Buddha spent his last days and donated his begging bowl.

Options :

1. ✓ Kesariya Stupa
2. * Sanchi Stupa
3. * Damekh Stupa
4. * Bharhut Stupa

Question Number : 42 Question Id : 50964710676 Question Type : MCQ Option Shuffling : Yes
Correct Marks : 1 Wrong Marks : 0.25

_____ को उस स्थान को सम्मानित करने के लिए बनाया गया था जहाँ बुद्ध ने अपने आखिरी दिन बिताए थे और अपना भीक्षा का कटोरा दान किया था।

Options :

1. ✓ केसरिया स्तूप
2. * सांची स्तूप
3. * दमेख स्तूप
4. * भरहुत स्तूप

Question Number : 43 Question Id : 50964710677 Question Type : MCQ Option Shuffling : Yes
Correct Marks : 1 Wrong Marks : 0.25

Grida dance is a popular dance form of _____.

Options :

1. ✓ Madhya Pradesh
2. ✘ Chhattisgarh
3. ✘ Andhra Pradesh
4. ✘ Jammu and Kashmir

Question Number : 43 Question Id : 50964710677 Question Type : MCQ Option Shuffling : Yes
Correct Marks : 1 Wrong Marks : 0.25

ग्रिडा नृत्य _____ का लोकप्रिय नृत्य है।

Options :

1. ✓ मध्य प्रदेश
2. ✘ छत्तीसगढ़
3. ✘ आंध्र प्रदेश
4. ✘ जम्मू और कश्मीर

Question Number : 44 Question Id : 50964710678 Question Type : MCQ Option Shuffling : Yes
Correct Marks : 1 Wrong Marks : 0.25

"Kummi Paatu" is an ancient musical form of which state?

Options :

1. ✘ Kerala
2. ✘ Karnataka
3. ✘ Assam
4. ✓ Tamil Nadu

Question Number : 44 Question Id : 50964710678 Question Type : MCQ Option Shuffling : Yes
Correct Marks : 1 Wrong Marks : 0.25

"कुम्मी पट्टू" किस राज्य का प्राचीन संगीत रूप है?

Options :

1. ✘ केरल
2. ✘ कर्नाटक
3. ✘ असम

4. ✓ तमिल नाडु

Question Number : 45 Question Id : 50964710679 Question Type : MCQ Option Shuffling : Yes
Correct Marks : 1 Wrong Marks : 0.25

_____ is a pre-paid Negotiable Instrument, wherein the drawee bank undertakes to make payment in full when the instrument is presented by the payee for payment.

Options :

1. ✘ Bankers Cheque
2. ✓ Demand Draft
3. ✘ Cheque
4. ✘ Treasury Bill

Question Number : 45 Question Id : 50964710679 Question Type : MCQ Option Shuffling : Yes
Correct Marks : 1 Wrong Marks : 0.25

_____ एक पूर्व-भुगतान परक्राम्य लिखत (प्री-पेड नेगोशिएबल इंस्ट्रूमेंट) है, जिसमें भुगतान के लिए भुगतानकर्ता द्वारा इंस्ट्रूमेंट पेश किए जाने पर अदाकर्ता बैंक पूरा भुगतान करने का वादा करता है।

Options :

1. ✘ बैंकर्स चेक
2. ✓ डिमांड ड्राफ्ट
3. ✘ चेक
4. ✘ खज़ाना बिल

Question Number : 46 Question Id : 50964710680 Question Type : MCQ Option Shuffling : Yes
Correct Marks : 1 Wrong Marks : 0.25

Who was the first woman Finance Minister to present the budget?

Options :

1. ✘ Sonia Gandhi
2. ✘ Pratibha Patil

3. ✓ Indira Gandhi

4. ✘ Smriti Irani

Question Number : 46 Question Id : 50964710680 Question Type : MCQ Option Shuffling : Yes

Correct Marks : 1 Wrong Marks : 0.25

बजट पेश करने वाली प्रथम महिला वित्त मंत्री कौन थीं?

Options :

1. ✘ सोनिया गांधी

2. ✘ प्रतिभा पाटिल

3. ✓ इंदिरा गांधी

4. ✘ स्मृति ईरानी

Question Number : 47 Question Id : 50964710681 Question Type : MCQ Option Shuffling : Yes

Correct Marks : 1 Wrong Marks : 0.25

What is the minimum support price (MSP) of maize for 2018-19?

Options :

1. ✘ Rs. 1,650 per quintal

2. ✘ Rs. 1,550 per quintal

3. ✓ Rs, 1,700 per quintal

4. ✘ Rs. 1,525 per quintal

Question Number : 47 Question Id : 50964710681 Question Type : MCQ Option Shuffling : Yes

Correct Marks : 1 Wrong Marks : 0.25

2018-19 के लिए मक्का का न्यूनतम समर्थन मूल्य (एमएसपी) क्या है?

Options :

1. ✘ Rs. 1,650 प्रति क्विंटल

2. ✘ Rs. 1,550 प्रति क्विंटल

3. ✓ Rs. 1,700 प्रति क्विंटल

4. * Rs. 1,525 प्रति क्विंटल

Question Number : 48 Question Id : 50964710682 Question Type : MCQ Option Shuffling : Yes
Correct Marks : 1 Wrong Marks : 0.25

Siderosis is the deposition of excess _____ in body tissue.

Options :

1. ✓ iron
2. * lead
3. * mercury
4. * asbestos

Question Number : 48 Question Id : 50964710682 Question Type : MCQ Option Shuffling : Yes
Correct Marks : 1 Wrong Marks : 0.25

सिडरोसिस शरीर के ऊतकों में अतिरिक्त _____ का जमाव है।

Options :

1. ✓ लोहा
2. * सीसा
3. * पारा
4. * अदह

Question Number : 49 Question Id : 50964710683 Question Type : MCQ Option Shuffling : Yes
Correct Marks : 1 Wrong Marks : 0.25

Wastewater from kitchens, bathrooms and laundries is called _____.

Options :

1. * Excreta
2. * Sewage
3. ✓ Sullage
4. * Secrage

Question Number : 49 Question Id : 50964710683 Question Type : MCQ Option Shuffling : Yes

Correct Marks : 1 Wrong Marks : 0.25

रसोई, बाथरूम और वस्त्र धुलाई के अपशिष्ट जल को _____
कहा जाता है।

Options :

1. * मलमूत्र
2. * मल
3. ✓ कूड़ा करकट
4. * सेकरेज

Question Number : 50 Question Id : 50964710684 Question Type : MCQ Option Shuffling : Yes

Correct Marks : 1 Wrong Marks : 0.25

_____ is a step of water purification which removes the suspended particles and unsettled floc in addition to many microorganisms and algae.

Options :

1. * Disinfection
2. ✓ Filtration
3. * Coagulation
4. * Flocculation

Question Number : 50 Question Id : 50964710684 Question Type : MCQ Option Shuffling : Yes

Correct Marks : 1 Wrong Marks : 0.25

_____ जल शोधन का एक चरण है जो कई सूक्ष्मजीवों और शैवाल के अलावा निलंबित कणों और अस्थिर फ्लोक को हटा देता है।

Options :

1. * निस्संक्रामक
2. ✓ फिल्टरेशन
3. * कोगुलेशन
4. * फ्लोकुलेशन

Question Number : 51 Question Id : 50964710685 Question Type : MCQ Option Shuffling : Yes
Correct Marks : 1 Wrong Marks : 0.25

What does a Galvanometer detect?

Options :

1. ✓ Electric current
2. ✗ Quantity of heat
3. ✗ Temperature
4. ✗ Length

Question Number : 51 Question Id : 50964710685 Question Type : MCQ Option Shuffling : Yes
Correct Marks : 1 Wrong Marks : 0.25

धारामापी का उपयोग किसका पता लगाना करने के लिए किया जाता है?

Options :

1. ✓ विद्युत धारा
2. ✗ ताप की मात्रा
3. ✗ तापमान
4. ✗ लंबाई

Question Number : 52 Question Id : 50964710686 Question Type : MCQ Option Shuffling : Yes
Correct Marks : 1 Wrong Marks : 0.25

What is the chemical name of Hydrofluoric Acid?

Options :

1. ✓ HF
2. ✗ HFL
3. ✗ HDF
4. ✗ HCF

Question Number : 52 Question Id : 50964710686 Question Type : MCQ Option Shuffling : Yes
Correct Marks : 1 Wrong Marks : 0.25

हाइड्रोफ्लोरिक एसिड का रासायनिक नाम क्या है?

Options :

1. ✓ एचएफ
2. ✘ एचएफएल
3. ✘ एचडीएफ
4. ✘ एचसीएफ

Question Number : 53 Question Id : 50964710687 Question Type : MCQ Option Shuffling : Yes

Correct Marks : 1 Wrong Marks : 0.25

Which of the following enzymes splits fats into glycerol?

Options :

1. ✓ Lipolytic Enzyme
2. ✘ Proteolytic Enzyme
3. ✘ Amylolytic Enzyme
4. ✘ Nucleolytic Enzyme

Question Number : 53 Question Id : 50964710687 Question Type : MCQ Option Shuffling : Yes

Correct Marks : 1 Wrong Marks : 0.25

निम्नलिखित में से कौन सा प्रकिण्व वसा को ग्लिसरॉल में तोड़ता है?

Options :

1. ✓ लिपोलाइटिक एंजाइम
2. ✘ प्रोटीओलाइटिक एंजाइम
3. ✘ एमाइलोलिटिक एंजाइम
4. ✘ न्यूक्लियोलाइटिक एंजाइम

Question Number : 54 Question Id : 50964710688 Question Type : MCQ Option Shuffling : Yes

Correct Marks : 1 Wrong Marks : 0.25

What is the common name of *Gossypium herbaceum*?

Options :

1. ✘ Mint
2. ✓ Cotton

3. * Tulsi

4. * Banyan

Question Number : 54 Question Id : 50964710688 Question Type : MCQ Option Shuffling : Yes

Correct Marks : 1 Wrong Marks : 0.25

गॉसिपियम हर्बेसम का साधारण नाम क्या है?

Options :

1. * पुदीना

2. ✓ कपास

3. * तुलसी

4. * बरगद

Question Number : 55 Question Id : 50964710689 Question Type : MCQ Option Shuffling : Yes

Correct Marks : 1 Wrong Marks : 0.25

When did the Forest Conservation Act pass?

Options :

1. * 1972

2. ✓ 1980

3. * 1985

4. * 1990

Question Number : 55 Question Id : 50964710689 Question Type : MCQ Option Shuffling : Yes

Correct Marks : 1 Wrong Marks : 0.25

वन संरक्षण अधिनियम कब पारित हुआ?

Options :

1. * 1972

2. ✓ 1980

3. * 1985

4. * 1990

Question Number : 56 Question Id : 50964710690 Question Type : MCQ Option Shuffling : Yes

Correct Marks : 1 Wrong Marks : 0.25

Which among the following soils is formed by salt deposition by tides, rivers or sea breeze?

Options :

1. * Red Soil
2. * Alkaline Soil
3. * Laterite Soil
4. ✓ Saline soil

Question Number : 56 Question Id : 50964710690 Question Type : MCQ Option Shuffling : Yes

Correct Marks : 1 Wrong Marks : 0.25

निम्नलिखित में से कौन सी मिट्टी ज्वार-भाटा, नदियों या समुद्री हवा द्वारा नमक के जमाव से बनती है?

Options :

1. * लाल मिट्टी
2. * क्षारीय भूमि
3. * लैटेराइट मृदा
4. ✓ खारी मिट्टी (सलाइन सॉइल)

Question Number : 57 Question Id : 50964710691 Question Type : MCQ Option Shuffling : Yes

Correct Marks : 1 Wrong Marks : 0.25

What among the following is the largest chilli producing state of India?

Options :

1. * Gujarat
2. * Tamil Nadu
3. * Assam
4. ✓ Andhra Pradesh

Question Number : 57 Question Id : 50964710691 Question Type : MCQ Option Shuffling : Yes

Correct Marks : 1 Wrong Marks : 0.25

निम्नलिखित में से कौन सा राज्य भारत का सबसे बड़ा मिर्च उत्पादक है?

Options :

1. ✖ गुजरात
2. ✖ तमिल नाडु
3. ✖ असम
4. ✔ आंध्र प्रदेश

Question Number : 58 Question Id : 50964710692 Question Type : MCQ Option Shuffling : Yes

Correct Marks : 1 Wrong Marks : 0.25

How many countries are there in South America?

Options :

1. ✔ 12
2. ✖ 15
3. ✖ 18
4. ✖ 20

Question Number : 58 Question Id : 50964710692 Question Type : MCQ Option Shuffling : Yes

Correct Marks : 1 Wrong Marks : 0.25

दक्षिण अमेरिका में कितने देश हैं?

Options :

1. ✔ 12
2. ✖ 15
3. ✖ 18
4. ✖ 20

Question Number : 59 Question Id : 50964710693 Question Type : MCQ Option Shuffling : Yes

Correct Marks : 1 Wrong Marks : 0.25

Singapore Strait separates Singapore from _____.

Options :

1. * New Zealand
2. * Australia
3. ✓ Indonesia
4. * England

Question Number : 59 Question Id : 50964710693 Question Type : MCQ Option Shuffling : Yes
Correct Marks : 1 Wrong Marks : 0.25

सिंगापुर जलसन्धि सिंगापुर को _____ से अलग करता है।

Options :

1. * न्यूजीलैंड
2. * ऑस्ट्रेलिया
3. ✓ इंडोनेशिया
4. * इंग्लैंड

Question Number : 60 Question Id : 50964710694 Question Type : MCQ Option Shuffling : Yes
Correct Marks : 1 Wrong Marks : 0.25

Which one is the longest tributary of Yamuna?

Options :

1. * Betwa
2. * Koshi
3. ✓ Tons
4. * Tawa

Question Number : 60 Question Id : 50964710694 Question Type : MCQ Option Shuffling : Yes
Correct Marks : 1 Wrong Marks : 0.25

यमुना की सबसे लंबी सहायक नदी कौन सी है?

Options :

1. * बेतवा
2. * कोशी
3. ✓ टौंस

4. ✖ तवा

General Awareness2

Group Number :	4
Group Id :	509647235
Group Maximum Duration :	0
Group Minimum Duration :	0
Show Attended Group? :	No
Edit Attended Group? :	No
Break time:	0
Group Marks:	20
Is this Group for Examiner?:	No
Revisit allowed for group Instructions? :	Yes
Maximum Instruction Time:	0
Minimum Instruction Time:	0

General Awareness2

Section Id :	509647395
Section Number :	1
Section type :	Online
Mandatory or Optional:	Mandatory
Number of Questions:	20
Number of Questions to be attempted:	20
Section Marks:	20

Sub-Section Number:	1
Sub-Section Id:	509647555
Question Shuffling Allowed :	Yes

Question Number : 61 Question Id : 50964710695 Question Type : MCQ Option Shuffling : Yes
Correct Marks : 1 Wrong Marks : 0.25

The Andes is a mountain range along the western edge of

_____.

Options :

1. ✖ North America
2. ✖ Australia
3. ✖ Asia
4. ✓ South America

Question Number : 61 Question Id : 50964710695 Question Type : MCQ Option Shuffling : Yes
Correct Marks : 1 Wrong Marks : 0.25

एंडीज़ _____ के पश्चिमी छोर पर स्थित एक पर्वत श्रृंखला है।

Options :

1. * उत्तर अमेरिका
2. * ऑस्ट्रेलिया
3. * एशिया
4. ✓ दक्षिण अमेरिका

Question Number : 62 Question Id : 50964710696 Question Type : MCQ Option Shuffling : Yes
Correct Marks : 1 Wrong Marks : 0.25

Who was the founder of the Kalachuri Dynasty?

Options :

1. ✓ Kokalla I
2. * Gangeyadeva
3. * Kokalla II
4. * King Ashoka

Question Number : 62 Question Id : 50964710696 Question Type : MCQ Option Shuffling : Yes
Correct Marks : 1 Wrong Marks : 0.25

कलचुरी वंश का संस्थापक कौन था?

Options :

1. ✓ कोकला I
2. * गंगेयदेव
3. * कोकला II
4. * राजा अशोक

Question Number : 63 Question Id : 50964710697 Question Type : MCQ Option Shuffling : Yes
Correct Marks : 1 Wrong Marks : 0.25

When did the British Government passed the Indian Independence Act?

Options :

1. * January 1947
2. * April 1947
3. ✓ July 1947
4. * March 1947

Question Number : 63 Question Id : 50964710697 Question Type : MCQ Option Shuffling : Yes
Correct Marks : 1 Wrong Marks : 0.25

ब्रिटिश सरकार ने भारतीय स्वतंत्रता अधिनियम कब पारित किया था?

Options :

1. * जनवरी 1947
2. * अप्रैल 1947
3. ✓ जुलाई 1947
4. * मार्च 1947

Question Number : 64 Question Id : 50964710698 Question Type : MCQ Option Shuffling : Yes
Correct Marks : 1 Wrong Marks : 0.25

When did the partition of Bengal take place?

Options :

1. ✓ 1905
2. * 1900
3. * 1910
4. * 1925

Question Number : 64 Question Id : 50964710698 Question Type : MCQ Option Shuffling : Yes
Correct Marks : 1 Wrong Marks : 0.25

बंगाल का विभाजन कब हुआ था?

Options :

1. ✓ 1905
2. * 1900
3. * 1910

4. * 1925

Question Number : 65 Question Id : 50964710699 Question Type : MCQ Option Shuffling : Yes
Correct Marks : 1 Wrong Marks : 0.25

Alauddin Khalji created Diwan-i-Riyasat for _____.

Options :

1. * tax control
2. ✓ market control
3. * revenue collection
4. * religious affairs

Question Number : 65 Question Id : 50964710699 Question Type : MCQ Option Shuffling : Yes
Correct Marks : 1 Wrong Marks : 0.25

अलाउद्दीन खिलजी ने _____ के लिए दीवान-ए-रियासत का निर्माण किया था।

Options :

1. * कर नियंत्रण
2. ✓ बाजारी नियंत्रण
3. * राजस्व संग्रह
4. * धार्मिक मामले

Question Number : 66 Question Id : 50964710700 Question Type : MCQ Option Shuffling : Yes
Correct Marks : 1 Wrong Marks : 0.25

When was the battle of Plassey fought?

Options :

1. * 1753
2. ✓ 1757
3. * 1765
4. * 1752

Question Number : 66 Question Id : 50964710700 Question Type : MCQ Option Shuffling : Yes
Correct Marks : 1 Wrong Marks : 0.25

प्लासी का युद्ध कब लड़ा गया था?

Options :

1. ✘ 1753
2. ✔ 1757
3. ✘ 1765
4. ✘ 1752

Question Number : 67 Question Id : 50964710701 Question Type : MCQ Option Shuffling : Yes
Correct Marks : 1 Wrong Marks : 0.25

चोल राजवंश का संस्थापक कौन था?

Options :

1. ✘ राजराजा चोल
2. ✘ कृष्ण III
3. ✘ आदित्य I
4. ✔ विजयालय

Question Number : 67 Question Id : 50964710701 Question Type : MCQ Option Shuffling : Yes
Correct Marks : 1 Wrong Marks : 0.25

Who was the founder of the Chola Dynasty?

Options :

1. ✘ Rajraja Chola
2. ✘ Krishna III
3. ✘ Aditya I
4. ✔ Vijayalaya

Question Number : 68 Question Id : 50964710702 Question Type : MCQ Option Shuffling : Yes
Correct Marks : 1 Wrong Marks : 0.25

PSLV-C45 successfully launched EMISAT and _____
customer satellites on 1st April, 2019.

Options :

1. ✓ 28

2. ✖ 26

3. ✖ 22

4. ✖ 20

Question Number : 68 Question Id : 50964710702 Question Type : MCQ Option Shuffling : Yes
Correct Marks : 1 Wrong Marks : 0.25

Question Number : 69 Question Id : 50964710703 Question Type : MCQ Option Shuffling : Yes
Correct Marks : 1 Wrong Marks : 0.25

Who was the first female candidate to run for a Legislative seat in India? She was a student in London who came to India upon hearing about Gandhi's non-cooperation movement.

Options :

1. ✖ Nandini Satpathy

2. ✖ Sucheta Kriplani

3. ✖ Anwara Taimur

4. ✓ Kamaladevi Chattopadhyay

Question Number : 69 Question Id : 50964710703 Question Type : MCQ Option Shuffling : Yes
Correct Marks : 1 Wrong Marks : 0.25

भारत में विधान सभा सीट के लिए लड़ने वाली पहली महिला उम्मीदवार कौन थी? वह लंदन में एक छात्रा थी जो गांधी के असहयोग आंदोलन के बारे में सुनकर भारत आई थी।

Options :

1. ✖ नंदिनी सत्पथी

2. ✖ सुचेता कृपलानी

3. ✖ अनवरा तैमूर

4. ✓ कमलादेवी चट्टोपाध्याय

Question Number : 70 Question Id : 50964710704 Question Type : MCQ Option Shuffling : Yes
Correct Marks : 1 Wrong Marks : 0.25

Who among the following has never won an Oscar?

Options :

1. * Resul Pookutty
2. * Satyajit Ray
3. * A.R.Rehman
4. ✓ Aamir Khan

Question Number : 70 Question Id : 50964710704 Question Type : MCQ Option Shuffling : Yes

Correct Marks : 1 Wrong Marks : 0.25

निम्नलिखित में से किसने कभी ऑस्कर नहीं जीता है?

Options :

1. * रेसुल पुकुट्टी
2. * सत्यजित राय
3. * ए.आर. रेहमान
4. ✓ आमिर खान

Question Number : 71 Question Id : 50964710705 Question Type : MCQ Option Shuffling : Yes

Correct Marks : 1 Wrong Marks : 0.25

In which year did the Arjuna Award start?

Options :

1. * 1992
2. ✓ 1961
3. * 1985
4. * 1950

Question Number : 71 Question Id : 50964710705 Question Type : MCQ Option Shuffling : Yes

Correct Marks : 1 Wrong Marks : 0.25

अर्जुन पुरस्कार की शुरुआत किस वर्ष की गई थी?

Options :

1. * 1992
2. ✓ 1961

3. ✖ 1985

4. ✖ 1950

Question Number : 72 Question Id : 50964710706 Question Type : MCQ Option Shuffling : Yes
Correct Marks : 1 Wrong Marks : 0.25

Who wrote "Turning Points : A Journey Through Challenges" ?

Options :

1. ✔ A.P.J.Abdul Kalam

2. ✖ Ruskin Bond

3. ✖ David Davidar

4. ✖ R K Narayan

Question Number : 72 Question Id : 50964710706 Question Type : MCQ Option Shuffling : Yes
Correct Marks : 1 Wrong Marks : 0.25

"टर्निंग पॉइंट्स: ए जर्नी थ्रू चैलेंजेस" किसने लिखी है?

Options :

1. ✔ ए.पी.जे. अब्दुल कलाम

2. ✖ रस्किन बॉन्ड

3. ✖ डेविड डेविडर

4. ✖ आर के नारायण

Question Number : 73 Question Id : 50964710707 Question Type : MCQ Option Shuffling : Yes
Correct Marks : 1 Wrong Marks : 0.25

When was the World Bank established?

Options :

1. ✖ 1942

2. ✔ 1944

3. ✖ 1945

4. ✖ 1948

Question Number : 73 Question Id : 50964710707 Question Type : MCQ Option Shuffling : Yes
Correct Marks : 1 Wrong Marks : 0.25

विश्व बैंक की स्थापना कब की गई थी?

Options :

1. ✘ 1942
2. ✔ 1944
3. ✘ 1945
4. ✘ 1948

Question Number : 74 Question Id : 50964710708 Question Type : MCQ Option Shuffling : Yes
Correct Marks : 1 Wrong Marks : 0.25

Who was the Vice President of the Constituent of Assembly after partition?

Options :

1. ✔ Harendra Coomar Mookerjee
2. ✘ Dr. Sachchidananda Sinha
3. ✘ Sardar Vallabhbhai Patel
4. ✘ M.N.Roy

Question Number : 74 Question Id : 50964710708 Question Type : MCQ Option Shuffling : Yes
Correct Marks : 1 Wrong Marks : 0.25

विभाजन के बाद संविधान सभा के उपाध्यक्ष कौन थे?

Options :

1. ✔ हरेंद्र कुमार मुखर्जी
2. ✘ डॉ. सच्चिदानंद सिन्हा
3. ✘ सरदार वल्लभ भाई पटेल
4. ✘ एम.एन. रॉय

Question Number : 75 Question Id : 50964710709 Question Type : MCQ Option Shuffling : Yes
Correct Marks : 1 Wrong Marks : 0.25

Who among the following was not a part of the drafting committee of the constituent assembly?

Options :

1. * B. R. Ambedkar
2. * N Gopalaswamy Ayyangar
3. * Dr K M Munshi
4. ✓ Dr. Bimal Jalan

Question Number : 75 Question Id : 50964710709 Question Type : MCQ Option Shuffling : Yes
Correct Marks : 1 Wrong Marks : 0.25

निम्नलिखित में से कौन संविधान सभा की मसौदा समिति का हिस्सा नहीं थे?

Options :

1. * बी. आर. आम्बेडकर
2. * एन गोपालस्वामी अय्यंगार
3. * डॉ. के एम मुंशी
4. ✓ डॉ. बिमल जालान

Question Number : 76 Question Id : 50964710710 Question Type : MCQ Option Shuffling : Yes
Correct Marks : 1 Wrong Marks : 0.25

Which of the following amendment increased the duration of Lok Sabha from 5 years to 6 years in case of an emergency?

Options :

1. ✓ 42nd
2. * 40th
3. * 41st
4. * 43rd

Question Number : 76 Question Id : 50964710710 Question Type : MCQ Option Shuffling : Yes
Correct Marks : 1 Wrong Marks : 0.25

निम्नलिखित में से किस संशोधन ने आपातकाल की स्थिति में लोक सभा की अवधि 5 वर्ष से बढ़ाकर 6 वर्ष कर दी थी?

Options :

1. ✓ 42वें

2. ✗ 40वें

3. ✗ 41वें

4. ✗ 43वें

Question Number : 77 Question Id : 50964710711 Question Type : MCQ Option Shuffling : Yes
Correct Marks : 1 Wrong Marks : 0.25

The _____ schedule of the Indian Constitution contains the Union list, State list and concurrent list.

Options :

1. ✗ Eighth

2. ✓ Seventh

3. ✗ Twelfth

4. ✗ Ninth

Question Number : 77 Question Id : 50964710711 Question Type : MCQ Option Shuffling : Yes
Correct Marks : 1 Wrong Marks : 0.25

भारतीय संविधान की _____ अनुसूची में संघ सूची, राज्य सूची और समवर्ती सूची शामिल हैं।

Options :

1. ✗ आठवां

2. ✓ सातवां

3. ✗ बारहवां

4. ✗ नौवां

Question Number : 78 Question Id : 50964710712 Question Type : MCQ Option Shuffling : Yes
Correct Marks : 1 Wrong Marks : 0.25

Who among the following cricketers has scored the highest individual score in the test cricket format?

Options :

1. * Virender Sehwag
2. * Ricky Ponting
3. ✓ Brian Lara
4. * Rohit Sharma

Question Number : 78 Question Id : 50964710712 Question Type : MCQ Option Shuffling : Yes
Correct Marks : 1 Wrong Marks : 0.25

निम्नलिखित में से किस क्रिकेटर ने टेस्ट क्रिकेट फार्मेट में अकेले सबसे अधिक रन बनाए हैं?

Options :

1. * वीरेंद्र सहवाग
2. * रिकी पॉटिंग
3. ✓ ब्रायन लारा
4. * रोहित शर्मा

Question Number : 79 Question Id : 50964710713 Question Type : MCQ Option Shuffling : Yes
Correct Marks : 1 Wrong Marks : 0.25

Who was the first woman swimmer to swim across the waters known as the, 'Seven Seas'?

Options :

1. ✓ Bula Chaudhary
2. * Aarti Saha
3. * Kamaljeet Sandhu
4. * Mihir Sen

Question Number : 79 Question Id : 50964710713 Question Type : MCQ Option Shuffling : Yes
Correct Marks : 1 Wrong Marks : 0.25

सेवन सीज़' के नाम से प्रसिद्ध पानी में तैरने वाली पहली महिला तैराक कौन थी?

Options :

1. ✓ बुला चौधरी
2. ✘ आरती साहा
3. ✘ कमल जीत संधू
4. ✘ मिहिर सेन

Question Number : 80 Question Id : 50964710714 Question Type : MCQ Option Shuffling : Yes
Correct Marks : 1 Wrong Marks : 0.25

Who among the following is the record holder of maximum number of Grand Slam Mixed Doubles titles among men?

Options :

1. ✘ Todd Woodbridge
2. ✘ Roger Federer
3. ✘ Rafael Nadal
4. ✓ Leander Paes

Question Number : 80 Question Id : 50964710714 Question Type : MCQ Option Shuffling : Yes
Correct Marks : 1 Wrong Marks : 0.25

निम्नलिखित में से, पुरुषों में, किसने ग्रैंड स्लैम मिक्स्ड डबल्स के सबसे अधिक खिताब जीते हैं?

Options :

1. ✘ टॉड वुडब्रिज
2. ✘ रोजर फ़ेडरर
3. ✘ रफ़ाएल नडाल
4. ✓ लिएंडर पेस

Arithmetic Ability1

Group Number : 5
Group Id : 509647236
Group Maximum Duration : 0
Group Minimum Duration : 0

Show Attended Group? :	No
Edit Attended Group? :	No
Break time:	0
Group Marks:	20
Is this Group for Examiner?:	No
Revisit allowed for group Instructions? :	Yes
Maximum Instruction Time:	0
Minimum Instruction Time:	0

Arithmetic Ability1

Section Id :	509647396
Section Number :	1
Section type :	Online
Mandatory or Optional:	Mandatory
Number of Questions:	20
Number of Questions to be attempted:	20
Section Marks:	20

Sub-Section Number:	1
Sub-Section Id:	509647556
Question Shuffling Allowed :	Yes

Question Number : 81 Question Id : 50964710715 Question Type : MCQ Option Shuffling : Yes
Correct Marks : 1 Wrong Marks : 0.25

Which of the following numbers is divisible by 7?

Options :

1. ✓ 8841
2. ✗ 8839
3. ✗ 8964
4. ✗ 8465

Question Number : 81 Question Id : 50964710715 Question Type : MCQ Option Shuffling : Yes
Correct Marks : 1 Wrong Marks : 0.25

निम्नलिखित में से कौन सी संख्या 7 से विभाज्य है?

Options :

1. ✓ 8841
2. ✗ 8839
3. ✗ 8964

4. ✖ 8465

Question Number : 82 Question Id : 50964710716 Question Type : MCQ Option Shuffling : Yes
Correct Marks : 1 Wrong Marks : 0.25

Which of the following numbers is exactly divisible by 6?

Options :

1. ✔ 74340

2. ✖ 63292

3. ✖ 53692

4. ✖ 24560

Question Number : 82 Question Id : 50964710716 Question Type : MCQ Option Shuffling : Yes
Correct Marks : 1 Wrong Marks : 0.25

निम्नलिखित में से कौन सी संख्या 6 से सटीक विभाज्य है?

Options :

1. ✔ 74340

2. ✖ 63292

3. ✖ 53692

4. ✖ 24560

Question Number : 83 Question Id : 50964710717 Question Type : MCQ Option Shuffling : Yes
Correct Marks : 1 Wrong Marks : 0.25

Select the most appropriate option to solve the equation :

$$(64 \times 40) \div 8 + 18 \times 5 = ?$$

Options :

1. ✔ 410

2. ✖ 1690

3. ✖ 580

4. ✖ 1210

Question Number : 83 Question Id : 50964710717 Question Type : MCQ Option Shuffling : Yes

Correct Marks : 1 Wrong Marks : 0.25

समीकरण को हल करने के लिए सबसे उचित विकल्प चुनें।

$$(64 \times 40) \div 8 + 18 \times 5 = ?$$

Options :

1. ✓ 410
2. ✗ 1690
3. ✗ 580
4. ✗ 1210

Question Number : 84 Question Id : 50964710718 Question Type : MCQ Option Shuffling : Yes

Correct Marks : 1 Wrong Marks : 0.25

Select the most appropriate option to solve the equation :

$$705 \div (5 \times 3) + 15 \times 2 = ?$$

Options :

1. ✗ 453
2. ✗ 85
3. ✓ 77
4. ✗ 1470

Question Number : 84 Question Id : 50964710718 Question Type : MCQ Option Shuffling : Yes

Correct Marks : 1 Wrong Marks : 0.25

समीकरण को हल करने के लिए सबसे उचित विकल्प चुनें।

$$705 \div (5 \times 3) + 15 \times 2 = ?$$

Options :

1. ✗ 453
2. ✗ 85

3. ✓ 77

4. ✗ 1470

Question Number : 85 Question Id : 50964710719 Question Type : MCQ Option Shuffling : Yes

Correct Marks : 1 Wrong Marks : 0.25

What is the greatest four digit number which is divisible by 5, 25, 30 and 60?

Options :

1. ✗ 9945

2. ✗ 9960

3. ✗ 9950

4. ✓ 9900

Question Number : 85 Question Id : 50964710719 Question Type : MCQ Option Shuffling : Yes

Correct Marks : 1 Wrong Marks : 0.25

सबसे बड़ी चार अंकीय संख्या कौनसी है जो 5, 25, 30 और 60 से विभाज्य है?

Options :

1. ✗ 9945

2. ✗ 9960

3. ✗ 9950

4. ✓ 9900

Question Number : 86 Question Id : 50964710720 Question Type : MCQ Option Shuffling : Yes

Correct Marks : 1 Wrong Marks : 0.25

The HCF and LCM of 2 positive numbers are 3 and 231 respectively. If one of the numbers is 12 more than the other, find the smaller number.

Options :

1. ✗ 18

2. ✓ 21

3. ✖ 24

4. ✖ 27

Question Number : 86 Question Id : 50964710720 Question Type : MCQ Option Shuffling : Yes

Correct Marks : 1 Wrong Marks : 0.25

2 धनात्मक संख्याओं का महत्तम समापवर्तक और लघुत्तम समापवर्तक क्रमशः 3 और 231 हैं। यदि उन संख्याओं में से एक दूसरे से 12 अधिक है, तो छोटी संख्या ज्ञात करें।

Options :

1. ✖ 18

2. ✔ 21

3. ✖ 24

4. ✖ 27

Question Number : 87 Question Id : 50964710721 Question Type : MCQ Option Shuffling : Yes

Correct Marks : 1 Wrong Marks : 0.25

Among the following numbers which one is the least?

$6/7, 5/6, 3/2, 1/3$

Options :

1. ✖ $6/7$

2. ✖ $5/6$

3. ✖ $3/2$

4. ✔ $1/3$

Question Number : 87 Question Id : 50964710721 Question Type : MCQ Option Shuffling : Yes

Correct Marks : 1 Wrong Marks : 0.25

निम्नलिखित में से कौन सी संख्या सबसे छोटी है?

$6/7, 5/6, 3/2, 1/3$

Options :

1. ✘ 6/7
2. ✘ 5/6
3. ✘ 3/2
4. ✔ 1/3

Question Number : 88 Question Id : 50964710722 Question Type : MCQ Option Shuffling : Yes
Correct Marks : 1 Wrong Marks : 0.25

What decimal of a day is an hour?

Options :

1. ✘ 0.038
2. ✔ 0.042
3. ✘ 0.045
4. ✘ 0.048

Question Number : 88 Question Id : 50964710722 Question Type : MCQ Option Shuffling : Yes
Correct Marks : 1 Wrong Marks : 0.25

एक घंटा एक दिन का कितना दशमलव है?

Options :

1. ✘ 0.038
2. ✔ 0.042
3. ✘ 0.045
4. ✘ 0.048

Question Number : 89 Question Id : 50964710723 Question Type : MCQ Option Shuffling : Yes
Correct Marks : 1 Wrong Marks : 0.25

What is the difference between 0.8 and 0.8% of 1?

Options :

1. ✘ 79.2
2. ✘ 7.92

3. ✓ 0.792

4. ✗ 0.0792

Question Number : 89 Question Id : 50964710723 Question Type : MCQ Option Shuffling : Yes

Correct Marks : 1 Wrong Marks : 0.25

1 के 0.8 और 0.8% में क्या अंतर है?

Options :

1. ✗ 79.2

2. ✗ 7.92

3. ✓ 0.792

4. ✗ 0.0792

Question Number : 90 Question Id : 50964710724 Question Type : MCQ Option Shuffling : Yes

Correct Marks : 1 Wrong Marks : 0.25

A man has Rs. 120 in coins of 1-rupee, 2-rupees and 5-rupees. The number of coins of each denomination is equal. What is the total number of coins he has?

Options :

1. ✗ 15

2. ✓ 45

3. ✗ 30

4. ✗ 60

Question Number : 90 Question Id : 50964710724 Question Type : MCQ Option Shuffling : Yes

Correct Marks : 1 Wrong Marks : 0.25

एक आदमी के पास 1-रूपये , 2-रूपये और 5-रूपये के सिक्कों में 120 रूपये हैं। प्रत्येक मूल्य के सिक्कों की संख्या बराबर है। उसके पास कुल कितने सिक्के हैं?

Options :

1. ✗ 15

2. ✓ 45

3. ✗ 30

4. ✗ 60

Question Number : 91 Question Id : 50964710725 Question Type : MCQ Option Shuffling : Yes
Correct Marks : 1 Wrong Marks : 0.25

In a club of 600 members, the average age of boys is 20 years and the average age of girls is 21 year. If the number of girls in the club is 150, then what is the average age of all the members?

Options :

1. ✗ 20 years 5 months

2. ✓ 20 years 3 months

3. ✗ 20 years

4. ✗ 20 years 6 months

Question Number : 91 Question Id : 50964710725 Question Type : MCQ Option Shuffling : Yes
Correct Marks : 1 Wrong Marks : 0.25

600 सदस्यों वाले एक क्लब में लड़कों की औसत उम्र 20 वर्ष और लड़कियों की औसत उम्र 21 वर्ष है। यदि क्लब में लड़कियों की संख्या 150 है, तो सभी सदस्यों की औसत उम्र क्या है?

Options :

1. ✗ 20 वर्ष 5 महीने

2. ✓ 20 वर्ष 3 महीने

3. ✗ 20 वर्ष

4. ✗ 20 वर्ष 6 महीने

Question Number : 92 Question Id : 50964710726 Question Type : MCQ Option Shuffling : Yes
Correct Marks : 1 Wrong Marks : 0.25

While calculating the average of the marks obtained by a class, 65 was mistakenly written as 56. Due to this, the average marks for the class decreased by $\frac{1}{3}$. What is the strength of the class?

Options :

1. ✖ 25
2. ✖ 20
3. ✔ 27
4. ✖ 30

Question Number : 92 Question Id : 50964710726 Question Type : MCQ Option Shuffling : Yes
Correct Marks : 1 Wrong Marks : 0.25

एक वर्ग द्वारा प्राप्त अंकों के औसत की गणना करते समय, 65 को गलती से 56 के रूप में लिखा गया था। इस कारण से, कक्षा के औसत अंकों में $\frac{1}{3}$ की कमी आई। वर्ग में विद्यार्थियों की संख्या क्या है?

Options :

1. ✖ 25
2. ✖ 20
3. ✔ 27
4. ✖ 30

Question Number : 93 Question Id : 50964710727 Question Type : MCQ Option Shuffling : Yes
Correct Marks : 1 Wrong Marks : 0.25

A trader offers a discount of 10% on all the items at his shop and still makes a profit of 20%. If the marked price of an article is Rs. 320, then what is the cost price of the article?

Options :

1. ✔ Rs. 240
2. ✖ Rs. 255
3. ✖ Rs. 260

4. * Rs. 280

Question Number : 93 Question Id : 50964710727 Question Type : MCQ Option Shuffling : Yes
Correct Marks : 1 Wrong Marks : 0.25

एक व्यापारी अपनी दुकान की सभी वस्तुओं पर 10% की छूट प्रदान करता है और फिर भी 20% का लाभ कमाता है। यदि किसी वस्तु का अंकित मूल्य 320 रुपये है, तो उस वस्तु की लागत मूल्य क्या है?

Options :

1. ✓ 240 रुपये
2. * 255 रुपये
3. * 260 रुपये
4. * 280 रुपये

Question Number : 94 Question Id : 50964710728 Question Type : MCQ Option Shuffling : Yes
Correct Marks : 1 Wrong Marks : 0.25

If A equals 30% of C and B equals 90% of C, then which one of the following is 150% of B?

Options :

1. * 300% of C
2. ✓ 450% of A
3. * 450% of C
4. * 300% of A

Question Number : 94 Question Id : 50964710728 Question Type : MCQ Option Shuffling : Yes
Correct Marks : 1 Wrong Marks : 0.25

यदि A, C के 30% के और B, C के 90% के बराबर है, तो निम्नलिखित में से कौन सा B का 150% है?

Options :

1. * C का 300%
2. ✓ A का 450%

3. ✖ C का 450%

4. ✖ A का 300%

Question Number : 95 Question Id : 50964710729 Question Type : MCQ Option Shuffling : Yes

Correct Marks : 1 Wrong Marks : 0.25

Two students appeared for an examination. One student scored 20 marks more than the other and his score was 60% of the sum of their marks. What is his score?

Options :

1. ✖ 50

2. ✖ 80

3. ✔ 60

4. ✖ 40

Question Number : 95 Question Id : 50964710729 Question Type : MCQ Option Shuffling : Yes

Correct Marks : 1 Wrong Marks : 0.25

एक परीक्षा में दो छात्र उपस्थित हुए। एक छात्र ने दूसरे की तुलना में 20 अंक अधिक हासिल किए और उसका प्राप्तांक उनके अंकों के योग का 60% था। उसका प्राप्तांक क्या है?

Options :

1. ✖ 50

2. ✖ 80

3. ✔ 60

4. ✖ 40

Question Number : 96 Question Id : 50964710730 Question Type : MCQ Option Shuffling : Yes

Correct Marks : 1 Wrong Marks : 0.25

Two students appeared for an examination. One student scored 30 marks more than the other and his score was 80% of the sum of their marks. What is the sum of their scores?

Options :

1. ✖ 80

2. ✖ 60

3. ✖ 70

4. ✔ 50

Question Number : 96 Question Id : 50964710730 Question Type : MCQ Option Shuffling : Yes
Correct Marks : 1 Wrong Marks : 0.25

एक परीक्षा के लिए दो छात्र उपस्थित हुए। एक छात्र ने दूसरे की तुलना में 30 अंक अधिक प्राप्त किए और उसके प्राप्तांक अंकों के योग का 80% था। उनके अंकों का योग क्या है?

Options :

1. ✖ 80

2. ✖ 60

3. ✖ 70

4. ✔ 50

Question Number : 97 Question Id : 50964710731 Question Type : MCQ Option Shuffling : Yes
Correct Marks : 1 Wrong Marks : 0.25

Ashish bought a car for Rs. 32,000. He spent Rs. 4,000 on repairs and sold the car for Rs. 46,800. What is his gain percent?

Options :

1. ✖ 20 percent

2. ✖ 35 percent

3. ✔ 30 percent

4. ✖ 25 percent

Question Number : 97 Question Id : 50964710731 Question Type : MCQ Option Shuffling : Yes
Correct Marks : 1 Wrong Marks : 0.25

आशीष ने 32,000 रुपयों में एक कार खरीदी। उसने मरम्मत पर 4,000 रुपये खर्च किए और 46,800 रुपयों में कार बेची। उसका लाभ प्रतिशत क्या है?

Options :

1. * 20 प्रतिशत
2. * 35 प्रतिशत
3. ✓ 30 प्रतिशत
4. * 25 प्रतिशत

Question Number : 98 Question Id : 50964710732 Question Type : MCQ Option Shuffling : Yes

Correct Marks : 1 Wrong Marks : 0.25

A milk vendor bought 32 litres of milk at the cost of Rs. 10 per litre. After adding some water, he sold the mixture at the same price. If he gains 15%, how much water did he add?

Options :

1. * 5.2 L
2. * 4 L
3. ✓ 4.8 L
4. * 6.2 L

Question Number : 98 Question Id : 50964710732 Question Type : MCQ Option Shuffling : Yes

Correct Marks : 1 Wrong Marks : 0.25

एक दूध विक्रेता ने 10 रुपये प्रति लीटर की लागत से 32 लीटर दूध खरीदा। उसमें कुछ पानी मिलाने के बाद, उसने उसी कीमत पर वह मिश्रण बेचा। यदि वह 15% लाभ प्राप्त करता है, तो उसने कितना पानी मिलाया था?

Options :

1. * 5.2 L
2. * 4 L

3. ✓ 4.8 L

4. ✗ 6.2 L

Question Number : 99 Question Id : 50964710733 Question Type : MCQ Option Shuffling : Yes

Correct Marks : 1 Wrong Marks : 0.25

When a land is sold for Rs. 19,000, the owner loses 20%. At what price the land must be sold in order to gain 20%?

Options :

1. ✗ Rs. 25,000

2. ✗ Rs. 22,500

3. ✓ Rs. 28,500

4. ✗ Rs. 30,000

Question Number : 99 Question Id : 50964710733 Question Type : MCQ Option Shuffling : Yes

Correct Marks : 1 Wrong Marks : 0.25

जब किसी जमीन को 19,000 रुपयों में बेचा, तो मालिक को 20% नुकसान होता है। 20% लाभ हासिल करने के लिए जमीन को किस कीमत पर बेचा जाना चाहिए?

Options :

1. ✗ 25,000 रुपये

2. ✗ 22,500 रुपये

3. ✓ 28,500 रुपये

4. ✗ 30,000 रुपये

Question Number : 100 Question Id : 50964710734 Question Type : MCQ Option Shuffling : Yes

Correct Marks : 1 Wrong Marks : 0.25

Two numbers are in the ratio 2 : 3. When 6 is subtracted from each, the ratio becomes 5 : 4. Then the smaller number of two is _____ .

Options :

1. ✓ 12/7

2. * 18/7

3. * 7/12

4. * 13/7

Question Number : 100 Question Id : 50964710734 Question Type : MCQ Option Shuffling : Yes

Correct Marks : 1 Wrong Marks : 0.25

दो संख्याएँ 2 : 3 के अनुपात में हैं। जब प्रत्येक में से 6 घटाया जाता है, तो यह अनुपात 5 : 4 हो जाता है। तो दोनों में से छोटी संख्या _____ है।

Options :

1. ✓ 12/7

2. * 18/7

3. * 7/12

4. * 13/7

Arithmetic Ability2

Group Number :	6
Group Id :	509647237
Group Maximum Duration :	0
Group Minimum Duration :	0
Show Attended Group? :	No
Edit Attended Group? :	No
Break time:	0
Group Marks:	20
Is this Group for Examiner?:	No
Revisit allowed for group Instructions? :	Yes
Maximum Instruction Time:	0
Minimum Instruction Time:	0

Arithmetic Ability2

Section Id :	509647397
Section Number :	1
Section type :	Online
Mandatory or Optional:	Mandatory
Number of Questions:	20

Number of Questions to be attempted: 20
Section Marks: 20

Sub-Section Number: 1
Sub-Section Id: 509647557
Question Shuffling Allowed : Yes

Question Number : 101 Question Id : 50964710735 Question Type : MCQ Option Shuffling : Yes
Correct Marks : 1 Wrong Marks : 0.25

A and B together have Rs. 1820. If $\frac{9}{16}$ of A's amount is equal to $\frac{3}{4}$ of B's amount, how much amount does B have?

Options :

1. ✖ Rs. 950
2. ✔ Rs. 780
3. ✖ Rs. 620
4. ✖ Rs. 520

Question Number : 101 Question Id : 50964710735 Question Type : MCQ Option Shuffling : Yes
Correct Marks : 1 Wrong Marks : 0.25

A और B के पास मिलाकर 1820 रुपये हैं। यदि A की राशि का $\frac{9}{16}$ भाग B की राशि के $\frac{3}{4}$ भाग के बराबर है, तो B के पास कितनी राशि है?

Options :

1. ✖ 950 रुपये
2. ✔ 780 रुपये
3. ✖ 620 रुपये
4. ✖ 520 रुपये

Question Number : 102 Question Id : 50964710736 Question Type : MCQ Option Shuffling : Yes
Correct Marks : 1 Wrong Marks : 0.25

The ratio of number of male and female teachers in a school is 5:3. If the percentage increase in the number of male and female teachers be 20% and 50% respectively, then what will be the new ratio?

Options :

1. ✖ 5:6
2. ✖ 3:4
3. ✖ 7:5
4. ✔ 4:3

Question Number : 102 Question Id : 50964710736 Question Type : MCQ Option Shuffling : Yes

Correct Marks : 1 Wrong Marks : 0.25

एक स्कूल में पुरुष और महिला शिक्षकों की संख्या का अनुपात 5:3 है। यदि पुरुष और महिला शिक्षकों की संख्या में क्रमशः 20% और 50% की वृद्धि हुई है, तो नया अनुपात क्या होगा?

Options :

1. ✖ 5:6
2. ✖ 3:4
3. ✖ 7:5
4. ✔ 4:3

Question Number : 103 Question Id : 50964710737 Question Type : MCQ Option Shuffling : Yes

Correct Marks : 1 Wrong Marks : 0.25

A sum of money amounted to Rs. 375 in 2 years and Rs. 405 in 3 years when compounded annually. Find the annual rate of interest.

Options :

1. ✔ 8 percent
2. ✖ 4 percent
3. ✖ 3 percent

4. ✖ 6 percent

Question Number : 103 Question Id : 50964710737 Question Type : MCQ Option Shuffling : Yes
Correct Marks : 1 Wrong Marks : 0.25

एक धनराशि 2 वर्ष में 375 रुपये और 3 वर्ष में 405 रुपये हो जाती है जब वार्षिक चक्रवृद्धि ब्याज लगाया जाता है। ब्याज की वार्षिक दर ज्ञात करें।

Options :

1. ✔ 8 प्रतिशत
2. ✖ 4 प्रतिशत
3. ✖ 3 प्रतिशत
4. ✖ 6 प्रतिशत

Question Number : 104 Question Id : 50964710738 Question Type : MCQ Option Shuffling : Yes
Correct Marks : 1 Wrong Marks : 0.25

Find the rate of interest if the simple interest on a principal of Rs. 2500 gave an interest of Rs. 437.5 in a span of 5 years.

Options :

1. ✔ 3.5percent
2. ✖ 3.625percent
3. ✖ 3.75percent
4. ✖ 3.875percent

Question Number : 104 Question Id : 50964710738 Question Type : MCQ Option Shuffling : Yes
Correct Marks : 1 Wrong Marks : 0.25

ब्याज की दर ज्ञात करें, यदि मूलधन 2500 रुपयों पर साधारण ब्याज की दर से 5 वर्ष की अवधि में 437.5 रुपयों का ब्याज दिया गया।

Options :

1. ✔ 3.5 प्रतिशत
2. ✖ 3.625 प्रतिशत

3. ✖ 3.75 प्रतिशत

4. ✖ 3.875 प्रतिशत

Question Number : 105 Question Id : 50964710739 Question Type : MCQ Option Shuffling : Yes

Correct Marks : 1 Wrong Marks : 0.25

Find the rate of interest if the simple interest on a principal of Rs. 500 gave an interest of Rs. 37.5 in a span of 5 years.

Options :

1. ✔ 1.5percent

2. ✖ 1.8percent

3. ✖ 1.75percent

4. ✖ 1.65percent

Question Number : 105 Question Id : 50964710739 Question Type : MCQ Option Shuffling : Yes

Correct Marks : 1 Wrong Marks : 0.25

ब्याज की दर ज्ञात करें, यदि मूलधन 500 रुपयों पर साधारण ब्याज की दर से 5 वर्षों के अंतराल में 37.5 रुपयों का ब्याज दिया गया।

Options :

1. ✔ 1.5 प्रतिशत

2. ✖ 1.8 प्रतिशत

3. ✖ 1.75 प्रतिशत

4. ✖ 1.65 प्रतिशत

Question Number : 106 Question Id : 50964710740 Question Type : MCQ Option Shuffling : Yes

Correct Marks : 1 Wrong Marks : 0.25

A bus covers a distance of 880 metres in 1 minute and a car covers a distance of 66 kms in 50 minutes. What is the ratio of their speed?

Options :

1. ✖ 5:3

2. ✖ 3:7

3. ✓ 2:3

4. ✗ 7:5

Question Number : 106 Question Id : 50964710740 Question Type : MCQ Option Shuffling : Yes

Correct Marks : 1 Wrong Marks : 0.25

एक बस 1 मिनट में 880 मीटर की दूरी तय करती है और एक कार 50 मिनट में 66 किलोमीटर की दूरी तय करती है। उनकी गति का अनुपात क्या है?

Options :

1. ✗ 5:3

2. ✗ 3:7

3. ✓ 2:3

4. ✗ 7:5

Question Number : 107 Question Id : 50964710741 Question Type : MCQ Option Shuffling : Yes

Correct Marks : 1 Wrong Marks : 0.25

A train travels at a speed of 84 km/h while another train travels at a speed of 25 m/s. They start at the same point. Find the distance between them after 150 seconds.

Options :

1. ✗ 225 m

2. ✗ 280 m

3. ✗ 240 m

4. ✓ 250 m

Question Number : 107 Question Id : 50964710741 Question Type : MCQ Option Shuffling : Yes

Correct Marks : 1 Wrong Marks : 0.25

एक रेलगाड़ी 84 km/h प्रति घंटे की गति से यात्रा करती है जबकि दूसरी रेलगाड़ी 25 m/s की गति से यात्रा करती है। वे एक ही बिंदु से शुरू करती हैं। 150 सेकंड के बाद उनके बीच की दूरी ज्ञात करें।

Options :

1. ✖ 225 m

2. ✖ 280 m

3. ✖ 240 m

4. ✔ 250 m

Question Number : 108 Question Id : 50964710742 Question Type : MCQ Option Shuffling : Yes

Correct Marks : 1 Wrong Marks : 0.25

A man completes a journey in 12 hour. He travels first half of the journey at 21 km/h and the second half at 24 km/h. Find the total journey.

Options :

1. ✖ 260 km

2. ✔ 268.8 km

3. ✖ 256 km

4. ✖ 272.2 km

Question Number : 108 Question Id : 50964710742 Question Type : MCQ Option Shuffling : Yes

Correct Marks : 1 Wrong Marks : 0.25

एक आदमी 12 घंटे में एक यात्रा पूरी करता है। वह यात्रा का पहला आधा भाग 21 km/h और दूसरा आधा भाग 24 km/h तय करता है। कुल यात्रा ज्ञात कीजिए।

Options :

1. ✖ 260 km

2. ✔ 268.8 km

3. ✖ 256 km

4. ✖ 272.2 km

Question Number : 109 Question Id : 50964710743 Question Type : MCQ Option Shuffling : Yes

Correct Marks : 1 Wrong Marks : 0.25

X, Y and Z can do a job in 8, 12 and 16 days respectively. In how many days can X do the work if he is assisted by Y and Z every fourth day?

Options :

1. ✖ 5.28 days
2. ✖ 7.25 days
3. ✖ 7.12 days
4. ✔ 6.19 days

Question Number : 109 Question Id : 50964710743 Question Type : MCQ Option Shuffling : Yes

Correct Marks : 1 Wrong Marks : 0.25

X, Y और Z क्रमशः 8, 12 और 16 दिनों में एक काम कर सकते हैं। यदि X को हर चौथे दिन Y और Z द्वारा सहायता प्रदान होती है, तो वह कितने दिनों में कार्य पूरा कर सकता है?

Options :

1. ✖ 5.28 दिन
2. ✖ 7.25 दिन
3. ✖ 7.12 दिन
4. ✔ 6.19 दिन

Question Number : 110 Question Id : 50964710744 Question Type : MCQ Option Shuffling : Yes

Correct Marks : 1 Wrong Marks : 0.25

Ajit is thrice as good a workman as Rishab and takes 40 days less than Rishab. In how many days can they do the work by working together?

Options :

1. ✔ 15 days
2. ✖ 20 days
3. ✖ 18 days

4. * 12 days

Question Number : 110 Question Id : 50964710744 Question Type : MCQ Option Shuffling : Yes
Correct Marks : 1 Wrong Marks : 0.25

अजित, ऋषभ की तुलना में तीन गुना अच्छा कर्मकार है और ऋषभ से 40 दिन कम लेता है। एक साथ काम करके वे कितने दिनों में वह काम पूरा कर सकते हैं?

Options :

1. ✓ 15 दिन
2. * 20 दिन
3. * 18 दिन
4. * 12 दिन

Question Number : 111 Question Id : 50964710745 Question Type : MCQ Option Shuffling : Yes
Correct Marks : 1 Wrong Marks : 0.25

Ashish can do a piece of work in 15 hours, Binita and Fatima can do it in 5 hours while Ashish and Fatima can do it 10 hour. How long will Binita alone take to do the work?

Options :

1. * 12 hours
2. * 8 hours
3. ✓ 6 hours
4. * 4 hours

Question Number : 111 Question Id : 50964710745 Question Type : MCQ Option Shuffling : Yes
Correct Marks : 1 Wrong Marks : 0.25

आशीष 15 घंटे में एक काम कर सकता है, बनिता और फातिमा इसे 5 घंटे में कर सकती हैं जबकि आशीष और फातिमा इसे 10 घंटे कर सकते हैं। बनिता को अकेले काम करने में कितना समय लगेगा?

Options :

1. ✖ 12 घंटे

2. ✖ 8 घंटे

3. ✔ 6 घंटे

4. ✖ 4 घंटे

Question Number : 112 Question Id : 50964710746 Question Type : MCQ Option Shuffling : Yes
Correct Marks : 1 Wrong Marks : 0.25

The diagonal of a rectangle is 13 cm. The longer side of the rectangle is 12 cm. What is the area of the rectangle?

Options :

1. ✖ 156 cm^2

2. ✖ 65 cm^2

3. ✖ 144 cm^2

4. ✔ 60 cm^2

Question Number : 112 Question Id : 50964710746 Question Type : MCQ Option Shuffling : Yes
Correct Marks : 1 Wrong Marks : 0.25

एक आयत का विकर्ण 13 cm है। आयत का लंबा भाग 12 cm है।
उस आयत का क्षेत्रफल क्या है?

Options :

1. ✖ 156 cm^2

2. ✖ 65 cm^2

3. ✖ 144 cm^2

4. ✔ 60 cm^2

Question Number : 113 Question Id : 50964710747 Question Type : MCQ Option Shuffling : Yes
Correct Marks : 1 Wrong Marks : 0.25

If the radius of a circle is reduced by 20%, then by what percent will be the area of the circle diminish?

Options :

1. ✖ 20percent
2. ✔ 36percent
3. ✖ 18percent
4. ✖ 40percent

Question Number : 113 Question Id : 50964710747 Question Type : MCQ Option Shuffling : Yes
Correct Marks : 1 Wrong Marks : 0.25

यदि किसी वृत्त की त्रिज्या 20 % तक कम की जाती है, तो वृत्त का क्षेत्रफल कितने प्रतिशत से कम हो जाएगा?

Options :

1. ✖ 20 प्रतिशत
2. ✔ 36 प्रतिशत
3. ✖ 18 प्रतिशत
4. ✖ 40 प्रतिशत

Question Number : 114 Question Id : 50964710748 Question Type : MCQ Option Shuffling : Yes
Correct Marks : 1 Wrong Marks : 0.25

A sphere of radius 12 cm is moulded to form a cylinder of radius 6 cm. Find the height of the cylinder.

Options :

1. ✖ 120 cm
2. ✖ 144 cm
3. ✔ 64 cm
4. ✖ 102 cm

Question Number : 114 Question Id : 50964710748 Question Type : MCQ Option Shuffling : Yes
Correct Marks : 1 Wrong Marks : 0.25

12 cm त्रिज्या वाले एक गोले को 6 cm त्रिज्या के सिलेंडर बनाने के लिए ढाला जाता है। सिलेंडर की ऊँचाई ज्ञात कीजिए।

Options :

1. ✖ 120 cm
2. ✖ 144 cm
3. ✔ 64 cm
4. ✖ 102 cm

Question Number : 115 Question Id : 50964710749 Question Type : MCQ Option Shuffling : Yes

Correct Marks : 1 Wrong Marks : 0.25

The following table shows the number of workers working at various departments of Bharat Petroleum. What is the ratio of total number of workers in Maintenance Department to Safety and Environment Department over last 5 years?

Years	Health Department	Maintenance Department	Safety and Environment Department	Finance Department
2014	150	45	75	50
2015	225	55	62	65
2016	450	65	55	75
2017	500	80	58	80
2018	525	95	60	95

Options :

1. ✖ 25:17
2. ✖ 31:34
3. ✔ 34:31
4. ✖ 17:25

Question Number : 115 Question Id : 50964710749 Question Type : MCQ Option Shuffling : Yes
Correct Marks : 1 Wrong Marks : 0.25

निम्नलिखित तालिका में भारत पेट्रोलियम के विभिन्न विभागों में काम करने वाले श्रमिकों की संख्या को दर्शाया गया है। पिछले 5 वर्षों में रखरखाव विभाग के श्रमिकों के साथ सुरक्षा और पर्यावरण विभाग के श्रमिकों का अनुपात क्या है?

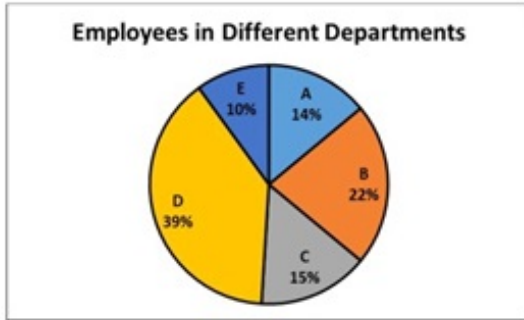
वर्ष	स्वास्थ्य विभाग	अनुरक्षण विभाग	सुरक्षा और पर्यावरण विभाग	वित्त विभाग
2014	150	45	75	50
2015	225	55	62	65
2016	450	65	55	75
2017	500	80	58	80
2018	525	95	60	95

Options :

1. ✘ 25:17
2. ✘ 31:34
3. ✔ 34:31
4. ✘ 17:25

Question Number : 116 Question Id : 50964710750 Question Type : MCQ Option Shuffling : Yes
Correct Marks : 1 Wrong Marks : 0.25

The following pie-chart shows the details of employees working in a company in various departments. If 1170 employees work in a department D, how many employees work in a department A?



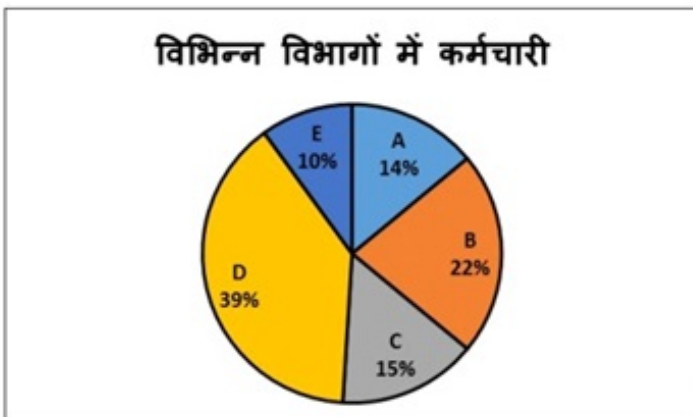
Options :

- ✘ 450
- ✘ 750
- ✘ 620
- ✔ 420

Question Number : 116 Question Id : 50964710750 Question Type : MCQ Option Shuffling : Yes

Correct Marks : 1 Wrong Marks : 0.25

निम्नलिखित पाई-चार्ट एक कंपनी में विभिन्न विभागों में काम करने वाले कर्मचारियों का विवरण दिखाता है। यदि विभाग D में 1170 कर्मचारी काम करते हैं, तो विभाग A में कितने कर्मचारी काम करते हैं?



Options :

- ✘ 450

2. ✖ 750

3. ✖ 620

4. ✔ 420

Question Number : 117 Question Id : 50964710751 Question Type : MCQ Option Shuffling : Yes
Correct Marks : 1 Wrong Marks : 0.25

The pie charts below show the employee composition of 2 companies A and B. If Company A has 45 employees in their marketing team, and Company A is thrice as big in terms of employee count as company B. Then there are how many employees in the HR team of Company B?



Options :

1. ✔ 4

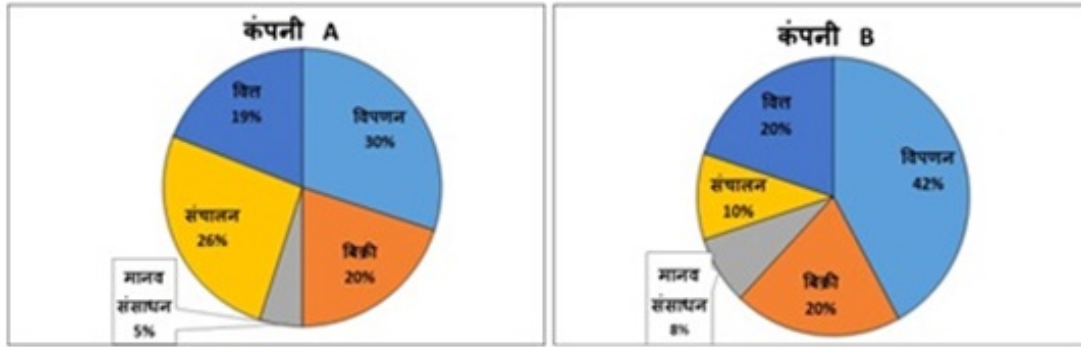
2. ✖ 5

3. ✖ 6

4. ✖ 7

Question Number : 117 Question Id : 50964710751 Question Type : MCQ Option Shuffling : Yes
Correct Marks : 1 Wrong Marks : 0.25

नीचे दिए गए पाई-चार्ट 2 कंपनियों A और B के कर्मचारी की संरचना को दर्शाते हैं। यदि कंपनी A में उनकी विपणन टीम में 45 कर्मचारी हैं, A, B से कर्मचारी गणना के मामले में तीन गुना बड़ी है, तो कंपनी B की HR टीम में कितने कर्मचारी हैं?



Options :

1. ✓ 4
2. ✗ 5
3. ✗ 6
4. ✗ 7

Question Number : 118 Question Id : 50964710752 Question Type : MCQ Option Shuffling : Yes
 Correct Marks : 1 Wrong Marks : 0.25

Out of the two bar graphs, one shows the amount (in Lakh rupees) invested by a Company in purchasing raw materials over the years and the other shows the values (in Lakh rupees) of finished goods sold by the Company over the years. What was the difference (in Lakh rupees) between the average amount invested in raw materials during the given period and the average value of sales of finished goods during this period?

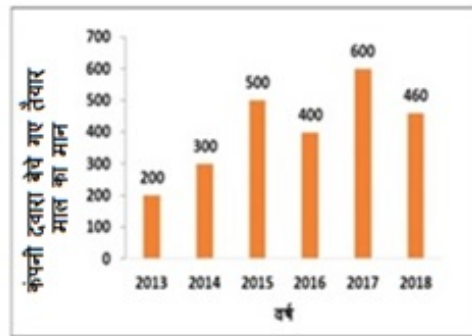
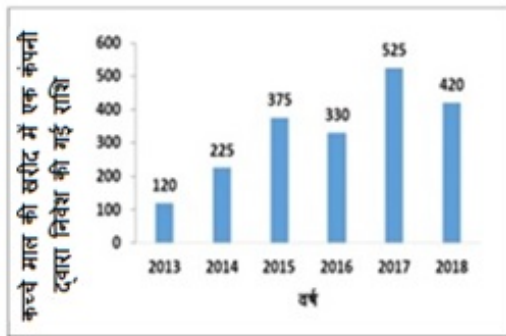


Options :

1. ✖ 68.5
2. ✔ 77.5
3. ✖ 62.5
4. ✖ 71.5

Question Number : 118 Question Id : 50964710752 Question Type : MCQ Option Shuffling : Yes
Correct Marks : 1 Wrong Marks : 0.25

दो स्तंभ आरेख में से, एक किसी कंपनी द्वारा इतने वर्षों में कच्चे खरीद में निवेश की गई राशि (लाख रूपये में) दिखाता है और दूसरा उस कंपनी द्वारा इतने वर्षों में बेचे गए तैयार माल के मूल्यों (लाख रूपये में) को दर्शाता है। दी गई अवधि के दौरान कच्चे माल में निवेश की गई औसत राशि और इस अवधि के दौरान तैयार माल की विक्री के औसत मूल्य के बीच के अंतर (लाख रूपये में) क्या था?



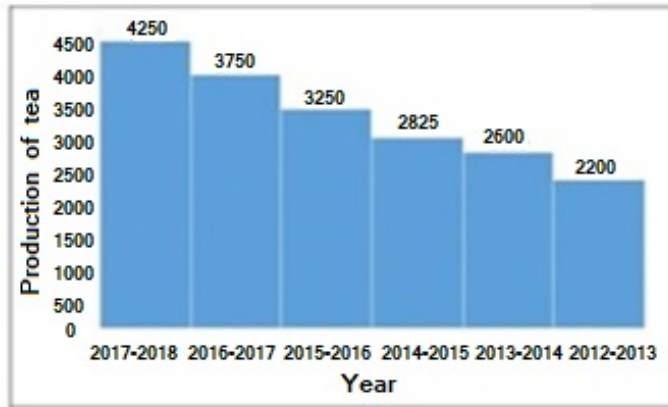
Options :

1. ✘ 68.5
2. ✔ 77.5
3. ✘ 62.5
4. ✘ 71.5

Question Number : 119 Question Id : 50964710753 Question Type : MCQ Option Shuffling : Yes

Correct Marks : 1 Wrong Marks : 0.25

The histogram shows production of tea (in million metric tonnes) company over different years. What percentage (approximately) is the total production in 2015- 2016 of the total production in 2012-2013?



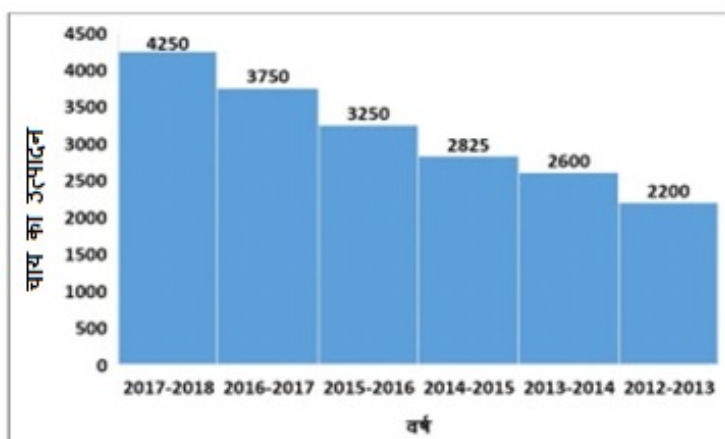
Options :

1. * 67.7 percent
2. * 68.25 percent
3. ✓ 147.73 percent
4. * 112.25 percent

Question Number : 119 Question Id : 50964710753 Question Type : MCQ Option Shuffling : Yes

Correct Marks : 1 Wrong Marks : 0.25

यह आयतचित्र विभिन्न वर्षों में चाय कंपनी का उत्पादन (मिलियन मीट्रिक टन) दिखाता है। 2012 - 2013 में हुए कुल उत्पादन का 2015 - 2016 में हुए कुल उत्पादन का कितना प्रतिशत (सन्निकटत) है?

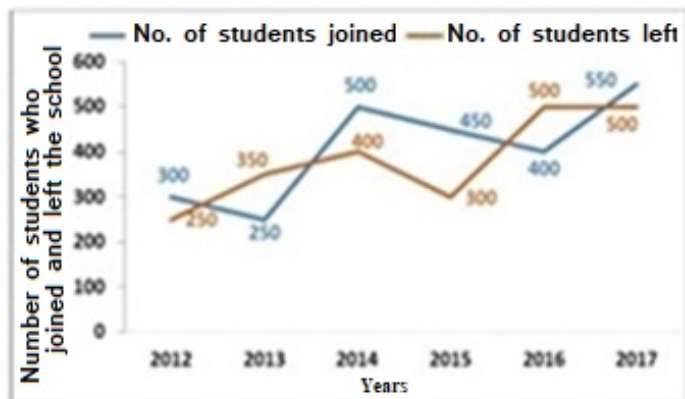


Options :

1. ✘ 67.7%
2. ✘ 68.25%
3. ✔ 147.73%
4. ✘ 112.25%

Question Number : 120 Question Id : 50964710754 Question Type : MCQ Option Shuffling : Yes
Correct Marks : 1 Wrong Marks : 0.25

The line graph shows the number of students who joined and left the school in the beginning of year for for six years, from 2012 to 2017. Initial strength of the school in 2012 = 1500. At the start of which of the following pairs of years, the strengths of the school is equal?



Options :

1. ✔ 2013 & 2015
2. ✘ 2012 & 2016
3. ✘ 2013 & 2016
4. ✘ 2013 & 2017

Question Number : 120 Question Id : 50964710754 Question Type : MCQ Option Shuffling : Yes
Correct Marks : 1 Wrong Marks : 0.25

यह रेखा ग्राफ उन छात्रों की संख्या को दर्शाता है, जिन्होंने 2012 से 2017 तक, वर्ष की शुरुआत में छह वर्षों के लिए स्कूल में प्रवेश लिया और उसे छोड़ दिया। 2012 = 1500 में स्कूल की प्रारंभिक संख्या थी। निम्न में से किस युगल वर्षों की शुरुआत में, स्कूल की संख्या एक सामान है?



Options :

1. ✓ 2013 और 2015
2. ✗ 2012 और 2016
3. ✗ 2013 और 2016
4. ✗ 2013 और 2017

General English1

Group Number :	7
Group Id :	509647238
Group Maximum Duration :	0
Group Minimum Duration :	0
Show Attended Group? :	No
Edit Attended Group? :	No
Break time:	0
Group Marks:	20
Is this Group for Examiner?:	No
Revisit allowed for group Instructions? :	Yes
Maximum Instruction Time:	0
Minimum Instruction Time:	0

General English1

Section Id :	509647398
Section Number :	1
Section type :	Online
Mandatory or Optional:	Mandatory
Number of Questions:	20
Number of Questions to be attempted:	20
Section Marks:	20

Sub-Section Number:	1
Sub-Section Id:	509647558
Question Shuffling Allowed :	Yes

Question Number : 121 Question Id : 50964710755 Question Type : MCQ Option Shuffling : Yes
Correct Marks : 1 Wrong Marks : 0.25

In the following statement, one part of the sentence may have an error. Find out which part of the sentence has an error and click the button corresponding to it. If the sentence is free from error, select the "No error" option.

(A) Jack will not attend the party/ (B) as he is sick/ (C) and has to visit a doctor./ (D) No error

Options :

1. ✖ A
2. ✖ B
3. ✔ C
4. ✖ D

Question Number : 121 Question Id : 50964710755 Question Type : MCQ Option Shuffling : Yes
Correct Marks : 1 Wrong Marks : 0.25

In the following statement, one part of the sentence may have an error. Find out which part of the sentence has an error and click the button corresponding to it. If the sentence is free from error, select the "No error" option.

(A) Jack will not attend the party/ (B) as he is sick/ (C) and has to visit a doctor./ (D) No error

Options :

1. ✖ A

2. ✖ B

3. ✔ C

4. ✖ D

Question Number : 122 Question Id : 50964710756 Question Type : MCQ Option Shuffling : Yes
Correct Marks : 1 Wrong Marks : 0.25

In the following statement, one part of the sentence may have an error. Find out which part of the sentence has an error and click the button corresponding to it. If the sentence is free from error, select the "No error" option.

(A) In a recession-hit economy,/ (B) automobiles is the / (C) most effected sector./ (D) No error

Options :

1. ✖ A

2. ✖ B

3. ✔ C

4. ✖ D

Question Number : 122 Question Id : 50964710756 Question Type : MCQ Option Shuffling : Yes
Correct Marks : 1 Wrong Marks : 0.25

In the following statement, one part of the sentence may have an error. Find out which part of the sentence has an error and click the button corresponding to it. If the sentence is free from error, select the "No error" option.

(A) In a recession-hit economy,/ (B) automobiles is the /
(C) most effected sector./ (D) No error

Options :

1. ✖ A

2. ✖ B

3. ✔ C

4. ✖ D

Question Number : 123 Question Id : 50964710757 Question Type : MCQ Option Shuffling : Yes
Correct Marks : 1 Wrong Marks : 0.25

In the following statement, one part of the sentence may have an error. Find out which part of the sentence has an error and click the button corresponding to it. If the sentence is free from error, select the "No error" option.

(A) The teacher asked / (B) the student to what / (C) district he came from./ (D) No error

Options :

1. ✖ A

2. ✔ B

3. ✖ C

4. ✖ D

Question Number : 123 Question Id : 50964710757 Question Type : MCQ Option Shuffling : Yes
Correct Marks : 1 Wrong Marks : 0.25

In the following statement, one part of the sentence may have an error. Find out which part of the sentence has an error and click the button corresponding to it. If the sentence is free from error, select the "No error" option.

(A) The teacher asked / (B) the student to what / (C) district he came from./ (D) No error

Options :

1. ✖ A

2. ✔ B

3. ✖ C

4. ✖ D

Question Number : 124 Question Id : 50964710758 Question Type : MCQ Option Shuffling : Yes
Correct Marks : 1 Wrong Marks : 0.25

In the following statement, one part of the sentence may have an error. Find out which part of the sentence has an error and click the button corresponding to it. If the sentence is free from error, select the "No error" option.

(A) Rashmi introduced me/ (B) to her friend / (C) who is singer and a doctor./ (D) No error

Options :

1. ✖ A

2. ✖ B

3. ✓ C

4. ✗ D

Question Number : 124 Question Id : 50964710758 Question Type : MCQ Option Shuffling : Yes

Correct Marks : 1 Wrong Marks : 0.25

In the following statement, one part of the sentence may have an error. Find out which part of the sentence has an error and click the button corresponding to it. If the sentence is free from error, select the "No error" option.

(A) Rashmi introduced me/ (B) to her friend / (C) who is singer and a doctor./ (D) No error

Options :

1. ✗ A

2. ✗ B

3. ✓ C

4. ✗ D

Question Number : 125 Question Id : 50964710759 Question Type : MCQ Option Shuffling : Yes

Correct Marks : 1 Wrong Marks : 0.25

In the following statement, one part of the sentence may have an error. Find out which part of the sentence has an error and click the button corresponding to it. If the sentence is free from error, select the "No error" option.

(A) John took the bike/ (B) which he bought/ (C) from the store yesterday./ (D) No error

Options :

1. ✗ A

2. ✖ B

3. ✔ C

4. ✖ D

Question Number : 125 Question Id : 50964710759 Question Type : MCQ Option Shuffling : Yes
Correct Marks : 1 Wrong Marks : 0.25

In the following statement, one part of the sentence may have an error. Find out which part of the sentence has an error and click the button corresponding to it. If the sentence is free from error, select the "No error" option.

(A) John took the bike/ (B) which he bought/ (C) from the store yesterday./ (D) No error

Options :

1. ✖ A

2. ✖ B

3. ✔ C

4. ✖ D

Question Number : 126 Question Id : 50964710760 Question Type : MCQ Option Shuffling : Yes
Correct Marks : 1 Wrong Marks : 0.25

Replace the words in the bracket from the set of options given.

Manisha has been in the bed (for the last) ten days.

Options :

1. ✖ since the past

2. ✖ since the last

3. ✖ for last

4. ✓ for the past

Question Number : 126 Question Id : 50964710760 Question Type : MCQ Option Shuffling : Yes
Correct Marks : 1 Wrong Marks : 0.25

Replace the words in the bracket from the set of options given.

Manisha has been in the bed (for the last) ten days.

Options :

1. ✗ since the past
2. ✗ since the last
3. ✗ for last
4. ✓ for the past

Question Number : 127 Question Id : 50964710761 Question Type : MCQ Option Shuffling : Yes
Correct Marks : 1 Wrong Marks : 0.25

Replace the words in the bracket from the set of options given.

He is the (most small) person in the group

Options :

1. ✗ smaller
2. ✗ more smaller
3. ✓ smallest
4. ✗ more small

Question Number : 127 Question Id : 50964710761 Question Type : MCQ Option Shuffling : Yes
Correct Marks : 1 Wrong Marks : 0.25

Replace the words in the bracket from the set of options given.

He is the (most small) person in the group

Options :

1. ✖ smaller
2. ✖ more smaller
3. ✔ smallest
4. ✖ more small

Question Number : 128 Question Id : 50964710762 Question Type : MCQ Option Shuffling : Yes
Correct Marks : 1 Wrong Marks : 0.25

Replace the words in the bracket from the set of options given.

If you (crossing the line) you will be in jail.

Options :

1. ✖ cross in the line
2. ✖ cross of the line
3. ✔ cross the line
4. ✖ cross with the line

Question Number : 128 Question Id : 50964710762 Question Type : MCQ Option Shuffling : Yes
Correct Marks : 1 Wrong Marks : 0.25

Replace the words in the bracket from the set of options given.

If you (crossing the line) you will be in jail.

Options :

1. ✖ cross in the line

2. ✖ cross of the line

3. ✔ cross the line

4. ✖ cross with the line

Question Number : 129 Question Id : 50964710763 Question Type : MCQ Option Shuffling : Yes
Correct Marks : 1 Wrong Marks : 0.25

Replace the words in the bracket from the set of options given.

Swati is (keen to learn) Spanish.

Options :

1. ✔ keen on learning

2. ✖ keen to learning

3. ✖ keen in learning

4. ✖ keen of learning

Question Number : 129 Question Id : 50964710763 Question Type : MCQ Option Shuffling : Yes
Correct Marks : 1 Wrong Marks : 0.25

Replace the words in the bracket from the set of options given.

Swati is (keen to learn) Spanish.

Options :

1. ✔ keen on learning

2. ✖ keen to learning

3. ✖ keen in learning

4. ✖ keen of learning

Question Number : 130 Question Id : 50964710764 Question Type : MCQ Option Shuffling : Yes
Correct Marks : 1 Wrong Marks : 0.25

Replace the words in the bracket from the set of options given.

I am (thinking to do) M.Sc. in Mathematics.

Options :

1. ✖ wondering to do
2. ✔ thinking of doing
3. ✖ thinking doing
4. ✖ thinking to doing

Question Number : 130 Question Id : 50964710764 Question Type : MCQ Option Shuffling : Yes

Correct Marks : 1 Wrong Marks : 0.25

Replace the words in the bracket from the set of options given.

I am (thinking to do) M.Sc. in Mathematics.

Options :

1. ✖ wondering to do
2. ✔ thinking of doing
3. ✖ thinking doing
4. ✖ thinking to doing

Question Number : 131 Question Id : 50964710765 Question Type : MCQ Option Shuffling : Yes

Correct Marks : 1 Wrong Marks : 0.25

Fill in the blank with an appropriate preposition.

Her mother has been supporting the family _____ her father's death.

Options :

1. ✖ to

2. ✖ with

3. ✖ on

4. ✔ since

Question Number : 131 Question Id : 50964710765 Question Type : MCQ Option Shuffling : Yes
Correct Marks : 1 Wrong Marks : 0.25

Fill in the blank with an appropriate preposition.

Her mother has been supporting the family _____ her father's death.

Options :

1. ✖ to

2. ✖ with

3. ✖ on

4. ✔ since

Question Number : 132 Question Id : 50964710766 Question Type : MCQ Option Shuffling : Yes
Correct Marks : 1 Wrong Marks : 0.25

Choose the correct form of verb from the given options.

Shashi _____ to be a chef.

Options :

1. ✖ was wanting

2. ✖ wanting

3. ✔ wants

4. ✖ is wanting

Question Number : 132 Question Id : 50964710766 Question Type : MCQ Option Shuffling : Yes
Correct Marks : 1 Wrong Marks : 0.25

Choose the correct form of verb from the given options.

Shashi _____ to be a chef.

Options :

1. ✖ was wanting
2. ✖ wanting
3. ✔ wants
4. ✖ is wanting

Question Number : 133 Question Id : 50964710767 Question Type : MCQ Option Shuffling : Yes
Correct Marks : 1 Wrong Marks : 0.25

Choose the correct form of verb from the given options.

Julie _____ at the shop for the last half an hour.

Options :

1. ✖ had been waited
2. ✖ have waited
3. ✖ will be waiting
4. ✔ has been waiting

Question Number : 133 Question Id : 50964710767 Question Type : MCQ Option Shuffling : Yes
Correct Marks : 1 Wrong Marks : 0.25

Choose the correct form of verb from the given options.

Julie _____ at the shop for the last half an hour.

Options :

1. ✖ had been waited
2. ✖ have waited

3. ✖ will be waiting

4. ✔ has been waiting

Question Number : 134 Question Id : 50964710768 Question Type : MCQ Option Shuffling : Yes
Correct Marks : 1 Wrong Marks : 0.25

Fill in the blank with an appropriate preposition.

Jim knew Japanese and German _____ Chinese.

Options :

1. ✖ except

2. ✖ with

3. ✔ besides

4. ✖ and

Question Number : 134 Question Id : 50964710768 Question Type : MCQ Option Shuffling : Yes
Correct Marks : 1 Wrong Marks : 0.25

Fill in the blank with an appropriate preposition.

Jim knew Japanese and German _____ Chinese.

Options :

1. ✖ except

2. ✖ with

3. ✔ besides

4. ✖ and

Question Number : 135 Question Id : 50964710769 Question Type : MCQ Option Shuffling : Yes
Correct Marks : 1 Wrong Marks : 0.25

Fill in the blank with an appropriate preposition.

_____ Mary and Jill, there were three other girls present.

Options :

1. ✖ For
2. ✔ Besides
3. ✖ On
4. ✖ With

Question Number : 135 Question Id : 50964710769 Question Type : MCQ Option Shuffling : Yes
Correct Marks : 1 Wrong Marks : 0.25

Fill in the blank with an appropriate preposition.

_____ Mary and Jill, there were three other girls present.

Options :

1. ✖ For
2. ✔ Besides
3. ✖ On
4. ✖ With

Question Number : 136 Question Id : 50964710770 Question Type : MCQ Option Shuffling : Yes
Correct Marks : 1 Wrong Marks : 0.25

Fill in the blank with an appropriate preposition.

Divide the chocolates _____ the two children.

Options :

1. ✖ among
2. ✔ between
3. ✖ within
4. ✖ for

Question Number : 136 Question Id : 50964710770 Question Type : MCQ Option Shuffling : Yes
Correct Marks : 1 Wrong Marks : 0.25

Fill in the blank with an appropriate preposition.

Divide the chocolates _____ the two children.

Options :

1. ✘ among
2. ✔ between
3. ✘ within
4. ✘ for

Question Number : 137 Question Id : 50964710771 Question Type : MCQ Option Shuffling : Yes
Correct Marks : 1 Wrong Marks : 0.25

Fill in the blank with an appropriate preposition.

Rachana has no taste _____ music.

Options :

1. ✔ of
2. ✘ at
3. ✘ with
4. ✘ in

Question Number : 137 Question Id : 50964710771 Question Type : MCQ Option Shuffling : Yes
Correct Marks : 1 Wrong Marks : 0.25

Fill in the blank with an appropriate preposition.

Rachana has no taste _____ music.

Options :

1. ✔ of
2. ✘ at

3. ✖ with

4. ✖ in

Question Number : 138 Question Id : 50964710772 Question Type : MCQ Option Shuffling : Yes
Correct Marks : 1 Wrong Marks : 0.25

Fill in the blank with an appropriate preposition.

He carefully placed the vase _____ the table.

Options :

1. ✔ upon

2. ✖ up

3. ✖ in

4. ✖ above

Question Number : 138 Question Id : 50964710772 Question Type : MCQ Option Shuffling : Yes
Correct Marks : 1 Wrong Marks : 0.25

Fill in the blank with an appropriate preposition.

He carefully placed the vase _____ the table.

Options :

1. ✔ upon

2. ✖ up

3. ✖ in

4. ✖ above

Question Number : 139 Question Id : 50964710773 Question Type : MCQ Option Shuffling : Yes
Correct Marks : 1 Wrong Marks : 0.25

The question given below consist of a set of labelled parts of a sentence. Out of the four options given, select the most logical order of the parts which form a coherent sentence.

The girl

P : with big red eyes

Q : watched her

R : but she didn't utter a word

S : which were filled with anger

Options :

1. ✖ QRSP

2. ✖ RPQS

3. ✔ QPSR

4. ✖ PQRS

Question Number : 139 Question Id : 50964710773 Question Type : MCQ Option Shuffling : Yes

Correct Marks : 1 Wrong Marks : 0.25

The question given below consist of a set of labelled parts of a sentence. Out of the four options given, select the most logical order of the parts which form a coherent sentence.

The girl

P : with big red eyes

Q : watched her

R : but she didn't utter a word

S : which were filled with anger

Options :

1. ✘ QRSP

2. ✘ RPQS

3. ✔ QPSR

4. ✘ PQRS

Question Number : 140 Question Id : 50964710774 Question Type : MCQ Option Shuffling : Yes

Correct Marks : 1 Wrong Marks : 0.25

The question given below consist of a set of labelled parts of a sentence. Out of the four options given, select the most logical order of the parts which form a coherent sentence.

Severe soil-erosion

P : land forms and climate

Q : a result of long-term human

R : related activities and its erosion-prone

S : challenges exist in China as

Options :

1. ✓ S Q R P

2. ✗ P Q R S

3. ✗ P R S Q

4. ✗ Q S P R

Question Number : 140 Question Id : 50964710774 Question Type : MCQ Option Shuffling : Yes

Correct Marks : 1 Wrong Marks : 0.25

The question given below consist of a set of labelled parts of a sentence. Out of the four options given, select the most logical order of the parts which form a coherent sentence.

Severe soil-erosion

P : land forms and climate

Q : a result of long-term human

R : related activities and its erosion-prone

S : challenges exist in China as

Options :

1. ✓ SQRP

2. ✗ PQRS

3. ✗ PRSQ

4. ✗ QSPR

General English2

Group Number :	8
Group Id :	509647239
Group Maximum Duration :	0
Group Minimum Duration :	0
Show Attended Group? :	No
Edit Attended Group? :	No
Break time:	0
Group Marks:	20
Is this Group for Examiner?:	No
Revisit allowed for group Instructions? :	Yes
Maximum Instruction Time:	0
Minimum Instruction Time:	0

General English2

Section Id :	509647399
Section Number :	1
Section type :	Online
Mandatory or Optional:	Mandatory
Number of Questions:	16
Number of Questions to be attempted:	16
Section Marks:	20

Sub-Section Number:	1
Sub-Section Id:	509647559
Question Shuffling Allowed :	Yes

**Question Number : 141 Question Id : 50964710775 Question Type : MCQ Option Shuffling : Yes
Correct Marks : 1 Wrong Marks : 0.25**

The question below consist of a set of labelled sentences. Out of four options given, select the most logical order of the sentences which form a paragraph.

The kind of conflict most emphasised by these historians is class conflict.

P : Certainly not by the side a person supported.

Q : Yet, with the revolutionary war dominating these years, how does one distinguish class conflict with that larger conflict?

R : Although many of these historians have accepted the earlier assumption that Loyalist represented an upper class, new evidence indicates that Loyalists like rebels were drawn from a socioeconomic classes.

S : It is nonetheless probably true that a larger percentage of the well to do joined the loyalists than joined the rebels. Looking at the rebel side, we find little evidence for the contention that lower class rebels were in conflict with upper class rebels.

Options :

1. ✓ QPRS

2. ✗ PQRS

3. ✗ SPQR

4. ✗ PQSR

Question Number : 141 Question Id : 50964710775 Question Type : MCQ Option Shuffling : Yes
Correct Marks : 1 Wrong Marks : 0.25

The question below consist of a set of labelled sentences. Out of four options given, select the most logical order of the sentences which form a paragraph.

The kind of conflict most emphasised by these historians is class conflict.

P : Certainly not by the side a person supported.

Q : Yet, with the revolutionary war dominating these years, how does one distinguish class conflict with that larger conflict?

R : Although many of these historians have accepted the earlier assumption that Loyalist represented an upper class, new evidence indicates that Loyalists like rebels were drawn from a socioeconomic classes.

S : It is nonetheless probably true that a larger percentage of the well to do joined the loyalists than joined the rebels. Looking at the rebel side, we find little evidence for the contention that lower class rebels were in conflict with upper class rebels.

Options :

1. ✓ QPRS

2. ✗ PQRS

3. ✗ SPQR

4. ✖ PQSR

Question Number : 142 Question Id : 50964710776 Question Type : MCQ Option Shuffling : Yes
Correct Marks : 1 Wrong Marks : 0.25

Out of the four alternatives, choose the word which best expresses the meaning of the given word.

Nincompoop

Options :

1. ✖ Chef
2. ✖ Clown
3. ✖ Smart
4. ✔ Fool

Question Number : 142 Question Id : 50964710776 Question Type : MCQ Option Shuffling : Yes
Correct Marks : 1 Wrong Marks : 0.25

Out of the four alternatives, choose the word which best expresses the meaning of the given word.

Nincompoop

Options :

1. ✖ Chef
2. ✖ Clown
3. ✖ Smart
4. ✔ Fool

Question Number : 143 Question Id : 50964710777 Question Type : MCQ Option Shuffling : Yes
Correct Marks : 1 Wrong Marks : 0.25

Out of the four alternatives, choose the word which best expresses the meaning of the given word.

Juvenile

Options :

1. ✓ Young
2. ✗ Dull
3. ✗ Honest
4. ✗ Prudent

Question Number : 143 Question Id : 50964710777 Question Type : MCQ Option Shuffling : Yes
Correct Marks : 1 Wrong Marks : 0.25

Out of the four alternatives, choose the word which best expresses the meaning of the given word.

Juvenile

Options :

1. ✓ Young
2. ✗ Dull
3. ✗ Honest
4. ✗ Prudent

Question Number : 144 Question Id : 50964710778 Question Type : MCQ Option Shuffling : Yes
Correct Marks : 1 Wrong Marks : 0.25

Out of the four alternatives, choose the word which best expresses the meaning of the given word.

Throng

Options :

1. ✗ Transitory

2. ✖ Shallow

3. ✔ Crowd

4. ✖ Ban

Question Number : 144 Question Id : 50964710778 Question Type : MCQ Option Shuffling : Yes
Correct Marks : 1 Wrong Marks : 0.25

Out of the four alternatives, choose the word which best expresses the meaning of the given word.

Throng

Options :

1. ✖ Transitory

2. ✖ Shallow

3. ✔ Crowd

4. ✖ Ban

Question Number : 145 Question Id : 50964710779 Question Type : MCQ Option Shuffling : Yes
Correct Marks : 1 Wrong Marks : 0.25

Out of the four alternatives, choose the word which is OPPOSITE in meaning to the given word.

Ratify

Options :

1. ✖ Accept

2. ✖ Approve

3. ✖ Confirm

4. ✔ Reject

Question Number : 145 Question Id : 50964710779 Question Type : MCQ Option Shuffling : Yes
Correct Marks : 1 Wrong Marks : 0.25

Out of the four alternatives, choose the word which is OPPOSITE in meaning to the given word.

Ratify

Options :

1. ✖ Accept
2. ✖ Approve
3. ✖ Confirm
4. ✔ Reject

Question Number : 146 Question Id : 50964710780 Question Type : MCQ Option Shuffling : Yes
Correct Marks : 1 Wrong Marks : 0.25

Out of the four alternatives, choose the word which is OPPOSITE in meaning to the given word.

Impute

Options :

1. ✖ Attribute
2. ✔ Defend
3. ✖ Revive
4. ✖ Hint

Question Number : 146 Question Id : 50964710780 Question Type : MCQ Option Shuffling : Yes
Correct Marks : 1 Wrong Marks : 0.25

Out of the four alternatives, choose the word which is OPPOSITE in meaning to the given word.

Impute

Options :

1. ✖ Attribute

2. ✔ Defend

3. ✖ Revive

4. ✖ Hint

Question Number : 147 Question Id : 50964710781 Question Type : MCQ Option Shuffling : Yes

Correct Marks : 1 Wrong Marks : 0.25

Four words are given, out of which only one word is spelt correctly. Choose the correctly spelt word.

Options :

1. ✖ Officous

2. ✖ Oficious

3. ✔ Officious

4. ✖ Offecious

Question Number : 147 Question Id : 50964710781 Question Type : MCQ Option Shuffling : Yes

Correct Marks : 1 Wrong Marks : 0.25

Four words are given, out of which only one word is spelt correctly. Choose the correctly spelt word.

Options :

1. ✖ Officous

2. ✖ Oficious

3. ✔ Officious

4. ✖ Offecious

Question Number : 148 Question Id : 50964710782 Question Type : MCQ Option Shuffling : Yes

Correct Marks : 1 Wrong Marks : 0.25

Four words are given, out of which only one word is spelt correctly. Choose the correctly spelt word.

Options :

1. ✓ Miniscule
2. ✖ Minescule
3. ✖ Minisculle
4. ✖ Miniscul

Question Number : 148 Question Id : 50964710782 Question Type : MCQ Option Shuffling : Yes
Correct Marks : 1 Wrong Marks : 0.25

Four words are given, out of which only one word is spelt correctly. Choose the correctly spelt word.

Options :

1. ✓ Miniscule
2. ✖ Minescule
3. ✖ Minisculle
4. ✖ Miniscul

Question Number : 149 Question Id : 50964710783 Question Type : MCQ Option Shuffling : Yes
Correct Marks : 1 Wrong Marks : 0.25

Four words are given, out of which only one word is spelt correctly. Choose the correctly spelt word.

Options :

1. ✓ Camouflage
2. ✖ Comouflage
3. ✖ Camuflage
4. ✖ Camouflag

Question Number : 149 Question Id : 50964710783 Question Type : MCQ Option Shuffling : Yes
Correct Marks : 1 Wrong Marks : 0.25

Four words are given, out of which only one word is spelt correctly. Choose the correctly spelt word.

Options :

1. ✓ Camouflage

2. ✗ Comouflage

3. ✗ Camuflage

4. ✗ Camouflag

Question Number : 150 Question Id : 50964710784 Question Type : MCQ Option Shuffling : Yes
Correct Marks : 1 Wrong Marks : 0.25

What does the following idiom mean?

A pipe dream

Options :

1. ✓ Unattainable hope

2. ✗ A smart idea

3. ✗ Impossible event

4. ✗ A piece of wood

Question Number : 150 Question Id : 50964710784 Question Type : MCQ Option Shuffling : Yes
Correct Marks : 1 Wrong Marks : 0.25

What does the following idiom mean?

A pipe dream

Options :

1. ✓ Unattainable hope

2. ✗ A smart idea

3. ✗ Impossible event

4. ✗ A piece of wood

Question Number : 151 Question Id : 50964710785 Question Type : MCQ Option Shuffling : Yes
Correct Marks : 1 Wrong Marks : 0.25

What does the following idiom mean?

Cut corners

Options :

1. ✖ To take the measurement of a cloth.
2. ✖ To cut the edges of a table.
3. ✔ When something is done badly to save money.
4. ✖ To highlight someone's mistake.

Question Number : 151 Question Id : 50964710785 Question Type : MCQ Option Shuffling : Yes

Correct Marks : 1 Wrong Marks : 0.25

What does the following idiom mean?

Cut corners

Options :

1. ✖ To take the measurement of a cloth.
2. ✖ To cut the edges of a table.
3. ✔ When something is done badly to save money.
4. ✖ To highlight someone's mistake.

Question Number : 152 Question Id : 50964710786 Question Type : MCQ Option Shuffling : Yes

Correct Marks : 1 Wrong Marks : 0.25

What does the following idiom mean?

Backstairs influence

Options :

1. ✔ Some secret and improper influence.
2. ✖ Good influence of friends.
3. ✖ Political influence.

4. ✖ Influence of society on a human being.

Question Number : 152 Question Id : 50964710786 Question Type : MCQ Option Shuffling : Yes
Correct Marks : 1 Wrong Marks : 0.25

What does the following idiom mean?

Backstairs influence

Options :

1. ✔ Some secret and improper influence.
2. ✖ Good influence of friends.
3. ✖ Political influence.
4. ✖ Influence of society on a human being.

Question Number : 153 Question Id : 50964710787 Question Type : MCQ Option Shuffling : Yes
Correct Marks : 1 Wrong Marks : 0.25

In the following question, out of four alternatives, select the alternative which is the best substitute of the given words/sentence.

One who study the elections and trends in voting.

Options :

1. ✖ Astrophysicist
2. ✖ Petrologist
3. ✔ Psephologist
4. ✖ Philanthropist

Question Number : 153 Question Id : 50964710787 Question Type : MCQ Option Shuffling : Yes
Correct Marks : 1 Wrong Marks : 0.25

In the following question, out of four alternatives, select the alternative which is the best substitute of the given words/sentence.

One who study the elections and trends in voting.

Options :

1. ✖ Astrophysicist
2. ✖ Petrologist
3. ✔ Psephologist
4. ✖ Philanthropist

Question Number : 154 Question Id : 50964710788 Question Type : MCQ Option Shuffling : Yes

Correct Marks : 1 Wrong Marks : 0.25

In the following question, out of four alternatives, select the alternative which is the best substitute of the given words/sentence.

A close-fitting cover for the blade of a knife or sword.

Options :

1. ✖ Scullery
2. ✔ Sheath
3. ✖ Lair
4. ✖ Sanatorium

Question Number : 154 Question Id : 50964710788 Question Type : MCQ Option Shuffling : Yes

Correct Marks : 1 Wrong Marks : 0.25

In the following question, out of four alternatives, select the alternative which is the best substitute of the given words/sentence.

A close-fitting cover for the blade of a knife or sword.

Options :

1. ✖ Scullery
2. ✔ Sheath
3. ✖ Lair
4. ✖ Sanatorium

Question Number : 155 Question Id : 50964710789 Question Type : MCQ Option Shuffling : Yes

Correct Marks : 1 Wrong Marks : 0.25

In the following question, out of four alternatives, select the alternative which is the best substitute of the given words/sentence.

A lover of good food.

Options :

1. ✖ Termagant
2. ✖ Mercenary
3. ✔ Gourmand
4. ✖ Narcissist

Question Number : 155 Question Id : 50964710789 Question Type : MCQ Option Shuffling : Yes

Correct Marks : 1 Wrong Marks : 0.25

In the following question, out of four alternatives, select the alternative which is the best substitute of the given words/sentence.

A lover of good food.

Options :

1. ✖ Termagant
2. ✖ Mercenary
3. ✔ Gourmand
4. ✖ Narcissist

Sub-Section Number:	2
Sub-Section Id:	509647560
Question Shuffling Allowed :	Yes

Question Id : 50964710790 Question Type : COMPREHENSION Sub Question Shuffling Allowed : Yes Group Comprehension Questions : No

Question Numbers : (156 to 160)

Question Label : Comprehension

Read the passage carefully and answer the question.

Like a magician, Gandhi roused a storm of enthusiasm in the country with his call to non-cooperation. He began the campaign by returning to the Viceroy the medals and decorations he had received from the Government for his war-services and humanitarian works. The anti-climax came suddenly in February 1922. An outbreak of mob violence in Chauri Chaura so shocked and pained Gandhi that he refused to continue the campaign. On March 12, 1930, after having informed the Viceroy, Gandhi, followed by seventy-eight members of his ashram, began the historic 24-day march to the sea beach at Dandi to break the law which had deprived the poor man to make his own salt. The rest is history - how a single man shook the foundations of British Empire.

Sub questions

Question Number : 156 Question Id : 50964710791 Question Type : MCQ Option Shuffling : Yes

Correct Marks : 1 Wrong Marks : 0.25

Which of the following incidents shocked Gandhi?

Options :

1. ✓ When there was an outbreak of mob violence in Chauri Chaura.
2. ✘ When he received medals and decorations from the Government.
3. ✘ When he was followed by seventy- eight members for the historic march at Dandi.
4. ✘ When he started the campaign of non-cooperation.

Question Number : 157 Question Id : 50964710792 Question Type : MCQ Option Shuffling : Yes

Correct Marks : 1 Wrong Marks : 0.25

Why did Gandhi receive medals and decorations?

Options :

1. ✖ For helping British subjugate poor Indians
2. ✔ For his humanitarian works
3. ✖ For his non-cooperation movement.
4. ✖ For helping poor in making their own salt.

Question Number : 158 Question Id : 50964710793 Question Type : MCQ Option Shuffling : Yes
Correct Marks : 1 Wrong Marks : 0.25

When did "The Dandi March" begin?

Options :

1. ✖ 1920
2. ✖ 1935
3. ✖ 1922
4. ✔ 1930

Question Number : 159 Question Id : 50964710794 Question Type : MCQ Option Shuffling : Yes
Correct Marks : 1 Wrong Marks : 0.25

How long was the historic Dandi March?

Options :

1. ✖ 20 days
2. ✖ 28 days
3. ✔ 24 days
4. ✖ 22 days

Question Number : 160 Question Id : 50964710795 Question Type : MCQ Option Shuffling : Yes
Correct Marks : 1 Wrong Marks : 0.25

How many members of Gandhi's ashram followed him in the Dandi March?

Options :

1. ✖ 68
2. ✔ 78
3. ✖ 75

4. * 85

Question Id : 50964710790 Question Type : COMPREHENSION Sub Question Shuffling Allowed : Yes Group Comprehension Questions : No

Question Numbers : (156 to 160)

Question Label : Comprehension

Read the passage carefully and answer the question.

Like a magician, Gandhi roused a storm of enthusiasm in the country with his call to non-cooperation. He began the campaign by returning to the Viceroy the medals and decorations he had received from the Government for his war-services and humanitarian works. The anti-climax came suddenly in February 1922. An outbreak of mob violence in Chauri Chaura so shocked and pained Gandhi that he refused to continue the campaign. On March 12, 1930, after having informed the Viceroy, Gandhi, followed by seventy-eight members of his ashram, began the historic 24-day march to the sea beach at Dandi to break the law which had deprived the poor man to make his own salt. The rest is history - how a single man shook the foundations of British Empire.

Sub questions

Question Number : 156 Question Id : 50964710791 Question Type : MCQ Option Shuffling : Yes

Correct Marks : 1 Wrong Marks : 0.25

Which of the following incidents shocked Gandhi?

Options :

1. ✓ When there was an outbreak of mob violence in Chauri Chaura.
2. ✗ When he received medals and decorations from the Government.
3. ✗ When he was followed by seventy- eight members for the historic march at Dandi.
4. ✗ When he started the campaign of non-cooperation.

Question Number : 157 Question Id : 50964710792 Question Type : MCQ Option Shuffling : Yes
Correct Marks : 1 Wrong Marks : 0.25

Why did Gandhi receive medals and decorations?

Options :

1. ✗ For helping British subjugate poor Indians
2. ✓ For his humanitarian works
3. ✗ For his non-cooperation movement.
4. ✗ For helping poor in making their own salt.

Question Number : 158 Question Id : 50964710793 Question Type : MCQ Option Shuffling : Yes
Correct Marks : 1 Wrong Marks : 0.25

When did "The Dandi March" begin?

Options :

1. ✗ 1920
2. ✗ 1935
3. ✗ 1922
4. ✓ 1930

Question Number : 159 Question Id : 50964710794 Question Type : MCQ Option Shuffling : Yes
Correct Marks : 1 Wrong Marks : 0.25

How long was the historic Dandi March?

Options :

1. ✘ 20 days
2. ✘ 28 days
3. ✔ 24 days
4. ✘ 22 days

Question Number : 160 Question Id : 50964710795 Question Type : MCQ Option Shuffling : Yes

Correct Marks : 1 Wrong Marks : 0.25

How many members of Gandhi's ashram followed him in the Dandi March?

Options :

1. ✘ 68
2. ✔ 78
3. ✘ 75
4. ✘ 85

General Hindi1

Group Number :	9
Group Id :	509647240
Group Maximum Duration :	0
Group Minimum Duration :	0
Show Attended Group? :	No
Edit Attended Group? :	No
Break time:	0
Group Marks:	20
Is this Group for Examiner?:	No
Revisit allowed for group Instructions? :	Yes
Maximum Instruction Time:	0
Minimum Instruction Time:	0

General Hindi1

Section Id :	509647400
Section Number :	1
Section type :	Online
Mandatory or Optional:	Mandatory
Number of Questions:	20
Number of Questions to be attempted:	20
Section Marks:	20

Sub-Section Number:	1
Sub-Section Id:	509647561
Question Shuffling Allowed :	Yes

Question Number : 161 Question Id : 50964710796 Question Type : MCQ Option Shuffling : Yes
Correct Marks : 1 Wrong Marks : 0.25

निम्नलिखित प्रश्न में, चार विकल्पों में से, उस विकल्प का चयन करें जो उपसर्ग से बना है

Options :

1. * खुदाई
2. * ऊपरी
3. * आनंदित
4. ✓ अभियान

Question Number : 161 Question Id : 50964710796 Question Type : MCQ Option Shuffling : Yes
Correct Marks : 1 Wrong Marks : 0.25

निम्नलिखित प्रश्न में, चार विकल्पों में से, उस विकल्प का चयन करें जो उपसर्ग से बना है।

Options :

1. * खुदाई
2. * ऊपरी
3. * आनंदित
4. ✓ अभियान

Question Number : 162 Question Id : 50964710797 Question Type : MCQ Option Shuffling : Yes
Correct Marks : 1 Wrong Marks : 0.25

निम्नलिखित प्रश्न में, चार विकल्पों में से, उस सही विकल्प का चयन करें जो प्रत्यय से बना शब्द है

Options :

1. * प्रतिदिन
2. * सजीव
3. ✓ रक्षक
4. * नाबालिग

Question Number : 162 Question Id : 50964710797 Question Type : MCQ Option Shuffling : Yes
Correct Marks : 1 Wrong Marks : 0.25

निम्नलिखित प्रश्न में, चार विकल्पों में से, उस सही विकल्प का चयन करें जो प्रत्यय से बना शब्द है

Options :

1. * प्रतिदिन
2. * सजीव
3. ✓ रक्षक
4. * नाबालिग

Question Number : 163 Question Id : 50964710798 Question Type : MCQ Option Shuffling : Yes
Correct Marks : 1 Wrong Marks : 0.25

निम्नलिखित प्रश्न में, चार विकल्पों में से, रिक्त स्थान के लिए निर्देशानुसार उचित विकल्प का चयन करें।

मैं कल दिल्ली नहीं जा सका, _____ मुझे घर में जरूरी काम था। (व्यधिकरण समुच्चयबोधक)

Options :

1. ✓ क्योंकि
2. * परंतु
3. * किन्तु
4. * अर्थात्

Question Number : 163 Question Id : 50964710798 Question Type : MCQ Option Shuffling : Yes
Correct Marks : 1 Wrong Marks : 0.25

निम्नलिखित प्रश्न में, चार विकल्पों में से, रिक्त स्थान के लिए निर्देशानुसार उचित विकल्प का चयन करें।

मैं कल दिल्ली नहीं जा सका, _____ मुझे घर में जरूरी काम था।
(व्यधिकरण समुच्चयबोधक)

Options :

1. ✓ क्योंकि
2. ✗ परंतु
3. ✗ किन्तु
4. ✗ अर्थात्

Question Number : 164 Question Id : 50964710799 Question Type : MCQ Option Shuffling : Yes
Correct Marks : 1 Wrong Marks : 0.25

निम्नलिखित प्रश्न में, चार विकल्पों में से, उस विकल्प का चयन करें जो दिए गए शब्द का तद्भव रूप हो।

जातिगृह

Options :

1. ✗ ससुराल
2. ✗ पड़ोसी
3. ✓ नैहर
4. ✗ ननद

Question Number : 164 Question Id : 50964710799 Question Type : MCQ Option Shuffling : Yes
Correct Marks : 1 Wrong Marks : 0.25

निम्नलिखित प्रश्न में, चार विकल्पों में से, उस विकल्प का चयन करें जो दिए गए शब्द का तद्भव रूप हो।

जातिगृह

Options :

1. ✖ ससुराल
2. ✖ पड़ोसी
3. ✔ नैहर
4. ✖ ननद

Question Number : 165 Question Id : 50964710800 Question Type : MCQ Option Shuffling : Yes

Correct Marks : 1 Wrong Marks : 0.25

निम्नलिखित प्रश्न में, चार विकल्पों में से, उस विकल्प का चयन करें जो दिए गए शब्द का तत्सम रूप हो।

सियार

Options :

1. ✖ शृंखला
2. ✖ श्रृंखला
3. ✖ श्रृंगार
4. ✔ श्रृंगाल

Question Number : 165 Question Id : 50964710800 Question Type : MCQ Option Shuffling : Yes

Correct Marks : 1 Wrong Marks : 0.25

निम्नलिखित प्रश्न में, चार विकल्पों में से, उस विकल्प का चयन करें जो दिए गए शब्द का तत्सम रूप हो।

सियार

Options :

1. ✖ शृंखला
2. ✖ श्रृंखला
3. ✖ श्रृंगार
4. ✔ श्रृंगाल

Question Number : 166 Question Id : 50964710801 Question Type : MCQ Option Shuffling : Yes

Correct Marks : 1 Wrong Marks : 0.25

निम्नलिखित प्रश्न में, चार विकल्पों में से, उस विकल्प का चयन करें जो सही अव्ययीभाव समास का विकल्प हो।

Options :

1. * रेखा से अंकित
2. * नर रूपी सिंह
3. * नीला है जो गगन
4. ✓ जितना शीघ्र हो सके

Question Number : 166 Question Id : 50964710801 Question Type : MCQ Option Shuffling : Yes

Correct Marks : 1 Wrong Marks : 0.25

निम्नलिखित प्रश्न में, चार विकल्पों में से, उस विकल्प का चयन करें जो सही अव्ययीभाव समास का विकल्प हो।

Options :

1. * रेखा से अंकित
2. * नर रूपी सिंह
3. * नीला है जो गगन
4. ✓ जितना शीघ्र हो सके

Question Number : 167 Question Id : 50964710802 Question Type : MCQ Option Shuffling : Yes

Correct Marks : 1 Wrong Marks : 0.25

निम्नलिखित प्रश्न में, चार विकल्पों में से, उस विकल्प का चयन करें जो दिए गए शब्द से बनी भाववाचक संज्ञा का सही विकल्प हो।

बुनना

Options :

1. * बुनता
2. * बुनत्व
3. ✓ बुनाई
4. * बुनाना

Question Number : 167 Question Id : 50964710802 Question Type : MCQ Option Shuffling : Yes

Correct Marks : 1 Wrong Marks : 0.25

निम्नलिखित प्रश्न में, चार विकल्पों में से, उस विकल्प का चयन करें जो दिए गए शब्द से बनी भाववाचक संज्ञा का सही विकल्प हो।

बुनना

Options :

1. * बुनता
2. * बुनत्व
3. ✓ बुनाई
4. * बुनाना

Question Number : 168 Question Id : 50964710803 Question Type : MCQ Option Shuffling : Yes

Correct Marks : 1 Wrong Marks : 0.25

निम्नलिखित प्रश्न में, चार विकल्पों में से, उस विकल्प का चयन करें जो सर्वनाम के भेद का सही विकल्प हो।

यह यहाँ की स्वादिष्ट मिठाई है।

Options :

1. * निज वाचक
2. * सम्बन्ध वाचक
3. * उत्तम पुरुष
4. ✓ निश्चय वाचक

Question Number : 168 Question Id : 50964710803 Question Type : MCQ Option Shuffling : Yes

Correct Marks : 1 Wrong Marks : 0.25

निम्नलिखित प्रश्न में, चार विकल्पों में से, उस विकल्प का चयन करें जो सर्वनाम के भेद का सही विकल्प हो।

यह यहाँ की स्वादिष्ट मिठाई है।

Options :

1. * निज वाचक
2. * सम्बन्ध वाचक
3. * उत्तम पुरुष
4. ✓ निश्चय वाचक

Question Number : 169 Question Id : 50964710804 Question Type : MCQ Option Shuffling : Yes

Correct Marks : 1 Wrong Marks : 0.25

निम्नलिखित प्रश्न में, चार विकल्पों में से, उस विकल्प का चयन करें जो विशेषण के भेद वाला विकल्प हो।

लाखों तारों ने आसमान को चमका दिया।

Options :

1. * निश्चित परिमाणवाचक
2. * अनिश्चित परिमाणवाचक
3. * निश्चित संख्यावाचक
4. ✓ अनिश्चित संख्यावाचक

Question Number : 169 Question Id : 50964710804 Question Type : MCQ Option Shuffling : Yes

Correct Marks : 1 Wrong Marks : 0.25

निम्नलिखित प्रश्न में, चार विकल्पों में से, उस विकल्प का चयन करें जो विशेषण के भेद वाला विकल्प हो।

लाखों तारों ने आसमान को चमका दिया।

Options :

1. * निश्चित परिमाणवाचक
2. * अनिश्चित परिमाणवाचक
3. * निश्चित संख्यावाचक
4. ✓ अनिश्चित संख्यावाचक

Question Number : 170 Question Id : 50964710805 Question Type : MCQ Option Shuffling : Yes
Correct Marks : 1 Wrong Marks : 0.25

निम्नलिखित प्रश्न में, चार विकल्पों में से, उस विकल्प का चयन करें जो क्रिया के भेद वाला सही विकल्प हो।

उसके वहाँ पहुंचते ही , वह वहाँ से चला गया।

Options :

1. * पूर्वकालिक क्रिया
2. * नामधातु
3. * प्रेरणार्थक क्रिया
4. ✓ तात्कालिक क्रिया

Question Number : 170 Question Id : 50964710805 Question Type : MCQ Option Shuffling : Yes
Correct Marks : 1 Wrong Marks : 0.25

निम्नलिखित प्रश्न में, चार विकल्पों में से, उस विकल्प का चयन करें जो क्रिया के भेद वाला सही विकल्प हो।

उसके वहाँ पहुंचते ही , वह वहाँ से चला गया।

Options :

1. * पूर्वकालिक क्रिया
2. * नामधातु
3. * प्रेरणार्थक क्रिया
4. ✓ तात्कालिक क्रिया

Question Number : 171 Question Id : 50964710806 Question Type : MCQ Option Shuffling : Yes
Correct Marks : 1 Wrong Marks : 0.25

निम्नलिखित प्रश्न में, चार विकल्पों में से, उस विकल्प का चयन करें जो विलोम शब्द का सबसे अच्छा विकल्प है।

क्षणिक

Options :

1. * अनित्य
2. ✓ शाश्वत
3. * क्षण
4. * ठहराव

Question Number : 171 Question Id : 50964710806 Question Type : MCQ Option Shuffling : Yes
Correct Marks : 1 Wrong Marks : 0.25

निम्नलिखित प्रश्न में, चार विकल्पों में से, उस विकल्प का चयन करें जो विलोम शब्द का सबसे अच्छा विकल्प है।

क्षणिक

Options :

1. * अनित्य
2. ✓ शाश्वत
3. * क्षण
4. * ठहराव

Question Number : 172 Question Id : 50964710807 Question Type : MCQ Option Shuffling : Yes
Correct Marks : 1 Wrong Marks : 0.25

निम्नलिखित प्रश्न में, चार विकल्पों में से, उस विकल्प का चयन करें जो समानार्थी शब्द का सही विकल्प नहीं है।

अचल

Options :

1. ✓ कंज
2. * अटल
3. * ध्रुव
4. * निश्छल

Question Number : 172 Question Id : 50964710807 Question Type : MCQ Option Shuffling : Yes
Correct Marks : 1 Wrong Marks : 0.25

निम्नलिखित प्रश्न में, चार विकल्पों में से, उस विकल्प का चयन करें जो समानार्थी शब्द का सही विकल्प नहीं है।

अचल

Options :

1. ✓ कंज
2. * अटल
3. * ध्रुव
4. * निश्छल

Question Number : 173 Question Id : 50964710808 Question Type : MCQ Option Shuffling : Yes
Correct Marks : 1 Wrong Marks : 0.25

निम्नलिखित प्रश्न में, चार विकल्पों में से उचित विकल्प हो।

बहुत से लोगों की _____ सुनकर वह बाहर आ गई।

Options :

1. * भूख
2. * मुस्कुराना
3. ✓ चिल्लाहट
4. * चिल्लाना

Question Number : 173 Question Id : 50964710808 Question Type : MCQ Option Shuffling : Yes
Correct Marks : 1 Wrong Marks : 0.25

निम्नलिखित प्रश्न में, चार विकल्पों में से उचित विकल्प हो।

बहुत से लोगों की _____ सुनकर वह बाहर आ गई ।

Options :

1. * भूख
2. * मुस्कुराना
3. ✓ चिल्लाहट
4. * चिल्लाना

Question Number : 174 Question Id : 50964710809 Question Type : MCQ Option Shuffling : Yes

Correct Marks : 1 Wrong Marks : 0.25

निम्नलिखित प्रश्न में, चार विकल्पों में से, उस सही विकल्प का चयन करें जो वाक्यांशों के लिए एक शब्द का विकल्प हो।

जिसकी आशा न की गई हो

Options :

1. ✓ अप्रत्याशित
2. * अवैध
3. * अद्वितीय
4. * अनादि

Question Number : 174 Question Id : 50964710809 Question Type : MCQ Option Shuffling : Yes

Correct Marks : 1 Wrong Marks : 0.25

निम्नलिखित प्रश्न में, चार विकल्पों में से, उस सही विकल्प का चयन करें जो वाक्यांशों के लिए एक शब्द का विकल्प हो।

जिसकी आशा न की गई हो

Options :

1. ✓ अप्रत्याशित

2. * अवैध

3. * अद्वितीय

4. * अनादि

Question Number : 175 Question Id : 50964710810 Question Type : MCQ Option Shuffling : Yes

Correct Marks : 1 Wrong Marks : 0.25

निम्नलिखित प्रश्न में, चार विकल्पों में से, उस सही विकल्प का चयन करें जो रिक्त स्थान के लिए उचित विकल्प हो।

मीठा खाने के लिए इतने _____ मत होओ।

Options :

1. * हास

2. * आर्द्र

3. * उद्धृत

4. ✓ उद्धृत

Question Number : 175 Question Id : 50964710810 Question Type : MCQ Option Shuffling : Yes

Correct Marks : 1 Wrong Marks : 0.25

निम्नलिखित प्रश्न में, चार विकल्पों में से, उस सही विकल्प का चयन करें जो रिक्त स्थान के लिए उचित विकल्प हो।

मीठा खाने के लिए इतने _____ मत होओ।

Options :

1. * हास

2. * आर्द्र

3. * उद्धृत

4. ✓ उद्धृत

Question Number : 176 Question Id : 50964710811 Question Type : MCQ Option Shuffling : Yes

Correct Marks : 1 Wrong Marks : 0.25

निम्नलिखित प्रश्न में, चार विकल्पों में से, उस सही विकल्प का चयन करें जो रिक्त स्थान के लिए उचित विकल्प हो।

गुलाब के _____ से पूरा घर महक उठा।

Options :

1. * इतरा
2. * इटर
3. * इतर
4. ✓ इत्र

Question Number : 176 Question Id : 50964710811 Question Type : MCQ Option Shuffling : Yes

Correct Marks : 1 Wrong Marks : 0.25

निम्नलिखित प्रश्न में, चार विकल्पों में से, उस सही विकल्प का चयन करें जो रिक्त स्थान के लिए उचित विकल्प हो।

गुलाब के _____ से पूरा घर महक उठा।

Options :

1. * इतरा
2. * इटर
3. * इतर
4. ✓ इत्र

Question Number : 177 Question Id : 50964710812 Question Type : MCQ Option Shuffling : Yes

Correct Marks : 1 Wrong Marks : 0.25

निम्नलिखित प्रश्न में, चार विकल्पों में से, उस सही विकल्प का चयन करें जो रिक्त स्थान के लिए उचित विकल्प हो।

_____ भारतीय खिलाड़ी अवश्य स्वर्ण पदक जीतेगा।

Options :

1. * कुछ-न-कुछ

2. * नीचे-ही-नीचे

3. * आर-पार

4. ✓ कोई-कोई

Question Number : 177 Question Id : 50964710812 Question Type : MCQ Option Shuffling : Yes

Correct Marks : 1 Wrong Marks : 0.25

निम्नलिखित प्रश्न में, चार विकल्पों में से, उस सही विकल्प का चयन करें जो रिक्त स्थान के लिए उचित विकल्प हो।

_____ भारतीय खिलाड़ी अवश्य स्वर्ण पदक जीतेगा।

Options :

1. * कुछ-न-कुछ

2. * नीचे-ही-नीचे

3. * आर-पार

4. ✓ कोई-कोई

Question Number : 178 Question Id : 50964710813 Question Type : MCQ Option Shuffling : Yes

Correct Marks : 1 Wrong Marks : 0.25

निम्नलिखित प्रश्न में, चार विकल्पों में से, उस सही विकल्प का चयन करें जो रिक्त स्थान के लिए उचित विकल्प हो।

सेना के लिए अच्छे _____ का आदमी होना चाहिए।

Options :

1. * ढेर-का-ढेर

2. * रंग-बिरंगे

3. * आर-पार

4. ✓ डील-डौल

Question Number : 178 Question Id : 50964710813 Question Type : MCQ Option Shuffling : Yes

Correct Marks : 1 Wrong Marks : 0.25

निम्नलिखित प्रश्न में, चार विकल्पों में से, उस सही विकल्प का चयन करें जो रिक्त स्थान के लिए उचित विकल्प हो।

सेना के लिए अच्छे _____ का आदमी होना चाहिए।

Options :

1. ✖ ढेर-का-ढेर
2. ✖ रंग-बिरंगे
3. ✖ आर-पार
4. ✔ डील-डौल

Question Number : 179 Question Id : 50964710814 Question Type : MCQ Option Shuffling : Yes

Correct Marks : 1 Wrong Marks : 0.25

निम्नलिखित प्रश्न में, चार विकल्पों में से, उस विकल्प का चयन करें जो शुद्ध शब्द का सही विकल्प है।

Options :

1. ✖ ऊज्वल
2. ✖ उज्ज्वल
3. ✖ उज्जवल
4. ✔ उज्ज्वल

Question Number : 179 Question Id : 50964710814 Question Type : MCQ Option Shuffling : Yes

Correct Marks : 1 Wrong Marks : 0.25

निम्नलिखित प्रश्न में, चार विकल्पों में से, उस विकल्प का चयन करें जो शुद्ध शब्द का सही विकल्प है।

Options :

1. ✖ ऊज्वल
2. ✖ उज्ज्वल
3. ✖ उज्जवल
4. ✔ उज्ज्वल

Question Number : 180 Question Id : 50964710815 Question Type : MCQ Option Shuffling : Yes

Correct Marks : 1 Wrong Marks : 0.25

निम्नलिखित प्रश्न में, चार विकल्पों में से, उस विकल्प का चयन करें जो शुद्ध शब्द का सही विकल्प है।

Options :

1. * अभिस्थ
2. ✓ अभीष्ट
3. * अभिष्ठ
4. * अभिष्ट

Question Number : 180 Question Id : 50964710815 Question Type : MCQ Option Shuffling : Yes

Correct Marks : 1 Wrong Marks : 0.25

निम्नलिखित प्रश्न में, चार विकल्पों में से, उस विकल्प का चयन करें जो शुद्ध शब्द का सही विकल्प है।

Options :

1. * अभिस्थ
2. ✓ अभीष्ट
3. * अभिष्ठ
4. * अभिष्ट

General Hindi2

Group Number :	10
Group Id :	509647241
Group Maximum Duration :	0
Group Minimum Duration :	120
Show Attended Group? :	No
Edit Attended Group? :	No
Break time:	0
Group Marks:	20
Is this Group for Examiner?:	No
Revisit allowed for group Instructions? :	Yes
Maximum Instruction Time:	0
Minimum Instruction Time:	0

General Hindi2

Section Id :	509647401
Section Number :	1
Section type :	Online
Mandatory or Optional:	Mandatory
Number of Questions:	16
Number of Questions to be attempted:	16
Section Marks:	20

Sub-Section Number:	1
Sub-Section Id:	509647562
Question Shuffling Allowed :	Yes

Question Number : 181 Question Id : 50964710816 Question Type : MCQ Option Shuffling : Yes
Correct Marks : 1 Wrong Marks : 0.25

निम्नलिखित प्रश्न में, चार विकल्पों में से, उस विकल्प का चयन करें जो दिए गए शब्द के पर्यायवाची शब्द का सही विकल्प नहीं है।

समुन्द्र

Options :

1. * पयोधि
2. * उदधि
3. * नदीश
4. ✓ महीरुह

Question Number : 181 Question Id : 50964710816 Question Type : MCQ Option Shuffling : Yes
Correct Marks : 1 Wrong Marks : 0.25

निम्नलिखित प्रश्न में, चार विकल्पों में से, उस विकल्प का चयन करें जो दिए गए शब्द के पर्यायवाची शब्द का सही विकल्प नहीं है।

समुन्द्र

Options :

1. * पयोधि
2. * उदधि

3. * नदीश

4. ✓ महीरुह

Question Number : 182 Question Id : 50964710817 Question Type : MCQ Option Shuffling : Yes

Correct Marks : 1 Wrong Marks : 0.25

निम्नलिखित प्रश्न में, चार विकल्पों में से, उस विकल्प का चयन करें जो दिए गए शब्द के पर्यायवाची शब्द का सही विकल्प नहीं है।

पहाड़

Options :

1. * नग

2. * अचल

3. ✓ विधु

4. * महीधर

Question Number : 182 Question Id : 50964710817 Question Type : MCQ Option Shuffling : Yes

Correct Marks : 1 Wrong Marks : 0.25

निम्नलिखित प्रश्न में, चार विकल्पों में से, उस विकल्प का चयन करें जो दिए गए शब्द के पर्यायवाची शब्द का सही विकल्प नहीं है।

पहाड़

Options :

1. * नग

2. * अचल

3. ✓ विधु

4. * महीधर

Question Number : 183 Question Id : 50964710818 Question Type : MCQ Option Shuffling : Yes

Correct Marks : 1 Wrong Marks : 0.25

निम्नलिखित प्रश्न में, चार विकल्पों में से, उस विकल्प का चयन करें जो दिए गए वाक्य के काल का सही विकल्प हो।

लड़कियाँ झूलों पर झूलती हैं

Options :

1. * अपूर्ण भूतकाल
2. * आसन्न भूतकाल
3. ✓ सामान्य वर्तमानकाल
4. * संदिग्ध भूतकाल

Question Number : 183 Question Id : 50964710818 Question Type : MCQ Option Shuffling : Yes

Correct Marks : 1 Wrong Marks : 0.25

निम्नलिखित प्रश्न में, चार विकल्पों में से, उस विकल्प का चयन करें जो दिए गए वाक्य के काल का सही विकल्प हो।

लड़कियाँ झूलों पर झूलती हैं

Options :

1. * अपूर्ण भूतकाल
2. * आसन्न भूतकाल
3. ✓ सामान्य वर्तमानकाल
4. * संदिग्ध भूतकाल

Question Number : 184 Question Id : 50964710819 Question Type : MCQ Option Shuffling : Yes

Correct Marks : 1 Wrong Marks : 0.25

निम्नलिखित प्रश्न में, चार विकल्पों में से, उस विकल्प का चयन करें जो विलोम शब्द का सबसे अच्छा विकल्प है।

महात्मा जी ने आशीर्वाद दिया और वे वहां से चल पड़े।

Options :

1. * विधानवाचक वाक्य

2. * सरल वाक्य
3. * मिश्र वाक्य
4. ✓ संयुक्त वाक्य

Question Number : 184 Question Id : 50964710819 Question Type : MCQ Option Shuffling : Yes
Correct Marks : 1 Wrong Marks : 0.25

निम्नलिखित प्रश्न में, चार विकल्पों में से, उस विकल्प का चयन करें जो विलोम शब्द का सबसे अच्छा विकल्प है।

महात्मा जी ने आशीर्वाद दिया और वे वहां से चल पड़े।

Options :

1. * विधानवाचक वाक्य
2. * सरल वाक्य
3. * मिश्र वाक्य
4. ✓ संयुक्त वाक्य

Question Number : 185 Question Id : 50964710820 Question Type : MCQ Option Shuffling : Yes
Correct Marks : 1 Wrong Marks : 0.25

निम्नलिखित प्रश्न में, चार विकल्पों में से, उस विकल्प का चयन करें जो विलोम शब्द का सबसे अच्छा विकल्प है।

छुट्टियाँ होती हैं और हम घूमने चले जाते हैं।

Options :

1. * विधानवाचक वाक्य
2. * सरल वाक्य
3. * मिश्र वाक्य
4. ✓ संयुक्त वाक्य

Question Number : 185 Question Id : 50964710820 Question Type : MCQ Option Shuffling : Yes
Correct Marks : 1 Wrong Marks : 0.25

निम्नलिखित प्रश्न में, चार विकल्पों में से, उस विकल्प का चयन करें जो विलोम शब्द का सबसे अच्छा विकल्प है।

छुट्टियाँ होती हैं और हम घूमने चले जाते हैं।

Options :

1. * विधानवाचक वाक्य
2. * सरल वाक्य
3. * मिश्र वाक्य
4. ✓ संयुक्त वाक्य

Question Number : 186 Question Id : 50964710821 Question Type : MCQ Option Shuffling : Yes

Correct Marks : 1 Wrong Marks : 0.25

निम्नलिखित प्रश्न में, चार विकल्पों में से, उस विकल्प का चयन करें जो स्त्रीलिंग शब्द का सबसे अच्छा विकल्प है।

Options :

1. * सावन
2. * मुख
3. ✓ चील
4. * जीवन

Question Number : 186 Question Id : 50964710821 Question Type : MCQ Option Shuffling : Yes

Correct Marks : 1 Wrong Marks : 0.25

निम्नलिखित प्रश्न में, चार विकल्पों में से, उस विकल्प का चयन करें जो स्त्रीलिंग शब्द का सबसे अच्छा विकल्प है।

Options :

1. * सावन
2. * मुख
3. ✓ चील

4. * जीवन

Question Number : 187 Question Id : 50964710822 Question Type : MCQ Option Shuffling : Yes

Correct Marks : 1 Wrong Marks : 0.25

निम्नलिखित प्रश्न में, चार विकल्पों में से, उस विकल्प का चयन करें जो रिक्त स्थान के लिए बहुवचन शब्द का सबसे अच्छा विकल्प है।

कन्या पूजन के लिए बहुत सारी _____ बुलाई जाती हैं।

Options :

1. * कन्याओं
2. * कन्याये
3. ✓ कन्याएँ
4. * कन्याए

Question Number : 187 Question Id : 50964710822 Question Type : MCQ Option Shuffling : Yes

Correct Marks : 1 Wrong Marks : 0.25

निम्नलिखित प्रश्न में, चार विकल्पों में से, उस विकल्प का चयन करें जो रिक्त स्थान के लिए बहुवचन शब्द का सबसे अच्छा विकल्प है।

कन्या पूजन के लिए बहुत सारी _____ बुलाई जाती हैं।

Options :

1. * कन्याओं
2. * कन्याये
3. ✓ कन्याएँ
4. * कन्याए

Question Number : 188 Question Id : 50964710823 Question Type : MCQ Option Shuffling : Yes

Correct Marks : 1 Wrong Marks : 0.25

निम्नलिखित प्रश्न में, चार विकल्पों में से, उस विकल्प का चयन करें जो दिए गए वाक्य के लिए पक्ष के भेद का सबसे अच्छा विकल्प है।

पृथ्वी सूर्य का चक्कर लगाती है।

Options :

1. * प्रगतिद्योतक
2. * अभ्यासद्योतक
3. * आरंभद्योतक
4. ✓ नित्यताद्योतक

Question Number : 188 Question Id : 50964710823 Question Type : MCQ Option Shuffling : Yes

Correct Marks : 1 Wrong Marks : 0.25

निम्नलिखित प्रश्न में, चार विकल्पों में से, उस विकल्प का चयन करें जो दिए गए वाक्य के लिए पक्ष के भेद का सबसे अच्छा विकल्प है।

पृथ्वी सूर्य का चक्कर लगाती है।

Options :

1. * प्रगतिद्योतक
2. * अभ्यासद्योतक
3. * आरंभद्योतक
4. ✓ नित्यताद्योतक

Question Number : 189 Question Id : 50964710824 Question Type : MCQ Option Shuffling : Yes

Correct Marks : 1 Wrong Marks : 0.25

निम्नलिखित प्रश्न में, चार विकल्पों में से, उस विकल्प का चयन करें जो दिए गए वाक्य के लिए वृत्ति के भेद का सबसे अच्छा विकल्प है।

यदि इस बार वर्षा अच्छी हुई तो कृषि भी अच्छी होगी।

Options :

1. ✓ संकेतार्थ

2. * निश्चयार्थ
3. * संदेहार्थ
4. * विध्यर्थ

Question Number : 189 Question Id : 50964710824 Question Type : MCQ Option Shuffling : Yes
Correct Marks : 1 Wrong Marks : 0.25

निम्नलिखित प्रश्न में, चार विकल्पों में से, उस विकल्प का चयन करें जो दिए गए वाक्य के लिए वृत्ति के भेद का सबसे अच्छा विकल्प है।

यदि इस बार वर्षा अच्छी हुई तो कृषि भी अच्छी होगी।

Options :

1. ✓ संकेतार्थ
2. * निश्चयार्थ
3. * संदेहार्थ
4. * विध्यर्थ

Question Number : 190 Question Id : 50964710825 Question Type : MCQ Option Shuffling : Yes
Correct Marks : 1 Wrong Marks : 0.25

निम्नलिखित प्रश्न में, चार विकल्पों में से, उस विकल्प का चयन करें जो कोष्ठक में दिए गए शब्द के अनुसार मध्यम पुरुष वाचक सर्वनाम का सही विकल्प हो।

Options :

1. * (मेरे) परिवार में चार सदस्य हैं।
2. ✓ (तुमको) किसी दूसरी जगह जाना चाहिए।
3. * (वह) अमेरिका जाने के सपने देख रहा है।
4. * मैंने (उसे) कहा था कि उसे ऐसा नहीं करना चाहिए।

Question Number : 190 Question Id : 50964710825 Question Type : MCQ Option Shuffling : Yes
Correct Marks : 1 Wrong Marks : 0.25

निम्नलिखित प्रश्न में, चार विकल्पों में से, उस विकल्प का चयन करें जो कोष्ठक में दिए गए शब्द के अनुसार मध्यम पुरुष वाचक सर्वनाम का सही विकल्प हो।

Options :

1. * (मेरे) परिवार में चार सदस्य हैं।
2. ✓ (तुमको) किसी दूसरी जगह जाना चाहिए।
3. * (वह) अमेरिका जाने के सपने देख रहा है।
4. * मैंने (उसे) कहा था कि उसे ऐसा नहीं करना चाहिए।

Question Number : 191 Question Id : 50964710826 Question Type : MCQ Option Shuffling : Yes

Correct Marks : 1 Wrong Marks : 0.25

निम्नलिखित प्रश्न में, चार विकल्पों में से, उस विकल्प का चयन करें जो दिए गए मुहावरे का सही अर्थ वाला विकल्प है।

खरी मजूरी चोखा काम

Options :

1. * बेकार मजूरी अच्छा काम
2. * अच्छी मजदूरी बेकार काम
3. ✓ अच्छी मजदूरी अच्छा काम
4. * चोखे के जैसा काम

Question Number : 191 Question Id : 50964710826 Question Type : MCQ Option Shuffling : Yes

Correct Marks : 1 Wrong Marks : 0.25

निम्नलिखित प्रश्न में, चार विकल्पों में से, उस विकल्प का चयन करें जो दिए गए मुहावरे का सही अर्थ वाला विकल्प है।

खरी मजूरी चोखा काम

Options :

1. * बेकार मजूरी अच्छा काम

2. * अच्छी मजदूरी बेकार काम
3. ✓ अच्छी मजदूरी अच्छा काम
4. * चोखे के जैसा काम

Question Number : 192 Question Id : 50964710827 Question Type : MCQ Option Shuffling : Yes
Correct Marks : 1 Wrong Marks : 0.25

निम्नलिखित प्रश्न में, चार विकल्पों में से, उस विकल्प का चयन करें जो दिए गए मुहावरे का सही अर्थ वाला विकल्प है।

तेली का बैल

Options :

1. * बिना सोचे समझे कार्य करना
2. * बुद्ध
3. ✓ बहुत काम करने वाला
4. * एक ही स्थिति

Question Number : 192 Question Id : 50964710827 Question Type : MCQ Option Shuffling : Yes
Correct Marks : 1 Wrong Marks : 0.25

निम्नलिखित प्रश्न में, चार विकल्पों में से, उस विकल्प का चयन करें जो दिए गए मुहावरे का सही अर्थ वाला विकल्प है।

तेली का बैल

Options :

1. * बिना सोचे समझे कार्य करना
2. * बुद्ध
3. ✓ बहुत काम करने वाला
4. * एक ही स्थिति

Question Number : 193 Question Id : 50964710828 Question Type : MCQ Option Shuffling : Yes
Correct Marks : 1 Wrong Marks : 0.25

निम्नलिखित प्रश्न में, चार विकल्पों में से, उस विकल्प का चयन करें जो दिए गए मुहावरे का सही अर्थ वाला विकल्प है।

हथेली पर सरसों नहीं जमती

Options :

1. * सब चीज हाथ में नहीं मिलती
2. * घर में साडी चीज न मिलना
3. * आसान काम
4. ✓ जल्दी में कोई काम नहीं बनता

Question Number : 193 Question Id : 50964710828 Question Type : MCQ Option Shuffling : Yes

Correct Marks : 1 Wrong Marks : 0.25

निम्नलिखित प्रश्न में, चार विकल्पों में से, उस विकल्प का चयन करें जो दिए गए मुहावरे का सही अर्थ वाला विकल्प है।

हथेली पर सरसों नहीं जमती

Options :

1. * सब चीज हाथ में नहीं मिलती
2. * घर में साडी चीज न मिलना
3. * आसान काम
4. ✓ जल्दी में कोई काम नहीं बनता

Question Number : 194 Question Id : 50964710829 Question Type : MCQ Option Shuffling : Yes

Correct Marks : 1 Wrong Marks : 0.25

निम्नलिखित प्रश्न में, चार विकल्पों में से, उस सही विकल्प का चयन करें जो दी गई लोकोक्तियों का सही अर्थ वाला विकल्प है।

जिसकी बंदरी वही नचावे और नचावे तो काटन धावे

Options :

1. * कुछ भी न कर पाना

2. * बड़ा होकर भी कुछ न पाना
3. * बंदरी का नाच दिखाना
4. ✓ जिसका जो काम होता है वही उसे कर सकता है

Question Number : 194 Question Id : 50964710829 Question Type : MCQ Option Shuffling : Yes
Correct Marks : 1 Wrong Marks : 0.25

निम्नलिखित प्रश्न में, चार विकल्पों में से, उस सही विकल्प का चयन करें जो दी गई लोकोक्तियों का सही अर्थ वाला विकल्प है।

जिसकी बंदरी वही नचावे और नचावे तो काटन धावे

Options :

1. * कुछ भी न कर पाना
2. * बड़ा होकर भी कुछ न पाना
3. * बंदरी का नाच दिखाना
4. ✓ जिसका जो काम होता है वही उसे कर सकता है

Question Number : 195 Question Id : 50964710830 Question Type : MCQ Option Shuffling : Yes
Correct Marks : 1 Wrong Marks : 0.25

निम्नलिखित प्रश्न में, चार विकल्पों में से, उस विकल्प का चयन करें जो बताता है कि पढ़ते समय जिस स्थान पर थोड़ा रुकना पड़े वहाँ किस चिह्न का उपयोग करते हैं?

Options :

1. * लोप
2. * लाघव
3. * रेखांकन
4. ✓ अल्प विराम

Question Number : 195 Question Id : 50964710830 Question Type : MCQ Option Shuffling : Yes
Correct Marks : 1 Wrong Marks : 0.25

निम्नलिखित प्रश्न में, चार विकल्पों में से, उस विकल्प का चयन करें जो बताता है कि पढ़ते समय जिस स्थान पर थोड़ा रुकना पड़े वहाँ किस चिह्न का उपयोग करते हैं?

Options :

1. ✖ लोप
2. ✖ लाघव
3. ✖ रेखांकन
4. ✓ अल्प विराम

Sub-Section Number:	2
Sub-Section Id:	509647563
Question Shuffling Allowed :	Yes

Question Id : 50964710831 Question Type : COMPREHENSION Sub Question Shuffling Allowed : Yes Group Comprehension Questions : No

Question Numbers : (196 to 200)

Question Label : Comprehension

नीचे दिए गये गद्यांश को ध्यानपूर्वक पढ़ें और दिए गये प्रश्न के उत्तर दें।

सूत कातने के अधिक परिश्रम से गाँधी जी की आँखें दुखने लगी थी। डॉक्टर ने आराम करने के लिए कहा। सुबह जल्दी उठकर सारा दिन काम करने के बदले कम काम करने की सलाह दी। परंतु गाँधी जी ने एक भी बात स्वीकार नहीं की। गाँधी जी की आँखों में अत्यधिक पीड़ा थी जिसका आदम को भी बहुत दुःख था। अतः वह उन्हें कम काम करने के लिए समझाने लगा गाँधी जी ने उसकी बात सुनी और कहा " देखो भाई आदम, यह सूरज अपना काम कभी नहीं छोड़ता, ठीक समय पर निकलता है और सारे संसार को रोशनी देता है, तो हम अपना काम कैसे छोड़ें?

Sub questions

Question Number : 196 Question Id : 50964710832 Question Type : MCQ Option Shuffling : Yes

Correct Marks : 1 Wrong Marks : 0.25

डॉक्टर ने गाँधी जी को क्या सलाह दी?

Options :

1. ✓ कम काम करने की
2. * ज्यादा काम करने की
3. * अधिक परिश्रम करने की
4. * सुबह जल्दी उठने की

Question Number : 197 Question Id : 50964710833 Question Type : MCQ Option Shuffling : Yes
Correct Marks : 1 Wrong Marks : 0.25

आदम को किस बात का दुःख था?

Options :

1. * ज्यादा आराम करने का
2. ✓ पीड़ा होने के बावजूद आराम न करने का
3. * सबकी बात सुनने का
4. * गाँधी जी द्वारा बात स्वीकार करने का

Question Number : 198 Question Id : 50964710834 Question Type : MCQ Option Shuffling : Yes
Correct Marks : 1 Wrong Marks : 0.25

गाँधी जी ने आदम से क्या कहा?

Options :

1. * कार्य न करने की
2. * सूर्य की तरह न चलने की
3. ✓ सूर्य की तरह सदा कार्य करने की
4. * न समझाने को

Question Number : 199 Question Id : 50964710835 Question Type : MCQ Option Shuffling : Yes
Correct Marks : 1 Wrong Marks : 0.25

इनमें से कौन - सा पीड़ा का पर्यायवाची नहीं है?

Options :

1. * कष्ट
2. * व्यथा
3. * क्षति
4. ✓ निवारण

Question Number : 200 Question Id : 50964710836 Question Type : MCQ Option Shuffling : Yes
Correct Marks : 1 Wrong Marks : 0.25

इस अनुच्छेद का कोई उपयुक्त शीर्षक _____।

Options :

1. * परिश्रम का असर
2. ✓ गाँधी जी की सीख
3. * परिश्रम
4. * गाँधी जी

Question Id : 50964710831 Question Type : COMPREHENSION Sub Question Shuffling Allowed : Yes Group Comprehension Questions : No

Question Numbers : (196 to 200)

Question Label : Comprehension

नीचे दिए गये गद्यांश को ध्यानपूर्वक पढ़ें और दिए गये प्रश्न के उत्तर दें।

सूत कातने के अधिक परिश्रम से गाँधी जी की आँखे दुखने लगी थी। डॉक्टर ने आराम करने के लिए कहा। सुबह जल्दी उठकर सारा दिन काम करने के बदले कम काम करने की सलाह दी। परंतु गाँधी जी ने एक भी बात स्वीकार नहीं की। गाँधी जी की आँखों में अत्यधिक पीड़ा थी जिसका आदम को भी बहुत दुःख था। अतः वह उन्हें कम काम करने के लिए समझाने लगा गाँधी जी ने उसकी बात सुनी और कहा " देखो भाई आदम, यह सूरज अपना काम कभी नहीं छोड़ता, ठीक समय पर निकलता है और सारे संसार को रोशनी देता है, तो हम अपना काम कैसे छोड़ें?

Sub questions

Question Number : 196 Question Id : 50964710832 Question Type : MCQ Option Shuffling : Yes

Correct Marks : 1 Wrong Marks : 0.25

डॉक्टर ने गाँधी जी को क्या सलाह दी?

Options :

1. ✓ कम काम करने की

2. * ज्यादा काम करने की
3. * अधिक परिश्रम करने की
4. * सुबह जल्दी उठने की

Question Number : 197 Question Id : 50964710833 Question Type : MCQ Option Shuffling : Yes
Correct Marks : 1 Wrong Marks : 0.25

आदम को किस बात का दुःख था?

Options :

1. * ज्यादा आराम करने का
2. ✓ पीड़ा होने के बावजूद आराम न करने का
3. * सबकी बात सुनने का
4. * गाँधी जी द्वारा बात स्वीकार करने का

Question Number : 198 Question Id : 50964710834 Question Type : MCQ Option Shuffling : Yes
Correct Marks : 1 Wrong Marks : 0.25

गाँधी जी ने आदम से क्या कहा?

Options :

1. * कार्य न करने की
2. * सूर्य की तरह न चलने की
3. ✓ सूर्य की तरह सदा कार्य करने की
4. * न समझाने को

Question Number : 199 Question Id : 50964710835 Question Type : MCQ Option Shuffling : Yes
Correct Marks : 1 Wrong Marks : 0.25

इनमें से कौन - सा पीड़ा का पर्यायवाची नहीं है?

Options :

1. * कष्ट
2. * व्यथा
3. * क्षति

4. ✓ निवारण

Question Number : 200 Question Id : 50964710836 Question Type : MCQ Option Shuffling : Yes
Correct Marks : 1 Wrong Marks : 0.25

इस अनुच्छेद का कोई उपयुक्त शीर्षक _____।

Options :

1. ✘ परिश्रम का असर
2. ✓ गाँधी जी की सीख
3. ✘ परिश्रम
4. ✘ गाँधी जी