

Education Consultant India Ltd.

Notations :

1.Options shown in **green** color and with ✓ icon are correct.

2.Options shown in **red** color and with ✖ icon are incorrect.

Question Paper Name:	MEDICAL RECORD CLERK 26th July 2019 Shift 3
Subject Name:	MEDICAL RECORD CLERK
Creation Date:	2019-07-26 19:52:10
Duration:	120
Total Marks:	200
Display Marks:	Yes
Share Answer Key With Delivery Engine:	No
Actual Answer Key:	Yes
Calculator:	None
Magnifying Glass Required?:	No
Ruler Required?:	No
Eraser Required?:	No
Scratch Pad Required?:	No
Rough Sketch/Notepad Required?:	No
Protractor Required?:	No
Show Watermark on Console?:	Yes
Highlighter:	No
Auto Save on Console?:	No

Mental Ability1

Group Number :	1
Group Id :	998367397
Group Maximum Duration :	0
Group Minimum Duration :	0
Show Attended Group? :	No
Edit Attended Group? :	No
Break time:	0
Group Marks:	20
Is this Group for Examiner?:	No
Revisit allowed for group Instructions? :	Yes
Maximum Instruction Time:	0
Minimum Instruction Time:	0

Mental Ability1

Section Id :	998367403
Section Number :	1

Section type :	Online
Mandatory or Optional:	Mandatory
Number of Questions:	20
Number of Questions to be attempted:	20
Section Marks:	20

Sub-Section Number:	1
Sub-Section Id:	998367569
Question Shuffling Allowed :	Yes

Question Number : 1 Question Id : 9983679059 Question Type : MCQ Option Shuffling : Yes
Correct Marks : 1 Wrong Marks : 0.25

From the given alternatives, select the word which CANNOT be formed using the letters of the given word.

INDIGENOUS

Options :

1. ✖ NODGE
2. ✔ GROUND
3. ✖ INDIGO
4. ✖ GONE

Question Number : 1 Question Id : 9983679059 Question Type : MCQ Option Shuffling : Yes
Correct Marks : 1 Wrong Marks : 0.25

दिए गए विकल्पों में से वह शब्द चुनिए जो दिए गए शब्द के अक्षरों का प्रयोग करके नहीं बनाया जा सकता है।

INDIGENOUS

Options :

1. ✖ NODGE
2. ✔ GROUND
3. ✖ INDIGO
4. ✖ GONE

Question Number : 2 Question Id : 9983679060 Question Type : MCQ Option Shuffling : Yes

Correct Marks : 1 Wrong Marks : 0.25

A series is given with one term missing. Select the correct alternative from the given ones that will complete the series.

FAB, HDF, JGJ, ?, NMR

Options :

1. ✖ MKO

2. ✖ KIM

3. ✔ LJN

4. ✖ NLP

Question Number : 2 Question Id : 9983679060 Question Type : MCQ Option Shuffling : Yes

Correct Marks : 1 Wrong Marks : 0.25

एक अनुक्रम दिया गया है, जिसमें से एक पद लुप्त है। दिए गए विकल्पों में से वह सही विकल्प चुनिए, जो अनुक्रम को पूरा करे।

FAB, HDF, JGJ, ?, NMR

Options :

1. ✖ MKO

2. ✖ KIM

3. ✔ LJN

4. ✖ NLP

Question Number : 3 Question Id : 9983679061 Question Type : MCQ Option Shuffling : Yes

Correct Marks : 1 Wrong Marks : 0.25

A series is given with one term missing. Select the correct alternative from the given ones that will complete the series.

AKPL, DOSP, GSVT, ?, MABB

Options :

1. ✖ LYAZ
2. ✖ JUXW
3. ✖ KXZY
4. ✔ JWYX

Question Number : 3 Question Id : 9983679061 Question Type : MCQ Option Shuffling : Yes

Correct Marks : 1 Wrong Marks : 0.25

एक अनुक्रम दिया गया है, जिसमें से एक पद लुप्त है। दिए गए विकल्पों में से वह सही विकल्प चुनिए, जो अनुक्रम को पूरा करे।

AKPL, DOSP, GSVT, ?, MABB

Options :

1. ✖ LYAZ
2. ✖ JUXW
3. ✖ KXZY
4. ✔ JWYX

Question Number : 4 Question Id : 9983679062 Question Type : MCQ Option Shuffling : Yes

Correct Marks : 1 Wrong Marks : 0.25

In the following question, select the odd letter/letters from the given alternatives.

Options :

1. ✖ Red
2. ✖ Yellow
3. ✖ White
4. ✔ Colour

Question Number : 4 Question Id : 9983679062 Question Type : MCQ Option Shuffling : Yes

Correct Marks : 1 Wrong Marks : 0.25

निम्नलिखित प्रश्न में दिए गए विकल्पों में से विषम अक्षर/अक्षरों को चुनिए।

Options :

1. ✖ लाल
2. ✖ पील
3. ✖ सफेद
4. ✔ रंग

Question Number : 5 Question Id : 9983679063 Question Type : MCQ Option Shuffling : Yes
Correct Marks : 1 Wrong Marks : 0.25

In the following question, select the odd letter/letters from the given alternatives.

Options :

1. ✖ MQU
2. ✖ FJN
3. ✖ DHL
4. ✔ OSV

Question Number : 5 Question Id : 9983679063 Question Type : MCQ Option Shuffling : Yes
Correct Marks : 1 Wrong Marks : 0.25

निम्नलिखित प्रश्न में दिए गए विकल्पों में से विषम अक्षर/अक्षरों को चुनिए।

Options :

1. ✖ MQU
2. ✖ FJN
3. ✖ DHL
4. ✔ OSV

Question Number : 6 Question Id : 9983679064 Question Type : MCQ Option Shuffling : Yes
Correct Marks : 1 Wrong Marks : 0.25

In the following question, select the odd pair from the given alternatives.

Options :

1. * Rat : Rodent
2. * Crocodile : Reptile
3. * Pen : Stationery
4. ✓ Colour : Red

Question Number : 6 Question Id : 9983679064 Question Type : MCQ Option Shuffling : Yes

Correct Marks : 1 Wrong Marks : 0.25

निम्नलिखित प्रश्न में दिए गए विकल्पों में से विषम समूह को चुनिए।

Options :

1. * चुहा : कृतक
2. * मगरमच्छ : सरीसृप
3. * कलम : लेखन सामग्री
4. ✓ रंग : लाल

Question Number : 7 Question Id : 9983679065 Question Type : MCQ Option Shuffling : Yes

Correct Marks : 1 Wrong Marks : 0.25

In the following question, select the related letters from the given alternatives.

TRO : WUR :: MAK : ?

Options :

1. ✓ PDN
2. * QEO
3. * PCM
4. * NBL

Question Number : 7 Question Id : 9983679065 Question Type : MCQ Option Shuffling : Yes

Correct Marks : 1 Wrong Marks : 0.25

निम्नलिखित प्रश्न में दिए गए विकल्पों में से संबंधित अक्षरों को चुनिए।

TRO : WUR :: MAK : ?

Options :

1. ✓ PDN
2. ✗ QEO
3. ✗ PCM
4. ✗ NBL

Question Number : 8 Question Id : 9983679066 Question Type : MCQ Option Shuffling : Yes
Correct Marks : 1 Wrong Marks : 0.25

In the following question, select the related pair from the given alternatives.

Animal : Elephant :: ?

Options :

1. ✗ Car : Vehicle
2. ✗ Vehicle : Road
3. ✓ Gas : Nitrogen
4. ✗ Gas : Pollution

Question Number : 8 Question Id : 9983679066 Question Type : MCQ Option Shuffling : Yes
Correct Marks : 1 Wrong Marks : 0.25

निम्नलिखित प्रश्न में दिए गए विकल्पों में से संबंधित समूह को चुनिए।

जानवर : हाथी :: ?

Options :

1. ✗ कार : वाहन
2. ✗ वाहन : सड़क

3. ✓ गैस : नाइट्रोजन

4. ✘ गैस : प्रदूषण

Question Number : 9 Question Id : 9983679067 Question Type : MCQ Option Shuffling : Yes

Correct Marks : 1 Wrong Marks : 0.25

In the following question, select the related pair from the given alternatives.

PINK : TMRO :: ?

Options :

1. ✓ ROAM : VSEQ

2. ✘ TRIP : XVMS

3. ✘ HINT : LMSX

4. ✘ GRAB : KVDF

Question Number : 9 Question Id : 9983679067 Question Type : MCQ Option Shuffling : Yes

Correct Marks : 1 Wrong Marks : 0.25

निम्नलिखित प्रश्न में दिए गए विकल्पों में से संबंधित समूह को चुनिए।

PINK : TMRO :: ?

Options :

1. ✓ ROAM : VSEQ

2. ✘ TRIP : XVMS

3. ✘ HINT : LMSX

4. ✘ GRAB : KVDF

Question Number : 10 Question Id : 9983679068 Question Type : MCQ Option Shuffling : Yes

Correct Marks : 1 Wrong Marks : 0.25

In a certain code language, 'PIG' is written as '32', 'GEM' is written as '25'. What is the code for 'RIT' in that code language?

Options :

1. ✖ 46
2. ✖ 48
3. ✔ 47
4. ✖ 49

Question Number : 10 Question Id : 9983679068 Question Type : MCQ Option Shuffling : Yes

Correct Marks : 1 Wrong Marks : 0.25

एक विशिष्ट कोड भाषा में, 'PIG' को '32' लिखा जाता है, 'GEM' को '25' लिखा जाता है। इस कोड भाषा में 'RIT' का कोड क्या है?

Options :

1. ✖ 46
2. ✖ 48
3. ✔ 47
4. ✖ 49

Question Number : 11 Question Id : 9983679069 Question Type : MCQ Option Shuffling : Yes

Correct Marks : 1 Wrong Marks : 0.25

In a certain code language, 'PRODIGYS' is written as 'QTRHJIBW'. What is the code for 'ROCKSTEM' in that code language?

Options :

1. ✔ SQFOTVHQ
2. ✖ TRGPUWIR
3. ✖ SPENSUGP
4. ✖ USHQVXJP

Question Number : 11 Question Id : 9983679069 Question Type : MCQ Option Shuffling : Yes
Correct Marks : 1 Wrong Marks : 0.25

एक विशिष्ट कोड भाषा में, 'PRODIGYS' को 'QTRHJIBW' लिखा जाता है। इस कोड भाषा में 'ROCKSTEM' का कोड क्या है?

Options :

1. ✓ SQFOTVHQ
2. ✗ TRGPUWIR
3. ✗ SPENSUGP
4. ✗ USHQVXJP

Question Number : 12 Question Id : 9983679070 Question Type : MCQ Option Shuffling : Yes
Correct Marks : 1 Wrong Marks : 0.25

In a certain code language, 'Red is Blue' is written as 'fa la na', 'Heavy is duty' is written as 'ka fm la', 'Blue are duty' is written as 'fa ra fm'. What is the code for 'are' in that code language?

Options :

1. ✗ Ji
2. ✗ ka
3. ✗ la
4. ✓ ra

Question Number : 12 Question Id : 9983679070 Question Type : MCQ Option Shuffling : Yes
Correct Marks : 1 Wrong Marks : 0.25

एक विशिष्ट कोड भाषा में, 'Red is Blue' को 'fa la na' लिखा जाता है, 'Heavy is duty' को 'ka fm la' लिखा जाता है, 'Blue are duty' को 'fa ra fm' लिखा जाता है। इस कोड भाषा में 'are' का कोड क्या है?

Options :

1. ✗ Ji

2. ✖ ka

3. ✖ la

4. ✔ ra

Question Number : 13 Question Id : 9983679071 Question Type : MCQ Option Shuffling : Yes
Correct Marks : 1 Wrong Marks : 0.25

Five boys M, N, P, R and T are standing in a row facing towards north. M is third to the right to P. Two boys are standing between R and N. T is between M and R.

How many boys are standing towards the right of T?

Options :

1. ✖ 1

2. ✖ 0

3. ✖ 3

4. ✔ 2

Question Number : 13 Question Id : 9983679071 Question Type : MCQ Option Shuffling : Yes
Correct Marks : 1 Wrong Marks : 0.25

पाँच लड़के M, N, P, R तथा T एक पंक्ति में उत्तर की ओर मुख करके खड़े हैं। M, P के दायीं ओर तीसरा है। R तथा N के मध्य दो लड़के खड़े हैं। T, M तथा R के मध्य में है।

T के दायीं ओर कितने लड़के खड़े हैं?

Options :

1. ✖ 1

2. ✖ 0

3. ✖ 3

4. ✓ 2

Question Number : 14 Question Id : 9983679072 Question Type : MCQ Option Shuffling : Yes
Correct Marks : 1 Wrong Marks : 0.25

Six businessmen C, E, G, I, K and M are sitting around a circular table facing towards the centre (Not necessarily in the same order). C is second to the left of I. G is second to the right of M. M and I are facing each other. E is to the immediate left of M. Who is sitting to the immediate right of I?

Options :

1. ✗ G
2. ✓ K
3. ✗ C
4. ✗ E

Question Number : 14 Question Id : 9983679072 Question Type : MCQ Option Shuffling : Yes
Correct Marks : 1 Wrong Marks : 0.25

छह: व्यापारी C, E, G, I, K तथा M एक वृत्ताकार मेज के इर्द-गिर्द केंद्र की ओर मुख करके बैठे हुए हैं (जरूरी नहीं की इसी क्रम में हो)। C, I के बाएं से दूसरा है। G, M के दाईं ओर दूसरा है। M तथा I एक दूसरे की ओर मुख किये हुए हैं। E, M के तुरंत बायीं ओर है। I के तुरंत दायीं ओर कौन बैठा हुआ है?

Options :

1. ✗ G
2. ✓ K
3. ✗ C
4. ✗ E

Question Number : 15 Question Id : 9983679073 Question Type : MCQ Option Shuffling : Yes
Correct Marks : 1 Wrong Marks : 0.25

Six switches R, D, B, S, L and P are placed in a row facing towards North. R is placed between L and B. P is third to right of R. S is placed to the left of L. Which switch is placed second to the right of B?

Options :

1. ✖ L
2. ✔ P
3. ✖ D
4. ✖ R

Question Number : 15 Question Id : 9983679073 Question Type : MCQ Option Shuffling : Yes

Correct Marks : 1 Wrong Marks : 0.25

छह: स्विचों R, D, B, S, L तथा P को उत्तर की ओर मुख करके एक पंक्ति में रखा गया है। R को L तथा B के मध्य रखा गया है। P, R के दायें से तीसरा है। S को L के बायें ओर रखा गया है। कौन सा स्विच B के दायें ओर दूसरे स्थान पर रखा गया है?

Options :

1. ✖ L
2. ✔ P
3. ✖ D
4. ✖ R

Question Number : 16 Question Id : 9983679074 Question Type : MCQ Option Shuffling : Yes

Correct Marks : 1 Wrong Marks : 0.25

Five shirts of different colours Red, Blue, Black, Yellow and White are placed in a row facing towards North. Yellow shirt is placed to the left to white shirt. Blue shirt is placed to the right of Red shirt. Black shirt is placed second to the right of yellow shirt. Red shirt occupies one of the end. Which shirt is placed to the immediate right of Blue shirt?

Options :

1. * Red
2. ✓ Yellow
3. * White
4. * Black

Question Number : 16 Question Id : 9983679074 Question Type : MCQ Option Shuffling : Yes

Correct Marks : 1 Wrong Marks : 0.25

विभिन्न रंग लाल, नीली, काली, पीली तथा सफेद की पाँच कमीजो को उत्तर की ओर मुख करके एक पंक्ति में रखा गया है। पीली कमीज को सफेद कमीज के बायीं ओर रखा गया है। नीली कमीज को लाल कमीज के दायीं ओर रखा गया है। काली कमीज को पीली कमीज के दायीं ओर दूसरे स्थान पर रखा गया है। लाल कमीज एक छोर पर है। नीले कमीज के तुरंत दायीं ओर किस कमीज को रखा गया है?

Options :

1. * लाल
2. ✓ पीली
3. * सफेद
4. * काली

Question Number : 17 Question Id : 9983679075 Question Type : MCQ Option Shuffling : Yes

Correct Marks : 1 Wrong Marks : 0.25

Six swimmers D, F, H, J, L and N are sitting around a circular table facing towards the centre (Not necessarily in the same order). N is to the immediate right of H. D is second to the left of F. J is second to the right of N. F is second to the left of H. Who is sitting second to the left of N?

Options :

1. ✖ F
2. ✔ L
3. ✖ H
4. ✖ D

Question Number : 17 Question Id : 9983679075 Question Type : MCQ Option Shuffling : Yes
Correct Marks : 1 Wrong Marks : 0.25

छह: तैराक D, F, H, J, L तथा N एक वृत्ताकार मेज के इर्द-गिर्द केंद्र की ओर मुख करके बैठे हुए हैं (जरूरी नहीं की इसी क्रम में हो)। N, H के तुरंत दाएं ओर है। D, F के बाएं से दूसरा है। J, N के दाईं ओर से दूसरा है। F, H के बाएं से दूसरे स्थान पर है। N के बाएं ओर दूसरा कौन बैठा हुआ है?

Options :

1. ✖ F
2. ✔ L
3. ✖ H
4. ✖ D

Question Number : 18 Question Id : 9983679076 Question Type : MCQ Option Shuffling : Yes
Correct Marks : 1 Wrong Marks : 0.25

In the following question below are given some statements followed by some conclusions based on those statements. Taking the given statements to be true even if they seem to be at variance from commonly known facts. Read all the conclusions and then decide which of the given conclusion logically follows the given statements.

Statements:

- I. Some red are yellow.
- II. All yellow are big.

Conclusions:

- I. Some big are red.
- II. All red are big.

Options :

- 1. ✓ Only conclusion I follows
- 2. ✖ Only conclusion II follows
- 3. ✖ Both conclusion I and II follows
- 4. ✖ Neither conclusion follow

Question Number : 18 Question Id : 9983679076 Question Type : MCQ Option Shuffling : Yes
Correct Marks : 1 Wrong Marks : 0.25

नीचे दिए गए प्रश्न में कुछ कथन और उनके बाद उन कथनों पर आधारित कुछ निष्कर्ष दिए गए हैं। दिए गए कथनों को सही माने, चाहे उनमें सामान्य ज्ञात तथ्यों से भिन्नता हो। सभी निष्कर्ष पढ़ें और फिर निर्धारित करें कि दिए गए कौन से निष्कर्ष, दिए गए कथनों के आधार पर युक्तिसंगत हैं।

कथन:

- I. कुछ लाल पीले हैं।
- II. सभी पीले बड़े हैं।

निष्कर्ष:

- I. कुछ बड़े लाल हैं।
- II. सभी लाल बड़े हैं।

Options :

1. ✓ केवल निष्कर्ष I अनुसरण करता है।
2. * केवल निष्कर्ष II अनुसरण करता है।
3. * दोनों निष्कर्ष I तथा II अनुसरण करते हैं।
4. * कोई भी निष्कर्ष अनुसरण नहीं करता है।

Question Number : 19 Question Id : 9983679077 Question Type : MCQ Option Shuffling : Yes
Correct Marks : 1 Wrong Marks : 0.25

In the following question below are given some statements followed by some conclusions based on those statements. Taking the given statements to be true even if they seem to be at variance from commonly known facts. Read all the conclusions and then decide which of the given conclusion logically follows the given statements.

Statements:

- I. All A are B.
- II. Some C are B.
- III. Some D are C.

Conclusions:

- I. Some D are A.
- II. All C are A.

Options :

- 1. ✖ Only conclusion I follows
- 2. ✖ Only conclusion II follows
- 3. ✖ Both conclusion I and II follows
- 4. ✔ Neither conclusion follow

Question Number : 19 Question Id : 9983679077 Question Type : MCQ Option Shuffling : Yes
Correct Marks : 1 Wrong Marks : 0.25

नीचे दिए गए प्रश्न में कुछ कथन और उनके बाद उन कथनों पर आधारित कुछ निष्कर्ष दिए गए हैं। दिए गए कथनों को सही माने, चाहे उनमें सामान्य ज्ञात तथ्यों से भिन्नता हो। सभी निष्कर्ष पढ़ें और फिर निर्धारित करें कि दिए गए कौन से निष्कर्ष, दिए गए कथनों के आधार पर युक्तिसंगत हैं।

कथन:

- I. सभी A, B हैं।
- II. कुछ C, B हैं।
- III. कुछ D, C हैं।

निष्कर्ष:

- I. कुछ D, A हैं।
- II. सभी C, A हैं।

Options :

1. * केवल निष्कर्ष I अनुसरण करता है।
2. * केवल निष्कर्ष II अनुसरण करता है।
3. * दोनों निष्कर्ष I तथा II अनुसरण करते हैं।
4. ✓ कोई भी निष्कर्ष अनुसरण नहीं करता है।

Question Number : 20 Question Id : 9983679078 Question Type : MCQ Option Shuffling : Yes
Correct Marks : 1 Wrong Marks : 0.25

Select the odd one out from the given alternatives.

Options :

1. * 10 – 12
2. * 14 – 16

3. ✖ 17 – 19

4. ✔ 15 – 11

Question Number : 20 Question Id : 9983679078 Question Type : MCQ Option Shuffling : Yes

Correct Marks : 1 Wrong Marks : 0.25

दिए गए विकल्पों में से विषम को चुनिए।

Options :

1. ✖ 10 - 12

2. ✖ 14 - 16

3. ✖ 17 - 19

4. ✔ 15 - 11

Mental Ability2

Group Number :	2
Group Id :	998367398
Group Maximum Duration :	0
Group Minimum Duration :	0
Show Attended Group? :	No
Edit Attended Group? :	No
Break time:	0
Group Marks:	20
Is this Group for Examiner?:	No
Revisit allowed for group Instructions? :	Yes
Maximum Instruction Time:	0
Minimum Instruction Time:	0

Mental Ability2

Section Id :	998367404
Section Number :	1
Section type :	Online
Mandatory or Optional:	Mandatory
Number of Questions:	20
Number of Questions to be attempted:	20
Section Marks:	20

Sub-Section Number:	1
Sub-Section Id:	998367570

Question Number : 21 Question Id : 9983679079 Question Type : MCQ Option Shuffling : Yes

Correct Marks : 1 Wrong Marks : 0.25

In the following question, select the missing number from the given series.

2, 7, 22, 67, ?

Options :

1. ✖ 203

2. ✖ 199

3. ✔ 202

4. ✖ 200

Question Number : 21 Question Id : 9983679079 Question Type : MCQ Option Shuffling : Yes

Correct Marks : 1 Wrong Marks : 0.25

निम्नलिखित प्रश्न में दी गई श्रृंखला में से लुप्त अंक ज्ञात कीजिए।

2, 7, 22, 67, ?

Options :

1. ✖ 203

2. ✖ 199

3. ✔ 202

4. ✖ 200

Question Number : 22 Question Id : 9983679080 Question Type : MCQ Option Shuffling : Yes

Correct Marks : 1 Wrong Marks : 0.25

In the following question, select the related number from the given alternatives.

9 : 80 :: 14 : ?

Options :

1. ✖ 197

2. ✖ 198

3. ✔ 195

4. ✖ 194

Question Number : 22 Question Id : 9983679080 Question Type : MCQ Option Shuffling : Yes
Correct Marks : 1 Wrong Marks : 0.25

निम्नलिखित प्रश्न में दिए गए विकल्पों में से संबंधित संख्या को चुनिए।

9 : 80 :: 14 : ?

Options :

1. ✖ 197

2. ✖ 198

3. ✔ 195

4. ✖ 194

Question Number : 23 Question Id : 9983679081 Question Type : MCQ Option Shuffling : Yes
Correct Marks : 1 Wrong Marks : 0.25

In the following question, select the related number group from the given alternatives.

47 : 28 :: ?

Options :

1. ✔ 53 : 15

2. ✖ 29 : 17

3. ✖ 31 : 4

4. ✖ 67 : 44

Question Number : 23 Question Id : 9983679081 Question Type : MCQ Option Shuffling : Yes
Correct Marks : 1 Wrong Marks : 0.25

निम्नलिखित प्रश्न में दिए गए विकल्पों में से संबंधित संख्या समूह को चुनिए।

$$47 : 28 :: ?$$

Options :

1. ✓ $53 : 15$

2. ✗ $29 : 17$

3. ✗ $31 : 4$

4. ✗ $67 : 44$

Question Number : 24 Question Id : 9983679082 Question Type : MCQ Option Shuffling : Yes

Correct Marks : 1 Wrong Marks : 0.25

By interchanging which two signs the equation will be correct?

$$17 \times 3 - 5 + 4 = 0$$

Options :

1. ✗ $+$ and $-$

2. ✗ $-$ and \times

3. ✓ \times and $+$

4. ✗ No change is required

Question Number : 24 Question Id : 9983679082 Question Type : MCQ Option Shuffling : Yes

Correct Marks : 1 Wrong Marks : 0.25

किन दो चिह्नों को आपस में परस्पर बदलने पर समीकरण सही हो जाएगा?

$$17 \times 3 - 5 + 4 = 0$$

Options :

1. * + तथा -

2. * - तथा ×

3. ✓ × तथा +

4. * किसी बदलाव की आवश्यकता नहीं है

Question Number : 25 Question Id : 9983679083 Question Type : MCQ Option Shuffling : Yes

Correct Marks : 1 Wrong Marks : 0.25

दिए गए दो अंको को आपस में परस्पर बदलने पर निम्नलिखित में से कौन सा समीकरण सही होगा?

6 तथा 3

Options :

1. * $3 \div 2 + 6 \times 5 = 63/2$

2. * $3 \times 7 \div 2 \times 6 = 63$

3. * $5 \times 3 + 6 \div 2 = 18$

4. ✓ $3 \times 6 + 4 \div 2 = 20$

Question Number : 25 Question Id : 9983679083 Question Type : MCQ Option Shuffling : Yes

Correct Marks : 1 Wrong Marks : 0.25

By interchanging the given two digits which of the following equation will be correct?

6 and 3

Options :

1. * $3 \div 2 + 6 \times 5 = 63/2$

2. * $3 \times 7 \div 2 \times 6 = 63$

3. * $5 \times 3 + 6 \div 2 = 18$

4. ✓ $3 \times 6 + 4 \div 2 = 20$

Question Number : 26 Question Id : 9983679084 Question Type : MCQ Option Shuffling : Yes
Correct Marks : 1 Wrong Marks : 0.25

In the following question, select the number which can be placed at the sign of question mark (?) from the given alternatives.

3	7	7
6	4	5
2	8	3
30	60	?

Options :

1. ✖ 40

2. ✔ 50

3. ✖ 70

4. ✖ 90

Question Number : 26 Question Id : 9983679084 Question Type : MCQ Option Shuffling : Yes
Correct Marks : 1 Wrong Marks : 0.25

निम्नलिखित प्रश्न में दिए गए विकल्पों में से प्रश्न चिन्ह (?) के स्थान पर आने वाली संख्या को चुनिए।

3	7	7
6	4	5
2	8	3
30	60	?

Options :

1. ✖ 40

2. ✔ 50

3. ✖ 70

4. ✖ 90

Question Number : 27 Question Id : 9983679085 Question Type : MCQ Option Shuffling : Yes
Correct Marks : 1 Wrong Marks : 0.25

In the following question, select the number which can be placed at the sign of question mark (?) from the given alternatives.

2	3	4	5	7	8
6	36	3	47	4	?

Options :

1. ✓ 116

2. ✗ 126

3. ✗ 138

4. ✗ 146

Question Number : 27 Question Id : 9983679085 Question Type : MCQ Option Shuffling : Yes

Correct Marks : 1 Wrong Marks : 0.25

निम्नलिखित प्रश्न में दिए गए विकल्पों में से प्रश्न चिन्ह (?) के स्थान पर आने वाली संख्या को चुनिए।

2	3	4	5	7	8
6	36	3	47	4	?

Options :

1. ✓ 116

2. ✗ 126

3. ✗ 138

4. ✗ 146

Question Number : 28 Question Id : 9983679086 Question Type : MCQ Option Shuffling : Yes

Correct Marks : 1 Wrong Marks : 0.25

If 'H' means '+', 'M' means '×', 'L' means '÷' and 'N' means '-', then which of the following equation is true?

Options :

1. ✗ 13 H 6 N 12 L 7 M 14 = 5

2. ✗ 5 H 6 M 3 L 2 N 4 = 11

3. ✓ $11 H 5 L 9 M 27 N 6 = 20$

4. ✗ $3 M 4 H 6 L 2 N S = 15$

Question Number : 28 Question Id : 9983679086 Question Type : MCQ Option Shuffling : Yes

Correct Marks : 1 Wrong Marks : 0.25

यदि 'H' का अर्थ '+', 'M' का अर्थ '×', 'L' का अर्थ '÷' तथा 'N' का अर्थ '-' हो, तो निम्नलिखित में से कौन सा समीकरण सही है?

Options :

1. ✗ $13 H 6 N 12 L 7 M 14 = 5$

2. ✗ $5 H 6 M 3 L 2 N 4 = 11$

3. ✓ $11 H 5 L 9 M 27 N 6 = 20$

4. ✗ $3 M 4 H 6 L 2 N S = 15$

Question Number : 29 Question Id : 9983679087 Question Type : MCQ Option Shuffling : Yes

Correct Marks : 1 Wrong Marks : 0.25

If '+' means '×', '-' means '÷', '÷' means '-' and '×' means '+', then which of the following equation is true?

Options :

1. ✓ $14 ÷ 11 + 3 × 16 - 8 = -17$

2. ✗ $31 × 17 - 29 + 87 ÷ 13 = 69$

3. ✗ $6 × 11 ÷ 3 + 33 - 11 = 9$

4. ✗ $27 × 3 ÷ 31 - 4 + 16 = 94$

Question Number : 29 Question Id : 9983679087 Question Type : MCQ Option Shuffling : Yes

Correct Marks : 1 Wrong Marks : 0.25

यदि '+' का अर्थ '×', '-' का अर्थ '÷', '÷' का अर्थ '-' तथा '×' का अर्थ '+' हो, तो निम्नलिखित में से कौन सा समीकरण सही है?

Options :

1. ✓ $14 ÷ 11 + 3 × 16 - 8 = -17$

2. ✗ $31 × 17 - 29 + 87 ÷ 13 = 69$

3. ✖ $6 \times 11 \div 3 + 33 - 11 = 9$

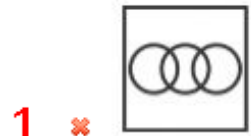
4. ✖ $27 \times 3 \div 31 - 4 + 16 = 94$

Question Number : 30 Question Id : 9983679088 Question Type : MCQ Option Shuffling : Yes
Correct Marks : 1 Wrong Marks : 0.25

Identify the diagram that best represents the relationship among the given classes.

Lawyers, Teachers, Father

Options :



Question Number : 30 Question Id : 9983679088 Question Type : MCQ Option Shuffling : Yes
Correct Marks : 1 Wrong Marks : 0.25

वह आरेख चुनिए जो नीचे दिए गए वर्गों के बीच के संबंध का सही निरूपण करता है।

वकील, अध्यापक, पिता

Options :

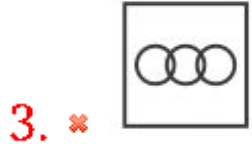


Question Number : 31 Question Id : 9983679089 Question Type : MCQ Option Shuffling : Yes
Correct Marks : 1 Wrong Marks : 0.25

Identify the diagram that best represents the relationship among the given classes.

Father, Brother, Mother

Options :

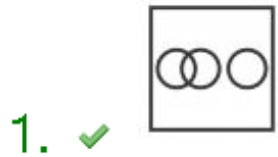


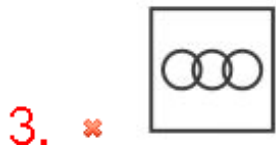
Question Number : 31 Question Id : 9983679089 Question Type : MCQ Option Shuffling : Yes
Correct Marks : 1 Wrong Marks : 0.25

वह आरेख चुनिए जो नीचे दिए गए वर्गों के बीच के संबंध का सही निरूपण करता है।

पिता, भाई, माता

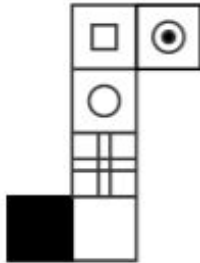
Options :





Question Number : 32 Question Id : 9983679090 Question Type : MCQ Option Shuffling : Yes
Correct Marks : 1 Wrong Marks : 0.25

Which of the following cube can be formed?



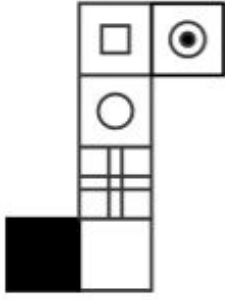
Options :



Question Number : 32 Question Id : 9983679090 Question Type : MCQ Option Shuffling : Yes

Correct Marks : 1 Wrong Marks : 0.25

निम्नलिखित में से कौन सा घन बन सकता है?



Options :

1. ✘



2. ✘



3. ✔



4. ✘



Question Number : 33 Question Id : 9983679091 Question Type : MCQ Option Shuffling : Yes

Correct Marks : 1 Wrong Marks : 0.25

‘ Δ ’ के विपरीत सतह पर निम्नलिखित में से कौन सा आएगा?



Options :

1. ✘ @

2. ✘ ⊙

3. ✔ ○

4. ✘ ■

Question Number : 33 Question Id : 9983679091 Question Type : MCQ Option Shuffling : Yes
Correct Marks : 1 Wrong Marks : 0.25

Which of the following will come on face opposite to 'Δ'?



Options :

1. ✘ @

2. ✘ ⊙

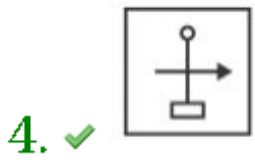
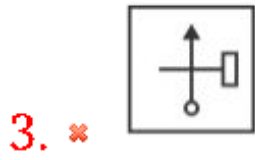
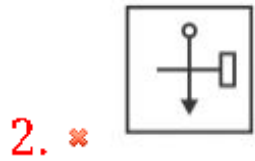
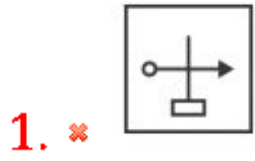
3. ✔ ○

4. ✘ ■

Question Number : 34 Question Id : 9983679092 Question Type : MCQ Option Shuffling : Yes
Correct Marks : 1 Wrong Marks : 0.25

In the following question, select the odd figure from the given alternatives.

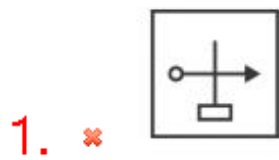
Options :



Question Number : 34 Question Id : 9983679092 Question Type : MCQ Option Shuffling : Yes
Correct Marks : 1 Wrong Marks : 0.25

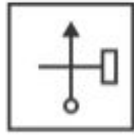
निम्नलिखित प्रश्न में दिए गए विकल्पों में से विषम आकृति को चुनिए।

Options :

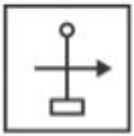




2. ✘



3. ✘



4. ✔

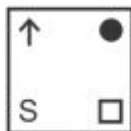
Question Number : 35 Question Id : 9983679093 Question Type : MCQ Option Shuffling : Yes
Correct Marks : 1 Wrong Marks : 0.25

In the following question, select the odd figure from the given alternatives.

Options :



1. ✘



2. ✘



3. ✔

4. ✘



Question Number : 35 Question Id : 9983679093 Question Type : MCQ Option Shuffling : Yes

Correct Marks : 1 Wrong Marks : 0.25

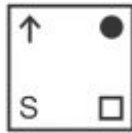
निम्नलिखित प्रश्न में दिए गए विकल्पों में से विषम आकृति को चुनिए।

Options :

1. ✘



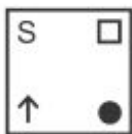
2. ✘



3. ✔



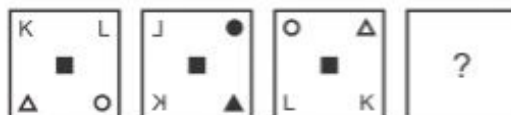
4. ✘



Question Number : 36 Question Id : 9983679094 Question Type : MCQ Option Shuffling : Yes

Correct Marks : 1 Wrong Marks : 0.25

In the following question, select the figure which can be placed at the sign of question mark (?) from the given alternatives.



Options :

1. ✘



2. ✔



3. ✘



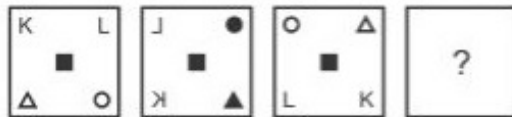
4. ✘



Question Number : 36 Question Id : 9983679094 Question Type : MCQ Option Shuffling : Yes

Correct Marks : 1 Wrong Marks : 0.25


निम्नलिखित प्रश्न में दिए गए विकल्पों में से प्रश्न चिन्ह (?) के स्थान पर आने वाली आकृति को चुनिए।



Options :

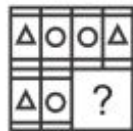
1. ✘



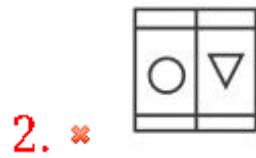


Question Number : 37 Question Id : 9983679095 Question Type : MCQ Option Shuffling : Yes Correct Marks : 1 Wrong Marks : 0.25

Which answer figure will complete the pattern in the question figure?



Options :

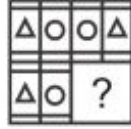


4. ✖



Question Number : 37 Question Id : 9983679095 Question Type : MCQ Option Shuffling : Yes
Correct Marks : 1 Wrong Marks : 0.25

कौन सी उत्तर आकृति प्रश्न आकृति के प्रतिरूप को पूरा करेगी?



Options :

1. ✔



2. ✖



3. ✖

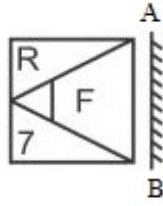


4. ✖



Question Number : 38 Question Id : 9983679096 Question Type : MCQ Option Shuffling : Yes
Correct Marks : 1 Wrong Marks : 0.25

If a mirror is placed on the line AB, then which of the answer figure is the right mirror image of the given figure?



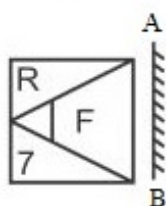
Options :



Question Number : 38 Question Id : 9983679096 Question Type : MCQ Option Shuffling : Yes

Correct Marks : 1 Wrong Marks : 0.25

यदि एक दर्पण को AB रेखा पर रखा जाए, तो दी गई उत्तर आकृतियों में से कौन सी आकृति प्रश्न आकृति की सही दर्पण छवि होगी?



Options :



1. ✘



2. ✔



3. ✘



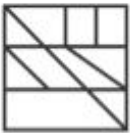
4. ✘

Question Number : 39 Question Id : 9983679097 Question Type : MCQ Option Shuffling : Yes
Correct Marks : 1 Wrong Marks : 0.25

From the given answer figures, select the one in which the question figure is hidden/embedded.



Options :

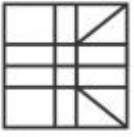


1. ✘


2. ✖



3. ✔



4. ✖



Question Number : 39 Question Id : 9983679097 Question Type : MCQ Option Shuffling : Yes

Correct Marks : 1 Wrong Marks : 0.25

दी गई उत्तर आकृतियों में से उस उत्तर आकृति को चुनिए जिस में प्रश्न आकृति निहित है?

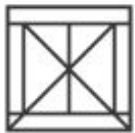


Options :

1. ✖



2. ✖



3. ✓

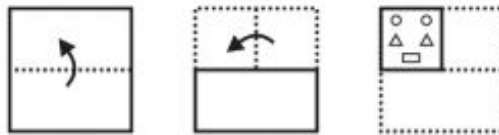


4. ✗



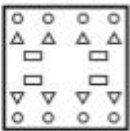
Question Number : 40 Question Id : 9983679098 Question Type : MCQ Option Shuffling : Yes
Correct Marks : 1 Wrong Marks : 0.25

A piece of paper is folded and punched as shown below in the question figures. From the given answer figures, indicate how it will appear when opened?

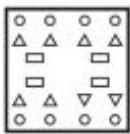


Options :

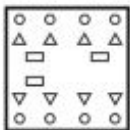
1. ✓



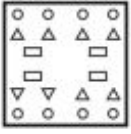
2. ✗



3. ✗



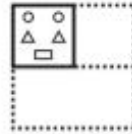
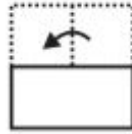
4. ✘



Question Number : 40 Question Id : 9983679098 Question Type : MCQ Option Shuffling : Yes

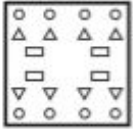
Correct Marks : 1 Wrong Marks : 0.25

नीचे के प्रश्न आकृतियों में दिखाए अनुसार कागज को मोड़कर छेदने तथा खोलने के बाद वह किस उत्तर आकृति जैसा दिखाई देगा?

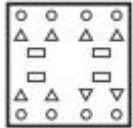


Options :

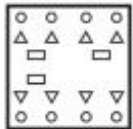
1. ✔



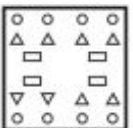
2. ✘



3. ✘



4. ✘



General Awareness1

Group Number :	3
Group Id :	998367399
Group Maximum Duration :	0
Group Minimum Duration :	0
Show Attended Group? :	No
Edit Attended Group? :	No
Break time:	0
Group Marks:	20
Is this Group for Examiner?:	No
Revisit allowed for group Instructions? :	Yes
Maximum Instruction Time:	0
Minimum Instruction Time:	0

General Awareness1

Section Id :	998367405
Section Number :	1
Section type :	Online
Mandatory or Optional:	Mandatory
Number of Questions:	20
Number of Questions to be attempted:	20
Section Marks:	20

Sub-Section Number:	1
Sub-Section Id:	998367571
Question Shuffling Allowed :	Yes

Question Number : 41 Question Id : 9983679099 Question Type : MCQ Option Shuffling : Yes
Correct Marks : 1 Wrong Marks : 0.25

Tripura state is famous for which folk dance?

Options :

1. ✖ Garbha
2. ✔ Hojagiri
3. ✖ Kavadi
4. ✖ Bihu

Question Number : 41 Question Id : 9983679099 Question Type : MCQ Option Shuffling : Yes
Correct Marks : 1 Wrong Marks : 0.25

त्रिपुरा राज्य किस लोक नृत्य के लिए प्रसिद्ध है?

Options :

1. ✖ गरबा
2. ✔ होजागिरी
3. ✖ कवादी
4. ✖ बिहु

Question Number : 42 Question Id : 9983679100 Question Type : MCQ Option Shuffling : Yes
Correct Marks : 1 Wrong Marks : 0.25

Fort St. George museum is located in _____.

Options :

1. ✖ Gwalior
2. ✔ Chennai
3. ✖ Goa
4. ✖ Bihar

Question Number : 42 Question Id : 9983679100 Question Type : MCQ Option Shuffling : Yes
Correct Marks : 1 Wrong Marks : 0.25

फोर्ट सेंट जार्ज संग्रहालय _____ में स्थित है।

Options :

1. ✖ ग्वालियर
2. ✔ चेन्नई
3. ✖ गोवा
4. ✖ बिहार

Question Number : 43 Question Id : 9983679101 Question Type : MCQ Option Shuffling : Yes
Correct Marks : 1 Wrong Marks : 0.25

Onam is the festival of which state?

Options :

1. ✖ Assam
2. ✖ Madhya Pradesh
3. ✔ Kerala

4. * Gujarat

Question Number : 43 Question Id : 9983679101 Question Type : MCQ Option Shuffling : Yes
Correct Marks : 1 Wrong Marks : 0.25

ओणम किस राज्य का पर्व है?

Options :

1. * असम
2. * मध्य प्रदेश
3. ✓ केरल
4. * गुजरात

Question Number : 44 Question Id : 9983679102 Question Type : MCQ Option Shuffling : Yes
Correct Marks : 1 Wrong Marks : 0.25

_____ is the classical dance form of Telangana.

Options :

1. ✓ Perini Sivatanavam
2. * Sattriya Nritya
3. * Kathakali
4. * Gandiya Nritya

Question Number : 44 Question Id : 9983679102 Question Type : MCQ Option Shuffling : Yes
Correct Marks : 1 Wrong Marks : 0.25

_____ तेलंगाना का शास्त्रीय नृत्य रूप है।

Options :

1. ✓ परिणी शिवतांडवम
2. * सत्त्य नृत्य
3. * कथकली
4. * गौड़ीय नृत्य

Question Number : 45 Question Id : 9983679103 Question Type : MCQ Option Shuffling : Yes
Correct Marks : 1 Wrong Marks : 0.25

The Banking Ombudsman may reject a complaint at any stage if it appears to him that the complaint made is _____.

Options :

1. * Without any sufficient cause
2. * Vexatious
3. * Frivolous
4. ✓ All options are correct

Question Number : 45 Question Id : 9983679103 Question Type : MCQ Option Shuffling : Yes
Correct Marks : 1 Wrong Marks : 0.25

बैंकिंग लोकपाल किसी भी स्तर पर शिकायत को अस्वीकार कर सकता है यदि उसे यह प्रतीत होता है कि की गई शिकायत _____ है।

Options :

1. * बिना किसी पर्याप्त कारण के
2. * तंग करने के लिए किया गया
3. * तुच्छ
4. ✓ सभी विकल्प सही हैं

Question Number : 46 Question Id : 9983679104 Question Type : MCQ Option Shuffling : Yes
Correct Marks : 1 Wrong Marks : 0.25

The finance minister proposed to raise the volume of institutional credit for agriculture sector by Rs. _____ for the year 2018-19.

Options :

1. ✓ 11 Lakh Crore
2. * 18 Lakh Crore
3. * 8.5 Lakh Crore
4. * 10 Lakh Crore

Question Number : 46 Question Id : 9983679104 Question Type : MCQ Option Shuffling : Yes
Correct Marks : 1 Wrong Marks : 0.25

वर्ष 2018-19 के लिए वित्त मंत्री ने कृषि क्षेत्र के लिए संस्थागत ऋण की मात्रा को _____ रूपये से बढ़ाने का प्रस्ताव रखा है।

Options :

1. ✓ 11 लाख करोड़
2. ✗ 18 लाख करोड़
3. ✗ 8.5 लाख करोड़
4. ✗ 10 लाख करोड़

Question Number : 47 Question Id : 9983679105 Question Type : MCQ Option Shuffling : Yes

Correct Marks : 1 Wrong Marks : 0.25

Which of the following Ministry presents the economic survey of India in the parliament?

Options :

1. ✗ Ministry of external affairs
2. ✓ Ministry of finance
3. ✗ Ministry of home affairs
4. ✗ Ministry of health and family welfare

Question Number : 47 Question Id : 9983679105 Question Type : MCQ Option Shuffling : Yes

Correct Marks : 1 Wrong Marks : 0.25

निम्नलिखित में से कौन सा मंत्रालय संसद में भारत का आर्थिक सर्वेक्षण प्रस्तुत करता है?

Options :

1. ✗ विदेश मंत्रालय
2. ✓ वित्त मंत्रालय
3. ✗ गृह मंत्रालय
4. ✗ स्वास्थ्य तथा परिवार कल्याण मंत्रालय

Question Number : 48 Question Id : 9983679106 Question Type : MCQ Option Shuffling : Yes

Correct Marks : 1 Wrong Marks : 0.25

Which of the following is a need of protein by human body?

- I. Growth of body
- II. Repair of body
- III. Energy to body

Options :

- 1. ✖ Only I
- 2. ✔ I and II
- 3. ✖ II and III
- 4. ✖ Only III

Question Number : 48 Question Id : 9983679106 Question Type : MCQ Option Shuffling : Yes

Correct Marks : 1 Wrong Marks : 0.25

मानव शरीर द्वारा प्रोटीन की आवश्यकता निम्नलिखित में से कौन सी है?

- I. शरीर की वृद्धि
- II. शरीर की मरम्मत
- III. शरीर की ऊर्जा

Options :

- 1. ✖ केवल I
- 2. ✔ I तथा II
- 3. ✖ II तथा III
- 4. ✖ केवल III

Question Number : 49 Question Id : 9983679107 Question Type : MCQ Option Shuffling : Yes

Correct Marks : 1 Wrong Marks : 0.25

Water vapours can be converted to its liquid form through which of the following process?

Options :

- 1. ✔ Condensation

2. * Evaporation

3. * Sublimation

4. * Deposition

Question Number : 49 Question Id : 9983679107 Question Type : MCQ Option Shuffling : Yes

Correct Marks : 1 Wrong Marks : 0.25

जल वाष्प को उसकी द्रव अवस्था में निम्नलिखित में से किस प्रक्रिया से बदला जा सकता है?

Options :

1. ✓ संघनन

2. * वाष्पन

3. * ऊर्ध्वपातन

4. * निक्षेपन

Question Number : 50 Question Id : 9983679108 Question Type : MCQ Option Shuffling : Yes

Correct Marks : 1 Wrong Marks : 0.25

Which of the following is NOT a type of plant?

Options :

1. * Herbs

2. ✓ Weed

3. * Shrubs

4. * Trees

Question Number : 50 Question Id : 9983679108 Question Type : MCQ Option Shuffling : Yes

Correct Marks : 1 Wrong Marks : 0.25

निम्नलिखित में से कौन सा पौधे का एक प्रकार नहीं है?

Options :

1. * शाक

2. ✓ खरपतवार

3. * झाड़ी

4. * वृक्ष

Question Number : 51 Question Id : 9983679109 Question Type : MCQ Option Shuffling : Yes
Correct Marks : 1 Wrong Marks : 0.25

Lactic acid is present in which of the following?

Options :

1. * Ant's sting
2. * Amla
3. * Spinach
4. ✓ Curd

Question Number : 51 Question Id : 9983679109 Question Type : MCQ Option Shuffling : Yes
Correct Marks : 1 Wrong Marks : 0.25

निम्नलिखित में से लैक्टिक अम्ल किसमें प्रस्तुत होता है?

Options :

1. * चींटी का डंक
2. * आँवला
3. * पालक
4. ✓ दही

Question Number : 52 Question Id : 9983679110 Question Type : MCQ Option Shuffling : Yes
Correct Marks : 1 Wrong Marks : 0.25

Which of the following pair is correct?

- I. Xylem – transports water
- II. Phloem – transports food

Options :

1. * Only I
2. * Only II
3. ✓ Both I and II
4. * Neither I nor II

Question Number : 52 Question Id : 9983679110 Question Type : MCQ Option Shuffling : Yes
Correct Marks : 1 Wrong Marks : 0.25

निम्नलिखित में से कौन सा युग्म सही है?

- I. जाइलम (दारू) - जल का परिवहन
- II. फ्लोएम (पोषवाह) - खाने का परिवहन

Options :

1. ✖ केवल I
2. ✖ केवल II
3. ✔ I तथा II दोनों
4. ✖ ना तो I ना तो II

Question Number : 53 Question Id : 9983679111 Question Type : MCQ Option Shuffling : Yes
Correct Marks : 1 Wrong Marks : 0.25

A _____ is a group of similar cells performing a specific function.

Options :

1. ✔ Tissue
2. ✖ Membrane
3. ✖ Organelles
4. ✖ Genes

Question Number : 53 Question Id : 9983679111 Question Type : MCQ Option Shuffling : Yes
Correct Marks : 1 Wrong Marks : 0.25

_____ एकसमान कोशिकाओं का वह समूह है जो एक विशिष्ट प्रकार्य करता है।

Options :

1. ✔ ऊतक
2. ✖ झिल्ली

3. * कोशिकांग

4. * गुणसूत्र

Question Number : 54 Question Id : 9983679112 Question Type : MCQ Option Shuffling : Yes

Correct Marks : 1 Wrong Marks : 0.25

The asteroid belt is present between which two planets?

Options :

1. * Mercury and Venus

2. * Jupiter and Saturn

3. * Saturn and Uranus

4. ✓ Mars and Jupiter

Question Number : 54 Question Id : 9983679112 Question Type : MCQ Option Shuffling : Yes

Correct Marks : 1 Wrong Marks : 0.25

क्षुद्रग्रह पट्टी किन दो ग्रहों के बीच प्रस्तुत है?

Options :

1. * बुध तथा शुक्र

2. * बृहस्पति तथा शनि

3. * शनि तथा युरेनस

4. ✓ मंगल तथा बृहस्पति

Question Number : 55 Question Id : 9983679113 Question Type : MCQ Option Shuffling : Yes

Correct Marks : 1 Wrong Marks : 0.25

Which of the following pair is true?

I. Atomic number – number of protons

II. Mass number – number of protons + number of neutrons

Options :

1. * Only I

2. * Only II

3. ✓ Both I and II

4. * Neither I nor II

Question Number : 55 Question Id : 9983679113 Question Type : MCQ Option Shuffling : Yes
Correct Marks : 1 Wrong Marks : 0.25

निम्नलिखित में से कौन सा युग्म सही है?

- I. परमाणु संख्या - प्रोटॉनों की संख्या
- II. द्रव्यमान संख्या - प्रोटॉनों की संख्या + न्यूट्रॉनों की संख्या

Options :

1. * केवल I
2. * केवल II
3. ✓ I तथा II दोनों
4. * ना तो I ना तो II

Question Number : 56 Question Id : 9983679114 Question Type : MCQ Option Shuffling : Yes
Correct Marks : 1 Wrong Marks : 0.25

Which of the following is NOT a part of Himalayas?

Options :

1. * Himadri
2. * Himachal
3. * Shivalik
4. ✓ Sahyadris

Question Number : 56 Question Id : 9983679114 Question Type : MCQ Option Shuffling : Yes
Correct Marks : 1 Wrong Marks : 0.25

निम्नलिखित में से कौन सा हिमालय का हिस्सा नहीं है?

Options :

1. * हिमाद्री
2. * हिमाचल
3. * शिवालिक

4. ✓ सहायत्री

Question Number : 57 Question Id : 9983679115 Question Type : MCQ Option Shuffling : Yes
Correct Marks : 1 Wrong Marks : 0.25

Which of the following is correct order of length of land border of India?

Options :

1. ✘ China > Bangladesh > Pakistan
2. ✘ Pakistan > Bangladesh > China
3. ✓ Bangladesh > China > Pakistan
4. ✘ Pakistan > China > Bangladesh

Question Number : 57 Question Id : 9983679115 Question Type : MCQ Option Shuffling : Yes
Correct Marks : 1 Wrong Marks : 0.25

भारत की थल सीमा की लम्बाई के बारे में कौन सा क्रम सही है?

Options :

1. ✘ चीन > बांग्लादेश > पाकिस्तान
2. ✘ पाकिस्तान > बांग्लादेश > चीन
3. ✓ बांग्लादेश > चीन > पाकिस्तान
4. ✘ पाकिस्तान > चीन > बांग्लादेश

Question Number : 58 Question Id : 9983679116 Question Type : MCQ Option Shuffling : Yes
Correct Marks : 1 Wrong Marks : 0.25

Which of the following is correct span of latitudes of India?

Options :

1. ✓ $8^{\circ}4' N - 37^{\circ}6' N$
2. ✘ $18^{\circ}6' N - 32^{\circ}4' N$
3. ✘ $21^{\circ}4' N - 37^{\circ}6' N$
4. ✘ $15^{\circ}8' N - 42^{\circ}6' N$

Question Number : 58 Question Id : 9983679116 Question Type : MCQ Option Shuffling : Yes
Correct Marks : 1 Wrong Marks : 0.25

भारत के अक्षांशों के विस्तार के बारे में निम्नलिखित में से कौन सा सही है?

Options :

1. ✓ $8^{\circ}4'$ उ - $37^{\circ}6'$ उ
2. ✗ $18^{\circ}6'$ उ - $32^{\circ}4'$ उ
3. ✗ $21^{\circ}4'$ उ - $37^{\circ}6'$ उ
4. ✗ $15^{\circ}8'$ उ - $42^{\circ}6'$ उ

Question Number : 59 Question Id : 9983679117 Question Type : MCQ Option Shuffling : Yes

Correct Marks : 1 Wrong Marks : 0.25

What is the height of peak Kanchenjunga?

Options :

1. ✗ 7857 metre
2. ✓ 8598 metre
3. ✗ 8848 metre
4. ✗ 8139 metre

Question Number : 59 Question Id : 9983679117 Question Type : MCQ Option Shuffling : Yes

Correct Marks : 1 Wrong Marks : 0.25

शिखर कंचनजंघा की ऊँचाई कितनी है?

Options :

1. ✗ 7857 मीटर
2. ✓ 8598 मीटर
3. ✗ 8848 मीटर
4. ✗ 8139 मीटर

Question Number : 60 Question Id : 9983679118 Question Type : MCQ Option Shuffling : Yes

Correct Marks : 1 Wrong Marks : 0.25

What is the average annual temperature of the tropical vegetation zone?

Options :

1. ✖ Below 7 °C
2. ✔ Above 24 °C
3. ✖ Below 0 °C
4. ✖ 7 °C to 32 °C

Question Number : 60 Question Id : 9983679118 Question Type : MCQ Option Shuffling : Yes
Correct Marks : 1 Wrong Marks : 0.25

ऊष्ण वनस्पति खंड का औसत वार्षिक तापमान क्या है?

Options :

1. ✖ 7 °C से कम
2. ✔ 24 °C से ज्यादा
3. ✖ 0 °C से कम
4. ✖ 7 °C से 32 °C

General Awareness2

Group Number :	4
Group Id :	998367400
Group Maximum Duration :	0
Group Minimum Duration :	0
Show Attended Group? :	No
Edit Attended Group? :	No
Break time:	0
Group Marks:	20
Is this Group for Examiner? :	No
Revisit allowed for group Instructions? :	Yes
Maximum Instruction Time:	0
Minimum Instruction Time:	0

General Awareness2

Section Id :	998367406
Section Number :	1
Section type :	Online
Mandatory or Optional:	Mandatory
Number of Questions:	20
Number of Questions to be attempted:	20
Section Marks:	20

Sub-Section Number: 1
Sub-Section Id: 998367572
Question Shuffling Allowed : Yes

Question Number : 61 Question Id : 9983679119 Question Type : MCQ Option Shuffling : Yes
Correct Marks : 1 Wrong Marks : 0.25

According to 2011 census around half the population of India lives in which 5 states?

Options :

1. ✓ Uttar Pradesh, Maharashtra, Bihar, West Bengal and Andhra Pradesh
2. ✘ Uttar Pradesh, Maharashtra, Bihar, West Bengal and Karnataka
3. ✘ Uttar Pradesh, Maharashtra, Bihar, Tamil Nadu and Karnataka
4. ✘ Uttar Pradesh, Maharashtra, Bihar, West Bengal and Tamil Nadu

Question Number : 61 Question Id : 9983679119 Question Type : MCQ Option Shuffling : Yes
Correct Marks : 1 Wrong Marks : 0.25

2011 की जनगणना के अनुसार कौन से राज्यों में भारत की लगभग आधी जनसंख्या रहती है?

Options :

1. ✓ उत्तर प्रदेश, महाराष्ट्र, बिहार, पश्चिम बंगाल तथा आंध्र प्रदेश
2. ✘ उत्तर प्रदेश, महाराष्ट्र, बिहार, पश्चिम बंगाल तथा कर्नाटक
3. ✘ उत्तर प्रदेश, महाराष्ट्र, बिहार, तमिलनाडु तथा कर्नाटक
4. ✘ उत्तर प्रदेश, महाराष्ट्र, बिहार, पश्चिम बंगाल तथा तमिलनाडु

Question Number : 62 Question Id : 9983679120 Question Type : MCQ Option Shuffling : Yes
Correct Marks : 1 Wrong Marks : 0.25

The 'great bath' was located in which of the following city?

Options :

1. * Harappa
2. ✓ Mohenjodaro
3. * Lothal
4. * Kalibangan

Question Number : 62 Question Id : 9983679120 Question Type : MCQ Option Shuffling : Yes
Correct Marks : 1 Wrong Marks : 0.25

‘महान स्नानागार’ निम्नलिखित में से किस शहर में स्थित है?

Options :

1. * हड़प्पा
2. ✓ मोहनजोदड़ो
3. * लोथल
4. * कालीबंगा

Question Number : 63 Question Id : 9983679121 Question Type : MCQ Option Shuffling : Yes
Correct Marks : 1 Wrong Marks : 0.25

The oldest veda ‘Rigveda’ was composed almost how many year ago?

Options :

1. * 3100
2. * 2800
3. ✓ 3500
4. * 4000

Question Number : 63 Question Id : 9983679121 Question Type : MCQ Option Shuffling : Yes
Correct Marks : 1 Wrong Marks : 0.25

सबसे पुराने वेद ‘ऋग्वेद’ की रचना लगभग कितने वर्ष पूर्व हुई थी?

Options :

1. * 3100
2. * 2800

3. ✓ 3500

4. ✗ 4000

Question Number : 64 Question Id : 9983679122 Question Type : MCQ Option Shuffling : Yes
Correct Marks : 1 Wrong Marks : 0.25

Bahlul Lodi ruled Delhi during which years?

Options :

1. ✗ 1351 – 1380

2. ✗ 1206 – 1210

3. ✗ 1414 – 1421

4. ✓ 1451 – 1489

Question Number : 64 Question Id : 9983679122 Question Type : MCQ Option Shuffling : Yes
Correct Marks : 1 Wrong Marks : 0.25

बहलोल लोदी ने दिल्ली पर किन वर्षों के दौरान शासन किया था?

Options :

1. ✗ 1351 - 1380

2. ✗ 1206 - 1210

3. ✗ 1414 - 1421

4. ✓ 1451 - 1489

Question Number : 65 Question Id : 9983679123 Question Type : MCQ Option Shuffling : Yes
Correct Marks : 1 Wrong Marks : 0.25

Which period is known as period of the Delhi Renaissance?

Options :

1. ✗ 1808 – 1824

2. ✓ 1830 – 1857

3. ✗ 1809 – 1837

4. ✗ 1824 – 1889

Question Number : 65 Question Id : 9983679123 Question Type : MCQ Option Shuffling : Yes
Correct Marks : 1 Wrong Marks : 0.25

कौन सी अवधि को दिल्ली के पुनर्जागरण काल के बारे में जाने जाता है?

Options :

1. ✘ 1808 - 1824
2. ✔ 1830 - 1857
3. ✘ 1809 - 1837
4. ✘ 1824 - 1889

Question Number : 66 Question Id : 9983679124 Question Type : MCQ Option Shuffling : Yes
Correct Marks : 1 Wrong Marks : 0.25

In which year the British passed the law permitting widow remarriage?

Options :

1. ✔ 1856
2. ✘ 1808
3. ✘ 1908
4. ✘ 1913

Question Number : 66 Question Id : 9983679124 Question Type : MCQ Option Shuffling : Yes
Correct Marks : 1 Wrong Marks : 0.25

अंग्रेज सरकार ने किस वर्ष में विधवा पूर्ण विवाह की अनुमति का कानून पारित किया था?

Options :

1. ✔ 1856
2. ✘ 1808
3. ✘ 1908
4. ✘ 1913

Question Number : 67 Question Id : 9983679125 Question Type : MCQ Option Shuffling : Yes
Correct Marks : 1 Wrong Marks : 0.25

The Arms Act which disallowed Indians from possessing arms was passed in which year?

Options :

1. ✖ 1854
2. ✖ 1892
3. ✖ 1866
4. ✔ 1878

Question Number : 67 Question Id : 9983679125 Question Type : MCQ Option Shuffling : Yes

Correct Marks : 1 Wrong Marks : 0.25

आर्म्स एक्ट जिसने भारतीयों को अपने पास हथियार रखने के अधिकार से वंचित कर दिया था, वह किस वर्ष में पारित हुआ था?

Options :

1. ✖ 1854
2. ✖ 1892
3. ✖ 1866
4. ✔ 1878

Question Number : 68 Question Id : 9983679126 Question Type : MCQ Option Shuffling : Yes

Correct Marks : 1 Wrong Marks : 0.25

Which of the following cricketer won the Padma Shri Award 2019?

Options :

1. ✖ Virat Kohli
2. ✖ Sachin Tendulkar
3. ✖ Hardik Pandya
4. ✔ Gautam Gambhir

Question Number : 68 Question Id : 9983679126 Question Type : MCQ Option Shuffling : Yes

Correct Marks : 1 Wrong Marks : 0.25

निम्नलिखित में से किस क्रिकेटर ने पद्म श्री पुरस्कार 2019 जीता है?

Options :

1. ✖ विराट कोहली
2. ✖ सचिन तेंदुलकर
3. ✖ हार्दिक पंड्या
4. ✔ गौतम गंभीर

Question Number : 69 Question Id : 9983679127 Question Type : MCQ Option Shuffling : Yes

Correct Marks : 1 Wrong Marks : 0.25

Which of the following is the author of the book “Changing India” Book?

Options :

1. ✔ Manmohan Singh
2. ✖ Narendra Modi
3. ✖ Arvind Kejriwal
4. ✖ Arun Jaitley

Question Number : 69 Question Id : 9983679127 Question Type : MCQ Option Shuffling : Yes

Correct Marks : 1 Wrong Marks : 0.25

निम्नलिखित में से कौन “चेंजिंग इंडिया” पुस्तक के लेखक है?

Options :

1. ✔ मनमोहन सिंह
2. ✖ नरेंद्र मोदी
3. ✖ अरविंद केजरीवाल
4. ✖ अरूण जेटली

Question Number : 70 Question Id : 9983679128 Question Type : MCQ Option Shuffling : Yes

Correct Marks : 1 Wrong Marks : 0.25

Who among the following has been appointed as director of India Metero-logical Department (IMD) in 2019?

Options :

1. ✖ Shaktikanta Das

2. ✓ Mrutyunjay Mohapatra

3. ✖ Dr. K.J. Ramesh

4. ✖ Rajiv Kumar

Question Number : 70 Question Id : 9983679128 Question Type : MCQ Option Shuffling : Yes

Correct Marks : 1 Wrong Marks : 0.25

वर्ष 2019 में, निम्नलिखित में से किसे भारत के मौसम विभाग का महानिदेशक {India Metero-logical Department (IMD)} नियुक्त किया गया है?

Options :

1. ✖ शक्तिकांत दास

2. ✓ मृत्युंजय महापात्र

3. ✖ डॉ. के. जे. रामेश

4. ✖ राजीव कुमार

Question Number : 71 Question Id : 9983679129 Question Type : MCQ Option Shuffling : Yes

Correct Marks : 1 Wrong Marks : 0.25

Who among the following won the Padma Vibhushan award 2019 in field of Art-Acting-Theatre?

Options :

1. ✖ Shri Darshan Lal Jain

2. ✖ Shri Kuldeep Nayar

3. ✓ Shri Balwant Moreshwar Purandare

4. ✖ Ms. Teejan Bai

Question Number : 71 Question Id : 9983679129 Question Type : MCQ Option Shuffling : Yes

Correct Marks : 1 Wrong Marks : 0.25

निम्नलिखित में से किसने कला-अभिनय रंगमंच के क्षेत्र में पद्म विभूषण पुरस्कार 2019 जीता है?

Options :

1. * श्री दर्शन लाल जैन
2. * श्री कुलदीप नैयर
3. ✓ श्री बलवंत मोरेश्वर पुरंदरे
4. * कुमारी. तीजन बाई

Question Number : 72 Question Id : 9983679130 Question Type : MCQ Option Shuffling : Yes
Correct Marks : 1 Wrong Marks : 0.25

Who among the following is the Vice President of India?

Options :

1. ✓ Shri M. Venkaiah Naidu
2. * Shri Ram Nath Kovind
3. * Smt. Sushma Swaraj
4. * Shri Raj Nath Singh

Question Number : 72 Question Id : 9983679130 Question Type : MCQ Option Shuffling : Yes
Correct Marks : 1 Wrong Marks : 0.25

निम्नलिखित में से कौन भारत के उपराष्ट्रपति हैं?

Options :

1. ✓ श्री. एम. वेकैया नायडू
2. * श्री राम नाथ कोविंद
3. * श्रीमति सुष्मा स्वराज
4. * श्री राज नाथ सिंह

Question Number : 73 Question Id : 9983679131 Question Type : MCQ Option Shuffling : Yes
Correct Marks : 1 Wrong Marks : 0.25

Where is the head office of International Monetary Fund?

Options :

1. * India
2. ✓ United States
3. * France

4. * Switzerland

Question Number : 73 Question Id : 9983679131 Question Type : MCQ Option Shuffling : Yes
Correct Marks : 1 Wrong Marks : 0.25

अंतर्राष्ट्रीय मुद्रा कोष का मुख्य कार्यालय कहाँ है?

Options :

1. * भारत
2. ✓ संयुक्त राज्य अमेरिका
3. * फ्रांस
4. * स्विट्ज़रलैण्ड

Question Number : 74 Question Id : 9983679132 Question Type : MCQ Option Shuffling : Yes
Correct Marks : 1 Wrong Marks : 0.25

The constitution of India was adopted by constitute assembly on _____.

Options :

1. * 27 October, 1942
2. * 26 January, 1950
3. ✓ 26 November, 1949
4. * 26 September, 1949

Question Number : 74 Question Id : 9983679132 Question Type : MCQ Option Shuffling : Yes
Correct Marks : 1 Wrong Marks : 0.25

भारत के संविधान को संविधान सभा द्वारा _____ को ग्रहण किया गया था।

Options :

1. * 27, अक्टूबर, 1942
2. * 26, जनवरी, 1950
3. ✓ 26, नवम्बर, 1949
4. * 26, सितम्बर, 1949

Question Number : 75 Question Id : 9983679133 Question Type : MCQ Option Shuffling : Yes

Correct Marks : 1 Wrong Marks : 0.25

The Governor of state is appointed by _____ with warrant under his hand and seal.

Options :

1. ✓ President
2. ✘ Vice – President
3. ✘ Chief Minister
4. ✘ Finance Minister

Question Number : 75 Question Id : 9983679133 Question Type : MCQ Option Shuffling : Yes

Correct Marks : 1 Wrong Marks : 0.25

राज्य के राज्यपाल को _____ अपने हस्ताक्षर और मुद्रा सहित अधिपत्र द्वारा नियुक्त करता है।

Options :

1. ✓ राष्ट्रपति
2. ✘ उपराष्ट्रपति
3. ✘ मुख्य मंत्री
4. ✘ वित्त मंत्री

Question Number : 76 Question Id : 9983679134 Question Type : MCQ Option Shuffling : Yes

Correct Marks : 1 Wrong Marks : 0.25

_____ Amendment Bill 2019 aims to provide reservation in public employment and higher education for “economically weaker section”.

Options :

1. ✘ 121th
2. ✓ 124th
3. ✘ 112th
4. ✘ 111th

Question Number : 76 Question Id : 9983679134 Question Type : MCQ Option Shuffling : Yes

Correct Marks : 1 Wrong Marks : 0.25

_____ संशोधन विधायक 2019 का उद्देश्य, सार्वजनिक रोजगार और “आर्थिक रूप से कमजोर वर्गों” के लिए उच्च शिक्षा में आरक्षण प्रदान करना है।

Options :

1. ✖ 121 वाँ
2. ✔ 124 वाँ
3. ✖ 112 वाँ
4. ✖ 111 वाँ

Question Number : 77 Question Id : 9983679135 Question Type : MCQ Option Shuffling : Yes

Correct Marks : 1 Wrong Marks : 0.25

Article 17 is related with _____.

Options :

1. ✖ Right to education
2. ✖ Equality before law
3. ✔ Abolition of untouchability
4. ✖ Election of president

Question Number : 77 Question Id : 9983679135 Question Type : MCQ Option Shuffling : Yes

Correct Marks : 1 Wrong Marks : 0.25

अनुच्छेद 17 _____ से संबंधित है।

Options :

1. ✖ शिक्षा के अधिकार
2. ✖ विधि के समक्ष समानता
3. ✔ अस्पृश्यता के अंत
4. ✖ राष्ट्रपति के निर्वाचन

Question Number : 78 Question Id : 9983679136 Question Type : MCQ Option Shuffling : Yes

Correct Marks : 1 Wrong Marks : 0.25

Which country is the host of FIFA Women's World Cup 2019?

Options :

1. ✘ Germany
2. ✔ France
3. ✘ Netherland
4. ✘ England

Question Number : 78 Question Id : 9983679136 Question Type : MCQ Option Shuffling : Yes

Correct Marks : 1 Wrong Marks : 0.25

कौन सा देश फिफा महिला वर्ल्ड कप 2019 की मेजबानी कर रहा है?

Options :

1. ✘ जर्मनी
2. ✔ फ्रांस
3. ✘ नीदरलैंड
4. ✘ इंगलैंड

Question Number : 79 Question Id : 9983679137 Question Type : MCQ Option Shuffling : Yes

Correct Marks : 1 Wrong Marks : 0.25

Who won the women's single title in 2019 Australian open?

Options :

1. ✘ Petra Kvitová
2. ✘ Zhang Shuai
3. ✔ Naomi Osaha
4. ✘ Angelique Kerber

Question Number : 79 Question Id : 9983679137 Question Type : MCQ Option Shuffling : Yes

Correct Marks : 1 Wrong Marks : 0.25

2019 के ऑस्ट्रेलियन ओपन में महिला एकल का खिताब किसने जीता था?

Options :

1. * पेद्रा क्वितोवा
2. * ज़ांग सुआई
3. ✓ नाओमी ओशाहा
4. * एंजेलिक कर्बर

Question Number : 80 Question Id : 9983679138 Question Type : MCQ Option Shuffling : Yes
Correct Marks : 1 Wrong Marks : 0.25

Which of the following is true about duration of a hockey match?

Options :

1. ✓ 4 quarters of 15 minutes
2. * 4 quarters of 17.5 minutes
3. * 2 half of 30 minutes
4. * 2 half of 35 minutes

Question Number : 80 Question Id : 9983679138 Question Type : MCQ Option Shuffling : Yes
Correct Marks : 1 Wrong Marks : 0.25

निम्नलिखित में से कौन सा एक हॉकी मैच की अवधि के बारे में सत्य है?

Options :

1. ✓ 15 मिनट के 4 क्वार्टर
2. * 17.5 मिनट के 4 क्वार्टर
3. * 30 मिनट के 2 हाalf
4. * 35 मिनट के 2 हाalf

Arithmetic Ability1

Group Number : 5
Group Id : 998367401
Group Maximum Duration : 0
Group Minimum Duration : 0

Show Attended Group? :	No
Edit Attended Group? :	No
Break time:	0
Group Marks:	20
Is this Group for Examiner?:	No
Revisit allowed for group Instructions? :	Yes
Maximum Instruction Time:	0
Minimum Instruction Time:	0

Arithmetic Ability1

Section Id :	998367407
Section Number :	1
Section type :	Online
Mandatory or Optional:	Mandatory
Number of Questions:	20
Number of Questions to be attempted:	20
Section Marks:	20

Sub-Section Number:	1
Sub-Section Id:	998367573
Question Shuffling Allowed :	Yes

Question Number : 81 Question Id : 9983679139 Question Type : MCQ Option Shuffling : Yes
Correct Marks : 1 Wrong Marks : 0.25

If $\sqrt{1.44} + \sqrt{x} = 6.2$, then what is the value of x ?

Options :

1. ✖ 5
2. ✔ 25
3. ✖ 2.5
4. ✖ 0.25

Question Number : 81 Question Id : 9983679139 Question Type : MCQ Option Shuffling : Yes
Correct Marks : 1 Wrong Marks : 0.25

यदि $\sqrt{1.44} + \sqrt{x} = 6.2$ है, तो x का मान क्या है?

Options :

1. ✖ 5
2. ✔ 25

3. ✖ 2.5

4. ✖ 0.25

Question Number : 82 Question Id : 9983679140 Question Type : MCQ Option Shuffling : Yes
Correct Marks : 1 Wrong Marks : 0.25

What is the value of $\sqrt{\frac{5}{4}} + \sqrt{\frac{4}{5}}$?

Options :

1. ✔ $\frac{9}{(2\sqrt{5})}$

2. ✖ $\frac{9}{\sqrt{5}}$

3. ✖ $\frac{3}{\sqrt{5}}$

4. ✖ $\frac{11}{\sqrt{5}}$

Question Number : 82 Question Id : 9983679140 Question Type : MCQ Option Shuffling : Yes
Correct Marks : 1 Wrong Marks : 0.25

$\sqrt{\frac{5}{4}} + \sqrt{\frac{4}{5}}$ का मान क्या है?

Options :

1. ✔ $\frac{9}{(2\sqrt{5})}$

2. ✖ $\frac{9}{\sqrt{5}}$

3. ✘ $\frac{3}{\sqrt{5}}$

4. ✘ $\frac{11}{\sqrt{5}}$

Question Number : 83 Question Id : 9983679141 Question Type : MCQ Option Shuffling : Yes
Correct Marks : 1 Wrong Marks : 0.25

Which is the largest fraction among?

$\frac{4}{7}$, $\frac{6}{17}$, $\frac{3}{11}$ and $\frac{9}{20}$

Options :

1. ✔ $\frac{4}{7}$

2. ✘ $\frac{6}{17}$

3. ✘ $\frac{3}{11}$

4. ✘ $\frac{9}{20}$

Question Number : 83 Question Id : 9983679141 Question Type : MCQ Option Shuffling : Yes
Correct Marks : 1 Wrong Marks : 0.25

निम्न में से कौन सा भिन्न सबसे बड़ा है?

$\frac{4}{7}$, $\frac{6}{17}$, $\frac{3}{11}$ तथा $\frac{9}{20}$

Options :

1. ✓ $\frac{4}{7}$

2. ✗ $\frac{6}{17}$

3. ✗ $\frac{3}{11}$

4. ✗ $\frac{9}{20}$

Question Number : 84 Question Id : 9983679142 Question Type : MCQ Option Shuffling : Yes
Correct Marks : 1 Wrong Marks : 0.25

If $x = 7 + 4\sqrt{3}$, then what is the value of $\frac{\sqrt{x} + 1}{\sqrt{x}}$?

Options :

1. ✗ $4 - \sqrt{3}$

2. ✓ $3 - \sqrt{3}$

3. ✗ $2 - \sqrt{3}$

4. ✗ $6 - \sqrt{3}$

Question Number : 84 Question Id : 9983679142 Question Type : MCQ Option Shuffling : Yes
Correct Marks : 1 Wrong Marks : 0.25

यदि $x = 7 + 4\sqrt{3}$ है, तो $\frac{\sqrt{x} + 1}{\sqrt{x}}$ का मान क्या है?

Options :

1. ✘ $4 - \sqrt{3}$

2. ✔ $3 - \sqrt{3}$

3. ✘ $2 - \sqrt{3}$

4. ✘ $6 - \sqrt{3}$

Question Number : 85 Question Id : 9983679143 Question Type : MCQ Option Shuffling : Yes

Correct Marks : 1 Wrong Marks : 0.25

If $A * B = (A + B) / (AB)$, then what is the value of $1 * (6 * 2)$?

Options :

1. ✔ 2.5

2. ✘ 1.5

3. ✘ 2

4. ✘ 1

Question Number : 85 Question Id : 9983679143 Question Type : MCQ Option Shuffling : Yes

Correct Marks : 1 Wrong Marks : 0.25

यदि $A * B = (A + B) / (AB)$ है, तो $1 * (6 * 2)$ का मान क्या है?

Options :

1. ✔ 2.5

2. ✘ 1.5

3. ✘ 2

4. ✘ 1

Question Number : 86 Question Id : 9983679144 Question Type : MCQ Option Shuffling : Yes

Correct Marks : 1 Wrong Marks : 0.25

What is the value of $3\sqrt{\frac{0.125}{0.003375}}$?

Options :

1. ✓ $\frac{10}{3}$

2. ✗ $\frac{1}{3}$

3. ✗ $\frac{1}{9}$

4. ✗ $1(3\sqrt{2})$

Question Number : 86 Question Id : 9983679144 Question Type : MCQ Option Shuffling : Yes

Correct Marks : 1 Wrong Marks : 0.25

$3\sqrt{\frac{0.125}{0.003375}}$ का मान क्या है?

Options :

1. ✓ $\frac{10}{3}$

2. ✗ $\frac{1}{3}$

3. ✗ $\frac{1}{9}$

4. ✖ $1(3\sqrt{2})$

Question Number : 87 Question Id : 9983679145 Question Type : MCQ Option Shuffling : Yes
Correct Marks : 1 Wrong Marks : 0.25

What is the value of $\left[1 + \frac{1}{1 + \frac{1}{1 + \frac{1}{2}}}\right] + \left[2 + \frac{2}{2 + \frac{1}{2}}\right]$?

Options :

1. ✖ 4

2. ✔ $22/5$

3. ✖ $16/5$

4. ✖ 5

Question Number : 87 Question Id : 9983679145 Question Type : MCQ Option Shuffling : Yes
Correct Marks : 1 Wrong Marks : 0.25

$\left[1 + \frac{1}{1 + \frac{1}{1 + \frac{1}{2}}}\right] + \left[2 + \frac{2}{2 + \frac{1}{2}}\right]$ का मान क्या है?

Options :

1. ✖ 4

2. ✔ $22/5$

3. ✖ $16/5$

4. ✖ 5

Question Number : 88 Question Id : 9983679146 Question Type : MCQ Option Shuffling : Yes
Correct Marks : 1 Wrong Marks : 0.25

If $3X4X7$ is exactly divisible by 11, then what is the value of X?

Options :

1. ✖ 2

2. ✖ 3

3. ✖ 5

4. ✔ 7

Question Number : 88 Question Id : 9983679146 Question Type : MCQ Option Shuffling : Yes

Correct Marks : 1 Wrong Marks : 0.25

यदि $3X4X7$, 11 से पूर्णतः विभाजित है, तो X का मान क्या है?

Options :

1. ✖ 2

2. ✖ 3

3. ✖ 5

4. ✔ 7

Question Number : 89 Question Id : 9983679147 Question Type : MCQ Option Shuffling : Yes

Correct Marks : 1 Wrong Marks : 0.25

If $A = \left(\frac{1}{8}\right)^2$, $B = (2)^{-6}$ and $C = \left(\frac{3}{17}\right)^3$, then which of the following option is true?

Options :

1. ✖ $A > B > C$

2. ✔ $A = B > C$

3. ✖ $C > A = B$

4. ✖ $A > C > B$

Question Number : 89 Question Id : 9983679147 Question Type : MCQ Option Shuffling : Yes

Correct Marks : 1 Wrong Marks : 0.25

यदि $A = \left(\frac{1}{8}\right)^2$, $B = (2)^{-6}$ तथा $C = \left(\frac{3}{17}\right)^3$ है, तो निम्नलिखित में से कौन सा विकल्प सही है?

Options :

1. ✖ $A > B > C$

2. ✓ $A = B > C$

3. ✗ $C > A = B$

4. ✗ $A > C > B$

Question Number : 90 Question Id : 9983679148 Question Type : MCQ Option Shuffling : Yes
Correct Marks : 1 Wrong Marks : 0.25

A = Least Common Factor of $2^3 \times 3^5$ and $2^4 \times 3^4$.

B = Highest Common Factor of $2^7 \times 3^4 \times 5^2$ and $2^9 \times 3^4 \times 5^3$.

What is the value of $A \times B$?

Options :

1. ✗ $2^{11} \times 3^7 \times 5^3$

2. ✗ $2^{11} \times 3^5 \times 5^2$

3. ✓ $2^{11} \times 3^9 \times 5^2$

4. ✗ $2^9 \times 3^5 \times 5^2$

Question Number : 90 Question Id : 9983679148 Question Type : MCQ Option Shuffling : Yes
Correct Marks : 1 Wrong Marks : 0.25

A = $2^3 \times 3^5$ तथा $2^4 \times 3^4$ का लघुत्तम समापवर्त्य है।

B = $2^7 \times 3^4 \times 5^2$ तथा $2^9 \times 3^4 \times 5^3$ का महत्तम समापवर्तक है।

$A \times B$ का मान क्या है?

Options :

1. ✗ $2^{11} \times 3^7 \times 5^3$

2. ✗ $2^{11} \times 3^5 \times 5^2$

3. ✓ $2^{11} \times 3^9 \times 5^2$

4. ✗ $2^9 \times 3^5 \times 5^2$

Question Number : 91 Question Id : 9983679149 Question Type : MCQ Option Shuffling : Yes
Correct Marks : 1 Wrong Marks : 0.25

What is the average of first 12 multiples of 4?

Options :

1. ✗ 24

2. ✓ 26

3. ✗ 28

4. ✗ 30

Question Number : 91 Question Id : 9983679149 Question Type : MCQ Option Shuffling : Yes
Correct Marks : 1 Wrong Marks : 0.25

4 के पहले 12 गुणांको की औसत क्या है?

Options :

1. ✗ 24

2. ✓ 26

3. ✗ 28

4. ✗ 30

Question Number : 92 Question Id : 9983679150 Question Type : MCQ Option Shuffling : Yes
Correct Marks : 1 Wrong Marks : 0.25

Two successive discounts of 10 percent and 20 percent are given on article. If the selling price is Rs.1080, then what is the marked price?

Options :

1. ✓ Rs. 1500

2. * Rs. 1800

3. * Rs. 1400

4. * Rs. 1600

Question Number : 92 Question Id : 9983679150 Question Type : MCQ Option Shuffling : Yes

Correct Marks : 1 Wrong Marks : 0.25

एक वस्तु पर 10 प्रतिशत तथा 20 प्रतिशत की दो क्रमिक छुट दी गयी है। यदि विक्रय मूल्य 1080 रूपये है, तो अंकित मूल्य क्या है?

Options :

1. ✓ 1500 रूपये

2. * 1800 रूपये

3. * 1400 रूपये

4. * 1600 रूपये

Question Number : 93 Question Id : 9983679151 Question Type : MCQ Option Shuffling : Yes

Correct Marks : 1 Wrong Marks : 0.25

A shopkeeper gives a discount of 20 percent on a article but still earns a profit of 20 percent. If no discount is given, then what is the profit earned?

Options :

1. * 150 percent

2. * 75 percent

3. ✓ 50 percent

4. * 100 percent

Question Number : 93 Question Id : 9983679151 Question Type : MCQ Option Shuffling : Yes

Correct Marks : 1 Wrong Marks : 0.25

एक दुकानदार 20 प्रतिशत की छूट देता है परंतु फिर भी 20 प्रतिशत का लाभ कमाता है। यदि कोई छूट नहीं दी जाए, तो कितना प्रतिशत लाभ कमाया गया?

Options :

1. ✖ 150 प्रतिशत

2. ✖ 75 प्रतिशत

3. ✔ 50 प्रतिशत

4. ✖ 100 प्रतिशत

Question Number : 94 Question Id : 9983679152 Question Type : MCQ Option Shuffling : Yes
Correct Marks : 1 Wrong Marks : 0.25

What is 20 percent of 10 percent of 400?

Options :

1. ✔ 8

2. ✖ 80

3. ✖ 40

4. ✖ 16

Question Number : 94 Question Id : 9983679152 Question Type : MCQ Option Shuffling : Yes
Correct Marks : 1 Wrong Marks : 0.25

400 के 10 प्रतिशत का 20 प्रतिशत क्या है?

Options :

1. ✔ 8

2. ✖ 80

3. ✖ 40

4. ✖ 16

Question Number : 95 Question Id : 9983679153 Question Type : MCQ Option Shuffling : Yes
Correct Marks : 1 Wrong Marks : 0.25

First number and second number are 20 percent and 80 percent respectively more than a third number. Second number is how much percentage more than the first number?

Options :

1. ✖ 60

2. ✖ 80

3. ✔ 50

4. ✖ 40

Question Number : 95 Question Id : 9983679153 Question Type : MCQ Option Shuffling : Yes

Correct Marks : 1 Wrong Marks : 0.25

पहली संख्या तथा दूसरी संख्या, तीसरी संख्या से क्रमशः 20 प्रतिशत तथा 80 प्रतिशत अधिक है। दूसरी संख्या पहली संख्या से कितनी प्रतिशत अधिक है?

Options :

1. ✖ 60

2. ✖ 80

3. ✔ 50

4. ✖ 40

Question Number : 96 Question Id : 9983679154 Question Type : MCQ Option Shuffling : Yes

Correct Marks : 1 Wrong Marks : 0.25

In an examination, a student got 25 percent marks and he failed by 45 marks. If he scored 50 percent marks, then his marks are 30 more than the minimum passing marks. What is the minimum passing marks for the examination?

Options :

1. ✖ 90

2. ✔ 120

3. ✖ 150

4. ✖ 75

Question Number : 96 Question Id : 9983679154 Question Type : MCQ Option Shuffling : Yes

Correct Marks : 1 Wrong Marks : 0.25

एक परीक्षा में एक विद्यार्थी को 25 प्रतिशत अंक प्राप्त होते हैं तथा वह 45 अंक से अनुत्तीर्ण हो जाता है। यदि उसे 50 प्रतिशत अंक प्राप्त होते हैं, तो उसके अंक न्यूनतम उत्तीर्ण अंक से 30 अधिक हैं। परीक्षा के लिए न्यूनतम उत्तीर्ण अंक क्या है?

Options :

1. ✖ 90
2. ✔ 120
3. ✖ 150
4. ✖ 75

Question Number : 97 Question Id : 9983679155 Question Type : MCQ Option Shuffling : Yes

Correct Marks : 1 Wrong Marks : 0.25

एक वस्तु को 15 प्रतिशत हानि पर बेचा गया है। यदि हानि 300 रुपये है, तो वस्तु का क्रय मूल्य क्या है?

Options :

1. ✖ 3000 रुपये
2. ✖ 1500 रुपये
3. ✔ 2000 रुपये
4. ✖ 4000 रुपये

Question Number : 97 Question Id : 9983679155 Question Type : MCQ Option Shuffling : Yes

Correct Marks : 1 Wrong Marks : 0.25

An article is sold at a loss of 15 percent. If loss is Rs. 300, then what will be the cost price of the article?

Options :

1. ✖ Rs. 3000
2. ✖ Rs. 1500
3. ✔ Rs. 2000

4. * Rs. 4000

Question Number : 98 Question Id : 9983679156 Question Type : MCQ Option Shuffling : Yes
Correct Marks : 1 Wrong Marks : 0.25

After giving a discount of 25 percent on an article, there is a profit of 50 percent. If marked price of article is Rs. 2800, then what will be the cost price of the article?

Options :

1. * Rs. 1550
2. * Rs. 1050
3. ✓ Rs. 1400
4. * Rs. 1750

Question Number : 98 Question Id : 9983679156 Question Type : MCQ Option Shuffling : Yes
Correct Marks : 1 Wrong Marks : 0.25

एक वस्तु पर 25 प्रतिशत की छूट देने के पश्चात्, 50 प्रतिशत का लाभ होता है। यदि वस्तु का अंकित मूल्य 2800 रुपये है, तो वस्तु का क्रय मूल्य क्या होगा?

Options :

1. * 1550 रुपये
2. * 1050 रुपये
3. ✓ 1400 रुपये
4. * 1750 रुपये

Question Number : 99 Question Id : 9983679157 Question Type : MCQ Option Shuffling : Yes
Correct Marks : 1 Wrong Marks : 0.25

200 apples are bought for Rs. 1000 and sold at the rate of Rs. 72 per dozen. What will be the profit/loss percentage?

Options :

1. ✓ 20 percent profit
2. * 25 percent profit

3. * 20 percent loss

4. * 25 percent loss

Question Number : 99 Question Id : 9983679157 Question Type : MCQ Option Shuffling : Yes

Correct Marks : 1 Wrong Marks : 0.25

200 सेब 1000 रुपयों में खरीदे गए और 72 रूपये प्रति दर्जन की दर से बेचे गए लाभ/हानि प्रतिशत क्या होगा?

Options :

1. ✓ 20 प्रतिशत लाभ

2. * 25 प्रतिशत लाभ

3. * 20 प्रतिशत हानि

4. * 25 प्रतिशत हानि

Question Number : 100 Question Id : 9983679158 Question Type : MCQ Option Shuffling : Yes

Correct Marks : 1 Wrong Marks : 0.25

If $a : b = 2 : 5$, then what is the value of $(6a + b) / (6a - b)$?

Options :

1. ✓ 17/7

2. * 12/5

3. * 19/9

4. * 13/3

Question Number : 100 Question Id : 9983679158 Question Type : MCQ Option Shuffling : Yes

Correct Marks : 1 Wrong Marks : 0.25

यदि $a : b = 2 : 5$ है, तो $(6a + b) / (6a - b)$ का मान क्या है?

Options :

1. ✓ 17/7

2. * 12/5

3. * 19/9

4. ✖ 13/3

Arithmetic Ability2

Group Number :	6
Group Id :	998367402
Group Maximum Duration :	0
Group Minimum Duration :	0
Show Attended Group? :	No
Edit Attended Group? :	No
Break time:	0
Group Marks:	20
Is this Group for Examiner?:	No
Revisit allowed for group Instructions? :	Yes
Maximum Instruction Time:	0
Minimum Instruction Time:	0

Arithmetic Ability2

Section Id :	998367408
Section Number :	1
Section type :	Online
Mandatory or Optional:	Mandatory
Number of Questions:	20
Number of Questions to be attempted:	20
Section Marks:	20

Sub-Section Number:	1
Sub-Section Id:	998367574
Question Shuffling Allowed :	Yes

Question Number : 101 Question Id : 9983679159 Question Type : MCQ Option Shuffling : Yes
Correct Marks : 1 Wrong Marks : 0.25

The ratio of milk and water in a solution A is 5 : 3. The ratio of milk and water in solution B is 3 : 2. The mixtures A and B are mixed in ratio of 4 : 5. What is the ratio of water and milk in the final mixture?

Options :

1. ✖ 3 : 6

2. ✖ 8 : 3

3. ✓ 7 : 11

4. ✗ 11 : 9

Question Number : 101 Question Id : 9983679159 Question Type : MCQ Option Shuffling : Yes

Correct Marks : 1 Wrong Marks : 0.25

विलयन A में दूध तथा पानी का अनुपात 5 : 3 है। विलयन B में दूध तथा पानी का अनुपात 3 : 2 है। विलयन A तथा B को 4 : 5 के अनुपात में मिलाया जाता है। अंतिम मिश्रण में पानी तथा दूध का अनुपात क्या है?

Options :

1. ✗ 3 : 6

2. ✗ 8 : 3

3. ✓ 7 : 11

4. ✗ 11 : 9

Question Number : 102 Question Id : 9983679160 Question Type : MCQ Option Shuffling : Yes

Correct Marks : 1 Wrong Marks : 0.25

A student gave four examinations E1, E2, E3, and E4. He got marks in the ratio 3 : 4 : 3 : 5 in the four examinations. Each exam had same maximum marks. If he has got 75 percent in aggregate, then in how many examinations he scored more than 60 percent marks?

Options :

1. ✗ 1

2. ✓ 2

3. ✗ 3

4. ✗ 4

Question Number : 102 Question Id : 9983679160 Question Type : MCQ Option Shuffling : Yes

Correct Marks : 1 Wrong Marks : 0.25

एक छात्र ने चार परिक्षाएँ E1, E2, E3 तथा E4 दी। चार परिक्षाओं में उसके अंको द्वारा प्राप्त अंको का अनुपात 3 : 4 : 3 : 5 है। प्रत्येक परिक्षा के अधिकतर अंक समान हैं। यदि उसे कुल 75 प्रतिशत अंक प्राप्त हुए, तो कितनी परिक्षाओं में उसे 60 प्रतिशत से ज्यादा अंक प्राप्त हुए?

Options :

1. ✖ 1

2. ✔ 2

3. ✖ 3

4. ✖ 4

Question Number : 103 Question Id : 9983679161 Question Type : MCQ Option Shuffling : Yes
Correct Marks : 1 Wrong Marks : 0.25

Simple Interest on a sum of Rs. 1500 in 2 years is Rs. 660.
What will be the rate of interest?

Options :

1. ✖ 10 percent

2. ✔ 22 percent

3. ✖ 15 percent

4. ✖ 18 percent

Question Number : 103 Question Id : 9983679161 Question Type : MCQ Option Shuffling : Yes
Correct Marks : 1 Wrong Marks : 0.25

एक 1500 रुपये की राशि पर 2 वर्ष का साधारण ब्याज 660 रुपये है।
ब्याज की दर क्या होगी?

Options :

1. ✖ 10 प्रतिशत

2. ✔ 22 प्रतिशत

3. ✖ 15 प्रतिशत

4. ✖ 18 प्रतिशत

Question Number : 104 Question Id : 9983679162 Question Type : MCQ Option Shuffling : Yes

Correct Marks : 1 Wrong Marks : 0.25

A sum becomes 3 times of itself in 4 years at a rate of simple interest. In how many years will it becomes 9 times of itself?

Options :

1. ✖ 12 years

2. ✔ 16 years

3. ✖ 18 years

4. ✖ 20 years

Question Number : 104 Question Id : 9983679162 Question Type : MCQ Option Shuffling : Yes

Correct Marks : 1 Wrong Marks : 0.25

एक राशि साधारण ब्याज की एक दर से 4 वर्षों में स्वयं का 3 गुना हो जाती है। कितने वर्षों में वह स्वयं का 9 गुना हो जाएगी?

Options :

1. ✖ 12 वर्ष

2. ✔ 16 वर्ष

3. ✖ 18 वर्ष

4. ✖ 20 वर्ष

Question Number : 105 Question Id : 9983679163 Question Type : MCQ Option Shuffling : Yes

Correct Marks : 1 Wrong Marks : 0.25

The difference between the compound interest and simple interest on a sum at the rate of 20 percent per annum for two years is Rs. 152. What is the sum?

Options :

1. ✖ Rs. 6800

2. ✖ Rs. 7600

3. ✓ Rs. 3800

4. ✗ Rs. 3600

Question Number : 105 Question Id : 9983679163 Question Type : MCQ Option Shuffling : Yes

Correct Marks : 1 Wrong Marks : 0.25

एक राशि पर 20 प्रतिशत प्रति वर्ष की दर से 2 वर्षों के चक्रवृद्धि ब्याज तथा साधारण ब्याज के मध्य का अंतर 152 रूपये है। राशि क्या है?

Options :

1. ✗ 6800 रूपये

2. ✗ 7600 रूपये

3. ✓ 3800 रूपये

4. ✗ 3600 रूपये

Question Number : 106 Question Id : 9983679164 Question Type : MCQ Option Shuffling : Yes

Correct Marks : 1 Wrong Marks : 0.25

A train of length 600 meters is running with a speed of 54 km/hr. In how much time it will cross a stationary pole?

Options :

1. ✗ 30 second

2. ✓ 40 second

3. ✗ 45 second

4. ✗ 35 second

Question Number : 106 Question Id : 9983679164 Question Type : MCQ Option Shuffling : Yes

Correct Marks : 1 Wrong Marks : 0.25

एक 600 मीटर लम्बाई वाली रेलगाड़ी 54 कि.मी./घंटा की गति से चल रही है। वह एक स्थिर खम्बे को कितने समय में पार कर लेगी?

Options :

1. ✗ 30 सेकण्ड

2. ✓ 40 सेकण्ड

3. ✗ 45 सेकण्ड

4. ✗ 35 सेकण्ड

Question Number : 107 Question Id : 9983679165 Question Type : MCQ Option Shuffling : Yes
Correct Marks : 1 Wrong Marks : 0.25

A train starts from P at 10 am and reaches Q at 8 pm on the same day. Another train starts from Q at 8 am and reaches P at 4 pm on the same day. When they meet, what is the ratio of distance travelled by them?

Options :

1. ✗ 1 : 5

2. ✗ 1 : 3

3. ✓ 1 : 2

4. ✗ 2 : 7

Question Number : 107 Question Id : 9983679165 Question Type : MCQ Option Shuffling : Yes
Correct Marks : 1 Wrong Marks : 0.25

एक रेलगाड़ी P से 10 पूर्वाह्न पर चलती है तथा Q पर उसी दिन 8 अपराह्न पर पहुँचती है। एक और रेलगाड़ी Q से 8 पूर्वाह्न पर चलती है तथा P पर उसी दिन 4 अपराह्न पर पहुँचती है। जब वह मिलती हैं, तो उनके द्वारा बनी गयी दूरी क्या है?

Options :

1. ✗ 1 : 5

2. ✗ 1 : 3

3. ✓ 1 : 2

4. ✗ 2 : 7

Question Number : 108 Question Id : 9983679166 Question Type : MCQ Option Shuffling : Yes
Correct Marks : 1 Wrong Marks : 0.25

When I walk with a speed of 20 km/hr, I reach my office 10 minutes late. When I walk with a speed of 30 km/hr, I reach my office 15 minutes early. What should be my speed to reach on time?

Options :

1. ✖ 25 km/hr
2. ✖ 270 km/hr
3. ✖ (250/11) km/hr
4. ✔ (300/13) km/hr

Question Number : 108 Question Id : 9983679166 Question Type : MCQ Option Shuffling : Yes

Correct Marks : 1 Wrong Marks : 0.25

जब मैं 20 कि.मी./घंटा की गति से चलता हूँ तो मैं कार्यालय 10 मिनट की देरी से पहुँचता हूँ। जब मैं 30 कि.मी./घंटा की गति से चलता हूँ तो मैं कार्यालय 15 मिनट जल्दी पहुँचता हूँ। समय पर पहुँचने के लिए मेरी गति क्या होनी चाहिए?

Options :

1. ✖ 25 कि.मी./घंटा
2. ✖ 270 कि.मी./घंटा
3. ✖ (250/11) कि.मी./घंटा
4. ✔ (300/13) कि.मी./घंटा

Question Number : 109 Question Id : 9983679167 Question Type : MCQ Option Shuffling : Yes

Correct Marks : 1 Wrong Marks : 0.25

A and B can do a work in 10 days together. B and C can do the same work in 15 days together. C and A can do the same work in 8 days together. In how many days can A, B and C can complete the same work together?

Options :

1. ✖ 6

2. ✖ 5

3. ✔ 48/7

4. ✖ 53/9

Question Number : 109 Question Id : 9983679167 Question Type : MCQ Option Shuffling : Yes
Correct Marks : 1 Wrong Marks : 0.25

A तथा B एक कार्य को मिलकर 10 दिन में कर सकते हैं। B तथा C उसी कार्य को मिलकर 15 दिन में कर सकते हैं। C तथा A उसी कार्य को मिलकर 8 दिन में कर सकते हैं। उसी कार्य को साथ में कार्य करते हुए A, B तथा C कितने दिनों में पूरा कर सकते हैं?

Options :

1. ✖ 6

2. ✖ 5

3. ✔ 48/7

4. ✖ 53/9

Question Number : 110 Question Id : 9983679168 Question Type : MCQ Option Shuffling : Yes
Correct Marks : 1 Wrong Marks : 0.25

A pipe can fill a tank in 30 minutes. Another pipe can fill the same a tank in 40 minutes. A third pipe can fill at a rate of 40 litres/minute. If all the 3 pipes can fill the tank in $40/3$ minutes together, then what is the capacity of tank?

Options :

1. ✖ 2000 litres

2. ✖ 3000 litres

3. ✔ 2400 litres

4. ✖ 3600 litres

Question Number : 110 Question Id : 9983679168 Question Type : MCQ Option Shuffling : Yes
Correct Marks : 1 Wrong Marks : 0.25

एक पाइप एक टैंक को 30 मिनट में भर सकता है। एक और पाइप उसी टैंक को 40 मिनट में भर सकता है। एक तीसरी पाइप 40 लीटर/मिनट की दर से भर सकता है। यदि तीनों पाइप मिलकर टैंक को $40/3$ मिनट में भर सकते हैं, तो टैंक की क्षमता कितनी है?

Options :

1. ✖ 2000 लीटर
2. ✖ 3000 लीटर
3. ✔ 2400 लीटर
4. ✖ 3600 लीटर

Question Number : 111 Question Id : 9983679169 Question Type : MCQ Option Shuffling : Yes
Correct Marks : 1 Wrong Marks : 0.25

A, B and C can complete a of work alone in 15 days, 18 days and 20 days respectively. They start working together but B left the work after 2 days and C left 3 days before the work was completed. In how many days was the work completed?

Options :

1. ✔ $187/21$
2. ✖ $199/7$
3. ✖ $165/3$
4. ✖ $176/15$

Question Number : 111 Question Id : 9983679169 Question Type : MCQ Option Shuffling : Yes
Correct Marks : 1 Wrong Marks : 0.25

A, B तथा C एक कार्य को क्रमशः 15 दिन, 18 दिन तथा 20 दिन में समाप्त कर सकते हैं। वह साथ कार्य करना शुरू करते हैं परंतु B, 2 दिन के पश्चात कार्य छोड़ जाता है तथा C कार्य पूरा होने से 3 दिन पहले कार्य छोड़ जाता है। कार्य कितने दिन में पूरा हुआ?

Options :

1. ✓ 187/21

2. ✗ 199/7

3. ✗ 165/3

4. ✗ 176/15

Question Number : 112 Question Id : 9983679170 Question Type : MCQ Option Shuffling : Yes

Correct Marks : 1 Wrong Marks : 0.25

If the perimeter of a square is 84 cm, then what is the area of the square?

Options :

1. ✗ 448 cm²

2. ✓ 441 cm²

3. ✗ 576 cm²

4. ✗ 676 cm²

Question Number : 112 Question Id : 9983679170 Question Type : MCQ Option Shuffling : Yes

Correct Marks : 1 Wrong Marks : 0.25

यदि एक वर्ग का परिमाण 84 से.मी. है, तो वर्ग का क्षेत्रफल क्या है?

Options :

1. ✗ 448 से.मी.²

2. ✓ 441 से.मी.²

3. ✖ 576 से.मी.²

4. ✖ 676 से.मी.²

Question Number : 113 Question Id : 9983679171 Question Type : MCQ Option Shuffling : Yes
Correct Marks : 1 Wrong Marks : 0.25

The side of a rhombus is 10 cm. If the length of one of the diagonal is 16 cm, then what is the area of the rhombus?

Options :

1. ✖ 108 cm²

2. ✔ 96 cm²

3. ✖ 120 cm²

4. ✖ 132 cm²

Question Number : 113 Question Id : 9983679171 Question Type : MCQ Option Shuffling : Yes
Correct Marks : 1 Wrong Marks : 0.25

एक विषमकोण की भुजा 10 से.मी. है। यदि एक कर्ण की लम्बाई 16 से.मी. है, तो विषमकोण का क्षेत्रफल क्या होगा?

Options :

1. ✖ 108 से.मी.²

2. ✓ 96 सें.मी.²

3. ✗ 120 सें.मी.²

4. ✗ 132 सें.मी.²

Question Number : 114 Question Id : 9983679172 Question Type : MCQ Option Shuffling : Yes
Correct Marks : 1 Wrong Marks : 0.25

If the volume of a sphere is 38808 cm^3 , then what is the curved surface area of the sphere?

Options :

1. ✗ 5500 cm^2

2. ✓ 5544 cm^2

3. ✗ 5551 cm^2

4. ✗ 5558 cm^2

Question Number : 114 Question Id : 9983679172 Question Type : MCQ Option Shuffling : Yes
Correct Marks : 1 Wrong Marks : 0.25

यदि एक गोले का आयतन 38808 सें.मी.^3 है, तो गोले का वक्र पृष्ठिय क्षेत्रफल क्या है?

Options :

1. ✗ 5500 सें.मी.^2

2. ✓ 5544 से.मी.²

3. ✗ 5551 से.मी.²

4. ✗ 5558 से.मी.²

Question Number : 115 Question Id : 9983679173 Question Type : MCQ Option Shuffling : Yes
Correct Marks : 1 Wrong Marks : 0.25

The table given below shows the runs scored by two players M and N in the five matches.

	M	N
Match 1	36	29
Match 2	24	52
Match 3	40	31
Match 4	42	36
Match 5	18	48

What is the average of total runs scored by player M in all the matches together?

Options :

1. ✗ 38

2. ✗ 42

3. ✓ 32

4. ✗ 36

Question Number : 115 Question Id : 9983679173 Question Type : MCQ Option Shuffling : Yes
Correct Marks : 1 Wrong Marks : 0.25

नीचे दी गयी तालिका पाँच मैचों में दो खिलाड़ियों द्वारा बनाये गए रनों को दर्शाती है।

	M	N
मैच 1	36	29
मैच 2	24	52
मैच 3	40	31
मैच 4	42	36
मैच 5	18	48

सभी मैचों में मिलाकर खिलाड़ी M द्वारा बनाये गए कुल रनों का औसत क्या है?

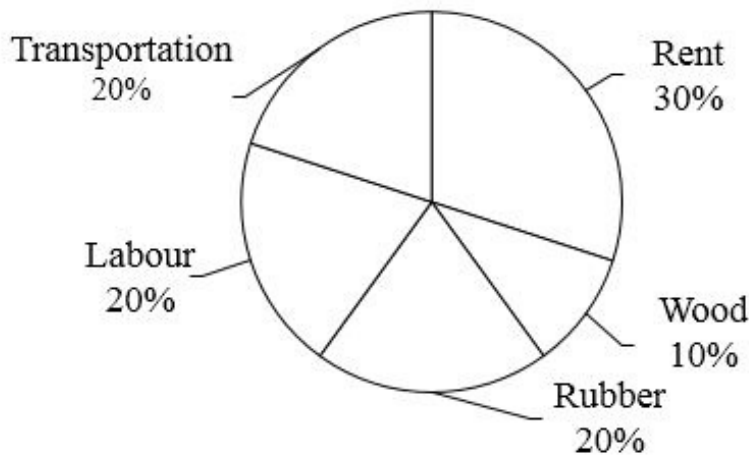
Options :

1. ✘ 38
2. ✘ 42
3. ✔ 32
4. ✘ 36

Question Number : 116 Question Id : 9983679174 Question Type : MCQ Option Shuffling : Yes

Correct Marks : 1 Wrong Marks : 0.25

The pie chart given below shows the various expenses incurred on the manufacturing of a bat. These expenses are shown as the percentage of the total expenses.



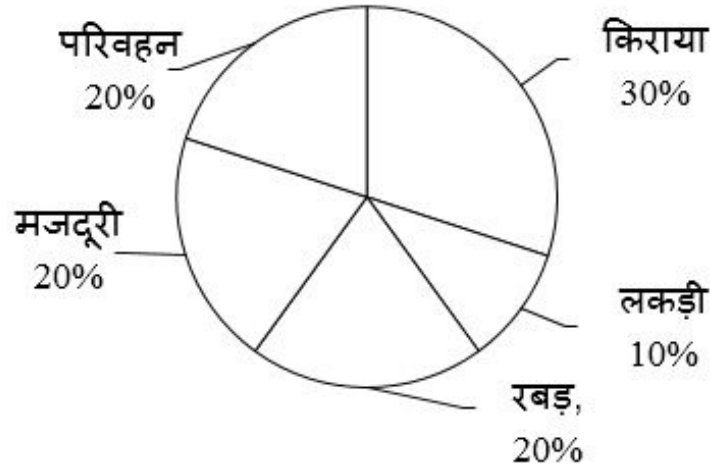
If the total expenses incurred on the manufacturing of bat is Rs. 68000, then what are the total expenses incurred on Rubber?

Options :

1. * Rs. 12600
2. * Rs. 12800
3. ✓ Rs. 13600
4. * Rs. 11600

Question Number : 116 Question Id : 9983679174 Question Type : MCQ Option Shuffling : Yes
Correct Marks : 1 Wrong Marks : 0.25

नीचे दिया गया वृत्त चित्र एक बल्ले के उत्पादन पर किये गए विभिन्न व्ययों को दर्शाता है। इन विभिन्न व्ययों को कुल व्यय के प्रतिशत के रूप में दर्शाया गया है।



यदि बल्ले के उत्पादन पर किया गया कुल व्यय रुपये 68000 है, तो रबड़ पर किया गया कुल व्यय कितना है?

Options :

1. * 12600 रुपये
2. * 12800 रुपये
3. ✓ 13600 रुपये
4. * 11600 रुपये

Question Number : 117 Question Id : 9983679175 Question Type : MCQ Option Shuffling : Yes
Correct Marks : 1 Wrong Marks : 0.25

The table given below shows the marks obtained by three girls H, R and M in five different subjects.

subjects	Girls		
	H	R	M
S1	69	73	64
S2	82	54	56
S3	74	67	48
S4	96	90	60
S5	84	66	72

J = Average of total number of marks obtained by H in subject S1, S2 and S5 together.

T = Total marks obtained by M in all the subjects together.

What is the value of T/J ?

Options :

1. ✖ 3.51

2. ✔ 3.83

3. ✖ 3.32

4. ✖ 3.44

Question Number : 117 Question Id : 9983679175 Question Type : MCQ Option Shuffling : Yes

Correct Marks : 1 Wrong Marks : 0.25

नीचे दी गयी तालिका तीन लड़कियों H, R तथा M द्वारा पाँच विभिन्न विषयों में प्राप्त किये गए अंको को दर्शाती है।

विषय	लड़कियाँ		
	H	R	M
S1	69	73	64
S2	82	54	56
S3	74	67	48
S4	96	90	60
S5	84	66	72

J = H द्वारा विषय S1, S2 तथा S5 में मिलाकर प्राप्त किये गए कुल अंको का औसत।

T = सभी विषयों में मिलाकर M द्वारा प्राप्त किये गए कुल अंक।

T/J का मान क्या है?

Options :

1. ✖ 3.51

2. ✔ 3.83

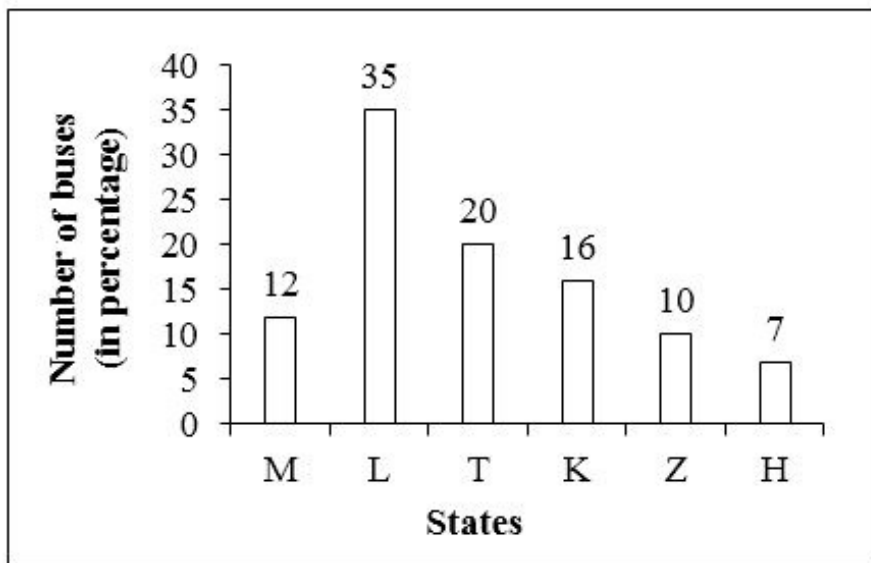
3. ✖ 3.32

4. ✖ 3.44

Question Number : 118 Question Id : 9983679176 Question Type : MCQ Option Shuffling : Yes

Correct Marks : 1 Wrong Marks : 0.25

The bar graph given below shows the total number of buses running in 6 states of a country. Number of buses are shown as the percentage of total number of buses running in all the six states together.



If the total number of buses running in state H are 9100, then what are the total number of buses running in all the six states together?

Options :

1. ✖ 113000

2. ✖ 190000

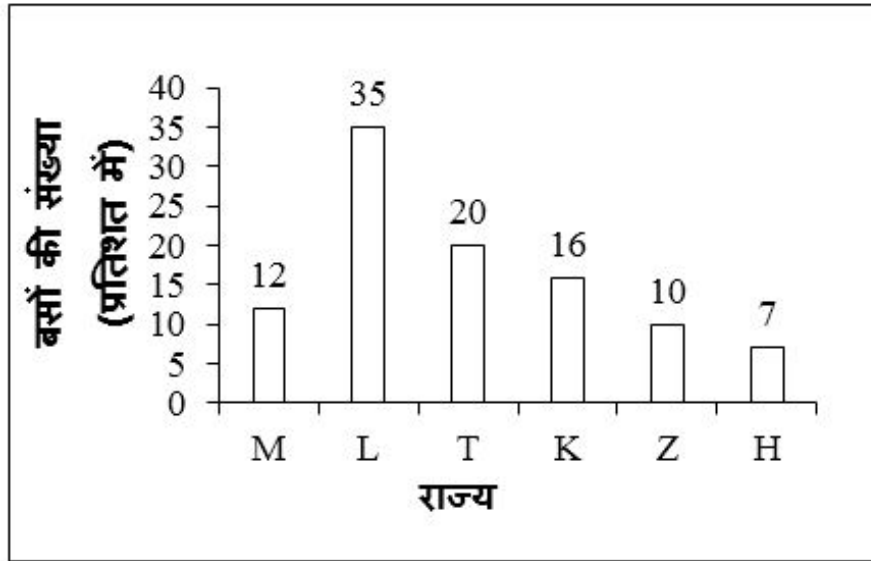
3. ✖ 116000

4. ✔ 130000

Question Number : 118 Question Id : 9983679176 Question Type : MCQ Option Shuffling : Yes

Correct Marks : 1 Wrong Marks : 0.25

नीचे दिया गया दंड आरेख एक देश के 6 राज्यों में चल रही बसों की कुल संख्या को दर्शाता है। बसों की संख्या को सभी छह राज्यों में चल रही बसों की कुल संख्या के प्रतिशत के रूप में दर्शाया गया है।



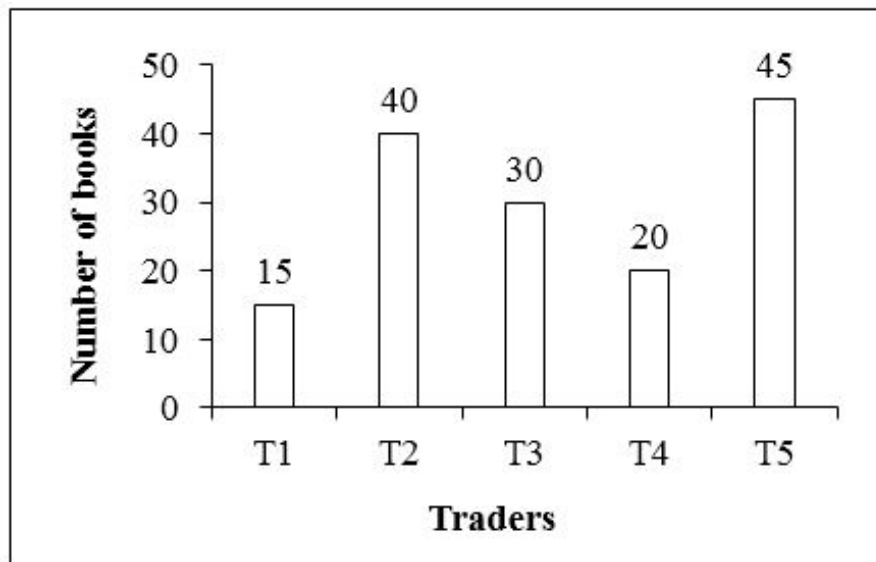
यदि राज्य H में चल रही बसों की कुल संख्या 9100 है, तो सभी छह राज्यों में मिलाकर चल रही बसों की कुल संख्या क्या है?

Options :

1. ✘ 113000
2. ✘ 190000
3. ✘ 116000
4. ✔ 130000

Question Number : 119 Question Id : 9983679177 Question Type : MCQ Option Shuffling : Yes
Correct Marks : 1 Wrong Marks : 0.25

The bar graph given below shows the total number of books sold by five traders in a city H.



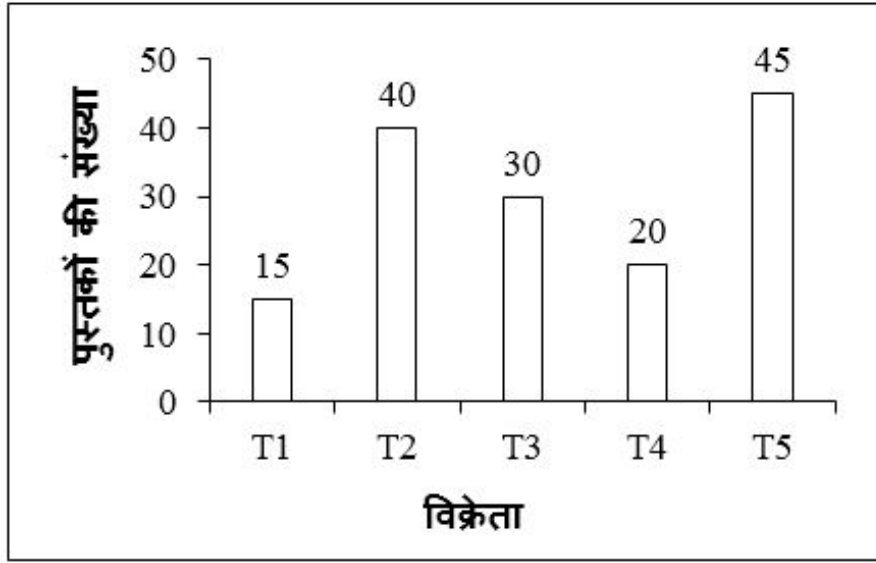
Number of books sold by T1 is what percentage of the total number of books sold by T3 and T4 together?

Options :

1. ✖ 20
2. ✖ 25
3. ✖ 15
4. ✔ 30

Question Number : 119 Question Id : 9983679177 Question Type : MCQ Option Shuffling : Yes
Correct Marks : 1 Wrong Marks : 0.25

नीचे दिया गया दंड आरेख शहर H में पाँच विक्रेताओं द्वारा बेची गयी पुस्तकों की कुल संख्या को दर्शाता है।



T1 द्वारा बेची गयी पुस्तकों की कुल संख्या T3 तथा T4 द्वारा मिलकर बेची गयी पुस्तकों की कुल संख्या का कितना प्रतिशत है?

Options :

1. ✖ 20
2. ✖ 25
3. ✖ 15
4. ✔ 30

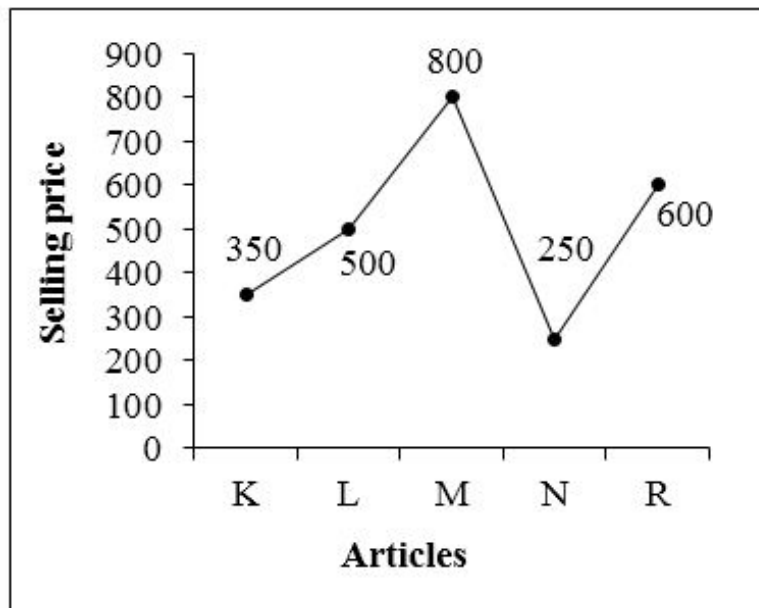
Question Number : 120 Question Id : 9983679178 Question Type : MCQ Option Shuffling : Yes

Correct Marks : 1 Wrong Marks : 0.25

The frequency polygon given below shows the selling price of five different articles sold by a trader.

Selling price = Cost price + profit

Selling price = Cost price $\left[1 + \frac{P}{100}\right]$, Here P = Profit percentage



If the profit percentage on article M is 25%, then what is the cost price of the article M?

Options :

1. ✓ 640

2. ✗ 1000

3. ✗ 760

4. ✗ 540

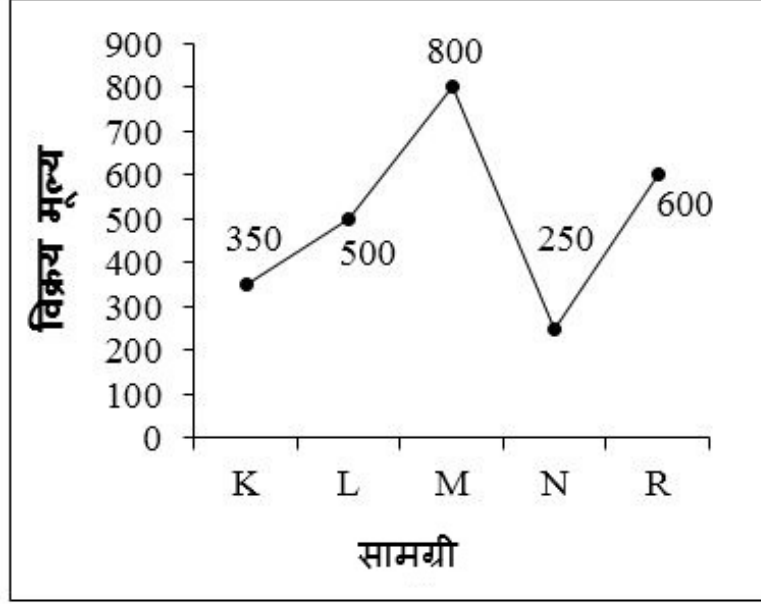
Question Number : 120 Question Id : 9983679178 Question Type : MCQ Option Shuffling : Yes

Correct Marks : 1 Wrong Marks : 0.25

नीचे दिया गया आवृत्ति बहुभुज एक विक्रेता द्वारा बेची गयी पाँच विभिन्न सामग्रीओं के विक्रय मूल्य को दर्शाता है।

विक्रय मूल्य = क्रय मूल्य + लाभ

विक्रय मूल्य = क्रय मूल्य $\left[1 + \frac{P}{100}\right]$, यहाँ P = लाभ प्रतिशत



यदि सामग्री M पर लाभ प्रतिशत 25% है, तो सामग्री M का क्रय मूल्य क्या है?

Options :

1. ✓ 640
2. ✗ 1000
3. ✗ 760
4. ✗ 540

General English1

Group Number :	7
Group Id :	998367403
Group Maximum Duration :	0
Group Minimum Duration :	0
Show Attended Group? :	No
Edit Attended Group? :	No
Break time:	0
Group Marks:	20
Is this Group for Examiner? :	No
Revisit allowed for group Instructions? :	Yes

Maximum Instruction Time: 0
Minimum Instruction Time: 0

General English1

Section Id : 998367409
Section Number : 1
Section type : Online
Mandatory or Optional: Mandatory
Number of Questions: 20
Number of Questions to be attempted: 20
Section Marks: 20

Sub-Section Number: 1
Sub-Section Id: 998367575
Question Shuffling Allowed : Yes

Question Number : 121 Question Id : 9983679179 Question Type : MCQ Option Shuffling : Yes
Correct Marks : 1 Wrong Marks : 0.25

Find the part of the given sentence that has an error in it.
If there is no error, choose 'No error'.

By the time he leaves china (1)/ cory will have been
teaching (2)/ at the university for more than a year. (3)/ No
error (4)

Options :

1. ✘ 1
2. ✘ 2
3. ✘ 3
4. ✔ 4

Question Number : 121 Question Id : 9983679179 Question Type : MCQ Option Shuffling : Yes
Correct Marks : 1 Wrong Marks : 0.25

Find the part of the given sentence that has an error in it. If there is no error, choose 'No error'.

By the time he leaves china (1)/ cory will have been teaching (2)/ at the university for more than a year. (3)/ No error (4)

Options :

1. ✖ 1

2. ✖ 2

3. ✖ 3

4. ✔ 4

Question Number : 122 Question Id : 9983679180 Question Type : MCQ Option Shuffling : Yes

Correct Marks : 1 Wrong Marks : 0.25

Find the part of the given sentence that has an error in it. If there is no error, choose 'No error'.

It is important understand (1)/ the mechanics of reading (2)/ and various techniques of reading. (3)/ No error (4)

Options :

1. ✔ 1

2. ✖ 2

3. ✖ 3

4. ✖ 4

Question Number : 122 Question Id : 9983679180 Question Type : MCQ Option Shuffling : Yes

Correct Marks : 1 Wrong Marks : 0.25

Find the part of the given sentence that has an error in it. If there is no error, choose 'No error'.

It is important understand (1)/ the mechanics of reading (2)/ and various techniques of reading. (3)/ No error (4)

Options :

1. ✓ 1

2. ✗ 2

3. ✗ 3

4. ✗ 4

Question Number : 123 Question Id : 9983679181 Question Type : MCQ Option Shuffling : Yes

Correct Marks : 1 Wrong Marks : 0.25

Find the part of the given sentence that has an error in it. If there is no error, choose 'No error'.

Everyone who writes should (1)/ have something of add to (2)/ the world's stock of knowledge. (3)/ No error (4)

Options :

1. ✗ 1

2. ✓ 2

3. ✗ 3

4. ✗ 4

Question Number : 123 Question Id : 9983679181 Question Type : MCQ Option Shuffling : Yes

Correct Marks : 1 Wrong Marks : 0.25

Find the part of the given sentence that has an error in it. If there is no error, choose 'No error'.

Everyone who writes should (1)/ have something of add to (2)/ the world's stock of knowledge. (3)/ No error (4)

Options :

1. ✘ 1

2. ✔ 2

3. ✘ 3

4. ✘ 4

Question Number : 124 Question Id : 9983679182 Question Type : MCQ Option Shuffling : Yes

Correct Marks : 1 Wrong Marks : 0.25

Find the part of the given sentence that has an error in it. If there is no error, choose 'No error'.

Express your thoughts feebly (1)/ at your own way rather than (2)/ with strength. (3)/ No error (4)

Options :

1. ✘ 1

2. ✔ 2

3. ✘ 3

4. ✘ 4

Question Number : 124 Question Id : 9983679182 Question Type : MCQ Option Shuffling : Yes

Correct Marks : 1 Wrong Marks : 0.25

Find the part of the given sentence that has an error in it. If there is no error, choose 'No error'.

Express your thoughts feebly (1)/ at your own way rather than (2)/ with strength. (3)/ No error (4)

Options :

1. ✖ 1

2. ✔ 2

3. ✖ 3

4. ✖ 4

Question Number : 125 Question Id : 9983679183 Question Type : MCQ Option Shuffling : Yes

Correct Marks : 1 Wrong Marks : 0.25

Find the part of the given sentence that has an error in it. If there is no error, choose 'No error'.

The poet must (1)/ used his emotions (2)/ to pay his provisional bills. (3)/ No error (4)

Options :

1. ✖ 1

2. ✔ 2

3. ✖ 3

4. ✖ 4

Question Number : 125 Question Id : 9983679183 Question Type : MCQ Option Shuffling : Yes

Correct Marks : 1 Wrong Marks : 0.25

Find the part of the given sentence that has an error in it.
If there is no error, choose 'No error'.

The poet must (1)/ used his emotions (2)/ to pay his
provisional bills. (3)/ No error (4)

Options :

1. ✖ 1

2. ✔ 2

3. ✖ 3

4. ✖ 4

Question Number : 126 Question Id : 9983679184 Question Type : MCQ Option Shuffling : Yes
Correct Marks : 1 Wrong Marks : 0.25

Improve the bracketed part of the sentence.

Law of demand establishes the relationship between
(demanding) of a product and its price.

Options :

1. ✔ demand

2. ✖ demanded

3. ✖ value

4. ✖ No improvement

Question Number : 126 Question Id : 9983679184 Question Type : MCQ Option Shuffling : Yes
Correct Marks : 1 Wrong Marks : 0.25

Improve the bracketed part of the sentence.

Law of demand establishes the relationship between (demanding) of a product and its price.

Options :

1. ✓ demand
2. ✗ demanded
3. ✗ value
4. ✗ No improvement

Question Number : 127 Question Id : 9983679185 Question Type : MCQ Option Shuffling : Yes
Correct Marks : 1 Wrong Marks : 0.25

Improve the bracketed part of the sentence.

The two aircrafts collided 30 metres above the ground before they (plummeted in) earth.

Options :

1. ✗ plum in
2. ✗ plummeted into
3. ✓ plummeted to
4. ✗ No improvement

Question Number : 127 Question Id : 9983679185 Question Type : MCQ Option Shuffling : Yes
Correct Marks : 1 Wrong Marks : 0.25

Improve the bracketed part of the sentence.

The two aircrafts collided 30 metres above the ground before they (plummeted in) earth.

Options :

1. ✖ plum in
2. ✖ plummeted into
3. ✔ plummeted to
4. ✖ No improvement

Question Number : 128 Question Id : 9983679186 Question Type : MCQ Option Shuffling : Yes
Correct Marks : 1 Wrong Marks : 0.25

Improve the bracketed part of the sentence.

Goldilocks (knock) on the bears' front door but no one came to the door.

Options :

1. ✖ knocks
2. ✔ knocked
3. ✖ had knock
4. ✖ No improvement

Question Number : 128 Question Id : 9983679186 Question Type : MCQ Option Shuffling : Yes
Correct Marks : 1 Wrong Marks : 0.25

Improve the bracketed part of the sentence.

Goldilocks (knock) on the bears' front door but no one came to the door.

Options :

1. ✖ knocks
2. ✔ knocked
3. ✖ had knock
4. ✖ No improvement

Question Number : 129 Question Id : 9983679187 Question Type : MCQ Option Shuffling : Yes

Correct Marks : 1 Wrong Marks : 0.25

Improve the bracketed part of the sentence.

One day a conceited hare, who thought he was (better), met an old tortoise.

Options :

1. ✖ the better
2. ✖ a best
3. ✔ the best
4. ✖ No improvement

Question Number : 129 Question Id : 9983679187 Question Type : MCQ Option Shuffling : Yes

Correct Marks : 1 Wrong Marks : 0.25

Improve the bracketed part of the sentence.

One day a conceited hare, who thought he was (better), met an old tortoise.

Options :

1. ✖ the better
2. ✖ a best
3. ✔ the best
4. ✖ No improvement

Question Number : 130 Question Id : 9983679188 Question Type : MCQ Option Shuffling : Yes

Correct Marks : 1 Wrong Marks : 0.25

Improve the bracketed part of the sentence.

Only those with (recording) of good conduct will be allowed to work in these establishments.

Options :

1. ✓ records
2. ✖ recorded
3. ✖ record
4. ✖ No improvement

Question Number : 130 Question Id : 9983679188 Question Type : MCQ Option Shuffling : Yes
Correct Marks : 1 Wrong Marks : 0.25

Improve the bracketed part of the sentence.

Only those with (recording) of good conduct will be allowed to work in these establishments.

Options :

1. ✓ records
2. ✖ recorded
3. ✖ record
4. ✖ No improvement

Question Number : 131 Question Id : 9983679189 Question Type : MCQ Option Shuffling : Yes
Correct Marks : 1 Wrong Marks : 0.25

A sentence has been given with a blank to be filled with an appropriate word. Choose the correct alternative.

A more painful aspect of these elections was the extent of standerous campaigns, _____ with allegations and counter-allegations.

Options :

1. ✖ grating
2. ✖ including

3. ✓ filled

4. ✗ firing

Question Number : 131 Question Id : 9983679189 Question Type : MCQ Option Shuffling : Yes

Correct Marks : 1 Wrong Marks : 0.25

A sentence has been given with a blank to be filled with an appropriate word. Choose the correct alternative.

A more painful aspect of these elections was the extent of standerous campaigns, _____ with allegations and counter-allegations.

Options :

1. ✗ grating

2. ✗ including

3. ✓ filled

4. ✗ firing

Question Number : 132 Question Id : 9983679190 Question Type : MCQ Option Shuffling : Yes

Correct Marks : 1 Wrong Marks : 0.25

A sentence has been given with a blank to be filled with an appropriate word. Choose the correct alternative.

This book makes me miss a lot of books I have grown up

_____.

Options :

1. ✗ dancing

2. ✓ reading

3. ✗ eating

4. ✗ acting

Question Number : 132 Question Id : 9983679190 Question Type : MCQ Option Shuffling : Yes

Correct Marks : 1 Wrong Marks : 0.25

A sentence has been given with a blank to be filled with an appropriate word. Choose the correct alternative.

This book makes me miss a lot of books I have grown up _____.

Options :

1. ✘ dancing
2. ✔ reading
3. ✘ eating
4. ✘ acting

Question Number : 133 Question Id : 9983679191 Question Type : MCQ Option Shuffling : Yes

Correct Marks : 1 Wrong Marks : 0.25

A sentence has been given with a blank to be filled with an appropriate word. Choose the correct alternative.

If you ask the bread-winner of a family what determines his spending, the answer will be _____.

Options :

1. ✘ tax
2. ✘ rent
3. ✘ food
4. ✔ income

Question Number : 133 Question Id : 9983679191 Question Type : MCQ Option Shuffling : Yes

Correct Marks : 1 Wrong Marks : 0.25

A sentence has been given with a blank to be filled with an appropriate word. Choose the correct alternative.

If you ask the bread-winner of a family what determines his spending, the answer will be _____.

Options :

1. ✖ tax
2. ✖ rent
3. ✖ food
4. ✔ income

Question Number : 134 Question Id : 9983679192 Question Type : MCQ Option Shuffling : Yes

Correct Marks : 1 Wrong Marks : 0.25

A sentence has been given with a blank to be filled with an appropriate word. Choose the correct alternative.

It was way _____ in the 70's that pop music regained popularity.

Options :

1. ✖ ahead
2. ✔ back
3. ✖ below
4. ✖ forward

Question Number : 134 Question Id : 9983679192 Question Type : MCQ Option Shuffling : Yes

Correct Marks : 1 Wrong Marks : 0.25

A sentence has been given with a blank to be filled with an appropriate word. Choose the correct alternative.

It was way _____ in the 70's that pop music regained popularity.

Options :

1. ✖ ahead
2. ✔ back
3. ✖ below
4. ✖ forward

Question Number : 135 Question Id : 9983679193 Question Type : MCQ Option Shuffling : Yes

Correct Marks : 1 Wrong Marks : 0.25

A sentence has been given with a blank to be filled with an appropriate word. Choose the correct alternative.

There are _____ too, though in a minority, who predict doom.

Options :

1. ✔ cynics
2. ✖ people
3. ✖ optimists
4. ✖ fortune tellers

Question Number : 135 Question Id : 9983679193 Question Type : MCQ Option Shuffling : Yes

Correct Marks : 1 Wrong Marks : 0.25

A sentence has been given with a blank to be filled with an appropriate word. Choose the correct alternative.

There are _____ too, though in a minority, who predict doom.

Options :

1. ✓ cynics
2. ✗ people
3. ✗ optimists
4. ✗ fortune tellers

Question Number : 136 Question Id : 9983679194 Question Type : MCQ Option Shuffling : Yes

Correct Marks : 1 Wrong Marks : 0.25

A sentence has been given with a blank to be filled with an appropriate word. Choose the correct alternative.

Mrs. Kansal _____ a sadness she didn't feel.

Options :

1. ✗ affect
2. ✗ effected
3. ✗ effects
4. ✓ affected

Question Number : 136 Question Id : 9983679194 Question Type : MCQ Option Shuffling : Yes

Correct Marks : 1 Wrong Marks : 0.25

A sentence has been given with a blank to be filled with an appropriate word. Choose the correct alternative.

Mrs. Kansal _____ a sadness she didn't feel.

Options :

1. ✘ affect
2. ✘ effected
3. ✘ effects
4. ✔ affected

Question Number : 137 Question Id : 9983679195 Question Type : MCQ Option Shuffling : Yes
Correct Marks : 1 Wrong Marks : 0.25

A sentence has been given with a blank to be filled with an appropriate word. Choose the correct alternative.

_____ ambition one starts nothing.

Options :

1. ✔ Without
2. ✘ With
3. ✘ Withstand
4. ✘ Wither

Question Number : 137 Question Id : 9983679195 Question Type : MCQ Option Shuffling : Yes
Correct Marks : 1 Wrong Marks : 0.25

A sentence has been given with a blank to be filled with an appropriate word. Choose the correct alternative.

_____ ambition one starts nothing.

Options :

1. ✓ Without

2. ✗ With

3. ✗ Withstand

4. ✗ Wither

Question Number : 138 Question Id : 9983679196 Question Type : MCQ Option Shuffling : Yes

Correct Marks : 1 Wrong Marks : 0.25

A sentence has been given with a blank to be filled with an appropriate word. Choose the correct alternative.

Kill no more chickens _____ you can eat.

Options :

1. ✗ therefore

2. ✗ their

3. ✗ them

4. ✓ than

Question Number : 138 Question Id : 9983679196 Question Type : MCQ Option Shuffling : Yes

Correct Marks : 1 Wrong Marks : 0.25

A sentence has been given with a blank to be filled with an appropriate word. Choose the correct alternative.

Kill no more chickens _____ you can eat.

Options :

1. ✗ therefore

2. ✗ their

3. ✗ them

4. ✓ than

Question Number : 139 Question Id : 9983679197 Question Type : MCQ Option Shuffling : Yes

Correct Marks : 1 Wrong Marks : 0.25

The question below consists of a set of labeled sentences. Out of the four options given, select the most logical order of the sentences to form a coherent paragraph.

P: That's exactly what is happening at Wilson college where grousers against the college's commercial activities are increasing.

Q: But when it becomes a regular affair, especially in an educational institution, it could get annoying for the staff.

R: An agitation to protest against such activities was organized by the non-teaching staff.

S: The shooting of a film or a TV serial in a public place generates curiosity amongst the people.

Options :

1. ✖ PQRS

2. ✖ RPQS

3. ✖ SRPQ

4. ✔ SQPR

Question Number : 139 Question Id : 9983679197 Question Type : MCQ Option Shuffling : Yes

Correct Marks : 1 Wrong Marks : 0.25

The question below consists of a set of labeled sentences. Out of the four options given, select the most logical order of the sentences to form a coherent paragraph.

P: That's exactly what is happening at Wilson college where grousers against the college's commercial activities are increasing.

Q: But when it becomes a regular affair, especially in an educational institution, it could get annoying for the staff.

R: An agitation to protest against such activities was organized by the non-teaching staff.

S: The shooting of a film or a TV serial in a public place generates curiosity amongst the people.

Options :

1. ✘ PQRS

2. ✘ RPQS

3. ✘ SRPQ

4. ✔ SQPR

Question Number : 140 Question Id : 9983679198 Question Type : MCQ Option Shuffling : Yes

Correct Marks : 1 Wrong Marks : 0.25

What is the ANTONYM of the word 'organised'?

Options :

1. ✘ arranged

2. ✘ coordinate

3. ✘ structured

4. ✓ jumble

Question Number : 140 Question Id : 9983679198 Question Type : MCQ Option Shuffling : Yes
Correct Marks : 1 Wrong Marks : 0.25

What is the ANTONYM of the word 'organised'?

Options :

1. ✗ arranged
2. ✗ coordinate
3. ✗ structured
4. ✓ jumble

General English2

Group Number :	8
Group Id :	998367404
Group Maximum Duration :	0
Group Minimum Duration :	0
Show Attended Group? :	No
Edit Attended Group? :	No
Break time:	0
Group Marks:	20
Is this Group for Examiner?:	No
Revisit allowed for group Instructions? :	Yes
Maximum Instruction Time:	0
Minimum Instruction Time:	0

General English2

Section Id :	998367410
Section Number :	1
Section type :	Online
Mandatory or Optional:	Mandatory
Number of Questions:	16
Number of Questions to be attempted:	16
Section Marks:	20

Sub-Section Number:	1
Sub-Section Id:	998367576
Question Shuffling Allowed :	Yes

Question Number : 141 Question Id : 9983679199 Question Type : MCQ Option Shuffling : Yes
Correct Marks : 1 Wrong Marks : 0.25

The question below consists of a set of labeled sentences. Out of the four options given, select the most logical order of the sentences to form a coherent paragraph.

P: Different services to students under one roof.

Q: Has remained on paper.

S: The University of Pune's plan to set up a dedicated.

R: Student's facilitation centre for providing.

Options :

1. ✖ RPQS

2. ✖ PRSQ

3. ✔ SRPQ

4. ✖ PQRS

Question Number : 141 Question Id : 9983679199 Question Type : MCQ Option Shuffling : Yes
Correct Marks : 1 Wrong Marks : 0.25

The question below consists of a set of labeled sentences. Out of the four options given, select the most logical order of the sentences to form a coherent paragraph.

P: Different services to students under one roof.

Q: Has remained on paper.

S: The University of Pune's plan to set up a dedicated.

R: Student's facilitation centre for providing.

Options :

1. ✖ RPQS

2. ✖ PRSQ

3. ✓ SRPQ

4. ✗ PQRS

Question Number : 142 Question Id : 9983679200 Question Type : MCQ Option Shuffling : Yes

Correct Marks : 1 Wrong Marks : 0.25

Choose the word that is opposite in meaning to the given word.

ACCEDE

Options :

1. ✗ Reprove

2. ✗ Agree

3. ✗ Yield

4. ✓ Disapprove

Question Number : 142 Question Id : 9983679200 Question Type : MCQ Option Shuffling : Yes

Correct Marks : 1 Wrong Marks : 0.25

Choose the word that is opposite in meaning to the given word.

ACCEDE

Options :

1. ✗ Reprove

2. ✗ Agree

3. ✗ Yield

4. ✓ Disapprove

Question Number : 143 Question Id : 9983679201 Question Type : MCQ Option Shuffling : Yes

Correct Marks : 1 Wrong Marks : 0.25

Choose the word that is opposite in meaning to the given word.

GERMANE

Options :

1. ✓ Improper
2. ✗ Elect
3. ✗ Dirty
4. ✗ Childish

Question Number : 143 Question Id : 9983679201 Question Type : MCQ Option Shuffling : Yes
Correct Marks : 1 Wrong Marks : 0.25

Choose the word that is opposite in meaning to the given word.

GERMANE

Options :

1. ✓ Improper
2. ✗ Elect
3. ✗ Dirty
4. ✗ Childish

Question Number : 144 Question Id : 9983679202 Question Type : MCQ Option Shuffling : Yes
Correct Marks : 1 Wrong Marks : 0.25

Choose the word that is opposite in meaning to the given word.

PLETHORA

Options :

1. ✗ Bitter

2. ✖ Profuse

3. ✖ Deluge

4. ✔ Rarity

Question Number : 144 Question Id : 9983679202 Question Type : MCQ Option Shuffling : Yes
Correct Marks : 1 Wrong Marks : 0.25

Choose the word that is opposite in meaning to the given word.

PLETHORA

Options :

1. ✖ Bitter

2. ✖ Profuse

3. ✖ Deluge

4. ✔ Rarity

Question Number : 145 Question Id : 9983679203 Question Type : MCQ Option Shuffling : Yes
Correct Marks : 1 Wrong Marks : 0.25

Choose the word that is opposite in meaning to the given word.

JUBILATED

Options :

1. ✖ Glory

2. ✔ Sad

3. ✖ Brag

4. ✖ Around

Question Number : 145 Question Id : 9983679203 Question Type : MCQ Option Shuffling : Yes
Correct Marks : 1 Wrong Marks : 0.25

Choose the word that is opposite in meaning to the given word.

JUBILATED

Options :

1. ✖ Glory
2. ✔ Sad
3. ✖ Brag
4. ✖ Around

Question Number : 146 Question Id : 9983679204 Question Type : MCQ Option Shuffling : Yes
Correct Marks : 1 Wrong Marks : 0.25

Choose the word that is opposite in meaning to the given word.

BEATIFIC

Options :

1. ✖ Meet
2. ✖ Happy
3. ✔ Sorrowful
4. ✖ Boost

Question Number : 146 Question Id : 9983679204 Question Type : MCQ Option Shuffling : Yes
Correct Marks : 1 Wrong Marks : 0.25

Choose the word that is opposite in meaning to the given word.

BEATIFIC

Options :

1. ✖ Meet
2. ✖ Happy
3. ✔ Sorrowful
4. ✖ Boost

Question Number : 147 Question Id : 9983679205 Question Type : MCQ Option Shuffling : Yes
Correct Marks : 1 Wrong Marks : 0.25

In the given question, four words are given out of which one word is incorrectly spelt.

Choose the incorrectly spelt word.

Options :

1. ✖ Adherence
2. ✖ Ambience
3. ✖ Advertise
4. ✔ Admitence

Question Number : 147 Question Id : 9983679205 Question Type : MCQ Option Shuffling : Yes
Correct Marks : 1 Wrong Marks : 0.25

In the given question, four words are given out of which one word is incorrectly spelt.

Choose the incorrectly spelt word.

Options :

1. ✖ Adherence
2. ✖ Ambience
3. ✖ Advertise
4. ✔ Admitence

Question Number : 148 Question Id : 9983679206 Question Type : MCQ Option Shuffling : Yes

Correct Marks : 1 Wrong Marks : 0.25

In the given question, four words are given out of which one word is incorrectly spelt.

Choose the incorrectly spelt word.

Options :

1. ✖ Discontinuous

2. ✔ Ambiguous

3. ✖ Unscrupulous

4. ✖ Superstitious

Question Number : 148 Question Id : 9983679206 Question Type : MCQ Option Shuffling : Yes

Correct Marks : 1 Wrong Marks : 0.25

In the given question, four words are given out of which one word is incorrectly spelt.

Choose the incorrectly spelt word.

Options :

1. ✖ Discontinuous

2. ✔ Ambiguous

3. ✖ Unscrupulous

4. ✖ Superstitious

Question Number : 149 Question Id : 9983679207 Question Type : MCQ Option Shuffling : Yes

Correct Marks : 1 Wrong Marks : 0.25

In the given question, four words are given out of which one word is incorrectly spelt.

Choose the incorrectly spelt word.

Options :

1. ✖ Anecdotal
2. ✖ Accidental
3. ✔ Celestial
4. ✖ Congenital

Question Number : 149 Question Id : 9983679207 Question Type : MCQ Option Shuffling : Yes

Correct Marks : 1 Wrong Marks : 0.25

In the given question, four words are given out of which one word is incorrectly spelt.

Choose the incorrectly spelt word.

Options :

1. ✖ Anecdotal
2. ✖ Accidental
3. ✔ Celestial
4. ✖ Congenital

Question Number : 150 Question Id : 9983679208 Question Type : MCQ Option Shuffling : Yes

Correct Marks : 1 Wrong Marks : 0.25

In the following question, out of the given four alternatives, select the alternative which best expresses the meaning of the Idiom/Phrase.

Rubbed shoulders with

Options :

1. ✖ to dance with
2. ✖ to flatter
3. ✔ to come into close contact with

4. ✖ to agree with

Question Number : 150 Question Id : 9983679208 Question Type : MCQ Option Shuffling : Yes
Correct Marks : 1 Wrong Marks : 0.25

In the following question, out of the given four alternatives, select the alternative which best expresses the meaning of the Idiom/Phrase.

Rubbed shoulders with

Options :

1. ✖ to dance with
2. ✖ to flatter
3. ✔ to come into close contact with
4. ✖ to agree with

Question Number : 151 Question Id : 9983679209 Question Type : MCQ Option Shuffling : Yes
Correct Marks : 1 Wrong Marks : 0.25

In the following question, out of the given four alternatives, select the alternative which best expresses the meaning of the Idiom/Phrase.

On tenterhooks

Options :

1. ✖ in a state of danger
2. ✖ in a fanourable position
3. ✔ in a state of suspense
4. ✖ to be very excited

Question Number : 151 Question Id : 9983679209 Question Type : MCQ Option Shuffling : Yes
Correct Marks : 1 Wrong Marks : 0.25

In the following question, out of the given four alternatives, select the alternative which best expresses the meaning of the Idiom/Phrase.

On tenterhooks

Options :

1. ✖ in a state of danger
2. ✖ in a fanourable position
3. ✔ in a state of suspense
4. ✖ to be very excited

Question Number : 152 Question Id : 9983679210 Question Type : MCQ Option Shuffling : Yes

Correct Marks : 1 Wrong Marks : 0.25

In the following question, out of the given four alternatives, select the alternative which best expresses the meaning of the Idiom/Phrase.

Fast and loose

Options :

1. ✖ narrow
2. ✖ steady
3. ✖ narrow and minded
4. ✔ unfaithful

Question Number : 152 Question Id : 9983679210 Question Type : MCQ Option Shuffling : Yes

Correct Marks : 1 Wrong Marks : 0.25

In the following question, out of the given four alternatives, select the alternative which best expresses the meaning of the Idiom/Phrase.

Fast and loose

Options :

1. ✖ narrow
2. ✖ steady
3. ✖ narrow and minded
4. ✔ unfaithful

Question Number : 153 Question Id : 9983679211 Question Type : MCQ Option Shuffling : Yes

Correct Marks : 1 Wrong Marks : 0.25

Choose the word that can substitute the given sentence.

The one who cannot be defeated.

Options :

1. ✔ Invincible
2. ✖ Indelible
3. ✖ Indefatigable
4. ✖ Incurable

Question Number : 153 Question Id : 9983679211 Question Type : MCQ Option Shuffling : Yes

Correct Marks : 1 Wrong Marks : 0.25

Choose the word that can substitute the given sentence.

The one who cannot be defeated.

Options :

1. ✔ Invincible

2. ✖ Indelible

3. ✖ Indefatigable

4. ✖ Incurable

Question Number : 154 Question Id : 9983679212 Question Type : MCQ Option Shuffling : Yes
Correct Marks : 1 Wrong Marks : 0.25

Choose the word that can substitute the given sentence.

A government by the nobles.

Options :

1. ✖ Bureaucracy

2. ✖ Plutocracy

3. ✔ Aristocracy

4. ✖ Democracy

Question Number : 154 Question Id : 9983679212 Question Type : MCQ Option Shuffling : Yes
Correct Marks : 1 Wrong Marks : 0.25

Choose the word that can substitute the given sentence.

A government by the nobles.

Options :

1. ✖ Bureaucracy

2. ✖ Plutocracy

3. ✔ Aristocracy

4. ✖ Democracy

Question Number : 155 Question Id : 9983679213 Question Type : MCQ Option Shuffling : Yes
Correct Marks : 1 Wrong Marks : 0.25

Choose the word that can substitute the given sentence.

A person who remains unmoved and unaffected by other people's opinions.

Options :

1. ✖ Notorious
2. ✖ Venial
3. ✔ Impervious
4. ✖ Assenal

Question Number : 155 Question Id : 9983679213 Question Type : MCQ Option Shuffling : Yes
Correct Marks : 1 Wrong Marks : 0.25

Choose the word that can substitute the given sentence.

A person who remains unmoved and unaffected by other people's opinions.

Options :

1. ✖ Notorious
2. ✖ Venial
3. ✔ Impervious
4. ✖ Assenal

Sub-Section Number:	2
Sub-Section Id:	998367577
Question Shuffling Allowed :	Yes

Question Id : 9983679214 Question Type : COMPREHENSION Sub Question Shuffling Allowed : Yes Group Comprehension Questions : No

Question Numbers : (156 to 160)

Question Label : Comprehension

Read the following information carefully and answer the given questions.

I kicked my fins and swam towards the shadowy figure. It turned and began moving towards me. I was face to face with a Greenland shark. I'd seen drawings and paintings of the fish, but this was utterly different. It was ghoulish. Its nostrils were the largest I had ever seen on a shark. They reminded me of a giant double-barreled shotgun. Its mouth was slightly open, revealing rows of small sharp teeth. Its eyes looked fogged over, like those of a dead fish, and from each one dangled a tasseled parasite called copepod. Turning a blind eye to hitchhikers, almost all Greenland sharks host tiny crustaceans called copepods that attach themselves to the sharks's corneas, severely damaging their eyesight. In any case, because they spend most of their time in darkness, sometimes at ocean depths reaching 7200 feet, these sharks seem to have little use of eyes. Scientists speculate that the copepod may actually aid the shark in feeding. Fish may be attracted to the parasite, which moves like a fishing lure when the shark is swimming. Although the shark's vision is severely compromised, it retains a keen sense of smell to seek out prey. One of the interesting features of this Greenland shark is its poisonous flesh. 'Drunk as a dog', the Inuit like to say. The phrase comes from the behaviour of sledge dogs after they eat the raw flesh of Greenland sharks, which often contains a strong neurotoxin. One of the few ways to detoxify the flesh is to soak a dead shark in salt water for several days-an approach tried by researchers who then fed the carcass to a team of hungry sledge dogs. They showed no adverse symptoms. I later saw a dog that had fed on a newly killed Greenland shark. It appeared inebriated. It couldn't stand up. During World War II, the Greenland shark was hunted for its liver oil- valued as an airplane engine lubricant. Its tissues have a high urea content, giving rise to Inuit legend of the shark's origin: An old woman washed her hair in urine and dried it with a cloth. The cloth blew into the sea and became the first Greenland shark. Today the Inuit disdain this curious creature, which they consider a useless nuisance that scavenges their food.

Sub questions

Question Number : 156 Question Id : 9983679215 Question Type : MCQ Option Shuffling : Yes

Correct Marks : 1 Wrong Marks : 0.25

‘Hitchhickers’ in the passage refers to which of the following?

Options :

1. ✖ The sledge dogs
2. ✖ The shark corneas
3. ✖ The speculating scientist
4. ✔ Tiny crustaceans called copepods

Question Number : 157 Question Id : 9983679216 Question Type : MCQ Option Shuffling : Yes

Correct Marks : 1 Wrong Marks : 0.25

What would be the primary reason for the author’s awe on being face to face with the Greenland shark?

Options :

1. ✔ The reality of seeing it in person
2. ✖ Its huge nostrils that reminded him of a double barreled shotgun
3. ✖ Its open mouth revealing rows of small sharp teeth
4. ✖ Its fogged over eyes like those of a dead fish

Question Number : 158 Question Id : 9983679217 Question Type : MCQ Option Shuffling : Yes

Correct Marks : 1 Wrong Marks : 0.25

The Inuits consider the Greenland sharks to be _____.

Options :

1. ✖ Blind creatures
2. ✖ Poisoned fish
3. ✔ Scavengers
4. ✖ Engine fuel

Question Number : 159 Question Id : 9983679218 Question Type : MCQ Option Shuffling : Yes

Correct Marks : 1 Wrong Marks : 0.25

The phrase opposite in meaning to 'inebriated' would be

_____.

Options :

1. ✖ Of unbalanced nature
2. ✔ Not being intoxicated
3. ✖ To abstain from flesh eating
4. ✖ Herbivorous

Question Number : 160 Question Id : 9983679219 Question Type : MCQ Option Shuffling : Yes

Correct Marks : 1 Wrong Marks : 0.25

Which word means the same as 'ghoulish'?

Options :

1. ✔ Devilish
2. ✖ Pleasant
3. ✖ Normal
4. ✖ Godlike

Question Id : 9983679214 Question Type : COMPREHENSION Sub Question Shuffling Allowed : Yes Group Comprehension Questions : No

Question Numbers : (156 to 160)

Question Label : Comprehension

Read the following information carefully and answer the given questions.

I kicked my fins and swam towards the shadowy figure. It turned and began moving towards me. I was face to face with a Greenland shark. I'd seen drawings and paintings of the fish, but this was utterly different. It was ghoulish. Its nostrils were the largest I had ever seen on a shark. They reminded me of a giant double-barreled shotgun. Its mouth was slightly open, revealing rows of small sharp teeth. Its eyes looked fogged over, like those of a dead fish, and from each one dangled a tasseled parasite called copepod. Turning a blind eye to hitchhikers, almost all Greenland sharks host tiny crustaceans called copepods that attach themselves to the sharks's corneas, severely damaging their eyesight. In any case, because they spend most of their time in darkness, sometimes at ocean depths reaching 7200 feet, these sharks seem to have little use of eyes.

Scientists speculate that the copepod may actually aid the shark in feeding. Fish may be attracted to the parasite, which moves like a fishing lure when the shark is swimming. Although the shark's vision is severely compromised, it retains a keen sense of smell to seek out prey.

One of the interesting features of this Greenland shark is its poisonous flesh. 'Drunk as a dog', the Inuit like to say. The phrase comes from the behaviour of sledge dogs after they eat the raw flesh of Greenland sharks, which often contains a strong neurotoxin. One of the few ways to detoxify the flesh is to soak a dead shark in salt water for several days-an approach tried by researchers who then fed the carcass to a team of hungry sledge dogs. They showed no adverse symptoms. I later saw a dog that had fed on a newly killed Greenland shark. It appeared inebriated. It couldn't stand up. During World War II, the Greenland shark was hunted for its liver oil- valued as an airplane engine lubricant. Its tissues have a high urea content, giving rise to Inuit legend of the shark's origin: An old woman washed her hair in urine and dried it with a cloth. The cloth blew into the sea and became the first Greenland shark. Today the Inuit disdain this curious creature, which they consider a useless nuisance that scavenges their food.

Sub questions

Question Number : 156 Question Id : 9983679215 Question Type : MCQ Option Shuffling : Yes

Correct Marks : 1 Wrong Marks : 0.25

'Hitchhickers' in the passage refers to which of the following?

Options :

1. ✘ The sledge dogs
2. ✘ The shark corneas
3. ✘ The speculating scientist
4. ✔ Tiny crustaceans called copepods

Question Number : 157 Question Id : 9983679216 Question Type : MCQ Option Shuffling : Yes

Correct Marks : 1 Wrong Marks : 0.25

What would be the primary reason for the author's awe on being face to face with the Greenland shark?

Options :

1. ✔ The reality of seeing it in person
2. ✘ Its huge nostrils that reminded him of a double barreled shotgun
3. ✘ Its open mouth revealing rows of small sharp teeth
4. ✘ Its fogged over eyes like those of a dead fish

Question Number : 158 Question Id : 9983679217 Question Type : MCQ Option Shuffling : Yes

Correct Marks : 1 Wrong Marks : 0.25

The Inuits consider the Greenland sharks to be _____.

Options :

1. ✘ Blind creatures
2. ✘ Poisoned fish
3. ✔ Scavengers

4. ✖ Engine fuel

Question Number : 159 Question Id : 9983679218 Question Type : MCQ Option Shuffling : Yes
Correct Marks : 1 Wrong Marks : 0.25

The phrase opposite in meaning to 'inebriated' would be _____.

Options :

1. ✖ Of unbalanced nature
2. ✔ Not being intoxicated
3. ✖ To abstain from flesh eating
4. ✖ Herbivorous

Question Number : 160 Question Id : 9983679219 Question Type : MCQ Option Shuffling : Yes
Correct Marks : 1 Wrong Marks : 0.25

Which word means the same as 'ghoulish?'

Options :

1. ✔ Devilish
2. ✖ Pleasant
3. ✖ Normal
4. ✖ Godlike

General Hindi1

Group Number :	9
Group Id :	998367405
Group Maximum Duration :	0
Group Minimum Duration :	0
Show Attended Group? :	No
Edit Attended Group? :	No
Break time:	0
Group Marks:	20
Is this Group for Examiner?:	No
Revisit allowed for group Instructions? :	Yes
Maximum Instruction Time:	0

General Hindi1

Section Id :	998367411
Section Number :	1
Section type :	Online
Mandatory or Optional:	Mandatory
Number of Questions:	20
Number of Questions to be attempted:	20
Section Marks:	20

Sub-Section Number:	1
Sub-Section Id:	998367578
Question Shuffling Allowed :	Yes

Question Number : 161 Question Id : 9983679220 Question Type : MCQ Option Shuffling : Yes
Correct Marks : 1 Wrong Marks : 0.25

निम्नलिखित में से किसमें 'यण' संधि है।

Options :

1. * अत्रैक
2. * भवति
3. * गणेश
4. ✓ यद्यपि

Question Number : 161 Question Id : 9983679220 Question Type : MCQ Option Shuffling : Yes
Correct Marks : 1 Wrong Marks : 0.25

निम्नलिखित में से किसमें 'यण' संधि है।

Options :

1. * अत्रैक
2. * भवति
3. * गणेश
4. ✓ यद्यपि

Question Number : 162 Question Id : 9983679221 Question Type : MCQ Option Shuffling : Yes
Correct Marks : 1 Wrong Marks : 0.25

उस शब्द को चुनें जो दिए गए शब्द का तद्भव रूप है।

अंगुली

Options :

1. ✓ उंगली
2. * अंगुल
3. * अंगुटी
4. * उंगाली

Question Number : 162 Question Id : 9983679221 Question Type : MCQ Option Shuffling : Yes
Correct Marks : 1 Wrong Marks : 0.25

उस शब्द को चुनें जो दिए गए शब्द का तद्भव रूप है।

अंगुली

Options :

1. ✓ उंगली
2. * अंगुल
3. * अंगुटी
4. * उंगाली

Question Number : 163 Question Id : 9983679222 Question Type : MCQ Option Shuffling : Yes
Correct Marks : 1 Wrong Marks : 0.25

निम्नलिखित में से 'प्रत्यय' युक्त शब्द का चयन कीजिए।

Options :

1. * परामर्श
2. * आजन्म
3. ✓ इकहरा
4. * खुशबू

Question Number : 163 Question Id : 9983679222 Question Type : MCQ Option Shuffling : Yes
Correct Marks : 1 Wrong Marks : 0.25

निम्नलिखित में से 'प्रत्यय' युक्त शब्द का चयन कीजिए।

Options :

1. * परामर्श
2. * आजन्म
3. ✓ इकहरा
4. * खुशबू

Question Number : 164 Question Id : 9983679223 Question Type : MCQ Option Shuffling : Yes
Correct Marks : 1 Wrong Marks : 0.25

निम्नलिखित में से क्रिया विशेषण को चुनिये।

Options :

1. * गोलाकार
2. ✓ निर्दय
3. * दूना
4. * विद्वातापूर्वक

Question Number : 164 Question Id : 9983679223 Question Type : MCQ Option Shuffling : Yes
Correct Marks : 1 Wrong Marks : 0.25

निम्नलिखित में से क्रिया विशेषण को चुनिये।

Options :

1. * गोलाकार
2. ✓ निर्दय
3. * दूना
4. * विद्वातापूर्वक

Question Number : 165 Question Id : 9983679224 Question Type : MCQ Option Shuffling : Yes
Correct Marks : 1 Wrong Marks : 0.25

उस शब्द को चुनें जो समूहवाचक संज्ञा है।

Options :

1. ✓ अंगुर
2. * गुलाब

3. * चावल

4. * पौधे

Question Number : 165 Question Id : 9983679224 Question Type : MCQ Option Shuffling : Yes
Correct Marks : 1 Wrong Marks : 0.25

उस शब्द को चुनें जो समूहवाचक संज्ञा है।

Options :

1. ✓ अंगुर

2. * गुलाब

3. * चावल

4. * पौधे

Question Number : 166 Question Id : 9983679225 Question Type : MCQ Option Shuffling : Yes
Correct Marks : 1 Wrong Marks : 0.25

दिए गए शब्द का समास चुनें।

निर्धन

Options :

1. * कर्मधारय

2. * तत्पुरुष

3. * द्वन्द्व

4. ✓ बहुब्रीहि

Question Number : 166 Question Id : 9983679225 Question Type : MCQ Option Shuffling : Yes
Correct Marks : 1 Wrong Marks : 0.25

दिए गए शब्द का समास चुनें।

निर्धन

Options :

1. * कर्मधारय

2. * तत्पुरुष

3. ✖ द्वन्द्व

4. ✔ बहुब्रीहि

Question Number : 167 Question Id : 9983679226 Question Type : MCQ Option Shuffling : Yes

Correct Marks : 1 Wrong Marks : 0.25

एक वाक्य रेखांकित भाग के साथ दिया गया है। रेखांकित भाग की क्रिया ज्ञात करें।

चिड़िया आकाश में उड़ रही है।

Options :

1. ✖ अकर्मक

2. ✔ सकर्मक

3. ✖ समापिका

4. ✖ असमापिका

Question Number : 167 Question Id : 9983679226 Question Type : MCQ Option Shuffling : Yes

Correct Marks : 1 Wrong Marks : 0.25

एक वाक्य रेखांकित भाग के साथ दिया गया है। रेखांकित भाग की क्रिया ज्ञात करें।

चिड़िया आकाश में उड़ रही है।

Options :

1. ✖ अकर्मक

2. ✔ सकर्मक

3. ✖ समापिका

4. ✖ असमापिका

Question Number : 168 Question Id : 9983679227 Question Type : MCQ Option Shuffling : Yes

Correct Marks : 1 Wrong Marks : 0.25

वह, वे, उसे, उन्हें, इसका या उसका आदि किस प्रकार के सर्वनाम शब्द हैं?

Options :

1. ✖ उत्तम पुरुषवाचक

2. * मध्यम पुरुषवाचक

3. ✓ अन्य पुरुषवाचक

4. * सम्बंधवाचक

Question Number : 168 Question Id : 9983679227 Question Type : MCQ Option Shuffling : Yes
Correct Marks : 1 Wrong Marks : 0.25

वह, वे, उसे, उन्हें, इसका या उसका आदि किस प्रकार के सर्वनाम शब्द हैं?

Options :

1. * उत्तम पुरुषवाचक

2. * मध्यम पुरुषवाचक

3. ✓ अन्य पुरुषवाचक

4. * सम्बंधवाचक

Question Number : 169 Question Id : 9983679228 Question Type : MCQ Option Shuffling : Yes
Correct Marks : 1 Wrong Marks : 0.25

निम्नलिखित में से कौन सा तत्सम का रूप नहीं है?

Options :

1. * चक्रवात

2. * चन्द्र

3. * शकट

4. ✓ हल्दी

Question Number : 169 Question Id : 9983679228 Question Type : MCQ Option Shuffling : Yes
Correct Marks : 1 Wrong Marks : 0.25

निम्नलिखित में से कौन सा तत्सम का रूप नहीं है?

Options :

1. * चक्रवात

2. * चन्द्र

3. * शकट

4. ✓ हल्दी

Question Number : 170 Question Id : 9983679229 Question Type : MCQ Option Shuffling : Yes

Correct Marks : 1 Wrong Marks : 0.25

एक वाक्य रेखांकित भाग के साथ दिया गया है। रेखांकित भाग का अव्यय ज्ञात करें।

रिपु घर के अंदर काम कर रही है।

Options :

1. * समुच्चय बोधक अव्यय
2. ✓ स्थानवाचक क्रिया विशेषण
3. * संबधबोधक अव्यय
4. * कालवाचक क्रिया विशेषण

Question Number : 170 Question Id : 9983679229 Question Type : MCQ Option Shuffling : Yes

Correct Marks : 1 Wrong Marks : 0.25

एक वाक्य रेखांकित भाग के साथ दिया गया है। रेखांकित भाग का अव्यय ज्ञात करें।

रिपु घर के अंदर काम कर रही है।

Options :

1. * समुच्चय बोधक अव्यय
2. ✓ स्थानवाचक क्रिया विशेषण
3. * संबधबोधक अव्यय
4. * कालवाचक क्रिया विशेषण

Question Number : 171 Question Id : 9983679230 Question Type : MCQ Option Shuffling : Yes

Correct Marks : 1 Wrong Marks : 0.25

उस शब्द को चुनें जो दिए गए शब्दों में संधि करने से निर्मित होगा।

मृत्यु + उपरांत

Options :

1. * मत्ज्योपरांत
2. ✓ मृत्यूपरांत
3. * मृत्योपरांत
4. * मृत्युपर्यन्त

Question Number : 171 Question Id : 9983679230 Question Type : MCQ Option Shuffling : Yes
Correct Marks : 1 Wrong Marks : 0.25

उस शब्द को चुनें जो दिए गए शब्दों में संधि करने से निर्मित होगा।

मृत्यु + उपरांत

Options :

1. * मज्योपरांत
2. ✓ मृत्यूपरांत
3. * मृत्योपरांत
4. * मृत्युपर्यन्त

Question Number : 172 Question Id : 9983679231 Question Type : MCQ Option Shuffling : Yes
Correct Marks : 1 Wrong Marks : 0.25

उस शब्द को चुनें जो दिए शब्द युग्मों का अर्थ है।

जीतने की इच्छा रखने वाला।

Options :

1. * उन्माद
2. * आकांक्षी
3. ✓ जिगेषु
4. * जिगीषा

Question Number : 172 Question Id : 9983679231 Question Type : MCQ Option Shuffling : Yes
Correct Marks : 1 Wrong Marks : 0.25

उस शब्द को चुनें जो दिए शब्द युग्मों का अर्थ है।

जीतने की इच्छा रखने वाला।

Options :

1. ✖ उन्माद
2. ✖ आकांक्षी
3. ✔ जिगेषु
4. ✖ जिगीषा

Question Number : 173 Question Id : 9983679232 Question Type : MCQ Option Shuffling : Yes
Correct Marks : 1 Wrong Marks : 0.25

दिए गए शब्दों में से सही वर्तनी को चुनें।

Options :

1. ✔ अवस्थापना
2. ✖ आवस्थपना
3. ✖ अवसथापनौ
4. ✖ अवास्थापना

Question Number : 173 Question Id : 9983679232 Question Type : MCQ Option Shuffling : Yes
Correct Marks : 1 Wrong Marks : 0.25

दिए गए शब्दों में से सही वर्तनी को चुनें।

Options :

1. ✔ अवस्थापना
2. ✖ आवस्थपना
3. ✖ अवसथापनौ
4. ✖ अवास्थापना

Question Number : 174 Question Id : 9983679233 Question Type : MCQ Option Shuffling : Yes
Correct Marks : 1 Wrong Marks : 0.25

उस शब्द क चुनें जो दिए गए शब्द का पर्यायवाची है।

अन्त

Options :

1. * फल
2. ✓ अवसान
3. * फासला
4. * दाड़िम

Question Number : 174 Question Id : 9983679233 Question Type : MCQ Option Shuffling : Yes
Correct Marks : 1 Wrong Marks : 0.25

उस शब्द क चुनें जो दिए गए शब्द का पर्यायवाची है।

अन्त

Options :

1. * फल
2. ✓ अवसान
3. * फासला
4. * दाड़िम

Question Number : 175 Question Id : 9983679234 Question Type : MCQ Option Shuffling : Yes
Correct Marks : 1 Wrong Marks : 0.25

उस शब्द को चुनें जो दिए गए शब्द का विलोम है।

आरोही

Options :

1. ✓ अवरोही
2. * लगातार
3. * क्रमागत
4. * विगत

Question Number : 175 Question Id : 9983679234 Question Type : MCQ Option Shuffling : Yes
Correct Marks : 1 Wrong Marks : 0.25

उस शब्द को चुनें जो दिए गए शब्द का विलोम है।

आरोही

Options :

1. ✓ अवरोही
2. ✗ लगातार
3. ✗ क्रमागत
4. ✗ विगत

Question Number : 176 Question Id : 9983679235 Question Type : MCQ Option Shuffling : Yes
Correct Marks : 1 Wrong Marks : 0.25

उस शब्द को चुनें जो दिए गए शब्द का समानार्थी नहीं है।

Options :

1. ✗ आभूषण
2. ✗ जेवर
3. ✗ विभूषण
4. ✓ लज्जा

Question Number : 176 Question Id : 9983679235 Question Type : MCQ Option Shuffling : Yes
Correct Marks : 1 Wrong Marks : 0.25

उस शब्द को चुनें जो दिए गए शब्द का समानार्थी नहीं है।

Options :

1. ✗ आभूषण
2. ✗ जेवर
3. ✗ विभूषण
4. ✓ लज्जा

Question Number : 177 Question Id : 9983679236 Question Type : MCQ Option Shuffling : Yes
Correct Marks : 1 Wrong Marks : 0.25

एक वाक्य रिक्त स्थान के साथ दिया गया है, जिसे उपयुक्त शब्द से भस्त्र है। सही विकल्प चुनें।

एक स्वस्थ मन हज़ारों सोने के सिंहासनों से कहीं अधिक _____ होता है।

Options :

1. * कीमती
2. * अमूल्य
3. ✓ बहुमूल्य
4. * मूल्यहीन

Question Number : 177 Question Id : 9983679236 Question Type : MCQ Option Shuffling : Yes

Correct Marks : 1 Wrong Marks : 0.25

एक वाक्य रिक्त स्थान के साथ दिया गया है, जिसे उपयुक्त शब्द से भस्त्र है। सही विकल्प चुनें।

एक स्वस्थ मन हज़ारों सोने के सिंहासनों से कहीं अधिक _____ होता है।

Options :

1. * कीमती
2. * अमूल्य
3. ✓ बहुमूल्य
4. * मूल्यहीन

Question Number : 178 Question Id : 9983679237 Question Type : MCQ Option Shuffling : Yes

Correct Marks : 1 Wrong Marks : 0.25

उन शब्दों को चुनें जो दिए गए शब्दों का सही अर्थ है।

दीन और दिन

Options :

1. * दिवस और गरीब

2. ✓ गरीब और दिवस

3. * दीवस और गरीब

4. * दिस और गरीब

Question Number : 178 Question Id : 9983679237 Question Type : MCQ Option Shuffling : Yes
Correct Marks : 1 Wrong Marks : 0.25

उन शब्दों को चुनें जो दिए गए शब्दों का सही अर्थ है।

दीन और दिन

Options :

1. * दिवस और गरीब

2. ✓ गरीब और दिवस

3. * दीवस और गरीब

4. * दिस और गरीब

Question Number : 179 Question Id : 9983679238 Question Type : MCQ Option Shuffling : Yes
Correct Marks : 1 Wrong Marks : 0.25

उस शब्द को चुनें जो दिए गए शब्दों का सही युग्म दर्शाता है।

जीवन – मरण

Options :

1. ✓ विपरीतार्थक

2. * निरर्थक – निरर्थक

3. * सार्थक – निरर्थक

4. * पर्याय

Question Number : 179 Question Id : 9983679238 Question Type : MCQ Option Shuffling : Yes
Correct Marks : 1 Wrong Marks : 0.25

उस शब्द को चुनें जो दिए गए शब्दों का सही युग्म दर्शाता है।

जीवन - मरण

Options :

1. ✓ विपरीतार्थक
2. ✘ निरर्थक - निरर्थक
3. ✘ सार्थक - निरर्थक
4. ✘ पर्याय

Question Number : 180 Question Id : 9983679239 Question Type : MCQ Option Shuffling : Yes
Correct Marks : 1 Wrong Marks : 0.25

उस शब्द को चुनें जो दिए गए शब्दों का सही युग्म दर्शाता है।

लक्ष - लक्ष्य

Options :

1. ✘ गाड़ी - आभूषण
2. ✘ समूह - इरादा
3. ✓ लाख - उद्देश्य
4. ✘ उद्देश्य - सहस्र

Question Number : 180 Question Id : 9983679239 Question Type : MCQ Option Shuffling : Yes
Correct Marks : 1 Wrong Marks : 0.25

उस शब्द को चुनें जो दिए गए शब्दों का सही युग्म दर्शाता है।

लक्ष - लक्ष्य

Options :

1. ✘ गाड़ी - आभूषण
2. ✘ समूह - इरादा
3. ✓ लाख - उद्देश्य

4. * उद्देश्य - सहस्त्र

General Hindi2

Group Number :	10
Group Id :	998367406
Group Maximum Duration :	0
Group Minimum Duration :	120
Show Attended Group? :	No
Edit Attended Group? :	No
Break time:	0
Group Marks:	20
Is this Group for Examiner?:	No
Revisit allowed for group Instructions? :	Yes
Maximum Instruction Time:	0
Minimum Instruction Time:	0

General Hindi2

Section Id :	998367412
Section Number :	1
Section type :	Online
Mandatory or Optional:	Mandatory
Number of Questions:	16
Number of Questions to be attempted:	16
Section Marks:	20

Sub-Section Number:	1
Sub-Section Id:	998367579
Question Shuffling Allowed :	Yes

Question Number : 181 Question Id : 9983679240 Question Type : MCQ Option Shuffling : Yes
Correct Marks : 1 Wrong Marks : 0.25

उस शब्द को चुनें जो दिए गए शब्द समूह के लिए उपयुक्त है।

कम वेतन पाने वाला

Options :

1. * कमवेतनी
2. * तनख्वाह कम
3. ✓ अल्पवेतन भोगी

4. * गरीब

Question Number : 181 Question Id : 9983679240 Question Type : MCQ Option Shuffling : Yes
Correct Marks : 1 Wrong Marks : 0.25

उस शब्द को चुनें जो दिए गए शब्द समूह के लिए उपयुक्त है।

कम वेतन पाने वाला

Options :

1. * कमवेतनी
2. * तनख्वाह कम
3. ✓ अल्पवेतन भोगी
4. * गरीब

Question Number : 182 Question Id : 9983679241 Question Type : MCQ Option Shuffling : Yes
Correct Marks : 1 Wrong Marks : 0.25

एक वाक्य रिक्त स्थान के साथ दिया गया है, जिसे उपयुक्त शब्द से भस्त्र है। सही विकल्प चुनें।

आज-कल हँसी भी _____ होती जा रही है।

Options :

1. * प्रतीक्षा
2. ✓ दुर्लभ
3. * अंत
4. * शुरू

Question Number : 182 Question Id : 9983679241 Question Type : MCQ Option Shuffling : Yes
Correct Marks : 1 Wrong Marks : 0.25

एक वाक्य रिक्त स्थान के साथ दिया गया है, जिसे उपयुक्त शब्द से भस्त्र है। सही विकल्प चुनें।

आज-कल हँसी भी _____ होती जा रही है।

Options :

1. * प्रतीक्षा
2. ✓ दुर्लभ
3. * अंत
4. * शुरू

Question Number : 183 Question Id : 9983679242 Question Type : MCQ Option Shuffling : Yes
Correct Marks : 1 Wrong Marks : 0.25

निम्नलिखित में से शुद्ध वाक्य का चयन कीजिए।

Options :

1. * वह दण्ड के योग्य है।
2. * वह दण्ड लेने योग्य है।
3. ✓ वह दण्ड पाने योग्य है।
4. * वह दण्ड देने योग्य है।

Question Number : 183 Question Id : 9983679242 Question Type : MCQ Option Shuffling : Yes
Correct Marks : 1 Wrong Marks : 0.25

निम्नलिखित में से शुद्ध वाक्य का चयन कीजिए।

Options :

1. * वह दण्ड के योग्य है।
2. * वह दण्ड लेने योग्य है।
3. ✓ वह दण्ड पाने योग्य है।
4. * वह दण्ड देने योग्य है।

Question Number : 184 Question Id : 9983679243 Question Type : MCQ Option Shuffling : Yes
Correct Marks : 1 Wrong Marks : 0.25

उस शब्द को चुनें जो दिए गए शब्द का बहुवचन है।

चिड़िया

Options :

1. ✓ चिड़ियाँ
2. ✗ चिड़ियों
3. ✗ चिड़ियाओं
4. ✗ ये सभी

Question Number : 184 Question Id : 9983679243 Question Type : MCQ Option Shuffling : Yes
Correct Marks : 1 Wrong Marks : 0.25

उस शब्द को चुनें जो दिए गए शब्द का बहुवचन है।

चिड़िया

Options :

1. ✓ चिड़ियाँ
2. ✗ चिड़ियों
3. ✗ चिड़ियाओं
4. ✗ ये सभी

Question Number : 185 Question Id : 9983679244 Question Type : MCQ Option Shuffling : Yes
Correct Marks : 1 Wrong Marks : 0.25

निम्नलिखित में से शुद्ध वाक्य को चुनें।

Options :

1. ✗ उसने एक मोती का हार खरीदा।
2. ✓ तुम्हारी घड़ी में कितने बजे हैं?
3. ✗ उनकी व्यवहार अच्छी नहीं है।
4. ✗ मैं पढ़ने का व्यायाम करता हूँ।

Question Number : 185 Question Id : 9983679244 Question Type : MCQ Option Shuffling : Yes
Correct Marks : 1 Wrong Marks : 0.25

निम्नलिखित में से शुद्ध वाक्य को चुनें।

Options :

1. ✖ उसने एक मोती का हार खरीदा।
2. ✔ तुम्हारी घड़ी में कितने बजे हैं?
3. ✖ उनकी व्यवहार अच्छी नहीं है।
4. ✖ मैं पढ़ने का व्यायाम करता हूँ।

Question Number : 186 Question Id : 9983679245 Question Type : MCQ Option Shuffling : Yes
Correct Marks : 1 Wrong Marks : 0.25

निम्नलिखित वाक्य का सही वाक्य चुनें।

हमसे कितना पढ़ा जाता है।

Options :

1. ✔ कर्तृवाच्य
2. ✖ कर्मवाच्य
3. ✖ भाववाच्य
4. ✖ कोई भी विकल्प सही नहीं है

Question Number : 186 Question Id : 9983679245 Question Type : MCQ Option Shuffling : Yes
Correct Marks : 1 Wrong Marks : 0.25

निम्नलिखित वाक्य का सही वाक्य चुनें।

हमसे कितना पढ़ा जाता है।

Options :

1. ✔ कर्तृवाच्य
2. ✖ कर्मवाच्य
3. ✖ भाववाच्य
4. ✖ कोई भी विकल्प सही नहीं है

Question Number : 187 Question Id : 9983679246 Question Type : MCQ Option Shuffling : Yes

Correct Marks : 1 Wrong Marks : 0.25

निम्नलिखित में से किस वाक्य में क्रिया वर्तमान काल में है?

Options :

1. * उसने फल खा लिये थे।
2. ✓ मैं तुम्हारा पत्र पढ़ रहा हूँ।
3. * अचानक बिजली कौंध उठी।
4. * कल वे आने वाले थे।

Question Number : 187 Question Id : 9983679246 Question Type : MCQ Option Shuffling : Yes

Correct Marks : 1 Wrong Marks : 0.25

निम्नलिखित में से किस वाक्य में क्रिया वर्तमान काल में है?

Options :

1. * उसने फल खा लिये थे।
2. ✓ मैं तुम्हारा पत्र पढ़ रहा हूँ।
3. * अचानक बिजली कौंध उठी।
4. * कल वे आने वाले थे।

Question Number : 188 Question Id : 9983679247 Question Type : MCQ Option Shuffling : Yes

Correct Marks : 1 Wrong Marks : 0.25

उस वाक्य को चुनो जो दिए गए मिश्रित वाक्य का साधारण रूप है।

जो कवि लोकप्रिय होता है

Options :

1. ✓ लोकप्रिय कवि का सम्मान सभी करते हैं।
2. * लोकप्रिय कवि का सम्मान करना चाहिए।
3. * लोकप्रिय कवि जो होता है उसका सभी सम्मान करते हैं।
4. * लोकप्रिय कवि को सम्मनित सभी करते हैं।

Question Number : 188 Question Id : 9983679247 Question Type : MCQ Option Shuffling : Yes

Correct Marks : 1 Wrong Marks : 0.25

उस वाक्य को चुनों जो दिए गए मिश्रित वाक्य का साधारण रूप है।

जो कवि लोकप्रिय होता है

Options :

1. ✓ लोकप्रिय कवि का सम्मान सभी करते हैं।
2. ✘ लोकप्रिय कवि का सम्मान करना चाहिए।
3. ✘ लोकप्रिय कवि जो होता है उसका सभी सम्मान करते हैं।
4. ✘ लोकप्रिय कवि को सम्मनित सभी करते हैं।

Question Number : 189 Question Id : 9983679248 Question Type : MCQ Option Shuffling : Yes
Correct Marks : 1 Wrong Marks : 0.25

निम्नलिखित वाक्य का सही काल चुनें।

तुम जा रहे हो

Options :

1. ✓ वर्तमान काल
2. ✘ भूतकाल
3. ✘ भविष्यकाल
4. ✘ उपरोक्त सभी

Question Number : 189 Question Id : 9983679248 Question Type : MCQ Option Shuffling : Yes
Correct Marks : 1 Wrong Marks : 0.25

निम्नलिखित वाक्य का सही काल चुनें।

तुम जा रहे हो

Options :

1. ✓ वर्तमान काल
2. ✘ भूतकाल
3. ✘ भविष्यकाल

4. * उपरोक्त सभी

Question Number : 190 Question Id : 9983679249 Question Type : MCQ Option Shuffling : Yes

Correct Marks : 1 Wrong Marks : 0.25

निम्नलिखित पूर्व पक्ष का उदाहरण चुनें।

Options :

1. * मैं अखबार पढ़ता हूँ।
2. * मैं अखबार पढ़गाँ।
3. ✓ मैंने अखबार पढ़ा।
4. * मैं अखबार पढ़ रहा हूँ।

Question Number : 190 Question Id : 9983679249 Question Type : MCQ Option Shuffling : Yes

Correct Marks : 1 Wrong Marks : 0.25

निम्नलिखित पूर्व पक्ष का उदाहरण चुनें।

Options :

1. * मैं अखबार पढ़ता हूँ।
2. * मैं अखबार पढ़गाँ।
3. ✓ मैंने अखबार पढ़ा।
4. * मैं अखबार पढ़ रहा हूँ।

Question Number : 191 Question Id : 9983679250 Question Type : MCQ Option Shuffling : Yes

Correct Marks : 1 Wrong Marks : 0.25

निम्नलिखित प्रश्न में, दिए गए चार विकल्पों में से, उस विकल्प का चयन करें जो दिए गए मुहावरे के अर्थ को सर्वश्रेष्ठ रूप से व्यक्त करता है।

आँखों में खून उतरना

Options :

1. * बीमार होना
2. * विनाश करना
3. * क्रोध में अशब्द कहना
4. ✓ क्रोध में आँख-मुँह लाल होना

Question Number : 191 Question Id : 9983679250 Question Type : MCQ Option Shuffling : Yes
Correct Marks : 1 Wrong Marks : 0.25

निम्नलिखित प्रश्न में, दिए गए चार विकल्पों में से, उस विकल्प का चयन करें जो दिए गए मुहावरे के अर्थ को सर्वश्रेष्ठ रूप से व्यक्त करता है।

आँखों में खून उतरना

Options :

1. * बीमार होना
2. * विनाश करना
3. * क्रोध में अशब्द कहना
4. ✓ क्रोध में आँख-मुँह लाल होना

Question Number : 192 Question Id : 9983679251 Question Type : MCQ Option Shuffling : Yes
Correct Marks : 1 Wrong Marks : 0.25

द्वन्द्व समास के दोनों पदों के बीच किस विराम चिह्न का प्रयोग होता है?

Options :

1. * विराम चिह्न
2. ✓ योजक चिह्न
3. * अर्धविराम
4. * अल्पविराम

Question Number : 192 Question Id : 9983679251 Question Type : MCQ Option Shuffling : Yes
Correct Marks : 1 Wrong Marks : 0.25

द्वन्द्व समास के दोनों पदों के बीच किस विराम चिह्न का प्रयोग होता है?

Options :

1. * विराम चिह्न
2. ✓ योजक चिह्न
3. * अर्धविराम

4. * अल्पविराम

Question Number : 193 Question Id : 9983679252 Question Type : MCQ Option Shuffling : Yes

Correct Marks : 1 Wrong Marks : 0.25

किस क्रम में विराम चिह्न का ठीक प्रयोग नहीं हुआ है?

Options :

1. * जी हाँ, मैं भी चलूँगा।
2. * वाक्य पूरा हो गया है।
3. ✓ वाह, आपने तो कमाल कर दिया।
4. * हमें खाना खाते समय क्या-क्या नहीं करना चाहिए?

Question Number : 193 Question Id : 9983679252 Question Type : MCQ Option Shuffling : Yes

Correct Marks : 1 Wrong Marks : 0.25

किस क्रम में विराम चिह्न का ठीक प्रयोग नहीं हुआ है?

Options :

1. * जी हाँ, मैं भी चलूँगा।
2. * वाक्य पूरा हो गया है।
3. ✓ वाह, आपने तो कमाल कर दिया।
4. * हमें खाना खाते समय क्या-क्या नहीं करना चाहिए?

Question Number : 194 Question Id : 9983679253 Question Type : MCQ Option Shuffling : Yes

Correct Marks : 1 Wrong Marks : 0.25

निम्नलिखित प्रश्न में, दिए गए चार विकल्पों में से, उस विकल्प का चयन करें जो दिए गए मुहावरे के अर्थ को सर्वश्रेष्ठ रूप से व्यक्त करता है।

ऊँट की चोरी निहुरे निहुरे

Options :

1. * जान जोखिम में डालना
2. ✓ बड़े काम छिपकर नहीं किए जा सकते
3. * उदण्ड व्यक्ति की दृष्टता
4. * किसी की वस्तु किसी दूसरे को देना

Question Number : 194 Question Id : 9983679253 Question Type : MCQ Option Shuffling : Yes
Correct Marks : 1 Wrong Marks : 0.25

निम्नलिखित प्रश्न में, दिए गए चार विकल्पों में से, उस विकल्प का चयन करें जो दिए गए मुहावरे के अर्थ को सर्वश्रेष्ठ रूप से व्यक्त करता है।

ऊँट की चोरी निहुरे निहुरे

Options :

1. * जान जोखिम में डालना
2. ✓ बड़े काम छिपकर नहीं किए जा सकते
3. * उदण्ड व्यक्ति की दृष्टता
4. * किसी की वस्तु किसी दूसरे को देना

Question Number : 195 Question Id : 9983679254 Question Type : MCQ Option Shuffling : Yes
Correct Marks : 1 Wrong Marks : 0.25

दिए गए वाक्य के लिए उचित विराम चिह्न को चुनें।

बालक स्कूल से कब आया

Options :

1. * ,
2. ✓ ?
3. * !
4. * |

Question Number : 195 Question Id : 9983679254 Question Type : MCQ Option Shuffling : Yes
Correct Marks : 1 Wrong Marks : 0.25

दिए गए वाक्य के लिए उचित विराम चिह्न को चुनें।

बालक स्कूल से कब आया

Options :

1. ✖ ,

2. ✔ ?

3. ✖ !

4. ✖ |

Sub-Section Number: 2
Sub-Section Id: 998367580
Question Shuffling Allowed : Yes

Question Id : 9983679255 Question Type : COMPREHENSION Sub Question Shuffling Allowed : Yes Group Comprehension Questions : No

Question Numbers : (196 to 200)

Question Label : Comprehension

निम्नलिखित गद्यांश को ध्यानपूर्वक पढ़ें और दिए गए प्रश्न के उत्तर दें।

शून्य का प्रयोग मनुष्य के सोचने और संबंधी ज्ञान का एक क्रांतिकारी कदम था। शून्य की खोज मानव इतिहास में अग्नि और पहिये के आविष्कारों के तुल्य मानी जाती है। किसी संख्या का न होना और फिर उस अवस्था को किसी चिह्न विशेष द्वारा व्यक्त कर देना निश्चय ही एक महान उपलब्धि है। अंको के जगत में शून्य वही स्थान रखता है जो परमाणुओं के भीतर का शून्य स्थल। शून्य का महत्वपूर्ण उपयोग स्थानीय मान सिद्धांत के रूप में हुआ। स्थान मान का अर्थ यह है कि अंक का भाग उसके स्थान पर आधारित है। दाईं ओर से बाईं ओर जाने पर अंको का मान दस-दस गुना बढ़ता है। जिसे सभी विद्यार्थियों को भली प्रकार पता है। इससे स्पष्ट है कि किसी संख्या के दाईं ओर शून्य लगाने से उस संख्या के दाईं ओर शून्य लगाने से उस संख्या का मान दस गुना हो जाएगा, यद्यपि उसके बाईं ओर शून्य रखने से संख्या-मान में कोई प्रभाव नहीं पड़ेगा। है यह जादू के खेल जैसा! भला क्यों और कैसे? यदि किसी संख्या में शून्य जोड़े तो संख्या ज्यों की त्यों रहेगी और किसी संख्या में शून्य घटाने पर भी संख्या-मान में कोई परिवर्तन नहीं आएगा। फिर भी शून्य का महत्व इतना अधिक है कि प्रत्येक गणना का मूल यही हो जाता है। अंतरिक्ष की करोड़ों-अरबों की संख्याओं की गणना में सहायक शून्य आज विज्ञान की भी सहायता कर रहा है।

Sub questions

Question Number : 196 Question Id : 9983679256 Question Type : MCQ Option Shuffling : Yes
Correct Marks : 1 Wrong Marks : 0.25

शून्य का महत्वपूर्ण उपयोग किसके रूप में हुआ?

Options :

1. * पैसे गिनने
2. * धरातल को मापने
3. ✓ स्थानीय-मान सिद्धांत
4. * खेल खेलने

Question Number : 197 Question Id : 9983679257 Question Type : MCQ Option Shuffling : Yes
Correct Marks : 1 Wrong Marks : 0.25

अंको के जगत में शून्य का किसके जैसा स्थान है?

Options :

1. * भगवान शिव के जैसा
2. * परमाणु बम के जैसा
3. ✓ परमाणु के भीतर के शून्य स्थल जैसा
4. * अणु बनाने जैसा

Question Number : 198 Question Id : 9983679258 Question Type : MCQ Option Shuffling : Yes
Correct Marks : 1 Wrong Marks : 0.25

‘अंतरिक्ष की करोड़ों-अरबों की संख्याओं की गणना’ से तात्पर्य है:

Options :

1. * तारों की गिनती
2. * ग्रहों की गिनती
3. ✓ पृथ्वी से अंतरिक्ष की दूरी की गिनती
4. * रॉकेट की गिनती

Question Number : 199 Question Id : 9983679259 Question Type : MCQ Option Shuffling : Yes
Correct Marks : 1 Wrong Marks : 0.25

शून्य की खोज मानव इतिहास में किसके आविष्कार तुल्य मानी जाती है?

Options :

1. * रूपयों के
2. * खजाने के
3. ✓ अग्नि व पहिए के

4. * रेलगाड़ी के

Question Number : 200 Question Id : 9983679260 Question Type : MCQ Option Shuffling : Yes
Correct Marks : 1 Wrong Marks : 0.25

उपरोक्त पद्यांश का उचित शीर्षक कौन सा है:

Options :

1. ✓ शून्य का आविष्कार
2. * अंतरिक्ष की गणना
3. * शून्य का व्यवहार
4. * शून्य के लाभ व हानि

Question Id : 9983679255 Question Type : COMPREHENSION Sub Question Shuffling Allowed : Yes Group Comprehension
Questions : No

Question Numbers : (196 to 200)

Question Label : Comprehension

निम्नलिखित गद्यांश को ध्यानपूर्वक पढ़े और दिए गए प्रश्न के उत्तर दें।

शून्य का प्रयोग मनुष्य के सोचने और संबंधी ज्ञान का एक क्रांतिकारी कदम था। शून्य की खोज मानव इतिहास में अग्नि और पहिये के आविष्कारों के तुल्य मानी जाती है। किसी संख्या का न होना और फिर उस अवस्था को किसी चिह्न विशेष द्वारा व्यक्त कर देना निश्चय ही एक महान उपलब्धि है। अंको के जगत में शून्य वही स्थान रखता है जो परमाणुओं के भीतर का शून्य स्थल। शून्य का महत्वपूर्ण उपयोग स्थानीय मान सिद्धांत के रूप में हुआ। स्थान मान का अर्थ यह है कि अंक का भाग उसके स्थान पर आधारित है। दाईं ओर से बाईं ओर जाने पर अंको का मान दस-दस गुना बढ़ता है। जिसे सभी विद्यार्थियों को भली प्रकार पता है। इससे स्पष्ट है कि किसी संख्या के दाईं ओर शून्य लगाने से उस संख्या के दाईं ओर शून्य लगाने से उस संख्या का मान दस गुना हो जाएगा, यद्यपि उसके बाईं ओर शून्य रखने से संख्या-मान में कोई प्रभाव नहीं पड़ेगा। है यह जादू के खेल जैसा! भला क्यों और कैसे? यदि किसी संख्या में शून्य जोड़े तो संख्या ज्यों की त्यों रहेगी और किसी संख्या में शून्य घटाने पर भी संख्या-मान में कोई परिवर्तन नहीं आएगा। फिर भी शून्य का महत्व इतना अधिक है कि प्रत्येक गणना का मूल यही हो जाता है। अंतरिक्ष की करोड़ों-अरबों की संख्याओं की गणना में सहायक शून्य आज विज्ञान की भी सहायता कर रहा है।

Sub questions

Question Number : 196 Question Id : 9983679256 Question Type : MCQ Option Shuffling : Yes
Correct Marks : 1 Wrong Marks : 0.25

शून्य का महत्वपूर्ण उपयोग किसके रूप में हुआ?

Options :

1. ✖ पैसे गिनने
2. ✖ धरातल को मापने
3. ✔ स्थानीय-मान सिद्धांत
4. ✖ खेल खेलने

Question Number : 197 Question Id : 9983679257 Question Type : MCQ Option Shuffling : Yes
Correct Marks : 1 Wrong Marks : 0.25

अंको के जगत में शून्य का किसके जैसा स्थान है?

Options :

1. ✖ भगवान शिव के जैसा
2. ✖ परमाणु बम के जैसा
3. ✔ परमाणु के भीतर के शून्य स्थल जैसा
4. ✖ अणु बनाने जैसा

Question Number : 198 Question Id : 9983679258 Question Type : MCQ Option Shuffling : Yes
Correct Marks : 1 Wrong Marks : 0.25

‘अंतरिक्ष की करोड़ों-अरबों की संख्याओं की गणना’ से तात्पर्य है:

Options :

1. ✖ तारों की गिनती
2. ✖ ग्रहों की गिनती
3. ✔ पृथ्वी से अंतरिक्ष की दूरी की गिनती
4. ✖ रॉकेट की गिनती

Question Number : 199 Question Id : 9983679259 Question Type : MCQ Option Shuffling : Yes
Correct Marks : 1 Wrong Marks : 0.25

शून्य की खोज मानव इतिहास में किसके आविष्कार तुल्य मानी जाती है?

Options :

1. * रूपयों के
2. * खजाने के
3. ✓ अग्नि व पहिए के
4. * रेलगाड़ी के

Question Number : 200 Question Id : 9983679260 Question Type : MCQ Option Shuffling : Yes
Correct Marks : 1 Wrong Marks : 0.25

उपरोक्त पद्यांश का उचित शीर्षक कौन सा है:

Options :

1. ✓ शून्य का आविष्कार
2. * अंतरिक्ष की गणना
3. * शून्य का व्यवहार
4. * शून्य के लाभ व हानि