

Education Consultant India Ltd.

Notations :

- 1.Options shown in green color and with ✓ icon are correct.
- 2.Options shown in red color and with ✘ icon are incorrect.

Question Paper Name:	Assistant Security Officer
Subject Name:	Assistant Security Officer
Creation Date:	2019-08-25 15:42:29
Duration:	120
Total Marks:	200
Display Marks:	Yes
Share Answer Key With Delivery Engine:	No
Actual Answer Key:	Yes
Calculator:	None
Magnifying Glass Required?:	No
Ruler Required?:	No
Eraser Required?:	No
Scratch Pad Required?:	No
Rough Sketch/Notepad Required?:	No
Protractor Required?:	No
Show Watermark on Console?:	Yes
Highlighter:	No
Auto Save on Console?:	No

Mental Ability 1

Group Number :	1
Group Id :	96623174
Group Maximum Duration :	0
Group Minimum Duration :	0
Revisit allowed for view? :	No
Revisit allowed for edit? :	No
Break time:	0
Group Marks:	20
Revisit allowed for group Instructions? :	Yes
Maximum Instruction Time:	0
Minimum Instruction Time:	0

Mental Ability 1

Section Id :	966231189
Section Number :	1
Section type :	Online
Mandatory or Optional:	Mandatory
Number of Questions:	20
Number of Questions to be attempted:	20
Section Marks:	20

Display Number Panel: Yes
Group All Questions: No

Sub-Section Number: 1
Sub-Section Id: 966231199
Question Shuffling Allowed : Yes

Question Number : 1 Question Id : 9662315611 Question Type : MCQ Option Shuffling : Yes Display Question Number : Yes
Single Line Question Option : No Option Orientation : Vertical

Correct Marks : 1 Wrong Marks : 0.25

A series is given with one term missing. Select the correct alternative from the given ones that will complete the series.

PRTS, RPVQ, TNXO, VLZM?

Options :

1. ✘ YKAL
2. ✔ XJBK
3. ✘ XJCL
4. ✘ YJBL

Question Number : 1 Question Id : 9662315611 Question Type : MCQ Option Shuffling : Yes Display Question Number : Yes
Single Line Question Option : No Option Orientation : Vertical

Correct Marks : 1 Wrong Marks : 0.25

एक अनुक्रम दिया गया है, जिसमें से एक पद लुप्त है। दिए गए विकल्पों में से वह सही विकल्प चुनिए, जो अनुक्रम को पूरा करे।

PRTS, RPVQ, TNXO, VLZM?

Options :

1. ✘ YKAL
2. ✔ XJBK
3. ✘ XJCL
4. ✘ YJBL

Question Number : 2 Question Id : 9662315612 Question Type : MCQ Option Shuffling : Yes Display Question Number : Yes
Single Line Question Option : No Option Orientation : Vertical

Correct Marks : 1 Wrong Marks : 0.25

दिए गए विकल्पों में से वह शब्द चुनिए जो दिए गए शब्द के अक्षरों का प्रयोग करके नहीं बनाया जा सकता है।

BRAINPOST

Options :

1. ✘ BRAIN
2. ✘ PAIN
3. ✔ PEST
4. ✘ SAINT

Question Number : 2 Question Id : 9662315612 Question Type : MCQ Option Shuffling : Yes Display Question Number : Yes
Single Line Question Option : No Option Orientation : Vertical

Correct Marks : 1 Wrong Marks : 0.25

From the given alternatives, select the word which CANNOT be formed using the letters of the given word.

BRAINPOST

Options :

1. ✘ BRAIN
2. ✘ PAIN
3. ✔ PEST
4. ✘ SAINT

Question Number : 3 Question Id : 9662315613 Question Type : MCQ Option Shuffling : Yes Display Question Number : Yes
Single Line Question Option : No Option Orientation : Vertical

Correct Marks : 1 Wrong Marks : 0.25

From the given alternatives, select the word which CAN be formed using the letters of the given word.

CONTINENTAL

Options :

1. ✘ NEWTON
2. ✔ CENT
3. ✘ LAND
4. ✘ NOMAD

Question Number : 3 Question Id : 9662315613 Question Type : MCQ Option Shuffling : Yes Display Question Number : Yes
Single Line Question Option : No Option Orientation : Vertical

Correct Marks : 1 Wrong Marks : 0.25

दिए गए विकल्पों में से वह शब्द चुनिए जो दिए गए शब्द के अक्षरों का प्रयोग करके बनाया जा सकता है।

CONTINENTAL

Options :

1. ✘ NEWTON
2. ✔ CENT
3. ✘ LAND
4. ✘ NOMAD

Question Number : 4 Question Id : 9662315614 Question Type : MCQ Option Shuffling : Yes Display Question Number : Yes
Single Line Question Option : No Option Orientation : Vertical

Correct Marks : 1 Wrong Marks : 0.25

In the following question, select the odd word from the given alternatives.

Options :

1. ✔ Sun
2. ✘ Mercury
3. ✘ Earth
4. ✘ Mars

Question Number : 4 Question Id : 9662315614 Question Type : MCQ Option Shuffling : Yes Display Question Number : Yes
Single Line Question Option : No Option Orientation : Vertical

Correct Marks : 1 Wrong Marks : 0.25

निम्नलिखित प्रश्न में दिए गए विकल्पों में से विषम शब्द को चुनिए।

Options :

1. ✔ सूर्य
2. ✘ बुध
3. ✘ पृथ्वी
4. ✘ मंगल

Question Number : 5 Question Id : 9662315615 Question Type : MCQ Option Shuffling : Yes Display Question Number : Yes
Single Line Question Option : No Option Orientation : Vertical

Correct Marks : 1 Wrong Marks : 0.25

In the following question, select the odd word from the given alternatives.

Options :

1. ✘ Milk
2. ✘ Water
3. ✘ Juice
4. ✔ Stone

Question Number : 5 Question Id : 9662315615 Question Type : MCQ Option Shuffling : Yes Display Question Number : Yes
Single Line Question Option : No Option Orientation : Vertical

Correct Marks : 1 Wrong Marks : 0.25

निम्नलिखित प्रश्न में दिए गए विकल्पों में से विषम शब्द को चुनिए

Options :

1. ✘ दूध
2. ✘ पानी
3. ✘ जूस
4. ✔ पत्थर

Question Number : 6 Question Id : 9662315616 Question Type : MCQ Option Shuffling : Yes Display Question Number : Yes
Single Line Question Option : No Option Orientation : Vertical

Correct Marks : 1 Wrong Marks : 0.25

In the following question, select the odd letter /letters from the given alternatives.

Options :

1. ✘ NRWC
2. ✔ OSXC
3. ✘ PTYE
4. ✘ HLQW

Question Number : 6 Question Id : 9662315616 Question Type : MCQ Option Shuffling : Yes Display Question Number : Yes
Single Line Question Option : No Option Orientation : Vertical

Correct Marks : 1 Wrong Marks : 0.25

निम्नलिखित प्रश्न में दिए गए विकल्पों में से विषम अक्षर/अक्षरों को चुनिए

Options :

1. ✘ NRWC
2. ✔ OSXC
3. ✘ PTYE
4. ✘ HLQW

Question Number : 7 Question Id : 9662315617 Question Type : MCQ Option Shuffling : Yes Display Question Number : Yes
Single Line Question Option : No Option Orientation : Vertical

Correct Marks : 1 Wrong Marks : 0.25

In the following question, select the related word pair from the given alternatives.

Lady finger : Vegetable :: ? : ?

Options :

1. ✘ Drink : Water

2. ✘ Car : Four
3. ✔ Jupiter : Planet
4. ✘ Pencil : Black

Question Number : 7 Question Id : 9662315617 Question Type : MCQ Option Shuffling : Yes Display Question Number : Yes
Single Line Question Option : No Option Orientation : Vertical

Correct Marks : 1 Wrong Marks : 0.25

निम्नलिखित प्रश्न में दिए गए विकल्पों में से संबंधित शब्द युग्म को चुनिए।

भिन्डी : सब्जि :: ? : ?

Options :

1. ✘ पिना : पानी
2. ✘ कार : चार
3. ✔ बृहस्पति : ग्रह
4. ✘ पेंसिल : काली

Question Number : 8 Question Id : 9662315618 Question Type : MCQ Option Shuffling : Yes Display Question Number : Yes
Single Line Question Option : No Option Orientation : Vertical

Correct Marks : 1 Wrong Marks : 0.25

In the following question, select the related letters from the given alternatives.

NK : TQ :: PJ : ?

Options :

1. ✘ VQ
2. ✘ UP
3. ✔ VP
4. ✘ UQ

Question Number : 8 Question Id : 9662315618 Question Type : MCQ Option Shuffling : Yes Display Question Number : Yes
Single Line Question Option : No Option Orientation : Vertical

Correct Marks : 1 Wrong Marks : 0.25

निम्नलिखित प्रश्न में दिए गए विकल्पों में से संबंधित अक्षरों को चुनिए।

NK : TQ :: PJ : ?

Options :

1. ✘ VQ
2. ✘ UP
3. ✔ VP
4. ✘ UQ

Question Number : 9 Question Id : 9662315619 Question Type : MCQ Option Shuffling : Yes Display Question Number : Yes
Single Line Question Option : No Option Orientation : Vertical

Correct Marks : 1 Wrong Marks : 0.25

In the following question, select the related letter pair from the given alternatives.

SAND : VXQA :: ? :: ?

Options :

1. ✘ NINE : KCLK
2. ✔ COPE : FLSE
3. ✘ BANE : DYPC

4. ✖ HINT : GHMS

Question Number : 9 Question Id : 9662315619 Question Type : MCQ Option Shuffling : Yes Display Question Number : Yes
Single Line Question Option : No Option Orientation : Vertical

Correct Marks : 1 Wrong Marks : 0.25

निम्नलिखित प्रश्न में दिए गए विकल्पों में से संबंधित अक्षर युग्म को चुनिए।

SAND : VXQA :: ? :: ?

Options :

1. ✖ NINE : KLRH
2. ✔ COPE : FLSE
3. ✖ BANE : DYPC
4. ✖ HINT : GHMS

Question Number : 10 Question Id : 9662315620 Question Type : MCQ Option Shuffling : Yes Display Question Number : Yes
Single Line Question Option : No Option Orientation : Vertical

Correct Marks : 1 Wrong Marks : 0.25

In a certain code language, 'MAGIC' is written as 'OCIKE'. What is the code for 'FRIDGE' in that code language?

Options :

1. ✖ HTKFIH
2. ✖ IULGJH
3. ✖ JVMHKI
4. ✔ HTKFIG

Question Number : 10 Question Id : 9662315620 Question Type : MCQ Option Shuffling : Yes Display Question Number : Yes
Single Line Question Option : No Option Orientation : Vertical

Correct Marks : 1 Wrong Marks : 0.25

एक विशिष्ट कोड भाषा में, 'MAGIC' को 'OCIKE' लिखा जाता है। इस कोड भाषा में 'FRIDGE' का कोड क्या है?

Options :

1. ✖ HTKFIH
2. ✖ IULGJH
3. ✖ JVMHKI
4. ✔ HTKFIG

Question Number : 11 Question Id : 9662315621 Question Type : MCQ Option Shuffling : Yes Display Question Number : Yes
Single Line Question Option : No Option Orientation : Vertical

Correct Marks : 1 Wrong Marks : 0.25

In a certain code language, 'RANGED' is written as 'SZOFFC'. What is the code for 'MORGAN' in that code language?

Options :

1. ✖ MMSEAL
2. ✖ OOTGCN
3. ✖ NNTFBM
4. ✔ NNSFBM

Question Number : 11 Question Id : 9662315621 Question Type : MCQ Option Shuffling : Yes Display Question Number : Yes
Single Line Question Option : No Option Orientation : Vertical

Correct Marks : 1 Wrong Marks : 0.25

एक विशिष्ट कोड भाषा में, 'RANGED' को 'SZOFFC' लिखा जाता है। इस कोड भाषा में 'MORGAN' का कोड क्या है?

Options :

- ✘ MMSEAL
- ✘ OOTGCN
- ✘ NNTFBM
- ✔ NNSFBM

Question Number : 12 Question Id : 9662315622 Question Type : MCQ Option Shuffling : Yes Display Question Number : Yes
Single Line Question Option : No Option Orientation : Vertical

Correct Marks : 1 Wrong Marks : 0.25

In a certain code language, 'Raj is happy' is written as '4 3 6', 'Happy are people' is written as '9 1 3', 'People are good' is written as '9 2 1'. What is the code for 'Good' in that code language?

Options :

- ✔ 2
- ✘ 1
- ✘ 9
- ✘ 4

Question Number : 12 Question Id : 9662315622 Question Type : MCQ Option Shuffling : Yes Display Question Number : Yes
Single Line Question Option : No Option Orientation : Vertical

Correct Marks : 1 Wrong Marks : 0.25

एक विशिष्ट कोड भाषा में, 'Raj is happy' को '4 3 6' लिखा जाता है, 'Happy are people' को '9 1 3' लिखा जाता है, 'People are good' को '9 2 1' लिखा जाता है। इस कोड भाषा में 'Good' का कोड क्या है?

Options :

- ✔ 2
- ✘ 1
- ✘ 9
- ✘ 4

Question Number : 13 Question Id : 9662315623 Question Type : MCQ Option Shuffling : Yes Display Question Number : Yes
Single Line Question Option : No Option Orientation : Vertical

Correct Marks : 1 Wrong Marks : 0.25

Five boys L, M, N, O and P are sitting in a row facing towards north (not necessarily in the same order). There are five cars C1, C2, C3, C4 and C5. Each boy drives only one car among these cars. L is at the left end. Only O is towards the right of M. P drives car C4 and is second to the left of O. The boy who drives the car C2 is to the immediate right of M. L drives car C1. The boy who drives car C5 is towards the right of the boy who drives car C4. Who drives car C3?

Options :

- ✘ M
- ✘ P
- ✘ L
- ✔ N

Question Number : 13 Question Id : 9662315623 Question Type : MCQ Option Shuffling : Yes Display Question Number : Yes
Single Line Question Option : No Option Orientation : Vertical

Correct Marks : 1 Wrong Marks : 0.25

पाँच लड़के L, M, N, O तथा P एक पंक्ति में उत्तर की ओर मुख करके बैठे हुए हैं (जरूरी नहीं की इसी क्रम में हो)। पाँच कार C1, C2, C3, C4 तथा C5 हैं। प्रत्येक लड़का इन कारों में से केवल एक कार चलाता है। L बायें छोर पर है। केवल O, M के दायीं ओर है। P कार C4 चलाता है तथा O के बायीं ओर दूसरा है। वह लड़का जो कार C2 चलाता है, M के तुरंत दायीं ओर है। L कार C1 चलाता है। वह लड़का जो कार C5 चलाता है उस लड़के के दायीं ओर है जो कार C4 चलाता है। कार C3 कौन चलाता है?

Options :

- ✘ M

2. ✘ P
3. ✘ L
4. ✔ N

Question Number : 14 Question Id : 9662315624 Question Type : MCQ Option Shuffling : Yes Display Question Number : Yes
Single Line Question Option : No Option Orientation : Vertical

Correct Marks : 1 Wrong Marks : 0.25

Five product R, S, T, U and V are arranged according to their cost price in ascending order from left to right (not necessarily in the same order) Price of R is the least. Price of V is more than only three products. Price of T is not less than V. Price of S is more than U. If the price of V is Rs. 120, then what can be the price of R?

Options :

1. ✘ Rs. 140
2. ✔ Rs. 110
3. ✘ Rs. 122
4. ✘ Rs. 134

Question Number : 14 Question Id : 9662315624 Question Type : MCQ Option Shuffling : Yes Display Question Number : Yes
Single Line Question Option : No Option Orientation : Vertical

Correct Marks : 1 Wrong Marks : 0.25

पाँच उत्पादों R, S, T, U तथा V को उनके क्रय मूल्य के अनुसार बायें से दायें की ओर बढ़ते क्रम में व्यवस्थित किया गया है (जरूरी नहीं की इसी क्रम में हो)। R का मूल्य न्यूनतम है V का मूल्य केवल तीन उत्पादों से अधिक है। T का मूल्य, V से कम नहीं है। S का मूल्य U से अधिक है। यदि V का मूल्य 120 रुपये है, तो R का मूल्य क्या हो सकता है?

Options :

1. ✘ 140 रुपये
2. ✔ 110 रुपये
3. ✘ 122 रुपये
4. ✘ 134 रुपये

Question Number : 15 Question Id : 9662315625 Question Type : MCQ Option Shuffling : Yes Display Question Number : Yes
Single Line Question Option : No Option Orientation : Vertical

Correct Marks : 1 Wrong Marks : 0.25

Four people A, B, H and M live in a building (not necessarily in the same order). There are four floors in the building: 1, 2, 3 and 4. 1 is the lower most floor. Each person lives on one floor. A lives at the odd numbered floor. H lives just below A. B does not live above A. How many people live between A and M?

Options :

1. ✘ 2
2. ✘ 1
3. ✔ 0
4. ✘ 3

Question Number : 15 Question Id : 9662315625 Question Type : MCQ Option Shuffling : Yes Display Question Number : Yes
Single Line Question Option : No Option Orientation : Vertical

Correct Marks : 1 Wrong Marks : 0.25

चार व्यक्ति A, B, H तथा M एक इमारत में रहते हैं (जरूरी नहीं की इसी क्रम में हो)। इमारत में चार मंजिल है: 1, 2, 3 तथा 4। 1 सबसे नीचे वाली मंजिल है। प्रत्येक व्यक्ति केवल एक मंजिल पर रहता है। A विषम संख्या वाली मंजिल पर रहता है। H, A के ठीक नीचे रहता है। B, A के ऊपर नहीं रहता है। A तथा M के बीच कितने व्यक्ति रहते हैं?

Options :

1. ✘ 2
2. ✘ 1
3. ✔ 0

4. ✖ 3

Question Number : 16 Question Id : 9662315626 Question Type : MCQ Option Shuffling : Yes Display Question Number : Yes
Single Line Question Option : No Option Orientation : Vertical

Correct Marks : 1 Wrong Marks : 0.25

Five persons A, B, N, P and R are sitting one above the other (not necessarily in the same order). B is above only three people. Only two persons are between R and N. Only one person is just below N. P is three places below B. Who is sitting just above A?

Options :

1. ✖ R
2. ✔ B
3. ✖ N
4. ✖ P

Question Number : 16 Question Id : 9662315626 Question Type : MCQ Option Shuffling : Yes Display Question Number : Yes
Single Line Question Option : No Option Orientation : Vertical

Correct Marks : 1 Wrong Marks : 0.25

पाँच व्यक्ति A, B, N, P तथा R एक के ऊपर एक बैठे हुए हैं (जरूरी नहीं की इसी क्रम में हो)। B केवल तीन व्यक्तियों के ऊपर है। R तथा N के मध्य केवल दो व्यक्ति हैं। N के ठीक नीचे केवल एक व्यक्ति है। P, B से तीन स्थान नीचे है। A के ठीक ऊपर कौन बैठा हुआ है?

Options :

1. ✖ R
2. ✔ B
3. ✖ N
4. ✖ P

Question Number : 17 Question Id : 9662315627 Question Type : MCQ Option Shuffling : Yes Display Question Number : Yes
Single Line Question Option : No Option Orientation : Vertical

Correct Marks : 1 Wrong Marks : 0.25

A is the father of H. F is the mother of T. T is the daughter of H. R is the son of F. How is R related to A?

Options :

1. ✖ Grandfather
2. ✖ Son
3. ✔ Grandson
4. ✖ Brother

Question Number : 17 Question Id : 9662315627 Question Type : MCQ Option Shuffling : Yes Display Question Number : Yes
Single Line Question Option : No Option Orientation : Vertical

Correct Marks : 1 Wrong Marks : 0.25

A, F का पिता है। F, T की माता है। T, H की पुत्री है। R, F का पुत्र है। R, A से किस प्रकार संबंधित है?

Options :

1. ✖ दादा जी
2. ✖ पुत्र
3. ✔ पौत्र
4. ✖ भाई

Question Number : 18 Question Id : 9662315628 Question Type : MCQ Option Shuffling : Yes Display Question Number : Yes
Single Line Question Option : No Option Orientation : Vertical

Correct Marks : 1 Wrong Marks : 0.25

In the following question below are given some statements followed by some conclusions based on those statements. Taking the given statements to be true even if they seem to be at variance from commonly known facts. Read all the conclusions and then decide which of the given conclusion logically follows the given statements.

Statements:

- I. No H is R.
- II. All R are M.

Conclusion:

- I. Some M are H.
- II. No M is H.
- III. All M are R.

Options :

1. ✘ Only conclusion I follow
2. ✘ Both conclusion I and III follow
3. ✘ Only conclusion II follow
4. ✔ Neither Conclusion follow

Question Number : 18 Question Id : 9662315628 Question Type : MCQ Option Shuffling : Yes Display Question Number : Yes
Single Line Question Option : No Option Orientation : Vertical

Correct Marks : 1 Wrong Marks : 0.25

नीचे दिए गए प्रश्न में कुछ कथन और उनके बाद उन कथनों पर आधारित कुछ निष्कर्ष दिए गए हैं। दिए गए कथनों को सही माने, चाहे उनमें सामान्य ज्ञात तथ्यों से भिन्नता हो। सभी निष्कर्ष पढ़ें और फिर निर्धारित करें कि दिए गए कौन से निष्कर्ष, दिए गए कथनों के आधार पर युक्तिसंगत हैं।

कथन:

- I. कोई H, R नहीं है।
- II. सभी R, M हैं।

निष्कर्ष:

- I. कुछ M, H हैं।
- II. कोई M, H नहीं है।
- III. सभी M, R हैं।

Options :

1. ✘ केवल निष्कर्ष I अनुसरण करता है
2. ✘ दोनों निष्कर्ष I तथा III अनुसरण करते हैं
3. ✘ केवल निष्कर्ष II अनुसरण करता है
4. ✔ कोई भी निष्कर्ष अनुसरण नहीं करता है

Question Number : 19 Question Id : 9662315629 Question Type : MCQ Option Shuffling : Yes Display Question Number : Yes
Single Line Question Option : No Option Orientation : Vertical

Correct Marks : 1 Wrong Marks : 0.25

In the following question below are given some statements followed by some conclusions based on those statements. Taking the given statements to be true even if they seem to be at variance from commonly known facts. Read all the conclusions and then decide which of the given conclusion logically follows the given statements.

Statements:

- I. All red are yellow.
- II. Some yellow are white.
- III. Some white are blue.

Conclusion:

- I. All blue are white.
- II. Some white are yellow.
- III. Some blue are white.

Options :

- ✘ Both conclusion I and III follow
- ✘ Only conclusion I follow
- ✘ Both conclusion I and II follow
- ✔ Both conclusion II and III follow

Question Number : 19 Question Id : 9662315629 Question Type : MCQ Option Shuffling : Yes Display Question Number : Yes
Single Line Question Option : No Option Orientation : Vertical

Correct Marks : 1 Wrong Marks : 0.25

नीचे दिए गए प्रश्न में कुछ कथन और उनके बाद उन कथनों पर आधारित कुछ निष्कर्ष दिए गए हैं। दिए गए कथनों को सही माने, चाहे उनमें सामान्य ज्ञात तथ्यों से भिन्नता हो। सभी निष्कर्ष पढ़ें और फिर निर्धारित करें कि दिए गए कौन से निष्कर्ष, दिए गए कथनों के आधार पर युक्तिसंगत हैं।

कथन:

- I. सभी लाल पीला है।
- II. कुछ पीले सफेद हैं।
- III. कुछ सफेद नीले हैं।

निष्कर्ष:

- I. सभी नीला सफेद हैं।
- II. कुछ सफेद पीला है।
- III. कुछ नीला सफेद हैं।

Options :

- ✘ दोनों निष्कर्ष I तथा III अनुसरण करते हैं।
- ✘ केवल निष्कर्ष I अनुसरण करता है।
- ✘ दोनों निष्कर्ष I तथा II अनुसरण करते हैं।
- ✔ दोनों निष्कर्ष II तथा III अनुसरण करते हैं।

Question Number : 20 Question Id : 9662315630 Question Type : MCQ Option Shuffling : Yes Display Question Number : Yes
Single Line Question Option : No Option Orientation : Vertical

Correct Marks : 1 Wrong Marks : 0.25

In the following question, four number pairs are given. The number on left side of (-) is related to the number of the right side of (-) with some Logic/Rule/Relation. Three are similar on basis of same Logic/Rule/Relation. Select the odd one out from the given alternatives.

Options :

- ✘ 17 - 30
- ✘ 13 - 26
- ✔ 20 - 35
- ✘ 18 - 31

Question Number : 20 Question Id : 9662315630 Question Type : MCQ Option Shuffling : Yes Display Question Number : Yes
Single Line Question Option : No Option Orientation : Vertical

Correct Marks : 1 Wrong Marks : 0.25

नीचे दिए गए प्रश्न में, चार संख्या युग्म दिए गए हैं। (-) के बायीं ओर दी गई संख्या (-) के दायीं ओर दी गई संख्या से किसी तर्क/नियम/संबंध से संबंधित है। तीन उसी एक तर्क/नियम/संबंध के आधार पर समान हैं। दिए गए विकल्पों में से विषम को चुनिए।

Options :

- ✘ 17 - 30
- ✘ 13 - 26
- ✔ 20 - 35
- ✘ 18 - 31

Mental Ability2

Group Number :	2
Group Id :	96623175
Group Maximum Duration :	0
Group Minimum Duration :	0
Revisit allowed for view? :	No
Revisit allowed for edit? :	No
Break time:	0
Group Marks:	20
Revisit allowed for group Instructions? :	Yes
Maximum Instruction Time:	0
Minimum Instruction Time:	0

Mental Ability2

Section Id :	966231190
Section Number :	1
Section type :	Online
Mandatory or Optional:	Mandatory
Number of Questions:	20
Number of Questions to be attempted:	20
Section Marks:	20
Display Number Panel:	Yes
Group All Questions:	No

Sub-Section Number:	1
Sub-Section Id:	966231200
Question Shuffling Allowed :	Yes

Question Number : 21 Question Id : 9662315631 Question Type : MCQ Option Shuffling : Yes Display Question Number : Yes
Single Line Question Option : No Option Orientation : Vertical

Correct Marks : 1 Wrong Marks : 0.25

In the following question, four number pairs are given. The number on left side of (-) is related to the number of the right side of (-) with some Logic/Rule/Relation. Three are similar on basis of same Logic/Rule/Relation. Select the odd one out from the given alternatives.

Options :

- ✘ 7 : 49
- ✘ 5 : 25
- ✘ 11 : 121
- ✔ 17 : 285

Question Number : 21 Question Id : 9662315631 Question Type : MCQ Option Shuffling : Yes Display Question Number : Yes
Single Line Question Option : No Option Orientation : Vertical

Correct Marks : 1 Wrong Marks : 0.25

नीचे दिए गए प्रश्न में, चार संख्या युग्म दिए गए हैं। (-) के बायीं ओर दी गई संख्या (-) के दायीं ओर दी गई संख्या से किसी तर्क/नियम/संबंध से संबंधित है। तीन उसी एक तर्क/नियम/संबंध के आधार पर समान हैं। दिए गए विकल्पों में से विषम को चुनिए।

Options :

- ✘ 7 : 49
- ✘ 5 : 25
- ✘ 11 : 121

4. ✓ 17 : 285

Question Number : 22 Question Id : 9662315632 Question Type : MCQ Option Shuffling : Yes Display Question Number : Yes
Single Line Question Option : No Option Orientation : Vertical

Correct Marks : 1 Wrong Marks : 0.25

निम्नलिखित प्रश्न में दिए गए विकल्पों में से संबंधित संख्या को चुनिए।

34 : 48 :: ? : ?

Options :

1. ✗ 52 : 64

2. ✓ 56 : 70

3. ✗ 58 : 74

4. ✗ 64 : 82

Question Number : 22 Question Id : 9662315632 Question Type : MCQ Option Shuffling : Yes Display Question Number : Yes
Single Line Question Option : No Option Orientation : Vertical

Correct Marks : 1 Wrong Marks : 0.25

In the following question, select the related number from the given alternatives.

34 : 48 :: ? : ?

Options :

1. ✗ 52 : 64

2. ✓ 56 : 70

3. ✗ 58 : 74

4. ✗ 64 : 82

Question Number : 23 Question Id : 9662315633 Question Type : MCQ Option Shuffling : Yes Display Question Number : Yes
Single Line Question Option : No Option Orientation : Vertical

Correct Marks : 1 Wrong Marks : 0.25

In the following question, select the related number from the given alternatives.

436 : 13 :: 592 : ?

Options :

1. ✗ 15

2. ✓ 16

3. ✗ 8

4. ✗ 9

Question Number : 23 Question Id : 9662315633 Question Type : MCQ Option Shuffling : Yes Display Question Number : Yes
Single Line Question Option : No Option Orientation : Vertical

Correct Marks : 1 Wrong Marks : 0.25

निम्नलिखित प्रश्न में दिए गए विकल्पों में से संबंधित संख्या को चुनिए।

436 : 13 :: 592 : ?

Options :

1. ✗ 15

2. ✓ 16

3. ✗ 8

4. ✗ 9

Question Number : 24 Question Id : 9662315634 Question Type : MCQ Option Shuffling : Yes Display Question Number : Yes
Single Line Question Option : No Option Orientation : Vertical

Correct Marks : 1 Wrong Marks : 0.25

By interchanging which two signs the equation will be correct?

$$16 + 9 \div 3 - 15 \times 45 = 16$$

Options :

1. ✘ + and -
2. ✘ + and \times
3. ✔ \div and -
4. ✘ \div and +

Question Number : 24 Question Id : 9662315634 Question Type : MCQ Option Shuffling : Yes Display Question Number : Yes
Single Line Question Option : No Option Orientation : Vertical

Correct Marks : 1 Wrong Marks : 0.25

किन दो चिह्न को आपस में परस्पर बदलने पर समीकरण सही हो जाएगा?

$$16 + 9 \div 3 - 15 \times 45 = 16$$

Options :

1. ✘ + तथा -
2. ✘ + तथा \times
3. ✔ \div तथा -
4. ✘ \div तथा +

Question Number : 25 Question Id : 9662315635 Question Type : MCQ Option Shuffling : Yes Display Question Number : Yes
Single Line Question Option : No Option Orientation : Vertical

Correct Marks : 1 Wrong Marks : 0.25

By interchanging which two numbers the equation will be correct?

$$7 + 3 - 6 \div 9 \times 4 = 8$$

Options :

1. ✘ 6 and 9
2. ✘ 3 and 4
3. ✔ 3 and 9
4. ✘ 7 and 4

Question Number : 25 Question Id : 9662315635 Question Type : MCQ Option Shuffling : Yes Display Question Number : Yes
Single Line Question Option : No Option Orientation : Vertical

Correct Marks : 1 Wrong Marks : 0.25

किन दो संख्याओं को आपस में परस्पर बदलने पर समीकरण सही हो जाएगा?

$$7 + 3 - 6 \div 9 \times 4 = 8$$

Options :

1. ✘ 6 तथा 9
2. ✘ 3 तथा 4
3. ✔ 3 तथा 9
4. ✘ 7 तथा 4

Question Number : 26 Question Id : 9662315636 Question Type : MCQ Option Shuffling : Yes Display Question Number : Yes
Single Line Question Option : No Option Orientation : Vertical

Correct Marks : 1 Wrong Marks : 0.25

In the following question, select the number which can be placed at the sign of question mark (?) from the given alternatives.

8	2	6
4	8	5
40	?	36

Options :

- ✘ 42
- ✔ 18
- ✘ 24
- ✘ 36

Question Number : 26 Question Id : 9662315636 Question Type : MCQ Option Shuffling : Yes Display Question Number : Yes Single Line Question Option : No Option Orientation : Vertical

Correct Marks : 1 Wrong Marks : 0.25

निम्नलिखित प्रश्न में दिए गए विकल्पों में से प्रश्न चिन्ह (?) के स्थान पर आने वाली संख्या को चुनिए।

8	2	6
4	8	5
40	?	36

Options :

- ✘ 42
- ✔ 18
- ✘ 24
- ✘ 36

Question Number : 27 Question Id : 9662315637 Question Type : MCQ Option Shuffling : Yes Display Question Number : Yes Single Line Question Option : No Option Orientation : Vertical

Correct Marks : 1 Wrong Marks : 0.25

In the following question, select the number which can be placed at the sign of question mark (?) from the given alternatives.

8	4
40	

6	10
68	

5	15
?	

Options :

- ✘ 140
- ✔ 125
- ✘ 90
- ✘ 85

Question Number : 27 Question Id : 9662315637 Question Type : MCQ Option Shuffling : Yes Display Question Number : Yes Single Line Question Option : No Option Orientation : Vertical

Correct Marks : 1 Wrong Marks : 0.25

निम्नलिखित प्रश्न में दिए गए विकल्पों में से प्रश्न चिन्ह (?) के स्थान पर आने वाली संख्या को चुनिए।

8	4
40	

6	10
68	

5	15
?	

Options :

- ✗ 140
- ✓ 125
- ✗ 90
- ✗ 85

Question Number : 28 Question Id : 9662315638 Question Type : MCQ Option Shuffling : Yes Display Question Number : Yes
Single Line Question Option : No Option Orientation : Vertical

Correct Marks : 1 Wrong Marks : 0.25

If $5A9A3 = 395$ and $0A6A1 = 160$, then $7A1A2 = ?$

Options :

- ✗ 271
- ✗ 172
- ✗ 127
- ✓ 217

Question Number : 28 Question Id : 9662315638 Question Type : MCQ Option Shuffling : Yes Display Question Number : Yes
Single Line Question Option : No Option Orientation : Vertical

Correct Marks : 1 Wrong Marks : 0.25

यदि $5A9A3 = 395$ तथा $0A6A1 = 160$ हो, तो $7A1A2 = ?$

Options :

- ✗ 271
- ✗ 172
- ✗ 127
- ✓ 217

Question Number : 29 Question Id : 9662315639 Question Type : MCQ Option Shuffling : Yes Display Question Number : Yes
Single Line Question Option : No Option Orientation : Vertical

Correct Marks : 1 Wrong Marks : 0.25

If 'P' means '+', 'Q' means '+', 'R' means '×' and 'S' means '-', then which of the following equation is true?

Options :

- ✗ $16P9Q3R2 = 16$
- ✗ $17P13S14R1 = 26$
- ✗ $6P11S3R2 = 12$
- ✓ $39R3Q13P5 = 14$

Question Number : 29 Question Id : 9662315639 Question Type : MCQ Option Shuffling : Yes Display Question Number : Yes
Single Line Question Option : No Option Orientation : Vertical

Correct Marks : 1 Wrong Marks : 0.25

यदि 'P' का अर्थ '+', 'Q' का अर्थ '+', 'R' का अर्थ '×' तथा 'S' का अर्थ '-' हो, तो निम्नलिखित में से कौन सा समीकरण सही है?

Options :

- ✗ $16P9Q3R2 = 16$
- ✗ $17P13S14R1 = 26$

3. ✘ 6 P 11 S 3 R 2 = 12

4. ✔ 39 R 3 Q 13 P 5 = 14

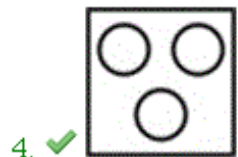
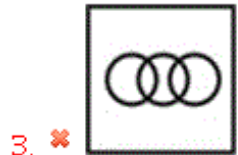
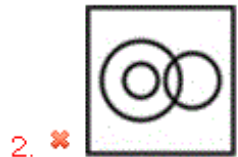
Question Number : 30 Question Id : 9662315640 Question Type : MCQ Option Shuffling : Yes Display Question Number : Yes
Single Line Question Option : No Option Orientation : Vertical

Correct Marks : 1 Wrong Marks : 0.25

Identify the diagram that best represents the relationship among the given classes.

Wood, Plastic, Shirt

Options :



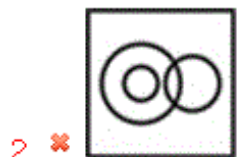
Question Number : 30 Question Id : 9662315640 Question Type : MCQ Option Shuffling : Yes Display Question Number : Yes
Single Line Question Option : No Option Orientation : Vertical

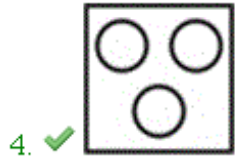
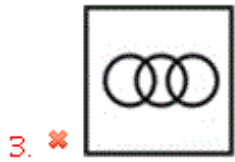
Correct Marks : 1 Wrong Marks : 0.25

वह आरेख चुनिए जो नीचे दिए गए वर्गों के बीच के संबंध का सही निरूपण करता है।

लकड़ी, प्लास्टिक, कमीज़

Options :





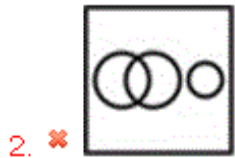
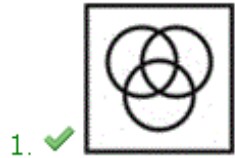
Question Number : 31 Question Id : 9662315641 Question Type : MCQ Option Shuffling : Yes Display Question Number : Yes
Single Line Question Option : No Option Orientation : Vertical

Correct Marks : 1 Wrong Marks : 0.25

Identify the diagram that best represents the relationship among the given classes.

Manager, Teacher, Lawyer

Options :



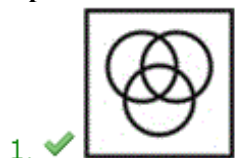
Question Number : 31 Question Id : 9662315641 Question Type : MCQ Option Shuffling : Yes Display Question Number : Yes
Single Line Question Option : No Option Orientation : Vertical

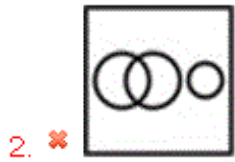
Correct Marks : 1 Wrong Marks : 0.25

वह आरेख चुनिए जो नीचे दिए गए वर्गों के बीच के संबंध का सही निरूपण करता है।

मैनेजर, अध्यापक, वकील

Options :





Question Number : 32 Question Id : 9662315642 Question Type : MCQ Option Shuffling : Yes Display Question Number : Yes
Single Line Question Option : No Option Orientation : Vertical

Correct Marks : 1 Wrong Marks : 0.25

Bhawik starts walking towards south and walks 15 meter. He turns left and walks 20 meter. He again turns left and walks 15 meter. He turns right and walks 5 meter. How far is he from his initial position?

Options :

1. ✘ 24 m
2. ✘ 20 m
3. ✔ 25 m
4. ✘ 26 m

Question Number : 32 Question Id : 9662315642 Question Type : MCQ Option Shuffling : Yes Display Question Number : Yes
Single Line Question Option : No Option Orientation : Vertical

Correct Marks : 1 Wrong Marks : 0.25

भाविक दक्षिण की ओर चलना आरंभ करता है तथा 15 मीटर चलता है वह बायीं ओर मुड़ता है तथा 20 मीटर चलता है वह पुनः बायीं ओर मुड़ता है तथा 15 मीटर चलता है वह दायीं ओर मुड़ता है तथा 5 मीटर चलता है वह आरंभिक बिंदु से कितनी दूरी पर है?

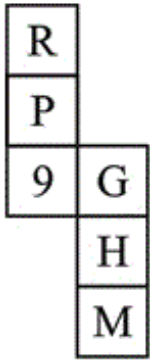
Options :

1. ✘ 24 मीटर
2. ✘ 20 मीटर
3. ✔ 25 मीटर
4. ✘ 26 मीटर

Question Number : 33 Question Id : 9662315643 Question Type : MCQ Option Shuffling : Yes Display Question Number : Yes
Single Line Question Option : No Option Orientation : Vertical

Correct Marks : 1 Wrong Marks : 0.25

By folding the given paper, which of the following cube can be formed?



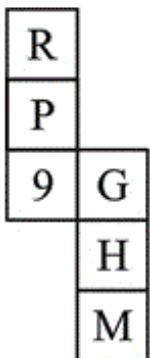
Options :



Question Number : 33 Question Id : 9662315643 Question Type : MCQ Option Shuffling : Yes Display Question Number : Yes
Single Line Question Option : No Option Orientation : Vertical

Correct Marks : 1 Wrong Marks : 0.25

दिए गए कागज को मोड़ने पर, निम्नलिखित में से कौन सा घन बनाया जा सकता है?



Options :



Question Number : 34 Question Id : 9662315644 Question Type : MCQ Option Shuffling : Yes Display Question Number : Yes
 Single Line Question Option : No Option Orientation : Vertical

Correct Marks : 1 Wrong Marks : 0.25

निम्नलिखित प्रश्न में दिए गए विकल्पों में से प्रश्न चिन्ह (?) के स्थान पर आने वाली आकृति को चुनिए।



Options :



Question Number : 34 Question Id : 9662315644 Question Type : MCQ Option Shuffling : Yes Display Question Number : Yes
 Single Line Question Option : No Option Orientation : Vertical

Correct Marks : 1 Wrong Marks : 0.25

In the following question, select the figure which can be placed at the sign of question mark (?) from the given alternatives.



Options :

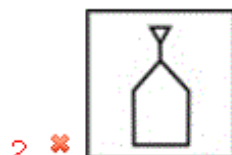


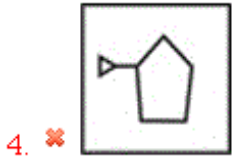
Question Number : 35 Question Id : 9662315645 Question Type : MCQ Option Shuffling : Yes Display Question Number : Yes
 Single Line Question Option : No Option Orientation : Vertical

Correct Marks : 1 Wrong Marks : 0.25

In the following question, select the odd figure from the given alternatives.

Options :



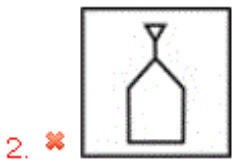


Question Number : 35 Question Id : 9662315645 Question Type : MCQ Option Shuffling : Yes Display Question Number : Yes
Single Line Question Option : No Option Orientation : Vertical

Correct Marks : 1 Wrong Marks : 0.25

निम्नलिखित प्रश्न में, दिए गए विकल्पों में से विषम आकृति को चुनिए।

Options :



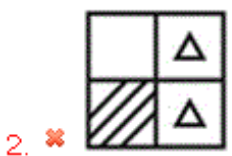
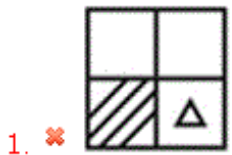
Question Number : 36 Question Id : 9662315646 Question Type : MCQ Option Shuffling : Yes Display Question Number : Yes
Single Line Question Option : No Option Orientation : Vertical

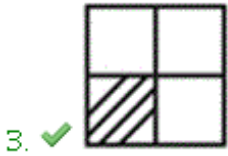
Correct Marks : 1 Wrong Marks : 0.25

In the following question, select the figure which can be placed at the sign of question mark (?) from the given alternatives.



Options :





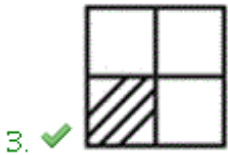
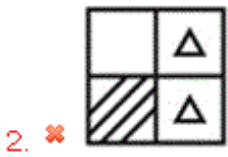
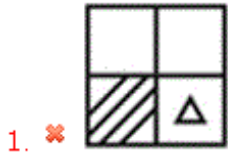
Question Number : 36 Question Id : 9662315646 Question Type : MCQ Option Shuffling : Yes Display Question Number : Yes
Single Line Question Option : No Option Orientation : Vertical

Correct Marks : 1 Wrong Marks : 0.25

निम्नलिखित प्रश्न में दिए गए विकल्पों में से प्रश्न चिन्ह (?) के स्थान पर आने वाली आकृति को चुनिए।



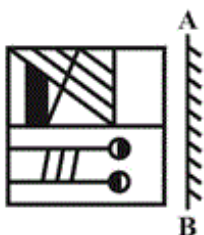
Options :



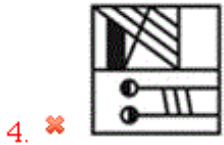
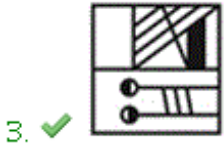
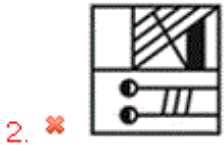
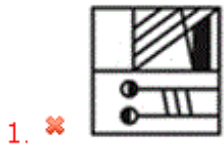
Question Number : 37 Question Id : 9662315647 Question Type : MCQ Option Shuffling : Yes Display Question Number : Yes
Single Line Question Option : No Option Orientation : Vertical

Correct Marks : 1 Wrong Marks : 0.25

If a mirror is placed on the line AB, then which of the answer figures is the right image of the given figure?



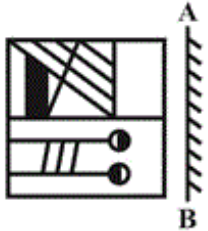
Options :



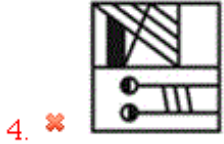
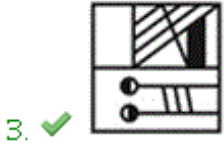
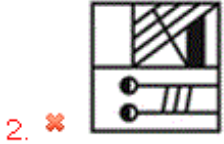
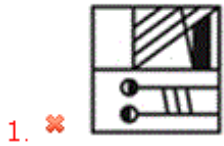
Question Number : 37 Question Id : 9662315647 Question Type : MCQ Option Shuffling : Yes Display Question Number : Yes Single Line Question Option : No Option Orientation : Vertical

Correct Marks : 1 Wrong Marks : 0.25

यदि एक दर्पण को AB रेखा पर रखा जाए, तो दी गई उत्तर आकृतियों में से कौन सी आकृति प्रश्न आकृति की सही प्रतिबिंब होगी?



Options :



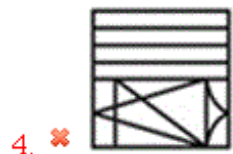
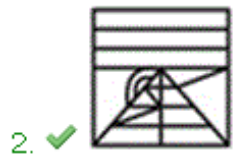
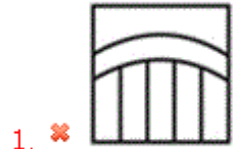
Question Number : 38 Question Id : 9662315648 Question Type : MCQ Option Shuffling : Yes Display Question Number : Yes
Single Line Question Option : No Option Orientation : Vertical

Correct Marks : 1 Wrong Marks : 0.25

From the given answer figures, select the one in which the question figure is hidden/embedded.



Options :



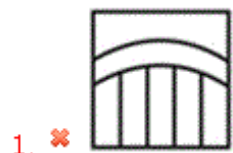
Question Number : 38 Question Id : 9662315648 Question Type : MCQ Option Shuffling : Yes Display Question Number : Yes
Single Line Question Option : No Option Orientation : Vertical

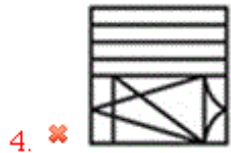
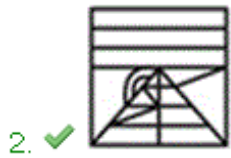
Correct Marks : 1 Wrong Marks : 0.25

दी गई उत्तर आकृतियों में से उस उत्तर आकृति को चुनिए जिस में प्रश्न आकृति निहित है।



Options :






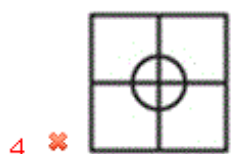
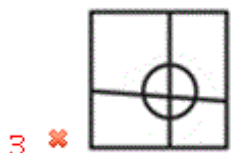
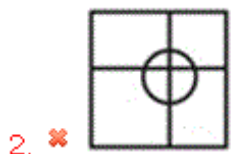
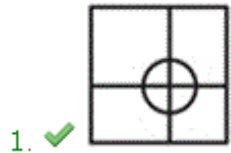
Question Number : 39 Question Id : 9662315649 Question Type : MCQ Option Shuffling : Yes Display Question Number : Yes
 Single Line Question Option : No Option Orientation : Vertical

Correct Marks : 1 Wrong Marks : 0.25

Which answer figure will complete the pattern in the question figure?




Options :



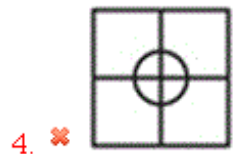
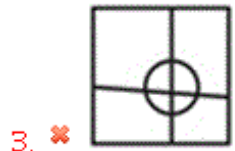
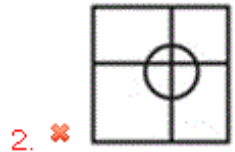
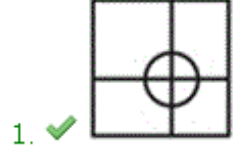
Question Number : 39 Question Id : 9662315649 Question Type : MCQ Option Shuffling : Yes Display Question Number : Yes
 Single Line Question Option : No Option Orientation : Vertical

Correct Marks : 1 Wrong Marks : 0.25

कौन सी उत्तर आकृति प्रश्न आकृति के प्रतिरूप को पूरा करेगी?



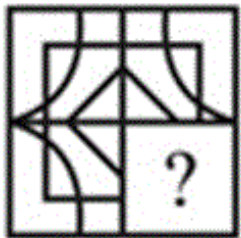
Options :



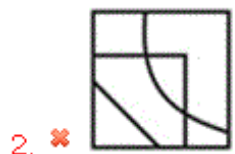
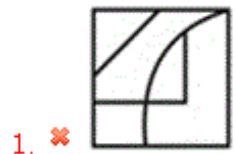
Question Number : 40 Question Id : 9662315650 Question Type : MCQ Option Shuffling : Yes Display Question Number : Yes
Single Line Question Option : No Option Orientation : Vertical

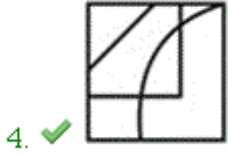
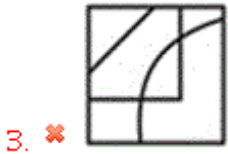
Correct Marks : 1 Wrong Marks : 0.25

Which answer figure will complete the pattern in the question figure?



Options :

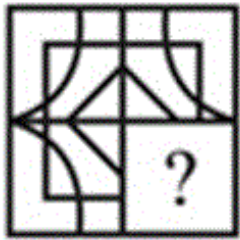




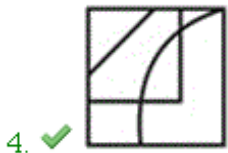
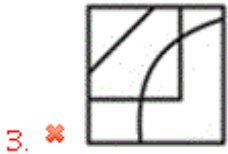
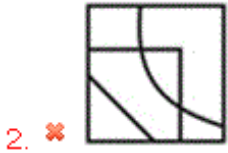
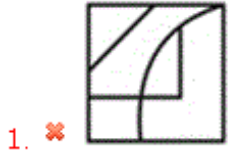
Question Number : 40 Question Id : 9662315650 Question Type : MCQ Option Shuffling : Yes Display Question Number : Yes
Single Line Question Option : No Option Orientation : Vertical

Correct Marks : 1 Wrong Marks : 0.25

कौन सी उत्तर आकृति प्रश्न आकृति के प्रतिरूप को पूरा करेगी?



Options :



General Awareness1

Group Number :	3
Group Id :	96623176
Group Maximum Duration :	0
Group Minimum Duration :	0
Revisit allowed for view? :	No

Revisit allowed for edit? :	No
Break time:	0
Group Marks:	20
Revisit allowed for group Instructions? :	Yes
Maximum Instruction Time:	0
Minimum Instruction Time:	0

General Awareness1

Section Id :	966231191
Section Number :	1
Section type :	Online
Mandatory or Optional:	Mandatory
Number of Questions:	20
Number of Questions to be attempted:	20
Section Marks:	20
Display Number Panel:	Yes
Group All Questions:	No

Sub-Section Number:	1
Sub-Section Id:	966231201
Question Shuffling Allowed :	Yes

Question Number : 41 Question Id : 9662315651 Question Type : MCQ Option Shuffling : Yes Display Question Number : Yes
Single Line Question Option : No Option Orientation : Vertical
Correct Marks : 1 Wrong Marks : 0.25

Bara Gumbad is an ancient monument located in _____.

Options :

1. ✓ Delhi
2. ✗ Maharashtra
3. ✗ Gujarat
4. ✗ Rajasthan

Question Number : 41 Question Id : 9662315651 Question Type : MCQ Option Shuffling : Yes Display Question Number : Yes
Single Line Question Option : No Option Orientation : Vertical
Correct Marks : 1 Wrong Marks : 0.25

बड़ा गुम्बद _____ में स्थित एक प्राचीन स्मारक है।

Options :

1. ✓ दिल्ली
2. ✗ महाराष्ट्र
3. ✗ गुजरात
4. ✗ राजस्थान

Question Number : 42 Question Id : 9662315652 Question Type : MCQ Option Shuffling : Yes Display Question Number : Yes
Single Line Question Option : No Option Orientation : Vertical
Correct Marks : 1 Wrong Marks : 0.25

In which of the following state the Sangai Festival is celebrated?

Options :

1. ✗ Uttarakhand

2. ✘ Tamil Nadu
3. ✔ Manipur
4. ✘ Maharashtra

Question Number : 42 Question Id : 9662315652 Question Type : MCQ Option Shuffling : Yes Display Question Number : Yes
Single Line Question Option : No Option Orientation : Vertical

Correct Marks : 1 Wrong Marks : 0.25

निम्नलिखित में से किस राज्य में संगई महोत्सव मनाया जाता है?

Options :

1. ✘ उत्तराखंड
2. ✘ तमिल नाडु
3. ✔ मणिपुर
4. ✘ महाराष्ट्र

Question Number : 43 Question Id : 9662315653 Question Type : MCQ Option Shuffling : Yes Display Question Number : Yes
Single Line Question Option : No Option Orientation : Vertical

Correct Marks : 1 Wrong Marks : 0.25

Kye Monastery is located in which state?

Options :

1. ✔ Himachal Pradesh
2. ✘ Sikkim
3. ✘ Jammu and Kashmir
4. ✘ Meghalaya

Question Number : 43 Question Id : 9662315653 Question Type : MCQ Option Shuffling : Yes Display Question Number : Yes
Single Line Question Option : No Option Orientation : Vertical

Correct Marks : 1 Wrong Marks : 0.25

काई मठ किस राज्य में स्थित है?

Options :

1. ✔ हिमाचल प्रदेश
2. ✘ सिक्किम
3. ✘ जम्मू और कश्मीर
4. ✘ मेघालय

Question Number : 44 Question Id : 9662315654 Question Type : MCQ Option Shuffling : Yes Display Question Number : Yes
Single Line Question Option : No Option Orientation : Vertical

Correct Marks : 1 Wrong Marks : 0.25

Pandit Shivkumar Sharma is associated with which classical instrument?

Options :

1. ✘ Sitar
2. ✘ Flute
3. ✔ Santoor
4. ✘ Harmonium

Question Number : 44 Question Id : 9662315654 Question Type : MCQ Option Shuffling : Yes Display Question Number : Yes
Single Line Question Option : No Option Orientation : Vertical

Correct Marks : 1 Wrong Marks : 0.25

पंडित शिवकुमार शर्मा किस शास्त्रीय वाद्य यंत्र से जुड़े हैं?

Options :

1. ✘ सितार
2. ✘ बांसुरी
3. ✔ संतूर
4. ✘ हारमोनियम

Question Number : 45 Question Id : 9662315655 Question Type : MCQ Option Shuffling : Yes Display Question Number : Yes
Single Line Question Option : No Option Orientation : Vertical

Correct Marks : 1 Wrong Marks : 0.25

Who is the chairman of Expert Committee on MSMEs constituted by RBI?

Options :

1. ✔ Shri U. K. Sinha
2. ✘ Shri Nandan Nilekani
3. ✘ Shri Shaktikanta Das
4. ✘ Shri Bimal Jalan

Question Number : 45 Question Id : 9662315655 Question Type : MCQ Option Shuffling : Yes Display Question Number : Yes
Single Line Question Option : No Option Orientation : Vertical

Correct Marks : 1 Wrong Marks : 0.25

RBI द्वारा गठित MSME पर विशेषज्ञ समिति के अध्यक्ष कौन हैं?

Options :

1. ✔ श्री यू.के. सिन्हा
2. ✘ श्री नंदन नीलेकणि
3. ✘ श्री शक्तिकांत दास
4. ✘ श्री बिमल जालान

Question Number : 46 Question Id : 9662315656 Question Type : MCQ Option Shuffling : Yes Display Question Number : Yes
Single Line Question Option : No Option Orientation : Vertical

Correct Marks : 1 Wrong Marks : 0.25

Which of the following document is NOT included in the Budget documents presented to the Parliament?

Options :

1. ✘ Receipts Budget
2. ✘ Finance Bill
3. ✘ Expenditure Budget
4. ✔ Extra Expenditure Bill

Question Number : 46 Question Id : 9662315656 Question Type : MCQ Option Shuffling : Yes Display Question Number : Yes
Single Line Question Option : No Option Orientation : Vertical

Correct Marks : 1 Wrong Marks : 0.25

निम्नलिखित में से कौन सा दस्तावेज़ संसद में प्रस्तुत बजट दस्तावेजों में शामिल नहीं होता है?

Options :

1. ✘ रिसिप्ट बजट
2. ✘ वित्त बिल
3. ✘ व्यय बजट
4. ✔ अतिरिक्त व्यय बिल

Question Number : 47 Question Id : 9662315657 Question Type : MCQ Option Shuffling : Yes Display Question Number : Yes
Single Line Question Option : No Option Orientation : Vertical

Correct Marks : 1 Wrong Marks : 0.25

For how many crops MSP (Minimum Support Price) is declared?

Options :

1. ✘ 23
2. ✔ 22
3. ✘ 20
4. ✘ 25

Question Number : 47 Question Id : 9662315657 Question Type : MCQ Option Shuffling : Yes Display Question Number : Yes
Single Line Question Option : No Option Orientation : Vertical

Correct Marks : 1 Wrong Marks : 0.25

एमएसपी (न्यूनतम समर्थन मूल्य) कितनी फसलों के लिए घोषित किया जाता है?

Options :

1. ✘ 23
2. ✔ 22
3. ✘ 20
4. ✘ 25

Question Number : 48 Question Id : 9662315658 Question Type : MCQ Option Shuffling : Yes Display Question Number : Yes
Single Line Question Option : No Option Orientation : Vertical

Correct Marks : 1 Wrong Marks : 0.25

Which among the following is not a magnetic material? (Attracted by a magnet)

Options :

1. ✘ Iron
2. ✔ Copper
3. ✘ Cobalt
4. ✘ Nickel

Question Number : 48 Question Id : 9662315658 Question Type : MCQ Option Shuffling : Yes Display Question Number : Yes
Single Line Question Option : No Option Orientation : Vertical

Correct Marks : 1 Wrong Marks : 0.25

निम्नलिखित में से कौन एक चुम्बकीय पदार्थ नहीं है? (चुम्बक द्वारा आकर्षित)

Options :

1. ✘ लोहा
2. ✔ तांबा
3. ✘ कोबाल्ट
4. ✘ निकेल

Question Number : 49 Question Id : 9662315659 Question Type : MCQ Option Shuffling : Yes Display Question Number : Yes
Single Line Question Option : No Option Orientation : Vertical

Correct Marks : 1 Wrong Marks : 0.25

Sewage is a _____ waste.

Options :

1. ✘ solid
2. ✔ liquid
3. ✘ gaseous
4. ✘ block

Question Number : 49 Question Id : 9662315659 Question Type : MCQ Option Shuffling : Yes Display Question Number : Yes
Single Line Question Option : No Option Orientation : Vertical

Correct Marks : 1 Wrong Marks : 0.25

सीवेज _____ कूड़ा होता है।

Options :

1. ✘ ठोस
2. ✔ तरल
3. ✘ गैसीय
4. ✘ ब्लॉक

Question Number : 50 Question Id : 9662315660 Question Type : MCQ Option Shuffling : Yes Display Question Number : Yes
Single Line Question Option : No Option Orientation : Vertical

Correct Marks : 1 Wrong Marks : 0.25

Process of rusting becomes faster on ship because of _____.

Options :

1. ✔ Salt water
2. ✘ Normal water
3. ✘ Birds
4. ✘ Aquatic animals

Question Number : 50 Question Id : 9662315660 Question Type : MCQ Option Shuffling : Yes Display Question Number : Yes
Single Line Question Option : No Option Orientation : Vertical

Correct Marks : 1 Wrong Marks : 0.25

_____ के कारण जहाज पर जंग लगने की प्रक्रिया तेज़ हो जाती है।

Options :

1. ✔ खारा पानी
2. ✘ सादा पानी
3. ✘ पक्षियों
4. ✘ जलीय प्राणियों

Question Number : 51 Question Id : 9662315661 Question Type : MCQ Option Shuffling : Yes Display Question Number : Yes
Single Line Question Option : No Option Orientation : Vertical

Correct Marks : 1 Wrong Marks : 0.25

To compensate for water and salt lost by diarrhoea, _____ must be given to patient.

Options :

1. ✘ Vitamin tablets
2. ✘ Tetanus
3. ✔ ORS
4. ✘ Milk

Question Number : 51 Question Id : 9662315661 Question Type : MCQ Option Shuffling : Yes Display Question Number : Yes
Single Line Question Option : No Option Orientation : Vertical

Correct Marks : 1 Wrong Marks : 0.25

दस्त द्वारा निकले पानी और नमक की भरपाई के लिए, रोगी को _____ देना चाहिए।

Options :

1. ✘ विटामिन की गोलियां
2. ✘ टेटनस
3. ✔ ओआरएस
4. ✘ दुध

Question Number : 52 Question Id : 9662315662 Question Type : MCQ Option Shuffling : Yes Display Question Number : Yes
Single Line Question Option : No Option Orientation : Vertical

Correct Marks : 1 Wrong Marks : 0.25

Which of the following is an invertebrate?

Options :

1. ✓ Toad
2. ✗ Earthworm
3. ✗ Octopus
4. ✗ Starfish

Question Number : 52 Question Id : 9662315662 Question Type : MCQ Option Shuffling : Yes Display Question Number : Yes
Single Line Question Option : No Option Orientation : Vertical

Correct Marks : 1 Wrong Marks : 0.25

निम्नलिखित में से कौन एक अकशेरुकी है?

Options :

1. ✓ रोड
2. ✗ केंचुआ
3. ✗ ऑक्टोपस
4. ✗ तारामीन

Question Number : 53 Question Id : 9662315663 Question Type : MCQ Option Shuffling : Yes Display Question Number : Yes
Single Line Question Option : No Option Orientation : Vertical

Correct Marks : 1 Wrong Marks : 0.25

Which of the following methods cannot be used to purify drinking water?

Options :

1. ✗ Candle type filtering
2. ✗ Boiling
3. ✗ Chlorination
4. ✓ Sodium addition

Question Number : 53 Question Id : 9662315663 Question Type : MCQ Option Shuffling : Yes Display Question Number : Yes
Single Line Question Option : No Option Orientation : Vertical

Correct Marks : 1 Wrong Marks : 0.25

निम्नलिखित में से किस विधि का उपयोग पीने के पानी को शुद्ध करने के लिए नहीं किया जा सकता है?

Options :

1. ✗ कैंडल टाइप फ़िल्टरिंग
2. ✗ उबालना
3. ✗ क्लोरीनीकरण
4. ✓ सोडियम मिलाना

Question Number : 54 Question Id : 9662315664 Question Type : MCQ Option Shuffling : Yes Display Question Number : Yes
Single Line Question Option : No Option Orientation : Vertical

Correct Marks : 1 Wrong Marks : 0.25

HIV is a type of _____ and spreads by _____.

Options :

1. ✗ Virus, air
2. ✓ Virus, sexual contact
3. ✗ Bacteria, water
4. ✗ Bacteria, sexual contact

Question Number : 54 Question Id : 9662315664 Question Type : MCQ Option Shuffling : Yes Display Question Number : Yes
Single Line Question Option : No Option Orientation : Vertical

Correct Marks : 1 Wrong Marks : 0.25

एचआईवी एक प्रकार का _____ है और _____ द्वारा फैलता है।

Options :

1. ✘ वाइरस, हवा
2. ✔ वाइरस, यौन संपर्क
3. ✘ बैक्टीरिया, पानी
4. ✘ बैक्टीरिया, यौन संपर्क

Question Number : 55 Question Id : 9662315665 Question Type : MCQ Option Shuffling : Yes Display Question Number : Yes
Single Line Question Option : No Option Orientation : Vertical

Correct Marks : 1 Wrong Marks : 0.25

Pollutants released by ACs and refrigerator are called _____.

Options :

1. ✘ Greenhouse Gases
2. ✔ CFCs
3. ✘ Acids
4. ✘ Nitrogen Dioxide

Question Number : 55 Question Id : 9662315665 Question Type : MCQ Option Shuffling : Yes Display Question Number : Yes
Single Line Question Option : No Option Orientation : Vertical

Correct Marks : 1 Wrong Marks : 0.25

एसी और रेफ्रिजरेटर से निकलने वाले प्रदूषकों को _____ कहा जाता है।

Options :

1. ✘ ग्रीन हाउस गैस
2. ✔ सी.एफ.सी.
3. ✘ अम्ल
4. ✘ नाइट्रोजन डाइऑक्साइड

Question Number : 56 Question Id : 9662315666 Question Type : MCQ Option Shuffling : Yes Display Question Number : Yes
Single Line Question Option : No Option Orientation : Vertical

Correct Marks : 1 Wrong Marks : 0.25

Which country is the second largest producer of Rice?

Options :

1. ✘ Russia
2. ✔ India
3. ✘ China
4. ✘ USA

Question Number : 56 Question Id : 9662315666 Question Type : MCQ Option Shuffling : Yes Display Question Number : Yes
Single Line Question Option : No Option Orientation : Vertical

Correct Marks : 1 Wrong Marks : 0.25

चावल का दूसरा सबसे बड़ा उत्पादक देश कौन सा है?

Options :

1. ✘ रूस
2. ✔ भारत
3. ✘ चीन
4. ✘ अमेरिका

Question Number : 57 Question Id : 9662315667 Question Type : MCQ Option Shuffling : Yes Display Question Number : Yes
Single Line Question Option : No Option Orientation : Vertical

Correct Marks : 1 Wrong Marks : 0.25

Which of the following is the tributary of river Ganga?

Options :

1. ✘ Hindon
2. ✘ Tapi
3. ✔ Gandak
4. ✘ Purna

Question Number : 57 Question Id : 9662315667 Question Type : MCQ Option Shuffling : Yes Display Question Number : Yes
Single Line Question Option : No Option Orientation : Vertical

Correct Marks : 1 Wrong Marks : 0.25

निम्नलिखित में से कौन सी नदी गंगा नदी की उपनदी है?

Options :

1. ✘ हिंडन
2. ✘ तापी
3. ✔ गंडक
4. ✘ पूरना

Question Number : 58 Question Id : 9662315668 Question Type : MCQ Option Shuffling : Yes Display Question Number : Yes
Single Line Question Option : No Option Orientation : Vertical

Correct Marks : 1 Wrong Marks : 0.25

Which of the following are part of Andaman and Nicobar group of islands?

- I. Baratang Island
- II. Car Nicobar
- III. Narcondum

Options :

1. ✘ I and II
2. ✘ II and III
3. ✘ I and III
4. ✔ I, II and III

Question Number : 58 Question Id : 9662315668 Question Type : MCQ Option Shuffling : Yes Display Question Number : Yes
Single Line Question Option : No Option Orientation : Vertical

Correct Marks : 1 Wrong Marks : 0.25

निम्नलिखित में से कौन सा/से अंडमान और निकोबार द्वीप समूह का हिस्सा है?

- I. बारातंग द्वीप
- II. कार निकोबार
- III. नारकोडम

Options :

1. ✘ I तथा II
2. ✘ II तथा III
3. ✘ I तथा III
4. ✔ I, II तथा III

Question Number : 59 Question Id : 9662315669 Question Type : MCQ Option Shuffling : Yes Display Question Number : Yes
Single Line Question Option : No Option Orientation : Vertical

Correct Marks : 1 Wrong Marks : 0.25

Which state has the highest sex ratio in India according to Census 2011?

Options :

1. ✓ Kerala
2. ✗ Chhattisgarh
3. ✗ Tamil Nadu
4. ✗ Andhra Pradesh

Question Number : 59 Question Id : 9662315669 Question Type : MCQ Option Shuffling : Yes Display Question Number : Yes
Single Line Question Option : No Option Orientation : Vertical

Correct Marks : 1 Wrong Marks : 0.25

2011 की जनगणना के अनुसार भारत में किस राज्य का लिंगानुपात सबसे अधिक है?

Options :

1. ✓ केरल
2. ✗ छत्तीसगढ़
3. ✗ तमिलनाडु
4. ✗ आंध्र प्रदेश

Question Number : 60 Question Id : 9662315670 Question Type : MCQ Option Shuffling : Yes Display Question Number : Yes
Single Line Question Option : No Option Orientation : Vertical

Correct Marks : 1 Wrong Marks : 0.25

What is the outermost range of Himalayas called?

Options :

1. ✗ Zaskar Range
2. ✗ Pir Panjal
3. ✓ Shiwaliks
4. ✗ Kanchenjunga

Question Number : 60 Question Id : 9662315670 Question Type : MCQ Option Shuffling : Yes Display Question Number : Yes
Single Line Question Option : No Option Orientation : Vertical

Correct Marks : 1 Wrong Marks : 0.25

हिमालय की सबसे बाहरी पर्वत श्रृंखला को क्या कहा जाता है?

Options :

1. ✗ जांस्कर श्रृंखला
2. ✗ पीर पंजाल
3. ✓ शिवालिक
4. ✗ कंचनजंगा

General Awareness2

Group Number :	4
Group Id :	96623177
Group Maximum Duration :	0
Group Minimum Duration :	0
Revisit allowed for view? :	No
Revisit allowed for edit? :	No
Break time:	0
Group Marks:	20
Revisit allowed for group Instructions? :	Yes

Maximum Instruction Time: 0
Minimum Instruction Time: 0

General Awareness2

Section Id : 966231192
Section Number : 1
Section type : Online
Mandatory or Optional: Mandatory
Number of Questions: 20
Number of Questions to be attempted: 20
Section Marks: 20
Display Number Panel: Yes
Group All Questions: No

Sub-Section Number: 1
Sub-Section Id: 966231202
Question Shuffling Allowed : Yes

Question Number : 61 Question Id : 9662315671 Question Type : MCQ Option Shuffling : Yes Display Question Number : Yes
Single Line Question Option : No Option Orientation : Vertical

Correct Marks : 1 Wrong Marks : 0.25

Kiru hydroelectric project is to be located on which river?

Options :

1. ✘ Beas
2. ✘ Ravi
3. ✘ Jhelum
4. ✔ Chenab

Question Number : 61 Question Id : 9662315671 Question Type : MCQ Option Shuffling : Yes Display Question Number : Yes
Single Line Question Option : No Option Orientation : Vertical

Correct Marks : 1 Wrong Marks : 0.25

किरू जलविद्युत परियोजना किस नदी पर स्थित होगी?

Options :

1. ✘ ब्यास
2. ✘ रावी
3. ✘ झेलम
4. ✔ चेनाब

Question Number : 62 Question Id : 9662315672 Question Type : MCQ Option Shuffling : Yes Display Question Number : Yes
Single Line Question Option : No Option Orientation : Vertical

Correct Marks : 1 Wrong Marks : 0.25

Who was the President of the first session of Indian National Congress (INC)?

Options :

1. ✘ G. K. Gokhale
2. ✘ Aurobindo Ghosh
3. ✘ Ras Behari Bose
4. ✔ Womesh Chandra Banerjee

Question Number : 62 Question Id : 9662315672 Question Type : MCQ Option Shuffling : Yes Display Question Number : Yes
Single Line Question Option : No Option Orientation : Vertical

Correct Marks : 1 Wrong Marks : 0.25

भारतीय राष्ट्रीय कांग्रेस (INC) के पहले सत्र के अध्यक्ष कौन थे?

Options :

- ✘ जी. के. गोखले
- ✘ अरबिंदो घोष
- ✘ रास बिहारी बोस
- ✔ वोमेश चंद्र बनर्जी

Question Number : 63 Question Id : 9662315673 Question Type : MCQ Option Shuffling : Yes Display Question Number : Yes
Single Line Question Option : No Option Orientation : Vertical

Correct Marks : 1 Wrong Marks : 0.25

Which Viceroy announced Partition of Bengal in 1905?

Options :

- ✔ Lord Curzon
- ✘ Lord Amherst
- ✘ Sir Metcalfe
- ✘ Lord Auckland

Question Number : 63 Question Id : 9662315673 Question Type : MCQ Option Shuffling : Yes Display Question Number : Yes
Single Line Question Option : No Option Orientation : Vertical

Correct Marks : 1 Wrong Marks : 0.25

1905 में किस वायसराय ने बंगाल विभाजन की घोषणा की?

Options :

- ✔ लॉर्ड कर्जन
- ✘ लॉर्ड एमहर्स्ट
- ✘ सर मेटकाल्फ
- ✘ लॉर्ड ऑकलैंड

Question Number : 64 Question Id : 9662315674 Question Type : MCQ Option Shuffling : Yes Display Question Number : Yes
Single Line Question Option : No Option Orientation : Vertical

Correct Marks : 1 Wrong Marks : 0.25

Who was the successor of Chandragupta Maurya?

Options :

- ✘ Ashoka
- ✔ Bindusara
- ✘ Dhanananda
- ✘ Kanishka

Question Number : 64 Question Id : 9662315674 Question Type : MCQ Option Shuffling : Yes Display Question Number : Yes
Single Line Question Option : No Option Orientation : Vertical

Correct Marks : 1 Wrong Marks : 0.25

चंद्रगुप्त मौर्य का उत्तराधिकारी कौन था?

Options :

- ✘ अशोक
- ✔ बिन्दुसार
- ✘ धनानंद

4. ✘ कनिष्क

Question Number : 65 Question Id : 9662315675 Question Type : MCQ Option Shuffling : Yes Display Question Number : Yes
Single Line Question Option : No Option Orientation : Vertical

Correct Marks : 1 Wrong Marks : 0.25

Which of the following pairs is correct?

Options :

1. ✔ Kanpur -Nana Saheb
2. ✘ Bakht Khan-Awadh
3. ✘ Kanwar Singh - Maharashtra
4. ✘ Barrackpore -Begum Hazrat Mahal

Question Number : 65 Question Id : 9662315675 Question Type : MCQ Option Shuffling : Yes Display Question Number : Yes
Single Line Question Option : No Option Orientation : Vertical

Correct Marks : 1 Wrong Marks : 0.25

निम्नलिखित में से कौन सा जोड़ा सही है?

Options :

1. ✔ कानपुर -नाना साहब
2. ✘ बख्त खान-अवध
3. ✘ कंवर सिंह - महाराष्ट्र
4. ✘ बैरकपुर -बेगम हजरत महल

Question Number : 66 Question Id : 9662315676 Question Type : MCQ Option Shuffling : Yes Display Question Number : Yes
Single Line Question Option : No Option Orientation : Vertical

Correct Marks : 1 Wrong Marks : 0.25

"Hind Swaraj" by Mahatma Gandhi was published in which year?

Options :

1. ✘ 1908
2. ✔ 1909
3. ✘ 1907
4. ✘ 1910

Question Number : 66 Question Id : 9662315676 Question Type : MCQ Option Shuffling : Yes Display Question Number : Yes
Single Line Question Option : No Option Orientation : Vertical

Correct Marks : 1 Wrong Marks : 0.25

महात्मा गांधी द्वारा लिखित "हिंद स्वराज" किस वर्ष में प्रकाशित हुई थी?

Options :

1. ✘ 1908
2. ✔ 1909
3. ✘ 1907
4. ✘ 1910

Question Number : 67 Question Id : 9662315677 Question Type : MCQ Option Shuffling : Yes Display Question Number : Yes
Single Line Question Option : No Option Orientation : Vertical

Correct Marks : 1 Wrong Marks : 0.25

Which crop was NOT grown during Harappan Civilization?

Options :

1. ✘ Wheat
2. ✘ Barley

3. ✘ Cotton

4. ✔ Maize

Question Number : 67 Question Id : 9662315677 Question Type : MCQ Option Shuffling : Yes Display Question Number : Yes
Single Line Question Option : No Option Orientation : Vertical

Correct Marks : 1 Wrong Marks : 0.25

हड़प्पा सभ्यता के दौरान कौन सी फसल नहीं उगाई जाती थी?

Options :

1. ✘ गेहूं

2. ✘ जौ

3. ✘ रुई

4. ✔ मक्का

Question Number : 68 Question Id : 9662315678 Question Type : MCQ Option Shuffling : Yes Display Question Number : Yes
Single Line Question Option : No Option Orientation : Vertical

Correct Marks : 1 Wrong Marks : 0.25

In 2019 which of the following has been awarded for his excellence in the field of social service?

I. Eaha Dixit

II. Prathyaksha B.R

III. Aryaman Lokhotia

Options :

1. ✘ I and II

2. ✘ II and III

3. ✘ I and III

4. ✔ I, II and III

Question Number : 68 Question Id : 9662315678 Question Type : MCQ Option Shuffling : Yes Display Question Number : Yes
Single Line Question Option : No Option Orientation : Vertical

Correct Marks : 1 Wrong Marks : 0.25

निम्नलिखित में से किसे 2019 में सामाजिक सेवा के क्षेत्र में उनकी उत्कृष्टता के लिए सम्मानित किया गया है?

I. ईहा दीक्षित

II. प्रत्यक्षा बी.आर

III. आर्यमन लखोटिया

Options :

1. ✘ I तथा II

2. ✘ II तथा III

3. ✘ I तथा III

4. ✔ I, II तथा III

Question Number : 69 Question Id : 9662315679 Question Type : MCQ Option Shuffling : Yes Display Question Number : Yes
Single Line Question Option : No Option Orientation : Vertical

Correct Marks : 1 Wrong Marks : 0.25

Who released the book "Making of New India" in 2019?

Options :

1. ✔ Arun Jaitley

2. ✘ Ram Nath Kovind

3. ✘ Narendra Modi

4. ✘ Dr. Manmohan Singh

Question Number : 69 Question Id : 9662315679 Question Type : MCQ Option Shuffling : Yes Display Question Number : Yes
Single Line Question Option : No Option Orientation : Vertical

Correct Marks : 1 Wrong Marks : 0.25

2019 में "मेकिंग ऑफ़ न्यू इंडिया" पुस्तक का विमोचन किसने किया था?

Options :

1. ✓ अरुण जेटली
2. ✗ राम नाथ कोविंद
3. ✗ नरेंद्र मोदी
4. ✗ डॉ. मनमोहन सिंह

Question Number : 70 Question Id : 9662315680 Question Type : MCQ Option Shuffling : Yes Display Question Number : Yes
Single Line Question Option : No Option Orientation : Vertical

Correct Marks : 1 Wrong Marks : 0.25

Central Institute of Indian Languages is located in _____.

Options :

1. ✓ Mysore
2. ✗ Bhopal
3. ✗ Indore
4. ✗ Jaipur

Question Number : 70 Question Id : 9662315680 Question Type : MCQ Option Shuffling : Yes Display Question Number : Yes
Single Line Question Option : No Option Orientation : Vertical

Correct Marks : 1 Wrong Marks : 0.25

भारतीय भाषा संस्थान _____ में स्थित है।

Options :

1. ✓ मैसूर
2. ✗ भोपाल
3. ✗ इंदौर
4. ✗ जयपुर

Question Number : 71 Question Id : 9662315681 Question Type : MCQ Option Shuffling : Yes Display Question Number : Yes
Single Line Question Option : No Option Orientation : Vertical

Correct Marks : 1 Wrong Marks : 0.25

The winner of Miss India 2019 title belongs to which state?

Options :

1. ✗ Uttarakhand
2. ✓ Rajasthan
3. ✗ Manipur
4. ✗ Goa

Question Number : 71 Question Id : 9662315681 Question Type : MCQ Option Shuffling : Yes Display Question Number : Yes
Single Line Question Option : No Option Orientation : Vertical

Correct Marks : 1 Wrong Marks : 0.25

मिस इंडिया 2019 की विजेता किस राज्य से हैं?

Options :

1. ✗ उत्तराखंड
2. ✓ राजस्थान
3. ✗ मणिपुर

4. ✖ गोवा

Question Number : 72 Question Id : 9662315682 Question Type : MCQ Option Shuffling : Yes Display Question Number : Yes
Single Line Question Option : No Option Orientation : Vertical

Correct Marks : 1 Wrong Marks : 0.25

Which state government has banned advertisement and sale of e-cigarettes in May 2019?

Options :

1. ✖ Haryana

2. ✖ Punjab

3. ✔ Rajasthan

4. ✖ Maharashtra

Question Number : 72 Question Id : 9662315682 Question Type : MCQ Option Shuffling : Yes Display Question Number : Yes
Single Line Question Option : No Option Orientation : Vertical

Correct Marks : 1 Wrong Marks : 0.25

मई 2019 में किस राज्य सरकार ने ई-सिगरेट के विज्ञापन और बिक्री पर प्रतिबंध लगाया है?

Options :

1. ✖ हरियाणा

2. ✖ पंजाब

3. ✔ राजस्थान

4. ✖ महाराष्ट्र

Question Number : 73 Question Id : 9662315683 Question Type : MCQ Option Shuffling : Yes Display Question Number : Yes
Single Line Question Option : No Option Orientation : Vertical

Correct Marks : 1 Wrong Marks : 0.25

The book 'Notes of a Dream' is an Authorized Biography of _____.

Options :

1. ✖ Michael Jackson

2. ✔ A. R. Rahman

3. ✖ Manushi Chhillar

4. ✖ Sushmita Sen

Question Number : 73 Question Id : 9662315683 Question Type : MCQ Option Shuffling : Yes Display Question Number : Yes
Single Line Question Option : No Option Orientation : Vertical

Correct Marks : 1 Wrong Marks : 0.25

पुस्तक 'नोट्स ऑफ ए ड्रीम' _____ की एक अधिकृत जीवनी है।

Options :

1. ✖ माइकल जैक्सन

2. ✔ ए. आर. रहमान

3. ✖ मानुषी छिल्लर

4. ✖ सुष्मिता सेन

Question Number : 74 Question Id : 9662315684 Question Type : MCQ Option Shuffling : Yes Display Question Number : Yes
Single Line Question Option : No Option Orientation : Vertical

Correct Marks : 1 Wrong Marks : 0.25

What is the highest court of appeal in India?

Options :

1. ✔ Supreme Court

2. ✖ High Court

3. ✖ District Court
4. ✖ Panchayat

Question Number : 74 Question Id : 9662315684 Question Type : MCQ Option Shuffling : Yes Display Question Number : Yes
Single Line Question Option : No Option Orientation : Vertical

Correct Marks : 1 Wrong Marks : 0.25

भारत में अपील का सर्वोच्च न्यायालय कौन सा है?

Options :

1. ✔ उच्चतम न्यायालय
2. ✖ उच्च न्यायालय
3. ✖ जिला न्यायालय
4. ✖ पंचायत

Question Number : 75 Question Id : 9662315685 Question Type : MCQ Option Shuffling : Yes Display Question Number : Yes
Single Line Question Option : No Option Orientation : Vertical

Correct Marks : 1 Wrong Marks : 0.25

What is minimum age qualification for election to the post of President?

Options :

1. ✖ 30
2. ✔ 35
3. ✖ 33
4. ✖ 25

Question Number : 75 Question Id : 9662315685 Question Type : MCQ Option Shuffling : Yes Display Question Number : Yes
Single Line Question Option : No Option Orientation : Vertical

Correct Marks : 1 Wrong Marks : 0.25

राष्ट्रपति पद के चुनाव की योग्यता के लिए न्यूनतम आयु क्या है?

Options :

1. ✖ 30
2. ✔ 35
3. ✖ 33
4. ✖ 25

Question Number : 76 Question Id : 9662315686 Question Type : MCQ Option Shuffling : Yes Display Question Number : Yes
Single Line Question Option : No Option Orientation : Vertical

Correct Marks : 1 Wrong Marks : 0.25

Tenth Schedule of the Indian Constitution deals with _____.

Options :

1. ✖ Languages
2. ✔ Provisions as to disqualification on grounds of defection.
3. ✖ Forms of oaths or affirmation
4. ✖ List of states and UTs

Question Number : 76 Question Id : 9662315686 Question Type : MCQ Option Shuffling : Yes Display Question Number : Yes
Single Line Question Option : No Option Orientation : Vertical

Correct Marks : 1 Wrong Marks : 0.25

भारतीय संविधान की दसवीं अनुसूची _____ से संबंधित है

Options :

1. ✖ भाषाओं

2. ✓ दल परिवर्तन रोधी कानून
3. ✗ शपथ या प्रतिज्ञान का रूप
4. ✗ राज्यों और संघ राज्य क्षेत्रों की सूची

Question Number : 77 Question Id : 9662315687 Question Type : MCQ Option Shuffling : Yes Display Question Number : Yes
Single Line Question Option : No Option Orientation : Vertical

Correct Marks : 1 Wrong Marks : 0.25

Which Article deals with exception to the State of Jammu and Kashmir?

Options :

1. ✗ 368
2. ✗ 371
3. ✗ 369
4. ✓ 370

Question Number : 77 Question Id : 9662315687 Question Type : MCQ Option Shuffling : Yes Display Question Number : Yes
Single Line Question Option : No Option Orientation : Vertical

Correct Marks : 1 Wrong Marks : 0.25

कौन सा अनुच्छेद जम्मू और कश्मीर राज्य को विशेष दर्जा देता है?

Options :

1. ✗ 368
2. ✗ 371
3. ✗ 369
4. ✓ 370

Question Number : 78 Question Id : 9662315688 Question Type : MCQ Option Shuffling : Yes Display Question Number : Yes
Single Line Question Option : No Option Orientation : Vertical

Correct Marks : 1 Wrong Marks : 0.25

The first match of ICC World Cup 2019 was played between which two nations?

Options :

1. ✓ England vs South Africa
2. ✗ England vs Pakistan
3. ✗ India vs Pakistan
4. ✗ Australia vs West Indies

Question Number : 78 Question Id : 9662315688 Question Type : MCQ Option Shuffling : Yes Display Question Number : Yes
Single Line Question Option : No Option Orientation : Vertical

Correct Marks : 1 Wrong Marks : 0.25

ICC विश्व कप 2019 का पहला मैच किन दो राष्ट्रों के बीच खेला गया था?

Options :

1. ✓ इंग्लैंड बनाम दक्षिण अफ्रीका
2. ✗ इंग्लैंड बनाम पाकिस्तान
3. ✗ भारत बनाम पाकिस्तान
4. ✗ ऑस्ट्रेलिया बनाम वेस्टइंडीज

Question Number : 79 Question Id : 9662315689 Question Type : MCQ Option Shuffling : Yes Display Question Number : Yes
Single Line Question Option : No Option Orientation : Vertical

Correct Marks : 1 Wrong Marks : 0.25

Which team won the Indian Premier League (IPL) 2019?

Options :

- ✘ Kolkata Knight Riders
- ✘ Rajasthan Royals
- ✔ Mumbai Indians
- ✘ Chennai Super Kings

Question Number : 79 Question Id : 9662315689 Question Type : MCQ Option Shuffling : Yes Display Question Number : Yes
Single Line Question Option : No Option Orientation : Vertical

Correct Marks : 1 Wrong Marks : 0.25

इंडियन प्रीमियर लीग (IPL) 2019 किस टीम ने जीता?

Options :

- ✘ कोलकाता नाइट राइडर्स
- ✘ राजस्थान रॉयल्स
- ✔ मुंबई इंडियंस
- ✘ चेन्नई सुपर किंग्स

Question Number : 80 Question Id : 9662315690 Question Type : MCQ Option Shuffling : Yes Display Question Number : Yes
Single Line Question Option : No Option Orientation : Vertical

Correct Marks : 1 Wrong Marks : 0.25

17th edition of Desert Storm Rally 2019 was held in _____.

Options :

- ✘ Andhra Pradesh
- ✘ Haryana
- ✘ Gujarat
- ✔ Rajasthan

Question Number : 80 Question Id : 9662315690 Question Type : MCQ Option Shuffling : Yes Display Question Number : Yes
Single Line Question Option : No Option Orientation : Vertical

Correct Marks : 1 Wrong Marks : 0.25

डेजर्ट स्टॉर्म रैली 2019 का 17 वां संस्करण _____ में आयोजित किया गया था।

Options :

- ✘ आंध्र प्रदेश
- ✘ हरियाणा
- ✘ गुजरात
- ✔ राजस्थान

Arithmetic Ability1

Group Number :	5
Group Id :	96623178
Group Maximum Duration :	0
Group Minimum Duration :	0
Revisit allowed for view? :	No
Revisit allowed for edit? :	No
Break time:	0
Group Marks:	20
Revisit allowed for group Instructions? :	Yes
Maximum Instruction Time:	0
Minimum Instruction Time:	0

Arithmetic Ability1

Section Id :	966231193
Section Number :	1
Section type :	Online
Mandatory or Optional:	Mandatory
Number of Questions:	20
Number of Questions to be attempted:	20
Section Marks:	20
Display Number Panel:	Yes
Group All Questions:	No

Sub-Section Number:	1
Sub-Section Id:	966231203
Question Shuffling Allowed :	Yes

Question Number : 81 Question Id : 9662315691 Question Type : MCQ Option Shuffling : Yes Display Question Number : Yes
Single Line Question Option : No Option Orientation : Vertical

Correct Marks : 1 Wrong Marks : 0.25

If $5X6X3$ is divisible by 11, then what is the value of x ?

Options :

1. ✘ 9
2. ✘ 8
3. ✔ 7
4. ✘ 6

Question Number : 81 Question Id : 9662315691 Question Type : MCQ Option Shuffling : Yes Display Question Number : Yes
Single Line Question Option : No Option Orientation : Vertical

Correct Marks : 1 Wrong Marks : 0.25

यदि $5X6X3$, 11 से विभाज्य है, तो x का मान क्या है?

Options :

1. ✘ 9
2. ✘ 8
3. ✔ 7
4. ✘ 6

Question Number : 82 Question Id : 9662315692 Question Type : MCQ Option Shuffling : Yes Display Question Number : Yes
Single Line Question Option : No Option Orientation : Vertical

Correct Marks : 1 Wrong Marks : 0.25

What is the Least Common Multiple of 32, 48, 56, 36 and 64?

Options :

1. ✘ 4238
2. ✘ 3456
3. ✔ 4032
4. ✘ 5292

Question Number : 82 Question Id : 9662315692 Question Type : MCQ Option Shuffling : Yes Display Question Number : Yes
Single Line Question Option : No Option Orientation : Vertical

Correct Marks : 1 Wrong Marks : 0.25

32, 48, 56, 36 तथा 64 का लघुत्तम समापवर्त्य क्या है?

Options :

1. ✘ 4238
2. ✘ 3456
3. ✔ 4032
4. ✘ 5292

Question Number : 83 Question Id : 9662315693 Question Type : MCQ Option Shuffling : Yes Display Question Number : Yes
Single Line Question Option : No Option Orientation : Vertical

Correct Marks : 1 Wrong Marks : 0.25

What is the value of: $\sqrt{\frac{2-\sqrt{3}}{2+\sqrt{3}}}$

Options :

1. ✘ 1
2. ✔ $2 - \sqrt{3}$
3. ✘ $2\sqrt{3}$
4. ✘ $\frac{1}{\sqrt{2}}$

Question Number : 83 Question Id : 9662315693 Question Type : MCQ Option Shuffling : Yes Display Question Number : Yes
Single Line Question Option : No Option Orientation : Vertical

Correct Marks : 1 Wrong Marks : 0.25

$\sqrt{\frac{2-\sqrt{3}}{2+\sqrt{3}}}$ का मान क्या है?

Options :

1. ✘ 1
2. ✔ $2 - \sqrt{3}$
3. ✘ $2\sqrt{3}$

4. ✘ $\frac{1}{\sqrt{2}}$

Question Number : 84 Question Id : 9662315694 Question Type : MCQ Option Shuffling : Yes Display Question Number : Yes
Single Line Question Option : No Option Orientation : Vertical

Correct Marks : 1 Wrong Marks : 0.25

What is the value of $(12 - 10)^3 + 3 \times 2 \times 10 \times 12$?

Options :

1. ✘ 1000
2. ✔ 728
3. ✘ 444
4. ✘ 1728

Question Number : 84 Question Id : 9662315694 Question Type : MCQ Option Shuffling : Yes Display Question Number : Yes
Single Line Question Option : No Option Orientation : Vertical

Correct Marks : 1 Wrong Marks : 0.25

$(12 - 10)^3 + 3 \times 2 \times 10 \times 12$ का मान क्या है?

Options :

1. ✘ 1000
2. ✔ 728
3. ✘ 444
4. ✘ 1728

Question Number : 85 Question Id : 9662315695 Question Type : MCQ Option Shuffling : Yes Display Question Number : Yes
Single Line Question Option : No Option Orientation : Vertical

Correct Marks : 1 Wrong Marks : 0.25

Which is the smallest four digit number which when decreased by 5 becomes divisible by 12, 14 and 18?

Options :

1. ✘ 1008
2. ✘ 1025
3. ✔ 1013
4. ✘ 1003

Question Number : 85 Question Id : 9662315695 Question Type : MCQ Option Shuffling : Yes Display Question Number : Yes
Single Line Question Option : No Option Orientation : Vertical

Correct Marks : 1 Wrong Marks : 0.25

चार अंको की सबसे छोटी संख्या क्या है जिसे 5 से कम करने पर वह 12, 14 तथा 18 से विभाजित हो जाती है?

Options :

1. ✘ 1008
2. ✘ 1025
3. ✔ 1013
4. ✘ 1003

Question Number : 86 Question Id : 9662315696 Question Type : MCQ Option Shuffling : Yes Display Question Number : Yes
Single Line Question Option : No Option Orientation : Vertical

Correct Marks : 1 Wrong Marks : 0.25

The product of Highest Common Factor and Least Common Multiple of two numbers is 4928 and the difference between the numbers is 32. What is the larger number?

Options :

1. ✖ 56
2. ✖ 68
3. ✔ 88
4. ✖ 74

Question Number : 86 Question Id : 9662315696 Question Type : MCQ Option Shuffling : Yes Display Question Number : Yes
Single Line Question Option : No Option Orientation : Vertical

Correct Marks : 1 Wrong Marks : 0.25

दो संख्याओं के महत्तम समापवर्तक तथा लघुत्तम समापवर्त्य का गुणनफल 4928 है तथा संख्याओं के बीच का अंतर 32 है। बड़ी संख्या क्या है?

Options :

1. ✖ 56
2. ✖ 68
3. ✔ 88
4. ✖ 74

Question Number : 87 Question Id : 9662315697 Question Type : MCQ Option Shuffling : Yes Display Question Number : Yes
Single Line Question Option : No Option Orientation : Vertical

Correct Marks : 1 Wrong Marks : 0.25

What is the value of: $\left(\frac{91}{45} \div \frac{546}{5}\right) - \frac{3}{20} \times \frac{70}{9} + \frac{81}{5}$

Options :

1. ✖ 91/1803
2. ✖ 113/3
3. ✔ 2032/135
4. ✖ 199/8685

Question Number : 87 Question Id : 9662315697 Question Type : MCQ Option Shuffling : Yes Display Question Number : Yes
Single Line Question Option : No Option Orientation : Vertical

Correct Marks : 1 Wrong Marks : 0.25

$\left(\frac{91}{45} \div \frac{546}{5}\right) - \frac{3}{20} \times \frac{70}{9} + \frac{81}{5}$ का मान क्या है?

Options :

1. ✖ 91/1803
2. ✖ 113/3
3. ✔ 2032/135
4. ✖ 199/8685

Question Number : 88 Question Id : 9662315698 Question Type : MCQ Option Shuffling : Yes Display Question Number : Yes
Single Line Question Option : No Option Orientation : Vertical

Correct Marks : 1 Wrong Marks : 0.25

Which among the following is the greatest?

Options :

1. ✓ $\sqrt{19} - \sqrt{11}$

2. ✗ $\sqrt{17} - \sqrt{13}$

3. ✗ $\sqrt{18} - \sqrt{12}$

4. ✗ $\sqrt{16} - \sqrt{14}$

Question Number : 88 Question Id : 9662315698 Question Type : MCQ Option Shuffling : Yes Display Question Number : Yes
Single Line Question Option : No Option Orientation : Vertical

Correct Marks : 1 Wrong Marks : 0.25

निम्नलिखित में से कौन सा सबसे बड़ा है?

Options :

1. ✓ $\sqrt{19} - \sqrt{11}$

2. ✗ $\sqrt{17} - \sqrt{13}$

3. ✗ $\sqrt{18} - \sqrt{12}$

4. ✗ $\sqrt{16} - \sqrt{14}$

Question Number : 89 Question Id : 9662315699 Question Type : MCQ Option Shuffling : Yes Display Question Number : Yes
Single Line Question Option : No Option Orientation : Vertical

Correct Marks : 1 Wrong Marks : 0.25

Three numbers are in the ratio 2 : 3 : 5 and their Least Common Multiple is 1260. What is the Highest Common Factor of these numbers?

Options :

1. ✗ 24

2. ✗ 36

3. ✗ 56

4. ✓ 42

Question Number : 89 Question Id : 9662315699 Question Type : MCQ Option Shuffling : Yes Display Question Number : Yes
Single Line Question Option : No Option Orientation : Vertical

Correct Marks : 1 Wrong Marks : 0.25

तीन संख्याएँ 2 : 3 : 5 के अनुपात में हैं तथा उनका लघुतम समापवर्त्य 1260 है। इन संख्याओं का महत्तम समापवर्तक क्या होगा?

Options :

1. ✘ 24
2. ✘ 36
3. ✘ 56
4. ✔ 42

Question Number : 90 Question Id : 9662315700 Question Type : MCQ Option Shuffling : Yes Display Question Number : Yes
Single Line Question Option : No Option Orientation : Vertical

Correct Marks : 1 Wrong Marks : 0.25

What is the value of: $\sqrt{6.25} + \left(\sqrt[3]{0.125 \times 25^{\frac{-1}{2}}} \right)$

Options :

1. ✘ 0.2
2. ✔ 2.6
3. ✘ 1/5
4. ✘ 2/5

Question Number : 90 Question Id : 9662315700 Question Type : MCQ Option Shuffling : Yes Display Question Number : Yes
Single Line Question Option : No Option Orientation : Vertical

Correct Marks : 1 Wrong Marks : 0.25

$\sqrt{6.25} + \left(\sqrt[3]{0.125 \times 25^{\frac{-1}{2}}} \right)$ का मान क्या है?

Options :

1. ✘ 0.2
2. ✔ 2.6
3. ✘ 1/5
4. ✘ 2/5

Question Number : 91 Question Id : 9662315701 Question Type : MCQ Option Shuffling : Yes Display Question Number : Yes
Single Line Question Option : No Option Orientation : Vertical

Correct Marks : 1 Wrong Marks : 0.25

The average of 11 numbers is 147. If each number is increased by 2, then what will be the new average?

Options :

1. ✘ 147
2. ✘ 145
3. ✘ 149.2
4. ✔ 149

Question Number : 91 Question Id : 9662315701 Question Type : MCQ Option Shuffling : Yes Display Question Number : Yes
Single Line Question Option : No Option Orientation : Vertical

Correct Marks : 1 Wrong Marks : 0.25

11 संख्याओं का औसत 147 है। यदि प्रत्येक संख्या को 2 से बढ़ा दिया जाए, तो नई औसत क्या होगी?

Options :

1. ✘ 147

2. ✘ 145
3. ✘ 149.2
4. ✔ 149

Question Number : 92 Question Id : 9662315702 Question Type : MCQ Option Shuffling : Yes Display Question Number : Yes
Single Line Question Option : No Option Orientation : Vertical

Correct Marks : 1 Wrong Marks : 0.25

On an article, the discount given is 20% of the selling price and a profit of 20% of selling price is earned. Marked price of article is how much percent more than the cost price?

Options :

1. ✘ 40 percent
2. ✔ 50 percent
3. ✘ 33.33 percent
4. ✘ 60 percent

Question Number : 92 Question Id : 9662315702 Question Type : MCQ Option Shuffling : Yes Display Question Number : Yes
Single Line Question Option : No Option Orientation : Vertical

Correct Marks : 1 Wrong Marks : 0.25

एक वस्तु पर विक्रय मूल्य के 20% की छूट दी गई है तथा विक्रय मूल्य के 20% का लाभ कमाया गया है। वस्तु का अंकित मूल्य क्रय मूल्य से कितने प्रतिशत अधिक है?

Options :

1. ✘ 40 प्रतिशत
2. ✔ 50 प्रतिशत
3. ✘ 33.33 प्रतिशत
4. ✘ 60 प्रतिशत

Question Number : 93 Question Id : 9662315703 Question Type : MCQ Option Shuffling : Yes Display Question Number : Yes
Single Line Question Option : No Option Orientation : Vertical

Correct Marks : 1 Wrong Marks : 0.25

The ratio of cost price and marked price of an article is 3 : 4. The seller gives two successive discounts of 10% on the article. What is the profit / loss percent?

Options :

1. ✘ 12.5% loss
2. ✔ 8% profit
3. ✘ 10% profit
4. ✘ No profit No loss

Question Number : 93 Question Id : 9662315703 Question Type : MCQ Option Shuffling : Yes Display Question Number : Yes
Single Line Question Option : No Option Orientation : Vertical

Correct Marks : 1 Wrong Marks : 0.25

एक वस्तु के क्रय मूल्य तथा अंकित मूल्य का अनुपात 3 : 4 है। विक्रेता वस्तु पर 10% की दो क्रमिक छूट देता है। लाभ/हानि प्रतिशत क्या है?

Options :

1. ✘ 12.5% हानि
2. ✔ 8% लाभ
3. ✘ 10% लाभ
4. ✘ ना लाभ ना हानि

Question Number : 94 Question Id : 9662315704 Question Type : MCQ Option Shuffling : Yes Display Question Number : Yes
Single Line Question Option : No Option Orientation : Vertical

Correct Marks : 1 Wrong Marks : 0.25

If A's income is 120% of B's income, then B's income is what percent of A's income?

Options :

1. ✓ 83.3 percent
2. ✗ 80 percent
3. ✗ 100 percent
4. ✗ 140 percent

Question Number : 94 Question Id : 9662315704 Question Type : MCQ Option Shuffling : Yes Display Question Number : Yes
Single Line Question Option : No Option Orientation : Vertical

Correct Marks : 1 Wrong Marks : 0.25

यदि A की आय, B की आय की 120% है, तो B की आय, A की आय की कितनी प्रतिशत है?

Options :

1. ✓ 83.3 प्रतिशत
2. ✗ 80 प्रतिशत
3. ✗ 100 प्रतिशत
4. ✗ 140 प्रतिशत

Question Number : 95 Question Id : 9662315705 Question Type : MCQ Option Shuffling : Yes Display Question Number : Yes
Single Line Question Option : No Option Orientation : Vertical

Correct Marks : 1 Wrong Marks : 0.25

10% of A's income is equal to the 5% of C's income. If C's income is Rs. 300, then what is the income of A?

Options :

1. ✗ Rs. 200
2. ✓ Rs. 150
3. ✗ Rs. 100
4. ✗ Rs. 250

Question Number : 95 Question Id : 9662315705 Question Type : MCQ Option Shuffling : Yes Display Question Number : Yes
Single Line Question Option : No Option Orientation : Vertical

Correct Marks : 1 Wrong Marks : 0.25

A की आय का 10%, C की आय के 5% के बराबर है यदि C की आय 300 रुपये है, तो A की आय क्या है?

Options :

1. ✗ 200 रुपये
2. ✓ 150 रुपये
3. ✗ 100 रुपये
4. ✗ 250 रुपये

Question Number : 96 Question Id : 9662315706 Question Type : MCQ Option Shuffling : Yes Display Question Number : Yes
Single Line Question Option : No Option Orientation : Vertical

Correct Marks : 1 Wrong Marks : 0.25

Aman's salary is increased by 20% every year. If after 3 years his salary becomes Rs. 5184, then what was his initial salary?

Options :

1. ✗ Rs. 2000
2. ✗ Rs. 2500
3. ✗ Rs. 2800
4. ✓ Rs. 3000

Question Number : 96 Question Id : 9662315706 Question Type : MCQ Option Shuffling : Yes Display Question Number : Yes
Single Line Question Option : No Option Orientation : Vertical

Correct Marks : 1 Wrong Marks : 0.25

अमन की आय प्रति वर्ष 20% से बढ़ती है। यदि 3 वर्ष पश्चात उसकी आय 5184 रुपये है, तो शुरू में उसकी आय क्या थी?

Options :

1. ✘ 2000 रुपये
2. ✘ 2500 रुपये
3. ✘ 2800 रुपये
4. ✔ 3000 रुपये

Question Number : 97 Question Id : 9662315707 Question Type : MCQ Option Shuffling : Yes Display Question Number : Yes
Single Line Question Option : No Option Orientation : Vertical

Correct Marks : 1 Wrong Marks : 0.25

Cost price of an article is Rs. 450. If it is sold at a profit of 40%, then what will be the selling price of the article?

Options :

1. ✘ Rs. 650
2. ✘ Rs. 610
3. ✔ Rs. 630
4. ✘ Rs. 660

Question Number : 97 Question Id : 9662315707 Question Type : MCQ Option Shuffling : Yes Display Question Number : Yes
Single Line Question Option : No Option Orientation : Vertical

Correct Marks : 1 Wrong Marks : 0.25

एक वस्तु का क्रय मूल्य 450 रुपये है। यदि इसे 40% के लाभ पर बेचा जाता है, तो वस्तु का विक्रय मूल्य क्या होगा?

Options :

1. ✘ 650 रुपये
2. ✘ 610 रुपये
3. ✔ 630 रुपये
4. ✘ 660 रुपये

Question Number : 98 Question Id : 9662315708 Question Type : MCQ Option Shuffling : Yes Display Question Number : Yes
Single Line Question Option : No Option Orientation : Vertical

Correct Marks : 1 Wrong Marks : 0.25

If the cost price of a watch is 87.5% of its selling price, then what is profit percentage?

Options :

1. ✘ 15 percent
2. ✘ 16.66 percent
3. ✔ 14.28 percent
4. ✘ 12.5 percent

Question Number : 98 Question Id : 9662315708 Question Type : MCQ Option Shuffling : Yes Display Question Number : Yes
Single Line Question Option : No Option Orientation : Vertical

Correct Marks : 1 Wrong Marks : 0.25

यदि एक घड़ी का क्रय मूल्य उसके विक्रय मूल्य का 87.5% है, तो लाभ प्रतिशत क्या है?

Options :

1. ✘ 15 प्रतिशत
2. ✘ 16.66 प्रतिशत
3. ✔ 14.28 प्रतिशत

4. ✖ 12.5 प्रतिशत

Question Number : 99 Question Id : 9662315709 Question Type : MCQ Option Shuffling : Yes Display Question Number : Yes
Single Line Question Option : No Option Orientation : Vertical

Correct Marks : 1 Wrong Marks : 0.25

A purchased a book for Rs. 400 and sold it to B at x% profit. B sold it to C at x% loss and C paid Rs. 396 to B. What is the value of x?

Options :

1. ✖ 9
2. ✖ 8
3. ✓ 10
4. ✖ 5

Question Number : 99 Question Id : 9662315709 Question Type : MCQ Option Shuffling : Yes Display Question Number : Yes
Single Line Question Option : No Option Orientation : Vertical

Correct Marks : 1 Wrong Marks : 0.25

A एक किताब 400 रुपये की खरीदता है तथा उसे B को x% लाभ पर बेचता है। B उसे C को x% हानि पर बेचता है तथा C, B को 396 रुपये देता है। x का मान क्या है?

Options :

1. ✖ 9
2. ✖ 8
3. ✓ 10
4. ✖ 5

Question Number : 100 Question Id : 9662315710 Question Type : MCQ Option Shuffling : Yes Display Question Number : Yes
Single Line Question Option : No Option Orientation : Vertical

Correct Marks : 1 Wrong Marks : 0.25

If $2a : 3b : 6c = 1 : 2 : 3$, then what is the value of $a : b : c$?

Options :

1. ✓ 3 : 4 : 3
2. ✖ 1 : 3 : 9
3. ✖ 2 : 3 : 9
4. ✖ 4 : 3 : 6

Question Number : 100 Question Id : 9662315710 Question Type : MCQ Option Shuffling : Yes Display Question Number : Yes
Single Line Question Option : No Option Orientation : Vertical

Correct Marks : 1 Wrong Marks : 0.25

यदि $2a : 3b : 6c = 1 : 2 : 3$ है, तो $a : b : c$ का मूल्य क्या है?

Options :

1. ✓ 3 : 4 : 3
2. ✖ 1 : 3 : 9
3. ✖ 2 : 3 : 9
4. ✖ 4 : 3 : 6

Arithmetic Ability2

Group Number :

6

Group Id :

96623179

Group Maximum Duration :

0

Group Minimum Duration :	0
Revisit allowed for view? :	No
Revisit allowed for edit? :	No
Break time:	0
Group Marks:	20
Revisit allowed for group Instructions? :	Yes
Maximum Instruction Time:	0
Minimum Instruction Time:	0

Arithmetic Ability2

Section Id :	966231194
Section Number :	1
Section type :	Online
Mandatory or Optional:	Mandatory
Number of Questions:	20
Number of Questions to be attempted:	20
Section Marks:	20
Display Number Panel:	Yes
Group All Questions:	No

Sub-Section Number:	1
Sub-Section Id:	966231204
Question Shuffling Allowed :	Yes

Question Number : 101 Question Id : 9662315711 Question Type : MCQ Option Shuffling : Yes Display Question Number : Yes
Single Line Question Option : No Option Orientation : Vertical

Correct Marks : 1 Wrong Marks : 0.25

A certain amount is divided among P,Q and R in the ratio of 2 : 3 : 6 respectively. If the total amount is Rs. 13200, then what is the share of P?

Options :

1. ✘ Rs. 3600
2. ✔ Rs. 2400
3. ✘ Rs. 3200
4. ✘ Rs. 4000

Question Number : 101 Question Id : 9662315711 Question Type : MCQ Option Shuffling : Yes Display Question Number : Yes
Single Line Question Option : No Option Orientation : Vertical

Correct Marks : 1 Wrong Marks : 0.25

एक निश्चित राशि को P, Q तथा R के मध्य क्रमशः 2 : 3 : 6 के अनुपात बाँटा जाता है। यदि राशि 13200 रुपये है, तो P का हिस्सा क्या है?

Options :

1. ✘ 3600 रुपये
2. ✔ 2400 रुपये
3. ✘ 3200 रुपये
4. ✘ 4000 रुपये

Question Number : 102 Question Id : 9662315712 Question Type : MCQ Option Shuffling : Yes Display Question Number : Yes
Single Line Question Option : No Option Orientation : Vertical

Correct Marks : 1 Wrong Marks : 0.25

Cost of 7 pens and 3 books is equal to the cost of 3 pens and 15 books. What is the ratio of cost of 4 pens and 2 books?

Options :

1. ✘ 6 : 5
2. ✘ 4 : 1
3. ✘ 7 : 5
4. ✔ 6 : 1

Question Number : 102 Question Id : 9662315712 Question Type : MCQ Option Shuffling : Yes Display Question Number : Yes Single Line Question Option : No Option Orientation : Vertical

Correct Marks : 1 Wrong Marks : 0.25

7 कलम तथा 3 किताब का मूल्य, 3 कलम तथा 15 किताब के मूल्य के बराबर है। 4 कलम तथा 2 किताब के मूल्य का अनुपात क्या है?

Options :

1. ✘ 6 : 5
2. ✘ 4 : 1
3. ✘ 7 : 5
4. ✔ 6 : 1

Question Number : 103 Question Id : 9662315713 Question Type : MCQ Option Shuffling : Yes Display Question Number : Yes Single Line Question Option : No Option Orientation : Vertical

Correct Marks : 1 Wrong Marks : 0.25

What will be the compound interest on a sum of Rs. 2000 for 2 years at the rate of interest 30% per annum?

Options :

1. ✔ Rs. 1380
2. ✘ Rs. 1240
3. ✘ Rs. 1520
4. ✘ Rs. 1640

Question Number : 103 Question Id : 9662315713 Question Type : MCQ Option Shuffling : Yes Display Question Number : Yes Single Line Question Option : No Option Orientation : Vertical

Correct Marks : 1 Wrong Marks : 0.25

एक 2000 रुपये राशि पर 30% प्रति वर्ष की ब्याज दर से दो वर्षों का चक्रवृद्धि ब्याज क्या होगा?

Options :

1. ✔ 1380 रुपये
2. ✘ 1240 रुपये
3. ✘ 1520 रुपये
4. ✘ 1640 रुपये

Question Number : 104 Question Id : 9662315714 Question Type : MCQ Option Shuffling : Yes Display Question Number : Yes Single Line Question Option : No Option Orientation : Vertical

Correct Marks : 1 Wrong Marks : 0.25

एक राशि चक्रवृद्धि ब्याज की दर से 6 वर्षों में स्वयं की दोगुनी हो जाती है। कितने वर्षों में वह स्वयं की 4 गुना हो जाएगी?

Options :

1. ✘ 18 वर्ष
2. ✘ 24 वर्ष
3. ✘ 8 वर्ष
4. ✔ 12 वर्ष

Question Number : 104 Question Id : 9662315714 Question Type : MCQ Option Shuffling : Yes Display Question Number : Yes
Single Line Question Option : No Option Orientation : Vertical

Correct Marks : 1 Wrong Marks : 0.25

A sum becomes double of itself in 6 years at the rate of compound interest. In how many years it will become 4 times of itself?

Options :

1. ✘ 18 years
2. ✘ 24 years
3. ✘ 8 years
4. ✔ 12 years

Question Number : 105 Question Id : 9662315715 Question Type : MCQ Option Shuffling : Yes Display Question Number : Yes
Single Line Question Option : No Option Orientation : Vertical

Correct Marks : 1 Wrong Marks : 0.25

Ram deposit a sum of Rs. 8000 in a bank at the rate of 10% per annum simpler interest. Shyam deposited Rs. 10000 at the rate of 8% per annum compound interest. What will be the difference between their interests after two years?

Options :

1. ✘ Rs. 80
2. ✘ Rs. 76
3. ✔ Rs. 64
4. ✘ Rs. 60

Question Number : 105 Question Id : 9662315715 Question Type : MCQ Option Shuffling : Yes Display Question Number : Yes
Single Line Question Option : No Option Orientation : Vertical

Correct Marks : 1 Wrong Marks : 0.25

राम ने एक 8000 रुपये की राशि को 10% प्रतिवर्ष की साधारण ब्याज दर से बैंक में जमा किया। श्याम ने 10000 रुपये की राशि को 8% प्रतिवर्ष की चक्रवृद्धि ब्याज दर से जमा किया। दो वर्ष पश्चात उनके ब्याज के बीच का अंतर क्या होगा?

Options :

1. ✘ 80 रुपये
2. ✘ 76 रुपये
3. ✔ 64 रुपये
4. ✘ 60 रुपये

Question Number : 106 Question Id : 9662315716 Question Type : MCQ Option Shuffling : Yes Display Question Number : Yes
Single Line Question Option : No Option Orientation : Vertical

Correct Marks : 1 Wrong Marks : 0.25

A man walks at a speed of 8 km/h. How much time will he take to cover a distance of 24 km and 800 metres?

Options :

1. ✘ 12360 sec
2. ✘ 10000 sec
3. ✔ 11160 sec
4. ✘ 10480 sec

Question Number : 106 Question Id : 9662315716 Question Type : MCQ Option Shuffling : Yes Display Question Number : Yes
Single Line Question Option : No Option Orientation : Vertical

Correct Marks : 1 Wrong Marks : 0.25

एक व्यक्ति 8 कि.मी./घंटा की गति से चलता है। एक 24 कि.मी. तथा 800 मीटर की दूरी तय करने में कितना समय लेगा?

Options :

1. ✘ 12360 सेकण्ड

2. ✘ 10000 सेकण्ड
3. ✔ 11160 सेकण्ड
4. ✘ 10480 सेकण्ड

Question Number : 107 Question Id : 9662315717 Question Type : MCQ Option Shuffling : Yes Display Question Number : Yes
Single Line Question Option : No Option Orientation : Vertical

Correct Marks : 1 Wrong Marks : 0.25

A man covers a distance of 1800 metres in 5 seconds. What is the speed of man?

Options :

1. ✘ 10 km/hr
2. ✘ 180 km/hr
3. ✘ 50 km/hr
4. ✔ 100 km/hr

Question Number : 107 Question Id : 9662315717 Question Type : MCQ Option Shuffling : Yes Display Question Number : Yes
Single Line Question Option : No Option Orientation : Vertical

Correct Marks : 1 Wrong Marks : 0.25

एक आदमी एक 1800 मीटर की दूरी 5 सेकण्ड में तय करता है। आदमी की गति क्या है?

Options :

1. ✘ 10 कि.मी./घंटा
2. ✘ 180 कि.मी./घंटा
3. ✘ 50 कि.मी./घंटा
4. ✔ 100 कि.मी./घंटा

Question Number : 108 Question Id : 9662315718 Question Type : MCQ Option Shuffling : Yes Display Question Number : Yes
Single Line Question Option : No Option Orientation : Vertical

Correct Marks : 1 Wrong Marks : 0.25

A train of length 1300 metres moves at a speed of 120 m/s. How long will it take to cross another train of length 700 metres moving in same direction at 80 m/s?

Options :

1. ✘ 60 sec
2. ✘ 40 sec
3. ✔ 50 sec
4. ✘ 55 sec

Question Number : 108 Question Id : 9662315718 Question Type : MCQ Option Shuffling : Yes Display Question Number : Yes
Single Line Question Option : No Option Orientation : Vertical

Correct Marks : 1 Wrong Marks : 0.25

1300 मीटर लंबी एक रेलगाड़ी 120 मी./सेकण्ड की गति से चलती है। समान दिशा में 80 मी./सेकण्ड की गति से चल रही एक 700 मीटर लंबी रेलगाड़ी को वह कितने समय में पार कर लेगी?

Options :

1. ✘ 60 सेकण्ड
2. ✘ 40 सेकण्ड
3. ✔ 50 सेकण्ड
4. ✘ 55 सेकण्ड

Question Number : 109 Question Id : 9662315719 Question Type : MCQ Option Shuffling : Yes Display Question Number : Yes
Single Line Question Option : No Option Orientation : Vertical

Correct Marks : 1 Wrong Marks : 0.25

A alone and B alone complete a piece of work in 10 days and 15 days respectively. If they both work together and get paid Rs. 1500, then what is A's share?

Options :

- ✘ Rs. 600
- ✘ Rs. 800
- ✔ Rs. 900
- ✘ Rs. 1200

Question Number : 109 Question Id : 9662315719 Question Type : MCQ Option Shuffling : Yes Display Question Number : Yes Single Line Question Option : No Option Orientation : Vertical

Correct Marks : 1 Wrong Marks : 0.25

A अकेला तथा B अकेला एक कार्य को कर्मशः 10 दिन तथा 15 दिन में कर सकते हैं। यदि वे दोनों एक साथ कार्य करते हैं तथा उन्हें 1500 रुपये मिलते हैं, तो A का हिस्सा क्या है?

Options :

- ✘ 600 रुपये
- ✘ 800 रुपये
- ✔ 900 रुपये
- ✘ 1200 रुपये

Question Number : 110 Question Id : 9662315720 Question Type : MCQ Option Shuffling : Yes Display Question Number : Yes Single Line Question Option : No Option Orientation : Vertical

Correct Marks : 1 Wrong Marks : 0.25

Working 8 hours a day, 9 men complete a work in 20 days. In how many days can 12 men do $\frac{2}{5}$ th of the same work, working 3 hours a day?

Options :

- ✘ 32 days
- ✔ 16 days
- ✘ 48 days
- ✘ 25 days

Question Number : 110 Question Id : 9662315720 Question Type : MCQ Option Shuffling : Yes Display Question Number : Yes Single Line Question Option : No Option Orientation : Vertical

Correct Marks : 1 Wrong Marks : 0.25

प्रतिदिन 8 घंटे कार्य करके, 9 आदमी एक कार्य को 20 दिन में पूरा करते हैं। प्रतिदिन 3 घंटे कार्य करके, 12 आदमी समान कार्य का $\frac{2}{5}$ कितने दिन में पूरा कर सकते हैं?

Options :

- ✘ 32 दिन
- ✔ 16 दिन
- ✘ 48 दिन
- ✘ 25 दिन

Question Number : 111 Question Id : 9662315721 Question Type : MCQ Option Shuffling : Yes Display Question Number : Yes Single Line Question Option : No Option Orientation : Vertical

Correct Marks : 1 Wrong Marks : 0.25

A can cultivate $\frac{1}{4}$ th of a land in 2 days and B can cultivate $\frac{2}{9}$ th of the same land in 4 days. If they both work together, then how many days will they take to cultivate $\frac{3}{4}$ th of the same land?

Options :

- ✘ $\frac{67}{13}$ days
- ✔ $\frac{54}{13}$ days

3. ✖ 66/13 days

4. ✖ 53/13 days

Question Number : 111 Question Id : 9662315721 Question Type : MCQ Option Shuffling : Yes Display Question Number : Yes Single Line Question Option : No Option Orientation : Vertical

Correct Marks : 1 Wrong Marks : 0.25

A एक जमीन का $1/4$, 2 दिन में जोत सकता है तथा B समान जमीन का $2/9$, 4 दिन में जोत सकता है। यदि वे दोनों एक साथ कार्य करते हैं, तो समान जमीन का $3/4$ कितने दिन में जोत सकते हैं?

Options :

1. ✖ 67/13 दिन

2. ✔ 54/13 दिन

3. ✖ 66/13 दिन

4. ✖ 53/13 दिन

Question Number : 112 Question Id : 9662315722 Question Type : MCQ Option Shuffling : Yes Display Question Number : Yes Single Line Question Option : No Option Orientation : Vertical

Correct Marks : 1 Wrong Marks : 0.25

What is the square root of 0.000081?

Options :

1. ✖ 0.09

2. ✔ 0.009

3. ✖ 0.9

4. ✖ 0.00009

Question Number : 112 Question Id : 9662315722 Question Type : MCQ Option Shuffling : Yes Display Question Number : Yes Single Line Question Option : No Option Orientation : Vertical

Correct Marks : 1 Wrong Marks : 0.25

0.000081 का वर्गमूल क्या है?

Options :

1. ✖ 0.09

2. ✔ 0.009

3. ✖ 0.9

4. ✖ 0.00009

Question Number : 113 Question Id : 9662315723 Question Type : MCQ Option Shuffling : Yes Display Question Number : Yes Single Line Question Option : No Option Orientation : Vertical

Correct Marks : 1 Wrong Marks : 0.25

The radius of the base of a cone is 3 cm. If the height of the cone is 4 cm, then what is the curved surface area of the cone?

Options :

1. ✔ 47.14 cm^2

2. ✖ 50.14 cm^2

3. ✖ 60.14 cm^2

4. ✖ 70.14 cm^2

Question Number : 113 Question Id : 9662315723 Question Type : MCQ Option Shuffling : Yes Display Question Number : Yes Single Line Question Option : No Option Orientation : Vertical

Correct Marks : 1 Wrong Marks : 0.25

एक शंकु के आधार की त्रिज्या 3 से.मी. है। यदि शंकु की ऊँचाई 4 से.मी. है, तो शंकु का वक्र पृष्ठीय क्षेत्रफल क्या है?

Options :

- ✓ 47.14 से.मी.²
- ✗ 50.14 से.मी.²
- ✗ 60.14 से.मी.²
- ✗ 70.14 से.मी.²

Question Number : 114 Question Id : 9662315724 Question Type : MCQ Option Shuffling : Yes Display Question Number : Yes Single Line Question Option : No Option Orientation : Vertical

Correct Marks : 1 Wrong Marks : 0.25

The ratio of length, breadth and height of a cuboid is 5 : 3 : 2. If the volume of the cuboid is 6480 cm³, then what is the total surface area of the cuboid?

Options :

- ✗ 1634 cm²
- ✓ 2232 cm²
- ✗ 1814 cm²
- ✗ 1706 cm²

Question Number : 114 Question Id : 9662315724 Question Type : MCQ Option Shuffling : Yes Display Question Number : Yes Single Line Question Option : No Option Orientation : Vertical

Correct Marks : 1 Wrong Marks : 0.25

एक घनाभ की लंबाई, चौड़ाई तथा ऊँचाई का अनुपात 5 : 3 : 2 है। यदि घनाभ का आयतन 6480 से.मी.³ है, तो घनाभ का कुल पृष्ठीय क्षेत्रफल क्या है?

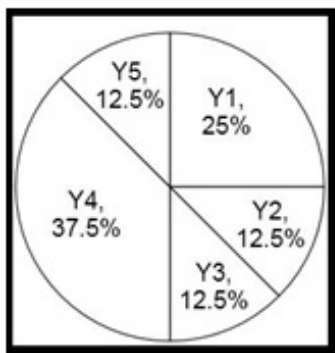
Options :

- ✗ 1634 से.मी.²
- ✓ 2232 से.मी.²
- ✗ 1814 से.मी.²
- ✗ 1706 से.मी.²

Question Number : 115 Question Id : 9662315725 Question Type : MCQ Option Shuffling : Yes Display Question Number : Yes Single Line Question Option : No Option Orientation : Vertical

Correct Marks : 1 Wrong Marks : 0.25

The pie chart given below shows the number of dot ball played in various year by the player. The number dot balls is shown as a percentage of total number of dot balls played in all the years.



If the total number of dot balls played is 1200, then what is the number of dot balls played in year Y4?

Options :

- ✗ 250
- ✗ 275
- ✗ 350

4. ✓ 450

Question Number : 115 Question Id : 9662315725 Question Type : MCQ Option Shuffling : Yes Display Question Number : Yes Single Line Question Option : No Option Orientation : Vertical

Correct Marks : 1 Wrong Marks : 0.25

नीचे दिए गए वृत्त चित्र में विभिन्न वर्षों के लिए एक खिलाड़ी द्वारा खेली गई डॉट बॉल को दर्शाया गया है। डॉट बॉल को सभी वर्षों में खेली गई कुल डॉट बॉल के प्रतिशत के रूप में दर्शाया गया है।



यदि कुल सभी डॉट बॉल की संख्या 1200 है, तो Y4 वर्ष में खेली गई डॉट बॉल की संख्या क्या है?

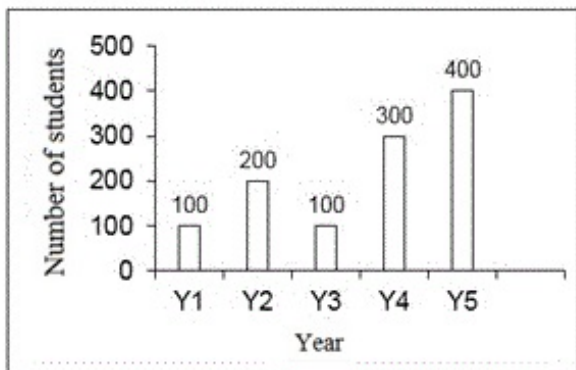
Options :

- ✗ 250
- ✗ 275
- ✗ 350
- ✓ 450

Question Number : 116 Question Id : 9662315726 Question Type : MCQ Option Shuffling : Yes Display Question Number : Yes Single Line Question Option : No Option Orientation : Vertical

Correct Marks : 1 Wrong Marks : 0.25

The bar graph given below shows the number of students appeared in an exam in various years.



What is the total number of students that appeared in exam in year Y2, Y4 and Y5?

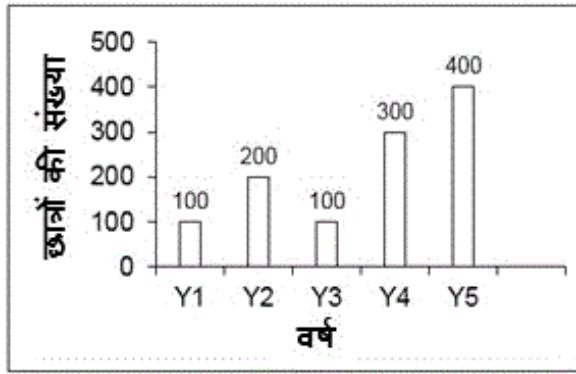
Options :

- ✗ 700
- ✗ 600
- ✓ 900
- ✗ 1000

Question Number : 116 Question Id : 9662315726 Question Type : MCQ Option Shuffling : Yes Display Question Number : Yes Single Line Question Option : No Option Orientation : Vertical

Correct Marks : 1 Wrong Marks : 0.25

नीचे दिया गया दण्ड चित्र विभिन्न वर्षों में एक परीक्षा में उपस्थित छात्रों की संख्या को दर्शाता है।



Y2, Y4 तथा Y5 वर्षों में परीक्षा में उपस्थित सभी छात्रों की संख्या क्या है?

Options :

- ✘ 700
- ✘ 600
- ✔ 900
- ✘ 1000

Question Number : 117 Question Id : 9662315727 Question Type : MCQ Option Shuffling : Yes Display Question Number : Yes Single Line Question Option : No Option Orientation : Vertical

Correct Marks : 1 Wrong Marks : 0.25

The table given below shows the number of train departed from the railway station in five days.

Day	Trains Departure
D1	20
D2	23
D3	22
D4	24
D5	25

Number of trains departed on day D1 is what percentage of the total number of trains departed in 5 days?

Options :

- ✔ 17.54 percent
- ✘ 19 percent
- ✘ 19.54 percent
- ✘ 20.5 percent

Question Number : 117 Question Id : 9662315727 Question Type : MCQ Option Shuffling : Yes Display Question Number : Yes Single Line Question Option : No Option Orientation : Vertical

Correct Marks : 1 Wrong Marks : 0.25

नीचे दी गई तालिका पाँच विभिन्न दिन में एक रेलवे स्टेशन से प्रस्थान करने वाली रेलगाड़ियों की संख्या को दर्शाती है।

वर्ष	ट्रेन प्रस्थान
D1	20
D2	23
D3	22
D4	24
D5	25

D1 दिन में प्रस्थान करने वाली रेलगाड़ियों की संख्या, 5 दिन में प्रस्थान करने वाली कुल रेलगाड़ियों की संख्या का कितना प्रतिशत है?

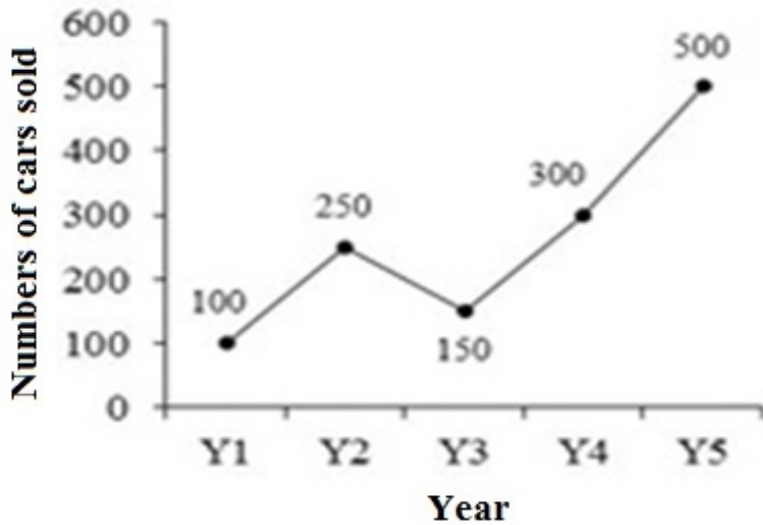
Options :

- ✓ 17.54 प्रतिशत
- ✗ 19 प्रतिशत
- ✗ 19.54 प्रतिशत
- ✗ 20.5 प्रतिशत

Question Number : 118 Question Id : 9662315728 Question Type : MCQ Option Shuffling : Yes Display Question Number : Yes Single Line Question Option : No Option Orientation : Vertical

Correct Marks : 1 Wrong Marks : 0.25

The line graph given below shows the number of cars sold by the company in various years.



What is the ratio of cars sold in years Y1 and Y3 to the cars sold in years Y2 and Y4?

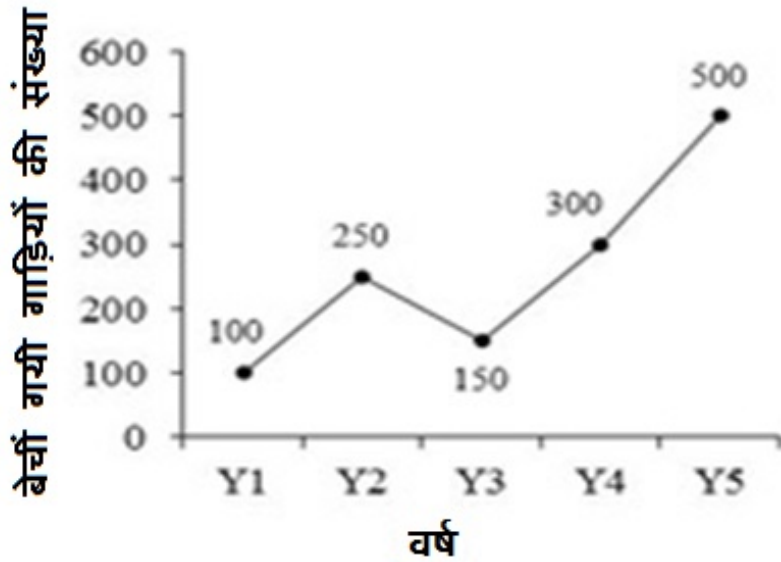
Options :

- ✗ 5 : 6
- ✓ 5 : 11
- ✗ 11 : 5
- ✗ 11 : 6

Question Number : 118 Question Id : 9662315728 Question Type : MCQ Option Shuffling : Yes Display Question Number : Yes Single Line Question Option : No Option Orientation : Vertical

Correct Marks : 1 Wrong Marks : 0.25

नीचे दिया गया रेखा चित्र विभिन्न वर्षों में एक कंपनी द्वारा बेची गई कुल कारों की संख्या को दर्शाता है।



Y1 तथा Y3 वर्षों में बेची गई कारों का Y2 तथा Y4 वर्षों में बेची गई कारों से अनुपात क्या है?

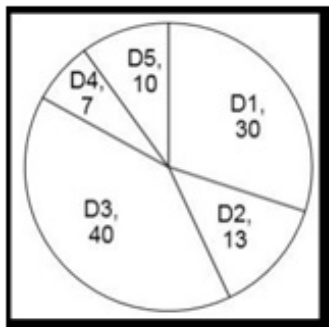
Options :

1. ✘ 5 : 6
2. ✔ 5 : 11
3. ✘ 11 : 5
4. ✘ 11 : 6

Question Number : 119 Question Id : 9662315729 Question Type : MCQ Option Shuffling : Yes Display Question Number : Yes Single Line Question Option : No Option Orientation : Vertical

Correct Marks : 1 Wrong Marks : 0.25

The pie chart given below shows the various expenses incurred by a company in various departments. The expenses incurred are shown as the percentage of total expenses incurred.



If the total expenses incurred by the company is Rs. 10000, then what is the expenses incurred by the company in department D4?

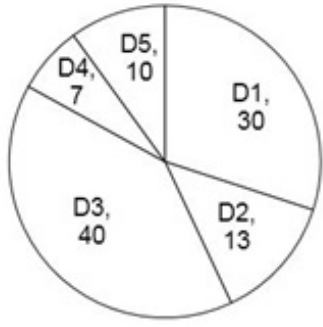
Options :

1. ✘ Rs. 3000
2. ✔ Rs. 700
3. ✘ Rs. 800
4. ✘ Rs. 900

Question Number : 119 Question Id : 9662315729 Question Type : MCQ Option Shuffling : Yes Display Question Number : Yes Single Line Question Option : No Option Orientation : Vertical

Correct Marks : 1 Wrong Marks : 0.25

नीचे दिया गया वृत्त चित्र एक कंपनी द्वारा विभिन्न विभागों में किए गए खर्चों को दर्शाया गया है। किए गए खर्चों को कुल किए गए खर्चों के प्रतिशत के रूप में दर्शाया गया है।



यदि कंपनी द्वारा किया गया कुल खर्चा 10000 रुपये है, तो D4 विभाग में कंपनी द्वारा किया गया खर्चा क्या है?

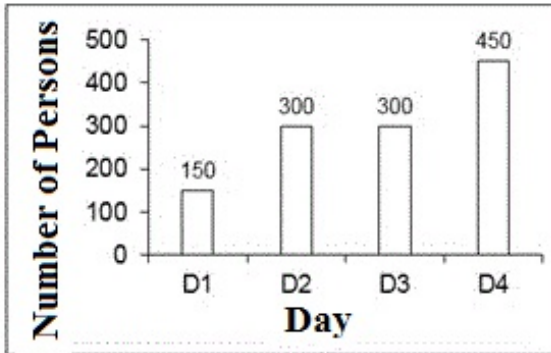
Options :

- ✘ 3000 रुपये
- ✔ 700 रुपये
- ✘ 800 रुपये
- ✘ 900 रुपये

Question Number : 120 Question Id : 9662315730 Question Type : MCQ Option Shuffling : Yes Display Question Number : Yes Single Line Question Option : No Option Orientation : Vertical

Correct Marks : 1 Wrong Marks : 0.25

The bar graph given below shows the number of persons visit temples on four days.



What is the difference between the number of persons who visited temples on day D1 and D4?

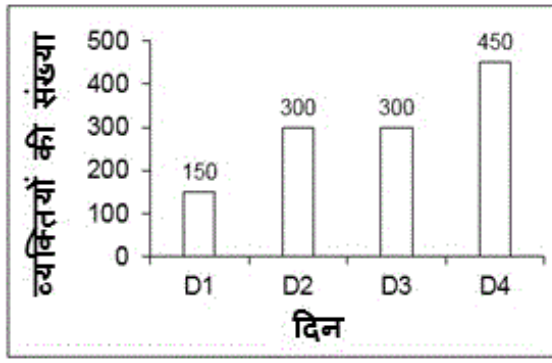
Options :

- ✘ 200
- ✘ 250
- ✔ 300
- ✘ 350

Question Number : 120 Question Id : 9662315730 Question Type : MCQ Option Shuffling : Yes Display Question Number : Yes Single Line Question Option : No Option Orientation : Vertical

Correct Marks : 1 Wrong Marks : 0.25

नीचे दिया गया दण्ड चित्र चार दिन में मंदिर जाने वाले व्यक्तियों की संख्या को दर्शाता है।



D1 तथा D4 दिन पर मंदिर जाने वाले व्यक्तियों की संख्या के बीच का अंतर क्या है?

Options :

1. ✘ 200
2. ✘ 250
3. ✔ 300
4. ✘ 350

General English1

Group Number :	7
Group Id :	96623180
Group Maximum Duration :	0
Group Minimum Duration :	0
Revisit allowed for view? :	No
Revisit allowed for edit? :	No
Break time:	0
Group Marks:	20
Revisit allowed for group Instructions? :	Yes
Maximum Instruction Time:	0
Minimum Instruction Time:	0

General English1

Section Id :	966231195
Section Number :	1
Section type :	Online
Mandatory or Optional:	Mandatory
Number of Questions:	20
Number of Questions to be attempted:	20
Section Marks:	20
Display Number Panel:	Yes
Group All Questions:	No

Sub-Section Number:	1
Sub-Section Id:	966231205
Question Shuffling Allowed :	Yes

Question Number : 121 Question Id : 9662315731 Question Type : MCQ Option Shuffling : Yes Display Question Number : Yes
Single Line Question Option : No Option Orientation : Vertical

Correct Marks : 1 Wrong Marks : 0.25

Find the part of the given sentence that has an error in it. If there is no error, choose 'No error'.

By now, my (1) / brother would have (2) / left for Mumbai (3) / . No error (4)

Options :

1. ✘ 1
2. ✘ 2
3. ✘ 3
4. ✔ 4

Question Number : 121 Question Id : 9662315731 Question Type : MCQ Option Shuffling : Yes Display Question Number : Yes
Single Line Question Option : No Option Orientation : Vertical

Correct Marks : 1 Wrong Marks : 0.25

Find the part of the given sentence that has an error in it. If there is no error, choose 'No error'.

By now, my (1) / brother would have (2) / left for Mumbai (3) / . No error (4)

Options :

1. ✘ 1
2. ✘ 2
3. ✘ 3
4. ✔ 4

Question Number : 122 Question Id : 9662315732 Question Type : MCQ Option Shuffling : Yes Display Question Number : Yes
Single Line Question Option : No Option Orientation : Vertical

Correct Marks : 1 Wrong Marks : 0.25

Which of the following sentences contain an error?

Options :

1. ✘ Her mother is angry with her.
2. ✘ She will come to my house this evening.
3. ✘ My brother is behind me always.
4. ✔ You will not go out even you complete your homework

Question Number : 122 Question Id : 9662315732 Question Type : MCQ Option Shuffling : Yes Display Question Number : Yes
Single Line Question Option : No Option Orientation : Vertical

Correct Marks : 1 Wrong Marks : 0.25

Which of the following sentences contain an error?

Options :

1. ✘ Her mother is angry with her.
2. ✘ She will come to my house this evening.
3. ✘ My brother is behind me always.
4. ✔ You will not go out even you complete your homework

Question Number : 123 Question Id : 9662315733 Question Type : MCQ Option Shuffling : Yes Display Question Number : Yes
Single Line Question Option : No Option Orientation : Vertical

Correct Marks : 1 Wrong Marks : 0.25

Find the part of the given sentence that has an error in it. If there is no error, choose 'No error'.

Kajal isn't doing (1) / well in her class, (2) / does she? (3) / No error (4)

Options :

1. ✘ 1
2. ✘ 2
3. ✔ 3
4. ✘ 4

Question Number : 123 Question Id : 9662315733 Question Type : MCQ Option Shuffling : Yes Display Question Number : Yes
Single Line Question Option : No Option Orientation : Vertical

Correct Marks : 1 Wrong Marks : 0.25

Find the part of the given sentence that has an error in it. If there is no error, choose 'No error'.

Kajal isn't doing (1) / well in her class, (2) / does she? (3) / No error (4)

Options :

1. ✘ 1
2. ✘ 2
3. ✔ 3
4. ✘ 4

Question Number : 124 Question Id : 9662315734 Question Type : MCQ Option Shuffling : Yes Display Question Number : Yes
Single Line Question Option : No Option Orientation : Vertical

Correct Marks : 1 Wrong Marks : 0.25

Identify the sentence which doesn't have an error.

Options :

1. ✘ Do you call this person an angry young man?
2. ✔ The competing teams is meeting in the National-Stadium today.
3. ✘ Jay is not a ferocious fighter.
4. ✘ We do experience some April showers.

Question Number : 124 Question Id : 9662315734 Question Type : MCQ Option Shuffling : Yes Display Question Number : Yes
Single Line Question Option : No Option Orientation : Vertical

Correct Marks : 1 Wrong Marks : 0.25

Identify the sentence which doesn't have an error.

Options :

1. ✘ Do you call this person an angry young man?
2. ✔ The competing teams is meeting in the National-Stadium today.
3. ✘ Jay is not a ferocious fighter.
4. ✘ We do experience some April showers.

Question Number : 125 Question Id : 9662315735 Question Type : MCQ Option Shuffling : Yes Display Question Number : Yes
Single Line Question Option : No Option Orientation : Vertical

Correct Marks : 1 Wrong Marks : 0.25

Find the part of the given sentence that has an error in it. If there is no error, choose 'No error'.

Raj is (1) / most obedient (2) / than Ajay (3). No error (4)

Options :

1. ✘ 1
2. ✔ 2
3. ✘ 3
4. ✘ 4

Question Number : 125 Question Id : 9662315735 Question Type : MCQ Option Shuffling : Yes Display Question Number : Yes
Single Line Question Option : No Option Orientation : Vertical

Correct Marks : 1 Wrong Marks : 0.25

Find the part of the given sentence that has an error in it. If there is no error, choose 'No error'.

Raj is (1) / most obedient (2) / than Ajay (3). No error (4)

Options :

1. ✘ 1

2. ✔ 2

3. ✘ 3

4. ✘ 4

Question Number : 126 Question Id : 9662315736 Question Type : MCQ Option Shuffling : Yes Display Question Number : Yes
Single Line Question Option : No Option Orientation : Vertical

Correct Marks : 1 Wrong Marks : 0.25

Improve the bracketed part of the sentence.

The father had to (beat) the stubborn child.

Options :

1. ✘ beating

2. ✘ is beating

3. ✘ was beat

4. ✔ No improvement

Question Number : 126 Question Id : 9662315736 Question Type : MCQ Option Shuffling : Yes Display Question Number : Yes
Single Line Question Option : No Option Orientation : Vertical

Correct Marks : 1 Wrong Marks : 0.25

Improve the bracketed part of the sentence.

The father had to (beat) the stubborn child.

Options :

1. ✘ beating

2. ✘ is beating

3. ✘ was beat

4. ✔ No improvement

Question Number : 127 Question Id : 9662315737 Question Type : MCQ Option Shuffling : Yes Display Question Number : Yes
Single Line Question Option : No Option Orientation : Vertical

Correct Marks : 1 Wrong Marks : 0.25

Improve the bracketed part of the sentence.

I (wishes) you could understand me better.

Options :

1. ✘ wishing

2. ✔ wish

3. ✘ is wish

4. ✘ No improvement

Question Number : 127 Question Id : 9662315737 Question Type : MCQ Option Shuffling : Yes Display Question Number : Yes
Single Line Question Option : No Option Orientation : Vertical

Correct Marks : 1 Wrong Marks : 0.25

Improve the bracketed part of the sentence.

I (wishes) you could understand me better.

Options :

1. ✘ wishing
2. ✔ wish
3. ✘ is wish
4. ✘ No improvement

Question Number : 128 Question Id : 9662315738 Question Type : MCQ Option Shuffling : Yes Display Question Number : Yes
Single Line Question Option : No Option Orientation : Vertical

Correct Marks : 1 Wrong Marks : 0.25

Improve the bracketed part of the sentence.

The guava tree did not (bear) any fruit this month.

Options :

1. ✘ bore
2. ✘ bearing
3. ✘ bears
4. ✔ No improvement

Question Number : 128 Question Id : 9662315738 Question Type : MCQ Option Shuffling : Yes Display Question Number : Yes
Single Line Question Option : No Option Orientation : Vertical

Correct Marks : 1 Wrong Marks : 0.25

Improve the bracketed part of the sentence.

The guava tree did not (bear) any fruit this month.

Options :

1. ✘ bore
2. ✘ bearing
3. ✘ bears
4. ✔ No improvement

Question Number : 129 Question Id : 9662315739 Question Type : MCQ Option Shuffling : Yes Display Question Number : Yes
Single Line Question Option : No Option Orientation : Vertical

Correct Marks : 1 Wrong Marks : 0.25

Improve the bracketed part of the sentence.

Owls can (detecting) and catch their prey in total darkness by sound.

Options :

1. ✘ detects
2. ✔ detect
3. ✘ detected
4. ✘ No improvement

Question Number : 129 Question Id : 9662315739 Question Type : MCQ Option Shuffling : Yes Display Question Number : Yes
Single Line Question Option : No Option Orientation : Vertical

Correct Marks : 1 Wrong Marks : 0.25

Improve the bracketed part of the sentence.

Owls can (detecting) and catch their prey in total darkness by sound.

Options :

1. ✘ detects
2. ✔ detect
3. ✘ detected
4. ✘ No improvement

Question Number : 130 Question Id : 9662315740 Question Type : MCQ Option Shuffling : Yes Display Question Number : Yes
Single Line Question Option : No Option Orientation : Vertical

Correct Marks : 1 Wrong Marks : 0.25

Improve the bracketed part of the sentence.

An upholder of truth never (hesitate) to speak frankly.

Options :

1. ✔ hesitates
2. ✘ hesitating
3. ✘ is hesitating
4. ✘ No improvement

Question Number : 130 Question Id : 9662315740 Question Type : MCQ Option Shuffling : Yes Display Question Number : Yes
Single Line Question Option : No Option Orientation : Vertical

Correct Marks : 1 Wrong Marks : 0.25

Improve the bracketed part of the sentence.

An upholder of truth never (hesitate) to speak frankly.

Options :

1. ✔ hesitates
2. ✘ hesitating
3. ✘ is hesitating
4. ✘ No improvement

Question Number : 131 Question Id : 9662315741 Question Type : MCQ Option Shuffling : Yes Display Question Number : Yes
Single Line Question Option : No Option Orientation : Vertical

Correct Marks : 1 Wrong Marks : 0.25

A sentence has been given with a blank to be filled with an appropriate word. Choose the correct alternative.

You should not be getting _____ to this variety of shirts.

Options :

1. ✘ use
2. ✘ uses
3. ✔ used
4. ✘ using

Question Number : 131 Question Id : 9662315741 Question Type : MCQ Option Shuffling : Yes Display Question Number : Yes
Single Line Question Option : No Option Orientation : Vertical

Correct Marks : 1 Wrong Marks : 0.25

A sentence has been given with a blank to be filled with an appropriate word. Choose the correct alternative.

You should not be getting _____ to this variety of shirts.

Options :

1. ✘ use

2. ✘ uses
3. ✔ used
4. ✘ using

Question Number : 132 Question Id : 9662315742 Question Type : MCQ Option Shuffling : Yes Display Question Number : Yes Single Line Question Option : No Option Orientation : Vertical

Correct Marks : 1 Wrong Marks : 0.25

A sentence has been given with a blank to be filled with an appropriate word. Choose the correct alternative.

We will be back _____ next week.

Options :

1. ✘ with
2. ✘ to
3. ✔ by
4. ✘ at

Question Number : 132 Question Id : 9662315742 Question Type : MCQ Option Shuffling : Yes Display Question Number : Yes Single Line Question Option : No Option Orientation : Vertical

Correct Marks : 1 Wrong Marks : 0.25

A sentence has been given with a blank to be filled with an appropriate word. Choose the correct alternative.

We will be back _____ next week.

Options :

1. ✘ with
2. ✘ to
3. ✔ by
4. ✘ at

Question Number : 133 Question Id : 9662315743 Question Type : MCQ Option Shuffling : Yes Display Question Number : Yes Single Line Question Option : No Option Orientation : Vertical

Correct Marks : 1 Wrong Marks : 0.25

A sentence has been given with a blank to be filled with an appropriate word. Choose the correct alternative.

Our English teacher is sitting _____ the staff room.

Options :

1. ✘ with
2. ✔ in
3. ✘ at
4. ✘ under

Question Number : 133 Question Id : 9662315743 Question Type : MCQ Option Shuffling : Yes Display Question Number : Yes Single Line Question Option : No Option Orientation : Vertical

Correct Marks : 1 Wrong Marks : 0.25

A sentence has been given with a blank to be filled with an appropriate word. Choose the correct alternative.

Our English teacher is sitting _____ the staff room.

Options :

1. ✘ with
2. ✔ in
3. ✘ at

4. ✘ under

Question Number : 134 Question Id : 9662315744 Question Type : MCQ Option Shuffling : Yes Display Question Number : Yes
Single Line Question Option : No Option Orientation : Vertical

Correct Marks : 1 Wrong Marks : 0.25

A sentence has been given with a blank to be filled with an appropriate word. Choose the correct alternative.

You must _____ your hostel room by today evening.

Options :

1. ✔ vacate
2. ✘ vacates
3. ✘ vacating
4. ✘ vacated

Question Number : 134 Question Id : 9662315744 Question Type : MCQ Option Shuffling : Yes Display Question Number : Yes
Single Line Question Option : No Option Orientation : Vertical

Correct Marks : 1 Wrong Marks : 0.25

A sentence has been given with a blank to be filled with an appropriate word. Choose the correct alternative.

You must _____ your hostel room by today evening.

Options :

1. ✔ vacate
2. ✘ vacates
3. ✘ vacating
4. ✘ vacated

Question Number : 135 Question Id : 9662315745 Question Type : MCQ Option Shuffling : Yes Display Question Number : Yes
Single Line Question Option : No Option Orientation : Vertical

Correct Marks : 1 Wrong Marks : 0.25

A sentence has been given with a blank to be filled with an appropriate word. Choose the correct alternative.

Be cautious _____ your night journey.

Options :

1. ✘ towards
2. ✘ at
3. ✔ during
4. ✘ in

Question Number : 135 Question Id : 9662315745 Question Type : MCQ Option Shuffling : Yes Display Question Number : Yes
Single Line Question Option : No Option Orientation : Vertical

Correct Marks : 1 Wrong Marks : 0.25

A sentence has been given with a blank to be filled with an appropriate word. Choose the correct alternative.

Be cautious _____ your night journey.

Options :

1. ✘ towards
2. ✘ at
3. ✔ during
4. ✘ in

Question Number : 136 Question Id : 9662315746 Question Type : MCQ Option Shuffling : Yes Display Question Number : Yes
Single Line Question Option : No Option Orientation : Vertical

Correct Marks : 1 Wrong Marks : 0.25

A sentence has been given with a blank to be filled with an appropriate word. Choose the correct alternative.

Where do we sit for _____ usual chit chat?

Options :

1. ✘ **ourself**
2. ✔ **our**
3. ✘ **ourselves**
4. ✘ **themselves**

Question Number : 136 Question Id : 9662315746 Question Type : MCQ Option Shuffling : Yes Display Question Number : Yes
Single Line Question Option : No Option Orientation : Vertical

Correct Marks : 1 Wrong Marks : 0.25

A sentence has been given with a blank to be filled with an appropriate word. Choose the correct alternative.

Where do we sit for _____ usual chit chat?

Options :

1. ✘ **ourself**
2. ✔ **our**
3. ✘ **ourselves**
4. ✘ **themselves**

Question Number : 137 Question Id : 9662315747 Question Type : MCQ Option Shuffling : Yes Display Question Number : Yes
Single Line Question Option : No Option Orientation : Vertical

Correct Marks : 1 Wrong Marks : 0.25

A sentence has been given with a blank to be filled with an appropriate word. Choose the correct alternative.

Do you dare to go out in the dark all by _____?

Options :

1. ✔ **yourself**
2. ✘ **myself**
3. ✘ **yourselves**
4. ✘ **himself**

Question Number : 137 Question Id : 9662315747 Question Type : MCQ Option Shuffling : Yes Display Question Number : Yes
Single Line Question Option : No Option Orientation : Vertical

Correct Marks : 1 Wrong Marks : 0.25

A sentence has been given with a blank to be filled with an appropriate word. Choose the correct alternative.

Do you dare to go out in the dark all by _____?

Options :

1. ✔ **yourself**
2. ✘ **myself**
3. ✘ **yourselves**
4. ✘ **himself**

Question Number : 138 Question Id : 9662315748 Question Type : MCQ Option Shuffling : Yes Display Question Number : Yes
Single Line Question Option : No Option Orientation : Vertical

Correct Marks : 1 Wrong Marks : 0.25

A sentence has been given with a blank to be filled with an appropriate article. Choose the correct alternative.

Your elder brother is _____ captain of the hockey team.

Options :

1. ✘ a
2. ✘ an
3. ✔ the
4. ✘ no article is required

Question Number : 138 Question Id : 9662315748 Question Type : MCQ Option Shuffling : Yes Display Question Number : Yes
Single Line Question Option : No Option Orientation : Vertical

Correct Marks : 1 Wrong Marks : 0.25

A sentence has been given with a blank to be filled with an appropriate article. Choose the correct alternative.

Your elder brother is _____ captain of the hockey team.

Options :

1. ✘ a
2. ✘ an
3. ✔ the
4. ✘ no article is required

Question Number : 139 Question Id : 9662315749 Question Type : MCQ Option Shuffling : Yes Display Question Number : Yes
Single Line Question Option : No Option Orientation : Vertical

Correct Marks : 1 Wrong Marks : 0.25

The question below consists of a set of labeled parts. Out of the four options given, select the most logical order of the parts to form a coherent sentence.

P: or you
Q: you take
R: this book
S: take nothing

Options :

1. ✘ QPSR
2. ✔ QRPS
3. ✘ QSRP
4. ✘ PQRS

Question Number : 139 Question Id : 9662315749 Question Type : MCQ Option Shuffling : Yes Display Question Number : Yes
Single Line Question Option : No Option Orientation : Vertical

Correct Marks : 1 Wrong Marks : 0.25

The question below consists of a set of labeled parts. Out of the four options given, select the most logical order of the parts to form a coherent sentence.

P: or you
Q: you take
R: this book
S: take nothing

Options :

1. ✘ QPSR
2. ✔ QRPS
3. ✘ QSRP

4. ✘ PQRS

Question Number : 140 Question Id : 9662315750 Question Type : MCQ Option Shuffling : Yes Display Question Number : Yes
Single Line Question Option : No Option Orientation : Vertical

Correct Marks : 1 Wrong Marks : 0.25

The question below consists of a set of labeled parts. Out of the four options given, select the most logical order of the parts to form a coherent sentence.

P: to the problem

Q: no one

R: an immediate solution

S: could find

Options :

1. ✔ QSRP

2. ✘ QRPS

3. ✘ PQRS

4. ✘ PRQS

Question Number : 140 Question Id : 9662315750 Question Type : MCQ Option Shuffling : Yes Display Question Number : Yes
Single Line Question Option : No Option Orientation : Vertical

Correct Marks : 1 Wrong Marks : 0.25

The question below consists of a set of labeled parts. Out of the four options given, select the most logical order of the parts to form a coherent sentence.

P: to the problem

Q: no one

R: an immediate solution

S: could find

Options :

1. ✔ QSRP

2. ✘ QRPS

3. ✘ PQRS

4. ✘ PRQS

General English2

Group Number :	8
Group Id :	96623181
Group Maximum Duration :	0
Group Minimum Duration :	0
Revisit allowed for view? :	No
Revisit allowed for edit? :	No
Break time:	0
Group Marks:	20
Revisit allowed for group Instructions? :	Yes
Maximum Instruction Time:	0
Minimum Instruction Time:	0

General English2

Section Id : 966231196

Section Number :	1
Section type :	Online
Mandatory or Optional:	Mandatory
Number of Questions:	16
Number of Questions to be attempted:	16
Section Marks:	20
Display Number Panel:	Yes
Group All Questions:	No

Sub-Section Number:	1
Sub-Section Id:	966231206
Question Shuffling Allowed :	Yes

Question Number : 141 Question Id : 9662315751 Question Type : MCQ Option Shuffling : Yes Display Question Number : Yes Single Line Question Option : No Option Orientation : Vertical

Correct Marks : 1 Wrong Marks : 0.25

The question below consists of a set of labeled parts. Out of the four options given, select the most logical order of the parts to form a coherent sentence.

P: award ceremony
Q: at the
R: were present
S: all the winners

Options :

1. ✓ SRQP
2. ✗ PQRS
3. ✗ SQPR
4. ✗ SRPQ

Question Number : 141 Question Id : 9662315751 Question Type : MCQ Option Shuffling : Yes Display Question Number : Yes Single Line Question Option : No Option Orientation : Vertical

Correct Marks : 1 Wrong Marks : 0.25

The question below consists of a set of labeled parts. Out of the four options given, select the most logical order of the parts to form a coherent sentence.

P: award ceremony
Q: at the
R: were present
S: all the winners

Options :

1. ✓ SRQP
2. ✗ PQRS
3. ✗ SQPR
4. ✗ SRPQ

Question Number : 142 Question Id : 9662315752 Question Type : MCQ Option Shuffling : Yes Display Question Number : Yes Single Line Question Option : No Option Orientation : Vertical

Correct Marks : 1 Wrong Marks : 0.25

Which of them is a synonym - antonym pair?

Options :

1. ✓ Captivate-offend

2. ✘ Authentic-reliable
3. ✘ Deadly-fatal
4. ✘ Confine-limit

Question Number : 142 Question Id : 9662315752 Question Type : MCQ Option Shuffling : Yes Display Question Number : Yes
Single Line Question Option : No Option Orientation : Vertical

Correct Marks : 1 Wrong Marks : 0.25

Which of them is a synonym - antonym pair?

Options :

1. ✔ Captivate-offend
2. ✘ Authentic-reliable
3. ✘ Deadly-fatal
4. ✘ Confine-limit

Question Number : 143 Question Id : 9662315753 Question Type : MCQ Option Shuffling : Yes Display Question Number : Yes
Single Line Question Option : No Option Orientation : Vertical

Correct Marks : 1 Wrong Marks : 0.25

Choose the word that means the same as the given word.

Culprit

Options :

1. ✘ Prey
2. ✘ Target
3. ✔ Criminal
4. ✘ Viction

Question Number : 143 Question Id : 9662315753 Question Type : MCQ Option Shuffling : Yes Display Question Number : Yes
Single Line Question Option : No Option Orientation : Vertical

Correct Marks : 1 Wrong Marks : 0.25

Choose the word that means the same as the given word.

Culprit

Options :

1. ✘ Prey
2. ✘ Target
3. ✔ Criminal
4. ✘ Viction

Question Number : 144 Question Id : 9662315754 Question Type : MCQ Option Shuffling : Yes Display Question Number : Yes
Single Line Question Option : No Option Orientation : Vertical

Correct Marks : 1 Wrong Marks : 0.25

Choose the word that is opposite in meaning to the given word.

Bizarre

Options :

1. ✘ Wicked
2. ✘ Comical
3. ✘ Invalid
4. ✔ Ordinary

Question Number : 144 Question Id : 9662315754 Question Type : MCQ Option Shuffling : Yes Display Question Number : Yes
Single Line Question Option : No Option Orientation : Vertical

Correct Marks : 1 Wrong Marks : 0.25

Choose the word that is opposite in meaning to the given word.

Bizarre

Options :

1. ✘ Wicked
2. ✘ Comical
3. ✘ Invalid
4. ✔ Ordinary

Question Number : 145 Question Id : 9662315755 Question Type : MCQ Option Shuffling : Yes Display Question Number : Yes
Single Line Question Option : No Option Orientation : Vertical

Correct Marks : 1 Wrong Marks : 0.25

Choose the word that means the same as the given word.

Tactful

Options :

1. ✘ Cheat
2. ✔ Diplomatic
3. ✘ Indelicate
4. ✘ Alive

Question Number : 145 Question Id : 9662315755 Question Type : MCQ Option Shuffling : Yes Display Question Number : Yes
Single Line Question Option : No Option Orientation : Vertical

Correct Marks : 1 Wrong Marks : 0.25

Choose the word that means the same as the given word.

Tactful

Options :

1. ✘ Cheat
2. ✔ Diplomatic
3. ✘ Indelicate
4. ✘ Alive

Question Number : 146 Question Id : 9662315756 Question Type : MCQ Option Shuffling : Yes Display Question Number : Yes
Single Line Question Option : No Option Orientation : Vertical

Correct Marks : 1 Wrong Marks : 0.25

Choose the word that is opposite in meaning to the given word.

Diligent

Options :

1. ✘ Duel
2. ✘ Earnest
3. ✔ Idle
4. ✘ Laborious

Question Number : 146 Question Id : 9662315756 Question Type : MCQ Option Shuffling : Yes Display Question Number : Yes
Single Line Question Option : No Option Orientation : Vertical

Correct Marks : 1 Wrong Marks : 0.25

Choose the word that is opposite in meaning to the given word.

Diligent

Options :

1. ✘ Duel
2. ✘ Earnest
3. ✔ Idle
4. ✘ Laborious

Question Number : 147 Question Id : 9662315757 Question Type : MCQ Option Shuffling : Yes Display Question Number : Yes
Single Line Question Option : No Option Orientation : Vertical

Correct Marks : 1 Wrong Marks : 0.25

In the given question, four words are given out of which one word is correctly spelt. Choose the correctly spelt word.

Options :

1. ✔ Decipher
2. ✘ Dacipher
3. ✘ Decifer
4. ✘ Desipher

Question Number : 147 Question Id : 9662315757 Question Type : MCQ Option Shuffling : Yes Display Question Number : Yes
Single Line Question Option : No Option Orientation : Vertical

Correct Marks : 1 Wrong Marks : 0.25

In the given question, four words are given out of which one word is correctly spelt. Choose the correctly spelt word.

Options :

1. ✔ Decipher
2. ✘ Dacipher
3. ✘ Decifer
4. ✘ Desipher

Question Number : 148 Question Id : 9662315758 Question Type : MCQ Option Shuffling : Yes Display Question Number : Yes
Single Line Question Option : No Option Orientation : Vertical

Correct Marks : 1 Wrong Marks : 0.25

In the given question, four words are given out of which one word is correctly spelt. Choose the correctly spelt word.

Options :

1. ✘ Powerfull
2. ✔ Changeable
3. ✘ Trensparent
4. ✘ Aplicable

Question Number : 148 Question Id : 9662315758 Question Type : MCQ Option Shuffling : Yes Display Question Number : Yes
Single Line Question Option : No Option Orientation : Vertical

Correct Marks : 1 Wrong Marks : 0.25

In the given question, four words are given out of which one word is correctly spelt. Choose the correctly spelt word.

Options :

1. ✘ Powerfull

2. ✓ Changeable
3. ✗ Trensparent
4. ✗ Aplicable

Question Number : 149 Question Id : 9662315759 Question Type : MCQ Option Shuffling : Yes Display Question Number : Yes
Single Line Question Option : No Option Orientation : Vertical

Correct Marks : 1 Wrong Marks : 0.25

In the given question, four words are given out of which one word is incorrectly spelt. Choose the incorrectly spelt word.

Options :

1. ✗ Terminate
2. ✗ Insignificant
3. ✓ Particuler
4. ✗ Lethargic

Question Number : 149 Question Id : 9662315759 Question Type : MCQ Option Shuffling : Yes Display Question Number : Yes
Single Line Question Option : No Option Orientation : Vertical

Correct Marks : 1 Wrong Marks : 0.25

In the given question, four words are given out of which one word is incorrectly spelt. Choose the incorrectly spelt word.

Options :

1. ✗ Terminate
2. ✗ Insignificant
3. ✓ Particuler
4. ✗ Lethargic

Question Number : 150 Question Id : 9662315760 Question Type : MCQ Option Shuffling : Yes Display Question Number : Yes
Single Line Question Option : No Option Orientation : Vertical

Correct Marks : 1 Wrong Marks : 0.25

Fill in the blanks with the most appropriate option.

The police was _____ the fleeing criminal.

Options :

1. ✗ bag and baggage
2. ✗ fit as a fiddle
3. ✓ at the heels of
4. ✗ a blessing in disguise

Question Number : 150 Question Id : 9662315760 Question Type : MCQ Option Shuffling : Yes Display Question Number : Yes
Single Line Question Option : No Option Orientation : Vertical

Correct Marks : 1 Wrong Marks : 0.25

Fill in the blanks with the most appropriate option.

The police was _____ the fleeing criminal.

Options :

1. ✗ bag and baggage
2. ✗ fit as a fiddle
3. ✓ at the heels of
4. ✗ a blessing in disguise

Question Number : 151 Question Id : 9662315761 Question Type : MCQ Option Shuffling : Yes Display Question Number : Yes
Single Line Question Option : No Option Orientation : Vertical

Correct Marks : 1 Wrong Marks : 0.25

In the following question, out of the given four alternatives, select the alternative which best expresses the meaning of the Idiom / Phrase.

Acid Test

Options :

1. ✓ A severe and a conclusive test
2. ✗ A poor point
3. ✗ One becoming cautious after an unhappy experience
4. ✗ Dreams about the future

Question Number : 151 Question Id : 9662315761 Question Type : MCQ Option Shuffling : Yes Display Question Number : Yes
Single Line Question Option : No Option Orientation : Vertical

Correct Marks : 1 Wrong Marks : 0.25

In the following question, out of the given four alternatives, select the alternative which best expresses the meaning of the Idiom / Phrase.

Acid Test

Options :

1. ✓ A severe and a conclusive test
2. ✗ A poor point
3. ✗ One becoming cautious after an unhappy experience
4. ✗ Dreams about the future

Question Number : 152 Question Id : 9662315762 Question Type : MCQ Option Shuffling : Yes Display Question Number : Yes
Single Line Question Option : No Option Orientation : Vertical

Correct Marks : 1 Wrong Marks : 0.25

Choose an option that best suits the blank.

Getting through the entrance examination is _____ for my son.

Options :

1. ✗ in cold blood
2. ✗ in camera
3. ✓ a cake walk
4. ✗ a black spot

Question Number : 152 Question Id : 9662315762 Question Type : MCQ Option Shuffling : Yes Display Question Number : Yes
Single Line Question Option : No Option Orientation : Vertical

Correct Marks : 1 Wrong Marks : 0.25

Choose an option that best suits the blank.

Getting through the entrance examination is _____ for my son.

Options :

1. ✗ in cold blood
2. ✗ in camera
3. ✓ a cake walk
4. ✗ a black spot

Question Number : 153 Question Id : 9662315763 Question Type : MCQ Option Shuffling : Yes Display Question Number : Yes
Single Line Question Option : No Option Orientation : Vertical

Correct Marks : 1 Wrong Marks : 0.25

Choose the word that can substitute the given sentence.

Act of monopolizing in a meeting.

Options :

1. ✘ Yokel
2. ✔ Domination
3. ✘ Bandit
4. ✘ Affinity

Question Number : 153 Question Id : 9662315763 Question Type : MCQ Option Shuffling : Yes Display Question Number : Yes
Single Line Question Option : No Option Orientation : Vertical

Correct Marks : 1 Wrong Marks : 0.25

Choose the word that can substitute the given sentence.

Act of monopolizing in a meeting.

Options :

1. ✘ Yokel
2. ✔ Domination
3. ✘ Bandit
4. ✘ Affinity

Question Number : 154 Question Id : 9662315764 Question Type : MCQ Option Shuffling : Yes Display Question Number : Yes
Single Line Question Option : No Option Orientation : Vertical

Correct Marks : 1 Wrong Marks : 0.25

Choose the word that can substitute the given sentence.

Healthy, sound and kicking.

Options :

1. ✔ Vibrant
2. ✘ Chameleon
3. ✘ Advocate
4. ✘ Scandal

Question Number : 154 Question Id : 9662315764 Question Type : MCQ Option Shuffling : Yes Display Question Number : Yes
Single Line Question Option : No Option Orientation : Vertical

Correct Marks : 1 Wrong Marks : 0.25

Choose the word that can substitute the given sentence.

Healthy, sound and kicking.

Options :

1. ✔ Vibrant
2. ✘ Chameleon
3. ✘ Advocate
4. ✘ Scandal

Question Number : 155 Question Id : 9662315765 Question Type : MCQ Option Shuffling : Yes Display Question Number : Yes
Single Line Question Option : No Option Orientation : Vertical

Correct Marks : 1 Wrong Marks : 0.25

Choose the sentence that best substitutes the word.

Campaign

Options :

- ✘ A short wise saying
- ✘ An armed robber
- ✘ Slow and untidy progress
- ✔ Political platform speech

Question Number : 155 Question Id : 9662315765 Question Type : MCQ Option Shuffling : Yes Display Question Number : Yes
Single Line Question Option : No Option Orientation : Vertical

Correct Marks : 1 Wrong Marks : 0.25

Choose the sentence that best substitutes the word.

Campaign

Options :

- ✘ A short wise saying
- ✘ An armed robber
- ✘ Slow and untidy progress
- ✔ Political platform speech

Sub-Section Number:	2
Sub-Section Id:	966231207
Question Shuffling Allowed :	Yes

Question Id : 9662315766 Question Type : COMPREHENSION Sub Question Shuffling Allowed : Yes Group Comprehension
Questions : No

Question Numbers : (156 to 160)

Question Label : Comprehension

Read the following information carefully and answer the given questions.

Angela Dorothea Merkel is a German politician serving as Chancellor of Germany since 2005. She served as the leader of the centre-right Christian Democratic Union (CDU) from 2000 to 2018. Merkel has been widely described as the de facto leader of the European Union, the most powerful woman in the world, and by many commentators as the leader of the Free World.

Merkel was born in Hamburg in then-West Germany and moved to East Germany as an infant when her father, a Lutheran clergyman, received a pastorate in Perleberg. She obtained a doctorate in quantum chemistry in 1986 and worked as a research scientist until 1989. Merkel entered politics in the wake of the Revolutions of 1989 and briefly served as a deputy spokesperson for the first democratically elected East German Government headed by Lothar de Maizière in 1990. Following German reunification in 1990, Merkel was elected to the Bundestag for the state of Mecklenburg-Vorpommern and has been re-elected ever since. As the protégée of Chancellor Helmut Kohl, Merkel was appointed as the Federal Minister for Women and Youth in Kohl's government in 1991 and became the Federal Minister for the Environment, Nature Conservation and Nuclear Safety in 1994. After her party lost the federal election in 1998, Merkel was elected Secretary-General of the CDU before becoming the party's first female leader two years later in the aftermath of a donations scandal that toppled Wolfgang Schäuble.

Following the 2005 federal election, Merkel was appointed Germany's first female chancellor at the head of a grand coalition consisting of the CDU, its Bavarian sister party the Christian Social Union (CSU), and the Social Democratic Party of Germany (SPD). In the 2009 federal election, the CDU obtained the largest share of the vote, and Merkel was able to form a coalition government with the Free Democratic Party (FDP).

Sub questions

Question Number : 156 Question Id : 9662315767 Question Type : MCQ Option Shuffling : Yes Display Question Number : Yes
Single Line Question Option : No Option Orientation : Vertical

Correct Marks : 1 Wrong Marks : 0.25

For how many years did Angela serve as the leader of the centre-right CDU?

Options :

1. ✘ 25

2. ✔ 18

3. ✘ 17

4. ✘ 19

Question Number : 157 Question Id : 9662315768 Question Type : MCQ Option Shuffling : Yes Display Question Number : Yes
Single Line Question Option : No Option Orientation : Vertical

Correct Marks : 1 Wrong Marks : 0.25

In which year did she obtain a doctorate in quantum chemistry?

Options :

1. ✘ 1989

2. ✘ 1987

3. ✘ 1994

4. ✔ 1986

Question Number : 158 Question Id : 9662315769 Question Type : MCQ Option Shuffling : Yes Display Question Number : Yes
Single Line Question Option : No Option Orientation : Vertical

Correct Marks : 1 Wrong Marks : 0.25

Who headed the East German Government in the year 1990?

Options :

1. ✘ Angela Merkel

2. ✔ Lothar de Maiziere

3. ✘ Helmut Kohl

4. ✘ No option is correct

Question Number : 159 Question Id : 9662315770 Question Type : MCQ Option Shuffling : Yes Display Question Number : Yes
Single Line Question Option : No Option Orientation : Vertical

Correct Marks : 1 Wrong Marks : 0.25

Choose the word that best substitutes the line.

A person who gives reviews on a test or on an event.

Options :

1. ✘ Clergyman

2. ✘ Quantum

3. ✔ Commentator

4. ✘ No option is correct

Question Number : 160 Question Id : 9662315771 Question Type : MCQ Option Shuffling : Yes Display Question Number : Yes
Single Line Question Option : No Option Orientation : Vertical

Correct Marks : 1 Wrong Marks : 0.25

Choose the word that means the same as Pastorate.

Options :

1. ✔ Office of a clergyman

2. ✘ Union

3. ✖ Coalition
4. ✖ Chancellor

Question Id : 9662315766 Question Type : COMPREHENSION Sub Question Shuffling Allowed : Yes Group Comprehension Questions : No

Question Numbers : (156 to 160)

Question Label : Comprehension

Read the following information carefully and answer the given questions.

Angela Dorothea Merkel is a German politician serving as Chancellor of Germany since 2005. She served as the leader of the centre-right Christian Democratic Union (CDU) from 2000 to 2018. Merkel has been widely described as the de facto leader of the European Union, the most powerful woman in the world, and by many commentators as the leader of the Free World.

Merkel was born in Hamburg in then-West Germany and moved to East Germany as an infant when her father, a Lutheran clergyman, received a pastorate in Perleberg. She obtained a doctorate in quantum chemistry in 1986 and worked as a research scientist until 1989. Merkel entered politics in the wake of the Revolutions of 1989 and briefly served as a deputy spokesperson for the first democratically elected East German Government headed by Lothar de Maizière in 1990. Following German reunification in 1990, Merkel was elected to the Bundestag for the state of Mecklenburg-Vorpommern and has been re-elected ever since. As the protégée of Chancellor Helmut Kohl, Merkel was appointed as the Federal Minister for Women and Youth in Kohl's government in 1991 and became the Federal Minister for the Environment, Nature Conservation and Nuclear Safety in 1994. After her party lost the federal election in 1998, Merkel was elected Secretary-General of the CDU before becoming the party's first female leader two years later in the aftermath of a donations scandal that toppled Wolfgang Schäuble.

Following the 2005 federal election, Merkel was appointed Germany's first female chancellor at the head of a grand coalition consisting of the CDU, its Bavarian sister party the Christian Social Union (CSU), and the Social Democratic Party of Germany (SPD). In the 2009 federal election, the CDU obtained the largest share of the vote, and Merkel was able to form a coalition government with the Free Democratic Party (FDP).

Sub questions

Question Number : 156 Question Id : 9662315767 Question Type : MCQ Option Shuffling : Yes Display Question Number : Yes Single Line Question Option : No Option Orientation : Vertical

Correct Marks : 1 Wrong Marks : 0.25

For how many years did Angela serve as the leader of the centre-right CDU?

Options :

1. ✖ 25
2. ✔ 18
3. ✖ 17
4. ✖ 19

Question Number : 157 Question Id : 9662315768 Question Type : MCQ Option Shuffling : Yes Display Question Number : Yes Single Line Question Option : No Option Orientation : Vertical

Correct Marks : 1 Wrong Marks : 0.25

In which year did she obtain a doctorate in quantum chemistry?

Options :

1. ✖ 1989
2. ✖ 1987
3. ✖ 1994
4. ✔ 1986

Question Number : 158 Question Id : 9662315769 Question Type : MCQ Option Shuffling : Yes Display Question Number : Yes Single Line Question Option : No Option Orientation : Vertical

Correct Marks : 1 Wrong Marks : 0.25

Who headed the East German Government in the year 1990?

Options :

1. ✘ Angela Merkel
2. ✔ Lothar de Maiziere
3. ✘ Helmut Kohl
4. ✘ No option is correct

Question Number : 159 Question Id : 9662315770 Question Type : MCQ Option Shuffling : Yes Display Question Number : Yes
Single Line Question Option : No Option Orientation : Vertical

Correct Marks : 1 Wrong Marks : 0.25

Choose the word that best substitutes the line.

A person who gives reviews on a test or on an event.

Options :

1. ✘ Clergyman
2. ✘ Quantum
3. ✔ Commentator
4. ✘ No option is correct

Question Number : 160 Question Id : 9662315771 Question Type : MCQ Option Shuffling : Yes Display Question Number : Yes
Single Line Question Option : No Option Orientation : Vertical

Correct Marks : 1 Wrong Marks : 0.25

Choose the word that means the same as Pastorate.

Options :

1. ✔ Office of a clergyman
2. ✘ Union
3. ✘ Coalition
4. ✘ Chancellor

General Hindi 1

Group Number :	9
Group Id :	96623182
Group Maximum Duration :	0
Group Minimum Duration :	0
Revisit allowed for view? :	No
Revisit allowed for edit? :	No
Break time:	0
Group Marks:	20
Revisit allowed for group Instructions? :	Yes
Maximum Instruction Time:	0
Minimum Instruction Time:	0

General Hindi 1

Section Id :	966231197
Section Number :	1
Section type :	Online
Mandatory or Optional:	Mandatory
Number of Questions:	20
Number of Questions to be attempted:	20

Section Marks:	20
Display Number Panel:	Yes
Group All Questions:	No

Sub-Section Number:	1
Sub-Section Id:	966231208
Question Shuffling Allowed :	Yes

Question Number : 161 Question Id : 9662315772 Question Type : MCQ Option Shuffling : Yes Display Question Number : Yes
Single Line Question Option : No Option Orientation : Vertical

Correct Marks : 1 Wrong Marks : 0.25

निम्नलिखित में से कौन सा उदाहरण क्रिया विशेषण का नहीं है?

Options :

- ✘ मोहन को जयपुर परसों जाना था
- ✘ इस बार वर्षा अधिक हुई
- ✘ प्रभात बाहर खेल रहा है
- ✔ राहुल खाता है

Question Number : 161 Question Id : 9662315772 Question Type : MCQ Option Shuffling : Yes Display Question Number : Yes
Single Line Question Option : No Option Orientation : Vertical

Correct Marks : 1 Wrong Marks : 0.25

निम्नलिखित में से कौन सा उदाहरण क्रिया विशेषण का नहीं है?

Options :

- ✘ मोहन को जयपुर परसों जाना था
- ✘ इस बार वर्षा अधिक हुई
- ✘ प्रभात बाहर खेल रहा है
- ✔ राहुल खाता है

Question Number : 162 Question Id : 9662315773 Question Type : MCQ Option Shuffling : Yes Display Question Number : Yes
Single Line Question Option : No Option Orientation : Vertical

Correct Marks : 1 Wrong Marks : 0.25

निम्नलिखित में से कौन सा शब्द निश्चयवाचक सर्वनाम का उदाहरण है?

Options :

- ✔ उसने
- ✘ मैंने
- ✘ हम
- ✘ मैं

Question Number : 162 Question Id : 9662315773 Question Type : MCQ Option Shuffling : Yes Display Question Number : Yes
Single Line Question Option : No Option Orientation : Vertical

Correct Marks : 1 Wrong Marks : 0.25

निम्नलिखित में से कौन सा शब्द निश्चयवाचक सर्वनाम का उदाहरण है?

Options :

- ✔ उसने
- ✘ मैंने
- ✘ हम
- ✘ मैं

Question Number : 163 Question Id : 9662315774 Question Type : MCQ Option Shuffling : Yes Display Question Number : Yes
Single Line Question Option : No Option Orientation : Vertical

Correct Marks : 1 Wrong Marks : 0.25

दिए गए वाक्य में संज्ञा के उचित रूप का प्रयोग करके रिक्त स्थान की पूर्ति कीजिए।

श्वेता की वाणी में बहुत _____ है।

Options :

1. ✘ मीठा
2. ✔ मिठास
3. ✘ मिठाई
4. ✘ मीठापन

Question Number : 163 Question Id : 9662315774 Question Type : MCQ Option Shuffling : Yes Display Question Number : Yes
Single Line Question Option : No Option Orientation : Vertical

Correct Marks : 1 Wrong Marks : 0.25

दिए गए वाक्य में संज्ञा के उचित रूप का प्रयोग करके रिक्त स्थान की पूर्ति कीजिए।

श्वेता की वाणी में बहुत _____ है।

Options :

1. ✘ मीठा
2. ✔ मिठास
3. ✘ मिठाई
4. ✘ मीठापन

Question Number : 164 Question Id : 9662315775 Question Type : MCQ Option Shuffling : Yes Display Question Number : Yes
Single Line Question Option : No Option Orientation : Vertical

Correct Marks : 1 Wrong Marks : 0.25

दिए गए शब्द की संधि विच्छेद कीजिए।

लोकैषणा

Options :

1. ✘ लोकै + षणा
2. ✔ लोक + ऐषणा
3. ✘ लोक + एषणा
4. ✘ लोकौ + षणा

Question Number : 164 Question Id : 9662315775 Question Type : MCQ Option Shuffling : Yes Display Question Number : Yes
Single Line Question Option : No Option Orientation : Vertical

Correct Marks : 1 Wrong Marks : 0.25

दिए गए शब्द की संधि विच्छेद कीजिए।

लोकैषणा

Options :

1. ✘ लोकै + षणा
2. ✔ लोक + ऐषणा
3. ✘ लोक + एषणा
4. ✘ लोकौ + षणा

Question Number : 165 Question Id : 9662315776 Question Type : MCQ Option Shuffling : Yes Display Question Number : Yes
Single Line Question Option : No Option Orientation : Vertical

Correct Marks : 1 Wrong Marks : 0.25

दिए गए शब्द के संधि के रूप की पहचान कीजिए।

यथेष्ट

Options :

1. ✓ गुण संधि
2. ✗ वृद्धि संधि
3. ✗ दीर्घ संधि
4. ✗ यण संधि

Question Number : 165 Question Id : 9662315776 Question Type : MCQ Option Shuffling : Yes Display Question Number : Yes
Single Line Question Option : No Option Orientation : Vertical

Correct Marks : 1 Wrong Marks : 0.25

दिए गए शब्द के संधि के रूप की पहचान कीजिए।

यथेष्ट

Options :

1. ✓ गुण संधि
2. ✗ वृद्धि संधि
3. ✗ दीर्घ संधि
4. ✗ यण संधि

Question Number : 166 Question Id : 9662315777 Question Type : MCQ Option Shuffling : Yes Display Question Number : Yes
Single Line Question Option : No Option Orientation : Vertical

Correct Marks : 1 Wrong Marks : 0.25

निम्नलिखित में से कौन सा शब्द तत्सम शब्द है?

Options :

1. ✓ दिवस
2. ✗ स्कूल
3. ✗ पेट
4. ✗ कार

Question Number : 166 Question Id : 9662315777 Question Type : MCQ Option Shuffling : Yes Display Question Number : Yes
Single Line Question Option : No Option Orientation : Vertical

Correct Marks : 1 Wrong Marks : 0.25

निम्नलिखित में से कौन सा शब्द तत्सम शब्द है?

Options :

1. ✓ दिवस
2. ✗ स्कूल
3. ✗ पेट
4. ✗ कार

Question Number : 167 Question Id : 9662315778 Question Type : MCQ Option Shuffling : Yes Display Question Number : Yes
Single Line Question Option : No Option Orientation : Vertical

Correct Marks : 1 Wrong Marks : 0.25

निम्नलिखित में से कौन सा युग देशज - विदेशी शब्द का नहीं है?

Options :

1. ✗ खाट - मोटर
2. ✗ डिब्बा - ट्रेन
3. ✗ पगड़ी - जहाज

4. ✓ कोट - टिकट

Question Number : 167 Question Id : 9662315778 Question Type : MCQ Option Shuffling : Yes Display Question Number : Yes
Single Line Question Option : No Option Orientation : Vertical

Correct Marks : 1 Wrong Marks : 0.25

निम्नलिखित में से कौन सा युग देशज - विदेशी शब्द का नहीं है?

Options :

1. ✗ खार - मोटर
2. ✗ डिब्बा - ट्रेन
3. ✗ पगड़ी - जहाज
4. ✓ कोट - टिकट

Question Number : 168 Question Id : 9662315779 Question Type : MCQ Option Shuffling : Yes Display Question Number : Yes
Single Line Question Option : No Option Orientation : Vertical

Correct Marks : 1 Wrong Marks : 0.25

निम्नलिखित शब्दों में से किस शब्द में उपसर्ग है?

Options :

1. ✗ विद्यालय
2. ✓ प्रहार
3. ✗ निराला
4. ✗ मनचाही

Question Number : 168 Question Id : 9662315779 Question Type : MCQ Option Shuffling : Yes Display Question Number : Yes
Single Line Question Option : No Option Orientation : Vertical

Correct Marks : 1 Wrong Marks : 0.25

निम्नलिखित शब्दों में से किस शब्द में उपसर्ग है?

Options :

1. ✗ विद्यालय
2. ✓ प्रहार
3. ✗ निराला
4. ✗ मनचाही

Question Number : 169 Question Id : 9662315780 Question Type : MCQ Option Shuffling : Yes Display Question Number : Yes
Single Line Question Option : No Option Orientation : Vertical

Correct Marks : 1 Wrong Marks : 0.25

दिए गए शब्द का प्रत्यय ज्ञात कीजिए।

महत्त्व

Options :

1. ✗ तत्
2. ✗ त्व
3. ✓ त्व
4. ✗ व्

Question Number : 169 Question Id : 9662315780 Question Type : MCQ Option Shuffling : Yes Display Question Number : Yes
Single Line Question Option : No Option Orientation : Vertical

Correct Marks : 1 Wrong Marks : 0.25

दिए गए शब्द का प्रत्यय ज्ञात कीजिए।

महत्त्व

Options :

1. ✘ तत
2. ✘ त्व
3. ✔ त्व
4. ✘ व्

Question Number : 170 Question Id : 9662315781 Question Type : MCQ Option Shuffling : Yes Display Question Number : Yes
Single Line Question Option : No Option Orientation : Vertical

Correct Marks : 1 Wrong Marks : 0.25

दिए गए समस्त पद का विग्रह ज्ञात कीजिए।

गुरु दक्षिणा

Options :

1. ✘ गुरु की दक्षिणा
2. ✘ गुरु के लिए दक्षिणा
3. ✘ गुरु और दक्षिणा
4. ✔ गुरु को दी गई दक्षिणा

Question Number : 170 Question Id : 9662315781 Question Type : MCQ Option Shuffling : Yes Display Question Number : Yes
Single Line Question Option : No Option Orientation : Vertical

Correct Marks : 1 Wrong Marks : 0.25

दिए गए समस्त पद का विग्रह ज्ञात कीजिए।

गुरु दक्षिणा

Options :

1. ✘ गुरु की दक्षिणा
2. ✘ गुरु के लिए दक्षिणा
3. ✘ गुरु और दक्षिणा
4. ✔ गुरु को दी गई दक्षिणा

Question Number : 171 Question Id : 9662315782 Question Type : MCQ Option Shuffling : Yes Display Question Number : Yes
Single Line Question Option : No Option Orientation : Vertical

Correct Marks : 1 Wrong Marks : 0.25

दिए गए शब्द का पर्यायवाची ज्ञात कीजिए।

कंदर्प

Options :

1. ✔ मदन
2. ✘ माधव
3. ✘ हेरम्ब
4. ✘ सुरपति

Question Number : 171 Question Id : 9662315782 Question Type : MCQ Option Shuffling : Yes Display Question Number : Yes
Single Line Question Option : No Option Orientation : Vertical

Correct Marks : 1 Wrong Marks : 0.25

दिए गए शब्द का पर्यायवाची ज्ञात कीजिए।

कंदर्प

Options :

1. ✔ मदन

2. ✘ माधव
3. ✘ हेरम्ब
4. ✘ सुरपति

Question Number : 172 Question Id : 9662315783 Question Type : MCQ Option Shuffling : Yes Display Question Number : Yes
Single Line Question Option : No Option Orientation : Vertical

Correct Marks : 1 Wrong Marks : 0.25

दिए गए शब्द का विलोम शब्द ज्ञात कीजिए।

कुसुम

Options :

1. ✘ महत्त
2. ✔ वज्र
3. ✘ फूल
4. ✘ कुख्यात

Question Number : 172 Question Id : 9662315783 Question Type : MCQ Option Shuffling : Yes Display Question Number : Yes
Single Line Question Option : No Option Orientation : Vertical

Correct Marks : 1 Wrong Marks : 0.25

दिए गए शब्द का विलोम शब्द ज्ञात कीजिए।

कुसुम

Options :

1. ✘ महत्त
2. ✔ वज्र
3. ✘ फूल
4. ✘ कुख्यात

Question Number : 173 Question Id : 9662315784 Question Type : MCQ Option Shuffling : Yes Display Question Number : Yes
Single Line Question Option : No Option Orientation : Vertical

Correct Marks : 1 Wrong Marks : 0.25

दिए गए शब्दों का सही अर्थ ज्ञात कीजिए।

दुग्ध - दग्ध

Options :

1. ✔ दूध - जला हुआ
2. ✘ दूध - दाग
3. ✘ दूध - दही
4. ✘ दूध - दाद

Question Number : 173 Question Id : 9662315784 Question Type : MCQ Option Shuffling : Yes Display Question Number : Yes
Single Line Question Option : No Option Orientation : Vertical

Correct Marks : 1 Wrong Marks : 0.25

दिए गए शब्दों का सही अर्थ ज्ञात कीजिए।

दुग्ध - दग्ध

Options :

1. ✔ दूध - जला हुआ
2. ✘ दूध - दाग
3. ✘ दूध - दही

4. ✘ दूध - दाद

Question Number : 174 Question Id : 9662315785 Question Type : MCQ Option Shuffling : Yes Display Question Number : Yes
Single Line Question Option : No Option Orientation : Vertical

Correct Marks : 1 Wrong Marks : 0.25

दिए गए वाक्यांश के लिए एक शब्द ज्ञात कीजिए।

जो किसी मत को सर्वप्रथम चलाता हो।

Options :

1. ✘ सर्वमत
2. ✘ प्रथममत
3. ✘ आदि प्रवर्तक
4. ✔ बहुमत

Question Number : 174 Question Id : 9662315785 Question Type : MCQ Option Shuffling : Yes Display Question Number : Yes
Single Line Question Option : No Option Orientation : Vertical

Correct Marks : 1 Wrong Marks : 0.25

दिए गए वाक्यांश के लिए एक शब्द ज्ञात कीजिए।

जो किसी मत को सर्वप्रथम चलाता हो।

Options :

1. ✘ सर्वमत
2. ✘ प्रथममत
3. ✘ आदि प्रवर्तक
4. ✔ बहुमत

Question Number : 175 Question Id : 9662315786 Question Type : MCQ Option Shuffling : Yes Display Question Number : Yes
Single Line Question Option : No Option Orientation : Vertical

Correct Marks : 1 Wrong Marks : 0.25

दिए गए शब्दों के समूह का सही अर्थ ज्ञात कीजिए।

आहुति - आहूति

Options :

1. ✔ हवन में बलि - बुलाना
2. ✘ बुलाना - हवन में बलि
3. ✘ बुलाना - राख डालना
4. ✘ राख डालना - बुलाना

Question Number : 175 Question Id : 9662315786 Question Type : MCQ Option Shuffling : Yes Display Question Number : Yes
Single Line Question Option : No Option Orientation : Vertical

Correct Marks : 1 Wrong Marks : 0.25

दिए गए शब्दों के समूह का सही अर्थ ज्ञात कीजिए।

आहुति - आहूति

Options :

1. ✔ हवन में बलि - बुलाना
2. ✘ बुलाना - हवन में बलि
3. ✘ बुलाना - राख डालना
4. ✘ राख डालना - बुलाना

Question Number : 176 Question Id : 9662315787 Question Type : MCQ Option Shuffling : Yes Display Question Number : Yes
Single Line Question Option : No Option Orientation : Vertical

Correct Marks : 1 Wrong Marks : 0.25

निम्नलिखित में से कौन सा थोड़ा का समानार्थी शब्द नहीं है?

Options :

1. ✘ कम
2. ✔ वित्त
3. ✘ न्यून
4. ✘ अल्प

Question Number : 176 Question Id : 9662315787 Question Type : MCQ Option Shuffling : Yes Display Question Number : Yes
Single Line Question Option : No Option Orientation : Vertical

Correct Marks : 1 Wrong Marks : 0.25

निम्नलिखित में से कौन सा थोड़ा का समानार्थी शब्द नहीं है?

Options :

1. ✘ कम
2. ✔ वित्त
3. ✘ न्यून
4. ✘ अल्प

Question Number : 177 Question Id : 9662315788 Question Type : MCQ Option Shuffling : Yes Display Question Number : Yes
Single Line Question Option : No Option Orientation : Vertical

Correct Marks : 1 Wrong Marks : 0.25

दिए गए वाक्य में रिक्त स्थान की पूर्ति कीजिए।

उत्पादन अधिक होने पर निर्यात किया जाता है परंतु कम होने पर _____ करना पड़ता है।

Options :

1. ✘ आगमन
2. ✘ गमन
3. ✔ आयात
4. ✘ खरीद

Question Number : 177 Question Id : 9662315788 Question Type : MCQ Option Shuffling : Yes Display Question Number : Yes
Single Line Question Option : No Option Orientation : Vertical

Correct Marks : 1 Wrong Marks : 0.25

दिए गए वाक्य में रिक्त स्थान की पूर्ति कीजिए।

उत्पादन अधिक होने पर निर्यात किया जाता है परंतु कम होने पर _____ करना पड़ता है।

Options :

1. ✘ आगमन
2. ✘ गमन
3. ✔ आयात
4. ✘ खरीद

Question Number : 178 Question Id : 9662315789 Question Type : MCQ Option Shuffling : Yes Display Question Number : Yes
Single Line Question Option : No Option Orientation : Vertical

Correct Marks : 1 Wrong Marks : 0.25

दिए गए शब्दों की शुद्ध वर्तनी का चयन कीजिए।

Options :

1. ✘ परस्परिक

2. ✘ पारस्परिक
3. ✔ पारस्परिक
4. ✘ प्रस्परिक

Question Number : 178 Question Id : 9662315789 Question Type : MCQ Option Shuffling : Yes Display Question Number : Yes
Single Line Question Option : No Option Orientation : Vertical

Correct Marks : 1 Wrong Marks : 0.25

दिए गए शब्दों की शुद्ध वर्तनी का चयन कीजिए।

Options :

1. ✘ परस्परिक
2. ✘ पारस्परिक
3. ✔ पारस्परिक
4. ✘ प्रस्परिक

Question Number : 179 Question Id : 9662315790 Question Type : MCQ Option Shuffling : Yes Display Question Number : Yes
Single Line Question Option : No Option Orientation : Vertical

Correct Marks : 1 Wrong Marks : 0.25

दिए गए शब्द का अनेकार्थक शब्द ज्ञात कीजिए।

बेबस

Options :

1. ✘ गूगाँ
2. ✘ शांत
3. ✘ चुप
4. ✔ विवश

Question Number : 179 Question Id : 9662315790 Question Type : MCQ Option Shuffling : Yes Display Question Number : Yes
Single Line Question Option : No Option Orientation : Vertical

Correct Marks : 1 Wrong Marks : 0.25

दिए गए शब्द का अनेकार्थक शब्द ज्ञात कीजिए।

बेबस

Options :

1. ✘ गूगाँ
2. ✘ शांत
3. ✘ चुप
4. ✔ विवश

Question Number : 180 Question Id : 9662315791 Question Type : MCQ Option Shuffling : Yes Display Question Number : Yes
Single Line Question Option : No Option Orientation : Vertical

Correct Marks : 1 Wrong Marks : 0.25

दिए गए शब्द के लिए सही वाक्यांश का चयन कीजिए।

स्त्रैण

Options :

1. ✘ स्त्रियों से मोह रखने वाला।
2. ✘ स्त्रियों जैसा स्वभाव वाला।
3. ✔ स्त्रियों से प्रभावित होने वाला।
4. ✘ स्त्रियों को खुश रखने वाला।

Question Number : 180 Question Id : 9662315791 Question Type : MCQ Option Shuffling : Yes Display Question Number : Yes
Single Line Question Option : No Option Orientation : Vertical

Correct Marks : 1 Wrong Marks : 0.25

दिए गए शब्द के लिए सही वाक्यांश का चयन कीजिए।

स्त्रैण

Options :

- ✘ स्त्रियों से मोह रखने वाला
- ✘ स्त्रियों जैसा स्वभाव वाला
- ✔ स्त्रियों से प्रभावित होने वाला
- ✘ स्त्रियों को खुश रखने वाला

General Hindi2

Group Number :	10
Group Id :	96623183
Group Maximum Duration :	0
Group Minimum Duration :	120
Revisit allowed for view? :	No
Revisit allowed for edit? :	No
Break time:	0
Group Marks:	20
Revisit allowed for group Instructions? :	Yes
Maximum Instruction Time:	0
Minimum Instruction Time:	0

General Hindi2

Section Id :	966231198
Section Number :	1
Section type :	Online
Mandatory or Optional:	Mandatory
Number of Questions:	16
Number of Questions to be attempted:	16
Section Marks:	20
Display Number Panel:	Yes
Group All Questions:	No

Sub-Section Number:	1
Sub-Section Id:	966231209
Question Shuffling Allowed :	Yes

Question Number : 181 Question Id : 9662315792 Question Type : MCQ Option Shuffling : Yes Display Question Number : Yes
Single Line Question Option : No Option Orientation : Vertical

Correct Marks : 1 Wrong Marks : 0.25

दिए गए समानार्थी जोड़ों में अनुपयुक्त विकल्प का चयन कीजिए।

Options :

- ✘ उपयोगी - उपादेय, इष्टक
- ✔ काक - सारंग, मयूर

3. ✘ पुष्कर - जलाशय ताल
4. ✘ भूमि - मही, धरा

Question Number : 181 Question Id : 9662315792 Question Type : MCQ Option Shuffling : Yes Display Question Number : Yes
Single Line Question Option : No Option Orientation : Vertical

Correct Marks : 1 Wrong Marks : 0.25

दिए गए समानार्थी जोड़ों में अनुपयुक्त विकल्प का चयन कीजिए।

Options :

1. ✘ उपयोगी - उपादेय, इष्टक
2. ✔ काक - सारंग, मयूर
3. ✘ पुष्कर - जलाशय ताल
4. ✘ भूमि - मही, धरा

Question Number : 182 Question Id : 9662315793 Question Type : MCQ Option Shuffling : Yes Display Question Number : Yes
Single Line Question Option : No Option Orientation : Vertical

Correct Marks : 1 Wrong Marks : 0.25

दिए गए शब्द का विलोम शब्द ज्ञात कीजिए।

उदार

Options :

1. ✘ निकृष्ट
2. ✔ कृपण
3. ✘ अधम
4. ✘ अनुदात्त

Question Number : 182 Question Id : 9662315793 Question Type : MCQ Option Shuffling : Yes Display Question Number : Yes
Single Line Question Option : No Option Orientation : Vertical

Correct Marks : 1 Wrong Marks : 0.25

दिए गए शब्द का विलोम शब्द ज्ञात कीजिए।

उदार

Options :

1. ✘ निकृष्ट
2. ✔ कृपण
3. ✘ अधम
4. ✘ अनुदात्त

Question Number : 183 Question Id : 9662315794 Question Type : MCQ Option Shuffling : Yes Display Question Number : Yes
Single Line Question Option : No Option Orientation : Vertical

Correct Marks : 1 Wrong Marks : 0.25

निम्नलिखित में से किस वाक्य में अपादन कारक है?

Options :

1. ✘ मुझे अपनी कमाई से खाना मिलता है।
2. ✘ कान से सुनी बात पर विश्वास करना चाहिए।
3. ✘ साधुओं की संगति से बुद्धि सुधरती है।
4. ✔ नर्मदा अमरकण्टक से निकलती है।

Question Number : 183 Question Id : 9662315794 Question Type : MCQ Option Shuffling : Yes Display Question Number : Yes
Single Line Question Option : No Option Orientation : Vertical

Correct Marks : 1 Wrong Marks : 0.25

निम्नलिखित में से किस वाक्य में अपादन कारक है?

Options :

1. ✘ मुझे अपनी कमाई से खाना मिलता है।
2. ✘ कान से सुनी बात पर विश्वास करना चाहिए।
3. ✘ साधुओं की संगति से बुद्धि सुधरती है।
4. ✔ नर्मदा अमरकण्टक से निकलती है।

Question Number : 184 Question Id : 9662315795 Question Type : MCQ Option Shuffling : Yes Display Question Number : Yes
Single Line Question Option : No Option Orientation : Vertical

Correct Marks : 1 Wrong Marks : 0.25

दिए गए वाक्य का काल ज्ञात कीजिए।

वह खा रहा था।

Options :

1. ✘ पूर्ण भूतकाल
2. ✔ अपूर्ण भूतकाल
3. ✘ सामान्य भूतकाल
4. ✘ संदिग्ध भूतकाल

Question Number : 184 Question Id : 9662315795 Question Type : MCQ Option Shuffling : Yes Display Question Number : Yes
Single Line Question Option : No Option Orientation : Vertical

Correct Marks : 1 Wrong Marks : 0.25

दिए गए वाक्य का काल ज्ञात कीजिए।

वह खा रहा था।

Options :

1. ✘ पूर्ण भूतकाल
2. ✔ अपूर्ण भूतकाल
3. ✘ सामान्य भूतकाल
4. ✘ संदिग्ध भूतकाल

Question Number : 185 Question Id : 9662315796 Question Type : MCQ Option Shuffling : Yes Display Question Number : Yes
Single Line Question Option : No Option Orientation : Vertical

Correct Marks : 1 Wrong Marks : 0.25

दिए गए वाक्य में किस प्रकार की अशुद्धि है ज्ञात कीजिए।

उसकी सौजन्यता में सभी प्रभावित हैं।

Options :

1. ✔ कारक सम्बन्धी
2. ✘ संज्ञा सम्बन्धी
3. ✘ अव्यय सम्बन्धी
4. ✘ क्रिया सम्बन्धी

Question Number : 185 Question Id : 9662315796 Question Type : MCQ Option Shuffling : Yes Display Question Number : Yes
Single Line Question Option : No Option Orientation : Vertical

Correct Marks : 1 Wrong Marks : 0.25

दिए गए वाक्य में किस प्रकार की अशुद्धि है ज्ञात कीजिए।

उसकी सौजन्यता में सभी प्रभावित हैं।

Options :

1. ✓ कारक सम्बन्धी
2. ✗ संज्ञा सम्बन्धी
3. ✗ अव्यय सम्बन्धी
4. ✗ क्रिया सम्बन्धी

Question Number : 186 Question Id : 9662315797 Question Type : MCQ Option Shuffling : Yes Display Question Number : Yes
Single Line Question Option : No Option Orientation : Vertical

Correct Marks : 1 Wrong Marks : 0.25

दिए गए वाक्य का कारक ज्ञात कीजिए।

राम की गाय चरती है।

Options :

1. ✗ कर्ता कारक
2. ✗ कर्म कारक
3. ✓ सम्बन्ध कारक
4. ✗ अधिकरण कारक

Question Number : 186 Question Id : 9662315797 Question Type : MCQ Option Shuffling : Yes Display Question Number : Yes
Single Line Question Option : No Option Orientation : Vertical

Correct Marks : 1 Wrong Marks : 0.25

दिए गए वाक्य का कारक ज्ञात कीजिए।

राम की गाय चरती है।

Options :

1. ✗ कर्ता कारक
2. ✗ कर्म कारक
3. ✓ सम्बन्ध कारक
4. ✗ अधिकरण कारक

Question Number : 187 Question Id : 9662315798 Question Type : MCQ Option Shuffling : Yes Display Question Number : Yes
Single Line Question Option : No Option Orientation : Vertical

Correct Marks : 1 Wrong Marks : 0.25

निम्नलिखित में से कौन सा शब्द स्त्रीलिंग नहीं है?

Options :

1. ✗ ओढ़नी
2. ✗ पूर्णिमा
3. ✗ दौलत
4. ✓ शरबत

Question Number : 187 Question Id : 9662315798 Question Type : MCQ Option Shuffling : Yes Display Question Number : Yes
Single Line Question Option : No Option Orientation : Vertical

Correct Marks : 1 Wrong Marks : 0.25

निम्नलिखित में से कौन सा शब्द स्त्रीलिंग नहीं है?

Options :

1. ✗ ओढ़नी
2. ✗ पूर्णिमा
3. ✗ दौलत
4. ✓ शरबत

Question Number : 188 Question Id : 9662315799 Question Type : MCQ Option Shuffling : Yes Display Question Number : Yes
Single Line Question Option : No Option Orientation : Vertical

Correct Marks : 1 Wrong Marks : 0.25

दिए गए शब्द का बहुवचन ज्ञात कीजिए।

प्रजा

Options :

1. ✘ प्रजा
2. ✘ प्रजा लोग
3. ✔ प्रजाजन
4. ✘ प्रजावान

Question Number : 188 Question Id : 9662315799 Question Type : MCQ Option Shuffling : Yes Display Question Number : Yes
Single Line Question Option : No Option Orientation : Vertical

Correct Marks : 1 Wrong Marks : 0.25

दिए गए शब्द का बहुवचन ज्ञात कीजिए।

प्रजा

Options :

1. ✘ प्रजा
2. ✘ प्रजा लोग
3. ✔ प्रजाजन
4. ✘ प्रजावान

Question Number : 189 Question Id : 9662315800 Question Type : MCQ Option Shuffling : Yes Display Question Number : Yes
Single Line Question Option : No Option Orientation : Vertical

Correct Marks : 1 Wrong Marks : 0.25

दिए गए वाक्य के पक्ष की पहचान कीजिए।

माँ खाना बनाती है।

Options :

1. ✔ नित्य पक्ष
2. ✘ सात्यबोधक पक्ष
3. ✘ पूर्ण पक्ष
4. ✘ सातत्यबोधक पक्ष

Question Number : 189 Question Id : 9662315800 Question Type : MCQ Option Shuffling : Yes Display Question Number : Yes
Single Line Question Option : No Option Orientation : Vertical

Correct Marks : 1 Wrong Marks : 0.25

दिए गए वाक्य के पक्ष की पहचान कीजिए।

माँ खाना बनाती है।

Options :

1. ✔ नित्य पक्ष
2. ✘ सात्यबोधक पक्ष
3. ✘ पूर्ण पक्ष
4. ✘ सातत्यबोधक पक्ष

Question Number : 190 Question Id : 9662315801 Question Type : MCQ Option Shuffling : Yes Display Question Number : Yes
Single Line Question Option : No Option Orientation : Vertical

Correct Marks : 1 Wrong Marks : 0.25

निम्नलिखित में से कौन सा वाक्य मिश्र वाक्य का उदाहरण है?

Options :

1. ✓ जो औरत वहाँ बैठी है वो मेरी माँ है
2. ✗ वह सुबह गया और शाम को लौट आया
3. ✗ प्रिय बोलो पर असत्य नहीं
4. ✗ बच्चा सोता रहता है

Question Number : 190 Question Id : 9662315801 Question Type : MCQ Option Shuffling : Yes Display Question Number : Yes
Single Line Question Option : No Option Orientation : Vertical

Correct Marks : 1 Wrong Marks : 0.25

निम्नलिखित में से कौन सा वाक्य मिश्र वाक्य का उदाहरण है?

Options :

1. ✓ जो औरत वहाँ बैठी है वो मेरी माँ है
2. ✗ वह सुबह गया और शाम को लौट आया
3. ✗ प्रिय बोलो पर असत्य नहीं
4. ✗ बच्चा सोता रहता है

Question Number : 191 Question Id : 9662315802 Question Type : MCQ Option Shuffling : Yes Display Question Number : Yes
Single Line Question Option : No Option Orientation : Vertical

Correct Marks : 1 Wrong Marks : 0.25

दिए गए मुहावरे के सही विकल्प का चयन कीजिए

भारतीय सेना कभी दुश्मन के आगे _____ नहीं देती

Options :

1. ✓ घुटने टेक देना
2. ✗ टाँग अड़ाना
3. ✗ टस से मस न होना
4. ✗ तिल का ताड़ बनाना

Question Number : 191 Question Id : 9662315802 Question Type : MCQ Option Shuffling : Yes Display Question Number : Yes
Single Line Question Option : No Option Orientation : Vertical

Correct Marks : 1 Wrong Marks : 0.25

दिए गए मुहावरे के सही विकल्प का चयन कीजिए

भारतीय सेना कभी दुश्मन के आगे _____ नहीं देती

Options :

1. ✓ घुटने टेक देना
2. ✗ टाँग अड़ाना
3. ✗ टस से मस न होना
4. ✗ तिल का ताड़ बनाना

Question Number : 192 Question Id : 9662315803 Question Type : MCQ Option Shuffling : Yes Display Question Number : Yes
Single Line Question Option : No Option Orientation : Vertical

Correct Marks : 1 Wrong Marks : 0.25

निम्नलिखित प्रश्न में, दिए गए चार विकल्पों में से, उस विकल्प का चयन करें जो दिए गए मुहावरे के अर्थ को सर्वश्रेष्ठ रूप से व्यक्त करता है।

ऊँची दुकान फीका पकवान

Options :

1. ✓ दिखावा अधिक वास्तविकता कम
2. ✗ महँगी दुकान पर घटिया सामान

3. ✖ नाम बड़ा और दर्शन छोटे
4. ✖ अच्छी दुकान पर बेकार सामान लेना

Question Number : 192 Question Id : 9662315803 Question Type : MCQ Option Shuffling : Yes Display Question Number : Yes Single Line Question Option : No Option Orientation : Vertical

Correct Marks : 1 Wrong Marks : 0.25

निम्नलिखित प्रश्न में, दिए गए चार विकल्पों में से, उस विकल्प का चयन करें जो दिए गए मुहावरे के अर्थ को सर्वश्रेष्ठ रूप से व्यक्त करता है।

ऊँची दुकान फीका पकवान

Options :

1. ✔ दिखावा अधिक वास्तविकता कम
2. ✖ महुँगी दुकान पर घटिया सामान
3. ✖ नाम बड़ा और दर्शन छोटे
4. ✖ अच्छी दुकान पर बेकार सामान लेना

Question Number : 193 Question Id : 9662315804 Question Type : MCQ Option Shuffling : Yes Display Question Number : Yes Single Line Question Option : No Option Orientation : Vertical

Correct Marks : 1 Wrong Marks : 0.25

निम्नलिखित प्रश्न में, दिए गए चार विकल्पों में से, उस विकल्प का चयन करें जो दिए गए मुहावरे के अर्थ को सर्वश्रेष्ठ रूप से व्यक्त करता है।

दुम दबा कर भाग जाना

Options :

1. ✔ डरकर भाग जाना
2. ✖ कुत्ते की चाल चलना
3. ✖ साफ़ मना करना
4. ✖ जीत जाना

Question Number : 193 Question Id : 9662315804 Question Type : MCQ Option Shuffling : Yes Display Question Number : Yes Single Line Question Option : No Option Orientation : Vertical

Correct Marks : 1 Wrong Marks : 0.25

निम्नलिखित प्रश्न में, दिए गए चार विकल्पों में से, उस विकल्प का चयन करें जो दिए गए मुहावरे के अर्थ को सर्वश्रेष्ठ रूप से व्यक्त करता है।

दुम दबा कर भाग जाना

Options :

1. ✔ डरकर भाग जाना
2. ✖ कुत्ते की चाल चलना
3. ✖ साफ़ मना करना
4. ✖ जीत जाना

Question Number : 194 Question Id : 9662315805 Question Type : MCQ Option Shuffling : Yes Display Question Number : Yes Single Line Question Option : No Option Orientation : Vertical

Correct Marks : 1 Wrong Marks : 0.25

दिए गए वाक्य में विराम चिह्न की पहचान कीजिए।

कल मेरे मामा जी आने वाले है।

Options :

1. ✖ उद्धरण चिह्न
2. ✖ उपरोक्त चिह्न
3. ✔ हंसपद चिह्न
4. ✖ योजक चिह्न

Question Number : 194 Question Id : 9662315805 Question Type : MCQ Option Shuffling : Yes Display Question Number : Yes
Single Line Question Option : No Option Orientation : Vertical

Correct Marks : 1 Wrong Marks : 0.25

दिए गए वाक्य में विराम चिह्न की पहचान कीजिए।

कल मेरे मामा जी आने वाले हैं।

Options :

1. ✘ उद्धरण चिह्न
2. ✘ उपरोक्त चिह्न
3. ✔ हंसपद चिह्न
4. ✘ योजक चिह्न

Question Number : 195 Question Id : 9662315806 Question Type : MCQ Option Shuffling : Yes Display Question Number : Yes
Single Line Question Option : No Option Orientation : Vertical

Correct Marks : 1 Wrong Marks : 0.25

निम्नलिखित में से कौन सा उदाहरण उद्धरण चिह्न का है?

Options :

1. ✘ रोटी - दाल
2. ✘ हमारे राष्ट्रीय पर्व है - गणतंत्र दिवस और स्वतंत्रता दिवस।
3. ✔ प्रस्तुत पंक्तियाँ 'बाढ़ का बेटा' से ली गई हैं।
4. ✘ कृ., पृ., उ.

Question Number : 195 Question Id : 9662315806 Question Type : MCQ Option Shuffling : Yes Display Question Number : Yes
Single Line Question Option : No Option Orientation : Vertical

Correct Marks : 1 Wrong Marks : 0.25

निम्नलिखित में से कौन सा उदाहरण उद्धरण चिह्न का है?

Options :

1. ✘ रोटी - दाल
2. ✘ हमारे राष्ट्रीय पर्व है - गणतंत्र दिवस और स्वतंत्रता दिवस।
3. ✔ प्रस्तुत पंक्तियाँ 'बाढ़ का बेटा' से ली गई हैं।
4. ✘ कृ., पृ., उ.

Sub-Section Number:	2
Sub-Section Id:	966231210
Question Shuffling Allowed :	Yes

Question Id : 9662315807 Question Type : COMPREHENSION Sub Question Shuffling Allowed : Yes Group Comprehension
Questions : No

Question Numbers : (196 to 200)

Question Label : Comprehension

एक गद्यांश दिया गया है। गद्यांश के आधार पर पाँच प्रश्न दिए गए हैं। गद्यांश को ध्यानपूर्वक पढ़ें तथा प्रत्येक प्रश्न में चार विकल्पों में से सही विकल्प चुनें।

आजकल विद्यार्थियों में अनुशासन हीनता बढ़ती जा रही है। विद्यार्थी का मन गीली मिट्टी के समान होता है, उसे जैसा रूप हम देंगे, वह वैसा ही आकार ग्रहण कर लेता है। विद्यार्थियों के अनुशासनहीन होने के कारण हो सकते हैं, जैसे माता-पिता द्वारा अत्यधिक लाडलप्यार करना या बच्चे की ओर बहुत कम ध्यान देना, उसे नौकरों आयाओं के सहारे छोड़ देना, उसकी भावनाओं को न समझना आदि। इन कारणों में उनमें अनुशासनहीनता जन्म लेती है। एक अन्य कारण विद्यालयों में अनुशासन के लिए बनाए गए नियमों की अभिभावकों द्वारा आलोचना करना वह अत्यधिक हस्तक्षेप करना भी है, जिसके कारण विद्यार्थियों के मन में यह बात बैठ जाती है कि यदि अध्यापक दंड देंगे या नियमों का सख्ती से पालन करवाएँगे, तो वे अपने माता-पिता को भावनात्मक रूप से गुमराह करके उन्हें अपने पक्ष में कर सकते हैं। मीडिया के कारण भी वे अपने अधिकारों के प्रति तो जागरूक हैं परंतु अपने कर्तव्य से अनभिज्ञ हैं। यदि विद्यालय में किसी अनुशासनहीन विद्यार्थी को दंड दिया जाता है, तो अगले दिन मिर्च-मसाला लगाकर उसे समाचार पत्रों में दूरदर्शन के विभिन्न चैनलों पर दिखाया जाता है। अदालतों द्वारा नित-नए कानून पास करवा लिए जाते हैं जिसके अंतर्गत विद्यार्थियों को डांटना, खड़ा करना यहाँ तक की कड़े शब्दों में कुछ कहना तक मना कर दिया जाता है।

Sub questions

Question Number : 196 Question Id : 9662315808 Question Type : MCQ Option Shuffling : Yes Display Question Number : Yes
Single Line Question Option : No Option Orientation : Vertical

Correct Marks : 1 Wrong Marks : 0.25

विद्यार्थी का मन कैसा होता है?

Options :

1. ✘ गीले कपड़े जैसा
2. ✘ बिजली जैसा
3. ✔ गीली मिट्टी जैसा
4. ✘ मौसम जैसा

Question Number : 197 Question Id : 9662315809 Question Type : MCQ Option Shuffling : Yes Display Question Number : Yes
Single Line Question Option : No Option Orientation : Vertical

Correct Marks : 1 Wrong Marks : 0.25

अभिभावक अपने अधिकारों के प्रति जागरूक किसके द्वारा हुए?

Options :

1. ✘ मीडिया
2. ✔ अध्यापकों
3. ✘ फैशन
4. ✘ अपने बच्चों

Question Number : 198 Question Id : 9662315810 Question Type : MCQ Option Shuffling : Yes Display Question Number : Yes
Single Line Question Option : No Option Orientation : Vertical

Correct Marks : 1 Wrong Marks : 0.25

विद्यार्थी अपने माता-पिता को अपने पक्ष में कैसे कर लेते हैं?

Options :

1. ✘ पैसे देकर
2. ✔ भावना से
3. ✘ डाँट कर
4. ✘ डराकर

Question Number : 199 Question Id : 9662315811 Question Type : MCQ Option Shuffling : Yes Display Question Number : Yes
Single Line Question Option : No Option Orientation : Vertical

Correct Marks : 1 Wrong Marks : 0.25

उपर्युक्त गद्यांश का उचित शीर्षक क्या है?

Options :

1. ✘ भावनात्मक रूप
2. ✘ माँ-बाप व बच्चे
3. ✘ विद्यार्थी व शिक्षक

4. ✓ विद्यार्थी व अनुशासन

Question Number : 200 Question Id : 9662315812 Question Type : MCQ Option Shuffling : Yes Display Question Number : Yes
Single Line Question Option : No Option Orientation : Vertical

Correct Marks : 1 Wrong Marks : 0.25

विद्यार्थी में अनुशासन हीनता का मुख्य कारण क्या है?

Options :

1. ✘ अमीर होना
2. ✘ ध्यान न देना
3. ✓ उनकी भावनाओं को न समझना
4. ✘ उन्हें न डाँटना

Question Id : 9662315807 Question Type : COMPREHENSION Sub Question Shuffling Allowed : Yes Group Comprehension
Questions : No

Question Numbers : (196 to 200)

Question Label : Comprehension

एक गद्यांश दिया गया है। गद्यांश के आधार पर पाँच प्रश्न दिए गए हैं। गद्यांश को ध्यानपूर्वक पढ़ें तथा प्रत्येक प्रश्न में चार विकल्पों में से सही विकल्प चुनें।

आजकल विद्यार्थियों में अनुशासन हीनता बढ़ती जा रही है। विद्यार्थी का मन गीली मिट्टी के समान होता है, उसे जैसा रूप हम देंगे, वह वैसा ही आकार ग्रहण कर लेता है। विद्यार्थियों के अनुशासनहीन होने के कारण हो सकते हैं; जैसे माता-पिता द्वारा अत्यधिक लाडलप्यार करना या बच्चे की ओर बहुत कम ध्यान देना, उसे नौकरों आयाओं के सहारे छोड़ देना, उसकी भावनाओं को न समझना आदि। इन कारणों में उनमें अनुशासनहीनता जन्म लेती है। एक अन्य कारण विद्यालयों में अनुशासन के लिए बनाए गए नियमों की अभिभावकों द्वारा आलोचना करना वह अत्यधिक हस्तक्षेप करना भी है, जिसके कारण विद्यार्थियों के मन में यह बात बैठ जाती है कि यदि अध्यापक दंड देंगे या नियमों का सख्ती से पालन करवाएँगे, तो वे अपने माता-पिता की भावनात्मक रूप से गुमराह करके उन्हें अपने पक्ष में कर सकते हैं। मीडिया के कारण भी वे अपने अधिकारों के प्रति तो जागरूक हैं परंतु अपने कर्तव्य से अनभिज्ञ हैं। यदि विद्यालय में किसी अनुशासनहीन विद्यार्थी को दंड दिया जाता है, तो अगले दिन मिर्च-मसाला लगाकर उसे समाचार पत्रों में दूरदर्शन के विभिन्न चैनलों पर दिखाया जाता है। अदालतों द्वारा नित-नए कानून पास करवा लिए जाते हैं जिसके अंतर्गत विद्यार्थियों को डाँटना, खड़ा करना यहाँ तक की कड़े शब्दों में कुछ कहना तक मना कर दिया जाता है।

Sub questions

Question Number : 196 Question Id : 9662315808 Question Type : MCQ Option Shuffling : Yes Display Question Number : Yes
Single Line Question Option : No Option Orientation : Vertical

Correct Marks : 1 Wrong Marks : 0.25

विद्यार्थी का मन कैसा होता है?

Options :

1. ✘ गीले कपड़े जैसा
2. ✘ बिजली जैसा
3. ✓ गीली मिट्टी जैसा
4. ✘ मौसम जैसा

Question Number : 197 Question Id : 9662315809 Question Type : MCQ Option Shuffling : Yes Display Question Number : Yes
Single Line Question Option : No Option Orientation : Vertical

Correct Marks : 1 Wrong Marks : 0.25

अभिभावक अपने अधिकारों के प्रति जागरूक किसके द्वारा हुए?

Options :

1. ✘ मीडिया
2. ✓ अध्यापकों
3. ✘ फैशन
4. ✘ अपने बच्चों

Question Number : 198 Question Id : 9662315810 Question Type : MCQ Option Shuffling : Yes Display Question Number : Yes
Single Line Question Option : No Option Orientation : Vertical

Correct Marks : 1 Wrong Marks : 0.25

विद्यार्थी अपने माता-पिता को अपने पक्ष में कैसे कर लेते हैं?

Options :

1. ✘ पैसे देकर
2. ✔ भावना से
3. ✘ डाँट कर
4. ✘ डराकर

Question Number : 199 Question Id : 9662315811 Question Type : MCQ Option Shuffling : Yes Display Question Number : Yes
Single Line Question Option : No Option Orientation : Vertical

Correct Marks : 1 Wrong Marks : 0.25

उपर्युक्त गद्यांश का उचित शीर्षक क्या है?

Options :

1. ✘ भावनात्मक रूप
2. ✘ माँ-बाप व बच्चे
3. ✘ विद्यार्थी व शिक्षक
4. ✔ विद्यार्थी व अनुशासन

Question Number : 200 Question Id : 9662315812 Question Type : MCQ Option Shuffling : Yes Display Question Number : Yes
Single Line Question Option : No Option Orientation : Vertical

Correct Marks : 1 Wrong Marks : 0.25

विद्यार्थी में अनुशासन हीनता का मुख्य कारण क्या है?

Options :

1. ✘ अमीर होना
2. ✘ ध्यान न देना
3. ✔ उनकी भावनाओं को न समझना
4. ✘ उन्हें न डाँटना